



Teachingninja.in

CRPF Constable Technical Tradesman 05 Jul 2023 Shift-3

- ★ Latest Govt Job updates
- ★ Private Job updates
- ★ Free Mock tests available

Visit - teachingninja.in

CRPF Technical Tradesman 1st to 12th July 2023

Participant ID	
Participant Name	
Test Center Name	
Test Date	05/07/2023
Test Time	4:30 PM - 6:30 PM
Subject	Constable Driver

Section : General Intelligence and Reasoning

Q.1 दी गई श्रृंखला में प्रश्नवाचक चिह्न (?) के स्थान पर क्या आना चाहिए?
4, 8, 11, 22, 25, 50, 53, ?

- Ans
- A. 56
 - B. 100
 - C. 106
 - D. 124

Question ID : 630680134064

Option 1 ID : 630680519159

Option 2 ID : 630680519158


Option 3 ID : 630680519160

Option 4 ID : 630680519161

Status : Answered

Chosen Option : C

Q.2 दी गई आकृति में कितने त्रिभुज हैं?



- Ans
- A. 11
 - B. 18
 - C. 12
 - D. 10

Question ID : 63068049926

Option 1 ID : 630680192028

Option 2 ID : 630680192029

Option 3 ID : 630680192027

Option 4 ID : 630680192026

Status : Answered

Chosen Option : C

Q.3 निम्नलिखित विकल्पों में से उस आकृति का चयन कीजिए जिसे प्रश्नवाचक चिन्ह (?) के स्थान पर रखने पर दी गई श्रृंखला तार्किक रूप से पूर्ण हो जाएगी।



Ans

A. Star, down arrow, T, square, +

B. U, down arrow, T, square, +

C. U, down arrow, T, square, Star

D. U, T, square, Star, +

Question ID : 630680127772

Option 1 ID : 630680495280

Option 2 ID : 630680495282

Option 3 ID : 630680495283

Option 4 ID : 630680495281

Status : Answered

Chosen Option : B



Q.4 यदि दर्पण को चित्र के अनुसार 'PQ' पर रखा जाता है, तो दिए गए संयोजन के सही दर्पण प्रतिबिंब का चयन कीजिए।

7 G q 8 b 3 9

P
|
Q

- Ans
- A. e ε b 8 p ɔ 7
- B. e ε d 8 p ɔ 7
- C. e ε d 8 p ɔ 7
- D. e ε d 8 q ɔ 7

Question ID : 630680117514

Option 1 ID : 630680455291

Option 2 ID : 630680455293

Option 3 ID : 630680455292

Option 4 ID : 630680455290

Status : Answered

Chosen Option : C

Q.5 निम्नलिखित व्यंजक में (?) के स्थान पर क्या आएगा?

$$(66.3 \times 73.2) + (82.6 \times 3.2) = ?$$

- Ans
- A. 4117.48
- B. 6217.48
- C. 6117.48
- D. 5117.48



Question ID : 630680109118

Option 1 ID : 630680423288

Option 2 ID : 630680423291

Option 3 ID : 630680423290

Option 4 ID : 630680423289

Status : Answered

Chosen Option : D

Q.6 Q, R की माँ है। V का विवाह U से हुआ है। Q, P की पुत्री है। U, P का पुत्र है। S का विवाह Q से हुआ है। T, S का पिता है। U का S के साथ क्या संबंध है?

- Ans A. पत्नी का भाई
 B. भाई का पुत्र
 C. बहन का पुत्र
 D. पिता का भाई

Question ID : 630680119310

Option 1 ID : 630680462333

Option 2 ID : 630680462331

Option 3 ID : 630680462330

Option 4 ID : 630680462332

Status : Answered

Chosen Option : A

Q.7 एक निश्चित कूट भाषा में, 'HONEY' को '26589', 'HORN' को '2756' और 'ONLY' को '6238' के रूप में कूटबद्ध किया जाता है। दी गई भाषा में 'LONE' को किस प्रकार कूटबद्ध किया जाएगा?

- Ans A. 2639
 B. 3659
 C. 2356
 D. 2698

Question ID : 630680261925

Option 1 ID : 6306801017358

Option 2 ID : 6306801017356

Option 3 ID : 6306801017357

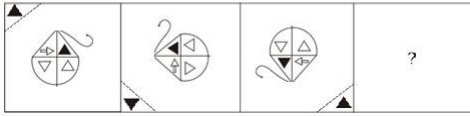
Option 4 ID : 6306801017355

Status : Answered

Chosen Option : B

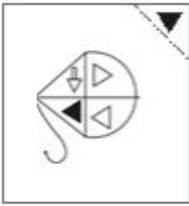


Q.8 दिए गए विकल्पों में से उस आकृति का चयन करें जो प्रश्नवाचक चिह्न (?) के स्थान पर आ सकती है और श्रृंखला को पूर्ण कर सकती है।



Ans

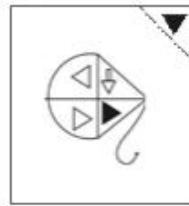
A.



B.



C.



D.



Teachingninja.in

Question ID : 630680107247

Option 1 ID : 630680416373

Option 2 ID : 630680416375

Option 3 ID : 630680416374

Option 4 ID : 630680416372

Status : Answered

Chosen Option : C

Q.9 राजीव बिंदु A से आरंभ करके उत्तर की ओर 9 km ड्राइव करता है। फिर वह दाएं मुड़ता है; और 4 km ड्राइव करता है; फिर दाएं मुड़ता है और 14 km ड्राइव करता है। फिर वह दाएं मुड़ता है और 5 km ड्राइव करता है। फिर वह बाएं मुड़ता है और 6 km ड्राइव करता है। वह अंतिम बार बाएं मुड़ता है; 1 km ड्राइव करता है और बिंदु P पर रुकता है। बिंदु A से बिंदु P कितनी दूर और किस दिशा में है? (सभी मोड़ केवल 90° के मोड़ हैं।)

- Ans
- A. 13 km पश्चिम दिशा में
 - B. 9 km पश्चिम दिशा में
 - C. 11 km दक्षिण दिशा में
 - D. 12 km उत्तर दिशा में

Question ID : 630680164198

Option 1 ID : 630680635927

Option 2 ID : 630680635925

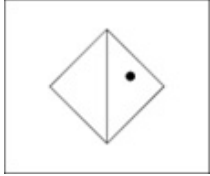
Option 3 ID : 630680635924

Option 4 ID : 630680635926

Status : Answered

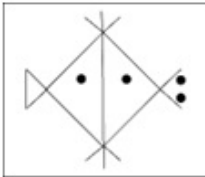
Chosen Option : C

Q.10 उस विकल्प का चयन कीजिए जिसमें दी गई आकृति सन्निहित है (घुमाने की अनुमति नहीं है)।

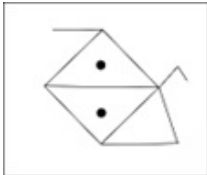


Ans

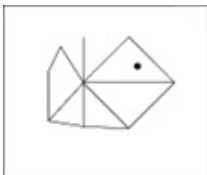
A.



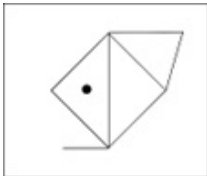
B.



C.



D.



Question ID : 630680177285

Option 1 ID : 630680687316

Option 2 ID : 630680687318

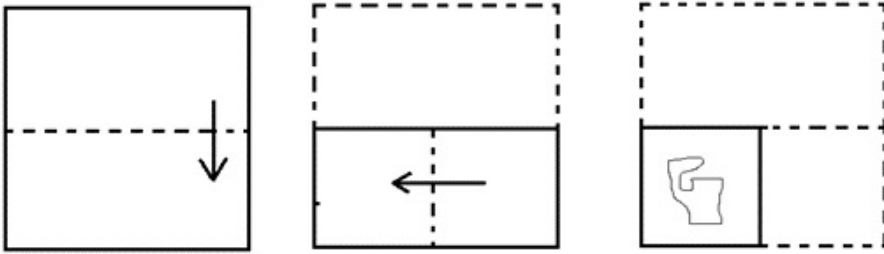
Option 3 ID : 630680687319

Option 4 ID : 630680687317

Status : Answered

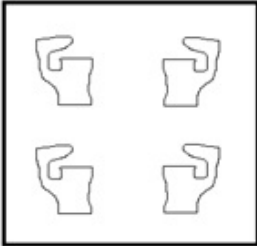
Chosen Option : A

Q.11 कागज के एक टुकड़े को मोड़ने का क्रम और मोड़े गए कागज को काटने की विधि को निम्नलिखित आकृतियों में दर्शाया गया है। खोलने पर यह कागज कैसा दिखेगा?

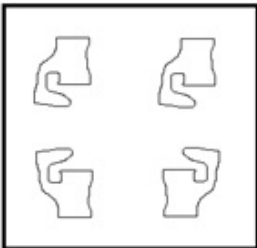


Ans

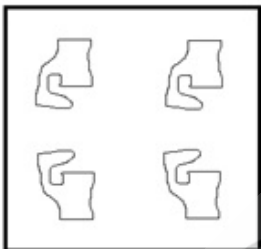
A.



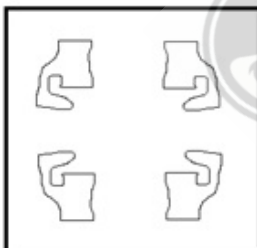
B.



C.



D.



Question ID : 630680165215

Option 1 ID : 630680639883

Option 2 ID : 630680639880

Option 3 ID : 630680639881

Option 4 ID : 630680639882

Status : Answered

Chosen Option : D

Q.12 एक निश्चित कूटभाषा में,
'Bring food and water' को 'Pu Sa Ki La' के रूप में लिखा जाता है;
'Food is good' को 'Ki Ta Da' के रूप में लिखा जाता है;
'Good and bad' को 'Pu Ha Ta' के रूप में लिखा जाता है;
'Water is Life' को 'Da Sa Ma' के रूप में लिखा जाता है।
'Life' के लिए कूट क्या है?

- Ans
- A. Da
 - B. Ta
 - C. Ma
 - D. Sa

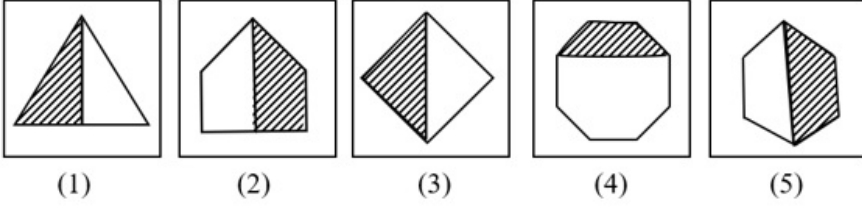
Question ID : 630680261957
Option 1 ID : 6306801017484
Option 2 ID : 6306801017485
Option 3 ID : 6306801017486
Option 4 ID : 6306801017483
Status : Answered
Chosen Option : C

Q.13 दिए गए विकल्पों में से उस संख्या का चयन करें, जो दी गई श्रृंखला में प्रश्न-चिह्न (?) को प्रतिस्थापित कर सकती है।
4, 6, 15, 49, 201, ?

- Ans
- A. 1110
 - B. 1011
 - C. 1100
 - D. 1101

Question ID : 630680155102
Option 1 ID : 630680600161
Option 2 ID : 630680600162
Option 3 ID : 630680600160
Option 4 ID : 630680600163
Status : Answered
Chosen Option : B

Q.14 निम्नलिखित में से विषम आकृति कौन-सी है?



- Ans A. 2
 B. 4
 C. 3
 D. 5

Question ID : 630680106945

Option 1 ID : 630680415292

Option 2 ID : 630680415294

Option 3 ID : 630680415293

Option 4 ID : 630680415295

Status : Answered

Chosen Option : B

Q.15 टाउन A, टाउन B के उत्तर में है। टाउन C, टाउन B के पश्चिम में है। टाउन D, टाउन C के दक्षिण में है। टाउन P, टाउन B के पूर्व में है। टाउन M, टाउन D के पूर्व में है। टाउन A, टाउन M के उत्तर-पूर्व में है। टाउन M के सन्दर्भ में टाउन P की स्थिति क्या है?

- Ans A. दक्षिण-पश्चिम
 B. पश्चिम
 C. उत्तर
 D. उत्तर-पूर्व

Question ID : 630680261977

Option 1 ID : 6306801017566

Option 2 ID : 6306801017565

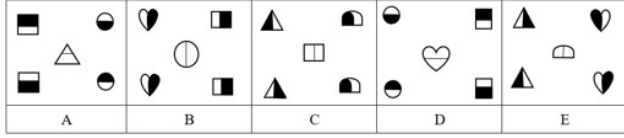
Option 3 ID : 6306801017564

Option 4 ID : 6306801017563

Status : Answered

Chosen Option : D

Q.16 निम्नलिखित पांच आकृतियों में से चार आकृतियां किसी न किसी रूप में एक जैसी हैं और इस प्रकार ये चारों आकृतियां एक समूह बनाती हैं। कौन-सी आकृति समूह से भिन्न है?



Ans A. C
 B. B
 C. D
 D. A

Question ID : 630680113724

Option 1 ID : 630680440423

Option 2 ID : 630680440422

Option 3 ID : 630680440425

Option 4 ID : 630680440424

Status : Answered

Chosen Option : B

Q.17 एक परिवार में 6 सदस्य A, B, C, X, Y और Z हैं। B, C का पुत्र है, लेकिन C, B की माता नहीं है। A और C एक विवाहित जोड़े हैं। Y, C का भाई है। X, A की पुत्री है। Z, A का भाई है। A और C का पुत्र कौन है?

Ans A. X
 B. Z
 C. Y
 D. B

Question ID : 63068083714

Option 1 ID : 630680324473

Option 2 ID : 630680324475

Option 3 ID : 630680324474

Option 4 ID : 630680324472

Status : Answered

Chosen Option : D

Q.18 'M \$ N' का अर्थ है कि 'M, N का भाई है',
'M + N' का अर्थ है कि 'M, N का पुत्र है',
'M ÷ N' का अर्थ है कि 'M, N की पत्नी है',
'M & N' का अर्थ है कि 'M, N का पति है',
'M = N' का अर्थ है कि 'M, N बहू है'।
यदि 'V + Q \$ U & S = R ÷ P' है, तो V का R से क्या संबंध है?

- Ans A. भांजा
 B. पुत्र
 C. पोता
 D. चचेरा भाई

Question ID : 63068085561
Option 1 ID : 630680331750
Option 2 ID : 630680331749
Option 3 ID : 630680331748
Option 4 ID : 630680331751
Status : Answered
Chosen Option : C

Q.19 यदि + का अर्थ -, - का अर्थ x, x का अर्थ ÷, ÷ का अर्थ + है, तो निम्नलिखित समीकरण में प्रश्न चिह्न (?) के स्थान पर क्या मान आएगा?
 $56 \times 7 \div 31 - 4 + 23 = ?$

- Ans A. 114
 B. 109
 C. 98
 D. 104

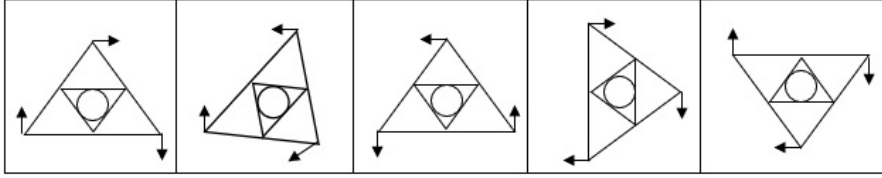
Question ID : 630680163571
Option 1 ID : 630680633468
Option 2 ID : 630680633470
Option 3 ID : 630680633471
Option 4 ID : 630680633469
Status : Answered
Chosen Option : B

Q.20 A, B का पति है। C, A का भाई है। D, C का पुत्र है। E, D की बहन है। B, F की पुत्रवधू है, जिसके पति की मृत्यु हो चुकी है। F किस प्रकार E से संबंधित है?

- Ans A. बुआ
 B. मौसी
 C. नानी
 D. दादी

Question ID : 630680117511
Option 1 ID : 630680455279
Option 2 ID : 630680455281
Option 3 ID : 630680455280
Option 4 ID : 630680455278
Status : Answered
Chosen Option : D

Q.21 निम्नलिखित में से कौन सी आकृति असंगत है?



(1)

(2)

(3)

(4)

(5)

Ans A. 3

B. 2

C. 1

D. 4

Question ID : 630680137881

Option 1 ID : 630680533844

Option 2 ID : 630680533843

Option 3 ID : 630680533842

Option 4 ID : 630680533845

Status : Answered

Chosen Option : B

Q.22 दिए गए समीकरण का मान ज्ञात कीजिए।

$$3\frac{4}{5} \times 2\frac{3}{9} \times 4\frac{6}{3} \times 2\frac{3}{2} = ?$$

Ans A. 192.6

B. 176.2

C. 186.2

D. 3.42

Question ID : 630680161820

Option 1 ID : 630680626609

Option 2 ID : 630680626611

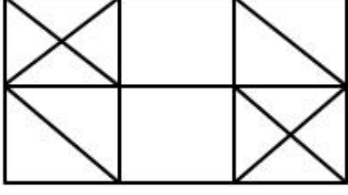
Option 3 ID : 630680626608

Option 4 ID : 630680626610

Status : Answered

Chosen Option : C

Q.23 नीचे दी गई आकृति में कितने त्रिभुज हैं?



- Ans
- A. 24
 - B. 26
 - C. 22
 - D. 20

Question ID : 63068057739
Option 1 ID : 630680222796
Option 2 ID : 630680222797
Option 3 ID : 630680222795
Option 4 ID : 630680222794

Status : Answered
Chosen Option : C

Q.24 दिए गए विकल्पों में से उस संख्या का चयन करें जो निम्नलिखित समीकरण में प्रश्न चिह्न (?) के स्थान पर आ सकती है।

$$(325.002 \div 18.01 - 38.99 + 33.01)^2 = ?$$

- Ans
- A. 676
 - B. 484
 - C. 196
 - D. 144

Question ID : 630680204260
Option 1 ID : 630680792126
Option 2 ID : 630680792124
Option 3 ID : 630680792123
Option 4 ID : 630680792125

Status : Answered
Chosen Option : D



Q.25 उस विकल्प आकृति का चयन करें जिसमें दी गई आकृति इसके भाग के रूप में अंतर्निहित है
(घुमाने की अनुमति नहीं है)।



Ans

✗ A.



✗ B.



✗ C.



✓ D.



Teachingninja.in

Question ID : 630680105147

Option 1 ID : 630680408699

Option 2 ID : 630680408701

Option 3 ID : 630680408700

Option 4 ID : 630680408702

Status : Answered

Chosen Option : D

Section : General Knowledge and General Awareness

Q.1 तीन अलग-अलग समितियों द्वारा प्राप्त अखिल भारतीय गरीबी आकलन की सही तुलना कौन-सी है?

- Ans A. तेंदुलकर समिति> लकड़ावाला समिति> रंगराजन
 B. रंगराजन = तेंदुलकर समिति = लकड़ावाला समिति
 C. रंगराजन> लकड़ावाला समिति> तेंदुलकर समिति
 D. लकड़ावाला समिति> तेंदुलकर समिति> रंगराजन

Question ID : 630680210838

Option 1 ID : 630680817513

Option 2 ID : 630680817514

Option 3 ID : 630680817512

Option 4 ID : 630680817511

Status : Not Answered

Chosen Option : --

Q.2 2022 में, किस राज्य के मुख्यमंत्री ने 'टेक्सटाइल सिटी' स्थापित करने की आवश्यकता की घोषणा की?

- Ans A. महाराष्ट्र
 B. कर्नाटक
 C. गुजरात
 D. तमिलनाडु

Question ID : 630680209263

Option 1 ID : 630680811268

Option 2 ID : 630680811270

Option 3 ID : 630680811269

Option 4 ID : 630680811267

Status : Answered

Chosen Option : A

Q.3 निम्नलिखित में से कौन सा मुख्य रूप से फलों और सब्जियों में पाया जाता है?

- Ans A. विटामिन और खनिज
 B. केवल विटामिन D2
 C. केवल प्रोटीन
 D. केवल विटामिन D3



Question ID : 630680214099

Option 1 ID : 630680830446

Option 2 ID : 630680830443

Option 3 ID : 630680830444

Option 4 ID : 630680830445

Status : Not Answered

Chosen Option : --

Q.4 निम्नलिखित शहरों में से कौन-सा शहर म्यांमार की वर्तमान राजधानी है?

Ans A. नाएप्यीडों

B. बैंकॉक

C. यांगून

D. माले

Question ID : 630680176063

Option 1 ID : 630680682500

Option 2 ID : 630680682502

Option 3 ID : 630680682501

Option 4 ID : 630680682503

Status : Answered

Chosen Option : C

Q.5 निम्नलिखित में से कौन-सा समूह फाइबर का समृद्ध स्रोत है?

Ans A. नाशपाती, केला, और एवोकैडो

B. सफेद ब्रेड, सफेद पास्ता, और सफेद चावल

C. चीज़, दूध और आलू

D. पेनकेक्स, बैगेल और मक्खन

Question ID : 630680102291

Option 1 ID : 630680397448

Option 2 ID : 630680397447

Option 3 ID : 630680397450

Option 4 ID : 630680397449

Status : Answered

Chosen Option : B

Q.6 निम्नलिखित में से कौन-सा स्मारक 20वीं सदी में बना है?

Ans A. बुलंद दरवाजा

B. गेटवे ऑफ इंडिया

C. बीबी का मकबरा

D. मीनाक्षी सुन्दरेश्वरर मंदिर

Question ID : 630680162580

Option 1 ID : 630680629616

Option 2 ID : 630680629617

Option 3 ID : 630680629618

Option 4 ID : 630680629619

Status : Answered

Chosen Option : B

Q.7 नारायण गुरु ने दलित सुधार आंदोलन शुरू किया और निम्नलिखित में से किस स्थान पर "श्री नारायण धर्म परिपालन योगम" की स्थापना की?

- Ans A. मुंबई
 B. केरल
 C. मद्रास
 D. बंगाल

Question ID : 630680127651
Option 1 ID : 630680494860
Option 2 ID : 630680494863
Option 3 ID : 630680494862
Option 4 ID : 630680494861
Status : Answered
Chosen Option : D

Q.8 विश्व में भारत की स्थिति के बारे में निम्नलिखित में से कौन-सा कथन सही नहीं है?

- Ans A. ट्रांस हिंद महासागर मार्ग पश्चिम में यूरोप के देशों और पूर्वी एशिया के देशों को नहीं जोड़ता है।
 B. भारत एशियाई महाद्वीप का दक्षिणी विस्तार है।
 C. हिंद महासागर के साथ भारत की लंबी तटरेखा है।
 D. भारतीय भूभाग, पूर्व और पश्चिम एशिया के मध्य स्थित है।

Question ID : 630680111792
Option 1 ID : 630680432905
Option 2 ID : 630680432902
Option 3 ID : 630680432904
Option 4 ID : 630680432903
Status : Answered
Chosen Option : A

Q.9 महाराष्ट्र के लोक-संगीत, लावणी को कितने भागों में बाँटा गया है?

- Ans A. पाँच
 B. तीन
 C. दो
 D. चार

Question ID : 630680214183
Option 1 ID : 630680830782
Option 2 ID : 630680830781
Option 3 ID : 630680830780
Option 4 ID : 630680830779
Status : Not Answered
Chosen Option : --

Q.10 कर्नाटक संगीत से संबंधित 'चतुरदंडिप्रकाशिका' किसने लिखी?

- Ans A. क्षेत्रय
 B. वेंकटमाखिन
 C. त्यागराज
 D. अन्नमाचार्य

Question ID : 630680213929

Option 1 ID : 630680829763

Option 2 ID : 630680829765

Option 3 ID : 630680829766

Option 4 ID : 630680829764

Status : Not Answered

Chosen Option : --

Q.11 निम्नलिखित में से कौन-सा ऊर्जा का पारंपरिक स्रोत है?

- Ans A. कोयला
 B. भू-तापीय ऊर्जा
 C. ज्वारीय शक्ति
 D. बायोगैस

Question ID : 63068090286

Option 1 ID : 630680349920

Option 2 ID : 630680349921

Option 3 ID : 630680349918

Option 4 ID : 630680349919

Status : Answered

Chosen Option : A

Q.12 निम्नलिखित में से कौन-सा प्रोटीन-युक्त खाद्य पदार्थों का समूह है?

- Ans A. आम, केला और बादाम
 B. आलू, नींबू और टमाटर
 C. अंडा, चिकन और बादाम
 D. अंडा, ब्रेड और बादाम

Question ID : 630680102288

Option 1 ID : 630680397435

Option 2 ID : 630680397438

Option 3 ID : 630680397436

Option 4 ID : 630680397437

Status : Not Answered

Chosen Option : --

Q.13 निम्नलिखित स्थानों को उनके तापमान की विशेषताओं के साथ सही सुमेलित कीजिए।

स्थान	तापमान
1. मद्रास	a. संतुलित
2. जैसलमेर	b. ठंडा
3. तिरुवनंतपुरम	c. गर्म

Ans A. 1-b, 2-c, 3-a

B. 1-a, 2-b, 3-c

C. 1-b, 2-a, 3-c

D. 1-a, 2-c, 3-b

Question ID : 630680216303

Option 1 ID : 630680839189

Option 2 ID : 630680839187

Option 3 ID : 630680839190

Option 4 ID : 630680839188

Status : Answered

Chosen Option : D

Q.14 सड़क परिवहन और राजमार्ग मंत्रालय ने हाई-सिक्वोरिटीरजिस्ट्रेशन प्लेट और कलर कोड (रंगों के रूप में कूटबद्ध) स्टिकर्स लगाना अनिवार्य कर दिया है। निम्नलिखित में से कौन-सा रंग डीजल इंजन को दर्शाता है?

Ans A. हरा

B. नारंगी

C. नीला

D. पीला

Question ID : 630680127563

Option 1 ID : 630680494514

Option 2 ID : 630680494515

Option 3 ID : 630680494512

Option 4 ID : 630680494513

Status : Not Answered

Chosen Option : --

Q.15 निम्नलिखित में से किसे वर्ष 2022 में चीफ ऑफ डिफेंस स्टाफ (सीडीएस) के रूप में नियुक्त किया गया है?

Ans A. लेफ्टिनेंट जनरल मनमोहन सिंह

B. लेफ्टिनेंट जनरल अरुण कुमार साहनी

C. लेफ्टिनेंट जनरल अनिल चौहान

D. लेफ्टिनेंट जनरल राकेश नंदन

Question ID : 630680170385

Option 1 ID : 630680660136

Option 2 ID : 630680660135

Option 3 ID : 630680660134

Option 4 ID : 630680660133

Status : Answered

Chosen Option : C

Q.16 मुगल सम्राट जहांगीर की आत्मकथा निम्नलिखित में से कौन-सी थी?

- Ans A. तारीख-ए-खान-एजहानी
 B. तुजक-ए-जहाँगीरी
 C. मसिरी-ए-जहाँगीर
 D. इकबालनामा-ए-जहाँगीर

Question ID : 630680127624

Option 1 ID : 630680494752

Option 2 ID : 630680494755

Option 3 ID : 630680494754

Option 4 ID : 630680494753

Status : Answered

Chosen Option : B

Q.17 निम्नलिखित में से कौन हड़प्पा सभ्यता की विशेषता नहीं है?

- Ans A. महल
 B. गढ़
 C. शहरी नियोजन
 D. जल निकासी व्यवस्था

Question ID : 630680214125

Option 1 ID : 630680830550

Option 2 ID : 630680830547

Option 3 ID : 630680830548

Option 4 ID : 630680830549

Status : Answered

Chosen Option : B

Q.18 निम्नलिखित में से किसे वैज्ञानिक अनुसंधान के लिए 30वें जी.डी. बिड़ला पुरस्कार के लिए चुना गया था?

- Ans A. प्रोफेसर ए.के. घोष
 B. प्रोफेसर संदीप वर्मा
 C. प्रोफेसर सुमन चक्रवर्ती
 D. प्रोफेसर ए.के. चक्रवर्ती

Question ID : 630680212550

Option 1 ID : 630680824345

Option 2 ID : 630680824344

Option 3 ID : 630680824343

Option 4 ID : 630680824346

Status : Not Answered

Chosen Option : --

Q.19 निम्नलिखित में से कौन सा राजवंश विजयनगर साम्राज्य पर शासन करने वाला अंतिम राजवंश था?

- Ans A. तुलुव
 B. अराविदु
 C. सलुव
 D. संगम

Question ID : 630680214212

Option 1 ID : 630680830895

Option 2 ID : 630680830896

Option 3 ID : 630680830897

Option 4 ID : 630680830898

Status : Answered

Chosen Option : B

Q.20 निम्नलिखित में से कौन-सा पद मानव विकास से संबंधित नहीं है?

- Ans A. राजनीतिक स्वतंत्रता सुनिश्चित करना
 B. शिक्षा के अधिक अवसर देना
 C. लोगों के विकल्पों को सीमित करना
 D. भौतिक पर्यावरण से आर्थिक तक विकल्पों में विस्तार करना

Question ID : 630680181835

Option 1 ID : 630680704577

Option 2 ID : 630680704575

Option 3 ID : 630680704576

Option 4 ID : 630680704574

Status : Answered

Chosen Option : C

Q.21 गिद्धा जिसे गिद्धा भी कहा जाता है, त्यौहार के समय और फसल की बुवाई और कटाई के समय _____ की महिलाओं द्वारा किया जाने वाला एक पारंपरिक नृत्य है।

- Ans A. राजस्थान
 B. गुजरात
 C. मध्य प्रदेश
 D. पंजाब

Question ID : 630680158731

Option 1 ID : 630680614418

Option 2 ID : 630680614419

Option 3 ID : 630680614417

Option 4 ID : 630680614416

Status : Not Answered

Chosen Option : --

Q.22 निम्नलिखित में से किस संशोधन अधिनियम ने मौलिक अधिकारों की संख्या को सात से घटाकर छः कर दिया?

- Ans A. 44वाँ संशोधन अधिनियम
 B. 42वाँ संशोधन अधिनियम
 C. 43वाँ संशोधन अधिनियम
 D. 45वाँ संशोधन अधिनियम

Question ID : 630680161061

Option 1 ID : 630680623610

Option 2 ID : 630680623608

Option 3 ID : 630680623609

Option 4 ID : 630680623611

Status : Answered

Chosen Option : B

Q.23 मुगल साम्राज्य में प्रचलित निम्नलिखित आधिकारिक पदों को उनके संबंधित विभागों के साथ सुमेलित करें:

a. फौजदार	I. सैन्य प्रतिष्ठान के कार्य और मनसबदारों के वेतन आदि।
b. बक्शी	II. सेनापति
c. कोतवाल	III. वित्त मंत्री
d. दीवान	IV. पुलिस अधिकारी

- Ans A. a - I, b - II, c - III, d - IV
 B. a - III, b - IV, c - II, d - I
 C. a - II, b - I, c - IV, d - III
 D. a - IV, b - III, c - I, d - II

Question ID : 630680127628

Option 1 ID : 630680494768

Option 2 ID : 630680494770

Option 3 ID : 630680494769

Option 4 ID : 630680494771

Status : Answered

Chosen Option : C

Q.24 द्वितीय आंग्ल-अफगान युद्ध कब प्रारंभ हुआ था?

- Ans A. 1876
 B. 1878
 C. 1884
 D. 1880

Question ID : 630680115406

Option 1 ID : 630680446975

Option 2 ID : 630680446977

Option 3 ID : 630680446976

Option 4 ID : 630680446974

Status : Not Answered

Chosen Option : --

Q.25 भारत की जनगणना 2011 के अनुसार, भारत की अनुसूचित जाति की जनसंख्या की साक्षरता दर कितनी है?

Ans A. 66.07%

B. 87.02%

C. 54.72%

D. 71.72%

Question ID : 630680209246

Option 1 ID : 630680811199

Option 2 ID : 630680811201

Option 3 ID : 630680811202

Option 4 ID : 630680811200

Status : Answered

Chosen Option : A

Section : Elementary Mathematics

Q.1 20-20 क्रिकेट मैचों में, छह गेंदबाजों में से प्रत्येक ने 15 विकेट लिए हैं, सात गेंदबाजों में से प्रत्येक ने 25 विकेट लिए हैं, पंद्रह गेंदबाजों में से प्रत्येक ने 35 विकेट लिए हैं, बाईस गेंदबाजों में से प्रत्येक ने 45 विकेट लिए हैं, और दस गेंदबाजों में से प्रत्येक ने 55 विकेट लिए हैं। गेंदबाजों द्वारा लिए गए विकेटों की औसत संख्या (दशमलव के दो स्थान तक सही) ज्ञात कीजिए?

Ans A. 45.53

B. 38.83

C. 42.53

D. 39.53

Question ID : 630680115617

Option 1 ID : 630680447818

Option 2 ID : 630680447820

Option 3 ID : 630680447819

Option 4 ID : 630680447821

Status : Not Attempted and Marked For Review

Chosen Option : --

Q.2 ऐसा गोले का पृष्ठीय क्षेत्रफल ज्ञात कीजिए, जिसका व्यास π है।

Ans A. π^2

B. π^3

C. $4\pi^3$

D. $4\pi^2$

Question ID : 630680107687

Option 1 ID : 630680418042

Option 2 ID : 630680418043

Option 3 ID : 630680418041

Option 4 ID : 630680418040

Status : Answered

Chosen Option : B

Q.3 रेणु, सुषमा और आशा की मासिक आय का अनुपात 3 : 7 : 4 है। उनके व्यय का अनुपात 4 : 3 : 5 है। यदि रेणु ₹2,400 की कुल आय में से ₹300 की बचत करती है, तो सुषमा और आशा की बचत _____ है।

- Ans A. ₹1,575, ₹2,625
 B. ₹4,025, ₹575
 C. ₹2,750, ₹1,525
 D. ₹3,725, ₹1,525

Question ID : 63068022274

Option 1 ID : 630680862928

Option 2 ID : 630680862927

Option 3 ID : 630680862929

Option 4 ID : 630680862930

Status : Not Attempted and Marked For Review

Chosen Option : --

Q.4 40 छात्रों की एक कक्षा में 18 लड़कियां और 22 लड़के हैं। यदि लड़कियों और लड़कों का औसत भार क्रमशः 42 kg और 47.5 kg है, तो पूरी कक्षा का औसत भार (kg में) क्या होगा?

- Ans A. 47.500
 B. 46.520
 C. 42.000
 D. 45.025

Question ID : 630680131254

Option 1 ID : 630680508285

Option 2 ID : 630680508284

Option 3 ID : 630680508282

Option 4 ID : 630680508283

Status : Answered

Chosen Option : D

Q.5 एक टंकी का इनलेट इसे 4 मिनट में भरता है और आउटलेट इसे 6 मिनट में खाली करता है। ये पाइप इनलेट से शुरू करके बारी-बारी से प्रत्येक एक मिनट के लिए काम करते हैं, तो एक खाली टंकी को भरने में कितना समय लगेगा?

- Ans A. 19 मिनट
 B. 12 मिनट
 C. 24 मिनट
 D. 10 मिनट

Question ID : 630680135844

Option 1 ID : 630680526084

Option 2 ID : 630680526083

Option 3 ID : 630680526085

Option 4 ID : 630680526082

Status : Answered

Chosen Option : D

Q.6 $(3^{-1} + 4^{-1})^{-1}$ निम्न के बराबर है, _____ के बराबर है।

- Ans
- A. $\frac{12}{7}$
 - B. $\frac{4}{3}$
 - C. $\frac{3}{4}$
 - D. $\frac{7}{12}$

Question ID : 63068078402
Option 1 ID : 630680303669
Option 2 ID : 630680303672
Option 3 ID : 630680303671
Option 4 ID : 630680303670
Status : Answered
Chosen Option : A

Q.7 कौन-सी संख्या 3 और 4 दोनों से विभाज्य है?

- Ans
- A. 8428
 - B. 8742
 - C. 8426
 - D. 8544

Question ID : 63068078408
Option 1 ID : 630680303694
Option 2 ID : 630680303696
Option 3 ID : 630680303693
Option 4 ID : 630680303695
Status : Answered
Chosen Option : D

Q.8 यदि एक घन के विकर्ण की लंबाई $4\sqrt{2}$ cm है, तो घन का सम्पूर्ण पृष्ठीय क्षेत्रफल क्या होगा?

- Ans
- A. 84 cm^2
 - B. 76 cm^2
 - C. 96 cm^2
 - D. 64 cm^2

Question ID : 630680120031
Option 1 ID : 630680465160
Option 2 ID : 630680465159
Option 3 ID : 630680465161
Option 4 ID : 630680465158
Status : Answered
Chosen Option : D

Q.9 1.4 m व्यास और 2.1 m ऊंचाई की एक बेलनाकार पानी की टंकी को 3.5 cm व्यास के पाइप द्वारा भरा जा रहा है जिसके माध्यम से पानी 2 m/s की दर से बहता है। टंकी को भरने में कितने मिनट लगेंगे?

- Ans A. 28 मिनट
 B. 26 मिनट
 C. 32 मिनट
 D. 30 मिनट

Question ID : 630680108990
Option 1 ID : 630680422842
Option 2 ID : 630680422843
Option 3 ID : 630680422840
Option 4 ID : 630680422841
Status : Not Answered
Chosen Option : --

Q.10 एक रेलगाड़ी एक तार के खंबे (टेलीग्राफ पोस्ट) और 300 मीटर लंबे एक पुल को क्रमशः 10 सेकंड और 20 सेकंड में पार करती है। रेलगाड़ी की चाल ज्ञात कीजिए।

- Ans A. 69.5 km/h
 B. 108 km/h
 C. 75 km/h
 D. 89 km/h

Question ID : 630680206526
Option 1 ID : 630680800711
Option 2 ID : 630680800714
Option 3 ID : 630680800712
Option 4 ID : 630680800713
Status : Answered
Chosen Option : B

Q.11 यदि एक गोले का पृष्ठीय क्षेत्रफल 30% बढ़ा दिया जाता है तो उसके आयतन में हुई प्रतिशत वृद्धि (लगभग) ज्ञात करें।

- Ans A. 28%
 B. 48%
 C. 58%
 D. 38%

Question ID : 630680108668
Option 1 ID : 630680421601
Option 2 ID : 630680421600
Option 3 ID : 630680421603
Option 4 ID : 630680421602
Status : Answered
Chosen Option : B

Q.12 दिए गए समीकरण का मान ज्ञात कीजिए।

$$11.75 \times 11.75 - 252.625 + 10.75 \times 10.75 = ?$$

- Ans A. 2
 B. 3
 C. 1
 D. 4

Question ID : 630680218041
Option 1 ID : 630680846073
Option 2 ID : 630680846072
Option 3 ID : 630680846074
Option 4 ID : 630680846071
Status : Answered
Chosen Option : C

Q.13 एक वस्तु 15% और 22% की क्रमिक छूट के बाद, ₹663 में बेची गई। वस्तु का क्रय मूल्य ज्ञात करें।

- Ans A. ₹500
 B. ₹1,250
 C. ₹750
 D. ₹1,000

Question ID : 630680131479
Option 1 ID : 630680509162
Option 2 ID : 630680509165
Option 3 ID : 630680509163
Option 4 ID : 630680509164
Status : Answered
Chosen Option : A

Q.14 एक छात्रावास में 660 विद्यार्थी हैं। उनके रखरखाव की लागत ₹25 प्रतिदिन है। उनके पास 30 दिनों के लिए पर्याप्त बजट था। परन्तु इस महीने कुछ और विद्यार्थियों को 20 दिनों के लिए रखा जाना आवश्यक है। इसलिए वार्डन सभी के लिए रखरखाव की लागत को घटाकर ₹22 प्रतिदिन कर देता है। तो कितने नए विद्यार्थी शामिल हुए?

- Ans A. 155
 B. 125
 C. 135
 D. 195

Question ID : 630680135767
Option 1 ID : 630680525787
Option 2 ID : 630680525786
Option 3 ID : 630680525789
Option 4 ID : 630680525788
Status : Not Answered
Chosen Option : --

Q.15 $50 - (2)(-3 + 6 - 9) \div [4 \times 18 \div 9 \times (2 \div 4)]$ का मान ज्ञात कीजिए।

Ans A. 68

B. 61

C. 63

D. 53

Question ID : 63068070404

Option 1 ID : 630680272244

Option 2 ID : 630680272243

Option 3 ID : 630680272242

Option 4 ID : 630680272245

Status : Answered

Chosen Option : D

Q.16 आनंदिता के वेतन में लगातार 3 वर्षों में क्रमशः 10%, 15% और 11% की वृद्धि हुई। 3 वर्षों में उसके वेतन में समग्र वृद्धि कितनी (% में) है? (दो दशमलव स्थानों तक सही)

Ans A. 40.41

B. 42.15

C. 36.21

D. 41.75

Question ID : 630680112491

Option 1 ID : 630680435661

Option 2 ID : 630680435660

Option 3 ID : 630680435659

Option 4 ID : 630680435658

Status : Answered

Chosen Option : A

Q.17 एक चुनाव में तीन उम्मीदवार हैं, पहले उम्मीदवार को 40% मत प्राप्त हुए और दूसरे उम्मीदवार को 36% मत प्राप्त हुए। यदि चुनाव में कुल मत 48,000 हैं और सभी मत वैध मत हैं, तो तीसरे उम्मीदवार को प्राप्त मतों की संख्या ज्ञात करें।

Ans A. 11580

B. 13200

C. 12480

D. 11520

Question ID : 630680119756

Option 1 ID : 630680464102

Option 2 ID : 630680464105

Option 3 ID : 630680464104

Option 4 ID : 630680464103

Status : Answered

Chosen Option : D

Q.18 24 cm भुजा वाले एक ठोस घन को समान आयतन वाले 64 घनों में काटा जाता है। पुराने घन और नए घन के पृष्ठीय क्षेत्रफलों के बीच अनुपात ज्ञात करें।

- Ans
- A. 36: 1
 - B. 16: 1
 - C. 9: 1
 - D. 24: 1

Question ID : 630680106803

Option 1 ID : 630680414831

Option 2 ID : 630680414830

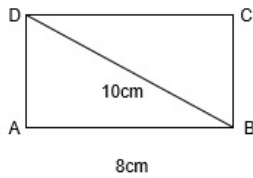
Option 3 ID : 630680414828

Option 4 ID : 630680414829

Status : Answered

Chosen Option : B

Q.19 दी गई आकृति में, ABCD एक आयत है। यदि $AB = 8$ cm और $BD = 10$ cm है, तो ABCD का परिमाण कितना है?



- Ans
- A. 24 cm
 - B. 30 cm
 - C. 28 cm
 - D. 26 cm

Question ID : 630680222282

Option 1 ID : 630680862959

Option 2 ID : 630680862962

Option 3 ID : 630680862961

Option 4 ID : 630680862960

Status : Answered

Chosen Option : C

Q.20 एक आदमी का साल के पहले पांच महीनों का औसत खर्च ₹5,000 है और अगले सात महीनों के लिए यह ₹5,400 है। वह वर्ष के दौरान ₹2,300 बचाता है। उसकी औसत मासिक आय क्या है?

- Ans
- A. ₹5,424
 - B. ₹5,425
 - C. ₹5,423
 - D. ₹5,421

Question ID : 630680107197

Option 1 ID : 630680416175

Option 2 ID : 630680416174

Option 3 ID : 630680416173

Option 4 ID : 630680416172

Status : Not Answered

Chosen Option : --

Q.21 एक लम्ब वृत्तीय बेलन का आयतन 2200 cm^3 है और इसके आधार की त्रिज्या 10 cm है। इसका वक्र पृष्ठीय क्षेत्रफल ज्ञात कीजिए।

- Ans
- A. 880 cm^2
 - B. 44 cm^2
 - C. 4400 cm^2
 - D. 440 cm^2

Question ID : 630680108165

Option 1 ID : 630680419735

Option 2 ID : 630680419733

Option 3 ID : 630680419734

Option 4 ID : 630680419732

Status : Not Answered

Chosen Option : --

Q.22 एक निश्चित राशि 10 वर्षों में दुगनी हो जाती है। समान साधारण ब्याज की दर से यह राशि कितने वर्षों में 2.5 गुनी हो जाएगी?

- Ans
- A. 15
 - B. 14
 - C. 16
 - D. 17

Question ID : 630680131210

Option 1 ID : 630680508107

Option 2 ID : 630680508106

Option 3 ID : 630680508108

Option 4 ID : 630680508109

Status : Not Answered

Chosen Option : --

Q.23 राधिका ने ₹50 में 60 शार्पनर खरीदे। 20% का लाभ अर्जित करने के लिए उसे ₹50 में कितने शार्पनर बेचने चाहिए?

- Ans A. 58
 B. 52
 C. 50
 D. 55

Question ID : 630680115539
Option 1 ID : 630680447509
Option 2 ID : 630680447507
Option 3 ID : 630680447506
Option 4 ID : 630680447508
Status : Not Answered
Chosen Option : --

Q.24 संख्याओं 309, 130, 45, 120 और 101 का औसत ज्ञात कीजिए।

- Ans A. 141
 B. 132
 C. 161
 D. 151

Question ID : 630680131546
Option 1 ID : 630680509431
Option 2 ID : 630680509430
Option 3 ID : 630680509433
Option 4 ID : 630680509432
Status : Not Answered
Chosen Option : --

Q.25 $12\text{ m} \times 12\text{ m} \times 14\text{ m}$ आयाम वाले किसी कमरे में रखी जा सकने वाली सबसे लंबी स्टील की छड़ की लंबाई क्या होगी?

- Ans A. $2\sqrt{85}\text{ m}$
 B. 12 m
 C. 22 m
 D. 14 m

Question ID : 630680222615
Option 1 ID : 630680864219
Option 2 ID : 630680864221
Option 3 ID : 630680864222
Option 4 ID : 630680864220
Status : Not Answered
Chosen Option : --

Section : English

Q.1 Select the most appropriate synonym of the given word.
Notorious

- Ans A. Noble
 B. Conscious
 C. Sensible
 D. Disgraceful

Question ID : 630680204398
Option 1 ID : 630680792676
Option 2 ID : 630680792678
Option 3 ID : 630680792677
Option 4 ID : 630680792675
Status : Not Answered
Chosen Option : --

Q.2 The following sentence has been split into four segments. Identify the segment that contains a grammatical error.

The onlookers / betted / a large amount of money / in the race.

- Ans A. betted
 B. a large amount of money
 C. The onlookers
 D. in the race

Question ID : 630680105605
Option 1 ID : 630680410460
Option 2 ID : 630680410461
Option 3 ID : 630680410459
Option 4 ID : 630680410462
Status : Not Answered
Chosen Option : --

Q.3 Sentences of a paragraph are given below in jumbled order. Arrange the sentences in the correct order to form a meaningful and coherent paragraph.

- A. On the day, people smear and drench each other with colours.
B. Children spraying colours on one another with water guns and water-filled balloons is a common sight.
C. Holi is also known as the Festival of Spring. It is a time to bid farewell to the winter and relish the spring with its freshness and gaiety.
D. Holi is the festival of colours. It is celebrated in the full moon of the Telugu month 'Phalguna'.

- Ans A. ADCB
 B. BCAD
 C. CBAD
 D. DABC

Question ID : 630680204410
Option 1 ID : 630680792726
Option 2 ID : 630680792723
Option 3 ID : 630680792724
Option 4 ID : 630680792725
Status : Not Answered
Chosen Option : --

Q.4 Select the option that can be used as a one-word substitute for the given group of words.

A position for which no payment is made

- Ans A. Honorary
 B. Internship
 C. Ad hoc
 D. Temporary

Question ID : 630680130668
Option 1 ID : 630680505968
Option 2 ID : 630680505969
Option 3 ID : 630680505967
Option 4 ID : 630680505966
Status : Not Answered
Chosen Option : --

Q.5 Sentences of a paragraph are given below in jumbled order. Arrange the sentences in the correct order to form a meaningful and coherent paragraph.

- A. In spite of the frequency of wars in ancient India, in spite of highly developed military organisation, techniques of war and imperialism and in spite of the open justification of war as national policy.
B. It was only tolerated as unavoidable and inevitable, and all attempts were made to check it and bring it under control.
C. Here, war was never treated as an ideal.
D. India has never subscribed to the doctrine of militarism and war in her history.

- Ans A. ADCB
 B. DCBA
 C. CBAD
 D. BCAD

Question ID : 630680204955
Option 1 ID : 630680794688
Option 2 ID : 630680794687
Option 3 ID : 630680794690
Option 4 ID : 630680794689
Status : Not Answered
Chosen Option : --

Q.6 Sentences of a paragraph are given below in jumbled order. Arrange the sentences in the correct order to form a meaningful and coherent paragraph.

- A. It sounds like something out of a sci-fi novel, but British inventors John Foden and Yannick Read have come up with a bicycle that actually flies.
- B. The motor turns the fan, and with enough of a runway, it can reach up to 25 mph in the air and 4000 feet in altitude.
- C. The Xplore Air Paravelo is composed of a folding bicycle and a lightweight trailer that contains a biofuel-powered fan motor.
- D. While the inventors were unable to reach their funding goal to produce enough Xplore Airs for wide availability, they are offering their inventive services through 'bespoke production'.

- Ans
- A. ACBD
 - B. ACDB
 - C. ABCD
 - D. ABDC

Question ID : 630680204441

Option 1 ID : 630680792832

Option 2 ID : 630680792833

Option 3 ID : 630680792831

Option 4 ID : 630680792834

Status : Not Answered

Chosen Option : --

Q.7 Choose the most appropriate meaning of the given idiom.
To throw dust into the eyes

- Ans
- A. To issue a challenge
 - B. To come upon one unexpectedly
 - C. To deceive
 - D. To speak ill

Question ID : 630680166993

Option 1 ID : 630680646833

Option 2 ID : 630680646835

Option 3 ID : 630680646832

Option 4 ID : 630680646834

Status : Not Answered

Chosen Option : --

Q.8 Select the INCORRECTLY spelt word.

- Ans
- A. Remarkable
 - B. Valuable
 - C. Miserable
 - D. Platable

Question ID : 630680129670

Option 1 ID : 630680502286

Option 2 ID : 630680502289

Option 3 ID : 630680502288

Option 4 ID : 630680502287

Status : Not Answered

Chosen Option : --

Q.9 Select the INCORRECTLY spelt word.

- Ans A. Magnanimous
 B. Nutrition
 C. Elocution
 D. Electritition

Question ID : 630680163355
Option 1 ID : 630680632605
Option 2 ID : 630680632607
Option 3 ID : 630680632606
Option 4 ID : 630680632604
Status : Not Answered
Chosen Option : --

Q.10 Substitute the underlined segment with a suitable word from the given options.
My visit to the orphanage left an unforgettable impression on me.

- Ans A. incredible
 B. irreversible
 C. indelible
 D. inimitable

Question ID : 63068084513
Option 1 ID : 630680327604
Option 2 ID : 630680327606
Option 3 ID : 630680327605
Option 4 ID : 630680327607
Status : Not Answered
Chosen Option : --

Q.11 Sentences of a paragraph are given below in jumbled order. Arrange the sentences in the correct order to form a meaningful and coherent paragraph.

- A. While they're incredibly unusual, moonbows (or lunar rainbows) are caused by the reflection, refraction and dispersion of light and tend to happen most often in places with waterfalls and mist.
B. There also needs to be a near full moon for there to be enough light for you to see it.
C. If a storm is passing and the sun starts shining, you might be lucky enough to spot a rainbow.
D. But did you know that you can see something just as amazing at night?

- Ans A. CDBA
 B. CBAD
 C. CBDA
 D. CDAB

Question ID : 630680204453
Option 1 ID : 630680792880
Option 2 ID : 630680792882
Option 3 ID : 630680792881
Option 4 ID : 630680792879
Status : Not Answered
Chosen Option : --

Q.12 Select the option that can be used as a one-word substitute for the given group of words.
To pretend that you are tired or ill.

- Ans A. Feign
 B. Show
 C. Convey
 D. Feel

Question ID : 630680158480
Option 1 ID : 630680613444
Option 2 ID : 630680613447
Option 3 ID : 630680613445
Option 4 ID : 630680613446
Status : Not Answered
Chosen Option : --

Q.13 Select the INCORRECTLY spelt word.

- Ans A. Carriar
 B. Barrier
 C. Lingerer
 D. Career

Question ID : 630680130690
Option 1 ID : 630680506055
Option 2 ID : 630680506054
Option 3 ID : 630680506057
Option 4 ID : 630680506056
Status : Not Answered
Chosen Option : --

Q.14 Select the most appropriate synonym of the given word.
Novice

- Ans A. Doyen
 B. Amateur
 C. Stalwart
 D. Veteran

Question ID : 630680177548
Option 1 ID : 630680688353
Option 2 ID : 630680688352
Option 3 ID : 630680688355
Option 4 ID : 630680688354
Status : Not Answered
Chosen Option : --

Q.15 Select the most appropriate ANTONYM of the following word.
Blunt

- Ans A. Flat
 B. Obtuse
 C. Edgy
 D. Dull

Question ID : 630680180672
Option 1 ID : 630680700187
Option 2 ID : 630680700184
Option 3 ID : 630680700185
Option 4 ID : 630680700186
Status : Not Answered
Chosen Option : --

Q.16 Select the INCORRECTLY spelt word.

- Ans A. Commision
 B. Constitution
 C. Election
 D. Solution

Question ID : 630680167072
Option 1 ID : 630680647148
Option 2 ID : 630680647149
Option 3 ID : 630680647150
Option 4 ID : 630680647151
Status : Not Answered
Chosen Option : --

Q.17 Select the most appropriate meaning of the given proverb.
Blood is thicker than water.

- Ans A. Friendship is the strongest of all relationships
 B. Family relationships are the strongest of all
 C. Family relationships are negatively affected by friendships
 D. Water flows more freely than blood

Question ID : 630680153852
Option 1 ID : 630680595311
Option 2 ID : 630680595309
Option 3 ID : 630680595310
Option 4 ID : 630680595308
Status : Not Answered
Chosen Option : --

Q.18 Select the word that means the OPPOSITE of the given word.
Tame

- Ans A. Docile
 B. Wild
 C. Eccentric
 D. Terrible

Question ID : 630680162039
Option 1 ID : 630680627464
Option 2 ID : 630680627467
Option 3 ID : 630680627466
Option 4 ID : 630680627465
Status : Not Answered
Chosen Option : --

Q.19 The given sentence is divided into four parts. One of them contains a grammatical error.
Select the part that contains the error from the given options.
We should / not quarrel with / our colleagues / above petty issues.

- Ans A. above petty issues
 B. not quarrel with
 C. We should
 D. our colleagues

Question ID : 630680157287
Option 1 ID : 630680608683
Option 2 ID : 630680608681
Option 3 ID : 630680608680
Option 4 ID : 630680608682
Status : Not Answered
Chosen Option : --

Q.20 The following sentence has been split into four segments. Identify the segment that contains a grammatical error.
The school children brisk / walked to the museum, / eager to know everything / about the artifacts.

- Ans A. The school children brisk
 B. walked to the museum
 C. eager to know everything
 D. about the artifacts

Question ID : 630680129502
Option 1 ID : 630680501626
Option 2 ID : 630680501627
Option 3 ID : 630680501628
Option 4 ID : 630680501629
Status : Not Answered
Chosen Option : --

Comprehension:

Read the given passage and answer the questions that follow.

Of all the emotions that surged through me as I stood on the summit of Everest, looking over miles of panorama below us, the dominant one I think was humility. The physical in me seemed to say, "Thank God, it's all over!" However, instead of being jubilant, there was a tinge of sadness. Was it because I had already done the 'ultimate' in climbing and there would be nothing higher to climb and all roads hereafter would lead down?

By climbing the summit of Everest, you are overwhelmed by a deep sense of joy and thankfulness. It is a joy that lasts a lifetime. The experience changes you completely. The man who has been to the mountains is never the same again.

As I look back at life after climbing Everest, I cannot help remarking about the other summit – the summit of the mind – no less formidable and no easier to climb.

Even when getting down from the summit, once the physical exhaustion had gone, I began asking myself the question why I had climbed Everest. Why did the act of reaching the summit have such a hold on the imagination? It was already a thing of the past, something done yesterday. With every passing day, it would become more remote. And then what would remain? Would my memories fade slowly away?

All these thoughts led me to question myself as to why people climb mountains. It is not easy to answer the question. The simplest answer would be, as others have said, "Because it is there." It presents great difficulties. Man takes delight in overcoming obstacles. The obstacles in climbing a mountain are physical. A climb to a summit means endurance, persistence and will power. The demonstration of these physical qualities is no doubt exhilarating, as it was for me also.

SubQuestion No : 21

Q.21 Identify the dominant emotion of the narrator while he stood on the summit of Everest.

- Ans A. Thanklessness
 B. Humility
 C. Anxiety
 D. Pride

Question ID : 630680131891

Option 1 ID : 630680510772

Option 2 ID : 630680510771

Option 3 ID : 630680510773

Option 4 ID : 630680510770

Status : Not Answered

Chosen Option : --



Comprehension:

Read the given passage and answer the questions that follow.

Of all the emotions that surged through me as I stood on the summit of Everest, looking over miles of panorama below us, the dominant one I think was humility. The physical in me seemed to say, "Thank God, it's all over!" However, instead of being jubilant, there was a tinge of sadness. Was it because I had already done the 'ultimate' in climbing and there would be nothing higher to climb and all roads hereafter would lead down?

By climbing the summit of Everest, you are overwhelmed by a deep sense of joy and thankfulness. It is a joy that lasts a lifetime. The experience changes you completely. The man who has been to the mountains is never the same again.

As I look back at life after climbing Everest, I cannot help remarking about the other summit – the summit of the mind – no less formidable and no easier to climb.

Even when getting down from the summit, once the physical exhaustion had gone, I began asking myself the question why I had climbed Everest. Why did the act of reaching the summit have such a hold on the imagination? It was already a thing of the past, something done yesterday. With every passing day, it would become more remote. And then what would remain? Would my memories fade slowly away?

All these thoughts led me to question myself as to why people climb mountains. It is not easy to answer the question. The simplest answer would be, as others have said, "Because it is there." It presents great difficulties. Man takes delight in overcoming obstacles. The obstacles in climbing a mountain are physical. A climb to a summit means endurance, persistence and will power. The demonstration of these physical qualities is no doubt exhilarating, as it was for me also.

SubQuestion No : 22

Q.22 Identify the correct meaning of the word 'panorama' as used in the passage.

- Ans
- A. An obstructive view of an area
 - B. A village in the valley
 - C. A complete meaning about an area
 - D. A complete view of an area

Question ID : 630680131892

Option 1 ID : 630680510775

Option 2 ID : 630680510777

Option 3 ID : 630680510774

Option 4 ID : 630680510776

Status : Not Answered

Chosen Option : --



Comprehension:

Read the given passage and answer the questions that follow.

Of all the emotions that surged through me as I stood on the summit of Everest, looking over miles of panorama below us, the dominant one I think was humility. The physical in me seemed to say, "Thank God, it's all over!" However, instead of being jubilant, there was a tinge of sadness. Was it because I had already done the 'ultimate' in climbing and there would be nothing higher to climb and all roads hereafter would lead down?

By climbing the summit of Everest, you are overwhelmed by a deep sense of joy and thankfulness. It is a joy that lasts a lifetime. The experience changes you completely. The man who has been to the mountains is never the same again.

As I look back at life after climbing Everest, I cannot help remarking about the other summit – the summit of the mind – no less formidable and no easier to climb.

Even when getting down from the summit, once the physical exhaustion had gone, I began asking myself the question why I had climbed Everest. Why did the act of reaching the summit have such a hold on the imagination? It was already a thing of the past, something done yesterday. With every passing day, it would become more remote. And then what would remain? Would my memories fade slowly away?

All these thoughts led me to question myself as to why people climb mountains. It is not easy to answer the question. The simplest answer would be, as others have said, "Because it is there." It presents great difficulties. Man takes delight in overcoming obstacles. The obstacles in climbing a mountain are physical. A climb to a summit means endurance, persistence and will power. The demonstration of these physical qualities is no doubt exhilarating, as it was for me also.

SubQuestion No : 23

Q.23 Select an appropriate title for the passage.

- Ans
- A. The Highest Peak in the World
 - B. The Dangers in the Mountains
 - C. The Challenges in Everest
 - D. The Summit of the Mind

Question ID : 630680131890

Option 1 ID : 630680510766

Option 2 ID : 630680510768

Option 3 ID : 630680510769

Option 4 ID : 630680510767

Status : Not Answered

Chosen Option : --



Comprehension:

Read the given passage and answer the questions that follow.

Of all the emotions that surged through me as I stood on the summit of Everest, looking over miles of panorama below us, the dominant one I think was humility. The physical in me seemed to say, "Thank God, it's all over!" However, instead of being jubilant, there was a tinge of sadness. Was it because I had already done the 'ultimate' in climbing and there would be nothing higher to climb and all roads hereafter would lead down?

By climbing the summit of Everest, you are overwhelmed by a deep sense of joy and thankfulness. It is a joy that lasts a lifetime. The experience changes you completely. The man who has been to the mountains is never the same again.

As I look back at life after climbing Everest, I cannot help remarking about the other summit – the summit of the mind – no less formidable and no easier to climb.

Even when getting down from the summit, once the physical exhaustion had gone, I began asking myself the question why I had climbed Everest. Why did the act of reaching the summit have such a hold on the imagination? It was already a thing of the past, something done yesterday. With every passing day, it would become more remote. And then what would remain? Would my memories fade slowly away?

All these thoughts led me to question myself as to why people climb mountains. It is not easy to answer the question. The simplest answer would be, as others have said, "Because it is there." It presents great difficulties. Man takes delight in overcoming obstacles. The obstacles in climbing a mountain are physical. A climb to a summit means endurance, persistence and will power. The demonstration of these physical qualities is no doubt exhilarating, as it was for me also.

SubQuestion No : 24

Q.24 Select the most appropriate ANTONYM of the word 'lethargy' from the passage.

- Ans
- A. Persistence
 - B. Exhaustion
 - C. Demonstration
 - D. Overwhelm (noun)

Question ID : 630680131894

Option 1 ID : 630680510782

Option 2 ID : 630680510784

Option 3 ID : 630680510783

Option 4 ID : 630680510785

Status : Not Answered

Chosen Option : --



Comprehension:

Read the given passage and answer the questions that follow.

Of all the emotions that surged through me as I stood on the summit of Everest, looking over miles of panorama below us, the dominant one I think was humility. The physical in me seemed to say, "Thank God, it's all over!" However, instead of being jubilant, there was a tinge of sadness. Was it because I had already done the 'ultimate' in climbing and there would be nothing higher to climb and all roads hereafter would lead down?

By climbing the summit of Everest, you are overwhelmed by a deep sense of joy and thankfulness. It is a joy that lasts a lifetime. The experience changes you completely. The man who has been to the mountains is never the same again.

As I look back at life after climbing Everest, I cannot help remarking about the other summit – the summit of the mind – no less formidable and no easier to climb.

Even when getting down from the summit, once the physical exhaustion had gone, I began asking myself the question why I had climbed Everest. Why did the act of reaching the summit have such a hold on the imagination? It was already a thing of the past, something done yesterday. With every passing day, it would become more remote. And then what would remain? Would my memories fade slowly away?

All these thoughts led me to question myself as to why people climb mountains. It is not easy to answer the question. The simplest answer would be, as others have said, "Because it is there." It presents great difficulties. Man takes delight in overcoming obstacles. The obstacles in climbing a mountain are physical. A climb to a summit means endurance, persistence and will power. The demonstration of these physical qualities is no doubt exhilarating, as it was for me also.

SubQuestion No : 25

Q.25 Select the most appropriate synonym of the word 'exultant' from the passage.

- Ans
- A. Formidable
 - B. Exhaustion
 - C. Jubilant
 - D. Thankfulness

Question ID : 630680131893
Option 1 ID : 630680510779
Option 2 ID : 630680510781
Option 3 ID : 630680510780
Option 4 ID : 630680510778
Status : Not Answered
Chosen Option : --

Section : Hindi

Q.1 निम्नलिखित वाक्यांश के लिए एक सार्थक शब्द का चयन कीजिए।

'किसी देश के वे निवासी जो बहुत पहले से वहाँ रहते आ रहे हों'

- Ans
- A. आदिप्रवर्तक
 - B. आदिवासी
 - C. पुरातन
 - D. आधिदैविक

Question ID : 630680204526
Option 1 ID : 630680793158
Option 2 ID : 630680793156
Option 3 ID : 630680793155
Option 4 ID : 630680793157
Status : Answered
Chosen Option : D

Q.2 निम्नलिखित वाक्यों में से किस वाक्य में प्रेरणार्थक क्रिया है?

- Ans A. वह गाँव जा रहा है।
 B. राम खाना खा रहा है।
 C. मैंने पुस्तक पढ़ ली।
 D. किसान अपने नौकर से हल चलवाता है।

Question ID : 630680131946
Option 1 ID : 630680510989
Option 2 ID : 630680510987
Option 3 ID : 630680510988
Option 4 ID : 630680510986
Status : Answered
Chosen Option : C

Q.3 दिये गए वाक्यांश के लिए एक शब्द होगा:

जिस पर मुकदमा हो।

- Ans A. अभिचारी
 B. अभियुक्त
 C. अपराधी
 D. अधिकामी

Question ID : 630680126188
Option 1 ID : 630680489359
Option 2 ID : 630680489361
Option 3 ID : 630680489360
Option 4 ID : 630680489358
Status : Answered
Chosen Option : B

Q.4 निम्नलिखित वाक्य को ध्यानपूर्वक पढ़ें और बताएं कि प्रस्तुत विकल्पों में से कौनसा विकल्प चिन्हित शब्द का पर्यायवाची शब्द नहीं है।

राम वानरों की सेना ले कर लंका पहुंचे।

- Ans A. शार्दूल
 B. बंदर
 C. मर्कट
 D. कपीश

Question ID : 630680140312
Option 1 ID : 630680543053
Option 2 ID : 630680543050
Option 3 ID : 630680543051
Option 4 ID : 630680543052
Status : Answered
Chosen Option : A

Q.5 बुद्धिमान के विचार एक जैसे होते हैं।
उपरोक्त अर्थ कौन - सी लोकोक्ति के लिए सही होगा?

- Ans A. लूट में चरखा नफा
 B. सोने में सुगंध होना
 C. हीरे की परख जौहरी जाने
 D. सौ सयाने एक मत

Question ID : 630680204952
Option 1 ID : 630680794677
Option 2 ID : 630680794675
Option 3 ID : 630680794676
Option 4 ID : 630680794678
Status : Answered
Chosen Option : D

Q.6 निम्नलिखित में से कौन सा विकल्प 'द्वंद्व समास' का विग्रह है?

- Ans A. सपरिवार = परिवार के साथ
 B. पुरुषरत्न = पुरुष ही है रत्न
 C. गौरीशंकर = गौरी और शंकर
 D. रसोईघर = रसोई के लिए घर

Question ID : 630680204513
Option 1 ID : 630680793104
Option 2 ID : 630680793103
Option 3 ID : 630680793105
Option 4 ID : 630680793106
Status : Answered
Chosen Option : C

Q.7 कृषक निरंतर परिश्रम करके _____ उत्पन्न करते हैं। रिक्त स्थान के लिए उचित तत्सम शब्द चुनिए।

- Ans A. अनाज
 B. अन्न
 C. साग
 D. आम

Question ID : 630680203620
Option 1 ID : 630680789680
Option 2 ID : 630680789679
Option 3 ID : 630680789681
Option 4 ID : 630680789682
Status : Answered
Chosen Option : B

Q.8 निम्नलिखित विकल्पों को ध्यानपूर्वक देखें और बताएं कि कौनसा विकल्प 'सिलसिला' शब्द का अर्थ प्रस्तुत नहीं करता।

- Ans A. परंपरा
 B. मामला
 C. शृंखला
 D. क्रम

Question ID : 630680203790

Option 1 ID : 630680790360

Option 2 ID : 630680790359

Option 3 ID : 630680790362

Option 4 ID : 630680790361

Status : Answered

Chosen Option : B

Q.9 '(i) यहाँ हर कोई कुछ कहना/ (ii) चाहता है; जिसे देखो,/ (iii) उसे कष्ट में है' वाक्य के जिस खंड में त्रुटि है उसका विकल्प चुनिए अन्यथा 'कोई त्रुटि नहीं' विकल्प चुनिए-

- Ans A. i
 B. कोई त्रुटि नहीं
 C. ii
 D. iii

Question ID : 630680127843

Option 1 ID : 630680495524

Option 2 ID : 630680495527

Option 3 ID : 630680495525

Option 4 ID : 630680495526

Status : Answered

Chosen Option : D

Q.10 संधि-विच्छेद करें और उत्तर के रूप में सही विकल्प चुनें।
उल्लास

- Ans A. उल + लास
 B. उत् + लास
 C. ऊत + लास
 D. उत + लास

Question ID : 630680163617

Option 1 ID : 630680633642

Option 2 ID : 630680633641

Option 3 ID : 630680633643

Option 4 ID : 630680633640

Status : Answered

Chosen Option : B

Q.11 निम्नलिखित में से कौन सामासिक युग्म अशुद्ध है ?

- Ans A. सीधा-सादा
 B. शरणागत
 C. हरा-भरा
 D. मोटा-ताज़ा

Question ID : 630680113792

Option 1 ID : 630680440697

Option 2 ID : 630680440695

Option 3 ID : 630680440696

Option 4 ID : 630680440694

Status : Answered

Chosen Option : B

Q.12 'चतुरानन' शब्द में कौन-सा समास है?

- Ans A. द्वन्द्व समास
 B. कर्मधारय समास
 C. अव्ययीभाव समास
 D. द्विगु समास

Question ID : 630680204927

Option 1 ID : 630680794577

Option 2 ID : 630680794575

Option 3 ID : 630680794576

Option 4 ID : 630680794578

Status : Not Answered

Chosen Option : --

Q.13 निम्नलिखित में से कौन सा शब्द 'जंगल' का पर्यायवाची नहीं है?

- Ans A. विपन्न
 B. अरण्य
 C. कानन
 D. विपिन



Question ID : 630680203842

Option 1 ID : 630680790570

Option 2 ID : 630680790567

Option 3 ID : 630680790569

Option 4 ID : 630680790568

Status : Not Answered

Chosen Option : --

Q.14 'सूक्ति' और 'शुक्ति' दोनों शब्द श्रुतिभिन्नार्थक शब्द हैं। एक का अर्थ है सुभाषित। दूसरे शब्द का अर्थ चयन कर वाक्य पूर्ण कीजिए।
बच्चे सागर किनारे पर _____ संग्रह करते हैं।

- Ans A. सीप
 B. डंठल
 C. माला
 D. सुमन

Question ID : 630680198514
Option 1 ID : 630680770018
Option 2 ID : 630680770017
Option 3 ID : 630680770016
Option 4 ID : 630680770015
Status : Answered
Chosen Option : A

Q.15 निम्नलिखित वाक्यों में से सर्वनाम की दृष्टि से कौन-सा वाक्य शुद्ध है?

- Ans A. उसको कल नहीं आए।
 B. वह जो खाता है, सो आप नहीं खा सकते।
 C. कितना बाहर खड़ा है?
 D. हम खा रहा हूँ।

Question ID : 630680104694
Option 1 ID : 630680406926
Option 2 ID : 630680406925
Option 3 ID : 630680406923
Option 4 ID : 630680406924
Status : Answered
Chosen Option : C

Q.16 निम्नलिखित वाक्यांश के लिए एक सार्थक शब्द का चयन कीजिए।

'खाने की इच्छा'

- Ans A. बुभुक्षा
 B. मुर्मुषा
 C. बहुग्राह्य
 D. युयुत्सा

Question ID : 630680204529
Option 1 ID : 630680793170
Option 2 ID : 630680793167
Option 3 ID : 630680793168
Option 4 ID : 630680793169
Status : Answered
Chosen Option : A

Q.17 दिए गए विकल्पों में से पर्यायवाची शब्द 'मुनि' के लिए उचित शब्दार्थ का चयन कीजिये।

- Ans A. महात्मा
 B. कुटीवासी
 C. साधु
 D. तापसी

Question ID : 630680129079

Option 1 ID : 630680499943

Option 2 ID : 630680499945

Option 3 ID : 630680499944

Option 4 ID : 630680499942

Status : Answered

Chosen Option : C

Q.18 वन + ओषधि संधि विच्छेदन किसका उदाहरण है?

- Ans A. वृद्धि संधि का
 B. यण संधि का
 C. दीर्घ संधि का
 D. गुण संधि का

Question ID : 630680162766

Option 1 ID : 630680630346

Option 2 ID : 630680630347

Option 3 ID : 630680630344

Option 4 ID : 630680630345

Status : Not Answered

Chosen Option : --

Q.19 वह जो बिना देखे हुए केवल शब्द से दिशा का ज्ञान करके किसी वस्तु को बाण से मारता/मारती हो' के लिए सार्थक शब्द होगा।

- Ans A. विदुषी
 B. शब्दवेधी
 C. श्रमजीवी
 D. लंकाभेदी

Question ID : 630680104476

Option 1 ID : 630680406114

Option 2 ID : 630680406111

Option 3 ID : 630680406113

Option 4 ID : 630680406112

Status : Answered

Chosen Option : B

Q.20 निम्नलिखित अर्थ वाली लोकोक्ति का चयन करें।

‘जिसे कष्ट न भोगना पड़ा हो, वह दूसरे का कष्ट क्या समझे’

- Ans A. भोग भाग, छत्तीसों राग
 B. बने के सब यार
 C. बाप से बैर, पूत से सगाई
 D. बाँझ का जाने प्रसव की पीड़ा

Question ID : 630680204508

Option 1 ID : 630680793086

Option 2 ID : 630680793085

Option 3 ID : 630680793084

Option 4 ID : 630680793083

Status : Answered

Chosen Option : D

Comprehension:

गद्यांश के आधार पर प्रश्न का उत्तर दें।

कन्या भ्रूण हत्या के व्यापक दुष्परिणाम सामने आते हैं। इससे लिंगानुपात घटता है, जिससे सामाजिक असंतुलन बढ़ता है। महिलाओं की संख्या कम होने से लड़कों के लिए वधुएं खोजे नहीं मिलती हैं। यह स्थिति हरियाणा व राजस्थान जैसे राज्यों में निर्मित भी हो चुकी है। समय से घर-परिवार न बस पाने की वजह से पुरुषों में यौन कुंठाएँ बढ़ती हैं, जिनकी परिणति 'यौन हिंसा' एवं 'दुष्कर्मों' के रूप में सामने आती है। भ्रूण हत्या करवाने वाली माताओं की सेहत पर भी इसका प्रतिकूल प्रभाव पड़ता है। वेश्यावृत्ति और महिलाओं की तस्करी जैसे अपराध भी समाज में महिलाओं की घटती संख्या की वजह से बढ़ते हैं। महिलाओं के प्रति सम्मान का भाव भी कम होता है। उसे भोग्या समझने की प्रवृत्ति बढ़ती है। बढ़ती भ्रूण हत्याओं के कारण अंतरराष्ट्रीय स्तर पर भी भारत की छवि धूमिल हुई है और कई बार संयुक्त राष्ट्र भी भारत सहित कुछ अन्य एशियाई देशों में पैर जमा चुकी इस दुष्प्रवृत्ति पर चिंता व्यक्त कर चुका है। कन्या भ्रूण हत्या के दूरगामी परिणाम अत्यन्त घातक हो सकते हैं, इस बात को ध्यान में रखकर सचेत हो जाने की आवश्यकता है। हमें इस समस्या के उन्मूलन के ठोस उपाय सुनिश्चित करने होंगे। सबसे पहले तो लोगों की उस सोच में परिवर्तन लाना होगा, जो समाज की पितृसत्तात्मक संरचना से प्रेरित है तथा जिसमें कन्या को दोगम दर्जा प्राप्त है और नारी को सिर्फ भोग्या समझा जाता है। लोगों को यह समझाना होगा कि कुल पुत्रियों से भी बढ़ते हैं तथा हमारी वैदिक संस्कृति में पुत्रियों को कर्मकांड से जुड़े वे सभी अधिकार दिये गये हैं, जो पुत्रों को प्राप्त हैं। पुत्रियाँ तर्पण एवं पिंडदान जैसे कर्मकांडों तक के लिए भी अधिकृत हैं। कन्या भ्रूण हत्या सभी धर्मों में वर्जित एवं आलोच्य है।

SubQuestion No : 21

Q.21 कन्या भ्रूण हत्या का क्या दुष्परिणाम है? -

- Ans A. बढ़ता लिंगानुपात
 B. अपरिवर्तित लिंगानुपात
 C. जन्म दर
 D. घटता लिंगानुपात

Question ID : 630680155334

Option 1 ID : 630680601077

Option 2 ID : 630680601078

Option 3 ID : 630680601079

Option 4 ID : 630680601076

Status : Answered

Chosen Option : D

Comprehension:

गद्यांश के आधार पर प्रश्न का उत्तर दें।

कन्या भ्रूण हत्या के व्यापक दुष्परिणाम सामने आते हैं। इससे लिंगानुपात घटता है, जिससे सामाजिक असंतुलन बढ़ता है। महिलाओं की संख्या कम होने से लड़कों के लिए वधुएं खोजे नहीं मिलती हैं। यह स्थिति हरियाणा व राजस्थान जैसे राज्यों में निर्मित भी हो चुकी है। समय से घर-परिवार न बस पाने की वजह से पुरुषों में यौन कुंठाएँ बढ़ती हैं, जिनकी परिणति 'यौन हिंसा' एवं 'दुष्कर्मों' के रूप में सामने आती है। भ्रूण हत्या करवाने वाली माताओं की सेहत पर भी इसका प्रतिकूल प्रभाव पड़ता है। वेश्यावृत्ति और महिलाओं की तस्करी जैसे अपराध भी समाज में महिलाओं की घटती संख्या की वजह से बढ़ते हैं। महिलाओं के प्रति सम्मान का भाव भी कम होता है। उसे भोग्या समझने की प्रवृत्ति बढ़ती है। बढ़ती भ्रूण हत्याओं के कारण अंतरराष्ट्रीय स्तर पर भी भारत की छवि धूमिल हुई है और कई बार संयुक्त राष्ट्र भी भारत सहित कुछ अन्य एशियाई देशों में पैर जमा चुकी इस दुष्प्रवृत्ति पर चिंता व्यक्त कर चुका है। कन्या भ्रूण हत्या के दूरगामी परिणाम अत्यन्त घातक हो सकते हैं, इस बात को ध्यान में रखकर सचेत हो जाने की आवश्यकता है। हमें इस समस्या के उन्मूलन के ठोस उपाय सुनिश्चित करने होंगे। सबसे पहले तो लोगों की उस सोच में परिवर्तन लाना होगा, जो समाज की पितृसत्तात्मक संरचना से प्रेरित है तथा जिसमें कन्या को दोगम दर्जा प्राप्त है और नारी को सिर्फ भोग्या समझा जाता है। लोगों को यह समझाना होगा कि कुल पुत्रियों से भी बढ़ते हैं तथा हमारी वैदिक संस्कृति में पुत्रियों को कर्मकांड से जुड़े वे सभी अधिकार दिये गये हैं, जो पुत्रों को प्राप्त हैं। पुत्रियाँ तर्पण एवं पिंडदान जैसे कर्मकांडों तक के लिए भी अधिकृत हैं। कन्या भ्रूण हत्या सभी धर्मों में वर्जित एवं आलोच्य है।

SubQuestion No : 22

Q.22 वैदिक संस्कृति में पुत्रियों को इनमें से क्या अधिकार दिए गए हैं?

- Ans
- A. संपत्ति में अधिकार
 - B. शस्त्र के अधिकार
 - C. कर्म कांड से जुड़े हुए अधिकार
 - D. उपरोक्त सभी

Question ID : 630680155335

Option 1 ID : 630680601081

Option 2 ID : 630680601080

Option 3 ID : 630680601082

Option 4 ID : 630680601083

Status : Answered

Chosen Option : C



Comprehension:

गद्यांश के आधार पर प्रश्न का उत्तर दें।

कन्या भ्रूण हत्या के व्यापक दुष्परिणाम सामने आते हैं। इससे लिंगानुपात घटता है, जिससे सामाजिक असंतुलन बढ़ता है। महिलाओं की संख्या कम होने से लड़कों के लिए वधुएं खोजे नहीं मिलती हैं। यह स्थिति हरियाणा व राजस्थान जैसे राज्यों में निर्मित भी हो चुकी है। समय से घर-परिवार न बस पाने की वजह से पुरुषों में यौन कुंठाएँ बढ़ती हैं, जिनकी परिणति 'यौन हिंसा' एवं 'दुष्कर्मों' के रूप में सामने आती है। भ्रूण हत्या करवाने वाली माताओं की सेहत पर भी इसका प्रतिकूल प्रभाव पड़ता है। वेश्यावृत्ति और महिलाओं की तस्करी जैसे अपराध भी समाज में महिलाओं की घटती संख्या की वजह से बढ़ते हैं। महिलाओं के प्रति सम्मान का भाव भी कम होता है। उसे भोग्या समझने की प्रवृत्ति बढ़ती है। बढ़ती भ्रूण हत्याओं के कारण अंतरराष्ट्रीय स्तर पर भी भारत की छवि धूमिल हुई है और कई बार संयुक्त राष्ट्र भी भारत सहित कुछ अन्य एशियाई देशों में पैर जमा चुकी इस दुष्प्रवृत्ति पर चिंता व्यक्त कर चुका है। कन्या भ्रूण हत्या के दूरगामी परिणाम अत्यन्त घातक हो सकते हैं, इस बात को ध्यान में रखकर सचेत हो जाने की आवश्यकता है। हमें इस समस्या के उन्मूलन के ठोस उपाय सुनिश्चित करने होंगे। सबसे पहले तो लोगों की उस सोच में परिवर्तन लाना होगा, जो समाज की पितृसत्तात्मक संरचना से प्रेरित है तथा जिसमें कन्या को दोगम दर्जा प्राप्त है और नारी को सिर्फ भोग्या समझा जाता है। लोगों को यह समझाना होगा कि कुल पुत्रियों से भी बढ़ते हैं तथा हमारी वैदिक संस्कृति में पुत्रियों को कर्मकांड से जुड़े वे सभी अधिकार दिये गये हैं, जो पुत्रों को प्राप्त हैं। पुत्रियाँ तर्पण एवं पिंडदान जैसे कर्मकांडों तक के लिए भी अधिकृत हैं। कन्या भ्रूण हत्या सभी धर्मों में वर्जित एवं आलोच्य है।

SubQuestion No : 23

Q.23 कन्या भ्रूण हत्या सभी धर्मों में क्या है?

- Ans
- A. स्वीकार्य
 - B. वर्जित
 - C. प्रशंसनीय
 - D. वर्जित नहीं है

Question ID : 630680155332

Option 1 ID : 630680601070

Option 2 ID : 630680601071

Option 3 ID : 630680601068

Option 4 ID : 630680601069

Status : Answered

Chosen Option : B



Comprehension:

गद्यांश के आधार पर प्रश्न का उत्तर दें।

कन्या भ्रूण हत्या के व्यापक दुष्परिणाम सामने आते हैं। इससे लिंगानुपात घटता है, जिससे सामाजिक असंतुलन बढ़ता है। महिलाओं की संख्या कम होने से लड़कों के लिए वधुएं खोजे नहीं मिलती हैं। यह स्थिति हरियाणा व राजस्थान जैसे राज्यों में निर्मित भी हो चुकी है। समय से घर-परिवार न बस पाने की वजह से पुरुषों में यौन कुंठाएँ बढ़ती हैं, जिनकी परिणति 'यौन हिंसा' एवं 'दुष्कर्मों' के रूप में सामने आती है। भ्रूण हत्या करवाने वाली माताओं की सेहत पर भी इसका प्रतिकूल प्रभाव पड़ता है। वेश्यावृत्ति और महिलाओं की तस्करी जैसे अपराध भी समाज में महिलाओं की घटती संख्या की वजह से बढ़ते हैं। महिलाओं के प्रति सम्मान का भाव भी कम होता है। उसे भोग्या समझने की प्रवृत्ति बढ़ती है। बढ़ती भ्रूण हत्याओं के कारण अंतरराष्ट्रीय स्तर पर भी भारत की छवि धूमिल हुई है और कई बार संयुक्त राष्ट्र भी भारत सहित कुछ अन्य एशियाई देशों में पैर जमा चुकी इस दुष्प्रवृत्ति पर चिंता व्यक्त कर चुका है। कन्या भ्रूण हत्या के दूरगामी परिणाम अत्यन्त घातक हो सकते हैं, इस बात को ध्यान में रखकर सचेत हो जाने की आवश्यकता है। हमें इस समस्या के उन्मूलन के ठोस उपाय सुनिश्चित करने होंगे। सबसे पहले तो लोगों की उस सोच में परिवर्तन लाना होगा, जो समाज की पितृसत्तात्मक संरचना से प्रेरित है तथा जिसमें कन्या को दोगम दर्जा प्राप्त है और नारी को सिर्फ भोग्या समझा जाता है। लोगों को यह समझाना होगा कि कुल पुत्रियों से भी बढ़ते हैं तथा हमारी वैदिक संस्कृति में पुत्रियों को कर्मकांड से जुड़े वे सभी अधिकार दिये गये हैं, जो पुत्रों को प्राप्त हैं। पुत्रियाँ तर्पण एवं पिंडदान जैसे कर्मकांडों तक के लिए भी अधिकृत हैं। कन्या भ्रूण हत्या सभी धर्मों में वर्जित एवं आलोच्य है।

SubQuestion No : 24

Q.24 इस गद्यांश का उपयुक्त शीर्षक क्या होगा?

- Ans
- A. वेश्यावृत्ति
 - B. यौन हिंसा
 - C. महिलाओं की तस्करी
 - D. कन्या भ्रूण हत्या

Question ID : 630680155331

Option 1 ID : 630680601065

Option 2 ID : 630680601067

Option 3 ID : 630680601064

Option 4 ID : 630680601066

Status : Answered

Chosen Option : D



Comprehension:

गद्यांश के आधार पर प्रश्न का उत्तर दें।

कन्या भ्रूण हत्या के व्यापक दुष्परिणाम सामने आते हैं। इससे लिंगानुपात घटता है, जिससे सामाजिक असंतुलन बढ़ता है। महिलाओं की संख्या कम होने से लड़कों के लिए वधुएं खोजे नहीं मिलती हैं। यह स्थिति हरियाणा व राजस्थान जैसे राज्यों में निर्मित भी हो चुकी है। समय से घर-परिवार न बस पाने की वजह से पुरुषों में यौन कुंठाएँ बढ़ती हैं, जिनकी परिणति 'यौन हिंसा' एवं 'दुष्कर्मों' के रूप में सामने आती है। भ्रूण हत्या करवाने वाली माताओं की सेहत पर भी इसका प्रतिकूल प्रभाव पड़ता है। वेश्यावृत्ति और महिलाओं की तस्करी जैसे अपराध भी समाज में महिलाओं की घटती संख्या की वजह से बढ़ते हैं। महिलाओं के प्रति सम्मान का भाव भी कम होता है। उसे भोग्या समझने की प्रवृत्ति बढ़ती है। बढ़ती भ्रूण हत्याओं के कारण अंतरराष्ट्रीय स्तर पर भी भारत की छवि धूमिल हुई है और कई बार संयुक्त राष्ट्र भी भारत सहित कुछ अन्य एशियाई देशों में पैर जमा चुकी इस दुष्प्रवृत्ति पर चिंता व्यक्त कर चुका है। कन्या भ्रूण हत्या के दूरगामी परिणाम अत्यन्त घातक हो सकते हैं, इस बात को ध्यान में रखकर सचेत हो जाने की आवश्यकता है। हमें इस समस्या के उन्मूलन के ठोस उपाय सुनिश्चित करने होंगे। सबसे पहले तो लोगों की उस सोच में परिवर्तन लाना होगा, जो समाज की पितृसत्तात्मक संरचना से प्रेरित है तथा जिसमें कन्या को दोगम दर्जा प्राप्त है और नारी को सिर्फ भोग्या समझा जाता है। लोगों को यह समझाना होगा कि कुल पुत्रियों से भी बढ़ते हैं तथा हमारी वैदिक संस्कृति में पुत्रियों को कर्मकांड से जुड़े वे सभी अधिकार दिये गये हैं, जो पुत्रों को प्राप्त हैं। पुत्रियाँ तर्पण एवं पिंडदान जैसे कर्मकांडों तक के लिए भी अधिकृत हैं। कन्या भ्रूण हत्या सभी धर्मों में वर्जित एवं आलोच्य है।

SubQuestion No : 25

Q.25 कौन-से अपराध समाज में महिलाओं की घटती संख्या की वजह से बढ़ते हैं?

- Ans A. वेश्यावृत्ति एवं महिलाओं की तस्करी
 B. सती प्रथा
 C. कन्या भ्रूण हत्या
 D. बाल विवाह

Question ID : 630680155333

Option 1 ID : 630680601074

Option 2 ID : 630680601075

Option 3 ID : 630680601073

Option 4 ID : 630680601072

Status : Answered

Chosen Option : A

