



# Teachingninja.in

**CRPF Constable Technical Tradesman 06 Jul 2023 Shift 1**

- ★ Latest Govt Job updates
- ★ Private Job updates
- ★ Free Mock tests available

**Visit - [teachingninja.in](https://teachingninja.in)**

## CRPF Technical Tradesman 1st to 12th July 2023

Participant ID	
Participant Name	
Test Center Name	
Test Date	06/07/2023
Test Time	8:30 AM - 10:30 AM
Subject	Constable Driver

### Section : General Intelligence and Reasoning

Q.1 उस विकल्प का चयन कीजिए जो दिए गए संयोजन के दर्पण में निर्मित प्रतिबिंब से सर्वाधिक मिलता जुलता हो।

ABSOLUTE



- Ans
- A. eTUL028A
  - B. eTULO28A
  - C. eTNO28A
  - D. eTULO28A

Question ID : 63068083977  
Option 1 ID : 630680325503  
Option 2 ID : 630680325500  
Option 3 ID : 630680325502  
Option 4 ID : 630680325501  
Status : Answered  
Chosen Option : A

Q.2 यदि '+' का अर्थ '-' है, '-' का अर्थ 'x' है, 'x' का अर्थ '÷' है और '÷' का अर्थ '+' है, तो निम्नलिखित समीकरण में प्रश्नवाचक चिह्न (?) के स्थान पर क्या आएगा?  
 $153 \div 65 \times 13 - 6 + 85 = ?$

- Ans
- A. 91
  - B. 98
  - C. 103
  - D. 89

Question ID : 630680147878  
Option 1 ID : 630680572226  
Option 2 ID : 630680572229  
Option 3 ID : 630680572227  
Option 4 ID : 630680572228  
Status : Answered  
Chosen Option : B

Q.3 A, B का भाई है। B, C का भाई है। C, D का पुत्र है। E, D की पत्नी है। F, E की पुत्री है। F का A से क्या संबंध है?

Ans  A. पत्नी

B. बहन

C. माता

D. पुत्री

Question ID : 630680105761

Option 1 ID : 630680411048

Option 2 ID : 630680411050

Option 3 ID : 630680411049

Option 4 ID : 630680411047

Status : Answered

Chosen Option : B

Q.4 कमलेश को एक मल्टीनेशनल कंपनी में काम करने का मौका मिला। कल कार्यालय में उसका पहला दिन है और उसने अपने साथी कर्मचारी से अपने नए कार्यालय के लिए दिशा-निर्देश देने को कहा। कमलेश शहर A (उत्तर में) में रहता है और उसका कार्यालय शहर F में है। उसके साथी कर्मचारी ने उसे फोन पर दिशा-निर्देश दिया और उसने इसे एक कागज पर नोट कर लिया। नीचे दी गई लिखित प्रतिलेख को देखिए और उसके अनुसार निम्नलिखित प्रश्न का उत्तर दीजिए।

“शहर A से बाएं मुड़ें और 2 km ड्राइव करें; आप शहर B में होंगे। शहर B से बाएं मुड़ें और शहर C तक पहुंचने के लिए 3 km ड्राइव करें। शहर C से दाएं मुड़ें और शहर D तक पहुंचने के लिए 4 km ड्राइव करें। शहर D से दाएं मुड़ें और शहर E पहुंचने के लिए 4 km ड्राइव करें। शहर E से बाएं मुड़ें और शहर F तक पहुंचने के लिए 5 km ड्राइव करें। कार्यालय शहर F में है। शहर F किस दिशा में है?

Ans  A. पूर्व

B. पश्चिम

C. उत्तर

D. दक्षिण

Question ID : 630680118463

Option 1 ID : 630680458957

Option 2 ID : 630680458955

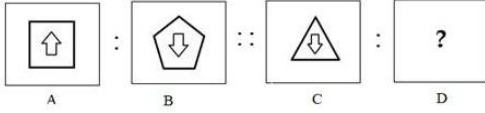
Option 3 ID : 630680458954

Option 4 ID : 630680458956

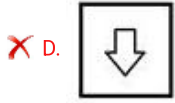
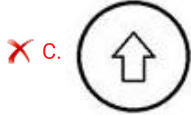
Status : Answered

Chosen Option : B

Q.5 उस विकल्प का चयन करें जो तीसरी आकृति से उसी प्रकार संबंधित है जैसे दूसरी आकृति पहली आकृति से संबंधित है।



Ans



Question ID : 63068058840  
 Option 1 ID : 630680226982  
 Option 2 ID : 630680226985  
 Option 3 ID : 630680226983  
 Option 4 ID : 630680226984  
 Status : Answered  
 Chosen Option : C

Q.6 निम्नलिखित पांच आकृतियों में से चार एक निश्चित तरीके से समान हैं और इस प्रकार एक समूह बनाती हैं। उस आकृति का चयन करें जो उस समूह से संबंधित नहीं है।



Ans  
 ✗ A. D  
 ✓ B. E  
 ✗ C. B  
 ✗ D. A

Question ID : 63068083898  
 Option 1 ID : 630680325185  
 Option 2 ID : 630680325186  
 Option 3 ID : 630680325184  
 Option 4 ID : 630680325187  
 Status : Answered  
 Chosen Option : B

Q.7 सुबह करीब 7 बजे कृत्तिका जब घर से स्कूल जा रही थी तो उसकी परछाई दाहिनी ओर थी। उसका घर स्कूल से किस दिशा में है?

- Ans  A. पश्चिम  
 B. पूर्व  
 C. दक्षिण  
 D. उत्तर

Question ID : 63068057835  
Option 1 ID : 630680223114  
Option 2 ID : 630680223117  
Option 3 ID : 630680223115  
Option 4 ID : 630680223116  
Status : Not Answered  
Chosen Option : --

Q.8 उस विकल्प का चयन कीजिए जो दिए गए संयोजन के दर्पण में निर्मित प्रतिबिंब से सर्वाधिक मिलता जुलता हो।

SHASHI



- Ans  A. IH2AH2  
 B. IH2AHS  
 C. IHSAH2  
 D. IH2AH2

Question ID : 63068083976  
Option 1 ID : 630680325498  
Option 2 ID : 630680325496  
Option 3 ID : 630680325499  
Option 4 ID : 630680325497  
Status : Answered  
Chosen Option : B

Q.9 उस विकल्प का चयन कीजिए जो दिए गए संयोजन के दर्पण में निर्मित प्रतिबिंब से सर्वाधिक मिलता जुलता हो।



Ans

✓ A.



✗ B.



✗ C.



✗ D.



Question ID : 63068084005

Option 1 ID : 630680325612

Option 2 ID : 630680325615

Option 3 ID : 630680325614

Option 4 ID : 630680325613

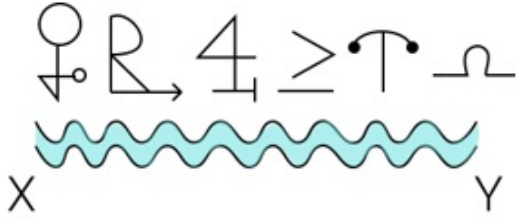
Status : Answered

Chosen Option : D



Teachingninja.in

Q.10 दिए गए पैटर्न के सही जल प्रतिबिंब का चयन कीजिए, यह मानते हुए कि जल XY के समानांतर है।



Ans

- ✗ A.
- ✓ B.
- ✗ C.
- ✗ D.

Question ID : 630680149193

Option 1 ID : 630680577040

Option 2 ID : 630680577042

Option 3 ID : 630680577043

Option 4 ID : 630680577041

Status : Answered

Chosen Option : B

Q.11 घर A घर B के उत्तर में है। घर C घर D के पश्चिम में है। घर E घर D के पूर्व में है। घर B घर D के दक्षिण में है। घर B के संबंध में घर C की स्थिति क्या है?

- Ans ✗ A. पश्चिम
- ✓ B. उत्तर-पश्चिम
- ✗ C. उत्तर-पूर्व
- ✗ D. उत्तर

Question ID : 630680106969

Option 1 ID : 630680415362

Option 2 ID : 630680415363

Option 3 ID : 630680415361

Option 4 ID : 630680415360

Status : Not Answered

Chosen Option : --

Q.12 C और Q बहनें हैं। Z, Q की माता है और P, Z का पुत्र है। A, Z के इकलौते पुत्र का पुत्र है। निम्नलिखित में से कौन सा सत्य है?

- Ans  A. Q, A की बहन है।  
 B. Q, A की बुआ है।  
 C. Q, A की दादी है।  
 D. Q, A की मौसी है।

Question ID : 630680102766  
Option 1 ID : 630680399323  
Option 2 ID : 630680399326  
Option 3 ID : 630680399325  
Option 4 ID : 630680399324  
Status : Answered  
Chosen Option : A

Q.13 निम्न आकृति में कितने चतुर्भुज (चार भुजाओं वाली एक आकृति) हैं?



- Ans  A. 17  
 B. 13  
 C. 15  
 D. 14

Question ID : 630680104588  
Option 1 ID : 630680406531  
Option 2 ID : 630680406534  
Option 3 ID : 630680406532  
Option 4 ID : 630680406533  
Status : Not Answered  
Chosen Option : --

Q.14 A उत्तर की ओर अभिमुख होकर खड़ा है। B उसके दाहिनी ओर है। C, A के पीछे है। D, A के सामने है। B, D से किस दिशा में है?

- Ans  A. दक्षिण  
 B. दक्षिण-पश्चिम  
 C. दक्षिण-पूर्व  
 D. पश्चिम

Question ID : 630680104923  
Option 1 ID : 630680407823  
Option 2 ID : 630680407824  
Option 3 ID : 630680407826  
Option 4 ID : 630680407825  
Status : Answered  
Chosen Option : C



Q.15 'P % Q' का अर्थ है कि 'P, Q का पिता है'।  
'P # Q' का अर्थ है कि 'P, Q की माँ है'।  
'P \$ Q' का अर्थ है कि 'P, Q की पुत्री है'।  
'P + Q' का अर्थ है कि 'P, Q की बहन है'।  
'P @ Q' का अर्थ है कि 'P, Q का भाई है'।  
'P & Q' का अर्थ है कि 'P, Q का पति है'।  
यदि 'B & C # A + D % E' है, तो B का E से क्या संबंध है?

- Ans  A. अंकल  
 B. ग्रैंडमदर  
 C. आंटी  
 D. ग्रैंडफादर

Question ID : 630680133294

Option 1 ID : 630680516153

Option 2 ID : 630680516150

Option 3 ID : 630680516152

Option 4 ID : 630680516151

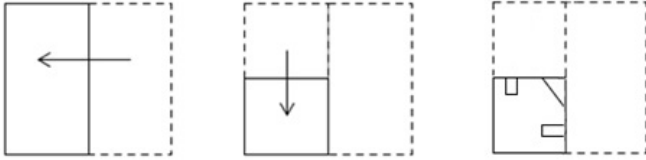
Status : Not Answered

Chosen Option : --

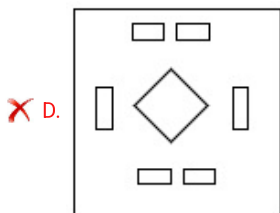
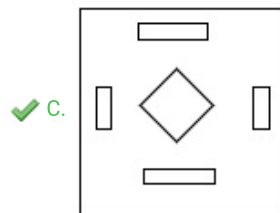
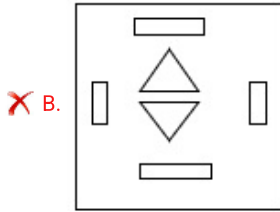
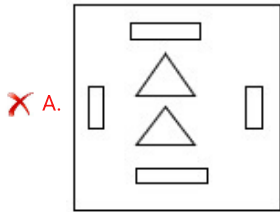


Teachingninja.in

Q.16 एक कागज को निम्नानुसार मोड़ा और काटा जाता है। खोलने पर यह कैसा दिखाई देगा?



Ans



Teachingninja.in

Question ID : 630680147860

Option 1 ID : 630680572156

Option 2 ID : 630680572155

Option 3 ID : 630680572157

Option 4 ID : 630680572154

Status : Answered

Chosen Option : B

Q.17 समीकरण करे:





$$27.08 - [37.65 - \{45.98 - (15.09 - 13.08)\}] = ?$$

- Ans
- A. 43
  - B. 47
  - C. 33
  - D. 40

Question ID : 63068049424  
Option 1 ID : 630680190128  
Option 2 ID : 630680190129  
Option 3 ID : 630680190126  
Option 4 ID : 630680190127  
Status : Not Answered  
Chosen Option : --

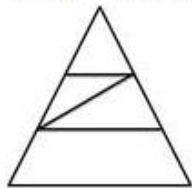
Q.18 निम्नलिखित में से तीन आकृतियाँ किसी न किसी रूप में एक जैसी हैं और एक भिन्न है। भिन्न आकृति का चयन कीजिए।

Ans

- A. 
- B. 
- C. 
- D. 

Question ID : 630680113657  
Option 1 ID : 630680440164  
Option 2 ID : 630680440165  
Option 3 ID : 630680440163  
Option 4 ID : 630680440162  
Status : Answered  
Chosen Option : A

Q.19 दी गई आकृति में कितने त्रिभुज हैं?



- Ans
- A. 5
  - B. 6
  - C. 7
  - D. 4

Question ID : 63068049467

Option 1 ID : 630680190299

Option 2 ID : 630680190300

Option 3 ID : 630680190301

Option 4 ID : 630680190298

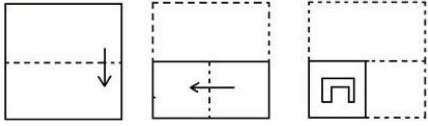
Status : Answered

Chosen Option : B




Teachingninja.in

**Q.20** कागज के एक टुकड़े को मोड़ने का क्रम और मोड़े गए कागज को काटने का तरीका निम्नलिखित आकृतियों में दिखाया गया है।  
खोलने पर यह कागज कैसा दिखेगा?




**Ans**


✓ A.




✗ B.



✗ C.



✗ D.



Teachingninja.in

Question ID : 63068058609

Option 1 ID : 630680226085

Option 2 ID : 630680226083

Option 3 ID : 630680226084

Option 4 ID : 630680226082

Status : Answered

Chosen Option : A

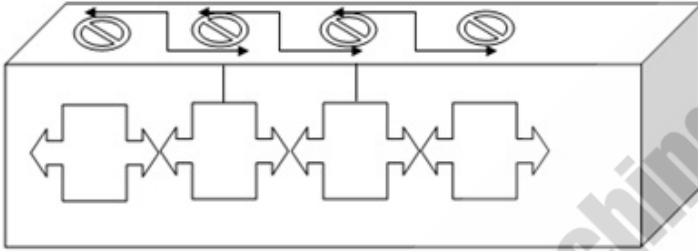
Q.21 पांच आकृतियां दी गयी हैं, जिनमें से चार किसी न किसी रूप में एक समान हैं और एक भिन्न है। भिन्न आकृति का चयन करें।

B 2 △ ○	△ ☆ ○ S	X ↑ □ 3	T P ♥ V	○ A □ ☆
2 B △ ○	☆ △ S ○	↑ X 3 □	P T V ♥	A ○ ☆ □
A	B	C	D	E

- Ans
- A. C
  - B. B
  - C. A
  - D. E

Question ID : 63068011485  
 Option 1 ID : 630680431735  
 Option 2 ID : 630680431737  
 Option 3 ID : 630680431736  
 Option 4 ID : 630680431734  
 Status : Answered  
 Chosen Option : C

Q.22 उस विकल्प का चयन कीजिए जो दी गई आकृति में सन्निहित है (घुमाने की अनुमति नहीं है)।



- Ans
- A.
  - B.
  - C.
  - D.

Question ID : 630680160263  
 Option 1 ID : 630680620426  
 Option 2 ID : 630680620425  
 Option 3 ID : 630680620424  
 Option 4 ID : 630680620427  
 Status : Answered  
 Chosen Option : A

Q.23 राहुल बिंदु A से चलना शुरू करता है और दक्षिण की ओर 2 km ड्राइव करता है। फिर वह बाएं मुड़ता है, 5 km ड्राइव करता है, दाएं मुड़ता है और 5 km ड्राइव करता है। फिर वह दायें मुड़ता है और 2 km ड्राइव करता है। वह अंतिम बार दायें मुड़ता है, 7 km ड्राइव करता है और बिंदु B पर रुकता है। बिंदु A तक फिर से पहुंचने के लिए उसे कितनी दूर और किस दिशा में ड्राइव करना चाहिए?

- Ans
- A. पूर्व की ओर 2 km
  - B. पश्चिम की ओर 2 km
  - C. पश्चिम की ओर 3 km
  - D. पूर्व की ओर 3 km

Question ID : 63068075778

Option 1 ID : 630680293228

Option 2 ID : 630680293225

Option 3 ID : 630680293227

Option 4 ID : 630680293226

Status : Answered

Chosen Option : B

Q.24 यदि '+' का अर्थ '-' है, '-' का अर्थ 'x' है, 'x' का अर्थ '÷' है और '÷' का अर्थ '+' है, तो निम्नलिखित समीकरण में प्रश्नवाचक चिह्न (?) के स्थान पर क्या आएगा?  
 $267 \div 69 \times 3 - 7 + 33 = ?$

- Ans
- A. 402
  - B. 411
  - C. 389
  - D. 395

Question ID : 630680147877

Option 1 ID : 630680572223

Option 2 ID : 630680572225

Option 3 ID : 630680572222

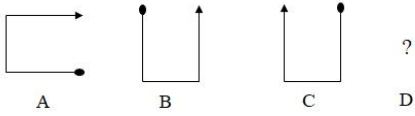
Option 4 ID : 630680572224

Status : Answered

Chosen Option : D



Q.25 आकृति A एक निश्चित पैटर्न में आकृति B से संबंधित है। उसी पैटर्न का अनुसरण करते हुए, आकृति C आकृति D से संबंधित है। पैटर्न का अध्ययन करें और उस आकृति का चयन करें जो आकृति D के लिए प्रश्न चिह्न (?) को प्रतिस्थापित कर सकती है।



Ans

✓ A.

✗ B.

✗ C.

✗ D.

Question ID : 63068062227

Option 1 ID : 630680240204

Option 2 ID : 630680240203

Option 3 ID : 630680240202

Option 4 ID : 630680240205

Status : Answered

Chosen Option : D

Section : General Knowledge and General Awareness

Q.1 भारत में निम्नलिखित में से किस राज्य की साक्षरता दर 2011 के अनुसार सबसे कम है?

Ans ✓ A. बिहार

✗ B. उत्तराखंड

✗ C. छत्तीसगढ़

✗ D. मध्य प्रदेश

Question ID : 63068080416

Option 1 ID : 630680311691

Option 2 ID : 630680311692

Option 3 ID : 630680311690

Option 4 ID : 630680311689

Status : Answered

Chosen Option : C



Q.2 निम्नलिखित में से किस पेड़ के बीजों का उपयोग आन्नाटो (मक्खन को रंगने के लिए आन्नाटो का उपयोग किया जाता है) बनाने के लिए किया जाता है?

- Ans  A. बिकसा ओरेलाना  
 B. चीड़  
 C. सागौन  
 D. विशाल सिकुआ

Question ID : 630680209084  
Option 1 ID : 630680810552  
Option 2 ID : 630680810551  
Option 3 ID : 630680810553  
Option 4 ID : 630680810554  
Status : Not Answered  
Chosen Option : --

Q.3 एंग्लो-नेपाली युद्ध \_\_\_\_\_ की संधि के साथ समाप्त हुआ था।

- Ans  A. कलकत्ता  
 B. ल्हासा  
 C. सुगौली  
 D. थिम्बू

Question ID : 630680214006  
Option 1 ID : 630680830071  
Option 2 ID : 630680830072  
Option 3 ID : 630680830074  
Option 4 ID : 630680830073  
Status : Not Answered  
Chosen Option : --

Q.4 निम्नलिखित में से कौन-से मुगल शासक बक्सर की लड़ाई में ब्रिटिश ईस्ट इंडिया कंपनी के खिलाफ लड़े थे?

- Ans  A. अकबर शाह द्वितीय  
 B. औरंगजेब  
 C. बहादुर शाह द्वितीय  
 D. शाह आलम द्वितीय

Question ID : 63068092828  
Option 1 ID : 630680360004  
Option 2 ID : 630680360006  
Option 3 ID : 630680360005  
Option 4 ID : 630680360003  
Status : Answered  
Chosen Option : D

Q.5 भारतीय संविधान के निम्नलिखित में से किस अनुच्छेद में जीवित प्राणियों के लिए दया (सहानुभूति) का उल्लेख है?

- Ans  A. 51 A (b)  
 B. 51 A (g)  
 C. 51 A (d)  
 D. 51 A (c)

Question ID : 630680146226  
Option 1 ID : 630680565795  
Option 2 ID : 630680565794  
Option 3 ID : 630680565797  
Option 4 ID : 630680565796  
Status : Answered  
Chosen Option : A

Q.6 त्यागराज के बारे में कौन सा कथन सही है?

- Ans  A. उनके हस्ताक्षर का नाम गुरुगुहा था।  
 B. वे हिंदुस्तानी संगीत के एक प्रसिद्ध कलाकार हैं।  
 C. बुध ग्रह पर एक क्रेटर का नाम उनके नाम पर रखा गया है।  
 D. स्वराजति संगीत शैली का श्रेय उन्हीं को जाता है।

Question ID : 630680213931  
Option 1 ID : 630680829773  
Option 2 ID : 630680829771  
Option 3 ID : 630680829774  
Option 4 ID : 630680829772  
Status : Answered  
Chosen Option : B

Q.7 निम्नलिखित में से किसे अक्षय ऊर्जा स्रोतों और ऊर्जा भंडारण में अनुसंधान के लिए अंतर्राष्ट्रीय एनी (Ani) पुरस्कार 2020 प्राप्त हुआ?

- Ans  A. प्रोफेसर संदीप वर्मा  
 B. प्रोफेसर सी.एन.आर. राव  
 C. डॉ. सूर्येदु दत्ता  
 D. डॉ. आर.ए. माशेलकर

Question ID : 630680100103  
Option 1 ID : 630680389108  
Option 2 ID : 630680389110  
Option 3 ID : 630680389111  
Option 4 ID : 630680389109  
Status : Not Answered  
Chosen Option : --

Q.8 इंदिरा पॉइंट कहाँ स्थित है?

Ans  A. रटलैंड द्वीप (Rutland Island)

B. कैम्पबेल बे

C. वेस्ट सिस्टर आइलैंड

D. ईस्ट सिस्टर आइलैंड

Question ID : 63068069444

Option 1 ID : 630680268442

Option 2 ID : 630680268445

Option 3 ID : 630680268443

Option 4 ID : 630680268444

Status : Answered

Chosen Option : C

Q.9 हेनरी लुइस विवियन डेरोजियो \_\_\_\_\_ के संस्थापक थे।

Ans  A. यंग बंगाल मूवमेंट

B. अलीगढ़ एंग्लो कॉलेज

C. स्वदेशी आंदोलन

D. वेदांत कॉलेज

Question ID : 630680214009

Option 1 ID : 630680830084

Option 2 ID : 630680830086

Option 3 ID : 630680830083

Option 4 ID : 630680830085

Status : Answered

Chosen Option : A

Q.10 कुल जनसंख्या (जनगणना 2011) के आधार पर निम्नलिखित राज्यों को अवरोही क्रम में व्यवस्थित कीजिए और सही विकल्प का चयन कीजिए।

A. पश्चिम बंगाल

B. महाराष्ट्र

C. बिहार

Ans  A, B, C, A

B, B, A, C

C, A, C, B

D, A, B, C

Question ID : 630680209238

Option 1 ID : 630680811168

Option 2 ID : 630680811169

Option 3 ID : 630680811167

Option 4 ID : 630680811170

Status : Answered

Chosen Option : C

Q.11 हड़प्पा स्थलों से संबंधित निम्नलिखित में से कौन सा सही सुमेलित है?

- Ans  A. कालीबंगा: हरियाणा  
 B. लोधल : पंजाब  
 C. धोलावीरा : गुजरात  
 D. बनावली : राजस्थान

Question ID : 630680213919

Option 1 ID : 630680829726

Option 2 ID : 630680829723

Option 3 ID : 630680829724

Option 4 ID : 630680829725

Status : Answered

Chosen Option : B

Q.12 चोल राजवंश के संस्थापक कौन थे?

- Ans  A. विजयालय, कांची के पल्लवों का सामंत, जिन्होंने 850 CE में तंजौर पर कब्जा कर लिया था।  
 B. परंतक, कांची के पल्लवों के सामंत, जिन्होंने 870 CE में तंजौर पर कब्जा कर लिया था।  
 C. विजयग्रीव, कांची के पल्लवों के सामंत, जिन्होंने 852 CE में तंजौर पर कब्जा कर लिया था।  
 D. राजराजा, कांची के पल्लवों के सामंत, जिन्होंने 850 CE में तंजौर पर कब्जा कर लिया था।

Question ID : 630680115789

Option 1 ID : 630680448490

Option 2 ID : 630680448492

Option 3 ID : 630680448491

Option 4 ID : 630680448493

Status : Not Answered

Chosen Option : --

Q.13 महात्मा ज्योतिराव गोविंदराव फुले ने किस सामाजिक सुधार समाज की शुरुआत की थी?

- Ans  A. सत्य शोधक समाज  
 B. आर्य समाज  
 C. प्रार्थना समाज  
 D. थियिसोफिकल सोसाइटी

Question ID : 630680127482

Option 1 ID : 630680494191

Option 2 ID : 630680494190

Option 3 ID : 630680494189

Option 4 ID : 630680494188

Status : Answered

Chosen Option : A

Q.14 श्याम कृष्ण (Syama Krishna) किसकी पहचान धुन या मुद्रा थी?

- Ans  A. अन्नमाचार्य  
 B. वैकट सुब्रह्मण्य  
 C. पुरन्दर दास  
 D. त्यागराज

Question ID : 630680210818  
Option 1 ID : 630680817434  
Option 2 ID : 630680817431  
Option 3 ID : 630680817433  
Option 4 ID : 630680817432  
Status : Not Answered  
Chosen Option : --

Q.15 निम्नलिखित वैज्ञानिकों में से किसे आधुनिक कोशिका जीव विज्ञान (1912-2008) का जनक माना जाता है?

- Ans  A. जॉर्ज एमिल पलाडे (George Emil Palade)  
 B. रसेल कार्सन (Rachel Carson)  
 C. कार्ल लीनियस (Carl Linnaeus)  
 D. एंटोनी वॉन ल्यूवेनहॉक (Antonie van Leeuwenhoek)

Question ID : 630680209079  
Option 1 ID : 630680810532  
Option 2 ID : 630680810533  
Option 3 ID : 630680810534  
Option 4 ID : 630680810531  
Status : Answered  
Chosen Option : C

Q.16 1927 में अछूतों को एक सार्वजनिक टैंक से पानी का उपयोग करने की अनुमति देने के लिए डॉ. बी.आर. अम्बेडकर ने निम्नलिखित में से किस सत्याग्रह का नेतृत्व किया गया था?

- Ans  A. बारदोली सत्याग्रह  
 B. चंपारण सत्याग्रह  
 C. महाड़ सत्याग्रह  
 D. नासिक सत्याग्रह

Question ID : 630680213992  
Option 1 ID : 630680830018  
Option 2 ID : 630680830015  
Option 3 ID : 630680830017  
Option 4 ID : 630680830016  
Status : Answered  
Chosen Option : C

Q.17 न्यायालय किस रिट याचिका के माध्यम से, कैद किए गए किसी व्यक्ति को अपने सामने बुला सकता है, ताकि वह यह जान सके कि उसे कैद क्यों किया गया है?

- Ans
- A. उत्प्रेषण-लेख
  - B. परमादेश
  - C. निषेध
  - D. बन्दी प्रत्यक्षीकरण

Question ID : 630680209115  
Option 1 ID : 630680810678  
Option 2 ID : 630680810675  
Option 3 ID : 630680810677  
Option 4 ID : 630680810676  
Status : Answered  
Chosen Option : D

Q.18 निम्नलिखित में से कौन भारत के संसद भवन के वास्तुकारों में से एक थे?

- Ans
- A. स्विटन जैकब
  - B. विलियम इमर्सन
  - C. आर्थर शूस्मिथ
  - D. एडविन लुटियंस

Question ID : 630680115324  
Option 1 ID : 630680446646  
Option 2 ID : 630680446648  
Option 3 ID : 630680446649  
Option 4 ID : 630680446647  
Status : Not Answered  
Chosen Option : --

Q.19 निम्नलिखित में से कौन-सी, कम आय वाले देश के लिए एक मूल आधारिक संरचना सेवा नहीं है?

- Ans
- A. दूरसंचार
  - B. परिवहन
  - C. बिजली
  - D. सिंचाई

Question ID : 63068054194  
Option 1 ID : 630680208820  
Option 2 ID : 630680208819  
Option 3 ID : 630680208821  
Option 4 ID : 630680208818  
Status : Answered  
Chosen Option : D

Q.20 पुरुलिया छऊ नृत्य निम्नलिखित में से किस देवता से संबंधित है?

- Ans  A. कृष्ण  
 B. इंद्र  
 C. विष्णु  
 D. शिव

Question ID : 630680214140  
Option 1 ID : 630680830607  
Option 2 ID : 630680830608  
Option 3 ID : 630680830610  
Option 4 ID : 630680830609  
Status : Answered  
Chosen Option : C

Q.21 निम्नलिखित में से कौन सी गुजरात में सपेरों की लोकप्रिय नृत्य शैली है?

- Ans  A. लावणी  
 B. मदारी नृत्य  
 C. ढोलो रानो  
 D. दांग

Question ID : 630680157844  
Option 1 ID : 630680610906  
Option 2 ID : 630680610905  
Option 3 ID : 630680610904  
Option 4 ID : 630680610907  
Status : Answered  
Chosen Option : C

Q.22 राष्ट्रीय निवेश और अवसंरचना कोष की स्थापना कब की गई थी?

- Ans  A. 2017 में  
 B. 2014 में  
 C. 2015 में  
 D. 2016 में

Question ID : 63068090256  
Option 1 ID : 630680349801  
Option 2 ID : 630680349798  
Option 3 ID : 630680349799  
Option 4 ID : 630680349800  
Status : Not Answered  
Chosen Option : --

Q.23 कुछ देश और उनके क्षेत्रफल मिलियन वर्ग किमी में दिए गए हैं। निम्नलिखित का सही मिलान करें।

देश	क्षेत्रफल (मिलियन वर्ग किमी में)
1. भारत	a. 3.28
2. ऑस्ट्रेलिया	b. 7.69
3. ब्राज़ील	c. 8.51
4. चीन	d. 9.60

- Ans
- A. 1-c, 2-b, 3-d, 4-a
  - B. 1-a, 2-b, 3-d, 4-c
  - C. 1-a, 2-c, 3-b, 4-d
  - D. 1-a, 2-b, 3-c, 4-d

Question ID : 63068074870  
Option 1 ID : 630680289634  
Option 2 ID : 630680289632  
Option 3 ID : 630680289633  
Option 4 ID : 630680289631  
Status : Answered  
Chosen Option : D

Q.24 अखिल भारतीय मुस्लिम लीग की स्थापना कहाँ हुई थी?

- Ans
- A. कराची
  - B. मुंबई
  - C. ढाका
  - D. मक्का

Question ID : 63068087066  
Option 1 ID : 630680337656  
Option 2 ID : 630680337654  
Option 3 ID : 630680337655  
Option 4 ID : 630680337653  
Status : Answered  
Chosen Option : C

Q.25 मोरमुगाओ बंदरगाह (Mormugao Port) भारत के किस राज्य में स्थित है?

- Ans
- A. महाराष्ट्र
  - B. कर्नाटक
  - C. गोवा
  - D. तमिलनाडु

Question ID : 630680209255  
Option 1 ID : 630680811235  
Option 2 ID : 630680811236  
Option 3 ID : 630680811237  
Option 4 ID : 630680811238  
Status : Answered  
Chosen Option : D

Section : Elementry Mathematics



Q.1 Rs.45,000 पर 6 महीने के लिए  $4\frac{1}{5}$  % प्रति वर्ष की दर से साधारण ब्याज ज्ञात कीजिए।

- Ans  A. Rs.745  
 B. Rs.645  
 C. Rs.945  
 D. Rs.845

Question ID : 63068058200  
Option 1 ID : 630680224528  
Option 2 ID : 630680224529  
Option 3 ID : 630680224527  
Option 4 ID : 630680224526  
Status : Not Answered  
Chosen Option : --

Q.2 एक खेल के मैदान की लंबाई 540 मीटर है और इस खेल के मैदान की लंबाई और चौड़ाई का अनुपात 9 : 8 है। खेल के मैदान की चौड़ाई कितनी है?

- Ans  A. 506 मीटर  
 B. 514 मीटर  
 C. 498 मीटर  
 D. 480 मीटर

Question ID : 630680120025  
Option 1 ID : 630680465136  
Option 2 ID : 630680465137  
Option 3 ID : 630680465135  
Option 4 ID : 630680465134  
Status : Answered  
Chosen Option : C

Q.3 पाइप A एक खाली टैंक को 12 घंटे में भर सकता है, जबकि पाइप B भरे टैंक को 18 घंटे में खाली कर सकता है। यदि खाली टैंक भरने के लिए दोनों पाइपों को एक साथ खोल दिया जाए, तो टैंक कितने घंटे में पूरी तरह से भर जाएगा?

- Ans  A. 12 घंटे  
 B. 36 घंटे  
 C. 17 घंटे  
 D. 18 घंटे

Question ID : 630680131147  
Option 1 ID : 630680507858  
Option 2 ID : 630680507860  
Option 3 ID : 630680507861  
Option 4 ID : 630680507859  
Status : Not Answered  
Chosen Option : --

Q.4 120 आमों को बेचने पर एक व्यक्ति 20 आमों का क्रय मूल्य अर्जित करता है। लाभ प्रतिशत ज्ञात कीजिए।

Ans

✓ A.  $16\frac{2}{3}\%$

✗ B.  $17\frac{2}{3}\%$

✗ C. 30%

✗ D. 20%

Question ID : 630680107390

Option 1 ID : 630680416926

Option 2 ID : 630680416927

Option 3 ID : 630680416925

Option 4 ID : 630680416924

Status : Not Answered

Chosen Option : --

Q.5 एक व्यक्ति अंकित मूल्य पर 19% की छूट देकर ₹1,134 प्रति टेप रिकॉर्डर के हिसाब से टेप रिकॉर्डर बेचता है। यदि उसने छूट नहीं दी होती, तो उसे क्रय मूल्य पर 40% का लाभ होता। प्रत्येक टेप रिकॉर्डर का क्रय मूल्य ज्ञात करें।

Ans ✗ A. Rs.1,600

✗ B. Rs.1,200

✗ C. Rs.1,400

✓ D. Rs.1,000

Question ID : 630680105251

Option 1 ID : 630680409086

Option 2 ID : 630680409084

Option 3 ID : 630680409085

Option 4 ID : 630680409083

Status : Not Answered

Chosen Option : --

Q.6 यदि एक घन का आयतन, पृष्ठीय क्षेत्रफल के समान है, तो भुजा की लंबाई क्या होगी?

Ans ✗ A. 2

✓ B. 6

✗ C. 4

✗ D. 8

Question ID : 63068079596

Option 1 ID : 630680308410

Option 2 ID : 630680308411

Option 3 ID : 630680308412

Option 4 ID : 630680308409

Status : Not Answered

Chosen Option : --

Q.7 स्वामी की वार्षिक आय ₹6,60,000 है। वह अपनी मासिक आय का 24% किस्तों पर, 16% घरेलू सामानों पर, 14% अपने बच्चों की फीस का भुगतान करने पर और 2% वह दान में खर्च करता है। यदि वह बची हुई राशि का 3/5वां हिस्सा म्यूचुअल फंड में निवेश करता है, तो उसके पास हर महीने कितनी राशि बचती है?

- Ans
- A. ₹16,221
  - B. ₹16,280
  - C. ₹15,800
  - D. ₹15,884

Question ID : 630680115681  
Option 1 ID : 630680448077  
Option 2 ID : 630680448076  
Option 3 ID : 630680448074  
Option 4 ID : 630680448075  
Status : Not Answered  
Chosen Option : --

Q.8 एक बाइक की चाल 54 km/h है और दूसरी बाइक की चाल 6 m/s है। दोनों बाइक की चाल का अनुपात ज्ञात करें।

- Ans
- A. 5: 2
  - B. 1: 9
  - C. 9: 1
  - D. 2: 5

Question ID : 630680112233  
Option 1 ID : 630680434659  
Option 2 ID : 630680434660  
Option 3 ID : 630680434658  
Option 4 ID : 630680434661  
Status : Answered  
Chosen Option : C

Q.9 ₹35,000 पर 10% प्रति वर्ष की दर से चक्रवृद्धि ब्याज ₹7,350 है। यदि ब्याज वार्षिक रूप से चक्रवृद्धि किया जाता है, तो समयावधि कितनी है?

- Ans
- A. 2 वर्ष
  - B.  $3\frac{1}{2}$  वर्ष
  - C. 3 वर्ष
  - D.  $1\frac{1}{2}$  वर्ष

Question ID : 630680108590  
Option 1 ID : 630680421316  
Option 2 ID : 630680421319  
Option 3 ID : 630680421317  
Option 4 ID : 630680421318  
Status : Not Answered  
Chosen Option : --

Q.10 एक कार्य को पूरा करने के लिए A और B की कार्य करने की क्षमताओं का अनुपात 2 : 3 है। कार्य को पूरा करने में उनके द्वारा लिए गए दिनों की संख्या का अनुपात..... होगा।

- Ans
- A. 4:3
  - B. 3:2
  - C. 3:4
  - D. 2:3

Question ID : 63068094361  
Option 1 ID : 630680366140  
Option 2 ID : 630680366142  
Option 3 ID : 630680366139  
Option 4 ID : 630680366141  
Status : Answered  
Chosen Option : D

Q.11 एक कक्षा को 5 अलग-अलग समूहों में बांटा गया है। पहले समूह में कक्षा की कुल संख्या का 25%, दूसरे समूह में कक्षा की कुल संख्या का 20%, तीसरे समूह में कक्षा की कुल संख्या का 30%, चौथे समूह में कक्षा की कुल संख्या का 10% और शेष छात्र पांचवें समूह में हैं। इन समूहों की औसत ऊँचाई क्रमशः 158 सेमी, 162 सेमी, 165 सेमी, 172 सेमी और 160 सेमी है। कक्षा में छात्रों की औसत ऊँचाई क्या है, यदि कक्षा की कुल संख्या 80 है?

- Ans
- A. 168.2
  - B. 163.5
  - C. 165.5
  - D. 162.6

Question ID : 630680103706  
Option 1 ID : 630680403058  
Option 2 ID : 630680403057  
Option 3 ID : 630680403056  
Option 4 ID : 630680403055  
Status : Not Answered  
Chosen Option : --

Q.12 यदि 5 लड़कों की आयु 23, 18, 22, 17 और 20 वर्ष है, तो लड़कों की औसत आयु कितनी है?

- Ans
- A. 19 वर्ष
  - B. 22 वर्ष
  - C. 20 वर्ष
  - D. 21 वर्ष

Question ID : 630680108570  
Option 1 ID : 630680421239  
Option 2 ID : 630680421237  
Option 3 ID : 630680421236  
Option 4 ID : 630680421238  
Status : Answered  
Chosen Option : C

Q.13 एक बर्तन में दो तरल पदार्थ P और Q का मिश्रण 4:5 के अनुपात में है। यदि बर्तन में 5 लीटर तरल P मिला दिया जाए, तो अनुपात 6:5 हो जाता है। बर्तन में तरल Q की मात्रा कितनी है?

- Ans  A. 15 litres  
 B. 12.5 litres  
 C. 17.5 litres  
 D. 10 litres

Question ID : 63068070960  
Option 1 ID : 630680274452  
Option 2 ID : 630680274451  
Option 3 ID : 630680274453  
Option 4 ID : 630680274450  
Status : Not Answered  
Chosen Option : --

Q.14 ₹1,000 पर 4% वार्षिक की दर से 2 वर्षों के लिए वार्षिक रूप से चक्रवृद्धि ब्याज ज्ञात कीजिए।

- Ans  A. RS.78.6  
 B. RS.81.6  
 C. RS.80  
 D. RS.70.5

Question ID : 630680108778  
Option 1 ID : 630680422024  
Option 2 ID : 630680422026  
Option 3 ID : 630680422027  
Option 4 ID : 630680422025  
Status : Not Answered  
Chosen Option : --

Q.15 51 से पूर्णतः विभाज्य 5 अंकों वाली सबसे छोटी संख्या कौन सी है?

- Ans  A. 10047  
 B. 10098  
 C. 10051  
 D. 10037

Question ID : 63068059999  
Option 1 ID : 630680231567  
Option 2 ID : 630680231569  
Option 3 ID : 630680231568  
Option 4 ID : 630680231566  
Status : Not Answered  
Chosen Option : --

Q.16 एक पुलिसकर्मी 200 m की दूरी से एक चोर को देखता है। चोर भागने लगता है और पुलिसकर्मी उसका पीछा करता है। चोर और पुलिसकर्मी क्रमशः 10 km/h और 11 km/h की चाल से भागते हैं। 5 मिनट बाद उनके बीच की दूरी ज्ञात करें।

- Ans
- A.  $116\frac{2}{3}$  m
  - B.  $118\frac{2}{3}$  m
  - C.  $106\frac{2}{3}$  m
  - D.  $110\frac{2}{3}$  m

Question ID : 630680220270  
Option 1 ID : 630680854946  
Option 2 ID : 630680854947  
Option 3 ID : 630680854948  
Option 4 ID : 630680854945  
Status : Not Answered  
Chosen Option : --

Q.17 600 और 200 के मध्य ऐसी कितनी संख्याएँ हैं, जो 11 से विभाज्य हैं।

- Ans
- A. 25
  - B. 36
  - C. 42
  - D. 39

Question ID : 63068070244  
Option 1 ID : 630680271613  
Option 2 ID : 630680271612  
Option 3 ID : 630680271611  
Option 4 ID : 630680271610  
Status : Not Answered  
Chosen Option : --

Q.18 यदि एक दुकानदार, एक जैकेट पर क्रय मूल्य से 40% अधिक मूल्य अंकित करता है और उस पर 15% की छूट देता है, तो उसका लाभ प्रतिशत ज्ञात कीजिए।

- Ans
- A. 15%
  - B. 12%
  - C. 17%
  - D. 19%

Question ID : 630680108890  
Option 1 ID : 630680422453  
Option 2 ID : 630680422452  
Option 3 ID : 630680422454  
Option 4 ID : 630680422455  
Status : Answered  
Chosen Option : D

Q.19 एक वर्ग में, प्रत्येक 8 छात्रों को 15 अंक मिले, 6 छात्रों को 24 अंक मिले, 4 छात्रों को 10 अंक मिले, 5 छात्रों को 12 अंक मिले और 2 छात्रों को 18 अंक मिले। कक्षा के औसत अंक कितने हैं?

- Ans  A. 16  
 B. 14  
 C. 12  
 D. 18

Question ID : 630680219100  
Option 1 ID : 630680850301  
Option 2 ID : 630680850300  
Option 3 ID : 630680850299  
Option 4 ID : 630680850302  
Status : Not Answered  
Chosen Option : --

Q.20  $10.\bar{3}$  के लिए सही व्यंजक है:

- Ans  A.  $\frac{10}{3}$   
 B.  $\frac{103}{9}$   
 C.  $\frac{93}{10}$   
 D.  $\frac{31}{3}$

Question ID : 63068071006  
Option 1 ID : 630680274634  
Option 2 ID : 630680274636  
Option 3 ID : 630680274637  
Option 4 ID : 630680274635  
Status : Answered  
Chosen Option : A

Q.21 हैरिसन ने एक कलाकार से एक मूर्ति खरीदी और उस पर क्रय मूल्य से 25% अधिक मूल्य अंकित कर दिया। हैरिसन ने इसे बेचने पर 20% की छूट की पेशकश की। कुल लेनदेन में समय लाभ या हानि प्रतिशत ज्ञात कीजिए।

- Ans  A. 10% लाभ  
 B. न लाभ, न हानि  
 C. 20% हानि  
 D. 5% लाभ

Question ID : 630680108958  
Option 1 ID : 630680422726  
Option 2 ID : 630680422727  
Option 3 ID : 630680422724  
Option 4 ID : 630680422725  
Status : Answered  
Chosen Option : B

Q.22 धातु के एक घन की प्रत्येक भुजा की लंबाई 12 cm है। इसे पिघलाकर तीन छोटे घन बनाए जाते हैं। इन घनों में से दो की भुजाएँ 6 cm और 8 cm हैं। तीसरे घन की प्रत्येक भुजा की लंबाई कितनी है?

- Ans  A. 10.5 cm  
 B. 9 cm  
 C. 11 cm  
 D. 10 cm

Question ID : 63068070986  
Option 1 ID : 630680274556  
Option 2 ID : 630680274554  
Option 3 ID : 630680274557  
Option 4 ID : 630680274555  
Status : Not Answered  
Chosen Option : --

Q.23 स्टॉपेज को छोड़कर, बस की चाल 80 km/h है और स्टॉपेज सहित, बस की चाल 50 km/h है। तो बताइए बस प्रति घंटे कितने मिनट के लिए रुकती है?

- Ans  A. 25  
 B. 25.5  
 C. 24.5  
 D. 22.5

Question ID : 630680108781  
Option 1 ID : 630680422039  
Option 2 ID : 630680422037  
Option 3 ID : 630680422038  
Option 4 ID : 630680422036  
Status : Not Answered  
Chosen Option : --

Q.24 रमेश ने 3 घंटे, 20 मील/घंटे की गति से और 2 घंटे, 30 मील/घंटे की गति से गाड़ी चलाई। पूरी यात्रा में उसकी औसत गति (मील/घंटे में) क्या थी?

- Ans  A. 25  
 B. 24  
 C. 30  
 D. 20

Question ID : 630680107367  
Option 1 ID : 630680416832  
Option 2 ID : 630680416834  
Option 3 ID : 630680416835  
Option 4 ID : 630680416833  
Status : Not Answered  
Chosen Option : --



Q.25  $15^{23} + 23^{23}$  को 19 से विभाजित करने पर शेषफल कितना बचेगा?

- Ans  A. 3  
 B. 1  
 C. 0  
 D. 2

Question ID : 63068068119  
Option 1 ID : 630680263205  
Option 2 ID : 630680263203  
Option 3 ID : 630680263202  
Option 4 ID : 630680263204  
Status : Not Answered  
Chosen Option : --

Section : English

Q.1 Select the most appropriate synonym of the given word.  
Catch

- Ans  A. Drop  
 B. Grab  
 C. Turn  
 D. Lose

Question ID : 630680204330  
Option 1 ID : 630680792404  
Option 2 ID : 630680792403  
Option 3 ID : 630680792406  
Option 4 ID : 630680792405  
Status : Not Answered  
Chosen Option : --

Q.2 Sentences of a paragraph are given below in jumbled order. Arrange the sentences in the correct order to form a meaningful and coherent paragraph.

- A. Humans have long found meaning in the stars.  
B. Other shimmery structures became known to us after the invention of the telescope.  
C. A few nearby galaxies have always been visible to the naked eye.  
D. But only recently have we begun to understand whole clusters of them.

- Ans  A. CDBA  
 B. ADCB  
 C. BDCA  
 D. DACB

Question ID : 630680204316  
Option 1 ID : 630680792349  
Option 2 ID : 630680792348  
Option 3 ID : 630680792347  
Option 4 ID : 630680792350  
Status : Not Answered  
Chosen Option : --

Q.3 Select the correctly spelt word.

- Ans  A. Accommodate  
 B. Acomodate  
 C. Accomodate  
 D. Accommodate

Question ID : 630680209291  
Option 1 ID : 630680811381  
Option 2 ID : 630680811379  
Option 3 ID : 630680811380  
Option 4 ID : 630680811382  
Status : Not Answered  
Chosen Option : --

Q.4 Read the sentence carefully and select the synonym of the underlined word from the given alternatives.

The Chairman insinuated that there will be an increase in the salary of all the workers.

- Ans  A. Confirmed  
 B. Implied  
 C. Promulgated  
 D. Indulged

Question ID : 630680123912  
Option 1 ID : 630680480513  
Option 2 ID : 630680480510  
Option 3 ID : 630680480511  
Option 4 ID : 630680480512  
Status : Not Answered  
Chosen Option : --

Q.5 Select the option that can be used as a one-word substitute for the given group of words.  
Extreme fear about ugliness

- Ans  A. Catrophobia  
 B. Chronophobia  
 C. Cacophobia  
 D. Cellophobia

Question ID : 630680160180  
Option 1 ID : 630680620095  
Option 2 ID : 630680620092  
Option 3 ID : 630680620093  
Option 4 ID : 630680620094  
Status : Not Answered  
Chosen Option : --

Q.6 Select the word that means the same as the underlined segment in the sentence.  
John is well known for his bad qualities around the neighbourhood.

- Ans  A. credulous  
 B. incorrigible  
 C. notorious  
 D. intrepid

Question ID : 630680209310  
Option 1 ID : 630680811456  
Option 2 ID : 630680811455  
Option 3 ID : 630680811458  
Option 4 ID : 630680811457  
Status : Not Answered  
Chosen Option : --

Q.7 Identify the option that makes the given sentence grammatically correct  
Kavita is absent, because he is sick.

- Ans  A. Kavita is absent, because it is sick.  
 B. Kavita is absent, because he was sick.  
 C. Kavita is absent, because she is sick.  
 D. Kavita is absent, because they is sick.

Question ID : 63068071243  
Option 1 ID : 630680275556  
Option 2 ID : 630680275555  
Option 3 ID : 630680275554  
Option 4 ID : 630680275557  
Status : Not Answered  
Chosen Option : --

Q.8 Select the option that can be used as a one-word substitute for the given group of words.

A doctor specialising in the treatment of skin diseases

- Ans  A. Nephrologist  
 B. Dermatologist  
 C. Cardiologist  
 D. Radiologist

Question ID : 63068071540  
Option 1 ID : 630680276699  
Option 2 ID : 630680276700  
Option 3 ID : 630680276698  
Option 4 ID : 630680276701  
Status : Not Answered  
Chosen Option : --

Q.9 Select the correctly spelt word.

- Ans  A. Occurrence  
 B. Occurence  
 C. Occurance  
 D. Ocurance

Question ID : 630680209290  
Option 1 ID : 630680811377  
Option 2 ID : 630680811375  
Option 3 ID : 630680811378  
Option 4 ID : 630680811376  
Status : Not Answered  
Chosen Option : --

Q.10 Select the INCORRECTLY spelt word.

- Ans  A. Ensemble  
 B. Ecstasy  
 C. En masse  
 D. Embassy

Question ID : 630680126301  
Option 1 ID : 630680489813  
Option 2 ID : 630680489810  
Option 3 ID : 630680489812  
Option 4 ID : 630680489811  
Status : Not Answered  
Chosen Option : --

Q.11 Select the most appropriate ANTONYM of the given word.  
Indulge

- Ans  A. Abandon  
 B. Coddle  
 C. Surrender  
 D. Deny

Question ID : 630680144526  
Option 1 ID : 630680559170  
Option 2 ID : 630680559173  
Option 3 ID : 630680559172  
Option 4 ID : 630680559171  
Status : Not Answered  
Chosen Option : --

Q.12 Select the most appropriate synonym of the given word.  
Glance

- Ans  A. Stare  
 B. Glimpse  
 C. Flash  
 D. Gaze

Question ID : 630680204331  
Option 1 ID : 630680792407  
Option 2 ID : 630680792409  
Option 3 ID : 630680792410  
Option 4 ID : 630680792408  
Status : Not Answered  
Chosen Option : --

Q.13 Sentences of a paragraph are given below in jumbled order. Arrange the sentences in the correct order to form a meaningful and coherent paragraph.

- A. Gender diversity enhancing policies such as the provision of supernumerary seats have led to an increase in the number of women candidates in IITs and IIMs across the country.  
B. In the 1990s, the ratio of women candidates to men at IITs was almost 10 to 1, with 10 representing the number of men; it gradually became 4 to 1 in the 2000s.  
C. In the past five years, the IITs have not only maintained 20% women candidates at campuses but also increased the number of women beyond 20% in many courses.  
D. After the introduction of supernumerary seats for women at IITs in 2008, most IIT campuses were able to meet the requirement of having 20% girls as mandatory by MHRD.

- Ans  A. DCBA  
 B. ABDC  
 C. CDAB  
 D. CABD

Question ID : 630680204402  
Option 1 ID : 630680792692  
Option 2 ID : 630680792693  
Option 3 ID : 630680792694  
Option 4 ID : 630680792691  
Status : Not Answered  
Chosen Option : --

Q.14 Sentences of a paragraph are given below in jumbled order. Arrange the sentences in the correct order to form a meaningful and coherent paragraph.

- A. He works hard and is never downcast.  
B. He also brings strength of mind and industry in his life.  
C. He finds thousands of ways to clear an issue.  
D. A person with high determination can solve all his problems.

- Ans  A. CBAD  
 B. DCAB  
 C. ABCD  
 D. BCDA

Question ID : 630680204342  
Option 1 ID : 630680792451  
Option 2 ID : 630680792453  
Option 3 ID : 630680792452  
Option 4 ID : 630680792454  
Status : Not Answered  
Chosen Option : --

Q.15 Select the INCORRECTLY spelt word.

- Ans  A. Develop  
 B. Defenitely  
 C. Dismay  
 D. Degree

Question ID : 630680129715  
Option 1 ID : 630680502469  
Option 2 ID : 630680502468  
Option 3 ID : 630680502467  
Option 4 ID : 630680502466  
Status : Not Answered  
Chosen Option : --

Q.16 Select the option that can be used as a one-word substitute for the given group of words.

A place where birds are kept

- Ans  A. Roost  
 B. Aviary  
 C. Burrow  
 D. Den

Question ID : 630680129476  
Option 1 ID : 630680501525  
Option 2 ID : 630680501522  
Option 3 ID : 630680501524  
Option 4 ID : 630680501523  
Status : Not Answered  
Chosen Option : --

Q.17 Select the most appropriate option to fill in the blank in the given sentence.

The lion is a \_\_\_ of prey in a forest.

- Ans  A. beat  
 B. bet  
 C. beast  
 D. best

Question ID : 630680118357  
Option 1 ID : 630680458564  
Option 2 ID : 630680458565  
Option 3 ID : 630680458563  
Option 4 ID : 630680458562  
Status : Not Answered  
Chosen Option : --

Q.18 'Identify the option that makes the given sentence grammatically correct  
When the child saw the mother, they stopped crying.

- Ans  A. When the child saw the mother, he stopped crying.  
 B. When the child saw his mother, him stopped crying.  
 C. When the child saw the mother, it stopped crying.  
 D. When the child saw the mother, she stopped crying.

Question ID : 63068071244  
Option 1 ID : 630680275559  
Option 2 ID : 630680275561  
Option 3 ID : 630680275560  
Option 4 ID : 630680275558  
Status : Not Answered  
Chosen Option : --

Q.19 Select the most appropriate synonym of the underlined word.

Silence does seldom harm.

- Ans  A. Benefit  
 B. Reparation  
 C. Heal  
 D. Hurt

Question ID : 630680132849  
Option 1 ID : 630680514462  
Option 2 ID : 630680514464  
Option 3 ID : 630680514463  
Option 4 ID : 630680514465  
Status : Not Answered  
Chosen Option : --

Q.20 Select the option that can be used as a one-word substitute for the given group of words.  
Belief in God and nature

- Ans  A. Immaculate  
 B. Pantheism  
 C. Xenomania  
 D. Polyglot

Question ID : 630680167101  
Option 1 ID : 630680647263  
Option 2 ID : 630680647262  
Option 3 ID : 630680647261  
Option 4 ID : 630680647260  
Status : Not Answered  
Chosen Option : --

**Comprehension:**

Read the given passage and answer the questions that follow.

Social media, which was created to bring the world closer virtually, has in fact resulted in an addictive phenomenon which has led to an increase in the number of anxiety and depression-related cases. 'Social detox' is an up and coming term, which refers to a social blackout for a certain number of days, to essentially give the mind and soul a rest from the constant updates. However, with the world that we live in, this isn't the ideal answer to our problems. A 'social detox' may not be viable given the work and priorities we all have. An alternative to aid our mental health and have an overall positive impact on our mood is music.

Music is a universal language that is understood and felt across cultures, religions and all social aspects. Every element in the universe actually originates from a sound vibration. Simple elements of nature like the rustle of trees, the crunching of grass and bees buzzing have a calming effect on the brain and have the power of inducing a sense of happiness and joy. A great example of the power of music to induce a remedial melody for a stress-filled mind is the lullabies which were sung by our mothers at a very young age. It is observed that singing lullabies to children calms them, putting them to a peaceful sleep. Similarly, playing music while working can not only increase one's productivity but also act as a breather amidst an otherwise stressful environment. Music is also seen as a great medium to practice meditation – the epitome of achieving mental peace. All these examples exhibit the effect of music on one's mental health by stimulating a calming sensation.

In olden times, music was given equal importance as maths and other subjects because it was known to aid the cognitive development of children. Playing an instrument is the brain's equivalent of a full body work out, as it engages all parts of the brain at once, especially the visual, motor and auditory cortices.

Music and its positive effects on the mind have been studied by various professionals, which has led to the introduction of music therapy. Music is also a readily available medium that can help individuals of all age groups battle mental health problems.

**SubQuestion No : 21****Q.21 According to the passage, what increases anxiety?**

- Ans  A. Social Media  
 B. Poverty  
 C. Music  
 D. Education

Question ID : 630680204424

Option 1 ID : 630680792771

Option 2 ID : 630680792774

Option 3 ID : 630680792772

Option 4 ID : 630680792773

Status : Not Answered

Chosen Option : --



**Comprehension:**

Read the given passage and answer the questions that follow.

Social media, which was created to bring the world closer virtually, has in fact resulted in an addictive phenomenon which has led to an increase in the number of anxiety and depression-related cases. 'Social detox' is an up and coming term, which refers to a social blackout for a certain number of days, to essentially give the mind and soul a rest from the constant updates. However, with the world that we live in, this isn't the ideal answer to our problems. A 'social detox' may not be viable given the work and priorities we all have. An alternative to aid our mental health and have an overall positive impact on our mood is music.

Music is a universal language that is understood and felt across cultures, religions and all social aspects. Every element in the universe actually originates from a sound vibration. Simple elements of nature like the rustle of trees, the crunching of grass and bees buzzing have a calming effect on the brain and have the power of inducing a sense of happiness and joy. A great example of the power of music to induce a remedial melody for a stress-filled mind is the lullabies which were sung by our mothers at a very young age. It is observed that singing lullabies to children calms them, putting them to a peaceful sleep. Similarly, playing music while working can not only increase one's productivity but also act as a breather amidst an otherwise stressful environment. Music is also seen as a great medium to practice meditation – the epitome of achieving mental peace. All these examples exhibit the effect of music on one's mental health by stimulating a calming sensation.

In olden times, music was given equal importance as maths and other subjects because it was known to aid the cognitive development of children. Playing an instrument is the brain's equivalent of a full body work out, as it engages all parts of the brain at once, especially the visual, motor and auditory cortices.

Music and its positive effects on the mind have been studied by various professionals, which has led to the introduction of music therapy. Music is also a readily available medium that can help individuals of all age groups battle mental health problems.

**SubQuestion No : 22**

**Q.22 Choose the most appropriate meaning of the word 'lullaby'.**

- Ans**
- A. Instrumental music played by violin player
  - B. A western song sung by Indian musicians
  - C. A folk song sung by western people
  - D. A song sung to children to help them go to sleep

Question ID : 630680204428

Option 1 ID : 630680792790

Option 2 ID : 630680792789

Option 3 ID : 630680792788

Option 4 ID : 630680792787

Status : **Not Answered**

Chosen Option : --

**Comprehension:**

Read the given passage and answer the questions that follow.

Social media, which was created to bring the world closer virtually, has in fact resulted in an addictive phenomenon which has led to an increase in the number of anxiety and depression-related cases. 'Social detox' is an up and coming term, which refers to a social blackout for a certain number of days, to essentially give the mind and soul a rest from the constant updates. However, with the world that we live in, this isn't the ideal answer to our problems. A 'social detox' may not be viable given the work and priorities we all have. An alternative to aid our mental health and have an overall positive impact on our mood is music.

Music is a universal language that is understood and felt across cultures, religions and all social aspects. Every element in the universe actually originates from a sound vibration. Simple elements of nature like the rustle of trees, the crunching of grass and bees buzzing have a calming effect on the brain and have the power of inducing a sense of happiness and joy. A great example of the power of music to induce a remedial melody for a stress-filled mind is the lullabies which were sung by our mothers at a very young age. It is observed that singing lullabies to children calms them, putting them to a peaceful sleep. Similarly, playing music while working can not only increase one's productivity but also act as a breather amidst an otherwise stressful environment. Music is also seen as a great medium to practice meditation – the epitome of achieving mental peace. All these examples exhibit the effect of music on one's mental health by stimulating a calming sensation.

In olden times, music was given equal importance as maths and other subjects because it was known to aid the cognitive development of children. Playing an instrument is the brain's equivalent of a full body work out, as it engages all parts of the brain at once, especially the visual, motor and auditory cortices.

Music and its positive effects on the mind have been studied by various professionals, which has led to the introduction of music therapy. Music is also a readily available medium that can help individuals of all age groups battle mental health problems.

**SubQuestion No : 23**

**Q.23 Which of the following statements is true about the term 'social detox'?**

- Ans**
- A. Spending all one's time on social media
  - B. Going away from daily updates for a while
  - C. Being in the presence of parents and relatives
  - D. Spending time with the colleagues in the office

Question ID : 630680204427

Option 1 ID : 630680792786

Option 2 ID : 630680792785

Option 3 ID : 630680792783

Option 4 ID : 630680792784

Status : **Not Answered**

Chosen Option : --

**Comprehension:**

Read the given passage and answer the questions that follow.

Social media, which was created to bring the world closer virtually, has in fact resulted in an addictive phenomenon which has led to an increase in the number of anxiety and depression-related cases. 'Social detox' is an up and coming term, which refers to a social blackout for a certain number of days, to essentially give the mind and soul a rest from the constant updates. However, with the world that we live in, this isn't the ideal answer to our problems. A 'social detox' may not be viable given the work and priorities we all have. An alternative to aid our mental health and have an overall positive impact on our mood is music.

Music is a universal language that is understood and felt across cultures, religions and all social aspects. Every element in the universe actually originates from a sound vibration. Simple elements of nature like the rustle of trees, the crunching of grass and bees buzzing have a calming effect on the brain and have the power of inducing a sense of happiness and joy. A great example of the power of music to induce a remedial melody for a stress-filled mind is the lullabies which were sung by our mothers at a very young age. It is observed that singing lullabies to children calms them, putting them to a peaceful sleep. Similarly, playing music while working can not only increase one's productivity but also act as a breather amidst an otherwise stressful environment. Music is also seen as a great medium to practice meditation – the epitome of achieving mental peace. All these examples exhibit the effect of music on one's mental health by stimulating a calming sensation.

In olden times, music was given equal importance as maths and other subjects because it was known to aid the cognitive development of children. Playing an instrument is the brain's equivalent of a full body work out, as it engages all parts of the brain at once, especially the visual, motor and auditory cortices.

Music and its positive effects on the mind have been studied by various professionals, which has led to the introduction of music therapy. Music is also a readily available medium that can help individuals of all age groups battle mental health problems.

**SubQuestion No : 24**

**Q.24** Select the most appropriate title for the passage.

- Ans**
- A. Music, The Best Medicine for Modern Woes
  - B. Social Media and its Advantages
  - C. Music Schools And Music Programmes
  - D. Music and Magic Learning in Modern Society

Question ID : 630680204426

Option 1 ID : 630680792779

Option 2 ID : 630680792782

Option 3 ID : 630680792781

Option 4 ID : 630680792780

Status : **Not Answered**

Chosen Option : --

**Comprehension:**

Read the given passage and answer the questions that follow.

Social media, which was created to bring the world closer virtually, has in fact resulted in an addictive phenomenon which has led to an increase in the number of anxiety and depression-related cases. 'Social detox' is an up and coming term, which refers to a social blackout for a certain number of days, to essentially give the mind and soul a rest from the constant updates. However, with the world that we live in, this isn't the ideal answer to our problems. A 'social detox' may not be viable given the work and priorities we all have. An alternative to aid our mental health and have an overall positive impact on our mood is music.

Music is a universal language that is understood and felt across cultures, religions and all social aspects. Every element in the universe actually originates from a sound vibration. Simple elements of nature like the rustle of trees, the crunching of grass and bees buzzing have a calming effect on the brain and have the power of inducing a sense of happiness and joy. A great example of the power of music to induce a remedial melody for a stress-filled mind is the lullabies which were sung by our mothers at a very young age. It is observed that singing lullabies to children calms them, putting them to a peaceful sleep. Similarly, playing music while working can not only increase one's productivity but also act as a breather amidst an otherwise stressful environment. Music is also seen as a great medium to practice meditation – the epitome of achieving mental peace. All these examples exhibit the effect of music on one's mental health by stimulating a calming sensation.

In olden times, music was given equal importance as maths and other subjects because it was known to aid the cognitive development of children. Playing an instrument is the brain's equivalent of a full body work out, as it engages all parts of the brain at once, especially the visual, motor and auditory cortices.

Music and its positive effects on the mind have been studied by various professionals, which has led to the introduction of music therapy. Music is also a readily available medium that can help individuals of all age groups battle mental health problems.

SubQuestion No : 25

Q.25 Identity the central theme of the passage.

- Ans
- A. Western music is better than traditional music.
  - B. Movies makers are neglecting music.
  - C. Music gives relief from anxiety.
  - D. Music has a negative impact on human mind.

Question ID : 630680204425

Option 1 ID : 630680792777

Option 2 ID : 630680792775

Option 3 ID : 630680792776

Option 4 ID : 630680792778

Status : Not Answered

Chosen Option : --

Section : Hindi

Q.1 निम्नलिखित में से कौन सा एक 'मुहावरे' से सम्बंधित शब्द-युग्म अशुद्ध है?

- Ans
- A. लोहा मानना-शक्तिमत्ता को स्वीकार करना
  - B. रास्ता नापना-सफल होना
  - C. विष की गाँठ-कड़वी बातें कहने वाला
  - D. लोहा लेना-युद्ध करना

Question ID : 630680197104

Option 1 ID : 630680764699

Option 2 ID : 630680764700

Option 3 ID : 630680764701

Option 4 ID : 630680764702

Status : Answered

Chosen Option : D

Q.2 'आजकल \_\_\_\_\_ बहुत बढ़ गए हैं।' (गिरह काटने वाला)

कोष्ठक में दिए संकेत के आधार पर सही सामासिक शब्द चुनकर वाक्य पूर्ण करें।

- Ans  A. गिरहकट  
 B. गिरहवाले  
 C. गिरह काटने वाले  
 D. गिरहकाटे

Question ID : 63068071830  
Option 1 ID : 630680277791  
Option 2 ID : 630680277793  
Option 3 ID : 630680277790  
Option 4 ID : 630680277792  
Status : Answered  
Chosen Option : B

Q.3 निम्नलिखित वाक्यांश को ध्यानपूर्वक पढ़ें और बताएं कि यह किस समास का उदाहरण है?  
तीन रंगों का समूह - तिरंगा

- Ans  A. बहुब्रीहि समास  
 B. द्विगु समास  
 C. द्वंद समास  
 D. कर्मधारय समास

Question ID : 630680203692  
Option 1 ID : 630680789969  
Option 2 ID : 630680789967  
Option 3 ID : 630680789970  
Option 4 ID : 630680789968  
Status : Answered  
Chosen Option : B

Q.4 कौन - से मुहावरे से निम्न अर्थ सूचित होता है?  
कार्यारंभ में विपत्ति आना-

- Ans  A. सिर नंगा करना  
 B. सिर मुंडाले ओले पड़ना  
 C. दाँत काटी रोटी  
 D. मुँह में खून लगना

Question ID : 630680198527  
Option 1 ID : 630680770070  
Option 2 ID : 630680770068  
Option 3 ID : 630680770069  
Option 4 ID : 630680770067  
Status : Not Answered  
Chosen Option : --

Q.5 निम्नलिखित लोकोक्ति को ध्यानपूर्वक पढ़ें और बताएं कि कौनसा विकल्प लोकोक्ति के उचित अर्थ को प्रस्तुत कर रहा है?  
अक्ल के अंधे, गाँठ के पूरे

- Ans  A. निर्बुद्धि धनवान  
 B. चालाक धनवान  
 C. मोटा धनवान  
 D. बुद्धिमान धनवान

Question ID : 630680203681  
Option 1 ID : 630680789923  
Option 2 ID : 630680789925  
Option 3 ID : 630680789926  
Option 4 ID : 630680789924  
Status : Answered  
Chosen Option : A

Q.6 "कार दुर्घटना में सुरेश की \_\_\_ हो गई।"

उपर्युक्त वाक्य में रिक्त स्थान की पूर्ति के लिए उपयुक्त तद्भव शब्द है -

- Ans  A. पराभव  
 B. मौत  
 C. मृत्यु  
 D. खराब

Question ID : 630680140324  
Option 1 ID : 630680543099  
Option 2 ID : 630680543100  
Option 3 ID : 630680543101  
Option 4 ID : 630680543098  
Status : Answered  
Chosen Option : C

Q.7 निम्नलिखित वाक्यांश के लिए सार्थक शब्द का चयन करें।

जिसकी तुलना न की जा सके।

- Ans  A. तुलनीय  
 B. अन्त्योत्य  
 C. अतुलनीय  
 D. तुल्य

Question ID : 630680128826  
Option 1 ID : 630680498939  
Option 2 ID : 630680498941  
Option 3 ID : 630680498938  
Option 4 ID : 630680498940  
Status : Answered  
Chosen Option : C

Q.8 'अशक्य' के लिए वाक्य खंड चुनिए।

- Ans  A. जो कुछ भी नहीं जानते  
 B. जो साधा न जा सके  
 C. जिसे छिपाना उचित हो  
 D. जो कभी न हो सके

Question ID : 630680198537

Option 1 ID : 630680770107

Option 2 ID : 630680770110

Option 3 ID : 630680770109

Option 4 ID : 630680770108

Status : Answered

Chosen Option : D

Q.9 'जब तक मेरी \_\_\_\_\_ चलेगी तब तक मैं अपनी बात पर कायम रहूँगा' निम्नलिखित वाक्य के रिक्त स्थान में उचित तद्भव शब्द का चयन करें

- Ans  A. साँस  
 B. साग  
 C. श्वास  
 D. शाक

Question ID : 630680197087

Option 1 ID : 630680764634

Option 2 ID : 630680764631

Option 3 ID : 630680764633

Option 4 ID : 630680764632

Status : Answered

Chosen Option : A

Q.10 निम्नलिखित में से कौन-सा एक शब्द 'गाछ' का पर्यायवाची नहीं है?

- Ans  A. द्रुम  
 B. क्षणप्रभा  
 C. विटप  
 D. अगम

Question ID : 630680197100

Option 1 ID : 630680764684

Option 2 ID : 630680764686

Option 3 ID : 630680764685

Option 4 ID : 630680764683

Status : Not Answered

Chosen Option : --

Q.11 निम्नलिखित वाक्य में कारक चिन्ह है:

मेरे घर पर मेहमान आ गए।

- Ans  A. गए  
 B. पर  
 C. मेरे  
 D. आ

Question ID : 63068071774  
Option 1 ID : 630680277568  
Option 2 ID : 630680277569  
Option 3 ID : 630680277566  
Option 4 ID : 630680277567  
Status : Answered  
Chosen Option : C

Q.12 निम्नलिखित में से कौन सा कारक चिन्ह नहीं है?

- Ans  A. को  
 B. के द्वारा  
 C. से  
 D. ही

Question ID : 63068071776  
Option 1 ID : 630680277576  
Option 2 ID : 630680277574  
Option 3 ID : 630680277575  
Option 4 ID : 630680277577  
Status : Answered  
Chosen Option : B

Q.13 दिए गए किस विकल्प में अव्ययीभाव समास शब्द का प्रयोग नहीं किया गया है-

- Ans  A. माता-पिता का आदर करो  
 B. कहानी में यथार्थ का चित्रण होता है  
 C. प्रत्येक व्यक्ति सम्मान चाहता है  
 D. प्रत्यक्ष को प्रमाण की जरूरत नहीं होती है

Question ID : 630680123445  
Option 1 ID : 630680478665  
Option 2 ID : 630680478662  
Option 3 ID : 630680478664  
Option 4 ID : 630680478663  
Status : Answered  
Chosen Option : A



Q.14 'पुरोहित' का उचित संधि विच्छेद है-

Ans  A. पुरः + हित

B. पुर + हित

C. पुरो + हित

D. पुरो + हीत

Question ID : 63068061009

Option 1 ID : 630680235454

Option 2 ID : 630680235456

Option 3 ID : 630680235455

Option 4 ID : 630680235457

Status : Answered

Chosen Option : A

Q.15 'सादर' किस समास का उदाहरण है?

Ans  A. तत्पुरुष

B. कर्मधारय

C. अव्ययीभाव

D. नञ समास

Question ID : 63068065769

Option 1 ID : 630680254026

Option 2 ID : 630680254028

Option 3 ID : 630680254027

Option 4 ID : 630680254029

Status : Not Answered

Chosen Option : --

Q.16 निम्नलिखित में से तत्पुरुष समास के उदाहरण की पहचान कीजिये-

Ans  A. आधा है जो पका - अधपका

B. तीन वेणियों का समूह - त्रिवेणी

C. मृत्यु पर जय - मृत्युंजय

D. शक्ति के अनुसार - यथाशक्ति



Question ID : 63068065820

Option 1 ID : 630680254227

Option 2 ID : 630680254228

Option 3 ID : 630680254226

Option 4 ID : 630680254229

Status : Answered

Chosen Option : D

Q.17 निम्नलिखित में से उचित तत्सम शब्द चुनकर उपरोक्त वाक्य पूर्ण करें - 'जिसका वस्तु का मूल्य कुछ समय पहले के मूल्य से अधिक हो, उसे \_\_\_\_\_ कहते हैं।'

- Ans  A. महार्घ्य  
 B. अमूल्य  
 C. महँगा  
 D. कीमती

Question ID : 630680146757  
Option 1 ID : 630680567869  
Option 2 ID : 630680567868  
Option 3 ID : 630680567866  
Option 4 ID : 630680567867  
Status : Answered  
Chosen Option : C

Q.18 निम्नलिखित शब्द का पर्यायवाची बताएं।  
गूढ़

- Ans  A. गधा  
 B. दुर्बोध  
 C. गुड़  
 D. गह्वा

Question ID : 630680197180  
Option 1 ID : 630680765006  
Option 2 ID : 630680765004  
Option 3 ID : 630680765003  
Option 4 ID : 630680765005  
Status : Answered  
Chosen Option : B

Q.19 जिसे पानी या किसी और वस्तु को पीने की प्यास हो' वाक्यांश के लिए सार्थक शब्द निम्नलिखित में से है-

- Ans  A. पियरी  
 B. पिउनी  
 C. पिंगाक्षी  
 D. पिपासु

Question ID : 630680197153  
Option 1 ID : 630680764898  
Option 2 ID : 630680764897  
Option 3 ID : 630680764896  
Option 4 ID : 630680764895  
Status : Answered  
Chosen Option : D

Q.20 विधि, रीति इन पर्यायवाची शब्दों का अर्थ है -

- Ans  A. दुविधा  
 B. अवसर  
 C. तरीका  
 D. मंथर

Question ID : 630680128784

Option 1 ID : 630680498776

Option 2 ID : 630680498775

Option 3 ID : 630680498774

Option 4 ID : 630680498777

Status : Answered

Chosen Option : B

**Comprehension:**

निम्नलिखित गद्यांश को पढ़कर पूछे गए सवालों का जवाब दीजिए।

धर्मराज लाखों वर्षों से असंख्य आदमियों को कर्म और सिफारिश के आधार पर स्वर्ग या नरक में निवास-स्थान 'अलॉट' करते आ रहे थे। पर ऐसा कभी नहीं हुआ था। सामने बैठे चित्रगुप्त बार-बार चश्मा पोंछ, बार-बार थूक से पन्ने पलट, रजिस्टर पर रजिस्टर देख रहे थे। गलती पकड़ में ही नहीं आ रही थी। आखिर उन्होंने खीझकर रजिस्टर इतने जोर से बंद किया कि मक्खी चपेट में आ गई। उसे निकालते हुए वे बोले- "महाराज, रिकॉर्ड सब ठीक है। भोलाराम के जीव ने पाँच दिन पहले देह त्यागी और यमदूत के साथ इस लोक के लिए रवाना भी हुआ, पर यहाँ अभी तक नहीं पहुँचा।"

SubQuestion No : 21

Q.21 चित्रगुप्त बार-बार चश्मा पोंछकर क्या देख रहे थे?

- Ans  A. पुस्तक  
 B. मक्खी  
 C. रजिस्टर  
 D. आदमी

Question ID : 630680123140

Option 1 ID : 630680477460

Option 2 ID : 630680477458

Option 3 ID : 630680477459

Option 4 ID : 630680477461

Status : Answered

Chosen Option : C



**Comprehension:**

निम्नलिखित गद्यांश को पढ़कर पूछे गए सवालों का जवाब दीजिए।

धर्मराज लाखों वर्षों से असंख्य आदमियों को कर्म और सिफारिश के आधार पर स्वर्ग या नरक में निवास- स्थान 'अलॉट' करते आ रहे थे। पर ऐसा कभी नहीं हुआ था। सामने बैठे चित्रगुप्त बार-बार चश्मा पोंछ, बार- बार थूक से पन्ने पलट, रजिस्टर पर रजिस्टर देख रहे थे। गलती पकड़ में ही नहीं आ रही थी। आखिर उन्होंने खीझकर रजिस्टर इतने जोर से बंद किया कि मक्खी चपेट में आ गई। उसे निकालते हुए वे बोले- "महाराज, रिकॉर्ड सब ठीक है। भोलाराम के जीव ने पाँच दिन पहले देह त्यागी और यमदूत के साथ इस लोक के लिए रवाना भी हुआ, पर यहाँ अभी तक नहीं पहुँचा।"

**SubQuestion No : 22**

Q.22 'देह' शब्द का अर्थ है-

- Ans  A. छोड़ना  
 B. शरीर  
 C. चलना  
 D. देना

Question ID : 630680123143

Option 1 ID : 630680477471

Option 2 ID : 630680477470

Option 3 ID : 630680477472

Option 4 ID : 630680477473

Status : Answered

Chosen Option : B

**Comprehension:**

निम्नलिखित गद्यांश को पढ़कर पूछे गए सवालों का जवाब दीजिए।

धर्मराज लाखों वर्षों से असंख्य आदमियों को कर्म और सिफारिश के आधार पर स्वर्ग या नरक में निवास- स्थान 'अलॉट' करते आ रहे थे। पर ऐसा कभी नहीं हुआ था। सामने बैठे चित्रगुप्त बार-बार चश्मा पोंछ, बार- बार थूक से पन्ने पलट, रजिस्टर पर रजिस्टर देख रहे थे। गलती पकड़ में ही नहीं आ रही थी। आखिर उन्होंने खीझकर रजिस्टर इतने जोर से बंद किया कि मक्खी चपेट में आ गई। उसे निकालते हुए वे बोले- "महाराज, रिकॉर्ड सब ठीक है। भोलाराम के जीव ने पाँच दिन पहले देह त्यागी और यमदूत के साथ इस लोक के लिए रवाना भी हुआ, पर यहाँ अभी तक नहीं पहुँचा।"

**SubQuestion No : 23**

Q.23 स्वर्ग या नरक में निवास-स्थान कौन 'अलॉट' करता था?

- Ans  A. यमदूत  
 B. आदमी  
 C. चित्रगुप्त  
 D. धर्मराज

Question ID : 630680123139

Option 1 ID : 630680477457

Option 2 ID : 630680477455

Option 3 ID : 630680477456

Option 4 ID : 630680477454

Status : Answered

Chosen Option : D

**Comprehension:**

निम्नलिखित गद्यांश को पढ़कर पूछे गए सवालों का जवाब दीजिए।

धर्मराज लाखों वर्षों से असंख्य आदमियों को कर्म और सिफारिश के आधार पर स्वर्ग या नरक में निवास- स्थान 'अलॉट' करते आ रहे थे। पर ऐसा कभी नहीं हुआ था। सामने बैठे चित्रगुप्त बार-बार चश्मा पोंछ, बार- बार थूक से पन्ने पलट, रजिस्टर पर रजिस्टर देख रहे थे। गलती पकड़ में ही नहीं आ रही थी। आखिर उन्होंने खीझकर रजिस्टर इतने जोर से बंद किया कि मक्खी चपेट में आ गई। उसे निकालते हुए वे बोले- "महाराज, रिकॉर्ड सब ठीक है। भोलाराम के जीव ने पाँच दिन पहले देह त्यागी और यमदूत के साथ इस लोक के लिए रवाना भी हुआ, पर यहाँ अभी तक नहीं पहुँचा।"

**SubQuestion No : 24****Q.24 भोलाराम का जीव किसके साथ रवाना हुआ?**

- Ans  A. यमदूत के  
 B. धर्मराज के  
 C. चित्रगुप्त के  
 D. देवराज के

Question ID : 630680123142

Option 1 ID : 630680477469

Option 2 ID : 630680477466

Option 3 ID : 630680477467

Option 4 ID : 630680477468

Status : Answered

Chosen Option : A

**Comprehension:**

निम्नलिखित गद्यांश को पढ़कर पूछे गए सवालों का जवाब दीजिए।

धर्मराज लाखों वर्षों से असंख्य आदमियों को कर्म और सिफारिश के आधार पर स्वर्ग या नरक में निवास- स्थान 'अलॉट' करते आ रहे थे। पर ऐसा कभी नहीं हुआ था। सामने बैठे चित्रगुप्त बार-बार चश्मा पोंछ, बार- बार थूक से पन्ने पलट, रजिस्टर पर रजिस्टर देख रहे थे। गलती पकड़ में ही नहीं आ रही थी। आखिर उन्होंने खीझकर रजिस्टर इतने जोर से बंद किया कि मक्खी चपेट में आ गई। उसे निकालते हुए वे बोले- "महाराज, रिकॉर्ड सब ठीक है। भोलाराम के जीव ने पाँच दिन पहले देह त्यागी और यमदूत के साथ इस लोक के लिए रवाना भी हुआ, पर यहाँ अभी तक नहीं पहुँचा।"

**SubQuestion No : 25****Q.25 चित्रगुप्त ने खीझकर क्या किया?**

- Ans  A. रवाना हो गए  
 B. मक्खी मारी  
 C. मौन धारण किया  
 D. रजिस्टर बंद किया

Question ID : 630680123141

Option 1 ID : 630680477463

Option 2 ID : 630680477462

Option 3 ID : 630680477465

Option 4 ID : 630680477464

Status : Answered

Chosen Option : D