



Teachingninja.in

CRPF Constable Technical Tradesman 06 Jul 2023 Shift-3

- ★ Latest Govt Job updates
- ★ Private Job updates
- ★ Free Mock tests available

Visit - teachingninja.in

CRPF Technical Tradesman 1st to 12th July 2023

Participant ID	
Participant Name	
Test Center Name	
Test Date	06/07/2023
Test Time	4:30 PM - 6:30 PM
Subject	Constable Tailor

Section : General Intelligence and Reasoning

Q.1 राघव पश्चिम की ओर 60 किमी दौड़ता है, वह बाएं मुड़ता है और 15 किमी दौड़ता है। वह फिर बाएं मुड़ता है और 40 किमी दौड़कर पुस्तकालय पहुँचता है। पुस्तकालय, आरंभिक बिंदु से किस दिशा में है?

- Ans A. उत्तर
 B. दक्षिण-पश्चिम
 C. दक्षिण-पूर्व
 D. पूर्व

Question ID : 63068062297

Option 1 ID : 630680240436

Option 2 ID : 630680240434

Option 3 ID : 630680240437

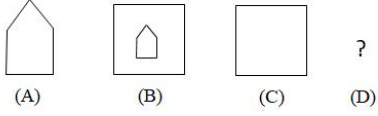
Option 4 ID : 630680240435

Status : Answered

Chosen Option : B

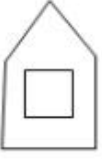


Q.2 आकृति A एक निश्चित पैटर्न में आकृति B से संबंधित है। उसी पैटर्न का अनुसरण करते हुए, आकृति C आकृति D से संबंधित है। पैटर्न का अध्ययन करें और उस आकृति का चयन करें जो आकृति D के लिए प्रश्न चिह्न (?) को प्रतिस्थापित कर सकती है।

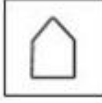


Ans

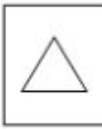
A.



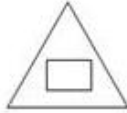
B.



C.



D.



Question ID : 63068062226

Option 1 ID : 630680240201

Option 2 ID : 630680240200

Option 3 ID : 630680240199

Option 4 ID : 630680240198

Status : Answered

Chosen Option : A

Q.3 निम्नलिखित समीकरण में '?' के स्थान पर क्या आएगा, यदि '+' और '-' को आपस में बदल दिया जाए और 'x' और '÷' को आपस में बदल दिया जाए?

$$(8 \div 7) + (4 \div 3) - 54 \times (2 \div 9) + 6 = ?$$

Ans A. 41

B. 53

C. 65

D. 35

Question ID : 63068053404

Option 1 ID : 630680205705

Option 2 ID : 630680205703

Option 3 ID : 630680205702

Option 4 ID : 630680205704

Status : Answered

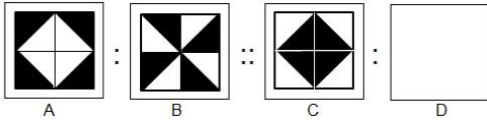
Chosen Option : A

Q.4 H, B की बहन है। Z, H का पुत्र है। N, H का पति है। J, B का पुत्र है। C, J का भाई है। A, C का पिता है। E, H की माता है। A, E से किस प्रकार संबंधित है?

- Ans
- A. पुत्र
 - B. पिता
 - C. दामाद
 - D. पति

Question ID : 630680104933
 Option 1 ID : 630680407865
 Option 2 ID : 630680407864
 Option 3 ID : 630680407863
 Option 4 ID : 630680407866
 Status : Answered
 Chosen Option : C

Q.5 नीचे दिए गए विकल्पों में से उस आकृति का चयन कीजिए जो तीसरी आकृति से उसी प्रकार संबंधित है जिस प्रकार दूसरी आकृति पहली आकृति से संबंधित है।

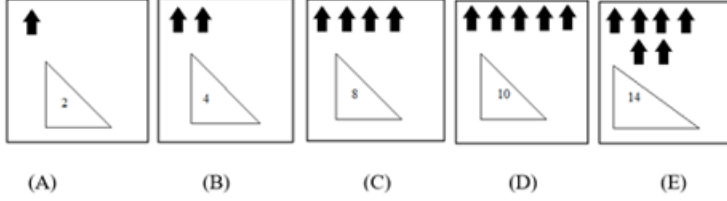


Ans

- A.
- B.
- C.
- D.

Question ID : 63068057737
 Option 1 ID : 630680222788
 Option 2 ID : 630680222787
 Option 3 ID : 630680222786
 Option 4 ID : 630680222789
 Status : Answered
 Chosen Option : A

Q.6 निम्नलिखित पाँच आकृतियों में से चार एक निश्चित तरीके से समान हैं और इस प्रकार एक समूह बनाती हैं। वह कौन-सी एक आकृति है, जो उस समूह से संबंधित नहीं है?



- Ans A. D
 B. C
 C. E
 D. B

Question ID : 630680118405

Option 1 ID : 630680458756

Option 2 ID : 630680458755

Option 3 ID : 630680458757

Option 4 ID : 630680458754

Status : Answered

Chosen Option : C

Q.7 ग्रीष्म पश्चिम की ओर मुंह करके खड़ी है। वह अपनी दायीं ओर मुड़ती है और 5 km चलती है। तब वह फिर से दायें मुड़ती है और 7 km चलती है। फिर वह दक्षिण की ओर मुड़ती है और 2 km और चलती है। उसे दक्षिण दिशा में और कितने किलोमीटर चलने की आवश्यकता होगी, जिसके बाद, यदि वह दायें मुड़ती है और 7 km और चलती है, तो वह अपनी यात्रा के आरंभिक बिंदु पर पहुँच जाएगी?

- Ans A. 2 km
 B. 4 km
 C. 1 km
 D. 3 km

Question ID : 63068048982

Option 1 ID : 630680188475

Option 2 ID : 630680188474

Option 3 ID : 630680188476

Option 4 ID : 630680188477

Status : Answered

Chosen Option : D

Q.8 K, J के 20 km पूर्व में स्थित है। I, J के उत्तर में 10 km है। P, I के 20 km दक्षिण में है। O, P के पश्चिम में 10 km है। R, O के उत्तर में 10 km है। M, I के पश्चिम में है और N, L के उत्तर में 20 km है। L, O से 30 km पूर्व में है। M, L से किस दिशा में है?

- Ans A. उत्तर-पूर्व
 B. दक्षिण-पश्चिम
 C. दक्षिण-पूर्व
 D. उत्तर-पश्चिम

Question ID : 630680104926

Option 1 ID : 630680407835

Option 2 ID : 630680407836

Option 3 ID : 630680407838

Option 4 ID : 630680407837

Status : Answered

Chosen Option : D

Q.9 R का विवाह S से हुआ है। S, L की माँ है। L, B की बहन है। S की केवल एक पुत्री है। B का विवाह J से हुआ है। K, J का पुत्र है। Z, J की माँ है। R, K से किस प्रकार संबंधित है?

- Ans A. पिता
 B. दादाजी
 C. दादी
 D. माँ

Question ID : 630680106068

Option 1 ID : 630680412173

Option 2 ID : 630680412171

Option 3 ID : 630680412172

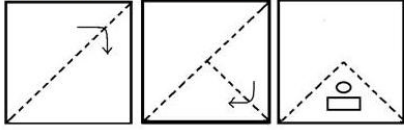
Option 4 ID : 630680412174

Status : Answered

Chosen Option : B

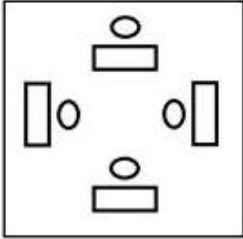


Q.10 कागज के एक टुकड़े को मोड़ने का क्रम और मोड़े गए कागज को काटने का तरीका निम्नलिखित आकृतियों में दिखाया गया है। खोलने पर यह कागज कैसा दिखेगा?

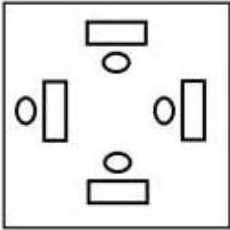


Ans

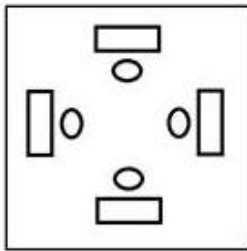
✗ A.



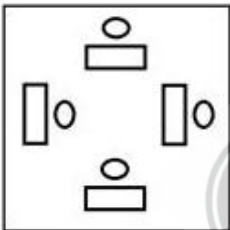
✗ B.



✓ C.



✗ D.



Question ID : 63068058614

Option 1 ID : 630680226104

Option 2 ID : 630680226102

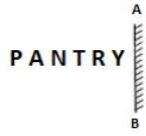
Option 3 ID : 630680226105

Option 4 ID : 630680226103

Status : Answered

Chosen Option : C

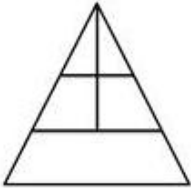
Q.11 उस विकल्प का चयन कीजिए जो दिए गए संयोजन के दर्पण में निर्मित प्रतिबिंब से सर्वाधिक मिलता जुलता हो।



- Ans
- A. YRTANP
 - B. YRTNAP
 - C. YRTNAP
 - D. YRTNAP

Question ID : 63068083980
Option 1 ID : 630680325514
Option 2 ID : 630680325513
Option 3 ID : 630680325512
Option 4 ID : 630680325515
Status : Answered
Chosen Option : B

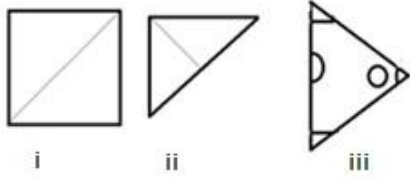
Q.12 दी गई आकृति में कितने त्रिभुज हैं?



- Ans
- A. 6
 - B. 5
 - C. 8
 - D. 7

Question ID : 63068049471
Option 1 ID : 630680190315
Option 2 ID : 630680190316
Option 3 ID : 630680190317
Option 4 ID : 630680190314
Status : Answered
Chosen Option : D

Q.13 कागज के एक टुकड़े को मोड़ने का क्रम (आकृति i और ii) और जिस तरीके से मुड़े हुए कागज को काटा जाता है (आकृति iii) निम्नलिखित आकृतियों में दिखाया गया है। खोलने पर यह कागज कैसा दिखाई देगा?



Ans

- A.
- B.
- C.
- D.

Question ID : 630680113700

Option 1 ID : 630680440337

Option 2 ID : 630680440335

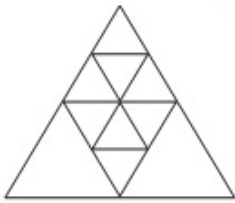
Option 3 ID : 630680440334

Option 4 ID : 630680440336

Status : Answered

Chosen Option : B

Q.14 दी गई आकृति में कितने त्रिभुज हैं?



- A. 11
- B. 13
- C. 15
- D. 9

Question ID : 630680109093

Option 1 ID : 630680423189

Option 2 ID : 630680423190

Option 3 ID : 630680423191

Option 4 ID : 630680423188

Status : Answered

Chosen Option : B

Q.15 यदि '+' का अर्थ 'x', '-' का अर्थ '+', 'x' का अर्थ '=', '=' का अर्थ '!' है, तो दिए गए समीकरण में '?' के स्थान पर क्या आएगा?

$$77 - 11 + 22 \times 7 \div 10 = ?$$

- Ans
- A. -50.6
 - B. -25.4
 - C. 100.43
 - D. 101.57

Question ID : 63068053367

Option 1 ID : 630680205554

Option 2 ID : 630680205555

Option 3 ID : 630680205557

Option 4 ID : 630680205556

Status : Answered

Chosen Option : D

Q.16 M D का सबसे बड़ा पुत्र है। Q D के भाई की पुत्री है। B Q के पिता की माता है। H Q की माता है। B H से किस प्रकार संबंधित है?

- Ans
- A. बहन
 - B. पति की माँ
 - C. भाई की पत्नी
 - D. माँ

Question ID : 630680108401

Option 1 ID : 630680420569

Option 2 ID : 630680420570

Option 3 ID : 630680420568

Option 4 ID : 630680420571

Status : Answered

Chosen Option : B

Q.17 प्रीशा पश्चिम की ओर 18 मीटर दौड़ती है, फिर बाएं मुड़ती है और 24 मीटर दौड़ती है। फिर से, वह दाएं मुड़ती है और 12 मीटर दौड़ती है। प्रीशा अपने मूल स्थान से किस दिशा में है?

- Ans
- A. दक्षिण पश्चिम
 - B. पश्चिम
 - C. दक्षिण-पूर्व
 - D. उत्तर

Question ID : 63068056919

Option 1 ID : 630680219607

Option 2 ID : 630680219606

Option 3 ID : 630680219609

Option 4 ID : 630680219608

Status : Answered

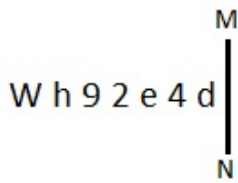
Chosen Option : A

Q.18 विकल्पों में से गणितीय संकेतों के उस सही संयोजन का चयन कीजिए जिसमें उल्लेखित चिन्ह क्रमिक रूप से Q चिह्नों को प्रतिस्थापित कर सकते हैं और दिए गए समीकरण को संतुलित कर सकते हैं।
24 Q 4 Q 6 Q 4 Q 9

- Ans A. $\times, =, -, \div$
 B. $\div, \times, =, \times$
 C. $\div, \times, =, -$
 D. $\times, \div, =, -$

Question ID : 630680105081
 Option 1 ID : 630680408435
 Option 2 ID : 630680408436
 Option 3 ID : 630680408438
 Option 4 ID : 630680408437
 Status : Answered
 Chosen Option : B

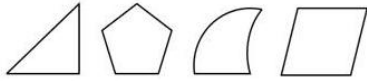
Q.19 जब दर्पण को MN पर रखा जाता है तो दी गई आकृति के सही दर्पण प्रतिबिंब का चयन कीजिए।



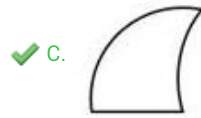
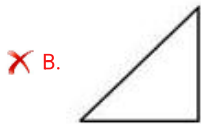
- Ans A. q t e 5 6 4 W
 B. W h e 2 e 4 p
 C. W h e 4 e 5 6
 D. W h e 4 q

Question ID : 630680176011
 Option 1 ID : 630680682293
 Option 2 ID : 630680682292
 Option 3 ID : 630680682294
 Option 4 ID : 630680682295
 Status : Answered
 Chosen Option : D

Q.20 चार आकृतियां दी गई हैं, जिनमें से तीन किसी न किसी रूप में एक जैसी हैं और एक भिन्न है। भिन्न आकृति को चुनिए।



Ans



Question ID : 63068057867

Option 1 ID : 630680223242

Option 2 ID : 630680223245

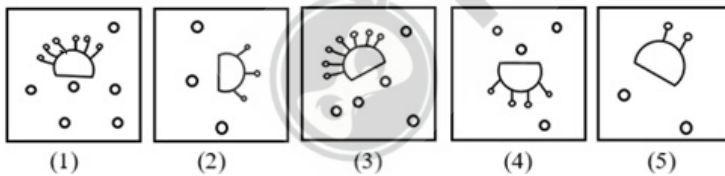
Option 3 ID : 630680223244

Option 4 ID : 630680223243

Status : Answered

Chosen Option : C

Q.21 पांच आकृति दी गई हैं, जिनमें से चार किसी न किसी रूप में एकसमान हैं और एक असमान है। उस आकृति का चयन कीजिए जो असमान है।



Ans ✓ A. 3

✗ B. 1

✗ C. 4

✗ D. 2

Question ID : 63068084074

Option 1 ID : 630680325850

Option 2 ID : 630680325848

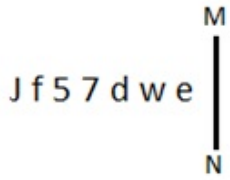
Option 3 ID : 630680325851

Option 4 ID : 630680325849

Status : Answered

Chosen Option : A

Q.22 जब दर्पण को MN पर रखा जाता है तो दी गई आकृति के सही दर्पण प्रतिबिंब का चयन कीजिए।



- Ans
- A. ə m b 7 5 7 l
 - B. ə w b 7 2 7 l
 - C. ə w p 7 2 7 l
 - D. ə w b 7 2 7 l

Question ID : 630680176012

Option 1 ID : 630680682298

Option 2 ID : 630680682296

Option 3 ID : 630680682299

Option 4 ID : 630680682297

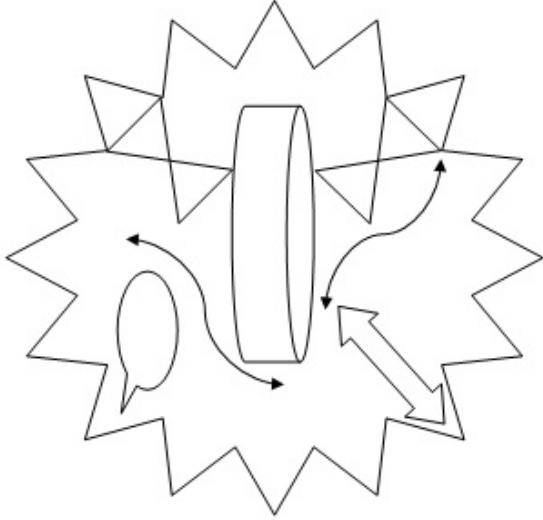
Status : Answered

Chosen Option : B



Teachingninja.in

Q.23 उस विकल्प का चयन कीजिए जो दी गई आकृति में सन्निहित है (घुमाने की अनुमति नहीं है)।



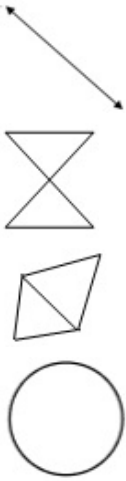
Ans

A.

B.

C.

D.



Teachingninja.in

Question ID : 630680160262

Option 1 ID : 630680620421

Option 2 ID : 630680620423

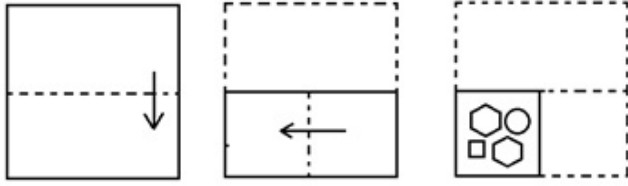
Option 3 ID : 630680620422

Option 4 ID : 630680620420

Status : Answered

Chosen Option : C

Q.24 एक कागज को मोड़ने का क्रम और मोड़े गए कागज को काटने का तरीका नीचे दिखाया गया है। दिए गए विकल्पों में से उस आकृति का चयन करें जो कागज के खुले हुए रूप से सबसे अधिक मिलती-जुलती हो?



Ans

- ✗ A.
- ✗ B.
- ✓ C.
- ✗ D.



Teachingninja.in

Question ID : 630680157513

Option 1 ID : 630680609581

Option 2 ID : 630680609580

Option 3 ID : 630680609582

Option 4 ID : 630680609583

Status : Answered

Chosen Option : C

Q.25 H, I, J और K कैरम का गेम, खेल रहे हैं। H और J पार्टनर हैं। K और I पार्टनर हैं। यदि K, J के बाईं ओर है, जिसका मुख पूर्व की ओर है, तो I का मुख किस दिशा की ओर है?

- Ans ✓ A. उत्तर
- ✗ B. पूर्व
- ✗ C. दक्षिण
- ✗ D. पश्चिम

Question ID : 630680107482

Option 1 ID : 630680417280

Option 2 ID : 630680417281

Option 3 ID : 630680417283

Option 4 ID : 630680417282

Status : Answered

Chosen Option : D

Section : General Knowledge and General Awareness

Q.1 मानव विकास सूचकांक निम्नलिखित में से किस वर्ष में बनाया गया था?

- Ans A. 1990
 B. 1998
 C. 1994
 D. 1985

Question ID : 63068089869
Option 1 ID : 630680348251
Option 2 ID : 630680348253
Option 3 ID : 630680348252
Option 4 ID : 630680348250
Status : Answered
Chosen Option : B

Q.2 1565 में लड़ी गई राक्षसी-तंगड़ी की प्रसिद्ध लड़ाई को _____ की लड़ाई के रूप में भी जाना जाता था।

- Ans A. तालीकोटा
 B. गागरोन
 C. धौलपुर
 D. खतौली

Question ID : 630680213986
Option 1 ID : 630680829993
Option 2 ID : 630680829992
Option 3 ID : 630680829991
Option 4 ID : 630680829994
Status : Answered
Chosen Option : A

Q.3 1833 के चार्टर अधिनियम में, निम्नलिखित में से किस पड़ोसी देश के साथ व्यापार पर ईस्ट इंडिया कंपनी के एकाधिकार को ब्रिटिश संसद ने समाप्त कर दिया था?

- Ans A. बर्मा
 B. नेपाल
 C. तिब्बत
 D. चीन

Question ID : 630680127647
Option 1 ID : 630680494845
Option 2 ID : 630680494846
Option 3 ID : 630680494847
Option 4 ID : 630680494844
Status : Answered
Chosen Option : D

Q.4 निम्नलिखित में से किस संधि पर हस्ताक्षर के साथ अंग्रेजों और फ्रांसीसियों के बीच सात वर्ष का युद्ध समाप्त हो गया?

- Ans A. लंदन की संधि
 B. मॉन्ट्रियल की संधि
 C. पेरिस की संधि
 D. न्यूयॉर्क की संधि

Question ID : 630680113628
Option 1 ID : 630680440047
Option 2 ID : 630680440049
Option 3 ID : 630680440046
Option 4 ID : 630680440048
Status : Not Answered
Chosen Option : -

Q.5 कौन-सा भारतीय क्रांतिकारी हिंदुस्तान रिपब्लिकन एसोसिएशन की स्थापना से जुड़ा था?

- Ans A. शचींद्रनाथ सान्याल
 B. कर्नाईलाल दत्ता
 C. प्रफुल्ल चाकी
 D. जतिंद्रनाथ मुखर्जी

Question ID : 630680214001
Option 1 ID : 630680830053
Option 2 ID : 630680830052
Option 3 ID : 630680830051
Option 4 ID : 630680830054
Status : Answered
Chosen Option : C

Q.6 खजुराहो में कंदरिया महादेव मंदिर निम्नलिखित में से किस देवता को समर्पित है?

- Ans A. भगवान ब्रह्मा
 B. भगवान विष्णु
 C. भगवान शिव
 D. भगवान बुद्ध

Question ID : 630680157814
Option 1 ID : 630680610785
Option 2 ID : 630680610787
Option 3 ID : 630680610784
Option 4 ID : 630680610786
Status : Answered
Chosen Option : C

Q.7 निम्नलिखित में से किस संविधान से भारतीय संविधान में स्वतंत्रता, समानता और बंधुत्व के सिद्धांतों को अपनाया गया है?

- Ans A. कनाडा का संविधान
 B. दक्षिण अफ्रीका के संविधान
 C. जापानी संविधान
 D. फ्रांसीसी संविधान

Question ID : 630680209096
Option 1 ID : 630680810600
Option 2 ID : 630680810601
Option 3 ID : 630680810599
Option 4 ID : 630680810602
Status : Answered
Chosen Option : B

Q.8 किस राज्य में महिलाओं द्वारा गेंद से खेलते हुए 'अम्मानेवारी' प्रदर्शन किया जाता है?

- Ans A. तमिलनाडु
 B. उत्तर प्रदेश
 C. हिमाचल प्रदेश
 D. असम

Question ID : 630680209354
Option 1 ID : 630680811623
Option 2 ID : 630680811626
Option 3 ID : 630680811624
Option 4 ID : 630680811625
Status : Not Answered
Chosen Option : -

Q.9 टी. बालासरस्वती एक प्रसिद्ध _____ नृत्यांगना थीं।

- Ans A. कथकली
 B. भरतनाट्यम
 C. कुचिपुड़ी
 D. मणिपुरी



Question ID : 630680214136
Option 1 ID : 630680830594
Option 2 ID : 630680830591
Option 3 ID : 630680830593
Option 4 ID : 630680830592
Status : Answered
Chosen Option : B

Q.10 पर्यावरण मंत्रालय द्वारा नवंबर 2020 में जलवायु परिवर्तन और पर्यावरणीय मुद्दों के समाधान के लिए शुरू किए गए पोर्टल का नाम क्या है?

- Ans A. इंडिया क्लाइमेट चेंज नॉलेज पोर्टल
 B. भूमि पोर्टल
 C. पर्यावरण पोर्टल
 D. दिल्ली प्रदूषण पोर्टल

Question ID : 630680115163
Option 1 ID : 630680446020
Option 2 ID : 630680446019
Option 3 ID : 630680446018
Option 4 ID : 630680446021
Status : Answered
Chosen Option : A

Q.11 अल्लूरी सीताराम राजू को _____ में उनके योगदान के लिए जाना जाता था।

- Ans A. कोया विद्रोह
 B. रंपा विद्रोह
 C. खोंड विद्रोह
 D. कोल विद्रोह

Question ID : 630680214002
Option 1 ID : 630680830055
Option 2 ID : 630680830056
Option 3 ID : 630680830058
Option 4 ID : 630680830057
Status : Not Answered
Chosen Option : -

Q.12 बच्चों को निःशुल्क और अनिवार्य शिक्षा का अधिकार (आरटीई) अधिनियम, 2009 अनुच्छेद 21-ए के तहत संवैधानिक प्रावधान को लागू करने के लिए बनाया गया था। यह _____ से लागू हुआ और _____ के सभी बच्चों पर लागू होता है।

- Ans A. 1 अप्रैल 2009; 8 से 14 वर्ष तक
 B. 1 अगस्त 2009; 8 से 14 वर्ष तक
 C. 1 जनवरी 2010; 6 से 14 वर्ष तक
 D. 1 अप्रैल 2010; 6 से 14 वर्ष तक

Question ID : 63068071186
Option 1 ID : 630680275341
Option 2 ID : 630680275339
Option 3 ID : 630680275340
Option 4 ID : 630680275338
Status : Answered
Chosen Option : D

Q.13 निम्नलिखित में से कौन-सी पर्वत श्रृंखला/पहाड़ी भारत के उत्तर-पूर्वी राज्यों में स्थित नहीं है?

- Ans A. ज़ांस्कर पर्वत श्रृंखला
 B. डफला पहाड़ियां
 C. पटकाई बम पहाड़ियां
 D. मिज़ो पहाड़ियां

Question ID : 63068087503
Option 1 ID : 630680339400
Option 2 ID : 630680339397
Option 3 ID : 630680339398
Option 4 ID : 630680339399
Status : Answered
Chosen Option : A

Q.14 निम्नलिखित में से कौन एक विटामिन समूह है जिसकी शरीर को रुधिर स्कंदन और क्षत विरोहण (घाव भरने) के लिए आवश्यकता होती है?

- Ans A. विटामिन B12
 B. विटामिन A
 C. विटामिन E
 D. विटामिन K

Question ID : 630680209077
Option 1 ID : 630680810526
Option 2 ID : 630680810524
Option 3 ID : 630680810525
Option 4 ID : 630680810523
Status : Answered
Chosen Option : D

Q.15 राष्ट्रीय आवास बैंक (National Housing Bank) का मुख्यालय कहां स्थित है?

- Ans A. मुंबई
 B. कोलकाता
 C. दिल्ली
 D. चेन्नई

Question ID : 63068089867
Option 1 ID : 630680348242
Option 2 ID : 630680348244
Option 3 ID : 630680348243
Option 4 ID : 630680348245
Status : Answered
Chosen Option : A

Q.16 संगीत नाटक अकादमी का उत्तर-पूर्व केंद्र कहाँ स्थापित है?

- Ans A. गुवाहाटी
 B. शिलांग
 C. इंफाल
 D. तेजपुर

Question ID : 630680157856

Option 1 ID : 630680610952

Option 2 ID : 630680610955

Option 3 ID : 630680610953

Option 4 ID : 630680610954

Status : Answered

Chosen Option : B

Q.17 कॉलम A को कॉलम B के साथ सुमेलित कराएँ।

कॉलम A	कॉलम B
a. नील क्रांति	i. कृषि उत्पादन में वृद्धि
b. पीत क्रांति	ii. दुग्ध उत्पादन में वृद्धि
c. हरित क्रांति	iii. समुद्री व मछली उत्पादों के उत्पादन में वृद्धि
d. श्वेत क्रांति	iv. खाद्य तेल के उत्पादन में वृद्धि

- Ans A. a-i, b-iv, c-iii, d-ii
 B. a-iii, b-i, c-iv, d-ii
 C. a-iii, b-iv, c-i, d-ii
 D. a-ii, b-iv, c-i, d-iii

Question ID : 630680208111

Option 1 ID : 630680806678

Option 2 ID : 630680806676

Option 3 ID : 630680806677

Option 4 ID : 630680806675

Status : Answered

Chosen Option : C

Q.18 छज्जू खान, नजीर खान और खादिम हुसैन खान किस ख्याल शैली घराने से संबंधित हैं?

- Ans A. पटियाला घराना
 B. आगरा घराना
 C. ग्वालियर घराना
 D. भिंडी बाजार घराना

Question ID : 630680209346

Option 1 ID : 630680811591

Option 2 ID : 630680811593

Option 3 ID : 630680811594

Option 4 ID : 630680811592

Status : Answered

Chosen Option : B

Q.19 भारत की जनगणना 2011 के अनुसार किस राज्य की जनसंख्या वृद्धि दर ऋणात्मक है?

- Ans A. राजस्थान
 B. मध्य प्रदेश
 C. मणिपुर
 D. नागालैंड

Question ID : 630680209232
Option 1 ID : 630680811144
Option 2 ID : 630680811146
Option 3 ID : 630680811143
Option 4 ID : 630680811145
Status : Answered
Chosen Option : D

Q.20 1215 AD में तराइन के युद्ध में दिल्ली के किस सुल्तान ने यल्दौज को हराया था?

- Ans A. अलाउद्दीन खिलजी
 B. शम्स उद-दीन इल्तुतमिश
 C. कुतुब उद-दीन ऐबक
 D. गयासुद्दीन बलबन

Question ID : 630680214207
Option 1 ID : 630680830877
Option 2 ID : 630680830878
Option 3 ID : 630680830876
Option 4 ID : 630680830875
Status : Answered
Chosen Option : B

Q.21 भारत की जनगणना 2011 के अनुसार किस जिले का लिंगानुपात सबसे कम है?

- Ans A. थाणे
 B. माहे
 C. दमन
 D. हिसार

Question ID : 630680209234
Option 1 ID : 630680811153
Option 2 ID : 630680811151
Option 3 ID : 630680811152
Option 4 ID : 630680811154
Status : Answered
Chosen Option : B

Q.22 मुंबई से पुणे की यात्रा के दौरान आप किस घाट को पार करेंगे?

- Ans A. तम्हिनी घाट
 B. भोर घाट
 C. मालशेज घाट
 D. थाल घाट

Question ID : 63068087937
Option 1 ID : 630680341136
Option 2 ID : 630680341135
Option 3 ID : 630680341133
Option 4 ID : 630680341134
Status : Answered
Chosen Option : D

Q.23 भारत में राज्य राजमार्गों का उद्देश्य क्या है?

- Ans A. रणनीतिक रूप से महत्वपूर्ण सड़कों को जोड़ना
 B. ग्रामीण क्षेत्रों और अन्य महत्वपूर्ण शहरों में संपर्क प्रदान करना
 C. भारत के चार बड़े महानगरों और राज्य की राजधानियों को जोड़ना
 D. राज्य की राजधानियों को जिला मुख्यालय से जोड़ना

Question ID : 630680209063
Option 1 ID : 630680810470
Option 2 ID : 630680810468
Option 3 ID : 630680810469
Option 4 ID : 630680810467
Status : Answered
Chosen Option : D

Q.24 निम्नलिखित में से किसने क्रांतिकारी गतिविधियों पर 'द कल्ट ऑफ बम' लेख लिखा था?

- Ans A. लाला लाजपत राय
 B. भगत सिंह
 C. महात्मा गांधी
 D. भगवती चरण वोहरा

Question ID : 630680213998
Option 1 ID : 630680830041
Option 2 ID : 630680830039
Option 3 ID : 630680830040
Option 4 ID : 630680830042
Status : Answered
Chosen Option : D

Q.25 बौद्ध स्तूप के चारों ओर पत्थर की दीवार वाली बाड़ को _____ कहा जाता है।

- Ans A. अंदा
 B. वेदिका
 C. हर्मिका
 D. तोरण

Question ID : 630680157809
Option 1 ID : 630680610764
Option 2 ID : 630680610765
Option 3 ID : 630680610766
Option 4 ID : 630680610767
Status : Answered
Chosen Option : D

Section : Elementary Mathematics

Q.1 $\frac{(0.000512)(0.027)(0.008)}{(0.000729)(0.064)(0.001)}$ का घनमूल कितना है?

- Ans A. $4\frac{1}{3}$
 B. $3\frac{1}{3}$
 C. $1\frac{1}{3}$
 D. $2\frac{1}{3}$

Question ID : 630680218016
Option 1 ID : 630680845974
Option 2 ID : 630680845973
Option 3 ID : 630680845971
Option 4 ID : 630680845972
Status : Answered
Chosen Option : C

Q.2 एक वस्तु को ₹900 में बेचने पर एक व्यक्ति को 10% की हानि होती है। यदि वह उसी वस्तु को ₹920 में बेचे, तो उसका हानि (या लाभ) प्रतिशत क्या होगा?

- Ans A. 8% लाभ
 B. 9% हानि
 C. 8% हानि
 D. 6% लाभ

Question ID : 630680107391
Option 1 ID : 630680416929
Option 2 ID : 630680416930
Option 3 ID : 630680416931
Option 4 ID : 630680416928
Status : Answered
Chosen Option : C

Q.3 $(4^2 - 6 \times 2)^2 \div (4 \div 2 \times 4) + 7$ का मान क्या होगा?

- Ans A. 6
 B. 9
 C. 4
 D. 8

Question ID : 63068070934
Option 1 ID : 630680274346
Option 2 ID : 630680274347
Option 3 ID : 630680274349
Option 4 ID : 630680274348
Status : Answered
Chosen Option : B

Q.4 सुदामा ने 40% वार्षिक ब्याज दर पर Rs.3,475 उधार लिए, जिस पर ब्याज अर्ध-वार्षिक रूप से संयोजित होता था। सुदामा को एक वर्ष के अंत में ऋण चुकाने पर ब्याज के रूप में कितनी राशि का भुगतान करना पड़ा?

- Ans A. Rs.1,390
 B. Rs.1,539
 C. Rs.1,380
 D. Rs.1,529

Question ID : 630680104290
Option 1 ID : 630680405378
Option 2 ID : 630680405375
Option 3 ID : 630680405376
Option 4 ID : 630680405377
Status : Answered
Chosen Option : D

Q.5 एक कक्षा में 70 विद्यार्थी हैं और वार्षिक परीक्षा में उनका औसत अंक 35 है। यदि उत्तीर्ण विद्यार्थियों के औसत अंक 60 है और अनुत्तीर्ण विद्यार्थियों के औसत अंक 25 है, तो अनुत्तीर्ण विद्यार्थियों की संख्या ज्ञात कीजिए।

- Ans A. 70
 B. 40
 C. 60
 D. 50

Question ID : 630680108122
Option 1 ID : 630680419567
Option 2 ID : 630680419566
Option 3 ID : 630680419564
Option 4 ID : 630680419565
Status : Answered
Chosen Option : D

Q.6 गीता एक यात्रा के प्रथम 80 km को 2.5 घंटे में और शेष 130 km की यात्रा 4.5 घंटे में तय करती है। पूरी यात्रा के लिए उसकी औसत गति (km/h में) कितनी है?

- Ans A. 30
 B. 40
 C. 25
 D. 35

Question ID : 630680111553
Option 1 ID : 630680431991
Option 2 ID : 630680431993
Option 3 ID : 630680431990
Option 4 ID : 630680431992
Status : Answered
Chosen Option : A

Q.7 यदि 16 श्रमिक किसी विशिष्ट कार्य को 36 दिन में पूरा कर सकते हैं, तो 24 श्रमिक उसी कार्य को कितने दिन में पूरा करेंगे?

- Ans A. $\frac{32}{3}$
 B. 24
 C. 30
 D. 25

Question ID : 630680101785
Option 1 ID : 630680395502
Option 2 ID : 630680395500
Option 3 ID : 630680395503
Option 4 ID : 630680395501
Status : Answered
Chosen Option : B

Q.8 दो उम्मीदवारों A और B के बीच हुए चुनाव में, उम्मीदवार A को डाले गए कुल मतों का 40% प्राप्त होता है और वह 35,000 मतों से हार जाता है। उम्मीदवार B के लिए डाले गए मतों की संख्या कितनी है?

- Ans A. 1,05,000
 B. 70000
 C. 1,75,000
 D. 1,50,000

Question ID : 630680105873
Option 1 ID : 630680411448
Option 2 ID : 630680411447
Option 3 ID : 630680411450
Option 4 ID : 630680411449
Status : Answered
Chosen Option : A

Q.9 एक व्यक्ति एक स्थान की यात्रा 2 km/h की गति से करता है और 6 km/h की गति से वापस आ जाता है। पूरी यात्रा के दौरान उसकी औसत गति (km/h में) क्या है?

- Ans A. 3
 B. 2
 C. 4
 D. 5

Question ID : 630680107365

Option 1 ID : 630680416826

Option 2 ID : 630680416825

Option 3 ID : 630680416824

Option 4 ID : 630680416827

Status : Answered

Chosen Option : A

Q.10 एक पाइप किसी हौज को 6 h में भर सकता है। तल में कुछ रिसाव के कारण हौज 7 h में भर जाता है। पूरी तरह से भरे हुए हौज को रिसाव बिंदु से कितने समय में खाली किया जा सकता है?

- Ans A. 42 h
 B. 40 h
 C. 38 h
 D. 46 h

Question ID : 630680101794

Option 1 ID : 630680395538

Option 2 ID : 630680395537

Option 3 ID : 630680395536

Option 4 ID : 630680395539

Status : Answered

Chosen Option : A

Q.11 पाँच क्रमागत सम संख्याओं का औसत 58 है। सबसे बड़ी और सबसे छोटी संख्या का योग ज्ञात करें।

- Ans A. 114
 B. 116
 C. 118
 D. 115

Question ID : 630680108692

Option 1 ID : 630680421698

Option 2 ID : 630680421699

Option 3 ID : 630680421697

Option 4 ID : 630680421696

Status : Answered

Chosen Option : C

Q.12 A, (Z + 4) का व्युत्क्रमानुपाती है। यदि Z = 6 होने पर A = 2 होता है, तो Z = 1 होने पर A का मान क्या होगा?

- Ans A. 4
 B. $\frac{1}{4}$
 C. 3
 D. $\frac{1}{3}$

Question ID : 630680115584

Option 1 ID : 630680447689

Option 2 ID : 630680447687

Option 3 ID : 630680447688

Option 4 ID : 630680447686

Status : Answered

Chosen Option : A

Q.13 गगन के पास कुल 30 कंचे हैं, जिनमें से 18 लाल और 12 नीले हैं। जेन के पास कुल 20 कंचे हैं, जो सभी लाल या नीले रंग के हैं। यदि गगन और जेन दोनों के लिए लाल से नीले कंचों का अनुपात समान है, तो गगन के पास जेन से कितने अधिक नीले कंचे हैं?

- Ans A. 8
 B. 10
 C. 6
 D. 4

Question ID : 630680107656

Option 1 ID : 630680417918

Option 2 ID : 630680417919

Option 3 ID : 630680417917

Option 4 ID : 630680417916

Status : Answered

Chosen Option : D

Q.14 प्रथम 20 सम प्राकृत संख्याओं का औसत _____ है।

- Ans A. 22
 B. 21
 C. 20
 D. 42

Question ID : 630680107357

Option 1 ID : 630680416795

Option 2 ID : 630680416792

Option 3 ID : 630680416793

Option 4 ID : 630680416794

Status : Answered

Chosen Option : B

Q.15 निम्न में से कौन सी संख्या 13 से विभाज्य है?

- Ans A. 2034256
 B. 2038258
 C. 2038257
 D. 2034257

Question ID : 63068070781
Option 1 ID : 630680273738
Option 2 ID : 630680273741
Option 3 ID : 630680273739
Option 4 ID : 630680273740
Status : Answered
Chosen Option : C

Q.16 एक हैंडबैग पर 10% की छूट थी। स्मिता ने एक हैंडबैग खरीदा। उसे नकद भुगतान करने पर 10% की छूट भी मिली। उसने Rs.486 का भुगतान किया। हैंडबैग पर कितने मूल्य का टैग था?

- Ans A. Rs.500
 B. Rs.650
 C. Rs.600
 D. Rs.550

Question ID : 630680108201
Option 1 ID : 630680419868
Option 2 ID : 630680419871
Option 3 ID : 630680419870
Option 4 ID : 630680419869
Status : Answered
Chosen Option : C

Q.17 0.000169 का वर्गमूल = ?

- Ans A. 0.0125
 B. 0.13
 C. 0.013
 D. 0.125

Question ID : 63068060064
Option 1 ID : 630680231829
Option 2 ID : 630680231826
Option 3 ID : 630680231828
Option 4 ID : 630680231827
Status : Answered
Chosen Option : C

Q.18 ₹1,800 का 6% वार्षिक साधारण ब्याज की दर पर कुछ वर्षों के लिए निवेश किया जाता है। परिपक्वता पर देय ब्याज ₹756 है। वह समयावधि ज्ञात कीजिए जिसके लिए राशि का निवेश किया गया है।

- Ans
- A. 8 वर्ष
 - B. 6 वर्ष
 - C. 5 वर्ष
 - D. 7 वर्ष

Question ID : 630680102312
Option 1 ID : 630680397534
Option 2 ID : 630680397532
Option 3 ID : 630680397531
Option 4 ID : 630680397533
Status : Answered
Chosen Option : D

Q.19 ₹15,000 की धनराशि पर 3 वर्षों में 6% वार्षिक ब्याज की दर पर चक्रवृद्धि ब्याज ज्ञात कीजिए, यदि ब्याज अर्ध-वार्षिक रूप से चक्रवृद्धि किया जाता है (निकटतम पूर्णांक तक)।

- Ans
- A. ₹2,979
 - B. ₹3,010
 - C. ₹2,911
 - D. ₹2,819

Question ID : 630680116073
Option 1 ID : 630680449622
Option 2 ID : 630680449625
Option 3 ID : 630680449623
Option 4 ID : 630680449624
Status : Not Answered
Chosen Option : -

Q.20 एक खिलाड़ी ने गांव से क्रिकेट के मैदान तक 15 km/h की गति से यात्रा की और 3 km/h की गति से वापस आ गया। यदि पूरी यात्रा में 3 घंटे 24 मिनट लगते हैं, तो गाँव से क्रिकेट के मैदान की दूरी ज्ञात कीजिए।

- Ans
- A. 10.5 km
 - B. 17 km
 - C. 8.5 km
 - D. 3.5 km

Question ID : 630680108489
Option 1 ID : 630680420920
Option 2 ID : 630680420922
Option 3 ID : 630680420923
Option 4 ID : 630680420921
Status : Answered
Chosen Option : C

Q.21 ₹99 में एक पेन बेचने पर मोहन को $12\frac{1}{2}\%$ का लाभ होता है। पेन का क्रय मूल्य ज्ञात करें।

- Ans A. Rs.88
 B. Rs.80
 C. Rs.70
 D. Rs.78

Question ID : 630680105248
Option 1 ID : 630680409071
Option 2 ID : 630680409072
Option 3 ID : 630680409074
Option 4 ID : 630680409073
Status : Answered
Chosen Option : A

Q.22 4 m ऊंचाई और आधार व्यास 600 cm के एक बंद बेलनाकार टैंक को बनाने के लिए धातु शीट के कितने वर्ग मीटर की आवश्यकता होती है।

- Ans A. 76 m^2
 B. 110 m^2
 C. 132 m^2
 D. 84 m^2

Question ID : 63068056831
Option 1 ID : 630680219254
Option 2 ID : 630680219256
Option 3 ID : 630680219255
Option 4 ID : 630680219257
Status : Not Answered
Chosen Option : -

Q.23 एक व्यापारी अपनी संपत्ति पर क्रय मूल्य से 15% अधिक मूल्य अंकित करता है। यदि वह $6\frac{1}{2}\%$ की छूट देता है, तो निम्न में से कौन सा विकल्प व्यापारी के लाभ प्रतिशत के बराबर है?

- Ans A. 7.545%
 B. 7.525%
 C. 7.535%
 D. 7.515%

Question ID : 630680110317
Option 1 ID : 630680427626
Option 2 ID : 630680427624
Option 3 ID : 630680427625
Option 4 ID : 630680427623
Status : Answered
Chosen Option : B

Q.24 अरुण की गणित की परीक्षा कुछ ही दिनों में होने वाली है। उसने 16 दिनों में अपने पूरे पाठ्यक्रम का $\frac{4}{7}$ हिस्सा तैयार कर लिया। उसे अपने पूरे पाठ्यक्रम की तैयारी करने में कितने दिनों का समय लगेगा?

- Ans
- A. 24 दिन
 - B. 30 दिन
 - C. 28 दिन
 - D. 12 दिन

Question ID : 630680106566
Option 1 ID : 630680414047
Option 2 ID : 630680414049
Option 3 ID : 630680414046
Option 4 ID : 630680414048
Status : Answered
Chosen Option : C

Q.25 12 सेमी त्रिज्या वाले एक धातु के गोले को पिघलाकर एक तार बनाया जाता है जिसकी अनुप्रस्थ काट की त्रिज्या 20 सेमी है। तार की लंबाई क्या है?

- Ans
- A. 5.24 सेमी
 - B. 5.45 सेमी
 - C. 5.76 सेमी
 - D. 5.01 सेमी

Question ID : 63068056842
Option 1 ID : 630680219299
Option 2 ID : 630680219300
Option 3 ID : 630680219301
Option 4 ID : 630680219298
Status : Not Answered
Chosen Option : -

Section : English

Q.1 Select the INCORRECTLY spelt word.

- Ans
- A. Commitment
 - B. Completely
 - C. Deceive
 - D. Appearence

Question ID : 630680129321
Option 1 ID : 630680500902
Option 2 ID : 630680500903
Option 3 ID : 630680500904
Option 4 ID : 630680500905
Status : Not Answered
Chosen Option : -

Q.2 Select the option that can be used as a one-word substitute for the given group of words.
Mentally identifying oneself with other person or a thing

- Ans A. Myopathy
 B. Empathy
 C. Antipathy
 D. Sympathy

Question ID : 630680153872
Option 1 ID : 630680595391
Option 2 ID : 630680595389
Option 3 ID : 630680595390
Option 4 ID : 630680595388
Status : Not Answered
Chosen Option : -

Q.3 Select the option that can be used as a substitute for the given group of words.

A group of bees

- Ans A. Honey comb
 B. Swarm
 C. Beehive
 D. Colony

Question ID : 63068071539
Option 1 ID : 630680276697
Option 2 ID : 630680276695
Option 3 ID : 630680276694
Option 4 ID : 630680276696
Status : Not Answered
Chosen Option : -

Q.4 Select the most appropriate synonym of the underlined word in the given sentence.

All the ingredients in the cake need to be mixed properly.

- Ans A. Blended
 B. Thrown
 C. Poured
 D. Transferred

Question ID : 630680132550
Option 1 ID : 630680513334
Option 2 ID : 630680513337
Option 3 ID : 630680513335
Option 4 ID : 630680513336
Status : Not Answered
Chosen Option : -

Q.5 Sentences of a paragraph are given below in jumbled order. Arrange the sentences in the correct order to form a meaningful and coherent paragraph.

- A. Recognition of air pollution is relatively recent.
- B. Fortunately, however, the composition of air is remarkably constant all over the world.
- C. It is often ascribed to the lack of oxygen.
- D. It is not uncommon to experience a feeling of 'suffocation' in a closed environment.

- Ans
- A. DCAB
 - B. BDAC
 - C. ADCB
 - D. ABCD

Question ID : 630680204358
Option 1 ID : 630680792518
Option 2 ID : 630680792516
Option 3 ID : 630680792517
Option 4 ID : 630680792515
Status : Not Answered
Chosen Option : -

Q.6 Select the INCORRECTLY spelt word.

- Ans
- A. Representative
 - B. Receptionist
 - C. Riincarnation
 - D. Recommendation

Question ID : 630680124911
Option 1 ID : 630680484453
Option 2 ID : 630680484450
Option 3 ID : 630680484452
Option 4 ID : 630680484451
Status : Not Answered
Chosen Option : -

Q.7 Sentences of a paragraph are given below in jumbled order. Arrange the sentences in the correct order to form a meaningful and coherent paragraph.

- 1.Science has played a critical role in shaping our understanding of the world around us.
- 2.Particularly with new technologies like gene editing and artificial intelligence raising important questions about how we should use them.
- 3.And from the discovery of DNA to the development of life-saving medications, scientific breakthroughs have transformed our lives in countless ways.
- 4.However, as science advances, it is important to consider the ethical implications of these discoveries.

- Ans
- A. 1342
 - B. 3412
 - C. 1234
 - D. 2143

Question ID : 630680204382
Option 1 ID : 630680792614
Option 2 ID : 630680792613
Option 3 ID : 630680792612
Option 4 ID : 630680792611
Status : Not Answered
Chosen Option : -

Q.8 Read the sentence carefully and select the synonym of the underlined word from the given alternatives.

She invested some part of her annual income to augment the standard and condition of her family.

- Ans A. Elevate
 B. Curtail
 C. Regulate
 D. Detain

Question ID : 630680123910
Option 1 ID : 630680480502
Option 2 ID : 630680480503
Option 3 ID : 630680480505
Option 4 ID : 630680480504
Status : Not Answered
Chosen Option : -

Q.9 Select the option that can be used as a one-word substitute for the given group of words.
To declare to be morally wrong or evil

- Ans A. Decree
 B. Denounce
 C. Pronounce
 D. Verdict

Question ID : 630680212281
Option 1 ID : 630680823267
Option 2 ID : 630680823269
Option 3 ID : 630680823270
Option 4 ID : 630680823268
Status : Not Answered
Chosen Option : -

Q.10 Identify the option that makes the given sentence grammatically correct
I believe in his innocent.

- Ans A. I believe his innocence.
 B. I believe in his innocent.
 C. I believe he is innocence.
 D. I believe in his innocence.

Question ID : 63068071248
Option 1 ID : 630680275577
Option 2 ID : 630680275576
Option 3 ID : 630680275575
Option 4 ID : 630680275574
Status : Not Answered
Chosen Option : -

Q.11 Select the option that can be used as a one-word substitute for the underlined group of words.

A temporary police force was sent abroad to trace and capture the dreaded criminal.

- Ans A. Posse
 B. Platoon
 C. Army
 D. Troop

Question ID : 630680115464
Option 1 ID : 630680447207
Option 2 ID : 630680447206
Option 3 ID : 630680447208
Option 4 ID : 630680447209
Status : Not Answered
Chosen Option : -

Q.12 The following sentence has been split into four segments. Identify the segment that contains a grammatical error.

My teacher stressed the / importance of learning vocabulary / from context, rather / then simply memorising a definition.

- Ans A. My teacher stressed the
 B. importance of learning vocabulary
 C. then simply memorising a definition
 D. from context, rather

Question ID : 63068067407
Option 1 ID : 630680260450
Option 2 ID : 630680260451
Option 3 ID : 630680260453
Option 4 ID : 630680260452
Status : Not Answered
Chosen Option : -

Q.13 Select the most appropriate synonym of the underlined word.
He had a reputation of being a prudent businessman.

- Ans A. Cautious
 B. Wealthy
 C. Reckless
 D. Dishonest

Question ID : 630680204384
Option 1 ID : 630680792622
Option 2 ID : 630680792619
Option 3 ID : 630680792621
Option 4 ID : 630680792620
Status : Not Answered
Chosen Option : -

Q.14 Identify the correct spelling of the incorrectly spelt word in the given sentence.

Terorism is a political hot potato in Afghanistan.

- Ans
- A. Terorrissm
 - B. Terorissm
 - C. Terorrism
 - D. Terrorism

Question ID : 630680123984
Option 1 ID : 630680480797
Option 2 ID : 630680480796
Option 3 ID : 630680480795
Option 4 ID : 630680480794
Status : Not Answered
Chosen Option : -

Q.15 Sentences of a paragraph are given below in jumbled order. Arrange the sentences in the correct order to form a meaningful and coherent paragraph.

- A. One could even argue that all of their life is very boring.
- B. They feel that they eat to just get hungry again, and shower just to get dirty again.
- C. Think of the so-called duct-tapers in customer service, who are tasked to deal with angry people all day.
- D. The conditions that create those aggressive customers never change.

- Ans
- A. CADB
 - B. CDAB
 - C. CBDA
 - D. CABD

Question ID : 630680204323
Option 1 ID : 630680792378
Option 2 ID : 630680792376
Option 3 ID : 630680792377
Option 4 ID : 630680792375
Status : Not Answered
Chosen Option : -

Q.16 Select the most appropriate synonym of the underlined word.

After checking the whole manuscript, he felt bad.

- Ans
- A. Expressing
 - B. Finding
 - C. Reading
 - D. Analysing

Question ID : 63068087412
Option 1 ID : 630680339036
Option 2 ID : 630680339034
Option 3 ID : 630680339035
Option 4 ID : 630680339033
Status : Not Answered
Chosen Option : -

Q.17 Select the most appropriate synonym of the underlined word in the given sentence.

It was a significant moment in the history of the school.

- Ans A. Sudden
 B. Insignificant
 C. Useful
 D. Important

Question ID : 630680132548
Option 1 ID : 630680513326
Option 2 ID : 630680513327
Option 3 ID : 630680513329
Option 4 ID : 630680513328
Status : Not Answered
Chosen Option : -

Q.18 Select the option that can be used as a one-word substitute for the given group of words.

Happening only occasionally or at intervals that are not regular

- Ans A. Transient
 B. Temporary
 C. Sporadic
 D. Impermanent

Question ID : 630680129312
Option 1 ID : 630680500868
Option 2 ID : 630680500867
Option 3 ID : 630680500866
Option 4 ID : 630680500869
Status : Not Answered
Chosen Option : -

Q.19 Select the INCORRECTLY spelt word in the given sentence.

The external examiner moderates this document once it has been internally evaluated.

- Ans A. internaly
 B. evaluated
 C. moderates
 D. examiner

Question ID : 630680126943
Option 1 ID : 630680492285
Option 2 ID : 630680492284
Option 3 ID : 630680492283
Option 4 ID : 630680492282
Status : Not Answered
Chosen Option : -

Q.20 Select the correctly spelt word.

- Ans A. Deceive
 B. Decieve
 C. Decive
 D. Deceve

Question ID : 630680214316
Option 1 ID : 630680831311
Option 2 ID : 630680831312
Option 3 ID : 630680831313
Option 4 ID : 630680831314
Status : Not Answered
Chosen Option : -

Comprehension:

In the following passage, some words have been deleted. Read the passage carefully and select the most appropriate option to fill in each blank.

I have (1)_____ knowledge, however, of Baritsu, or the Japanese system of wrestling, which has more than once been (2) _____ useful to me. I slipped through his grip, and he with a horrible scream kicked madly (3) _____ a few seconds, and clawed the air with both his hands. But for all (4) _____ efforts he could not get his balance and over he went. With my face over the brink, I (5) _____ him fall for a long way.

SubQuestion No : 21

Q.21 Select the most appropriate option to fill in blank No. 3.

- Ans A. with
 B. for
 C. from
 D. by

Question ID : 630680158452
Option 1 ID : 630680613334
Option 2 ID : 630680613332
Option 3 ID : 630680613333
Option 4 ID : 630680613335
Status : Not Answered
Chosen Option : -



Comprehension:

In the following passage, some words have been deleted. Read the passage carefully and select the most appropriate option to fill in each blank.

I have (1)_____ knowledge, however, of Baritsu, or the Japanese system of wrestling, which has more than once been (2) _____ useful to me. I slipped through his grip, and he with a horrible scream kicked madly (3) _____ a few seconds, and clawed the air with both his hands. But for all (4) _____ efforts he could not get his balance and over he went. With my face over the brink, I (5) _____ him fall for a long way.

SubQuestion No : 22

Q.22 Select the most appropriate option to fill in blank No. 5.

- Ans A. seen
 B. saw
 C. have seen
 D. see

Question ID : 630680158454
Option 1 ID : 630680613341
Option 2 ID : 630680613343
Option 3 ID : 630680613340
Option 4 ID : 630680613342
Status : Not Answered
Chosen Option : -

Comprehension:

In the following passage, some words have been deleted. Read the passage carefully and select the most appropriate option to fill in each blank.

I have (1)_____ knowledge, however, of Baritsu, or the Japanese system of wrestling, which has more than once been (2) _____ useful to me. I slipped through his grip, and he with a horrible scream kicked madly (3) _____ a few seconds, and clawed the air with both his hands. But for all (4) _____ efforts he could not get his balance and over he went. With my face over the brink, I (5) _____ him fall for a long way.

SubQuestion No : 23

Q.23 Select the most appropriate option to fill in blank No. 2.

- Ans A. too
 B. more
 C. very
 D. almost

Question ID : 630680158451
Option 1 ID : 630680613328
Option 2 ID : 630680613330
Option 3 ID : 630680613331
Option 4 ID : 630680613329
Status : Not Answered
Chosen Option : -

Comprehension:

In the following passage, some words have been deleted. Read the passage carefully and select the most appropriate option to fill in each blank.

I have (1)_____ knowledge, however, of Baritsu, or the Japanese system of wrestling, which has more than once been (2) _____ useful to me. I slipped through his grip, and he with a horrible scream kicked madly (3) _____ a few seconds, and clawed the air with both his hands. But for all (4) _____ efforts he could not get his balance and over he went. With my face over the brink, I (5) _____ him fall for a long way.

SubQuestion No : 24

Q.24 Select the most appropriate option to fill in blank No. 1.

Ans A. some

B. minor

C. few

D. little

Question ID : 630680158450

Option 1 ID : 630680613325

Option 2 ID : 630680613327

Option 3 ID : 630680613324

Option 4 ID : 630680613326

Status : Not Answered

Chosen Option : -

Comprehension:

In the following passage, some words have been deleted. Read the passage carefully and select the most appropriate option to fill in each blank.

I have (1)_____ knowledge, however, of Baritsu, or the Japanese system of wrestling, which has more than once been (2) _____ useful to me. I slipped through his grip, and he with a horrible scream kicked madly (3) _____ a few seconds, and clawed the air with both his hands. But for all (4) _____ efforts he could not get his balance and over he went. With my face over the brink, I (5) _____ him fall for a long way.

SubQuestion No : 25

Q.25 Select the most appropriate option to fill in blank No. 4.

Ans A. his

B. him

C. its

D. their

Question ID : 630680158453

Option 1 ID : 630680613338

Option 2 ID : 630680613339

Option 3 ID : 630680613336

Option 4 ID : 630680613337

Status : Not Answered

Chosen Option : -

Section : Hindi

Q.1 'आँखों का पानी ढलना'
दिए गए मुहावरे का अर्थ निम्नलिखित में से है-

- Ans A. प्रसन्न होना
 B. आँख की नस का खराब होना
 C. निर्लज्ज होना
 D. बहुत रोना

Question ID : 630680197136
Option 1 ID : 630680764829
Option 2 ID : 630680764828
Option 3 ID : 630680764830
Option 4 ID : 630680764827
Status : Answered
Chosen Option : C

Q.2 'बिल्ली छत से कूद पड़ी।'

इस वाक्य में कौन-सा कारक है?

- Ans A. करण
 B. कर्ता
 C. अपादान
 D. कर्म

Question ID : 63068066754
Option 1 ID : 630680257875
Option 2 ID : 630680257876
Option 3 ID : 630680257874
Option 4 ID : 630680257877
Status : Answered
Chosen Option : C

Q.3 'जो अपेक्षाकृत कम बोलता हो' इस वाक्यांश के लिए सार्थक शब्द है -

- Ans A. वाचाल
 B. मूक
 C. मितव्ययी
 D. मितभाषी

Question ID : 630680128764
Option 1 ID : 630680498696
Option 2 ID : 630680498697
Option 3 ID : 630680498695
Option 4 ID : 630680498694
Status : Answered
Chosen Option : D

Q.4 दी गई लोकोक्ति का अर्थ निम्न में से है
'रानी रूठेगी तो अपना सुहाग लेगी'

- Ans A. रानी के रूठने से उसका सुहाग मर जाता है।
 B. रानी के रूठने पर राजा उसे घर से निकाल देता है।
 C. रूठने से अपना ही नुकसान होता है।
 D. रूठने से रानी को उसका सुहाग मिल जाता है।

Question ID : 630680197144

Option 1 ID : 630680764859

Option 2 ID : 630680764861

Option 3 ID : 630680764860

Option 4 ID : 630680764862

Status : Answered

Chosen Option : D

Q.5 निम्नलिखित लोकोक्ति को ध्यानपूर्वक पढ़ें और बताएं कि कौनसा विकल्प लोकोक्ति के उचित अर्थ को प्रस्तुत कर रहा है?

बाप बड़ा न भैया, सबसे बड़ा रुपैया

- Ans A. धन ही सबसे बड़ा और महत्वपूर्ण है।
 B. धन परिवार सब एक हैं।
 C. केवल बाप बड़ा है।
 D. बाप और भैया बड़े हैं।

Question ID : 630680203673

Option 1 ID : 630680789894

Option 2 ID : 630680789891

Option 3 ID : 630680789893

Option 4 ID : 630680789892

Status : Answered

Chosen Option : A

Q.6 जिसमें पहला पद प्रधान हो और सामासिक पद क्रिया विशेषण अव्यय हो _____ कहते हैं?

- Ans A. द्वन्द्व समास
 B. तत्पुरुष समास
 C. बहुब्रीहि समास
 D. अव्ययीभाव समास

Question ID : 63068052201

Option 1 ID : 630680200924

Option 2 ID : 630680200923

Option 3 ID : 630680200925

Option 4 ID : 630680200922

Status : Answered

Chosen Option : D

Q.7 सर्वनाम का रूपांतरण _____ की दृष्टि से होता है। - रिक्त स्थान के लिए उचित विकल्प है-

Ans A. पुरुष, वचन और कारक

B. संज्ञा और विशेषण

C. विकारी और अविकारी

D. लिंग और वचन

Question ID : 63068064538

Option 1 ID : 630680249118

Option 2 ID : 630680249120

Option 3 ID : 630680249121

Option 4 ID : 630680249119

Status : Answered

Chosen Option : B

Q.8 मुनासिब, उपयुक्त इन पर्यायवाची शब्दों का अर्थ है -

Ans A. उचित

B. जुगत

C. उपस्थित

D. विद्यमान

Question ID : 630680128778

Option 1 ID : 630680498752

Option 2 ID : 630680498753

Option 3 ID : 630680498750

Option 4 ID : 630680498751

Status : Answered

Chosen Option : A

Q.9 'एक से अधिक बातों में से कोई एक' इस वाक्यांश के लिए सार्थक शब्द है -

Ans A. विकल्प

B. संकल्प

C. निर्विकल्प

D. एकमेव

Question ID : 630680128765

Option 1 ID : 630680498701

Option 2 ID : 630680498700

Option 3 ID : 630680498699

Option 4 ID : 630680498698

Status : Answered

Chosen Option : A



Q.10 आज किसान को अत्याधुनिक यंत्रों से खेती करने की आवश्यकता है। वाक्य में किसान शब्द है।

- Ans A. तत्सम
 B. तद्भव
 C. देशज
 D. विदेशी

Question ID : 630680156452
Option 1 ID : 630680605469
Option 2 ID : 630680605470
Option 3 ID : 630680605468
Option 4 ID : 630680605471
Status : Answered
Chosen Option : B

Q.11 "हमारा शरीर _____ तत्त्वों से मिलकर बना है।"

उपर्युक्त वाक्य में रिक्त स्थान की पूर्ति के लिए उपयुक्त तद्भव शब्द है -

- Ans A. पांच
 B. तीन
 C. तृतीय
 D. पंच

Question ID : 630680140325
Option 1 ID : 630680543102
Option 2 ID : 630680543105
Option 3 ID : 630680543104
Option 4 ID : 630680543103
Status : Answered
Chosen Option : D

Q.12 निम्नलिखित रिक्तस्थान की पूर्ति समश्रुत भिन्नार्थक शब्द से करें।
_____ हमारे शरीर का महत्वपूर्ण _____ है।

- Ans A. किस्सा, हिस्सा
 B. आँख, भाग
 C. हाथ, भाग
 D. अंस, अंश

Question ID : 630680197185
Option 1 ID : 630680765026
Option 2 ID : 630680765025
Option 3 ID : 630680765024
Option 4 ID : 630680765023
Status : Answered
Chosen Option : C

Q.13 'अनुच्छेद' का उचित संधि विच्छेद है-

- Ans A. अन + छेद
 B. अनु + छेद
 C. अनु + छेद
 D. अनू + छेद

Question ID : 630680115760
Option 1 ID : 630680448380
Option 2 ID : 630680448378
Option 3 ID : 630680448381
Option 4 ID : 630680448379
Status : Answered
Chosen Option : B

Q.14 पंद्रह दिन में एक बार होने वाला के लिए एक शब्द है।

- Ans A. अर्द्धवार्षिक
 B. साप्ताहिक
 C. मासिक
 D. पाक्षिक

Question ID : 630680126254
Option 1 ID : 630680489625
Option 2 ID : 630680489624
Option 3 ID : 630680489623
Option 4 ID : 630680489622
Status : Answered
Chosen Option : D

Q.15 निम्नलिखित वाक्यांश को ध्यानपूर्वक पढ़ें और बताएं कि यह किस समास का उदाहरण है?
लंबा है उदर जिसका (गणेश) - लंबोदर

- Ans A. द्वंद समास
 B. कर्मधारय समास
 C. तत्पुरुष समास
 D. बहुब्रीहि समास

Question ID : 630680203686
Option 1 ID : 630680789946
Option 2 ID : 630680789944
Option 3 ID : 630680789943
Option 4 ID : 630680789945
Status : Answered
Chosen Option : D

Q.16 उचित तद्भव शब्द का चयन करके वाक्य पूर्ण करें-
'आज उसका _____ संस्कार हुआ है।'

- Ans A. उपवीत
 B. जनेऊ
 C. यज्ञसूत्र
 D. यज्ञोपवीत

Question ID : 630680146758
Option 1 ID : 630680567872
Option 2 ID : 630680567871
Option 3 ID : 630680567873
Option 4 ID : 630680567870
Status : Not Answered
Chosen Option : -

Q.17 निम्न में से विशेषणपूर्वपद कर्मधारय तत्पुरुष समास का उदाहरण है-

- Ans A. नवयुवक
 B. मदनमनोहर
 C. घनश्याम
 D. आम्रवृक्ष

Question ID : 630680197150
Option 1 ID : 630680764885
Option 2 ID : 630680764884
Option 3 ID : 630680764886
Option 4 ID : 630680764883
Status : Answered
Chosen Option : C

Q.18 कौन - से विकल्प में शब्द के साथ उसके अनेकार्थी शब्द सुमेलित नहीं है?

- Ans A. मधु - शहद, मकरंद, शराब
 B. खग - बाण, तारा, गंधर्व
 C. विग्रह - कठिन, अमृत, कल्याण
 D. सारंग - मेघ, दीपक, मोर

Question ID : 630680198520
Option 1 ID : 630680770040
Option 2 ID : 630680770042
Option 3 ID : 630680770041
Option 4 ID : 630680770039
Status : Answered
Chosen Option : B

Q.19 निम्न में से अधिकरणतत्पुरुष समास का उदाहरण है-

- Ans A. देशसेवा
 B. पुरुषोत्तम
 C. पददलित
 D. सभाभवन

Question ID : 630680197151
Option 1 ID : 630680764888
Option 2 ID : 630680764887
Option 3 ID : 630680764889
Option 4 ID : 630680764890
Status : Answered
Chosen Option : A

Q.20 वह _____ सड़क पर चलता रहा। (बिना धड़क के)

कोष्ठक में दिए संकेत के आधार पर सही सामासिक शब्द चुनकर वाक्य पूर्ण करें।

- Ans A. बिना धड़क
 B. धड़के बिना
 C. निधड़क
 D. आधड़क

Question ID : 630680112854
Option 1 ID : 630680437050
Option 2 ID : 630680437053
Option 3 ID : 630680437051
Option 4 ID : 630680437052
Status : Answered
Chosen Option : C

Comprehension:

निम्नलिखित गद्यांश को पढ़कर पूछे गए सवालों का जवाब दीजिए।

महाभारत में कहा गया है कि अहिंसा परमोधर्मस्तथाअहिंसापरं तजः अहिंसा परमसत्यंयतो धर्मः प्रवर्तते। अर्थात् अहिंसा ही परम धर्म है, अहिंसा ही श्रेष्ठ तप है, और अहिंसा ही सत्य है, क्योंकि उसी धर्म में मन लगता है। संसार में जितने भी जीव हैं, हमें जाने – अनजाने में किसी की हत्या नहीं करनी चाहिए। हमारे समान ही जीवों में भी एक ही आत्मा विद्यमान है। सभी जीव हमारी तरह अपने प्राणों से प्यार करते हैं। इसलिए किसी से बैर न करें। सच्चा, संयमशील पुरुष वही है, जो मन, वचन और शरीर से किसी की हिंसा नहीं करता, सब जीवों के प्रति अहिंसा की भावनाएँ रखता है। प्राणियों की हिंसा करना कोई धर्म नहीं है, जो कभी किसीकी हिंसा नहीं करता, वही सच्चा धर्मनिष्ठ है।

SubQuestion No : 21

Q.21 अनुच्छेद में प्रयुक्त 'क्योंकि' किस प्रकार का शब्द भेद है?

- Ans A. क्रिया
 B. अव्यय
 C. विशेषण
 D. सर्वनाम

Question ID : 630680127866
Option 1 ID : 630680495606
Option 2 ID : 630680495607
Option 3 ID : 630680495605
Option 4 ID : 630680495604
Status : Not Answered
Chosen Option : -

Comprehension:

निम्नलिखित गद्यांश को पढ़कर पूछे गए सवालों का जवाब दीजिए।

महाभारत में कहा गया है कि अहिंसा परमोधर्मस्तथाअहिंसापरं तजः अहिंसा परमंसत्यंयतो धर्मः प्रवर्तते। अर्थात् अहिंसा ही परम धर्म है, अहिंसा ही श्रेष्ठ तप है, और अहिंसा ही सत्य है, क्योंकि उसी धर्म में मन लगता है। संसार में जितने भी जीव हैं, हमें जाने – अनजाने में किसी की हत्या नहीं करनी चाहिए। हमारे समान ही जीवों में भी एक ही आत्मा विद्यमान है। सभी जीव हमारी तरह अपने प्राणों से प्यार करते हैं। इसलिए किसी से बैर न करें। सच्चा, संयमशील पुरुष वही है, जो मन, वचन और शरीर से किसी की हिंसा नहीं करता, सब जीवों के प्रति अहिंसा की भावनाएँ रखता है। प्राणियों की हिंसा करना कोई धर्म नहीं है, जो कभी किसीकी हिंसा नहीं करता, वही सच्चा धर्मनिष्ठ है।

SubQuestion No : 22

Q.22 मन, वचन, शरीर से किसीसे हिंसा न करने वाला है -

- Ans A. झूठा और अप्रिय पुरुष
 B. नास्क पुरुष
 C. क्रोध और कापुरुष
 D. सच्चा और संयम शील पुरुष

Question ID : 630680127868

Option 1 ID : 630680495612

Option 2 ID : 630680495614

Option 3 ID : 630680495615

Option 4 ID : 630680495613

Status : Answered

Chosen Option : D

Comprehension:

निम्नलिखित गद्यांश को पढ़कर पूछे गए सवालों का जवाब दीजिए।

महाभारत में कहा गया है कि अहिंसा परमोधर्मस्तथाअहिंसापरं तजः अहिंसा परमंसत्यंयतो धर्मः प्रवर्तते। अर्थात् अहिंसा ही परम धर्म है, अहिंसा ही श्रेष्ठ तप है, और अहिंसा ही सत्य है, क्योंकि उसी धर्म में मन लगता है। संसार में जितने भी जीव हैं, हमें जाने – अनजाने में किसी की हत्या नहीं करनी चाहिए। हमारे समान ही जीवों में भी एक ही आत्मा विद्यमान है। सभी जीव हमारी तरह अपने प्राणों से प्यार करते हैं। इसलिए किसी से बैर न करें। सच्चा, संयमशील पुरुष वही है, जो मन, वचन और शरीर से किसी की हिंसा नहीं करता, सब जीवों के प्रति अहिंसा की भावनाएँ रखता है। प्राणियों की हिंसा करना कोई धर्म नहीं है, जो कभी किसीकी हिंसा नहीं करता, वही सच्चा धर्मनिष्ठ है।

SubQuestion No : 23

Q.23 धर्म का तद्भव शब्द है -

- Ans A. धरम
 B. धाम
 C. धम
 D. धम्म

Question ID : 630680127865

Option 1 ID : 630680495600

Option 2 ID : 630680495603

Option 3 ID : 630680495601

Option 4 ID : 630680495602

Status : Answered

Chosen Option : A

Comprehension:

निम्नलिखित गद्यांश को पढ़कर पूछे गए सवालों का जवाब दीजिए।

महाभारत में कहा गया है कि अहिंसा परमोधर्मस्तथाअहिंसापरं तजः अहिंसा परमंसत्यंयतो धर्मः प्रवर्तते। अर्थात् अहिंसा ही परम धर्म है, अहिंसा ही श्रेष्ठ तप है, और अहिंसा ही सत्य है, क्योंकि उसी धर्म में मन लगता है। संसार में जितने भी जीव हैं, हमें जाने – अनजाने में किसी की हत्या नहीं करनी चाहिए। हमारे समान ही जीवों में भी एक ही आत्मा विद्यमान है। सभी जीव हमारी तरह अपने प्राणों से प्यार करते हैं। इसलिए किसी से बैर न करें। सच्चा, संयमशील पुरुष वही है, जो मन, वचन और शरीर से किसी की हिंसा नहीं करता, सब जीवों के प्रति अहिंसा की भावनाएँ रखता है। प्राणियों की हिंसा करना कोई धर्म नहीं है, जो कभी किसीकी हिंसा नहीं करता, वही सच्चा धर्मनिष्ठ है।

SubQuestion No : 24**Q.24 अहिंसा क्या है ?**

- Ans
- A. जाने आनजाने में घृणा करना
 - B. प्रेम और बैर भाव रखना
 - C. धर्म – अधर्म का तत्व
 - D. परम धर्म, तप, सत्य

Question ID : 630680127864

Option 1 ID : 630680495599

Option 2 ID : 630680495597

Option 3 ID : 630680495598

Option 4 ID : 630680495596

Status : Answered

Chosen Option : D

Comprehension:

निम्नलिखित गद्यांश को पढ़कर पूछे गए सवालों का जवाब दीजिए।

महाभारत में कहा गया है कि अहिंसा परमोधर्मस्तथाअहिंसापरं तजः अहिंसा परमंसत्यंयतो धर्मः प्रवर्तते। अर्थात् अहिंसा ही परम धर्म है, अहिंसा ही श्रेष्ठ तप है, और अहिंसा ही सत्य है, क्योंकि उसी धर्म में मन लगता है। संसार में जितने भी जीव हैं, हमें जाने – अनजाने में किसी की हत्या नहीं करनी चाहिए। हमारे समान ही जीवों में भी एक ही आत्मा विद्यमान है। सभी जीव हमारी तरह अपने प्राणों से प्यार करते हैं। इसलिए किसी से बैर न करें। सच्चा, संयमशील पुरुष वही है, जो मन, वचन और शरीर से किसी की हिंसा नहीं करता, सब जीवों के प्रति अहिंसा की भावनाएँ रखता है। प्राणियों की हिंसा करना कोई धर्म नहीं है, जो कभी किसीकी हिंसा नहीं करता, वही सच्चा धर्मनिष्ठ है।

SubQuestion No : 25**Q.25 इसका उपयुक्त शीर्षक होगा -**

- Ans
- A. अहिंसा प्राण है
 - B. अहिंसा परम धर्म है
 - C. अहिंसा अनावश्यक है
 - D. अहिंसा में थोड़ी – सी कम भलाई है

Question ID : 630680127867

Option 1 ID : 630680495608

Option 2 ID : 630680495610

Option 3 ID : 630680495609

Option 4 ID : 630680495611

Status : Answered

Chosen Option : B