



Teachingninja.in

CRPF Constable Technical Tradesman 12 Jul 2023

-  **Latest Govt Job updates**
-  **Private Job updates**
-  **Free Mock tests available**

Visit - teachingninja.in

CRPF Technical Tradesman 1st to 12th July 2023

Participant ID	
Participant Name	
Test Center Name	
Test Date	12/07/2023
Test Time	12:30 PM - 2:30 PM
Subject	Constable Safai Karamchari

Section : General Intelligence and Reasoning

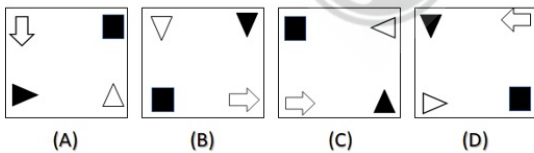
Q.1 पांच आकृतियां दी गयी हैं, जिनमें से चार किसी न किसी रूप में एक समान हैं और एक भिन्न है। भिन्न आकृति का चयन करें।



- Ans
- A. A
 - B. C
 - C. E
 - D. D

Question ID : 630680111470
 Option 1 ID : 630680431675
 Option 2 ID : 630680431674
 Option 3 ID : 630680431676
 Option 4 ID : 630680431677
 Status : Answered
 Chosen Option : D


Q.2 निम्नलिखित चार आकृतियों में से तीन एक निश्चित तरीके से समान हैं और इस प्रकार एक समूह बनाती हैं। वह कौन-सी है, जो इस समूह से संबंधित नहीं है?



- Ans
- A. D
 - B. B
 - C. A
 - D. C


Question ID : 630680124850
 Option 1 ID : 630680484224
 Option 2 ID : 630680484223
 Option 3 ID : 630680484222
 Option 4 ID : 630680484225
 Status : Not Attempted and Marked For Review
 Chosen Option : -

Q.3 नीचे दिए गए विकल्पों में से उस आकृति का चयन कीजिए जो निम्नलिखित श्रृंखला में प्रश्न चिह्न (?) को प्रतिस्थापित कर सकती है।



Ans

- A.
- B.
- C.
- D.



Question ID : 630680105017
Option 1 ID : 630680408179
Option 2 ID : 630680408180
Option 3 ID : 630680408181
Option 4 ID : 630680408182

Status : Answered

Chosen Option : B

Q.4 एक बच्चा अपने घर से पैदल स्कूल जा रहा है। वह पूर्व की ओर अपनी यात्रा शुरू करता है और 70 M चलता है। फिर वह बाएँ मुड़ता है और एक दुकान से चॉकलेट खरीदने के लिए 25 M चलता है। वह फिर से बाएँ मुड़ता है और 25 M चलता है। अंत में वह बाएँ मुड़ता है और अपने स्कूल तक पहुँचने के लिए 25 M चलता है। एक सीधी रेखा में उसका स्कूल उसके घर से कितनी दूर है?

- Ans A. 25 m
 B. 70 m
 C. 45 m
 D. 95 m

Question ID : 630680124738

Option 1 ID : 630680483791

Option 2 ID : 630680483792

Option 3 ID : 630680483793

Option 4 ID : 630680483790

Status : Answered

Chosen Option : C

Q.5 दिए गए विकल्पों में से कौन-सा वह लगभग निकटतम मान है, जो निम्नलिखित समीकरण में प्रश्न-चिह्न (?) के स्थान पर आएगा?

$$(85.01 + 34.98) \times 2.01 - ? = 159.99 \div 7.99$$

- Ans A. 230
 B. 220
 C. 240
 D. 210

Question ID : 630680172629

Option 1 ID : 630680668938

Option 2 ID : 630680668937

Option 3 ID : 630680668939

Option 4 ID : 630680668936

Status : Answered

Chosen Option : B

Q.6 रीमा बिंदु A से चलना शुरू करती है और पश्चिम की ओर 3 km चलती है। फिर वह दाएँ मुड़ती है, 2 km चलती है, फिर से दाएँ मुड़ती है और बिंदु G तक पहुँचने के लिए 5 km चलती है। फिर वह बाएँ मुड़ती है और 2 km चलती है। फिर वह दाएँ मुड़ती है, 3 km चलती है और बिंदु P पर पहुँचती है। वह बिंदु P से दक्षिण की ओर 4 km चलती है और बिंदु X पर रुकती है। बिंदु A और बिंदु X के बीच न्यूनतम दूरी कितनी है?

- Ans A. 4 km
 B. 3 km
 C. 2 km
 D. 5 km

Question ID : 630680261980

Option 1 ID : 6306801017577

Option 2 ID : 6306801017576

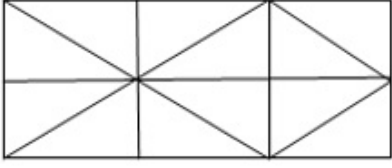
Option 3 ID : 6306801017575

Option 4 ID : 6306801017578

Status : Answered

Chosen Option : D

Q.7 दी गई आकृति में त्रिभुजों की संख्या ज्ञात कीजिए।



Ans A. 20

B. 23

C. 16

D. 15

Question ID : 630680115219

Option 1 ID : 630680446242

Option 2 ID : 630680446243

Option 3 ID : 630680446244

Option 4 ID : 630680446245

Status : Answered

Chosen Option : B

Q.8 दिए गए विकल्पों में से उस संख्या का चयन करें जो निम्नलिखित समीकरण में प्रश्न चिह्न (?) के स्थान पर आ सकती है।

$$(84.99 + 49.98) \times 2.01 - ?^2 = 404.99 \div 8.99$$

Ans A. 10

B. 21

C. 27

D. 15

Question ID : 630680204248

Option 1 ID : 630680792075

Option 2 ID : 630680792077

Option 3 ID : 630680792078

Option 4 ID : 630680792076

Status : Answered

Chosen Option : D



Q.9 एक निश्चित कूटभाषा में,
'Lion run fast' को 'Ni Mo Na' के रूप में लिखा जाता है;
'Cubs of Lion' को 'Mo Ci Ka' के रूप में लिखा जाता है;
'Make Cubs Run' को 'Ka Na Ti' के रूप में लिखा जाता है।
'Ka' किसका कूट है?

- Ans A. Of
 B. Cubs
 C. Run
 D. Lion

Question ID : 630680261944
Option 1 ID : 6306801017432
Option 2 ID : 6306801017434
Option 3 ID : 6306801017431
Option 4 ID : 6306801017433
Status : Answered
Chosen Option : B

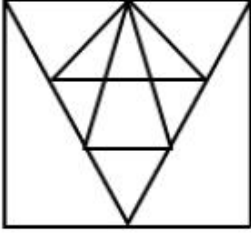
Q.10 दिए गए विकल्पों में से वह संख्या चुनिए जो निम्नलिखित शृंखला में प्रश्नवाचक चिह्न (?) को प्रतिस्थापित कर सके।
1, 8, 27, 64, ?

- Ans A. 125
 B. 120
 C. 150
 D. 625

Question ID : 630680221547
Option 1 ID : 630680860039
Option 2 ID : 630680860037
Option 3 ID : 630680860038
Option 4 ID : 630680860040
Status : Answered
Chosen Option : A



Q.11 नीचे दी गई आकृति में कितने त्रिभुज हैं?



- Ans A. 21
 B. 20
 C. 18
 D. 19

Question ID : 63068057743

Option 1 ID : 630680222812

Option 2 ID : 630680222813

Option 3 ID : 630680222811

Option 4 ID : 630680222810

Status : Answered

Chosen Option : C

Q.12 निम्नलिखित में से कौन-सा मान, निकटतम लगभग मान है, जो दिए गए समीकरण में प्रश्न-चिह्न (?) को प्रतिस्थापित कर सकता है?

$$178.01 - 11.01 \times ? + 164.01 = 122.01 + 120.99$$

- Ans A. 18
 B. 6
 C. 9
 D. 13

Question ID : 630680161777

Option 1 ID : 630680626436

Option 2 ID : 630680626437

Option 3 ID : 630680626439

Option 4 ID : 630680626438

Status : Answered

Chosen Option : C

Q.13 A, C की माँ है। E का विवाह D से हुआ है। B का विवाह A से हुआ है। F, B का पुत्र है। D, G की माँ है। G, A का भाई है। E का C के साथ क्या संबंध है?

- Ans A. भाई
 B. भाई का पुत्र
 C. पिता के पिता
 D. माँ के पिता

Question ID : 630680119307

Option 1 ID : 630680462318

Option 2 ID : 630680462321

Option 3 ID : 630680462319

Option 4 ID : 630680462320

Status : Answered

Chosen Option : D

Q.14 यदि + का अर्थ -, - का अर्थ \times , \times का अर्थ \div , \div का अर्थ + है, तो निम्नलिखित समीकरण में प्रश्न चिह्न (?) के स्थान पर क्या मान आएगा?

$$33 - 3 \div 108 \times 12 + 21 = ?$$

- Ans A. 81
 B. 94
 C. 87
 D. 79

Question ID : 630680163570

Option 1 ID : 630680633467

Option 2 ID : 630680633466

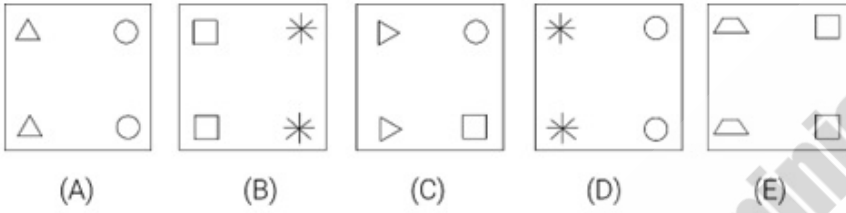
Option 3 ID : 630680633465

Option 4 ID : 630680633464

Status : Answered

Chosen Option : C

Q.15 निम्न आकृतियों में से चार आकृतियां एक निश्चित तरीके से एक समान हैं और इस प्रकार एक समूह बनाती हैं। उस आकृति का चयन करें जो समूह से संबंधित नहीं है।



- Ans A. (A)
 B. (E)
 C. (c)
 D. (B)

Question ID : 630680204236

Option 1 ID : 630680792027

Option 2 ID : 630680792030

Option 3 ID : 630680792029


Option 4 ID : 630680792028

Status : Answered

Chosen Option : C



Q.16 दी गई आकृति के सही दर्पण प्रतिबिंब का चयन करें, जब दर्पण को MN पर रखा जाता है जैसा कि नीचे दिखाया गया है।



- Ans
- A.
 - B.
 - C.
 - D.

Question ID : 630680162234

Option 1 ID : 630680628241

Option 2 ID : 630680628242

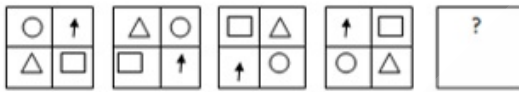
Option 3 ID : 630680628243

Option 4 ID : 630680628240

Status : Answered

Chosen Option : B

Q.17 दिए गए विकल्पों में से उस आकृति का चयन कीजिए जो निम्न श्रृंखला में प्रश्नवाचक चिह्न (?) के स्थान पर आएगी?



- Ans
- A.
 - B.
 - C.
 - D.

Question ID : 630680110367

Option 1 ID : 630680427810

Option 2 ID : 630680427807

Option 3 ID : 630680427808

Option 4 ID : 630680427809

Status : Answered

Chosen Option : B

Q.18 दी गई श्रृंखला में प्रश्न चिह्न (?) के स्थान पर क्या आना चाहिए?
504, 42, 210, 20, ?

- Ans A. 60
 B. 84
 C. 104
 D. 124

Question ID : 630680112805
Option 1 ID : 630680436900
Option 2 ID : 630680436901
Option 3 ID : 630680436898
Option 4 ID : 630680436899
Status : Answered
Chosen Option : B

Q.19 M, B की माँ है। A, M का पति है। N, B का इकलौता भाई है। C का विवाह N से हुआ है। Q, C की इकलौती संतान है। N की कोई बहन नहीं है। J, A के पिता है। B, J से किस प्रकार संबंधित है?

- Ans A. पुत्र
 B. पोता
 C. भाई
 D. पिता

Question ID : 630680106070
Option 1 ID : 630680412181
Option 2 ID : 630680412182
Option 3 ID : 630680412180
Option 4 ID : 630680412179
Status : Answered
Chosen Option : B

Q.20 P, Q की बहन है। Q, R की बहन है। R, S का पिता है। T और U विवाहित युगल हैं। T, Q की माता है। U किस प्रकार S से संबंधित है?

- Ans A. नाती
 B. दादा
 C. नाना
 D. चाचा/ताऊ

Question ID : 630680117509
Option 1 ID : 630680455273
Option 2 ID : 630680455271
Option 3 ID : 630680455270
Option 4 ID : 630680455272
Status : Answered
Chosen Option : B

Q.21 दर्पण को MN पर रखे जाने पर दी गई आकृति के सही दर्पण प्रतिबिम्ब का चयन कीजिए।

H K P 4 9 8 R

M

N

- Ans
- A. R 8 9 4 P K H
 - B. R 8 9 4 P K H
 - C. R 8 9 4 P K H
 - D. R 8 9 4 P K H

Question ID : 630680177291

Option 1 ID : 630680687340

Option 2 ID : 630680687343

Option 3 ID : 630680687341

Option 4 ID : 630680687342

Status : Answered

Chosen Option : C

Q.22 जब दर्पण को MN पर रखा जाता है तो दी गई आकृति के सही दर्पण प्रतिबिम्ब का चयन कीजिए।

F r 3 d a m

M

N

- Ans
- A. m a p 3 r F
 - B. F r 3 d a m
 - C. F r 3 d a m
 - D. m a p 3 r F

Question ID : 630680175998

Option 1 ID : 630680682243

Option 2 ID : 630680682242

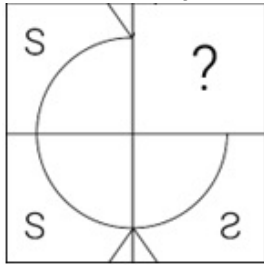
Option 3 ID : 630680682241

Option 4 ID : 630680682240

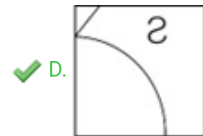
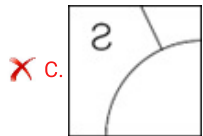
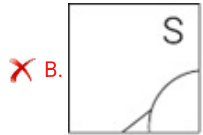
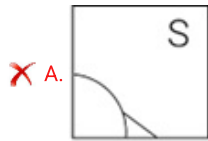
Status : Answered

Chosen Option : D

Q.23 विकल्पों में से उस आकृति का चयन कीजिए जो प्रश्न-चिह्न (?) को प्रतिस्थापित करेगी और पैटर्न को पूरा करेगी।



Ans



Question ID : 630680177315

Option 1 ID : 630680687438

Option 2 ID : 630680687437

Option 3 ID : 630680687439

Option 4 ID : 630680687436

Status : Answered

Chosen Option : D

Q.24 'M \$ N'का अर्थ है कि 'M, N का भाई है'।
 'M + N'का अर्थ है कि 'M, N की माँ है'।
 'M ÷ N'का अर्थ है कि 'M, N का पिता है'।
 'M & N'का अर्थ है कि 'M, N की पत्नी है'।
 'M = N'का अर्थ है कि 'M, N की बहन है'।
 यदि 'P + R = T + Q ÷ S', तो R का S से क्या संबंध है?

Ans A. ग्रैंडमदर का भाई

B. आंटी

C. ग्रैंडमदर की बहन

D. ग्रैंडफादर की बहन

Question ID : 630680133292

Option 1 ID : 630680516145

Option 2 ID : 630680516144

Option 3 ID : 630680516143

Option 4 ID : 630680516142

Status : Answered

Chosen Option : C

Q.25 एक निश्चित कूटभाषा में,
'Old is Gold' को 'Si Mi Ki' के रूप में कूटबद्ध किया है;
'People grow old' को 'Mi Ci Ni' के रूप में कूटबद्ध किया है;
'Let gold grow' को 'Pi Ki Ni' के रूप में कूटबद्ध किया है।
'Gold' के लिए कूट क्या है?

- Ans A. Ki
 B. Pi
 C. Si
 D. Ni

Question ID : 630680261937
Option 1 ID : 6306801017403
Option 2 ID : 6306801017406
Option 3 ID : 6306801017404
Option 4 ID : 6306801017405
Status : Answered
Chosen Option : A

Section : General Knowledge and General Awareness

Q.1 कलाक्षेत्र फाउंडेशन, भारत के शास्त्रीय नृत्यों के लिए एक प्रसिद्ध प्रशिक्षण संस्थान, निम्नलिखित में से किस राज्य में स्थित है?

- Ans A. तमिलनाडु
 B. महाराष्ट्र
 C. केरल
 D. कर्नाटक

Question ID : 630680214147
Option 1 ID : 630680830638
Option 2 ID : 630680830635
Option 3 ID : 630680830637
Option 4 ID : 630680830636
Status : Answered
Chosen Option : C

Q.2 भारत के किस राज्य में 'तूतीकोरिन बंदरगाह' स्थित है?

- Ans A. पश्चिम बंगाल
 B. गोवा
 C. तमिलनाडु
 D. केरल

Question ID : 630680209265
Option 1 ID : 630680811275
Option 2 ID : 630680811277
Option 3 ID : 630680811276
Option 4 ID : 630680811278
Status : Answered
Chosen Option : D

Q.3 निम्नलिखित में से कौन-सा युद्ध 1852 में प्रारंभ हुआ था?

- Ans A. द्वितीय आंग्ल-मैसूर युद्ध
 B. द्वितीय आंग्ल-मराठा युद्ध
 C. द्वितीय आंग्ल-बर्मी युद्ध
 D. द्वितीय आंग्ल-अफगान युद्ध

Question ID : 630680115407

Option 1 ID : 630680446980

Option 2 ID : 630680446978

Option 3 ID : 630680446981

Option 4 ID : 630680446979

Status : Answered

Chosen Option : B

Q.4 कर्नाटक संगीत में संगीत रूपों को अभ्यास गण और _____ गण में विभाजित किया गया है।

- Ans A. अलंकार
 B. सभा
 C. आवर्त
 D. दातू

Question ID : 630680214158

Option 1 ID : 630680830682

Option 2 ID : 630680830679

Option 3 ID : 630680830681

Option 4 ID : 630680830680

Status : Answered

Chosen Option : A

Q.5 चोलों के पतन के बाद निम्नलिखित में से कौन-सा प्रमुख तमिल राजवंश था?

- Ans A. बाद के चालुक्य (Later Chalukyas)
 B. पांड्य
 C. होयसल
 D. काकतीय

Question ID : 630680176044

Option 1 ID : 630680682427

Option 2 ID : 630680682425

Option 3 ID : 630680682424

Option 4 ID : 630680682426

Status : Answered

Chosen Option : B

Q.6 भारत में चार मुख्य ऋतुएं होती हैं। किस ऋतु को संक्रमण ऋतु भी कहा जाता है?

- Ans A. मानसून के आगमन की ऋतु
 B. मानसून की वापसी की ऋतु
 C. ठंड मौसम की ऋतु
 D. गर्म मौसम की ऋतु

Question ID : 630680111794

Option 1 ID : 630680432911

Option 2 ID : 630680432912

Option 3 ID : 630680432913

Option 4 ID : 630680432910

Status : Answered

Chosen Option : A

Q.7 यदि किसी भारतीय नागरिक को उसकी जाति के कारण सार्वजनिक स्थान पर प्रवेश से वंचित कर दिया जाता है, तो उसे निम्नलिखित में से किस मौलिक अधिकार से वंचित किया जाता है?

- Ans A. शोषण के विरुद्ध अधिकार
 B. सांस्कृतिक और शैक्षिक अधिकार
 C. संवैधानिक उपचार के अधिकार
 D. समानता के अधिकार

Question ID : 630680213939

Option 1 ID : 630680829803

Option 2 ID : 630680829805

Option 3 ID : 630680829806

Option 4 ID : 630680829804

Status : Answered

Chosen Option : D

Q.8 निम्नलिखित में से किस शहर में जाड़े के मौसम में औसत तापमान सबसे अधिक होता है?

- Ans A. पटना
 B. जयपुर
 C. लखनऊ
 D. चेन्नई

Question ID : 63068090970

Option 1 ID : 630680352639

Option 2 ID : 630680352638

Option 3 ID : 630680352641

Option 4 ID : 630680352640

Status : Answered

Chosen Option : B

Q.9 निम्नलिखित में से कौन-सा विकल्प जलीय पादपों की श्रेणी के अंतर्गत आता है?

- Ans A. तोरई का पौधा
 B. अंगूर का पौधा
 C. नीलकमल का पौधा
 D. गुलाब का पौधा

Question ID : 630680209087
Option 1 ID : 630680810566
Option 2 ID : 630680810564
Option 3 ID : 630680810565
Option 4 ID : 630680810563
Status : Answered
Chosen Option : C

Q.10 सितंबर 2021 में भारत और किस देश के बीच सुंडा जलडमरूमध्य में नौसैनिक अभ्यास हुआ?

- Ans A. इंडोनेशिया
 B. जापान
 C. यूएसए (USA)
 D. फ्रांस

Question ID : 63068085229
Option 1 ID : 630680330422
Option 2 ID : 630680330421
Option 3 ID : 630680330420
Option 4 ID : 630680330423
Status : Answered
Chosen Option : A

Q.11 निम्नलिखित में से किस संस्था की स्थापना सबसे पहले की गई थी?

- Ans A. राष्ट्रीय आवास बैंक
 B. भारतीय निर्यात-आयात बैंक
 C. भारतीय लघु उद्योग विकास बैंक
 D. भारतीय औद्योगिक वित्त निगम

Question ID : 63068090257
Option 1 ID : 630680349802
Option 2 ID : 630680349804
Option 3 ID : 630680349803
Option 4 ID : 630680349805
Status : Answered
Chosen Option : C

Q.12 राधा स्वामी सत्संग ब्यास का मुख्य केंद्र _____ राज्य में स्थित डेरा बाबा जयमल सिंह जी में है।

- Ans A. तमिलनाडु
 B. पंजाब
 C. उत्तर प्रदेश
 D. महाराष्ट्र

Question ID : 630680158701

Option 1 ID : 630680614297

Option 2 ID : 630680614296

Option 3 ID : 630680614299

Option 4 ID : 630680614298

Status : Answered

Chosen Option : B

Q.13 निम्नलिखित में से कौन क्रांतिकारी डी.एन.ए. (DNA) तकनीकों के विकास के लिए मिलेनियम टेक्नोलॉजिकल प्राइज - 2020 के विजेताओं में से एक थे?

- Ans A. जयंत हरित्सा
 B. शंकर बालासुब्रमण्यम
 C. चंद्रशेखर नायर
 D. सुनीता सरावगी

Question ID : 630680115957

Option 1 ID : 630680449160

Option 2 ID : 630680449159

Option 3 ID : 630680449158

Option 4 ID : 630680449161

Status : Answered

Chosen Option : C

Q.14 निम्नलिखित में से किस कांग्रेस अधिवेशन में मुस्लिम लीग ने भारतीय राष्ट्रीय कांग्रेस के साथ एक समझौते पर हस्ताक्षर किए?

- Ans A. लखनऊ अधिवेशन, 1916
 B. लाहौर अधिवेशन, 1929
 C. कलकत्ता अधिवेशन, 1917
 D. सूरत अधिवेशन, 1907

Question ID : 630680127636

Option 1 ID : 630680494800

Option 2 ID : 630680494802

Option 3 ID : 630680494801

Option 4 ID : 630680494803

Status : Answered

Chosen Option : B

Q.15 अवसंरचना (इंफ्रास्ट्रक्चर) का आर्थिक विकास में क्या योगदान है?

- Ans A. यह जीवन की गुणवत्ता और उत्पादन कारकों की उत्पादकता दोनों में सुधार करता है।
 B. यह न तो जीवन की गुणवत्ता में और न ही उत्पादन कारकों की उत्पादकता में सुधार करता है।
 C. यह जीवन की गुणवत्ता में सुधार करता है।
 D. यह उत्पादन कारकों की उत्पादकता में सुधार करता है।

Question ID : 630680181812

Option 1 ID : 630680704484

Option 2 ID : 630680704485

Option 3 ID : 630680704482

Option 4 ID : 630680704483

Status : Answered

Chosen Option : A

Q.16 वर्ष 2020 के युवा गणितज्ञों के लिए रामानुजन पुरस्कार से किसे सम्मानित किया गया था?

- Ans A. डॉ. कैरोलिना अरुजो
 B. डॉ. इयान स्ट्वार्ट
 C. डॉ. डेविड क्लेरमैन
 D. डॉ. सुमन चक्रवर्ती

Question ID : 630680139326

Option 1 ID : 630680539380

Option 2 ID : 630680539381

Option 3 ID : 630680539378

Option 4 ID : 630680539379

Status : Answered

Chosen Option : C

Q.17 कॉलम A का कॉलम B के साथ सुमेलन कीजिए।

कॉलम A	कॉलम B
a. विटामिन-A	i. माँस, मुर्गा और मछली
b. विटामिन-B	ii. गाजर
c. विटामिन-C	iii. दूध और अंडा
d. विटामिन-D	iv. खट्टे फल

- Ans A. a-i, b-ii, c-iii, d-iv
 B. a-iii, b-i, c-iv, d-ii
 C. a-ii, b-i, c-iv, d-iii
 D. a-i, b-ii, c-iv, d-iii

Question ID : 630680153037

Option 1 ID : 630680592089

Option 2 ID : 630680592091

Option 3 ID : 630680592090

Option 4 ID : 630680592088

Status : Answered

Chosen Option : D

Q.18 1675 में सूक्ष्मदर्शी के तहत लाल रक्त कोशिकाओं का विस्तृत विवरण देने वाला पहला व्यक्ति कौन था?

- Ans A. रॉबर्ट हुक
 B. रॉबर्ट ब्राउन
 C. एंटोन वैन ल्यूवेनहॉक
 D. थियोडोर श्वान

Question ID : 63068094217
Option 1 ID : 630680365563
Option 2 ID : 630680365564
Option 3 ID : 630680365566
Option 4 ID : 630680365565
Status : Answered
Chosen Option : A

Q.19 निम्नलिखित में से कौन-सा शास्त्रीय कर्नाटक संगीत में समय का माप है?

- Ans A. अलंकार
 B. स्वर
 C. राग
 D. ताल

Question ID : 630680214156
Option 1 ID : 630680830671
Option 2 ID : 630680830672
Option 3 ID : 630680830674
Option 4 ID : 630680830673
Status : Answered
Chosen Option : C

Q.20 निम्नलिखित में से कौन सी लड़ाई बाबर ने नहीं लड़ी थी?

- Ans A. चंदेरी की लड़ाई
 B. खानवा की लड़ाई
 C. पानीपत की लड़ाई
 D. हल्दीघाटी की लड़ाई

Question ID : 630680214216
Option 1 ID : 630680830914
Option 2 ID : 630680830912
Option 3 ID : 630680830911
Option 4 ID : 630680830913
Status : Answered
Chosen Option : D

Q.21 ओएनजीसी लिमिटेड की स्थापना किस वर्ष हुई थी?

- Ans A. 1957 में
 B. 1959 में
 C. 1958 में
 D. 1956 में

Question ID : 630680214202
Option 1 ID : 630680830857
Option 2 ID : 630680830855
Option 3 ID : 630680830858
Option 4 ID : 630680830856
Status : Answered
Chosen Option : C

Q.22 _____ को दुनिया का सबसे ऊँचा और सबसे बड़ा स्तूप कहा जाता है।

- Ans A. धमेक स्तूप
 B. केसरिया स्तूप
 C. साँची का स्तूप
 D. अमरावती स्तूप

Question ID : 630680158680
Option 1 ID : 630680614215
Option 2 ID : 630680614214
Option 3 ID : 630680614212
Option 4 ID : 630680614213
Status : Answered
Chosen Option : C

Q.23 राष्ट्रीय सांख्यिकी कार्यालय (NSO) के आंकड़ों के अनुसार, 2021 तक प्राप्त जानकारी के अनुसार, भारत की औसत साक्षरता दर _____ है।

- Ans A. 75.70%
 B. 67.50%
 C. 72.75%
 D. 77.70%

Question ID : 630680213954
Option 1 ID : 630680829864
Option 2 ID : 630680829865
Option 3 ID : 630680829866
Option 4 ID : 630680829863
Status : Answered
Chosen Option : A

Q.24 निम्नलिखित में से किस अंतर्राष्ट्रीय संगठन ने भारत और पाकिस्तान के बीच सिंधु जल संधि में मध्यस्थता की थी?

- Ans A. दक्षिण - पूर्वी एशियाई राष्ट्र संघ
 B. अंतर्राष्ट्रीय मुद्रा कोष
 C. शंघाई सहयोग संगठन
 D. विश्व बैंक

Question ID : 630680214244

Option 1 ID : 630680831025

Option 2 ID : 630680831026

Option 3 ID : 630680831023

Option 4 ID : 630680831024

Status : Answered

Chosen Option : A

Q.25 पल्लवों के शासन के दौरान, दक्षिण भारत में संस्कृत सीखने का शिक्षण केंद्र कौन सा था?

- Ans A. एलोरा
 B. बादामी
 C. कांचीपुरम
 D. मान्यखेट

Question ID : 630680118804

Option 1 ID : 630680460319

Option 2 ID : 630680460320

Option 3 ID : 630680460318

Option 4 ID : 630680460321

Status : Answered

Chosen Option : C

Section : Elementary Mathematics

Q.1 12 छात्रों और दो शिक्षकों का औसत भार 58 kg है। जब 72 kg भार वाले दो और शिक्षकों को समूह में शामिल किया जाता है, तो समूह का औसत भार (kg में) ज्ञात कीजिए।

- Ans A. 59.75
 B. 63.73
 C. 57.95
 D. 59.57

Question ID : 630680116558

Option 1 ID : 630680451527

Option 2 ID : 630680451528

Option 3 ID : 630680451526

Option 4 ID : 630680451529

Status : Answered

Chosen Option : A

Q.2 एक अर्धगोले का व्यास 8.4 m है। इसका आयतन ज्ञात करें। ($\pi = \frac{22}{7}$ मानें)

- Ans
- A. 156.232 m³
 - B. 157.232 m³
 - C. 158.232 m³
 - D. 155.232 m³

Question ID : 630680104379

Option 1 ID : 630680405725

Option 2 ID : 630680405724

Option 3 ID : 630680405723

Option 4 ID : 630680405726

Status : Answered

Chosen Option : D

Q.3 एक कक्षा की औसत आयु 45 वर्ष थी। 43 वर्ष की औसत आयु वाले आठ नए छात्र उस कक्षा में शामिल हुए, जिससे औसत आधे वर्ष से कम हो गया। कक्षा की मूल क्षमता कितनी थी?

- Ans
- A. 28
 - B. 24
 - C. 30
 - D. 26

Question ID : 630680125144

Option 1 ID : 630680485356

Option 2 ID : 630680485354

Option 3 ID : 630680485357

Option 4 ID : 630680485355

Status : Answered

Chosen Option : B

Q.4 यदि एक संख्या का 40% दूसरी संख्या के दो-तिहाई के बराबर है, तो पहली संख्या और दूसरी संख्या का अनुपात ज्ञात करें।

- Ans
- A. 3 : 5
 - B. 2 : 5
 - C. 5 : 3
 - D. 8 : 3

Question ID : 630680222270

Option 1 ID : 630680862912

Option 2 ID : 630680862911

Option 3 ID : 630680862913

Option 4 ID : 630680862914

Status : Answered

Chosen Option : C

Q.5 त्रिज्या 2.1 cm होने पर संवृत गोलार्ध के संपूर्णपृष्ठीय क्षेत्रफल और वक्रपृष्ठीय क्षेत्रफल के बीच अंतर कितना है? (मान लीजिए $\pi = \frac{22}{7}$)

- Ans
- A. 14.86 cm²
 - B. 13.56 cm²
 - C. 13.86 cm²
 - D. 12.86 cm²

Question ID : 630680112527
Option 1 ID : 630680435804
Option 2 ID : 630680435803
Option 3 ID : 630680435805
Option 4 ID : 630680435802
Status : Answered
Chosen Option : C

Q.6 चीनी और गुड़ के बाजार मूल्य का अनुपात 3:5 है और एक परिवार में खपत की गई मात्रा का अनुपात 5:9 है। चीनी और गुड़ के व्यय का अनुपात ज्ञात कीजिए।

- Ans
- A. 1:3
 - B. 2:3
 - C. 3:1
 - D. 3:2

Question ID : 630680145271
Option 1 ID : 630680562067
Option 2 ID : 630680562069
Option 3 ID : 630680562066
Option 4 ID : 630680562068
Status : Answered
Chosen Option : A

Q.7 यदि एक वर्ग का विकर्ण 20 cm है, तो इसका परिमाण क्या होगा?

- Ans
- A. 68.23 cm
 - B. 56.56 cm
 - C. 200 cm
 - D. 100 cm

Question ID : 630680120866
Option 1 ID : 630680468439
Option 2 ID : 630680468441
Option 3 ID : 630680468438
Option 4 ID : 630680468440
Status : Not Attempted and Marked For Review
Chosen Option : -

Q.8 $4\text{ m} \times 3.5\text{ m} \times 3\text{ m}$ विमा वाले लकड़ी के संदूक में $8\text{ cm} \times 7\text{ cm} \times 6\text{ cm}$ विमा वाले आयताकार संदूक रखे हैं। लकड़ी के तीन संदूकों में रखे जा सकने वाले संदूकों की अधिकतम संख्या ज्ञात करें।

- Ans A. 1,25,000
 B. 3,75,000
 C. 4,00,000
 D. 2,50,000

Question ID : 630680108731
Option 1 ID : 630680421847
Option 2 ID : 630680421844
Option 3 ID : 630680421845
Option 4 ID : 630680421846
Status : Answered
Chosen Option : B

Q.9 $(-24)^{-1}$ को किस संख्या से विभाजित किया जाना चाहिए ताकि भागफल 3^{-1} प्राप्त हो सके?

- Ans A. -8
 B. $\frac{1}{8}$
 C. $-\frac{1}{8}$
 D. 8

Question ID : 63068079534
Option 1 ID : 630680308176
Option 2 ID : 630680308173
Option 3 ID : 630680308174
Option 4 ID : 630680308175
Status : Answered
Chosen Option : C

Q.10 30 वस्तुओं का अंकित मूल्य 48 वस्तुओं के क्रय मूल्य के बराबर था। 25 वस्तुओं का विक्रय मूल्य 16 वस्तुओं के अंकित मूल्य के बराबर था। प्रत्येक वस्तु की बिक्री से प्राप्त प्रतिशत लाभ या हानि की गणना करें।

- Ans A. 2.4% हानि
 B. 2.4% लाभ
 C. 2.34% लाभ
 D. 2.34% हानि

Question ID : 630680115768
Option 1 ID : 630680448411
Option 2 ID : 630680448410
Option 3 ID : 630680448412
Option 4 ID : 630680448413
Status : Answered
Chosen Option : B

Q.11 निम्नलिखित का मान ज्ञात कीजिए:

$$\frac{(10.17+8.12)^2+(10.17-8.12)^2}{10.17 \times 10.17+8.12 \times 8.12}$$

- Ans
- A. 4
 - B. 1
 - C. 2
 - D. 3

Question ID : 630680218043
Option 1 ID : 630680846079
Option 2 ID : 630680846082
Option 3 ID : 630680846081
Option 4 ID : 630680846080
Status : Answered
Chosen Option : C

Q.12 एक व्यक्ति अपने वेतन का 25% किराए पर, 30% भोजन पर और 25% अन्य खर्चों पर खर्च करता है। यदि वह 350 की बचत करता है, तो उसका वेतन ज्ञात करें।

- Ans
- A. Rs.1,750
 - B. Rs.1,550
 - C. Rs.1,570
 - D. Rs.1,770

Question ID : 630680105245
Option 1 ID : 630680409060
Option 2 ID : 630680409062
Option 3 ID : 630680409061
Option 4 ID : 630680409059
Status : Answered
Chosen Option : A

Q.13 एक चुनाव में, एक प्रत्याशी जिसे 72% मत प्राप्त होते हैं, वह 308 मतों के बहुमत से निर्वाचित होता है। डाले गए मतों की कुल संख्या कितनी है?

- Ans
- A. 700
 - B. 443
 - C. 530
 - D. 720

Question ID : 630680137221
Option 1 ID : 630680531481
Option 2 ID : 630680531479
Option 3 ID : 630680531478
Option 4 ID : 630680531480
Status : Answered
Chosen Option : A

Q.14 $\frac{(98 \times 4 \div 7) \times (20 \div 14) + \{1500 \div (10 \times 50)\} \times 2 - 1}{(112 \times 4 \div 16) \times (60 \div 21) + \{1750 \div (5 \times 50)\} \times 2 - 9}$ का मान क्या होगा?

- Ans A. 0.5
 B. 1
 C. 1.5
 D. 0

Question ID : 63068070285
Option 1 ID : 630680271772
Option 2 ID : 630680271770
Option 3 ID : 630680271773
Option 4 ID : 630680271771
Status : Answered
Chosen Option : B

Q.15 एक ठेकेदार को 90 दिनों में एक पार्क का निर्माण करना है। वह 60 पुरुषों को काम पर लगाता है। 30 दिनों के बाद उसे लगता है कि पार्क के केवल 1/5वें हिस्से का ही निर्माण हो पाया है। कार्य को समय पर पूरा करने के लिए उसे और कितने पुरुषों को काम पर लगाना चाहिए?

- Ans A. 60
 B. 75
 C. 90
 D. 120

Question ID : 630680131591
Option 1 ID : 630680509603
Option 2 ID : 630680509605
Option 3 ID : 630680509604
Option 4 ID : 630680509602
Status : Answered
Chosen Option : A

Q.16 एक बेलन का संपूर्ण पृष्ठीय क्षेत्रफल ज्ञात कीजिए, जिसका व्यास 6 cm और ऊँचाई 20 cm है (केवल दो दशमलव स्थान तक)।

- Ans A. 333.71 cm²
 B. 313.71 cm²
 C. 413.71 cm²
 D. 433.71 cm²

Question ID : 630680116082
Option 1 ID : 630680449658
Option 2 ID : 630680449661
Option 3 ID : 630680449660
Option 4 ID : 630680449659
Status : Answered
Chosen Option : D

Q.17 ₹450 क्रय मूल्य वाली किसी वस्तु पर 40% और 10% का दो क्रमिक बढ़ा दिया जाता है। वस्तु का विक्रय मूल्य ज्ञात करें।

- Ans
- A. ₹236
 - B. ₹225
 - C. ₹215
 - D. ₹243

Question ID : 630680119647

Option 1 ID : 630680463675

Option 2 ID : 630680463674

Option 3 ID : 630680463676

Option 4 ID : 630680463677

Status : Answered

Chosen Option : D

Q.18 यदि एक ठोस लंबवृत्तीय बेलन के आधार पर ऊँचाई और परिधि 24cm और 132cm है, तो इसका संपूर्ण पृष्ठीय क्षेत्रफल

_____ है। (मान लें $\pi = \frac{22}{7}$)

- Ans
- A. 3168cm²
 - B. 4454cm²
 - C. 4554cm²
 - D. 5940cm²

Question ID : 630680108453

Option 1 ID : 630680420779

Option 2 ID : 630680420776

Option 3 ID : 630680420777

Option 4 ID : 630680420778

Status : Answered

Chosen Option : D

Q.19 5 अंकों की सबसे छोटी संख्या कौन सी है जो 13 से पूर्णतः विभाज्य है?

- Ans
- A. 10005
 - B. 10026
 - C. 10013
 - D. 10010

Question ID : 63068079798

Option 1 ID : 630680309217

Option 2 ID : 630680309220

Option 3 ID : 630680309218

Option 4 ID : 630680309219

Status : Answered

Chosen Option : D

Q.20 एक सप्ताह के दौरान एक टैक्सी चालक की दैनिक आय ₹70, ₹55, ₹60, ₹52.50, ₹63, ₹73 और ₹78 है। सप्ताह के लिए उसकी औसत दैनिक आय क्या है?

- Ans A. ₹54.50
 B. ₹84.50
 C. ₹64.50
 D. ₹74.50

Question ID : 630680135548
Option 1 ID : 630680524915
Option 2 ID : 630680524917
Option 3 ID : 630680524916
Option 4 ID : 630680524914
Status : Answered
Chosen Option : C

Q.21 एक घनाभ का आयतन 440 सेमी^3 है और इसके आधार का क्षेत्रफल 88 सेमी^2 है, घनाभ की ऊंचाई होगी:

- Ans A. 2 सेमी
 B. 8 सेमी
 C. 44 सेमी
 D. 5 सेमी

Question ID : 630680109277
Option 1 ID : 630680423889
Option 2 ID : 630680423891
Option 3 ID : 630680423888
Option 4 ID : 630680423890
Status : Answered
Chosen Option : D

Q.22 संपर्क क्रांति एक्सप्रेस 14:30 बजे 75 km/h की चाल से चलते हुए दिल्ली से चेन्नई के लिए रवाना होती है, जबकि राजधानी एक्सप्रेस उसी दिन समान मार्ग से 16:30 बजे 90 km/h की चाल से चलते हुए दिल्ली से चेन्नई के लिए रवाना होती है। दोनों रेलगाड़ियां दिल्ली से कितनी दूरी पर एक-दूसरे से मिलेंगी?

- Ans A. 950 km
 B. 900 km
 C. 860 km
 D. 820 km

Question ID : 630680206531
Option 1 ID : 630680800731
Option 2 ID : 630680800732
Option 3 ID : 630680800733
Option 4 ID : 630680800734
Status : Answered
Chosen Option : B

Q.23 ₹6,880 पर 5% वार्षिक की दर से 12 वर्षों के लिए साधारण ब्याज ज्ञात कीजिए।

- Ans A. ₹4,129
 B. ₹4,128
 C. ₹4,127
 D. ₹4,126

Question ID : 630680121577

Option 1 ID : 630680471269

Option 2 ID : 630680471266

Option 3 ID : 630680471267

Option 4 ID : 630680471268

Status : Answered

Chosen Option : B

Q.24 एक स्कूल की छात्र संख्या में प्रत्येक एकांतर वर्ष (एक वर्ष छोड़कर एक वर्ष) में 20% की वृद्धि और कमी होती है। यह क्रम 2015 में वृद्धि के साथ शुरू हुआ। 2015 की तुलना में 2018 की शुरुआत में स्कूल की छात्र संख्या ज्ञात करें।

- Ans A. 16.5% की कमी
 B. 16.5% की वृद्धि
 C. 15.2% की कमी
 D. 15.2% की वृद्धि

Question ID : 630680112585

Option 1 ID : 630680436036

Option 2 ID : 630680436037

Option 3 ID : 630680436034

Option 4 ID : 630680436035

Status : Answered

Chosen Option : A

Q.25 10 cm कोर वाले एक खुले घन (एक सतह खुली है) को बाहर की तरफ पेंट किया जाना है। यदि पेंटिंग का मूल्य Rs.2 प्रति cm^2 है, तो उसे पेंट करने की कुल लागत (Rs. में) क्या होगी?

- Ans A. 1200
 B. 500
 C. 1000
 D. 200

Question ID : 63068070063

Option 1 ID : 630680270893

Option 2 ID : 630680270891

Option 3 ID : 630680270892

Option 4 ID : 630680270890

Status : Answered

Chosen Option : D

Section : English

Q.1 Sentences of a paragraph are given below in jumbled order. Arrange the sentences in the correct order to form a meaningful and coherent paragraph.

- A. Today, sunglasses serve as protective eyewear, effectively preventing bright sunlight from causing discomfort or damage to our eyes.
- B. But sunglasses were originally made out of smoky quartz in 12th century China.
- C. Of course, they're also a fashion accessory.
- D. They were used by Chinese judges to mask their emotions when they were questioning witnesses.

- Ans
- A. ACDB
 - B. ACBD
 - C. ABDC
 - D. ABCD

Question ID : 630680204448
Option 1 ID : 630680792861
Option 2 ID : 630680792860
Option 3 ID : 630680792859
Option 4 ID : 630680792862
Status : Not Answered
Chosen Option : -

Q.2 Select the most appropriate ANTONYM of the underlined word/phrase in the given sentence.
This offer has come as a great boon to me.

- Ans
- A. Curse
 - B. Blemish
 - C. Trouble
 - D. Misfortune

Question ID : 630680177550
Option 1 ID : 630680688360
Option 2 ID : 630680688361
Option 3 ID : 630680688362
Option 4 ID : 630680688363
Status : Not Answered
Chosen Option : -

Q.3 Select the most appropriate ANTONYM of the given word.

Parsimonious

- Ans
- A. Generous
 - B. Wealthy
 - C. Miser
 - D. Thrifty

Question ID : 630680176624
Option 1 ID : 630680684719
Option 2 ID : 630680684718
Option 3 ID : 630680684717
Option 4 ID : 630680684716
Status : Not Answered
Chosen Option : -

Q.4 Select the INCORRECTLY spelt word.

- Ans A. Friend
 B. Relative
 C. Cousin
 D. Niecece

Question ID : 630680167070
Option 1 ID : 630680647143
Option 2 ID : 630680647142
Option 3 ID : 630680647140
Option 4 ID : 630680647141
Status : Not Answered
Chosen Option : -

Q.5 Select the most appropriate synonym of the given word.

Absorb

- Ans A. Emit
 B. Throw up
 C. Consume
 D. Dissolve

Question ID : 630680181761
Option 1 ID : 630680704279
Option 2 ID : 630680704280
Option 3 ID : 630680704281
Option 4 ID : 630680704278
Status : Not Answered
Chosen Option : -

Q.6 Sentences of a paragraph are given below in jumbled order. Select the option that arranges the sentences in the correct logical sequence to form a meaningful and coherent paragraph.

- a. In reality, work constitutes the vast majority of everyday activity for all humans.
b. Work is fundamental to all cultures, but each has distinct values and perceptions towards it.
c. Work can be defined as activities performed for a specific reason or out of necessity.
d. Education, health, age, opportunity, globalisation, geographic location, financial rewards, family background, and other factors affect people's work.

- Ans A. c, a, b, d
 B. b, a, d, c
 C. a, d, b, c
 D. c, b, a, d

Question ID : 630680192507
Option 1 ID : 630680746617
Option 2 ID : 630680746619
Option 3 ID : 630680746620
Option 4 ID : 630680746618
Status : Not Answered
Chosen Option : -

Q.7 Select the most appropriate option that can substitute the underlined segment in the given sentence.

The cost of Covid-19 lockdowns and school closures in children's health, well-being and learning has been devastating.

- Ans
- A. school closures with children's health
 - B. school closures to children's health
 - C. school closures at children's health
 - D. school closures on children's health

Question ID : 630680130475

Option 1 ID : 630680505210

Option 2 ID : 630680505213

Option 3 ID : 630680505211

Option 4 ID : 630680505212

Status : Not Answered

Chosen Option : -

Q.8 Sentences of a paragraph are given below in jumbled order. Arrange the sentences in the correct order to form a meaningful and coherent paragraph.

- A. The state is known for good governance, peace, law and order and stability.
- B. It also has benefitted greatly from the work that has been done to increase social, physical and digital infrastructure.
- C. In the coming years, the state will create a big pool of talented and skilled youth, which will create a good social and economic environment not only in the state but in entire India.
- D. Uttar Pradesh has become a hope for the world and is driving the country's overall growth.

- Ans
- A. ACBD
 - B. ABDC
 - C. DBCA
 - D. DABC

Question ID : 630680204959

Option 1 ID : 630680794704

Option 2 ID : 630680794705

Option 3 ID : 630680794706

Option 4 ID : 630680794703

Status : Not Answered

Chosen Option : -

Q.9 The following sentence has been divided into three segments. One of them may contain an error. Select the segment that contains the error from the given options. If you don't find any error, mark 'No error' as your answer.

Each of these students / have been warned / not to repeat the mistake.

- Ans
- A. No Error
 - B. Each of these students
 - C. have been warned
 - D. not to repeat the mistake

Question ID : 630680130697

Option 1 ID : 630680506085

Option 2 ID : 630680506082

Option 3 ID : 630680506083

Option 4 ID : 630680506084

Status : Not Answered

Chosen Option : -

Q.10 Parts of a paragraph are given below in jumbled order. Arrange the parts in the correct order to form a meaningful and coherent paragraph.

- A. A 24-year-old woman was allegedly caught smoking in the toilet of a moving flight.
- B. And she was arrested on her arrival and later released on bail.
- C. Airport security officials complained the same to the police.
- D. A case under Indian Penal Code 336 was filed as hers was a rash and negligent behaviour on the flight

- Ans
- A. BACD
 - B. ACDB
 - C. DCBA
 - D. ABCD

Question ID : 630680204409
Option 1 ID : 630680792722
Option 2 ID : 630680792720
Option 3 ID : 630680792721
Option 4 ID : 630680792719
Status : Not Answered
Chosen Option : -

Q.11 Select the most appropriate synonym of the given word.
Consolidate

- Ans
- A. Manage
 - B. Disperse
 - C. Distintegrate
 - D. Integrate

Question ID : 630680204956
Option 1 ID : 630680794691
Option 2 ID : 630680794692
Option 3 ID : 630680794694
Option 4 ID : 630680794693
Status : Not Answered
Chosen Option : -

Q.12 Select the INCORRECTLY spelt word.

- Ans
- A. Maintainence
 - B. Concentration
 - C. Improvement
 - D. Oppression

Question ID : 630680172399
Option 1 ID : 630680668022
Option 2 ID : 630680668020
Option 3 ID : 630680668021
Option 4 ID : 630680668023
Status : Not Answered
Chosen Option : -

Q.13 Select the sentence with the most appropriate use of adverb.

- Ans A. They have arrived recent.
 B. They have arrived on recently.
 C. They have arrived with recently.
 D. They have arrived recently.

Question ID : 630680129454
Option 1 ID : 630680501436
Option 2 ID : 630680501435
Option 3 ID : 630680501437
Option 4 ID : 630680501434
Status : Not Answered
Chosen Option : -

Q.14 Select the INCORRECTLY spelt word.

- Ans A. Penetrate
 B. Segregrate
 C. Separate
 D. Desperate

Question ID : 630680172401
Option 1 ID : 630680668028
Option 2 ID : 630680668029
Option 3 ID : 630680668030
Option 4 ID : 630680668031
Status : Not Answered
Chosen Option : -

Q.15 Select the option that can be used as a one-word substitute for the given phrase.
One who has divine reverence for nature

- Ans A. Atheist
 B. Theist
 C. Pantheist
 D. Anaesthetist

Question ID : 630680113218
Option 1 ID : 630680438435
Option 2 ID : 630680438436
Option 3 ID : 630680438434
Option 4 ID : 630680438437
Status : Not Answered
Chosen Option : -

Q.16 Select the most appropriate meaning of the given proverb/idiom.
It takes two to tango.

- Ans A. Two soldiers can win a war when trying together
 B. Two people turn things worse
 C. Two people are equally responsible for a situation
 D. Two and two make four

Question ID : 630680160072
Option 1 ID : 630680619673
Option 2 ID : 630680619672
Option 3 ID : 630680619674
Option 4 ID : 630680619675
Status : Not Answered
Chosen Option : -

Q.17 Select the option that can be used as a one-word substitute for the given group of words.

It is a large building with an extensive floor area for housing aircraft.

- Ans A. Dormitory
 B. Hangar
 C. Gymnasium
 D. Kennel

Question ID : 630680129764
Option 1 ID : 630680502656
Option 2 ID : 630680502654
Option 3 ID : 630680502655
Option 4 ID : 630680502657
Status : Not Answered
Chosen Option : -

Q.18 Select the correctly spelt word.

- Ans A. January
 B. Janaury
 C. Januaruy
 D. Janury

Question ID : 630680131813
Option 1 ID : 630680510464
Option 2 ID : 630680510462
Option 3 ID : 630680510465
Option 4 ID : 630680510463
Status : Not Answered
Chosen Option : -

Q.19 Select the most appropriate meaning of the given idiom.
Stood his ground.

- Ans A. To stand on the ground
 B. To maintain one's own position
 C. To stand on one's own land
 D. To be clearly aware

Question ID : 630680167282
Option 1 ID : 630680647900
Option 2 ID : 630680647902
Option 3 ID : 630680647901
Option 4 ID : 630680647903
Status : Not Answered
Chosen Option : -

Q.20 Select the option that can be used as a one-word substitute for the given group of words.
The addition of a letter or syllable to a word in particular contexts as the language develops

- Ans A. Paragoge
 B. Palingram
 C. Etymology
 D. Pangram

Question ID : 630680176861
Option 1 ID : 630680685649
Option 2 ID : 630680685650
Option 3 ID : 630680685648
Option 4 ID : 630680685651
Status : Not Answered
Chosen Option : -



Comprehension:

Read the given passage and answer the questions that follow..

When you think of a desert the picture that immediately comes to your mind is that of sand. But besides the vast stretches of sands, that Sahara desert is covered with, there are also gravel plains and elevated plateaus with bare rocky surface. These rocky surfaces may be more than 2500m high at some places. The climate of the Sahara desert is scorching hot and parch dry. It has a short rainy season. The sky is cloudless and clear. Here, the moisture evaporates faster than it accumulates. Days are unbelievably hot. The temperatures during the day may soar as high as 50°C, heating up the sand and the bare rocks, which in turn radiates heat making everything around hot. The nights may be freezing cold with temperatures nearing zero degrees.

Vegetation in the Sahara desert includes cactus, date palms and acacia. In some places there are oasis – green islands with date palms surrounding them. Camels, hyenas, jackals, foxes, scorpions, many varieties of snakes and lizards are the prominent animal species living there. The Sahara desert despite its harsh climate has been inhabited by various groups of people, who pursue different activities. Among them are the Bedouins and Tuaregs. These groups are nomadic tribes rearing livestock such as goats, sheep, camels and horses. These animals provide them with milk, hides from which they make leather for belts, slippers, water bottles; hair is used for mats, carpets, clothes and blankets. They wear heavy robes as protection against dust storms and hot winds. The oasis in the Sahara and the Nile Valley in Egypt supports settled population. Since water is available, the people grow date palms. Crops such as rice, wheat, barley and beans are also grown. Egyptian cotton, famous worldwide is grown in Egypt. The discovery of oil – a product in great demand throughout the world, in Algeria, Libya and Egypt is constantly transforming the Sahara desert. Other minerals of importance that are found in the area include iron, phosphorus, manganese and uranium.

SubQuestion No : 21

Q.21 The days in Sahara are extremely hot. Which of the following is NOT a reason for this?

- Ans
- A. Sahara has a short rainy season.
 - B. The moisture evaporates faster than it accumulates.
 - C. The sky remains clear and cloudless and the sun shines brightly.
 - D. The heated sand and bare rocks radiate heat.

Question ID : 630680134231

Option 1 ID : 630680519792

Option 2 ID : 630680519791

Option 3 ID : 630680519790

Option 4 ID : 630680519793

Status : Not Answered

Chosen Option : –

Comprehension:

Read the given passage and answer the questions that follow.

When you think of a desert the picture that immediately comes to your mind is that of sand. But besides the vast stretches of sands, that Sahara desert is covered with, there are also gravel plains and elevated plateaus with bare rocky surface. These rocky surfaces may be more than 2500m high at some places. The climate of the Sahara desert is scorching hot and parch dry. It has a short rainy season. The sky is cloudless and clear. Here, the moisture evaporates faster than it accumulates. Days are unbelievably hot. The temperatures during the day may soar as high as 50°C, heating up the sand and the bare rocks, which in turn radiates heat making everything around hot. The nights may be freezing cold with temperatures nearing zero degrees.

Vegetation in the Sahara desert includes cactus, date palms and acacia. In some places there are oasis – green islands with date palms surrounding them. Camels, hyenas, jackals, foxes, scorpions, many varieties of snakes and lizards are the prominent animal species living there. The Sahara desert despite its harsh climate has been inhabited by various groups of people, who pursue different activities. Among them are the Bedouins and Tuaregs. These groups are nomadic tribes rearing livestock such as goats, sheep, camels and horses. These animals provide them with milk, hides from which they make leather for belts, slippers, water bottles; hair is used for mats, carpets, clothes and blankets. They wear heavy robes as protection against dust storms and hot winds. The oasis in the Sahara and the Nile Valley in Egypt supports settled population. Since water is available, the people grow date palms. Crops such as rice, wheat, barley and beans are also grown. Egyptian cotton, famous worldwide is grown in Egypt. The discovery of oil – a product in great demand throughout the world, in Algeria, Libya and Egypt is constantly transforming the Sahara desert. Other minerals of importance that are found in the area include iron, phosphorus, manganese and uranium.

SubQuestion No : 22

Q.22 The Sahara Desert is undergoing a change. What is the main cause of its transformation?

- Ans**
- A. Egyptian cotton which is world famous
 - B. The settled population in the Nile Valley
 - C. The local handicraft of the people of Sahara
 - D. The discovery of oil which is in great demand

Question ID : 630680134232

Option 1 ID : 630680519794

Option 2 ID : 630680519796

Option 3 ID : 630680519797

Option 4 ID : 630680519795

Status : Not Answered

Chosen Option : –

Comprehension:

Read the given passage and answer the questions that follow..

When you think of a desert the picture that immediately comes to your mind is that of sand. But besides the vast stretches of sands, that Sahara desert is covered with, there are also gravel plains and elevated plateaus with bare rocky surface. These rocky surfaces may be more than 2500m high at some places. The climate of the Sahara desert is scorching hot and parch dry. It has a short rainy season. The sky is cloudless and clear. Here, the moisture evaporates faster than it accumulates. Days are unbelievably hot. The temperatures during the day may soar as high as 50°C, heating up the sand and the bare rocks, which in turn radiates heat making everything around hot. The nights may be freezing cold with temperatures nearing zero degrees.

Vegetation in the Sahara desert includes cactus, date palms and acacia. In some places there are oasis – green islands with date palms surrounding them. Camels, hyenas, jackals, foxes, scorpions, many varieties of snakes and lizards are the prominent animal species living there. The Sahara desert despite its harsh climate has been inhabited by various groups of people, who pursue different activities. Among them are the Bedouins and Tuaregs. These groups are nomadic tribes rearing livestock such as goats, sheep, camels and horses. These animals provide them with milk, hides from which they make leather for belts, slippers, water bottles; hair is used for mats, carpets, clothes and blankets. They wear heavy robes as protection against dust storms and hot winds. The oasis in the Sahara and the Nile Valley in Egypt supports settled population. Since water is available, the people grow date palms. Crops such as rice, wheat, barley and beans are also grown. Egyptian cotton, famous worldwide is grown in Egypt. The discovery of oil – a product in great demand throughout the world, in Algeria, Libya and Egypt is constantly transforming the Sahara desert. Other minerals of importance that are found in the area include iron, phosphorus, manganese and uranium.

SubQuestion No : 23

Q.23 The theme of the last paragraph of the passage is:

- Ans**
- A. the people of Sahara
 - B. occupation of the people of Sahara
 - C. the crops grown in Sahara
 - D. the settled population of Sahara

Question ID : 630680134230

Option 1 ID : 630680519786

Option 2 ID : 630680519787

Option 3 ID : 630680519789

Option 4 ID : 630680519788

Status : Not Answered

Chosen Option : –

Comprehension:

Read the given passage and answer the questions that follow.

When you think of a desert the picture that immediately comes to your mind is that of sand. But besides the vast stretches of sands, that Sahara desert is covered with, there are also gravel plains and elevated plateaus with bare rocky surface. These rocky surfaces may be more than 2500m high at some places. The climate of the Sahara desert is scorching hot and parch dry. It has a short rainy season. The sky is cloudless and clear. Here, the moisture evaporates faster than it accumulates. Days are unbelievably hot. The temperatures during the day may soar as high as 50°C, heating up the sand and the bare rocks, which in turn radiates heat making everything around hot. The nights may be freezing cold with temperatures nearing zero degrees.

Vegetation in the Sahara desert includes cactus, date palms and acacia. In some places there are oasis – green islands with date palms surrounding them. Camels, hyenas, jackals, foxes, scorpions, many varieties of snakes and lizards are the prominent animal species living there. The Sahara desert despite its harsh climate has been inhabited by various groups of people, who pursue different activities. Among them are the Bedouins and Tuaregs. These groups are nomadic tribes rearing livestock such as goats, sheep, camels and horses. These animals provide them with milk, hides from which they make leather for belts, slippers, water bottles; hair is used for mats, carpets, clothes and blankets. They wear heavy robes as protection against dust storms and hot winds. The oasis in the Sahara and the Nile Valley in Egypt supports settled population. Since water is available, the people grow date palms. Crops such as rice, wheat, barley and beans are also grown. Egyptian cotton, famous worldwide is grown in Egypt. The discovery of oil – a product in great demand throughout the world, in Algeria, Libya and Egypt is constantly transforming the Sahara desert. Other minerals of importance that are found in the area include iron, phosphorus, manganese and uranium.

SubQuestion No : 24

Q.24 Which of the given statements are true as per the passage?

- a. Sahara desert is just a vast stretch of dry sand.
- b. Sahara has some high rocky plateaus as well as some gravel plains.
- c. Sahara Desert has some green lands with water and trees.

Ans A. b and c are true

B. a and c are true

C. a, b and c are all true

D. a and b are true

Question ID : 630680134229

Option 1 ID : 630680519783

Option 2 ID : 630680519784

Option 3 ID : 630680519785

Option 4 ID : 630680519782

Status : Not Answered

Chosen Option : –

Comprehension:

Read the given passage and answer the questions that follow.

When you think of a desert the picture that immediately comes to your mind is that of sand. But besides the vast stretches of sands, that Sahara desert is covered with, there are also gravel plains and elevated plateaus with bare rocky surface. These rocky surfaces may be more than 2500m high at some places. The climate of the Sahara desert is scorching hot and parch dry. It has a short rainy season. The sky is cloudless and clear. Here, the moisture evaporates faster than it accumulates. Days are unbelievably hot. The temperatures during the day may soar as high as 50°C, heating up the sand and the bare rocks, which in turn radiates heat making everything around hot. The nights may be freezing cold with temperatures nearing zero degrees.

Vegetation in the Sahara desert includes cactus, date palms and acacia. In some places there are oasis – green islands with date palms surrounding them. Camels, hyenas, jackals, foxes, scorpions, many varieties of snakes and lizards are the prominent animal species living there. The Sahara desert despite its harsh climate has been inhabited by various groups of people, who pursue different activities. Among them are the Bedouins and Tuaregs. These groups are nomadic tribes rearing livestock such as goats, sheep, camels and horses. These animals provide them with milk, hides from which they make leather for belts, slippers, water bottles; hair is used for mats, carpets, clothes and blankets. They wear heavy robes as protection against dust storms and hot winds. The oasis in the Sahara and the Nile Valley in Egypt supports settled population. Since water is available, the people grow date palms. Crops such as rice, wheat, barley and beans are also grown. Egyptian cotton, famous worldwide is grown in Egypt. The discovery of oil – a product in great demand throughout the world, in Algeria, Libya and Egypt is constantly transforming the Sahara desert. Other minerals of importance that are found in the area include iron, phosphorus, manganese and uranium.

SubQuestion No : 25

Q.25 After reading the passage one can infer that it belongs to the area of:

- Ans A. geography
 B. economics
 C. sociology
 D. history

Question ID : 630680134228

Option 1 ID : 630680519779

Option 2 ID : 630680519780

Option 3 ID : 630680519781

Option 4 ID : 630680519778

Status : Not Answered

Chosen Option : –

Section : Hindi

Q.1 'हाथी' का पर्यायवाची शब्द है-

- Ans A. अहि
 B. गज
 C. खर
 D. वायस

Question ID : 630680128968

Option 1 ID : 630680499501

Option 2 ID : 630680499500

Option 3 ID : 630680499498

Option 4 ID : 630680499499

Status : Answered

Chosen Option : B

Q.2 निम्नलिखित में से 'कोयल' के पर्यायवाची का चयन करें-

- Ans A. पिक
 B. करठ
 C. द्विज
 D. शुक

Question ID : 630680146771

Option 1 ID : 630680567923

Option 2 ID : 630680567925

Option 3 ID : 630680567922

Option 4 ID : 630680567924

Status : Answered

Chosen Option : A

Q.3 हंस के समान गति से चलने वाली - वाक्यांश के लिए उपयुक्त शब्द क्या होगा ?

- Ans A. गजवाहिनी
 B. हंसवाहिनी
 C. हंसगामिनी
 D. गजगामिनी

Question ID : 630680125877

Option 1 ID : 630680488149

Option 2 ID : 630680488147

Option 3 ID : 630680488148

Option 4 ID : 630680488146

Status : Answered

Chosen Option : B

Q.4 निम्नलिखित में से 'कर्मधारय समास' में विग्रह वाले विकल्प का चयन कीजिए -

- Ans A. दहीबड़ा- दही में डूबा हुआ बड़ा
 B. श्वेताम्बर- श्वेत है जो अम्बर
 C. दुमुट - दो प्रकार की मिट्टियों का समूह
 D. नीलकंठ - नीला है कंठ जिसका वह

Question ID : 630680204517

Option 1 ID : 630680793122

Option 2 ID : 630680793120

Option 3 ID : 630680793119

Option 4 ID : 630680793121

Status : Answered

Chosen Option : B

Q.5 'अर्थालंकार में _____ अलंकार महत्वपूर्ण स्थान रखता है।' रिक्त स्थान के लिए सर्वाधिक उपयुक्त समश्रुत भिन्नार्थक शब्द है-

- Ans A. प्रतिक
 B. प्रदीप
 C. प्रतीप
 D. प्रतीक

Question ID : 630680203858
Option 1 ID : 630680790633
Option 2 ID : 630680790631
Option 3 ID : 630680790634
Option 4 ID : 630680790632
Status : Answered
Chosen Option : B

Q.6 दिए गए शब्द का उपयुक्त पर्यायवाची शब्द चुनिए-
अंतरिक्ष

- Ans A. अद्भुत
 B. आसमान
 C. विशाल
 D. असमान

Question ID : 630680203635
Option 1 ID : 630680789742
Option 2 ID : 630680789740
Option 3 ID : 630680789741
Option 4 ID : 630680789739
Status : Answered
Chosen Option : B

Q.7 'जो शिव की उपासना करता हो' वाक्यांश के लिए सार्थक शब्द इनमें से कौन-सा है?

- Ans A. शैव
 B. वैष्णव
 C. भक्त
 D. शाक्त

Question ID : 630680204936
Option 1 ID : 630680794611
Option 2 ID : 630680794613
Option 3 ID : 630680794614
Option 4 ID : 630680794612
Status : Answered
Chosen Option : A

Q.8 'अत्युत्तम' का संधि-विच्छेद है-

- Ans A. अति + उत्तम
 B. अत्य + उत्तम
 C. अत् + उत्तम
 D. अति + युत्तम

Question ID : 630680138918

Option 1 ID : 630680537822

Option 2 ID : 630680537824

Option 3 ID : 630680537823

Option 4 ID : 630680537825

Status : Answered

Chosen Option : A

Q.9 "अक्षदा ने सानवी की बहुत प्रतीक्षा देखी।"

इस वाक्य में क्रिया सम्बन्धी त्रुटि पहचानकर निम्नलिखित में से शुद्ध वाक्य चुनिए -

- Ans A. अक्षदा ने सानवी की बहुत प्रतीक्षा किया।
 B. अक्षदा ने सानवी की बहुत प्रतीक्षा करी।
 C. अक्षदा ने सानवी की बहुत प्रतीक्षा की।
 D. अक्षदा ने सानवी की बहुत प्रतीक्षा कि।

Question ID : 630680142442

Option 1 ID : 630680551277

Option 2 ID : 630680551274

Option 3 ID : 630680551276

Option 4 ID : 630680551275

Status : Answered

Chosen Option : C

Q.10 'मंगनी के बेल के दाँत नहीं देखे जाते'

उपरोक्त लोकोक्ति के उचित अर्थ की पहचान करें-

- Ans A. इच्छा के विरुद्ध काम करना
 B. अपने स्वार्थ के लिए नुकसान भी मंजूर
 C. मुफ्त में मिली चीज़ में मीन-मेख नहीं निकालना चाहिए
 D. अनायास अपना काम बन जाए (तब कहते हैं)

Question ID : 630680204505

Option 1 ID : 630680793072

Option 2 ID : 630680793071

Option 3 ID : 630680793073

Option 4 ID : 630680793074

Status : Answered

Chosen Option : C

Q.11 निम्नलिखित में से कौन-सा शब्द अनेकार्थक नहीं है-

- Ans A. ठस
 B. निपुण
 C. तंग
 D. ठहरना

Question ID : 630680204544
Option 1 ID : 630680793227
Option 2 ID : 630680793229
Option 3 ID : 630680793230
Option 4 ID : 630680793228
Status : Answered
Chosen Option : D

Q.12 जो जानने की तीव्र इच्छा रखता है – वाक्यांश का उचित शब्द होगा?

- Ans A. जिजीविषु
 B. जिज्ञासा
 C. जिजीविषा
 D. जिज्ञासु

Question ID : 630680125871
Option 1 ID : 630680488124
Option 2 ID : 630680488122
Option 3 ID : 630680488123
Option 4 ID : 630680488125
Status : Answered
Chosen Option : D

Q.13 अंग्रेज भारत को अपने _____ करना चाहते थे। रिक्त स्थान की पूर्ति उचित तत्सम शब्द से कीजिए।

- Ans A. अधीन
 B. पराधीन
 C. आधीन
 D. स्वाधीन

Question ID : 630680203833
Option 1 ID : 630680790532
Option 2 ID : 630680790531
Option 3 ID : 630680790533
Option 4 ID : 630680790534
Status : Answered
Chosen Option : A

Q.14 निम्नलिखित में से 'अव्ययीभाव समास' के विकल्प का चयन कीजिए-

- Ans A. सद्भावना - सत् भावना
 B. दानवीर - दान में वीर
 C. पददलित - पद से दलित
 D. उपकूल - कूल के समीप

Question ID : 630680204514

Option 1 ID : 630680793108

Option 2 ID : 630680793109

Option 3 ID : 630680793107

Option 4 ID : 630680793110

Status : Answered

Chosen Option : A

Q.15 _____ संवाददाता ने यह सूचना दी है। रिक्त स्थान के लिए सर्वनाम का उचित विकल्प है-

- Ans A. हम
 B. हमारे
 C. मैं
 D. आप

Question ID : 63068091119

Option 1 ID : 630680353230

Option 2 ID : 630680353231

Option 3 ID : 630680353233

Option 4 ID : 630680353232

Status : Answered

Chosen Option : B

Q.16 निम्नलिखित में से 'अभिषिक्त' का सही सन्धि-विच्छेद क्या है? उचित विकल्प का चयन कीजिये-

- Ans A. अभी + शिक्त
 B. अभि + सिक्त
 C. अभि + षिक्त
 D. अभ + सिक्त

Question ID : 63068065799

Option 1 ID : 630680254143

Option 2 ID : 630680254142

Option 3 ID : 630680254144

Option 4 ID : 630680254145

Status : Answered

Chosen Option : C

Q.17 'मैं, मैंने' सर्वनाम का बहुवचन रूप है-

- Ans A. हम, हमने
 B. हमें, हमको
 C. मुझे, मुझको
 D. मुझमें, मुझपर

Question ID : 63068091121

Option 1 ID : 630680353241

Option 2 ID : 630680353238

Option 3 ID : 630680353239

Option 4 ID : 630680353240

Status : Answered

Chosen Option : A

Q.18 सामासिक शब्द 'बारहसिंगा' में निहित समास की पहचान, इसके अग्रलिखित विग्रह 'बारह हैं सींग जिसके' के अनुसार कीजिये-

- Ans A. कर्मधारय
 B. अव्ययीभाव
 C. बहुब्रीह
 D. द्विगु

Question ID : 630680126447

Option 1 ID : 630680490374

Option 2 ID : 630680490376

Option 3 ID : 630680490375

Option 4 ID : 630680490377

Status : Answered

Chosen Option : A

Q.19 निम्नलिखित विकल्पों में से 'जिसे प्रमाण द्वारा सिद्ध न किया जा सके।' वाक्यांश के लिए एक सार्थक शब्द क्या होगा ?

- Ans A. अकल्पनीय
 B. अहेतुक
 C. अप्रत्यासित
 D. अप्रमेय

Question ID : 630680126111

Option 1 ID : 630680489059

Option 2 ID : 630680489060

Option 3 ID : 630680489058

Option 4 ID : 630680489061

Status : Answered

Chosen Option : D

Q.20 'आँख एक नहीं, कजरौटा दस दस' लोकोक्ति का सही अर्थ इनमें से क्या होगा?

Ans A. व्यर्थ आडंबर

B. व्यर्थ देखना

C. व्यर्थ बोलना

D. व्यर्थ सुनना

Question ID : 630680204917

Option 1 ID : 630680794537

Option 2 ID : 630680794536

Option 3 ID : 630680794535

Option 4 ID : 630680794538

Status : Answered

Chosen Option : A

Comprehension:

उपरोक्त गद्यांश के आधार पर निम्नलिखित प्रश्न का उत्तर दें।

कविता एक बने-बनाये शिल्प और आजमाये हुए तौर-तरीकों वाली रचना का नाम नहीं है। कविता व्यावहारिक जीवन में एक वैचारिक प्रयोग भी है। यह प्रयोग केवल राजनीतिक सिद्धांतों की सामाजिक परिणति की अभिव्यक्ति के ही काम नहीं आता बल्कि जीवन की सभी उच्चताओं और निम्नताओं का पीछा कर उन्हें अनुभूति का ही नहीं अभिव्यक्ति का भी विषय बनाने के काम आता है। कविता के प्रयोग, भाषा की ही समृद्धि नहीं बढ़ाते बल्कि वे संवाद के अर्थ और सौंदर्य को भी बढ़ाते हैं। सारी दुनिया कविता का विषय हो सकती है यह कवि की दृष्टि पर निर्भर करता है। कविता में पहला अनुभवकर्ता, पहला स्रष्टा और पहला दृष्टा एक ऐसा व्यक्ति होता है जिसे कवि भी कहा जाता है। यह समाज के स्वाध्याय से पायी हुई भाषा का कायाकल्प करता रहता है।

SubQuestion No : 21

Q.21 उपरोक्त गद्यांश के आधार पर निम्नलिखित प्रश्न का उत्तर दें।
कविता का विषय क्या हो, यह किस पर निर्भर है?

Ans A. कविता पर

B. शब्दों पर

C. कवि की दृष्टि पर

D. समाज पर

Question ID : 630680156883

Option 1 ID : 630680607136

Option 2 ID : 630680607137

Option 3 ID : 630680607139

Option 4 ID : 630680607138

Status : Answered

Chosen Option : C



Comprehension:

उपरोक्त गद्यांश के आधार पर निम्नलिखित प्रश्न का उत्तर दें।

कविता एक बने-बनाये शिल्प और आजमाये हुए तौर-तरीकों वाली रचना का नाम नहीं है। कविता व्यावहारिक जीवन में एक वैचारिक प्रयोग भी है। यह प्रयोग केवल राजनीतिक सिद्धांतों की सामाजिक परिणति की अभिव्यक्ति के ही काम नहीं आता बल्कि जीवन की सभी उच्चताओं और निम्नताओं का पीछा कर उन्हें अनुभूति का ही नहीं अभिव्यक्ति का भी विषय बनाने के काम आता है। कविता के प्रयोग, भाषा की ही समृद्धि नहीं बढ़ाते बल्कि वे संवाद के अर्थ और सौंदर्य को भी बढ़ाते हैं। सारी दुनिया कविता का विषय हो सकती है यह कवि की दृष्टि पर निर्भर करता है। कविता में पहला अनुभवकर्ता, पहला स्रष्टा और पहला दृष्टा एक ऐसा व्यक्ति होता है जिसे कवि भी कहा जाता है। यह समाज के स्वाध्याय से पायी हुई भाषा का कायाकल्प करता रहता है।

SubQuestion No : 22

Q.22 उपरोक्त गद्यांश के आधार पर निम्नलिखित प्रश्न का उत्तर दें।
प्रस्तुत गद्यांश का उचित शीर्षक बताएं?

- Ans
- A. कला और कलाकार
 - B. गीत और गीतकार
 - C. कवि और कविता
 - D. संगीत और संगीतकार

Question ID : 630680156880

Option 1 ID : 630680607127

Option 2 ID : 630680607125

Option 3 ID : 630680607124

Option 4 ID : 630680607126

Status : Answered

Chosen Option : C

Comprehension:

उपरोक्त गद्यांश के आधार पर निम्नलिखित प्रश्न का उत्तर दें।

कविता एक बने-बनाये शिल्प और आजमाये हुए तौर-तरीकों वाली रचना का नाम नहीं है। कविता व्यावहारिक जीवन में एक वैचारिक प्रयोग भी है। यह प्रयोग केवल राजनीतिक सिद्धांतों की सामाजिक परिणति की अभिव्यक्ति के ही काम नहीं आता बल्कि जीवन की सभी उच्चताओं और निम्नताओं का पीछा कर उन्हें अनुभूति का ही नहीं अभिव्यक्ति का भी विषय बनाने के काम आता है। कविता के प्रयोग, भाषा की ही समृद्धि नहीं बढ़ाते बल्कि वे संवाद के अर्थ और सौंदर्य को भी बढ़ाते हैं। सारी दुनिया कविता का विषय हो सकती है यह कवि की दृष्टि पर निर्भर करता है। कविता में पहला अनुभवकर्ता, पहला स्रष्टा और पहला दृष्टा एक ऐसा व्यक्ति होता है जिसे कवि भी कहा जाता है। यह समाज के स्वाध्याय से पायी हुई भाषा का कायाकल्प करता रहता है।

SubQuestion No : 23

Q.23 उपरोक्त गद्यांश के आधार पर निम्नलिखित प्रश्न का उत्तर दें।
कविता के प्रयोग निम्न में से किसकी वृद्धि नहीं करते है?

- Ans
- A. भाषा की समृद्धि
 - B. संवाद के सौन्दर्य
 - C. शौर्य की वृद्धि
 - D. संवाद के अर्थ

Question ID : 630680156882

Option 1 ID : 630680607132

Option 2 ID : 630680607134

Option 3 ID : 630680607135

Option 4 ID : 630680607133

Status : Answered

Chosen Option : A

Comprehension:

उपरोक्त गद्यांश के आधार पर निम्नलिखित प्रश्न का उत्तर दें।

कविता एक बने-बनाये शिल्प और आजमाये हुए तौर-तरीकों वाली रचना का नाम नहीं है। कविता व्यावहारिक जीवन में एक वैचारिक प्रयोग भी है। यह प्रयोग केवल राजनीतिक सिद्धांतों की सामाजिक परिणति की अभिव्यक्ति के ही काम नहीं आता बल्कि जीवन की सभी उच्चताओं और निम्नताओं का पीछा कर उन्हें अनुभूति का ही नहीं अभिव्यक्ति का भी विषय बनाने के काम आता है। कविता के प्रयोग, भाषा की ही समृद्धि नहीं बढ़ाते बल्कि वे संवाद के अर्थ और सौंदर्य को भी बढ़ाते हैं। सारी दुनिया कविता का विषय हो सकती है यह कवि की दृष्टि पर निर्भर करता है। कविता में पहला अनुभवकर्ता, पहला स्रष्टा और पहला दृष्टा एक ऐसा व्यक्ति होता है जिसे कवि भी कहा जाता है। यह समाज के स्वाध्याय से पायी हुई भाषा का कायाकल्प करता रहता है।

SubQuestion No : 24

Q.24 उपरोक्त गद्यांश के आधार पर निम्नलिखित प्रश्न का उत्तर दें।
कविता में पहला दृष्टा कौन होता है?

- Ans A. कवि
 B. शब्द
 C. कविता
 D. पाठक

Question ID : 630680156884
Option 1 ID : 630680607142
Option 2 ID : 630680607141
Option 3 ID : 630680607140
Option 4 ID : 630680607143
Status : Answered
Chosen Option : A

Comprehension:

उपरोक्त गद्यांश के आधार पर निम्नलिखित प्रश्न का उत्तर दें।

कविता एक बने-बनाये शिल्प और आजमाये हुए तौर-तरीकों वाली रचना का नाम नहीं है। कविता व्यावहारिक जीवन में एक वैचारिक प्रयोग भी है। यह प्रयोग केवल राजनीतिक सिद्धांतों की सामाजिक परिणति की अभिव्यक्ति के ही काम नहीं आता बल्कि जीवन की सभी उच्चताओं और निम्नताओं का पीछा कर उन्हें अनुभूति का ही नहीं अभिव्यक्ति का भी विषय बनाने के काम आता है। कविता के प्रयोग, भाषा की ही समृद्धि नहीं बढ़ाते बल्कि वे संवाद के अर्थ और सौंदर्य को भी बढ़ाते हैं। सारी दुनिया कविता का विषय हो सकती है यह कवि की दृष्टि पर निर्भर करता है। कविता में पहला अनुभवकर्ता, पहला स्रष्टा और पहला दृष्टा एक ऐसा व्यक्ति होता है जिसे कवि भी कहा जाता है। यह समाज के स्वाध्याय से पायी हुई भाषा का कायाकल्प करता रहता है।

SubQuestion No : 25

Q.25 उपरोक्त गद्यांश के आधार पर निम्नलिखित प्रश्न का उत्तर दें।
कविता किस प्रकार का प्रयोग है?

- Ans A. सामाजिक
 B. वैचारिक
 C. वैयक्तिक
 D. आर्थिक

Question ID : 630680156881
Option 1 ID : 630680607129
Option 2 ID : 630680607128
Option 3 ID : 630680607131
Option 4 ID : 630680607130
Status : Answered
Chosen Option : B