



# Teachingninja.in

**DSSSB PRT 27 Mar 2022 Shift 3 (Hindi)**

-  **Latest Govt Job updates**
-  **Private Job updates**
-  **Free Mock tests available**

**Visit - [teachingninja.in](https://teachingninja.in)**

Test Date	27/03/2022
Test Time	4:30 PM - 6:30 PM
Subject	Assistant Teacher (Primary)

## Section : Mental Ability

Q.1 यदि '+' का अर्थ है '×', '-' का अर्थ है '÷', '÷' का अर्थ है '-' और '×' का अर्थ है '+', तो ज्ञात करें कि कौन सा सही है?

23	19	55
47	97	11
27	?	31

- Ans
- A.  $121 + 11 - 4 \times 6 \div 9 = 44$
  - B.  $121 \times 11 + 4 \div 6 - 9 = 38$
  - C.  $121 - 11 + 4 \div 6 \times 9 = 47$
  - D.  $121 \div 11 \times 4 + 6 - 9 = 36$

Question ID : 75322913173


Q.2 नीचे दी गई आकृति श्रृंखला अनुक्रम का अनुसरण करती है। उत्तर आकृतियों की सूची में से सही विकल्प का चयन करें, जो प्रश्न आकृतियों के दाएं ओर आना चाहिए, यदि अनुक्रम जारी रखा जाना है:

LU XP	XP LU	PL UX	UX PL	XP LU
-------	-------	-------	-------	-------

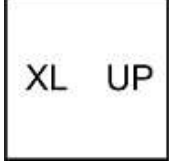
Ans  A. छवि B



B. छवि A



C. छवि D



D. छवि C



Question ID : 75322913178

Q.3 श्रृंखला में गलत अक्षर समूह ज्ञात करें।  
DIG, EHH, FGI, GHJ, HEK

Ans  A. FGI

B. GHJ

C. HEK

D. EHH

Question ID : 75322913162

Q.4 सुदर्शन बिंदु 'X' तक पहुँचने के लिए सार्वजनिक पुस्तकालय से शुरू करता है। ऐसा करने के लिए, वह 4 km दक्षिण की ओर चलता है, फिर वह बाएं मुड़ता है और 4 km चलता है और अपने गंतव्य पर पहुँचता है। वह पुस्तकालय से किस दिशा में है?

Ans  A. उत्तर-पश्चिम

B. दक्षिण-पूर्व

C. दक्षिण-पश्चिम

D. उत्तर-पूर्व

Question ID : 75322913176

Q.5 निम्नलिखित को तार्किक और सार्थक क्रम में व्यवस्थित करें।

1. दी गई तिथि और समय पर परीक्षा के लिए उपस्थित हों।
2. आवेदन पत्र भरें और जहां भी आवश्यक हो, फोटोग्राफ संलग्न करें। अपना आयु प्रमाण और पता प्रमाण संलग्न करें।
3. परीक्षा पास करने पर, लर्नर लाइसेंस आपके स्थायी पते पर भेज दिया जाएगा।
4. अपने नजदीकी RTO कार्यालय में जाएं और आवेदन पत्र जमा करें।
5. RTO अधिकारियों से किसी विशेष तिथि और समय पर अपने लर्नर लाइसेंस परीक्षा को नियत करने के लिए कहें।

Ans  A. 2, 4, 5, 3, 1

B. 2, 4, 5, 1, 3

C. 2, 5, 3, 1, 4

D. 1, 3, 4, 2, 5

Question ID : 75322913167

Q.6 एक सार्थक शब्द के अक्षरों को अव्यवस्थित किया गया है और उन्हें क्रमांकित किया गया है। आपको शब्द का निर्माण करना है और उस विकल्प का चयन करना है जो शब्द बनाने के लिए संख्याओं द्वारा इंगित अक्षरों का सही क्रम देता है।

E-1, L-4, B-3, D-7, R-2, U-5, A-9

Ans  A. 7529134

B. 7529341

C. 7523941

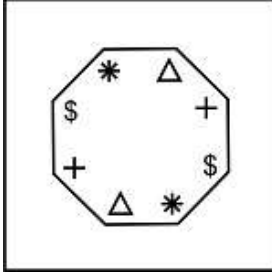
D. 7259341

Question ID : 75322913161

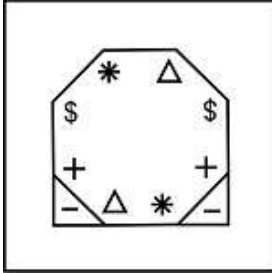


Teachingninja.in

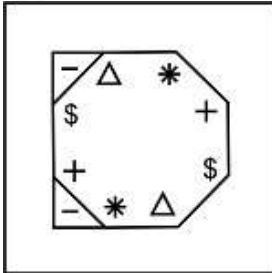
Q.7 दी गई उत्तर आकृतियों में से, उस आकृति का चयन करें जिसमें प्रश्न आकृति छिपी/सन्नहित है?



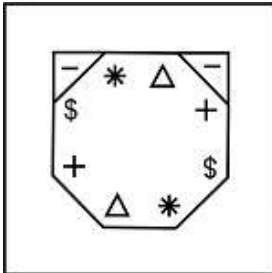
Ans  A. छवि B



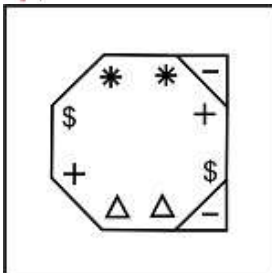
B. छवि A



C. छवि C



D. छवि D



Question ID : 75322913180

Q.8 इस प्रश्न में, तीन कथन दिए गए हैं, जिसके बाद दो निष्कर्ष I और II दिए गए हैं। यह मानते हुए कि कथन में सभी जानकारी सत्य है, दो निष्कर्षों का एक साथ विश्लेषण करें और निर्धारित करें कि क्या कथन में दी गई जानकारी में से कोई भी तार्किक रूप से और निश्चित रूप से अनुसरण करता (करते) है।

कथन I: सभी साबुन कंडीशनर हैं।

कथन II: कोई कंडीशनर पाउडर नहीं है।

कथन III: कुछ दवाइयां पाउडर हैं।

निष्कर्ष I: कुछ साबुन पाउडर हैं।

निष्कर्ष II: कुछ दवाइयां कंडीशनर हैं।

Ans  A. न तो I और न ही II अनुसरण करता है

B. I और II दोनों अनुसरण करते हैं

C. केवल I अनुसरण करता है

D. केवल II अनुसरण करता है

Question ID : 75322913170

Q.9 उस विकल्प का चयन करें जो तीसरे पद से उसी प्रकार से संबंधित है जिस प्रकार से दूसरा पद पहले पद से संबंधित है।

लेखक : उपन्यास :: निदेशक : ?

Ans  A. होटल

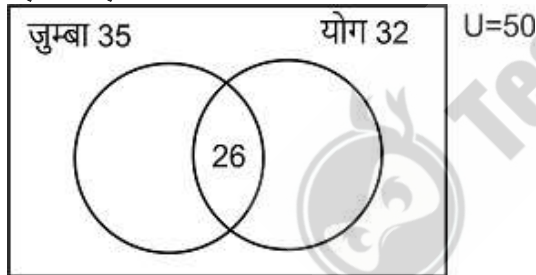
B. व्यापार मेला

C. महाविद्यालय

D. फिल्म

Question ID : 75322913164

Q.10 निम्नलिखित आरेख में, एक समाज की उन महिलाओं की संख्या ज्ञात करें जिन्होंने किसी वर्ग में नामांकन नहीं किया है।



Ans  A. 12

B. 18

C. 15

D. 9

Question ID : 75322913174

Q.11 अलका और अधीर सहोदर हैं। अरुण, अलका का पति है और अंकिता अधीर की पत्नी है। अहिल्या अधीर की माता है। अनन्या अरुण की इकलौती पुत्री है। अनन्या, अहिल्या से कैसे संबंधित है?

Ans  A. अनन्या अहिल्या की भांजी है

B. अनन्या अहिल्या की पोती हैं

C. अनन्या अहिल्या की पुत्री हैं

D. अनन्या अहिल्या की बहन हैं

Question ID : 75322913169

Q.12 श्रृंखला में लुप्त संख्या ज्ञात करें:  
1017, 1019, 1022, 1027, 1034, 1045, ?

- Ans  A. 1049  
 B. 1058  
 C. 1047  
 D. 1053

Question ID : 75322913172

Q.13 इस प्रश्न में, तीन कथन दिए गए हैं, जिसके बाद दो निष्कर्ष I और II दिए गए हैं। यह मानते हुए कि कथन में सभी जानकारी सत्य है, दो निष्कर्षों का एक साथ विश्लेषण करें और निर्धारित करें कि क्या कथन में दी गई जानकारी में से कोई भी तार्किक रूप से और निश्चित रूप से अनुसरण करता (करते) है।

कथन I: कुछ नर्तक अच्छे तैराक होते हैं।  
 कथन II: सभी अच्छे तैराक एथलेटिक्स होते हैं।  
 कथन III: कोई एथलेटिक्स गायक नहीं है।

निष्कर्ष I: कुछ नर्तक एथलेटिक हैं।  
 निष्कर्ष II: कुछ गायक अच्छे तैराक होते हैं।

- Ans  A. केवल I अनुसरण करता है  
 B. केवल II अनुसरण करता है  
 C. न तो I और न ही II अनुसरण करता है  
 D. I और II दोनों अनुसरण करते हैं

Question ID : 75322913171

Q.14 माधवन ने अपनी अभिनय की कक्षा से, पूर्व की ओर 17 m चलना शुरू किया। फिर वह अपने दाएं ओर मुड़ा और 27 m चला और वह फिर से अपने दाएं ओर मुड़ा और 17 m चला। अंत में, वह अपने बाएं ओर मुड़ा और 27 m चला और अपने गंतव्य पर पहुंचा। वह अभिनय कक्षा से कितनी दूर है?

- Ans  A. 34 m  
 B. 54 m  
 C. 44 m  
 D. 88 m

Question ID : 75322913175

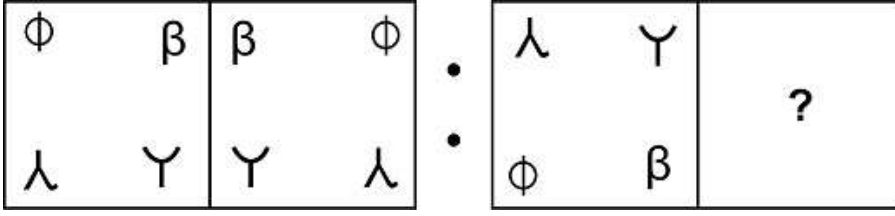
Q.15 उस विकल्प का चयन करें जो तीसरे पद से उसी प्रकार से संबंधित है जिस प्रकार से दूसरा पद पहले पद से संबंधित है।

DHXI : HLVG :: PJZG : ?

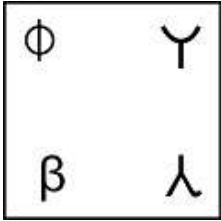
- Ans  A. JFEX  
 B. JNAH  
 C. TNXE  
 D. THAX

Question ID : 75322913165

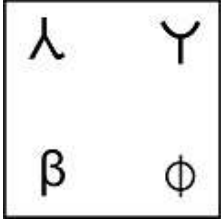
Q.16 उस विकल्प का चयन करें जो तीसरी आकृति से उसी प्रकार से संबंधित है जिस प्रकार से दूसरी आकृति पहली आकृति से संबंधित है।



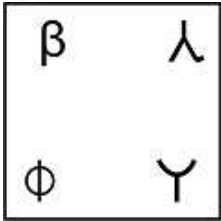
Ans  A. छवि C



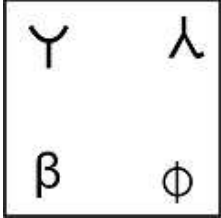
B. छवि D



C. छवि B



D. छवि A



Question ID : 75322913177

Q.17 यदि 'BRANCH' को '12-14-16-18-20-22' के रूप में कोडित किया गया है और 'STARE' को '24-28-16-14-26' के रूप में कोडित किया गया है, तो आप 'TRACE' को कैसे कोड करेंगे?

Ans  A. 28-14-16-21-26

B. 28-15-16-20-27

C. 28-14-16-20-26

D. 28-14-18-20-26

Question ID : 75322913166



Q.18 दिए गए विकल्पों में से तीन एक निश्चित तरीके से समान हैं। हालाँकि, एक विकल्प अन्य तीन की तरह नहीं है। उस विकल्प का चयन करें जो अन्य से अलग है।

- Ans
- A. कलम
  - B. रूलर
  - C. पावर बैंक
  - D. रबड़

Question ID : 75322913163

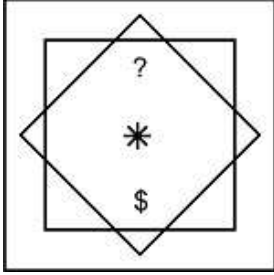
Q.19 छह मित्र आरिफ, अल्ताफ, जगत, करुण, नितिन और नेहा एक रौ में उत्तर की ओर मुख करके बैठे हैं। अल्ताफ, जगत और आरिफ बाएं से 2रे, 3रे और 4थे स्थान पर बैठे हैं। करुण अंतिम छोर पर बैठा है। नेहा को अंतिम छोर पर बैठना है लेकिन वह अंतिम बाएं छोर पर नहीं बैठ सकती। नितिन दाएं से किस स्थान पर बैठा है?

- Ans
- A. 2
  - B. 4
  - C. 3
  - D. 1

Question ID : 75322913168



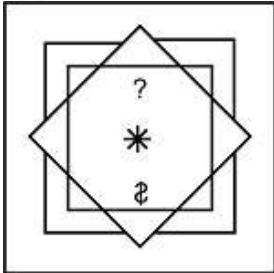
Q.20 दी गई उत्तर आकृतियों में से, उस आकृति का चयन करें जिसमें प्रश्न आकृति छिपी/सन्निहित है?



Ans  A. छवि C



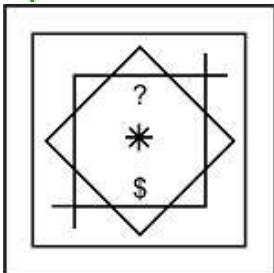
B. छवि D



C. छवि A



D. छवि B



Question ID : 75322913179

Section : General Awareness

Q.1 निम्नलिखित में से कौन सा विश्व का सबसे बड़ा कोरल रीफ तंत्र है?

- Ans
- A. फ्लोरिडा रीफ
  - B. रेड सी कोरल रीफ
  - C. न्यू कैलेडोनिया रीफ
  - D. ग्रेट बैरियर रीफ

Question ID : 75322913185

Q.2 2021 टोक्यो ओलंपिक के लिए भारतीय महिला हॉकी टीम को किसने कोचिंग दी?

- Ans
- A. ग्राहम रीड
  - B. लियो पिंटो
  - C. सोर्ड मारजेन
  - D. जोआकिम कार्वाल्हो

Question ID : 75322913200

Q.3 निम्नलिखित में से कौन सा समुद्री जानवर क्रस्टेशिया परिवार से संबंधित नहीं है?

- Ans
- A. जलसाही
  - B. केकड़ा
  - C. बारनेकल
  - D. झींगा

Question ID : 75322913186

Q.4 अपोलो अस्पताल ने "हेल्दीलाइफ प्रोग्राम" शुरू करने के लिए निम्नलिखित में से किस बैंक के साथ भागीदारी की?

- Ans
- A. HDFC बैंक
  - B. भारतीय स्टेट बैंक
  - C. पंजाब नेशनल बैंक
  - D. ऐक्सिस बैंक

Question ID : 75322913183

Q.5 निम्नलिखित में से कौन सी सारामाती पर्वत की मूल पर्वतमाला है?

- Ans
- A. हिमालय पर्वतमाला
  - B. हिन्दु कुश पर्वतमाला
  - C. काराकोरम पर्वतमाला
  - D. पूर्वांचल पर्वतमाला

Question ID : 75322913188

Q.6 निम्नलिखित में से कौन ओलंपिक में दो पदक जीतने वाली पहली भारतीय महिला बनीं?

- Ans  A. पी.वी. सिंधु  
 B. पी.टी. उषा  
 C. दीपिका कुमारी  
 D. एम.सी. मेरी कॉम

Question ID : 75322913195

Q.7 निम्नलिखित में से किस इंडो-बैक्ट्रियाई शासक ने भारत में यूथीडेमिड साम्राज्य की नींव रखी?

- Ans  A. पेंटालियोन  
 B. यूथियडेमस II  
 C. एंटिओकस III  
 D. डेमेट्रियस I

Question ID : 75322913191

Q.8 किस चालुक्य राजा ने "अभिनव सिद्धराज" की उपाधि धारण की?

- Ans  A. कुमारपाल  
 B. जयसिंह (जयासिम्हा) सिद्धराज  
 C. भीम II  
 D. मूलराज I

Question ID : 75322913193

Q.9 भिखारी ठाकुर निम्नलिखित में से किस राज्य की संस्कृति से जुड़े प्रभावशाली लोक कलाकार थे?

- Ans  A. महाराष्ट्र  
 B. राजस्थान  
 C. बिहार  
 D. पश्चिम बंगाल

Question ID : 75322913182

Q.10 एक उच्च न्यायालय से एक निचली अदालत, न्यायाधिकरण या सार्वजनिक प्राधिकरण को अपने कर्तव्य के भीतर आने वाले अधिनियम को निष्पादित करने के आदेश को \_\_\_\_\_ कहा जाता है।

- Ans  A. बन्दी प्रत्यक्षीकरण रिट  
 B. परमादेश रिट  
 C. उत्प्रेषण रिट  
 D. प्रतिषेध रिट

Question ID : 75322913197

Q.11 निम्नलिखित में से किस कृति का श्रेय खुशवन्त सिंह को नहीं दिया जा सकता है?

- Ans  A. इमेजिनरी होमलैंड्स (1991)  
 B. द गुड, द बैड एंड द रिडिक्युलस (2013)  
 C. दिल्ली: अ नावेल (1990)  
 D. द कंपनी ऑफ़ वुमन (1999)

Question ID : 75322913194

Q.12 अगस्त 2021 में भारतीय महिला क्रिकेट टीम के मुख्य कोच के रूप में किसे नियुक्त किया गया था?

- Ans  A. वूरकरी रमन  
 B. रमेश पोवार  
 C. भरत अरुण  
 D. रामकृष्णन श्रीधर

Question ID : 75322913199

Q.13 IMF, वर्ल्ड इकोनॉमिक आउटलुक (अप्रैल2021) के अनुसार, कुल 194 अर्थव्यवस्थाओं में से प्रति व्यक्ति GDP (अभारित सूची) के संबंध में भारत का स्थान क्या है?

- Ans  A. 152  
 B. 149  
 C. 136  
 D. 144

Question ID : 75322913184

Q.14 बामियान बुद्ध की मूर्तियों को भारतीय कला की किस शैली के अनुसार तराशा गया है?

- Ans  A. सारनाथ शैली  
 B. अमरावती शैली  
 C. गांधार शैली  
 D. मथुरा शैली

Question ID : 75322913192

Q.15 कर्नाटक गणकला परिषद \_\_\_\_\_ संगीत को समर्पित वार्षिक सम्मेलन है।

- Ans  A. कर्नाटक  
 B. लावणी  
 C. भावगीत  
 D. पांडवानी

Question ID : 75322913181

Q.16 हिंद महासागर का सबसे गहरा बिंदु निम्नलिखित में से किस स्थान पर स्थित है?

- Ans  A. जावा ट्रेंच  
 B. डॉर्कट डीप  
 C. डायनामेंटिया ट्रेंच  
 D. मकरान ट्रेंच

Question ID : 75322913190

Q.17 निम्नलिखित में से कौन सी पहाड़ी श्रृंखला त्रिकोणीय सतपुड़ा श्रृंखला का पूर्वी बेस बनाती है?

- Ans  A. बराबर पहाड़ियां  
 B. मैकल पहाड़ियां  
 C. बैलाडीला पहाड़ियां  
 D. शिवालिक पहाड़ियां

Question ID : 75322913189

Q.18 निम्नलिखित में से किसने भारत के ध्वज को डिजाइन किया था?

- Ans  A. महात्मा गांधी  
 B. पिंगली वेंकैया  
 C. सुब्रमण्य शिव  
 D. बी. आर. आम्बेडकर

Question ID : 75322913196

Q.19 संविधान सभा द्वारा राष्ट्रीय ध्वज को किस तारीख को अपनाया गया था?

- Ans  A. 26 जून 1947  
 B. 26 जुलाई 1947  
 C. 22 जुलाई 1947  
 D. 22 जून 1947

Question ID : 75322913198

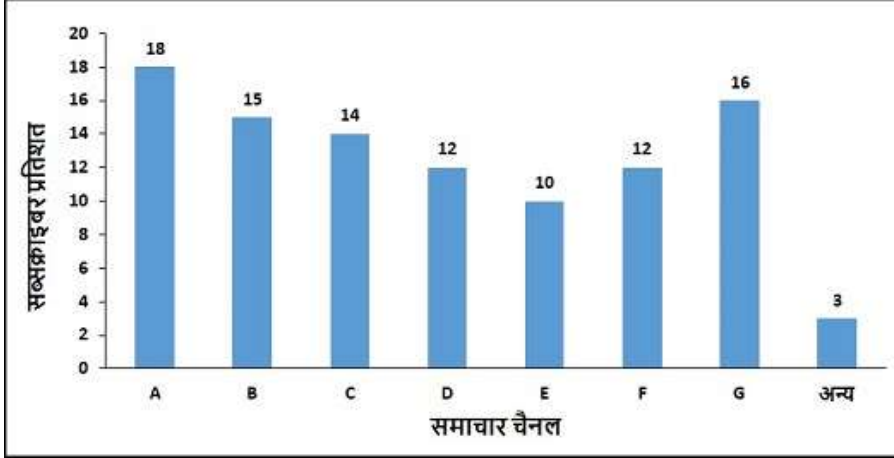
Q.20 निम्नलिखित में से कौन सा रासायनिक यौगिक पाया जाता है यदि फल और सब्जियां हवा के संपर्क में आने पर भूरे रंग के हो जाते हैं?

- Ans  A. ऑक्सीडेज  
 B. मैलिक अम्ल  
 C. सिट्रिक अम्ल  
 D. क्षार

Question ID : 75322913187

Section : Arithmetic Ability

Q.1 ग्राफ कुछ समाचार चैनलों के ग्राहक प्रतिशत को दर्शाता है। यदि ग्राहकों की कुल संख्या 625000 है, तो चैनल B और E के बीच ग्राहकों की संख्या का अंतर \_\_\_\_\_ है।



- Ans
- A. 32250
  - B. 33250
  - C. 31250
  - D. 30250

Question ID : 75322913219

Q.2 यदि  $p : q = 1225 : 49$ , तो  $\sqrt{(p/q)} + (q/p)$  \_\_\_\_\_ है।

- Ans
- A. 26/5
  - B. 13/5
  - C. 12/5
  - D. 16/5

Question ID : 75322913210

Q.3 तीन संख्याएं 2 : 5 : 7 के अनुपात में हैं और उनका महत्तम समापवर्तक 14 है। संख्याएं \_\_\_\_\_ हैं।

- Ans
- A. 5,25,125
  - B. 2,10,70
  - C. 28,70,98
  - D. 7,35,49

Question ID : 75322913203

Q.4 दी गई अभिव्यक्ति  $(13.94 \times 13.94 + 13.94 \times Y + 0.06 \times 0.06)$  \_\_\_\_\_ के बराबर Y के लिए एक पूर्ण वर्ग होगा।

- Ans
- A. 0.10
  - B. 0.06
  - C. 0.12
  - D. 0.14

Question ID : 75322913204

Q.5 तालिका एक इलाके में आयु-वार और कुल जनसंख्या-आयु-वार बेरोजगार व्यक्तियों के प्रतिशत को दर्शाती है। इलाके में बेरोजगार व्यक्तियों की कुल संख्या ज्ञात करें।

आयु (वर्षों में)	प्रतिशत	कुल जनसंख्या
20-25	30	300000
25-30	32	280000
30-35	11	320000
35-40	9	350000
40-45	10	250000
अन्य	8	200000

- Ans  A. 278300  
 B. 237800  
 C. 238700  
 D. 287300

Question ID : 75322913218

Q.6 त्रिज्या 1.5 m और ऊंचाई 5 m की बेलनाकार बोतल से तरल को खाली करने के लिए त्रिज्या 5 cm और ऊंचाई 27 cm की शंकाकार बोतलों की संख्या \_\_\_\_\_ है।

- Ans  A. 12000  
 B. 10000  
 C. 50000  
 D. 70000

Question ID : 75322913217

Q.7 2 वर्ष के लिए 8% प्रति वर्ष की दर से 25000 रुपए पर चक्रवृद्धि ब्याज ज्ञात करें, जहाँ ब्याज वार्षिक चक्रवृद्धि होता है।

- Ans  A. 4200 रुपए  
 B. 4260 रुपए  
 C. 4160 रुपए  
 D. 4000 रुपए

Question ID : 75322913212

Q.8 दो उत्पादों के मूल्यों का अनुपात 23:16 था। दो वर्ष बाद जब दूसरे उत्पाद के मूल्य में 10% और पहले के मूल्य में 477 रुपए से वृद्धि होती है, तो मूल्यों का अनुपात 20:11 हो जाता है। पहले उत्पाद का मूल्य ज्ञात करें।

- Ans  A. 849 रुपए  
 B. 848 रुपए  
 C. 1219 रुपए  
 D. 1218 रुपए

Question ID : 75322913209



Q.9 एक जाँगर 18 km/hr की गति से दौड़ रहा है। वह 600 मीटर लंबे पथ को कितने समय में पूरा करेगा?

- Ans  A. 1 मिनट  
 B. 2 मिनट  
 C. 3 मिनट  
 D. 1.5 मिनट

Question ID : 75322913213

Q.10 एक व्यक्ति 27 kmph की गति से A से B तक जाता है और 36 kmph की गति से A पर वापस आता है। पूरी यात्रा के लिए उसकी औसत गति ज्ञात करें?

- Ans  A. 30.86 kmph  
 B. 32 kmph  
 C. 30 kmph  
 D. 27.86 kmph

Question ID : 75322913214

Q.11 वह सबसे बड़ी संख्या कौन सी है जो 7735, 15912 और 21879 को पूर्णतः विभाजित करती है?

- Ans  A. 153  
 B. 136  
 C. 117  
 D. 221

Question ID : 75322913205

Q.12 यदि  $3X \times X + 3Y \times Y = 10XY$ , तो X से Y का अनुपात क्या है?

- Ans  A. 2:3 या 3:2  
 B. 3:4 या 4:3  
 C. 1:4 या 4:1  
 D. 1:3 या 3:1

Question ID : 75322913211

Q.13 एक गोले का पृष्ठीय क्षेत्रफल जिसकी त्रिज्या 10.5 cm के बराबर है, वह \_\_\_\_\_ है।

- Ans  A. 110.25 sq cm  
 B. 44.1 sq cm  
 C.  $441\pi$  sq cm  
 D.  $110.25\pi$  sq cm

Question ID : 75322913216

Q.14 कक्षा XII की अंतिम परीक्षा में 250 छात्र हैं, 20% छात्र अनुत्तीर्ण हैं। कक्षा XII में कितने छात्र उत्तीर्ण हुए?

Ans  A. 200

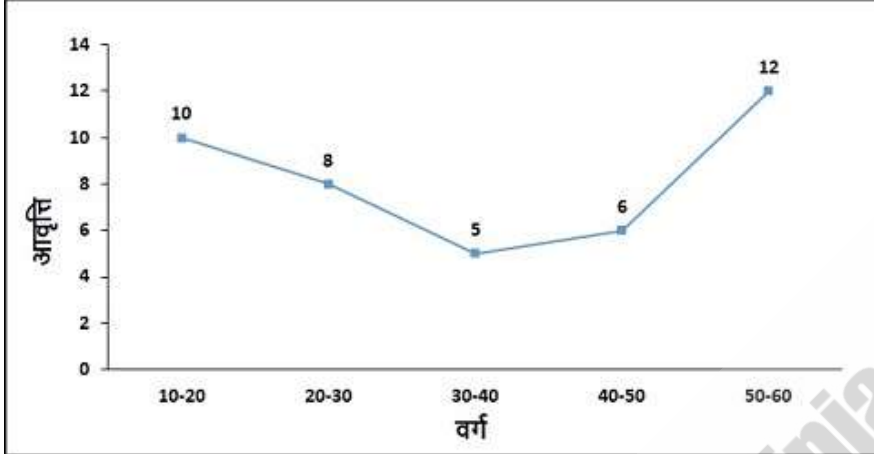
B. 210

C. 220

D. 230

Question ID : 75322913207

Q.15 40-50 वर्ग की संचयी आवृत्ति क्या है, जिसका आवृत्ति वितरण निम्नलिखित ग्राफ द्वारा दर्शाया गया है?



Ans  A. 23

B. 29

C. 40

D. 37

Question ID : 75322913220

Q.16 यदि  $1.225 \times 10^k = 0.001225$ , k का मान \_\_\_\_\_ है।

Ans  A. -5

B. -3

C. -2

D. -4

Question ID : 75322913202

Q.17 40%, 30% और 25% की एकल समतुल्य छूट ज्ञात करें।

Ans  A. 78.5%

B. 58.5%

C. 68.5%

D. 48.5%

Question ID : 75322913208

Q.18 प्रथम 15 विषम प्राकृत संख्याओं का औसत ज्ञात करें।

- Ans  A. 14.5  
 B. 15.5  
 C. 14  
 D. 15

Question ID : 75322913206

Q.19 A और B मिलकर एक कार्य को 40 दिनों में कर सकते हैं। A, 24 दिनों तक कार्य करने के बाद, B शेष कार्य को अकेले 54 दिनों में पूरा करता है। B अकेले पूरे काम को कितने दिनों में पूरा करेगा?

- Ans  A. 75 दिन  
 B. 45 दिन  
 C. 65 दिन  
 D. 55 दिन

Question ID : 75322913215

Q.20  $(0.9 + 0.09 + 0.009 + 0.0009 + 0.00009 + 0.000009) \times 1000000 = ?$

- Ans  A. 999999  
 B. 999990  
 C. 9999999  
 D. 999900

Question ID : 75322913201

Section : General English

Q.1 Some parts of a sentence have been jumbled up, and labelled P, Q, R and S. Select the option that gives the correct sequence in which these parts can be rearranged to form a meaningful and grammatically correct sentence.

And there are  
 P. need for a specifically  
 Q. cases that appear  
 R. a number of  
 S. to obviate the  
 partisan approach.

- Ans  A. QPRS  
 B. PRSQ  
 C. RQSP  
 D. PSRQ

Question ID : 75322913227

**Q.2** The sentence below has been divided into three parts. Select the part of the sentence that has an error. If the sentence has no error, select the option 'No Error'.

This mainly effects the ankles,/ knees and feet, but may also/ involve the eyes and even the heart.

- Ans
- A. knees and feet, but may also
  - B. This mainly effects the ankles,
  - C. No Error
  - D. involve the eyes and even the heart.

Question ID : 75322913221

**Q.3** The question below consist of a set of labelled (P, Q, R, S) sentences. Out of four options given, select the most logical order of the sentences which form a paragraph.

The explosion of T20 cricket on the Indian subcontinent paved the way for the formation of the Indian Premier League (IPL) in 2008.

P. He subsequently led the team to two consecutive titles (2010, 2011).

Q. The Super Kings franchise earned a two-season suspension from the IRL in 2016 for its role in a match-fixing scandal, and Dhoni then joined the Rising Pune Supergiant.

R. In 2018 he returned to the Chennai Super Kings, and that year the team won the IPL championship.

S. In the league's inaugural season, Dhoni signed with the Chennai Super Kings for \$1.5 million, which at the time was the largest contract in the IPL.

Dhoni's life was the subject of the hit Bollywood film M.S. Dhoni: The Untold Story (2016).

- Ans
- A. PQRS
  - B. SPQR
  - C. RQPS
  - D. SRQP

Question ID : 75322913228

**Q.4** Fill in the blank with the most appropriate choice

The water supply had been \_\_\_\_\_ with chemicals from the soil.

- Ans
- A. adulterated
  - B. advocated
  - C. condoned
  - D. confounded

Question ID : 75322913225

**Q.5** The sentence below has been divided into three parts. Select the part of the sentence that has an error. If the sentence has no error, select the option 'No Error'.

May said that, the southbound dragonflies/ appear to take advantage of tailwinds generated/ by cold fronts blowing from the north.

- Ans
- A. by cold fronts blowing from the north.
  - B. No Error
  - C. appear to take advantage of tailwinds generated
  - D. May said that, the southbound dragonflies

Question ID : 75322913222

**Q.6** Select the word that is similar in meaning (SYNONYM) to the word given below

voracious

- Ans
- A. ambiguous
  - B. avid
  - C. quenched
  - D. satiable

Question ID : 75322913230

**Q.7** Select the word segment that substitutes (replaces) the bracketed word segment correctly and completes the sentence meaningfully. Select the option 'no correction required' if the sentence is correct as given.

The letter is written in an apologetic tone, apparently (because the return of the books are overdue).

- Ans
- A. as returning the books is overdue
  - B. No correction required
  - C. because the return of the books is overdue
  - D. as returning of the books are overdue

Question ID : 75322913224

**Q.8** Select the most appropriate idiom/phrase of the given meaning

A person should not make plans based on assumptions because things may not turn out how they expect.

- Ans
- A. Don't count your chickens before they hatch
  - B. Down to the Wire
  - C. Don't look a gift horse in the mouth
  - D. Drawing a blank

Question ID : 75322913234

**Q.9** Select the word segment that substitutes (replaces) the bracketed word segment correctly and completes the sentence meaningfully. Select the option 'no correction required' if the sentence is correct as given.

Indeed, (so slushy is the ad until it's conclusion, it could) be for any lifestyle product.

- Ans
- A. so slushy is the ad until it's conclusion it would
  - B. No correction required
  - C. so slushy is the ad until it's conclusion, it should
  - D. so slushy is the ad until its conclusion, it could

Question ID : 75322913223

**Q.10** Four words are given, out of which only one word is spelt incorrectly. Choose the incorrectly spelt word.

- Ans
- A. vebrose
  - B. sycophant
  - C. spurious
  - D. tractable

Question ID : 75322913232

**Q.11** Four words are given, out of which only one word is spelt correctly. Choose the correctly spelt word.

- Ans
- A. obstanete
  - B. obstenate
  - C. obstinate
  - D. obstanate

Question ID : 75322913231

**Q.12** Select the most appropriate 'one word' for the expressions given below

One who can use either hand with ease

- Ans
- A. Isobar
  - B. Fastidious
  - C. Hamlet
  - D. Ambidextrous

Question ID : 75322913235

**Q.13** Fill in the blank with the most appropriate choice

The art of death has never been so \_\_\_\_\_, so entertaining as in these superb north Italian monumental cemeteries.

- Ans
- A. compelling
  - B. censured
  - C. caustic
  - D. chronological

Question ID : 75322913226

**Q.14** Select the word that is opposite in meaning (ANTONYM) to the word given below

elusive

- Ans
- A. slippery
  - B. volatile
  - C. stable
  - D. puzzling

Question ID : 75322913229

**Q.15** Select the most appropriate meaning of the given idiom/phrase

A damp squib

- Ans
- A. A situation or event which is much less impressive than expected
  - B. Someone that has a lot of work to do; they are busy, like a bee
  - C. Cherishing someone or something; being fond of another
  - D. Someone with a good memory

Question ID : 75322913233

**Comprehension:**

Read the passage carefully and choose the best answer to each question out of the four alternatives

Many people with high IQ scores fail to become successful due to lack of motivation, laziness, or short attention span. In contrast, some people with low IQ succeed with greater personal dedication, systematic effort, and motivation. One can eliminate the disadvantage that comes with a low IQ score by choosing the right career path. For example, one might have special talents for a particular sport while failing to perform as well as the others academically. This can be justified with greater motivation and dedication. Individuals will have greater motivation in pursuing careers they are skilled. They will like it more and put more effort in it. One of the best ways parents can help is to help their children discover themselves and their skills.

**SubQuestion No : 16**

**Q.16** According to the passage, how can one eliminate the disadvantage of having low IQ?

- Ans
- A. By working hard on areas where they lack.
  - B. By discovering and working on new skills constantly.
  - C. By choosing the right career path.
  - D. By having high self-esteem and self-awareness.

Question ID : 75322913237

**Comprehension:**

Read the passage carefully and choose the best answer to each question out of the four alternatives

Many people with high IQ scores fail to become successful due to lack of motivation, laziness, or short attention span. In contrast, some people with low IQ succeed with greater personal dedication, systematic effort, and motivation. One can eliminate the disadvantage that comes with a low IQ score by choosing the right career path. For example, one might have special talents for a particular sport while failing to perform as well as the others academically. This can be justified with greater motivation and dedication. Individuals will have greater motivation in pursuing careers they are skilled. They will like it more and put more effort in it. One of the best ways parents can help is to help their children discover themselves and their skills.

**SubQuestion No : 17**

**Q.17 According to the passage, which of the following option is incorrect? Choose one option.**

- Ans**  A. With greater personal dedication, systematic effort, and motivation, people with low IQ can also find success in life.
- B. Many people with high IQ scores fail to become successful due to lack of motivation, laziness, or short attention span.
- C. Individuals will have greater self-awareness in pursuing careers they are skilled.
- D. Parents can help their children discover skills they naturally shine at, in turn leading to a better career path.

Question ID : 75322913238

**Comprehension:**

Read the passage carefully and choose the best answer to each question out of the four alternatives

Many people with high IQ scores fail to become successful due to lack of motivation, laziness, or short attention span. In contrast, some people with low IQ succeed with greater personal dedication, systematic effort, and motivation. One can eliminate the disadvantage that comes with a low IQ score by choosing the right career path. For example, one might have special talents for a particular sport while failing to perform as well as the others academically. This can be justified with greater motivation and dedication. Individuals will have greater motivation in pursuing careers they are skilled. They will like it more and put more effort in it. One of the best ways parents can help is to help their children discover themselves and their skills.

**SubQuestion No : 18**

**Q.18 It is stated in the passage that people having low IQ \_\_\_\_\_.**

- Ans**  A. are on average are more successful than people with High IQ.
- B. are forced to have greater personal dedication, systematic effort, and motivation to compete on the same level as people with high IQ.
- C. fail to be successful.
- D. can also be as successful as people with high IQ by having greater personal dedication, systematic effort, and motivation.

Question ID : 75322913241



**Comprehension:**

Read the passage carefully and choose the best answer to each question out of the four alternatives

Many people with high IQ scores fail to become successful due to lack of motivation, laziness, or short attention span. In contrast, some people with low IQ succeed with greater personal dedication, systematic effort, and motivation. One can eliminate the disadvantage that comes with a low IQ score by choosing the right career path. For example, one might have special talents for a particular sport while failing to perform as well as the others academically. This can be justified with greater motivation and dedication. Individuals will have greater motivation in pursuing careers they are skilled. They will like it more and put more effort in it. One of the best ways parents can help is to help their children discover themselves and their skills.

**SubQuestion No : 19**

**Q.19** According to the passage, which of the following is not a reason of why people with high IQ fail to become successful?

- Ans  A. High self-esteem  
 B. Laziness  
 C. Lack of Motivation  
 D. Short attention span

Question ID : 75322913239

**Comprehension:**

Read the passage carefully and choose the best answer to each question out of the four alternatives

Many people with high IQ scores fail to become successful due to lack of motivation, laziness, or short attention span. In contrast, some people with low IQ succeed with greater personal dedication, systematic effort, and motivation. One can eliminate the disadvantage that comes with a low IQ score by choosing the right career path. For example, one might have special talents for a particular sport while failing to perform as well as the others academically. This can be justified with greater motivation and dedication. Individuals will have greater motivation in pursuing careers they are skilled. They will like it more and put more effort in it. One of the best ways parents can help is to help their children discover themselves and their skills.

**SubQuestion No : 20**

**Q.20** How can one find motivation in what they are doing?

- Ans  A. By going through an aptitude test.  
 B. By having good influences in life who can show them a better path.  
 C. By having a disciplined approach towards their career.  
 D. By pursuing fields and careers in which they are skilled.

Question ID : 75322913240

**Section : General Hindi**

**Q.1** निम्नलिखित प्रश्न में, चार विकल्पों में से, उस विकल्प का चयन करें जो अव्यय के भेद का सही विकल्प हो।  
 शिखा सुंदर लिखती है।

- Ans  A. संबंधबोधक अव्यय  
 B. समुच्चयबोधक अव्यय  
 C. विस्मयादिबोधक अव्यय  
 D. क्रिया-विशेषण अव्यय

Question ID : 75322913245

Q.2 निम्नलिखित प्रश्न में, चार विकल्पों में से, उस विकल्प का चयन करें जो शुद्ध शब्द का सही विकल्प है।

- Ans  A. शूची  
 B. वीहंगम  
 C. परिचारक  
 D. प्रिहीनी

Question ID : 75322913247

Q.3 निम्नलिखित प्रश्न में, चार विकल्पों में से, उस विकल्प का चयन करें जो सही वाक्य भेद का विकल्प हो।  
जल्दी तैयार हो जाओ, नहीं तो बस चली जाएगी।

- Ans  A. संयुक्त वाक्य  
 B. मिश्र वाक्य  
 C. संकेतवाचक वाक्य  
 D. सरल वाक्य

Question ID : 75322913251

Q.4 निम्नलिखित प्रश्न में, चार विकल्पों में से, उस सही विकल्प का चयन करें जो दिए गए शब्द के सही अर्थ का उचित विकल्प हो।  
दुष्ट

- Ans  A. वंचक  
 B. चाप  
 C. भृत्य  
 D. विबुध

Question ID : 75322913246

Q.5 निम्नलिखित प्रश्न में, चार विकल्पों में से, उस विकल्प का चयन करें जो भाववाचक संज्ञा का सही विकल्प नहीं है।

- Ans  A. बुढ़ापा  
 B. भिड़ंत  
 C. बुद्धिमानी  
 D. देव

Question ID : 75322913244

Q.6 निम्नलिखित प्रश्न में, चार विकल्पों में से, उस विकल्प का चयन करें जो देशज शब्द का सही विकल्प हो।

- Ans  A. आमदनी  
 B. खचाखच  
 C. खराब  
 D. सराय

Question ID : 75322913242

Q.7 निम्न विकल्पों में से उस विकल्प का चयन कीजिए जो शुद्ध वाक्य का सही विकल्प है।

- Ans  A. विनम्रता के बिना स्वतंत्रता पर कोई अर्थ नहीं।  
 B. विनम्रता के बिना स्वतंत्रता का कोई अर्थ नहीं।  
 C. विनम्रता से बिना स्वतंत्रता का कोई अर्थ नहीं।  
 D. विनम्रता के बिना स्वतंत्रता का सब अर्थ है।

Question ID : 75322913252

Q.8 निम्नलिखित प्रश्न में, चार विकल्पों में से, उस विकल्प का चयन करें जो विराम चिह्न युक्त वाक्य का सही विकल्प हो।

- Ans  A. अध्यापक चिल्लाते हुए निकल जाओ कक्षा से अभी।  
 B. अध्यापक- चिल्लाते हुए निकल जाओ कक्षा से अभी।  
 C. अध्यापक चिल्लाते हुए- निकल जाओ कक्षा से अभी।  
 D. अध्यापक (चिल्लाते हुए) "निकल जाओ कक्षा से अभी।"

Question ID : 75322913253

Q.9 निम्नलिखित प्रश्न में, चार विकल्पों में से, उस विकल्प का चयन करें जो दी गई मुहावरे का सही अर्थ वाला विकल्प है।  
तिलांजलि देना

- Ans  A. त्याग देना  
 B. तितर-बितर होना  
 C. समर्पित होना  
 D. खूब प्रभाव होना

Question ID : 75322913256

Q.10 निम्नलिखित प्रश्न में, चार विकल्पों में से, उस विकल्प का चयन करें जो दिए गए वाक्य के लिए वृत्ति के भेद का सबसे अच्छा विकल्प है।  
उसने अपना काम खत्म कर दिया होगा।

- Ans  A. संदेहार्थ  
 B. निश्चयार्थ  
 C. विध्यर्थ  
 D. सम्भावनार्थ

Question ID : 75322913250

Q.11 निम्नलिखित प्रश्न में, चार विकल्पों में से, उस विकल्प का चयन करें जो दी गई मुहावरे का सही अर्थ वाला विकल्प है।  
ज़बानी जमा खर्च करना

- Ans  A. हृदय कठोर करना  
 B. बहुत कम बोलना  
 C. केवल बात करना, कुछ काम न करना  
 D. कड़वी बात सुनकर रह जाना

Question ID : 75322913255

Q.12 निम्नलिखित प्रश्न में, चार विकल्पों में से, उस विकल्प का चयन करें जो दिए गए वाक्य के काल का सही विकल्प हो।  
माँ ने खाना खा लिया होगा।

- Ans  A. संभाव्य भविष्यकाल  
 B. अपूर्ण भूतकाल  
 C. संदिग्ध भूतकाल  
 D. संदिग्ध वर्तमानकाल

Question ID : 75322913249

Q.13 निम्नलिखित प्रश्न में, चार विकल्पों में से, उस विकल्प का चयन करें जो कोष्ठक में दिए गए शब्द के अनुसार विशेषण के भेद वाला विकल्प हो।  
थाली में (बहुत) खाना बचा है।

- Ans  A. अनिश्चित परिमाणवाचक  
 B. निश्चित संख्यावाचक  
 C. निश्चित परिमाणवाचक  
 D. अनिश्चित संख्यावाचक

Question ID : 75322913243

Q.14 निम्नलिखित प्रश्न में, चार विकल्पों में से, उस सही विकल्प का चयन करें जो दिए गए शब्द-युग्म के सही अर्थ का उचित विकल्प हो।  
विभात-विभाति

- Ans  A. रचनेवाला-कानून  
 B. प्रभात-शोभा  
 C. कानून-शोभा  
 D. रचनेवाला-शोभा

Question ID : 75322913248

Q.15 निम्नलिखित प्रश्न में, चार विकल्पों में से, उस विकल्प का चयन करें जो दिए गए लोकोक्ति का सही अर्थ वाला विकल्प है।  
गुरु कीजै जान, पानी पीवै छान

- Ans  A. बिना प्रयत्न के लाभ  
 B. अवसर का लाभ  
 C. अच्छी तरह समझ-बूझकर काम करना  
 D. झूठा दिखावा

Question ID : 75322913254

**Comprehension:**

नीचे दिए गये गद्यांश को ध्यानपूर्वक पढ़ें और चार विकल्पों में से प्रत्येक प्रश्न का सर्वोत्तम उत्तर चुनें। संस्कृतियों के निर्माण में एक सीमा तक देश और जाति का योगदान रहता है। संस्कृति के मूल उपादान तो प्रायः सभी सुसंस्कृत और सभ्य देशों में एक सीमा तक समान रहते हैं, किंतु बाह्य उपादानों में अंतर अवश्य आता है। राष्ट्रीय या जातीय संस्कृति का सबसे बड़ा योगदान यही है कि वह हमें अपने राष्ट्र की परंपरा से संतुष्ट बनाती है, अपनी रीति-नीति की संपदा से विच्छिन्न नहीं होने देती। आज के युग में राष्ट्रीय एवं जातीय संस्कृतियों के मिलन के अवसर अति सुलभ हो गए हैं। कुछ ऐसे विदेशी प्रभाव हमारे देश पर पड़ रहे हैं, जिनके आतंक ने हमें स्वयं अपनी संस्कृति के प्रति संशयालु बना दिया है। हमारी आस्था डिगने लगी है। यह हमारी वैचारिक दुर्बलता का फल है।

**SubQuestion No : 16****Q.16 इनमें से कौन-सा सुलभ का विलोम शब्द है?**

- Ans  A. सस्ता  
 B. अधीन  
 C. दुर्लभ  
 D. आसान

Question ID : 75322913261

**Comprehension:**

नीचे दिए गये गद्यांश को ध्यानपूर्वक पढ़ें और चार विकल्पों में से प्रत्येक प्रश्न का सर्वोत्तम उत्तर चुनें। संस्कृतियों के निर्माण में एक सीमा तक देश और जाति का योगदान रहता है। संस्कृति के मूल उपादान तो प्रायः सभी सुसंस्कृत और सभ्य देशों में एक सीमा तक समान रहते हैं, किंतु बाह्य उपादानों में अंतर अवश्य आता है। राष्ट्रीय या जातीय संस्कृति का सबसे बड़ा योगदान यही है कि वह हमें अपने राष्ट्र की परंपरा से संतुष्ट बनाती है, अपनी रीति-नीति की संपदा से विच्छिन्न नहीं होने देती। आज के युग में राष्ट्रीय एवं जातीय संस्कृतियों के मिलन के अवसर अति सुलभ हो गए हैं। कुछ ऐसे विदेशी प्रभाव हमारे देश पर पड़ रहे हैं, जिनके आतंक ने हमें स्वयं अपनी संस्कृति के प्रति संशयालु बना दिया है। हमारी आस्था डिगने लगी है। यह हमारी वैचारिक दुर्बलता का फल है।

**SubQuestion No : 17****Q.17 अनुच्छेद के अनुसार संस्कृतियों के निर्माण में किसका योगदान रहा है?**

- Ans  A. राष्ट्र की सम्पदा का  
 B. देश और जाति का  
 C. विदेशों का  
 D. देशों की सीमा का

Question ID : 75322913258

**Comprehension:**

नीचे दिए गये गद्यांश को ध्यानपूर्वक पढ़ें और चार विकल्पों में से प्रत्येक प्रश्न का सर्वोत्तम उत्तर चुनें। संस्कृतियों के निर्माण में एक सीमा तक देश और जाति का योगदान रहता है। संस्कृति के मूल उपादान तो प्रायः सभी सुसंस्कृत और सभ्य देशों में एक सीमा तक समान रहते हैं, किंतु बाह्य उपादानों में अंतर अवश्य आता है। राष्ट्रीय या जातीय संस्कृति का सबसे बड़ा योगदान यही है कि वह हमें अपने राष्ट्र की परंपरा से संतुष्ट बनाती है, अपनी रीति-नीति की संपदा से विच्छिन्न नहीं होने देती। आज के युग में राष्ट्रीय एवं जातीय संस्कृतियों के मिलन के अवसर अति सुलभ हो गए हैं। कुछ ऐसे विदेशी प्रभाव हमारे देश पर पड़ रहे हैं, जिनके आतंक ने हमें स्वयं अपनी संस्कृति के प्रति संशयालु बना दिया है। हमारी आस्था डिगने लगी है। यह हमारी वैचारिक दुर्बलता का फल है।

**SubQuestion No : 18****Q.18 अपनी संस्कृति के प्रति संशयालु होना या आस्था में कमी होने का क्या कारण है?**

- Ans  A. राष्ट्रीय एवं जातीय संस्कृतियों  
 B. बाह्य उपादानों में अंतर  
 C. वैचारिक दुर्बलता  
 D. वैचारिक सबलता

Question ID : 75322913260

**Comprehension:**

नीचे दिए गये गद्यांश को ध्यानपूर्वक पढ़ें और चार विकल्पों में से प्रत्येक प्रश्न का सर्वोत्तम उत्तर चुनें। संस्कृतियों के निर्माण में एक सीमा तक देश और जाति का योगदान रहता है। संस्कृति के मूल उपादान तो प्रायः सभी सुसंस्कृत और सभ्य देशों में एक सीमा तक समान रहते हैं, किंतु बाह्य उपादानों में अंतर अवश्य आता है। राष्ट्रीय या जातीय संस्कृति का सबसे बड़ा योगदान यही है कि वह हमें अपने राष्ट्र की परंपरा से संतुष्ट बनाती है, अपनी रीति-नीति की संपदा से विच्छिन्न नहीं होने देती। आज के युग में राष्ट्रीय एवं जातीय संस्कृतियों के मिलन के अवसर अति सुलभ हो गए हैं। कुछ ऐसे विदेशी प्रभाव हमारे देश पर पड़ रहे हैं, जिनके आतंक ने हमें स्वयं अपनी संस्कृति के प्रति संशयालु बना दिया है। हमारी आस्था डिगने लगी है। यह हमारी वैचारिक दुर्बलता का फल है।

**SubQuestion No : 19****Q.19 इस अनुच्छेद का कोई उपयुक्त शीर्षक-**

- Ans  A. जातीय संस्कृति  
 B. आस्था की कमी  
 C. संस्कृति का प्रभाव  
 D. बाह्य उपादान

Question ID : 75322913262

**Comprehension:**

नीचे दिए गये गद्यांश को ध्यानपूर्वक पढ़ें और चार विकल्पों में से प्रत्येक प्रश्न का सर्वोत्तम उत्तर चुनें। संस्कृतियों के निर्माण में एक सीमा तक देश और जाति का योगदान रहता है। संस्कृति के मूल उपादान तो प्रायः सभी सुसंस्कृत और सभ्य देशों में एक सीमा तक समान रहते हैं, किंतु बाह्य उपादानों में अंतर अवश्य आता है। राष्ट्रीय या जातीय संस्कृति का सबसे बड़ा योगदान यही है कि वह हमें अपने राष्ट्र की परंपरा से संतुष्ट बनाती है, अपनी रीति-नीति की संपदा से विच्छिन्न नहीं होने देती। आज के युग में राष्ट्रीय एवं जातीय संस्कृतियों के मिलन के अवसर अति सुलभ हो गए हैं। कुछ ऐसे विदेशी प्रभाव हमारे देश पर पड़ रहे हैं, जिनके आतंक ने हमें स्वयं अपनी संस्कृति के प्रति संशयालु बना दिया है। हमारी आस्था डिगने लगी है। यह हमारी वैचारिक दुर्बलता का फल है।

**SubQuestion No : 20****Q.20 राष्ट्रीय या जातीय संस्कृति का सबसे बड़ा योगदान क्या है?**

- Ans  A. कि यह अपने रीति-रिवाजों से दूर कर देती है  
 B. कि यह अपने रीति-रिवाजों से दूर नहीं होने देती  
 C. कि यह हमें राष्ट्र की परंपरा से दूर कर देती है  
 D. कि यह हमें सुसंस्कृत नहीं होने देती

Question ID : 75322913259

**Section : Discipline1****Q.1 संज्ञानात्मक विकास के किस अवस्था के दौरान, बच्चा अपने 'अहंकेंद्रित' चिंतन पर काबू पाने में सक्षम होता है?**

- Ans  A. संवेदिक पेशीय अवस्था  
 B. अमूर्त सक्रियात्मक अवस्था  
 C. पूर्व-सक्रियात्मक अवस्था  
 D. मूर्त सक्रियात्मक अवस्था

Question ID : 75322913270

Q.2 संज्ञानात्मक विकास की किस अवस्था में बच्चा रूढ़िवाद के नियम का पालन करने में असमर्थ होता है?

- Ans
- A. संवेदिक पेशीय अवस्था
  - B. मूर्त संक्रियात्मक अवस्था
  - C. पूर्व-संक्रियात्मक अवस्था
  - D. अमूर्त संक्रियात्मक अवस्था

Question ID : 75322913265

Q.3 मोटर वाहन चलाने का कौशल हासिल करने का प्रयास करने वाले व्यक्ति को वाहन के विभिन्न हिस्सों के बारे में पता होना चाहिए, जो सीधे ड्राइविंग की प्रक्रिया में शामिल होते हैं। अधिगम के इन पहलुओं में शामिल हैं:

- Ans
- A. संज्ञानात्मक कौशल
  - B. श्रवण कौशल
  - C. मनःप्रेरक (साइकोमोटर) कौशल
  - D. भावात्मक कौशल

Question ID : 75322913271

Q.4 निम्नलिखित में से कौन सा वाइगोत्सकी के सामाजिक संस्कृति सिद्धांत का एक एलिमेंट नहीं है?

- Ans
- A. रूढ़िवादी
  - B. सामाजिक संपर्क
  - C. भाषा
  - D. संस्कृति

Question ID : 75322913281

Q.5 निम्नलिखित में से कौन सा संज्ञान की चार मूलभूत इकाइयों में से नहीं है?

- Ans
- A. स्कीमा
  - B. मूल्य
  - C. अवधारणा
  - D. प्रतीक

Question ID : 75322913273

Q.6 निम्नलिखित में से कौन प्याजे के संज्ञानात्मक विकास के सिद्धांत में अवस्था नहीं है?

- Ans
- A. लेटेंसी स्टेज
  - B. मूर्त संक्रियात्मक अवस्था
  - C. संवेदिक पेशीय अवस्था
  - D. अमूर्त संक्रियात्मक अवस्था

Question ID : 75322913263

Q.7 निम्नलिखित में से कौन सा उपकरण या क्रियाओं का समूह है जो एक शिक्षार्थी को समीपस्थ विकास के क्षेत्र (ज़ोन ऑफ़ प्रोक्सिमल डेवलपमेंट) में एक कार्य को सफलतापूर्वक पूरा करने में मदद करता है?

- Ans  A. स्कीमा  
 B. पाड़ (स्कैफ़लिंग)  
 C. आवास  
 D. आत्मसात्करण (असिमलेशन)

Question ID : 75322913277

Q.8 एक बच्चे को समान मात्रा में पानी के साथ दो बीकर दिखाए जाते हैं, फिर एक बीकर का तरल एक संकीर्ण लंबे गिलास में डाला जाता है, बच्चा सोचता है कि अब दोनों बर्तनों में अलग-अलग मात्रा में तरल है, वे समान नहीं हैं। उपरोक्त परिदृश्य में किस सिद्धांत का उल्लेख किया गया है?

- Ans  A. पारगमन (ट्रांसडक्टिविटी)  
 B. मूर्त  
 C. रूढ़ीवादिता  
 D. ऐब्स्ट्रैक्ट

Question ID : 75322913266

Q.9 संज्ञानात्मक विकास की किस अवस्था में, बच्चा अहंकारी हो जाता है?

- Ans  A. संवेदिक पेशीय अवस्था  
 B. अमूर्त संक्रियात्मक अवस्था  
 C. पूर्व-संक्रियात्मक अवस्था  
 D. मूर्त संक्रियात्मक अवस्था

Question ID : 75322913267

Q.10 गैर-विवेकपूर्ण (डिस्कर्सिव) संचार निम्न का हिस्सा है:

- Ans  A. भावात्मक डोमेन  
 B. मनःप्रेरक (साइकोमोटर) डोमेन  
 C. संज्ञानात्मक डोमेन  
 D. अधिगम डोमेन

Question ID : 75322913275

Q.11 किस मनोवैज्ञानिक ने संज्ञानात्मक विकास में भाषा की भूमिका पर अधिक जोर दिया है?

- Ans  A. वाइगोत्सकी  
 B. एरिक्सन  
 C. फ्रायड  
 D. प्याज़े

Question ID : 75322913279



Q.12 निम्नलिखित में से कौन सा संज्ञानात्मक अधिगम का एलिमेंट नहीं है?

- Ans  A. चिंतन  
 B. समझ  
 C. अनुमान लगाना  
 D. अनुभूति

Question ID : 75322913272

Q.13 संज्ञानात्मक विकास के किस अवस्था के दौरान, बच्चा पारगमन (ट्रांसडक्टिविटी) तर्क से गुजरता है?

- Ans  A. अमूर्त संक्रियात्मक अवस्था  
 B. मूर्त संक्रियात्मक अवस्था  
 C. संवेदिक पेशीय अवस्था  
 D. पूर्व-संक्रियात्मक अवस्था

Question ID : 75322913268

Q.14 एक कक्षा के छात्र कक्षा की चर्चाओं में सक्रिय रूप से भाग लेते हैं और अपने विचार व्यक्त करते हैं। इस परिदृश्य में निम्न में से कौन सा डोमेन सक्रिय है?

- Ans  A. भावात्मक डोमेन  
 B. मनःप्रेरक (साइकोमोटर) डोमेन  
 C. संज्ञानात्मक डोमेन  
 D. अधिगम डोमेन

Question ID : 75322913274

Q.15 संज्ञानात्मक विकास की किस अवस्था में, बच्चा उत्कृमणीयता प्राप्त करता है?

- Ans  A. पूर्व-संक्रियात्मक अवस्था  
 B. अमूर्त संक्रियात्मक अवस्था  
 C. संवेदिक पेशीय अवस्था  
 D. मूर्त संक्रियात्मक अवस्था

Question ID : 75322913269

Q.16 कल्पना करें कि एक छात्र ने अभी-अभी मूल जोड़ में महारत हासिल की है। इस बिंदु पर, मूल घटाव उनके \_\_\_\_\_ में प्रवेश कर सकता है, जिसका अर्थ है कि उनके पास घटाव सीखने की क्षमता है और संभवतः मार्गदर्शन और समर्थन के साथ इसमें महारत हासिल करने में सक्षम होंगे।

- Ans  A. स्कीमा  
 B. जोन ऑफ़ प्रोक्सिमल डेवलपमेंट  
 C. पाइ  
 D. आवास

Question ID : 75322913278

Q.17 संज्ञानात्मक विकास के किस अवस्था के दौरान बच्चा प्रतीकात्मक गतिविधि में संलग्न होता है?

- Ans  A. मूर्त संक्रियात्मक अवस्था  
 B. अमूर्त संक्रियात्मक अवस्था  
 C. संवेदिक पेशीय अवस्था  
 D. पूर्व-संक्रियात्मक अवस्था

Question ID : 75322913264

Q.18 वाइगोत्सकी के अनुसार, निम्नलिखित में से कौन संज्ञानात्मक विकास का एक महत्वपूर्ण प्राथमिक स्रोत है?

- Ans  A. सहोदर  
 B. सहकर्मी  
 C. विद्यालय  
 D. परिवार

Question ID : 75322913280

Q.19 A teacher allots assignments to the students which must be done in a group of 4. Which type of learning has been highlighted in the above statement?

- Ans  A. Flipped learning  
 B. Collaborative learning  
 C. Blended learning  
 D. Traditional learning

Question ID : 75322913282

Q.20 संज्ञानात्मक अधिगम के किस एलिमेंट के अंतर्गत क्रिया, संबंध, निष्कर्ष और व्याख्या (पैराफ्रेज़) जैसे क्रियाओं का उपयोग किया जाता है?

- Ans  A. ज्ञान  
 B. आवेदन  
 C. समझना  
 D. मूल्यांकन करना

Question ID : 75322913276

Section : Discipline2

Q.1 कौन सी प्रक्रिया विशेष आवश्यकता वाले बच्चों को निश्चित मानक कक्षा में प्रवेश करने की अनुमति देती है, जब वे अपने बाकी साथियों के साथ तालमेल बिठाने की क्षमता दिखाते हैं?

- Ans  A. एकीकृत  
 B. परंपरागत  
 C. मुख्यधारा  
 D. सम्मिलित

Question ID : 75322913293

Q.2 निम्नलिखित विधियाँ किस प्रकार की शिक्षा का हिस्सा हैं? (a) - संग्रहालयों या वैज्ञानिक और अन्य मेलों और प्रदर्शनों आदि का दौरा; (b) - रेडियो प्रसारण सुनना

- Ans
- A. पारंपरिक शिक्षा
  - B. औपचारिक शिक्षा
  - C. अनौपचारिक शिक्षा
  - D. गैर-औपचारिक शिक्षा

Question ID : 75322913290

Q.3 एक बच्चा अलाव (बॉनफायर) को छूता है और ताप से उसका हाथ जल जाता है। अगली बार जब वह अलाव (बॉनफायर) के पास आएगा, तो वह उसे नहीं छुएगा। उपरोक्त परिदृश्य में किस प्रकार के ज्ञान पर प्रकाश डाला गया है?

- Ans
- A. निहित (टैसिट) ज्ञान
  - B. स्पष्ट ज्ञान
  - C. पूर्व ज्ञान
  - D. अनुभवसिद्ध ज्ञान (एम्पिरिकल नॉलेज)

Question ID : 75322913300

Q.4 भाषा के तीन रूप: सामाजिक भाषण, निजी भाषण और मौन आंतरिक भाषण निम्न के द्वारा दिए गए हैं?

- Ans
- A. प्याज़े
  - B. फ्रायड
  - C. वाइगोत्सकी
  - D. एरिक्सन

Question ID : 75322913283

Q.5 किस प्रकार के ज्ञान को कुशलतापूर्वक व्यक्ति, प्रलेखित और साझा किया जा सकता है?

- Ans
- A. पञ्च ज्ञान
  - B. स्पष्ट ज्ञान
  - C. पूर्व ज्ञान
  - D. निहित (टैसिट) ज्ञान

Question ID : 75322913299

Q.6 पाठ्यचर्या विकास में प्रायोगिक परीक्षण से आप क्या समझते हैं?

- Ans
- A. कार्यक्रम के लक्ष्य और उद्देश्य शामिल हैं
  - B. कार्यक्रम का विस्तृत शोध
  - C. कार्यक्रम का ब्लूप्रिंट
  - D. कार्यक्रम के लिए डिज़ाइन किया गया अल्पकालिक प्रयास

Question ID : 75322913298

Q.7 निम्नलिखित में से कौन सा पाठ्यचर्या का एलिमेंट नहीं है?

- Ans  A. विषय - वस्तु  
 B. अधिगम अनुभव  
 C. लक्ष्य  
 D. अच्छे अंक

Question ID : 75322913297

Q.8 विचार-मंथन, संरचना और परिकल्पना और अधिगम वस्तुनिष्ठ कुछ एलिमेंट है जो निम्न में शामिल है:

- Ans  A. समस्या आधारित उपागम  
 B. स्पष्ट निर्देश  
 C. परियोजना आधारित अधिगम उपागम  
 D. सहयोगी अधिगम

Question ID : 75322913296

Q.9 निम्नलिखित में से कौन पितृसत्ता की विशेषता नहीं है?

- Ans  A. विरासत केवल महिलाओं के लिए है  
 B. पुरुष प्रभुत्व  
 C. महिलाओं को कमजोर माना जाता है  
 D. पुरुष निर्णय निर्माता हैं

Question ID : 75322913291

Q.10 निम्नलिखित में से कौन सा सीखा हुआ व्यवहार या अर्जित पहचान है?

- Ans  A. लिंग  
 B. मातृत्व  
 C. जैविक आयु  
 D. पितृसत्ता

Question ID : 75322913292

Q.11 किस प्रकार के ज्ञान से संगीत और कला संबंधित है?

- Ans  A. स्पष्ट ज्ञान  
 B. अनुभवसिद्ध ज्ञान  
 C. पूर्व ज्ञान  
 D. निहित (टैसिट) ज्ञान

Question ID : 75322913302

Q.12 "पत्राचारी शिक्षण", "दूरस्थ शिक्षा" और "मुक्त पद्धति", निम्न का हिस्सा हैं:

- Ans  A. अनौपचारिक शिक्षा  
 B. पारंपरिक शिक्षा  
 C. गैर-औपचारिक शिक्षा  
 D. औपचारिक शिक्षा

Question ID : 75322913288

Q.13 किस आयु में, एक बच्चे में मौन आंतरिक भाषण विकसित होता है?

- Ans  A. 5 वर्ष  
 B. 8 वर्ष  
 C. 10 वर्ष  
 D. 7 वर्ष

Question ID : 75322913284

Q.14 निम्नलिखित में से कौन सी रणनीति उस बच्चे को पाठ योजना प्रदान करने के लिए उपयोगी नहीं है जिसे श्रवण दोष है?

- Ans  A. लेख पढ़ना, चित्र के साथ पुस्तकें  
 B. एक गतिविधि देखना  
 C. सांकेतिक भाषा  
 D. ब्रेल पद्धति का उपयोग करना

Question ID : 75322913295

Q.15 निम्न में से क्या किसी वर्ग के "हाशिया करण" का कारण नहीं हो सकता है?

- Ans  A. विस्थापन  
 B. गरीबी  
 C. अपवर्जन  
 D. समावेशन

Question ID : 75322913285

Q.16 एक शिक्षिका 'पर्यावरण' पर अपनी पाठ योजना शुरू करने से पहले विद्यार्थियों से पूछती है कि जब वे विद्यालय आते हैं तो वे अपने आस-पास क्या देखते हैं? शिक्षिका कोशिश कर रही है:

- Ans  A. निहित (टैसिट) ज्ञान की जाँच  
 B. पूर्व ज्ञान की जाँच  
 C. पश्च ज्ञान की जाँच  
 D. स्पष्ट ज्ञान की जाँच

Question ID : 75322913301

Q.17 SSA का पूर्ण प्रपत्र क्या है जिसे 2000-2001 में प्रक्षेपित किया गया था?

- Ans  A. Sarva Shreshth Abhiyan (सर्व श्रेष्ठ अभियान)  
 B. Sarva Shakti Abhiyan (सर्व शक्ति अभियान)  
 C. Sarva Shiksha Abhiyan (सर्व शिक्षा अभियान)  
 D. Sarva Sukhi Abhiyan (सर्व सुखी अभियान)

Question ID : 75322913287

Q.18 सर्व शिक्षा अभियान का ध्येयवाक्य क्या है?

- Ans  A. सभी के लिए शिक्षा  
 B. अल्पसंख्यकों के लिए शिक्षा  
 C. समृद्ध मनोदशा के लिए, एक स्वस्थ भोजन  
 D. सभी निम्न आय वर्ग के लिए शिक्षा

Question ID : 75322913286

Q.19 निम्नलिखित में से कौन सा सर्व शिक्षा अभियान का कार्यक्रम नहीं है?

- Ans  A. ऑपरेशन ब्लैकबोर्ड  
 B. विद्यालय प्रबंधन समितियों की स्थापना  
 C. जिला प्राथमिक शिक्षा  
 D. लोक जुंबिश

Question ID : 75322913289

Q.20 विविध आवश्यकताओं वाले बच्चों के वर्गीकरण में संवेदिक आयाम/प्रकार शामिल हैं, निम्नलिखित में से कौन सा संवेदिक विमा का हिस्सा नहीं है?

- Ans  A. शारीरिक रूप से विकलांग  
 B. श्रवण  
 C. प्रतिभाशाली  
 D. दृश्य

Question ID : 75322913294

Section : Discipline3

Q.1 निम्नलिखित में से कौन सा MOOC प्लेटफॉर्म नहीं है?

- Ans  A. कोर्सेरा  
 B. गूगल प्राइमर  
 C. जूम  
 D. उडेसिटी

Question ID : 75322913308

Q.2 A class teacher delivers her lesson plan on the topic 'Resources' and gives MCQ based question paper to the students to solve. Which type of technique has been used here for assessment?

- Ans  A. Self report techniques  
 B. Reflective journal  
 C. Assignments  
 D. Concept tests

Question ID : 75322913309

Q.3 समीपस्थ विकास का क्षेत्र (ज़ोन ऑफ़ प्रोक्सिमल डेवलपमेंट) बच्चे की सीखने की क्षमता और होने वाली वास्तविक शिक्षा के बीच की दूरी है। इस अवधारणा में किस मनोवैज्ञानिक का विश्वास था?

- Ans
- A. प्याज़े
  - B. बी.एफ. स्किनर
  - C. चाम्सकी
  - D. वाइगोत्सकी

Question ID : 75322913318

Q.4 Which of the following is an aural input?

- Ans
- A. Reading skills
  - B. Speaking skills
  - C. Listening skills
  - D. Writing skills

Question ID : 75322913314

Q.5 ICT के निम्नलिखित में से कौन सा उपकरण साक्षरता को विकसित करने में मदद नहीं कर सकता है?

- Ans
- A. वेब सर्चिंग
  - B. खेल
  - C. ब्लॉग
  - D. वर्ड प्रोसेसर

Question ID : 75322913306

Q.6 प्राथमिक स्तर पर जोड़ पढ़ाने के लिए, शिक्षक निम्नलिखित तकनीक अपनाएगा:

- Ans
- A. ब्लैक बोर्ड पर प्रश्नों को हल करेगा
  - B. अपने आसपास के क्षेत्र में ठोस वस्तुओं को लेगा उदाहरण के लिए चॉक और अवधारणा की व्याख्या करेगा
  - C. पाठ्यपुस्तक से सूत्र पढ़ेगा
  - D. छात्रों से घर पर जोड़ के बारे में शोध करने के लिए कहेगा

Question ID : 75322913321

Q.7 किस मनोवैज्ञानिक ने भाषा अधिग्रहण डिवाइस का सिद्धांत दिया था?

- Ans
- A. चाम्सकी
  - B. वाइगोत्सकी
  - C. प्याज़े
  - D. बी.एफ. स्किनर

Question ID : 75322913316

Q.8 भारतीय संविधान की आठवीं अनुसूची में कितनी अनुसूचित भाषाओं को सूचीबद्ध किया गया है?

- Ans  A. 24 भाषाएं  
 B. 21 भाषाएं  
 C. 23 भाषाएं  
 D. 22 भाषाएं

Question ID : 75322913312

Q.9 प्याज़े का मानना है कि बच्चे अपने मन में मानसिक संरचना का निर्माण करते हैं। उन्हें क्या कहा जाता है?

- Ans  A. आवास  
 B. आत्मसात्करण  
 C. स्कीमा  
 D. संहिता

Question ID : 75322913317

Q.10 किस प्रकार के गद्यांश पठन में छात्र शब्दावली, व्याकरण और वाक्यांशों का अध्ययन करके पाठ की जांच करने के बजाय वास्तव में पढ़ना सीखते हैं।

- Ans  A. जोर से पढ़ना  
 B. गहन पठन  
 C. विस्तृत अधिगम  
 D. मौन पठन

Question ID : 75322913315

Q.11 किस राज्य में डोगरी भाषा बोली जाती है?

- Ans  A. असम  
 B. अरुणाचल प्रदेश  
 C. दमन और दीव  
 D. जम्मू और कश्मीर

Question ID : 75322913313

Q.12 निम्नलिखित में से कौन सा ICT साधनों का लाभ नहीं है?

- Ans  A. श्रव्य-दृश्य साधनों के साथ शिक्षण बेहतर होता है  
 B. लागत कुशल  
 C. प्रत्यक्ष कक्षा अधिगम  
 D. प्रौद्योगिकी पर निर्भरता

Question ID : 75322913307



Q.13 शिक्षक कक्षा में एक विषय पढ़ाते हैं और छात्रों को ICT का उपयोग करके नियत कार्य या परियोजना पर काम करने और इसे ऑनलाइन जमा करने के लिए कहते हैं। उपर्युक्त कथन में किस प्रकार के अधिगम पर प्रकाश डाला गया है?

- Ans
- A. वितरित अधिगम
  - B. पलटी अधिगम
  - C. पारंपरिक अधिगम
  - D. मिश्रित प्रणाली शिक्षा

Question ID : 75322913305

Q.14 निम्नलिखित में से कौन सा आनंदपूर्ण गणित का अनुभव करने की कुंजी नहीं है?

- Ans
- A. क्रमबद्ध तर्क
  - B. समस्या प्रस्तुत करना
  - C. रटना
  - D. समस्या को हल करना

Question ID : 75322913322

Q.15 निम्नलिखित में से कौन सी गणित की विशेषता नहीं है?

- Ans
- A. उसकी अपनी भाषा होती है
  - B. इसमें अमूर्त (एब्स्ट्रैक्ट) अवधारणाओं को मूर्त रूप में बदलना शामिल है
  - C. इसका ज्ञान पूरे ब्रह्मांड में हर जगह और हर समय समान रहता है
  - D. गणित एक कला है

Question ID : 75322913320

Q.16 किस मनोवैज्ञानिक का मानना था कि बच्चे क्रियाप्रसूत अनुकूलन के माध्यम से भाषा सीखते हैं?

- Ans
- A. वाइगोत्सकी
  - B. प्याज़े
  - C. चोमस्की
  - D. बी.एफ. स्किनर

Question ID : 75322913319

Q.17 निम्नलिखित में से कौन सा मुफ्त अधिगम प्रबंधन मंच है जो कक्षा सामग्री, सुरक्षित संचार और मूल्यांकन को सोशल मीडिया के जानकारों के साथ मिलाता है। छात्र और माता-पिता प्रश्नों के त्वरित उत्तर प्राप्त कर सकते हैं और साथ ही छात्र योजनाकार और चर्चा थ्रेड के माध्यम से कक्षा के नियतकार्य और घटनाओं पर अद्यतन रह सकते हैं।

- Ans
- A. ज़ूम
  - B. एडमोडो
  - C. साइअन्स 360
  - D. डुओ लिंगो

Question ID : 75322913303

Q.18 निम्नलिखित में से कौन सी हमारे देश की सहायक राजभाषा है?

- Ans  A. संस्कृत  
 B. हिंदी  
 C. अंग्रेज़ी  
 D. देवनागरी

Question ID : 75322913311

Q.19 साक्षात्कार और केंद्रित समूह चर्चा किस प्रकार की आंकलन तकनीक के अंतर्गत आते हैं?

- Ans  A. अवधारणा परीक्षा  
 B. कार्यभार  
 C. स्वयं रिपोर्ट तकनीक  
 D. चिंतनशील (रिफ्लेक्टिव) पत्रिका

Question ID : 75322913310

Q.20 निम्नलिखित में से कौन परिक्षण/गोमिंग/प्रश्नोत्तरी के लिए ऐप नहीं है?

- Ans  A. कहुट  
 B. स्वयं  
 C. जिंजी  
 D. मास्टरी कनेक्ट

Question ID : 75322913304

Section : Discipline4

Q.1 निम्नलिखित में से कौन सा सामाजिक विज्ञान का पहलू नहीं है?

- Ans  A. भूगोल  
 B. मनोविज्ञान  
 C. मानवशास्त्र  
 D. समाज शास्त्र

Question ID : 75322913331

Q.2 'स्वच्छ भारत अभियान' के प्रति विद्यार्थियों को संवेदनशील बनाने के लिए, एक शिक्षक निम्नलिखित में से कौन सा तरीका अपनाएगा?

- Ans  A. निबंध लेखन प्रतियोगिता  
 B. कक्षा की सफाई  
 C. नीति पढ़ना  
 D. पोस्टर रचना प्रतियोगिता

Question ID : 75322913329

Q.3 छात्र निम्नलिखित में से किस गतिविधि के द्वारा वैज्ञानिक जांच और उच्चतर कोटि चिंतन का अभ्यास कर सकते हैं?

- Ans  A. शारीरिक व्यायाम  
 B. बागवानी  
 C. खेल  
 D. योग

Question ID : 75322913338

Q.4 सामाजिक विज्ञान के दौर में, शिक्षक यादृच्छिक छात्रों के समूह बनाता है और उन्हें '1947 के विभाजन' के दृश्य की वार्तालाप गतिविधि के लिए कहता है। छात्र अपनी वार्तालाप गतिविधि तैयार करते हैं और वही करते हैं। इस गतिविधि का उद्देश्य है?

- Ans  A. अंतरवैयक्तिक कौशल में सुधार करना  
 B. नैदानिक परीक्षा में अच्छे अंक प्राप्त करना  
 C. वार्षिक दिवस पर अच्छा करने में उनकी मदद करना  
 D. योगात्मक आकलन में अच्छे अंक प्राप्त करना

Question ID : 75322913341

Q.5 सूक्ष्म शिक्षण चक्र में, शिक्षण कितने मिनट तक चलता है?

- Ans  A. 6 मिनट  
 B. 5 मिनट  
 C. 10 मिनट  
 D. 7 मिनट

Question ID : 75322913332

Q.6 राष्ट्रीय पाठ्यचर्या रूपरेखा 2005 ने सामाजिक विज्ञान पढ़ाने के पांच बुनियादी सिद्धांतों की वकालत की थी, निम्नलिखित में से कौन सा इसका हिस्सा नहीं है?

- Ans  A. परीक्षा को और अधिक लचीला बनाना  
 B. ज्ञान को बाहरी दुनिया से जोड़ना  
 C. समग्र (होलिस्टिक) विकास के लिए पाठ्यचर्या समृद्ध करना  
 D. यह सुनिश्चित करना कि अधिगम को रटने के लिए विस्थापित कर दिया गया है

Question ID : 75322913330

Q.7 किस कक्षा में एक बच्चा बुनियादी 3D-आकृतियों जैसे घनाभ, बेलन, शंकु और गोले की पहचान उनके नाम से करता है।

- Ans  A. कक्षा IV  
 B. कक्षा II  
 C. कक्षा I  
 D. कक्षा III

Question ID : 75322913323

Q.8 Forum Theatre is coordinated by an 'anchor' who is called as?

- Ans  A. thief  
 B. Clown  
 C. Host  
 D. Joker

Question ID : 75322913334

Q.9 एक शिक्षक छात्रों को 'घरेलू हिंसा' का विषय देता है और उन्हें बिना ज्यादा सोचे-समझे समूहों में शारीरिक चित्र बनाने के लिए कहता है। इस प्रकार की गतिविधि किस के अंतर्गत आती है?

- Ans  A. नाटक नाट्यकला  
 B. छवि नाट्यकला  
 C. अदृश्य नाट्यकला  
 D. मंच नाट्यकला

Question ID : 75322913333

Q.10 शिक्षक छात्रों के साथ एक खेल खेलने का फैसला करता है जहां उनमें से प्रत्येक एक यादृच्छिक कागज़ उठाएगा जिसमें सामाजिक स्थिति होगी, उन्हें उसी पर अपनी राय देनी होगी। शिक्षक ऐसी गतिविधि करता है:

- Ans  A. अनुकरण (सिमुलेशन) शिक्षण को समृद्ध करने के लिए  
 B. सामाजिक कौशल में सुधार करने के लिए  
 C. योगात्मक मूल्यांकन करने के लिए  
 D. केवल मनोरंजन के उद्देश्य से

Question ID : 75322913342

Q.11 निम्नलिखित में से कौन सामाजिक उद्देश्यों को प्राप्त करने के लिए नाट्यकला (थियेटर) का उपयोग करता है?

- Ans  A. छवि नाट्यकला  
 B. मंच नाट्यकला  
 C. अदृश्य नाट्यकला  
 D. दृश्य नाट्यकला

Question ID : 75322913335

Q.12 एक शिक्षक छात्रों को स्वस्थ खाने की आदतें विकसित करने में कैसे मदद कर सकता है?

- Ans  A. बागवानी गतिविधियों का अभ्यास करना  
 B. पाठ्यपुस्तक के माध्यम से समान पढ़ाना  
 C. माता-पिता को शिकायत करना  
 D. दोपहर का भोजन पूरा नहीं करने पर उन्हें जुर्माना भरने के लिए कहना

Question ID : 75322913337

Q.13 छात्रों में आलोचनात्मक चिन्तन विकसित करने के लिए, शिक्षक प्लास्टिक बैग के उपयोग के विषय का परिचय देता है। निम्नलिखित में से किस तरीके से एक बच्चा अपना आलोचनात्मक चिन्तन विकसित कर सकता है?

- Ans
- A. पाठ्यपुस्तक पठन
  - B. कार्यशाला
  - C. सेमिनार
  - D. वाद-विवाद

Question ID : 75322913327

Q.14 Which of the following skill subject is offered in the middle school?

- Ans
- A. Coding
  - B. Health care
  - C. Food production
  - D. Agriculture

Question ID : 75322913339

Q.15 EVS को किस कक्षा से अलग विषय के रूप में पढ़ाया जाता है?

- Ans
- A. कक्षा I
  - B. कक्षा IV
  - C. कक्षा III
  - D. कक्षा II

Question ID : 75322913328

Q.16 पर्यावरण के जैविक और अजैविक घटकों के बीच संबंध के अध्ययन को क्या कहा जाता है?

- Ans
- A. पारिस्थितिकी
  - B. प्राणिविज्ञान
  - C. वनस्पति विज्ञान
  - D. जीव विज्ञान

Question ID : 75322913326

Q.17 कक्षा अध्यापक हर महीने एक निश्चित कक्षा में छात्रों के सहभागी बदलते हैं। इससे निम्न में सुधार करने में मदद मिलेगी:

- Ans
- A. सामाजिक कौशल
  - B. आचरण संहिता
  - C. विद्यालय नीति
  - D. अंतरावैयक्तिक स्किल्स

Question ID : 75322913340

Q.18 निम्नलिखित में से कौन सा गणित के लिए शैक्षणिक उपागम नहीं है?

- Ans  A. चिंतनशील (रिफ्लेक्टिव)  
 B. सहयोगात्मक  
 C. रचनावादी  
 D. व्यवहारवाद

Question ID : 75322913324

Q.19 निम्नलिखित में से कौन सा योग का प्रकार नहीं है?

- Ans  A. ब्रह्मा  
 B. हठ  
 C. राजा  
 D. ज्ञान

Question ID : 75322913336

Q.20 निम्नलिखित में से कौन सा पारिस्थितिक तंत्र के जैविक घटक का हिस्सा है?

- Ans  A. मृदा  
 B. पशु  
 C. पानी  
 D. वायु

Question ID : 75322913325

Section : Discipline5

Q.1 एरिक्सन के सिद्धांत के अनुसार, बच्चा कपड़े पहनने, खिलौनों से खेलने जैसे कौशल को रोकता है। इस अवस्था में बच्चा किस मनोसामाजिक संकट से गुजरता है?

- Ans  A. विश्वास के सामने अविश्वास  
 B. उद्योग के सामने हीनता  
 C. स्वायत्तता के सामने शर्म  
 D. पहल के सामने आत्म ग्लानि

Question ID : 75322913345

Q.2 अंकगणित, विज्ञान, पर्यावरण, इतिहास, भूगोल और नागरिक शास्त्र जैसे विषयों को बढ़ाईगीरी, राजगीरी, खेती, छपाई और अन्य उत्पादक कार्यों के माध्यम से पढ़ाया जाना चाहिए। यह विचारधारा निम्न द्वारा दी गई थी:

- Ans  A. जवाहरलाल नेहरू  
 B. बी. आर. आम्बेडकर  
 C. रबीन्द्रनाथ टैगोर  
 D. महात्मा गांधी

Question ID : 75322913356

Q.3 जीवन के प्रारंभिक चरणों में, यदि शिशु को प्राथमिक देखभालकर्ता द्वारा देखभाल की निरंतरता नहीं दी जाती है, तो इससे क्या होगा?

- Ans  A. आक्रामकता  
 B. निष्ठा  
 C. संदेह  
 D. आशा

Question ID : 75322913344

Q.4 पर्तिसिस (जीवाणु) किस कारण से होता है?

- Ans  A. मलेरिया  
 B. कुक्कुर खाँसी  
 C. डेंगू  
 D. छोटी माता

Question ID : 75322913350

Q.5 एक शिक्षक विद्यार्थियों के लिए 'आंख पर पट्टी बांधना' नाम के एक खेल का आयोजन करता है जिसमें एक छात्र को आंखों पर पट्टी बांधकर और दूसरे गंतव्य तक पहुंचने के लिए मौखिक निर्देश देगा। यह खेल मदद करेगा:

- Ans  A. आंतर व्यक्तिगत कौशल विकसित करना  
 B. छात्र के विकास के लिए  
 C. सामाजिक कौशल विकसित करना  
 D. संख्यात्मक कौशल विकसित करना

Question ID : 75322913358

Q.6 हम संक्रामक रोग को कैसे रोक सकते हैं?

- Ans  A. अन्य लोगों के भोजन को छूना  
 B. उचित स्वच्छता  
 C. हाथ मिलाना  
 D. अन्य व्यक्ति के साथ निकट संपर्क

Question ID : 75322913349

Q.7 निम्नलिखित में से कौन सा कार्य शिक्षा की सफलता के लिए आवश्यक नहीं है?

- Ans  A. व्यापकता  
 B. सहयोग की भावना  
 C. अहंकेन्द्रवाद  
 D. श्रम की गरिमा

Question ID : 75322913353

Q.8 निम्नलिखित में से कौन सा गैर-जीवाणु रोग है?

- Ans  A. न्यूमोनिया  
 B. उपदंश  
 C. यक्ष्मा  
 D. इनफ्लुएंज़ा

Question ID : 75322913347

Q.9 मनोलैंगिक सिद्धांत निम्न के द्वारा दिया गया है?

- Ans  A. प्याज़े  
 B. वाइगोत्सकी  
 C. सिग्मंड फ्रायड  
 D. एरिक्सन

Question ID : 75322913343

Q.10 मलेरिया किसके कारण होता है?

- Ans  A. प्लास्मोडियम  
 B. कवक  
 C. एडीज  
 D. वाइब्रियो बैक्टीरिया

Question ID : 75322913348

Q.11 कूबड़ निम्नलिखित में से किस आसन (पोस्ट्यूरल) विकृति से संबंधित है?

- Ans  A. घुटने तोड़ना  
 B. रीढ़ का एक तरफ़ से झुका हुआ  
 C. खोखली पीठ  
 D. गोल ऊपरी पीठ

Question ID : 75322913352

Q.12 वित्त और प्रबंधन का पर्यवेक्षण और निगरानी निम्न के द्वारा की जाती है:

- Ans  A. PTA  
 B. समिति के सदस्य  
 C. SMC  
 D. प्रधानाचार्य और उप प्रधानाचार्य

Question ID : 75322913361

Q.13 निम्नलिखित में से कौन सी अवस्था तथ्यों से संबंधित है न कि संवेग या अनुभूति से?

- Ans  A. जनक अहंकार अवस्था  
 B. वयस्क अहंकार अवस्था  
 C. शिशु अहंकार अवस्था  
 D. बाल अहंकार अवस्था

Question ID : 75322913360



Q.14 निम्नलिखित में से कौन सा एक असंक्रामक रोग है?

- Ans  A. कर्क रोग  
 B. खसरा  
 C. छोटी माता  
 D. यक्ष्मा

Question ID : 75322913351

Q.15 निम्नलिखित में से कौन सा कार्य शिक्षा के लिए गतिविधियों के चयन के लिए प्रासंगिक क्षेत्र नहीं है?

- Ans  A. स्वास्थ्य विज्ञान  
 B. उद्यमिता  
 C. पोषण  
 D. निवास स्थान

Question ID : 75322913355

Q.16 एरिक्सन का दावा है कि किशोर कुछ समय के लिए अपने शरीर के बारे में असहज महसूस कर सकते हैं जब तक कि वे परिवर्तनों को अनुकूलित और "विकसित" नहीं कर लेते। इस अवस्था में सफलता निम्न के गुण की ओर ले जाएगी

- Ans  A. प्रयोजन  
 B. आशा  
 C. मर्जी  
 D. निष्ठा

Question ID : 75322913346

Q.17 निम्नलिखित में से कौन सा कार्य शिक्षा की अधिगम प्रक्रिया में एक चरण नहीं है?

- Ans  A. योजना का पालन करना  
 B. योजना को सक्रिय करना  
 C. गतिविधियों की योजना बनाना  
 D. लक्ष्य निर्धारित करना

Question ID : 75322913357

Q.18 निम्नलिखित में से किस राष्ट्रीय शिक्षा नीति में समाजोपयोगी उत्पादक कार्य की अवधारणा को पेश किया गया था?

- Ans  A. कोठारी आयोग  
 B. NEP 2000  
 C. NEP 2005  
 D. NEP 1986

Question ID : 75322913354

Q.19 निम्नलिखित में से कौन सी अवस्था है जहां व्यक्तित्व का हिस्सा हमारे माता-पिता से गृहीत किया हुआ है या वे लोग जिन्होंने उनकी जगह ली हुई है, और हमारे दैनिक जीवन में माता-पिता और सत्तावादी व्यक्ति से गृहीत किया गया है?

- Ans  A. जनक अहंकार अवस्था  
 B. बाल अहंकार अवस्था  
 C. वयस्क अहंकार अवस्था  
 D. शिशु अहंकार अवस्था

Question ID : 75322913359

Q.20 निम्नलिखित में से कौन सा विद्यालय प्रबंधन समिति का सिद्धांत नहीं है?

- Ans  A. निगमनात्मक चिंतन सिद्धांत  
 B. समुदाय सिद्धांत  
 C. जवाबदेही सिद्धांत  
 D. सामूहिक नेतृत्व का सिद्धांत

Question ID : 75322913362

