



Teachingninja.in

DSSSB PRT 25 Mar 2022 Shift 1 Paper

- ★ Latest Govt Job updates
- ★ Private Job updates
- ★ Free Mock tests available

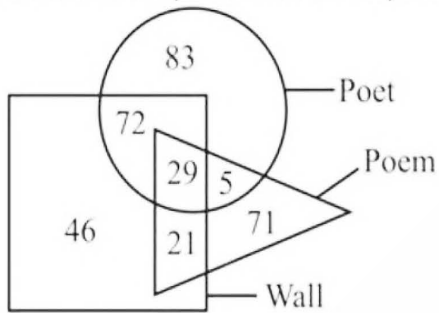
Visit - teachingninja.in

Test Date	25/03/2022
Test Time	8:30 AM - 10:30 AM
Subject	ASSISTANT TEACHER PRIMARY

Section : Mental Ability

Q.1 Based on the given venn diagram, which of the following statement(s) is/are correct?

- I. The number of walls which are not poem is 46.
- II. The number of poems which are not poet is 71.



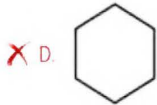
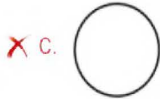
- Ans
- A. Only II
 - B. Only I
 - C. Neither I nor II
 - D. Both I and II

Question ID : 1034357598

Q.2 Which figure is similar to the given figures?



Ans



Question ID : 1034357601

Q.3 In the following question, a group of letters is given. The letters of each group are related with the letters of the same group by some Logic/Rule/Relation. From the given alternatives, select a group of letters which follows the same Logic/Rule/Relation.
(BQ, VW, PC)

- Ans A. (EP, YV, SB)
 B. (ZF, TL, NT)
 C. (LD, FJ, AP)
 D. (MG, GM, BS)

Question ID : 1034357588

Q.4 In a certain code language, 'SLOWERS' is written as 'VUHZROV'. What is the code for 'NATURAL' in that code language?

- Ans A. ODUXXDQ
 B. ODUXWDQ
 C. ODUYWDQ
 D. ODUYXDQ

Question ID : 1034357589

Q.5 Arrange the given words in the sequence in which they occur in the dictionary.

1. Kaiser
2. Kasakas
3. Kabalas
4. Kakapos
5. Kababs

- Ans A. 53241
 B. 52341
 C. 53214
 D. 53142

Question ID : 1034357584

Q.6 If North becomes North-west and South-east becomes east, then, what will West become?

Ans A. South-west

B. North-east

C. East

D. South

Question ID : 1034357599

Q.7 In the following question below are given some statements followed by some conclusions based on those statements. Taking the given statements to be true even if they seem to be at variance from commonly known facts. Read all the conclusions and then decide which of the given conclusion logically follows the given statements.

Statements:

I. Some D are R.

II. No R is P.

Conclusions:

I. Some D are not P.

II. Some P are not D.

Ans A. Only conclusion II follows

B. Only conclusion I follows

C. Both conclusion I and II follows

D. Neither conclusion follows

Question ID : 1034357593

Q.8 In the following question, select the number which can be placed at the sign of question mark (?) from the given alternatives.

2	4	6
3	5	7
13	41	?

Ans A. 95

B. 91

C. 81

D. 85

Question ID : 1034357595

Q.9 Rohit walks 40 metre. He turns to the left and walks 30 metre. He turns to the right and walks 35 metre. He again turns to the right and walks 60 metre. Finally, he turns to the right and walks 115 metre. Which of the following statement is correct?

I. The distance between starting point and finishing point is 40 metre.

II. If now Rohit is facing towards the east, then he would have started walking towards the west.

Ans A. Only I

B. Only II

C. Neither I nor II

D. Both I and II

Question ID : 1034357600

Q.10 In the following question below are given some statements followed by some conclusions based on those statements. Taking the given statements to be true even if they seem to be at variance from commonly known facts. Read all the conclusions and then decide which of the given conclusion logically follows the given statements.

Statements:

I. Some A are B.

II. All B are C.

III. No A is D.

Conclusions:

I. Some B are C.

II. Some B are not D.

III. Some D are not C.

- Ans
- A. Both conclusion I and III follows
 - B. Both conclusion II and III follows
 - C. All conclusion follows
 - D. Both conclusion I and II follows

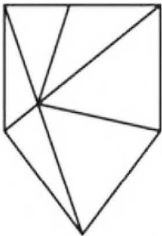
Question ID : 1034357594

Q.11 A team of six members is to be selected among nine members M1, M2, M3, M4, M5, M6, M7, M8 and M9. M3 and M7 have to be selected together. M4 and M8 cannot be selected together. Either M2 or M5 has to be selected with M7. Neither M1 nor M6 can be selected with M9. Which of the following members can be selected?

- Ans
- A. M2, M3, M5, M6, M8, M9
 - B. M1, M3, M5, M6, M7, M9
 - C. M1, M2, M4, M5, M6, M8
 - D. M1, M2, M3, M4, M6, M7

Question ID : 1034357591

Q.12 How many triangles are there in the given figure?



- Ans
- A. 8
 - B. 9
 - C. 7
 - D. 10

Question ID : 1034357602

Q.13 In the following question, select the related letters from the given alternatives.

NC : PD :: PR : ?

- Ans
- A. RS
 - B. RQ
 - C. QT
 - D. QS

Question ID : 1034357587

Q.14 Five boys A, B, C, D and E eat five different types of food F1, F2, F3, F4 and F5 (not necessarily in the same order). Each also likes a different bird namely B1, B2, B3, B4 and B5 (not necessarily in the same order). B eats F2. A does not like B3. E eats F1, but he does not like B1 or B2. C does not eat F4, but he likes B5. The one who eats F3, likes B3. B does not like B2. Which of the following statements are correct?
I. A likes B2.
II. C eats F5.
III. E likes B4.

- Ans A, I, II and III
 B, I and III
 C, II and III
 D, I and II

Question ID : 1034357592

Q.15 A series is given with one term wrong. Select that wrong term from the given alternatives.
DSL, WNR, PIX, IDC, BYJ, UTP

- Ans A. UTP
 B. BYJ
 C. IDC
 D. PIX

Question ID : 1034357585

Q.16 एक तस्वीर में एक पुरुष की ओर संकेत करते हुए सीता ने कहा, "वह मेरी माता का इकलौता भाई है"। वह पुरुष, सीता से किस प्रकार संबंधित है?

- Ans A. पिता
 B. भाई
 C. मामा
 D. पुत्र

Question ID : 1034357590

Q.17 निम्नलिखित प्रश्न में दिए गए विकल्पों में से विषम शब्द को चुनिए।

- Ans A. मगरमच्छ
 B. छिपकली
 C. गिरगिट
 D. चूहा

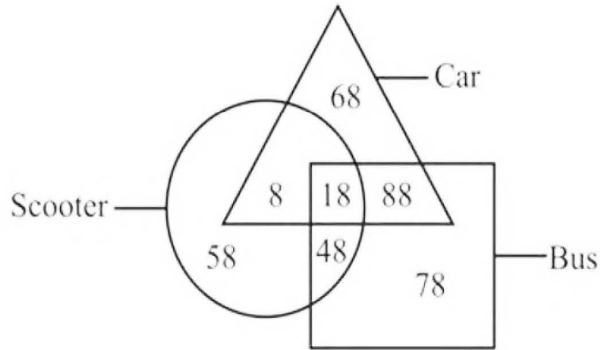
Question ID : 1034357586

Q.18 Two adjacent faces of a solid cube are painted with black colour. The faces opposite to the black faces is painted with blue colour while the remaining faces are painted with yellow colour. After painting, this cube has been divided into 125 equal cubes. How many cubes have no faces painted?

- Ans A. 8
 B. 35
 C. 27
 D. 24

Question ID : 1034357603

Q.19 How many cars are scooter, but not bus?



- Ans A. 18
 B. 8
 C. 76
 D. 26

Question ID : 1034357597

Q.20 A series is given with one term wrong. Select that wrong term from the given alternatives.
132, 67, 68, 103, 207, 518

- Ans A. 132
 B. 518
 C. 207
 D. 67

Question ID : 1034357596

Section : General Awareness

Q.1 Gautamiputra Shri Satakarni was the ruler of the _____ dynasty.

- Ans A. Cholas
 B. Cheras
 C. Pandayas
 D. Satavahanas

Question ID : 1034357615

Q.2 Which of the following statement is correct?

- I. Parliament has the power to regulate the right of citizenship in India.
II. Fundamental rights are mentioned in part III of Indian constitution.

- Ans A. Only II
 B. Neither I nor II
 C. Both I and II
 D. Only I

Question ID : 1034357621

Q.3 Which of the following is NOT a Kharif crop?

- Ans A. Maize
 B. Jowar
 C. Barley
 D. Bajra

Question ID : 1034357612

Q.4 In 2021 how many persons have been awarded with Padma Shri?

- Ans A. 102
 B. 112
 C. 29
 D. 7

Question ID : 1034357619

Q.5 Which country will host the 2023 ICC Men's Cricket World Cup?

- Ans A. South Africa
 B. Sri Lanka
 C. India
 D. Australia

Question ID : 1034357622

Q.6 Article 5 to 11 of the Indian constitution deal with _____.

- Ans A. Fundamental rights
 B. Fundamental duties
 C. Union executive
 D. Citizenship

Question ID : 1034357620

Q.7 The motion of the moon around the earth is due to the _____.

- Ans A. Gravitational force
 B. Centripetal force
 C. Friction force
 D. Centrifugal force

Question ID : 1034357608

Q.8 Who started the newspaper Kesari?

- Ans A. Lala Lajpat Rai
 B. Mahatma Gandhi
 C. Bipin Chandra Pal
 D. Balgangadhar Tilak

Question ID : 1034357614

Q.9 Which pair of sports – Number of players is correct?

I. Polo – 4

II. Rugby – 11

Ans A. Neither I nor II

B. Only I

C. Only II

D. Both I and II

Question ID : 1034357623

Q.10 The new Rs. 20 denomination bank note in the Mahatma Gandhi (new) series has a motif of _____.

Ans A. Rani ki Vav

B. Ellore caves

C. Mangalayan

D. Red fort

Question ID : 1034357607

Q.11 Who has been appointed as new health minister of India in July 2021?

Ans A. Mansukh Mandaviya

B. Ashwini Vaishnav

C. Shri Arjun Munda

D. Dr. Harshvardhan

Question ID : 1034357618

Q.12 Which pair of dynasty – related place is correct?

I. Cholas – Uraiyur

II. Pallava – Kanchipuram

Ans A. Neither I nor II

B. Only I

C. Both I and II

D. Only II

Question ID : 1034357616

Q.13 pH of a neutral solution is _____.

Ans A. 2

B. 9

C. 7

D. 10

Question ID : 1034357609

Q.14 Who is the author of book "A Promised Land"?

- Ans A. Imran Khan
 B. Barack Obama
 C. Shinzo Abe
 D. Narendra Modi

Question ID : 1034357617

Q.15 Which of the following state does not share its boundary with China?

- Ans A. Himachal Pradesh
 B. Uttarakhand
 C. West Bengal
 D. Arunachal Pradesh

Question ID : 1034357611

Q.16 Which of the following statement is correct?

- I. The part of the Himalayas lying between Satluj and Kali rivers is known as Kumaun Himalayas.
II. The outer most range of the Himalayas is called lesser Himalaya.

- Ans A. Only II
 B. Both I and II
 C. Only I
 D. Neither I nor II

Question ID : 1034357613

Q.17 Which of the following is an example of indirect tax?

- Ans A. Estate duty
 B. Wealth tax
 C. Gift tax
 D. Excise tax

Question ID : 1034357606

Q.18 Which of the following pair is correct?

- I. Gymnosperms – Bear seeds inside fruits
II. Angiosperms – Bear naked seeds

- Ans A. Neither I nor II
 B. Only II
 C. Only I
 D. Both I and II

Question ID : 1034357610

Q.19 The Hill Palace Museum is situated in which state of India?

- Ans
- A. Karnataka
 - B. Maharashtra
 - C. Kerala
 - D. Tamil Nadu

Question ID : 1034357605

Q.20 'Shigmotsav' festival is celebrated in which state of India?

- Ans
- A. Rajasthan
 - B. Goa
 - C. Tamil Nadu
 - D. Uttar Pradesh

Question ID : 1034357604

Section : Arithmetic Ability

Q.1 Side of a rhombus is 26 cm. Length of one of its diagonal is 20 cm. Sum of the length of diagonals of this rhombus is equal to the perimeter of a rectangle. If the difference between length and breadth of rectangle is 6 cm, then what is the area of rectangle?

- Ans
- A. 320 cm^2
 - B. 340 cm^2
 - C. 360 cm^2
 - D. 280 cm^2

Question ID : 1034357640

Q.2 A company retains 80 percent of its total profit and divides rest of the profit among its 21 employees. The ratio of the number of senior employees to the number of junior employees is 4 : 3. The profit share of each senior employee and each junior employee is in the ratio of 4 : 1 respectively. If each junior employee gets Rs. 2200 as his share of profit, then what is the total profit of the company?

- Ans
- A. Rs. 627000
 - B. Rs. 636000
 - C. Rs. 644000
 - D. Rs. 752000

Question ID : 1034357634

Q.3

What is the value of $\sqrt{\frac{(0.56)^2 + (0.66)^2 + (0.0076)^2}{(0.056)^2 + (0.066)^2 + (0.00076)^2}}$?

- Ans A. 10
 B. 1/10
 C. 1
 D. 100

Question ID : 1034357626

Q.4 What is the value of $48 \div 3 \times 5 - 6 \times 3 + 5$?

- Ans A. 67
 B. 62
 C. 52
 D. 53

Question ID : 1034357624

Q.5 The average age of 13 students of a class is 16 years. If a new student of age 30 years joins the class, then what will be the average age of these 14 students?

- Ans A. 17 years
 B. 19 years
 C. 22 years
 D. 21 years

Question ID : 1034357629

Q.6 एक कार का मूल्य 50 प्रतिशत प्रति वर्ष की दर से कम होता है। यदि उसका वर्तमान मूल्य 75000 रुपये है, तो 3 वर्ष पूर्व कार का मूल्य क्या था?

- Ans A. 300000 रुपये
 B. 600000 रुपये
 C. 750000 रुपये
 D. 450000 रुपये

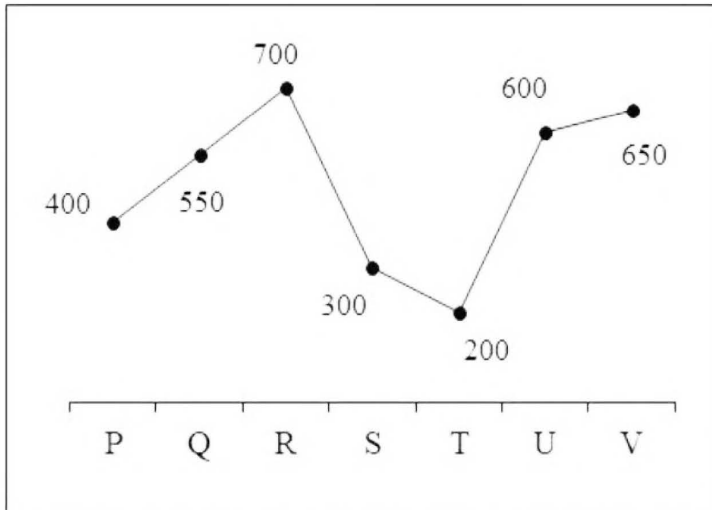
Question ID : 1034357631

Q.7 If speed of boat in still water is 18 km/hr and the speed of stream is 8 km/hr, then what is the upstream and downstream speed of the boat respectively?

- Ans A. 12 km/hr, 24 km/hr
 B. 10 km/hr, 26 km/hr
 C. 26 km/hr, 10 km/hr
 D. 16 km/hr, 32 km/hr

Question ID : 1034357636

Q.8 The line chart given below shows the number of cars sold by 7 different companies.



The number of cars sold by P is how much percent more than the number of cars sold by T?

- Ans A. 100 percent
 B. 150 percent
 C. 50 percent
 D. 10 percent

Question ID : 1034357642

Q.9 Pipe J can fill a tank in 48 hours and Pipe K can fill the same tank in 72 hours. If both the pipes are opened on alternate hours one at a time and pipe K is opened for first hour, then in how much time will the tank be completely full?

- Ans A. $57\frac{1}{3}$ hours
 B. $57\frac{2}{3}$ hours
 C. $59\frac{2}{9}$ hours
 D. 58 hours

Question ID : 1034357638

Q.10 A person buys three helmets at the rate of Rs. 2000 per helmet. He sells first helmet at a profit of 60 percent, sells second helmet at a loss of 20 percent and sells third helmet at a loss of 30 percent. What is the total percentage of profit earned in the whole transaction?

- Ans A. 20 percent
 B. 3.33 percent
 C. 10 percent
 D. 15 percent

Question ID : 1034357632

Q.11 If $\sqrt{16 + 6\sqrt{7}} = \sqrt{x} + \sqrt{y}$, then what is the value of $x + y$?

- Ans
- A. 20
 - B. 10
 - C. 16
 - D. 18

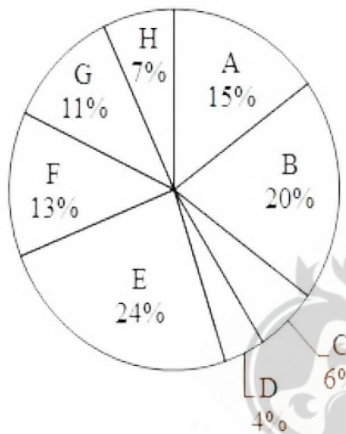
Question ID : 1034357627

Q.12 Three partners P, Q and R share profit such that 2 times of the P's share is equal to 3 times of the Q's share and equal to 6 times of the R's share. What is the ratio of the profits of P, Q and R respectively?

- Ans
- A. 2 : 1 : 3
 - B. 1 : 2 : 3
 - C. 3 : 2 : 1
 - D. 3 : 2 : 4

Question ID : 1034357633

Q.13 The pie chart given below shows the marks obtained by a student in 8 different subjects. The total marks obtained by the student is 600. Marks obtained in a particular subject is shown as a percent of total marks obtained in all these 8 subjects.



Which of the following statement is correct?

- I. The ratio of marks obtained in subject D to the marks obtained in subject E is 1 : 6.
- II. The average of marks obtained in subject A, B, C and H are 41.
- III. The central angle formed by sectors F and G together are 86.4 degree.

- Ans
- A. II and III
 - B. I and II
 - C. I, II and III
 - D. I and III

Question ID : 1034357641

Q.14 If a number 987X8 is exactly divisible by 8, then what is the value of X?

- Ans A. 4
 B. 0
 C. 2
 D. 5

Question ID : 1034357625

Q.15 Suraj starts his journey from point Q at 1 p.m. He drives the car at the speed of 50 km/hr for first three hours and complete the remaining journey at the speed of 20 km/hr. If Rahul starts moving towards Suraj at 6 p.m. from point Q at the speed of 60 km/hr, then at what time will he catch Suraj?

- Ans A. 9:30 pm
 B. 10:45 pm
 C. 9:00 pm
 D. 11:15 pm

Question ID : 1034357637

Q.16 On compound interest (compounding annually) a certain sum becomes 3 times of itself in 4 years. In how many years will it become 9 times of itself?

- Ans A. 12 years
 B. 8 years
 C. 16 years
 D. 10 years

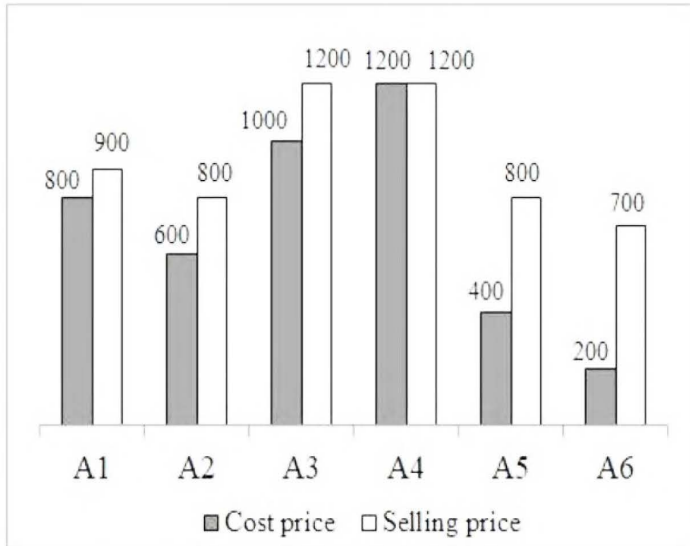
Question ID : 1034357635

Q.17 Total surface area of a hemisphere is 1848 cm^2 . What is the radius of this hemisphere?

- Ans A. 28 cm
 B. 35 cm
 C. 14 cm
 D. 21 cm

Question ID : 1034357639

Q.18 The bar graph given below shows the cost price and selling price of 6 articles.



Profit = Selling price - Cost price

P1 = The average value of profit of all 6 articles.

P2 = The difference between total cost price and total selling price of all 6 articles.

What is the value of (P2/P1)?

- Ans
- A. 3
 - B. 6
 - C. 4
 - D. 2

Question ID : 1034357643

Q.19 What is the digit at the unit place $28^{96} \times 26^{92} \times 94^{22}$?

- Ans
- A. 4
 - B. 8
 - C. 6
 - D. 9

Question ID : 1034357628

Q.20 In a class, 40 percent are boys and the number of girls are 54. What is the number of boys in the class?

- Ans
- A. 37
 - B. 34
 - C. 36
 - D. 33

Question ID : 1034357630

Section : General English

Q.1 In the given question, four words are given out of which one word is correctly spelt.
Choose the correctly spelt word.

- Ans A. Picturesque
 B. Pictureasque
 C. Picturesck
 D. Pictureske

Question ID : 1034357655

Q.2 Rearrange the parts of the sentence in correct order.

When grandfather first
P: Showed me the pond world
Q: Sat for an hour lazily
R: He chose a dry place in the shade of
S: An old peepul tree where we

- Ans A. PQRS
 B. QRSP
 C. RQPS
 D. PRSQ

Question ID : 1034357650

Q.3 Rearrange the parts of the sentence in correct order.

P: For instance, they can provide information to prevent traffic jams.
Q: They can also solve the most complex mathematical problems.
S: Computers are capable of doing extremely complicated works.
R: These machines can be put to varied uses in daily life as well scientific researches.

- Ans A. SRPQ
 B. QRSP
 C. SQRP
 D. RQSP

Question ID : 1034357651

Q.4 Choose the word that means the same as the given word.
Waver

- Ans A. Voucher
 B. Waiver
 C. Vaccinate
 D. Vacillate

Question ID : 1034357652

Q.5 In the following question, out of the given four alternatives, select the alternative which best expresses the meaning of the Idiom/Phrase.
High and mighty

- Ans A. Arrogant
 B. Prominent
 C. Admiring
 D. Respectful

Question ID : 1034357656

Q.6 Select the most appropriate option to substitute the underlined segment in the given sentence. If no substitution is required, select 'No improvement' as your answer.

Satish, could you beaten the bear?

- Ans A. No improvement
 B. could you beat
 C. had you beat
 D. could you have beating

Question ID : 1034357646

Q.7 Select the most appropriate option to substitute the underlined segment in the given sentence. If no substitution is required, select 'No improvement' as your answer.

You would had been prepared for the exam.

- Ans A. No improvement
 B. would have been preparing to
 C. would have been prepared for
 D. would had prepared for

Question ID : 1034357647

Q.8 Choose the word that is opposite in meaning to the given word.
Acrimonious

- Ans A. Morbid
 B. Gentle
 C. Slavish
 D. Mordant

Question ID : 1034357653

Q.9 In the following question, out of the given four alternatives, select the alternative which best expresses the meaning of the Idiom/Phrase.
To put heads together

- Ans A. To destroy the work
 B. To share the responsibilities
 C. To put no effort
 D. To consult together

Question ID : 1034357657

Q.10 Find the part of the given sentence that has an error in it. If there is no error, choose 'No error'.
Educational platforms can be a productive way (1)/for parents to use technology (2)/to support there child's early learning (3)/.No error (4)

- Ans
- A. 1
 - B. 2
 - C. 3
 - D. 4

Question ID : 1034357645

Q.11 Choose the word that can substitute the given sentence.
One that is in a war-like mood

- Ans
- A. Belligerent
 - B. Conference
 - C. Bereavement
 - D. Resilient

Question ID : 1034357658

Q.12 Find the part of the given sentence that has an error in it. If there is no error, choose 'No error'.
I am too glad to(1)/meet you after (2)/ so many days (3)/.No error (4)

- Ans
- A. 3
 - B. 2
 - C. 1
 - D. 4

Question ID : 1034357644

Q.13 A sentence has been given with a blank to be filled with an appropriate word. Choose the correct alternative.

Jane gets pretty _____ when she is drunk.

- Ans
- A. innate
 - B. sulk
 - C. vicious
 - D. glowing

Question ID : 1034357648

Q.14 In the given question, four words are given out of which one word is correctly spelt. Choose the correctly spelt word.

- Ans
- A. Harmonus
 - B. Harmonous
 - C. Harmonious
 - D. Harmonyus

Question ID : 1034357654

Q.15 A sentence has been given with a blank to be filled with an appropriate word. Choose the correct alternative.

Bread and butter _____ my favourite snack for the breakfast.

- Ans
- A. make
 - B. were
 - C. is
 - D. are

Question ID : 1034357649

Comprehension:

Read the following information carefully and answer the given questions.

The history of hypnosis is as ancient as that of sorcery, magic, and medicine; indeed, hypnosis has been used as a method in all three. Its scientific history began in the latter part of the 18th century with Franz Mesmer, a German physician who used hypnosis in the treatment of patients in Vienna and Paris. Because of his mistaken belief that hypnotism made use of an occult force (which he termed "animal magnetism") that flowed through the hypnotist into the subject, Mesmer was soon discredited; but Mesmer's method—named mesmerism after its creator—continued to interest medical practitioners. A number of clinicians made use of it without fully understanding its nature until the middle of the 19th century, when the English physician James Braid studied the phenomenon and coined the terms hypnotism and hypnosis, after the Greek god of sleep, Hypnos. Hypnosis attracted widespread scientific interest in the 1880s. Ambroise-Auguste Liébeault, an obscure French country physician who used mesmeric techniques, drew the support of Hippolyte Bernheim, a professor of medicine at Strasbourg. Independently they had written that hypnosis involved no physical forces and no physiological processes but was a combination of psychologically mediated responses to suggestions. During a visit to France at about the same time, Austrian physician Sigmund Freud was impressed by the therapeutic potential of hypnosis for neurotic disorders. On his return to Vienna, he used hypnosis to help neurotics recall disturbing events that they had apparently forgotten. As he began to develop his system of psychoanalysis, however, theoretical considerations—as well as the difficulty he encountered in hypnotizing some patients—led Freud to discard hypnosis in favour of free association.

Despite Freud's influential adoption and then rejection of hypnosis, some use was made of the technique in the psychoanalytic treatment of soldiers who had experienced combat neuroses during World Wars I and II. Hypnosis subsequently acquired other limited uses in medicine. Various researchers have put forth differing theories of what hypnosis is and how it might be understood, but there is still no generally accepted explanatory theory for the phenomenon.

SubQuestion No : 16

Q.16 The passage mainly talks about:

- Ans
- A. Hypnosis and its loopholes.
 - B. The history and early research of hypnosis.
 - C. The present state of hypnosis.
 - D. Application of hypnosis.

Question ID : 1034357660

Comprehension:

Read the following information carefully and answer the given questions.

The history of hypnosis is as ancient as that of sorcery, magic, and medicine; indeed, hypnosis has been used as a method in all three. Its scientific history began in the latter part of the 18th century with Franz Mesmer, a German physician who used hypnosis in the treatment of patients in Vienna and Paris. Because of his mistaken belief that hypnotism made use of an occult force (which he termed "animal magnetism") that flowed through the hypnotist into the subject, Mesmer was soon discredited; but Mesmer's method—named mesmerism after its creator—continued to interest medical practitioners. A number of clinicians made use of it without fully understanding its nature until the middle of the 19th century, when the English physician James Braid studied the phenomenon and coined the terms hypnotism and hypnosis, after the Greek god of sleep, Hypnos. Hypnosis attracted widespread scientific interest in the 1880s. Ambroise-Auguste Liébeault, an obscure French country physician who used mesmeric techniques, drew the support of Hippolyte Bernheim, a professor of medicine at Strasbourg. Independently they had written that hypnosis involved no physical forces and no physiological processes but was a combination of psychologically mediated responses to suggestions. During a visit to France at about the same time, Austrian physician Sigmund Freud was impressed by the therapeutic potential of hypnosis for neurotic disorders. On his return to Vienna, he used hypnosis to help neurotics recall disturbing events that they had apparently forgotten. As he began to develop his system of psychoanalysis, however, theoretical considerations—as well as the difficulty he encountered in hypnotizing some patients—led Freud to discard hypnosis in favour of free association.

Despite Freud's influential adoption and then rejection of hypnosis, some use was made of the technique in the psychoanalytic treatment of soldiers who had experienced combat neuroses during World Wars I and II. Hypnosis subsequently acquired other limited uses in medicine. Various researchers have put forth differing theories of what hypnosis is and how it might be understood, but there is still no generally accepted explanatory theory for the phenomenon.

SubQuestion No : 17

Q.17 According to the given passage, which of the following statements is incorrect?

- Ans
- A. There is still no generally accepted explanatory theory for the phenomenon called hypnosis.
 - B. Sigmund Freud used hypnosis to help neurotics recall disturbing events that they had apparently forgotten.
 - C. The scientific history of hypnosis began in the latter part of the 17th century.
 - D. Hypnosis subsequently acquired other limited uses in medicine.

Question ID : 1034357662



Comprehension:

Read the following information carefully and answer the given questions.

The history of hypnosis is as ancient as that of sorcery, magic, and medicine; indeed, hypnosis has been used as a method in all three. Its scientific history began in the latter part of the 18th century with Franz Mesmer, a German physician who used hypnosis in the treatment of patients in Vienna and Paris. Because of his mistaken belief that hypnotism made use of an occult force (which he termed "animal magnetism") that flowed through the hypnotist into the subject, Mesmer was soon discredited; but Mesmer's method—named mesmerism after its creator—continued to interest medical practitioners. A number of clinicians made use of it without fully understanding its nature until the middle of the 19th century, when the English physician James Braid studied the phenomenon and coined the terms hypnotism and hypnosis, after the Greek god of sleep, Hypnos. Hypnosis attracted widespread scientific interest in the 1880s. Ambroise-Auguste Liébeault, an obscure French country physician who used mesmeric techniques, drew the support of Hippolyte Bernheim, a professor of medicine at Strasbourg. Independently they had written that hypnosis involved no physical forces and no physiological processes but was a combination of psychologically mediated responses to suggestions. During a visit to France at about the same time, Austrian physician Sigmund Freud was impressed by the therapeutic potential of hypnosis for neurotic disorders. On his return to Vienna, he used hypnosis to help neurotics recall disturbing events that they had apparently forgotten. As he began to develop his system of psychoanalysis, however, theoretical considerations—as well as the difficulty he encountered in hypnotizing some patients—led Freud to discard hypnosis in favour of free association.

Despite Freud's influential adoption and then rejection of hypnosis, some use was made of the technique in the psychoanalytic treatment of soldiers who had experienced combat neuroses during World Wars I and II. Hypnosis subsequently acquired other limited uses in medicine. Various researchers have put forth differing theories of what hypnosis is and how it might be understood, but there is still no generally accepted explanatory theory for the phenomenon.

SubQuestion No : 18

Q.18 Who coined the term hypnotism after the Greek god of sleep?

- Ans
- A. Hippolyte Bernheim
 - B. Franz Mesmer
 - C. James Braid
 - D. Sigmund Freud

Question ID : 1034357661



Comprehension:

Read the following information carefully and answer the given questions.

The history of hypnosis is as ancient as that of sorcery, magic, and medicine; indeed, hypnosis has been used as a method in all three. Its scientific history began in the latter part of the 18th century with Franz Mesmer, a German physician who used hypnosis in the treatment of patients in Vienna and Paris. Because of his mistaken belief that hypnotism made use of an occult force (which he termed "animal magnetism") that flowed through the hypnotist into the subject, Mesmer was soon discredited; but Mesmer's method—named mesmerism after its creator—continued to interest medical practitioners. A number of clinicians made use of it without fully understanding its nature until the middle of the 19th century, when the English physician James Braid studied the phenomenon and coined the terms hypnotism and hypnosis, after the Greek god of sleep, Hypnos. Hypnosis attracted widespread scientific interest in the 1880s. Ambroise-Auguste Liébeault, an obscure French country physician who used mesmeric techniques, drew the support of Hippolyte Bernheim, a professor of medicine at Strasbourg. Independently they had written that hypnosis involved no physical forces and no physiological processes but was a combination of psychologically mediated responses to suggestions. During a visit to France at about the same time, Austrian physician Sigmund Freud was impressed by the therapeutic potential of hypnosis for neurotic disorders. On his return to Vienna, he used hypnosis to help neurotics recall disturbing events that they had apparently forgotten. As he began to develop his system of psychoanalysis, however, theoretical considerations—as well as the difficulty he encountered in hypnotizing some patients—led Freud to discard hypnosis in favour of free association.

Despite Freud's influential adoption and then rejection of hypnosis, some use was made of the technique in the psychoanalytic treatment of soldiers who had experienced combat neuroses during World Wars I and II. Hypnosis subsequently acquired other limited uses in medicine. Various researchers have put forth differing theories of what hypnosis is and how it might be understood, but there is still no generally accepted explanatory theory for the phenomenon.

SubQuestion No : 19

Q.19 Which of the following pairs is/are correctly matched?

- I. Franz Mesmer- German Physician
- II. Sigmund Freud- French Physician
- III. Ambroise-Auguste Liébeault- Austrian Physician

- Ans
- A. Only II
 - B. Only I
 - C. I, II and III
 - D. II and III

Question ID : 1034357663

Comprehension:

Read the following information carefully and answer the given questions.

The history of hypnosis is as ancient as that of sorcery, magic, and medicine; indeed, hypnosis has been used as a method in all three. Its scientific history began in the latter part of the 18th century with Franz Mesmer, a German physician who used hypnosis in the treatment of patients in Vienna and Paris. Because of his mistaken belief that hypnotism made use of an occult force (which he termed "animal magnetism") that flowed through the hypnotist into the subject, Mesmer was soon discredited; but Mesmer's method—named mesmerism after its creator—continued to interest medical practitioners. A number of clinicians made use of it without fully understanding its nature until the middle of the 19th century, when the English physician James Braid studied the phenomenon and coined the terms hypnotism and hypnosis, after the Greek god of sleep, Hypnos. Hypnosis attracted widespread scientific interest in the 1880s. Ambroise-Auguste Liébeault, an obscure French country physician who used mesmeric techniques, drew the support of Hippolyte Bernheim, a professor of medicine at Strasbourg. Independently they had written that hypnosis involved no physical forces and no physiological processes but was a combination of psychologically mediated responses to suggestions. During a visit to France at about the same time, Austrian physician Sigmund Freud was impressed by the therapeutic potential of hypnosis for neurotic disorders. On his return to Vienna, he used hypnosis to help neurotics recall disturbing events that they had apparently forgotten. As he began to develop his system of psychoanalysis, however, theoretical considerations—as well as the difficulty he encountered in hypnotizing some patients—led Freud to discard hypnosis in favour of free association.

Despite Freud's influential adoption and then rejection of hypnosis, some use was made of the technique in the psychoanalytic treatment of soldiers who had experienced combat neuroses during World Wars I and II. Hypnosis subsequently acquired other limited uses in medicine. Various researchers have put forth differing theories of what hypnosis is and how it might be understood, but there is still no generally accepted explanatory theory for the phenomenon.

SubQuestion No : 20

Q.20 What is the synonym of the word- 'impressed' as used in the passage?

- Ans A. Concerned
 B. Dazzled
 C. Grieved
 D. Beguiled

Question ID : 1034357664

Section : General Hindi

Q.1 दिए गए वाक्य की वृत्ति ज्ञात कीजिए।
उसने गोल्ड मेडल जीता होगा।

- Ans A. आज्ञार्थक
 B. संकेतार्थक
 C. निश्चिन्वार्थक
 D. संदेहार्थक

Question ID : 1034357675

Q.2 निम्नलिखित शब्दों में से कौन-सा शब्द समूहवाचक संज्ञा है ज्ञात कीजिए।

- Ans A. गेहूँ
 B. गुलाब
 C. अच्छाई
 D. गह्वी

Question ID : 1034357665

Q.3 दिए गए वाक्य में उपयुक्त विराम चिह्न का चयन कीजिए।
सवेरा हुआ चिड़िया चहचहाने लगी।

- Ans
- A. :-
 - B. ;
 - C. ,
 - D. ;

Question ID : 1034357676

Q.4 दिए गए शब्द युग्म का सही शब्द युग्म ज्ञात कीजिए।
शुल्क : शुक्ल

- Ans
- A. टैक्स : रात
 - B. फीस : टैक्स
 - C. टैक्स : लय
 - D. फीस : उजला

Question ID : 1034357671

Q.5 दिए गए शब्द का प्रत्यय ज्ञात कीजिए।
चिल्लाहट

- Ans
- A. ट
 - B. लाहट
 - C. हट
 - D. आहट

Question ID : 1034357667

Q.6 दिए गए शब्द युग्म का सही शब्द युग्म ज्ञात कीजिए।
इंदु : इंदुर

- Ans
- A. कृतज्ञता : आज्ञा
 - B. चंद्रमा : चूहा
 - C. समाप्ति : चंद्रमा
 - D. आज्ञा : चूहा

Question ID : 1034357670

Q.7 दिए गए वाक्य में गुणवाचक विशेषण ज्ञात कीजिए।
हमारे विद्यालय के पास आम का एक विशाल वृक्ष है।

- Ans
- A. आम
 - B. विशाल
 - C. विद्यालय
 - D. वृक्ष

Question ID : 1034357666

Q.8 निम्नलिखित प्रश्न में, दिए गए चार विकल्पों में से, उस विकल्प का चयन करें जो दिए गए मुहावरे के अर्थ को सर्वश्रेष्ठ रूप से व्यक्त करता है।
गज-भर की छाती होना

- Ans A. बिल्कुल भी प्रभावित न होना
 B. व्यर्थ की परेशानी
 C. अत्यधिक गर्व का अनुभव करना
 D. विवश होना

Question ID : 1034357678

Q.9 दिए गए वाक्य में उपयुक्त विराम चिह्न का चयन कीजिए।
क्या प्रधानाचार्य आज नहीं आए हैं

- Ans A. ; ?
 B. : !
 C. " " ?
 D. , , !

Question ID : 1034357677

Q.10 निम्नलिखित वाक्यों में से सरल वाक्य ज्ञात कीजिए।

- Ans A. वर्षा होते ही मोर नाचने लगे।
 B. जैसे ही वर्षा हुई, मोर नाचने लगे।
 C. वर्षा हुई और मोर नाचने लगे।
 D. जब वर्षा हुई, तो मोर नाचने लगे।

Question ID : 1034357674

Q.11 निम्नलिखित में से कौन सा शब्द नित्य बहुवचन में प्रयोग होता है?

- Ans A. दर्शन
 B. दूध
 C. माल
 D. सामान

Question ID : 1034357672

Q.12 निम्नलिखित वाक्यों में से मिश्र वाक्य ज्ञात कीजिए।

- Ans A. राम ने एक पुरानी कार खरीदी है।
 B. राम ने जो कार खरीदी है, वह पुरानी है।
 C. राम ने एक कार खरीदी और वह पुरानी है।
 D. राम ने एक कार खरीदी है, वह पुरानी है।

Question ID : 1034357673

Q.13 दिए गए शब्दों में शुद्ध वर्तनी का चयन कीजिए।

- Ans A. अनजान
 B. अंजान
 C. अन्जान
 D. अन्नजान

Question ID : 1034357668

Q.14 दिए गए शब्द का पर्यायवाची शब्द ज्ञात कीजिए।
उत्कर्ष

- Ans A. निस्तार
 B. मुक्ति
 C. समृद्धि
 D. युक्ति

Question ID : 1034357669

Q.15 निम्नलिखित प्रश्न में, दिए गए चार विकल्पों में से, उस विकल्प का चयन करें जो दिए गए मुहावरे के अर्थ को सर्वश्रेष्ठ रूप से व्यक्त करता है।
झोंप खाना

- Ans A. लजा जाना
 B. बेचैन होना
 C. अलग हो जाना
 D. कलंकित होना

Question ID : 1034357679



Teachingninja.in

Comprehension:

एक गद्यांश दिया गया है। गद्यांश के आधार पर पाँच प्रश्न दिए गए हैं। गद्यांश को ध्यानपूर्वक पढ़ें तथा प्रत्येक प्रश्न के चार विकल्पों में से सही विकल्प चुनें।

'मैला आँचल' हिन्दी का प्रतिनिधि आंचलिक उपन्यास है और इस कारण इसके कथ्य में प्रायः वे सारी विशेषताएँ मिलती हैं, जो किसी भी आंचलिक उपन्यास में पाई जाती हैं। आंचलिक उपन्यास में जो परिवेश लिया जाता है, वह समय और स्थान के जीवन के जितने पक्ष हो सकते हैं, उन पक्षों के जितने चेहरे हो सकते हैं, वे सब उसमें पूरे विस्तार के साथ विद्यमान होते हैं। मैला आँचल भी ऐसे ही कथ्य को धारण करता है।

'मैला आँचल' में 'मेरीगंज' गाँव की विस्तृत तथा समग्र कथा को इस प्रकार प्रस्तुत किया गया है कि अँचल ही नायक बन गया है। इस उपन्यास का उद्देश्य अँचल की समस्याओं को प्रकाशित करने का ही रहा है, हालाँकि उद्देश्य रचना प्रक्रिया में घुला हुआ है। इसमें अँचल की सुन्दरता व कुरूपता दोनों का गहरा चित्रण किया गया है। इसमें जातिवाद, अफसरशाही, अवसरवादी राजनीति, मठों और आश्रमों का पाखण्ड भी दिखाया गया है। रेणु जी का मैला आँचल वस्तु और शिल्प दोनों स्तरों पर सबसे अलग है। इसमें एक नए शिल्प में ग्रामीण जीवन को दिखाया गया है।

इसकी सबसे बड़ी विशेषता यह है कि इसका नायक कोई व्यक्ति नहीं है, अपितु पूरा का पूरा अँचल ही इसका नायक है। दूसरी प्रमुख बात यह है कि मिथिलांचल की पृष्ठभूमि पर रचे इस उपन्यास में उस अँचल की भाषा विशेष का अधिक से अधिक प्रयोग किया गया है और यह प्रयोग इतना सार्थक है कि वह वहाँ के लोगों की इच्छा-आकांक्षा, रीति-रिवाज, पर्व-त्यौहार, सोच-विचार को पूरी प्रामाणिकता के साथ पाठक के सामने उपस्थित करता है।

'रेणु' का 'मेरीगंज' गाँव जीवन्त रूप में हमारे सामने है, जिसमें वहाँ के लोगों का हँसी-मज़ाक, प्रेम-घृणा, सौहार्द्र-वैमनस्य, ईर्ष्या-द्वेष, संवेदना-करुणा, सम्बन्ध शोषण आदि को पूरे उतार-चढ़ाव के साथ उकेरा गया है। इसमें जहाँ एक ओर नैतिकता के प्रति तिरस्कार का भाव है, तो वहीं दूसरी ओर नैतिकता के लिए छटपटाहट भी है। साथ ही परस्पर विरोधी मान्यताओं के बीच कहीं-न-कहीं जीवन के प्रति गहरी आस्था भी है।

SubQuestion No : 16

Q.16 "मैला आँचल" उपन्यास का नायक कौन है?

- Ans
- A. गाँव
 - B. रेणु
 - C. गाँव की सुंदरता
 - D. अंचल

Question ID : 1034357681

Comprehension:

एक गद्यांश दिया गया है। गद्यांश के आधार पर पाँच प्रश्न दिए गए हैं। गद्यांश को ध्यानपूर्वक पढ़ें तथा प्रत्येक प्रश्न के चार विकल्पों में से सही विकल्प चुनें।

'मैला आँचल' हिन्दी का प्रतिनिधि आंचलिक उपन्यास है और इस कारण इसके कथ्य में प्रायः वे सारी विशेषताएँ मिलती हैं, जो किसी भी आंचलिक उपन्यास में पाई जाती हैं। आंचलिक उपन्यास में जो परिवेश लिया जाता है, वह समय और स्थान के जीवन के जितने पक्ष हो सकते हैं, उन पक्षों के जितने चेहरे हो सकते हैं, वे सब उसमें पूरे विस्तार के साथ विद्यमान होते हैं। मैला आँचल भी ऐसे ही कथ्य को धारण करता है।

'मैला आँचल' में 'मेरीगंज' गाँव की विस्तृत तथा समग्र कथा को इस प्रकार प्रस्तुत किया गया है कि अँचल ही नायक बन गया है। इस उपन्यास का उद्देश्य अँचल की समस्याओं को प्रकाशित करने का ही रहा है, हालाँकि उद्देश्य रचना प्रक्रिया में घुला हुआ है। इसमें अँचल की सुन्दरता व कुरूपता दोनों का गहरा चित्रण किया गया है। इसमें जातिवाद, अफसरशाही, अवसरवादी राजनीति, मठों और आश्रमों का पाखण्ड भी दिखाया गया है। रेणु जी का मैला आँचल वस्तु और शिल्प दोनों स्तरों पर सबसे अलग है। इसमें एक नए शिल्प में ग्रामीण जीवन को दिखाया गया है।

इसकी सबसे बड़ी विशेषता यह है कि इसका नायक कोई व्यक्ति नहीं है, अपितु पूरा का पूरा अँचल ही इसका नायक है। दूसरी प्रमुख बात यह है कि मिथिलांचल की पृष्ठभूमि पर रचे इस उपन्यास में उस अँचल की भाषा विशेष का अधिक से अधिक प्रयोग किया गया है और यह प्रयोग इतना सार्थक है कि वह वहाँ के लोगों की इच्छा-आकांक्षा, रीति-रिवाज, पर्व-त्यौहार, सोच-विचार को पूरी प्रामाणिकता के साथ पाठक के सामने उपस्थित करता है।

'रेणु' का 'मेरीगंज' गाँव जीवन्त रूप में हमारे सामने है, जिसमें वहाँ के लोगों का हँसी-मज़ाक, प्रेम-घृणा, सौहार्द्र-वैमनस्य, ईर्ष्या-द्वेष, संवेदना-करुणा, सम्बन्ध शोषण आदि को पूरे उतार-चढ़ाव के साथ उकेरा गया है। इसमें जहाँ एक ओर नैतिकता के प्रति तिरस्कार का भाव है, तो वहीं दूसरी ओर नैतिकता के लिए छटपटाहट भी है। साथ ही परस्पर विरोधी मान्यताओं के बीच कहीं-न-कहीं जीवन के प्रति गहरी आस्था भी है।

SubQuestion No : 17

Q.17 दिए गए उपन्यास में नैतिकता के लिए कौन से भाव दिखाई देते हैं?

- Ans
- A. समर्पित
 - B. सम्मान
 - C. छटपटाहट और तिरस्कार
 - D. त्याग

Question ID : 1034357684

Comprehension:

एक गद्यांश दिया गया है। गद्यांश के आधार पर पाँच प्रश्न दिए गए हैं। गद्यांश को ध्यानपूर्वक पढ़ें तथा प्रत्येक प्रश्न के चार विकल्पों में से सही विकल्प चुनें।

'मैला आँचल' हिन्दी का प्रतिनिधि आंचलिक उपन्यास है और इस कारण इसके कथ्य में प्रायः वे सारी विशेषताएँ मिलती हैं, जो किसी भी आंचलिक उपन्यास में पाई जाती हैं। आंचलिक उपन्यास में जो परिवेश लिया जाता है, वह समय और स्थान के जीवन के जितने पक्ष हो सकते हैं, उन पक्षों के जितने चेहरे हो सकते हैं, वे सब उसमें पूरे विस्तार के साथ विद्यमान होते हैं। मैला आँचल भी ऐसे ही कथ्य को धारण करता है।

'मैला आँचल' में 'मेरीगंज' गाँव की विस्तृत तथा समग्र कथा को इस प्रकार प्रस्तुत किया गया है कि अँचल ही नायक बन गया है। इस उपन्यास का उद्देश्य अँचल की समस्याओं को प्रकाशित करने का ही रहा है, हालाँकि उद्देश्य रचना प्रक्रिया में घुला हुआ है। इसमें अँचल की सुन्दरता व कुरूपता दोनों का गहरा चित्रण किया गया है। इसमें जातिवाद, अफसरशाही, अवसरवादी राजनीति, मठों और आश्रमों का पाखण्ड भी दिखाया गया है। रेणु जी का मैला आँचल वस्तु और शिल्प दोनों स्तरों पर सबसे अलग है। इसमें एक नए शिल्प में ग्रामीण जीवन को दिखाया गया है।

इसकी सबसे बड़ी विशेषता यह है कि इसका नायक कोई व्यक्ति नहीं है, अपितु पूरा का पूरा अँचल ही इसका नायक है। दूसरी प्रमुख बात यह है कि मिथिलांचल की पृष्ठभूमि पर रचे इस उपन्यास में उस अँचल की भाषा विशेष का अधिक से अधिक प्रयोग किया गया है और यह प्रयोग इतना सार्थक है कि वह वहाँ के लोगों की इच्छा-आकांक्षा, रीति-रिवाज, पर्व-त्यौहार, सोच-विचार को पूरी प्रामाणिकता के साथ पाठक के सामने उपस्थित करता है।

'रेणु' का 'मेरीगंज' गाँव जीवन्त रूप में हमारे सामने है, जिसमें वहाँ के लोगों का हँसी-मज़ाक, प्रेम-घृणा, सौहार्द्र-वैमनस्य, ईर्ष्या-द्वेष, संवेदना-करुणा, सम्बन्ध शोषण आदि को पूरे उतार-चढ़ाव के साथ उकेरा गया है। इसमें जहाँ एक ओर नैतिकता के प्रति तिरस्कार का भाव है, तो वहीं दूसरी ओर नैतिकता के लिए छटपटाहट भी है। साथ ही परस्पर विरोधी मान्यताओं के बीच कहीं-न-कहीं जीवन के प्रति गहरी आस्था भी है।

SubQuestion No : 18

Q. 18 "मैला आँचल" उपन्यास में किस गाँव की विस्तृत तथा समग्र कथा को प्रस्तुत किया गया है?

- Ans A. बेलौरी
 B. पूर्णिया
 C. सातकोदरा
 D. मेरीगंज

Question ID : 1034357685

Comprehension:

एक गद्यांश दिया गया है। गद्यांश के आधार पर पाँच प्रश्न दिए गए हैं। गद्यांश को ध्यानपूर्वक पढ़ें तथा प्रत्येक प्रश्न के चार विकल्पों में से सही विकल्प चुनें।

'मैला आँचल' हिन्दी का प्रतिनिधि आंचलिक उपन्यास है और इस कारण इसके कथ्य में प्रायः वे सारी विशेषताएँ मिलती हैं, जो किसी भी आंचलिक उपन्यास में पाई जाती हैं। आंचलिक उपन्यास में जो परिवेश लिया जाता है, वह समय और स्थान के जीवन के जितने पक्ष हो सकते हैं, उन पक्षों के जितने चेहरे हो सकते हैं, वे सब उसमें पूरे विस्तार के साथ विद्यमान होते हैं। मैला आँचल भी ऐसे ही कथ्य को धारण करता है।

'मैला आँचल' में 'मेरीगंज' गाँव की विस्तृत तथा समग्र कथा को इस प्रकार प्रस्तुत किया गया है कि अँचल ही नायक बन गया है। इस उपन्यास का उद्देश्य अँचल की समस्याओं को प्रकाशित करने का ही रहा है, हालाँकि उद्देश्य रचना प्रक्रिया में घुला हुआ है। इसमें अँचल की सुन्दरता व कुरूपता दोनों का गहरा चित्रण किया गया है। इसमें जातिवाद, अफसरशाही, अवसरवादी राजनीति, मठों और आश्रमों का पाखण्ड भी दिखाया गया है। रेणु जी का मैला आँचल वस्तु और शिल्प दोनों स्तरों पर सबसे अलग है। इसमें एक नए शिल्प में ग्रामीण जीवन को दिखाया गया है।

इसकी सबसे बड़ी विशेषता यह है कि इसका नायक कोई व्यक्ति नहीं है, अपितु पूरा का पूरा अँचल ही इसका नायक है। दूसरी प्रमुख बात यह है कि मिथिलांचल की पृष्ठभूमि पर रचे इस उपन्यास में उस अँचल की भाषा विशेष का अधिक से अधिक प्रयोग किया गया है और यह प्रयोग इतना सार्थक है कि वह वहाँ के लोगों की इच्छा-आकांक्षा, रीति-रिवाज, पर्व-त्यौहार, सोच-विचार को पूरी प्रामाणिकता के साथ पाठक के सामने उपस्थित करता है।

'रेणु' का 'मेरीगंज' गाँव जीवन्त रूप में हमारे सामने है, जिसमें वहाँ के लोगों का हँसी-मज़ाक, प्रेम-घृणा, सौहार्द्र-वैमनस्य, ईर्ष्या-द्वेष, संवेदना-करुणा, सम्बन्ध शोषण आदि को पूरे उतार-चढ़ाव के साथ उकेरा गया है। इसमें जहाँ एक ओर नैतिकता के प्रति तिरस्कार का भाव है, तो वहीं दूसरी ओर नैतिकता के लिए छटपटाहट भी है। साथ ही परस्पर विरोधी मान्यताओं के बीच कहीं-न-कहीं जीवन के प्रति गहरी आस्था भी है।

SubQuestion No : 19

Q. 19 यह उपन्यास किस पृष्ठभूमि पर रचा गया है?

- Ans A. मिथिलांचल
 B. पूर्वाञ्चल
 C. उत्तरांचल
 D. बिहार

Question ID : 1034357683

Comprehension:

एक गद्यांश दिया गया है। गद्यांश के आधार पर पाँच प्रश्न दिए गए हैं। गद्यांश को ध्यानपूर्वक पढ़ें तथा प्रत्येक प्रश्न के चार विकल्पों में से सही विकल्प चुनें।

'मैला आँचल' हिन्दी का प्रतिनिधि आंचलिक उपन्यास है और इस कारण इसके कथ्य में प्रायः वे सारी विशेषताएँ मिलती हैं, जो किसी भी आंचलिक उपन्यास में पाई जाती हैं। आंचलिक उपन्यास में जो परिवेश लिया जाता है, वह समय और स्थान के जीवन के जितने पक्ष हो सकते हैं, उन पक्षों के जितने चेहरे हो सकते हैं, वे सब उसमें पूरे विस्तार के साथ विद्यमान होते हैं। मैला आँचल भी ऐसे ही कथ्य को धारण करता है।

मैला आँचल में 'मेरीगंज' गाँव की विस्तृत तथा समग्र कथा को इस प्रकार प्रस्तुत किया गया है कि अँचल ही नायक बन गया है। इस उपन्यास का उद्देश्य अँचल की समस्याओं को प्रकाशित करने का ही रहा है, हालाँकि उद्देश्य रचना प्रक्रिया में घुला हुआ है। इसमें अँचल की सुन्दरता व कुरूपता दोनों का गहरा चित्रण किया गया है। इसमें जातिवाद, अफसरशाही, अवसरवादी राजनीति, मठों और आश्रमों का पाखण्ड भी दिखाया गया है। रेणु जी का मैला आँचल वस्तु और शिल्प दोनों स्तरों पर सबसे अलग है। इसमें एक नए शिल्प में ग्रामीण जीवन को दिखाया गया है।

इसकी सबसे बड़ी विशेषता यह है कि इसका नायक कोई व्यक्ति नहीं है, अपितु पूरा का पूरा अँचल ही इसका नायक है। दूसरी प्रमुख बात यह है कि मिथिलांचल की पृष्ठभूमि पर रचे इस उपन्यास में उस अँचल की भाषा विशेष का अधिक से अधिक प्रयोग किया गया है और यह प्रयोग इतना सार्थक है कि वह वहाँ के लोगों की इच्छा-आकांक्षा, रीति-रिवाज, पर्व-त्यौहार, सोच-विचार को पूरी प्रामाणिकता के साथ पाठक के सामने उपस्थित करता है।

'रेणु' का 'मेरीगंज' गाँव जीवन्त रूप में हमारे सामने है, जिसमें वहाँ के लोगों का हँसी-मज़ाक, प्रेम-घृणा, सौहार्द्र-वैमनस्य, ईर्ष्या-द्वेष, संवेदना-करुणा, सम्बन्ध शोषण आदि को पूरे उतार-चढ़ाव के साथ उकेरा गया है। इसमें जहाँ एक ओर नैतिकता के प्रति तिरस्कार का भाव है, तो वहीं दूसरी ओर नैतिकता के लिए छटपटाहट भी है। साथ ही परस्पर विरोधी मान्यताओं के बीच कहीं-कहीं जीवन के प्रति गहरी आस्था भी है।

SubQuestion No : 20

Q.20 "ईर्ष्या" शब्द का सही विशेषण क्या होगा?

- Ans A. ईर्षालु
 B. डाह
 C. जलन
 D. संताप

Question ID : 1034357682

Section : Discipline 1

Q.1 कौन सा व्यवहार लक्ष्य-उन्मुख और जीवन की परिस्थितियों और स्थितियों के अनुकूल है?

- Ans A. बुद्धिमान व्यवहार
 B. चंचल व्यवहार
 C. सहज व्यवहार
 D. नियोजित व्यवहार

Question ID : 1034357693

Q.2 In which form of the government, does the ruler has the power to make decisions and run the government?

- Ans A. Democracy
 B. Oligarchy
 C. Military Coup
 D. Monarchy

Question ID : 1034357704

Q.3 _____ is realization that one's existence and functioning are separate from those of other people and things.

- Ans A. Self-awareness
 B. Self-motivation
 C. Self-conscious emotions
 D. Self-evaluation emotions

Question ID : 1034357697

Q.4 In the context of Discipline, which of the following statement is correct?
I. Power assertion is the disciplinary strategy designed to discourage undesirable behavior through physical or verbal enforcement of parental control.
II. Inductive technique is the disciplinary techniques designed to induce desirable behavior by appealing to a child's sense of reason and fairness.

- Ans A. Only II
 B. Both I and II
 C. Neither I nor II
 D. Only I

Question ID : 1034357702

Q.5 Which of the following statement describes Artistic Development?
I. It reflects maturation of the brain as well as of the muscles.
II. The switch from abstract form and design to depicting real objects marks a fundamental change in the purpose of children's drawing.

- Ans A. Only I
 B. Neither I nor II
 C. Only II
 D. Both I and II

Question ID : 1034357695

Q.6 पारिवारिक संरचना के संदर्भ में, निम्नलिखित में से कौन सा कथन सही है?
I. खुले दत्तकग्रहण में, जन्म देने वाले माता-पिता और दत्तक माता-पिता एक-दूसरे की पहचान नहीं जानते हैं।
II. एक माता-पिता परिवार तलाक या अलगाव, अविवाहित पितृत्व या मृत्यु के परिणामस्वरूप होता है।

- Ans A. केवल I
 B. ना ही I ना ही II
 C. I तथा II दोनों
 D. केवल II

Question ID : 1034357703

- Q.7 बचपन में मनोसामाजिक विकास के संदर्भ में, पहल बनाम अपराधबोध क्या है?
I. यह मनोसामाजिक विकास में एरिकसन की तीसरी अवस्था है।
II. इस अवस्था में बच्चे नैतिक आरक्षण के साथ लक्ष्यों का पीछा करने की इच्छा को संतुलित करते हैं जो उन्हें पूरा करने से रोक सकते हैं।

Ans A. तथा II दोनों
 B. केवल II
 C. ना ही I ना ही II
 D. केवल I

Question ID : 1034357700

- Q.8 _____ संज्ञानात्मक विकास का अध्ययन है जो अधिगम के बुनियादी यांत्रिकी से संबंधित है।

Ans A. व्यवहारवादी उपागम
 B. साइकोमेट्रिक उपागम
 C. बेले उपागम
 D. पियाजे उपागम

Question ID : 1034357692

- Q.9 नींद की समस्या के संदर्भ में, एन्यूरिसिस क्या है?

- I. सोते समय उठने और चलने की क्रिया
II. कपड़ों में या बिस्तर में बार-बार पेशाब आना

Ans A. ना ही I ना ही II
 B. I तथा II दोनों
 C. केवल II
 D. केवल I

Question ID : 1034357694

- Q.10 _____ refers to foreigners who come to a country specifically for medical treatment at hospitals that offer world-class facilities at a lower cost.

Ans A. Medical Guests
 B. Medical Guides
 C. Medical Officers
 D. Medical Tourists

Question ID : 1034357705

- Q.11 नींद की गड़बड़ी और विकार के संदर्भ में निम्नलिखित में से क्या सही है?

- I. यह सोने के समय का संघर्ष है।
II. नींद के दौरान चलना और बात करना नींद विकार का उदाहरण है।

Ans A. केवल I
 B. केवल II
 C. I तथा II दोनों
 D. ना ही I ना ही II

Question ID : 1034357689

Q.12 In the context of Nutrition, which of the following pair is correctly matched?
I. Malnutrition – It results from an inherited tendency, aggravated by too little exercise and too much, or the wrong kind of food.
II. Obesity – Under nourished children live in poverty and suffer other kinds of environmental deprivation.

- Ans A. Neither I nor II
 B. Only I
 C. Both I and II
 D. Only II

Question ID : 1034357696

Q.13 खेल के प्रकारों के संदर्भ में, निम्नलिखित में से कौन सा युग्म सही ढंग से सुमेलित है?
I. कार्यात्मक खेल - खेल जिनमें पुनरावर्ती मांसपेशीय गति शामिल है
II. नाटक खेल - खेल जिनमें कुछ बनाने के लिए वस्तुओं या सामग्रियों का उपयोग शामिल है

- Ans A. केवल II
 B. केवल I
 C. I तथा II दोनों
 D. ना ही I ना ही II

Question ID : 1034357701

Q.14 Which of the following defined as a person's characteristic, biologically based way of approaching and reacting to people and situations?

- Ans A. Adjustment
 B. Replacement
 C. Temperament
 D. Excitement

Question ID : 1034357698

Q.15 _____ are preconceived generalization about male or female role behavior.

- Ans A. Gender-Typing
 B. Gender-Constancy
 C. Gender Stereotypes
 D. Gender-Identity

Question ID : 1034357699

Q.16 In the context of physical and mental health, what is eating disorder?
I. Anorexia nervosa and bulimia nervosa are eating disorders that involve abnormal patterns of food intake.
II. Bulimia nervosa is characterized by self-starvation.

- Ans A. Both I and II
 B. Only II
 C. Neither I nor II
 D. Only I

Question ID : 1034357691

Q.17 In the context of childhood medical problems, which of the following statement is correct?

- I. Acute medical conditions – Occasional and short-term conditions, such as infections, allergies and warts.
- II. Chronic medical conditions – Physical, developmental, behavioral and emotional conditions requiring special health services

- Ans
- A. Only II
 - B. Neither I nor II
 - C. Both I and II
 - D. Only I

Question ID : 1034357690

Q.18 _____ is the newborn baby, up to 4 week's old.

- I. Infant
- II. Neonate

- Ans
- A. Neither I nor II
 - B. Only I
 - C. Both I and II
 - D. Only II

Question ID : 1034357687

Q.19 _____ is the process of uterine, cervical and other changes that brings on labour.

- I. Operation
- II. Parturition

- Ans
- A. Neither I nor II
 - B. Only II
 - C. Both I and II
 - D. Only I

Question ID : 1034357686

Q.20 What is Brazelton Neonatal Behavioural Assessment Scale (NBAS)?

- Ans
- A. It is used to specify the acidity or basicity of an aqueous solution
 - B. It describe power and intensity of sound waves
 - C. Standard measurement of a newborn's condition, it assesses pulse, activity and respiration
 - D. Neurological and behavioral test to measure neonate's responses to the environment

Question ID : 1034357688

Section : Discipline2

Q.1 Which of the following characteristics of project method of education is correct?
I. Learning takes place naturally.
II. The success of this method lies in the students understanding of its objectives.

- Ans A. Both I and II
 B. Only II
 C. Neither I nor II
 D. Only I

Question ID : 1034357717

Q.2 What are the challenges for educating children with disabilities in regular classroom?
I. Negative attitudes of teachers and community
II. Non-disabled peers and their parents

- Ans A. Both I and II
 B. Only I
 C. Neither I nor II
 D. Only II

Question ID : 1034357713

Q.3 In which of the following learning approaches, textbook is considered as the main source of learning?
I. Subject – Centered Approach
II. Learner – Centered Approach

- Ans A. Only II
 B. Both I and II
 C. Neither I nor II
 D. Only I

Question ID : 1034357716

Q.4 Trying to listen from a closer distance may be the symptom of which impairment?
I. Visual impairment
II. Hearing impairment

- Ans A. Neither I nor II
 B. Both I and II
 C. Only I
 D. Only II

Question ID : 1034357711

Q.5 कक्षा में इंटरनेट का उपयोग मुख्य रूप से किन उद्देश्यों के लिए किया जा सकता है?
I. सूचना
II. सहक्रियाए
III. सामाजिकता

- Ans A. II तथा III
 B. I तथा III
 C. I, II तथा III
 D. केवल I

Question ID : 1034357723

Q.6 किस वर्ष, नेपाल राजा की शक्तियों को समाप्त करने में सफल रहा था?

Ans A. 2005

B. 2006

C. 2007

D. 2004

Question ID : 1034357706

Q.7 Which of the following types of groups can be formed in multi-grade situation?

I. Grade - based grouping

II. Ability - based grouping

Ans A. Both I and II

B. Only II

C. Only I

D. Neither I nor II

Question ID : 1034357718

Q.8 In the context of Inclusion Education in India, which of the following statement is correct?

I. The ministry of external affairs implemented a national action plan for Integrated Education for Disabled Children.

II. In 2009-10, Integrated Education for Disabled Children was revised and named as 'Inclusive Education of the Disabled at the Secondary Stage'.

Ans A. Only II

B. Both I and II

C. Neither I nor II

D. Only I

Question ID : 1034357714

Q.9 Which of the following is the important aspect of universalisation of elementary education?

I. Access

II. Enrolment

III. Retention of all children in 6 to 14 years of age

Ans A. I and II

B. I and III

C. I, II and III

D. II and III

Question ID : 1034357712

Q.10 The tools of Information and Communication Technology may be in the form of

- I. audio
II. visual

- Ans A. Both I and II
 B. Only II
 C. Neither I nor II
 D. Only I

Question ID : 1034357721

Q.11 _____ दूसरे की क्रिया या व्यवहार की नकल या पुनरुत्पादन करना है।

- I. व्याकुलता
II. अनुकरण

- Ans A. ना ही I ना ही II
 B. केवल II
 C. केवल I
 D. I तथा II दोनों

Question ID : 1034357724

Q.12 शिक्षक को लैंगिक समानता को कैसे बढ़ावा देना चाहिए?

- I. उन्हें सचेत रूप से अपने आचरण की निगरानी करनी चाहिए।
II. उन्हें अपनी भाषा के उपयोग में लैंगिक पक्षपात से बचना चाहिए।
III. उन्हें केवल लड़कियों के लिए सफाई कार्य सौंपने की प्रवृत्ति से बचना चाहिए।

- Ans A. I तथा II
 B. I, II तथा III
 C. I तथा III
 D. II तथा III

Question ID : 1034357710

Q.13 Which of the following assumptions are reflected by folk pedagogy about the children?

- I. Ego-centric and in need of socialization
II. Empty vessels to be filled with knowledge that only adults can provide

- Ans A. Both I and II
 B. Only II
 C. Only I
 D. Neither I nor II

Question ID : 1034357720

Q.14 In which year, Rabindranath Tagore founded Santiniketan?

- Ans A. 1905
 B. 1907
 C. 1899
 D. 1901

Question ID : 1034357715

Q.15 Who introduced IDEAL model as a problem solving model for teaching and learning?

- Ans A. Jean Piaget
 B. Paulo Freire
 C. Bransford
 D. John Locke

Question ID : 1034357719

Q.16 Hundreds of Indian language newspapers were used by many Indian political or social figure to disseminate nationalist and reformist ideas among the people during the 19th century. Which of the following pairs of 'Newspaper - Its Language' is NOT correct?

- I. Amrit Bazaar- Bengali
II. Sudharak - Punjabi
III. Koh - I - Noor- Hindi

- Ans A. II and III
 B. Only I
 C. I and III
 D. I and II

Question ID : 1034357707

Q.17 Which of the following statements is correct about Costa Rican approach towards healthcare?

- I. It decided to spend its money on health education instead of on army
II. The government of Costa Rica provides basic amenities to its people.

- Ans A. Only II
 B. Only I
 C. Neither I nor II
 D. Both I and II

Question ID : 1034357708

Q.18 _____ समानता और न्यायसंगत परिणाम लाने का एक साधन है।

- Ans A. झुकाव
 B. इच्छा
 C. प्रवृत्ति
 D. समता

Question ID : 1034357709

Q.19 Which of the following are the effects of imitation?

- I. Modelling
II. Inhibitory dis-inhibitory
III. Eliciting

- Ans A. I and III
 B. I, II and III
 C. Only I
 D. II and III

Question ID : 1034357725

Q.20 Which of the following is in the correct sequence in the context of the computer?

- Ans A. Input, Programme, Storage, Output
 B. Input, Programme, Output, Storage
 C. Programme, Output, Storage, Input
 D. Output, Storage, Programme, Input

Question ID : 1034357722

Section : Discipline3

Q.1 In environmental studies class, a teacher was using 'pair – share' technique of cooperative learning. What are the steps to implement this technique?

- I. Don't pair up with another child
II. Individual student responds to teacher's query

- Ans A. Only I
 B. Both I and II
 C. Neither I nor II
 D. Only II

Question ID : 1034357740

Q.2 On the basis of length of sides, which of the following is not a type of triangle?

- Ans A. Equilateral triangle
 B. Obtuse angled triangle
 C. Isosceles triangle
 D. Scalene triangle

Question ID : 1034357735

Q.3 निम्नलिखित में से कौन सा कथन हमारे दैनिक जीवन में मापन की अवधारणा का प्रतिनिधित्व नहीं करता है?

- I. कमीज़ बनाने के लिए कपड़े की आवश्यक लंबाई
II. दैनिक बाजार से खरीदने के लिए आवश्यक सब्जियों या किराने के सामान का भार

- Ans A. I तथा II दोनों
 B. केवल II
 C. ना ही I ना ही II
 D. केवल I

Question ID : 1034357736

Q.4 हिन्दी के संदर्भ में, निम्नलिखित में से कौन सा कथन सही है?

- I. हिंदी, हिंदी की अन्य बोलियों से प्रभावित नहीं है।
II. खड़ी बोली हिन्दी का वह रूप है जिसका उपयोग साहित्य लिखने के लिए किया जाता था।
III. नागरी हिंदी को मानक हिंदी माना जाता है।

- Ans A. केवल III
 B. केवल I
 C. I, II तथा III
 D. II तथा III

Question ID : 1034357734

Q.5 निम्नलिखित में से कौन सी पर्यावरण अध्ययन की ताकत नहीं है?

- Ans A. अध्याय बच्चों को सोचने और अपने स्वयं के ज्ञान का निर्माण करने के लिए शुरू करने वाले महत्वपूर्ण प्रश्नों से शुरू होते हैं
- B. पर्यावरण अधिगम की सामग्री बच्चों के अपने पर्यावरण से नहीं ली गई है
- C. पर्यावरण अधिगम की सामग्री को विषयगत रूप से व्यवस्थित किया जाता है
- D. पर्यावरण अधिगम बच्चों की अभिव्यक्ति के लिए गुंजाइश प्रदान करता है - मौखिक और लिखित और अन्य रचनात्मक अभिव्यक्तियों, आदि।

Question ID : 1034357742

Q.6 Which of the following statement is correct regarding an educational activity in environmental studies?

- I. It should be safe for the students
II. It should be real life based and enjoyable for the students
III. It should involve all students

- Ans A. I and II
- B. Only II
- C. I, II and III
- D. Only III

Question ID : 1034357741

Q.7 सहकारी अधिगम के संदर्भ में, निम्नलिखित में से कौन सा कथन सही है?

- I. यह अधिगम एक विशिष्ट बड़ी समूह उपागम है जिसमें प्रजातांत्रिक प्रक्रिया, व्यक्तिगत जवाबदेही, समान अवसर और सामूहिक पारितोषक निहित हैं।
II. सहकारी शिक्षण मॉडल को कम से कम तीन महत्वपूर्ण निर्देशात्मक लक्ष्यों को प्राप्त करने के लिए विकसित किया गया था: शैक्षणिक उपलब्धि, विविधता की स्वीकृति और सामाजिक कौशल विकास।

- Ans A. I तथा II दोनों
- B. केवल I
- C. ना ही I ना ही II
- D. केवल II

Question ID : 1034357727

Q.8 The term 'mother tongue' usually refers to the language spoken at _____.

- Ans A. Company
- B. University
- C. Seminar
- D. Home

Question ID : 1034357732

Q.9 Which of the following figures can be drawn using ruler and compass?

- I. Perpendicular bisector of a given line segment
II. Angle of measure 60 degrees, its multiples and submultiples

- Ans A. Only I
- B. Neither I nor II
- C. Both I and II
- D. Only II

Question ID : 1034357737

Q.10 In the context of Phonics, which of the following statement is correct?

- I. This is used to teach children the names of the letters.
II. This is used to teach children the sounds of the letters.

- Ans A. Both I and II
 B. Only I
 C. Neither I nor II
 D. Only II

Question ID : 1034357730

Q.11 निम्नलिखित में से कौन सी भाषा तिब्बती-बर्मन परिवार से संबंधित है?

- I. बोडो
II. मिज़ो

- Ans A. ना ही I ना ही II
 B. केवल II
 C. केवल I
 D. I तथा II दोनों

Question ID : 1034357731

Q.12 किस आयु समूह के बच्चे तथ्य और कल्पना के बीच अंतर बता सकते हैं?

- Ans A. 8 से 10 वर्ष
 B. 5 से 7 वर्ष
 C. 1 से 3 वर्ष
 D. 3 से 5 वर्ष

Question ID : 1034357729

Q.13 In the context of History Subject, which of the following statement is correct?

- I. It is interdisciplinary in nature
II. It is different and separate from other subjects with similar field of study

- Ans A. Only I
 B. Neither I nor II
 C. Only II
 D. Both I and II

Question ID : 1034357745

Q.14 हाथो को फैलाकर बाएँ हाथ की उँगलियों के अग्रिम सिरे से दाएँ हाथ की उँगलियों के अग्रिम सिरे तक की दूरी
----- कहलाती है।

- Ans A. क्यूबिट
 B. फैथोम
 C. इंच
 D. हाथ

Question ID : 1034357738

Q.15 Which of the following features are involved in problem solving method?

I. A goal to be reached.

II. A felt difficulty/need to reach the goal.

III. Reaching the goal or arriving at satisfactory solution to the problem at hand.

Ans A. I and II

B. I, II and III

C. I and III

D. II and III

Question ID : 1034357726

Q.16 _____ damage causes problems in speech comprehension.

Ans A. Broca's area

B. Poma's area

C. Wernicke's area

D. Nava's area

Question ID : 1034357728

Q.17 In which year Tamil language was declared as a classical language?

Ans A. 2005

B. 2002

C. 2003

D. 2004

Question ID : 1034357733

Q.18 Which of the following subject is NOT include under the Social Science subjects?

Ans A. Geography

B. Economics

C. Mathematics

D. History

Question ID : 1034357743

Q.19 वर्तमान सामाजिक व्यवस्था और परिघटनाओं के संदर्भ में, निम्नलिखित में से कौन सा कथन सही है?

I. यह विज्ञान और प्रौद्योगिकी के तेजी से विकास पर आधारित एक तेजी से बढ़ता समाज है।

II. जीवन के कई क्षेत्रों में जटिलता, विविधता वर्तमान समाज की विशेषता है।

Ans A. केवल I

B. I तथा II दोनों

C. ना ही I ना ही II

D. केवल II

Question ID : 1034357744

Q.20 Which of the following statement is correct regarding 'collection of data'?

I. 'Runs scored by Tendulkar in different innings of a Test series are 16, 56, 25, 8, 3, 33, 23 and 107.' This given statement represents Raw Data.

II. 'The students of class V are preparing for a picnic. The class teacher asked them to give their choice of fruits out of apple, Orange, Banana or Guava and then she noted it.' The data collected in this statement is collected from secondary source.

- Ans A. Both I and II
 B. Only I
 C. Neither I nor II
 D. Only II

Question ID : 1034357739

Section : Discipline4

Q.1 What are the advantages of salabhasana?

I. It improves digestion

II. It cures tumor

III. It cures the diseases of lungs

- Ans A. I, II and III
 B. II and III
 C. Only II
 D. Only I

Question ID : 1034357763

Q.2 With respect to Hand washing facility, which of the following provisions are needed to be made in the school?

I. Proper and continuous supply of water

II. Child friendly wash basins at maximum possible height

- Ans A. Only I
 B. Neither I nor II
 C. Only II
 D. Both I and II

Question ID : 1034357761

Q.3 The identity content among adolescents is considered to fall into two major domains. The interpersonal domain consists of which of the following?

- Ans A. Choices related to politics
 B. Choice related to religion
 C. Choices regarding career
 D. Choices regarding family

Question ID : 1034357754

Q.4 सभी पदार्थों में मौजूद पांच महाभूतों के संदर्भ में निम्नलिखित में से कौन सा संयोजन सही है?

- I. आकाश - सूक्ष्मता
- II. वायु - स्पर्श
- III. पृथ्वी - भारीपन

Ans A. I, II तथा III

B. I तथा III

C. II तथा III

D. केवल II

Question ID : 1034357752

Q.5 किस प्रकार एक सफल शारीरिक स्वास्थ्य कार्यक्रम से बच्चों को अधिगम में मदद मिलनी चाहिए?

- I. स्वस्थ भोजन और सोने की आदतें
- II. अपने शरीर की देखभाल (ग्रीमिंग, सफाई करना)
- III. अन्य लोगों की भावनात्मक प्रतिक्रियाओं का जवाब कैसे दें

Ans A. केवल III

B. I तथा II

C. I, II तथा III

D. II तथा III

Question ID : 1034357765

Q.6 According to Maccoby, female-female interactions typically focus on _____

- I. The building of interpersonal connections
- II. The development of individual status

Ans A. Both I and II

B. Neither I nor II

C. Only I

D. Only II

Question ID : 1034357758

Q.7 लड़कों और लड़कियों के लिए जल्दी और देर से परिपक्वता के प्रभाव विभिन्न होते हैं। जल्दी परिपक्व होने वाले लड़कों की निम्नलिखित में से कौन सी विशेषता सही नहीं है?

Ans A. अधिक मांसल और मजबूत

B. सह-पाठ्यक्रम गतिविधियों में अधिक भाग लेना

C. अपर्याप्तता और निर्भरता की भावना होना

D. बेहतर समन्वित

Question ID : 1034357759

Q.8 The study of human cognition has been approached mainly from three different perspectives, which are _____.

- I. the psychometric approach
- II. the development approach
- III. the information processing approach

- Ans
- A. Only I
 - B. I, II and III
 - C. I and II
 - D. I and III

Question ID : 1034357756

Q.9 Which of the following statement is correct in the context of Arts in India?

- I. Bhimbetka cave painting is the example of modern age.
- II. Indus valley culture art is the example of Proto history.
- III. Seals provide the trade information of the Indus Valley Civilization.

- Ans
- A. Only III
 - B. I, II and III
 - C. I and II
 - D. II and III

Question ID : 1034357748

Q.10 Table tennis game was invented in which country?

- Ans
- A. England
 - B. South Africa
 - C. Australia
 - D. India

Question ID : 1034357751

Q.11 Which of the following factors influence the health?

- I. Income and social status
- II. Physical environments
- III. Health care services

- Ans
- A. I, II and III
 - B. Only I
 - C. Only II
 - D. II and III

Question ID : 1034357764

Q.12 The shape of the posture of which asana resembles a plough?

- Ans
- A. Dhanurasana
 - B. Salabhasana
 - C. Halasana
 - D. Savasana

Question ID : 1034357760

Q.13 निम्नलिखित में से कौन ऑटिज्म से पीड़ित बच्चों की मदद कर सकता है?

- Ans A. कांच कला
 B. चित्रकारी
 C. पॉप कला
 D. भित्ति चित्र

Question ID : 1034357746

Q.14 एक एथलेटिक्स मीट के आयोजन के लिए एक स्कूल को किन उपकरणों की आवश्यकता होती है?

- I. विराम घड़ी
II. फिनिशिंग पोल
III. क्लिप बोर्ड
IV. स्कोर शीट

- Ans A. I, II, III तथा IV
 B. केवल III
 C. II, III तथा IV
 D. II तथा IV

Question ID : 1034357762

Q.15 A large number of emotions and heightened emotionality in adolescence has been reported by Larson and Richards. Which of the following feelings are demonstrated by adolescents?

- I. Feelings of cheerfulness.
II. Ignored and nervous.
III. Unsure about certain things.

- Ans A. II and III
 B. Only I
 C. Only II
 D. I, II and III

Question ID : 1034357755

Q.16 Piaget makes two claims about thinking in the period after concrete operations. Which of the following claims is NOT correct?

- I. Developmental changes continue through early adolescence.
II. Formal operational thinking is the final stage of development.

- Ans A. Only I
 B. Both I and II
 C. Neither I nor II
 D. Only II

Question ID : 1034357757

Q.17 निम्नलिखित में से कौन सा कथन सही है?

- I. स्कूल के बगीचे बच्चों को पर्यावरण की दृष्टि से जिम्मेदार व्यवहार सीखने और विभिन्न क्षेत्रों और स्कूल प्रणालियों को एक साथ जोड़ने के लिए एक जगह प्रदान कर सकते हैं
II. स्कूल के मैदानों का हर्यालिकरण न केवल पाठ्यचर्या और स्वास्थ्य उद्देश्यों के लिए है बल्कि यह हमारे ग्रह की पारिस्थितिक स्थिरता के लिए भी है

Ans A. I तथा II दोनों

B. केवल II

C. ना ही I ना ही II

D. केवल I

Question ID : 1034357750

Q.18 भारत के प्रारंभिक किशोर न्याय अधिनियम, 1986 ने _____ के एक लड़के को किशोर के रूप में परिभाषित किया।

Ans A. 10 वर्ष से कम आयु

B. 12 वर्ष से कम आयु

C. 5-10 वर्ष की आयु के बीच

D. 16 साल से कम उम्र

Question ID : 1034357753

Q.19 Who was the first artist to document a child in a womb?

Ans A. Claude Monet

B. Frida Kahlo

C. Leonardo Da Vinci

D. Pablo Picasso

Question ID : 1034357747

Q.20 In cricket, generally a test match is played for _____.

Ans A. 5 days

B. 9 days

C. 8 days

D. 2 days

Question ID : 1034357749

Section : Discipline 5

Q.1 Which of the following is a teaching learning method related to work education?

- I. Observation method
II. Demonstration method

Ans A. Both I and II

B. Only II

C. Neither I nor II

D. Only I

Question ID : 1034357767

Q.2 निम्नलिखित में से कौन सा एक प्रकार का विद्रोह है?

- I. हिंसक विद्रोह
- II. बुद्धिमत्तापूर्ण विद्रोह

- Ans
- A. केवल II
 - B. केवल I
 - C. I तथा II दोनों
 - D. ना ही I ना ही II

Question ID : 1034357771

Q.3 Many aspects of the development of the personality can be observed by _____.

- Ans
- A. cumulative record
 - B. observation
 - C. questionnaire
 - D. project work

Question ID : 1034357768

Q.4 Interview is the tool and technique of _____.

- Ans
- A. materialization
 - B. assessment
 - C. evaluation
 - D. observation

Question ID : 1034357769

Q.5 निम्नलिखित में से कौन सा शिक्षा का उद्देश्य है?

- I. शिक्षा का उद्देश्य केवल विद्वान उत्पन्न करना नहीं है।
- II. समाज में नफरत फैलाना।

- Ans
- A. केवल I
 - B. केवल II
 - C. I तथा II दोनों
 - D. ना ही I ना ही II

Question ID : 1034357773

Q.6 Which of the following programme is launched by NCERT?

- I. Special orientation program for primary Teacher (SOPT)
- II. District primary education programme (DPEP)
- III. Sarva Shiksha Abhiyan (SSA)

- Ans
- A. Only III
 - B. I and III
 - C. Only I
 - D. I, II and III

Question ID : 1034357780

Q.7 निम्नलिखित में से कौन सी विद्यालय और समुदाय सहभागिता के प्रबंधन की अवधारणा है?

I. मानव-शक्ति आवश्यकता

II. सामाजिक मांग

Ans A. I तथा II दोनों

B. ना ही I ना ही II

C. केवल II

D. केवल I

Question ID : 1034357784

Q.8 There has been a tradition in Indian society that community contributes voluntarily for good social cause. Which of the following is one of them?

I. Free labour to construct buildings

II. Contribution in material form

Ans A. Only II

B. Only I

C. Both I and II

D. Neither I nor II

Question ID : 1034357782

Q.9 समुदाय शिक्षा की भागीदारी में समस्या की पहचान कैसे कर सकते हैं?

I. बच्चों का कम नामांकन

II. बच्चों का स्कूल छोड़ना

III. बच्चों का खराब शैक्षणिक प्रदर्शन

Ans A. I तथा III

B. II तथा III

C. I तथा II

D. I, II तथा III

Question ID : 1034357775

Q.10 SSA has been made the vehicle for the implementation of the RTE Act based on the _____ Committee Report.

Ans A. Anil Bordia

B. Ajit Kumar

C. Athreya

D. A. C. Shah

Question ID : 1034357778

Q.11 Right to Education Act (2009) has become operational since _____.

Ans A. 2011

B. 2009

C. 2012

D. 2010

Question ID : 1034357781

Q. 12 निम्नलिखित में से कौन शिक्षक नेतृत्व का नैतिक कार्य है?

I. यह मूल्यों के साझा प्रणाली से सम्बद्ध है।

II. शिक्षक नेता की सभी विद्यार्थियों से उनकी पृष्ठभूमि एवं योग्यताओं का ध्यान दिये बगैर न्यायपूर्वक मिलने के व्यावसायिक मूल्य, उनके सहयोगियों के भी व्यावसायिक मूल्य है।

Ans A. ना ही I ना ही II

B. केवल II

C. I तथा II दोनों

D. केवल I

Question ID : 1034357779

Q. 13 परीक्षा तथा अन्य शुल्क के संदर्भ में, निम्नलिखित में से कौन सा कथन सही है?

I. सरकार द्वारा संचालित प्राथमिक या उच्च प्राथमिक विद्यालय विद्यार्थियों से विभिन्न प्रकार के शुल्क लेते हैं।

II. सरकारी सहायता प्राप्त विद्यालय इन शुल्कों को सरकार द्वारा समय-समय पर निश्चित की गयी धनराशी के रूप में विद्यार्थियों से लेते हैं।

Ans A. केवल I

B. केवल II

C. I तथा II दोनों

D. ना ही I ना ही II

Question ID : 1034357783

Q. 14 The schools can perform better if there is close linkage between the school and community. Which of the following can be used to established this?

I. Parents and schools to communicate regularly and clearly

II. Teachers guiding and advising parents

Ans A. Neither I nor II

B. Only I

C. Both I and II

D. Only II

Question ID : 1034357785

Q. 15 In which year the Indian National Congress forwarded the need of National education for children?

Ans A. 1905

B. 1908

C. 1907

D. 1906

Question ID : 1034357766

Q.16 Which of the following statement is correct regarding discipline?
I. For political and industrial reasons, discipline has become an important factor in the present social structure.
II. One of the dangers of discipline is that the system becomes more important than the human beings who are enclosed in it.

- Ans A. Neither I nor II
 B. Both I and II
 C. Only I
 D. Only II

Question ID : 1034357772

Q.17 सर्व शिक्षा अभियान के संदर्भ में निम्नलिखित में से कौन सा कथन सही है?
I. यह जीवन कौशल के साथ सहित गुणवत्ता शिक्षा प्रदान करने की कोशिश करता है।
II. कार्यक्रम विद्यालय आधारित मध्यस्ताओं के सामुदायिक स्वामित्व के लिए आयोजित किया जाता है।

- Ans A. केवल I
 B. ना ही I ना ही II
 C. I तथा II दोनों
 D. केवल II

Question ID : 1034357776

Q.18 निम्नलिखित में से कौन अनौपचारिक सामुदायिक भागीदारी है?

- Ans A. ग्राम शिक्षा समिति
 B. स्वयं सहायता समूह
 C. स्कूल प्रबंधन समितियां
 D. भूमि का दान

Question ID : 1034357774

Q.19 "भारत की नियति अब उसकी कक्षाओं में आकार ले रही है", _____ द्वारा माना गया है।

- Ans A. शिक्षा आयोग (1964-66)
 B. भगवान सहाय समिति (1872)
 C. माध्यमिक शिक्षा आयोग (1852-53)
 D. शिक्षा पर राष्ट्रीय नीति (1986)

Question ID : 1034357777

Q.20 Which of the following pair is correctly matched in the context of techniques of evaluation?

- Ans A. Cumulative Record : Governmental Data
 B. Interview : Knowing the behaviour
 C. Questionnaire : Scholars Thesis
 D. Observation : Finding new discoveries

Question ID : 1034357770