



Teachingninja.in

DSSSB PRT 26 March 2022 Shift 2 Paper

 **Latest Govt Job updates**

 **Private Job updates**

 **Free Mock tests available**

Visit - teachingninja.in

Test Date	26/03/2022
Test Time	12:30 PM - 2:30 PM
Subject	ASSISTANT TEACHER PRIMARY

Section: Mental Ability

Q.1 Out of the given options, three are similar in a certain manner. However, one option is NOT like the other three. Select the option which is different from the rest.

- Ans A. W
 B. I
 C. H
 D. N

Question ID : 75322912354

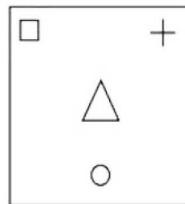
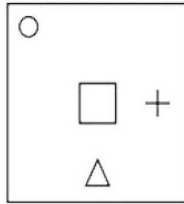
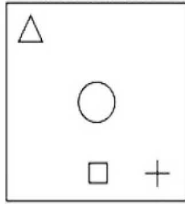
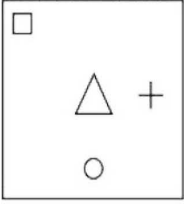
Q.2 If dark is called night, night is called morning, morning is called light, light is called sunshine and sunshine is called dusk, then when does the sun rise?

- Ans A. sunshine
 B. morning
 C. light
 D. dusk

Question ID : 75322912358

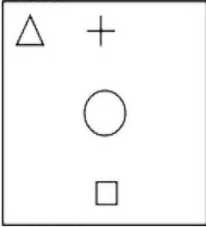


Q.3 Which of the following answer figures completes the series of the question figure?



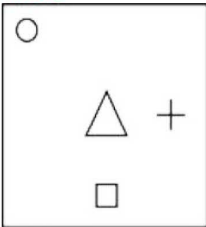
Ans A. A

IMAGE



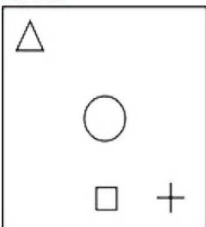
B. C

IMAGE



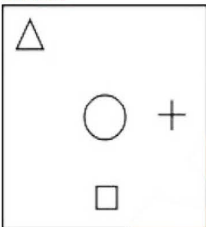
C. B

IMAGE



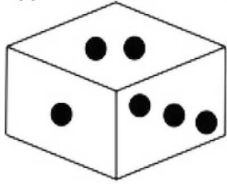
D. D

IMAGE

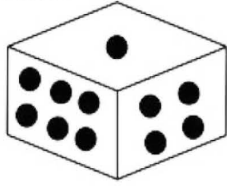


Question ID : 75322912370

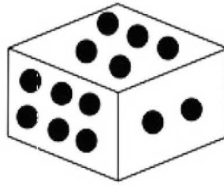
Q.4 Three positions of the same dice are shown below, find the number of dots that lies opposite to the face with 6 dots.



(i)



(ii)



(iii)

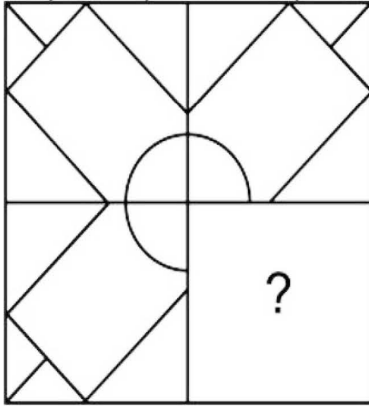
- Ans
- A. 2
 - B. 3
 - C. 1
 - D. 5

Question ID : 75322912368



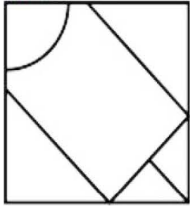
Teachingninja.in

Q.5 Which of the following answer figures, when placed in the blank space would complete the pattern in the question figure?



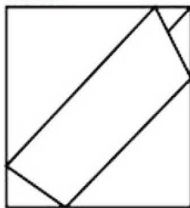
Ans A. C

IMAGE



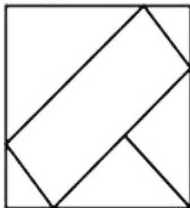
B. B

IMAGE



C. A

IMAGE



D. D

IMAGE



Question ID : 75322912367

Q.6 Complete the following letter series:

a_aab_a_a_d_

Ans A. aacaa

B. baaca

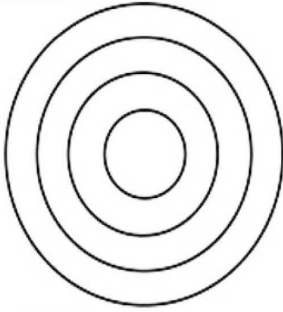
C. abcab

D. cabcb

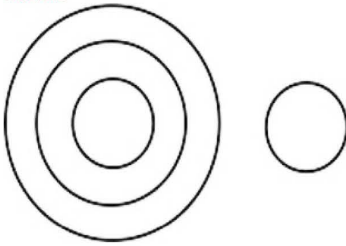
Question ID : 75322912353

Q.7 Which of the following Venn diagram best represents the relationship between ratites, sparrow, kiwi, emu?

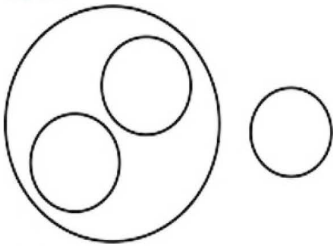
Ans A. D
IMAGE



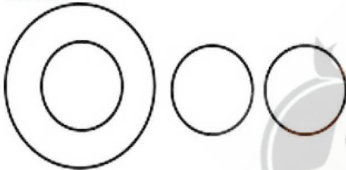
B. A
IMAGE



C. C
IMAGE



D. B
IMAGE



Question ID : 75322912366

Q.8 Out of the given options, three are similar in a certain manner. However, one option is NOT like the other three. Select the option which is different from the rest.

Ans A. 132
 B. 97
 C. 88
 D. 121

Question ID : 75322912364

Q.9 Select the option that is related to the third term on the same basis as the second term is related to the first term.

5: 30 :: 8: ?

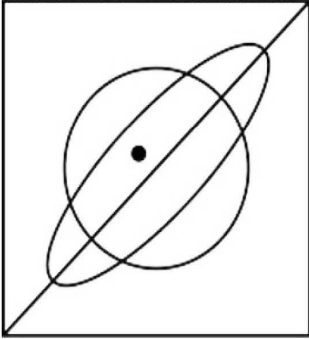
- Ans
- A. 14
 - B. 80
 - C. 69
 - D. 50

Question ID : 75322912365



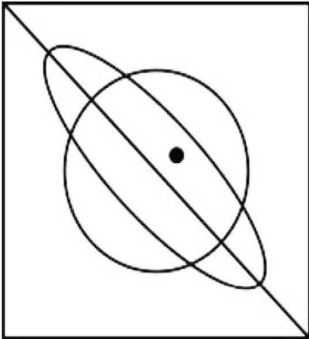
Teachingninja.in

Q.10 Which of the answer figures is the right water image of the given figure?



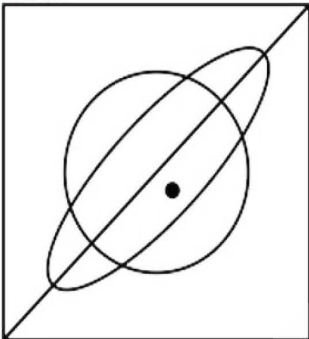
Ans A. C

IMAGE



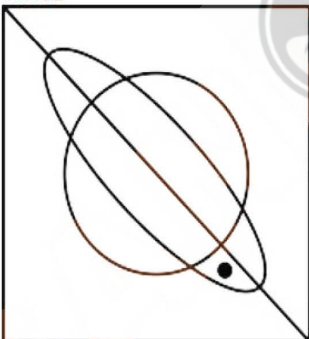
B. A

IMAGE



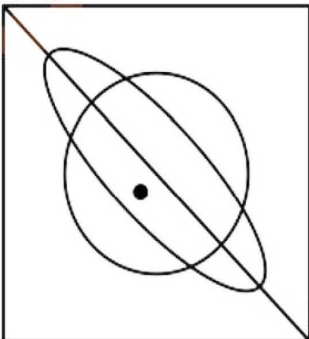
C. D

IMAGE



D. B

IMAGE



Question ID : 75322912371

Q.11 Out of the given options, three are similar in a certain manner. However, one option is NOT like the other three. Select the option which is different from the rest.

- Ans
- A. Blue
 - B. Violet
 - C. Green
 - D. White

Question ID : 75322912355

Q.12 In the question two statements are given, followed by two conclusions, I and II. You have to consider the statements to be true even if it seems to be at variance from commonly known facts. You have to decide which of the given conclusions, if any, follows from the given statements.

Statement 1 : Some books are sticks.

Statement 2 : No stick is blue.

Conclusion I : No book is blue.

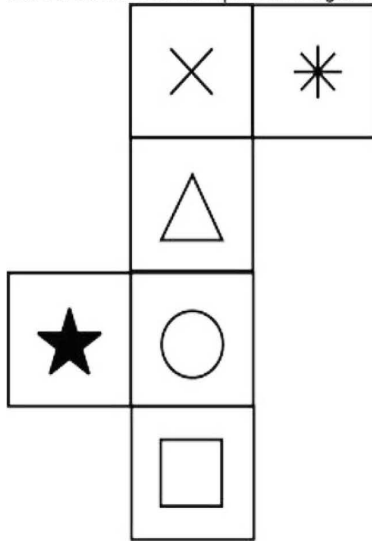
Conclusion II : Some books are not blue.

- Ans
- A. Only conclusion II follows
 - B. Either conclusion I or II follows
 - C. Both conclusion I and II follow
 - D. Only conclusion I follows

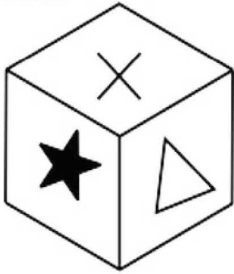
Question ID : 75322912362




Q.13 Which of the following cubes in the answer figure can be made based on the unfolded cube in the question figure?



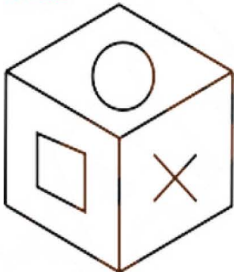
Ans A. A
IMAGE



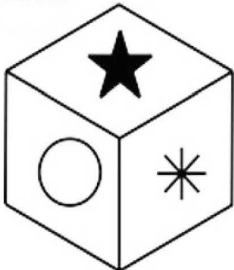
B. D
IMAGE



C. C
IMAGE



D. B
IMAGE



Question ID : 75322912372

Q.14 Select the option that is related to the third term on the same basis as the second term is related to the first term.

Jaipur: Rajasthan :: ? : Bihar

- Ans
- A. Muzaffarpur
 - B. Madhubani
 - C. Patna
 - D. Darbhanga

Question ID : 75322912357

Q.15 In the question one statement is given, followed by three assumptions, I, II and III. You have to consider the statements to be true even if it seems to be at variance from commonly known facts. You have to decide which of the given assumptions, if any, follows from the given statement.

Statement: "In our report published last week, the name of the author was misspelt. We regret the error" – A magazine editor.

Assumption I : The name of the author was not easy to spell.

Assumption II : Publishing correct names of authors is not as important as the quality of the article.

Assumption III : Publishing correct names of authors is desirable.

- Ans
- A. Only assumption III is implicit
 - B. Only assumption I is implicit
 - C. Only assumption II is implicit
 - D. All are implicit

Question ID : 75322912363

Q.16 Select the option that is related to the third term on the same basis as the second term is related to the first term.

DE: 10 :: HI: ?

- Ans
- A. 20
 - B. 17
 - C. 36
 - D. 46

Question ID : 75322912356

Q.17 Rani is taller than Neena but not as tall as Beena. Lata is shorter than Rani but taller than Geeta. Who among them is the tallest?

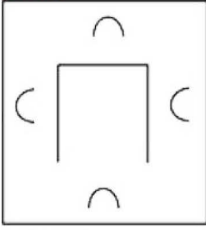
- Ans
- A. Gita
 - B. Rani
 - C. Neena
 - D. Beena

Question ID : 75322912361

Q.18 Out of the given options, three are similar in a certain manner. However, one option is NOT like the other three. Select the option which is different from the rest.

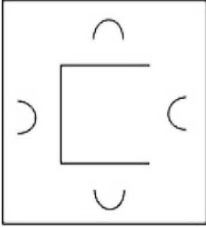
Ans A. C

IMAGE



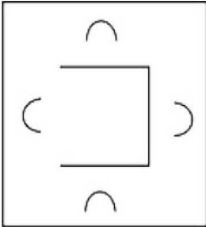
B. B

IMAGE



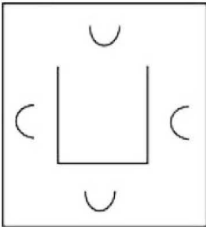
C. D

IMAGE



D. A

IMAGE



Question ID : 75322912369

Q.19 Pointing at Sujata, Sahil said, "She is the sister of the husband of my wife." How is Sujata related to Amit?

Ans A. Daughter

B. Sister

C. brother's daughter

D. Wife

Question ID : 75322912360

Q.20 If all the symbols are dropped from the arrangement given below, which of the following options will be tenth from the right end?
K 2 8 % P # B 3 H \$ G T I A Y E & £ 4 9 L U @ C N

- Ans
- A. A
 - B. I
 - C. G
 - D. Y

Question ID : 75322912359

Section : General Awareness

Q.1 The Indus Valley Civilization (IVC) was a _____ Age civilization.

- Ans
- A. Copper
 - B. Bronze
 - C. Stone
 - D. Iron

Question ID : 75322912384

Q.2 In April 2021, RBI announced that the current repo rate has been kept at 4% and what is the reverse repo rate at:

- Ans
- A. 3.05%
 - B. 3.55%
 - C. 3.35%
 - D. 3.45%

Question ID : 75322912376

Q.3 Which state is the largest producer of uranium in India?

- Ans
- A. Gujarat
 - B. Madhya Pradesh
 - C. Andhra Pradesh
 - D. Tamil Nadu

Question ID : 75322912380

Q.4 National Medicinal Plants Board (NMPB), has prepared an e-book _____.

- Ans
- A. "20 Medicinal Plants for 2021 for Covid-19 care"
 - B. "10 Medicinal Plants for 2021 for Covid-19 care"
 - C. "15 Medicinal Plants for 2021 for Covid-19 care"
 - D. "30 Medicinal Plants for 2022 for Covid-19 care"

Question ID : 75322912386

Q.5 Which is the biggest temple in Bharmour which is a post-Gupta era Hindu temple in Himachal Pradesh?

- Ans
- A. The Vashisht Temple
 - B. The Baba Balak Nath Temple
 - C. The Sankat Mochan Temple
 - D. The Lakshana Devi Temple

Question ID : 75322912373

Q.6 The MPC is a statutory and institutionalized framework under the Reserve Bank of India Act, 1934, for maintaining price stability. MPC stands for:

- Ans
- A. Money Policy Committee
 - B. Monetary Policy Committee
 - C. Major Policy Commission
 - D. Monetary Private Committee

Question ID : 75322912375

Q.7 The Neem plant is very useful for which disease?

- Ans
- A. Leprosy
 - B. Seizures
 - C. Vomiting
 - D. Soothe and sore throat

Question ID : 75322912379

Q.8 Svetasvatara Upanishad is embedded in which Veda?

- Ans
- A. Atharvaveda
 - B. Rigveda
 - C. Samaveda
 - D. Yajurveda

Question ID : 75322912374

Q.9 Who is not King Ashoka's son in the following options?

- Ans
- A. Mahinda
 - B. Kunala
 - C. Kaivalya
 - D. Tivala

Question ID : 75322912383

Q.10 Which plant is called Queen of herbs?

- Ans A. Aloe vera
 B. Holy Basil
 C. Mint
 D. Neem

Question ID : 75322912378

Q.11 The Nutmeg's Curse: Parables for a Planet in Crisis is written by which author?

- Ans A. Ajay Goyal
 B. Amrita Rao
 C. Amit Gupta
 D. Amitav Ghosh

Question ID : 75322912387

Q.12 Who is the most recent Jnanpith award Recipient in 2021 who was awarded for the year 2020?

- Ans A. Sanjay Suri
 B. Sanjana Sachdeva
 C. Akkitham Achuthan Namboothiri Somi Suryavanshi
 D. Dr. Rajkumar Samagra Charithre

Question ID : 75322912388

Q.13 Which river is also called the Red River?

- Ans A. Narmada
 B. Tapi
 C. Brahmaputra
 D. Krishna

Question ID : 75322912381

Q.14 Which article of the Indian Constitution is related to the Procedure for impeachment of the President?

- Ans A. Article 55
 B. Article 71
 C. Article 51
 D. Article 61

Question ID : 75322912390

Q.15 Bacteria grows in food most rapidly in the range of temperatures between

-
- Ans A. 10 °F and 140 °F,
 B. 30 °F and 140 °F,
 C. 20 °F and 140 °F,
 D. 40 °F and 140 °F,

Question ID : 75322912377

Q.16 Which is the capital of Meghalaya?

- Ans A. Shillong
 B. Agartala
 C. Imphal
 D. Aizawl

Question ID : 75322912382

Q.17 Money Bill can be introduced in:

- Ans A. Both Lok Sabha and Rajya Sabha
 B. Only the Rajya Sabha
 C. Neither Lok Sabha Nor Rajya Sabha
 D. Only the Lok Sabha

Question ID : 75322912389

Q.18 Who won the Women's Singles tennis title at the 2021 Australian Open?

- Ans A. Naomi Osaka
 B. Jennifer Brady
 C. Garbine Muguruza
 D. Sofia Kenin

Question ID : 75322912392

Q.19 Ellora is a UNESCO World Heritage site located in which district of Maharashtra?

- Ans A. Buldhana
 B. Ahmednagar
 C. Amravati
 D. Aurangabad

Question ID : 75322912385

Q.20 Where is the headquarters of the Indian Olympic Association (IOA) situated?

- Ans A. Gujarat
 B. Chennai
 C. New Delhi
 D. Mumbai

Question ID : 75322912391

Section : Arithmetic Ability

Q.1 Find compound interest on Rs. 24000 at 10% per annum for 2 years, compounded annually .

- Ans A. Rs.7040
 B. Rs.5040
 C. Rs.4040
 D. Rs.6040

Question ID : 75322912404

Q.2 Two successive discounts of 40% and 20% is equal to a single discount of _____.

- Ans A. 60%
 B. 52%
 C. 48%
 D. 56%

Question ID : 75322912398

Q.3 The length of the longest rod which can we put in a room whose dimensions are $10\text{m} \times 10\text{m} \times 10\text{m}$ is _____.

- Ans A. 30.32m
 B. 17m
 C. 30m
 D. 17.32m

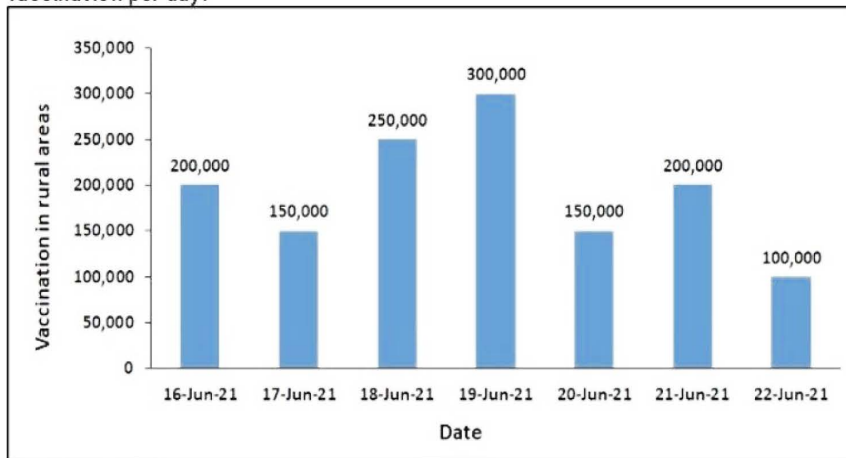
Question ID : 75322912408

Q.4 A person travelling in a train counts 31 electric pole in one minute. If the poles are 50 metres apart, at what speed is the train travelling?

- Ans A. 70kmph
 B. 90kmph
 C. 60kmph
 D. 80kmph

Question ID : 75322912406

Q.5 The histogram for a week of vaccination in rural areas is given. What is the average vaccination per day?



- Ans A. 192857
 B. 162857
 C. 298576
 D. 182857

Question ID : 75322912411

Q.6 If $x\%$ of 9 = $y\%$ of 21, then $(x+y) : y =$ _____.

- Ans A. 2:3
 B. 7:3
 C. 10:3
 D. 5:3

Question ID : 75322912400

Q.7 A man travelled a distance of 45 km in 7 hours. He travelled partly on foot at 5 km/hr and partly on bicycle at 12 km/hr. What is the distance travelled on foot?

- Ans A. Approx. 25km
 B. Approx. 30km
 C. Approx. 28km
 D. Approx. 32km

Question ID : 75322912405

Q.8 If 51^3 is divided by 17, then remainder will be _____ ?

- Ans A. 0
 B. 8
 C. 6
 D. 12

Question ID : 75322912397

Q.9 In an examination, 44% of students failed in quants and 38% of students failed in verbal while 32% failed in both the topics. If 350 students passed in both the topics, how many students appeared to write the examination?

- Ans A. 600
 B. 800
 C. 900
 D. 700

Question ID : 75322912403

Q.10 Which of the following numbers is divisible by 9?

- Ans A. 120458
 B. 389207
 C. 450453
 D. 873423

Question ID : 75322912395

Q.11 $\frac{3x+2y}{3x-2y} = \frac{17}{13}$ then $(x^2 + y^2):(x^2 - y^2) = \underline{\hspace{2cm}}?$

- Ans A. 12:5
 B. 13:5
 C. 12:13
 D. 13:12

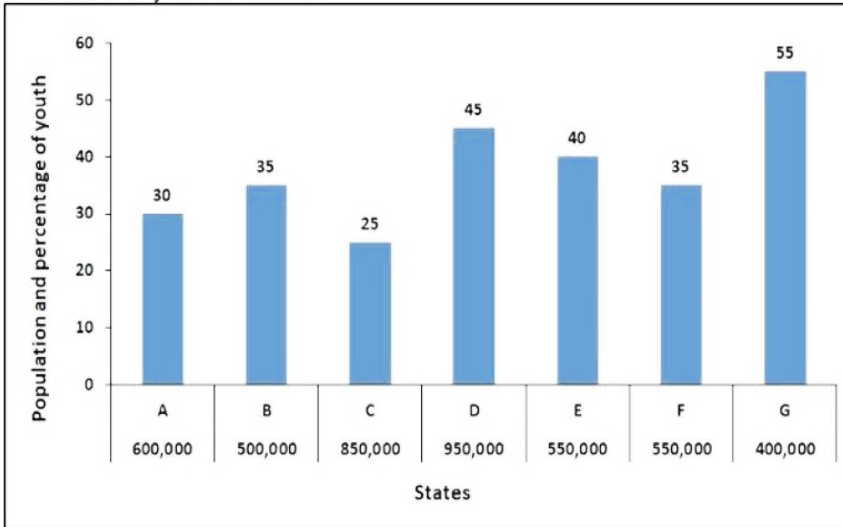
Question ID : 75322912402

Q.12 $11449 - 8649 + 449 = x^2$, then x is _____.

- Ans A. 67
 B. 87
 C. 47
 D. 57

Question ID : 75322912396

Q.13 The histogram for population and percentage of youth in 7 states are given. What is the number of youth in state C?



- Ans
- A. 320500
 - B. 180500
 - C. 112500
 - D. 212500

Question ID : 75322912412

Q.14 A watch was sold at a loss of 10%. If it was sold for Rs.140 more, there would have been a gain of 4%. What is the cost price?

- Ans
- A. Rs.1160
 - B. Rs.1060
 - C. Rs.1000
 - D. Rs.960

Question ID : 75322912401

Q.15 $\sqrt[3]{\frac{3(1-2x)}{5}} = \frac{243}{3125}$, then x is _____.

- Ans
- A. -7
 - B. -3
 - C. -4.5
 - D. -5

Question ID : 75322912393

Q.16 5% of $3 \div 5 =$ _____.

- Ans
- A. 0.03
 - B. 0.2
 - C. 0.3
 - D. 0.02

Question ID : 75322912399

Q.17 A and B can do a piece of work in 36 days, B and C in 45 days, and C and A in 60 days. How much time will B alone take to finish the job?

- Ans A. 130 days
 B. 140 days
 C. 120 days
 D. 60 days

Question ID : 75322912407

Q.18 $\frac{29^3 - 17^3 - 12^3}{36} + 7 = \underline{\hspace{2cm}}?$

- Ans A. 500
 B. 400
 C. 593
 D. 493

Question ID : 75322912394

Q.19 The sales of four companies P,Q,R, and S (in Rs. Crores) in year 2019-20 is represented by the table. If sales of P and Q are increased by 20% in the next year then the ratio of their sales next year is _____.

Company Name	Sales in Rs.
P	800 crores
Q	650 crores
R	900 crores
S	750 crores

- Ans A. 15:13
 B. 16:13
 C. 13:15
 D. 13:17

Question ID : 75322912410

Q.20 150 men took a dip in a pond 60 m long and 48 m broad on a religious day. If each man's displacement of water is 4 m cube, then the rise in the water level of the pond is _____.

- Ans A. 0.8 m (approx)
 B. 0.6 m (approx)
 C. 0.2 m (approx)
 D. 0.4 m (approx)

Question ID : 75322912409

Q.1 Four words are given, out of which only three words are spelt correctly. Choose the one spelt incorrectly.

- Ans A. synthesize
 B. supplant
 C. propriety
 D. timorous

Question ID : 75322912424

Q.2 Select the word segment that substitutes (replaces) the bracketed word segment correctly and completes the sentence meaningfully. Select the option 'no correction required' if the sentence is correct as given.

(It shows that the disposing sand wick can avoid the) liquefactive effect, but attention must be paid to the time effect.

- Ans A. No correction required
 B. It shows that disposing of sand wick can avoid
 C. It shows that the disposing of sand wick can avoid the
 D. It shows that the disposing sand wick can avoid

Question ID : 75322912416

Q.3 Fill in the blank with the most appropriate choice

What he doesn't mention is the mood swing from the honey-sweet to the -----.

- Ans A. immiscible
 B. miscible
 C. irascible
 D. concupiscible

Question ID : 75322912418

Q.4 Select the most appropriate idiom of the given meaning

A hopeless case, a person or situation having no hope of positive change.

- Ans A. Flash in the pan
 B. A lost cause
 C. Barking up the wrong tree
 D. Flesh and blood

Question ID : 75322912426

Q.5 Select the most appropriate meaning of the given idiom

Foam at the mouth

- Ans A. To be enraged and show it
 B. With all enthusiasm
 C. Not willing to accept the ideas of others
 D. To get someone drunk

Question ID : 75322912425

Q.6 Some parts of a sentence have been jumbled up, and labelled P, Q, R and S. Select the option that gives the correct sequence in which these parts can be rearranged to form a meaningful and grammatically correct sentence.

He spent
P. the night in
Q. to decide what
R. was the best
S. torment, trying
thing to do.

- Ans A. PSQR
 B. PSRQ
 C. RPQS
 D. QPRS

Question ID : 75322912419

Q.7 Select the word segment that substitutes (replaces) the bracketed word segment correctly and completes the sentence meaningfully. Select the option 'no correction required' if the sentence is correct as given.

(We don't grow neither better or worse as) we grow old but more like ourselves.

- Ans A. We grow neither better or worse as
 B. No correction required
 C. We don't grow either better or worse as
 D. We don't grow neither better nor worse as

Question ID : 75322912415

Q.8 The sentence below has been divided into three parts. Select the part of the sentence that has an error. If the sentence has no error, select the option 'No Error'.

Besides the Mount Rainier, there/ are also views of Osborne/ Mountain and the Sawtooth Ridge Peaks.

- Ans A. Mountain and the Sawtooth Ridge Peaks.
 B. Besides the Mount Rainier, there
 C. No Error
 D. are also views of Osborne

Question ID : 75322912413

Q.9 Select the most appropriate 'one word' for the expressions given below

End or failure of an institution, an idea, a company, etc.; death of a person

- Ans A. Demise
 B. Demagogue
 C. Dawdle
 D. Destitute

Question ID : 75322912427

Q.10 Select the word that is opposite in meaning (ANTONYM) to the word given below

infelicity

- Ans A. fortune
 B. burden
 C. affliction
 D. calamity

Question ID : 75322912421

Q.11 Fill in the blank with the most appropriate choice

We must _____ that god does not know of the existence of our sublunary world.

- Ans A. refer
 B. chauffer
 C. spoofer
 D. infer

Question ID : 75322912417

Q.12 Four words are given, out of which only one word is spelt correctly. Choose the correctly spelt word.

- Ans A. cosmopolitan
 B. cosmopolition
 C. cosmopolitian
 D. cosmopoliton

Question ID : 75322912423

Q.13 Select the word that is similar in meaning (SYNONYM) to the word given below

gourmand

- Ans A. temperance
 B. quotidian
 C. connoisseur
 D. propagate

Question ID : 75322912422

Q.14 The question below consist of a set of labelled (P,Q,R,S) sentences. Out of four options given, select the most logical order of the sentences which form a paragraph.

Before Richard Owen introduced the term Dinosauria in 1842, there was no concept of anything even like a dinosaur.

P. Large fossilized bones quite probably had been observed long before that time, but there is little record—and no existing specimens—of such findings much before 1818.

Q. Fossil bones of what were undoubtedly dinosaurs were discovered in New Jersey in the late 1700s and were probably discussed at the meetings of the American Philosophical Society in Philadelphia.

R. In 1676 Robert Plot of the University of Oxford included, in a work of natural history, a drawing of what was apparently the knee-end of the thighbone of a dinosaur, which he thought might have come from an elephant taken to Britain in Roman times.

S. In any case, people could not have been expected to understand what dinosaurs were even if they found their remains.

Soon thereafter, Lewis and Clark of Philadelphia began their expedition to encounter dinosaur fossils in the western United States.

Ans A. PSRQ

B. SQPR

C. RPQS

D. QPRS

Question ID : 75322912420

Q.15 The sentence below has been divided into three parts. Select the part of the sentence that has an error. If the sentence has no error, select the option 'No Error'.

Many an evening/ was spoilt by/ their intrusion.

Ans A. No Error

B. was spoilt by

C. their intrusion.

D. Many an evening

Question ID : 75322912414

Comprehension:

Read the passage carefully and choose the best answer to each question out of the four alternatives

The use of work animals began long before humankind started to practice agriculture. The use of animal power is now considered by many people to be archaic and inefficient. Yet, despite the more than 50 years spent promoting tractorization in developing countries, the development gap between industrialized-countries and those with weak, highly dependent economies has increased. Moreover, the use of current production models, which are more critically dependent on fossil fuel, cannot be considered universally feasible. Alternative energy sources such as the effective use of work animals must urgently be established. Animals not only provide the means by which millions of families make a living, but they also contribute to ecologically and socially acceptable production systems. Moreover, the efficiency of their energy inputs into crop production is higher than that of machines. The rational use of work animals has the potential to contribute, specifically, to the living conditions and security of small-scale subsistence farmers.

SubQuestion No : 16

Q.16 What does the author feel about the usage of machines replacing work animals?

- Ans A. The author portrays an opinion which strongly supports the argument for usage of work animals over machines.
- B. The author portrays a neutral view but only lists out merits of using work animals.
- C. The author portrays an opinion which is strongly against the argument for usage of work animals over machines.
- D. The author portrays a neutral view and lists merits and demerits for both the options.

Question ID : 75322912430

Comprehension:

Read the passage carefully and choose the best answer to each question out of the four alternatives

The use of work animals began long before humankind started to practice agriculture. The use of animal power is now considered by many people to be archaic and inefficient. Yet, despite the more than 50 years spent promoting tractorization in developing countries, the development gap between industrialized-countries and those with weak, highly dependent economies has increased. Moreover, the use of current production models, which are more critically dependent on fossil fuel, cannot be considered universally feasible. Alternative energy sources such as the effective use of work animals must urgently be established. Animals not only provide the means by which millions of families make a living, but they also contribute to ecologically and socially acceptable production systems. Moreover, the efficiency of their energy inputs into crop production is higher than that of machines. The rational use of work animals has the potential to contribute, specifically, to the living conditions and security of small-scale subsistence farmers.

SubQuestion No : 17

Q.17 It is stated in the passage that the use of work animals _____.

- Ans A. began before human kind started to practise agriculture
- B. is immoral and inefficient
- C. cannot be considered a universally feasible option
- D. promotes tractorization in developing countries

Question ID : 75322912429

Comprehension:

Read the passage carefully and choose the best answer to each question out of the four alternatives

The use of work animals began long before humankind started to practice agriculture. The use of animal power is now considered by many people to be archaic and inefficient. Yet, despite the more than 50 years spent promoting tractorization in developing countries, the development gap between industrialized-countries and those with weak, highly dependent economies has increased. Moreover, the use of current production models, which are more critically dependent on fossil fuel, cannot be considered universally feasible. Alternative energy sources such as the effective use of work animals must urgently be established. Animals not only provide the means by which millions of families make a living, but they also contribute to ecologically and socially acceptable production systems. Moreover, the efficiency of their energy inputs into crop production is higher than that of machines. The rational use of work animals has the potential to contribute, specifically, to the living conditions and security of small-scale subsistence farmers.

SubQuestion No : 18

Q.18 What does the passage mean, when it says the usage of work animals is archaic?

- Ans A. The usage of work animals old-fashioned.
- B. The usage of work animals is irrelevant
- C. The usage of work animals is immoral.
- D. The usage of work animals is inefficient.

Question ID : 75322912433

Comprehension:

Read the passage carefully and choose the best answer to each question out of the four alternatives

The use of work animals began long before humankind started to practice agriculture. The use of animal power is now considered by many people to be archaic and inefficient. Yet, despite the more than 50 years spent promoting tractorization in developing countries, the development gap between industrialized-countries and those with weak, highly dependent economies has increased. Moreover, the use of current production models, which are more critically dependent on fossil fuel, cannot be considered universally feasible. Alternative energy sources such as the effective use of work animals must urgently be established. Animals not only provide the means by which millions of families make a living, but they also contribute to ecologically and socially acceptable production systems. Moreover, the efficiency of their energy inputs into crop production is higher than that of machines. The rational use of work animals has the potential to contribute, specifically, to the living conditions and security of small-scale subsistence farmers.

SubQuestion No : 19

Q.19 According to the passage, which of the following option is incorrect? Choose one option.

- Ans A. Usage of current in-production models of tractors are not feasible due to their reliance on fossil fuels.
- B. The efficiency of work animal's energy inputs into crop production is lower than that of machines.
- C. The rational use of work animals has the potential to contribute, specifically, to the living conditions and security of small-scale subsistence farmers.
- D. Usage of work animals contribute to ecologically and socially acceptable production systems.

Question ID : 75322912432

Comprehension:

Read the passage carefully and choose the best answer to each question out of the four alternatives

The use of work animals began long before humankind started to practice agriculture. The use of animal power is now considered by many people to be archaic and inefficient. Yet, despite the more than 50 years spent promoting tractorization in developing countries, the development gap between industrialized-countries and those with weak, highly dependent economies has increased. Moreover, the use of current production models, which are more critically dependent on fossil fuel, cannot be considered universally feasible. Alternative energy sources such as the effective use of work animals must urgently be established. Animals not only provide the means by which millions of families make a living, but they also contribute to ecologically and socially acceptable production systems. Moreover, the efficiency of their energy inputs into crop production is higher than that of machines. The rational use of work animals has the potential to contribute, specifically, to the living conditions and security of small-scale subsistence farmers.

SubQuestion No : 20

Q.20 What kind of economies still makes use of working animals?

- Ans A. Industrialised economies
 B. Developed economies
 C. Developing economies
 D. Super economies

Question ID : 75322912431

Section : General Hindi

Q.1 निम्नलिखित प्रश्न में, चार विकल्पों में से, उस विकल्प का चयन करें जो दिए गए वाक्य के लिए पक्ष के भेद का सबसे अच्छा विकल्प है।
वह दिन भर मेहनत करता था तब जाकर घर खरीद सका!

- Ans A. पूर्णताद्योतक पक्ष
 B. नित्यताद्योतक पक्ष
 C. अभ्यासद्योतक पक्ष
 D. प्रगतिद्योतक पक्ष

Question ID : 75322912441

Q.2 निम्नलिखित प्रश्न में, चार विकल्पों में से, उस विकल्प का चयन करें जो दी गई मुहावरे का सही अर्थ वाला विकल्प है।
दो-दो हाथ करना -

- Ans A. अंतिम निर्णय के लिए तैयार होना
 B. आश्चर्यचकित होना
 C. अनुभवहीन होना
 D. निराश होना

Question ID : 75322912447

Q.3 निम्नलिखित प्रश्न में, चार विकल्पों में से, उस विकल्प का चयन करें जो दिए गए शब्द के समानार्थी शब्द का विकल्प नहीं है।
कोमल -

- Ans A. मृदु
 B. मुलायम
 C. श्याम
 D. सुकुमार

Question ID : 75322912438

Q.4 निम्नलिखित प्रश्न में, चार विकल्पों में से, उस विकल्प का चयन करें जो भाववाचक संज्ञा का सही विकल्प नहीं है।

- Ans A. आवश्यकता
 B. अंकित
 C. आनंद
 D. कड़वाहट

Question ID : 75322912436

Q.5 निम्नलिखित प्रश्न में, चार विकल्पों में से, उस विकल्प का चयन करें जो शुद्ध वाक्य का सबसे अच्छा विकल्प है।

- Ans A. भारत भूमि हम सबका माता है और हम उसका पुत्र हैं।
 B. भारत भूमि हमारा माता है और हम उसके पुत्र हैं।
 C. भारत भूमि हमारी माता है और हम उसके पुत्र हैं।
 D. भारत भूमि हमका माता है और हम उसका पुत्र हैं।

Question ID : 75322912442

Q.6 निम्नलिखित प्रश्न में, चार विकल्पों में से, उस विकल्प का चयन करें जो दिए गए लोकोक्ति का सही अर्थ वाला विकल्प है।
गुरु कीजै जान, पानी पीवै छान -

- Ans A. पास की वस्तु को दूर खोजना
 B. अच्छी तरह समझ बूझकर काम करना
 C. अवसरवादी होना
 D. ढोंग रचना

Question ID : 75322912446

Q.7 निम्नलिखित प्रश्न में, चार विकल्पों में से, उस विकल्प का चयन करें जो विलोम शब्द का सबसे अच्छा विकल्प है।

दाता

- Ans A. प्रकट
 B. व्यय
 C. याचक
 D. प्रेम

Question ID : 75322912439

Q.8 निम्नलिखित प्रश्न में, चार विकल्पों में से, उस विकल्प का चयन करें जो शुद्ध शब्द का सही विकल्प है।

- Ans A. आइतिहासिक
 B. ऐतिहासिक
 C. एतिहासिक
 D. ऐतीहासिक

Question ID : 75322912437

Q.9 निम्नलिखित प्रश्न में, चार विकल्पों में से, उस विकल्प का चयन करें जो दी गई मुहावरे का सही अर्थ वाला विकल्प है।
तोते उड़ जाना -

- Ans A. अलग-अलग होना
 B. प्रभावहीन व्यक्ति
 C. बहुत प्रभाव होना
 D. घबरा जाना

Question ID : 75322912448

Q.10 निम्नलिखित प्रश्न में, चार विकल्पों में से, उस विकल्प का चयन करें जो क्रिया के भेद वाला सही विकल्प हो।
मालिक नौकर से सफाई करवाता है।

- Ans A. संयुक्त क्रिया
 B. सामान्य क्रिया
 C. पूर्वकालिक क्रिया
 D. प्रेरणार्थक क्रिया

Question ID : 75322912434

Q.11 निम्नलिखित प्रश्न में, चार विकल्पों में से, उस विकल्प का चयन करें जो सही वाक्य भेद का विकल्प हो।
उसे पूरा विश्वास है कि वह अपने काम में सफल होगा।

- Ans A. मिश्र वाक्य
 B. संयुक्त वाक्य
 C. इच्छावाचक वाक्य
 D. सरल वाक्य

Question ID : 75322912443

Q.12 निम्नलिखित प्रश्न में, चार विकल्पों में से, उस सही विकल्प का चयन करें जो वाक्यांशों के लिए एक शब्द का विकल्प हो।
फल-फूल और मांस सब कुछ खाने वाला

- Ans A. मांसाहारी
 B. शाकाहारी
 C. सर्वहारी
 D. वनचर

Question ID : 75322912440

Q.13 निम्नलिखित प्रश्न में, चार विकल्पों में से, उस विकल्प का चयन करें जो दिए गए वाक्य के लिए वृत्ति के भेद का सबसे अच्छा विकल्प है।
संभव है आज मौसा जी घर पर आए।

- Ans A. विध्वंसार्थ
 B. संदेहार्थ
 C. निश्चयार्थ
 D. सम्भावनार्थ

Question ID : 75322912444

Q.14 निम्नलिखित प्रश्न में, चार विकल्पों में से, उस विकल्प का चयन करें जो विराम चिह्न युक्त वाक्य का सही विकल्प हो।

- Ans A. राम ऑफिस से सीधे घर पहुँचा-हाथ धोकर खाना खाया-फिर खेल खेलकर सो गया।
 B. राम ऑफिस से सीधे घर पहुँचा हाथ धोकर खाना खाया फिर खेल खेलकर सो गया।
 C. राम ऑफिस से सीधे घर पहुँचा, हाथ धोकर खाना खाया, फिर खेल खेलकर सो गया।
 D. राम ऑफिस से सीधे घर पहुँचा; हाथ धोकर खाना खाया; फिर खेल खेलकर सो गया;

Question ID : 75322912445

Q.15 निम्नलिखित प्रश्न में, चार विकल्पों में से, उस विकल्प का चयन करें जो अव्यय के भेद का सही विकल्प हो।
बच्चे घर के बाहर पौधे लगा रहे थे।

- Ans A. संबंधबोधक अव्यय
 B. निपात अव्यय
 C. समुच्चयबोधक अव्यय
 D. विस्मयादिबोधक अव्यय

Question ID : 75322912435

Comprehension:

नीचे दिए गये गद्यांश को ध्यानपूर्वक पढ़ें और चार विकल्पों में से प्रत्येक प्रश्न का सर्वोत्तम उत्तर चुनें।

कई लोग समझते हैं कि अनुशासन और स्वतंत्रता में विरोध है, किन्तु वास्तव में यह भ्रम है। अनुशासन के द्वारा स्वतंत्रता छिन नहीं जाती, बल्कि दूसरों की स्वतंत्रता की रक्षा होती है। सड़क पर चलने के लिए हम लोग स्वतंत्र हैं, हमें बायीं तरफ से चलना चाहिए किन्तु चाहे तो हम बीच में भी चल सकते हैं। इससे हम अपने ही प्राण संकट में डालते हैं, दूसरों की स्वतंत्रता भी छीनते हैं। विद्यार्थी भारत के भावी निर्माता हैं। उन्हें अनुशासन के गुणों का अभ्यास अभी से करना चाहिए, जिससे वे भारत के सच्चे सपूत कहला सकें।

SubQuestion No : 16

Q.16 इस अनुच्छेद का कोई उपयुक्त शीर्षक-

- Ans A. अनुशासन और स्वतंत्रता
 B. गुणों का अभ्यास
 C. भावी निर्माता
 D. भ्रम का असर

Question ID : 75322912454

Comprehension:

नीचे दिए गये गद्यांश को ध्यानपूर्वक पढ़ें और चार विकल्पों में से प्रत्येक प्रश्न का सर्वोत्तम उत्तर चुनें।

कई लोग समझते हैं कि अनुशासन और स्वतंत्रता में विरोध है, किन्तु वास्तव में यह भ्रम है। अनुशासन के द्वारा स्वतंत्रता छिन नहीं जाती, बल्कि दूसरों की स्वतंत्रता की रक्षा होती है। सड़क पर चलने के लिए हम लोग स्वतंत्र हैं, हमें बायीं तरफ से चलना चाहिए किन्तु चाहें तो हम बीच में भी चल सकते हैं। इससे हम अपने ही प्राण संकट में डालते हैं, दूसरों की स्वतंत्रता भी छीनते हैं। विद्यार्थी भारत के भावी निर्माता हैं। उन्हें अनुशासन के गुणों का अभ्यास अभी से करना चाहिए, जिससे वे भारत के सच्चे सपूत कहला सकें।

SubQuestion No : 17

Q.17 अनुशासन का दूसरों पर क्या प्रभाव होता है?

- Ans A. उनके स्वतंत्रता की रक्षा होती है
 B. उनकी स्वतंत्रता दूसरों को मिल जाती है
 C. उनकी स्वतंत्रता खत्म हो जाती है
 D. उनकी स्वतंत्रता छिन जाती है

Question ID : 75322912451

Comprehension:

नीचे दिए गये गद्यांश को ध्यानपूर्वक पढ़ें और चार विकल्पों में से प्रत्येक प्रश्न का सर्वोत्तम उत्तर चुनें।

कई लोग समझते हैं कि अनुशासन और स्वतंत्रता में विरोध है, किन्तु वास्तव में यह भ्रम है। अनुशासन के द्वारा स्वतंत्रता छिन नहीं जाती, बल्कि दूसरों की स्वतंत्रता की रक्षा होती है। सड़क पर चलने के लिए हम लोग स्वतंत्र हैं, हमें बायीं तरफ से चलना चाहिए किन्तु चाहें तो हम बीच में भी चल सकते हैं। इससे हम अपने ही प्राण संकट में डालते हैं, दूसरों की स्वतंत्रता भी छीनते हैं। विद्यार्थी भारत के भावी निर्माता हैं। उन्हें अनुशासन के गुणों का अभ्यास अभी से करना चाहिए, जिससे वे भारत के सच्चे सपूत कहला सकें।

SubQuestion No : 18

Q.18 अनुच्छेद के अनुसार लोगों को किस बात का भ्रम है?

- Ans A. कि अनुशासन और स्वतंत्रता बढ़ती जाती है
 B. कि अनुशासन और स्वतंत्रता भिन्न है
 C. कि अनुशासन और स्वतंत्रता समान है
 D. कि अनुशासन और स्वतंत्रता ज़रूरी नहीं हैं

Question ID : 75322912450

Comprehension:

नीचे दिए गये गद्यांश को ध्यानपूर्वक पढ़ें और चार विकल्पों में से प्रत्येक प्रश्न का सर्वोत्तम उत्तर चुनें।

कई लोग समझते हैं कि अनुशासन और स्वतंत्रता में विरोध है, किन्तु वास्तव में यह भ्रम है। अनुशासन के द्वारा स्वतंत्रता छिन नहीं जाती, बल्कि दूसरों की स्वतंत्रता की रक्षा होती है। सड़क पर चलने के लिए हम लोग स्वतंत्र हैं, हमें बायीं तरफ से चलना चाहिए किन्तु चाहें तो हम बीच में भी चल सकते हैं। इससे हम अपने ही प्राण संकट में डालते हैं, दूसरों की स्वतंत्रता भी छीनते हैं। विद्यार्थी भारत के भावी निर्माता हैं। उन्हें अनुशासन के गुणों का अभ्यास अभी से करना चाहिए, जिससे वे भारत के सच्चे सपूत कहला सकें।

SubQuestion No : 19

Q.19 इनमें से कौन-सा भ्रम का विलोम शब्द है?

- Ans A. संदेह
 B. भूल
 C. निभ्रम
 D. शक

Question ID : 75322912453

Comprehension:

नीचे दिए गये गद्यांश को ध्यानपूर्वक पढ़ें और चार विकल्पों में से प्रत्येक प्रश्न का सर्वोत्तम उत्तर चुनें।

कई लोग समझते हैं कि अनुशासन और स्वतंत्रता में विरोध है, किन्तु वास्तव में यह भ्रम है। अनुशासन के द्वारा स्वतंत्रता छिन नहीं जाती, बल्कि दूसरों की स्वतंत्रता की रक्षा होती है। सड़क पर चलने के लिए हम लोग स्वतंत्र हैं, हमें बायीं तरफ से चलना चाहिए किन्तु चाहें तो हम बीच में भी चल सकते हैं। इससे हम अपने ही प्राण संकट में डालते हैं, दूसरों की स्वतंत्रता भी छीनते हैं। विद्यार्थी भारत के भावी निर्माता हैं। उन्हें अनुशासन के गुणों का अभ्यास अभी से करना चाहिए, जिससे वे भारत के सच्चे सपूत कहला सकें।

SubQuestion No : 20

Q.20 भारत के सच्चे सपूत बनने के लिए विद्यार्थियों को किसका अभ्यास करना चाहिए ?

- Ans
- A. बायीं तरफ से चलने का
 - B. भावी निर्माता बनने का
 - C. अनुशासन के गुणों
 - D. सच्चे सपूत बनने का

Question ID : 75322912452

Section : Discipline 1

Q.1 At which age most children can start to spell some common words that aren't spelled the way they sound (often called sight words)?

- Ans
- A. High-schoolers
 - B. Middle-schoolers
 - C. Younger grade-schoolers (ages 5-7 years)
 - D. Toddlers (ages 1-2 years)

Question ID : 75322912464

Q.2 _____ refers to free associations, dreams or reveries.

- Ans
- A. Multidirected cognition
 - B. Equality cognition
 - C. Undirected cognition
 - D. Directed cognition

Question ID : 75322912465

Q.3 In which of this period child is still a baby but can walk more confidently and looks more chubby?

- Ans
- A. Toddlerhood
 - B. Infanthood
 - C. Pre-school childhood
 - D. Babyhood

Question ID : 75322912461

Q.4 What is pre-natal period?

- Ans
- A. The period from birth to the age of 2 years.
 - B. The period from day of conception up to 1 year.
 - C. The period from day of conception till the birth of the child.
 - D. The period from birth to the age of 5 years.

Question ID : 75322912457

Q.5 What are the factors affecting moral development?

- Ans
- A. institutional infrastructure
 - B. school and college
 - C. family, peers, and culture.
 - D. officers and companies

Question ID : 75322912473

Q.6 How do social cultural factors influence development?

- Ans
- A. by providing it with physical context.
 - B. by providing it with family context
 - C. by providing it with cultural context
 - D. by providing it with a social context.

Question ID : 75322912470

Q.7 What are the two major influences on child development?

- Ans
- A. psychology and sociology
 - B. nature and nurture
 - C. drama and art
 - D. culture and society

Question ID : 75322912471

Q.8 Which stage is of idea development and the beginning of theories in child?

- Ans
- A. Formal operation stage
 - B. Pre-operational stage
 - C. sensory-motor stage
 - D. Concrete operations stage

Question ID : 75322912466

Q.9 Which are the evidence of high level of cognitive development?

- Ans
- A. Social awareness and creativity
 - B. Soft skills and creativity
 - C. Intellectual and creativity
 - D. Problem solving and creativity

Question ID : 75322912467

Q.10 Which one is not included in affective domain?

- Ans A. motor skills
 B. feelings
 C. attitudes
 D. emotions

Question ID : 75322912468

Q.11 Child development does not take place in which of the following areas?

- Ans A. Financial
 B. Mental
 C. Physical
 D. Emotional skills

Question ID : 75322912455

Q.12 What are 4 language domains?

- Ans A. Reading, Writing, Explaining, Narrating
 B. Talking, Observing, Reading , Writing
 C. Listening, Speaking, Reading, and Writing.
 D. Hearing, Speaking, Writing , Analyzing

Question ID : 75322912474

Q.13 Good family values are expressed through _____?

- Ans A. Teamwork, honesty, compassion
 B. Education
 C. Individual work
 D. Lesson Plan

Question ID : 75322912469

Q.14 What are the most important influences on a child's brain development?

- Ans A. assessment and learning
 B. caste and gender
 C. knowledge
 D. Caring, Responsive Relationships

Question ID : 75322912472

Q.15 Teething of baby is marked between ___ and ___ month.

- Ans A. 9 and 11
 B. 6 and 8
 C. 5 and 7
 D. 10 and 12

Question ID : 75322912460

Q.16 By the age of 3 years which of the following qualities is mastered by child?

- Ans A. vocabulary and sentences speaking
 B. Life functioning, personality, and relationships
 C. gross- and fine-motor skills
 D. sitting, walking and sufficient hand-eye coordination

Question ID : 75322912456

Q.17 The rate of growth and development from infancy to the age six is _____.

- Ans A. Remarkably moderate
 B. Remarkably slow
 C. Depends on child to child
 D. Remarkably rapid

Question ID : 75322912458

Q.18 An average 2 year old child requires how much amount of sleep?

- Ans A. 12-14 hrs at night and 1 hr nap during day
 B. 5-6 hrs at night and 2-3 hrs nap during day
 C. 10-12 hrs at night and 1-2 hrs nap during day
 D. 8-9 hrs at night and 6-7 hrs nap during day

Question ID : 75322912462

Q.19 To resist which of this prevailing diseases triple antigen vaccine is given to the baby?

- Ans A. Whooping Cough, Jaundice, Cholera and Polio
 B. Dengue, Malaria, Polio and Tetanus
 C. Diphtheria, Polio, Whooping Cough and Tetanus
 D. Diarrhea, Cholera, Typhoid and Polio

Question ID : 75322912459

Q.20 The two characteristics of skilled movement are _____.

- Ans A. Purposive nature and coordination of sensory information
 B. Automatic behaviour and coordination of sensory information
 C. Supportive nature and coordination of sensory information
 D. Inquisitive nature and coordination of sensory information

Question ID : 75322912463

Section : Discipline2

Q.1 Which of these is a right to equality?

- Ans A. equality of assembly without arms of association,
 B. abolition of discrimination on grounds of caste, race, sex or religion
 C. equality of profession or occupation.
 D. freedom of speech and expression,

Question ID : 75322912481

Q.2 सांप्रदायिक विवाद दो _____ के बीच होता है।

- Ans A. राज्य
 B. समुदाय
 C. देशों
 D. धर्म

Question ID : 75322912480

Q.3 Which principle of curriculum suggest that organization of the curriculum should be on the basis of individual differences as every child is different from the other?

- Ans A. Principle of flexibility
 B. Principle of forward-looking
 C. Principle of co-relation
 D. Principle of conservation

Question ID : 75322912493

Q.4 Which of this is not a major cause at root of linguism in our country?

- Ans A. Historical causes
 B. philosophical causes
 C. Psychological causes
 D. Economic causes

Question ID : 75322912477

Q.5 _____ एक गतिशील प्रक्रिया है, जिसका उपयोग पाठ्यचर्या के मूल्य और प्रभावशीलता के बारे में निर्णय लेने के लिए किया जाता है।

- Ans A. मूल्यांकन
 B. शिक्षण की रणनीतियाँ
 C. स्थितिपरक विश्लेषण
 D. विषयवस्तु का चयन

Question ID : 75322912492

Q.6 In which evaluation the final effects of a curriculum are evaluated on the basis of its stated objectives?

- Ans A. Summative Evaluation
 B. Cognitive evaluation
 C. Formative Evaluation
 D. Diagnostic Evaluation

Question ID : 75322912494

Q.7 Which scheme was launched in March, 2009 with the objective to enhance access to secondary education and to improve its quality?

- Ans A. Rashtriya prathamik Shiksha Abhiyan (RPSA)
 B. Sarva Shiksha Abhiyan
 C. Naye Talim
 D. Rashtriya Madhyamik Shiksha Abhiyan (RMSA)

Question ID : 75322912487

Q.8 _____ औपचारिक पाठ्यचर्या में व्यक्त किए गए नियोजित पाठ्यक्रमों, कार्यक्रमों, अधिगम गतिविधियों और अवसरों को वास्तव में अपेक्षित परिणाम देने की सीमा को मापने और पहचानने की प्रक्रिया है।

- Ans A. पाठ्यचर्या विषयवस्तु या विषय वस्तु
 B. पाठ्यचर्या मूल्यांकन
 C. पाठ्यचर्या पाठ्यक्रम
 D. पाठ्यचर्या के लक्ष्य और उद्देश्य

Question ID : 75322912489

Q.9 1937 में स्वतंत्रता से 10 वर्ष पहले एक नई सामाजिक व्यवस्था के लिए नई तालीम (नई शिक्षा जिसे बुनियादी शिक्षा के रूप में भी जाना जाता है) की आवश्यकता की कल्पना किसने की थी?

- Ans A. महात्मा गांधी
 B. जवाहरलाल नेहरू
 C. सरदार पटेल
 D. डॉ. आम्बेडकर

Question ID : 75322912488

Q.10 भाषावाद का दुष्परिणाम कौन सा है?

- Ans A. राष्ट्रीय एकता को कोई खतरा नहीं
 B. भाषा के आधार पर नकारात्मक राजनीतिक शोषण
 C. भाषाई देश के भीतर विभाजित नहीं करते हैं
 D. भाषाई अल्पसंख्यकों का पर्याप्त प्रतिनिधित्व

Question ID : 75322912478

Q.11 _____ एक विशेष आयु वर्ग के छात्रों के लिए निर्धारित पुस्तक है और इसे टीचर इन प्रिंट कहा जाता है।

- Ans A. कार्य पुस्तक
 B. परियोजना पुस्तक
 C. नोट बुक
 D. पाठ्य पुस्तक

Question ID : 75322912490

Q.12 निजी विद्यालयों को यादृच्छिक चयन प्रक्रिया के माध्यम से समाज के कमजोर वर्ग और वंचित समूह से अपनी कक्षा की संख्या का ___% लेना होगा। इन बच्चों की पढ़ाई के लिए सरकार धन देगी।

- Ans A. 15%
 B. 10%
 C. 20%
 D. 25%

Question ID : 75322912485

Q.13 एक सामूहिक संस्कृति _____ को छोड़कर निम्नलिखित सभी को प्राथमिकता देती है और पुरस्कार देती है, जिसे व्यक्तिवादी संस्कृतियों द्वारा महत्व दिया जाता है।

- Ans A. सहयोगी व्यवहार
 B. समुदाय की जरूरतों को प्राथमिकता देना
 C. उदार, दयालु व्यवहार
 D. मुखरता और स्वतंत्र क्रिया

Question ID : 75322912476

Q.14 जनजातीय मामलों के मंत्रालय ने दूरस्थ क्षेत्रों में अनुसूचित जनजाति के छात्रों को गुणवत्तापूर्ण मध्यम और उच्च स्तर की शिक्षा प्रदान करने के लिए अनुसूचित जनजाति के छात्रों के लिए मॉडल आवासीय विद्यालय योजना शुरू की है।

- Ans A. परशुराम
 B. वाल्मीकि
 C. एकलव्य
 D. द्रोणाचार्य

Question ID : 75322912483

Q.15 The title of the RTE Act incorporates the words _____.

- Ans A. 'Free education'
 B. 'paid education'
 C. 'free and compulsory education'
 D. 'Compulsory education'

Question ID : 75322912486

Q.16 शिक्षा के उद्देश्यों को तैयार करने के लिए मुख्य कारक कौन से हैं?

- Ans A. विद्यालय, शिक्षार्थी, शिक्षक, ज्ञान
 B. समाज, ज्ञान, शिक्षार्थी, अधिगम प्रक्रिया
 C. समाज, विद्यालय, शिक्षार्थी, शिक्षक
 D. शिक्षक, शिक्षार्थी, ज्ञान, कक्षाएं

Question ID : 75322912491

Q.17 Right to Free and compulsory education to all children of India covers the age group

- Ans A. 6 to 14
 B. 5 to 14
 C. 3 to 12
 D. 6 to 15

Question ID : 75322912484

Q.18 भाषा के कितने डोमेन हैं?

- Ans A. तीन भाषा डोमेन
 B. छह भाषा डोमेन
 C. आठ भाषा डोमेन
 D. पांच भाषा डोमेन

Question ID : 75322912475

Q.19 _____ किसी अन्य क्षेत्र के लोगों के बजाय अपने क्षेत्र के लोगों के लिए स्नेह और लगाव की भावना है।

- Ans A. सांप्रदायिकता
 B. भाषावाद
 C. क्षेत्रवाद
 D. राष्ट्रवाद

Question ID : 75322912479

Q.20 निम्नलिखित में से किस सामाजिक स्तरीकरण के तहत समाज को संपन्न और वंचित में बांटा गया है, लेकिन ऊर्ध्वाधर गतिशीलता कम से कम अप्रतिबंधित है?

- Ans A. नस्ल के आधार पर स्तरीकरण।
 B. लिंग के आधार पर स्तरीकरण।
 C. जाति के आधार पर स्तरीकरण।
 D. आर्थिक वर्ग के आधार पर स्तरीकरण।

Question ID : 75322912482

Section : Discipline3

Q.1 ICT as lesson designed are more _____.

- Ans A. Interesting and practical
 B. Practical and boring
 C. Tough and difficult
 D. engaging and interesting

Question ID : 75322912499

Q.2 निम्नलिखित में से कौन सा सिद्धांत अंग्रेजी को दूसरी भाषा के रूप में पढ़ाने के लिए नहीं है?

- Ans A. भाषा विकास के लिए उच्च गुणवत्ता वाले पाठों को डिजाइन करना।
 B. भाषा अधिगम में बाधाएं उत्पन्न करना।
 C. छात्र भाषा विकास की निगरानी और आकलन करना।
 D. अपने शिक्षार्थियों को जानना।

Question ID : 75322912506

Q.3 Technically, _____ is finding the length, height, and weight of an object using units like inches, feet or pounds in mathematics.

- Ans A. Pattern
 B. Representation
 C. Measurement
 D. Estimation

Question ID : 75322912513

Q.4 ICT does not provide which of the following tools of learning?

- Ans A. Slideshows
 B. Laboratories
 C. Videos
 D. Calculations

Question ID : 75322912498

Q.5 One of the most vital contributions of ICT in the field of education is- _____.

- Ans A. Easy Access to Learning
 B. Easy Access to Teaching
 C. Easy access to Assignments
 D. Easy access to Books

Question ID : 75322912497

Q.6 एक बच्चा अनिवार्य रूप से अपनी भाषा की ध्वनि प्रणाली और व्याकरण में कब महारत हासिल करता है और हजारों शब्दों की शब्दावली हासिल करता है?

- Ans A. 10 वर्ष की आयु तक
 B. 6 वर्ष की आयु तक
 C. 5 वर्ष की आयु तक
 D. 3 वर्ष की आयु तक

Question ID : 75322912508

Q.7 निम्नलिखित में से कौन सा तरीका एक बच्चे के लिए गणितीय कौशल सीखने में उपयोगी नहीं है?

- Ans A. गिनने और छोटें
 B. त्रिकोणमिति
 C. शेप अप
 D. पैटर्न प्ले

Question ID : 75322912514

Q.8 In growing demand for ICT, in order to stay ahead and become a competitive person, a leader must keep abreast with _____.

- Ans A. Updated technology
 B. Knowledge
 C. Creativity
 D. Skills

Question ID : 75322912496

Q.9 इनमें से कौन सी वस्तुनिष्ठ परीक्षा नहीं है?

- Ans A. सत्य-असत्य
 B. समझ
 C. बहुविकल्पी
 D. सादृश्य

Question ID : 75322912502

Q.10 What plays the most important role in learning English language?

- Ans A. Vocabulary
 B. Grammar
 C. Meaning
 D. Figures of speech

Question ID : 75322912507

Q.11 भाषाओं को पढ़ाने और सीखने के लिए उपयोग की जाने वाली विधियों के प्रति अपनाए गए उपागम को क्या कहा जाता है?

- Ans A. भाषा शिक्षाशास्त्र
 B. उदार शिक्षाशास्त्र
 C. साहित्य शिक्षाशास्त्र
 D. अंग्रेजी शिक्षाशास्त्र

Question ID : 75322912503

Q.12 _____ अक्षरों के माध्यम से पढ़ना सीखने की एक विधि है जिसमें एक-एक कर के वर्तनी की जाती है।

- Ans A. संपूर्ण भाषा उपागम
 B. च्चनिक
 C. गिनतारा
 D. वैदिक

Question ID : 75322912510

Q.13 निम्नलिखित में से कौन सा शिक्षा में ICT कार्यान्वयन का मुख्य लक्ष्य नहीं है?

- Ans A. गतिशील और नवोन्मेषी शिक्षण वातावरण से विद्यालय को घेरना
 B. छात्रों को व्यापक ज्ञान प्राप्त करने में सक्षम बनाने के लिए
 C. छात्रों का सूचना को संसाधित करने की क्षमता से पोषण करना
 D. छात्रों को भविष्य में टेक्नो-एडिक्ट बनाने के लिए

Question ID : 75322912500

Q.14 कौन सी विधि छोटी आयु में भाषा सिखाने के लिए उपयुक्त है जहाँ बच्चे सीधे शारीरिक गतिविधि और गति से संबंधित गतिविधि सीखना पसंद करते हैं?

- Ans A. कुल शारीरिक प्रतिक्रिया विधि
 B. खेल पद्धति का प्रयोग कर अध्यापन
 C. दीर्घकालिक स्मृति विधि
 D. गीत पद्धति का प्रयोग कर अध्यापन

Question ID : 75322912511

Q.15 संचार का प्राथमिक माध्यम कौन सा है ?

- Ans A. भाषा
 B. हावभाव
 C. कला
 D. कार्रवाई

Question ID : 75322912504

Q.16 ICT stands for _____.

- Ans A. Informative and Creative Teaching
 B. Information and Communication Technology
 C. Informative Course and Technology
 D. Information and Curriculum Teaching

Question ID : 75322912495

Q.17 5 वर्ष के सामान्य बच्चे को कौन सा बुनियादी गणित आवश्यक रूप से पता होना चाहिए?

- Ans A. 3-अंकीय संख्याओं का गुणन
 B. 10 तक की संख्या
 C. 2-अंकीय संख्याओं का भाग
 D. 1000 तक की संख्या

Question ID : 75322912512

Q.18 A small child acquires language through _____.

- Ans A. Interaction
 B. Study
 C. Discord
 D. Self

Question ID : 75322912509

Q.19 एक बच्चा अपनी पहली भाषा कहाँ सीखता है?

- Ans A. विद्यालय
 B. छात्रावास
 C. घर
 D. मुहल्ला

Question ID : 75322912505

Q.20 शिक्षा में वस्तुनिष्ठ प्रकार की परीक्षा क्या है?

- Ans A. अत्यंत छोटे उत्तरों की आवश्यकता वाली एक परीक्षा
 B. बहुत लंबे उत्तरों की आवश्यकता वाली एक परीक्षा
 C. संक्षिप्त उत्तर की आवश्यकता वाली परीक्षा
 D. संक्षिप्त उत्तरों की आवश्यकता वाली परीक्षा

Question ID : 75322912501

Section : Discipline4

Q.1 Which social science is called the mother of all social sciences?

- Ans A. History
 B. Sociology
 C. Geology
 D. Economics

Question ID : 75322912524

Q.2 Which of this is not a main aspect of health?

- Ans A. Economical health
 B. Physical health
 C. Mental health
 D. Emotional health

Question ID : 75322912533

Q.3 गणित _____ का एक अनिवार्य हिस्सा है।

- Ans A. विज्ञान शिक्षा
 B. समाजशास्त्र शिक्षा
 C. दार्शनिक शिक्षा
 D. मनोविज्ञान शिक्षा

Question ID : 75322912515

Q.4 What is the full form of EVS?

- Ans A. Environmental strategy
 B. Environmental Sciences
 C. Evolution strategy
 D. Evolution Science

Question ID : 75322912520

Q.5 इनमें से कौन सा सामाजिक अध्ययन का एक घटक है?

- Ans A. नागरिक और सरकार
 B. लेखा परीक्षा
 C. कानून
 D. लेखांकन

Question ID : 75322912523

Q.6 निम्नलिखित में से कौन सा EVS शिक्षण का एक प्रमुख उद्देश्य नहीं है?

- Ans A. जीवाश्म विज्ञान के बारे में सीखना
 B. संवेदनशीलता विकसित करना
 C. पर्यावरण के बारे में सीखना
 D. विविधता के लिए एक प्रशंसा विकसित करना

Question ID : 75322912518

Q.7 शिक्षा में नाटक और कला के प्रयोग से _____ होता है।

- Ans A. असहयोग
 B. शारीरिक विकास
 C. व्यक्तित्व विकास
 D. ज्ञान वृद्धि

Question ID : 75322912525

Q.8 बाहरी गतिविधियों से बच्चे क्या सीख सकते हैं?

- Ans A. आत्म स्वतंत्रता
 B. सामयिकी
 C. अंतर्मुखी
 D. बाहरी घटनाएं

Question ID : 75322912529

Q.9 निम्नलिखित में से कौन सा योग का मार्ग नहीं है?

- Ans A. ज्ञान योग
 B. रानी योग
 C. कर्म योग
 D. भक्ति योग

Question ID : 75322912531

Q.10 Which is not a environmental education teaching method?

- Ans A. Project method
 B. Theoretical method
 C. Discussion method
 D. Demonstration method

Question ID : 75322912519

Q.11 Which teaching method allows learners to explore different parts of games as a form of learning?

- Ans A. Art based learning
 B. Activity based learning
 C. Game-based learning
 D. Skill based learning

Question ID : 75322912528

Q.12 आरम्भिक किशोरावस्था में क्या होता है?

- Ans A. किशोर वयस्कों के समान व्यवहार करते हैं, और उन्होंने एक अलग पहचान बनाई है और उनकी अपनी राय और विचार हैं।
- B. माध्यमिक यौन विशेषताओं की वृद्धि और विकास में तेजी आई है।
- C. शारीरिक परिवर्तन माध्यमिक यौन विशेषताओं के विकास की ओर ले जाते हैं।
- D. विपरीत लिंग और सहकर्मी समूहों के साथ नए संबंध बनते हैं और माता-पिता से एक अलग पहचान का विकास होता है।

Question ID : 75322912534

Q.13 _____ is considered as the evidence of reaching adolescent stage.

- Ans A. Maturity
- B. Early childhood
- C. Puberty
- D. Adult

Question ID : 75322912532

Q.14 निम्नलिखित में से कौन सा नाटक का प्रकार नहीं है?

- Ans A. त्रासदी
- B. भावुकता
- C. छोलिया
- D. कॉमेडी

Question ID : 75322912526

Q.15 बगीचा शिक्षण से बच्चे जीवन का कौन-सा पाठ सीख सकते हैं?

- Ans A. प्रकृति सुंदर है
- B. पौधों और फूलों की किस्में हैं
- C. वृद्धि में समय लगता है
- D. पौधे हरे हैं

Question ID : 75322912530

Q.16 निम्नलिखित में से कौन सा संगीत शिक्षण का एक पहलू नहीं है?

- Ans A. संवेगनात्मक
- B. शारीरिक
- C. कलात्मक
- D. चेहरा

Question ID : 75322912527

Q.17 Ability to count accurately– first forward is called?

- Ans A. Figure sense
 B. Letter sense
 C. Shape sense
 D. Number sense

Question ID : 75322912516

Q.18 इनमें से किसमें लोगों का अध्ययन और एक दूसरे के साथ उनकी अंतःक्रिया शामिल है?

- Ans A. विज्ञान
 B. EVS
 C. सामाजिक विज्ञान
 D. गणित

Question ID : 75322912522

Q.19 _____ is a way of working with children and creating settings for care and education that embraces nature.

- Ans A. Care pedagogy
 B. Nurture pedagogy
 C. Science pedagogy
 D. Nature Pedagogy

Question ID : 75322912521

Q.20 इनमें से कौन पर्यावरण विज्ञान का प्रमुख क्षेत्र नहीं है?

- Ans A. अंक विद्या
 B. भौमिकी
 C. सामाजिक विज्ञान
 D. पारिस्थितिकी

Question ID : 75322912517

Section : Discipline5

Q.1 सेवाकालीन प्रशिक्षण कार्यक्रम में शिक्षकों को किस प्रकार की समस्याओं का सामना करना पड़ता है?

- Ans A. गुणवत्ता का अभाव
 B. शिक्षा तक पहुंच की कमी
 C. भाषा का अभाव
 D. अनुभव की कमी

Question ID : 75322912552

Q.2 एक शिक्षक समुदाय में कैसे योगदान देता है?

- Ans
- A. दान कार्य प्रदान करके
 - B. समाज सेवा करके
 - C. दान करने से
 - D. शिक्षार्थियों को ज्ञान और मूल्य प्रदान करके

Question ID : 75322912553

Q.3 मोटापे की संभावना को कम करने से, शारीरिक शिक्षा भी किस बीमारी के जोखिम को कम करने में मदद करती है?

- Ans
- A. मधुमेह
 - B. बुखार
 - C. न्यूमोनिया
 - D. आंत्र ज्वर

Question ID : 75322912540

Q.4 पर्याप्त शारीरिक गतिविधि न करने से _____ हो सकता है।

- Ans
- A. नेत्र विकार
 - B. फ्रेक्चर
 - C. हृदय रोग
 - D. पेट दर्द

Question ID : 75322912543

Q.5 हमें विद्यालय में शारीरिक शिक्षा की आवश्यकता है क्योंकि _____।

- Ans
- A. अच्छा अधिगम प्रदान करता है
 - B. अच्छे अंक प्रदान करता है
 - C. संज्ञानात्मक सामग्री प्रदान करता है
 - D. अच्छा व्यायाम प्रदान करता है

Question ID : 75322912541

Q.6 बच्चों के लिए सामाजिक कौशल का उपयोग करना क्यों महत्वपूर्ण है?

- Ans
- A. क्योंकि वे सकारात्मक बातचीत की संभावना को कम करते हैं
 - B. क्योंकि वे संबंध बनाने और विकसित करने का मार्ग हैं
 - C. क्योंकि यह बच्चों को अति आत्मविश्वास का एहसास देता है
 - D. क्योंकि इसका जीवन के अनुभवों पर नकारात्मक प्रभाव पड़ता है

Question ID : 75322912538

Q.7 शारीरिक शिक्षा में संवेगनात्मक स्वास्थ्य क्या है?

- Ans A. क्रोध और फिटनेस को नियंत्रित करने में सक्षम
 B. अपनी संवेगनाओं और व्यवहार को नियंत्रित करने में असमर्थ होना
 C. संवेगनाओं को व्यक्त करने में सक्षम नहीं
 D. अपनी संवेगनाओं और व्यवहार को नियंत्रित करने में सक्षम होना

Question ID : 75322912545

Q.8 किस प्रकार का स्वास्थ्य व्यक्ति के समग्र स्वास्थ्य को कवर करता है?

- Ans A. शारीरिक स्वास्थ्य
 B. मानसिक स्वास्थ्य
 C. संवेगनात्मक स्वास्थ्य
 D. आध्यात्मिक स्वास्थ्य

Question ID : 75322912539

Q.9 एक बच्चे की संवेगनात्मक जरूरतें _____ हैं।

- Ans A. उन्हें स्वस्थ भोजन चाहिए होता
 B. उन्हें अच्छी शिक्षा चाहिए होती
 C. उन्हें प्यार महसूस करवाने की जरूरत है और सकारात्मक आत्म-सम्मान की आवश्यकता होती
 D. उन्हें शारीरिक व्यायाम की आवश्यकता होती

Question ID : 75322912547

Q.10 एक बच्चे के जीवन में शारीरिक शिक्षा की मुख्य भूमिका _____ है।

- Ans A. खाने की आदतों को बढ़ावा देने के लिए
 B. कूदने को बढ़ावा देना
 C. स्वस्थ वृद्धि और विकास को बढ़ावा देने के लिए।
 D. दौड़ने को बढ़ावा देने के लिए

Question ID : 75322912542

Q.11 किशोरावस्था _____ के बीच शुरू और समाप्त होती है।

- Ans A. 12 और 16 वर्ष की आयु।
 B. 13 और 18 वर्ष की आयु।
 C. 15 और 18 वर्ष की आयु।
 D. 11 और 18 वर्ष की आयु।

Question ID : 75322912536

Q.12 विद्यालय में परियोजना के उद्देश्य ____ हैं।

- Ans A. दलबंदी बढ़ाने के लिए
 B. आक्रामक व्यवहार की मात्रा बढ़ाने के लिए
 C. लक्षित सामाजिक कौशल में सुधार करने के लिए
 D. बकवास (टेटलिंग) की मात्रा बढ़ाने के लिए

Question ID : 75322912537

Q.13 What are the objectives of Physical Education?

- Ans A. develop emotions
 B. to develop learning skills
 C. to develop gross skills
 D. to develop motor skills

Question ID : 75322912554

Q.14 कौन आपके बच्चे को मजबूत पेशियों और हड्डियों के निर्माण में मदद करता है जो शरीर के अनुकूल होने के लिए प्रोत्साहन के रूप में कार्य करता है?

- Ans A. शिक्षा
 B. व्यायाम
 C. भोजन
 D. पानी

Question ID : 75322912544

Q.15 शारीरिक बीमारी के उदाहरण ___ है।

- Ans A. चिंता
 B. तनाव
 C. क्रोन रोग
 D. अवसाद

Question ID : 75322912548

Q.16 इनमें से कौन सी शारीरिक आवश्यकता बच्चे के लिए महत्वपूर्ण है?

- Ans A. एक जगह पर बैठना
 B. नियमित अध्ययन
 C. संवेगनाओं को नियंत्रित करना
 D. नियमित गति

Question ID : 75322912546

Q.17 _____ के कारण शिक्षक तनावग्रस्त और दग्ध हैं।

- Ans A. मजबूत नेतृत्व की कमी और नकारात्मक माहौल
 B. छात्रों की कमी
 C. ज्ञान की कमी
 D. अनुभव की कमी

Question ID : 75322912549

Q.18 भावनात्मक स्वास्थ्य उचित रूप से व्यक्त करने की क्षमता में मदद करता है _____।

- Ans A. शरीर को फैलाने की उनकी क्षमता
- B. सार्थक सामाजिक संपर्क और संबंध रखने की उनकी क्षमता
- C. परिवर्तन के अनुकूल होने की उनकी क्षमता।
- D. उनका स्वस्थ भोजन और सोने की आदतें

Question ID : 75322912535

Q.19 एक शिक्षक प्रभावी नेता कैसे हो सकता है?

- Ans A. अच्छी पाठ योजना बनाना
- B. नई शिक्षण सहायक सामग्री बनाना
- C. नई चीज़ें सीखना
- D. साथियों की बात सुनकर सार्थक संबंध बनाना

Question ID : 75322912551

Q.20 What do you understand about in-service training of teachers?

- Ans A. to advertise or promote the school
- B. to enhance the teaching quality of Indian schools.
- C. to establish the new school
- D. to enhance the teaching quality of abroad school

Question ID : 75322912550



TeachingNinja.in