



# Teachingninja.in

**DSSSB PRT 15 Nov 2019 Shift 1 Paper**

-  **Latest Govt Job updates**
-  **Private Job updates**
-  **Free Mock tests available**

**Visit - [teachingninja.in](https://teachingninja.in)**



GOVT. OF NCT OF DELHI  
Delhi Subordinate Services Selection Board  
FC-18, Institutional Area, Karkardooma, Delhi – 110092.  
[www.dsssb.delhigovt.nic.in](http://www.dsssb.delhigovt.nic.in)

Test Center Name	Star Wave Digital Solutions
Test date	15/11/2019
Test time	8:30 AM - 10:30 AM
Subject	ASSISTANT TEACHER PRIMARY

Section: Mental Ability

Q.1 A sequence is given, with one term missing. Choose the correct alternative from the given ones that will complete the sequence.

GK28, KF40, OA52,?, WQ76

- Ans
- 1. TU64
  - 2. SU64
  - 3. TV64
  - 4. SV64

Question ID: 71939924057

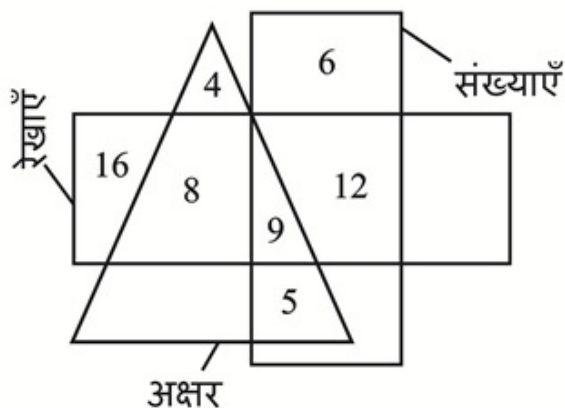
Q.2 In the following question, select the related letters from the given alternatives.

KR: NU :: TV:?

- Ans
- 1. wy
  - 2. ZB
  - 3. XZ
  - 4. VX

Question ID: 71939924060

Q.3 How many lines are numbers?



- Ans
- 1. 12
  - 2. 20
  - 3. 21
  - 4. 9

Question ID: 71939924071

Q.4 A sequence is given, one of which is incorrect. Choose the wrong term from the given alternatives.

44, 22, 33, 72.5, 288.75

- Ans
- 1. 22
  - 2. 72.5
  - 3. 288.75
  - 4. 33

Question ID: 71939924069

Q.5 A team of four members is to be formed in 5 boys: P, Q, R, S and T and 5 girls: J, K, L, M and N. Keep the following conditions in mind:

- (A) P and M will always be chosen together.
- (B) N and L will not be in the same team.
- (C) R and T will always be on the same team.
- (D) The team must have at least one girl.

Which of the following teams cannot be formed?

- I. PMJL
- II. QSRP
- III. LMQP
- IV. LRTN

- Ans
- 1. II, III and IV
  - 2. II and III
  - 3. I and III
  - 4. I and IV

Question ID: 71939924064

Q.6 A sequence is given, one of which is incorrect. Choose the wrong term from the given alternatives.

ROMD, XWGY, DEZT, JMSO, PULJ

- Ans
- 1. JMSO
  - 2. XWGY
  - 3. DEZT
  - 4. ROMD

Question ID: 71939924058

Q.7 नीचे दिए गए प्रश्न में कुछ कथन और उनके बाद उन कथनों पर आधारित कुछ निष्कर्ष दिए गए हैं। दिए गए

कथनों को सही माने, चाहे उनमें सामान्य ज्ञात तथ्यों से भिन्नता हो। सभी निष्कर्ष पढ़ें और फिर निर्धारित करें कि दिए गए कौन से निष्कर्ष, दिए गए कथनों के आधार पर युक्तिसंगत हैं।

कथन:

- I. कुछ लाल, पीला हैं।
- II. कोई पीला, गुलाबी नहीं है।
- III. कोई गुलाबी, सफेद नहीं है।

निष्कर्ष:

- I. कोई सफेद, लाल नहीं है।
- II. कुछ पीला, लाल हैं।
- III. कुछ गुलाबी, पीला नहीं हैं।

- Ans
1. केवल निष्कर्ष III अनुसरण करता है।
  2. सभी निष्कर्ष अनुसरण करते हैं।
  3. दोनों निष्कर्ष I तथा III अनुसरण करते हैं।
  4. दोनों निष्कर्ष II तथा III अनुसरण करते हैं।

Question ID : 71939924067

Q.8 एक विशिष्ट कोड भाषा में, 'GRIPS' को '71891619' लिखा जाता है, 'FRAME' को '6181135' लिखा जाता है। इस कोड भाषा में 'JEANS' का कोड क्या है?

- Ans
1. 10411491
  2. 10511419
  3. 15114901
  4. 15011491

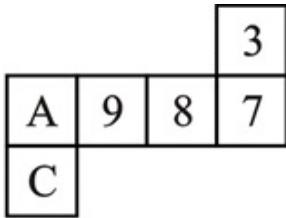
Question ID : 71939924062

Q.9 निम्नलिखित प्रश्न में दिए गए विकल्पों में से विषम शब्द युग्म को चुनिए।

- Ans
1. बर्तन : चम्मच
  2. फर्नीचर : कुर्सी
  3. लेखन सामग्री : पेंसिल
  4. कमीज : वस्त्र

Question ID : 71939924059

Q.10 दिए गए कागज को मोड़ने पर, निम्नलिखित में से कौन सा घन बनाया जा सकता है?



- Ans
1. केवल I

- 2. II तथा III दोनों
- 3. I तथा III दोनों
- 4. केवल III

Question ID : 71939924075

Q.11 निम्नलिखित प्रश्न में दिए गए विकल्पों में से संबंधित अक्षर युग्म को चुनिए।

MOK : STS :: ?

- Ans  1. RGM : XLU
- 2. RAP : XFY
  - 3. GOM : MNU
  - 4. LIP : RQH

Question ID : 71939924061

Q.12 A pen is rotated by  $372^\circ$  in clockwise direction. Then, it is rotated by  $476^\circ$  in anticlockwise direction. Again, it is rotated by  $234^\circ$  in anticlockwise direction. It is finally rotated by  $458^\circ$  in clockwise direction. Now, it is pointing towards east direction. In which direction it was pointing initially?

- Ans  1. South east
- 2. North west
  - 3. North east
  - 4. South west

Question ID : 71939924073

Q.13 छह लडकियाँ F, G, H, J, K तथा L एक पंक्ति में उत्तर की ओर मुख करके बैठी हुई है (जरूरी नहीं की इसी क्रम में हो)। L तथा K छोरों पर बैठी हुई है। F तथा K के मध्य केवल G है। J, H के तुरंत बायीं ओर है। G, F के तुरंत दायीं ओर है। बायें छोर से F का स्थान क्या है?

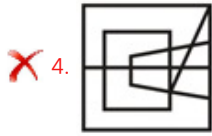
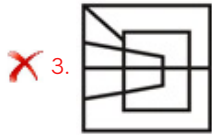
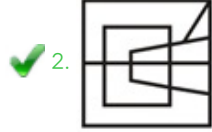
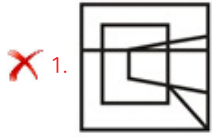
- Ans  1. चौथा
- 2. दूसरा
  - 3. तीसरा
  - 4. पांचवा

Question ID : 71939924063

Q.14 कौन सी उत्तर आकृति प्रश्न आकृति के प्रतिरूप को पूरा करेगी?



Ans



Question ID : 71939924076

Q.15 यदि 'A + B' का अर्थ 'A, B का पिता है', 'A - B' का अर्थ 'A, B की बहन है', 'A ÷ B' का अर्थ 'A, B की पत्नी है', 'A × B' का अर्थ 'A, B का पुत्र है', तो निम्नलिखित में से कौन सा 'S को P की बहन' दर्शाता है?

- Ans
- ✗ 1.  $A + Q \times R - S \div P$
  - ✗ 2.  $R + P \times S - Q$
  - ✗ 3.  $R \div S \times P + Q$
  - ✓ 4.  $P \times Q \div R + S - A$

Question ID : 71939924065

Q.16 यदि  $43 P 16 M 19 = 46$  तथा  $11 M 13 P 12 = 12$  हो, तो  $16 P 18 M 24 = ?$

- Ans
- 1. 32
  - 2. 22
  - 3. 30
  - 4. 24

Question ID : 71939924068

Q.17 नीचे दिए गए प्रश्न में कुछ कथन और उनके बाद उन कथनों पर आधारित कुछ निष्कर्ष दिए गए हैं। दिए गए कथनों को सही माने, चाहे उनमें सामान्य ज्ञात तथ्यों से भिन्नता हो। सभी निष्कर्ष पढ़ें और फिर निर्धारित करें कि दिए गए कौन से निष्कर्ष, दिए गए कथनों के आधार पर युक्तिसंगत हैं।

कथन:

- I. सभी J, M हैं।
- II. कुछ M, A हैं।

निष्कर्ष:

- I. कोई A, J नहीं है।
- II. कुछ A, M नहीं है।

- Ans
- 1. केवल निष्कर्ष II अनुसरण करता है।
  - 2. केवल निष्कर्ष I अनुसरण करता है।
  - 3. दोनों निष्कर्ष I तथा II अनुसरण करते हैं।
  - 4. कोई भी निष्कर्ष अनुसरण नहीं करता है।

Question ID : 71939924066

Q.18 कौन सी उत्तर आकृति प्रश्न आकृति के प्रतिरूप को पूरा करेगी?

- Ans 1.  
2.  
3.  
4.

Question ID : 71939924074

Q.19 Shweta starts walking. After walking some distance, she moves left. Now after some distance she turns right. After some distance she finally moves right. If she is facing towards south, then in which direction she started walking?

- Ans 1. South  
2. East  
3. North  
4. West

Question ID : 71939924072

Q.20 वह आरेख चुनिए जो नीचे दिए गए वर्गों के बीच के संबंध का सही निरूपण करता है।

अध्यापक, माता, पुरुष

- Ans 1.  
2.  
3.  
4.

Question ID : 71939924070

Section : General Awareness

Q.1 महात्मा गाँधी द्वारा आयोजित किस सत्याग्रह ने ब्रिटिश सरकार के खिलाफ पहला अखिल भारतीय संघर्ष किया?

- Ans 1. अहमदाबाद सत्याग्रह  
2. चंपारण सत्याग्रह  
3. खेड़ा सत्याग्रह  
4. रौलट सत्याग्रह

Question ID : 71939924089

Q.2 लेटराइट मृदा से संबंधित निम्नलिखित में से कौन-सा कथन गलत है?

- Ans 1. लेटराइट मृदा वैकल्पिक नम तथा शुष्क ऋतु के साथ उष्णकटिबंधीय तथा उपोष्णकटिबंधीय जलवायु के नीचे उत्पन्न होती है।  
2. वे परीदृश्य पर अपनी स्थिति के कारण क्षरण तथा गिरावट के उन्मुख होते हैं।  
3. लेटराइट मृदा अधिकतम रूप से गहरी तथा अत्यधिक गहरी, क्षारीय तथा वनस्पति पोषक में अपूर्ण होती है।

4. लेटराईडट मृदा भारी वर्षा के कारण अत्यधिक लीचिंग का परिणाम है।

Question ID : 71939924086

Q.3 Who won the 2019 Senior Women's National Squash Championship?

- Ans
1. Joshna Chinappa
  2. Dipika Pallikal Karthik
  3. Sunaya Kuruvilla
  4. Janet Vidhi

Question ID : 71939924092

Q.4 कौन सी कोशिका अंगक लाइसोसोम बनाने में सम्मिलित होती हैं?

- Ans
1. प्लैस्टिड
  2. माइटोकॉन्ड्रिया
  3. रसधानियाँ
  4. गॉल्जी उपकरण

Question ID : 71939924081

Q.5 The Khalji and Tughluq monarchs appointed military commanders as governors of territories known as \_\_\_\_\_.

- Ans
1. Iqta
  2. Samanta
  3. Muqtis
  4. Kharaj

Question ID : 71939924088

Q.6 आईएएफ विश्व एथलेटिक्स चैम्पियनशिप 2019 का मेजबान कौन करेगा?

- Ans
1. दोहा
  2. उलानबातर
  3. बीजिंग
  4. पेरिस

Question ID : 71939924095

Q.7 निम्नलिखित में से कौन-सा प्राकृतिक स्रोत-अम्ल का युग्म सही तरीके से मेल खाता है?

- Ans
1. टमाटर - ऑक्सैलिक अम्ल
  2. संतरा - ऐसीटिक अम्ल
  3. नेटल का डंक - लैक्टिक अम्ल
  4. इमली - मेथेनॉइक अम्ल

Question ID : 71939924083

Q.8 मलयालम सिनेमा में उत्कृष्ट योगदान के लिए केरल सरकार का सर्वोच्च सम्मान जे सी डैनियल अवार्ड, 2019 में किस अभिनेता/अभिनेत्री को प्रदान किया गया है?

- Ans
1. आशीष विद्यार्थी



2. जगथी श्रीकुमार
3. राज्यालक्ष्मी
4. शीला

Question ID : 71939924091

Q.9 \_\_\_\_\_ से संबंधित पौधों में नग्न भ्रूण नहीं होता है।

- Ans
1. एंजियोस्पर्म
  2. टेरेडोफाइटा
  3. ब्रायोफाइटा
  4. थैलोफाइटा

Question ID : 71939924082

Q.10 भारत के नियंत्रक और महालेखा परीक्षक के कार्यालय के बारे में निम्नलिखित कथनों में से कौन सा सही नहीं है?

- Ans
1. उनके पद से हटाने की प्रक्रिया और आधार सर्वोच्च न्यायालय के न्यायाधीश के लिए समान हैं।
  2. भारत के नियंत्रक और महालेखा परीक्षक की नियुक्ति राष्ट्रपति द्वारा की जाती है।
  3. नियंत्रक और महालेखा परीक्षक की सलाह पर राष्ट्रपति और संघ के राज्यों के खातों को राष्ट्रपति के रूप में इस तरह रखा जाएगा।
  4. वह अपने पद पर आसीन होने के बाद संघ या राज्य सरकार के तहत आगे के कार्यालय के लिए पात्र है।

Question ID : 71939924094

Q.11 "मेरा जीवन, मेरा मिशन" निम्नलिखित में से किस प्रसिद्ध व्यक्तित्व की आत्मकथा है?

- Ans
1. अटल बिहारी वाजपेयी
  2. अमित शाह
  3. अमिताभ बच्चन
  4. बाबा रामदेव

Question ID : 71939924090

Q.12 1905 में, किस वायसराय ने बंगाल का विभाजन कर दिया था?

- Ans
1. वायसराय लिटन
  2. वायसराय लिमलिथगो
  3. वायसराय कर्ज़न
  4. वायसराय रिपन

Question ID : 71939924087

Q.13 भारत में निम्नलिखित में से कौन-सी फसल महत्त्वपूर्ण रोपण फसल नहीं है?

- Ans
1. केला
  2. बाजरा
  3. रबड़
  4. गन्ना

Question ID : 71939924085

Q.14 The Annual Financial Statement of the Government of India shows the receipts and payments of government under which of the following government accounts?

- I. Consolidated Fund
- II. Contingency Fund
- III. Public Account

- Ans
- 1. I, II and III
  - 2. I and III
  - 3. II and III
  - 4. I and II

Question ID : 71939924080

Q.15 कीर्तिस्तंभ, या टॉवर ऑफ फेम, \_\_\_\_\_ वास्तु कला शैली में बनाया गया।

- Ans
- 1. पल्लव
  - 2. चोलों
  - 3. सोलंकी
  - 4. चेर

Question ID : 71939924078

Q.16 निम्नलिखित में से कौन-सा अक्षांश भारत को दो बराबर हिस्सों में विभाजित करता है?

- Ans
- 1. 23° 45'N
  - 2. 22° 30'N
  - 3. 23° 15'N
  - 4. 23° 30'N

Question ID : 71939924084

Q.17 निम्नलिखित में से कौन सा प्रावधान कनाडा के संविधान से भारतीय संविधान द्वारा उधार नहीं लिया गया है?

- Ans
- 1. सशक्त केन्द्र के साथ संघीय व्यवस्था
  - 2. केन्द्र द्वारा राज्य के राज्यपालों की नियुक्ति
  - 3. उच्चतम न्यायालय का परामर्शी निर्णयन
  - 4. राज्य सभा के लिए सदस्यों का नामांकन

Question ID : 71939924093

Q.18 रोवरस कप किस खेल से संबंधित है?

- Ans
- 1. क्रिकेट
  - 2. हॉकी
  - 3. फुटबॉल
  - 4. गोल्फ

Question ID : 71939924096

Q.19 वित्त मंत्रालय के अंतर्गत कौन से विभाग के पास केंद्रीय बजट (रेल बजट सहित) की तैयारी और प्रस्तुतीकरण की मुख्य जिम्मेदारी संसद और राज्य सरकारों के लिए राष्ट्रपति शासन और केंद्रशासित प्रदेश प्रशासन के तहत होती है?

- Ans
- 1. व्यय विभाग

2. निवेश और सार्वजनिक संपत्ति प्रबंधन विभाग
3. राजस्व विभाग
4. आर्थिक मामलों का विभाग

Question ID : 71939924079

Q.20 छठ पर्व छठ और सूर्य षष्ठी त्योहार निम्नलिखित में से किस भारतीय राज्य में मनाया जाता है?

- Ans
1. बिहार
  2. सिक्किम
  3. असम
  4. ओडिशा

Question ID : 71939924077

Section : Arithmetic Ability

Q.1 विवेक तथा मोहित अकेले एक कार्य को क्रमशः 42 दिन तथा 56 दिन में पूरा कर सकते हैं। विवेक तथा मोहित एक साथ आरंभ करते हैं परंतु मोहित शुरूआत से 12 दिन के पश्चात कार्य छोड़ देता है। शेष कार्य पूरा करने में कुल कितने दिन लगेंगे?

- Ans
1. 21 दिन
  2. 15 दिन
  3. 24 दिन
  4. 18 दिन

Question ID : 71939924111

Q.2 चावल के मूल्य को 55% से बढ़ाया गया है। व्यय को समान रखने के लिए एक गृहणी को अपनी खपत कितने प्रतिशत से कम कर देनी चाहिए?

- Ans
1. 36.53 प्रतिशत
  2. 39.85 प्रतिशत
  3. 35.48 प्रतिशत
  4. 37.83 प्रतिशत

Question ID : 71939924103

Q.3

- Ans
1.  $\frac{13}{4}$
  2.  $\frac{13}{2}$
  3.  $\frac{13}{40}$
  4.  $\frac{13}{12}$

Question ID : 71939924101

Q.4 जितेन अपने लाभ/हानि को विक्रय मूल्य पर परिकलित करता है। जितेन ने एक वस्तु G 20% के लाभ पर बेची तथा G का क्रय मूल्य 1200 रुपये है। प्रेम अपना लाभ/हानि क्रय मूल्य पर परिकलित करता है। प्रेम ने एक वस्तु M 1125 रुपये में 25% की हानि पर बेच दी। वस्तु M के क्रय मूल्य का वस्तु G के विक्रय मूल्य से क्या अनुपात है?

- Ans
1. 2 : 5

2. 1 : 3

3. 3 : 2

4. 1 : 1

Question ID : 71939924105

Q.5 एक वर्ष के पश्चात एक राशि चक्रवृद्धि ब्याज (वार्षिक संयोजन पर) पर 21000 रुपये हो जाती है। यही राशि समान दर से चक्रवृद्धि ब्याज पर (वार्षिक संयोजन पर) दो वर्षों के पश्चात 22050 रुपये हो जाती है। ब्याज की वार्षिक दर क्या है?

Ans 1. 15 प्रतिशत

2. 5 प्रतिशत

3. 10 प्रतिशत

4. 12 प्रतिशत

Question ID : 71939924108

Q.6 40 से.मी., 35 से.मी. तथा 20 से.मी. आयाम वाले एक ठोस घनाभ को पिघलाकर 4 से.मी. भुजा वाले समान घन बनाए जाते हैं। ठोस घनाभ का 20% पिघलाने में खराब हो जाता है। छोटे घन की कुल संख्या क्या है?

Ans 1. 350

2. 440

3. 400

4. 380

Question ID : 71939924112

Q.7 नीचे दिया गया दण्ड चित्र एक शहर के विभिन्न कोचिंग में अध्यापकों की संख्या को दर्शाता है।

C6 कोचिंग में अध्यापकों की संख्या सभी कोचिंग में कुल अध्यापकों की संख्या से कितनी कम है?

Ans 1. 204

2. 206

3. 202

4. 210

Question ID : 71939924116

Q.8 3242 रुपये की राशि को X, Y तथा Z में इस प्रकार विभाजित किया गया है कि यदि X, Y तथा Z के हिस्सों में से क्रमशः 18 रुपये, 13 रुपये तथा 11 रुपये कम कर दिए जाए, तो उनके हिस्से 3 : 6 : 7 के अनुपात में होंगे। Z का नया हिस्सा क्या है?

Ans 1. 1400 रुपये

2. 975 रुपये

3. 900 रुपये

4. 1200 रुपये

Question ID : 71939924107

Q.9

Ans 1. 6/17

2. 3/17

3. 3/14

4. 3/8

Question ID : 71939924097

Q.10

Ans 1. 6

2. 5

3. 7

4. 4

Question ID : 71939924098

Q.11 राहुल अपनी आय का कुछ भाग खर्च करता है तथा शेष भाग बचाता है। उसके व्यय तथा बचत का अनुपात क्रमशः 4 : 5 है। यदि राहुल की आय 90000 रुपये है, तो उसका व्यय क्या होगा?

Ans 1. 40000 रुपये

2. 30000 रुपये

3. 35000 रुपये

4. 50000 रुपये

Question ID : 71939924106

Q.12 एक गोले की त्रिज्या को पहले 33.33% से घटाया गया है तथा फिर  $x\%$  से बढ़ाया गया है। यदि गोले के पृष्ठीय क्षेत्रफल में कोई बदलाव नहीं हुआ है, तो  $x$  का मान क्या है?

Ans 1. 75

2. 50

3. 25

4. 30

Question ID : 71939924104

Q.13 एक 500 मीटर लम्बी रेलगाड़ी 36 कि.मी./घंटा की गति से चल रही है। यदि वह एक पुल को 70 सेकण्ड में पार करती है, तो पुल की लम्बाई क्या है?

Ans 1. 400 मीटर

2. 100 मीटर

3. 200 मीटर

4. 300 मीटर

Question ID : 71939924109

Q.14 एक स्कूटर मरम्मत कराने के बाद 36 कि.मी./घंटा की गति से चलता है तथा मरम्मत कराने से पहले 30 कि.मी./घंटा की गति से चलता है। मरम्मत कराने के बाद वह एक निश्चित दूरी को 2 घंटे में तय करता है। मरम्मत कराने से पहले यह समान दूरी को तय करने में कितना समय लेगा?

Ans 1. 12/7 घंटे

2. 24/5 घंटे

3. 12/5 घंटे

4. 24/7 घंटे

Question ID : 71939924110

Q.15 वह सबसे बड़ी संख्या क्या है जो 728 तथा 900 को विभाजित करने पर शेष क्रमशः 8 तथा 4 बचाती है?

- Ans
1. 24
  2. 14
  3. 16
  4. 15

Question ID : 71939924099

Q.16 विक्रय मूल्य का अंकित मूल्य से अनुपात 3 : 7 है। छूट का प्रतिशत क्या है?

- Ans
1. 56.14 प्रतिशत
  2. 48.56 प्रतिशत
  3. 42.85 प्रतिशत
  4. 57.14 प्रतिशत

Question ID : 71939924102

Q.17

- Ans
1. 6
  2.  $39/7$
  3. 4
  4.  $29/7$

Question ID : 71939924100

Q.18 नीचे दिया गया रेखा चित्र एक शहर के विभिन्न होटल में बावर्चियों की संख्या को दर्शाता है।

यदि A होटल H2 तथा H3 में कुल बावर्चियों की संख्या को निरूपित करता है तथा B होटल H1 तथा H6 में कुल बावर्चियों की संख्या को निरूपित करता है, तो B, A का कितना प्रतिशत है?

- Ans
1. 122.37 प्रतिशत
  2. 134.37 प्रतिशत
  3. 126.31 प्रतिशत
  4. 130.31 प्रतिशत

Question ID : 71939924115

Q.19 एक आयत का परिमाण, एक वृत्त की परिधि के बराबर है जिसकी त्रिज्या 21 से.मी. है। यदि आयत का क्षेत्रफल  $864$  से.मी.<sup>2</sup> है, तो आयत के विकर्ण की लम्बाई क्या होगी?

- Ans
1.  $6\sqrt{73}$  से.मी.
  2.  $5\sqrt{102}$  से.मी.
  3.  $9\sqrt{83}$  से.मी.
  4.  $6\sqrt{87}$  से.मी.

Question ID : 71939924113

Q.20 नीचे दिया गया वृत्त चित्र एक हवाई अड्डे से सप्ताह के विभिन्न दिनों पर जाने वाले हवाई जहाज की संख्या को

दर्शाता है। किसी विशिष्ट दिन पर जाने वाले हवाई जहाज की संख्या को सभी दिनों पर जाने वाले कुल हवाई जहाज की संख्या के रूप में दर्शाता गया है।

D4 दिन द्वारा बनाया गया केंद्रीय कोण क्या है?

- Ans
1.  $44^\circ$
  2.  $30^\circ$
  3.  $18^\circ$
  4.  $50.4^\circ$

Question ID : 71939924114

Section : General English

Q.1 Find the part of the given sentence that has an error in it. If there is no error, choose 'No error'.

The country (1)/ expect us to (2)/ do our duty (3)/ No error (4)

- Ans
1. 2
  2. 4
  3. 3
  4. 1

Question ID : 71939924117

Q.2 In the given question, four words are given out of which one word is correctly spelt. Choose the correctly spelt word.

- Ans
1. Ambasader
  2. Ambbassador
  3. Ambassador
  4. Ammbasador

Question ID : 71939924127

Q.3 Improve the bracketed part of the sentence.

The teacher (agree) to answer all the questions.

- Ans
1. agreeing
  2. has agreeing
  3. No improvement
  4. agreed

Question ID : 71939924119

Q.4 Rearrange the parts of the sentence in correct order.

- P: in schools  
Q: other activities  
R: take precedence over  
S: academic subjects

- Ans
1. SRPQ
  2. QPSR
  3. SRQP
  4. PQSR

Question ID : 71939924123

Q.5 Rearrange the parts of the sentence in correct order.

- P: high fever and  
Q: on her bed  
R: she laid motionless  
S: she had

- Ans
1. SPQR
  2. SPRQ
  3. PQRS
  4. SRPQ

Question ID : 71939924124

Q.6 Choose the word that can substitute the given sentence.

A person who sells and arranges cut flowers.

- Ans
1. Florist
  2. Petrology
  3. Sculptor
  4. Zoology

Question ID : 71939924131

Q.7 Choose the word that is opposite in meaning to the given word.

Courtesy

- Ans
1. Praise
  2. Discord
  3. Obstacle
  4. Expand

Question ID : 71939924125

Q.8 In the given question, four words are given out of which one word is correctly spelt.  
Choose the correctly spelt word.

- Ans
1. Beneficial
  2. Banefitle
  3. Benefitial
  4. Benificial

Question ID : 71939924128

Q.9 In the following question, out of the given four alternatives, select the alternative which



best expresses the meaning of the Idiom/Phrase.

Life and soul

- Ans
1. Energetic
  2. Main support
  3. Old people
  4. All over

Question ID : 71939924130

Q.10 Choose the word that is opposite in meaning to the given word.

Spiritual

- Ans
1. Carnal
  2. Earthly
  3. Legal
  4. Bodily

Question ID : 71939924126

Q.11 Improve the bracketed part of the sentence.

It does not take much to (make) her angry.

- Ans
1. made
  2. makes
  3. making
  4. No improvement

Question ID : 71939924120

Q.12 A sentence has been given with a blank to be filled with an appropriate word. Choose the correct alternative.

I congratulated him \_\_\_\_\_ his promotion.

- Ans
1. due to
  2. for
  3. because of
  4. on

Question ID : 71939924122

Q.13 In the following question, out of the given four alternatives, select the alternative which best expresses the meaning of the Idiom/Phrase.

Head over heels

- Ans
1. Living is luxury
  2. Here and there
  3. A strange person
  4. In love with

Question ID : 71939924129

Q.14 A sentence has been given with a blank to be filled with an appropriate word. Choose the correct alternative.

Flowers \_\_\_\_\_ the beauty of our surroundings.

- Ans
1. enhance
  2. replenish
  3. embellishment
  4. destroys

Question ID : 71939924121

Q.15 Find the part of the given sentence that has an error in it. If there is no error, choose 'No error'.

Everybody admitted (1)/ that she has (2)/ doing her best (3)/ No error (4)

- Ans
1. 3
  2. 2
  3. 1
  4. 4

Question ID : 71939924118

#### Comprehension:

Read the following information carefully and answer the given questions.

Big dams received a big push from politicians and bureaucracy pouring enormous amounts of borrowed money in the early years of Independence. There has however been hardly any attempt at questioning the extent of damage caused or in evaluating whether the promises of food, water and prosperity for all have actually been realised. The diversion of rivers and construction of a long system of canals in a densely populated country like India will involve displacement of people on a colossal scale and the people affected are never likely to agree with such measures. All over the world, community reaction is to prevent construction of large dams. Preserving rivers in free-flow condition is considered ecologically necessary and the construction of large dams is now legally prohibited in Sweden and also in parts of USA. The technical challenges to be faced in redrawing the geography of the country are many and full of dangerous consequences and the mad rush in pursuit of such a chimera will prove disastrous. The cost of the project is so stupendous that any water made available will cost so much that governments will have to be forever subsidizing farmers. What long-term impact this massive borrowing will have on the economy is difficult to foresee.

#### SubQuestion No : 16

Q.16 Which of the following is not true about the water made available through dams?

- Ans
1. The water so generated is mainly used in washing.
  2. The government gives subsidy to the farmers due to high costs of the water from the dams.
  3. The water so generated is mainly used in agriculture.
  4. The water made available through dams has high costs associated with it.

Question ID : 71939924136

#### Comprehension:

Read the following information carefully and answer the given questions.

Big dams received a big push from politicians and bureaucracy pouring enormous amounts of borrowed money in the early years of Independence. There has however been hardly any attempt at questioning the extent of damage caused or in evaluating whether the promises of food, water and prosperity for all have actually been realised. The diversion of rivers and construction of a long system of canals in a densely populated country like India will involve displacement of people on a colossal scale and the people affected are never likely to agree with such measures. All over the world, community reaction is to prevent construction of large dams. Preserving rivers in free-flow condition is considered ecologically necessary and the construction of large dams is now legally prohibited in Sweden and also in parts of USA. The technical challenges to be faced in redrawing the geography of the country are many and full of dangerous consequences and the mad rush in pursuit of such a chimera will prove disastrous. The cost of the project is so stupendous that any water made available will cost so much that governments will have to be forever subsidizing farmers. What long-term impact this massive borrowing will have on the economy is difficult to foresee.

SubQuestion No : 17

Q.17 Which of the following have been mentioned as disadvantages of dams?

- Ans
1. Ecological imbalance due to restrictions on the flow of rivers
  2. Displacement of people on a large scale
  3. Construction of dams is prohibited in Sweden
  4. Displacement of people on a large scale and ecological imbalance due to restrictions on the natural flow of rivers

Question ID : 71939924135

Comprehension:

Read the following information carefully and answer the given questions.

Big dams received a big push from politicians and bureaucracy pouring enormous amounts of borrowed money in the early years of Independence. There has however been hardly any attempt at questioning the extent of damage caused or in evaluating whether the promises of food, water and prosperity for all have actually been realised. The diversion of rivers and construction of a long system of canals in a densely populated country like India will involve displacement of people on a colossal scale and the people affected are never likely to agree with such measures. All over the world, community reaction is to prevent construction of large dams. Preserving rivers in free-flow condition is considered ecologically necessary and the construction of large dams is now legally prohibited in Sweden and also in parts of USA. The technical challenges to be faced in redrawing the geography of the country are many and full of dangerous consequences and the mad rush in pursuit of such a chimera will prove disastrous. The cost of the project is so stupendous that any water made available will cost so much that governments will have to be forever subsidizing farmers. What long-term impact this massive borrowing will have on the economy is difficult to foresee.

SubQuestion No : 18

Q.18 Which of the following statements is true?

- Ans
1. The water made available through dams is better suited for industries than agricultural because of high costs and most of the countries have banned the construction of big dams.
  2. Most of the countries have banned the construction of big dams.
  3. The water made available through dams is better suited for industries than agricultural because of high costs.
  4. The diversion of rivers will involve displacement of people on a colossal scale.

Question ID : 71939924134

**Comprehension:**

Read the following information carefully and answer the given questions.

Big dams received a big push from politicians and bureaucracy pouring enormous amounts of borrowed money in the early years of Independence. There has however been hardly any attempt at questioning the extent of damage caused or in evaluating whether the promises of food, water and prosperity for all have actually been realised. The diversion of rivers and construction of a long system of canals in a densely populated country like India will involve displacement of people on a colossal scale and the people affected are never likely to agree with such measures. All over the world, community reaction is to prevent construction of large dams. Preserving rivers in free-flow condition is considered ecologically necessary and the construction of large dams is now legally prohibited in Sweden and also in parts of USA. The technical challenges to be faced in redrawing the geography of the country are many and full of dangerous consequences and the mad rush in pursuit of such a chimera will prove disastrous. The cost of the project is so stupendous that any water made available will cost so much that governments will have to be forever subsidizing farmers. What long-term impact this massive borrowing will have on the economy is difficult to foresee.

**SubQuestion No : 19**

Q.19 Which word is similar in meaning to displacement?

- Ans
1. Inactivity
  2. Dislocation
  3. Stagnation
  4. Inaction

Question ID : 71939924137

**Comprehension:**

Read the following information carefully and answer the given questions.

Big dams received a big push from politicians and bureaucracy pouring enormous amounts of borrowed money in the early years of Independence. There has however been hardly any attempt at questioning the extent of damage caused or in evaluating whether the promises of food, water and prosperity for all have actually been realised. The diversion of rivers and construction of a long system of canals in a densely populated country like India will involve displacement of people on a colossal scale and the people affected are never likely to agree with such measures. All over the world, community reaction is to prevent construction of large dams. Preserving rivers in free-flow condition is considered ecologically necessary and the construction of large dams is now legally prohibited in Sweden and also in parts of USA. The technical challenges to be faced in redrawing the geography of the country are many and full of dangerous consequences and the mad rush in pursuit of such a chimera will prove disastrous. The cost of the project is so stupendous that any water made available will cost so much that governments will have to be forever subsidizing farmers. What long-term impact this massive borrowing will have on the economy is difficult to foresee.

**SubQuestion No : 20**

Q.20 What is the thematic center of the passage?

- Ans
1. The social impact of dams over rides their economic impact.
  2. Dams have proven to be bane rather than boon in the long run and the social impact of dams over rides their economic impact.
  3. Following the footsteps of Sweden and USA in banning the construction of dams.
  4. Dams have proven to be bane rather than boon in the long run.

Question ID : 71939924133

Section : General Hindi

Q.1 दिए गए शब्द का समास ज्ञात कीजिए।

कथा साहित्य

- Ans
1. द्विगु समास
  2. कर्मधारय समास
  3. तत्पुरुष समास
  4. बहुव्रीहि समास

Question ID : 71939924140

Q.2 दिए गए वाक्य में वाच्य ज्ञात कीजिए।

राम से रेत में दौड़ा नहीं जाता।

- Ans
1. अपूर्ण
  2. कर्तृवाच्य
  3. भाववाच्य
  4. कर्मवाच्य

Question ID : 71939924148

Q.3 दिए गए वाक्य में अव्यय ज्ञात कीजिए।

ऐसी बात सदा से होती रही है।

- Ans
1. कालवाचक अव्यय
  2. स्थानवाचक अव्यय
  3. दिशावाचक अव्यय
  4. स्थितिवाचक अव्यय

Question ID : 71939924138

Q.4 दिए गए वाक्यों में से शुद्ध वाक्य ज्ञात कीजिए।

- Ans
1. अचानक दैत्य को देखकर बालक चौंक गए।
  2. अचानक दैत्य को देखकर बालक को चौंक गया।
  3. दैत्य को देखकर अचानक बालिका चौंका गया।
  4. अचानक दैत्य को देखकर बालक चौंक गया।

Question ID : 71939924145

Q.5 दिए गए मुहावरे का अर्थ ज्ञात कीजिए।

दलदल में फँसना

- Ans
1. चुनौती पूर्ण कार्य
  2. मुश्किल में पड़ना
  3. गंदा होना
  4. गिर जाना

Question ID : 71939924150

Q.6 दिए गए वाक्य में क्रिया ज्ञात कीजिए।

विद्यार्थी ने पुस्तक से देखकर उत्तर दिया।

- Ans
1. नाम धातु क्रिया
  2. संयुक्त क्रिया
  3. पूर्वकालिक क्रिया
  4. अकर्मक क्रिया

Question ID : 71939924139

Q.7 दिए गए वाक्य का काल ज्ञात कीजिए।

अगर पैसे बचाए, होते तो यह दिन न देखना पड़ता।

- Ans
1. पूर्णभूतकाल
  2. अपूर्ण भूतकाल
  3. हेतुहेतुमद भूतकाल
  4. संदिग्ध भूतकाल

Question ID : 71939924147

Q.8 दिए गए रिक्त स्थान में उपयुक्त मुहावरे का चयन कीजिए।

राधा अपने पति के इंतजार में सारी रात \_\_\_\_\_ रही।

- Ans
1. जागती
  2. अधिक प्रसन्न
  3. व्याकुल
  4. तारे गिनती

Question ID : 71939924149

Q.9 दिए गए मुहावरे का अर्थ ज्ञात कीजिए।

आँख का काजल चुराना

- Ans
1. अलग रहना
  2. बहुत प्यारा
  3. प्रेम करना
  4. सफाई के साथ चोरी करना

Question ID : 71939924152

Q.10 दिए गए वाक्यों में किस प्रकार का पुरुष है ज्ञात कीजिए।

आपका बड़ा बेटा तो बहुत ही सुस्त है।

- Ans
1. प्रथम
  2. मध्यम
  3. अन्य
  4. उत्तम

Question ID : 71939924146

Q.11 दिए गए शब्द का पर्यायवाची ज्ञात कीजिए।

साँप

- Ans
1. विषधर
  2. अमरपुरी
  3. सुर
  4. देव

Question ID : 71939924144

Q.12 दिए गए वाक्य में उपयुक्त शब्द का चयन करके रिक्तस्थान की पूर्ति कीजिए।

प्राचार्य जी आ रहे हैं \_\_\_\_\_ प्रणाम करो।

- Ans
1. उन्हें
  2. उनके लिए
  3. उसे
  4. उसको

Question ID : 71939924142

Q.13 दिए गए समश्रुत भिन्नार्थक शब्द का उचित अर्थ ज्ञात कीजिए।

आदि-आदी

- Ans
1. अंत : बराबर
  2. शरीर का अंग : आरंभ
  3. आरंभ : अभ्यस्त
  4. त्योहार : गंदा

Question ID : 71939924143

Q.14 निम्नलिखित वाक्य में रेखांकित शब्द का उचित विलोम शब्द ज्ञात कीजिए।

हमें लोगों के गुण देखने चाहिए।

- Ans
1. अवगुण
  2. अनुगुण
  3. अगुण
  4. दोष

Question ID : 71939924141

Q.15 दिए गए वाक्य में किस विराम चिह्न का उपयोग किया जाएगा उनकी पहचान कीजिए।

चलते रहो कहीं रूको मत

- Ans
1. , |
  2. . ,
  3. , ,
  4. ; |

**Comprehension:**

एक गद्यांश दिया गया है। गद्यांश को ध्यानपूर्वक पढ़ें तथा प्रत्येक प्रश्न के चार विकल्पों में से सही विकल्प चुने।

संपूर्ण विश्व में 8 मार्च को अंतर्राष्ट्रीय महिला दिवस मनाया जाता है। इस दिवस को मनाने का उद्देश्य नारी को उसके अधिकारों के प्रति प्रोत्साहित कर उसे सशक्त होने का अवसर प्रदान करना है जिससे वह ना केवल खुद को सशक्त कर सके बल्कि उन्नत समाज के लिए महत्त्वपूर्ण योगदान दे सके। भारत में, महिलाओं को सशक्त बनाने के लिये सबसे पहले समाज में उनके अधिकारों और मूल्यों को मारने वाले उन सभी राक्षसी सोच को मारना जरूरी है। जैसे- दहेज प्रथा, यौन हिंसा, अशिक्षा, भ्रूण हत्या, असमानता, महिलाओं के प्रति घरेलू हिंसा, कार्य स्थल पर यौन शोषण, बाल मजदूरी, वेश्यावृत्ति, मानव तस्करी आदि। स्त्री को सृजन की शक्ति माना जाता है। इस सृजन की शक्ति को विकसित-परिष्कृत कर उसे सामाजिक, आर्थिक, राजनैतिक न्याय, विचार, विश्वास, धर्म और उपासना की स्वतंत्रता, अवसर की समानता का सुअवसर प्रदान करना ही नारी सशक्तिकरण का आशय है। बदलते समय के साथ आधुनिक युग की नारी पढ़-लिख कर स्वतंत्र है। वह अपने अधिकारों के प्रति सजग है तथा स्वयं अपना निर्णय लेती है। अब वह चारदीवारी से बाहर निकलकर देश के लिए विशेष महत्त्वपूर्ण कार्य करती है। आज स्त्री की छवि भले ही 'पवित्र आदरणीय देवी' की नहीं है लेकिन भारतीय संस्कृति के इतिहास के पन्ने पलट कर देखे तो नर और नारी को गृहस्थी की गाड़ी चलाने के लिए दो पहियों की भांति माना गया है। एक के बिना दूसरा अधूरा तथा आश्रयहीन था। आज देश में नारी शक्ति को सभी दृष्टि से सशक्त बनाने के प्रयास किये जा रहे हैं।

SubQuestion No : 16

Q.16 देश में कौन-सी शक्ति को सभी दृष्टि से सशक्त बनाने का प्रयास कर रहे हैं?

- Ans
1. बाल शक्ति
  2. वृद्ध शक्ति
  3. नर शक्ति
  4. नारी शक्ति

**Comprehension:**

एक गद्यांश दिया गया है। गद्यांश को ध्यानपूर्वक पढ़ें तथा प्रत्येक प्रश्न के चार विकल्पों में से सही विकल्प चुने।

संपूर्ण विश्व में 8 मार्च को अंतर्राष्ट्रीय महिला दिवस मनाया जाता है। इस दिवस को मनाने का उद्देश्य नारी को उसके अधिकारों के प्रति प्रोत्साहित कर उसे सशक्त होने का अवसर प्रदान करना है जिससे वह ना केवल खुद को सशक्त कर सके बल्कि उन्नत समाज के लिए महत्त्वपूर्ण योगदान दे सके। भारत में, महिलाओं को सशक्त बनाने के लिये सबसे पहले समाज में उनके अधिकारों और मूल्यों को मारने वाले उन सभी राक्षसी सोच को मारना जरूरी है। जैसे- दहेज प्रथा, यौन हिंसा, अशिक्षा, भ्रूण हत्या, असमानता, महिलाओं के प्रति घरेलू हिंसा, कार्य स्थल पर यौन शोषण, बाल मजदूरी, वेश्यावृत्ति, मानव तस्करी आदि। स्त्री को सृजन की शक्ति माना जाता है। इस सृजन की शक्ति को विकसित-परिष्कृत कर उसे सामाजिक, आर्थिक, राजनैतिक न्याय, विचार, विश्वास, धर्म और उपासना की स्वतंत्रता, अवसर की समानता का सुअवसर प्रदान करना ही नारी सशक्तिकरण का आशय है। बदलते समय के साथ आधुनिक युग की नारी पढ़-लिख कर स्वतंत्र है। वह अपने अधिकारों के प्रति सजग है तथा स्वयं अपना निर्णय लेती है। अब वह चारदीवारी से बाहर निकलकर देश के लिए विशेष महत्त्वपूर्ण कार्य करती है। आज स्त्री की छवि भले ही 'पवित्र आदरणीय देवी' की नहीं है लेकिन भारतीय संस्कृति के इतिहास के पन्ने पलट कर देखे तो नर और नारी को गृहस्थी की गाड़ी चलाने के लिए दो पहियों की भांति माना गया है। एक के बिना दूसरा अधूरा तथा आश्रयहीन था। आज देश में नारी शक्ति को सभी दृष्टि से सशक्त बनाने के प्रयास किये जा रहे हैं।

SubQuestion No : 17

Q.17 आधुनिक युग में क्या बदलाव देखने को मिला है?

- Ans
1. नारी पढ़-लिखकर चार दीवारी में है।
  2. नारी पढ़-लिखकर स्वतंत्र है।
  3. नारी दहेज प्रथा व यौन शोषण का शिकार।
  4. अपने अधिकारों के प्रति सजग नहीं है।

**Comprehension:**



एक गद्यांश दिया गया है। गद्यांश को ध्यानपूर्वक पढ़ें तथा प्रत्येक प्रश्न के चार विकल्पों में से सही विकल्प चुने।

संपूर्ण विश्व में 8 मार्च को अंतर्राष्ट्रीय महिला दिवस मनाया जाता है। इस दिवस को मनाने का उद्देश्य नारी को उसके अधिकारों के प्रति प्रोत्साहित कर उसे सशक्त होने का अवसर प्रदान करना है जिससे वह ना केवल खुद को सशक्त कर सके बल्कि उन्नत समाज के लिए महत्त्वपूर्ण योगदान दे सके। भारत में, महिलाओं को सशक्त बनाने के लिये सबसे पहले समाज में उनके अधिकारों और मूल्यों को मारने वाले उन सभी राक्षसी सोच को मारना जरूरी है। जैसे- दहेज प्रथा, यौन हिंसा, अशिक्षा, भ्रूण हत्या, असमानता, महिलाओं के प्रति घरेलू हिंसा, कार्य स्थल पर यौन शोषण, बाल मजदूरी, वेश्यावृत्ति, मानव तस्करी आदि। स्त्री को सृजन की शक्ति माना जाता है। इस सृजन की शक्ति को विकसित-परिष्कृत कर उसे सामाजिक, आर्थिक, राजनैतिक न्याय, विचार, विश्वास, धर्म और उपासना की स्वतंत्रता, अवसर की समानता का सुअवसर प्रदान करना ही नारी सशक्तिकरण का आशय है। बदलते समय के साथ आधुनिक युग की नारी पढ़-लिख कर स्वतंत्र है। वह अपने अधिकारों के प्रति सजग है तथा स्वयं अपना निर्णय लेती है। अब वह चारदीवारी से बाहर निकलकर देश के लिए विशेष महत्त्वपूर्ण कार्य करती है। आज स्त्री की छवि भले ही 'पवित्र आदरणीय देवी' की नहीं है लेकिन भारतीय संस्कृति के इतिहास के पन्ने पलट कर देखे तो नर और नारी को गृहस्थी की गाड़ी चलाने के लिए दो पहियों की भांति माना गया है। एक के बिना दूसरा अधूरा तथा आश्रयहीन था। आज देश में नारी शक्ति को सभी दृष्टि से सशक्त बनाने के प्रयास किये जा रहे हैं।

SubQuestion No : 18

Q.18 स्त्री को कौन-सी शक्ति भी माना जाता है?

- Ans
1. असृजन
  2. सृजन
  3. हिंसा
  4. शोषण

Question ID : 71939924157

Comprehension:

एक गद्यांश दिया गया है। गद्यांश को ध्यानपूर्वक पढ़ें तथा प्रत्येक प्रश्न के चार विकल्पों में से सही विकल्प चुने।

संपूर्ण विश्व में 8 मार्च को अंतर्राष्ट्रीय महिला दिवस मनाया जाता है। इस दिवस को मनाने का उद्देश्य नारी को उसके अधिकारों के प्रति प्रोत्साहित कर उसे सशक्त होने का अवसर प्रदान करना है जिससे वह ना केवल खुद को सशक्त कर सके बल्कि उन्नत समाज के लिए महत्त्वपूर्ण योगदान दे सके। भारत में, महिलाओं को सशक्त बनाने के लिये सबसे पहले समाज में उनके अधिकारों और मूल्यों को मारने वाले उन सभी राक्षसी सोच को मारना जरूरी है। जैसे- दहेज प्रथा, यौन हिंसा, अशिक्षा, भ्रूण हत्या, असमानता, महिलाओं के प्रति घरेलू हिंसा, कार्य स्थल पर यौन शोषण, बाल मजदूरी, वेश्यावृत्ति, मानव तस्करी आदि। स्त्री को सृजन की शक्ति माना जाता है। इस सृजन की शक्ति को विकसित-परिष्कृत कर उसे सामाजिक, आर्थिक, राजनैतिक न्याय, विचार, विश्वास, धर्म और उपासना की स्वतंत्रता, अवसर की समानता का सुअवसर प्रदान करना ही नारी सशक्तिकरण का आशय है। बदलते समय के साथ आधुनिक युग की नारी पढ़-लिख कर स्वतंत्र है। वह अपने अधिकारों के प्रति सजग है तथा स्वयं अपना निर्णय लेती है। अब वह चारदीवारी से बाहर निकलकर देश के लिए विशेष महत्त्वपूर्ण कार्य करती है। आज स्त्री की छवि भले ही 'पवित्र आदरणीय देवी' की नहीं है लेकिन भारतीय संस्कृति के इतिहास के पन्ने पलट कर देखे तो नर और नारी को गृहस्थी की गाड़ी चलाने के लिए दो पहियों की भांति माना गया है। एक के बिना दूसरा अधूरा तथा आश्रयहीन था। आज देश में नारी शक्ति को सभी दृष्टि से सशक्त बनाने के प्रयास किये जा रहे हैं।

SubQuestion No : 19

Q.19 संपूर्ण विश्व में अंतर्राष्ट्रीय महिला दिवस कब मनाया जाता है?

- Ans
1. 10 मार्च
  2. 8 मार्च
  3. 5 मार्च
  4. 9 मार्च

Question ID : 71939924154

Comprehension:

एक गद्यांश दिया गया है। गद्यांश को ध्यानपूर्वक पढ़ें तथा प्रत्येक प्रश्न के चार विकल्पों में से सही विकल्प चुने।

संपूर्ण विश्व में 8 मार्च को अंतर्राष्ट्रीय महिला दिवस मनाया जाता है। इस दिवस को मनाने का उद्देश्य नारी को उसके अधिकारों के प्रति प्रोत्साहित कर उसे सशक्त होने का अवसर प्रदान करना है जिससे वह ना केवल खुद को सशक्त कर सके बल्कि उन्नत समाज के लिए महत्त्वपूर्ण योगदान दे सके। भारत में, महिलाओं को सशक्त बनाने के लिये सबसे पहले

समाज में उनके अधिकारों और मूल्यों को मारने वाले उन सभी राक्षसी सोच को मारना जरूरी है। जैसे- दहेज प्रथा, यौन हिंसा, अशिक्षा, भ्रूण हत्या, असमानता, महिलाओं के प्रति घरेलू हिंसा, कार्य स्थल पर यौन शोषण, बाल मजदूरी, वेश्यावृत्ति, मानव तस्करी आदि। स्त्री को सृजन की शक्ति माना जाता है। इस सृजन की शक्ति को विकसित-परिष्कृत कर उसे सामाजिक, आर्थिक, राजनैतिक न्याय, विचार, विश्वास, धर्म और उपासना की स्वतंत्रता, अवसर की समानता का सुअवसर प्रदान करना ही नारी सशक्तिकरण का आशय है। बदलते समय के साथ आधुनिक युग की नारी पढ़-लिख कर स्वतंत्र है। वह अपने अधिकारों के प्रति सजग है तथा स्वयं अपना निर्णय लेती है। अब वह चारदीवारी से बाहर निकलकर देश के लिए विशेष महत्त्वपूर्ण कार्य करती है। आज स्त्री की छवि भले ही 'पवित्र आदरणीय देवी' की नहीं है लेकिन भारतीय संस्कृति के इतिहास के पन्ने पलट कर देखे तो नर और नारी को गृहस्थी की गाड़ी चलाने के लिए दो पहियों की भांति माना गया है। एक के बिना दूसरा अधूरा तथा आश्रयहीन था। आज देश में नारी शक्ति को सभी दृष्टि से सशक्त बनाने के प्रयास किये जा रहे हैं।

SubQuestion No : 20

Q.20 उपर्युक्त गद्यांश का उपयुक्त शीर्षक क्या होगा?

- Ans
1. नारी-दहेज प्रथा
  2. नारी राजनैतिक अन्याय
  3. नारी चारदीवारी के भीतर
  4. नारी सशक्तिकरण

Question ID : 71939924158

Section : Discipline1

Q.1 अनौपचारिक शिक्षा प्रणाली के संबंध में निम्नलिखित में से कौन सा/से कथन सही हैं?

- I. इसका लक्ष्य हमेशा मूल्य प्रणाली में दृढ़ता से निहित हैं।
- II. इसका डिग्री या डिप्लोमा के साथ कोई प्रत्यक्ष संबंध नहीं है।
- III. यह औपचारिक तथा गैर-औपचारिक शिक्षा का अनुपूरक नहीं है।

- Ans
1. I तथा III
  2. I तथा II
  3. II तथा III
  4. I, II तथा III

Question ID : 71939924177

Q.2 Which of the following is an important and known cause of cognitive disabilities?

- I. Trauma and physical agent
- II. Chromosomal Abnormality
- III. Psychiatric disorders
- IV. Metabolism and nutrition

- Ans
1. I, II, III and IV
  2. I, II and IV
  3. II, III and IV
  4. I, II and III

Question ID : 71939924159

Q.3 निम्नलिखित में से क्या उचित प्रकार की शिक्षा के सन्दर्भ में सही नहीं है?

- Ans
1. प्रत्येक छात्र को उसके स्वयं के प्रस्तावित मूल्यों को अवलोकन तथा समझने में मदद करता है।
  2. प्रत्येक छात्र को सभी चीजों के संबंध में स्वयं का अवलोकन करने तथा समझने में मदद करता है।
  3. प्रत्येक व्यक्ति को उसके अनुबंधन प्रभावों के बारे में जागरूक होने में मदद करता है।

4. प्रत्येक छात्र को शिक्षक जीवन के बारे में पूर्वकल्पित विचारों से ज्ञान प्राप्त करने में मदद करता है।

Question ID : 71939924178

Q.4 निम्नलिखित में से कौन सा तरीका है जिसके द्वारा एक शिक्षक बच्चों में सोच कौशल को प्रोत्साहित कर सकता है?

- I. कई सोच कौशल की सशर्त प्रकृति को पहचानना।
- II. छात्रों को प्रोत्साहित करें कि वे विचार करते समय स्वयं से बात करें।
- III. हस्तांतरण को प्रोत्साहित करें, किसी दिए गए पाठ के विषय के भीतर और बाहर संबंध पर जोर दें।

- Ans
1. I तथा III दोनों
  2. I तथा II दोनों
  3. II तथा III दोनों
  4. I, II तथा III

Question ID : 71939924163

Q.5 स्कूल शिक्षा को बेहतर बनाने के लिए समुदाय द्वारा निम्नलिखित में से कौन सा कार्य किया जा सकता है?

- I. स्कूल में लड़कियों के प्रतिधारण में वृद्धि
- II. स्कूल के शिक्षकों के मनोबल को बढ़ावा देना
- III. शिक्षकों का समर्थन करना

- Ans
1. I तथा III
  2. I, II तथा III
  3. II तथा III
  4. I तथा II

Question ID : 71939924170

Q.6 शिक्षा का अधिकार अधिनियम, 2009 के अनुसार, पहली से पांचवीं कक्षा के लिए एक वर्ष में कितने न्यूनतम कार्य दिवस की आवश्यकता होती है?

- Ans
1. 200
  2. 180
  3. 240
  4. 220

Question ID : 71939924171

Q.7 निम्नलिखित में से कौन सा अधिगम को प्रभावित करने वाला शिक्षार्थी से संबंधित एक कारक नहीं है?

- Ans
1. ध्यान
  2. प्रेरणा
  3. लक्ष्य
  4. संचार

Question ID : 71939924173

Q.8 गांधी के अनुसार निम्नलिखित में से कौन सा सही है?

- I. अधिगम को बच्चों को शारीरिक रूप से सक्रिय होने के अवसरों को प्रदान करने चाहिए।
- II. बच्चों को दुनिया के बारे में ज्ञान के अपने मॉडल बनाने की स्वतंत्रता होनी चाहिए।

- Ans
1. केवल II

2. केवल I

3. I तथा II दोनों

4. ना ही I ना ही II

Question ID : 71939924174

Q.9 Which of the following words cannot be used for positive verbal reinforcement?

Ans 1. Excellent

2. Poor

3. Correct

4. Fair

Question ID : 71939924160

Q.10 Which of the following type of question allows students to go beyond the available data (their learning) and synthesise them with their personality characteristics?

Ans 1. Convergent Questions

2. Provocative Questions

3. Consequences Questions

4. Hypothetical Questions

Question ID : 71939924161

Q.11 निम्नलिखित में से क्या विकासशील व्यक्तियों पर भावनाओं का/के प्रभाव है/हैं?

I. भावनाएँ जीवन में रोज़मर्रा के अनुभवों को आनंदित करती हैं।

II. भावनाएँ हमारे व्यवहार की प्रेरणाओं के रूप में कार्य करती हैं।

III. भावनात्मक अभाव से व्यक्तित्व में खराबी आती है।

Ans 1. II तथा III दोनों

2. I तथा III दोनों

3. I तथा II दोनों

4. I, II तथा III

Question ID : 71939924164

Q.12 Which of the following is the development norm for a 2 years old child?

Ans 1. The child can skip and hop

2. The child has free and active movement and can respond to music

3. The child can walk without help, jumps, runs

4. The child cannot walk or even crawl

Question ID : 71939924168

Q.13 Which of the following disabilities can pose a threat to children in the process of their education?

I. Physical deviations

II. Sensory impairment

III. Problem with language and communication

- Ans
1. Both I and III
  2. Both II and III
  3. Both I and II
  4. I, II and III

Question ID : 71939924167

Q.14 निम्नलिखित में से किसे व्यक्तित्व की अवधारणा के तहत शामिल नहीं किया जा सकता है?

- Ans
1. एक व्यक्ति जिस तरह से बात करता है।
  2. एक व्यक्ति जिस तरह से कार्य करता है।
  3. एक व्यक्ति जिस तरह से निर्णय लेता है।
  4. एक व्यक्ति जिस तरह से चलता है।

Question ID : 71939924165

Q.15 किसी व्यक्ति के विकास में शिक्षा की क्या भूमिका होती है?

- I. यह विद्यार्थियों को शिक्षण कौशल प्रदान करता है जो उन्हें जीवन में कार्य करने के लिए शारीरिक, मानसिक तथा सामाजिक रूप से तैयार करता है।
- II. उच्च शिक्षा एक स्वस्थ समाज को बनाए रखने में मदद करती है जो शिक्षित स्वास्थ्य देखभाल उपभोक्ताओं तथा पेशेवरों को तैयार करती है।

- Ans
1. केवल I
  2. ना ही I ना ही II
  3. I तथा II दोनों
  4. केवल II

Question ID : 71939924175

Q.16 भारतीय पारंपरिक शिक्षा प्रणाली के संबंध में निम्नलिखित में से कौन सा/से कथन सही हैं?

- I. यह न तो सभी के लिए खुली थी तथा न ही इसमें कोई समानता थी।
- II. यह चरित्र में कुलीन थी तथा धार्मिक उद्देश्य से समर्थित थी।

- Ans
1. I तथा II दोनों
  2. ना ही I ना ही II
  3. केवल I
  4. केवल II

Question ID : 71939924169

Q.17 बेंटिक द्वारा 1835 के संकल्प में घोषित बातों में निम्नलिखित में से कौन सा है?

- I. शिक्षक प्रशिक्षण संस्थानों की स्थापना।
- II. फ़ारसी को दरबारी भाषा के रूप में समाप्त कर दिया गया।

- Ans
1. I तथा II दोनों
  2. ना ही I ना ही II
  3. केवल I
  4. केवल II

Question ID : 71939924172

Q.18 निम्नलिखित में से कौन सा जानने की आवश्यकता है?

- I. प्रस्ताव सत्य होना चाहिए।
- II. व्यक्ति को प्रस्ताव पर विश्वास करना चाहिए।

- Ans
- 1. I तथा II दोनों
  - 2. केवल I
  - 3. केवल II
  - 4. ना ही I ना ही II

Question ID : 71939924176

Q.19 Which of the following is NOT an internal factor which influence growth and development in children?

- Ans
- 1. Social nature
  - 2. Heredity factors
  - 3. Technical factors
  - 4. Intelligence

Question ID : 71939924162

Q.20 निम्नलिखित में से कौन सा एक बच्चे को गतिविधि जारी रखने के लिए प्रेरित कर सकता है?

- Ans
- 1. बच्चे को दी गई गतिविधि की कठिनता
  - 2. दर्दनाक अनुभव
  - 3. सफलता का अनुभव
  - 4. शिक्षक द्वारा नकारात्मक अशाब्दिक सुदृढीकरण

Question ID : 71939924166

Section : Discipline2

Q.1 सहकारी अधिगम विधि का उपयोग करके कक्षा में अध्यापक द्वारा कौन से सकारात्मक परिणाम प्राप्त किए जा सकते हैं?

- I. शैक्षणिक लाभ
- II. सामाजिक विकास
- III. बेहतर अंतर्व्यक्तिक संबंध

- Ans
- 1. II तथा III
  - 2. I तथा II
  - 3. I तथा III
  - 4. I, II तथा III

Question ID : 71939924191

Q.2 शिक्षण की किस विधि में, विद्यार्थियों को खोजकर्ता या आविष्कारक के स्थान पर रखा जाता है?

- Ans
- 1. ह्यूरिस्टिक विधि
  - 2. खेल कूद विधि
  - 3. समस्या समाधान विधि
  - 4. प्रोजेक्ट विधि

Question ID : 71939924188

Q.3 निम्नलिखित में से कौन सा शांति अभिविन्यस्त उन्मुख शिक्षाशास्त्र का केंद्र बिंदु है?

- Ans
1. केवल अवधारणाओं का प्रतिधारण
  2. अन्य लोगों के साथ देशद्रोह का अधिगम करना
  3. केवल याद करने का परीक्षण
  4. व्यक्तिगत लक्ष्यों को प्राप्त करना

Question ID : 71939924179

Q.4 In which teaching approach, the textbook in the subject is considered as the storehouse of all the required concepts, examples and exercise that are required for the teaching-learning process?

- Ans
1. Competency based approach
  2. Constructivist approach
  3. Subject centered approach
  4. Learner centered approach

Question ID : 71939924185

Q.5 Which of the following is/are the principles of Play-way method of teaching?

- I. Principle of fulfillment of desires
- II. Principle of unfolding innate potentials
- III. Principle of natural instincts
- IV. Principle of responsibility

- Ans
1. I, II, III and IV
  2. I, II and III
  3. II, III and IV
  4. I, II and IV

Question ID : 71939924187

Q.6 अवलोकन के माध्यम से सीखी गई जानकारी की स्मृति के लिए निम्नलिखित में से कौन सी प्रक्रिया छात्रों द्वारा उपयोग की जा सकती है?

- I. मन ही मन क्रियाओं की श्रृंखला बनाकर अभ्यास करना।
- II. देखी गई वस्तुओं को दृश्य के रूप में दिमाग में स्टोर करना।

- Ans
1. I तथा II दोनों
  2. केवल II
  3. ना ही I ना ही II
  4. केवल I

Question ID : 71939924181

Q.7 मान लीजिए हम किसी विशेष गांव में, विभिन्न आय वर्गों में व्यक्तियों की संख्या जानना चाहते हैं। इसके लिए, आंकड़ें नगर पालिका/पंचायत कार्यालय के पास उपलब्ध होंगे। यह निम्नलिखित में से किस स्रोत से एकत्रित किए गए आंकड़ों का एक उदाहरण है?

- I. प्राथमिक स्रोत
- II. द्वितीयक स्रोत

- Ans 1. I तथा II दोनों  
2. केवल I  
3. ना ही I ना ही II  
4. केवल II

Question ID : 71939924198

Q.8 निम्नलिखित में से क्या यह दर्शाता है कि भाषा किसी व्यक्ति की पहचान से जुड़ी हुई है?

- I. किसी व्यक्ति की भाषा यह दर्शाती है कि वह किस वर्ग के लोगों के साथ रहता है।  
II. वर्ग पदानुक्रम को बनाए रखने में भाषा एक निर्णायक कारक है।  
III. एक अलग भाषा बोलने वाले व्यक्ति को एक साथी इंसान के रूप में स्वीकार नहीं किया जाता है।

- Ans 1. I, II तथा III  
2. II तथा III  
3. I तथा II  
4. I तथा III

Question ID : 71939924195

Q.9 कोल्ब के मॉडल की सामंजस्यीकरण अधिगम शैली के बारे में निम्नलिखित में से कौन सा/से कथन सही हैं?

- I. यह तर्क की अपेक्षा अंतर्ज्ञान पर निर्भर करती है।  
II. शिक्षार्थी दूसरों के विश्लेषण का उपयोग करते हैं तथा व्यावहारिक, प्रयोगात्मक उपागम अपनाना पसंद करते हैं।  
III. शिक्षार्थी कार्यों को पूरा करने के लिए समूहों में कार्य करना पसंद करते हैं।

- Ans 1. II तथा III  
2. I तथा III  
3. I तथा II  
4. I, II तथा III

Question ID : 71939924189

Q.10 बहुभाषावाद के संबंध में निम्नलिखित में से कौन से कथन सत्य हैं?

- I. बहुभाषावाद व्यक्तिगत विकास में बाधा बन सकता है।  
II. बहुभाषावाद को सांस्कृतिक समृद्धि की अभिव्यक्ति के रूप में देखा जा सकता है।  
III. बहुभाषावाद एक व्यक्ति को अधिक सहिष्णु बनाता है।  
IV. भारत में बहुभाषावाद की व्यापकता ने इसके आर्थिक विकास को रोक दिया है।

- Ans 1. II तथा II  
2. I तथा II  
3. I, II तथा IV  
4. II, III तथा II

Question ID : 71939924196

Q.11 क्रियाकलाप आधारित उपागम का/के क्या लाभ है/हैं?

- I. यह अपनी शैली में सीखने तथा सीखने की गति का निर्धारण करने के लिए कार्यक्षेत्र उपलब्ध कराता है।  
II. यह स्व-अधिगम की क्षमता विकसित करता है।  
III. विद्यार्थी में खोजी क्षमताओं, स्वयं के ज्ञान का मूल्यांकन तथा नए ज्ञान की संरचना जैसी क्षमताओं का विकास होता है।

- Ans 1. I, II तथा III



2. II तथा III
3. I तथा II
4. I तथा III

Question ID : 71939924192

Q.12 Which of the following teacher learning method is a projected aid used by a teacher in teaching-learning process?

- Ans
1. Photographs
  2. Chalk board
  3. Field trips
  4. Epidiascope

Question ID : 71939924194

Q.13 निम्नलिखित में से कौन सा/से प्याज़े के संज्ञानात्मक विकास अवस्था के औपचारिक संक्रिया अवस्था के लक्षण हैं?

- I. सशक्त आदर्शवाद का विकास
- II. विचारों में सम्पूर्ण सामान्यीकरण
- III. परिकल्पित विचारों तथा स्थितियों का सामना करने की योग्यता

- Ans
1. I तथा II
  2. I तथा III
  3. I, II तथा III
  4. II तथा III

Question ID : 71939924184

Q.14 समूह अधिगम उपागम में, कक्षा में अध्यापक द्वारा कौन से कार्य किए जाते हैं?

- I. समूह का निर्माण करना
- II. समूह में संप्रेषण में बाधा उत्पन्न करना
- III. समूह में अधिगम परिणामों को समेकित करना

- Ans
1. I, II तथा III
  2. II तथा III
  3. I तथा II
  4. I तथा III

Question ID : 71939924193

Q.15 हमें अपनी पाठ योजना में लचीलापन क्यों सुनिश्चित करना चाहिए?

- I. पाठ योजना में लचीलापन एक योजना में कई चीजों को शामिल करने की अनुमति देगा ताकि पाठ्यक्रम को जल्द पूरा किया जा सके।
- II. लचीलापन निरंतर आकलन के ज़रिये योजना को समायोजित करने देगा।
- III. दृढ़ पाठ योजना की तुलना में निरंतर मूल्यांकन कम महत्वपूर्ण है।

- Ans
1. I, II तथा III
  2. केवल I
  3. I तथा II
  4. केवल II

Question ID : 71939924197

Q.16 Which assessment strategies are used in constructivist assessment?

- I. Oral discussion
- II. Mind mapping
- III. Pre-testing
- IV. Hands on activities

Ans 1. I, II, III and IV

2. I, II and IV

3. II, III and IV

4. I, II and III

Question ID : 71939924186

Q.17 Which of the following forms a part of the assessment in learning-centred approach to learning?

- I. Peer and self-assessment
- II. Integrated assessment
- III. Students and teachers agree on feedback timeframes

Ans 1. I, II and III

2. I and II

3. II and III

4. I and III

Question ID : 71939924190

Q.18 शिक्षण की किस शैली में, यह माना जाता है कि कक्षा के सभी बच्चों का योग्यता स्तर समान या एक जैसा है तथा वस्तुओं तथा घटनाओं के लगभग समान अर्थ हैं?

- Ans
- 1. छात्र-केंद्रित शिक्षण
  - 2. पाठ्यक्रम-आधारित शिक्षण
  - 3. अर्थ निर्माण के रूप में अधिगम
  - 4. करके-सीखने द्वारा अधिगम

Question ID : 71939924183

Q.19 छात्रों को किस तरह की प्रेरणा मिलती है जब उन्हें सफलतापूर्वक कार्य पूरा करने के लिए माता-पिता या अध्यापक द्वारा पैसे, उपहार या अंक जैसे पुरस्कार दिए जाते हैं?

- Ans
- 1. ना तो आंतरिक, ना ही बाह्य प्रेरणा
  - 2. आंतरिक प्रेरणा
  - 3. आंतरिक प्रेरणा तथा बाह्य प्रेरणा दोनों
  - 4. बाह्य प्रेरणा

Question ID : 71939924180

Q.20 खोज द्वारा अधिगम विधि निम्नलिखित में से किस सिद्धांत पर आधारित है?

- I. सक्रियता का सिद्धांत
- II. तर्कपूर्ण चिंतन का सिद्धांत

III. उद्देश्यपूर्ण अनुभवों का सिद्धांत  
IV. विकल्पों की खोज का सिद्धांत

- Ans 1. I, II तथा III  
2. I, II, III तथा IV  
3. I, III तथा IV  
4. II, III तथा IV

Question ID : 71939924182

Section : Discipline3

Q.1 निम्नलिखित कथनों में से कौन सा सही है?

- I. एक बॉक्स, एक ईट तथा असमान आयामों वाली समान आकार की वस्तुओं को घनाभ के नाम से जाना जाता है।  
II. एक घनाभ जिसकी लंबाई, चौड़ाई तथा ऊँचाई बराबर हो उसे एक घन के नाम से जाना जाता है।

- Ans 1. ना ही I ना ही II  
2. I तथा II दोनों  
3. केवल I  
4. केवल II

Question ID : 71939924207

Q.2 A sentence has been given with a blank to be filled with an appropriate word. Choose the correct alternative.

We \_\_\_\_\_ have time to catch the flight.

- Ans 1. without  
2. and  
3. still  
4. yet

Question ID : 71939924215

Q.3 \_\_\_\_\_ figure has two triangular faces (one at the top and one at the bottom) generally known as bases and three rectangular faces perpendicular to the triangular end.

- Ans 1. Prism  
2. Frustum  
3. Pyramid  
4. Cylinder

Question ID : 71939924201

Q.4 Improve the bracketed part of the sentence.

Raj bought an apple (with) a shop.

- Ans 1. at  
2. from  
3. to

4. No improvement

Question ID : 71939924208

Q.5 बच्चों को सही तरीके से स्केल का उपयोग करना तथा सिखने को सक्षम बनाने के लिए निम्नलिखित में से किस अतिरिक्त देखभाल की आवश्यकता है?

- I. स्केल पर उप-इकाइयों के अंकन से बच्चों को परिचित कराना।
- II. मापन वस्तु के साथ स्केल को उचित रूप से रखना।
- III. वास्तविक लंबाई ज्ञात करने से पहले लंबाई का अनुमान लगाना।
- IV. लंबाई की सही ढंग से गणना करना।

- Ans
1. II, III तथा IV
  2. केवल IV
  3. I, II, III तथा IV
  4. I, II तथा IV

Question ID : 71939924205

Q.6 In the following question, out of the given four alternatives, select the alternative which best expresses the meaning of the Idiom/Phrase.

Go out of one's way

- Ans
1. make a special effort
  2. to be plain and evident
  3. laughing out loud
  4. abandoned without support

Question ID : 71939924214

Q.7 स्किनर के लिए अधिगम का सबसे महत्वपूर्ण उपाय \_\_\_\_\_ की दर है।

- I. संदेश देने
- II. जवाब देने

- Ans
1. I तथा II दोनों
  2. केवल I
  3. केवल II
  4. ना ही I ना ही II

Question ID : 71939924216

Q.8 In the following question, out of the given four alternatives, select the alternative which best expresses the meaning of the Idiom/Phrase.

Cock-and-bull story

- Ans
1. Establish oneself
  2. an absurd tale
  3. investigate
  4. attend to

Question ID : 71939924213

Q.9 जीन पियागे के नैतिक निर्णय के सिद्धांत में कितने चरण थे?

- Ans
1. 3
  2. 4
  3. 5
  4. 2

Question ID : 71939924218

Q.10 ज्यामिति में परावर्तन की अवधारणा दर्पण में परावर्तन के समान होती है। परावर्तन आकृतियों में \_\_\_\_\_ उत्पन्न करता है।

- I. विषमता
- II. सममिति

- Ans
1. ना ही I ना ही II
  2. केवल I
  3. केवल II
  4. I तथा II दोनों

Question ID : 71939924206

Q.11 Choose the word that is opposite in meaning to the given word.

Hatred

- Ans
1. host
  2. loth
  3. liking
  4. safe

Question ID : 71939924209

Q.12 When new behaviour is acquired through observation alone, then the learning appears to be \_\_\_\_\_.

- I. dramatic
- II. cognitive

- Ans
1. Only I
  2. Both I and II
  3. Only II
  4. Neither I nor II

Question ID : 71939924217

Q.13 निम्नलिखित में से कौन सा ज्यामिति का एक मूल अभिगृहीत नहीं है?

- Ans
1. एक बिंदु से केवल कुछ रेखाएं खींची जा सकती हैं।
  2. हर रेखा (यानी सीधी रेखा) तथा समतल बिंदुओं का एक समुच्चय है।
  3. यदि दो समतल एक दूसरे को काटते हैं, तो उनका प्रतिच्छेदन एक सीधी रेखा होती है।
  4. एक समतल में दो दिए गए बिंदुओं के माध्यम से खींची गई रेखा भी समतल में निहित होती है।

Question ID : 71939924202

Q.14 Choose the word that means the same as the given word.

Force

- Ans
1. compel
  2. sorrow
  3. TRUE
  4. easy

Question ID : 71939924210

Q.15 किस वर्ष में बाट तथा माप की मीट्रिक प्रणाली को भारतीय संसद द्वारा अपनाया गया था?

- Ans
1. 1962
  2. 1966
  3. 1967
  4. 1956

Question ID : 71939924204

Q.16 'मीटर' शब्द \_\_\_\_\_ ग्रीक शब्द से लिया गया है।

- Ans
1. मेट्रान
  2. मेट्रॉन
  3. मॉर्टन
  4. मेंटर

Question ID : 71939924203

Q.17 निम्नलिखित में से कौन सा कथन समय - माप को दर्शाता है?

- I. किसी कार्य को पूरा करने में हमें कितना समय लगता है?
- II. कोई घटना दिन में कब घटित हुई?
- III. 3D वस्तु द्वारा विस्थापित पानी की मात्रा।

- Ans
1. II तथा III
  2. I, II तथा III
  3. I तथा II
  4. I तथा III

Question ID : 71939924200

Q.18 मेट्रिक तथा इम्पीरियल प्रणाली दोनों में, निम्नलिखित में से कौन सा/से मापन इकाइयों का/के प्रकार हैं?

- I. आधारभूत इकाइयां
- II. व्युत्पन्न इकाइयां

- Ans
1. ना ही I ना ही II
  2. I तथा II दोनों
  3. केवल I
  4. केवल II

Question ID : 71939924199

Q.19 Choose the word that can substitute the given sentence.

A book of names and addresses

- Ans
1. cenotaph
  2. harangue
  3. directory
  4. memoirs

Question ID : 71939924212

Q.20 Choose the word that means the same as the given word.

Guest

- Ans
1. visitor
  2. grow
  3. enslave
  4. host

Question ID : 71939924211

Section : Discipline4

Q.1 निम्न में से किस मापदंड पर स्व-मूल्यांकन/निर्धारण के प्रश्न पूछे जा सकते हैं?

- I. उच्चारण
- II. तनाव

- Ans
1. केवल I
  2. न ही I और न ही II
  3. केवल II
  4. I तथा II दोनों

Question ID : 71939924229

Q.2 पर्यावरण अध्ययन में निम्नलिखित में से कौन सा एक निर्माणात्मक मूल्यांकन नहीं है?

- Ans
1. छात्रों को युग्मन करके तथा उनसे चर्चा करने के लिए कहना
  2. पास के जंगल या पार्क की यात्रा
  3. पर्यावरण अध्ययन के सभी विषयों पर सत्र के अंत की परीक्षा देना
  4. पर्यावरण अध्ययन के किसी भी विषय पर एक पॉप प्रश्नोत्तरी परीक्षा

Question ID : 71939924224

Q.3 Which of the following is not true regarding 'free activities'?

- Ans
1. There is a genuine communication
  2. The atmosphere should be informal
  3. There is often a game element
  4. They focus attention on the language

Question ID : 71939924226

Q.4 निम्नलिखित में से कौन सा/से 'भाषण' को छोड़कर अन्य साइन सिस्टम है/हैं?

- I. लेखन
- II. ससंख्या पद्धति

- Ans
- 1. केवल I
  - 2. ना ही I ना ही II
  - 3. केवल II
  - 4. I तथा II दोनों

Question ID : 71939924219

Q.5 पर्यावरण के सन्दर्भ में निम्नलिखित में से कौन सा कथन गलत है?

- Ans
- 1. पर्यावरण अध्ययन केवल विज्ञान, सामाजिक अध्ययन तथा गणित से अंतर्दृष्टि प्राप्त करता है
  - 2. पर्यावरण अध्ययन का उद्देश्य बच्चों में उस वातावरण के पूर्णतावादी या एकीकृत परिप्रेक्ष्य को विकसित करना है, जहां वह रहता/रहती है
  - 3. पर्यावरण अध्ययन को विज्ञान तथा सामाजिक विज्ञान जैसे विषयों के बजाय प्राथमिक स्तर पर पेश किया जाता है
  - 4. पर्यावरण अध्ययन बच्चों को उनके प्राकृतिक तथा मानव निर्मित परिवेश के साथ जुड़ने तथा अन्वेषण करने में मदद करता है

Question ID : 71939924221

Q.6 निम्नलिखित में से किसका उपयोग कहानी-आधारित कार्य के साथ किया जा सकता है?

- I. लय तथा गीतों
- II. वीडियो को रिकॉर्डिंग करना

- Ans
- 1. केवल I
  - 2. केवल II
  - 3. तथा I II दोनों
  - 4. न ही I और न ही II

Question ID : 71939924237

Q.7 What comes under 'writing at text level' writing activity?

- I. Diaries
- II. Descriptions

- Ans
- 1. Only II
  - 2. Only I
  - 3. Neither I nor II
  - 4. Both I and II

Question ID : 71939924232

Q.8 निम्नलिखित में से कौन सा एक उपयोगी कंप्यूटर सत्र के चरण 2 में शामिल है?

- I. कार्य का उद्देश्य स्पष्ट करना
- II. सुनिश्चित करना कि बच्चे कार्य पर बने रहे

- Ans
- 1. केवल I
  - 2. तथा I II दोनों
  - 3. न ही I और न ही II



4. केवल II

Question ID : 71939924235

Q.9 निम्नलिखित में से कौन सा 'विषय-आधारित कार्य' के संदर्भ में सही नहीं है?

- Ans
1. यह किसी के शिक्षण को व्यवस्थित करने का एकमात्र तरीका है
  2. विषयों पर कार्य करना अधिगम की प्रक्रिया की मदद कर सकता है
  3. किसी एक विषय पर ध्यान केंद्रित करते समय, पाठ की विषय सूची, भाषा की तुलना में अधिक महत्वपूर्ण हो जाती है।
  4. यह आपको किसी विषय के गहराई में जाने की अनुमति देता है

Question ID : 71939924225

Q.10 निम्नलिखित में से कौन-सा पौधे के अध्ययन के लिए क्षेत्र भ्रमण का एक उद्देश्य नहीं हो सकता है?

- Ans
1. छात्रों को उनके नामों से कुछ परिचित पौधों की पहचान करने में सक्षम होंगे
  2. छात्र पौधों के आरेख बनाने में सक्षम होंगे
  3. छात्रों को आकार के आधार पर पौधों को वर्गीकृत करने तथा देखी गई विविधता के गुण को पहचानने में सक्षम होंगे
  4. छात्रों को पौधों की बाहरी विशेषताओं में अंतर का अवलोकन करने तथा रिकॉर्ड करने में सक्षम होंगे

Question ID : 71939924222

Q.11 पर्यावरण अध्ययन में निम्नलिखित में से किस प्रकारण के माध्यम से बच्चों को पौधे से अवगत करवाया जाता है ?

- Ans
1. आश्रय
  2. यात्रा
  3. भोजन
  4. जानवर

Question ID : 71939924223

Q.12 Which of the following components can be categorized under Socio - cultural environment?

- I. Political Institutions
- II. Industries
- III. Landforms
- IV. Community

- Ans
1. Both I and IV
  2. Both I and II
  3. I, II and III
  4. Both II and IV

Question ID : 71939924220

Q.13 Practising new structures and functions is a purpose of which activity?

- Ans
1. Writing at sentence level
  2. Writing at text level
  3. Writing at word level
  4. Writing paragraph level

Question ID : 71939924238

Q.14 निम्नलिखित में से कौन सा समीक्षा का एक हिस्सा है?

- I. पाठ को समीक्षा तथा सारांशित करना।
- II. गृहकार्य को सेट करना।

- Ans
- 1. केवल II
  - 2. केवल I
  - 3. I तथा II दोनों
  - 4. न ही। और न ही II

Question ID : 71939924228

Q.15 निम्नलिखित में से किस को संज्ञानात्मक रणनीतियों में शामिल किया गया है?

- I. तुलना करना
- II. जोखिम लेने

- Ans
- 1. केवल II
  - 2. न ही। और न ही II
  - 3. केवल I
  - 4. तथा I II दोनों

Question ID : 71939924233

Q.16 Which speaking activity is carried out in pairs or groups and often involve pupil's asking and answering questions?

- Ans
- 1. Role play
  - 2. Reading aloud
  - 3. Information gap
  - 4. Retelling a story

Question ID : 71939924231

Q.17 निम्नलिखित में से कौन सी श्रेणियों को सांस्कृतिक जानकारी में शामिल किया गया है जो कि स्टोरीबुक के माध्यम से प्रस्तुत की जाती है?

- I. त्यौहार
- II. दिनचर्या या रोज़मर्रा की ज़िंदगी

- Ans
- 1. न ही। और न ही II
  - 2. तथा I II दोनों
  - 3. केवल II
  - 4. केवल I

Question ID : 71939924234

Q.18 निम्न में से किस चरण का उपयोग विषय में शिक्षार्थी की रुचि को प्रोत्साहित करने के लिए, जो सुनने के लिए प्रेरित करता है?

- Ans
- 1. सुनने से पूर्व
  - 2. सुनते समय

3. पांचवा चरण
4. सुनने के पश्चात

Question ID : 71939924230

Q.19 मल्टीसेन्सरी शिक्षण में क्या शामिल है?

- Ans
1. सभी बच्चों के लिए उपयुक्त चुनौतियां प्रदान करना
  2. शब्दों और चित्रों का उपयोग करके मिलान करना
  3. अधिगम की शैलियों की एक सीमा को समायोजित करने के लिए कार्यों को अपनाना
  4. विभिन्न प्रकार की सामग्री और संसाधन जो विभिन्न प्रकार के शिक्षार्थियों/ सीखनेवा लो से अनुरोध करेंगे

Question ID : 71939924236

Q.20 निम्नलिखित में से कौन सा कदम 'विचारों की आयोजन' के अंतर्गत नहीं आता है?

- Ans
1. विचारों के जुड़ने के तरीके की जाँच करना
  2. काल (टेन्सेस) की जाँच करना
  3. विचारों की व्याख्या के तरीके की जाँच करना
  4. समय संदर्भ देखें

Question ID : 71939924227

Section : Discipline5

Q.1 इतिहास की प्रकृति के बारे में निम्नलिखित में से कौन सा कथन सही है/हैं?

- I. ऐतिहासिक घटनाएं हमेशा असंबद्ध तथा समाप्त होने वाली होती हैं।
- II. भविष्य के अनुमान के उद्देश्य से भूतकाल की व्याख्या इतिहास है।
- III. यह इतिहास युगों से मानव के प्रयासों तथा उपलब्धियों से संबंधित है।

- Ans
1. I तथा II दोनों
  2. केवल II
  3. I, II तथा III
  4. II तथा III दोनों

Question ID : 71939924240

Q.2 निम्नलिखित में से कौन सा कथन सामाजिक विज्ञान की प्रकृति के बारे में सही है/हैं?

- I. अध्ययन के विषय के रूप में सामाजिक विज्ञान में बड़ी संख्या में राजनीति विज्ञान, मानव-शास्त्र, कानून, अर्थशास्त्र, भूगोल आदि जैसे विषय शामिल हैं।
- II. सामाजिक विज्ञान विषय प्रकृति में मुख्य रूप से अंतर्विषयक तथा अन्योन्याश्रित हैं।
- III. सामाजिक विज्ञान के पाठ्यक्रम को करवाते समय इसे विभिन्न विषयों के साथ एकीकृत किया जाना चाहिए।

- Ans
1. I तथा III दोनों
  2. II तथा III दोनों
  3. I, II तथा III
  4. I तथा II दोनों

Question ID : 71939924243

Q.3 एक शिक्षण-अधिगम प्रक्रिया में पाठ्यक्रम के बारे में निम्नलिखित में से कौन सा/से कथन सही है/हैं?

- I. एक पाठ्यक्रम एक विशिष्ट कोर्स की रूपरेखा है  
II. इसमें शामिल किए जाने वाले विषय, उनके आदेश, अक्सर आवश्यक और सुझाए गए पठन सामग्री और किसी भी अन्य प्रासंगिक जानकारी को शामिल किया जाता है

- Ans 1. I तथा II दोनों  
2. केवल II  
3. केवल I  
4. न ही I और न ही II

Question ID : 71939924254

- Q.4 A teacher wants to teach his/her students about astronomy and celestial bodies. To which of the following place, she should organise a field trip for this purpose?

- Ans 1. Planetarium  
2. Botanical Garden  
3. Museum  
4. Vivarium

Question ID : 71939924255

- Q.5 निम्न में से कौन सा विषय अर्थ सामाजिक विज्ञान के अंतर्गत वर्गीकृत किया जा सकता है?

- Ans 1. नीति शास्त्र  
2. भूगोल  
3. मानव-शास्त्र  
4. भाषा विज्ञान

Question ID : 71939924242

- Q.6 "रेखा खंड के अंतिम बिंदुओं के बीच की दूरी को रेखा खंड की लंबाई के रूप में जाना जाता है।" यह उपरोक्त कथन निम्नलिखित में से किसको परिभाषित करता है?

- Ans 1. रेखा खंड की लंबाई  
2. समरेख बिंदु  
3. रेखा खंड  
4. रे

Question ID : 71939924247

- Q.7 निम्नलिखित में से कौन सा/से कक्षा में विज्ञान पढ़ाने के लिए पूछताछ दृष्टिकोण का उपयोग करने के लाभ हैं?

- I. अधिगम चुनौतीपूर्ण और आनंदमय हो जाता है।  
II. छात्रों को ज्ञान की अस्थायी प्रकृति का एहसास होता है।

- Ans 1. न ही I और न ही II  
2. केवल I  
3. केवल II  
4. I तथा II दोनों

Question ID : 71939924253

- Q.8 एक प्रिज्म का आधार आयत है। आयत की लम्बाई तथा चौड़ाई क्रमशः 14 से.मी. तथा 5 से.मी. है। यदि प्रिज्म

की ऊँचाई 10 से.मी. है, तो प्रिज्म का कुल पृष्ठीय क्षेत्रफल क्या होगा?

- Ans 1.  
2.  
3.  
4.

Question ID : 71939924246

Q.9 शिक्षण विज्ञान के लिए कौन सा दृष्टिकोण ट्रांसमिशन दृष्टिकोण के रूप में जाना जाता है?

- Ans 1. एक्सपोजिटर दृष्टिकोण  
2. प्रयोग दृष्टिकोण  
3. पूछताछ दृष्टिकोण  
4. आविष्कार दृष्टिकोण

Question ID : 71939924252

Q.10 जैवभूगोल के अंतर्गत निम्नलिखित में से किस क्षेत्र को वर्गीकृत किया जा सकता है?

- I. प्राणी भूगोल  
II. पर्यावरण भूगोल  
III. क्षेत्रीय भूगोल  
IV. वनस्पति भूगोल

- Ans 1. I, II तथा IV  
2. I, II तथा III  
3. I, III तथा IV  
4. I, II, III तथा IV

Question ID : 71939924244

Q.11 \_\_\_\_\_ वेह है जिसे स्वीकार नहीं किया जा सकता है लेकिन यह साबित हो चुका है।

- I. सूत्र  
II. पोस्टयुलेट

- Ans 1. न ही I और न ही II  
2. केवल I  
3. I तथा II दोनों  
4. केवल II

Question ID : 71939924248

Q.12 निम्नलिखित में से कौन सा/से रेंज के प्रकार हैं?

- I. समावेशी श्रेणी  
II. विशिष्ट श्रेणी

- Ans 1. न ही I और न ही II  
2. केवल II  
3. I तथा II दोनों  
4. केवल I

Question ID : 71939924249

Q.13 शब्दावली का अभ्यास करना और जाँच करने में कौन सी गतिविधि शामिल है?

- I. शब्दों को चित्रों से मिलाना
- II. खेलों का अनुमान लगाना

- Ans
- 1. केवल II
  - 2. न ही। और न ही II
  - 3. I तथा II दोनों
  - 4. केवल I

Question ID : 71939924239

Q.14 कार्ल पियर्सन के अनुसार, निम्नलिखित में से क्या वैज्ञानिक विधि की विशेषताएं हैं?

- I. तथ्यों का सावधानीपूर्वक तथा सटीक वर्गीकरण
- II. सह-संबंध तथा अनुक्रम का अवलोकन
- III. रचनात्मक कल्पना की सहायता से वैज्ञानिक नियमों की खोज

- Ans
- 1. I तथा III
  - 2. II तथा III
  - 3. I, II तथा III
  - 4. I तथा II

Question ID : 71939924251

Q.15 निम्नलिखित में से कौन सा/से गणित सीखने के मूल्यांकन के उपकरण और तकनीकें हैं?

- I. लिखित, मौखिक और प्रदर्शन परीक्षण और कार्य
- II. परियोजनाओं और कार्य
- III. गणितीय कार्य करने में बच्चे की भागीदारी

- Ans
- 1. I तथा III
  - 2. केवल I
  - 3. II तथा III
  - 4. I, II तथा III

Question ID : 71939924250

Q.16 निम्नलिखित में से कौन सा भारत में एकीकृत शिक्षा का इस्तेमाल होने वाला एक लोकप्रिय मॉडल है?

- I. स्व-निहित श्रेणी
- II. संसाधन कक्ष

- Ans
- 1. केवल I
  - 2. केवल II
  - 3. न ही। और न ही II
  - 4. I तथा II दोनों

Question ID : 71939924257

Q.17 एक बेलन के आधार की त्रिज्या तथा ऊँचाई क्रमशः 28 से.मी. तथा 5 से.मी. है। बेलन का वक्र पृष्ठीय क्षेत्रफल क्या होगा?

- Ans
- 1.
  - 2.

3.

4.

Question ID : 71939924245

Q.18 "ऑक्सीजन को O<sub>2</sub> द्वारा दर्शाया जाता है", एक \_\_\_\_\_ है।

- Ans
1. प्रक्रियात्मक ज्ञान
  2. वैचारिक ज्ञान
  3. मेटाकोग्निटिव ज्ञान
  4. तथ्यात्मक ज्ञान

Question ID : 71939924256

Q.19 निम्नलिखित में से कौन सी विधि सामाजिक विज्ञान की भागीदारी में शिक्षण - सीखने की प्रक्रिया को बनाने में मदद कर सकती है?

- I. उभरते सामाजिक मुद्दों पर वाद-विवाद की व्यवस्था करना।
- II. स्थानीय संसाधन व्यक्तियों तथा जनता कार्यकर्ता के साथ छात्रों के विचार-विमर्श की व्यवस्था करना।
- III. एक कक्षा का वातावरण बनाना जिसमें समूह कार्यस्थान शामिल हैं जहाँ संसाधनों को साझा किया जाते हैं।

- Ans
1. केवल II
  2. I, II तथा III
  3. केवल III
  4. I तथा II दोनों

Question ID : 71939924241

Q.20 निम्नलिखित में से कौन सा सशक्तिकरण शिक्षा में निहित है?

- I. स्व मान्यता को बढ़ावा देना
- II. गहन सोच को उत्तेजित करना
- III. संसाधनों तक पहुंच को सक्षम करना

- Ans
1. I तथा II
  2. II तथा III
  3. I, II तथा III
  4. I तथा III

Question ID : 71939924258