



# Teachingninja.in

**DSSSB PRT 11 Nov 2019 Shift 1 Paper**

- ★ Latest Govt Job updates
- ★ Private Job updates
- ★ Free Mock tests available

**Visit - [teachingninja.in](https://teachingninja.in)**

**Notations :**

- 1.Options shown in green color and with ✓ icon are correct.
- 2.Options shown in red color and with ✗ icon are incorrect.

<b>Question Paper Name:</b>	Assistant Teacher Primary 11th November 2019 Shift 1
<b>Subject Name:</b>	ASSISTANT TEACHER PRIMARY
<b>Creation Date:</b>	2019-11-11 11:30:50
<b>Duration:</b>	120
<b>Total Marks:</b>	200
<b>Display Marks:</b>	Yes
<b>Share Answer Key With Delivery Engine:</b>	No
<b>Actual Answer Key:</b>	Yes
<b>Calculator:</b>	None
<b>Magnifying Glass Required?:</b>	No
<b>Ruler Required?:</b>	No
<b>Eraser Required?:</b>	No
<b>Scratch Pad Required?:</b>	No
<b>Rough Sketch/Notepad Required?:</b>	No
<b>Protractor Required?:</b>	No
<b>Show Watermark on Console?:</b>	Yes
<b>Highlighter:</b>	No
<b>Auto Save on Console?:</b>	No

**Mental Ability**

<b>Group Number :</b>	1
<b>Group Id :</b>	9983671211
<b>Group Maximum Duration :</b>	0
<b>Group Minimum Duration :</b>	0
<b>Revisit allowed for view? :</b>	No
<b>Revisit allowed for edit? :</b>	No
<b>Break time:</b>	0
<b>Group Marks:</b>	20
<b>Revisit allowed for group Instructions? :</b>	Yes
<b>Maximum Instruction Time:</b>	0
<b>Minimum Instruction Time:</b>	0

**Mental Ability**

<b>Section Id :</b>	9983671610
<b>Section Number :</b>	1
<b>Section type :</b>	Online
<b>Mandatory or Optional:</b>	Mandatory
<b>Number of Questions:</b>	20
<b>Number of Questions to be attempted:</b>	20
<b>Section Marks:</b>	20

Display Number Panel: Yes  
Group All Questions: No

Sub-Section Number: 1  
Sub-Section Id: 9983672004  
Question Shuffling Allowed : Yes

Question Number : 1 Question Id : 99836739223 Question Type : MCQ Option Shuffling : Yes Display Question Number : Yes  
Single Line Question Option : No Option Orientation : Vertical

Correct Marks : 1 Wrong Marks : 0.25

A series is given with one term missing. Select the correct alternative from the given ones that will complete the series.

TR, VU, XX, ZA, ?

Options :

1. ✓ BD
2. ✗ CD
3. ✗ BE
4. ✗ CF

Question Number : 1 Question Id : 99836739223 Question Type : MCQ Option Shuffling : Yes Display Question Number : Yes  
Single Line Question Option : No Option Orientation : Vertical

Correct Marks : 1 Wrong Marks : 0.25

एक अनुक्रम दिया गया है, जिसमें से एक पद लुप्त है। दिए गए विकल्पों में से वह सही विकल्प चुनिए, जो अनुक्रम को पूरा करे।

TR, VU, XX, ZA, ?

Options :

1. ✓ BD
2. ✗ CD
3. ✗ BE
4. ✗ CF

Question Number : 2 Question Id : 99836739224 Question Type : MCQ Option Shuffling : Yes Display Question Number : Yes  
Single Line Question Option : No Option Orientation : Vertical

Correct Marks : 1 Wrong Marks : 0.25

A series is given with one term missing. Select the correct alternative from the given ones that will complete the series.

G25R, K35X, O19D, S29J, ?

Options :

1. ✗ W29R
2. ✓ W39P
3. ✗ V38P
4. ✗ V39Q

Question Number : 2 Question Id : 99836739224 Question Type : MCQ Option Shuffling : Yes Display Question Number : Yes  
Single Line Question Option : No Option Orientation : Vertical

Correct Marks : 1 Wrong Marks : 0.25

एक अनुक्रम दिया गया है, जिसमें से एक पद लुप्त है। दिए गए विकल्पों में से वह सही विकल्प चुनिए, जो अनुक्रम को पूरा करे।

G25R, K35X, O19D, S29J, ?

Options :

- ✘ W29R
- ✔ W39P
- ✘ V38P
- ✘ V39Q

Question Number : 3 Question Id : 99836739225 Question Type : MCQ Option Shuffling : Yes Display Question Number : Yes  
Single Line Question Option : No Option Orientation : Vertical

Correct Marks : 1 Wrong Marks : 0.25

In the following question, select the odd word from the given alternatives.

Options :

- ✘ Car
- ✘ Truck
- ✘ Cycle
- ✔ Handle

Question Number : 3 Question Id : 99836739225 Question Type : MCQ Option Shuffling : Yes Display Question Number : Yes  
Single Line Question Option : No Option Orientation : Vertical

Correct Marks : 1 Wrong Marks : 0.25

निम्नलिखित प्रश्न में दिए गए विकल्पों में से विषम शब्द को चुनिए।

Options :

- ✘ कार
- ✘ ट्रक
- ✘ साइकिल
- ✔ हैंडल

Question Number : 4 Question Id : 99836739226 Question Type : MCQ Option Shuffling : Yes Display Question Number : Yes  
Single Line Question Option : No Option Orientation : Vertical

Correct Marks : 1 Wrong Marks : 0.25

In the following question, select the related words from the given alternatives.

Tool : Scalpel :: Bird : ?

Options :

- ✘ Feather
- ✘ Sky
- ✔ Parrot
- ✘ Dolphin

Question Number : 4 Question Id : 99836739226 Question Type : MCQ Option Shuffling : Yes Display Question Number : Yes  
Single Line Question Option : No Option Orientation : Vertical

Correct Marks : 1 Wrong Marks : 0.25

निम्नलिखित प्रश्न में दिए गए विकल्पों में से संबंधित शब्दों को चुनिए।

उपकरण : क्षुरिका :: पक्षी :: ?

Options :

- ✘ पंख
- ✘ आसमान

3. ✓ तोता
4. ✗ डोल्फिन

Question Number : 5 Question Id : 99836739227 Question Type : MCQ Option Shuffling : Yes Display Question Number : Yes  
Single Line Question Option : No Option Orientation : Vertical

Correct Marks : 1 Wrong Marks : 0.25

In the following question, select the related letter pair from the given alternatives.

JK : PQ :: ?

Options :

1. ✗ TL : HO
2. ✗ PH : KS
3. ✗ DE : WV
4. ✓ SG : TH

Question Number : 5 Question Id : 99836739227 Question Type : MCQ Option Shuffling : Yes Display Question Number : Yes  
Single Line Question Option : No Option Orientation : Vertical

Correct Marks : 1 Wrong Marks : 0.25

निम्नलिखित प्रश्न में दिए गए विकल्पों में से संबंधित अक्षर युग्म को चुनिए।

JK : PQ :: ?

Options :

1. ✗ TL : HO
2. ✗ PH : KS
3. ✗ DE : WV
4. ✓ SG : TH

Question Number : 6 Question Id : 99836739228 Question Type : MCQ Option Shuffling : Yes Display Question Number : Yes  
Single Line Question Option : No Option Orientation : Vertical

Correct Marks : 1 Wrong Marks : 0.25

In a certain code language, 'MOINT' is written as '131591420', 'TORPS' is written as '2015181619'. What is the code for 'GARBT' in that code language?

Options :

1. ✗ 7181220
2. ✓ 7118220
3. ✗ 7021182
4. ✗ 7811220

Question Number : 6 Question Id : 99836739228 Question Type : MCQ Option Shuffling : Yes Display Question Number : Yes  
Single Line Question Option : No Option Orientation : Vertical

Correct Marks : 1 Wrong Marks : 0.25

एक विशिष्ट कोड भाषा में, 'MOINT' को '131591420' लिखा जाता है, 'TORPS' को '2015181619' लिखा जाता है। इस कोड भाषा में 'GARBT' का कोड क्या है?

Options :

1. ✗ 7181220
2. ✓ 7118220
3. ✗ 7021182
4. ✗ 7811220

Question Number : 7 Question Id : 99836739229 Question Type : MCQ Option Shuffling : Yes Display Question Number : Yes  
Single Line Question Option : No Option Orientation : Vertical

Correct Marks : 1 Wrong Marks : 0.25

Height of five students A, K, L, M and T are compared. Height of K is more than only two students. Height of M is greater than T and Height of T is greater than K. How many students are smaller than T?

Options :

1. ✘ 2
2. ✔ 3
3. ✘ 0
4. ✘ 1

Question Number : 7 Question Id : 99836739229 Question Type : MCQ Option Shuffling : Yes Display Question Number : Yes  
Single Line Question Option : No Option Orientation : Vertical

Correct Marks : 1 Wrong Marks : 0.25

पाँच छात्रों A, K, L, M तथा T की ऊँचाई की तुलना की गयी है। K की ऊँचाई केवल दो छात्रों से अधिक है। M की ऊँचाई T से अधिक है तथा T की ऊँचाई K से अधिक है। कितने छात्र T से छोटे हैं?

Options :

1. ✘ 2
2. ✔ 3
3. ✘ 0
4. ✘ 1

Question Number : 8 Question Id : 99836739230 Question Type : MCQ Option Shuffling : Yes Display Question Number : Yes  
Single Line Question Option : No Option Orientation : Vertical

Correct Marks : 1 Wrong Marks : 0.25

Six boys A, B, C, E, F and G are sitting in a row facing towards north (not necessarily in the same order). B is not sitting at any of the end. G is sitting third to the right of A. C is to the immediate left of G. A is at one of the ends. B is not to the right of C. Which of the following pair of boys can represent the immediate neighbour of G?

Options :

1. ✘ BA
2. ✘ FA
3. ✔ EC
4. ✘ BE

Question Number : 8 Question Id : 99836739230 Question Type : MCQ Option Shuffling : Yes Display Question Number : Yes  
Single Line Question Option : No Option Orientation : Vertical

Correct Marks : 1 Wrong Marks : 0.25

छह लड़के A, B, C, E, F तथा G एक पंक्ति में उत्तर की ओर मुख करके बैठे हुए हैं (जरूरी नहीं की इसी क्रम में हो)। B किसी भी छोर पर नहीं बैठा है। G, A के दायीं ओर तीसरे स्थान पर बैठा है। C, G के तुरंत बायीं ओर है। A किसी एक छोर पर है। B, C के दायीं ओर नहीं है। निम्नलिखित में से कौन सा युग्म G के निकटतम पड़ोसियों को दर्शा सकता है?

Options :

1. ✘ BA
2. ✘ FA
3. ✔ EC
4. ✘ BE

Question Number : 9 Question Id : 99836739231 Question Type : MCQ Option Shuffling : Yes Display Question Number : Yes  
Single Line Question Option : No Option Orientation : Vertical

Correct Marks : 1 Wrong Marks : 0.25

Five boys B1, B2, B3, B4 and B5 like any one colour out of the five different colours : red, yellow, green, orange and pink. Each of them have one bike out of five bikes : L, M, N, P and T. None of them likes same colour and none of them have same bike. Boy who like orange have bike P. B2 have bike M and he likes green colour. B1 likes colour red or yellow and have bike L. B4 likes either red or yellow. B5 have either N or T bike. Which of the following combination of Bike - Colour - Boy can be correct?

Options :

- ✘ M - Yellow - B2
- ✘ P - Red - B1
- ✘ L - Pink - B5
- ✔ T - Yellow - B4

Question Number : 9 Question Id : 99836739231 Question Type : MCQ Option Shuffling : Yes Display Question Number : Yes Single Line Question Option : No Option Orientation : Vertical

Correct Marks : 1 Wrong Marks : 0.25

पाँच लडके B1, B2, B3, B4 तथा B5 पाँच विभिन्न रंगों : लाल, पीला, हरा, नारंगी तथा गुलाबी में से एक रंग पसंद करते हैं। प्रत्येक के पास पाँच विभिन्न बाइकों : L, M, N, P तथा T में से कोई एक बाइक है। उनमें से किसी को भी समान रंग पसंद नहीं है तथा उनमें से किसी के पास समान बाइक नहीं है। वह लडका, जिसे नारंगी पसंद है, उसके पास P बाइक है। B2 के पास M बाइक है तथा उसको हरा रंग पसंद है। B1 को लाल या पीला रंग पसंद है तथा उसके पास L बाइक है। B4 को लाल या पीला रंग पसंद है। B5 के पास N या T बाइक है। निम्नलिखित में से बाइक - रंग - लडके का कौन सा संयोजन सही है?

Options :

- ✘ M - पीला - B2
- ✘ P - लाल - B1
- ✘ L - गुलाबी - B5
- ✔ T - पीला - B4

Question Number : 10 Question Id : 99836739232 Question Type : MCQ Option Shuffling : Yes Display Question Number : Yes Single Line Question Option : No Option Orientation : Vertical

Correct Marks : 1 Wrong Marks : 0.25

In the following question below are given some statements followed by some conclusions based on those statements. Taking the given statements to be true even if they seem to be at variance from commonly known facts. Read all the conclusions and then decide which of the given conclusion logically follows the given statements.

Statements:

- I. All J are T.
- II. No K is T.

Conclusions:

- I. No J is K.
- II. Some T are K.

Options :

- ✔ Only conclusion I follows.
- ✘ Only conclusion II follows.
- ✘ Both conclusion I and II follows.
- ✘ Neither conclusion follows.

Question Number : 10 Question Id : 99836739232 Question Type : MCQ Option Shuffling : Yes Display Question Number : Yes Single Line Question Option : No Option Orientation : Vertical

Correct Marks : 1 Wrong Marks : 0.25

नीचे दिए गए प्रश्न में कुछ कथन और उनके बाद उन कथनों पर आधारित कुछ निष्कर्ष दिए गए हैं। दिए गए कथनों को सही माने, चाहे उनमें सामान्य ज्ञात तथ्यों से भिन्नता हो। सभी निष्कर्ष पढ़ें और फिर निर्धारित करें कि दिए गए कौन से निष्कर्ष, दिए गए कथनों के आधार पर युक्तिसंगत हैं।

कथन:

- I. सभी J, T हैं।
- II. कोई K, T नहीं है।

निष्कर्ष:

- I. कोई J, K नहीं है।
- II. कुछ T, K हैं।

Options :

1. ✓ केवल निष्कर्ष I अनुसरण करता है।
2. ✗ केवल निष्कर्ष II अनुसरण करता है।
3. ✗ दोनों निष्कर्ष I तथा II अनुसरण करते हैं।
4. ✗ कोई भी निष्कर्ष अनुसरण नहीं करता है।

Question Number : 11 Question Id : 99836739233 Question Type : MCQ Option Shuffling : Yes Display Question Number : Yes  
Single Line Question Option : No Option Orientation : Vertical

Correct Marks : 1 Wrong Marks : 0.25

In the following question below are given some statements followed by some conclusions based on those statements. Taking the given statements to be true even if they seem to be at variance from commonly known facts. Read all the conclusions and then decide which of the given conclusion logically follows the given statements.

Statements:

- I. Some red are yellow.
- II. Some green are blue.
- III. Some green are yellow.

Conclusions:

- I. Some green are red.
- II. Some blue are green.
- III. No yellow is blue.

Options :

1. ✗ Both conclusion II and III follows.
2. ✗ Only conclusion I follows.
3. ✓ Only conclusion II follows.
4. ✗ All conclusion follows.

Question Number : 11 Question Id : 99836739233 Question Type : MCQ Option Shuffling : Yes Display Question Number : Yes  
Single Line Question Option : No Option Orientation : Vertical

Correct Marks : 1 Wrong Marks : 0.25

नीचे दिए गए प्रश्न में कुछ कथन और उनके बाद उन कथनों पर आधारित कुछ निष्कर्ष दिए गए हैं। दिए गए कथनों को सही माने, चाहे उनमें सामान्य ज्ञात तथ्यों से भिन्नता हो। सभी निष्कर्ष पढ़ें और फिर निर्धारित करें कि दिए गए कौन से निष्कर्ष, दिए गए कथनों के आधार पर युक्तिसंगत हैं।

कथन:

- I. कुछ लाल, पीला हैं।
- II. कुछ हरा, नीला हैं।
- III. कुछ हरा, पीला हैं।

निष्कर्ष:

- I. कुछ हरा, लाल हैं।
- II. कुछ नीला, हरा हैं।
- III. कोई पीला, नीला नहीं है।

Options :



- ❌ दोनों निष्कर्ष II तथा III अनुसरण करते हैं
- ❌ केवल निष्कर्ष I अनुसरण करता है
- ✅ केवल निष्कर्ष II अनुसरण करता है
- ❌ सभी निष्कर्ष अनुसरण करते हैं

Question Number : 12 Question Id : 99836739234 Question Type : MCQ Option Shuffling : Yes Display Question Number : Yes  
Single Line Question Option : No Option Orientation : Vertical

Correct Marks : 1 Wrong Marks : 0.25

If 'A' means '+', 'B' means '×', 'C' means '÷' and 'D' means '-', then  $16 C 7 B 49 C 28 A 63 D 21 A 11 = ?$

Options :

- ❌ 63
- ❌ 47
- ✅ 57
- ❌ 49

Question Number : 12 Question Id : 99836739234 Question Type : MCQ Option Shuffling : Yes Display Question Number : Yes  
Single Line Question Option : No Option Orientation : Vertical

Correct Marks : 1 Wrong Marks : 0.25

यदि 'A' का अर्थ '+', 'B' का अर्थ '×', 'C' का अर्थ '÷' तथा 'D' का अर्थ '-' हो, तो  $16 C 7 B 49 C 28 A 63 D 21 A 11 = ?$

Options :

- ❌ 63
- ❌ 47
- ✅ 57
- ❌ 49

Question Number : 13 Question Id : 99836739235 Question Type : MCQ Option Shuffling : Yes Display Question Number : Yes  
Single Line Question Option : No Option Orientation : Vertical

Correct Marks : 1 Wrong Marks : 0.25

In the following question, select the missing number from the given series.

31, 63, 124, 251, ?

Options :

- ❌ 506
- ✅ 498
- ❌ 500
- ❌ 502

Question Number : 13 Question Id : 99836739235 Question Type : MCQ Option Shuffling : Yes Display Question Number : Yes  
Single Line Question Option : No Option Orientation : Vertical

Correct Marks : 1 Wrong Marks : 0.25

निम्नलिखित प्रश्न में दी गई श्रृंखला में से लुप्त अंक ज्ञात कीजिए।

31, 63, 124, 251, ?

Options :

- ❌ 506
- ✅ 498
- ❌ 500
- ❌ 502

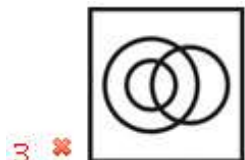
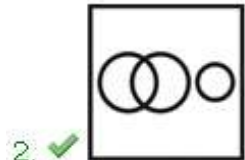
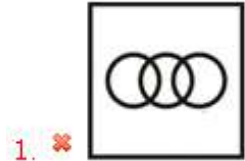
Question Number : 14 Question Id : 99836739236 Question Type : MCQ Option Shuffling : Yes Display Question Number : Yes  
Single Line Question Option : No Option Orientation : Vertical

Correct Marks : 1 Wrong Marks : 0.25

Identify the diagram that best represents the relationship among the given classes.

Brothers, Father, Female

Options :



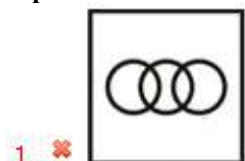
Question Number : 14 Question Id : 99836739236 Question Type : MCQ Option Shuffling : Yes Display Question Number : Yes  
Single Line Question Option : No Option Orientation : Vertical

Correct Marks : 1 Wrong Marks : 0.25

वह आरेख चुनिए जो नीचे दिए गए वर्गों के बीच के संबंध का सही निरूपण करता है।

भाई, पिता, महिला

Options :



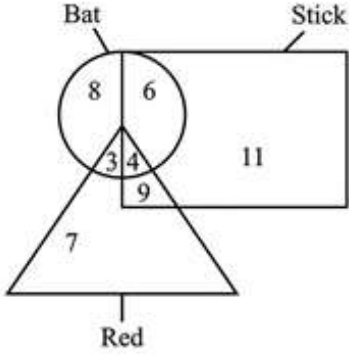
4. ✘



Question Number : 15 Question Id : 99836739237 Question Type : MCQ Option Shuffling : Yes Display Question Number : Yes Single Line Question Option : No Option Orientation : Vertical

Correct Marks : 1 Wrong Marks : 0.25

How many bats are stick?



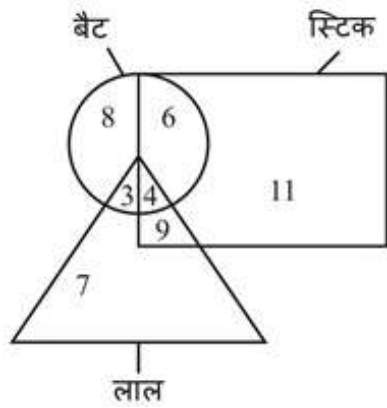
Options :

- 1. ✘ 19
- 2. ✘ 13
- 3. ✔ 10
- 4. ✘ 6

Question Number : 15 Question Id : 99836739237 Question Type : MCQ Option Shuffling : Yes Display Question Number : Yes Single Line Question Option : No Option Orientation : Vertical

Correct Marks : 1 Wrong Marks : 0.25

कितने बल्ले स्टिक हैं?



Options :

- 1. ✘ 19
- 2. ✘ 13
- 3. ✔ 10
- 4. ✘ 6

Question Number : 16 Question Id : 99836739238 Question Type : MCQ Option Shuffling : Yes Display Question Number : Yes Single Line Question Option : No Option Orientation : Vertical

Correct Marks : 1 Wrong Marks : 0.25

Rajat is initially facing towards north. He rotates  $328^\circ$  in clockwise direction. He then rotates  $432^\circ$  in anticlockwise direction. In which direction is he facing now?

Options :

- ✓ South west
- ✗ South east
- ✗ North east
- ✗ North west

Question Number : 16 Question Id : 99836739238 Question Type : MCQ Option Shuffling : Yes Display Question Number : Yes Single Line Question Option : No Option Orientation : Vertical

Correct Marks : 1 Wrong Marks : 0.25

रजत आरंभ में उत्तर की ओर देख रहा है वह दक्षिणावर्त दिशा में  $328^\circ$  घुमता है वह फिर वामावर्त दिशा में  $432^\circ$  घुमता है वह फिर किस दिशा की ओर देख रहा है?

Options :

- ✓ दक्षिण पश्चिम
- ✗ दक्षिण पूर्व
- ✗ उत्तर पूर्व
- ✗ उत्तर पश्चिम

Question Number : 17 Question Id : 99836739239 Question Type : MCQ Option Shuffling : Yes Display Question Number : Yes Single Line Question Option : No Option Orientation : Vertical

Correct Marks : 1 Wrong Marks : 0.25

T is 19 km towards the west of L. R is 6 km towards the east of L. S is 10 km towards the north of L. If V is 18 km towards the south of S, then in which direction and how far is V from R?

Options :

- ✗ South east, 10 km
- ✗ North west, 15 km
- ✗ North east, 15 km
- ✓ South west, 10 km

Question Number : 17 Question Id : 99836739239 Question Type : MCQ Option Shuffling : Yes Display Question Number : Yes Single Line Question Option : No Option Orientation : Vertical

Correct Marks : 1 Wrong Marks : 0.25

T, L से 19 कि.मी. पश्चिम की ओर है R, L से 6 कि.मी. पूर्व की ओर है S, L से 10 कि.मी. उत्तर की ओर है यदि V, S से 18 कि.मी. दक्षिण की ओर है, तो V, R से किस दिशा में तथा कितनी दूर है?

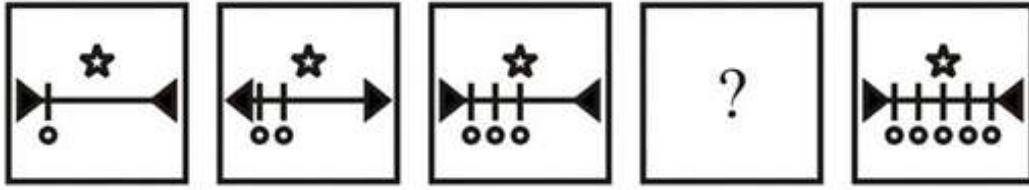
Options :

- ✗ दक्षिण पूर्व, 10 कि.मी.
- ✗ उत्तर पश्चिम, 15 कि.मी.
- ✗ उत्तर पूर्व, 15 कि.मी.
- ✓ दक्षिण पश्चिम, 10 कि.मी.

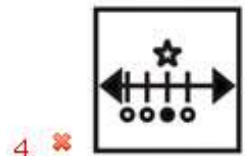
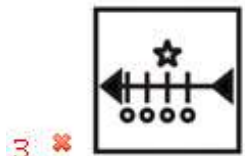
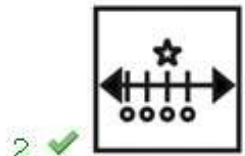
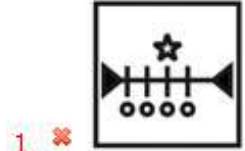
Question Number : 18 Question Id : 99836739240 Question Type : MCQ Option Shuffling : Yes Display Question Number : Yes Single Line Question Option : No Option Orientation : Vertical

Correct Marks : 1 Wrong Marks : 0.25

In the following question, select the figure which can be placed at the sign of question mark (?) from the given alternatives.



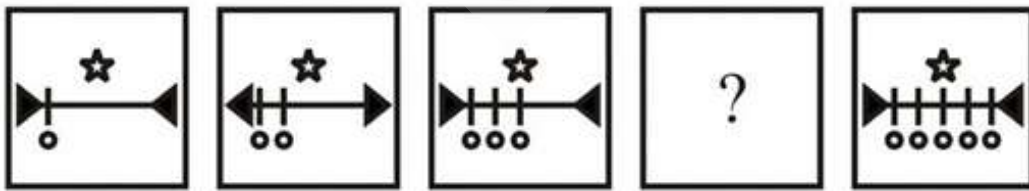
Options :



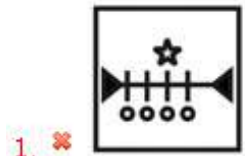
Question Number : 18 Question Id : 99836739240 Question Type : MCQ Option Shuffling : Yes Display Question Number : Yes  
Single Line Question Option : No Option Orientation : Vertical

Correct Marks : 1 Wrong Marks : 0.25

निम्नलिखित प्रश्न में दिए गए विकल्पों में से प्रश्न चिन्ह (?) के स्थान पर आने वाली आकृति को चुनिए।



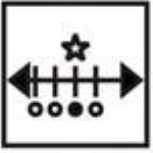
Options :



3. ✘



4. ✘



Question Number : 19 Question Id : 99836739241 Question Type : MCQ Option Shuffling : Yes Display Question Number : Yes Single Line Question Option : No Option Orientation : Vertical

Correct Marks : 1 Wrong Marks : 0.25

From the given answer figures, select the one in which the question figure is hidden/embedded.



Options :

1. ✘



2. ✘



3. ✘




4. ✔



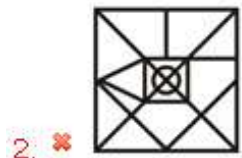
Question Number : 19 Question Id : 99836739241 Question Type : MCQ Option Shuffling : Yes Display Question Number : Yes Single Line Question Option : No Option Orientation : Vertical

Correct Marks : 1 Wrong Marks : 0.25

दी गई उत्तर आकृतियों में से उस उत्तर आकृति को चुनिए जिस में प्रश्न आकृति निहित है



Options :



Question Number : 20 Question Id : 99836739242 Question Type : MCQ Option Shuffling : Yes Display Question Number : Yes Single Line Question Option : No Option Orientation : Vertical

Correct Marks : 1 Wrong Marks : 0.25

Which answer figure will complete the pattern in the question figure?



Options :



4. ✘



Question Number : 20 Question Id : 99836739242 Question Type : MCQ Option Shuffling : Yes Display Question Number : Yes Single Line Question Option : No Option Orientation : Vertical

Correct Marks : 1 Wrong Marks : 0.25

कौन सी उत्तर आकृति प्रश्न आकृति के प्रतिरूप को पूरा करेगी?



Options :

1. ✔



2. ✘



3. ✘



4. ✘



### General Awareness

Group Number :	2
Group Id :	9983671212
Group Maximum Duration :	0
Group Minimum Duration :	0
Revisit allowed for view? :	No
Revisit allowed for edit? :	No
Break time:	0
Group Marks:	20
Revisit allowed for group Instructions? :	Yes
Maximum Instruction Time:	0



Minimum Instruction Time:

0

General Awareness

Section Id :	9983671611
Section Number :	1
Section type :	Online
Mandatory or Optional:	Mandatory
Number of Questions:	20
Number of Questions to be attempted:	20
Section Marks:	20
Display Number Panel:	Yes
Group All Questions:	No

Sub-Section Number:	1
Sub-Section Id:	9983672005
Question Shuffling Allowed :	Yes

Question Number : 21 Question Id : 99836739243 Question Type : MCQ Option Shuffling : Yes Display Question Number : Yes  
Single Line Question Option : No Option Orientation : Vertical

Correct Marks : 1 Wrong Marks : 0.25

The Classical dance form 'Kuchipudi' belongs to which Indian state?

Options :

- ✘ Kerala
- ✔ Andhra Pradesh
- ✘ Tamil Nadu
- ✘ Uttar Pradesh

Question Number : 21 Question Id : 99836739243 Question Type : MCQ Option Shuffling : Yes Display Question Number : Yes  
Single Line Question Option : No Option Orientation : Vertical

Correct Marks : 1 Wrong Marks : 0.25

शास्त्रीय नृत्य शैली 'कुचिपुड़ी' किस भारतीय राज्य से संबंधित है?

Options :

- ✘ केरल
- ✔ आंध्र प्रदेश
- ✘ तमिलनाडु
- ✘ उत्तर प्रदेश

Question Number : 22 Question Id : 99836739244 Question Type : MCQ Option Shuffling : Yes Display Question Number : Yes  
Single Line Question Option : No Option Orientation : Vertical

Correct Marks : 1 Wrong Marks : 0.25

'Divaso' is celebrated by Dhodia and Varli tribes of \_\_\_\_\_.

Options :

- ✘ Andaman & Nicobar Islands
- ✘ Lakshadweep
- ✔ Dadra and Nagar Haveli
- ✘ Puducherry

Question Number : 22 Question Id : 99836739244 Question Type : MCQ Option Shuffling : Yes Display Question Number : Yes  
Single Line Question Option : No Option Orientation : Vertical

Correct Marks : 1 Wrong Marks : 0.25

'दिवासो' \_\_\_\_\_ के ढोडिया तथा वरली जनजातियों द्वारा मनाया जाता है

Options :

- ✘ अंडमान तथा निकोबार द्वीप
- ✘ लक्षद्वीप
- ✔ दादरा तथा नगर हवेली
- ✘ पुडुचेरी

Question Number : 23 Question Id : 99836739245 Question Type : MCQ Option Shuffling : Yes Display Question Number : Yes  
Single Line Question Option : No Option Orientation : Vertical

Correct Marks : 1 Wrong Marks : 0.25

The average daily balance that a bank is required to maintain with the Reserve Bank as a share of such per cent of its Net demand and time liabilities (NDTL) that the Reserve Bank may notify from time to time in the Gazette of India is known as \_\_\_\_\_.

Options :

- ✘ Statutory liquidity ratio
- ✘ Marginal standing facility
- ✘ Repo rate
- ✔ Cash reserve ratio

Question Number : 23 Question Id : 99836739245 Question Type : MCQ Option Shuffling : Yes Display Question Number : Yes  
Single Line Question Option : No Option Orientation : Vertical

Correct Marks : 1 Wrong Marks : 0.25

औसत दैनिक शेष जिसे बैंक को अपनी शुद्ध मांग तथा समय दायित्व (NDTL) के प्रतिशत के हिस्से के रूप में रिजर्व बैंक के साथ बनाए रखना आवश्यक है जिसे भारतीय रिजर्व बैंक समय-समय पर भारत के राजपत्र में सूचित कर सकता है उसे \_\_\_\_\_ के रूप में जाना जाता है।

Options :

- ✘ सांविधिक सम्पत्ति अनुपात
- ✘ सीमांत स्थायी सुविधा
- ✘ रेपो दर
- ✔ नकद आरक्षित अनुपात

Question Number : 24 Question Id : 99836739246 Question Type : MCQ Option Shuffling : Yes Display Question Number : Yes  
Single Line Question Option : No Option Orientation : Vertical

Correct Marks : 1 Wrong Marks : 0.25

\_\_\_\_\_ is the nodal department for formulation of the policy on Foreign Direct Investment (FDI).

Options :

- ✘ RBI
- ✔ Department for Promotion of Industry and Internal Trade
- ✘ SEBI
- ✘ NABARD

Question Number : 24 Question Id : 99836739246 Question Type : MCQ Option Shuffling : Yes Display Question Number : Yes  
Single Line Question Option : No Option Orientation : Vertical

Correct Marks : 1 Wrong Marks : 0.25

विदेश प्रत्यक्ष निवेश (एफ.डी.आई) पर नीति तैयार करने के लिए \_\_\_\_\_ एक केंद्रीय विभाग है।

Options :

- ✘ आर.बी.आई.
- ✔ उद्योग संवर्धन और आंतरिक व्यापार विभाग

3. ✖ सेबी
4. ✖ नाबाई

Question Number : 25 Question Id : 99836739247 Question Type : MCQ Option Shuffling : Yes Display Question Number : Yes  
Single Line Question Option : No Option Orientation : Vertical

Correct Marks : 1 Wrong Marks : 0.25

Which of the following animal species belong to phylum arthropoda?

Options :

1. ✖ Holothuria
2. ✓ Aranea
3. ✖ Chiton
4. ✖ Neries

Question Number : 25 Question Id : 99836739247 Question Type : MCQ Option Shuffling : Yes Display Question Number : Yes  
Single Line Question Option : No Option Orientation : Vertical

Correct Marks : 1 Wrong Marks : 0.25

निम्नलिखित में से कौन सी पशु प्रजाति फाइलम आर्थ्रोपोडा से संबंधित है?

Options :

1. ✖ होलोथूरीया
2. ✓ एरेनिया
3. ✖ कैटन
4. ✖ नेरीस

Question Number : 26 Question Id : 99836739248 Question Type : MCQ Option Shuffling : Yes Display Question Number : Yes  
Single Line Question Option : No Option Orientation : Vertical

Correct Marks : 1 Wrong Marks : 0.25

Which of the following element has poly-atomic atomicity?

Options :

1. ✖ Argon
2. ✖ Phosphorous
3. ✓ Sulphur
4. ✖ Oxygen

Question Number : 26 Question Id : 99836739248 Question Type : MCQ Option Shuffling : Yes Display Question Number : Yes  
Single Line Question Option : No Option Orientation : Vertical

Correct Marks : 1 Wrong Marks : 0.25

निम्नलिखित में से किस तत्व की बहुपरमाणुक परमाणुकता है?

Options :

1. ✖ आर्गन
2. ✖ फॉस्फोरस
3. ✓ सल्फर
4. ✖ ऑक्सीजन

Question Number : 27 Question Id : 99836739249 Question Type : MCQ Option Shuffling : Yes Display Question Number : Yes  
Single Line Question Option : No Option Orientation : Vertical

Correct Marks : 1 Wrong Marks : 0.25

Which of the following statements regarding soundwaves is incorrect?

Options :

1. ✖ The audible range of sound for human beings extends from about 20 Hz to 20000 Hz

- ✘ Frequencies of sound waves higher than 20 KHz are called ultrasonic sound waves
- ✘ Ultrasound is produced by dolphins, bats and porpoises.
- ✔ Earthquakes produce high frequency ultrasound before the main shockwaves begin which possibly alerts the animals.

Question Number : 27 Question Id : 99836739249 Question Type : MCQ Option Shuffling : Yes Display Question Number : Yes  
Single Line Question Option : No Option Orientation : Vertical

Correct Marks : 1 Wrong Marks : 0.25

ध्वनि तरंगों के संबंध में निम्नलिखित में से कौन सा कथन गलत है?

Options :

- ✘ मनुष्यों में ध्वनि की श्रव्यता का परिसर लगभग 20Hz से 20000 Hz तक होता है
- ✘ 20KHz से अधिक आवृत्ति की ध्वनियों को पराध्वनि करते हैं
- ✘ डॉल्फिन, चमगादड़ और पॉरपोइज पराध्वनि उत्पन्न करते हैं
- ✔ भूकंप मुख्य प्रघाती तरंगों से पहले अधिक आवृत्ति की पराध्वनि उत्पन्न करते हैं, जो संभवतः जानवरों को सावधान कर देती है

Question Number : 28 Question Id : 99836739250 Question Type : MCQ Option Shuffling : Yes Display Question Number : Yes  
Single Line Question Option : No Option Orientation : Vertical

Correct Marks : 1 Wrong Marks : 0.25

Which of the following tributary of river Ganga comes from peninsular uplands?

Options :

- ✔ Son
- ✘ Kosi
- ✘ Gandak
- ✘ Sarda

Question Number : 28 Question Id : 99836739250 Question Type : MCQ Option Shuffling : Yes Display Question Number : Yes  
Single Line Question Option : No Option Orientation : Vertical

Correct Marks : 1 Wrong Marks : 0.25

गंगा नदी की निम्नलिखित में से कौन सी सहायक नदियाँ ऊपरी प्रायद्वीपीय से आती है?

Options :

- ✔ सोन
- ✘ कोसी
- ✘ गंडक
- ✘ शारदा

Question Number : 29 Question Id : 99836739251 Question Type : MCQ Option Shuffling : Yes Display Question Number : Yes  
Single Line Question Option : No Option Orientation : Vertical

Correct Marks : 1 Wrong Marks : 0.25

The mainland India extends between latitudes \_\_\_\_\_.

Options :

- ✘ 6°4'N and 27°6'N
- ✘ 7°4'N and 57°6'N
- ✘ 5°4'N and 47°6'N
- ✔ 8°4'N and 37°6'N

Question Number : 29 Question Id : 99836739251 Question Type : MCQ Option Shuffling : Yes Display Question Number : Yes  
Single Line Question Option : No Option Orientation : Vertical

Correct Marks : 1 Wrong Marks : 0.25

भारत की मुख्य भूमि \_\_\_\_\_ अक्षांश के मध्य फैली हुई है

Options :

- ✘ 6°4'N तथा 27°6'N
- ✘ 7°4'N तथा 57°6'N
- ✘ 5°4'N तथा 47°6'N
- ✔ 8°4'N तथा 37°6'N

Question Number : 30 Question Id : 99836739252 Question Type : MCQ Option Shuffling : Yes Display Question Number : Yes Single Line Question Option : No Option Orientation : Vertical

Correct Marks : 1 Wrong Marks : 0.25

Which of the following neighbouring country of India shares its borders with maximum number of Indian states?

Note: For this question, discrepancy is found in question/answer. So, this question is ignored for all candidates.

Options :

- China
- Pakistan
- Nepal
- Myanmar

Question Number : 30 Question Id : 99836739252 Question Type : MCQ Option Shuffling : Yes Display Question Number : Yes Single Line Question Option : No Option Orientation : Vertical

Correct Marks : 1 Wrong Marks : 0.25

निम्नलिखित में से भारत का कौन सा पड़ोसी देश भारत के अधिकतम राज्यों के साथ अपनी सीमाओं को साझा करता है?

Note: For this question, discrepancy is found in question/answer. So, this question is ignored for all candidates.

Options :

- चीन
- पाकिस्तान
- नेपाल
- म्यांमार

Question Number : 31 Question Id : 99836739253 Question Type : MCQ Option Shuffling : Yes Display Question Number : Yes Single Line Question Option : No Option Orientation : Vertical

Correct Marks : 1 Wrong Marks : 0.25

In which region in 1918, Mahatma Gandhi organised satyagraha movement amongst cotton mill workers?

Options :

- ✘ Champaran
- ✘ Kheda
- ✔ Ahmedabad
- ✘ Surat

Question Number : 31 Question Id : 99836739253 Question Type : MCQ Option Shuffling : Yes Display Question Number : Yes Single Line Question Option : No Option Orientation : Vertical

Correct Marks : 1 Wrong Marks : 0.25

महात्मा गांधी ने 1918 में किस क्षेत्र के सूती कपड़ा कारखानों के मज़दूरों के बीच सत्याग्रह आंदोलन किया था?

Options :

- ✘ चंपारन
- ✘ खेड़ा
- ✔ अहमदाबाद

4. ✘ सूरत

Question Number : 32 Question Id : 99836739254 Question Type : MCQ Option Shuffling : Yes Display Question Number : Yes  
Single Line Question Option : No Option Orientation : Vertical

Correct Marks : 1 Wrong Marks : 0.25

Delhi first became the capital of a kingdom under \_\_\_\_\_.

Options :

- ✔ Tomara Rajput
- ✘ Prithviraj Chauhan
- ✘ Qutbuddin Aybak
- ✘ Jalaluddin Khalji

Question Number : 32 Question Id : 99836739254 Question Type : MCQ Option Shuffling : Yes Display Question Number : Yes  
Single Line Question Option : No Option Orientation : Vertical

Correct Marks : 1 Wrong Marks : 0.25

दिल्ली पहली बार \_\_\_\_\_ के तहत एक राज्य की राजधानी बनी।

Options :

- ✔ तोमर राजपूत
- ✘ पृथ्वीराज चौहान
- ✘ कुतबुद्दीन ऐबक
- ✘ जलालुद्दीन खलजी

Question Number : 33 Question Id : 99836739255 Question Type : MCQ Option Shuffling : Yes Display Question Number : Yes  
Single Line Question Option : No Option Orientation : Vertical

Correct Marks : 1 Wrong Marks : 0.25

Megasthenes was an ambassador who was sent to the court of which Indian ruler by the Greek ruler of West Asia Seleucus Nicator?

Options :

- ✘ Ashoka
- ✘ Bindusara
- ✔ Chandragupta
- ✘ Rajaraja Chola

Question Number : 33 Question Id : 99836739255 Question Type : MCQ Option Shuffling : Yes Display Question Number : Yes  
Single Line Question Option : No Option Orientation : Vertical

Correct Marks : 1 Wrong Marks : 0.25

मेगस्थनीज एक राजदूत था, जिसे पश्चिम एशिया सेल्यूकस निकेटर के यूनानी शासक द्वारा किस शासक के दरबार में भेजा गया था?

Options :

- ✘ अशोक
- ✘ बिन्दुसार
- ✔ चंद्रगुप्त
- ✘ राजा राजा चोल

Question Number : 34 Question Id : 99836739256 Question Type : MCQ Option Shuffling : Yes Display Question Number : Yes  
Single Line Question Option : No Option Orientation : Vertical

Correct Marks : 1 Wrong Marks : 0.25

Which Indian Singer has been honoured with 'Magnificent Performing Arts Award' at the 21st Century Icon Awards in London, United Kingdom (UK)?

Options :

- ✘ Shankar Mahadevan
- ✔ Sonu Nigam
- ✘ Lata Mangeshkar
- ✘ Shaan

Question Number : 34 Question Id : 99836739256 Question Type : MCQ Option Shuffling : Yes Display Question Number : Yes Single Line Question Option : No Option Orientation : Vertical

Correct Marks : 1 Wrong Marks : 0.25

किस भारतीय गायक को लंदन, यूनाइटेड किंगडम (यूके) में 21वें सेंचुरी आइकन अवार्ड्स में 'शानदार (मैग्निफिसन्ट) प्रदर्शन कला पुरस्कार' से सम्मानित किया गया है?

Options :

- ✘ शंकर महादेवन
- ✔ सोनू निगम
- ✘ लता मंगेशकर
- ✘ शान

Question Number : 35 Question Id : 99836739257 Question Type : MCQ Option Shuffling : Yes Display Question Number : Yes Single Line Question Option : No Option Orientation : Vertical

Correct Marks : 1 Wrong Marks : 0.25

\_\_\_\_\_ has been appointed as the first Lokayukta of Andhra Pradesh.

Options :

- ✘ Justice Pinaki Chandra Ghose
- ✘ Justice Dhananjaya Y. Chandrachud
- ✘ Dipak Misra
- ✔ Justice P Lakshmana Reddy

Question Number : 35 Question Id : 99836739257 Question Type : MCQ Option Shuffling : Yes Display Question Number : Yes Single Line Question Option : No Option Orientation : Vertical

Correct Marks : 1 Wrong Marks : 0.25

\_\_\_\_\_ को आंध्रप्रदेश के पहले लोकायुक्त के रूप में नियुक्त किया गया है।

Options :

- ✘ जस्टिस पिनाकी चंद्र घोष
- ✘ जस्टिस धनंजय वाई. चंद्रचूड़
- ✘ दीपक मीश्रा
- ✔ जस्टिस पी लक्ष्मण रेड्डी

Question Number : 36 Question Id : 99836739258 Question Type : MCQ Option Shuffling : Yes Display Question Number : Yes Single Line Question Option : No Option Orientation : Vertical

Correct Marks : 1 Wrong Marks : 0.25

\_\_\_\_\_ become India's first female military diplomat by joining Indian embassy in Russia in 2019.

Options :

- ✘ Shivani Chaudhary
- ✘ Payal Verma
- ✔ Anjali Singh
- ✘ Pragya Ahuja

Question Number : 36 Question Id : 99836739258 Question Type : MCQ Option Shuffling : Yes Display Question Number : Yes Single Line Question Option : No Option Orientation : Vertical

Correct Marks : 1 Wrong Marks : 0.25

2019, रूस में भारतीय दूतावास में शामिल होकर \_\_\_\_\_ भारत की प्रथम महिला सैन्य राजनयिक बनी

Options :

- ✘ शिवानी चौधरी
- ✘ पायल वर्मा
- ✔ अंजलि सिंह
- ✘ प्रजा आहुजा

Question Number : 37 Question Id : 99836739259 Question Type : MCQ Option Shuffling : Yes Display Question Number : Yes  
Single Line Question Option : No Option Orientation : Vertical

Correct Marks : 1 Wrong Marks : 0.25

Which Article of the Indian Constitution provides for setting up of Inter-State Council?

Options :

- ✘ Article 262
- ✘ Article 268
- ✔ Article 263
- ✘ Article 248

Question Number : 37 Question Id : 99836739259 Question Type : MCQ Option Shuffling : Yes Display Question Number : Yes  
Single Line Question Option : No Option Orientation : Vertical

Correct Marks : 1 Wrong Marks : 0.25

भारतीय संविधान का कौन-सा अनुच्छेद अंतर्राज्य परिषद् के स्थापन को प्रदान करता है?

Options :

- ✘ अनुच्छेद 262
- ✘ अनुच्छेद 268
- ✔ अनुच्छेद 263
- ✘ अनुच्छेद 248

Question Number : 38 Question Id : 99836739260 Question Type : MCQ Option Shuffling : Yes Display Question Number : Yes  
Single Line Question Option : No Option Orientation : Vertical

Correct Marks : 1 Wrong Marks : 0.25

Only Indian citizens above \_\_\_\_\_ of age are eligible for appointment to the office of Governor of any state in India.

Options :

- ✔ 35 years
- ✘ 25 years
- ✘ 21 years
- ✘ 18 years

Question Number : 38 Question Id : 99836739260 Question Type : MCQ Option Shuffling : Yes Display Question Number : Yes  
Single Line Question Option : No Option Orientation : Vertical

Correct Marks : 1 Wrong Marks : 0.25

भारत में किसी राज्य के राज्यपाल के पद पर नियुक्ति के लिए केवल \_\_\_\_\_ की आयु से ऊपर के भारतीय नागरिक पात्र हैं।

Options :

- ✔ 35 वर्ष
- ✘ 25 वर्ष
- ✘ 21 वर्ष
- ✘ 18 वर्ष



Question Number : 39 Question Id : 99836739261 Question Type : MCQ Option Shuffling : Yes Display Question Number : Yes  
Single Line Question Option : No Option Orientation : Vertical

Correct Marks : 1 Wrong Marks : 0.25

Who won Formula 1 Singapore Grand Prix 2019?

Options :

- ✓ Sebastian Vettel
- ✗ Charles Leclerc
- ✗ Daniel Ricciardo
- ✗ Sergio Perez

Question Number : 39 Question Id : 99836739261 Question Type : MCQ Option Shuffling : Yes Display Question Number : Yes  
Single Line Question Option : No Option Orientation : Vertical

Correct Marks : 1 Wrong Marks : 0.25

फॉर्मूला 1 सिंगापुर ग्रैंड प्रिक्स 2019 किसने जीती?

Options :

- ✓ सेबस्टियन वेट्टेल
- ✗ चार्ल्स लेक्लर
- ✗ डॅनियेल रिचार्डो
- ✗ सर्जियो पेरेज़

Question Number : 40 Question Id : 99836739262 Question Type : MCQ Option Shuffling : Yes Display Question Number : Yes  
Single Line Question Option : No Option Orientation : Vertical

Correct Marks : 1 Wrong Marks : 0.25

'Rogers Cup' is related to which of the following sport?

Options :

- ✗ Cricket
- ✓ Tennis
- ✗ Hockey
- ✗ Badminton

Question Number : 40 Question Id : 99836739262 Question Type : MCQ Option Shuffling : Yes Display Question Number : Yes  
Single Line Question Option : No Option Orientation : Vertical

Correct Marks : 1 Wrong Marks : 0.25

'रोजर्स कप' निम्नलिखित में से किस खेल से संबंधित है?

Options :

- ✗ क्रिकेट
- ✓ टेनिस
- ✗ हॉकी
- ✗ बैडमिंटन

#### Arithmetic Ability

Group Number :	3
Group Id :	9983671213
Group Maximum Duration :	0
Group Minimum Duration :	0
Revisit allowed for view? :	No
Revisit allowed for edit? :	No
Break time:	0

<b>Group Marks:</b>	20
<b>Revisit allowed for group Instructions? :</b>	Yes
<b>Maximum Instruction Time:</b>	0
<b>Minimum Instruction Time:</b>	0

### Arithmetic Ability

<b>Section Id :</b>	9983671612
<b>Section Number :</b>	1
<b>Section type :</b>	Online
<b>Mandatory or Optional:</b>	Mandatory
<b>Number of Questions:</b>	20
<b>Number of Questions to be attempted:</b>	20
<b>Section Marks:</b>	20
<b>Display Number Panel:</b>	Yes
<b>Group All Questions:</b>	No

<b>Sub-Section Number:</b>	1
<b>Sub-Section Id:</b>	9983672006
<b>Question Shuffling Allowed :</b>	Yes

**Question Number : 41 Question Id : 99836739263 Question Type : MCQ Option Shuffling : Yes Display Question Number : Yes**  
**Single Line Question Option : No Option Orientation : Vertical**

**Correct Marks : 1 Wrong Marks : 0.25**

What is the value of  $28 \div 7 + 3.5 \times 3 \times 2 + 8 - 7 - (4 \times 8 + 8)$ ?

**Options :**

1. ✘ -10
2. ✔ -14
3. ✘ -16
4. ✘ 10

**Question Number : 41 Question Id : 99836739263 Question Type : MCQ Option Shuffling : Yes Display Question Number : Yes**  
**Single Line Question Option : No Option Orientation : Vertical**

**Correct Marks : 1 Wrong Marks : 0.25**

$28 \div 7 + 3.5 \times 3 \times 2 + 8 - 7 - (4 \times 8 + 8)$  का मान क्या है?

**Options :**

1. ✘ -10
2. ✔ -14
3. ✘ -16
4. ✘ 10

**Question Number : 42 Question Id : 99836739264 Question Type : MCQ Option Shuffling : Yes Display Question Number : Yes**  
**Single Line Question Option : No Option Orientation : Vertical**

**Correct Marks : 1 Wrong Marks : 0.25**

What is the value of  $1.66 \times 1.66 + 0.66 \times 0.66 - 1.32 \times 1.66$ ?

**Options :**

1. ✔ 1
2. ✘ 0
3. ✘ 0.92

4. ✖ 1.08

Question Number : 42 Question Id : 99836739264 Question Type : MCQ Option Shuffling : Yes Display Question Number : Yes  
Single Line Question Option : No Option Orientation : Vertical

Correct Marks : 1 Wrong Marks : 0.25

$1.66 \times 1.66 + 0.66 \times 0.66 - 1.32 \times 1.66$  का मान क्या है?

Options :

1. ✔ 1

2. ✖ 0

3. ✖ 0.92

4. ✖ 1.08

Question Number : 43 Question Id : 99836739265 Question Type : MCQ Option Shuffling : Yes Display Question Number : Yes  
Single Line Question Option : No Option Orientation : Vertical

Correct Marks : 1 Wrong Marks : 0.25

What is the value of  $\left(\frac{2}{5}\right)^{-1/2} \times \left(\frac{5}{2}\right)^{1/2}$  ?

Options :

1. ✖  $2/5$

2. ✖  $\frac{5}{2}\sqrt{\frac{2}{5}}$

3. ✔  $5/2$

4. ✖  $3/5$

Question Number : 43 Question Id : 99836739265 Question Type : MCQ Option Shuffling : Yes Display Question Number : Yes  
Single Line Question Option : No Option Orientation : Vertical

Correct Marks : 1 Wrong Marks : 0.25

$\left(\frac{2}{5}\right)^{-1/2} \times \left(\frac{5}{2}\right)^{1/2}$  का मान क्या है?

Options :

1. ✖  $2/5$

2. ✖  $\frac{5}{2}\sqrt{\frac{2}{5}}$

3. ✔  $5/2$

4. ✖  $3/5$

Question Number : 44 Question Id : 99836739266 Question Type : MCQ Option Shuffling : Yes Display Question Number : Yes  
Single Line Question Option : No Option Orientation : Vertical

Correct Marks : 1 Wrong Marks : 0.25

If 98A89B is divisible by 48, then what is the value of A + B?

Options :

1. ✖ 10

2. ✖ 15
3. ✔ 8
4. ✖ 9

Question Number : 44 Question Id : 99836739266 Question Type : MCQ Option Shuffling : Yes Display Question Number : Yes  
Single Line Question Option : No Option Orientation : Vertical

Correct Marks : 1 Wrong Marks : 0.25

यदि  $98A89B$ , 48 से विभाज्य है, तो  $A + B$  का मान क्या है?

Options :

1. ✖ 10
2. ✖ 15
3. ✔ 8
4. ✖ 9

Question Number : 45 Question Id : 99836739267 Question Type : MCQ Option Shuffling : Yes Display Question Number : Yes  
Single Line Question Option : No Option Orientation : Vertical

Correct Marks : 1 Wrong Marks : 0.25

Which is largest among  $\sqrt{16} + 2$ ,  $\sqrt{19} + 1$  and  $\sqrt{18} + \sqrt{2}$ ?

Options :

1. ✔  $\sqrt{16} + 2$
2. ✖  $\sqrt{19} + 1$
3. ✖  $\sqrt{18} + \sqrt{2}$
4. ✖ All are equal

Question Number : 45 Question Id : 99836739267 Question Type : MCQ Option Shuffling : Yes Display Question Number : Yes  
Single Line Question Option : No Option Orientation : Vertical

Correct Marks : 1 Wrong Marks : 0.25

$\sqrt{16} + 2$ ,  $\sqrt{19} + 1$  तथा  $\sqrt{18} + \sqrt{2}$  में से कौन सबसे बड़ा है?

Options :

1. ✔  $\sqrt{16} + 2$
2. ✖  $\sqrt{19} + 1$
3. ✖  $\sqrt{18} + \sqrt{2}$
4. ✖ सभी बराबर हैं

Question Number : 46 Question Id : 99836739268 Question Type : MCQ Option Shuffling : Yes Display Question Number : Yes  
Single Line Question Option : No Option Orientation : Vertical

Correct Marks : 1 Wrong Marks : 0.25

Average of 31, 42, 66, 73 and X is 60. What is the value of 'X'?

Options :

1. ✖ 98
2. ✖ 76
3. ✖ 84
4. ✔ 88

Question Number : 46 Question Id : 99836739268 Question Type : MCQ Option Shuffling : Yes Display Question Number : Yes  
Single Line Question Option : No Option Orientation : Vertical

Correct Marks : 1 Wrong Marks : 0.25

31, 42, 66, 73 तथा X का औसत 60 है 'X' का मान क्या है?

Options :

1. ✘ 98
2. ✘ 76
3. ✘ 84
4. ✔ 88

Question Number : 47 Question Id : 99836739269 Question Type : MCQ Option Shuffling : Yes Display Question Number : Yes Single Line Question Option : No Option Orientation : Vertical

Correct Marks : 1 Wrong Marks : 0.25

What is 16.66 percent of 12.5 percent of 30 percent of 640?

Options :

1. ✘ 6
2. ✘ 5
3. ✔ 4
4. ✘ 2

Question Number : 47 Question Id : 99836739269 Question Type : MCQ Option Shuffling : Yes Display Question Number : Yes Single Line Question Option : No Option Orientation : Vertical

Correct Marks : 1 Wrong Marks : 0.25

640 के 30 प्रतिशत के 12.5 प्रतिशत का 16.66 प्रतिशत क्या है?

Options :

1. ✘ 6
2. ✘ 5
3. ✔ 4
4. ✘ 2

Question Number : 48 Question Id : 99836739270 Question Type : MCQ Option Shuffling : Yes Display Question Number : Yes Single Line Question Option : No Option Orientation : Vertical

Correct Marks : 1 Wrong Marks : 0.25

R sold an article to B at a profit 50 percent, B sold the same article to C at a profit of 30 percent and C finally sold it to D a profit of 15 percent. If R purchased this article for Rs. 100, then at what price D purchased this article from C?

Options :

1. ✔ Rs. 224.25
2. ✘ Rs. 226.75
3. ✘ Rs. 318.25
4. ✘ Rs. 336.5

Question Number : 48 Question Id : 99836739270 Question Type : MCQ Option Shuffling : Yes Display Question Number : Yes Single Line Question Option : No Option Orientation : Vertical

Correct Marks : 1 Wrong Marks : 0.25

R ने B को एक वस्तु 50 प्रतिशत के लाभ पर बेची, B ने समान वस्तु C को 30 प्रतिशत के लाभ पर बेची तथा C ने उसे अंततः D को 15 प्रतिशत के लाभ पर बेचा। यदि R ने यह वस्तु 100 रुपये में खरीदी थी, तो D ने यह वस्तु C से किस मूल्य पर खरीदी?

Options :

1. ✔ 224.25 रुपये
2. ✘ 226.75 रुपये
3. ✘ 318.25 रुपये
4. ✘ 336.5 रुपये

Question Number : 49 Question Id : 99836739271 Question Type : MCQ Option Shuffling : Yes Display Question Number : Yes  
Single Line Question Option : No Option Orientation : Vertical

Correct Marks : 1 Wrong Marks : 0.25

Ramesh sold an article at the profit of 30 percent. If he purchases this article at 10 percent less price then he will gain 40 percent. The selling price is reduced by Rs. 372. What is the initial cost price?

Options :

- ✘ Rs. 8370
- ✘ Rs. 9700
- ✘ Rs. 10300
- ✔ Rs. 9300

Question Number : 49 Question Id : 99836739271 Question Type : MCQ Option Shuffling : Yes Display Question Number : Yes  
Single Line Question Option : No Option Orientation : Vertical

Correct Marks : 1 Wrong Marks : 0.25

रमेश ने एक वस्तु 30 प्रतिशत के लाभ पर बेची। यदि वह इस वस्तु को 10 प्रतिशत कम मूल्य में खरीदता है, तो उसे 40 प्रतिशत लाभ होगा। विक्रय मूल्य 372 रुपये से कम हो गया है। आरंभिक क्रय मूल्य क्या है?

Options :

- ✘ 8370 रुपये
- ✘ 9700 रुपये
- ✘ 10300 रुपये
- ✔ 9300 रुपये

Question Number : 50 Question Id : 99836739272 Question Type : MCQ Option Shuffling : Yes Display Question Number : Yes  
Single Line Question Option : No Option Orientation : Vertical

Correct Marks : 1 Wrong Marks : 0.25

Three partners P, Q and R share profit such that 6 times the share of P is equal to 4 times the share of Q and equal to 12 times the share of R. What is the ratio of the profits of P, Q and R respectively?

Options :

- ✘ 6 : 5 : 2
- ✘ 5 : 6 : 15
- ✘ 5 : 2 : 5
- ✔ 2 : 3 : 1

Question Number : 50 Question Id : 99836739272 Question Type : MCQ Option Shuffling : Yes Display Question Number : Yes  
Single Line Question Option : No Option Orientation : Vertical

Correct Marks : 1 Wrong Marks : 0.25

तीन साझेदार P, Q तथा R लाभ को इस प्रकार बाँटते हैं कि P के हिस्से का 6 गुना, Q के हिस्से के 4 के बराबर है तथा R के हिस्से के 12 गुना के बराबर है। क्रमशः P, Q तथा R के लाभ का अनुपात क्या है?

Options :

- ✘ 6 : 5 : 2
- ✘ 5 : 6 : 15
- ✘ 5 : 2 : 5
- ✔ 2 : 3 : 1

Question Number : 51 Question Id : 99836739273 Question Type : MCQ Option Shuffling : Yes Display Question Number : Yes  
Single Line Question Option : No Option Orientation : Vertical

Correct Marks : 1 Wrong Marks : 0.25

Two vessels of equal capacity contains juice and water in the ratio of 7 : 2 and 11 : 7 respectively. The mixture of both the vessels are mixed and transferred into a bigger vessel. What is the ratio of juice and water in the new mixture?

Options :

- ✘ 17 : 13
- ✘ 19 : 14
- ✔ 25 : 11
- ✘ 11 : 24

Question Number : 51 Question Id : 99836739273 Question Type : MCQ Option Shuffling : Yes Display Question Number : Yes Single Line Question Option : No Option Orientation : Vertical

Correct Marks : 1 Wrong Marks : 0.25

दो बराबर क्षमता वाले बर्तनों में रस तथा जल क्रमशः 7 : 2 तथा 11 : 7 के अनुपात में हैं। दोनों बर्तनों के मिश्रण को मिलाया जाता है तथा एक बड़े बर्तन में स्थानांतरित कर दिया जाता है। नये मिश्रण में रस तथा जल का अनुपात क्या है?

Options :

- ✘ 17 : 13
- ✘ 19 : 14
- ✔ 25 : 11
- ✘ 11 : 24

Question Number : 52 Question Id : 99836739274 Question Type : MCQ Option Shuffling : Yes Display Question Number : Yes Single Line Question Option : No Option Orientation : Vertical

Correct Marks : 1 Wrong Marks : 0.25

After 6 years, a sum invested at simple interest at the rate of  $r$  percent becomes twice of itself. What is the value of ' $r$ '?

Options :

- ✘ 25/6
- ✔ 50/3
- ✘ 50/7
- ✘ 25/2

Question Number : 52 Question Id : 99836739274 Question Type : MCQ Option Shuffling : Yes Display Question Number : Yes Single Line Question Option : No Option Orientation : Vertical

Correct Marks : 1 Wrong Marks : 0.25

6 वर्ष पश्चात,  $r$  प्रतिशत की दर से साधारण ब्याज पर निवेश की गई एक राशि स्वयं की दोगुना हो गयी। ' $r$ ' का मान क्या है?

Options :

- ✘ 25/6
- ✔ 50/3
- ✘ 50/7
- ✘ 25/2

Question Number : 53 Question Id : 99836739275 Question Type : MCQ Option Shuffling : Yes Display Question Number : Yes Single Line Question Option : No Option Orientation : Vertical

Correct Marks : 1 Wrong Marks : 0.25

A runner starts running from a point at 6:00 am with a speed of 7 km/hr. Another runner starts from the same point at 8:00 am in the same direction with a speed of 14 km/hr. At what time of the day will the second runner will overtake the other runner?

Options :

- ✘ 9:30 am
- ✔ 10 am
- ✘ 10:30 am
- ✘ 10:15 pm

Question Number : 53 Question Id : 99836739275 Question Type : MCQ Option Shuffling : Yes Display Question Number : Yes  
Single Line Question Option : No Option Orientation : Vertical

Correct Marks : 1 Wrong Marks : 0.25

एक धावक एक बिन्दु से 6:00 पूर्वाह्न (ए. एम) पर 7 कि.मी. प्रति घंटा की गति से दौड़ना प्रारंभ करता है। दूसरा धावक उसी बिन्दु से 8:00 पूर्वाह्न (ए. एम) पर समान दिशा में 14 कि.मी. प्रति घंटा की गति से दौड़ना प्रारंभ करता है। दिन के किस समय दूसरा धावक पहले धावक से आगे निकल जायेगा?

Options :

- ✘ 9:30 पूर्वाह्न
- ✔ 10:00 पूर्वाह्न
- ✘ 10:30 पूर्वाह्न
- ✘ 10:15 अपराह्न

Question Number : 54 Question Id : 99836739276 Question Type : MCQ Option Shuffling : Yes Display Question Number : Yes  
Single Line Question Option : No Option Orientation : Vertical

Correct Marks : 1 Wrong Marks : 0.25

The distance between place X and Z is 432 km. An express train leaves place X at 6:00 a.m. and runs towards Z at a speed of 72 km/hr. The train stops on the way for 45 minutes. At what time the train will reach at the place Z?

Options :

- ✘ 12:15 pm
- ✘ 12:35 pm
- ✘ 12:50 pm
- ✔ 12:45 pm

Question Number : 54 Question Id : 99836739276 Question Type : MCQ Option Shuffling : Yes Display Question Number : Yes  
Single Line Question Option : No Option Orientation : Vertical

Correct Marks : 1 Wrong Marks : 0.25

स्थान X तथा Z के मध्य की दूरी 432 कि.मी. है। एक एक्सप्रेस रेलगाड़ी स्थान X से 6:00 पूर्वाह्न (ए.ए.एम.) पर निकलती है तथा 72 कि.मी./घंटा की गति से Z की ओर चलती है। रेलगाड़ी रास्ते में 45 मिनट रुकती है। रेलगाड़ी स्थान Z पर किस समय पहुंचेगी?

Options :

- ✘ 12:15 अपराह्न
- ✘ 12:35 अपराह्न
- ✘ 12:50 अपराह्न
- ✔ 12:45 अपराह्न

Question Number : 55 Question Id : 99836739277 Question Type : MCQ Option Shuffling : Yes Display Question Number : Yes  
Single Line Question Option : No Option Orientation : Vertical

Correct Marks : 1 Wrong Marks : 0.25

A, B and C alone can complete a work in 50 days, 80 days and 120 days respectively. If they together earn Rs. 22050 to complete the work, then what will be the share of both A and B together?

Options :

- ✘ Rs. 18650
- ✘ Rs. 16250
- ✘ Rs. 15750
- ✔ Rs. 17550

Question Number : 55 Question Id : 99836739277 Question Type : MCQ Option Shuffling : Yes Display Question Number : Yes  
Single Line Question Option : No Option Orientation : Vertical

Correct Marks : 1 Wrong Marks : 0.25

A, B तथा C अकेले एक कार्य को क्रमशः 50 दिन, 80 दिन तथा 120 दिन में पूरा कर सकते हैं। यदि वे मिलकर कार्य पूरा करके 22050 रुपये कमाते हैं, तो A तथा B दोनों का मिलाकर हिस्सा क्या होगा?

Options :



- ✘ 18650 रुपये
- ✘ 16250 रुपये
- ✘ 15750 रुपये
- ✔ 17550 रुपये

Question Number : 56 Question Id : 99836739278 Question Type : MCQ Option Shuffling : Yes Display Question Number : Yes Single Line Question Option : No Option Orientation : Vertical

Correct Marks : 1 Wrong Marks : 0.25

A circle of radius 21 cm is converted into a right angle triangle. If base and height of right angle triangle are in the ratio of 3 : 4, then what will be the hypotenuse of right angle triangle?

Options :

- ✔ 55 cm
- ✘ 44 cm
- ✘ 65 cm
- ✘ 85 cm

Question Number : 56 Question Id : 99836739278 Question Type : MCQ Option Shuffling : Yes Display Question Number : Yes Single Line Question Option : No Option Orientation : Vertical

Correct Marks : 1 Wrong Marks : 0.25

21 से.मी. त्रिज्या वाले एक वृत्त को एक समकोण त्रिभुज में परिवर्तित किया गया है। यदि समकोण त्रिभुज के आधार तथा ऊँचाई का अनुपात 3 : 4 है, तो समकोण त्रिभुज का कर्ण क्या होगा?

Options :

- ✔ 55 से.मी.
- ✘ 44 से.मी.
- ✘ 65 से.मी.
- ✘ 85 से.मी.

Question Number : 57 Question Id : 99836739279 Question Type : MCQ Option Shuffling : Yes Display Question Number : Yes Single Line Question Option : No Option Orientation : Vertical

Correct Marks : 1 Wrong Marks : 0.25

Radius of a solid cylinder is 23 cm and height is 26 cm. If three hemispheres of radius 3.5 cm are removed from each base of cylinder, then what will be the area of cylinder?

Options :

- ✘ 6825 cm<sup>2</sup>
- ✔ 7315 cm<sup>2</sup>
- ✘ 8415 cm<sup>2</sup>
- ✘ 9485 cm<sup>2</sup>

Question Number : 57 Question Id : 99836739279 Question Type : MCQ Option Shuffling : Yes Display Question Number : Yes Single Line Question Option : No Option Orientation : Vertical

Correct Marks : 1 Wrong Marks : 0.25

एक ठोस बेलन की त्रिज्या 23 से.मी. है तथा लम्बाई 26 से.मी. है। यदि बेलन के प्रत्येक आधार से 3.5 से.मी. त्रिज्या वाले तीन अर्धगोले निकाले जाते हैं, तो बेलन का क्षेत्रफल क्या होगा?

Options :

1. ✘ 6825 से.मी.<sup>2</sup>
2. ✔ 7315 से.मी.<sup>2</sup>
3. ✘ 8415 से.मी.<sup>2</sup>
4. ✘ 9485 से.मी.<sup>2</sup>

Question Number : 58 Question Id : 99836739280 Question Type : MCQ Option Shuffling : Yes Display Question Number : Yes Single Line Question Option : No Option Orientation : Vertical

Correct Marks : 1 Wrong Marks : 0.25

The table given below shows the number of books of different subjects sold by a shopkeeper on a day.

Subjects	Number of books
B1	180
B2	200
B3	190
B4	210
B5	230
B6	244

The number of B4 books is how much percentage more than that of B1 book?

Options :

1. ✘ 12.12 percent
2. ✔ 16.66 percent
3. ✘ 20.66 percent
4. ✘ 23.33 percent

Question Number : 58 Question Id : 99836739280 Question Type : MCQ Option Shuffling : Yes Display Question Number : Yes Single Line Question Option : No Option Orientation : Vertical

Correct Marks : 1 Wrong Marks : 0.25

नीचे दी गई तालिका एक दुकानदार द्वारा एक दिन में बेची गई विभिन्न विषय की किताबों की संख्या को दर्शाती है।

विषय	किताबों की संख्या
B1	180
B2	200
B3	190
B4	210
B5	230
B6	244

B4 किताबों की संख्या, B1 किताबों की संख्या से कितनी प्रतिशत अधिक है?

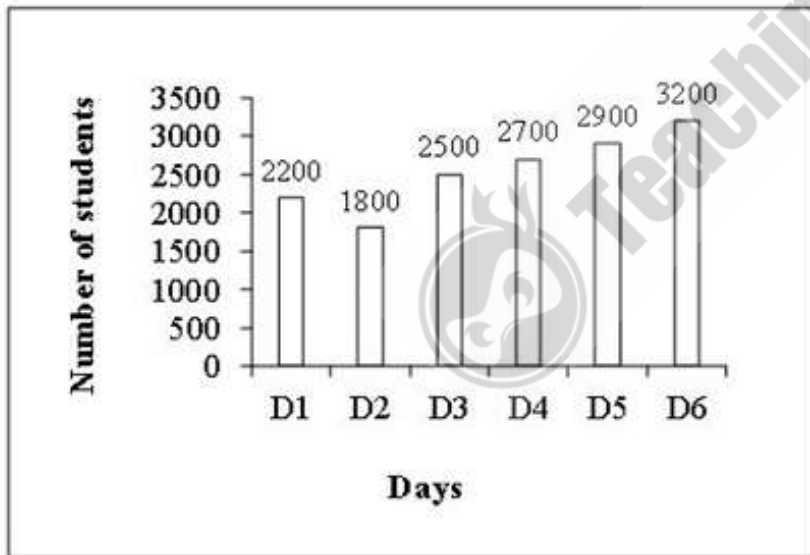
Options :

- ✘ 12.12 प्रतिशत
- ✔ 16.66 प्रतिशत
- ✘ 20.66 प्रतिशत
- ✘ 23.33 प्रतिशत

Question Number : 59 Question Id : 99836739281 Question Type : MCQ Option Shuffling : Yes Display Question Number : Yes Single Line Question Option : No Option Orientation : Vertical

Correct Marks : 1 Wrong Marks : 0.25

The bar graph given below shows the number of students appeared in an exam on different days of a week.



What is the average number of students appeared for a exam per day?

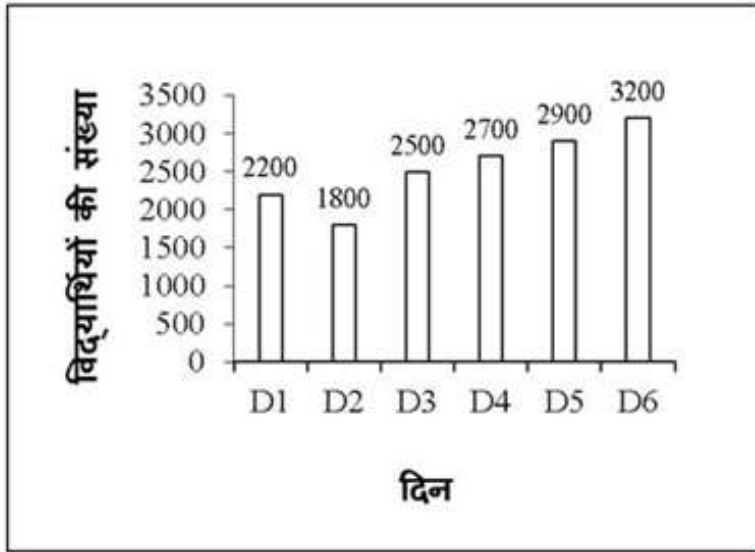
Options :

- ✘ 2400
- ✘ 2500
- ✔ 2550
- ✘ 2600

Question Number : 59 Question Id : 99836739281 Question Type : MCQ Option Shuffling : Yes Display Question Number : Yes Single Line Question Option : No Option Orientation : Vertical

Correct Marks : 1 Wrong Marks : 0.25

नीचे दिया गया दण्ड चित्र सप्ताह के विभिन्न दिनों पर एक परीक्षा में उपस्थित विद्यार्थियों की संख्या को दर्शाता है।



परीक्षा में उपस्थित होने वाले विद्यार्थियों की संख्या का प्रतिदिन औसत क्या है?

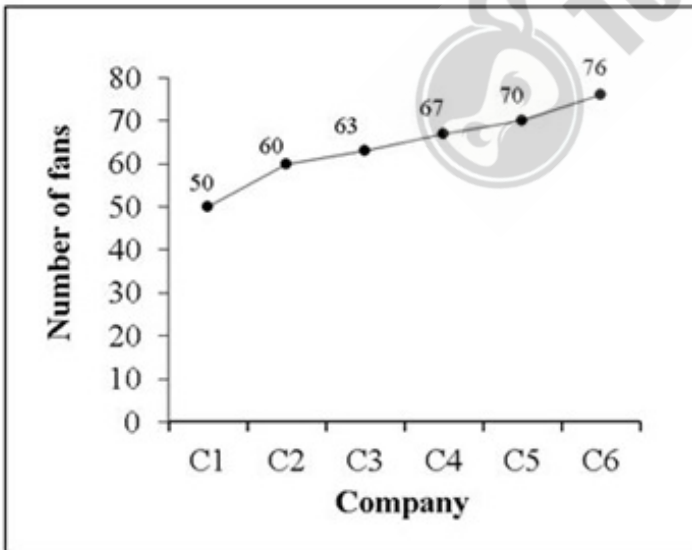
Options :

- ✘ 2400
- ✘ 2500
- ✔ 2550
- ✘ 2600

Question Number : 60 Question Id : 99836739282 Question Type : MCQ Option Shuffling : Yes Display Question Number : Yes Single Line Question Option : No Option Orientation : Vertical

Correct Marks : 1 Wrong Marks : 0.25

The line graph given below shows the number of fans of different companies sold by a shopkeeper in a month.



If A equals to the total number of fans sold of companies C1 and C3 and B equals to the total number of fans sold of companies C2 and C5, then what is the ratio of A and B?

Options :

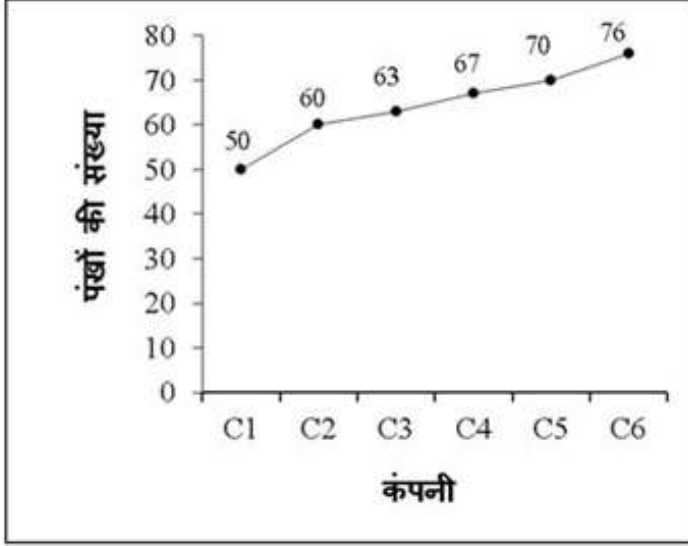
- ✔ 113 : 130
- ✘ 120 : 113
- ✘ 114 : 115

4. ✖ 113 : 111

Question Number : 60 Question Id : 99836739282 Question Type : MCQ Option Shuffling : Yes Display Question Number : Yes  
Single Line Question Option : No Option Orientation : Vertical

Correct Marks : 1 Wrong Marks : 0.25

नीचे दिया गया रेखा चित्र एक दुकानदार द्वारा बेचे गए विभिन्न कंपनियों के पंखों संख्या को दर्शाता है।



यदि A, C1 तथा C3 कंपनी के कुल बेचे गए पंखों की संख्या के बराबर है तथा B, कंपनी C2 तथा C5 के कुल बेचे गए पंखों की संख्या के बराबर है, तो A तथा B का अनुपात क्या है?

Options :

- ✔ 113 : 130
- ✖ 120 : 113
- ✖ 114 : 115
- ✖ 113 : 111



General English

Group Number :	4
Group Id :	9983671214
Group Maximum Duration :	0
Group Minimum Duration :	0
Revisit allowed for view? :	No
Revisit allowed for edit? :	No
Break time:	0
Group Marks:	20
Revisit allowed for group Instructions? :	Yes
Maximum Instruction Time:	0
Minimum Instruction Time:	0

General English

Section Id :	9983671613
Section Number :	1
Section type :	Online
Mandatory or Optional:	Mandatory

Number of Questions:	16
Number of Questions to be attempted:	16
Section Marks:	20
Display Number Panel:	Yes
Group All Questions:	No

Sub-Section Number:	1
Sub-Section Id:	9983672007
Question Shuffling Allowed :	Yes

Question Number : 61 Question Id : 99836739283 Question Type : MCQ Option Shuffling : Yes Display Question Number : Yes  
Single Line Question Option : No Option Orientation : Vertical

Correct Marks : 1 Wrong Marks : 0.25

Find the part of the given sentence that has an error in it. If there is no error, choose 'No error'.

How amused everyone (1) / would be if they (2) / knows what really happened (3) / No error (4)

Options :

- ✘ How amused everyone
- ✘ would be if they
- ✔ knows what really happened
- ✘ No error

Question Number : 61 Question Id : 99836739283 Question Type : MCQ Option Shuffling : Yes Display Question Number : Yes  
Single Line Question Option : No Option Orientation : Vertical

Correct Marks : 1 Wrong Marks : 0.25

Find the part of the given sentence that has an error in it. If there is no error, choose 'No error'.

How amused everyone (1) / would be if they (2) / knows what really happened (3) / No error (4)

Options :

- ✘ How amused everyone
- ✘ would be if they
- ✔ knows what really happened
- ✘ No error

Question Number : 62 Question Id : 99836739284 Question Type : MCQ Option Shuffling : Yes Display Question Number : Yes  
Single Line Question Option : No Option Orientation : Vertical

Correct Marks : 1 Wrong Marks : 0.25

Find the part of the given sentence that has an error in it. If there is no error, choose 'No error'.

A greedy person (1) / is like a man (2) / possessed by the devil (3) / No error (4)

Options :

- ✘ A greedy person
- ✘ is like a man
- ✘ possessed by the devil
- ✔ No error

Question Number : 62 Question Id : 99836739284 Question Type : MCQ Option Shuffling : Yes Display Question Number : Yes  
Single Line Question Option : No Option Orientation : Vertical

Correct Marks : 1 Wrong Marks : 0.25

Find the part of the given sentence that has an error in it. If there is no error, choose 'No error'.

A greedy person (1) / is like a man (2) / possessed by the devil (3) / No error (4)

Options :

- ✘ A greedy person
- ✘ is like a man
- ✘ possessed by the devil
- ✔ No error

Question Number : 63 Question Id : 99836739285 Question Type : MCQ Option Shuffling : Yes Display Question Number : Yes  
Single Line Question Option : No Option Orientation : Vertical

Correct Marks : 1 Wrong Marks : 0.25

Improve the bracketed part of the sentence.

Madhubani paintings (is) popular all over India.

Options :

- ✘ have
- ✔ are
- ✘ will
- ✘ No improvement

Question Number : 63 Question Id : 99836739285 Question Type : MCQ Option Shuffling : Yes Display Question Number : Yes  
Single Line Question Option : No Option Orientation : Vertical

Correct Marks : 1 Wrong Marks : 0.25

Improve the bracketed part of the sentence.

Madhubani paintings (is) popular all over India.

Options :

- ✘ have
- ✔ are
- ✘ will
- ✘ No improvement

Question Number : 64 Question Id : 99836739286 Question Type : MCQ Option Shuffling : Yes Display Question Number : Yes  
Single Line Question Option : No Option Orientation : Vertical

Correct Marks : 1 Wrong Marks : 0.25

Improve the bracketed part of the sentence.

Never before had we (entering) the Principal's office.

Options :

- ✔ entered
- ✘ enters
- ✘ enter
- ✘ No improvement

Question Number : 64 Question Id : 99836739286 Question Type : MCQ Option Shuffling : Yes Display Question Number : Yes  
Single Line Question Option : No Option Orientation : Vertical

Correct Marks : 1 Wrong Marks : 0.25

Improve the bracketed part of the sentence.

Never before had we (entering) the Principal's office.

Options :

1. ✓ entered
2. ✗ enters
3. ✗ enter
4. ✗ No improvement

Question Number : 65 Question Id : 99836739287 Question Type : MCQ Option Shuffling : Yes Display Question Number : Yes  
Single Line Question Option : No Option Orientation : Vertical

Correct Marks : 1 Wrong Marks : 0.25

A sentence has been given with a blank to be filled with an appropriate word. Choose the correct alternative.

She was their \_\_\_\_\_ to the outside world for almost two years.

Options :

1. ✗ connecting
2. ✗ connect
3. ✗ connects
4. ✓ connection

Question Number : 65 Question Id : 99836739287 Question Type : MCQ Option Shuffling : Yes Display Question Number : Yes  
Single Line Question Option : No Option Orientation : Vertical

Correct Marks : 1 Wrong Marks : 0.25

A sentence has been given with a blank to be filled with an appropriate word. Choose the correct alternative.

She was their \_\_\_\_\_ to the outside world for almost two years.

Options :

1. ✗ connecting
2. ✗ connect
3. ✗ connects
4. ✓ connection

Question Number : 66 Question Id : 99836739288 Question Type : MCQ Option Shuffling : Yes Display Question Number : Yes  
Single Line Question Option : No Option Orientation : Vertical

Correct Marks : 1 Wrong Marks : 0.25

A sentence has been given with a blank to be filled with an appropriate word. Choose the correct alternative.

\_\_\_\_\_ you like some tea?

Options :

1. ✗ Shall
2. ✓ Would
3. ✗ Does
4. ✗ Could

Question Number : 66 Question Id : 99836739288 Question Type : MCQ Option Shuffling : Yes Display Question Number : Yes  
Single Line Question Option : No Option Orientation : Vertical

Correct Marks : 1 Wrong Marks : 0.25

A sentence has been given with a blank to be filled with an appropriate word. Choose the correct alternative.

\_\_\_\_\_ you like some tea?

Options :

1. ✗ Shall



2. ✓ Would
3. ✗ Does
4. ✗ Could

Question Number : 67 Question Id : 99836739289 Question Type : MCQ Option Shuffling : Yes Display Question Number : Yes  
Single Line Question Option : No Option Orientation : Vertical

Correct Marks : 1 Wrong Marks : 0.25

Rearrange the parts of the sentence in correct order.

P: an innovative  
Q: dance choreographer  
R: shiamik is  
S: and popular

Options :

1. ✗ PQRS
2. ✗ PRSQ
3. ✓ RPSQ
4. ✗ SRQP

Question Number : 67 Question Id : 99836739289 Question Type : MCQ Option Shuffling : Yes Display Question Number : Yes  
Single Line Question Option : No Option Orientation : Vertical

Correct Marks : 1 Wrong Marks : 0.25

Rearrange the parts of the sentence in correct order.

P: an innovative  
Q: dance choreographer  
R: shiamik is  
S: and popular

Options :

1. ✗ PQRS
2. ✗ PRSQ
3. ✓ RPSQ
4. ✗ SRQP

Question Number : 68 Question Id : 99836739290 Question Type : MCQ Option Shuffling : Yes Display Question Number : Yes  
Single Line Question Option : No Option Orientation : Vertical

Correct Marks : 1 Wrong Marks : 0.25

Rearrange the parts of the sentence in correct order.

P: throwing a log  
Q: the poet regrets  
R: withdrawing snake  
S: of wood at the

Options :

1. ✓ QPSR
2. ✗ PQRS
3. ✗ RQSP
4. ✗ PSQR

Question Number : 68 Question Id : 99836739290 Question Type : MCQ Option Shuffling : Yes Display Question Number : Yes  
Single Line Question Option : No Option Orientation : Vertical

Correct Marks : 1 Wrong Marks : 0.25

Rearrange the parts of the sentence in correct order.

P: throwing a log  
Q: the poet regrets  
R: withdrawing snake  
S: of wood at the

Options :

1. ✓ QPSR
2. ✗ PQRS
3. ✗ RQSP
4. ✗ PSQR

Question Number : 69 Question Id : 99836739291 Question Type : MCQ Option Shuffling : Yes Display Question Number : Yes  
Single Line Question Option : No Option Orientation : Vertical

Correct Marks : 1 Wrong Marks : 0.25

Choose the word that means the same as the given word.

Awareness

Options :

1. ✗ Stupidity
2. ✗ Ignorance
3. ✓ alertness
4. ✗ Join

Question Number : 69 Question Id : 99836739291 Question Type : MCQ Option Shuffling : Yes Display Question Number : Yes  
Single Line Question Option : No Option Orientation : Vertical

Correct Marks : 1 Wrong Marks : 0.25

Choose the word that means the same as the given word.

Awareness

Options :

1. ✗ Stupidity
2. ✗ Ignorance
3. ✓ alertness
4. ✗ Join

Question Number : 70 Question Id : 99836739292 Question Type : MCQ Option Shuffling : Yes Display Question Number : Yes  
Single Line Question Option : No Option Orientation : Vertical

Correct Marks : 1 Wrong Marks : 0.25

Choose the word that is opposite in meaning to the given word.

Grim

Options :

1. ✓ Pleasant
2. ✗ Bleak
3. ✗ Accurate
4. ✗ Civilized

Question Number : 70 Question Id : 99836739292 Question Type : MCQ Option Shuffling : Yes Display Question Number : Yes  
Single Line Question Option : No Option Orientation : Vertical

Correct Marks : 1 Wrong Marks : 0.25

Choose the word that is opposite in meaning to the given word.

Grim

Options :

1. ✓ Pleasant
2. ✗ Bleak
3. ✗ Accurate
4. ✗ Civilized

Question Number : 71 Question Id : 99836739293 Question Type : MCQ Option Shuffling : Yes Display Question Number : Yes  
Single Line Question Option : No Option Orientation : Vertical

Correct Marks : 1 Wrong Marks : 0.25

In the given question, four words are given out of which one word is correctly spelt. Choose the correctly spelt word.

Options :

1. ✓ Acquire
2. ✗ Akquire
3. ✗ Ackuire
4. ✗ Equire

Question Number : 71 Question Id : 99836739293 Question Type : MCQ Option Shuffling : Yes Display Question Number : Yes  
Single Line Question Option : No Option Orientation : Vertical

Correct Marks : 1 Wrong Marks : 0.25

In the given question, four words are given out of which one word is correctly spelt. Choose the correctly spelt word.

Options :

1. ✓ Acquire
2. ✗ Akquire
3. ✗ Ackuire
4. ✗ Equire

Question Number : 72 Question Id : 99836739294 Question Type : MCQ Option Shuffling : Yes Display Question Number : Yes  
Single Line Question Option : No Option Orientation : Vertical

Correct Marks : 1 Wrong Marks : 0.25

In the given question, four words are given out of which one word is correctly spelt. Choose the correctly spelt word.

Options :

1. ✗ Cemategy
2. ✗ Cemetary
3. ✓ Cemetery
4. ✗ Semetary

Question Number : 72 Question Id : 99836739294 Question Type : MCQ Option Shuffling : Yes Display Question Number : Yes  
Single Line Question Option : No Option Orientation : Vertical

Correct Marks : 1 Wrong Marks : 0.25

In the given question, four words are given out of which one word is correctly spelt. Choose the correctly spelt word.

Options :

1. ✗ Cemategy
2. ✗ Cemetary

3. ✓ Cemetery
4. ✗ Semetary

Question Number : 73 Question Id : 99836739295 Question Type : MCQ Option Shuffling : Yes Display Question Number : Yes  
Single Line Question Option : No Option Orientation : Vertical

Correct Marks : 1 Wrong Marks : 0.25

In the following question, out of the given four alternatives, select the alternative which best expresses the meaning of the Idiom/Phrase.

At the eleventh hour

Options :

1. ✗ something of very high quality
2. ✗ someone who gets up early in the morning
3. ✗ to appear suddenly without warning
4. ✓ at the last possible moment

Question Number : 73 Question Id : 99836739295 Question Type : MCQ Option Shuffling : Yes Display Question Number : Yes  
Single Line Question Option : No Option Orientation : Vertical

Correct Marks : 1 Wrong Marks : 0.25

In the following question, out of the given four alternatives, select the alternative which best expresses the meaning of the Idiom/Phrase.

At the eleventh hour

Options :

1. ✗ something of very high quality
2. ✗ someone who gets up early in the morning
3. ✗ to appear suddenly without warning
4. ✓ at the last possible moment

Question Number : 74 Question Id : 99836739296 Question Type : MCQ Option Shuffling : Yes Display Question Number : Yes  
Single Line Question Option : No Option Orientation : Vertical

Correct Marks : 1 Wrong Marks : 0.25

In the following question, out of the given four alternatives, select the alternative which best expresses the meaning of the Idiom/Phrase.

At an arm's length

Options :

1. ✗ to be always ready to serve
2. ✓ to keep at a distance
3. ✗ to be lost
4. ✗ not to be alert on opportunity

Question Number : 74 Question Id : 99836739296 Question Type : MCQ Option Shuffling : Yes Display Question Number : Yes  
Single Line Question Option : No Option Orientation : Vertical

Correct Marks : 1 Wrong Marks : 0.25

In the following question, out of the given four alternatives, select the alternative which best expresses the meaning of the Idiom/Phrase.

At an arm's length

Options :

1. ✗ to be always ready to serve

2. ✓ to keep at a distance
3. ✗ to be lost
4. ✗ not to be alert on opportunity

Question Number : 75 Question Id : 99836739297 Question Type : MCQ Option Shuffling : Yes Display Question Number : Yes  
Single Line Question Option : No Option Orientation : Vertical

Correct Marks : 1 Wrong Marks : 0.25

Choose the word that can substitute the given sentence.

One who does not express himself freely

Options :

1. ✗ Henpeck
2. ✗ Iconoclast
3. ✓ Introvert
4. ✗ Extrovert

Question Number : 75 Question Id : 99836739297 Question Type : MCQ Option Shuffling : Yes Display Question Number : Yes  
Single Line Question Option : No Option Orientation : Vertical

Correct Marks : 1 Wrong Marks : 0.25

Choose the word that can substitute the given sentence.

One who does not express himself freely

Options :

1. ✗ Henpeck
2. ✗ Iconoclast
3. ✓ Introvert
4. ✗ Extrovert

Sub-Section Number:	2
Sub-Section Id:	9983672008
Question Shuffling Allowed :	Yes

Question Id : 99836739298 Question Type : COMPREHENSION Sub Question Shuffling Allowed : Yes Group Comprehension  
Questions : No

Question Numbers : (76 to 80)

Question Label : Comprehension

Read the following information carefully and answer the given questions.

Leadership is getting things done through people. Leadership is required because someone has to point the way and that the same person has to ensure that everyone concerned gets there. The most familiar saying about leadership is that 'leaders are born not made'. Like all cliches, there is some truth in it, although, it cannot be taken literally. There are many successful leaders around who demonstrated their abilities at an early age and have never looked back since. They have natural talents and although, they may not have actually been born with them, these talents have been fostered by their upbringing and experiences at school, university or in the armed forces. Their charisma, inspirational qualities and ways of handling people combine to produce a person about whom everyone says he's a natural leader.

Effective leaders start with same natural talents and then they build on them. They are good at observing how to do it and how not to do it. They learn from their experience and they keep on learning.

Sub questions

Question Number : 76 Question Id : 99836739299 Question Type : MCQ Option Shuffling : Yes Display Question Number : Yes  
Single Line Question Option : No Option Orientation : Vertical

Correct Marks : 1 Wrong Marks : 0.25

According to the passage, what is leadership?

Options :

1. ✓ Being able to achieve goals with the help of people.
2. ✗ Telling people what is meant by success.
3. ✗ Never to look back for support or help.
4. ✗ Give direction and follow people.

Question Number : 77 Question Id : 99836739300 Question Type : MCQ Option Shuffling : Yes Display Question Number : Yes  
Single Line Question Option : No Option Orientation : Vertical

Correct Marks : 1 Wrong Marks : 0.25

Why can it not always be said that 'leaders are born, not made'?

Options :

1. ✗ It cannot be taken literally everytime.
2. ✗ Leaders are not always born with leadership qualities.
3. ✓ Many have been fostered by their upbringing and environment.
4. ✗ The saying loses its importance in some situations.

Question Number : 78 Question Id : 99836739301 Question Type : MCQ Option Shuffling : Yes Display Question Number : Yes  
Single Line Question Option : No Option Orientation : Vertical

Correct Marks : 1 Wrong Marks : 0.25

What combine together to produce a natural leader?

Options :

1. ✓ Charisma, inspirational qualities and ways of handling people
2. ✗ Role of heredity and environment
3. ✗ Born talents for good observation of successful leader
4. ✗ Zeal to lead people even when they do not desire.

Question Number : 79 Question Id : 99836739302 Question Type : MCQ Option Shuffling : Yes Display Question Number : Yes  
Single Line Question Option : No Option Orientation : Vertical

Correct Marks : 1 Wrong Marks : 0.25

How do effective leaders learn?

Options :

1. ✗ Through their upbringing
2. ✗ By observing other leaders
3. ✓ Through their own experience
4. ✗ Their followers

Question Number : 80 Question Id : 99836739303 Question Type : MCQ Option Shuffling : Yes Display Question Number : Yes  
Single Line Question Option : No Option Orientation : Vertical

Correct Marks : 1 Wrong Marks : 0.25

Which word from the passage means the same as determine?

Note: For this question, discrepancy is found in question/answer. So, this question is ignored for all candidates.

Options :

1. Concerned
2. Familiar

3. Experiences
4. Establish

**Question Id : 99836739298 Question Type : COMPREHENSION Sub Question Shuffling Allowed : Yes Group Comprehension Questions : No**

**Question Numbers : (76 to 80)**

**Question Label : Comprehension**

Read the following information carefully and answer the given questions.

Leadership is getting things done through people. Leadership is required because someone has to point the way and that the same person has to ensure that everyone concerned gets there. The most familiar saying about leadership is that 'leaders are born not made'. Like all cliches, there is some truth in it, although, it cannot be taken literally. There are many successful leaders around who demonstrated their abilities at an early age and have never looked back since. They have natural talents and although, they may not have actually been born with them, these talents have been fostered by their upbringing and experiences at school, university or in the armed forces. Their charisma, inspirational qualities and ways of handling people combine to produce a person about whom everyone says he's a natural leader.

Effective leaders start with same natural talents and then they build on them. They are good at observing how to do it and how not to do it. They learn from their experience and they keep on learning.

**Sub questions**

**Question Number : 76 Question Id : 99836739299 Question Type : MCQ Option Shuffling : Yes Display Question Number : Yes Single Line Question Option : No Option Orientation : Vertical**

**Correct Marks : 1 Wrong Marks : 0.25**

According to the passage, what is leadership?

**Options :**

1. ✓ Being able to achieve goals with the help of people.
2. ✗ Telling people what is meant by success.
3. ✗ Never to look back for support or help.
4. ✗ Give direction and follow people.

**Question Number : 77 Question Id : 99836739300 Question Type : MCQ Option Shuffling : Yes Display Question Number : Yes Single Line Question Option : No Option Orientation : Vertical**

**Correct Marks : 1 Wrong Marks : 0.25**

Why can it not always be said that 'leaders are born, not made'?

**Options :**

1. ✗ It cannot be taken literally everytime.
2. ✗ Leaders are not always born with leadership qualities.
3. ✓ Many have been fostered by their upbringing and environment.
4. ✗ The saying loses its importance in some situations.

**Question Number : 78 Question Id : 99836739301 Question Type : MCQ Option Shuffling : Yes Display Question Number : Yes Single Line Question Option : No Option Orientation : Vertical**

**Correct Marks : 1 Wrong Marks : 0.25**

What combine together to produce a natural leader?

**Options :**

1. ✓ Charisma, inspirational qualities and ways of handling people
2. ✗ Role of heredity and environment
3. ✗ Born talents for good observation of successful leader
4. ✗ Zeal to lead people even when they do not desire.

Question Number : 79 Question Id : 99836739302 Question Type : MCQ Option Shuffling : Yes Display Question Number : Yes  
Single Line Question Option : No Option Orientation : Vertical

Correct Marks : 1 Wrong Marks : 0.25

How do effective leaders learn?

Options :

1. ✘ Through their upbringing
2. ✘ By observing other leaders
3. ✔ Through their own experience
4. ✘ Their followers

Question Number : 80 Question Id : 99836739303 Question Type : MCQ Option Shuffling : Yes Display Question Number : Yes  
Single Line Question Option : No Option Orientation : Vertical

Correct Marks : 1 Wrong Marks : 0.25

Which word from the passage means the same as determine?

Note: For this question, discrepancy is found in question/answer. So, this question is ignored for all candidates.

Options :

1. Concerned
2. Familiar
3. Experiences
4. Establish

General Hindi

Group Number :	5
Group Id :	9983671215
Group Maximum Duration :	0
Group Minimum Duration :	0
Revisit allowed for view? :	No
Revisit allowed for edit? :	No
Break time:	0
Group Marks:	20
Revisit allowed for group Instructions? :	Yes
Maximum Instruction Time:	0
Minimum Instruction Time:	0

General Hindi

Section Id :	9983671614
Section Number :	1
Section type :	Online
Mandatory or Optional:	Mandatory
Number of Questions:	16
Number of Questions to be attempted:	16
Section Marks:	20
Display Number Panel:	Yes
Group All Questions:	No

Sub-Section Number: 1



Sub-Section Id:

9983672009

Question Shuffling Allowed :

Yes

Question Number : 81 Question Id : 99836739304 Question Type : MCQ Option Shuffling : Yes Display Question Number : Yes  
Single Line Question Option : No Option Orientation : Vertical

Correct Marks : 1 Wrong Marks : 0.25

दिए गए शब्द की संधि ज्ञात कीजिए।

आवि: + कार

Options :

1. ✘ आविकार
2. ✔ आविष्कार
3. ✘ आविष
4. ✘ अवकार

Question Number : 81 Question Id : 99836739304 Question Type : MCQ Option Shuffling : Yes Display Question Number : Yes  
Single Line Question Option : No Option Orientation : Vertical

Correct Marks : 1 Wrong Marks : 0.25

दिए गए शब्द की संधि ज्ञात कीजिए।

आवि: + कार

Options :

1. ✘ आविकार
2. ✔ आविष्कार
3. ✘ आविष
4. ✘ अवकार

Question Number : 82 Question Id : 99836739305 Question Type : MCQ Option Shuffling : Yes Display Question Number : Yes  
Single Line Question Option : No Option Orientation : Vertical

Correct Marks : 1 Wrong Marks : 0.25

निम्नलिखित में से कौन-सा शब्द देशज शब्द है?

Options :

1. ✘ अमीर
2. ✘ अकल
3. ✘ उम्र
4. ✔ खिचड़ी

Question Number : 82 Question Id : 99836739305 Question Type : MCQ Option Shuffling : Yes Display Question Number : Yes  
Single Line Question Option : No Option Orientation : Vertical

Correct Marks : 1 Wrong Marks : 0.25

निम्नलिखित में से कौन-सा शब्द देशज शब्द है?

Options :

1. ✘ अमीर
2. ✘ अकल
3. ✘ उम्र
4. ✔ खिचड़ी

Question Number : 83 Question Id : 99836739306 Question Type : MCQ Option Shuffling : Yes Display Question Number : Yes  
Single Line Question Option : No Option Orientation : Vertical

Correct Marks : 1 Wrong Marks : 0.25

दिए गए शब्द का समास ज्ञात कीजिए।

यथाशक्ति

Options :

- ✘ तत्पुरुष समास
- ✘ कर्मधारय समास
- ✘ द्विगु समास
- ✔ अव्ययीभाव समास

Question Number : 83 Question Id : 99836739306 Question Type : MCQ Option Shuffling : Yes Display Question Number : Yes  
Single Line Question Option : No Option Orientation : Vertical

Correct Marks : 1 Wrong Marks : 0.25

दिए गए शब्द का समास ज्ञात कीजिए।

यथाशक्ति

Options :

- ✘ तत्पुरुष समास
- ✘ कर्मधारय समास
- ✘ द्विगु समास
- ✔ अव्ययीभाव समास

Question Number : 84 Question Id : 99836739307 Question Type : MCQ Option Shuffling : Yes Display Question Number : Yes  
Single Line Question Option : No Option Orientation : Vertical

Correct Marks : 1 Wrong Marks : 0.25

दिए गए शब्द का पर्यायवाची ज्ञात कीजिए।

कोविद

Options :

- ✔ विद्वान
- ✘ पताका
- ✘ तुरंत
- ✘ बेरहम

Question Number : 84 Question Id : 99836739307 Question Type : MCQ Option Shuffling : Yes Display Question Number : Yes  
Single Line Question Option : No Option Orientation : Vertical

Correct Marks : 1 Wrong Marks : 0.25

दिए गए शब्द का पर्यायवाची ज्ञात कीजिए।

कोविद

Options :

- ✔ विद्वान
- ✘ पताका
- ✘ तुरंत
- ✘ बेरहम

Question Number : 85 Question Id : 99836739308 Question Type : MCQ Option Shuffling : Yes Display Question Number : Yes  
Single Line Question Option : No Option Orientation : Vertical

Correct Marks : 1 Wrong Marks : 0.25

दिए गए वाक्य का सार्थक शब्द ज्ञात कीजिए।

एक भाषा के विचारों को दूसरी भाषा में व्यक्त करना।

Options :

1. ✘ अनाहूत
2. ✔ अनुवाद
3. ✘ अन्योदर
4. ✘ अनुवादक

Question Number : 85 Question Id : 99836739308 Question Type : MCQ Option Shuffling : Yes Display Question Number : Yes  
Single Line Question Option : No Option Orientation : Vertical

Correct Marks : 1 Wrong Marks : 0.25

दिए गए वाक्य का सार्थक शब्द ज्ञात कीजिए।

एक भाषा के विचारों को दूसरी भाषा में व्यक्त करना।

Options :

1. ✘ अनाहूत
2. ✔ अनुवाद
3. ✘ अन्योदर
4. ✘ अनुवादक

Question Number : 86 Question Id : 99836739309 Question Type : MCQ Option Shuffling : Yes Display Question Number : Yes  
Single Line Question Option : No Option Orientation : Vertical

Correct Marks : 1 Wrong Marks : 0.25

निम्नलिखित वाक्य में से रेखांकित शब्द का उचित विलोम शब्द ज्ञात कीजिए।

हमने सदा तुम्हें अपना समझा \_\_\_\_\_ नहीं।

Options :

1. ✔ पराया
2. ✘ बुरा
3. ✘ धनवान
4. ✘ तुम्हारा

Question Number : 86 Question Id : 99836739309 Question Type : MCQ Option Shuffling : Yes Display Question Number : Yes  
Single Line Question Option : No Option Orientation : Vertical

Correct Marks : 1 Wrong Marks : 0.25

निम्नलिखित वाक्य में से रेखांकित शब्द का उचित विलोम शब्द ज्ञात कीजिए।

हमने सदा तुम्हें अपना समझा \_\_\_\_\_ नहीं।

Options :

1. ✔ पराया
2. ✘ बुरा
3. ✘ धनवान
4. ✘ तुम्हारा

Question Number : 87 Question Id : 99836739310 Question Type : MCQ Option Shuffling : Yes Display Question Number : Yes  
Single Line Question Option : No Option Orientation : Vertical

Correct Marks : 1 Wrong Marks : 0.25

दिए गए वाक्य में उचित शब्द ज्ञात कीजिए।

ये \_\_\_\_\_ मीठे नहीं हैं।

Options :

1. ✔ बेर

2. ✘ बैर
3. ✘ बार
4. ✘ बीर

Question Number : 87 Question Id : 99836739310 Question Type : MCQ Option Shuffling : Yes Display Question Number : Yes  
Single Line Question Option : No Option Orientation : Vertical

Correct Marks : 1 Wrong Marks : 0.25

दिए गए वाक्य में उचित शब्द ज्ञात कीजिए।

ये \_\_\_\_\_ मीठे नहीं हैं।

Options :

1. ✔ बेर
2. ✘ बैर
3. ✘ बार
4. ✘ बीर

Question Number : 88 Question Id : 99836739311 Question Type : MCQ Option Shuffling : Yes Display Question Number : Yes  
Single Line Question Option : No Option Orientation : Vertical

Correct Marks : 1 Wrong Marks : 0.25

दिए गए शब्द का पुल्लिंग शब्द ज्ञात कीजिए।

ग्वालिन

Options :

1. ✘ ग्वाली
2. ✘ ग्वालनी
3. ✔ ग्वाला
4. ✘ ग्वाल

Question Number : 88 Question Id : 99836739311 Question Type : MCQ Option Shuffling : Yes Display Question Number : Yes  
Single Line Question Option : No Option Orientation : Vertical

Correct Marks : 1 Wrong Marks : 0.25

दिए गए शब्द का पुल्लिंग शब्द ज्ञात कीजिए।

ग्वालिन

Options :

1. ✘ ग्वाली
2. ✘ ग्वालनी
3. ✔ ग्वाला
4. ✘ ग्वाल

Question Number : 89 Question Id : 99836739312 Question Type : MCQ Option Shuffling : Yes Display Question Number : Yes  
Single Line Question Option : No Option Orientation : Vertical

Correct Marks : 1 Wrong Marks : 0.25

दिए गए वाक्य का काल ज्ञात कीजिए।

महादेवी वर्मा ने संस्मरण लिखे थे।

Options :

1. ✘ संदिग्ध भूतकाल
2. ✘ अपूर्ण भूतकाल
3. ✘ सामान्य भूतकाल

4. ✓ पूर्ण भूतकाल

Question Number : 89 Question Id : 99836739312 Question Type : MCQ Option Shuffling : Yes Display Question Number : Yes  
Single Line Question Option : No Option Orientation : Vertical

Correct Marks : 1 Wrong Marks : 0.25

दिए गए वाक्य का काल ज्ञात कीजिए

महादेवी वर्मा ने संस्मरण लिखे थे

Options :

1. ✗ संदिग्ध भूतकाल
2. ✗ अपूर्ण भूतकाल
3. ✗ सामान्य भूतकाल
4. ✓ पूर्ण भूतकाल

Question Number : 90 Question Id : 99836739313 Question Type : MCQ Option Shuffling : Yes Display Question Number : Yes  
Single Line Question Option : No Option Orientation : Vertical

Correct Marks : 1 Wrong Marks : 0.25

दिया गया वाक्य किस प्रकार का वाक्य है ज्ञात कीजिए

रमन ने घर का काम खत्म किया और खेलने लगा

Options :

1. ✗ सरल वाक्य
2. ✗ मिश्र वाक्य
3. ✓ संयुक्त वाक्य
4. ✗ आज्ञावाचक वाक्य

Question Number : 90 Question Id : 99836739313 Question Type : MCQ Option Shuffling : Yes Display Question Number : Yes  
Single Line Question Option : No Option Orientation : Vertical

Correct Marks : 1 Wrong Marks : 0.25

दिया गया वाक्य किस प्रकार का वाक्य है ज्ञात कीजिए

रमन ने घर का काम खत्म किया और खेलने लगा

Options :

1. ✗ सरल वाक्य
2. ✗ मिश्र वाक्य
3. ✓ संयुक्त वाक्य
4. ✗ आज्ञावाचक वाक्य

Question Number : 91 Question Id : 99836739314 Question Type : MCQ Option Shuffling : Yes Display Question Number : Yes  
Single Line Question Option : No Option Orientation : Vertical

Correct Marks : 1 Wrong Marks : 0.25

दिए गए वाक्य में किस प्रकार का पुरुष है ज्ञात कीजिए

वह अमेरिका जाने के सपने देख रहा है।

Options :

1. ✗ मध्यम पुरुष
2. ✗ प्रथम पुरुष
3. ✗ उत्तम पुरुष
4. ✓ अन्य पुरुष

Question Number : 91 Question Id : 99836739314 Question Type : MCQ Option Shuffling : Yes Display Question Number : Yes  
Single Line Question Option : No Option Orientation : Vertical

Correct Marks : 1 Wrong Marks : 0.25

दिए गए वाक्य में किस प्रकार का पुरुष है ज्ञात कीजिए।

वह अमेरिका जाने के सपने देख रहा है।

Options :

1. ✘ मध्यम पुरुष
2. ✘ प्रथम पुरुष
3. ✘ उत्तम पुरुष
4. ✔ अन्य पुरुष

Question Number : 92 Question Id : 99836739315 Question Type : MCQ Option Shuffling : Yes Display Question Number : Yes  
Single Line Question Option : No Option Orientation : Vertical

Correct Marks : 1 Wrong Marks : 0.25

दिए गए वाक्य में किस विराम चिह्न का उपयोग किया जाएगा उनकी पहचान कीजिए।

वह दूर से बहुत दूर से आ रहा है।

Options :

1. ✘ ||
2. ✘ ;।
3. ✔ ,।
4. ✘ ;?

Question Number : 92 Question Id : 99836739315 Question Type : MCQ Option Shuffling : Yes Display Question Number : Yes  
Single Line Question Option : No Option Orientation : Vertical

Correct Marks : 1 Wrong Marks : 0.25

दिए गए वाक्य में किस विराम चिह्न का उपयोग किया जाएगा उनकी पहचान कीजिए।

वह दूर से बहुत दूर से आ रहा है।

Options :

1. ✘ ||
2. ✘ ;।
3. ✔ ,।
4. ✘ ;?

Question Number : 93 Question Id : 99836739316 Question Type : MCQ Option Shuffling : Yes Display Question Number : Yes  
Single Line Question Option : No Option Orientation : Vertical

Correct Marks : 1 Wrong Marks : 0.25

रिक्त स्थान में दिए गए उचित मुहावरे का चयन करो।

अपने प्रिय व्यक्ति के स्वागत में हम \_\_\_\_\_

Options :

1. ✔ आँखे बिछा देते हैं।
2. ✘ काम तमाम कर देते हैं।
3. ✘ रौनक कर देते हैं।
4. ✘ बाल-बाल बच गए।

Question Number : 93 Question Id : 99836739316 Question Type : MCQ Option Shuffling : Yes Display Question Number : Yes  
Single Line Question Option : No Option Orientation : Vertical

Correct Marks : 1 Wrong Marks : 0.25

रिक्त स्थान में दिए गए उचित मुहावरे का चयन करो

अपने प्रिय व्यक्ति के स्वागत में हम -----

Options :

1. ✓ आँखे बिछा देते हैं
2. ✗ काम तमाम कर देते हैं
3. ✗ रौनक कर देते हैं
4. ✗ बाल-बाल बच गए

Question Number : 94 Question Id : 99836739317 Question Type : MCQ Option Shuffling : Yes Display Question Number : Yes  
Single Line Question Option : No Option Orientation : Vertical

Correct Marks : 1 Wrong Marks : 0.25

दिए गए मुहावरे का सही अर्थ ज्ञात कीजिए

नाम फैलाना

Options :

1. ✗ चौकन्ना होना
2. ✗ बहुत प्यार करना
3. ✗ उत्सुक होना
4. ✓ मशहूर होना

Question Number : 94 Question Id : 99836739317 Question Type : MCQ Option Shuffling : Yes Display Question Number : Yes  
Single Line Question Option : No Option Orientation : Vertical

Correct Marks : 1 Wrong Marks : 0.25

दिए गए मुहावरे का सही अर्थ ज्ञात कीजिए

नाम फैलाना

Options :

1. ✗ चौकन्ना होना
2. ✗ बहुत प्यार करना
3. ✗ उत्सुक होना
4. ✓ मशहूर होना

Question Number : 95 Question Id : 99836739318 Question Type : MCQ Option Shuffling : Yes Display Question Number : Yes  
Single Line Question Option : No Option Orientation : Vertical

Correct Marks : 1 Wrong Marks : 0.25

दिए गए चिह्नों में से आदेश चिह्न ज्ञात कीजिए

Options :

1. ✓ :-
2. ✗ \_
3. ✗ ...
4. ✗ "..."

Question Number : 95 Question Id : 99836739318 Question Type : MCQ Option Shuffling : Yes Display Question Number : Yes  
Single Line Question Option : No Option Orientation : Vertical

Correct Marks : 1 Wrong Marks : 0.25

दिए गए चिह्नों में से आदेश चिह्न ज्ञात कीजिए

Options :

1. ✓ :-
2. ✗ \_

3. ✘ ...  
4. ✘ "..."

**Sub-Section Number:** 2  
**Sub-Section Id:** 9983672010  
**Question Shuffling Allowed :** Yes

**Question Id : 99836739319 Question Type : COMPREHENSION Sub Question Shuffling Allowed : Yes Group Comprehension Questions : No**

**Question Numbers : (96 to 100)**

**Question Label : Comprehension**

गद्यांश को ध्यानपूर्वक पढ़ें तथा प्रत्येक प्रश्न के चार विकल्पों में से सही विकल्प चुनो

महात्मा गांधी जी का जन्म 2 अक्टूबर 1869, में पोरबंदर में हुआ था। गांधी जयंती 2 अक्टूबर को पूरे उल्लास के साथ मनायी जाती है। 'राजघाट' - महात्मा गांधी की समाधि 'राजघाट' है। गांधी जयंती पर देश के सभी नेता राजघाट पहुँच कर श्रद्धांजलि देते हैं तथा इस दिन विशेष रूप से महात्मा गांधी जी के द्वारा दिए गए बलिदान को याद किया जाता है क्योंकि 'बापू' ने हमेशा अहिंसा का रास्ता चुना और अहिंसा का रास्ता चुनने की सीख दी। महात्मा गांधी जी का कहना था-"मेरा धर्म सत्य और अहिंसा पर आधारित है। सत्य मेरा भगवान है, अहिंसा उसे पाने का साधन।" गांधी जी ने देश के इतने बड़े आंदोलन की शुरुआत अहिंसा, सत्य और शांति के बलबूते की थी।

**Sub questions**

**Question Number : 96 Question Id : 99836739320 Question Type : MCQ Option Shuffling : Yes Display Question Number : Yes Single Line Question Option : No Option Orientation : Vertical**

**Correct Marks : 1 Wrong Marks : 0.25**

महात्मा गांधी का जन्म कब हुआ था?

**Options :**

1. ✔ 2 अक्टूबर 1869
2. ✘ 5 अक्टूबर 1886
3. ✘ 10 अक्टूबर 1889
4. ✘ 1 अक्टूबर 1896

**Question Number : 97 Question Id : 99836739321 Question Type : MCQ Option Shuffling : Yes Display Question Number : Yes Single Line Question Option : No Option Orientation : Vertical**

**Correct Marks : 1 Wrong Marks : 0.25**

महात्मा गांधी की समाधि स्थल का नाम क्या है?

**Options :**

1. ✘ शांतिवन
2. ✔ राजघाट
3. ✘ विजय घाट
4. ✘ शक्ति स्थल

**Question Number : 98 Question Id : 99836739322 Question Type : MCQ Option Shuffling : Yes Display Question Number : Yes Single Line Question Option : No Option Orientation : Vertical**

**Correct Marks : 1 Wrong Marks : 0.25**

गांधी जी ने स्वतंत्रता संघर्ष के लिए कौन-सा रास्ता चुना था?

**Options :**

1. ✘ हिंसा
2. ✔ अहिंसा
3. ✘ झूठ
4. ✘ युद्ध



Question Number : 99 Question Id : 99836739323 Question Type : MCQ Option Shuffling : Yes Display Question Number : Yes  
Single Line Question Option : No Option Orientation : Vertical

Correct Marks : 1 Wrong Marks : 0.25

महात्मा गांधी ने आंदोलन की शुरुआत किस बलबूते पर की थी?

Options :

- ✓ अहिंसा, सत्य और शांति
- ✗ हिंसा, असत्य और शांति
- ✗ बलिदान, युद्ध और प्रेम
- ✗ आंदोलन, हिंसा और धर्म

Question Number : 100 Question Id : 99836739324 Question Type : MCQ Option Shuffling : Yes Display Question Number : Yes  
Single Line Question Option : No Option Orientation : Vertical

Correct Marks : 1 Wrong Marks : 0.25

उपर्युक्त गद्यांश का उपयुक्त शीर्षक क्या होगा?

Options :

- ✓ महात्मा गांधी - 'मेरा धर्म सत्य और अहिंसा'
- ✗ महात्मा गांधी - 'आंदोलन की शुरुआत'
- ✗ महात्मा गांधी - 'हिंसा की शुरुआत'
- ✗ सभी नेताओं का दल

Question Id : 99836739319 Question Type : COMPREHENSION Sub Question Shuffling Allowed : Yes Group Comprehension  
Questions : No

Question Numbers : (96 to 100)

Question Label : Comprehension

गद्यांश को ध्यानपूर्वक पढ़ें तथा प्रत्येक प्रश्न के चार विकल्पों में से सही विकल्प चुनें

महात्मा गांधी जी का जन्म 2 अक्टूबर 1869, में पोरबंदर में हुआ था। गांधी जयंती 2 अक्टूबर को पूरे उल्लास के साथ मनायी जाती है। 'राजघाट' - महात्मा गांधी की समाधि 'राजघाट' है। गांधी जयंती पर देश के सभी नेता राजघाट पहुँच कर श्रद्धांजलि देते हैं तथा इस दिन विशेष रूप से महात्मा गांधी जी के द्वारा दिए गए बलिदान को याद किया जाता है क्योंकि 'बापू' ने हमेशा अहिंसा का रास्ता चुना और अहिंसा का रास्ता चुनने की सीख दी। महात्मा गांधी जी का कहना था-"मेरा धर्म सत्य और अहिंसा पर आधारित है। सत्य मेरा भगवान है, अहिंसा उसे पाने का साधन।" गांधी जी ने देश के इतने बड़े आंदोलन की शुरुआत अहिंसा, सत्य और शांति के बलबूते की थी।

Sub questions

Question Number : 96 Question Id : 99836739320 Question Type : MCQ Option Shuffling : Yes Display Question Number : Yes  
Single Line Question Option : No Option Orientation : Vertical

Correct Marks : 1 Wrong Marks : 0.25

महात्मा गांधी का जन्म कब हुआ था?

Options :

- ✓ 2 अक्टूबर 1869
- ✗ 5 अक्टूबर 1886
- ✗ 10 अक्टूबर 1889
- ✗ 1 अक्टूबर 1896

Question Number : 97 Question Id : 99836739321 Question Type : MCQ Option Shuffling : Yes Display Question Number : Yes  
Single Line Question Option : No Option Orientation : Vertical

Correct Marks : 1 Wrong Marks : 0.25

महात्मा गांधी की समाधि स्थल का नाम क्या है?

Options :

- ✗ शांतिवन
- ✓ राजघाट

3. ✖ विजय घाट
4. ✖ शक्ति स्थल

Question Number : 98 Question Id : 99836739322 Question Type : MCQ Option Shuffling : Yes Display Question Number : Yes  
Single Line Question Option : No Option Orientation : Vertical

Correct Marks : 1 Wrong Marks : 0.25

गांधी जी ने स्वतंत्रता संघर्ष के लिए कौन-सा रास्ता चुना था?

Options :

1. ✖ हिंसा
2. ✔ अहिंसा
3. ✖ झूठ
4. ✖ युद्ध

Question Number : 99 Question Id : 99836739323 Question Type : MCQ Option Shuffling : Yes Display Question Number : Yes  
Single Line Question Option : No Option Orientation : Vertical

Correct Marks : 1 Wrong Marks : 0.25

महात्मा गांधी ने आंदोलन की शुरुआत किस बलबूते पर की थी?

Options :

1. ✔ अहिंसा, सत्य और शांति
2. ✖ हिंसा, असत्य और शांति
3. ✖ बलिदान, युद्ध और प्रेम
4. ✖ आंदोलन, हिंसा और धर्म

Question Number : 100 Question Id : 99836739324 Question Type : MCQ Option Shuffling : Yes Display Question Number : Yes  
Single Line Question Option : No Option Orientation : Vertical

Correct Marks : 1 Wrong Marks : 0.25

उपर्युक्त गद्यांश का उपयुक्त शीर्षक क्या होगा?

Options :

1. ✔ महात्मा गांधी - 'मेरा धर्म सत्य और अहिंसा'
2. ✖ महात्मा गांधी - 'आंदोलन की शुरुआत'
3. ✖ महात्मा गांधी - 'हिंसा की शुरुआत'
4. ✖ सभी नेताओं का दल

Discipline 1

Group Number :	6
Group Id :	9983671216
Group Maximum Duration :	0
Group Minimum Duration :	0
Revisit allowed for view? :	No
Revisit allowed for edit? :	No
Break time:	0
Group Marks:	20
Revisit allowed for group Instructions? :	Yes
Maximum Instruction Time:	0
Minimum Instruction Time:	0

	Discipline 1
<b>Section Id :</b>	9983671615
<b>Section Number :</b>	1
<b>Section type :</b>	Online
<b>Mandatory or Optional:</b>	Mandatory
<b>Number of Questions:</b>	20
<b>Number of Questions to be attempted:</b>	20
<b>Section Marks:</b>	20
<b>Display Number Panel:</b>	Yes
<b>Group All Questions:</b>	No

<b>Sub-Section Number:</b>	1
<b>Sub-Section Id:</b>	9983672011
<b>Question Shuffling Allowed :</b>	Yes

**Question Number : 101 Question Id : 99836739325 Question Type : MCQ Option Shuffling : Yes Display Question Number : Yes**  
**Single Line Question Option : No Option Orientation : Vertical**

**Correct Marks : 1 Wrong Marks : 0.25**

Which of the following is/are principle(s) of growth and development?

- I. Development never follows a pattern
- II. Principle of individual difference
- III. Principle of integration
- IV. Development proceeds from general to specific responses

**Options :**

- 1. ✘ I, II and III
- 2. ✘ I, III and IV
- 3. ✔ II, III and IV
- 4. ✘ I, II, III and IV

**Question Number : 101 Question Id : 99836739325 Question Type : MCQ Option Shuffling : Yes Display Question Number : Yes**  
**Single Line Question Option : No Option Orientation : Vertical**

**Correct Marks : 1 Wrong Marks : 0.25**

निम्नलिखित में से कौन सा/से वृद्धि तथा विकास का/के सिद्धांत है/हैं?

- I. विकास एक प्रतिमान का अनुकरण कभी नहीं करता है।
- II. व्यक्तित्व भिन्नता का सिद्धांत।
- III. एकीकरण का सिद्धांत।
- IV. विकास का प्रसार सामान्य से विशिष्ट प्रतिक्रिया की ओर होता है।

**Options :**

- 1. ✘ I, II तथा III
- 2. ✘ I, III तथा IV
- 3. ✔ II, III तथा IV
- 4. ✘ I, II, III तथा IV

**Question Number : 102 Question Id : 99836739326 Question Type : MCQ Option Shuffling : Yes Display Question Number : Yes**  
**Single Line Question Option : No Option Orientation : Vertical**

**Correct Marks : 1 Wrong Marks : 0.25**

Which of the following is NOT one of those important factors which have been identified by a psychologist that influence creativity?

**Options :**

1. ✓ Creative problem approach
2. ✗ Creative product approach
3. ✗ Creative person approach
4. ✗ Creative process approach

Question Number : 102 Question Id : 99836739326 Question Type : MCQ Option Shuffling : Yes Display Question Number : Yes  
Single Line Question Option : No Option Orientation : Vertical

Correct Marks : 1 Wrong Marks : 0.25

निम्नलिखित में से कौन से एक मनोवैज्ञानिक द्वारा पहचाने गए उन महत्वपूर्ण कारकों में से एक नहीं है जो सृजनात्मकता को प्रभावित करते हैं?

Options :

1. ✓ सृजनात्मक समस्या उपागम
2. ✗ सृजनात्मक उत्पाद उपागम
3. ✗ सृजनात्मक व्यक्ति उपागम
4. ✗ सृजनात्मक प्रक्रिया उपागम

Question Number : 103 Question Id : 99836739327 Question Type : MCQ Option Shuffling : Yes Display Question Number : Yes  
Single Line Question Option : No Option Orientation : Vertical

Correct Marks : 1 Wrong Marks : 0.25

Which of the following abilities form creativity according to Guilford and Torrance?

- I. Fluency
- II. Interdependency
- III. Persistency
- IV. Originality

Options :

1. ✗ I, II and III
2. ✗ II, III and IV
3. ✓ I, III and IV
4. ✗ I, II, III and IV

Question Number : 103 Question Id : 99836739327 Question Type : MCQ Option Shuffling : Yes Display Question Number : Yes  
Single Line Question Option : No Option Orientation : Vertical

Correct Marks : 1 Wrong Marks : 0.25

गिल्फोर्ड तथा टोरेंस के अनुसार निम्नलिखित में से कौन सी क्षमताएं सृजनात्मकता उत्पन्न करती हैं?

- I. प्रवाह
- II. अन्योन्याश्रितता
- III. दृढ़ता
- IV. मौलिकता

Options :

1. ✗ I, II तथा III
2. ✗ II, III तथा IV
3. ✓ I, III तथा IV
4. ✗ I, II, III तथा IV

Question Number : 104 Question Id : 99836739328 Question Type : MCQ Option Shuffling : Yes Display Question Number : Yes  
Single Line Question Option : No Option Orientation : Vertical

Correct Marks : 1 Wrong Marks : 0.25

Which of the following is NOT a non-standardised test or subjective method of assessing personality?

Options :

- ✘ Score Card
- ✔ Graphology
- ✘ Sociometry
- ✘ Anecdotal Records

Question Number : 104 Question Id : 99836739328 Question Type : MCQ Option Shuffling : Yes Display Question Number : Yes  
Single Line Question Option : No Option Orientation : Vertical

Correct Marks : 1 Wrong Marks : 0.25

निम्नलिखित में से कौन सी व्यक्तित्व के मूल्यांकन की एक गैरमानकीकृत टेस्ट या व्यक्तिपरक विधि है?

Options :

- ✘ प्रासांक कार्ड
- ✔ ग्राफोलोजी
- ✘ समाजमिति
- ✘ ऐनकडॉटल रिकॉर्ड

Question Number : 105 Question Id : 99836739329 Question Type : MCQ Option Shuffling : Yes Display Question Number : Yes  
Single Line Question Option : No Option Orientation : Vertical

Correct Marks : 1 Wrong Marks : 0.25

Which of the following is/are tool(s) of thinking?

- Mind maps
- Cognitive Research Trust (CORT)
- Concepts

Options :

- ✘ Both I and II
- ✘ Both II and III
- ✘ Both I and III
- ✔ I, II and III

Question Number : 105 Question Id : 99836739329 Question Type : MCQ Option Shuffling : Yes Display Question Number : Yes  
Single Line Question Option : No Option Orientation : Vertical

Correct Marks : 1 Wrong Marks : 0.25

निम्नलिखित में से कौन सा/से सोच का/के उपकरण है/हैं?

- मानसिक नक्शे
- संज्ञानात्मक रिसर्च ट्रस्ट (CORT)
- अवधारणाएँ

Options :

- ✘ I तथा II
- ✘ II तथा III
- ✘ I तथा III
- ✔ I, II तथा III

Question Number : 106 Question Id : 99836739330 Question Type : MCQ Option Shuffling : Yes Display Question Number : Yes  
Single Line Question Option : No Option Orientation : Vertical

Correct Marks : 1 Wrong Marks : 0.25

Which of the following is NOT a general characteristic of an Introvert according to Carl Jung?

Options :

- ✔ Neglectful of ailments and personal belongings
- ✘ Rather reserved

3. ✖ Lacking in flexibility
4. ✖ Easily embarrassed

Question Number : 106 Question Id : 99836739330 Question Type : MCQ Option Shuffling : Yes Display Question Number : Yes  
Single Line Question Option : No Option Orientation : Vertical

Correct Marks : 1 Wrong Marks : 0.25

निम्नलिखित में से कौन सी कार्ल जंग के अनुसार एक अन्तःमुखी की एक सामान्य विशेषता नहीं है?

Options :

1. ✔ बीमारियों और व्यक्तिगत सामान की उपेक्षा
2. ✖ अपने तक सिमित रहता है
3. ✖ लचीलापन रहित
4. ✖ आसानी से शर्मसार हो जाना

Question Number : 107 Question Id : 99836739331 Question Type : MCQ Option Shuffling : Yes Display Question Number : Yes  
Single Line Question Option : No Option Orientation : Vertical

Correct Marks : 1 Wrong Marks : 0.25

Which of the following is/are negative non-verbal reinforcement(s)?

- I. Nods and smiles
- II. Expression of annoyance
- III. Expression of impatience
- IV. Sneering

Options :

1. ✖ I, II and III
2. ✔ II, III and IV
3. ✖ I, III and IV
4. ✖ I, II, III and IV

Question Number : 107 Question Id : 99836739331 Question Type : MCQ Option Shuffling : Yes Display Question Number : Yes  
Single Line Question Option : No Option Orientation : Vertical

Correct Marks : 1 Wrong Marks : 0.25

निम्नलिखित में से कौन सी नकारात्मक गैर-मौखिक सुदृढीकरण है/हैं?

- I. सिर हिलाना तथा मुस्कुराना
- II. गुस्सा दिखाना
- III. अधीरता दिखाना
- IV. परिहास करना

Options :

1. ✖ I, II तथा III
2. ✔ II, III तथा IV
3. ✖ I, III तथा IV
4. ✖ I, II, III तथा IV

Question Number : 108 Question Id : 99836739332 Question Type : MCQ Option Shuffling : Yes Display Question Number : Yes  
Single Line Question Option : No Option Orientation : Vertical

Correct Marks : 1 Wrong Marks : 0.25

Which of the following Cognitive Research Trust (CORT) tool allows the individuals to choose from a number of different possibilities and alternatives?

Options :

1. ✖ Plus, Minus, Interesting (PMI)
2. ✖ Consider All Factors (CAF)

3. ✘ Alternatives, Possibilities, Choices (APC)
4. ✔ First Important Priorities (FIP)

Question Number : 108 Question Id : 99836739332 Question Type : MCQ Option Shuffling : Yes Display Question Number : Yes  
Single Line Question Option : No Option Orientation : Vertical

Correct Marks : 1 Wrong Marks : 0.25

निम्नलिखित में से कौन सा संज्ञानात्मक रिसर्च ट्रस्ट (CORT) उपकरण व्यक्तियों को विभिन्न संभावनाओं तथा विकल्पों की संख्या में से चुनने की अनुमति देता है?

Options :

1. ✘ प्लस, माइनस, इंटरस्टिंग (PMI)
2. ✘ कंसीडर ऑल फैक्टर्स (CAF)
3. ✘ अल्टरनेटिव्ज, पॉसिबिलिटीज़, चॉइसेस (APC)
4. ✔ फर्स्ट इम्पोर्टेंट प्रायोरिटीस (FIP)

Question Number : 109 Question Id : 99836739333 Question Type : MCQ Option Shuffling : Yes Display Question Number : Yes  
Single Line Question Option : No Option Orientation : Vertical

Correct Marks : 1 Wrong Marks : 0.25

Which of the following type of discipline is developed as a revolt against the authoritarian discipline many adults had been subjected to during their childhood?

Options :

1. ✘ Authoritarian discipline
2. ✘ Democratic discipline
3. ✔ Permissive discipline
4. ✘ Motivational discipline

Question Number : 109 Question Id : 99836739333 Question Type : MCQ Option Shuffling : Yes Display Question Number : Yes  
Single Line Question Option : No Option Orientation : Vertical

Correct Marks : 1 Wrong Marks : 0.25

निम्नलिखित में किस प्रकार का अनुशासन सत्तावादी अनुशासन के खिलाफ उन व्यक्तियों जिन्हें इसे बचपन से सहना पड़ा है के विरोध के रूप में विकसित हुआ है?

Options :

1. ✘ सत्तावादी अनुशासन
2. ✘ लोकतान्त्रिक अनुशासन
3. ✔ अनुमोदक अनुशासन
4. ✘ अभिप्रेरणात्मक अनुशासन

Question Number : 110 Question Id : 99836739334 Question Type : MCQ Option Shuffling : Yes Display Question Number : Yes  
Single Line Question Option : No Option Orientation : Vertical

Correct Marks : 1 Wrong Marks : 0.25

Which of the following devices can be used for improving the power of thinking?

- I. Models of teaching
- II. Remedial teaching and instruction
- III. Curriculum development
- IV. Evaluation and diagnosis

Options :

1. ✘ I, II and III
2. ✘ II, III and IV
3. ✘ I, III and IV
4. ✔ I, II, III and IV

Question Number : 110 Question Id : 99836739334 Question Type : MCQ Option Shuffling : Yes Display Question Number : Yes  
Single Line Question Option : No Option Orientation : Vertical

Correct Marks : 1 Wrong Marks : 0.25

सोचने की शक्ति को बढ़ाने के लिए निम्नलिखित में से किस उपकरण का उपयोग किया जा सकता है?

- I. शिक्षण के मॉडल
- II. उपचारात्मक शिक्षण तथा निदेशन
- III. पाठ्यक्रम विकास
- IV. मूल्यांकन तथा निदान

Options :

1. ✘ I, II तथा III
2. ✘ II, III तथा IV
3. ✘ I, III तथा IV
4. ✔ I, II, III तथा IV

Question Number : 111 Question Id : 99836739335 Question Type : MCQ Option Shuffling : Yes Display Question Number : Yes  
Single Line Question Option : No Option Orientation : Vertical

Correct Marks : 1 Wrong Marks : 0.25

Who considered "Society as a system of usage and procedures, of authority and mutual aid, of many groupings and divisions, of controls of human behaviour and of liberties"?

Options :

1. ✔ MacIver and Page
2. ✘ Bandura
3. ✘ E.L. Thorndike
4. ✘ Ballord

Question Number : 111 Question Id : 99836739335 Question Type : MCQ Option Shuffling : Yes Display Question Number : Yes  
Single Line Question Option : No Option Orientation : Vertical

Correct Marks : 1 Wrong Marks : 0.25

किसने "समाज को उपयोग तथा प्रक्रियाओं, अधिकारों तथा पारस्परिक सहायता, कई समूहों तथा विभाजनों, मानवीय व्यवहार के नियंत्रण तथा स्वतंत्रता की प्रणाली" के रूप में संदर्भित किया है?

Options :

1. ✔ मैकआइवर तथा पेज
2. ✘ बंडुरा
3. ✘ ई. एल. थॉर्नडाइक
4. ✘ बैलॉर्ड

Question Number : 112 Question Id : 99836739336 Question Type : MCQ Option Shuffling : Yes Display Question Number : Yes  
Single Line Question Option : No Option Orientation : Vertical

Correct Marks : 1 Wrong Marks : 0.25

What function is performed by education in every society?

- I. To socialize the members of society and transmit the culture to next generation
- II. To fulfill society's needs pertaining to human resource

Options :

1. ✘ Only I
2. ✘ Only II
3. ✔ Both I and II
4. ✘ Neither I nor II



Question Number : 112 Question Id : 99836739336 Question Type : MCQ Option Shuffling : Yes Display Question Number : Yes  
Single Line Question Option : No Option Orientation : Vertical

Correct Marks : 1 Wrong Marks : 0.25

प्रत्येक समाज में शिक्षा का क्या कार्य होता है?

- I. समाज के सदस्यों का समाजीकरण करना तथा अगली पीढ़ी को संस्कृति प्रेषित करना  
II. मानव संसाधन से संबंधित समाज की जरूरतों को परिपूर्ण करना

Options :

- ✘ केवल I
- ✘ केवल II
- ✔ I तथा II दोनों
- ✘ ना ही I ना ही II

Question Number : 113 Question Id : 99836739337 Question Type : MCQ Option Shuffling : Yes Display Question Number : Yes  
Single Line Question Option : No Option Orientation : Vertical

Correct Marks : 1 Wrong Marks : 0.25

\_\_\_\_\_ is a process through which community transact or educate their members about the norms and values of the society.

Options :

- ✔ Socialization
- ✘ Politicization
- ✘ Social stratification
- ✘ Social empowerment

Question Number : 113 Question Id : 99836739337 Question Type : MCQ Option Shuffling : Yes Display Question Number : Yes  
Single Line Question Option : No Option Orientation : Vertical

Correct Marks : 1 Wrong Marks : 0.25

\_\_\_\_\_ एक ऐसी प्रक्रिया है जिसके माध्यम से समुदाय अपने सदस्यों को समाज के मानदंडों तथा मूल्यों के बारे में बताता या शिक्षित करता है।

Options :

- ✔ सामाजीकरण
- ✘ राजनीतीकरण
- ✘ सामाजिक स्तरीकरण
- ✘ सामाजिक सशक्तिकरण

Question Number : 114 Question Id : 99836739338 Question Type : MCQ Option Shuffling : Yes Display Question Number : Yes  
Single Line Question Option : No Option Orientation : Vertical

Correct Marks : 1 Wrong Marks : 0.25

The main parties contributing to the success of educational reforms are first of all the local communities. Which of the following is not part of local communities?

Options :

- ✘ School head
- ✔ Government
- ✘ Parents
- ✘ Teachers

Question Number : 114 Question Id : 99836739338 Question Type : MCQ Option Shuffling : Yes Display Question Number : Yes  
Single Line Question Option : No Option Orientation : Vertical

Correct Marks : 1 Wrong Marks : 0.25

शैक्षिक सुधारों की सफलता में योगदान देने वाले प्रमुख पक्ष सर्वप्रथम स्थानीय समुदाय होते हैं। निम्नलिखित में से कौन स्थानीय समुदायों का हिस्सा नहीं है?

Options :

1. ✘ विद्यालय प्रमुख
2. ✔ सरकार
3. ✘ अभिभावक
4. ✘ अध्यापक

Question Number : 115 Question Id : 99836739339 Question Type : MCQ Option Shuffling : Yes Display Question Number : Yes  
Single Line Question Option : No Option Orientation : Vertical

Correct Marks : 1 Wrong Marks : 0.25

Which of the following problems can arise due to non-use of a child's native language?

- I. Alienation
- II. Non-participation
- III. Large scale dropout

Options :

1. ✘ Only III
2. ✘ II and III
3. ✘ I and II
4. ✔ I, II and III

Question Number : 115 Question Id : 99836739339 Question Type : MCQ Option Shuffling : Yes Display Question Number : Yes  
Single Line Question Option : No Option Orientation : Vertical

Correct Marks : 1 Wrong Marks : 0.25

बच्चे की मूल भाषा का उपयोग नहीं करने के कारण निम्नलिखित में से कौन सी समस्याएं उत्पन्न हो सकती हैं?

- I. अलगाव
- II. असहभागिता
- III. बड़े पैमाने पर ड्रॉपआउट

Options :

1. ✘ केवल III
2. ✘ II तथा III
3. ✘ I तथा II
4. ✔ I, II तथा III

Question Number : 116 Question Id : 99836739340 Question Type : MCQ Option Shuffling : Yes Display Question Number : Yes  
Single Line Question Option : No Option Orientation : Vertical

Correct Marks : 1 Wrong Marks : 0.25

How many life skills are there?

Options :

1. ✘ 9
2. ✔ 10
3. ✘ 6
4. ✘ 8

Question Number : 116 Question Id : 99836739340 Question Type : MCQ Option Shuffling : Yes Display Question Number : Yes  
Single Line Question Option : No Option Orientation : Vertical

Correct Marks : 1 Wrong Marks : 0.25

कितने जीवन कौशल होते हैं?

Options :

1. ✘ 9
2. ✔ 10

3. ✖ 6

4. ✖ 8

Question Number : 117 Question Id : 99836739341 Question Type : MCQ Option Shuffling : Yes Display Question Number : Yes  
Single Line Question Option : No Option Orientation : Vertical

Correct Marks : 1 Wrong Marks : 0.25

Which of the following can be a way for involving community?

- I. Monitoring the attendance by community representatives
- II. Teaching vocational skill to students with support from community

Options :

1. ✖ Only I

2. ✖ Only II

3. ✔ Both I and II

4. ✖ Neither I nor II

Question Number : 117 Question Id : 99836739341 Question Type : MCQ Option Shuffling : Yes Display Question Number : Yes  
Single Line Question Option : No Option Orientation : Vertical

Correct Marks : 1 Wrong Marks : 0.25

निम्नलिखित में से कौन सा समुदाय को शामिल करने का एक तरीका हो सकता है?

- I. समुदाय के प्रतिनिधियों द्वारा उपस्थिति की निगरानी
- II. समुदाय के समर्थन के साथ छात्रों को व्यावसायिक कौशल सिखाना

Options :

1. ✖ केवल I

2. ✖ केवल II

3. ✔ I तथा II

4. ✖ ना ही I ना ही II

Question Number : 118 Question Id : 99836739342 Question Type : MCQ Option Shuffling : Yes Display Question Number : Yes  
Single Line Question Option : No Option Orientation : Vertical

Correct Marks : 1 Wrong Marks : 0.25

Which of the following is true about impact of colonialism in India?

Options :

1. ✔ Foreign goods were given free entry in India

2. ✖ Indian goods were made tax free when sent out

3. ✖ India became largest importer of raw cotton

4. ✖ Creation of jobs for weavers

Question Number : 118 Question Id : 99836739342 Question Type : MCQ Option Shuffling : Yes Display Question Number : Yes  
Single Line Question Option : No Option Orientation : Vertical

Correct Marks : 1 Wrong Marks : 0.25

भारत में उपनिवेशवाद के प्रभाव के बारे में निम्नलिखित में से क्या सही है?

Options :

1. ✔ विदेशी वस्तुओं को भारत में मुफ्त प्रवेश दिया गया

2. ✖ बाहर भेजे जाने वाली भारतीय वस्तुओं को कर मुक्त कर दिया गया

3. ✖ भारत कच्चे कपास का सबसे बड़ा आयातक बन गया

4. ✖ बुनकरों के लिए रोजगार का सृजन

Question Number : 119 Question Id : 99836739343 Question Type : MCQ Option Shuffling : Yes Display Question Number : Yes  
Single Line Question Option : No Option Orientation : Vertical

Correct Marks : 1 Wrong Marks : 0.25

Education was put in concurrent list through which constitutional amendment?

Options :

1. ✓ 42
2. ✗ 43
3. ✗ 41
4. ✗ 44

Question Number : 119 Question Id : 99836739343 Question Type : MCQ Option Shuffling : Yes Display Question Number : Yes  
Single Line Question Option : No Option Orientation : Vertical

Correct Marks : 1 Wrong Marks : 0.25

शिक्षा को किस संवैधानिक संशोधन के माध्यम से समवर्ती सूची में रखा गया था?

Options :

1. ✓ 42
2. ✗ 43
3. ✗ 41
4. ✗ 44

Question Number : 120 Question Id : 99836739344 Question Type : MCQ Option Shuffling : Yes Display Question Number : Yes  
Single Line Question Option : No Option Orientation : Vertical

Correct Marks : 1 Wrong Marks : 0.25

The function of education is to create human beings who are integrated and therefore they are \_\_\_\_\_.

Options :

1. ✗ fools
2. ✓ intelligent
3. ✗ noteworthy
4. ✗ rich

Question Number : 120 Question Id : 99836739344 Question Type : MCQ Option Shuffling : Yes Display Question Number : Yes  
Single Line Question Option : No Option Orientation : Vertical

Correct Marks : 1 Wrong Marks : 0.25

शिक्षा का कार्य उन मनुष्य को बनाना होता है जो एकीकृत हैं तथा इसलिए वे \_\_\_\_\_ हैं।

Options :

1. ✗ मुखर्ष
2. ✓ समझदार
3. ✗ स्मरणीय
4. ✗ अमीर

Discipline2

Group Number :	7
Group Id :	9983671217
Group Maximum Duration :	0
Group Minimum Duration :	0
Revisit allowed for view? :	No
Revisit allowed for edit? :	No
Break time:	0

<b>Group Marks:</b>	20
<b>Revisit allowed for group Instructions? :</b>	Yes
<b>Maximum Instruction Time:</b>	0
<b>Minimum Instruction Time:</b>	0

	Discipline2
<b>Section Id :</b>	9983671616
<b>Section Number :</b>	1
<b>Section type :</b>	Online
<b>Mandatory or Optional:</b>	Mandatory
<b>Number of Questions:</b>	20
<b>Number of Questions to be attempted:</b>	20
<b>Section Marks:</b>	20
<b>Display Number Panel:</b>	Yes
<b>Group All Questions:</b>	No

<b>Sub-Section Number:</b>	1
<b>Sub-Section Id:</b>	9983672012
<b>Question Shuffling Allowed :</b>	Yes

**Question Number : 121 Question Id : 99836739345 Question Type : MCQ Option Shuffling : Yes Display Question Number : Yes**  
**Single Line Question Option : No Option Orientation : Vertical**

**Correct Marks : 1 Wrong Marks : 0.25**

Which of the following is true about present education?

- I. It is concerned with outward efficiency.
- II. It develops the man as a whole.

**Options :**

- 1. ✓ Only I
- 2. ✗ Only II
- 3. ✗ Both I and II
- 4. ✗ Neither I nor II

**Question Number : 121 Question Id : 99836739345 Question Type : MCQ Option Shuffling : Yes Display Question Number : Yes**  
**Single Line Question Option : No Option Orientation : Vertical**

**Correct Marks : 1 Wrong Marks : 0.25**

निम्नलिखित में से कौन सा वर्तमान शिक्षा के सन्दर्भ में सत्य है?

- I. यह जावक क्षमता के साथ सम्बंधित है।
- II. यह मनुष्य को पूर्ण रूप में विकसित करता है।

**Options :**

- 1. ✓ केवल I
- 2. ✗ केवल II
- 3. ✗ I तथा II दोनों
- 4. ✗ ना ही I ना ही II

**Question Number : 122 Question Id : 99836739346 Question Type : MCQ Option Shuffling : Yes Display Question Number : Yes**  
**Single Line Question Option : No Option Orientation : Vertical**

**Correct Marks : 1 Wrong Marks : 0.25**

Which of the following factors influence the actual teaching learning processes and practices?

- I. Role of teachers
- II. Beliefs and assumption
- III. Modes of evaluation
- IV. Processes of classroom interaction

Options :

- 1. ✘ I, II and III
- 2. ✘ II, III and IV
- 3. ✘ I, III and IV
- 4. ✔ I, II, III and IV

Question Number : 122 Question Id : 99836739346 Question Type : MCQ Option Shuffling : Yes Display Question Number : Yes  
Single Line Question Option : No Option Orientation : Vertical

Correct Marks : 1 Wrong Marks : 0.25

निम्नलिखित में से कौन से कारक वास्तविक शिक्षण-अधिगम प्रक्रियाओं तथा अभ्यासों को प्रभावित करते हैं?

- I. शिक्षकों की भूमिका
- II. विश्वास तथा धारणाएं
- III. मूल्यांकन का तरीका
- IV. कक्षा संपर्क की प्रक्रिया

Options :

- 1. ✘ I, II तथा III
- 2. ✘ II, III तथा IV
- 3. ✘ I, III तथा IV
- 4. ✔ I, II, III तथा IV

Question Number : 123 Question Id : 99836739347 Question Type : MCQ Option Shuffling : Yes Display Question Number : Yes  
Single Line Question Option : No Option Orientation : Vertical

Correct Marks : 1 Wrong Marks : 0.25

Which of the following imitative behaviour involves acquiring new behaviour as a result of observing a model?

Options :

- 1. ✔ Modelling effect
- 2. ✘ Inhibitory effect
- 3. ✘ Eliciting effect
- 4. ✘ Dis-inhibitory effect

Question Number : 123 Question Id : 99836739347 Question Type : MCQ Option Shuffling : Yes Display Question Number : Yes  
Single Line Question Option : No Option Orientation : Vertical

Correct Marks : 1 Wrong Marks : 0.25

निम्नलिखित में से किस अनुकरणीय व्यवहार में एक आदर्श के अवलोकन के परिणामस्वरूप नया व्यवहार ग्रहण करना शामिल है?

Options :

- 1. ✔ आदर्शीय प्रभाव
- 2. ✘ दमनात्मक प्रभाव
- 3. ✘ प्रकटीकरण प्रभाव
- 4. ✘ अदमनात्मक प्रभाव

Question Number : 124 Question Id : 99836739348 Question Type : MCQ Option Shuffling : Yes Display Question Number : Yes  
Single Line Question Option : No Option Orientation : Vertical

Correct Marks : 1 Wrong Marks : 0.25

Which of the following statement regarding learning by doing/participation is correct?

- I. It promotes self-learning and self-assessment.
- II. It gives real experience of solving real life problems.
- III. It is a way of combining thinking and reasoning with the practical act of manipulating objects for solving a problem.

Options :

- 1. ✘ I and II
- 2. ✘ II and III
- 3. ✘ I and III
- 4. ✔ I, II and III

Question Number : 124 Question Id : 99836739348 Question Type : MCQ Option Shuffling : Yes Display Question Number : Yes  
Single Line Question Option : No Option Orientation : Vertical

Correct Marks : 1 Wrong Marks : 0.25

करके-सीखने/सहभागिता द्वारा अधिगम के संबंध में निम्नलिखित में से कौन सा कथन सही है?

- I. यह स्व-अधिगम तथा स्व-आकलन को बढ़ावा देता है।
- II. यह वास्तविक जीवन की समस्याओं को सुलझाने के वास्तविक अनुभव देता है।
- III. यह एक समस्या को सुलझाने के लिए वस्तुओं के हेरफेर के व्यावहारिक कार्य के साथ सोच तथा तर्क के संयोजन का एक तरीका है।

Options :

- 1. ✘ I तथा II
- 2. ✘ II तथा III
- 3. ✘ I तथा III
- 4. ✔ I, II तथा III

Question Number : 125 Question Id : 99836739349 Question Type : MCQ Option Shuffling : Yes Display Question Number : Yes  
Single Line Question Option : No Option Orientation : Vertical

Correct Marks : 1 Wrong Marks : 0.25

What should a teacher keep in mind while making lesson plans to encourage discovery learning in his/her students?

- I. The content of the lesson plan should be the responses of the students.
- II. The lesson plan should be developed from a previously determined logical structure.

Options :

- 1. ✔ Only I
- 2. ✘ Only II
- 3. ✘ Both I and II
- 4. ✘ Neither I nor II

Question Number : 125 Question Id : 99836739349 Question Type : MCQ Option Shuffling : Yes Display Question Number : Yes  
Single Line Question Option : No Option Orientation : Vertical

Correct Marks : 1 Wrong Marks : 0.25

एक अध्यापक को अपने छात्रों में खोजपूर्ण अधिगम को प्रोत्साहित करने के लिए पाठ योजना बनाते समय किस बात का ध्यान रखना चाहिए?

- I. पाठ योजना की सामग्री छात्रों की प्रतिक्रिया के आधार पर होनी चाहिए।
- II. पाठ योजना को पहले से निर्धारित तर्कपूर्ण संरचना से विकसित किया जाना चाहिए।

Options :

- 1. ✔ केवल I
- 2. ✘ केवल II
- 3. ✘ I तथा II दोनों

4. ✖ ना ही I ना ही II

Question Number : 126 Question Id : 99836739350 Question Type : MCQ Option Shuffling : Yes Display Question Number : Yes  
Single Line Question Option : No Option Orientation : Vertical

Correct Marks : 1 Wrong Marks : 0.25

When a child is made to demonstrate \_\_\_\_\_, as normal occurring behaviours, then we say that the behaviour modification has taken place in the child.

Options :

1. ✖ elicited behaviour
2. ✖ emitted behaviour
3. ✔ both elicited behaviour and emitted behaviour
4. ✖ Neither elicited behaviour nor emitted behaviour

Question Number : 126 Question Id : 99836739350 Question Type : MCQ Option Shuffling : Yes Display Question Number : Yes  
Single Line Question Option : No Option Orientation : Vertical

Correct Marks : 1 Wrong Marks : 0.25

जब एक बच्चे से \_\_\_\_\_ को सामान्य रूप से होने वाले व्यवहार के रूप में प्रदर्शित करवाया जाता है, तब हम कहते हैं कि बच्चे में व्यवहार का रूपांतरण हो गया है।

Options :

1. ✖ प्राप्त किया गया व्यवहार
2. ✖ स्वाभाविक व्यवहार
3. ✔ प्राप्त किया गया व्यवहार तथा स्वाभाविक व्यवहार दोनों
4. ✖ न तो प्राप्त किया गया व्यवहार और न ही स्वाभाविक व्यवहार

Question Number : 127 Question Id : 99836739351 Question Type : MCQ Option Shuffling : Yes Display Question Number : Yes  
Single Line Question Option : No Option Orientation : Vertical

Correct Marks : 1 Wrong Marks : 0.25

According to Lev Vygotsky, through which of the following stages does a child progresses in developing language functions?

- I. Egocentric speech
- II. Social speech
- III. Inner speech

Options :

1. ✖ I and II
2. ✖ II and III
3. ✖ I and III
4. ✔ I, II and III

Question Number : 127 Question Id : 99836739351 Question Type : MCQ Option Shuffling : Yes Display Question Number : Yes  
Single Line Question Option : No Option Orientation : Vertical

Correct Marks : 1 Wrong Marks : 0.25

लेव विजोस्की के अनुसार, भाषायी कार्य के विकास में एक बच्चा निम्नलिखित में से किस अवस्था के माध्यम से प्रगति करता है?

- I. अहं केंद्रित भाषण
- II. सामाजिक (बाहरी) भाषण
- III. भीतर का भाषण

Options :

1. ✖ I तथा II
2. ✖ II तथा III
3. ✖ I तथा III



4. ✓ I, II तथा III

Question Number : 128 Question Id : 99836739352 Question Type : MCQ Option Shuffling : Yes Display Question Number : Yes  
Single Line Question Option : No Option Orientation : Vertical

Correct Marks : 1 Wrong Marks : 0.25

Which of the following is/are the limitations of using learner-centred approach in classroom?

- I. Difficult to increase the achievement level of all the students on an average within a limited period of time
- II. It requires teachers who are very sensitive to the needs of the students

Options :

- 1. ✗ Only I
- 2. ✗ Only II
- 3. ✓ Both I and II
- 4. ✗ Neither I nor II

Question Number : 128 Question Id : 99836739352 Question Type : MCQ Option Shuffling : Yes Display Question Number : Yes  
Single Line Question Option : No Option Orientation : Vertical

Correct Marks : 1 Wrong Marks : 0.25

निम्नलिखित में से क्या कक्षा में अध्येता केंद्रित उपागम का उपयोग करने की सीमाएं हैं?

- I. सीमित समयावधि में औसत रूप से सभी विद्यार्थियों के उपलब्धि स्तर को बढ़ाना कठिन है
- II. इसमें ऐसे अध्यापकों की आवश्यकता है जो विद्यार्थियों की आवश्यकताओं के प्रति बहुत अधिक संवेदनशील हों

Options :

- 1. ✗ केवल I
- 2. ✗ केवल II
- 3. ✓ I तथा II दोनों
- 4. ✗ ना ही I ना ही II

Question Number : 129 Question Id : 99836739353 Question Type : MCQ Option Shuffling : Yes Display Question Number : Yes  
Single Line Question Option : No Option Orientation : Vertical

Correct Marks : 1 Wrong Marks : 0.25

Which of the following is/are the characteristics of an effective method of teaching and learning?

- I. Matches the mental ability and needs of the students
- II. Develops critical thinking of the children
- III. Provides a scope for development of life skills in children

Options :

- 1. ✗ I and II
- 2. ✗ II and III
- 3. ✗ I and III
- 4. ✓ I, II and III

Question Number : 129 Question Id : 99836739353 Question Type : MCQ Option Shuffling : Yes Display Question Number : Yes  
Single Line Question Option : No Option Orientation : Vertical

Correct Marks : 1 Wrong Marks : 0.25

निम्नलिखित में से क्या एक प्रभावी शिक्षण तथा अधिगम विधि की विशेषताएं हैं?

- I. विद्यार्थियों की मानसिक योग्यताओं तथा आवश्यकताओं से मेल खाती है
- II. बच्चों में सृजनात्मक चिंतन विकसित करती है
- III. बच्चों में जीवन कौशल के विकास के लिए एक कार्यक्षेत्र उपलब्ध कराती है

Options :

- 1. ✗ I तथा II

2. ✘ II तथा III
3. ✘ I तथा III
4. ✔ I, II तथा III

Question Number : 130 Question Id : 99836739354 Question Type : MCQ Option Shuffling : Yes Display Question Number : Yes  
Single Line Question Option : No Option Orientation : Vertical

Correct Marks : 1 Wrong Marks : 0.25

Who said, "A project is a whole hearted purposeful activity proceeding in a social environment"?

Options :

1. ✘ John Alford Stevenson
2. ✔ Dr. William Head Kilpatric
3. ✘ Ballord
4. ✘ E.L. Thorndike

Question Number : 130 Question Id : 99836739354 Question Type : MCQ Option Shuffling : Yes Display Question Number : Yes  
Single Line Question Option : No Option Orientation : Vertical

Correct Marks : 1 Wrong Marks : 0.25

किसने कहा था कि, "एक प्रोजेक्ट एक उद्देश्यपरक क्रियाकलाप जिसे एक सामाजिक वातावरण में संपूर्ण हृदय से पूरा किया जाता है"?

Options :

1. ✘ जॉन अल्फोर्ड स्टीवेन्सन
2. ✔ डॉ. विलियम हेड किलपैट्रिक
3. ✘ बैलॉर्ड
4. ✘ ई. एल. थॉर्नडाइक

Question Number : 131 Question Id : 99836739355 Question Type : MCQ Option Shuffling : Yes Display Question Number : Yes  
Single Line Question Option : No Option Orientation : Vertical

Correct Marks : 1 Wrong Marks : 0.25

Which types of intelligence according to Gardener enables individuals to communicate?

Options :

1. ✔ Linguistic
2. ✘ Visual spatial
3. ✘ Bodily kinaesthetic
4. ✘ Musical

Question Number : 131 Question Id : 99836739355 Question Type : MCQ Option Shuffling : Yes Display Question Number : Yes  
Single Line Question Option : No Option Orientation : Vertical

Correct Marks : 1 Wrong Marks : 0.25

माली के अनुसार किस प्रकार की बुद्धिमत्ता व्यक्तियों को संवाद करने में सक्षम बनाती है?

Options :

1. ✔ भाषा
2. ✘ दृष्टि-स्थानिक
3. ✘ शारीरिक गतिशीलता
4. ✘ संगीतमय

Question Number : 132 Question Id : 99836739356 Question Type : MCQ Option Shuffling : Yes Display Question Number : Yes  
Single Line Question Option : No Option Orientation : Vertical

Correct Marks : 1 Wrong Marks : 0.25

Which of the following statement regarding learning-centred approach is/are correct?

- I. It is basically learner-centred, but includes teachers in the process of learning in a classroom situation.
- II. It helps students acquire competency in skill areas and creates lifelong learners.

Options :

- 1. ✘ Only I
- 2. ✘ Only II
- 3. ✔ Both I and II
- 4. ✘ Neither I nor II

Question Number : 132 Question Id : 99836739356 Question Type : MCQ Option Shuffling : Yes Display Question Number : Yes  
Single Line Question Option : No Option Orientation : Vertical

Correct Marks : 1 Wrong Marks : 0.25

अधिगम केंद्रित उपागम के संबंध में निम्नलिखित में से कौन सा/से कथन सही हैं?

- I. यह मूल रूप से शिक्षार्थी केंद्रित होता है, परंतु कक्षा परिस्थिति में अध्यापक अधिगम प्रक्रिया में शामिल होता है।
- II. यह विद्यार्थियों को कौशल क्षेत्रों में दक्षता प्राप्त करने में मदद करता है तथा जीवन पर्यंत शिक्षार्थी बनाता है।

Options :

- 1. ✘ केवल I
- 2. ✘ केवल II
- 3. ✔ I तथा II दोनों
- 4. ✘ ना ही I ना ही II

Question Number : 133 Question Id : 99836739357 Question Type : MCQ Option Shuffling : Yes Display Question Number : Yes  
Single Line Question Option : No Option Orientation : Vertical

Correct Marks : 1 Wrong Marks : 0.25

Which of the following features does all Cooperative learning lessons have?

- I. Students work in groups to master academic materials
- II. Groups are heterogeneous consisting of high, average and low achievers
- III. Reward systems are group oriented rather than individually oriented

Options :

- 1. ✘ I and II
- 2. ✘ II and III
- 3. ✘ I and III
- 4. ✔ I, II and III

Question Number : 133 Question Id : 99836739357 Question Type : MCQ Option Shuffling : Yes Display Question Number : Yes  
Single Line Question Option : No Option Orientation : Vertical

Correct Marks : 1 Wrong Marks : 0.25

निम्नलिखित में से कौन सी विशेषताएं सभी सहकारी अधिगम पाठों में होती हैं?

- I. शैक्षणिक सामग्रियों में सिद्धहस्त होने के लिए विद्यार्थी समूह में कार्य करते हैं।
- II. समूह उच्च, औसत तथा निम्न उपलब्धि वाले विद्यार्थियों को मिलकर बनाते हैं।
- III. पारितोषिक व्यवस्था व्यक्तिगत आधारित न होकर समूह आधारित होते हैं।

Options :

- 1. ✘ I तथा II
- 2. ✘ II तथा III
- 3. ✘ I तथा III
- 4. ✔ I, II तथा III

Question Number : 134 Question Id : 99836739358 Question Type : MCQ Option Shuffling : Yes Display Question Number : Yes  
Single Line Question Option : No Option Orientation : Vertical

Correct Marks : 1 Wrong Marks : 0.25

Which learning method is observed when students from different schools are working together over the internet on a shared assignment?

Options :

- ✓ Collaborative learning
- ✗ Cooperative learning
- ✗ Learner centred learning
- ✗ Learning centred learning

Question Number : 134 Question Id : 99836739358 Question Type : MCQ Option Shuffling : Yes Display Question Number : Yes  
Single Line Question Option : No Option Orientation : Vertical

Correct Marks : 1 Wrong Marks : 0.25

कौन सी अधिगम विधि देखी जा सकती है जब विभिन्न विद्यालयों के विद्यार्थी इंटरनेट पर एक साथ एक साझा असाइनमेंट पर काम कर रहे हों?

Options :

- ✓ सहयोगात्मक अधिगम
- ✗ सहकारी अधिगम
- ✗ शिक्षार्थी केंद्रित अधिगम
- ✗ अधिगम केंद्रित अधिगम

Question Number : 135 Question Id : 99836739359 Question Type : MCQ Option Shuffling : Yes Display Question Number : Yes  
Single Line Question Option : No Option Orientation : Vertical

Correct Marks : 1 Wrong Marks : 0.25

\_\_\_\_\_ exhibits a basic level of order, but the teacher still struggles to maintain it.

Options :

- ✗ Dysfunctional classroom environment
- ✓ Adequate classroom environment
- ✗ Orderly restrictive learning environment
- ✗ Orderly enabling learning environment

Question Number : 135 Question Id : 99836739359 Question Type : MCQ Option Shuffling : Yes Display Question Number : Yes  
Single Line Question Option : No Option Orientation : Vertical

Correct Marks : 1 Wrong Marks : 0.25

\_\_\_\_\_ में एक बुनियादी स्तर का अनुशासन होता है, लेकिन तब भी अध्यापक इसे बनाए रखने के लिए संघर्ष करता है।

Options :

- ✗ दुष्क्रिया कक्षा वातावरण
- ✓ पर्याप्त कक्षा वातावरण
- ✗ व्यवस्थित नियंत्रित अधिगम वातावरण
- ✗ व्यवस्थित मित्रवत अधिगम वातावरण

Question Number : 136 Question Id : 99836739360 Question Type : MCQ Option Shuffling : Yes Display Question Number : Yes  
Single Line Question Option : No Option Orientation : Vertical

Correct Marks : 1 Wrong Marks : 0.25

According to RTE Act, a teacher will spend minimum \_\_\_\_\_ in teaching including preparation hours in a week.

Options :

- ✗ 30 hours
- ✓ 45 hours
- ✗ 60 hours

4. ✘ 75 hours

Question Number : 136 Question Id : 99836739360 Question Type : MCQ Option Shuffling : Yes Display Question Number : Yes  
Single Line Question Option : No Option Orientation : Vertical

Correct Marks : 1 Wrong Marks : 0.25

आरटीई अधिनियम के अनुसार, एक शिक्षक एक सप्ताह में तैयारी के घंटे सहित शिक्षण में न्यूनतम \_\_\_\_\_ लगाएगा।

Options :

1. ✘ 30 घंटे
2. ✔ 45 घंटे
3. ✘ 60 घंटे
4. ✘ 75 घंटे

Question Number : 137 Question Id : 99836739361 Question Type : MCQ Option Shuffling : Yes Display Question Number : Yes  
Single Line Question Option : No Option Orientation : Vertical

Correct Marks : 1 Wrong Marks : 0.25

In different languages, the number of consonants vary from 8-10 to \_\_\_\_\_.

Options :

1. ✘ 90-100
2. ✘ 65-75
3. ✘ 60-65
4. ✔ 40-50

Question Number : 137 Question Id : 99836739361 Question Type : MCQ Option Shuffling : Yes Display Question Number : Yes  
Single Line Question Option : No Option Orientation : Vertical

Correct Marks : 1 Wrong Marks : 0.25

विभिन्न भाषाओं में, व्यंजनो की संख्या 8-10 से \_\_\_\_\_ तक होती है।

Options :

1. ✘ 90-100
2. ✘ 65-75
3. ✘ 60-65
4. ✔ 40-50

Question Number : 138 Question Id : 99836739362 Question Type : MCQ Option Shuffling : Yes Display Question Number : Yes  
Single Line Question Option : No Option Orientation : Vertical

Correct Marks : 1 Wrong Marks : 0.25

Which of the following is the first rule for Hindi Sound system?

- I. If a word starts with a consonant cluster and the first consonant is / p / ,then the consonants that can cluster with / p / are / y / , / r / , / l / and / v / only and none else.
- II. Not more than 4 consonantal sounds can precede a vowel in the word initial position.

Options :

1. ✔ Only I
2. ✘ Only II
3. ✘ Both I and II
4. ✘ Neither I nor II

Question Number : 138 Question Id : 99836739362 Question Type : MCQ Option Shuffling : Yes Display Question Number : Yes  
Single Line Question Option : No Option Orientation : Vertical

Correct Marks : 1 Wrong Marks : 0.25

निम्नलिखित में से कौन सा हिंदी ध्वनि प्रणाली के लिए प्रथम नियम है?

- I. यदि कोई शब्द व्यंजन समूह से शुरू होता है और पहला व्यंजन / p / है, तो वह व्यंजन जो / p / के साथ समूह बना सकते हैं केवल / y /, / r /, / l / और / v / हैं तथा कोई और नहीं।  
II. 4 से अधिक व्यंजनिक ध्वनियों शब्द की प्रारंभिक स्थिति में स्वर से पूर्व नहीं हो सकती हैं।

Options :

- ✓ केवल I
- ✗ केवल II
- ✗ I तथा II दोनों
- ✗ ना ही I ना ही II

Question Number : 139 Question Id : 99836739363 Question Type : MCQ Option Shuffling : Yes Display Question Number : Yes  
Single Line Question Option : No Option Orientation : Vertical

Correct Marks : 1 Wrong Marks : 0.25

"English language continues to play a important role in India". What is/are the reason(s) behind this statement?

- I. English is the language for commerce.  
II. Proficiency in English is the marker of a dignified and distinct personality.  
III. English is used as a medium of education.

Options :

- ✗ I and III
- ✗ Only II
- ✗ II and III
- ✓ I, II and III

Question Number : 139 Question Id : 99836739363 Question Type : MCQ Option Shuffling : Yes Display Question Number : Yes  
Single Line Question Option : No Option Orientation : Vertical

Correct Marks : 1 Wrong Marks : 0.25

"अंग्रेजी भाषा भारत में निरंतर रूप से एक महत्वपूर्ण भूमिका निभाती आ रही है"। इस कथन के पीछे क्या कारण है/हैं?

- I. अंग्रेजी वाणिज्य के लिए भाषा है।  
II. अंग्रेजी में प्रवीणता एक प्रतिष्ठित और विशिष्ट व्यक्तित्व का मार्कर है।  
III. अंग्रेजी का उपयोग शिक्षा के माध्यम के रूप में किया जाता है।

Options :

- ✗ I तथा III
- ✗ केवल II
- ✗ II तथा III
- ✓ I, II तथा III

Question Number : 140 Question Id : 99836739364 Question Type : MCQ Option Shuffling : Yes Display Question Number : Yes  
Single Line Question Option : No Option Orientation : Vertical

Correct Marks : 1 Wrong Marks : 0.25

The process of striking a balance between accommodation and assimilation is called \_\_\_\_\_ and is very important in piaget's theory of cognitive development.

- I. Adaptation  
II. Equilibration

Options :

- ✗ Only I
- ✓ Only II
- ✗ Both I and II

4. ✖ Neither I nor II

Question Number : 140 Question Id : 99836739364 Question Type : MCQ Option Shuffling : Yes Display Question Number : Yes  
Single Line Question Option : No Option Orientation : Vertical

Correct Marks : 1 Wrong Marks : 0.25

आवास तथा आत्मसात्करण के बीच संतुलन बनाने की प्रक्रिया को \_\_\_\_\_ कहा जाता है तथा यह प्याज़े के संज्ञानात्मक विकास के सिद्धांत में बहुत महत्वपूर्ण है।

- I. अनुकूलन  
II. साम्यीकरण

Options :

1. ✖ केवल I  
2. ✔ केवल II  
3. ✖ I तथा II दोनों  
4. ✖ ना ही I ना ही II

Discipline3

Group Number :	8
Group Id :	9983671218
Group Maximum Duration :	0
Group Minimum Duration :	0
Revisit allowed for view? :	No
Revisit allowed for edit? :	No
Break time:	0
Group Marks:	20
Revisit allowed for group Instructions? :	Yes
Maximum Instruction Time:	0
Minimum Instruction Time:	0



Discipline3

Section Id :	9983671617
Section Number :	1
Section type :	Online
Mandatory or Optional:	Mandatory
Number of Questions:	20
Number of Questions to be attempted:	20
Section Marks:	20
Display Number Panel:	Yes
Group All Questions:	No

Sub-Section Number:	1
Sub-Section Id:	9983672013
Question Shuffling Allowed :	Yes

Question Number : 141 Question Id : 99836739365 Question Type : MCQ Option Shuffling : Yes Display Question Number : Yes  
Single Line Question Option : No Option Orientation : Vertical

Correct Marks : 1 Wrong Marks : 0.25

Pre-number concepts of matching, sorting, comparing, ordering and subsidizing develop during pre-school years i.e. before the age of \_\_\_\_\_ years.

Options :

1. ✘ 10
2. ✘ 12
3. ✔ 6
4. ✘ 9

Question Number : 141 Question Id : 99836739365 Question Type : MCQ Option Shuffling : Yes Display Question Number : Yes Single Line Question Option : No Option Orientation : Vertical

Correct Marks : 1 Wrong Marks : 0.25

मिलान करने, छांटने, तुलना करने, क्रमबद्ध करने तथा सहायता (सब्सिडी) देने की पूर्व-संख्या अवधारणाएं विद्यालयों से पूर्व के वर्षों के दौरान यानी \_\_\_\_\_ वर्ष की आयु से पहले विकसित हो जाती हैं।

Options :

1. ✘ 10
2. ✘ 12
3. ✔ 6
4. ✘ 9

Question Number : 142 Question Id : 99836739366 Question Type : MCQ Option Shuffling : Yes Display Question Number : Yes Single Line Question Option : No Option Orientation : Vertical

Correct Marks : 1 Wrong Marks : 0.25

Which of the following processes are involved in problem solving?

- I. Comparing
- II. Inferring
- III. Classification of objects and data
- IV. Using trial and error

Options :

1. ✘ I and II
2. ✘ II, III and IV
3. ✘ I and III
4. ✔ I, II, III and IV

Question Number : 142 Question Id : 99836739366 Question Type : MCQ Option Shuffling : Yes Display Question Number : Yes Single Line Question Option : No Option Orientation : Vertical

Correct Marks : 1 Wrong Marks : 0.25

निम्नलिखित में से कौन सी प्रक्रियाएँ समस्या समाधान में शामिल हैं?

- I. तुलना करना
- II. अनुमान लगाना
- III. आकड़ों तथा वस्तुओं का वर्गीकरण
- IV. जाँच और त्रुटि का उपयोग

Options :

1. ✘ I तथा II
2. ✘ II, III तथा IV
3. ✘ I तथा III
4. ✔ I, II, III तथा IV

Question Number : 143 Question Id : 99836739367 Question Type : MCQ Option Shuffling : Yes Display Question Number : Yes Single Line Question Option : No Option Orientation : Vertical



Correct Marks : 1 Wrong Marks : 0.25

Which of the following is/are the problems in teaching and learning of mathematics?

- I. Crude assessment
- II. Lack of interest
- III. Inadequate teacher preparation

Options :

- 1. ✘ II and III
- 2. ✘ Only II
- 3. ✘ I and III
- 4. ✔ I, II and III

Question Number : 143 Question Id : 99836739367 Question Type : MCQ Option Shuffling : Yes Display Question Number : Yes  
Single Line Question Option : No Option Orientation : Vertical

Correct Marks : 1 Wrong Marks : 0.25

निम्नलिखित में से कौन सी गणित के अधिगम तथा शिक्षण की समस्याएं हैं/हैं?

- I. निकट आकलन पद्धति
- II. रुचि का अभाव
- III. शिक्षक की अपर्याप्त तैयारी

Options :

- 1. ✘ II तथा III
- 2. ✘ केवल II
- 3. ✘ I तथा III
- 4. ✔ I, II तथा III

Question Number : 144 Question Id : 99836739368 Question Type : MCQ Option Shuffling : Yes Display Question Number : Yes  
Single Line Question Option : No Option Orientation : Vertical

Correct Marks : 1 Wrong Marks : 0.25

While teaching the concept of fractions to students of VI grade, a teacher performed the following task: Distributed few pieces of paper (circular, rectangular shape) and thread to all the students and ask them to divide them into two parts. The students may divide the paper/thread either in equal or unequal parts. This above scenario indicates which sequential phase of 5 E's learning model?

Options :

- 1. ✘ Elaboration phase
- 2. ✘ Evaluation phase
- 3. ✘ Explanation phase
- 4. ✔ Engagement phase

Question Number : 144 Question Id : 99836739368 Question Type : MCQ Option Shuffling : Yes Display Question Number : Yes  
Single Line Question Option : No Option Orientation : Vertical

Correct Marks : 1 Wrong Marks : 0.25

VI कक्षा के छात्रों को भिन्न की अवधारणा पढ़ाते हुए, एक शिक्षक ने निम्नलिखित कार्य किया: सभी छात्रों में कागज के कुछ टुकड़े (गोलाकार, आयताकार आकार) तथा धागा वितरित किया और उन्हें इन्हें दो भागों में विभाजित करने के लिए कहा। छात्र कागज/धागे को सामान या असमान भागों में बाँटेंगे यह उपरोक्त कथानक 5 E's अधिगम प्रतिमान के किस क्रमिक चरण को दर्शाता है?

Options :

- 1. ✘ विस्तार करने का चरण
- 2. ✘ मूल्यांकन का चरण
- 3. ✘ स्पष्टीकरण चरण
- 4. ✔ विनियोजन चरण

Question Number : 145 Question Id : 99836739369 Question Type : MCQ Option Shuffling : Yes Display Question Number : Yes  
Single Line Question Option : No Option Orientation : Vertical

Correct Marks : 1 Wrong Marks : 0.25

To find out the place value of any digit present at hundredth place of a number, we have to multiply that digit by \_\_\_\_\_.

Options :

1. ✘ 1000
2. ✘ 10
3. ✔ 100
4. ✘ 1

Question Number : 145 Question Id : 99836739369 Question Type : MCQ Option Shuffling : Yes Display Question Number : Yes  
Single Line Question Option : No Option Orientation : Vertical

Correct Marks : 1 Wrong Marks : 0.25

किसी संख्या के सौवें स्थान पर मौजूद किसी भी अंक का स्थानिक मान ज्ञात करने के लिए, हमें उस अंक को \_\_\_\_\_ से गुणा करना होगा।

Options :

1. ✘ 1000
2. ✘ 10
3. ✔ 100
4. ✘ 1

Question Number : 146 Question Id : 99836739370 Question Type : MCQ Option Shuffling : Yes Display Question Number : Yes  
Single Line Question Option : No Option Orientation : Vertical

Correct Marks : 1 Wrong Marks : 0.25

A terminating and a non-terminating and recurring decimal each represents a \_\_\_\_\_.

- I. Rational number
- II. Irrational number

Options :

1. ✔ Only Rational number
2. ✘ Only Irrational number
3. ✘ Both Rational and Irrational number
4. ✘ Neither Rational nor Irrational number

Question Number : 146 Question Id : 99836739370 Question Type : MCQ Option Shuffling : Yes Display Question Number : Yes  
Single Line Question Option : No Option Orientation : Vertical

Correct Marks : 1 Wrong Marks : 0.25

एक सांत तथा एक अनंत आवृत्ति दशमलव में से प्रत्येक एक \_\_\_\_\_ को निरूपित करता है।

- I. परिमेय संख्या
- II. अपरिमेय संख्या

Options :

1. ✔ केवल परिमेय संख्या
2. ✘ केवल अपरिमेय संख्या
3. ✘ परिमेय तथा अपरिमेय संख्या दोनों
4. ✘ ना ही परिमेय संख्या ना ही अपरिमेय संख्या

Question Number : 147 Question Id : 99836739371 Question Type : MCQ Option Shuffling : Yes Display Question Number : Yes  
Single Line Question Option : No Option Orientation : Vertical

Correct Marks : 1 Wrong Marks : 0.25

The set of geometrical instruments include a scale, a pair of dividers, a pair of compasses and a pair of setsquares. Out of these set square, one is a  $45^\circ - 45^\circ$  setsquare and the other is a \_\_\_\_\_ setsquare.

Options :

- ✘  $20^\circ - 70^\circ$
- ✘  $15^\circ - 75^\circ$
- ✔  $60^\circ - 30^\circ$
- ✘  $55^\circ - 25^\circ$

Question Number : 147 Question Id : 99836739371 Question Type : MCQ Option Shuffling : Yes Display Question Number : Yes  
Single Line Question Option : No Option Orientation : Vertical

Correct Marks : 1 Wrong Marks : 0.25

ज्यामितीय उपकरणों में एक स्केल या रूलर, डिवाइडर का एक युग्म, परकार का एक युग्म तथा सेट स्क्वायर का एक युग्म शामिल होता है। इन सेट स्क्वायर में से एक  $45^\circ - 45^\circ$  सेट स्क्वायर है तथा दूसरा \_\_\_\_\_ सेट स्क्वायर है।

Options :

- ✘  $20^\circ - 70^\circ$
- ✘  $15^\circ - 75^\circ$
- ✔  $60^\circ - 30^\circ$
- ✘  $55^\circ - 25^\circ$

Question Number : 148 Question Id : 99836739372 Question Type : MCQ Option Shuffling : Yes Display Question Number : Yes  
Single Line Question Option : No Option Orientation : Vertical

Correct Marks : 1 Wrong Marks : 0.25

In different countries, which of the following are the two major systems of standard measuring units?

- The metric system
- The british or imperial system
- The calculation system

Options :

- ✘ II and III
- ✘ I and III
- ✔ I and II
- ✘ I, II and III

Question Number : 148 Question Id : 99836739372 Question Type : MCQ Option Shuffling : Yes Display Question Number : Yes  
Single Line Question Option : No Option Orientation : Vertical

Correct Marks : 1 Wrong Marks : 0.25

विभिन्न देशों में, निम्नलिखित में से कौन सी मानक मापन इकाइयों की दो प्रमुख प्रणालियाँ हैं?

- मिटरिक प्रणाली
- ब्रिटिश तथा इम्पीरियल प्रणाली
- कैलकुलेशन प्रणाली

Options :

- ✘ II तथा III
- ✘ I तथा III
- ✔ I तथा II
- ✘ I, II तथा III

Question Number : 149 Question Id : 99836739373 Question Type : MCQ Option Shuffling : Yes Display Question Number : Yes  
Single Line Question Option : No Option Orientation : Vertical

Correct Marks : 1 Wrong Marks : 0.25

Which of the following is not a dimension of assessment of mathematical learning?

Note: For this question, discrepancy is found in question/answer. So, this question is ignored for all candidates.

Options :

1. Patterns and procedures
2. Communication
3. Mathematical reasoning
4. Disposition towards mathematics

Question Number : 149 Question Id : 99836739373 Question Type : MCQ Option Shuffling : Yes Display Question Number : Yes  
Single Line Question Option : No Option Orientation : Vertical

Correct Marks : 1 Wrong Marks : 0.25

निम्नलिखित में से कौन सी गणित अधिगम के आकलन की एक विमा नहीं है?

Note: For this question, discrepancy is found in question/answer. So, this question is ignored for all candidates.

Options :

1. प्रतिरूप तथा विधियाँ
2. संप्रेषण
3. गणितीय तर्क क्षमता
4. गणित के प्रति अरुचि

Question Number : 150 Question Id : 99836739374 Question Type : MCQ Option Shuffling : Yes Display Question Number : Yes  
Single Line Question Option : No Option Orientation : Vertical

Correct Marks : 1 Wrong Marks : 0.25

Find the part of the given sentence that has an error in it. If there is no error, choose 'No error'.

He has (1) / help to (2) / popularise contemporary dance (3) / No error (4)

Options :

1. ✘ 1
2. ✔ 2
3. ✘ 3
4. ✘ 4

Question Number : 150 Question Id : 99836739374 Question Type : MCQ Option Shuffling : Yes Display Question Number : Yes  
Single Line Question Option : No Option Orientation : Vertical

Correct Marks : 1 Wrong Marks : 0.25

Find the part of the given sentence that has an error in it. If there is no error, choose 'No error'.

He has (1) / help to (2) / popularise contemporary dance (3) / No error (4)

Options :

1. ✘ 1
2. ✔ 2
3. ✘ 3
4. ✘ 4

Question Number : 151 Question Id : 99836739375 Question Type : MCQ Option Shuffling : Yes Display Question Number : Yes  
Single Line Question Option : No Option Orientation : Vertical

Correct Marks : 1 Wrong Marks : 0.25

Improve the bracketed part of the sentence.

She was late for the class (at) Monday.

Options :

- ✘ in
- ✔ on
- ✘ to
- ✘ No improvement

Question Number : 151 Question Id : 99836739375 Question Type : MCQ Option Shuffling : Yes Display Question Number : Yes  
Single Line Question Option : No Option Orientation : Vertical

Correct Marks : 1 Wrong Marks : 0.25

Improve the bracketed part of the sentence.

She was late for the class (at) Monday.

Options :

- ✘ in
- ✔ on
- ✘ to
- ✘ No improvement

Question Number : 152 Question Id : 99836739376 Question Type : MCQ Option Shuffling : Yes Display Question Number : Yes  
Single Line Question Option : No Option Orientation : Vertical

Correct Marks : 1 Wrong Marks : 0.25

Choose the word that is opposite in meaning to the given word.

Earthly

Options :

- ✘ praise
- ✘ inclined
- ✔ heavenly
- ✘ actual

Question Number : 152 Question Id : 99836739376 Question Type : MCQ Option Shuffling : Yes Display Question Number : Yes  
Single Line Question Option : No Option Orientation : Vertical

Correct Marks : 1 Wrong Marks : 0.25

Choose the word that is opposite in meaning to the given word.

Earthly

Options :

- ✘ praise
- ✘ inclined
- ✔ heavenly
- ✘ actual

Question Number : 153 Question Id : 99836739377 Question Type : MCQ Option Shuffling : Yes Display Question Number : Yes  
Single Line Question Option : No Option Orientation : Vertical

Correct Marks : 1 Wrong Marks : 0.25

Choose the word that means the same as the given word.

Pardon

Options :

- ✘ condemn
- ✘ ability

3. ✘ durable

4. ✔ excuse

Question Number : 153 Question Id : 99836739377 Question Type : MCQ Option Shuffling : Yes Display Question Number : Yes  
Single Line Question Option : No Option Orientation : Vertical

Correct Marks : 1 Wrong Marks : 0.25

Choose the word that means the same as the given word.

Pardon

Options :

1. ✘ condemn

2. ✘ ability

3. ✘ durable

4. ✔ excuse

Question Number : 154 Question Id : 99836739378 Question Type : MCQ Option Shuffling : Yes Display Question Number : Yes  
Single Line Question Option : No Option Orientation : Vertical

Correct Marks : 1 Wrong Marks : 0.25

Choose the word that can substitute the given sentence.

The science of government

Options :

1. ✘ bigot

2. ✔ politics

3. ✘ Iconoclast

4. ✘ bigamist

Question Number : 154 Question Id : 99836739378 Question Type : MCQ Option Shuffling : Yes Display Question Number : Yes  
Single Line Question Option : No Option Orientation : Vertical

Correct Marks : 1 Wrong Marks : 0.25

Choose the word that can substitute the given sentence.

The science of government

Options :

1. ✘ bigot

2. ✔ politics

3. ✘ Iconoclast

4. ✘ bigamist

Question Number : 155 Question Id : 99836739379 Question Type : MCQ Option Shuffling : Yes Display Question Number : Yes  
Single Line Question Option : No Option Orientation : Vertical

Correct Marks : 1 Wrong Marks : 0.25

Choose the word that can substitute the given sentence.

One who drives a motor-car

Options :

1. ✔ chauffeur

2. ✘ pedlar

3. ✘ besiege

4. ✘ panacea

Question Number : 155 Question Id : 99836739379 Question Type : MCQ Option Shuffling : Yes Display Question Number : Yes  
Single Line Question Option : No Option Orientation : Vertical

Correct Marks : 1 Wrong Marks : 0.25

Choose the word that can substitute the given sentence.

One who drives a motor-car

Options :

- chauffeur
- pedlar
- besiege
- panacea

Question Number : 156 Question Id : 99836739380 Question Type : MCQ Option Shuffling : Yes Display Question Number : Yes  
Single Line Question Option : No Option Orientation : Vertical

Correct Marks : 1 Wrong Marks : 0.25

In the following question, out of the given four alternatives, select the alternative which best expresses the meaning of the Idiom/Phrase.

To blue one's money

Options :

- Overcome
- To spend all one's money wastefully
- Be involved in
- Make progress

Question Number : 156 Question Id : 99836739380 Question Type : MCQ Option Shuffling : Yes Display Question Number : Yes  
Single Line Question Option : No Option Orientation : Vertical

Correct Marks : 1 Wrong Marks : 0.25

In the following question, out of the given four alternatives, select the alternative which best expresses the meaning of the Idiom/Phrase.

To blue one's money

Options :

- Overcome
- To spend all one's money wastefully
- Be involved in
- Make progress

Question Number : 157 Question Id : 99836739381 Question Type : MCQ Option Shuffling : Yes Display Question Number : Yes  
Single Line Question Option : No Option Orientation : Vertical

Correct Marks : 1 Wrong Marks : 0.25

A sentence has been given with a blank to be filled with an appropriate word. Choose the correct alternative.

A lot of work \_\_\_\_\_ to be done.

Options :

- remain
- remains
- remaining
- has remain

Question Number : 157 Question Id : 99836739381 Question Type : MCQ Option Shuffling : Yes Display Question Number : Yes  
Single Line Question Option : No Option Orientation : Vertical

Correct Marks : 1 Wrong Marks : 0.25

A sentence has been given with a blank to be filled with an appropriate word. Choose the correct alternative.

A lot of work \_\_\_\_\_ to be done.

Options :

- ✘ remain
- ✔ remains
- ✘ remaining
- ✘ has remain

Question Number : 158 Question Id : 99836739382 Question Type : MCQ Option Shuffling : Yes Display Question Number : Yes  
Single Line Question Option : No Option Orientation : Vertical

Correct Marks : 1 Wrong Marks : 0.25

Which of the following stages of Kohlberg of moral judgement share many features with Piaget's stages?

Options :

- ✘ Stage 2, Stage 4 and Stage 6
- ✔ Stage 1, Stage 2 and Stage 3
- ✘ Stage 1, Stage 2 and Stage 5
- ✘ Stage 2, Stage 3 and Stage 5

Question Number : 158 Question Id : 99836739382 Question Type : MCQ Option Shuffling : Yes Display Question Number : Yes  
Single Line Question Option : No Option Orientation : Vertical

Correct Marks : 1 Wrong Marks : 0.25

कोह्लबर्ग के नैतिक निर्णय की निम्नलिखित अवस्थाओं में से कौन सी अवस्था प्याज़े की अवस्थाओं के साथ कई विशेषताएं साझा करती है?

Options :

- ✘ चरण 2, चरण 4 तथा चरण 6
- ✔ चरण 1, चरण 2 तथा चरण 3
- ✘ चरण 1, चरण 2 तथा चरण 5
- ✘ चरण 2, चरण 3 तथा चरण 5

Question Number : 159 Question Id : 99836739383 Question Type : MCQ Option Shuffling : Yes Display Question Number : Yes  
Single Line Question Option : No Option Orientation : Vertical

Correct Marks : 1 Wrong Marks : 0.25

Which of the following criteria are met by the Kohlberg's stages of moral development?

- I. Structured wholes
- II. Qualitative differences
- III. Invariant sequence

Options :

- ✘ Only III
- ✘ II and III
- ✔ I, II and III
- ✘ I and III

Question Number : 159 Question Id : 99836739383 Question Type : MCQ Option Shuffling : Yes Display Question Number : Yes  
Single Line Question Option : No Option Orientation : Vertical

Correct Marks : 1 Wrong Marks : 0.25



कोह्लबर्ग के नैतिक विकास के चरणों द्वारा निम्नलिखित में से कौन सा मापदंड मिलता है?

- I. संरचित पूर्ण
- II. गुणात्मक अंतर
- III. निश्चर क्रम

Options :

1. ✘ केवल III
2. ✘ II तथा III
3. ✔ I, II तथा III
4. ✘ I तथा III

Question Number : 160 Question Id : 99836739384 Question Type : MCQ Option Shuffling : Yes Display Question Number : Yes  
Single Line Question Option : No Option Orientation : Vertical

Correct Marks : 1 Wrong Marks : 0.25

The Kohlberg - Blatt method of inducing cognitive conflict exemplifies \_\_\_\_\_ equilibration model.

Options :

1. ✘ George Polya
2. ✔ Jean Piaget
3. ✘ Lev Vygotsky
4. ✘ Eva Skoe

Question Number : 160 Question Id : 99836739384 Question Type : MCQ Option Shuffling : Yes Display Question Number : Yes  
Single Line Question Option : No Option Orientation : Vertical

Correct Marks : 1 Wrong Marks : 0.25

कोह्लबर्ग - ब्लॉट की संज्ञानात्मक संघर्ष को प्रेरित करने की विधि \_\_\_\_\_ के संतुलन मॉडल का उदाहरण देता है।

Options :

1. ✘ जॉर्ज पोल्या
2. ✔ जीन प्याज़े
3. ✘ लिव वाइगोत्सकी
4. ✘ ईवा स्को



Discipline4

Group Number :	9
Group Id :	9983671219
Group Maximum Duration :	0
Group Minimum Duration :	0
Revisit allowed for view? :	No
Revisit allowed for edit? :	No
Break time:	0
Group Marks:	20
Revisit allowed for group Instructions? :	Yes
Maximum Instruction Time:	0
Minimum Instruction Time:	0

Discipline4

Section Id :	9983671618
Section Number :	1

Section type :	Online
Mandatory or Optional:	Mandatory
Number of Questions:	20
Number of Questions to be attempted:	20
Section Marks:	20
Display Number Panel:	Yes
Group All Questions:	No

Sub-Section Number:	1
Sub-Section Id:	9983672014
Question Shuffling Allowed :	Yes

Question Number : 161 Question Id : 99836739385 Question Type : MCQ Option Shuffling : Yes Display Question Number : Yes  
Single Line Question Option : No Option Orientation : Vertical

Correct Marks : 1 Wrong Marks : 0.25

Which of the following is/are the basic concepts of John B. Watson?

- I. Environmentalism
- II. Study of emotions
- III. Practical applications

Options :

- 1. ✘ Only III
- 2. ✔ I, II and III
- 3. ✘ Only I
- 4. ✘ I and III

Question Number : 161 Question Id : 99836739385 Question Type : MCQ Option Shuffling : Yes Display Question Number : Yes  
Single Line Question Option : No Option Orientation : Vertical

Correct Marks : 1 Wrong Marks : 0.25

निम्नलिखित में से क्या जॉन बी. वॉटसन की मूल अवधारणाएं हैं?

- I. पर्यावरणवाद
- II. भावनाओं का अध्ययन
- III. व्यावहारिक अनुप्रयोग

Options :

- 1. ✘ केवल III
- 2. ✔ I, II तथा III
- 3. ✘ केवल I
- 4. ✘ I तथा III

Question Number : 162 Question Id : 99836739386 Question Type : MCQ Option Shuffling : Yes Display Question Number : Yes  
Single Line Question Option : No Option Orientation : Vertical

Correct Marks : 1 Wrong Marks : 0.25

The operant model was related to which of the following?

Options :

- 1. ✔ B.F. Skinner
- 2. ✘ John B. Watson
- 3. ✘ Jean Piaget
- 4. ✘ George Polya

Question Number : 162 Question Id : 99836739386 Question Type : MCQ Option Shuffling : Yes Display Question Number : Yes  
Single Line Question Option : No Option Orientation : Vertical

Correct Marks : 1 Wrong Marks : 0.25

ऑपरेंट मॉडल निम्नलिखित में से किससे संबंधित था?

Options :

1. ✓ बी. एफ. स्किनर
2. ✗ जॉन बी. वॉटसन
3. ✗ जॉन्स प्याज़े
4. ✗ जॉर्ज पोल्या

Question Number : 163 Question Id : 99836739387 Question Type : MCQ Option Shuffling : Yes Display Question Number : Yes  
Single Line Question Option : No Option Orientation : Vertical

Correct Marks : 1 Wrong Marks : 0.25

According to National Curriculum Framework (NCF), 2005, which of the following is/are the objective(s) of teaching EVS?

- I. To develop an awareness about environmental issues
- II. To train children to locate and comprehend relationships between the natural, social and cultural environment
- III. To nurture the curiosity and creativity of the child particularly in relation to the natural environment

Options :

1. ✗ Both I and II
2. ✗ Both II and III
3. ✗ Only I
4. ✓ I, II and III

Question Number : 163 Question Id : 99836739387 Question Type : MCQ Option Shuffling : Yes Display Question Number : Yes  
Single Line Question Option : No Option Orientation : Vertical

Correct Marks : 1 Wrong Marks : 0.25

राष्ट्रीय पाठ्यचर्या की रूपरेखा (एन.सी.एफ.), 2005 के अनुसार, निम्नलिखित में से ईवीएस को पढ़ाने का/के उद्देश्य क्या हैं?

- I. पर्यावरणीय मुद्दों के बारे में जागरूकता विकसित करना
- II. बच्चों को प्राकृतिक, सामाजिक तथा सांस्कृतिक वातावरण के बीच संबंधों का पता लगाने तथा उन्हें समझने के लिए प्रशिक्षित करना
- III. विशेष रूप से प्राकृतिक पर्यावरण के संबंध में बच्चों की जिज्ञासा तथा रचनात्मकता को विकसित करना

Options :

1. ✗ I तथा II दोनों
2. ✗ II तथा III दोनों
3. ✗ केवल I
4. ✓ I, II तथा III

Question Number : 164 Question Id : 99836739388 Question Type : MCQ Option Shuffling : Yes Display Question Number : Yes  
Single Line Question Option : No Option Orientation : Vertical

Correct Marks : 1 Wrong Marks : 0.25

Which of the following can be considered a creative form while learning EVS?

- I. Making collages
- II. Songs
- III. Poetry
- IV. Banners

Options :

1. ✗ I, II and III
2. ✗ II, III and IV

3. ✘ I, III and IV
4. ✔ I, II, III and IV

Question Number : 164 Question Id : 99836739388 Question Type : MCQ Option Shuffling : Yes Display Question Number : Yes  
Single Line Question Option : No Option Orientation : Vertical

Correct Marks : 1 Wrong Marks : 0.25

ईवीएस का अधिगम करते समय निम्नलिखित में से किसे रचनात्मक अभिव्यक्ति का रूप माना जा सकता है?

- I. कोलाज बनाना
- II. गीत
- III. कविता
- IV. बैनर

Options :

1. ✘ I, II तथा III
2. ✘ II, III तथा IV
3. ✘ I, III तथा IV
4. ✔ I, II, III तथा IV

Question Number : 165 Question Id : 99836739389 Question Type : MCQ Option Shuffling : Yes Display Question Number : Yes  
Single Line Question Option : No Option Orientation : Vertical

Correct Marks : 1 Wrong Marks : 0.25

Which of the following is NOT an international declaration or agreement that links children and environment?

Options :

1. ✘ Convention on the Rights of the child (1989)
2. ✘ The Habitat Agenda (1990)
3. ✔ Convention on Biological Diversity (1992)
4. ✘ G8 Environment Ministers Communiqué (2001)

Question Number : 165 Question Id : 99836739389 Question Type : MCQ Option Shuffling : Yes Display Question Number : Yes  
Single Line Question Option : No Option Orientation : Vertical

Correct Marks : 1 Wrong Marks : 0.25

निम्नलिखित में से क्या एक अंतर्राष्ट्रीय उद्घोषणा या समझौता नहीं है जो बच्चों तथा पर्यावरण को जोड़ता है?

Options :

1. ✘ बाल अधिकारों पर सम्मेलन (1989)
2. ✘ हैबिटेट एजेंडा (1990)
3. ✔ जैविक विविधता पर सम्मेलन (1992)
4. ✘ G8 देशों के पर्यावरण मंत्रियों की विज्ञप्ति (2001)

Question Number : 166 Question Id : 99836739390 Question Type : MCQ Option Shuffling : Yes Display Question Number : Yes  
Single Line Question Option : No Option Orientation : Vertical

Correct Marks : 1 Wrong Marks : 0.25

Which of the following is NOT one of the steps involved in planning teaching - learning in EVS?

Options :

1. ✘ Reflecting on your lesson plan
2. ✘ Creating a realistic timeline
3. ✔ Preparing results of the assessments
4. ✘ Plan to check for the learning and understanding

Question Number : 166 Question Id : 99836739390 Question Type : MCQ Option Shuffling : Yes Display Question Number : Yes  
Single Line Question Option : No Option Orientation : Vertical

Correct Marks : 1 Wrong Marks : 0.25

निम्नलिखित में से क्या ईवीएस में शिक्षण-अधिगम की योजना बनाने में शामिल चरणों में से एक नहीं है?

Options :

- ✘ अपनी पाठ योजना पर पुनर्विचार करना
- ✘ एक वास्तविक समयरेखा बनाना
- ✔ मूल्यांकन के परिणाम तैयार करना
- ✘ अधिगम तथा समझ को परखने के लिए योजना बनाना

Question Number : 167 Question Id : 99836739391 Question Type : MCQ Option Shuffling : Yes Display Question Number : Yes  
Single Line Question Option : No Option Orientation : Vertical

Correct Marks : 1 Wrong Marks : 0.25

Which of the following is NOT an idea for creative expression in EVS?

Options :

- ✘ Poster Making
- ✘ Taking photographs
- ✘ Dramas and plays
- ✔ Papier mache

Question Number : 167 Question Id : 99836739391 Question Type : MCQ Option Shuffling : Yes Display Question Number : Yes  
Single Line Question Option : No Option Orientation : Vertical

Correct Marks : 1 Wrong Marks : 0.25

निम्नलिखित में से क्या ईवीएस में रचनात्मक अभिव्यक्ति के लिए एक सुझाव नहीं है?

Options :

- ✘ पोस्टर बनाना
- ✘ फोटो खींचना
- ✘ नाटक तथा नाटिकाएं
- ✔ कुट्टी (पैपिपर माशे)

Question Number : 168 Question Id : 99836739392 Question Type : MCQ Option Shuffling : Yes Display Question Number : Yes  
Single Line Question Option : No Option Orientation : Vertical

Correct Marks : 1 Wrong Marks : 0.25

In which of the following listening activities, a teacher tells the story and the pupils and teacher do the actions?

Options :

- ✘ Listen and do
- ✘ Put up your hand
- ✔ Mime stories
- ✘ Listen and draw

Question Number : 168 Question Id : 99836739392 Question Type : MCQ Option Shuffling : Yes Display Question Number : Yes  
Single Line Question Option : No Option Orientation : Vertical

Correct Marks : 1 Wrong Marks : 0.25

निम्नलिखित में से किस सुनने की गतिविधि में, एक अध्यापक कहानी सुनाता है तथा विद्यार्थी तथा अध्यापक क्रिया करते हैं?

Options :

- ✘ सुनो तथा करो
- ✘ अपना हाथ ऊपर उठाओ
- ✔ कहानियों का मूकाभिनय करना
- ✘ सुनो तथा बनाओ

Question Number : 169 Question Id : 99836739393 Question Type : MCQ Option Shuffling : Yes Display Question Number : Yes  
Single Line Question Option : No Option Orientation : Vertical

Correct Marks : 1 Wrong Marks : 0.25

What could not be the possible reason for things to go wrong in a classroom?

Options :

- ✘ An activity doesn't work
- ✘ An external disturbance
- ✘ The class is out of control
- ✔ A student has not come to school

Question Number : 169 Question Id : 99836739393 Question Type : MCQ Option Shuffling : Yes Display Question Number : Yes  
Single Line Question Option : No Option Orientation : Vertical

Correct Marks : 1 Wrong Marks : 0.25

कक्षा में चीजों के गलत होने का संभावित कारण क्या नहीं हो सकता है?

Options :

- ✘ एक गतिविधि जो निष्क्रिय हो गई
- ✘ एक बाहरी विघ्न
- ✘ कक्षा नियंत्रित नहीं है
- ✔ एक विद्यार्थी विद्यालय नहीं आया है

Question Number : 170 Question Id : 99836739394 Question Type : MCQ Option Shuffling : Yes Display Question Number : Yes  
Single Line Question Option : No Option Orientation : Vertical

Correct Marks : 1 Wrong Marks : 0.25

One of the key areas that must be incorporated in teacher-education programmes is:

- I. understating of the sociology of learning.
- II. current knowledge about the processes of language and literacy acquisition.

Options :

- ✘ Only I
- ✔ Only II
- ✘ Both I and II
- ✘ Neither I nor II

Question Number : 170 Question Id : 99836739394 Question Type : MCQ Option Shuffling : Yes Display Question Number : Yes  
Single Line Question Option : No Option Orientation : Vertical

Correct Marks : 1 Wrong Marks : 0.25

शिक्षक-शिक्षा कार्यक्रमों में शामिल किए जाने वाले प्रमुख क्षेत्रों में से एक है?

- I. अधिगम के समाजशास्त्र को समझना
- II. भाषा तथा साक्षरता अधिग्रहण की प्रक्रियाओं के बारे में वर्तमान ज्ञान

Options :

- ✘ केवल I
- ✔ केवल II
- ✘ I तथा II दोनों
- ✘ ना ही I ना ही II

Question Number : 171 Question Id : 99836739395 Question Type : MCQ Option Shuffling : Yes Display Question Number : Yes  
Single Line Question Option : No Option Orientation : Vertical

Correct Marks : 1 Wrong Marks : 0.25

Which criterion doesn't fall under psychological aspect?

Options :

- ✘ Illustrations/layout
- ✔ Level
- ✘ Motivation
- ✘ Literary devices

Question Number : 171 Question Id : 99836739395 Question Type : MCQ Option Shuffling : Yes Display Question Number : Yes  
Single Line Question Option : No Option Orientation : Vertical

Correct Marks : 1 Wrong Marks : 0.25

कौन सा मापदंड मनोवैज्ञानिक मापदंड के अंतर्गत नहीं आता है?

Options :

- ✘ चित्र/लेआउट
- ✔ लेवल
- ✘ प्रेरणा
- ✘ साहित्यिक डिवाइस

Question Number : 172 Question Id : 99836739396 Question Type : MCQ Option Shuffling : Yes Display Question Number : Yes  
Single Line Question Option : No Option Orientation : Vertical

Correct Marks : 1 Wrong Marks : 0.25

Which is the correct way to define what storytelling is?

Options :

- ✘ It is telling a story to everyone present there
- ✔ It is telling a story to people who are willing to listen
- ✘ It is telling a story to people even when they are not interested
- ✘ It is telling a story in order to show how knowledgeable the teacher is

Question Number : 172 Question Id : 99836739396 Question Type : MCQ Option Shuffling : Yes Display Question Number : Yes  
Single Line Question Option : No Option Orientation : Vertical

Correct Marks : 1 Wrong Marks : 0.25

कहानी कहना क्या है, इसे परिभाषित करने का सही तरीका क्या है?

Options :

- ✘ यह वहां मौजूद हर किसी को एक कहानी सुनाना है
- ✔ यह सुनने के इच्छुक लोगों को एक कहानी सुनाना है
- ✘ यह रुचि न होने पर भी लोगों को एक कहानी सुनाना है
- ✘ यह दिखाने के लिए कि शिक्षक कितना ज्ञानी है, एक कहानी सुनाना है

Question Number : 173 Question Id : 99836739397 Question Type : MCQ Option Shuffling : Yes Display Question Number : Yes  
Single Line Question Option : No Option Orientation : Vertical

Correct Marks : 1 Wrong Marks : 0.25

How is keeping "individual profiles" useful?

- I. It helps in later complaining to pupil's parents about their progress.
- II. It brings together both formal and informal assessments.

Options :

- ✘ Only I
- ✔ Only II
- ✘ Both I and II
- ✘ Neither I nor II

Question Number : 173 Question Id : 99836739397 Question Type : MCQ Option Shuffling : Yes Display Question Number : Yes  
Single Line Question Option : No Option Orientation : Vertical

Correct Marks : 1 Wrong Marks : 0.25

"व्यक्तिगत प्रोफाइल" रखना कैसे उपयोगी है?

- I. इससे बाद में विद्यार्थियों की प्रगति के बारे में उनके माता-पिता से शिकायत करने में मदद मिलती है।  
II. यह औपचारिक तथा अनौपचारिक दोनों आकलन को मिलाता है।

Options :

1. ✘ केवल I
2. ✔ केवल II
3. ✘ I तथा II दोनों
4. ✘ ना ही I ना ही II

Question Number : 174 Question Id : 99836739398 Question Type : MCQ Option Shuffling : Yes Display Question Number : Yes  
Single Line Question Option : No Option Orientation : Vertical

Correct Marks : 1 Wrong Marks : 0.25

What are the various tasks that listeners complete while listening?

- I. Listen and guess  
II. Listen and mug up

Options :

1. ✔ Only I
2. ✘ Only II
3. ✘ Both I and II
4. ✘ Neither I nor II

Question Number : 174 Question Id : 99836739398 Question Type : MCQ Option Shuffling : Yes Display Question Number : Yes  
Single Line Question Option : No Option Orientation : Vertical

Correct Marks : 1 Wrong Marks : 0.25

श्रवण करते समय श्रोता कौन-कौन से कार्य पूर्ण करते हैं?

- I. सुनना तथा अनुमान लगाना  
II. सुनना तथा रटना

Options :

1. ✔ केवल I
2. ✘ केवल II
3. ✘ I तथा II दोनों
4. ✘ ना ही I ना ही II

Question Number : 175 Question Id : 99836739399 Question Type : MCQ Option Shuffling : Yes Display Question Number : Yes  
Single Line Question Option : No Option Orientation : Vertical

Correct Marks : 1 Wrong Marks : 0.25

'Sequencing' would fall under which reading activity?

Options :

1. ✔ Listening and reading
2. ✘ Reading to reconstruct texts
3. ✘ Problem solving
4. ✘ Practising reading new words

Question Number : 175 Question Id : 99836739399 Question Type : MCQ Option Shuffling : Yes Display Question Number : Yes  
Single Line Question Option : No Option Orientation : Vertical



Correct Marks : 1 Wrong Marks : 0.25

अनुक्रमण किस पाठन क्रियाकलाप के तहत आती है?

Options :

1. ✓ सुनना तथा पढ़ना
2. ✗ ग्रंथों को पुनर्निर्माण करने के लिए पढ़ना
3. ✗ समस्या समाधान
4. ✗ नए शब्दों को पढ़ने का अभ्यास करना

Question Number : 176 Question Id : 99836739400 Question Type : MCQ Option Shuffling : Yes Display Question Number : Yes  
Single Line Question Option : No Option Orientation : Vertical

Correct Marks : 1 Wrong Marks : 0.25

What is the purpose of 'writing at word-level'?

Options :

1. ✓ Learning new vocabulary, handwriting and spelling
2. ✗ Practicing new structures and functions
3. ✗ Planning, drafting, editing and understanding layout
4. ✗ Development of metacognitive awareness

Question Number : 176 Question Id : 99836739400 Question Type : MCQ Option Shuffling : Yes Display Question Number : Yes  
Single Line Question Option : No Option Orientation : Vertical

Correct Marks : 1 Wrong Marks : 0.25

'शब्द-स्तर पर लेखन' का उद्देश्य क्या है?

Options :

1. ✓ नई शब्दावली, लिखावट तथा वर्तनी सीखना
2. ✗ नई संरचनाओं तथा कार्यों का अभ्यास करना
3. ✗ लेआउट को नियोजित, प्रारूपित, संपादित करना तथा समझना
4. ✗ मेटासंज्ञानात्मक जागरूकता का विकास

Question Number : 177 Question Id : 99836739401 Question Type : MCQ Option Shuffling : Yes Display Question Number : Yes  
Single Line Question Option : No Option Orientation : Vertical

Correct Marks : 1 Wrong Marks : 0.25

Which of the following is a role that a teacher has to play?

- I. Interactive role
- II. Perspective role

Options :

1. ✓ Only I
2. ✗ Only II
3. ✗ Both I and II
4. ✗ Neither I nor II

Question Number : 177 Question Id : 99836739401 Question Type : MCQ Option Shuffling : Yes Display Question Number : Yes  
Single Line Question Option : No Option Orientation : Vertical

Correct Marks : 1 Wrong Marks : 0.25

निम्नलिखित में से कौन सी भूमिका एक शिक्षक को निभानी पड़ती है?

- I. परस्पर क्रिया की भूमिका
- II. परिप्रेक्ष्य की भूमिका

Options :

1. ✓ केवल I

2. ✘ केवल II
3. ✘ I तथा II दोनों
4. ✘ ना ही I ना ही II

Question Number : 178 Question Id : 99836739402 Question Type : MCQ Option Shuffling : Yes Display Question Number : Yes  
Single Line Question Option : No Option Orientation : Vertical

Correct Marks : 1 Wrong Marks : 0.25

Inviting visitors to classroom will be which encouraging activity?

Options :

1. ✔ Creating/sourcing authentic situations
2. ✘ Explaining
3. ✘ Discussing
4. ✘ Researching

Question Number : 178 Question Id : 99836739402 Question Type : MCQ Option Shuffling : Yes Display Question Number : Yes  
Single Line Question Option : No Option Orientation : Vertical

Correct Marks : 1 Wrong Marks : 0.25

कक्षा में आगंतुकों को आमंत्रित करना कौन सी उत्साहजनक गतिविधि होगी?

Options :

1. ✔ प्रामाणिक स्थितियों का सृजन/सोर्सिंग
2. ✘ समझाना
3. ✘ परिचर्चा करना
4. ✘ शोध करना

Question Number : 179 Question Id : 99836739403 Question Type : MCQ Option Shuffling : Yes Display Question Number : Yes  
Single Line Question Option : No Option Orientation : Vertical

Correct Marks : 1 Wrong Marks : 0.25

Which of the following is not included in stage 3 of productive computer session?

Options :

1. ✘ Complete the work
2. ✘ Compare their work with others
3. ✘ Review what they have done and why
4. ✔ Encourage pupils to focus on the topic

Question Number : 179 Question Id : 99836739403 Question Type : MCQ Option Shuffling : Yes Display Question Number : Yes  
Single Line Question Option : No Option Orientation : Vertical

Correct Marks : 1 Wrong Marks : 0.25

निम्नलिखित में से क्या एक उपयोगी कंप्यूटर सत्र के चरण 3 में शामिल नहीं है?

Options :

1. ✘ कार्य को पूरा करना
2. ✘ उनके कार्य की तुलना दूसरों से करना
3. ✘ उन्होंने क्या किया है तथा क्यों उसकी समीक्षा करना
4. ✔ विद्यार्थियों को विषय पर ध्यान केंद्रित करने के लिए प्रोत्साहित करना

Question Number : 180 Question Id : 99836739404 Question Type : MCQ Option Shuffling : Yes Display Question Number : Yes  
Single Line Question Option : No Option Orientation : Vertical

Correct Marks : 1 Wrong Marks : 0.25

'Encourage pupils to focus on the topic' comes under which stage of productive computer session?

Options :

1. ✓ Stage 1
2. ✗ Stage 2
3. ✗ Stage 3
4. ✗ Stage 4

Question Number : 180 Question Id : 99836739404 Question Type : MCQ Option Shuffling : Yes Display Question Number : Yes  
Single Line Question Option : No Option Orientation : Vertical

Correct Marks : 1 Wrong Marks : 0.25

'विद्यार्थियों को विषय पर ध्यान केंद्रित करने के लिए प्रोत्साहित करना' उपयोगी कंप्यूटर सत्र के किस चरण के तहत आता है?

Options :

1. ✓ चरण 1
2. ✗ चरण 2
3. ✗ चरण 3
4. ✗ चरण 4

Discipline5

Group Number :	10
Group Id :	9983671220
Group Maximum Duration :	0
Group Minimum Duration :	120
Revisit allowed for view? :	No
Revisit allowed for edit? :	No
Break time:	0
Group Marks:	20
Revisit allowed for group Instructions? :	Yes
Maximum Instruction Time:	0
Minimum Instruction Time:	0

Discipline5

Section Id :	9983671619
Section Number :	1
Section type :	Online
Mandatory or Optional:	Mandatory
Number of Questions:	20
Number of Questions to be attempted:	20
Section Marks:	20
Display Number Panel:	Yes
Group All Questions:	No

Sub-Section Number:	1
Sub-Section Id:	9983672015
Question Shuffling Allowed :	Yes

Question Number : 181 Question Id : 99836739405 Question Type : MCQ Option Shuffling : Yes Display Question Number : Yes  
Single Line Question Option : No Option Orientation : Vertical

Correct Marks : 1 Wrong Marks : 0.25

An activity of 'conducting a survey' involves which two skills?

Options :

- ✘ Listening and Chanting
- ✔ Listening and Speaking
- ✘ Listening and Writing
- ✘ Writing and Speaking

Question Number : 181 Question Id : 99836739405 Question Type : MCQ Option Shuffling : Yes Display Question Number : Yes  
Single Line Question Option : No Option Orientation : Vertical

Correct Marks : 1 Wrong Marks : 0.25

'एक सर्वेक्षण करने' की क्रिया में कौन से दो कौशल शामिल हैं?

Options :

- ✘ सुनना तथा जपना
- ✔ सुनना तथा बोलना
- ✘ सुनना तथा लिखना
- ✘ लिखना तथा बोलना

Question Number : 182 Question Id : 99836739406 Question Type : MCQ Option Shuffling : Yes Display Question Number : Yes  
Single Line Question Option : No Option Orientation : Vertical

Correct Marks : 1 Wrong Marks : 0.25

What is the role of a Role Play?

Options :

- ✘ Asking and answering questions to pupils
- ✘ Provides a memorable occasion to practice English
- ✘ Helps in encouraging while practicing key words
- ✔ Provides an opportunity for language that has been presented in a story to be used in a different context

Question Number : 182 Question Id : 99836739406 Question Type : MCQ Option Shuffling : Yes Display Question Number : Yes  
Single Line Question Option : No Option Orientation : Vertical

Correct Marks : 1 Wrong Marks : 0.25

भूमिका नाट्य की क्या भूमिका है?

Options :

- ✘ विद्यार्थियों से प्रश्न पूछना तथा उनका उत्तर देना
- ✘ अंग्रेजी का अभ्यास करने के लिए एक यादगार अवसर प्रदान करता है
- ✘ प्रमुख शब्दों का अभ्यास करते समय प्रोत्साहित करने में मदद करता है
- ✔ एक कहानी में प्रस्तुत भाषा को एक अलग संदर्भ में उपयोग करने के लिए एक अवसर प्रदान करता है

Question Number : 183 Question Id : 99836739407 Question Type : MCQ Option Shuffling : Yes Display Question Number : Yes  
Single Line Question Option : No Option Orientation : Vertical

Correct Marks : 1 Wrong Marks : 0.25

What can social science do to strengthen national integration?

Choose the correct option.

- Social Science can sensitize learners to the importance of national unity
- Social Science can teach about the valued symbols of national identity and unity
- Social Science can impart a historical perspective to the issue

Note: For this question, discrepancy is found in question/answer. So, this question is ignored for all candidates.

Options :

- Only I

2. Only II
3. Both I and II
4. Neither I nor II

**Question Number : 183 Question Id : 99836739407 Question Type : MCQ Option Shuffling : Yes Display Question Number : Yes Single Line Question Option : No Option Orientation : Vertical**

**Correct Marks : 1 Wrong Marks : 0.25**

राष्ट्रीय एकीकरण को सशक्त करने के लिए सामाजिक विज्ञान क्या कर सकता है?

सही विकल्प चुनें

- I. सामाजिक विज्ञान शिक्षार्थियों को राष्ट्रीय एकता के महत्व के प्रति संवेदित कर सकता है
- II. सामाजिक विज्ञान राष्ट्रीय पहचान तथा एकता के महत्वपूर्ण प्रतीकों के बारे में सिखा सकता है
- III. सामाजिक विज्ञान मुद्दे को एक ऐतिहासिक परिप्रेक्ष्य प्रदान कर सकता है

**Note: For this question, discrepancy is found in question/answer. So, this question is ignored for all candidates.**

**Options :**

1. केवल I
2. केवल II
3. I तथा II दोनों
4. ना ही I ना ही II

**Question Number : 184 Question Id : 99836739408 Question Type : MCQ Option Shuffling : Yes Display Question Number : Yes Single Line Question Option : No Option Orientation : Vertical**

**Correct Marks : 1 Wrong Marks : 0.25**

Which of the following is/are the approaches adopted by social scientist in understanding political science?

- I. Behavioural Approach
- II. Legal - institutional Approach
- III. Philosophical Approach
- IV. Elementary Approach

**Options :**

1. ✘ I, II and IV
2. ✔ I, II and III
3. ✘ II, III and IV
4. ✘ I, II, III and IV

**Question Number : 184 Question Id : 99836739408 Question Type : MCQ Option Shuffling : Yes Display Question Number : Yes Single Line Question Option : No Option Orientation : Vertical**

**Correct Marks : 1 Wrong Marks : 0.25**

राजनीतिक विज्ञान को समझने में सामाज वैज्ञानिक द्वारा निम्नलिखित में से कौन सा/से उपागम अपनाया जाता है?

- I. व्यवहारात्मक उपागम
- II. वैधिक- संस्थागत उपागम
- III. दार्शनिक उपागम
- IV. प्राथमिक उपागम

**Options :**

1. ✘ I, II तथा IV
2. ✔ I, II तथा III
3. ✘ II, III तथा IV
4. ✘ I, II, III तथा IV

Question Number : 185 Question Id : 99836739409 Question Type : MCQ Option Shuffling : Yes Display Question Number : Yes  
Single Line Question Option : No Option Orientation : Vertical

Correct Marks : 1 Wrong Marks : 0.25

Which of the following is NOT a domain of Geography?

Options :

- ✓ Non - human Geography
- ✗ Human Geography
- ✗ Biogeography
- ✗ Regional Geography

Question Number : 185 Question Id : 99836739409 Question Type : MCQ Option Shuffling : Yes Display Question Number : Yes  
Single Line Question Option : No Option Orientation : Vertical

Correct Marks : 1 Wrong Marks : 0.25

निम्नलिखित में से क्या भूगोल का डोमेन नहीं है?

Options :

- ✓ गैर-मानव भूगोल
- ✗ मानव भूगोल
- ✗ प्राणी-भूगोल
- ✗ क्षेत्र भूगोल

Question Number : 186 Question Id : 99836739410 Question Type : MCQ Option Shuffling : Yes Display Question Number : Yes  
Single Line Question Option : No Option Orientation : Vertical

Correct Marks : 1 Wrong Marks : 0.25

Which of the following is an archaeological source of History?

- I. Numismatic evidence collected from the study of coins
- II. Sacred literature
- III. Monumental findings including buildings

Options :

- ✗ Both I and II
- ✓ Both I and III
- ✗ Both II and III
- ✗ I, II and III

Question Number : 186 Question Id : 99836739410 Question Type : MCQ Option Shuffling : Yes Display Question Number : Yes  
Single Line Question Option : No Option Orientation : Vertical

Correct Marks : 1 Wrong Marks : 0.25

निम्नलिखित में से क्या इतिहास का पुरातत्व स्रोत है?

- I. सिक्के के अध्ययन से संग्रहित मुद्रा विषयक साक्ष्य
- II. पवित्र साहित्य
- III. पाए गए स्मारक जिनमें इमारतें शामिल हैं

Options :

- ✗ I तथा II दोनों
- ✓ I तथा III दोनों
- ✗ II तथा III दोनों
- ✗ I, II तथा III

Question Number : 187 Question Id : 99836739411 Question Type : MCQ Option Shuffling : Yes Display Question Number : Yes  
Single Line Question Option : No Option Orientation : Vertical

Correct Marks : 1 Wrong Marks : 0.25

Which of the following specimens can be used while teaching the learners about resources?

- I. Specimens of soils
- II. Specimens of minerals
- III. Specimens of agricultural products

Options :

- 1. ✓ I, II and III
- 2. ✗ Only II
- 3. ✗ Both I and II
- 4. ✗ Only I

Question Number : 187 Question Id : 99836739411 Question Type : MCQ Option Shuffling : Yes Display Question Number : Yes  
Single Line Question Option : No Option Orientation : Vertical

Correct Marks : 1 Wrong Marks : 0.25

संसाधनों के बारे में शिक्षार्थियों को पढ़ाते समय निम्नलिखित में से किस नमूने का उपयोग किया जा सकता है?

- I. मृदा के नमूने
- II. खनिजों के नमूने
- III. कृषि उत्पादों के नमूने

Options :

- 1. ✓ I, II तथा III
- 2. ✗ केवल II
- 3. ✗ I तथा II दोनों
- 4. ✗ केवल I

Question Number : 188 Question Id : 99836739412 Question Type : MCQ Option Shuffling : Yes Display Question Number : Yes  
Single Line Question Option : No Option Orientation : Vertical

Correct Marks : 1 Wrong Marks : 0.25

If X is 50 percent more than B, then B is how much % less than X?

Options :

- 1. ✗ 50 percent
- 2. ✓ 33.33 percent
- 3. ✗ 25 percent
- 4. ✗ 42.78 percent

Question Number : 188 Question Id : 99836739412 Question Type : MCQ Option Shuffling : Yes Display Question Number : Yes  
Single Line Question Option : No Option Orientation : Vertical

Correct Marks : 1 Wrong Marks : 0.25

यदि X, B से 50 प्रतिशत अधिक है, तो B, X से कितने प्रतिशत कम है?

Options :

- 1. ✗ 50 प्रतिशत
- 2. ✓ 33.33 प्रतिशत
- 3. ✗ 25 प्रतिशत
- 4. ✗ 42.78 प्रतिशत

Question Number : 189 Question Id : 99836739413 Question Type : MCQ Option Shuffling : Yes Display Question Number : Yes  
Single Line Question Option : No Option Orientation : Vertical

Correct Marks : 1 Wrong Marks : 0.25

Radius of base and height of a cylinder are 10 cm and 21 cm respectively. What will be the volume of cylinder?

Options :

1. ✘ 9600 cm<sup>3</sup>
2. ✘ 8800 cm<sup>3</sup>
3. ✔ 6600 cm<sup>3</sup>
4. ✘ 4400 cm<sup>3</sup>

Question Number : 189 Question Id : 99836739413 Question Type : MCQ Option Shuffling : Yes Display Question Number : Yes  
Single Line Question Option : No Option Orientation : Vertical

Correct Marks : 1 Wrong Marks : 0.25

एक बेलन के आधार की त्रिज्या तथा ऊँचाई क्रमशः 10 से.मी. तथा 21 से.मी. हैं। बेलन का आयतन क्या होगा?

Options :

1. ✘ 9600 से.मी.<sup>3</sup>
2. ✘ 8800 से.मी.<sup>3</sup>
3. ✔ 6600 से.मी.<sup>3</sup>
4. ✘ 4400 से.मी.<sup>3</sup>

Question Number : 190 Question Id : 99836739414 Question Type : MCQ Option Shuffling : Yes Display Question Number : Yes  
Single Line Question Option : No Option Orientation : Vertical

Correct Marks : 1 Wrong Marks : 0.25

Those rational numbers whose denominators have no factor other than 2 or 5 can be represented as decimal numbers. Such decimal numbers are known as \_\_\_\_\_.

- I. Non - terminating decimals
- II. Terminating decimals

Options :

1. ✘ Only I
2. ✔ Only II
3. ✘ Both I and II
4. ✘ Neither I nor II

Question Number : 190 Question Id : 99836739414 Question Type : MCQ Option Shuffling : Yes Display Question Number : Yes  
Single Line Question Option : No Option Orientation : Vertical

Correct Marks : 1 Wrong Marks : 0.25



वे परिमेय संख्याएँ जिनके हर का 2 या 5 के अतिरिक्त कोई गुणन खंड नहीं है, को दशमलव संख्या के रूप में दर्शाया जा सकता है। ऐसी दशमलव संख्याओं को \_\_\_\_\_ के नाम से जाना जाता है।

- I. गैर-सांत दशमलव
- II. दशमलव को समाप्त करना

Options :

- 1. ✖ केवल I
- 2. ✔ केवल II
- 3. ✖ I तथा II दोनों
- 4. ✖ ना ही I ना ही II

Question Number : 191 Question Id : 99836739415 Question Type : MCQ Option Shuffling : Yes Display Question Number : Yes  
Single Line Question Option : No Option Orientation : Vertical

Correct Marks : 1 Wrong Marks : 0.25

Which of the following statements is/are correct?

- I. Two angles are said to be supplementary if the sum of their measures is  $90^\circ$
- II. A pair of angles are said to be complementary angles if the sum of their measures is  $180^\circ$

Options :

- 1. ✖ Only I
- 2. ✖ Only II
- 3. ✖ Both I and II
- 4. ✔ Neither I nor II

Question Number : 191 Question Id : 99836739415 Question Type : MCQ Option Shuffling : Yes Display Question Number : Yes  
Single Line Question Option : No Option Orientation : Vertical

Correct Marks : 1 Wrong Marks : 0.25

निम्नलिखित में से कौन सा/से कथन सही है?

- I. दो कोणों को संपूरक कहा जाता है यदि उनके मापों का योग  $90^\circ$  है
- II. कोणों के युग्म को पूरक कोण कहा जाता है यदि उनके मापों का योग  $180^\circ$  है

Options :

- 1. ✖ केवल I
- 2. ✖ केवल II
- 3. ✖ I तथा II दोनों
- 4. ✔ ना ही I ना ही II

Question Number : 192 Question Id : 99836739416 Question Type : MCQ Option Shuffling : Yes Display Question Number : Yes  
Single Line Question Option : No Option Orientation : Vertical

Correct Marks : 1 Wrong Marks : 0.25

100 m is equal to \_\_\_\_\_.

Options :

- 1. ✖ 1/10 hectometer
- 2. ✖ 1 Decimeter
- 3. ✖ 1 Decameter
- 4. ✔ 1 hectometer

Question Number : 192 Question Id : 99836739416 Question Type : MCQ Option Shuffling : Yes Display Question Number : Yes  
Single Line Question Option : No Option Orientation : Vertical

Correct Marks : 1 Wrong Marks : 0.25

100 मीटर \_\_\_\_\_ के बराबर है।

Options :

- ✘ 1/10 हेक्टोमीटर
- ✘ 1 डेसीमीटर
- ✘ 1 डेकामीटर
- ✔ 1 हेक्टोमीटर

Question Number : 193 Question Id : 99836739417 Question Type : MCQ Option Shuffling : Yes Display Question Number : Yes  
Single Line Question Option : No Option Orientation : Vertical

Correct Marks : 1 Wrong Marks : 0.25

A symbol which does not have any fixed value for it, but may be assigned any numerical value according to the requirement is known as \_\_\_\_\_.

Options :

- ✘ Constant
- ✘ Expression
- ✔ Variable
- ✘ Theorem

Question Number : 193 Question Id : 99836739417 Question Type : MCQ Option Shuffling : Yes Display Question Number : Yes  
Single Line Question Option : No Option Orientation : Vertical

Correct Marks : 1 Wrong Marks : 0.25

एक प्रतीक जिसका कोई निश्चित मान नहीं होता, किन्तु आवश्यकतानुसार उसे कोई संख्यात्मक मान दिया जा सकता है \_\_\_\_\_ के नाम से जाना जाता है।

Options :

- ✘ अक्षर
- ✘ व्यंजक
- ✔ चर
- ✘ प्रमेय

Question Number : 194 Question Id : 99836739418 Question Type : MCQ Option Shuffling : Yes Display Question Number : Yes  
Single Line Question Option : No Option Orientation : Vertical

Correct Marks : 1 Wrong Marks : 0.25

How can we make students aware about the need to save electric energy?

- I. Turn off all electrical appliances when they are not in use
- II. Create posters, slogans, organize campaigns to create awareness to save electricity

Options :

- ✘ Only I
- ✘ Only II
- ✔ Both I and II
- ✘ Neither I nor II

Question Number : 194 Question Id : 99836739418 Question Type : MCQ Option Shuffling : Yes Display Question Number : Yes  
Single Line Question Option : No Option Orientation : Vertical

Correct Marks : 1 Wrong Marks : 0.25

हम विद्युत ऊर्जा को बचाने की आवश्यकता के बारे में छात्रों को कैसे जागरूक कर सकते हैं?

- I. सभी बिजली के उपकरणों को बंद करके जब वे उपयोग में ना हों
- II. बिजली बचाने के लिए जागरूकता पैदा करने के लिए पोस्टर, बैनर बनाकर तथा अभियान चला कर

Options :

- ✘ केवल I
- ✘ केवल II

3. ✓ I तथा II  
4. ✗ ना ही I ना ही II

Question Number : 195 Question Id : 99836739419 Question Type : MCQ Option Shuffling : Yes Display Question Number : Yes  
Single Line Question Option : No Option Orientation : Vertical

Correct Marks : 1 Wrong Marks : 0.25

Which of the following assignments a teacher can give to the students so that they can better understand the concept of magnet?

- I. Find out types of magnets (shape, size and kind) you come across in different gadgets, for example; Loudspeaker, TV, Telephone, Electric bell etc.  
II. Collect information on magnetic therapy (magnets are used in the treatment of some magneto therapy)

Options :

1. ✗ Only I  
2. ✗ Only II  
3. ✓ Both I and II  
4. ✗ Neither I nor II

Question Number : 195 Question Id : 99836739419 Question Type : MCQ Option Shuffling : Yes Display Question Number : Yes  
Single Line Question Option : No Option Orientation : Vertical

Correct Marks : 1 Wrong Marks : 0.25

एक अध्यापक विद्यार्थियों को निम्नलिखित में से कौन सा असाइनमेंट दे सकता है जिससे वे चुंबक की अवधारणा को बेहतर ढंग से समझ सकें?

- I. विभिन्न प्रकार के उपकरणों उदाहरण के लिए: लाउडस्पीकर, टीवी, टेलीफोन, विद्युत घंटी आदि में प्रयोग होने वाले चुंबकों के प्रकार (आकार, माप तथा प्रकार) का पता लगाएं  
II. चुंबकीय चिकित्सा पर जानकारी एकत्र करें (कुछ मैग्नेटो थेरेपी के उपचार में चुंबक उपयोग किए जाते हैं)

Options :

1. ✗ केवल I  
2. ✗ केवल II  
3. ✓ I तथा II  
4. ✗ ना ही I ना ही II

Question Number : 196 Question Id : 99836739420 Question Type : MCQ Option Shuffling : Yes Display Question Number : Yes  
Single Line Question Option : No Option Orientation : Vertical

Correct Marks : 1 Wrong Marks : 0.25

Which of the following statements is/are correct about light?

- I. Light travels in straight line  
II. It is reflected, it is absorbed wholly or partially and it also produces amusing colour patterns  
III. It causes shadows, eclipses and forms images

Options :

1. ✗ II and III  
2. ✗ Only I  
3. ✗ I and II  
4. ✓ I, II and III

Question Number : 196 Question Id : 99836739420 Question Type : MCQ Option Shuffling : Yes Display Question Number : Yes  
Single Line Question Option : No Option Orientation : Vertical

Correct Marks : 1 Wrong Marks : 0.25

प्रकाश के बारे में निम्नलिखित में से कौन सा/से कथन सही हैं?

- I. प्रकाश सीधी रेखा में यात्रा करता है
- II. यह परावर्तित होता है, यह पूर्ण या आंशिक रूप से अवशोषित होता है तथा यह मनोरंजक रंग पैटर्न भी उत्पन्न करता है
- III. यह छाया, ग्रहण का कारण होता है तथा प्रतिबिंब बनाता है

Options :

1. ✘ II तथा III
2. ✘ केवल I
3. ✘ I तथा II
4. ✔ I, II तथा III

Question Number : 197 Question Id : 99836739421 Question Type : MCQ Option Shuffling : Yes Display Question Number : Yes  
Single Line Question Option : No Option Orientation : Vertical

Correct Marks : 1 Wrong Marks : 0.25

Which of the following statement doesn't describe the nature of science?

Options :

1. ✘ Science is both a body of knowledge and a process
2. ✘ Science is a global human endeavour
3. ✘ Science is a community enterprise
4. ✔ Science is boring

Question Number : 197 Question Id : 99836739421 Question Type : MCQ Option Shuffling : Yes Display Question Number : Yes  
Single Line Question Option : No Option Orientation : Vertical

Correct Marks : 1 Wrong Marks : 0.25

निम्नलिखित में से कौन सा कथन विज्ञान की प्रकृति का वर्णन नहीं करता है?

Options :

1. ✘ विज्ञान ज्ञान तथा एक प्रक्रिया दोनों है
2. ✘ विज्ञान एक वैश्विक मानव प्रयास है
3. ✘ विज्ञान एक सामुदायिक उद्यम है
4. ✔ विज्ञान उबारू है

Question Number : 198 Question Id : 99836739422 Question Type : MCQ Option Shuffling : Yes Display Question Number : Yes  
Single Line Question Option : No Option Orientation : Vertical

Correct Marks : 1 Wrong Marks : 0.25

Which of the following is/are the examples of inductive reference in teaching of science?

- I. When we drop a diary, it falls down
- II. Water flows down the slope
- III. A flower from a plant is attracted by the earth

Options :

1. ✘ II and III
2. ✔ I, II and III
3. ✘ Only III
4. ✘ Only I

Question Number : 198 Question Id : 99836739422 Question Type : MCQ Option Shuffling : Yes Display Question Number : Yes  
Single Line Question Option : No Option Orientation : Vertical

Correct Marks : 1 Wrong Marks : 0.25

निम्नलिखित में से क्या विज्ञान के शिक्षण में आगमनात्मक संदर्भ का/के उदाहरण हैं?

- I. जब हम एक डायरी को छोड़ते हैं, तो वह गिर जाती है
- II. पानी ढलान से नीचे बहता है
- III. पौधे का एक फूल पृथ्वी से आकर्षित होता है

Options :

1. ✘ II तथा III
2. ✔ I, II तथा III
3. ✘ केवल III
4. ✘ केवल I

Question Number : 199 Question Id : 99836739423 Question Type : MCQ Option Shuffling : Yes Display Question Number : Yes  
Single Line Question Option : No Option Orientation : Vertical

Correct Marks : 1 Wrong Marks : 0.25

'Gender' has primarily been viewed \_\_\_\_\_.

- I. as concerning only girls and women (a biological category)
- II. as an isolated category, not related to other issues
- III. in terms of provision of equal facilities

Options :

1. ✘ I and III
2. ✘ II and III
3. ✔ I, II and III
4. ✘ Only I

Question Number : 199 Question Id : 99836739423 Question Type : MCQ Option Shuffling : Yes Display Question Number : Yes  
Single Line Question Option : No Option Orientation : Vertical

Correct Marks : 1 Wrong Marks : 0.25

लिंग' को मुख्य रूप से \_\_\_\_\_ देखा गया है।

- I. केवल लड़कियों तथा महिलाओं से संबंधित (एक जैविक श्रेणी) के रूप में
- II. एक पृथक श्रेणी के रूप में, जो अन्य मुद्दों से संबंधित नहीं है
- III. समान सुविधाओं के प्रावधान के संदर्भ में

Options :

1. ✘ I तथा III
2. ✘ II तथा III
3. ✔ I, II तथा III
4. ✘ केवल I

Question Number : 200 Question Id : 99836739424 Question Type : MCQ Option Shuffling : Yes Display Question Number : Yes  
Single Line Question Option : No Option Orientation : Vertical

Correct Marks : 1 Wrong Marks : 0.25

'Equality as a goal', strategies adopted for it has focused on which of the following?

- I. Neutralising texts of any gendered references
- II. "Sensitive" portrayal of discrimination that girls/women face

Options :

1. ✘ Only I
2. ✘ Only II
3. ✔ Both I and II
4. ✘ Neither I nor II

Question Number : 200 Question Id : 99836739424 Question Type : MCQ Option Shuffling : Yes Display Question Number : Yes  
Single Line Question Option : No Option Orientation : Vertical

Correct Marks : 1 Wrong Marks : 0.25

'समता एक लक्ष्य के रूप में', इसके लिए अपनाई गई रणनीतियों ने निम्नलिखित में से किस पर ध्यान केंद्रित किया है?

- I. पाठों को किसी भी लिंग संदर्भों से मुक्त करना
- II. लड़कियाँ/महिलाएँ जिस भेदभाव का सामना करती हैं उसका "संवेदनशील" चित्रण

Options :

1. ✘ केवल I
2. ✘ केवल II
3. ✔ I तथा II दोनों
4. ✘ ना ही I ना ही II

