



Teachingninja.in



Latest Govt Job updates



Private Job updates



Free Mock tests available

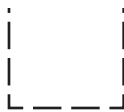


Visit - teachingninja.in

BPSC Head Teacher

**Previous Year Paper
(General Studies)
29 Jun, 2024**





06/HT/M-2024

Booklet Series

Candidate's Roll Number

--	--	--	--	--	--



Serial No.

--

Question Booklet

GENERAL STUDIES AND D.El.Ed.

Time Allowed : 2:30 Hours

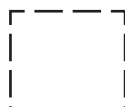
Maximum Marks : 150

Read the following instructions carefully before you begin to answer the questions.

IMPORTANT INSTRUCTIONS

1. This Question Booklet is divided into two Parts — Part – I and Part – II. Part – I contains questions of **General Studies** and Part – II contains questions of **D.El.Ed.**
2. **Part – I** consists of Question Nos. **1 to 75** and **Part – II** consists of Question Nos. **76 to 150**. The questions and their responses are printed in English and Hindi versions both of Part – I and Part – II.
3. **All** questions carry equal marks.
4. An Answer Sheet has been supplied inside the question booklet to mark the answers. **You must write your Roll Number and encode it and write other particulars in the space provided in the Answer Sheet, failing which your Answer Sheet will not be evaluated.**
5. **Immediately after commencement of the examination, you should check up your Question Booklet and attached answer sheet and ensure that the Question Booklet Series is printed on the top right-hand corner of the Booklet and the series encoded in answer sheet are same. Also please check that the Booklet contains 48 printed pages including two pages (Page Nos. 46 and 47) for Rough Work and no page or question is missing or unprinted or torn or repeated or question booklet and answer sheet have different series. If you find any defect in this Booklet and attached answer sheet, get it replaced immediately by a complete Booklet with OMR sheet of the same series.**
6. You must write your Roll Number in the space provided on the top of this page. Do not write anything else on the Question Booklet.
7. Each question comprises of **five** responses — (A), (B), (C), (D) and (E). You are to select **ONLY ONE** correct response and mark it in your Answer Sheet. Your total marks will depend on the number of correct responses marked by you in the Answer Sheet.
8. In the Answer Sheet, there are **five** circles — (A), (B), (C), (D) and (E) against each question. To answer the questions, you are to mark with Black/Blue ink ballpoint pen **ONLY ONE** circle of your choice for each question. Select only one response for each question and mark it in your Answer Sheet. If you mark more than one answer for one question, the answer will be treated as wrong. **Use Black/Blue ink ballpoint pen only to mark the answer in the Answer Sheet. Any erasure or change is not allowed.**
9. You should not remove or tear off any sheet from the Question Booklet. You are not allowed to take this Question Booklet and the Answer Sheet out of the Examination Hall during the examination. **After the examination has concluded, you must hand over your Answer Sheet to the Invigilator.** Thereafter, you are permitted to take away the Question Booklet with you.
10. Failure to comply with any of the above instructions will render you liable to such action or penalty as the Commission may decide at their discretion.
11. Candidates must assure before leaving the Examination Hall that their Answer Sheets will be kept in Self Adhesive LDPE Bag and completely packed/sealed in their presence.

ध्यान दें : अनुदेशों का हिन्दी रूपान्तर इस पुस्तिका के अन्तिम पृष्ठ पर छपा है ।





PART – I

1. Radish is an example of
 - (A) Conn
 - (B) Modified stem
 - (C) Bulb
 - (D) Modified root
 - (E) None of the above/More than one of the above
2. Arrange the following in a logical sequence.
 1. Patient
 2. Diagnosis
 3. Bill
 4. Doctor
 5. Treatment
 - (A) 1, 4, 3, 2, 5
 - (B) 4, 1, 2, 3, 5
 - (C) 1, 4, 2, 3, 5
 - (D) 1, 4, 2, 5, 3
 - (E) None of the above/More than one of the above
3. The Eighth Schedule of the Indian Constitution deals with
 - (A) Urban Self Governance
 - (B) Panchayat system
 - (C) Political defection
 - (D) Languages
 - (E) None of the above/More than one of the above
4. Which port of India is connected to the interior through the Palghat gap ?
 - (A) Marmagao
 - (B) New Mangalore
 - (C) Chennai
 - (D) Cochin
 - (E) None of the above/More than one of the above
5. An equilateral triangle is described on the diagonal of a square. What is the ratio of the area of the triangle to that of the square ?
 - (A) $4 : \sqrt{3}$
 - (B) $\sqrt{3} : 4$
 - (C) $2 : \sqrt{3}$
 - (D) $\sqrt{3} : 2$
 - (E) None of the above/More than one of the above
6. How many houses will be constructed under “P.M. Avas Yojana” during 2022 – 23 according to Union Budget – 2022 ?
 - (A) 50 Lac
 - (B) 80 Lac
 - (C) 1.10 Crore
 - (D) 1.50 Crore
 - (E) None of the above/More than one of the above



PART – I

1. मूली किसका उदाहरण है ?
(A) कॉन
(B) संशोधित तना
(C) बल्ब
(D) संशोधित जड़
(E) उपर्युक्त में से कोई नहीं/उपर्युक्त में से एक से अधिक
2. निम्न को तार्किक क्रम में व्यवस्थित करें ।
 1. मरीज
 2. निदान
 3. बिल
 4. चिकित्सक
 5. उपचार

(A) 1, 4, 3, 2, 5
(B) 4, 1, 2, 3, 5
(C) 1, 4, 2, 3, 5
(D) 1, 4, 2, 5, 3
(E) उपर्युक्त में से कोई नहीं/उपर्युक्त में से एक से अधिक
3. भारतीय संविधान की 8वीं अनुसूची में वर्णित है
(A) शहरी स्वशासन के बारे में
(B) पंचायत व्यवस्था के बारे में
(C) राजनीतिक दल-बदल के बारे में
(D) भाषाओं के बारे में
(E) उपर्युक्त में से कोई नहीं/उपर्युक्त में से एक से अधिक
4. भारत का कौन-सा बन्दरगाह पालघाट दर्रे द्वारा आन्तरिक क्षेत्रों से जुड़ा है ?
(A) मारमागाओ
(B) नवी मंगलौर
(C) चेन्नई
(D) कोचीन
(E) उपर्युक्त में से कोई नहीं/उपर्युक्त में से एक से अधिक
5. एक वर्ग के विकर्ण पर एक समबाहु त्रिभुज बनाया गया है। त्रिभुज के क्षेत्रफल का वर्ग के क्षेत्रफल से अनुपात क्या है ?
(A) $4:\sqrt{3}$
(B) $\sqrt{3}:4$
(C) $2:\sqrt{3}$
(D) $\sqrt{3}:2$
(E) उपर्युक्त में से कोई नहीं/उपर्युक्त में से एक से अधिक
6. संघीय बजट – 2022 के अनुसार वर्ष 2022 – 23 की अवधि में “पी.एम. आवास योजना” के तहत कितने आवास बनाये जायेंगे ?
(A) 50 लाख
(B) 80 लाख
(C) 1.10 करोड़
(D) 1.50 करोड़
(E) उपर्युक्त में से कोई नहीं/उपर्युक्त में से एक से अधिक



7. The first uplift of the Himalayas dates back to which one of the following periods ?
- (A) Miocene
 - (B) Carboniferous
 - (C) Eocene
 - (D) Pliocene
 - (E) None of the above/More than one of the above
8. Which of the following is regarded as the first school of Democracy ?
- (A) Local Self-Government
 - (B) Parliament
 - (C) Pressure Groups
 - (D) Political Parties
 - (E) None of the above/More than one of the above
9. The deficiency of which vitamin causes night blindness
- (A) Vitamin B complex
 - (B) Vitamin E
 - (C) Vitamin A
 - (D) Vitamin C
 - (E) None of the above/More than one of the above
10. The movement for separate provinces in Bihar, which resulted in the formation of the new province of Bihar and Orissa in the year 1911 was led by
- (A) Jayaprakash Narayan
 - (B) Acharya Narendra Dev
 - (C) Sachchidanand Sinha
 - (D) Sardar Patel
 - (E) Dr. Ram Manohar Lohia
11. The next letter in the series A, B, D, H, — will be
- (A) N
 - (B) P
 - (C) L
 - (D) R
 - (E) None of the above/More than one of the above
12. Which of the following event happened at last as per chronological order ?
- (A) Gandhi Irwin Pact
 - (B) Khilafat Movement
 - (C) Execution of Bhagat Singh
 - (D) Home Rule Movement
 - (E) Karachi Session of Indian National Congress
13. A number when divided by 6 leaves a remainder 3. When the square of the number is divided by 6, the remainder is
- (A) 1
 - (B) 3
 - (C) 0
 - (D) 2
 - (E) None of the above/More than one of the above
14. After Poona Pact of 1932, Harijan Sewak Sangh was established. Its President was
- (A) Mahatma Gandhi
 - (B) Amrit Lal Thakkar
 - (C) Ghanshyam Das Birla
 - (D) Lala Lajpat Rai
 - (E) B.R.Ambedkar



7. हिमालय का प्रथम उत्थान निम्नलिखित में से किस प्राचीन युग में हुआ था ?
(A) मायोसीन
(B) कार्बोनिफेरस
(C) इओसीन
(D) प्लायोसीन
(E) उपर्युक्त में से कोई नहीं/उपर्युक्त में से एक से अधिक
8. निम्नलिखित में से किसे लोकतन्त्र की प्रथम पाठशाला माना जाता है ?
(A) स्थानीय स्वशासन
(B) संसद को
(C) दबाव समूहों को
(D) राजनीतिक दलों को
(E) उपर्युक्त में से कोई नहीं/उपर्युक्त में से एक से अधिक
9. रतौंधी किस विटामिन की कमी के कारण होती है ?
(A) विटामिन B कम्प्लेक्स
(B) विटामिन E
(C) विटामिन A
(D) विटामिन C
(E) उपर्युक्त में से कोई नहीं/उपर्युक्त में से एक से अधिक
10. बिहार में अलग प्रांत के लिए आंदोलन जिसके परिणामस्वरूप वर्ष 1911 में बिहार एवं उड़ीसा के नये प्रांत का निर्माण हुआ, का नेतृत्व किया था
(A) जयप्रकाश नारायण ने
(B) आचार्य नरेन्द्र देव ने
(C) सच्चिदानंद सिन्हा ने
(D) सरदार पटेल ने
(E) डॉ. राम मनोहर लोहिया ने
11. श्रृंखला A, B, D, H, — में अगला अक्षर होगा
(A) N
(B) P
(C) L
(D) R
(E) उपर्युक्त में से कोई नहीं/उपर्युक्त में से एक से अधिक
12. कालक्रम की दृष्टि से निम्नलिखित घटनाओं में से कौन अंतिम थी ?
(A) गाँधी इरविन समझौता
(B) खिलाफत आंदोलन
(C) भगत सिंह की फाँसी
(D) होम रूल आंदोलन
(E) भारतीय राष्ट्रीय कांग्रेस का कराची अधिवेशन
13. किसी संख्या को 6 से विभाजित करने पर 3 शेष बचता है। जब संख्या के वर्ग को 6 से विभाजित किया जाता है, तो शेषफल होता है
(A) 1
(B) 3
(C) 0
(D) 2
(E) उपर्युक्त में से कोई नहीं/उपर्युक्त में से एक से अधिक
14. 1932 में पूना पैक्ट के बाद हरिजन सेवक संघ की स्थापना हुई। इसके अध्यक्ष
(A) महात्मा गाँधी थे
(B) अमृत लाल ठक्कर थे
(C) घनश्याम दास बिड़ला थे
(D) लाला लजपत राय थे
(E) बी.आर. अम्बेडकर थे



15. In human system, the digestive enzyme is **not** produced by
- (A) Pancreas
 - (B) Stomach
 - (C) Liver
 - (D) Salivary glands
 - (E) None of the above/More than one of the above
16. India's first cable-stayed railway bridge is located in which State/ Union Territory ?
- (A) Arunachal Pradesh
 - (B) Jammu and Kashmir
 - (C) Sikkim
 - (D) More than one of the above
 - (E) None of the above
17. Which Part of the Indian Constitution is concerned with the Panchayat Raj System ?
- (A) Part – VI
 - (B) Part – IX – A
 - (C) Part – IX
 - (D) Part – XII
 - (E) None of the above/More than one of the above
18. The value of $\frac{(0.06)^2 + (0.47)^2 + (0.079)^2}{(0.006)^2 + (0.047)^2 + (0.0079)^2}$ is
- (A) 10
 - (B) 1000
 - (C) 0.1
 - (D) 100
 - (E) None of the above/More than one of the above
19. Which State of India developed Robotic Manhole Cleaning Technology ?
- (A) Kerala
 - (B) Bihar
 - (C) Karnataka
 - (D) More than one of the above
 - (E) None of the above
20. The founder of Bihar Socialist Party was
- (A) Jayaprakash Narayan
 - (B) J.B. Kripalani
 - (C) Satya Bhakt
 - (D) Mulkraj Anand
 - (E) M.N. Rai
21. Which of the following is present in plants and **not** in animals ?
- (A) Fat
 - (B) Starch
 - (C) Cellulose
 - (D) Protein
 - (E) None of the above/More than one of the above
22. How much budget has been allocated to the "Gati Shakti Yojana" for the next 25 years in the Union Budget – 2022 ?
- (A) 280 Lac Crores
 - (B) 107 Lac Crores
 - (C) 60 Lac Crores
 - (D) 390 Lac Crores
 - (E) None of the above/More than one of the above



15. मानव तंत्र में पाचक एंजाइम किसके द्वारा निर्मित नहीं होता है ?
 (A) अग्राशय
 (B) पेट
 (C) लिवर
 (D) लार ग्रंथि
 (E) उपर्युक्त में से कोई नहीं/उपर्युक्त में से एक से अधिक
16. भारत का प्रथम केबल आधारित रेलवे पुल किस राज्य/केन्द्र शासित प्रदेश में स्थित है ?
 (A) अरुणाचल प्रदेश
 (B) जम्मू और कश्मीर
 (C) सिक्किम
 (D) उपर्युक्त में से एक से अधिक
 (E) उपर्युक्त में से कोई नहीं
17. भारतीय संविधान का कौन-सा भाग पंचायत राज व्यवस्था से सम्बन्धित है ?
 (A) भाग - VI
 (B) भाग - IX - A
 (C) भाग - IX
 (D) भाग - XII
 (E) उपर्युक्त में से कोई नहीं/उपर्युक्त में से एक से अधिक
18. $\frac{(0.06)^2 + (0.47)^2 + (0.079)^2}{(0.006)^2 + (0.047)^2 + (0.0079)^2}$ का मान है
 (A) 10
 (B) 1000
 (C) 0.1
 (D) 100
 (E) उपर्युक्त में से कोई नहीं/उपर्युक्त में से एक से अधिक
19. भारत के किस राज्य ने रोबोटिक मैनहोल सफाई तकनीक विकसित की है ?
 (A) केरल
 (B) बिहार
 (C) कर्नाटक
 (D) उपर्युक्त में से एक से अधिक
 (E) उपर्युक्त में से कोई नहीं
20. बिहार सोशलिस्ट पार्टी के संस्थापक थे
 (A) जयप्रकाश नारायण
 (B) जे.बी. कृपलानी
 (C) सत्य भक्त
 (D) मुल्कराज आनंद
 (E) एम.एन. राय
21. निम्न में से कौन-सा पौधों में मौजूद होता है लेकिन जानवरों में नहीं
 (A) फैट
 (B) स्टार्च
 (C) सेल्यूलोज
 (D) प्रोटीन
 (E) उपर्युक्त में से कोई नहीं/उपर्युक्त में से एक से अधिक
22. संघीय बजट-2022 में “गति शक्ति योजना” के लिए अगामी 25 वर्षों के लिए कितना बजट आवंटित किया गया है ?
 (A) 280 लाख करोड़
 (B) 107 लाख करोड़
 (C) 60 लाख करोड़
 (D) 390 लाख करोड़
 (E) उपर्युक्त में से कोई नहीं/उपर्युक्त में से एक से अधिक



23. The major coal deposits of India are found in
(A) The Vindhyan system
(B) The Cretaceous system
(C) The Dharwar system
(D) The Gondwana system
(E) None of the above/More than one of the above
24. $\frac{1}{(\sqrt{9}-\sqrt{8})} - \frac{1}{(\sqrt{8}-\sqrt{7})} + \frac{1}{(\sqrt{7}-\sqrt{6})} - \frac{1}{(\sqrt{6}-\sqrt{5})} + \frac{1}{(\sqrt{5}-\sqrt{4})}$ is equal to
(A) $\sqrt{5}$
(B) $\sqrt{7}$
(C) 5
(D) $2\sqrt{5}$
(E) None of the above/More than one of the above
25. Which one of the following was the Constitutional advisor to the Constituent Assembly of India ?
(A) M.C. Setalvad
(B) Dr. B.N. Rau
(C) Dr. K.M. Munshi
(D) Dr. B.C. Chatterjee
(E) None of the above/More than one of the above
26. If A = 26, SUN = 27, then CAT = ?
(A) 27
(B) 77
(C) 57
(D) 32
(E) None of the above/More than one of the above
27. Light Emitting Diodes (LED) used in fancy toys emit
(A) Radio waves
(B) UV rays
(C) Visible light
(D) Infrared waves
(E) None of the above/More than one of the above
28. The missing term in the sequence 2, 5, 16, 65, ? is
(A) 326
(B) 327
(C) 131
(D) 325
(E) None of the above/More than one of the above
29. Who established Satyagraha Ashram at Wardha ?
(A) Jamanlal Bajaj
(B) Acharya Kripalani
(C) Sarojini Naidu
(D) Vinoba Bhave
(E) Mahatma Gandhi
30. Right to Education (RTE) Act, 2009 came into force on
(A) 1 January, 2010
(B) 1 January, 2011
(C) 1 April, 2009
(D) 1 April, 2010
(E) None of the above/More than one of the above

**E**

23. भारत के प्रमुख कोयला निक्षेप किस क्रम (system) में पाये जाते हैं ?

- (A) विन्ध्यन क्रम
- (B) क्रीटेशियस क्रम
- (C) धारवार क्रम
- (D) गोन्डवाना क्रम
- (E) उपर्युक्त में से कोई नहीं/उपर्युक्त में से एक से अधिक

24. $\frac{1}{(\sqrt{9}-\sqrt{8})} - \frac{1}{(\sqrt{8}-\sqrt{7})} + \frac{1}{(\sqrt{7}-\sqrt{6})} - \frac{1}{(\sqrt{6}-\sqrt{5})} + \frac{1}{(\sqrt{5}-\sqrt{4})}$ बराबर है

- (A) $\sqrt{5}$
- (B) $\sqrt{7}$
- (C) 5
- (D) $2\sqrt{5}$
- (E) उपर्युक्त में से कोई नहीं/उपर्युक्त में से एक से अधिक

25. निम्नलिखित में से कौन भारत की संविधान सभा के संवैधानिक सलाहकार थे ?

- (A) एम. सी. सीतलवाड़
- (B) डॉ. बी. एन. राव
- (C) डॉ. के. एम. मुंशी
- (D) डॉ. बी. सी. चटर्जी
- (E) उपर्युक्त में से कोई नहीं/उपर्युक्त में से एक से अधिक

26. यदि $A = 26$, $SUN = 27$, then $CAT = ?$

- (A) 27
- (B) 77
- (C) 57
- (D) 32
- (E) उपर्युक्त में से कोई नहीं/उपर्युक्त में से एक से अधिक

27. फैसी खिलौनों में प्रयोग किया जाने वाला प्रकाश उत्सर्जक डायोड उत्सर्जित करता है

- (A) रेडियो तरंगे
- (B) यू.वी. किरणे
- (C) दृश्यमान प्रकाश
- (D) इन्फ्रारेड तरंगे
- (E) उपर्युक्त में से कोई नहीं/उपर्युक्त में से एक से अधिक

28. अनुक्रम 2, 5, 16, 65, ? में लुप्त पद है

- (A) 326
- (B) 327
- (C) 131
- (D) 325
- (E) उपर्युक्त में से कोई नहीं/उपर्युक्त में से एक से अधिक

29. वर्धा में सत्याग्रह आश्रम को किसने स्थापित किया ?

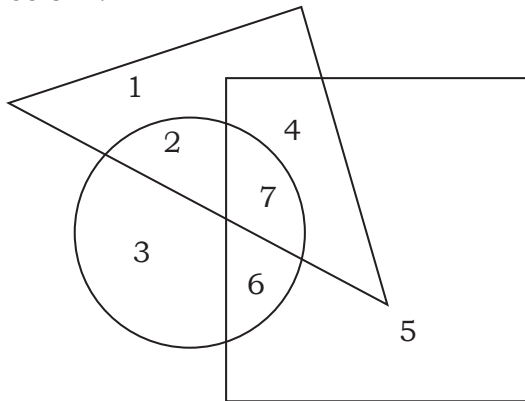
- (A) जमनालाल बजाज
- (B) आचार्य कृपलानी
- (C) सरोजिनी नायडू
- (D) विनोबा भावे
- (E) महात्मा गाँधी

30. शिक्षा का अधिकार अधिनियम, 2009 अस्तित्व में आया

- (A) 1 जनवरी, 2010 से
- (B) 1 जनवरी, 2011 से
- (C) 1 अप्रैल, 2009 से
- (D) 1 अप्रैल, 2010 से
- (E) उपर्युक्त में से कोई नहीं/उपर्युक्त में से एक से अधिक



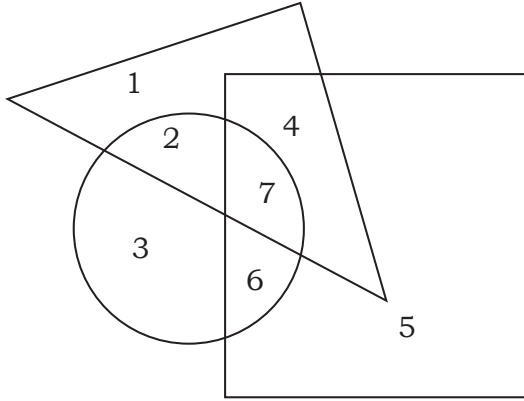
31. If tall is equivalent to circle, Armymen to triangle and strong to square, indicate which number will represent strong Armymen in the figure given below ?



- (A) 5
(B) 3
(C) 6
(D) 4
(E) None of the above/More than one of the above
32. Which one of the following does **not** from part of the preamble of the Constitution ?
(A) Fraternity
(B) Dignity of the individual
(C) Federal
(D) Justice
(E) None of the above/More than one of the above
33. The average score of a cricketer for ten matches is 38.9 runs. If the average for the first six matches is 42, then find the average for the last four matches.
(A) 34.25
(B) 35
(C) 33.25
(D) 33.50
(E) None of the above/More than one of the above
34. Fluoride pollution in water chiefly affects
(A) Kidney
(B) Teeth
(C) Brain
(D) Liver
(E) None of the above/More than one of the above
35. Which one of the following regions of India receives less than 25 cm of annual rainfall ?
(A) Kashmir Valley
(B) Malwa Plateau
(C) Nilgiri Hills
(D) Ladakh Region
(E) None of the above/More than one of the above
36. According to Koppen's climatic classification, the climate of North Bihar may be explained as
(A) AW
(B) CB'W
(C) CWg
(D) CA'W
(E) None of the above/More than one of the above
37. Which one of the following is **not** correctly matched ?
(A) Abul Kalam Azad – The Guiltimen of India's Partition
(B) B.R. Ambedkar – Mook Nayak
(C) Lala Lajpat Rai – Unhappy India
(D) Valentine Chirol – Indian Unrest
(E) Sachindranath – Bandi Jivan Sanyal



31. यदि लम्बा वृत्त के समतुल्य है, सेनाएं त्रिभुज और बलवान वर्ग के तुल्य है, तो नीचे दिए गये चित्र में कौन-सी संख्या बलवान सैनिकों को निरूपित करेगी ?



- (A) 5
(B) 3
(C) 6
(D) 4
(E) उपर्युक्त में से कोई नहीं/उपर्युक्त में से एक से अधिक
32. निम्नलिखित में से कौन-सा शब्द संविधान की प्रस्तावना में नहीं है ?
(A) बन्धुत्व
(B) व्यक्ति की गरिमा
(C) संघीय
(D) न्याय
(E) उपर्युक्त में से कोई नहीं/उपर्युक्त में से एक से अधिक
33. एक क्रिकेटर का दस मैचों का औसत 38.9 रन है। यदि पहले छह मैचों का औसत 42 है, तो अन्तिम चार मैचों का औसत ज्ञात कीजिये।
(A) 34.25
(B) 35
(C) 33.25
(D) 33.50
(E) उपर्युक्त में से कोई नहीं/उपर्युक्त में से एक से अधिक

34. पानी में फ्लोराइड प्रदूषण मुख्यतः प्रभावित करता है
(A) गुर्दा
(B) दाँत
(C) दिमाग
(D) यकृत
(E) उपर्युक्त में से कोई नहीं/उपर्युक्त में से एक से अधिक
35. निम्नलिखित में से भारत के किस प्रदेश में वार्षिक वर्षा 25 से.मी. से कम होती है ?
(A) कश्मीर घाटी
(B) मालवा पठार
(C) नीलगिरी पहाड़ियाँ
(D) लद्दाख प्रदेश
(E) उपर्युक्त में से कोई नहीं/उपर्युक्त में से एक से अधिक
36. कोपेन के जलवायु वर्गीकरण के अनुसार, उत्तर बिहार की जलवायु किससे प्रदर्शित की जाती है ?
(A) AW
(B) CB'W
(C) CWg
(D) CA'W
(E) उपर्युक्त में से कोई नहीं/उपर्युक्त में से एक से अधिक
37. निम्नलिखित में से कौन-सा एक सही सुमेलित नहीं है ?
(A) अबुल कलाम आजाद - दी गिल्टीमेन ऑफ इंडियाज पार्टेशन
(B) बी.आर. अम्बेडकर - मूक नायक
(C) लाला लजपत राय - अनहैपी इंडिया
(D) वेलेन्टाइन शिरोल - इंडियन अनरेस्ट
(E) सचीन्द्रनाथ सान्याल - बंदी जीवन



38. P is the son of Q. R, Q's sister has son S and daughter T. U is the maternal uncle of S. How is P related to S ?
- (A) Nephew
(B) Brother
(C) Cousin
(D) Uncle
(E) None of the above/More than one of the above
39. Match the following :
- | Books | Author |
|---------------------|-----------------|
| a. Laila Majnu | 1. Abdul Fazal |
| b. Akbar Nama | 2. Abdul Hamid |
| c. Badsha Nama | 3. Albiruni |
| d. Tahqeeq -E- Hind | 4. Amir Khusrau |
- Choose correct answer from the following :
- (A) a - 1, b - 3, c - 4, d - 2
(B) a - 1, b - 2, c - 3, d - 4
(C) a - 4, b - 1, c - 2, d - 3
(D) More than one of the above
(E) None of the above
40. Who among the following was appointed as the brand ambassador of 'Swachh Bharat Mission' in 2017 ?
- (A) Anushka Sharma
(B) Shilpa Shetty
(C) Amitabh Bachchan
(D) More than one of the above
(E) None of the above
41. Myopia disease is related to
- (A) Eyes
(B) Throat
(C) Ears
(D) Nose
(E) None of the above/More than one of the above
42. The difference between the numerator and the denominator of a fraction is 5. If 5 is added to its denominator, the fraction is decreased by $1\frac{1}{4}$. Find the value of the fraction.
- (A) $2\frac{1}{4}$
(B) 6
(C) $\frac{1}{6}$
(D) $3\frac{1}{4}$
(E) None of the above/More than one of the above
43. The journal 'Ghadar' of Ghadar Party was a
- (A) Fortnightly journal
(B) Daily journal
(C) Monthly journal
(D) Weekly journal
(E) None of the above
44. In cars and vehicles, the cooling of engine occurs by
- (A) Air blower
(B) Radiator
(C) Air conditioner
(D) Oil
(E) None of the above/More than one of the above



38. P, Q का पुत्र है। R, Q की बहन, को पुत्र S और पुत्री T है। U, S का मामा है। P, S से किस प्रकार संबंधित है ?

- (A) भांजा
- (B) भाई
- (C) चचेरा भाई
- (D) चाचा
- (E) उपर्युक्त में से कोई नहीं/उपर्युक्त में से एक से अधिक

39. निम्नलिखित को सुमेलित कीजिए :

पुस्तकें	लेखक
a. लैला मजनू	1. अब्दुल फज़ल
b. अकबर नामा	2. अब्दुल हमिद
c. बादशाह नामा	3. अलबिरूनी
d. तहक़ीक़-ए-हिंद	4. अमिर खुसरू

निम्नलिखित में से सही उत्तर चुनिए :

- (A) a - 1, b - 3, c - 4, d - 2
- (B) a - 1, b - 2, c - 3, d - 4
- (C) a - 4, b - 1, c - 2, d - 3
- (D) उपर्युक्त में से एक से अधिक
- (E) उपर्युक्त में से कोई नहीं

40. 2017 में निम्नलिखित में से किसे 'स्वच्छ भारत मिशन' का ब्रांड एंबेसडर नियुक्त किया गया ?

- (A) अनुष्का शर्मा
- (B) शिल्पा शेटी
- (C) अमिताभ बच्चन
- (D) उपर्युक्त में से एक से अधिक
- (E) उपर्युक्त में से कोई नहीं

41. मायोपिया बीमारी निम्न से सम्बंधित होती है

- (A) आँख
- (B) गला
- (C) कान
- (D) नाक
- (E) उपर्युक्त में से कोई नहीं/उपर्युक्त में से एक से अधिक

42. एक भिन्न के अंश और हर के बीच का अन्तर 5 है। यदि इसके हर में 5 जोड़ा जाता है, तो भिन्न $1\frac{1}{4}$ से कम हो जाता है। भिन्न का मान ज्ञात कीजिये।

- (A) $2\frac{1}{4}$
- (B) 6
- (C) $\frac{1}{6}$
- (D) $3\frac{1}{4}$
- (E) उपर्युक्त में से कोई नहीं/उपर्युक्त में से एक से अधिक

43. गदर पार्टी का पत्र 'गदर' था

- (A) एक पाक्षिक पत्र
- (B) एक दैनिक पत्र
- (C) एक मासिक पत्र
- (D) एक साप्ताहिक पत्र
- (E) उपर्युक्त में से कोई नहीं

44. कारों और वाहनों में इंजन की कूलिंग निम्न के द्वारा होती है

- (A) एयर ब्लोअर
- (B) रेडियेटर
- (C) एयर कंडीशनर
- (D) तेल
- (E) उपर्युक्त में से कोई नहीं/उपर्युक्त में से एक से अधिक



- 45.** Each year, World Red Cross and Red Crescent Day is celebrated on
- (A) April 8
 - (B) May 18
 - (C) May 8
 - (D) More than one of the above
 - (E) None of the above
- 46.** Five lines are intersecting each other. Find the maximum intersecting points possible.
- (A) 10
 - (B) 20
 - (C) 5
 - (D) 15
 - (E) None of the above/More than one of the above
- 47.** Which one of the following regions is most suitable for cotton cultivation ?
- (A) Brahmaputra valley
 - (B) Chhotanagpur plateau
 - (C) Ganga plain
 - (D) Deccan trap
 - (E) None of the above/More than one of the above
- 48.** Epoxy resins are used as
- (A) Detergents
 - (B) Pesticides
 - (C) Adhesives
 - (D) Insecticides
 - (E) None of the above/More than one of the above
- 49.** Who said "Here (in India) is a revolution taking place and we should move quickly" ?
- (A) Lord Wavell
 - (B) Sir Stafford Cripps
 - (C) Clement Attlee
 - (D) Lord Irwin
 - (E) Churchill
- 50.** 40% of the people read newspaper X, 50% read newspaper Y and 10% read both the papers. What percentage of the people read neither newspaper ?
- (A) 15%
 - (B) 25%
 - (C) 10%
 - (D) 20%
 - (E) None of the above/More than one of the above
- 51.** Which one of the following river joins the Ganga at Fatuha ?
- (A) Punpun
 - (B) Balan
 - (C) Son
 - (D) Sakri
 - (E) None of the above/More than one of the above
- 52.** Photosynthesis becomes faster in
- (A) Darkness
 - (B) White light
 - (C) Blue light
 - (D) Red light
 - (E) None of the above/More than one of the above



45. प्रत्येक वर्ष विश्व रेड क्रॉस और रेड क्रिसेंट दिवस मनाया जाता है
(A) 8 अप्रैल
(B) 18 मई
(C) 8 मई
(D) उपर्युक्त में से एक से अधिक
(E) उपर्युक्त में से कोई नहीं
46. पाँच रेखाएँ एक दूसरे को प्रतिच्छेदित करती हैं। संभव अधिकतम संभावित प्रतिच्छेदन बिन्दुओं को ज्ञात करें।
(A) 10
(B) 20
(C) 5
(D) 15
(E) उपर्युक्त में से कोई नहीं/उपर्युक्त में से एक से अधिक
47. निम्नलिखित में से कौन-सा प्रदेश कपास की खेती के लिये अत्यन्त उपयुक्त है ?
(A) ब्रह्मपुत्र घाटी
(B) छोटानागपुर पठार
(C) गंगा का मैदान
(D) डकन ट्रैप
(E) उपर्युक्त में से कोई नहीं/उपर्युक्त में से एक से अधिक
48. एपॉक्सी रेजिन का उपयोग निम्न के रूप में किया जाता है
(A) डिटर्जेंट
(B) कीट नाशक
(C) चिपकाने में
(D) इनसेक्टीसाइड
(E) उपर्युक्त में से कोई नहीं/उपर्युक्त में से एक से अधिक
49. “यहाँ (भारत में) एक क्रांति होने जा रही है और हमें जल्दी से चले जाना चाहिए।” यह किसने कहा ?
(A) लॉर्ड वेवेल
(B) सर स्टैफोर्ड क्रिप्स
(C) क्लीमेंट एटली
(D) लार्ड इरविन
(E) चर्चिल
50. 40% लोग अखबार X पढ़ते हैं, 50% अखबार Y पढ़ते हैं और 10% लोग दोनों अखबार पढ़ते हैं। कितने प्रतिशत लोग कोई अखबार नहीं पढ़ते हैं ?
(A) 15%
(B) 25%
(C) 10%
(D) 20%
(E) उपर्युक्त में से कोई नहीं/उपर्युक्त में से एक से अधिक
51. निम्नलिखित में से कौन-सी नदी फतुहा के पास गंगा में मिलती है ?
(A) पनपन
(B) बालन
(C) सोन
(D) साकरी
(E) उपर्युक्त में से कोई नहीं/उपर्युक्त में से एक से अधिक
52. प्रकाश संश्लेषण निम्न में तेज हो जाता है
(A) अंधेरे में
(B) सफेद प्रकाश में
(C) नीले प्रकाश में
(D) लाल प्रकाश में
(E) उपर्युक्त में से कोई नहीं/उपर्युक्त में से एक से अधिक



53. Match the following Parliament with its respective countries and choose the correct answer from given alternatives.

Country	Name of Parliament
---------	--------------------

- | | |
|----------------|----------------------------|
| a. South Korea | 1. Kongreso |
| b. North Korea | 2. National Assembly |
| c. Nepal | 3. Supreme People Assembly |
| d. Philippine | 4. Legislature-Parliament |

- (A) a – 2, b – 3, c – 4, d – 1
(B) a – 1, b – 2, c – 3, d – 4
(C) a – 2, b – 4, c – 3, d – 1
(D) More than one of the above
(E) None of the above

54. Fill in the blank.

CARPET : TCEAPR :: _____ : LNAANTOI

- (A) NATIOLNL
(B) NATERANL
(C) NATIONPL
(D) NATIONAL
(E) None of the above/More than one of the above

55. Which of the following statement is correct ?

- Lala Lajpat Rai was never elected as President of Indian National Congress.
 - Mahatma Gandhi was born at Gandhinagar.
 - Bhagat Singh formed the forward Bloc.
- (A) Only i
(B) Only iii
(C) Both i and ii
(D) Only ii
(E) None of the above

56. Which one of the following cities is called Manchester of Tamil Nadu ?

- (A) Coimbatore
(B) Salem
(C) Chennai
(D) Madurai
(E) None of the above/More than one of the above

57. Which city is the location of recently inaugurated India's First Girls Military school ?

- (A) Aligarh
(B) Faridabad
(C) Vrindavan
(D) More than one of the above
(E) None of the above

58. INSAT-3D was launched on which date of the following ?

- (A) 17th February, 2024
(B) 17th January, 2024
(C) 16th February, 2024
(D) More than one of the above
(E) None of the above

59. The semi-conductor among the following is

- (A) Gold
(B) Silver
(C) Glass
(D) Silicon
(E) None of the above/More than one of the above



53. निम्नलिखित संसद को उसके संबंधित देशों से सुमेलित करें और दिए गए विकल्पों में से सही उत्तर चुनिए ।

देश	संसद का नाम
a. दक्षिण कोरिया	1. कांग्रेस
b. उत्तर कोरिया	2. राष्ट्रीय सभा
c. नेपाल	3. सर्वोच्च लोक सभा
d. फिलीपीन	4. विधायिका संसद

- (A) a - 2, b - 3, c - 4, d - 1
 (B) a - 1, b - 2, c - 3, d - 4
 (C) a - 2, b - 4, c - 3, d - 1
 (D) उपर्युक्त में से एक से अधिक
 (E) उपर्युक्त में से कोई नहीं

54. रिक्त स्थान को भरें ।

CARPET : TCEAPR :: _____ :
 LNAANTOI

- (A) NATIOLNL
 (B) NATERANL
 (C) NATIONPL
 (D) NATIONAL
 (E) उपर्युक्त में से कोई नहीं/उपर्युक्त में से एक से अधिक

55. निम्नलिखित में से कौन-सा कथन सही है ?

- लाला लजपत राय भारतीय राष्ट्रीय कांग्रेस के अध्यक्ष कभी भी नहीं चुने गये थे ।
 - महात्मा गांधी का जन्म गांधीनगर में हुआ था ।
 - भगत सिंह ने फारवर्ड ब्लॉक गठित किया था ।
- (A) केवल i
 (B) केवल iii
 (C) दोनों i व ii
 (D) केवल ii
 (E) उपर्युक्त में से कोई नहीं

56. निम्नलिखित नगरों में से कौन-सा नगर तमिलनाडु का मैनचेस्टर कहा जाता है ?

- (A) कोयमबटोर
 (B) सलेम
 (C) चेन्नई
 (D) मदुरै
 (E) उपर्युक्त में से कोई नहीं/उपर्युक्त में से एक से अधिक

57. हाल ही में उद्घाटन किए गए भारत के पहले बालिका सैन्य विद्यालय का स्थान कौन-सा शहर है ?

- (A) अलीगढ़
 (B) फरीदाबाद
 (C) वृंदावन
 (D) उपर्युक्त में से एक से अधिक
 (E) उपर्युक्त में से कोई नहीं

58. INSAT-3D निम्नलिखित में से किस तारीख को लॉन्च किया गया था ?

- (A) 17 फरवरी, 2024
 (B) 17 जनवरी, 2024
 (C) 16 फरवरी, 2024
 (D) उपर्युक्त में से एक से अधिक
 (E) उपर्युक्त में से कोई नहीं

59. निम्न में अर्धचालक (सेमीकंडक्टर) है

- (A) सोना
 (B) चाँदी
 (C) ग्लास
 (D) सिलिकॉन
 (E) उपर्युक्त में से कोई नहीं/उपर्युक्त में से एक से अधिक



60. The water proof properties of raincoats and tents are due to
- (A) Viscosity
 - (B) Specific gravity
 - (C) Elasticity
 - (D) Surface tension
 - (E) None of the above/More than one of the above
61. Who among the following was awarded the Sahitya Academy Award-2023 in 'Urdu Literature' ?
- (A) Tausif Barailwy
 - (B) Manowar Rana
 - (C) Sadiqa Nawab
 - (D) More than one of the above
 - (E) None of the above
62. An article when sold at a gain of 5% yields Rs. 15 more than when sold at a loss of 5%. Its cost price would be
- (A) 200
 - (B) 300
 - (C) 150
 - (D) 250
 - (E) None of the above/More than one of the above
63. The Office of India's President does **not** characterize the combination of Governmental systems of
- (A) Presidential and Republican
 - (B) Parliamentary and Republican
 - (C) Democratic and Republican
 - (D) Parliamentary and Federal
 - (E) None of the above/More than one of the above
64. Which one of the following National Highways passes through Uttar Pradesh, Madhya Pradesh and Maharashtra ?
- (A) NH – 3
 - (B) NH – 5
 - (C) NH – 2
 - (D) NH – 4
 - (E) None of the above/More than one of the above
65. If CIRCLE is coded as DKUFNF, then code of SQUARE is
- (A) TSXDTF
 - (B) TXDTFS
 - (C) TSXDFT
 - (D) TXSDFT
 - (E) None of the above/More than one of the above
66. Who among the following leader presided over the Calcutta Congress Session in 1906 ?
- (A) Gopal Krishna Gokhale
 - (B) Surendranath Banerjee
 - (C) Bal Gangadhar Tilak
 - (D) Jinnah
 - (E) None of the above
67. The acid used by the human body to help digestion is
- (A) Boric acid
 - (B) Nitric acid
 - (C) Acetic acid
 - (D) Hydrochloric acid
 - (E) None of the above/More than one of the above



60. रेनकोट और टेंट के वाटर प्रूफ गुण किसके कारण होते हैं ?
(A) श्यानता
(B) विशिष्ट गुरुत्व
(C) इलास्टिसिटी
(D) सतह तनाव
(E) उपर्युक्त में से कोई नहीं/उपर्युक्त में से एक से अधिक
61. निम्नलिखित में से किसे 'उर्दू साहित्य' में साहित्य अकादमी पुरस्कार-2023 से सम्मानित किया गया ?
(A) तौसीफ बरैलवी
(B) मनव्वर राणा
(C) सादिका नवाब
(D) उपर्युक्त में से एक से अधिक
(E) उपर्युक्त में से कोई नहीं
62. एक वस्तु जब 5% के लाभ पर बेची जाती है, तो 5% की हानि पर बेचने से 15 रुपया अधिक प्राप्ति होती है। इसका लागत मूल्य होगा
(A) 200
(B) 300
(C) 150
(D) 250
(E) उपर्युक्त में से कोई नहीं/उपर्युक्त में से एक से अधिक
63. भारत के राष्ट्रपति का कार्यालय सरकारी प्रणालियों के किस संयोजन की विशेषता नहीं है ?
(A) अध्यक्षीय एवं गणतंत्रात्मक
(B) संसदीय एवं गणतंत्रात्मक
(C) प्रजातांत्रिक एवं गणतंत्रात्मक
(D) संसदीय एवं संघीय
(E) उपर्युक्त में से कोई नहीं/उपर्युक्त में से एक से अधिक
64. निम्नलिखित में से कौन-सा राष्ट्रीय राजमार्ग उत्तर प्रदेश, मध्य प्रदेश तथा महाराष्ट्र से गुजरता है ?
(A) NH - 3
(B) NH - 5
(C) NH - 2
(D) NH - 4
(E) उपर्युक्त में से कोई नहीं/उपर्युक्त में से एक से अधिक
65. यदि CIRCLE को DKUFNF के रूप में कोडित किया जाता है, तो SQUARE का कोड है
(A) TSXDTF
(B) TXDTFS
(C) TSXDFT
(D) TXSDFT
(E) उपर्युक्त में से कोई नहीं/उपर्युक्त में से एक से अधिक
66. निम्नलिखित में से किस नेता ने 1906 में कलकत्ता कांग्रेस अधिवेशन की अध्यक्षता की थी ?
(A) गोपाल कृष्ण गोखले
(B) सुरेन्द्रनाथ बैनर्जी
(C) बाल गंगाधर तिलक
(D) जिन्ना
(E) उपर्युक्त में से कोई नहीं
67. मानव शरीर द्वारा पाचन में सहायता के लिये प्रयोग किया जाने वाला अम्ल है
(A) बोरिक अम्ल
(B) नाइट्रिक अम्ल
(C) एसिटिक अम्ल
(D) हाइड्रोक्लोरिक अम्ल
(E) उपर्युक्त में से कोई नहीं/उपर्युक्त में से एक से अधिक



68. A sum of money doubles itself at compound interest in 15 years. In how many years will it become eight times ?
(A) 35 years
(B) 45 years
(C) 25 years
(D) 40 years
(E) None of the above/More than one of the above
69. Which country/countries was/were the host of Cricket Asia Cup – 2023 ?
(A) Afghanistan
(B) Sri Lanka and Pakistan
(C) India and Bangladesh
(D) More than one of the above
(E) None of the above
70. The process in which oxygen is removed is known as
(A) Electrolysis
(B) Reduction
(C) Catalysis
(D) Oxidation
(E) None of the above/More than one of the above
71. Judicial review's doctrine of Partial Annulment is related to which Article of the Indian Constitution ?
(A) Article – 13
(B) Article – 352
(C) Article – 246
(D) Article – 32
(E) None of the above/More than one of the above
72. A man walks 1 km towards East and then he turns to South and walks 5 km. Again he turns to East and walks 2 km, after this he turns to North and walks 9 km. Now, how far is he from his starting point ?
(A) 4 km
(B) 7 km
(C) 3 km
(D) 5 km
(E) None of the above/More than one of the above
73. In which one of the following States, the lowest size of land holdings is found ?
(A) Assam
(B) Odisha
(C) Andhra Pradesh
(D) Bihar
(E) None of the above/More than one of the above
74. If $\log_8 x + \log_8 \frac{1}{6} = \frac{1}{3}$, then the value of x is
(A) 16
(B) 24
(C) 12
(D) 18
(E) None of the above/More than one of the above
75. Saurology is the study of
(A) Lizards
(B) Mosquitoes
(C) Cockroaches
(D) Bats
(E) None of the above/More than one of the above



68. एक राशि चक्रवृद्धि ब्याज पर 15 वर्षों में अपने आप दुगनी हो जाती है। कितने वर्षों में यह आठ गुणा हो जायेगा ?
(A) 35 वर्ष
(B) 45 वर्ष
(C) 25 वर्ष
(D) 40 वर्ष
(E) उपर्युक्त में से कोई नहीं/उपर्युक्त में से एक से अधिक
69. क्रिकेट एशिया कप-2023 का मेज़बान कौन-सा देश था/थे ?
(A) अफगानिस्तान
(B) श्रीलंका एवं पाकिस्तान
(C) भारत एवं बांग्लादेश
(D) उपर्युक्त में से एक से अधिक
(E) उपर्युक्त में से कोई नहीं
70. वह प्रक्रिया जिसमें ऑक्सीजन को हटाया जाता है, कहते हैं
(A) विद्युतपघटन
(B) अवकरण
(C) उत्प्रेरण
(D) ऑक्सीकरण
(E) उपर्युक्त में से कोई नहीं/उपर्युक्त में से एक से अधिक
71. न्यायिक पुनरावलोकन का आंशिक निरस्तीकरण सिद्धान्त भारतीय संविधान के किस अनुच्छेद से सम्बन्धित है ?
(A) अनुच्छेद - 13
(B) अनुच्छेद - 352
(C) अनुच्छेद - 246
(D) अनुच्छेद - 32
(E) उपर्युक्त में से कोई नहीं/उपर्युक्त में से एक से अधिक
72. एक आदमी पूर्व की ओर 1 किमी चलता है और फिर वह दक्षिण की ओर मुड़ता है और 5 किमी चलता है। फिर से वह पूर्व की ओर मुड़ता है और 2 किमी चलता है, इसके बाद वह उत्तर की ओर मुड़ता है और 9 किमी चलता है। अब, वह अपने शरूआती बिन्दु से कितनी दूर है ?
(A) 4 किमी
(B) 7 किमी
(C) 3 किमी
(D) 5 किमी
(E) उपर्युक्त में से कोई नहीं/उपर्युक्त में से एक से अधिक
73. निम्नलिखित राज्यों में से किस राज्य में भूमि-जोत के आकार सबसे कम पाये जाते हैं ?
(A) असम
(B) ओडीशा
(C) आंध्र प्रदेश
(D) बिहार
(E) उपर्युक्त में से कोई नहीं/उपर्युक्त में से एक से अधिक
74. यदि $\log_8 x + \log_8 \frac{1}{6} = \frac{1}{3}$ है, तो x का मान है
(A) 16
(B) 24
(C) 12
(D) 18
(E) उपर्युक्त में से कोई नहीं/उपर्युक्त में से एक से अधिक
75. सैरोलॉजी निम्न का अध्ययन है
(A) छिपकलियों का
(B) मच्छरों का
(C) कॉकरोचों का
(D) चमगादड़ का
(E) उपर्युक्त में से कोई नहीं/उपर्युक्त में से एक से अधिक



PART – II

- 76.** The best indication of a well integrated social order is
- (A) The commonness of ideology and purpose
 - (B) The relative absence of socio-economic cleavage/split
 - (C) The solidarity of a group in times of crisis
 - (D) The productivity of the members
 - (E) None of the above/More than one of the above
- 77.** The main purpose of education should be the integrated development of a person. Whose statement is this ?
- (A) Rabindranath Tagore
 - (B) Swami Vivekananda
 - (C) Sri Aurobindo
 - (D) Mahatma Gandhi
 - (E) None of the above/More than one of the above
- 78.** Teaching aids are useful because they
- (A) Activate all senses
 - (B) Make learning more meaningful
 - (C) Help teacher's work
 - (D) Help students to be attentive
 - (E) None of the above/More than one of the above
- 79.** Identify the specific interventions introduced for Universalisation of elementary education.
- (A) Distribution of free books and uniforms
 - (B) Kasturba Gandhi Balika Vidyalaya
 - (C) Mid day meal
 - (D) Sarva Shiksha Abhiyan
 - (E) None of the above/More than one of the above
- 80.** Education is considered as a sub-system of a social system because
- (A) It has a complex structure
 - (B) It has various interacting components determining social goals
 - (C) It provides essential service that society has to provide to the people
 - (D) It has well defined objectives and functions to promote adaptations
 - (E) None of the above/More than one of the above
- 81.** The ultimate purpose of Gandhian education is the
- (A) Promotion of human beings
 - (B) Salvation for all
 - (C) Creation of a classless society
 - (D) Development of a human and awakened society
 - (E) None of the above/More than one of the above



PART – II

76. एक सुसमाकलित सामाजिक व्यवस्था का सर्वोत्तम सूचक क्या है ?
- (A) विचारधारा और प्रयोजन की सामान्यता
(B) सामाजिक आर्थिक विभेद की सापेक्ष अनुपस्थिति
(C) संकट के समय समूह की अखंडता
(D) सदस्यों की उत्पादकता
(E) उपर्युक्त में से कोई नहीं/उपर्युक्त में से एक से अधिक
77. शिक्षा का मुख्य उद्देश्य व्यक्ति का समग्र विकास होना चाहिए। यह किसका कथन है ?
- (A) रविन्द्रनाथ टैगोर
(B) स्वामी विवेकानन्द
(C) श्री अरविन्दो
(D) महात्मा गाँधी
(E) उपर्युक्त में से कोई नहीं/उपर्युक्त में से एक से अधिक
78. शैक्षिक सहायक सामग्रियां उपयोगी होती हैं, क्योंकि वे
- (A) सभी ज्ञानेन्द्रियों को सक्रिय बनाती हैं
(B) सीखने को अधिक अर्थवान बनाती हैं
(C) शिक्षक के काम में मदद करती हैं
(D) छात्रों को ध्यान केन्द्रित करने में सहायक हैं
(E) उपर्युक्त में से कोई नहीं/उपर्युक्त में से एक से अधिक
79. प्रारंभिक शिक्षा के सार्वभौमिकरण हेतु शुरू की गई निम्नलिखित में से विशेष उपायों की पहचान कीजिए।
- (A) निःशुल्क पुस्तकों एवं युनिफार्मों का वितरण
(B) कस्तुर्बा गाँधी बालिका विद्यालय
(C) मध्याह्न भोजन
(D) सर्व शिक्षा अभियान
(E) उपर्युक्त में से कोई नहीं/उपर्युक्त में से एक से अधिक
80. शिक्षा को सामाजिक तंत्र का उप-तंत्र माना जाता है क्योंकि
- (A) इसकी संरचना जटिल है
(B) इसमें सामाजिक लक्ष्य को अवधारित करने वाले विभिन्न अंतःक्रियात्मक संघटक शामिल हैं
(C) इससे समाज द्वारा लोगों को प्रदान की जाने वाली आवश्यक सेवा उपलब्ध होती है
(D) इसमें अनुकूलन के संवर्द्धन हेतु सु-परिभाषित उद्देश्य और प्रकार्य हैं
(E) उपर्युक्त में से कोई नहीं/उपर्युक्त में से एक से अधिक
81. गाँधीवादी शिक्षा का चरम लक्ष्य है
- (A) मानव जाति का उत्थान
(B) सबके लिए मोक्ष
(C) वर्गरहित समाज का सृजन
(D) मानवीय और चैतन्य समाज का विकास
(E) उपर्युक्त में से कोई नहीं/उपर्युक्त में से एक से अधिक



- 82.** In which year was the 42nd Constitutional Amendment made to include education in concurrent list ?
- (A) 1974
 - (B) 1978
 - (C) 1972
 - (D) 1976
 - (E) None of the above/More than one of the above
- 83.** The concept of distance education implies
- (A) Using mass media and computer in class
 - (B) Employing non-conventional methods of teaching learning except face to face teaching methods
 - (C) Imparting education from a distance
 - (D) Imparting quality education through mitigating the negative effects of distance in education
 - (E) None of the above/More than one of the above
- 84.** In which year the NCERT came into being ?
- (A) 1952
 - (B) 1961
 - (C) 1948
 - (D) 1956
 - (E) None of the above/More than one of the above
- 85.** In which of the following model there is a maximum scope of change in curricular contents by the State boards of school education ?
- (A) Administrative Model
 - (B) Grassroot Model
 - (C) Demonstration Model
 - (D) System Analysis Model
 - (E) None of the above/More than one of the above
- 86.** The reality is in the constant flux, hence knowledge is essentially relative in nature. Who among the following educators support this view ?
- (A) John Dewey
 - (B) Leibnitz
 - (C) Immanuel Kant
 - (D) David Hume
 - (E) None of the above/More than one of the above
- 87.** The concept of cultural lag was developed by
- (A) David Cooper
 - (B) M.N. Srinivas
 - (C) Ogburn
 - (D) Ottoway
 - (E) None of the above/More than one of the above



82. किस वर्ष में 42 वाँ संविधान संशोधन शिक्षा के समवर्ती सूची में समाविष्ट करने हेतु किया गया था ?
(A) 1974
(B) 1978
(C) 1972
(D) 1976
(E) उपर्युक्त में से कोई नहीं/उपर्युक्त में से एक से अधिक
83. दूरवर्ती शिक्षा की अवधारणा से तात्पर्य है
(A) कक्षा में जनसंचार एवं कम्प्यूटर का प्रयोग
(B) आमने-सामने शिक्षण विधियों को छोड़कर शिक्षण के गैर-पारम्परिक तरीकों को अपनाना
(C) दूर से शिक्षा की व्यवस्था करना
(D) शिक्षा में दूरी के नकारात्मक प्रभावों को कम करते हुए गुणवत्तापूर्ण शिक्षा देना
(E) उपर्युक्त में से कोई नहीं/उपर्युक्त में से एक से अधिक
84. एन.सी.ई.आर.टी. की स्थापना किस वर्ष में हुई ?
(A) 1952 में
(B) 1961 में
(C) 1948 में
(D) 1956 में
(E) उपर्युक्त में से कोई नहीं/उपर्युक्त में से एक से अधिक
85. निम्नलिखित में से किस प्रतिमान में राज्य स्कूल शिक्षा बोर्ड द्वारा पाठ्यक्रम की विषयवस्तु में अधिकतम बदलाव किए जाने की संभावना होती है ?
(A) प्रशासनिक प्रतिमान
(B) आधारिक प्रतिमान
(C) प्रदर्शन प्रतिमान
(D) प्रणाली विश्लेषण प्रतिमान
(E) उपर्युक्त में से कोई नहीं/उपर्युक्त में से एक से अधिक
86. यथार्थ निरंतर परिवर्तनशील है, इसलिए ज्ञान का स्वरूप अनिवार्यतः सापेक्षिक होता है । निम्नलिखित में से कौन-सा शिक्षाविद् इस कथन का समर्थन करता है ?
(A) जॉन डीवी
(B) लीबनीट्स
(C) इमेनुअल कांट
(D) डेविड ह्यूम
(E) उपर्युक्त में से कोई नहीं/उपर्युक्त में से एक से अधिक
87. सांस्कृतिक-पश्चता की अवधारणा का विकास निम्नलिखित में से किसने किया था ?
(A) डेविड कूपर
(B) एम.एन.श्रीनिवास
(C) ऑगबर्न
(D) ओटोवे
(E) उपर्युक्त में से कोई नहीं/उपर्युक्त में से एक से अधिक



- 88.** A person is considered as legally blind if his visual acuity is measured
- (A) 20/200
 - (B) 20/30
 - (C) 20/70
 - (D) 20/40
 - (E) None of the above/More than one of the above
- 89.** SEN stands for
- (A) Special Educational Needs
 - (B) Special Employment Needs
 - (C) Special Empowerment Needs
 - (D) Special Economical Needs
 - (E) None of the above/More than one of the above
- 90.** Which of the following factors influence curriculum change ?
- (A) Availability of competent teachers
 - (B) Job placement
 - (C) Technology change
 - (D) Needs and aspirations of teachers
 - (E) Growth in knowledge
- 91.** According to educational sociologists the role of education should focus on
- (A) Enculturation of participants in education
 - (B) Modification of values of teachers
 - (C) Social integration among the groups
 - (D) Social mobility of the downtrodden
 - (E) None of the above/More than one of the above
- 92.** The curriculum of the school exists for the purpose of
- (A) Providing the child with meaningful and educative experiences
 - (B) Providing uniformity in schools
 - (C) Setting standards for academic attainment
 - (D) Providing the child with skills necessary for effective living
 - (E) None of the above/More than one of the above
- 93.** What is the full form of the SWAYAM ?
- (A) Study Webs of Active Learning for Young Aspiring Minds
 - (B) Students Webs of Active Learning for Youth Aspiring Minds
 - (C) School Website of Active Lesson for Youth Aspiring Minds
 - (D) Student Website of Active interaction for Young Aspiring Minds
 - (E) None of the above/More than one of the above
- 94.** The report towards an enlightened and human society is also known by the name
- (A) Acharya Ram Murthy Report
 - (B) Janardhan Committee Report
 - (C) Kothari Commission Report
 - (D) Yashpal Committee Report
 - (E) None of the above/More than one of the above



88. किसी व्यक्ति को कानूनी तौर पर दृष्टिहीन तब माना जाता है जब उसकी दृश्य तीक्ष्णता मापी जाती है
 (A) 20/200
 (B) 20/30
 (C) 20/70
 (D) 20/40
 (E) उपर्युक्त में से कोई नहीं/उपर्युक्त में से एक से अधिक
89. एस.ई.एन. (SEN) का पूर्ण रूप है
 (A) स्पेशल एजुकेशनल नीड्स
 (B) स्पेशल इम्प्लाएमेंट नीड्स
 (C) स्पेशल इम्पॉवरमेंट नीड्स
 (D) स्पेशल इकोनॉमिकल नीड्स
 (E) उपर्युक्त में से कोई नहीं/उपर्युक्त में से एक से अधिक
90. निम्नलिखित में से कौन-सा कारक पाठ्यक्रम परिवर्तन को प्रभावित करता है ?
 (A) सक्षम शिक्षकों की उपलब्धता
 (B) जॉब प्लेसमेंट
 (C) प्रौद्योगिकी परिवर्तन
 (D) शिक्षकों की आवश्यकताएं और आकांक्षाएं
 (E) ज्ञान में वृद्धि
91. शिक्षा समाजशास्त्रियों के अनुसार, शिक्षा की भूमिका निम्नलिखित में से किस पर केन्द्रित होना चाहिए ?
 (A) शिक्षा जगत के प्रतिभागियों में सांस्कृतिक भाव उत्पन्न किया जाना
 (B) शिक्षकों के मूल्यों का आशोधन
 (C) समूहों के मध्य सामाजिक एकीकरण
 (D) दलित वर्ग की सामाजिक गतिशीलता
 (E) उपर्युक्त में से कोई नहीं/उपर्युक्त में से एक से अधिक
92. विद्यालय की पाठ्यचर्चा का उद्देश्य या प्रयोजन होता है
 (A) बच्चों को सार्थक और शैक्षिक अनुभव प्रदान करना
 (B) विद्यालयों में एकरूपता प्रदान करना
 (C) शैक्षिक उपलब्धि के मानकों का निर्धारण
 (D) बच्चों को ऐसे कौशल प्रदान करना जो प्रभावी जीवन के लिए आवश्यक हैं
 (E) उपर्युक्त में से कोई नहीं/उपर्युक्त में से एक से अधिक
93. SWAYAM का पूर्ण रूप क्या है ?
 (A) स्टडी वेबज ऑफ एक्टिव लर्निंग फॉर यंग असपायरिंग माइंड्स
 (B) स्टूडेंट्स वेबज ऑफ एक्टिव लर्निंग फॉर यूथ असपायरिंग माइंड्स
 (C) स्कूल वेबसाइट ऑफ एक्टिव लैसन फॉर यूथ असपायरिंग माइंड्स
 (D) स्टूडेंट वेबसाइट ऑफ एक्टिव इन्टरएक्शन फॉर यंग असपायरिंग माइंड्स
 (E) उपर्युक्त में से कोई नहीं/उपर्युक्त में से एक से अधिक
94. एक प्रबुद्ध और मानव समाज की रिपोर्ट को इस नाम से भी जाना जाता है
 (A) आचार्य राममूर्ति की रिपोर्ट
 (B) जनार्दन समिति की रिपोर्ट
 (C) कोठारी आयोग की रिपोर्ट
 (D) यशपाल समिति की रिपोर्ट
 (E) उपर्युक्त में से कोई नहीं/उपर्युक्त में से एक से अधिक



- 95.** Which of the following aspects focuses more on physical dimensions ?
- (A) Concept of growth
 - (B) Concept of learning
 - (C) Concept of development
 - (D) Concept of change
 - (E) None of the above/More than one of the above
- 96.** GIF means
- (A) Global Information Format
 - (B) Graphic Interchange Format
 - (C) Graphic Interchange File
 - (D) Graphics Information Format
 - (E) None of the above/More than one of the above
- 97.** What is the full form of DPEP ?
- (A) District Programme Education Plan
 - (B) District Primary Education Plan
 - (C) Division Primary Education Plan
 - (D) District Primary Education Programme
 - (E) None of the above/More than one of the above
- 98.** Orientation and refresher courses are the devices for competency building in
- (A) In-service teacher education
 - (B) Faculty improvement programme for teacher education
 - (C) Pre-service teacher education
 - (D) Distance education programme for teachers
 - (E) None of the above/More than one of the above
- 99.** The best reason because of which a teacher can command respect from his students is if
- (A) He dictates notes to the class
 - (B) He does not give home assignment
 - (C) He follows innovative practices in the class
 - (D) He reads and explains the text-book
 - (E) None of the above/More than one of the above
- 100.** Which one of the following statement appropriately describes the position of Sri Aurobindo ?
- (A) Art is long and time is short
 - (B) Man is a divine animal
 - (C) Life has been evolving to a higher level
 - (D) Life has a purpose
 - (E) None of the above/More than one of the above
- 101.** In which Curricular Model a school teacher enjoys maximum autonomy ?
- (A) Administrative Model
 - (B) Grassroot Model
 - (C) Demonstration Model
 - (D) System Analysis Model
 - (E) None of the above/More than one of the above



95. निम्नांकित में कौन-सा पक्ष शारीरिक आयाम पर अधिक ज़ोर देता है ?
 (A) वृद्धि की अवधारणा
 (B) अधिगम की अवधारणा
 (C) विकास की अवधारणा
 (D) परिवर्तन की अवधारणा
 (E) उपर्युक्त में से कोई नहीं/उपर्युक्त में से एक से अधिक
96. GIF का अर्थ है
 (A) ग्लोबल इनफॉर्मेशन फॉर्मेट
 (B) ग्राफिक इंटरचेंज फॉर्मेट
 (C) ग्राफिक इंटरचेंज फाइल
 (D) ग्राफिक्स इनफॉर्मेशन फॉर्मेट
 (E) उपर्युक्त में से कोई नहीं/उपर्युक्त में से एक से अधिक
97. डी.पी.ई.पी. (DPEP) का पूर्ण रूप है
 (A) डिस्ट्रिक्ट प्रोग्राम एजुकेशन प्लान
 (B) डिस्ट्रिक्ट प्राइमरी एजुकेशन प्लान
 (C) डिवीज़न प्राइमरी एजुकेशन प्लान
 (D) डिस्ट्रिक्ट प्राइमरी एजुकेशन प्रोग्राम
 (E) उपर्युक्त में से कोई नहीं/उपर्युक्त में से एक से अधिक
98. उन्मुखीकरण और पुनश्चर्य पाठ्यक्रम अभिक्षमता निर्माण की युक्तियाँ हैं
 (A) सेवाकालीन शिक्षक शिक्षा
 (B) शिक्षक शिक्षा के लिए संकायक सुधार कार्यक्रम
 (C) सेवा-पूर्व शिक्षक शिक्षा
 (D) शिक्षकों के लिए दूरस्थ शिक्षा कार्यक्रम
 (E) उपर्युक्त में से कोई नहीं/उपर्युक्त में से एक से अधिक
99. सर्वोच्च कारण, जिसके द्वारा शिक्षक अपने छात्रों का सम्मान प्राप्त कर सकते हैं, यदि
 (A) वह कक्षा में नोट्स लिखा दें
 (B) वह गृहकार्य नहीं देता
 (C) वह कक्षा में नव-प्रवर्तनशीलता को व्यवहार में लाता है
 (D) वह पाठ्यपुस्तक को पढ़कर व्याख्या करके समझाता है
 (E) उपर्युक्त में से कोई नहीं/उपर्युक्त में से एक से अधिक
100. निम्नलिखित में से कौन-सा कथन श्री अरविन्दो के मत की समुचित व्याख्या करता है ?
 (A) कला अनन्त है और समय कम है
 (B) मनुष्य एक दिव्य जीव है
 (C) जीवन का उच्चतर स्तर तक विकास होता रहता है
 (D) जीवन का एक उद्देश्य होता है
 (E) उपर्युक्त में से कोई नहीं/उपर्युक्त में से एक से अधिक
101. निम्नलिखित में से किस पाठ्यक्रम प्रतिमान में शिक्षक को सबसे अधिक स्वायत्तता प्राप्त होती है ?
 (A) प्रशासनिक प्रतिमान
 (B) आधारिक प्रतिमान
 (C) प्रदर्शन प्रतिमान
 (D) प्रणाली विश्लेषण प्रतिमान
 (E) उपर्युक्त में से कोई नहीं/उपर्युक्त में से एक से अधिक



- 102.** By which scheme of Education, Craft-centred Education was recommended ?
- (A) University Education Commission
 - (B) Secondary Education Commission
 - (C) Macaulay's Minute
 - (D) Wardha Scheme of Education
 - (E) None of the above/More than one of the above
- 103.** The National flagship programme of education (SSA) aims at
- (A) Universalization of secondary education
 - (B) Special secondary academic programmes
 - (C) Universalization of elementary education
 - (D) Special education in primary schools
 - (E) None of the above/More than one of the above
- 104.** Practicum in teacher education courses should be implemented with the focus on
- (A) Social problems
 - (B) Professional competencies
 - (C) Theory courses
 - (D) Value orientation
 - (E) None of the above/More than one of the above
- 105.** Which one of the following is an example of social mobility ?
- (A) Shifting school to a far off place
 - (B) Deputising village youths in Indian Army
 - (C) En masse withdrawal of learners from school by their parents
 - (D) Weekend visits to villages by city dwellers
 - (E) None of the above/More than one of the above
- 106.** Which of the following is a characteristic of Web 2.0 applications ?
- (A) Web 2.0 applications are focused on the ability for people to collaborate and share information online
 - (B) Web 2.0 applications use only static pages
 - (C) Multiple users schedule their time to use Web 2.0 applications one by one
 - (D) Web 2.0 applications provide users with content rather than facilitating users to create it
 - (E) None of the above/More than one of the above
- 107.** The first Virtual university in India came up in
- (A) Andhra Pradesh
 - (B) Maharashtra
 - (C) Tamil Nadu
 - (D) Uttar Pradesh
 - (E) None of the above/More than one of the above



- 102.** शिक्षा की किस योजना के तहत क्रॉफ्ट-केन्द्रित शिक्षा की सिफारिश की गई थी ?
- (A) यूनिवर्सिटी एजुकेशन कमीशन
(B) सेकण्डरी एजुकेशन कमीशन
(C) मैकाले के मिनट
(D) वर्धा स्कीम ऑफ़ एजुकेशन
(E) उपर्युक्त में से कोई नहीं/उपर्युक्त में से एक से अधिक
- 103.** शिक्षा का राष्ट्रीय प्रमुख कार्यक्रम (SSA) का उद्देश्य है
- (A) माध्यमिक शिक्षा का सार्वभौमिकरण
(B) विशेष माध्यमिक शैक्षणिक कार्यक्रम
(C) प्रारंभिक शिक्षा का सार्वभौमिकरण
(D) प्राथमिक विद्यालयों में विशेष शिक्षा
(E) उपर्युक्त में से कोई नहीं/उपर्युक्त में से एक से अधिक
- 104.** अध्यापक शिक्षा पाठ्यक्रम में किस पर ध्यान केन्द्रित करते हुए व्यावहारिकता को लागू किया जाना चाहिए ?
- (A) सामाजिक समस्याएँ
(B) वृत्तिक सक्षमता
(C) सैद्धांतिक पाठ्यक्रम
(D) मूल्य उन्मुखीकरण
(E) उपर्युक्त में से कोई नहीं/उपर्युक्त में से एक से अधिक
- 105.** सामाजिक गतिशीलता का निम्नांकित में से कौन-सा उदाहरण है ?
- (A) दूरदराज के स्थानों पर विद्यालय को स्थानांतरित करना
(B) भारतीय सेना में ग्रामीण युवाओं की नियुक्ति करना
(C) अभिभावकों द्वारा अपने विद्यार्थियों का बड़े पैमाने पर विनिवर्तन
(D) शहर के निवासियों द्वारा सप्ताहान्त में गाँव का भ्रमण
(E) उपर्युक्त में से कोई नहीं/उपर्युक्त में से एक से अधिक
- 106.** निम्नलिखित में से वेब 2.0 अनुप्रयोगों की कौन-सी विशेषता है ?
- (A) वेब 2.0 का अनुप्रयोग लोगों को आपस में मिलकर ऑनलाइन सूचना का आदान-प्रदान करने की क्षमता पर केंद्रित होते हैं
(B) वेब 2.0 अनुप्रयोग केवल अपरिवर्तनीय पृष्ठों को उपयोग करता है
(C) एक से अधिक प्रयोगकर्ता वेब 2.0 के अनुप्रयोग के लिए एक समय पर केवल एक अपना समय निर्धारित करते हैं
(D) वेब 2.0 का अनुप्रयोग उपयोग करता को सामग्री उपलब्ध कराता है न कि उसे बनाने की सुविधा देता है
(E) उपर्युक्त में से कोई नहीं/उपर्युक्त में से एक से अधिक
- 107.** भारत का पहला आभासी विश्वविद्यालय कहाँ स्थापित हुआ ?
- (A) आंध्रप्रदेश
(B) महाराष्ट्र
(C) तमिलनाडु
(D) उत्तरप्रदेश
(E) उपर्युक्त में से कोई नहीं/उपर्युक्त में से एक से अधिक



- 108.** The full form of PERT is
- (A) Programme of Educational Review Technique
 - (B) Personality Evaluation Review Technique
 - (C) Programme of Education, Research and Training
 - (D) Programme of Evaluation Review Technique
 - (E) None of the above/More than one of the above
- 109.** Which of the following arrangement is an effective supplement for providing Teacher Education through distance mode ?
- (A) Smart Classrooms
 - (B) MOOC
 - (C) EDUSAT
 - (D) Virtual Universities
 - (E) None of the above/More than one of the above
- 110.** Which of the following is **not** a learned capability ?
- (A) Cognitive strategy
 - (B) Verbal information
 - (C) Intellectual skills
 - (D) Interests
 - (E) None of the above/More than one of the above
- 111.** The purpose underlying vocational education is to focus on which of the following ?
- (A) Training of school going students into gainful earning skills
 - (B) Balancing load of liberal education
 - (C) Work experience as a compulsory component
 - (D) Meaningful engagement of students
 - (E) None of the above/More than one of the above
- 112.** The idea of Four Pillars of Education was suggested by
- (A) UNESCO
 - (B) UGC
 - (C) UNICEF
 - (D) NCTE
 - (E) None of the above/More than one of the above
- 113.** Which of the following instruction at the primary stage needs to be ?
- (A) Textbook centred
 - (B) Teacher and Textbook centred
 - (C) Teacher centred
 - (D) Student centred
 - (E) None of the above/More than one of the above



108. पी.ई.आर.टी. (PERT) का विस्तृत रूप है
(A) प्रोग्राम ऑफ एजुकेशनल रिव्यू टेकनिक
(B) पर्सनैलिटी इवैल्युएशन रिव्यू टेकनिक
(C) प्रोग्राम ऑफ एजुकेशन, रिसर्च एण्ड ट्रेनिंग
(D) प्रोग्राम ऑफ इवैल्युएशन रिव्यू टेकनिक
(E) उपर्युक्त में से कोई नहीं/उपर्युक्त में से एक से अधिक
109. निम्नलिखित में से कौन-सी व्यवस्था दूरस्थ पद्धती के माध्यम से अध्यापक शिक्षा प्रदान करने का प्रभावी परिपूरक है ?
(A) स्मार्ट कक्षाएँ
(B) बृहत् मुक्त ऑनलाइन पाठ्यक्रम (एम.ओ.ओ.सी.)
(C) एडुसेट
(D) आभासी विश्वविद्यालय
(E) उपर्युक्त में से कोई नहीं/उपर्युक्त में से एक से अधिक
110. निम्नलिखित में से कौन-सी एक सीखी गई अभिक्षमता नहीं है ?
(A) संज्ञानात्मक कार्यनीति
(B) मौखिक जानकारी
(C) बौद्धिक कौशल
(D) अभिरुचियाँ
(E) उपर्युक्त में से कोई नहीं/उपर्युक्त में से एक से अधिक
111. अंतर्निहित व्यवसायिक शिक्षा का प्रयोजन निम्नलिखित में से किस पर केन्द्रित है ?
(A) विद्यालय स्तर के विद्यार्थियों का उपयोगी वृत्तिक कुशलताओं के लिए प्रशिक्षण
(B) उदारवादी शिक्षा के बोझ को संतुलन में रखना
(C) एक अनिवार्य घटक के रूप में कार्यानुभव
(D) विद्यार्थियों को सार्थक रूप में संलिप्त रखना
(E) उपर्युक्त में से कोई नहीं/उपर्युक्त में से एक से अधिक
112. शिक्षा के चार स्तंभों (Four Pillars of Education) का विचार किसके द्वारा सुझाया गया था ?
(A) यूनेस्को
(B) यूजीसी
(C) यूनिसेफ
(D) एनसीटीई
(E) उपर्युक्त में से कोई नहीं/उपर्युक्त में से एक से अधिक
113. निम्नलिखित में से प्राथमिक स्तर पर किस निर्देश की जरूरत है ?
(A) पाठ्यपुस्तक केन्द्रित
(B) अध्यापक एवं पाठ्यपुस्तक केन्द्रित
(C) अध्यापक केन्द्रित
(D) छात्र केन्द्रित
(E) उपर्युक्त में से कोई नहीं/उपर्युक्त में से एक से अधिक



- 114.** Which of the following may **not** be a barrier in education for social change ?
- (A) Language
 - (B) Scientific attitude
 - (C) Caste and ethnicity
 - (D) Regionalism and religion
 - (E) None of the above/More than one of the above
- 115.** “Destiny of India is being shaped in her classroom.” This is stated in
- (A) National Policy of Education (1986)
 - (B) University Education Commission (1948-1949)
 - (C) Education Commission (1964-1966)
 - (D) National Knowledge Commission (2005)
 - (E) None of the above/More than one of the above
- 116.** ‘Operation Blackboard’ was primarily associated with the objective of
- (A) Making all age groups literate enough to write Alphabets and their own names
 - (B) Improving High-Schools Nationwide
 - (C) Improving Primary Schools Nationwide
 - (D) Making old age people able to write and read
 - (E) None of the above/More than one of the above
- 117.** Salamanca statement was released in
- (A) 1994
 - (B) 1991
 - (C) 1992
 - (D) 1993
 - (E) None of the above/More than one of the above
- 118.** Which of the following institution is the apex body for controlling, guiding and monitoring the activities and programmes of DIETS and other centrally sponsored schemes for teacher education ?
- (A) National Council for Educational Research and Training (NCERT)
 - (B) State Council of Educational Research and Training (SCERT)
 - (C) National Council for Teacher Education (NCTE)
 - (D) University Grant Commission (UGC)
 - (E) None of the above/More than one of the above
- 119.** The Chairman of Basic Education Committee was
- (A) B.G. Kher
 - (B) Narender Deo
 - (C) M.K. Gandhi
 - (D) Zakir Hussain
 - (E) None of the above/More than one of the above



114. निम्नलिखित में से सामाजिक परिवर्तन हेतु शिक्षा में क्या बाधक नहीं हो सकता है ?
- (A) भाषा
(B) वैज्ञानिक दृष्टिकोण
(C) जाति और नृजातीयता
(D) क्षेत्रवाद और धर्म
(E) उपर्युक्त में से कोई नहीं/उपर्युक्त में से एक से अधिक
115. “भारत की नियति उसकी कक्षा में आकार ले रही है।” यह कथन अंकित किया गया है
- (A) राष्ट्रीय शिक्षा नीति (1986) में
(B) विश्वविद्यालय शिक्षा आयोग (1948-1949) में
(C) शिक्षा आयोग (1964-1966) में
(D) राष्ट्रीय ज्ञान आयोग (2005) में
(E) उपर्युक्त में से कोई नहीं/उपर्युक्त में से एक से अधिक
116. ‘ऑपरेशन ब्लैकबोर्ड’ मूलतः _____ उद्देश्य से जुड़ा हुआ था।
- (A) सभी आयु वर्गों को अपना नाम और वर्णमाला लिखने हेतु पर्याप्त शिक्षित बनाना
(B) हाई स्कूलों में राष्ट्रव्यापी सुधार
(C) प्राथमिक विद्यालयों में राष्ट्रव्यापी सुधार
(D) वृद्धावस्था वाले लोगों को लिखने और पढ़ने के योग्य बनाना
(E) उपर्युक्त में से कोई नहीं/उपर्युक्त में से एक से अधिक
117. सलामांका कथन प्रकाशित किया गया
- (A) 1994 में
(B) 1991 में
(C) 1992 में
(D) 1993 में
(E) उपर्युक्त में से कोई नहीं/उपर्युक्त में से एक से अधिक
118. निम्नलिखित में से कौन-सी संस्था शिक्षक शिक्षा के लिए डाइट्स (DIETS) और केन्द्रीय सरकार द्वारा प्रायोजित अन्य योजनाओं के कार्यकलाप और कार्यक्रमों के नियंत्रण, मार्गदर्शन और इनकी निगरानी करने वाला शीर्षस्थ निकाय है ?
- (A) राष्ट्रीय शैक्षिक अनुसंधान और प्रशिक्षण परिषद (NCERT)
(B) राज्य शैक्षिक अनुसंधान और प्रशिक्षण परिषद (SCERT)
(C) राष्ट्रीय शिक्षक शिक्षा परिषद (NCTE)
(D) विश्वविद्यालय अनुदान आयोग (UGC)
(E) उपर्युक्त में से कोई नहीं/उपर्युक्त में से एक से अधिक
119. बुनियादी शिक्षा समिति के अध्यक्ष थे
- (A) बी.जी. खेर
(B) नरेन्द्र देव
(C) एम.के. गांधी
(D) ज़ाकिर हुसेन
(E) उपर्युक्त में से कोई नहीं/उपर्युक्त में से एक से अधिक



- 120.** Which one of the following is an essential part of the curricular designing process ?
- (A) Development index of the parents
 - (B) Affiliation of the school to a particular school board
 - (C) Demographic features of the community
 - (D) Consideration of inputs, process and output of instruction
 - (E) None of the above/More than one of the above
- 121.** A school Principal organizes a spectrum of co-curricular activities so that the maximum participation of students and teachers is ensured. Which of the following values will get optimally encouraged through such interventions ?
- (A) Moral values
 - (B) Scientific values
 - (C) Religious values
 - (D) Democratic values
 - (E) None of the above/More than one of the above
- 122.** The concept of equalization of educational opportunities implies
- (A) Providing resources to learners as per their ability
 - (B) Optimising learning conditions for success in school board examinations
 - (C) Providing books and uniforms to learners
 - (D) Encouraging learners to study as many subjects as they can
 - (E) None of the above/More than one of the above
- 123.** Which among the following is most precious to a teacher ?
- (A) Trust of pupils
 - (B) Self-respect
 - (C) Salary
 - (D) Job
 - (E) None of the above/More than one of the above
- 124.** "Object Permanence" relates to which of the following stages of cognitive development as propounded by Piaget ?
- (A) Pre-operational stage
 - (B) Formal operational stage
 - (C) Sensory motor stage
 - (D) Concrete operational stage
 - (E) None of the above/More than one of the above
- 125.** Epilepsy is a kind of
- (A) Communication disorder
 - (B) Psychiatric disorder
 - (C) Muscular disorder
 - (D) Neurological Impairment
 - (E) None of the above/More than one of the above
- 126.** According to which of the following all teacher education institutions should be mandatory accredited by
- (A) National Assessment and Accreditation Commission
 - (B) Quality Control Council of India
 - (C) National Assessment and Accreditation Council
 - (D) Quality Council of India
 - (E) None of the above/More than one of the above



120. पाठ्यक्रम निर्माण प्रक्रिया का निम्नलिखित में से कौन-सा एक अनिवार्य घटक है ?
- (A) माता-पिता का विकास सूचकांक
(B) किसी स्कूल की किसी विशिष्ट स्कूल बोर्ड के साथ सम्बद्धता
(C) समुदाय की जनांकिकीय विशेषताएं
(D) अनुदेशन के इनपुट, प्रक्रिया और आउटपुट पर विचार करना
(E) उपर्युक्त में से कोई नहीं/उपर्युक्त में से एक से अधिक
121. किसी विद्यालय का प्राचार्य पाठ्यक्रम से संबंधित बहुत से क्रियाकलाप का आयोजन करता है ताकि विद्यार्थियों और शिक्षकों की अधिकतम भागीदारी सुनिश्चित की जा सके। ऐसे हस्तक्षेप के माध्यम से निम्नलिखित में से किन मूल्यों को इष्टतम बढ़ावा मिलेगा ?
- (A) नैतिक मूल्य
(B) वैज्ञानिक मूल्य
(C) धार्मिक मूल्य
(D) लोकतांत्रिक मूल्य
(E) उपर्युक्त में से कोई नहीं/उपर्युक्त में से एक से अधिक
122. शैक्षिक अवसरों की समानता की अवधारणा का तात्पर्य है
- (A) विद्यार्थियों को उनकी योग्यतानुरूप संसाधन उपलब्ध कराना
(B) विद्यालय आधारित परीक्षाओं में सफलता हेतु अधिगम की परिस्थितियों को इष्टतम बनाना
(C) विद्यार्थियों को पुस्तकें एवं यूनिफार्म मुहैया कराना
(D) विद्यार्थियों को अधिकाधिक विषयों को सीखने के लिए प्रोत्साहित करना
(E) उपर्युक्त में से कोई नहीं/उपर्युक्त में से एक से अधिक
123. एक शिक्षक के लिए निम्नलिखित में क्या सर्वाधिक अमूल्य है ?
- (A) छात्रों का विश्वास
(B) आत्म-सम्मान
(C) वेतन
(D) नौकरी
(E) उपर्युक्त में से कोई नहीं/उपर्युक्त में से एक से अधिक
124. पियाजे की संज्ञानात्मक विकास की अवस्थाओं में “वस्तुस्थायित्व” सम्बन्धित है
- (A) पूर्व संक्रियात्मक अवस्था
(B) आकारिक संक्रियात्मक अवस्था
(C) संवेदिक गतिशील अवस्था
(D) स्थूल संक्रियात्मक अवस्था
(E) उपर्युक्त में से कोई नहीं/उपर्युक्त में से एक से अधिक
125. मिरगी एक प्रकार का _____ है।
- (A) सम्प्रेषण विकार
(B) मनोरोग जन्य विकार
(C) मांसपेशीय विकार
(D) स्नायविक विकार
(E) उपर्युक्त में से कोई नहीं/उपर्युक्त में से एक से अधिक
126. निम्नलिखित में से किसके अनुसार सभी शिक्षक शिक्षा संस्थानों को आदेशात्मक मान्यता प्राप्त की जानी चाहिए ?
- (A) राष्ट्रीय निर्धारण तथा प्रत्यायन आयोग
(B) भारत की गुणवत्ता नियंत्रण परिषद
(C) राष्ट्रीय निर्धारण तथा प्रत्यायन परिषद
(D) भारत की गुणवत्ता परिषद
(E) उपर्युक्त में से कोई नहीं/उपर्युक्त में से एक से अधिक



- 127.** Which one of the following pairs is odd (or **not** properly associated) ?
- (A) Maria Montessori-Divergent thinking
 - (B) Gandhiji-Soiled hands
 - (C) Froebel-Play way
 - (D) Keller Co-operative learning
 - (E) None of the above/More than one of the above
- 128.** The purpose of common school system is to address the issue of
- (A) Caste based reservation system
 - (B) Extraneous interference in education
 - (C) Evils of modernity
 - (D) Social equity
 - (E) None of the above/More than one of the above
- 129.** Which of the following is **not** a function of NCERT ?
- (A) Conducting school certificate examinations
 - (B) Advising government on education policies
 - (C) Writing textbooks for schools
 - (D) Financing research in school education
 - (E) None of the above/More than one of the above
- 130.** Motive is a
- (A) Specific trait
 - (B) Particular condition of an individual
 - (C) General trait
 - (D) Desire
 - (E) None of the above/More than one of the above
- 131.** What is the name for a webpage address ?
- (A) Protocol
 - (B) Domain
 - (C) Directory
 - (D) URL
 - (E) None of the above/More than one of the above
- 132.** The most powerful constraint in attaining universalisation of primary education in India is related to
- (A) Regional politics
 - (B) Financial allocation
 - (C) Caste consideration
 - (D) Availability of teachers
 - (E) None of the above/More than one of the above



127. निम्नलिखित में से कौन-सा युग्म असंगत है (या पूरी तरह से सम्बन्धित नहीं है) ?
- (A) मारिया मोंटेसरी-डाइवर्जेंट थिंकिंग
(B) गाँधीजी -सोइल्ड हैंड्स
(C) फ्रोबेल-प्ले वे
(D) केलर को-ओपरेटिव लर्निंग
(E) उपर्युक्त में से कोई नहीं/उपर्युक्त में से एक से अधिक
128. निम्नलिखित में से सामान्य स्कूल प्रणाली किस मुद्दे का समाधान करता है ?
- (A) जाति आधारित आरक्षण प्रणाली
(B) शिक्षा में बाह्य हस्तक्षेप
(C) आधुनिकता की बुराइयाँ
(D) सामाजिक समानता
(E) उपर्युक्त में से कोई नहीं/उपर्युक्त में से एक से अधिक
129. निम्नलिखित में से कौन-सा NCERT का कार्य नहीं है ?
- (A) विद्यालय प्रमाण पत्र परीक्षा संचालित करना
(B) शिक्षा नीतियों पर सरकार को सलाह देना
(C) विद्यालयों के लिए पाठ्य पुस्तकें लिखना
(D) विद्यालय शिक्षा में वित्त पोषण अनुसंधान
(E) उपर्युक्त में से कोई नहीं/उपर्युक्त में से एक से अधिक
130. प्रेरक एक _____ है ।
- (A) निश्चित या खास विशेषक
(B) किसी व्यक्ति की विशेष स्थिति
(C) सामान्य विशेषक
(D) अभिलाषा या तीव्र इच्छा
(E) उपर्युक्त में से कोई नहीं/उपर्युक्त में से एक से अधिक
131. वेब-पृष्ठ पते (एड्रेस) के लिए क्या नाम है ?
- (A) प्रोटोकॉल
(B) डोमेन
(C) डायरेक्टरी
(D) यू.आर.एल.
(E) उपर्युक्त में से कोई नहीं/उपर्युक्त में से एक से अधिक
132. भारत में प्राथमिक शिक्षा के सार्वभौमिकरण को प्राप्त करने में सबसे शक्तिशाली बाधा संबंधित है
- (A) क्षेत्रीय राजनीति
(B) वित्तीय आबंटन
(C) जाति विचार
(D) शिक्षकों की उपलब्धता
(E) उपर्युक्त में से कोई नहीं/उपर्युक्त में से एक से अधिक



- 133.** According to Piaget, Egocentric is
- (A) Sensory motor stage
 - (B) Environment is centre of knowledge
 - (C) Child is the centre of world and everything revolves around him
 - (D) All of the above
 - (E) None of the above/More than one of the above
- 134.** Which of the following tools will be used to predict the wellness of a student in his performance in a particular job ?
- (A) Aptitude test
 - (B) Interest test
 - (C) Attitude test
 - (D) Intelligence test
 - (E) None of the above/More than one of the above
- 135.** Occupational therapy does **not** include
- (A) Speech therapy
 - (B) Placement in suitable occupations
 - (C) Therapy in mental health
 - (D) Physical therapy
 - (E) None of the above/More than one of the above
- 136.** What is the full form of USB as used in computer related activities ?
- (A) Universal Serial Bus
 - (B) Ultra Security Block
 - (C) Universal Security Block
 - (D) United Serial Bus
 - (E) None of the above/More than one of the above
- 137.** National Curriculum Framework for Teacher Education, 2009 (NCFTE) focuses on preparing teacher who is
- (A) Well versed with method of disciplining students
 - (B) Having good social relations
 - (C) Knowledgeable teacher
 - (D) A reflective teacher
 - (E) None of the above/More than one of the above
- 138.** In which year Person With Disabilities Act (PWD Act) has enacted by Government of India ?
- (A) 1985
 - (B) 1999
 - (C) 1994
 - (D) 1995
 - (E) None of the above/More than one of the above



133. पियाजे के अनुसार, अहं केंद्रित है

- (A) संवेदी प्रेरक अवस्था
- (B) वातावरण ज्ञान का केन्द्र है
- (C) बालक विश्व का केन्द्र है और हर चीज उसके इर्द-गिर्द घूमती है
- (D) उपरोक्त सभी
- (E) उपर्युक्त में से कोई नहीं/उपर्युक्त में से एक से अधिक

134. निम्नलिखित में से एक विशेष रोजगार में एक छात्र के उसके अच्छे प्रदर्शन का पूर्वानुमान लगाने के लिए किस उपकरण को प्रयोग में लाया जायेगा ?

- (A) अभियोग्यता परीक्षण
- (B) रुचि परीक्षण
- (C) अभिवृत्ति परीक्षण
- (D) बुद्धि परीक्षण
- (E) उपर्युक्त में से कोई नहीं/उपर्युक्त में से एक से अधिक

135. व्यावसायिक चिकित्सा के अन्तर्गत निम्नलिखित में से क्या नहीं आता है ?

- (A) वाणी चिकित्सा
- (B) उपयुक्त व्यवसायों में स्थापन
- (C) मानसिक स्वास्थ्य संबंधी चिकित्सा
- (D) शारीरिक चिकित्सा
- (E) उपर्युक्त में से कोई नहीं/उपर्युक्त में से एक से अधिक

136. कम्प्यूटर से संबंधित कार्यों में प्रयोग हेतु यू.एस.बी. का पूरा रूप क्या है ?

- (A) यूनीवर्सल सीरियल बस
- (B) अल्ट्रा सिन्क्रोरीटी ब्लॉक
- (C) यूनीवर्सल सिन्क्रोरीटी ब्लॉक
- (D) यूनाइटेड सीरियल बस
- (E) उपर्युक्त में से कोई नहीं/उपर्युक्त में से एक से अधिक

137. शिक्षक शिक्षा के लिए राष्ट्रीय पाठ्यचर्या रूपरेखा, 2009 (NCFTE) किस प्रकार के शिक्षक तैयार करने पर केन्द्रित है ?

- (A) बच्चों को अनुशासित करना भलीभाँति जानता हो
- (B) जिसके सामाजिक संबंध अच्छे हो
- (C) ज्ञानी शिक्षक
- (D) चिंतनशील शिक्षक
- (E) उपर्युक्त में से कोई नहीं/उपर्युक्त में से एक से अधिक

138. निःशक्त व्यक्ति अधिनियम (पी.डब्ल्यू.डी.एक्ट), भारत सरकार द्वारा किस वर्ष अधिनियमित किया गया ?

- (A) 1985
- (B) 1999
- (C) 1994
- (D) 1995
- (E) उपर्युक्त में से कोई नहीं/उपर्युक्त में से एक से अधिक



- 139.** Motivation should usually be followed by
- (A) Incentive
 - (B) Punishment
 - (C) Reward
 - (D) Knowledge of result
 - (E) None of the above/More than one of the above
- 140.** Brain storming procedures are helpful especially for which category of children ?
- (A) Backward children
 - (B) Mentally retarded children
 - (C) Gifted children
 - (D) Creative children
 - (E) None of the above/More than one of the above
- 141.** The basic purpose of educational supervision is to
- (A) Ensure effective teaching-learning ambience in the school
 - (B) Ensure compliance of set rules and procedures
 - (C) Ensure better result of students in the board examination
 - (D) Ensure maximum attendance of learners in the school
 - (E) None of the above/More than one of the above
- 142.** Which of the following Article ensured, the right to free and compulsory education at primary education level in our Constitution ?
- (A) Article 21B of 2002 - Act
 - (B) Article 21A of 2002 - Act
 - (C) Article 21A of 2009 - Act
 - (D) Article 45 of Directive Principles
 - (E) None of the above/More than one of the above
- 143.** During which of the following stage peer group membership has high educational implications ?
- (A) Adolescence
 - (B) Adulthood
 - (C) Childhood
 - (D) Later childhood
 - (E) None of the above/More than one of the above
- 144.** Which of the following is **not** an element of Inclusive Education ?
- (A) Zero rejection
 - (B) Special class placement
 - (C) Regard for diversity
 - (D) Collaboration
 - (E) None of the above/More than one of the above



139. अभिप्रेरणा का अनुसरण आमतौर पर _____ के द्वारा किया जाना चाहिए ।
- (A) प्रोत्साहन
(B) सजा
(C) इनाम
(D) परिणाम का ज्ञान
(E) उपर्युक्त में से कोई नहीं/उपर्युक्त में से एक से अधिक
140. विचारावेश प्रक्रियाएँ विशेषकर किस श्रेणी के बालकों के लिए सहायक होती हैं ?
- (A) पिछड़े बालकों के लिए
(B) मंदबुद्धि बालकों के लिए
(C) प्रतिभाशाली बालकों के लिए
(D) सृजनशील बालकों के लिए
(E) उपर्युक्त में से कोई नहीं/उपर्युक्त में से एक से अधिक
141. शैक्षणिक पर्यवेक्षण का मूल प्रयोजन है
- (A) स्कूल में प्रभावी शिक्षण अधिगम वातावरण सुनिश्चित करना
(B) निर्धारित नियमों एवं प्रक्रियाओं का अनुपालन सुनिश्चित करना
(C) बोर्ड की परीक्षाओं में छात्रों का बेहतर परिणाम सुनिश्चित करना
(D) स्कूल में अधिगमकर्त्ताओं की अधिकतम उपस्थिति सुनिश्चित करना
(E) उपर्युक्त में से कोई नहीं/उपर्युक्त में से एक से अधिक
142. निम्नलिखित में से किसके अंतर्गत हमारे संविधान में प्राथमिक शिक्षा के स्तर पर निःशुल्क और अनिवार्य शिक्षा का अधिकार सुनिश्चित किया गया है ?
- (A) 2002 के अधिनियम का अनुच्छेद 21 B
(B) 2002 के अधिनियम का अनुच्छेद 21 A
(C) 2009 के अधिनियम का अनुच्छेद 21 A
(D) नीति निर्देशक सिद्धांतों का अनुच्छेद 45
(E) उपर्युक्त में से कोई नहीं/उपर्युक्त में से एक से अधिक
143. किस निम्न अवस्था के दौरान समवर्गीय समूह सदस्यता के शैक्षिक निहितार्थ उच्च होते हैं ?
- (A) किशोरावस्था
(B) प्रौढ़ावस्था
(C) बाल्यावस्था
(D) उत्तर बाल्यावस्था
(E) उपर्युक्त में से कोई नहीं/उपर्युक्त में से एक से अधिक
144. निम्नलिखित में से कौन-सा समावेशी शिक्षा का तत्व नहीं है ?
- (A) शून्य अस्वीकृति
(B) विशेष वर्ग स्थापना
(C) विविधता के प्रति सम्मान
(D) सहयोग
(E) उपर्युक्त में से कोई नहीं/उपर्युक्त में से एक से अधिक



- 145.** Who is the founder of play way method ?
- (A) Montessori
 - (B) Rousseau
 - (C) Froebel
 - (D) John Dewey
 - (E) None of the above/More than one of the above
- 146.** National Education Day is celebrated in India every year on
- (A) 5 October
 - (B) 8 September
 - (C) 5 September
 - (D) 11 November
 - (E) None of the above/More than one of the above
- 147.** The school level education enforces the policy of free and compulsory education for girls and socially disadvantaged section of a society. This represents the drive for
- (A) Equity and equality
 - (B) Addressing diverse needs
 - (C) Promoting talents
 - (D) Ensuring security
 - (E) None of the above/More than one of the above
- 148.** In which Country the Kindergarten schools were introduced ?
- (A) England
 - (B) Italy
 - (C) France
 - (D) Germany
 - (E) None of the above/More than one of the above
- 149.** According to RTE Act, admission of a child to a particular class is on the basis of
- (A) Age of child
 - (B) Education of parents
 - (C) Ability of child
 - (D) Socio-Economic status of child
 - (E) None of the above/More than one of the above
- 150.** Which of the following thinker defined education as 'divine perfection already existing in man' ?
- (A) Swami Vivekananda
 - (B) Rabindranath Tagore
 - (C) M. K. Gandhi
 - (D) Aurobindo Ghosh
 - (E) None of the above/More than one of the above



145. खेल विधि का प्रतिपादक किसे माना जाता है ?
(A) मोंटेसरी
(B) रूसो
(C) फ्रोबेल
(D) जॉन डीवी
(E) उपर्युक्त में से कोई नहीं/उपर्युक्त में से एक से अधिक
146. भारत में हर साल राष्ट्रीय शिक्षा दिवस मनाया जाता है
(A) 5 अक्टूबर को
(B) 8 सितंबर को
(C) 5 सितंबर को
(D) 11 नवम्बर को
(E) उपर्युक्त में से कोई नहीं/उपर्युक्त में से एक से अधिक
147. विद्यालय स्तर की शिक्षा बालिकाओं और समाज के सामाजिक रूप से पिछड़े वर्ग के लिए निःशुल्क और अनिवार्य शिक्षा की नीति को लागू करता है। यह किस अभियान का प्रतिनिधित्व करता है ?
(A) समानता और समता
(B) विविध जरूरतों को पूरा करना
(C) प्रतिभा को प्रोत्साहित करना
(D) सुरक्षा सुनिश्चित करना
(E) उपर्युक्त में से कोई नहीं/उपर्युक्त में से एक से अधिक
148. किंडरगार्टन स्कूल किस देश में प्रारम्भ किए गए थे ?
(A) इंग्लैंड
(B) इटली
(C) फ्रांस
(D) जर्मनी
(E) उपर्युक्त में से कोई नहीं/उपर्युक्त में से एक से अधिक
149. शिक्षा के अधिकार अधिनियम के अनुसार, कक्षा में बच्चे के प्रवेश का आधार है
(A) बालक की उम्र
(B) माता-पिता की शिक्षा
(C) बालक की योग्यता
(D) बालक का सामाजिक-आर्थिक स्तर
(E) उपर्युक्त में से कोई नहीं/उपर्युक्त में से एक से अधिक
150. निम्न में से कौन-से शिक्षा चिन्तक ने शिक्षा को 'मानव में पहले से ही विद्यमान दैवीय पूर्णता' के रूप में परिभाषित किया है ?
(A) स्वामी विवेकानन्द
(B) रविन्द्रनाथ टैगोर
(C) एम.के. गाँधी
(D) अरविन्दो घोष
(E) उपर्युक्त में से कोई नहीं/उपर्युक्त में से एक से अधिक



SPACE FOR ROUGH WORK / रफ़ कार्य के लिए स्थान



Teachingninja.in



SPACE FOR ROUGH WORK / रफ़ कार्य के लिए स्थान



Teachingninja.in



06/HT/M-2024

उम्मीदवार का अनुक्रमांक

--	--	--	--	--	--

पुस्तिका शृंखला



प्रश्न-पुस्तिका

सामान्य अध्ययन एवं डी.एल.एड.

समय : 2:30 घण्टे

पूर्णांक : 150

प्रश्नों के उत्तर देने से पहले नीचे लिखे अनुदेशों को ध्यान से पढ़ लें।

महत्वपूर्ण अनुदेश

- यह प्रश्न-पुस्तिका दो भागों में विभाजित है — भाग – I एवं भाग – II। भाग – I में सामान्य अध्ययन के प्रश्न हैं तथा भाग – II में डी.एल.एड. के प्रश्न हैं।
- भाग – I में प्रश्न संख्या 1 से 75 तथा भाग – II में प्रश्न संख्या 76 से 150 तक हैं। भाग – I तथा भाग – II में प्रश्न और उनके उत्तर अंग्रेजी एवं हिन्दी में मुद्रित हैं।
- सभी प्रश्नों का अंक समान है।
- प्रश्नों के उत्तर देने के लिए आपको उत्तर पत्रक प्रश्न पुस्तिका के अन्दर दिया गया है। अपने उत्तर पत्रक के निर्धारित स्थान में अपना अनुक्रमांक लिखें एवं कूटबद्ध करें तथा अन्य विवरण अवश्य लिखें अन्यथा आपका उत्तर पत्रक जाँचा नहीं जायेगा।
- परीक्षा आरम्भ होते ही आप अपनी प्रश्न-पुस्तिका एवं संलग्न उत्तर पुस्तिका की जाँच कर देख लें कि प्रश्न-पुस्तिका के ऊपर दायीं ओर मुद्रित शृंखला एवं उत्तर पुस्तिका पर मुद्रित शृंखला समान है। कृपया यह भी जाँच लें कि पुस्तिका में रफ कार्य हेतु दो पृष्ठों (पृष्ठ सं. 46 और 47) सहित पूरे 48 मुद्रित पृष्ठ हैं और कोई प्रश्न या पृष्ठ बिना छपा हुआ या फटा हुआ या दोबारा आया हुआ या प्रश्न पुस्तिका एवं उत्तर पुस्तिका में मुद्रित शृंखला में अन्तर तो नहीं है। पुस्तिका एवं संलग्न उत्तर पुस्तिका में किसी प्रकार की त्रुटि पाने पर तत्काल इसके बदले इसी शृंखला की दूसरी सही पुस्तिका एवं ओ.एम.आर. पत्रिका ले लें।
- इस पृष्ठ के ऊपर निर्धारित स्थान में अपना अनुक्रमांक अवश्य लिखें। प्रश्न-पुस्तिका पर और कुछ न लिखें।
- प्रत्येक प्रश्न के पाँच उत्तर — (A), (B), (C), (D) और (E) क्रम पर दिये गये हैं। उनमें से आप सबसे सही केवल एक उत्तर को चुनें और अपने उत्तर पत्रक पर अंकित करें। आपका कुल प्राप्तांक आपके द्वारा उत्तर पत्रक में अंकित सही उत्तरों पर निर्भर करेगा।
- उत्तर पत्रक में प्रत्येक प्रश्न संख्या के सामने पाँच वृत्त इस प्रकार बने हुए हैं — (A), (B), (C), (D) और (E)। प्रश्नों के उत्तर देने के लिए आपको अपनी पसन्द के केवल एक वृत्त को काली/नीली स्याही के बॉल-पॉइन्ट पेन से चिह्नित करना है। प्रत्येक प्रश्न के लिए केवल एक उत्तर को चुनें और उसे अपने उत्तर पत्रक में चिह्नित करें। आप उत्तर पत्रक में यदि एक प्रश्न के लिए एक से अधिक वृत्त में निशान लगाते हैं, तो आपका उत्तर गलत माना जायेगा। उत्तर पत्रक में उत्तर को चिह्नित करने के लिए केवल काली/नीली स्याही के बॉल-पॉइन्ट पेन का ही प्रयोग करें। किसी भी प्रकार का काट-कूट अथवा परिवर्तन मान्य नहीं है।
- प्रश्न-पुस्तिका से कोई पन्ना फाड़ना या अलग करना मना है। प्रश्न-पुस्तिका और उत्तर पत्रक को परीक्षा अवधि में परीक्षा भवन से बाहर कदापि न ले जायें। परीक्षा के समापन पर उत्तर पत्रक वीक्षक को अवश्य सौंप दें। उसके बाद आपको अपनी प्रश्न-पुस्तिका अपने साथ ले जाने की अनुमति है।
- ऊपर के अनुदेशों में से किसी एक का भी पालन नहीं करने पर आप पर आयोग के विवेकानुसार कार्रवाई की जा सकती है अथवा आपको दण्ड दिया जा सकता है।
- अभ्यर्थी उत्तर पत्रक को अपनी उपस्थिति में Self Adhesive LDPE Bag में पूरी तरह से पैक/सील करवाने के उपरांत ही परीक्षाकक्ष को छोड़ें।

Note : English version of the instructions is printed on the First Page of this Booklet.