



Teachingninja.in



Latest Govt Job updates



Private Job updates



Free Mock tests available

Visit - teachingninja.in



Teachingninja.in

CG B.ED


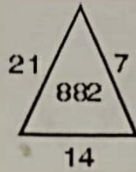
Previous Year Paper
2019



PART - I

GENERAL MENTAL ELIGIBILITY

1. Find the missing term.



- (A) 864
- (B) 1234
- (C) 1356
- (D) 862

2. If in a certain code language 'ARIHANT' is written as 'BTLLFTA', then how will 'HONESTY' be written in that code ?


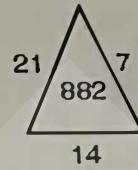
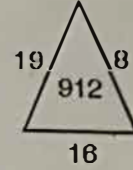
- (A) IQQIZFX
- (B) IQQXIZF
- (C) IQQIXZF
- (D) IQQIXFZ

3. In a certain code language 'NATURAL' is coded as 'MZGFIZO', then how will 'CARE' be written in that language ?

- (A) XZIV
- (B) XZVI
- (C) XVZI
- (D) XIZV

सामान्य मानसिक योग्यता

1. विलुप्त पद ज्ञात करें।



- ~~(A) 864~~
- (B) 1234
- (C) 1356
- (D) 862

2. यदि किसी सांकेतिक भाषा में 'ARIHANT' 'BTLLFTA' लिखा जाता है, तो उसी भाषा में 'HONESTY' किस प्रकार लिखा जाएगा ?

- (A) IQQIZFX
- (B) IQQXIZF
- ~~(C) IQQIXZF~~
- (D) IQQIXFZ

3. किसी सांकेतिक भाषा में 'NATURAL' 'MZGFIZO' लिखा जाता है। उसी भाषा में 'CARE' किस प्रकार लिखा जाएगा ?

- ~~(A) XZIV~~
- (B) XZVI
- (C) XVZI
- (D) XIZV

रफ कार्य के लिए स्थान
Space for Rough Work

$$\begin{array}{r} 8 \\ 19 \times 19 \\ \hline 171 \end{array}$$

$$36 \times 16$$

$$\begin{array}{r} 5 \\ 19 \times 16 \\ \hline 114 \end{array}$$

$$\begin{array}{r} 21 \times 14 \\ \hline 84 \end{array}$$



Get Testbook SmartBook & Practice **2000** Questions

Unique Features of SmartBook ✨



Option Selection
Percentage



Time To Answer
Questions



Smart Answer
Key




Best 2000
Questions



Solutions
Inside



Best 2000 Smart Question Bank for CTET & STATE TETs in



Child Development &
Pedagogy

Buy Now



[Download Free Chapter](#)

Testbook SmartBook Available on

 & 


“ Just go for it.

Excellent book for competitive exams, proper solutions are provided with the different difficulty levels. Easy to read font.

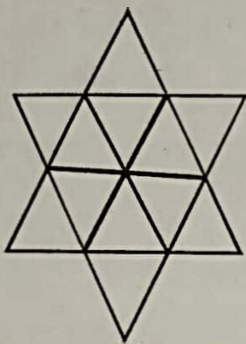
★★★★★ 2200 + Global Reviews



Teachingninja.in




4. The number of triangles in the given figure are




- (A) 14
(B) 20
(C) 21
(D) 22

5. The number of squares in the given figure are




- (A) 34
(B) 54
(C) 55
(D) 56

4. दिये गये चित्र में त्रिकोणों की संख्या होगी



- (A) 14
(B) 20
(C) 21
(D) 22

5. दिये गये चित्र में वर्गों की संख्या होगी



- (A) 34
(B) 54
(C) 55
(D) 56

रफ कार्य के लिए स्थान
Space for Rough Work

6. If + means \div , - means \times , \times means -, \div means +, () means () then

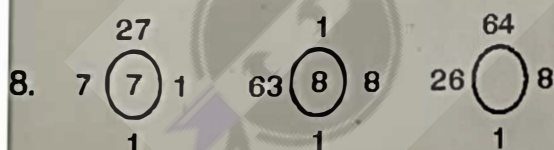
$$(36 + 4 - 3 \times 10 \div 7) + 8 = ?$$

- (A) 18/7
(B) 17/8
(C) 3
(D) None of the above

7. The total of ages of Ram, Rahim and John is 68 years. What was the total of their ages four year ago ?

- (A) 54 Years
(B) 56 Years
(C) 59 Years
(D) 64 Years

the following sequence of diagrams which number will occupy the blank space ?



- (A) 9
(B) 10
(C) 26
(D) None of the above

6. यदि + मतलब \div , - मतलब \times , \times मतलब -, \div मतलब +, () मतलब () तो

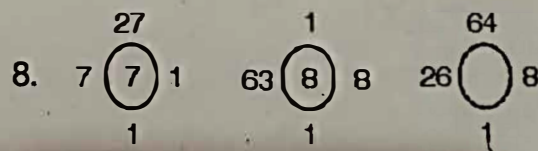
$$(36 + 4 - 3 \times 10 \div 7) + 8 = ?$$

- (A) 18/7
(B) 17/8
(C) 3
(D) उपरोक्त में से कोई नहीं

7. राम, रहिम व जॉन की आयु का कुल योग 68 वर्ष है। चार वर्ष पहले उनके आयु का कुल योग कितना था ?

- (A) 54 वर्ष
(B) 56 वर्ष
(C) 59 वर्ष
(D) 64 वर्ष

निम्नांकित चित्रों के अनुक्रम में खाली स्थान में कौन-सा अंक होगा ?



- (A) 9
(B) 10
(C) 26
(D) उपरोक्त में से कोई नहीं

रफ कार्य के लिए स्थान
Space for Rough Work

12

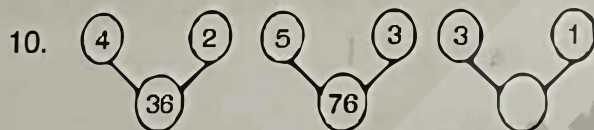
26

$$(36 \div 4 \times 3 - 10 + 7) + 8$$

9.

3	16	21	37
6	4	5	3
7	12	14	
12	24	30	39

- (A) 14
(B) 12
(C) 16
(D) 18



- (A) 14
(B) 16
(C) 28
(D) None of the above

11.

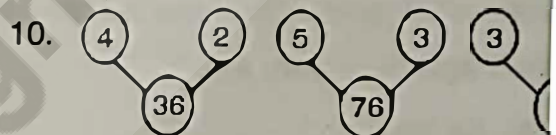
A	C	C
B	D	C
E	Y	

- (A) F
(B) W
(C) I
(D) S

9.

3	16	21	37
6	4	5	3
7	12	14	
12	24	30	39

- (A) 14
(B) 12
(C) 16
(D) 18



- (A) 14
(B) 16
(C) 28
(D) उपरोक्त में से कोई नहीं

11.

A	C	C
B	D	C
E	Y	

- (A) F
(B) W
(C) I
(D) S

रफ कार्य के लिए स्थान
Space for Rough Work

18

64

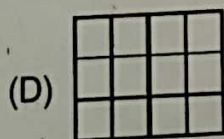

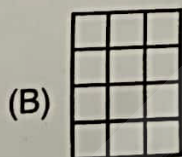
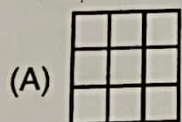

105

16

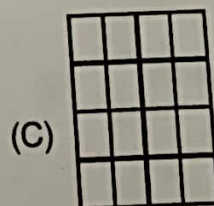
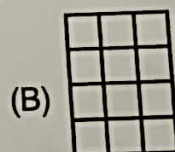


25



12. Complete the pattern.



12. पैटर्न को पूरा करें ।



13. Find the missing term.

NEUROTIC : TCRONEU ::

PSYCHOTIC : (?)

- (A) TICCOHPSY
- (B) TICOCHPSY
- (C) TICCHOPSY
- (D) TICHCOPSY

14. Find the missing term.

FGEHJ : BCADF :: VWUXZ : (?)

- (A) NKLMO
- (B) GFBAC
- (C) HIJKL
- (D) OPNQS

15. Find the missing term.

nd, iy, dt, yo, tj, (?)

- (A) mp
- (B) nq
- (C) of
- (D) oe

13. विलुप्त पद ज्ञात करें ।

NEUROTIC : TCRONEU ::

PSYCHOTIC : (?)

- (A) TICCOHPSY
- (B) TICOCHPSY
- (C) TICCHOPSY
- (D) TICHCOPSY

14. विलुप्त पद ज्ञात करें ।

FGEHJ : BCADF :: VWUXZ : (?)

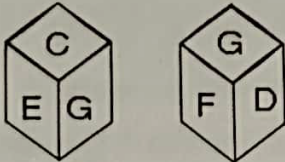
- (A) NKLMO
- (B) GFBAC
- (C) HIJKL
- (D) OPNQS

15. विलुप्त पद ज्ञात करें ।

nd, iy, dt, yo, tj, (?)

- (A) mp
- (B) nq
- (C) of
- (D) oe

16. Which letter is on the face opposite to D ?



- (A) C
(B) E
(C) H
(D) Cannot be determined

17. Select from the alternative the box that can be formed by folding the sheet shown in fig. X.

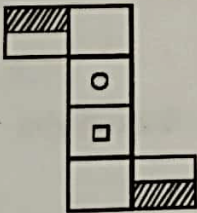
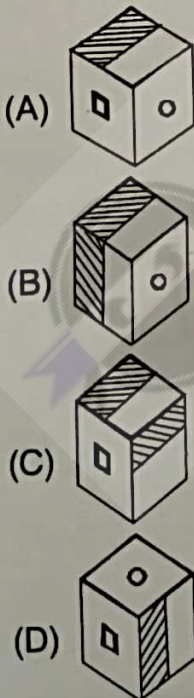
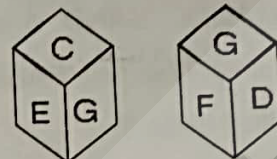


Fig. X

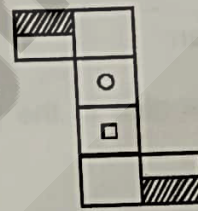


16. D के विपरीत फलक में कौन-सा अक्षर है ?

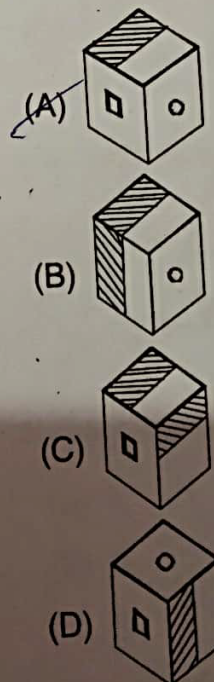


- (A) C
(B) E
(C) H
(D) ज्ञात नहीं कर सकते

17. चित्र X में दिये गये पेपर को मोड़कर जो बाक बननेगा उसे विकल्प से चुनिए।



चित्र X




रफ कार्य के लिए स्थान
Space for Rough Work

18. In a certain code language 'WIND' is written as '414923', 'SAND' is written as '414119', then how will 'FASHION' be written in that code ?

(A) 1451981916
(B) 1415989161
(C) 1415981961
(D) 1415981916

19. The number of triangles in the given figure are

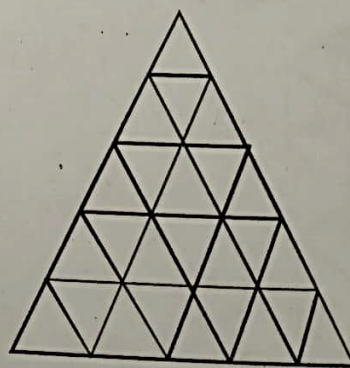


(A) 41
(B) 43
(C) 48
(D) 49

18. किसी सांकेतिक भाषा में 'WIND' को '414923' लिखा जाता है, 'SAND' को '414119' लिखा जाता है। बताइए कि 'FASHION' को उस भाषा में किस प्रकार लिखा जाएगा ?

(A) 1451981916
(B) 1415989161
(C) 1415981961
(D) 1415981916

19. दिये गये चित्र में त्रिकोणों की संख्या होगी

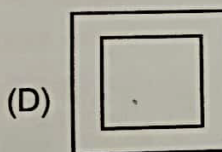
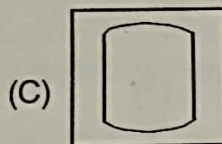
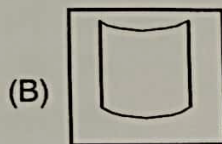
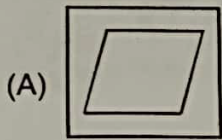


(A) 41
(B) 43
(C) 48
(D) 49

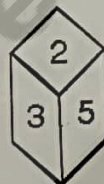
रफ कार्य के लिए स्थान
Space for Rough Work



20. Find out the odd one.

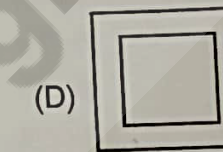

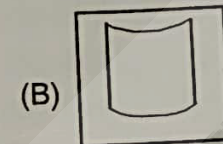
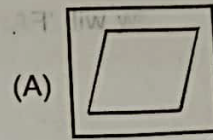


21. Which number is on the face opposite to 4 ?

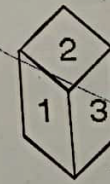
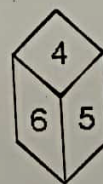


- (A) 1
(B) 2
(C) 3
(D) Cannot find

20. विषमता को ज्ञात करें ।



21. 4 के विपरीत फलक में कौन-सा अंक होगा ?



- (A) 1
(B) 2
(C) 3
(D) ज्ञात नहीं कर सकते

रफ कार्य के लिए स्थान
Space for Rough Work

22. Find the missing term.

$$11\frac{1}{9}, 12\frac{1}{2}, 14\frac{2}{7}, 16\frac{2}{3}, (?)$$

(A) $8\frac{1}{3}$

(B) $9\frac{1}{11}$

(C) 10

(D) 20

23. Find the missing term.

$$840, 168, 42, 14, 7, (?)$$

(A) 1

(B) 7

(C) 9

(D) 12

24. Find the missing term.

$$\frac{1}{4} : \frac{1}{8} :: \frac{2}{3} : (?)$$

(A) $\frac{1}{4}$

(B) $\frac{1}{3}$

(C) $\frac{1}{7}$

(D) $\frac{1}{2}$

22. विलुप्त पद ज्ञात करें ।

$$11\frac{1}{9}, 12\frac{1}{2}, 14\frac{2}{7}, 16\frac{2}{3}, (?)$$

(A) $8\frac{1}{3}$

(B) $9\frac{1}{11}$

(C) 10

(D) 20

23. विलुप्त पद ज्ञात करें ।

$$840, 168, 42, 14, 7, (?)$$

(A) 1

(B) 7

(C) 9

(D) 12

24. विलुप्त पद ज्ञात करें ।

$$\frac{1}{4} : \frac{1}{8} :: \frac{2}{3} : (?)$$

(A) $\frac{1}{4}$

(B) $\frac{1}{3}$

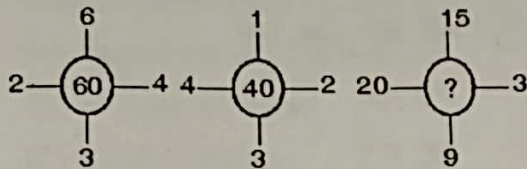
(C) $\frac{1}{7}$

(D) $\frac{1}{2}$

रफ कार्य के लिए स्थान
Space for Rough Work

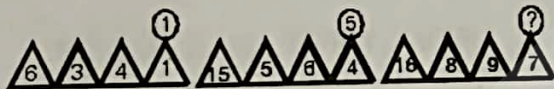


25. Find the missing term.



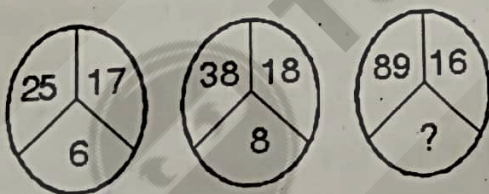
- (A) 235
- (B) 141
- (C) 144
- (D) 188

26. Find the missing term.



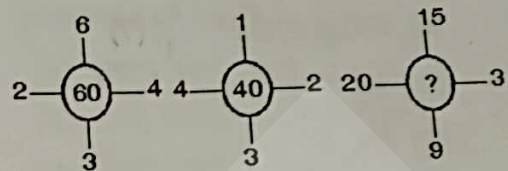
- (A) 5
- (B) 6
- (C) 4
- (D) 3

27. Find the missing term.



- (A) 13
- (B) 15
- (C) 17
- (D) 19

25. विलुप्त पद ज्ञात करें।



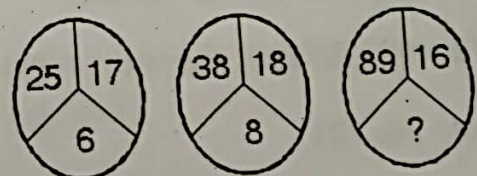
- (A) 235
- (B) 141
- (C) 144
- (D) 188

26. विलुप्त पद ज्ञात करें।



- (A) 5
- (B) 6
- (C) 4
- (D) 3

27. विलुप्त पद ज्ञात करें।



- (A) 13
- (B) 15
- (C) 17
- (D) 19

रफ कार्य के लिए स्थान
Space for Rough Work

169
254



28. Find the odd pair.
AZ, BY, CX, DV
(A) AZ
(B) BY
(C) CX
(D) DV
29. Find the odd one from the given group of letters.
RTVX, NPRT, GHJL, MOQS
(A) NPRT
(B) GHJL
(C) MOQS
(D) RTVX
30. Find the odd pair of number.
(9, 49), (13, 121), (10, 61), (7, 25)
(A) 13, 121
(B) 9, 49
(C) 10, 61
(D) 7, 25

28. अलग युग्म पहचानें ।
AZ, BY, CX, DV
(A) AZ
(B) BY
(C) CX
(D) DV
29. दिए गए अक्षरों के समूह से जो अलग है उसे पहचानें ।
RTVX, NPRT, GHJL, MOQS
(A) NPRT
(B) GHJL
(C) MOQS
(D) RTVX
30. दिए गए संख्या युग्म से वह युग्म पहचानें जो अलग है ।
(9, 49), (13, 121), (10, 61), (7, 25)
(A) 13, 121
(B) 9, 49
(C) 10, 61
(D) 7, 25

रफ कार्य के लिए स्थान
Space for Rough Work

PART - II

GENERAL AWARENESS

31. Which of the following is the first fertilizer plant in public sector ?
 (A) Gujarat Narmada fertilizer
 (B) Nangal fertilizer
 (C) Sindri fertilizer
 (D) Kochi fertilizer
32. Which of the following disease is not caused by virus ?
 (A) Small pox
 (B) Mumps
 (C) Rabies
 (D) Diphtheria
33. Bacteria was discovered by
 (A) Harvey
 (B) Leeuwenhock
 (C) Landsteiner
 (D) Eijkman
34. In the content of Census 2011, which of the following year is called micro divide year ?
 (A) 1951
 (B) 1961
 (C) 1950
 (D) 1947

सामान्य योग्यता

31. सार्वजनिक क्षेत्र में निम्नलिखित में से सबसे प्रथम उर्वरक संयंत्र कौन-सा है ?
 (A) गुजरात नर्मदा उर्वरक
 (B) नंगल उर्वरक
 (C) सिंदरी उर्वरक
 (D) कोची उर्वरक
32. निम्नलिखित में से किसका कारण 'वायरस' नहीं है ?
 (A) स्मॉल पॉक्स
 (B) मम्पस
 (C) रैबिज
 (D) डिप्थिरिया
33. बैक्टीरिया की खोज किसने की ?
 (A) हार्वे
 (B) लिवनहॉक
 (C) लैण्डस्टीनर
 (D) आइकमैन
34. जनगणना 2011 के संदर्भ में महविभाजक वर्ष किसे कहा जाता है ?
 (A) 1951
 (B) 1961
 (C) 1950
 (D) 1947

रफ कार्य के लिए स्थान
 Space for Rough Work

35. Which of the following is administrative report of Akbar's Reign ?

- (A) Akbarnama
- (B) Ain-i-Akbari
- (C) Ruquaat
- (D) None of the above

36. Who was associated with the Red Shirts Movement ?

- (A) Mahatma Gandhi
- (B) Jawaharlal Nehru
- (C) Ballabh Bhai Patel
- (D) Abdul Gaffar Khan

37. Which of the following was first Atomic Reactor in India ?

- (A) Purnima – 1
- (B) Apsara
- (C) Kamini
- (D) Dhruva

38. In which Schedule of Constitution of India, the lists of official languages of India are given ?

- (A) Schedule – 8
- (B) Schedule – 1
- (C) Schedule – 2
- (D) Schedule – 7

35. अकबर के शासन काल का प्रशासनिक प्रतिवेदन कौन-सा है?

- (A) अकबरनामा
- (B) आइने अकबरी
- (C) रुक्कअत
- (D) उपरोक्त में कोई नहीं

36. “रेड शर्ट” आन्दोलन से कौन संबंधित है ?

- (A) महात्मा गांधी
- (B) जवाहर लाल नेहरू
- (C) बल्लभ भाई पटेल
- (D) अब्दुल गफ्फार खान

37. निम्नलिखित में से कौन-सा भारत का प्रथम परमाणु रिएक्टर है ?

- (A) पूर्णिमा – 1
- (B) अपसरा
- (C) कामिनि
- (D) ध्रुव

38. भारत के संविधान के किस अनुसूची में भारत के अफिशियल भाषाओं का उल्लेख है ?

- (A) अनुसूची – 8
- (B) अनुसूची – 1
- (C) अनुसूची – 2
- (D) अनुसूची – 7

रफ कार्य के लिए स्थान
Space for Rough Work

39. Which state has maximum number of Institutions in top 100 institution as per National Institutional Ranking Framework (NIRF) ?

- (A) Maharashtra
- (B) West Bengal
- (C) Tamil Nadu
- (D) Uttar Pradesh

40. Rashtriya Uchchar Shiksha Abhiyan (RUSA) was launched in

- (A) 2012
- (B) 2013
- (C) 2014
- (D) 2015

41. The Gross Enrolment Ratio (GER) of India in the context of Higher Education in 2014-15 was

- (A) 24.3
- (B) 25.3
- (C) 23.3
- (D) 23.5

42. South Asean Association of Regional Cooperation (SAARC) has its secretariate in

- (A) Dacca (Bangladesh)
- (B) Kathmandu (Nepal)
- (C) Islamabad (Pakistan)
- (D) None of the above

39. किस राज्य में “नैशनल इंस्टिट्यूशनल रैंकिंग फ्रेमवर्क” (एन.आई.आर.एफ.) के अनुसार प्रथम 100 महाविद्यालयों में सबसे अधिक महाविद्यालय है ?

- (A) महाराष्ट्र
- (B) पश्चिम बंगाल
- ~~(C) तमिलनाडू~~
- (D) उत्तरप्रदेश

40. राष्ट्रीय उच्चतर शिक्षा अभियान (रूसा) कब प्रारम्भ हुआ ?

- (A) 2012
- ~~(B) 2013~~
- (C) 2014
- (D) 2015


41. उच्च शिक्षा के संदर्भ में भारत में 2014-15 में सकल प्रवेश दर क्या है ?

- ~~(A) 24.3~~
- (B) 25.3
- (C) 23.3
- (D) 23.5

42. दक्षिण एशिआई क्षेत्रीय सहयोग संगठन (सार्क) का सचिवालय है

- (A) ढाका (बंगलादेश)
- ~~(B) काठमाण्डू (नेपाल)~~
- (C) इस्लामाबाद (पाकिस्तान)
- (D) उपरोक्त में कोई नहीं

रफ कार्य के लिए स्थान
Space for Rough Work




7012/TDF - BT/ENT - M

43. Which of the following is true about Goods and Services Tax (GST) ?
(A) It is value added tax
(B) It will be levied on manufacture, sale and consumption
(C) It is an indirect tax
(D) All of the above
44. What is Repo rate ?
(A) It is the rate on which Reserve Bank of India lends money to State Government
(B) It is the rate on which Reserve Bank of India lends money to its clients
(C) It is the rate at which Commercial Banks lend money to Regional Rural Banks
(D) None of the above
45. The colour of which of the following soil is due to oxide of iron ?
(A) Forest soil
(B) Laterite soil
(C) Black soil
(D) Alluvial soil
46. This State is the _____ most populous State.
(A) 17th
(B) 18th
(C) 19th
(D) 16th
43. वस्तु तथा सेवा कर के संबंध में निम्नलिखित में से क्या सही है ?
(A) यह मूल्य संवर्धित कर है
(B) यह निर्माण, विक्रय तथा उपयोग में लगाया जाएगा
(C) यह अप्रत्यक्ष कर है
(D) उपरोक्त सभी
44. रेपो दर क्या है ?
(A) यह वह दर है जो भारतीय रिजर्व बैंक राज्य शासनो पर लगाती है
(B) यह वह दर है जिसे भारतीय रिजर्व बैंक अपने क्लायंट (मुक्किल) पर लगाती है
(C) यह वह दर है जो व्यावसायिक बैंक अपनी ऋण के लिए क्षेत्रीय ग्रामीण बैंक पर लगाती है
(D) उपरोक्त में कोई नहीं
45. निम्नलिखित में से किस मृदा (मिट्टी) का रंग आयरन के आक्साइड के कारण होता है ?
(A) वन मृदा (मिट्टी)
(B) लेटेराइट मृदा (मिट्टी)
(C) काली मिट्टी
(D) एलूवियल मिट्टी
46. यह राज्य भारत में कौन-सा सबसे अधिक जनसंख्यावाला राज्य है ?
(A) 17 वाँ
(B) 18 वाँ
(C) 19 वाँ
(D) 16 वाँ

रफ़ कार्य के लिए स्थान
Space for Rough Work





47. Carnatic music in India originated in the
(A) 12th Century to 13th Century
(B) 14th Century to 15th Century
(C) 13th Century to 14th Century
(D) None of the above
48. Gram Sabha was introduced in which Amendment of Constitution of India ?
(A) 73rd Amendment
(B) 74th Amendment
(C) 71st Amendment
(D) None of the above
49. As per the Census 2011, which of the following States is least populous ?
(A) Arunachal Pradesh
(B) Kerala
(C) Sikkim
(D) None of the above
50. Economic Planning in India is a subject in the Constitution of India
(A) State list
(B) Union list
(C) Concurrent list
(D) None of the above

47. भारत में कर्नाटक संगीत कब प्रारंभ हुआ ?
(A) 12 वीं तथा 13 वीं शताब्दी के बीच
(B) 14 वीं तथा 15 वीं शताब्दी के बीच
(C) 13 वीं तथा 14 वीं शताब्दी के बीच
(D) उपरोक्त में कोई नहीं
48. संविधान के किस संशोधन में ग्राम सभा अस्तित्व में आया ?
(A) 73 वाँ संशोधन
(B) 74 वाँ संशोधन
(C) 71 वाँ संशोधन
(D) उपरोक्त में कोई नहीं
49. जनगणना 2011 के अनुसार निम्नलिखित में से किस राज्य में सबसे कम जनसंख्या है ?
(A) अरुणाचल प्रदेश
(B) केरला
(C) सिक्किम
(D) उपरोक्त में कोई नहीं
50. भारत के संविधान में आर्थिक नियोजन किस सूची में है ?
(A) राज्य सूची
(B) संघ सूची
(C) समवर्ती सूची
(D) उपरोक्त में कोई नहीं

रफ कार्य के लिए स्थान
Space for Rough Work

PART – III

EDUCATIONAL INTEREST

51. A method of discovery and research is
 (A) Lecture method
 (B) Inductive method
 (C) Deductive method
 (D) Project method
52. The students of today are
 (A) Careless and intelligent
 (B) Not devoted to studies
 (C) Dedicated to studies
 (D) Of sharp mind
53. A prime requisite for one who enters the teaching profession is
 (A) An IQ over 125
 (B) Public speaking ability
 (C) Good health
 (D) Extra income
54. Find the odd one out.
 (A) Recall
 (B) Recognition
 (C) Trace
 (D) Remembering

शैक्षणिक अभिरूचि

51. अनुसन्धान व खोज की विधि है
 (A) व्याख्यान विधि
 (B) आगमन विधि
 (C) निगमन विधि
 (D) प्रयोजना विधि
52. आज के छात्र हैं
 (A) लापरवाह और बुद्धिमान
 (B) पढ़ाई के प्रति समर्पित नहीं
 (C) पढ़ाई के प्रति समर्पित
 (D) तेज दिमाग
53. शिक्षण के क्षेत्र में आनेवाले व्यक्ति में आवश्यक
 (A) 125 से ज्यादा बुद्धि-लब्धि
 (B) दूसरों के सामने बोलने की क्षमता
 (C) उत्तम स्वास्थ्य
 (D) अतिरिक्त आमदनी
54. बेमेल को निकालें।
 (A) याद करना (प्रत्यान्वहन)
 (B) पहचानना
 (C) चिन्ह
 (D) याद आना

रफ कार्य के लिए स्थान
 Space for Rough Work

55. The meaning of universalization of primary education is
- (A) To provide education to all
 - (B) To provide education to all girls
 - (C) To provide free and compulsory education to the age group of 6-14
 - (D) To provide free and compulsory education to all children

56. Work experience in education means
- (A) Education for productivity with rural
 - (B) Working for a new social order
 - (C) Experience in industrial and technological world
 - (D) Education for orientation towards vocational courses

57. Frustration for the motives causes
- (A) Inferiority
 - (B) Anxiety
 - (C) Inefficiency
 - (D) Behaviour disorders

58. To identify non-social students, in your class, you as teacher would apply
- (A) Aptitude test
 - (B) Sociometric test
 - (C) IQ test
 - (D) Achievement test

55. प्राथमिक शिक्षा के लोकव्यापीकरण का अर्थ है
- (A) सभी को शिक्षा देना
 - (B) सभी लड़कियों को शिक्षा देना
 - (C) 6-14 वर्ष के बच्चों को निःशुल्क एवं अनिवार्य शिक्षा देना
 - (D) सभी बच्चों को निःशुल्क एवं अनिवार्य शिक्षा देना

56. शिक्षा में कार्य अनुभव का अर्थ है
- (A) ग्रामीण क्षेत्र में उत्पादन के लिये शिक्षा
 - (B) एक नए सामाजिक क्रम बनाने के लिये काम करना
 - (C) औद्योगिक और तकनीकी क्षेत्रों में अनुभव
 - (D) रोजगारोन्मुखी पाठ्यक्रमों के लिये शिक्षा की तरफ रुकाव

57. अभिप्रेरण के लिये कुंठा से होता है
- (A) आत्महीनता
 - (B) चिन्ता
 - (C) अक्षमता
 - (D) व्यवहार समस्याएँ

58. एक शिक्षक के तौर पर असामाजिक छात्रों को पहचानने के लिये क्या करेंगे ?
- (A) अभियोग्यता परीक्षण
 - (B) समाजमिति परीक्षण
 - (C) आई.क्यू. परीक्षण
 - (D) उपलब्धि परीक्षण

रफ़ कार्य के लिए स्थान
Space for Rough Work



59. Nature and nurture refers to
- (A) Internal and external environment
 - (B) Temperament and character
 - (C) Physical features and temperament
 - (D) Heredity and environment
60. That teacher should be considered most successful who
- (A) Who takes interest in the development of the students
 - (B) Maintains discipline
 - (C) Gives good marks
 - (D) Gives home work regularly
61. Govt. policy on education regards education is unique
- (A) Consumption
 - (B) Investment
 - (C) Source of income
 - (D) Expenditure

59. नेचर और नर्चर का अर्थ है
- (A) आन्तरिक और बाह्य वातावरण
 - (B) चरित्र और मिज़ाज
 - (C) मिज़ाज और बाह्य आकृति
 - (D) वंशानुक्रम और वातावरण
60. सबसे सफल शिक्षक वह होता है जो
- (A) छात्रों के विकास में रुचि लेता है
 - (B) अनुशासन बनाये रखता है
 - (C) अच्छे अंक देता है
 - (D) नियमित गृह कार्य देता है
61. सरकार की योजनानुसार शिक्षा है अपूर्व
- (A) उपभोग
 - (B) पूंजी निवेश
 - (C) आय का स्रोत
 - (D) व्यय

रफ़ कार्य के लिए स्थान
Space for Rough Work



62. The first Open School was established in India in the year

- (A) 1969
- (B) 1979
- (C) 1989
- (D) 1999

63. What should be done to develop different abilities in students ?

- (A) Will lecture on the importance of abilities
- (B) Will give examples of able men
- (C) To develop a particular ability in students, they should be instructed to make effort for it
- (D) All of the above are not helpful in development of ability

64. The teacher should promote

- (A) Anxiety among the students to complete the syllabus in a hurry
- (B) Harassing the students to complete the work
- (C) Encourage interactive communication among students
- (D) Punishment to students whenever they put a question

62. भारत में प्रथम 'खुला विद्यालय' स्थापित हुआ

- (A) 1969 में
- (B) 1979 में
- (C) 1989 में
- (D) 1999 में

63. छात्रों में विविध क्षमताएँ विकसित करने के लिये क्या करना चाहिये ?

- (A) क्षमताओं के महत्व पर भाषण देंगे
- (B) सक्षम व्यक्ति का उदाहरण देंगे
- (C) किसी विशेष क्षमता के विकास के लिये छात्रों को प्रयत्न करने के लिये निर्देश देंगे
- (D) उपरोक्त सभी क्षमताओं के विकास में सहायक नहीं है

64. शिक्षक को प्रोत्साहित करना चाहिये

- (A) छात्रों में शीघ्र पाठ्यक्रम समाप्त करने के लिये चिंता उत्पन्न करना
- (B) छात्रों को शीघ्र काम पूरा करने के लिये प्रसादित करना
- (C) छात्रों के बीच उचित संभाषण को प्रोत्साहित करना
- (D) छात्रों को प्रश्न पूछने पर दंडित करना

रफ कार्य के लिए स्थान
Space for Rough Work

65. Acquisition of information and knowledge is
(A) Ability to learn
(B) Ability to adjust
(C) Ability to memorise
(D) None
66. Teacher's knowledge in student's needs and interests are covered by the subject
(A) Philosophy of education
(B) Psychology of education
(C) Sociology of education
(D) Politics of education
67. If any student get the same marks in a test by many examiners
(A) Objective
(B) Valid
(C) Reliable
(D) None of these
68. Which test is designed to reveal a person's strength and weakness in one or more areas of the field being used ?
(A) Interest test
(B) Diagnostic test
(C) Objective test
(D) Oral test

65. सूचना और ज्ञान की प्राप्ति है

~~(A)~~ सीखने की योग्यता
(B) सामंजस्य की क्षमता
(C) याद करने की क्षमता
(D) कोई नहीं

66. छात्रों की आवश्यकताओं और रुचियों को जानने में शिक्षक का ज्ञान इस विषय से संबंधित है

(A) शिक्षा का दर्शन
~~(B)~~ शिक्षा का मनोविज्ञान
(C) शिक्षा का समाजशास्त्र
(D) शिक्षा की राजनीति

67. यदि किसी परीक्षण में कोई छात्र अनेक परीक्षकों द्वारा उत्तरपुस्तिका जाँचने के बाद समान अंक पाता है, तो वह परीक्षण है

(A) वस्तुनिष्ठ
(B) वैध
~~(C)~~ विश्वसनीय
(D) इनमें से कोई नहीं

68. वह परीक्षण जो व्यक्ति की जाँच करने के पश्चात किसी एक या अधिक क्षेत्रों में उनकी विशेषताओं एवं कमियों को बताता है वह है

(A) रुचि परीक्षण
~~(B)~~ निदानात्मक परीक्षण
(C) वस्तुनिष्ठ परीक्षण
(D) मौखिक परीक्षण


रफ कार्य के लिए स्थान
Space for Rough Work



69. The teacher who has developed an interest in teaching
- (A) Studies problems of student behaviour
 - (B) Compares different types of tests
 - (C) Refuses to be guided by the rule of the thumb
 - (D) Cannot deal with the children effectively
70. Educationally, mal adjusted children are
- (A) Very poor in achievement
 - (B) Depressed with their educational problem
 - (C) Both of these A + B
 - (D) None of these
71. Who proposed 10 + 2 + 3 system in Education ?
- (A) Kothari Commission
 - (B) Mudaliar Commission
 - (C) Radha Krishnan Commission
 - (D) None of these
72. 'Spare the stick and spoil the child'. This assumption is related to what type of discipline which has been advocated ?
- (A) By naturalist philosophy
 - (B) By pragmatist philosophy
 - (C) In Victorian era
 - (D) In democratic era

69. एक शिक्षक जिसने शिक्षण में रुचि विकसित की है
- (A) छात्रों में व्यवहार की समस्या का अध्ययन करता है
 - (B) विभिन्न प्रकार के परीक्षणों में तुलना करता है
 - (C) रुढ़िवादिता के अनुसार नहीं चलता
 - (D) छात्रों के साथ प्रभावशाली रीति से पेश नहीं आ सकता
70. शैक्षिक रूप से कुसमायोजित बच्चे होते हैं
- (A) बहुत कम उपलब्धिवाले
 - (B) अपनी शैक्षिक समस्या से बहुत निराश रहनेवाले
 - (C) उपरोक्त दोनों A + B
 - (D) इनमें से कोई नहीं
71. शिक्षा में 10 + 2 + 3 पद्धति को किसने प्रस्तावित किया ?
- (A) कोठारी कमीशन
 - (B) मुदालियर कमीशन
 - (C) राधाकृष्णन आयोग
 - (D) इनमें से कोई नहीं
72. 'छड़ी दूर करो और बालक को बिगाड़ो' यह उक्ति किस विचारधारा द्वारा पोषित है ?
- (A) प्रकृतिवादी दर्शन
 - (B) प्रैग्मेटिस्ट दर्शन
 - (C) विक्टोरियन युग
 - (D) प्रजातांत्रिक युग

रफ़ कार्य के लिए स्थान
Space for Rough Work



73. Student learn easily through activity because
- (A) Activity is creative
 - (B) Activity is done by the student himself
 - (C) Activity is interesting
 - (D) Involves physical labour
74. Generally, it is believed, that a teacher should be _____ with the students.
- (A) Strict and unapproachable
 - (B) Strict and introvert
 - (C) Respectable but friendly
 - (D) Independent and approachable
75. The main task of educational computer is
- (A) Scoring the answers
 - (B) Preserve the information
 - (C) Analysis of data
 - (D) All of the above
76. Computer language is based on
- (A) Number system
 - (B) Symbol system
 - (C) Series system
 - (D) None of the above
73. विद्यार्थी क्रिया करने के द्वारा सरलतापूर्वक सीख लेते हैं क्योंकि
- (A) क्रिया सृजनात्मक है
 - (B) क्रिया स्वयं विद्यार्थी द्वारा की जाती है
 - (C) क्रिया रुचिकर होती है
 - (D) शारीरिक श्रम सम्मिलित होता है
74. साधारणतः विश्वास किया जाता है, कि शिक्षक को छात्रों के साथ _____ होना चाहिए।
- (A) कठोर व पहुँचविहीन
 - (B) कठोर व अन्तर्मुखी
 - (C) आदरणीय परन्तु मित्रवत्
 - (D) आत्मनिर्भर और पहुँचयोग्य
75. शैक्षिक कंप्यूटर का मुख्य कार्य है
- (A) उत्तरों पर अंक प्रदान करना
 - (B) जानकारी सुरक्षित रखना
 - (C) प्रदत्तों का विश्लेषण
 - (D) उपरोक्त सभी
76. कंप्यूटर की भाषा आधारित है
- (A) अंक निकाय पर
 - (B) प्रतीक निकाय पर
 - (C) श्रृंखला निकाय पर
 - (D) उपरोक्त में से कोई नहीं

रफ कार्य के लिए स्थान
Space for Rough Work



77. Multimedia approach is used in
- (A) Behavioural Technology
 - (B) Teaching Technology
 - (C) Distance Education
 - (D) Programmed Instruction

78. Instruction medium affects the absence and escape from class teaching
- (A) Agreed
 - (B) Indefinite
 - (C) Disagreed
 - (D) None of the above

79. There is equal participation of teacher and learner in the
- (A) Lecture method
 - (B) Demonstration method
 - (C) Question answer technique
 - (D) None of these

80. The motivated teacher will have following attributes
- (A) Unrealistic level of aspiration
 - (B) Goal-directed behaviour
 - (C) Dissatisfaction
 - (D) Deprivation of needs

77. बहुमाध्यम उपागम का उपयोग होता है
- (A) व्यवहारिक तकनीकी में
 - (B) शिक्षण तकनीकी में
 - (C) दूरस्थ शिक्षा में
 - (D) अभिक्रमित अनुदेशन में

78. निर्देशों का माध्यम छात्रों के अनुपस्थित रहने या कक्षा शिक्षण से भागने की प्रवृत्ति का कारण है
- (A) सहमत
 - (B) अनिश्चित
 - (C) असहमत
 - (D) उपरोक्त में से कोई नहीं

79. शिक्षक और अधिगमकर्ता की समान रूप से सहभागिता रहती है
- (A) व्याख्यान विधि में
 - (B) प्रदर्शन विधि में
 - (C) प्रश्न-उत्तर प्रविधि में
 - (D) इनमें से कोई नहीं

80. एक अभिप्रेरित शिक्षक में निम्न विशेषताएँ होती है
- (A) अवास्तविक महत्वाकांक्षाएँ
 - (B) लक्ष्योन्मुख व्यवहार
 - (C) असंतोष
 - (D) आवश्यकताओं से वंचित रहना

रफ़ कार्य के लिए स्थान
Space for Rough Work

PART – IV
GENERAL HINDI/ सामान्य हिन्दी

81. 'छाती पर मुँग दलना' का अर्थ है ।
 (A) परेशान करना
 (B) झगड़ा करना
 (C) पास रहकर कष्ट देना
 (D) मारना
82. 'श्' ध्वनि का उच्चारण स्थान है ।
 (A) दंत्य
 (B) वत्स्य
 (C) तालव्य
 (D) इनमें से कोई नहीं
83. कौन-सा शब्द स्त्रीलिंग है ?
 (A) सूचीपत्र
 (B) सियार
 (C) परिषद्
 (D) सहारा
84. 'त्रिफला' में कौन-सा समास है ?
 (A) द्विगु
 (B) द्वन्द्व
 (C) कर्मधारय
 (D) तत्पुरुष
85. निम्न में से अल्पविराम का चिन्ह है ।
 (A) (!)
 (B) (;)
 (C) (.)
 (D) इनमें से कोई नहीं
86. निम्न में सही वर्तनी है ।
 (A) अंतर्गत
 (B) अंतर्गत
 (C) अन्तर्गत
 (D) अर्न्तगत
87. कौन-सा शब्द भाववाचक संज्ञा नहीं है ?
 (A) मिठाई
 (B) चतुराई
 (C) लड़ाई
 (D) उतराई
88. अर्थ के आधार पर वाक्य का भेद नहीं है ।
 (A) विधि सूचक
 (B) निश्चय सूचक
 (C) इच्छा सूचक
 (D) संदेह सूचक
89. निम्न में 'परीक्षा' किस प्रकार का शब्द है ?
 (A) तत्सम
 (B) तद्भव
 (C) देशज
 (D) विदेशज
90. कौन-सा शब्द 'तीर' का पर्याय वाची नहीं है ?
 (A) शर
 (B) बाण
 (C) तार
 (D) नाराच

रफ कार्य के लिए स्थान
Space for Rough Work

91. _____ Ganga is a holy river.
(A) A
(B) An
(C) The
(D) None of the above

92. The opposite of proportionate is
(A) misproportionate
(B) disproportionate
(C) aproportionate
(D) unproportionate

93. She painted the pictures
(A) beautiful
(B) beautifully
(C) beauty
(D) beautify

94. To seek (take) permission we can say
(A) May I take your cycle ?
(B) Would I take your cycle ?
(C) Should I take your cycle ?
(D) Will I take your cycle ?

95. I want _____ milk for the baby
because she is hungry.

- (A) little
(B) a little
(C) few
(D) a few

Earthquakes are the sudden shock and shaking of the earth's surface. They can be felt over large geographical areas for brief moments of time.

There are nearly 20 tectonic plates that are along the earth's surface that continuously move past each other. Huge rocks are formed at the edges of the plates. The shifting of these rocks cause earthquakes.

रफ़ कार्य के लिए स्थान
Space for Rough Work



96. Earthquake occurs when
- (A) tectonic plates move
 - (B) rocks at the edges of tectonic plates move
 - (C) tectonic plates enlarge or shrink
 - ~~(D)~~ all the above
97. Earthquake occurs
- (A) sometimes in a wide area
 - (B) in a small area
 - (C) sometimes in a small area, sometimes in a wide area
 - ~~(D)~~ always in a wide area
98. During an earthquake the earth shakes continuously for
- (A) A few days
 - ~~(B)~~ Some seconds
 - (C) Few hours
 - (D) About one month

99. a) As a result Raman fell asleep
b) Thus Raman expressed his view about the poems
c) So he insisted that Raman listens to his poems
d) A poet wanted to inspire Raman

The correct order of the sentences will be

- (A) c, b, a, d
- (B) a, d, b, c
- (C) a, b, c, d
- ~~(D)~~ d, c, a, b

100. The report is badly written. _____
it is inaccurate.
- ~~(A)~~ Moreover
 - (B) Finally
 - (C) However
 - (D) Meanwhile