



# Teachingninja.in



**Latest Govt Job updates**



**Private Job updates**



**Free Mock tests available**

**Visit - [teachingninja.in](https://teachingninja.in)**



Teachingninja.in

# **CSPHCL DEO**

**Previous Year Paper**  
**21 Aug, 2019 Shift 2**



## CHHATTISGARH STATE POWER HOLDING COMPANY LTD.



(A Government of Chhattisgarh Undertaking)  
CIN No. : U65992CT2008SGC020995



O/o GM (HR), C.S. Power Holding Co.Ltd., Raipur

Participant ID	
Participant Name	
Test Center Name	
Test Date	21/08/2019
Test Time	2:00 PM - 5:00 PM
Subject	DATA ENTRY OPERATOR

### Section : General Knowledge

Q.1 निम्नलिखित लोकप्रिय छत्तीसगढ़ी मुहावरे (भंजरा या हाना) का सबसे उपयुक्त अर्थ क्या है?

"पेट म आगी बरना"

- Ans
- ☒ 1. बहुत भूखा होना
  - ☐ 2. जो भी खाने को मिले
  - ☐ 3. गुस्सा करने वाले को खिलाना
  - ☐ 4. किसी से ईर्ष्या करना

Question ID : 99836712715

Status : Answered

Chosen Option : 1

Q.2 निम्नलिखित में से कौन छत्तीसगढ़ का राज्य पक्षी है?

- Ans
- ☐ 1. जंगली मुर्गा
  - ☐ 2. कठफोड़वा
  - ☐ 3. डार्टर
  - ☒ 4. पहाड़ी मैना

Question ID : 99836712704

Status : Answered

Chosen Option : 4

Q.3 इंदिरा गांधी कृषि विश्व विद्यालय, रायपुर द्वारा विकसित ऐप का क्या नाम है जिसके द्वारा अपने मोबाइल फोन का उपयोग करके नाशिजीवों और बीमारियों की पहचान की जा सकती है और उपचारात्मक उपाय पाया जा सकता है?



- Ans ☒ 1. फसल का फ़ासला
- ☒ 2. फसल चिकित्सक (क्रॉप डॉक्टर)
- ☒ 3. कृषि तंत्र
- ☒ 4. कृषक मित्र

Question ID : 99836712736  
Status : Answered  
Chosen Option : 4

Q.4 घोड़ल की महिला नेता को किस नाम से पुकारा जाता है?

- Ans ☒ 1. बेलोसा
- ☒ 2. मोतिहारी
- ☒ 3. चिल्क
- ☒ 4. सिरदार

Question ID : 99836712722  
Status : Answered  
Chosen Option : 1

Q.5 जिला पंचायत के संबंध में निम्नलिखित में से कौन सा कथन सत्य नहीं है?

- Ans ☒ 1. जहाँ तक हो सकता है कि प्रत्येक निर्वाचन क्षेत्र की जनसंख्या 50000 रखी जाएगी।
- ☒ 2. राज्य सरकार न्यूनतम 10 निर्वाचन क्षेत्रों के साथ एक जिला पंचायत का गठन करेगी।
- ☒ 3. राज्य सरकार न्यूनतम 15 और अधिकतम 25 निर्वाचन क्षेत्रों के साथ एक जिला पंचायत का गठन करेगी।
- ☒ 4. राज्य सरकार अधिकतम 35 निर्वाचन क्षेत्रों के साथ एक जिला पंचायत का गठन करेगी।

Question ID : 99836712733  
Status : Answered  
Chosen Option : 3

Q.6 वर्ग किलोमीटर में छत्तीसगढ़ का कुल क्षेत्रफल कितना है?

- Ans ☒ 1. 160191
- ☒ 2. 135191
- ☒ 3. 235191
- ☒ 4. 235731

Question ID : 99836712708  
Status : Answered  
Chosen Option : 2

Q.7 संविधान के निम्नलिखित अनुसूचियों में से कौन सी उन विषयों को सूचीबद्ध करती है जिन्हें राज्य कानून द्वारा पंचायतों को हस्तांतरित किया जा सकता है?

- Ans ☒ 1. संविधान की ग्यारहवीं अनुसूची
- ☐ 2. संविधान की आठवीं अनुसूची
- ☐ 3. संविधान की बारहवीं अनुसूची
- ☐ 4. संविधान की दसवीं अनुसूची

Question ID : 99836712734  
Status : Answered  
Chosen Option : 1

Q.8 रायपुर में निम्नलिखित में से कौन सा रिज़र्व है?

- Ans ☐ 1. डोलोमाइट
- ☒ 2. चूना पत्थर और कोयला
- ☐ 3. बॉक्साइट
- ☐ 4. क्वार्ट्जाइट

Question ID : 99836712741  
Status : Answered  
Chosen Option : 2

Q.9 निम्नलिखित में से किसने रायपुर में सत्याग्रह आश्रम की स्थापना की थी?

- Ans ☐ 1. रत्नाकर झा
- ☒ 2. सुंदर लाल शर्मा
- ☐ 3. छबीराम चौबे
- ☐ 4. प्यारेलाल सिंह

Question ID : 99836712700  
Status : Answered  
Chosen Option : 2

Q.10 अनन्य संगीत विश्वविद्यालय, इंदिरा कला संगीत विश्व विद्यालय, कहाँ स्थित है?

- Ans ☒ 1. खैरागढ़
- ☐ 2. रायगढ़
- ☐ 3. नारायणपुर
- ☐ 4. जगदलपुर

Question ID : 99836712711  
Status : Answered



Chosen Option : 1

Q.11 महमूद खिलजी ने रतनपुर पर कब हमला किया था?

- Ans
- ☒ 1. 1375-76
  - ☒ 2. 1421-22
  - ☒ 3. 1440-41
  - ☒ 4. 1485-86

Question ID : 99836712702

Status : Answered

Chosen Option : 1

Q.12 छत्तीसगढ़ राज्य भारत के कुल वनों के \_\_\_\_\_ के टनों में योगदान देता है।

- Ans
- ☒ 1. 15 प्रतिशत
  - ☒ 2. 11 प्रतिशत
  - ☒ 3. 2 प्रतिशत
  - ☒ 4. 12 प्रतिशत

Question ID : 99836712705

Status : Answered

Chosen Option : 4

Q.13 छत्तीसगढ़ राज्य के वनों में बाँस के क्षेत्र की सीमा कितनी है?

- Ans
- ☒ 1. 7,392 वर्ग कि.मी.
  - ☒ 2. 11,368 वर्ग कि.मी.
  - ☒ 3. 17,321 वर्ग कि.मी.
  - ☒ 4. 10,3528 वर्ग कि.मी.

Question ID : 99836712739

Status : Answered

Chosen Option : 1

Q.14 छत्तीसगढ़ में मराठा शासन के दौरान किसी परगना के प्रमुख को \_\_\_\_\_ के रूप में जाना जाता था।

- Ans
- ☒ 1. कामाविस्दार
  - ☒ 2. जागीरदार
  - ☒ 3. श्रीमंत
  - ☒ 4. परादार

Question ID : 99836712729

Status : Answered

Chosen Option : 1

Q.15 हर साल नारायणपुर मेला (मड़ई मेला) कब आयोजित किया जाता



है?

- Ans ☒ 1. फरवरी  
☒ 2. जून  
☒ 3. दिसंबर  
☒ 4. अगस्त

Question ID : 99836712719  
Status : Answered  
Chosen Option : 1

Q.16 निम्नलिखित में से कंदेल नाहर सत्याग्रह का नेतृत्व किसने किया था?

- Ans ☒ 1. विशम्भर पटेल  
☒ 2. उदय प्रसाद  
☒ 3. छोटे लाल श्रीवास्तव  
☒ 4. शिशुपाल सिंह यादव

Question ID : 99836712698  
Status : Answered  
Chosen Option : 3

Q.17 लोकप्रिय छत्तीसगढ़ी पहेली (जनुला या पहेली) "कारी गाय कलिंदर खाय, दुहते जाय पनहाते जाय" का क्या अर्थ है?

- Ans ☒ 1. नदी  
☒ 2. गाय  
☒ 3. कुंआ  
☒ 4. मुंह

Question ID : 99836712716  
Status : Answered  
Chosen Option : 3

Q.18 छत्तीसगढ़ के किस जिले को भारत की ऊर्जा राजधानी के रूप में जाना जाता है?

- Ans ☒ 1. रायपुर  
☒ 2. कबीरधाम  
☒ 3. कोरबा  
☒ 4. बिलासपुर

Question ID : 99836712724  
Status : Answered  
Chosen Option : 3

Q.19 वर्ष 1741-42 में हैहयों के खिलाफ किस मराठा कमांडर ने हमला किया था?

- Ans ☒ 1. रघुजी III

- ☒ 2. भास्कर पंत
- ☒ 3. रघुजी I
- ☒ 4. चिमाजी अप्पा

Question ID : 99836712696  
Status : Answered  
Chosen Option : 2

Q.20 निम्नलिखित में से कौन देवता  
'सिंगा बोंगा' की पूजा करता है?

- Ans ☒ 1. गोंड
- ☒ 2. ओरोंव
- ☒ 3. मुंडा
- ☒ 4. खोड

Question ID : 99836712720  
Status : Answered  
Chosen Option : 3

Q.21 जब मध्य प्रदेश में से छत्तीसगढ़ को  
स्थापित किया गया था, तब नये  
राज्य में लगभग कितने गांव  
शामिल थे?

- Ans ☒ 1. 12753
- ☒ 2. 20378
- ☒ 3. 32917
- ☒ 4. 28419

Question ID : 99836712730  
Status : Not Answered  
Chosen Option : -

Q.22 निम्नलिखित में से कौन सी  
जनजाति मुख्य देवता के रूप में  
"दंतेश्वरी" की पूजा करती है?

- Ans ☒ 1. मुंडा
- ☒ 2. हल्बा
- ☒ 3. बैगा
- ☒ 4. ओरोंव

Question ID : 99836712721  
Status : Answered  
Chosen Option : 2

Q.23 प्रसिद्ध "राउत नाचा" का संबंध  
किस जनजाति या समुदाय से है?

- Ans ☒ 1. हल्बा
- ☒ 2. यादव
- ☒ 3. सतनामी





☒ 4. कबीरपंथी

Question ID : 99836712717  
Status : Answered  
Chosen Option : 2

Q.24 छत्तीसगढ़ के वर्तमान राज्य मुख्य सूचना आयुक्त कौन हैं?

- Ans ☒ 1. अशोक कुमार अग्रवाल  
☒ 2. मोहन राव पवार  
☒ 3. एम. के. राउत  
☒ 4. ए. के. सिंह

Question ID : 99836712743  
Status : Answered  
Chosen Option : 3

Q.25 छत्तीसगढ़ के किस शहर में "मामा-भांजा" मंदिर स्थित है?

- Ans ☒ 1. सिरपुर  
☒ 2. बारसूर  
☒ 3. दुर्ग  
☒ 4. तालगांव

Question ID : 99836712712  
Status : Answered  
Chosen Option : 2

Q.26 वर्ष 2017-18 में छत्तीसगढ़ की जीएसडीपी (वर्तमान कीमतों पर) की विकास दर क्या थी?

- Ans ☒ 1. 7.5 प्रतिशत  
☒ 2. 11.2 प्रतिशत  
☒ 3. 9.35 प्रतिशत  
☒ 4. 12.5 प्रतिशत

Question ID : 99836712728  
Status : Answered  
Chosen Option : 1

Q.27 निम्नलिखित में से किसे 14 वर्ष के नीचे महिला राष्ट्रीय वॉलीबॉल टीम में चुना गया है?

- Ans ☒ 1. अखिलेश्वरी ठाकुर  
☒ 2. दीपा कुमारी  
☒ 3. मोना कुमारी  
☒ 4. कोमल सिंह

Question ID : 99836712744  
Status : Answered



Chosen Option : 2

Q.28 भारत के संविधान के किस अनुच्छेद में पंचायतों की शक्तियों, अधिकारों और जिम्मेदारियों के प्रावधान हैं?

- Ans
- ☒ 1. अनुच्छेद 243 A
  - ☒ 2. अनुच्छेद 243 G
  - ☒ 3. अनुच्छेद 243 I
  - ☒ 4. अनुच्छेद 243 K

Question ID : 99836712731

Status : Answered

Chosen Option : 2

Q.29 छत्तीसगढ़ में स्थित जनवरी 2018 में शुरू होने वाला अपनी तरह का पहला कृषि संग्रहालय कहाँ है?

- Ans
- ☒ 1. छत्तीसगढ़ कामधेनु विश्व विद्यालय, अंजोरा
  - ☒ 2. छत्तीसगढ़ कृषि महाविद्यालय, दुर्ग
  - ☒ 3. भारतीय कृषि महाविद्यालय और कृषि अभियांत्रिकी, दुर्ग
  - ☒ 4. इंदिरा गांधी कृषि विश्व विद्यालय, रायपुर

Question ID : 99836712735

Status : Answered

Chosen Option : 2

Q.30 राज्य क्षेत्रफल के हिसाब से छत्तीसगढ़ भारत का \_\_\_\_\_ सबसे बड़ा राज्य है।

- Ans
- ☒ 1. पांचवां
  - ☒ 2. दसवां
  - ☒ 3. सातवां
  - ☒ 4. छठा

Question ID : 99836712706

Status : Answered

Chosen Option : 2

Q.31 छत्तीसगढ़ राज्य के घने जंगलों द्वारा राज्य के कितने प्रतिशत क्षेत्र का आवरण किया जाता है?

- Ans
- ☒ 1. 2 प्रतिशत
  - ☒ 2. 44 प्रतिशत
  - ☒ 3. 54 प्रतिशत
  - ☒ 4. 3 प्रतिशत



Question ID : 99836712709  
Status : Answered  
Chosen Option : 2

Q.32 छत्तीसगढ़ के पहले ब्रिटिश  
उपायुक्त कौन थे जिन्होंने मराठा  
जिलेदार से प्रशासन संभाला?

- Ans
- ☒ 1. कैप्टन एम्यू
  - ☒ 2. चार्ल्स सी. इलियट
  - ☒ 3. कैप्टन विल्किंसन
  - ☒ 4. कैप्टन हंटर

Question ID : 99836712697  
Status : Answered  
Chosen Option : 2

Q.33 अटल खेतिहर मजदूर बीमा  
योजना के तहत, राज्य सरकार का  
बीमा प्रीमियम में कितना योगदान  
होगा?

- Ans
- ☒ 1. 100 रुपये
  - ☒ 2. 150 रुपये
  - ☒ 3. 250 रुपये
  - ☒ 4. 200 रुपये

Question ID : 99836712732  
Status : Answered  
Chosen Option : 1

Q.34 आभूषण पौछी शरीर के किस भाग  
में / पर पहना जाता है?

- Ans
- ☒ 1. गरदन
  - ☒ 2. नाक
  - ☒ 3. ऊपरी बाँह
  - ☒ 4. टखने

Question ID : 99836712713  
Status : Answered  
Chosen Option : 3

Q.35 छत्तीसगढ़ देश के 70 प्रतिशत से  
अधिक \_\_\_\_\_ के उत्पादन के  
लिए जिम्मेदार है।

- Ans
- ☒ 1. तिलहन
  - ☒ 2. चावल
  - ☒ 3. बाजरा
  - ☒ 4. मक्का

Question ID : 99836712710  
Status : Answered  
Chosen Option : 2

Q.36 राष्ट्रीय ताप विद्युत निगम नामक ऊर्जा स्टेशन निम्नलिखित में से किस स्थान पर स्थित नहीं है?

- Ans ☒ 1. भिलाई
- ☒ 2. कोरबा
- ☒ 3. सीपत
- ☒ 4. लारा

Question ID : 99836712723  
Status : Answered  
Chosen Option : 1

Q.37 निम्नलिखित कलचुरी राजाओं में से कौन गोरख नाथ का शिष्य था?

- Ans ☒ 1. पृथ्वी देव
- ☒ 2. जजला देव ।
- ☒ 3. जगत देव
- ☒ 4. रत्न देव

Question ID : 99836712701  
Status : Answered  
Chosen Option : 1

Q.38 छत्तीसगढ़ बजट 2019-20 में, मध्याह्न भोजन योजना के लिए कितनी राशि आवंटित की गई है?

- Ans ☒ 1. रुपये 351 करोड़
- ☒ 2. रुपये 451 करोड़
- ☒ 3. रुपये 251 करोड़
- ☒ 4. रुपये 151 करोड़

Question ID : 99836712727  
Status : Not Answered  
Chosen Option : -

Q.39 निम्नलिखित में से कौन सी छत्तीसगढ़ की राजधानी है?

- Ans ☒ 1. जगदलपुर
- ☒ 2. बिलासपुर
- ☒ 3. रतनपुर
- ☒ 4. रायपुर

Question ID : 99836712707  
Status : Answered  
Chosen Option : 4

Q.40 निम्नलिखित में से किस महीने में 'हरेली' त्योहार मनाया जाता है?

- Ans ☒ 1. चैत या चैत्र

- ☒ 2. असाढ़ या आषाढ़
- ☒ 3. सावन या श्रावण
- ☒ 4. भादो या भाद्रपद

Question ID : 99836712714  
Status : Answered  
Chosen Option : 3

Q.41 छत्तीसगढ़ के चार प्रमुख सीमेंट कारखाने राज्य के किस नए स्थापित जिलों में से एक में गए हैं?

- Ans ☒ 1. बेमेतरा
- ☒ 2. कोरिया
- ☒ 3. बलौदा बाजार
- ☒ 4. गरियाबंद

Question ID : 99836712725  
Status : Answered  
Chosen Option : 3

Q.42 छत्तीसगढ़ में कितने जिले हैं?

- Ans ☒ 1. 34
- ☒ 2. 27
- ☒ 3. 30
- ☒ 4. 22

Question ID : 99836712703  
Status : Answered  
Chosen Option : 2

Q.43 सिहावा-नगरी जंगल सत्याग्रह कब आयोजित किया गया था?

- Ans ☒ 1. 1923
- ☒ 2. 1920
- ☒ 3. 1918
- ☒ 4. 1922

Question ID : 99836712699  
Status : Answered  
Chosen Option : 4

Q.44 बिरहोरों की एक स्थायी या अस्थायी बस्ती को \_\_\_\_\_ के रूप में जाना जाता है।

- Ans ☒ 1. हैपरोम
- ☒ 2. घोटुल
- ☒ 3. बापला
- ☒ 4. टांडा

Question ID : 99836712718  
Status : Answered  
Chosen Option : 3

Q.45 निम्नलिखित में से कौन सी योजना समाज कल्याण विभाग, छत्तीसगढ़ सरकार द्वारा शुरू की गई है: गरीबी रेखा के नीचे रहने वाली विधवा और निर्जन महिलाओं को एक सम्मानजनक जीवन का आश्वासन देना और वित्तीय सहायता प्रदान करना?

Ans ☒ 1. तृतीय लिंग समुदाय में व्यक्तियों का सशक्तिकरण

☒ 2. सोनिया गांधी राष्ट्रीय विधवा पेंशन योजना

☒ 3. किसान समर्थन योजना

☒ 4. राष्ट्रीय परिवार सहायता योजना

Question ID : 99836712726  
Status : Answered  
Chosen Option : 2

Q.46 वह ऑनलाइन एग्री-मार्केट कौन सा है जहां किसान फलों और सब्जियों, कृषि उत्पादन या कोई कृषि मशीनरी, उपकरण या ट्रैक्टर आदि की खरीद, बिक्री या विज्ञापन कर सकते हैं?

Ans ☒ 1. ई-स्मार्ट

☒ 2. ई-हाट

☒ 3. किस-आन

☒ 4. कृषि बाजार

Question ID : 99836712738  
Status : Answered  
Chosen Option : 2

Q.47 निम्नलिखित में से कौनसा, राज्य में चौथा बाघ संरक्षित पार्क बन गया है?

Ans ☒ 1. सीतानंदी राष्ट्रीय अभयारण्य

☒ 2. भोरमदेव राष्ट्रीय अभयारण्य

☒ 3. इंद्रावती राष्ट्रीय अभयारण्य

☒ 4. अचनकमार राष्ट्रीय अभयारण्य

Question ID : 99836712742  
Status : Answered  
Chosen Option : 2

Q.48 छत्तीसगढ़ में भारत में उत्पादित कुल स्टील का लगभग \_\_\_\_\_ भाग है।

- Ans ☒ 1. 15 प्रतिशत
- ☒ 2. 10 प्रतिशत
- ☒ 3. 25 प्रतिशत
- ☒ 4. 30 प्रतिशत

Question ID : 99836712740  
Status : Answered  
Chosen Option : 1

Q.49 निम्नलिखित में से कौन सा छत्तीसगढ़ का एकमात्र बायोस्फीयर रिज़र्व है जो छत्तीसगढ़ और मध्य प्रदेश राज्यों में स्थित है?

- Ans ☒ 1. दुधवा-इंद्रावती बायोस्फीयर रिज़र्व
- ☒ 2. द अचनकमार-अमरकंटक बायोस्फीयर रिज़र्व
- ☒ 3. पामेड-हस्तिनापुर बायोस्फीयर रिज़र्व
- ☒ 4. सारंगढ़-गोमर्दा बायोस्फीयर रिज़र्व

Question ID : 99836712737  
Status : Answered  
Chosen Option : 2

Q.50 किस हैहय राजा के नाम पर नर्मदा के किनारे पर स्थित हैहय राजधानी थी, जिसे माहिष्मती के नाम से जाना जाता था?

- Ans ☒ 1. महिषासुर
- ☒ 2. महेशवर्मन
- ☒ 3. महिष्मान
- ☒ 4. महेंद्र बाहुबली

Question ID : 99836712695  
Status : Answered  
Chosen Option : 4

Section : General Computer Knowledge

Q.1 कौन सा नेटवर्क कंप्यूटरों को बड़े भौगोलिक क्षेत्र में जोड़ता है?

- Ans ☒ 1. BAN
- ☒ 2. LAN
- ☒ 3. MAN
- ☒ 4. WAN

Question ID : 99836712760  
Status : Answered  
Chosen Option : 4

Q.2 JPEG का असंक्षिप्त रूप क्या है?

- Ans
- ☒ 1. जॉइंट पिक्चर एक्सपोर्ट्स ग्राफिक्स
  - ☒ 2. जॉइंट पिक्चर एक्सपोर्ट्स ग्रुप
  - ☒ 3. जॉइंट फोटोग्राफिक एक्सपोर्ट्स ग्रुप
  - ☒ 4. जॉइंट पिक्चर एक्सट्रा ग्रुप

Question ID : 99836712766  
Status : Answered  
Chosen Option : 3

Q.3 CD – ROM की क्षमता सामान्यता क्या होती है?

- Ans
- ☒ 1. 400 Mb
  - ☒ 2. 4 GB
  - ☒ 3. 16 GB
  - ☒ 4. 700 Mb

Question ID : 99836712770  
Status : Answered  
Chosen Option : 4

Q.4 \_\_\_\_\_, किसी कंपनी में काम करने वाला इंटरनेट का एक छोटा प्रकार है।

- Ans
- ☒ 1. एंट्रानेट
  - ☒ 2. इंटरनेट
  - ☒ 3. एक्स्ट्रानेट
  - ☒ 4. ऑनट्रानेट

Question ID : 99836712762  
Status : Answered  
Chosen Option : 2

Q.5 \_\_\_\_\_, इंटरनेट पर संचार तथा सूचना साझा करने का एक तरीका है।

- Ans
- ☒ 1. यूआरएल
  - ☒ 2. मेटाडेटा
  - ☒ 3. जीपीएस
  - ☒ 4. वर्ल्ड वाइड वेब

Question ID : 99836712761  
Status : Answered





Chosen Option : 4

Q.6 किस प्रिंटर का उपयोग पोस्टर तथा ब्लूप्रिंट बनाने के लिए होता है?

- Ans ☒ 1. प्लॉटर  
☒ 2. डॉट मैट्रिक्स  
☒ 3. लेज़र  
☒ 4. इंकजेट

Question ID : 99836712751  
Status : Answered  
Chosen Option : 1

Q.7 CD का असंक्षिप्त रूप क्या है?

- Ans ☒ 1. कॉम्पैक्ट डिस्क  
☒ 2. कम्प्रेस्ड डेटा  
☒ 3. कम्प्रेस्ड डिस्क  
☒ 4. कॉम्पैक्ट डेटा

Question ID : 99836712769  
Status : Answered  
Chosen Option : 1

Q.8 लेज़र प्रिंटर \_\_\_\_\_ इंक का इस्तेमाल करते हैं।

- Ans ☒ 1. तरल  
☒ 2. ठोस  
☒ 3. पाउडर  
☒ 4. गैस

Question ID : 99836712753  
Status : Answered  
Chosen Option : 3

Q.9 ऑडियो तथा विडियो कम्प्रेशन में, RGB का संक्षिप्त रूप \_\_\_\_\_ है।

- Ans ☒ 1. लाल, ब्लू, ग्रे  
☒ 2. लाल, ब्लू, ग्रीन  
☒ 3. लाल, काला, ग्रे  
☒ 4. लाल, काला, ग्रीन

Question ID : 99836712768  
Status : Answered  
Chosen Option : 2

Q.10 निम्नलिखित में से कौन सी जगह/जगहें हैं जहाँ कंप्यूटर इस्तेमाल होता है?

I. बैंक

II. स्कूल  
III. कॉलेज

- Ans ☒ 1. I, II तथा III  
☒ 2. I तथा II  
☒ 3. II तथा III  
☒ 4. I तथा III

Question ID : 99836712745  
Status : Answered  
Chosen Option : 1

Q.11 निम्नलिखित में से कौन सा  
मालवेयर दिखता सही है परंतु  
खराब करने वाला कोड लुप्त  
रखता है?

- Ans ☒ 1. वाइरस  
☒ 2. ट्रोजन  
☒ 3. एडवेयर  
☒ 4. वर्म

Question ID : 99836712765  
Status : Answered  
Chosen Option : 2

Q.12 यूट्यूब किस वर्ष में बनाया गया  
था?

- Ans ☒ 1. 2009  
☒ 2. 2005  
☒ 3. 2008  
☒ 4. 2001

Question ID : 99836712774  
Status : Answered  
Chosen Option : 2

Q.13 CPU जो एक कंप्यूटर का हृदय  
होता है वह कुछ नहीं परंतु एक  
तेज \_\_\_\_\_ है।

- Ans ☒ 1. हार्ड डिस्क  
☒ 2. कैलकुलेटर  
☒ 3. रोम  
☒ 4. मदरबोर्ड

Question ID : 99836712748  
Status : Answered  
Chosen Option : 4

Q.14 माइक्रोसॉफ्ट वर्ड एक \_\_\_\_\_ है।

- Ans ☒ 1. प्रेजेंटेशन प्रोग्राम  
☒ 2. कैलकुलेटिंग प्रोग्राम

- ☒ 3. स्प्रेड शीट प्रोग्राम
- ☒ 4. वर्ड प्रोसेसिंग प्रोग्राम

Question ID : 99836712759  
Status : Answered  
Chosen Option : 4

Q.15 कंप्यूटर वाइसर क्या है?

- Ans ☒ 1. स्क्रीन डिफेक्ट
- ☒ 2. हार्डवेयर कॉम्पोनेन्ट
- ☒ 3. कंप्यूटर प्रोग्राम
- ☒ 4. रोग

Question ID : 99836712764  
Status : Answered  
Chosen Option : 3

Q.16 दूसरी पीढ़ी के कंप्यूटर का दौर क्या था?

- Ans ☒ 1. 1964 – 1971
- ☒ 2. 1940 – 1956
- ☒ 3. 1956 – 1963
- ☒ 4. 1972 – 2010

Question ID : 99836712746  
Status : Answered  
Chosen Option : 3

Q.17 निम्नलिखित में से कौन सा एक टेक्स्ट बेस्ड ऑपरेटिंग सिस्टम है?

- Ans ☒ 1. Windows 95
- ☒ 2. MS – DOS
- ☒ 3. Window CE
- ☒ 4. Windows 2000

Question ID : 99836712754  
Status : Answered  
Chosen Option : 2

Q.18 कंप्यूटर की परफॉरमेंस को कौन प्रभावित करता है?

- I. RAM की मात्रा
- II. स्क्रीन की साइज़

- Ans ☒ 1. केवल I
- ☒ 2. I तथा II दोनों
- ☒ 3. केवल II
- ☒ 4. ना तो I ना तो II

Question ID : 99836712750

Status : Answered  
Chosen Option : 1

Q.19 मालवेयर \_\_\_\_\_ द्वारा फैल सकता है।

- I. सोशल नेटवर्क  
II. रिमूवेबल मीडिया

Ans ☒ 1. केवल II  
☒ 2. केवल I  
☒ 3. I तथा II दोनों  
☒ 4. ना तो I ना तो II

Question ID : 99836712763  
Status : Answered  
Chosen Option : 3

Q.20 एम.एस वर्ड में कौन सा फॉन्ट का एक स्टाईल नहीं है?

Ans ☒ 1. इटैलिक  
☒ 2. अंडरलाइन  
☒ 3. सुपरस्क्रिप्ट  
☒ 4. बोल्ड

Question ID : 99836712757  
Status : Answered  
Chosen Option : 3

Q.21 कौन सी प्रकार की डि.वी.डि अपने पर लिखी इन्फॉर्मेशन के केवल पढ़ सकती है?

- I. DVD – RW  
II. DVR – ROM

Ans ☒ 1. ना तो I ना तो II  
☒ 2. I तथा II दोनों  
☒ 3. केवल II  
☒ 4. केवल I

Question ID : 99836712771  
Status : Answered  
Chosen Option : 3

Q.22 निम्नलिखित में से कौन सा आपकी कंप्यूटर में फायर तथा कैपेबिलिटी जोड़ने देती है?

Ans ☒ 1. सीरियल बस  
☒ 2. माइक्रो कंट्रोलर  
☒ 3. एक्सपेंशन स्लोट  
☒ 4. लैन पोर्ट

Question ID : 99836712749

Status : Answered  
Chosen Option : 1

Q.23 सर्च इंजन \_\_\_\_\_ का एक बड़ा डेटाबेस बना कर रखते हैं।

- I. URL's (यूआरएल)
- II. किबर्ड
- III. वेबपेजेस

- Ans
- ☒ 1. I तथा III
  - ☒ 2. I, II तथा III
  - ☒ 3. I तथा II
  - ☒ 4. II तथा III

Question ID : 99836712772  
Status : Answered  
Chosen Option : 2

Q.24 JPEG का किस प्रकार की फाइल्स को कम्प्रेस करने के लिए इस्तेमाल किया जाता है?

- Ans
- ☒ 1. वर्ड
  - ☒ 2. इमेज
  - ☒ 3. ऑडियो
  - ☒ 4. विडियो

Question ID : 99836712767  
Status : Answered  
Chosen Option : 2

Q.25 RAM का असंक्षिप्त रूप क्या है?

- Ans
- ☒ 1. रिकॉर्ड एक्सेस मेमोरी
  - ☒ 2. रैंडम एक्सेस मेमोरी
  - ☒ 3. रीड एक्सेस मेमोरी
  - ☒ 4. रैंडम अवेलेबल मेमोरी

Question ID : 99836712747  
Status : Answered  
Chosen Option : 2

Q.26 एम.एस-डोस किस वर्ष में रिलीस हुआ था?

- Ans
- ☒ 1. 1979
  - ☒ 2. 1984
  - ☒ 3. 1980
  - ☒ 4. 1978

Question ID : 99836712756  
Status : Answered  
Chosen Option : 2

Q.27 निम्नलिखित में से कौन सा एक ऑपरेटिंग सिस्टम नहीं है?

- Ans
- ☒ 1. MS – DOS
  - ☒ 2. LINUX
  - ☒ 3. Windows
  - ☒ 4. Google

Question ID : 99836712755  
Status : Answered  
Chosen Option : 4

Q.28 2 अक्तूबर 2015 को, गूगल का सि.ई.ओ. किसे नियुक्त किया गया था?

- Ans
- ☒ 1. एरिक श्मिट
  - ☒ 2. सुसान वोज्स्की
  - ☒ 3. सुंदर पिचाई
  - ☒ 4. स्नेक पायल

Question ID : 99836712773  
Status : Answered  
Chosen Option : 3

Q.29 निम्नलिखित में से कौन सा/से नॉन इम्पेक्ट प्रिंटर है/हैं?

- I. लेसर प्रिंटर
- II. इंकजेट

- Ans
- ☒ 1. केवल I
  - ☒ 2. ना तो I ना तो II
  - ☒ 3. केवल II
  - ☒ 4. I तथा II दोनों

Question ID : 99836712752  
Status : Answered  
Chosen Option : 4

Q.30 एम.एस वर्ड में, किस शार्टकट की का उपयोग चयनित टेक्स्ट को इटैलिक करने के लिए किया जाता है?

- Ans
- ☒ 1. Ctrl + Z
  - ☒ 2. Ctrl + U
  - ☒ 3. Ctrl + A
  - ☒ 4. Ctrl + I

Question ID : 99836712758  
Status : Answered  
Chosen Option : 4

Q.1 नीचे दिए गए प्रश्न में कुछ कथन और उनके बाद उन कथनों पर आधारित कुछ निष्कर्ष दिए गए हैं। दिए गए कथनों को सही माने, चाहे उनमें सामान्य ज्ञात तथ्यों से भिन्नता हो। सभी निष्कर्ष पढ़ें और फिर निर्धारित करें कि दिए गए कौन से निष्कर्ष, दिए गए कथनों के आधार पर युक्तिसंगत हैं।

- कथन:
- I. कुछ M, T हैं।
  - II. कोई H, P नहीं है।
  - III. कुछ P, T हैं।

- निष्कर्ष:
- I. कुछ T, H नहीं है।
  - II. कुछ M, H नहीं हैं।

Ans ☒ 1. केवल निष्कर्ष II अनुसरण करता है

☒ 2. दोनों निष्कर्ष I तथा II अनुसरण करते हैं

☒ 3. केवल निष्कर्ष I अनुसरण करता है

☒ 4. कोई भी निष्कर्ष अनुसरण नहीं करता है

Question ID : 99836712789  
Status : Answered  
Chosen Option : 4

Q.2 निम्नलिखित प्रश्न में दिए गए विकल्पों में से विषम अक्षर/अक्षरों को चुनिए।

Ans ☒ 1. MR

☒ 2. HO

☒ 3. BG

☒ 4. JO

Question ID : 99836712783  
Status : Answered  
Chosen Option : 2

Q.3 एक विशिष्ट कोड भाषा में, 'MON' को '41' लिखा जाता है, 'ZIP' को '50' लिखा जाता है। इस कोड भाषा में 'GAP' का कोड क्या है?

Ans ☒ 1. 26

☒ 2. 24

☒ 3. 23

☒ 4. 25

Question ID : 99836712785

Status : Answered  
Chosen Option : 3

Q.4 एक विशिष्ट कोड भाषा में, 'TOM' को '48' लिखा जाता है, 'TIP' को '45' लिखा जाता है। इस कोड भाषा में 'GAM' का कोड क्या है?

- Ans
- ☒ 1. 22
  - ☒ 2. 20
  - ☒ 3. 21
  - ☒ 4. 23

Question ID : 99836712784  
Status : Answered  
Chosen Option : 3

Q.5 एक निश्चित कोड में, FAVOUR को EBUPTS के रूप में लिखा जाता है। उस कोड में DANGER कैसे लिखा जाता है?

- Ans
- ☒ 1. CBMHDS
  - ☒ 2. EBFHDS
  - ☒ 3. CBFFDS
  - ☒ 4. EBHHFS

Question ID : 99836712797  
Status : Answered  
Chosen Option : 1

Q.6 निम्नलिखित प्रश्न में दिए गए विकल्पों में से संबंधित अक्षर युग्म को चुनिए।

GLK : INM :: ?

- Ans
- ☒ 1. LAP : NCR
  - ☒ 2. PIN : PKR
  - ☒ 3. MOT : PQV
  - ☒ 4. GAT : IDV

Question ID : 99836712775  
Status : Answered  
Chosen Option : 1

Q.7 पाँच लड़कों P, Q, L, N तथा O को उनकी ऊँचाई के अनुसार नीचे से ऊपर की ओर बढ़ते क्रम में व्यवस्थित किया गया है (जरूरी नहीं की इसी क्रम में हो)। N की ऊँचाई केवल तीन लड़कों से अधिक है। O की ऊँचाई केवल P तथा Q से अधिक है। Q की ऊँचाई P से कम है। किसकी ऊँचाई अधिकतम है?

- Ans
- ☒ 1. L



- ☒ 2. O
- ☒ 3. P
- ☒ 4. N

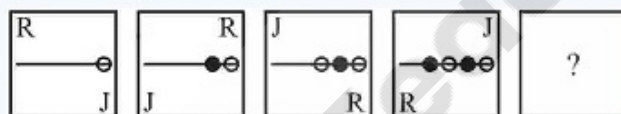
Question ID : 99836712795  
Status : Answered  
Chosen Option : 1

Q.8 पाँच व्यक्ति M, N, O, P तथा Q को उनके भार के अनुसार बढ़ते क्रम में बायें से दायें की ओर व्यवस्थित किया गया है (जरूरी नहीं की इसी क्रम में हो)। P का भार सबसे कम है। दो व्यक्तियों का भार O से अधिक है। M का भार केवल एक व्यक्ति से अधिक है। किसका भार N तथा Q दोनों के भार से कम है परंतु M के भार से अधिक है?

- Ans
- ☒ 1. M
  - ☒ 2. P या O
  - ☒ 3. P
  - ☒ 4. O

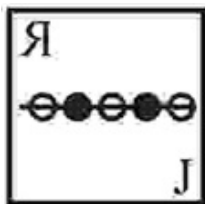
Question ID : 99836712793  
Status : Answered  
Chosen Option : 4

Q.9 निम्नलिखित प्रश्न में दिए गए विकल्पों में से प्रश्न चिन्ह (?) के स्थान पर आने वाली आकृति को चुनिए।



- Ans
- ☒ 1.
  - ☒ 2.
  - ☒ 3.

✗ 4.



Question ID : 99836712798

Status : Answered


Chosen Option : 1

Q.10 वह आरेख चुनिए जो नीचे दिए गए वर्गों के बीच के संबंध का सही निरूपण करता है।

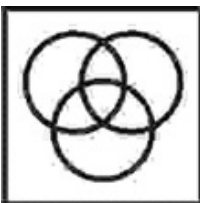
बाइक, कार, वाहन

Ans

✓ 1.




✗ 2.



✗ 3.



✗ 4.



Question ID : 99836712800

Status : Answered

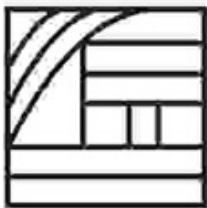
Chosen Option : 1

Q.11 दी गई उत्तर आकृतियों में से उस उत्तर आकृति को चुनिए जिस में प्रश्न आकृति निहित है।

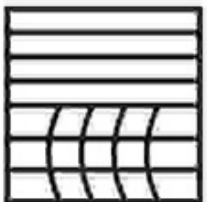


Ans

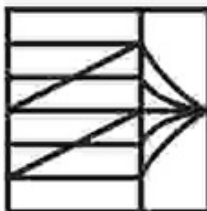
✓ 1.



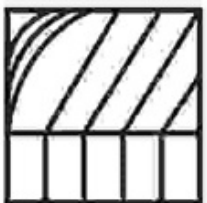
✗ 2.



✗ 3.



✗ 4.



Question ID : 99836712803

Status : Answered

Chosen Option : 1

Q.12 निम्नलिखित प्रश्न में दिए गए विकल्पों में से विषम शब्द को चुनिए।

Ans ✗ 1. वेतन

✓ 2. सफेद

✗ 3. किराया

✗ 4. लाभ

Question ID : 99836712782

Status : Answered

Chosen Option : 2

Q.13 एक इमारत में पाँच मंजिल- 1, 2, 3, 4 तथा 5 है। पाँच एडवोकेट A, G, L, M तथा H इन मंजिलों पर रहते हैं (जरूरी नहीं की इसी क्रम में हों)। L सम संख्या वाली मंजिल पर रहता है तथा H के ठीक ऊपर रहता है। H, G के ठीक ऊपर रहता है। M, A के ऊपर रहता है। M तथा H के मध्य कौन रहता है?

Ans ✗ 1. G

✓ 2. L

✗ 3. A



 4. L या G

Question ID : 99836712794

Status : Answered

Chosen Option : 2

Q.14 नीचे दिए गए प्रश्न में कुछ कथन और उनके बाद उन कथनों पर आधारित कुछ निष्कर्ष दिए गए हैं। दिए गए कथनों को सही माने, चाहे उनमें सामान्य ज्ञात तथ्यों से भिन्नता हो। सभी निष्कर्ष पढ़ें और फिर निर्धारित करें कि दिए गए कौन से निष्कर्ष, दिए गए कथनों के आधार पर युक्तिसंगत हैं।

कथन:


I. कुछ बिल्ली पीली हैं।


II. कुछ गुलाबी पीले हैं।


निष्कर्ष:

I. कुछ बिल्ली गुलाबी हैं।

II. कोई गुलाबी बिल्ली नहीं है।

Ans  1. कोई भी निष्कर्ष अनुसरण नहीं करता है

 2. दोनों निष्कर्ष I तथा II अनुसरण करते हैं

 3. केवल निष्कर्ष II अनुसरण करता है

 4. केवल निष्कर्ष I अनुसरण करता है

Question ID : 99836712787

Status : Answered

Chosen Option : 1

Q.15 एक विशिष्ट कोड भाषा में, 'PARENTAL' को 'NCVPGTGR' लिखा जाता है। इस कोड भाषा में 'GEOMETRY' का कोड क्या है?

Ans  1. DWYJRTJL

 2. CVXIQSIK

 3. BUWHPRHJ

 4. ATVGOQGI

Question ID : 99836712786

Status : Answered

Chosen Option : 4

Q.16 कविता पश्चिम की ओर चलना आरंभ करती है तथा 3 कि.मी. चलती है। वह दायीं ओर मुड़ती है तथा 1.5 कि.मी. चलती है। वह पुनः दायीं ओर मुड़ती है तथा 3 कि.मी. चलती है। वह बायीं ओर मुड़ती है तथा 2 कि.मी. चलती है। वह अपने आरंभिक बिंदु से किस दिशा में तथा कितनी दूरी पर है?

- Ans
- ☒ 1. उत्तर, 2.5 कि.मी.
  - ☒ 2. उत्तर, 3.5 कि.मी.
  - ☒ 3. उत्तर, 9 कि.मी.
  - ☒ 4. उत्तर, 4.5 कि.मी.

Question ID : 99836712801  
Status : Answered  
Chosen Option : 2

Q.17 निम्नलिखित प्रश्न में दिए गए विकल्पों में से विषम शब्द युग्म को चुनिए।

- Ans
- ☒ 1. वाहन : बाइक
  - ☒ 2. कार : वाहन
  - ☒ 3. लाल : रंग
  - ☒ 4. सेब : फल

Question ID : 99836712781  
Status : Answered  
Chosen Option : 1

Q.18 एक अनुक्रम दिया गया है, जिसमें से एक पद लुप्त है। दिए गए विकल्पों में से वह सही विकल्प चुनिए, जो अनुक्रम को पूरा करे।

TO, VQ, XS, ZU, ?

- Ans
- ☒ 1. CW
  - ☒ 2. BW
  - ☒ 3. BX
  - ☒ 4. CX

Question ID : 99836712780  
Status : Answered  
Chosen Option : 2

Q.19 अजय उत्तर की ओर चलना आरंभ करता है तथा 2 कि.मी. चलता है। वह दायीं ओर मुड़ता है तथा 1 कि.मी. चलता है। वह पुनः दायीं ओर मुड़ता है तथा 4 कि.मी. चलता है। वह अपने आरंभिक बिंदु से किस दिशा में है?

- Ans
- ☒ 1. दक्षिण-पूर्व
  - ☒ 2. दक्षिण-पश्चिम
  - ☒ 3. पश्चिम
  - ☒ 4. दक्षिण

Question ID : 99836712799  
Status : Answered  
Chosen Option : 1



Q.20 नीचे दिए गए प्रश्न में कुछ कथन और उनके बाद उन कथनों पर आधारित कुछ निष्कर्ष दिए गए हैं। दिए गए कथनों को सही माने, चाहे उनमें सामान्य ज्ञात तथ्यों से भिन्नता हो। सभी निष्कर्ष पढ़ें और फिर निर्धारित करें कि दिए गए कौन से निष्कर्ष, दिए गए कथनों के आधार पर युक्तिसंगत हैं।

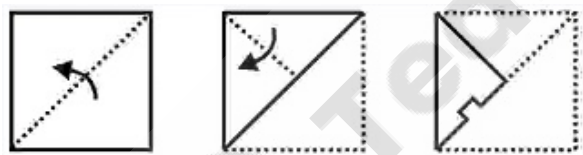
- कथन:  
 I. कोई A, M नहीं है।  
 II. कोई P, M नहीं है।

- निष्कर्ष:  
 I. कुछ P, A हैं।  
 II. M, P नहीं है।

- Ans ☒ 1. दोनों निष्कर्ष I तथा II अनुसरण करते हैं  
☒ 2. केवल निष्कर्ष I अनुसरण करता है  
☒ 3. केवल निष्कर्ष II अनुसरण करता है  
☒ 4. कोई भी निष्कर्ष अनुसरण नहीं करता है

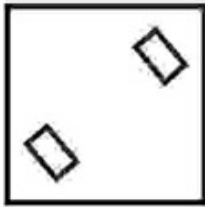
Question ID : 99836712788  
 Status : Answered  
 Chosen Option : 3

Q.21 नीचे के प्रश्न आकृतियों में दिखाए अनुसार कागज को मोड़कर छेदने तथा खोलने के बाद वह किस उत्तर आकृति जैसा दिखाई देगा?



- Ans ☒ 1.
- ☒ 2.
- ☒ 3.

✓ 4.



Question ID : 99836712804

Status : Answered

Chosen Option : 4

Q.22 There of the givn four words are similar in a certain maner while one is different.

- Ans
- ✗ 1. Octopus
  - ✗ 2. Jellyfish
  - ✓ 3. Hippopotamus
  - ✗ 4. Shrimp

Question ID : 99836712796

Status : Answered

Chosen Option : 3

Q.23 निम्नलिखित प्रश्न में दिए गए विकल्पों में से संबंधित शब्द युग्म को चुनिए।

रंग : लाल :: ?

- Ans
- ✓ 1. आकार : त्रिभुज
  - ✗ 2. पीला : गुलाबी
  - ✗ 3. आकार : बड़ा
  - ✗ 4. गोला : परिधि

Question ID : 99836712777

Status : Answered

Chosen Option : 1

Q.24 नीचे दिए गए प्रश्न में, चार संख्या युग्म दिए गए हैं। (-) के बायीं ओर दी गई संख्या (-) के दायीं ओर दी गई संख्या से किसी तर्क/नियम/संबंध से संबंधित है। तीन उसी एक तर्क/नियम/संबंध के आधार पर समान हैं। दिए गए विकल्पों में से विषम को चुनिए।

- Ans
- ✗ 1. 19 - 39
  - ✗ 2. 13 - 33
  - ✓ 3. 41 - 59
  - ✗ 4. 11 - 31

Question ID : 99836712790

Status : Answered

Chosen Option : 3



Q.25 निम्नलिखित प्रश्न में दिए गए विकल्पों में से संबंधित शब्द युग्म को चुनिए।

- फल : आम :: ?
- Ans
- 1. कार : वाहन
  - 2. व्यवसाय : लाभ
  - 3. किताब : पृष्ठ
  - 4. वाहन : बाइक

Question ID : 99836712776  
Status : Answered  
Chosen Option : 4

Q.26 दी गई उत्तर आकृतियों में से उस उत्तर आकृति को चुनिए जिस में प्रश्न आकृति निहित है।



- Ans
- 1. A square frame filled with diagonal lines from top-left to bottom-right.
  - 2. A square frame containing a vertical line and a horizontal line intersecting at the center, forming a cross.
  - 3. A square frame containing a grid of smaller squares, with the central square shaded.
  - 4. A square frame containing a complex geometric pattern of intersecting lines forming a star-like shape.

Question ID : 99836712802  
Status : Answered  
Chosen Option : 4

Q.27



दिए गए विकल्पों में से वह शब्द चुनिए जो दिए गए शब्द के अक्षरों का प्रयोग करके नहीं बनाया जा सकता है।

ROCKSHELL

- Ans
- ✓ 1. CRAWL
  - ✗ 2. SHREL
  - ✗ 3. CORK
  - ✗ 4. SHOCK

Question ID : 99836712779  
Status : Answered  
Chosen Option : 1

Q.28 निम्नलिखित प्रश्न में दी गई श्रृंखला में से लुप्त अंक ज्ञात कीजिए।

19, 12, 31, 43, 74, ?

- Ans
- ✗ 1. 121
  - ✓ 2. 117
  - ✗ 3. 113
  - ✗ 4. 119

Question ID : 99836712792  
Status : Answered  
Chosen Option : 2

Q.29 निम्नलिखित प्रश्न में दी गई श्रृंखला में से लुप्त अंक ज्ञात कीजिए।

11, 17, 23, 29, 35, ?

- Ans
- ✓ 1. 41
  - ✗ 2. 39
  - ✗ 3. 42
  - ✗ 4. 40

Question ID : 99836712791  
Status : Answered  
Chosen Option : 1

Q.30 दिए गए विकल्पों में से वह शब्द चुनिए जो दिए गए शब्द के अक्षरों का प्रयोग करके बनाया जा सकता है।

WISDOMNESS

- Ans
- ✗ 1. DRONE
  - ✓ 2. WISED
  - ✗ 3. DOMMED
  - ✗ 4. MESSED

Question ID : 99836712778

Status : Answered  
Chosen Option : 2

Section : General Maths

Q.1 निम्नलिखित में से कौन सा सही है?

- Ans
- ☒ 1.  $0.2 > 0.01 > (0.1)^2$
  - ☒ 2.  $0.4 > (0.2)^2 > (0.3)^2$
  - ☒ 3.  $0.3 > (0.2)^2 > (0.1)^2$
  - ☒ 4.  $(0.1)^2 > 0.02 > (0.03)^2$

Question ID : 99836712808  
Status : Answered  
Chosen Option : 3

Q.2  $\frac{\sqrt{(0.0064)}}{\sqrt{(0.0225)}}$  का मान क्या है?

- Ans
- ☒ 1.  $5/12$
  - ☒ 2.  $5/9$
  - ☒ 3.  $8/15$
  - ☒ 4.  $7/13$

Question ID : 99836712812  
Status : Answered  
Chosen Option : 3

Q.3 दूध तथा पानी के 40 लीटर के एक मिश्रण में, दूध तथा पानी का अनुपात 3 : 1 है। मिश्रण में कितना पानी और मिलाया जाए कि दूध तथा पानी 5 : 2 के अनुपात में हो जाए?

- Ans
- ☒ 1. 5 लीटर
  - ☒ 2. 1 लीटर
  - ☒ 3. 10 लीटर
  - ☒ 4. 2 लीटर

Question ID : 99836712825  
Status : Answered  
Chosen Option : 4

Q.4 200 मीटर लंबी एक रेलगाड़ी एक खंभे को 20 सेकण्ड में पार कर लेती है। रेलगाड़ी की गति क्या है?

- Ans
- ☒ 1. 54 कि.मी./घंटा
  - ☒ 2. 42 कि.मी./घंटा
  - ☒ 3. 36 कि.मी./घंटा
  - ☒ 4. 18 कि.मी./घंटा

Question ID : 99836712819  
Status : Answered  
Chosen Option : 3

Q.5 एक वस्तु को 2000 रूपयों की बेचने पर हानि का मान विक्रय मूल्य के  $\frac{1}{5}$  के बराबर है। 12.5 प्रतिशत लाभ कमाने के लिए वस्तु का विक्रय मूल्य क्या होना चाहिए?

- Ans
- ☒ 1. 1600 रूपये
  - ☒ 2. 1850 रूपये
  - ☒ 3. 1800 रूपये
  - ☒ 4. 1750 रूपये

Question ID : 99836712824  
Status : Answered  
Chosen Option : 3

Q.6 एक वस्तु को 1440 रूपयों की बेचने पर एक पुरुष को 10 प्रतिशत की हानि होती है। वस्तु का क्रय मूल्य क्या है?

- Ans
- ☒ 1. 1600
  - ☒ 2. 1580
  - ☒ 3. 1780
  - ☒ 4. 1720

Question ID : 99836712823  
Status : Answered  
Chosen Option : 1

Q.7 तीन संख्या में, पहली संख्या, दूसरी संख्या की तीगुनी है तथा दूसरी संख्या तीसरी की तीगुनी है। यदि तीन संख्याओं का औसत 117 है, तो तीनों में सबसे छोटी संख्या क्या है?

- Ans
- ☒ 1. 36
  - ☒ 2. 54
  - ☒ 3. 27
  - ☒ 4. 42

Question ID : 99836712816  
Status : Answered  
Chosen Option : 3

Q.8 सबसे छोटी संख्या क्या है जिसको 6, 5 तथा 4 से विभाजित करने पर शेषफल क्रमशः 3, 2 तथा 1 प्राप्त होता है?

- Ans
- ☒ 1. 63
  - ☒ 2. 57

- ☒ 3. 61
- ☒ 4. 55

Question ID : 99836712814  
Status : Answered  
Chosen Option : 2

Q.9 240 तथा 400 का महत्तम  
समापवर्तक क्या है?

- Ans
- ☒ 1. 100
  - ☒ 2. 40
  - ☒ 3. 80
  - ☒ 4. 120

Question ID : 99836712813  
Status : Answered  
Chosen Option : 3

Q.10  $(0.2)^2 + (1.1)^2 \times 2$  का मान क्या  
है?

- Ans
- ☒ 1. 123/25
  - ☒ 2. 46/97
  - ☒ 3. 47/96
  - ☒ 4. 123/50

Question ID : 99836712809  
Status : Answered  
Chosen Option : 4

Q.11 एक त्रिभुज के सभी बाह्य कोण  
का योग क्या है?

- Ans
- ☒ 1.  $270^\circ$
  - ☒ 2.  $720^\circ$
  - ☒ 3.  $360^\circ$
  - ☒ 4.  $180^\circ$

Question ID : 99836712830  
Status : Answered  
Chosen Option : 3

Q.12 10 प्रतिशत प्रति वर्ष की दर से 2  
वर्षों के लिए 8000 रुपयों पर  
साधारण ब्याज क्या है?

- Ans
- ☒ 1. 1680
  - ☒ 2. 800
  - ☒ 3. 880
  - ☒ 4. 1600

Question ID : 99836712821  
Status : Answered

Chosen Option : 4

Q.13 12 मिनट एक घंटे का क्या प्रतिशत है?

- Ans
- ☒ 1. 25 प्रतिशत
  - ☒ 2. 12 प्रतिशत
  - ☒ 3. 20 प्रतिशत
  - ☒ 4. 5 प्रतिशत

Question ID : 99836712817

Status : Answered

Chosen Option : 3

Q.14 कितने वर्षों में 25000 रूपयों की एक राशि पर 12.5 प्रतिशत की दर से 12500 रूपयों का साधारण ब्याज मिलेगा?

- Ans
- ☒ 1. 4
  - ☒ 2. 3.5
  - ☒ 3. 3
  - ☒ 4. 4.5

Question ID : 99836712822

Status : Answered

Chosen Option : 1

Q.15 एक शहर की जनसंख्या में प्रत्येक वर्ष  $k$  प्रतिशत से वृद्धि होती है। यदि वर्तमान जनसंख्या 20160 है तथा दो वर्ष पहले जनसंख्या 14000 थी, तो  $k$  का मान क्या है?

- Ans
- ☒ 1. 26
  - ☒ 2. 21
  - ☒ 3. 19
  - ☒ 4. 20

Question ID : 99836712828

Status : Answered

Chosen Option : 4

Q.16 एक घन में रखी जा सकने वाली सबसे लंबी छड़ की लंबाई  $8\sqrt{3}$  सें.मी. है। घन का आयतन क्या है?

- Ans
- ☒ 1.  $512$  सें.मी.<sup>3</sup>
  - ☒ 2.  $169$  सें.मी.<sup>3</sup>
  - ☒ 3.  $256$  सें.मी.<sup>3</sup>
  - ☒ 4.  $144$  सें.मी.<sup>3</sup>

Question ID : 99836712833

Status : Answered

Chosen Option : 1



Q.17 एक संख्या की तीन चौथाई उसी संख्या के दो तिहाई से 20 अधिक है। संख्या का आधा क्या है?

- Ans
- ☒ 1. 120
  - ☐ 2. 240
  - ☐ 3. 360
  - ☐ 4. 270

Question ID : 99836712810  
Status : Answered  
Chosen Option : 1

Q.18 यदि 6 टन लोहे का मूल्य 21000 है, तो 17 टन लोहे का मूल्य क्या है?

- Ans
- ☒ 1. 59500
  - ☐ 2. 59800
  - ☐ 3. 61500
  - ☐ 4. 57850

Question ID : 99836712806  
Status : Answered  
Chosen Option : 1

Q.19 एक वर्ग की भुजा में  $k$  प्रतिशत से वृद्धि होती है, तो क्षेत्रफल 69 प्रतिशत से बढ़ जाता है।  $k$  का मान क्या है?

- Ans
- ☒ 1. 30
  - ☐ 2. 34
  - ☐ 3. 32.5
  - ☐ 4. 34.5

Question ID : 99836712818  
Status : Answered  
Chosen Option : 1

Q.20 एक कंपनी के लाभ में प्रत्येक वर्ष 15 प्रतिशत से वृद्धि होती है। यदि वर्तमान लाभ 36400 रुपये है, तो अगले वर्ष लाभ क्या होगा?

- Ans
- ☐ 1. 43210 रुपये
  - ☐ 2. 44540 रुपये
  - ☒ 3. 41860 रुपये
  - ☐ 4. 42420 रुपये

Question ID : 99836712827  
Status : Answered  
Chosen Option : 3

Q.21 एक समचर्तुभुज के विकर्ण 80 से.मी. तथा 60 से.मी. है। समचर्तुभुज का परिमाप क्या है?

- Ans
- ☒ 1. 200 से.मी.
  - ☐ 2. 100 से.मी.
  - ☐ 3. 250 से.मी.
  - ☐ 4. 400 से.मी.

Question ID : 99836712831  
Status : Answered  
Chosen Option : 1

Q.22 यदि 32, 47, x तथा 41 का औसत 55 है, तो x का मान क्या है?

- Ans
- ☒ 1. 100
  - ☐ 2. 120
  - ☐ 3. 70
  - ☐ 4. 110

Question ID : 99836712815  
Status : Answered  
Chosen Option : 1

Q.23 दो घन के आयतन 1 : 8 के अनुपात में है, तो उनकी भुजाओं का अनुपात क्या है?

- Ans
- ☐ 1. 1 :  $\sqrt{2}$
  - ☐ 2. 1 : 8
  - ☐ 3. 1 : 4
  - ☒ 4. 1 : 2

Question ID : 99836712834  
Status : Answered  
Chosen Option : 4

Q.24 3 से 11 के बीच की सभी सम संख्याओं का गुणनफल क्या है?

- Ans
- ☐ 1. 1860
  - ☐ 2. 1900
  - ☒ 3. 1920
  - ☐ 4. 1960

Question ID : 99836712807  
Status : Answered  
Chosen Option : 3

Q.25 यदि A तथा B संपूरक कोण है, तो  $A + B =$  \_\_\_\_\_ है।

- Ans
- ☐ 1.  $180^\circ$
  - ☒ 2.  $90^\circ$

☒ 3.  $45^\circ$

☒ 4.  $135^\circ$

Question ID : 99836712829

Status : Answered

Chosen Option : 1

Q.26 यदि  $\sqrt{3^n} = 81$  है, तो  $n$  का मान क्या है?

Ans ☒ 1. 4

☒ 2. 8

☒ 3. 2

☒ 4. 6

Question ID : 99836712811

Status : Answered

Chosen Option : 2

Q.27 अमन बिंदु A से 8 बजे 36 कि.मी./घंटा की गति से चलना आरंभ करता है। दो घंटे बाद मोहित बिंदु A से 54 कि.मी./घंटा की गति से चलना आरंभ करता है। प्रारंभिक बिंदु से मोहित अमन को कितनी दूरी पर पकड़ लेगा?

Ans ☒ 1. 124 कि.मी.

☒ 2. 216 कि.मी.

☒ 3. 144 कि.मी.

☒ 4. 108 कि.मी.

Question ID : 99836712820

Status : Answered

Chosen Option : 2

Q.28 एक आयताकर चादर की चौड़ाई उसकी लंबाई की तीन-चौथाई है। यदि 220 रुपये प्रति मीटर<sup>2</sup> की दर से चादर को रंगने की लागत 23760 रुपयों है, तो चादर की चौड़ाई क्या है?

Ans ☒ 1. 6 मीटर

☒ 2. 9 मीटर

☒ 3. 3 मीटर

☒ 4. 13 मीटर

Question ID : 99836712832

Status : Answered

Chosen Option : 2

Q.29 यदि  $A : B = 3 : 2$  तथा  $B : C = 5 : 6$  है,  $A : B : C$  का मान क्या है?

Ans ☒ 1. 8 : 5 : 6





- ☒ 2. 10 : 4 : 3
- ☒ 3. 12 : 10 : 8
- ☒ 4. 15 : 10 : 12

Question ID : 99836712826  
Status : Answered  
Chosen Option : 4

Q.30 125 ग्राम 1 कि.ग्रा. का क्या प्रतिशत है?

- Ans ☒ 1. 20 प्रतिशत
- ☒ 2. 25 प्रतिशत
- ☒ 3. 10 प्रतिशत
- ☒ 4. 12.5 प्रतिशत

Question ID : 99836712805  
Status : Answered  
Chosen Option : 4

Section : General Hindi  
Grammar

Q.1 निम्नलिखित प्रश्न में, दिए गए चार विकल्पों में से, उस विकल्प का चयन करें जो दिए गए मुहावरे के अर्थ को सर्वश्रेष्ठ रूप से व्यक्त करता है।

अढ़ाई दिन की हुकूमत

- Ans ☒ 1. कुछ दिनों की शान्तिपूर्ण
- ☒ 2. अढ़ाई दिन खाना बनाना
- ☒ 3. दो दिन बाद रोना
- ☒ 4. अढ़ाई दिन राज करना

Question ID : 99836712874  
Status : Answered  
Chosen Option : 1

Q.2 निम्नलिखित प्रश्न में, दिए गए चार विकल्पों में से, उस विकल्प का चयन करें जो दिए गए मुहावरे के अर्थ को सर्वश्रेष्ठ रूप से व्यक्त करता है।

राम नाम जपना, पराया माल अपना

- Ans ☒ 1. धोखे से धन जमा करना
- ☒ 2. दान करना
- ☒ 3. दूसरों से सहानुभूति रखना
- ☒ 4. सर्वज्ञ होना

Question ID : 99836712872

Status : Answered  
Chosen Option : 1

Q.3 निम्नलिखित में से कौन सा पद  
द्वित्व व्यंजन का उदाहरण है?

- Ans
- ☒ 1. त्रिभुज
  - ☒ 2. मक्का
  - ☒ 3. त्रिकोण
  - ☒ 4. रक्षक

Question ID : 99836712837  
Status : Answered  
Chosen Option : 2

Q.4 निम्नलिखित शब्दों में सदा  
स्त्रीलिंग वाला शब्द कौन सा है?

- Ans
- ☒ 1. गैंडा
  - ☒ 2. पक्षी
  - ☒ 3. बाज
  - ☒ 4. मकड़ी

Question ID : 99836712842  
Status : Answered  
Chosen Option : 2

Q.5 दिए गए शब्दों में से कौन सा शब्द  
तत्सम् नहीं है?

- Ans
- ☒ 1. आम्र
  - ☒ 2. अमृत
  - ☒ 3. उल्लू
  - ☒ 4. अग्नि

Question ID : 99836712861  
Status : Answered  
Chosen Option : 3

Q.6 दिए गए शब्द का सही विलोम शब्द  
ज्ञात कीजिए।

अर्वाचीन

- Ans
- ☒ 1. पुराचीन
  - ☒ 2. सनातन
  - ☒ 3. नवीन
  - ☒ 4. समीचीन

Question ID : 99836712866  
Status : Answered  
Chosen Option : 4

Q.7 दिए गए वाक्य में अशुद्धि का  
प्रकार ज्ञात कीजिए।

हमने हमारा भोजन समाप्त कर लिया।

- Ans
- ☒ 1. विशेषण संबंधी
  - ☒ 2. संज्ञा संबंधी
  - ☒ 3. सर्वनाम संबंधी
  - ☒ 4. लिंग संबंधी

Question ID : 99836712860  
Status : Answered  
Chosen Option : 3

Q.8 निम्नलिखित में से कौन सा उदाहरण संदिग्ध भूतकाल का है?

- Ans
- ☒ 1. उसने शरबत पीया है।
  - ☒ 2. शायद वे आ जाते।
  - ☒ 3. वे मंदिर चले गए होंगे।
  - ☒ 4. राजू ने खा लिया था।

Question ID : 99836712843  
Status : Answered  
Chosen Option : 2

Q.9 निम्नलिखित प्रश्न में, दिए गए चार विकल्पों में से, उस विकल्प का चयन करें जो दिए गए मुहावरे के अर्थ को सर्वश्रेष्ठ रूप से व्यक्त करता है।

नउधो का लेना न माधो को देना

- Ans
- ☒ 1. भक्ति भाव से दूर रहना।
  - ☒ 2. हिसाब साफ रखना।
  - ☒ 3. अपने काम से काम रखना।
  - ☒ 4. सबसे अलग रहना।

Question ID : 99836712873  
Status : Answered  
Chosen Option : 3

Q.10 दिए गए शब्दों में से यौगिक शब्द कौन सा है?

- Ans
- ☒ 1. विद्यालय
  - ☒ 2. गाय
  - ☒ 3. काला
  - ☒ 4. राम

Question ID : 99836712864  
Status : Answered  
Chosen Option : 1

Q.11 दिए गए शब्द के पर्यायवाची शब्द

का चयन कीजिए।

सगर्भ

- Ans
- ☒ 1. फय
  - ☒ 2. सजात
  - ☒ 3. अड़
  - ☒ 4. दुनिया

Question ID : 99836712869

Status : Answered

Chosen Option : 1

Q.12 दिए गए शब्द समूह के लिए एक शब्द चुनें।

किसी ग्रन्थ में अन्य व्यक्ति द्वारा जोड़ा गया भाग।

- Ans
- ☒ 1. कपेक्ष
  - ☒ 2. पेक्षक
  - ☒ 3. क्षेपक
  - ☒ 4. क्षेकप

Question ID : 99836712865

Status : Answered

Chosen Option : 3

Q.13 "त्र" वर्ण किसके योग से बना है?

- Ans
- ☒ 1. ज् + ज + अ
  - ☒ 2. क् + ष + अ
  - ☒ 3. त् + र् + अ
  - ☒ 4. श् + र् + अ

Question ID : 99836712839

Status : Answered

Chosen Option : 3

Q.14 दिए गए शब्दों में से कौन सा शब्द समूहवाचक संज्ञा का उदाहरण है।

- Ans
- ☒ 1. सभा
  - ☒ 2. बुढ़ापा
  - ☒ 3. मिठास
  - ☒ 4. सोना

Question ID : 99836712845

Status : Answered

Chosen Option : 1

Q.15 दिए गए शब्द के पर्यायवाची शब्द का चयन कीजिए।

कबूतर

- Ans
- ☒ 1. कोर
  - ☒ 2. कुस्कुट
  - ☒ 3. आरिल
  - ☒ 4. हारिल

Question ID : 99836712867  
Status : Answered  
Chosen Option : 4

Q.16 शुद्ध वर्तनी का चयन कीजिए।

- Ans
- ☒ 1. जाहन्वी
  - ☒ 2. जान्हवी
  - ☒ 3. जाह्वी
  - ☒ 4. जाहनवी

Question ID : 99836712836  
Status : Answered  
Chosen Option : 3

Q.17 दिए गए वाक्यों में से शुद्ध वाक्य का चयन कीजिए।

- Ans
- ☒ 1. वह शुक्रवार के दिन व्रत रखती है
  - ☒ 2. प्रत्येक छात्रों को सूचना दे दो
  - ☒ 3. पंखे से ठंडी हवा आ रही है
  - ☒ 4. वे दर्शन देने आया था

Question ID : 99836712858  
Status : Answered  
Chosen Option : 3

Q.18 सही वर्तनी से रिक्त स्थान भरें।

\_\_\_\_\_ सबसे बड़े पाण्डव थे।

- Ans
- ☒ 1. युधिष्ठिर
  - ☒ 2. युधिषठिर
  - ☒ 3. युधिशिठर
  - ☒ 4. युधिसिथर

Question ID : 99836712838  
Status : Answered  
Chosen Option : 1

Q.19 दिए गए शब्द के सही संधि विच्छेद का चयन कीजिए।

निश्चल

- Ans
- ☒ 1. निश + चल
  - ☒ 2. नि: + चल

✗ 3. निस + चल

✗ 4. नी: + चल

Question ID : 99836712856

Status : Answered

Chosen Option : 2

Q.20 दिए गए वाक्य का वह भाग ज्ञात करें जिसमें कोई त्रुटि है। यदि कोई त्रुटि नहीं है, तो 'कोई त्रुटि नहीं है' चुनें।

बच्चों की (1)/ आँखों से (2)/  
आँसू (3)/ बहने लगा (4)

Ans ✓ 1. 4

✗ 2. 2

✗ 3. 1

✗ 4. 3

Question ID : 99836712857

Status : Answered

Chosen Option : 3

Q.21 समास का शाब्दिक अर्थ क्या होता है?

Ans ✗ 1. विग्रह

✗ 2. विच्छेद

✓ 3. संक्षेप

✗ 4. विस्तार

Question ID : 99836712851

Status : Answered

Chosen Option : 3

Q.22 दिए गए शब्दों में से कौन सा शब्द योगरूढ़ शब्द नहीं है?

Ans ✓ 1. पाठशाला

✗ 2. पंकज

✗ 3. चारपाई

✗ 4. अंगरखा

Question ID : 99836712863

Status : Answered

Chosen Option : 2

Q.23 निम्नलिखित पदों में कौन सा उदाहरण स्वर संधि का है?

Ans ✗ 1. मनोहर

✓ 2. पवन

✗ 3. नमस्कार



✗ 4. संयोग

Question ID : 99836712854  
Status : Answered  
Chosen Option : 2

Q.24 व्यंजन और स्वर के संयुक्त रूप को क्या कहते हैं?

- Ans
- ✓ 1. वर्ण
  - ✗ 2. ध्वनि
  - ✗ 3. वाक्य
  - ✗ 4. अक्षर

Question ID : 99836712835  
Status : Answered  
Chosen Option : 4

Q.25 दिए गए वाक्य का काल ज्ञात कीजिए।

रमा बाजार जाएगी

- Ans
- ✓ 1. सामान्य भविष्यत काल
  - ✗ 2. सामान्य भूतकाल
  - ✗ 3. सामान्य वर्तमान काल
  - ✗ 4. सम्भाव्य भविष्यत काल

Question ID : 99836712844  
Status : Answered  
Chosen Option : 1

Q.26 दिए गए शब्द में समास का चयन कीजिए।

सिरतोड़

- Ans
- ✗ 1. संप्रदान तत्पुरुष
  - ✗ 2. करण - तत्पुरुष
  - ✗ 3. अपादान - तत्पुरुष
  - ✓ 4. कर्म - तत्पुरुष

Question ID : 99836712850  
Status : Answered  
Chosen Option : 4

Q.27 दिए गए शब्द के सही संधि विच्छेद का चयन कीजिए।

निरर्थक

- Ans
- ✗ 1. निरा + अर्थक
  - ✗ 2. निरः + अर्थक
  - ✓ 3. निः + अर्थक
  - ✗ 4. निर + अर्थक

Question ID : 99836712855  
Status : Answered  
Chosen Option : 3

Q.28 दिए गए शब्द समूह के लिए  
उपयुक्त लोकोक्ति क्या है?

उपाय वही सफल और श्रेष्ठ है  
जिसका लोहा विरोधी को भी  
मानना पड़े।

- Ans ☒ 1. जादू वही जो सिर चढ़कर  
बोले  
☒ 2. चमत्कार को नमस्कार  
☒ 3. इनमें से कोई नहीं  
☒ 4. आधा तीतर आधा बटेर

Question ID : 99836712871  
Status : Answered  
Chosen Option : 2

Q.29 दिए गए शब्द का स्त्रीलिंग ज्ञात  
कीजिए।

मगरमच्छ

- Ans ☒ 1. मादा मगरमच्छ  
☒ 2. मगरमच्छनी  
☒ 3. मगरमच्छा  
☒ 4. मगरमच्छी

Question ID : 99836712840  
Status : Answered  
Chosen Option : 1

Q.30 निम्नलिखित प्रश्न में, दिए गए चार  
विकल्पों में से, उस विकल्प का  
चयन करें जो दिए गए मुहावरे के  
अर्थ को सर्वश्रेष्ठ रूप से व्यक्त  
करता है।

थाली का बैंगन

- Ans ☒ 1. अधिक चिकना  
☒ 2. गोल मटोल  
☒ 3. चौड़ा होना  
☒ 4. सिद्धांतहीन व्यक्ति

Question ID : 99836712870  
Status : Answered  
Chosen Option : 4

Q.31 इनमें से एकवचन - बहुवचन का  
कौन सा युग्म सही नहीं है?

- Ans ☒ 1. आँसू - आँसूओं  
☒ 2. घोड़ा - घोड़े



- ☒ 3. गली – गलियाँ
- ☒ 4. चिड़िया – चिड़ियाँ

Question ID : 99836712841  
Status : Answered  
Chosen Option : 1

Q.32 दिए गए वाक्य का विशेषण ज्ञात कीजिए।

गर्म दूध पीना लाभदायक है

- Ans
- ☒ 1. सार्वनामिक
  - ☒ 2. संख्यावाचक
  - ☒ 3. परिणामवाचक
  - ☒ 4. गुणवाचक

Question ID : 99836712847  
Status : Answered  
Chosen Option : 4

Q.33 दिए गए शब्द समूह के लिए एक शब्द चुनें।

जो पहले कभी न हुआ हो

- Ans
- ☒ 1. अपूर्व
  - ☒ 2. अभूतपूर्व
  - ☒ 3. अनुपम
  - ☒ 4. अद्भुत

Question ID : 99836712868  
Status : Answered  
Chosen Option : 2

Q.34 दिए गए वाक्य के शुद्ध रूप का चयन कीजिए।

कल श्याम को मेरे चाचा जी आएँगे।

- Ans
- ☒ 1. कल शाम को मेरा चाचा जी आएगा।
  - ☒ 2. कल शाम को मेरे चाचा जी आएँगे।
  - ☒ 3. कल श्याम को मेरा चाचा आएँगे।
  - ☒ 4. कल श्याम को मेरे चाचे आएँगे।

Question ID : 99836712859  
Status : Answered  
Chosen Option : 2

Q.35 दी गई क्रियाओं में से कौन सी क्रिया अनुकरणात्मक क्रिया नहीं

है?

- Ans
- ☒ 1. हिहिनाना
  - ☒ 2. झुठलाना
  - ☒ 3. मिमियाना
  - ☒ 4. फड़फड़ाना

Question ID : 99836712848  
Status : Answered  
Chosen Option : 1

Q.36 दिए गए शब्द में सही संधि का चयन कीजिए।

गिरीश

- Ans
- ☒ 1. दीर्घ संधि
  - ☒ 2. वृद्धि संधि
  - ☒ 3. गुण संधि
  - ☒ 4. अयादि संधि

Question ID : 99836712853  
Status : Answered  
Chosen Option : 1

Q.37 निम्नलिखित में कौन सा पद अव्ययीभाव समास है?

- Ans
- ☒ 1. गृहागत
  - ☒ 2. कुमारी
  - ☒ 3. प्रतिदिन
  - ☒ 4. आचरकुशल

Question ID : 99836712852  
Status : Answered  
Chosen Option : 3

Q.38 द्विगु समास के उदाहरण का चयन कीजिए।

- Ans
- ☒ 1. अन्वय
  - ☒ 2. त्रिभुवन
  - ☒ 3. दिन - रात
  - ☒ 4. चतुरानन

Question ID : 99836712849  
Status : Answered  
Chosen Option : 2

Q.39 कौन सा समूह प्रश्नवाचक सर्वनामों का उदाहरण है?

- Ans
- ☒ 1. किसी, तुम, क्या
  - ☒ 2. जिसे, जैसा, हमारा

☒ 3. वह, उसकी, हम

☒ 4. कौन, किसे, कब

Question ID : 99836712846

Status : Answered

Chosen Option : 4

Q.40 दिए गए शब्दों में से कौन सा शब्द तद्भव है?

Ans ☒ 1. अज्ञानी

☒ 2. कार्य

☒ 3. कटु

☒ 4. आठ

Question ID : 99836712862

Status : Answered

Chosen Option : 4

Section : General English  
Grammar

Q.1 Which of them doesn't make a pair?

Ans ☒ 1. father – dad

☒ 2. brother – sister

☒ 3. actor – actress

☒ 4. god – goddess

Question ID : 99836712876

Status : Answered

Chosen Option : 1

Q.2 Choose a conjunction of time.

Ans ☒ 1. As

☒ 2. Where

☒ 3. Because

☒ 4. After

Question ID : 99836712881

Status : Answered

Chosen Option : 4

Q.3 In the following question, a sentence has been given in Active/Passive voice. Out of the four alternatives suggested, select the one which best expresses the same sentence in Passive/Active voice.

I eat a mango.

Ans ☒ 1. A mango is ate by I

- ☒ 2. A mango is eaten  
by I
- ☒ 3. The mango is eaten  
by me
- ☒ 4. A mango is eaten  
by me

Question ID : 99836712885  
Status : Answered  
Chosen Option : 4

Q.4 In the given question, four words are given out of which one word is correctly spelt. Choose the correctly spelt word.

- Ans ☒ 1. Deplomatic
- ☒ 2. Deplometric
- ☒ 3. Diplomatic
- ☒ 4. Diplometric

Question ID : 99836712893  
Status : Answered  
Chosen Option : 3

Q.5 A sentence has been given with a blank to be filled with an appropriate word. Choose the correct alternative.

After a hard day, \_\_\_\_\_ needs to relax.

- Ans ☒ 1. everyone
- ☒ 2. either
- ☒ 3. neither
- ☒ 4. they

Question ID : 99836712880  
Status : Answered  
Chosen Option : 1

Q.6 Choose the word that means the same as the given word.

Example

- Ans ☒ 1. Illustration
- ☒ 2. Problem
- ☒ 3. Solution
- ☒ 4. Rude

Question ID : 99836712890  
Status : Answered  
Chosen Option : 1

Q.7 A sentence has been given

with a blank to be filled with an appropriate word. Choose the correct alternative.

The snake crawled \_\_\_\_\_ its hole.

- Ans
- ☒ 1. in
  - ☒ 2. at
  - ☒ 3. towards
  - ☒ 4. into

Question ID : 99836712884  
Status : Answered  
Chosen Option : 3

Q.8 Which of them makes a pair?

- Ans
- ☒ 1. heir – hero
  - ☒ 2. host – god
  - ☒ 3. duke – duchess
  - ☒ 4. boy – bride

Question ID : 99836712877  
Status : Answered  
Chosen Option : 3

Q.9 In the given question, four words are given out of which one word is correctly spelt. Choose the correctly spelt word.

- Ans
- ☒ 1. Accomplish
  - ☒ 2. Arogant
  - ☒ 3. Aparel
  - ☒ 4. Accumulate

Question ID : 99836712894  
Status : Answered  
Chosen Option : 1

Q.10 Choose the word that means the same as the given word.

Bargain

- Ans
- ☒ 1. Ignore
  - ☒ 2. Give
  - ☒ 3. Negotiate
  - ☒ 4. Buy

Question ID : 99836712889  
Status : Answered  
Chosen Option : 3

Q.11 A sentence has been given

with a blank to be filled with an appropriate article. Choose the correct alternative.

Aladdin had \_\_\_\_\_ wonderful lamp.

- Ans
- ☒ 1. No article is required
  - ☒ 2. a
  - ☒ 3. an
  - ☒ 4. the

Question ID : 99836712875  
Status : Answered  
Chosen Option : 4

Q.12 In the following question, a sentence has been given in Direct/Indirect speech. Out of the four alternatives suggested, select the one which best expresses the same sentence in Indirect/Direct speech.

Charu said, "I am studying law."

- Ans
- ☒ 1. Charu said that she studied law
  - ☒ 2. Charu said that she was studying law
  - ☒ 3. Charu said that I am studying law
  - ☒ 4. Charu said that I was studying law

Question ID : 99836712887  
Status : Answered  
Chosen Option : 1

Q.13 A sentence has been given with a blank to be filled with an appropriate word. Choose the correct alternative.

The cat sprang \_\_\_\_\_ the chair.

- Ans
- ☒ 1. upon
  - ☒ 2. to
  - ☒ 3. by
  - ☒ 4. with

Question ID : 99836712883  
Status : Answered  
Chosen Option : 1

Q.14 A sentence has been given with a blank to be filled with

an appropriate word. Choose the correct alternative.

I \_\_\_\_\_ (walk) down the street.

- Ans
- ☒ 1. has walk
  - ☒ 2. am walking
  - ☒ 3. is walking
  - ☒ 4. are walking

Question ID : 99836712879  
Status : Answered  
Chosen Option : 2

Q.15 Find the part of the given sentence that has an error in it. If there is no error, choose 'No error'.

I don't like shopping (1)/ but i'll (2)/ come with you (3)/ No error (4)

- Ans
- ☒ 1. 4
  - ☒ 2. 2
  - ☒ 3. 1
  - ☒ 4. 3

Question ID : 99836712882  
Status : Answered  
Chosen Option : 4

Q.16 In the following question, a sentence has been given in Active/Passive voice. Out of the four alternatives suggested, select the one which best expresses the same sentence in Passive/Active voice.

She will sing a song.

- Ans
- ☒ 1. A song will be sung by her
  - ☒ 2. A song will sing her
  - ☒ 3. A song will sang her
  - ☒ 4. A song had been sung by her

Question ID : 99836712886  
Status : Answered  
Chosen Option : 4

Q.17 Improve the bracketed part of the sentence.

(Whom) wrote the novel Rockbound?

Ans

- ☒ 1. What
- ☒ 2. Who
- ☒ 3. Which
- ☒ 4. How

Question ID : 99836712878  
Status : Not Answered  
Chosen Option : -

Q.18 Choose the word that can substitute the given sentence.

A place where horses are kept

- Ans
- ☒ 1. Pug
  - ☒ 2. Bully
  - ☒ 3. Stable
  - ☒ 4. Flame

Question ID : 99836712891  
Status : Answered  
Chosen Option : 3

Q.19 In the following question, a sentence has been given in Direct/Indirect speech. Out of the four alternatives suggested, select the one which best expresses the same sentence in Indirect/Direct speech.

Manav said he'd speak to him later.

- Ans
- ☒ 1. Manav said, "I'll speak to you later."
  - ☒ 2. Manav said, "I speak to you later."
  - ☒ 3. Manav said, "I'll speak to them later."
  - ☒ 4. Manav said, "I would speak to you later."

Question ID : 99836712888  
Status : Not Answered  
Chosen Option : -

Q.20 Choose an option that describes the word.

Literate

- Ans
- ☒ 1. To seek protection from danger
  - ☒ 2. One who can read and write
  - ☒ 3. One who preside