



Teachingninja.in



Latest Govt Job updates



Private Job updates



Free Mock tests available

Visit - teachingninja.in



Teachingninja.in

CSPHCL DEO

Previous Year Paper
24 Aug, 2019 Shift 2



CHHATTISGARH STATE POWER HOLDING COMPANY LTD.



(A Government of Chhattisgarh Undertaking)
CIN No. : U65992CT2008SGC020995



O/o GM (HR), C.S. Power Holding Co.Ltd., Raipur

Participant ID	
Participant Name	
Test Center Name	
Test Date	24/08/2019
Test Time	2:00 PM - 5:00 PM
Subject	DATA ENTRY OPERATOR

Section : General Knowledge

Q.1 निम्नलिखित में से कौन सा लोक नृत्य छत्तीसगढ़ से संबंधित नहीं है?

- Ans ☒ 1. घुमर
☒ 2. काकसर
☒ 3. झिरलिट्टी
☒ 4. पंथी

Question ID : 99836716514

Status : Answered

Chosen Option : 1

Q.2 छत्तीसगढ़ में कितनी जनपद पंचायतें हैं?

- Ans ☒ 1. 146
☒ 2. 150
☒ 3. 148
☒ 4. 140

Question ID : 99836716531

Status : Answered

Chosen Option : 4

Q.3 निम्नलिखित में से कौन सा छत्तीसगढ़ का मौसमी लोक गीत नहीं है?

- Ans ☒ 1. दण्ड
☒ 2. सवनाही
☒ 3. फाग
☒ 4. बारामासी

Question ID : 99836716513

Status : Answered

Chosen Option : 4

Q.4 छत्तीसगढ़ को मध्य भारत का _____ कटोरा भी कहा जाता है।

- Ans ☒ 1. चावल
☒ 2. मक्का



- ☒ 3. दालें
- ☒ 4. गेहूँ

Question ID : 99836716527
Status : Answered
Chosen Option : 1

Q.5 2011 की जनगणना के अनुसार छत्तीसगढ़ की साक्षरता दर क्या है?

- Ans ☒ 1. 70.28 प्रतिशत
- ☒ 2. 75.03 प्रतिशत
- ☒ 3. 60.24 प्रतिशत
- ☒ 4. 80.27 प्रतिशत

Question ID : 99836716510
Status : Answered
Chosen Option : 1

Q.6 छत्तीसगढ़ में मदाई त्यौहार दिसंबर के महीने से _____ तक मनाया जाता है।

- Ans ☒ 1. फरवरी
- ☒ 2. अप्रैल
- ☒ 3. मार्च
- ☒ 4. मई

Question ID : 99836716517
Status : Answered
Chosen Option : 1

Q.7 राष्ट्र के कुल उत्पादन में 18 प्रतिशत का योगदान देकर छत्तीसगढ़ कोयला उत्पादन में _____ स्थान पर है।

- Ans ☒ 1. चौथे
- ☒ 2. दूसरे
- ☒ 3. पहले
- ☒ 4. तीसरे

Question ID : 99836716541
Status : Answered
Chosen Option : 2

Q.8 भिलाई इस्पात संयंत्र निम्नलिखित में से किस जिले में स्थित है?

- Ans ☒ 1. जशपुर
- ☒ 2. बस्तर
- ☒ 3. दुर्ग
- ☒ 4. बिलासपुर

Question ID : 99836716535
Status : Answered
Chosen Option : 3

Q.9 रायपुर के प्रसिद्ध मंदिर की स्थापना किसने की जहाँ छत्तीसगढ़ का भोरमदेव महोत्सव मनाया जाता है?

Ans

- ☒ 1. महाराज रामचंद्र
☐ 2. महाराज नारायणचंद्र
☐ 3. महाराज ऋषि
☐ 4. महाराज वीर सिंह

Question ID : 99836716519
Status : Answered
Chosen Option : 1

Q.10 निम्नलिखित में से कौन निर्वाचित स्थानीय-स्वशासन की सबसे छोटी इकाई है?

- Ans ☐ 1. जिला पंचायत
☐ 2. जनपद पंचायत
☐ 3. राज पंचायत
☒ 4. ग्राम पंचायत

Question ID : 99836716530
Status : Answered
Chosen Option : 4

Q.11 CREDA का पूर्ण प्रपत्र क्या है?

- Ans ☐ 1. छत्तीसगढ़ स्टेट रिसोर्स एनर्जी डेवलपमेंट एजेंसी
☐ 2. छत्तीसगढ़ स्टेट रिन्यूएबल एनर्जी डिपार्टमेंट एजेंट
☒ 3. छत्तीसगढ़ स्टेट रिन्यूएबल एनर्जी डेवलपमेंट एजेंसी
☐ 4. छत्तीसगढ़ स्टेट रिसोर्स एनर्जी डिपार्टमेंट एजेंसी

Question ID : 99836716537
Status : Answered
Chosen Option : 3

Q.12 राजर्षितुल्य वंश का अंतिम शासक कौन था?

- Ans ☐ 1. दयित वर्मा II
☐ 2. रतनदेव
☐ 3. विभीषण
☒ 4. भीमसेन II

Question ID : 99836716496
Status : Answered
Chosen Option : 4

Q.13 छत्तीसगढ़ पंचायत राज अधिनियम कब पारित किया गया था?

- Ans ☒ 1. 1993
☐ 2. 1990
☐ 3. 1997
☐ 4. 1995

Question ID : 99836716529
Status : Answered
Chosen Option : 1



Q.14 नवखाना महोत्सव _____ के महीने में मनाया जाता है।

- Ans
- ☒ 1. फाल्गुन
 - ☒ 2. भाद्रपद
 - ☒ 3. अषाढ़
 - ☒ 4. चैत्र

Question ID : 99836716521
Status : Answered
Chosen Option : 4

Q.15 छत्तीसगढ़ राज्य के गठन के बाद पंचायतों के तीन स्तरों का पहला चुनाव _____ में हुआ था।

- Ans
- ☒ 1. मार्च 2002
 - ☒ 2. जनवरी 2005
 - ☒ 3. जनवरी 2003
 - ☒ 4. मार्च 2006

Question ID : 99836716533
Status : Answered
Chosen Option : 2

Q.16 खेरकट्टा बांध _____ नदी पर बनाया गया है।

- Ans
- ☒ 1. मथोली
 - ☒ 2. गोदावरी
 - ☒ 3. महानदी
 - ☒ 4. हसदेव

Question ID : 99836716540
Status : Answered
Chosen Option : 4

Q.17 निम्नलिखित में से किसने 2019 में छत्तीसगढ़ का बजट प्रस्तुत किया है?

- Ans
- ☒ 1. अजीत जोगी
 - ☒ 2. रमन सिंह
 - ☒ 3. भूपेश बघेल
 - ☒ 4. दिनेश नंदन सहाय

Question ID : 99836716524
Status : Answered
Chosen Option : 3

Q.18 हसदेव बांगो जलविद्युत संयंत्र में _____ बिजली पैदा करने की क्षमता है।

- Ans
- ☒ 1. 110 MW
 - ☒ 2. 95 MW
 - ☒ 3. 120 MW
 - ☒ 4. 80 MW

Question ID : 99836716538



Status : **Answered**
Chosen Option : 3

Q.19 गंगरेल जलविद्युत परियोजना गंगरेल बांध से जुड़ी है, जो _____ नदी के पार बनाया गया है।

- Ans
- ☒ 1. महानदी
 - ☐ 2. गोदावरी
 - ☐ 3. इंद्रावती
 - ☐ 4. हसदेव

Question ID : 99836716536
Status : **Answered**
Chosen Option : 1

Q.20 चिरिमिरी कोलफील्ड छत्तीसगढ़ के _____ जिले में स्थित है।

- Ans
- ☐ 1. रायपुर
 - ☐ 2. बस्तर
 - ☒ 3. कोरिया
 - ☐ 4. दुर्ग

Question ID : 99836716539
Status : **Answered**
Chosen Option : 3

Q.21 पंडवानी लोक नृत्य में कथन की दो मुख्य शैलियाँ वेदमति और _____ हैं।

- Ans
- ☐ 1. सैला
 - ☒ 2. कापालिक
 - ☐ 3. पंथी
 - ☐ 4. खंबा

Question ID : 99836716516
Status : **Answered**
Chosen Option : 2

Q.22 बस्तर में चालुक्य वंश की स्थापना कब हुई थी?

- Ans
- ☐ 1. 1322
 - ☐ 2. 1325
 - ☐ 3. 1330
 - ☒ 4. 1320

Question ID : 99836716500
Status : **Answered**
Chosen Option : 4

Q.23 छत्तीसगढ़ में सीप-कला (शैल-वर्क) का स्थानीय नाम क्या है?

- Ans
- ☐ 1. तुम्बा
 - ☒ 2. कौड़ी शिल्प
 - ☐ 3. बाँस का शिल्प
 - ☐ 4. गोदना कला

Question ID : 99836716512
Status : Answered
Chosen Option : 2

Q.24 निम्नलिखित में से कौनसा राज्य पश्चिम में छत्तीसगढ़ की सीमा बनाता है?

- Ans
- ☒ 1. आंध्र प्रदेश
 - ☒ 2. गुजरात
 - ☒ 3. ओडिशा
 - ☒ 4. महाराष्ट्र

Question ID : 99836716505
Status : Answered
Chosen Option : 4

Q.25 निम्नलिखित में से किस मृदा को छत्तीसगढ़ में टिकरा कहा जाता है?

- Ans
- ☒ 1. काली मृदा
 - ☒ 2. लाल रेतीली मृदा
 - ☒ 3. लैटेराइट मृदा
 - ☒ 4. लाल - पीली मृदा

Question ID : 99836716503
Status : Answered
Chosen Option : 2

Q.26 छत्तीसगढ़ के मुख्यमंत्री भूपेश बघेल ने 2019-2020 का वार्षिक बजट कब पेश किया?

- Ans
- ☒ 1. 16 जनवरी 2019
 - ☒ 2. 15 मार्च 2019
 - ☒ 3. 8 फरवरी 2019
 - ☒ 4. 20 अप्रैल 2019

Question ID : 99836716542
Status : Answered
Chosen Option : 3

Q.27 निम्नलिखित में से कौन छत्तीसगढ़ के राज्यपाल हैं?

- Ans
- ☒ 1. ई. एस. एल. नरसिंहन
 - ☒ 2. आनंदीबेन पटेल
 - ☒ 3. डी. एन. सहाय
 - ☒ 4. कृष्ण मोहन सेठ

Question ID : 99836716532
Status : Answered
Chosen Option : 2

Q.28 निम्नलिखित में से कौन सी सीमा छत्तीसगढ़ के पहाड़ी इलाकों का हिस्सा नहीं है?

- Ans
- ☒ 1. अरावली पर्वतमाला
 - ☒ 2. विंध्याचल पर्वतमाला

- ☒ 3. मैकल पर्वतमाला
☒ 4. सतपुड़ा पर्वतमाला

Question ID : 99836716504
Status : Answered
Chosen Option : 1

Q.29 रतनपुर गृह का अंतिम जीवित सदस्य कौन था?

- Ans ☒ 1. बिबाजी भोंसले
☒ 2. धुरावो मरिया
☒ 3. रघुनाथ सिंह
☒ 4. वीर नारायण सिंह

Question ID : 99836716502
Status : Answered
Chosen Option : 3

Q.30 मई 2019 तक निम्नलिखित में से किस जिले में सबसे व्यापक वन्य भंडार है?

- Ans ☒ 1. बस्तर
☒ 2. धमतरी
☒ 3. कोरबा
☒ 4. दंतेवाड़ा

Question ID : 99836716526
Status : Answered
Chosen Option : 1

Q.31 2018-2019 में वर्तमान कीमतों पर छत्तीसगढ़ का सकल राज्य घरेलू उत्पाद (GSDP) क्या है?

- Ans ☒ 1. 2.92 रुपये खरब
☒ 2. 5.16 रुपये खरब
☒ 3. 4.32 रुपये खरब
☒ 4. 3.12 रुपये खरब

Question ID : 99836716525
Status : Not Attempted and Marked For Review
Chosen Option : --

Q.32 छत्तीसगढ़ में निम्नलिखित में से किस जिले में बाँधों की संख्या सबसे अधिक है?

- Ans ☒ 1. बिलासपुर
☒ 2. रायगढ़
☒ 3. धमतरी
☒ 4. कोरबा

Question ID : 99836716507
Status : Answered
Chosen Option : 4

Q.33 छत्तीसगढ़ में तारापुर विद्रोह कब शुरू हुआ?



- Ans
- ☒ 1. 1852
 - ☒ 2. 1842
 - ☒ 3. 1861
 - ☒ 4. 1820

Question ID : 99836716497
Status : Answered
Chosen Option : 2

Q.34 _____ में, जब नागपुर प्रांत ब्रिटिश सरकार को सौंप दिया गया था, तब रायपुर में इसके मुख्यालय के साथ एक उपायुक्त (डिप्टी कमिशनरशिप) के रूप में छत्तीसगढ़ का गठन किया गया था।

- Ans
- ☒ 1. 1854
 - ☒ 2. 1890
 - ☒ 3. 1812
 - ☒ 4. 1818

Question ID : 99836716495
Status : Answered
Chosen Option : 1

Q.35 नल वंश का संस्थापक कौन था?

- Ans
- ☒ 1. जगतदेव
 - ☒ 2. रत्नदेव II
 - ☒ 3. कलिंगराज
 - ☒ 4. वराहराज

Question ID : 99836716499
Status : Answered
Chosen Option : 4

Q.36 मैकल पर्वतमाला _____ और राजनांदगांव जिलों की सीमा के साथ फैली हुई है।

- Ans
- ☒ 1. रायगढ़
 - ☒ 2. जनकपुर
 - ☒ 3. बिलासपुर
 - ☒ 4. धमतरी

Question ID : 99836716506
Status : Answered
Chosen Option : 3

Q.37 1774 के हल्बा विद्रोह की पहल किसने की थी?

- Ans
- ☒ 1. धुरावो मरिया
 - ☒ 2. बिंबाजी भोंसले
 - ☒ 3. वीर नारायण सिंह
 - ☒ 4. अजमेर सिंह

Question ID : 99836716498
Status : Answered



Chosen Option : 1

Q.38 "मिली जुली गावे, गंगा मैया की ऊँची, जनमे गोकुल में" _____ के लोकप्रिय लोकगीत हैं।

- Ans
- ☒ 1. बिहाव
 - ☒ 2. सोहर
 - ☒ 3. सुआ
 - ☒ 4. गौरा

Question ID : 99836716515

Status : Answered

Chosen Option : 2

Q.39 भैरमगढ़ वन्यजीव उद्यान की स्थापना कब की गई थी?

- Ans
- ☒ 1. 1978
 - ☒ 2. 1985
 - ☒ 3. 1983
 - ☒ 4. 1965

Question ID : 99836716523

Status : Answered

Chosen Option : 3

Q.40 निम्नलिखित में से कौन सा छत्तीसगढ़ का सर्वोच्च शिखर है?

- Ans
- ☒ 1. गौरलता
 - ☒ 2. करोह
 - ☒ 3. अरमा कोंडा
 - ☒ 4. गिरनार

Question ID : 99836716508

Status : Answered

Chosen Option : 1

Q.41 निम्नलिखित में से कौन सी छत्तीसगढ़ की सबसे पुरानी और सबसे लोकप्रिय जनजाति है?

- Ans
- ☒ 1. कोरवा
 - ☒ 2. कोल
 - ☒ 3. मुरिया
 - ☒ 4. गोंड

Question ID : 99836716518

Status : Answered

Chosen Option : 3

Q.42 _____ छत्तीसगढ़ में किसानों द्वारा मनाया जाने वाला एक बैल-पूजा का त्यौहार है।

- Ans
- ☒ 1. फागुन वदाई
 - ☒ 2. पोला
 - ☒ 3. कोरिया मेला
 - ☒ 4. भगोरिया



Question ID : 99836716522
Status : Answered
Chosen Option : 2

Q.43 2011 के आकलन के अनुसार वन छत्तीसगढ़ के कुल क्षेत्रफल के _____ प्रतिशत के क्षेत्र को कवर करते हैं।

- Ans ☒ 1. 44.21
☒ 2. 37.05
☒ 3. 65.12
☒ 4. 48.12

Question ID : 99836716528
Status : Answered
Chosen Option : 1

Q.44 छत्तीसगढ़ की बाइसन हॉर्न मारिया जनजाति द्वारा बोली जाने वाली मुख्य विशिष्ट भाषा _____ है।

- Ans ☒ 1. उत्ती
☒ 2. अवधी
☒ 3. केद्री
☒ 4. डंडामी मारिया

Question ID : 99836716520
Status : Answered
Chosen Option : 4

Q.45 _____ गीत बच्चे के जन्म के बाद गाए जाते हैं, विशेष रूप से बेटे के जन्म के बाद।

- Ans ☒ 1. बिहाव
☒ 2. गौरा
☒ 3. सोहर
☒ 4. सुआ

Question ID : 99836716511
Status : Answered
Chosen Option : 4

Q.46 2018 के छत्तीसगढ़ विधानसभा चुनाव में कांग्रेस ने _____ सीटें जीती हैं।

- Ans ☒ 1. 78
☒ 2. 56
☒ 3. 68
☒ 4. 65

Question ID : 99836716544
Status : Answered
Chosen Option : 3

Q.47 छत्तीसगढ़ को पहले किस नाम से जाना जाता था?

- Ans ☒ 1. पूर्व कोशल
☒ 2. उत्तर कोशल
☒ 3. पश्चिम कोशल



✓ 4. दक्षिण कोशल

Question ID : 99836716501
Status : Answered
Chosen Option : 4

Q.48 पातालेश्वर मंदिर छत्तीसगढ़ के _____ जिले में स्थित है।

- Ans
- ✗ 1. कोरबा
 - ✓ 2. बिलासपुर
 - ✗ 3. धमतरी
 - ✗ 4. बस्तर

Question ID : 99836716509
Status : Answered
Chosen Option : 2

Q.49 8 जून 2019 को छत्तीसगढ़ के _____ जिले में एक जल निकाय के पास 12 हिरणों का एक झुंड मृत पाया गया था।

- Ans
- ✗ 1. दुर्ग
 - ✓ 2. धमतरी
 - ✗ 3. बिलासपुर
 - ✗ 4. बस्तर

Question ID : 99836716543
Status : Answered
Chosen Option : 2

Q.50 धारा _____ के तहत, राज्य सरकार पंचायत को आवंटित शक्तियों में से किसी को भी बढ़ा या बचा सकती है।

- Ans
- ✗ 1. 62
 - ✓ 2. 53
 - ✗ 3. 54
 - ✗ 4. 52

Question ID : 99836716534
Status : Not Attempted and Marked For Review
Chosen Option : --

Section : General Computer Knowledge

Q.1 CPU का पूर्ण रूप क्या है?

- Ans
- ✗ 1. सेन्ट्रल प्रोसेसर यूटिलिटी
 - ✓ 2. सेंट्रल प्रोसेसिंग यूनिट
 - ✗ 3. सेंट्रल प्रोसेसिंग यूटिलिटी
 - ✗ 4. सेंट्रल प्रोसेसर यूनिट

Question ID : 99836716548
Status : Answered
Chosen Option : 2

Q.2 CD - R का पूर्ण रूप _____ है।

- Ans
- ☒ 1. सीडी - रीसाइक्लेबल
 - ☒ 2. सीडी - रेकॉर्डेबल
 - ☒ 3. सीडी - रीराइटैबल
 - ☒ 4. सीडी - रीयूजेबल

Question ID : 99836716570

Status : Answered

Chosen Option : 3

Q.3 एक _____ कुंजी एक कंप्यूटर के कीबोर्ड पर एक कुंजी है जिसे केवल किसी अन्य कुंजी के साथ संयोजन में उपयोग किया जाता है।

- Ans
- ☒ 1. सिम्बल
 - ☒ 2. पंक्चुएशन
 - ☒ 3. फंक्शन
 - ☒ 4. मॉडीफायर

Question ID : 99836716545

Status : Answered

Chosen Option : 4

Q.4 किसी देश के स्थानीय, राज्य, विभाग या राष्ट्रीय सरकार द्वारा बनाई गई वेबसाइट जिसका उद्देश्य आमतौर पर पर्यटकों को सूचित करना या पर्यटन को बढ़ावा देना है, वह _____ के रूप में जानी जाती है।

- Ans
- ☒ 1. सार्वजनिक साइट
 - ☒ 2. निजी साइट
 - ☒ 3. सरकारी साइट
 - ☒ 4. संगठन साइट

Question ID : 99836716561

Status : Answered

Chosen Option : 1

Q.5 निम्नलिखित में से कौन सी एक इनपुट डिवाइस नहीं है?

- Ans
- ☒ 1. प्रिंटर
 - ☒ 2. कीबोर्ड
 - ☒ 3. माउस
 - ☒ 4. स्कैनर

Question ID : 99836716550

Status : Answered

Chosen Option : 1

Q.6 _____ की गति को प्रति सेकंड वर्णों में मापा जाता है।

- Ans
- ☒ 1. लाइन प्रिंटर
 - ☒ 2. इंकजेट प्रिंटर
 - ☒ 3. लेजर प्रिंटर
 - ☒ 4. डॉट मैट्रिक्स प्रिंटर



Question ID : 99836716552
Status : Answered
Chosen Option : 4

Q.7 _____ में माइक्रोसॉफ्ट डिस्क ऑपरेटिंग सिस्टम (MS- Dos) का जन्म हुआ था।

- Ans
- ☒ 1. 1950
 - ☒ 2. 1985
 - ☒ 3. 1980
 - ☒ 4. 1975

Question ID : 99836716554
Status : Answered
Chosen Option : 3

Q.8 विश्व का पहला वायरस किस वर्ष में बनाया गया था?

- Ans
- ☒ 1. 1973
 - ☒ 2. 1974
 - ☒ 3. 1971
 - ☒ 4. 1972

Question ID : 99836716563
Status : Not Attempted and Marked For Review
Chosen Option : --

Q.9 निम्नलिखित कथनों में से कौन सा कथन सत्य है?

- Ans
- ☒ 1. आप एक्सेल फाइल को सेव करने के लिए कभी भी पासवर्ड नहीं डाल सकते।
 - ☒ 2. एक्सेल फाइल को सेव करने के लिए आप कभी-कभी पासवर्ड डाल सकते हैं।
 - ☒ 3. एक्सेल फ़ाइल को सेव करने के लिए आप हमेशा पासवर्ड डाल सकते हैं।
 - ☒ 4. आप 97-2003 प्रारूप की एक्सेल फाइल में पासवर्ड नहीं डाल सकते।

Question ID : 99836716558
Status : Answered
Chosen Option : 2

Q.10 गूगल का मूल नाम क्या था?

- Ans
- ☒ 1. सर्च इंजन
 - ☒ 2. लेरी पेज
 - ☒ 3. स्टोर हाउस
 - ☒ 4. बैकरब

Question ID : 99836716574
Status : Answered
Chosen Option : 1

Q.11 निम्नलिखित में से कौन सा खुले कार्यक्रमों के बीच स्विच करने के लिए कीबोर्ड शॉर्टकट है?

- Ans
- ☒ 1. Alt + V
 - ☒ 2. Alt + T
 - ☒ 3. Alt + Tab



 4. Alt + Ctrl

Question ID : 99836716546

Status : Answered

Chosen Option : 3

Q.12 _____ एक सॉफ्टवेयर है जिसका इंटरफ़ेस प्रिंटर ड्राइवर के समान है, लेकिन एक भौतिक प्रिंटर से जुड़ा नहीं है।



- Ans
-  1. शेयर्ड प्रिंटर
 -  2. नेटवर्क प्रिंटर
 -  3. इंकजेट प्रिंटर
 -  4. वर्चुअल प्रिंटर

Question ID : 99836716551

Status : Answered

Chosen Option : 4

Q.13 गूगल क्रोम में, पृष्ठ के शीर्ष पर जाने के लिए कौन सी कुंजी (कुंजियों) का उपयोग किया जाता है?

- Ans
-  1. Shift + Home
 -  2. Home
 -  3. Alt + Home
 -  4. Ctrl + Home

Question ID : 99836716562

Status : Answered

Chosen Option : 4

Q.14 GUI का पूर्ण रूप क्या है?

- Ans
-  1. ग्राफिक यूज इंटरलिक
 -  2. ग्राफिकल यूजर इंटरलिक
 -  3. ग्राफिकल यूजर इंटरफ़ेस
 -  4. ग्राफिक यूजर इंटरलिक

Question ID : 99836716556

Status : Answered

Chosen Option : 3

Q.15 माइक्रोसॉफ्ट वर्ड किस वर्ष में शुरू किया गया था?

- Ans
-  1. 1982
 -  2. 1983
 -  3. 1984
 -  4. 1985

Question ID : 99836716557

Status : Not Attempted and
Marked For Review

Chosen Option : --

Q.16 _____ खोज परिणामों को ट्रिगर करता है।

- Ans
-  1. सर्च टर्म



- ☒ 2. प्रतीक
- ☒ 3. कीवर्ड
- ☒ 4. स्पेशल कैरक्टर्स

Question ID : 99836716572
Status : Answered
Chosen Option : 4

Q.17 एक _____ एक साधारण डिजिटल कैमरा है जो इंटरनेट पर प्रसारण के लिए वीडियो या स्थिर छविyaं लेने में सक्षम है।

- Ans ☒ 1. वीडियो कैप्चर कार्ड
- ☒ 2. MIDI पोर्ट
- ☒ 3. वेब कैमरा
- ☒ 4. कॉम्पैक्ट फ़्लैश

Question ID : 99836716567
Status : Answered
Chosen Option : 3

Q.18 _____ आधारित पहचान, संभावित खतरों के खिलाफ ज्ञात वायरस के हस्ताक्षरों की तुलना करने के लिए एक अल्गोरिथ्म का उपयोग करता है।

- Ans ☒ 1. अनुमानी
- ☒ 2. वस्तु
- ☒ 3. हस्ताक्षर
- ☒ 4. व्यवहार

Question ID : 99836716565
Status : Answered
Chosen Option : 3

Q.19 डिस्क का नवीनतम प्रारूप क्या है, जो अभी मौजूद है?

- Ans ☒ 1. DVD
- ☒ 2. HD DVD
- ☒ 3. Blu-Ray
- ☒ 4. CD

Question ID : 99836716571
Status : Answered
Chosen Option : 2

Q.20 The name "Google" was originally derived from the term _____.

- Ans ☒ 1. googole
- ☒ 2. googgle
- ☒ 3. googol
- ☒ 4. goggol

Question ID : 99836716573
Status : Answered
Chosen Option : 2

Q.21 CD का पूर्ण रूप क्या है?

- Ans ☒ 1. कॉम्पैक्ट डिस्क
☐ 2. सेलुलर डिवाइस
☐ 3. कॉम्पैक्ट डिवाइस
☐ 4. सेलुलर डिस्क

Question ID : 99836716569
Status : Answered
Chosen Option : 1

Q.22 मिडी का पूर्ण रूप क्या है?

- Ans ☐ 1. म्यूजिकल इंटरलिक डिजिटल इंटरफ़ेस
☐ 2. म्यूजिकल इंस्ट्रूमेंट डिजिटल इंटरलिक
☒ 3. म्यूजिकल इंस्ट्रूमेंट डिजिटल इंटरफ़ेस
☐ 4. म्यूजिकल इंटरफ़ेस डिजिटल इंस्ट्रूमेंट

Question ID : 99836716566
Status : Answered
Chosen Option : 4

Q.23 निम्न में से कौन सी संख्या कंप्यूटर द्वारा समझी जाती है?

- Ans ☐ 1. पूर्णांक
☒ 2. द्वयाधारी संख्या
☐ 3. दशमलव
☐ 4. पूर्ण संख्या

Question ID : 99836716549
Status : Answered
Chosen Option : 2

Q.24 लिनक्स ऑपरेटिंग सिस्टम एक फिनिश प्रोग्रामर लीनुस तूरवाल्ड्स द्वारा _____ में बनाया गया था।

- Ans ☐ 1. 1995
☐ 2. 1993
☐ 3. 1997
☒ 4. 1991

Question ID : 99836716555
Status : Not Attempted and Marked For Review
Chosen Option : --

Q.25 _____ में IBM ने घर और कार्यालय उपयोग के लिए व्यक्तिगत कंप्यूटर पेश किया।

- Ans ☐ 1. 1986
☒ 2. 1981
☐ 3. 1985
☐ 4. 1975



Question ID : 99836716547

Status : Not Attempted and
Marked For Review

Chosen Option : --

Q.26 निम्नलिखित में से कौन सा वह प्रारूप नहीं है जिसमें छवि संग्रहित की जाती है?

- Ans
- ☒ 1. jpeg
 - ☒ 2. exe
 - ☒ 3. gif
 - ☒ 4. tiff

Question ID : 99836716568

Status : Answered

Chosen Option : 3

Q.27 URL का पूर्ण रूप क्या है?

- Ans
- ☒ 1. यूनिफ़ॉर्मली रिसोर्स लोकेटिंग
 - ☒ 2. यूनिफ़ॉर्म रिसोर्स लोकेटर
 - ☒ 3. यूनिफ़ॉर्म रिसोर्स लोकेशन
 - ☒ 4. यूनीफ़ॉर्म रिसोर्स लोकेटिंग

Question ID : 99836716560

Status : Answered

Chosen Option : 2

Q.28 _____ प्रकार के प्रिंटर का उपयोग बड़ी निर्माण योजनाओं या विभिन्न परियोजनाओं के लिए ब्लूप्रिंट को प्रिंट करने के लिए किया जाता है।

- Ans
- ☒ 1. लेज़रजेट
 - ☒ 2. लाइन प्रिंटर
 - ☒ 3. प्लॉटर्स
 - ☒ 4. इंकजेट

Question ID : 99836716553

Status : Answered

Chosen Option : 3

Q.29 एक्सेल में सतर (rows) को छिपाने के लिए कीबोर्ड शॉर्टकट क्या है?

- Ans
- ☒ 1. Ctrl + 9
 - ☒ 2. Ctrl + 7
 - ☒ 3. Ctrl + 2
 - ☒ 4. Ctrl + 5

Question ID : 99836716559

Status : Not Attempted and
Marked For Review

Chosen Option : --

Q.30 निम्नलिखित में से कौन सा बूट सेक्टर वायरस का एक उदाहरण है?

- Ans
- ☒ 1. एंटीएक्स (AntiEXE)

- ☒ 2. मेवे (Meve)
- ☒ 3. रैनडेक्स (Randex)
- ☒ 4. सीएमजे (CMJ)

Question ID : 99836716564
Status : Answered
Chosen Option : 3

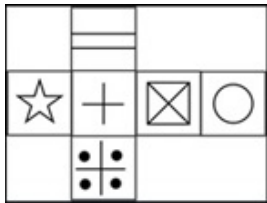
Section : General Mental Eligibility

Q.1 प्रतीक, रिशव, दक्ष, अजीत और कृष एक बेंच पर बैठे हैं। रिशव दक्ष और अजीत के बीच में बैठा है, कृष दक्ष के बाईं ओर है और कृष अंत में नहीं है। प्रतीक के दाहिनी तरफ कौन है?

- Ans
- ☒ 1. रिशव
 - ☒ 2. कृष
 - ☒ 3. अजीत
 - ☒ 4. दक्ष

Question ID : 99836716594
Status : Answered
Chosen Option : 2

Q.2 उत्तर आकृति में किस घन को प्रश्न आकृति में प्रकट घन के आधार पर नहीं बनाया जा सकता है?



- Ans
- ☒ 1.
 - ☒ 2.
 - ☒ 3.
 - ☒ 4.

Question ID : 99836716601
Status : Answered
Chosen Option : 1

Q.3 मेरे पिता के भाई के पिता की माता के एकमात्र पुत्र की पत्नी का मुझसे क्या संबंध है?

- Ans ☒ 1. दादी
- ☒ 2. माता
- ☒ 3. बुआ
- ☒ 4. बहन

Question ID : 99836716595
Status : Answered
Chosen Option : 1

Q.4 दिए गए विकल्पों में से, तीन एक निश्चित तरीके से समान हैं। हालाँकि, एक विकल्प अन्य तीन की तरह नहीं है। उस विकल्प का चयन करें जो बाकी से अलग है।

- Ans ☒ 1. रैम
- ☒ 2. मदरबोर्ड
- ☒ 3. सीपीयू
- ☒ 4. एंटीवायरस

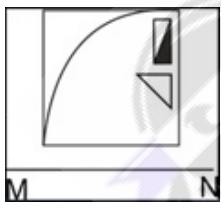
Question ID : 99836716583
Status : Answered
Chosen Option : 4

Q.5 एक निश्चित कोड भाषा MASON = 41165 में, फिर PLUM को किस प्रकार कोडित किया जाता है?

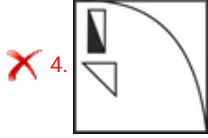
- Ans ☒ 1. 9864
- ☒ 2. 6554
- ☒ 3. 7334
- ☒ 4. 3624

Question ID : 99836716584
Status : Answered
Chosen Option : 3

Q.6 यदि एक दर्पण को रेखा MN पर रखा गया है, तो कौन सी उत्तर आकृति दी गई आकृति का सही दर्पण प्रतिबिंब होगा?



- Ans ☒ 1.
- ☒ 2.
- ☒ 3.



4.

Question ID : 99836716603

Status : Answered

Chosen Option : 4

Q.7 निम्नलिखित संख्या श्रृंखला में लुप्त संख्या ज्ञात करें।

-1, 6, 25, _____, 123, 214

Ans ☒ 1. 56

☒ 2. 62

☒ 3. 92

☒ 4. 85

Question ID : 99836716591

Status : Answered

Chosen Option : 1

Q.8 एक कथन के बाद वैकल्पिक तर्क दिए जाते हैं। कथन को ध्यान से पढ़ें और उपयुक्त विकल्प को चिह्नित करें।

कथन:

क्या किसी देश के शस्त्रागार में परमाणु हथियार रखने पर पूर्ण प्रतिबंध लगाया जाना चाहिए?

तर्क:

I. नहीं, किसी के शस्त्रागार में परमाणु हथियार होने और एखाद बार गोलीबारी करने में कुछ भी गलत नहीं है।

II. हाँ, देश पारंपरिक हथियारों के बजाय ऐसे हथियारों का भंडार रखने को ज्यादा महत्व दे रहे हैं।

III. नहीं, इस प्रकार के हथियार देशों को अपना वर्चस्व दिखाने के लिए अवसर प्रदान करते हैं।

Ans ☒ 1. केवल तर्क III सशक्त है।

☒ 2. केवल तर्क II सशक्त है।

☒ 3. तर्क I और II सशक्त हैं।

☒ 4. तर्क II और III सशक्त हैं।

Question ID : 99836716588

Status : Answered

Chosen Option : 4

Q.9 दिए गए कथन और निष्कर्षों को ध्यान से पढ़ें। यह मानते हुए कि कथन में दी गई जानकारी सत्य है, भले ही वे सामान्यतः ज्ञात तथ्यों के साथ विचरण करते हुए दिखाई देते हों, उस निष्कर्ष का चयन करें जो उचित संदेह से परे कथन का तार्किक रूप से अनुसरण करता है।

कथन 1 : सभी मोर गौरैया हैं।

कथन 2 : सभी पक्षी गौरैया हैं।

निष्कर्ष I : कुछ पक्षी मोर हैं।

निष्कर्ष II : कुछ गौरैया मोर हैं।

निष्कर्ष III : कुछ गौरैया पक्षी हैं।

Ans ☒ 1. केवल निष्कर्ष III अनुसरण करता है।

☒ 2. केवल निष्कर्ष I और II अनुसरण करता है।

☒ 3. केवल निष्कर्ष II और III अनुसरण करता है।

☒ 4. केवल निष्कर्ष II अनुसरण करता है।

Question ID : 99836716589



Teachingninja.in

Status : Answered
Chosen Option : 3

Q.10 उस विकल्प का चयन करें जो तीसरे पद से उसी प्रकार से संबंधित है जिस प्रकार से पहला पद दूसरे पद से संबंधित है।

JAW : LCY :: BYC : ?

- Ans
- ☒ 1. DAE
 - ☐ 2. GWQ
 - ☐ 3. EBF
 - ☐ 4. CXD

Question ID : 99836716575
Status : Answered
Chosen Option : 1

Q.11 यदि FATHER को IDWKHU के रूप में कोडित किया जाता है, तो CHILD को किस प्रकार कोडित किया जाएगा?

- Ans
- ☐ 1. FNLMO
 - ☒ 2. FKLOG
 - ☐ 3. EKLMG
 - ☐ 4. EFMPH

Question ID : 99836716585
Status : Answered
Chosen Option : 2

Q.12 दिए गए विकल्पों में से, तीन एक निश्चित तरीके से समान हैं। हालाँकि, एक विकल्प अन्य तीन की तरह नहीं है। उस विकल्प का चयन करें जो बाकी से अलग है।

- Ans
- ☐ 1.

W	M	Q
N	H	I
O	Z	T
 - ☒ 2.

I	N	W
Z	H	M
Q	I	O
 - ☐ 3.

H	Q	Z
N	O	W
I	M	T
 - ☐ 4.

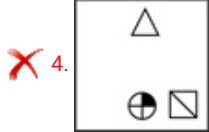
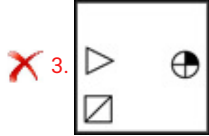
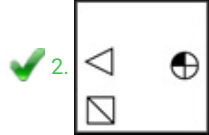
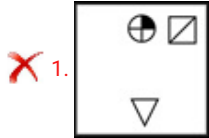
M	T	I
Q	Z	O
W	N	H

Question ID : 99836716598
Status : Answered
Chosen Option : 2

Q.13 निम्नलिखित में से कौन सी उत्तर आकृति प्रश्न आकृति की श्रृंखला को पूरा करती है?



Ans



Question ID : 99836716597

Status : Answered

Chosen Option : 2

Q.14 निम्नलिखित प्रश्न में, अक्षरों में से कौन सा समूह दिए गए अक्षरों की शृंखला के रिक्त स्थानों को पूरा करेगा?

DCB_A_CDD_BAABC__

Ans

✗ 1. ABDC

✓ 2. ABCD

✗ 3. ACBD

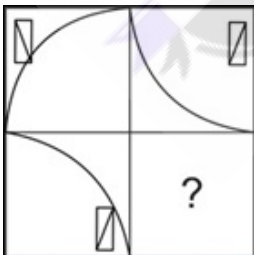
✗ 4. BCDA

Question ID : 99836716578

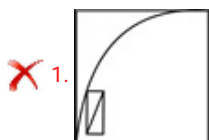
Status : Answered

Chosen Option : 1

Q.15 कौन सी उत्तर आकृति प्रश्न आकृति में पैटर्न को पूरा करेगी?



Ans





Question ID : 99836716596
Status : Answered
Chosen Option : 4

Q.16 दिए गए विकल्पों में से, तीन एक निश्चित तरीके से समान हैं। हालाँकि, एक विकल्प अन्य तीन की तरह नहीं है। उस विकल्प का चयन करें जो बाकी से अलग है।

- Ans
- ☒ 1. IHG
 - ☒ 2. TSR
 - ☒ 3. CAB
 - ☒ 4. MLK

Question ID : 99836716581
Status : Answered
Chosen Option : 3

Q.17 दिए गए विकल्पों में 3 जोड़ी संख्याएँ एक - दूसरे से संबंधित हैं और एक जोड़ी भिन्न रूप से संबंधित है। उस जोड़ी को ज्ञात करें जो अलग तरह से संबंधित है।

- Ans
- ☒ 1. 4 - 69
 - ☒ 2. 7 - 345
 - ☒ 3. 5 - 130
 - ☒ 4. 6 - 221

Question ID : 99836716592
Status : Answered
Chosen Option : 3

Q.18 दिए गए विकल्पों में से, तीन एक निश्चित तरीके से समान हैं। हालाँकि, एक विकल्प अन्य तीन की तरह नहीं है। उस विकल्प का चयन करें जो बाकी से अलग है।

- Ans
- ☒ 1. हृदयशास्त्र : हृदय
 - ☒ 2. प्राणिविज्ञान : पौधे
 - ☒ 3. फाईकोलॉजी : शैवाल
 - ☒ 4. शैल लक्षण : शैल

Question ID : 99836716582
Status : Answered
Chosen Option : 2

Q.19 जब हम 'AELRIGA' शब्द के अक्षरों को व्यवस्थित करते हैं, तो हमें एक देश का नाम मिलता है। दाएं से तीसरा

अक्षर है:

- Ans
- ☒ 1. L
 - ☒ 2. R
 - ☒ 3. G
 - ☒ 4. A

Question ID : 99836716580

Status : Not Answered

Chosen Option : --

Q.20 उस विकल्प का चयन करें जो तीसरे पद से उसी प्रकार से संबंधित है जिस प्रकार से पहला पद दूसरे पद से संबंधित है।

सूर्य : तारा :: चंद्रमा : ?

- Ans
- ☒ 1. उपग्रह
 - ☒ 2. रात
 - ☒ 3. ब्रम्हांड
 - ☒ 4. ग्रह

Question ID : 99836716576

Status : Answered

Chosen Option : 1

Q.21 एक निश्चित कोड भाषा में, 345 का अर्थ है 'tall handsome man', 367 का अर्थ है 'bright smart man', और 859 का अर्थ है 'handsome young boy'. 'tall' के लिए कोड ज्ञात करें।

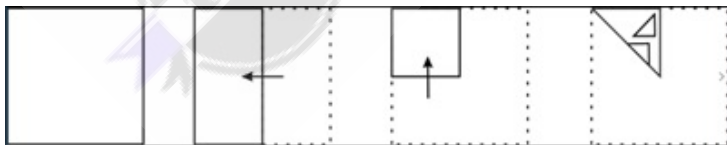
- Ans
- ☒ 1. 5
 - ☒ 2. 3
 - ☒ 3. 7
 - ☒ 4. 4

Question ID : 99836716586

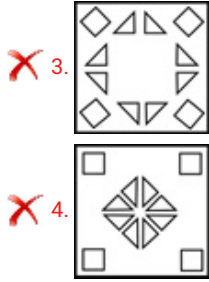
Status : Answered

Chosen Option : 4

Q.22 प्रश्न आकृति में नीचे दिखाए अनुसार पेपर के टुकड़े को मोड़कर उसमें छेद किए गए हैं। दी गई उत्तर आकृतियों से, इंगित करें कि इसे खोले जाने पर यह कैसा दिखाई देगा।



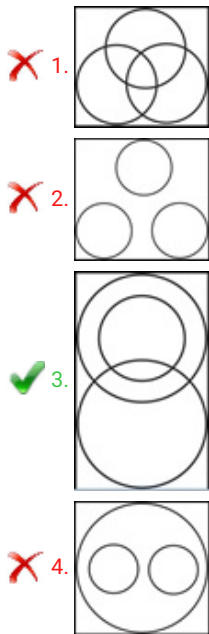
- Ans
- ☒ 1.
 - ☒ 2.



Question ID : 99836716604
Status : Answered
Chosen Option : 1

Q.23 निम्नलिखित में से कौन सा वेन आरेख माताओं, डॉक्टरों और महिलाओं के बीच संबंध को सबसे अच्छा दर्शाता है?

Ans



Question ID : 99836716599
Status : Answered
Chosen Option : 4

Q.24 दिए गए कथन और निष्कर्षों को ध्यान से पढ़ें। यह मानते हुए कि कथन में दी गई जानकारी सत्य है, भले ही वे सामान्यतः ज्ञात तथ्यों के साथ विचरण करते हुए दिखाई देते हों, उस निष्कर्ष का चयन करें जो उचित संदेह से परे कथन का तार्किक रूप से अनुसरण करता है।

कथन 1 : सभी जहाज नाव हैं।

कथन 2: कोई भी नाव क्रूज नहीं है।

निष्कर्ष I : कोई भी जहाज क्रूज नहीं है।

निष्कर्ष II : कुछ नावें जहाज हैं।

- Ans
- ☒ 1. केवल निष्कर्ष I अनुसरण करता है।
 - ☒ 2. I और II दोनों अनुसरण करता है।
 - ☒ 3. केवल निष्कर्ष II अनुसरण करता है।
 - ☒ 4. कोई भी निष्कर्ष अनुसरण नहीं करता है।

Question ID : 99836716587
Status : Answered
Chosen Option : 3

Q.25 उस विकल्प का चयन करें जो तीसरी संख्या से उसी प्रकार से संबंधित है जिस प्रकार से पहली संख्या से संबंधित है।

289 : 361 :: 441 : ?

- Ans
- ☒ 1. 576
 - ☒ 2. 484
 - ☒ 3. 579
 - ☒ 4. 529

Question ID : 99836716590

Status : Answered

Chosen Option : 4

Q.26 एक आदमी उत्तर की ओर 10 km चलना शुरू करता है और फिर अपनी बाईं ओर मुड़ता है और 5 km चलता है। फिर वह दाईं ओर मुड़ता है और 7 km चलता है और फिर से दाईं ओर चलता है और 5 km चलता है। वह अपने प्रारंभिक बिंदु के संबंध में अब कहाँ खड़ा है?

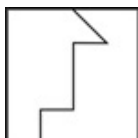
- Ans
- ☒ 1. 17 km दक्षिण
 - ☒ 2. 17 km उत्तर
 - ☒ 3. 5 km पश्चिम
 - ☒ 4. 5 km पूर्व

Question ID : 99836716600

Status : Answered

Chosen Option : 2

Q.27 दी गई उत्तर आकृतियों में से, उस एक का चयन करें जिसमें प्रश्न आकृति निहित है।



- Ans
- ☒ 1.
 - ☒ 2.
 - ☒ 3.
 - ☒ 4.

Question ID : 99836716602

Status : Answered

Chosen Option : 4

Q.28 निम्नलिखित शब्दों को उस क्रम में व्यवस्थित करें जिसमें वे अंग्रेजी शब्दकोश में होते हैं।

1. BRIDAL
2. BREATH
3. BROKEN
4. BREWED

Ans ☒ 1. 2,4,3,1
☒ 2. 2,1,4,3
☒ 3. 2,1,3,4
☒ 4. 2,4,1,3

Question ID : 99836716593
 Status : Answered
 Chosen Option : 4

Q.29 दिए गए विकल्पों में अक्षरों की 3 जोड़ियाँ समान रूप से संबंधित हैं और एक जोड़ी अलग तरह से संबंधित है। उस जोड़ी को ज्ञात करें जो अलग तरह से संबंधित है।

Ans ☒ 1. HK : FI
☒ 2. DG : BE
☒ 3. VY : TW
☒ 4. LN : HE

Question ID : 99836716577
 Status : Answered
 Chosen Option : 4

Q.30 दिए गए विकल्पों में तीन एक समान हैं और एक असमान है। उस विकल्प को ज्ञात करें जो अन्य के समान नहीं है।

Ans ☒ 1. जौ
☒ 2. चावल
☒ 3. सरसों
☒ 4. गेहूँ

Question ID : 99836716579
 Status : Answered
 Chosen Option : 2

Section : General Maths

Q.1 12 cm त्रिज्या वाले एक गोले को 4 cm त्रिज्या वाला सिलेंडर बनाने के लिए ढाला जाता है। उस सिलेंडर की ऊँचाई ज्ञात करें।

Ans ☒ 1. 132 cm
☒ 2. 144 cm
☒ 3. 120 cm
☒ 4. 156 cm

Question ID : 99836716633
 Status : Answered
 Chosen Option : 1

Q.2 25 गेंदों को 1500 रुपये में बेचने पर, 10 गेंदों की लागत के बराबर नुकसान होता है। 1 गेंद का लागत मूल्य क्या है?



- Ans
- ☒ 1. 95 रुपये
 - ☒ 2. 100 रुपये
 - ☒ 3. 90 रुपये
 - ☒ 4. 87.5 रुपये

Question ID : 99836716623
Status : Answered
Chosen Option : 2

Q.3 यदि एक समकोण शंकु की त्रिज्या 7 इंच है और तिरछी ऊँचाई 14 इंच है, तो उसके कुल सतह का क्षेत्रफल ज्ञात करें।

- Ans
- ☒ 1. 462 इंच वर्ग
 - ☒ 2. 147 इंच वर्ग
 - ☒ 3. 1000 इंच वर्ग
 - ☒ 4. 924 इंच वर्ग

Question ID : 99836716634
Status : Answered
Chosen Option : 1

Q.4 खंड CD का मध्य बिंदु ज्ञात करें जहाँ C(4,5) और D(6,7) हैं।

- Ans
- ☒ 1. (4,5)
 - ☒ 2. (5,6)
 - ☒ 3. (6,5)
 - ☒ 4. (4,6)

Question ID : 99836716629
Status : Not Answered
Chosen Option : --

Q.5 वार्षिक जन्म दर 7 प्रतिशत है। यह मानते हुए कि कोई भी मृत्यु नहीं हुई है, यदि आज की जनसंख्या 50,000 है, तो 2 वर्ष बाद जनसंख्या क्या होगी?

- Ans
- ☒ 1. 61200
 - ☒ 2. 60000
 - ☒ 3. 57400
 - ☒ 4. 57245

Question ID : 99836716628
Status : Answered
Chosen Option : 4

Q.6 एक आयत की लंबाई इसकी चौड़ाई की चार गुना है। यदि आयत का क्षेत्रफल 256 sq cm है, तो उस आयत की चौड़ाई क्या है?

- Ans
- ☒ 1. 10 cm
 - ☒ 2. 12 cm
 - ☒ 3. 6 cm
 - ☒ 4. 8 cm

Question ID : 99836716632



Status : **Answered**
Chosen Option : 4

Q.7 वह सबसे बड़ी चार अंकों वाली संख्या ज्ञात करें जो 9, 12, 15 और 24 से पूर्णतया विभाज्य है।

- Ans
- ☒ 1. 9980
 - ☒ 2. 9924
 - ☒ 3. 9720
 - ☒ 4. 9972

Question ID : 99836716614
Status : **Answered**
Chosen Option : 3

Q.8 उस त्रिभुज का केंद्रक ज्ञात करें जिसके अनुलंब (5,8), (6,7) और (4,3) हैं।

- Ans
- ☒ 1. (4,6)
 - ☒ 2. (4,5)
 - ☒ 3. (6,7)
 - ☒ 4. (5,6)

Question ID : 99836716630
Status : **Not Answered**
Chosen Option : --

Q.9 यदि 460 रुपये 2 वर्षों में बढ़कर 520 रुपये हो जाते हैं, तो यह अगले 6 वर्षों में साधारण ब्याज की इसी दर पर वह राशि बढ़कर कितनी हो जाएगी?

- Ans
- ☒ 1. 700 रुपये
 - ☒ 2. 640 रुपये
 - ☒ 3. 580 रुपये
 - ☒ 4. 680 रुपये

Question ID : 99836716622
Status : **Answered**
Chosen Option : 2

Q.10 उस समलंब चतुर्भुज की ऊँचाई ज्ञात करें जिसका क्षेत्रफल 60 sq cm और दो आधार 10 cm और 14 cm हैं।

- Ans
- ☒ 1. 5 cm
 - ☒ 2. 8 cm
 - ☒ 3. 7 cm
 - ☒ 4. 6 cm

Question ID : 99836716631
Status : **Answered**
Chosen Option : 1

Q.11 P और Q की औसत मासिक आय 5200 रुपये है, Q और R की औसत मासिक आय 4600 रुपये है और R और P की औसत मासिक आय 5500 रुपये है। P, Q और R की कुल मासिक आय क्या है?

- Ans
- ☒ 1. 14,400 रुपये
 - ☒ 2. 14,700 रुपये

✓ 3. 15,300 रुपये

✗ 4. 15,100 रुपये

Question ID : 99836716615

Status : Answered

Chosen Option : 3

Q.12 यदि एक साइकिल चालक 10 km/h की सवारी करता है, तो वह 4 घंटे में एक निश्चित दूरी तय करता है। 1.5 घंटे तक का समय कम करने के लिए, उस साइकिल चालक को _____ की गति से साइकिल चलानी चाहिए।

Ans ✗ 1. 20 km/h

✓ 2. 16 km/h

✗ 3. 22 km/h

✗ 4. 18 km/h

Question ID : 99836716619

Status : Answered

Chosen Option : 2

Q.13 यदि आज की आबादी 10,000 है और यह 10 प्रतिशत प्रति वर्ष की दर से बढ़ रही है, तो दो वर्ष बाद जनसँख्या क्या होगी?

Ans ✗ 1. 12000

✓ 2. 12100

✗ 3. 13000

✗ 4. 14000

Question ID : 99836716627

Status : Answered

Chosen Option : 2

Q.14 0.0009 का वर्गमूल क्या है?

Ans ✗ 1. 0.003

✓ 2. 0.03

✗ 3. 0.3

✗ 4. 0.0003

Question ID : 99836716611

Status : Answered

Chosen Option : 2

Q.15 यदि x एक धनात्मक विषम संख्या है और y एक धनात्मक सम संख्या है, तो निम्न में से कौन सा विषम होगा?

Ans ✗ 1. $2x + y$

✗ 2. xy

✓ 3. $x + y$

✗ 4. $(y-x)y$

Question ID : 99836716607

Status : Answered

Chosen Option : 3



Q.16 एक आदमी ने 12 घंटे में 110 km की दूरी तय की। उसने आंशिक रूप से कार में 40 km/h और आंशिक रूप से 3 km/h की गति से पैदल यात्रा की। पैदल यात्रा की दूरी कितनी है?

- Ans
- ☒ 1. 28 km
 - ☒ 2. 32 km
 - ☒ 3. 30 km
 - ☒ 4. 42 km

Question ID : 99836716620
Status : Answered
Chosen Option : 3

Q.17 2 से 15 तक प्राकृतिक संख्याओं का कितना भाग अभाज्य संख्याएँ हैं?

- Ans
- ☒ 1. $\frac{5}{14}$
 - ☒ 2. $\frac{4}{9}$
 - ☒ 3. $\frac{6}{11}$
 - ☒ 4. $\frac{3}{7}$

Question ID : 99836716609
Status : Answered
Chosen Option : 1

Q.18 2 विषम संख्याओं और 2 सम संख्याओं का गुणनफल _____ होगा।

- Ans
- ☒ 1. सम
 - ☒ 2. शून्य से कम
 - ☒ 3. विषम
 - ☒ 4. शून्य से अधिक

Question ID : 99836716608
Status : Answered
Chosen Option : 1

Q.19 यदि A का 20 प्रतिशत = B का 0.05 = C का $\frac{1}{5}$ है, तो A:B:C क्या है?

- Ans
- ☒ 1. 5:20:4
 - ☒ 2. 3:4:1
 - ☒ 3. 20:5:4
 - ☒ 4. 1:4:1

Question ID : 99836716625
Status : Answered
Chosen Option : 4

Q.20 1200 को एक पूर्ण वर्ग बनाने के लिए उसमें किस न्यूनतम संख्या को जोड़ा जाना चाहिए?



- Ans ☒ 1. 25
☒ 2. 22
☒ 3. 24
☒ 4. 21

Question ID : 99836716612
Status : Answered
Chosen Option : 1

Q.21 यदि $(x-6) : (x+19)$, 12:13 का द्विगुणात्मक अनुपात है, तो $6x$ का मूल्य क्या है?

- Ans ☒ 1. 150
☒ 2. 900
☒ 3. 750
☒ 4. 250

Question ID : 99836716626
Status : Answered
Chosen Option : 2

Q.22 360 रुपये के साधारण ब्याज की 5 प्रतिशत प्रति वर्ष की दर से ब्याज के रूप में 72 रुपये प्राप्त करने में कितना समय लगेगा?

- Ans ☒ 1. 3 वर्ष
☒ 2. 4 वर्ष
☒ 3. 5 वर्ष
☒ 4. 5.25 वर्ष

Question ID : 99836716621
Status : Answered
Chosen Option : 2

Q.23 एक खाली डिब्बे का द्रव्यमान 1 kg 50 g है। एक दुकानदार इसमें 5 kg 950 g आलू और 6 kg 120 g प्याज रखता है। सब्जियों के साथ इस बॉक्स का कुल द्रव्यमान क्या है?

- Ans ☒ 1. 13 kg 120 g
☒ 2. 15 kg 120 g
☒ 3. 15 kg 12 kg
☒ 4. 13 kg 12 g

Question ID : 99836716606
Status : Answered
Chosen Option : 1

Q.24 श्याम का औसत दैनिक खर्च मार्च के में 13 रुपये, अप्रैल के में 15 रुपये और मई के में 14 रुपये है। 3 महीने के लिए उसका अनुमानित दैनिक खर्च क्या है?

- Ans ☒ 1. 14 रुपये
☒ 2. 13 रुपये
☒ 3. 12 रुपये
☒ 4. 15 रुपये

Question ID : 99836716616



Status : Answered
Chosen Option : 1

Q.25 तीन उम्मीदवारों ने एक चुनाव लड़ा और क्रमशः 6000, 8000 और 14000 वोट प्राप्त किए। जीतने वाले उम्मीदवार को कितने प्रतिशत वोट मिले?

- Ans ☒ 1. 50 प्रतिशत
☒ 2. 45 प्रतिशत
☒ 3. 30 प्रतिशत
☒ 4. 25 प्रतिशत

Question ID : 99836716618
Status : Answered
Chosen Option : 1

Q.26 तीन अलग-अलग सड़क क्रॉसिंग पर ट्रैफिक सिग्नल हर 40 सेकंड, 60 सेकंड और 120 सेकंड, पश्चात बदलते हैं। यदि वे पूर्वाह्न 8.15 बजे के समय एक साथ बदलें हैं, तो वे किस समय फिर से एक साथ बदलेंगे?

- Ans ☒ 1. 8.19 पूर्वाह्न
☒ 2. 8.17 पूर्वाह्न
☒ 3. 8.18 पूर्वाह्न
☒ 4. 8.16 पूर्वाह्न

Question ID : 99836716613
Status : Answered
Chosen Option : 2

Q.27 यदि किसी वृत्त को बनाने में 0.5 मिनट लगते हैं, तो 240 सेकंड में कितने वृत्त बनाए जा सकते हैं?

- Ans ☒ 1. 6
☒ 2. 5
☒ 3. 8
☒ 4. 4

Question ID : 99836716605
Status : Answered
Chosen Option : 3

Q.28 एक संख्या का 20 प्रतिशत जब 72 में से घटाया जाता है, तो स्वयं वह संख्या बचती है। वह संख्या ज्ञात करें।

- Ans ☒ 1. 45
☒ 2. 60
☒ 3. 50
☒ 4. 72

Question ID : 99836716617
Status : Answered
Chosen Option : 2

Q.29 27 वस्तुओं का लागत मूल्य 18 वस्तुओं के विक्रय मूल्य के बराबर है। लाभ प्रतिशत क्या है?

- Ans ☒ 1. 65 प्रतिशत
☒ 2. 40 प्रतिशत

✓ 3. 50 प्रतिशत

✗ 4. 25 प्रतिशत

Question ID : 99836716624

Status : Answered

Chosen Option : 3

Q.30 सीमा ने $\frac{1}{8}$ kg चीनी के साथ $\frac{4}{5}$ kg आटा मिलाया। मिश्रण का द्रव्यमान क्या है?

Ans ✗ 1. 2 kg

✗ 2. 1 kg 500 g

✓ 3. 925 g

✗ 4. 2 kg 975 g

Question ID : 99836716610

Status : Answered

Chosen Option : 3

Section : General Hindi Grammar

Q.1 निम्नलिखित प्रश्न में, चार विकल्पों में से, उस विकल्प का चयन करें जो रिक्त स्थान के लिए बहुवचन शब्द का सबसे अच्छा विकल्प है।

कुछ लोगों में बहुत सी _____ होती है।

Ans ✗ 1. अच्छाईयां

✗ 2. अच्छाई

✓ 3. अच्छाईयों

✗ 4. अच्छायिया

Question ID : 99836716642

Status : Answered

Chosen Option : 2

Q.2 निम्नलिखित प्रश्न में, चार विकल्पों में से, उस विकल्प का चयन करें जो दी गई लोकोक्तियों का सही अर्थ वाला विकल्प है।

आदमी की दवा आदमी

Ans ✓ 1. मनुष्य ही मनुष्य का सहायक।

✗ 2. एक दूसरे को न देख पाना।

✗ 3. दवा लेने मनुष्य के पास जाना।

✗ 4. कमज़ोर व्यक्ति।

Question ID : 99836716673

Status : Answered

Chosen Option : 4

Q.3 निम्नलिखित प्रश्न में, चार विकल्पों में से, उस विकल्प का चयन करें जो दिए गए शब्द का सही स्त्रीलिंग रूप वाला विकल्प है।

जोगी

Ans ✗ 1. जोगिया

✗ 2. जोगि



✓ 3. जोगिन

✗ 4. जोगीन

Question ID : 99836716640

Status : Answered

Chosen Option : 4

Q.4 निम्नलिखित प्रश्न में, चार विकल्पों में से, उस विकल्प का चयन करें जो दिए गए शब्द के लिए सही कर्म तत्पुरुष समास के विग्रह का विकल्प हो।

परलोकगमन

Ans ✓ 1. परलोक को गमन

✗ 2. परलोक के लिए गमन

✗ 3. परलोक और गमन

✗ 4. परलोक से गमन

Question ID : 99836716651

Status : Answered

Chosen Option : 1

Q.5 निम्नलिखित प्रश्न में, चार विकल्पों में से, उस विकल्प का चयन करें जो दिए गए शब्द के पर्यायवाची शब्द का सही विकल्प नहीं है।

दरिद्र

Ans ✗ 1. कंगाल

✗ 2. रंक

✓ 3. धनाधिप

✗ 4. अकिंचन

Question ID : 99836716666

Status : Answered

Chosen Option : 3

Q.6 निम्नलिखित प्रश्न में, चार विकल्पों में से, उस विकल्प का चयन करें जो दिए गए शब्द का तत्सम रूप हो।

निभाना

Ans ✗ 1. निर्दर

✗ 2. निच्या

✓ 3. निर्वहन

✗ 4. निघाती

Question ID : 99836716662

Status : Answered

Chosen Option : 3

Q.7 निम्नलिखित प्रश्न में, चार विकल्पों में से, उस विकल्प का चयन करें जो दिए गए शब्द के लिए सही करण तत्पुरुष समास के विग्रह का विकल्प हो।

स्वरचित

Ans ✗ 1. स्व को रचित

✓ 2. स्व से रचित



- ☒ 3. स्व पर रचित
☒ 4. स्व और रचित

Question ID : 99836716652
Status : Answered
Chosen Option : 2

Q.8 निम्नलिखित प्रश्न में, चार विकल्पों में से, उस विकल्प का चयन करें जो दिए गए मुहावरे का सही अर्थ वाला विकल्प है।

अक्ल का पुतला

- Ans ☒ 1. बुद्धिमान
☒ 2. कम अक्ल
☒ 3. बेवकूफ
☒ 4. अज्ञान

Question ID : 99836716670
Status : Answered
Chosen Option : 1

Q.9 निम्नलिखित प्रश्न में, चार विकल्पों में से, उस विकल्प का चयन करें जो दिए गए वाक्य के काल का सही विकल्प हो।

सारा सामान बिक चुका होगा।

- Ans ☒ 1. संदिग्ध भूतकाल
☒ 2. सामान्य वर्तमानकाल
☒ 3. अपूर्ण भूतकाल
☒ 4. आसन्न भूतकाल

Question ID : 99836716644
Status : Answered
Chosen Option : 2

Q.10 निम्नलिखित प्रश्न में, चार विकल्पों में से, उस विकल्प का चयन करें जो दिए गए मुहावरे का सही अर्थ वाला विकल्प है।

तारे गिनना

- Ans ☒ 1. परेशान होना।
☒ 2. उबाऊ होना।
☒ 3. समय व्यतीत करना।
☒ 4. व्यग्रता से प्रतीक्षा करना।

Question ID : 99836716672
Status : Answered
Chosen Option : 3

Q.11 निम्नलिखित प्रश्न में, चार विकल्पों में से, उस विकल्प का चयन करें जो दिए गए शब्द के पर्यायवाची शब्द का विकल्प नहीं है।

अनुचर

- Ans ☒ 1. सेवक
☒ 2. भृत्य



✗ 3. परिचायक

✓ 4. अमिय

Question ID : 99836716665

Status : Answered

Chosen Option : 4

Q.12 निम्नलिखित प्रश्न में, चार विकल्पों में से, उस विकल्प का चयन करें जो स्त्रीलिंग शब्द का सबसे अच्छा विकल्प है।

Ans ✓ 1. एकादशी

✗ 2. खेल

✗ 3. मिलाप

✗ 4. नाच

Question ID : 99836716641

Status : Answered

Chosen Option : 1

Q.13 निम्नलिखित प्रश्न में, चार विकल्पों में से, उस विकल्प का चयन करें जो भाववाचक संज्ञा का सही विकल्प नहीं है।

Ans ✓ 1. आप

✗ 2. आवश्यकता

✗ 3. सुन्दरता

✗ 4. भूख

Question ID : 99836716645

Status : Answered

Chosen Option : 1

Q.14 निम्नलिखित प्रश्न में, चार विकल्पों में से, उस विकल्प का चयन करें जो दिए गए शब्द के सही स्वर संधि विच्छेद का विकल्प हो।

परमौदार्य

Ans ✗ 1. परमौ + दार्य

✗ 2. परम + औदार्य

✓ 3. परम + औदार्य

✗ 4. परमौ + दर्या

Question ID : 99836716654

Status : Answered

Chosen Option : 3

Q.15 निम्नलिखित प्रश्न में, चार विकल्पों में से, उस विकल्प का चयन करें जो शब्द के शुद्ध रूप का उचित विकल्प हो।

Ans ✗ 1. मृत्यूदंड

✗ 2. मृत्यूडंड

✗ 3. म्रितयुदंड

✓ 4. मृत्युदंड

Question ID : 99836716660

Status : Answered

Chosen Option : 4



Q.16 निम्नलिखित प्रश्न में, चार विकल्पों में से, उस विकल्प का चयन करें जो दिए गए शब्द के लिए सही करण तत्पुरुष समास के विग्रह का विकल्प हो।

रेखांकित

- Ans
- ☒ 1. रेखा को अंकित
 - ☒ 2. रेखा पर अंकित
 - ☒ 3. रेखा से अंकित
 - ☒ 4. रेखा और अंकित

Question ID : 99836716663

Status : Answered

Chosen Option : 3

Q.17 निम्नलिखित प्रश्न में, चार विकल्पों में से, उस विकल्प का चयन करें जो सही द्विगु समास का विकल्प हो।

- Ans
- ☒ 1. सामर्थ्य के अनुसार
 - ☒ 2. नव रत्नों का समाहार
 - ☒ 3. हाथ के लिए कड़ी
 - ☒ 4. नीला है जो अंबर

Question ID : 99836716650

Status : Answered

Chosen Option : 2

Q.18 निम्नलिखित प्रश्न में, चार विकल्पों में से, उस सही विकल्प का चयन करें जो दी गई लोकोक्तियों का सही अर्थ वाला विकल्प है।

बकरे की जान गई, खाने वाले को मज़ा न आया।

- Ans
- ☒ 1. जानवरों पर अत्याचार।
 - ☒ 2. काम करने वाले की तारीफ न करना।
 - ☒ 3. बेस्वाद कार्य।
 - ☒ 4. अच्छा भोजन न बनाना।

Question ID : 99836716674

Status : Answered

Chosen Option : 2

Q.19 निम्नलिखित प्रश्न में, चार विकल्पों में से, उस विकल्प का चयन करें जो विलोम शब्द का सबसे अच्छा विकल्प है।

अनुज

- Ans
- ☒ 1. विग्रज
 - ☒ 2. मनुज
 - ☒ 3. अग्रज
 - ☒ 4. दनुज

Question ID : 99836716667

Status : Answered

Chosen Option : 3

Q.20 निम्नलिखित प्रश्न में, चार विकल्पों में से, उस विकल्प का चयन करें जो दिए गए मुहावरे का सही अर्थ वाला विकल्प है।



टोपी उछालना

- Ans ☒ 1. किसी का अपमान करना
- ☒ 2. खुश होना
- ☒ 3. ऊँचा उड़ना
- ☒ 4. फेंक देना

Question ID : 99836716664
Status : Answered
Chosen Option : 1

Q.21 निम्नलिखित प्रश्न में, चार विकल्पों में से, उस विकल्प का चयन करें जो वाक्य के शुद्ध रूप का उचित विकल्प हो।

- Ans ☒ 1. कपड़ा है काला यह।
- ☒ 2. यह काला कपड़ा है।
- ☒ 3. है कपड़ा काला यह।
- ☒ 4. काला है यह कपड़ा।

Question ID : 99836716657
Status : Answered
Chosen Option : 2

Q.22 निम्नलिखित प्रश्न में, चार विकल्पों में से, उस विकल्प का चयन करें जो दिए गए वाक्य के लिए उचित विकल्प हो।

इनमें से कौन सा शुद्ध वर्तनी वाला शब्द है?

- Ans ☒ 1. प्रसीद्ध
- ☒ 2. परसीद्ध
- ☒ 3. प्रसिद्ध
- ☒ 4. प्रसिद्द

Question ID : 99836716639
Status : Answered
Chosen Option : 3

Q.23 निम्नलिखित प्रश्न में, चार विकल्पों में से, उस विकल्प का चयन करें जो क्रिया के भेद वाला सही विकल्प हो।

वह अपना काम कर चुका होगा।

- Ans ☒ 1. संयुक्त क्रिया
- ☒ 2. पूर्वकालिक क्रिया
- ☒ 3. द्विकर्मक क्रिया
- ☒ 4. तात्कालिक क्रिया

Question ID : 99836716648
Status : Answered
Chosen Option : 2

Q.24 निम्नलिखित प्रश्न में, चार विकल्पों में से, उस सही विकल्प का चयन करें जो दी गई लोकोक्तियों का सही अर्थ वाला विकल्प है।

पानी मथने से घी नहीं निकलता

- Ans ☒ 1. छल करना



- ☒ 2. कड़ी मेहनत करना
- ☒ 3. बेकार कार्य में समय न गँवाओ
- ☒ 4. कुछ भी काम न करना

Question ID : 99836716669
Status : Answered
Chosen Option : 3

Q.25 निम्नलिखित प्रश्न में, चार विकल्पों में से, उस विकल्प का चयन करें जो दिए गए शब्द के सही विसर्ग संधि विच्छेद का विकल्प हो।

निश्चल

- Ans ☒ 1. नि : + चल
- ☒ 2. नि : + चचल
- ☒ 3. निष् + चल
- ☒ 4. नी : + छल

Question ID : 99836716656
Status : Answered
Chosen Option : 1

Q.26 निम्नलिखित प्रश्न में, चार विकल्पों में से, उस विकल्प का चयन करें जो दिए गए मुहावरे का सही अर्थ वाला विकल्प है।

खून सूखना

- Ans ☒ 1. खून कम होना।
- ☒ 2. बीमार हो जाना।
- ☒ 3. डर जाना।
- ☒ 4. गुस्सा करना।

Question ID : 99836716671
Status : Answered
Chosen Option : 4

Q.27 निम्नलिखित प्रश्न में, चार विकल्पों में से, उस विकल्प का चयन करें जो विशेषण के भेद वाला विकल्प हो।

वह व्यक्ति दयावान है।

- Ans ☒ 1. निश्चित परिमाण वाचक
- ☒ 2. निश्चित संख्यावाचक
- ☒ 3. गुणवाचक
- ☒ 4. सार्वनामिक

Question ID : 99836716647
Status : Answered
Chosen Option : 3

Q.28 निम्नलिखित प्रश्न में, चार विकल्पों में से, उस विकल्प का चयन करें जो दिए गए शब्द के सही व्यंजन संधि विच्छेद का विकल्प हो।

दिग्दर्शन

- Ans ☒ 1. दिगा + अदर्शन



- ✓ 2. दिक् + दर्शन
✗ 3. दीग + दर्शन
✗ 4. दिग + दर्शन

Question ID : 99836716655
Status : Answered
Chosen Option : 2

Q.29 निम्नलिखित प्रश्न में, चार विकल्पों में से, उस विकल्प का चयन करें जो दिए गए वाक्य के काल का सही विकल्प हो।

बच्चे टी. वी. देख रहे हैं।

- Ans ✓ 1. अपूर्ण वर्तमानकाल
✗ 2. संभाव्य वर्तमानकाल
✗ 3. हेतुहेतु मद भूतकाल
✗ 4. आसन्न भूतकाल

Question ID : 99836716643
Status : Answered
Chosen Option : 1

Q.30 निम्नलिखित प्रश्न में, चार विकल्पों में से, उस विकल्प का चयन करें जो विलोम शब्द का सबसे अच्छा विकल्प है।

पाश्चात्य

- Ans ✗ 1. पिछला
✓ 2. पूर्वीय
✗ 3. प्राच्य
✗ 4. सपक्ष

Question ID : 99836716668
Status : Answered
Chosen Option : 4

Q.31 निम्नलिखित प्रश्न में, चार विकल्पों में से, उस विकल्प का चयन करें जो वाक्य के शुद्ध रूप का उचित विकल्प हो।

- Ans ✓ 1. दिनेश तो जा रहा है, लेकिन रमेश नहीं।
✗ 2. रमेश नहीं जा रहा लेकिन दिनेश।
✗ 3. जा रहा है दिनेश लेकिन रमेश नहीं।
✗ 4. रमेश लेकिन नहीं जा रहा दिनेश जा रहा।

Question ID : 99836716658
Status : Answered
Chosen Option : 1

Q.32 निम्नलिखित प्रश्न में, चार विकल्पों में से, उस विकल्प का चयन करें जो सर्वनाम के भेद का सही विकल्प हो।

इस वर्ष भी उसी को पुरस्कृत किया जाएगा।

- Ans ✓ 1. निश्चय वाचक
✗ 2. उत्तम पुरुष
✗ 3. निजवाचक
✗ 4. सम्बन्ध वाचक



Question ID : 99836716646
Status : Answered
Chosen Option : 1

Q.33 निम्नलिखित प्रश्न में, चार विकल्पों में से, उस विकल्प का चयन करें जो दिए गए वाक्य के लिए उचित विकल्प हो।

भाषा की सबसे छोटी इकाई किसे कहते हैं?

- Ans
- ☒ 1. शब्द
 - ☒ 2. वर्णमाला
 - ☒ 3. वर्ण
 - ☒ 4. व्यंजन

Question ID : 99836716635
Status : Answered
Chosen Option : 3

Q.34 निम्नलिखित प्रश्न में, चार विकल्पों में से, उस विकल्प का चयन करें जो सही कर्म तत्पुरुष समास का विकल्प हो।

- Ans
- ☒ 1. सुख को प्राप्त
 - ☒ 2. यज्ञ के लिए शाला
 - ☒ 3. धन से हीन
 - ☒ 4. तुलसी से कृत

Question ID : 99836716649
Status : Answered
Chosen Option : 1

Q.35 निम्नलिखित प्रश्न में, चार विकल्पों में से, उस विकल्प का चयन करें जो दिए गए शब्द का तद्भव रूप हो।

अर्चि

- Ans
- ☒ 1. आम
 - ☒ 2. आँच
 - ☒ 3. अनजान
 - ☒ 4. आँख

Question ID : 99836716661
Status : Answered
Chosen Option : 4

Q.36 निम्नलिखित प्रश्न में, चार विकल्पों में से, उस विकल्प का चयन करें जो दिए गए शब्द के सही स्वर संधि विच्छेद का विकल्प हो।

निम्नांकित

- Ans
- ☒ 1. निम्नां + कित
 - ☒ 2. निम्न + अंकित
 - ☒ 3. निमं + अंकित
 - ☒ 4. निम्ना + कित

Question ID : 99836716653
Status : Answered
Chosen Option : 2



Q.37 निम्नलिखित प्रश्न में, चार विकल्पों में से, उस विकल्प का चयन करें जो वाक्य के शुद्ध रूप का उचित विकल्प हो।

- Ans
- ☒ 1. उठी जल बत्ती दबाते ही बटन बिजली का
 - ☒ 2. बिजली का बटन दबाते ही बत्ती जल उठी
 - ☒ 3. जल उठी बत्ती बटन दबाते ही बिजली का
 - ☒ 4. बत्ती जल उठी दबाते ही बटन बिजली का

Question ID : 99836716659
Status : Answered
Chosen Option : 2

Q.38 निम्नलिखित प्रश्न में, चार विकल्पों में से, उस विकल्प का चयन करें जो दिए गए वाक्य के लिए उचित विकल्प हो।

जिन व्यंजनों के उच्चारण में दोनों ओष्ठों द्वारा श्वास का अवरोध होता है, वे क्या कहलाते हैं?

- Ans
- ☒ 1. मूर्धन्य
 - ☒ 2. तालव्य
 - ☒ 3. कंठ्य
 - ☒ 4. ओष्ठ्य

Question ID : 99836716637
Status : Answered
Chosen Option : 4

Q.39 निम्नलिखित प्रश्न में, चार विकल्पों में से, उस विकल्प का चयन करें जो दिए गए वाक्य के लिए उचित विकल्प हो।

वर्णमाला में कुल कितने स्पर्श व्यंजन हैं?

- Ans
- ☒ 1. 18
 - ☒ 2. 25
 - ☒ 3. 30
 - ☒ 4. 20

Question ID : 99836716636
Status : Answered
Chosen Option : 2

Q.40 निम्नलिखित प्रश्न में, चार विकल्पों में से, उस विकल्प का चयन करें जो दिए गए वाक्य के लिए उचित विकल्प हो।

इनमें से कौन सा शुद्ध वर्तनी वाला शब्द है?

- Ans
- ☒ 1. परमात्म
 - ☒ 2. परामात्मा
 - ☒ 3. परमात्मा
 - ☒ 4. प्ररमात्मा

Question ID : 99836716638
Status : Answered
Chosen Option : 3

Section : General English Grammar

Q.1 Out of the four alternatives, choose the word which is OPPOSITE in meaning to the given word.

Abandon

- Ans
- ☒ 1. Acknowledge
 - ☒ 2. Claim
 - ☒ 3. Leave
 - ☒ 4. Desert

Question ID : 99836716690
Status : Not Answered
Chosen Option : --

Q.2 A sentence has been given in Active / Passive voice. Out of the four alternatives suggested, select the one which best expresses the same sentence in Passive / Active voice.

This play was performed by Ashika's group.

- Ans
- ☒ 1. Ashika's group will be performing this play.
 - ☒ 2. Ashika's group has been performing this play.
 - ☒ 3. Ashika's group performed this play.
 - ☒ 4. Ashika's group is performing this play.

Question ID : 99836716686
Status : Answered
Chosen Option : 1

Q.3 Choose the correct singular/plural form.

Kalyani has three _____ and a cow.

- Ans
- ☒ 1. sheeps
 - ☒ 2. sheepes
 - ☒ 3. sheep
 - ☒ 4. sheepies

Question ID : 99836716677
Status : Answered
Chosen Option : 3

Q.4 A sentence has been given in Active / Passive voice. Out of the four alternatives suggested, select the one which best expresses the same sentence in Passive / Active voice.

Raman saw him leaving the cottage.

- Ans
- ☒ 1. He has been seen leaving the cottage by Raman.
 - ☒ 2. Raman saw that he left the cottage.
 - ☒ 3. He will be seen by Raman while leaving the cottage.
 - ☒ 4. He was seen leaving the cottage by Raman.

Question ID : 99836716685
Status : Answered
Chosen Option : 3

Q.5 Join the following two sentences with a conjunction.

We love Tommy. He is a faithful dog.

- Ans
- ☒ 1. We love Tommy if he is a faithful dog.

- ☒ 2. We love Tommy but he is a faithful dog.
- ☒ 3. We love Tommy and he is a faithful dog.
- ☒ 4. We love Tommy as he is a faithful dog.

Question ID : 99836716682
Status : Answered
Chosen Option : 1

Q.6 Out of the four alternatives, choose the word which best expresses the meaning of the given word.

Morbid

- Ans ☒ 1. Tease
- ☒ 2. Bright
- ☒ 3. Ghastly
- ☒ 4. Asset

Question ID : 99836716689
Status : Not Attempted and Marked For Review
Chosen Option : --

Q.7 Change the gender of the following word.

Fox

- Ans ☒ 1. Doe
- ☒ 2. Foxes
- ☒ 3. Vixen
- ☒ 4. Foxen

Question ID : 99836716676
Status : Not Attempted and Marked For Review
Chosen Option : --

Q.8 Fill in the blanks with the appropriate prepositions.

Sakshi travelled twenty kilometres _____ two hours.

- Ans ☒ 1. with
- ☒ 2. on
- ☒ 3. at
- ☒ 4. in

Question ID : 99836716683
Status : Answered
Chosen Option : 4

Q.9 A sentence has been given in Direct / Indirect speech. Out of the four alternatives suggested, select the one which best expresses the same sentence in Indirect / Direct speech.

The teacher said, "London is the capital of the United Kingdom."

- Ans ☒ 1. The teacher said that London is the capital of the United Kingdom.

- ☒ 2. The teacher said that London was the capital of the United Kingdom.
- ☒ 3. The teacher said that London had been capital of the United Kingdom.
- ☒ 4. The teacher said that London has been the capital of the United Kingdom.

Question ID : 99836716688

Status : **Not Attempted and Marked For Review**

Chosen Option : --

Q.10 Fill in the blanks with the appropriate conjunctions.

Salim lost his balance _____ fell off the motorcycle.

- Ans ☒ 1. as
- ☒ 2. and
- ☒ 3. but
- ☒ 4. when

Question ID : 99836716681

Status : **Not Attempted and Marked For Review**

Chosen Option : --

Q.11 Fill in the blanks with the appropriate Pronoun.

Shyam drove _____ to college today.

- Ans ☒ 1. me
- ☒ 2. I
- ☒ 3. she
- ☒ 4. he

Question ID : 99836716678

Status : **Answered**

Chosen Option : 4

Q.12 Fill in the blanks with appropriate articles.

The speed of the bike was 40 km per _____ hour.

- Ans ☒ 1. a
- ☒ 2. no article
- ☒ 3. the
- ☒ 4. an

Question ID : 99836716675

Status : **Answered**

Chosen Option : 4

Q.13 Identify the type of the adjective.

Every rose has its thorn.

- Ans ☒ 1. Possessive
- ☒ 2. Demonstrative
- ☒ 3. Interrogative

✓ 4. Distributive

Question ID : 99836716679
Status : Not Answered
Chosen Option : --

Q.14 Fill in the blanks with the appropriate prepositions.

Ramesh was sitting _____ the benches.

- Ans
- ✗ 1. with
 - ✗ 2. in
 - ✗ 3. at
 - ✓ 4. on

Question ID : 99836716684
Status : Answered
Chosen Option : 4

Q.15 A sentence has been given in Direct / Indirect speech. Out of the four alternatives suggested, select the one which best expresses the same sentence in Indirect / Direct speech.

The teacher said, "Delhi is the capital of India."

- Ans
- ✓ 1. The teacher said that Delhi is the capital of India.
 - ✗ 2. The teacher said that Delhi was the capital of India.
 - ✗ 3. The teacher said that Delhi has been the capital of India.
 - ✗ 4. The teacher said that Delhi had been the capital of India.

Question ID : 99836716687
Status : Not Answered
Chosen Option : --

Q.16 Four words are given, out of which only one word is spelt correctly. Choose the correctly spelt word.

- Ans
- ✓ 1. Chauffeur
 - ✗ 2. Chaufer
 - ✗ 3. Chauoffer
 - ✗ 4. Chaoffer

Question ID : 99836716693
Status : Not Answered
Chosen Option : --

Q.17 In the following question, out of four alternatives, select the alternative which is the best substitute of the words / sentences.

A formation of small warships

- Ans
- ✓ 1. Flotilla
 - ✗ 2. Archipelago
 - ✗ 3. Propeller
 - ✗ 4. Anchor

Question ID : 99836716691
Status : Not Answered
Chosen Option : --

Q.18 In the following question, out of four alternatives, select the alternative which is the best substitute of the words / sentences.

Fear of closed spaces.

- Ans
- ☒ 1. Acrophobia
 - ☒ 2. Hemophobia
 - ☒ 3. Claustrophobia
 - ☒ 4. Astraphobia

Question ID : 99836716692
Status : Answered
Chosen Option : 4

Q.19 Fill in the blanks with the appropriate form of the verb.

Jack and Jill love to go _____.

- Ans
- ☒ 1. shop
 - ☒ 2. shopping
 - ☒ 3. was shopping
 - ☒ 4. is shopping

Question ID : 99836716680
Status : Answered
Chosen Option : 2

Q.20 Four words are given, out of which only one word is spelt correctly. Choose the correctly spelt word.

- Ans
- ☒ 1. Obsequitous
 - ☒ 2. Obsequitos
 - ☒ 3. Obsequitus
 - ☒ 4. Obsequious

Question ID : 99836716694
Status : Not Answered
Chosen Option : --