



Teachingninja.in



Latest Govt Job updates



Private Job updates



Free Mock tests available



Visit - teachingninja.in

DSSSB Craft Instructor

**Previous Year Paper
(Commercial) 27 Nov,
2019 Shift 3**



Education Consultant India Ltd.

- Notations :
- 1.Options shown in green color and with ✓ icon are correct.
 - 2.Options shown in red color and with ✖ icon are incorrect.

Question Paper Name:	Craft Instructor Commercial Arts 27th November 2019 Shift 3
Subject Name:	Craft Instructor Commercial Arts
Creation Date:	2019-11-28 09:51:59
Duration:	120
Total Marks:	200
Display Marks:	Yes
Share Answer Key With Delivery Engine:	No
Actual Answer Key:	Yes
Calculator:	None
Magnifying Glass Required?:	No
Ruler Required?:	No
Eraser Required?:	No
Scratch Pad Required?:	No
Rough Sketch/Notepad Required?:	No
Protractor Required?:	No
Show Watermark on Console?:	Yes
Highlighter:	No
Auto Save on Console?:	No

Mental Ability

Group Number :	1
Group Id :	9983672111
Group Maximum Duration :	0
Group Minimum Duration :	0
Show Attended Group? :	No
Edit Attended Group? :	No
Break time:	0
Group Marks:	20
Is this Group for Examiner?:	No
Revisit allowed for group Instructions? :	Yes
Maximum Instruction Time:	0
Minimum Instruction Time:	0

Mental Ability

Section Id :	9983672510
Section Number :	1

Section type :

Mandatory or Optional:

Number of Questions:

Number of Questions to be attempted:

Section Marks:

Online

Mandatory

20

20

20

Sub-Section Number:

Sub-Section Id:

Question Shuffling Allowed :

1

9983673084

Yes

Question Number : 1 Question Id : 99836757403 Question Type : MCQ Option Shuffling : Yes
Correct Marks : 1 Wrong Marks : 0.25

Find the missing character.

W					
T					
Q					
N	K	?	E	B	

- Options :
1. ✓ H

2. ✗ L

3. ✗ G

4. ✗ F

Question Number : 1 Question Id : 99836757403 Question Type : MCQ Option Shuffling : Yes
Correct Marks : 1 Wrong Marks : 0.25

लुप्त पद ज्ञात करें।

W					
T					
Q					
N	K	?	E	B	

Options :

1. ✓ H

2. ✗ L

3. ✗ G

4. ✗ F

Question Number : 2 Question Id : 99836757404 Question Type : MCQ Option Shuffling : Yes
Correct Marks : 1 Wrong Marks : 0.25

Solve the alphanumeric series given below:

?, C4E, E6I, G8O, I10U

Options :

1. ✓ A2A

2. ✗ A2E

3. ✗ B2A

4. ✗ B2E

Question Number : 2 Question Id : 99836757404 Question Type : MCQ Option Shuffling : Yes
Correct Marks : 1 Wrong Marks : 0.25

नीचे दी गई अक्षरांकीय श्रृंखला श्रेणी को हल करें:

?, C4E, E6I, G8O, I10U

Options :

1. ✓ A2A

2. ✗ A2E

3. ✗ B2A

4. ✗ B2E

Question Number : 3 Question Id : 99836757405 Question Type : MCQ Option Shuffling : Yes
Correct Marks : 1 Wrong Marks : 0.25

Select the option that is related to the third term in the same way as the second term is related to the first term.

GPLC : INNA :: WIDZ : ?

Options :

- 1. ✖ YGGX
- 2. ✖ YHFX
- 3. ✔ YGFX
- 4. ✖ YHGX

Question Number : 3 Question Id : 99836757405 Question Type : MCQ Option Shuffling : Yes
Correct Marks : 1 Wrong Marks : 0.25

उस विकल्प का चयन करें जो तीसरे पद से उसी प्रकार संबंधित है जिस प्रकार दूसरा पद पहले पद से संबंधित है।

GPLC : INNA :: WIDZ : ?

Options :

- 1. ✖ YGGX
- 2. ✖ YHFX
- 3. ✔ YGFX
- 4. ✖ YHGX

Question Number : 4 Question Id : 99836757406 Question Type : MCQ Option Shuffling : Yes
Correct Marks : 1 Wrong Marks : 0.25

Select the option that is related to the third word in the same way as the second word is related to the first word.

Cricket : Bat :: Badminton : ?

Options :

- 1. ✔ Racket

2. ✖ Shuttlecock

3. ✖ Pad

4. ✖ Net

Question Number : 4 Question Id : 99836757406 Question Type : MCQ Option Shuffling : Yes
Correct Marks : 1 Wrong Marks : 0.25

उस विकल्प का चयन करें जो तीसरे शब्द से उसी तरह संबंधित है जैसे दूसरा शब्द पहले शब्द से संबंधित है।

क्रिकेट: बल्ला:: बैडमिंटन:?

Options :

1. ✔ रैकेट

2. ✖ शटलकॉक

3. ✖ पैड

4. ✖ नेट

Question Number : 5 Question Id : 99836757407 Question Type : MCQ Option Shuffling : Yes
Correct Marks : 1 Wrong Marks : 0.25

Find the odd one out of the given letters?

Options :

1. ✖ E

2. ✖ O

3. ✖ J

4. ✔ N

Question Number : 5 Question Id : 99836757407 Question Type : MCQ Option Shuffling : Yes
Correct Marks : 1 Wrong Marks : 0.25

दिए गए विकल्पों में से भिन्न पद को चुनें।

Options :

1. ✖ E

2. ✖ O

3. ✖ J

4. ✔ N

Question Number : 6 Question Id : 99836757408 Question Type : MCQ Option Shuffling : Yes

Correct Marks : 1 Wrong Marks : 0.25

If 'black' is called 'red', 'red' is called 'white', 'white' is called 'brown', 'brown' is called 'yellow', 'yellow' is called 'blue' and 'blue' is called 'green', then what is the colour of blood?

Options :

1. ✖ blue

2. ✖ green

3. ✔ white

4. ✖ red

Question Number : 6 Question Id : 99836757408 Question Type : MCQ Option Shuffling : Yes

Correct Marks : 1 Wrong Marks : 0.25

यदि 'काला' को कहते हैं 'लाल', 'लाल' को कहते हैं 'सफेद', 'सफेद' को कहते हैं 'भूरा', 'भूरा' को कहते हैं 'पीला', 'पीला' को कहते हैं 'नीला' और 'नीला' को कहते हैं 'हरा', तो खून का रंग क्या होता है?

Options :

1. ✖ नीला

2. ✖ हरा

3. ✔ सफेद

4. ✖ लाल

Question Number : 7 Question Id : 99836757409 Question Type : MCQ Option Shuffling : Yes

Correct Marks : 1 Wrong Marks : 0.25

In a row In East-West direction Dipika is on 11th position from West and Sudesh is on 15th position from East end. If they exchange their positions, Sudesh will be on 9th position from East end. How many persons are there In the row?

Options :

1. ✖ 16

2. ✔ 19

3. ✖ 20

4. ✖ 24

Question Number : 7 Question Id : 99836757409 Question Type : MCQ Option Shuffling : Yes

Correct Marks : 1 Wrong Marks : 0.25

पूर्व-पश्चिम की दिशा की एक पंक्ति में, दीपिका पश्चिम से 11वें स्थान पर है और सुदेश पूर्व से 15वें स्थान पर है। यदि वे अपना-अपना स्थान परस्पर बदल लेते हैं, तो सुदेश पूर्व किनारे से 9वें स्थान पर होगा। तो पंक्ति में कुल कितने व्यक्ति हैं?

Options :

1. ✖ 16

2. ✔ 19

3. ✖ 20

4. ✖ 24

Question Number : 8 Question Id : 99836757410 Question Type : MCQ Option Shuffling : Yes

Correct Marks : 1 Wrong Marks : 0.25

Ansari is richer than Bindu. Clavin is richer than Ansari. Daya is richer than Clavin. Elan is poorest of all. Who is in the middle position in the order of richness?

Options :

1. ✔ Ansari

2. ✖ Bindu

3. ✖ Elan

4. ✖ Daya

Question Number : 8 Question Id : 99836757410 Question Type : MCQ Option Shuffling : Yes
Correct Marks : 1 Wrong Marks : 0.25

अंसारी, बिंदु से ज्यादा अमीर है। क्लेविन, अंसारी से ज्यादा अमीर है।
दया, क्लेविन से ज्यादा अमीर है। इलान इन सबसे गरीब है। अमीरी के
इस क्रम में किसकी स्थिति बीच की है?

Options :

1. ✔ अंसारी

2. ✖ बिंदु

3. ✖ इलान

4. ✖ दया

Question Number : 9 Question Id : 99836757411 Question Type : MCQ Option Shuffling : Yes
Correct Marks : 1 Wrong Marks : 0.25

Raghu and Babu are twins. Babu's sister is Reema. Reema's
husband is Rajan. Raghu's mother is Lakshmi. Lakshmi's
husband is Rajesh. How is Rajesh related to Rajan?

Options :

1. ✔ Father-in-law

2. ✖ Cousin

3. ✖ Uncle

4. ✖ Son-in-law

Question Number : 9 Question Id : 99836757411 Question Type : MCQ Option Shuffling : Yes
Correct Marks : 1 Wrong Marks : 0.25

रघु और बाबु जुड़वा हैं। बाबु की बहन रीमा है। रीमा का पति राजन
है। रघु की माँ लक्ष्मी है। लक्ष्मी का पति राजेश है। राजेश का राजन
से क्या सम्बन्ध है?

Options :

1. ✓ ससुर
2. ✗ कजिन
3. ✗ चाचा/मामा
4. ✗ दामाद

Question Number : 10 Question Id : 99836757412 Question Type : MCQ Option Shuffling : Yes

Correct Marks : 1 Wrong Marks : 0.25

In the question below are given three statements followed by two conclusion. You have to take the given statements to be true even if they seem to be at variance with the commonly known facts and then decide which of the given conclusions logically follows from the given statements, disregarding commonly known facts.

Statements:

- I. Some dates are figs.
- II. All figs are grapes.
- III. All grapes are guavas.

Conclusions:

- I. Some dates are guavas.
- II. All figs are guavas.

Options :

1. ✗ Only conclusion I follows.
2. ✗ Only conclusion II follows.
3. ✓ Both conclusions I and II follows.
4. ✗ Neither conclusion I nor II follows.

Question Number : 10 Question Id : 99836757412 Question Type : MCQ Option Shuffling : Yes

Correct Marks : 1 Wrong Marks : 0.25

नीचे दिए गए प्रश्न में तीन कथन और उसके बाद दो निष्कर्ष दिए गए हैं। आपको दिए गए कथनों को सत्य मानना है भले ही वे सर्वज्ञात तथ्यों से भिन्न प्रतीत होते हों। सभी निष्कर्षों को पढ़िए फिर तय कीजिए कि दिए गए निष्कर्षों में से कौन-सा निष्कर्ष दिए गए कथनों का तर्कसंगत रूप से अनुसरण करता है, चाहे सर्वज्ञात तथ्य कुछ भी हों।

कथन:

- I. कुछ खजूर अंजीर हैं।
- II. सभी अंजीर अंगूर हैं।
- III. सभी अंगूर अमरूद हैं।

निष्कर्ष:

- I. कुछ खजूर अमरूद हैं।
- II. सभी अंजीर अमरूद हैं।

Options :

1. ✖ केवल निष्कर्ष I अनुसरण करता है।
2. ✖ केवल निष्कर्ष II अनुसरण करता है।
3. ✔ दोनों निष्कर्ष I और II अनुसरण करते हैं।
4. ✖ न तो निष्कर्ष I और न ही II अनुसरण करता है।

Question Number : 11 Question Id : 99836757413 Question Type : MCQ Option Shuffling : Yes
Correct Marks : 1 Wrong Marks : 0.25

In the question below are given two statements followed by three conclusion. You have to take the given statements to be true even if they seem to be at variance with the commonly known facts and then decide which of the given conclusions logically follows from the given statements, disregarding commonly known facts.

Statements:

No book is star.

Some stars are men.

Conclusions:

I. Some men are books.

II. No man is book.

III. All men are stars.

Options :

1. ✖ None follows

2. ✖ Only I follows

3. ✔ Only either I or II follows

4. ✖ Only either II or III follows

Question Number : 11 Question Id : 99836757413 Question Type : MCQ Option Shuffling : Yes

Correct Marks : 1 Wrong Marks : 0.25

नीचे दिए गए प्रश्न में दो कथन और उसके बाद तीन निष्कर्ष दिए गए हैं। आपको दिए गए कथनों को सत्य मानना है भले ही वे सर्वज्ञात तथ्यों से भिन्न प्रतीत होते हों। सभी निष्कर्षों को पढ़िए फिर तय कीजिए कि दिए गए निष्कर्षों में से कौन-सा निष्कर्ष दिए गए कथनों का तर्कसंगत रूप से अनुसरण करता है, चाहे सर्वज्ञात तथ्य कुछ भी हों।

कथन:

कोई किताब, तारा नहीं है।

कुछ तारे, आदमी हैं।

निष्कर्ष:

I. कुछ आदमी, किताब हैं।

II. कोई आदमी, किताब नहीं है।

III. सभी आदमी, तारे हैं।

Options :

1. ✖ कोई अनुसरण नहीं करता है

2. ✖ केवल I अनुसरण करता है

3. ✔ या तो I या II अनुसरण करता है

4. ✖ या तो II या III अनुसरण करता है

Question Number : 12 Question Id : 99836757414 Question Type : MCQ Option Shuffling : Yes

Correct Marks : 1 Wrong Marks : 0.25

Find the wrong term in the given number series:

48, 24, 72, 34, 108, 54

Options :

1. ✖ 54

2. ✓ 34

3. ✗ 72

4. ✗ 108

Question Number : 12 Question Id : 99836757414 Question Type : MCQ Option Shuffling : Yes
Correct Marks : 1 Wrong Marks : 0.25

दी हुई संख्या श्रेणी में गलत पद ज्ञात करें।

48, 24, 72, 34, 108, 54

Options :

1. ✗ 54

2. ✓ 34

3. ✗ 72

4. ✗ 108

Question Number : 13 Question Id : 99836757415 Question Type : MCQ Option Shuffling : Yes
Correct Marks : 1 Wrong Marks : 0.25

In the following question, correct the equation by interchanging two signs.

$$7 \times 6 + 5 - 12 \div 3 = 41$$

Options :

1. ✗ + and ÷

2. ✗ × and ÷

3. ✓ + and –

4. ✗ × and –

Question Number : 13 Question Id : 99836757415 Question Type : MCQ Option Shuffling : Yes
Correct Marks : 1 Wrong Marks : 0.25

निम्नलिखित प्रश्न में, किन्हीं दो गणितीय संक्रियाओं को आपस में बदलकर दिए गए समीकरण को सही कीजिए।

$$7 \times 6 + 5 - 12 \div 3 = 41$$

Options :

1. \times + तथा \div

2. \times \times तथा \div

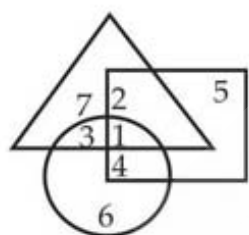
3. \checkmark + तथा -

4. \times \times तथा -

Question Number : 14 Question Id : 99836757416 Question Type : MCQ Option Shuffling : Yes

Correct Marks : 1 Wrong Marks : 0.25

In the given diagram, Circle represents strong men, Square represents short men and Triangle represents military officers. Which region represents military officers who are short but not strong?



Options :

1. \times 3

2. \times 4

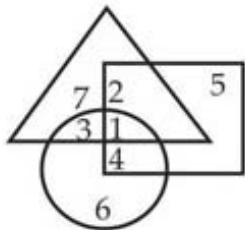
3. \times 1

4. \checkmark 2

Question Number : 14 Question Id : 99836757416 Question Type : MCQ Option Shuffling : Yes

Correct Marks : 1 Wrong Marks : 0.25

दिए गए आरेख में, वृत्त ताकतवर पुरुषों को दर्शाता है, वर्ग छोटे पुरुषों को दर्शाता है और त्रिभुज सैन्य अधिकारियों को दर्शाता है। कौन सा क्षेत्र उन सैन्य अधिकारियों को दर्शाता है जो छोटे हैं लेकिन ताकतवर नहीं हैं?



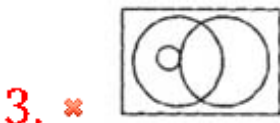
Options :

- 1. ✖ 3
- 2. ✖ 4
- 3. ✖ 1
- 4. ✔ 2

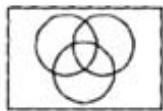
Question Number : 15 Question Id : 99836757417 Question Type : MCQ Option Shuffling : Yes
 Correct Marks : 1 Wrong Marks : 0.25

Which one of the following diagram represent the relationship between Rhombus, Quadrilaterals and Polygons?

Options :



4. ✖



Question Number : 15 Question Id : 99836757417 Question Type : MCQ Option Shuffling : Yes
Correct Marks : 1 Wrong Marks : 0.25

Question Number : 16 Question Id : 99836757418 Question Type : MCQ Option Shuffling : Yes
Correct Marks : 1 Wrong Marks : 0.25

Two taxis start from the opposite points of a main road, 150 kms apart. The first taxi runs for 25 kms and takes a right turn and then runs for 15 kms. It then turns left and runs for another 25 kms and again after taking a left turn it reaches the main road. In the meantime, due to a minor breakdown, the other taxi has run only 35 kms along the main road. What would be the distance between the two taxis at this point?

Options :

- 1. ✓ 65 kms
- 2. ✖ 75 kms
- 3. ✖ 80 kms
- 4. ✖ 85 kms

Question Number : 16 Question Id : 99836757418 Question Type : MCQ Option Shuffling : Yes
Correct Marks : 1 Wrong Marks : 0.25

दो टैक्सी, 150 कि.मी. की दूरी पर एक मुख्य सड़क के दो विपरीत बिंदुओं से चलना प्रारंभ करती हैं। पहली टैक्सी 25 कि.मी. चलती है और दाएँ मुड़ती है और फिर 15 कि.मी. चलती है। वह फिर बाएँ मुड़ती है और 25 कि.मी. चलती है और फिर बायें मुड़ने के बाद मुख्य सड़क पर पहुँचती है। इसी बीच एक अल्प व्यवधान के कारण दूसरी टैक्सी मुख्य सड़क पर केवल 35 कि.मी. चलती है। इस बिन्दु पर दोनों टैक्सी के मध्य की दूरी होगी?

Options :

- 1. ✓ 65 कि.मी.
- 2. ✗ 75 कि.मी.
- 3. ✗ 80 कि.मी.
- 4. ✗ 85 कि.मी.

Question Number : 17 Question Id : 99836757419 Question Type : MCQ Option Shuffling : Yes
 Correct Marks : 1 Wrong Marks : 0.25

Select the missing figure in the series from the given figures.

Problem Figures

Options :

1. ✗

2. ✗

3. ✓

4. ✗

Question Number : 17 Question Id : 99836757419 Question Type : MCQ Option Shuffling : Yes
 Correct Marks : 1 Wrong Marks : 0.25

दी गई आकृतियों में से लुप्त आकृति का चयन करें।

प्रश्न आकृति:

			?
--	--	--	---

Options :

1. ✖

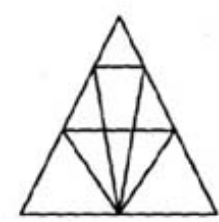
2. ✖

3. ✔

4. ✖

Question Number : 18 Question Id : 99836757420 Question Type : MCQ Option Shuffling : Yes
Correct Marks : 1 Wrong Marks : 0.25

Count the number of triangles in the following figure.

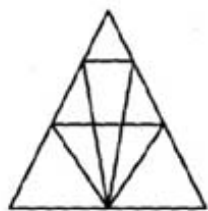


Options :

- 1. ✓ 18
- 2. ✗ 16
- 3. ✗ 22
- 4. ✗ 26

Question Number : 18 Question Id : 99836757420 Question Type : MCQ Option Shuffling : Yes
Correct Marks : 1 Wrong Marks : 0.25

निम्न आकृति में त्रिभुजों की संख्या ज्ञात करें।



Options :

- 1. ✓ 18
- 2. ✗ 16
- 3. ✗ 22
- 4. ✗ 26

Question Number : 19 Question Id : 99836757421 Question Type : MCQ Option Shuffling : Yes
Correct Marks : 1 Wrong Marks : 0.25

From the given three positions of a single dice, find the letter at the face opposite to the face having letter T.



Options :

- 1. ✗ P
- 2. ✗ R
- 3. ✗ S

4. ✓ Q

Question Number : 19 Question Id : 99836757421 Question Type : MCQ Option Shuffling : Yes
Correct Marks : 1 Wrong Marks : 0.25

एक पासे की तीन स्थितियों में से, अक्षर T के फ़लक के विपरीत फलक पर कौनसा अक्षर होगा।



Options :

- 1. ✗ P
- 2. ✗ R
- 3. ✗ S
- 4. ✓ Q

Question Number : 20 Question Id : 99836757422 Question Type : MCQ Option Shuffling : Yes
Correct Marks : 1 Wrong Marks : 0.25

From the given answer figures, select the one in which question figure is hidden/embedded.



Options :



3. ✖ 

4. ✖ 

Question Number : 20 Question Id : 99836757422 Question Type : MCQ Option Shuffling : Yes
Correct Marks : 1 Wrong Marks : 0.25

किस उत्तर आकृति में प्रश्न आकृति सन्निहित/छिपी है।



Options :

1. ✔ 

2. ✖ 

3. ✖ 

4. ✖ 

General Awareness

Group Number :	2
Group Id :	9983672112
Group Maximum Duration :	0
Group Minimum Duration :	0
Show Attended Group? :	No
Edit Attended Group? :	No
Break time:	0
Group Marks:	20
Is this Group for Examiner?:	No
Revisit allowed for group Instructions? :	Yes
Maximum Instruction Time:	0
Minimum Instruction Time:	0

General Awareness

Section Id :	9983672511
Section Number :	1
Section type :	Online
Mandatory or Optional:	Mandatory
Number of Questions:	20
Number of Questions to be attempted:	20
Section Marks:	20

Sub-Section Number:	1
Sub-Section Id:	9983673085
Question Shuffling Allowed :	Yes

Question Number : 21 Question Id : 99836757423 Question Type : MCQ Option Shuffling : Yes
Correct Marks : 1 Wrong Marks : 0.25

In which of the following cities is the Salar Jung Museum situated?

- Options :
- 1. ✖ Delhi
 - 2. ✖ Chandigarh
 - 3. ✔ Hyderabad
 - 4. ✖ Ahmedabad

Question Number : 21 Question Id : 99836757423 Question Type : MCQ Option Shuffling : Yes
Correct Marks : 1 Wrong Marks : 0.25

निम्नलिखित में से किस शहर में सालार जंग संग्रहालय स्थित है?

Options :

1. ✖ दिल्ली
2. ✖ चंडीगढ़
3. ✔ हैदराबाद
4. ✖ अहमदाबाद

Question Number : 22 Question Id : 99836757424 Question Type : MCQ Option Shuffling : Yes
Correct Marks : 1 Wrong Marks : 0.25

In which of the following places is the Nishagandhi Festival organized?

Options :

1. ✖ Mamallapuram
2. ✔ Thiruvananthapuram
3. ✖ Kochi
4. ✖ Thissur

Question Number : 22 Question Id : 99836757424 Question Type : MCQ Option Shuffling : Yes
Correct Marks : 1 Wrong Marks : 0.25

निम्नलिखित में से किस स्थान पर निशागन्धी महोत्सव आयोजित किया जाता है?

Options :

1. ✖ मामल्लपुरम
2. ✔ तिरुवनंतपुरम
3. ✖ कोच्चि
4. ✖ थिस्सुर

Question Number : 23 Question Id : 99836757425 Question Type : MCQ Option Shuffling : Yes
Correct Marks : 1 Wrong Marks : 0.25

How many banks were nationalized in the first round of bank-nationalisation in India?

Options :

- 1. ✖ 6
- 2. ✖ 10
- 3. ✔ 14
- 4. ✖ 16

Question Number : 23 Question Id : 99836757425 Question Type : MCQ Option Shuffling : Yes
Correct Marks : 1 Wrong Marks : 0.25

भारत में बैंक-राष्ट्रीयकरण के पहले दौर में कितने बैंकों का राष्ट्रीयकरण किया गया था?

Options :

- 1. ✖ 6
- 2. ✖ 10
- 3. ✔ 14
- 4. ✖ 16

Question Number : 24 Question Id : 99836757426 Question Type : MCQ Option Shuffling : Yes
Correct Marks : 1 Wrong Marks : 0.25

Which of the following options would aptly define a person who regularly moves in and out of poverty?

Options :

- 1. ✖ Chronic poor
- 2. ✖ Transient poor
- 3. ✔ Churning poor
- 4. ✖ Occasionally poor

Question Number : 24 Question Id : 99836757426 Question Type : MCQ Option Shuffling : Yes
Correct Marks : 1 Wrong Marks : 0.25

निम्नलिखित में से कौन सा विकल्प समुचित रूप से एक ऐसे व्यक्ति को परिभाषित करेगा जो नियमित रूप से निर्धन और गैर-निर्धन के बीच झूलता रहता है?

Options :

1. ✖ चिरकालिक निर्धन
2. ✖ क्षणिक निर्धन
3. ✔ चक्रीय निर्धन
4. ✖ अनियमित निर्धन

Question Number : 25 Question Id : 99836757427 Question Type : MCQ Option Shuffling : Yes
Correct Marks : 1 Wrong Marks : 0.25

Which of the following hormones in plants helps cells to grow longer on the side of the shoot which is away from light?

Options :

1. ✔ Auxin
2. ✖ Absciscic acid
3. ✖ Cytokinins
4. ✖ Gibberellins

Question Number : 25 Question Id : 99836757427 Question Type : MCQ Option Shuffling : Yes
Correct Marks : 1 Wrong Marks : 0.25

पौधों में निम्नलिखित में से किस हार्मोन (आंतरिक रस) की उपस्थिति के कारण कोशिकाओं को उस प्ररोह की दिशा में बढ़ने में मदद मिलती है, जो प्रकाश से दूर है?

Options :

1. ✔ ऑक्सिन
2. ✖ एब्सिसिसिक अम्ल
3. ✖ साइटोकाइनिन
4. ✖ जिब्बरेलिन

Question Number : 26 Question Id : 99836757428 Question Type : MCQ Option Shuffling : Yes
Correct Marks : 1 Wrong Marks : 0.25

The plastic bottles in which we buy various food-items like jam or pickle can be used for storing things in the kitchen. This is an example of which of the following?

Options :

1. ✖ Refuse
2. ✖ Reduce
3. ✔ Reuse
4. ✖ Repurpose

Question Number : 26 Question Id : 99836757428 Question Type : MCQ Option Shuffling : Yes
Correct Marks : 1 Wrong Marks : 0.25

प्लास्टिक की बोतलें जिनमें, हम विभिन्न खाद्य-पदार्थ क्रय करते हैं, जैसे - मुरब्बा या अचार, का उपयोग पाकशाला में उपस्थित चीजों का संग्रहण करने के लिए किया जा सकता है। यह निम्नलिखित में से किसका एक उदाहरण है?

Options :

1. ✖ मना करना
2. ✖ विघटन
3. ✔ पुनः उपयोग
4. ✖ पुनः प्रयोजन

Question Number : 27 Question Id : 99836757429 Question Type : MCQ Option Shuffling : Yes
Correct Marks : 1 Wrong Marks : 0.25

The SI unit of electric charge is _____, which is equivalent to the charge contained in nearly _____ electrons.

Options :

1. ✔ Coulomb, 6×10^{18}
2. ✖ Ampere, 6×10^{18}
3. ✖ Coulomb, 6×10^{23}

4. ✖ Ampere, 6×10^{23}

Question Number : 27 Question Id : 99836757429 Question Type : MCQ Option Shuffling : Yes

Correct Marks : 1 Wrong Marks : 0.25

विद्युत् आवेश की SI मात्रक _____ है, जो लगभग _____ इलेक्ट्रॉनों (ऋणावेश सूक्ष्माणु) में समाए आवेश के बराबर है।

Options :

1. ✓ कूलम्ब, 6×10^{18}
2. ✖ एम्पीयर, 6×10^{18}
3. ✖ कूलम्ब, 6×10^{23}
4. ✖ एम्पीयर, 6×10^{23}

Question Number : 28 Question Id : 99836757430 Question Type : MCQ Option Shuffling : Yes

Correct Marks : 1 Wrong Marks : 0.25

In which year was the Asiatic Cheetah declared extinct?

Options :

1. ✓ 1952
2. ✖ 1958
3. ✖ 1967
4. ✖ 1972

Question Number : 28 Question Id : 99836757430 Question Type : MCQ Option Shuffling : Yes

Correct Marks : 1 Wrong Marks : 0.25

एशियाई चीता किस वर्ष में विलुप्त घोषित किया गया?

Options :

1. ✓ 1952
2. ✖ 1958
3. ✖ 1967
4. ✖ 1972

Question Number : 29 Question Id : 99836757431 Question Type : MCQ Option Shuffling : Yes

Correct Marks : 1 Wrong Marks : 0.25

In which of the following states is the shifting cultivation known as Pamlou?

Options :

1. ✖ Chhattisgarh
2. ✖ Madhya Pradesh
3. ✔ Manipur
4. ✖ Assam

Question Number : 29 Question Id : 99836757431 Question Type : MCQ Option Shuffling : Yes

Correct Marks : 1 Wrong Marks : 0.25

निम्नलिखित में से किस राज्य में स्थानान्तरी कृषि को पामलू के नाम से जाना जाता है?

Options :

1. ✖ छत्तीसगढ़
2. ✖ मध्य प्रदेश
3. ✔ मणिपुर
4. ✖ असम

Question Number : 30 Question Id : 99836757432 Question Type : MCQ Option Shuffling : Yes

Correct Marks : 1 Wrong Marks : 0.25

The Indus Water Treaty was signed in ____ (i) _____. According to it India can use ____ (ii) ____ of the total water carried by the Indus river system.

Options :

1. ✖ (i) 1957 (ii) 30%
2. ✔ (i) 1960 (ii) 20%
3. ✖ (i) 1967 (ii) 30%
4. ✖ (i) 1957 (ii) 20%

Question Number : 30 Question Id : 99836757432 Question Type : MCQ Option Shuffling : Yes

Correct Marks : 1 Wrong Marks : 0.25

सिंधु जल संधि पर _____ (i) _____ में हस्ताक्षर किए गए थे। इसके अनुसार भारत सिंधु नदी प्रणाली द्वारा वहन किये जा रहे कुल पानी का _____ (ii) _____ उपयोग कर सकता है।

Options :

1. ✖ (i) 1957 (ii) 30%
2. ✔ (i) 1960 (ii) 20%
3. ✖ (i) 1967 (ii) 30%
4. ✖ (i) 1957 (ii) 20%

Question Number : 31 Question Id : 99836757433 Question Type : MCQ Option Shuffling : Yes
Correct Marks : 1 Wrong Marks : 0.25

Pushyamitra who had set up the Shunga dynasty was a general of which dynasty?

Options :

1. ✖ Guptas
2. ✖ Pallavas
3. ✖ Shakyas
4. ✔ Mauryas

Question Number : 31 Question Id : 99836757433 Question Type : MCQ Option Shuffling : Yes
Correct Marks : 1 Wrong Marks : 0.25

पुष्यमित्र, जिन्होंने शुंग राजवंश की स्थापना की, वह किस वंश के सेनानायक थे?

Options :

1. ✖ गुप्त
2. ✖ पल्लव
3. ✖ शाक्य
4. ✔ मौर्य

Question Number : 32 Question Id : 99836757434 Question Type : MCQ Option Shuffling : Yes
Correct Marks : 1 Wrong Marks : 0.25

Who out of the following had assumed the title Sangram Shah?

Options :

1. ✓ Aman Das
2. ✗ Salbahan
3. ✗ Asaf Khan
4. ✗ Dalpat

Question Number : 32 Question Id : 99836757434 Question Type : MCQ Option Shuffling : Yes
Correct Marks : 1 Wrong Marks : 0.25

निम्नलिखित में से किसने संग्राम शाह की उपाधि धारण की?

Options :

1. ✓ अमन दास
2. ✗ सलबहन
3. ✗ आसफ खान
4. ✗ दलपत

Question Number : 33 Question Id : 99836757435 Question Type : MCQ Option Shuffling : Yes
Correct Marks : 1 Wrong Marks : 0.25

Which of the following events was not one of the consequences of the World War I in India?

Options :

1. ✗ A huge rise in the defence expenditure of the Government of India
2. ✗ Expansion of Indian industries during the War
3. ✗ There was an expansion of the army by the British
4. ✓ Gandhiji came back to India from South Africa

Question Number : 33 Question Id : 99836757435 Question Type : MCQ Option Shuffling : Yes
Correct Marks : 1 Wrong Marks : 0.25

भारत में निम्नलिखित में से कौन सी घटना प्रथम विश्व युद्ध का परिणाम नहीं था?

Options :

1. ✖ भारत सरकार के रक्षा व्यय में भारी वृद्धि
2. ✖ युद्ध के दौरान भारतीय उद्योगों का विस्तार
3. ✖ अंग्रेजों द्वारा सेना का विस्तार
4. ✔ गांधीजी का दक्षिण अफ्रीका से भारत वापसी

Question Number : 34 Question Id : 99836757436 Question Type : MCQ Option Shuffling : Yes
Correct Marks : 1 Wrong Marks : 0.25

Who is the founder of OYO Rooms?

Options :

1. ✖ Vijay Shekhar Sharma
2. ✔ Ritesh Agarwal
3. ✖ Sachin Bansal
4. ✖ Bhavish Agarwal

Question Number : 34 Question Id : 99836757436 Question Type : MCQ Option Shuffling : Yes
Correct Marks : 1 Wrong Marks : 0.25

ओयो रूम्स (OYO Rooms) के संस्थापक कौन हैं?

Options :

1. ✖ विजय शेखर शर्मा
2. ✔ रितेश अग्रवाल
3. ✖ सचिन बंसल
4. ✖ भावेश अग्रवाल

Question Number : 35 Question Id : 99836757437 Question Type : MCQ Option Shuffling : Yes
Correct Marks : 1 Wrong Marks : 0.25

Which of the following pairs of books has been authored by Charles Dickens?

Options :

1. ✖ David Copperfield and Gulliver's Travels
2. ✔ Hard Times and Oliver Twist
3. ✖ Gulliver's Travels and Oliver Twist
4. ✖ David Copperfield and The Adventures of Tom Sawyer

Question Number : 35 Question Id : 99836757437 Question Type : MCQ Option Shuffling : Yes
Correct Marks : 1 Wrong Marks : 0.25

निम्नलिखित में से पुस्तकों की कौन सी जोड़ी चार्ल्स डिक्केस के द्वारा लिखी गई है?

Options :

1. ✖ डेविड कॉपरफील्ड और गुलिवर्स ट्रेवल्स
2. ✔ हार्ड टाइम्स और ओलिवर ट्विस्ट
3. ✖ गुलिवर्स ट्रेवल्स और ओलिवर ट्विस्ट
4. ✖ डेविड कॉपरफील्ड और द एडवेंचर्स ऑफ टॉम सॉयर

Question Number : 36 Question Id : 99836757438 Question Type : MCQ Option Shuffling : Yes
Correct Marks : 1 Wrong Marks : 0.25

2019 has been declared as the Year of the _____ by United Nations General Assembly (UNGA).

Options :

1. ✖ Radio Communication
2. ✖ Pollution free Way of Life
3. ✔ Periodic Table of Chemical Elements
4. ✖ Steam Engine

Question Number : 36 Question Id : 99836757438 Question Type : MCQ Option Shuffling : Yes
Correct Marks : 1 Wrong Marks : 0.25

संयुक्त राष्ट्र महासभा (UNGA) द्वारा 2019 को _____ का अंतर्राष्ट्रीय वर्ष घोषित किया गया है।

Options :

1. ✖ रेडियो संचार
2. ✖ प्रदूषण मुक्त जीवन पद्धति
3. ✔ रासायनिक तत्वों की आवर्त सारणी
4. ✖ वाष्प इंजन

Question Number : 37 Question Id : 99836757439 Question Type : MCQ Option Shuffling : Yes
Correct Marks : 1 Wrong Marks : 0.25

Which of the following states has a bicameral legislature?

Options :

1. ✖ Tamil Nadu
2. ✖ West Bengal
3. ✖ Madhya Pradesh
4. ✔ Karnataka

Question Number : 37 Question Id : 99836757439 Question Type : MCQ Option Shuffling : Yes
Correct Marks : 1 Wrong Marks : 0.25

निम्नलिखित में से किस राज्य में द्विसदनीय विधायिका है?

Options :

1. ✖ तमिलनाडु
2. ✖ पश्चिम बंगाल
3. ✖ मध्य प्रदेश
4. ✔ कर्नाटक

Question Number : 38 Question Id : 99836757440 Question Type : MCQ Option Shuffling : Yes
Correct Marks : 1 Wrong Marks : 0.25

According to the Jammu and Kashmir Reorganisation Act 2019, how many districts of the previous Jammu and Kashmir have been combined to form the Union Territory of Ladakh?

Options :

1. ✔ 2

2. ✖ 3

3. ✖ 4

4. ✖ 5

Question Number : 38 Question Id : 99836757440 Question Type : MCQ Option Shuffling : Yes
Correct Marks : 1 Wrong Marks : 0.25

जम्मू और कश्मीर पुनर्गठन अधिनियम 2019 के अनुसार, केंद्र शासित प्रदेश लद्दाख बनाने के लिए पिछले जम्मू और कश्मीर के कितने जिलों को जोड़ा गया है?

Options :

1. ✔ 2

2. ✖ 3

3. ✖ 4

4. ✖ 5

Question Number : 39 Question Id : 99836757441 Question Type : MCQ Option Shuffling : Yes
Correct Marks : 1 Wrong Marks : 0.25

Who was awarded the Laureus Sportsman of the Year 2019?

Options :

1. ✖ Roger Federer

2. ✖ Rafael Nadal

3. ✔ Novak Djokovic

4. ✖ Sebastian Vettel

Question Number : 39 Question Id : 99836757441 Question Type : MCQ Option Shuffling : Yes
Correct Marks : 1 Wrong Marks : 0.25

वर्ष 2019 के लिए लॉरियस स्पोर्ट्समैन के पुरस्कार से किन्हें सम्मानित किया गया?

Options :

1. ✖ रोजर फेडरर

- 2. ✖ राफेल नडाल
- 3. ✔ नोवाक जोकोविच
- 4. ✖ सेबस्टियन वेडेल

Question Number : 40 Question Id : 99836757442 Question Type : MCQ Option Shuffling : Yes
Correct Marks : 1 Wrong Marks : 0.25

With which of the following sports is Poonam Yadav related to?

Options :

- 1. ✖ Football
- 2. ✖ Hockey
- 3. ✖ Athletics
- 4. ✔ Cricket

Question Number : 40 Question Id : 99836757442 Question Type : MCQ Option Shuffling : Yes
Correct Marks : 1 Wrong Marks : 0.25

पूनम यादव निम्नलिखित में से किस खेल से संबंधित हैं?

Options :

- 1. ✖ फुटबॉल
- 2. ✖ हॉकी
- 3. ✖ एथलेटिक्स
- 4. ✔ क्रिकेट

Arithmetic Ability

Group Number :	3
Group Id :	9983672113
Group Maximum Duration :	0
Group Minimum Duration :	0
Show Attended Group? :	No
Edit Attended Group? :	No
Break time:	0
Group Marks:	20
Is this Group for Examiner?:	No

Revisit allowed for group Instructions? :	Yes
Maximum Instruction Time:	0
Minimum Instruction Time:	0

Arithmetic Ability

Section Id :	9983672512
Section Number :	1
Section type :	Online
Mandatory or Optional:	Mandatory
Number of Questions:	20
Number of Questions to be attempted:	20
Section Marks:	20

Sub-Section Number:	1
Sub-Section Id:	9983673086
Question Shuffling Allowed :	Yes

Question Number : 41 Question Id : 99836757443 Question Type : MCQ Option Shuffling : Yes
Correct Marks : 1 Wrong Marks : 0.25

The LCM & HCF of two numbers is 1440 and 12 respectively, if one of the numbers is 180. The other number is:

- Options :
- 1. ✓ 96
 - 2. ✗ 72
 - 3. ✗ 144
 - 4. ✗ 192

Question Number : 41 Question Id : 99836757443 Question Type : MCQ Option Shuffling : Yes
Correct Marks : 1 Wrong Marks : 0.25

दो संख्याओं का लघुत्तम समापवर्त्य और महत्तम समापवर्तक क्रमशः 1440 और 12 है, यदि एक संख्या 180 है तो दूसरी संख्या है:

- Options :
- 1. ✓ 96
 - 2. ✗ 72
 - 3. ✗ 144

4. ✖ 192

Question Number : 42 Question Id : 99836757444 Question Type : MCQ Option Shuffling : Yes
Correct Marks : 1 Wrong Marks : 0.25

What should come in place of the question mark (?) in the following question?

$$0.2 + 0.2 - 0.2 \div 0.2 \times (0.2 \times 0.2) = ?$$

Options :

1. ✖ 0.04

2. ✖ 0.2

3. ✔ 0.36

4. ✖ 1

Question Number : 42 Question Id : 99836757444 Question Type : MCQ Option Shuffling : Yes
Correct Marks : 1 Wrong Marks : 0.25

निम्नलिखित प्रश्न में प्रश्न चिह्न (?) के स्थान पर क्या आना चाहिए?

$$0.2 + 0.2 - 0.2 \div 0.2 \times (0.2 \times 0.2) = ?$$

Options :

1. ✖ 0.04

2. ✖ 0.2

3. ✔ 0.36

4. ✖ 1

Question Number : 43 Question Id : 99836757445 Question Type : MCQ Option Shuffling : Yes
Correct Marks : 1 Wrong Marks : 0.25

What should come in place of the question mark (?) in the following question?

$$2\frac{3}{5} \times 3\frac{2}{5} \div 8\frac{21}{25} \times \frac{5}{13} = ?$$

Options :

- 1. ✖ 1/2
- 2. ✖ 2
- 3. ✖ 1/4
- 4. ✔ 5/13

Question Number : 43 Question Id : 99836757445 Question Type : MCQ Option Shuffling : Yes

Correct Marks : 1 Wrong Marks : 0.25

निम्नलिखित प्रश्न में प्रश्न चिह्न (?) के स्थान पर क्या आना चाहिए?

$$2\frac{3}{5} \times 3\frac{2}{5} \div 8\frac{21}{25} \times \frac{5}{13} = ?$$

Options :

- 1. ✖ 1/2
- 2. ✖ 2
- 3. ✖ 1/4
- 4. ✔ 5/13

Question Number : 44 Question Id : 99836757446 Question Type : MCQ Option Shuffling : Yes

Correct Marks : 1 Wrong Marks : 0.25

What should come in place of the question mark (?) in the following question?

$$\sqrt{?} + 14 = \sqrt[3]{175616}$$

Options :

- 1. ✖ 1724

2. ✖ 42

3. ✔ 1764

4. ✖ 2016

Question Number : 44 Question Id : 99836757446 Question Type : MCQ Option Shuffling : Yes
Correct Marks : 1 Wrong Marks : 0.25

निम्नलिखित प्रश्न में प्रश्न चिह्न (?) के स्थान पर क्या आना चाहिए?

$$\sqrt{?} + 14 = \sqrt[3]{175616}$$

Options :

1. ✖ 1724

2. ✖ 42

3. ✔ 1764

4. ✖ 2016

Question Number : 45 Question Id : 99836757447 Question Type : MCQ Option Shuffling : Yes
Correct Marks : 1 Wrong Marks : 0.25

A number when divided by 899 gives a remainder 63. If the same number is divided by 29, the remainder will be:

Options :

1. ✖ 3

2. ✖ 4

3. ✔ 5

4. ✖ 10

Question Number : 45 Question Id : 99836757447 Question Type : MCQ Option Shuffling : Yes
Correct Marks : 1 Wrong Marks : 0.25

एक संख्या को 899 से भाग देने पर शेषफल 63 आता है। यदि उसी संख्या को 29 से भाग किया जाए, तो शेषफल होगा:

Options :

1. ✖ 3

2. ✖ 4

3. ✔ 5

4. ✖ 10

Question Number : 46 Question Id : 99836757448 Question Type : MCQ Option Shuffling : Yes
Correct Marks : 1 Wrong Marks : 0.25

The batting average for 30 innings of a cricket player is 40 runs. His highest score exceeds his lowest score by 100 runs. If these two innings are not included, the average of the remaining 28 innings is 38 runs. The lowest score of the player is:

Options :

1. ✖ 15

2. ✔ 18

3. ✖ 20

4. ✖ 12

Question Number : 46 Question Id : 99836757448 Question Type : MCQ Option Shuffling : Yes
Correct Marks : 1 Wrong Marks : 0.25

एक क्रिकेट खिलाड़ी की 30 परियों का औसत 40 रन है। उसका अधिकतम रन, न्यूनतम रन से 100 रन ज्यादा है। यदि उक्त दोनों परियों को शामिल न किया जाए, तो शेष 28 परियों का औसत 38 रन है। उस खिलाड़ी का न्यूनतम रन है:

Options :

1. ✖ 15

2. ✔ 18

3. ✖ 20

4. ✖ 12

Question Number : 47 Question Id : 99836757449 Question Type : MCQ Option Shuffling : Yes
Correct Marks : 1 Wrong Marks : 0.25

A sum of Rs. 400 amounts to Rs. 480 in 4 years. What will it amount to if the rate of interest is increased by 2%?

Options :

1. ✖ Rs.484

2. ✖ Rs.560

3. ✔ Rs.512

4. ✖ Rs.520

Question Number : 47 Question Id : 99836757449 Question Type : MCQ Option Shuffling : Yes
Correct Marks : 1 Wrong Marks : 0.25

400 रुपये की राशि 4 वर्ष में 480 रुपये हो जाती है। यदि ब्याज की दर 2% बढ़ जाए, तो नया मिश्रधन बताए।

Options :

1. ✖ 484 रुपये

2. ✖ 560 रुपये

3. ✔ 512 रुपये

4. ✖ 520 रुपये

Question Number : 48 Question Id : 99836757450 Question Type : MCQ Option Shuffling : Yes
Correct Marks : 1 Wrong Marks : 0.25

The ratio of three positive quantities X, Y and Z is $\frac{1}{20}$, $\frac{1}{14}$, $\frac{1}{21}$. By what percentage is $(X + Z)$ more than Y?

Options :

1. ✖ 30 percent

2. ✖ 33.33 percent

3. ✔ 36.66 percent

4. ✖ 39 percent

Question Number : 48 Question Id : 99836757450 Question Type : MCQ Option Shuffling : Yes
Correct Marks : 1 Wrong Marks : 0.25

तीन धनात्मक संख्याओं X, Y और Z का अनुपात $1/20, 1/14, 1/21$ है। $(X + Z)$, Y से कितने प्रतिशत से अधिक है?

Options :

1. ✖ 30 प्रतिशत
2. ✖ 33.33 प्रतिशत
3. ✔ 36.66 प्रतिशत
4. ✖ 39 प्रतिशत

Question Number : 49 Question Id : 99836757451 Question Type : MCQ Option Shuffling : Yes
Correct Marks : 1 Wrong Marks : 0.25

A man wanted to sell an article with 20% profit, but he actually sold at 20% loss for Rs. 480, At what price he wanted to sell it to earn the profit?

Options :

1. ✔ Rs.720
2. ✖ Rs.840
3. ✖ Rs.600
4. ✖ Rs.750

Question Number : 49 Question Id : 99836757451 Question Type : MCQ Option Shuffling : Yes
Correct Marks : 1 Wrong Marks : 0.25

एक व्यक्ति अपनी वस्तु को 20% लाभ पर बेचना चाहता था, लेकिन वह इसे 480 रुपये में 20% की हानि पर बेच दिया, तो वह आरंभ में इसे किस मूल्य पर बेचना चाहता था?

Options :

1. ✔ 720 रुपये
2. ✖ 840 रुपये

3. ✖ 600 रुपये

4. ✖ 750 रुपये

Question Number : 50 Question Id : 99836757452 Question Type : MCQ Option Shuffling : Yes

Correct Marks : 1 Wrong Marks : 0.25

A mixture of 70 liters of wine and water contain 10% water. How much more water should be added to the mixture to make 37% water in the resulting mixture?

Options :

1. ✖ 37 liters

2. ✔ 30 litres

3. ✖ 27 litres

4. ✖ 18.9 litres

Question Number : 50 Question Id : 99836757452 Question Type : MCQ Option Shuffling : Yes

Correct Marks : 1 Wrong Marks : 0.25

70 लीटर पानी और शराब के मिश्रण में 10% पानी है। इस मिश्रण में कितना पानी और मिलाया जाए कि पूरे मिश्रण में 37% पानी हो जाए?

Options :

1. ✖ 37 लीटर

2. ✔ 30 लीटर

3. ✖ 27 लीटर

4. ✖ 18.9 लीटर

Question Number : 51 Question Id : 99836757453 Question Type : MCQ Option Shuffling : Yes

Correct Marks : 1 Wrong Marks : 0.25

If two- third of A is four-fifth of B, then value of A: B is:

Options :

1. ✖ 5 : 7

2. ✔ 6 : 5

3. ✖ 10 : 9

4. ✖ 7 : 10

Question Number : 51 Question Id : 99836757453 Question Type : MCQ Option Shuffling : Yes

Correct Marks : 1 Wrong Marks : 0.25

यदि A का $\frac{2}{3}$ वाँ हिस्सा, B के $\frac{4}{5}$ वे हिस्से के बराबर हो, तो A: B का मान है:

Options :

1. ✖ 5 : 7

2. ✔ 6 : 5

3. ✖ 10 : 9

4. ✖ 7 : 10

Question Number : 52 Question Id : 99836757454 Question Type : MCQ Option Shuffling : Yes

Correct Marks : 1 Wrong Marks : 0.25

What sum of money will amount to Rs.520 in 5 years and to Rs.568 in 7 years at simple interest?

Options :

1. ✔ Rs.400

2. ✖ Rs.120

3. ✖ Rs.510

4. ✖ Rs.220

Question Number : 52 Question Id : 99836757454 Question Type : MCQ Option Shuffling : Yes

Correct Marks : 1 Wrong Marks : 0.25

कौन-सी धन राशि साधारण ब्याज से 5 वर्षों में 520 रुपये और 7 वर्षों में 568 रुपये हो जाएगी?

Options :

1. ✔ 400 रुपये

2. ✖ 120 रुपये

3. ✖ 510 रुपये

4. ✖ 220 रुपये

Question Number : 53 Question Id : 99836757455 Question Type : MCQ Option Shuffling : Yes
Correct Marks : 1 Wrong Marks : 0.25

36 men can complete a job in 14 days working 6 hours a day. How many men are required to complete the job in 12 days working 7 hours a day.

Options :

1. ✖ 42

2. ✖ 54

3. ✖ 27

4. ✔ 36

Question Number : 53 Question Id : 99836757455 Question Type : MCQ Option Shuffling : Yes
Correct Marks : 1 Wrong Marks : 0.25

36 आदमी 6 घंटे प्रतिदिन कार्य करते हुए कार्य को 14 दिन में पूरा कर सकते हैं। 7 घंटे प्रतिदिन कार्य करते हुए 12 दिन में कार्य को पूरा करने के लिए कितने आदमियों की आवश्यकता होगी?

Options :

1. ✖ 42

2. ✖ 54

3. ✖ 27

4. ✔ 36

Question Number : 54 Question Id : 99836757456 Question Type : MCQ Option Shuffling : Yes
Correct Marks : 1 Wrong Marks : 0.25

A 150 m long train takes 10 seconds to cross a man standing on a platform. What is the speed of the train (in m/sec)?

Options :

1. ✖ 12

2. ✖ 10

3. ✓ 15

4. ✗ 20

Question Number : 54 Question Id : 99836757456 Question Type : MCQ Option Shuffling : Yes
Correct Marks : 1 Wrong Marks : 0.25

150 मीटर लम्बाई की एक रेलगाड़ी प्लेटफार्म पर खड़े एक व्यक्ति को पार करने में 10 सेकण्ड का समय लेती है। रेलगाड़ी की चाल (मी./से. में) ज्ञात करें।

Options :

1. ✗ 12

2. ✗ 10

3. ✓ 15

4. ✗ 20

Question Number : 55 Question Id : 99836757457 Question Type : MCQ Option Shuffling : Yes
Correct Marks : 1 Wrong Marks : 0.25

A radius of a circular wheel is 21 cm. How many revolutions will it make in travelling 924 meters? (use $\pi = 22/7$):

Options :

1. ✗ 740

2. ✗ 11

3. ✗ 200

4. ✓ 700

Question Number : 55 Question Id : 99836757457 Question Type : MCQ Option Shuffling : Yes
Correct Marks : 1 Wrong Marks : 0.25

किसी वृत्तीय पहिये की त्रिज्या 21 सेमी है, 924 मीटर की दूरी तय करने में पहिये द्वारा तय की गयी चक्कर की संख्या ज्ञात कीजिए।

Options :

1. ✗ 740

2. ✖ 11

3. ✖ 200

4. ✔ 700

Question Number : 56 Question Id : 99836757458 Question Type : MCQ Option Shuffling : Yes
Correct Marks : 1 Wrong Marks : 0.25

The perimeters of two squares are 40 cm and 24 cm. The perimeter of a third square, whose area is equal to the difference of the areas of these squares, is:

Options :

1. ✖ 34 cm

2. ✔ 32 cm

3. ✖ 36 cm

4. ✖ 30 cm

Question Number : 56 Question Id : 99836757458 Question Type : MCQ Option Shuffling : Yes
Correct Marks : 1 Wrong Marks : 0.25

दो वर्गों के परिमाण 40 सेमी और 24 सेमी हैं। एक तीसरा वर्ग, जिसका क्षेत्रफल इन वर्गों के क्षेत्रफलों के अंतर के बराबर है, उसका परिमाण है:

Options :

1. ✖ 34 सेमी

2. ✔ 32 सेमी

3. ✖ 36 सेमी

4. ✖ 30 सेमी

Question Number : 57 Question Id : 99836757459 Question Type : MCQ Option Shuffling : Yes
Correct Marks : 1 Wrong Marks : 0.25

A rectangular paper 22 cm by 24 cm can be exactly wrapped to cover the curved surface of a cylinder of height 6 cm. The volume of the cylinder is:

Options :

1. ✖ 196 cm^3
2. ✔ 3696 cm^3
3. ✖ 3600 cm^3
4. ✖ 121 cm^3

Question Number : 57 Question Id : 99836757459 Question Type : MCQ Option Shuffling : Yes
Correct Marks : 1 Wrong Marks : 0.25

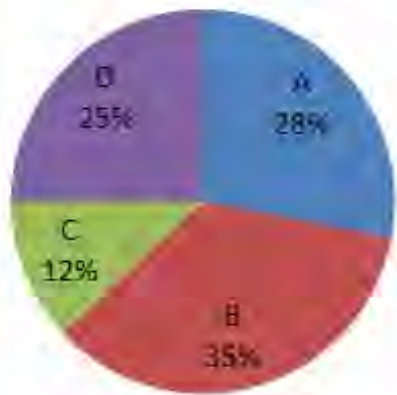
एक आयताकार कागज जिसकी माप 22 सेमी. × 24 सेमी. है, एक 6 सेमी ऊँचे एक बेलनाकार पात्र पर लपेटा जाता है। जिससे उसका पृष्ठीय क्षेत्रफल पूरी तरह ढक जाता है। बेलन का आयतन क्या है?

Options :

1. ✖ 196 सेमी³
2. ✔ 3696 सेमी³
3. ✖ 3600 सेमी³
4. ✖ 121 सेमी³

Question Number : 58 Question Id : 99836757460 Question Type : MCQ Option Shuffling : Yes
Correct Marks : 1 Wrong Marks : 0.25

The given pie chart shows the sale of four departmental stores in a day.




If sale of B is of Rs.2,45,000 then find the average of the sale of A and sale of C.

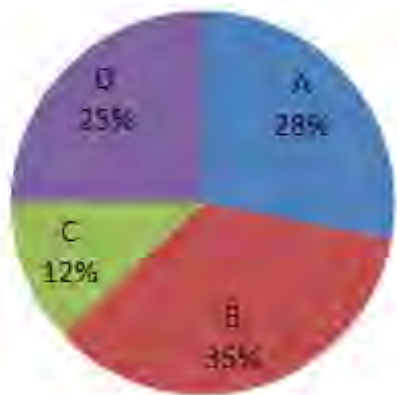
Options :

1. ✓ Rs.140000
2. ✗ Rs.165000
3. ✗ Rs.125000
4. ✗ Rs.180000

Question Number : 58 Question Id : 99836757460 Question Type : MCQ Option Shuffling : Yes
Correct Marks : 1 Wrong Marks : 0.25



दिए गए पाई चार्ट एक दिन में चार डिपार्टमेंटल स्टोर्स की बिक्री को दर्शाता है।



यदि B की बिक्री 2,45,000 रु. है, तो A की बिक्री और C की बिक्री का औसत ज्ञात कीजिए।

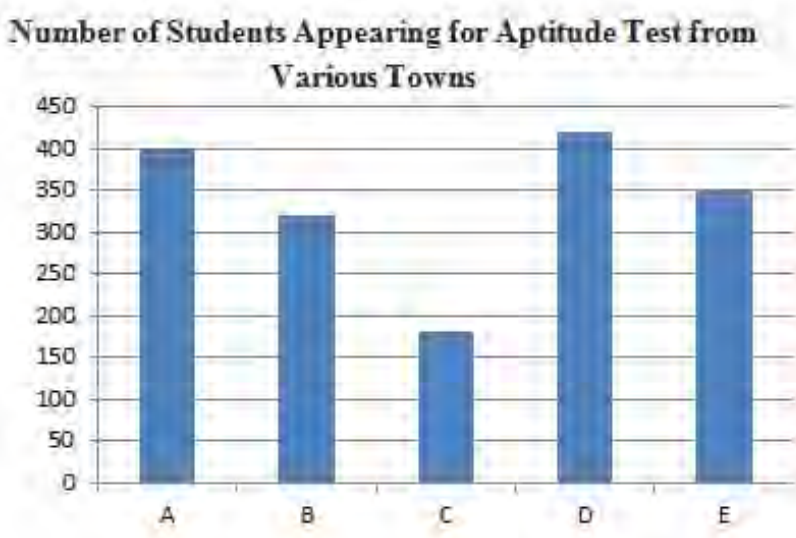
Options :

1. ✓ 140000 रुपये
2. ✗ 165000 रुपये
3. ✗ 125000 रुपये
4. ✗ 180000 रुपये

Question Number : 59 Question Id : 99836757461 Question Type : MCQ Option Shuffling : Yes

Correct Marks : 1 Wrong Marks : 0.25

Study the graph carefully to answer the following questions.



What is the respective ratio of the number of students appearing for the Aptitude test from Town C and D together to the number of students appearing for the Aptitude test from Town A, D and E together?

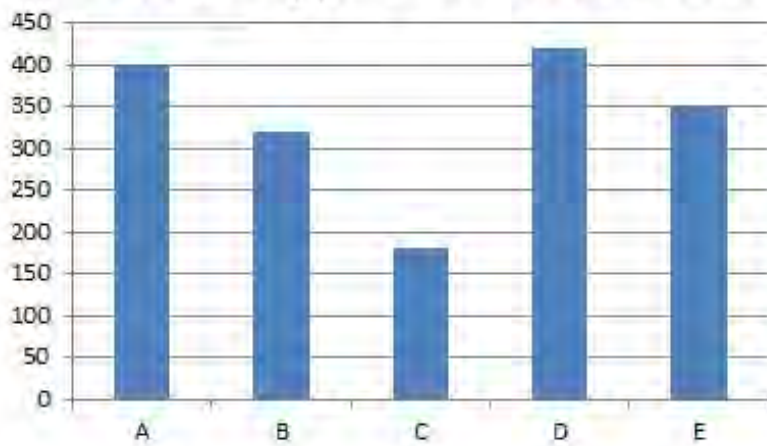
Options :

- 1. ✖ 110 : 135
- 2. ✖ 190 : 435
- 3. ✖ 200 : 475
- 4. ✔ 600 : 1175

Question Number : 59 Question Id : 99836757461 Question Type : MCQ Option Shuffling : Yes
Correct Marks : 1 Wrong Marks : 0.25

निम्नलिखित प्रश्न का उत्तर देने के लिए ग्राफ का ध्यानपूर्वक अध्ययन करें।

विभिन्न शहरों से एण्टीट्यूड टेस्ट में भाग लेने वाले छात्रों की संख्या



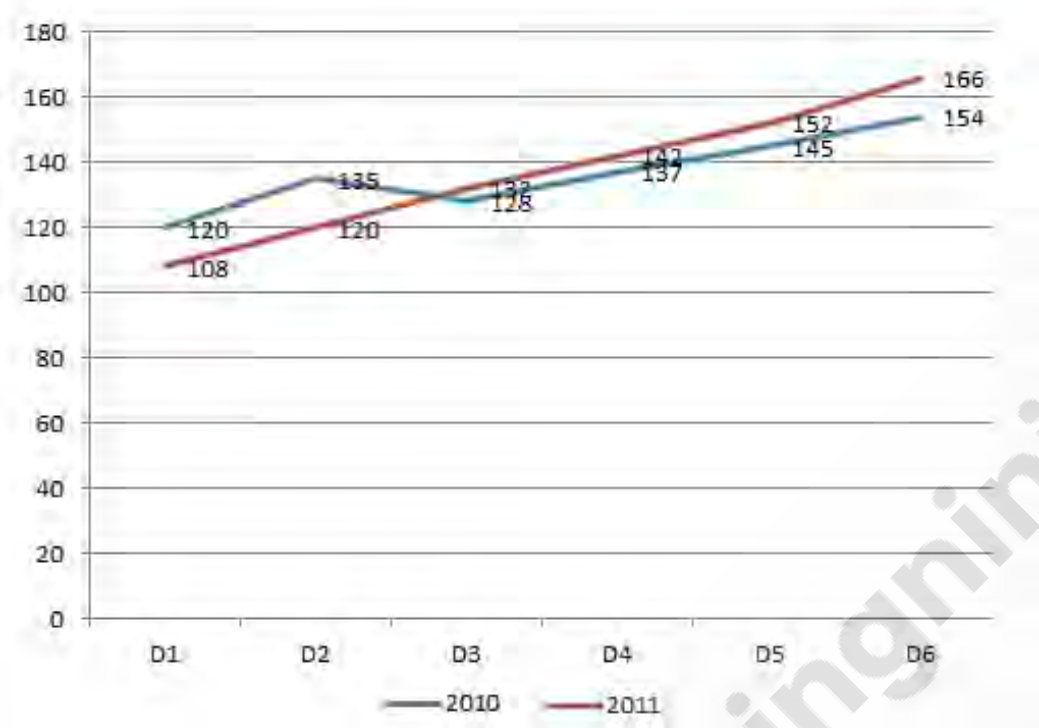
शहर C और D से एक साथ एण्टीट्यूड टेस्ट में भाग लेने वाले छात्रों की संख्या और शहर A, D और E से एक साथ एण्टीट्यूड टेस्ट में भाग लेने वाले छात्रों की संख्या का संबंधित अनुपात क्या है?

Options :

1. ✖ 110 : 135
2. ✖ 190 : 435
3. ✖ 200 : 475
4. ✔ 600 : 1175

Question Number : 60 Question Id : 99836757462 Question Type : MCQ Option Shuffling : Yes
Correct Marks : 1 Wrong Marks : 0.25

The bar graph given below shows the sales of T-shirts (in thousand numbers) from six showrooms of a company during two consecutive years 2010 and 2011.



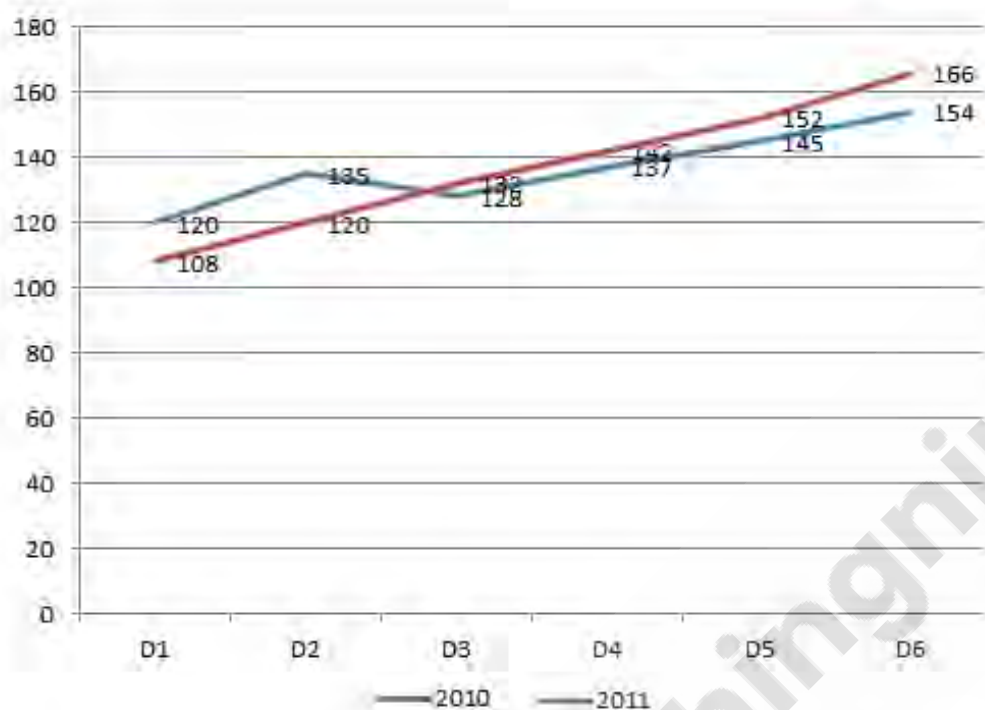
From which showroom the percentage increase in sales of T-shirt over the previous year is lowest?

Options :

- 1. ✖ D5
- 2. ✖ D2
- 3. ✖ D6
- 4. ✔ D3

Question Number : 60 Question Id : 99836757462 Question Type : MCQ Option Shuffling : Yes
Correct Marks : 1 Wrong Marks : 0.25

नीचे दिया गया रेखा ग्राफ दो क्रमिक वर्ष 2010 और 2011 के दौरान एक कंपनी के छह शोरूम से टी-शर्ट (हजार संख्या में) की बिक्री को दर्शाता है।



पिछले वर्ष की तुलना में किस शोरूम से टी-शर्ट की बिक्री में प्रतिशत वृद्धि सबसे कम है?

Options :

1. ✗ D5
2. ✗ D2
3. ✗ D6
4. ✓ D3

General English

Group Number :

4

Group Id :

9983672114

Group Maximum Duration :	0
Group Minimum Duration :	0
Show Attended Group? :	No
Edit Attended Group? :	No
Break time:	0
Group Marks:	20
Is this Group for Examiner?:	No
Revisit allowed for group Instructions? :	Yes
Maximum Instruction Time:	0
Minimum Instruction Time:	0

General English

Section Id :	9983672513
Section Number :	1
Section type :	Online
Mandatory or Optional:	Mandatory
Number of Questions:	16
Number of Questions to be attempted:	16
Section Marks:	20

Sub-Section Number:	1
Sub-Section Id:	9983673087
Question Shuffling Allowed :	Yes

Question Number : 61 Question Id : 99836757463 Question Type : MCQ Option Shuffling : Yes
Correct Marks : 1 Wrong Marks : 0.25

The following sentence has been divided into three parts. One of them may be incorrect. Choose the INCORRECT part from the given options. If you don't find any error, mark 'No error' as your answer.

As I crossed the hospital grounds, / I was noticed some really /beautiful flowers.

Options :

- 1. ✖ As I crossed the hospital grounds
- 2. ✔ I was noticed some really
- 3. ✖ beautiful flowers.
- 4. ✖ No error

Question Number : 61 Question Id : 99836757463 Question Type : MCQ Option Shuffling : Yes
Correct Marks : 1 Wrong Marks : 0.25

The following sentence has been divided into three parts. One of them may be incorrect. Choose the INCORRECT part from the given options. If you don't find any error, mark 'No error' as your answer.

As I crossed the hospital grounds, / I was noticed some really /beautiful flowers.

Options :

1. ✖ As I crossed the hospital grounds
2. ✔ I was noticed some really
3. ✖ beautiful flowers.
4. ✖ No error

Question Number : 62 Question Id : 99836757464 Question Type : MCQ Option Shuffling : Yes
Correct Marks : 1 Wrong Marks : 0.25

The following sentence has been divided into three parts. One of them may be incorrect. Choose the INCORRECT part from the given options. If you don't find any error, mark 'No error' as your answer.

Many cultures eat the main / meal at midday and have a / light meal in the evening.

Options :

1. ✖ Many cultures eat the main
2. ✖ meal at midday and have a
3. ✖ light meal in the evening.

4. ✓ No error

Question Number : 62 Question Id : 99836757464 Question Type : MCQ Option Shuffling : Yes
Correct Marks : 1 Wrong Marks : 0.25

The following sentence has been divided into three parts. One of them may be incorrect. Choose the INCORRECT part from the given options. If you don't find any error, mark 'No error' as your answer.

Many cultures eat the main / meal at midday and have a / light meal in the evening.

Options :

1. ✗ Many cultures eat the main
2. ✗ meal at midday and have a
3. ✗ light meal in the evening.
4. ✓ No error

Question Number : 63 Question Id : 99836757465 Question Type : MCQ Option Shuffling : Yes
Correct Marks : 1 Wrong Marks : 0.25

Select the most appropriate option to substitute the underlined segment in the given sentence. If there is no need to substitute it, select option 'No substitution required '.

The range of flavours is determined by where the plant species is grown and how it is processed.

Options :

1. ✗ it was processed.
2. ✗ it is processing.
3. ✗ it was processing.

4. ✓ No substitution required

Question Number : 63 Question Id : 99836757465 Question Type : MCQ Option Shuffling : Yes

Correct Marks : 1 Wrong Marks : 0.25

Select the most appropriate option to substitute the underlined segment in the given sentence. If there is no need to substitute it, select option 'No substitution required '.

The range of flavours is determined by where the plant species is grown and how it is processed.

Options :

1. ✗ it was processed.
2. ✗ it is processing.
3. ✗ it was processing.
4. ✓ No substitution required

Question Number : 64 Question Id : 99836757466 Question Type : MCQ Option Shuffling : Yes

Correct Marks : 1 Wrong Marks : 0.25

Select the most appropriate option to substitute the underlined segment in the given sentence. If there is no need to substitute it, select option 'No substitution required '.

Gel ingredients work well on, waved, curled, relax, and texture hair in the long run.

Options :

1. ✗ relaxing, and textured
2. ✓ relaxed, and textured
3. ✗ relaxed and texturing
4. ✗ No substitution required

Question Number : 64 Question Id : 99836757466 Question Type : MCQ Option Shuffling : Yes
Correct Marks : 1 Wrong Marks : 0.25

Select the most appropriate option to substitute the underlined segment in the given sentence. If there is no need to substitute it, select option 'No substitution required '.

Gel ingredients work well on, waved, curled, relax, and texture hair in the long run.

Options :

1. ✗ relaxing, and textured
2. ✓ relaxed, and textured
3. ✗ relaxed and texturing
4. ✗ No substitution required

Question Number : 65 Question Id : 99836757467 Question Type : MCQ Option Shuffling : Yes
Correct Marks : 1 Wrong Marks : 0.25

Choose the correct word in the blank from the given options.

The property had been empty _____ last July but a couple of weeks ago his daughter moved in.

Options :

1. ✓ since
2. ✗ for
3. ✗ at
4. ✗ with

Question Number : 65 Question Id : 99836757467 Question Type : MCQ Option Shuffling : Yes
Correct Marks : 1 Wrong Marks : 0.25

Choose the correct word in the blank from the given options.

The property had been empty _____ last July but a couple of weeks ago his daughter moved in.

Options :

- 1. ✓ since
- 2. ✗ for
- 3. ✗ at
- 4. ✗ with

Question Number : 66 Question Id : 99836757468 Question Type : MCQ Option Shuffling : Yes
Correct Marks : 1 Wrong Marks : 0.25

Choose the correct word in the blank from the given options.

An argument is a form of reasoning whereby _____ gives a reason or reasons in support of some claim.

Options :

- 1. ✗ he
- 2. ✗ she
- 3. ✗ it
- 4. ✓ one

Question Number : 66 Question Id : 99836757468 Question Type : MCQ Option Shuffling : Yes
Correct Marks : 1 Wrong Marks : 0.25

Choose the correct word in the blank from the given options.

An argument is a form of reasoning whereby _____ gives a reason or reasons in support of some claim.

Options :

1. ✖ he
2. ✖ she
3. ✖ it
4. ✔ one

Question Number : 67 Question Id : 99836757469 Question Type : MCQ Option Shuffling : Yes
Correct Marks : 1 Wrong Marks : 0.25

Arrange the jumbled sentences to make a meaningful paragraph.

- A. Then, we added crackers and sweets to the celebrations and our excitement doubled.
- B. The heights of excitement while bursting crackers had no comparison.
- C. The origin of this festival was to light up every dark corner, streets and houses.
- D. Deepawali was incomplete without lights, crackers & sweets.
- E. Diwali – is the festival of lights.

Options :

1. ✔ ECABD
2. ✖ EABDC
3. ✖ EBDCA
4. ✖ EDCAB

Question Number : 67 Question Id : 99836757469 Question Type : MCQ Option Shuffling : Yes
Correct Marks : 1 Wrong Marks : 0.25

Arrange the jumbled sentences to make a meaningful paragraph.

- A. Then, we added crackers and sweets to the celebrations and our excitement doubled.
- B. The heights of excitement while bursting crackers had no comparison.
- C. The origin of this festival was to light up every dark corner, streets and houses.
- D. Deepawali was incomplete without lights, crackers & sweets.
- E. Diwali - is the festival of lights.

Options :

- 1. ✓ ECABD
- 2. ✗ EABDC
- 3. ✗ EBDCA
- 4. ✗ EDCAB

Question Number : 68 Question Id : 99836757470 Question Type : MCQ Option Shuffling : Yes
Correct Marks : 1 Wrong Marks : 0.25

Parts of a sentence have been jumbled up. Arrange these parts in a meaningful order.

- A. The Delhi government led by Mr Arvind Kejriwal
- B. in the national capital for 12 days period
- C. is currently toying with the idea of reintroducing
- D. to check pollution.
- E. the infamous 'Odd-Even Scheme'

Options :

1. ✓ ACEBD

2. ✗ AEBDC

3. ✗ ABDCE

4. ✗ ADCEB

Question Number : 68 Question Id : 99836757470 Question Type : MCQ Option Shuffling : Yes
Correct Marks : 1 Wrong Marks : 0.25

Parts of a sentence have been jumbled up. Arrange these parts in a meaningful order.

- A. The Delhi government led by Mr Arvind Kejriwal
- B. in the national capital for 12 days period
- C. is currently toying with the idea of reintroducing
- D. to check pollution.
- E. the infamous 'Odd-Even Scheme'

Options :

1. ✓ ACEBD

2. ✗ AEBDC

3. ✗ ABDCE

4. ✖ ADCEB

Question Number : 69 Question Id : 99836757471 Question Type : MCQ Option Shuffling : Yes
Correct Marks : 1 Wrong Marks : 0.25

Select the most appropriate synonym of the given word.

Envious

Options :

1. ✖ Harmless

2. ✖ Distress

3. ✖ Flawless

4. ✔ Jealous

Question Number : 69 Question Id : 99836757471 Question Type : MCQ Option Shuffling : Yes
Correct Marks : 1 Wrong Marks : 0.25

Select the most appropriate synonym of the given word.

Envious

Options :

1. ✖ Harmless

2. ✖ Distress

3. ✖ Flawless

4. ✔ Jealous

Question Number : 70 Question Id : 99836757472 Question Type : MCQ Option Shuffling : Yes
Correct Marks : 1 Wrong Marks : 0.25

Select the most appropriate antonym of the given word.

Courteous

Options :

1. ✖ Cunning

- 2. ✖ Incapable
- 3. ✖ Cheerful
- 4. ✔ Disrespectful

Question Number : 70 Question Id : 99836757472 Question Type : MCQ Option Shuffling : Yes
Correct Marks : 1 Wrong Marks : 0.25

Select the most appropriate antonym of the given word.

Courteous

Options :

- 1. ✖ Cunning
- 2. ✖ Incapable
- 3. ✖ Cheerful
- 4. ✔ Disrespectful

Question Number : 71 Question Id : 99836757473 Question Type : MCQ Option Shuffling : Yes
Correct Marks : 1 Wrong Marks : 0.25

Select the INCORRECTLY spelt word.

Options :

- 1. ✖ Dominant
- 2. ✖ Eloquent
- 3. ✖ Dispensary
- 4. ✔ Humilate

Question Number : 71 Question Id : 99836757473 Question Type : MCQ Option Shuffling : Yes
Correct Marks : 1 Wrong Marks : 0.25

Select the INCORRECTLY spelt word.

Options :

- 1. ✖ Dominant
- 2. ✖ Eloquent

3. ✖ Dispensary

4. ✔ Humilate

Question Number : 72 Question Id : 99836757474 Question Type : MCQ Option Shuffling : Yes

Correct Marks : 1 Wrong Marks : 0.25

Select the INCORRECTLY spelt word.

Options :

1. ✖ Canine

2. ✖ Compile

3. ✖ Bolster

4. ✔ Coureir

Question Number : 72 Question Id : 99836757474 Question Type : MCQ Option Shuffling : Yes

Correct Marks : 1 Wrong Marks : 0.25

Select the INCORRECTLY spelt word.

Options :

1. ✖ Canine

2. ✖ Compile

3. ✖ Bolster

4. ✔ Coureir

Question Number : 73 Question Id : 99836757475 Question Type : MCQ Option Shuffling : Yes

Correct Marks : 1 Wrong Marks : 0.25

Select the meaning of the given idiom.

The curtain falls

Options :

1. ✔ The end of something

2. ✖ To make something worse

3. ✖ To lack enthusiasm

4. ✖ To decide to do something

Question Number : 73 Question Id : 99836757475 Question Type : MCQ Option Shuffling : Yes
Correct Marks : 1 Wrong Marks : 0.25

Select the meaning of the given idiom.

The curtain falls

Options :

1. ✔ The end of something
2. ✖ To make something worse
3. ✖ To lack enthusiasm
4. ✖ To decide to do something

Question Number : 74 Question Id : 99836757476 Question Type : MCQ Option Shuffling : Yes
Correct Marks : 1 Wrong Marks : 0.25

Select the meaning of the given idiom.

Zip up your lip

Options :

1. ✖ To reveal a secret
2. ✔ To be quiet
3. ✖ To be friendly
4. ✖ To hold grudges

Question Number : 74 Question Id : 99836757476 Question Type : MCQ Option Shuffling : Yes
Correct Marks : 1 Wrong Marks : 0.25

Select the meaning of the given idiom.

Zip up your lip

Options :

1. ✖ To reveal a secret
2. ✔ To be quiet
3. ✖ To be friendly
4. ✖ To hold grudges

Question Number : 75 Question Id : 99836757477 Question Type : MCQ Option Shuffling : Yes
Correct Marks : 1 Wrong Marks : 0.25

Select the word which means the same as the group of words given.

A group of people assembled for religious worship.

Options :

1. ✔ Congregation
2. ✖ Conglomerate
3. ✖ Commission
4. ✖ Conflagration

Question Number : 75 Question Id : 99836757477 Question Type : MCQ Option Shuffling : Yes
Correct Marks : 1 Wrong Marks : 0.25

Select the word which means the same as the group of words given.

A group of people assembled for religious worship.

Options :

1. ✔ Congregation
2. ✖ Conglomerate
3. ✖ Commission
4. ✖ Conflagration

Sub-Section Number: 2
Sub-Section Id: 9983673088
Question Shuffling Allowed : Yes

Question Id : 99836757478 Question Type : COMPREHENSION Sub Question Shuffling Allowed : Yes Group Comprehension Questions : No
Question Numbers : (76 to 80)

Question Label : Comprehension



Read the following passage and answer the questions below.

There was a time in the 1960's and 1970's when some people believed that coffee would replace tea as Britain's favourite beverage.

In the event, that did not occur, and today, tea remains firmly anchored as Britain's favourite drink, accounting for over two fifths of all the drink consumed in Britain with the exception of water.

To say that the British are fond of tea is something of an understatement. From the Royal Family down to the humblest of the homeless and the out-of-work, tea is more than just a pleasure; it is an essential part of life! It is one of those things that distinguishes life in Britain from life anywhere else. The average Briton over the age of 10 drinks three and a half cups of tea per day, or 1,355 cups per year – mostly tea with milk in it — which puts Britain miles ahead of any other country in the international league of tea-drinking nations! Second and third in the league are the New Zealanders (889 cups) and the Australians (642 cups); in Europe, the nearest rival to Britain is Russia, where people only consume on average 325 cups of tea per year.

The popularity of tea in the United Kingdom has a long history, reflecting the nation's development since the seventeenth century. It was in 1657 that Thomas Garway, the owner of a coffee house, sold the first tea in London. The drink soon became popular as an alternative to coffee, and by the year 1700, there were over 500 coffee houses in the British capital selling the new drink.

Sub questions

Question Number : 76 Question Id : 99836757479 Question Type : MCQ Option Shuffling : Yes
Correct Marks : 1 Wrong Marks : 0.25

What does the word “understatement” as used in the first line of the second paragraph mean?

Options :

- 1. ✖ Understanding
- 2. ✔ Underestimation
- 3. ✖ Underachievement
- 4. ✖ Undertaking

Question Number : 77 Question Id : 99836757480 Question Type : MCQ Option Shuffling : Yes
Correct Marks : 1 Wrong Marks : 0.25

Which country comes second in terms of annual cups per capita consumption of tea?

Options :

- 1. ✖ Russia
- 2. ✖ Australia
- 3. ✔ New Zealand
- 4. ✖ USA

Question Number : 78 Question Id : 99836757481 Question Type : MCQ Option Shuffling : Yes
Correct Marks : 1 Wrong Marks : 0.25

What does the phrase “account for” mean as used in the second paragraph of the passage?

Options :

- 1. ✖ Accommodate
- 2. ✖ Enumerate
- 3. ✔ Amount to
- 4. ✖ Result

Question Number : 79 Question Id : 99836757482 Question Type : MCQ Option Shuffling : Yes
Correct Marks : 1 Wrong Marks : 0.25

What does the statement, "To say that the British are fond of tea is something of an understatement," not mean?

Options :

1. ✖ The British love tea
2. ✔ The British are indifferent to tea
3. ✖ The British can't do without tea
4. ✖ The British drink a lot of tea

Question Number : 80 Question Id : 99836757483 Question Type : MCQ Option Shuffling : Yes
Correct Marks : 1 Wrong Marks : 0.25

What according to the author does the long history of popularity of tea reflect?

Options :

1. ✔ How the country has developed since the 17th century
2. ✖ How tea has become an integral part of life
3. ✖ How tea is consumed by both the poor and the rich
4. ✖ How quickly tea became popular

Question Id : 99836757478 Question Type : COMPREHENSION Sub Question Shuffling Allowed : Yes Group Comprehension
Questions : No
Question Numbers : (76 to 80)

Question Label : Comprehension

Read the following passage and answer the questions below.

There was a time in the 1960's and 1970's when some people believed that coffee would replace tea as Britain's favourite beverage.

In the event, that did not occur, and today, tea remains firmly anchored as Britain's favourite drink, accounting for over two fifths of all the drink consumed in Britain with the exception of water.

To say that the British are fond of tea is something of an understatement. From the Royal Family down to the humblest of the homeless and the out-of-work, tea is more than just a pleasure; it is an essential part of life! It is one of those things that distinguishes life in Britain from life anywhere else. The average Briton over the age of 10 drinks three and a half cups of tea per day, or 1,355 cups per year - mostly tea with milk in it – which puts Britain miles ahead of any other country in the international league of tea-drinking nations! Second and third in the league are the New Zealanders (889 cups) and the Australians (642 cups); in Europe, the nearest rival to Britain is Russia, where people only consume on average 325 cups of tea per year.

The popularity of tea in the United Kingdom has a long history, reflecting the nation's development since the seventeenth century. It was in 1657 that Thomas Garway, the owner of a coffee house, sold the first tea in London. The drink soon became popular as an alternative to coffee, and by the year 1700, there were over 500 coffee houses in the British capital selling the new drink.

Sub questions

Question Number : 76 Question Id : 99836757479 Question Type : MCQ Option Shuffling : Yes
Correct Marks : 1 Wrong Marks : 0.25

What does the word “understatement” as used in the first line of the second paragraph mean?

Options :

1. ✖ Understanding
2. ✔ Underestimation
3. ✖ Underachievement
4. ✖ Undertaking

Question Number : 77 Question Id : 99836757480 Question Type : MCQ Option Shuffling : Yes
Correct Marks : 1 Wrong Marks : 0.25

Which country comes second in terms of annual cups per capita consumption of tea?

Options :

1. ✖ Russia
2. ✖ Australia
3. ✔ New Zealand
4. ✖ USA

Question Number : 78 Question Id : 99836757481 Question Type : MCQ Option Shuffling : Yes
Correct Marks : 1 Wrong Marks : 0.25

What does the phrase “account for” mean as used in the second paragraph of the passage?

Options :

1. ✖ Accommodate
2. ✖ Enumerate

3. ✓ Amount to

4. ✗ Result

Question Number : 79 Question Id : 99836757482 Question Type : MCQ Option Shuffling : Yes
Correct Marks : 1 Wrong Marks : 0.25

What does the statement, "To say that the British are fond of tea is something of an understatement," not mean?

Options :

1. ✗ The British love tea

2. ✓ The British are indifferent to tea

3. ✗ The British can't do without tea

4. ✗ The British drink a lot of tea

Question Number : 80 Question Id : 99836757483 Question Type : MCQ Option Shuffling : Yes
Correct Marks : 1 Wrong Marks : 0.25

What according to the author does the long history of popularity of tea reflect?

Options :

1. ✓ How the country has developed since the 17th century

2. ✗ How tea has become an integral part of life

3. ✗ How tea is consumed by both the poor and the rich

4. ✗ How quickly tea became popular

General Hindi

Group Number :	5
Group Id :	9983672115
Group Maximum Duration :	0
Group Minimum Duration :	0
Show Attended Group? :	No
Edit Attended Group? :	No
Break time:	0

Group Marks:	20
Is this Group for Examiner?:	No
Revisit allowed for group Instructions? :	Yes
Maximum Instruction Time:	0
Minimum Instruction Time:	0

General Hindi

Section Id :	9983672514
Section Number :	1
Section type :	Online
Mandatory or Optional:	Mandatory
Number of Questions:	16
Number of Questions to be attempted:	16
Section Marks:	20

Sub-Section Number:	1
Sub-Section Id:	9983673089
Question Shuffling Allowed :	Yes

Question Number : 81 Question Id : 99836757484 Question Type : MCQ Option Shuffling : Yes
Correct Marks : 1 Wrong Marks : 0.25

" प्रशांत एक कुशल कार्यकर्ता है" में विशेषण क्या है?

Options :

- 1. ✖ कार्यकर्ता
- 2. ✔ कुशल
- 3. ✖ प्रशांत
- 4. ✖ एक

Question Number : 81 Question Id : 99836757484 Question Type : MCQ Option Shuffling : Yes
Correct Marks : 1 Wrong Marks : 0.25

" प्रशांत एक कुशल कार्यकर्ता है" में विशेषण क्या है?

Options :

- 1. ✖ कार्यकर्ता
- 2. ✔ कुशल
- 3. ✖ प्रशांत
- 4. ✖ एक

Question Number : 82 Question Id : 99836757485 Question Type : MCQ Option Shuffling : Yes
Correct Marks : 1 Wrong Marks : 0.25

"नायिका" का संधि विच्छेद क्या होगा?

Options :

1. ✖ ने + इका
2. ✖ नैइ + का
3. ✔ नै + इका
4. ✖ नाई + इका

Question Number : 82 Question Id : 99836757485 Question Type : MCQ Option Shuffling : Yes
Correct Marks : 1 Wrong Marks : 0.25

"नायिका" का संधि विच्छेद क्या होगा?

Options :

1. ✖ ने + इका
2. ✖ नैइ + का
3. ✔ नै + इका
4. ✖ नाई + इका

Question Number : 83 Question Id : 99836757486 Question Type : MCQ Option Shuffling : Yes
Correct Marks : 1 Wrong Marks : 0.25

"धर्माधर्म" में कौन-सा समास है?

Options :

1. ✔ द्वंद्व समास
2. ✖ द्विगु समास
3. ✖ कर्मधारय समास
4. ✖ तत्पुरुष समास

Question Number : 83 Question Id : 99836757486 Question Type : MCQ Option Shuffling : Yes
Correct Marks : 1 Wrong Marks : 0.25

"धर्माधर्म" में कौन-सा समास है?

Options :

1. ✔ द्वंद्व समास

2. ✖ दिवगु समास
3. ✖ कर्मधारय समास
4. ✖ तत्पुरुष समास

Question Number : 84 Question Id : 99836757487 Question Type : MCQ Option Shuffling : Yes
Correct Marks : 1 Wrong Marks : 0.25

दिए गए वाक्य के लिए एक शब्द का चयन कीजिए:

"अच्छाई और बुराई को पहचानने का गुण कहलाता है।"

Options :

1. ✔ विवेक
2. ✖ ज्ञान
3. ✖ परिज्ञान
4. ✖ विद्वान

Question Number : 84 Question Id : 99836757487 Question Type : MCQ Option Shuffling : Yes
Correct Marks : 1 Wrong Marks : 0.25

दिए गए वाक्य के लिए एक शब्द का चयन कीजिए:

'अच्छाई और बुराई को पहचानने का गुण कहलाता है'

Options :

1. ✔ विवेक
2. ✖ ज्ञान
3. ✖ परिज्ञान
4. ✖ विद्वान

Question Number : 85 Question Id : 99836757488 Question Type : MCQ Option Shuffling : Yes
Correct Marks : 1 Wrong Marks : 0.25

निम्न में से "उर्वी" का पर्यायवाची शब्द क्या है?

Options :

1. ✖ शूर्यवीर

2. ✖ अभिमानी

3. ✖ गिरिजा

4. ✔ धरणी

Question Number : 85 Question Id : 99836757488 Question Type : MCQ Option Shuffling : Yes
Correct Marks : 1 Wrong Marks : 0.25

निम्न में से "उर्वी" का पर्यायवाची शब्द क्या है?

Options :

1. ✖ शूरवीर

2. ✖ अभिमानी

3. ✖ गिरिजा

4. ✔ धरणी

Question Number : 86 Question Id : 99836757489 Question Type : MCQ Option Shuffling : Yes
Correct Marks : 1 Wrong Marks : 0.25

अशुद्ध वर्तनी वाले शब्द का चयन कीजिए:

Options :

1. ✖ वित्तीय

2. ✖ कूटनीति

3. ✔ निश्चेश्ट

4. ✖ तत्पश्चात्

Question Number : 86 Question Id : 99836757489 Question Type : MCQ Option Shuffling : Yes
Correct Marks : 1 Wrong Marks : 0.25

अशुद्ध वर्तनी वाले शब्द का चयन कीजिए:

Options :

1. ✖ वित्तीय

2. ✖ कूटनीति

3. ✔ निश्चेश्ट

4. ✖ तत्पश्चात्

Question Number : 87 Question Id : 99836757490 Question Type : MCQ Option Shuffling : Yes
Correct Marks : 1 Wrong Marks : 0.25

"चिरस्थायी" का विलोम शब्द क्या है?

Options :

1. ✖ दीर्घस्थायी
2. ✔ अल्पस्थायी
3. ✖ स्थायीत्व
4. ✖ कल्पनाहीन

Question Number : 87 Question Id : 99836757490 Question Type : MCQ Option Shuffling : Yes
Correct Marks : 1 Wrong Marks : 0.25

"चिरस्थायी" का विलोम शब्द क्या है?

Options :

1. ✖ दीर्घस्थायी
2. ✔ अल्पस्थायी
3. ✖ स्थायीत्व
4. ✖ कल्पनाहीन

Question Number : 88 Question Id : 99836757491 Question Type : MCQ Option Shuffling : Yes
Correct Marks : 1 Wrong Marks : 0.25

वाक्य के शुद्ध रूप का चयन कीजिए:

Options :

1. ✖ कोई भी उसके काम न आया न।
2. ✖ कोइ उसके काम आये न।
3. ✔ कोई उसके काम न आया।
4. ✖ कोई भी उसके काम न आये।

Question Number : 88 Question Id : 99836757491 Question Type : MCQ Option Shuffling : Yes
Correct Marks : 1 Wrong Marks : 0.25

वाक्य के शुद्ध रूप का चयन कीजिए:

Options :

1. ✖ कोई भी उसके काम न आया न।

2. ✖ कोइ उसके काम आये न।
3. ✔ कोई उसके काम न आया।
4. ✖ कोई भी उसके काम न आये।

Question Number : 89 Question Id : 99836757492 Question Type : MCQ Option Shuffling : Yes

Correct Marks : 1 Wrong Marks : 0.25

कुछ पुल्लिंग संज्ञाएँ होती है जिनके रूप दोनों वचनों में एक से रहते है, इनमें से कौन-सा नहीं है?

Options :

1. ✖ कर्ता
2. ✔ वार्ता
3. ✖ बाबा
4. ✖ दादा

Question Number : 89 Question Id : 99836757492 Question Type : MCQ Option Shuffling : Yes

Correct Marks : 1 Wrong Marks : 0.25

कुछ पुल्लिंग संज्ञाएँ होती है जिनके रूप दोनों वचनों में एक से रहते है, इनमें से कौन-सा नहीं है?

Options :

1. ✖ कर्ता
2. ✔ वार्ता
3. ✖ बाबा
4. ✖ दादा

Question Number : 90 Question Id : 99836757493 Question Type : MCQ Option Shuffling : Yes

Correct Marks : 1 Wrong Marks : 0.25

वाक्य प्रकार का चयन कीजिए:

"प्रथम आने की कौन कहे कपिल से परीक्षा पास भी नहीं की जाती।"

Options :

1. ✖ कर्तृवाच्य

- 2. ✖ संयुक्त वाक्य
- 3. ✖ कर्मवाच्य
- 4. ✔ भाववाच्य

Question Number : 90 Question Id : 99836757493 Question Type : MCQ Option Shuffling : Yes
Correct Marks : 1 Wrong Marks : 0.25

वाक्य प्रकार का चयन कीजिए:

"प्रथम आने की कौन कहे कपिल से परीक्षा पास भी नहीं की जाती।"

Options :

- 1. ✖ कर्तृवाच्य
- 2. ✖ संयुक्त वाक्य
- 3. ✖ कर्मवाच्य
- 4. ✔ भाववाच्य

Question Number : 91 Question Id : 99836757494 Question Type : MCQ Option Shuffling : Yes
Correct Marks : 1 Wrong Marks : 0.25

निम्न में से कौन-सा शब्द बहुवचन है?

Options :

- 1. ✔ भाग्य
- 2. ✖ फ्रिज
- 3. ✖ तालाब
- 4. ✖ माली

Question Number : 91 Question Id : 99836757494 Question Type : MCQ Option Shuffling : Yes
Correct Marks : 1 Wrong Marks : 0.25

निम्न में से कौन-सा शब्द बहुवचन है?

Options :

- 1. ✔ भाग्य
- 2. ✖ फ्रिज

3. ✖ तालाब

4. ✖ माली

Question Number : 92 Question Id : 99836757495 Question Type : MCQ Option Shuffling : Yes

Correct Marks : 1 Wrong Marks : 0.25

मुहावरा "कुएँ में ही भाँग पड़ना " का क्या अर्थ है?

Options :

1. ✖ बुरे दिन आना

2. ✖ कुएँ से भाँग प्राप्त होना

3. ✔ सभी लोगों की मति भ्रष्ट होना

4. ✖ बाधा दूर होना

Question Number : 92 Question Id : 99836757495 Question Type : MCQ Option Shuffling : Yes

Correct Marks : 1 Wrong Marks : 0.25

मुहावरा "कुएँ में ही भाँग पड़ना " का क्या अर्थ है?

Options :

1. ✖ बुरे दिन आना

2. ✖ कुएँ से भाँग प्राप्त होना

3. ✔ सभी लोगों की मति भ्रष्ट होना

4. ✖ बाधा दूर होना

Question Number : 93 Question Id : 99836757496 Question Type : MCQ Option Shuffling : Yes

Correct Marks : 1 Wrong Marks : 0.25

लोकोक्ति "नदी नाव संयोग" का क्या अर्थ है?

Options :

1. ✖ कभी मिल न पाना

2. ✖ हर व्यक्ति का अपना भाग्य

3. ✖ सांसारिक अनुभव बहुत होना

4. ✔ कभी-कभी मिलना

Question Number : 93 Question Id : 99836757496 Question Type : MCQ Option Shuffling : Yes

Correct Marks : 1 Wrong Marks : 0.25

लोकोक्ति "नदी नाव संयोग" का क्या अर्थ है?

Options :

1. ✖ कभी मिल न पाना
2. ✖ हर व्यक्ति का अपना भाग्य
3. ✖ सांसारिक अनुभव बहुत होना
4. ✔ कभी-कभी मिलना

Question Number : 94 Question Id : 99836757497 Question Type : MCQ Option Shuffling : Yes

Correct Marks : 1 Wrong Marks : 0.25

मूल क्रिया के साथ प्रेरणार्थक क्रिया का प्रयोग किये जाने पर किस चिन्ह का प्रयोग होता है?

Options :

1. ✔ योजक चिन्ह
2. ✖ पूर्ण विराम चिन्ह
3. ✖ भावचिन्ह
4. ✖ विस्मयादिबोधक चिन्ह

Question Number : 94 Question Id : 99836757497 Question Type : MCQ Option Shuffling : Yes

Correct Marks : 1 Wrong Marks : 0.25

मूल क्रिया के साथ प्रेरणार्थक क्रिया का प्रयोग किये जाने पर किस चिन्ह का प्रयोग होता है?

Options :

1. ✔ योजक चिन्ह
2. ✖ पूर्ण विराम चिन्ह
3. ✖ भावचिन्ह
4. ✖ विस्मयादिबोधक चिन्ह

Question Number : 95 Question Id : 99836757498 Question Type : MCQ Option Shuffling : Yes

Correct Marks : 1 Wrong Marks : 0.25

मुहावरा "खून सफेद हो जाना" का क्या अर्थ है?

Options :

1. ✖ अत्यधिक बीमार होना
2. ✔ दया न रह जाना
3. ✖ कठिन कार्य पूरा करना
4. ✖ बुद्धि का लोहा मानना

Question Number : 95 Question Id : 99836757498 Question Type : MCQ Option Shuffling : Yes
Correct Marks : 1 Wrong Marks : 0.25

मुहावरा "खून सफेद हो जाना" का क्या अर्थ है?

Options :

1. ✖ अत्यधिक बीमार होना
2. ✔ दया न रह जाना
3. ✖ कठिन कार्य पूरा करना
4. ✖ बुद्धि का लोहा मानना

Sub-Section Number: 2
Sub-Section Id: 9983673090
Question Shuffling Allowed : Yes

Question Id : 99836757499 Question Type : COMPREHENSION Sub Question Shuffling Allowed : Yes Group Comprehension Questions : No

Question Numbers : (96 to 100)

Question Label : Comprehension

दिए गए गद्यांश का ध्यानपूर्वक अध्ययन कर प्रश्नों के उत्तर दीजिए:

ग्लोबल वार्मिंग सभी देशों के लिए बहुत बड़ी समस्या है और यह धरती के वातावरण पर लगातार बढ़ रही है इस समस्या से ना केवल मनुष्य, बल्कि धरती पर रहने वाले प्रत्येक प्राणी को नुकसान पहुंच रहा है और इस समस्या से निपटने के लिए प्रत्येक देश कुछ ना कुछ उपाय लगातार कर रहा है परंतु यह ग्लोबल वार्मिंग घटने की वजह निरंतर बढ़ ही रहा है ग्लोबल वार्मिंग के सबसे बड़े जिम्मेदार स्वयं मानव है, उसकी गतिविधियां ही कुछ ऐसी है कि हर तरफ लगातार ग्लोबल वॉर्मिंग बढ़ रहा है मनुष्य की इन गतिविधियों से खतरनाक गैस कार्बन डाइऑक्साइड, मीथेन, नाइट्रोजन ऑक्साइड, इत्यादी का ग्रीन हाउस गैसों की मात्रा में वातावरण में बढ़ोतरी हो रही है। ग्लोबल वार्मिंग की परिभाषा:— धरती के वातावरण में तापमान के लगातार हो रही विश्वव्यापी बढ़ोतरी को ग्लोबल वार्मिंग कहते हैं।

ग्लोबल वार्मिंग का अर्थ:— पृथ्वी के निकट स्थित हवाई और महासागर की औसत तापमान में बीसवीं शताब्दी से हो रही वृद्धि और उसकी अनुमानित निरंतरता से है। ग्लोबल वार्मिंग का प्राकृतिक कारण:- ग्लोबल वार्मिंग के कारण होने वाले जलवायु परिवर्तन के लिए सबसे अधिक जिम्मेदार ग्रीन हाउस गैसें हैं ग्रीन हाउस गैसें, वे गैसें होती हैं जो बाहर से मिल रही गर्मियां, उष्मा को अपने अंदर सोख लेती है ग्रीन हाउस गैसों में सबसे ज्यादा महत्वपूर्ण गैस कार्बन डाइऑक्साइड है जिसे हम जीवित प्राणी अपनी सांस के साथ उत्सर्जन करते हैं पर्यावरण वैज्ञानिकों के अनुसार पृथ्वी में वायुमंडल में कार्बन डाई ऑक्साइड की मात्रा बढ़ रही है पृथ्वी के वातावरण में प्रवेश कर यहां का तापमान बढ़ाने में कारक बनती है कार्बन डाइऑक्साइड, वैज्ञानिकों के अनुसार इन गैसों का उत्सर्जन इसी तरह चलता रहा तो 21वीं शताब्दी में हमारी पृथ्वी का तापमान 3 डिग्री से 8 डिग्री सेल्सियस तक बढ़ सकता है यदि ऐसा हुआ तो इसके परिणाम बहुत घातक होंगे दुनिया के कई हिस्सों में बर्फ की चादर बिछी जाएगी।

Sub questions

Question Number : 96 Question Id : 99836757500 Question Type : MCQ Option Shuffling : Yes

Correct Marks : 1 Wrong Marks : 0.25

उपरोक्त गद्यांश का उचित शीर्षक क्या है?

Options :

1. ✓ ग्लोबल वॉर्मिंग का महत्व

- 2. ✖ खतरनाक गैस कार्बन डाइऑक्साइड
- 3. ✖ नाइट्रोजन गैसे
- 4. ✖ मीथेन गैस

Question Number : 97 Question Id : 99836757501 Question Type : MCQ Option Shuffling : Yes

Correct Marks : 1 Wrong Marks : 0.25

उपरोक्त गद्यांश के संदर्भ में, वैज्ञानिकों के अनुसार गैसों का उत्सर्जन इसी तरह चलता रहा तो 21वीं शताब्दी में हमारी पृथ्वी का तापमान _____ तक बढ़ सकता है।

Options :

- 1. ✖ 13 डिग्री से 18 डिग्री सेल्सियस
- 2. ✖ 4 डिग्री से 9 डिग्री सेल्सियस
- 3. ✔ 3 डिग्री से 8 डिग्री सेल्सियस
- 4. ✖ 2 डिग्री से 9 डिग्री सेल्सियस

Question Number : 98 Question Id : 99836757502 Question Type : MCQ Option Shuffling : Yes

Correct Marks : 1 Wrong Marks : 0.25

उपरोक्त गद्यांश के अनुसार ग्लोबल वॉर्मिंग के कारण होने वाले जलवायु परिवर्तन के लिए सबसे अधिक जिम्मेदार कौन हैं?

Options :

- 1. ✖ आकाश
- 2. ✔ ग्रीन हाउस गैसे
- 3. ✖ पृथ्वी
- 4. ✖ महासागर

Question Number : 99 Question Id : 99836757503 Question Type : MCQ Option Shuffling : Yes

Correct Marks : 1 Wrong Marks : 0.25

उपरोक्त गद्यांश के संदर्भ में पर्यावरण वैज्ञानिकों के अनुसार पृथ्वी में वायुमंडल में किसकी मात्रा बढ़ रही है?

Options :

- 1. ✖ ऑक्सीजन
- 2. ✖ बर्फ की चादर
- 3. ✔ कार्बन डाई ऑक्साइड
- 4. ✖ बर्फ की चादर एवं ऑक्सीजन

Question Number : 100 Question Id : 99836757504 Question Type : MCQ Option Shuffling : Yes
Correct Marks : 1 Wrong Marks : 0.25

उपरोक्त गद्यांश के संदर्भ में कौन-सा कथन सही नहीं है?

Options :

1. ✖ ग्रीन हाउस गैसें, वे गैसें होती हैं जो बाहर से मिल रही गर्मियां, उष्मा को अपने अंदर सोख लेती हैं।
2. ✖ धरती के वातावरण में तापमान के लगातार हो रही विश्वव्यापी बढ़ोतरी को ग्लोबल वार्मिंग कहते हैं।
3. ✖ ग्रीन हाउस गैसों में सबसे ज्यादा महत्वपूर्ण गैस कार्बन डाइऑक्साइड है।
4. ✔ वायुमंडल में कार्बन डाई ऑक्साइड की मात्रा घट रही है।

Question Id : 99836757499 Question Type : COMPREHENSION Sub Question Shuffling Allowed : Yes Group Comprehension Questions : No

Question Numbers : (96 to 100)

Question Label : Comprehension



दिए गए गद्यांश का ध्यानपूर्वक अध्ययन कर प्रश्नों के उत्तर दीजिए:

ग्लोबल वॉर्मिंग सभी देशों के लिए बहुत बड़ी समस्या है और यह धरती के वातावरण पर लगातार बढ़ रही है इस समस्या से ना केवल मनुष्य, बल्कि धरती पर रहने वाले प्रत्येक प्राणी को नुकसान पहुंच रहा है और इस समस्या से निपटने के लिए प्रत्येक देश कुछ ना कुछ उपाय लगातार कर रहा है परंतु यह ग्लोबल वॉर्मिंग घटने की वजह निरंतर बढ़ ही रहा है ग्लोबल वॉर्मिंग के सबसे बड़े जिम्मेदार स्वयं मानव है, उसकी गतिविधियां ही कुछ ऐसी है कि हर तरफ लगातार ग्लोबल वॉर्मिंग बढ़ रहा है मनुष्य की इन गतिविधियों से खतरनाक गैस कार्बन डाइऑक्साइड, मीथेन, नाइट्रोजन ऑक्साइड, इत्यादी का ग्रीन हाउस गैसों की मात्रा में वातावरण में बढ़ोतरी हो रही है। ग्लोबल वॉर्मिंग की परिभाषा:- धरती के वातावरण में तापमान के लगातार हो रही विश्वव्यापी बढ़ोतरी को ग्लोबल वॉर्मिंग कहते हैं।

ग्लोबल वॉर्मिंग का अर्थ:- पृथ्वी के निकट स्थित हवाई और महासागर की औसत तापमान में बीसवीं शताब्दी से हो रही वृद्धि और उसकी अनुमानित निरंतरता से है।

ग्लोबल वॉर्मिंग का प्राकृतिक कारण:- ग्लोबल वॉर्मिंग के कारण होने वाले जलवायु परिवर्तन के लिए सबसे अधिक जिम्मेदार ग्रीन हाउस गैसें हैं ग्रीन हाउस गैसें, वे गैसें होती हैं जो बाहर से मिल रही गर्मियां, उष्मा को अपने अंदर सोख लेती हैं ग्रीन हाउस गैसों में सबसे ज्यादा महत्वपूर्ण गैस कार्बन डाइऑक्साइड है जिसे हम जीवित प्राणी अपनी सांस के साथ उत्सर्जन करते हैं पर्यावरण वैज्ञानिकों के अनुसार पृथ्वी में वायुमंडल में कार्बन डाइ ऑक्साइड की मात्रा बढ़ रही है पृथ्वी के वातावरण में प्रवेश कर यहां का तापमान बढ़ाने में कारक बनती है कार्बन डाइऑक्साइड, वैज्ञानिकों के अनुसार इन गैसों का उत्सर्जन इसी तरह चलता रहा तो 21वीं शताब्दी में हमारी पृथ्वी का तापमान 3 डिग्री से 8 डिग्री सेल्सियस तक बढ़ सकता है यदि ऐसा हुआ तो इसके परिणाम बहुत घातक होंगे दुनिया के कई हिस्सों में बर्फ की चादर बिछी जाएगी।

Sub questions

Question Number : 96 Question Id : 99836757500 Question Type : MCQ Option Shuffling : Yes
Correct Marks : 1 Wrong Marks : 0.25

उपरोक्त गद्यांश का उचित शीर्षक क्या है?

Options :

1. ✓ ग्लोबल वॉर्मिंग का महत्व
2. ✗ खतरनाक गैस कार्बन डाइऑक्साइड
3. ✗ नाइट्रोजन गैस
4. ✗ मीथेन गैस

Question Number : 97 Question Id : 99836757501 Question Type : MCQ Option Shuffling : Yes
Correct Marks : 1 Wrong Marks : 0.25

उपरोक्त गद्यांश के संदर्भ में, वैज्ञानिकों के अनुसार गैसों का उत्सर्जन इसी तरह चलता रहा तो 21वीं शताब्दी में हमारी पृथ्वी का तापमान _____ तक बढ़ सकता है।

Options :

1. ✗ 13 डिग्री से 18 डिग्री सेल्सियस
2. ✗ 4 डिग्री से 9 डिग्री सेल्सियस
3. ✓ 3 डिग्री से 8 डिग्री सेल्सियस
4. ✗ 2 डिग्री से 9 डिग्री सेल्सियस

Question Number : 98 Question Id : 99836757502 Question Type : MCQ Option Shuffling : Yes
Correct Marks : 1 Wrong Marks : 0.25

उपरोक्त गद्यांश के अनुसार ग्लोबल वॉर्मिंग के कारण होने वाले जलवायु परिवर्तन के लिए सबसे अधिक जिम्मेदार कौन हैं?

Options :

1. ✗ आकाश
2. ✓ ग्रीन हाउस गैस
3. ✗ पृथ्वी

4. ✖ महासागर

Question Number : 99 Question Id : 99836757503 Question Type : MCQ Option Shuffling : Yes
Correct Marks : 1 Wrong Marks : 0.25

उपरोक्त गद्यांश के संदर्भ में पर्यावरण वैज्ञानिकों के अनुसार पृथ्वी में वायुमंडल में किसकी मात्रा बढ़ रही है?

Options :

1. ✖ ऑक्सीजन
2. ✖ बर्फ की चादर
3. ✔ कार्बन डाई ऑक्साइड
4. ✖ बर्फ की चादर एवं ऑक्सीजन

Question Number : 100 Question Id : 99836757504 Question Type : MCQ Option Shuffling : Yes
Correct Marks : 1 Wrong Marks : 0.25

उपरोक्त गद्यांश के संदर्भ में कौन-सा कथन सही नहीं है?

Options :

1. ✖ ग्रीन हाउस गैसें, वे गैसें होती हैं जो बाहर से मिल रही गर्मियां, उष्मा को अपने अंदर सोख लेती हैं।
2. ✖ धरती के वातावरण में तापमान के लगातार हो रही विश्वव्यापी बढ़ोतरी को ग्लोबल वार्मिंग कहते हैं।
3. ✖ ग्रीन हाउस गैसों में सबसे ज्यादा महत्वपूर्ण गैस कार्बन डाईऑक्साइड है।
4. ✔ वायुमंडल में कार्बन डाई ऑक्साइड की मात्रा घट रही है।

Discipline1

Group Number :	6
Group Id :	9983672116
Group Maximum Duration :	0
Group Minimum Duration :	0
Show Attended Group? :	No

Edit Attended Group? :	No
Break time:	0
Group Marks:	20
Is this Group for Examiner?:	No
Revisit allowed for group Instructions? :	Yes
Maximum Instruction Time:	0
Minimum Instruction Time:	0

Discipline1

Section Id :	9983672515
Section Number :	1
Section type :	Online
Mandatory or Optional:	Mandatory
Number of Questions:	20
Number of Questions to be attempted:	20
Section Marks:	20

Sub-Section Number:	1
Sub-Section Id:	9983673091
Question Shuffling Allowed :	Yes

Question Number : 101 Question Id : 99836757505 Question Type : MCQ Option Shuffling : Yes
Correct Marks : 1 Wrong Marks : 0.25

Which of the following canons is described by Pandit Yashdra in his Jai Mangala?

Options :

- 1. ✖ Roopa Bheda, Pramanani, Bhava, Tulika, yojanam, Sadrisya, Bamikabhanga
- 2. ✔ Roopa Bheda, Pramanani, Bhava, Labanya, yojanam, Sadrisya, Bamikabhanga
- 3. ✖ Roopa Bheda, Pramanani, Bhava, Labanya, prashtha, Sadrisya, Bamikabhanga
- 4. ✖ Roopa Bheda, Pala, Bhava, Labanya, prashtha, Sadrisya, Bamikabhanga

Question Number : 101 Question Id : 99836757505 Question Type : MCQ Option Shuffling : Yes
Correct Marks : 1 Wrong Marks : 0.25

पंडित यशद्र ने किस कैनन्स (सिद्धांत) का वर्णन अपनी जय मंगला में किया है?

Options :

1. ✖ रूपा भेद, प्रमाननी, भाव, तुलिका, योजनम, सदृश्य, बामिकाभंगा
2. ✔ रूपा भेद, प्रमाननी, भाव, लाबान्या, योजनम, सदृश्य, बामिकाभंगा
3. ✖ रूपा भेद, प्रमाननी, भाव, लाबान्या, प्रष्ठा, सदृश्य, बामिकाभंगा
4. ✖ रूपा भेद, पाल, भाव, लाबान्या, प्रष्ठा, सदृश्य, बामिकाभंगा

Question Number : 102 Question Id : 99836757506 Question Type : MCQ Option Shuffling : Yes
Correct Marks : 1 Wrong Marks : 0.25

Which of the following is an explanation of "Rupabheda"?

Options :

1. ✔ The perception of difference in appearance
2. ✖ The perception of design in appearance
3. ✖ The part of design for approval
4. ✖ The painting of bheda

Question Number : 102 Question Id : 99836757506 Question Type : MCQ Option Shuffling : Yes
Correct Marks : 1 Wrong Marks : 0.25

"रूपाभेद" की व्याख्या निम्नलिखित में से कौन सी है?

Options :

1. ✔ प्रकटन में अंतर की धारणा
2. ✖ प्रकटन में डिजाइन की धारणा
3. ✖ अनुमोदन के लिए डिजाइन का हिस्सा
4. ✖ भेद की पेंटिंग

Question Number : 103 Question Id : 99836757507 Question Type : MCQ Option Shuffling : Yes
Correct Marks : 1 Wrong Marks : 0.25

What does Sādrśya, stand for in one of the limb of art?

Options :

1. ✖ Integrity
2. ✖ Spirituality
3. ✔ Similarity
4. ✖ Texture

Question Number : 103 Question Id : 99836757507 Question Type : MCQ Option Shuffling : Yes
Correct Marks : 1 Wrong Marks : 0.25

कला की शाखा (लिंब ऑफ आर्ट) में सादृश्य का क्या अर्थ होता है?

Options :

1. ✖ अखंडता (इंटिग्रिटी)
2. ✖ आध्यात्मिकता (स्परिचुअलिटी)
3. ✔ समानता (सिमिलरिटी)
4. ✖ बनावट (टेक्स्चर)

Question Number : 104 Question Id : 99836757508 Question Type : MCQ Option Shuffling : Yes
Correct Marks : 1 Wrong Marks : 0.25

Who was the author of kamasutra?

Options :

1. ✖ Mharishi Valmiki
2. ✖ Abhijit Bhattacharya
3. ✖ Banbhatta
4. ✔ Vatsayayana

Question Number : 104 Question Id : 99836757508 Question Type : MCQ Option Shuffling : Yes
Correct Marks : 1 Wrong Marks : 0.25

कामसूत्र के लेखक कौन थे?

Options :

1. ✖ महर्षि वाल्मीकि
2. ✖ अभिजीत भट्टाचार्य
3. ✖ बाणभट्ट

4. ✓ वात्स्यायन

Question Number : 105 Question Id : 99836757509 Question Type : MCQ Option Shuffling : Yes
Correct Marks : 1 Wrong Marks : 0.25

Which of the following artist, created Madhubani painting?

Options :

1. ✗ Urmila Devi
2. ✓ Mahasundari Devi
3. ✗ Jamini Roy
4. ✗ Appa Krishna

Question Number : 105 Question Id : 99836757509 Question Type : MCQ Option Shuffling : Yes
Correct Marks : 1 Wrong Marks : 0.25

मधुबनी पेंटिंग निम्नलिखित में से किस कलाकार ने बनाई थी?

Options :

1. ✗ उर्मिला देवी
2. ✓ महासुंदरी देवी
3. ✗ जैमिनी रॉय
4. ✗ अप्पा कृष्ण

Question Number : 106 Question Id : 99836757510 Question Type : MCQ Option Shuffling : Yes
Correct Marks : 1 Wrong Marks : 0.25

What is "Grammatica Damulica"?

Options :

1. ✓ Tamil translation of the Bible
2. ✗ Tamil translation of Geeta
3. ✗ Illustration book of Indian art
4. ✗ A book made by miniature artist

Question Number : 106 Question Id : 99836757510 Question Type : MCQ Option Shuffling : Yes
Correct Marks : 1 Wrong Marks : 0.25

"ग्रामाटिका दामूलिका" ("Grammatica Damulica") क्या है?

Options :

1. ✓ बाइबल का तमिल अनुवाद
2. ✖ गीता का तमिल अनुवाद
3. ✖ भारतीय कला कि चित्रण पुस्तक
4. ✖ लघु कलाकार (मिनिएचर आर्टिस्ट) द्वारा बनाई गई पुस्तक

Question Number : 107 Question Id : 99836757511 Question Type : MCQ Option Shuffling : Yes
Correct Marks : 1 Wrong Marks : 0.25

Which of the following artist created the print "A view of part of the palace of the late Nawab Suja ul Dowla at Faizabad"

Options :

1. ✖ Anupam Sud
2. ✖ Durer
3. ✓ William Hodges
4. ✖ Jyoti Bhatt

Question Number : 107 Question Id : 99836757511 Question Type : MCQ Option Shuffling : Yes
Correct Marks : 1 Wrong Marks : 0.25

निम्नलिखित में से किस कलाकार ने "फैजाबाद में स्वर्गीय नवाब सुजा उल दोला के महल का एक भाग" के प्रिंट की रचना की?

Options :

1. ✖ अनुपम सूद
2. ✖ ड्यूरर
3. ✓ विलियम होजेस
4. ✖ ज्योति भट्ट

Question Number : 108 Question Id : 99836757512 Question Type : MCQ Option Shuffling : Yes
Correct Marks : 1 Wrong Marks : 0.25

Word "Bat-Tala" is related to

Options :

1. ✓ Print

- 2. ✖ Painting
- 3. ✖ Photography
- 4. ✖ Architecture

Question Number : 108 Question Id : 99836757512 Question Type : MCQ Option Shuffling : Yes
Correct Marks : 1 Wrong Marks : 0.25

शब्द "बाट-ताल" किससे संबंधित है?

Options :

- 1. ✔ प्रिंट (छपाई)
- 2. ✖ पेंटिंग (चित्र)
- 3. ✖ फोटोग्राफी
- 4. ✖ आर्किटेक्चर

Question Number : 109 Question Id : 99836757513 Question Type : MCQ Option Shuffling : Yes
Correct Marks : 1 Wrong Marks : 0.25

Where did Raja Ravi Verma open his printing press?

Options :

- 1. ✖ Kota
- 2. ✔ Ghatkopar
- 3. ✖ Raipur
- 4. ✖ Gopalpur

Question Number : 109 Question Id : 99836757513 Question Type : MCQ Option Shuffling : Yes
Correct Marks : 1 Wrong Marks : 0.25

राजा रवि वर्मा ने अपनी प्रिंटिंग प्रेस कहाँ खोली थी?

Options :

- 1. ✖ कोटा
- 2. ✔ घाटकोपर
- 3. ✖ रायपुर
- 4. ✖ गोपालपुर

Question Number : 110 Question Id : 99836757514 Question Type : MCQ Option Shuffling : Yes
Correct Marks : 1 Wrong Marks : 0.25

The technique of utilizing acid in the process of making a plate is called_____.

Options :

1. ✓ Etching
2. ✗ Wood Cut
3. ✗ Silkscreen
4. ✗ Calligraphy

Question Number : 110 Question Id : 99836757514 Question Type : MCQ Option Shuffling : Yes
Correct Marks : 1 Wrong Marks : 0.25

प्लेट बनाने की प्रक्रिया में अम्ल के उपयोग की तकनीक को _____ कहा जाता है।

Options :

1. ✓ नक्काशी (एचिंग)
2. ✗ काष्ठ कट (वुड कट)
3. ✗ सिल्क स्क्रीन
4. ✗ सुलेख (कैलिग्राफी)

Question Number : 111 Question Id : 99836757515 Question Type : MCQ Option Shuffling : Yes
Correct Marks : 1 Wrong Marks : 0.25

Which of the following is not an etching techniques?

Options :

1. ✗ Soft Ground
2. ✗ Aquatint
3. ✗ Spit bite
4. ✓ Chalk style

Question Number : 111 Question Id : 99836757515 Question Type : MCQ Option Shuffling : Yes
Correct Marks : 1 Wrong Marks : 0.25

निम्नलिखित में से कौन सी एक नक्काशी (एचिंग) तकनीक नहीं है?

Options :

1. ✖ मृदु तल (सॉफ्ट ग्राउंड)
2. ✖ कलमकारी (एक्वाटिंट)
3. ✖ स्पिट बाइट
4. ✔ चाक शैली (चाक स्टाइल)

Question Number : 112 Question Id : 99836757516 Question Type : MCQ Option Shuffling : Yes

Correct Marks : 1 Wrong Marks : 0.25

Which of the following cave is well-known for horseshoe shaped hillside?

Options :

1. ✖ Bahama
2. ✔ Ajanta
3. ✖ Lomas Rishi
4. ✖ Baja

Question Number : 112 Question Id : 99836757516 Question Type : MCQ Option Shuffling : Yes

Correct Marks : 1 Wrong Marks : 0.25

निम्नलिखित में से कौन सी गुफा घोड़े की नाल जैसे आकार की पहाड़ी के लिए बेहतर जानी जाती है?

Options :

1. ✖ बहामा
2. ✔ अजंता
3. ✖ लोमस ऋषि
4. ✖ बाजा

Question Number : 113 Question Id : 99836757517 Question Type : MCQ Option Shuffling : Yes

Correct Marks : 1 Wrong Marks : 0.25

Amongst the numerous Gods represented in the bronze images, the most popular is _____.

Options :

- 1. ✖ Durga
- 2. ✖ Vishnu
- 3. ✔ Shiva
- 4. ✖ Mahesha

Question Number : 113 Question Id : 99836757517 Question Type : MCQ Option Shuffling : Yes
Correct Marks : 1 Wrong Marks : 0.25

कांस्य छवियों में प्रतिनिधित्व करने वाले कई देवताओं के बीच सबसे लोकप्रिय _____ है।

Options :

- 1. ✖ दुर्गा
- 2. ✖ विष्णु
- 3. ✔ शिव
- 4. ✖ महेश

Question Number : 114 Question Id : 99836757518 Question Type : MCQ Option Shuffling : Yes
Correct Marks : 1 Wrong Marks : 0.25

Where is Gol Gumbad built by Adil Shah located?

Options :

- 1. ✖ Raipur
- 2. ✔ Bijapur
- 3. ✖ Jaipur
- 4. ✖ Amritsar

Question Number : 114 Question Id : 99836757518 Question Type : MCQ Option Shuffling : Yes
Correct Marks : 1 Wrong Marks : 0.25

आदिल शाह द्वारा गोल गुम्बद कहाँ पर बनाया गया है?

Options :

1. ✖ रायपुर
2. ✔ बीजापुर
3. ✖ जयपुर
4. ✖ अमृतसर

Question Number : 115 Question Id : 99836757519 Question Type : MCQ Option Shuffling : Yes
Correct Marks : 1 Wrong Marks : 0.25

Who painted the Tanjore style painting of "Goddess Saraswati"?

Options :

1. ✖ Y. K Shukla
2. ✔ Chitragara Krishnappa
3. ✖ Anupam Sud
4. ✖ Krishna Reddy

Question Number : 115 Question Id : 99836757519 Question Type : MCQ Option Shuffling : Yes
Correct Marks : 1 Wrong Marks : 0.25

"देवी सरस्वती" की तंजौर शैली की पेंटिंग किसने बनाई थी?

Options :

1. ✖ वाई.के. शुक्ला
2. ✔ चित्रग्राह कृष्णअप्पा
3. ✖ अनुपम सूद
4. ✖ कृष्ण रेड्डी

Question Number : 116 Question Id : 99836757520 Question Type : MCQ Option Shuffling : Yes
Correct Marks : 1 Wrong Marks : 0.25

Which of the following is not a colour?

Options :

1. ✖ Acrylic colour
2. ✖ Oil colour

3. ✓ Fresco colour

4. ✗ Water colour

Question Number : 116 Question Id : 99836757520 Question Type : MCQ Option Shuffling : Yes
Correct Marks : 1 Wrong Marks : 0.25

निम्नलिखित में से कौन सा एक रंग नहीं है?

Options :

1. ✗ ऐक्रेलिक रंग (ऐक्रेलिक कलर)

2. ✗ तेल का रंग (ऑयल कलर)

3. ✓ फ्रेस्को रंग (फ्रेस्को कलर)

4. ✗ पानी का रंग (वाटर कलर)

Question Number : 117 Question Id : 99836757521 Question Type : MCQ Option Shuffling : Yes
Correct Marks : 1 Wrong Marks : 0.25

What is saturation?

Options :

1. ✗ Texture

2. ✓ Intensity

3. ✗ Background

4. ✗ Proportion

Question Number : 117 Question Id : 99836757521 Question Type : MCQ Option Shuffling : Yes
Correct Marks : 1 Wrong Marks : 0.25

संतृप्ति (सेचुरेशन) क्या है?

Options :

1. ✗ बनावट (टेक्स्चर)

2. ✓ तीव्रता (इन्टेंसिटी)

3. ✗ पृष्ठभूमि (बैकग्राउंड)

4. ✗ समानुपात (प्रपोर्शन)

Question Number : 118 Question Id : 99836757522 Question Type : MCQ Option Shuffling : Yes

Correct Marks : 1 Wrong Marks : 0.25

What is the size of an A4 paper?

Options :

- 1. ✖ 210 x 180 millimeters
- 2. ✖ 197 x 200 millimeters
- 3. ✔ 210 × 297 millimeters
- 4. ✖ 200 x 190 millimeters

Question Number : 118 Question Id : 99836757522 Question Type : MCQ Option Shuffling : Yes

Correct Marks : 1 Wrong Marks : 0.25

A4 पेपर का आकार कितना होता है?

Options :

- 1. ✖ 210 x 180 mm
- 2. ✖ 197 x 200 mm
- 3. ✔ 210 × 297 mm
- 4. ✖ 200 x 190 mm

Question Number : 119 Question Id : 99836757523 Question Type : MCQ Option Shuffling : Yes

Correct Marks : 1 Wrong Marks : 0.25

Which of the following is not used to fix paper on the board?

Options :

- 1. ✔ Thread
- 2. ✖ Board Clip
- 3. ✖ Masking Tape
- 4. ✖ Drawing Pins

Question Number : 119 Question Id : 99836757523 Question Type : MCQ Option Shuffling : Yes

Correct Marks : 1 Wrong Marks : 0.25

निम्नलिखित में से किसे बोर्ड पर कागज को स्थिर (फिक्स) करने के लिए उपयोग नहीं किया जाता है?

Options :

1. ✓ धागा
2. ✖ बोर्ड क्लिप
3. ✖ मास्किंग टेप
4. ✖ ड्रॉइंग पिन

Question Number : 120 Question Id : 99836757524 Question Type : MCQ Option Shuffling : Yes
Correct Marks : 1 Wrong Marks : 0.25

Which of the following is used in painting?

Options :

1. ✖ Rocker
2. ✓ Easel
3. ✖ G Clamp
4. ✖ Lute

Question Number : 120 Question Id : 99836757524 Question Type : MCQ Option Shuffling : Yes
Correct Marks : 1 Wrong Marks : 0.25

पेंटिंग (चित्रकला) में निम्नलिखित में से किसका उपयोग किया जाता है?

Options :

1. ✖ रॉकर
2. ✓ ईज़ल (चित्रफलक)
3. ✖ जी क्लैंप
4. ✖ ल्यूट (वीणा)

Discipline2

Group Number :	7
Group Id :	9983672117
Group Maximum Duration :	0
Group Minimum Duration :	0
Show Attended Group? :	No
Edit Attended Group? :	No
Break time:	0
Group Marks:	20

Is this Group for Examiner?:	No
Revisit allowed for group Instructions? :	Yes
Maximum Instruction Time:	0
Minimum Instruction Time:	0

Discipline2

Section Id :	9983672516
Section Number :	1
Section type :	Online
Mandatory or Optional:	Mandatory
Number of Questions:	20
Number of Questions to be attempted:	20
Section Marks:	20

Sub-Section Number:	1
Sub-Section Id:	9983673092
Question Shuffling Allowed :	Yes

Question Number : 121 Question Id : 99836757525 Question Type : MCQ Option Shuffling : Yes
Correct Marks : 1 Wrong Marks : 0.25

Which of the following is the largest size of a paper?

Options :

- 1. ✖ A1
- 2. ✔ A0
- 3. ✖ A2
- 4. ✖ A3

Question Number : 121 Question Id : 99836757525 Question Type : MCQ Option Shuffling : Yes
Correct Marks : 1 Wrong Marks : 0.25

निम्नलिखित में से कौन सा किसी कागज का सबसे बड़ा आकार है?

Options :

- 1. ✖ A1
- 2. ✔ A0
- 3. ✖ A2
- 4. ✖ A3

Question Number : 122 Question Id : 99836757526 Question Type : MCQ Option Shuffling : Yes
Correct Marks : 1 Wrong Marks : 0.25

Which of the following tool is the best for water colour?

Options :

1. ✖ Hog hair brush
2. ✔ Soft hair brush
3. ✖ Spatula
4. ✖ Knife

Question Number : 122 Question Id : 99836757526 Question Type : MCQ Option Shuffling : Yes
Correct Marks : 1 Wrong Marks : 0.25

निम्नलिखित में से कौन सा टूल (उपकरण) वॉटर कलर (पानी के रंग) के लिए सबसे अच्छा है?

Options :

1. ✖ हॉग हेयर ब्रश (हॉग बाल ब्रश)
2. ✔ सॉफ्ट हेयर ब्रश (नरम बाल ब्रश)
3. ✖ लेपनी (स्पुतुला)
4. ✖ चाकू (नाइफ)

Question Number : 123 Question Id : 99836757527 Question Type : MCQ Option Shuffling : Yes
Correct Marks : 1 Wrong Marks : 0.25

Rabbit is used in which of the following work?

Options :

1. ✔ Framing
2. ✖ Painting
3. ✖ Printing
4. ✖ Photography

Question Number : 123 Question Id : 99836757527 Question Type : MCQ Option Shuffling : Yes
Correct Marks : 1 Wrong Marks : 0.25

रैबेट का उपयोग निम्नलिखित में से किस कार्य में किया जाता है?

Options :

1. ✓ फ्रेमिंग
2. ✗ पेंटिंग
3. ✗ प्रिंटिंग (मुद्रण)
4. ✗ फोटोग्राफी

Question Number : 124 Question Id : 99836757528 Question Type : MCQ Option Shuffling : Yes
Correct Marks : 1 Wrong Marks : 0.25

A video consists of a sequence of:

Options :

1. ✗ Signals
2. ✓ Frames
3. ✗ Packets
4. ✗ Flags

Question Number : 124 Question Id : 99836757528 Question Type : MCQ Option Shuffling : Yes
Correct Marks : 1 Wrong Marks : 0.25

कोई वीडियो में किसका सिक्वेंस (अनुक्रम) होता है?

Options :

1. ✗ सिग्नल
2. ✓ फ्रेम्स
3. ✗ पैकेट्स
4. ✗ फ्लैग्स

Question Number : 125 Question Id : 99836757529 Question Type : MCQ Option Shuffling : Yes
Correct Marks : 1 Wrong Marks : 0.25

Which of the following is the most essential installation for display of museum?

Options :

1. ✗ Table system
2. ✓ Lighting system

3. ✖ Tagging system

4. ✖ Height system

Question Number : 125 Question Id : 99836757529 Question Type : MCQ Option Shuffling : Yes
Correct Marks : 1 Wrong Marks : 0.25

निम्नलिखित में से कौन सा संग्रहालय के प्रदर्शन के लिए सबसे आवश्यक प्रतिष्ठापन है?

Options :

1. ✖ टेबल प्रणाली (टेबल सिस्टम)

2. ✔ प्रकाश प्रणाली (लाइट सिस्टम)

3. ✖ टैगिंग प्रणाली (टैगिंग सिस्टम)

4. ✖ ऊंचाई प्रणाली (हाइट सिस्टम)

Question Number : 126 Question Id : 99836757530 Question Type : MCQ Option Shuffling : Yes
Correct Marks : 1 Wrong Marks : 0.25

Which of the following is important between display and viewer?

Options :

1. ✔ Eye level height and shoulder width

2. ✖ Sitting arrangement

3. ✖ Refreshment for visitors

4. ✖ Timing of exhibition

Question Number : 126 Question Id : 99836757530 Question Type : MCQ Option Shuffling : Yes
Correct Marks : 1 Wrong Marks : 0.25

प्रदर्शन (डिस्प्ले) और दर्शक (व्यूवर) के बीच निम्नलिखित में से कौन महत्वपूर्ण होता है?

Options :

1. ✔ आंख की ऊंचाई (आई लेवल हाइट) और कंधे की चौड़ाई (शोल्डर विड्थ)

2. ✖ बैठने की व्यवस्था
3. ✖ आगंतुकों के लिए जलपान
4. ✖ प्रदर्शनी (एक्जिबिशन) का समय

Question Number : 127 Question Id : 99836757531 Question Type : MCQ Option Shuffling : Yes
Correct Marks : 1 Wrong Marks : 0.25

_____ is the art or technique of producing images on a surface, usually paper, by means of marks, usually of ink, graphite, chalk, charcoal, or crayon.

Options :

1. ✔ Drawing
2. ✖ Photography
3. ✖ Film making
4. ✖ Rendering

Question Number : 127 Question Id : 99836757531 Question Type : MCQ Option Shuffling : Yes
Correct Marks : 1 Wrong Marks : 0.25

_____ किसी सतह (सरफेस), अमूमन कागज, पर निशान, अमूमन स्याही, ग्रेफाइट, चाक, चारकोल, या क्रेयॉन से चित्र बनाने की कला या तकनीक है।

Options :

1. ✔ ड्रॉइंग (चित्रकारी)
2. ✖ फोटोग्राफी
3. ✖ फिल्म मेकिंग (फिल्म निर्माण)
4. ✖ प्रतिपादन (रेंडरिंग)

Question Number : 128 Question Id : 99836757532 Question Type : MCQ Option Shuffling : Yes
Correct Marks : 1 Wrong Marks : 0.25

Which of the following technique employed in the visual arts is used to represent light and shadow as they define three-dimensional objects?

Options :

1. ✖ Impasto
2. ✖ Wash technique
3. ✖ Fresco
4. ✔ Chiaroscuro

Question Number : 128 Question Id : 99836757532 Question Type : MCQ Option Shuffling : Yes
Correct Marks : 1 Wrong Marks : 0.25

दृश्य कला (विजुअल आर्ट्स) में नियोजित निम्नलिखित में से किस तकनीक का उपयोग प्रकाश और छाया (लाइट एंड शैडो) दर्शाने के लिए किया जाता है क्योंकि वे तीन आयामी वस्तुओं (थ्री डायमेंशनल ऑब्जेक्ट) को परिभाषित करते हैं।

Options :

1. ✖ इमपैस्टो
2. ✖ धुलाई तकनीक (वाशिंग टेक्निक)
3. ✖ फ्रेस्को
4. ✔ चेरास्क्यूरो

Question Number : 129 Question Id : 99836757533 Question Type : MCQ Option Shuffling : Yes
Correct Marks : 1 Wrong Marks : 0.25

Which of the following artist did installation art?

Options :

1. ✖ Anupam Sud
2. ✔ Subodh Gupta
3. ✖ Dhanraj Bhagat
4. ✖ Jeram Patel

Question Number : 129 Question Id : 99836757533 Question Type : MCQ Option Shuffling : Yes
Correct Marks : 1 Wrong Marks : 0.25

निम्नलिखित में से किस कलाकार ने स्थापत्य कला (इंस्टालेशन आर्ट) की थी?

Options :

1. ✖ अनुपम सूद
2. ✔ सुबोध गुप्ता
3. ✖ धनराज भगत
4. ✖ जेरम पटेल

Question Number : 130 Question Id : 99836757534 Question Type : MCQ Option Shuffling : Yes
Correct Marks : 1 Wrong Marks : 0.25

Which of the following artist did work "Fountain"?

Options :

1. ✔ Marcel Duchamp
2. ✖ John Miro
3. ✖ Andy Warhol
4. ✖ David Hockney

Question Number : 130 Question Id : 99836757534 Question Type : MCQ Option Shuffling : Yes
Correct Marks : 1 Wrong Marks : 0.25

निम्नलिखित में से किस कलाकार ने "फाउंटेन" कार्य किया था?

Options :

1. ✔ मार्सेल डुकैम्प
2. ✖ जॉन मिरो
3. ✖ एंडी वारहोल
4. ✖ डेविड हॉकनी

Question Number : 131 Question Id : 99836757535 Question Type : MCQ Option Shuffling : Yes
Correct Marks : 1 Wrong Marks : 0.25

Which of the following artist did work "The Pack"?

Options :

1. ✖ Subodh Gupta
2. ✖ Anish Kapoor
3. ✖ Marcel Duchamp
4. ✔ Joseph Beuys

Question Number : 131 Question Id : 99836757535 Question Type : MCQ Option Shuffling : Yes
Correct Marks : 1 Wrong Marks : 0.25

निम्नलिखित में से किस कलाकार ने "द पैक" कार्य किया?

Options :

1. ✖ सुबोध गुप्ता
2. ✖ अनीश कपूर
3. ✖ मार्सेल डुकैम्प
4. ✔ यूसुफ बीयस

Question Number : 132 Question Id : 99836757536 Question Type : MCQ Option Shuffling : Yes
Correct Marks : 1 Wrong Marks : 0.25

A _____ is a thin transparent or semi-transparent layer on a painting which modifies the appearance of the underlying paint layer.

Options :

1. ✖ Scarlet
2. ✔ Glaze
3. ✖ Ivory
4. ✖ Tie & Die

Question Number : 132 Question Id : 99836757536 Question Type : MCQ Option Shuffling : Yes
Correct Marks : 1 Wrong Marks : 0.25

_____ एक पेंटिंग पर एक महीन पारदर्शी या अर्ध-पारदर्शी परत है जो अंतर्निहित पेंट परत की प्रकटन को संशोधित करती है।

Options :

1. ✖ स्कारलेट
2. ✔ ग्लेज
3. ✖ इवोरी
4. ✖ टाई एंड डाई

Question Number : 133 Question Id : 99836757537 Question Type : MCQ Option Shuffling : Yes
Correct Marks : 1 Wrong Marks : 0.25

Lapis Lazuli is related to ____ Colour.

Options :

1. ✔ Blue
2. ✖ Red
3. ✖ White
4. ✖ Black

Question Number : 133 Question Id : 99836757537 Question Type : MCQ Option Shuffling : Yes
Correct Marks : 1 Wrong Marks : 0.25

लैपिस लैज़्यूलि (लाजवर्द) _____ रंग से संबंधित है।

Options :

1. ✔ नीला
2. ✖ लाल
3. ✖ सफेद
4. ✖ काला

Question Number : 134 Question Id : 99836757538 Question Type : MCQ Option Shuffling : Yes
Correct Marks : 1 Wrong Marks : 0.25

In which medium, Scumbling technique is used?

Options :

1. ✖ Photography
2. ✔ Painting
3. ✖ Videography

4. ✖ Installation

Question Number : 134 Question Id : 99836757538 Question Type : MCQ Option Shuffling : Yes
Correct Marks : 1 Wrong Marks : 0.25

स्कंबलिंग तकनीक का उपयोग किस माध्यम में किया जाता है?

Options :

1. ✖ फोटोग्राफी
2. ✔ पेंटिंग
3. ✖ वीडियोग्राफी
4. ✖ इंस्टालेशन

Question Number : 135 Question Id : 99836757539 Question Type : MCQ Option Shuffling : Yes
Correct Marks : 1 Wrong Marks : 0.25

Which of the following word is related to pointillism art style?

Options :

1. ✖ Strengthening
2. ✔ Stippling
3. ✖ Scumbling
4. ✖ Dry Brush

Question Number : 135 Question Id : 99836757539 Question Type : MCQ Option Shuffling : Yes
Correct Marks : 1 Wrong Marks : 0.25

निम्नलिखित में से कौन सा शब्दबिंदु चित्रण कला शैली (पॉइंटिलिज़्म आर्ट स्टाइल) से संबंधित है?

Options :

1. ✖ स्ट्रेंथनिंग (बलकारक)
2. ✔ स्टिपलिंग (बिंदुचित्रण)
3. ✖ स्कम्बलिंग (वर्ण संस्करण)
4. ✖ ड्राई ब्रश (सूखा ब्रश)

Question Number : 136 Question Id : 99836757540 Question Type : MCQ Option Shuffling : Yes

Correct Marks : 1 Wrong Marks : 0.25

Which of the following colour is related to Raw Umber?

Options :

- 1. ✖ Black
- 2. ✖ White
- 3. ✖ Green
- 4. ✔ Brown

Question Number : 136 Question Id : 99836757540 Question Type : MCQ Option Shuffling : Yes

Correct Marks : 1 Wrong Marks : 0.25

निम्नलिखित में से कौन सा रंग राँ अंबर से संबंधित है?

Options :

- 1. ✖ काला
- 2. ✖ सफेद
- 3. ✖ हरा
- 4. ✔ भूरा

Question Number : 137 Question Id : 99836757541 Question Type : MCQ Option Shuffling : Yes

Correct Marks : 1 Wrong Marks : 0.25

_____ is a technique of wax-resist dyeing applied to whole cloth.

Options :

- 1. ✖ Kalamkari
- 2. ✖ Tint
- 3. ✔ Tjori Batik
- 4. ✖ Serigraphy

Question Number : 137 Question Id : 99836757541 Question Type : MCQ Option Shuffling : Yes

Correct Marks : 1 Wrong Marks : 0.25

_____ पूरे कपड़े पर लागू मोम-विरोध रंगाई (मोम-रेजिस्ट डाइंग) की एक तकनीक है।

Options :

1. ✖ कलमकारी
2. ✖ टिंट
3. ✔ तजोरी बाटिक
4. ✖ सेरिग्राफी

Question Number : 138 Question Id : 99836757542 Question Type : MCQ Option Shuffling : Yes
Correct Marks : 1 Wrong Marks : 0.25

What is a silverpoint?

Options :

1. ✖ A folk Song
2. ✔ A traditional drawing technique
3. ✖ Part of printing process
4. ✖ Part of composition

Question Number : 138 Question Id : 99836757542 Question Type : MCQ Option Shuffling : Yes
Correct Marks : 1 Wrong Marks : 0.25

सिल्वर पॉइंट क्या है?

Options :

1. ✖ एक लोक गीत
2. ✔ एक पारंपरिक ड्राइंग तकनीक
3. ✖ मुद्रण प्रक्रिया का हिस्सा
4. ✖ रचना का हिस्सा

Question Number : 139 Question Id : 99836757543 Question Type : MCQ Option Shuffling : Yes
Correct Marks : 1 Wrong Marks : 0.25

What is Pantograph?

Options :

1. ✔ A tool use for enlarging and reducing drawing
2. ✖ A tool use for correction of colour
3. ✖ A tool used for photography view

4. ✖ A tool used for mixing color

Question Number : 139 Question Id : 99836757543 Question Type : MCQ Option Shuffling : Yes
Correct Marks : 1 Wrong Marks : 0.25

पेंटोग्राफ क्या है?

Options :

1. ✔ ड्राइंग को बढ़ाने और घटाने में इस्तेमाल उपकरण
2. ✖ रंग सुधारने में इस्तेमाल उपकरण
3. ✖ फोटोग्राफी व्यू में इस्तेमाल उपकरण
4. ✖ रंग मिलाने में इस्तेमाल उपकरण

Question Number : 140 Question Id : 99836757544 Question Type : MCQ Option Shuffling : Yes
Correct Marks : 1 Wrong Marks : 0.25

Tesserae is used in which of the following medium?

Options :

1. ✖ Photography
2. ✖ Painting
3. ✔ Mosaic
4. ✖ Lithography

Question Number : 140 Question Id : 99836757544 Question Type : MCQ Option Shuffling : Yes
Correct Marks : 1 Wrong Marks : 0.25

टेसेरी का प्रयोग निम्नलिखित में से किस माध्यम में किया जाता है?

Options :

1. ✖ फोटोग्राफी
2. ✖ पेंटिंग
3. ✔ मौज़ाइक
4. ✖ लिथोग्राफी

Discipline3

Group Number :	8
Group Id :	9983672118
Group Maximum Duration :	0
Group Minimum Duration :	0
Show Attended Group? :	No
Edit Attended Group? :	No
Break time:	0
Group Marks:	20
Is this Group for Examiner?:	No
Revisit allowed for group Instructions? :	Yes
Maximum Instruction Time:	0
Minimum Instruction Time:	0

Discipline3

Section Id :	9983672517
Section Number :	1
Section type :	Online
Mandatory or Optional:	Mandatory
Number of Questions:	20
Number of Questions to be attempted:	20
Section Marks:	20

Sub-Section Number:	1
Sub-Section Id:	9983673093
Question Shuffling Allowed :	Yes

Question Number : 141 Question Id : 99836757545 Question Type : MCQ Option Shuffling : Yes
Correct Marks : 1 Wrong Marks : 0.25

In the term ortho-graphic, ‘ortho’ means?

Options :

- 1. ✖ Drawing
- 2. ✔ Straight
- 3. ✖ Projection
- 4. ✖ View

Question Number : 141 Question Id : 99836757545 Question Type : MCQ Option Shuffling : Yes
Correct Marks : 1 Wrong Marks : 0.25

ऑर्थो-ग्राफिक शब्द में, 'ऑर्थो' का मतलब क्या होता है?

Options :

1. ✖ ड्राइंग
2. ✔ स्ट्रेट
3. ✖ प्रोजेक्शन
4. ✖ व्यू

Question Number : 142 Question Id : 99836757546 Question Type : MCQ Option Shuffling : Yes
Correct Marks : 1 Wrong Marks : 0.25

What is vanishing point?

- Options :
1. ✖ Two line crossing the canvas
 2. ✖ Two box of charcoal
 3. ✔ The point at which receding parallel lines viewed in perspective appear to converge
 4. ✖ Point of Design in computer graphics

Question Number : 142 Question Id : 99836757546 Question Type : MCQ Option Shuffling : Yes
Correct Marks : 1 Wrong Marks : 0.25

वैनिश पॉइंट क्या है?

- Options :
1. ✖ दो लाइन कैनवास पार करते हैं
 2. ✖ चारकोल का दो डिब्बा
 3. ✔ वह बिंदु जिस पर प्रतिभारी समानांतर रेखाएं अभिसरण के परिप्रेक्ष्य दिखाई देती हैं
 4. ✖ कंप्यूटर ग्राफिक्स में डिजाइन का बिंदु

Question Number : 143 Question Id : 99836757547 Question Type : MCQ Option Shuffling : Yes
Correct Marks : 1 Wrong Marks : 0.25

Orthographic projection representing three-dimensional objects in _____.

Options :

1. ✓ Two dimensions
2. ✗ Four dimensions
3. ✗ Half dimension
4. ✗ Zero dimension

Question Number : 143 Question Id : 99836757547 Question Type : MCQ Option Shuffling : Yes
Correct Marks : 1 Wrong Marks : 0.25

ऑर्थोग्राफिक प्रक्षेपण _____ में त्रि-आयामी (थ्री डायमेंशनल) वस्तुओं का प्रतिनिधित्व करता है।

Options :

1. ✓ दो आयाम (टू डायमेंशन)
2. ✗ चार आयाम (फोर डायमेंशन)
3. ✗ आधा आयाम (हॉफ डायमेंशन)
4. ✗ शून्य आयाम (जीरो डायमेंशन)

Question Number : 144 Question Id : 99836757548 Question Type : MCQ Option Shuffling : Yes
Correct Marks : 1 Wrong Marks : 0.25

A _____ is a preparatory coating put on materials before painting.

Options :

1. ✓ Primer
2. ✗ Plastic
3. ✗ Panel
4. ✗ Paper

Question Number : 144 Question Id : 99836757548 Question Type : MCQ Option Shuffling : Yes
Correct Marks : 1 Wrong Marks : 0.25

एक _____ पेंटिंग से पहले सामग्री पर तैयार की जाने वाली कोटिंग है।

Options :

1. ✓ प्राइमर
2. ✖ प्लास्टिक
3. ✖ पैनल
4. ✖ पेपर

Question Number : 145 Question Id : 99836757549 Question Type : MCQ Option Shuffling : Yes
Correct Marks : 1 Wrong Marks : 0.25

What is the use of Pounce Wheel?

Options :

1. ✖ Making color chart for enamel paint
2. ✖ Transferring an idea from one surface desktop to another.
3. ✖ Color wheel for verity of color.
4. ✓ Transferring an image from one surface to another

Question Number : 145 Question Id : 99836757549 Question Type : MCQ Option Shuffling : Yes
Correct Marks : 1 Wrong Marks : 0.25

पॉउंस हवील का उपयोग क्या है?

Options :

1. ✖ एनामेल पेंट के लिए कलर चार्ट बनाना
2. ✖ विचार का एक सरफेस डेस्कटॉप से दूसरे पर स्थानांतरण
3. ✖ रंग सत्यापन के लिए कलर हवील
4. ✓ छवि का एक सरफेस से दूसरी सतह पर स्थानांतरण

Question Number : 146 Question Id : 99836757550 Question Type : MCQ Option Shuffling : Yes
Correct Marks : 1 Wrong Marks : 0.25

Who of the following was the founder of video art?

Options :

1. ✖ John Cage
2. ✓ Nam June Paik
3. ✖ Arte Povera

4. ✖ Duchamp

Question Number : 146 Question Id : 99836757550 Question Type : MCQ Option Shuffling : Yes
Correct Marks : 1 Wrong Marks : 0.25

निम्नलिखित में से कौन वीडियो आर्ट का संस्थापक था?

Options :

1. ✖ जॉन केज
2. ✔ नाम जून पाइक
3. ✖ अरते पोवरे
4. ✖ डुकैम्प

Question Number : 147 Question Id : 99836757551 Question Type : MCQ Option Shuffling : Yes
Correct Marks : 1 Wrong Marks : 0.25

Which of the following does not enhance listening skills?

Options :

1. ✖ Attention
2. ✖ Focus
3. ✖ Clear perception
4. ✔ Ignoring

Question Number : 147 Question Id : 99836757551 Question Type : MCQ Option Shuffling : Yes
Correct Marks : 1 Wrong Marks : 0.25

निम्नलिखित में से कौन श्रवण कौशल (लिसेनिंग स्किल) को नहीं बढ़ाता है?

Options :

1. ✖ अटेंशन (ध्यान)
2. ✖ फोकस
3. ✖ क्लियर परसेप्शन (स्पष्ट बोध)
4. ✔ इग्नोरिंग (उपेक्षा)

Question Number : 148 Question Id : 99836757552 Question Type : MCQ Option Shuffling : Yes

Correct Marks : 1 Wrong Marks : 0.25

What is a Verbal Communication?

Options :

1. ✖ Talking to someone
2. ✔ When someone is talking and someone else is listening
3. ✖ When more than one person is writing
4. ✖ When someone is shouting

Question Number : 148 Question Id : 99836757552 Question Type : MCQ Option Shuffling : Yes

Correct Marks : 1 Wrong Marks : 0.25

एक मौखिक संचार (वर्बल कम्युनिकेशन) क्या है?

Options :

1. ✖ किसी से बात करना
2. ✔ जब कोई बोल रहा हो और कोई और सुन रहा हो
3. ✖ जब एक से अधिक व्यक्ति लिख रहे हों
4. ✖ जब कोई चिल्ला रहा हो

Question Number : 149 Question Id : 99836757553 Question Type : MCQ Option Shuffling : Yes

Correct Marks : 1 Wrong Marks : 0.25

Match the following with their techniques

- (a)Light to dark (i) Graphic
(b)Pasting (ii) Water Color
(c) G Clamp (iii) Silk Screen
(d) Etching (iv) Collage

Options :

1. ✔ (a)ii(b)iv(c)iii(d)i
2. ✖ (a)iii(b)iv(c)ii(d)i
3. ✖ (a)iii(b)i(c)ii(d)iv
4. ✖ (a)i(b)iv(c)ii(d)iii

Question Number : 149 Question Id : 99836757553 Question Type : MCQ Option Shuffling : Yes
Correct Marks : 1 Wrong Marks : 0.25

उनकी तकनीकों के साथ निम्नलिखित का मिलान करें

- (a) लाइट टू डार्क (i) ग्राफिक
- (b) पेस्टिंग (ii) वाटर कलर
- (c) जी क्लैप (iii) सिल्क स्क्रीन
- (d) एचिंग (iv) कोलाज

Options :

- 1. ✓ (a)ii(b)iv(c)iii(d)i
- 2. ✗ (a)iii(b)iv(c)ii(d)i
- 3. ✗ (a)iii(b)i(c)ii(d)iv
- 4. ✗ (a)i(b)iv(c)ii(d)iii

Question Number : 150 Question Id : 99836757554 Question Type : MCQ Option Shuffling : Yes
Correct Marks : 1 Wrong Marks : 0.25

Bolting cloth is used in which of the following medium?

Options :

- 1. ✗ Relief printing
- 2. ✓ Silkscreen
- 3. ✗ Lithography
- 4. ✗ Etching

Question Number : 150 Question Id : 99836757554 Question Type : MCQ Option Shuffling : Yes
Correct Marks : 1 Wrong Marks : 0.25

बोल्टिंग कलाथ का उपयोग निम्नलिखित में से किस माध्यम में किया जाता है?

Options :

- 1. ✗ रिलीफ प्रिंटिंग
- 2. ✓ सिल्कस्क्रीन

3. ✖ लिथोग्राफी

4. ✖ एचिंग

Question Number : 151 Question Id : 99836757555 Question Type : MCQ Option Shuffling : Yes

Correct Marks : 1 Wrong Marks : 0.25

Which of the following is white colour hex code?

Options :

1. ✖ #0000FF

2. ✖ #CD5C5C

3. ✖ #000000

4. ✔ #FFFFFF

Question Number : 151 Question Id : 99836757555 Question Type : MCQ Option Shuffling : Yes

Correct Marks : 1 Wrong Marks : 0.25

निम्नलिखित में से कौन सा सफेद रंग का (हवाइट कलर) हेक्स कोड है?

Options :

1. ✖ # 0000FF

2. ✖ # CD5C5C

3. ✖ # 000000

4. ✔ #FFFFFF

Question Number : 152 Question Id : 99836757556 Question Type : MCQ Option Shuffling : Yes

Correct Marks : 1 Wrong Marks : 0.25

Who wrote the book 'An album of Indian painting'?

Options :

1. ✖ Herbert Reed

2. ✔ Mulkraj Anand

3. ✖ P. N. Mago

4. ✖ John Devy

Question Number : 152 Question Id : 99836757556 Question Type : MCQ Option Shuffling : Yes

Correct Marks : 1 Wrong Marks : 0.25

‘एन एलबम ऑफ इंडियन पेंटिंग’ पुस्तक किसने लिखी है?

Options :

1. ✖ हरबर्ट रीड
2. ✔ मुल्कराज आनंद
3. ✖ पी.एन. मैगो
4. ✖ जॉन डेवी

Question Number : 153 Question Id : 99836757557 Question Type : MCQ Option Shuffling : Yes

Correct Marks : 1 Wrong Marks : 0.25

_____ means first rough draft or plan of any design, an outline or a drawing using pen, pencil or any other similar medium.

Options :

1. ✖ Typography
2. ✖ Photography
3. ✔ Sketch
4. ✖ Illustration

Question Number : 153 Question Id : 99836757557 Question Type : MCQ Option Shuffling : Yes

Correct Marks : 1 Wrong Marks : 0.25

_____ का अर्थ है किसी भी डिजाइन का पहला रफ ड्राफ्ट या प्लान, पेन या पेंसिल या किसी अन्य समान माध्यम का उपयोग करते हुए आउटलाइन (रूपरेखा) या ड्रॉइंग (रेखाचित्र)।

Options :

1. ✖ टाइपोग्राफी
2. ✖ फोटोग्राफी
3. ✔ स्केच
4. ✖ इलस्ट्रेशन

Question Number : 154 Question Id : 99836757558 Question Type : MCQ Option Shuffling : Yes

Correct Marks : 1 Wrong Marks : 0.25

Who designed the British council of Delhi?

Options :

1. ✖ B. V Doshi
2. ✔ Charles Correa
3. ✖ Le - Corbusier
4. ✖ Satish Gujral

Question Number : 154 Question Id : 99836757558 Question Type : MCQ Option Shuffling : Yes

Correct Marks : 1 Wrong Marks : 0.25

ब्रिटिश काउंसिल ऑफ देल्ही की डिजाइन किसने की थी?

Options :

1. ✖ बी.वी. दोशी
2. ✔ चार्ल्स कोरिया
3. ✖ ली-कुर्बुसीयर
4. ✖ सतीश गुजराल

Question Number : 155 Question Id : 99836757559 Question Type : MCQ Option Shuffling : Yes

Correct Marks : 1 Wrong Marks : 0.25

Which of the following artist did Sculpture work Flight?

Options :

1. ✔ Chintamoni kar
2. ✖ Pradodas Gupta
3. ✖ B.C. Sanyal
4. ✖ Jairam Patel

Question Number : 155 Question Id : 99836757559 Question Type : MCQ Option Shuffling : Yes

Correct Marks : 1 Wrong Marks : 0.25

निम्नलिखित में से किस कलाकार ने स्कल्प्चर वर्क फ्लाइट (मूर्तिकला उड़ान) का कार्य किया?

Options :

1. ✓ चिंतामोनी कर
2. ✖ प्रदोष गुप्ता
3. ✖ बी.सी. सान्याल
4. ✖ जयराम पटेल

Question Number : 156 Question Id : 99836757560 Question Type : MCQ Option Shuffling : Yes
Correct Marks : 1 Wrong Marks : 0.25

Somnath Hore is famous for?

Options :

1. ✖ Photography
2. ✖ Painting
3. ✓ Sculpture
4. ✖ Designing

Question Number : 156 Question Id : 99836757560 Question Type : MCQ Option Shuffling : Yes
Correct Marks : 1 Wrong Marks : 0.25

सोमनाथ होरे किसके लिए प्रसिद्ध हैं?

Options :

1. ✖ फोटोग्राफी
2. ✖ पेंटिंग
3. ✓ स्कल्पचर
4. ✖ डिज़ाइनिंग

Question Number : 157 Question Id : 99836757561 Question Type : MCQ Option Shuffling : Yes
Correct Marks : 1 Wrong Marks : 0.25

Which of the following is a primary colour?

Options :

1. ✓ Red Yellow Blue
2. ✖ Red Yellow Brown
3. ✖ Yellow Blue Orange

4. ✖ Red Green Yellow

Question Number : 157 Question Id : 99836757561 Question Type : MCQ Option Shuffling : Yes

Correct Marks : 1 Wrong Marks : 0.25

निम्नलिखित में से कौन सा एक प्राथमिक रंग है?

Options :

1. ✔ लाल पीला नीला
2. ✖ लाल पीला भूरा
3. ✖ पीला नीला नारंगी
4. ✖ लाल हरा पीला

Question Number : 158 Question Id : 99836757562 Question Type : MCQ Option Shuffling : Yes

Correct Marks : 1 Wrong Marks : 0.25

A triadic _____ scheme is a colour scheme that uses three colours that are evenly spaced on the colour wheel

Options :

1. ✖ Texture
2. ✔ Color
3. ✖ Tone
4. ✖ Paper

Question Number : 158 Question Id : 99836757562 Question Type : MCQ Option Shuffling : Yes

Correct Marks : 1 Wrong Marks : 0.25

एक त्रियाडिक _____ स्कीम एक कलर स्कीम (रंग योजना) है, जो तीन रंगों का उपयोग करती है जो समान रूप से कलर हवील (रंग के पहिए) पर होती हैं।

Options :

1. ✖ टेक्सचर (बनावट)
2. ✔ कलर (रंग)
3. ✖ टोन (सुर)

4. ✖ पेपर (कागज़)

Question Number : 159 Question Id : 99836757563 Question Type : MCQ Option Shuffling : Yes
Correct Marks : 1 Wrong Marks : 0.25

_____ is defined as a mark that connects two points; it has a beginning and an end.

Options :

- 1. ✖ Shape
- 2. ✖ Texture
- 3. ✓ Line
- 4. ✖ Form

Question Number : 159 Question Id : 99836757563 Question Type : MCQ Option Shuffling : Yes
Correct Marks : 1 Wrong Marks : 0.25

_____ को एक निशान के रूप में परिभाषित किया गया है जो दो बिंदुओं को जोड़ता है; इसकी शुरुआत और अंत होता है।

Options :

- 1. ✖ शेप (आकार)
- 2. ✖ टेक्सचर (बनावट)
- 3. ✓ लाइन (रेखा)
- 4. ✖ फॉर्म (रूप)

Question Number : 160 Question Id : 99836757564 Question Type : MCQ Option Shuffling : Yes
Correct Marks : 1 Wrong Marks : 0.25

Which of the following are the oldest methods for application of design on a fabric?

Options :

- 1. ✖ Lithograph printing
- 2. ✓ Block printing
- 3. ✖ Etching printing
- 4. ✖ Digital printing

Question Number : 160 Question Id : 99836757564 Question Type : MCQ Option Shuffling : Yes
Correct Marks : 1 Wrong Marks : 0.25

कपड़े पर डिजाइन के प्रयोज्यता के लिए निम्नलिखित में से कौन सी विधि सबसे पुरानी हैं?

Options :

- 1. ✖ लिथोग्राफ प्रिंटिंग
- 2. ✔ ब्लॉक प्रिंटिंग
- 3. ✖ एचिंग प्रिंटिंग
- 4. ✖ डिजिटल प्रिंटिंग

Discipline4

Group Number :	9
Group Id :	9983672119
Group Maximum Duration :	0
Group Minimum Duration :	0
Show Attended Group? :	No
Edit Attended Group? :	No
Break time:	0
Group Marks:	20
Is this Group for Examiner?:	No
Revisit allowed for group Instructions? :	Yes
Maximum Instruction Time:	0
Minimum Instruction Time:	0

Discipline4

Section Id :	9983672518
Section Number :	1
Section type :	Online
Mandatory or Optional:	Mandatory
Number of Questions:	20
Number of Questions to be attempted:	20
Section Marks:	20

Sub-Section Number:	1
Sub-Section Id:	9983673094
Question Shuffling Allowed :	Yes

Question Number : 161 Question Id : 99836757565 Question Type : MCQ Option Shuffling : Yes
Correct Marks : 1 Wrong Marks : 0.25

Where is 'Teli ka Mandir' situated?

Options :

1. ✓ Gwalior
2. ✗ Jaipur
3. ✗ Delhi
4. ✗ Mumbai

Question Number : 161 Question Id : 99836757565 Question Type : MCQ Option Shuffling : Yes
Correct Marks : 1 Wrong Marks : 0.25

‘तेली का मंदिर’ कहाँ पर स्थित है?

Options :

1. ✓ ग्वालियर
2. ✗ जयपुर
3. ✗ दिल्ली
4. ✗ मुंबई

Question Number : 162 Question Id : 99836757566 Question Type : MCQ Option Shuffling : Yes
Correct Marks : 1 Wrong Marks : 0.25

What is a Panorama?

Options :

1. ✗ Design Technique
2. ✓ Photography Technique
3. ✗ Printing Technique
4. ✗ Painting Technique

Question Number : 162 Question Id : 99836757566 Question Type : MCQ Option Shuffling : Yes
Correct Marks : 1 Wrong Marks : 0.25

पैनोरमा क्या है?

Options :

1. ✗ डिजाइन तकनीक

2. ✓ फोटोग्राफी तकनीक
3. ✗ प्रिंटिंग (मुद्रण) तकनीक
4. ✗ पेंटिंग तकनीक

Question Number : 163 Question Id : 99836757567 Question Type : MCQ Option Shuffling : Yes
Correct Marks : 1 Wrong Marks : 0.25

Isometric projection is commonly used in _____?

Options :

1. ✓ Engineering Drawing
2. ✗ Sketching
3. ✗ Thumbnail
4. ✗ Printing process

Question Number : 163 Question Id : 99836757567 Question Type : MCQ Option Shuffling : Yes
Correct Marks : 1 Wrong Marks : 0.25

सामान्यतः आइसोमेट्रिक प्रक्षेपण का उपयोग निम्नलिखित में से किसमें किया जाता है?

Options :

1. ✓ इंजीनियरिंग ड्राइंग
2. ✗ स्केच
3. ✗ थंबनेल
4. ✗ प्रिंटिंग प्रॉसेस (मुद्रण प्रक्रिया)

Question Number : 164 Question Id : 99836757568 Question Type : MCQ Option Shuffling : Yes
Correct Marks : 1 Wrong Marks : 0.25

What is a sketch?

Options :

1. ✗ An unfinished drawing
2. ✓ A rough drawing that has been executed freehand
3. ✗ An art performance

4. ✖ An unfinished art performance

Question Number : 164 Question Id : 99836757568 Question Type : MCQ Option Shuffling : Yes

Correct Marks : 1 Wrong Marks : 0.25

स्केच क्या है?

Options :

1. ✖ एक अपूर्ण ड्राइंग
2. ✔ रफ ड्राइंग (खुरदुरा रेखाचित्र) जिसे फ्रीहैंड (मुक्तहस्त) से क्रियान्वित किया जाता है
3. ✖ एक कला प्रदर्शन (परफॉरमेंस)
4. ✖ एक अपूर्ण कला प्रदर्शन (परफॉरमेंस)

Question Number : 165 Question Id : 99836757569 Question Type : MCQ Option Shuffling : Yes

Correct Marks : 1 Wrong Marks : 0.25

How many types of canvases are there?

Options :

1. ✔ Three types
2. ✖ Twenty types
3. ✖ Ten types
4. ✖ Hundred types

Question Number : 165 Question Id : 99836757569 Question Type : MCQ Option Shuffling : Yes

Correct Marks : 1 Wrong Marks : 0.25

कैनवास कुल कितने प्रकार के होते हैं?

Options :

1. ✔ तीन प्रकार
2. ✖ बीस प्रकार
3. ✖ दस प्रकार
4. ✖ सौ प्रकार

Question Number : 166 Question Id : 99836757570 Question Type : MCQ Option Shuffling : Yes

Correct Marks : 1 Wrong Marks : 0.25

Body language is a verbal communication or a non-verbal communication?

Options :

1. ✖ Verbal communication
2. ✔ Non - verbal communication
3. ✖ Verbal and non - verbal communication
4. ✖ Written communication

Question Number : 166 Question Id : 99836757570 Question Type : MCQ Option Shuffling : Yes

Correct Marks : 1 Wrong Marks : 0.25

भावभङ्गिमा (बॉडी लैंग्वेज) वाचिक संचार (वर्बल कम्युनिकेशन) या अवाचिक संचार (नॉनवर्बल कम्युनिकेशन) है?

Options :

1. ✖ वाचिक संचार
2. ✔ अवाचिक संचार
3. ✖ वाचिक और अवाचिक संचार
4. ✖ लिखित संचार

Question Number : 167 Question Id : 99836757571 Question Type : MCQ Option Shuffling : Yes

Correct Marks : 1 Wrong Marks : 0.25

What is a portrait painting?

Options :

1. ✖ A painting of the human body
2. ✖ A painting of a historical figure
3. ✔ An artistic representation of a person
4. ✖ An artistic representation of a landscape

Question Number : 167 Question Id : 99836757571 Question Type : MCQ Option Shuffling : Yes

Correct Marks : 1 Wrong Marks : 0.25

पोट्रेट पेंटिंग क्या है?

Options :

1. ✖ मानव शरीर की पेंटिंग
2. ✖ ऐतिहासिक आकृति की पेंटिंग
3. ✔ व्यक्ति का कलात्मक निरूपण
4. ✖ लैंडस्केप (परिदृश्य) का कलात्मक निरूपण

Question Number : 168 Question Id : 99836757572 Question Type : MCQ Option Shuffling : Yes
Correct Marks : 1 Wrong Marks : 0.25

Universally, there are _____ types of facial micro-expressions.

Options :

1. ✖ two
2. ✖ three
3. ✖ ten
4. ✔ seven

Question Number : 168 Question Id : 99836757572 Question Type : MCQ Option Shuffling : Yes
Correct Marks : 1 Wrong Marks : 0.25

सार्वभौमिक रूप से सूक्ष्म मुखाभिव्यक्ति (फेशियल माइक्रो-एक्प्रेसन्स) के कितने प्रकार होते हैं?

Options :

1. ✖ दो
2. ✖ तीन
3. ✖ दस
4. ✔ सात

Question Number : 169 Question Id : 99836757573 Question Type : MCQ Option Shuffling : Yes
Correct Marks : 1 Wrong Marks : 0.25

In the context of drawing, what is another word for 'eye level'?

Options :

1. ✔ Horizon level

- 2. ✖ Height level
- 3. ✖ Perspective level
- 4. ✖ Scale level

Question Number : 169 Question Id : 99836757573 Question Type : MCQ Option Shuffling : Yes
Correct Marks : 1 Wrong Marks : 0.25

ड्राइंग के संदर्भ में 'आई लेवल (आंख के बराबर)' के लिए एक और शब्द क्या है?

Options :

- 1. ✔ क्षैतिज स्तर (होरिजन लेवल)
- 2. ✖ ऊंचाई स्तर (हाइट लेवल)
- 3. ✖ परिप्रेक्ष्य स्तर (परस्पेक्टिव लेवल)
- 4. ✖ स्केल स्तर (स्केल लेवल)

Question Number : 170 Question Id : 99836757574 Question Type : MCQ Option Shuffling : Yes
Correct Marks : 1 Wrong Marks : 0.25

A person doing Calligraphy is known as a ?

Options :

- 1. ✔ Calligrapher
- 2. ✖ Typo calligrapher
- 3. ✖ Letter calligrapher
- 4. ✖ Lettering calligrapher

Question Number : 170 Question Id : 99836757574 Question Type : MCQ Option Shuffling : Yes
Correct Marks : 1 Wrong Marks : 0.25

कैलीग्राफी करने वाले व्यक्ति को किस नाम से जाना जाता है?

Options :

- 1. ✔ कैलीग्राफर
- 2. ✖ टाइपो कैलीग्राफर
- 3. ✖ लेटर कैलीग्राफर

4. ✖ लेटरिंग कैलीग्राफर

Question Number : 171 Question Id : 99836757575 Question Type : MCQ Option Shuffling : Yes
Correct Marks : 1 Wrong Marks : 0.25

Which of the following are the main types of pottery clay?

Options :

1. ✔ Kaolinite, montmorillonite-smectite, elite, and chlorite
2. ✖ Smooth clay, hard clay, wet clay
3. ✖ Hard clay , kaolinite,
4. ✖ Montmorillonite - smectite,

Question Number : 171 Question Id : 99836757575 Question Type : MCQ Option Shuffling : Yes
Correct Marks : 1 Wrong Marks : 0.25

निम्नलिखित में से कौन मिट्टी के पॉटरी क्ले (बर्तनों की मिट्टी) के मुख्य प्रकार हैं?

Options :

1. ✔ केओलिनाइट, मॉंटमोरिलोनाइट- स्मेक्टाइट, एलीट और क्लोराइट
2. ✖ स्मूथ क्ले (चिकनी मिट्टी), हार्ड क्ले (सख्त मिट्टी), वेट क्ले (गीली मिट्टी)
3. ✖ हार्ड क्ले (कठोर मिट्टी), केओलिनाइट
4. ✖ मॉंटमोरिलोनाइट - स्मेक्टाइट,

Question Number : 172 Question Id : 99836757576 Question Type : MCQ Option Shuffling : Yes
Correct Marks : 1 Wrong Marks : 0.25

A person who draws cartoons is known as a / an:

Options :

1. ✖ painter
2. ✖ typist
3. ✔ cartoonist
4. ✖ artist

Question Number : 172 Question Id : 99836757576 Question Type : MCQ Option Shuffling : Yes
Correct Marks : 1 Wrong Marks : 0.25

वह व्यक्ति जो कार्टून बनाता है उसे किस रूप में जाना जाता है?

Options :

1. ✖ पेंटर
2. ✖ टाइपिस्ट
3. ✔ कार्टूनिस्ट
4. ✖ आर्टिस्ट

Question Number : 173 Question Id : 99836757577 Question Type : MCQ Option Shuffling : Yes
Correct Marks : 1 Wrong Marks : 0.25

Which type of paint is used for long-lasting decoration?

Options :

1. ✔ Enamel paint
2. ✖ Charcoal paint
3. ✖ Kids spray paint
4. ✖ Water colour paint

Question Number : 173 Question Id : 99836757577 Question Type : MCQ Option Shuffling : Yes
Correct Marks : 1 Wrong Marks : 0.25

दीर्घकालीन (टिकाऊ) सजावट के लिए किस प्रकार के पेंट का उपयोग किया जाता है?

Options :

1. ✔ इनामेल पेंट
2. ✖ चारकोल पेंट
3. ✖ किड्सप्रे पेंटिंग
4. ✖ वाटर कलर पेंट

Question Number : 174 Question Id : 99836757578 Question Type : MCQ Option Shuffling : Yes
Correct Marks : 1 Wrong Marks : 0.25

Which pencils should artists use for shading?

Options :

1. ✖ H, N and SA pencils
2. ✖ AW, E and RT pencils
3. ✔ HB, H, B and all H and B pencils
4. ✖ RT and RG pencils

Question Number : 174 Question Id : 99836757578 Question Type : MCQ Option Shuffling : Yes
Correct Marks : 1 Wrong Marks : 0.25

शेडिंग (छायांकन) के लिए कलाकारों को किस पेंसिल का उपयोग करना चाहिए?

Options :

1. ✖ एच, एन और एस.ए. पेंसिलें
2. ✖ ए.डब्ल्यू., ई और आर.टी. पेंसिलें
3. ✔ एच.बी., एच, बी और सभी एच और बी पेंसिलें
4. ✖ आर.टी. और आर.जी. पेंसिलें

Question Number : 175 Question Id : 99836757579 Question Type : MCQ Option Shuffling : Yes
Correct Marks : 1 Wrong Marks : 0.25

The Great Bath is one of the well-known structures among the ruins of the ancient Indus Valley Civilization and it is located at _____.

Options :

1. ✔ Mohenjo-Daro
2. ✖ Karnataka
3. ✖ Sanchi
4. ✖ Agra

Question Number : 175 Question Id : 99836757579 Question Type : MCQ Option Shuffling : Yes
Correct Marks : 1 Wrong Marks : 0.25

प्राचीन सिंधु घाटी सभ्यता के खंडहरों के बीच द ग्रेट बाथ प्रसिद्ध संरचनाओं में से एक है और यह _____ पर स्थित है।

Options :

1. ✓ मोहनजोदड़ो
2. ✗ कर्नाटक
3. ✗ सांची
4. ✗ आगरा

Question Number : 176 Question Id : 99836757580 Question Type : MCQ Option Shuffling : Yes
Correct Marks : 1 Wrong Marks : 0.25

Cave _____ in Ajanta is a very elaborate rock-cut prayer (chaitya) hall from the late 5th century.

Options :

1. ✗ 100
2. ✗ 200
3. ✓ 19
4. ✗ 30

Question Number : 176 Question Id : 99836757580 Question Type : MCQ Option Shuffling : Yes
Correct Marks : 1 Wrong Marks : 0.25

5वीं सदी के अंत से अजंता में _____ गुफा बहुत विस्तृत रॉक-कट प्रेयर (चैत्य) हॉल है।

Options :

1. ✗ 100
2. ✗ 200
3. ✓ 19
4. ✗ 30

Question Number : 177 Question Id : 99836757581 Question Type : MCQ Option Shuffling : Yes
Correct Marks : 1 Wrong Marks : 0.25

Lomas Rishi cave is located in _____.

Options :

1. ✓ Barabar Hills
2. ✗ temple
3. ✗ Cave no. 15
4. ✗ Sanchi stupa

Question Number : 177 Question Id : 99836757581 Question Type : MCQ Option Shuffling : Yes
Correct Marks : 1 Wrong Marks : 0.25

लोमस ऋषि गुफा _____ में स्थित है।

Options :

1. ✓ बाराबर हिल्स
2. ✗ मंदिर
3. ✗ गुफा नं. 15
4. ✗ साँची स्तूप

Question Number : 178 Question Id : 99836757582 Question Type : MCQ Option Shuffling : Yes
Correct Marks : 1 Wrong Marks : 0.25

The Lingaraj Temple is an ancient temple situated in the_____.

Options :

1. ✗ Agra
2. ✗ Chandigarh
3. ✓ Bhubaneswar
4. ✗ Sanchi

Question Number : 178 Question Id : 99836757582 Question Type : MCQ Option Shuffling : Yes
Correct Marks : 1 Wrong Marks : 0.25

लिंगराज मंदिर _____ में स्थित एक प्राचीन मंदिर है।

Options :

1. ✗ आगरा
2. ✗ चंडीगढ़

3. ✓ भुवनेश्वर

4. ✖ सांची

Question Number : 179 Question Id : 99836757583 Question Type : MCQ Option Shuffling : Yes

Correct Marks : 1 Wrong Marks : 0.25

The Taj Mahal is located in _____.

Options :

1. ✖ Amravati

2. ✓ Agra

3. ✖ Mathura

4. ✖ Mysuru

Question Number : 179 Question Id : 99836757583 Question Type : MCQ Option Shuffling : Yes

Correct Marks : 1 Wrong Marks : 0.25

ताजमहल _____ में स्थित है।

Options :

1. ✖ अमरावती

2. ✓ आगरा

3. ✖ मथुरा

4. ✖ मैसूर

Question Number : 180 Question Id : 99836757584 Question Type : MCQ Option Shuffling : Yes

Correct Marks : 1 Wrong Marks : 0.25

The shape of which flower is carved on the cover of 'Bharhut Vedika'?

Options :

1. ✓ Lotus

2. ✖ Carnation

3. ✖ Rose

4. ✖ Lily

Question Number : 180 Question Id : 99836757584 Question Type : MCQ Option Shuffling : Yes
Correct Marks : 1 Wrong Marks : 0.25

'भरहुत वेदिका' के आवरण पर किस फूल की आकृति उकेरी गई है?

Options :

- 1. ✓ कमल
- 2. ✗ गुलनार
- 3. ✗ गुलाब
- 4. ✗ लिली

Discipline5

Group Number :	10
Group Id :	9983672120
Group Maximum Duration :	0
Group Minimum Duration :	120
Show Attended Group? :	No
Edit Attended Group? :	No
Break time:	0
Group Marks:	20
Is this Group for Examiner?:	No
Revisit allowed for group Instructions? :	Yes
Maximum Instruction Time:	0
Minimum Instruction Time:	0

Discipline5

Section Id :	9983672519
Section Number :	1
Section type :	Online
Mandatory or Optional:	Mandatory
Number of Questions:	20
Number of Questions to be attempted:	20
Section Marks:	20

Sub-Section Number:	1
Sub-Section Id:	9983673095
Question Shuffling Allowed :	Yes

Question Number : 181 Question Id : 99836757585 Question Type : MCQ Option Shuffling : Yes
Correct Marks : 1 Wrong Marks : 0.25

What is Gandhara Art?

Options :

1. ✓ It is a style of Buddhist visual art
2. ✗ miniature form
3. ✗ mosaic form
4. ✗ Painting in Ajanta caves

Question Number : 181 Question Id : 99836757585 Question Type : MCQ Option Shuffling : Yes

Correct Marks : 1 Wrong Marks : 0.25

गांधार कला (गांधार आर्ट) क्या है?

Options :

1. ✓ यह बौद्ध दृश्य कला की शैली है
2. ✗ लघु रूप
3. ✗ मस्जिद रूप
4. ✗ अजंता की गुफाओं में पेंटिंग

Question Number : 182 Question Id : 99836757586 Question Type : MCQ Option Shuffling : Yes

Correct Marks : 1 Wrong Marks : 0.25

Which medium of colours has great appeal and immediacy?

Options :

1. ✗ Poster colours
2. ✗ Glass colours
3. ✓ Water colours
4. ✗ Pencil colours

Question Number : 182 Question Id : 99836757586 Question Type : MCQ Option Shuffling : Yes

Correct Marks : 1 Wrong Marks : 0.25

रंगों के किस माध्यम में बड़ी अपील और तात्कालिकता है?

Options :

1. ✗ पोस्टर रंग (पोस्टर कलर्स)
2. ✗ कांच रंग (ग्लास कलर्स)

3. ✓ जल रंग (वाटर कलर्स)

4. ✖ पेंसिल रंग (पेंसिल कलर्स)

Question Number : 183 Question Id : 99836757587 Question Type : MCQ Option Shuffling : Yes

Correct Marks : 1 Wrong Marks : 0.25

What is a disadvantage of pastel colours?

Options :

1. ✖ They are very shiny.

2. ✓ They attract dust quickly.

3. ✖ They are messy to use.

4. ✖ They fade away quickly.

Question Number : 183 Question Id : 99836757587 Question Type : MCQ Option Shuffling : Yes

Correct Marks : 1 Wrong Marks : 0.25

पेस्टल कलर्स (रंगों) का नुकसान क्या है?

Options :

1. ✖ वे बहुत चमकदार होते हैं

2. ✓ उनमें धूल जल्दी लगती है

3. ✖ वे उपयोग में अव्यवस्थित होते हैं

4. ✖ वे जल्दी से मुरझा जाते हैं

Question Number : 184 Question Id : 99836757588 Question Type : MCQ Option Shuffling : Yes

Correct Marks : 1 Wrong Marks : 0.25

Which colour medium is ideal for working on location?

Options :

1. ✓ Water colour

2. ✖ Poster colour

3. ✖ Pencil colour

4. ✖ Coloured pen

Question Number : 184 Question Id : 99836757588 Question Type : MCQ Option Shuffling : Yes

Correct Marks : 1 Wrong Marks : 0.25

लोकेशन (स्थान) पर काम करने के लिए कौन सा रंग माध्यम आदर्श होते हैं?

Options :

1. ✓ जल रंग (वाटर कलर)
2. ✗ पोस्टर रंग (पोस्टर कलर)
3. ✗ पेंसिल रंग (पेंसिल कलर)
4. ✗ कलर्ड पेन

Question Number : 185 Question Id : 99836757589 Question Type : MCQ Option Shuffling : Yes
Correct Marks : 1 Wrong Marks : 0.25

What is still life?

Options :

1. ✓ The representation of motionless aspects of nature
2. ✗ Detail drawing
3. ✗ Line drawing
4. ✗ Light and shade drawing

Question Number : 185 Question Id : 99836757589 Question Type : MCQ Option Shuffling : Yes
Correct Marks : 1 Wrong Marks : 0.25

स्टिल लाइफ क्या है?

Options :

1. ✓ प्रकृति के गतिहीन पहलुओं का निरूपण
2. ✗ डिटेल ड्राइंग (विस्तार ड्राइंग)
3. ✗ लाइन ड्राइंग (रेखा चित्र)
4. ✗ लाइट और शेड ड्राइंग

Question Number : 186 Question Id : 99836757590 Question Type : MCQ Option Shuffling : Yes
Correct Marks : 1 Wrong Marks : 0.25

Which pencil's leads that are used for shading are the softest?

Options :

1. ✓ B upto 9 B
2. ✗ G upto 2 H
3. ✗ 2 D upto G
4. ✗ F upto Rt

Question Number : 186 Question Id : 99836757590 Question Type : MCQ Option Shuffling : Yes
Correct Marks : 1 Wrong Marks : 0.25

छायांकन के लिए उपयोग किया जाने वाले किस पेंसिल का लीड सबसे नरम होता है?

Options :

1. ✓ बी 9बी तक
2. ✗ जी 2एच तक
3. ✗ 2डी जी तक
4. ✗ एफ आर.टी. तक

Question Number : 187 Question Id : 99836757591 Question Type : MCQ Option Shuffling : Yes
Correct Marks : 1 Wrong Marks : 0.25

From which of the following woods is charcoal made?

Options :

1. ✗ Sandalwood
2. ✗ Sola wood
3. ✓ Carbonized wood
4. ✗ Cut wood

Question Number : 187 Question Id : 99836757591 Question Type : MCQ Option Shuffling : Yes
Correct Marks : 1 Wrong Marks : 0.25

निम्नलिखित में से किस लकड़ी से चारकोल बनाया जाता है?

Options :

1. ✗ सैंडलवुड (चंदन की लकड़ी)
2. ✗ सोला वुड (सोला की लकड़ी)

3. ✓ कार्बोनाईज़्ड वुड (कार्बनीकृत लकड़ी)

4. ✖ कट वुड (कटाव की लकड़ी)

Question Number : 188 Question Id : 99836757592 Question Type : MCQ Option Shuffling : Yes

Correct Marks : 1 Wrong Marks : 0.25

Artists use _____ to prevent charcoal drawings from being smudged?

Options :

1. ✖ oil

2. ✓ fixative

3. ✖ cold water

4. ✖ linseed oil

Question Number : 188 Question Id : 99836757592 Question Type : MCQ Option Shuffling : Yes

Correct Marks : 1 Wrong Marks : 0.25

चारकोल ड्राइंग में धब्बा लगने से रोकने के लिए कलाकार किसका उपयोग करते हैं?

Options :

1. ✖ ऑयल

2. ✓ फिक्सेटिव

3. ✖ कोल्ड वाटर

4. ✖ लिनसीड ऑयल

Question Number : 189 Question Id : 99836757593 Question Type : MCQ Option Shuffling : Yes

Correct Marks : 1 Wrong Marks : 0.25

What indicates the form or shape of an object?

Options :

1. ✖ Light and shade

2. ✖ Mass and line

3. ✓ Tone of shading

4. ✖ Paper and canvas

Question Number : 189 Question Id : 99836757593 Question Type : MCQ Option Shuffling : Yes
Correct Marks : 1 Wrong Marks : 0.25

किसी वस्तु का रूप या आकार क्या दर्शाता है?

Options :

1. ✖ लाइट और शेड (धूप और छांव)
2. ✖ मास और लाइन
3. ✔ शेडिंग टोन (छायांकन का टोन)
4. ✖ कागज और कैनवास

Question Number : 190 Question Id : 99836757594 Question Type : MCQ Option Shuffling : Yes
Correct Marks : 1 Wrong Marks : 0.25

Which of the following tones is the most practical to use on drawing paper while shading?

Options :

1. ✖ Even tone
2. ✔ Mid-tone
3. ✖ Mass tone
4. ✖ Mix tone

Question Number : 190 Question Id : 99836757594 Question Type : MCQ Option Shuffling : Yes
Correct Marks : 1 Wrong Marks : 0.25

निम्नलिखित में से कौन सा टोन (स्वर) शेडिंग (छायांकन) करते समय ड्राइंग पेपर पर उपयोग करने के लिए सबसे अधिक व्यावहारिक टोन (स्वर) है?

Options :

1. ✖ इवेन टोन
2. ✔ मिड-टोन
3. ✖ मास टोन

4. ✖ मिक्स टोन

Question Number : 191 Question Id : 99836757595 Question Type : MCQ Option Shuffling : Yes
Correct Marks : 1 Wrong Marks : 0.25

Ink behaves very much like _____.

Options :

1. ✔ watercolor
2. ✖ poster color
3. ✖ oil color
4. ✖ pencil colour

Question Number : 191 Question Id : 99836757595 Question Type : MCQ Option Shuffling : Yes
Correct Marks : 1 Wrong Marks : 0.25

स्याही बहुत हद तक किस तरह व्यवहार करती है?

Options :

1. ✔ वाटर कलर
2. ✖ पोस्टर कलर
3. ✖ ऑयल कलर
4. ✖ पेंसिल कलर

Question Number : 192 Question Id : 99836757596 Question Type : MCQ Option Shuffling : Yes
Correct Marks : 1 Wrong Marks : 0.25

Which of the following are the oldest drawing materials?

Options :

1. ✖ Brushes and pens
2. ✔ Charcoal and charcoal pencils
3. ✖ Flat brushes and nibs
4. ✖ Bamboo sticks

Question Number : 192 Question Id : 99836757596 Question Type : MCQ Option Shuffling : Yes
Correct Marks : 1 Wrong Marks : 0.25

निम्नलिखित में से कौन सी सबसे पुरानी ड्राइंग सामग्री है?

Options :

1. ✖ ब्रश और पेन
2. ✔ चारकोल और चारकोल पेंसिल
3. ✖ फ्लैट ब्रश और निब
4. ✖ बंबू स्टिक (बाँस की डंडी)

Question Number : 193 Question Id : 99836757597 Question Type : MCQ Option Shuffling : Yes
Correct Marks : 1 Wrong Marks : 0.25

Which of the following types of pens is convenient for fast sketches?

Options :

1. ✖ Colour pens
2. ✖ Pencil pens
3. ✖ Brush pens
4. ✔ Technical pens

Question Number : 193 Question Id : 99836757597 Question Type : MCQ Option Shuffling : Yes
Correct Marks : 1 Wrong Marks : 0.25

तेज रेखाचित्रों के लिए निम्नलिखित में से कौन सा पेन सुविधाजनक है?

Options :

1. ✖ कलर पेन
2. ✖ पेंसिल पेन
3. ✖ ब्रश पेन
4. ✔ टेक्निकल पेन

Question Number : 194 Question Id : 99836757598 Question Type : MCQ Option Shuffling : Yes
Correct Marks : 1 Wrong Marks : 0.25

The Ajanta caves are about 106 km north by road from the city _____.

Options :

1. ✖ Mumbai

- 2. ✖ Latur
- 3. ✖ Nagpur
- 4. ✔ Aurangabad

Question Number : 194 Question Id : 99836757598 Question Type : MCQ Option Shuffling : Yes
Correct Marks : 1 Wrong Marks : 0.25

अजंता की गुफाएँ _____ शहर से सड़क मार्ग द्वारा लगभग 106 km उत्तर में हैं।

Options :

- 1. ✖ मुंबई
- 2. ✖ लातूर
- 3. ✖ नागपुर
- 4. ✔ औरंगाबाद

Question Number : 195 Question Id : 99836757599 Question Type : MCQ Option Shuffling : Yes
Correct Marks : 1 Wrong Marks : 0.25

During the Renaissance period, _____ was known as a sculptor, architect, engineer, painter, musician and scientist.

Options :

- 1. ✔ Leonardo da Vinci
- 2. ✖ Michelangelo
- 3. ✖ Van Gough
- 4. ✖ Augustus

Question Number : 195 Question Id : 99836757599 Question Type : MCQ Option Shuffling : Yes
Correct Marks : 1 Wrong Marks : 0.25

पुनर्जागरण काल के दौरान, _____ को स्कल्प्टर (मूर्तिकार), आर्किटेक्ट (वास्तुकार), इंजीनियर (अभियंता), पेंटर (चित्रकार), म्यूजिशियन (संगीतकार) और साइंटिस्ट (वैज्ञानिक) के रूप में जाना जाता है।

Options :

1. ✓ लिओनार्दो दा विंची

2. ✖ माइकल एंजेलो

3. ✖ वैन गो

4. ✖ ऑगस्टस

Question Number : 196 Question Id : 99836757600 Question Type : MCQ Option Shuffling : Yes

Correct Marks : 1 Wrong Marks : 0.25

Painter and draftsman Henri Matisse was a _____ artist.

Options :

1. ✖ Roman

2. ✖ Greek

3. ✓ French

4. ✖ American

Question Number : 196 Question Id : 99836757600 Question Type : MCQ Option Shuffling : Yes

Correct Marks : 1 Wrong Marks : 0.25

पेंटर और ड्राफ्ट्समैन हेनरी मैटिस एक _____ कलाकार थे।

Options :

1. ✖ रोमन

2. ✖ ग्रीक

3. ✓ फ्रेंच

4. ✖ अमेरिकन

Question Number : 197 Question Id : 99836757601 Question Type : MCQ Option Shuffling : Yes

Correct Marks : 1 Wrong Marks : 0.25

Ancient Romans excelled in _____ and _____.

Options :

1. ✖ sculpting and artistry

2. ✖ writing and painting

3. ✖ painting and architecture

4. ✓ engineering and artistry

Question Number : 197 Question Id : 99836757601 Question Type : MCQ Option Shuffling : Yes
Correct Marks : 1 Wrong Marks : 0.25

प्राचीन रोमन के लोग _____ और _____ में उत्कृष्ट थे।

Options :

1. ✖ स्कल्प्चर (मूर्तिकला) और आर्टिस्ट्री (कलात्मकता)
2. ✖ राइटिंग (लेखन) और पेंटिंग (चित्रकारी)
3. ✖ पेंटिंग (चित्रकारी) और आर्किटेक्चर (वास्तुकला)
4. ✓ इंजीनियरिंग (अभियांत्रिकी) और आर्टिस्ट्री (कलात्मकता)

Question Number : 198 Question Id : 99836757602 Question Type : MCQ Option Shuffling : Yes
Correct Marks : 1 Wrong Marks : 0.25

In which of the following museums is the statue of Augustus kept?

Options :

1. ✖ London Museum
2. ✖ Greek Museum
3. ✓ Vatican Museum
4. ✖ Egyptian Museum

Question Number : 198 Question Id : 99836757602 Question Type : MCQ Option Shuffling : Yes
Correct Marks : 1 Wrong Marks : 0.25

निम्नलिखित में से किस संग्रहालय में ऑगस्टस की मूर्ति रखी गई है?

Options :

1. ✖ लंदन संग्रहालय
2. ✖ ग्रीक संग्रहालय
3. ✓ वेटिकन संग्रहालय
4. ✖ इजिप्शियन (मिस्र) संग्रहालय

Question Number : 199 Question Id : 99836757603 Question Type : MCQ Option Shuffling : Yes
Correct Marks : 1 Wrong Marks : 0.25

Which of the following is an example of early Christian pictorial art?

Options :

1. ✖ Paintings
2. ✖ Murals
3. ✔ Mosaics
4. ✖ Scripts

Question Number : 199 Question Id : 99836757603 Question Type : MCQ Option Shuffling : Yes
Correct Marks : 1 Wrong Marks : 0.25

निम्नलिखित में से कौन प्रारंभिक ईसाई कालीन चित्र कला का एक उदाहरण है?

Options :

1. ✖ पेंटिंग्स
2. ✖ म्यूरल्स
3. ✔ मोज़ेक
4. ✖ स्क्रिप्ट्स

Question Number : 200 Question Id : 99836757604 Question Type : MCQ Option Shuffling : Yes
Correct Marks : 1 Wrong Marks : 0.25

In Byzantine Art what did the church intend to symbolize?

Options :

1. ✖ Pillar
2. ✖ Hell
3. ✖ Hall interior
4. ✔ Heaven

Question Number : 200 Question Id : 99836757604 Question Type : MCQ Option Shuffling : Yes
Correct Marks : 1 Wrong Marks : 0.25

बाइज़ेंटाइन कला में चर्च किस के प्रतीकत्व का उद्देश्य था?

Options :

1. ✖ पिलर (स्तंभ)
2. ✖ हेल (नरक)
3. ✖ हॉल इंटीरियर
4. ✔ हेवेन (स्वर्ग)



Teachingninja.in