



Teachingninja.in



Latest Govt Job updates



Private Job updates



Free Mock tests available



Visit - teachingninja.in

DSSSB

Previous Year Paper
Foot Constable
27 June, 2019 Shift 1



Education Consultant India Ltd.

- Notations :
- 1.Options shown in green color and with ✓ icon are correct.
 - 2.Options shown in red color and with ✖ icon are incorrect.

Question Paper Name:	FOOT CONSTABLE 27th June Shift1
Subject Name:	FOOT CONSTABLE
Creation Date:	2019-06-27 11:56:34
Duration:	120
Total Marks:	200
Display Marks:	Yes
Share Answer Key With Delivery Engine:	No
Actual Answer Key:	Yes
Calculator:	None
Magnifying Glass Required?:	No
Ruler Required?:	No
Eraser Required?:	No
Scratch Pad Required?:	No
Rough Sketch/Notepad Required?:	No
Protractor Required?:	No
Show Watermark on Console?:	Yes
Highlighter:	No
Auto Save on Console?:	No

Mental Ability1

Group Number :	1
Group Id :	99836747
Group Maximum Duration :	0
Group Minimum Duration :	0
Show Attended Group? :	No
Edit Attended Group? :	No
Break time:	0
Group Marks:	20
Is this Group for Examiner?:	No
Revisit allowed for group Instructions? :	Yes
Maximum Instruction Time:	0
Minimum Instruction Time:	0

Mental Ability1

Section Id :	99836753
Section Number :	1

Section type :	Online
Mandatory or Optional:	Mandatory
Number of Questions:	20
Number of Questions to be attempted:	20
Section Marks:	20

Sub-Section Number:	1
Sub-Section Id:	99836795
Question Shuffling Allowed :	Yes

Question Number : 1 Question Id : 9983671731 Question Type : MCQ Option Shuffling : Yes

Correct Marks : 1 Wrong Marks : 0.25

Select the option that is related to the third term in the same way as the second term is related to the first term.

Liver : Human body : Motor : ?

Options :

1. ✓ Fan

2. ✗ Tape

3. ✗ Coil

4. ✗ Wings

Question Number : 1 Question Id : 9983671731 Question Type : MCQ Option Shuffling : Yes

Correct Marks : 1 Wrong Marks : 0.25

उस विकल्प का चयन करें जो तीसरे शब्द से उसी प्रकार से संबंधित है जिस प्रकार से दूसरा शब्द पहले शब्द से संबंधित है।

यकृत : मानव शरीर : मोटर : ?

Options :

1. ✓ पंखा

2. ✗ फीता

3. ✖ कुंडल

4. ✖ पंख

Question Number : 2 Question Id : 9983671732 Question Type : MCQ Option Shuffling : Yes

Correct Marks : 1 Wrong Marks : 0.25

Select the number that is related to the third number in the same way as the second number is related to the first term.

17 : 39 : 29 : ?

Options :

1. ✖ 64

2. ✔ 63

3. ✖ 67

4. ✖ 71

Question Number : 2 Question Id : 9983671732 Question Type : MCQ Option Shuffling : Yes

Correct Marks : 1 Wrong Marks : 0.25

उस संख्या का चयन करें जो तीसरी संख्या से उसी तरह संबंधित है जैसे दूसरी संख्या पहली संख्या से संबंधित है।

17 : 39 : 29 : ?

Options :

1. ✖ 64

2. ✔ 63

3. ✖ 67

4. ✖ 71

Question Number : 3 Question Id : 9983671733 Question Type : MCQ Option Shuffling : Yes
Correct Marks : 1 Wrong Marks : 0.25

Identify the odd word pair from the given options.

Options :

1. ✖ Pen : Paper

2. ✖ Needle : Cloth

3. ✖ Brush : Canvas

4. ✔ Shovel : Water

Question Number : 3 Question Id : 9983671733 Question Type : MCQ Option Shuffling : Yes
Correct Marks : 1 Wrong Marks : 0.25

दिए गए विकल्पों में से विषम / बेमेल शब्द युग्म को पहचानें।

Options :

1. ✖ कलम : कागज

2. ✖ सुई : कपड़ा

3. ✖ ब्रश : कैनवास

4. ✓ फावड़ा : पानी

Question Number : 4 Question Id : 9983671734 Question Type : MCQ Option Shuffling : Yes

Correct Marks : 1 Wrong Marks : 0.25

A group of three interrelated numbers is given. Select the number from the options that is similar to the given numbers and hence belongs to the same group.

29 : 31 : 37

Options :

1. ✗ 45

2. ✓ 47

3. ✗ 49

4. ✗ 57

Question Number : 4 Question Id : 9983671734 Question Type : MCQ Option Shuffling : Yes

Correct Marks : 1 Wrong Marks : 0.25

नीचे तीन संख्याओं का समूह दिया गया है, जो आपस में एक दूसरे से संबंधित हैं। दिए गए विकल्पों में से उस संख्या का चयन करें जो इन संख्याओं से संबंध रखती है और इस कारण से उसे इस समूह का हिस्सा माना जा सकता है।

29 : 31 : 37

Options :

1. ✗ 45

2. ✓ 47

3. ✗ 49

4. ✖ 57

Question Number : 5 Question Id : 9983671735 Question Type : MCQ Option Shuffling : Yes

Correct Marks : 1 Wrong Marks : 0.25

Which of the following is the same as Hens, Ducks and Crows?

Options :

1. ✖ Dolphin

2. ✖ Jelly fish

3. ✔ Eagle

4. ✖ Birds

Question Number : 5 Question Id : 9983671735 Question Type : MCQ Option Shuffling : Yes

Correct Marks : 1 Wrong Marks : 0.25

निम्नलिखित में से कौन सा विकल्प मुर्गी, बतख और कौवे के समान है?

Options :

1. ✖ डॉल्फिन

2. ✖ जेलिफिश

3. ✔ ईगल

4. ✖ पक्षी

Question Number : 6 Question Id : 9983671736 Question Type : MCQ Option Shuffling : Yes

Correct Marks : 1 Wrong Marks : 0.25

Identify the odd word pair from the given options.

Options :

1. ✖ Create : Destroy

2. ✖ Ignore : Notice

3. ✖ Initial : Final

4. ✔ Vacant : Empty

Question Number : 6 Question Id : 9983671736 Question Type : MCQ Option Shuffling : Yes
Correct Marks : 1 Wrong Marks : 0.25

दिए गए विकल्पों में से विषम / बेमेल शब्द युग्म को पहचानें।

Options :

1. ✖ बनाएं : नष्ट करें

2. ✖ ध्यान न दें : ध्यान दें

3. ✖ प्रारंभिक : अंतिम

4. ✔ रिक्त : खाली

Question Number : 7 Question Id : 9983671737 Question Type : MCQ Option Shuffling : Yes
Correct Marks : 1 Wrong Marks : 0.25

Identify the odd number pair from the given options.

Options :

1. ✖ 3 : 9

2. ✖ 8 : 64

3. ✖ 5 : 25

4. ✔ 6 : 216

Question Number : 7 Question Id : 9983671737 Question Type : MCQ Option Shuffling : Yes

Correct Marks : 1 Wrong Marks : 0.25

दिए गए विकल्पों में से विषम / बेमेल संख्या युग्म को पहचानें।

Options :

1. ✖ 3 : 9

2. ✖ 8 : 64

3. ✖ 5 : 25

4. ✔ 6 : 216

Question Number : 8 Question Id : 9983671738 Question Type : MCQ Option Shuffling : Yes

Correct Marks : 1 Wrong Marks : 0.25

In the morning, Rashid was standing facing the East. He took a right turn and walked 15 m then he turned left and walked 20 m. Which direction he is facing now?

Options :

1. ✔ East

2. ✖ North

3. ✖ South

4. ✖ West

Question Number : 8 Question Id : 9983671738 Question Type : MCQ Option Shuffling : Yes

Correct Marks : 1 Wrong Marks : 0.25

रशीद सुबह के समय पूर्व की ओर मुंह करके खड़ा था। इसके बाद वह दाईं ओर मुड़ा और 15 m चला फिर वह बाएं मुड़ा और 20 m चला। अब उसका मुंह किस दिशा की ओर है?

Options :

1. ✔ पूर्व

2. ✖ उत्तर

3. ✖ दक्षिण

4. ✖ पश्चिम

Question Number : 9 Question Id : 9983671739 Question Type : MCQ Option Shuffling : Yes

Correct Marks : 1 Wrong Marks : 0.25

Ram walks 20 m towards the South. Then he turns left and walks 30 m. Then he turns left and walks 20 m. Finally, he turns right and walks 45 m. How far is he now from his starting point?

Options :

1. ✖ 15 m

2. ✖ 15 km

3. ✔ 75 m

4. ✖ 75 km

Question Number : 9 Question Id : 9983671739 Question Type : MCQ Option Shuffling : Yes
Correct Marks : 1 Wrong Marks : 0.25

राम दक्षिण दिशा में 20 m चलता है। इसके बाद वह बाएं मुड़ता है और 30 m चलता है। वह फिर बाएं मुड़ता है और 20 m चलता है। अंत में, वह दाईं ओर मुड़ता है और 45 m चलता है। अब वह अपने शुरुआती बिंदु से कितनी दूर है?

Options :

1. ✖ 15 m

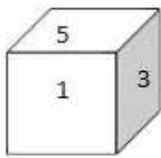
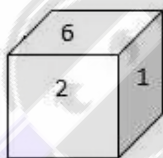
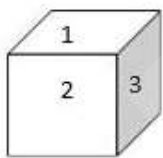
2. ✖ 15 km

3. ✔ 75 m

4. ✖ 75 km

Question Number : 10 Question Id : 9983671740 Question Type : MCQ Option Shuffling : Yes
Correct Marks : 1 Wrong Marks : 0.25

Three different positions of the same cube are shown. Which number will be at the bottom if '5' is at the top?



Options :

1. ✖ 1

2. ✔ 2

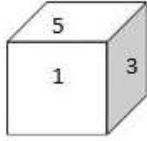
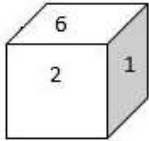
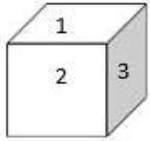
3. ✖ 4

4. ✖ 6

Question Number : 10 Question Id : 9983671740 Question Type : MCQ Option Shuffling : Yes

Correct Marks : 1 Wrong Marks : 0.25

एक ही घन की तीन अलग-अलग स्थितियां दिखाई गई हैं। यदि संख्या 5 घन के शीर्ष पर हो तो इसके नीचे (तल पर) कौन सी संख्या होगी?



Options :

1. ✖ 1

2. ✔ 2

3. ✖ 4

4. ✖ 6

Question Number : 11 Question Id : 9983671741 Question Type : MCQ Option Shuffling : Yes

Correct Marks : 1 Wrong Marks : 0.25

Six children A, B, C, D, E and F are standing in a line. F is standing second to the right of E and the immediate left of C. B is between D and C. Who is standing at the left extreme?

Options :

1. ✖ C

2. ✖ A

3. ✔ E

4. ✖ D

Question Number : 11 Question Id : 9983671741 Question Type : MCQ Option Shuffling : Yes

Correct Marks : 1 Wrong Marks : 0.25

छह बच्चे A, B, C, D, E और F एक पंक्ति में खड़े हैं। F, E के दाएं से दूसरे स्थान पर है और C के नजदीक बाईं ओर खड़ा है। B, D और C के बीच में खड़ा है। तो सबसे बाईं तरफ कौन खड़ा है?

Options :

1. ✖ C

2. ✖ A

3. ✔ E

4. ✖ D

Question Number : 12 Question Id : 9983671742 Question Type : MCQ Option Shuffling : Yes

Correct Marks : 1 Wrong Marks : 0.25

S, T, U, V, X, Y and Z are sitting around a round table for group discussion. Y is sitting third to the right of Z and between S and X. Z is sitting second to the right of U. V is sitting third to the left of X. Who is sitting to the right of X?

Options :

1. ✖ T

2. ✖ U

3. ✖ V

4. ✔ Y

Question Number : 12 Question Id : 9983671742 Question Type : MCQ Option Shuffling : Yes

Correct Marks : 1 Wrong Marks : 0.25

S, T, U, V, X, Y और Z समूह चर्चा के लिए एक गोल मेज के चारों ओर बैठे हैं। Y, Z के दाएं से तीसरे स्थान पर तथा S और X के बीच में बैठा हैं। Z, U के दाएं से दूसरे स्थान पर बैठा है। V, X के बायें से तीसरे स्थान पर बैठा है। X की दाहिनी ओर कौन बैठा है?

Options :

1. ✖ T

2. ✖ U

3. ✖ V

4. ✔ Y

Question Number : 13 Question Id : 9983671743 Question Type : MCQ Option Shuffling : Yes

Correct Marks : 1 Wrong Marks : 0.25

- I. Sahil is Salil's brother.
- II. Shreya is the daughter of Shyam and the elder sister of Salil.
- III. Sahil is the son of Shyam.

If the first two statements are true, the third statement is:

Options :

1. ✔ True

2. ✖ False

3. ✖ May be true

4. ✖ Uncertain

Question Number : 13 Question Id : 9983671743 Question Type : MCQ Option Shuffling : Yes

Correct Marks : 1 Wrong Marks : 0.25

- I. साहिल सलिल का भाई है।
 - II. श्रेया श्याम की बेटी और सलिल की बड़ी बहन है।
 - III. साहिल श्याम का बेटा है।
- यदि पहले दो कथन सत्य हैं, तो तीसरा कथन _____।

Options :

- 1. ✓ सत्य है
- 2. ✗ असत्य है
- 3. ✗ सत्य हो सकता है
- 4. ✗ निर्धारण नहीं किया जा सकता है

Question Number : 14 Question Id : 9983671744 Question Type : MCQ Option Shuffling : Yes
Correct Marks : 1 Wrong Marks : 0.25

A farmer has 27 buffalos. All died except 7. How many was he left with?

Options :

- 1. ✗ 0
- 2. ✓ 7
- 3. ✗ 20
- 4. ✗ 34

Question Number : 14 Question Id : 9983671744 Question Type : MCQ Option Shuffling : Yes
Correct Marks : 1 Wrong Marks : 0.25

एक किसान के पास 27 भैंसें हैं। इनमें से 7 को छोड़कर बाकी सभी की मृत्यु हो जाती है। अब उसके पास कितनी भैंसें बाकी बचेगी?

Options :

1. ✖ 0

2. ✔ 7

3. ✖ 20

4. ✖ 34

Question Number : 15 Question Id : 9983671745 Question Type : MCQ Option Shuffling : Yes
Correct Marks : 1 Wrong Marks : 0.25

The following are qualification requirements for a tech expert post in company Zeta.

The candidate must:

- I. be an Engineering graduate with atleast 70% marks.
- II. not less than 23 years and not more than 30 years of age on 1 July 2019.
- III. have passed the selection test with at least 60% marks.
- IV. willing to join immediately for training.

However, if a candidate fulfils the above mentioned criteria except:

- i. Requirement (I) above, but he/she has appeared for the last semester examination and obtained an aggregate of 65% marks in the previous semester, his/her case may be referred to the V.P. of the company.
- ii. Requirement (II) above, his/her age is less than 23 years but he/she secured 80% marks in graduation, the case may be referred to the General Manager of the company.

The details of a candidate are given with regards to his/her candidature. You have to read the information provided and decide his/her status based on the conditions given above.

Rakshanda is an IT engineer who passed her graduation with 69% marks. After getting the engineering degree, she has done MCA. She has cleared the selection test with 70% marks.

She is ready to join immediately. Her date of birth is 2 October 1993.

Options :

1. ✖ The candidate is to be selected
2. ✔ The candidate is not to be selected
3. ✖ The case is referred to the V. P
4. ✖ The case is referred to the General Manager

Question Number : 15 Question Id : 9983671745 Question Type : MCQ Option Shuffling : Yes
Correct Marks : 1 Wrong Marks : 0.25

जेटा नामक एक कंपनी में तकनीकी विशेषज्ञ पद के लिए निर्धारित पात्रताएं निम्नलिखित हैं।

उम्मीदवार:

- I. 70% अंकों के साथ इंजीनियरिंग स्नातक हो।
- II. 1 जुलाई 2019 को 23 वर्ष से कम और 30 वर्ष से अधिक का नहीं हो।
- III. कम से कम 60% अंकों के साथ चयन परीक्षा उत्तीर्ण की हो।
- IV. तुरंत प्रशिक्षण में शामिल होने के लिए तैयार हो।

हालांकि, यदि कोई उम्मीदवार उपरोक्त मानदंडों में से निम्न को छोड़कर बाकी मानदंडों को पूरा करता है:

- i. ऊपर दिया गया मानदंड (I), लेकिन वह अंतिम सेमेस्टर की परीक्षा दे चुका है और उसने पिछले सेमेस्टर में कुल 65% अंक प्राप्त किए हैं, तो इस मामले को कंपनी के उपाध्यक्ष (V.P.) को भेजा जा सकता है।
- ii. ऊपर दिया गया मानदंड (II), उसकी उम्र 23 वर्ष से कम है, लेकिन उसने स्नातक में 80% अंक प्राप्त किए हैं, तो इस मामले को कंपनी के महाप्रबंधक के पास भेजा जा सकता है।

एक उम्मीदवार की उम्मीदवारी के संबंध में उसका विवरण दिया गया है। आपको दी गई जानकारी को पढ़ना है और ऊपर दी गई शर्तों के आधार पर उसकी स्थिति का फैसला लेना है।

रक्षदा एक आईटी इंजीनियर हैं, जिन्होंने 69% अंकों के साथ स्नातक पास किया है। इंजीनियरिंग की डिग्री हासिल करने के बाद उसने MCA किया है। उसने 70% अंकों के साथ चयन परीक्षा पास की है।

वह नौकरी तुरंत शुरू करने के लिए तैयार है। उसकी जन्मतिथि 2 अक्टूबर 1993 है।

Options :

1. ✖ उम्मीदवार का चयन किया जाना चाहिए।
2. ✔ उम्मीदवार का चयन नहीं किया जाना चाहिए।

3. ✖ मामले को उपाध्यक्ष (V.P) के पास भेजा जाना चाहिए।

4. ✖ मामले को महाप्रबंधक के पास भेजा जाना चाहिए।

Question Number : 16 Question Id : 9983671746 Question Type : MCQ Option Shuffling : Yes

Correct Marks : 1 Wrong Marks : 0.25

Given is a statement followed by two courses of action. Assuming the statement to be true, decide which of the given courses of action logically follow(s) from the statement.

Statement:

Eating almonds leads to a sharp mind.

Courses of Action:

- I. We should eat almonds every day.
- II. We should live on only almonds.

Options :

1. ✔ Only I follows.

2. ✖ Only II follows.

3. ✖ Both I and II follow.

4. ✖ Either I or II follows.

Question Number : 16 Question Id : 9983671746 Question Type : MCQ Option Shuffling : Yes

Correct Marks : 1 Wrong Marks : 0.25

नीचे एक कथन और उससे संबंधित दो कार्यवाइयां दी गई हैं। कथन को सत्य मानते हुए, निर्णय लें कि दी गई कार्यवाइयों में से कौन सी तार्किक रूप से कथन का अनुसरण करती है।

कथन:

बादाम खाने से दिमाग तेज होता है।

कार्यवाइ:

- I. हमें हर रोज बादाम खाने चाहिए।
- II. हमें केवल बादामों पर जीवित रहना चाहिए।

Options :

1. ✓ केवल I अनुसरण करता है।
2. ✗ केवल II अनुसरण करता है।
3. ✗ I और II दोनों अनुसरण करते हैं।
4. ✗ या तो I या II अनुसरण करता है।

Question Number : 17 Question Id : 9983671747 Question Type : MCQ Option Shuffling : Yes

Correct Marks : 1 Wrong Marks : 0.25

Read the given statement and conclusions carefully and decide which of the conclusions logically follow(s) from the statement.

Statement:

Water pollution is big cause of stomach disease in metro cities.

Conclusions:

- I. Government should insure supply of fresh water.
- II. People should be trained to filter water before use.

Options :

1. ✗ Only I follows.
2. ✓ Both I and II follow.
3. ✗ Either I or II follow.
4. ✗ Only II follows.

Question Number : 17 Question Id : 9983671747 Question Type : MCQ Option Shuffling : Yes

Correct Marks : 1 Wrong Marks : 0.25

दिए गए कथन और निष्कर्ष को ध्यान से पढ़ें और निर्णय लें कि कौन सा / कौन से निष्कर्ष तार्किक रूप से कथन का अनुसरण करते हैं / करता है।

कथन:

मेट्रो शहरों में जल प्रदूषण पेट की बीमारी का बड़ा कारण है।

निष्कर्ष:

- I. सरकार को ताजे पानी की उपलब्धता सुनिश्चित करनी चाहिए।
- II. लोगों को पानी के उपयोग से पहले फिल्टर करने के लिए प्रशिक्षित किया जाना चाहिए।

Options :

1. ✖ केवल I अनुसरण करता है।
2. ✔ I और II दोनों अनुसरण करते हैं।
3. ✖ या तो I या II अनुसरण करता है।
4. ✖ केवल II अनुसरण करता है।

Question Number : 18 Question Id : 9983671748 Question Type : MCQ Option Shuffling : Yes

Correct Marks : 1 Wrong Marks : 0.25

Read the given statement and conclusions carefully and decide which of the conclusions logically follow(s) from the statement.

Statement:

A large number of college students have failed in the annual examination.

Conclusions:

- I. All students should be expelled from the college.
- II. Students should be counselled for the next exam.

Options :

1. ✖ Only I follows.

2. ✖ Both I and II follow.

3. ✖ Either I or II follow.

4. ✔ Only II follows.

Question Number : 18 Question Id : 9983671748 Question Type : MCQ Option Shuffling : Yes

Correct Marks : 1 Wrong Marks : 0.25

दिए गए कथन और निष्कर्ष को ध्यान से पढ़ें और निर्णय लें कि कौन सा / कौन से निष्कर्ष तार्किक रूप से कथन का अनुसरण करते हैं / करता है।

कथन:

वार्षिक परीक्षा में कॉलेज के छात्र बड़ी संख्या में असफल रहे हैं।

निष्कर्ष:

- I. सभी छात्रों को कॉलेज से निष्कासित कर दिया जाना चाहिए।
- II. अगली परीक्षा के लिए छात्रों की काउंसलिंग की जानी चाहिए।

Options :

1. ✖ केवल I अनुसरण करता है।

2. ✖ I और II दोनों अनुसरण करते हैं।

3. ✖ या तो I या II अनुसरण करता है।

4. ✔ केवल II अनुसरण करता है।

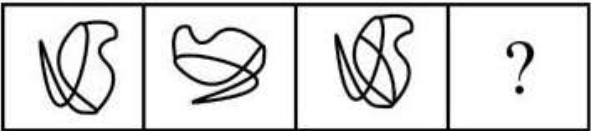
Question Number : 19 Question Id : 9983671749 Question Type : MCQ Option Shuffling : Yes

Correct Marks : 1 Wrong Marks : 0.25

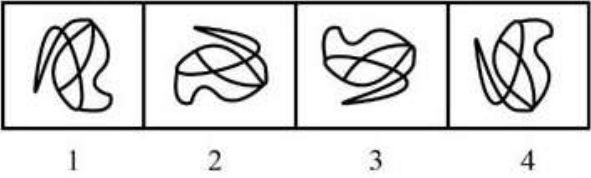
The following question consists of two sets of figures.

A, B, C and D constitute the problem set while 1, 2, 3 and 4 constitute the answer set. There is a definite relationship between figures A and B, establish a similar relationship between figures C and D by selecting a suitable figure from the answer set that would replace the question mark (?) in figure D.

Problem Fig.



Answer Fig.



Options :

1. ✖ 1

2. ✖ 2

3. ✔ 3

4. ✖ 4

Question Number : 19 Question Id : 9983671749 Question Type : MCQ Option Shuffling : Yes
Correct Marks : 1 Wrong Marks : 0.25

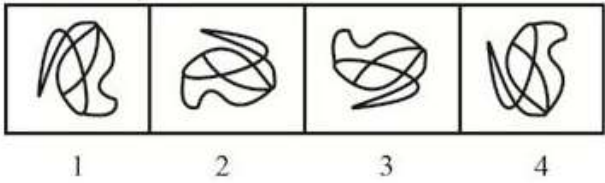
निम्नलिखित प्रश्न में चित्रों के दो सेट दिए गए हैं।

A, B, C और D सेट प्रश्न या समस्या का प्रतिनिधित्व करते हैं जबकि 1, 2, 3 और 4 उत्तर या समाधान को निरूपित करते हैं। चित्र A और B, के बीच एक निश्चित संबंध है, दिए गए उत्तरों के सेट में से उपयुक्त चित्र का चुनाव करें जो चित्र D के प्रश्न चिह्न (?) का स्थान ले सकें और C और D के बीच भी एक ऐसा ही संबंध स्थापित करें।

प्रश्न आकृति:



उत्तर आकृति:



Options :

1. ✖ 1

2. ✖ 2

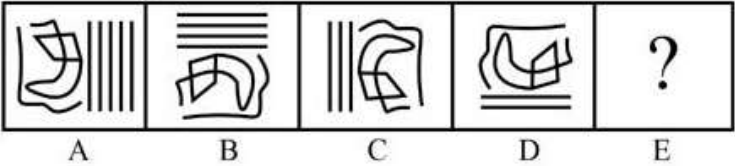
3. ✔ 3

4. ✖ 4

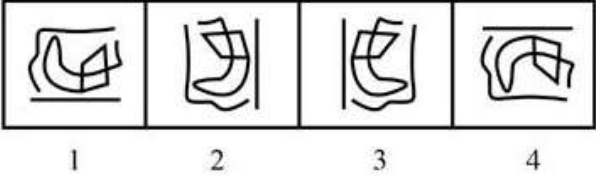
Question Number : 20 Question Id : 9983671750 Question Type : MCQ Option Shuffling : Yes
Correct Marks : 1 Wrong Marks : 0.25

The below question consists of four problem figures marked A, B, C and D and four answer figures marked 1, 2, 3 and 4. Select a figure from amongst the answer figures, that will continue the series established by the four problem figures.

Problem Fig.



Answer Fig.



Options :

1. ✖ 1

2. ✔ 2

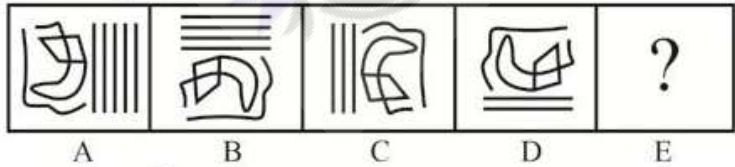
3. ✖ 3

4. ✖ 4

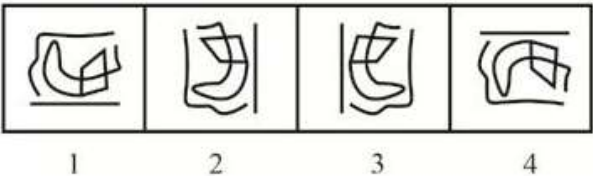
Question Number : 20 Question Id : 9983671750 Question Type : MCQ Option Shuffling : Yes
Correct Marks : 1 Wrong Marks : 0.25

नीचे दिए गए प्रश्न में A, B, C और D सेट प्रश्न या समस्या का प्रतिनिधित्व करते हैं जबकि 1, 2, 3 और 4 उत्तर या समाधान को निरूपित करते हैं। उत्तर के लिए दिए गए चित्रों में से उस चित्र का चयन करें जो चार प्रश्न चित्रों में दी गई श्रृंखला को जारी रखेगा।

प्रश्न आकृति:



उत्तर आकृति:



Options :

1. ✖ 1

2. ✔ 2

3. ✖ 3

4. ✖ 4

Mental Ability2

Group Number :	2
Group Id :	99836748
Group Maximum Duration :	0
Group Minimum Duration :	0
Show Attended Group? :	No
Edit Attended Group? :	No
Break time:	0
Group Marks:	20
Is this Group for Examiner?:	No
Revisit allowed for group Instructions? :	Yes
Maximum Instruction Time:	0
Minimum Instruction Time:	0

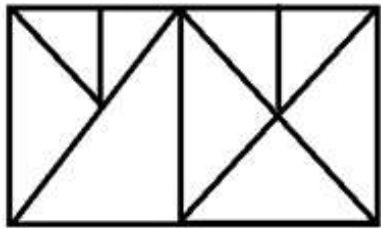
Mental Ability2

Section Id :	99836754
Section Number :	1
Section type :	Online
Mandatory or Optional:	Mandatory
Number of Questions:	20
Number of Questions to be attempted:	20
Section Marks:	20

Sub-Section Number:	1
Sub-Section Id:	99836796
Question Shuffling Allowed :	Yes

Question Number : 21 Question Id : 9983671751 Question Type : MCQ Option Shuffling : Yes
Correct Marks : 1 Wrong Marks : 0.25

How many triangles are in the figure?



Options :

1. ✖ 16

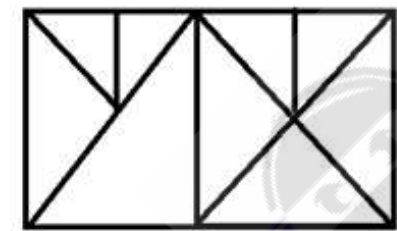
2. ✔ 17

3. ✖ 18

4. ✖ 20

Question Number : 21 Question Id : 9983671751 Question Type : MCQ Option Shuffling : Yes
Correct Marks : 1 Wrong Marks : 0.25

दिए गए चित्र में कुल कितने त्रिभुज हैं?



Options :

1. ✖ 16

2. ✔ 17

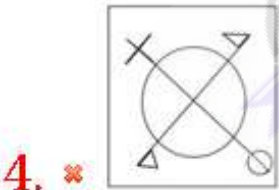
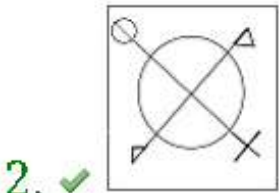

3. ✖ 18

4. ✖ 20

Question Number : 22 Question Id : 9983671752 Question Type : MCQ Option Shuffling : Yes
Correct Marks : 1 Wrong Marks : 0.25

Select the figure that is different from the other three.

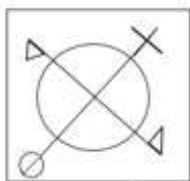
Options :



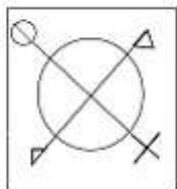
Question Number : 22 Question Id : 9983671752 Question Type : MCQ Option Shuffling : Yes
Correct Marks : 1 Wrong Marks : 0.25

उस चित्र का चयन करें जो अन्य तीन से अलग है।

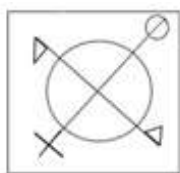
Options :



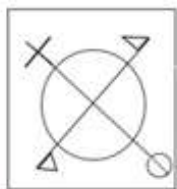
1. ✖



2. ✔



3. ✖



4. ✖

Question Number : 23 Question Id : 9983671753 Question Type : MCQ Option Shuffling : Yes

Correct Marks : 1 Wrong Marks : 0.25

Four letter clusters have been given, out of which three are alike in some manner and one is different. Select the odd one.

Options :

1. ✖ BDFH

2. ✖ HJLN

3. ✖ JLNP

4. ✔ FHJK

Question Number : 23 Question Id : 9983671753 Question Type : MCQ Option Shuffling : Yes
Correct Marks : 1 Wrong Marks : 0.25

चार अक्षर समूह दिए गए हैं, तीन किसी ना किसी प्रकार से समान हैं और एक बाकियों से अलग है। विषम / बेमेल का चयन करें।

Options :

1. ✖ BDFH

2. ✖ HJLN

3. ✖ JLNP

4. ✔ FHJK

Question Number : 24 Question Id : 9983671754 Question Type : MCQ Option Shuffling : Yes
Correct Marks : 1 Wrong Marks : 0.25

Four numbers are given out of which the three numbers bear a certain common relationship. Select the number that is different from others.

Options :

1. ✔ 82

2. ✖ 196

3. ✖ 256

4. ✖ 324

Question Number : 24 Question Id : 9983671754 Question Type : MCQ Option Shuffling : Yes
Correct Marks : 1 Wrong Marks : 0.25

चार संख्याएं दी गई हैं, जिनमें से तीन संख्याओं के बीच एक निश्चित सामान्य संबंध है। वह संख्या चुनें जो दूसरों से अलग हो।

Options :

1. ✓ 82

2. ✗ 196

3. ✗ 256

4. ✗ 324

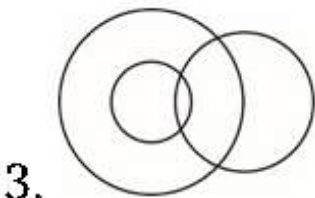
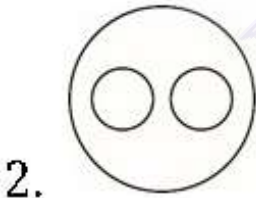
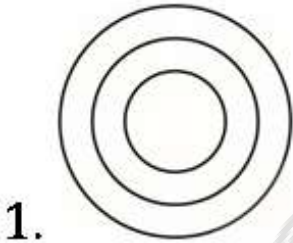
Question Number : 25 Question Id : 9983671755 Question Type : MCQ Option Shuffling : Yes
Correct Marks : 1 Wrong Marks : 0.25

Select the Venn diagram that best represents the given set of classes:

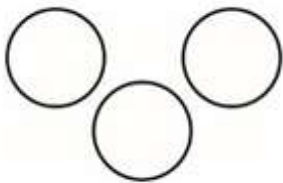
INSECTS, FLEAS, FLIES

Note: For this question, discrepancy is found in question/answer. So, this question is ignored for all candidates.

Options :



4.



Question Number : 25 Question Id : 9983671755 Question Type : MCQ Option Shuffling : Yes
Correct Marks : 1 Wrong Marks : 0.25


उस वेन आरेख का चयन करें जो वर्गों के दिए गए सेट का सबसे अच्छा प्रतिनिधित्व करता है:

INSECTS, FLEAS, FLIES

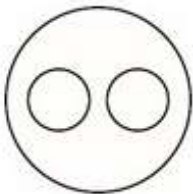
Note: For this question, discrepancy is found in question/answer. So, this question is ignored for all candidates.

Options :

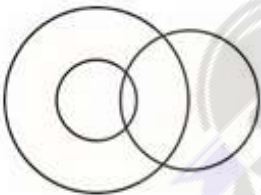
1.



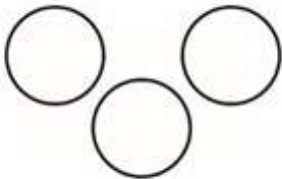
2.



3.



4.

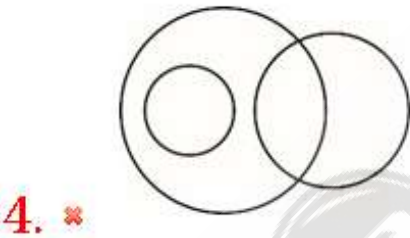
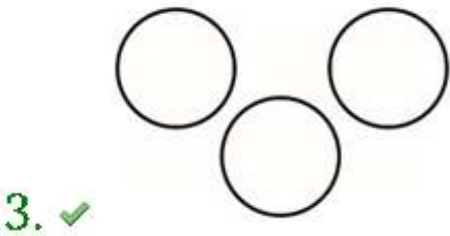
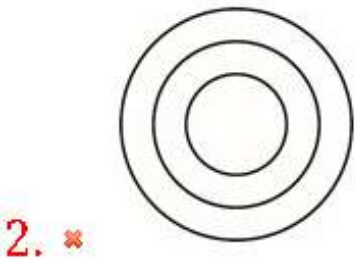
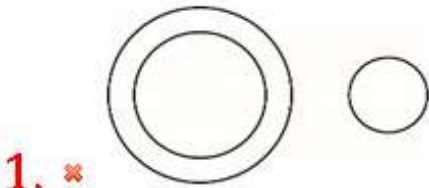


Question Number : 26 Question Id : 9983671756 Question Type : MCQ Option Shuffling : Yes
Correct Marks : 1 Wrong Marks : 0.25

Select the Venn diagram that best represents the given set of classes:

RATS, CATS, GOATS

Options :

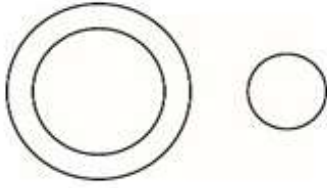


Question Number : 26 Question Id : 9983671756 Question Type : MCQ Option Shuffling : Yes
Correct Marks : 1 Wrong Marks : 0.25


उस वेन आरेख का चयन करें जो वर्गों के दिए गए सेट का सबसे अच्छा प्रतिनिधित्व करता है:

चूहे, बिल्लियाँ, बकरियाँ

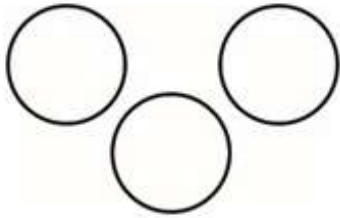
Options :



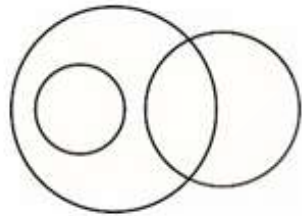
1. ✖



2. ✖



3. ✔



4. ✖

Question Number : 27 Question Id : 9983671757 Question Type : MCQ Option Shuffling : Yes

Correct Marks : 1 Wrong Marks : 0.25

Ram is the son of Mohan and brother of Ramesh. Shreya is the daughter of Shweta and sister of Ram. How Shweta is related to Ram?

Options :

1. ✖ Sister

2. ✖ Daughter

3. ✓ Mother

4. ✗ Wife

Question Number : 27 Question Id : 9983671757 Question Type : MCQ Option Shuffling : Yes

Correct Marks : 1 Wrong Marks : 0.25

राम मोहन का बेटा और रमेश का भाई है। श्रेया, श्वेता की बेटी और राम की बहन है। श्वेता का राम से क्या संबंध है?

Options :

1. ✗ बहन

2. ✗ बेटी

3. ✓ मां

4. ✗ बीवी

Question Number : 28 Question Id : 9983671758 Question Type : MCQ Option Shuffling : Yes

Correct Marks : 1 Wrong Marks : 0.25

Read the given information and answer the question.

A – B means A is the mother of B

A \$ B means A is the sister of B

A @ B means A is the father of B

A = B means A is the son of B

If $R = S \$ O \$ P - Q$, then how is P related to R?

Note: For this question, discrepancy is found in question/answer. So, this question is ignored for all candidates.

Options :

1. Daughter

2. Son

3. Aunt

4. Niece

Question Number : 28 Question Id : 9983671758 Question Type : MCQ Option Shuffling : Yes
Correct Marks : 1 Wrong Marks : 0.25

निम्नलिखित जानकारी पढ़ें और दिए गए प्रश्न का उत्तर दें:

A - B का अर्थ है कि A, B की मां है

A \$ B का अर्थ है कि A, B की बहन है

A @ B का अर्थ है कि A, B का पिता है

A = B का अर्थ है कि A, B का पुत्र है

यदि $R = S \$ O \$ P - Q$ है, तो P, R से किस प्रकार से संबंधित है?

Note: For this question, discrepancy is found in question/answer. So, this question is ignored for all candidates.

Options :

1. बेटी

2. बेटा

3. चाची

4. भांजी

Question Number : 29 Question Id : 9983671759 Question Type : MCQ Option Shuffling : Yes
Correct Marks : 1 Wrong Marks : 0.25

In a certain code TYPHOID written as VXRGQHF. How is ANAEMIA written in that code?

Options :

1. ✖ COHCMCE

2. ✖ CMCDOHI

3. ✖ CMCDOHE

4. ✔ CMCDOHC

Question Number : 29 Question Id : 9983671759 Question Type : MCQ Option Shuffling : Yes
Correct Marks : 1 Wrong Marks : 0.25

किसी निर्धारित कोड में TYPHOID को VXRGQHF लिखा जाता है। इसी कोड में ANAEMIA को कैसे लिखा जाएगा?

Options :

1. ✖ COHCMCE

2. ✖ CMCDOHI

3. ✖ CMCDOHE

4. ✔ CMCDOHC

Question Number : 30 Question Id : 9983671760 Question Type : MCQ Option Shuffling : Yes
Correct Marks : 1 Wrong Marks : 0.25

In certain code CLOCK is written as 44, How will TOUCH be written in that code?

Options :

1. ✖ 35

2. ✖ 66

3. ✔ 67

4. ✖ 45

Question Number : 30 Question Id : 9983671760 Question Type : MCQ Option Shuffling : Yes
Correct Marks : 1 Wrong Marks : 0.25

किसी निर्धारित कोड CLOCK को 44 के रूप में लिखा जाता है, इसी कोड में TOUCH को कैसे लिखा जाएगा?

Options :

1. ✖ 35

2. ✖ 66

3. ✔ 67

4. ✖ 45

Question Number : 31 Question Id : 9983671761 Question Type : MCQ Option Shuffling : Yes
Correct Marks : 1 Wrong Marks : 0.25

In a certain code SWEET written as WSETE. How is SALTY written in that code?

Note: For this question, discrepancy is found in question/answer. So, this question is ignored for all candidates.

Options :

1. ASLTY

2. ASLYT

3. ASTYL

4. ASYLT

Question Number : 31 Question Id : 9983671761 Question Type : MCQ Option Shuffling : Yes

Correct Marks : 1 Wrong Marks : 0.25

किसी निर्धारित कोड में SWEET को WSETTE के रूप में लिखा जाता है। इसी कोड में SALTY को कैसे लिखा जाएगा?

Note: For this question, discrepancy is found in question/answer. So, this question is ignored for all candidates.

Options :

1. ASLTY

2. ASLYT

3. ASTYL

4. ASYLT

Question Number : 32 Question Id : 9983671762 Question Type : MCQ Option Shuffling : Yes

Correct Marks : 1 Wrong Marks : 0.25

Sixteen teams take part in a cricket tournament. Each one has to play every other one. How many games must they play in total?

Options :

1. ✖ 64

2. ✓ 120

3. ✗ 196

4. ✗ 91

Question Number : 32 Question Id : 9983671762 Question Type : MCQ Option Shuffling : Yes

Correct Marks : 1 Wrong Marks : 0.25

एक क्रिकेट टूर्नामेंट में कुल सोलह टीमों हिस्सा लेती हैं। हर एक टीम को बाकी बची सभी टीमों के साथ खेलना है। तो कुल मिलाकर कितने गेम खेले जाएंगे?

Options :

1. ✗ 64

2. ✓ 120

3. ✗ 196

4. ✗ 91

Question Number : 33 Question Id : 9983671763 Question Type : MCQ Option Shuffling : Yes

Correct Marks : 1 Wrong Marks : 0.25

Which of the following pairs of signs, when their positions are interchanged, will correctly solve the given mathematical equation?

$$26 + 13 - 32 \div 14 \times 6 = 54$$

Options :

1. ✗ \div and \times

2. ✓ \div and $+$

3. ✖ + and ×

4. ✖ + and -

Question Number : 33 Question Id : 9983671763 Question Type : MCQ Option Shuffling : Yes

Correct Marks : 1 Wrong Marks : 0.25

निम्नलिखित में से कौन सा चिह्न, उनकी स्थितियां परस्पर बदल दिए जाने पर, दिए गए गणितीय समीकरण को सही ढंग से हल करेंगे?

$$26 + 13 - 32 \div 14 \times 6 = 54$$

Options :

1. ✖ ÷ और ×

2. ✔ ÷ और +

3. ✖ +और ×

4. ✖ +और -

Question Number : 34 Question Id : 9983671764 Question Type : MCQ Option Shuffling : Yes

Correct Marks : 1 Wrong Marks : 0.25

Which of the following pairs of numbers and signs, when their positions are interchanged, will correctly solve the given mathematical equation?

$$5 \div 10 \times 12 + 14 - 7 = 88$$

Options :

1. ✖ 5 and 12; + and -

2. ✔ 10 and 5; - and ×

3. ✖ 14 and 7; \times and \div

4. ✖ 5 and 7; + and -

Question Number : 34 Question Id : 9983671764 Question Type : MCQ Option Shuffling : Yes

Correct Marks : 1 Wrong Marks : 0.25

निम्नलिखित में से कौन सी संख्याएं और चिह्न, उनकी स्थितियां परस्पर बदल दिए जाने पर, दिए गए गणितीय समीकरण को सही ढंग से हल करेंगे?

$$5 \div 10 \times 12 + 14 - 7 = 88$$

Options :

1. ✖ 5 और 12 ; + और -

2. ✔ 10 और 5; - और \times

3. ✖ 14 और 7; \times और \div

4. ✖ 5 और 7; + और -

Question Number : 35 Question Id : 9983671765 Question Type : MCQ Option Shuffling : Yes

Correct Marks : 1 Wrong Marks : 0.25

Four letter clusters have been given, out of which three are alike in some manner and one is different. Select the odd one.

Options :

1. ✖ AZYB

2. ✖ DWVE

3. ✓ IPKR

4. ✗ EVUF

Question Number : 35 Question Id : 9983671765 Question Type : MCQ Option Shuffling : Yes

Correct Marks : 1 Wrong Marks : 0.25

चार अक्षर समूह दिए गए हैं, तीन किसी ना किसी प्रकार से समान हैं और एक बाकियों से अलग है। विषम / बेमेल का चयन करें।

Options :

1. ✗ AZYB

2. ✗ DWVE

3. ✓ IPKR

4. ✗ EVUF

Question Number : 36 Question Id : 9983671766 Question Type : MCQ Option Shuffling : Yes

Correct Marks : 1 Wrong Marks : 0.25

Four words have been given, out of which three are alike in some manner and one is different. Select the odd one.

Options :

1. ✗ Cube

2. ✗ Sphere

3. ✗ Cone

4. ✓ Kite

Question Number : 36 Question Id : 9983671766 Question Type : MCQ Option Shuffling : Yes

Correct Marks : 1 Wrong Marks : 0.25

नीचे दिए गए चार शब्दों में से, तीन किसी ना किसी प्रकार से समान हैं और एक शब्द अलग है। विषम / बेमेल शब्द का चयन करें।

Options :

1. ✗ घन

2. ✗ गोला

3. ✗ शंकु

4. ✓ पतंग

Question Number : 37 Question Id : 9983671767 Question Type : MCQ Option Shuffling : Yes

Correct Marks : 1 Wrong Marks : 0.25

Four figures have been given below, out of which three are alike in some manner and one is different. Select the odd one.

Answer Fig.



1

2

3

4

Options :

1. ✓ 2

2. ✗ 3

3. ✖ 4

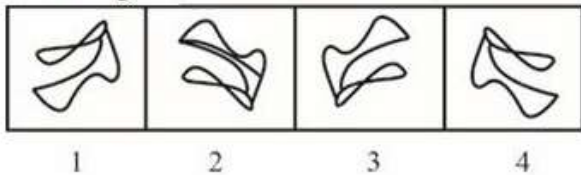
4. ✖ 1

Question Number : 37 Question Id : 9983671767 Question Type : MCQ Option Shuffling : Yes

Correct Marks : 1 Wrong Marks : 0.25

चार चित्र नीचे दिए गए हैं, तीन किसी ना किसी प्रकार से समान हैं और एक बाकियों से अलग है। विषम/ बेमेल का चयन करें।

उत्तर आकृति:



Options :

1. ✔ 2

2. ✖ 3

3. ✖ 4

4. ✖ 1

Question Number : 38 Question Id : 9983671768 Question Type : MCQ Option Shuffling : Yes

Correct Marks : 1 Wrong Marks : 0.25

Select the option that will correctly replace the question mark (?) in the series.

DW, FU, HS, JQ, ?

Options :

1. ✔ LO

2. ✖ OL

3. ✖ LP

4. ✖ PO

Question Number : 38 Question Id : 9983671768 Question Type : MCQ Option Shuffling : Yes

Correct Marks : 1 Wrong Marks : 0.25

उस विकल्प का चयन करें जो श्रृंखला में प्रश्न चिह्न (?) का स्थान ले पाने में सक्षम होगा।

DW, FU, HS, JQ, ?

Options :

1. ✔ LO

2. ✖ OL

3. ✖ LP

4. ✖ PO

Question Number : 39 Question Id : 9983671769 Question Type : MCQ Option Shuffling : Yes

Correct Marks : 1 Wrong Marks : 0.25

Select the option that will correctly replace the question mark (?) in the series.

13, 19, 31, 49, ?

Options :

1. ✖ 64

2. ✓ 73

3. ✗ 75

4. ✗ 76

Question Number : 39 Question Id : 9983671769 Question Type : MCQ Option Shuffling : Yes
Correct Marks : 1 Wrong Marks : 0.25

उस विकल्प का चयन करें जो श्रृंखला में प्रश्न चिह्न (?) का स्थान ले पाने में सक्षम होगा।

13, 19, 31, 49, ?

Options :

1. ✗ 64

2. ✓ 73

3. ✗ 75

4. ✗ 76

Question Number : 40 Question Id : 9983671770 Question Type : MCQ Option Shuffling : Yes
Correct Marks : 1 Wrong Marks : 0.25

Select the option that will correctly replace the question mark (?) in the series.

6, 10, 14, 22, 30, 42, ?

Options :

1. ✓ 54

2. ✖ 60

3. ✖ 56

4. ✖ 64

Question Number : 40 Question Id : 9983671770 Question Type : MCQ Option Shuffling : Yes
Correct Marks : 1 Wrong Marks : 0.25

उस विकल्प का चयन करें जो श्रृंखला में प्रश्न चिह्न (?) का स्थान ले पाने में सक्षम होगा।

6, 10, 14, 22, 30, 42, ?

Options :

1. ✔ 54

2. ✖ 60

3. ✖ 56

4. ✖ 64



General Awareness1

Group Number :	3
Group Id :	99836749
Group Maximum Duration :	0
Group Minimum Duration :	0
Show Attended Group? :	No
Edit Attended Group? :	No
Break time:	0
Group Marks:	20
Is this Group for Examiner?:	No
Revisit allowed for group Instructions? :	Yes

Maximum Instruction Time: 0
Minimum Instruction Time: 0

General Awareness1

Section Id : 99836755
Section Number : 1
Section type : Online
Mandatory or Optional: Mandatory
Number of Questions: 20
Number of Questions to be attempted: 20
Section Marks: 20

Sub-Section Number: 1
Sub-Section Id: 99836797
Question Shuffling Allowed : Yes

Question Number : 41 Question Id : 9983671771 Question Type : MCQ Option Shuffling : Yes
Correct Marks : 1 Wrong Marks : 0.25

The amount of oxygen required by bacteria to disintegrate organic matter in certain volume of sample of water is called BOD. The full form of BOD is:

Options :

- 1. ✖ Biological Oxygen Demand
- 2. ✔ Biochemical Oxygen Demand
- 3. ✖ Biochemical Ozone Demand
- 4. ✖ Biological Ozone Demand

Question Number : 41 Question Id : 9983671771 Question Type : MCQ Option Shuffling : Yes
Correct Marks : 1 Wrong Marks : 0.25

पानी की निश्चित मात्रा वाले नमूने में कार्बनिक पदार्थ को अपघटित करने के लिए जीवाणु द्वारा आवश्यक ऑक्सीजन की मात्रा, बीओडी कहलाती है। बीओडी का पूरा नाम है:

Options :

- 1. ✖ जैव ऑक्सीजन मांग

2. ✓ जैवरासायनिक ऑक्सीजन मांग

3. ✗ जैवरासायनिक ओजोन मांग

4. ✗ जैव ओजोन मांग

Question Number : 42 Question Id : 9983671772 Question Type : MCQ Option Shuffling : Yes

Correct Marks : 1 Wrong Marks : 0.25

The fuel obtained from plastic waste has high octane rating and no lead. The name given to such fuel is:

Options :

1. ✗ White Fuel

2. ✗ Blue Fuel

3. ✓ Green Fuel

4. ✗ Red Fuel

Question Number : 42 Question Id : 9983671772 Question Type : MCQ Option Shuffling : Yes

Correct Marks : 1 Wrong Marks : 0.25

प्लास्टिक अपशिष्ट से प्राप्त ईंधन की ऑक्टेन रेटिंग उच्च होती है और इसमें सीसा नहीं होता। ऐसे ईंधन को दिया जाने वाला नाम है:

Options :

1. ✗ श्वेत ईंधन

2. ✗ नीला ईंधन

3. ✓ हरा ईंधन

4. ✗ लाल ईंधन

Question Number : 43 Question Id : 9983671773 Question Type : MCQ Option Shuffling : Yes

Correct Marks : 1 Wrong Marks : 0.25

Which one of the following is a viable mechanism for treating soils contaminated with oils (Petroleum Hydrocarbons)?

Options :

1. ✓ Bioremediation

2. ✗ Biopetrification

3. ✗ Eutrophication

4. ✗ Bioemulsification

Question Number : 43 Question Id : 9983671773 Question Type : MCQ Option Shuffling : Yes

Correct Marks : 1 Wrong Marks : 0.25

तेल (पेट्रोलियम हाइड्रोकार्बन) से दूषित मृदा के उपचार हेतु निम्नलिखित में से कौन एक व्यावहारिक प्रणाली है?

Options :

1. ✓ जैवोपचारण (बायोरेमेडिएशन)

2. ✗ जैवअश्मीभवन (बायोपेट्रीफिकेशन)

3. ✗ सुपोषण (यूट्रोफिकेशन)

4. ✖ जैवपायसीकरण (बायोइमलिसिफिकेशन)

Question Number : 44 Question Id : 9983671774 Question Type : MCQ Option Shuffling : Yes

Correct Marks : 1 Wrong Marks : 0.25

Which of the following gases is NOT a direct greenhouse gas?

Options :

1. ✔ Carbon monoxide

2. ✖ Methane

3. ✖ Carbon dioxide

4. ✖ Nitrous oxide

Question Number : 44 Question Id : 9983671774 Question Type : MCQ Option Shuffling : Yes

Correct Marks : 1 Wrong Marks : 0.25

निम्नलिखित में से कौन सी गैस, एक प्रत्यक्ष ग्रीनहाउस गैस नहीं है?

Options :

1. ✔ कार्बन मोनोऑक्साइड

2. ✖ मीथेन

3. ✖ कार्बन डाइऑक्साइड

4. ✖ नाइट्रस ऑक्साइड

Question Number : 45 Question Id : 9983671775 Question Type : MCQ Option Shuffling : Yes

Correct Marks : 1 Wrong Marks : 0.25

In May 2019, Former ISRO Chairman _____ was conferred with the highest civilian award of France 'Chevalier de l'Ordre national de la Legion d'Honneur' for his contribution to Indo-France space cooperation.

Options :

1. ✓ A S Kiran Kumar

2. ✗ K Radhakrishnan

3. ✗ G Madhavan Nair

4. ✗ Dr. Krishaswamy Kasturirangan

Question Number : 45 Question Id : 9983671775 Question Type : MCQ Option Shuffling : Yes

Correct Marks : 1 Wrong Marks : 0.25

मई 2019 में, पूर्व इसरो अध्यक्ष _____ को भारत-फ्रांस अंतरिक्ष सहयोग में उनके योगदान के लिए फ्रांस का सर्वोच्च नागरिक सम्मान 'Chevalier de l'Ordre national de la Legion d'Honneur' प्रदान किया गया।

Options :

1. ✓ ए एस किरण कुमार

2. ✗ के राधाकृष्णन

3. ✗ जी माधवन नायर

4. ✗ डॉ. कृष्णस्वामी कस्तूरीरंगन

Question Number : 46 Question Id : 9983671776 Question Type : MCQ Option Shuffling : Yes

Correct Marks : 1 Wrong Marks : 0.25

According to data sourced from Directorate General of Commercial Intelligence and Statistics, which country has become India's top crude oil supplier for the fiscal year 2018-19?

Options :

1. ✖ Qatar

2. ✔ Iraq

3. ✖ UAE

4. ✖ Iran

Question Number : 46 Question Id : 9983671776 Question Type : MCQ Option Shuffling : Yes
Correct Marks : 1 Wrong Marks : 0.25

वाणिज्यिक आसूचना एवं सांख्यिकी महानिदेशक से प्राप्त आंकड़ों के अनुसार, वित्तीय वर्ष 2018-19 में कौन सा देश भारत का शीर्ष कच्चा तेल आपूर्तिकर्ता बन गया?

Options :

1. ✖ कतर

2. ✔ इराक

3. ✖ यूएई

4. ✖ ईरान

Question Number : 47 Question Id : 9983671777 Question Type : MCQ Option Shuffling : Yes
Correct Marks : 1 Wrong Marks : 0.25

Who among the following won an Oscar in the 'Best Actor in a Leading Role' category for the year 2018?

Options :

1. ✖ Denzel Washington

2. ✖ Daniel Kaluuya

3. ✖ Timothée Chalamet

4. ✔ Gary Oldman

Question Number : 47 Question Id : 9983671777 Question Type : MCQ Option Shuffling : Yes

Correct Marks : 1 Wrong Marks : 0.25

निम्नलिखित में से किसने वर्ष 2018 में 'प्रमुख भूमिका में सर्वोत्तम अभिनेता' श्रेणी में ऑस्कर पुरस्कार जीता?

Options :

1. ✖ डेज़ल वॉशिंगटन

2. ✖ डैनियल कलूया

3. ✖ टिमोथी चेलमेट

4. ✔ गैरी ओल्डमैन

Question Number : 48 Question Id : 9983671778 Question Type : MCQ Option Shuffling : Yes

Correct Marks : 1 Wrong Marks : 0.25

Which Indian sportswoman was ranked 7th on Forbes' list of highest earning sportswomen in the world in the year 2018?

Options :

1. ✖ Sakshi Malik

2. ✖ Saina Nehwal

3. ✓ P V Sindhu

4. ✗ Mithali Raj

Question Number : 48 Question Id : 9983671778 Question Type : MCQ Option Shuffling : Yes

Correct Marks : 1 Wrong Marks : 0.25

वर्ष 2018 में किस भारतीय महिला खिलाड़ी ने विश्व की सर्वाधिक कमाई वाली महिला खिलाड़ियों की फोर्ब्स की सूची में 7वां स्थान हासिल किया?

Options :

1. ✗ साक्षी मलिक

2. ✗ साइना नेहवाल

3. ✓ पी वी सिंधु

4. ✗ मिताली राज

Question Number : 49 Question Id : 9983671779 Question Type : MCQ Option Shuffling : Yes

Correct Marks : 1 Wrong Marks : 0.25

Which Indian king was given the title 'Piyadassi'?

Options :

1. ✓ Ashoka

2. ✗ Shivaji

3. ✗ Samudragupta

4. ✖ Sri Gupta

Question Number : 49 Question Id : 9983671779 Question Type : MCQ Option Shuffling : Yes

Correct Marks : 1 Wrong Marks : 0.25

किस भारतीय राजा को 'पियादासी' की उपाधि दी गई थी?

Options :

1. ✔ अशोक

2. ✖ शिवाजी

3. ✖ समुद्रगुप्त

4. ✖ श्री गुप्ता

Question Number : 50 Question Id : 9983671780 Question Type : MCQ Option Shuffling : Yes

Correct Marks : 1 Wrong Marks : 0.25

In 1946, what was the main proposal under the 'Cabinet Mission Plan' regarding the constitutional future of India?

Options :

1. ✔ Formation of Indian Federation

2. ✖ Provincial self-rule

3. ✖ Provincial autonomy

4. ✖ Diarchy in provinces

Question Number : 50 Question Id : 9983671780 Question Type : MCQ Option Shuffling : Yes

Correct Marks : 1 Wrong Marks : 0.25

1946 में, भारत के संवैधानिक भविष्य के संबंध में 'कैबिनेट मिशन योजना' के अंतर्गत मुख्य प्रस्ताव कौन सा था?

Options :

- 1. ✓ भारतीय संघ का गठन
- 2. ✗ प्रान्तीय स्व-शासन
- 3. ✗ प्रान्तीय स्वायत्तता
- 4. ✗ प्रान्तों में द्वैध शासन

Question Number : 51 Question Id : 9983671781 Question Type : MCQ Option Shuffling : Yes
Correct Marks : 1 Wrong Marks : 0.25

Who was the first ruler of the Sayyid Dynasty in the Delhi sultanate?

Options :

- 1. ✗ Muhammad Shah
- 2. ✗ Alam Shah
- 3. ✓ Khizr Khan
- 4. ✗ Bahlul Lodi

Question Number : 51 Question Id : 9983671781 Question Type : MCQ Option Shuffling : Yes
Correct Marks : 1 Wrong Marks : 0.25

दिल्ली सल्तनत में सैयद वंश का प्रथम शासक कौन था?

Options :

- 1. ✗ मुहम्मद शाह

2. ✖ आलम शाह

3. ✔ खिज़्र खान

4. ✖ बहलूल लोदी

Question Number : 52 Question Id : 9983671782 Question Type : MCQ Option Shuffling : Yes
Correct Marks : 1 Wrong Marks : 0.25

Who among the following was India's first deputy prime minister?

Options :

1. ✖ Lal Bahadur Shastri

2. ✔ Sardar Vallabhbhai Patel

3. ✖ Sarvepalli Radhakrishnan

4. ✖ Maulana Abul Kalam Azad

Question Number : 52 Question Id : 9983671782 Question Type : MCQ Option Shuffling : Yes
Correct Marks : 1 Wrong Marks : 0.25

निम्नलिखित में से कौन, भारत का प्रथम उप-प्रधानमंत्री था?

Options :

1. ✖ लाल बहादुर शास्त्री

2. ✔ सरदार वल्लभभाई पटेल

3. ✖ सर्वपल्ली राधाकृष्णन

4. ✖ मौलाना अबुल कलाम आज़ाद

Question Number : 53 Question Id : 9983671783 Question Type : MCQ Option Shuffling : Yes

Correct Marks : 1 Wrong Marks : 0.25

In the Indian Parliament, all the important decisions are taken by the majority. How many types of majority are followed in the Indian Parliament to pass a specific bill and motion?

Options :

1. ✖ 2

2. ✔ 4

3. ✖ 3

4. ✖ 5

Question Number : 53 Question Id : 9983671783 Question Type : MCQ Option Shuffling : Yes

Correct Marks : 1 Wrong Marks : 0.25

भारतीय संसद में, समस्त महत्त्वपूर्ण निर्णय बहुमत द्वारा लिए जाते हैं। कोई विशेष विधेयक और प्रस्ताव पारित कराने के लिए भारतीय संसद में कितने प्रकार के बहुमत उपयोग किए जाते हैं?

Options :

1. ✖ 2

2. ✔ 4

3. ✖ 3

4. ✖ 5

Question Number : 54 Question Id : 9983671784 Question Type : MCQ Option Shuffling : Yes

Correct Marks : 1 Wrong Marks : 0.25

What type of majority is required in Lok Sabha to remove the Vice-President?

Options :

1. ✔ Simple majority

2. ✖ Special majority

3. ✖ Effective majority

4. ✖ Absolute majority

Question Number : 54 Question Id : 9983671784 Question Type : MCQ Option Shuffling : Yes

Correct Marks : 1 Wrong Marks : 0.25

उप-राष्ट्रपति को हटाने के लिए लोकसभा में किस प्रकार के बहुमत की आवश्यकता होती है?

Options :

1. ✔ साधारण बहुमत

2. ✖ विशिष्ट बहुमत

3. ✖ प्रभावी बहुमत

4. ✖ पूर्ण बहुमत

Question Number : 55 Question Id : 9983671785 Question Type : MCQ Option Shuffling : Yes

Correct Marks : 1 Wrong Marks : 0.25

Which of the following committees recommended the establishment of a three-tier Panchayati Raj system in India?

Options :

1. ✖ Ashok Mehta Committee
2. ✔ Balwant Rai Mehta Committee
3. ✖ L M Singhvi Committee
4. ✖ Narasimham Committee

Question Number : 55 Question Id : 9983671785 Question Type : MCQ Option Shuffling : Yes

Correct Marks : 1 Wrong Marks : 0.25

निम्नलिखित में से किस समिति ने भारत में त्रि-स्तरीय पंचायती राज प्रणाली की स्थापना की सिफारिश की?

Options :

1. ✖ अशोक मेहता समिति
2. ✔ बलवंत राय मेहता समिति
3. ✖ एल एम सिंघवी समिति
4. ✖ नरसिंहम् समिति

Question Number : 56 Question Id : 9983671786 Question Type : MCQ Option Shuffling : Yes

Correct Marks : 1 Wrong Marks : 0.25

Which article of the Constitution of India contains the definition of a money bill?

Options :

1. ✔ Article 110

2. ✖ Article 210

3. ✖ Article 310

4. ✖ Article 410

Question Number : 56 Question Id : 9983671786 Question Type : MCQ Option Shuffling : Yes

Correct Marks : 1 Wrong Marks : 0.25

भारतीय संविधान के किस अनुच्छेद में धन विधेयक को पारिभाषित किया गया है?

Options :

1. ✔ अनुच्छेद 110

2. ✖ अनुच्छेद 210

3. ✖ अनुच्छेद 310

4. ✖ अनुच्छेद 410

Question Number : 57 Question Id : 9983671787 Question Type : MCQ Option Shuffling : Yes

Correct Marks : 1 Wrong Marks : 0.25

Which one of the following features in the Constitution of India is borrowed from the Constitution of Japan?

Options :

1. ✖ Five-year plans

2. ✖ Suspension of fundamental rights during emergency

3. ✓ Functioning of Supreme court

4. ✗ Union and state list

Question Number : 57 Question Id : 9983671787 Question Type : MCQ Option Shuffling : Yes

Correct Marks : 1 Wrong Marks : 0.25

भारतीय संविधान की निम्नलिखित में से कौन सी विशेषता, जापान के संविधान से ली गई है?

Options :

1. ✗ पंचवर्षीय योजनाएं

2. ✗ आपातकाल के समय मौलिक अधिकारों का निलंबन

3. ✓ सर्वोच्च न्यायालय की कार्यप्रणाली

4. ✗ संघ और राज्य सूची

Question Number : 58 Question Id : 9983671788 Question Type : MCQ Option Shuffling : Yes

Correct Marks : 1 Wrong Marks : 0.25

Which of the following terms was added to the preamble of the Constitution of India by the Constitution (forty-second amendment) Act, 1976?

Options :

1. ✗ Republic

2. ✗ Democratic

3. ✗ Sovereign

4. ✓ Secular

Question Number : 58 Question Id : 9983671788 Question Type : MCQ Option Shuffling : Yes

Correct Marks : 1 Wrong Marks : 0.25

संविधान (बयालीसवां संशोधन) अधिनियम, 1976 द्वारा भारतीय संविधान की प्रस्तावना में निम्नलिखित में से कौन सा शब्द जोड़ा गया?

Options :

1. ✗ गणराज्य

2. ✗ लोकतांत्रिक

3. ✗ संप्रभु

4. ✓ पंथनिरपेक्ष

Question Number : 59 Question Id : 9983671789 Question Type : MCQ Option Shuffling : Yes

Correct Marks : 1 Wrong Marks : 0.25

Where is the headquarters of FIFA (Federation of International Football Association) located?

Options :

1. ✗ Washington DC, US

2. ✓ Zurich, Switzerland

3. ✗ Brussels, Belgium

4. ✗ Berlin, Germany

Question Number : 59 Question Id : 9983671789 Question Type : MCQ Option Shuffling : Yes

Correct Marks : 1 Wrong Marks : 0.25

फीफा (फेडरेशन ऑफ इंटरनेशनल फुटबॉल एसोसिएशन) का मुख्यालय कहाँ स्थित है?

Options :

1. ✖ वाशिंगटन डीसी, यू.एस.

2. ✔ ज्यूरिख, स्विट्जरलैंड

3. ✖ ब्रुसेल्स, बेल्जियम

4. ✖ बर्लिन, जर्मनी

Question Number : 60 Question Id : 9983671790 Question Type : MCQ Option Shuffling : Yes

Correct Marks : 1 Wrong Marks : 0.25

With which one of the following sports is the 'Ezra Cup' associated?

Options :

1. ✖ Rugby

2. ✔ Polo

3. ✖ Baseball

4. ✖ Badminton

Question Number : 60 Question Id : 9983671790 Question Type : MCQ Option Shuffling : Yes

Correct Marks : 1 Wrong Marks : 0.25

'एज़रा कप' निम्नलिखित में से किस खेल से संबंधित है?

Options :

1. ✖ रग्बी

2. ✔ पोलो

3. ✖ बेसबॉल

4. ✖ बैडमिंटन

General Awareness2

Group Number :	4
Group Id :	99836750
Group Maximum Duration :	0
Group Minimum Duration :	0
Show Attended Group? :	No
Edit Attended Group? :	No
Break time:	0
Group Marks:	20
Is this Group for Examiner?:	No
Revisit allowed for group Instructions? :	Yes
Maximum Instruction Time:	0
Minimum Instruction Time:	0

General Awareness2

Section Id :	99836756
Section Number :	1
Section type :	Online
Mandatory or Optional:	Mandatory
Number of Questions:	20
Number of Questions to be attempted:	20
Section Marks:	20

Sub-Section Number:	1
Sub-Section Id:	99836798
Question Shuffling Allowed :	Yes

Question Number : 61 Question Id : 9983671791 Question Type : MCQ Option Shuffling : Yes

Correct Marks : 1 Wrong Marks : 0.25

Which one of the following is the correct set of years in which Brazil has won the Football (FIFA) World Cup?

Options :

1. ✓ 1958, 1962, 1970, 1994, 2002

2. ✗ 1955, 1966, 1970, 1994, 1999

3. ✗ 1960, 1970, 1982, 1993, 2002

4. ✗ 1958, 1965, 1982, 1994, 1999

Question Number : 61 Question Id : 9983671791 Question Type : MCQ Option Shuffling : Yes

Correct Marks : 1 Wrong Marks : 0.25

ब्राजील द्वारा फुटबॉल (फीफा) विश्व कप जीते जाने के वर्षों का सही समूह निम्नलिखित में से कौन सा है?

Options :

1. ✓ 1958, 1962, 1970, 1994, 2002

2. ✗ 1955, 1966, 1970, 1994, 1999

3. ✗ 1960, 1970, 1982, 1993, 2002

4. ✗ 1958, 1965, 1982, 1994, 1999

Question Number : 62 Question Id : 9983671792 Question Type : MCQ Option Shuffling : Yes

Correct Marks : 1 Wrong Marks : 0.25

Which one of the following terms in Indian culture refers to a style of temple construction?

Options :

1. ✖ Pashikanti
2. ✖ Vibuthi
3. ✖ Kalaripayattu
4. ✔ Panchayatan

Question Number : 62 Question Id : 9983671792 Question Type : MCQ Option Shuffling : Yes
Correct Marks : 1 Wrong Marks : 0.25

भारतीय संस्कृति में निम्नलिखित में से कौन सा शब्द, एक मंदिर निर्माण शैली को व्यक्त करता है?

Options :

1. ✖ पशीकांती
2. ✖ विभूति
3. ✖ कलारीपयट्टू
4. ✔ पंचायतन

Question Number : 63 Question Id : 9983671793 Question Type : MCQ Option Shuffling : Yes
Correct Marks : 1 Wrong Marks : 0.25

Which one of the following is considered as the highest form of 'manodharma' in Carnatic music?

Options :

1. ✖ Neraval

2. ✓ Ragam Thanam Pallavi

3. ✗ Kalpana Swara

4. ✗ Raga Alapana

Question Number : 63 Question Id : 9983671793 Question Type : MCQ Option Shuffling : Yes

Correct Marks : 1 Wrong Marks : 0.25

निम्नलिखित में से किसे, कर्नाटक संगीत में 'मनोधर्म' का सर्वोच्च स्वरूप माना जाता है?

Options :

1. ✗ नेरावल

2. ✓ रागम थानम पल्लवी

3. ✗ कल्पना स्वरा

4. ✗ राग अल्पना

Question Number : 64 Question Id : 9983671794 Question Type : MCQ Option Shuffling : Yes

Correct Marks : 1 Wrong Marks : 0.25

A type of curtain called 'Thiraseela' is used in which dance form in India?

Options :

1. ✗ Kuchipudi

2. ✗ Odissi

3. ✓ Kathakali

4. ✖ Garba

Question Number : 64 Question Id : 9983671794 Question Type : MCQ Option Shuffling : Yes

Correct Marks : 1 Wrong Marks : 0.25

'थिरशील' कहलाने वाला एक प्रकार का परदा, भारत में किस नृत्य स्वरूप में उपयोग किया जाता है?

Options :

1. ✖ कुचिपुड़ी

2. ✖ ओडिसी

3. ✔ कथकली

4. ✖ गरबा

Question Number : 65 Question Id : 9983671795 Question Type : MCQ Option Shuffling : Yes

Correct Marks : 1 Wrong Marks : 0.25

Which country is the source of the famous 'Volga' river?

Options :

1. ✔ Russia

2. ✖ Germany

3. ✖ Finland

4. ✖ Poland

Question Number : 65 Question Id : 9983671795 Question Type : MCQ Option Shuffling : Yes

Correct Marks : 1 Wrong Marks : 0.25

कौन सा देश, प्रसिद्ध 'वोल्गा' नदी का स्रोत है?

Options :

1. ✓ रूस

2. ✗ जर्मनी

3. ✗ फिनलैंड

4. ✗ पोलैंड

Question Number : 66 Question Id : 9983671796 Question Type : MCQ Option Shuffling : Yes

Correct Marks : 1 Wrong Marks : 0.25

In which Indian state is the Hazaribagh Sanctuary located?

Options :

1. ✓ Jharkhand

2. ✗ West Bengal

3. ✗ Odisha

4. ✗ Madhya Pradesh

Question Number : 66 Question Id : 9983671796 Question Type : MCQ Option Shuffling : Yes

Correct Marks : 1 Wrong Marks : 0.25

हजारीबाग अभ्यारण्य किस भारतीय राज्य में स्थित है?

Options :

1. ✓ झारखंड

2. ✖ पश्चिम बंगाल

3. ✖ ओडिशा

4. ✖ मध्य प्रदेश

Question Number : 67 Question Id : 9983671797 Question Type : MCQ Option Shuffling : Yes
Correct Marks : 1 Wrong Marks : 0.25

The highest peak of the Aravalli Range is:

Options :

1. ✔ Guru Shikar

2. ✖ Dilwara

3. ✖ Achalgarh

4. ✖ Kumbhalgarh

Question Number : 67 Question Id : 9983671797 Question Type : MCQ Option Shuffling : Yes
Correct Marks : 1 Wrong Marks : 0.25

अरावली श्रृंखला में सर्वोच्च शिखर है:

Options :

1. ✔ गुरु शिखर

2. ✖ दिलवाड़ा

3. ✖ अचलगढ़

4. ✖ कुंभलगढ़

Question Number : 68 Question Id : 9983671798 Question Type : MCQ Option Shuffling : Yes

Correct Marks : 1 Wrong Marks : 0.25

When the economy develops qualitatively with modern technology and skills, the un-skilled workers lose their job. This type of unemployment is called:

Options :

1. ✖ Disguised unemployment

2. ✖ Frictional unemployment

3. ✖ Cyclical unemployment

4. ✔ Structural unemployment

Question Number : 68 Question Id : 9983671798 Question Type : MCQ Option Shuffling : Yes

Correct Marks : 1 Wrong Marks : 0.25

आधुनिक प्रौद्योगिकी एवं कौशल के साथ अर्थव्यवस्था में गुणात्मक विकास होने पर, अकुशल श्रमिकों की नौकरियाँ चली जाती हैं। इस प्रकार की बेरोजगारी कहलाती है:

Options :

1. ✖ प्रच्छन्न बेरोजगारी

2. ✖ आंशिक बेरोजगारी

3. ✖ चक्रीय बेरोजगारी

4. ✓ संरचनात्मक बेरोजगारी

Question Number : 69 Question Id : 9983671799 Question Type : MCQ Option Shuffling : Yes

Correct Marks : 1 Wrong Marks : 0.25

MUDRA Yojana was launched by Narendra Modi in 2015 for providing loans up to 10 lakh to non-corporate small and micro enterprises. The full form of MUDRA is:

Options :

1. ✗ Micro Units Development and Refinance Association

2. ✓ Micro Units Development and Refinance Agency

3. ✗ Micro Units Development and Re-establishment Agency

4. ✗ Macro Units Development and Refinance Agency

Question Number : 69 Question Id : 9983671799 Question Type : MCQ Option Shuffling : Yes

Correct Marks : 1 Wrong Marks : 0.25

गैर-कार्पोरेट छोटे और सूक्ष्म उद्यमों को 10 लाख तक के ऋण प्रदान करने के लिए नरेन्द्र मोदी द्वारा 2015 में मुद्रा योजना शुरू की गई। मुद्रा का पूरा नाम है:

Options :

1. ✗ माइक्रो यूनिट्स डेवलपमेंट एंड रिफाइनेंस एसोसिएशन

2. ✓ माइक्रो यूनिट्स डेवलपमेंट एंड रिफाइनेंस एजेंसी

3. ✗ माइक्रो यूनिट्स डेवलपमेंट एंड रि-एस्टैब्लिशमेंट एजेंसी

4. ✗ मैक्रो यूनिट्स डेवलपमेंट एंड रिफाइनेंस एजेंसी

Question Number : 70 Question Id : 9983671800 Question Type : MCQ Option Shuffling : Yes
Correct Marks : 1 Wrong Marks : 0.25

In the second Demonetisation that happened in India in 1978, currency notes of which denomination were withdrawn?

Options :

1. ✖ 100, 500, 1000

2. ✖ 500, 2000, 10,000

3. ✖ 50, 100, 500

4. ✔ 1000, 5000, 10,000

Question Number : 70 Question Id : 9983671800 Question Type : MCQ Option Shuffling : Yes
Correct Marks : 1 Wrong Marks : 0.25

भारत में 1978 में हुए द्वितीय विमुद्रीकरण में, किन अंकों वाले नोट वापस लिए गए थे?

Options :

1. ✖ 100, 500, 1000

2. ✖ 500, 2000, 10,000

3. ✖ 50, 100, 500

4. ✔ 1000, 5000, 10,000

Question Number : 71 Question Id : 9983671801 Question Type : MCQ Option Shuffling : Yes
Correct Marks : 1 Wrong Marks : 0.25

Which enzyme among the following helps in digestion of fats in the human body?

Options :

1. ✖ Lactase

2. ✔ Lipase

3. ✖ Urease

4. ✖ Ribose

Question Number : 71 Question Id : 9983671801 Question Type : MCQ Option Shuffling : Yes
Correct Marks : 1 Wrong Marks : 0.25

निम्नलिखित में से कौन सा एंजाइम, मानव शरीर में वसाओं के पाचन में मदद करता है?

Options :

1. ✖ लैक्टोज

2. ✔ लाइपेज

3. ✖ यूरेज

4. ✖ राइबोज

Question Number : 72 Question Id : 9983671802 Question Type : MCQ Option Shuffling : Yes
Correct Marks : 1 Wrong Marks : 0.25

Kwashiorkor and Marasmus are human diseases caused by the deficiency of:

Options :

1. ✖ Vitamin A

2. ✖ Vitamin K

3. ✔ Proteins

4. ✖ Vitamin B12

Question Number : 72 Question Id : 9983671802 Question Type : MCQ Option Shuffling : Yes

Correct Marks : 1 Wrong Marks : 0.25

क्वाशरकोर और मेरेस्मस, निम्नलिखित की कमी के कारण होने वाले मानव रोग हैं:

Options :

1. ✖ विटामिन A

2. ✖ विटामिन K

3. ✔ प्रोटीन्स

4. ✖ विटामिन B12

Question Number : 73 Question Id : 9983671803 Question Type : MCQ Option Shuffling : Yes

Correct Marks : 1 Wrong Marks : 0.25

What does an 'Ondometer' measure?

Options :

1. ✖ Loudness of sound

2. ✖ Intensity of light

3. ✔ Wavelengths of radio waves

4. ✖ Tensile strength of a metal

Question Number : 73 Question Id : 9983671803 Question Type : MCQ Option Shuffling : Yes

Correct Marks : 1 Wrong Marks : 0.25

'ऑडोमीटर' से क्या मापा जाता है?

Options :

1. ✖ ध्वनि की तीव्रता

2. ✖ प्रकाश की तीक्ष्णता

3. ✔ रेडियो तरंगों का तरंगदैर्घ्य

4. ✖ धातु की तन्य सुदृढ़ता

Question Number : 74 Question Id : 9983671804 Question Type : MCQ Option Shuffling : Yes

Correct Marks : 1 Wrong Marks : 0.25

The branch of medicine which deals with the study of ageing process and diseases associated with ageing is called:

Options :

1. ✖ Etymology

2. ✔ Gerontology

3. ✖ Oncology

4. ✖ Odontology

Question Number : 74 Question Id : 9983671804 Question Type : MCQ Option Shuffling : Yes

Correct Marks : 1 Wrong Marks : 0.25

वयोवृद्धता प्रक्रिया, तथा वयोवृद्धता से संबंधित रोगों का अध्ययन करने वाली औषधि शाखा को _____ कहाँ जाता है।

Options :

1. ✖ व्युत्पत्ति विज्ञान

2. ✔ जराविज्ञान

3. ✖ कर्करोग विज्ञान

4. ✖ दंतविज्ञान

Question Number : 75 Question Id : 9983671805 Question Type : MCQ Option Shuffling : Yes

Correct Marks : 1 Wrong Marks : 0.25

Which one of the following is NOT the name of a missile developed by India?

Options :

1. ✖ BrahMos-I

2. ✖ Shaurya

3. ✖ Pechora

4. ✔ Narora

Question Number : 75 Question Id : 9983671805 Question Type : MCQ Option Shuffling : Yes

Correct Marks : 1 Wrong Marks : 0.25

निम्नलिखित में से कौन सा, भारत द्वारा विकसित एक मिसाइल का नाम नहीं है?

Options :

1. ✖ ब्रह्मोस-I

2. ✖ शौर्य

3. ✖ पेचोरा

4. ✔ नरोरा

Question Number : 76 Question Id : 9983671806 Question Type : MCQ Option Shuffling : Yes
Correct Marks : 1 Wrong Marks : 0.25

ASLV-D4 is the name of a launch vehicle developed by ISRO, which carried SROSS-C2 satellite in 1994. The full form of ASLV is:

Options :

1. ✔ Augmented Satellite Launch Vehicle

2. ✖ Automatic Satellite Launch Vehicle

3. ✖ Aeronautic Satellite Launch Vehicle

4. ✖ Audacious Satellite Launch Vehicle

Question Number : 76 Question Id : 9983671806 Question Type : MCQ Option Shuffling : Yes
Correct Marks : 1 Wrong Marks : 0.25

ASLV-D4, इसरो द्वारा विकसित एक प्रक्षेपण वाहन का नाम है, जो 1994 में SROSS-C2 उपग्रह को ले गया था।

ASLV का पूरा नाम है:

Options :

1. ✔ ऑगमेंटेड सैटेलाइट लॉच व्हीकल

2. ✖ ऑटोमैटिक सैटेलाइट लॉच व्हीकल

3. ✖ एयरोनॉटिक सैटेलाइट लॉच व्हीकल

4. ✖ ऑडेसियस सैटेलाइट लॉच व्हीकल

Question Number : 77 Question Id : 9983671807 Question Type : MCQ Option Shuffling : Yes

Correct Marks : 1 Wrong Marks : 0.25

Which one of the following is NOT the name of a research reactor developed in India?

Options :

1. ✖ Cirus

2. ✖ Dhruva

3. ✖ Kamini

4. ✔ Nipuna

Question Number : 77 Question Id : 9983671807 Question Type : MCQ Option Shuffling : Yes

Correct Marks : 1 Wrong Marks : 0.25

निम्नलिखित में से कौन सा, भारत में विकसित एक अनुसंधान रिएक्टर का नाम नहीं है?

Options :

1. ✖ साइरस

2. ✖ ध्रुव

3. ✖ कामिनी

4. ✓ निपुण

Question Number : 78 Question Id : 9983671808 Question Type : MCQ Option Shuffling : Yes

Correct Marks : 1 Wrong Marks : 0.25

BRICS is an acronym for an association of five major emerging national economies? Which country is NOT a part of BRICS?

Options :

1. ✗ Brazil

2. ✗ Russia

3. ✗ India

4. ✓ Belgium

Question Number : 78 Question Id : 9983671808 Question Type : MCQ Option Shuffling : Yes

Correct Marks : 1 Wrong Marks : 0.25

ब्रिक्स, पांच प्रमुख उभरती अर्थव्यवस्था वाले देशों के संघ का संक्षिप्त नाम है। कौन सा देश, ब्रिक्स का अंग नहीं है?

Options :

1. ✗ ब्राज़ील

2. ✗ रूस

3. ✗ इंडिया

4. ✓ बेल्जियम

Question Number : 79 Question Id : 9983671809 Question Type : MCQ Option Shuffling : Yes

Correct Marks : 1 Wrong Marks : 0.25

In which year was the World Trade Organization (WTO) established?

Options :

1. ✓ 1995

2. ✗ 1992

3. ✗ 1990

4. ✗ 1989

Question Number : 79 Question Id : 9983671809 Question Type : MCQ Option Shuffling : Yes

Correct Marks : 1 Wrong Marks : 0.25

विश्व व्यापार संगठन (WTO) की स्थापना किस वर्ष में हुई?

Options :

1. ✓ 1995

2. ✗ 1992

3. ✗ 1990

4. ✗ 1989

Question Number : 80 Question Id : 9983671810 Question Type : MCQ Option Shuffling : Yes

Correct Marks : 1 Wrong Marks : 0.25

Where is the National Sugar Institute (NSI) located in India?

Options :

1. ✗ Mysuru (Mysore)

2. ✖ Udaipur

3. ✖ Lucknow

4. ✔ Kanpur

Question Number : 80 Question Id : 9983671810 Question Type : MCQ Option Shuffling : Yes
Correct Marks : 1 Wrong Marks : 0.25

भारत में राष्ट्रीय शर्करा अनुसंधान (NSI) कहाँ स्थित है?

Options :

1. ✖ मैसूर

2. ✖ उदयपुर

3. ✖ लखनऊ

4. ✔ कानपुर



Arithmetic Ability1

Group Number :	5
Group Id :	99836751
Group Maximum Duration :	0
Group Minimum Duration :	0
Show Attended Group? :	No
Edit Attended Group? :	No
Break time:	0
Group Marks:	20
Is this Group for Examiner?:	No
Revisit allowed for group Instructions? :	Yes
Maximum Instruction Time:	0
Minimum Instruction Time:	0

Arithmetic Ability1

Section Id :	99836757
Section Number :	1
Section type :	Online
Mandatory or Optional:	Mandatory
Number of Questions:	20
Number of Questions to be attempted:	20
Section Marks:	20

Sub-Section Number:	1
Sub-Section Id:	99836799
Question Shuffling Allowed :	Yes

Question Number : 81 Question Id : 9983671811 Question Type : MCQ Option Shuffling : Yes
Correct Marks : 1 Wrong Marks : 0.25

What should come in the place of question mark in the following number series?

513, 735, 1179, 1845, 2733,?

Options :

1. ✖ 3713

2. ✔ 3843

3. ✖ 3432

4. ✖ 3756

Question Number : 81 Question Id : 9983671811 Question Type : MCQ Option Shuffling : Yes
Correct Marks : 1 Wrong Marks : 0.25

नीचे दी गई श्रृंखला में प्रश्न चिह्न (?) के स्थान पर निम्नलिखित में से कौन सा विकल्प आएगा?

513, 735, 1179, 1845, 2733,?

Options :

1. ✖ 3713

2. ✔ 3843

3. ✖ 3432

4. ✖ 3756

Question Number : 82 Question Id : 9983671812 Question Type : MCQ Option Shuffling : Yes
Correct Marks : 1 Wrong Marks : 0.25

What is the value of $(\sqrt{8} - \sqrt{4} - \sqrt{2}) = ?$

Options :

1. ✖ $2 - \sqrt{2}$

2. ✔ $\sqrt{2} - 2$

3. ✖ 2

4. ✖ -2

Question Number : 82 Question Id : 9983671812 Question Type : MCQ Option Shuffling : Yes
Correct Marks : 1 Wrong Marks : 0.25

$(\sqrt{8} - \sqrt{4} - \sqrt{2})$ का मान कितना होगा?

Options :

1. ✖ $2 - \sqrt{2}$

2. ✓ $\sqrt{2} - 2$

3. ✗ 2

4. ✗ -2

Question Number : 83 Question Id : 9983671813 Question Type : MCQ Option Shuffling : Yes
Correct Marks : 1 Wrong Marks : 0.25

Simplify:

$$8.7 - [7.6 - \{6.5 - (5.4 - \overline{4.3 - 2})\}]$$

Options :

1. ✓ 4.5

2. ✗ 3.5

3. ✗ 1.5

4. ✗ 6.5

Question Number : 83 Question Id : 9983671813 Question Type : MCQ Option Shuffling : Yes
Correct Marks : 1 Wrong Marks : 0.25

$$8.7 - [7.6 - \{6.5 - (5.4 - \overline{4.3 - 2})\}] \text{ को हल करें।}$$

Options :

1. ✓ 4.5

2. ✗ 3.5

3. ✖ 1.5

4. ✖ 6.5

Question Number : 84 Question Id : 9983671814 Question Type : MCQ Option Shuffling : Yes
Correct Marks : 1 Wrong Marks : 0.25

Find the value of $3 + \frac{3}{3 + \frac{1}{3 + \frac{1}{3}}}$?

Options :

1. ✖ $\frac{40}{11}$

2. ✖ $\frac{46}{11}$

3. ✔ $\frac{43}{11}$

4. ✖ $\frac{41}{11}$

Question Number : 84 Question Id : 9983671814 Question Type : MCQ Option Shuffling : Yes
Correct Marks : 1 Wrong Marks : 0.25

$3 + \frac{3}{3 + \frac{1}{3 + \frac{1}{3}}}$ का मान कितना होगा?

Options :

1. ✖ $\frac{40}{11}$

2. ✖ $\frac{46}{11}$

3. ✔ $\frac{43}{11}$

4. ✖ $\frac{41}{11}$

Question Number : 85 Question Id : 9983671815 Question Type : MCQ Option Shuffling : Yes
Correct Marks : 1 Wrong Marks : 0.25

If one-ninth of a certain number exceeds its one-tenth by 4, then the number is _____.

Options :

1. ✖ 320

2. ✔ 360

3. ✖ 400

4. ✖ 430

Question Number : 85 Question Id : 9983671815 Question Type : MCQ Option Shuffling : Yes
Correct Marks : 1 Wrong Marks : 0.25

अगर एक निश्चित संख्या का एक-नौवां भाग, उसके एक-दसवें भाग से 4 अधिक है, तो वह संख्या कितनी है?

Options :

1. ✖ 320

2. ✔ 360

3. ✖ 400

4. ✖ 430

Question Number : 86 Question Id : 9983671816 Question Type : MCQ Option Shuffling : Yes

Correct Marks : 1 Wrong Marks : 0.25

The L.C.M. of two numbers is 495 and their H.C.F. is 5. If the sum of the numbers is 100, then their difference is:

Options :

1. ✔ 10

2. ✖ 46

3. ✖ 60

4. ✖ 90

Question Number : 86 Question Id : 9983671816 Question Type : MCQ Option Shuffling : Yes

Correct Marks : 1 Wrong Marks : 0.25

दो संख्याओं का लघुत्तम समापवर्तक 495 और महत्तम समपवर्तक 5 है। यदि संख्याओं का योग 100 है तो उनके बीच का अंतर कितना होगा?

Options :

1. ✔ 10

2. ✖ 46

3. ✖ 60

4. ✖ 90

Question Number : 87 Question Id : 9983671817 Question Type : MCQ Option Shuffling : Yes

Correct Marks : 1 Wrong Marks : 0.25

The L.C.M. of two numbers is 1820 and their H.C.F. is 26. If one number is 130 then find the other number.

Options :

1. ✖ 654

2. ✖ 356

3. ✔ 364

4. ✖ 546

Question Number : 87 Question Id : 9983671817 Question Type : MCQ Option Shuffling : Yes

Correct Marks : 1 Wrong Marks : 0.25

दो संख्याओं का लघुत्तम समापवर्तक 1820 और महत्तम समपवर्तक 26 है। अगर उनमें से एक संख्या का मान 130 है, तो दूसरी संख्या कितनी है?

Options :

1. ✖ 654

2. ✖ 356

3. ✔ 364

4. ✖ 546

Question Number : 88 Question Id : 9983671818 Question Type : MCQ Option Shuffling : Yes

Correct Marks : 1 Wrong Marks : 0.25

The two numbers are in the ratio 3 : 4. If their H.C.F. is 4 then their L.C.M. is:

Options :

1. ✓ 48

2. ✗ 42

3. ✗ 36

4. ✗ 24

Question Number : 88 Question Id : 9983671818 Question Type : MCQ Option Shuffling : Yes

Correct Marks : 1 Wrong Marks : 0.25

दो संख्याएँ 3 : 4 के अनुपात में हैं। अगर उनका महत्तम समापवर्तक 4 है, तो उनका लघुत्तम समापवर्तक कितना होगा?

Options :

1. ✓ 48

2. ✗ 42

3. ✗ 36

4. ✗ 24

Question Number : 89 Question Id : 9983671819 Question Type : MCQ Option Shuffling : Yes

Correct Marks : 1 Wrong Marks : 0.25

Find the value:

$$3 + 0.3 + 0.33 + 0.03 + 0.033 = ?$$

Options :

1. ✓ 3.693

2. ✗ 0.3693

3. ✗ 0.003693

4. ✗ 0.03693

Question Number : 89 Question Id : 9983671819 Question Type : MCQ Option Shuffling : Yes
Correct Marks : 1 Wrong Marks : 0.25

$3 + 0.3 + 0.33 + 0.03 + 0.033$ का मान कितना होगा?

Options :

1. ✓ 3.693

2. ✗ 0.3693

3. ✗ 0.003693

4. ✗ 0.03693

Question Number : 90 Question Id : 9983671820 Question Type : MCQ Option Shuffling : Yes
Correct Marks : 1 Wrong Marks : 0.25

The incomes of Vijay and Niraj are in the ratio 3 : 2 and their expenditures are in the ratio 5 : 3. If each saves ₹ 5000, then what would be the income of Vijay?

Options :

1. ✓ ₹ 30,000

2. ✖ ₹ 20,000

3. ✖ ₹ 40,000

4. ✖ ₹ 50,000

Question Number : 90 Question Id : 9983671820 Question Type : MCQ Option Shuffling : Yes

Correct Marks : 1 Wrong Marks : 0.25

विजय और नीरज की आय का अनुपात 3 : 2 है और उनके व्यय का अनुपात 5 : 3 हैं। यदि उनमें से हर एक की बचत ₹ 5,000 है, तो विजय की आय कितनी है?

Options :

1. ✔ ₹ 30,000

2. ✖ ₹ 20,000

3. ✖ ₹ 40,000

4. ✖ ₹ 50,000

Question Number : 91 Question Id : 9983671821 Question Type : MCQ Option Shuffling : Yes

Correct Marks : 1 Wrong Marks : 0.25

X, Y and Z start a garment business each investing ₹ 16000. After 3 months, X withdrew ₹ 2000, Y withdrew ₹ 4000 and Z invests ₹ 8000 more into the business. At the end of the year, a total profit made was ₹ 41580. Find the share of X.

Options :

1. ✖ ₹ 13210

2. ✖ ₹ 11810

3. ✓ ₹ 12180

4. ✗ ₹ 14210

Question Number : 91 Question Id : 9983671821 Question Type : MCQ Option Shuffling : Yes

Correct Marks : 1 Wrong Marks : 0.25

X, Y और Z एक कपड़े का व्यवसाय शुरू करते हैं और उनमें से हर एक ₹ 16000 की धनराशि का निवेश करते हैं। 3 महीने के बाद, X ने ₹ 2000 वापस ले लिए, Y ने ₹ 4000 वापस ले लिए और Z ने व्यापार में फिर से ₹ 8000 निवेश किया। वर्ष के अंत में, अगर ₹ 41580 का कुल लाभ प्राप्त हुआ, तो इस लाभ में से X का हिस्सा कितना होगा?

Options :

1. ✗ ₹ 13210

2. ✗ ₹ 11810

3. ✓ ₹ 12180

4. ✗ ₹ 14210

Question Number : 92 Question Id : 9983671822 Question Type : MCQ Option Shuffling : Yes

Correct Marks : 1 Wrong Marks : 0.25

The ratio of the weights of two friends A and B is 4 : 5. A's weight increase by 10% and the total weight of A and B together becomes 82.8 Kg, with an increase of 15%. By what percent did the weight of B increase?

Options :

1. ✗ 17.5%

2. ✓ 19%

3. ✖ 20.5%

4. ✖ 21%

Question Number : 92 Question Id : 9983671822 Question Type : MCQ Option Shuffling : Yes

Correct Marks : 1 Wrong Marks : 0.25

दो दोस्तों A और B के वजन का अनुपात 4 : 5 है। A के वजन में 10% की वृद्धि होने पर A और B के कुल वजन में 15% की वृद्धि होती है और उनका कुल वजन 82.8 kg हो जाता है। इस प्रकार B के वजन में कितने प्रतिशत की वृद्धि हुई?

Options :

1. ✖ 17.5%

2. ✔ 19%

3. ✖ 20.5%

4. ✖ 21%

Question Number : 93 Question Id : 9983671823 Question Type : MCQ Option Shuffling : Yes

Correct Marks : 1 Wrong Marks : 0.25

The average of Ramesh's marks in English and Science is 55. His average of marks in English and Geography is 65. What is the difference between the marks which he obtained in Science and Geography?

Options :

1. ✖ 40

2. ✖ 60

3. ✓ 20

4. ✖ 50

Question Number : 93 Question Id : 9983671823 Question Type : MCQ Option Shuffling : Yes

Correct Marks : 1 Wrong Marks : 0.25

अंग्रेजी और विज्ञान में रमेश के अंकों का औसत 55 है। अंग्रेजी और भूगोल में उसके अंकों का औसत 65 है। विज्ञान और भूगोल में उसके द्वारा प्राप्त अंकों के बीच का अंतर कितना है?

Options :

1. ✖ 40

2. ✖ 60

3. ✓ 20

4. ✖ 50

Question Number : 94 Question Id : 9983671824 Question Type : MCQ Option Shuffling : Yes

Correct Marks : 1 Wrong Marks : 0.25

In a class, the average age of 30 boys is 15 years. One boy named Ajit left the class, but two new boys named Vikrant and Susheel whose age differ by 5 came in place of Ajit. If the average age of all the boys now in the class becomes 15 years, find the age of Susheel.

Options :

1. ✖ 20 years

2. ✓ 15 years

3. ✖ 8 years

4. ✖ 10 years

Question Number : 94 Question Id : 9983671824 Question Type : MCQ Option Shuffling : Yes

Correct Marks : 1 Wrong Marks : 0.25

एक कक्षा में, 30 लड़कों की औसत आयु 15 वर्ष है। अजीत ने कक्षा छोड़ दी, लेकिन उसकी जगह कक्षा में विक्रान्त और सुशील नामक दो नए लड़के आए जिनकी उम्र के बीच का अंतर 5 वर्ष है। यदि अभी भी कक्षा में सभी लड़कों की औसत आयु 15 वर्ष है, तो सुशील की आयु कितनी है?

Options :

1. ✖ 20 वर्ष

2. ✔ 15 वर्ष

3. ✖ 8 वर्ष

4. ✖ 10 वर्ष

Question Number : 95 Question Id : 9983671825 Question Type : MCQ Option Shuffling : Yes

Correct Marks : 1 Wrong Marks : 0.25

Sarika spends 20% on house rent and 70% on house hold expenditure out of her total income. If she manages to save ₹ 3600, find her total income.

Note: For this question, discrepancy is found in question/answer. So, this question is ignored for all candidates.

Options :

1. ₹ 10,000

2. ₹ 15,000

3. ₹ 20,000

4. ₹ 18,000

Question Number : 95 Question Id : 9983671825 Question Type : MCQ Option Shuffling : Yes

Correct Marks : 1 Wrong Marks : 0.25

सारिका अपनी आय का 20% घर के किराये पर और 70% घर के बाकी खर्च पर व्यय करती है। यदि उसकी बचत ₹ 3600 है, तो उसकी कुल आय कितनी है?

Note: For this question, discrepancy is found in question/answer. So, this question is ignored for all candidates.

Options :

1. ₹ 10,000

2. ₹ 15,000

3. ₹ 20,000

4. ₹ 18,000

Question Number : 96 Question Id : 9983671826 Question Type : MCQ Option Shuffling : Yes

Correct Marks : 1 Wrong Marks : 0.25

In a class of 60 children, 30% children can speak only English, 20% Hindi and English both and rest of the children can speak only Hindi. Find the count of children who can speak Hindi.

Options :

1. ✓ 42

2. ✗ 48

3. ✗ 46

4. ✖ 44

Question Number : 96 Question Id : 9983671826 Question Type : MCQ Option Shuffling : Yes

Correct Marks : 1 Wrong Marks : 0.25

60 बच्चों की कक्षा में, 30% बच्चे केवल अंग्रेजी बोल सकते हैं, 20% हिंदी और अंग्रेजी दोनों बोल सकते हैं और बाकी बच्चे केवल हिंदी बोल सकते हैं। कक्षा में हिन्दी बोलने वाले बच्चों की संख्या कुल कितनी है?

Options :

1. ✔ 42

2. ✖ 48

3. ✖ 46

4. ✖ 44

Question Number : 97 Question Id : 9983671827 Question Type : MCQ Option Shuffling : Yes

Correct Marks : 1 Wrong Marks : 0.25

The cost of the product in year 2018 was ₹ 19,000. Its cost in the year 2019 is ₹ 17,000. Find the percent decrease in its cost.

Options :

1. ✖ 12.5%

2. ✖ 10%

3. ✖ 9.5%

4. ✔ 10.5%

Question Number : 97 Question Id : 9983671827 Question Type : MCQ Option Shuffling : Yes
Correct Marks : 1 Wrong Marks : 0.25

वर्ष 2018 में एक सामान की लागत ₹ 19,000 थी। वर्ष 2019 में इसकी लागत ₹ 17,000 है। इसकी सामान की लागत में कुल कितने प्रतिशत की कमी आई है?

Options :

1. ✖ 12.5%

2. ✖ 10%

3. ✖ 9.5%

4. ✔ 10.5%

Question Number : 98 Question Id : 9983671828 Question Type : MCQ Option Shuffling : Yes
Correct Marks : 1 Wrong Marks : 0.25

A product was purchased for ₹ 1600 and then sold for ₹ 1400. Find the loss percentage.

Options :

1. ✔ $12\frac{1}{2}\%$

2. ✖ $14\frac{1}{2}\%$

3. ✖ $16\frac{1}{2}\%$

4. ✖ $18\frac{1}{2}\%$

Question Number : 98 Question Id : 9983671828 Question Type : MCQ Option Shuffling : Yes
Correct Marks : 1 Wrong Marks : 0.25

एक सामान को ₹ 1600 के मूल्य पर खरीदा गया और फिर इसे ₹ 1400 के मूल्य पर बेच दिया गया। सामान पर कितने प्रतिशत की हानि हुई?

Options :

1. ✓ $12\frac{1}{2}\%$

2. ✗ $14\frac{1}{2}\%$

3. ✗ $16\frac{1}{2}\%$

4. ✗ $18\frac{1}{2}\%$

Question Number : 99 Question Id : 9983671829 Question Type : MCQ Option Shuffling : Yes

Correct Marks : 1 Wrong Marks : 0.25

A shopkeeper sells a product at 5% profit. If he had bought it at 5% less and sold it for ₹ 1 less, he would have gained 10%. Find the cost price of the product.

Options :

1. ✗ ₹ 150

2. ✗ ₹ 250

3. ✓ ₹ 200

4. ✗ ₹ 350

Question Number : 99 Question Id : 9983671829 Question Type : MCQ Option Shuffling : Yes

Correct Marks : 1 Wrong Marks : 0.25

एक दुकानदार 5% लाभ पर एक सामान बेचता है। अगर उसने इसे 5% कम पर खरीदा होता और इसे ₹ 1 कम कीमत पर बेचता, तो उसे 10% का फायदा होता। सामान की लागत मूल्य कितनी है?

Options :

1. ✖ ₹ 150

2. ✖ ₹ 250

3. ✔ ₹ 200

4. ✖ ₹ 350

Question Number : 100 Question Id : 9983671830 Question Type : MCQ Option Shuffling : Yes

Correct Marks : 1 Wrong Marks : 0.25

The simple interest for 3 years and the compound interest for 2 years on a certain sum at the same rate are ₹ 1,800 and ₹ 1,248 respectively. What is the rate of interest p.a.?

Options :

1. ✖ 5%

2. ✖ 6%

3. ✔ 8%

4. ✖ 12%

Question Number : 100 Question Id : 9983671830 Question Type : MCQ Option Shuffling : Yes

Correct Marks : 1 Wrong Marks : 0.25

अगर एक निश्चित धनराशि पर 3 साल के लिए साधारण ब्याज और 2 साल के लिए चक्रवृद्धि ब्याज क्रमशः ₹ 1,800 और ₹ 1,248 हैं, तो वार्षिक ब्याज दर कितनी है?

Options :

1. ✖ 5%

2. ✖ 6%

3. ✔ 8%

4. ✖ 12%

Arithmetic Ability2

Group Number :	6
Group Id :	99836752
Group Maximum Duration :	0
Group Minimum Duration :	0
Show Attended Group? :	No
Edit Attended Group? :	No
Break time:	0
Group Marks:	20
Is this Group for Examiner?:	No
Revisit allowed for group Instructions? :	Yes
Maximum Instruction Time:	0
Minimum Instruction Time:	0

Arithmetic Ability2

Section Id :	99836758
Section Number :	1
Section type :	Online
Mandatory or Optional:	Mandatory
Number of Questions:	20
Number of Questions to be attempted:	20
Section Marks:	20

Sub-Section Number:	1
Sub-Section Id:	998367100
Question Shuffling Allowed :	Yes

Question Number : 101 Question Id : 9983671831 Question Type : MCQ Option Shuffling : Yes
Correct Marks : 1 Wrong Marks : 0.25

A sum amounts to ₹ 15,746.40 at 12% p.a. in 2 years, when the interest is compounded 8-monthly. What will be the simple interest on that sum for $5\frac{3}{5}$ years at the same rate?

Options :

1. ✖ ₹ 8,280

2. ✔ ₹ 8,400

3. ✖ ₹ 8,500

4. ✖ ₹ 8,560

Question Number : 101 Question Id : 9983671831 Question Type : MCQ Option Shuffling : Yes

Correct Marks : 1 Wrong Marks : 0.25

8 मासिक चक्रवृद्धि ब्याज के रूप में एक निश्चित धनराशि 12% प्रति वर्ष की ब्याज दर से 2 वर्षों में ₹ 15,746.40 हो जाती है। इस समान धनराशि के ऊपर समान ब्याज पर $5\frac{3}{5}$ वर्षों के लिए साधारण ब्याज राशि कितनी होगी?

Options :

1. ✖ ₹ 8,280

2. ✔ ₹ 8,400

3. ✖ ₹ 8,500

4. ✖ ₹ 8,560

Question Number : 102 Question Id : 9983671832 Question Type : MCQ Option Shuffling : Yes

Correct Marks : 1 Wrong Marks : 0.25

A certain loan has to be returned in two equal annual instalments each of ₹ 11,025. If the rate of interest is 5% per annum, compounded yearly, then the total interest paid is:

Options :

1. ✖ ₹ 1,450

2. ✖ ₹ 1,480

3. ✔ ₹ 1,550

4. ✖ ₹ 1,580

Question Number : 102 Question Id : 9983671832 Question Type : MCQ Option Shuffling : Yes

Correct Marks : 1 Wrong Marks : 0.25

एक निश्चित धनराशि के ऋण को एक वर्ष में ₹ 11,025 की दो किस्तों में वापस करना है। अगर ब्याज की दर 5% प्रति वर्ष है, तो ब्याज के रूप में कुल कितनी राशि का भुगतान किया गया है?

Options :

1. ✖ ₹ 1,450

2. ✖ ₹ 1,480

3. ✔ ₹ 1,550

4. ✖ ₹ 1,580

Question Number : 103 Question Id : 9983671833 Question Type : MCQ Option Shuffling : Yes

Correct Marks : 1 Wrong Marks : 0.25

Renu sold two articles for ₹ 967.60 each. On one she gained 18% and on other she loss 18%. Her percentage profit or loss on the whole transaction was:

Options :

1. ✖ Loss, ₹ 60.40

2. ✖ Profit, ₹ 60.40

3. ✔ Loss, ₹ 64.80

4. ✖ Profit, ₹ 64.80

Question Number : 103 Question Id : 9983671833 Question Type : MCQ Option Shuffling : Yes

Correct Marks : 1 Wrong Marks : 0.25

रेणु के पास दो सामान हैं और उसने हर एक सामान को ₹ 967.60 कीमत पर बेचा। एक पर उसे 18% का लाभ प्राप्त हुआ और दूसरे पर उसे 18% की हानि हुई। इस पूरे लेनदेन में उसे कुल कितने प्रतिशत की लाभ या हानि प्राप्त हुई?

Options :

1. ✖ हानि, ₹ 60.40

2. ✖ लाभ, ₹ 60.40

3. ✔ हानि, ₹ 64.80

4. ✖ लाभ, ₹ 64.80

Question Number : 104 Question Id : 9983671834 Question Type : MCQ Option Shuffling : Yes

Correct Marks : 1 Wrong Marks : 0.25

If the length of a rectangular plot is increased by 10% and the breadth is decreased by 20%, how much will its area increase or decrease?

Options :

1. ✔ 12% decrease

2. ✖ 12% increase

3. ✖ 10% decrease

4. ✖ 10% increase

Question Number : 104 Question Id : 9983671834 Question Type : MCQ Option Shuffling : Yes

Correct Marks : 1 Wrong Marks : 0.25

यदि एक आयताकार मैदान की लंबाई में 10% की वृद्धि और चौड़ाई में 20% की कमी होती है, तो इसके क्षेत्रफल में कुल कितने प्रतिशत की वृद्धि या कमी होगी?

Options :

1. ✔ 12% कमी

2. ✖ 12% वृद्धि

3. ✖ 10% कमी

4. ✖ 10% वृद्धि

Question Number : 105 Question Id : 9983671835 Question Type : MCQ Option Shuffling : Yes

Correct Marks : 1 Wrong Marks : 0.25

If $\frac{25}{10}x - \frac{3}{2} = \frac{5}{10}x - \frac{7}{4}$ then find the value of x .

Options :

1. ✖ $\frac{1}{8}$

2. ✖ 8

3. ✖ -8

4. ✓ $-\frac{1}{8}$

Question Number : 105 Question Id : 9983671835 Question Type : MCQ Option Shuffling : Yes

Correct Marks : 1 Wrong Marks : 0.25

अगर $\frac{25}{10}x - \frac{3}{2} = \frac{5}{10}x - \frac{7}{4}$ हो, तो x का मान कितना होगा?

Options :

1. ✗ $\frac{1}{8}$

2. ✗ 8

3. ✗ -8

4. ✓ $-\frac{1}{8}$

Question Number : 106 Question Id : 9983671836 Question Type : MCQ Option Shuffling : Yes

Correct Marks : 1 Wrong Marks : 0.25

If the area of the rectangle is 60 sq.cm. and its length is 12 cm then find its diagonal length. (in cm)

Options :

1. ✓ 13

2. ✗ 14

3. ✗ 15

4. ✗ 7

Question Number : 106 Question Id : 9983671836 Question Type : MCQ Option Shuffling : Yes
Correct Marks : 1 Wrong Marks : 0.25

यदि किसी आयात का क्षेत्रफल 60 sq.cm है और इसकी लंबाई 12 cm है, तो इसके विकर्ण की लंबाई कितनी होगी? (cm में)

Options :

1. ✓ 13

2. ✗ 14

3. ✗ 15

4. ✗ 7

Question Number : 107 Question Id : 9983671837 Question Type : MCQ Option Shuffling : Yes
Correct Marks : 1 Wrong Marks : 0.25

If the area of a triangle is 6 sq.cm and two sides of the triangle are 3 cm, 4 cm. Then find the third side. (in cm)

Options :

1. ✓ 5

2. ✗ 6

3. ✗ 3

4. ✗ 4

Question Number : 107 Question Id : 9983671837 Question Type : MCQ Option Shuffling : Yes
Correct Marks : 1 Wrong Marks : 0.25

यदि एक त्रिभुज का क्षेत्रफल 6 sq.cm है और त्रिभुज के दोनों भुजाओं की लंबाई क्रमशः 3 cm, 4 cm हैं, तो इसकी तीसरी भुजा की लंबाई कितनी होगी? (cm में)

Options :

1. ✓ 5

2. ✗ 6

3. ✗ 3

4. ✗ 4

Question Number : 108 Question Id : 9983671838 Question Type : MCQ Option Shuffling : Yes

Correct Marks : 1 Wrong Marks : 0.25

Find the area of a square if the length of its diagonal is 30 cm.

Options :

1. ✓ 450 sq.cm.

2. ✗ 425 sq.cm.

3. ✗ 475 sq.cm.

4. ✗ 400 sq.cm.

Question Number : 108 Question Id : 9983671838 Question Type : MCQ Option Shuffling : Yes

Correct Marks : 1 Wrong Marks : 0.25

अगर एक वर्ग के विकर्ण की लंबाई 30 cm है, तो वर्ग का क्षेत्रफल कितना होगा?

Options :

1. ✓ 450 sq.cm.

2. ✖ 425 sq.cm.

3. ✖ 475 sq.cm.

4. ✖ 400 sq.cm.

Question Number : 109 Question Id : 9983671839 Question Type : MCQ Option Shuffling : Yes
Correct Marks : 1 Wrong Marks : 0.25

The length of the diagonal of a square is 28 m, its area is _____.

Options :

1. ✖ 239 sq.m

2. ✖ 784 sq.m

3. ✖ 293 sq.m

4. ✔ 392 sq.m

Question Number : 109 Question Id : 9983671839 Question Type : MCQ Option Shuffling : Yes
Correct Marks : 1 Wrong Marks : 0.25

अगर एक वर्ग के विकर्ण की लंबाई 28 m है, तो इसका क्षेत्रफल _____ होगा।

Options :

1. ✖ 239 sq.m

2. ✖ 784 sq.m

3. ✖ 293 sq.m

4. ✔ 392 sq.m

Question Number : 110 Question Id : 9983671840 Question Type : MCQ Option Shuffling : Yes

Correct Marks : 1 Wrong Marks : 0.25

12 men can complete a task in 84 days. 36 boys can also complete the same task in 84 days. In how many days will 16 men and 15 boys together be able to finish the task?

Options :

1. ✖ 52

2. ✖ 36

3. ✖ 21

4. ✔ 48

Question Number : 110 Question Id : 9983671840 Question Type : MCQ Option Shuffling : Yes

Correct Marks : 1 Wrong Marks : 0.25

12 पुरुष 84 दिनों में एक काम पूरा कर सकते हैं। 36 लड़के भी उसी काम को 84 दिनों में पूरा कर सकते हैं। 16 पुरुष और 15 लड़के एक साथ मिलकर इस काम को कुल कितने दिनों में पूरा करेंगे?

Options :

1. ✖ 52

2. ✖ 36

3. ✖ 21

4. ✓ 48

Question Number : 111 Question Id : 9983671841 Question Type : MCQ Option Shuffling : Yes

Correct Marks : 1 Wrong Marks : 0.25

Pipes A, B, C and D can fill a tank in 15, 20, 30 and 60 h respectively. Pipe A is opened at 8 a.m., B at 9 a.m., C at 10 a.m. and D at 11 a.m. When is the tank filled up completely?

Options :

1. ✗ 2 : 00 p.m.

2. ✗ 2 : 30 p.m.

3. ✓ 3 : 00 p.m.

4. ✗ 3 : 30 p.m.

Question Number : 111 Question Id : 9983671841 Question Type : MCQ Option Shuffling : Yes

Correct Marks : 1 Wrong Marks : 0.25

पाइप A, B, C और D क्रमशः 15, 20, 30 और 60 घंटे में एक टैंक भर सकते हैं। पाइप A को सुबह 8 बजे, B को सुबह 9 बजे, C को सुबह 10 बजे और D को सुबह 11 बजे खोला जाता है। कितने बजे तक टैंक पूरी तरह से भर जाएगा?

Options :

1. ✗ 2 : 00 p.m.

2. ✗ 2 : 30 p.m.

3. ✓ 3 : 00 p.m.

4. ✖ 3 : 30 p.m.

Question Number : 112 Question Id : 9983671842 Question Type : MCQ Option Shuffling : Yes

Correct Marks : 1 Wrong Marks : 0.25

A and B alone can do a piece of work in 10 days and 20 days respectively. If they work on alternate days, starting with A, in how many days the work will be completed?

Options :

1. ✖ 12

2. ✖ 12.5

3. ✔ 13

4. ✖ 13.5

Question Number : 112 Question Id : 9983671842 Question Type : MCQ Option Shuffling : Yes

Correct Marks : 1 Wrong Marks : 0.25

A और B अकेले क्रमशः 10 दिनों और 20 दिनों में एक काम पूरा कर सकते हैं। यदि वे वैकल्पिक दिनों में काम करते हैं, A से शुरू करके, तो काम को पूरा करने में कुल कितने दिनों का समय लगेगा?

Options :

1. ✖ 12

2. ✖ 12.5

3. ✔ 13

4. ✖ 13.5

Question Number : 113 Question Id : 9983671843 Question Type : MCQ Option Shuffling : Yes
Correct Marks : 1 Wrong Marks : 0.25

A person travelling in a train counts 41 pillars in 2 minutes. If the distance between two poles is 60 m, what is the speed of the train?

Options :

- 1. ✓ 72 km/h
- 2. ✗ 73.8 km/h
- 3. ✗ 75 km/h
- 4. ✗ 75.4 km/h

Question Number : 113 Question Id : 9983671843 Question Type : MCQ Option Shuffling : Yes
Correct Marks : 1 Wrong Marks : 0.25

किसी ट्रेन में यात्रा करने वाला एक व्यक्ति 2 मिनट में 41 खंभे गिनता है। यदि दो खंभों के बीच की दूरी 60 m है, तो ट्रेन की गति कितनी है?

Options :

- 1. ✓ 72 km/h
- 2. ✗ 73.8 km/h
- 3. ✗ 75 km/h
- 4. ✗ 75.4 km/h

Question Number : 114 Question Id : 9983671844 Question Type : MCQ Option Shuffling : Yes
Correct Marks : 1 Wrong Marks : 0.25

A boat can go 30 km upstream and 48 km downstream in 5 hours 40 minutes. Also, it can go 12 km upstream and 7.5 km downstream in 1 hour 37 minutes. What is the speed of boat in still water in km/h?

Note: For this question, discrepancy is found in question/answer. So,this question is ignored for all candidates.

Options :

1. 12

2. 13

3. 14

4. 15

Question Number : 114 Question Id : 9983671844 Question Type : MCQ Option Shuffling : Yes

Correct Marks : 1 Wrong Marks : 0.25

एक नाव 5 घंटे 40 मिनट में धारा के विरुद्ध 30 km और धारा की ओर 48 km की दूरी तय कर सकती है। साथ ही, यह 1 घंटे 37 मिनट में धारा के विरुद्ध 12 km और धारा की ओर 7.5 km की दूरी तय कर सकती है। स्थिर जल में नाव की गति km/h में कितनी है?

Note: For this question, discrepancy is found in question/answer. So,this question is ignored for all candidates.

Options :

1. 12

2. 13

3. 14

4. 15

Question Number : 115 Question Id : 9983671845 Question Type : MCQ Option Shuffling : Yes

Correct Marks : 1 Wrong Marks : 0.25

Find the value of 'c'. If the product of largest 3 digit integer and smallest positive two digit integer we get 'c'.

Options :

1. ✖ 10001

2. ✔ 9990

3. ✖ 9900

4. ✖ 9991

Question Number : 115 Question Id : 9983671845 Question Type : MCQ Option Shuffling : Yes
Correct Marks : 1 Wrong Marks : 0.25

यदि 3 अंकों की सबसे बड़ी संख्या के पूर्णांक और दो अंकों की सबसे छोटी सम संख्या के पूर्णांक का गुणनफल 'c' है, तो 'c' का मान कितना होगा?

Options :

1. ✖ 10001

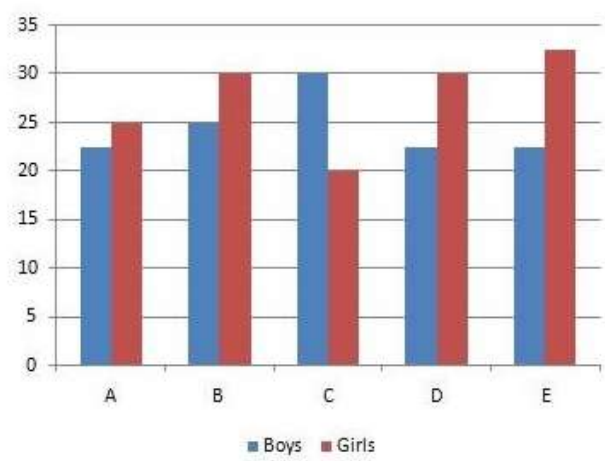
2. ✔ 9990

3. ✖ 9900

4. ✖ 9991

Question Number : 116 Question Id : 9983671846 Question Type : MCQ Option Shuffling : Yes
Correct Marks : 1 Wrong Marks : 0.25

The bar graph below represents the total number of boys and girls in various colleges. The number of boys and girls is in thousands. Study the bar graph and answer the following question.



Find the average number of girls from all the colleges.

Options :

1. ✖ 25500

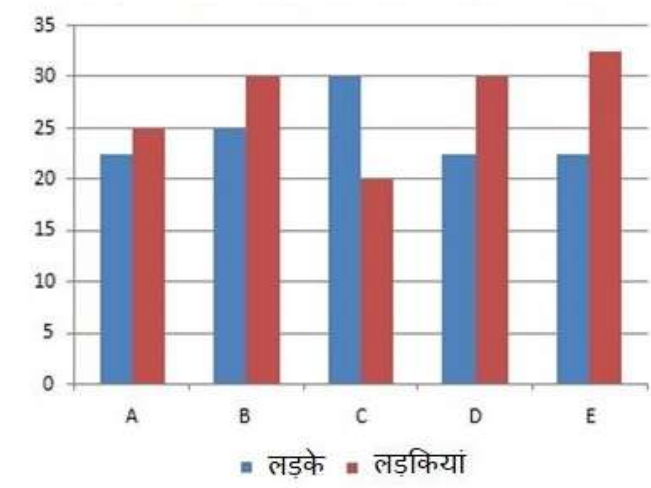
2. ✖ 22500

3. ✔ 27500

4. ✖ 25700

Question Number : 116 Question Id : 9983671846 Question Type : MCQ Option Shuffling : Yes
Correct Marks : 1 Wrong Marks : 0.25

नीचे दिया गया बार ग्राफ विभिन्न कॉलेजों में लड़कों और लड़कियों की कुल संख्या को दर्शाता है। लड़के और लड़कियों की संख्या हजारों में है। इस बार ग्राफ को ध्यान से पढ़ें और निम्नलिखित प्रश्न का उत्तर दें।



सभी कॉलेजों की लड़कियों की औसत संख्या कितनी है?

Options :

- 1. ✖ 25500
- 2. ✖ 22500
- 3. ✔ 27500
- 4. ✖ 25700

Question Number : 117 Question Id : 9983671847 Question Type : MCQ Option Shuffling : Yes
Correct Marks : 1 Wrong Marks : 0.25
A school circular ground has a diameter of 72 m. A 7 m wide road runs outside around it. Find the area of road. (in sq.m)

Note: For this question, discrepancy is found in question/answer. So, this question is ignored for all candidates.

Options :

- 1. 2418
- 2. 2518

3. 2618

4. 2600

Question Number : 117 Question Id : 9983671847 Question Type : MCQ Option Shuffling : Yes

Correct Marks : 1 Wrong Marks : 0.25

एक स्कूल के वृत्ताकार मैदान का व्यास 72 m है। इसके चारों ओर 7 m चौड़ी सड़क है। सड़क का क्षेत्रफल कितना (sq.m में) होगा?

Note: For this question, discrepancy is found in question/answer. So, this question is ignored for all candidates.

Options :

1. 2418

2. 2518

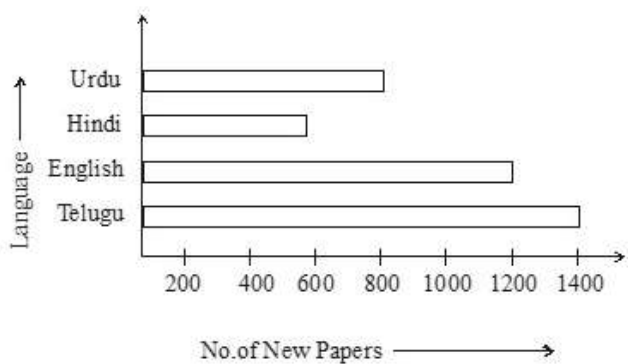
3. 2618

4. 2600

Question Number : 118 Question Id : 9983671848 Question Type : MCQ Option Shuffling : Yes

Correct Marks : 1 Wrong Marks : 0.25

The bar graph below represents the circulation of newspapers in different languages in a city. Study the bar graph and answer the following question.



By how much is the circulation of newspapers in Telugu more than Urdu newspapers?

Options :

1. ✖ 400

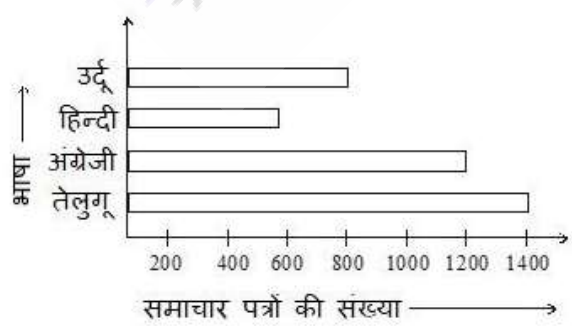
2. ✖ 800

3. ✔ 600

4. ✖ 1000

Question Number : 118 Question Id : 9983671848 Question Type : MCQ Option Shuffling : Yes
Correct Marks : 1 Wrong Marks : 0.25

नीचे दिया गया बार ग्राफ एक शहर में विभिन्न भाषाओं में समाचार पत्रों की खपत को दर्शाता है। बार ग्राफ को ध्यान से पढ़ें और निम्नलिखित प्रश्न का उत्तर दें:



उर्दू समाचार पत्रों की तुलना में तेलुगू समाचार पत्रों की खपत कितनी अधिक है?

Options :

1. ✖ 400

2. ✖ 800

3. ✔ 600

4. ✖ 1000

Question Number : 119 Question Id : 9983671849 Question Type : MCQ Option Shuffling : Yes

Correct Marks : 1 Wrong Marks : 0.25

The cost price of 42 pens is the same as the selling price of x pens. If there is a loss of 30%, what is the value of x ?

Options :

1. ✖ 50

2. ✖ 55

3. ✖ 56

4. ✔ 60

Question Number : 119 Question Id : 9983671849 Question Type : MCQ Option Shuffling : Yes

Correct Marks : 1 Wrong Marks : 0.25

42 कलमों का क्रय मूल्य x कलमों के विक्रय मूल्य के समान है। यदि इसमें कुल 30% की हानि होती है, तो x का मान कितना है?

Options :

1. ✖ 50

2. ✖ 55

3. ✖ 56

4. ✔ 60

Question Number : 120 Question Id : 9983671850 Question Type : MCQ Option Shuffling : Yes
Correct Marks : 1 Wrong Marks : 0.25

The table below represents the classification of 100 students based on the marks obtained by them in Biology and Physics in an Examination. Study the table and answer the following question.

Subject	Marks out of 50				
	40 and above	30 and above	20 and above	10 and above	0 and above
Biology	9	32	80	92	100
Physics	4	21	66	81	100
Average (Aggregate)	7	27	73	87	100

What is the difference between the number of students scoring 40 and above marks in aggregate and those passed with 40 and above marks in Physics?

Options :

1. ✔ 3

2. ✖ 4

3. ✖ 6

4. ✖ 8

Question Number : 120 Question Id : 9983671850 Question Type : MCQ Option Shuffling : Yes
Correct Marks : 1 Wrong Marks : 0.25

नीचे दी गई तालिका एक परीक्षा में जीव विज्ञान और भौतिकी में प्राप्त अंकों के आधार पर 100 छात्रों के वर्गीकरण को दर्शाती है। इस तालिका को ध्यान से पढ़ें और निम्नलिखित प्रश्न का उत्तर दें।

विषय	50 पूर्णांक में से प्राप्त अंक				
	40 और उससे अधिक	30 और उससे अधिक	20 और उससे अधिक	10 और उससे अधिक	0 और उससे अधिक
जीव विज्ञान	9	32	80	92	100
भौतिकी	4	21	66	81	100
औसत (कुल अंक)	7	27	73	87	100

कुल अंक में 40 और उससे अधिक अंक प्राप्त करने वाले छात्रों की संख्या और भौतिकी में 40 और उससे अधिक अंक प्राप्त करने वाले छात्रों की संख्या के बीच कितना अंतर है?

Options :

1. ✓ 3

2. ✗ 4

3. ✗ 6

4. ✗ 8



General English1

Group Number :	7
Group Id :	99836753
Group Maximum Duration :	0
Group Minimum Duration :	0
Show Attended Group? :	No
Edit Attended Group? :	No
Break time:	0
Group Marks:	20
Is this Group for Examiner?:	No
Revisit allowed for group Instructions? :	Yes
Maximum Instruction Time:	0
Minimum Instruction Time:	0

General English1

Section Id :	99836759
Section Number :	1
Section type :	Online
Mandatory or Optional:	Mandatory
Number of Questions:	20
Number of Questions to be attempted:	20
Section Marks:	20

Sub-Section Number:	1
Sub-Section Id:	998367101
Question Shuffling Allowed :	Yes

Question Number : 121 Question Id : 9983671851 Question Type : MCQ Option Shuffling : Yes
Correct Marks : 1 Wrong Marks : 0.25

Select the most appropriate idiom to fill in the blank.

In case you fail to execute this plan of yours, at least _____.

Options :

- 1. ✖ play ducks and drakes
- 2. ✔ have a card up one's sleeve
- 3. ✖ keep one at bay
- 4. ✖ make a clean breast of it

Question Number : 121 Question Id : 9983671851 Question Type : MCQ Option Shuffling : Yes
Correct Marks : 1 Wrong Marks : 0.25

Select the most appropriate idiom to fill in the blank.

In case you fail to execute this plan of yours, at least _____.

Options :

1. ✖ play ducks and drakes
2. ✔ have a card up one's sleeve
3. ✖ keep one at bay
4. ✖ make a clean breast of it

Question Number : 122 Question Id : 9983671852 Question Type : MCQ Option Shuffling : Yes

Correct Marks : 1 Wrong Marks : 0.25

Select the most appropriate option that can substitute the underlined words in the given sentence.

By agreeing to his unapproved deals, he has feathered his own nest.

Options :

1. ✖ Fallen into a trap
2. ✖ Disturbed the work
3. ✔ Made money unfairly
4. ✖ Gained respect from him

Question Number : 122 Question Id : 9983671852 Question Type : MCQ Option Shuffling : Yes

Correct Marks : 1 Wrong Marks : 0.25

Select the most appropriate option that can substitute the underlined words in the given sentence.

By agreeing to his unapproved deals, he has feathered his own nest.

Options :

1. ✖ Fallen into a trap
2. ✖ Disturbed the work
3. ✔ Made money unfairly
4. ✖ Gained respect from him

Question Number : 123 Question Id : 9983671853 Question Type : MCQ Option Shuffling : Yes
Correct Marks : 1 Wrong Marks : 0.25

Select the most appropriate option that can substitute the underlined words in the given sentence.

He kept me on tenterhooks for more than six hours.

Options :

1. ✖ In a difficult problem
2. ✔ In a state of anxiety and suspense
3. ✖ Very happy
4. ✖ In comfortable state

Question Number : 123 Question Id : 9983671853 Question Type : MCQ Option Shuffling : Yes
Correct Marks : 1 Wrong Marks : 0.25

Select the most appropriate option that can substitute the underlined words in the given sentence.

He kept me on tenterhooks for more than six hours.

Options :

1. ✖ In a difficult problem
2. ✔ In a state of anxiety and suspense
3. ✖ Very happy
4. ✖ In comfortable state

Question Number : 124 Question Id : 9983671854 Question Type : MCQ Option Shuffling : Yes

Correct Marks : 1 Wrong Marks : 0.25

Select the option that can be used as a one-word substitute for the given phrase.

People with this fear tend to worry about having memories (especially bad ones).

Options :

1. ✔ Mnemophobia
2. ✖ Nyctophobia
3. ✖ Hodophobia
4. ✖ Geraphobia

Question Number : 124 Question Id : 9983671854 Question Type : MCQ Option Shuffling : Yes

Correct Marks : 1 Wrong Marks : 0.25

Select the option that can be used as a one-word substitute for the given phrase.

People with this fear tend to worry about having memories (especially bad ones).

Options :

1. ✓ Mnemophobia

2. ✗ Nyctophobia

3. ✗ Hodophobia

4. ✗ Geraphobia

Question Number : 125 Question Id : 9983671855 Question Type : MCQ Option Shuffling : Yes

Correct Marks : 1 Wrong Marks : 0.25

Select the option that can be used as a one-word substitute for the given phrase.

One who is incapable of making mistakes or being wrong.

Options :

1. ✗ Indelible

2. ✗ Inevitable

3. ✓ Infallible

4. ✗ Infantile

Question Number : 125 Question Id : 9983671855 Question Type : MCQ Option Shuffling : Yes

Correct Marks : 1 Wrong Marks : 0.25

Select the option that can be used as a one-word substitute for the given phrase.

One who is incapable of making mistakes or being wrong.

Options :

1. ✖ Indelible

2. ✖ Inevitable

3. ✔ Infallible

4. ✖ Infantile

Question Number : 126 Question Id : 9983671856 Question Type : MCQ Option Shuffling : Yes

Correct Marks : 1 Wrong Marks : 0.25

Select the most appropriate preposition to fill in the blank.

Soil is the most important renewable natural resource which supports different types of living organism's _____ earth.

Options :

1. ✖ for

2. ✖ in

3. ✖ from

4. ✔ on

Question Number : 126 Question Id : 9983671856 Question Type : MCQ Option Shuffling : Yes

Correct Marks : 1 Wrong Marks : 0.25

Select the most appropriate preposition to fill in the blank.

Soil is the most important renewable natural resource which supports different types of living organism's _____ earth.

Options :

1. ✖ for

2. ✖ in

3. ✖ from

4. ✔ on

Question Number : 127 Question Id : 9983671857 Question Type : MCQ Option Shuffling : Yes

Correct Marks : 1 Wrong Marks : 0.25

Select the most appropriate preposition to fill in the blank.

A chemical compound called 'Taxol' is extracted _____ the bark of the Himalayan Yew and is used to treat some cancers.

Options :

1. ✖ in

2. ✖ with

3. ✔ from

4. ✖ on

Question Number : 127 Question Id : 9983671857 Question Type : MCQ Option Shuffling : Yes

Correct Marks : 1 Wrong Marks : 0.25

Select the most appropriate preposition to fill in the blank.

A chemical compound called 'Taxol' is extracted _____ the bark of the Himalayan Yew and is used to treat some cancers.

Options :

1. ✖ in

2. ✖ with

3. ✔ from

4. ✖ on

Question Number : 128 Question Id : 9983671858 Question Type : MCQ Option Shuffling : Yes

Correct Marks : 1 Wrong Marks : 0.25

Select the most appropriate collective noun to fill in the blank.

_____ of performers.

Options :

1. ✖ A troop

2. ✖ A team

3. ✔ A troupe

4. ✖ A collection

Question Number : 128 Question Id : 9983671858 Question Type : MCQ Option Shuffling : Yes

Correct Marks : 1 Wrong Marks : 0.25

Select the most appropriate collective noun to fill in the blank.

_____ of performers.

Options :

1. ✖ A troop

2. ✖ A team

3. ✔ A troupe

4. ✖ A collection

Question Number : 129 Question Id : 9983671859 Question Type : MCQ Option Shuffling : Yes

Correct Marks : 1 Wrong Marks : 0.25

Select the most appropriate collective noun to fill in the blank.

_____ of locusts.

Options :

1. ✖ A bunch

2. ✖ A cluster

3. ✔ A swarm

4. ✖ A hive

Question Number : 129 Question Id : 9983671859 Question Type : MCQ Option Shuffling : Yes

Correct Marks : 1 Wrong Marks : 0.25

Select the most appropriate collective noun to fill in the blank.

_____ of locusts.

Options :

1. ✖ A bunch

2. ✖ A cluster

3. ✔ A swarm

4. ✖ A hive

Question Number : 130 Question Id : 9983671860 Question Type : MCQ Option Shuffling : Yes

Correct Marks : 1 Wrong Marks : 0.25

Select the most appropriate conjunction to fill in the blank.

Girish always procrastinated studying for the board exams _____ he failed.

Options :

1. ✖ however

2. ✖ nevertheless

3. ✖ yet

4. ✔ therefore

Question Number : 130 Question Id : 9983671860 Question Type : MCQ Option Shuffling : Yes

Correct Marks : 1 Wrong Marks : 0.25

Select the most appropriate conjunction to fill in the blank.

Girish always procrastinated studying for the board exams _____ he failed.

Options :

1. ✖ however

2. ✖ nevertheless

3. ✖ yet

4. ✔ therefore

Question Number : 131 Question Id : 9983671861 Question Type : MCQ Option Shuffling : Yes

Correct Marks : 1 Wrong Marks : 0.25

Select the most appropriate conjunction to fill in the blank.

Work hard, _____ no man can succeed without hard work.

Options :

1. ✔ for

2. ✖ but

3. ✖ also

4. ✖ still

Question Number : 131 Question Id : 9983671861 Question Type : MCQ Option Shuffling : Yes

Correct Marks : 1 Wrong Marks : 0.25

Select the most appropriate conjunction to fill in the blank.

Work hard, _____ no man can succeed without hard work.

Options :

1. ✓ for

2. ✗ but

3. ✗ also

4. ✗ still

Question Number : 132 Question Id : 9983671862 Question Type : MCQ Option Shuffling : Yes

Correct Marks : 1 Wrong Marks : 0.25

Select the most appropriate option to fill in the blank.

The train is _____ to arrive at 5 pm.

Options :

1. ✗ schedules

2. ✗ schedule

3. ✓ scheduled

4. ✗ being schedule

Question Number : 132 Question Id : 9983671862 Question Type : MCQ Option Shuffling : Yes

Correct Marks : 1 Wrong Marks : 0.25

Select the most appropriate option to fill in the blank.

The train is _____ to arrive at 5 pm.

Options :

1. ✖ schedules

2. ✖ schedule

3. ✔ scheduled

4. ✖ being schedule

Question Number : 133 Question Id : 9983671863 Question Type : MCQ Option Shuffling : Yes

Correct Marks : 1 Wrong Marks : 0.25

Select the most appropriate option to fill in the blank.

The letter _____ I received this morning is from my motherland.

Options :

1. ✖ who

2. ✔ that

3. ✖ whom

4. ✖ whose

Question Number : 133 Question Id : 9983671863 Question Type : MCQ Option Shuffling : Yes

Correct Marks : 1 Wrong Marks : 0.25

Select the most appropriate option to fill in the blank.

The letter _____ I received this morning is from my motherland.

Options :

1. ✖ who

2. ✔ that

3. ✖ whom

4. ✖ whose

Question Number : 134 Question Id : 9983671864 Question Type : MCQ Option Shuffling : Yes

Correct Marks : 1 Wrong Marks : 0.25

Select the most appropriate option to fill in the blank.

The boxer made a _____ with his right, then followed with a left hook.

Options :

1. ✖ faint

2. ✖ fiend

3. ✖ feign

4. ✔ feint

Question Number : 134 Question Id : 9983671864 Question Type : MCQ Option Shuffling : Yes

Correct Marks : 1 Wrong Marks : 0.25

Select the most appropriate option to fill in the blank.

The boxer made a _____ with his right, then followed with a left hook.

Options :

1. ✖ faint

2. ✖ fiend

3. ✖ feign

4. ✔ feint

Question Number : 135 Question Id : 9983671865 Question Type : MCQ Option Shuffling : Yes

Correct Marks : 1 Wrong Marks : 0.25

Select the most appropriate conjunction to fill in the blank.

Most of Kerala's _____ based industries are situated in and around Alappuzha.

Options :

1. ✔ coir

2. ✖ choir

3. ✖ quire

4. ✖ chore

Question Number : 135 Question Id : 9983671865 Question Type : MCQ Option Shuffling : Yes

Correct Marks : 1 Wrong Marks : 0.25

Select the most appropriate conjunction to fill in the blank.

Most of Kerala's _____ based industries are situated in and around Alappuzha.

Options :

1. ✓ coir

2. ✗ choir

3. ✗ quire

4. ✗ chore

Question Number : 136 Question Id : 9983671866 Question Type : MCQ Option Shuffling : Yes

Correct Marks : 1 Wrong Marks : 0.25

Select the most appropriate prepositions to fill in the blanks.

With more than 100 tiny islands scattered across _____ South Pacific, _____ country of Tuvalu is among the world's most isolated nations.

Options :

1. ✗ a; the

2. ✗ the; a

3. ✗ a; a

4. ✓ the; the

Question Number : 136 Question Id : 9983671866 Question Type : MCQ Option Shuffling : Yes

Correct Marks : 1 Wrong Marks : 0.25

Select the most appropriate prepositions to fill in the blanks.

With more than 100 tiny islands scattered across _____ South Pacific, _____ country of Tuvalu is among the world's most isolated nations.

Options :

1. ✖ a; the

2. ✖ the; a

3. ✖ a; a

4. ✔ the; the

Question Number : 137 Question Id : 9983671867 Question Type : MCQ Option Shuffling : Yes

Correct Marks : 1 Wrong Marks : 0.25

Select the most appropriate option to fill in the blanks.

Vaccination was _____ in England and the New world was _____ by Columbus.

Options :

1. ✖ discovered; invented

2. ✖ discovered; discovered

3. ✔ invented; discovered

4. ✖ invented; invented

Question Number : 137 Question Id : 9983671867 Question Type : MCQ Option Shuffling : Yes

Correct Marks : 1 Wrong Marks : 0.25

Select the most appropriate option to fill in the blanks.

Vaccination was _____ in England and the New world was _____ by Columbus.

Options :

1. ✖ discovered; invented

2. ✖ discovered; discovered

3. ✔ invented; discovered

4. ✖ invented; invented

Question Number : 138 Question Id : 9983671868 Question Type : MCQ Option Shuffling : Yes
Correct Marks : 1 Wrong Marks : 0.25

Select the grammatically correct sentence from the given options.

Options :

1. ✖ Had her love being sincere, he would not have given up on her.

2. ✔ Had her love been sincere, he would not have given up on her.

3. ✖ Had her love sincere, he would not have given up on her.

4. ✖ Hadn't her love sincere, he would not have given up on her.

Question Number : 138 Question Id : 9983671868 Question Type : MCQ Option Shuffling : Yes
Correct Marks : 1 Wrong Marks : 0.25

Select the grammatically correct sentence from the given options.

Options :

1. ✖ Had her love being sincere, he would not have given up on her.

2. ✓ Had her love been sincere, he would not have given up on her.

3. ✗ Had her love sincere, he would not have given up on her.

4. ✗ Hadn't her love sincere, he would not have given up on her.

Question Number : 139 Question Id : 9983671869 Question Type : MCQ Option Shuffling : Yes
Correct Marks : 1 Wrong Marks : 0.25

Select the option that expresses the given sentence in passive voice.

The children have broken the window pane.

Options :

1. ✗ The window pane has broken by the children.

2. ✗ The window panes have been broken by the children.

3. ✓ The window pane has been broken by the children.

4. ✗ The window pane has been broken by the child.

Question Number : 139 Question Id : 9983671869 Question Type : MCQ Option Shuffling : Yes
Correct Marks : 1 Wrong Marks : 0.25

Select the option that expresses the given sentence in passive voice.

The children have broken the window pane.

Options :

1. ✗ The window pane has broken by the children.

2. ✖ The window panes have been broken by the children.

3. ✔ The window pane has been broken by the children.

4. ✖ The window pane has been broken by the child.

Question Number : 140 Question Id : 9983671870 Question Type : MCQ Option Shuffling : Yes
Correct Marks : 1 Wrong Marks : 0.25

Select the option that expresses the given sentence in passive voice.

We can easily learn everything.

Options :

1. ✖ Everything can learn easily by us.

2. ✔ Everything can be learnt easily by us.

3. ✖ Everything by us can be learns easily.

4. ✖ Everything by us can we learn.

Question Number : 140 Question Id : 9983671870 Question Type : MCQ Option Shuffling : Yes
Correct Marks : 1 Wrong Marks : 0.25

Select the option that expresses the given sentence in passive voice.

We can easily learn everything.

Options :

1. ✖ Everything can learn easily by us.

2. ✓ Everything can be learnt easily by us.

3. ✗ Everything by us can be learns easily.

4. ✗ Everything by us can we learn.

General English2

Group Number :	8
Group Id :	99836754
Group Maximum Duration :	0
Group Minimum Duration :	0
Show Attended Group? :	No
Edit Attended Group? :	No
Break time:	0
Group Marks:	20
Is this Group for Examiner?:	No
Revisit allowed for group Instructions? :	Yes
Maximum Instruction Time:	0
Minimum Instruction Time:	0

General English2

Section Id :	99836760
Section Number :	1
Section type :	Online
Mandatory or Optional:	Mandatory
Number of Questions:	12
Number of Questions to be attempted:	12
Section Marks:	20

Sub-Section Number:	1
Sub-Section Id:	998367102
Question Shuffling Allowed :	Yes

Question Number : 141 Question Id : 9983671871 Question Type : MCQ Option Shuffling : Yes
Correct Marks : 1 Wrong Marks : 0.25

Select the most appropriate synonym of the given word.

TENSE

Options :

1. ✓ Taut

2. ✗ Lenient

3. ✗ Reliable

4. ✗ Ecstatic

Question Number : 141 Question Id : 9983671871 Question Type : MCQ Option Shuffling : Yes
Correct Marks : 1 Wrong Marks : 0.25

Select the most appropriate synonym of the given word.

TENSE

Options :

1. ✓ Taut

2. ✗ Lenient

3. ✗ Reliable

4. ✗ Ecstatic

Question Number : 142 Question Id : 9983671872 Question Type : MCQ Option Shuffling : Yes
Correct Marks : 1 Wrong Marks : 0.25

Select the most appropriate synonym of the given word.

GLUTTONOUS

Options :

- 1. ✖ Lazy
- 2. ✔ Greedy
- 3. ✖ Extravagant
- 4. ✖ Profuse

Question Number : 142 Question Id : 9983671872 Question Type : MCQ Option Shuffling : Yes
Correct Marks : 1 Wrong Marks : 0.25

Select the most appropriate synonym of the given word.

GLUTTONOUS

Options :

- 1. ✖ Lazy
- 2. ✔ Greedy
- 3. ✖ Extravagant
- 4. ✖ Profuse

Question Number : 143 Question Id : 9983671873 Question Type : MCQ Option Shuffling : Yes
Correct Marks : 1 Wrong Marks : 0.25

Select the most appropriate synonym of the given word.

TERSE

Options :

1. ✓ Incisive

2. ✗ Gentle

3. ✗ Diffuse

4. ✗ Prolix

Question Number : 143 Question Id : 9983671873 Question Type : MCQ Option Shuffling : Yes
Correct Marks : 1 Wrong Marks : 0.25

Select the most appropriate synonym of the given word.

TERSE

Options :

1. ✓ Incisive

2. ✗ Gentle

3. ✗ Diffuse

4. ✗ Prolix

Question Number : 144 Question Id : 9983671874 Question Type : MCQ Option Shuffling : Yes
Correct Marks : 1 Wrong Marks : 0.25

Select the most appropriate synonym of the given word.

VILIFY

Options :

1. ✖ Glorify

2. ✖ Commend

3. ✔ Malign

4. ✖ Cherish

Question Number : 144 Question Id : 9983671874 Question Type : MCQ Option Shuffling : Yes
Correct Marks : 1 Wrong Marks : 0.25

Select the most appropriate synonym of the given word.

VILIFY

Options :

1. ✖ Glorify

2. ✖ Commend

3. ✔ Malign

4. ✖ Cherish

Question Number : 145 Question Id : 9983671875 Question Type : MCQ Option Shuffling : Yes
Correct Marks : 1 Wrong Marks : 0.25

Select the most appropriate synonym of the given word.

ALLEVIATE

Options :

1. ✖ aggravate

2. ✔ ameliorate

3. ✖ fabricate

4. ✖ swindle

Question Number : 145 Question Id : 9983671875 Question Type : MCQ Option Shuffling : Yes
Correct Marks : 1 Wrong Marks : 0.25

Select the most appropriate synonym of the given word.

ALLEVIATE

Options :

1. ✖ aggravate

2. ✔ ameliorate

3. ✖ fabricate

4. ✖ swindle

Question Number : 146 Question Id : 9983671876 Question Type : MCQ Option Shuffling : Yes
Correct Marks : 1 Wrong Marks : 0.25

Select the most appropriate ANTONYM of the given word.

MACABRE

Options :

1. ✖ Ghastly

2. ✖ Eerie

3. ✖ Cadaverous

4. ✔ Cheerful

Question Number : 146 Question Id : 9983671876 Question Type : MCQ Option Shuffling : Yes
Correct Marks : 1 Wrong Marks : 0.25

Select the most appropriate ANTONYM of the given word.

MACABRE

Options :

1. ✖ Ghastly

2. ✖ Eerie

3. ✖ Cadaverous

4. ✔ Cheerful

Question Number : 147 Question Id : 9983671877 Question Type : MCQ Option Shuffling : Yes
Correct Marks : 1 Wrong Marks : 0.25

Select the most appropriate ANTONYM of the given word.

PRUDENCE

Options :

1. ✓ Stupidity

2. ✗ Sagacity

3. ✗ Providence

4. ✗ Wisdom

Question Number : 147 Question Id : 9983671877 Question Type : MCQ Option Shuffling : Yes
Correct Marks : 1 Wrong Marks : 0.25

Select the most appropriate ANTONYM of the given word.

PRUDENCE

Options :

1. ✓ Stupidity

2. ✗ Sagacity

3. ✗ Providence

4. ✗ Wisdom

Question Number : 148 Question Id : 9983671878 Question Type : MCQ Option Shuffling : Yes
Correct Marks : 1 Wrong Marks : 0.25

Select the most appropriate ANTONYM of the given word.

PETULANT

Options :

1. ✖ Snappish

2. ✖ Huffy

3. ✔ Easygoing

4. ✖ Perverse

Question Number : 148 Question Id : 9983671878 Question Type : MCQ Option Shuffling : Yes

Correct Marks : 1 Wrong Marks : 0.25

Select the most appropriate ANTONYM of the given word.

PETULANT

Options :

1. ✖ Snappish

2. ✖ Huffy

3. ✔ Easygoing

4. ✖ Perverse

Question Number : 149 Question Id : 9983671879 Question Type : MCQ Option Shuffling : Yes

Correct Marks : 1 Wrong Marks : 0.25

Select the most appropriate ANTONYM of the given word.

CONCISE

Options :

- 1. ✖ Compact
- 2. ✔ Unabridged
- 3. ✖ Condensed
- 4. ✖ Compressed

Question Number : 149 Question Id : 9983671879 Question Type : MCQ Option Shuffling : Yes
Correct Marks : 1 Wrong Marks : 0.25

Select the most appropriate ANTONYM of the given word.

CONCISE

Options :

- 1. ✖ Compact
- 2. ✔ Unabridged
- 3. ✖ Condensed
- 4. ✖ Compressed

Question Number : 150 Question Id : 9983671880 Question Type : MCQ Option Shuffling : Yes
Correct Marks : 1 Wrong Marks : 0.25

Select the most appropriate ANTONYM of the given word.

DOCILE

Options :

1. ✓ Obstinate

2. ✗ Humble

3. ✗ Resigned

4. ✗ Meek

Question Number : 150 Question Id : 9983671880 Question Type : MCQ Option Shuffling : Yes
Correct Marks : 1 Wrong Marks : 0.25

Select the most appropriate ANTONYM of the given word.

DOCILE

Options :

1. ✓ Obstinate

2. ✗ Humble

3. ✗ Resigned

4. ✗ Meek

Sub-Section Number: 2
Sub-Section Id: 998367103
Question Shuffling Allowed : Yes

Question Id : 9983671881 Question Type : COMPREHENSION Sub Question Shuffling Allowed : Yes Group Comprehension Questions : No
Question Numbers : (151 to 155)

Question Label : Comprehension



Teachingninja.in

Read the following passage and answer the questions given below:

“The Indian subcontinent has a unique geological history that chronicles rocks and fossils ranging in age from 4,000 million years old to recent times”, says GVR Prasad, head department of geology, University of Delhi. Journalist Sanjay Kumar, in an article for Science Magazine (April 2018), narrated the incident when Prasad and his team went hunting for dinosaur nests in Bagh, Madhya Pradesh. They were threatened by villagers who assumed they had come to appropriate land. Lack of awareness and access is one of the many challenges that confront palaeontologists in India.

Doing his bit is Vishal Verma, the physics teacher from Bakaner High School, Manawar, Madhya Pradesh, says his heart lies in the discoveries of the fossil-rich Narmada Valley. With help from municipalities, Verma helped set up a fossil museum in Mandu and is hoping the dream of a national dinosaur fossil park in Bagh will become a reality. With a collection of over 20,000 shark teeth and 40,000 starfish fossils, among others, Verma says, “Fossils are a witness to the planet. It shows us the rhythm of life and enlarges our perspective. In India, people are not happy by just seeing a dinosaur egg. They want to know the context, how it was laid, and how many were there in the nest. Those are stories the museum should tell, none of which is possible without people’s participation.”

Preserving fossil material in Indian collections, many of which are unknown, is another challenge facing experts. Adwait Jukar, Deep Time-Peter Buck Fellow with the National Museum of Natural History, Smithsonian Institution at Washington, DC, says, “Initiatives like The Indian Museum of Earth could be a place where training programmes could be organised with international collaboration and people could get technical skills.”

Sub questions

Question Number : 151 Question Id : 9983671882 Question Type : MCQ Option Shuffling : Yes
Correct Marks : 1 Wrong Marks : 0.25

Who among the following set up a fossil museum in Mandu?

Options :

- 1. ✖ GVR Prasad
- 2. ✖ Sanjay Kumar
- 3. ✔ Vishal Verma
- 4. ✖ Adwait Jukar

Question Number : 152 Question Id : 9983671883 Question Type : MCQ Option Shuffling : Yes
Correct Marks : 1 Wrong Marks : 0.25

What is the age range of fossils that are claimed to be found in the Indian subcontinent?

Options :

- 1. ✖ 400 million years old to recent
- 2. ✔ 4,000 million years old to recent
- 3. ✖ 40 thousand years old to recent
- 4. ✖ 4 hundred years old to recent

Question Number : 153 Question Id : 9983671884 Question Type : MCQ Option Shuffling : Yes
Correct Marks : 1 Wrong Marks : 0.25

Where is Vishal Verma dreaming of setting up a national dinosaur fossil park?

Options :

1. ✖ At Delhi
2. ✖ At Bakaner
3. ✖ At Mandu
4. ✔ At Bagh

Question Number : 154 Question Id : 9983671885 Question Type : MCQ Option Shuffling : Yes
Correct Marks : 1 Wrong Marks : 0.25

Palaeontologists are those who _____.

Options :

1. ✖ travel around the world studying the landforms
2. ✖ study the forms of life that will exist on Earth
3. ✔ study fossils as a way of getting information about the history of life on earth
4. ✖ study human history and prehistory through the excavation of sites and the analysis of artefacts and other physical remains

Question Number : 155 Question Id : 9983671886 Question Type : MCQ Option Shuffling : Yes
Correct Marks : 1 Wrong Marks : 0.25

Select the option that can be used as a one-word substitute for the given group of words/phrase.

A factual written account of important or historical events in the order of their occurrence

Options :

1. ✓ Chronicles

2. ✗ Collaboration

3. ✗ Museum

4. ✗ Geology

Question Id : 9983671881 Question Type : COMPREHENSION Sub Question Shuffling Allowed : Yes Group Comprehension Questions : No

Question Numbers : (151 to 155)

Question Label : Comprehension



Read the following passage and answer the questions given below:

“The Indian subcontinent has a unique geological history that chronicles rocks and fossils ranging in age from 4,000 million years old to recent times”, says GVR Prasad, head, department of geology, University of Delhi. Journalist Sanjay Kumar, in an article for Science Magazine (April 2018), narrated the incident when Prasad and his team went hunting for dinosaur nests in Bagh, Madhya Pradesh. They were threatened by villagers who assumed they had come to appropriate land. Lack of awareness and access is one of the many challenges that confront palaeontologists in India.

Doing his bit is Vishal Verma, the physics teacher from Bakaner High School, Manawar, Madhya Pradesh, says his heart lies in the discoveries of the fossil-rich Narmada Valley. With help from municipalities, Verma helped set up a fossil museum in Mandu and is hoping the dream of a national dinosaur fossil park in Bagh will become a reality. With a collection of over 20,000 shark teeth and 40,000 starfish fossils, among others, Verma says, “Fossils are a witness to the planet. It shows us the rhythm of life and enlarges our perspective. In India, people are not happy by just seeing a dinosaur egg. They want to know the context, how it was laid, and how many were there in the nest. Those are stories the museum should tell, none of which is possible without people’s participation.”

Preserving fossil material in Indian collections, many of which are unknown, is another challenge facing experts. Adwait Jukar, Deep Time-Peter Buck Fellow with the National Museum of Natural History, Smithsonian Institution at Washington, DC, says, “Initiatives like The Indian Museum of Earth could be a place where training programmes could be organised with international collaboration and people could get technical skills.”

Sub questions

Question Number : 151 Question Id : 9983671882 Question Type : MCQ Option Shuffling : Yes
Correct Marks : 1 Wrong Marks : 0.25

Who among the following set up a fossil museum in Mandu?

Options :

- 1. ✖ GVR Prasad
- 2. ✖ Sanjay Kumar
- 3. ✔ Vishal Verma
- 4. ✖ Adwait Jukar

Question Number : 152 Question Id : 9983671883 Question Type : MCQ Option Shuffling : Yes
Correct Marks : 1 Wrong Marks : 0.25

What is the age range of fossils that are claimed to be found in the Indian subcontinent?

Options :

- 1. ✖ 400 million years old to recent
- 2. ✔ 4,000 million years old to recent
- 3. ✖ 40 thousand years old to recent
- 4. ✖ 4 hundred years old to recent

Question Number : 153 Question Id : 9983671884 Question Type : MCQ Option Shuffling : Yes
Correct Marks : 1 Wrong Marks : 0.25

Where is Vishal Verma dreaming of setting up a national dinosaur fossil park?

Options :

- 1. ✖ At Delhi
- 2. ✖ At Bakaner
- 3. ✖ At Mandu
- 4. ✔ At Bagh

Question Number : 154 Question Id : 9983671885 Question Type : MCQ Option Shuffling : Yes
Correct Marks : 1 Wrong Marks : 0.25

Palaeontologists are those who _____.

Options :

- 1. ✖ travel around the world studying the landforms
- 2. ✖ study the forms of life that will exist on Earth
- 3. ✔ study fossils as a way of getting information about the history of life on earth
- 4. ✖ study human history and prehistory through the excavation of sites and the analysis of artefacts and other physical remains

Question Number : 155 Question Id : 9983671886 Question Type : MCQ Option Shuffling : Yes
Correct Marks : 1 Wrong Marks : 0.25

Select the option that can be used as a one-word substitute
for the given group of words/phrase.

A factual written account of important or historical events
in the order of their occurrence

Options :

1. ✓ Chronicles

2. ✗ Collaboration

3. ✗ Museum

4. ✗ Geology

Sub-Section Number: 3
Sub-Section Id: 998367104
Question Shuffling Allowed : Yes

Question Id : 9983671887 Question Type : COMPREHENSION Sub Question Shuffling Allowed : Yes Group Comprehension
Questions : No
Question Numbers : (156 to 160)

Question Label : Comprehension

Read the following passage and answer the questions given below:

Seamlessness sounds like a great idea but it is also another word for assimilation. It is also another word that reminds us that the internet, once imagined as a disruptive force of independent voices and local collectives is obviously heading (if not already there) for a complete takeover by private companies.

We seem to be in the paradox where everyday we have a new app, offering new choices, new filters, new manipulations, and yet, almost all of these apps are owned by the same companies. We have arrived at the moment of the 'same same but different' where the plethora of choices is hiding the lack of creative freedoms on the web. The implications of these are not just about the boredom of our appified lives but about the politics of control. In closed information-architecture countries like China, we have already seen what a monopoly of digital data technologies can lead to: from social-credit score systems to databases of 'breed-worthy women'.

It has been the fun (and the racially marked prerogative) of the global West to mock China and its curtailing of civil liberties and exercise of control. Most digital media outlets have encouraged this trend of setting up China as the laughing stock while the same happens to our global internet landscapes. Despite the continued reporting on data breaches, security overrides, and blatant exploitation of our digital practices, we continue to believe in the emancipatory potentials of the web, while turning a blind eye to the silent control of the technologies we use at the level of hardware, software, standards, protocols, code, and usage.

Sub questions

Question Number : 156 Question Id : 9983671888 Question Type : MCQ Option Shuffling : Yes
Correct Marks : 1 Wrong Marks : 0.25

Select the most appropriate ANTONYM of the given word.

PARADOX

Options :

1. ✖ Juxtaposition

2. ✖ Contradiction

3. ✖ Quandary

4. ✔ Truth

Question Number : 157 Question Id : 9983671889 Question Type : MCQ Option Shuffling : Yes

Correct Marks : 1 Wrong Marks : 0.25

Select the option that gives the correct meaning of the given word.

PLETHORA

Options :

1. ✔ Overabundance

2. ✖ Want

3. ✖ Need

4. ✖ Waste

Question Number : 158 Question Id : 9983671890 Question Type : MCQ Option Shuffling : Yes

Correct Marks : 1 Wrong Marks : 0.25

Why do the global west countries mock China?

Options :

1. ✖ Because it creates new apps every day.

2. ✓ Because it restricts civil liberties and exercises control.

3. ✗ Because it is creating new filters daily.

4. ✗ Because it provides free data.

Question Number : 159 Question Id : 9983671891 Question Type : MCQ Option Shuffling : Yes
Correct Marks : 1 Wrong Marks : 0.25

What does 'our appified lives' mean?

Options :

It means that we are making our lives like apps available

1. ✗ using play-store.

2. ✗ It means that we are bored of apps.

3. ✓ It means that we are using too much of mobile apps.

4. ✗ It means that we are creating new apps.

Question Number : 160 Question Id : 9983671892 Question Type : MCQ Option Shuffling : Yes
Correct Marks : 1 Wrong Marks : 0.25

Select the most appropriate option to fill in the blanks.

Despite everything, we continue to believe in _____ of
the web.

Options :

1. ✗ social credit score

2. ✗ data breaching

3. ✖ security overrides

4. ✔ emancipatory potentials

Question Id : 9983671887 Question Type : COMPREHENSION Sub Question Shuffling Allowed : Yes Group Comprehension Questions : No Question Numbers : (156 to 160)

Question Label : Comprehension



Read the following passage and answer the questions given below:

Seamlessness sounds like a great idea but it is also another word for assimilation. It is also another word that reminds us that the internet, once imagined as a disruptive force of independent voices and local collectives is obviously heading (if not already there) for a complete takeover by private companies.

We seem to be in the paradox where everyday we have a new app, offering new choices, new filters, new manipulations, and yet, almost all of these apps are owned by the same companies. We have arrived at the moment of the 'same same but different' where the plethora of choices is hiding the lack of creative freedoms on the web. The implications of these are not just about the boredom of our appified lives but about the politics of control. In closed information-architecture countries like China, we have already seen what a monopoly of digital data technologies can lead to: from social-credit score systems to databases of 'breed-worthy women'.

It has been the fun (and the racially marked prerogative) of the global West to mock China and its curtailing of civil liberties and exercise of control. Most digital media outlets have encouraged this trend of setting up China as the laughing stock while the same happens to our global internet landscapes. Despite the continued reporting on data breaches, security overrides, and blatant exploitation of our digital practices, we continue to believe in the emancipatory potentials of the web, while turning a blind eye to the silent control of the technologies we use at the level of hardware, software, standards, protocols, code, and usage.

Sub questions

Question Number : 156 Question Id : 9983671888 Question Type : MCQ Option Shuffling : Yes
Correct Marks : 1 Wrong Marks : 0.25

Select the most appropriate ANTONYM of the given word.

PARADOX

Options :

- 1. ✖ Juxtaposition
- 2. ✖ Contradiction
- 3. ✖ Quandary
- 4. ✔ Truth

Question Number : 157 Question Id : 9983671889 Question Type : MCQ Option Shuffling : Yes
Correct Marks : 1 Wrong Marks : 0.25

Select the option that gives the correct meaning of the given word.

PLETHORA

Options :

- 1. ✔ Overabundance
- 2. ✖ Want
- 3. ✖ Need
- 4. ✖ Waste

Question Number : 158 Question Id : 9983671890 Question Type : MCQ Option Shuffling : Yes
Correct Marks : 1 Wrong Marks : 0.25

Why do the global west countries mock China?

Options :

1. ✖ Because it creates new apps every day.
2. ✔ Because it restricts civil liberties and exercises control.
3. ✖ Because it is creating new filters daily.
4. ✖ Because it provides free data.

Question Number : 159 Question Id : 9983671891 Question Type : MCQ Option Shuffling : Yes
Correct Marks : 1 Wrong Marks : 0.25

What does 'our appified lives' mean?

Options :

It means that we are making our lives like apps available

1. ✖ using play-store.
2. ✖ It means that we are bored of apps.
3. ✔ It means that we are using too much of mobile apps.
4. ✖ It means that we are creating new apps.

Question Number : 160 Question Id : 9983671892 Question Type : MCQ Option Shuffling : Yes
Correct Marks : 1 Wrong Marks : 0.25

Select the most appropriate option to fill in the blanks.

Despite everything, we continue to believe in _____ of
the web.

Options :

1. ✖ social credit score

2. ✖ data breaching

3. ✖ security overrides

4. ✔ emancipatory potentials

General Hindi1

Group Number :	9
Group Id :	99836755
Group Maximum Duration :	0
Group Minimum Duration :	0
Show Attended Group? :	No
Edit Attended Group? :	No
Break time:	0
Group Marks:	20
Is this Group for Examiner?:	No
Revisit allowed for group Instructions? :	Yes
Maximum Instruction Time:	0
Minimum Instruction Time:	0

General Hindi1

Section Id :	99836761
Section Number :	1
Section type :	Online
Mandatory or Optional:	Mandatory
Number of Questions:	20
Number of Questions to be attempted:	20
Section Marks:	20

Sub-Section Number:	1
Sub-Section Id:	998367105
Question Shuffling Allowed :	Yes

Question Number : 161 Question Id : 9983671893 Question Type : MCQ Option Shuffling : Yes
Correct Marks : 1 Wrong Marks : 0.25

निम्नलिखित में किस शब्द की वर्तनी अशुद्ध है?

Options :

1. ✖ आशीर्वाद

2. ✖ संन्यास

3. ✖ उज्ज्वल

4. ✔ चिन्ह

Question Number : 161 Question Id : 9983671893 Question Type : MCQ Option Shuffling : Yes
Correct Marks : 1 Wrong Marks : 0.25

निम्नलिखित में किस शब्द की वर्तनी अशुद्ध है?

Options :

1. ✖ आशीर्वाद

2. ✖ संन्यास

3. ✖ उज्ज्वल

4. ✔ चिन्ह

Question Number : 162 Question Id : 9983671894 Question Type : MCQ Option Shuffling : Yes
Correct Marks : 1 Wrong Marks : 0.25

निम्नलिखित में से किस शब्द की वर्तनी शुद्ध है?

Options :

1. ✖ जान्हवी
2. ✔ श्रीमती
3. ✖ व्यवसायिक
4. ✖ श्रंगार

Question Number : 162 Question Id : 9983671894 Question Type : MCQ Option Shuffling : Yes
Correct Marks : 1 Wrong Marks : 0.25

निम्नलिखित में से किस शब्द की वर्तनी शुद्ध है?

Options :

1. ✖ जान्हवी
2. ✔ श्रीमती
3. ✖ व्यवसायिक
4. ✖ श्रंगार

Question Number : 163 Question Id : 9983671895 Question Type : MCQ Option Shuffling : Yes
Correct Marks : 1 Wrong Marks : 0.25

'एन्द्रजालिक' शब्द का सही अर्थ क्या है?

Options :

1. ✖ चमत्कारी

2. ✓ जादूगर

3. ✗ प्रवंचक

4. ✗ कपटी

Question Number : 163 Question Id : 9983671895 Question Type : MCQ Option Shuffling : Yes
Correct Marks : 1 Wrong Marks : 0.25

'एन्द्रजालिक' शब्द का सही अर्थ क्या है?

Options :

1. ✗ चमत्कारी

2. ✓ जादूगर

3. ✗ प्रवंचक

4. ✗ कपटी

Question Number : 164 Question Id : 9983671896 Question Type : MCQ Option Shuffling : Yes
Correct Marks : 1 Wrong Marks : 0.25

'मंदबुद्धि' शब्द में कौन सा समास है?

Options :

1. ✓ कर्मधारय

2. ✗ तत्पुरुष

3. ✖ अट्ययीभाव

4. ✖ बहुब्रीहि

Question Number : 164 Question Id : 9983671896 Question Type : MCQ Option Shuffling : Yes
Correct Marks : 1 Wrong Marks : 0.25

'मंदबुद्धि' शब्द में कौन सा समास है?

Options :

1. ✔ कर्मधारय

2. ✖ तत्पुरुष

3. ✖ अट्ययीभाव

4. ✖ बहुब्रीहि

Question Number : 165 Question Id : 9983671897 Question Type : MCQ Option Shuffling : Yes
Correct Marks : 1 Wrong Marks : 0.25

कौन से शब्द तत्सम हैं?

Options :

1. ✖ गाहक, चमड़ा, कोयल, कपूत

2. ✖ सतसई, सावन, किवाड़, कंगन

3. ✔ कोष्ठक, चक्र, गमन, क्षत्रिय

4. ✖ फागुन, बादल, मछली, लवंग

Question Number : 165 Question Id : 9983671897 Question Type : MCQ Option Shuffling : Yes
Correct Marks : 1 Wrong Marks : 0.25

कौन से शब्द तत्सम हैं?

Options :

1. ✖ गाहक, चमड़ा, कोयल, कपूत

2. ✖ सतसई, सावन, किवाड़, कंगन

3. ✔ कोष्ठक, चक्र, गमन, क्षत्रिय

4. ✖ फागुन, बादल, मछली, लवंग

Question Number : 166 Question Id : 9983671898 Question Type : MCQ Option Shuffling : Yes
Correct Marks : 1 Wrong Marks : 0.25

निम्नलिखित में कौन सा वर्ग विशेषणों का है?

Options :

1. ✖ व्यापार, मृदु, समुदाय

2. ✔ राष्ट्रीय, वार्षिक, मार्मिक

3. ✖ तिरस्कार, प्रतिभा, मर्यादा

4. ✖ बुद्धि, उल्लास, चरित्र

Question Number : 166 Question Id : 9983671898 Question Type : MCQ Option Shuffling : Yes

Correct Marks : 1 Wrong Marks : 0.25

निम्नलिखित में कौन सा वर्ग विशेषणों का है?

Options :

1. ✖ व्यापार, मृदु, समुदाय
2. ✔ राष्ट्रीय, वार्षिक, मार्मिक
3. ✖ तिरस्कार, प्रतिभा, मर्यादा
4. ✖ बुद्धि, उल्लास, चरित्र

Question Number : 167 Question Id : 9983671899 Question Type : MCQ Option Shuffling : Yes

Correct Marks : 1 Wrong Marks : 0.25

'लुधियानवी' शब्द किस प्रकार का विशेषण है?

Options :

1. ✖ संकेत वाचक
2. ✖ परिणाम वाचक
3. ✔ गुण वाचक
4. ✖ पुरुष वाचक

Question Number : 167 Question Id : 9983671899 Question Type : MCQ Option Shuffling : Yes

Correct Marks : 1 Wrong Marks : 0.25

'लुधियानवी' शब्द किस प्रकार का विशेषण है?

Options :

1. ✖ संकेत वाचक

2. ✖ परिणाम वाचक

3. ✔ गुण वाचक

4. ✖ पुरुष वाचक

Question Number : 168 Question Id : 9983671900 Question Type : MCQ Option Shuffling : Yes

Correct Marks : 1 Wrong Marks : 0.25

निम्नलिखित में कौन सा शब्द विशेषण नहीं है?

Options :

1. ✖ दयावान

2. ✔ बुद्धि

3. ✖ आर्थिक

4. ✖ सुनहरी

Question Number : 168 Question Id : 9983671900 Question Type : MCQ Option Shuffling : Yes

Correct Marks : 1 Wrong Marks : 0.25

निम्नलिखित में कौन सा शब्द विशेषण नहीं है?

Options :

1. ✖ दयावान

2. ✓ बुद्धि

3. ✗ आर्थिक

4. ✗ सुनहरी

Question Number : 169 Question Id : 9983671901 Question Type : MCQ Option Shuffling : Yes

Correct Marks : 1 Wrong Marks : 0.25

हिंदी में सामान्यतः शब्दों का लिंग निर्धारण किसके आधार पर होता है?

Options :

1. ✗ विशेषण के

2. ✗ अव्यय के

3. ✗ सर्वनाम के

4. ✓ संज्ञा के

Question Number : 169 Question Id : 9983671901 Question Type : MCQ Option Shuffling : Yes

Correct Marks : 1 Wrong Marks : 0.25

हिंदी में सामान्यतः शब्दों का लिंग निर्धारण किसके आधार पर होता है?

Options :

1. ✗ विशेषण के

2. ✗ अव्यय के

3. ✖ सर्वनाम के

4. ✔ संज्ञा के

Question Number : 170 Question Id : 9983671902 Question Type : MCQ Option Shuffling : Yes
Correct Marks : 1 Wrong Marks : 0.25

अनु + इत की सही संधि क्या होगी?

Options :

1. ✖ अनिवत

2. ✔ अन्वित

3. ✖ अनुइत

4. ✖ अन्वीत

Question Number : 170 Question Id : 9983671902 Question Type : MCQ Option Shuffling : Yes
Correct Marks : 1 Wrong Marks : 0.25

अनु + इत की सही संधि क्या होगी?

Options :

1. ✖ अनिवत

2. ✔ अन्वित

3. ✖ अनुइत

4. ✖ अन्वीत

Question Number : 171 Question Id : 9983671903 Question Type : MCQ Option Shuffling : Yes

Correct Marks : 1 Wrong Marks : 0.25

'व्यर्थ' शब्द में कौन सा समास है?

Options :

1. ✔ अव्ययीभाव

2. ✖ बहुब्रीहि

3. ✖ द्वंद्व

4. ✖ तत्पुरुष

Question Number : 171 Question Id : 9983671903 Question Type : MCQ Option Shuffling : Yes

Correct Marks : 1 Wrong Marks : 0.25

'व्यर्थ' शब्द में कौन सा समास है?

Options :

1. ✔ अव्ययीभाव

2. ✖ बहुब्रीहि

3. ✖ द्वंद्व

4. ✖ तत्पुरुष

Question Number : 172 Question Id : 9983671904 Question Type : MCQ Option Shuffling : Yes
Correct Marks : 1 Wrong Marks : 0.25

'लाडली' शब्द किस व्याकरणिक कोटि का शब्द है?

Options :

1. ✖ संज्ञा
2. ✖ क्रिया विशेषण
3. ✖ भाववाचक संज्ञा
4. ✔ विशेषण

Question Number : 172 Question Id : 9983671904 Question Type : MCQ Option Shuffling : Yes
Correct Marks : 1 Wrong Marks : 0.25

'लाडली' शब्द किस व्याकरणिक कोटि का शब्द है?

Options :

1. ✖ संज्ञा
2. ✖ क्रिया विशेषण
3. ✖ भाववाचक संज्ञा
4. ✔ विशेषण

Question Number : 173 Question Id : 9983671905 Question Type : MCQ Option Shuffling : Yes
Correct Marks : 1 Wrong Marks : 0.25

जो नए भावबोध में सहायक तो होते हैं किंतु वाक्य के अंग नहीं होते उन्हें क्या कहते हैं?

Options :

1. ✖ विशेषण

2. ✔ निपात

3. ✖ सर्वनाम

4. ✖ अव्यय

Question Number : 173 Question Id : 9983671905 Question Type : MCQ Option Shuffling : Yes
Correct Marks : 1 Wrong Marks : 0.25

जो नए भावबोध में सहायक तो होते हैं किंतु वाक्य के अंग नहीं होते उन्हें क्या कहते हैं?

Options :

1. ✖ विशेषण

2. ✔ निपात

3. ✖ सर्वनाम

4. ✖ अव्यय

Question Number : 174 Question Id : 9983671906 Question Type : MCQ Option Shuffling : Yes
Correct Marks : 1 Wrong Marks : 0.25

"सांझे की हांडी चौराहे पे फूटती है" इस कथन का सही अर्थ है?

Options :

1. ✖ मिल जुलकर काम नहीं करना चाहिए।

2. ✖ जब कोई जिम्मेदारी नहीं लेता तो यही होता है।
3. ✔ जिम्मेदारी किसी एक की होनी चाहिए अन्यथा निभती नहीं।
4. ✖ एक साथ काम करने में सब अपनी मनमर्जी करते हैं।

Question Number : 174 Question Id : 9983671906 Question Type : MCQ Option Shuffling : Yes
Correct Marks : 1 Wrong Marks : 0.25

"सांझे की हांडी चौराहे पे फूटती है" इस कथन का सही अर्थ है?

Options :

1. ✖ मिल जुलकर काम नहीं करना चाहिए।
2. ✖ जब कोई जिम्मेदारी नहीं लेता तो यही होता है।
3. ✔ जिम्मेदारी किसी एक की होनी चाहिए अन्यथा निभती नहीं।
4. ✖ एक साथ काम करने में सब अपनी मनमर्जी करते हैं।

Question Number : 175 Question Id : 9983671907 Question Type : MCQ Option Shuffling : Yes
Correct Marks : 1 Wrong Marks : 0.25

"बच्चों को काटकर फल खिलाओ" वाक्य में कैसा दोष है?

Options :

1. ✖ सार्वनामिक दोष
2. ✖ विशेषणात्मक दोष

3. ✖ विशेषण-व्यवस्था दोष

4. ✔ कारकीय परसर्ग दोष

Question Number : 175 Question Id : 9983671907 Question Type : MCQ Option Shuffling : Yes
Correct Marks : 1 Wrong Marks : 0.25

"बच्चों को काटकर फल खिलाओ" वाक्य में कैसा दोष है?

Options :

1. ✖ सार्वनामिक दोष

2. ✖ विशेषणात्मक दोष

3. ✖ विशेषण-व्यवस्था दोष

4. ✔ कारकीय परसर्ग दोष

Question Number : 176 Question Id : 9983671908 Question Type : MCQ Option Shuffling : Yes
Correct Marks : 1 Wrong Marks : 0.25

"शुक्रवार को विरोधी दलों की हड़ताल है, अतः सभी बाजार बंद रहेंगे।" कैसा वाक्य है?

Options :

1. ✖ मिश्र वाक्य

2. ✖ सरल वाक्य

3. ✔ संयुक्त वाक्य

4. ✖ संकेतवाचक वाक्य

Question Number : 176 Question Id : 9983671908 Question Type : MCQ Option Shuffling : Yes

Correct Marks : 1 Wrong Marks : 0.25

"शुक्रवार को विरोधी दलों की हड़ताल है, अतः सभी बाजार बंद रहेंगे।" कैसा वाक्य है?

Options :

1. ✖ मिश्र वाक्य

2. ✖ सरल वाक्य

3. ✔ संयुक्त वाक्य

4. ✖ संकेतवाचक वाक्य

Question Number : 177 Question Id : 9983671909 Question Type : MCQ Option Shuffling : Yes

Correct Marks : 1 Wrong Marks : 0.25

"जो मीठा बोलते हैं, उन्हें सभी पसंद करते हैं।" कौन सा वाक्य है?

Options :

1. ✔ मिश्र वाक्य

2. ✖ संयुक्त वाक्य

3. ✖ सरल वाक्य

4. ✖ आज्ञात्मक वाक्य

Question Number : 177 Question Id : 9983671909 Question Type : MCQ Option Shuffling : Yes

Correct Marks : 1 Wrong Marks : 0.25

"जो मीठा बोलते हैं, उन्हें सभी पसंद करते हैं।" कौन सा वाक्य है?

Options :

1. ✓ मिश्र वाक्य
2. ✗ संयुक्त वाक्य
3. ✗ सरल वाक्य
4. ✗ आज्ञात्मक वाक्य

Question Number : 178 Question Id : 9983671910 Question Type : MCQ Option Shuffling : Yes

Correct Marks : 1 Wrong Marks : 0.25

दो शब्दों, वाक्यांशों या वाक्यों को मिलाने वाले अव्यय क्या कहलाते हैं?

Options :

1. ✗ विस्मयादि बोधक
2. ✓ समुच्चय बोधक
3. ✗ सम्बन्ध बोधक
4. ✗ सम्बोधन बोधक

Question Number : 178 Question Id : 9983671910 Question Type : MCQ Option Shuffling : Yes

Correct Marks : 1 Wrong Marks : 0.25

दो शब्दों, वाक्यांशों या वाक्यों को मिलाने वाले अव्यय क्या कहलाते हैं?

Options :

1. ✖ विस्मयादि बोधक

2. ✔ समुच्चय बोधक

3. ✖ सम्बन्ध बोधक

4. ✖ सम्बोधन बोधक

Question Number : 179 Question Id : 9983671911 Question Type : MCQ Option Shuffling : Yes
Correct Marks : 1 Wrong Marks : 0.25

"तुम्हें प्रत्येक कठिनाइयों से लड़ना पड़ेगा।" इस शब्द में कौन सी अशुद्धि है?

Options :

1. ✖ क्रिया की अशुद्धि

2. ✔ वचन की अशुद्धि

3. ✖ लिंग की अशुद्धि

4. ✖ सर्वनाम की अशुद्धि

Question Number : 179 Question Id : 9983671911 Question Type : MCQ Option Shuffling : Yes
Correct Marks : 1 Wrong Marks : 0.25

"तुम्हें प्रत्येक कठिनाइयों से लड़ना पड़ेगा।" इस शब्द में कौन सी अशुद्धि है?

Options :

1. ✖ क्रिया की अशुद्धि

2. ✓ वचन की अशुद्धि

3. ✗ लिंग की अशुद्धि

4. ✗ सर्वनाम की अशुद्धि

Question Number : 180 Question Id : 9983671912 Question Type : MCQ Option Shuffling : Yes
Correct Marks : 1 Wrong Marks : 0.25

"इस मूल्य से किताब नहीं मिलेगी।" वाक्य में किस प्रकार की अशुद्धि है?

Options :

1. ✗ क्रिया-विशेषण की अशुद्धि

2. ✗ सर्वनाम की अशुद्धि

3. ✓ परसर्ग की अशुद्धि

4. ✗ विशेषण संबंधी अशुद्धि

Question Number : 180 Question Id : 9983671912 Question Type : MCQ Option Shuffling : Yes
Correct Marks : 1 Wrong Marks : 0.25

"इस मूल्य से किताब नहीं मिलेगी।" वाक्य में किस प्रकार की अशुद्धि है?

Options :

1. ✗ क्रिया-विशेषण की अशुद्धि

2. ✗ सर्वनाम की अशुद्धि

3. ✓ परसर्ग की अशुद्धि

4. ✖ विशेषण संबंधी अशुद्धि

General Hindi2

Group Number :	10
Group Id :	99836756
Group Maximum Duration :	0
Group Minimum Duration :	120
Show Attended Group? :	No
Edit Attended Group? :	No
Break time:	0
Group Marks:	20
Is this Group for Examiner?:	No
Revisit allowed for group Instructions? :	Yes
Maximum Instruction Time:	0
Minimum Instruction Time:	0

General Hindi2

Section Id :	99836762
Section Number :	1
Section type :	Online
Mandatory or Optional:	Mandatory
Number of Questions:	12
Number of Questions to be attempted:	12
Section Marks:	20

Sub-Section Number:	1
Sub-Section Id:	998367106
Question Shuffling Allowed :	Yes

Question Number : 181 Question Id : 9983671913 Question Type : MCQ Option Shuffling : Yes
Correct Marks : 1 Wrong Marks : 0.25

कौन सा शब्द 'पृथ्वी' का पर्यायवाची शब्द नहीं है?

Options :

1. ✖ मेदिनी

2. ✖ वसुधा

3. ✖ धरित्री

4. ✔ अपर्णा

Question Number : 181 Question Id : 9983671913 Question Type : MCQ Option Shuffling : Yes
Correct Marks : 1 Wrong Marks : 0.25

कौन सा शब्द 'पृथ्वी' का पर्यायवाची शब्द नहीं है?

Options :

1. ✖ मेदिनी

2. ✖ वसुधा

3. ✖ धरित्री

4. ✔ अपर्णा

Question Number : 182 Question Id : 9983671914 Question Type : MCQ Option Shuffling : Yes
Correct Marks : 1 Wrong Marks : 0.25

कौन सा शब्द 'घर' का पर्यायवाची शब्द नहीं है?

Options :

1. ✖ निलय

2. ✔ उत्कोच

3. ✖ मकान

4. ✖ निकेतन

Question Number : 182 Question Id : 9983671914 Question Type : MCQ Option Shuffling : Yes

Correct Marks : 1 Wrong Marks : 0.25

कौन सा शब्द 'घर' का पर्यायवाची शब्द नहीं है?

Options :

1. ✖ निलय

2. ✔ उत्कोच

3. ✖ मकान

4. ✖ निकेतन

Question Number : 183 Question Id : 9983671915 Question Type : MCQ Option Shuffling : Yes

Correct Marks : 1 Wrong Marks : 0.25

'परिश्रम' और 'धंधा' दोनों के लिए प्रयुक्त होने वाला शब्द है:

Options :

1. ✖ कला

2. ✔ उद्योग

3. ✖ सहायता

4. ✖ सहयोग

Question Number : 183 Question Id : 9983671915 Question Type : MCQ Option Shuffling : Yes

Correct Marks : 1 Wrong Marks : 0.25

‘परिश्रम’ और ‘धंधा’ दोनों के लिए प्रयुक्त होने वाला शब्द है:

Options :

1. ✖ कला

2. ✔ उद्योग

3. ✖ सहायता

4. ✖ सहयोग

Question Number : 184 Question Id : 9983671916 Question Type : MCQ Option Shuffling : Yes

Correct Marks : 1 Wrong Marks : 0.25

कौन सा शब्द "पावक" का पर्यायवाची शब्द है?

Options :

1. ✔ हुताशन

2. ✖ लपट

3. ✖ ज्वाल

4. ✖ अंगारा

Question Number : 184 Question Id : 9983671916 Question Type : MCQ Option Shuffling : Yes

Correct Marks : 1 Wrong Marks : 0.25

कौन सा शब्द "पावक" का पर्यायवाची शब्द है?

Options :

1. ✓ हुताशन

2. ✗ लपट

3. ✗ ज्वाल

4. ✗ अंगारा

Question Number : 185 Question Id : 9983671917 Question Type : MCQ Option Shuffling : Yes

Correct Marks : 1 Wrong Marks : 0.25

'मृगेन्द्र' शब्द का पर्यायवाची शब्द क्या है?

Options :

1. ✗ कुरंग

2. ✓ सिंह

3. ✗ हिरन

4. ✗ शावक

Question Number : 185 Question Id : 9983671917 Question Type : MCQ Option Shuffling : Yes

Correct Marks : 1 Wrong Marks : 0.25

'मृगेन्द्र' शब्द का पर्यायवाची शब्द क्या है?

Options :

1. ✖ कुरंग

2. ✔ सिंह

3. ✖ हिरन

4. ✖ शावक

Question Number : 186 Question Id : 9983671918 Question Type : MCQ Option Shuffling : Yes
Correct Marks : 1 Wrong Marks : 0.25

कौन सा शब्द-युग्म विलोम शब्द का द्योतक नहीं है?

Options :

1. ✖ कलुष-निष्कलुष

2. ✖ आकर्षण-विकर्षण

3. ✔ शशि-निशि

4. ✖ लौकिक-अलौकिक

Question Number : 186 Question Id : 9983671918 Question Type : MCQ Option Shuffling : Yes
Correct Marks : 1 Wrong Marks : 0.25

कौन सा शब्द-युग्म विलोम शब्द का द्योतक नहीं है?

Options :

1. ✖ कलुष-निष्कलुष

2. ✖ आकर्षण-विकर्षण

3. ✔ शशि-निशि

4. ✖ लौकिक-अलौकिक

Question Number : 187 Question Id : 9983671919 Question Type : MCQ Option Shuffling : Yes
Correct Marks : 1 Wrong Marks : 0.25

कौन सा शब्द-युग्म विलोम शब्द का उदाहरण नहीं है?

Options :

1. ✖ विष-अमृत

2. ✖ लिप्त-निर्लिप्त

3. ✔ नग-भूधर

4. ✖ बसंत-पतझड़

Question Number : 187 Question Id : 9983671919 Question Type : MCQ Option Shuffling : Yes
Correct Marks : 1 Wrong Marks : 0.25

कौन सा शब्द-युग्म विलोम शब्द का उदाहरण नहीं है?

Options :

1. ✖ विष-अमृत

2. ✖ लिप्त-निर्लिप्त

3. ✓ नग-भूधर

4. ✗ बसंत-पतझड़

Question Number : 188 Question Id : 9983671920 Question Type : MCQ Option Shuffling : Yes
Correct Marks : 1 Wrong Marks : 0.25

'गरिमा' का विलोम शब्द क्या है?

Options :

1. ✗ घृणित

2. ✓ लघिमा

3. ✗ निम्नतम

4. ✗ महिमा

Question Number : 188 Question Id : 9983671920 Question Type : MCQ Option Shuffling : Yes
Correct Marks : 1 Wrong Marks : 0.25

'गरिमा' का विलोम शब्द क्या है?

Options :

1. ✗ घृणित

2. ✓ लघिमा

3. ✗ निम्नतम

4. ✖ महिमा

Question Number : 189 Question Id : 9983671921 Question Type : MCQ Option Shuffling : Yes

Correct Marks : 1 Wrong Marks : 0.25

'अनागत' शब्द का विलोम शब्द क्या है?

Options :

1. ✖ कनागत

2. ✖ अनुवादक

3. ✖ विगत

4. ✔ आगत

Question Number : 189 Question Id : 9983671921 Question Type : MCQ Option Shuffling : Yes

Correct Marks : 1 Wrong Marks : 0.25

'अनागत' शब्द का विलोम शब्द क्या है?

Options :

1. ✖ कनागत

2. ✖ अनुवादक

3. ✖ विगत

4. ✔ आगत

Question Number : 190 Question Id : 9983671922 Question Type : MCQ Option Shuffling : Yes

Correct Marks : 1 Wrong Marks : 0.25

'अवनि' शब्द का विलोम शब्द क्या है?

Options :

1. ✓ अम्बर

2. ✗ गगन

3. ✗ आसमान

4. ✗ आकाश

Question Number : 190 Question Id : 9983671922 Question Type : MCQ Option Shuffling : Yes

Correct Marks : 1 Wrong Marks : 0.25

'अवनि' शब्द का विलोम शब्द क्या है?

Options :

1. ✓ अम्बर

2. ✗ गगन

3. ✗ आसमान

4. ✗ आकाश

Sub-Section Number: 2
Sub-Section Id: 998367107
Question Shuffling Allowed : Yes

Question Id : 9983671923 Question Type : COMPREHENSION Sub Question Shuffling Allowed : Yes Group Comprehension Questions : No
Question Numbers : (191 to 195)

Question Label : Comprehension

निम्नलिखित गद्यांश को पढ़ें और दिए गए प्रश्नों के उत्तर दें।

अर्थ सामाजिक व्यक्ति की अनिवार्य आवश्यकता है, क्योंकि उसके द्वारा जीवन के लिए आवश्यक सामग्री प्राप्त हो सकती है।

बर्बरता तथा सभ्यता दोनों ही परिस्थितियों में मनुष्य अपने सुख के साधन चाहता है, अंतर केवल यही है कि एक स्थिति में अपने सुख के साधन प्राप्त करना व्यक्ति की शक्ति पर निर्भर है और दूसरी में सुख की सामग्री के समान विभाजन का अधिकार समाज को सौंप दिया जाता है। बर्बरता की स्थिति में शक्ति का उपयोग व्यक्तिगत हितों की रक्षा में निहित था परंतु सभ्य समाज में शक्ति का उपयोग करना सार्वजनिक है। समाज अपने सदस्यों में प्रत्येक को, चाहे वह सबल हो अथवा निर्बल, सुख के साधन समान रूप से वितरित करने पर बाध्य समझा जाता है।

Sub questions

Question Number : 191 Question Id : 9983671924 Question Type : MCQ Option Shuffling : Yes
Correct Marks : 1 Wrong Marks : 0.25

अर्थ सामाजिक मनुष्य की अनिवार्य आवश्यकता क्यों हैं?

Options :

1. ✖ क्योंकि इसी से वह अपना मान-सम्मान बढ़ाता है।
2. ✖ क्योंकि धन से ही समाज को अपना लोहा मनवाता है।
3. ✔ क्योंकि अर्थ द्वारा जीवन की आवश्यकताएं पूरी हो सकती हैं।
4. ✖ क्योंकि अर्थ का अर्जन ही जीवन का मुख्य उद्देश्य है।

Question Number : 192 Question Id : 9983671925 Question Type : MCQ Option Shuffling : Yes
Correct Marks : 1 Wrong Marks : 0.25

बर्बरता और सभ्यता में क्या अंतर है?

Options :

1. ✖ बर्बरता और सभ्यता एक ही सिक्के के दो पहलु हैं।

2. ✖ बर्बरता आत्म सुख केंद्रित होती है और सभ्यता सुखों से दूर होती है।

3. ✖ बर्बरता हमें शक्तिशाली बनाती है और सभ्यता हमें कमजोर करती है।

4. ✔ बर्बरता मनुष्य को स्वार्थी बनाती है जबकि सभ्यता हमें लोकहित से जोड़ती है।

Question Number : 193 Question Id : 9983671926 Question Type : MCQ Option Shuffling : Yes
Correct Marks : 1 Wrong Marks : 0.25

समाज द्वारा सुख के साधन सभी को समान रूप से क्यों मिलने चाहिए?

Options :

1. ✔ क्योंकि समाज की व्यवस्था सबल और निर्बल की रक्षा हेतु ही बनी है।

2. ✖ क्योंकि समान रूप से न मिलने पर परस्पर द्वेष बढ़ेगा।

3. ✖ क्योंकि सुख के सभी साधनों पर समाज का अधिकार है।

4. ✖ क्योंकि समाज कानून से नहीं नैतिकता से चलता है।

Question Number : 194 Question Id : 9983671927 Question Type : MCQ Option Shuffling : Yes
Correct Marks : 1 Wrong Marks : 0.25

'सुख की सामग्री के समान विभाजन' से क्या अभिप्राय है?

Options :

1. ✖ सामग्री सभी को तोल-माप से बराबर दी जाए।

सामग्री पर चोर और सज्जन सभी का एक समान

2. ✖ अधिकार है।

सामग्री अमीर-गरीब, ग्रामीण-शहरी आदि के

3. ✔ नियमानुसार बराबर प्राप्त होनी चाहिए।

4. ✖ सुख किसी की व्यक्तिगत सम्पदा नहीं है।

Question Number : 195 Question Id : 9983671928 Question Type : MCQ Option Shuffling : Yes
Correct Marks : 1 Wrong Marks : 0.25

उपर्युक्त अनुच्छेद का उपर्युक्त शीर्षक क्या होना चाहिए?

Options :

1. ✖ समाज की प्रासंगिकता

2. ✔ बर्बरता और सज्जनता

3. ✖ निर्बल और सबल

4. ✖ सुख की सामग्री

Question Id : 9983671923 Question Type : COMPREHENSION Sub Question Shuffling Allowed : Yes Group Comprehension Questions : No

Question Numbers : (191 to 195)

Question Label : Comprehension

निम्नलिखित गद्यांश को पढ़ें और दिए गए प्रश्नों के उत्तर दें।

अर्थ सामाजिक व्यक्ति की अनिवार्य आवश्यकता है, क्योंकि उसके द्वारा जीवन के लिए आवश्यक सामग्री प्राप्त हो सकती है।

बर्बरता तथा सभ्यता दोनों ही परिस्थितियों में मनुष्य अपने सुख के साधन चाहता है, अंतर केवल यही है कि एक स्थिति में अपने सुख के साधन प्राप्त करना व्यक्ति की शक्ति पर निर्भर है और दूसरी में सुख की सामग्री के समान विभाजन का अधिकार समाज को सौंप दिया जाता है। बर्बरता की स्थिति में शक्ति का उपयोग व्यक्तिगत हितों की रक्षा में निहित था परंतु सभ्य समाज में शक्ति का उपयोग करना सार्वजनिक है। समाज अपने सदस्यों में प्रत्येक को, चाहे वह सबल हो अथवा निर्बल, सुख के साधन समान रूप से वितरित करने पर बाध्य समझा जाता है।

Sub questions

Question Number : 191 Question Id : 9983671924 Question Type : MCQ Option Shuffling : Yes

Correct Marks : 1 Wrong Marks : 0.25

अर्थ सामाजिक मनुष्य की अनिवार्य आवश्यकता क्यों हैं?

Options :

1. ✖ क्योंकि इसी से वह अपना मान-सम्मान बढ़ाता है।

2. ✖ क्योंकि धन से ही समाज को अपना लोहा मनवाता है।

क्योंकि अर्थ द्वारा जीवन की आवश्यकताएं पूरी हो सकती हैं।

क्योंकि अर्थ का अर्जन ही जीवन का मुख्य उद्देश्य है।

Question Number : 192 Question Id : 9983671925 Question Type : MCQ Option Shuffling : Yes
Correct Marks : 1 Wrong Marks : 0.25

बर्बरता और सभ्यता में क्या अंतर है?

Options :

बर्बरता और सभ्यता एक ही सिक्के के दो पहलु हैं।

बर्बरता आत्म सुख केंद्रित होती है और सभ्यता सुखों से दूर होती है।

बर्बरता हमें शक्तिशाली बनाती है और सभ्यता हमें कमजोर करती है।

बर्बरता मनुष्य को स्वार्थी बनाती है जबकि सभ्यता हमें लोकहित से जोड़ती है।

Question Number : 193 Question Id : 9983671926 Question Type : MCQ Option Shuffling : Yes
Correct Marks : 1 Wrong Marks : 0.25

समाज द्वारा सुख के साधन सभी को समान रूप से क्यों मिलने चाहिए?

Options :

क्योंकि समाज की व्यवस्था सबल और निर्बल की रक्षा हेतु ही बनी है।

1. ✓

क्योंकि समान रूप से न मिलने पर परस्पर द्वेष बढ़ेगा।

2. ✗

क्योंकि सुख के सभी साधनों पर समाज का अधिकार है।

3. ✗

क्योंकि समाज कानून से नहीं नैतिकता से चलता है।

4. ✗

Question Number : 194 Question Id : 9983671927 Question Type : MCQ Option Shuffling : Yes
Correct Marks : 1 Wrong Marks : 0.25

'सुख की सामग्री के समान विभाजन' से क्या अभिप्राय है?

Options :

1. ✗ सामग्री सभी को तोल-माप से बराबर दी जाए।

सामग्री पर चोर और सज्जन सभी का एक समान अधिकार है।

2. ✗

सामग्री अमीर-गरीब, ग्रामीण-शहरी आदि के नियमानुसार बराबर प्राप्त होनी चाहिए।

3. ✓

सुख किसी की व्यक्तिगत सम्पदा नहीं है।

4. ✗

Question Number : 195 Question Id : 9983671928 Question Type : MCQ Option Shuffling : Yes
Correct Marks : 1 Wrong Marks : 0.25

उपर्युक्त अनुच्छेद का उपर्युक्त शीर्षक क्या होना चाहिए?

Options :

1. ✖ समाज की प्रासंगिकता

2. ✔ बर्बरता और सज्जनता

3. ✖ निर्बल और सबल

4. ✖ सुख की सामग्री

Sub-Section Number: 3
Sub-Section Id: 998367108
Question Shuffling Allowed : Yes

Question Id : 9983671929 Question Type : COMPREHENSION Sub Question Shuffling Allowed : Yes Group Comprehension Questions : No
Question Numbers : (196 to 200)

Question Label : Comprehension

निम्नलिखित गद्यांश को पढ़ें और दिए गए प्रश्नों के उत्तर दें।

ऐसे लोगों का साथ करना हमारे लिए बुरा है जो हमसे अधिक दृढ़ संकल्प के हैं क्योंकि हमें उनकी हर बात बिना किसी विरोध के मान लेनी पड़ती है, पर ऐसे लोगों का साथ करना और भी बुरा है, जो हमारी ही बात को ऊपर रखते हैं, क्योंकि ऐसी दशा में न तो हमारे ऊपर कोई नियंत्रण रहता है और न हमारे लिए कोई सहारा रहता है। दोनों अवस्थाओं में जिस बात का भय रहता है, उसका पता युवकों को प्रायः बहुत कम रहता है। किसी को मित्र बनाने में उसके पूर्व आचरण और स्वभाव आदि का कुछ भी विचार और अनुसंधान नहीं करते। वे उसमें सब बातें अच्छी मानकर पूरा विश्वास जमा देते हैं। हंसमुख चेहरा, बातचीत का ढंग, थोड़ी सी चतुराई या साहस - ये ही दो चार बातें किसी में देखकर लोग चटपट उसे अपना लेते हैं। विश्वासपात्र मित्र जीवन की एक औषध है, हमें अपने मित्रों से यह आशा रखनी चाहिए कि वे उत्तम संस्कारों से हमें दृढ़ करेंगे, दोषों और त्रुटियों से हमें बचाएंगे, हमारे सत्य, पवित्रता और मर्यादा के प्रेम को पुष्ट करेंगे। जब हम हतोत्साहित होंगे, तब हमें उत्साहित करेंगे।

Sub questions

Question Number : 196 Question Id : 9983671930 Question Type : MCQ Option Shuffling : Yes
Correct Marks : 1 Wrong Marks : 0.25

सच्चे मित्र की सही परिभाषा क्या दी जा सकती है?

Options :

1. ✖ जो सुख में हमारे साथ खड़ा रहे।
2. ✖ जो दुख में हमारी सहायता करे।
3. ✔ जो संस्कारों से हमें दृढ़ करे और दोषों से बचाए।

4. ✖ जो हमारे यश का विस्तार करें।

Question Number : 197 Question Id : 9983671931 Question Type : MCQ Option Shuffling : Yes

Correct Marks : 1 Wrong Marks : 0.25

मित्र बनाने से पहले हमें क्या करना चाहिए?

Options :

1. ✖ उसके समर्पित भाव पर भरोसा करना चाहिए।

मित्र के पूर्व आचरण, स्वभाव और चरित्र पर विचार

2. ✔ करना चाहिए।

3. ✖ उसके माधुर्यपूर्ण वचनों का सम्मान करना चाहिए।

वह हमारी बातों को ऊपर रखता हो, यह विचार

4. ✖ करना चाहिए।

Question Number : 198 Question Id : 9983671932 Question Type : MCQ Option Shuffling : Yes

Correct Marks : 1 Wrong Marks : 0.25

"विश्वासपात्र मित्र जीवन की औषध है।"- इस पंक्ति
का क्या अर्थ है?

Options :

अस्वस्थ अवस्था में मित्र हमारे लिए दवा उपलब्ध

1. ✖ कराते हैं।

मित्र के संकट में काम आने वाला ही अच्छा मित्र

2. ✖ होता है।

3. ✖ जो मित्र की मदद करता है वहीं विश्वसनीय होता है।

औषधि की तरह मित्र भी हमारे दोष, रोग और

4. ✔ अस्वस्थता के कारणों का निवारण करते हैं।

Question Number : 199 Question Id : 9983671933 Question Type : MCQ Option Shuffling : Yes
Correct Marks : 1 Wrong Marks : 0.25

मित्र बनाते समय अक्सर हम कब धोखा खा लेते हैं?

Options :

जब उसकी हां में हां मिलाने की प्रवृत्ति को हम

1. ✖ उचित मान लेते हैं।

जब मित्र द्वारा की गई आलोचना से हम नाराज़ हो

2. ✖ जाते हैं।

जब उसके हंसमुख चेहरे और कृत्रिम व्यवहार पर हम

3. ✔ विश्वास कर लेते हैं।

जब बिना परखे, बिना जांचे हम मित्र के गुणों को

4. ✖ अनदेखा कर देते हैं।

Question Number : 200 Question Id : 9983671934 Question Type : MCQ Option Shuffling : Yes
Correct Marks : 1 Wrong Marks : 0.25

इस अनुच्छेद का सटीक एवं उपयुक्त शीर्षक क्या हो सकता है?

Options :

1. ✔ मित्र : पवित्रता और मर्यादा का रक्षक

2. ✖ मित्र और शत्रु

3. ✖ मित्र पर संशय कैसा

4. ✖ मित्र वही जो मन को भाए

Question Id : 9983671929 Question Type : COMPREHENSION Sub Question Shuffling Allowed : Yes Group Comprehension Questions : No

Question Numbers : (196 to 200)

Question Label : Comprehension

निम्नलिखित गद्यांश को पढ़ें और दिए गए प्रश्नों के उत्तर दें।

ऐसे लोगों का साथ करना हमारे लिए बुरा है जो हमसे अधिक दृढ़ संकल्प के हैं क्योंकि हमें उनकी हर बात बिना किसी विरोध के मान लेनी पड़ती है, पर ऐसे लोगों का साथ करना और भी बुरा है, जो हमारी ही बात को ऊपर रखते हैं, क्योंकि ऐसी दशा में न तो हमारे ऊपर कोई नियंत्रण रहता है और न हमारे लिए कोई सहारा रहता है। दोनों अवस्थाओं में जिस बात का भय रहता है, उसका पता युवकों को प्रायः बहुत कम रहता है। किसी को मित्र बनाने में उसके पूर्व आचरण और स्वभाव आदि का कुछ भी विचार और अनुसंधान नहीं करते। वे उसमें सब बातें अच्छी मानकर पूरा विश्वास जमा देते हैं। हंसमुख चेहरा, बातचीत का ढंग, थोड़ी सी चतुराई या साहस - ये ही दो चार बातें किसी में देखकर लोग चटपट उसे अपना लेते हैं। विश्वासपात्र मित्र जीवन की एक औषध है, हमें अपने मित्रों से यह आशा रखनी चाहिए कि वे उत्तम संस्कारों से हमें दृढ़ करेंगे, दोषों और त्रुटियों से हमें बचाएंगे, हमारे सत्य, पवित्रता और मर्यादा के प्रेम को पुष्ट करेंगे। जब हम हतोत्साहित होंगे, तब हमें उत्साहित करेंगे।

Sub questions

Question Number : 196 Question Id : 9983671930 Question Type : MCQ Option Shuffling : Yes
Correct Marks : 1 Wrong Marks : 0.25

सच्चे मित्र की सही परिभाषा क्या दी जा सकती है?

Options :

1. ✖ जो सुख में हमारे साथ खड़ा रहे।
2. ✖ जो दुख में हमारी सहायता करे।
3. ✔ जो संस्कारों से हमें दृढ़ करे और दोषों से बचाए।
4. ✖ जो हमारे यश का विस्तार करें।

Question Number : 197 Question Id : 9983671931 Question Type : MCQ Option Shuffling : Yes
Correct Marks : 1 Wrong Marks : 0.25

मित्र बनाने से पहले हमें क्या करना चाहिए?

Options :

1. ✖ उसके समर्पित भाव पर भरोसा करना चाहिए।
2. ✔ मित्र के पूर्व आचरण, स्वभाव और चरित्र पर विचार करना चाहिए।
3. ✖ उसके माधुर्यपूर्ण वचनों का सम्मान करना चाहिए।
4. ✖ वह हमारी बातों को ऊपर रखता हो, यह विचार करना चाहिए।

Question Number : 198 Question Id : 9983671932 Question Type : MCQ Option Shuffling : Yes
Correct Marks : 1 Wrong Marks : 0.25

"विश्वासपात्र मित्र जीवन की औषध है।"- इस पंक्ति
का क्या अर्थ है?

Options :

अस्वस्थ अवस्था में मित्र हमारे लिए दवा उपलब्ध
1. ✖ कराते हैं।

मित्र के संकट में काम आने वाला ही अच्छा मित्र
2. ✖ होता है।

3. ✖ जो मित्र की मदद करता है वहीं विश्वसनीय होता है।

औषधि की तरह मित्र भी हमारे दोष, रोग और
4. ✔ अस्वस्थता के कारणों का निवारण करते हैं।

Question Number : 199 Question Id : 9983671933 Question Type : MCQ Option Shuffling : Yes
Correct Marks : 1 Wrong Marks : 0.25

मित्र बनाते समय अक्सर हम कब धोखा खा लेते हैं?

Options :

जब उसकी हां में हां मिलाने की प्रवृत्ति को हम
1. ✖ उचित मान लेते हैं।

जब मित्र द्वारा की गई आलोचना से हम नाराज़ हो
2. ✖ जाते हैं।

जब उसके हंसमुख चेहरे और कृत्रिम व्यवहार पर हम

3. ✓ विश्वास कर लेते हैं।

जब बिना परखे, बिना जांचे हम मित्र के गुणों को

4. ✗ अनदेखा कर देते हैं।

Question Number : 200 Question Id : 9983671934 Question Type : MCQ Option Shuffling : Yes

Correct Marks : 1 Wrong Marks : 0.25

इस अनुच्छेद का सटीक एवं उपयुक्त शीर्षक क्या हो सकता है?

Options :

1. ✓ मित्र : पवित्रता और मर्यादा का रक्षक

2. ✗ मित्र और शत्रु

3. ✗ मित्र पर संशय कैसा

4. ✗ मित्र वही जो मन को भाएं