



Teachingninja.in



Latest Govt Job updates



Private Job updates



Free Mock tests available



Visit - teachingninja.in

GPSC

Previous Year Paper
Prelims 13 Oct 2019
Paper-I



CSP-1

PROVISIONAL ANSWER KEY

Name of the Post	:	Gujarat Administrative Service, Class-1, Gujarat Civil Services, Class-1 & Class-2 & Gujarat Municipal Chief Officer Service, Class-2
Advertisement No	:	10/2019-20
Preliminary Test Held on	:	13-10-2019
Que No	:	1 to 200 (General Studies-1)
Publish Date	:	16-10-2019
Last Date to Send Suggestion (S)	:	23-10-2019

Note :-

- (૧) ઉમેદવારે વાંધા-સૂચનો રજૂ કરવા વેબસાઇટ પર પ્રસિધ્ધ થયેલ નિયત નમૂનાનો ઉપયોગ કરવો.
- (૨) ઉમેદવારોએ પોતાને પરીક્ષામાં મળેલ સીરીઝની પ્રશ્નપુસ્તિકામાં છપાયેલ પ્રશ્નક્રમાંક મુજબ વાંધા સૂચનો રજૂ ન કરતા તમામ વાંધા-સૂચનો વેબસાઇટ પર પ્રસિધ્ધ થયેલ પ્રોવિઝિનલ આન્સર કી(માસ્ટર કોપી)ના પ્રશ્ન ક્રમાંક મુજબ અને તે સંદર્ભમાં રજૂ કરવા.
- (૩) માસ્ટર કોપીમાં નિર્દિષ્ટ પ્રશ્ન અને વિકલ્પ સિવાયનું **Objection** ધ્યાને લેવામાં આવશે નહીં.
- (૪) ઉમેદવાર જે પ્રશ્નના વિકલ્પ પર વાંધો રજૂ કરે છે અને વિકલ્પરૂપે જે જવાબ સુચવે છે એ જવાબ ઉમેદવારે ઉત્તરવહીમાં આપેલ હોવો જોઈએ. ઉમેદવારે સૂચવેલ જવાબ અને ઉત્તરવહીનો જવાબ ભિન્ન હશે તો ઉમેદવારનું **Objection** ધ્યાનમાં લેવાશે નહીં. ટૂંકમાં ઉમેદવારે આપેલ જવાબના સંદર્ભમાં તેમનું **Objection** હોવું જોઈએ.
- (૫) ઉમેદવારોએ ઉક્ત સૂચનાનું પાલન કરવું અન્યથા વાંધા-સૂચનો અંગે કરેલ રજૂઆતો ધ્યાને લેવાશે નહીં.

(1) Suggestion(s) is to be sent in the prescribed format published on the website.

(2) All suggestions are to be sent with reference to the Master Question Paper with provisional answer key (Master Copy), publishing herewith on the website. Objections should be sent referring to the question No. of Master copy.

(3) Objections not in compliance with the Master Copy Question, Question No. and Options shall not be considered.

(4) Objections and answerers suggested by the candidate should be in compliance with the responses given by him in his answer sheet. Objections shall not be considered, in case, if responses in the answer sheet and suggestions are differing.

(5) Candidate Must ensure the above compliance.

M

001. સિંધુ ખીણની સંસ્કૃતિ વિશે નીચે આપેલાં વિધાનોમાંથી કયું(યાં) વિધાન(નો) સાચું / સાચાં છે?

1. હડપ્પામાં ઇ.સ. 1921માં પ્રથમવાર અને ત્યારબાદ ઇ.સ. 1922માં મોહેજો-દારોમાં સિંધ પ્રદેશની આ સંસ્કૃતિની ઓળખ છતી થઈ.
2. બંને શહેરોનાં ઉત્કૃષ્ટ પરિમાણો, રાજકીય કેન્દ્રીયકરણને સૂચવે છે, કાં તો બે મોટા રાજ્યો તરીકે અથવા તો એક સામ્રાજ્ય તરીકે વૈકલ્પિક રાજધાનીઓ સાથે.
3. કાઠિયાવાડ દ્વીપકલ્પ અને એથી આગળ દક્ષિણ વિસ્તારની સભ્યતા, સિંધુ સંસ્કૃતિનાં પ્રમુખ સ્થળોની સરખામણીમાં પાછળથી વિકસ્યાં હોય એમ જણાય છે.

(A) 1 અને 2 માત્ર (B) 1 અને 3 માત્ર (C) 2 અને 3 માત્ર (D) 1, 2 અને 3

002. કયા અંગ્રેજી વિદ્વાને ભગવદ્ગીતાનો અંગ્રેજીમાં અનુવાદ કર્યો?

(A) વિલિયમ જેમ્સ (B) ચાર્લ્સ વિલ્કિન્સ (C) લોર્ડ મેકોલે (D) વિલિયમ બેન્ટિક

003. ગાંધાર કલાશૈલી વિશે નીચે પૈકી કયું(યાં) વિધાન(નો) સાચું / સાચાં છે?

1. પ્રાચીન ભારતીય ઇતિહાસમાં પ્રમુખ કલાશૈલીઓમાંની એક ગાંધાર કલાશૈલી હતી અને તે અનન્ય રીતે ગ્રીકો-રોમન શૈલીની કલા સાથે સંકળાયેલી હતી.
2. મહાયાન બૌદ્ધવાદ સાથે ગાંધાર કલાશૈલી ઘનિષ્ટ રીતે સંકળાયેલી હોવાને કારણે આ કલાનાં મુખ્ય વિષયવસ્તુ (main theme) ભગવાન બુદ્ધ અને બોધિસત્ત્વો રહ્યા.
3. અફઘાનિસ્તાન અને હાલના ઉત્તર-પશ્ચિમ ભારતના વિસ્તારોમાં આ કલાશૈલી મુખ્યત્વે વિકસી અને તક્ષશિલા, પેશાવર, બગરામ અને બામિયાન એનાં પ્રમુખ સ્થાનો હતાં.

(A) 1 અને 2 માત્ર (B) 1 અને 3 માત્ર (C) 2 અને 3 માત્ર (D) 1, 2 અને 3

004. વિજયનગરના સામ્રાજ્ય વિશે નીચે પૈકી કયું(યાં) વિધાન(નો) સાચું / સાચાં છે?

1. વિજયનગર સામ્રાજ્ય 1336માં સ્થપાયું અને બે શતકોથી વધુ એ પ્રભાવશાળી સત્તા તરીકે દક્ષિણ ભારતમાં ટક્યું.
2. હરિહર અને બુક્કા નામના બે ભાઈઓએ વિજયનગર સામ્રાજ્યની સ્થાપના કરી.
3. બુક્કાએ વ્યવસ્થાતંત્રના સ્થોલા, નાડુ અને સીમા નામના એકમો રચ્યાં અને સ્થાનિક વ્યવસ્થાતંત્રને ચલાવવા અને મહેસૂલ વસૂલવા માટે અધિકારીઓની નિમણૂક કરી.
4. ઇ.સ. 1347માં બહમની સલ્તનતની સ્થાપના નવા અને મોટા ખતરારૂપ હતી, બહમની સલ્તનત તરફનું જોખમ નિવારવા માટે હરિહરે સામ્રાજ્યના વિસ્તૃતીકરણની પ્રવૃત્તિઓને ઘટાડવાની ફરજ પડી હતી.

(A) 1, 3 અને 4 માત્ર (B) 1, 2 અને 4 માત્ર (C) 2 અને 3 માત્ર (D) 1, 2, 3 અને 4

005. ગદર આંદોલન સંદર્ભે નીચે પૈકી કયાં વિધાનો સાચાં છે?

1. ભારત દેશમાં બ્રિટીશ શાસનને ઉથલાવવા માટે નાણાં એકત્ર કરવા અને સમર્થન આપવા સમર્પિત, દેશનિકાલ થયેલા પંજાબીઓના ગઠબંધન રૂપે, 1913 માં કેલિફોર્નિયામાં ગદર આંદોલન શરૂ થયું.
2. તેનું આયોજન એક પંજાબી લાલાલજપત રાય અને બિપિનચંદ્ર પાલની અધ્યક્ષતામાં કરવામાં આવ્યું હતું.
3. ગદર આંદોલન અંતર્ગત પત્રિકાઓ છાપવા માટે અને ભારતની ક્રાંતિ માટે હથિયારો અને સ્વયંસેવકો મોકલવા માટેનું આયોજન કર્યું હતું.
4. 1920 ના દાયકામાં, જોકે, ગદર પાર્ટીનું પુનર્ગઠન કરવામાં આવ્યું હતું અને ભારતીય આઝાદીના સમય 1947 સુધી તે પંજાબી અને શીખોની ઓળખ માટેના કેન્દ્રીય બિંદુ (focal point) તરીકે ચાલુ રહ્યું.

(A) 1, 2 અને 3 માત્ર (B) 2, 3 અને 4 માત્ર (C) 1, 3 અને 4 માત્ર (D) 1, 2, 3 અને 4

001. Which of the following statements is/are correct about Indus Valley civilization?

1. The civilization was first identified in 1921 at Harappa and then in 1922 at Mohenjo-Daro.
2. The outstanding magnitude of both the cities suggests political centralization, either in two large states or in a single empire with alternative capitals.
3. The southern region of the civilization, on the Kathiawar Peninsula and beyond, appears to be of later origin than the major Indus sites.

(A) 1 and 2 only (B) 1 and 3 only
(C) 2 and 3 only (D) 1, 2 and 3

002. Name the English scholar who translated Bhagavad Gita (in) to English.

- (A) William James (B) Charles Wilkins
(C) Lord Macaulay (D) William Bentinck

003. Which of the following statements is/are correct about Gandhara School of Art?

1. Gandhara School of Art was one of the major schools of art in the history of ancient India and it is uniquely associated with the Greco-Roman style of art
2. Gandhara style of art was closely associated with Mahayana Buddhism and hence the main theme of this art was Lord Buddha and Bodhisattvas
3. It mostly flourished in the areas of Afghanistan and present North-Western India and the prominent locations were Taxila (Takshashila), Peshawar, Begram (Bagram) and Bamiyan

(A) 1 and 2 only (B) 1 and 3 only
(C) 2 and 3 only (D) 1, 2 and 3

004. Which of the following statements is/are correct regarding Vijayanagar Empire?

1. Vijayanagar empire was established in 1336 and it lasted for more than two centuries as the dominant power in south India.
2. The kingdom of Vijayanagar was founded by Harihara and Bukka.
3. Bukka created administrative units called stholas, nadus, and simas and appointed officials to collect revenue and to carry on local administration.
4. The foundation of the Bahmani Sultanate in 1347 created a new and greater danger, and Harihara was forced to lessen his own expansionist activities to meet the threat posed by Bahmani kings.

(A) 1, 3 and 4 only (B) 1, 2 and 4 only (C) 2 and 3 only (D) 1, 2, 3 and 4

005. Which of the following statements is/are correct about Ghadar movement?

1. The Ghadar Movement began, in 1913 in California, as a coalition of expatriate Punjabis dedicated to raising money and support for the overthrow of British rule in India.
2. It was organized and headed by a Punjabi Lala Lajpat Rai and Bipin Chandra Pal.
3. The Ghadar movement organized to print pamphlets and even to send arms and volunteers for a revolution in India.
4. In the 1920s, however, the Ghadar Party was reorganized and it continued as a focal point for Punjabi and Sikh identity until the time of Indian Independence in 1947.

(A) 1, 2 and 3 only (B) 2, 3 and 4 only (C) 1, 3 and 4 only (D) 1, 2, 3 and 4

M

006. નીચે પૈકી કઈ જોડી(ઓ) ખરી છે?

- | | |
|--|-------------------------------------|
| 1. પાર્શ્વનાથ – બનારસના રાજા અશ્વસેનના પુત્ર | 2. મદિલનાથ – મિથિલાના રાજાની પુત્રી |
| 3. રીષભનાથ – બળદનું પ્રતીક | 4. નેમિનાથ – શ્રીકૃષ્ણના પિતરાઈ |
| (A) 2 અને 3 માત્ર | (B) 1, 2 અને 4 માત્ર |
| (C) 1, 2, 3 અને 4 | (D) 1, 2 અને 3 માત્ર |

007. નીચે પૈકી કયાં વિધાનો સાચાં છે?

1. જ્યારે એલેક્ઝાંડરે ભારત પર આક્રમણ કર્યું ત્યારે આમ્બી તક્ષશિલાના રાજા હતા.
 2. પોરસનું રાજ્ય ઝેલમ અને ચિનાબ નદીની વચ્ચે હતું.
 3. ઝેલમના કિનારે એલેક્ઝાંડરે Boukephala (Bucephala) શહેરની સ્થાપના કરી.
 4. એલેક્ઝાંડરે 2 લાખ બળદ ભારતથી મૈસેડોનિયા મોકલ્યા.
- (A) 1 અને 2 માત્ર (B) 2 અને 4 માત્ર (C) 1, 2, 3 અને 4 (D) 1, 2 અને 4

008. નીચે પૈકી કયાં વિધાનો સાચાં છે?

1. ઈલોરાનું પ્રખ્યાત કૈલાશ મંદિર રાષ્ટ્રકૂટના રાજા કિષ્ના-I એ બાંધ્યું હતું.
 2. રાષ્ટ્રકૂટના રાજ્યકાળમાં લોકસેને 'મહાપુરાણ' રચ્યું હતું.
 3. તાંજોરના રાજરાજેશ્વર મંદિરમાં 400 નૃત્યાંગનાઓ હતી.
 4. કંબનનું 'રામાવતારમ' તમિળનું મહાન મહાકાવ્ય ગણાય છે.
- (A) 1 અને 2 માત્ર (B) 2 અને 3 માત્ર (C) 1 અને 4 માત્ર (D) 1, 2, 3 અને 4

009. કનિષ્કા વિશે નીચે પૈકી કયાં વિધાનો સાચાં છે?

1. તેની રાજધાની પુરુષપુર હતી.
 2. ચીની જનરલ પાન-ચાઓ (Pan-chao) એ તેને હરાવ્યો હતો.
 3. તેણે ત્રીજો બૌદ્ધ પરિષદનું આયોજન કર્યું હતું.
 4. તેના રાજ્યકાળમાં મથુરા કલાનું મહાન કેન્દ્ર બન્યું.
- (A) 1, 2 અને 4 માત્ર (B) 1 અને 3 માત્ર (C) 2 અને 4 માત્ર (D) 3 અને 4 માત્ર

010. કુમારપાળ સોલંકી વિશે નીચે પૈકી કયાં વિધાનો સાચાં છે?

1. વૈષ્ણવવાદના અનુયાયી હતા.
 2. વાગ્ભટ્ટ એમના મહામાત્ય હતા.
 3. એમણે જુગાર, હિંસા અને દારૂના વપરાશ પર પ્રતિબંધ મૂક્યો હતો.
 4. તેમણે ભાવ બૃહસ્પતિને સોમનાથના મહંત તરીકે નિમ્યા હતા.
- (A) 2, 3 અને 4 માત્ર (B) 1 અને 2 માત્ર (C) 3 અને 4 માત્ર (D) 1, 2, 3 અને 4

006. Which of the following pairs are correct?

1. Parsvanatha - Son of king Asvasena of Banaras.
2. Mallinath - Daughter of the ruler of Mithila.
3. Rishabhanath - symbol Bull.
4. Neminath - cousin of Shri Krishna.

(A) 2 and 3 only

(B) 1, 2 and 4 only

(C) 1, 2, 3 and 4

(D) 1, 2 and 3 only

007. Which of the following statements are correct?

1. When Alexander invaded India Ambhi was the ruler of Takshashila.
2. Kingdom of Purus was between the rivers Jhelum and Chenab.
3. Alexander founded a city named Boukephala (Bucephala) on Jhelum.
4. Alexander had sent 2 lakh oxen from India to Macedonia.

(A) 1 and 2 only

(B) 2 and 4 only

(C) 1, 2, 3 and 4

(D) 1, 2 and 4 only

008. Which of the following statements are correct?

1. Rashtrakut ruler Krishna-I had constructed the famous Kailash Temple of Ellora.
2. During Rashtrakuta Rule Loksen had written 'Mahapurana'.
3. 400 dancers were in Rajrajeshwar temple of Tanjore.
4. Kamban's 'Ramavataram' is considered the great epic of Tamil.

(A) 1 and 2 only

(B) 2 and 3 only

(C) 1 and 4 only

(D) 1, 2, 3 and 4

009. Which of the following statements about Kanishka is/are correct?

1. His capital was Purushpura.
2. He was defeated by Ban-Chao, the famous Chinese general.
3. He had convened the third Buddhist council.
4. In his reign Mathura became a great centre of art.

(A) 1, 2 and 4 only

(B) 1 and 3 only

(C) 2 and 4 only

(D) 3 and 4 only

010. Which of the following statements about Kumarpal Solanki are correct?

1. He was the follower of Vaishnavism.
2. His mahaamatya was Vagbhatt.
3. He had prohibited gambling, violence and use of liquor.
4. He had appointed Bhav Brihaspati as the Mahant of Somnath.

(A) 2, 3 and 4 only

(B) 1 and 2 only

(C) 3 and 4 only

(D) 1, 2, 3 and 4

M

011. સોલંકી વ્યવસ્થાતંત્ર વિશે નીચે પૈકી કઈ જોડીઓ સાચી છે?

- | | |
|-----------------------------|---------------------------|
| 1. દસ્તાવેજ વિભાગ – અક્ષપટલ | 2. બંદર વિભાગ – વેલાકુલ |
| 3. મહેલ વિભાગ – દુતક | 4. નાણાં વિભાગ – શ્રી કરણ |
| (A) 1, 2 અને 3 માત્ર | (B) 1, 2 અને 4 માત્ર |
| (C) 1 અને 4 માત્ર | (D) 2 અને 3 માત્ર |

012. ઋગ્વેદમાં દધિકરા (Dadhikara) નામ સૂચવે છે.

- | | | | |
|-----------------|---------------|---------------|-------------------|
| (A) જમીનનું માપ | (B) દેવી ઘોડો | (C) વૈદિક ઋષિ | (D) વૈદિક આદિજાતિ |
|-----------------|---------------|---------------|-------------------|

013. મીરાબાઈ એ રાજવંશના કુંવરી હતા.

- | | | | |
|--------------|-----------|-----------|------------|
| (A) સિસોદિયા | (B) ચૌહાણ | (C) રાઠોડ | (D) કછવાહા |
|--------------|-----------|-----------|------------|

014. ‘બ્લૂ મ્યુટિની’ સંજ્ઞા માટે વપરાય છે.

- | | | | |
|----------------------|--------------------|-----------------|---------------------|
| (A) સંન્યાસી વિદ્રોહ | (B) સાંથાલ વિદ્રોહ | (C) કોલ વિદ્રોહ | (D) ઈન્ડિગો વિદ્રોહ |
|----------------------|--------------------|-----------------|---------------------|

015. એમ. કે. ગાંધીનું જીવનચરિત્ર (Biography) સૌ પ્રથમ એ લખ્યું હતું.

- | | | | |
|----------------------|---------------|--------------------|---------------|
| (A) આર્નોલ્ડ ટોયન્બી | (B) જોસેફ ડૉક | (C) રોમેઈન રોલેન્ડ | (D) લુઈસ ફિશર |
|----------------------|---------------|--------------------|---------------|

016. નાના સાહેબ વિશે નીચે પૈકી કયાં વિધાનો સાચાં છે?

- નાના સાહેબ અંતિમ પેશ્વા બાજીરાવ-IIના દત્તક પુત્ર હતા.
 - નાના સાહેબનું મૂળ નામ ધોંડુ પંડિત હતું.
 - બાજીરાવ-II એ આત્મહત્યા કરી હતી.
 - ડેલહાઉસીએ નાના સાહેબને પેશ્વા તરીકે ઓળખવાની ના કહી અને એમનું પેન્શન અટકાવી દીધું.
- | | | | |
|----------------------|----------------------|----------------------|-------------------|
| (A) 1, 2 અને 3 માત્ર | (B) 1, 2 અને 4 માત્ર | (C) 2, 3 અને 4 માત્ર | (D) 1, 2, 3 અને 4 |
|----------------------|----------------------|----------------------|-------------------|

017. ઈન્દુલાલ યાજ્ઞિક વિશે નીચેનામાંથી કયું વિધાન સાચાં છે?

- તેમણે મુંબઈથી અંગ્રેજી ભાષાનું સામયિક ‘યંગ ઈન્ડિયા’ પ્રકાશિત કર્યું.
 - તેમણે ગાંધીની આગેવાનીમાં ખેડા સત્યાગ્રહમાં ભાગ લીધો હતો.
 - તેમણે અખિલ ભારતીય કિસાન સભાની રચનામાં સક્રિય પહેલ કરી અને તેના પહેલા સત્રમાં ભાગ લીધો.
 - તેમણે નૂતન મહા ગુજરાત જનતા પરિષદની સ્થાપના કરી.
- | | | | |
|----------------------|-------------------|-------------------|----------------------|
| (A) 2, 3 અને 4 માત્ર | (B) 3 અને 4 માત્ર | (C) 1, 2, 3 અને 4 | (D) 1, 3 અને 4 માત્ર |
|----------------------|-------------------|-------------------|----------------------|

018. ઈન્દ્રગ્રહમાં આવેલ દિગંબર જૈનોનું નાનું મંદિર કયા જૈન તીર્થંકરને સમર્પિત છે?

- | | | | |
|--------------------|----------------------|--------------------|-----------------------|
| (A) પ્રથમ તીર્થંકર | (B) દ્વીતીય તીર્થંકર | (C) તૃતીય તીર્થંકર | (D) ઉપર પૈકી કોઈ નહીં |
|--------------------|----------------------|--------------------|-----------------------|

011. Which of the following pairs about Solanki administration of Gujarat are correct?
- | | |
|-----------------------------------|------------------------------------|
| 1. Record Department - Akshapatal | 2. Port Department - Velakul |
| 3. Palace Department - Dutak | 4. Finance Department - Shri Karan |
| (A) 1, 2 and 3 only | (B) 1, 2 and 4 only |
| (C) 1 and 4 only | (D) 2 and 3 only |
012. Dadhikara is the name of a _____ mentioned in Rigveda.
- | | |
|----------------------|------------------|
| (A) Land measurement | (B) Divine horse |
| (C) Vedic rishi | (D) Vedic Tribe |
013. Mirabai was born a Princess of the _____.
- | | |
|---------------------|------------------------|
| (A) Sisodia dynasty | (B) Chauhan dynasty |
| (C) Rathor dynasty | (D) Kachhawaha dynasty |
014. The term 'Blue Mutiny' is used for _____.
- | | |
|--------------------|--------------------|
| (A) Sanyasi Revolt | (B) Santhal Revolt |
| (C) Kol Revolt | (D) Indigo Revolt |
015. The first biography of M. K. Gandhi was written by _____.
- | | |
|--------------------|-------------------|
| (A) Arnold Toynbee | (B) Joseph Doke |
| (C) Romain Rolland | (D) Louis Fischer |
016. Which of the following statements about Nana Sahib are correct?
1. Nana Sahib was the adopted son of Baji Rao II, the last Peshwa.
 2. The original name of Nana Sahib was Dhondu Pandit.
 3. The Baji Rao II committed suicide.
 4. Dalhousie refused to recognise Nana Sahib as the Peshwa and suspended his Pension.
- | | | | |
|---------------------|---------------------|---------------------|------------------|
| (A) 1, 2 and 3 only | (B) 1, 2 and 4 only | (C) 2, 3 and 4 only | (D) 1, 2 3 and 4 |
|---------------------|---------------------|---------------------|------------------|
017. Which of the following statements about Indulal Yagnik are correct?
1. He published an English language magazine, Young India, from Bombay.
 2. He participated in the Kheda Satyagraha led by Gandhi.
 3. He took active initiative in the formation of the All India Kisan Sabha and participated in its first session.
 4. He founded the Nutan Maha Gujarat Janata Parishad.
- | | |
|---------------------|---------------------|
| (A) 2, 3 and 4 only | (B) 3 and 4 only |
| (C) 1, 2, 3 and 4 | (D) 1, 3 and 4 only |
018. The smaller temple of Digambara Jains at Indargarh is dedicated to which Jain Tirthankar?
- | | |
|----------------------|-----------------------|
| (A) First Tirthankar | (B) Second Tirthankar |
| (C) Third Tirthankar | (D) None of the above |

M

019. ઈ.સ. 1943માં સુભાષચંદ્ર બોઝે રચેલી સ્વતંત્ર ભારતની સરકારને નીચે પૈકી કયા દેશોએ માન્યતા આપેલી

- | | |
|----------------------|-------------------|
| 1. જાપાન | 2. આયર્લેન્ડ |
| 3. કોરિયા | 4. ઈટલી |
| (A) 1 અને 4 માત્ર | (B) 2 અને 3 માત્ર |
| (C) 1, 2 અને 3 માત્ર | (D) 1, 2, 3 અને 4 |

020. મૌર્યકાલીન ભારત વિશે નીચે પૈકી કયું(યાં) સ્રોત(તો) જાણકારી આપે છે?

- | | |
|----------------------|-------------------|
| 1. દીપવંશ | 2. મહાવંશ |
| 3. અર્થશાસ્ત્ર | 3. મુદ્રારાક્ષસ |
| (A) 1 માત્ર | (B) 1 અને 2 માત્ર |
| (C) 1, 2 અને 3 માત્ર | (D) 1, 2, 3 અને 4 |

021. સાયમન કમિશન વિશે નીચે પૈકી કયું(યાં) વિધાન(નો) સાચું / સાચાં છે?

- | | |
|---|-------------------|
| 1. કમિશનમાં સાત ભારતીયો હતા. | |
| 2. સાયમન કમિશનનો વિરોધ કરવા માટે મહોમ્મદ અલી જિન્હાએ કોંગ્રેસ સાથે હાથ મેળવ્યો. | |
| 3. સાયમન કમિશન સામે વિરોધ કરતી વખતે લાલા લજપતરાયનું મૃત્યુ થયું. | |
| (A) 1 માત્ર | (B) 2 અને 3 માત્ર |
| (C) 1 અને 3 માત્ર | (D) 3 માત્ર |

022. ભારતના સાંસ્કૃતિક વિકાસમાં અમીર ખુસરોએ નીચે પૈકી કયાં પ્રદાનો આપેલ છે

- | | |
|---|----------------------|
| 1. તેમણે ઘણા નવા રાગને શોધ્યા જેમ કે, ઘોરા અને સનમ. | |
| 2. તેમણે કવ્વાલી તરીકે ઓળખાતી સંગીતની નવી શૈલી વિકસાવી. | |
| 3. તેમણે સારંગી અને રબાબની શોધ કરી. | |
| 4. તેમણે પરિચયન કવિતાની નવી શૈલી સબાકી-હિંદ શોધી. | |
| (A) 2 અને 3 માત્ર | (B) 1, 2 અને 4 માત્ર |
| (C) 2, 3 અને 4 માત્ર | (D) 1, 2, 3 અને 4 |

023. મંડળ ભારતીય રજવાડાઓમાં નેશનાલિસ્ટ પીપલ્સ સંસ્થા તરીકે જાણીતું હતું.

- | | | | |
|------------|-----------|-----------|-----------|
| (A) મુફ્તી | (B) કિસાન | (C) પ્રજા | (D) દિવાન |
|------------|-----------|-----------|-----------|

024. નીચે પૈકી કયાં વિધાનો ગુજરાતમાં ઉત્ખનન કરેલાં સ્થળોનાં સંદર્ભે સાચાં છે

- | | |
|----------------------|-------------------------------|
| <u>સ્થળ</u> | <u>નદીકિનારે અથવા અન્યત્ર</u> |
| 1. લોથલ | સરસ્વતી |
| 2. રોજડી | ભાદર |
| 3. ધોળાવીરા | કચ્છના રણમાં |
| 4. માલવણ | તાપી |
| (A) 1 અને 2 માત્ર | (B) 1, 2 અને 3 માત્ર |
| (C) 2, 3 અને 4 માત્ર | (D) 2 અને 3 માત્ર |

019. Government of Independent India formed by Subash Chandra Bose in 1943 A.D. was recognised by which of the following countries?
- | | | | |
|---------------------|-------------------|----------|----------|
| 1. Japan | 2. Ireland | 3. Korea | 4. Italy |
| (A) 1 and 4 only | (B) 2 and 3 only | | |
| (C) 1, 2 and 3 only | (D) 1, 2, 3 and 4 | | |
020. Which of the following source(s) throw light on Mauryan India?
- | | |
|---------------------|-------------------|
| 1. Dipavamsa | 2. Mahavamsa |
| 3. Arthashastra | 4. Mudrarakshasa |
| (A) 1 only | (B) 1 and 2 only |
| (C) 1, 2 and 3 only | (D) 1, 2, 3 and 4 |
021. Which of the following statements is/are correct regarding the Simon Commission?
- The Commission included seven Indians.
 - Mohammad Ali Jinnah joined hands with the Congress over the protest against the Simon Commission.
 - Lala Lajpat Rai died during the protest against the Simon Commission.
- | | |
|------------------|------------------|
| (A) 1 only | (B) 2 and 3 only |
| (C) 1 and 3 only | (D) 3 only |
022. Which of the following are the contributions of Amir Khusrao to cultural development of India?
- He introduced many new ragas such as ghora and sanam.
 - He evolved a new style of music known as qawwali.
 - He invented sarangi and rabab.
 - He created a new style of Persian poetry called Sabaq-i-hind
- | | |
|---------------------|---------------------|
| (A) 2 and 3 only | (B) 1, 2 and 4 only |
| (C) 2, 3 and 4 only | (D) 1, 2, 3 and 4 |
023. _____ Mandal was the Nationalist People's organization in the Indian Princely States ?
- | | |
|-----------|-----------|
| (A) Mufti | (B) Kisan |
| (C) Praja | (D) Diwan |
024. Which of the following statements are correct regarding excavated sites in Gujarat?
- Site On the River/Or Esle
- | | |
|---------------------|------------------------|
| 1. Lothal | Saraswati |
| 2. Rojadi | Bhadar |
| 3. Dholavira | In the Desert of Kutch |
| 4. Malvan | Tapi |
| (A) 1 and 2 only | (B) 1, 2 and 3 only |
| (C) 2, 3 and 4 only | (D) 2 and 3 only |

M

025. હર્ષવર્ધન સંદર્ભે નીચે આપેલ પૈકી કયાં વિધાનો સાચાં છે?

1. તેણે વલ્લભીના મિત્ર શાસક ધ્રુવસેન બીજાને પરાજિત કર્યા હતા.
2. મૈસૂરના ભાસ્કરવર્મન તેમના સાથી હતા.
3. દર પાંચ વર્ષે તેમણે પ્રયાગમાં મહામોક્ષા પરિષદ બોલાવી.
4. તેમણે પોતે કાદમ્બરી લખી હતી.

(A) 1 અને 2 માત્ર (B) 2 અને 3 માત્ર (C) 1 અને 3 માત્ર (D) 2, 3 અને 4 માત્ર

026. નીચેનામાંથી કયાં વિધાન સાચાં છે?

1. કલ્હનની રાજરતરંગીની સંસ્કૃતમાં લખાઈ છે.
2. ઈબ્ન બતુતા (IbnBatuta) દિલ્હીના કાઝી હતા.
3. અમીર ખુસરો સિતારના શોધક હતા.
4. હમીદાબાનુ બેગમે હુમાયુનામા લખ્યું હતું.

(A) 1 અને 4 માત્ર (B) 1, 2 અને 3 માત્ર (C) 1, 2, 3 અને 4 (D) 3 અને 4 માત્ર

027. નીચે આપેલાં વિધાનો પૈકી કયાં વિધાનો ખરાં છે?

1. ભક્તિ ચળવળની મુખ્ય વિશેષતા એટલે ભક્તો અને ઈશ્વર વચ્ચેનો અતૂટ સંબંધ.
2. જ્ઞાનેશ્વરી એ વર્કરપંથની મૂળ કૃતિ છે.
3. બંગાળના ચૈતન્ય કૃષ્ણ ભક્તિના સૌથી પ્રખ્યાત હિમાયતી હતા.
4. મીરાબાઈએ કૃષ્ણ ગિરધર-ગોપાલની ઉપાસના કરી.

(A) 1, 2, 3 અને 4 (B) 3 અને 4 માત્ર (C) 1, 3 અને 4 માત્ર (D) 2, 3 અને 4 માત્ર

028. 1857ની ઘટનાની પ્રકૃતિ સંબંધિત નીચેનામાંથી કયાં વિધાનો સાચાં છે?

1. અશોક મહેતાએ તેને આયોજિત યુદ્ધ ગણાવ્યું હતું.
2. વી.ડી. સાવરકર તેને સ્વતંત્રતાનું યુદ્ધ કહે છે.
3. પી રોબર્ટ્સ તેને સિપાહી વિદ્રોહ કહે છે.
4. ડૉક્ટર એસ. એન. સેન કહે છે કે તે ધર્મની લડત તરીકે શરૂ થઈ અને લોકોના યુદ્ધની જેમ સમાપ્ત થઈ.

(A) 1, 2 અને 3 માત્ર (B) 1, 2, 3 અને 4 (C) 1 અને 2 માત્ર (D) 1, 2, અને 4 માત્ર

029. નીચે આપેલાં વિધાનો પૈકી કયાં વિધાનો ખરાં છે?

1. ગુજરાતમાં પીવાના પાણી માટે ટાંકી બાંધનાર ભાવનગર સૌ પ્રથમ રજવાડું હતું.
2. જામનગરના રણજીતસિંહજી મહાન ક્રિકેટર હતા.
3. લાખાજી રાજે રાજકોટના પ્રજા પ્રતિનિધિ સભામાં મહિલાઓ માટે પાંચ બેઠકો અનામત રાખી હતી.
4. મહારાજા સયાજીરાવ ગાયકવાડે 1894માં બરોડા ખાતે એક સંગ્રહાલય (museum) ની સ્થાપના કરી હતી.

(A) 1, 2 અને 4 માત્ર (B) 2, 3 અને 4 માત્ર (C) 1, 2, 3 અને 4 (D) 3 અને 4 માત્ર

025. Which of the following statements is/are correct regarding Harshavardhana?

1. He had defeated Dhruvsena II the Mitra Ruler of Vallabhi.
2. Bhaskervarman of Mysore was his ally.
3. Every five years he convened Mahamoksha Parishad at Parayag.
4. He himself had written Kadambari.

(A) 1 and 2 only (B) 2 and 3 only
(C) 1 and 3 only (D) 2, 3 and 4 only

026. Which of the following statements are correct?

1. Kalhana's Rajatarangini is written in Sanskrit.
2. Iban Batuta was kazi of Delhi.
3. Amir Khusro was the inventor of Sitar.
4. Hamidabanu Begum had written Humayunama.

(A) 1 and 4 only (B) 1, 2 and 3 only
(C) 1, 2, 3 and 4 (D) 3 and 4 only

027. Which of the following statements are correct?

1. Bhakti Movement's chief feature was loving relationship between the devotees and the God.
2. Gyaneshwari is the basic text of Varkarepanth.
3. Chaitanya of Bengal was the most renowned exponent of Krishna Bhakti.
4. Mirabai worshipped Krishna Girdhar-gopal.

(A) 1, 2, 3 and 4 (B) 3 and 4 only
(C) 1, 3 and 4 only (D) 2, 3 and 4 only

028. Which of the following statements is/are correct regarding the nature of the event of 1857?

1. Ashok Mehata had called it a planned war.
2. V D Savarkar calls it a war of Independence.
3. P Roberts calls it a Sepoy Mutiny.
4. Dr S N Sen says that it began as a fight for religion and ended as the people's war.

(A) 1, 2 and 3 only (B) 1, 2, 3 and 4
(C) 1 and 2 only (D) 1, 2 and 4 only

029. Which of the following statements are correct?

1. Bhavnagar was the first in Gujarat to construct a tank for drinking water.
2. Ranjitsinhji of Jamnagar was a great cricketer.
3. Lakhajiraj had reserved five seats for women in Praja Prathinidhi Sabha of Rajkot.
4. Maharaja Sayajirao Gaekwad had established a museum at Baroda in 1894.

(A) 1, 2 and 4 only (B) 2, 3 and 4 only (C) 1, 2, 3 and 4 (D) 3 and 4 only

M

030. મધ્યયુગીન ગુજરાતના મુખ્ય રાજવંશો વિશે નીચે આપેલાં વિધાનો પૈકી કયાં વિધાનો ખરાં છે?

1. મધ્યયુગીન યુગમાં, ચાવડા, સોલંકી અને વાઘેલા રાજવંશોએ ગુજરાતમાં શાસન કર્યું.
2. મુળરાજ, ભીમદેવ, સિદ્ધરાજ જયસિંહ, કુમારપાલ સોલંકી વંશના મહાન શાસકો પૈકી હતાં.
3. પ્રખ્યાત વિદ્વાન શ્રી હેમચંદ્રાચાર્યને સિદ્ધરાજ જયસિંહના શાસનમાં રાજ્યાશ્રય મળ્યો હતો.
4. વાઘેલા વંશના અંતિમ રાજવી કરણદેવ વાઘેલાને સિકંદર લોધીએ પરાજિત કર્યા અને તે થકી અણહિલવાડ પાટણ ઉપર રાજપૂત શાસનનો અંત લાવ્યો.

(A) 1, 2 અને 3 માત્ર (B) 1, 3 અને 4 માત્ર (C) 1, 2 અને 4 માત્ર (D) 1, 2, 3 અને 4

031. મૌર્ય રાજવંશ વિશે નીચે આપેલાં વિધાનો પૈકી કયાં વિધાનો સાચાં છે?

1. મૌર્ય વંશના સ્થાપક ચંદ્ર ગુપ્ત મૌર્ય પહેલા રાજવી હતાં કે જેઓએ મોટાભાગના ભારતને એક વહીવટીતંત્ર હેઠળ એકીકૃત કર્યું.
2. કૌટીલ્યએ ચંદ્રગુપ્ત મૌર્યને મગધ ક્ષેત્રના પાટલીપુત્ર ખાતેના શક્તિશાળી નંદ વંશને ઉથલાવવામાં ચાવીરૂપ ભૂમિકા ભજવી.
3. ચંદ્રગુપ્ત મૌર્યના પુત્ર બિન્દુસારે મધ્ય અને દક્ષિણ ભારતના પ્રદેશોમાં સામ્રાજ્યનો વિસ્તાર કર્યો.
4. છેલ્લા મૌર્ય રાજાની હત્યા તેમના સેનાપતિ (general in chief) પુષ્યમિત્રએ કરી હતી, જેણે શુંગ વંશ (Shunga dynasty)ની સ્થાપના કરી હતી.

(A) 1, 2 અને 3 માત્ર (B) 1, 2 અને 4 માત્ર (C) 2 અને 3 માત્ર (D) 1, 2, 3 અને 4 માત્ર

032. ભારતમાં થયેલાં ભક્તિ આંદોલનો વિશે નીચે આપેલાં વિધાનો પૈકી કયાં વિધાનો સાચાં છે?

1. ભક્તિ ચળવળની શરૂઆત સાતમી સદીમાં દક્ષિણ ભારતમાં (હાલમાં તમિલનાડુ અને કેરળના ભાગો)માં થઈ અને ઉત્તર તરફ ફેલાયેલી.
2. તે 15 મી સદીથી પૂર્વ અને ઉત્તર ભારત તરફ ફેલાયું અને 15 મી અને 17 મી સદી વચ્ચે તેમની ટોચ પર પહોંચ્યું.
3. સૂરદાસ કે જેઓ વલ્લભાચાર્યના શિષ્ય હતાં, તેમણે ભારતના ઉત્તરીય ભાગમાં કૃષ્ણ સંપ્રદાય (Krishna Cult)ને લોકપ્રિય કર્યો.
4. કબીરદાસ સૂરદાસના સૌથી પ્રખ્યાત શિષ્ય હતા.

(A) 1, 2 અને 3 માત્ર (B) 1, 2 અને 4 માત્ર (C) 2 અને 3 માત્ર (D) 1, 2, 3 અને 4

033. બ્રહ્મોસમાજ વિશે નીચે આપેલાં વિધાનો પૈકી કયાં વિધાનો સાચાં છે?

1. બ્રહ્મોસમાજની શરૂઆત 1828 માં કોલકાતામાં રામમોહન રાય દ્વારા હિન્દુ ધર્મની અંદર સુધારાવાદી ચળવળ તરીકે થઈ હતી.
2. બ્રહ્મોસમાજની સ્થાપના, હિન્દુ સમાજમાં પ્રવર્તમાન સામાજિક-ધાર્મિક દુષણો દૂર કરી, 'સતી' અને જાતિ પ્રથા જેવી પદ્ધતિઓને નાબૂદ કરી હિન્દુ સમાજમાં સુધારણા લાવવા માટે કરવામાં આવી હતી.
3. દેવેન્દ્રનાથ ટાગોર અને કેશવચંદ્ર સેને પાછળથી બ્રહ્મોસમાજની બે આવૃત્તિ બનાવી.

(A) 1 અને 2 માત્ર (B) 1 અને 3 માત્ર (C) 2 અને 3 માત્ર (D) 1, 2 અને 3

030. Which of the following statements are correct regarding major dynasties of medieval Gujarat?

1. In the Medieval age, the Chavada, the Solanki and the Vaghela dynasties ruled over Gujarat.
2. Mulraj, Bhimdev, Siddhraj Jaysinh, Kumarpal were among the great rulers of Solanki dynasty.
3. The famous scholar Shri Hemchandracharya was patronized during the rule of Siddhraj Jaysinh.
4. The last emperor of the Vaghela dynasty, Karandev Vaghela, was defeated by Sikandar Lodhi and it brought to the end of Rajput rule over Anhilwad Patan.

(A) 1, 2 and 3 only

(B) 1, 3 and 4 only

(C) 1, 2 and 4 only

(D) 1, 2, 3 and 4

031. Which of the following statements are correct regarding Maurya dynasty?

1. Chandra Gupta Maurya, the founder of Mauryan dynasty, was the first emperor to unify most of India under one administration.
2. Kautilya was instrumental in helping Chandragupta Maurya overthrow the powerful Nanda dynasty at Pataliputra, in the Magadha region.
3. Bindusara, son of Chandragupta Maurya, extended the empire into central and parts of southern India.
4. The last Mauryan King was killed by his general-in-chief, Pushyamitra, who founded the Shunga dynasty.

(A) 1, 2 and 3 only

(B) 1, 2 and 4 only

(C) 2 and 3 only

(D) 1, 2, 3 and 4

032. Which of the following statements are correct regarding Bhakti movements in India?

1. The Bhakti Movement originated in the seventh century in South India (now parts of Tamil Nadu and Kerala), and spread northwards.
2. It swept over east and north India from the 15th century onwards, reached its peak between 15th and 17th century CE.
3. Surdas, the disciple of Vallabhacharya, popularized Krishna cult in the Northern part of India.
4. Kabir Das was the most famous disciple of Surdas.

(A) 1, 2 and 3 only

(B) 1, 2 and 4 only

(C) 2 and 3 only

(D) 1, 2, 3 and 4

033. Which of the following statements are correct regarding Brahmo Samaj?

1. Brahmo Samaj as a reformist movement within Hinduism was founded in Kolkata in 1828 by Raja Ram Mohan Roy.
2. Brahmo Samaj was founded to reform the Hindu society by eradicating prevailing socio-religious evils and removal of practices like the 'Sati' and caste system.
3. Debendranath Tagore and Keshab Chandra Sen formed two versions of Brahmo Samaj later.

(A) 1 and 2 only

(B) 1 and 3 only

(C) 2 and 3 only

(D) 1, 2, and 3

M

034. અશોકના શાસનકાળ દરમ્યાન સૌથી ઉચ્ચ વહીવટી અધિકારી હતા.
- (A) પુલિસાસ્ (Pulisas) (B) અમાત્યાસ્ (Amatyas)
(C) સમહર્તા (Samharta) (D) રાજુકાસ્ (Rajukas)
035. ઈ.સ. 1945ના નવેમ્બરમાં યોજાયેલ કેન્દ્ર વિધાનસભાની ચૂંટણીઓના કેન્દ્રીય ચૂંટણી બોર્ડના ચેરમેન હતા.
- (A) મૌલાના આઝાદ (B) સરદાર વલ્લભભાઈ પટેલ
(C) સરત ચંદ્ર બોઝ (D) બલદેવ સિંઘ
036. જ્ઞાનદેવ અને નામદેવ ચળવળના જાણીતા નેતાઓ છે.
- (A) ગૌડિયા (B) વલ્લભાચારી
(C) લિંગાયત (D) વરકરી
037. બૌદ્ધ પરિભાષામાં 'પરમચક્ર પ્રવર્તન' શબ્દ સૂચવે છે.
- (A) બુદ્ધ દ્વારા પ્રથમ ઉપદેશ (B) બુદ્ધ દ્વારા નિર્વાણની પ્રાપ્તિ
(C) અશોકનો અંગત ધર્મ (D) ઉપરના પૈકી કોઈ નહીં
038. નીચે આપેલ જોડીઓ મેળવો.
1. બિલ્હણ a. વિક્રમાર્કચરિતામ્ (Vikramarkacharitam)
2. ભારવી b. કીરાતાર્જુનિયમ્ (Kiratarjuniyam)
3. દંડી c. દશકુમારચરિતા (DasakumaraCharita)
4. મહેન્દ્રવર્મન-I d. મટ્ટ વાયલાસા પ્રહસન (Matta Vialasa Prahasana)
- (A) 1 - a, 2 - b, 3 - c, 4 - d (B) 1 - d, 2 - c, 3 - a, 4 - b
(C) 1 - b, 2 - a, 3 - d, 4 - c (D) 1 - c, 2 - d, 3 - b, 4 - a
039. બહમની અને વિજયનગરના શાસકો વચ્ચેના વિવાદ / સંઘર્ષનું કારણ નીચેનામાંથી કયું હતું ?
- (A) તેલંગાણા (B) ગોવા
(C) રાઈચુર દોઆબ (Raichur Doab) (D) કિર્ના-ગોદાવરી તટ પ્રદેશ
040. નીચેના ભક્તિ સંતોમાંથી કોણે કહ્યું કે “હું ન તો મંદિરમાં છું કે ન મસ્જિદમાં, ન તો હું કાબામાં છું કે ન કૈલાસમાં, ન તો હું સંસ્કાર અને સમારોહમાં છું, ન તો યોગ અને ત્યાગમાં.”
- (A) કબીર (B) ગુરુનાનક
(C) નામદેવ (D) તુલસીદાસ
041. બેહરામજી એમ મલબારીએ નીચેના પૈકી કયા અનિષ્ટ સામે સમાજ સુધારણા અભિયાન ચલાવ્યું?
- (A) કુલીનીઝમ (B) બહુપત્નીત્વ
(C) સ્ત્રી ભ્રૂણ હત્યા (D) બાળ લગ્ન

034. The highest administrative officer during Ashoka regime was _____.
 (A) Pulisas (B) Amatyas
 (C) Samharta (D) Rajukas
035. _____ was the Chairman of the Central Election Board in the Central Legislative elections held in November 1945?
 (A) Maulana Azad (B) Sardar Vallabhai Patel
 (C) Sarat Chandra Bose (D) Baldev Singh
036. Janandev and Namdev are well known leaders of the _____ movement.
 (A) Gaudiya (B) Vallabhachari
 (C) Lingayat (D) Varkari
037. In Buddhist terminology, the word "Paramachakra Pravartana" indicates _____.
 (A) The first Sermon by Buddha (B) The Attainment of Niravana by Buddha
 (C) The personal religion of Ashoka (D) None of the above
038. Match the following:
 1. Bilahana a. Vikramarka charitam
 2. Bharavi b. Kiratarjuniyam
 3. Dandin c. Dasakumara Charita
 4. Mahendravarman-I d. Matta Vialasa Prahasana
 (A) 1 - a, 2 - b, 3 - c, 4 - d (B) 1 - d, 2 - c, 3 - a, 4 - b
 (C) 1 - b, 2 - a, 3 - d, 4 - c (D) 1 - c, 2 - d, 3 - b, 4 - a
039. Which of the following was the bone of contention between the Bahamanis and the rulers of Vijayanagara?
 (A) Telangana (B) Goa
 (C) Raichur Doab (D) Krishan-Godavari Delta
040. Who among the following Bhakti Saints said "I am neither in temple nor in Mosque, I am neither in Kaaba nor in Kailash, Neither am I in rites and ceremonies, nor in yoga and renunciation"?
 (A) Kabir (B) Gurunanak
 (C) Namdev (D) Tulsidas
041. Behramji M Malabari carried on social reform campaign against which one of the following evils?
 (A) Kulinism (B) Polygamy
 (C) Female Infanticide (D) Infant and Child marriage

M

042. Government of India Act, 1858 વિશે નીચે પૈકી કયું(યાં) વિધાન(નો) સાચું / સાચાં છે?

1. ઈસ્ટ ઇન્ડિયા કંપની પાસેથી વહીવટીતંત્ર બ્રિટીશ તાજ (British Crown)ને સોંપાયું,
2. બ્રિટીશ સરકારની જોડાણ નીતિ (Policy of Annexation)નો અંત આવ્યો
3. ગવર્નર જનરલ ભારતના વાઈસરોય બન્યા
4. તેણે મહાલવારી પ્રથાનો અંત આણ્યો

(A) 1 અને 2 માત્ર (B) 2 અને 4 માત્ર (C) 1, 2 અને 3 માત્ર (D) 1, 2, 3 અને 4

043. નીચેની જોડીઓ મેળવો.

- | | |
|------------------------|---------------------------|
| 1. વી.ડી. સાવરકર | a. ચિત્તાગોંગ આર્મરી રેઈડ |
| 2. સૂર્ય સેન | b. મિત્ર મેલા |
| 3. શ્યામજી કૃષ્ણ વર્મા | c. કર્ઝન વિલી |
| 4. મદનલાલ ધિંગરા | d. ઈન્ડિયન સોશ્યોલોજીસ્ટ |
- (A) 1 - b, 2 - a, 3 - d, 4 - c (B) 1 - a, 2 - b, 3 - c, 4 - d
(C) 1 - c, 2 - d, 3 - b, 4 - a (D) 1 - d, 2 - c, 3 - a, 4 - b

044. બીજી ગોળમેજી પરિષદમાં ગાંધીએ તરીકે ભાગ લીધો.

- (A) ભારતીય સરકારના નામાંકિત (B) બ્રિટીશ સરકારના નામાંકિત
(C) કોંગ્રેસના પ્રતિનિધિ (D) અંગત ભૂમિકાએથી

045. “મહાભિનિષ્ક્રમણ” વિશે નીચેનામાંથી કયું(યાં) વિધાન(નો) સાચું / સાચાં છે?

1. મહાવીર દ્વારા સાંસારિક જીવનનો ત્યાગ
2. વેદોની સત્તાનો અસ્વીકાર
3. બુદ્ધ દ્વારા સાંસારિક જીવનનો ત્યાગ
4. બુદ્ધનો અષ્ટાંગ માર્ગ

(A) 3 માત્ર (B) 1 અને 3 માત્ર (C) 3 અને 4 માત્ર (D) 2, 3 અને 4 માત્ર

046. હર્ષે બે મહાન ધાર્મિક સભાઓ કરી હતી. નીચે પૈકી કયું(યાં) સ્થળ(ળો)એ આ સભાઓ યોજાઈ હતી?

- | | | | |
|---------|-------------|----------|-----------|
| 1. કનોજ | 2. થાણેશ્વર | 3. વલ્મી | 4. પ્રયાગ |
|---------|-------------|----------|-----------|
- (A) 1 અને 3 માત્ર (B) 2, 3 અને 4 માત્ર
(C) 1 અને 4 માત્ર (D) 4 માત્ર

047. મારી જ્ઞાતિ નિમ્ન છે, મારાં કાર્યો નિમ્ન છે અને મારો વ્યવસાય પણ નિમ્ન છે, આ નિમ્ન સ્થિતિમાંથી ઈશ્વરે મને ઊંચો કર્યો છે. — આ કોણે કહ્યું?

- (A) સૂરદાસ (B) ચૈતન્ય (C) નામદેવ (D) રવિદાસ

042. Which of the following statements are correct regarding Government of India Act of 1858?

1. It transferred the administration from the East India Company to the British Crown.
2. It ended the policy of annexation by the British govt.
3. The Governor General became the viceroy of India.
4. It abolished the Mahalwari System

(A) 1 and 2 only

(B) 2 and 4 only

(C) 1, 2 and 3 only

(D) 1, 2, 3 and 4

043. Match the following:

1. V D Savarkar

a. Chittagong Armoury Raid

2. Surya Sen

b. Mitra Mela

3. Shayamji Krishna Verma

c. Curzon Wylie

4. Madanlal Dhingra

d. The Indian Sociologist

(A) 1 - b, 2 - a, 3 - d, 4 - c

(B) 1 - a, 2 - b, 3 - c, 4 - d

(C) 1 - c, 2 - d, 3 - b, 4 - a

(D) 1 - d, 2 - c, 3 - a, 4 - b

044. Gandhi took part in second Round Table conference as _____.

(A) Indian government nominee

(B) British government nominee

(C) Congress representation

(D) Individual capacity

045. Which of the following statements is/are correct regarding "Mahabhinishkramana"?

1. The renunciation of worldly life by Mahavira
2. Rejection of the authority of the Vedas
3. The renunciation of the worldly life by Buddha
4. Eightfold path of Buddha

(A) 3 only

(B) 1 and 3 only

(C) 3 and 4 only

(D) 2, 3 and 4 only

046. Harsha is said to have held two great religious assemblies. Which of the following places were the venues for these assemblies?

1. Kannuj

2. Thaneshwar

3. Valabhi

4. Prayag

(A) 1 and 3 only

(B) 2, 3 and 4 only

(C) 1 and 4 only

(D) 4 only

047. My caste is low, my deeds are low, and lowly is my profession, from this low position God has raised me high" - Who said this?

(A) Surdas

(B) Chaitanya

(C) Namdev

(D) Ravidas

M

048. રાજા રામમોહન રોયના ધાર્મિક વિચારો વિશે નીચેનામાંથી કયું(યાં) વિધાન(નો) સાચું / સાચાં છે?

1. તે એકેશ્વરવાદ, એક ભગવાનની કલ્પનામાં માનતા હતા.
2. તે વેદોને શાશ્વત અને અમોઘ માનતા હતા.
3. તેમણે તમામ ધાર્મિક બાબતોમાં માનવીય કારણ અને સમજદારી પર ભાર મૂક્યો.
4. તેમણે મૂર્તિપૂજાનો વિરોધ કર્યો.

(A) 1, 3 અને 4 માત્ર (B) 1, 2 અને 3 માત્ર (C) 2 અને 3 માત્ર (D) 1, 2, 3 અને 4

049. “કલ્કાયાર્થ કથા” ગ્રંથ છે.

(A) જૈન (B) બૌદ્ધ (C) હિંદુ (D) ઉપરના પૈકી કોઈ નહીં

050. સ્થાપત્યનો વૈભવ, “ભીમ રથ”, દ્વારા બાંધવામાં આવ્યો હતો.

(A) મુઘલ (B) પલ્લવ (C) ચોલા (D) સોલંકી

051. “હાથીગુફા શિલાલેખ” નીચેના પૈકી કયા રાજવી માટેનો સ્ત્રોત બન્યો છે ?

(A) સમુદ્રગુપ્ત (B) સ્કંદગુપ્ત (C) ખારવેલ (D) રૂદ્રદમણ-III

052. નીચેના પૈકી કયા સ્થળો ભીંતચિત્રો માટે જાણીતા છે ?

1. અજંતા ગુફાઓ
 2. ઈલોરા ગુફાઓ
 3. લેપાક્ષી મંદિરો
- (A) ફક્ત 1 અને 2 (B) ફક્ત 2 અને 3 (C) ફક્ત 1 અને 3 (D) 1, 2 અને 3

053. મનોદી કળા માટે પ્રખ્યાત છે જેમાં વસ્તુઓને ઊંટની ચામડીથી શણગારવાનો સમાવેશ થાય છે.

(A) ઉદયપુર (B) જયપુર (C) બિકાનેર (D) જોધપુર

054. એક પ્રકારનું ભરતકામ છે જેમાં સફેદ દોરો ફુલો અને અન્ય ભાત બનાવવા માટે વપરાય છે અને તે લખનઉમાં પ્રખ્યાત છે.

(A) ફુલકારી (B) કશીદા (C) કલમકારી (D) ચીકનકારી

055. નીચેના પૈકીનું કયું નવ રસોમાં નથી ?

(A) હાસ્ય (B) રૂદ્ર (C) વીર (D) આનંદ

056. નીચેના પૈકી કયા વિધાનો “સત્રીયા” નૃત્ય બાબતે સાચાં છે ?

1. સત્રીયા શાસ્ત્રીય નૃત્ય છે.
2. તે સંગીત, નૃત્ય અને નાટકનું સંયોજન છે.
3. તે આસામના વૈષ્ણવોની સદીઓ જૂની જીવંત પરંપરા છે.

(A) ફક્ત 1 અને 2 (B) ફક્ત 2 અને 3 (C) ફક્ત 1 અને 3 (D) 1, 2 અને 3

048. Which of the following statements about the religious ideas of Raja Ram Mohan Roy are correct?

1. He believed in monotheism, the concept of one God
2. He considered the Vedas to be eternal and infallible
3. He laid emphasis on human reason and rationality in all religious matters
4. He opposed idol worship

(A) 1, 3 and 4 only

(B) 1, 2 and 3 only

(C) 2 and 3 only

(D) 1, 2, 3, and 4

049. *Kalkacharya Katha* is a _____ text.

(A) Jain

(B) Buddhist

(C) Hindu

(D) None of the above

050. The architectural splendor *Bhima Ratha* was built by _____.

(A) Mughals

(B) Pallavas

(C) Cholas

(D) Solankis

051. *Hathigumpha* inscription stands as the source for which ruler ?

(A) Samudragupta

(B) Skandagupta

(C) Kharavela

(D) Rudradaman-III

052. Which of the following places are known for mural paintings ?

1. Ajanta Caves

2. Ellora Caves

3. Lepakshi Temples

(A) Only 1 and 2

(B) Only 2 and 3

(C) Only 1 and 3

(D) 1, 2 and 3

053. _____ is famous for Manoti Art, which involves decorating articles with camel skin.

(A) Udaipur

(B) Jaipur

(C) Bikaner

(D) Jodhpur

054. _____ is a type of embroidery which uses white thread to make flowers and other beautiful patterns and is famous in Lucknow.

(A) Phulkari

(B) Kashida

(C) Kalamkari

(D) Chikankari

055. Which among the following is not among the nine *rasas*?

(A) Hashya

(B) Rudra

(C) Veer

(D) Ananda

056. Which of the following statements are correct regarding the famous *Sattriya* dance ?

1. *Sattriya* is a classical dance.

2. It is a combination of music, dance and drama.

3. It is a centuries-old living tradition of Vaishnavites of Assam.

(A) Only 1 and 2

(B) Only 2 and 3

(C) Only 1 and 3

(D) 1, 2 and 3

M

057. કુચિપુડી અને ભરત નાટ્યમ્ વચ્ચેનો ભેદ નીચેના પૈકી કયું / કયાં વિધાન / વિધાનો દર્શાવે છે ?
1. કુચિપુડી નૃત્યમાં ક્યારેક નૃત્યકારો સંવાદો બોલે છે પરંતુ ભરત નાટ્યમ્માં નહીં.
 2. પિત્તળની થાળીની ધાર ઉપર પગ મૂકીને નૃત્ય કરવું એ ભરત નાટ્યમ્ની એક લાક્ષણિકતા છે જ્યારે કુચિપુડી નૃત્યમાં આવા સ્વરૂપનું કોઈ હલનચલન હોતું નથી.
- (A) ફક્ત 1 (B) ફક્ત 2
(C) 1 અને 2 બંને (D) 1 અને 2 પૈકી કોઈ નહીં
058. નૃત્યકાર અને તબલાવાદક વચ્ચેની એક સ્પર્ધાત્મક રમત, જુગલબંધી, કયા શાસ્ત્રીય નૃત્ય સ્વરૂપ સાથે સંકળાયેલી છે ?
- (A) મોહિનીઅટ્ટમ્ (B) કુચિપુડી (C) ઓડિસ્સી (D) કથક
059. યમપુરી છે.
- (A) એક પ્રકારની યુધ્ધકળા (B) કઠપુતળીનું સ્વરૂપ
(C) લોકનૃત્ય (D) લોકસંગીત
060. નીચેના પૈકી કયું સાચી રીતે જોડાયેલું નથી ?
- (A) ચરકસંહિતા – તબીબી (B) માધવનિદાન – પેથોલોજી
(C) લગ્નાચાર્ય – જ્યોતિષશાસ્ત્ર (D) પંચસિધ્ધાંતિકા – જાહેર વહીવટ
061. ભારતીય સિનેમામાં કેટલા ટકા સીધું વિદેશી રોકાણ (FDI) ની પરવાનગી આપવામાં આવી છે ?
- (A) સીધું વિદેશી રોકાણની પરવાનગી નથી. (B) 51%
(C) 90% (D) 100%
062. કેન્દ્રીય ફિલ્મ પ્રમાણપત્ર બોર્ડ (Central Board of Film Certification) બાબતે નીચેના પૈકી કયું / કયાં વિધાન / વિધાનો સાચું / સાચાં છે ?
1. U/A પ્રમાણપત્ર 14 વર્ષ કરતા ઓછી વય ધરાવતા બાળકો માટે વડીલોનું માર્ગદર્શન સાથે સંકળાયેલ છે.
 2. S વર્ગ પ્રમાણપત્ર ફિલ્મો ખાસ પ્રેક્ષકો પુરતી સીમિત છે.
- (A) ફક્ત 1 (B) ફક્ત 2
(C) 1 અને 2 બંને (D) 1 અને 2 પૈકી કોઈ નહીં
063. પ્રાચીનયુગમાં નીચેના પૈકી કોણ વ્યવસાયે રસાયણશાસ્ત્રી હતા ?
- (A) અપસ્તંભ (B) વરાહમિહિર (C) બ્રહ્મગુપ્ત (D) નાગાર્જુન
064. નીચેના પૈકી કયા શીખ ગુરુ/ગુરૂઓ એ મુઘલો સામે પોતાનો જીવ ગુમાવ્યો ?
- (A) ગુરુ અર્જુનદેવ (B) ગુરુ તેગ બહાદુર
(C) (A) તથા (B) બંને (D) (A) અથવા (B) બંનેમાંથી કોઈ નહીં

057. Which of the following statement(s) distinguish(es) between Kuchipudi and Bharatanatyam dances ?
1. Dancers occasionally speak dialogues in Kuchipudi dance but not in Bharatanatyam.
 2. Dancing on the brass plate by keeping the feet on its edges is a feature of Bharatanatyam but Kuchipudi dance does not have such a form of movements.
- (A) Only 1 (B) Only 2
(C) Both 1 and 2 (D) Neither 1 nor 2
058. Jugalbandhi, a competitive play between the dancer and tabla player, is related to which classical dance form ?
- (A) Mohiniattam (B) Kuchipudi
(C) Odissi (D) Kathak
059. Yampuri is _____.
- (A) A type of martial art (B) A puppetry form
(C) Folk dance (D) Folk music
060. Which of the following is not correctly matched ?
- (A) Charak Samhita - Medicine
(B) Madhavanidana - Pathology
(C) Lagdhacharya - Astrology
(D) Panchasiddhantika - Public Administration
061. What is the percentage of Foreign Direct Investment (FDI) allowed in Indian Cinema ?
- (A) FDI is not allowed (B) 51%
(C) 90% (D) 100%
062. Which of the following statements is/are correct regarding to Central Board of Film Certification ?
1. U/A certification relates to parental guidance for children under the age of 14 years.
 2. S category certification films are restricted to specialized audiences.
- (A) Only 1 (B) Only 2
(C) Both 1 and 2 (D) Neither 1 nor 2
063. Who of the following was an alchemist (chemist) by profession in ancient era ?
- (A) Apastamba (B) Varahamihira
(C) Brahmagupta (D) Nagarjuna
064. Which of the following Sikh Guru/Gurus lost his/their life/lives to the Mughals ?
- (A) Guru Arjun Dev (B) Guru Tegh Bahadur
(C) Both (A) and (B) (D) Neither (A) nor (B)

M

065. નીચેના પૈકી કયા વિધાનો સાચાં છે ?

1. પોતાના સંદેશાના પ્રસાર માટે હિન્દીનો ઉપયોગ કરનાર પ્રથમ ભક્તિ સંત રામાનંદ હતા.
2. મીરાંબાઈ સગુણ સંત હતા.
3. ભક્તિ ચળવળ એ સૂફી ચળવળની સમકાલિન હતી.

(A) ફક્ત 1 અને 2 (B) ફક્ત 2 અને 3 (C) ફક્ત 1 અને 3 (D) 1, 2 અને 3

066. નીચેના પૈકી કયો સ્તુપ મૌર્યકાળ દરમ્યાનનો નથી ?

(A) સારનાથ (B) બૈરાત (C) નંદનગઢ (D) અમરાવતી

067. વિનયપિટકમાં નીચેના પૈકી કયાનો સમાવેશ કરવામાં આવ્યો છે ?

- (A) તેમાં મહાન સત્ય વિશેના પ્રવચનો અને ભિક્ષુણીઓની કથાઓ છે.
- (B) તેમાં સ્ત્રી-પુરુષના સંબંધોની ચર્ચાઓ છે.
- (C) તેમાં સાધુઓની ફરજો તથા પહેરવેશ, દવાઓ અને વાહનોના નિયમોનું વર્ણન છે.
- (D) તેમાં નમ્રતા, સમાધિ અને અવલોકનોની તેમજ નીતિનિયમોની ચર્ચા કરવામાં આવી છે.

068. દિગમ્બરપંથીઓ પર્યુષણ પર્વને નામથી ઓળખે છે.

(A) દસ લક્ષણ (B) પંચ લક્ષણ (C) પ્રતિક્રમણ (D) અપાધ્યાન

069. ગિરનારની તળેટીમાં આવેલો નીચેના પૈકી કયો કુંડ ભગવાન દત્તાત્રેય સાથેના સંબંધ માટે વિખ્યાત છે ?

(A) કમંડલ કુંડ (B) કાલી કુંડ (C) મૃગી કુંડ (D) ત્રિનેત્ર કુંડ

070. ભવાઈના કયા પ્રખ્યાત વેશ પરથી જયશંકર સુંદરીએ સીમાચિન્હ નાટક દિગ્દર્શિત કરેલું ?

(A) જસમા ઓડણ (B) પૈસો બોલે છે (C) મેના ગુર્જરી (D) સંતુ રંગીલી

071. ગુજરાતના જનજાતિય નૃત્ય “કાકડા નૃત્ય” બાબતે નીચેના પૈકી કયું વિધાન સાચું છે ?

- (A) આ નૃત્ય ડાંગના આદિવાસીઓ અને ખાખરિયા ઠાકોરો કરે છે.
- (B) બાળકને બળિયા નીકળે ત્યારે હોરામણા વિધિ માટે મંદિરે આ નૃત્ય કરે છે.
- (C) હોલિકામાતાની પૂજાઅર્ચના માટે આ નૃત્ય કરવામાં આવે છે.
- (D) વાઘો અને હાકોટા સાથે આદિવાસી સમુદાય આ નૃત્ય કરે છે.

072. જોડકાં જોડો.

- | | |
|--------------------------------|--------------------------------|
| a. કાકાસાહેબ કાલેલકર | 1. અણસાર |
| b. ભગવતીકુમાર શર્મા | 2. ફટફટીયું |
| c. વર્ષા અડાલજી | 3. જીવન-વ્યવસ્થા |
| d. સુમન શાહ | 4. અસૂર્યલોક |
| (A) a - 3, b - 4, c - 1, d - 2 | (B) a - 3, b - 4, c - 2, d - 1 |
| (C) a - 4, b - 3, c - 1, d - 2 | (D) a - 4, b - 3, c - 2, d - 1 |

065. Which of the following statements are correct ?

1. Ramananda was the first Bhakti saint to use Hindi for the propagation of his message.
 2. Mirabai was a saguna saint.
 3. Bhakti movement was contemporary to Sufi movement
- (A) Only 1 and 2 (B) Only 2 and 3
(C) Only 1 and 3 (D) 1, 2 and 3

066. Which of the following Stupas is not of Maurya era ?

- (A) Sarnath (B) Bairat (C) Nandangadh (D) Amaravati

067. Which of the following is included in Vinaya Pitaka ?

- (A) It has speeches about the great truth and stories of female monks.
(B) It has discussions of relationships of men-women.
(C) It has description on the duties of monks and rules of the use of clothes, medicines, vehicles, etc.
(D) There is a discussion on modesty, burial and observations as well as policy-regulations in it.

068. Digambaras refer Paryushan Parva as _____ .

- (A) Das Lakshna (B) Panch Lakshana
(C) Pratikraman (D) Apadhyana

069. Which of the following 'Kunds' at the bottom of Girnar is famous for its connection with Lord Duttatreya ?

- (A) Kamandal Kund (B) Kali Kund (C) Mrugi Kund (D) Trinetra Kund

070. Which landmark play based on the famous *vesh* of Bhavai was directed by Jaishankar Sundari ?

- (A) Jasma Odan (B) Paiso Bole Chhe
(C) Mena Gurjari (D) Santu Rangili

071. Which of the following statements is correct regarding the tribal *kakada* dance of Gujarat ?

- (A) This dance is performed by the tribals of Dang and Khakhariya Thakores.
(B) This dance is performed at temple for the rituals of horamana when child has smallpox.
(C) This dance is done for the worship of Holikamata.
(D) Tribals perform this dance with musical instruments and yelling.

072. Match the column.

- | | |
|--------------------------------|--------------------------------|
| a. Kakasaheb Kalelkar | 1. <i>Ansar</i> |
| b. Bhagwatikumar Sharma | 2. <i>Fatfatiyu</i> |
| c. Varsha Adalja | 3. <i>Jivan-Vyavastha</i> |
| d. Suman Shah | 4. <i>Assuryalok</i> |
| (A) a - 3, b - 4, c - 1, d - 2 | (B) a - 3, b - 4, c - 2, d - 1 |
| (C) a - 4, b - 3, c - 1, d - 2 | (D) a - 4, b - 3, c - 2, d - 1 |

M

073. પ્રવાસવર્ણનો માટેના જાણીતાં ગુજરાતી લેખિકા છે.
- (A) હંસા મહેતા (B) નંદકુંવરબા (C) પ્રીતિસેન ગુપ્તા (D) અશ્વિની બાપટ
074. ઝંડા-ઝુલણનો વેશ નો સંદેશો આપે છે.
- (A) સાંપ્રદાયિક સૌહાર્દ (B) સૈનિકના નૈતિક મૂલ્યો
(C) સ્ત્રી શિક્ષણ (D) સતીપ્રથાની નાબુદી
075. જુની ગુજરાતી રંગભૂમિના પ્રસિધ્ધ લેખક પરમાનંદ ભટ્ટનું ઉપનામ શું હતું ?
- (A) રમણી (B) ત્રાપજકર (C) પાગલ (D) રસકવિ
076. કયા તહેવાર સમયે 'ડાંગ દરબાર' યોજાય છે ?
- (A) હોળી (B) ગોકુળ આઠમ (C) દિવાળી (D) રક્ષા બંધન
077. આદિવાસીઓનો એક વિસ્તૃત પટ સમગ્ર ભારતના ઘણા બધા ભાગોમાંથી પસાર થાય છે. આ જનજાતિય જૂથોનાં નૃત્યોનું વર્ગીકરણ માનવશાસ્ત્રીય, જાતિય અને પ્રજાતિય તત્વોના આધારે કરી શકાય. આ સંદર્ભે નીચેના પૈકી કયું / કયાં વિધાન / વિધાનો સાચું / સાચાં છે ?
1. વ્યક્તિગતરૂપે અને સામૂહિક રીતે આદિવાસીઓના રોજિંદા કાર્યો અને અનુભવો સાથે સંકળાયેલી એ અભિવ્યક્તિ હોય છે.
 2. ભૌગોલિક પરિવેશ એનું અનિવાર્ય ઘટક છે.
 3. તેમનાં નૃત્ય અને સંગીત શાસ્ત્રીય શૈલીનાં ઉદાહરણો બને છે.
- (A) ફક્ત 1 (B) ફક્ત 1 અને 2 (C) ફક્ત 2 અને 3 (D) 1, 2 અને 3
078. સિંધુ સંસ્કૃતિની શોધ ભારતીય કલાપ્રવૃત્તિના ઇતિહાસને દૂરના ભૂતકાળ સુધી લઈ જાય છે. આ સંદર્ભે નીચેના પૈકી કયા વિધાનો સાચાં છે ?
1. લોથલમાંથી મળેલ પકવેલી માટીની આકૃતિઓ શિલ્પના નમૂના બની રહે છે.
 2. હડપ્પામાંથી પથ્થરના ધડ સાથે સામ્ય ધરાવતી આકૃતિઓના નમૂના મળે છે.
 3. પકવેલી માટીમાંથી ઘડેલી આકૃતિ ઈજિપ્તના 'મમી'ને મળતી આવે છે.
- (A) ફક્ત 1 અને 2 (B) ફક્ત 2 અને 3 (C) ફક્ત 1 અને 3 (D) 1, 2 અને 3
079. ગુજરાતમાં ઘરશણગારના ભરતકામમાં દ્રાણિયાનું વિશિષ્ટ સ્થાન છે. આ સંદર્ભે નીચેના પૈકી કયાં વિધાનો સાચાં છે ?
1. ભરતકામ શીખનાર વ્યક્તિ પહેલાં દ્રાણિયો ભરવાથી શરૂઆત કરતી.
 2. લગ્નના દિવસોમાં દ્રાણિયા લોકભરતનું જાણે કે ભીંતચિત્ર બની રહેતાં.
 3. દ્રાણિયામાં કેવળ ભૌમિતિક આકારો જ પસંદ કરવામાં આવતાં.
- (A) ફક્ત 1 અને 2 (B) ફક્ત 2 અને 3 (C) ફક્ત 1 અને 3 (D) 1, 2 અને 3

073. _____ is a known Gujarati writer for travelogues.
- (A) Hansa Mehta (B) Nandkuwarba
(C) Priti Sengupta (D) Ashwini Bapat
074. The *vesh* of *Zanda-Zulan* gives the message of _____.
- (A) Communal harmony (B) Ethical values of a soldier
(C) Women education (D) Abolition of Sati tradition
075. What was the pen name of Parmanand Bhatt, the famous playwright of old Gujarati theatre ?
- (A) Ramani (B) Trapajkar
(C) Paagal (D) Raskavi
076. At the time of which festival is the 'Dang Darbar' organized ?
- (A) Holi (B) Gokul Atham
(C) Diwali (D) Rakshabandhan
077. An extensive belt of tribals passes through many parts of India. The classification of the dances of these tribal groups can be done on the basis of anthropology, race and species. Which of the following statement(s) is / are correct in this reference ?
1. It is an expression which is individually and collectively connected with the daily routines and experiences of the tribals.
 2. Geographical attire is considered as its mandatory ingredient.
 3. Their dance and music become the illustrations of classical style.
- (A) Only 1 (B) Only 1 and 2
(C) Only 2 and 3 (D) 1, 2 and 3
078. The discovery of Indus Civilization leads the history of art activity of India to the long past. Which of the following statements are correct in this reference ?
1. The baked clay figures found in Lothal have become the models of sculpture.
 2. The models of figures showing similarity with the torso of stone are found from Harappa.
 3. The figures scalped from the baked clay is like 'mummy' of Egypt.
- (A) Only 1 and 2 (B) Only 2 and 3
(C) Only 1 and 3 (D) 1, 2 and 3
079. The place '*Dhraniya*' is special in embroidery of house decoration in Gujarat. Which of the following statements are correct in this reference ?
1. The person learning the embroidery started with the making of '*Dhraniya*' first.
 2. In the days of wedding '*Dhraniya*' almost became wall painting of folk embroidery.
 3. Only Geometric shapes were selected in '*Dhraniya*'.
- (A) Only 1 and 2 (B) Only 2 and 3
(C) Only 1 and 3 (D) 1, 2 and 3

M

080. પારસી રંગભૂમિ એક રીતે પ્રાયોગિક રંગભૂમિ હતી. આ સંદર્ભે નીચેના પૈકી કયા વિધાનો સાચાં છે ?
1. પારસી રંગભૂમિ દ્વારા ઉર્દુ ગીત-નાટકનો પ્રારંભ થયેલો.
 2. પારસી નાટ્યકારોએ અંગ્રેજી નાટકોના રૂપાંતર ઉપરાંત ઈરાનની તવારીખ, ભારતની પૌરાણિક ઐતિહાસિક ભૂમિકા પર આધારીત નાટકો પણ આપ્યાં હતાં.
 3. પારસી રંગભૂમિના પ્રભાવે ગુજરાતી એકાંકીઓનું પ્રદર્શન બદલાયું.
- (A) ફક્ત 1 અને 2 (B) ફક્ત 2 અને 3 (C) ફક્ત 1 અને 3 (D) 1, 2 અને 3
081. બંગાલી ફિલ્મ, ‘મોનેર માનુષ’, કે જેણે ભારતના આંતરરાષ્ટ્રીય ફિલ્મ મહોત્સવમાં શ્રેષ્ઠ ફિલ્મ તરીકેનો પારિતોષિક મેળવ્યો, નીચેના પૈકી કયા ભારતીય સંપ્રદાયનું નિરૂપણ કરે છે ?
- (A) બાઉલ (B) આલવાર (C) પંચ-સખા (D) સખી
082. ધ્રુપદ પરંપરા શુદ્ધ હિંદુ-સંગીત પરંપરા છે. આ સંદર્ભે નીચેના પૈકી કયા વિધાનો સાચાં છે ?
1. એને કૃષ્ણ ભક્તિ સાથે સીધો સંબંધ છે.
 2. આ પરંપરાને લીધે સંગીત વધુ લોકાભિમુખ અને મનોરંજક બન્યું.
 3. તેનું મોગલોના દરબારમાં સ્થાન હતું.
- (A) ફક્ત 1 અને 2 (B) ફક્ત 2 અને 3 (C) ફક્ત 1 અને 3 (D) 1, 2 અને 3
083. ગુજરાતની રંગભૂમિના સંગીતના વિકાસમાં વિશેષ યોગદાન ગુજરાતના નાયકો અને ભોજકોનું છે. આ સંદર્ભે નીચેના પૈકી કયાં વિધાનો સાચાં છે ?
1. તેઓ પાસે શાસ્ત્રીય પદ્ધતિના ગાયન-વાદનની કુલપરંપરા હતી.
 2. તેમને ભવાઈ દ્વારા લોકરંજક સંગીતની પૂરી જાણકારી હતી.
 3. આમાંના કેટલાક રાજદરબારમાં ઉચ્ચ ગાયક કલાકાર તરીકે કાર્ય કરતાં હતાં.
- (A) ફક્ત 1 અને 2 (B) ફક્ત 2 અને 3 (C) ફક્ત 1 અને 3 (D) 1, 2 અને 3
084. આસામમાં આદિવાસી ઉત્સવ બિહૂની ઉજવણી ખાસ પ્રકારે થાય છે. આ સંદર્ભે નીચેના પૈકી કયા વિધાનો સાચાં છે ?
1. આસામમાં ત્રણ પ્રકારના બિહૂ ઉજવાય છે.
 2. વસંત ઋતુનું આગમન અને ખેતીની રોપણી રોંગાલિ બિહૂની વિશિષ્ટતા છે.
 3. બિહૂ એ આસામના નવા વર્ષની ઉજવણીનો ઉત્સવ છે.
- (A) ફક્ત 1 અને 2 (B) ફક્ત 2 અને 3 (C) ફક્ત 1 અને 3 (D) 1, 2 અને 3
085. પટ્ટણી બોલીમાં કેટલાક બોલીલક્ષણો મધ્ય ગુજરાતની બોલી સાથે અમુક તત્વોને બાદ કરતાં ઘણાં સમાન જણાય છે. આ સંદર્ભે નીચેના પૈકી કયા વિધાનો સાચાં છે ?
1. પટ્ટણીમાં “ધોળો” શબ્દનું “ધોરો”, “ઉતાવળ”નું “ઉતાવર” ઉચ્ચારણ થાય છે.
 2. પટ્ટણીમાં “હ” શ્રુતિનો ઘસારો થાય છે તેથી “વહુ” નહીં પણ “વઉ” ઉચ્ચારાય છે.
 3. મધ્ય ગુજરાતમાં “હ”ના સાર્વત્રિક ઉપયોગને લીધે “દાડમ” નો ઉચ્ચાર “દ્હાડમ” રૂપે થાય છે.
- (A) ફક્ત 1 અને 2 (B) ફક્ત 1 અને 3 (C) ફક્ત 2 અને 3 (D) 1, 2 અને 3

080. Parsi theatre was in a way an experimental theatre. Which of the following statements are correct in this reference ?
1. The Urdu song-drama was initiated by Parsi theatre.
 2. In addition to the adaptations of the English plays, the Parsi playwrights also gave plays based on the history of Iran and India's mythical-historical role.
 3. The performance of Gujarati one-act plays changed due to the impact of Parsi theatre.
- (A) Only 1 and 2 (B) Only 2 and 3
(C) Only 1 and 3 (D) 1, 2 and 3
081. The Bengali film '*Moner Manush*' which got the award of best film at International Film Festival of India, depicts which of the following Indian cults ?
- (A) Baul (B) Alwar (C) Panch-Sakha (D) Sakhi
082. Dhrupad tradition is purely a Hindu music tradition. Which of the following statements are correct in this reference ?
1. It has a direct relationship with Krishna worship.
 2. Due to this tradition music became more people-oriented and entertaining.
 3. It had a place in Mughal court.
- (A) Only 1 and 2 (B) Only 2 and 3
(C) Only 1 and 3 (D) 1, 2 and 3
083. In the development of the music of Gujarati theatre the contribution of the Nayaks and Bhojaks is special. Which of the following statements are correct in this reference ?
1. They had the ancestral tradition of classical method of singing and playing
 2. They had a complete knowledge of people-entertaining music through Bhavai.
 3. Some of these were working as esteemed singer artist in court.
- (A) Only 1 and 2 (B) Only 2 and 3 (C) Only 1 and 3 (D) 1, 2 and 3
084. The celebration of tribal festival in Assam is done in a special way. Which of the following statements are correct in this reference ?
1. Three types of Bihu are celebrated in Assam.
 2. The arrival of Spring festival and sowing in agriculture is the speciality of Rongali Bihu.
 3. Bihu is the festival of celebration of the New Year in Assam.
- (A) Only 1 and 2 (B) Only 2 and 3 (C) Only 1 and 3 (D) 1, 2 and 3
085. Some of the dialectal features of Pattani dialect with the exception of certain elements are largely similar to the dialect of central Gujarat. Which of the following statements are correct in this reference?
1. In Pattani, the word 'dholo' is pronounced as 'dhoru', 'Utaval' as 'Utavar'.
 2. In Pattani, the sound 'h' is diluted and thus not 'vahu' but 'vau' is pronounced.
 3. In central Gujarat due to the universal use of 'h', the pronunciation of 'dadam' is in form of 'dhyadyam'.
- (A) Only 1 and 2 (B) Only 1 and 3 (C) Only 2 and 3 (D) 1, 2 and 3

M

086. નર્મદે ગુજરાતીમાં “ડાંડિયો” નામનું પાશ્વિક પત્ર શરૂ કર્યું હતું. આ સંદર્ભે નીચેના પૈકી કયા વિધાનો સાચાં છે ?

1. નર્મદે સંસાર સુધારાનું આંદોલન વેગવંત બનાવ્યું.
 2. પાશ્વિક દ્વારા લોકોને અક્ષરજ્ઞાન આપતો હતો.
 3. ગુજરાતની પ્રજાને અજ્ઞાન અને જડતામાંથી બહાર લાવી જાગૃત કરવાનું એણે એ દ્વારા બીડું ઝડપ્યું હતું.
- (A) ફક્ત 1 અને 2 (B) ફક્ત 1 અને 3 (C) ફક્ત 2 અને 3 (D) 1, 2 અને 3

087. હોળીના દિવસે “આંબલી કાઢવી”ની રમતો કોણ રમે છે ?

1. સૌરાષ્ટ્રના કારડિયા રાજપૂતો
2. પંચમહાલના આદિવાસીઓ
3. સૌરાષ્ટ્રની મેર પ્રજા

- (A) ફક્ત 1 (B) ફક્ત 2 (C) ફક્ત 3 (D) ફક્ત 2 અને 3

088. “હિંદવાણી તું ભલી પિછાણી, શીર પાણીકા બેડા ભરે કૂવે મેં તેતર બોલે, રામસીતા કા જોડા, તા થૈયા કતા થઈ...” - આ સંવાદ ભવાઈના કયા વેશનો છે ?

- (A) ઝંડા ઝૂલણ (B) જસમા (C) મિયાં જૂઠણ (D) ઉપરોક્ત પૈકી કોઈ નહીં

089. ભારતીય પરંપરામાં ઘેર ઘેર પૂજાતા “ઉંબર”ને શાનું પ્રતિક માનવામાં આવે છે ?

- (A) નરસિંહ ભગવાનનું સિંહાસન (B) આદ્યશક્તિનું ત્રિશૂળ
(C) ગણપતિનું આસન (D) ઉપરોક્ત પૈકી કોઈ નહીં

090. કાષ્ઠશિલ્પનાં મકાનો, મંદિરો, ચબૂતરાઓમાં ગુર્જર કલાકારોના હાથે જે નમણું રૂપ કંડારાયું છે તેને શું કહેવાય છે ?

- (A) નેજવાં (B) કુંભી
(C) મોતિયું (D) ઉપરોક્ત પૈકી કોઈ નહીં

091. પુરાતત્ત્વ સંગ્રહાલય ખાતે આવેલું છે.

1. ગૂજરાત વિદ્યાપીઠ 2. લોથલ 3. વડનગર
- (A) ફક્ત 1 (B) ફક્ત 2 (C) ફક્ત 2 અને 3 (D) 1, 2 અને 3

092. ભારતીય સંગીતના રાગોમાં યમન રાગનો ઉમેરો કોણે કર્યો ?

- (A) ગોપાલ નાયક (B) અમીર ખુશરૂ
(C) સારંગ દેવ (D) ઉપરોક્ત પૈકી કોઈ નહીં

093. નીચેના પૈકી કોણ ગુજરાતના શિક્ષણમંત્રી હતા તેમજ પદ્મશ્રી પારિતોષિકના પ્રાપ્તકર્તા હતા ?

- (A) હંસાબેન જીવરાજ મહેતા (B) ઈંદુમતી ચિમનલાલ શેઠ
(C) હેમાબેન આચાર્ય (D) ઉપરોક્ત તમામ

086. Narmad had started his biweekly named '*Dandiya*' in Gujarati. Which of the following statements are correct in this reference ?
1. Narmad accelerated the world reformation movement.
 2. He imparted literacy through his biweekly.
 3. He took up the challenge of bringing out the people from ignorance and crass through it.
- (A) Only 1 and 2 (B) Only 1 and 3 (C) Only 2 and 3 (D) 1, 2 and 3
087. Who plays the games of 'Ambali Kadhavi' on the day of Holi ?
1. Karadiya Rajputs of Saurashtra
 2. The tribals of Panchmahal
 3. The Mer community of Saurashtra
- (A) Only 1 (B) Only 2 (C) Only 3 (D) Only 2 and 3
088. *Hindvani tu bhali pichani, shir pani ka bedo bhare kuve me tetar bole, Ram-Sita ka joda, Ta thaiya ka ta thai.* - The dialogue is of which vesh of Bhavai ?
- (A) Zanda Zulan (B) Jasma
(C) Miya Juthan (D) None of the above
089. Of whose symbol is "Umbar" Threshold, which is worshipped house to house in Indian tradition, believed to be ?
- (A) The throne of Lord Narsimha (B) The trident of Aadhyashakti
(C) The seat of Ganapati (D) None of the above
090. What are the goodly sculpted wood sculptures in buildings, temples, *chabutaro*, by Gurjar artists known as ?
- (A) Nejwa (B) Kumbhi
(C) Motiyu (D) None of the above
091. The archeological museum is located at _____.
1. Gujarat Vidhyapith
 2. Lothal
 3. Vadnagar
- (A) Only 1 (B) Only 2
(C) Only 2 and 3 (D) 1, 2 and 3
092. Who added 'Yaman' raga to the ragas of the Indian music ?
- (A) Gopal Nayak (B) Amir Khushru
(C) Sarang Dev (D) None of the above
093. Who among the following was the education minister of Gujarat as well as the recipient of the Padmashree award ?
- (A) Hansaben Jivraj Mehta (B) Indumati Chimanlal Sheth
(C) Hemaben Acharaya (D) All of the above

M

094. નકળંગના મેળા બાબતે નીચેના પૈકી કયું સાચું છે ?

- (A) તે દિવાળી પછી નવા વર્ષના દિવસે યોજાય છે.
- (B) તે મહાભારત કથાના પાંડવો સાથે પૌરાણિક રીતે સંકળાયેલું છે.
- (C) તે દ્વારકાના દરિયા કાંઠે યોજાય છે.
- (D) ઉપરોક્ત તમામ

095. નીચેના પૈકી કયાં વિધાનો સાચાં છે ?

- 1. “સયાજી શાસન શબ્દકલ્પતરુ” ગાયકવાડ શાસનનું પ્રદાન છે.
- 2. “ભગવદ્ગોમંડળ”નું પ્રદાન ગોંડલના રાજા ભગવતસિંહ દ્વારા કરવામાં આવ્યું હતું.
- 3. “સાર્થ જોડણીકોશ”ની પ્રથમ આવૃત્તિ ગુજરાત રાજ્યના અસ્તિત્વમાં આવ્યા બાદ ગુજરાત સરકારના માહિતી ખાતા દ્વારા પ્રકાશિત કરવામાં આવી હતી.
- 4. “નર્મકોશ” દલપતરામ દ્વારા તૈયાર કરવામાં આવ્યો હતો.

- (A) ફક્ત 1 અને 2 (B) ફક્ત 1, 2 અને 3 (C) ફક્ત 2, 3 અને 4 (D) 1, 2, 3 અને 4

096. ઉમાશંકર જોશી બાબતે નીચેના પૈકી કયા વિધાનો સાચાં છે ?

- 1. તેમની કવિતા, “વિશ્વ શાંતિ” ગાંધીજીના સંદેશ અને જીવનકાર્ય સંદર્ભે છે.
- 2. તેઓ રાજ્યસભામાં ચૂંટાયા હતાં.
- 3. તેઓ જ્ઞાનપીઠ પુરસ્કાર મેળવનાર પ્રથમ ગુજરાતી લેખક હતા.

- (A) ફક્ત 1 અને 2 (B) ફક્ત 2 અને 3 (C) ફક્ત 1 અને 3 (D) 1, 2 અને 3

097. નીચેના પૈકી કોણ બંધારણીય સભાના સભ્યો હતાં ?

- 1. કનૈયાલાલ મુન્શી
- 2. વલ્લભભાઈ પટેલ
- 3. મોરારજી દેસાઈ
- 4. મિનુ મસાણી

- (A) ફક્ત 1, 2 અને 3 (B) ફક્ત 1, 2 અને 4 (C) ફક્ત 2, 3 અને 4 (D) 1, 2, 3 અને 4

098. કબીર અધ્યાત્મવાદી જ્ઞાની કવિની સાથોસાથ ક્રાન્તિકારી સમાજસુધારક પણ હતાં. નીચેના પૈકી કઈ પંક્તિઓ આ બાબત દર્શાવે છે ?

- 1. “પત્થર પૂજે હરિ મિલે, તો મેં પૂજું પહાડ.”
- 2. “જલ મેં કુંભ, કુંભ મેં જલ હૈ, બાહર ભીતર પાની, ટૂટ્યા કુંભ, જલ જલ હિ સમાના, એ તથ્ય કહ્યો ગિયાના.”
- 3. “ઈસક આલહકી જાતિ, ઈસક અલહકા અંગ, ઈસક અલગ ઔજુદ હૈ, ઈસક અલહ કા રંગ.”

- (A) ફક્ત 1 અને 2 (B) ફક્ત 2 અને 3 (C) ફક્ત 1 અને 3 (D) 1, 2 અને 3

099. બંધારણમાં નીચેના પૈકી કયા સુધારાથી પ્રથમ વખત રાષ્ટ્રપતિએ મંત્રીમંડળની સલાહ મુજબ કાર્ય કરવું આવશ્યક બનાવ્યું હતું ?

- (A) 41 મો સુધારો (B) 44 મો સુધારો (C) 54 મો સુધારો (D) ઉપરમાંથી કોઈ નહીં

094. Which of the following is/are correct about the fair of *Naklang* ?
 (A) It is held on the New Year Day after Diwali.
 (B) It has a mythological connection with Mahabharata story of Pandavas.
 (C) This fair is held on the seashore of Dwarka.
 (D) All of the above are correct.
095. Which of the following statements are correct ?
 1. "Sayaji shashan Sabdakalpataru" was a contribution by Gaikwad reign.
 2. "Bhagavadgomandal" was a contribution by King Bhagvatsinh of Gondal
 3. The first edition of "Sarth Jodanikosh" was published by Information Department, Government of Gujarat after the state of Gujarat came into existence.
 4. "Narmkosh" was prepared by Dalpatram.
 (A) Only 1 and 2 (B) Only 1, 2 and 3
 (C) Only 2, 3 and 4 (D) 1, 2, 3 and 4
096. Which of the following statements regarding Umashankar Joshi are correct ?
 1. His poetry '*Vishwa Shanti*' refers to Gandhiji's message and lifework.
 2. He was elected to Rajya Sabha.
 3. He was the first Gujarati writer to receive the Jnanpith Award.
 (A) Only 1 and 2 (B) Only 2 and 3
 (C) Only 1 and 3 (D) 1, 2 and 3
097. Who among the following were members of the Constituent Assembly ?
 1. Kanaiyalal Munshi 2. Vallabhbhai Patel
 3. Morarji Desai 4. Minoo Masani
 (A) Only 1, 2 and 3 (B) Only 1, 2 and 4
 (C) Only 2, 3 and 4 (D) 1, 2, 3 and 4
098. Along with being a spiritualist wise poet, Kabir was also a revolutionary social reformer. Which of his following lines reflect this fact ?
 1. "*patthar puje Hari mile tuo mei puju pahad*"
 2. "*Jal me kumbh, kumbh me jal hei, bahar bhitari pani, tutya kumbh, jal jal hi samana, e tathya kahyo giyana*"
 3. "*Isak alah ki jati, isak alah ka ang, isak alag oujud hei, isak alah ka rang*"
 (A) Only 1 and 2 (B) Only 2 and 3
 (C) Only 1 and 3 (D) 1, 2 and 3
099. Which one of the following Amendments to the Constitution for the first time, made it obligatory for the President to act on the advice of the Council of Ministers?
 (A) 41st Amendment (B) 44th Amendment
 (C) 54th Amendment (D) None of the above

M

100. ભારતમાં વિધાન પરિષદની રચના અથવા રદ દ્વારા થઈ શકે છે.

1. રાજ્ય વિધાનસભાના ઠરાવને અનુસરીને કાયદા વડે સંસદ
2. સંબંધિત રાજ્યના રાજ્યપાલની ભલામણ પર રાષ્ટ્રપતિ
3. સંબંધિત રાજ્યના મંત્રીમંડળની ભલામણ પર રાજ્યપાલ

(A) માત્ર 1 અને 3 (B) માત્ર 1 (C) માત્ર 2 અને 3 (D) માત્ર 2

101. નીચેના પૈકી કયું / કયાં વિધાન / વિધાનો સાચું / સાચાં છે ?

1. સંસદ અને રાજ્ય વિધાનસભાઓ તેમના સંબંધિત અધિકારક્ષેત્રમાં કાયદા બનાવે છે.
2. સંસદ અને રાજ્ય વિધાનસભાની કાયદાકીય સત્તા અબાધિત નથી.
3. સંસદ ભારતીય બંધારણની મૂળભૂત રચના (Basic structure) ને રદ કરી શકશે નહીં અથવા બદલી શકાશે નહીં.

(A) માત્ર 1 અને 3 (B) 1, 2 અને 3 (C) માત્ર 2 (D) માત્ર 1

102. સંસદના સભ્યોને ઉપલબ્ધ વિશેષાધિકારો અંગે નીચેના પૈકી કયું / કયાં વિધાન / વિધાનો સાચું / સાચાં છે ?

1. આ વિશેષાધિકારો સંસદના સભ્યો માટે સામૂહિક અને વ્યક્તિગત રીતે બે પ્રકારના ઉપલબ્ધ છે.
2. કોઈપણ અદાલતને ગૃહ અથવા તેની કોઈપણ સમિતિની કાર્યવાહીની તપાસ કરવાનો અધિકાર નથી.
3. સંસદ તેના સભ્યો અથવા બહારના લોકોને તેના વિશેષાધિકારોના ભંગ બદલ સજા કરી શકે નહીં.

(A) માત્ર 1 અને 3 (B) માત્ર 1 અને 2
(C) માત્ર 2 (D) 1, 2 અને 3

103. અશોક મહેતા સમિતિના અહેવાલ (1978) ના સંદર્ભે નીચેના પૈકી કયું / કયાં વિધાન / વિધાનો સાચું / સાચાં છે ?

1. પંચાયતી રાજની દ્વિ સ્તરીય પદ્ધતિ માટે સમિતિએ ભલામણ કરી હતી.
2. રાજ્યની નીચે વિકેન્દ્રીકરણ માટેનો પ્રથમ તબક્કો જિલ્લો હોવો જોઈએ.
3. જિલ્લા પરિષદ કારોબારી મંડળ હોવી જોઈએ અને જિલ્લા કક્ષાએ આયોજન માટે જવાબદાર હોવી જોઈએ.

(A) માત્ર 2 અને 3 (B) માત્ર 2
(C) માત્ર 1 અને 3 (D) 1, 2 અને 3

104. નીચેના પૈકી કયાં વિધાનો સાચાં છે ?

1. મહિલાઓના હિત અને અધિકારોના રક્ષણ અને પ્રોત્સાહન માટે 1992 માં રાષ્ટ્રીય મહિલા આયોગની રચના કરવામાં આવી હતી.
2. 1990 માં સંસદ દ્વારા ઘડવામાં આવેલા કાયદા હેઠળ તેની સ્થાપના કરવામાં આવી હતી.
3. ભારત સરકારનું મહિલા અને બાળ વિકાસ મંત્રાલય આયોગ માટે નોડલ મંત્રાલય છે.

(A) માત્ર 1 અને 3 (B) માત્ર 2 અને 3
(C) 1, 2 અને 3 (D) માત્ર 1 અને 2

100. A State legislative council in India can be created or abolished by
1. The Parliament by law in pursuance of the State Assembly resolution to that effect
 2. The President on the recommendation of the Governor of concerned State
 3. The Governor on the recommendation of the Council of Ministers of concerned State
- (A) 1 and 3 only (B) 1 only
(C) 2 and 3 only (D) 2 only
101. Which of the following statements is/are correct?
1. The Parliament and the state Legislatures make Laws in their respective Jurisdiction.
 2. The Legislative Power of Parliament and State Legislatures is not absolute.
 3. The Parliament cannot delete or alter the basic structure of the Constitution of India.
- (A) 1 and 3 only (B) 1, 2 and 3
(C) 2 only (D) 1 only
102. Which of the following statements is/are correct regarding privileges available to the members of Parliament?
1. These privileges are of two types available collectively and individually to members of Parliament.
 2. No Court has the right to investigate proceedings of the House or any of its Committees.
 3. Parliament cannot punish its members or outsiders for breach of its privileges.
- (A) 1 and 3 only (B) 1 and 2 only
(C) 2 only (D) 1, 2 and 3
103. Which of the following statements is/are correct regarding Ashok Mehta Committee Report (1978)?
1. Committee recommended for two-tier system of Panchayati Raj.
 2. A district should be the first point for decentralization below the state-level.
 3. ZilaParishad should be the executive body and should be responsible for planning at the district level.
- (A) 2 and 3 only (B) 2 only
(C) 1 and 3 only (D) 1, 2 and 3
104. Which of the following statements are correct?
1. The National Commission for Women was constituted in 1992 for protecting and promoting the interests and rights of women
 2. It was established under a legislation enacted by the Parliament in 1990
 3. The Ministry of Women and Child Development, Government of India, is the nodal Ministry for the Commission
- (A) 1 and 3 only (B) 2 and 3 only
(C) 1, 2 and 3 (D) 1 and 2 only

M

105. ભારતીય બંધારણના વિકાસ અંગે નીચેના પૈકી કયાં વિધાનો સાચાં છે ?
1. બંધારણ સભાએ 9 ડિસેમ્બર, 1946 ના રોજ તેની પ્રથમ બેઠક યોજી હતી.
 2. ડૉ. રાજેન્દ્ર પ્રસાદ બંધારણ સભાના કાયમી અધ્યક્ષ તરીકે ચૂંટાયા હતા.
 3. સી. રાજગોપાલાચારીએ 11 જાન્યુઆરી, 1947 ના રોજ 'ઉદ્દેશ ઠરાવ' રજૂ કર્યો હતો.
 4. ઉદ્દેશ ઠરાવમાં મૂળભૂત અને બંધારણીય માળખાની ફિલસૂફી રજૂ કરવામાં આવેલ.
- (A) માત્ર 1, 2 અને 4 (B) માત્ર 1, 2 અને 3 (C) માત્ર 2 અને 3 (D) માત્ર 3 અને 4
106. રાષ્ટ્રપતિની ધારાકીય સત્તાઓ સંબંધમાં નીચેના પૈકી કયાં વિધાનો સાચાં છે ?
1. રાષ્ટ્રપતિને સંસદ ચાલુ ન હોય ત્યારે વટહુકમો પ્રસિધ્ધ કરવાના અધિકાર હોય છે અને તેઓને જરૂરી જણાય તેવા સંજોગોમાં આવો વટહુકમ પ્રસિધ્ધ કરી શકે છે.
 2. રાષ્ટ્રપતિ દ્વારા પ્રસિધ્ધ થયેલા વટહુકમનો સંસદના અધિનિયમના જેટલો જ પ્રભાવ અને અસર રહેશે.
 3. પરંતુ આવો દરેક વટહુકમ સંસદના બંને ગૃહો સમક્ષ મૂકવો જોઈશે અને સંસદ ફરીથી મળે ત્યારથી ત્રણ અઠવાડિયા પૂરા થયે તે અમલમાં રહેશે નહીં.
 4. એકવાર જાહેર કર્યા પછી રાષ્ટ્રપતિ દ્વારા કોઈપણ સમયે વટહુકમ પાછો ખેંચી શકાતો નથી.
- (A) માત્ર 1, 2 અને 3 (B) માત્ર 1 અને 2 (C) માત્ર 1 અને 3 (D) 1, 2, 3 અને 4
107. ભારતના બંધારણમાં ઉલ્લેખિત મૂળભૂત અધિકારો અંગે નીચેના પૈકી કયાં વિધાનો સાચાં છે ?
1. રાજ્ય કોઈપણ વ્યક્તિને કાયદા સમક્ષ સમાનતા અથવા ભારતના ક્ષેત્રમાં કાયદાઓની સમાન સુરક્ષાને નકારી શકશે નહીં.
 2. મૂળભૂત અધિકારોમાં સમાવિષ્ટ બંધારણનો અનુચ્છેદ 29 એ ભાર મૂકે છે કે ભારતના બધા નાગરિકોને વાણી અને અભિવ્યક્તિની સ્વતંત્રતાનો અધિકાર હશે.
 3. અંતઃકરણની અને મુક્ત રીતે ધર્મની માન્યતા, પાલન અને પ્રચારને મૂળભૂત અધિકારોમાં સમાવવામાં આવેલ છે.
- (A) માત્ર 1 અને 2 (B) માત્ર 1 અને 3 (C) માત્ર 2 અને 3 (D) 1, 2 અને 3
108. મુસ્લિમ મહિલાઓના (લગ્નના અધિકારોનું રક્ષણ) બિલ, 2019ની અદ્યતન સ્થિતિ (latest status) શું છે ?
- (A) આ બિલ લોકસભામાં રજૂ કરાયો હતો.
 - (B) આ બિલ લોકસભા દ્વારા પસાર કરવામાં આવ્યો હતો અને રાજ્યસભામાં પડતર છે.
 - (C) બંને રાજ્યસભા અને લોકસભા દ્વારા બિલ પસાર કરાયો છે.
 - (D) બિલ કાયદો બની ગયો છે.
109. ભારતીય બંધારણના અનુચ્છેદ 35A બાબતે નીચેના પૈકી કયું / કયાં સાચું / સાચાં છે ?
1. રાષ્ટ્રપતિના આદેશ દ્વારા બંધારણમાં તેને ઉમેરવામાં આવ્યો.
 2. આ અનુચ્છેદને અનુચ્છેદ 370 સાથે દાખલ કરવામાં આવ્યો હતો.
 3. તે રાજ્યનીતિના માર્ગદર્શક સિધ્ધાંતો હેઠળની એક વિશેષ જોગવાઈ હતી.
 4. તે બંધારણીય ઉપાયના અધિકાર લગત છે.
- (A) માત્ર 1 (B) માત્ર 1 અને 2 (C) માત્ર 1, 3 અને 4 (D) 1, 2, 3 અને 4

105. Which of the following statements are correct regarding the evolution of Indian Constitution?
1. The Constituent Assembly held its first meeting on December 9, 1946
 2. Dr. Rajendra Prasad was elected the permanent Chairman of the Constituent Assembly
 3. C. Rajagopalachari moved the 'Objective Resolution' on January 11, 1947
 4. The 'Objective Resolution' laid down the fundamentals and philosophy of the constitutional structure
- (A) 1, 2 and 4 only (B) 1, 2 and 3 only (C) 2 and 3 only (D) 3 and 4 only
106. Which of the following statements are correct regarding the legislative powers of the President of India?
1. The President has the power to promulgate Ordinances during recess of Parliament and may promulgate such Ordinance as the circumstances appear to him to require
 2. An Ordinance promulgated by the President shall have the same force and effect as an Act of Parliament
 3. But every such Ordinance shall be laid before both Houses of Parliament and shall cease to operate at the expiration of three weeks from the reassembly of Parliament.
 4. Once promulgated, an ordinance can't be withdrawn at any time by the President
- (A) 1, 2 and 3 only (B) 1 and 2 only
(C) 1 and 3 only (D) 1, 2, 3 and 4
107. Which of the following statements are correct regarding the Fundamental Rights mentioned in the Constitution of India:
1. The State shall not deny to any person equality before the law or the equal protection of the laws within the territory of India
 2. Article 29 of the Constitution enshrined in the Fundamental Rights emphasizes that all citizens of India shall have the right to freedom of speech and expression
 3. Freedom of conscience and free profession, practice and propagation of religion are included in the Fundamental rights
- (A) 1 and 2 only (B) 1 and 3 only (C) 2 and 3 only (D) 1, 2 and 3
108. What is the latest status of the Muslim Women (Protection of Rights on Marriage) Bill, 2019?
- (A) The Bill was presented in Lok Sabha.
(B) The Bill was passed by Lok Sabha and is pending in Rajya Sabha.
(C) The Bill has been passed both by Rajya Sabha and Lok Sabha.
(D) The Bill has become an Act.
109. Which of the following is/are correct regarding Article 35A of Indian Constitution?
1. It was added to the Constitution by a Presidential order
 2. The Article was introduced with Article 370
 3. It was a special provision under directive Principles of State Policy
 4. It deals with right to Constitutional Remedies
- (A) 1 only (B) 1 and 2 only (C) 1, 3 and 4 only (D) 1, 2, 3 and 4

M

110. ગવર્નમેન્ટ ઓફ ઈન્ડિયા વિ. એલ.આઈ.સી. ઓફ ઈન્ડિયા, 1995 કેસમાં સર્વોચ્ચ ન્યાયાલયે ઠરાવેલ છે કે -
 (A) આમુખ એ ભારતના બંધારણનો એક અભિન્ન ભાગ છે.
 (B) આમુખ એ ભારતના બંધારણનો એક અભિન્ન ભાગ નથી.
 (C) આમુખમાં સુધારો કરી શકાતો નથી.
 (D) “અહિંસા” શબ્દનો આમુખમાં સમાવેશ થવો જોઈએ.
111. વડાપ્રધાનના સચિવાલયનું નામ વડાપ્રધાનના કાર્યાલય (PMO) તરીકે વડાપ્રધાન ના સમય દરમિયાન નામ બદલવામાં આવેલ હતું.
 (A) શ્રી જવાહરલાલ નેહરુ (B) શ્રી લાલબહાદુર શાસ્ત્રી
 (C) શ્રી મોરારજી દેસાઈ (D) શ્રીમતી ઈન્દિરા ગાંધી
112. નીતિ આયોગ દ્વારા જાહેર કરાયેલા બીજા આરોગ્ય સૂચકાંક (2017-18) અનુસાર નીચેના પૈકી કયાં વિધાનો સાચાં છે ?
 1. એકંદરે આરોગ્ય કામગીરીના મામલે ઉત્તરપ્રદેશનો ક્રમ સૌથી નીચો છે.
 2. કેરાલાએ સતત બીજો વખત એકંદરે આરોગ્ય સૂચકાંકમાં પ્રથમ ક્રમનું સ્થાન મેળવ્યું છે.
 3. સૂચકાંકમાં ગુજરાત ચોથા ક્રમે રહ્યું છે.
 4. પંજાબ અને હિમાચલ પ્રદેશ સાતમા અને આઠમા સ્થાને છે.
 (A) માત્ર 1 અને 4 (B) માત્ર 2, 3 અને 4 (C) 1, 2, 3 અને 4 (D) માત્ર 1, 2 અને 3
113. નીચેના પૈકી કઈ પંચ / સમિતિએ ભલામણ કરી હતી કે રાષ્ટ્રપતિના ધોરણે રાજ્યપાલને રાજ્યની વિધાનસભા દ્વારા મહાઅભિયોગ કરવાની જોગવાઈ હોવી જોઈએ ?
 (A) દવે સમિતિ (B) જી. વી. રામકૃષ્ણ સમિતિ
 (C) એમ. એમ. પુન્ચી પંચ (D) કે. સન્થનામ સમિતિ
114. નીચેના પૈકી કયું સમવર્તી યાદીમાં નથી ?
 (A) ફોજદારી કાયદો (B) લગ્ન (C) જંગલ (D) ટોલ્સ (ઉપયોગ વેરા)
115. નીચેના પૈકી કઈ ભારતની સંસદની નાણાકીય સ્થાયી સમિતિ નથી ?
 (A) જાહેર હિસાબ સમિતિ (B) વાણિજ્ય સમિતિ
 (C) અંદાજ સમિતિ (D) જાહેર ઉપક્રમો સમિતિ
116. બાંગ્લાદેશ અને ભારત નીચેના પૈકી કયા જૂથમાં કોમન મેમ્બર્સ છે ?
 1. સાર્ક (SAARC) 2. બીમસ્ટેક (BIMSTEC)
 3. આઈઓઆરએ (IORA) 4. કોમનવેલ્થ
 (A) 1, 2, 3 અને 4 (B) માત્ર 1, 2 અને 4
 (C) માત્ર 1, 2 અને 3 (D) માત્ર 2, 3 અને 4

110. In the case of Government of India Vs LIC of India, 1995 the Supreme Court of India held that
 (A) Preamble is an integral part of the Constitution of India
 (B) Preamble is not an integral part of the Constitution of India
 (C) Preamble cannot be amended
 (D) The word 'non-violence' should be included in Preamble
111. The Prime Minister's Secretariat was renamed to the Prime Minister's Office (PMO) during the Prime Ministership of _____.
 (A) Shri Jawaharlal Nehru (B) Shri Lal Bahadur Shastri
 (C) Shri Morarji Desai (D) Smt. Indira Gandhi
112. Which of the following statements are correct, according to the 2nd Health Index (2017-18) published by NITI Aayog?
 1. Uttar Pradesh ranks lowest in terms of overall health performance
 2. For the Second time in row Kerala has become number one in overall Health Index
 3. Gujarat stood at the fourth place in the Index
 4. Punjab and Himachal Pradesh stood at 7th and 8th spots
 (A) 1 and 4 only (B) 2, 3 and 4 only
 (C) 1, 2, 3 and 4 (D) 1, 2 and 3 only
113. Which one of the following Commissions/Committees recommended that 'there should be provision for impeachment of the Governor by the State Legislature along the same line as that of President of India?
 (A) Dave Committee
 (B) G.V. Ramkrishna Committee
 (C) M.M. Punchi Commission
 (D) K. Santhanam Committee
114. Which of the following is not in the concurrent list?
 (A) Criminal Law (B) Marriage
 (C) Forest (D) Tolls
115. Which one of the following is not a financial standing Committee of the Parliament of India?
 (A) Public Accounts Committee
 (B) Committee on Commerce
 (C) Estimates Committee
 (D) Committee on Public Undertakings
116. Bangladesh and India are common members of which of the following groups?
 1. SAARC 2. BIMSTEC 3. IORA 4. Commonwealth
 (A) 1, 2, 3 and 4 (B) 1, 2 and 4 only
 (C) 1, 2 and 3 only (D) 2, 3 and 4 only

M

117. બાંડુંગ કોન્ફરન્સ (Bandung Conference), 1955 માં સંમત થયેલા સિધ્ધાંતો એ નીચે પૈકી કોને જન્મ આપ્યો ?

- (A) NAM (B) ASEAN
(C) SAARC (D) BRICS

118. નીચેના પૈકી કયાં વિધાનો સાચાં છે ?

- ભારતના બંધારણના અનુચ્છેદ 31 ને 42 મા બંધારણીય સુધારા દ્વારા રદ કરવામાં આવ્યો.
- ભારતના બંધારણમાં મિલકતના અધિકારને મૂળભૂતરીતે અનુચ્છેદ 19(i)(f) અને 31 હેઠળ મૂળભૂત અધિકાર તરીકે બાંહેધરી આપવામાં આવી હતી.
- અનુચ્છેદ 300-A મિલકતના અધિકારનો ઉલ્લેખ કરે છે.
- 25 મા બંધારણીય સુધારાથી ભારતના બંધારણમાં નવમી અનુસૂચિ દાખલ થયેલ છે.

- (A) માત્ર 1 અને 4 (B) માત્ર 3 અને 4
(C) માત્ર 2 અને 3 (D) માત્ર 1, 2 અને 3

119. નીચેનામાંથી કયું / કયાં વિધાન / વિધાનો સાચું / સાચાં છે ?

- (A) ભારતના બંધારણના અનુચ્છેદ-13 અનુસાર “કાયદા”માં ભારતના રાજ્યક્ષેત્રમાં કાયદાનો પ્રભાવ ધરાવતા વટહુકમ, હુકમ, ઉપ-નિયમ, નિયમ, વિનિયમ, જાહેરનામું, રૂઢિ અથવા પ્રધાનોનો સમાવેશ થાય છે.
- (B) બંધારણ (24 મો સુધારો) અધિનિયમ, 1971 એ બંધારણીય સુધારા કાયદાને ભારતના બંધારણના અનુચ્છેદ 13 હેઠળ “કાયદા”ના ક્ષેત્રાધિકારમાંથી બાકાત રાખેલ છે.
- (C) (A) અને (B) બંને
- (D) (A) અને (B) બંને પૈકી કોઈ નહીં

120. કેન્દ્ર રાજ્ય સંબંધ અંગેની રાજમન્નાર સમિતિની નીચેના પૈકી કઈ ભલામણો તત્કાલીન કેન્દ્ર સરકારે સ્વીકારી છે ?

- (A) સંઘ યાદી અને સમવર્તી યાદીમાંથી કેટલીક જોગવાઈઓનું રાજ્ય યાદીમાં સ્થાનાંતરણ
- (B) અનુચ્છેદ 356, 357 અને 365 રદ કરવા
- (C) આયોજનપંચને બદલી વૈધાનિક સંસ્થા મૂકવી
- (D) ઉપરના પૈકી કોઈ નહીં

121. નીચેના પૈકી કયાં વિધાનો સાચાં છે ?

- સામાન્ય રીતે, રાજ્યના રાજ્યપાલ બહુમતી મેળવનાર પક્ષના નેતાને રાજ્ય વિધાનસભામાં મુખ્યમંત્રી તરીકે નિમણૂક કરે છે.
 - જ્યારે વિધાનસભામાં કોઈ પક્ષને સ્પષ્ટ બહુમતી ન મળે ત્યારે રાજ્યપાલ પસંદગીમાં તેમની વ્યક્તિગત વિવેકબુદ્ધિનો ઉપયોગ કરીને મુખ્યમંત્રીની નિમણૂક કરે છે.
 - રાજ્યના વિધાનસભાના સભ્ય માત્ર મુખ્યપ્રધાન બનવા માટે લાયક છે.
- (A) માત્ર 2 અને 3 (B) માત્ર 1 અને 3
(C) માત્ર 1 અને 2 (D) 1, 2 અને 3

117. The principles agreed at Bandung Conference, 1955 gave birth to which of the following?
- (A) NAM (B) ASEAN
(C) SAARC (D) BRICS
118. Which of the following statements are correct?
- Article 31 of the Indian Constitution was repealed by 42nd Constitutional Amendment
 - Right to Property was originally guaranteed as Fundamental Right under Article 19(i) (f) and Article 31 in Indian Constitution.
 - Article 300-A refers to Right to Property
 - 25th Constitutional Amendment led to the insertion of 9th Schedule of the Indian Constitution
- (A) 1 and 4 only (B) 3 and 4 only
(C) 2 and 3 only (D) 1, 2 and 3 only
119. Which of the following statements is/are correct?
- (A) According to Article 13 of the Indian Constitution, "law" includes any Ordinance, order, byelaw, rule, regulation, notification, custom or usage having in the territory of India the force of law.
- (B) Constitution (Twenty-fourth Amendment) Act, 1971 excluded Constitutional Amendment Acts from the purview of "law" under Article 13 of the Indian Constitution.
- (C) Both A and B
(D) Neither A nor B
120. Which of the following recommendations of the Rajamannar committee on Centre-State relation has been accepted by the then Central Government?
- (A) Transfer of certain provisions from Union List and Concurrent list to State List
- (B) Omission of Article 356, 357 and 365
- (C) Replacement of Planning Commission with a statutory body
- (D) None of the above
121. Which of the following statements are correct?
- In general, the Governor of a State appoints the leader of the majority party in the state legislative assembly as the Chief Minister
 - When no party gets clear majority in assembly, Governor may exercise his personal discretion in the selection and appointment of the Chief Minister.
 - A member of legislative assembly of the State is only eligible to become Chief Minister.
- (A) 2 and 3 only (B) 1 and 3 only
(C) 1 and 2 only (D) 1, 2 and 3

M

122. પછાતવર્ગી માટેનું રાષ્ટ્રીય આયોગ એ સર્વોચ્ચ ન્યાયાલયના નીચેના પૈકી કયા સીમાચિન્હ ચુકાદાનું પરિણામ છે ?
- (A) શંકરીપ્રસાદ વિ. યુનિયન ઓફ ઈન્ડિયા, 1951
 (B) મીનરવા મીલ્સ લિમિટેડ વિ. યુનિયન ઓફ ઈન્ડિયા એન્ડ અધર્સ, 1980
 (C) ઈન્દ્રા સોહની એન્ડ અધર્સ વિ. યુનિયન ઓફ ઈન્ડિયા, 1992
 (D) ઉપરના પૈકી કોઈ નહીં
123. નીચેનામાંથી કયું વિધાન / વિધાનો જાહેર હિતની અરજીને લગતાં છે ?
- (A) જે વ્યક્તિ અરજી દાખલ કરી રહ્યો છે તે મુકદ્દમામાં અસરગ્રસ્ત વ્યક્તિ / પિડિત હોવા આવશ્યક છે.
 (B) અરજી જો અદાલત દ્વારા સ્વીકારાય તો જ જો તેમાં અસરગ્રસ્ત વ્યક્તિ / પિડિતનું હિત હોય.
 (C) (A) તથા (B) બંને
 (D) (A) અથવા (B) બંનેમાંથી કોઈ નહીં
124. મંત્રાલય સંસદના સભ્યોના સદભાવના પ્રતિનિધિ મંડળને અન્ય દેશમાં પ્રાયોજિત કરે છે અને વિદેશી બાબતોના મંત્રાલય દ્વારા અન્ય દેશોના વિનિમય કાર્યક્રમ હેઠળ સંસદસભ્યોના સરકારી પ્રાયોજિત પ્રતિનિધિઓ મેળવે છે.
- (A) સંસ્કૃતિ મંત્રાલય (B) વિદેશ મંત્રાલય
 (C) સંસદીય બાબતોનું મંત્રાલય (D) માનવ સંસાધન વિકાસ મંત્રાલય
125. નગરપાલિકાઓ દ્વારા ખાતાની જાળવણી અને આવા ખાતાઓના અન્વેષણ કરવા બાબતે નીચેના પૈકી કોણ જોગવાઈ કરી શકે છે ?
- (A) રાજ્યના રાજ્યપાલ (B) સીએજી
 (C) રાજ્યની વિધાનસભા (D) ભારતના રાષ્ટ્રપતિ
126. રાષ્ટ્રીય વસ્તી રજિસ્ટર અંગે નીચેના પૈકી કયાં વિધાનો સાચાં છે ?
1. તે નાગરિકત્વ અધિનિયમ, 1955 હેઠળ તૈયાર કરવામાં આવેલ છે.
 2. એનપીઆર ગૃહ મંત્રાલય હેઠળ આવે છે.
 3. તેમાં ચોક્કસ વસ્તી વિષયક વિગતો સામેલ છે.
- (A) માત્ર 1 અને 3 (B) માત્ર 1 અને 2 (C) માત્ર 2 અને 3 (D) 1, 2 અને 3
127. નીચેના પૈકી કયાં વિધાનો ભારતમાં ટ્રિબ્યૂનલ્સ બાબતે સાચાં છે ?
1. ટ્રિબ્યૂનલ્સ એ વહીવટી સંસ્થાઓ છે જેની સ્થાપના અર્ધ-ન્યાયિક ફરજો બજાવવા માટે થયેલ છે.
 2. પ્રાકૃતિક ન્યાયના સિદ્ધાંત પર ટ્રિબ્યૂનલ કાર્ય કરે છે.
 3. 44 મા બંધારણીય સુધારા અધિનિયમ, 1976 દ્વારા બંધારણમાં ટ્રિબ્યૂનલ્સ ઉમેરવામાં આવ્યા હતા.
 4. ભારતમાં ટ્રિબ્યૂનલ્સની રચના સ્વર્ણસીંગ સમિતિની ભલામણ પર કરવામાં આવી હતી.
- (A) માત્ર 1 અને 2 (B) માત્ર 1, 2 અને 3 (C) માત્ર 1, 2 અને 4 (D) 1, 2, 3 અને 4

122. National Commission for Backward Classes is an outcome of which of the following landmark judgments of Supreme Court?
- (A) Shankari Prasad vs Union of India, 1951
(B) Minerva Mills Ltd and others vs Union of India and others, 1980
(C) Indra Sawhney & Others. Vs. Union of India, 1992
(D) None of the above
123. Which of the following statements is/are regarding Public Interest Litigation?
- (A) The person who is filing the petition must be the affected person/victim in the litigation
(B) The petition is accepted by the court only if there is interest of the affected person/victim involved.
(C) Both A and B
(D) Neither A Nor B
124. _____ ministry sponsors Goodwill Delegation of Members of Parliament to other countries and receives similar Government-sponsored delegations of parliamentarians under the exchange programme from other countries through the Ministry of External Affairs.
- (A) Ministry of Culture
(B) Ministry of External Affairs
(C) The Ministry of Parliamentary Affairs
(D) Ministry of Human Resource Development
125. Which of the following may make provisions with respect to the maintenance of accounts by the Municipalities and the auditing of such accounts?
- (A) Governor of State (B) CAG
(C) Legislature of a State (D) President of India
126. Which of the following statements are correct regarding National Population Register (NPR)?
1. It is prepared under The Citizenship Act, 1955.
 2. NPR comes under the Ministry Of Home Affairs.
 3. It includes certain demographic particulars.
- (A) 1 and 3 (B) 1 and 2 (C) 2 and 3 (D) 1, 2 and 3
127. Which of the following statements are correct regarding 'Tribunals' in India?
1. Tribunals are administrative bodies established for the purpose of discharging quasi-judicial duties.
 2. Tribunals act on the Principle of Natural Justice.
 3. Tribunals were added to the Constitution by the 44th Constitutional Amendment Act, 1976.
 4. Tribunals in India were created on the recommendation of the Swaran Singh Committee.
- (A) 1 and 2 only (B) 1, 2 and 3 only (C) 1, 2 and 4 only (D) 1, 2, 3 and 4

M

128. ત્રાસ વિરુદ્ધ સંયુક્ત રાષ્ટ્ર સંમેલન (U.N. (United Nations) Convention against Torture (CAT)) અંગે નીચેનામાંથી કયું / કયાં વિધાન / વિધાનો સાચું / સાચાં છે ?
- (A) તે એક આંતરરાષ્ટ્રીય માનવ અધિકાર સાધન છે જેનો હેતુ વિશ્વભરના માનવીય અધોગતિના વ્યવહારને અટકાવવાનો છે.
- (B) ભારતે તાજેતરમાં આ સંમેલનને બહાલી આપી છે.
- (C) (A) અને (B) બંને
- (D) (A) અને (B) પૈકી કોઈ નહીં
129. નીચેની ઘટનાઓને કાલક્રમિક ક્રમમાં ગોઠવો.
- | | | | |
|----------------|---------------------|-------------------|----------------|
| 1. કિપ્સ મિશન | 2. માઉન્ટબેટન યોજના | 3. હિંદ છોડો ચળવળ | 4. હોમ રૂલ લીગ |
| (A) 1, 2, 4, 3 | (B) 3, 4, 1, 2 | (C) 1, 2, 3, 4 | (D) 4, 1, 3, 2 |
130. જ્યારે હાઈકોર્ટના મુખ્ય ન્યાયાધીશનો હોદ્દો ખાલી હોય ત્યારે તેમની ફરજો દ્વારા બજાવવામાં આવશે.
- (A) વરિષ્ઠતમ ઉપલબ્ધ ન્યાયાધીશ
- (B) કોર્ટના બીજા ન્યાયાધીશોમાંથી રાષ્ટ્રપતિ નીમે તે
- (C) રાજ્યના રાજ્યપાલ સાથે પરામર્શ કર્યા બાદ કોર્ટના બીજા ન્યાયાધીશોમાંથી રાષ્ટ્રપતિ નીમે તે
- (D) મંત્રીમંડળના પરામર્શ બાદ વરિષ્ઠતમ ઉપલબ્ધ ન્યાયાધીશ
131. કેટલા એશિયન દેશો જી-20 ના સભ્યો છે ?
- (A) 5 (B) 6 (C) 7 (D) 8
132. ભારતના બંધારણની પાંચમી અનુસૂચિ હેઠળ કોઈપણ વિસ્તારને “અનુસૂચિત વિસ્તાર” તરીકે જાહેર કરવાના માપદંડ શું છે?
1. આદિવાસી વસ્તીના પ્રભાવની માત્રા
2. વિસ્તારનું એકજથ્થે હોવું અને તેનું વાજબી કદ હોવું
3. એક વહીવટી એકમ જેમ કે જિલ્લો, બ્લોક અથવા તાલુકા બની શકે
4. પડોશી વિસ્તારની સરખામણીમાં વિસ્તારનું આર્થિક પછાતપણું
- (A) માત્ર 1 અને 4 (B) માત્ર 2 અને 3 (C) માત્ર 1, 2 અને 3 (D) 1, 2, 3 અને 4
133. ભારતીય બંધારણના ઘડવા બાબતે નીચેના પૈકી કયાં વિધાનો સાચાં છે ?
1. કેટલાક રજવાડાઓનું બંધારણ સભામાં પ્રતિનિધિત્વ કરવામાં આવ્યું ન હતું.
2. બંધારણ સભાની ચૂંટણીઓ સીધી હતી, પરંતુ મર્યાદિત મતાધિકાર સાથે.
3. બંધારણ સભા પણ કામચલાઉ સંસદ તરીકે કામ કરતી હતી.
4. કેટલીક બંધારણીય જોગવાઈઓ 26 જાન્યુઆરી 1950 પહેલાં અમલમાં આવી હતી.
- (A) માત્ર 1, 2 અને 3 (B) માત્ર 1, 3 અને 4 (C) માત્ર 1, 2 અને 4 (D) 1, 2, 3 અને 4

128. Which of the following statements is/are correct regarding the U.N. (United Nations) Convention against Torture (CAT)?
- (A) It is an international human rights instrument aimed to prevent inhuman degrading treatment around the world.
- (B) India has recently ratified this Convention.
- (C) Both A and B
- (D) Neither A nor B
129. Arrange the following incidents in chronological order:
- | | |
|------------------------|---------------------|
| 1. Cripps Mission | 2. Mountbatten Plan |
| 3. Quit India Movement | 4. Home Rule League |
| (A) 1, 2, 4, 3 | (B) 3, 4, 1, 2 |
| (C) 1, 2, 3, 4 | (D) 4, 1, 3, 2 |
130. When the office of Chief Justice of a High Court is vacant, the duties of the office shall be performed by
- (A) Senior most judge available
- (B) Such one of the other Judges of the Court as the President may appoint
- (C) Such one of the other judges of the court as the President may appoint after consultation with Governor of State
- (D) Senior most judge available after consultation with council of ministers.
131. How many Asian Countries are members of G-20 ?
- (A) 5 (B) 6 (C) 7 (D) 8
132. What are the criteria for declaring any area as a "Scheduled Area" under the fifth schedule of Indian Constitution?
1. Preponderance of Tribal Population
 2. Compactness and reasonable size of the area
 3. A viable administrative entity such as a district, Block or Taluka
 4. Economic Backwardness of the area as compared to the neighbouring area
- (A) Only 1 and 4 (B) Only 2 and 3
- (C) Only 1, 2 and 3 (D) 1, 2, 3 and 4
133. Which of the following statements are correct regarding the making of the Indian Constitution?
1. Some of the Princely states were not represented in the Constituent Assembly.
 2. Elections to the Constituent Assembly were direct, but with a limited franchise
 3. The Constituent Assembly also functioned as a provisional Parliament
 4. Some of the Constitutional provisions came into effect before 26th January 1950
- (A) 1, 2 and 3 only (B) 1, 3 and 4 only
- (C) 1, 2 and 4 only (D) 1, 2, 3 and 4

M

134. આમુખમાં દર્શાવ્યા પ્રમાણે નીચેના પૈકી કઈ જોડી યોગ્ય રીતે જોડાયેલ છે ?
1. ન્યાય — સામાજિક, આર્થિક અને રાજકીય
 2. સ્વતંત્રતા — વિચાર, અભિવ્યક્તિ, માન્યતા અને શ્રદ્ધા
 3. સમાનતા — દરજ્જા અને તકની
 4. બંધુત્વ — એક નાગરિકત્વ દ્વારા
- (A) 1, 2, 3 અને 4 (B) માત્ર 2, 3 અને 4 (C) માત્ર 1, 3 અને 4 (D) માત્ર 1, 2 અને 3
135. ભારતીય સમાજવાદ વિશે નીચેનામાંથી કયું / કયાં વિધાન / વિધાનો સાચું / સાચાં છે ?
- (A) ભારતે સમાજવાદના ઉદ્દેશો પ્રાપ્ત કરવા માટે એક ચોક્કસ આર્થિક માળખું અપનાવ્યું છે.
- (B) ભારત તેના માટે ચોક્કસ આર્થિક માળખું અપનાવ્યા વિના સમાજવાદના ઉદ્દેશો પ્રાપ્ત કરવાનો પ્રયાસ કરે છે.
- (C) ભારતીય સમાજવાદ સમાજવાદના ધ્યેયો અપનાવ્યા વિના સમાજવાદી દેશોની આર્થિક રચનાને અપનાવે છે.
- (D) ઉપરમાંથી કોઈ નહીં
136. ભારતના રાષ્ટ્રપતિની વિવેકાધીન સત્તા અંગે નીચેના પૈકી કયાં વિધાનો સાચાં છે ?
1. જો મંત્રી પરિષદે સલાહ આપી ન હોય તો પણ રાષ્ટ્રપતિ સત્તો બોલાવી શકે છે.
 2. રાષ્ટ્રપતિ મંત્રી મંડળને ચેતવણી અને પ્રોત્સાહન આપી શકે છે.
 3. રાષ્ટ્રપતિ પાસે સરકારના કામકાજના વ્યવહાર માટેના નિયમો અંગે વિવેકાધીન સત્તાઓ હોય છે.
- (A) માત્ર 1, 2 અને 3 (B) માત્ર 1 અને 3 (C) માત્ર 2 અને 3 (D) માત્ર 1 અને 2
137. લોકસભાના વિસર્જનને કારણે નીચેના પૈકી કયાં ખરડાં વિલય પામતા નથી ?
1. ખરડો કે જે રાજ્યસભામાં ઉદ્ભવ્યો હતો અને રાજ્યસભા સમક્ષ પડતર છે.
 2. ખરડો કે જે લોકસભામાં ઉદ્ભવ્યો હતો અને લોકસભા સમક્ષ પડતર છે.
 3. ખરડો લોકસભા દ્વારા પસાર થયો હોય, પરંતુ રાજ્યસભા સમક્ષ પડતર છે.
 4. ખરડો રાજ્યસભા દ્વારા પસાર થયો હોય, પરંતુ લોકસભા સમક્ષ પડતર છે.
- (A) માત્ર 1 અને 4 (B) માત્ર 1 (C) માત્ર 1, 2 અને 3 (D) માત્ર 2, 3 અને 4
138. નીચેના પૈકી કઈ જોડી યોગ્ય રીતે જોડાયેલી નથી ?
1. તારાંકિત પ્રશ્ન — જેનો સભ્ય મૌખિક જવાબ માંગે છે.
 2. અતારાંકિત પ્રશ્ન — પૂરક પ્રશ્ન ત્યારબાદ પૂછી શકાય છે.
 3. ટૂંકી નોટીસનો પ્રશ્ન — પૂરક પ્રશ્ન ત્યારબાદ પૂછી શકાય છે.
 4. તારાંકિત પ્રશ્ન — મૌખિક જવાબો માટે દિવસના ફક્ત 50 પ્રશ્નો સૂચિબધ્ધ કરી શકાય છે.
- (A) 1, 2, 3 અને 4 (B) માત્ર 1, 2 અને 3 (C) માત્ર 2 અને 4 (D) માત્ર 1 અને 3
139. નિંદા પ્રસ્તાવ બાબતે નીચેના પૈકી કયાં વિધાનો સાચાં છે ?
1. આ પ્રસ્તાવમાં અવિશ્વાસ પ્રસ્તાવથી વિપરીત લોકસભામાં તેને હાથ ઉપર લેવા માટેનાં કારણો જણાવવા જોઈએ.
 2. તે એક વ્યક્તિગત મંત્રી, મંત્રી જૂથ અથવા સમગ્ર મંત્રીમંડળની વિરુદ્ધ લાવી શકાય છે.
 3. જો પસાર થાય તો મંત્રીમંડળે પદથી રાજીનામું આપવું પડશે.
- (A) માત્ર 1, 2 અને 3 (B) માત્ર 1 અને 3 (C) માત્ર 2 અને 3 (D) માત્ર 1 અને 2

134. Which of the following pairs are correctly matched as mentioned in the present Preamble?
- Justice - Social, Economic and Political
 - Liberty of - Thought, Expression, Belief and Faith
 - Equity of - Status and Opportunity
 - Fraternity by - the single citizenship
- (A) 1, 2, 3 and 4 (B) 2, 3 and 4 only (C) 1, 3 and 4 only (D) 1, 2 and 3 only
135. Which of the following statements is/are correct regarding to Indian Socialism?
- (A) India has adopted a definite economic structure to attain objectives of socialism
- (B) India seeks to attain objectives of socialism without adopting a definite economic structuring for it.
- (C) Indian socialism adopts the economic structure of socialist countries without adopting goals of socialism
- (D) None of the above
136. Which of the following statements are correct regarding Discretionary powers of the President of India?
- President can call sessions even if Council of Ministers has not advised to do so.
 - President can warn and encourage Council of Ministers
 - President has discretionary powers regarding rules for transaction of business of government
- (A) 1, 2 and 3 (B) 1 and 3 only (C) 2 and 3 only (D) 1 and 2 only
137. Which of the following Bills do not lapse on dissolution of the Lok Sabha?
- A Bill that originated in Rajya Sabha and is pending before Rajya Sabha
 - A Bill that originated in Lok Sabha and is pending before Lok Sabha
 - A Bill passed by Lok Sabha but is pending before Rajya Sabha
 - A Bill which has been passed by Rajya Sabha but is pending before Lok Sabha
- (A) 1 and 4 only (B) 1 only (C) 1, 2 and 3 only (D) 2, 3 and 4 only
138. Which of the following pairs is incorrectly matched?
- A Starred Question - Which a member desires an Oral Answer
 - An unstarred Question - Supplementary questions can be asked subsequently
 - A short Notice Question - Supplementary questions can be asked subsequently
 - A Starred Question - Only 50 questions can be listed for oral answer a day
- (A) 1, 2, 3 and 4 (B) 1, 2 and 3 only (C) 2 and 4 only (D) 1 and 3 only
139. Which of the following statements are correct regarding Censure Motion?
- The motion should state the reasons for its adoption in Lok Sabah unlike No Confidence Motion.
 - It can be moved against an individual minister, group of ministers or entire council of ministers.
 - If passed the council of ministers must resign from the office.
- (A) 1, 2 and 3 (B) 1 and 3 only (C) 2 and 3 only (D) 1 and 2 only

M

140. સંસદમાં ખરડાના વાંચન બાબતે નીચેના પૈકી કયાં વિધાનો સાચાં છે ?

1. પ્રથમ વાંચન — આ તબક્કે ખરડા અંગે કોઈ ચર્ચા થતી નથી.
2. બીજું વાંચન — ગૃહ બંને ગૃહોના સભ્યોની બનેલી સંયુક્ત સમિતિને ખરડો મોકલી શકે છે.
3. ત્રીજું વાંચન — ગૃહ લોકોનો અભિપ્રાય મેળવવા માટે ખરડાને પરિપત્રિત કરી શકે છે.
4. ત્રીજું વાંચન — ખરડો પ્રિસાઈડીંગ ઓફિસરને મોકલવામાં આવશે જે તેને પ્રમાણિત કરે છે.

(A) 1, 2, 3 અને 4 (B) માત્ર 1, 3 અને 4 (C) માત્ર 1, 2 અને 4 (D) માત્ર 1, 2 અને 3

141. નીચેના પૈકી કઈ બાબતો ભારતના બંધારણના અનુચ્છેદ 110 મુજબ નાણાકીય વિધેયક હેઠળ નાણાકીય બાબતો બને છે ?

1. સંઘ અથવા રાજ્યનું અન્વેષણ અને હિસાબો.
2. ભારતના જાહેર હિસાબનો હવાલો.
3. ભારત સરકાર દ્વારા નાણા કરજે લેવા કે બાંધધરી આપવી.
4. ભારતના આકસ્મિક ફંડમાં હવાલો અથવા ચૂકવણી.

(A) માત્ર 1, 2, 3 અને 4 (B) માત્ર 2, 3 અને 4 (C) માત્ર 1, 3 અને 4 (D) માત્ર 1, 2 અને 4

142. સંસદીય વિશેષાધિકારો અને રક્ષણ બાબતે નીચેના પૈકી કયાં વિધાનો સાચાં છે ?

1. બંધારણમાં સંસદના ગૃહની કાર્યવાહીમાં ભાગ લેવા માટે હકદાર વ્યક્તિને વિશેષાધિકારો આપવામાં આવ્યાં છે.
2. સંસદના દરેક ગૃહ સામૂહિક રૂપે વિશેષાધિકારો ભોગવે છે.
3. સભ્યો દ્વારા વિશેષાધિકારો વ્યક્તિગતરૂપે ભોગવવામાં આવે છે.
4. સંસદના સત્ર દરમિયાન દિવાની તેમજ ફોજદારી અને અટકાયત નિવારણના કેસોમાં સભ્યની ધરપકડ કરવામાં આવશે નહીં.

(A) માત્ર 1, 2, 3 અને 4 (B) માત્ર 1, 2 અને 3 (C) માત્ર 2, 3 અને 4 (D) માત્ર 1, 3 અને 4

143. વાર્ષિક નાણાકીય પત્રક અંગે નીચેના પૈકી કયાં વિધાનો સાચાં છે ?

1. અંદાજપત્ર ત્રણ ભાગો એટલે કે, મહેસૂલ, ખર્ચ અને ખાદ્ય ધરાવે છે.
2. અંદાજપત્ર બે ભાગમાં, વિત્ત વિધેયક અને વિનિયોગ વિધેયકમાં, રજૂ કરવામાં આવે છે.
3. વિત્ત વિધેયકમાં જ્યાંથી આવક એકત્રિત કરવામાં આવશે તે સ્ત્રોતોને લગતી જોગવાઈઓ સામેલ છે.
4. વિનિયોગ વિધેયકમાં એ ક્ષેત્રને લગતી જોગવાઈઓ સામેલ છે જેમાં ખર્ચ કરવામાં આવશે.

(A) 1, 2, 3 અને 4 (B) માત્ર 1, 3 અને 4 (C) માત્ર 2, 3 અને 4 (D) માત્ર 3 અને 4

144. ભારતની સર્વોચ્ચ ન્યાયાલયના એડ-હોક ન્યાયાધીશો બાબતે નીચેના પૈકી કયાં વિધાનો સાચાં છે ?

1. સર્વોચ્ચ ન્યાયાલયમાં હાઈકોર્ટના ન્યાયાધીશ અને સર્વોચ્ચ ન્યાયાલયના નિવૃત્ત ન્યાયાધીશ બંને એડ-હોક ન્યાયાધીશ તરીકે કાર્ય કરી શકે છે.
2. ભારતના મુખ્ય ન્યાયાધીશ સંસદની પૂર્વ મંજૂરીથી જ નિવૃત્ત ન્યાયાધીશની એડ-હોક ન્યાયાધીશ તરીકે નિમણૂક કરી શકે છે.
3. સર્વોચ્ચ ન્યાયાલયના ન્યાયાધીશને દૂર કરવા સામે બંધારણીય સંરક્ષણ તેમને પણ લાગુ પડે છે.

(A) માત્ર 1, 2 અને 3 (B) માત્ર 2 અને 3
(C) માત્ર 1 અને 2 (D) માત્ર 1 અને 3

140. Which of the following statements are correct regarding readings of a Bill in the Parliament?
1. First Reading - No Discussion of the Bill takes place at this stage
 2. Second Reading - House may refer the Bill to a joint committee consisting of the members from both the Houses.
 3. Third Reading - House may circulate the Bill to gather public opinion
 4. Third Reading - The Bill will be transmitted to the presiding officer who authenticates the Bill.
- (A) 1, 2, 3 and 4 (B) 1, 3 and 4 only (C) 1, 2 and 4 only (D) 1, 2 and 3 only
141. Which of the following matters constitute Money Matters under Money Bill according to Article 110 of the Indian Constitution?
1. Audit and Accounts of Union or a State
 2. Custody of Public Account of India
 3. Borrowing or Guarantee by Government of India
 4. Custody or Payment into Contingency Fund of India
- (A) 1, 2, 3 and 4 (B) 2, 3 and 4 only (C) 1, 3 and 4 only (D) 1, 2 and 4 only
142. Which of the following statements are correct regarding the Parliamentary Privileges and Immunities?
1. The Constitution has also extended the parliamentary privileges to those person who are entitled to take part in the proceedings of House of Parliament.
 2. Privileges are enjoyed by each House of Parliament collectively.
 3. Privileges are enjoyed by the members individually.
 4. No member shall be arrested during the session of Parliament for both civil as well as criminal and prevention of detention cases.
- (A) 1, 2, 3 and 4 (B) 1, 2 and 3 only (C) 2, 3 and 4 only (D) 1, 3 and 4 only
143. Which of the following statements are correct regarding Annual Financial Statement?
1. The Budget consists of three parts namely : Revenue, Expenditure and Deficit.
 2. The Budget is presented in two parts, Finance Bill and Appropriation Bill.
 3. Finance Bill consists of provisions relating to sources from where revenue would be collected.
 4. Appropriation bill contains provisions relating to area in which expenses will be incurred.
- (A) 1, 2, 3 and 4 (B) 1, 3 and 4 only (C) 2, 3 and 4 only (D) 3 and 4 only
144. Which of the following statements are correct regarding ad hoc judges in Supreme Court of India?
1. In the Supreme Court both High Court judge and the retired Supreme Court judge can act as ad hoc judge.
 2. The Chief Justice of India can appoint retired judge as ad hoc judge only with the previous consent of the Parliament.
 3. The Constitutional protection against removal of Judge of the Supreme Court is also applicable to him.
- (A) 1, 2 and 3 (B) 2 and 3 only (C) 1 and 2 only (D) 1 and 3 only

M

145. રાજ્ય વિધાન પરિષદ અંગે નીચેના પૈકી કયાં વિધાનો સાચાં છે ?

1. વિધાન પરિષદના સભ્યોની સંખ્યા તે રાજ્યની વિધાનસભાના સભ્યોની કુલ સંખ્યાના એક તૃતીયાંશ કરતા વધુ રહેશે નહીં.
 2. વિધાન પરિષદના સભ્યોની સંખ્યા ચાલીસથી ઓછી હોવી જોઈશે નહીં.
 3. રાજ્યના મુખ્યમંત્રી રાજ્ય વિધાન પરિષદના નેતા તરીકે પણ કાર્ય કરે છે.
 4. રાજ્ય વિધાનસભાના ચૂંટાયેલા સભ્યો દ્વારા રાજ્ય વિધાન પરિષદના એક ષષ્ઠાંશ સભ્યો ચૂંટવામાં આવે છે.
- (A) 1, 2, 3 અને 4 (B) માત્ર 2, 3 અને 4 (C) માત્ર 1, 2 અને 3 (D) માત્ર 1, 2 અને 4

146. ભારતમાં ઉચ્ચ ન્યાયાલયને લગતા નીચેના પૈકી કયાં વિધાનો સાચાં છે ?

1. સામાન્ય રીતે ઉચ્ચ ન્યાયાલયોમાં ન્યાયાધીશોની ચાર કક્ષા હોય છે.
 2. ઉચ્ચ ન્યાયાલયમાં ચાર પ્રકારના ન્યાયાધીશ — કાયમી ન્યાયાધીશ, વધારાના ન્યાયાધીશ, કાર્યકારી ન્યાયાધીશ અને એડહોક ન્યાયાધીશ હોય છે.
 3. ગુજરાત ઉચ્ચ ન્યાયાલયની સ્થાપના વર્ષ 1965 માં કેરેલા ઉચ્ચ ન્યાયાલયની સાથે થઈ હતી.
 4. હાલમાં ભારતમાં 25 ઉચ્ચ ન્યાયાલયો છે.
- (A) 1, 2, 3 અને 4 (B) માત્ર 1 અને 2 (C) માત્ર 1, 2 અને 4 (D) માત્ર 1, 3 અને 4

147. નીચેના ઉમેદવારો પૈકી કોણ ભારતમાં નિઃશૂલ્ક કાનૂની સેવાઓ માટે પાત્ર છે ?

1. મહિલાઓ અને બાળકો
 2. કસ્ટડીમાં રહેલા વ્યક્તિઓ
 3. વિકલાંગ વ્યક્તિઓ
 4. ઔદ્યોગિક કામદારો
- (A) 1, 2, 3 અને 4 (B) માત્ર 1, 2 અને 3
(C) માત્ર 2, 3 અને 4 (D) માત્ર 1, 2 અને 4

148. ભારતમાં સહકારી મંડળીઓ અંગે નીચેના પૈકી કયાં વિધાનો સાચાં છે ?

1. સહકારી મંડળીઓ રચવાનો અધિકાર ભારતમાં મૂળભૂત અધિકાર છે.
 2. 97 મો બંધારણીય સુધારા અધિનિયમ સહકારી મંડળીઓને બંધારણીય દરજ્જો પૂરો પાડે છે.
 3. દરેક સહકારી મંડળીઓની વાર્ષિક સામાન્ય સભા નાણાકીય વર્ષના અંત પછી છ મહિનાના સમયગાળામાં બોલવવામાં આવશે.
- (A) માત્ર 1 અને 2 (B) માત્ર 2 અને 3 (C) માત્ર 1 અને 3 (D) 1, 2 અને 3

149. નીચેના પૈકી કયાં વિધાનો સાચાં છે ?

1. ઝોનલ કાઉન્સિલો વૈધાનિક સંસ્થાઓ હોય છે કારણ કે તે સંસદીય કાયદા હેઠળ બનાવવામાં આવી હતી.
 2. રાજ્ય પુનર્ગઠન અધિનિયમ 1956 હેઠળ કુલ છ ઝોનલ કાઉન્સિલોની રચના કરવામાં આવી હતી.
 3. ઝોનલ કાઉન્સિલમાં કેન્દ્રીય નાણાપ્રધાન અને ઝોનના તમામ રાજ્યોના મુખ્યમંત્રીઓ હોય છે.
 4. પાછળથી એક અલગ ઉત્તર પૂર્વ ઝોનલ કાઉન્સિલની રચના કરવામાં આવી જેનાથી ભારતમાં કુલ છ ઝોનલ કાઉન્સિલો થઈ.
- (A) 1, 2, 3 અને 4 (B) માત્ર 1, 3 અને 4
(C) માત્ર 1, 2 અને 4 (D) માત્ર 1, 2 અને 3

145. Which of the following statements are correct regarding Legislative Council of the State?

1. The strength of the legislative council shall not exceed one-third of the total strength of State Legislative Assembly.
2. The Strength of Legislative Council shall not be less than 40.
3. The Chief Minister of the state acts as the leader of the State Legislative Council also.
4. One-sixth members of the State Legislative Council are elected by the elected members of the State Legislative Assembly.

(A) 1, 2, 3 and 4

(B) 2, 3 and 4 only

(C) 1, 2 and 3 only

(D) 1, 2 and 4 only

146. Which of the following statements are correct regarding High Courts in India?

1. Generally there are four categories of Judges in the High Courts.
2. Permanent Judge, Additional Judge, Acting Judge and Ad Hoc Judges are the four types of judges in High Court.
3. The Gujarat High Court was established in the year 1965 along with Kerala High Court
4. At present there are 25 High Courts in India

(A) 1, 2, 3 and 4

(B) 1 and 2 only

(C) 1, 2 and 4 only

(D) 1, 3 and 4 only

147. Who among the following are eligible for free legal services in India?

1. Women and Children
2. Persons in Custody
3. Disabled Persons
4. Industrial Workmen

(A) 1, 2, 3 and 4

(B) 1, 2 and 3 only

(C) 2, 3 and 4 only

(D) 1, 2 and 4 only

148. Which of the following statements are correct regarding Cooperative Societies in India?

1. Right to form cooperative societies is a fundamental right in India
2. The 97th Constitutional Amendment Act provided constitutional status to cooperative societies.
3. The annual general meeting of every cooperative society shall be convened within a period of 6 months after the end of the financial year.

(A) 1 and 2 only

(B) 2 and 3 only

(C) 1 and 3 only

(D) 1, 2 and 3

149. Which of the following statements are correct?

1. The Zonal Councils are statutory bodies as they were created under parliamentary law
2. In total six Zonal Councils were created under States Reorganization Act 1956
3. Zonal Council consists of Union Finance Minister and Chief Ministers of all States in the zone.
4. A separate North East Zonal Council was created later which made total 6 (six) Zonal councils in India

(A) 1, 2, 3 and 4

(B) 1, 3 and 4 only

(C) 1, 2 and 4 only

(D) 1, 2 and 3 only

M

150. નીચેના પૈકી કયાં વિધાનો સાચાં છે ?

1. રાજ્યની વિધાનસભા રાજ્યમાં ઉપયોગમાં કોઈપણ એક અથવા વધુ ભાષાઓને અપનાવી શકે છે.
2. બંધારણની આઠમી અનુસૂચિમાં ઉલ્લેખિત ન હોય તેવી ભાષાની રાજ્ય સત્તાવાર ભાષા તરીકે પસંદગી કરી શકતું નથી.
3. સંસદ જોગવાઈ ન કરે ત્યાં સુધી, ઉચ્ચત્તમ ન્યાયાલય અને દરેક ઉચ્ચ ન્યાયાલયોમાં તમામ કાર્યવાહી ફક્ત અંગ્રેજી ભાષામાં જ રહેશે.

(A) 1, 2 અને 3 (B) માત્ર 1 અને 2 (C) માત્ર 1 અને 3 (D) માત્ર 2 અને 3

151. એક રકમ ચક્રવૃદ્ધિ વ્યાજે મૂકતા 3 વર્ષે વ્યાજ મુદ્દલ રૂ. 13380 અને 6 વર્ષે વ્યાજ મુદ્દલ રૂ. 20070 થાય છે. તો તે રકમ

(A) રૂ. 8820 (B) રૂ. 8920 (C) રૂ. 8980 (D) રૂ. 9920

152. નીચે પૈકી કયું વિધાન / કયા વિધાનો સાચું/સાચા છે?

1. એક 100 કિમી/કલાકની ઝડપે દોડતી 350 મીટર લાંબી ટ્રેન 750 મીટર લાંબો પ્લેટફોર્મ 25 સેકન્ડમાં પસાર કરે છે.
2. એક 90 કિમી/કલાકની ઝડપે દોડતી 750 મીટર લાંબી ટ્રેન એક થાંભલો 6 સેકન્ડમાં પસાર કરે છે.
3. એક 90 કિમી/કલાકની ઝડપે દોડતી 750 મીટર લાંબી ટ્રેન 350 મીટર લાંબો પ્લેટફોર્મ 40 સેકન્ડમાં પસાર કરે છે.

(A) ફક્ત 1 અને 2 (B) ફક્ત 1 અને 3 (C) ફક્ત 2 (D) ફક્ત 3

153. નીચે આપેલી શ્રેણીમાં ખોટી સંખ્યા શોધો
6, 15, 35, 63, 143, 221...

(A) 63 (B) 143 (C) 35 (D) ઉપરના પૈકી કોઈ નહીં

154. એક કુટુંબમાં પ્રત્યેક પુત્રીને જેટલી બહેનો છે તેટલી સંખ્યામાં જ ભાઈઓ છે. જ્યારે પ્રત્યેક પુત્રને જેટલા ભાઈઓ છે તેનાથી બમણી સંખ્યામાં બહેનો છે. તો તે કુટુંબમાં કેટલા પુત્રો હશે?

(A) 4 (B) 6 (C) 5 (D) ઉપરના પૈકી કોઈ નહીં

155. ચાર અવિભાજ્ય સંખ્યાઓને ચડતા ક્રમમાં ગોઠવવામાં આવે છે. પ્રથમ ત્રણ સંખ્યાઓનો ગુણાકાર 1001 અને અંતિમ ત્રણ સંખ્યાઓનો ગુણાકાર 2431 છે. તો પ્રથમ સંખ્યા શોધો.

(A) 3 (B) 7 (C) 11 (D) ઉપરના પૈકી કોઈ નહીં

156. એક વ્યક્તિ 1 કિમી પૂર્વ તરફ, ત્યારબાદ 5 કિમી દક્ષિણ તરફ, પછી 2 કિમી પૂર્વ તરફ અને ત્યારબાદ 9 કિમી ઉત્તર તરફ જાય છે. તો તે મૂળ સ્થાનથી કેટલો દૂર હશે?

(A) 3 કિમી (B) 4 કિમી (C) 5 કિમી (D) ઉપરના પૈકી કોઈ નહીં

157. ગોળ : પૃથ્વી સાથે સમાન સંબંધ ધરાવતી શબ્દોની જોડી શોધો.

(A) પાતળું : કાગળ (B) ઉંચાઈ : પર્વત (C) સમઘન : પાસા (D) લાકડું : ટેબલ

158. પિતા અને પુત્રીની હાલની ઉંમરનો ગુણોત્તર 3 : 1 છે, 4 વર્ષ પહેલા તે ગુણોત્તર 4 : 1 હતો. તો પિતા અને પુત્રીની આજથી 2 વર્ષ પછીની ઉંમરની સરેરાશ કેટલી થશે?

(A) 25 વર્ષ (B) 26 વર્ષ (C) 28 વર્ષ (D) ઉપરના પૈકી કોઈ નહીં

150. Which of the following statements are correct ?

1. The Legislature of a State may adopt any one or more of the languages in use within the state.
2. The State cannot choose official language which is not mentioned in Schedule 8 of the Constitution
3. Until Parliament provides, all proceedings in the Supreme Court and every High Court to be in English language only.

(A) 1, 2 and 3 (B) 1 and 2 only (C) 1 and 3 only (D) 2 and 3 only

151. A sum of money amounts to Rs. 13380 at the end of 3 years and to Rs. 20070 at the end of 6 years on compound interest. The sum is _____

(A) Rs. 8820 (B) Rs. 8920 (C) Rs. 8980 (D) Rs. 9920

152. Which of the following statement/statements is/are true?

1. A 350 meters long train running at a speed of 100 kms/hr takes 25 seconds to cross a platform of length 750 meters.
2. A 750 meters long train running at a speed of 90 kms/hr takes 6 seconds to cross a pole.
3. A 750 meters long train running at a speed of 90 kms/hr takes 40 seconds to cross a platform of length 350 meters.

(A) only 1 and 2 (B) only 1 and 3 (C) only 2 (D) only 3

153. Find out the wrong number in the given series

6, 15, 35, 63, 143, 221...

(A) 63 (B) 143
(C) 35 (D) None of the above

154. In a family, each daughter has the same number of brothers as she has sisters and each son has twice as many sisters as he has brothers. How many sons are there in the family?

(A) 4 (B) 6
(C) 5 (D) None of the above

155. There are 4 prime numbers written in ascending order. The product of first three is 1001 and that of the last three is 2431. Find the first prime number.

(A) 3 (B) 7
(C) 11 (D) None of the above

156. A man goes 1 km east, then 5 km south, then 2 km east and then 9 km north. How much far away is he from his origin?

(A) 3 km (B) 4 km (C) 5 km (D) None of the above

157. Choose the pair of words which have the same relationship as given by Round: Earth

(A) Thin : Paper (B) Height : Mountain (C) Cube : Dice (D) Wood : Table

158. The ratio of the ages of father and the daughter at present is 3 : 1, 4 years ago the ratio was 4 : 1. The average age of the father and daughter 2 year hence will be?

(A) 25 years (B) 26 years (C) 28 years (D) None of the above

M

159. એક સાંકેતિક ભાષામાં 'RED' નો સંકેત '2076' હોય તો 'GREEN'નો સંકેત કયો હશે?

- (A) 9207716 (B) 9197717 (C) 1677209 (D) 9207616

160. બે સંખ્યાઓનો લ.સા.અ $(x + y)$ અને તેમનો ગુ.સા.અ $P(x - y)$ છે. જો તે પૈકી એક સંખ્યા P હોય, તો બીજી સંખ્યા કઈ હશે?

- (A) Pxy (B) $\frac{1}{xy}$ (C) $x^2 - y^2$ (D) $\frac{(x + y)}{(x - y)}$

* (નિર્દેશ પ્રશ્નો 161થી 164) એક કુટુંબમાં P, Q, R, S, T, U, V અને W એમ કુલ આઠ સભ્યો છે. આ આઠ સભ્યો ત્રણ અલગ અલગ પેઢીઓ (Generations) સાથે સંબંધિત છે, જેમાં ત્રણ દંપતી છે અને 2 સભ્યો કુંવારા છે. પ્રત્યેક દંપતીને ઓછામાં ઓછું એક સંતાન છે.

વધુમાં, આ આઠ લોકો આઠ અલગ અલગ કંપનીઓ A, B, C, D, E, F, G અને H માં (ક્રમાનુસાર હોય તે જરૂરી નથી) કામ કરે છે. કુટુંબમાં ફક્ત V અને R એક માતાના સંતાનો (siblings) છે. U, W, R અને S એક જ જાતિના છે. W અને V દંપતી નથી. A કંપનીમાં કામ કરતી વ્યક્તિ એ F કંપનીમાં કામ કરતી સ્ત્રીની માતા છે. V એ E કંપનીમાં કામ કરતો નથી અને S તેની પુત્રી છે. R એ કંપની B માં કામ કરે છે. કંપની G અને કંપની E માં કામ કરતી વ્યક્તિઓ એક જ પેઢીની છે. કંપની G માં કામ કરતી વ્યક્તિ સ્ત્રી છે, કંપની E માં કામ કરતી વ્યક્તિ પુરુષ છે. કંપની C માં કામ કરતી વ્યક્તિ એ Q, કે જે કંપની D માં કામ કરે છે, ના નાના (maternal grandfather) છે. T કંપની H માં કામ કરે છે.

161. W કઈ કંપનીમાં કામ કરે છે?

- (A) H (B) G
(C) F (D) A

162. કંપની E માં કામ કરતી વ્યક્તિ સાથે કોના લગ્ન થયા છે?

- (A) R (B) S
(C) W (D) કંપની E માં કામ કરતી વ્યક્તિ અપરિણિત છે.

163. નીચે પૈકી કઈ જોડી દંપતી છે?

- (A) V, U (B) S, T
(C) R, P (D) ઉપરના પૈકી કોઈ નહીં

164. નીચે પૈકી કયું વિધાન / કયા વિધાનો નિશ્ચિતપણે સાચું છે/ સાચા છે ?

- (A) U કંપની A માં કામ કરે છે. (B) W એ P ની પુત્રી છે
(C) Q પુરુષ છે (D) ઉપરના પૈકી કોઈ નહીં

165. P અને Q તાંબા અને નિકલ ધાતુઓને અનુક્રમે 2:7 અને 7:11ના મિશ્રણમાં એકત્ર કરી બનાવવામાં આવેલ મિશ્રધાતુઓ છે. જો આ બે મિશ્રધાતુઓને સરખા પ્રમાણમાં ઓગાળી એક ત્રીજી મિશ્રધાતુ Z બનાવવામાં આવે તો, Z માં નિકલ અને તાંબાનું પ્રમાણ કેટલું હશે ?

- (A) 5:11 (B) 1:2
(C) 11:25 (D) 25:11

159. In a certain code language 'RED' is coded as '2076', then how would 'GREEN' be coded?
- (A) 9207716 (B) 9197717
(C) 1677209 (D) 9207616
160. The LCM of two numbers is $(x + y)$ and their HCF is $P(x - y)$. If one of the numbers is P, the another number is
- (A) Pxy (B) $\frac{1}{xy}$ (C) $x^2 - y^2$ (D) $\frac{(x + y)}{(x - y)}$
- * (Directions to Questions 161 to 164) There are eight members P, Q, R, S, T, U, V, and W in a family. These eight persons belong to three different generations, such that there are three married couples, while two members are unmarried. Each couple has at least a child.
- Further it is known that each of these eight persons works with a different company among A, B, C, D, E, F, G and H (Not necessarily in that order). V and R are the only siblings in the family and U, W, R and S are of the same gender. W and V do not form a married couple. The person who works with A is the mother of the female who works with F. V does not work with E and his daughter is S. R works with B. The person who works with G and the one who works with E belong to the same generation. The person who works with G is female, whereas the person who is working with E is a male. The persons who works with C is the maternal grandfather of Q, who in turn works with D. T works with H.
161. Which company does W work with?
- (A) H (B) G
(C) F (D) A
162. Who among the following is married with the person working with E?
- (A) R (B) S
(C) W (D) The person works with E is unmarried.
163. Which of the following pairs of persons form a married couple?
- (A) V, U (B) S, T
(C) R, P (D) None of the above
164. Which of the following statements is/are definitely true?
- (A) U works with A (B) W is the daughter of P
(C) Q is male (D) None of the above
165. P and Q are two alloys of copper and nickel prepared by mixing metals in the ratio of 2:7 and 7:11 respectively. If equal quantities of these two alloys are melted to form a third alloy Z, then what would be the ratio of nickel and copper in Z ?
- (A) 5:11 (B) 1:2
(C) 11:25 (D) 25:11

M

166. નીચેના વિધાનો ધ્યાને લો :

- જો કોઈ સમલંબ ચતુષ્કોણની સમાંતર ન હોય તેવી બાજુઓ સરખી હોય, તો તે ચક્રિય ચતુષ્કોણ છે.
- સમાંતરબાજુ ચતુષ્કોણના વિકર્ણો એકબીજાને દુભાગે છે.
- સમલંબ ચતુષ્કોણના પાસપાસેના ખૂણા પૂરક હોય છે.

ઉપર પૈકી કયું વિધાન / કયા વિધાનો સાચું / સાચા છે?

- (A) ફક્ત 1 (B) ફક્ત 1 અને 2
(C) ફક્ત 3 (D) 1, 2 અને 3

167. જો $2^x = 3^y = 12^z$ તો $\frac{1}{z} - \frac{1}{y} = \dots\dots\dots$

- (A) $\frac{2}{x}$ (B) $\frac{1}{x}$ (C) $-\frac{2}{x}$ (D) $-\frac{1}{x}$

168. 1 જુલાઈ, 1901 ના રોજ કયો વાર હતો ?

- (A) રવિવાર (B) સોમવાર
(C) મંગળવાર (D) બુધવાર

169. P, Q અને R એક ધંધામાં અનુક્રમે રૂ. 40000, રૂ. 50000 અને રૂ. 60000 નું રોકાણ કરે છે. P ધંધાના સંચાલન માટે નફાનો 25% ભાગ મેળવે છે. બાકીનો નફો P, Q અને R વચ્ચે તેમના રોકાણના પ્રમાણમાં વહેંચવામાં આવે છે. જો કોઈ ચોક્કસ વર્ષમાં, P ને Q અને R એ મેળવેલ કુલ રકમ કરતા P ને રૂ. 2000 ઓછા મળે, તો તે વર્ષમાં કુલ નફો કેટલો થયો હશે?

- (A) રૂ. 20000 (B) રૂ. 25000
(C) રૂ. 30000 (D) ઉપરના પૈકી કોઈ નહીં

170. શિરીનની ઉંમર 12 વર્ષ છે. ત્રણ વર્ષથી તે તેના માતાપિતા પાસે કૂતરાની માંગણી કરે છે. તેના માતાપિતાએ તેને કહ્યું છે કે કૂતરો એપાર્ટમેન્ટમાં ખૂશ નહિ રહે એમ તેઓ માને છે, પરંતુ તેઓએ તેને પક્ષી રાખવાની પરવાનગી આપી છે. શિરીન હજી નક્કી નથી કરી શકી કે કયા પ્રકારનું પક્ષી તેને રાખવું ગમશે.

કયું વિધાન આપેલી માહિતી પરથી નિશ્ચિત રૂપે સત્ય છે?

- (A) શિરીનના માતાપિતાને કૂતરા કરતાં પક્ષી વધારે ગમે છે.
(B) શિરીનને પક્ષી ગમતા નથી.
(C) શિરીન અને તેના માતાપિતા એપાર્ટમેન્ટમાં રહે છે.
(D) શિરીન અને તેના માતાપિતા ઘર બદલવા માગે છે.

171. એક ખાનામાં 3 લાલ, 4 લીલા અને 5 વાદળી દડા છે. ખાનામાંથી એક દડો લેવામાં આવે છે અને પરત મૂકવામાં આવતો નથી. ત્યારબાદ ખાનામાંથી બીજો દડો લેવામાં આવે છે. તો પ્રથમ દડો લાલ અને બીજો દડો વાદળી હોય તેની સંભાવના કેટલી?

- (A) 7/12 (B) 3/44
(C) 5/44 (D) 2/3

166. Consider the following statements:

1. If the non-parallel sides of a trapezium are equal, then it is cyclic quadrilateral.
2. Diagonals of a parallelogram bisect each other.
3. Adjacent angles of a trapezium are supplementary.

Which of the above statement/ statements is/are true?

- (A) Only 1 (B) Only 1 and 2
(C) Only 3 (D) 1, 2 and 3

167. If $2^x = 3^y = 12^z$ then $\frac{1}{z} - \frac{1}{y} =$ _____

- (A) $\frac{2}{x}$ (B) $\frac{1}{x}$
(C) $-\frac{2}{x}$ (D) $-\frac{1}{x}$

168. What was the day on 1st July, 1901?

- (A) Sunday (B) Monday
(C) Tuesday (D) Wednesday

169. P, Q and R invested Rs. 40000, Rs. 50000 and Rs. 60000 respectively in a business. P gets 25% of profit earned for managing the business. The rest of the profit is divided among P, Q and R in proportion to their investments. If in a particular year, P gets Rs. 2000 lesser than the amount received by Q and R together, then what is the total profit for that year?

- (A) Rs. 20000 (B) Rs. 25000
(C) Rs. 30000 (D) None of the above

170. Shirin is twelve years old. For three years, she has been asking her parents for a dog. Her parents have told her that they believe a dog would not be happy in an apartment, but they have given her permission to have a bird. Shirin has not yet decided what kind of bird she would like to have.

Which statement must be true according to the given information ?

- (A) Shirin's parents like birds more than they like dogs.
(B) Shirin does not like birds
(C) Shirin and her parents live in an apartment.
(D) Shirin and her parents would like to change the home

171. A drawer contains 3 red balls, 4 green balls, and 5 blue balls. One ball is taken from the drawer and is NOT replaced. Then another ball is taken from the drawer. What is the probability that the first ball is red and the second ball is blue?

- (A) $\frac{7}{12}$ (B) $\frac{3}{44}$
(C) $\frac{5}{44}$ (D) $\frac{2}{3}$

M

* (નિર્દેશ- પ્રશ્નો 172 થી 174 માટે) એક નાની કંપનીમાં ઉચ્ચ અધિકારીઓ : સીઈઓ, પ્રમુખ, ઉપપ્રમુખ, સચિવ અને ખજાનચી માટે તે જ ક્રમમાં પાર્કિંગની જગ્યા અનામત રાખેલ છે. પાર્કિંગ જગ્યાનો ગાર્ડ ગાડીઓના રંગ જોઈ ક્ષણભરમાં ગાડીઓ યોગ્ય રીતે પાર્ક થયેલ છે કે કેમ તે કહી શકે છે. ગાડીઓના રંગ પીળો, લીલો, જાંબુડિયો, લાલ અને વાદળી તથા અધિકારીઓના નામ P, Q, R, S, અને T છે. (રંગ અને નામ ક્રમાનુસાર હોય તે જરૂરી નથી)

પ્રથમ સ્થાને લાલ રંગની ગાડી છે.

વાદળી રંગની ગાડી લાલ અને લીલા રંગની ગાડીઓ વચ્ચે પાર્ક થયેલી છે.

છેલ્લી જગ્યામાં જાંબુડિયા રંગની ગાડી છે.

સચિવ પીળી ગાડી ચલાવે છે.

P ની ગાડી S ની ગાડીની તરત બાજુમાં પાર્ક થયેલી છે.

T લીલા રંગની ગાડી ચલાવે છે.

Q ની ગાડી R અને T ની ગાડીઓની વચ્ચે છે.

S ની ગાડી છેલ્લી જગ્યામાં પાર્ક થયેલી છે.

172. ઉપપ્રમુખની ગાડીનો રંગ કયો છે?

- (A) લીલો (B) પીળો (C) વાદળી (D) ઉપરના પૈકી કોઈ નહીં

173. સીઈઓ કોણ છે?

- (A) P (B) Q (C) R (D) S

174. સચિવ કોણ છે?

- (A) P (B) Q (C) T (D) S

175. એક દુકાનદાર ચોક્કસ વસ્તુની અંકિત કિંમત પર 12% વળતર આપે છે. જોકે તેમ છતાં તે મૂળ કિંમત પર 32% નફો મેળવે છે. જો તે વસ્તુની મૂળ કિંમત રૂ. 2500 હોય તો તેની અંકિત કિંમત કેટલી હશે?

- (A) રૂ. 3300 (B) રૂ. 3600 (C) રૂ. 3750 (D) ઉપરના પૈકી કોઈ નહીં

176. રૂ. 4500 માટે બે જુદી જુદી બેંકોમાંથી 2.5 વર્ષ બાદ મળેલ સાદા વ્યાજનો તફાવત રૂ. 450 છે. તો તેમના વ્યાજ દરનો તફાવત કેટલો હશે?

- (A) 2.5% (B) 4% (C) 4.5% (D) 5%

177. સુરેખ સમીકરણો: $3x - 4y = 7$ અને $6y = x + 4$ માટે નીચે પૈકી કયું / કયાં સાચું / સાચા છે ?

- આ સુરેખ સમીકરણોને એકથી વધુ ઉકેલ છે.
- ઉકેલ આ મુજબ છે: $x = 19/14$ અને $y = 25/28$
- આ સુરેખ સમીકરણોને અનન્ય ઉકેલ છે.

- (A) ફક્ત 1 (B) ફક્ત 2 અને 3 (C) ફક્ત 3 (D) એકપણ સાચું નથી

178. 6 કારીગરો એક દિવાલ ચણવાનું કામ શરૂ કરે છે. તેઓ બધા પહેલો દિવસ સાથે કામ કરે છે. ત્યારબાદ, બીજા દિવસથી દરેક દિવસે એક કારીગર કામ છોડી જાય છે. આ રીતે આખું કામ 4 દિવસમાં પુરું થાય છે. જો કોઈ કારીગર કામ છોડીને ન ગયો હોત તો તે કામ કેટલા દિવસમાં પુરું થાત?

- (A) 2 દિવસ (B) 2.5 દિવસ (C) 3 દિવસ (D) 3.5 દિવસ

* (Directions for questions 172 to 174.) In a small company, parking spaces are reserved for the top executives: CEO, president, vice-president, secretary, and treasurer – with the spaces lined up in that order. The parking lot guard can tell at a glance if the cars are parked correctly by looking at the color of the cars. The cars are yellow, green, purple, red, and blue, and the executives' names are P, Q, R, S, and T (colors and names are not necessarily in that order).

The car in the first space is red.

A blue car is parked between the red car and the green car.

The car in the last space is purple.

The secretary drives a yellow car.

P's car is parked next to S's.

T drives a green car.

Q's car is parked between R's and T's.

S's car is parked in the last space.

172. What color is the vice-president's car?

(A) Green

(B) Yellow

(C) Blue

(D) None of the above

173. Who is the CEO?

(A) P

(B) Q

(C) R

(D) S

174. Who is the secretary?

(A) P

(B) Q

(C) T

(D) S

175. A shopkeeper gives 12% discount on certain goods on marked price. However he still makes gross profit of 32% on cost price. If Rs. 2500 is cost price of that goods what is the marked price of that goods?

(A) Rs. 3300

(B) Rs. 3600

(C) Rs. 3750

(D) None of the above

176. The difference of the simple interests received for Rs. 4500 from two different banks after 2.5 years is Rs. 450. The difference between their rates of interest is

(A) 2.5%

(B) 4%

(C) 4.5%

(D) 5%

177. For two linear equations $3x - 4y = 7$ and $6y = x + 4$, which of the following is/are true ?

1. These linear equations have more than one solution.

2. The solution is : $x = 19/14$ and $y = 25/28$

3. These linear equations have unique solution

(A) Only 1

(B) Only 2 and 3

(C) Only 3

(D) None is true

178. 6 workers start to work in the construction of a wall. They all work together for 1st day. Thereafter, from second day one worker leaves the work every day. Thus, the total job is completed in 4 days. If none of the workers would leave the job, how many days they would have taken to complete the work?

(A) 2 days

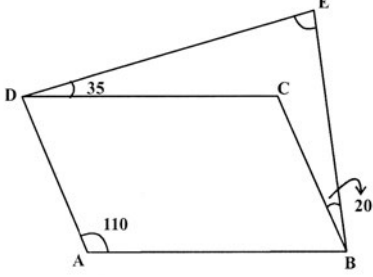
(B) 2.5 days

(C) 3 days

(D) 3.5 days

M

179. નીચેની આકૃતિમાં ABCD સમાંતર બાજુ ચતુષ્કોણ હોય, તો $\angle DEB$ શોધો.



- (A) 55 (B) 45 (C) 35 (D) 30

180. એક 6 સેમી બાજુના સમઘનની બધી બાજુથી લાલ રંગ વડે રંગી તેને 1 સેમી બાજુના નાના સમઘનોમાં કાપવામાં આવે છે. તો આ નાના સમઘનો પૈકી જેની ઓછામાં ઓછી બે બાજુઓ રંગેલી હોય તેવા સમઘનની સંખ્યા કેટલી ?

- (A) 4 (B) 16 (C) 32 (D) ઉપરના પૈકી કોઈ નહીં

181. નીચેની માહિતી માટે મધ્યક, મધ્યસ્થ અને બહુલકની કિંમત અનુક્રમે કેટલી હશે?

13, 18, 13, 14, 13, 16, 14, 21, 13.

- (A) 13, 14, 15 (B) 15, 14, 13 (C) 15, 13, 14 (D) 14, 13, 15

182. પિતાની ઉંમર તેના પુત્રના જન્મ સમયે, પુત્રની હાલની ઉંમર જેટલી હતી. 12 વર્ષ પછી પિતા અને પુત્રની ઉંમરનો ગુણોત્તર 5 : 3 હશે. તો પિતાની હાલની ઉંમર કેટલી ?

- (A) 44 (B) 48 (C) 54 (D) ઉપરના પૈકી કોઈ નહીં

183. એક સાંકેતિક ભાષામાં “what was it” નો સંકેત “mi ra de”; “you go” નો સંકેત “mo nil”; “you take it” નો સંકેત “nil pom ra”; “she was sick” નો સંકેત “tok mi fo” છે. તો “what you take” ને સાંકેતિક ભાષામાં કઈ રીતે લખાશે ?

- (A) pom nil ra (B) pom ra mi (C) nil ra mi (D) ઉપરના પૈકી કોઈ નહીં

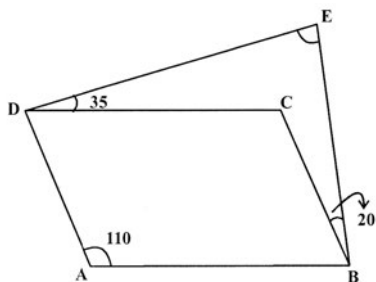
* (નિર્દેશ: પ્રશ્નો 184 થી 188) : નીચે આપેલા પત્રકમાં 5 પ્રકારના સ્ટોર્સ P, Q, R, S અને T દ્વારા 5 મહિના દરમિયાન વેચવામાં આવેલ પુસ્તકોની વિગતો આપેલી છે. આ પત્રકનો અભ્યાસ કરી તેમાં આપેલી માહિતીનો ઉપયોગ કરી આપેલા પ્રશ્નોના જવાબ આપો.

Stores Month	→ ↓	P	Q	R	S	T
March		115	253	187	230	175
April		200	211	234	145	214
May		310	215	188	190	276
June		120	243	300	175	182
July		140	140	180	190	420

184. સ્ટોર P દ્વારા મે મહિનામાં વેચવામાં આવેલ પુસ્તકોની સંખ્યા, સ્ટોર T દ્વારા જુલાઈમાં વેચવામાં આવેલ પુસ્તકોની સંખ્યા કરતા આશરે કેટલા ટકા ઓછી છે?

- (A) 26 (B) 36 (C) 46 (D) ઉપરના પૈકી કોઈ નહીં

179. If ABCD is parallelogram in the following figure, then find $\angle DEB$.



- (A) 55 (B) 45 (C) 35 (D) 30
180. A cube having a side of 6 cm is painted red on all the faces and then cut into smaller cubes of 1 cm each. How many smaller cubes will have at least two faces painted?
- (A) 4 (B) 16
(C) 32 (D) None of the above
181. For the following data what are the values of Mean, Median and Mode respectively ?
13, 18, 13, 14, 13, 16, 14, 21, 13.
- (A) 13, 14, 15 (B) 15, 14, 13
(C) 15, 13, 14 (D) 14, 13, 15
182. A father's age was same as his sons today's age, when his son was born. After 12 years the ratio of father's age and son's age will be 5 : 3. What is father's present age ?
- (A) 44 (B) 48
(C) 54 (D) None of the above
183. In a code language "what was it" is coded as "mi ra de" ; "you go" as "mo nil" ; "you take it" as "nil pom ra" ; "she was sick" as "tok mi fo". Then how would "what you take" be written in that code language?
- (A) pom nil ra (B) pom ra mi (C) nil ra mi (D) None of the above

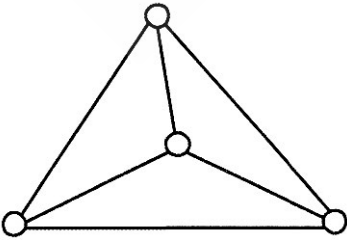
* (Directions for questions 184 to 188): In the following table, number of books sold by 5 types of stores P, Q, R, S and T in 5 months is given. Study the table and answer the given questions using this data.

Stores Month	→ ↓	P	Q	R	S	T
March		115	253	187	230	175
April		200	211	234	145	214
May		310	215	188	190	276
June		120	243	300	175	182
July		140	140	180	190	420

184. Number of books sold by store P in May is approximately what per cent less than the number of books sold by store T in July?
- (A) 26 (B) 36
(C) 46 (D) None of the above

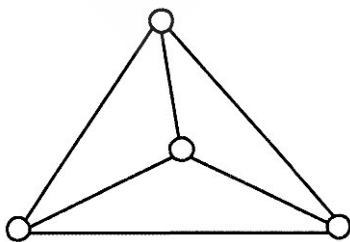
M

185. સ્ટોર P દ્વારા એપ્રિલ અને જુનમાં વેચવામાં આવેલ કુલ પુસ્તકો અને સ્ટોર T દ્વારા મે અને જુલાઈમાં વેચવામાં આવેલ કુલ પુસ્તકોનો ગુણોત્તર આશરે કેટલો છે?
- (A) 5 : 16 (B) 5 : 13 (C) 5 : 11 (D) 5 : 9
186. જો સ્ટોર્સ Q, S અને T દ્વારા એપ્રિલમાં વેચેલ કુલ પુસ્તકો પૈકી 30% પુસ્તકો શૈક્ષણિક પ્રકારના હોય તો, આ જ સ્ટોર્સ દ્વારા આ જ મહિના દરમિયાન વેચેલ કુલ બિન શૈક્ષણિક પુસ્તકોની સંખ્યા કેટલી હશે?
- (A) 389 (B) 413 (C) 399 (D) ઉપરના પૈકી કોઈ નહીં
187. સ્ટોર R દ્વારા એપ્રિલ, જુન અને જુલાઈમાં વેચેલ કુલ પુસ્તકોની સરેરાશ કેટલી?
- (A) 238 (B) 241 (C) 243 (D) ઉપરના પૈકી કોઈ નહીં
188. સ્ટોર Q દ્વારા મે અને જુલાઈમાં વેચેલ કુલ પુસ્તકો અને સ્ટોર S દ્વારા માર્ચ અને જુનમાં વેચવામાં આવેલ કુલ પુસ્તકોનો તફાવત કેટલો છે?
- (A) 60 (B) 85 (C) 143 (D) ઉપરના પૈકી કોઈ નહીં
189. જો $x = 3 + 2\sqrt{2}$, તો $\sqrt{x} - \left(\frac{1}{\sqrt{x}}\right)$ ની કિંમત
- (A) $2\sqrt{2}$ (B) 2 (C) 4 (D) $\frac{1}{2\sqrt{2}}$
190. નીચેના વિધાનો ધ્યાને લો.
- 132651 એ પૂર્ણઘન છે.
 - કોઈ સંખ્યાના એકમનો અંક 2, 3, 7 અથવા 8 હોય તો તે સંખ્યા પૂર્ણવર્ગ હોઈ શકે નહીં.
 - 5808 ને 7 વડે ગુણતા તે પૂર્ણવર્ગ બને છે.
- ઉપરના પૈકી કયું વિધાન/ કયાં વિધાનો સાચું / સાચા છે ?
- (A) ફક્ત 1 અને 2 (B) ફક્ત 1 અને 3 (C) 1, 2 અને 3 (D) એકપણ સાચું નથી
191. જો $y^2 \propto (x+b)$ અને $y = 6$ જ્યારે $x = 13$, $y = 9$ જ્યારે $x = 46\frac{3}{4}$, તો b ની કિંમત કેટલી?
- (A) 8 (B) 14 (C) 18 (D) $16\frac{3}{4}$
192. આકૃતિમાં દર્શાવ્યા પ્રમાણે ચાર શહેરો રસ્તાના નેટવર્કથી જોડાયેલા છે. કોઈ એક શહેરથી શરૂ કરીને એક જ રસ્તા પર એકથી વધુ વાર પ્રવાસ કર્યા વગર તે જ શહેરમાં કેટલી રીતે પરત ફરી શકાય?



- (A) 8 (B) 12 (C) 16 (D) ઉપરના પૈકી કોઈ નહીં

185. What is the ratio between the total number of books sold by store P in April and June together and total number of books sold by store T in May and July together approximately?
 (A) 5 : 16 (B) 5 : 13 (C) 5 : 11 (D) 5 : 9
186. If 30% of total number of books sold by store Q, S and T together in April were academic books, how many non-academic books were sold by the same stores together in same months?
 (A) 389 (B) 413
 (C) 399 (D) None of the above
187. What is the average of books sold by store R in April, June and July together?
 (A) 238 (B) 241
 (C) 243 (D) None of the above
188. What is the difference between the total number of books sold by store Q in May and July together and total number of books sold by store S in March and June together?
 (A) 60 (B) 85
 (C) 143 (D) None of the above
189. If $x = 3 + 2\sqrt{2}$, then the value of $\sqrt{x} - \left(\frac{1}{\sqrt{x}}\right)$ is—
 (A) $2\sqrt{2}$ (B) 2 (C) 4 (D) $\frac{1}{2\sqrt{2}}$
190. Consider the following statements:
 1. 132651 is a perfect cube.
 2. A number having 2, 3, 7 or 8 at unit's place is never a perfect square.
 3. By multiplying 5808 by 7, it becomes a perfect square
 Which of the above statement/statements is/are true?
 (A) Only 1 and 2 (B) Only 1 and 3
 (C) 1, 2 and 3 (D) None is true
191. If $y^2 \propto (x+b)$ and $y = 6$ when $x = 13$, $y = 9$ when $x = 46\frac{3}{4}$, what is the value of b ?
 (A) 8 (B) 14 (C) 18 (D) $16\frac{3}{4}$
192. Four cities are connected by a road network as shown in the figure. In how many ways can one start from any city and come back to it without travelling on the same road more than once?



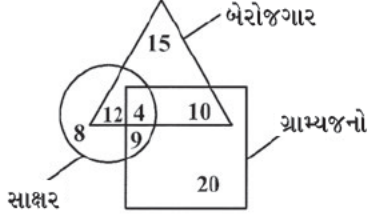
- (A) 8 (B) 12 (C) 16 (D) None of the above

M

193. 3:40 કલાકે ઘડિયાળના મિનિટ કાંટા અને કલાક કાંટા વચ્ચેનો ખૂણો કેટલો હશે?

- (A) 80 (B) 100 (C) 130 (D) 140

* (નિર્દેશ: પ્રશ્નો 194 થી 196) નીચેની આકૃતિમાં, વર્તુળ એ સાક્ષર (Literate), ત્રિકોણ એ બેરોજગાર (Unemployed) અને ચોરસ એ ગ્રામ્યજનો (Villagers) દર્શાવે છે. આ આકૃતિનો અભ્યાસ કરી નીચેના પ્રશ્નોના ઉત્તર આપો.



194. શહેરી (Urban) સાક્ષર બેરોજગારની કુલ સંખ્યા –

- (A) 8 (B) 4 (C) 12 (D) 10

195. રોજગાર પ્રાપ્ત હોય તેવા નિરક્ષર ગ્રામ્યજનોની સંખ્યા –

- (A) 12 (B) 14 (C) 4 (D) 20

196. સાક્ષર ગ્રામ્યજનોની સંખ્યા –

- (A) 12 (B) 13 (C) 9 (D) 4

197. નીચેની માહિતીનો મધ્યસ્થ કેટલો થશે?

વર્ગ	0-10	10-20	20-30	30-40	40-50	50-60	60-70
આવૃત્તિ	07	18	34	50	35	20	06

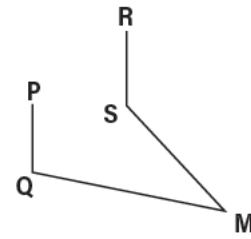
- (A) 34.3 (B) 35.2 (C) 36.4 (D) ઉપરના પૈકી કોઈ નહીં

198. એક વેપારી 1 કિલોગ્રામને બદલે 1250 ગ્રામ દર્શાવતા વજનકાંટાનો ઉપયોગ કરે છે. વધુમાં, તે મૂળ કિંમતથી 20% જેટલી વધારે અંકિત કિંમત રાખે છે. તો નફાની ટકાવારી કેટલી થશે?

- (A) 35% (B) 45% (C) 50% (D) ઉપરના પૈકી કોઈ નહીં

199. નીચેની આકૃતિમાં $PQ \parallel RS$, $\angle PQM = 100^\circ$ અને $\angle SMQ = 25^\circ$ હોય તો $\angle RSM$ નું મૂલ્ય કેટલું થશે?

- (A) 115° (B) 120°
(C) 125° (D) ઉપરના પૈકી કોઈ નહીં

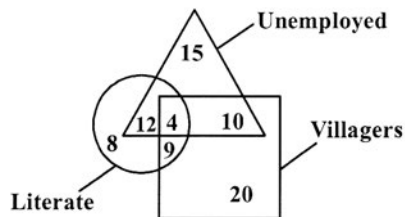


200. સાદુ રૂપ આપો : $18 - \left[6 - \left\{ 4 - \frac{6}{11} \left(8 - \frac{2}{3} \right) \right\} + 12 \right]$

- (A) 0 (B) -2 (C) $\frac{16}{33}$ (D) ઉપરના પૈકી કોઈ નહીં

193. What is the angle between the minute hand and the hour hand when the time is 3:40 hours?
(A) 80 (B) 100 (C) 130 (D) 140

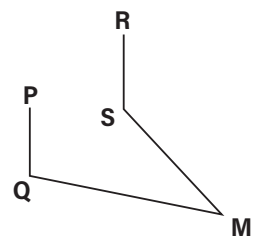
* (Directions for questions : 194 to 196) In the following figure, circle shows Literate, triangle shows Unemployed, square Villagers. Study the diagram carefully and answer the following questions :



194. Total no. of Urban literate unemployed people is -
(A) 8 (B) 4 (C) 12 (D) 10
195. Total no. of illiterate villagers who are employed is -
(A) 12 (B) 14 (C) 4 (D) 20
196. Total no. of literate villagers is -
(A) 12 (B) 13 (C) 9 (D) 4
197. What will be the median for following data?

Class	0-10	10-20	20-30	30-40	40-50	50-60	60-70
Frequency	07	18	34	50	35	20	06

- (A) 34.3 (B) 35.2
(C) 36.4 (D) None of the above
198. A trader uses a weighing balance that shows 1250 grams for a Kilogram. He further mark up his cost price by 20%. What is the profit percentage?
(A) 35% (B) 45%
(C) 50% (D) None of the above
199. In the figure $PQ \parallel RS$, $\angle PQM = 100^\circ$ and $\angle SMQ = 25^\circ$ what is the value of $\angle RSM$?
(A) 115° (B) 120°
(C) 125° (D) None of the above



200. Simplify : $18 - \left[6 - \left\{ 4 - \frac{6}{11} \left(8 - \frac{2}{3} \right) \right\} + 12 \right]$
(A) 0 (B) -2 (C) $\frac{16}{33}$ (D) None of the above