



Teachingninja.in



Latest Govt Job updates



Private Job updates



Free Mock tests available

Visit - teachingninja.in



Teachingninja.in

KPSC AC

**Previous Year Paper
(General Studies)
28 Jul, 2024)**



ಈ ಪ್ರಶ್ನೆಪುಸ್ತಕವನ್ನು ತೆರೆಯುವಂತೆ ನಿಮಗೆ ತಿಳಿಸುವವರೆಗೂ ಇದನ್ನು ತೆರೆಯಕೂಡದು

ಪ್ರಶ್ನೆಪತ್ರಿಕೆ ವರ್ಷನ್ ಕೋಡ್



2024

ಪ್ರಶ್ನೆಪುಸ್ತಿಕೆ
ಸಾಮಾನ್ಯ ಅಭ್ಯಯನ(ಪತ್ರಿಕೆ-I)

ವಿಷಯ ಸಂಕೇತ : 574

9701004

ಗರಿಷ್ಠ ಸಮಯ : 2 ಗಂಟೆಗಳು

ಗರಿಷ್ಠ ಅಂಕಗಳು : 150

ಸೂಚನೆಗಳು

1. ಪರೀಕ್ಷೆ ಪ್ರಾರಂಭವಾದ ಕೂಡಲೇ ನಿಮ್ಮ ಪ್ರಶ್ನೆಪತ್ರಿಕೆಯಲ್ಲಿ ಮುದ್ರಿತವಾಗದ ಅಥವಾ ಹರಿದಿರುವ ಅಥವಾ ಬಿಟ್ಟು ಹೋಗಿರುವ ಪುಟಗಳು ಅಥವಾ ಪ್ರಶ್ನೆಗಳು ಇತ್ಯಾದಿ ಕಂಡುಬಂದಲ್ಲಿ ನಿಮ್ಮ ಒ.ಎಂ.ಆರ್. ಉತ್ತರ ಹಾಳೆಯಲ್ಲಿ ಮುದ್ರಿತವಾಗಿರುವ ಅದೇ ಶ್ರೇಣಿಯ ಪೂರ್ಣ ಪ್ರಶ್ನೆಪತ್ರಿಕೆಯೊಂದಿಗೆ ಬದಲಾಯಿಸಿಕೊಳ್ಳತಕ್ಕದ್ದು. ಒಂದು ವೇಳೆ ಅಭ್ಯರ್ಥಿಯು ಪ್ರಶ್ನೆಪತ್ರಿಕೆಯಲ್ಲಿನ ಪುಟಗಳನ್ನು ಸರಿಯಾಗಿ ಪರಿಶೀಲಿಸದೇ ದೋಷಪೂರಿತ ಪ್ರಶ್ನೆಪತ್ರಿಕೆಯನ್ನೇ ಉಪಯೋಗಿಸಿದಲ್ಲಿ ಇದಕ್ಕೆ ಅಭ್ಯರ್ಥಿಯೇ ಹೊಣೆಗಾರರಾಗಿರುತ್ತಾರೆ.
2. ಒ.ಎಂ.ಆರ್. ಉತ್ತರ ಹಾಳೆಯಲ್ಲಿ ಮತ್ತು ಪ್ರವೇಶ ಪತ್ರದಲ್ಲಿ ನೀಡಿರುವ ಸೂಚನೆಗಳನ್ನು ಎಚ್ಚರಿಕೆಯಿಂದ ಓದಿಕೊಳ್ಳತಕ್ಕದ್ದು. ಯಾವುದೇ ಸೂಚನೆಗಳನ್ನು ಉಲ್ಲಂಘಿಸಿದಲ್ಲಿ ಆಯೋಗವು ತೆಗೆದುಕೊಳ್ಳುವ ಶಿಸ್ತು ಕ್ರಮಕ್ಕೆ ಒಳಗಾಗಬೇಕಾಗುತ್ತದೆ.
3. ಒ.ಎಂ.ಆರ್. ಉತ್ತರ ಹಾಳೆಯಲ್ಲಿ ಮುದ್ರಿತವಾಗಿರುವ ಪ್ರಶ್ನೆಪತ್ರಿಕೆಯ ಶ್ರೇಣಿ ಹಾಗೂ ನಿಮಗೆ ನೀಡಿರುವ ಪ್ರಶ್ನೆಪತ್ರಿಕೆಯ ಶ್ರೇಣಿಯು ಒಂದೇ ಆಗಿರುವ ಬಗ್ಗೆ ಖಚಿತಪಡಿಸಿಕೊಳ್ಳತಕ್ಕದ್ದು. ಒಂದು ವೇಳೆ ವ್ಯತ್ಯಾಸವಿದ್ದಲ್ಲಿ, ಒ.ಎಂ.ಆರ್. ಉತ್ತರ ಹಾಳೆಯಲ್ಲಿ ತಿಳಿಸಿರುವ ಅದೇ ಶ್ರೇಣಿಯ ಪ್ರಶ್ನೆಪತ್ರಿಕೆಯನ್ನೇ ಸಂವೀಕ್ಷಕರಿಂದ ಪಡೆದುಕೊಳ್ಳತಕ್ಕದ್ದು.
4. ಎಲ್ಲಾ ಪ್ರಶ್ನೆಗಳಿಗೂ ಸಮಾನ ಅಂಕಗಳು ಇರುತ್ತವೆ. ನೋಂದಣಿ ಸಂಖ್ಯೆ
5. ಪಕ್ಕದಲ್ಲಿ ಒದಗಿಸಿರುವ ಚೌಕದಲ್ಲಿಯೇ ನಿಮ್ಮ ನೋಂದಣಿ ಸಂಖ್ಯೆಯನ್ನು ನಮೂದಿಸಬೇಕು. ಪ್ರಶ್ನೆ ಪತ್ರಿಕೆಯಲ್ಲಿ ಬೇರೆ ಎಲ್ಲಿಯೂ ಏನನ್ನೂ ಬರೆಯಬಾರದು.
6. ಈ ಪ್ರಶ್ನೆಪತ್ರಿಕೆಯು 100 ಪ್ರಶ್ನೆಗಳನ್ನು ಒಳಗೊಂಡಿರುತ್ತದೆ. ಪ್ರತಿಯೊಂದು ಪ್ರಶ್ನೆಯು 4 ಆಯ್ಕೆಗಳನ್ನು ಒಳಗೊಂಡಿರುತ್ತದೆ. ನೀಡಿರುವ ಆಯ್ಕೆಗಳಲ್ಲಿ ಒಂದು ಸರಿಯಾದ ಉತ್ತರವನ್ನು ಒ.ಎಂ.ಆರ್. ಉತ್ತರ ಹಾಳೆಯಲ್ಲಿ ಗುರುತು ಮಾಡಿ. ಒಂದು ವೇಳೆ ಅಲ್ಲಿ ಒಂದಕ್ಕಿಂತ ಹೆಚ್ಚು ಸರಿಯಾದ ಉತ್ತರಗಳವೆಯೆಂದು ನೀವು ಭಾವಿಸಿದರೆ ನಿಮಗೆ ಅತ್ಯುತ್ತಮವೆನಿಸುವ ಉತ್ತರವನ್ನು ಗುರುತು ಮಾಡಿ. ಪ್ರತಿ ಪ್ರಶ್ನೆಗೆ ನೀವು ಕೇವಲ 'ಒಂದು ಉತ್ತರವನ್ನು ಮಾತ್ರ' ಆಯ್ಕೆ ಮಾಡಬೇಕು. ಒಂದು ವೇಳೆ ಒಂದಕ್ಕಿಂತ ಹೆಚ್ಚಿನ ಉತ್ತರಗಳನ್ನು ಎನ್‌ಕೋಡ್ (ಗುರುತು) ಮಾಡಿದಲ್ಲಿ ಆ ಉತ್ತರಗಳನ್ನು ಅಸಿಂಧುವೆಂದು ಪರಿಗಣಿಸಲಾಗುವುದು.
7. ಪ್ರಶ್ನೆಗಳು ಕನ್ನಡ ಮತ್ತು ಆಂಗ್ಲ ಎರಡೂ ಭಾಷೆಗಳಲ್ಲಿರುತ್ತವೆ. ಕನ್ನಡ ಭಾಷೆಯಲ್ಲಿರುವ ಯಾವುದೇ ಪ್ರಶ್ನೆಗಳ ಭಾಷಾಂತರದಲ್ಲಿ ಏನಾದರೂ ಗೊಂದಲವಾದಲ್ಲಿ ಅಭ್ಯರ್ಥಿಗಳು ಆಂಗ್ಲ ಭಾಷೆಯಲ್ಲಿ ಪ್ರಶ್ನೆಗಳನ್ನು ಸಹ ನೋಡಿಕೊಂಡು, ಪ್ರಶ್ನೆಯನ್ನು ಅರ್ಥೈಸಿಕೊಳ್ಳುವುದು.
8. ಎಲ್ಲಾ ಉತ್ತರಗಳನ್ನು ನಿಮಗೆ ಒದಗಿಸಲಾಗಿರುವ ಪ್ರತ್ಯೇಕ ಒ.ಎಂ.ಆರ್. ಉತ್ತರ ಹಾಳೆಯ ಮೇಲೆ ಕೇವಲ ಕಪ್ಪು ಬಾಯಿಯ ಬಾಲ್‌ಪಾಯಿಂಟ್ ಪೆನ್ನಿನಲ್ಲಿ ಮಾತ್ರ ಗುರುತು ಮಾಡಬೇಕು.
9. ಅಭ್ಯರ್ಥಿಯು ತಮ್ಮ **personalized** ಒ.ಎಂ.ಆರ್. ಉತ್ತರ ಹಾಳೆಯಲ್ಲಿ ಮುದ್ರಿತವಾಗಿರುವ ಪ್ರಶ್ನೆಪತ್ರಿಕೆ ಶ್ರೇಣಿ ಹಾಗೂ ನಾಮಿನಲ್ ರೋಲ್‌ನ ತಮ್ಮ ಅಂಕಗಳಲ್ಲಿ ಮುದ್ರಿತವಾಗಿರುವ ಪ್ರಶ್ನೆಪತ್ರಿಕೆ ಶ್ರೇಣಿಯು ಒಂದೇ ಎಂಬುದನ್ನು ಖಚಿತಪಡಿಸಿಕೊಳ್ಳತಕ್ಕದ್ದು. ಒಂದು ವೇಳೆ ವ್ಯತ್ಯಾಸ ಕಂಡುಬಂದಲ್ಲಿ ಅಭ್ಯರ್ಥಿಯು ಯಾವ ಶ್ರೇಣಿಯ ಪ್ರಶ್ನೆಪತ್ರಿಕೆಯನ್ನು ಉಪಯೋಗಿಸುತ್ತಾರೆ ಎಂಬುದರ ಬಗ್ಗೆ ಮುಚ್ಚಳಕೆ ಪತ್ರವನ್ನು ನೀಡತಕ್ಕದ್ದು. ಇಲ್ಲದಿದ್ದಲ್ಲಿ ಅಭ್ಯರ್ಥಿಯು ಒ.ಎಂ.ಆರ್. ಉತ್ತರ ಹಾಳೆಯಲ್ಲಿ ಮುದ್ರಿತವಾಗಿರುವ ಪ್ರಶ್ನೆಪತ್ರಿಕೆಯ ಶ್ರೇಣಿಯನ್ನೇ ಮೌಲ್ಯಮಾಪನಕ್ಕೆ ಪರಿಗಣಿಸಲಾಗುವುದು.
10. ಒಂದು ವೇಳೆ ಅಭ್ಯರ್ಥಿಯು ಬೇರೊಬ್ಬ ಅಭ್ಯರ್ಥಿಯ **personalized** ಒ.ಎಂ.ಆರ್. ಉತ್ತರ ಹಾಳೆಯಲ್ಲಿ ಉತ್ತರಿಸಿದ್ದಲ್ಲಿ ಅಂತಹ ಒ.ಎಂ.ಆರ್. ಉತ್ತರ ಹಾಳೆಯನ್ನು ಅಸಿಂಧುವೆಂದು ಪರಿಗಣಿಸಲಾಗುವುದು.
11. ಅಭ್ಯರ್ಥಿಯು ಒ.ಎಂ.ಆರ್. ಉತ್ತರ ಹಾಳೆಯಲ್ಲಿ ನಿಗದಿಪಡಿಸಿದ ಸ್ಥಳದಲ್ಲಿ ಸಹಿ ಮಾಡತಕ್ಕದ್ದು. ತಪ್ಪಿದಲ್ಲಿ ಅಂತಹ ಅಭ್ಯರ್ಥಿಯು ಒ.ಎಂ.ಆರ್. ಉತ್ತರ ಹಾಳೆಯನ್ನು ಅಸಿಂಧುವೆಂದು ಪರಿಗಣಿಸಲಾಗುವುದು.
12. ಅಭ್ಯರ್ಥಿಯು **Non-personalized** ಒ.ಎಂ.ಆರ್. ಉತ್ತರ ಹಾಳೆಯಲ್ಲಿ ಉತ್ತರಿಸಿದ್ದಲ್ಲಿ ಅಭ್ಯರ್ಥಿಯು ನೋಂದಣಿ ಸಂಖ್ಯೆಯನ್ನು ಒದಗಿಸಿರುವ ಸ್ಥಳದಲ್ಲಿ ಬರೆದು ಸಂಬಂಧಪಟ್ಟ ವ್ಯಕ್ತವನ್ನು ತುಂಬಬೇಕು ಹಾಗೂ ತಮ್ಮ ಪ್ರಶ್ನೆಪತ್ರಿಕೆ ಶ್ರೇಣಿಯನ್ನು ಕಡ್ಡಾಯವಾಗಿ ಬರೆಯಬೇಕು ಮತ್ತು ನಿಗದಿಪಡಿಸಿದ ಸ್ಥಳದಲ್ಲಿ ಸಹಿ ಮಾಡಬೇಕು. ಇಲ್ಲದಿದ್ದಲ್ಲಿ, ಅಂತಹ ಅಭ್ಯರ್ಥಿಯು ಒ.ಎಂ.ಆರ್. ಉತ್ತರ ಹಾಳೆಯನ್ನು ಅಸಿಂಧುವೆಂದು ಪರಿಗಣಿಸಲಾಗುವುದು.
13. ನಾಮಿನಲ್ ರೋಲ್ (ಹಾಜರಾತಿ ಹಾಳೆ)ನಲ್ಲಿ ಅಭ್ಯರ್ಥಿಯು ತಪ್ಪದೇ ಸಹಿ ಹಾಕತಕ್ಕದ್ದು.
14. ಅಭ್ಯರ್ಥಿಯು ಮೇಲ್ಕಂಡ ಯಾವುದೇ ಸೂಚನೆಗಳನ್ನು ಉಲ್ಲಂಘಿಸಿದಲ್ಲಿ ಅಂತಹ ಒ.ಎಂ.ಆರ್. ಉತ್ತರ ಹಾಳೆಯನ್ನು ಅಸಿಂಧುವೆಂದು ಪರಿಗಣಿಸಲಾಗುವುದು.
15. ಪರೀಕ್ಷೆಯ ಮುಕ್ತಾಯವನ್ನು ಸೂಚಿಸುವ ಅಂತಿಮ ಗಂಟೆ ಬಾರಿಸಿದ ತಕ್ಷಣವೇ ಒ.ಎಂ.ಆರ್. ಉತ್ತರ ಹಾಳೆಯಲ್ಲಿ ಇನ್ನಾವುದೇ ಗುರುತು ಮಾಡುವುದನ್ನು ನಿಲ್ಲಿಸಬೇಕು. ಸಂವೀಕ್ಷಕರು ಒಂದು ನಿಮಿತ್ತಿರುವ ಒ.ಎಂ.ಆರ್. ಉತ್ತರ ಹಾಳೆಯನ್ನು ತಮ್ಮ ವಶಕ್ಕೆ ಪಡೆದುಕೊಂಡು ಲೆಕ್ಕಕ್ಕೆ ತೆಗೆದುಕೊಳ್ಳುವವರೆಗೂ ನಿಮ್ಮ ಆಸನದಲ್ಲಿಯೇ ಕುಳಿತಿರತಕ್ಕದ್ದು.
16. ಪರೀಕ್ಷೆ ಮುಗಿದ ನಂತರ ಸಂವೀಕ್ಷಕರಿಂದ ಹಿಂಪಡೆದ ಕಾರ್ಬನ್ ರಹಿತ ಒ.ಎಂ.ಆರ್. ಉತ್ತರ ಹಾಳೆಯ (candidate copy) ಪ್ರತಿಯನ್ನು ಅಂತಿಮ ಆಯ್ಕೆಪಟ್ಟಿಯನ್ನು ಪ್ರಕಟಿಸುವವರೆಗೆ ಜೋಪಾನವಾಗಿ ಸಂರಕ್ಷಿಸಿಟ್ಟುಕೊಳ್ಳಬೇಕು ಮತ್ತು ಆಯೋಗವು ಯಾವುದೇ ಸಂದರ್ಭದಲ್ಲಿ ಹಾಜರುಪಡಿಸಲು ಸೂಚಿಸಿದಲ್ಲಿ, ತಪ್ಪದೇ ಅದೇ ಪ್ರತಿಯನ್ನು ಹಾಜರುಪಡಿಸಬೇಕು.
17. ಚಿತ್ರ ಕೆಲಸಕ್ಕಾಗಿ ಹಾಳೆಗಳನ್ನು ಪ್ರಶ್ನೆಪತ್ರಿಕೆಯ ಕೊನೆಯಲ್ಲಿ ಸೇರಿಸಲಾಗಿದೆ. ಪ್ರಶ್ನೆಪತ್ರಿಕೆಯ ಇನ್ನುಳಿದ ಯಾವ ಭಾಗದಲ್ಲಿಯೂ ನೀವು ಯಾವುದೇ ರೀತಿಯ ಗುರುತನ್ನು ಮಾಡತಕ್ಕದ್ದಲ್ಲ.

ಯಾವುದೇ ರೀತಿಯ ಮೊಬೈಲ್ ಫೋನ್‌ಗಳು, ಸ್ಮಾರ್ಟ್ ವಾಚ್‌ಗಳು, ಕ್ಯಾಲ್ಕುಲೇಟರ್‌ಗಳನ್ನು ಅಥವಾ ಇತರೆ ಎಲೆಕ್ಟ್ರಾನಿಕ್/ಕಮ್ಯುನಿಕೇಶನ್ ಉಪಕರಣಗಳನ್ನು ಪರೀಕ್ಷಾ ಆವರಣದ ಒಳಗೆ ತರುವುದನ್ನು ನಿಷೇಧಿಸಲಾಗಿದೆ.

Note: English version of the instructions is printed on the back cover of this booklet.

/574-D



Teachingninja.in

1. ಈ ಕೆಳಗಿನ ಪ್ರಶ್ನೆಯಲ್ಲಿ ಮೂರು ಹೇಳಿಕೆಗಳನ್ನು (A), (B) ಮತ್ತು (C) ನೀಡಲಾಗಿದೆ ಮತ್ತು ನಾಲ್ಕು ಉಪಸಂಹಾರ ವನ್ನು I, II, III ಮತ್ತು IV ಎಂದು ಕರೆಯಲಾಗಿದೆ. ಈ ಹೇಳಿಕೆಗಳನ್ನು ನಿಜವೆಂದು ಪರಿಗಣಿಸಬೇಕು ಮತ್ತು ಯಾವ ಉಪಸಂಹಾರವು ತಾರ್ಕಿಕವಾಗಿ ನೀಡಿದ ಹೇಳಿಕೆಗಳನ್ನು ಅನುಸರಿಸುತ್ತದೆ ಎಂಬುದನ್ನು ನಿರ್ಧರಿಸಬೇಕು :

ಹೇಳಿಕೆಗಳು :

(A) ಎಲ್ಲಾ CEOಗಳು COOಗಳು.

(B) ಎಲ್ಲಾ COOಗಳು CFOಗಳು.

(C) ಎಲ್ಲಾ CFOಗಳು CLOಗಳು.

ಉಪಸಂಹಾರ :

(I) ಕೆಲವು CLOಗಳು CEOಗಳು.

(II) ಎಲ್ಲಾ COOಗಳು CLOಗಳು.

(III) ಕೆಲವು CFOಗಳು CEOಗಳು.

(IV) ಎಲ್ಲಾ COOಗಳು CEOಗಳು.

(1) (I) ಮತ್ತು (II) ಅನುಸರಿಸುತ್ತದೆ

(2) (I) ಮತ್ತು (III) ಅನುಸರಿಸುತ್ತದೆ

(3) (I) ಅಥವಾ (II) ಮತ್ತು (III) ಅನುಸರಿಸುತ್ತದೆ

(4) ಮೇಲಿನ ಯಾವುದೂ ಅಲ್ಲ

2. ನಮ್ಮ ಚರ್ಮದ ತೇವಾಂಶ ಕಾಪಾಡಲು ಮತ್ತು ಅದನ್ನು ರಕ್ಷಿಸಲು ನಮ್ಮ ಚರ್ಮವು ಸ್ರವಿಸುವ ಜಿಡ್ಡು ಜಿಡ್ಡಾದ ಅಂಶ ಈ ಕೆಳಗಿನವುಗಳಲ್ಲಿ ಯಾವುದು?

(1) ಬೆವರು

(2) ಸೀಬಮ್

(3) ಮ್ಯೂಕಸ್

(4) ಸೆರ್ಮಮನ್

3. ಕೆಳಗಿನ ಮಾಹಿತಿಯನ್ನು ಉಲ್ಲೇಖಿಸಿ, ನೀಡಲಾದ ಪ್ರಶ್ನೆಗೆ ಉತ್ತರಿಸಿ :

ಶ್ರೀಯುತ G, ಆತನ ಸಹೋದರಿ, ಆತನ ಮಗ ಮತ್ತು ಆತನ ಮಗಳು ಉತ್ತಮ ಶಾಸ್ತ್ರೀಯ ನೃತ್ಯಗಾರರು.

(I) ಉತ್ತಮ ಹಾಗೂ ಕೆಟ್ಟ ನೃತ್ಯಗಾರರು ಒಂದೇ ವಯಸ್ಸಿನವರಾಗಿದ್ದಾರೆ.

(II) ಅತ್ಯುತ್ತಮ ನೃತ್ಯಗಾರರ ಅವಳಿ ಮತ್ತು ಕೆಟ್ಟ ನೃತ್ಯಗಾರರು ವಿರುದ್ಧ ಲಿಂಗದವರಾಗಿದ್ದಾರೆ.

ಕೆಳಗಿನ ಜೋಡಿಗಳಲ್ಲಿ ಯಾವುದು ಉತ್ತಮ ಮತ್ತು ಕೆಟ್ಟ ನೃತ್ಯಗಾರರು?

(1) ಶ್ರೀಯುತ G ಮತ್ತು ಸಹೋದರಿ

(2) ಶ್ರೀಯುತ Gರವರ ಮಗ ಮತ್ತು ಸಹೋದರಿ

(3) ಶ್ರೀಯುತ G ಮತ್ತು ಮಗಳು

(4) ಶ್ರೀಯುತ Gರವರ ಮಗ ಮತ್ತು ಮಗಳು

1. In the following question, three **statements** number (A), (B) and (C) are given and these statements are followed by four **conclusions**, numbered I, II, III and IV. You have to consider the given **statements** to be **true** and then decide which of the given **conclusions** logically follow from the given **statements** :

Statements :

- (A) All the CEO's are COO's.
- (B) All the COO's are CFO's.
- (C) All the CFO's are CLO's.

Conclusions :

- (I) Some CLO's are CEO's.
 - (II) All the COO's are CLO's.
 - (III) Some CFO's are CEO's.
 - (IV) All the COO's are CEO's.
- (1) Only (I) and (II) follow
 - (2) Only (I) and (III) follow
 - (3) Either (I) or (II) and (III) follow
 - (4) None of the above

2. The oily and waxy substance produced by our skin to keep it moisturized and protect it, is

- (1) sweat
- (2) sebun
- (3) mucus
- (4) cerumen

3. Refer to the following information and answer the question given below :

Mr. G, his sister, his son and his daughter are very good classical dancers.



- (I) The best dancer and the worst dancer are of the same age.



- (II) The best dancer's twin and the worst dancer are of opposite sex.

Which of the following pairs is the best and worst dancers?

- (1) Mr. G and his sister
- (2) Mr. G's son and sister
- (3) Mr. G and his daughter
- (4) Mr. G's son and daughter

Worst Answering

4. ಸರ್ಕ್ಯುಡಿಯನ್ ರಿದಂ ಎಂಬ ಜೈವಿಕ ಗಡಿಯಾರ ನಮ್ಮ ದೇಹದಲ್ಲಿ ಹಗಲು-ರಾತ್ರಿಗಳ ವ್ಯತ್ಯಾಸಕ್ಕೆನುಗುಣವಾಗಿ, ನಮ್ಮ ದೇಹದ ಕೆಲಸ ಕಾರ್ಯಗಳನ್ನು ನಿಯಂತ್ರಿಸುತ್ತದೆ. ಇದಕ್ಕೆ ಕಾರಣವಾದ ಗ್ರಂಥಿ

- (1) ಥೈರಾಯ್ಡ್ ಗ್ರಂಥಿ
- (2) ಪಿಟ್ಯುಟರಿ ಗ್ರಂಥಿ
- (3) ಪೀನಿಯಲ್ ಗ್ರಂಥಿ
- (4) ಹೈಪೋಥಲಾಮಸ್

5. ನಮ್ಮ ಕೂದಲು, ಉಗುರು ಮತ್ತು ಪ್ರಾಣಿಗಳ ಗೊರಸಿನಲ್ಲಿರುವ ಮುಖ್ಯ ಪ್ರೋಟೀನ್ ಅಂಶ

- (1) ಕೇಸಿನ್
- (2) ಫೈಬ್ರಾಯಿನ್
- (3) ಇಲಾಸ್ಟಿನ್
- (4) ಕೆರಾಟಿನ್

6. ಟೊಮಾಟೋ ಹಣ್ಣಿನ ಕೆಂಪು ಬಣ್ಣಕ್ಕೆ ಕಾರಣವಾದ ವರ್ಣದ್ರವ್ಯ

- (1) ಪತ್ರ ಹರಿತ್ತು
- (2) ಕೆರೋಟಿನ್
- (3) ಲೈಕೋಪಿನ್
- (4) ಕ್ಲೋರೋಫಿಲ್

/574-D

7. ನೀವು ಸಹೋದರಿಯ ವಯಸ್ಸನ್ನು ಹಿಮ್ಮುಖವಾಗಿ ಬರೆದರೆ, ಆಕೆಯ ಅಣ್ಣನ ವಯಸ್ಸನ್ನು ಪಡೆಯುತ್ತೀರಿ ಮತ್ತು ಅವರ ವಯಸ್ಸಿನ ನಡುವಿನ ಅಂತರವು ಇಬ್ಬರ ವಯಸ್ಸಿನ ಮೊತ್ತದ 1/11ರಷ್ಟಿದೆ. ಹಾಗಾದರೆ ಸಹೋದರಿಯ ವಯಸ್ಸೆಷ್ಟು?

- (1) 45 ವರ್ಷಗಳು
- (2) 40 ವರ್ಷಗಳು
- (3) 50 ವರ್ಷಗಳು
- (4) 30 ವರ್ಷಗಳು

8. ಶ್ರೀಗಂಧದ ಮರದ ಎಣ್ಣೆಯಲ್ಲಿ _____ ಇರುವಿಕೆಯಿಂದಾಗಿ ಪರಿಮಳವನ್ನು ಹೊಂದಿರುತ್ತದೆ.

- (1) ಕಾರ್ಬೋಹೈಡ್ರೇಟ್‌ಗಳು
- (2) ಕ್ಲೋರೋಫಿಲ್
- (3) ಆಲ್ಕಲಾಯ್ಡ್‌
- (4) ಟರ್ಪೆನ್ಸ್



4. Circadian rhythm is a natural internal process, which regulates the sleep-wake cycle. Name the gland which is responsible for it.

(1) Thyroid

(2) Pituitary

(3) Pineal

(4) Hypothalamus

5. The major protein present in hairs, nails and hooves is

(1) casein

(2) fibroin

(3) elastin

(4) keratin

6. The pigment responsible for red colour of tomato is

(1) chlorophyll

(2) carotene

(3) lycopene

(4) xanthophyll

/574-D

7. If you reverse the age of the sister, you would get her elder brother's age and the difference between their ages is one-eleventh of their sum. What is the age of the sister?

(1) 45 years ✓

(2) 40 years

(3) 50 years

(4) 30 years

8. Sandal wood oil has fragrance due to the presence of

(1) Carbohydrates

(2) Chlorophyll

(3) Alkaloids

(4) Terpenes

(5)

[P.T.O.]

9. ಬೆಳೆಗಳಿಗೆ (ಸಸ್ಯಗಳಿಗೆ) ಅಗತ್ಯವಿರುವ ಸೂಕ್ಷ್ಮ ಪೋಷಕಾಂಶವಾಗಿ ಮ್ಯಾಂಗನೀಸ್ ನಿರ್ವಹಿಸುವ ಪಾತ್ರವೇನು?



(1) ದ್ಯುತಿಸಂಶ್ಲೇಷಣ ಕ್ರಿಯೆಗೆ ಅಗತ್ಯವಾದ ಕ್ಲೋರೋಫಿಲ್ ಸಂಶ್ಲೇಷಣೆಯಲ್ಲಿ ಇದು ಭಾಗವಹಿಸುತ್ತದೆ. ✓

(2) ಕೋಶ ವಿಭಜನೆ ಮತ್ತು ವಿಸ್ತರಣೆಗೆ, ಇದರ ಅಗತ್ಯವಿದೆ, ಮತ್ತು ಬೀಜ ಹಣ್ಣು ಮತ್ತು ಇಳುವರಿಯ ಮೇಲೆ ಪರಿಣಾಮ ಬೀರುವ ಪರಾಗ ಕೊಳವೆಯ ಬೆಳವಣಿಗೆಗೆ ಇದರ ಅಗತ್ಯವಿದೆ.

(3) ಇದು ಬೆಳೆಗಳಲ್ಲಿ ಸಿಂಬಯೋಟಿಕ್ ಸಾರಜನಕ ಸ್ಥಿರೀಕರಣ ಮತ್ತು ಪ್ರೋಟೀನ್ ಸಂಶ್ಲೇಷಣೆಯಲ್ಲಿ ತೊಡಗಿದೆ.

(4) ಇದು ಅನೇಕ ಕಿಣ್ವಗಳ ಸಾಮಾನ್ಯ ಕಾರ್ಯನಿರ್ವಹಣೆ, ಸಾರಜನಕ ಚಯಾಪಚಯ ಮತ್ತು ಕಾರ್ಬನ್ ಡೈಆಕ್ಸೈಡ್ ಸಮೀಕರಣಕ್ಕೆ ಮುಖ್ಯವಾಗಿ ಬೇಕಾಗಿದೆ.

10. ಈ ಕೆಳಗಿನ ಹೇಳಿಕೆಗಳನ್ನು ಪರಿಗಣಿಸಿ :

ಹೇಳಿಕೆ-I : ಏಳು (G-7) ಆಧುನಿಕ ಅರ್ಥವ್ಯವಸ್ಥೆಗಳ ಗುಂಪಿನಲ್ಲಿ, ಸಾರ್ವಜನಿಕ ಸಾಲವು 2005ರಲ್ಲಿ ಒಟ್ಟು ದೇಶೀಯ ಉತ್ಪನ್ನ (GDP)ದ ಶೇಕಡಾ 85ರಿಂದ 2021ರಲ್ಲಿ ಶೇಕಡಾ 140ರವರೆಗೆ ಏರಿತು.

ಹೇಳಿಕೆ-II : ಸರಾಸರಿ ಸಾಲ ಸೇವೆಯು ಜಿಡಿಪಿಯ ಶೇಕಡಾ 2ರಿಂದ ಶೇಕಡಾ 1.5ಕ್ಕೆ ಇಳಿಕೆಯಾಗಿದೆ. ಇದಕ್ಕೆ ಕಾರಣ ಅತ್ಯಂತ ಕಡಿಮೆ ಬಡ್ಡಿ ದರಗಳಾಗಿವೆ.

(1) ಎರಡೂ ಹೇಳಿಕೆಗಳು ಸರಿಯಾಗಿವೆ ಮತ್ತು ಹೇಳಿಕೆ-II ಹೇಳಿಕೆ-Iರ ಸರಿಯಾದ ವಿವರಣೆಯಾಗಿದೆ.

(2) ಎರಡೂ ಹೇಳಿಕೆಗಳು ಸರಿಯಾಗಿವೆ ಮತ್ತು ಹೇಳಿಕೆ-II, ಹೇಳಿಕೆ-Iರ ಸರಿಯಾದ ವಿವರಣೆಯಾಗಿರುವುದಿಲ್ಲ.

(3) ಹೇಳಿಕೆ-I ತಪ್ಪು ಆದರೆ ಹೇಳಿಕೆ-II ಸರಿ.

(4) ಎರಡೂ ಹೇಳಿಕೆಗಳು ತಪ್ಪಾಗಿವೆ.

9. What is the role of manganese as micronutrient required for the plant/crop?

(1) It plays an important role in synthesis of chlorophyll which is essential for photosynthetic activity

(2) It is required for cell division and extension. It is essential for pollen tube growth which affects seed/fruit set and hence yields

(3) It is involved in symbiotic nitrogen-fixation and protein synthesis in crops

(4) It is important for normal functioning of many enzymes, nitrogen metabolism and carbon dioxide assimilation

10. Consider the following statements :

Statement-I : In the Group of Seven (G-7) advanced economies, public debt rose from 85% of Gross Domestic Product (GDP) in 2005 to 140% in 2021.

Statement-II : Average debt servicing fell from 2% of the GDP to 1.5%. The reason is very low interest rates.

(1) Both the statements are correct, and the **Statement-II** is correct explanation for **Statement-I**

(2) Both the statements are correct, and the **Statement-II** is not correct explanation for **Statement-I**

(3) The **Statement-I** is incorrect, but the **Statement-II** is correct

(4) Both the statements are incorrect

11. ನೀತಿ ಆಯೋಗದ ಮೂಲಕ ಇತ್ತೀಚೆಗೆ ಬಿಡುಗಡೆಗೊಂಡ ರಾಷ್ಟ್ರೀಯ ಬಹುಆಯಾಮದ ಬಡತನ ಸೂಚ್ಯಂಕವು ಜಾಗತಿಕ MPI ಮಾದರಿಯ 10 ಮೂಲ ಸೂಚಕಗಳನ್ನು ಉಳಿಸಿಕೊಂಡಿದೆ ಮತ್ತು _____ ಎರಡು ಸೂಚಕಗಳನ್ನು ಸೇರಿಸಿಕೊಂಡಿದೆ.

- (1) ಮಾತೃತ್ವ ಆರೋಗ್ಯ ಮತ್ತು ಬ್ಯಾಂಕ್ ಖಾತೆ
- (2) ಮಕ್ಕಳ ಆರೋಗ್ಯ ಮತ್ತು ಬ್ಯಾಂಕ್ ಖಾತೆ
- (3) ಮಾತೃತ್ವ ಆರೋಗ್ಯ ಮತ್ತು ಶಿಶು ಆರೋಗ್ಯ
- (4) ಶಿಶು ಆರೋಗ್ಯ ಮತ್ತು ಬ್ಯಾಂಕ್ ಖಾತೆ

12. _____ ಮಂಡಿಸಿದ್ದಕ್ಕಾಗಿ ಕ್ವಾಡ್ರಿಯಾ ಗೋಲ್ಡನ್‌ರವರಿಗೆ 2023ರ ಆಲ್ಫ್ರೆಡ್ ನೋಬೆಲ್‌ರವರ ಸ್ಮರಣೆಯಲ್ಲಿ ಅರ್ಥಶಾಸ್ತ್ರದ ವಿಜ್ಞಾನ ಶಾಸ್ತ್ರಗಳಲ್ಲಿ ನೀಡುವ ಸ್ವೆರಿಜಸ್ ರಿಕ್ಸ್ ಬ್ಯಾಂಕ್ ಪಾರಿತೋಷಕವನ್ನು ನೀಡಲಾಗಿದೆ.

- (1) ದ ಅಂಡರ್‌ಸ್ವ್ಯಾಂಡಿಂಗ್ ಆಫ್ ವುಮೆನ್ಸ್ ಲೇಬರ್ ಮಾರ್ಕೆಟ್ ಡಿಟೆಕ್‌ಮನ್
- (2) ದ ಅಂಡರ್‌ಸ್ವ್ಯಾಂಡಿಂಗ್ ಆಫ್ ಮೆನ್ಸ್ ಲೇಬರ್ ಮಾರ್ಕೆಟ್ ಡಿಟೆಕ್‌ಮನ್
- (3) ಗ್ಲೋಬಲ್ ಸೌಥ್ ಲೇಬರ್ ಮಾರ್ಕೆಟ್ ಡಿಟೆಕ್‌ಮನ್
- (4) ಗ್ಲೋಬಲ್ ನಾರ್ತ್ ಲೇಬರ್ ಮಾರ್ಕೆಟ್ ಡಿಟೆಕ್‌ಮನ್

13. ಭಾರತದ ಅಗ್ರ ಆಮದು ಮೂಲ ರಾಷ್ಟ್ರಗಳನ್ನು ಅವರೋಹಣ ಕ್ರಮದಲ್ಲಿ ಜೋಡಿಸಿ :

- (1) ಯುಎಇ, ಚೈನಾ, ಯುಎಸ್‌ಎ, ರಷ್ಯಾ
- (2) ರಷ್ಯಾ, ಚೈನಾ, ಯುಎಸ್‌ಎ, ಯುಎಇ
- (3) ಯುಎಸ್‌ಎ, ಚೈನಾ, ಯುಎಇ, ರಷ್ಯಾ
- (4) ಚೈನಾ ಯುಎಇ, ಯುಎಸ್‌ಎ, ರಷ್ಯಾ

14. ಪ್ರಸ್ತುತವಾಗಿ, ವಿಶ್ವದಲ್ಲಿ ಅಂತರರಾಷ್ಟ್ರೀಯ ವಲಸಿಗರ ಅತಿದೊಡ್ಡ ಗಮ್ಯಸ್ಥಾನವನ್ನು ಅವರೋಹಣ ಕ್ರಮದಲ್ಲಿ ಜೋಡಿಸಿ :

- (1) ಏಷಿಯ, ಉತ್ತರ ಅಮೇರಿಕ, ಆಫ್ರಿಕ, ಯೂರೋಪ್
- (2) ಯೂರೋಪ್, ಏಷಿಯ, ಉತ್ತರ ಅಮೇರಿಕ, ಆಫ್ರಿಕ
- (3) ಯೂರೋಪ್, ಏಷಿಯ, ಆಫ್ರಿಕ, ಉತ್ತರ ಅಮೇರಿಕ
- (4) ಉತ್ತರ ಅಮೇರಿಕ, ಆಫ್ರಿಕ, ಏಷಿಯ, ಯೂರೋಪ್

11. The recently released national multidimensional poverty index by NITI Aayog retains such as 10 original indicators of the global MPI model and has added two indicators

(1) Maternal Health and Bank Account

(2) Child Health and Bank Account

(3) Maternal Health and Infant Health

(4) Infant Health and Bank Account

12. The Sveriges Riksbank Prize 2023 in Economic Sciences in the Memory of Alfred Nobel, has been awarded to Claudia Goldon for advancing

(1) the understanding of women's labour market outcomes

(2) the understanding of men's labour market outcomes

(3) Global South's labour market outcomes

(4) Global North's labour market outcomes

13. Arrange India's top import source nations in descending order.

(1) UAE, China, USA, Russia

(2) Russia, China, USA, UAE

(3) USA, China, UAE, Russia

(4) China, UAE, USA, Russia

14. Arrange in descending order the currently largest destination of international migrants in the world.

(1) Asia, Northern America, Africa, Europe

(2) Europe, Asia, Northern America, Africa

(3) Europe, Asia, Africa, Northern America

(4) Northern America, Africa, Asia, Europe

19. ಹೇಳಿಕೆ-I : 2023-24ರ ವರ್ಷಾವಧಿಯಲ್ಲಿ ಕರ್ನಾಟಕ ರಾಜ್ಯದಲ್ಲಿ 236 ತಾಲ್ಲೂಕುಗಳ ಪೈಕಿ ಒಟ್ಟು 223 ತಾಲ್ಲೂಕುಗಳನ್ನು ಬರ-ಪೀಡಿತವೆಂದು ಸೂಚಿಸಲಾಗಿದೆ.

ಹೇಳಿಕೆ-II : ಇದು 20 ಲಕ್ಷ ಹೆಕ್ಟೇರುಗಳಿಗೂ ಮೇಲ್ಪಟ್ಟ ಭೂಮಿಯು 2023ರ ರಬಿ ಋತುಮಾನದ ಅವಧಿಯಲ್ಲಿ ರಾಜ್ಯದಲ್ಲಿ ಅಪಾರವಾದ ಕೃಷಿ ಮತ್ತು ತೋಟಗಾರಿಕೆ ಬೆಳೆ ಹಾನಿಗೆ ಕಾರಣವಾಯಿತು.

(1) ಹೇಳಿಕೆ-I ಮತ್ತು ಹೇಳಿಕೆ-II ಸರಿಯಾಗಿವೆ ಮತ್ತು ಹೇಳಿಕೆ-II, ಹೇಳಿಕೆ-Iರ ಸರಿಯಾದ ವಿವರಣೆಯಾಗಿದೆ.

(2) ಹೇಳಿಕೆ-I ಮತ್ತು ಹೇಳಿಕೆ-II ಸರಿಯಾಗಿವೆ ಆದರೆ ಹೇಳಿಕೆ-II, ಹೇಳಿಕೆ-Iರ ಸರಿಯಾದ ವಿವರಣೆಯಾಗಿರುವುದಿಲ್ಲ.

(3) ಹೇಳಿಕೆ-I ಸರಿ ಆದರೆ ಹೇಳಿಕೆ-II ತಪ್ಪು.

(4) ಹೇಳಿಕೆ-I ತಪ್ಪು ಆದರೆ ಹೇಳಿಕೆ-II ಸರಿ.

20. ರಾಜ್ಯದ ಬಜೆಟ್‌ನ ಅನುತ್ಪಾದಕ ವೆಚ್ಚದಲ್ಲಿ ಈ ಕೆಳಗಿನ ಯಾವುದನ್ನು ಸೇರಿಸಲಾಗುವುದಿಲ್ಲ?

(1) ವಿದ್ಯಾರ್ಥಿವೇತನಗಳು

(2) ಸಂಬಳಗಳು

(3) ಪಿಂಚಣಿಗಳು

(4) ಋಣಸೇವೆಗಳು

21. 2023ರಲ್ಲಿ ಕರ್ನಾಟಕದ ಬಯೋ-ಎಕಾನಮಿಯನ್ನು ಭಾರತದ ರಾಷ್ಟ್ರೀಯ ಬಯೋ-ಎಕಾನಮಿಯ ಸುಮಾರು _____ ಪಾಲು ಎಂದು ಲೆಕ್ಕ ಮಾಡಲಾಗಿದೆ. ಅದು ರಾಷ್ಟ್ರೀಯ ಬಯೋ-ಆಕಾಡಮಿ ರೆವೆನ್ಯೂ ಶ್ರೇಣೀಕರಣದಲ್ಲಿ _____ ಸ್ಥಾನದಲ್ಲಿದೆ.

(1) 40%, 1ನೇ

(2) 30%, 3ನೇ

(3) 20%, 2ನೇ

(4) 10%, 4ನೇ

22. ಕಳೆದ ಇತ್ತೀಚಿನ ಕೃಷಿ ಗಣತಿಯ ಪ್ರಕಾರ ಕರ್ನಾಟಕ ರಾಜ್ಯದ ರೈತರು ಭೂ ಹಿಡುವಳಿಯನ್ನು ಹೊಂದಿರುವ ಸರಾಸರಿ ಪ್ರಮಾಣವು _____ ಹೆಕ್ಟೇರುಗಳು ಸಣ್ಣ ಮತ್ತು ಅಂಚಿನ ಹಿಡುವಳಿಗಳನ್ನು ಒಟ್ಟು ಹಿಡುವಳಿಗಳ _____ ಎಂದು ಲೆಕ್ಕ ಮಾಡಲಾಗಿದೆ ಮತ್ತು ಒಟ್ಟು ನಿರ್ವಹಣಾ ಪ್ರದೇಶದ _____ ನ್ನು ನಿರ್ವಹಿಸಲಾಗಿದೆ.

(1) 4.36, 80%, 74%

(2) 3.36, 80%, 64%

(3) 2.36, 80%, 54%

(4) 1.36, 80%, 44%

19. **Statement-I** : A total of 223 out of 236 taluks have been notified as drought-affected in the Karnataka State during the year 2023-24.

Statement-II : This has resulted into huge agriculture and horticulture crop loss in the State during Rabi Season 2023 over 20 lakh hectares of land.

(1) Both **Statement-I** and **Statement-II** are correct. **Statement-II** is the correct explanation for **Statement-I**

(2) Both **Statement-I** and **Statement-II** are correct but **Statement-II** is not the correct explanation for **Statement-I**

(3) **Statement-I** is correct but **Statement-II** is incorrect

(4) **Statement-I** is incorrect but **Statement-II** is correct

20. Which of the following is **not** included in the unproductive expenditure of the State's budget?

(1) Scholarships

(2) Salaries

(3) Pensions

(4) Debt servicing

21. In 2023, Karnataka's Bioeconomy is accounted for around _____ share of India's National Bioeconomy. It is placed _____ in the National Bioeconomy revenue rankings.

(1) 40%, 1st

(2) 30%, 3rd

(3) 20%, 2nd

(4) 10%, 4th

22. As per the latest Agriculture Census, the average size of holding by farmer of Karnataka State is _____ hectare. Small and marginal holdings account for _____ of total holdings and operate _____ of the total operated area.

(1) 4.36, 80%, 74%

(2) 3.36, 80%, 64%

(3) 2.36, 80%, 54%

(4) 1.36, 80%, 44%

23. 2023-24ನೇ ಸಾಲಿನಲ್ಲಿ ಕರ್ನಾಟಕ ಕೃಷಿ ವಲಯದಲ್ಲಿ ಎಷ್ಟು ಬೆಳವಣಿಗೆ ನಿರೀಕ್ಷಿಸಲಾಗಿದೆ

- (1) 5 %
- (2) 3 %
- (3) -1.8%
- (4) -2.8%

24. (a) ಯೂನಿಯನ್ ಮಧ್ಯಂತರ ಬಜೆಟ್ 2024-25 ರ ಒಟ್ಟು ಖರ್ಚು ಅಥವಾ ವೆಚ್ಚದ ಖಾತೆಗಳು ₹ 47,65,768 ಕೋಟಿ.

(b) ಒಟ್ಟು ಬಂಡವಾಳ ವೆಚ್ಚದ ಖಾತೆಗಳು ₹ 11,11,111 ಕೋಟಿ.

(c) 2023-24 ಬಜೆಟ್‌ಗೆ ಹೋಲಿಸಿದರೆ ಬಂಡವಾಳ ವೆಚ್ಚದ ಪ್ರವೃತ್ತಿಯನ್ನು ಹೆಚ್ಚಿಸಲಾಗಿದೆ.

(d) 2023-24ರ ಬಜೆಟ್‌ಗೆ ಹೋಲಿಸಿದರೆ ಬಂಡವಾಳ ವೆಚ್ಚದ ಟೆಂಡರ್‌ಗಳು ಕಡಿಮೆಯಾಗಿವೆ.

- (1) (a), (b), (c) ಮತ್ತು (d) ಎಲ್ಲಾ ಸರಿಯಾಗಿವೆ
- (2) (a), (b) ಮತ್ತು (c) ಮಾತ್ರ ಸರಿಯಾಗಿವೆ
- (3) (a), (b) ಮತ್ತು (d) ಮಾತ್ರ ಸರಿಯಾಗಿವೆ
- (4) (d) ಮಾತ್ರ ಸರಿಯಾಗಿದೆ

25. 2022-23 ಮತ್ತು 2023-24 ವರ್ಷಗಳಿಗೆ 2021-22ಕ್ಕೆ ಹೋಲಿಸಿದರೆ % GSDP ಯಂತೆ ಸಾಮಾಜಿಕ ವಲಯದ ವೆಚ್ಚವು

- (1) ಹೆಚ್ಚುತ್ತಿದೆ
- (2) ಸ್ಥಿರವಾಗಿರುತ್ತದೆ
- (3) ಕ್ಷೀಣಿಸುತ್ತಿದೆ
- (4) ಮೇಲಿನ ಯಾವುದೂ ಅಲ್ಲ

26. ಈ ಕೆಳಗಿನ ಯಾವ ಹೇಳಿಕೆಗಳು ಸರಿಯಾಗಿವೆ.

- (a) 2023-24 ರ ಹಣಕಾಸು ವರ್ಷದಲ್ಲಿ ಕರ್ನಾಟಕದ ವಿತ್ತೀಯ ಕೊರತೆ GSDP ಯ -2.6 ಪ್ರತಿಶತ.
- (b) 2023-24 ರ ಹಣಕಾಸು ವರ್ಷದಲ್ಲಿ ಕರ್ನಾಟಕದ ಆದಾಯ ಕೊರತೆಯು GSDP ಯ ಶೇಕಡಾ 0.49 ಆಗಿದೆ.
- (c) 2023-24 ರ ಆರ್ಥಿಕ ವರ್ಷದಲ್ಲಿ ಕರ್ನಾಟಕದ ಪ್ರಾಥಮಿಕ ಕೊರತೆಯು GSDP ಯ ಶೇಕಡಾ 1.27 ಆಗಿದೆ.

- (1) (a) ಮತ್ತು (b) ಮಾತ್ರ
- (2) (b) ಮತ್ತು (c) ಮಾತ್ರ
- (3) (a) ಮತ್ತು (c) ಮಾತ್ರ
- (4) ಮೇಲಿನ ಎಲ್ಲವೂ

23. Karnataka agriculture sector in the year 2023-24 is expected to grow at

- (1) 5%
- (2) 3%
- (3) -1.8%
- (4) -2.8%

24. (a) Union interim budget 2024-25 estimates the total outlay or expenditure accounts to ₹ 47,65,768 crores.

(b) Total capital expenditure accounts to ₹ 11,11,111 crores.

(c) Trends of the capital expenditure is increased, compared to 2023-24 budget.

(d) Trends of the capital expenditure is decreased, compared to 2023-24 budget.

- (1) All (a), (b), (c) and (d) are **correct**
- (2) Only (a), (b) and (c) are **correct**
- (3) Only (a), (b) and (d) are **correct**
- (4) Only (d) is **correct**

/574-D

25. Social Sector Expenditure as a % of GSDP, compared to 2021-22 for the years 2022-23 and 2023-24

- (1) is increasing
- (2) is constant
- (3) is declining
- (4) None of the above

26. Which of the following statements are **correct**?

(a) Fiscal deficit of Karnataka in the financial year 2023-24 BE is -2.6 percent of GSDP.

(b) Revenue deficit of Karnataka in the financial year 2023-24 BE is 0.49 percent of GSDP.

(c) Primary deficit of Karnataka in the financial year 2023-24 BE is 1.27 as percent of GSDP.

- (1) Only (a) and (b)
- (2) Only (b) and (c)
- (3) Only (a) and (c)
- (4) All of the above

(15)

[P. T. O.]



27. (a) 2022-23 ಮತ್ತು 2023-24 ವರ್ಷಗಳಲ್ಲಿ ಅನುಕ್ರಮವಾಗಿ GDPಗೆ ಕೇಂದ್ರ ಸರ್ಕಾರದ ಬಂಡವಾಳ ವೆಚ್ಚ 2.7% ಮತ್ತು 3.2%

(b) 2022-23 ಮತ್ತು 2023-24 ವರ್ಷಗಳಿಗೆ ಅನುಕ್ರಮವಾಗಿ 8.8 ಪ್ರತಿಶತ ಮತ್ತು 9.2 ಕೇಂದ್ರ ಸರ್ಕಾರದ ಆದಾಯ ಸ್ವೀಕೃತಿಗಳು

(c) ಕೇಂದ್ರ ಸರ್ಕಾರದ ಸಾಲೇತರ ಬಂಡವಾಳದ ರಸೀದಿಗಳು ಬಂಡವಾಳ ವೆಚ್ಚ ಮತ್ತು ಆದಾಯದ ರಸೀದಿಗಳಿಗಿಂತ ಹೆಚ್ಚು

(1) (a) ಮತ್ತು (b) ಮಾತ್ರ

(2) (b) ಮತ್ತು (c) ಮಾತ್ರ

(3) (a) ಮತ್ತು (c) ಮಾತ್ರ

(4) ಮೇಲಿನ ಎಲ್ಲವೂ

28. ಕೆಳಗಿನ ಹೇಳಿಕೆಗಳನ್ನು ಪರಿಗಣಿಸಿ :

ಪ್ರತಿಪಾದನೆ (A) : ಪೂರ್ವ ಘಟ್ಟಗಳು ಪಶ್ಚಿಮ ಘಟ್ಟಗಳಿಗಿಂತ ಎತ್ತರವಾಗಿವೆ.

ಕಾರಣ (R) : ಪೂರ್ವ ಘಟ್ಟಗಳು ಮಹಾನದಿ ಕಣಿವೆಯಿಂದ ದಕ್ಷಿಣದ ನೀಲಗಿರಿಯವರೆಗೆ ವ್ಯಾಪಿಸಿವೆ.

ಕೆಳಗೆ ನೀಡಿರುವ ಆಯ್ಕೆಯಿಂದ ಸರಿಯಾದ ಉತ್ತರವನ್ನು ಆರಿಸಿ :

(1) (A) ಮತ್ತು (R) ಎರಡೂ ನಿಜ (R) ಎಂಬುದು (A) ಯ ಸರಿಯಾದ ವಿವರಣೆಯಾಗಿದೆ

(2) (A) ಮತ್ತು (R) ಎರಡೂ ನಿಜ ಆದರೆ (R) ಎಂಬುದು (A) ಯ ಸರಿಯಾದ ವಿವರಣೆಯಲ್ಲ

(3) (A) ನಿಜ ಆದರೆ (R) ಸುಳ್ಳು

(4) (A) ಸುಳ್ಳು ಆದರೆ (R) ನಿಜ

29. ಪಟ್ಟಿ-Iನ್ನು ಪಟ್ಟಿ-II ರೊಂದಿಗೆ ಹೊಂದಿಸಿ ಮತ್ತು ಈ ಪಟ್ಟಿಯ ಕೆಳಗೆ ನೀಡಿರುವ ಕೋಡ್‌ಗಳನ್ನು ಬಳಸಿಕೊಂಡು ಸರಿಯಾದ ಉತ್ತರವನ್ನು ಆಯ್ಕೆಮಾಡಿ :

2023ರ ಕರ್ನಾಟಕ ರಾಜ್ಯೋತ್ಸವ ಪ್ರಶಸ್ತಿ ವಿಜೇತರು



ಪಟ್ಟಿ-I

ಪಟ್ಟಿ-II

ಪ್ರಶಸ್ತಿ ಪುರಸ್ಕೃತ

ವೃತ್ತಿವರ್ಗ

(i) ಎಸ್.ಸೋಮನಾಥ್ (a) ಸಾಮಾಜಿಕ ಸೇವೆ

(ii) ವಿ. ಗೋಪಾಲಗೌಡ (b) ಮಾಜಿ ಪತ್ರಕರ್ತ

(iii) ದಿನೇಶ್ ಅಮಿನ್ (c) ಇಸ್ಕೋ ಮುಖ್ಯಸ್ಥ ಮಟ್ಟ

(iv) ಚಾರ್ಮಡಿ ಹಸನಬ್ಬ (d) ಸರ್ವೋಚ್ಚ ನ್ಯಾಯಾಲಯದ ನಿವೃತ್ತ ನ್ಯಾಯಾಧೀಶರು

(e) ಸ್ವಾತಂತ್ರ್ಯ ಹೋರಾಟಗಾರರು

(i) (ii) (iii) (iv)

(1) (c) (a) (e) (b)

(2) (c) (d) (b) (a)

(3) (b) (a) (d) (c)

(4) (b) (e) (a) (c)

27. (a) Central Government **capital expenditure** are 2.7 percent and 3.2 percent to GDP for the years 2022-23 and 2023-24 respectively

(b) Central Government **revenue receipts** are 8.8 percent and 9.2 percent to GDP for the years 2022-23 and 2023-24 respectively

(c) Central Government **Non-debt capital receipts** are more than the capital expenditure and revenue receipts.

(1) Only (a) and (b)

(2) Only (b) and (c)

(3) Only (a) and (c)

(4) All of the above

28. Consider the following statements :

Assertion (A) : The Eastern Ghats are higher than the Western Ghats.

Reason (R) : The Eastern Ghats stretch from Mahanadi valley to the Nilgiri in South.

Choose the **correct** answer from the options given below :

(1) Both (A) and (R) are **true**. (R) is the **correct** explanation of (A)

(2) Both (A) and (R) are **true** but (R) is **not** the **correct** explanation of (A)

(3) (A) is **true** but (R) is **false**

(4) (A) is **false** but (R) is **true**

29. Match **List—I** with **List—II** and select the **correct** answer using codes given below this list :

In 2023 Karnataka Rajyotsava Award Winners

List—I

List—II

Award Recipient

Profession Category

(i) S.

Somanath

(a) Social Service

(ii)

V. Gopala Gowda

(b) Former Journalist

(iii)

Dinesh Amin Mattu

(c) ISRO Chairman

(iv)

Charmadi Hasanabba

(d) Retired Supreme Court Judge

(e) Freedom Fighter

(vi)

(i)

(ii)

(iii)

(iv)

(1)

(c)

(a)

(e)

(b)

(2)

(c)

(d)

(b)

(a)

(3)

(b)

(a)

(d)

(c)

(4)

(b)

(e)

(a)

(c)

[P. T. O.]

30. ಪಟ್ಟಿ-Iನ್ನು ಪಟ್ಟಿ-II ರೊಂದಿಗೆ ಹೊಂದಿಸಿ ಮತ್ತು ಈ ಪಟ್ಟಿಯ ಕೆಳಗೆ ನೀಡಿರುವ ಕೋಡ್‌ಗಳನ್ನು ಬಳಸಿಕೊಂಡು ಸರಿಯಾದ ಉತ್ತರವನ್ನು ಆಯ್ಕೆಮಾಡಿ :

ಪಟ್ಟಿ-I ಪಟ್ಟಿ-II

ಸೋಲಾರ್ ಪಾರ್ಕ್ ರಾಜ್ಯದ ಹೆಸರು

- ಹೆಸರು Recipient
- (i) ಬಾದ್ಲಾ ಸೋಲಾರ್ ಪಾರ್ಕ್ (a) ಕರ್ನಾಟಕ
- (ii) ಕರ್ನೂಲ್ ಅಲ್ಮಾ ಮೆಗಾ ಸೋಲಾರ್ ಪಾರ್ಕ್ (b) ತಮಿಳುನಾಡು
- (iii) ಕಮುತಿ ಸೌರವಿದ್ಯುತ್ ಯೋಜನೆ (c) ಮಧ್ಯಪ್ರದೇಶ
- (iv) ರೇವಾ ಅಲ್ಮಾ ಮೆಗಾ ಸೋಲಾರ್ ಪ್ಲಾಂಟ್ (d) ಆಂಧ್ರಪ್ರದೇಶ
- (e) ರಾಜಸ್ಥಾನ

- | | | | |
|---------|------|-------|------|
| (i) | (ii) | (iii) | (iv) |
| (1) (a) | (d) | (c) | (b) |
| (2) (e) | (d) | (b) | (c) |
| (3) (e) | (a) | (b) | (c) |
| (4) (b) | (c) | (a) | (d) |

/574-D

31. ಪಟ್ಟಿ-Iನ್ನು ಪಟ್ಟಿ-II ರೊಂದಿಗೆ ಹೊಂದಿಸಿ ಮತ್ತು ಈ ಪಟ್ಟಿಯ ಕೆಳಗೆ ನೀಡಿರುವ ಕೋಡ್‌ಗಳನ್ನು ಬಳಸಿಕೊಂಡು ಸರಿಯಾದ ಉತ್ತರವನ್ನು ಆಯ್ಕೆಮಾಡಿ :

ಪ್ರಮುಖ ಅಂತರರಾಷ್ಟ್ರೀಯ ಗಡಿಗಳು

ಪಟ್ಟಿ-I ಪಟ್ಟಿ-II

ಗಡಿಯ ಹೆಸರು ರಾಷ್ಟ್ರಗಳ ನಡುವೆ

- (i) 17ನೇ (a) ಯು.ಎಸ್.ಎ ಮತ್ತು ಸಮಾನಾಂತರ ಕೆನಡಾ
- (ii) 20ನೇ (b) ದಕ್ಷಿಣ ವಿಯೆಟ್ನಾಂ ಮತ್ತು ಸಮಾನಾಂತರ ಉತ್ತರ ವಿಯೆಟ್ನಾಂ
- (iii) 31ನೇ (c) ಲಿಬಿಯಾ ಮತ್ತು ಸುಡಾನ್ ಸಮಾನಾಂತರ
- (iv) 38ನೇ (d) ಇರಾನ್ ಮತ್ತು ಇರಾಕ್ ಸಮಾನಾಂತರ
- (e) ದಕ್ಷಿಣ ಕೊರಿಯಾ ಮತ್ತು ಉತ್ತರ ಕೊರಿಯಾ

(18)

30. Match **List—I** with **List—II** and select the **correct** answer using codes given below this list :

List—I

List—II

Name of the

Name of the

Solar Park

State

- (i) Bhadla solar park (a) Karnataka
- (ii) Kurnool ultra mega solar park (b) Tamil Nadu
- (iii) Kamuthi solar power project (c) Madhya Pradesh
- (iv) Rewa ultra mega solar plant (d) Andhra Pradesh

(e) Rajasthan

(i) (ii) (iii) (iv)

(1) (a) (d) (c) (b)

(2) (e) (d) (b) (c)

(3) (e) (a) (b) (c)

(4) (b) (c) (a) (d)

1574-D

31. Match **List—I** with **List—II** and select the **correct** answer using codes given below this list :

Important International Borders

List—I

List—II

Name of the

Between Nations

Boundary

(i) 17th Parallel (a) USA and Canada

(ii) 20th Parallel (b) South Vietnam and North Vietnam

(iii) 31st Parallel (c) Libya and Sudan

(iv) 38th Parallel (d) Iran and Iraq

(e) South Korea and North Korea

(i) (ii) (iii) (iv)

(1) (b) (c) (d) (e)

(2) (b) (a) (c) (d)

(3) (b) (d) (a) (c)

(4) (a) (b) (c) (e)

(19)

[P. T. O.]



32. ರಾಷ್ಟ್ರೀಯ ಹಣಕಾಸು ವ್ಯವಸ್ಥೆಗಳು ಮೂರು ಆಯಾಮಗಳನ್ನು ಹೊಂದಿರುತ್ತವೆ. ಅವುಗಳೆಂದರೆ

- (1) ಸಮಾನ ವಿನಿಮಯ, ಮಾರುಕಟ್ಟೆ, ಹಣಕಾಸಿನ ಸಂಸ್ಥೆಗಳು
- (2) ಹೂಡಿಕೆಗಳು, ಸುಸ್ಥಿರ ಅಭಿವೃದ್ಧಿ, ನಿಯಂತ್ರಣ
- (3) ಮಧ್ಯಸ್ಥಿಕೆ, ಮಾರ್ಕೆಟೀಕರಣ, ನಿಯಂತ್ರಣ
- (4) ಸಂಪನ್ಮೂಲಗಳು, ಹಸ್ತಕ್ಷೇಪ, ಸಂಸ್ಥೆಗಳು

33. ಈ ಕೆಳಗಿನ ಹೇಳಿಕೆಗಳನ್ನು ಪರಿಗಣಿಸಿ :

ಹೇಳಿಕೆ-I : ಹೊಸದಾದ ಬಸಾಲ್ಟಿನ ಚಿಪ್ಪು ಮಧ್ಯ ಅಟ್ಲಾಂಟಿಕ್ ಸಾಗರದ ಉಬ್ಬಿನ ಎರಡೂ ಬದಿಗಳಲ್ಲಿದೆ.

ಹೇಳಿಕೆ-II : ಫಲಕಗಳ ಒಮ್ಮುಖ ಚಲನೆಯು ಮಧ್ಯ ಅಟ್ಲಾಂಟಿಕ್ ಸಾಗರದ ಉಬ್ಬಿನ ಜೊತೆಗೆ ಸಂಭವಿಸುತ್ತದೆ.

- (1) ಹೇಳಿಕೆ-I ಸರಿಯಾಗಿದೆ ಆದರೆ ಹೇಳಿಕೆ-II ಸರಿಯಾಗಿಲ್ಲ.
- (2) ಎರಡೂ ಸರಿಯಾಗಿವೆ ಮತ್ತು ಹೇಳಿಕೆ-II, ಹೇಳಿಕೆ-Iರ ಸರಿಯಾದ ವಿವರಣೆಯಾಗಿದೆ.
- (3) ಹೇಳಿಕೆ-I ತಪ್ಪಾಗಿದೆ ಆದರೆ ಹೇಳಿಕೆ-II ಸರಿಯಾಗಿದೆ.
- (4) ಎರಡೂ ಸರಿಯಾಗಿವೆ ಆದರೆ ಹೇಳಿಕೆ-II, ಹೇಳಿಕೆ-Iರ ಸರಿಯಾದ ವಿವರಣೆಯಾಗಿರುವುದಿಲ್ಲ.

34. ಈ ಕೆಳಗೆ ನೀಡಲಾದವುಗಳು ಎರಡು ಹೇಳಿಕೆಗಳಾಗಿದ್ದು ಒಂದನ್ನು ಪ್ರತಿಪಾದನೆ (A) ಎಂದೂ ಇನ್ನೊಂದನ್ನು ಕಾರಣ (R) ಎಂದೂ ವರ್ಗೀಕರಿಸಲಾಗಿದೆ :

ಪ್ರತಿಪಾದನೆ (A) : ಸಮಶೀತೋಷ್ಣ ವಲಯದ ಚಂಡಮಾರುತಗಳು ಬರುವ ಮೊದಲು ಗಾಳಿಯ ಉಷ್ಣತೆಯು ಹಠಾತ್ತಾಗಿ ಹೆಚ್ಚಾಗಲು ಪ್ರಾರಂಭವಾಗುತ್ತದೆ.

ಕಾರಣ (R) : ನೈಋತ್ಯ ದಿಕ್ಕಿನ ಮಾರುತಗಳು ಸಮಶೀತೋಷ್ಣದ ಚಂಡಮಾರುತಗಳ ಮುಂಭಾಗದಲ್ಲಿ ಬೀಸುತ್ತವೆ.

- (1) ಎರಡೂ ಸರಿಯಾಗಿವೆ ಮತ್ತು (R) (A) ಯ ಸರಿಯಾದ ವಿವರಣೆಯಾಗಿದೆ.
- (2) ಎರಡೂ ಸರಿಯಾಗಿವೆ ಮತ್ತು (R) (A) ಯ ತಪ್ಪಾದ ವಿವರಣೆಯಾಗಿದೆ.
- (3) (A) ಸರಿಯಾಗಿದೆ ಆದರೆ (R) ತಪ್ಪಾಗಿದೆ.
- (4) (A) ತಪ್ಪಾಗಿದೆ ಆದರೆ (R) ಸರಿಯಾಗಿದೆ.

35. ಈ ಕೆಳಗಿನವುಗಳಲ್ಲಿ ಯಾವುದು ಜ್ವಾಲಾಮುಖಿಗಳಿಂದ ರೂಪಿತವಾದ ಅಂತಸ್ಸರಣೀಯ ಸ್ಥಳಾಕೃತಿ (intrusive topography) ವಿವರಣೆಯಾಗಿದೆ?

- (i) ಲ್ಯಾಕೋಲಿತ್‌ಗಳು
- (ii) ಸಿಲ್
- (iii) ಸ್ಟಾಕ್‌ಗಳು
- (1) (i) ಮಾತ್ರ
- (2) (ii) ಮಾತ್ರ
- (3) (i) ಮತ್ತು (ii) ಮಾತ್ರ
- (4) ಮೇಲಿನ ಎಲ್ಲವೂ

9701004
32. National financial systems differ along three dimensions. They are

- (1) Equal Exchange, Market, Financial Institutions
- (2) Investments, Sustainable Development, Regulation
- (3) Intermediation, Marketization, Regulation
- (4) Resources, Intervention, Institutions

33. Consider the following statements :

Statement-I : The newest basaltic crust is on both sides of the Mid Atlantic Ridge.

Statement-II : The converging movement of plates is taking place along the Mid-Atlantic Ridge. ~~(No)~~ diverging

- (1) **Statement-I** is correct but **Statement-II** is incorrect
- (2) Both are correct and **Statement-II** is the correct explanation for **Statement-I**
- (3) **Statement-I** is incorrect but **Statement-II** is correct
- (4) Both are correct but **Statement-II** is not the correct explanation for **Statement-I**

34. Given below are two statements, one is labelled as **Assertion (A)** and the other is labelled as **Reason (R)** :

Assertion (A) : Before the arrival of temperate zone cyclones, the air temperature starts increasing suddenly.

Reason (R) : South-Westerly winds blow at the front of temperate cyclones.

- (1) Both are correct and **(R)** is the correct explanation of **(A)**
- (2) Both are correct and **(R)** is the not the correct explanation of **(A)**
- (3) **(A)** is correct but **(R)** is incorrect
- (4) **(A)** is incorrect but **(R)** is correct

35. Which of the following is an intrusive topography created by volcanoes?

- (i) Laccoliths
- (ii) Sill

(iii) Stocks

- (1) (i) only
- (2) (ii) only
- (3) (i) and (ii) only
- (4) All of the above

[P. T. O.]

36. ಪಟ್ಟಿ-I ನ್ನು ಪಟ್ಟಿ-II ರೊಂದಿಗೆ ಹೊಂದಿಸಿ:

ಪಟ್ಟಿ-I (A) ಪಟ್ಟಿ-II
(ರೂಪರೇಖೆಯ (ಸಾಗರದ ಹೆಸರು)
ಗುಣಲಕ್ಷಣಗಳು)

(a) ಪೋರ್ಟರಿಕೋ (i) ಪಶ್ಚಿಮದ ದ್ವೀಪಗಳು
ಡೀಪ್

(b) ಸುಂಡ ಟ್ರೆಂಚ್ (ii) ಮಧ್ಯ ದಕ್ಷಿಣದ
ವ್ಯಾಸಿಫಿಕ್ ಸಾಗರ

(c) ರೋಮನ್‌ಚಿ (iii) ಅಟ್ಲಾಂಟಿಕ್ ಸಾಗರ
ಟ್ರೆಂಚ್

(d) ಟೋಂಗಾ ಟ್ರೆಂಚ್ (iv) ಪೂರ್ವ ಹಿಂದೂ
ಮಹಾಸಾಗರ

(a) (b) (c) (d)

(1) (i) (iv) (iii) (ii)

(2) (iv) (ii) (i) (iii)

(3) (iii) (iv) (i) (ii)

(4) (ii) (i) (iv) (iii)

37. ಈ ಕೆಳಗೆ ನೀಡಲಾದವುಗಳು ಎರಡು ಹೇಳಿಕೆಗಳಾಗಿದ್ದು ಒಂದನ್ನು ಪ್ರತಿಪಾದನೆ (A) ಎಂದೂ ಇನ್ನೊಂದನ್ನು ಕಾರಣ (R) ಎಂದೂ ವರ್ಗೀಕರಿಸಲಾಗಿದೆ :

ಪ್ರತಿಪಾದನೆ (A) : ಸಾಗರದ ಉಷ್ಣತೆಯು 1000 ಮೀ. ಆಳದಾಚೆಗೂ ಸ್ಥಿರವಾಗಿರುತ್ತದೆ.

ಕಾರಣ (R) : ಸಾಗರದ ಆಳದಲ್ಲಿ ಉಷ್ಣತೆಯ ಉದ್ದೇಶ ವಿತರಣೆಯನ್ನು ಸಾಂದ್ರತೆಯಿಂದ ಪ್ರೇರಿತವಾದ ಜಲಚಲನೆಯು ನಿಯಂತ್ರಿಸುತ್ತದೆ.

(1) (A) ಮತ್ತು (R) ಎರಡೂ ಸರಿಯಾಗಿವೆ.
(R) : ಏ (A) ಯ ಸರಿಯಾದ ವಿವರಣೆಯಾಗಿದೆ.

(2) (A) ಮತ್ತು (R) ಎರಡೂ ಸರಿ. (R) ಏ (A) ಯ ತಪ್ಪಾದ ವಿವರಣೆಯಾಗಿದೆ.

(3) (A) ಸರಿಯಾಗಿದೆ ಆದರೆ (R) ತಪ್ಪಾಗಿದೆ.

(4) (A) ಮತ್ತು (R) ಎರಡೂ ತಪ್ಪಾಗಿವೆ.

36. Match **List—I** with **List—II** :

List—I (Relief features)	List—II (Name of ocean)
(a) Puerto Rico deep ✓	(i) Western Islands
(b) Sunda trench	(ii) Central Southern Pacific ocean
(c) Romanche trench ✓	(iii) Atlantic ocean
(d) Tonga trench	(iv) Eastern Indian ocean

- (a) (b) (c) (d)
- (1) (i) (iv) (iii) (ii)
- (2) (iv) (ii) (i) (iii)
- (3) (iii) (iv) (i) (ii)
- (4) (ii) (i) (iv) (iii)

37. Given below are two statements, one is labelled as **Assertion (A)** and the other is labelled as **Reason (R)** :

Assertion (A) : Ocean temperature remains constant beyond the depth of 1000 m.

Reason (R) : Vertical distribution of temperature in the deep ocean is controlled by density driven water movement.

(1) Both **(A)** and **(R)** are true. **(R)** is the correct explanation of **(A)**.

(2) Both **(A)** and **(R)** are true. **(R)** is the incorrect explanation of **(A)**

(3) **(A)** is true but **(R)** is false

(4) Both **(A)** and **(R)** are false

[P. T. O.]

38. ಹೊಂದಿಸಿ ಬರೆಯಿರಿ :

(a) ಮೆಕ್ಕಲು ಮಣ್ಣು (i) ಹತ್ತಿ

(b) ಕಪ್ಪು ಮಣ್ಣು (ii) ಭತ್ತ

(c) ಕಂದು ಮಣ್ಣು (iii) ಟೀ

(d) ಕೆಂಪು ಮಣ್ಣು (iv) ಗೋಧಿ

(a) (b) (c) (d)

(1) (ii) (iii) (i) (iv)

(2) (ii) (i) (iii) (iv)

(3) (iii) (i) (ii) (iv)

(4) (iv) (i) (iii) (ii)

39. ಹಿಮಾಲಯದಲ್ಲಿರುವ ದಾರಿಯು

ಸಂಬಂಧಪಟ್ಟ ರಾಜ್ಯಗಳಿಗೆ ಹಾದುಹೋಗುವ

ದನ್ನು ಹೊಂದಿಸಿ ಬರೆಯಿರಿ:

(a) ಬಾರಾ-ಲಚ (i) ಅರುಣಾಚಲ ಪ್ರದೇಶ

(b) ನಾಥುಲಾ ✓ (ii) ಹಿಮಾಚಲ ಪ್ರದೇಶ

(c) ರೋಜಿಲಾ (iii) ಸಿಕ್ಕಿಂ ✓

(d) ಬೋಮ್ಮಿಲಾ (iv) ಜಮ್ಮು ಮತ್ತು ಕಾಶ್ಮೀರ

(a) (b) (c) (d)

(1) (ii) (iii) (iv) (i)

(2) (iv) (i) (ii) (iii)

(3) (ii) (iv) (iii) (i)

(4) (i) (ii) (iv) (iii)

40. ಆಫ್ರಿಕಾಗೆ ಸಂಬಂಧಿಸಿದಂತೆ, ಈ ಕೆಳಗಿನ ಯಾವ ಹೇಳಿಕೆಯು/ಗಳು ಸರಿಯಾಗಿಲ್ಲ?

(a) ಮುಖ್ಯ ಅಬಸಿನಿಯನ್ ಎತ್ತರ ಭೂಮಿಯು ಆಫ್ರಿಕಾದಲ್ಲಿ ಬಸಾಲ್ಟ್ ಗಟ್ಟಿ ಪದರಗಳಲ್ಲಿ ರೂಪುಗೊಂಡಿದೆ.

(b) ಝಾಂಬಿಯದಲ್ಲಿರುವ ವಿಕೋರಿಯಾ ಜಲಪಾತದಲ್ಲಿ ಪ್ರಮುಖ ಜಲಶಕ್ತಿ ಯೋಜನೆ ಇದೆ.

(c) ದಕ್ಷಿಣ ಆಫ್ರಿಕಾದಲ್ಲಿರುವ ರಸ್ ದಶನ್ ಅತಿ ದೊಡ್ಡ ಶಿಖರವಾಗಿದೆ.

(1) (a) ಮಾತ್ರ

(2) (a) ಮತ್ತು (b) ಮಾತ್ರ

(3) (b) ಮತ್ತು (c) ಮಾತ್ರ

(4) (c) ಮಾತ್ರ

41. 'ಹಿರಿಯರ ಪದ್ಧತಿ' ('Way of the Elders')ಯು ಯಾವ ವರ್ಗ ವಿಭಾಗದ ಭಾಗವಾಗಿದೆ?

(1) ವಜ್ರಾಯನ

(2) ಧಿರವಾಡ

(3) ಮಹಾಯಾನ

(4) ನಿರ್ವಾಣ

42. ಯಾವ ದೇಶವು ಅಮೆಜಾನ್ ನದಿ ವ್ಯವಸ್ಥೆಯ ಭಾಗವಾಗಿರುವುದಿಲ್ಲ?

(1) ಬ್ರೆಜಿಲ್

(2) ಬೊಲಿವಿಯ

(3) ಪೆರು

(4) ಅರ್ಜೆಂಟೈನಾ

38. Match the following :

(a) Alluvial soil (i) Cotton

(b) Black soil (ii) Rice

(c) Brown soil (iii) Tea

(d) Red soil (iv) Wheat

(a) (b) (c) (d)

(1) (ii) (iii) (i) (iv)

(2) (ii) (i) (iii) (iv)

(3) (iii) (i) (ii) (iv)

(4) (iv) (i) (iii) (ii)

39. Match the following :

Himalayan Passes to the respective States they are present in :

(a) BaraLalacha (i) Arunachal Pradesh

(b) Nathula (ii) Himachal Pradesh

(c) ZojiLa (iii) Sikkim

(d) Bomdila (iv) J & K

(a) (b) (c) (d)

(1) (ii) (iii) (iv) (i)

(2) (iv) (i) (ii) (iii)

(3) (ii) (iv) (iii) (i)

(4) (i) (ii) (iv) (iii)

40. With respect to Africa which of the following statements is/are **not correct?**

(a) The main Abyssinian Highland is formed of thick layers of basalt in Africa.

(b) Major hydel power project is on Victoria falls in Zambia.

(c) The highest peak is Ras Dashen located in South Africa. KILIMONJARO

(1) (a) only

(2) (a) and (b) only

(3) (b) and (c) only

(4) (c) only

41. 'Way of the Elders' is part of which branch?

(1) Vajrayana.

(2) Theravada

(3) Mahayana

(4) Nirvana


42. Which country is **not** a part of Amazon river system?

(1) Brazil

(2) Bolivia

(3) Peru.

(4) Argentina



[P. T. O.]

43. "ಜಾಸ್ಕಿನ್ ಕ್ರಾಂತಿ"ಯ ಉದ್ದೇಶ

(1) ಮಿಲಿಟರಿ ಒಳಗೊಳ್ಳುವಿಕೆಯನ್ನು
ಬಹಿರಂಗವಾಗಿ ವಿರೋಧಿಸುವುದು

(2) ಅಧಿಕ ಹೂವಿನ ಉತ್ಪಾದನೆ

(3) ಭ್ರಷ್ಟಾಚಾರ, ಬಡತನ ಮತ್ತು
ರಾಜಕೀಯ ದಬ್ಬಾಳಿಕೆಯನ್ನು
ವಿರೋಧಿಸುವುದು

(4) ಕಡಿಮೆ ಉದ್ಯೋಗವನ್ನು
ವಿರೋಧಿಸುವುದು

44. ಸರಿಯಾದ ಜೋಡಿಗಳನ್ನು ಹೊಂದಿಸಿ
ಬರೆಯಿರಿ :

ಸರೋವರಗಳು ಮತ್ತು ಗುಣಲಕ್ಷಣಗಳು
ನದಿಗಳು

(a) ಅಸಾಲ್ (w) ಆಫ್ರಿಕಾದಲ್ಲಿರುವ ನಾಲ್ಕನೇ
ಅತಿ ಉದ್ದವಾದ ನದಿ

(b) ವಿಕ್ಟೋರಿಯ (x) ಪ್ರಪಂಚದ ಎರಡನೇ ಅತಿ
ದೊಡ್ಡ ಸಿಹಿನೀರಿನ
ಸರೋವರ

(c) ರುಂಬೇಜಿ (y) ಲೆಪೆರ್ಡ್ ನದಿ

(d) ಪೀಬಲಿ (z) ಸಮುದ್ರದ ಮಟ್ಟದಿಂದ
150 ಮೀ.ಗಿಂತ ಹೆಚ್ಚು
ಕೆಳಗಿದೆ

(a) (b) (c) (d)

(1) (y) (x) (z) (w)

(2) (y) (x) (w) (z)

(3) (z) (y) (w) (x)

(4) (z) (x) (w) (y)

45. ತಪ್ಪಾದ ಹೇಳಿಕೆಗಳನ್ನು ಗುರುತಿಸಿ :

(a) 'ಸೆರ್ಟಾಪೋ'ವನ್ನು ಶುಷ್ಕ ಒಳನಾಡು
ಅಥವಾ ಅರೆ-ಶುಷ್ಕ ಪ್ರದೇಶವೆಂದು
ಕರೆಯುತ್ತಾರೆ.

(b) ಪ್ರಪಂಚದ ಅತ್ಯಂತ ಎತ್ತರದ
ಜಲಪಾತವಾದ 'ಜಿಮ್ಮಿ-ವಿಂಚಲ್-
ಫಾಲ್ಸ್' ಕೊಲಂಬಿಯಾದಲ್ಲಿದೆ.

(c) ಅಮೆಜಾನ್ ಪ್ರಪಂಚದಲ್ಲಿ ಮೂರನೇ
ಅತಿ ಉದ್ದವಾದ ನದಿಯಾಗಿದೆ.

(1) (a) ಮತ್ತು (c) ಮಾತ್ರ

(2) (a) ಮತ್ತು (b) ಮಾತ್ರ

(3) (a), (b) ಮತ್ತು (c)

(4) (b) ಮತ್ತು (c) ಮಾತ್ರ

46. ಸರಿಯಾದ ಜೋಡಿಗಳನ್ನು ಹೊಂದಿಸಿ
ಬರೆಯಿರಿ:

ನದಿ ಸಾಗರ/ಸಮುದ್ರ

(a) ಪೋಲ್ಗಾ ನದಿ (w) ಅಸೋವ್ ಸಮುದ್ರ

(b) ಓಬ್ ನದಿ (x) ಆರ್ಕ್‌ಟಿಕ್ ಸಾಗರದ
ಕಾರ ಸಮುದ್ರ

(c) ಡಾನ್ ನದಿ (y) ಕ್ಯಾಸ್ಪಿಯನ್ ಸಮುದ್ರ

(d) ಅಮುರ್ ನದಿ (z) ಜಪಾನ್ ಸಮುದ್ರ

(a) (b) (c) (d)

(1) (y) (x) (z) (w)

(2) (y) (x) (w) (z)

(3) (y) (z) (w) (x)

(4) (y) (z) (x) (w)

43. 'Jasmine Revolution' is

- (1) against military involvement in public
- (2) related with increased flower production
- (3) against corruption, poverty and political repression
- (4) against underemployment

44. Match the following pairs :

Lakes and Rivers **Features**

- (a) Assal (w) Fourth-longest river in Africa
- (b) Victoria (x) World's second largest fresh-water lake
- (c) Zambezi (y) Leopard river
- (d) Shebelle (z) More than 150 m below sea level

- | | | | |
|---------|-----|-----|-----|
| (a) | (b) | (c) | (d) |
| (1) (y) | (x) | (z) | (w) |
| (2) (y) | (x) | (w) | (z) |
| (3) (z) | (y) | (w) | (x) |
| (4) (z) | (x) | (w) | (y) |

/574-D

45. Identify the statements :

incorrect

(a) 'Sertao' is known as drier inland or semi-arid region.

(b) The world's highest waterfall 'Jimmy Angel Falls' is located in Colombia. ^{NAYAGAR?}

(c) Amazon is third longest river in the world.

- (1) (a) and (c) only
- (2) (a) and (b) only
- (3) (a), (b) and (c)
- (4) (b) and (c) only

46. Match the following pairs :

River

Ocean/Sea

- (a) Volga river (w) Sea of Azov
- (b) Ob river (x) Kara Sea of Arctic ocean
- (c) Don river (y) Caspian sea
- (d) Amur river (z) Sea of Japan

- | | | | |
|---------|-----|-----|-----|
| (a) | (b) | (c) | (d) |
| (1) (y) | (x) | (z) | (w) |
| (2) (y) | (x) | (w) | (z) |
| (3) (y) | (z) | (w) | (x) |
| (4) (y) | (z) | (x) | (w) |

[P. T. O.]

47. “ತಂದೆ” ತಾಯಿಗಳಿಗೂ ಹಿರಿಯರಿಗೂ ವಿಧೇಯರಾಗಿರಬೇಕು. ಪ್ರಾಣಿಗಳಿಗೆ ದಯೆ ತೋರಬೇಕು. ಸತ್ಯವನ್ನೇ ನುಡಿಯಬೇಕು. ಈ ಸದ್ಗುಣಗಳನ್ನೇ ಆಚರಿಸಬೇಕು. ಇದೇ ರೀತಿ ಶಿಷ್ಯನು ಗುರುವಿಗೆ ಭಕ್ತಿ ತೋರಿಸಬೇಕು. ಬಂಧುಗಳೊಂದಿಗೆ ಉತ್ತಮ ರೀತಿಯಲ್ಲಿ ನಡೆದುಕೊಳ್ಳಬೇಕು” ಎಂದು ಸಾಮ್ರಾಟ್ ಅಶೋಕನು ತನ್ನ ಯಾವ ಶಾಸನದಲ್ಲಿ ಸಾರಿದ್ದಾನೆ?

- (1) II ನೇ ಬಂಡೇಕಲ್ಲು ಶಾಸನ
- (2) III ನೇ ಬಂಡೇಕಲ್ಲು ಶಾಸನ
- (3) XI ನೇ ಬಂಡೇಕಲ್ಲು ಶಾಸನ
- (4) VII ನೇ ಸ್ತಂಭ ಶಾಸನ

48. ಯಾರ ಆಳ್ವಿಕೆಯ ಕಾಲದಲ್ಲಿ ಮಾಕುಂದ, ಗಂಗರ ಉಪರಾಜಧಾನಿಯಾಗಿತ್ತು?

- (1) ದುರ್ವಿನಿತ
- (2) ಮುಷ್ಕರ
- (3) ಭೂ ವಿಕ್ರಮ
- (4) ಶ್ರೀಪುರುಷ

49. ಜನತೆಯ ಮೇಲಿದ್ದ ಹಲವಾರು ತೆರಿಗೆಗಳನ್ನು ರದ್ದುಗೊಳಿಸಿ ‘ಸುಗಂಧ ವೃತ್ತ’ ಎಂಬ ಬಿರುದು ಪಡೆದ ಚೋಳ ದೊರೆ ಯಾರು?

- (1) ಒಂದನೇ ರಾಜೇಂದ್ರ ಚೋಳ
- (2) ಒಂದನೇ ರಾಜಾಧಿರಾಜ
- (3) ವೀರ ರಾಜೇಂದ್ರ
- (4) ಒಂದನೇ ಕುಲೋತ್ತುಂಗ

50. ನಾಣ್ಯ ಶಾಸ್ತ್ರಜ್ಞ ಎಡ್ವರ್ಡ್ ಥಾಮಸ್ ಯಾರನ್ನು ಹಣಗಾರರ ರಾಜ ಎಂದು ಕರೆದಿದ್ದಾನೆ?

- (1) ಇಲ್ತಮಷ್
- (2) ಬಲ್ಬನ್
- (3) ಅಲಾವುದ್ದೀನ್ ಖಿಲ್ಜಿ
- (4) ಮೊಹಮ್ಮದ್ ಬಿನ್ ತುಘಲಕ್

51. ಈ ಕೆಳಗಿನ ಘಟನೆಗಳನ್ನು ಕಾಲಾನುಕ್ರಮದಲ್ಲಿ ಜೋಡಿಸಿರಿ :

- (i) ಮದ್ರಾಸ್ ಒಪ್ಪಂದ
- (ii) ಸಹಾಯಕ ಸೈನ್ಯ ಒಪ್ಪಂದ
- (iii) ಮಂಗಳೂರು ಒಪ್ಪಂದ
- (iv) ಶ್ರೀರಂಗಪಟ್ಟಣ ಒಪ್ಪಂದ

ಕೆಳಗೆ ನೀಡಿರುವ ಆಯ್ಕೆಗಳಿಂದ ಸರಿಯಾದ ಉತ್ತರವನ್ನು ಆರಿಸಿ :

- (1) (i), (iii), (iv) ಮತ್ತು (ii)
- (2) (i), (iv), (iii) ಮತ್ತು (ii)
- (3) (ii), (i), (iii) ಮತ್ತು (iv)
- (4) (iii), (ii), (iv) ಮತ್ತು (i)

52. ಭಾರತದ ಪ್ರಥಮ ಮಹಿಳಾ ವಿಶ್ವವಿದ್ಯಾಲಯವನ್ನು ಸ್ಥಾಪಿಸುವಲ್ಲಿ ಈ ಕೆಳಗಿನವರಲ್ಲಿ ಯಾರು ನಿರ್ಣಾಯಕ ಪಾತ್ರ ವಹಿಸಿದರು?

- (1) ಈಶ್ವರಚಂದ್ರ ವಿದ್ಯಾಸಾಗರ್
- (2) ಡಾ.ಬಿ.ಆರ್.ಅಂಬೇಡ್ಕರ್
- (3) ಡಿ.ಕೆ.ಕರ್ವೆ
- (4) ಮಹದೇವ ಗೋವಿಂದ ರಾನಡೆ

47. "Obedience must be rendered to mother and father, likewise to elders, firmness must be shown towards animals, truth must be spoken, these same moral virtues must be practiced. In the same way the pupil must show reverence to the master and one must behave in a suitable manner towards relatives" was engraved in which edict of emperor Ashoka?

- (1) Rock Edict II
- (2) Rock Edict III
- (3) Rock Edict XI
- (4) Pillar Edict VII

48. Under whose reign was Makunda the sub capital of Gangas?

- (1) Durvinita
- (2) Mushkara
- (3) Bhuvikrama
- (4) Sripurusha

49. Which Chola ruler abolished many taxes on the people and got the title of 'Sugandha Vritta'?

- (1) Rajendra Chola I
- (2) Rajadhiraja I
- (3) Virarajendra
- (4) Kulotunga I

50. Whom did the numismatist Edward Thomas call the Prince of Moneyers?

- (1) Iltutmish
- (2) Balban
- (3) Alauddin Khalji
- (4) Muhammad Bin Tughluq

51. Arrange the following events in chronological order :

- (i) Treaty of Madras 1763
- (ii) Subsidiary treaty 1792
- (iii) Treaty of Mangalore 1792
- (iv) Treaty of Srirangapatna 1793

Choose the **correct** answer from the options given below :

- (1) (i), (iii), (iv) and (ii)
- (2) (i), (iv), (iii) and (ii)
- (3) (ii), (i), (iii) and (iv)
- (4) (iii), (ii), (iv) and (i)

52. Who among the following was instrumental in the formation of the first women's university in India?

- (1) Ishwar Chandra Vidyasagar
- (2) Mrs. Ramabai
- (3) D. K. Karve
- (4) Mahadev Govind Ranade

[P. T. O.]

53. ಮೀರತ್‌ನಿಂದ ಬಂದು, ರಾಜಘಾಟ್ ಗೇಟ್‌ನ ಮೂಲಕ ಕೆಂಪುಕೋಟೆಗೆ ಪ್ರವೇಶಿಸಿ, ಬ್ರಿಟಿಷರ ವಿರುದ್ಧ ದಂಗೆಯ ನಾಯಕತ್ವವನ್ನು ವಹಿಸಿ ಕೊಳ್ಳಬೇಕೆಂದು ಮನವಿ ಮಾಡಲು ಎರಡನೆಯ ಬಹದ್ದೂರ್ ಷಾನನ್ನು ಭೇಟಿ ಮಾಡಿದ ದಿನಾಂಕ

(1) 22ನೇ ಮೇ, 1857

(2) 11ನೇ ಮೇ, 1857

(3) 11ನೇ ಜೂನ್, 1857

(4) 22ನೇ ಜೂನ್, 1857

54. ಭಾರತದಲ್ಲಿ ಎಲ್ಲಾ ಕಾರ್ಮಿಕರಿಗೆ ವಾರದ ರಜಾ ದಿನವನ್ನು ಪ್ರಪ್ರಥಮ ಬಾರಿಗೆ ಜಾರಿಗೆ ಬರುವಂತೆ ಅವಕಾಶ ಕಲ್ಪಿಸಿದ ಕಾಯ್ದೆಯೆಂದರೆ

(1) ಗ್ರೇಟ್ ಬ್ರಿಟನ್ನಿನ ಫ್ಯಾಕ್ಟರಿ ಕಾಯ್ದೆ - 1937

(2) ಪ್ರಥಮ ಭಾರತದ ಫ್ಯಾಕ್ಟರಿ ಕಾಯ್ದೆ - 1881

(3) ದ್ವಿತೀಯ ಭಾರತದ ಫ್ಯಾಕ್ಟರಿ ಕಾಯ್ದೆ - 1891

(4) ಮೇಲಿನ ಯಾವುದೂ ಅಲ್ಲ

55. ಭಾರತದ ರಾಷ್ಟ್ರೀಯ ಹೋರಾಟದ ಅಧ್ಯಕ್ಷರಲ್ಲೊಬ್ಬರು ಹಾಗೂ ಜೈಲಿಗೆ ಹೋದ ಪ್ರಥಮ ಭಾರತೀಯ ಪತ್ರಕರ್ತರು

(1) ಸುರೇಂದ್ರನಾಥ್ ಬ್ಯಾನರ್ಜಿ

(2) ಬಾಲಗಂಗಾಧರ ತಿಲಕ್

(3) ಜಿ.ಜಿ. ಅಗರ್ವಾಲ್

(4) ರಮೇಶ್ ಚಂದ್ರ ಮಿತ್ರ

56. "ಅಧೀನಗೊಂಡ ಜನರಿಗೆ ಆತ್ಮವಿರುವುದಿಲ್ಲ, ಗುಲಾಮನಿಗಿಲ್ಲದಿರುವಂತೆ... ಆತ್ಮವಿಲ್ಲದ ದೇಶವು, ಗಾಡಿ ಎಳೆಯುವ ಮೂಕ ದನಗಳಂತೆ" ಎಂದು ಹೇಳಿದವರು



(1) ಬಿಪಿನ್ ಚಂದ್ರ ಪಾಲ್

(2) ಬಾಲಗಂಗಾಧರ ತಿಲಕ್

(3) ಡಾ|| ಬಿ.ಆರ್. ಅಂಬೇಡ್ಕರ್

(4) ಲಾಲಾ ಲಜಪತ್ ರಾಯ್

57. ಕೆಳಗಿನವುಗಳನ್ನು ಹೊಂದಿಸಿ ಬರೆಯಿರಿ :

ಪಟ್ಟಿ-I

ಪಟ್ಟಿ-II

(a) ಜಿ. ಸುಬ್ರಹ್ಮಣ್ಯ (i) ಸುಧಾರಕ ಅಯ್ಯರ್

(b) ಮೋತಿಲಾಲ್ ಫೋಷ್ (ii) ಸ್ವದೇಶ್-ಮಿತ್ರ

(c) ಜಿ.ಕೆ. ಗೋಖಲೆ (iii) ಅಮೃತ್ ಬಜಾರ್ ಪತ್ರಿಕೆ

(d) ಎನ್.ಎಂ.ಲೋಖಂಡೆ (iv) ದೀನಬಂಧು

(a) (b) (c) (d)

(1) (i) (ii) (iii) (iv)

(2) (ii) (iii) (i) (iv)

(3) (ii) (iii) (iv) (i)

(4) (iv) (iii) (ii) (i)

58. ಗದರ್ ಪಕ್ಷ ಸ್ಥಾಪನೆಯಾದ ತಿಂಗಳು ಮತ್ತು ವರ್ಷ ಯಾವುದು?

(1) ನವಂಬರ್ 1, 1914

(2) ನವಂಬರ್ 4, 1911

(3) ನವಂಬರ್ 2, 1912

(4) ನವಂಬರ್ 1, 1913

Lal
Harekrishna
Sanghvi

/574-D

(30)



53. Sepoys from Meerut, who entered the Red Fort through the Raj Ghat to appeal to Bahadur Shah II to assume the leadership of the revolt against the British, met him on

- (1) 22nd May, 1857
- (2) 11th May, 1857
- (3) 11th June, 1857
- (4) 22nd June, 1857

54. The Act that made the provision for a weekly holiday for the first time for all the workers in India was

- (1) The Factory Act of Great Britain - 1937
- (2) The First Indian Factory Act - 1881 *Rippon*
- (3) The Second Indian Factory Act - 1891
- (4) None of the above

55. One of the founding fathers of the Indian National Movement and the first Indian journalist to go to jail was

- (1) Surendranath Banerjee
- (2) Balgangadhar Tilak *Ji*
- (3) G. G. Agarkar
- (4) Romesh Chandra Mitra

56. "A subject people has no soul, just as a slave can have none A man without a soul is a mere animal, A nation without a soul is only a dumb driven cattle" was said by

- (1) Bipin Chandra Pal
- (2) Balgangadhar Tilak
- (3) Dr. B. R. Ambedkar
- (4) Lala Lajpat Rai

57. Match the following :

List—I

List—II

- | | |
|------------------------|----------------------------|
| (a) G. Subramania Iyer | (i) Sudharak |
| (b) Moti Lal Ghosh | (ii) Swadesh Mitra |
| (c) G. K. Gokhale | (iii) Amrita Bazar Patrika |
| (d) N. M. Lokhande | (iv) Deen bandhu |

- | | | | | |
|-----|------|-------|-------|------|
| | (a) | (b) | (c) | (d) |
| (1) | (i) | (ii) | (iii) | (iv) |
| (2) | (ii) | (iii) | (i) | (iv) |
| (3) | (ii) | (iii) | (iv) | (i) |
| (4) | (iv) | (iii) | (ii) | (i) |

58. In which month and year, was Ghadar party established?

- (1) November 1, 1914
- (2) November 4, 1911
- (3) November 2, 1912
- (4) November 1, 1913

59. ಭಾರತದಲ್ಲಿ 'ವಿಶೇಷ ಆರ್ಥಿಕ ವಲಯ' ಕಾಯ್ದೆಯನ್ನು ಯಾವ ವರ್ಷ ಜಾರಿಗೆ ತರಲಾಯಿತು?

- (1) 2004
- (2) 2005
- (3) 2006
- (4) 2007

60. ಭಾರತದಲ್ಲಿ "ಗ್ರಾಮೀಣ ಪ್ರದೇಶಕ್ಕೆ ನಗರ ಸೌಕರ್ಯಗಳನ್ನು ಒದಗಿಸುವುದು" (PURA) ಯೋಜನೆಯನ್ನು ಯಾವ ವರ್ಷ ಘೋಷಿಸಲಾಯಿತು?

- (1) 2003
- (2) 2004
- (3) 2005
- (4) 2006

61. ಕೆಳಗಿನ ಅಭಿವೃದ್ಧಿ ಕಾರ್ಯಕ್ರಮಗಳು ಮತ್ತು ಪ್ರಾರಂಭಿಸಿದ ವರ್ಷವನ್ನು ಹೊಂದಿಸಿ :

- (a) ಪ್ರಧಾನಮಂತ್ರಿ ಜನ-ಧನ್ (i) 2018 ಯೋಜನೆ (PMJDY)
- (b) ಪ್ರಧಾನಮಂತ್ರಿ ಜೀವನಜ್ಯೋತಿ (ii) 2016 ವಿಮಾ ಯೋಜನೆ (PMJBY)
- (c) ಪ್ರಧಾನಮಂತ್ರಿ ಜನ ಆರೋಗ್ಯ (iii) 2014 ಯೋಜನೆ (PMJAY)
- (d) ಪ್ರಧಾನಮಂತ್ರಿ ಮುದ್ರ (iv) 2015 ಯೋಜನೆ (PMMY)

- | | | | |
|-----------|-------|-------|-------|
| (a) | (b) | (c) | (d) |
| (1) (i) | (iii) | (ii) | (iv) |
| (2) (iii) | (iv) | (i) | (ii) |
| (3) (ii) | (iv) | (i) | (iii) |
| (4) (iv) | (i) | (iii) | (ii) |

62. ಕೆಳಗೆ ಕೊಟ್ಟಿರುವ ಸಂಕೇತಗಳನ್ನು ಉಪಯೋಗಿಸಿ I ನೇ ಪಟ್ಟಿಯನ್ನು II ನೇ ಪಟ್ಟಿಯೊಂದಿಗೆ ಸರಿಹೊಂದಿಸಿ :

ಪಟ್ಟಿ—I ಪಟ್ಟಿ—II

- (a) ರಂಗರಾಜನ್ ಸಮಿತಿ (i) ಮೂಲಭೂತ ಸೌಕರ್ಯಗಳ ಅಭಿವೃದ್ಧಿಯ ಪಿಪಿಪಿ ಮಾದರಿಗಳು
- (b) ನರಸಿಂಹನ್ ಸಮಿತಿ (ii) ವಿಮಾ ಸುಧಾರಣೆಗಳು
- (c) ವಿಜಯ್ ಕೇಳರ್ ಸಮಿತಿ (iii) ಬಡತನ ಅಂದಾಜುಗಳು
- (d) ಮಲ್ಹೋತ್ರಾ ಸಮಿತಿ (iv) ಹಣಕಾಸು ವಲಯದ ಸುಧಾರಣೆಗಳು

- | | | | |
|-----------|------|-------|-------|
| (a) | (b) | (c) | (d) |
| (1) (iii) | (iv) | (i) | (ii) |
| (2) (iii) | (ii) | (i) | (iv) |
| (3) (i) | (ii) | (iii) | (iv) |
| (4) (ii) | (i) | (iv) | (iii) |

63. ನಾವು 52 ಕಾರ್ಡ್‌ಗಳ ಪ್ಯಾಕ್‌ನಿಂದ ಯಾದೃಚ್ಛಿಕವಾಗಿ 2 ಕಾರ್ಡ್‌ಗಳನ್ನು ಡ್ರಾ ಮಾಡಿದರೆ 2 ಡೈಮಂಡ್ ಪಡೆಯುವ ಸಂಭವನೀಯತೆಯನ್ನು ಕಂಡುಹಿಡಿಯಿರಿ.

- (1) $\frac{1}{17}$
- (2) $\frac{1}{14}$
- (3) $\frac{1}{15}$
- (4) $\frac{1}{12}$

59. In which year, was the 'Special Economic Zone (SEZ)' Act implemented in India?

- (1) 2004
- (2) 2005
- (3) 2006
- (4) 2007

60. When was the 'Provision of Urban Amenities to Rural Area (PURA)' scheme introduced in India?

- (1) 2003
- (2) 2004
- (3) 2005
- (4) 2006

61. Match the following the Development Programmes and its Launched Year :

(a) Pradhan Mantri Jan- (i) 2018
Dhan Yojana (PMJDY)

(b) Pradhan Mantri (ii) 2016
Jeevan Jyoti
Bima Yojana (PMJBLY)

(c) Pradhan Mantri Jan (iii) 2014
Arogya Yojana (PMJAY)

(d) Pradhan Mantri (iv) 2015
Mudra Yojana (PMMY)

- | | (a) | (b) | (c) | (d) |
|-----|-------|-------|-------|-------|
| (1) | (i) | (iii) | (ii) | (iv) |
| (2) | (iii) | (iv) | (i) | (ii) |
| (3) | (ii) | (iv) | (i) | (iii) |
| (4) | (iv) | (i) | (iii) | (ii) |

62. Match List-I with List-II :

List-I

List-II

(a) Rangarajan committee

(i) PPP models of infrastructure development

(b) Narasimham committee

(ii) Insurance reforms

(c) Vijay Kelkar committee

(iii) Poverty estimates

(d) Malhotra committee

(iv) Financial sector reform

- | | (a) | (b) | (c) | (d) |
|-----|-------|------|-------|-------|
| (1) | (iii) | (iv) | (i) | (ii) |
| (2) | (iii) | (ii) | (i) | (iv) |
| (3) | (i) | (ii) | (iii) | (iv) |
| (4) | (ii) | (i) | (iv) | (iii) |

63. Find the probability of getting 2 diamonds if we draw 2 cards at random from a pack of 52 cards.

(1) $\frac{1}{17}$

(2) $\frac{1}{14}$

(3) $\frac{1}{15}$

(4) $\frac{1}{12}$

64. ಟ್ರಿಪಲ್ ಪಾಯಿಂಟ್‌ನಲ್ಲಿ

- (1) ತಾಪಮಾನವನ್ನು ಮಾತ್ರ ನಿಗದಿಪಡಿಸಲಾಗಿರುತ್ತದೆ
- (2) ಒತ್ತಡವನ್ನು ಮಾತ್ರ ನಿಗದಿಪಡಿಸಲಾಗಿರುತ್ತದೆ
- (3) ಕೆಲವೊಮ್ಮೆ ಒತ್ತಡ ಮತ್ತು ಕೆಲವೊಮ್ಮೆ ತಾಪಮಾನ ನಿಗದಿಪಡಿಸಲಾಗಿರುತ್ತದೆ
- (4) ತಾಪಮಾನ ಮತ್ತು ಒತ್ತಡ ಎರಡನ್ನೂ ನಿಗದಿಪಡಿಸಲಾಗಿರುತ್ತದೆ

65. $x + y : 3x - y = 3 : 4$

$x - y : x + y = ?$

- (1) 1 : 4
- (2) 2 : 5
- (3) 2 : 3
- (4) 1 : 6

66. A ವ್ಯಕ್ತಿಯು ಒಂದು ಕೆಲಸವನ್ನು 35 ದಿನಗಳಲ್ಲಿ ಪೂರ್ಣಗೊಳಿಸಲಿದ್ದು B ವ್ಯಕ್ತಿಯು A ಗಿಂತ ಶೇಖಡಾ 40ರಷ್ಟು ಹೆಚ್ಚು ದಕ್ಷನಾಗಿದ್ದರೆ B ಯು ಎಷ್ಟು ದಿನಗಳಲ್ಲಿ ಕೆಲಸವನ್ನು ಪೂರ್ಣಗೊಳಿಸಬಹುದು?

- (1) 25 ದಿನಗಳು
- (2) 35 ದಿನಗಳು
- (3) 20 ದಿನಗಳು
- (4) 15 ದಿನಗಳು

67. 1 ರಿಂದ 6 ಅಂಕಗಳ ಒಟ್ಟು 6 ಮುಖಗಳುಳ್ಳ ಒಂದು ಫೇರ್ (ನ್ಯಾಯೋಚಿತ) ದಾಳವನ್ನು ಎರಡು ಬಾರಿ ಉರುಳಿಸಿದಾಗ ಒಟ್ಟು ಮೊತ್ತವು ಸಮಸಂಖ್ಯೆಯಾಗಿದ್ದಲ್ಲಿ ಆ ಮೊತ್ತವು 8 ಆಗಿರದ ಸಂಭವನೀಯತೆ ಎಷ್ಟು?

- (1) 11/18
- (2) 7/18
- (3) 5/18
- (4) 13/18

68. 1 ರಿಂದ 300 ರವರೆಗಿನ (ಎರಡನ್ನೂ ಒಳಗೊಂಡಂತೆ) ಪೂರ್ಣಾಂಕಗಳಲ್ಲಿ ಎಷ್ಟು ಪೂರ್ಣಾಂಕಗಳು 2, 3 ಹಾಗೂ 5 - ಈ ಸಂಖ್ಯೆಗಳಲ್ಲಿ ಒಂದರಿಂದಾದರೂ ಭಾಗಿಸಲ್ಪಡುತ್ತವೆ?

- (1) 240
- (2) 260
- (3) 220
- (4) 200

69. ಸಂಖ್ಯೆ 361 ಅನ್ನು 7 ರಿಂದ ಭಾಗಿಸಿದಾಗ ಸಿಗುವ ಶೇಷವೇನು?

- (1) 1
- (2) 2
- (3) 3
- (4) 4

64. At triple point

- (1) only the temperature is fixed
- (2) only the pressure is fixed
- (3) sometimes pressure and sometimes temperature is fixed
- (4) both the temperature and pressure are fixed

65. If $x + y : 3x - y = 3 : 4$, then $x - y : x + y = ?$

- (1) 1 : 4
- (2) 2 : 5
- (3) 2 : 3
- (4) 1 : 6

66. If a person A can complete a certain task in 35 days and another person B is 40% more efficient than A, then how many days does it take for B to complete the task?

- (1) 25 days
- (2) 35 days
- (3) 20 days
- (4) 15 days

67. When a fair die with 6 faces numbered 1 to 6 is thrown twice, what is the probability that the sum of the two throws is not 8 given that the sum is even?

- (1) 11/18
- (2) 7/18
- (3) 5/18
- (4) 13/18

68. What is the number of integers between 1 and 300, both inclusive, which are divisible by any of the integers 2, 3 and 5?

- (1) 240
- (2) 260
- (3) 220
- (4) 200

69. What is the remainder when 3^{61} is divided by 7?

- (1) 1
- (2) 2
- (3) 3
- (4) 4

70. FLOWER ಪದದ ಅಕ್ಷರವನ್ನು ಬಳಸಿಕೊಂಡು 4 ಉದ್ದದ ಎಷ್ಟು ವಿಭಿನ್ನ ಅನುಕ್ರಮಗಳು ರಚಿಸಬಹುದು?

(1) 360

(2) 550

(3) 470

(4) 640

71. 5 ಅನುಕ್ರಮ ಸಮ ಸಂಖ್ಯೆಗಳ ಸರಾಸರಿ (A), (B), (C) ಮತ್ತು (E) 46 ಆಗಿದ್ದರೆ A ಮತ್ತು C ಗಳ ಉತ್ಪನ್ನ ಯಾವುದು?


(1) 1848

(2) 1932

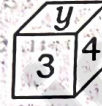
(3) 2024

(4) 2400

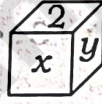
72. ಕೊಟ್ಟಿರುವ ಆಕೃತಿಯನ್ನು ಪೆಟ್ಟಿಗೆಯ ರೂಪದಲ್ಲಿ ಮಡಿಸಿದರೆ, ಯಾವುದು ರೂಪುಗೊಳ್ಳುತ್ತದೆ?



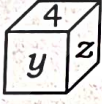
(1)



(2)



(3)



(4)



73. ಒಬ್ಬ ಜೋಗರ್ ದಕ್ಷಿಣಾಭಿಮುಖವಾಗಿ 22 ಮೀ. ಚಲಿಸಿ, ನಂತರ ಅವನು ತನ್ನ ಬಲಕ್ಕೆ ತಿರುಗಿ 19 ಮೀ.ಗಳನ್ನು ಚಲಿಸುತ್ತಾನೆ, ನಂತರ ಪುನಃ ಬಲಕ್ಕೆ ತಿರುಗಿ 18 ಮೀ. ಚಲಿಸುತ್ತಾನೆ ಮತ್ತು ಪುನಃ ಬಲಕ್ಕೆ ತಿರುಗಿ 16 ಮೀ. ಚಲಿಸುತ್ತಾನೆ. ಅವನು ಹೊರಟ ಸ್ಥಳದಿಂದ ಎಷ್ಟು ಮೀಟರ್ ದೂರದಲ್ಲಿದ್ದಾನೆ?

(1) 8 m

(2) 5 m

(3) 25 m

(4) 9 m



/574-D

(36)



Teachingninja.in

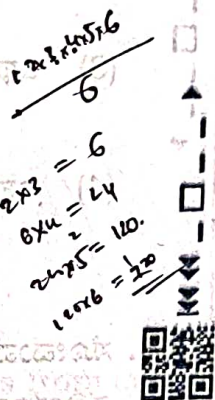
70. How many different strings (sequences) of length 4 can be formed using the letters of the word FLOWER?

(1) 360

(2) 550

(3) 470

(4) 640



71. The average of five consecutive even numbers A, B, C, D and E is 46. What is the product of A and C?

(1) 1848

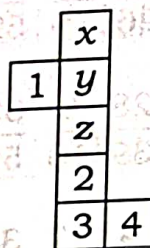
(2) 1932

(3) 2024

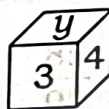
(4) 2400



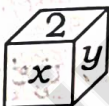
72. If the given figure is folded to form a box, which among the boxes below will be formed?



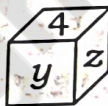
(1)



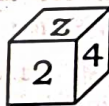
(2)



(3)



(4)



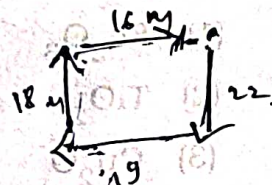
73. A jogger facing south walks 22 m, then he turns to his right and walks 19 m, then he turns to his right and walks 18 m. Again he turns to his right and walks 16 m. How far is he from his starting point?

(1) 8 m

(2) 5 m

(3) 25 m

(4) 9 m



74. ಕೆಳಗಿನ ಯಾವ ಪ್ರಶ್ನೆಗಳ ವ್ಯವಸ್ಥೆಯು ಹೆಚ್ಚುತ್ತಿರುವ ಕ್ರಮದಲ್ಲಿದೆ?

- (1) $\frac{9}{13}, \frac{17}{26}, \frac{28}{39}, \frac{33}{52}$
- (2) $\frac{17}{26}, \frac{28}{39}, \frac{9}{13}, \frac{33}{52}$
- (3) $\frac{28}{39}, \frac{9}{13}, \frac{17}{26}, \frac{33}{52}$
- (4) $\frac{33}{52}, \frac{17}{26}, \frac{9}{13}, \frac{28}{39}$

75. Aನಿಂದ Bಗೆ ಮೂರು ರೈಲ್ವೇ ಟಿಕೆಟ್‌ಗಳು ಮತ್ತು Aನಿಂದ Cಗೆ ಮೂರು ಟಿಕೆಟ್‌ಗಳ ಬೆಲೆ ರೂ. 165. Aನಿಂದ Bಗೆ ಎರಡು ಮತ್ತು Aನಿಂದ Cಗೆ ಮೂರು ಟಿಕೆಟ್‌ಗಳ ಬೆಲೆ ರೂ. 140. Aನಿಂದ C ಸಿಟಿಯ ಪ್ರಯಾಣ ದರ ಎಷ್ಟು?

- (1) ₹ 20
- (2) ₹ 30
- (3) ₹ 40
- (4) ₹ 50

76. ಬಿಳಿ ಬಣ್ಣದಲ್ಲಿ ಇರುವ ವರ್ಣದ್ರವ್ಯವನ್ನು ಆಯ್ಕೆ ಮಾಡಿ :

- (1) Fe_2O_3 8 m (1)
- (2) TiO_2 2 m (2)
- (3) Cu_2O 25 m (3)
- (4) Cr_2O_3 9 m (4)

77. ಸ್ಯಾನಿಟೈಸರ್‌ಅನ್ನು ಯಾವ ರಾಸಾಯನಿಕ ಗಳಿಂದ ಸಂಯೋಜಿಸಿದೆ?

- (1) ಮಿಥನಾಲ್ ಮತ್ತು ಬ್ಯೂಟನಾಲ್
- (2) ಇಥನಾಲ್ ಮತ್ತು ಮಿಥನಾಲ್
- (3) ಇಥನಾಲ್ ಮತ್ತು ಐಸೋಪ್ರೊಪನಾಲ್
- (4) ಇಥನಾಲ್ ಮತ್ತು ಬ್ಯೂಟನಾಲ್

78. ಸೋಮವಾರ ಬೆಳಿಗ್ಗೆ 9 ಗಂಟೆಗೆ ಎರಡು ಗಡಿಯಾರಗಳನ್ನು ಸರಿಯಾಗಿ ಹೊಂದಿಸಲಾಗಿದೆ. ಎರಡೂ ಗಡಿಯಾರಗಳು ಒಂದು ಗಂಟೆಯಲ್ಲಿ ಕ್ರಮವಾಗಿ 3 ನಿಮಿಷ ಮತ್ತು 5 ನಿಮಿಷಗಳನ್ನು ಪಡೆಯುತ್ತವೆ. ಒಂದು ಗಂಟೆಯಲ್ಲಿ 3 ನಿಮಿಷವನ್ನು ಗಳಿಸುವ ಮೊದಲ ಗಡಿಯಾರವು ಅದೇ ದಿನ ಸಂಜೆ 6 ಗಂಟೆಯ ನಂತರ 27 ನಿಮಿಷ ಎಂದು ತೋರಿಸಿದರೆ, ಎರಡನೇ ಗಡಿಯಾರವು ಯಾವ ಸಮಯದಲ್ಲಿ ನೋಂದಾಯಿಸುತ್ತದೆ?

- (1) ಸಂಜೆ 6 : 27
- (2) ಸಂಜೆ 6 : 25
- (3) ಸಂಜೆ 6 : 45
- (4) ಸಂಜೆ 6 : 50

74. Which of the following arrangements of questions is in increasing order?

(1) $\frac{9}{13}, \frac{17}{26}, \frac{28}{39}, \frac{33}{52}$

(2) $\frac{17}{26}, \frac{28}{39}, \frac{9}{13}, \frac{33}{52}$

(3) $\frac{28}{39}, \frac{9}{13}, \frac{17}{26}, \frac{33}{52}$

(4) $\frac{33}{52}, \frac{17}{26}, \frac{9}{13}, \frac{28}{39}$

75. Three railway tickets from city A to B and three from city A to C cost ₹ 165. Two tickets from A to B and three from A to C cost ₹ 140. What is the fare for city C from city A?

(1) ₹ 20

(2) ₹ 30

(3) ₹ 40

(4) ₹ 50

76. Select the pigment present in white paint.



77. Chemical composition of sanitizer is

(1) Methanol and Butanol

(2) Ethanol and Methanol

(3) Ethanol and Isopropanol

(4) Ethanol and Butanol



78. Two clocks are set correctly at 9 am on Monday. Both the clocks gain 3 min and 5 min respectively in an hour. What time will the second clock register, if the first clock, which gains 3 min in an hour, shows the time as 27 min past 6 pm on the same day?

(1) 6 : 27 pm

(2) 6 : 25 pm

(3) 6 : 45 pm

(4) 6 : 50 pm

79. ಈ ಕೆಳಗಿನ ಮಾಹಿತಿಯನ್ನು ಎಚ್ಚರಿಕೆಯಿಂದ ಓದಿ ಮತ್ತು ಕೆಳಗೆ ನೀಡಲಾದ ಪ್ರಶ್ನೆಗಳಿಗೆ ಉತ್ತರಿಸಿ :

(I) ಒಂದು ಕುಟುಂಬದಲ್ಲಿ ಆರು ಸದಸ್ಯರಿದ್ದಾರೆ

(II) ಸದಸ್ಯರು A, B, C, D, E ಮತ್ತು F

(III) D, F ಮಗಳು, ಅವಳು E ನ ತಾಯಿಯಾಗಿದ್ದಳು

(IV) E, A ನ ಮಗಳು

(V) A, C ಯ ಮಗ

(VI) ಕುಟುಂಬವು ತಮ್ಮ ಪೋಷಕರು ಮತ್ತು ಮಕ್ಕಳನ್ನು ಹೊಂದಿರುವ ಒಂದು ದಂಪತಿಯನ್ನು ಒಳಗೊಂಡಿದೆ

ಈ ಕೆಳಗಿನವುಗಳಲ್ಲಿ ಯಾವ ಜೋಡಿಯು ಮಕ್ಕಳ ಪೋಷಕರು?

(1) BF

(2) CF

(3) BC

(4) ಮೇಲಿನ ಯಾವುದೂ ಅಲ್ಲ

80. ಕೊಟ್ಟಿರುವ ಸರಣಿಯಲ್ಲಿ ಪ್ರತ್ಯಾರ್ಥಕ ಚಿಹ್ನೆಯ (?) ಸ್ಥಾನದಲ್ಲಿ ಏನು ಬರುತ್ತದೆ?

6, 12, 20, 30, ?, 56, 72

(1) 32

(2) 36

(3) 40

(4) 42

81. ಸಮಾನ ಉದ್ದದ ಎರಡು ರೈಲುಗಳು ಒಂದು ಕಂಬವನ್ನು ದಾಟಲು ಕ್ರಮವಾಗಿ 5 ಸೆಕೆಂಡುಗಳು ಮತ್ತು 6 ಸೆಕೆಂಡುಗಳನ್ನು ತೆಗೆಕೊಳ್ಳುತ್ತವೆ. ಈ ರೈಲುಗಳು ಒಂದೇ ದಿಕ್ಕಿನಲ್ಲಿ ಚಲಿಸುತ್ತಿದ್ದರೆ, ಅವು ಪರಸ್ಪರ ದಾಟಲು ಎಷ್ಟು ಸಮಯ ತೆಗೆದುಕೊಳ್ಳುತ್ತವೆ?

(1) 5 ಸೆಕೆಂಡುಗಳು

(2) 6 ಸೆಕೆಂಡುಗಳು

(3) 30 ಸೆಕೆಂಡುಗಳು

(4) 60 ಸೆಕೆಂಡುಗಳು

79. Read the following information carefully and answer the question given below :

- (I) There are six members in a family
- (II) The members are A, B, C, D, E and F
- (III) D is the daughter of F, who is the mother of E
- (IV) E is the daughter of A
- (V) A is the son of C
- (VI) The family consists of one couple who have their parents and their children

Which of the following pairs are the parents of the children?

- (1) BF
- (2) CF
- (3) BC
- (4) None of the above

80. What comes in the place of question mark (?) in the given series?

6, 12, 20, 30, ?, 56, 72

- (1) 32
- (2) 36
- (3) 40
- (4) 42

81. Two trains of equal lengths take 5 seconds and 6 seconds respectively to cross a pole. If these trains are moving in the same direction, then how long will they take to cross each other?

- (1) 5 seconds
- (2) 6 seconds
- (3) 30 seconds
- (4) 60 seconds

82. ಈ ಕೆಳಗಿನವುಗಳಲ್ಲಿ ಯಾವುದು ಕ್ಯಾಬಿನೆಟ್ ಮಿಷನ್ ಯೋಜನೆಯ ಮುಖ್ಯ ಶಿಫಾರಸುಗಳಾಗಿವೆ?

(i) ಇದು ಬ್ರಿಟಿಷ್ ಭಾರತೀಯ ಪ್ರಾಂತ್ಯಗಳು ಮತ್ತು ಭಾರತೀಯ ರಾಜ್ಯಗಳನ್ನು ಒಳಗೊಂಡ ಫೆಡರಲ್ ಒಕ್ಕೂಟದ ರಚನೆಯನ್ನು ಪ್ರಸ್ತಾಪಿಸಿತು.

(ii) ಇದು ಭಾರತದ ಸಂವಿಧಾನವನ್ನು ರೂಪಿಸಲು ಸಂವಿಧಾನ ಸಭೆಯನ್ನು ಸ್ಥಾಪಿಸಲು ಸಲಹೆ ನೀಡಿತು.

(iii) ವಿವಿಧ ರಾಜಕೀಯ ಪಕ್ಷಗಳ ಪ್ರತಿನಿಧಿಗಳನ್ನು ಒಳಗೊಂಡ ಮಧ್ಯಂತರ ಸರ್ಕಾರವನ್ನು ಸ್ಥಾಪಿಸುವುದು.

(iv) ಪ್ರತ್ಯೇಕ ಮುಸ್ಲಿಂ ರಾಜ್ಯದ ಬೇಡಿಕೆಯನ್ನು ಅದು ಒಪ್ಪಿಕೊಂಡಿತು.

ಕೆಳಗಿನ ಕೋಡ್ ಬಳಸಿ ಸರಿಯಾದ ಉತ್ತರವನ್ನು ಆಯ್ಕೆಮಾಡಿ :

(1) (i), (ii) ಮತ್ತು (iii)

(2) (ii) ಮತ್ತು (iv)

(3) (i) ಮತ್ತು (iv)

(4) (i), (ii) ಮತ್ತು (iv)

83. ಈ ಕೆಳಗಿನವುಗಳಲ್ಲಿ ಯಾವುದು ಭಾರತದಲ್ಲಿ ರಾಷ್ಟ್ರಪತಿ ಅಲ್ಪಕೆಯ ಘೋಷಣೆಯ ಪರಿಣಾಮಗಳಲ್ಲ?

(i) ರಾಜ್ಯ ವಿಧಾನಸಭೆಯ ವಿಸರ್ಜನೆ.

(ii) ರಾಜ್ಯದಲ್ಲಿ ಮಂತ್ರಿ ಮಂಡಳಿಯನ್ನು ತೆಗೆದುಹಾಕುವುದು.

(iii) ಸ್ಥಳೀಯ ಸ್ವ-ಸರ್ಕಾರಗಳ ವಿಸರ್ಜನೆ.

(iv) ಕೇಂದ್ರ ಸರ್ಕಾರದಿಂದ ರಾಜ್ಯ ಆಡಳಿತವನ್ನು ಸ್ವಾಧೀನಪಡಿಸಿ ಕೊಳ್ಳುವುದು.

ಕೆಳಗಿನ ಕೋಡ್ ಬಳಸಿ ಸರಿಯಾದ ಉತ್ತರವನ್ನು ಆಯ್ಕೆಮಾಡಿ :

(1) (i), (ii) ಮತ್ತು (iv)

(2) (i) ಮತ್ತು (iii)

(3) (ii) ಮತ್ತು (iii)

(4) (i), (iii) ಮತ್ತು (iv)

82. Which one of the following were the main recommendations of the Cabinet Mission Plan?

(i) It proposed formation of a Federal Union consisting of British Indian provinces and Indian States. ✓

(ii) It suggested setting up of a constituent Assembly to frame a Constitution of India. ✓

(iii) It provided for the setting up of an Interim Government consisting of representatives of various political parties.

(iv) It conceded the demand for a separate Muslim State. → No

Select the **correct** answer using the code given below :

(1) (i), (ii) and (iii) ✓

(2) (ii) and (iv)

(3) (i) and (iv)

(4) (i), (ii) and (iv)

/574-D

(43)

83. Which of the following are **not** necessarily the consequences of the proclamation of the President's Rule in India?

(i) Dissolution of the State Legislative Assembly

(ii) The removal of the Council of Ministers in the State

(iii) Dissolution of the local self-governments

(iv) Takeover of the State administration by the Union Government

Select the **correct** answer from the code given below :

(1) (i), (ii) and (iv)

(2) (i) and (iii)

(3) (ii) and (iii)

(4) (i), (iii) and (iv)

[P. T. O.]



84. ಪಂಚಾಯತ್ ರಾಜ್‌ಗೆ ಸಂಬಂಧಿಸಿದಂತೆ 73ನೇ ಸಂವಿಧಾನಿಕ ತಿದ್ದುಪಡಿಯ ಪ್ರಮುಖ ಲಕ್ಷಣಗಳು ಯಾವುದು?

(i) ಎಲ್ಲಾ ಹಂತಗಳಲ್ಲಿ ಸದಸ್ಯರ ನೇರ ಚುನಾವಣೆ.

(ii) ಚುನಾವಣೆಗಳನ್ನು ನಡೆಸುವ ಕಡ್ಡಾಯ ನಿಬಂಧನೆ.

(iii) ಗ್ರಾಮ ಮಟ್ಟದಲ್ಲಿ ಅಧ್ಯಕ್ಷರ ಚುನಾವಣೆ.

(iv) ಮಧ್ಯಂತರ ಮತ್ತು ಜಿಲ್ಲಾ ಮಟ್ಟದಲ್ಲಿ ಅಧ್ಯಕ್ಷರ ಪರೋಕ್ಷ ಚುನಾವಣೆ.

ಕೆಳಗಿನ ಕೋಡ್ ಬಳಸಿ ಸರಿಯಾದ ಉತ್ತರವನ್ನು ಆಯ್ಕೆಮಾಡಿ :

(1) (i), (ii) ಮತ್ತು (iii)

(2) (ii), (iii) ಮತ್ತು (iv)

(3) (i), (ii) ಮತ್ತು (iv)

(4) (i), (iii) ಮತ್ತು (iv)

85. “ಒಬ್ಬ ವ್ಯಕ್ತಿ ಒಂದು ಮತ” ಪರಿಕಲ್ಪನೆಯನ್ನು ಪ್ರಸ್ತಾಪಿಸಿದವರು ಯಾರು?

(1) ಕೆ.ಎಂ.ಪಣಿಕ್ಕರ್

(2) ಬಿ.ಎನ್.ರಾವು

(3) ಕೆ.ಎಂ.ಮುನ್ಶಿ

(4) ಡಾ.ಬಿ.ಆರ್. ಅಂಬೇಡ್ಕರ್

86. ಸರ್ಕಾರಿಯಾ ಆಯೋಗವು ಭಾರತದಲ್ಲಿ ಶಾಶ್ವತ ಅಂತರ-ರಾಜ್ಯ ಮಂಡಳಿಯ ಸಂವಿಧಾನವನ್ನು ಶಿಫಾರಸು ಮಾಡಿತು.

Statement I : 6 ಕೇಂದ್ರ ಕ್ಯಾಬಿನೆಟ್ ಮಂತ್ರಿಗಳು ಮತ್ತು ಎಲ್ಲಾ ರಾಜ್ಯಗಳ ಮುಖ್ಯಮಂತ್ರಿಗಳನ್ನು ಒಳಗೊಂಡಿರುತ್ತದೆ.

Statement II : ಇಂಟರ್-ಸ್ಟೇಟ್ ಕೌನ್ಸಿಲ್ ಅನ್ನು ಏಪ್ರಿಲ್ 1990 ರಲ್ಲಿ ರಚಿಸಲಾಗಿದೆ.

Statement III : ಯಾವುದೇ ಸಮಯದಲ್ಲಿ ಸಾರ್ವಜನಿಕ ಹಿತಾಸಕ್ತಿಗಳನ್ನು ಅದು ಪೂರೈಸುತ್ತದೆ ಎಂದು ಅವರಿಗೆ ತೋರಿದರೆ ಅಂತರ-ರಾಜ್ಯ ಮಂಡಳಿಯನ್ನು ಸ್ಥಾಪಿಸಲು ಭಾರತದ ರಾಷ್ಟ್ರಪತಿಗೆ ಅಧಿಕಾರವಿದೆ (ಲೇಖನ 263).

(1) II ಮತ್ತು III ಮಾತ್ರ

(2) I ಮತ್ತು II ಮಾತ್ರ

(3) I, II ಮತ್ತು III

(4) ಕೇವಲ III

87. ‘ಗ್ರಾಮರ್ ಆಫ್ ಪಾಲಿಟಿಕ್ಸ್’ ಪುಸ್ತಕದ ಲೇಖಕರು ಯಾರು?

(1) ಜೇಮ್ಸ್ ಬೈನ್

(2) G. D. H. ಕೋಲ್

(3) ಹರ್ಮನ್ ಫೈನರ್

(4) ಎಚ್.ಜೆ. ಲಾಸ್ಕಿ

84. Which of the following are the important features of 73rd Constitutional Amendment in respect of Panchayat Raj?

- (i) Direct election of members at all levels. ✓
- (ii) Mandatory provision of holding elections. ✓
- (iii) Direct election of Chairpersons at the village level. ✗
- (iv) Indirect election of Chairpersons at the intermediate and district levels. ✓

Select the **correct** answer from the code given below



- (1) (i), (ii) and (iii) ✗
- (2) (ii), (iii) and (iv) ✗
- (3) (i), (ii) and (iv) ✓
- (4) (i), (iii) and (iv) ✗

85. Who proposed the concept of 'One Man, One Vote'?

- (1) K. M. Panikkar ✗
- (2) B. N. Rau ✗
- (3) K. M. Munshi ✗
- (4) Dr. B. R. Ambedkar ✓

86. The Sarkaria Commission recommended the Constitution of a permanent Inter-State Council in India.

Statement I : Consisting of 6 Union Cabinet Ministers and the Chief Ministers of all the States.

Statement II : Inter-State Council has been created in April 1990. ✗

Statement III : The President of India is empowered to establish Inter-State Council if at any time it appears to him that the public interests would be served by it (Article 263). ✓

- (1) Only II and III ✗
- (2) Only I and II ✗
- (3) I, II and III ✗
- (4) Only III ✓

87. Who is the author of the Book *A Grammar of Politics*?

- (1) James Bryce ✗
- (2) G. D. H. Cole ✗
- (3) Herman Finer ✗
- (4) H. J. Laski ✓



88. “ಬಾಹ್ಯ ಆಕ್ರಮಣ ಮತ್ತು ಆಂತರಿಕ ಅಡಚಣೆಯಿಂದ ಪ್ರತಿ ರಾಜ್ಯವನ್ನು ರಕ್ಷಿಸುವುದು ಒಕ್ಕೂಟದ ಕರ್ತವ್ಯವಾಗಿದೆ ಮತ್ತು ಈ ಸಂವಿಧಾನದ ನಿಬಂಧನೆಗಳಿಗೆ ಅನುಸಾರವಾಗಿ ಪ್ರತಿ ರಾಜ್ಯ ಸರ್ಕಾರವನ್ನು ನಡೆಸುತ್ತಿದೆ ಎಂದು ವಿಚಿತಪಡಿಸಿಕೊಳ್ಳುವುದು.”

ಭಾರತೀಯ ಸಂವಿಧಾನದ ಕೆಳಗಿನ ಯಾವ ವಿಧಿಗಳು ಮೇಲಿನ ಹೇಳಿಕೆಯೊಂದಿಗೆ ವ್ಯವಹರಿಸುತ್ತವೆ?

(1) ಅನುಚ್ಛೇದ 352

(2) ಅನುಚ್ಛೇದ 353

(3) ಅನುಚ್ಛೇದ 354

(4) ಅನುಚ್ಛೇದ 355

89. ನೋಂದಾಯಿತ ಮತದಾರನ ಹೆಸರಿನಲ್ಲಿ ಬೇರೆಯವರು ಮೊದಲೇ ಮತ ಚಲಾಯಿಸಿದ್ದರೆ, ಇದನ್ನು ನೋಂದಾಯಿತ ಮತದಾನ ಪ್ರಶ್ನಿಸಿ ಸಂಬಂಧಪಟ್ಟ ದಾಖಲೆಗಳೊಂದಿಗೆ ಸಾಕ್ಷಿ ನೀಡಿದರೆ ಅವನಿಗೆ ಸಿಗುವ ಮತದಾನ ಅವಕಾಶ ಯಾವುದು?

(1) ಚಾಲೆಂಜರ್ಡ್ ಮತ

(2) ಪ್ರಾಕ್ಟಿ ಮತ

(3) ಟೆಂಡರ್ಡ್ ಮತ

(4) ಬ್ಯಾಲೆಟ್ ಮತ

90. ಭಾರತದ ಯಾವ ರಾಜ್ಯವು ಪಂಚಾಯತ್ ಮಟ್ಟದಲ್ಲಿ ಚುನಾಯಿತ ಪ್ರತಿನಿಧಿಗಳನ್ನು ವಾಪಸ್ ಕರೆಸಿಕೊಳ್ಳುವ ಹಕ್ಕನ್ನು ಜಾರಿಗೆ ತಂದಿದೆ?

(1) ಕೇರಳ

(2) ಕರ್ನಾಟಕ

(3) ಪಶ್ಚಿಮ ಬಂಗಾಳ

(4) ಉತ್ತರ ಪ್ರದೇಶ

91. ಕ್ಷೇತ್ರಮಟ್ಟದ ಚುನಾವಣಾ ಪ್ರಕ್ರಿಯೆಯಲ್ಲಿ ದಕ್ಷ ಮತ್ತು ಪರಿಣಾಮಕಾರಿ ನಿರ್ವಹಣಾ ಮೇಲ್ವಿಚಾರಣೆ ಮಾಡಲು ಜಾಗೃತ ವೀಕ್ಷಕರನ್ನು ಯಾವಾಗ ಪರಿಚಯಿಸಲಾಯಿತು?

(1) 14ನೇ ಲೋಕಸಭಾ ಚುನಾವಣೆ (2004)

(2) 15ನೇ ಲೋಕಸಭಾ ಚುನಾವಣೆ (2009)

(3) 16ನೇ ಲೋಕಸಭಾ ಚುನಾವಣೆ (2014)

(4) 17ನೇ ಲೋಕಸಭಾ ಚುನಾವಣೆ (2019)

88. "It shall be the duty of the Union to protect every State against external aggression and internal disturbance and ensure that the Government of every State is carried on in accordance with the provisions of this Constitution."

Which among the following Articles of the Indian Constitution deals with the above statement?

(1) Article 352

(2) Article 353

(3) Article 354

(4) Article 355

89. Which vote is given to a registered voter, after producing all the documents, if his vote is casted by an another person?

(1) Challenged vote

(2) Proxy vote

(3) Tendered vote

(4) Ballot vote

90. Which Indian State implemented the right to recall elected representatives in the Panchayat level?

(1) Kerala

(2) Karnataka

(3) West Bengal

(4) Uttar Pradesh

91. When were awareness observers introduced to oversee the efficient and effective management of the electoral process at the field level?

(1) 14th Lok Sabha Election (2004)

(2) 15th Lok Sabha Election (2009)

(3) 16th Lok Sabha Election (2014)

(4) 17th Lok Sabha Election (2019)

92. 368ನೇ ವಿಧಿಯು ಸಂವಿಧಾನದ ಯಾವುದೇ ನಿಬಂಧನೆಗಳನ್ನು ತಿದ್ದುಪಡಿ ಮಾಡಲು ಸಂಸತ್ತಿಗೆ ಅಧಿಕಾರ ನೀಡುತ್ತದೆ. ಸಂವಿಧಾನಕ್ಕೆ ಮಾಡಿದ ಬದಲಾವಣೆಗಳಿಗೆ ಈ ಕೆಳಗಿನ ತಿದ್ದುಪಡಿಗಳನ್ನು ಹೊಂದಿಸಿ :

(i) 1ನೇ ತಿದ್ದುಪಡಿ (a) ಮತದಾನದ ವಯಸ್ಸನ್ನು 21 ರಿಂದ 18 ಕ್ಕೆ ಇಳಿಸಿತು

(ii) 24ನೇ ತಿದ್ದುಪಡಿ (b) 9ನೇ ಶೆಡ್ಯೂಲ್‌ಅನ್ನು ಸೇರಿಸಲಾಯಿತು

(iii) 52ನೇ ತಿದ್ದುಪಡಿ (c) ಪಕ್ಷದ ಟಿಕೆಟ್‌ನಲ್ಲಿ ಆಯ್ಕೆಯಾದ ಸದಸ್ಯರ ಇತರ ಪಕ್ಷಕ್ಕೆ ಪಕ್ಷಾಂತರ ವನ್ನು ಕಾನೂನು ಬಾಹಿರಗೊಳಿಸಲಾಗಿದೆ

(iv) 61ನೇ ತಿದ್ದುಪಡಿ (d) ಮೂಲಭೂತ ಹಕ್ಕುಗಳನ್ನು ಒಳಗೊಂಡಂತೆ ಸಂವಿಧಾನದ ಯಾವುದೇ ಭಾಗವನ್ನು ತಿದ್ದುಪಡಿ ಮಾಡುವ ಅಧಿಕಾರವನ್ನು ಸಂಸತ್ತಿಗೆ ನೀಡಿದೆ

(i) (ii) (iii) (iv)

(1) (a) (b) (d) (c)

(2) (b) (d) (c) (a)

(3) (d) (b) (a) (c)

(4) (d) (c) (b) (a)

93. ಕೆಳಗಿನವುಗಳನ್ನು ಹೊಂದಿಸಿ :

(i) ಮೊದಲನೇ ಅನುಸೂಚಿ (a) ಒಕ್ಕೂಟ ಪಟ್ಟಿ, ರಾಜ್ಯ ಪಟ್ಟಿ ಮತ್ತು ಸಮವರ್ತಿ ಪಟ್ಟಿಯನ್ನು ಒಳಗೊಂಡಿದೆ

(ii) ಮೂರನೇ ಅನುಸೂಚಿ (b) ಮಾನ್ಯತೆ ಪಡೆದ ಭಾಷೆಗಳ ಪಟ್ಟಿಯನ್ನು ಒಳಗೊಂಡಿದೆ

(iii) ಏಳನೇ ಅನುಸೂಚಿ (c) ರಾಜ್ಯಗಳು ಮತ್ತು ಕೇಂದ್ರಾಡಳಿತ ಪ್ರದೇಶಗಳು ಮತ್ತು ಅವುಗಳ ಪ್ರಾಂತ್ಯಗಳ ಪಟ್ಟಿಯನ್ನು ಒಳಗೊಂಡಿದೆ

(iv) ಎಂಟನೇ ಅನುಸೂಚಿ (d) ಪ್ರಮಾಣವಚನಗಳ ಅಥವಾ ಪ್ರತಿಜ್ಞಾ ವಚನಗಳ ನಮೂನೆಗಳು

(i) (ii) (iii) (iv)

(1) (a) (b) (d) (c)

(2) (b) (d) (c) (a)

(3) (c) (d) (a) (b)

(4) (d) (c) (b) (a)

92. Article 368 empowers the Parliament to amend any provision of the Constitution. Match the following Amendments to the alterations they made to the Constitution :

- | | |
|----------------------|--|
| (i) 1st Amendment | (a) Reduced the voting age from 21 to 18 |
| (ii) 24th Amendment | (b) Schedule 9 was inserted |
| (iii) 52nd Amendment | (c) The defection of members elected on a party ticket to other party was made illegal |
| (iv) 61st Amendment | (d) Conferred power to the Parliament to amend any part of the Constitution including Fundamental Rights |

- | | | | |
|-----|------|-------|------|
| (i) | (ii) | (iii) | (iv) |
| (1) | (a) | (b) | (d) |
| (2) | (b) | (d) | (c) |
| (3) | (d) | (b) | (a) |
| (4) | (d) | (c) | (b) |

93. Match the following :

- | | |
|------------------------|---|
| (i) First Schedule | (a) Contains the Union list, State list and the Concurrent list |
| (ii) Third Schedule | (b) Contains the list of recognized languages |
| (iii) Seventh Schedule | (c) Contains the list of States and Union Territories and their territories |
| (iv) Eighth Schedule | (d) Contains the Forms of Oaths or Affirmations |

- | | | | |
|-----|------|-------|------|
| (i) | (ii) | (iii) | (iv) |
| (1) | (a) | (b) | (d) |
| (2) | (b) | (d) | (c) |
| (3) | (c) | (d) | (a) |
| (4) | (d) | (c) | (b) |

94. ಪ್ರಪಂಚದಾದ್ಯಂತದ ವಿವಿಧ ಸಂವಿಧಾನಗಳನ್ನು ಪರಿಶೀಲಿಸಿದ ನಂತರ, ಯಾವ ದೇಶಗಳಿಂದ ಯಾವ ನಿಬಂಧನೆಗಳನ್ನು ಭಾರತೀಯ ಸಂವಿಧಾನದಲ್ಲಿ ಅಳವಡಿಸಲಾಗಿದೆ?

(i) ಸಂಸದೀಯ ಸರ್ಕಾರ ಮತ್ತು (a) ಐರ್ಲೆಂಡ್ ಕ್ಯಾಬಿನೆಟ್ ವ್ಯವಸ್ಥೆ



(ii) ಅರೆ ಸಂಯುಕ್ತ ವ್ಯವಸ್ಥೆ ಮತ್ತು ಶೇಷಾಧಿಕಾರ (b) ಇಂಗ್ಲೆಂಡ್ ಮತ್ತು ಶೇಷಾಧಿಕಾರ

(iii) ಮೂಲಭೂತ ಹಕ್ಕುಗಳು ಮತ್ತು ನ್ಯಾಯಾಂಗ ವಿಮರ್ಶೆ (c) ಕೆನಡಾ ಮತ್ತು ನ್ಯಾಯಾಂಗ ವಿಮರ್ಶೆ

(iv) ರಾಜ್ಯ ನಿರ್ದೇಶಕ ತತ್ವಗಳು (d) ಯುಎಸ್ ಎ

	(i)	(ii)	(iii)	(iv)
(1)	(a)	(d)	(b)	(c)
(2)	(b)	(d)	(c)	(a)
(3)	(c)	(d)	(a)	(b)
(4)	(b)	(c)	(d)	(a)

/574-D

(50)

95. ಮೂಲಭೂತ ಹಕ್ಕುಗಳ ಜಾರಿಗಾಗಿ ನ್ಯಾಯಾಂಗದ ನಿಷ್ಪಕ್ಷಪಾತ ಮತ್ತು ಸ್ವಾತಂತ್ರ್ಯ ಅತ್ಯಗತ್ಯ. ಈ ಹಕ್ಕುಗಳ ರಕ್ಷಣೆಗಾಗಿ ರಿಟ್‌ಗಳನ್ನು ಹೊರಡಿಸಲು ಭಾರತೀಯ ಸಂವಿಧಾನವು ನ್ಯಾಯಾಂಗಕ್ಕೆ ಅಧಿಕಾರ ನೀಡುತ್ತದೆ. ಇದನ್ನು ಪರಿಗಣಿಸಿ, ಎಲ್ಲಾ ಸರಿಯಾಗಿರುವ ಕೆಳಗಿನ ಹೇಳಿಕೆಗಳನ್ನು ಗುರುತಿಸಿ.

(a) ಸಂವಿಧಾನದ ಮೂಲಕ ನಮೂದಿಸಲಾದ ಮೂಲಭೂತ ಹಕ್ಕುಗಳು ಕಾರ್ಯಾಗದ ಕಾರ್ಯಗಳಿಗೆ ಮಾತ್ರವಲ್ಲದೆ ಶಾಸಕಾಂಗದ ಕಾರ್ಯಗಳಿಗೂ ಅನ್ವಯಿಸುತ್ತವೆ.

(b) ಈ ಹಕ್ಕುಗಳನ್ನು ಉಲ್ಲಂಘಿಸುವ ಯಾವುದೇ ಕಾರ್ಯನಿರ್ವಾಹಕ ಅಥವಾ ಶಾಸಕಾಂಗ ಕಾರ್ಯವನ್ನು ನಿರರ್ಥಕವೆಂದು ಪರಿಗಣಿಸಲಾಗುತ್ತದೆ. ಅಂತಹ ಘೋಷಣೆಗಳನ್ನು ಮಾಡಲು ನ್ಯಾಯಾಲಯಗಳಿಗೆ ಅಧಿಕಾರವಿದೆ.

(c) ಖಾಸಗಿ ಸಂಸ್ಥೆಗಳು ಮತ್ತು ವ್ಯಕ್ತಿಗಳ ವಿರುದ್ಧ ಮೂಲಭೂತ ಹಕ್ಕುಗಳನ್ನು ಜಾರಿಗೊಳಿಸಲು ನ್ಯಾಯಾಲಯಗಳು ನ್ಯಾಯವ್ಯಾಪ್ತಿಯನ್ನು ಹೊಂದಿವೆ ಮತ್ತು ಉಲ್ಲಂಘನೆಗಳಿಗೆ ಪರಿಹಾರವನ್ನು ನೀಡಬಹುದು.

(d) ನ್ಯಾಯಾಲಯಗಳು ತಮ್ಮ ಅಧಿಕಾರ ವ್ಯಾಪ್ತಿಯನ್ನು ಚಲಾಯಿಸುವಾಗ ಸ್ವಯಂಪ್ರೇರಿತವಾಗಿ ಅಥವಾ ಸಾರ್ವಜನಿಕ ಹಿತಾಸಕ್ತಿ ದಾವೆಗಳಿಗೆ (ಪಿಐಎಲ್) ಪ್ರತಿಕ್ರಿಯೆಯಾಗಿ ಕಾರ್ಯ ನಿರ್ವಹಿಸುವಂತಿಲ್ಲ.

- (1) (a), (b) ಮತ್ತು (c) ಮಾತ್ರ
- (2) (a), (c) ಮತ್ತು (d) ಮಾತ್ರ
- (3) (a), (b) ಮತ್ತು (d) ಮಾತ್ರ
- (4) ಮೇಲಿನ ಎಲ್ಲವೂ



94. After examining various Constitutions worldwide, as noted by Dr. B. R. Ambedkar, which provisions from which countries were incorporated into the Indian Constitution?

(i) Parliamentary System of Government and Cabinet System (a) Ireland

(ii) Quasi Federalism and Residual Powers (b) England

(iii) Fundamental Rights and Judicial Review (c) Canada

(iv) Directive Principles of State Policy (d) USA

(i) (ii) (iii) (iv)

(1) (a) (d) (b) (c)

(2) (b) (d) (c) (a)

(3) (c) (d) (a) (b)

(4) (b) (c) (d) (a)

95. The impartiality and independence of the Judiciary are essential for the enforcement of Fundamental Rights. The Indian Constitution empowers the Judiciary to issue writs for the enforcement of these rights. In consideration of this, identify the following statements that are **correct**.

(a) Fundamental Rights guaranteed by the Constitution apply not just to actions of the Executive but also to those of the Legislature.

(b) Any Executive or Legislative act that infringes upon these rights shall be deemed void, with courts empowered to make such declarations.

(c) Courts have jurisdiction to enforce Fundamental Rights against private entities and individuals and may grant compensation for violations.

(d) Courts cannot act either spontaneously or in response to Public Interest Litigations (PILs) When exercising their jurisdiction.

(1) (a), (b) and (c) only

(2) (a), (c) and (d) only

(3) (a), (b) and (d) only

(4) All of the above

96. “ದಿ ಇಂಡಿಯನ್ ಕಾನ್ಸ್ಟಿಟ್ಯೂಷನ್ : ದಿ ಕಾನ್ಸ್ಟಿಟ್ಯೂಷನ್ ಆಫ್ ಎ ನೇಷನ್” ಎಂಬ ಪುಸ್ತಕವನ್ನು ಬರೆದವರು ಯಾರು?

(1) ಗ್ರಾನಿಲ್ಲೆ ಆಸ್ಟಿನ್

(2) ಜಾನ್ ಆಸ್ಟಿನ್

(3) ಜಾರ್ಜ್ ಆಸ್ಟಿನ್

(4) ಹೆಚ್ ಎಂ ಸರ್ವೆ

97. ಎಲ್ಲಾ ಆಮ್ಲಗಳಿಗೆ ಸಾಮಾನ್ಯವಾದ ಅಂಶವೆಂದರೆ

(1) ಜಲಜನಕ

(2) ಕಾರ್ಬನ್

(3) ಸಲ್ಫರ್

(4) ಆಮ್ಲಜನಕ

98. ಟೆಂಡರ್ ಪರಿಣಾಮಕ್ಕೆ ಸಂಬಂಧಿಸಿದಂತೆ ಈ ಕೆಳಗಿನ ಹೇಳಿಕೆಗಳನ್ನು ಪರಿಗಣಿಸಿ :

(a) ಈ ವಿದ್ಯಮಾನವನ್ನು ನೈಜ ದ್ರಾವಣದಿಂದ ಕೋಲೋಯಲ್ ದ್ರಾವಣ ಪ್ರತ್ಯೇಕಿಸಲು ಬಳಸಬಹುದು.

(b) ಇದು ಸೋಲ್ ಕಣಗಳಿಂದ ಬೆಳಕಿಗೆ ಚದುರುವಿಕೆಯ ವಿದ್ಯಮಾನವಾಗಿದೆ.

(c) ಟೆಂಡರ್ ಪರಿಣಾಮವನ್ನು ನೈಜ ದ್ರಾವಣದಲ್ಲಿ ಕಾಣಬಹುದು.

(d) ಬೆಳಕಿನ ಕಿರಣವು ಕೋಲೋಯಲ್ ಪರಿಕ್ಷೇಪಣದಲ್ಲಿ ಕಿರಣದ ಮಾರ್ಗವನ್ನು ಬೆಳಗಿಸುತ್ತದೆ.

ಟೆಂಡರ್ ಪರಿಣಾಮಕ್ಕೆ ಸಂಬಂಧಿಸಿದಂತೆ ಈ ಮೇಲಿನ ಯಾವ ಹೇಳಿಕೆ ತಪ್ಪಾಗಿರುತ್ತದೆ?

(1) (c) ತಪ್ಪಾಗಿದೆ

(2) (a) ತಪ್ಪಾಗಿದೆ

(3) (d) ತಪ್ಪಾಗಿದೆ

(4) (b) ಮತ್ತು (d) ತಪ್ಪಾಗಿವೆ

99. ಈ ಕೆಳಕಂಡ ಯಾವ ಅಂಶದ ಮೇಲೆ ಗೋಲಾಕಾರದ ಕನ್ನಡಿಯ ನಾಭಿದೂರ ಅವಲಂಬಿತವಾಗಿದೆ?

(1) ವಕ್ರತೆಯ ತ್ರಿಜ್ಯ

(2) ಮಾಧ್ಯಮ

(3) ಕನ್ನಡಿಯ ವಸ್ತು

(4) ತಾಪಮಾನ

100. ಸೆಂಟ್ರಲ್ ಏವಿಯನ್ ರಿಸರ್ಚ್ ಇನ್‌ಸ್ಟಿಟ್ಯೂಟ್ ಇಲ್ಲಿ ನೆಲೆಗೊಂಡಿದೆ

(1) ಬರೇಲಿ, ಉತ್ತರ ಪ್ರದೇಶ

(2) ಹಿಸಾರ್, ಹರಿಯಾಣ

(3) ಅಮೀನಗರ್, ರಾಜಸ್ಥಾನ

(4) ಮೈಸೂರು, ಕರ್ನಾಟಕ

96. Who authored the book titled *The Indian Constitution : The Cornerstone of a Nation*?

- (1) Granville Austin
- (2) John Austin
- (3) George Austin
- (4) H. M. Seervai

97. The element common to all acids is

- (1) hydrogen
- (2) carbon
- (3) sulphur
- (4) oxygen

98. Consider the following statements with respect to Tyndall effect :

- (a) The phenomenon can be used to distinguish a colloidal solution from a true solution.
- (b) It is a phenomenon of scattering of light by sol particles.
- (c) Tyndall effect can be seen in true solutions.

(d) A beam of light illuminates the path of the beam in the colloidal dispersion.

Which of the above statements is/are **incorrect** with respect to Tyndall effect?

- (1) (c) is incorrect
- (2) (a) is incorrect
- (3) (d) is incorrect
- (4) (b), (d) are incorrect



99. The focal length of spherical mirror depends on

- (1) radius of curvature
- (2) medium
- (3) material medium of mirror
- (4) temperature

100. Central Avian Research Institute is located at

- (1) Bareilly, Uttar Pradesh
- (2) Hisar, Haryana
- (3) Avikanagar, Rajasthan
- (4) Mysore, Karnataka