



Teachingninja.in



Latest Govt Job updates



Private Job updates



Free Mock tests available



Visit - teachingninja.in



KPSC JA/SDA

Previous Year Paper

(GK)

Paper-I

29 Oct, 2023



1. On June 1, 2023 RBI will launch which of the following campaign to settle unclaimed bank deposits across India ?
 (A) How can we help you ?
 (B) 100 Days 100 Pays
 (C) None of these
 (D) Branch Adalat
2. Justice Dhananjaya Y. Chandrachud is the 50th Chief Justice of India. Who was the 49th Chief Justice of India ?
 (A) N.V. Ramana
 (B) Ranjan Gogoi
 (C) Sharad Arvind Bobde
 (D) U.U. Lalith
3. The Union Health and Family Welfare Ministry was awarded with which of the following award/prize in 2023 in recognition of government's strategy in managing COVID-19 pandemic ?
 (A) TOPRA Award
 (B) World ADC Award
 (C) Porter Prize
 (D) TITAN Health Award
4. Which of the following Kannada book written by Mudnakadu Chinnaswamy was awarded with Kendra Sahitya Academy Award 2022 ?
 (A) Bahutvada Bharata Mattu Bouddha Tattvikate
 (B) Chappali Mattu Naanu
 (C) Mohada Deepa
 (D) Matte Male Baruva Munna
5. Which of the following lakes in Ladakh was recently announced as its first "Biodiversity Heritage site" ?
 (A) Yarab Tso
 (B) Tso Kar
 (C) Yaya Tso
 (D) Pangong
6. In May 2023, which country launched a "gold backed digital currency" to stabilize and strengthen its currency ?
 (A) Zimbabwe
 (B) USA
 (C) Sweden
 (D) Russia

Space For Rough Work

1. ಜೂನ್ 1, 2023 ರಿಂದ ಆರ್‌ಬಿಐ ಯು ಭಾರತಾದ್ಯಂತ ಕ್ಲೈಮ್ ಮಾಡದ ಬ್ಯಾಂಕ್ ಠೇವಣಿಗಳನ್ನು ಇತ್ಯರ್ಥ ಮಾಡಲು ಈ ಕೆಳಗಿನ ಯಾವ ಅಭಿಯಾನವನ್ನು ಪ್ರಾರಂಭಿಸಿದೆ ?
 (A) ನಾವು ಹೇಗೆ ನಿಮಗೆ ಸಹಾಯ ಮಾಡಬಲ್ಲೆವು ?
 (B) 100 ದಿನಗಳು 100 ಪಾವತಿಗಳು
 (C) ಇವ್ಯಾವುದೂ ಅಲ್ಲ
 (D) ಬ್ರಾಂಚ್ ಅದಾಲತ್
2. ಜಸ್ಟಿಸ್ ಧನಂಜಯ ವಾಯ್. ಚಂದ್ರಚೂಡ್‌ರವರು ಭಾರತದ ಸರ್ವೋಚ್ಚ ನ್ಯಾಯಾಲಯದ 50ನೇ ಮುಖ್ಯ ನ್ಯಾಯಾಧೀಶರಾಗಿದ್ದಾರೆ. ಭಾರತದ ಸರ್ವೋಚ್ಚ ನ್ಯಾಯಾಲಯದ 49 ನೇ ಮುಖ್ಯ ನ್ಯಾಯಾಧೀಶರು ಯಾರಾಗಿದ್ದರು ?
 (A) ಎನ್. ವಿ. ರಮಣ (B) ರಂಜನ್ ಗೋಗೋಯ್
 (C) ಶರದ್ ಅರವಿಂದ್ ಬೊಬ್ಬೆ (D) ಯು.ಯು. ಲಲಿತ್
3. ಕೋವಿಡ್-19 ಸಾಂಕ್ರಾಮಿಕವನ್ನು ನಿರ್ವಹಿಸಲು ಸರ್ಕಾರವು ಅನುಸರಿಸಿದ ತಂತ್ರವನ್ನು ಗುರುತಿಸಿ, ಕೇಂದ್ರ ಆರೋಗ್ಯ ಮತ್ತು ಕುಟುಂಬ ಕಲ್ಯಾಣ ಸಚಿವಾಲಯಕ್ಕೆ 2023 ರಲ್ಲಿ ಈ ಕೆಳಗಿನ ಯಾವ ಪ್ರಶಸ್ತಿ/ಬಹುಮಾನವನ್ನು ನೀಡಲಾಗಿದೆ ?
 (A) ಟೋಪ್ರಾ ಅವಾರ್ಡ್ (B) ವರ್ಲ್ಡ್ ಎಡಿಸಿ ಅವಾರ್ಡ್
 (C) ಪೋರ್ಟರ್ ಪ್ರೈಜ್ (D) ಟೈಟಾನ್ ಹೆಲ್ತ್ ಅವಾರ್ಡ್
4. ಮೂಡ್ನಾಕಡು ಚಿನ್ನಸ್ವಾಮಿಯವರ ಈ ಕೆಳಗಿನ ಯಾವ ಕನ್ನಡ ಕೃತಿಗೆ 2022 ನೇ ಸಾಲಿನ ಕೇಂದ್ರ ಸಾಹಿತ್ಯ ಅಕಾಡೆಮಿ ಪ್ರಶಸ್ತಿ ದೊರೆತಿದೆ ?
 (A) ಬಹುತ್ವದ ಭಾರತ ಮತ್ತು ಬೌದ್ಧ ತಾತ್ವಿಕತೆ (B) ಚಪ್ಪಲಿ ಮತ್ತು ನಾನು
 (C) ಮೋಹದ ದೀಪ (D) ಮತ್ತೆ ಮಳೆ ಬರುವ ಮುನ್ನ
5. ಲಡಾಖ್‌ನ ಈ ಕೆಳಗಿನ ಯಾವ ಸರೋವರವನ್ನು ಇತ್ತೀಚೆಗೆ “ಪ್ರಥಮ ಜೀವವೈವಿಧ್ಯತೆಯ ಪರಂಪರೆಯ ತಾಣ” ವಾಗಿ ಘೋಷಿಸಲಾಯಿತು ?
 (A) ಯಾರಬ್‌ತ್ಸೋ (B) ತ್ಸೋ ಕಾರ್ (C) ಯಾಯಾ ತ್ಸೋ (D) ಪಾಂಗ್‌ಗೊಂಗ್
6. ಮೇ, 2023 ರಲ್ಲಿ ಯಾವ ರಾಷ್ಟ್ರವು ತನ್ನ ನಾಣ್ಯ (ಕರೆನ್ಸಿ)ದಲ್ಲಿ ಸ್ಥಿರತೆ ತರಲು ಮತ್ತು ಅದನ್ನು ಬಲಗೊಳಿಸಲು “ಚಿನ್ನ ಬೆಂಬಲಿತ ಡಿಜಿಟಲ್ ಕರೆನ್ಸಿ”ಯನ್ನು ಜಾರಿಗೆ ತಂದಿತು ?
 (A) ಜಿಂಬಾಬ್ವೆ (B) ಯುಎಸ್‌ಎ (C) ಸ್ವಿಡನ್ (D) ರಷ್ಯಾ

Space For Rough Work

7. The Constituent Assembly appointed a Drafting Committee on
 (A) 26 November, 1946
 (B) 29 August, 1947
 (C) 26 November, 1949
 (D) 9 December, 1946
8. Aedes aegypti is a vector for
 (A) Yellow fever
 (B) Both Dengue and Yellow fever
 (C) Japanese encephalitis
 (D) Dengue fever
9. The INA Trials took place in the
 (A) Supreme Court, Delhi
 (B) High Court, Delhi
 (C) Royal Court, London
 (D) Red Fort, Delhi
10. The Cabinet Mission to India was headed by
 (A) A.V. Alexander
 (B) Stafford Cripps
 (C) Mountbatten
 (D) Lord Pethick Lawrence
11. Under Article 371-J, the Governor have special provisions with respect to the state of
 (A) Andhra Pradesh (B) Karnataka (C) Assam (D) Maharashtra
12. Untouchability is abolished and its practice is punishable under
 (A) Article 15 (B) Article 17 (C) Article 18 (D) Article 14
13. Choose the right one in system introduced by the Government of India Act, 1935.
 (A) Dyarchy at the provinces (B) Centerol control over the provinces
 (C) Provinces control over the centerol (D) Dyarchy at the centre
14. The plan of 3rd June 1947 is
 (A) Set-up two Independent Dominions (B) Set-up of more Indian Provinces
 (C) Set-up of Constituent Assembly (D) Transfer of power to Indians

Space For Rough Work

7. ಸಂವಿಧಾನದ ಸಭೆಯು ಕರಡು ಸಮಿತಿಯನ್ನು ಈ ದಿನದಂದು ನೇಮಿಸಿತು ?
 (A) 26 ನೇ ನವೆಂಬರ್, 1946 (B) 29 ನೇ ಆಗಸ್ಟ್, 1947
 (C) 26 ನೇ ನವೆಂಬರ್, 1949 (D) 9 ನೇ ಡಿಸೆಂಬರ್, 1946
8. ಏಡೀಸ್ ಈಜಿಪ್ಟಿಯ ಯಾವುದರ ವಾಹಕ (ವೆಕ್ಟರ್) ?
 (A) ಹಳದಿ ಜ್ವರ (B) ಡೆಂಗ್ಯೂ ಮತ್ತು ಹಳದಿ ಜ್ವರ ಎರಡೂ
 (C) ಜಪಾನೀಸ್ ಎನ್ಸೆಫಲಿಟೀಸ್ (D) ಡೆಂಗ್ಯೂ ಜ್ವರ
9. INA ವಿಚಾರಣೆಗಳು ಎಲ್ಲಿ ನಡೆದವು ?
 (A) ಸುಪ್ರೀಂ ಕೋರ್ಟ್, ದೆಹಲಿ (B) ಹೈ ಕೋರ್ಟ್, ದೆಹಲಿ
 (C) ರಾಯಲ್ ಕೋರ್ಟ್, ಲಂಡನ್ (D) ಕೆಂಪು ಕೋಟೆ, ದೆಹಲಿ
10. ಭಾರತಕ್ಕೆ ಕ್ಯಾಬಿನೆಟ್ ಮಿಷನ್ ನೇತೃತ್ವವನ್ನು ಯಾರು ವಹಿಸಿದ್ದರು ?
 (A) ಎ.ವಿ. ಅಲೆಕ್ಸಾಂಡರ್ (B) ಸ್ಟಾಫೋರ್ಡ್ ಕ್ರಿಪ್ಸ್ (C) ಮೌಂಟ್ ಬ್ಯಾಟನ್ (D) ಲಾರ್ಡ್ ಪೆಥಿಕ್ ಲಾರೆನ್ಸ್
11. ವಿಧಿ 371-J ಅಡಿಯಲ್ಲಿ, ರಾಜ್ಯಪಾಲರು ಯಾವ ರಾಜ್ಯಕ್ಕೆ ಸಂಬಂಧಿಸಿದಂತೆ ವಿಶೇಷ ನಿಬಂಧನೆಗಳನ್ನು ಹೊಂದಿದ್ದಾರೆ ?
 (A) ಆಂಧ್ರ ಪ್ರದೇಶ (B) ಕರ್ನಾಟಕ (C) ಅಸ್ಸಾಂ (D) ಮಹಾರಾಷ್ಟ್ರ
12. ಯಾವ ವಿಧೇಯಕದ ಪ್ರಕಾರ, ಅಸ್ಥಿತ್ವತೆ ನಿರ್ಬಂಧಿಸಿದೆ ಮತ್ತು ಅದರ ಆಚರಣೆಯು ಶಿಕ್ಷಾರ್ಹವಾಗಿದೆ ?
 (A) ವಿಧೇಯಕ 15 (B) ವಿಧೇಯಕ 17 (C) ವಿಧೇಯಕ 18 (D) ವಿಧೇಯಕ 14
13. ಭಾರತ ಸರ್ಕಾರದ ಕಾಯಿದೆ, 1935 ಪರಿಚಯಿಸಿದ ವ್ಯವಸ್ಥೆಯಲ್ಲಿ ಸರಿಯಾದುದನ್ನು ಆರಿಸಿ.
 (A) ಪ್ರಾಂತ್ಯದಲ್ಲಿ ರಾಜಪ್ರಭುತ್ವ (B) ಪ್ರಾಂತ್ಯಗಳ ಮೇಲೆ ಕೇಂದ್ರ ನಿಯಂತ್ರಣ
 (C) ಕೇಂದ್ರದ ಮೇಲೆ ಪ್ರಾಂತ್ಯಗಳ ನಿಯಂತ್ರಣ (D) ಕೇಂದ್ರದಲ್ಲಿ ರಾಜಪ್ರಭುತ್ವ
14. ಜೂನ್ 3, 1947 ರ ಯೋಜನೆಯು
 (A) ಎರಡು ಸ್ವತಂತ್ರ ಪ್ರಭುತ್ವವನ್ನು ಸ್ಥಾಪಿಸುವುದು (B) ಹೆಚ್ಚು ಭಾರತೀಯ ಪ್ರಾಂತ್ಯಗಳನ್ನು ಸ್ಥಾಪಿಸುವುದು
 (C) ಸಂವಿಧಾನ ಸಭೆಯನ್ನು ಸ್ಥಾಪಿಸುವುದು (D) ಭಾರತೀಯರಿಗೆ ಅಧಿಕಾರದ ವರ್ಗಾವಣೆ

Space For Rough Work

15. The Ex-officio Chairman of Rajya Sabha
 (A) The Vice-President of India
 (B) Deputy Chairman of Rajya Sabha
 (C) Speaker of Lok Sabha
 (D) The President of India
16. The writ may be addressed to any person whatever an official or a private person who has another person in his custody.
 (A) Mandamus
 (B) Quo-warranto
 (C) Prohibition
 (D) Habeas corpus
17. The physical state of water at 100°C is
 (A) Gaseous
 (B) Semi solid
 (C) Solid
 (D) Liquid
18. Which of the Constitutional Amendment limited the Council of Ministers to 15% of the Lower House?
 (A) 91st Amendment
 (B) 92nd Amendment
 (C) 93rd Amendment
 (D) 90th Amendment
19. Who will preside over the joint session of the Parliament in India?
 (A) The Vice President of India
 (B) Deputy Chairman of Rajya Sabha
 (C) The President of India
 (D) The Speaker of Lok Sabha
20. Which among the Article empowered the State Assemblies by its resolution may establish or abolish the Legislative Council?
 (A) Article 169
 (B) Article 170
 (C) Article 171
 (D) Article 168
21. How many molecules of H_2O_2 are present in 68g of H_2O_2 ?
 (A) 12.044×10^{23}
 (B) 3.011×10^{23}
 (C) 24.088×10^{23}
 (D) 6.022×10^{23}
22. Who is the recipient of first 'World Food Prize' that was awarded in 1987?
 (A) Robert Chandler
 (B) Verghese Kurien
 (C) Muhammad Yunus
 (D) M.S. Swaminathan

Space For Rough Work

15. ರಾಜ್ಯಸಭೆಯ ಪದನಿಮಿತ್ತ ಅಧ್ಯಕ್ಷರು
 (A) ಭಾರತದ ಉಪ ರಾಷ್ಟ್ರಪತಿ (B) ರಾಜ್ಯಸಭೆಯ ಉಪಾಧ್ಯಕ್ಷರು
 (C) ಲೋಕಸಭೆಯ ಸಭಾಪತಿ (D) ಭಾರತದ ರಾಷ್ಟ್ರಪತಿ
16. ರಿಟ್ ಅನ್ನು ಯಾವುದೇ ವ್ಯಕ್ತಿಗೆ ಯಾವುದೇ ಅಧಿಕಾರಿ ಅಥವಾ ಖಾಸಗಿ ವ್ಯಕ್ತಿಗೆ, ವ್ಯಕ್ತಿಯು ತನ್ನ ವಶದಲ್ಲಿ ಹೊಂದಿರುವ ವ್ಯಕ್ತಿಗೆ ತಿಳಿಸಬಹುದು ?
 (A) ಮ್ಯಾಂಡಮಸ್ (B) ಕೋ - ವಾರಂಟೋ (C) ಪ್ರಾಹಿಬಿಶನ್ (D) ಹೆಬಿಯಸ್ ಕಾರ್ಪಸ್
17. 100° ಸೆ. ಇದ್ದಾಗ ನೀರಿನ ಭೌತಿಕ ರೂಪವೇನು ?
 (A) ಅನಿಲ (B) ಅರೆ ಘನ (C) ಘನ (D) ದ್ರವ
18. ಯಾವ ಸಾಮಾನ್ಯತಾತ್ಮಿಕ ತಿದ್ದುಪಡಿಯ ಮಂತ್ರಿಗಳ ಮಂಡಳಿಯನ್ನು ಕೆಳಮನೆಯ (Lower House) 15% ಗೆ ಸೀಮಿತಗೊಳಿಸಿತು ?
 (A) 91 ನೇ ತಿದ್ದುಪಡಿ (B) 92 ನೇ ತಿದ್ದುಪಡಿ (C) 93 ನೇ ತಿದ್ದುಪಡಿ (D) 90 ನೇ ತಿದ್ದುಪಡಿ
19. ಭಾರತದ ಸಂಸತ್ತಿನ ಜಂಟಿ ಸಭೆಯ ಅಧ್ಯಕ್ಷತೆಯನ್ನು ಯಾರು ವಹಿಸುತ್ತಾರೆ ?
 (A) ಭಾರತದ ಉಪ ರಾಷ್ಟ್ರಪತಿ (B) ರಾಜ್ಯ ಸಭೆಯ ಉಪಾಧ್ಯಕ್ಷರು
 (C) ಭಾರತದ ರಾಷ್ಟ್ರಪತಿ (D) ಲೋಕಸಭೆಯ ಸಭಾಪತಿ
20. ಯಾವ ಲೇಖನವು ಅದರ ನಿರ್ಣಯದ ಮೂಲಕ ರಾಜ್ಯ ಅಸೆಂಬ್ಲಿಗಳಿಗೆ, ಶಾಸಕಾಂಗ ಮಂಡಳಿಯನ್ನು ಸ್ಥಾಪಿಸಬಹುದಾದ ಅಥವಾ ರದ್ದು ಗೊಳಿಸಬಹುದಾದ ಅಧಿಕಾರ ನೀಡಿತು ?
 (A) ಆರ್ಟಿಕಲ್ 169 (B) ಆರ್ಟಿಕಲ್ 170 (C) ಆರ್ಟಿಕಲ್ 171 (D) ಆರ್ಟಿಕಲ್ 168
21. 68g ಗ್ರಾಂ H_2O_2 ನಲ್ಲಿ, H_2O_2 ನ ಎಷ್ಟು ಪರಮಾಣುಗಳಿರುತ್ತವೆ ?
 (A) 12.044×10^{23} (B) 3.011×10^{23}
 (C) 24.088×10^{23} (D) 6.022×10^{23}
22. 1987 ರಲ್ಲಿ ಪ್ರದಾನ ಮಾಡಲಾದ ಪ್ರಥಮ 'ವಿಶ್ವ ಆಹಾರ ಪ್ರಶಸ್ತಿ'ಗೆ ಭಾಜನರಾದವರು ಯಾರು ?
 (A) ರಾಬರ್ಟ್ ಚಾಂಡ್ಲರ್ (B) ವರ್ಗೀಸ್ ಕುರಿಯನ್
 (C) ಮಹಮ್ಮದ್ ಯೂನುಸ್ (D) ಎಂ.ಎಸ್. ಸ್ವಾಮಿನಾಥನ್

Space For Rough Work

23. In the following question which character will complete the given pattern, when placed at the sign of interrogation ?

| | | |
|---|---|---|
| A | D | H |
| F | I | M |
| ? | N | R |

- (A) N (B) O (C) P (D) K
24. Aqua regia is a mixture of conc. Hydrochloric acid and conc. Nitric acid in ratio
(A) 2:1 (B) 1:5 (C) 2:3 (D) 3:1
25. The production unit producing shoe comes under
(A) Secondary Sector (B) Tertiary Sector
(C) None of these (D) Primary Sector

26. If 40% of $1620 + 30\%$ of $960 = ?\%$ of 5200 , the value of $?$ is :
(A) 24 (B) 5 (C) 18 (D) 12

27. At the time of marriage a man was 6 years older than his wife, but 12 years after the marriage his age was $\frac{6}{5}$ times the age of his wife. Their ages (in years) at the time of the marriage were
(A) 24, 18 (B) 27, 21 (C) 30, 24 (D) 26, 20

28. What angle will be traced by the hands of a clock at 12.55 ?
(A) $67\frac{1}{2}^\circ$ (B) $57\frac{1}{2}^\circ$ (C) $27\frac{1}{2}^\circ$ (D) $87\frac{1}{2}^\circ$

29. If B is 20 m South from A and C is 10 m North from D and A is 10 m West from D, then where is B from C ?
(A) North - West (B) South - West
(C) North (D) North - East

30. Complete the series from given options :

a _ c a a _ b c c _ a a b b b _ c c

- (A) a b c a (B) b b a c (C) b a b c (D) b b c a


Space For Rough Work

a _ c a a _ b c c _ a a b b b _ c c

→

a b c a a b c c a a b b b c c c e

b b a c



23. ಈ ಕೆಳಗಿನ ಪ್ರಶ್ನೆಯಲ್ಲಿ ಯಾವ ಅಕ್ಷರವು ಪ್ರತ್ಯಾರ್ಥಕ ಚಿಹ್ನೆಯ ಸ್ಥಾನದಲ್ಲಿ ಬರುವ ಮೂಲಕ ನೀಡಿರುವ ವಿಧಾನವು (ಪ್ಯಾಟರ್ನ್) ಪರಿಪೂರ್ಣವಾಗುತ್ತದೆ ?

| | | |
|---|---|---|
| A | D | H |
| F | I | M |
| ? | N | R |

- (A) N (B) O (C) P (D) K

24. ಸಾಂಧ್ರೀಕೃತ ಹೈಡ್ರೋಕ್ಸೀರಿಕ್ ಆಮ್ಲ ಮತ್ತು ಸಾಂಧ್ರೀಕೃತ ನೈಟ್ರಿಕ್ ಆಮ್ಲ, ಇವುಗಳ ಕೆಳಗೆ ನೀಡಿರುವ ಪ್ರಮಾಣದಲ್ಲಿರುವ ಮಿಶ್ರಣವೇ ಆಕ್ಸಾ ರೇಜಿಯಾ

- (A) 2:1 (B) 1:5 (C) 2:3 (D) 3:1

25. ಬೂಟು (ಶೂ) ಗಳನ್ನು ಉತ್ಪಾದಿಸುವ ಉತ್ಪಾದನಾ ಘಟಕವು ಯಾವ ವಲಯದಡಿ ಬರುತ್ತದೆ ?

- (A) ದ್ವಿತೀಯ ವಲಯ (B) ತೃತೀಯ ವಲಯ
(C) ಇವುಗಳಲ್ಲಿ ಯಾವುದೂ ಅಲ್ಲ (D) ಪ್ರಾಥಮಿಕ ವಲಯ

26. ಒಂದು ವೇಳೆ, $1620 \text{ ರ } 40\% + 960 \text{ ರ } 30\% = 5200 \text{ ರ } ?\%$ ಆದರೆ, ? ದ ಮೌಲ್ಯವೆಷ್ಟು ?

- (A) 24 (B) 5 (C) 18 (D) 12

27. ಮದುವೆಯ ಸಮಯದಲ್ಲಿ ಪತಿಯು ಅವನ ಪತ್ನಿಗಿಂತ 6 ವರ್ಷ ದೊಡ್ಡವನಾಗಿದ್ದನು. ಆದರೆ ಮದುವೆಯಾಗಿ 12 ವರ್ಷಗಳ ನಂತರ ಅವನ ವಯಸ್ಸು ಅವನ ಪತ್ನಿಯ ವಯಸ್ಸಿನ $\frac{6}{5}$ ಪಟ್ಟಿತ್ತು. ಹಾಗಾದರೆ ಮದುವೆಯಾದಾಗ ಅವರಿಬ್ಬರ ವಯಸ್ಸು (ವರ್ಷಗಳಲ್ಲಿ) ಎಷ್ಟಾಗಿತ್ತು ?

- (A) 24, 18 (B) 27, 21 (C) 30, 24 (D) 26, 20

28. 12.55° ಗಂಟೆ ಸಮಯವಾದಾಗ ಗಡಿಯಾರದ ಮುಳ್ಳುಗಳು ಯಾವ ಕೋನದಲ್ಲಿರುತ್ತದೆ ?

- (A) $67\frac{1}{2}^\circ$ (B) $57\frac{1}{2}^\circ$ (C) $27\frac{1}{2}^\circ$ (D) $87\frac{1}{2}^\circ$

29. ಒಂದು ವೇಳೆ B ಯು A ಯಿಂದ 20 ಮೀ. ದಕ್ಷಿಣಕ್ಕಿದ್ದರೆ ಮತ್ತು C ಯು D ಯಿಂದ 10 ಮೀ. ಉತ್ತರಕ್ಕಿದ್ದರೆ ಹಾಗೂ A ಯು D ಯಿಂದ 10 ಮೀ. ಪಶ್ಚಿಮಕ್ಕಿದ್ದರೆ, B ಯು C ಯಿಂದ ಯಾವ ದಿಕ್ಕಿನಲ್ಲಿರುತ್ತಾನೆ ?

- (A) ವಾಯುವ್ಯ (B) ನೈರುತ್ಯ (C) ಉತ್ತರ (D) ಈಶಾನ್ಯ

30. ಕೆಳಗಿನ ಶ್ರೇಣಿಯನ್ನು ಕೆಳಗೆ ನೀಡಿರುವ ಆಯ್ಕೆಗಳಿಂದ ಪೂರ್ಣಗೊಳಿಸಿರಿ.

a _ c a a _ b c c _ a a b b b _ c c

- (A) a b c a (B) b b a c (C) b a b c (D) b b c a

Space For Rough Work

Handwritten rough work for question 30. It shows the sequence: a _ c a a _ b c c _ a a b b b _ c c. Below it, the options are listed: (A) a b c a, (B) b b a c, (C) b a b c, (D) b b c a. The student has written 'B' as the answer. To the right, there is a diagram of a circle with a sector shaded, and some calculations: $\frac{1}{6} \times 360 = 60$, $\frac{1}{6} \times 360 = 60$, $\frac{1}{6} \times 360 = 60$, $\frac{1}{6} \times 360 = 60$. There is also a date stamp: 202308GK3.

31. During recently held UK-India-Week celebration veteran Indian soldier Rajinder Singh was presented with 'Points of Light Award' by whom ?
 (A) UK Secretary of State for Defence Ben Wallace
 (B) UK Deputy Prime Minister Oliver Dowden
 (C) UK Home Secretary Suella Broverman
 (D) UK Prime Minister Rishi Sunak
32. On June 28, 2023 the Union Cabinet approved the introduction of NRF Bill in Parliament to Expand NRF.
 (A) National Railways Foundation
 (B) National Road Foundation
 (C) New Research Fund
 (D) National Railways Fund
33. If perimeter of a square is same as that of a rectangle whose length is 24 m is double of its breadth, then area of square will be
 (A) 342 m²
 (B) 224 m²
 (C) 330 m²
 (D) 324 m²

34. Which of the following is/are wrongly matched ?

| Name of the Organization | Founder |
|-----------------------------------|----------------------------|
| i. Prarthana Samaj | – Keshab Chandra Sen |
| ii. Arya Samaj | – Swami Dayanand Saraswati |
| iii. Ramakrishna Mission | – Ramakrishna Paramahansa |
| iv. The Servants of India Society | – Gopalakrishna Gokhale |

Codes :

- (A) Only i and iii
 (B) Only ii, iii and iv
 (C) None of these
 (D) Only i

Space For Rough Work

31. ಇತ್ತೀಚೆಗೆ ಜರುಗಿದ ಯುಕೆ-ಇಂಡಿಯಾ ಸಪ್ತಾಹ ಸಮಾರಂಭದಲ್ಲಿ, ಭಾರತೀಯ ನಿವೃತ್ತ ಸೇನಾನಿ ರಾಜೇಂದರ್ ಸಿಂಗ್-ರವರಿಗೆ 'ಪಾಯಿಂಟ್ಸ್ ಆಫ್ ಲೈಟ್ ಅವಾರ್ಡ್' (Points of Light Award) ಅನ್ನು ಯಾರು ಪ್ರದಾನಿಸಿದರು ?
- (A) ಯುಕೆ ರಕ್ಷಣಾ ರಾಜ್ಯ ಕಾರ್ಯದರ್ಶಿ ಬೆನ್ ವ್ಯಾಲ್ಲೇಸ್
(B) ಯುಕೆ ಉಪ ಪ್ರಧಾನ ಮಂತ್ರಿ ಒಲಿವರ್ ಡೌಡೆನ್
(C) ಯುಕೆ ಗೃಹ ಕಾರ್ಯದರ್ಶಿ ಸುಯೆಲ್ಲಾ ಬ್ರೋವರ್‌ಮನ್
(D) ಯುಕೆ ಪ್ರಧಾನ ಮಂತ್ರಿ ರಿಷಿ ಸುನಕ್
32. 2023 ರ ಜೂನ್ 28 ರಂದು, ಎನ್‌ಆರ್‌ಎಫ್ ವಿಧೇಯಕ (NRF Bill) ಅನ್ನು ಸಂಸತ್ತಿನಲ್ಲಿ ಮಂಡಿಸಲು ಕೇಂದ್ರ ಕ್ಯಾಬಿನೆಟ್ ಅನುಮೋದಿಸಿತು. NRF ಅನ್ನು ವಿಸ್ತರಿಸಿರಿ.
- (A) ನ್ಯಾಷನಲ್ ರೈಲ್ವೇಸ್ ಫೌಂಡೇಶನ್
(B) ನ್ಯಾಷನಲ್ ರೋಡ್ ಫೌಂಡೇಶನ್
(C) ನ್ಯೂ ರಿಸರ್ಚ್ ಫಂಡ್
(D) ನ್ಯಾಷನಲ್ ರೈಲ್ವೇಸ್ ಫಂಡ್
33. ಒಂದು ಚೌಕದ ಪರಿಧಿಯು 24 ಮೀ. ಉದ್ದವಿರುವ ಆಯತದ ಪರಿಧಿಯು ಒಂದೇ ಆಗಿದ್ದು, ಅದರ ಅಗಲವು ದ್ವಿಗುಣವಾಗಿರುತ್ತದೆ. ಆಗ ಚೌಕದ ವಿಸ್ತೀರ್ಣವು
- (A) 342 m² (B) 224 m² (C) 330 m² (D) 324 m²
34. ಈ ಕೆಳಗಿನ ಯಾವುದು/ಯಾವುವು ತಪ್ಪಾಗಿ ಹೊಂದಾಣಿಕೆಯಾಗಿವೆ ?
- | ಸಂಸ್ಥೆಯ ಹೆಸರು | ಸಂಸ್ಥಾಪಕರು |
|-------------------------------------|-------------------------|
| i. ಪ್ರಾರ್ಥನಾ ಸಮಾಜ | - ಕೇಶಬ್ ಚಂದ್ರ ಸೇನ |
| ii. ಆರ್ಯ ಸಮಾಜ | - ಸ್ವಾಮಿ ದಯಾನಂದ ಸರಸ್ವತಿ |
| iii. ರಾಮಕೃಷ್ಣ ಮಿಷನ್ | - ರಾಮಕೃಷ್ಣ ಪರಮಹಂಸ |
| iv. ದಿ ಸರ್ವೆಂಟ್ಸ್ ಆಫ್ ಇಂಡಿಯಾ ಸೊಸೈಟಿ | - ಗೋಪಾಲಕೃಷ್ಣ ಗೋಖಲೆ |
- ಸಂಕೇತಗಳು :
- (A) ಕೇವಲ i ಮತ್ತು iii
(B) ಕೇವಲ ii, iii ಮತ್ತು iv
(C) ಇವುಗಳಲ್ಲಿ ಯಾವುದೂ ಅಲ್ಲ
(D) ಕೇವಲ i

Space For Rough Work

35. Name India's first 24×7 solar-powered village, which has been achieved as a result of Project Suryagram.
- (A) Athwal, Punjab (B) Bishnoi, Rajasthan
(C) Khuri, Rajasthan (D) Modhera, Gujarat
36. Kaziranga National Park was declared as a World Heritage site by which of the following organisations ?
- (A) UNESCO (B) FAO (C) UNCTAD (D) UNICEF
37. Which of the following state has won the 76th National Football Championship (Santosh Trophy) in March 2023 ?
- (A) West Bengal (B) Karnataka (C) Punjab (D) Meghalaya
38. Ananta Kulkarni, who was conferred with Karnataka Rajyotsana Award-2022 is a famous _____.
- (A) Scientist (B) Journalist (C) Classical Singer (D) Civil Servant
39. Which of the following is/are correctly matched ?
- | Sports Cup / Trophies | Related Sports |
|-----------------------|----------------|
| i. Ezra Cup | – Polo |
| ii. Durand Cup | – Hockey |
| iii. Z.R. Irani Cup | – Football |
| iv. Muragappa Cup | – Hockey |
- Codes :**
- (A) Only iv (B) Only i and iv
(C) All of these (D) Only ii, iii and iv
40. The 300 metre long 'Atal Bridge', which was recently inaugurated is built across which river in Ahmedabad ?
- (A) Mahi (B) Tapi (C) Sabarmati (D) Narmada

Space For Rough Work

35. ಸೂರ್ಯಗ್ರಾಮ್ ಯೋಜನೆಯ ಪರಿಣಾಮವಾಗಿ ಸಾಧಿಸಲಾಗಿರುವ, ಭಾರತದ ಮೊದಲ 24 × 7 ಸೌರ ಶಕ್ತಿಯ ಗ್ರಾಮವನ್ನು ಹೆಸರಿಸಿ.

- (A) ಅತ್ವಾಲ್, ಪಂಜಾಬ್ (B) ಬಿಶ್ನೋಯ್, ರಾಜಸ್ಥಾನ್ (C) ಖುರಿ, ರಾಜಸ್ಥಾನ್ (D) ಮೊಡೇರಾ, ಗುಜರಾತ್

36. ಕೆಳಗಿನ ಯಾವ ಸಂಸ್ಥೆಗಳಿಂದ ಕಾಜಿರಂಗ ರಾಷ್ಟ್ರೀಯ ಉದ್ಯಾನವನವನ್ನು ವಿಶ್ವ ಪರಂಪರೆಯ ತಾಣವೆಂದು ಘೋಷಿಸಲಾಗಿದೆ ?

- (A) UNESCO (B) FAO (C) UNCTAD (D) UNICEF

37. ಈ ಕೆಳಗಿನ ಯಾವ ರಾಜ್ಯವು ಮಾರ್ಚ್ 2023 ರಲ್ಲಿ 76 ನೇ ರಾಷ್ಟ್ರೀಯ ಪುಟ್‌ಬಾಲ್ ಚಾಂಪಿಯನ್‌ಶಿಪ್ (ಸಂಶೋಷ್ ಟ್ರೋಫಿ) ಗೆದ್ದಿದೆ ?

- (A) ಪಶ್ಚಿಮ ಬಂಗಾಳ (B) ಕರ್ನಾಟಕ (C) ಪಂಜಾಬ್ (D) ಮೇಘಾಲಯ

38. ಕರ್ನಾಟಕ ರಾಜ್ಯೋತ್ಸವ ಪ್ರಶಸ್ತಿ -2022 ಪುರಸ್ಕೃತರಾದ ಅನಂತ ಕುಲಕರ್ಣಿ ಅವರು ಪ್ರಸಿದ್ಧ_____.

- (A) ವಿಜ್ಞಾನಿ (B) ಪತ್ರಕರ್ತ (C) ಶಾಸ್ತ್ರೀಯ ಗಾಯಕ (D) ಪೌರ ಕಾರ್ಮಿಕ

39. ಈ ಕೆಳಗಿನವುಗಳಲ್ಲಿ ಯಾವುದು/ಯಾವುವು ಸರಿಯಾಗಿ ಹೊಂದಿಕೆಯಾಗಿದೆ ?

ಕ್ರೀಡೆಗಳ ಕಪ್/ಟ್ರೋಫಿಗಳು - ಸಂಬಂಧಿತ ಕ್ರೀಡೆಗಳು

- i. ಎರ್ರು ಕಪ್ - ಪೋಲೋ
ii. ಡ್ಯೂರಾಂಡ್ ಕಪ್ - ಹಾಕಿ
iii. ಜೆಡ್.ಆರ್. ಇರಾನಿ ಕಪ್ - ಪುಟ್‌ಬಾಲ್
iv. ಮುರಗಪ್ಪ ಕಪ್ - ಹಾಕಿ

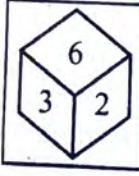
ಸಂಕೇತಗಳು :

- (A) ಕೇವಲ iv (B) ಕೇವಲ i ಮತ್ತು iv
(C) ಇವುಗಳಲ್ಲಿ ಎಲ್ಲವೂ (D) ಕೇವಲ ii, iii ಮತ್ತು iv


40. ಇತ್ತೀಚೆಗೆ ಉದ್ಘಾಟನೆಗೊಂಡ 300 ಮೀಟರ್ ಉದ್ದದ 'ಅಟಲ್ ಸೇತುವೆ' ಯನ್ನು ಅಹಮದಾಬಾದ್‌ನಲ್ಲಿ ಯಾವ ನದಿಗೆ ಅಡ್ಡಲಾಗಿ ನಿರ್ಮಿಸಲಾಗಿದೆ ?

- (A) ಮಾಹಿ (B) ತಾಪಿ (C) ಸಾಬರಮತಿ (D) ನರ್ಮದಾ


Space For Rough Work

41. 42nd Amendment Act, 1976 of Indian Constitution is popularly known as _____
 (A) Mini Constitution
 (B) Mega Constitution
 (C) Special Constitution
 (D) Additional Constitution
42. In Karnataka Legislative Assembly among 224 constituencies, how many constituencies are reserved for scheduled castes ?
 (A) 15
 (B) 25
 (C) 30
 (D) 36
43. Name the scheme of Government of Karnataka under which women heads of households will be given a monthly allowance of ₹ 2,000.
 (A) Karnataka Shakti Scheme (Yojana)
 (B) Karnataka Gruha Jyothi Scheme
 (C) Karnataka Gruha Lakshmi Scheme
 (D) Karnataka Santhwana Scheme
44. The four different positions of the dice are given below. Which number is on the face opposite to 6 ?
- 


(1)



(2)

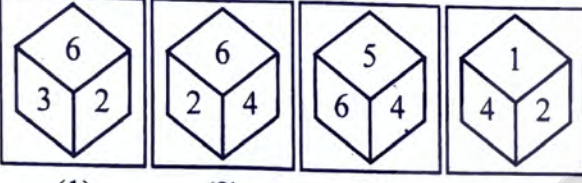


(3)



(4)
- (A) 2
 (B) 3
 (C) 4
 (D) 1
45. Which is the first Kannada movie to receive the National Film award for Best Feature film in Kannada in 1954 ?
 (A) Mahakavi Kalidasa
 (B) School Master
 (C) Kittur Channamma
 (D) Bedara Kannappa
46. Which of the following is wrongly matched ?
 (A) Largest Gurudwara in India – Golden Temple, Amritsar
 (B) Largest Museum in India – Salarjung Museum, Hyderabad
 (C) Largest Planetarium in India – Birla Planetarium
 (D) Largest Dome in India – Gol Gumbaz, Vijayapur

Space For Rough Work

41. ಭಾರತೀಯ ಸಂವಿಧಾನದ 42ನೇ ತಿದ್ದುಪಡಿ ಕಾಯಿದೆ, 1976 ಅನ್ನು ಜನಪ್ರಿಯವಾಗಿ ಏನೆಂದು ಕರೆಯಲಾಗುತ್ತದೆ ?
 (A) ಮಿನಿ ಸಂವಿಧಾನ (B) ಮೆಗಾ ಸಂವಿಧಾನ
 (C) ವಿಶೇಷ ಸಂವಿಧಾನ (D) ಹೆಚ್ಚುವರಿ ಸಂವಿಧಾನ
42. ಕರ್ನಾಟಕ ವಿಧಾನ ಸಭೆಯಲ್ಲಿ 224 ಕ್ಷೇತ್ರಗಳ ವೈಕಿ ಪರಿಶಿಷ್ಟ ಜಾತಿಗಳಿಗೆ ಎಷ್ಟು ಕ್ಷೇತ್ರಗಳನ್ನು ಮೀಸಲಿಡಲಾಗಿದೆ ?
 (A) 15 (B) 25 (C) 30 (D) 36
43. ಕುಟುಂಬದ ಮಹಿಳಾ ಮುಖ್ಯಸ್ಥರಿಗೆ ಮಾಸಿಕ ರೂ. 2,000 ಭತ್ಯೆ ದೊರೆಯುವ ಕರ್ನಾಟಕ ಸರ್ಕಾರದ ಯೋಜನೆಯನ್ನು ಹೆಸರಿಸಿ.
 (A) ಕರ್ನಾಟಕ ಶಕ್ತಿ ಸ್ಕೀಮ್ (ಯೋಜನಾ) (B) ಕರ್ನಾಟಕ ಗೃಹ ಜ್ಯೋತಿ ಸ್ಕೀಮ್
 (C) ಕರ್ನಾಟಕ ಗೃಹ ಲಕ್ಷ್ಮಿ ಸ್ಕೀಮ್ (D) ಕರ್ನಾಟಕ ಸಾಂತ್ವನ ಸ್ಕೀಮ್
44. ಒಂದು ದಾಳದ ನಾಲ್ಕು ವಿವಿಧ ಸ್ಥಾನಗಳನ್ನು ಈ ಕೆಳಗೆ ನೀಡಲಾಗಿದೆ. ಯಾವ ಸಂಖ್ಯೆಯು '6' ರ ವಿರುದ್ಧ ದಿಕ್ಕಿನಲ್ಲಿರುತ್ತದೆ ?

 (A) 2 (B) 3 (C) 4 (D) 1
45. 1954 ರಲ್ಲಿ ಕನ್ನಡದಲ್ಲಿ ಅತ್ಯುತ್ತಮ ಚಲನಚಿತ್ರಕ್ಕಾಗಿ ರಾಷ್ಟ್ರೀಯ ಚಲನಚಿತ್ರ ಪ್ರಶಸ್ತಿಯನ್ನು ಪಡೆದ ಮೊದಲ ಕನ್ನಡ ಚಲನಚಿತ್ರ ಯಾವುದಾಗಿದೆ ?
 (A) ಮಹಾಕವಿ ಕಾಳಿದಾಸ (B) ಸ್ಕೂಲ್ ಮಾಸ್ಟರ್
 (C) ಕಿತ್ತೂರು ಚೆನ್ನಮ್ಮ (D) ಬೇಡರ ಕಣ್ಣಪ್ಪ
46. ಕೆಳಗಿನವುಗಳಲ್ಲಿ ಯಾವುದು ತಪ್ಪಾಗಿ ಹೊಂದಿಕೆಯಾಗಿದೆ ?
 (A) ಭಾರತದ ಅತಿದೊಡ್ಡ ಗುರುದ್ವಾರ - ಗೋಲ್ಡನ್ ಟೆಂಪಲ್, ಅಮೃತ್‌ಸರ್
 (B) ಭಾರತದ ಅತಿದೊಡ್ಡ ಸಂಗ್ರಹಾಲಯ - ಸಾಲಾರ್‌ಜಂಗ್ ಮ್ಯೂಸಿಯಂ, ಹೈದರಾಬಾದ್
 (C) ಭಾರತದ ಅತಿದೊಡ್ಡ ಪ್ಲಾನೆಟೋರಿಯಂ - ಬಿರ್ಲಾ ಪ್ಲಾನೆಟೋರಿಯಂ
 (D) ಭಾರತದ ಅತಿದೊಡ್ಡ ಗುಮ್ಮಟ - ಗೋಲ್ ಗುಂಬಜ್, ವಿಜಯಪುರ

Space For Rough Work

47. Arrange the following mountains based on their heights in descending order and select the right answer :
 Biligiri Rangana Betta, Bababudangiri, Shivaganga, Kudremukh, Kodachadri, Chamundi Betta.
 (A) Kodachadri, Shivaganga, Bababudangiri, Biligiri Rangana Betta, Kudremukh, Chamundi Betta.
 (B) Kudremukh, Kodachadri, Bababudangiri, Biligiri Rangana Betta, Shivaganga, Chamundi Betta.
 (C) Bababudangiri, Biligiri Rangana Betta, Shivaganga, Kudremukh, Kodachadri, Chamundi Betta.
 (D) Bababudangiri, Kudremukh, Biligiri Rangana Betta, Shivaganga, Kodachadri, Chamundi Betta.
48. What is the full form of USB ?
 (A) Universal Serial Bus (B) Urgent Sent Bit
 (C) Ultimate Service Bit (D) Universal Sent Bit
49. Arrange the following Ghats connecting between the place and select the right one :
 a. Hulikal Ghat 1. Connects Chikkamangaluru and Mangalore
 b. Charmudi Ghat 2. Connects Shirur and Bindur
 c. Agumbe Ghat 3. Connects Shivamoga and Udupi
 d. Kollur Ghat 4. Connects Shivamoga and Kundapur
 (A) a-1, b-3, c-4, d-2
 (B) a-4, b-1, c-3, d-2
 (C) a-4, b-3, c-2, d-1
 (D) a-3, b-4, c-1, d-2
50. Which of the following is not correct in connection with the Maidan Region ?
 (A) The Maidan Region lies to the east of Malnad.
 (B) The Maidan Region largely drained by Krishna and Cauvery rivers.
 (C) The Maidan Region faces severe droughts.
 (D) The Maidan Region is formed due to deposition.
51. Foot and Mouth disease in animals is caused by
 (A) fungus (B) protozoan
 (C) virus (D) bacterium
52. Which Indian missile is capable of carrying nuclear weapons ?
 (A) Nag (B) Prithvi
 (C) None of these (D) Trishul

Space For Rough Work

47. ಕೆಳಗಿನ ಪರ್ವತಗಳನ್ನು ಅವುಗಳ ಎತ್ತರದ ಅನುಸಾರ ಅವರೋಹಣ ಕ್ರಮದಲ್ಲಿ ಜೋಡಿಸಿ ಮತ್ತು ಸರಿಯಾದ ಉತ್ತರವನ್ನು ಆಯ್ಕೆ ಮಾಡಿ.
ಬಿಳಿಗಿರಿರಂಗನಬೆಟ್ಟ, ಬಾಬಾಬುಡನ್‌ಗಿರಿ, ಶಿವಗಂಗ, ಕುದ್ರೆಮುಖ, ಕೋಡಚಾದ್ರಿ, ಚಾಮುಂಡಿ ಬೆಟ್ಟ
(A) ಕೋಡಚಾದ್ರಿ, ಶಿವಗಂಗ, ಬಾಬಾಬುಡನ್‌ಗಿರಿ, ಬಿಳಿಗಿರಿರಂಗನಬೆಟ್ಟ, ಕುದ್ರೆಮುಖ, ಚಾಮುಂಡಿ ಬೆಟ್ಟ
(B) ಕುದ್ರೆಮುಖ, ಕೋಡಚಾದ್ರಿ, ಬಾಬಾಬುಡನ್‌ಗಿರಿ, ಬಿಳಿಗಿರಿರಂಗನಬೆಟ್ಟ, ಶಿವಗಂಗ, ಚಾಮುಂಡಿ ಬೆಟ್ಟ
(C) ಬಾಬಾಬುಡನ್‌ಗಿರಿ, ಬಿಳಿಗಿರಿರಂಗನಬೆಟ್ಟ, ಶಿವಗಂಗ, ಕುದ್ರೆಮುಖ, ಕೋಡಚಾದ್ರಿ, ಚಾಮುಂಡಿ ಬೆಟ್ಟ
(D) ಬಾಬಾಬುಡನ್‌ಗಿರಿ, ಕುದ್ರೆಮುಖ, ಬಿಳಿಗಿರಿರಂಗನಬೆಟ್ಟ, ಶಿವಗಂಗ, ಕೋಡಚಾದ್ರಿ, ಚಾಮುಂಡಿ ಬೆಟ್ಟ
48. USB ಯ ವಿಸ್ತೃತ ರೂಪವನ್ನು ಬರೆಯಿರಿ.
(A) ಯುನಿವರ್ಸಲ್ ಸೀರಿಯಲ್ ಬಸ್ (B) ಅರ್ಜೆಂಟ್ ಸೆಂಟ್ ಬಿಟ್
(C) ಅಲ್ಟಿಮೇಟ್ ಸರ್ವಿಸ್ ಬಿಟ್ (D) ಯುನಿವರ್ಸಲ್ ಸೆಂಟ್ ಬಿಟ್
49. ಸ್ಥಳಗಳ ನಡುವೆ ಸಂಪರ್ಕಿಸುವ ಫಾಟ್‌ಗಳನ್ನು ಜೋಡಿಸಿ ಮತ್ತು ಸರಿಯಾದುದನ್ನು ಆಯ್ಕೆ ಮಾಡಿ.
a. ಹುಳಿಕಲ್ ಫಾಟ್ 1. ಚಿಕ್ಕಮಗಳೂರು ಮತ್ತು ಮಂಗಳೂರು ಜೋಡಿಸುತ್ತವೆ
b. ಚಾರ್ಮುಡಿ ಫಾಟ್ 2. ಶಿರೂರ್ ಮತ್ತು ಬಿಂದೂರ್ ಜೋಡಿಸುತ್ತವೆ
c. ಆಗುಂಬೆ ಫಾಟ್ 3. ಶಿವಮೊಗ್ಗ ಮತ್ತು ಉಡುಪಿ ಜೋಡಿಸುತ್ತವೆ
d. ಕೊಲ್ಲೂರು ಫಾಟ್ 4. ಶಿವಮೊಗ್ಗ ಮತ್ತು ಕುಂದಾಪುರ ಜೋಡಿಸುತ್ತವೆ
(A) a-1, b-3, c-4, d-2
(B) a-4, b-1, c-3, d-2
(C) a-4, b-3, c-2, d-1
(D) a-3, b-4, c-1, d-2
50. ಮೈದಾನ ಪ್ರದೇಶಕ್ಕೆ ಸಂಬಂಧಿಸಿದಂತೆ ಈ ಕೆಳಗಿನವುಗಳಲ್ಲಿ ಯಾವುದು ಸರಿಯಿಲ್ಲ ?
(A) ಮೈದಾನ ಪ್ರದೇಶವು ಮಲೆನಾಡಿನ ಪೂರ್ವಕ್ಕೆ ಇದೆ.
(B) ಮೈದಾನ ಪ್ರದೇಶವು ಹೆಚ್ಚಾಗಿ ಕೃಷ್ಣ ಮತ್ತು ಕಾವೇರಿ ನದಿಗಳಿಂದ ಬರಿದಾಗಿದೆ.
(C) ಮೈದಾನ ಪ್ರದೇಶವು ತೀವ್ರ ಬರ ಎದುರಿಸುತ್ತಿದೆ.
(D) ಮೈದಾನ ಪ್ರದೇಶವು ನಿಕ್ಷೇಪದಿಂದಾಗಿ ರೂಪುಗೊಂಡಿದೆ.
51. ಪ್ರಾಣಿಗಳಲ್ಲಿರುವ ಕಾಲು - ಬಾಯಿ ರೋಗವು ಯಾವುದರಿಂದ ಉಂಟಾಗುತ್ತದೆ ?
(A) ಫಂಗಸ್ (B) ಪ್ರೊಟೋಜೋವಾ (C) ವೈರಸ್ (D) ಬ್ಯಾಕ್ಟೀರಿಯಂ
52. ಈ ಕೆಳಗಿನ ಯಾವ ಭಾರತೀಯ ಕ್ಷಿಪಣಿಯು ಅಣ್ವಸ್ತ್ರಗಳನ್ನು ಕೊಂಡೊಯ್ಯುವ ಸಾಮರ್ಥ್ಯವನ್ನು ಹೊಂದಿದೆ ?
(A) ನಾಗ್ (B) ಪೃಥ್ವಿ
(C) ಇವುಗಳಲ್ಲಿ ಯಾವುದೂ ಅಲ್ಲ (D) ತ್ರಿಶೂಲ್

Space For Rough Work

53. Choose the following river basins of Karnataka in descending order based on their basin size :
- North Pennar, South Pennar, Godavari, Krishna, Cauvery, West-flowing rivers, Palar.
- (A) Krishna, Cauvery, North Pennar, West-flowing rivers, South Pennar, Godavari, Palar
 (B) Krishna, Cauvery, West-flowing rivers, North Pennar, Godavari, South Pennar, Palar
 (C) Krishna, Cauvery, West-flowing rivers, Godavari, South Pennar, North Pennar, Palar
 (D) Cauvery, West-flowing rivers, Krishna, North Pennar, South Pennar, Godavari, Palar
54. On which river Magodu Falls is located ?
- (A) River Varahi (B) River Sita
 (C) River Netravati (D) River Bedti
55. Rural development aims at which of the following ?
- (A) Reducing poverty
 (B) Developing infrastructure
 (C) Provision of food
 (D) Improving health facilities
56. The Shimla Pact between India and Pakistan stood for
- (A) bilateral settlement of disputes.
 (B) final resolution of Jammu & Kashmir problem.
 (C) resolution of dispute relating to Rann of Kachchh.
 (D) abstaining from first use of nuclear weapons.
57. The western part of the Western Ghats is most wet in contrast to dry and drought prone eastern part which is due to
1. The Western Ghats relief features running almost from North to South.
 2. The Southwest winds blowing will frost faced by western part of Western Ghats.
 3. Western Ghats are come under raised mountain chains.
 4. The western part of Western Ghats receives heavy orographic rainfall compare to the eastern part.
- By reading above statements answer correctly.
- (A) 1st, 3rd and 4th are correct and 2nd is incorrect.
 (B) 2nd, 3rd and 4th are correct and 1st is incorrect.
 (C) All of these are correct.
 (D) 1st, 2nd and 3rd are correct and 4th is incorrect.

Space For Rough Work

53. ಕರ್ನಾಟಕದ ನದಿ, ಜಲಾನಯನ ಪ್ರದೇಶಗಳನ್ನು ಅವುಗಳ ಜಲಾನಯನ ಗಾತ್ರದ ಆಧಾರದ ಮೇಲೆ ಅವರೋಹಣ ಕ್ರಮದಲ್ಲಿ ಆಯ್ಕೆ ಮಾಡಿ.
ಉತ್ತರ ಪೆನ್ನಾರ್, ದಕ್ಷಿಣ ಪೆನ್ನಾರ್ ಗೋದಾವರಿ, ಕೃಷ್ಣ, ಕಾವೇರಿ, ಪಶ್ಚಿಮದ ಕಡೆ ಹರಿಯುವ ನದಿಗಳು, ಪಾಲಾರ್.
(A) ಕೃಷ್ಣ, ಕಾವೇರಿ, ಉತ್ತರ ಪೆನ್ನಾರ್, ಪಶ್ಚಿಮದ ಕಡೆ ಹರಿಯುವ ನದಿಗಳು, ದಕ್ಷಿಣ ಪೆನ್ನಾರ್, ಗೋದಾವರಿ, ಪಾಲಾರ್.
(B) ಕೃಷ್ಣ, ಕಾವೇರಿ, ಪಶ್ಚಿಮಕ್ಕೆ ಹರಿಯುವ ನದಿಗಳು, ಉತ್ತರ ಪೆನ್ನಾರ್, ಗೋದಾವರಿ, ದಕ್ಷಿಣ ಪೆನ್ನಾರ್, ಪಾಲಾರ್.
(C) ಕೃಷ್ಣ, ಕಾವೇರಿ, ಪಶ್ಚಿಮಕ್ಕೆ ಹರಿಯುವ ನದಿಗಳು, ಗೋದಾವರಿ, ದಕ್ಷಿಣ ಪೆನ್ನಾರ್, ಉತ್ತರ ಪೆನ್ನಾರ್, ಪಾಲಾರ್.
(D) ಕಾವೇರಿ, ಪಶ್ಚಿಮದ ಕಡೆ ಹರಿಯುವ ನದಿಗಳು, ಕೃಷ್ಣ, ಉತ್ತರ ಪೆನ್ನಾರ್, ದಕ್ಷಿಣ ಪೆನ್ನಾರ್, ಗೋದಾವರಿ, ಪಾಲಾರ್.
54. ಯಾವ ನದಿಯ ಮೇಲೆ ಮಾಗೋಡು ಜಲಪಾತ ಇದೆ ?
(A) ವರಾಹಿ ನದಿ (B) ಸೀತಾ ನದಿ (C) ನೇತ್ರಾವತಿ ನದಿ (D) ಬೆಡ್ಡಿ ನದಿ
55. ಗ್ರಾಮೀಣಾಭಿವೃದ್ಧಿಯು ಈ ಕೆಳಗಿನವುಗಳಲ್ಲಿ ಯಾವುದನ್ನು ಗುರಿಯಾಗಿಸಿಕೊಂಡಿದೆ ?
(A) ಬಡತನ ಕಡಿಮೆ ಮಾಡುವುದು
(B) ಮೂಲಭೂತ ಸೌಕರ್ಯಗಳನ್ನು ಅಭಿವೃದ್ಧಿಪಡಿಸುವುದು
(C) ಆಹಾರವನ್ನು ಒದಗಿಸುವುದು
(D) ಆರೋಗ್ಯ ಸೌಲಭ್ಯಗಳನ್ನು ಸುಧಾರಿಸುವುದು
56. ಭಾರತ ಮತ್ತು ಪಾಕಿಸ್ತಾನ ಮಧ್ಯದ ಶಿಮ್ಲಾ ಒಪ್ಪಂದವು ಯಾವ ಕಾರಣಕ್ಕಾಗಿ ಏರ್ಪಟ್ಟಿತ್ತು ?
(A) ವಿವಾದಗಳನ್ನು ದ್ವಿಪಕ್ಷೀಯವಾಗಿ ಪರಿಹರಿಸಿಕೊಳ್ಳುವುದು
(B) ಜಮ್ಮು ಮತ್ತು ಕಾಶ್ಮೀರ ಸಮಸ್ಯೆಗೆ ಅಂತಿಮ ನಿರ್ಣಯ ಕೈಗೊಳ್ಳುವುದು
(C) ರಣ್ ಆಫ್ ಕಚ್ಛ್ಗೆ ಸಂಬಂಧಿಸಿದ ವಿವಾದಗಳನ್ನು ಪರಿಹರಿಸಿಕೊಳ್ಳುವುದು
(D) ಅಣ್ವಸ್ತ್ರಗಳನ್ನು ಮೊದಲು ಬಳಸುವುದನ್ನು ತಡೆಯಲು
57. ಪಶ್ಚಿಮ ಘಾಟ್‌ಗಳು ಪಶ್ಚಿಮ ಭಾಗವು, ಶುಷ್ಕ ಮತ್ತು ಬರಪೀಡಿತ ಪೂರ್ವ ಭಾಗಕ್ಕೆ ವ್ಯತಿರಿಕ್ತವಾಗಿದೆ. ಇದಕ್ಕೆ ಕಾರಣ
1. ಪಶ್ಚಿಮ ಘಟ್ಟಗಳ ಪರಿಹಾರ ವೈಶಿಷ್ಟ್ಯಗಳು ಬಹುತೇಕ ಉತ್ತರದಿಂದ ದಕ್ಷಿಣಕ್ಕೆ ಚಲಿಸುತ್ತವೆ.
2. ನೈರುತ್ಯ ಗಾಳಿ ಬೀಸುವಿಕೆಯು ಪಶ್ಚಿಮ ಘಟ್ಟಗಳ ಪಶ್ಚಿಮ ಭಾಗದಲ್ಲಿ ಹಿಮವನ್ನು ಎದುರಿಸುತ್ತದೆ.
3. ಪಶ್ಚಿಮ ಘಟ್ಟಗಳು ಎತ್ತರದ ಪರ್ವತ ಸರಪಳಿಗಳ ಅಡಿಯಲ್ಲಿ ಬರುತ್ತವೆ.
4. ಬಲಭಾಗಕ್ಕೆ ಹೋಲಿಸಿದರೆ, ಪಶ್ಚಿಮ ಘಟ್ಟಗಳ ಪಶ್ಚಿಮ ಭಾಗದಲ್ಲಿ ಬಹಳ ಹೆಚ್ಚು ಒರೋಗ್ರಾಫಿಕ್ ಮಳೆ ಬರುತ್ತದೆ.
ಮೇಲಿನ ಹೇಳಿಕೆಗಳನ್ನು ಓದಿ ಸರಿಯಾಗಿ ಉತ್ತರಿಸಿ.
(A) 1, 3 ಮತ್ತು 4 ಸರಿಯಾಗಿದೆ ಆದರೆ 2 ನೆಯದು ಸರಿಯಾಗಿಲ್ಲ.
(B) 2, 3 ಮತ್ತು 4 ಸರಿಯಾಗಿದೆ ಆದರೆ 1 ನೆಯದು ಸರಿಯಾಗಿಲ್ಲ.
(C) ಇವೆಲ್ಲವೂ ಸರಿಯಾಗಿದೆ
(D) 1, 2 ಮತ್ತು 3 ಸರಿಯಾಗಿದೆ ಆದರೆ 4 ನೆಯದು ಸರಿಯಾಗಿಲ್ಲ.

Space For Rough Work

58. One of the following is not a component of foreign exchange reserves in India :
 (A) Foreign Exchange reserves of RBI
 (B) SDR holdings of government
 (C) Foreign exchange assets of government
 (D) Gold Stock of RBI
59. Soil Health Card Scheme was introduced in which of the following year ?
 (A) 2014 (B) 2015 (C) 2016 (D) 2009
60. The 'World Economic Outlook Report' is released by :
 (A) International Monetary Fund (B) Asian Development Fund
 (C) International Labour Organisation (D) World Bank
61. Which of the following is / are the example(s) of Transfer Payment(s) ?
 1. Unemployment allowance 2. Payment of salary
 3. Social security payments 4. Old age pension
 Select the correct answer using the code given below :
 (A) 1, 2 and 3 (B) 1, 3 and 4 (C) None of these (D) 1 and 3
62. On which of the following National Panchayath Raj day is celebrated in India ?
 (A) 5th August (B) 5th September (C) 24th April (D) 1st May
63. Which of the following was launched by Prime Minister to strengthen Panchayath Raj in villages ?
 (A) Gram Vikas se Bharath Vikas Movement
 (B) Grameena Ujwal se Bharath Ujwal
 (C) Grameena Pragathi se Bharath Pragathi
 (D) Gram Uday se Bharat Uday Abhiyan
64. The 'Rice Gene Bank' of the world is situated in
 (A) Philippines (B) Japan (C) India (D) China
65. The Jawaharlal Nehru Award is for
 (A) Literary Work (B) International Understanding
 (C) Social Work (D) Government Service
66. Micro credit programme is defined as
 (A) credit provision made by small farmers
 (B) credit provision made by large farmers
 (C) credit provision made by banks
 (D) credit provision made by self-help groups to their members

Space For Rough Work

58. ಈ ಕೆಳಗಿನವುಗಳಲ್ಲಿ ಯಾವುದು ಭಾರತದ ವಿದೇಶೀ ವಿನಿಮಯ ಸಂಗ್ರಹದ ಭಾಗವಾಗಿಲ್ಲ ?
 (A) ಆರ್‌ಬಿಐ ಬಳಿಯಿರುವ ವಿದೇಶೀ ವಿನಿಮಯ ಸಂಗ್ರಹ (B) ಸರ್ಕಾರ ಹೊಂದಿರುವ ಎಸ್‌ಡಿಆರ್‌ಗಳು
 (C) ಸರ್ಕಾರದ ಬಳಿಯಿರುವ ವಿದೇಶೀ ವಿನಿಮಯ ಸಂಗ್ರಹ (D) ಆರ್‌ಬಿಐ ನ ಬಳಿಯಿರುವ ಚಿನ್ನದ ಸಂಗ್ರಹ
59. ಈ ಕೆಳಗಿನವುಗಳಲ್ಲಿ ಯಾವಾಗ ಮಣ್ಣಿನ ಆರೋಗ್ಯ ಕಾರ್ಡ್ ಯೋಜನೆ (Soil Health Card Scheme) ಯನ್ನು ಪರಿಚಯಿಸಲಾಯಿತು ?
 (A) 2014 (B) 2015 (C) 2016 (D) 2009
60. 'ದಿ ವರ್ಲ್ಡ್ ಇಕನಾಮಿಕ್ ಫಿಟ್‌ಲುಕ್ ರಿಪೋರ್ಟ್' ಅನ್ನು ಯಾರು ಬಿಡುಗಡೆ ಮಾಡುತ್ತಾರೆ ?
 (A) ಅಂತಾರಾಷ್ಟ್ರೀಯ ಹಣಕಾಸಿನ ನಿಧಿ (B) ಎಷ್ಯಾ ಅಭಿವೃದ್ಧಿ ನಿಧಿ
 (C) ಅಂತಾರಾಷ್ಟ್ರೀಯ ಕಾರ್ಮಿಕ ಸಂಘಟನೆ (D) ವಿಶ್ವ ಬ್ಯಾಂಕ್
61. ಈ ಕೆಳಗಿನವುಗಳಲ್ಲಿ ಯಾವುದು / ಯಾವುವು ವರ್ಗಾವಣೆ ಪಾವತಿ (ಗಳ) ಉದಾಹರಣೆಗಳು ?
 1. ನಿರುದ್ಯೋಗ ಭತ್ಯೆ 2. ಸಂಬಳ ಪಾವತಿ
 3. ಸಾಮಾಜಿಕ ಭದ್ರತೆ ಪಾವತಿಗಳು 4. ವೃದ್ಧಾಪ್ಯ ವೇತನ
 ಈ ಕೆಳಗಿನ ಕೋಡುಗಳಲ್ಲಿ ಸರಿಯಾದುದನ್ನು ಆಯ್ಕೆ ಮಾಡಿರಿ.
 (A) 1, 2 ಮತ್ತು 3 (B) 1, 3 ಮತ್ತು 4 (C) ಇವುಗಳಲ್ಲಿ ಯಾವುದೂ ಅಲ್ಲ (D) 1 ಮತ್ತು 3
62. ಈ ಕೆಳಗಿನ ಯಾವ ದಿನದಂದು ರಾಷ್ಟ್ರೀಯ ಪಂಚಾಯತ್ ರಾಜ್ ದಿನವನ್ನು ಭಾರತದಲ್ಲಿ ಆಚರಿಸಲಾಗುತ್ತದೆ ?
 (A) 5ನೇ ಆಗಸ್ಟ್ (B) 5ನೇ ಸೆಪ್ಟೆಂಬರ್ (C) 24ನೇ ಏಪ್ರಿಲ್ (D) 1ನೇ ಮೇ
63. ಗ್ರಾಮಗಳಲ್ಲಿ ಪಂಚಾಯತ್ ರಾಜ್ ಅನ್ನು ಬಲಪಡಿಸಲು ಪ್ರಧಾನ ಮಂತ್ರಿಗಳು ಈ ಕೆಳಗಿನವುಗಳಲ್ಲಿ ಯಾವುದನ್ನು ಪ್ರಾರಂಭಿಸಿದರು ?
 (A) ಗ್ರಾಮ್ ಎಕಾಸ್ ಸೇ ಭಾರತ್ ಎಕಾಸ್ ಚಳುವಳಿ (B) ಗ್ರಾಮೀಣ ಉಜ್ವಲ್ ಸೇ ಭಾರತ್ ಉಜ್ವಲ್
 (C) ಗ್ರಾಮೀಣ ಪ್ರಗತಿ ಸೇ ಭಾರತ್ ಪ್ರಗತಿ (D) ಗ್ರಾಮ್ ಉದಯ್ ಸೇ ಭಾರತ್ ಉದಯ್ ಅಭಿಯಾನ
64. ವಿಶ್ವದ 'ಭತ್ತದ ಜೀನ್ ಬ್ಯಾಂಕ್' ಎಲ್ಲಿದೆ ?
 (A) ಫಿಲಿಪೈನ್ಸ್ (B) ಜಪಾನ್ (C) ಭಾರತ (D) ಚೀನಾ
65. ಜವಾಹರಲಾಲ್ ನೆಹರೂ ಪ್ರಶಸ್ತಿಯನ್ನು ಯಾವ ಕ್ಷೇತ್ರಕ್ಕೆ ನೀಡಲಾಗುತ್ತದೆ ?
 (A) ಸಾಹಿತ್ಯಿಕ ಕಾರ್ಯ (B) ಅಂತಾರಾಷ್ಟ್ರೀಯ ತಿಳಿವಳಿಕೆ
 (C) ಸಮಾಜ ಕಾರ್ಯ (D) ಸರ್ಕಾರಿ ಸೇವೆ
66. ಮೈಕ್ರೋ ಕ್ರೆಡಿಟ್ ಪ್ರೋಗ್ರಾಂ ಅನ್ನು ಹೀಗೆ ವ್ಯಾಖ್ಯಾನಿಸಲಾಗಿದೆ
 (A) ಸಣ್ಣ ರೈತರು ಮಾಡಿದ ಸಾಲ ಸೌಲಭ್ಯ
 (B) ದೊಡ್ಡ ರೈತರು ಮಾಡಿದ ಸಾಲ ಸೌಲಭ್ಯ
 (C) ಬ್ಯಾಂಕುಗಳಿಂದ ಮಾಡಿದ ಸಾಲ ಸೌಲಭ್ಯ
 (D) ಸ್ವಸಹಾಯ ಗುಂಪುಗಳು ತಮ್ಮ ಸದಸ್ಯರಿಗೆ ಸಾಲವನ್ನು ಒದಗಿಸುತ್ತದೆ.

Space For Rough Work

67. In a certain code language '3a, 2b, 7c' means 'Truth is Eternal', '7c, 9a, 8b, 3a' means 'Enmity is not Eternal' and '9a, 4d, 2b, 8b' means 'Truth does not Perish'. Which of the following means 'Enmity' in that language ?
 (A) 7c (B) 8b (C) 9a (D) 3a
68. In the following question find out the missing term from the given alternatives.
 $\frac{T}{J} : 2 :: \frac{X}{H} : ?$
 (A) 3 (B) $\frac{23}{7}$ (C) 4 (D) 2
69. Pointing to a man, a woman said, "He is the only son-in-law of my mother's father". How is the woman related to that man ?
 (A) Daughter (B) Sister (C) Wife (D) Aunt
70. The waste product from coal fired thermal power plants used in bricks, pavement blocks and cement is called
 (A) Flue gas (B) Feldspar (C) Bagasse (D) Fly ash
71. The island country expected to be submerged first due to rising sea levels is
 (A) Kiribati (B) Trinidad and Tobago
 (C) Seychelles (D) Maldives
72. Global dimming refer to
 (A) decreased ozone levels in lower atmosphere
 (B) reduction in suspended particulate matter in atmosphere
 (C) reduction of solar irradiance
 (D) increased carbon-di-oxide in upper atmosphere
73. Osteoarthritic crippling disorder endemic to Malenadu region, identified around 1975 is called _____
 (A) Handigodu Syndrome (B) Swine flu
 (C) Filariasis (D) Kyasanur Forest Disease
74. In which of the following year Co-operative Societies Act was passed ?
 (A) 1947 (B) 1951 (C) 1950 (D) 1912
75. If "TEACHER" is coded as 'VGCEJGT', what will be the code for 'CHILDREN' ?
 (A) EJKNFHTP (B) EJKNFGTO
 (C) EJKNEGTP (D) EJKNFTGP

Space For Rough Work

Handwritten rough work for question 75:

TEACHER
 V G C E J G T
 2

CHILDREN
 E J K N F T G P

24

B3

202308GK3

67. ಯಾವುದೋ ಒಂದು ಸಂಕೇತ ಭಾಷೆಯಲ್ಲಿ '3a, 2b, 7c' ಎಂದರೆ 'Truth is Eternal' ಎಂದಾಗುತ್ತದೆ. '7c, 9a, 8b, 3a' ಎಂದರೆ 'Enmity is not Eternal' ಮತ್ತು '9a, 4d, 2b, 8b' ಎಂದರೆ 'Truth does not Perish' ಎಂದಾದರೆ, ಈ ಕೆಳಗಿನವುಗಳಲ್ಲಿ ಯಾವುದು ಆ ಭಾಷೆಯಲ್ಲಿ 'Enmity' ಯನ್ನು ಸೂಚಿಸುತ್ತದೆ ?
 (A) 7c (B) 8b (C) 9a (D) 3a
68. ಈ ಕೆಳಗಿನ ಪ್ರಶ್ನೆಯಲ್ಲಿ ಬಿಟ್ಟುಹೋಗಿರುವ ಸಂಖ್ಯೆಯನ್ನು ಕೆಳಗೆ ನೀಡಲಾದ ಆಯ್ಕೆಗಳಿಂದ ಹುಡುಕಿ ಬರೆಯಿರಿ.
 $\frac{T}{J} : 2 :: \frac{X}{H} : ?$
 (A) 3 (B) $\frac{23}{7}$ (C) 4 (D) 2
69. ಒಬ್ಬ ಪುರುಷನನ್ನು ತೋರಿಸಿ ಮಹಿಳೆಯೊಬ್ಬರು "ಇವನು ನನ್ನ ತಾಯಿಯ ತಂದೆಯ ಒಬ್ಬನೇ ಅಳಿಯ" ಎಂದರು. ಆ ಮಹಿಳೆಯು ಪುರುಷನಿಗೆ ಹೇಗೆ ಸಂಬಂಧಿತಳು ?
 (A) ಮಗಳು (B) ಸಹೋದರಿ (C) ಹೆಂಡತಿ (D) ಚಿಕ್ಕಮ್ಮ / ದೊಡ್ಡಮ್ಮ
70. ಇಟ್ಟಿಗೆ, ಪಾದಾಚಾರಿ ಬ್ಲಾಕ್‌ಗಳು ಮತ್ತು ಸೀಮೆಂಟ್‌ಗಳಲ್ಲಿ ಬಳಸಲಾಗುವ ಕಲ್ಲಿದ್ದಲಿನ ಉಷ್ಣ ವಿದ್ಯುತ್ ಸ್ಥಾವರಗಳ ತ್ಯಾಜ್ಯ ಉತ್ಪನ್ನವನ್ನು ಏನೆಂದು ಕರೆಯಲಾಗುತ್ತದೆ ?
 (A) ಪ್ಲಾಸ್ಟಿಕ್ (B) ಫೆಲ್ಡ್‌ಸ್ಟರ್ (C) ಬಗಾಸ್ (D) ಹಾರುಬೂದಿ
71. ಏರುತ್ತಿರುವ ಸಮುದ್ರ ಮಟ್ಟದಿಂದಾಗಿ ಮೊದಲು ಮುಳುಗುವ ನಿರೀಕ್ಷೆಯಿರುವ ದ್ವೀಪ ದೇಶವು
 (A) ಕಿರಿಬಾಟಿ (B) ಟ್ರಿನಿಡಾದ್ ಮತ್ತು ಟೊಬ್ಯಾಗೋ
 (C) ಸೈಚೆಲ್ಲೆಸ್ (D) ಮಾರ್ಶ್‌ವ್ಸ್
72. ಜಾಗತಿಕ ಮಬ್ಬಾಗಿಸುವಿಕೆ ಏನನ್ನು ಸೂಚಿಸುತ್ತದೆ ?
 (A) ಕೆಳಗಿನ ವಾತಾವರಣದ ಕಮ್ಮಿಯಾದ ಓಜೋನ್ ಮಟ್ಟ (B) ವಾತಾವರಣದಲ್ಲಿ ಅಮಾನತುಗೊಂಡಿರುವ ಕಣಗಳ ಕಡಿತ
 (C) ಸೌರ ವಿಕಿರಣದ ಕಡಿತ (D) ಮೇಲಿನ ವಾತಾವರಣದಲ್ಲಿ ಹೆಚ್ಚಿದ ಇಂಗಾಲ ಡೈಆಕ್ಸೈಡ್
73. ಮಲೆನಾಡು ಪ್ರದೇಶದ ಸ್ಥಳೀಯ ಅಸ್ಥಿ ಸಂಧಿವಾತದ ಕ್ರಿಪ್ಲಿಂಗ್ ಡಿಸ್‌ಆರ್ಡರ್ ಅನ್ನು 1975 ರಲ್ಲಿ ಗುರುತಿಸಲಾಗಿದ್ದು, _____ ಎಂದು ಕರೆಯಲಾಗಿದೆ.
 (A) ಹಂದಿಗೋಡು ಸಿಂಡ್ರೋಮ್ (B) ಸ್ಟೈನ್ ಪ್ಲೂ
 (C) ಫಿಲಿರಿಯಾಸಿಸ್ (D) ಕ್ಯಾಸನೂರು ಕಾಡು ರೋಗ
74. ಕೆಳಗಿನ ಯಾವ ವರ್ಷದಲ್ಲಿ ಸಹಕಾರ ಸಂಘಗಳ ಕಾಯಿದೆಯನ್ನು ಅಂಗೀಕರಿಸಲಾಗಿದೆ ?
 (A) 1947 (B) 1951 (C) 1950 (D) 1912
75. ಒಂದು ವೇಳೆ "TEACHER" ಅನ್ನು 'VGCEJGT' ಎಂದು ಸಂಕೇತಾಕ್ಷರದಲ್ಲಿ ಬರೆದರೆ 'CHILDREN' ಅನ್ನು ಸಂಕೇತಾಕ್ಷರದಲ್ಲಿ ಹೇಗೆ ಬರೆಯಲಾಗುತ್ತದೆ ?
 (A) EJKNFHTP (B) EJKNFGTO (C) EJKNEGTP (D) EJKNFTGP

Space For Rough Work

3a 2b 7c 9a 8b 3a
 Truth is Eternal Enmity is not Eternal
 9a, 4d, 2b, 8b
 Truth, does not Perish

B3

25

202308GK3

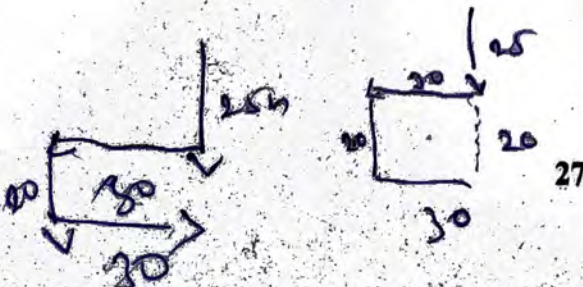
76. Reverse osmosis is a method employed to remove minerals from
 (A) Contaminated agricultural produce (B) Potable water and treated waste water
 (C) Industrial flue gas (D) Polluted air
77. The amount of oxygen required by aerobic micro-organisms in order to decompose organic matter in water bodies is referred to as
 (A) COD (B) VOC (C) DO (D) BOD
78. Indar walked 25 m towards south. Then turning to his right, he walks 30 m. Then turning to his left, he walks 20 m. Again, he turns to his left and walks 30 m. How far is he from his initial position ?
 (A) 30 m (B) 45 m (C) 80 m (D) 20 m
79. An ecosystem is characterized by
 (A) a presence of animals that live and reproduce in that region
 (B) an interaction between abiotic and biotic components associated with cycling of matter and unidirectional flow of energy
 (C) an interaction among abiotic components including cycling of energy
 (D) a mere presence of plants that are adopted to that region
80. A significant environmental issue associated with using incompletely treated sewage for agriculture is
 (A) lack of nutrients
 (B) accumulation of heavy metals in soils
 (C) reduction of water availability in urban areas
 (D) pumping of treated sewage
81. When molten magma reaches the Earth's surface releasing lava, gases and ash, it is called
 (A) a volcano (B) El-nino southern oscillation
 (C) land slide (D) an earthquake
82. The single flow model, the 'Y' shaped model and the universal model are utilized to depict _____ in an ecosystem.
 (A) transfer of biomass
 (B) exchange of matter
 (C) cycling of energy
 (D) energy transfer through successive trophic levels
83. The unit of measurement of ambient noise is
 (A) Lumen (B) Decibel (C) Millibar (D) REM

Space For Rough Work

76. ರಿವರ್ಸ್ ಓಸ್ಮೋಸಿಸ್, ಯಾವುದರಿಂದ ಖನಿಜಗಳನ್ನು ತೆಗೆದುಹಾಕಲು ಬಳಸುವ ಒಂದು ವಿಧಾನವಾಗಿದೆ ?
 (A) ಕಲುಷಿತ ಕೃಷಿ ಉತ್ಪನ್ನ (B) ಕುಡಿಯುವ ನೀರು ಮತ್ತು ಸಂಸ್ಕರಿಸಿದ ತ್ಯಾಜ್ಯ ನೀರು
 (C) ಕೈಗಾರಿಕಾ ಪ್ಲೂಗ್ಯಾಸ್ (D) ಕಲುಷಿತ ಗಾಳಿ
77. ಜಲಮೂಲಗಳಲ್ಲಿ ಸಾವಯವ ಪದಾರ್ಥಗಳನ್ನು ಕೊಳೆಯಲು ಏರೋಬಿಕ್ ಸೂಕ್ಷ್ಮಜೀವಿಗಳಿಗೆ ಅಗತ್ಯವಿರುವ ಆಮ್ಲಜನಕದ ಪ್ರಮಾಣವನ್ನು ಹೀಗೆ ಉಲ್ಲೇಖಿಸಲಾಗುತ್ತದೆ ?
 (A) COD (B) VOC (C) DO (D) BOD
78. ಇಂದರ್ ದಕ್ಷಿಣದ ಕಡೆಗೆ 25 ಮೀ. ನಡೆದು ನಂತರ, ಅವನ ಬಲಕ್ಕೆ ತಿರುಗಿ 30 ಮೀ. ನಡೆಯುತ್ತಾನೆ. ನಂತರ ಅವನ ಎಡಕ್ಕೆ ತಿರುಗಿ 20 ಮೀ. ನಡೆಯುತ್ತಾನೆ. ಪುನಃ ಅವನು ತನ್ನ ಎಡಕ್ಕೆ ತಿರುಗುತ್ತಾನೆ ಮತ್ತು 30 ಮೀ. ನಡೆಯುತ್ತಾನೆ. ಈಗ ಅವನು ತನ್ನ ಪ್ರಾರಂಭದ ಸ್ಥಾನದಿಂದ ಎಷ್ಟು ದೂರದಲ್ಲಿದ್ದಾನೆ ?
 (A) 30 ಮೀ. (B) 45 ಮೀ. (C) 80 ಮೀ. (D) 20 ಮೀ.
79. ಪರಿಸರ ವ್ಯವಸ್ಥೆಯು ವಿಶಿಷ್ಟವಾಗಿದೆ
 (A) ಆ ಪ್ರದೇಶದಲ್ಲಿ ವಾಸಿಸುವ ಮತ್ತು ಸಂತಾನೋತ್ಪತ್ತಿ ಮಾಡುವ ಪ್ರಾಣಿಗಳ ಉಪಸ್ಥಿತಿ
 (B) ವಸ್ತುವಿನ ಸೈಕ್ಲಿಂಗ್ ಮತ್ತು ಶಕ್ತಿಯ ಏಕಮುಖ ಹರಿವಿಗೆ ಸಂಬಂಧಿಸಿದ ಅಜೈವಿಕ ಮತ್ತು ಜೈವಿಕ ಘಟಕಗಳ ನಡುವಿನ ಪರಸ್ಪರ ಕ್ರಿಯೆ
 (C) ಶಕ್ತಿಯ ಸೈಕ್ಲಿಂಗ್ ಸೇರಿದಂತೆ ಅಜೀವಕ ಘಟಕಗಳ ನಡುವಿನ ಪರಸ್ಪರ ಕ್ರಿಯೆ
 (D) ಆ ಪ್ರದೇಶಕ್ಕೆ ಅಳವಡಿಸಿಕೊಂಡ ಸಸ್ಯಗಳ ಕೇವಲ ಉಪಸ್ಥಿತಿ
80. ಕೃಷಿಗಾಗಿ ಅಪೂರ್ಣ ಸಂಸ್ಕರಿಸಿದ ಒಳಚರಂಡಿಯನ್ನು ಬಳಸುವುದರೊಂದಿಗೆ ಸಂಬಂಧಿಸಿದ ಮಹತ್ವದ ಪರಿಸರ ಸಮಸ್ಯೆ
 (A) ಪೋಷಕಾಂಶಗಳ ಕೊರತೆ (B) ಮಣ್ಣಿನಲ್ಲಿ ಭಾರೀ ಲೋಹಗಳ ಶೇಖರಣೆ
 (C) ನಗರ ಪ್ರದೇಶದಲ್ಲಿ ನೀರಿನ ಲಭ್ಯತೆಯ ಕಡಿತ (D) ಸಂಸ್ಕರಿಸಿದ ಒಳಚರಂಡಿಯನ್ನು ಪಂಪ್ ಮಾಡುವುದು
81. ಕರಗಿದ ಶಿಲಾಪಾಕವು ಭೂಮಿಯ ಮೇಲ್ಮೈಯನ್ನು ತಲುಪಿದಾಗ ಲಾವಾ, ಅನಿಲಗಳು ಮತ್ತು ಬೂದಿಯನ್ನು ಬಿಡುಗಡೆ ಮಾಡುತ್ತದೆ. ಅದನ್ನು _____ ಎನ್ನುತ್ತಾರೆ.
 (A) ಜ್ವಾಲಾಮುಖಿ (B) ಎಲ್-ನಿನೋ ದಕ್ಷಿಣ ಆಸಿಲೇಷನ್
 (C) ಭೂ ಸ್ಫಲನ (D) ಭೂಕಂಪನ
82. ಏಕ ಹರಿವಿನ ಮಾದರಿ, 'Y' ಆಕಾರದ ಮಾದರಿ ಮತ್ತು ಸಾರ್ವತ್ರಿಕ ಮಾದರಿಗಳನ್ನು ಪರಿಸರ ವ್ಯವಸ್ಥೆಯಲ್ಲಿ _____ ಚಿತ್ರಿಸಲು ಬಳಸಲಾಗುತ್ತದೆ.
 (A) ಜೀವರಾಶಿಯ ವರ್ಗಾವಣೆ (B) ವಸ್ತುವಿನ ವಿನಿಮಯ
 (C) ಶಕ್ತಿಯ ಸೈಕ್ಲಿಂಗ್ (D) ಸತತ ಟ್ರೋಫಿಕ್ ಮಟ್ಟಗಳ ಮೂಲಕ ಶಕ್ತಿಯ ವರ್ಗಾವಣೆ
83. ಸುತ್ತುವರಿದ ಶಬ್ದದ ಮಾಪನದ ಘಟಕವಾಗಿದೆ
 (A) ಲ್ಯುಮೆನ್ (B) ಡೆಸಿಬೆಲ್
 (C) ಮಿಲಿಬಾರ್ (D) ಆರ್‌ಇಎಮ್

Space For Rough Work

B3



202308GK3

84. The total number of Sustainable Development Goals are (D) 169
(A) 21 (B) 17 (C) 178
85. Pampa in his 'Pampa Bharata' compares his master Arikesari-II to which of the following Mahabharata character ? (D) Dharmaraja
(A) Bhima (B) Arjuna (C) Sahadeva
86. During whose reign Farnao Nunij, a Portuguese traveller visited Vijayanagara ?
(A) Devaraya-I (B) Saluva Narasimha
(C) Ramaraya (D) Achyuta Devaraya
87. Which of the following places is NOT associated with the second Anglo-Mysore War ?
(A) Pollilore (B) Snolingur (C) Wandiwash (D) Porto Novo
88. If 23rd February of 2008 was Saturday, what will be the day on 3rd November of the same year ?
(A) Tuesday (B) Wednesday (C) Monday (D) Sunday
89. Archaeopteryx is related to
(A) Mammals (B) Pisces
(C) Reptiles (D) Aves and reptiles
90. The book 'Yashodara Charithe' was written by
(A) Keshiraja (B) Raghavanka (C) Janna (D) Ranna
91. A food chain indicates
(A) a linear energy transfer process associated with biomass transfer
(B) the biomass transfer from a consumer to the producer
(C) only a production of energy
(D) a circular arrangement of energy transfer
92. The totality of genes, species and ecosystems of a region is collectively called
(A) a green space (B) biodiversity (C) biosphere (D) a habitat

Space For Rough Work

84. ಸುಸ್ಥಿರ ಅಭಿವೃದ್ಧಿ ಗುರಿಗಳ ಒಟ್ಟು ಸಂಖ್ಯೆ
 (A) 21 (B) 17 (C) 178 (D) 169
85. ಪಂಪ ತನ್ನ 'ಪಂಪ ಭಾರತ'ದಲ್ಲಿ ತನ್ನ ಗುರು ಅರಿಕೇಸರಿ-II ರನ್ನು ಮಹಾಭಾರತದ ಯಾವ ಪಾತ್ರಕ್ಕೆ ಹೋಲಿಸುತ್ತಾನೆ ?
 (A) ಭೀಮ (B) ಅರ್ಜುನ (C) ಸಹದೇವ (D) ಧರ್ಮರಾಜ
86. ಯಾರ ಆಳ್ವಿಕೆಯಲ್ಲಿ, ಫರ್ನೋ ನುಂಜಿ ಒಬ್ಬ ಪೋರ್ಚುಗೀಸ್ ಪ್ರವಾಸಿ ವಿಜಯನಗರಕ್ಕೆ ಭೇಟಿ ನೀಡಿದ್ದರು ?
 (A) ದೇವರಾಯ-I (B) ಸಾಳುವ ನರಸಿಂಹ (C) ರಾಮರಾಯ (D) ಅಚ್ಚುತ ದೇವರಾಯ
87. ಈ ಕೆಳಗಿನ ಯಾವ ಸ್ಥಳಗಳು ಎರಡನೇ ಆಂಗ್ಲೋ ಮೈಸೂರು ಯುದ್ಧದೊಂದಿಗೆ ಸಂಬಂಧ ಹೊಂದಿಲ್ಲ ?
 (A) ಪೊಲ್ಲಿಲೋರ್ (B) ಸ್ನೋಲಿಂಗೂರ್ (C) ವ್ಯಾಂಡಿವಾಲ್ (D) ಪೋರ್ಟೋ ನೊವೊ
88. ಒಂದು ವೇಳೆ 23 ನೇ ಫೆಬ್ರವರಿ, 2008 ರಂದು ಶನಿವಾರವಾಗಿದ್ದರೆ, ಅದೇ ವರ್ಷದ 3 ನೇ ನವೆಂಬರ್ ಯಾವ ದಿನವಾಗಿರುತ್ತದೆ ?
 (A) ಮಂಗಳವಾರ (B) ಬುಧವಾರ (C) ಸೋಮವಾರ (D) ಭಾನುವಾರ
89. ಆರ್ಕಿಯೊಪ್ಟೆರಿಕ್ಸ್ (Archaeopteryx) ಯಾವುದಕ್ಕೆ ಸಂಬಂಧಿಸಿದೆ ?
 (A) ಸಸ್ತನಿಗಳು (B) ಪೈಸೆಸ್ (Pisces)
 (C) ರೆಪ್ಟೈಲ್ಸ್ (ಸರೀಸೃಪಗಳು) (D) ಎವ್ಸ್ ಮತ್ತು ರೆಪ್ಟೈಲ್ಸ್
90. 'ಯಶೋಧರ ಚರಿತೆ' ಎಂಬ ಪುಸ್ತಕವನ್ನು ಬರೆದವರು
 (A) ಕೇಶಿರಾಜ (B) ರಾಘವಾಂಕ (C) ಜನ್ನ (D) ರನ್ನ
91. ಆಹಾರ ಸರಪಳಿಯು ಸೂಚಿಸುತ್ತದೆ
 (A) ಬಯೋಮಾಸ್ ವರ್ಗಾವಣೆಯೊಂದಿಗೆ ಸಂಯೋಜಿತವಾಗಿರುವ ರೇಖಾತ್ಮಕ ಶಕ್ತಿ ವರ್ಗಾವಣೆ ಪ್ರಕ್ರಿಯೆ
 (B) ಬಯೋಮಾಸ್ ಗ್ರಾಹಕರಿಂದ ಉತ್ಪಾದಕರಿಗೆ ವರ್ಗಾವಣೆ
 (C) ಶಕ್ತಿಯ ಉತ್ಪಾದನೆ ಮಾತ್ರ
 (D) ಶಕ್ತಿ ವರ್ಗಾವಣೆಯ ವೃತ್ತಾಕಾರದ ವ್ಯವಸ್ಥೆ
92. ಒಂದು ಪ್ರದೇಶದ ವಂಶವಾಹಿಗಳು, ಜಾತಿಗಳು ಮತ್ತು ಪರಿಸರ ವ್ಯವಸ್ಥೆಗಳ ಸಂಪೂರ್ಣತೆಯನ್ನು ಒಟ್ಟಾರೆಯಾಗಿ ಕರೆಯಲಾಗುತ್ತದೆ ?
 (A) ಒಂದು ಹಸಿರು ಸ್ಥಳ (B) ಜೈವಿಕ ವೈವಿಧ್ಯತೆ (C) ಬಯೋಸ್ಪಿಯರ್ (D) ಒಂದು ಆವಾಸ ಸ್ಥಾನ

Space For Rough Work

B3

23 Feb

5+3
4 6

31

21

21

30

31

30

31

245

3 Nov

29

7 Jul

Aug 31

Nov 31

Dec 31

Aug 31

Aug 31

Aug 31

5 Sep 30

Oct 31

Nov 3

245

21

25

25

202308GK3

Q3

25 3

21

25

93. Who was called as Yalahanka Nadaprabhu ?
 (A) Kempananje Gowda (B) Ranabhyregowda
 (C) Kempe Gowda II (D) Kempe Gowda I
94. 'Charaka Sangha' was founded at Bangalore by
 (A) Gangadhara Rao Deshpande (B) R.R. Diwakar
 (C) Karnad Sadashiva Rao (D) N.S. Hardikar
95. Who has been selected as the 14th President of the World Bank for a five year term beginning from June 2, 2023 ?
 (A) Kaushik Basu (B) Ajay Banga (C) Indermit Gill (D) Gita Gopinath
96. Consider the list of governors of various states of India given below and mention which of the following is wrongly matched.
 (A) Shiv Pratap Shukla – Himachal Pradesh
 (B) Lakshman Prasad Acharya – Meghalaya
 (C) C.P. Radhakrishnan – Jharkhand
 (D) Justice S. Abdul Nazeer – Andhra Pradesh
97. Which country bagged the first place in the Global Innovation Index 2023 ?
 (A) USA (B) France (C) China (D) UK
98. Which of the following State/Union Territory has been declared as India's first "Swachh Sujal Pradesh" ?
 (A) Chandigarh (B) Haryana
 (C) Sikkim (D) Andaman and Nicobar Islands
99. Bahamani Empire was established in the year
 (A) 1399 (B) 1347 (C) 1437 (D) 1336
100. The book Gajashastra was written by
 (A) Chavundaraya (B) Sripurusha (C) Madhava I (D) Rachawalla IV

Space For Rough Work

93. “ಯಲಹಂಕ ನಾಡಪ್ರಭು” ಎಂದು ಯಾರನ್ನು ಕರೆಯುತ್ತಾರೆ ?
 (A) ಕೆಂಪನಂಜೇ ಗೌಡ (B) ರಣಭೈರೇಗೌಡ (C) ಕೆಂಪೇ ಗೌಡ II (D) ಕೆಂಪೇ ಗೌಡ I
94. ‘ಚರಕ ಸಂಘ’ ವು ಬೆಂಗಳೂರಿನಲ್ಲಿ ಯಾರಿಂದ ಸ್ಥಾಪಿಸಲಾಯಿತು ?
 (A) ಗಂಗಾಧರ್ ರಾವ್ ದೇಶಪಾಂಡೆ (B) ಆರ್.ಆರ್. ದಿವಾಕರ್
 (C) ಕಾರ್ನಾಡ್ ಸದಾಶಿವ ರಾವ್ (D) ಎನ್.ಎಸ್. ಹರ್ಡೀಕರ್
95. ಜೂನ್ 2, 2023 ರಿಂದ ಮುಂದಿನ ಐದು ವರ್ಷಗಳವರೆಗೆ ಯಾರನ್ನು ವಿಶ್ವ ಬ್ಯಾಂಕಿನ 14 ನೇ ಅಧ್ಯಕ್ಷರನ್ನಾಗಿ ಆಯ್ಕೆ ಮಾಡಲಾಗಿದೆ ?
 (A) ಕೌಶಿಕ್ ಬಸು (B) ಅಜಯ್ ಬಂಗಾ (C) ಇಂದರ್‌ಮಿತ್ ಗಿಲ್ (D) ಗೀತಾ ಗೋಪಿನಾಥ
96. ಈ ಕೆಳಗೆ ನೀಡಲಾದ ಭಾರತದ ವಿವಿಧ ರಾಜ್ಯಗಳ ರಾಜ್ಯಪಾಲರುಗಳ ಪಟ್ಟಿಯನ್ನು ಪರಿಗಣಿಸಿರಿ ಮತ್ತು ಯಾವುದು ತಪ್ಪಾಗಿ ಹೊಂದಿಕೆಯಾಗಿದೆ ಎಂದು ತಿಳಿಸಿರಿ.
 (A) ಶಿವ್ ಪ್ರತಾಪ್ ಶುಕ್ಲಾ - ಹಿಮಾಚಲ ಪ್ರದೇಶ
 (B) ಲಕ್ಷ್ಮಣ ಪ್ರಸಾದ್ ಆಚಾರ್ಯ - ಮೇಘಾಲಯ
 (C) ಸಿ.ಪಿ. ರಾಧಾಕೃಷ್ಣನ್ - ಜಾರ್ಖಂಡ್
 (D) ಜಸ್ಟಿಸ್ ಎಸ್. ಅಬ್ದುಲ್ ನಜೀರ್ - ಆಂಧ್ರ ಪ್ರದೇಶ
97. 2023 ನೇ ಸಾಲಿನ ಜಾಗತಿಕ ನಾವೀನ್ಯತಾ ಸೂಚ್ಯಂಕದಲ್ಲಿ ಈ ಕೆಳಗಿನ ಯಾವ ರಾಷ್ಟ್ರವು ಪ್ರಥಮ ಸ್ಥಾನ ಗಳಿಸಿದೆ ?
 (A) ಯುಎಸ್‌ಎ (B) ಫ್ರಾನ್ಸ್ (C) ಚೀನಾ (D) ಯುಕೆ
98. ಭಾರತದ ಯಾವ ರಾಜ್ಯ/ಕೇಂದ್ರಾಡಳಿತ ಪ್ರದೇಶವನ್ನು ಭಾರತದ ಪ್ರಥಮ “ಸ್ವಚ್ಛ ಸುಜಲ ಪ್ರದೇಶ” ಎಂದು ಘೋಷಿಸಲಾಯಿತು ?
 (A) ಚಂಡೀಘಡ (B) ಹರ್ಯಾಣ
 (C) ಸಿಕ್ಕಿಂ (D) ಅಂಡಮಾನ್ ಮತ್ತು ನಿಕೋಬಾರ್ ದ್ವೀಪಗಳು
99. ಬಹಮನಿ ಸಾಮ್ರಾಜ್ಯವನ್ನು _____ ವರ್ಷದಲ್ಲಿ ಸ್ಥಾಪಿಸಲಾಯಿತು.
 (A) 1399 (B) 1347 (C) 1437 (D) 1336
100. “ಗಜಶಾಸ್ತ್ರ” ಪುಸ್ತಕವನ್ನು ಬರೆದವರು
 (A) ಚಾವುಂಡರಾಯ (B) ಶ್ರೀಪುರುಷ (C) ಮಾಧವ I (D) ರಾಜಾವಲ್ಲ IV

Space For Rough Work