



Teachingninja.in



Latest Govt Job updates



Private Job updates



Free Mock tests available



Visit - teachingninja.in

OSSC Amin

Previous Year Paper
20 Aug, 2023



ପ୍ରଶ୍ନ ପୁସ୍ତିକାର ସିଲ୍ ଖୋଲନ୍ତୁ ନାହିଁ, ଯେ ପର୍ଯ୍ୟନ୍ତ ଆପଣଙ୍କୁ ଏହା କରିବାକୁ କୁହାଯାଇ ନାହିଁ।

ପ୍ରଶ୍ନ ପୁସ୍ତିକା ଶୃଙ୍ଖଳା କୋଡ୍:

D

ପ୍ରଶ୍ନ ପୁସ୍ତିକା ଶୃଙ୍ଖଳା ନଂ:

121448

ଅନୁମତିପ୍ରାପ୍ତ ସମୟ: ୧ ଘଣ୍ଟା ୩୦ ମିନିଟ୍

ମୋଟ ପ୍ରଶ୍ନ: ୧୦୦

ସର୍ବାଧିକ ମାର୍କ: ୧୦୦

ଭୁଲ୍/ଏକାଧିକ ଉତ୍ତର ପାଇଁ ପ୍ରଶ୍ନ ପିଛା ୦.୨୫ ମାର୍କ ର ନେଗେଟିଭ୍ ମାର୍କ ରହିବ।

କୌଣସି ପ୍ରଶ୍ନର ଉତ୍ତର ଦେବା ପୂର୍ବରୁ ପୁସ୍ତିକା ଯାଞ୍ଚ କରନ୍ତୁ ଯେ ଏଥିରେ ୨୪ ପୃଷ୍ଠା ଅଛି କି ନାହିଁ ଏବଂ କୌଣସି ପୃଷ୍ଠା ଅନୁପସ୍ଥିତ, ବିକୃତ କିମ୍ବା ପୁନରାବୃତ୍ତି ହୋଇନାହିଁ । ତ୍ରୁଟି ଥିଲେ ତୁରନ୍ତ ଏହାକୁ ବଦଳାଇ ଦିଅନ୍ତୁ।

ପ୍ରାର୍ଥୀମାନଙ୍କ ପାଇଁ ନିର୍ଦ୍ଦେଶାବଳୀ

୧. ଓଏମଆର ଉତ୍ତର ଖାତା ପୂରଣ କରନ୍ତୁ, ଆବଶ୍ୟକ ଅନୁଯାୟୀ ରୋଲ୍ ନମ୍ବର ଏବଂ ଅନ୍ୟାନ୍ୟ ସୂଚନା ଉଲ୍ଲେଖ କରନ୍ତୁ । ସେଥିରେ ଦର୍ଶାଯାଇଥିବା ସ୍ଥାନରେ କେବଳ ନାମ କିମ୍ବା କଳା ବଲ୍ ପଏଣ୍ଟ ପେନ୍ ରେ ଉପଯୁକ୍ତ ସର୍କଲକୁ କଳା କରି ଦିଅନ୍ତୁ। ଓଏମଆର ଉତ୍ତର ଖାତାରେ କୌଣସି ନାମ/ଉପନାମ ଲେଖନ୍ତୁ ନାହିଁ କିମ୍ବା କୌଣସି ସଙ୍କେତ, ଚିହ୍ନ, ସ୍ନୋଗାନ, ପ୍ରାର୍ଥନା କିମ୍ବା କୌଣସି ପରିଚୟ ଚିହ୍ନ ରଖନ୍ତୁ ନାହିଁ । ଓଏମଆର ଉତ୍ତର ଖାତାର ବାର୍ କୋଡ୍ କିମ୍ବା ଅନ୍ୟ କୌଣସି ଅଂଶରେ ତ୍ରୁଟି କରନ୍ତୁ ନାହିଁ। ଏଭଳି କୌଣସି କାର୍ଯ୍ୟ ହାରା ଉତ୍ତର ଖାତା ମୂଲ୍ୟାୟନ ପାଇଁ ଅନୁପଯୁକ୍ତ ହୋଇଯିବ।

୨. ସଂଶୋଧନ ଫୁଲ୍ , ଇରେଜର୍ , ବ୍ଲେଡ୍ , ବହି , ପାଠ୍ୟ ସାମଗ୍ରୀ , ସ୍ପିକ୍ସ ନୋଟ୍ / ଖୋଲା (ଲୁଚ୍)କାଗଜ୍ , କ୍ୟାଲକୁଲେଟର , ଡକ୍ୟୁମେଣ୍ଟ , ସ୍କାଇଡ୍ ରୁଲ୍ , ଲଗ୍ ଟେବୁଲ୍ , ଇଲେକ୍ଟ୍ରୋନିକ୍ ଘଣ୍ଟା, ସ୍ମାର୍ଟ ଝାଡ୍ , ସେଲ୍ ଫୋନ୍ , ପେଜର୍ , ଅନ୍ୟାନ୍ୟ ବୈଦ୍ୟୁତିକ / ଇଲେକ୍ଟ୍ରୋନିକ୍ ଡିଭାଇସ୍ ଇତ୍ୟାଦି ପରୀକ୍ଷା ହଲ୍ ଭିତରକୁ ପ୍ରବେଶ କରିବାକୁ ଅନୁମତି ନାହିଁ । ଯଦି ପରୀକ୍ଷାର୍ଥୀଙ୍କ ନିକଟରେ ଉପରୋକ୍ତ କୌଣସି ଜିନିଷ ଥିବା ଜଣାପଡ଼େ, ତେବେ ତାକୁ ବିନା କୌଣସି ଯାଞ୍ଚରେ, ଯେ ଏହା ପ୍ରାର୍ଥୀ ବ୍ୟବହାର କରିଥିଲେ କି ନାହିଁ, ପରୀକ୍ଷାରୁ ବହିଷ୍କାର କରାଯିବ ।

୩. ଏକ ମେସିନ୍ ଓଏମଆର ଉତ୍ତର ଖାତାରେ ଆପଣଙ୍କ ହାରା ପ୍ରଦାନ କରାଯାଇଥିବା କୋଡ୍ ସୂଚନା ପଢ଼ିବ । ଯଦି ଆପଣଙ୍କ ହାରା ପ୍ରଦାନ କରାଯାଇଥିବା ସୂଚନା ଆବେଦନ ଫର୍ମରେ ଦିଆଯାଇଥିବା ସୂଚନାଠାରୁ ଅସମ୍ପୂର୍ଣ୍ଣ କିମ୍ବା ଭିନ୍ନ ଅଟେ, ତେବେ ଆପଣଙ୍କୁ କୌଣସି ମାର୍କ ପ୍ରଦାନ କରାଯିବ ନାହିଁ ।

୪. କେବଳ କଳା/ନୀଳ ବଲ୍ ପଏଣ୍ଟ ପେନ୍ ବ୍ୟବହାର କରି ସମ୍ପୂର୍ଣ୍ଣ ପ୍ରଶ୍ନ ସହିତ ସମ୍ପୂର୍ଣ୍ଣ ଉତ୍ତର ଖାତାରେ ଦିଆଯାଇଥିବା ସବୁଠାରୁ ଉପଯୁକ୍ତ ଉତ୍ତରକୁ ପ୍ରତିନିଧିତ୍ୱ କରୁଥିବା ଚାରିଟି ସର୍କଲ/ଓଭାଲ୍ ମଧ୍ୟରୁ ଗୋଟିଏକୁ ସମ୍ପୂର୍ଣ୍ଣ କଳା କରି ଉତ୍ତର ଦେବା ଜରୁରୀ। କଳା/ନୀଳ ବଲ୍ ପଏଣ୍ଟ ପେନ୍ ରେ ଠିକ୍ ଭାବରେ କଳା ନ ଥିବା ଉତ୍ତର ପାଇଁ କୌଣସି ମାର୍କ ଦିଆଯିବ ନାହିଁ ।

୫. ଓଏମଆର ଉତ୍ତର ଖାତାରେ କୌଣସି ରପ୍ କାର୍ଯ୍ୟ କରାଯିବା ଉଚିତ ନୁହେଁ; ପ୍ରଶ୍ନ ପୁସ୍ତିକାରେ ହିଁ ରପ୍ କାମ ପାଇଁ ସ୍ଥାନ ପ୍ରଦାନ କରାଯାଇଛି ।

୬. ପରୀକ୍ଷା ସରିବା ପରେ ପରୀକ୍ଷାର୍ଥୀମାନେ ଓଏମଆର ଉତ୍ତର ଖାତାକୁ ଛିଦ୍ର ଚିହ୍ନ ଥିବା ଯାଗାରେ ଫୋଲ୍ଡ କରିବା ସୁନିଶ୍ଚିତ କରିବେ ଏବଂ ନିରୀକ୍ଷକଙ୍କ ଉପସ୍ଥିତିରେ ଓଏମଆର ଉତ୍ତର ଖାତାର ମୂଳ କପି ଏବଂ ପ୍ରାର୍ଥୀଙ୍କ କପିକୁ ଅଲଗା କରି ମୂଳ କପି ନିରୀକ୍ଷକଙ୍କୁ ହସ୍ତାନ୍ତର କରିବେ । ଓଏମଆର ଉତ୍ତର ଖାତାର ପ୍ରାର୍ଥୀଙ୍କ କପି, ପ୍ରାର୍ଥୀ ନେଇପାରିବେ । ପରୀକ୍ଷା ହଲ୍/ରୁମ୍ ରୁ ବାହାରିବା ପୂର୍ବରୁ ଓଏମଆର ଉତ୍ତର ଖାତାର ମୂଳ କପି ନିରୀକ୍ଷକଙ୍କୁ ହସ୍ତାନ୍ତର ନକଲେ ପ୍ରାର୍ଥୀଙ୍କୁ ଦଣ୍ଡନୀୟ କାର୍ଯ୍ୟାନୁଷ୍ଠାନ ପାଇଁ ଦାୟୀ କରାଯିବ ।

୭. ପରୀକ୍ଷା ସରିବା ପରେ ପରୀକ୍ଷାର୍ଥୀମାନେ ସମ୍ପୂର୍ଣ୍ଣ ପ୍ରଶ୍ନପତ୍ର ନିଜ ସହ ନେଇପାରିବେ ।

୮. ଉପରୋକ୍ତ କୌଣସି ନିର୍ଦ୍ଦେଶାବଳୀ ପାଳନ କରିବାରେ ବିଫଳତା କିମ୍ବା ଉଲ୍ଲଙ୍ଘନ କଲେ, ଅନ୍ୟାୟ ଉପାୟ ଅବଲମ୍ବନ କରିବା ବୋଲି ବିବେଚନା କରାଯିବ ଏବଂ ଉପଯୁକ୍ତ ଭାବରେ କାର୍ଯ୍ୟାନୁଷ୍ଠାନ ଗ୍ରହଣ କରାଯିବ ।

Arithmetic

1. A person invests Rs. 500 at 10% simple interest. He withdraws the entire sum after five years. What is the amount that he would get?
 - a) Rs. 500
 - b) Rs. 600
 - c) Rs. 700
 - d) Rs. 750
2. A man walks 10 km towards north. From there he walks 6 km towards south. Then he walks 3 km towards east. How far and in which direction is he with reference to his starting point?
 - a) 7 km east
 - b) 5 km west
 - c) 5 km north-east
 - d) None of these
3. A, B and C together can do a work in 12 days. A alone can do the work in 36 days and B alone can do the same in 54 days. C alone can do it in:
 - a) 9 days
 - b) 18 days
 - c) 24 days
 - d) 27 days
4. A tricycle was sold for Rs. 873 at a loss of 3%. Its cost price is:
 - a) Rs. 846.81
 - b) Rs. 899.19
 - c) Rs. 927
 - d) Rs. 900
5. A man is thrice as old as his son. Three years ago the man was 4 times as old as his son. Find their present age.
 - a) 27, 9
 - b) 30, 10
 - c) 24, 6
 - d) 33, 11

ଅଙ୍କ ଗଣିତ

1. ଜଣେ ବ୍ୟକ୍ତି ୧୦% ସାଧାରଣ ସୁଧରେ ୫୦୦ ଟଙ୍କା ନିବେଶ କରନ୍ତି । ପାଞ୍ଚ ବର୍ଷ ପରେ ସେ ପୁରା ଟଙ୍କା ଉଠାଇ ନେଇଥାନ୍ତି । ସେ କେତେ ଟଙ୍କା ପାଇବେ?
 - a) ୫୦୦ ଟଙ୍କା
 - b) ୬୦୦ ଟଙ୍କା
 - c) ୭୦୦ ଟଙ୍କା
 - d) ୭୫୦ ଟଙ୍କା
2. ଜଣେ ବ୍ୟକ୍ତି ଉତ୍ତର ଦିଗକୁ ୧୦ କିଲୋମିଟର ଚାଲି ଚାଲି ଯାଆନ୍ତି । ସେଠାରୁ ସେ ୬ କିଲୋମିଟର ଚାଲି ଚାଲି ଦକ୍ଷିଣ ଦିଗକୁ ଯାଆନ୍ତି । ତା'ପରେ ସେ ୩ କିଲୋମିଟର ପୂର୍ବ ଦିଗକୁ ଚାଲିଯାଆନ୍ତି । ତେବେ, ସେ ବର୍ତ୍ତମାନ, ପ୍ରାରମ୍ଭିକ ବିନ୍ଦୁ ଠାରୁ କେତେ ଦୂର ଓ କେଉଁ ଦିଗରେ ଅଛନ୍ତି?
 - a) ୭ କିଲୋମିଟର ପୂର୍ବ
 - b) ୫ କିଲୋମିଟର ପଶ୍ଚିମ
 - c) ୫ କିଲୋମିଟର ଉତ୍ତର-ପୂର୍ବ
 - d) ଉପରୋକ୍ତ କୌଣସିଟି ନୁହେଁ
3. A, B ଓ C ମିଶି ୧୨ ଦିନରେ ଏକ କାମ କରିପାରିବେ । A, ଏକାକୀ ୩୬ ଦିନରେ କାମଟିକୁ କରିପାରିବେ ଏବଂ B ଏକାକୀ ୫୪ ଦିନରେ କାମଟିକୁ କରିପାରିବେ । ତେବେ C ଏକାକୀ କେତେ ଦିନରେ କାମଟିକୁ କରିପାରିବେ ?
 - a) ୯ ଦିନ
 - b) ୧୮ ଦିନ
 - c) ୨୪ ଦିନ
 - d) ୨୭ ଦିନ
4. ଏକ ଟ୍ରାଇସାଇକଲ ୩% କ୍ଷତିରେ ୮୭୩ ଟଙ୍କାରେ ବିକ୍ରି ହୋଇଥିଲା । ତେବେ, ଏହାର କ୍ରୟ ମୂଲ୍ୟ କେତେ?
 - a) ୮୪୬.୮୧ ଟଙ୍କା
 - b) ୮୯୯.୧୯ ଟଙ୍କା
 - c) ୯୨୭ ଟଙ୍କା
 - d) ୯୦୦ ଟଙ୍କା
5. ଜଣେ ବ୍ୟକ୍ତିଙ୍କ ବୟସ ତାଙ୍କ ପୁଅ ଠାରୁ ତିନି ଗୁଣ । ୩ ବର୍ଷ ତଳେ, ଉକ୍ତ ବ୍ୟକ୍ତିଙ୍କ ବୟସ ତାଙ୍କ ପୁଅ ଠାରୁ ୪ ଗୁଣ ଥିଲା । ତେବେ, ସେମାନଙ୍କର ବର୍ତ୍ତମାନର ବୟସ କେତେ?
 - a) ୨୭, ୯
 - b) ୩୦, ୧୦
 - c) ୨୪, ୬
 - d) ୩୩, ୧୧

6. The sides of a triangle are in the ratio 1 : 3 : 5. Its perimeter is 90 cm., the length of its largest side is:

- a) 40 cm
- b) 48 cm
- c) 50 cm
- d) 54 cm

7. The sum of two integers is -25. If one of them is 30, then the other is:

- a) 55
- b) 5
- c) -55
- d) None of these

8. The smallest of the fractions $\frac{3}{4}, \frac{5}{6}, \frac{7}{12}, \frac{2}{3}$ is

- a) $\frac{2}{3}$
- b) $\frac{3}{4}$
- c) $\frac{5}{6}$
- d) $\frac{7}{12}$

9. 2m 5cm is equal to:

- a) 2.5 m
- b) 2.05 m
- c) 2.005 m
- d) 0.25 m

10. If 10 be added to four times a number, the result is 5 less than five times the number. The number is:

- a) 15
- b) 20
- c) 25
- d) 35

11. The ratio 115 : 138 in its simplest form is:

- a) 2 : 3
- b) 3 : 4
- c) 1 : 2
- d) 5 : 6

12. The sum of two odd numbers is:

- a) an odd number
- b) an even number
- c) sometimes odd sometimes even
- d) can't be ascertained

6. ଏକ ତ୍ରିଭୁଜର ପାର୍ଶ୍ଵ ଗୁଡ଼ିକ ୧ : ୩ : ୫ ଅନୁପାତରେ ଅଟନ୍ତି । ଏହାର ପରିଧି ୯୦ ସେଣ୍ଟିମିଟର, ତେବେ ଏହାର ବୃହତ୍ତମ ପାର୍ଶ୍ଵର ଦୈର୍ଘ୍ୟ କେତେ?

- a) ୪୦ ସେମି
- b) ୪୮ ସେମି
- c) ୫୦ ସେମି
- d) ୫୪ ସେମି

7. ଦୁଇଟି ଅଖଣ୍ଡ ସଂଖ୍ୟାର ସମଷ୍ଟି ହେଉଛି -୨୫ । ଯଦି ସେମାନଙ୍କ ମଧ୍ୟରୁ ଗୋଟିଏ ୩୦ ତେବେ ଅନ୍ୟଟି ହେଉଛି:

- a) ୫୫
- b) ୫
- c) -୫୫
- d) ଉପରୋକ୍ତ କୌଣସିଟି ନୁହେଁ

8. ଅଂଶଗୁଡ଼ିକ ମଧ୍ୟରୁ କେଉଁଟି ସବୁଠାରୁ ଛୋଟ? $\frac{3}{4}, \frac{5}{6}, \frac{7}{12}, \frac{2}{3}$

- a) $\frac{2}{3}$
- b) $\frac{3}{4}$
- c) $\frac{5}{6}$
- d) $\frac{7}{12}$

9. ୨ମି ୫ସେମି, କାହା ସହ ସମାନ ଅଟେ?

- a) ୨.୫ ମିଟର
- b) ୨.୦୫ ମିଟର
- c) ୨.୦୦୫ ମିଟର
- d) ୦.୨୫ ମିଟର

10. ଯଦି ଏକ ସଂଖ୍ୟାର ଚାରି ଗୁଣରେ ୧୦ ମିଶାଯାଏ ତେବେ ଫଳାଫଳଟି, ସଂଖ୍ୟାର ପାଞ୍ଚ ଗୁଣରୁ ୫ କମ୍ ହୋଇଥାଏ। ତେବେ ସଂଖ୍ୟାଟି କେତେ ?

- a) ୧୫
- b) ୨୦
- c) ୨୫
- d) ୩୫

11. ଅନୁପାତ ୧୧୫ : ୧୩୮ ର ସରଳ ରୂପ କେଉଁଟି ?

- a) ୨ : ୩
- b) ୩ : ୪
- c) ୧ : ୨
- d) ୫ : ୬

12. ଦୁଇଟି ଅଯୁଗ୍ମ ସଂଖ୍ୟାର ସମଷ୍ଟି ହେଉଛି

- a) ଏକ ଅଯୁଗ୍ମ ସଂଖ୍ୟା
- b) ଏକ ଯୁଗ୍ମ ସଂଖ୍ୟା
- c) ବେଳେବେଳେ ଅଯୁଗ୍ମ ବେଳେ ବେଳେ ଯୁଗ୍ମ
- d) ନିର୍ଣ୍ଣୟ କରାଯାଇ ପାରିବ ନାହିଁ

13. Rishab asked his Grandfather how old he was. Rather than giving him a straight answer, he replied: "I have 6 children, and there are 4 years between each one and the next. I had my first child (your Uncle Ravi) when I was 29. Now the youngest one (your Auntie Ramita) is 29 herself. That's all I'm telling you!" How old is Rishab's grandfather?

- a) 76
- b) 78
- c) 82
- d) 86

14. What least number must be added to 1056, to get a number exactly divisible by 23?

- a) 25
- b) 38
- c) 2
- d) 12

15. Find the largest 3 digit number divisible by 16?

- a) 982
- b) 992
- c) 988
- d) 912

16. The cost of ploughing a field at Rs. 3 per m^2 is Rs. 624. If the breadth of the field is 13m then its length is:

- a) 8 m
- b) 16 m
- c) 39 m
- d) 32 m

17. Two natural numbers whose sum is 85 and the least common multiple is 102, is:

- a) 35 and 50
- b) 34 and 51
- c) 17 and 68
- d) 30 and 55

13. ରିଷବ ତାଙ୍କ ଜେଜେବାପାଙ୍କୁ ପଚାରିଲେ ଯେ ତାଙ୍କର ବୟସ କେତେ। ତାଙ୍କୁ ସିଧାସଳଖ ଉତ୍ତର ଦେବା ପରିବର୍ତ୍ତେ ସେ ଉତ୍ତର ଦେଲେ: "ମୋର ୬ଟି ସନ୍ତାନ ଅଛନ୍ତି ଏବଂ ପ୍ରତ୍ୟେକଙ୍କ ମଧ୍ୟରେ ୪ ବର୍ଷ ବ୍ୟବଧାନ ଅଛି। ମୋତେ ୨୯ ବର୍ଷ ହୋଇଥିବା ବେଳେ ମୋର ପ୍ରଥମ ସନ୍ତାନ (ଆପଣଙ୍କ ମାମୁଁ ରବି) ଜନ୍ମ ହୋଇଥିଲା । ଏବେ ସବୁଠାରୁ ସାନ ଝିଅ (ତୁମ ମାଉସୀ ରମିତା)କୁ ୨୯ ବର୍ଷ ହୋଇଛି। ମୁଁ ତୁମକୁ ଏତିକି ମାତ୍ର କହୁଛି"। ତେବେ, ରିଷବଙ୍କ ଜେଜେବାପାଙ୍କ ବୟସ କେତେ?

- a) ୭୬
- b) ୭୮
- c) ୮୨
- d) ୮୬

14. ୧୦୫୬ ରେ ସର୍ବନିମ୍ନ କେଉଁ ସଂଖ୍ୟା ଯୋଡିବା ଆବଶ୍ୟକ ଯାହା ଦ୍ଵାରା ଫଳାଫଳ ସଂଖ୍ୟାଟି ୨୩ ଦ୍ଵାରା ସଂପୂର୍ଣ୍ଣ ଭାବେ ବିଭାଜିତ ହେବ?

- a) ୨୫
- b) ୩୮
- c) ୨
- d) ୧୨

15. ୧୬ ଦ୍ଵାରା ବିଭାଜିତ ହେଉଥିବା, ସର୍ବବୃହତ୍ ୩ ଅଙ୍କ ବିଶିଷ୍ଟ ସଂଖ୍ୟାଟି କେଉଁଟି ?

- a) ୯୮୨
- b) ୯୯୨
- c) ୯୮୮
- d) ୯୧୨

16. ୩ ଟଙ୍କା ପ୍ରତି ବର୍ଗମିଟର ଦରରେ ଗୋଟିଏ ଜମିକୁ ହଳ କରିବା ର ଖର୍ଚ୍ଚ ୬୨୪ ଟଙ୍କା । ଯଦି ଜମିର ପ୍ରସ୍ଥ ୧୩ ମିଟର ଅଟେ, ତେବେ ଏହାର ଦୈର୍ଘ୍ୟ କେତେ ?

- a) ୮ ମିଟର
- b) ୧୬ ମିଟର
- c) ୩୯ ମିଟର
- d) ୩୨ ମିଟର

17. ଦୁଇଟି ପ୍ରାକୃତିକ ସଂଖ୍ୟା ଯାହାଙ୍କ ସମଷ୍ଟି ୮୫ ଏବଂ ଲଗୁ ସାଧାରଣ ଗୁଣିତକ ୧୦୨ ଅଟେ, ସେଗୁଡ଼ିକ ହେଲା:

- a) ୩୫ ଏବଂ ୫୦
- b) ୩୪ ଏବଂ ୫୧
- c) ୧୭ ଏବଂ ୬୮
- d) ୩୦ ଏବଂ ୫୫

18. A gardener wants to plant 66 apple trees, 88 banana trees and 110 mango trees in rows with equal number of trees and with each row having only one kind of tree. The least number of rows required is:

- a) 6
- b) 8
- c) 10
- d) 12

19. The least number divisible by all numbers from 1 to 10, both inclusive, is:

- a) 5040
- b) 504
- c) 252
- d) 2520

20. A, B and C can complete a job in 10 days while working together. If D joins them, the job is completed in 8 days. In how many days can D complete the job, if working alone?

- a) 30
- b) 40
- c) 50
- d) 60

21. The least number which should be added to 2497, so that the sum is exactly divisible by 5, 6, 4 and 3 is:

- a) 13
- b) 23
- c) 33
- d) 43

22. What decimal of an hour is a second ?

- a) .0025
- b) .0256
- c) .00027
- d) .000126

23. An aeroplane covers a certain distance at a speed of 240 kmph in 5 hours. To cover the same distance in 2 hours, it must travel at a speed of:

18. ଜଣେ ମାଳି ୬୬ଟି ସେଓ ଗଛ, ୮୮ଟି କଦଳୀ ଗଛ ଏବଂ ୧୧୦ଟି ଆମ୍ବ ଗଛର ଚାଉଳ ସମାନ ସଂଖ୍ୟକ ଗଛ ଥିବା ଧାଡ଼ିରେ ରୋପଣ କରିବାକୁ ଚାହୁଁଛନ୍ତି ଏବଂ ପ୍ରତ୍ୟେକ ଧାଡ଼ିରେ କେବଳ ଗୋଟିଏ ପ୍ରକାରର ଗଛ ରଖିବାକୁ ଚାହାନ୍ତି। ତେବେ, ସର୍ବନିମ୍ନ ଧାଡ଼ି ସଂଖ୍ୟା କେତେ ହେବ?

- a) ୬
- b) ୮
- c) ୧୦
- d) ୧୨

19. ୧ ରୁ ୧୦ ପର୍ଯ୍ୟନ୍ତ ସମସ୍ତ ସଂଖ୍ୟା ଦ୍ଵାରା ବିଭାଜିତ ସର୍ବନିମ୍ନ ସଂଖ୍ୟା ହେଉଛି: (୧ ଏବଂ ୧୦ ଦ୍ଵାରା ମଧ୍ୟ)

- a) ୫୦୪୦
- b) ୫୦୪
- c) ୨୫୨
- d) ୨୫୨୦

20. A, B ଏବଂ C ଏକାଠି କାମ କରିବା ସମୟରେ ୧୦ ଦିନ ମଧ୍ୟରେ ଗୋଟିଏ କାମ ଶେଷ କରିପାରିବେ । ଯଦି D ସେମାନଙ୍କ ସହ ଯୋଗ ଦିଅନ୍ତି, ତେବେ ୮ ଦିନ ମଧ୍ୟରେ କାମ ଶେଷ ହୋଇଥାଏ। ଯଦି ଏକାକୀ D କାମ କରନ୍ତି, ତେବେ କେତେ ଦିନ ମଧ୍ୟରେ କାର୍ଯ୍ୟ ସମ୍ପୂର୍ଣ୍ଣ କରିପାରିବେ?

- a) ୩୦
- b) ୪୦
- c) ୫୦
- d) ୬୦

21. ସର୍ବନିମ୍ନ କେଉଁ ସଂଖ୍ୟାଟି ୨୪୯୭ ସହ ଯୋଡ଼ାଯିବା ଉଚିତ, ଯାହା ଫଳରେ ଯୋଗଫଳ ୫, ୬, ୪ ଏବଂ ୩ ଦ୍ଵାରା ସଂପୂର୍ଣ୍ଣ ଭାବରେ ବିଭାଜିତ ହେବ?

- a) ୧୩
- b) ୨୩
- c) ୩୩
- d) ୪୩

22. ଗୋଟିଏ ଘଣ୍ଟାର କେତେ ଭାଗ ଏକ ସେକେଣ୍ଡ? (ଦଶମିକରେ)

- a) .୦୦୨୫
- b) .୦୨୫୬
- c) .୦୦୦୨୭
- d) .୦୦୦୧୨୬

23. ଏକ ବିମାନ ଘଣ୍ଟା ପ୍ରତି ୨୪୦ କିଲୋମିଟର ବେଗରେ ଗତିକରି ଏକ ନିର୍ଦ୍ଦିଷ୍ଟ ଦୂରତାକୁ ୫ ଘଣ୍ଟାରେ ଅତିକ୍ରମ କରିଥାଏ । ୨ ଘଣ୍ଟାରେ ସମାନ ଦୂରତା ଅତିକ୍ରମ କରିବାକୁ ହେଲେ, ନିମ୍ନଲିଖିତ କେଉଁ ବେଗରେ ବିମାନକୁ ଯାତ୍ରା କରିବାକୁ ପଡ଼ିବ?

- a) 300 kmph
- b) 360 kmph
- c) 600 kmph
- d) 720 kmph

24. A motorboat, whose speed in 15 km/hr in still water, goes 30 km downstream and comes back to starting point in a total of 4 hours 30 minutes. The speed of the stream (in km/hr) is:

- a) 4
- b) 5
- c) 6
- d) 10

25. Find the ratio in which rice at Rs. 7.20 a kg be mixed with rice at Rs. 5.70 a kg to produce a mixture worth Rs. 6.30 a kg.

- a) 1 : 3
- b) 2 : 3
- c) 3 : 4
- d) 4 : 5

26. In the first 10 overs of a cricket game, the run rate was only 3.2. What should be the run rate in the remaining 40 overs to reach the target of 282 runs?

- a) 6.25
- b) 6.5
- c) 6.75
- d) 7

27. The price of 2 sarees and 4 shirts is Rs. 1600. With the same money, one can buy 1 saree and 6 shirts. If one wants to buy 12 shirts, how much shall he have to pay?

- a) Rs. 1200
- b) Rs. 2400
- c) Rs. 4800
- d) Cannot be determined

28. Two students appeared in an examination. One of them secured 9 marks more than the other and his marks was 56% of the sum of their marks. The marks obtained by them are:

- a) 39, 30
- b) 41, 32
- c) 42, 33
- d) 43, 34

- a) ଘଣ୍ଟା ପ୍ରତି ୩୦୦ କିଲୋମିଟର
- b) ଘଣ୍ଟା ପ୍ରତି ୩୬୦ କିଲୋମିଟର
- c) ଘଣ୍ଟା ପ୍ରତି ୬୦୦ କିଲୋମିଟର
- d) ଘଣ୍ଟା ପ୍ରତି ୭୨୦ କିଲୋମିଟର

24. ଏକ ମୋଟରବୋଟ୍, ଯାହାର ବେଗ ଛିର ପାଣିରେ ଘଣ୍ଟା ପ୍ରତି ୧୫ କିଲୋମିଟର, ୩୦ କିଲୋମିଟର ସ୍ରୋତର ଅନୁକୂଳ ଦିଗରେ ଯାଇ ସମୁଦାୟ ୪ ଘଣ୍ଟା ୩୦ ମିନିଟ୍ ରେ ପୁଣି ପ୍ରାରମ୍ଭିକ ବିନ୍ଦୁକୁ ଫେରି ଆସିଥାଏ । ତେବେ ସ୍ରୋତର ବେଗ (କିଲୋମିଟର/ଘଣ୍ଟାରେ) କେତେ?

- a) ୪
- b) ୫
- c) ୬
- d) ୧୦

25. କିଲୋ ପିଛା ୭ ଟଙ୍କା ୨୦ ପଇସା ବିଶିଷ୍ଟ ଚାଉଳ ଏବଂ କିଲୋ ପିଛା ୫ ଟଙ୍କା ୧୦ ପଇସା ବିଶିଷ୍ଟ ଚାଉଳକୁ କେଉଁ ଅନୁପାତରେ ମିଶାଇ ୬ ଟଙ୍କା ୩୦ ପଇସା ମୂଲ୍ୟର ମିଶ୍ରଣ ପ୍ରସ୍ତୁତ ହେବ?

- a) ୧ : ୩
- b) ୨ : ୩
- c) ୩ : ୪
- d) ୪ : ୫

26. କ୍ରିକେଟ୍ ଖେଳର ପ୍ରଥମ ୧୦ ଓଭରରେ ରନ୍ ରେଟ୍ ମାତ୍ର ୩.୨ ଥିଲା । ୨୮୨ ରନ୍ ର ଟାର୍ଗେଟ୍ ହାସଲ କରିବାକୁ ହେଲେ, ଅବଶିଷ୍ଟ ୪୦ ଓଭରରେ ରନ୍ ରେଟ୍ କେତେ ରହିବା ଆବଶ୍ୟକ?

- a) ୬.୨୫
- b) ୬.୫
- c) ୬.୭୫
- d) ୭

27. ୨ଟି ଶାଢ଼ି ଓ ୪ଟି ସାର୍ଟର ମୂଲ୍ୟ ୧୬୦୦ ଟଙ୍କା ରହିଛି । ସମାନ ଟଙ୍କାରେ ଜଣେ ୧ଟି ଶାଢ଼ି ଓ ୬ଟି ସାର୍ଟ କିଣିପାରିବ । ଯଦି କେହି ୧୨ଟି ସାର୍ଟ କିଣିବାକୁ ଚାହୁଁଛନ୍ତି, ତେବେ ତାକୁ କେତେ ଟଙ୍କା ଦେବାକୁ ପଡ଼ିବ ?

- a) ୧୨୦୦ ଟଙ୍କା
- b) ୨୪୦୦ ଟଙ୍କା
- c) ୪୮୦୦ ଟଙ୍କା
- d) ନିର୍ଦ୍ଧାରଣ ହୋଇପାରିବ ନାହିଁ

28. ଦୁଇ ଜଣ ଛାତ୍ରଛାତ୍ରୀ ପରୀକ୍ଷା ଦେଇଥିଲେ । ସେମାନଙ୍କ ମଧ୍ୟରୁ ଜଣେ ଅନ୍ୟ ଜଣଙ୍କ ଠାରୁ ୯ ମାର୍କ ଅଧିକ ପାଇଥିବା ବେଳେ ତାଙ୍କ ମାର୍କ ସେମାନଙ୍କ ମାର୍କ ର ସମଷ୍ଟିର ୫୬% ଥିଲା । ସେମାନେ ପାଇଥିବା ମାର୍କ ଗୁଡ଼ିକ ହେଲା:

- a) ୩୯, ୩୦
- b) ୪୧, ୩୨
- c) ୪୨, ୩୩
- d) ୪୩, ୩୪

29. A starts business with Rs. 3500 and after 5 months, B joins with A as his partner. After a year, the profit is divided in the ratio 2 : 3. What is B's contribution in the capital?

- a) Rs. 7500
- b) Rs. 8000
- c) Rs. 8500
- d) Rs. 9000

30. In a family, the father took $\frac{1}{4}$ of the cake and the rest of cake was distributed equally among rest of family members. Still the father had 3 times as much as each of the other members had. Then, the total number of family members is:

- a) 3
- b) 7
- c) 10
- d) 12

Computer and Internet Awareness

31. If a previously saved file is edited

- a) The changes will automatically be saved in the file
- b) The file will only have to be saved again, if it is more than one page in length
- c) Its name must be changed
- d) The file must be saved again to store the changes

32. Which power point view displays each slide of the presentation as a thumbnail and is useful for rearranging slides?

- a) Slide Sorter
- b) Slide show
- c) Slide master
- d) Notes Page

33. What is the main folder on a storage device called ?

- a) Root directory
- b) Interface
- c) Device driver
- d) Platform

29. A, ୩୫୦୦ ଟଙ୍କାରେ ବ୍ୟବସାୟ ଆରମ୍ଭ କରେ ଏବଂ ୫ ମାସ ପରେ, B, A ସହିତ ତାଙ୍କର ଅଂଶୀଦାର ଭାବରେ ଯୋଗ ଦିଏ । ଏକ ବର୍ଷ ପରେ, A ଏବଂ B ମଧ୍ୟରେ ଲାଭକୁ ୨ : ୩ ଅନୁପାତରେ ବିଭକ୍ତ କରାଯାଏ । ତେବେ, ମୂଳଧନରେ B ର ଅବଦାନ କେତେ ?

- a) ୭୫୦୦ ଟଙ୍କା
- b) ୮୦୦୦ ଟଙ୍କା
- c) ୮୫୦୦ ଟଙ୍କା
- d) ୯୦୦୦ ଟଙ୍କା

30. ଗୋଟିଏ ପରିବାରରେ ବାପା $\frac{1}{4}$ ଅଂଶ କେକ୍ ନେଇଥିଲେ ଏବଂ ବାକି କେକ୍ କୁ ପରିବାରର ଅନ୍ୟ ସଦସ୍ୟ ମାନଙ୍କ ମଧ୍ୟରେ ସମାନ ଭାବରେ ବାଣ୍ଟି ଦିଆଯାଇଥିଲା । ତଥାପି, ବାପା ଅନ୍ୟ ପ୍ରତିଟି ସଦସ୍ୟଙ୍କ ତୁଳନାରେ ୩ ଗୁଣ ଅଧିକ ଖାଇଥିଲେ । ତେବେ, ପରିବାରର ସମୁଦାୟ ସଦସ୍ୟ ସଂଖ୍ୟା କେତେ ?

- a) ୩
- b) ୭
- c) ୧୦
- d) ୧୨

କମ୍ପ୍ୟୁଟର ଓ ଇଣ୍ଟରନେଟ୍ ସଚେତନତା

31. ଯଦି ଏକ ପୂର୍ବ ସେଭ୍ ହୋଇଥିବା ଫାଇଲ୍, ଏଡିଟ୍ ହୋଇଛି, ତେବେ:

- a) ଫାଇଲ୍ ରେ ପରିବର୍ତ୍ତନଗୁଡ଼ିକ ସ୍ୱତଃସ୍ୱତ ଭାବେ ସେଭ୍ ହେବ
- b) ଯଦି ଏହାର ଦୈର୍ଘ୍ୟ ଏକ ପୃଷ୍ଠାରୁ ଅଧିକ ହୁଏ, ତେବେ ହିଁ ଫାଇଲ୍ କୁ ପୁନଃ ସେଭ୍ କରିବାକୁ ପଡିବ
- c) ଏହାର ନାମ ପରିବର୍ତ୍ତନ କରିବା ଜରୁରୀ
- d) ପରିବର୍ତ୍ତନଗୁଡ଼ିକ ସ୍ୱୟଂ କରିବାକୁ ଫାଇଲ୍ ପୁନଃ ସେଭ୍ ହେବା ଆବଶ୍ୟକ

32. କେଉଁ ପାୱାର ପଏଣ୍ଟ ଭ୍ୟୁ, ଉପସ୍ଥାପନାର ପ୍ରତ୍ୟେକ ସ୍ଲାଇଡକୁ ଥମ୍ବନେଲ ଭାବରେ ପ୍ରଦର୍ଶନ କରେ ଏବଂ ସ୍ଲାଇଡ୍ ଗୁଡ଼ିକର ପୁନର୍ଗଠନ ପାଇଁ ଉପଯୋଗୀ ହୁଏ?

- a) ସ୍ଲାଇଡ୍ ସର୍ଟର
- b) ସ୍ଲାଉ ଷୋ
- c) ସ୍ଲାଉ ମାଷ୍ଟର
- d) ନୋଟସ୍ ପେଜ୍

33. ଏକ ସ୍ଟୋରେଜ୍ ଡିଭାଇସ୍ ରେ ମୁଖ୍ୟ ଫୋଲ୍ଡରକୁ କ'ଣ କୁହାଯାଏ?

- a) ରୁଟ୍ ଡାଇରେକ୍ଟୋରୀ
- b) ଇଣ୍ଟରଫେସ୍
- c) ଡିଭାଇସ୍ ଡ୍ରାଇଭର୍
- d) ପ୍ଲାଟଫର୍ମ୍

34. The word wrap feature -

- a) Automatically moves the text to next line when necessary
- b) Appears at the bottom of the document
- c) Allows you to type over text
- d) Is the short horizontal line indicating the end of the document

35. A process known as _____ is used by large retailers to study trends.

- a) POS
- b) Data Conversion
- c) Data Mining
- d) Data Selection

36. Personal logs or journal entries posted on the Web are known as :

- a) Listservs
- b) Webcasts
- c) Blogs
- d) subject directories

37. You must install a _____ on a network if you want to share a broadband Internet connection.

- a) router
- b) modem
- c) node
- d) cable

38. Which among the following protocol, allows files to be transferred from one computer to another computer?

- a) TCP/IP
- b) FTP
- c) HTTP
- d) None

39. The server on the internet is also known as:

- a) Repeater
- b) Host
- c) Gateway
- d) AND Gate

34. ଖାର୍ଡ ରାପ୍ କ'ଣ କରେ?

- a) ଆବଶ୍ୟକ ସ୍ଥଳେ ଟେକ୍ସଟ୍ କୁ ସ୍ୱତଃସ୍ୱତ ଭାବେ ପରବର୍ତ୍ତୀ ଲାଇନ୍ କୁ ସ୍ଥାନାନ୍ତର କରେ
- b) ଡକ୍ୟୁମେଣ୍ଟ ର ନିମ୍ନରେ ଦେଖାଯାଏ
- c) ଆପଣଙ୍କୁ ଟେକ୍ସଟ୍ ଚାଇପ୍ କରିବାକୁ ଅନୁମତି ଦିଏ
- d) ଡକ୍ୟୁମେଣ୍ଟ ର ଶେଷ କୁ ସୂଚାଉଥିବା ଏକ କ୍ଷୁଦ୍ର ସ୍ୱରିଜୋଖିଲ ଲାଇନ୍ ଅଟେ

35. _____ ନାମକ ଏକ ପ୍ରକ୍ରିୟା କୁ ବଡ଼ ଖୁଚୁରା ବ୍ୟବସାୟୀମାନେ ଟ୍ରେଣ୍ଡ ଅଧ୍ୟୟନ କରିବା ପାଇଁ ବ୍ୟବହାର କରନ୍ତି ।

- a) ପିଓଏସ୍
- b) ଡାଟା କନଭର୍ସନ୍
- c) ଡାଟା ମାଇନିଂ
- d) ଡାଟା ସିଲେକ୍ସନ୍

36. ୱେବରେ ପୋଷ୍ଟ କରାଯାଇଥିବା ବ୍ୟକ୍ତିଗତ ଲଗ୍ କିମ୍ବା ଜର୍ଣ୍ଣାଲ ଏଣ୍ଟ୍ରିଗୁଡ଼ିକୁ କ'ଣ କୁହାଯାଏ?

- a) ଲିଷ୍ଟ ସର୍ଭିସ୍
- b) ୱେବ୍ କାଷ୍ଟସ୍
- c) ବ୍ଲଗ୍ସ
- d) ସବଜେକ୍ଟ ଡାଇରେକ୍ଟୋରିସ୍

37. ଯଦି ଆପଣ ଏକ ବ୍ରଡ୍‌ବ୍ୟାଣ୍ଡ ଇଣ୍ଟରନେଟ୍ ସଂଯୋଜନାକୁ ସେଆର୍ କରିବାକୁ ଚାହାଁନ୍ତି, ତେବେ ଆପଣ ନେଟୱାର୍କରେ ଏକ _____ ଇନଷ୍ଟଲ୍ କରିବା ଆବଶ୍ୟକ ?

- a) ରାଉଟର୍
- b) ମୋଡେମ୍
- c) ନୋଡ୍
- d) କେବୁଲ୍

38. କେଉଁ ପ୍ରୋଟୋକଲ୍, ଫାଇଲଗୁଡ଼ିକୁ ଗୋଟିଏ କମ୍ପ୍ୟୁଟରରୁ ଅନ୍ୟ କମ୍ପ୍ୟୁଟରକୁ ସ୍ଥାନାନ୍ତର କରିବାକୁ ଅନୁମତି ଦିଏ?

- a) ଟିପିପି/ଆଇପି
- b) ଏଫଟିପି
- c) ଏଚଟିଟିପି
- d) ଉପରୋକ୍ତ କୌଣସିଟି ନୁହେଁ

39. ଇଣ୍ଟରନେଟ୍‌ରେ ଥିବା ସର୍ଭରକୁ _____ ମଧ୍ୟ କୁହାଯାଏ ।

- a) ରିପିଟର୍
- b) ହୋଷ୍ଟ
- c) ଗେଟ୍ୱେ
- d) ଆଣ୍ଡ ଗେଟ୍

40. Website is a collection of:

- HTML documents
- Graphic files
- Audio and Video files
- All of the above

Data Interpretation

Directions for Questions 41 to 45 :

The Table below mentions the marks obtained by four students of a class in five subjects. The total marks in each of the five subjects is 50 and a student has to obtain at least 35% marks in each of the subjects to pass. Study the Table carefully and answer the questions that follow.

| Marks of four Students of a Class in an Unit Test | | | | | |
|---|-------|------|-------------------|---------|---------|
| Student/ Subjects | Maths | Odia | Social Studies | Science | English |
| Hema | 26 | 29 | 35 | 42 | 31 |
| Rekha | 18 | 36 | 29 | 31 | 26 |
| Jaya | 25 | 26 | 29 | 16 | 43 |
| Sushma | 33 | 41 | 38 | 21 | 25 |

41. Who among them scored the highest marks?

- Hema
- Rekha
- Jaya
- Sushma

42. Who among them failed the test?

- Hema
- Rekha
- Jaya
- Sushma

43. What percentage of marks did Rekha get?

- 65.2 %
- 56 %
- 55.6 %
- 63.2 %

44. What is the average of total marks obtained by the four students?

- 145
- 155
- 160
- 150

40. କେଉଁ ମାନକ ସଂଗ୍ରହକୁ ୱେବସାଇଟ୍ କୁହାଯାଏ?

- ଏଚଟିଏମଏଲ୍ ଡକ୍ୟୁମେଣ୍ଟସ୍
- ଗ୍ରାଫିକ୍ ଫାଇଲ୍
- ଅଡିଓ ଏବଂ ଭିଡିଓ ଫାଇଲ୍
- ଉପରୋକ୍ତ ସମସ୍ତ

ତଥ୍ୟ ବ୍ୟାଖ୍ୟା

ପ୍ରଶ୍ନ 41 ରୁ 45 ପାଇଁ ନିର୍ଦ୍ଦେଶନାମା :

ନିମ୍ନ ସାରଣୀରେ ପାଞ୍ଚଟି ବିଷୟରେ ଗୋଟିଏ ଶ୍ରେଣୀର ୪ ଜଣ ଛାତ୍ରୀ ହାସଲ କରିଥିବା ମାର୍କ ଉଲ୍ଲେଖ କରାଯାଇଛି । ପ୍ରତ୍ୟେକ ପାଞ୍ଚଟି ବିଷୟରେ ମୋଟ ମାର୍କ ୫୦ ଏବଂ ପାସ୍ କରିବା ପାଇଁ ଜଣେ ଛାତ୍ରୀ କୁ ପ୍ରତ୍ୟେକ ବିଷୟରେ ଅତି କମରେ ୩୫% ମାର୍କ ହାସଲ କରିବାକୁ ପଡିବ । ସାରଣୀକୁ ସାବଧାନତାର ସହ ଅଧ୍ୟୟନ କରନ୍ତୁ ଏବଂ ପରବର୍ତ୍ତୀ ପ୍ରଶ୍ନଗୁଡ଼ିକର ଉତ୍ତର ଦିଅନ୍ତୁ ।

| ଗୋଟିଏ ଶ୍ରେଣୀର ୪ ଜଣ ଛାତ୍ରୀ ହାସଲ କରିଥିବା ମାର୍କ | | | | | |
|--|------|-------|--------------------|---------|--------|
| ଛାତ୍ରୀ / ବିଷୟ | ଗଣିତ | ଓଡ଼ିଆ | ସାମାଜିକ ବିଜ୍ଞାନ | ବିଜ୍ଞାନ | ଇଂରାଜୀ |
| ହେମା | ୨୬ | ୨୯ | ୩୫ | ୪୨ | ୩୧ |
| ରେଖା | ୧୮ | ୩୬ | ୨୯ | ୩୧ | ୨୬ |
| ଜୟା | ୨୫ | ୨୬ | ୨୯ | ୧୬ | ୪୩ |
| ସୁଷମା | ୩୩ | ୪୧ | ୩୮ | ୨୧ | ୨୫ |

41. ସେମାନଙ୍କ ମଧ୍ୟରୁ କିଏ ସର୍ବାଧିକ ମାର୍କ ରଖିଛନ୍ତି?

- ହେମା
- ରେଖା
- ଜୟା
- ସୁଷମା

42. ସେମାନଙ୍କ ମଧ୍ୟରୁ କିଏ ପରୀକ୍ଷାରେ ଫେଲ୍ ହୋଇଥିଲେ?

- ହେମା
- ରେଖା
- ଜୟା
- ସୁଷମା

43. ରେଖାଙ୍କୁ କେତେ ପ୍ରତିଶତ ମାର୍କ ମିଳିଥିଲା?

- ୬୫.୨ %
- ୫୬ %
- ୫୫.୬ %
- ୬୩.୨ %

44. ଏହି ୪ ଜଣ ଛାତ୍ରୀ ପାଇଥିବା ମୋଟ ମାର୍କର ହାରାହାରି କେତେ?

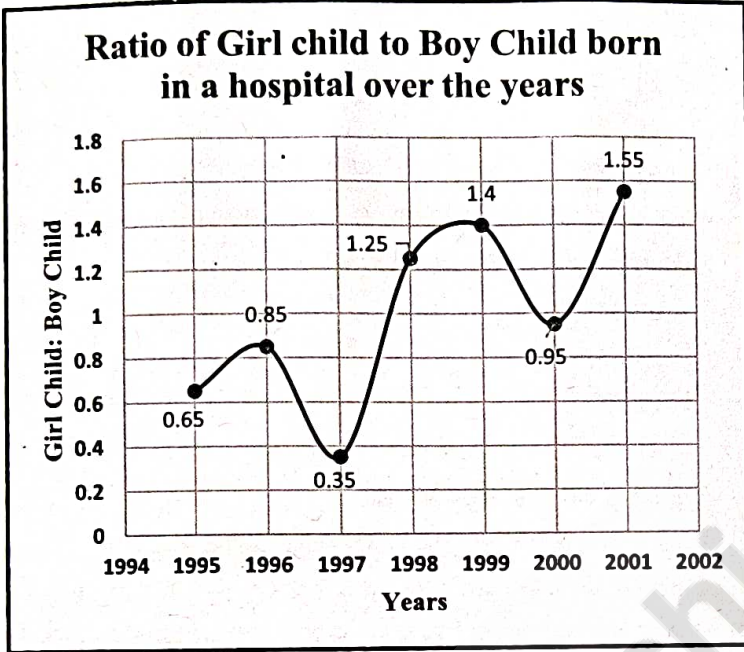
- ୧୪୫
- ୧୫୫
- ୧୬୦
- ୧୫୦

45. The ratio of total marks obtained by Rekha and Sushma is:
- 70 : 73
 - 69 : 79
 - 70 : 79
 - 70 : 71

45. ରେଖା ଏବଂ ସୁଷମା କି ସ୍କୁଲ ପ୍ରାପ୍ତ ମୋଟ ମାର୍କର ଅନୁପାତ ହେଉଛି:
- ୭୦ : ୭୩
 - ୬୯ : ୭୯
 - ୭୦ : ୭୯
 - ୭୦ : ୭୧

Directions for Questions 46 to 50:

The Line graph below shows the ratio of total number of Girl Child to Boy Child born in an hospital over the years. Study the graph carefully and answer the questions that follow.



46. If the number of Girl child born in 1998 was 250 and the total number of Boy child born in the years 1998 and 1999 together was 500, then the number of Girl child born in 1999 was _____?

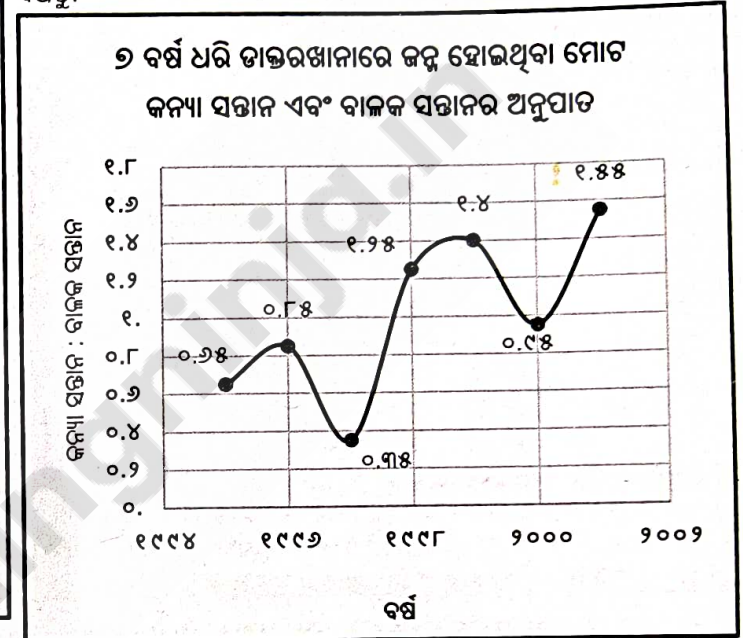
- 250
- 300
- 357
- 420

47. The number of Girl child born were minimum proportionate to number of Boy child born in the year _____?

- 1995
- 1996
- 1997
- 2000

ପ୍ରଶ୍ନ 46 ରୁ 50 ପାଇଁ ନିର୍ଦ୍ଦେଶନାମା:

ନିମ୍ନରେ ଦିଆଯାଇଥିବା ଲାଇନ୍ ଗ୍ରାଫ୍ ରେ ୭ ବର୍ଷ ଧରି ଡାକ୍ତରଖାନାରେ ଜନ୍ମ ହୋଇଥିବା ମୋଟ କନ୍ୟା ସନ୍ତାନ ଏବଂ ବାଳକ ସନ୍ତାନର ଅନୁପାତ ଦର୍ଶାଯାଇଛି। ଗ୍ରାଫ୍ କୁ ସତର୍କତାର ସହ ଅଧ୍ୟୟନ କରନ୍ତୁ ଏବଂ ପରବର୍ତ୍ତୀ ପ୍ରଶ୍ନଗୁଡ଼ିକର ଉତ୍ତର ଦିଅନ୍ତୁ।



46. ଯଦି ୧୯୯୮ ରେ ଜନ୍ମ ହୋଇଥିବା କନ୍ୟା ସନ୍ତାନ ସଂଖ୍ୟା ୨୫୦ ଥିଲା ଏବଂ ୧୯୯୮ ଏବଂ ୧୯୯୯ ମସିହାରେ ଜନ୍ମ ହୋଇଥିବା ମୋଟ ବାଳକ ସନ୍ତାନ ସଂଖ୍ୟା ୫୦୦ ଥିଲା, ତେବେ ୧୯୯୯ ରେ ଜନ୍ମ ହୋଇଥିବା କନ୍ୟା ସନ୍ତାନଙ୍କ ସଂଖ୍ୟା _____ ଥିଲା?

- ୨୫୦
- ୩୦୦
- ୩୫୭
- ୪୨୦

47. _____ ବର୍ଷରେ, ଜନ୍ମ ହୋଇଥିବା ବାଳକ ସନ୍ତାନ ସଂଖ୍ୟା ତୁଳନାରେ ଜନ୍ମ ହୋଇଥିବା କନ୍ୟା ସନ୍ତାନ ସଂଖ୍ୟା ସର୍ବନିମ୍ନ ଆନୁପାତିକ ଥିଲା?

- ୧୯୯୫
- ୧୯୯୬
- ୧୯୯୭
- ୨୦୦୦

48. What was the percentage increase in the number of Girl child from 1997 to 1998 ?

- a) 72
- b) 56
- c) 28
- d) Data Inadequate

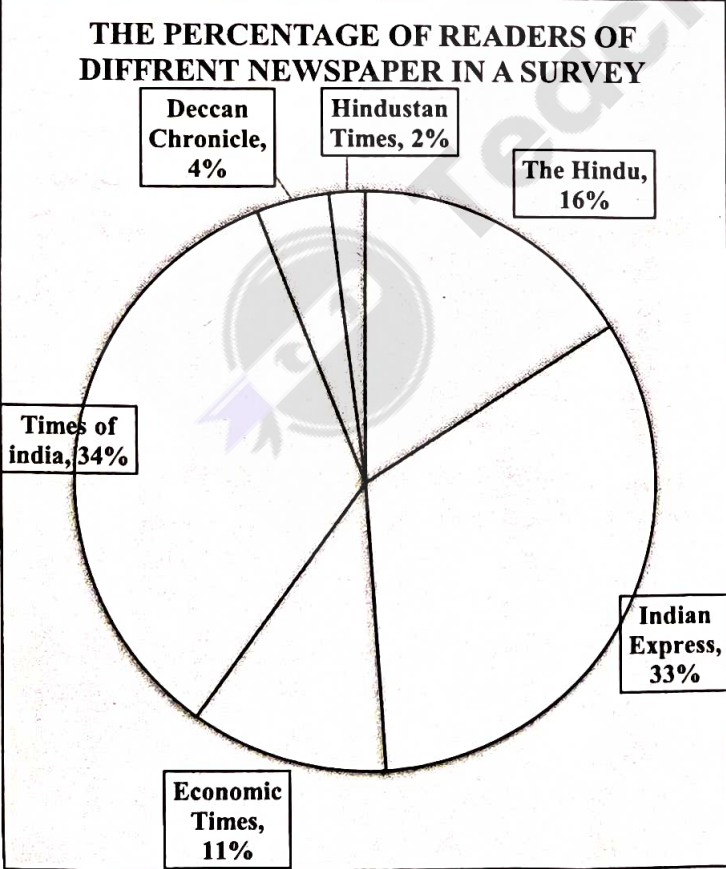
49. If the number of Girl child born in 1996 was 272, then, the number of Boy child born in 1996 was ____ ?

- a) 370
- b) 320
- c) 280
- d) 275

50. In how many of the given years were the number of Boy child born more than the number of Girl child born?

- a) 1
- b) 2
- c) 3
- d) 4

Direction for questions 51 to 55:
The Pie chart below shows the result of a survey about the percentage of readers of different newspapers. Analyse the Pie chart carefully and answer the questions that follow.



48. ୧୯୯୭ ରୁ ୧୯୯୮ ମଧ୍ୟରେ କନ୍ୟା ସନ୍ତାନ କ ସଂଖ୍ୟାରେ କେତେ ପ୍ରତିଶତ ବୃଦ୍ଧି ଘଟିଛି ?

- a) ୭୨
- b) ୫୬
- c) ୨୮
- d) ତଥ୍ୟ ପର୍ଯ୍ୟାପ୍ତ ନୁହେଁ

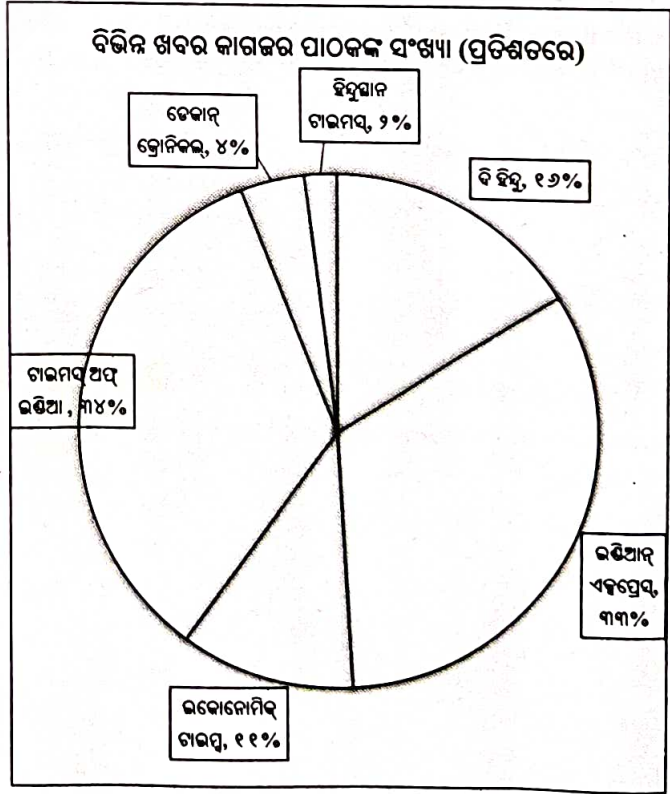
49. ଯଦି ୧୯୯୬ ରେ ଜନ୍ମ ହୋଇଥିବା କନ୍ୟା ସନ୍ତାନଙ୍କ ସଂଖ୍ୟା ୨୭୨ ଥିଲା, ତେବେ, ୧୯୯୬ ରେ ଜନ୍ମ ହୋଇଥିବା ବାଳକ ସନ୍ତାନଙ୍କ ସଂଖ୍ୟା ____ ଥିଲା ?

- a) ୩୭୦
- b) ୩୨୦
- c) ୨୮୦
- d) ୨୭୫

50. ନିର୍ଦ୍ଧାରିତ ବର୍ଷଗୁଡ଼ିକ ମଧ୍ୟରୁ କେତେ ଗୋଟି ବର୍ଷରେ କନ୍ୟା ସନ୍ତାନ ସଂଖ୍ୟା ପୁଲନାରେ, ବାଳକ ସନ୍ତାନ ଅଧିକ ଜନ୍ମ ଗ୍ରହଣ କରିଥିଲେ?

- a) ୧
- b) ୨
- c) ୩
- d) ୪

ପ୍ରଶ୍ନ 51 ରୁ 55 ପାଇଁ ନିର୍ଦ୍ଦେଶନାମା:
ନିମ୍ନରେ ଥିବା ପାଇ ଚାର୍ଟରେ ଏକ ସର୍ବେକ୍ଷଣର ଫଳାଫଳ ଦର୍ଶାଯାଇଛି, ଯେଉଁଥିରେ ବିଭିନ୍ନ ଖବରକାଗଜର ପାଠକଙ୍କ ସଂଖ୍ୟା (ପ୍ରତିଶତରେ) ଅଛି । ପାଇ ଚାର୍ଟକୁ ସତର୍କତାର ସହ ବିଶ୍ଳେଷଣ କରନ୍ତୁ ଏବଂ ପରବର୍ତ୍ତୀ ପ୍ରଶ୍ନଗୁଡ଼ିକର ଉତ୍ତର ଦିଅନ୍ତୁ।



51. In the Times of India sector, approximately how many degrees should be there in the central angle?

- a) 120°
- b) 121°
- c) 122°
- d) 123°

52. If the reader of Economic Times is 4,000 in number, then the total number of readers of Indian Express and Times of India taken together would be:

- a) 24,000
- b) 24,363
- c) 25,423
- d) 25,643

53. What percentage of the total readers prefer Indian Express or Economic Times?

- a) 33%
- b) 11%
- c) 44%
- d) 22%

54. If the total number of readers except for Times of India and Indian Express is 335,000, then the total number of readers for Economic Times and The Hindu will (approximately) be?

- a) 274,100
- b) 285,600
- c) 293,000
- d) Cannot be determined

55. If the number of readers of Indian Express were to double in the next year and the readers of all other newspapers would remain constant at their existing levels for this year, then what would be the proportion of readers of Indian express out of the total number of readers next year (in Percentage)?

- a) 40%
- b) 50%
- c) 60%
- d) 70%

51. ଟାଇମ୍ସ ଅଫ୍ ଇଣ୍ଡିଆ କ୍ଷେତ୍ରରେ କେନ୍ଦ୍ରୀୟ କୋଣ ପାଖାପାଖି କେତେ ଡିଗ୍ରୀ ରହିବ?

- a) 120°
- b) 121°
- c) 122°
- d) 123°

52. ଯଦି ଇକୋନମିକ୍ ଟାଇମ୍ସର ପାଠକ ସଂଖ୍ୟା ୪,୦୦୦ ଅଟେ, ତେବେ ଇଣ୍ଡିଆନ୍ ଏକ୍ସପ୍ରେସ୍ ଏବଂ ଟାଇମ୍ସ ଅଫ୍ ଇଣ୍ଡିଆର ସମୁଦାୟ ପାଠକ ସଂଖ୍ୟା କେତେ ହେବ ?

- a) ୨୪,୦୦୦
- b) ୨୪,୩୬୩
- c) ୨୫,୪୨୩
- d) ୨୫,୬୪୩

53. ମୋଟ ପାଠକମାନଙ୍କ ମଧ୍ୟରୁ ସମୁଦାୟ କେତେ ପ୍ରତିଶତ, ଇଣ୍ଡିଆନ୍ ଏକ୍ସପ୍ରେସ୍ କିମ୍ବା ଇକୋନୋମିକ୍ ଟାଇମ୍ସକୁ ପସନ୍ଦ କରନ୍ତି?

- a) ୩୩%
- b) ୧୧%
- c) ୪୪%
- d) ୨୨%

54. ଯଦି ଟାଇମ୍ସ ଅଫ୍ ଇଣ୍ଡିଆ ଏବଂ ଇଣ୍ଡିଆନ୍ ଏକ୍ସପ୍ରେସ୍ କୁ ବାଦ୍ ଦେଲେ ମୋଟ ପାଠକ ସଂଖ୍ୟା ୩୩୫,୦୦୦, ତେବେ, ଇକୋନୋମିକ୍ ଟାଇମ୍ସ ଏବଂ ଦି ହିନ୍ଦୁ ପାଇଁ ମୋଟ ପାଠକ ସଂଖ୍ୟା (ପାଖାପାଖି) କେତେ ହେବ?

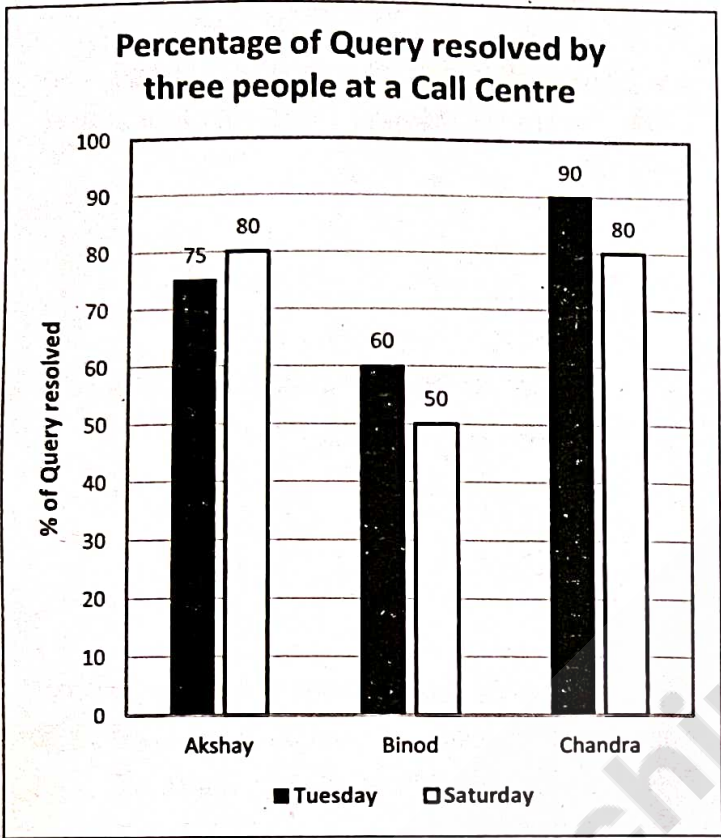
- a) ୨୭୪,୧୦୦
- b) ୨୮୫,୬୦୦
- c) ୨୯୩,୦୦୦
- d) ନିର୍ଦ୍ଧାରିତ ହୋଇପାରିବ ନାହିଁ

55. ଯଦି ଆଗାମୀ ବର୍ଷରେ ଇଣ୍ଡିଆନ୍ ଏକ୍ସପ୍ରେସର ପାଠକ ସଂଖ୍ୟା ଦ୍ୱିଗୁଣିତ କରାଯାଏ ଏବଂ ଅନ୍ୟ ସମସ୍ତ ଖବରକାଗଜର ପାଠକ ସଂଖ୍ୟା ଚଳିତ ବର୍ଷର ସେମାନଙ୍କର ବିଦ୍ୟମାନ ସ୍ତରରେ ସ୍ଥିର ରହିବ, ତେବେ ଆସନ୍ତା ବର୍ଷ ମୋଟ ପାଠକ ସଂଖ୍ୟା ମଧ୍ୟରୁ ଇଣ୍ଡିଆନ୍ ଏକ୍ସପ୍ରେସର ପାଠକଙ୍କ ଅନୁପାତ (ପ୍ରତିଶତରେ) କେତେ ହେବ?

- a) ୪୦%
- b) ୫୦%
- c) ୬୦%
- d) ୭୦%

Direction for Questions 56 to 60:

The given Bar Graph shows the percentage of query resolved by three people Akshay, Binod and Chandra on Tuesday and Saturday with respect to total calls received by them.



56. The number of queries resolved by both Akshay and Chandra on Saturday is 540. What could be the maximum number of calls that were not resolved by Akshay on Saturday?

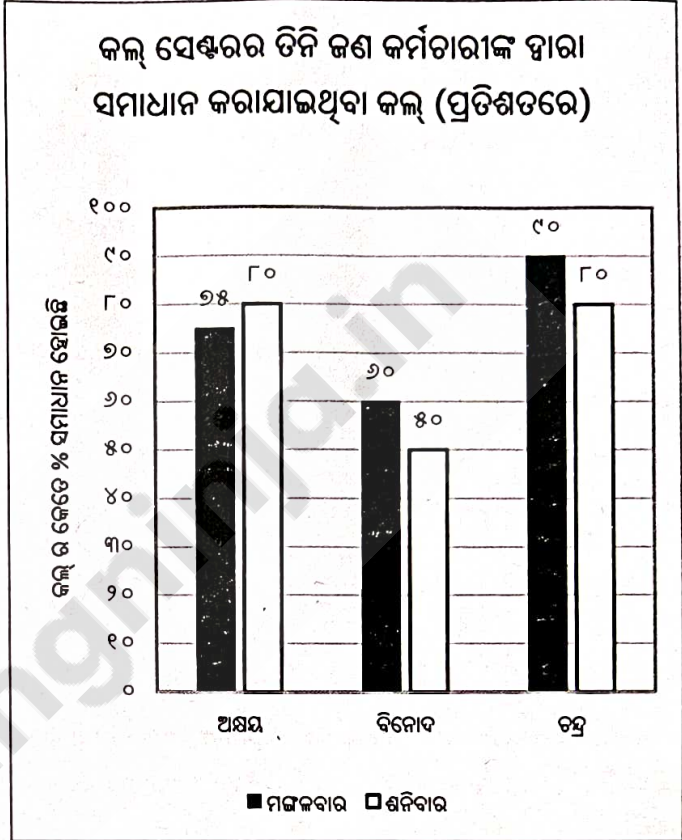
- a) 134
- b) 140
- c) 120
- d) 150

57. Number of queries resolved by Binod on Tuesday is 270 and call received by him is 25% more than the query resolved by Akshay on that day. Find the number of call received by Akshay on Tuesday.

- a) 400
- b) 480
- c) 460
- d) 360

ପ୍ରଶ୍ନ 56 ରୁ 60 ପାଇଁ ନିର୍ଦ୍ଦେଶନାମା:

ଦିଆଯାଇଥିବା ବାର ଗ୍ରାଫ୍ ରେ ମଙ୍ଗଳବାର ଓ ଶନିବାର ଦିନ, ଏକ କଲ୍ ସେଣ୍ଟରରେ ତିନି ଜଣ କର୍ମଚାରୀ ଯଥା: ଅକ୍ଷୟ, ବିନୋଦ ଏବଂ ଚନ୍ଦ୍ରଙ୍କୁ ମିଳିଥିବା ମୋଟ କଲ୍ ମଧ୍ୟରୁ କେତେ ପ୍ରତିଶତ କଲ୍ ର ସମାଧାନ କରାଯାଇଛି ତାହା ଦର୍ଶାଯାଇଛି।



56. ଶନିବାର ଉଭୟ ଅକ୍ଷୟ ଓ ଚନ୍ଦ୍ରଙ୍କ ଦ୍ଵାରା ସମାଧାନ ହୋଇଥିବା ପ୍ରଶ୍ନ ସଂଖ୍ୟା ହେଉଛି ୫୪୦। ତେବେ, ଶନିବାର ଅକ୍ଷୟ କି ଦ୍ଵାରା ସମାଧାନ ହୋଇନଥିବା ସର୍ବାଧିକ ସଂଖ୍ୟକ କଲ୍ ସଂଖ୍ୟା କ'ଣ ହୋଇପାରେ?

- a) ୧୩୪
- b) ୧୪୦
- c) ୧୨୦
- d) ୧୫୦

57. ମଙ୍ଗଳବାର ବିନୋଦଙ୍କ ଦ୍ଵାରା ସମାଧାନ କରାଯାଇଥିବା ପ୍ରଶ୍ନ ସଂଖ୍ୟା ୨୭୦ ଏବଂ ତାଙ୍କୁ ମିଳିଥିବା କଲ୍ ସେହି ଦିନ ଅକ୍ଷୟଙ୍କ ଦ୍ଵାରା ସମାଧାନ କରାଯାଇଥିବା ପ୍ରଶ୍ନ ଠାରୁ ୨୫% ଅଧିକ ଅଟେ। ତେବେ, ମଙ୍ଗଳବାର ଅକ୍ଷୟଙ୍କୁ ଆସିଥିବା କଲ୍ ସଂଖ୍ୟା କେତେ?

- a) ୪୦୦
- b) ୪୮୦
- c) ୪୬୦
- d) ୩୬୦

58. If calls from Tuesday to Saturday for both Binod and Chandra increased by 20% and average number of queries resolved by them on Saturday is 45 more than that of Tuesday. Then, the difference between the call received by Chandra on Saturday and on Tuesday is:

- a) 260
- b) 175
- c) 300
- d) 240

59. What is the ratio of calls received by Akshay, Binod and Chandra on Saturday, If the number of queries resolved by them is in the ratio 3:4:2?

- a) 12:33:19
- b) 10:35:12
- c) 14:32:11
- d) 15:32:10

60. If query resolved by Chandra on Tuesday is 60% of the query resolved by her on Saturday. Query resolved by Akshay on Saturday is equal to the sum of the query resolved by Chandra on both days. Then, call received by Akshay on Saturday is more than that of Chandra on Tuesday by what percent?

- a) 100%
- b) 200%
- c) 250%
- d) 300%

Logical Reasoning

Direction for Questions 61 to 62:

Five Typists – Ipsita, Jyoti, Kavita, Latika and Malati type at different speeds. Ipsita types faster than Latika but slower than Jyoti. Malati types slower than Latika, but is not the slowest. The one who types second fastest, types at the speed of 75 words per minute. The one who types the second slowest, types at the speed of 50 words per minute.

61. How many persons type slower than Ipsita?

- a) one
- b) two
- c) three
- d) four

58. ଯଦି ଉଭୟ ବିନୋଦ ଓ ଚନ୍ଦ୍ରଙ୍କ ପାଇଁ ମଙ୍ଗଳବାର ଅପେକ୍ଷା ଶନିବାର ଦିନ ୨୦% କଲ୍ ବୃଦ୍ଧି ପାଇଛି ଏବଂ ଶନିବାର ସେମାନଙ୍କ ଦ୍ଵାରା ସମାଧାନ ହୋଇଥିବା ହାରାହାରି ପ୍ରଶ୍ନ ସଂଖ୍ୟା ମଙ୍ଗଳବାର ତୁଳନାରେ ୪୫ ଅଧିକ। ତେବେ, ଶନିବାର ଚନ୍ଦ୍ରଙ୍କୁ ଯେଉଁ କଲ୍ ଆସିଥିଲା ତାହା ମଙ୍ଗଳବାର ତୁଳନାରେ କେତେ ଅଧିକ?

- a) ୨୬୦
- b) ୧୭୫
- c) ୩୦୦
- d) ୨୪୦

59. ଯଦି ଶନିବାର ଦିନ ଅକ୍ଷୟ, ବିନୋଦ ଏବଂ ଚନ୍ଦ୍ରଙ୍କ ଦ୍ଵାରା ସମାଧାନ କରାଯାଇଥିବା କଲ୍ ସଂଖ୍ୟା ୩:୪:୨ ଅନୁପାତରେ ଅଛି, ତେବେ ସେମାନଙ୍କୁ ସେହି ଦିନ ମିଳିଥିବା ମୋଟ କଲ୍ ସଂଖ୍ୟାର ଅନୁପାତ କେତେ ?

- a) ୧୨:୩୩:୧୯
- b) ୧୦:୩୫:୧୨
- c) ୧୪:୩୨:୧୧
- d) ୧୫:୩୨:୧୦

60. ଚନ୍ଦ୍ର ମଙ୍ଗଳବାର ସମାଧାନ କରିଥିବା କଲ୍ ସଂଖ୍ୟା, ଶନିବାର ତାଙ୍କ ଦ୍ଵାରା ସମାଧାନ କରାଯାଇଥିବା କଲ୍ ସଂଖ୍ୟା ର ୬୦% ଅଟେ । ଶନିବାର ଅକ୍ଷୟ କ ଦ୍ଵାରା ସମାଧାନ କରାଯାଇଥିବା କଲ୍ ସଂଖ୍ୟା, ଉଭୟ ଦିନରେ ଚନ୍ଦ୍ରଙ୍କ ଦ୍ଵାରା ସମାଧାନ କରାଯାଇଥିବା କଲ୍ ସଂଖ୍ୟାର ସମଷ୍ଟି ସହିତ ସମାନ ଅଟେ । ତେବେ, ଶନିବାର ଅକ୍ଷୟଙ୍କୁ ମିଳିଥିବା ମୋଟ କଲ୍ ସଂଖ୍ୟା, ମଙ୍ଗଳବାର ଚନ୍ଦ୍ରଙ୍କୁ ମିଳିଥିବା କଲ୍ ସଂଖ୍ୟାଠାରୁ କେତେ ପ୍ରତିଶତ ଅଧିକ?

- a) ୧୦୦%
- b) ୨୦୦%
- c) ୨୫୦%
- d) ୩୦୦%

ଯୁକ୍ତିଯୁକ୍ତ ଚର୍ଚ୍ଚା

ପ୍ରଶ୍ନ 61 ରୁ 62 ପାଇଁ ନିର୍ଦ୍ଦେଶନାମା:

ଇସ୍ମିତା, ଜ୍ୟୋତି, କବିତା, ଲତିକା ଓ ମାଳତୀ ଭଳି ୫ ଜଣ ଟାଇପିଷ୍ଟ ଭିନ୍ନ ଭିନ୍ନ ବେଗରେ ଟାଇପ୍ କରନ୍ତି। ଇସ୍ମିତା, ଲତିକା ଠାରୁ ଦ୍ରୁତ କିନ୍ତୁ ଜ୍ୟୋତିଙ୍କ ଠାରୁ ଧୀର । ମାଳତୀ, ଲତିକା ଠାରୁ ଧୀର, କିନ୍ତୁ ସବୁଠାରୁ ଧୀର ନୁହଁନ୍ତି । ଯିଏ ଦ୍ଵିତୀୟ ଦ୍ରୁତତମ ଟାଇପ୍ କରେ, ସେ ପ୍ରତି ମିନିଟ୍ ରେ ୭୫ ଶବ୍ଦ ବେଗରେ ଟାଇପ୍ କରିଥାଏ। ଯିଏ ଦ୍ଵିତୀୟ ଧୀରତମ ଟାଇପ୍ କରିଥାଏ, ସେ ପ୍ରତି ମିନିଟ୍ରେ ୫୦ ଶବ୍ଦ ବେଗରେ ଟାଇପ୍ କରିଥାଏ ।

61. କେତେ ଜଣ ବ୍ୟକ୍ତି ଇସ୍ମିତା ଠାରୁ ଧୀର ଟାଇପ୍ କରନ୍ତି?

- a) ଏକ
- b) ଦୁଇ
- c) ତିନି
- d) ଚାରି

62. Which of the following statements is true?
- Jyoti is the fastest Typist
 - Kavita types faster than Latika
 - No statement is true
 - Ipsita types at the rate of 50 words/minute

Direction for questions 63 to 67:

There are seven lecturers A, B, C, D, E, F and G and they are teaching seven different subjects Physics, Economics, Geography, Biology, Chemistry, Maths and History. Their annual salary is divided into three salary slabs, 3-5 lakh, 6-8 lakh & 10-13 lakh. Their Salaries in Lakhs are in whole numbers only and no two persons have same salary. There are three person only in the salary slab of 10-13 lakhs. F earns 12 lakh. B and G earn lower than F's salary in the same salary slab. D earns more than only one person who teaches Economics. The person who teaches Chemistry earns more than the one who teaches Geography and their total annual income is 15 lakh per annum in the same slab. There are two persons only in the salary slab of 3-5 lakhs. The person who teaches History earns lower than F and higher than the one who teaches Biology in the same slab. F does not teach Physics. The total annual income of G & A and B & E are 17 lakh and 19 lakh respectively. The difference between the annual income of D and C is 2 lakh.

63. As per the given arrangement, F is related to Biology and G is related to Geography in a certain way. To which of the following is A related to the same way?

- Maths
- History
- Physics
- Economics

64. What is the difference between the annual income of the one who teaches Biology and the one who teaches Physics.

- 4 lakh
- 6 lakh
- 5 lakh
- 3 lakh

65. Which combination represents the annual income of a person and the subject he teaches?

- 7- Chemistry
- 3-Economics
- 10-History
- 11-Biology

62. ନିମ୍ନଲିଖିତ ମଧ୍ୟରୁ କେଉଁ ବିବୃତିଟି ସତ?

- ଜ୍ୟୋତି ହେଉଛନ୍ତି ଦ୍ରୁତତମ ଟାଇପିଷ୍ଟ ।
- କବିତା ଲତିକା ଠାରୁ ଦ୍ରୁତ ଟାଇପ୍ କରେ
- କୌଣସି ବୟାନ ସତ ନୁହେଁ
- ଇପ୍ସିତା ୫୦ ଶବ୍ଦ /ମିନିଟ୍ ହାରରେ ଟାଇପ୍ କରେ

63 ରୁ 67 ପ୍ରଶ୍ନ ପାଇଁ ନିର୍ଦ୍ଦେଶନାମା:

A, B, C, D, E, F ଓ G ୭ ଜଣ ଅଧ୍ୟାପକ ଅଛନ୍ତି, ଏବଂ ସେମାନେ, ୭ଟି ଭିନ୍ନ ଭିନ୍ନ ବିଷୟ ଯଥା: ପଦାର୍ଥ ବିଜ୍ଞାନ, ଅର୍ଥନୀତି, ଭୂଗୋଳ, ଜୀବବିଜ୍ଞାନ, ରସାୟନ ବିଜ୍ଞାନ, ଗଣିତ ଓ ଇତିହାସ ପଢ଼ାଉଛନ୍ତି । ସେମାନଙ୍କ ବାର୍ଷିକ ଦରମାକୁ ତିନୋଟି ବେତନ ସ୍ଲାବରେ ବିଭକ୍ତ କରାଯାଇଛି ଯଥା: ୩-୫ ଲକ୍ଷ, ୬-୮ ଲକ୍ଷ ଏବଂ ୧୦-୧୩ ଲକ୍ଷ । ସେମାନଙ୍କ ଦରମା (ଲକ୍ଷ ରେ) କେବଳ ପୂର୍ଣ୍ଣ ସଂଖ୍ୟାରେ ରହିଛି ଏବଂ କୌଣସି ଦୁଇ ଜଣଙ୍କର ସମାନ ଦରମା ନାହିଁ । ୧୦-୧୩ ଲକ୍ଷ ଦରମା ସ୍ଲାବରେ ମାତ୍ର ୩ ଜଣ ଅଛନ୍ତି । F, ୧୨ ଲକ୍ଷ ରୋଜଗାର କରନ୍ତି । B ଏବଂ G ସମାନ ଦରମା ସ୍ଲାବରେ F ର ଦରମା ଠାରୁ କମ୍ ରୋଜଗାର କରନ୍ତି । D କେବଳ ଗୋଟିଏ ବ୍ୟକ୍ତିଙ୍କ (ଯିଏ କି ଅର୍ଥନୀତି ପଢ଼ାନ୍ତି) ଠାରୁ ଅଧିକ ରୋଜଗାର କରନ୍ତି । ରସାୟନ ବିଜ୍ଞାନ ପଢ଼ାଉଥିବା ବ୍ୟକ୍ତି ଭୂଗୋଳ ପଢ଼ାଉଥିବା ବ୍ୟକ୍ତିଙ୍କ ଠାରୁ ଅଧିକ ରୋଜଗାର କରନ୍ତି ଏବଂ ସମାନ ରୋଜଗାର ସ୍ଲାବରେ ଅଛନ୍ତି । ସେମାନଙ୍କର ବାର୍ଷିକ ଆୟର ସମଷ୍ଟି ୧୫ ଲକ୍ଷ ଅଟେ । ୩-୫ ଲକ୍ଷ ଦରମା ସ୍ଲାବରେ କେବଳ ଦୁଇ ଜଣ ଅଛନ୍ତି । ଇତିହାସ ପଢ଼ାଉଥିବା ବ୍ୟକ୍ତି, F କି ଠାରୁ କମ୍ ରୋଜଗାର କରନ୍ତି, ଏବଂ ସମାନ ସ୍ଲାବରେ ଜୀବବିଜ୍ଞାନ ପଢ଼ାଉଥିବା ବ୍ୟକ୍ତିଙ୍କ ଠାରୁ ଅଧିକ ରୋଜଗାର କରନ୍ତି । F ପଦାର୍ଥ ବିଜ୍ଞାନ ପଢ଼ାନ୍ତି ନାହିଁ । G ଓ A ଏବଂ B ଓ E କି ବାର୍ଷିକ ଆୟର ସମଷ୍ଟି ଯଥାକ୍ରମେ ୧୭ ଲକ୍ଷ ଏବଂ ୧୯ ଲକ୍ଷ ଅଟେ । D ଏବଂ C ର ବାର୍ଷିକ ଆୟ ମଧ୍ୟରେ ପାର୍ଥକ୍ୟ ହେଉଛି ୨ ଲକ୍ଷ ।

63. ଦିଆଯାଇଥିବା ବ୍ୟବସ୍ଥା ଅନୁଯାୟୀ, ଏକ ନିର୍ଦ୍ଦିଷ୍ଟ ଉପାୟରେ, F ଜୀବବିଜ୍ଞାନ ସହିତ ସମ୍ବନ୍ଧିତ ଏବଂ G ଭୂଗୋଳ ସହିତ ସମ୍ବନ୍ଧିତ । ତେବେ ସମାନ ଉପାୟରେ, ନିମ୍ନଲିଖିତ ମଧ୍ୟରୁ କେଉଁଟି A ସହିତ ସମ୍ବନ୍ଧିତ?

- ଗଣିତ
- ଇତିହାସ
- ପଦାର୍ଥ ବିଜ୍ଞାନ
- ଅର୍ଥନୀତି

64. ଜୀବବିଜ୍ଞାନ ପଢ଼ାଉଥିବା ବ୍ୟକ୍ତି ଏବଂ ପଦାର୍ଥ ବିଜ୍ଞାନ ପଢ଼ାଉଥିବା ବ୍ୟକ୍ତିଙ୍କ ବାର୍ଷିକ ଆୟ ମଧ୍ୟରେ ପାର୍ଥକ୍ୟ କେତେ?

- ୪ ଲକ୍ଷ
- ୬ ଲକ୍ଷ
- ୫ ଲକ୍ଷ
- ୩ ଲକ୍ଷ

65. କେଉଁ ମିଶ୍ରଣ ଜଣେ ବ୍ୟକ୍ତିର ବାର୍ଷିକ ଆୟ ଏବଂ ସେ ପଢ଼ାଉଥିବା ବିଷୟକୁ ପ୍ରତିନିଧିତ୍ୱ କରେ?

- ୭- ରସାୟନ ବିଜ୍ଞାନ
- ୩-ଅର୍ଥନୀତି
- ୧୦-ଇତିହାସ
- ୧୧-ଜୀବବିଜ୍ଞାନ

66. Who among the following earns double of D's annual income?

- a) E
- b) G
- c) C
- d) A

67. Who among the following teaches Physics?

- a) D
- b) G
- c) A
- d) B

68. Look at the series, 46, 44, 40, 38, 34, __, which number should come next?

- a) 30
- b) 36
- c) 32
- d) 31

69. In the series RQP, ONM, ____, IHG, FED, find the missing letters.

- a) CDE
- b) LKI
- c) LKJ
- d) BAC

70. A thermometer is to temperature as a compass is to

- a) Pressure
- b) Humidity
- c) Direction
- d) Needle

71. Pointing to a photograph, a man said, "I have no brother, and that man's father is my father's son." Whose photograph was it?

- a) His son
- b) His own
- c) His father
- d) His nephew

72. Arrange the following words in a meaningful sequence.

- 1. Arrest
- 2. Punishment
- 3. Prison
- 4. Crime
- 5. Judgment

66. ନିମ୍ନଲିଖିତ ମଧ୍ୟରୁ କିଏ, D ର ବାର୍ଷିକ ଆୟର ଦୁଇଗୁଣ ରୋଜଗାର କରନ୍ତି?

- a) E
- b) G
- c) C
- d) A

67. ନିମ୍ନଲିଖିତ ମଧ୍ୟରୁ କିଏ ପଦାର୍ଥ ବିଜ୍ଞାନ ପଢ଼ାନ୍ତି?

- a) D
- b) G
- ☒ c) A
- d) B

68. ଶୃଙ୍ଖଳାଟି ଦେଖନ୍ତୁ, ୪୬, ୪୪, ୪୦, ୩୮, ୩୪, __, ପରବର୍ତ୍ତୀ ପଦରେ କେଉଁ ସଂଖ୍ୟା ଆସିବା ଉଚିତ୍?

- a) ୩୦
- b) ୩୬
- ☒ c) ୩୨
- d) ୩୧

69. RQP, ONM, ____, IHG, FED, ନିଖୋଜ ଅକ୍ଷରଗୁଡ଼ିକୁ ସନ୍ଧାନ କରନ୍ତୁ।

- a) CDE
- b) LKI
- ☒ c) LKJ
- d) BAC

70. ଏକ ଥର୍ମୋମିଟର ଯେପରି ତାପମାତ୍ରା ସହ ସମ୍ବନ୍ଧିତ, କମ୍ପାସ୍ ସେପରି ____ ସହ ସମ୍ବନ୍ଧିତ?

- a) ତାପ
- b) ଆର୍ଦ୍ରତା
- ☒ c) ଦିଗ
- d) କ୍ଷୁଦ୍ଧି

71. ଜଣେ ବ୍ୟକ୍ତି ଏକ ଫଟୋ ଦେଖାଇ କହିଲେ, "ମୋର କୌଣସି ଭାଇ ନାହିଁ, ଏବଂ ସେହି ବ୍ୟକ୍ତିଙ୍କ ପିତା ମୋ ବାପାଙ୍କ ପୁଅ। ତେବେ ତାହା କାହାର ଫଟୋ ଥିଲା?"

- ☒ a) ତାଙ୍କ ପୁଅ
- ☒ b) ତାଙ୍କର ନିଜର
- c) ତାଙ୍କ ପିତା
- d) ତାଙ୍କ ଭଣଜା

72. ନିମ୍ନଲିଖିତ ଶବ୍ଦଗୁଡ଼ିକୁ ଏକ ଅର୍ଥପୂର୍ଣ୍ଣ କ୍ରମରେ ପ୍ରସ୍ତୁତ କରନ୍ତୁ।

- ୧. ଗିରଫ
- ୨. ଦଣ୍ଡ
- ୩. ଜେଲ
- ୪. ଅପରାଧ
- ୫. ରାୟ

~~4-1-3-5-2~~
4-1-5-3-2

- a) 4, 1, 5, 2, 3
- b) 4, 1, 5, 3, 2
- c) 4, 5, 2, 1, 3
- d) 4, 5, 2, 3, 1

73. Mukesh walks 6 km toward the South and then walks 3 km to his left. Finally, he turns to his right and walks 6 km. In which direction is he from the starting point?

- a) South
- b) South-West
- c) South-East
- d) West

74. If in a certain language, NOIDA is coded as OPJEB, how is DELHI coded in that language?

- a) CDKGH
- b) EFMIJ
- c) FGNJK
- d) IHLED

75. You have to select one word that is the necessary part of the underlined word. Shoe

- a) Leather
- b) Sole
- c) Laces
- d) Socks

76. Read the following statements:

- I. Pooja is older than Mukesh.
- II. Suresh is older than Pooja.
- III. Mukesh is older than Suresh.

If the first two statements are true, then the third statement is:

- a) False
- b) True
- c) Uncertain
- d) None of these

77. A college's science department wants to appoint a new chairperson, based on seniority. Mr. Verma has less seniority than Mr. Tomar, but more than Mrs. Bakshi. Mr. Rawat has more seniority than Mr. Verma, but less than Mr. Tomar. Mr.

- a) 8, 9, 8, 9, 9
- b) 8, 9, 8, 9, 9
- c) 8, 8, 9, 9, 9
- d) 8, 8, 9, 9, 9

73. ମୁକେଶ ଦକ୍ଷିଣ ଦିଗକୁ ୬ କିଲୋମିଟର ଚାଲି ଚାଲି ଯାଆନ୍ତି ଏବଂ ତା'ପରେ ବାମ ପଟକୁ ୩ କିଲୋମିଟର ଚାଲି ଯାଆନ୍ତି । ଶେଷରେ ସେ ତାହାଣ ଆଡ଼କୁ ମୁହାଁଇ ୬ କିଲୋମିଟର ଚାଲି ଚାଲି ଯାଆନ୍ତି । ତେବେ, ପ୍ରାରମ୍ଭିକ ବିନ୍ଦୁରୁ ସେ କେଉଁ ଦିଗରେ ଅଛନ୍ତି?

- a) ଦକ୍ଷିଣ
- b) ଦକ୍ଷିଣ-ପଶ୍ଚିମ
- c) ଦକ୍ଷିଣ-ପୂର୍ବ
- d) ପଶ୍ଚିମ

74. ଯଦି ଏକ ନିର୍ଦ୍ଦିଷ୍ଟ ଭାଷାରେ NOIDA କୁ OPJEB ଭାବରେ କୋଡ୍ କରାଯାଏ, ତେବେ ସେହି ଭାଷାରେ DELHI କୁ କିପରି କୋଡ୍ କରାଯାଏ?

- a) CDKGH
- b) EFMIJ
- c) FGNJK
- d) IHLED

75. ଆପଣଙ୍କୁ ଗୋଟିଏ ଶବ୍ଦ ଚୟନ କରିବାକୁ ପଡ଼ିବ ଯାହା ସୂଚିତ ଶବ୍ଦର ଜରୁରୀ ଅଂଶ ଅଟେ । ଜୋତା

- a) ଚମଡ଼ା
- b) ସୋଲ୍
- c) ଲେସ୍
- d) ମୋଜା

76. ନିମ୍ନଲିଖିତ ବିବୃତିଗୁଡ଼ିକ ପଢନ୍ତୁ:

- I. ପୂଜା, ମୁକେଶଙ୍କ ଠାରୁ ବଡ଼।
- II. ସୁରେଶ, ପୂଜାଙ୍କ ଠାରୁ ବଡ଼।
- III. ମୁକେଶ, ସୁରେଶଙ୍କ ଠାରୁ ବଡ଼।

ଯଦି ପ୍ରଥମ ଦୁଇଟି ବିବୃତି ସତ, ତେବେ ତୃତୀୟ ବିବୃତି ସ୍ତେଷ୍ଟ

- a) ମିଥ୍ୟା
- b) ସତ
- c) ଅନିଶ୍ଚିତ
- d) ଉପରୋକ୍ତ କୌଣସିଟି ନୁହେଁ

77. ଏକ କଲେଜର ବିଜ୍ଞାନ ବିଭାଗ, ବରିଷ୍ଠତା ଆଧାରରେ ନୂତନ ଅଧ୍ୟକ୍ଷ ନିଯୁକ୍ତ କରିବାକୁ ଚାହୁଁଛି । ଶ୍ରୀ ବର୍ମାଙ୍କର, ଶ୍ରୀ ତୋମାରଙ୍କ ଠାରୁ କମ୍ ବରିଷ୍ଠତା ଅଛି, କିନ୍ତୁ ଶ୍ରୀମତୀ ବକ୍ଷିଙ୍କ ଠାରୁ ଅଧିକ । ଶ୍ରୀ ରାଓଙ୍କର, ଶ୍ରୀ ବର୍ମାଙ୍କ ଠାରୁ ଅଧିକ

Tomar doesn't want the job. Who will be the new science department chairperson?

- Mr. Rawat
- Mr. Tomar
- Mr. Verma
- Mrs. Bakshi

78. In Arun's opinion, his weight is greater than 65 kg but less than 72 kg. His brother doesn't agree with Arun and he thinks that Arun's weight is greater than 60 kg but less than 70 kg. His mother's view is that his weight cannot be greater than 68 kg. If all are correct in their estimation, what is the average of different probable weights of Arun?

- 67 kg
- 68 kg
- 69 kg
- Data inadequate

79. A, B, C, D, E, and F are sitting in a row. E and F are in the center. A and B are at the ends. C is sitting to the left of A. Who is to the right of B?

- D
- C
- A
- F

80. In a family, there are husband-wife, two sons and two daughters. All the ladies went to a invited dinner. Both sons went out to play. Husband did not return from the office. Who was at home?

- Only wife was at home
- Nobody was at home
- Only sons were at home
- All ladies were at home

General Studies

81. What is the correct chronological order of the following events?

- Non-cooperation movement
- Quit India Movement
- Royal Indian Navy Mutiny
- Civil Disobedience Movement

- A B C D
- A D B C
- C D B A
- D A B C

ବରିଷ୍ଠତା ଅଛି, କିନ୍ତୁ ଶ୍ରୀ ତୋମାରଙ୍କ ଠାରୁ କମ୍ । ଶ୍ରୀ ତୋମାର ଚାକିରି ଚାହୁଁନାହାନ୍ତି । କିଏ ହେବେ ବିଜ୍ଞାନ ବିଭାଗର ନୂଆ ଅଧ୍ୟକ୍ଷ?

- ଶ୍ରୀ ରାଓ
- ଶ୍ରୀ ତୋମାର
- ଶ୍ରୀ ବର୍ମା
- ଶ୍ରୀମତୀ ବକ୍ସି

78. ଅରୁଣଙ୍କ ମତରେ ତାଙ୍କର ଓଜନ ୬୫ କେଜିରୁ ଅଧିକ କିନ୍ତୁ ୭୨ କେଜିରୁ କମ୍ । ତାଙ୍କ ଭାଇ ଅରୁଣଙ୍କ କଥାରେ ସହମତ ନୁହଁନ୍ତି ଏବଂ ସେ ଭାବନ୍ତି ଯେ ଅରୁଣଙ୍କ ଓଜନ ୬୦ କେଜିରୁ ଅଧିକ କିନ୍ତୁ ୭୦ କେଜିରୁ କମ୍ । ତାଙ୍କ ମା'ଙ୍କ ମତରେ ତାଙ୍କ ଓଜନ ୬୮ କେଜିରୁ ଅଧିକ ହୋଇପାରିବ ନାହିଁ । ଯଦି ସମସ୍ତେ ସେମାନଙ୍କ ଆକଳନରେ ସଠିକ୍, ତେବେ ଅରୁଣଙ୍କ ବିଭିନ୍ନ ସମ୍ଭାବ୍ୟ ଓଜନର ହାରାହାରି କେତେ?

- ୬୭ କେଜି
- ୬୮ କେଜି
- ୬୯ କେଜି
- ତଥ୍ୟ ପର୍ଯ୍ୟାପ୍ତ ନୁହେଁ

79. A, B, C, D, E ଏବଂ F ଗୋଟିଏ ଧାଡ଼ିରେ ବସିଛନ୍ତି । E ଏବଂ F କେନ୍ଦ୍ରରେ ଅଛନ୍ତି । A ଏବଂ B ଦୁଇ ଶେଷ ପ୍ରାନ୍ତରେ ଅଛନ୍ତି । C, A ର ବାମ ପାର୍ଶ୍ୱରେ ବସିଛି । ତେବେ, B ର ଡାହାଣ ପାର୍ଶ୍ୱରେ କିଏ ଅଛି?

- D
- C
- A
- F

80. ଗୋଟିଏ ପରିବାରରେ ସ୍ୱାମୀ-ସ୍ତ୍ରୀ, ଦୁଇ ପୁଅ ଓ ଦୁଇ ଝିଅ ଅଛନ୍ତି । ସମସ୍ତ ମହିଳା ରାତ୍ରୀ ଭୋଜନପାଇଁ ଏକ ନିମନ୍ତ୍ରଣରେ ଯାଇଥିଲେ । ଦୁଇ ପୁଅ ଖେଳିବାକୁ ବାହାରକୁ ଯାଇଥିଲେ । ସ୍ୱାମୀ ଅଫିସରୁ ଫେରିନଥିଲେ । ଘରେ କିଏ ଥିଲେ?

- ଘରେ ଥିଲେ ଏକମାତ୍ର ପତ୍ନୀ
- ଘରେ କେହି ନଥିଲେ
- ଘରେ କେବଳ ପୁଅମାନେ ଥିଲେ
- ସମସ୍ତ ମହିଳା ଘରେ ଥିଲେ

ସାଧାରଣ ଅଧ୍ୟୟନ

81. ନିମ୍ନଲିଖିତ ଘଟଣାଗୁଡ଼ିକର ସଠିକ୍ କାଳାନୁକ୍ରମ କ'ଣ?

- ଅସହଯୋଗ ଆନ୍ଦୋଳନ
- ଭାରତ ଛାଡ଼ ଆନ୍ଦୋଳନ
- ରୟାଲ ଇଣ୍ଡିଆନ ନୌସେନା ବିଦ୍ରୋହ
- ନାଗରିକ ଅବମାନନା ଆନ୍ଦୋଳନ

- A B C D
- A D B C
- C D B A
- D A B C

82. In which year did Odisha become a separate State /Province?

- a) 1940
- b) 1936
- c) 1937
- d) 1935

83. In 1860s one third population of Odisha perished during a famine. Which year did this famine occur?

- a) 1862
- b) 1864
- c) 1866
- d) 1868

84. Who said "Swaraj is my birth right"?

- a) Bal Gangadhar Tilak
- b) Gopal Krishna Gokhale
- c) Mahatma Gandhi
- d) Lala Lajpat Roy

85. Which among the following is a UNESCO world heritage site?

- a) Lingaraj Temple
- b) Khandagiri Caves
- c) Konark Temple
- d) Dhauli Stupa

86. With which of the following States, Odisha does not share any land boundary?

- a) Madhya Pradesh
- b) Andhra Pradesh
- c) West Bengal
- d) Chhatisgarh

87. Which among following rivers does not originate in Odisha?

- a) Rushikulya
- b) Mahanadi
- c) Budhabalanga
- d) Baitarani

88. Which among the following lakes is not a freshwater lake?

- a) Chilika lake
- b) Anshupa lake
- c) Tampara lake
- d) Kanjia lake

82. ଓଡ଼ିଶା କେଉଁ ବର୍ଷ ଏକ ସ୍ୱତନ୍ତ୍ର ରାଜ୍ୟ/ପ୍ରଦେଶରେ ପରିଣତ ହେଲା ?

- a) ୧୯୪୦
- b) ୧୯୩୬
- c) ୧୯୩୭
- d) ୧୯୩୫

83. ୧୮୬୦ ଦଶକରେ, ଓଡ଼ିଶାର ଏକ ତୃତୀୟାଂଶ ଲୋକ ଦୁର୍ଭିକ୍ଷରେ ପ୍ରାଣ ହରାଇଥିଲେ । କେଉଁ ବର୍ଷ ଏହି ଦୁର୍ଭିକ୍ଷ ହୋଇଥିଲା?

- a) ୧୮୬୨
- b) ୧୮୬୪
- c) ୧୮୬୬
- d) ୧୮୬୮

84. କିଏ କହିଥିଲେ "ସ୍ୱରାଜ ମୋର ଜନ୍ମସିଦ୍ଧ ଅଧିକାର"?

- a) ବାଲ୍ ଗଙ୍ଗାଧର ତିଲକ
- b) ଗୋପାଳ କୃଷ୍ଣ ଗୋଖଲେ
- c) ମହାତ୍ମା ଗାନ୍ଧୀ
- d) ଲାଲା ଲଜପତ୍ ରାୟ

85. ନିମ୍ନଲିଖିତ ମଧ୍ୟରୁ କେଉଁଟି ୟୁନେସ୍କୋ ବିଶ୍ୱ ଐତିହ୍ୟ ସ୍ଥଳ?

- a) ଲିଙ୍ଗରାଜ ମନ୍ଦିର
- b) ଖଣ୍ଡଗିରି ଗୁମ୍ଫା
- c) କୋଣାର୍କ ମନ୍ଦିର
- d) ଧଉଳି ସ୍ତୁପ

86. ନିମ୍ନଲିଖିତ କେଉଁ ରାଜ୍ୟ ସହିତ, ଓଡ଼ିଶାର କୌଣସି ଭୂମି ସୀମା ନାହିଁ ।

- a) ମଧ୍ୟପ୍ରଦେଶ
- b) ଆନ୍ଧ୍ରପ୍ରଦେଶ
- c) ପଶ୍ଚିମବଙ୍ଗ
- d) ଛତିଶଗଡ଼

87. ନିମ୍ନଲିଖିତ ମଧ୍ୟରୁ କେଉଁ ନଦୀ ଓଡ଼ିଶାରେ ଉତ୍ପତ୍ନ ହୁଏ ନାହିଁ?

- a) ରୁଷିକୁଲ୍ୟା
- b) ମହାନଦୀ
- c) ବୁଢ଼ାବଲଙ୍ଗ
- d) ବୈତରଣୀ

88. ନିମ୍ନଲିଖିତ ହ୍ରଦ ଗୁଡ଼ିକ ମଧ୍ୟରୁ କେଉଁଟି ମଧୁର ଜଳ ହ୍ରଦ ନୁହେଁ?

- a) ଚିଲିକା ହ୍ରଦ
- b) ଅଂଶୁପା ହ୍ରଦ
- c) ତାମ୍ପରା ହ୍ରଦ
- d) କାଞ୍ଜିଆ ହ୍ରଦ

89. What is the duration of Panchayats (unless dissolved earlier) as per Constitution ?
- 3 year
 - 4 year
 - 5 year
 - 6 year
89. ସମ୍ବିଧାନ ଅନୁଯାୟୀ ପଞ୍ଚାୟତର ଅବଧି କେତେ (ପୂର୍ବରୁ ଭଙ୍ଗ ନହେଲେ)?
- ୩ ବର୍ଷ
 - ୪ ବର୍ଷ
 - ୫ ବର୍ଷ
 - ୬ ବର୍ଷ
90. Reservation for which of the following category in Panchayats / Municipalities is not prescribed in Constitution?
- SC
 - ST
 - OBC
 - Women
90. ପଞ୍ଚାୟତ/ପୌରପାଳିକାରେ ନିମ୍ନଲିଖିତ କେଉଁ ବର୍ଗ ପାଇଁ, ସଂରକ୍ଷଣ ସମ୍ବିଧାନରେ ନିର୍ଦ୍ଧାରିତ ନୁହେଁ ?
- ଅନୁସୂଚିତ ଜାତି
 - ଅନୁସୂଚିତ ଜନଜାତି
 - ଅନ୍ୟ ପଛୁଆ ବର୍ଗ
 - ମହିଳା
91. India follows:
- Parliamentary system
 - Presidential system
 - Monarchical system
 - None of the above
91. ଭାରତ ନିମ୍ନଲିଖିତ ମଧ୍ୟରୁ କେଉଁ ବ୍ୟବସ୍ଥାକୁ ଅନୁସରଣ କରେ?
- ସଂସଦୀୟ ବ୍ୟବସ୍ଥା
 - ରାଷ୍ଟ୍ରପତି ବ୍ୟବସ୍ଥା
 - ରାଜତନ୍ତ୍ର ବ୍ୟବସ୍ଥା
 - ଉପରୋକ୍ତ କୌଣସିଟି ନୁହେଁ
92. What is the term of the office of President of India?
- Four years
 - Five years
 - Six years
 - Three years
92. ଭାରତର ରାଷ୍ଟ୍ରପତି ପଦର କାର୍ଯ୍ୟକାଳ କେତେ?
- ଚାରି ବର୍ଷ
 - ପାଞ୍ଚ ବର୍ଷ
 - ଛଅ ବର୍ଷ
 - ତିନି ବର୍ଷ
93. Article 14 to 18 of Constitution of India deals with:
- Right to equality
 - Right to freedom
 - Directive principle of state policy
 - Fundamental duties
93. ଭାରତୀୟ ସମ୍ବିଧାନର ଧାରା ୧୪ ରୁ ୧୮ କେଉଁ ବିଷୟ ସହ ସମ୍ବନ୍ଧିତ?
- ସମାନତାର ଅଧିକାର
 - ସ୍ୱାଧୀନତାର ଅଧିକାର
 - ରାଜ୍ୟ ନୀତିର ଆଦର୍ଶ ନିର୍ଦ୍ଦେଶିକା
 - ମୌଳିକ କର୍ତ୍ତବ୍ୟ
94. Seventh schedule of Constitution deals with:
- Union, State and Concurrent lists
 - Languages
 - Powers, authority and responsibility of Panchayats
 - Powers, authority and responsibility of Municipalities
94. ସମ୍ବିଧାନର ସପ୍ତମ ଅନୁସୂଚୀ କେଉଁ ବିଷୟ ସହ ସମ୍ବନ୍ଧିତ?
- କେନ୍ଦ୍ର, ରାଜ୍ୟ ଏବଂ ସମକାଳୀନ ତାଲିକା
 - ଭାଷା ଗୁଡ଼ିକ
 - ପଞ୍ଚାୟତର କ୍ଷମତା, ଅଧିକାର ଓ ଦାୟିତ୍ୱ
 - ପୌରପାଳିକାର କ୍ଷମତା, ଅଧିକାର ଏବଂ ଦାୟିତ୍ୱ
95. Odisha Legislative Assembly comprises of how many members?
- 137
 - 147
 - 157
 - 145
95. ଓଡ଼ିଶା ବିଧାନ ସଭାରେ କେତେ ସଦସ୍ୟ ଅଛନ୍ତି ?
- ୧୩୭
 - ୧୪୭
 - ୧୫୭
 - ୧୪୫

96. India is _____ largest economy of the world measured in current dollars.

- a) 3rd
- b) 4th
- c) 5th
- d) 6th

97. What is the largest export from Odisha in value terms?

- a) Metallurgical
- b) Engineering, Chemical and Allied
- c) Minerals
- d) Marine

98. During 1850-2019, what percent of cumulative global emissions has India contributed?

- a) 3%
- b) 4%
- c) 5%
- d) 7%

99. Which Indian state has the maximum carbon stock in forest?

- a) Madhya Pradesh
- b) Arunachal Pradesh
- c) Jammu & Kashmir
- d) Himachal Pradesh

100. What was the share of Odisha in production of chromite in India during the year 2021-22?

- a) 70%
- b) 80%
- c) 90%
- d) 100%

96. ଭାରତ ବିଶ୍ୱର _____ ବୃହତ ଅର୍ଥନୀତି (କରେଣ୍ସି ଡଲାରରେ ମାପ) ?

- a) ତୃତୀୟ
- b) ଚତୁର୍ଥ
- c) ପଞ୍ଚମ
- d) ଷଷ୍ଠ

97. ମୂଲ୍ୟ ହିସାବରେ, କେଉଁଟି ଓଡ଼ିଶାର ସବୁଠାରୁ ବଡ଼ ରପ୍ତାନି ସାମଗ୍ରୀ ?

- a) ଧାତବ ପଦାର୍ଥ
- b) ଇଞ୍ଜିନିୟରିଂ, କେମିକାଲ ଏବଂ ସମ୍ବନ୍ଧିତ
- c) ଖଣିଜ ପଦାର୍ଥ
- d) ସାମୁଦ୍ରିକ

98. ୧୮୫୦ ରୁ ୨୦୧୯ ସୁଦ୍ଧା, ସମୁଦାୟ ବିଶ୍ୱ ନିର୍ଗମନରେ ଭାରତର ଅବଦାନ କେତେ ପ୍ରତିଶତ ରହିଛି ?

- a) ୩%
- b) ୪%
- c) ୫%
- d) ୭%

99. କେଉଁ ଭାରତୀୟ ରାଜ୍ୟର ଜଙ୍ଗଲରେ ସର୍ବାଧିକ କାର୍ବନ ଷ୍ଟକ୍ ଅଛି ?

- a) ମଧ୍ୟପ୍ରଦେଶ
- b) ଅରୁଣାଚଳ ପ୍ରଦେଶ
- c) ଜମ୍ମୁ ଓ କାଶ୍ମୀର
- d) ହିମାଚଳ ପ୍ରଦେଶ

100. ଭାରତରେ ୨୦୨୧-୨୨ ବର୍ଷରେ, କ୍ରୋମାଇଟ୍ ଉତ୍ପାଦନରେ ଓଡ଼ିଶାର ଅଂଶ କେତେ ଥିଲା ?

- a) ୭୦%
- b) ୮୦%
- c) ୯୦%
- d) ୧୦୦%