



Teachingninja.in



Latest Govt Job updates



Private Job updates



Free Mock tests available



Visit - teachingninja.in

OTET
Previous Year Paper
(Child Dev. & Pedagogy)
Paper-II 2018



ଶିଶୁ ବିକାଶ ଓ ଶିକ୍ଷାବିଜ୍ଞାନ

CHILD DEVELOPMENT AND PEDAGOGY

ପ୍ରତ୍ୟେକ ପ୍ରଶ୍ନର ଚାରୋଟି ବିକଳ୍ପ ଦିଆଯାଇଛି । ସେଗୁଡ଼ିକ ମଧ୍ୟରୁ ଠିକ୍ ଉତ୍ତରଟିକୁ ବାଛି OMR

ଫର୍ମରେ ସଂପୂର୍ଣ୍ଣ ବୃତ୍ତଟିକୁ କଳା/ନୀଳ ବଲ୍ ପଏଣ୍ଟ କଲମ ଦ୍ୱାରା ସମ୍ପୂର୍ଣ୍ଣ ଭାବେ କଳା କର ।

Each question has four alternatives. Choose the correct one from among them and darken the appropriate circle completely in the OMR Sheet with Blue/Black ball point pen.

1. ଶବ୍ଦାର୍ଥ ସ୍ମୃତିକ୍ଷେତ୍ରରେ କେଉଁଟି ସଠିକ ଅଟେ ?
 - (A) ଗାଣିତିକ ସୂତ୍ର ବ୍ୟବହାର ପାଇଁ ସ୍ମରଣର ଆବଶ୍ୟକତା
 - (B) ଭାଷାର ବ୍ୟବହାର ପାଇଁ ସ୍ମରଣର ଆବଶ୍ୟକତା
 - (C) ସ୍ଥାନସମ୍ପର୍କର ବ୍ୟବହାର ପାଇଁ ସ୍ମରଣର ଆବଶ୍ୟକତା
 - (D) ସମାନଙ୍କ ମଧ୍ୟରୁ କୌଣସିଟି ନୁହେଁ
 2. ନିମ୍ନୋକ୍ତ ପ୍ରତିରୂପଣର କେଉଁଟି ମନସ୍ତାତ୍ତ୍ୱିକ ପ୍ରକ୍ରିୟା ନୁହେଁ ?
 - (A) ମନଯୋଗ, ପରିଚୟକରଣ, ଚିହ୍ନଟିକରଣ
 - (B) ପ୍ରଜନନ, ପ୍ରତିଧାରଣ, ଅନ୍ତଃକରଣ
 - (C) ପୁନଃବଳନ, ପରିଚିତିକରଣ, ମନଯୋଗ
 - (D) ପ୍ରତିଧାରଣ, ସାବ୍ୟସ୍ତକରଣ, ଆନ୍ତଃକରଣ
 3. କେଉଁଟି କିନ୍ତୋର ମାନଙ୍କର ଆବେଗିତ ବିଶୃଙ୍ଖଳାର ଲକ୍ଷଣ ଭାବରେ ପରିଗଣିତ ହୁଏ ନାହିଁ ?
 - (A) ନଖ କାମୁଡ଼ିବା
 - (B) ବୃଦ୍ଧ ଆଙ୍ଗୁଳି ଚୁରୁମିବା
 - (C) ଠିକ୍ ପୋଷାକ ପରିଧାନ କରିବା
 - (D) ବାଳକୁ ଟାଣିବା
1. Which is true in case of 'Semantic Memory' ?
 - (A) Memory necessary for the use of mathematical formula
 - (B) Memory necessary for the use of language
 - (C) Memory necessary for the use of space relation
 - (D) None of these
 2. Which one of the following is not a psychological process of modelling ?
 - (A) Attention, recognition, identification
 - (B) Reproduction, retention, internalisation
 - (C) Reinforcement, recognition, attention
 - (D) Retention, verification, internalisation
 3. Which is not found in the symptoms of emotional disturbances of adolescents ?
 - (A) Nail-biting
 - (B) Thumb-sucking
 - (C) Wearing well-fitted dress
 - (D) Pulling the hair

4. ଜଣେ ସାମାଜିକବାଦୀ ଶିକ୍ଷକଙ୍କପାଇଁ କେଉଁଟି ସଠିକ୍ ନୁହେଁ ?

- (A) ଶିକ୍ଷାର୍ଥୀମାନଙ୍କ ପାଇଁ ସମସ୍ୟା ସୂଚକ କରି ଓ ଅନୁସନ୍ଧିତ ପାଇଁ ପରାମର୍ଶ ଦେଇଥାନ୍ତି
- (B) ଶିକ୍ଷାର୍ଥୀମାନଙ୍କୁ ବୋଧ ଶକ୍ତିର ବିକାଶ ପାଇଁ ଉତ୍ସାହିତ କରି ନାହିଁ
- (C) ଶିକ୍ଷଣ ପାଇଁ କୃତ୍ରିମ ପୃଷ୍ଠଭୂମି ସୃଷ୍ଟି କରିଥାନ୍ତି
- (D) ଶିକ୍ଷଣର ବହୁବିଧ ବ୍ୟବହାର ପାଇଁ ଅନୁମତି ପ୍ରଦାନ କରିଥାନ୍ତି

5. କେଉଁ କାର୍ଯ୍ୟକ୍ରମର ନାମଗତ ଶିକ୍ଷକମାନଙ୍କର ପ୍ରଥମ ଅକ୍ଷରକୁ ନେଇ LATS ଗଠିତ ?

- (A) Learning Assessment Transferring Scheme
- (B) Learners' Achievement Testing System
- (C) Learning Achievement Tracking System
- (D) Learning Activity Testing System

6. ଗୋଟିଏ ପରୀକ୍ଷାର ବିଶ୍ୱସନୀୟତାରେ ଆଭ୍ୟନ୍ତରୀଣ ସୁସଙ୍ଗତି ନିର୍ଦ୍ଧାରଣ କରିବାପାଇଁ କେଉଁ ପଦ୍ଧତିର ଉପଯୋଗୀ ?

- (A) ଅର୍ଦ୍ଧ ବିଭାଜନ ପଦ୍ଧତି
- (B) ପରୀକ୍ଷା-ପୁନଃପରୀକ୍ଷା ପଦ୍ଧତି
- (C) ଅର୍ଦ୍ଧ ବିଭାଜନ ଏବଂ ପରୀକ୍ଷା-ପୁନଃପରୀକ୍ଷା ପଦ୍ଧତି
- (D) ଏମାନଙ୍କ ମଧ୍ୟରୁ କୌଣସିଟି ନୁହେଁ

OTET-P-II/18

4. Which of the following is not true for a constructivist teacher ?

- (A) Sets up problems and monitors students' exploration
- (B) Does not discourage students to develop understanding
- (C) Hardly creates a context for learning
- (D) Allows multiple interpretations of learning

5. What does the acronym LATS stand for ?

- (A) Learning Assessment Transferring Scheme
- (B) Learners' Achievement Testing System
- (C) Learning Achievement Tracking System
- (D) Learning Activity Testing System

6. The most common method of estimating internal consistency of a test reliability is the

- (A) Split-half method
- (B) Test-retest method
- (C) Both split-half and test-retest method
- (D) None of these

7. ମାନକୀ ପରୀକ୍ଷାର କେଉଁ ଗୁଣଗୁଡ଼ିକ ଅଛି ?
- (A) ବୈଧତା, ବିଶ୍ୱସନୀୟତା ଓ ଉପଯୋଗିତା
- (B) ବିଶ୍ୱସନୀୟତା, ନମନୀୟତା ଓ ବୈଧତା
- (C) ଉପଯୋଗିତା, ବ୍ୟକ୍ତିନିଷ୍ଠତା ଓ ବିଶ୍ୱସନୀୟତା
- (D) ବୈଧତା, ନମନୀୟତା ଓ ଉପଯୋଗିତା
8. ପରିସଂଖ୍ୟାନର ଅଧିକ ସ୍ଥିରତା ଆଣିବାପାଇଁ ନିମ୍ନୋକ୍ତ କେଉଁ ବିଧି ମାପକ ବ୍ୟବହାର କରାଯାଇଥାଏ ?
- (A) ମାଧ୍ୟ ବିଚ୍ୟୁତି
- (B) ମାନକ ବିଚ୍ୟୁତି
- (C) ଚତୁର୍ଥାଂଶକ ବିଚ୍ୟୁତି
- (D) ବିସ୍ତୃତି
9. ଯେତେବେଳେ କୌଣସି ନିର୍ଦ୍ଦିଷ୍ଟ ସଂଖ୍ୟା ପ୍ରତ୍ୟେକ ବ୍ୟକ୍ତିଗତ ଲବ୍ଧିରେ ଯୋଗ କରାଯାଏ, ତାହାର ମାଧ୍ୟମୁଲ୍ୟ ଉପରେ କି ପ୍ରକାର ପ୍ରଭାବ ପକାଇଥାଏ ?
- (A) ମାଧ୍ୟମୁଲ୍ୟ ସେହି ସଂଖ୍ୟା ଦ୍ୱାରା ଯୋଗ ହୁଏ
- (B) ମାଧ୍ୟମୁଲ୍ୟରୁ ସେହି ସଂଖ୍ୟା ବିୟୋଗ କରାଯାଏ
- (C) ମାଧ୍ୟମୁଲ୍ୟ ସେହି ସଂଖ୍ୟା ଗୁଣନ କରାଯାଏ
- (D) ମାଧ୍ୟମୁଲ୍ୟରେ ସେହି ସଂଖ୍ୟା ଭାଗ କରାଯାଏ

7. What qualities do a standardised test have ?
- (A) Validity, Reliability and Usability
- (B) Reliability, Flexibility and Validity
- (C) Usability, Subjectivity and Reliability
- (D) Validity, Flexibility and Usability
8. Which of the following measures of variability is used when the statistics having the greatest stability is sought ?
- (A) Mean Deviation
- (B) Standard Deviation
- (C) Quartile Deviation
- (D) Range
9. When a constant figure is added to each individual score, what will be the effect on mean value ?
- (A) Mean value will be added by the same figure
- (B) Mean value will be subtracted by the same figure
- (C) Mean value will be multiplied by the same figure
- (D) Mean value will be divided by the same figure

10. ଅଣବର୍ଗୀକୃତ ତଥ୍ୟାବଳୀର ମାନକ ବିଚ୍ୟୁତି ମୂଲ୍ୟ ନିର୍ଦ୍ଧାରଣର ସୂତ୍ର କେଉଁଟି ?

(A) $\sqrt{\frac{\sum D^2}{N}}$

(B) $\frac{\sum D^2}{N}$

(C) $\sqrt{\frac{\sum N}{D^2}}$

(D) $\frac{\sum D}{N}$

11. ପ୍ରଦତ୍ତ ଲବ୍ଧୀଙ୍କ ମାନଙ୍କର ଗରିଷ୍ଠକ ମୂଲ୍ୟ କେତେ ?

8, 8, 4, 3, 4, 8, 5, 5

(A) 3

(B) 4

(C) 5

(D) 8

12. କେଉଁ ଉକ୍ତିଟି ଠିକ୍ ?

(A) ଲବ୍ଧୀଙ୍କ ଗୁଡ଼ିକ ଉତ୍ତରକୁମ୍ଭ ବା ଅର୍ଦ୍ଧକୁମ୍ଭରେ ସଜାଇଲା ପରେ ମଧ୍ୟମା ବିବରଣର ଠିକ୍ ମଧ୍ୟଭାଗରେ ଅବସ୍ଥାପିତ ହୁଏ

(B) ପ୍ରାପ୍ତ ଲବ୍ଧୀଙ୍କ ଗୁଡ଼ିକର ମୂଲ୍ୟ ପରିବର୍ତ୍ତନରେ ମଧ୍ୟମା ପରିବର୍ତ୍ତିତ ରହେ

(C) ବିବରଣରେ ଲବ୍ଧୀଙ୍କ ଗୁଡ଼ିକ ଅତି ବଡ଼ ବା ଅତି ଛୋଟ ହୋଇଥିଲେ ମଧ୍ୟମା ଅପେକ୍ଷା ମାଧ୍ୟମାନ ଅତି ଉପଯୋଗୀ ଅଟେ

(D) ଅନ୍ୟାନ୍ୟ ପରିସଂଖ୍ୟାନ ମୂଲ୍ୟ ନିରୂପଣ କଲାବେଳେ ମଧ୍ୟମାର ବ୍ୟବହାର କରାଯାଇଥାଏ

10. Which formula is used to determine the value of standard deviation of ungrouped data ?

(A) $\sqrt{\frac{\sum D^2}{N}}$

(B) $\frac{\sum D^2}{N}$

(C) $\sqrt{\frac{\sum N}{D^2}}$

(D) $\frac{\sum D}{N}$

11. What is the mode value of the given scores ?

8, 8, 4, 3, 4, 8, 5, 5

(A) 3

(B) 4

(C) 5

(D) 8

12. Which statement is correct ?

(A) Median lies at the midpoint of a series when scores are arranged either in ascending or descending order

(B) Median value remains changed in the change of obtained scores

(C) If the distribution of scores becomes very small or very big, mean becomes more useful than median

(D) Median is used in the calculation of other statistical values

13. ନିମ୍ନଲିଖିତ ତଥ୍ୟାବଳୀର ମଧ୍ୟମା ମୂଲ୍ୟ କେତେ ?

18, 26, 15, 20, 23, 15, 9, 21, 12, 24

- (A) 19
- (B) 18
- (C) 17
- (D) 15

14. ଯେତେବେଳେ ଏକ ନୂତନ ପରୀକ୍ଷାର ଲବ୍ଧାଙ୍କ ଗୁଡ଼ିକୁ ଏକ ମାନକ ସୂଚକ ଲବ୍ଧାଙ୍କ ପରୀକ୍ଷାର ଲବ୍ଧାଙ୍କ ମାନଙ୍କ ସହିତ ସହ-ସମ୍ବନ୍ଧ ସ୍ଥାପନ କରାଯାଏ, ଯେତେବେଳେ କେଉଁ ପ୍ରକାରର ବୈଧତା ନିରୂପଣ ଆବଶ୍ୟକ ହୋଇଥାଏ ?

- (A) ସହବର୍ତ୍ତୀ
- (B) ରତନାତ୍ମକ
- (C) ଅଭ୍ୟାସ ବୈଧତା
- (D) ଅନ୍ତର୍ବିଷ୍ଟ ବୈଧତା

15. ଶୈକ୍ଷିକ କାର୍ଯ୍ୟକ୍ରମ କ୍ଷେତ୍ରରେ ଶିକ୍ଷାର୍ଥୀର ପ୍ରଗତି ଲିପିବଦ୍ଧ କରିବାପାଇଁ ନିମ୍ନୋକ୍ତ ମାପନୀ ମଧ୍ୟରୁ କେଉଁଟି ବ୍ୟବହାର କରା ଯାଇଥାଏ ?

- (A) 4-ପଏଣ୍ଟ ମାପନୀ
- (B) 5-ପଏଣ୍ଟ ମାପନୀ
- (C) 3-ପଏଣ୍ଟ ମାପନୀ
- (D) 6-ପଏଣ୍ଟ ମାପନୀ

13. What is the median value of the following data ?

18, 26, 15, 20, 23, 15, 9, 21, 12, 24

- (A) 19
- (B) 18
- (C) 17
- (D) 15

14. When the scores on a newly constructed test are correlated with scores on a standardised test, then which type of validity needs to be calculated ?

- (A) Concurrent
- (B) Construct
- (C) Face
- (D) Content

15. Which one of the following scales is used to record the progress of the learners in curricular areas ?

- (A) 4-point scale
- (B) 5-point scale
- (C) 3-point scale
- (D) 6-point scale

16. ନିମ୍ନୋକ୍ତ ମଧ୍ୟରୁ କେଉଁଟି ଲବ୍ଧୀକ ଗାଈତ

ଭାବେ ବ୍ୟବହାର କରା ଯାଇପାରିବ ?

(A) ପୋର୍ଟ ଫୋଲିଓ

(B) ପର୍ଯ୍ୟବେକ୍ଷଣ

(C) ଚେକଲିଷ୍ଟ

(D) ରୁବ୍ରିକ୍

17. ନିମ୍ନୋକ୍ତ ମଧ୍ୟରୁ କେଉଁଟି ପାଠ୍ୟକ୍ରମ ସଂଗଠନର

ନୀତି ନୁହେଁ ?

(A) ସହସମ୍ବନ୍ଧ

(B) କାର୍ଯ୍ୟ

(C) କୌଶଳରେ ସାଧନ

(D) ଉପଯୋଗିତା

18. 'ଡିସ୍ପେଡାଗୋଜିଆ' ନିମ୍ନୋକ୍ତ ମଧ୍ୟରୁ କାହା

ସହିତ ସମ୍ପର୍କିତ ?

(A) ଉତ୍ତମ ଶିକ୍ଷାଦାନର ଅଭାବ

(B) ଉତ୍ତମ ପରିବେଶର ଅଭାବ

(C) ଶିକ୍ଷାର୍ଥୀପାଇଁ ଉତ୍ତମ ପାଠ୍ୟକ୍ରମର ଅଭାବ

(D) ଏମାନଙ୍କ ମଧ୍ୟରୁ କୌଣସିଟି ନୁହେଁ

16. Which of the following tools could be used as a scoring guide ?

(A) Portfolio

(B) Observation

(C) Checklist

(D) Rubric

17. Which of the following is not a principle of curriculum organisation ?

(A) Correlation

(B) Activity

(C) Manipulation

(D) Utility

18. 'Dyspedagogia' is related to

(A) lack of good teaching

(B) lack of good environment

(C) lack of curriculum for the child

(D) None of these

19. "ଶବ୍ଦ ସବୁ ଭାବ ଓ ଆନ୍ତଃବକ୍ତୃତା ଓ ଭାଷାସହ
ନିର୍ମିତ" - ଏ ଉକ୍ତିଟି କାହାର ?

- (A) ଭାଇଓସ୍କି
- (B) ପିଆଜେ
- (C) ନୋଭାକ
- (D) ଗ୍ଲାସରଫିଲ୍ଡ

20. ନିମ୍ନୋକ୍ତ ମଧ୍ୟରୁ ସୃଜନଶୀଳ ଶିଷାର୍ଥୀଠାରେ
କେଉଁ ଗୁଣଟି ନ ଥାଏ ?

- (A) ଜିଜ୍ଞାସୁ
- (B) ଦୂରଦୃଷ୍ଟି ସମ୍ପନ୍ନ
- (C) ଅନ୍ତଃ ପ୍ରଜ୍ଞାବୃଦ୍ଧ
- (D) ବିପଦର ସମ୍ମୁଖୀନ ହେବାପାଇଁ ଅନିଚ୍ଛା
ପ୍ରକାଶ କରିବା

21. ନିମ୍ନୋକ୍ତ ମଧ୍ୟରୁ କେଉଁଟି ଶିକ୍ଷଣ କ୍ଷେତ୍ରରେ
ଅଭିପ୍ରେରଣାର କାର୍ଯ୍ୟ ନୁହେଁ ?

- (A) ପରୀକ୍ଷାରେ ଅଧିକ ନମ୍ବର ରଖିବା
- (B) ଆଚରଣକୁ ଲକ୍ଷ୍ୟାଭିମୁଖୀ କରିବା
- (C) ଶିଶୁକୁ ଶିକ୍ଷଣପାଇଁ ସକ୍ରିୟ କରିବା
- (D) ଆଚରଣକୁ ଶୃଙ୍ଖଳିତ କରିବା

19. "Words are structured with
sense, inner speech and
language." — Who stated it ?

- (A) Vygotsky
- (B) Piaget
- (C) Novak
- (D) Glaserfield

20. What characteristic is not found
in creative students ?

- (A) Curious
- (B) Visionary
- (C) Intuitive
- (D) Unwilling to take risk

21. Which of the following is not a
function of motivation in the
field of learning ?

- (A) To secure more marks in
the examination
- (B) To make the behaviour
goal-oriented
- (C) To make the child active
for learning
- (D) To make the behaviour
disciplined

22. କେଉଁ ଶିକ୍ଷଣ ତତ୍ତ୍ୱ ପୂର୍ଣ୍ଣାଙ୍ଗରୁ ଆଂଶିକ ଶିକ୍ଷଣ ନୀତିକୁ ଗୁରୁତ୍ୱ ଦେଇଥାଏ ?

- (A) ଶାସ୍ତ୍ରୀୟ ଅନୁବନ୍ଧନ
- (B) ଅବର୍ତ୍ତକ ଶିକ୍ଷଣ
- (C) କ୍ରିୟାତ୍ମକ ଅନୁବନ୍ଧନ
- (D) ପ୍ରସ୍ତୁତ ପ୍ରମାପ

23. କେଉଁଟି କିଶୋରମାନଙ୍କର ସାମାଜିକ ଆବଶ୍ୟକତା ଅଟେ ?

- (A) ଅମ୍ଳଜାନ
- (B) ଲିଙ୍ଗ
- (C) କ୍ଷୁଧାର୍ତ୍ତ
- (D) ନିରାପତ୍ତା

24. ନିମ୍ନୋକ୍ତ କେଉଁଟି କିଶୋରମାନଙ୍କର ସମସ୍ୟା ନୁହେଁ ?

- (A) ଠକେଇବା, ଚୋରି କରିବା, ସ୍କୁଲ ନ ଯାଇ ଲୁଚିବା
- (B) ସ୍କୁଲ ନ ଯାଇ ଲୁଚିବା, ଅତ୍ୟଧିକ ଦିବାସ୍ୱପ୍ନ ଦେଖିବା, ଅତ୍ୟଧିକ ଚିତ୍ତାଶୀଳ ହେବା
- (C) ଠକେଇବା, ଲକ୍ଷ୍ମୀ, ଚୋରି କରିବା
- (D) ଅତ୍ୟଧିକ ଅସବୁବାର, ଠକେଇବା, ଛୋଟକଥାରେ ନୈରାଶ୍ୟ ହେବା

22. Which learning theory emphasises learning from whole to part ?

- (A) Classical conditioning
- (B) Insightful learning
- (C) Operant conditioning
- (D) Trial and Error

23. Which is the social need of adolescents ?

- (A) Oxygen
- (B) Sex
- (C) Hunger
- (D) Security

24. Which one of the following groups is not a problem of the adolescents ?

- (A) Cheating, stealing, truancy
- (B) Truancy, excessive day dreaming, excessive thoughtful
- (C) Cheating, jealousy, stealing
- (D) Excessive carelessness, cheating, getting disappointed over silly matters

25. "ଚୋରି କରିବା ଏକ ମନ କାର୍ଯ୍ୟ ବୋଲି ବିବେଚନା କରାଯାଇଥାଏ କାରଣ ଏହା ସମାଜ ଦ୍ଵାରା ମନ ବୋଲି ବିବେଚନା କରାଯାଇଥାଏ" - ଏହା ନିମ୍ନପ୍ରଦତ୍ତ କେଉଁ ନୈତିକ ସ୍ତରକୁ ବୁଝାଏ ?

- (A) ପ୍ରାକ୍ନୈତିକ
- (B) ପାରମ୍ପରିକ ନୈତିକ
- (C) ସ୍ଵନୈତିକ
- (D) ଉପରୋକ୍ତ ସମସ୍ତ

26. ବ୍ୟକ୍ତି ବସ୍ତୁ ନିର୍ବାହ କରୁଥିବା କାର୍ଯ୍ୟକୁ କ'ଣ ବୋଲି କୁହାଯାଏ ?

- (A) ଅନ୍ତଃରଚନା
- (B) ଆତ୍ମୀକରଣ
- (C) ଉପଯୋଜନ
- (D) ସନ୍ତୁଳନ

27. ଜଣେ ବ୍ୟକ୍ତିର ଦୁଇ ବା ତତୋଧିକ ଦକ୍ଷତା ମଧ୍ୟରେ ଥିବା ପାର୍ଥକ୍ୟତା କ'ଣ ଭାବରେ ପରିଚିତ ଅଟେ ?

- (A) ଆନ୍ତଃ ବ୍ୟକ୍ତିଗତ ପାର୍ଥକ୍ୟତା
- (B) ଆତ୍ମୀକରଣ ବ୍ୟକ୍ତିଗତ ପାର୍ଥକ୍ୟତା
- (C) ବହୁବିଧ ପରିସରଭିତ୍ତିକ ବ୍ୟକ୍ତିଗତ ପାର୍ଥକ୍ୟତା
- (D) ଏମାନଙ୍କ ମଧ୍ୟରୁ କୌଣସିଟି ନୁହେଁ

25. "Stealing would be judged wrong because it is considered wrong by the society." — To which level of moral development does it belong ?

- (A) Pre-moral
- (B) Conventional morality
- (C) Self-accepted moral principle
- (D) All of these

26. The activities that people perform on objects are known as

- (A) Schemas
- (B) Assimilation
- (C) Accommodation
- (D) Equilibrium

27. The difference that exists between two or more abilities within the individual is known as :

- (A) Inter-individual differences
- (B) Intra-individual differences
- (C) Multi-area individual differences
- (D) None of these

28. ସୃଜନଶୀଳ ଶିକ୍ଷାର୍ଥୀଙ୍କ ଠାରେ କେଉଁ ଗୁଣ ଦେଖାଯାଏ ?

- (A) ବହୁମୁଖୀ ଚିନ୍ତନ
- (B) ମୌଳିକତା
- (C) ସ୍ୱାଧୀନ-ଚିନ୍ତନ
- (D) ଉପରୋକ୍ତ ସମସ୍ତ

29. ପିଆଜେଟ୍ ମତାନୁସାରେ ନିମ୍ନୋକ୍ତ ମଧ୍ୟରୁ କେଉଁ ପର୍ଯ୍ୟାୟଟି ସ୍ଥୂଳ ସଂକାର୍ଯ୍ୟ ପର୍ଯ୍ୟାୟ ଅଟେ ?

- (A) ଶିଶୁବ
- (B) ବାଲ୍ୟାବସ୍ଥା
- (C) ପରବର୍ତ୍ତୀ-ବାଲ୍ୟାବସ୍ଥା
- (D) କୈଶୋରାବସ୍ଥା

30. ଶିକ୍ଷଣ ସାଧାରଣତଃ ଯେ କୌଣସି ଆଚରଣଗତ ପରିବର୍ତ୍ତନକୁ ବୁଝାଏ ଯାହା କେଉଁ ଘଟଣାଯୋଗୁଁ ଘଟିଥାଏ ?

- (A) ପରିପକ୍ୱତା
- (B) ଅନୁଭୂତି
- (C) ବୃଦ୍ଧି
- (D) ବିକାଶ

28. What characteristic is found in creative children ?

- (A) Divergent thinking
- (B) Originality
- (C) Independent thinking
- (D) All of these

29. Which of the following stages is called as 'Concrete Operational Stage' according to Piaget ?

- (A) Infancy
- (B) Childhood
- (C) Late childhood
- (D) Adolescence

30. Learning generally refers to any changes in behaviour that result due to

- (A) Maturation
- (B) Experience
- (C) Growth
- (D) Development

M.I.L. (ODIA)

31. କେଉଁଟି ଶବ୍ଦଟିର ଶୁଦ୍ଧ ରୂପ ?

(A) ନିରୋଦ

(B) ନୀରୋଦ

(C) ନୀରଦ

(D) ନିରଦ

32. 'ଗରାୟାଲୁ' ଶବ୍ଦର ପ୍ରକୃତି ପ୍ରତ୍ୟୟ କ'ଣ ହେବ ?

(A) ଗୁରୁ + ଇୟାନ୍

(B) ଗୁରୁ + ଇୟସ

(C) ଗରି + ଇୟାନ୍

(D) ଗରାୟ + ଆନ

33. 'ପ୍ରତିକୂଳ' ଶବ୍ଦରେ କେଉଁ ଅର୍ଥରେ 'ପ୍ରତି' ଉପସର୍ଗ ବ୍ୟବହୃତ ?

(A) ବିପରୀତ

(B) ସମୀପ

(C) ସାଦୃଶ୍ୟ

(D) ସମାନ

34. 'ଇକ୍ଷତ' - ଏହା କେଉଁ ପଦ ?

(A) କ୍ରିୟା

(B) ଅବ୍ୟୟ

(C) ସର୍ବନାମ

(D) ବିଶେଷଣ

35. 'ଆଶୁ କିଆରିରେ ପଶିବା' ରୁଚିତର ଅର୍ଥ କ'ଣ ?

(A) କୌଣସି କାର୍ଯ୍ୟ ନିର୍ଣ୍ଣୟ କରି ନ ପାରିବା

(B) ଚିକିତ୍ସା ପରୀକ୍ଷା କରିବା

(C) ସଂକଟରେ ପଡ଼ିବା

(D) ନିରର୍ଥକ ପରିଶ୍ରମ କରିବା

36. ମୁଦ୍ରମୂଳ ମାଳା ନୟନେ - ରେଖାଙ୍କିତ ପଦଟି କେଉଁ ପ୍ରକାର ଅବ୍ୟୟ ?

- (A) ବିକଳାର୍ଥକ (B) ବୀପ୍ରାର୍ଥକ
(C) ସାଦୃଶ୍ୟାର୍ଥକ (D) ସମ୍ପର୍କସୂଚକ

37. କେଉଁଟି ପବନ ଶବ୍ଦର ପ୍ରତିଶବ୍ଦ ନୁହେଁ ?

- (A) ପ୍ରଭାତନ (B) ଗନ୍ଧବହୁ
(C) ଅନୀଳ (D) ବାତ

38. 'ବିଷମ' ଶବ୍ଦର ବିପରୀତ ଶବ୍ଦଟି କ'ଣ ?

- (A) ବନ୍ଧୁର (B) ଅସମ
(C) ବିଷମତା (D) ସମ

ଅନୁଛେଦଟି ପାଠ କରି ନିମ୍ନଲିଖିତ ପ୍ରଶ୍ନଗୁଡ଼ିକର (ପ୍ରଶ୍ନ ନଂ. 39 ରୁ 43 ପର୍ଯ୍ୟନ୍ତ) ଉତ୍ତର ଦିଅ :

ଆମେରିକାନମାନଙ୍କୁ ପୃଥିବୀରାଦୀ-ଜଡ଼ବାଦୀ ଆଖ୍ୟାଦେଇ ତାଙ୍କ ଅର୍ଥନୈତିକ ଓ ସାମାଜିକ ବ୍ୟବସ୍ଥାକୁ ହେୟଜ୍ଞାନ କରିବା ବଡ଼ ସହଜ କଥା, କିନ୍ତୁ ଯେଉଁ ଭିତ୍ତି ଉପରେ ଯୁକ୍ତରାଷ୍ଟ୍ରର ଆର୍ଥିକ ସମ୍ପଦ ପ୍ରତିଷ୍ଠିତ ଏବଂ ଯେଉଁ ସବୁ କାରଣରୁ ତାହା ଏପରି ସାଫଲ୍ୟମଣ୍ଡିତ, ସେ କାରଣଗୁଡ଼ିକ ଅନୁଷ୍ଠାନ କରିବା ଦରକାର । ମଣିଷ ରୁଚି ବିନା ବସ୍ତି ପାରିବ ନାହିଁ, କିମ୍ବା ଖାଲି ଭୂମିବା ନିମିତ୍ତ ବସ୍ତି ରହିବା ଜୀବନର ଏକମାତ୍ର ଲକ୍ଷ୍ୟ ନୁହେଁ । ମଣିଷ ସମାଜର ବିକାଶ କ୍ରମରେ ଏପରି ଅବସ୍ଥା ଆସେ, ଯେତେବେଳେ କି ମଣିଷ ମାତ୍ରେ କଳା-ସଂଗୀତ-ସ୍ଥାପତ୍ୟ-ଭାଷ୍ୟ ପ୍ରତି ଆଗ୍ରହୀ ହୋଇ ଉଠନ୍ତି । ଯେଉଁ ଦେଶରେ ଜୀବନଧାରଣୋପଯୋଗୀ ନିତ୍ୟନୈମିତ୍ତିକ ପଦାର୍ଥ ଭରପୁର ହୋଇ ରହିଛି, ସେ ଦେଶ ଓ ସେ ସମାଜରେ ସ୍ୱତଃ ଅନେକ ଲୋକ କଳା-ସଂସ୍କୃତି ଚର୍ଚ୍ଚା ମାଧ୍ୟମରେ ଉନ୍ନତ ଜୀବନୋପଲବ୍ଧି ପ୍ରତି ଆକୃଷ୍ଟ ହୋଇଉଠିବା ସ୍ୱାଭାବିକ କଥା । ବିଂଶ ଶତାବ୍ଦୀରେ ଯୁକ୍ତରାଷ୍ଟ୍ରର ଅବସ୍ଥା ଠିକ୍ ଏଭଳି । ଯୁକ୍ତରାଷ୍ଟ୍ରରେ ଫଳିତ ବିଜ୍ଞାନ ଓ ଟେକନୋଲଜିର

ଯଦୁପୋଯୋଗହେତୁ ଅନୁ ବସ୍ତ୍ର ସମସ୍ୟାର ଅତି ସହଜ ସମାଧାନ ହୋଇଯାଇଛି । ଏ ଦେଶର ସାମାଜିକ ଓ ରାଜନୈତିକ ବ୍ୟବସ୍ଥାର ଲକ୍ଷ୍ୟ ହେଉଛି, ଆର୍ଥିକ ସୁଚ୍ଛଳତାର ଭିତ୍ତି ସୁଦୃଢ଼ କରାଇ ସାରିବାପରେ, ଶିକ୍ଷା, ସଂସ୍କୃତି ଓ ସୁସ୍ଥକଳା ପ୍ରତି ଆଗ୍ରହୀ ସୁନାଗରିକ ସୃଷ୍ଟି କରାଇବାକୁ ହେବ । ସଭ୍ୟତାର ପ୍ରଗତିଲାଗି ଶିକ୍ଷା ଓ ସଂସ୍କୃତିର ବିକାଶ ସର୍ବାଗ୍ରେ ଲୋଡ଼ା । ଯୁକ୍ତରାଷ୍ଟ୍ରର ସାମାଜିକ ଅଭ୍ୟୁଦୟ ଏପରି ଅବସ୍ଥାରେ ପହଞ୍ଚିଲାଣି ଯେ ସେଥିରେ ସଂସ୍କୃତି ପ୍ରସାର ଅଗ୍ରାଧିକାର ଲାଭ କରିଛି ।

39. ଜୀବନର ଏକମାତ୍ର ଲକ୍ଷ୍ୟ କ'ଣ ନୁହେଁ ?

- (A) ଧନୀ ହେବାପାଇଁ ଚେଷ୍ଟା କରିବା (B) ଖାଇବାପାଇଁ ବଞ୍ଚି ରହିବା
(C) ଭୋଗବିଳାସରେ ମାତିବା (D) ଅନୁ ବସ୍ତ୍ର ସମସ୍ୟାକୁ ଦୂର କରିବା

40. କେଉଁ ଭଳି ଦେଶର ଲୋକେ ଉନ୍ନତ ଜୀବନୋପଲବ୍ଧି ପ୍ରତି ସୂଚକ ଆକୃଷ୍ଟ ହୋଇଥାନ୍ତି ?

- (A) ଶିକ୍ଷାକ୍ଷେତ୍ରରେ ଉନ୍ନତି କରିଥିବା ଦେଶ
(B) ସଂସ୍କୃତିର ପ୍ରସାରପାଇଁ ଯତ୍ନଶୀଳ ଦେଶ
(C) ଜୀବନଧାରଣପାଇଁ ଆବଶ୍ୟକ ବସ୍ତୁର ପ୍ରାରୂପ୍ୟଥିବା ଦେଶ
(D) କଳା ପ୍ରତି ଆକର୍ଷଣ ସୃଷ୍ଟି କରୁଥିବା ଦେଶ

41. ଯୁକ୍ତରାଷ୍ଟ୍ରରେ ଅନୁ ବସ୍ତ୍ର ସମସ୍ୟାର ସହଜ ସମାଧାନ କିପରି ହୋଇପାରିଛି ?

- (A) ଫାଳିତ ବିଜ୍ଞାନ ଓ ବୈଷୟିକ କୌଶଳ ଉପଯୋଗ ଦ୍ୱାରା
(B) ଉନ୍ନତ କୃଷି ପ୍ରଣାଳୀ ଦ୍ୱାରା
(C) ଶିଳ୍ପ ପ୍ରସାର ଦ୍ୱାରା
(D) ବାଣିଜ୍ୟିକ କାରବାର ବୃଦ୍ଧି ଦ୍ୱାରା

42. ସଭ୍ୟତାର ପ୍ରଗତି ଲାଗି ସର୍ବପ୍ରଥମେ କାହାର ବିକାଶ ଆବଶ୍ୟକ ?

- (A) ବିଜ୍ଞାନର (B) ଶିଳ୍ପର
(C) ଟେକନୋଲଜିର (D) ଶିକ୍ଷା ଓ ସଂସ୍କୃତିର

(Continued)

43. ପୃଥ୍ବୀର ଅଭ୍ୟୁଦୟ ପାମାଜିକ ବ୍ୟବସ୍ଥାରେ କ'ଣ ଅଗ୍ରାଧିକାର ଲାଭ କରିଛି ?

- (A) ସଂସ୍କୃତି ପ୍ରସାର (B) ଅନୁ ବସ୍ତ୍ରର ବ୍ୟବସ୍ଥା
(C) ଶିଳ୍ପ ପ୍ରସାର (D) ସମାଜ ସଂସ୍କାର

44. କେଉଁଟି ଗୋପୀନାଥ ମହାନ୍ତିଙ୍କ ରଚନା ନୁହେଁ ?

- (A) ଅପହଞ୍ଚ (B) ମାଟିମଟାଳ
(C) ରାହୁର ଛାୟା (D) ଅନ୍ଧ ଦିଗନ୍ତ

45. କେଉଁଟି ଅଭିବ୍ୟକ୍ତିମୂଳକ ପ୍ରଶ୍ନ ?

- (A) 'ପ୍ରତିକ୍ଷେପକ' ଶବ୍ଦକୁ ବାକ୍ୟରେ ବ୍ୟବହାର କର ।
(B) 'ହାତୀ' ଶବ୍ଦର ଦୁଇଟି ପ୍ରତିଶବ୍ଦ ଲେଖ ।
(C) କେଉଁ ଉପାୟରେ ସ୍ବାଧୀନତା ଲାଭ କଲେ ତାହା ଚିରାଞ୍ଚୀବି ହୁଏ ?
(D) କନୟନସିଂହଙ୍କ ଗ୍ରନ୍ଥ ଧ୍ୟାନ କରିବାକୁ କିଏ ନିର୍ଦ୍ଦେଶ ଦେଇଥିଲେ ?

46. କେଉଁଟି ତାତ୍ତ୍ୱିକ ପଠନର ଉଦ୍ଦେଶ୍ୟ ନୁହେଁ ?

- (A) ନୂତନ ଓ କୁଟ୍ତ ଶବ୍ଦ ପରିଚିତି (B) ଭାଷାଗତ କୌଶଳ ହାସଲ
(C) ମନୋରଞ୍ଜନ (D) ବ୍ୟକ୍ତିଗତ ଜ୍ଞାନର ଅଭିବୃଦ୍ଧି

47. କେଉଁ ମୂଲ୍ୟାୟନ ପାଠ୍ୟକ୍ରମ ମଧ୍ୟରେ ସାମିତ ନୁହେଁ ?

- (A) ଗଠନମୂଳକ ମୂଲ୍ୟାୟନ (B) ଉପଲବ୍ଧି-ପରୀକ୍ଷଣ
(C) ପ୍ରକାଶନ ପରୀକ୍ଷଣ (D) ଏକକ ପରୀକ୍ଷଣ

48. ବ୍ୟାକରଣ ଶିକ୍ଷାଦାନପାଇଁ କେଉଁ ପ୍ରଣାଳୀଟି ଅଧିକ ଉପଯୋଗୀ ?

- (A) ଅବରୋହ ପ୍ରଣାଳୀ (B) ଆରୋହ ପ୍ରଣାଳୀ
(C) ପାଠ୍ୟପୁସ୍ତକ ପ୍ରଣାଳୀ (D) ମୁଖ୍ୟ ପ୍ରଣାଳୀ

49. ବିଭିନ୍ନ ବୟସର ଶିକ୍ଷାର୍ଥୀମାନଙ୍କପାଇଁ ମାତୃଭାଷା ଶିକ୍ଷାର ଲକ୍ଷ୍ୟ ଓ ଉଦ୍ଦେଶ୍ୟ ସ୍ଥିର କଲାବେଳେ କାହା ଉପରେ ଗୁରୁତ୍ବ ଦେବାକୁ ପଡ଼ି ନ ଥାଏ ?

- (A) ଗୁଡ଼ି (B) ପସନ୍ଦ
(C) ଅପସନ୍ଦ (D) ଆର୍ଥିକ ସ୍ଥିତି

50. 'ସ୍ୱାର୍ଥ ସାଧନ ପରେ ଆଗ୍ରହ କମିଯିବା' ଅର୍ଥ ପ୍ରକାଶ କରୁଥିବା ଲୋକବାଣୀଟି ବାଛି ।

- (A) ବଳେ ଗଲେ ବାରହାଡ଼ (B) ଅତିଭକ୍ତି ଗୋବର ଲକ୍ଷଣ
(C) ବାହା ସରିଲେ ବେଦୀ ମୁହଁ ଘୋଡ଼ା (D) ପାଗ କାନ୍ଧୁ ବାନ୍ଧୁ କରେଇ ବରଖାଣ୍ଡ

51. କେଉଁ ପଦ୍ଧତିଟି ପଠନଶିକ୍ଷାଦାନପାଇଁ ଉପଯୁକ୍ତ ବିବେଚିତ ହୁଏ ନାହିଁ ?

- (A) ବର୍ଣ୍ଣାନୁକ୍ରମିକ ପଦ୍ଧତି (B) ଶବ୍ଦକ୍ରମିକ ପଦ୍ଧତି
(C) ବାକ୍ୟପଠନ ପ୍ରଣାଳୀ (D) ଗାଳ୍ପପଠନ ପ୍ରଣାଳୀ

52. କେଉଁଟି ଜବିତା ଶିକ୍ଷାଦାନର ଉଦ୍ଦେଶ୍ୟ ନୁହେଁ ?

- (A) ସୌନ୍ଦର୍ଯ୍ୟବୋଧର ବିକାଶ (B) ଯୁକ୍ତିଶକ୍ତିର ଅଭିବୃଦ୍ଧି
(C) ଆନନ୍ଦପ୍ରାପ୍ତି (D) କଳ୍ପନାଶକ୍ତିର ବିକାଶ

53. କେଉଁ ଉପାୟଟି ବର୍ଣ୍ଣାଶୁଦ୍ଧି ନିରାକରଣପାଇଁ ଉପଯୋଗୀ ନୁହେଁ ?

- (A) ସରଳ ରଚନା ଲିଖନ (B) ଦୃଷ୍ଟ ଲିଖନ
(C) ବନାନ ଖେଳ (D) ଅଭିଧାନର ବ୍ୟବହାର

54. ଲିଖିତ ମୂଲ୍ୟାୟନ ଧାରା ଛାତ୍ରଛାତ୍ରୀଙ୍କର କେଉଁ ଦକ୍ଷତାର ପରିମାପକ ନୁହେଁ ?

- (A) ବୋଧଶକ୍ତି (B) ଚିନ୍ତାଶକ୍ତି
(C) ଯୁକ୍ତିଶକ୍ତି (D) ଭାବ ବିନିମୟ ଦକ୍ଷତା

55. ବହୁଭାଷୀ ସମସ୍ୟା ଦୂରକରିବାପାଇଁ କେଉଁଟି ଉପଯୋଗୀ ନୁହେଁ ?

- (A) ଶିକ୍ଷାର୍ଥୀଙ୍କ ସରଳ ଭାଷା ଉପରେ ଗୁରୁତ୍ୱ
(B) ଆଞ୍ଚଳିକତା ଉପରେ ଗୁରୁତ୍ୱ
(C) ଓଡ଼ିଆ ଲିପିରେ ଶିକ୍ଷାର୍ଥୀଙ୍କ ସରଳ ଭାଷାର ଲିଖନ ଶିକ୍ଷା
(D) ଓଡ଼ିଆ ଭାଷାରେ ଶିକ୍ଷାଦାନ

ନିମ୍ନ ପ୍ରଦତ୍ତ କବିତାଟି ପାଠକରି ତଳେ ଦିଆଯାଇଥିବା ପ୍ରଶ୍ନ (ନଂ 56 ରୁ ନଂ 60) ଗୁଡ଼ିକର ଉତ୍ତର ଦିଅ :

ବିରହୀ ଯକ୍ଷର ବାଣୀ

ବକ୍ଷପରେ ଆଜି ରଖୁ ସନ

ଆସିଛୁ କି ପକ୍ଷେ ତବ

ସାଉଁଲାଇ ଭୂଧର ଗଗନ ।

ଯିବସେ ଅଳଙ୍କାପୁରେ,

କାନ୍ଦେ ଯହିଁ ଯକ୍ଷ ବିରହିଣୀ

ଗାଲେ ହାତ, ଭାଲେ ସ୍ୱେଦ,

ବୁଲେ ଚିକ୍ତ ବିଳାପ ଗାରିଣୀ ?

କର୍ପୁର ଚନ୍ଦନ ବୋଲେ,

ଯାଉନି ତା ବେଦନା ଅମାପ,

ତୁମର ଶୀକର ଘନ,

ମୁଞ୍ଚିକି ହେ ପାରିବ ସେ ତାପ ?

ଏତେ ଦିନ ଥିଲ କାହିଁ ?

ସିନ୍ଧୁ ପାରେ କେଉଁ ସାଗରିକା

ମେଲିଲା କି ବେଳା ତଟ--

ଶୈଳେ ବନେ ପ୍ରୀତି-ମରାଚିକା ?

ସେ ଦୂର ବେଳାରେ ଘନ,

ତାହା ସଙ୍ଗେ ଖେଳି ଲୁହୁକାଳି

କଟାଇଲ ପଞ୍ଚ ରତ୍ନ

ସିନ୍ଧୁ କରି ସ୍ବର୍ଣ୍ଣ-ସିନ୍ଧୁ ବାଲି ?

ଦେଲାଣି କି ପ୍ରତିଦାନ

ଘନ ତବ ମଧୁ ସୋହାଗର,

ମେଲାଣିକି ନେଇ କେଶୁ

ଫେରିଅଛ କୋପ ଜରଜର ?

56. ଘନର ପକ୍ଷ ପର୍ବତ ଓ ଆକାଶକୁ କ'ଣ କରନ୍ତି ?

(A) ଆଘାତ କରନ୍ତି

(B) ଜଳଦାନ କରନ୍ତି

(C) ପକ୍ଷର ବାର୍ତ୍ତା ପ୍ରଦାନ କରନ୍ତି

(D) କୋମଳ ସ୍ବର୍ଣ୍ଣ ଦେଇଛି

57. 'ମୁଞ୍ଚି ହେ ପାରିବ ସେ ତାପ ?' - ଏଠାରେ କେଉଁ ତାପ କଥା କୁହାଯାଇଛି ?

(A) ବିରହ

(B) ଗ୍ରୀଷ୍ମ

(C) ସୂର୍ଯ୍ୟ

(D) ଅଗ୍ନି

58. ବିରହିଣୀ ବେଦନା ଦୂରକରିବାପାଇଁ କି ଉପଗୁର କରେ ?

(A) ଔଷଧ ସେବନ କରେ

(B) କର୍ପୁର ଚନ୍ଦନର ବୋଲ ଲଗାଏ

(C) ଗାଲରେ ହାତ ଦେଇ ବସେ

(D) ବିଳାପ କରେ

59. କାହା ପ୍ରୀତିରେ ଘନ ପଞ୍ଚରତ୍ନ ଅଟକି ରହିଥିଲା ?

(A) ସାଗରର

(B) ବେଳାଭୂମିର

(C) ସାଗର କନ୍ୟାର

(D) ଶୈଳ ଓ ବନର

60. କେଉଁ କାରଣରୁ ଘନ କ୍ରୋଧ ଜର୍ଜରିତ ହୋଇ ଫେରି ଆସିଛି ?

(A) ପ୍ରେମର ପ୍ରତିଦାନ ନ ପାଇବାରୁ

(B) ଧରଣୀର ଦୁଃଖ ଦେଖି

(C) ଶ୍ରୀକ୍ଷୁର ତାପନାଶପାଇଁ

(D) ପୃଥିବୀକୁ ଶଯ୍ୟ ଶ୍ୟାମଳା କରିବାପାଇଁ

ENGLISH

Read the passage given below and answer the questions (61 to 65) that follow choosing the correct alternatives given :

Science is a systematic study of the materials and the phenomena of the natural world. There are several branches of science. The science of chemistry deals with the compositions of materials and the changes that can take place in them. Chemistry had its beginnings in very olden times. In studying the great river valley civilizations, scholars have found evidence to show that the processes of chemistry were known to the people in olden times. The ancient Egyptians, Hindus and Chinese were interested in the preparation of medicines and perfumes and in metal work and pottery. These activities required the application of their knowledge of chemistry.

Chemistry during the Middle Ages was not a pursuit of knowledge for its own sake. Its aims were more practical. There was a belief among the people that 'base metals' like lead and copper could be converted into the noble metal, gold. The 'philosopher's stone' was supposed to have the power to bring about this change.

61. Chemistry deals with the
- (A) use of materials
 - (B) changes of materials
 - (C) constituents of materials and the changes that occur in them
 - (D) use of materials and their working process
62. the river valley civilization, provided the scholars with the evidence that the process of chemistry was known to the people in olden times.
- (A) Interest in
 - (B) The study of
 - (C) An estimate of
 - (D) Much thinking about
63. The philosopher's stone was meant for
- (A) examining base metals
 - (B) detecting noble metals
 - (C) changing base metals into gold
 - (D) pursuit of knowledge

64. Science is study of materials and phenomena of the natural world.
- (A) a systematic (B) an extensive
(C) an interesting (D) an attractive
65. In the expression 'phenomena of the natural world', the word 'phenomena' means
- (A) experience (B) knowledge
(C) an observed event (D) real objects and happenings
66. Dictation tests the skill of
- (A) listening (B) listening and speaking
(C) listening and writing (D) reading
67. Using the target language without the help of mother tongue is
- (A) Direct method of teaching
(B) Translation method
(C) Structural method of teaching
(D) Bilingual method
68. Students explore meaning and information
- (A) after silent reading (B) during silent reading
(C) before silent reading (D) during extensive reading
69. Silent reading is a
- (A) Pre-reading activity (B) While-reading activity
(C) Post-reading activity (D) Lesson-planning activity
70. In order to write more creatively one should
- (A) listen to people (B) read good books
(C) keep on writing (D) speak to many people
71. Reading is a process of information transfer from
- (A) text to the reader (B) text to text
(C) the reader to reader (D) the reader to listener

2. When young learners are taught to improve their spelling and pronunciation, they will
- (A) improve their accuracy (B) enhance their fluency
(C) nurture their creativity (D) sharpen their listening skill
73. Aesthetic sense is developed through
- (A) prose (B) composition
(C) grammar (D) poetry
74. Non-detailed prose develops reading.
- (A) extensive (B) intensive
(C) critical (D) appreciative
75. The natural order of language skill is
- (A) listening, reading, speaking, writing
(B) listening, speaking, reading, writing
(C) speaking, listening, reading, writing
(D) listening, speaking, writing, reading
76. The student is ignorant the first rules of grammar.
- (A) of (B) in
(C) at (D) with
77. We made him here.
- (A) to come (B) to coming
(C) coming (D) come
78. State which of the following is grammatically acceptable.
- (A) I said goodbye to them regretfully at the station yesterday
(B) I said goodbye to them at the station regretfully yesterday
(C) I said goodbye to them regretfully yesterday at the station
(D) I said goodbye to them yesterday regretfully at the station

Which of the following sentences is correctly punctuated ?

- (A) The speaker said, please, lend me your ears.
- (B) The speaker said please, lend me your ears.
- (C) The speaker said, "Please ! lend me your ears."
- (D) The speaker said, "Please lend me your ears."

7. He told me that he the work.

- (A) will finish
- (B) had finished
- (C) has finished
- (D) has been finishing

My father taught me grammar.

Its passive voice is

- (A) I had been taught grammar by my father
- (B) I was taught grammar by my father
- (C) Grammar is taught me by my father
- (D) Grammar had been taught to me by my father

Ram said to Gopal, "I visited that place three months ago".

The above sentence can be reported as

- (A) Ram told Gopal that he visited that place two months before
- (B) Ram told Gopal that he visited that place two months ago
- (C) Ram told to Gopal that he had visited that place two months before
- (D) Ram told Gopal that he had visited that place two months before

State which of the following is grammatically acceptable.

- (A) It is time the train left
- (B) It is time the train should leave
- (C) It is time the train will leave
- (D) It is time the train leaves

84. State which of the following is grammatically acceptable.

- (A) The cloth is sold by a metre
- (B) The cloth is sold by the metre
- (C) The cloth is sold by metre
- (D) The cloth is sold by an metre

85. A person who tells the future by the stars is called an

- (A) astronaut
- (B) astronomer
- (C) astrologer
- (D) ascetic

Read the poem given below carefully and answer the questions (86 to 90) that follow choosing the correct alternatives given :

Happy the man, whose wish and care
 A few paternal acres bound,
 Content to breathe his native air
 In his own ground.
 Whose herds with milk, whose fields with bread,
 Whose flocks supply him with attire,
 Whose trees in summer yield him shade,
 In winter fire.
 Blest, who can unconcern'dly find
 Hours, days, and years slide soft away,
 In health of body, peace of mind,
 Quiet by day,
 Sound sleep by night; study and ease,
 Together mixt; sweet recreation ;
 And innocence, which most does please
 With meditation.
 Thus let me live, unseen, unknown,
 Thus unlamented let me die,
 Steal from the world, and not a stone
 Tell where I lie.

86. The poet is here speaking about the happy life of
- (A) mankind in general (B) the modern man in particular
- (C) himself (D) a peasant
87. A man, according to the poet, should live to be happy.
- (A) in his native place (B) in a city
- (C) in a quiet place (D) on a foreign farm
88. The happy man has by night.
- (A) disturbed sleep (B) anxious moments
- (C) sound sleep (D) sweet dreams
89. The poet wishes to die
- (A) unseen (B) unknown
- (C) unlamented (D) unheard
90. The expression 'steal from the world' means
- (A) passing away secretly and quietly
- (B) dying with a lot of mourning
- (C) passing time very quietly
- (D) living with peace of mind

ଗଣିତ ଓ ବିଜ୍ଞାନ

MATHEMATICS & SCIENCE

91. ଶ୍ରେଣୀଗୁଡ଼ିରେ ଶିକ୍ଷକ ଚିତ୍ର ଅଙ୍କନ କରି ସବୁଜ ପତ୍ରର କାର୍ଯ୍ୟ ବର୍ଣ୍ଣନା କଲେ । ହରିତଲବକ, ଆଲୋକପ୍ରକ୍ରିୟା ଓ ଅନ୍ଧକାର ପ୍ରକ୍ରିୟାର ଗୁରୁ ଦେଖାଇ ଆଲୋକଶ୍ଳେଷଣ କିପରି ହୁଏ ବୁଝାଇଲେ । ତା ପରେ ଏ ସମ୍ପର୍କିତ ପି.ଡି. ଦେଖାଇଲେ । ଏ ସବୁ କେଉଁ ଶିକ୍ଷଣ ପଦ୍ଧତି ଅନ୍ତର୍ଭୁକ୍ତ ?

- (A) ପର୍ଯ୍ୟବେକ୍ଷଣ
- (B) ପ୍ରଦର୍ଶନମୂଳକ
- (C) ପ୍ରକଳ୍ପ
- (D) ସମସ୍ୟା ସମାଧାନ

92. ଭୂତାଣୁମାନେ କ'ଣ ?

- (A) ଅବିକଳ୍ପୀ ପରଜୀବୀ
- (B) ଅବିକଳ୍ପୀ ମୃତଜୀବୀ
- (C) ଆଂଶିକ ପରଜୀବୀ
- (D) ବିକଳ୍ପୀ ପରଜୀବୀ

93. ଉତ୍ସେଦନ ପ୍ରଣାଳୀରେ କେଉଁ ପ୍ରକ୍ରିୟା ମୁଖ୍ୟତଃ ସମ୍ପୃକ୍ତ ?

- (A) ନିରୋଧ
- (B) ଶ୍ୱସନ
- (C) ପାରସ୍ପତି ଗୁପ୍ତ
- (D) ବିସରଣ

91. Teacher explained the functions of green leaf in the class by drawing diagrams. He explained how photosynthesis takes place by showing the chart of chlorophyll, light reaction and dark reaction. Then, he showed CD relating to it. What type of teaching method is it ?

- (A) Observation
- (B) Demonstration
- (C) Project
- (D) Problem solving

92. What are viruses ?

- (A) Obligate parasites
- (B) Obligate saprophytes
- (C) Partial parasites
- (D) Facultative parasites

93. Which is the process mainly involved in transpiration ?

- (A) Inhibition
- (B) Respiration
- (C) Osmotic pressure
- (D) Diffusion

94. କେଉଁ ପ୍ରଣାଳୀରେ ମୃତ୍ତିକାକ୍ଷୟ ରୋକାଯାଇ ପାରିବ ?

- (A) ଜଙ୍ଗଲ କ୍ଷୟ
- (B) ବନୀକରଣ
- (C) ଅତ୍ୟଧିକ ଗୋଟାରଣ
- (D) ଉଦ୍ଭିଦଜଗତର ଅପସାରଣ

95. କେଉଁ ପ୍ରକାର ମାଟି କପା ଚାଷ ପାଇଁ ଅଧିକ ଉପଯୋଗୀ ?

- (A) ପତ୍ତ
- (B) କଳା
- (C) ଲାଲ୍
- (D) ମାଙ୍କଡ଼ା

96. କେଉଁ ଅମ୍ଳଯୋଗୁଁ ବାକୁଲା ମାରିଥାଏ ?

- (A) ସାଇଟ୍ରିକ୍
- (B) ଲାକ୍ଟିକ୍
- (C) ପାଇରୁଭିକ୍
- (D) ଅକ୍ସାଲିକ୍

97. କେଉଁ ଅଞ୍ଚଳରେ ନଡ଼ିଆ ଓ ଝାଉଁରଛ ବହୁଳଭାବେ ଦେଖାଯାଏ ?

- (A) ସମୁଦ୍ର ଉପକୂଳ
- (B) ହିମାଳୟ ଅଞ୍ଚଳ
- (C) ମେରୁ ଅଞ୍ଚଳ
- (D) ମରୁଭୂମି

94. By which process, soil erosion can be prevented ?

- (A) Deforestation
- (B) Afforestation
- (C) Overgrazing
- (D) Removal of vegetation

95. Which type of soil is more useful for cultivation of cotton ?

- (A) Alluvial
- (B) Black
- (C) Red
- (D) Laterite

96. Which acid does cause cramping ?

- (A) Citric
- (B) Lactic
- (C) Pyruvic
- (D) Oxalic

97. In which areas, coconut and casuarina trees are seen in plenty ?

- (A) Seashore
- (B) Himalayan region
- (C) Polar region
- (D) Desert

98. ଏକ ଶ୍ରେଣୀକକ୍ଷରେ ଶିକ୍ଷକଙ୍କର ପ୍ରଶ୍ନ ଏବଂ
ଛାତ୍ରଛାତ୍ରୀଙ୍କ ଉତ୍ତର ତଳେ ଦିଆଯାଇଛି :

- (i) ପ୍ରଶ୍ନ : କପଡ଼ା ଦୋକାନ ଗୁଡ଼ିକରେ
କପଡ଼ାର ଦୈର୍ଘ୍ୟ ଓ ପ୍ରସ୍ଥ ମାପିବାପାଇଁ
କେଉଁ କେଉଁ ଏକକ ବ୍ୟବହାର
କରାଯାଉଛି ?

ଉତ୍ତର : ମିଟର ଓ ସେଣ୍ଟିମିଟର ।

- (ii) ପ୍ରଶ୍ନ : ଚାଉଳ, ଡାଲି, ଚିନି ଆଦି
ବିକ୍ରିହେଉଥିବା ପାଇକାରି ଦୋକାନ
ଗୁଡ଼ିକରେ ଓଜନର କେଉଁ କେଉଁ ଏକକ
ବ୍ୟବହାର କରାଯାଉଛି ?

ଉତ୍ତର : କିଣ୍ଟାଲ୍ ଓ କିଲୋଗ୍ରାମ୍ ।

- (iii) ପ୍ରଶ୍ନ : ସୁନା ଅଳଙ୍କାର ଦୋକାନଗୁଡ଼ିକରେ
ଓଜନର କେଉଁ କେଉଁ ଏକକ ବ୍ୟବହାର
କରାଯାଉଛି ?

ଉତ୍ତର : ଗ୍ରାମ୍ ଓ ମିଲିଗ୍ରାମ୍ ।

ଉପରୋକ୍ତ ପ୍ରଶ୍ନ ଏବଂ ଉତ୍ତର ଗୁଡ଼ିକ ଶିକ୍ଷାଦାନର
ଲକ୍ଷ୍ୟ ଦୃଷ୍ଟିକୋଣରୁ କେଉଁ କେଉଁ ଶ୍ରେଣୀଭୁକ୍ତ ?

- (A) କେବଳ ଜ୍ଞାନଭିତ୍ତିକ
(B) ଉଭୟ ଜ୍ଞାନ ଓ ବୋଧଭିତ୍ତିକ
(C) କେବଳ ପ୍ରୟୋଗଭିତ୍ତିକ
(D) ଉଭୟ ପ୍ରୟୋଗ ଓ କୌଶଳ ଭିତ୍ତିକ

98. Teacher's question and
student's answers in a
classroom are given below

- (i) Question : What units of
measurement are being
used in a cloth shop to
measure the length and
breadth of cloth ?

Answer : Metre and
centimetre.

- (ii) Question : What units of
weight are being used in
the wholesale shops selling
rice, dal, sugar etc.

Answer : Quintal and
kilogram.

- (iii) Question : What units of
weight are being used in
gold ornament shops ?

Answer : Gram and
milligram.

From instructional objective
point of view the above-
mentioned questions and
answers belong to which
categories ?

- (A) Only knowledge based
(B) Both knowledge and
understanding based
(C) Only application based
(D) Both application and skill
based

99. (a) ଗଠନକ୍ଷମ ମୂଲ୍ୟାୟନ ଶିକ୍ଷକର ଦୁର୍ବଳ ବିନ୍ଦୁଗୁଡ଼ିକୁ ଚିହ୍ନଟ କରିଥାଏ
- (b) ଗଠନକ୍ଷମ ମୂଲ୍ୟାୟନ ଶିକ୍ଷାଦାନର ଦୁର୍ବଳ ବିନ୍ଦୁଗୁଡ଼ିକୁ ଚିହ୍ନଟ କରିଥାଏ
- (c) ଯଦି ଗଠନକ୍ଷମ ମୂଲ୍ୟାୟନ ନିୟମିତ ଭାବେ କରାଯାଏ ତେବେ ସାମଗ୍ରିକ ମୂଲ୍ୟାୟନର କୌଣସି ଆବଶ୍ୟକତା ନାହିଁ
- (d) ଯଦି ସାମଗ୍ରିକ ମୂଲ୍ୟାୟନ ନିୟମିତ ଭାବେ କରାଯାଏ ତେବେ ଗଠନକ୍ଷମ ମୂଲ୍ୟାୟନର କୌଣସି ଆବଶ୍ୟକତା ନାହିଁ ।

ଉପରୋକ୍ତ ମଧ୍ୟରୁ

- (A) (a), (b) ଓ (c) ଠିକ୍ ଏବଂ (d) ଭୁଲ୍
- (B) (a), (b) ଓ (d) ଠିକ୍ ଏବଂ (c) ଭୁଲ୍
- (C) (a) ଓ (b) ଠିକ୍ ଏବଂ (c) ଓ (d) ଭୁଲ୍
- (D) (a), (b), (c) ଓ (d) ଠିକ୍

99. (a) Formative evaluation diagnoses the weak spots of learning
- (b) Formative evaluation diagnoses the weak spots of teaching
- (c) If formative evaluation is done regularly, there is no need of summative evaluation
- (d) If summative evaluation is done regularly, then there is no need of formative evaluation.

Out of the above

- (A) (a), (b) and (c) are correct and (d) is wrong
- (B) (a), (b) and (d) are correct and (c) is wrong
- (C) (a) and (b) are correct and (c) and (d) are wrong
- (D) (a), (b), (c) and (d) are correct

100. (a) ବିଜ୍ଞାନ ମାନବ ଜାତିର ମଙ୍ଗଳକାରୀ
ଅଟେ
- (b) ବିଜ୍ଞାନ ମଧ୍ୟ ମାନବଜାତିର ଧ୍ବଂସକାରୀ
ହୋଇପାରେ
- (c) ଧ୍ବଂସକାରୀ ହେଲେମଧ୍ୟ ବିଜ୍ଞାନର
ଅଗ୍ରଗତି ଆବଶ୍ୟକ

ଉପରୋକ୍ତ ମଧ୍ୟରୁ

- (A) (a) ଠିକ୍ ଓ (b) ଟ୍ରାଫିକ୍ (c) ଭୁଲ୍
- (B) (a) ଟ୍ରାଫିକ୍ (b) ଠିକ୍ ଓ (c) ଭୁଲ୍
- (C) (c) ଟ୍ରାଫିକ୍ (a) ଠିକ୍ ଓ (b) ଭୁଲ୍
- (D) (a), (b) ଓ (c) ଠିକ୍

101. କେଉଁ ଗ୍ରହ ଶୁକ୍ର ଭଳି ପୂର୍ବରୁ ପଶ୍ଚିମକୁ ଘୂର୍ଣ୍ଣନ
କରେ ?

- (A) ବୃହସ୍ପତି
- (B) ଶନି
- (C) ଇଉରାନସ୍
- (D) ବୁଧ

100. (a) Science is for the welfare
of mankind
- (b) Science may also be for
the destruction of the
mankind
- (c) Despite its destructive
nature the progress of
science is essential

Out of the above

- (A) (a) is correct and (b) and
(c) are wrong
- (B) (a) and (b) are correct and
(c) is wrong
- (C) (c) and (a) are correct and
(b) is wrong
- (D) (a), (b) and (c) are correct

101. Which planet rotates from east
to west like Venus ?

- (A) Jupiter
- (B) Saturn
- (C) Uranus
- (D) Mercury

102. ଏକ 50 କେଜି ବିଶିଷ୍ଟ ପଥର ଖଣ୍ଡ 2.0 ମିଟର ଲମ୍ବ ଏବଂ 0.5 ମିଟର ଉଚ୍ଚତାବିଶିଷ୍ଟ ଏକ ଆନତ ଚିକ୍ଷା ସମତଳର ଉଚ୍ଚତମ ଭାଗରେ ଥିବା ରଖାଯାଇଛି । ଯଦି ଏହାକୁ ମୁକ୍ତକରି ଦିଆଯାଏ ଏହା ସମତଳର ନିମ୍ନଭାଗକୁ ଖସିଯିବାପାଇଁ ପ୍ରାୟ କେତେ ସମୟ ନେବ ?

- (A) 1.3 s
- (B) 2.3 s
- (C) 3.3 s
- (D) 4.3 s

103. କେଉଁ ମୌଳିକର ଏଲୋଟ୍ରୋପିକ୍ ମଧ୍ୟରୁ ଗୋଟିଏ ବିଦ୍ୟୁତର କୁପରିବାହୀ, ଦ୍ୱିତୀୟଟି ଦୁର୍ବଳ ପରିବାହୀ ଏବଂ ତୃତୀୟଟି ଅତି ଉତ୍କୃଷ୍ଟ ପରିବାହୀ ଅଟେ ?

- (A) C
- (B) P
- (C) As
- (D) Sb

104. ନିମ୍ନୋକ୍ତ ମଧ୍ୟରୁ କେଉଁଠିରେ ଇଲେକ୍ଟ୍ରନ୍, ପ୍ରୋଟନ୍ ଏବଂ ନିଉଟ୍ରନ୍ ସଂଖ୍ୟା ଭିନ୍ନ ଅଟେ ?

- (A) ଆଇସୋଟୋପ୍ସ
- (B) ଆଇସୋବାର୍ସ
- (C) ଆଇସୋଟୋନ୍ସ
- (D) ଏଲୋଟ୍ରୋପ୍ସ

102. A 50 kg block of stone rests at the uppermost part of a smooth inclined plane whose length is 2.0 m and height is 0.5 m. Approximately how long will it take for the block to slide to the bottom of the plane when released ?

- (A) 1.3 s
- (B) 2.3 s
- (C) 3.3 s
- (D) 4.3 s

103. Out of the allotropes of which element one is an insulator, second one is a poor conductor and third one is a super conductor of electricity ?

- (A) C
- (B) P
- (C) As
- (D) Sb

104. In which one of the following the number of electron, proton and neutron are different ?

- (A) Isotopes
- (B) Isobars
- (C) Isotones
- (D) Allotropes

105. ନିମ୍ନରେ ପ୍ରଦତ୍ତ ଏଲୟମାନଙ୍କ ମଧ୍ୟରୁ

କେଉଁଥିରେ ଏକ ଅଧାତୁ ରହିଛି ?

- (A) ପିତ୍ତଳ
- (B) ବ୍ରୋଞ୍ଜ
- (C) କଳଙ୍କହୀନ ଇସ୍ପାତ
- (D) ସୋଲ୍ଡର

106. ଗାଣିତିକ ସ୍ଥୂତ ପ୍ରତିପାଦନ ଓ ଏହାର

ପ୍ରୟୋଗପାଇଁ କେଉଁ ପଦ୍ଧତି ଅତ୍ୟନ୍ତ ଉପଯୋଗୀ ଅଟେ ?

- (A) ବିଶ୍ଳେଷଣ ଓ ସଂଶ୍ଳେଷଣ ପଦ୍ଧତି
- (B) ଆରୋହୀ ଓ ଅବରୋହୀ ପଦ୍ଧତି
- (C) ପ୍ରକଳ୍ପ ପଦ୍ଧତି
- (D) ବକୃତା ପଦ୍ଧତି

107. ନିମ୍ନ ପ୍ରଦତ୍ତ ତ୍ରୁଟିମାନଙ୍କ ମଧ୍ୟରୁ କେଉଁଟି

ପରୀକ୍ଷାର ବିଶ୍ୱସନୀୟତା ଗୁଣ ହାରାହାରି ଦୂରୀକରଣ ହୋଇପାରିବ ?

- (A) ସ୍ଥିର ତ୍ରୁଟି
- (B) ପରିବର୍ତ୍ତନଶୀଳ ତ୍ରୁଟି
- (C) ବ୍ୟକ୍ତିଗତ ତ୍ରୁଟି

105. Out of the alloys given below which one contains a non-metal ?

- (A) Brass
- (B) Bronze
- (C) Stainless steel
- (D) Solder

106. Which method is most suitable to establish mathematical formula and its application ?

- (A) Analytic and synthetic method
- (B) Inductive and deductive method
- (C) Project method
- (D) Lecture method

107. Which one among the following errors of mathematical testing, can be removed by reliability of the test ?

- (A) Constant error
- (B) Variable error
- (C) Personal error
- (D) Technical error

108. କେଉଁଟି ମେଧାବୀ ଶିକ୍ଷାର୍ଥୀମାନଙ୍କ ପାଇଁ ଗଣିତରେ ସମୃଦ୍ଧ କାର୍ଯ୍ୟକ୍ରମ ନୁହେଁ ?

- (A) ଉତ୍ତମ, ଦକ୍ଷ ଓ ତୁରନ୍ତ ପାଠାଗାର ସେବାର ବ୍ୟବସ୍ଥା ଯୋଗାଇ ଦେବା
- (B) ଧୀସମ୍ବଳ ଦତ୍ତକାର୍ଯ୍ୟର ପ୍ରସ୍ତାବ ଆଗତ ମାଧ୍ୟମରେ ସ୍ୱ-ଅଧ୍ୟୟନ ଅଭ୍ୟାସର ବିକାଶ ସାଧନ
- (C) ଶ୍ରେଣୀ ଉତ୍ତୀର୍ଣ୍ଣର ବେଗ ବୃଦ୍ଧିପାଇଁ ସ୍ୱତନ୍ତ୍ର ବ୍ୟବସ୍ଥା ଗ୍ରହଣ
- (D) ପରିପୁରକ ପଠନ ସାମଗ୍ରୀ, ସହାୟକ ପୁସ୍ତକ ଓ ସାଧାରଣ ସାହିତ୍ୟ ଯୋଗାଇଦେବା

109. ତୁମଙ୍କ ଶ୍ରେଣୀ ବର୍ଗୀକରଣ ଅନୁଯାୟୀ କିମ୍ବା ପ୍ରଦତ୍ତ କେଉଁଟି ଗଣିତ ଶିକ୍ଷାଦାନର ଜ୍ଞାନାତ୍ମକ ଉଦ୍ଦେଶ୍ୟର ଅଧିକ୍ରମ ଅଟେ ?

- (A) ଜ୍ଞାନ, ବୋଧ, ପ୍ରୟୋଗ, ବିଶ୍ଳେଷଣ, ସଂଶ୍ଳେଷଣ ଓ ମୂଲ୍ୟାୟନ
- (B) ପ୍ରୟୋଗ, ବୋଧ, ଜ୍ଞାନ, ବିଶ୍ଳେଷଣ, ସଂଶ୍ଳେଷଣ ଓ ମୂଲ୍ୟାୟନ
- (C) ବିଶ୍ଳେଷଣ, ସଂଶ୍ଳେଷଣ, ମୂଲ୍ୟାୟନ, ଜ୍ଞାନ, ବୋଧ ଓ ପ୍ରୟୋଗ
- (D) ମୂଲ୍ୟାୟନ, ପ୍ରୟୋଗ, ବିଶ୍ଳେଷଣ, ସଂଶ୍ଳେଷଣ, ଜ୍ଞାନ ଓ ବୋଧ

108. Which is not an enrichment programme for gifted students in Mathematics ?

- (A) Provision of rich, efficient and prompt library service.
- (B) Development of self study habits by proposing intelligent assignment.
- (C) Special provision for acceleration of class promotion.
- (D) Provision of supplementary reading materials, reference books and general literature.

109. Which one of the following is the hierarchical order of cognitive objectives in teaching mathematics according to Bloom's Taxonomy ?

- (A) Knowledge, Understanding, Application, Analysis, Synthesis and Evaluation
- (B) Application, Understanding, Knowledge, Analysis, Synthesis and Evaluation
- (C) Analysis, Synthesis, Evaluation, Knowledge, Understanding and Application
- (D) Evaluation, Application, Analysis, Synthesis, Knowledge and Understanding.

110. କେଉଁଟି ଗାଣିତିକ ଯୁକ୍ତିଯୁକ୍ତତାର ଲକ୍ଷଣ ନୁହେଁ ?

- (A) ମୌଳିକତା
- (B) ସଠିକତା
- (C) ସରଳତା
- (D) ବ୍ୟକ୍ତିନିଷ୍ଠତା

111. ଗୋଟିଏ ଆୟତକ୍ଷେତ୍ରର କ୍ଷେତ୍ରଫଳ

221 ବର୍ଗମିଟର ଏବଂ ଏହାର ପରିସୀମା

60 ମିଟର, ତେବେ ନିମ୍ନସ୍ଥ ମଧ୍ୟରୁ ଏହାର

ଦୈର୍ଘ୍ୟ କେତେ ମିଟର ?

- (A) 17
- (B) 13
- (C) 26
- (D) 34

112. ଗୋଟିଏ କାର୍ଯ୍ୟକୁ 25 ଜଣ ଲୋକ ଦୈନିକ

6 ଘଣ୍ଟା ପରିଶ୍ରମ କରି 18 ଦିନରେ ଶେଷ

କରନ୍ତି । ସେହି କାର୍ଯ୍ୟକୁ 20 ଜଣ ଲୋକ ଦୈନିକ

5 ଘଣ୍ଟା ପରିଶ୍ରମ କରି କେତେ ଦିନରେ ଶେଷ

କରିବେ ?

- (A) 20
- (B) 22
- (C) 24
- (D) 27

110. Which one is not a characteristic of mathematical reasoning ?

- (A) Originality
- (B) Accuracy
- (C) Simplicity
- (D) Subjectivity

111. Area of a rectangle is 221 sq. metres and its perimeter is 60 metres. Then which of the following one is its length in metre ?

- (A) 17
- (B) 13
- (C) 26
- (D) 34

112. 25 persons can finish a work working 6 hours a day in 18 days. In how many days working 5 hours a day, 20 persons can finish the same work ?

- (A) 20
- (B) 22
- (C) 24
- (D) 27

113. ଏକ ସୁଷମ ବହୁଭୁଜର ଗୋଟିଏ ବହିଃସ୍ଥ କୋଣର ପରିମାଣ 72° ହେଲେ, ବହୁଭୁଜର ଅନ୍ତଃସ୍ଥ କୋଣମାନଙ୍କର ସମଷ୍ଟି କେତେ ?

- (A) 360°
- (B) 480°
- (C) 352°
- (D) 540°

114. 1000 ଟଙ୍କାର 10% ହାରରେ 3 ବର୍ଷର ଚକ୍ରବୃତ୍ତି ସୁଧ କେତେ ଟଙ୍କା ହେବ ?

- (A) 331 ଟଙ୍କା
- (B) 1331 ଟଙ୍କା
- (C) 133 ଟଙ୍କା
- (D) 313 ଟଙ୍କା

115. ΔPQR ରେ $\angle QPR$ ସମକୋଣ, $\overline{PS} \perp \overline{QR}$ । $RS = 6$ ସେ.ମି. ଓ $QS = 18$ ସେ.ମି. ହେଲେ, \overline{PR} ର ଦୈର୍ଘ୍ୟ କେତେ ?

- (A) 8 ସେ.ମି.
- (B) 9 ସେ.ମି.
- (C) 12 ସେ.ମି.
- (D) 14 ସେ.ମି.

113. Measure of an exterior angle of a regular polygon is 72° . What is the sum of measures of all the interior angles of it ?

- (A) 360°
- (B) 480°
- (C) 352°
- (D) 540°

114. How much is the compound interest on Rs. 1000 at 10% interest in 3 years ?

- (A) Rs. 331
- (B) Rs. 1331
- (C) Rs. 133
- (D) Rs. 313

115. In ΔPQR , $\angle QPR$ is a right angle, $\overline{PS} \perp \overline{QR}$, if $RS = 6$ cm, $QS = 18$ cm, how much is \overline{PR} ?

- (A) 8 cm
- (B) 9 cm
- (C) 12 cm
- (D) 14 cm

16. ଜଣେ ଦୋକାନୀ ଗୋଟିଏ ବସ୍ତୁର କିଣାଦାମଠାରୁ 20% ଅଧିକ ଦାମ ବସ୍ତୁଟି ଉପରେ ଲେଖିଲେ । ବସ୍ତୁଟି ବିକିବା ବେଳେ ଲିଖିତ ଦାମ ଉପରେ 20% ରିହାତି ନେଇ ବିକିଲେ । ତେବେ ତାଙ୍କର ଶତକଡ଼ା କେତେ ଲାଭ ବା କ୍ଷତି ହେଲା ?

- (A) ଲାଭ ବା କ୍ଷତି ନାହିଁ
(B) ଲାଭ 4%
(C) କ୍ଷତି 4%
(D) ଶତକଡ଼ା ଲାଭ ବା କ୍ଷତି ନିର୍ଣ୍ଣୟ ଅସମ୍ଭବ

117. ଯଦି $p(x)$ ଓ $q(x)$ ଦୁଇଟି ପଲିନୋମିଆଲ୍ ଦୁଅଛି, ତେବେ $\{p(x) \times q(x)\}$ ର ଘାତ ନିମ୍ନସ୍ଥ ମଧ୍ୟରୁ କେଉଁଟି ?

- (A) $p(x)$ ର ଘାତ \times $q(x)$ ର ଘାତ
(B) $p(x)$ ର ଘାତ $+$ $q(x)$ ର ଘାତ
(C) $p(x)$ ର ଘାତ $-$ $q(x)$ ର ଘାତ
(D) $p(x)$ ର ଘାତ \div $q(x)$ ର ଘାତ

118. ନିମ୍ନସ୍ଥ କେଉଁଟି ଏକ ସମୀକରଣ ନୁହେଁ ?

- (A) $(2x-1)^2 = 2x$
(B) $x^2 - x(3+x) + 3x = 0$
(C) $(x-1)(2x+1) - x(x-1) = 0$
(D) $(2x-3)^2 = (2-3x)^2$

116. A shopkeeper marked an article at 20% more than the price he paid for it. If he allows a discount of 20% on the marked price while selling it, what would be his profit or loss in per cent ?

- (A) No profit no loss
(B) Profit 4%
(C) Loss 4%
(D) Per cent of profit or loss cannot be calculated

117. If $p(x)$ and $q(x)$ are two polynomials, then which of the following one is the degree of $\{p(x) \times q(x)\}$?

- (A) Degree of $p(x) \times$ Degree of $q(x)$
(B) Degree of $p(x) +$ Degree of $q(x)$
(C) Degree of $p(x) -$ Degree of $q(x)$
(D) Degree of $p(x) \div$ Degree of $q(x)$

118. Which of the following is not an equation ?

- (A) $(2x-1)^2 = 2x$
(B) $x^2 - x(3+x) + 3x = 0$
(C) $(x-1)(2x+1) - x(x-1) = 0$
(D) $(2x-3)^2 = (2-3x)^2$

119. $\frac{5}{7}$ ର ଯୋଗାତ୍ମକ ବିଲୋମାର ଗୁଣନାତ୍ମକ ବିଲୋମା କେତେ ?

- (A) $-\frac{5}{7}$
(B) $-\frac{7}{5}$
(C) $\frac{4}{3}$
(D) $-\frac{3}{4}$

120. $\frac{3^{n+3} + 3^2 \times 3^n}{3^{n+1} \times 3^2} - 3^{-1}$ ର ମାନ କେତେ ?

- (A) $3^2 - 3^{-2}$
(B) $3^{-1} - 3^2$
(C) 3^0
(D) 3^{-1}

121. ଭୂନିମ୍ନ କାଣ୍ଡର ଉଦାହରଣ ଅଟେ ।

ଏହା କେଉଁ ପ୍ରକାର ପ୍ରଶ୍ନ ?

- (A) ନିର୍ଦ୍ଦିଷ୍ଟ ଉତ୍ତର
(B) ମୁକ୍ତ ଉତ୍ତର
(C) ଦ୍ୱିବିକଳ
(D) ନିର୍ଦ୍ଦିଷ୍ଟ ଓ ମୁକ୍ତ ଉତ୍ତର

122. କେଉଁଟି ବିଜ୍ଞାନ ଶିକ୍ଷଣ କାର୍ଯ୍ୟର ଉପାଦାନ ନୁହେଁ ?

- (A) ଆହ୍ୱାନମୂଳକ
(B) ଆନନ୍ଦଦାୟକ
(C) ସ୍ୱତଃସ୍ପନ୍ଦିତ ଅଂଶଗ୍ରହଣ
(D) କ୍ଳେଷତା

119. What is the multiplicative inverse of the additive inverse of $\frac{5}{7}$?

- (A) $-\frac{5}{7}$
(B) $-\frac{7}{5}$
(C) $\frac{4}{3}$
(D) $-\frac{3}{4}$

120. What is the value of

$$\frac{3^{n+3} + 3^2 \times 3^n}{3^{n+1} \times 3^2} - 3^{-1} ?$$

- (A) $3^2 - 3^{-2}$
(B) $3^{-1} - 3^2$
(C) 3^0
(D) 3^{-1}

121. Example of underground stem is

What type of question is it ?

- (A) Specific answer
(B) Open answer
(C) Two alternatives
(D) Specific and open answer

122. Which is not a component of learning activity in science ?

- (A) Challenging
(B) Joyful
(C) Spontaneous participation
(D) Difficulty

123. କେଉଁଟି ସବୁଠାରୁ ବୃହତ୍ତମ ଜୀବକୋଷ ?

- (A) କୁକୁଡ଼ା ଅଣ୍ଡା
- (B) ଓଟପକ୍ଷୀ ଅଣ୍ଡା
- (C) ସ୍ନାୟୁକୋଷ
- (D) ରେଖୀତ ପେଶୀତନ୍ତୁ କୋଷ

124. କେଉଁଟିର କୋଷଭିତ୍ତିଥାଏ, ତେବେ ବି ତାହା ପ୍ରାକୃତ୍ୟକ୍ଷୀୟ ?

- (A) ପିଆଜ
- (B) ଟ୍ରାଡିସ୍କାନ୍ଥିଆ
- (C) ନୀଳହରିତ ଶୈବାଳ
- (D) ଆମିବା

125. କେଉଁଟି ଦ୍ଵାରା ଉଦ୍ଭିଦରୁ ସର୍ବାଧିକ ପରିମାଣର ଜଳ ଅପସାରିତ ହୋଇଥାଏ ?

- (A) ଛୋମ
- (B) ତୃବାହରଣ
- (C) ବାତରନ୍ତ୍ର
- (D) ଜଳଛିଦ୍ର

126. ମାଟିର କେଉଁ ସ୍ତରରେ ଅଧିକ ଦୁ୍ୟମସ୍ ଥାଏ ?

- (A) ଘ
- (B) ଗ
- (C) ଙ
- (D) କ

127. ଶ୍ଵସନ ସମ୍ପନ୍ନ ପାଇଁ କେଉଁ ଯୋଡ଼ା ଆବଶ୍ୟକ ?

- (A) ମାଇଟୋକଣ୍ଡ୍ରିଆ ଓ ରସଧାନୀ
- (B) ମାଇଟୋକଣ୍ଡ୍ରିଆ ଓ ରାଇବୋଜୋମ୍
- (C) ମାଇଟୋକଣ୍ଡ୍ରିଆ ଓ ହରିତକ୍ଲରୋପ୍ଲାସ୍ଟ
- (D) ମାଇଟୋକଣ୍ଡ୍ରିଆ ଓ କୋଷଜୀବକ

123. Which is the largest cell ?

- (A) Egg of Hen
- (B) Egg of Ostrich
- (C) Nerve cell
- (D) Cell of striated muscle fibre

124. Which has a cell wall yet it is a prokaryote ?

- (A) Onion
- (B) Tradescantia
- (C) Blue-green algae
- (D) Amoeba

125. Through which one does the maximum water liberated from plants ?

- (A) Stoma
- (B) Cuticle
- (C) Lenticel
- (D) Hydathode

126. In which layer of soil, is more humus present ?

- (A) D
- (B) C
- (C) B
- (D) A

127. Which pair is required to complete respiration ?

- (A) Mitochondria and vacuoles
- (B) Mitochondria and ribosomes
- (C) Mitochondria and chloroplast
- (D) Mitochondria and cytoplasm

128. ଉଡ଼ିବା କ୍ଷମତା ହରାଇବା ଓ ଭଲ ପହୁରାଳୀ ହେବା କେଉଁ ମାନଙ୍କର ଉପଯୋଜନ ?

- (A) ମେରୁ ଭାଲୁ
- (B) ମାଛ
- (C) ପେଙ୍ଗୁଇନ
- (D) ପକ୍ଷୀ

129. (a) ବିଦ୍ୟାର୍ଥୀ ବିଜ୍ଞାନ ସମ୍ପର୍କିତ ଲେଖାଗୁଡ଼ିକୁ ସଂଗ୍ରହକରି ଯତ୍ନ ସହ ସାଇତି ରଖନ୍ତି ଏବଂ ଅବସର ସମୟରେ ସେଗୁଡ଼ିକୁ ପଢ଼ନ୍ତି

(b) ବିଦ୍ୟାର୍ଥୀ ଯେ କୌଣସି ପରିସ୍ଥିତିରେ ତରବର ହୋଇ କୌଣସି ନିଷ୍ପତ୍ତି ନିଅନ୍ତି ନାହିଁ

(c) ବିଦ୍ୟାର୍ଥୀ ବିଜ୍ଞାନ ପ୍ରଦର୍ଶନୀ ଗୁଡ଼ିକରେ ନିୟମିତଭାବେ ନିଷ୍କାର ସହ ଭାଗ ନିଅନ୍ତି ।

ଉପରୋକ୍ତ ମଧ୍ୟରୁ

- (A) (a) ଓ (b) ବିଜ୍ଞାନ ଶିକ୍ଷାର ଏକ ଶ୍ରେଣୀଭୁକ୍ତ ଲକ୍ଷ୍ୟ ଏବଂ (c) ଅନ୍ୟ ଶ୍ରେଣୀଭୁକ୍ତ ଲକ୍ଷ୍ୟ ଅଟେ
- (B) (b) ଓ (c) ବିଜ୍ଞାନ ଶିକ୍ଷାର ଏକ ଶ୍ରେଣୀଭୁକ୍ତ ଲକ୍ଷ୍ୟ ଏବଂ (a) ଅନ୍ୟ ଶ୍ରେଣୀଭୁକ୍ତ ଲକ୍ଷ୍ୟ ଅଟେ
- (C) (c) ଓ (a) ବିଜ୍ଞାନ ଶିକ୍ଷାର ଏକ ଶ୍ରେଣୀଭୁକ୍ତ ଲକ୍ଷ୍ୟ ଏବଂ (b) ଅନ୍ୟ ଶ୍ରେଣୀଭୁକ୍ତ ଲକ୍ଷ୍ୟ ଅଟେ
- (D) (a), (b) ଓ (c) ବିଜ୍ଞାନ ଶିକ୍ଷାର ଏକ ଶ୍ରେଣୀଭୁକ୍ତ ଲକ୍ଷ୍ୟ

128. Loss of flight and becoming good swimmer, is the adaptation of which one ?

- (A) Polar bear
- (B) Fish
- (C) Penguin
- (D) Bird

129. (a) The learner collects science related writings, preserves them with care and read them during leisure hours

(b) The learner never takes hasty decisions in any type of circumstances

(c) The learner takes part in science exhibitions sincerely and regularly.

Out of the above

- (A) (a) and (b) belong to one category and (c) belongs to another category of objectives of science education
- (B) (b) and (c) belong to one category and (a) belongs to another category of objectives of science education
- (C) (c) and (a) belong to one category and (b) belongs to another category of objectives of science education
- (D) (a), (b) and (c) belong to one category of objectives of science education

130. (a) ବିଦ୍ୟାର୍ଥୀ, ବିଜ୍ଞାନ ସମ୍ବନ୍ଧୀୟ
ବିଷୟବସ୍ତୁରେ ଥିବା ତ୍ରୁଟିକୁ ଚିହ୍ନଟ
କରିପାରନ୍ତି

(b) ବିଦ୍ୟାର୍ଥୀ, ବିଜ୍ଞାନ ସମ୍ବନ୍ଧୀୟ ବିଷୟବସ୍ତୁ
ଗୁଡ଼ିକ ମଧ୍ୟରେ ଥିବା ସମ୍ପର୍କ ଦର୍ଶାଇ
ପାରନ୍ତି

(c) ବିଦ୍ୟାର୍ଥୀ ବିଜ୍ଞାନ ସମ୍ବନ୍ଧୀୟ
ବିଷୟବସ୍ତୁର କାରଣ ଓ ଫଳାଫଳ
ମଧ୍ୟରେ ସମ୍ପର୍କ ସ୍ଥାପନ କରିପାରନ୍ତି ।

ଉପରୋକ୍ତ ମଧ୍ୟରୁ

(A) (a) ଓ (b) ବିଜ୍ଞାନ ଶିକ୍ଷାର ଏକ
ଶ୍ରେଣୀଭୁକ୍ତ ଲକ୍ଷ୍ୟ ଏବଂ (c) ଅନ୍ୟ
ଶ୍ରେଣୀଭୁକ୍ତ ଲକ୍ଷ୍ୟ ଅଟେ

(B) (b) ଓ (c) ବିଜ୍ଞାନ ଶିକ୍ଷାର ଏକ
ଶ୍ରେଣୀଭୁକ୍ତ ଲକ୍ଷ୍ୟ ଏବଂ (a) ଅନ୍ୟ
ଶ୍ରେଣୀଭୁକ୍ତ ଲକ୍ଷ୍ୟ ଅଟେ

(C) (c) ଓ (a) ବିଜ୍ଞାନ ଶିକ୍ଷାର ଏକ
ଶ୍ରେଣୀଭୁକ୍ତ ଲକ୍ଷ୍ୟ ଏବଂ (b) ଅନ୍ୟ
ଶ୍ରେଣୀଭୁକ୍ତ ଲକ୍ଷ୍ୟ ଅଟେ

(D) (a), (b) ଓ (c) ବିଜ୍ଞାନ ଶିକ୍ଷାର ଏକ
ଶ୍ରେଣୀଭୁକ୍ତ ଲକ୍ଷ୍ୟ ଅଟେ

130. (a) The learner is able to
detect the error in
science related subject
matters

(b) The learner is able to
identify the relationship
between science related
subject matters

(c) The learner is able to
establish the relationship
between the cause and
result of science related
subject matters

Out of the above

(A) (a) and (b) belong to one
category of objectives and
(c) belongs to another
category of objectives of
science education

(B) (b) and (c) belong to one
category of objectives and
(a) belongs to another
category of objectives of
science education

(C) (c) and (a) belong to one
category of objectives and
(b) belongs to another
category of objectives of
science education

(D) (a), (b) and (c) belong to
one category of objectives
of science education

131. କେଉଁଟିର ଗୁପ୍ତତା ଶୂନ୍ୟ ଅଟେ ?
ଗୁପ୍ତତା ଶୂନ୍ୟ ଧାରଣ କରନ୍ତୁ ?

(A) ବାୟୁ

(B) ଜଳ

(C) ବାଷ୍ପ

(D) ବରଫଖଣ୍ଡ

132. 1000Ω ପ୍ରତିରୋଧ ବିଶିଷ୍ଟ ଏକ ପରିବାହୀର ଦୁଇପ୍ରାନ୍ତକୁ 20 V ବିଭବାନ୍ତରରେ ରଖାଯାଇଛି ।
ସେଥିରେ ଏକ ସେକେଣ୍ଡରେ କେତୋଟି
ଇଲେକ୍ଟ୍ରନ୍ ପ୍ରବାହିତ ହେବ ?

(A) 1.25×10^{19}

(B) 1.25×10^{18}

(C) 1.25×10^{17}

(D) 1.25×10^{16}

133. ଏକ ଅବତଳ ଦର୍ପଣର ଫୋଲ୍‌ଓରୁ 20 ସେ.ମି.
ଦୂରତାରେ ଏକ ବସ୍ତୁର ଦୃଢ଼ଚିତ୍ର ଗଠିତ ହେଲା । ଦର୍ପଣର
ଫୋକସ୍ ଦୂରତା କେତେ ?

(A) 5.56 ସେ.ମି.

(B) 6.67 ସେ.ମି.

(C) 7.78 ସେ.ମି.

(D) 8.89 ସେ.ମି.

131. The characteristics of pressure
of which one is different from
that of the other three ?

(A) Air

(B) Water

(C) Steam

(D) Ice block

132. How many electrons would flow
in one second through a
conductor of resistance 1000Ω ,
which is maintained at a
potential difference of 20 V
across its two ends ?

(A) 1.25×10^{19}

(B) 1.25×10^{18}

(C) 1.25×10^{17}

(D) 1.25×10^{16}

133. A real image of height twice that
of the object was formed at a
distance of 20 cm from the pole
of a concave mirror. What is the
focal length of the mirror ?

(A) 5.56 cm

(B) 6.67 cm

(C) 7.78 cm

(D) 8.89 cm

134.

- (a) ଏକ ଗାଢ଼ ଅମ୍ଳକୁ ସବଳ-ଅମ୍ଳ ମଧ୍ୟ କୁହାଯାଏ
 (b) ଏକ ଲଘୁ ଅମ୍ଳକୁ ଦୁର୍ବଳ ଅମ୍ଳ ମଧ୍ୟ କୁହାଯାଏ
 (c) ଏକ ସବଳ ଅମ୍ଳରେ ଜଳ ମିଶାଇ ଦୁର୍ବଳ ଅମ୍ଳ କରାଯାଇପାରିବ
 (d) ଏକ ଦୁର୍ବଳ ଅମ୍ଳକୁ ଉତ୍ତପ୍ତ କରି ସବଳ ଅମ୍ଳ କରାଯାଇପାରିବ ।

ଉପରୋକ୍ତ ମଧ୍ୟରୁ

- (A) (a) ଓ (b) ଠିକ୍ ଏବଂ (c) ଓ (d) ଭୁଲ୍
 (B) (c) ଓ (d) ଠିକ୍ ଏବଂ (a) ଓ (b) ଭୁଲ୍
 (C) (a), (b), (c) ଓ (d) ଠିକ୍
 (D) (a), (b), (c) ଓ (d) ଭୁଲ୍

135. କେଉଁ ଅକ୍ଷରତ୍ରୟର ପ୍ରତ୍ୟେକ ଅକ୍ଷର ଗୋଟିଏ ଗୋଟିଏ ମୌଳିକର ପ୍ରତୀକ ଅଟେ ?

- (A) A, B, C
 (B) O, P, Q
 (C) F, G, H
 (D) U, V, W

136. ଗଣିତ ଶିକ୍ଷାଦାନର 'କାର୍ଯ୍ୟପଦ୍ଧତି' ସହିତ କେଉଁଟି ସଂଯୁକ୍ତ ଅଟେ ?

- (A) ଶିକ୍ଷକଙ୍କର ସକ୍ରିୟ ଅଂଶଗ୍ରହଣ
 (B) ଶିକ୍ଷାର୍ଥୀମାନଙ୍କର ସକ୍ରିୟ ଅଂଶଗ୍ରହଣ
 (C) ଅଗଣତାନ୍ତ୍ରିକ ନୀତି ଉପରେ ଆଧାରିତ
 (D) ଶିକ୍ଷାର୍ଥୀମାନଙ୍କର ନିଷ୍ପ୍ରୟତା

134.

- (a) A concentrated acid is also called as a strong acid
 (b) A dilute acid is also called as a weak acid
 (c) A strong acid can be made weak acid by adding water in it
 (d) A weak acid can be made strong acid by heating it.

Out of the above

- (A) (a) and (b) are correct and (c) and (d) are wrong
 (B) (c) and (d) are correct and (a) and (b) are wrong
 (C) (a), (b), (c) and (d) are correct
 (D) (a), (b), (c) and (d) are wrong

135. Each letter of which letter-trio is a symbol of an element ?

- (A) A, B, C
 (B) O, P, Q
 (C) F, G, H
 (D) U, V, W

136. Which one is associated with 'Activity method' in teaching mathematics ?

- (A) Active participation of teacher
 (B) Active participation of learners
 (C) Based on undemocratic principles
 (D) Passive involvement of learners

SET-D

427069

[67]

(Turn over)

137. ବହୁବିକଳ ପ୍ରଶ୍ନଗୁଡ଼ିକରେ ଠିକ୍ ଉତ୍ତର ବ୍ୟତୀତ

ଅନ୍ୟ କେଉଁ ବିକଳଟି ଫଳପ୍ରାପ୍ତ ଅଟେ ?

(A) ନିମ୍ନଲବ୍ଧୀଙ୍କ ହାସଲ କରିଥିବା ଦଳର ସମସ୍ତ ଶିକ୍ଷାର୍ଥୀମାନଙ୍କୁ ଆକର୍ଷିତ କରିଥାଏ

(B) ଉଚ୍ଚଲବ୍ଧୀଙ୍କ ହାସଲ କରିଥିବା ଦଳର ସମସ୍ତ ଶିକ୍ଷାର୍ଥୀମାନଙ୍କୁ ଆକର୍ଷିତ କରିଥାଏ

(C) ବିକଳ (A) ଓ (B) ରେ ଦର୍ଶାଯାଇଥିବା ଦଳମାନଙ୍କ ମଧ୍ୟରୁ କୌଣସି ଗୋଟିଏ ଦଳର ଶିକ୍ଷାର୍ଥୀଙ୍କୁ ଆକର୍ଷିତ କରିଥାଏ

(D) ନିମ୍ନଲବ୍ଧୀଙ୍କ ହାସଲ କରିଥିବା ଦଳ ଅପେକ୍ଷା ଉଚ୍ଚଲବ୍ଧୀଙ୍କ ହାସଲ କରିଥିବା ଶିକ୍ଷାର୍ଥୀମାନଙ୍କୁ ଅଧିକ ଆକର୍ଷିତ କରିଥାଏ

138. ଜ୍ଞାନାତ୍ମକ ଗଠନବାଦୀ ଉପାଗମର ମୂଳଭିତ୍ତି ସ୍ଥାପନର ଜନକ କିଏ ?

(A) ପିଆଜେଟ୍

(B) ଭୟଗଟ୍ସ୍କାଏ

(C) ବ୍ରୁନର

(D) ଡିୱେ

137. Which is an effective distractor other than the correct answer in multiple choice test items ?

(A) Attract all the students of low score securing group

(B) Attract all the students of high score securing group

(C) Attract none of the students of either group mentioned in the alternatives (A) and (B)

(D) Attract more number of students of high score securing group than low score securing group

138. Who is the founding father of cognitive constructivist approach ?

(A) Piaget

(B) Vygotsky

(C) Bruner

(D) Dewey

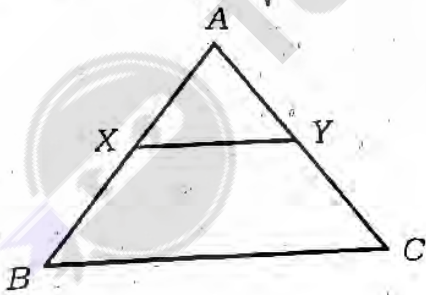
139. ମୂଲ୍ୟାୟନ ପ୍ରକ୍ରିୟା କେଉଁ ଅନୁସନ୍ଧାନ ଆକୃତିର ପରିସରଭୁକ୍ତ ନୁହେଁ ?

- (A) ଅନୁସୂଚୀ
- (B) ପ୍ରଶ୍ନାବଳୀ
- (C) ସାକ୍ଷାତକାର
- (D) ଏମାନଙ୍କ ମଧ୍ୟରୁ କୌଣସିଟି ନୁହେଁ

140. କେଉଁଟି ଏକ ଗାଣିତିକ କୌଶଳ ନୁହେଁ ?

- (A) ଗାଣିତିକ ସଂଖ୍ୟାର ସଂଗଣନ କରିବା
- (B) ଲେଖାଚିତ୍ରମାନଙ୍କର ବ୍ୟାଖ୍ୟାକରଣ
- (C) ଜ୍ୟାମିତିକ ଚିତ୍ର ଅଙ୍କନ
- (D) ଗାଣିତିକ ଧାରଣାର ସଂଜ୍ଞା ନିରୂପଣ

141. ଦତ୍ତ ଚିତ୍ରରେ $XY \parallel BC$ । $AB = 4.8$ ସେ.ମି.,
 $BC = 7.2$ ସେ.ମି. ଏବଂ $BX = 2$ ସେ.ମି.
 ହେଲେ $XY =$ କେତେ ସେ.ମି. ?



- (A) 4 ସେ.ମି.
- (B) 4.1 ସେ.ମି.
- (C) 4.2 ସେ.ମି.
- (D) 4.3 ସେ.ମି.

139. Which is not belonged to enquiry form of evaluation technique ?

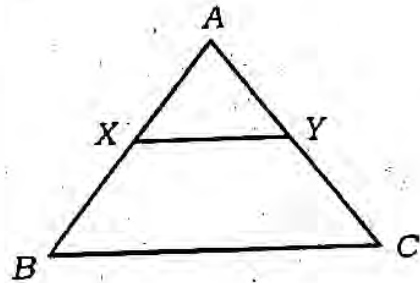
- (A) Schedule
- (B) Questionnaire
- (C) Interview
- (D) None of these.

140. Which is not a mathematical skill ?

- (A) Computing mathematical numbers
- (B) Interpreting graphs
- (C) Drawing geometrical figures
- (D) Defining mathematical concepts

141. In the given figure $XY \parallel BC$,

$AB = 4.8$ cm, $BC = 7.2$ cm and
 $BX = 2$ cm, then what is XY in
 cm ?



- (A) 4 cm
- (B) 4.1 cm
- (C) 4.2 cm
- (D) 4.3 cm

142. 5 ସେ.ମି. ବ୍ୟାସାର୍ଦ୍ଧ ବିଶିଷ୍ଟ ଏକ ବୃତ୍ତରେ ଏକ

ବର୍ଗଚିତ୍ର ଅନ୍ତର୍ଲିଖିତ ହେଲେ, ତାହା ବର୍ଗଚିତ୍ରର

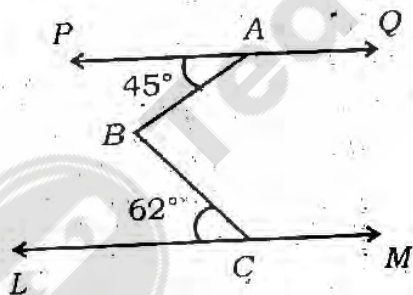
କ୍ଷେତ୍ରଫଳ କେତେ ବର୍ଗ ସେ.ମି. ହେବ ?

- (A) 25
- (B) 50
- (C) 75
- (D) 100

143. ଦିଆ ଚିତ୍ରରେ $\overline{PQ} \parallel \overline{LM}$,

$m\angle PAB = 45^\circ$, $m\angle BCL = 62^\circ$.

ହେଲେ, $m\angle CBA$ କେତେ ?



- (A) 97°
- (B) 107°
- (C) 117°
- (D) 127°

SET-D 427069

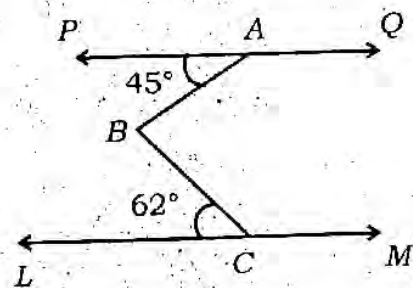
142. What will be the area of a square, in sq.cm, inscribed in a circle of radius 5 cm ?

- (A) 25
- (B) 50
- (C) 75
- (D) 100

143. In the given figure, $\overline{PQ} \parallel \overline{LM}$, if

$m\angle PAB = 45^\circ$, $m\angle BCL = 62^\circ$,

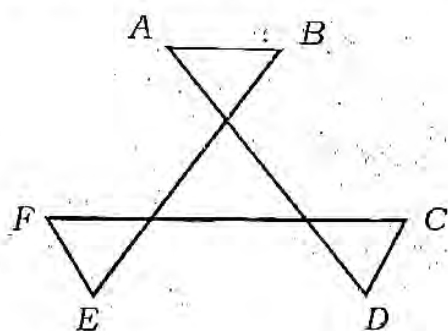
then how much is $m\angle CBA$?



- (A) 97°
- (B) 107°
- (C) 117°
- (D) 127°

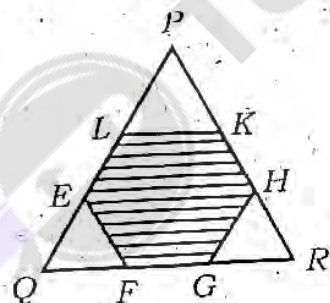
(Continued)

144. ଚିତ୍ରରେ $\angle A, \angle B, \angle C$ ଓ $\angle D, \angle E$ ଓ $\angle F$ ର ପରିମାଣର ସମଷ୍ଟି କେତେ ?



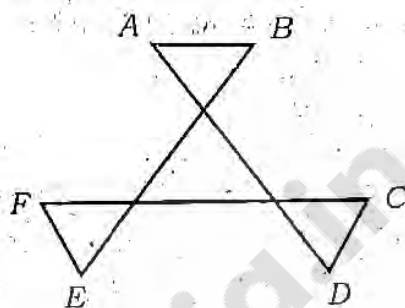
- (A) 180°
- (B) 360°
- (C) 540°
- (D) 720°

145. ଚିତ୍ରରେ ଥିବା \overline{PQ} , \overline{QR} ଓ \overline{RS} ପ୍ରତ୍ୟେକ ସମାନ ଚିନି ଭାଗରେ ବିଭକ୍ତ ଓ ପ୍ରତି ସ୍ତମ୍ଭ ଭାଗର ଦୈର୍ଘ୍ୟ 2 ସେ.ମି. ହେଲେ, ଛାୟାଞ୍ଚିତ ଅଞ୍ଚଳର କ୍ଷେତ୍ରଫଳ କେତେ ବର୍ଗ ସେ.ମି. ?



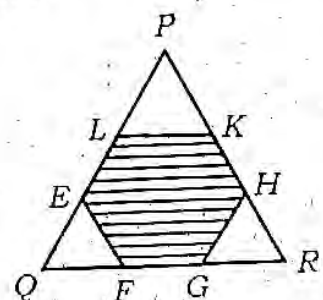
- (A) $2\sqrt{3}$
- (B) $4\sqrt{3}$
- (C) $6\sqrt{3}$
- (D) $8\sqrt{3}$

144. What is the sum of the measures of the angles $\angle A, \angle B, \angle C, \angle D, \angle E$ and $\angle F$ in the given figure ?



- (A) 180°
- (B) 360°
- (C) 540°
- (D) 720°

145. In the given figure, \overline{PQ} , \overline{QR} and \overline{RS} each is divided into 3 equal parts. If each small part is of length 2 cm, then what is the area of the shaded region in sq.cm. ?



- (A) $2\sqrt{3}$
- (B) $4\sqrt{3}$
- (C) $6\sqrt{3}$
- (D) $8\sqrt{3}$

146. $x : y = 2 : 3$ ହେଲେ ନିମ୍ନ କେଉଁଟି ସତ୍ତ୍ୱ

$(5x - 2y) : (x + 3y)$ ସମାନ ହେବ ?

- (A) 4 : 9
- (B) 4 : 11
- (C) 11 : 4
- (D) 9 : 4

147. $x^2 + 6x + 15$ ପଲିନୋମିଆଲ୍ କେତୋଟି

'ଜିରୋ' ଅଛି ?

- (A) 1
- (B) 2
- (C) 3
- (D) ଜିରୋ ନାହିଁ

148. $\sqrt[3]{(x^{-2} + x^4)^2} = x^p$ ହେଲେ, p^{-1} ର

ମାନ କେତେ ?

- (A) $-\frac{1}{4}$
- (B) -4
- (C) -3
- (D) $\frac{1}{3}$

146. If $x : y = 2 : 3$, then which of the following is equal to

$(5x - 2y) : (x + 3y)$?

- (A) 4 : 9
- (B) 4 : 11
- (C) 11 : 4
- (D) 9 : 4

147. What is the number of zeroes of

the polynomial $x^2 + 6x + 15$?

- (A) 1
- (B) 2
- (C) 3
- (D) No zero

148. If $\sqrt[3]{(x^{-2} + x^4)^2} = x^p$, then what

is the value of p^{-1} ?

- (A) $-\frac{1}{4}$
- (B) -4
- (C) -3
- (D) $\frac{1}{3}$

149. $1 - a^2 = a$ ହେଲେ, $a^6 + \frac{1}{a^6}$ ର ମାନ କେତେ ?

- (A) - 16
- (B) + 16
- (C) - 18
- (D) + 18

150. $(1024)^{0.2}$ ର ମାନ କେତେ ?

- (A) 2
- (B) 4
- (C) 8
- (D) 16

149. If $1 - a^2 = a$, then what is the value of $a^6 + \frac{1}{a^6}$?

- (A) - 16
- (B) + 16
- (C) - 18
- (D) + 18

150. What is the value of $(1024)^{0.2}$?

- (A) 2
- (B) 4
- (C) 8
- (D) 16

ସାମାଜିକ ପାଠ
SOCIAL STUDIES

91. କେଉଁର ଛାନାୟ ଇତିହାସ ଶିକ୍ଷାଦାନର ଆଭିମୁଖ୍ୟ ?

- (A) ଛାନାୟ ରାଜନୈତିକ ଦଳ ଗଢ଼ିବା
- (B) ଛାନାୟ ସଂସ୍କୃତି ଓ ପରମ୍ପରା ପ୍ରତି ସମ୍ମାନ ଦେବା
- (C) ଛାନାୟ ଶିକ୍ଷା ବ୍ୟବସ୍ଥା ପରିଚାଳନା କରିବା
- (D) ଛାନାୟ ଭୂମିରୂପ ସମ୍ବନ୍ଧରେ ଜ୍ଞାନ ଆହରଣ କରିବା

92. କେଉଁ ପ୍ରକାର ପ୍ରଶ୍ନଦ୍ୱାରା ଶିକ୍ଷାର୍ଥୀର ଚିନ୍ତାଶକ୍ତିର ପରିପ୍ରକାଶ ଦକ୍ଷତା ଅଧିକ ଭଲଭାବରେ ମାପ କରାଯାଇପାରେ ?

- (A) ନିବନ୍ଧ
- (B) ଅତି କ୍ଷୁଦ୍ର ଉତ୍ତରମୂଳକ
- (C) ବହୁନିଷ୍ପ
- (D) କ୍ଷୁଦ୍ର ଉତ୍ତରମୂଳକ

93. କେଉଁ ଇତିହାସ ପାଠ୍ୟପୁସ୍ତକର ଦୃଷ୍ଟି ?

- (A) ପ୍ରସଙ୍ଗର ବର୍ଣ୍ଣନା ଆକର୍ଷଣୀୟ
- (B) ପ୍ରସଙ୍ଗଗୁଡ଼ିକର ଛୋଟ ଛୋଟ ପରିଚ୍ଛେଦରେ ବିଭକ୍ତ
- (C) ପ୍ରଶ୍ନୋତ୍ତର ମୁଖ୍ୟ ଧାରଣା ଉପରେ ଆଧାରିତ
- (D) ପ୍ରସଙ୍ଗରେ ଐତିହାସିକ ବ୍ୟକ୍ତି ସମ୍ବନ୍ଧରେ ଅଧିକ ବର୍ଣ୍ଣନା

91. Which is the objective of teaching local history ?

- (A) Forming local political parties
- (B) Honouring local culture and traditions
- (C) To manage local educational system
- (D) Acquiring knowledge about local land shape

92. Which type of question can measure the expression of a student's thinking power ?

- (A) Essay type
- (B) Very short answer type
- (C) Objective type
- (D) Short answer type

93. Which is the error in history books ?

- (A) Description of topic is attractive
- (B) Topics are divided into small chapters
- (C) Questions are based on the main idea
- (D) More description about the historical personality in the topic

94. କେଉଁ ଇତିହାସ ଶିକ୍ଷାଦାନରେ ସବୁଠାରୁ ବାସ୍ତବ ପଦ୍ଧତି ?

- (A) ଗଳ୍ପ କଥନ
- (B) ଉତ୍ସ
- (C) ବର୍ଣ୍ଣନାତ୍ମକ
- (D) ନାଟକାଭିନୟ

95. ଐତିହାସିକ ଘଟଣାବଳୀ ଅଧ୍ୟାପନାରେ କେଉଁ ଅଧିକ ସହାୟକ ହୋଇ ନଥାଏ ?

- (A) ସମୟରେଖା
- (B) ମାର୍ଗଦର୍ଶୀ ପୁସ୍ତିକା
- (C) ପାଠ୍ୟପୁସ୍ତକ
- (D) ସହାୟକ ପୁସ୍ତକ

96. କେଉଁ ସାମାଜିକ ମୂଲ୍ୟବୋଧ ଇତିହାସ ଶିକ୍ଷା ସହିତ ସମ୍ପୃକ୍ତ ନୁହେଁ ?

- (A) ଶୃଙ୍ଖଳାଗତ ବିକାଶ
- (B) ଆନ୍ତର୍ଜାତିକତା
- (C) ସାମାଜିକ ଓ ସାଂସ୍କୃତିକ ଜ୍ଞାନ
- (D) ସୃଜନଶୀଳତା

97. କେଉଁ ଇତିହାସ ଶିକ୍ଷାଦାନର ଜ୍ଞାନଭିତ୍ତିକ ଶୈକ୍ଷିକ ଉଦ୍ଦେଶ୍ୟ ?

- (A) ଅତୀତ ଘଟଣାବଳୀରୁ ଭବିଷ୍ୟତକୁ ଆକଳନ କରିବା
- (B) ଅତୀତ ଘଟଣାବଳୀରୁ ବର୍ତ୍ତମାନକୁ ଆକଳନ କରିବା
- (C) ଅତୀତ ଘଟଣାକୁ ସ୍ମରଣ କରିବା
- (D) ଅତୀତ ଘଟଣା ସହିତ ଜଡ଼ିତ ଚିତ୍ରକୁ

94. Which is the most practical method in teaching history ?

- (A) Story telling
- (B) Source materials
- (C) Narrative
- (D) Dramatisation

95. Which is not more helpful in teaching historical events ?

- (A) Timeline
- (B) Sample book
- (C) Textbook
- (D) Guide book

96. Which social value is not related to study of history ?

- (A) Disciplinary development
- (B) Internationalism
- (C) Social and cultural knowledge
- (D) Creativeness

97. Which is the knowledge based teaching objective of teaching history ?

- (A) Estimating the future from the past events
- (B) Estimating the present from the past events
- (C) Remembering the past events
- (D) Explaining the picture involved in the past events

(Turn over)

98. ସାମାଜିକ ବିଜ୍ଞାନ ପାଠର ବୋଧ ଉଦ୍ଦେଶ୍ୟ ସହିତ କେଉଁଟି ସମ୍ବନ୍ଧ ନୁହେଁ ?

- (A) ଅର୍ଥନୀତି ଓ ଦେଶର ପ୍ରଗତି ମଧ୍ୟରେ ସମ୍ପର୍କ ନିର୍ଣ୍ଣୟ କରିବା
- (B) ବିଭିନ୍ନ ଐତିହାସିକ ସ୍ଥାନକୁ ମାନଚିତ୍ରରେ ଦର୍ଶାଇବା
- (C) ବିଭିନ୍ନ ଅଞ୍ଚଳର ଗମନାଗମନ କ୍ଷେତ୍ରରେ ପାର୍ଥକ୍ୟ ଦର୍ଶାଇବା
- (D) ପରିବେଶ ପରିବର୍ତ୍ତନର କାରଣ ଦର୍ଶାଇବା

99. ଉଚ୍ଚପ୍ରାଥମିକ ଶିକ୍ଷାକ୍ଷେତ୍ରରେ ଆବେଗାତ୍ମକ ଉଦ୍ଦେଶ୍ୟ ଚୟନ ନିମନ୍ତେ କେଉଁଟି ପ୍ରଯୁଜ୍ୟ ନୁହେଁ ?

- (A) ଛାତ୍ରମାନଙ୍କର ସମ୍ଭାବ୍ୟ ଶିକ୍ଷଣ ପରିଣାମ
- (B) ଶିକ୍ଷାର୍ଥୀମାନଙ୍କର ଦକ୍ଷତା, ଆଗ୍ରହ ଓ ଭୂତି
- (C) ଆନୁଷ୍ଠାନିକ ସୁବିଧା ଓ ସୁଯୋଗ
- (D) ଶିକ୍ଷକମାନଙ୍କର କାର୍ଯ୍ୟଦକ୍ଷତା

OTET-P-II/18

98. Which is not related with the comprehensive objective of social science ?

- (A) Determining the relation between economy and development of the country
- (B) Showing the historical places in the map
- (C) Showing the differences of different regions in the field of transport
- (D) Showing the causes of the change of environment

99. Which is not applicable for the choice of emotional activities in teaching at upper primary level ?

- (A) Probable outcome of learning of the students
- (B) Ability, interest and aptitude of the learners
- (C) Institutional facility and opportunity
- (D) Teachers' efficiency

100. କେଉଁ ସାମାଜିକ ପାଠ ଶିକ୍ଷାଦାନର ପରିସରଭୁକ୍ତ ନୁହେଁ ?

- (A) ଆଧୁନିକ ସମାଜର ଅର୍ଥନୈତିକ ଓ ଭୌଗୋଳିକ ଅବସ୍ଥା
- (B) ଅତୀତର ଗୌରବମୟ ପରମ୍ପରା
- (C) ସାମାଜିକ ଘଟଣାବଳୀର ପୁନଃ ପରିପ୍ରକାଶର ସମ୍ଭାବନା
- (D) ଆଧୁନିକ ସମାଜର ନୈତିକ ଓ ଧାର୍ମିକ ଚେତନା

101. ଭାରତୀୟ ସଂବିଧାନର ଜରୁରୀକାଳୀନ ଧାରାଗୁଡ଼ିକ କେଉଁ ଦେଶର ସମ୍ବିଧାନ ଦ୍ୱାରା ପ୍ରଭାବିତ ?

- (A) ଜର୍ମାନୀ ସ୍ତେମାର ରିପବ୍ଲିକ
- (B) ଯୁକ୍ତରାଷ୍ଟ୍ର ଆମେରିକା
- (C) କାନାଡା
- (D) ସ୍ୱିଜରଲ୍ୟାଣ୍ଡ

102. କେଉଁ ଚାପଗୋଷ୍ଠୀର କାର୍ଯ୍ୟ ନୁହେଁ ?

- (A) ସାଂସଦମାନଙ୍କୁ ପ୍ରଭାବିତ କରିବା
- (B) ଗୋଷ୍ଠୀ ସ୍ୱାର୍ଥ ରକ୍ଷାକରିବା
- (C) ଜନମତ ପ୍ରଭାବିତ କରିବା
- (D) ନିର୍ବାଚନ ଲଢ଼ିବା

100. Which is not under the scope of social science teaching ?

- (A) Economic and geographical conditions of the modern society
- (B) Glorious traditions of the past
- (C) Prospect of reoccurrence of social events
- (D) Moral and religious consciousness of the modern society

101. By the constitution of which country are the emergency provisions of the Constitution of India influenced ?

- (A) German Weimar Republic
- (B) USA
- (C) Canada
- (D) Switzerland

102. Which is not the function of the Pressure group ?

- (A) To influence the MPs
- (B) To protect the group interest
- (C) To influence the public opinion
- (D) To contest elections

103. ଓଡ଼ିଶାର ନିର୍ବାଚନ କମିଶନଙ୍କୁ କିଏ ବହିଷ୍କାର କରିପାରିବ ?

- (A) ରାଜ୍ୟପାଳ
- (B) ମୁଖ୍ୟମନ୍ତ୍ରୀ
- (C) ମୁଖ୍ୟ ନିର୍ବାଚନ କମିଶନର
- (D) ରାଷ୍ଟ୍ରପତି

104. କେଉଁ ବିଲ୍ ପାର୍ଲିଆମେଣ୍ଟରେ ଆଗତ କରିବା ପୂର୍ବରୁ ରାଷ୍ଟ୍ରପତିଙ୍କ ମଞ୍ଜୁରି ଆବଶ୍ୟକ ହୁଏ ?

- (A) କୌଣସି ରାଜ୍ୟର ନାମ ପରିବର୍ତ୍ତନ ବିଲ୍
- (B) କୌଣସି ରାଜ୍ୟର ସୀମା ପରିବର୍ତ୍ତନ ବିଲ୍
- (C) ସଂଯୁକ୍ତ ତାଲିକାସ୍ଥ ବିଷୟ ସମ୍ପର୍କିତ ବିଲ୍
- (D) ଅର୍ଥ ବିଲ୍

105. କେଉଁଟି ଅର୍ଥନୈତିକ ଅଧିକାର ଅଟେ ?

- (A) ସମ୍ପତ୍ତିଗତ ଅଧିକାର
- (B) ବୁଦ୍ଧି କରିବା ଅଧିକାର
- (C) ଶିକ୍ଷାଗତ ଅଧିକାର
- (D) ନିଯୁକ୍ତି ପ୍ରାପ୍ତି ଅଧିକାର

103. Who can remove the Election Commission of Odisha ?

- (A) Governor
- (B) Chief Minister
- (C) Chief Election Commissioner
- (D) President

104. Before the introduction of which Bill in the Parliament is the approval of the President required ?

- (A) Bill to change the name of a State
- (B) Bill to change the boundary of a State
- (C) Bill on a subject in the Concurrent List
- (D) Money Bill

105. Which is an Economic Right ?

- (A) Right to Property
- (B) Right to Contract
- (C) Right to Education
- (D) Right to Employment

106. କେଉଁମାନେ ଭାରତରେ ଆଇନ ଶାସନ ବ୍ୟବସ୍ଥା ପ୍ରବର୍ତ୍ତନ କରିଥିଲେ ?

- (A) ମରହଟ୍ଟା
- (B) ମୋଗଲ
- (C) ଫରାସୀ
- (D) ବ୍ରିଟିଶ

107. ନାଜୀ ସୈନ୍ୟମାନେ କେବେ ଚେକୋସ୍ଲୋଭାକିଆ ଦଖଲ କରିଥିଲେ ?

- (A) ଅଗଷ୍ଟ, 1938
- (B) ସେପ୍ଟେମ୍ବର, 1938
- (C) ମାର୍ଚ୍ଚ, 1939
- (D) ସେପ୍ଟେମ୍ବର, 1939

108. ୱାଟରଲୁ ଯୁଦ୍ଧରେ ନେପୋଲିୟନଙ୍କୁ କେଉଁ ଇଂରେଜ ସେନାଧ୍ୟକ୍ଷ ପରାସ୍ତ କରିଥିଲେ ?

- (A) ନେଲସନ
- (B) ୱେଲିଙ୍ଗଟନ
- (C) ଆର୍ଥର ୱେଲେସଲି
- (D) ଫ୍ରେଡ୍ରିକ୍ ୱିଲିୟମ

106. Who did introduce the system of 'Rule of Law' in India?

- (A) Marathas
- (B) Mughals
- (C) French
- (D) British

107. When did the Nazis occupy Czechoslovakia ?

- (A) August, 1938
- (B) September, 1938
- (C) March, 1939
- (D) September, 1939

108. Which English General did defeat Napoleon in the battle of Waterloo ?

- (A) Nelson
- (B) Wellington
- (C) Arthur Wellesley
- (D) Frederick William

109. 1789 ରେ ଫରାଫୀମାନେ କେଉଁ ରାଜବଂଶ ବିରୋଧରେ ବିଦ୍ରୋହ କରିଥିଲେ ?

- (A) ହାନୋଭର
- (B) ରୋମାନୋଭ
- (C) ବୋରବୋନ
- (D) ଟ୍ୟୁଡର

110. ବୌଦ୍ଧତାଳ ମନ୍ଦିର କେଉଁ ରାଜବଂଶର ରାଜତ୍ବ ସମୟରେ ନିର୍ମାଣ କରାଯାଇଥିଲା ?

- (A) ଭୌମକର
- (B) ଗଙ୍ଗ
- (C) ଶୈଳୋଦ୍ଭବ
- (D) ଭୋଇ

111. ମୁକୁନ୍ଦ ଦେବ କେଉଁ ଯୁଦ୍ଧରେ ପରାସ୍ତ ହୋଇଥିଲେ ?

- (A) ଗୋହିରି ଟିକିରି
- (B) ମନ୍ଦାରନ
- (C) ଦେବରକୋଣ୍ଡା
- (D) କୋଣ୍ଡାଭିଡୁ

109. Against which dynasty did the French revolt in 1789 ?

- (A) Hanovour
- (B) Romanov
- (C) Bourbon
- (D) Tudor

110. During the rule of which dynasty was the Boital temple built ?

- (A) Bhaumakara
- (B) Ganga
- (C) Sailodvaba
- (D) Bhoi

111. In which battle was Mukunda Dev defeated ?

- (A) Gohiritikiri
- (B) Mandaran
- (C) Devar Konda
- (D) Kondavidu

112. ସୁରେନ୍ଦ୍ର ସାଏ ରାଜପୁତ ଶୃଙ୍ଖାର କେଉଁ ବଂଶଜ ଥିଲେ ?

- (A) ଗଣ୍ଡ
- (B) ଚୌହାନ
- (C) ସୋଣ
- (D) ଭିଞ୍ଜାଲ

113. 1919 ରେ କାହିଁକି ହଣ୍ଟର କମିଟି ଗଠନ କରାଯାଇଥିଲା ?

- (A) ଭାରତରେ ରାଜକ୍ଷେପ ଆଇନର ପ୍ରଭାବ ଅନୁଧ୍ୟାନ କରିବାପାଇଁ
- (B) 1919 ଭାରତ ଶାସନ ଆଇନର କାର୍ଯ୍ୟ କାରିତା ସମ୍ପର୍କରେ ଅନୁଧ୍ୟାନ କରିବାପାଇଁ
- (C) ଜାଲିଆନୱାଲାବାଗ ହତ୍ୟାକାଣ୍ଡର ତଦନ୍ତ ପାଇଁ
- (D) ଭାରତରେ ଖିଲାଫତ ଆନ୍ଦୋଳନର କାରଣ ଜାଣିବା ପାଇଁ

114. ଓଡ଼ିଶାର ସାରଙ୍ଗଗଡ଼ ଦୁର୍ଗ କିଏ ନିର୍ମାଣ କରିଥିଲେ ?

- (A) ଖାରବେଳ
- (B) ହମ୍ବିର ଦେବ
- (C) ଚୋଡ଼ଗଙ୍ଗ ଦେବ
- (D) କପିଳେନ୍ଦ୍ର ଦେବ

112. Surendra Sai belonged to which dynasty of Rajput Khinda ?

- (A) Gond
- (B) Chauhan
- (C) Sona
- (D) Bhinjal

113. Why was the Hunter Committee constituted in 1919 ?

- (A) To know about the impact of Rowlatt Act in India
- (B) To enquire about the workability of Government of India Act, 1919
- (C) To enquire about the Jalianwalla Bagh Massacre
- (D) To know about the causes of Khilafat Movement

114. Who did build Sarangagada fort of Odisha ?

- (A) Kharavela
- (B) Hambiradeva
- (C) Chodaganga Dev
- (D) Kapilendra Dev

115. ପରିବ୍ରାଜକ ଇବନବାତୁତା କେଉଁ ଦେଶରୁ ଆସିଥିଲେ ?

- (A) ଆଫ୍ରିକା
- (B) ଫ୍ରାନ୍ସ
- (C) ଜାପାନ
- (D) ଚୀନ

116. କେଉଁ ମୋଗଲ ସମ୍ରାଟ ମାନସବଦାରୀ ପ୍ରଥା ପ୍ରଚଳନ କରିଥିଲେ ?

- (A) ଆକବର
- (B) ଜାହାଙ୍ଗିର
- (C) ଶାହାଜାହାନ
- (D) ଔରଙ୍ଗଜେବ

117. ପଞ୍ଚମହଲ କେଉଁ ଦୁର୍ଗ ଭିତରେ ଅବସ୍ଥିତ ?

- (A) ଆଗ୍ରା
- (B) ଫତେପୁର ସିକ୍ରି
- (C) ଲାଲକିଲ୍ଲା
- (D) ଦିଲ୍ଲୀସ୍ଥିତ ପୁରୁଣାକିଲ୍ଲା

OTET-P-II/18

115. Which country did traveller Ibn Batuta come from ?

- (A) Africa
- (B) France
- (C) Japan
- (D) China

116. Which Mughal Emperor did introduce the Mansabdari system ?

- (A) Akbar
- (B) Jahangir
- (C) Shah Jahan
- (D) Aurangzeb

117. Inside which fort is Panchmahal situated ?

- (A) Agra
- (B) Fatehpur Sikri
- (C) Red Fort
- (D) Purana Killa of Delhi

(Continued)

118. ତୁଗଲକନାମାର ରଚୟିତା କିଏ ?

- (A) ଅମିର ଖୁସରୁ
- (B) ଅମିର ହସନ ଦେହଲୱି
- (C) ଆଲବେରୁନି
- (D) ମିନହାଜ-ଉସ ସିରାଜ

119. ଦିଲ୍ଲୀର ହାଉଜାସ କିଏ ନିର୍ମାଣ କରିଥିଲେ ?

- (A) ଆଲାଉଦ୍ଦିନ ଖିଲଜୀ
- (B) ଇଲତୁତମିଶ
- (C) ଫିରୋଜ ତୁଗଲକ
- (D) ମହମ୍ମଦ ତୁଗଲକ

120. ଦିଲ୍ଲୀ ସୁଲତାନୀ ଶାସନ ସମୟରେ କିଏ ସମ୍ବାଦର ବିଭାଗର ମୁଖ୍ୟ ଥିଲେ ?

- (A) ସାଜିର
- (B) ବାରିଦ-ଉ-ମାମାଲିକ
- (C) ଦିୱାନ-ଉ-ଇନସା
- (D) ସାକିଲ-ଉ-ଦର

118. Who was the author of Tughluqnama ?

- (A) Amir Khusrau
- (B) Amir Hasan Dehlwi
- (C) Al Beruni
- (D) Minhaj-us-Siraj

119. Who did build the Hauz Khas of Delhi ?

- (A) Alauddin Khilji
- (B) Iltutmish
- (C) Firoz Tughlaq
- (D) Mohammad Tughlaq

120. Who was the head of the State News Agency in Delhi Sultanate ?

- (A) Wazir
- (B) Barid-i-Mamalik
- (C) Diwan-i-Insha
- (D) Wakil-i-Dar

121. କେଉଁ ପ୍ରକାର ପୁସ୍ତକ ଉଭୟ ବିଷୟଗତ ଜ୍ଞାନ ଓ ପଦ୍ଧତି ଜ୍ଞାନର ସମାହାର ?

- (A) ତଥ୍ୟ ପୁସ୍ତକ
- (B) ଶିକ୍ଷକ ସହାୟକ ପୁସ୍ତକ
- (C) ପାଠ୍ୟପୁସ୍ତକ
- (D) ଅଭ୍ୟାସ ପୁସ୍ତକ

122. ନିମ୍ନୋକ୍ତ କେଉଁ ପରୀକ୍ଷାଗାର ସମ୍ବଳଟି ଭୂଗୋଳ ଶିକ୍ଷାଦାନରେ ବିଶେଷଭାବେ ବ୍ୟବହୃତ ହୋଇନଥାଏ ?

- (A) ଭୂଗୋଳକ
- (B) ପ୍ରତିରୂପ
- (C) ବୃଷ୍ଟିମାପକ ଯନ୍ତ୍ର
- (D) ସମୟରେଖା

123. ଶିକ୍ଷାର୍ଥୀ ମାନଙ୍କର ସମସ୍ତ କାର୍ଯ୍ୟ ଲକ୍ଷ୍ୟ ହାସଲ ଉପରେ କେନ୍ଦ୍ରୀଭୂତ ହେବା ଆବଶ୍ୟକ” - ଏହା ଶିକ୍ଷଣ କାର୍ଯ୍ୟର କେଉଁ ଉପାଦାନ ?

- (A) ଆହ୍ୱାନମୂଳକ
- (B) ଜ୍ଞାନସଂଗଠନ
- (C) ସ୍ୱତଃକୃତ ଅଂଶଗ୍ରହଣ
- (D) ଶୈକ୍ଷିକ ଉଦ୍ଦେଶ୍ୟ

121. Which type of book is an assemblage of both content knowledge and pedagogical knowledge ?

- (A) Source book
- (B) Teachers' handbook
- (C) Textbook
- (D) Workbook

122. Which of the following laboratory resources is not generally used in geography teaching ?

- (A) Globe
- (B) Model
- (C) Rain gauge
- (D) Timeline

123. "All the activities of the pupils should be focussed on achieving the aim" — which element of teaching activity is this ?

- (A) Challenging
- (B) Knowledge construction
- (C) Spontaneous involvement
- (D) Teaching objective

124. ପ୍ରାରମ୍ଭିକ ସ୍ତରରେ ସାମାଜିକ ବିଜ୍ଞାନ

ଶିକ୍ଷାଦାନରେ ନିମ୍ନୋକ୍ତ କେଉଁଟିର ଶିକ୍ଷଣ ଉପରେ
ପ୍ରାଧିକ୍ୟ ଦିଆଯାଇଥାଏ ?

- (A) ଅର୍ଥଶାସ୍ତ୍ର
- (B) ପରିବେଶ
- (C) ଭୂଗୋଳ
- (D) ଇତିହାସ

125. ଶିକ୍ଷାର୍ଥୀମାନଙ୍କ ମଧ୍ୟରେ ସୃଜନଶୀଳତା ତଥା
ଅନେକକ୍ଷଣ କରିବାର ସ୍ପୃହା ଅଭିବୃଦ୍ଧିରେ କେଉଁ
ଶିକ୍ଷାଦାନ ପଦ୍ଧତିର ଆଦର୍ଶ ନିହିତ ?

- (A) ଆଲୋଚନାମୂଳକ ପଦ୍ଧତି
- (B) ପର୍ଯ୍ୟବେକ୍ଷଣ ପଦ୍ଧତି
- (C) ପ୍ରକଳ୍ପ ପଦ୍ଧତି
- (D) ସର୍ବେକ୍ଷଣ ପଦ୍ଧତି

126. ନିମ୍ନ ବନ୍ଧନୀ ମଧ୍ୟରେ ଦିଆଯାଇଥିବା ପ୍ରଶ୍ନଟି
କେଉଁ ଉଦ୍ଦେଶ୍ୟ ଉଦ୍ଦିଷ୍ଟ ?

(ଗଙ୍ଗାନଦୀ ସମତଳର ଭୂ-ଉଚ୍ଚାବଚ୍ଚ ବର୍ଣ୍ଣନା
କର)

- (A) ପ୍ରଯୋଗଭିତ୍ତିକ
- (B) ଜ୍ଞାନଭିତ୍ତିକ
- (C) କୌଶଳଭିତ୍ତିକ
- (D) ହୋଧଭିତ୍ତିକ

124. On the teaching of which of the
following is priority given in
social science education at the
elementary level ?

- (A) Economics
- (B) Environment
- (C) Geography
- (D) History

125. The ideal of which method
of teaching lies in "the
enhancement of aptitude for
creativity and quest among the
pupils" ?

- (A) Discussion method
- (B) Observation method
- (C) Project method
- (D) Survey method

126. What is the testing objective of
the question given within
brackets below ?

(Describe the relief of the Ganga
Plains.)

- (A) Application based
- (B) Knowledge based
- (C) Skill based
- (D) Understanding based





127. ନିମ୍ନୋକ୍ତ କେଉଁ ସ୍ଥାନର ଦ୍ରାଘିମା ଭିତ୍ତିରେ ଭାରତୀୟ ପ୍ରମାଣ ସମୟ ନିର୍ଣ୍ଣିତ ହୁଏ ?

- (A) ଇନ୍ଦୋର
- (B) କାନପୁର
- (C) ମିର୍ଜାପୁର
- (D) ବାରାଣସୀ

128. 'ସମାନ୍ତରେଖା' ସମ୍ବନ୍ଧିତ ନିମ୍ନୋକ୍ତ କେଉଁ ଉକ୍ତିଟି ଭୁଲ ?

- (A) ସମସ୍ତ ସମାନ୍ତରେଖା ବୃତ୍ତାକାର
- (B) ସମସ୍ତ ସମାନ୍ତରେଖା ସମକେନ୍ଦ୍ରିକ
- (C) ସମସ୍ତ ସମାନ୍ତରେଖା ବିଷୁବବୃତ୍ତ ସହିତ ସମାନ୍ତର
- (D) ସମସ୍ତ ସମାନ୍ତରେଖା ଦ୍ରାଘିମାରେଖା ଗୁଡ଼ିକୁ ସମକୋଣରେ ଛେଦ କରନ୍ତି

129. ଭୂ-ସଂସ୍ଥାନ ମାନଚିତ୍ରରେ ନିମ୍ନୋକ୍ତ କେଉଁ ସଂକେତଟି ଧନ ପ୍ରାକୃତିକ ଉତ୍ଥମକୁ ସୂଚାଇଥାଏ ?

- (A) 
- (B) 
- (C) 
- (D) 





127. With reference to the longitude of which of the following places is the Indian Standard Time determined ?

- (A) Indore
- (B) Kanpur
- (C) Mirzapur
- (D) Varanasi

128. Which of the following statements about 'Parallels of Latitude' is incorrect ?

- (A) All the parallels are circular in shape
- (B) All the parallels are concentric
- (C) All the parallels are parallel to the equator
- (D) All the parallels intersect meridians at right angles

129. Which of the following symbols in the Topographical Maps does indicate a natural feature ?

- (A) 
- (B) 
- (C) 
- (D) 

130. ନିମ୍ନରେ ଉଲ୍ଲିଖିତ ଭିନ୍ନ ଭିନ୍ନ ମାନ ଦ୍ଵାରା ଅଙ୍କିତ ଗୋଟିଏ ଅଞ୍ଚଳର ଚାରିଗୋଟି ଭିନ୍ନ ମାନଚିତ୍ର ମଧ୍ୟରୁ କେଉଁଟିର ଆକାର, ସବୁଠାର ବଡ଼ ହେବ ?

- (A) ମାନଚିତ୍ର 'କ' (ମାନ- 1 ସେ.ମି. ସମାନ 1 କି.ମି.)
- (B) ମାନଚିତ୍ର 'ଖ' (ମା.ଭ. - 1 : 200,000)
- (C) ମାନଚିତ୍ର 'ଗ' (ମାନ- 1 ସେ.ମି. ସମାନ 1.5 କି.ମି.)
- (D) ମାନଚିତ୍ର 'ଘ' (ମା.ଭ. - 1 : 2,50,000)

131. ଏସିଆର ନିମ୍ନୋକ୍ତ କେଉଁ ଦେଶଟି ନାତିଶୀତୋଷ୍ଣ ମଣ୍ଡଳରେ ଅବସ୍ଥିତ ?

- (A) ଆଫଗାନିସ୍ତାନ
- (B) ଲାଓସ
- (C) ମାଲେସିଆ
- (D) ଶ୍ରୀଲଙ୍କା

132. ନିମ୍ନୋକ୍ତ କେଉଁ ନଦୀଟି ଦୁଇଟି ଉପନଦୀର ମିଳନସ୍ଥଳରୁ ସୃଷ୍ଟି ଲାଭ କରିଛି ?

- (A) ବୈତରଣୀ
- (B) ବ୍ରାହ୍ମଣୀ
- (C) ବୁଢ଼ାବଲଙ୍ଗ
- (D) ସୁବର୍ଣ୍ଣରେଖା

130. Which among the four maps of different size of the same area drawn with different scales as mentioned below is the largest in size ?

- (A) Map A (scale - 1 cm equals 1 km)
- (B) Map B (R.F. - 1 : 2,00,000)
- (C) Map C (scale - 1 cm equals 1.5 km)
- (D) Map D (R.F. - 1 : 2,50,000)

131. Which of the following countries of Asia is located in the temperate zone ?

- (A) Afghanistan
- (B) Laos
- (C) Malaysia
- (D) Sri Lanka

132. Which of the following rivers has originated from the confluence of two tributaries ?

- (A) The Baitarni
- (B) The Brahmani
- (C) The Budhabalanga
- (D) The Subarnarekha

136. ଆଟଲାଣ୍ଟିକ୍ ମହାସାଗରର ନିମ୍ନୋକ୍ତ କେଉଁ ସ୍ରୋତଟି ବାୟମାତ୍ରା ଦୃଷ୍ଟିକୋଣରୁ ଅନ୍ୟ ତିନୋଟି ଠାରୁ ଭିନ୍ନ ?

- (A) କାନାରିଆ ସ୍ରୋତ
- (B) ଫକଲ୍ୟାଣ୍ଡ ସ୍ରୋତ
- (C) ଗିନି ସ୍ରୋତ
- (D) ବେଙ୍ଗୁଆଲା ସ୍ରୋତ

137. ନିମ୍ନୋକ୍ତ କେଉଁ କାରଣଯୋଗୁଁ ନିରକ୍ଷାୟ ଅଞ୍ଚଳରେ ସମୁଦ୍ରଜଳର ଲବଣତା ସର୍ବାଧିକ ହୁଏ ?

- (A) ବରଫ ଚରଳିବା
- (B) ଅତ୍ୟଧିକ ଆର୍ଦ୍ରତା
- (C) ଅଧିକ ବାଷ୍ପୀଭବନ
- (D) ପ୍ରଚୁର ବୃଷ୍ଟିପାତ

138. ଭାରତର ସାମ୍ପ୍ରତିକ ଛବିରେ ଶାଗୁଣୀ ନିମ୍ନୋକ୍ତ କେଉଁ ଧରଣର ପ୍ରାଣୀ ?

- (A) ବିଲୁପ୍ତ
- (B) ବିପଦଗ୍ରସ୍ତ
- (C) ଅସୁରକ୍ଷିତ
- (D) ଦୁର୍ଲଭ

136. Which of the following currents of the Atlantic Ocean is different from the other three on the basis of its thermal condition ?

- (A) The Canaries Current
- (B) The Falkland Current
- (C) The Guinea Current
- (D) The Benguela Current

137. For which of the following factors is the salinity not maximum in the equatorial region ?

- (A) Melting of snow
- (B) Excess humidity
- (C) High evaporation
- (D) Heavy rainfall

138. To which category of the following types of wildlife does vulture belong in the present context of India ?

- (A) Extinct
- (B) Endangered
- (C) Vulnerable
- (D) Rare

139. ଏକ ଜୈବଗୋଷ୍ଠୀ ଯେଉଁଥିରେ ଜୀବମାନେ ଓ ସେମାନଙ୍କର ଭୌତିକ ଚତୁଃପାର୍ଶ୍ୱ ପାରସ୍ପରିକ ଅନ୍ତର୍କ୍ରିୟା ଦ୍ୱାରା ସମ୍ପୃକ୍ତ ତାକୁ କ'ଣ କୁହାଯାଏ ?

- (A) ଜୀବାଳି
- (B) ପରିସଂସ୍ଥା
- (C) ପରିବେଶ
- (D) ପରିସ୍ଥାନ

140. ଗୋପାଳପୁର ବେଳାଭୂମି ଉପରେ ଏକ ନିର୍ଦ୍ଦିଷ୍ଟ ସମୟରେ ତାପମାତ୍ରା 28.6° ସେଲ୍‌ସିୟସ୍ ହୋଇଥିଲେ ସେହି ସମୟରେ 1500 ମିଟର ଉଚ୍ଚତାବିଶିଷ୍ଟ ପୂର୍ବଘାଟର ଏକ ଗିରିଶୃଙ୍ଗରେ ତାପମାତ୍ରା କେତେ ହେବ ?

- (A) 9.6° ସେ
- (B) 19° ସେ
- (C) 28.6° ସେ
- (D) 38.2° ସେ

141. ବାୟୁମଣ୍ଡଳକୁ ପ୍ରବେଶ କରୁଥିବା ଉଲ୍‌କା ଗୁଡ଼ିକ ନିମ୍ନୋକ୍ତ କେଉଁ ସ୍ତରରେ ମୁଖ୍ୟତଃ ବିଘଟିତ ହୋଇଥାନ୍ତି ?

- (A) ତ୍ରୟୋକ୍ତିୟର
- (B) ଷ୍ଟ୍ରାଟୋକ୍ତିୟର
- (C) ମେସୋକ୍ତିୟର
- (D) ଥର୍ମୋକ୍ତିୟର

139. What is 'a biological community of interacting organisms and their physical surroundings' known as ?

- (A) Biome
- (B) Ecosystem
- (C) Environment
- (D) Habitat

140. What will be the temperature of a peak in the Eastern Ghats with elevation of 1500 metres when the temperature at Gopalpur beach at that time is 28.6°C ?

- (A) 9.6°C
- (B) 19°C
- (C) 28.6°C
- (D) 38.2°C

141. In which of the following layers of the atmosphere are the incoming meteors mainly disintegrated ?

- (A) Troposphere
- (B) Stratosphere
- (C) Mesosphere
- (D) Thermosphere

142. ନିମ୍ନୋକ୍ତ କେଉଁ ଖଣିଜଟି ଭେନ୍ କିମ୍ବା ଲୋଡ଼ରୁ ମିଳି ନଥାଏ ?

- (A) ବକ୍ସାଇଟ୍
- (B) ସୀସା
- (C) ଟିନ
- (D) ଜିଙ୍କା

143. ରାଜ୍ୟ ଏବଂ ସେଥିରେ ଥିବା ଅଭୟାରଣ୍ୟର ନିମ୍ନୋକ୍ତ ଯୋଡ଼ିଗୁଡ଼ିକ ମଧ୍ୟରୁ ଭୁଲ ଯୋଡ଼ିକୁ ବାଛ :

- (A) ମଧ୍ୟପ୍ରଦେଶ — ସୁନ୍ଦରବନ
- (B) ଓଡ଼ିଶା — ଶିମିଳିପାଳ
- (C) ରାଜସ୍ଥାନ — ରନ୍ଥମ୍ବର
- (D) ଉତ୍ତରପ୍ରଦେଶ — ଦୁଧୱା

144. କେଉଁ ପ୍ରକାର ଅରଣ୍ୟରେ ଚିର ଜୀବୀୟ ଉଦ୍ଭିଦ ବିଶେଷ ଭାବରେ ଦେଖାଯାଏ ?

- (A) ଉପକ୍ରାନ୍ତୀୟ ଶୁଷ୍କ ଚିରହରିତ
- (B) ଉପକ୍ରାନ୍ତୀୟ ପାର୍ବତ୍ୟ
- (C) ନାତିଶୀତୋଷ୍ଣ ପାର୍ବତ୍ୟ
- (D) ଆର୍ଦ୍ର ପାର୍ବତ୍ୟ

142. Which of the following minerals is not found in the veins or lodes ?

- (A) Bauxite
- (B) Lead
- (C) Tin
- (D) Zinc

143. Identify the incorrect pair from among the following pairs of states and the wildlife sanctuaries therein :

- (A) Madhya Pradesh — Sundarban
- (B) Odisha — Similipal
- (C) Rajasthan — Ranthambor
- (D) Uttar Pradesh — Dudhwa

144. In which type of forests are the chir type trees generally noticed ?

- (A) Subtropical dry evergreen
- (B) Subtropical montane
- (C) Temperate montane
- (D) Wet montane

145. ନିମ୍ନୋକ୍ତ କେଉଁ କାର୍ଯ୍ୟକଳାପ ଅରଣ୍ୟ ଭୂମିର ଆୟତନ ବୃଦ୍ଧିପାଇଁ ନିଆଯାଉଥିବା ପଦକ୍ଷେପ ଗୁଡ଼ିକର ପରିପକ୍ଷ ?

- (A) ପୁନଃ ବନୀକରଣ
- (B) ସ୍ଥାନାନ୍ତରିତ କୃଷି
- (C) ସାମାଜିକ ବନୀକରଣ
- (D) ଜଳସ୍ରୋତର ଉନ୍ନୟନ

146. ଭାରତର କେଉଁ ଅଞ୍ଚଳରେ ବାଉଁଶ ନଳା ସାହାଯ୍ୟରେ ଝରଣାଜଳ ସଂଗ୍ରହ ଏକ ପୁରାତନ ବ୍ୟବସ୍ଥା ?

- (A) ଦାକ୍ଷିଣାତ୍ୟ ମାଳଭୂମି
- (B) ମେଘାଳୟ ମାଳଭୂମି
- (C) ରାଜସ୍ଥାନ ମରୁଭୂମି
- (D) ପଶ୍ଚିମ ହିମାଳୟ

147. କେଉଁ ଦେଶର ସହାୟତାରେ ଅନୁଗୁଳ ଠାରେ 'ନାଲକୋ' ଆଲୁମିନିୟମ କାରଖାନା ପ୍ରତିଷ୍ଠିତ ହୋଇଛି ?

- (A) କାନାଡା
- (B) ଫ୍ରାନ୍ସ
- (C) ଜର୍ମାନୀ
- (D) ଯୁକ୍ତରାଜ୍ୟ

145. Which of the following activities is contrary to the steps taken for increasing the land under forests ?

- (A) Afforestation
- (B) Shifting cultivation
- (C) Social forestry
- (D) Watershed development

146. In which area of India is the collection of spring water by bamboo pipes an age-old system ?

- (A) The Deccan Plateau
- (B) The Meghalaya Plateau
- (C) The Rajasthan Desert
- (D) The Western Himalayas

147. By the help of which country is the 'NALCO' Aluminium Plant established at Anugul ?

- (A) Canada
- (B) France
- (C) Germany
- (D) United Kingdom

148. ଓଡ଼ିଶା ଉପକୂଳର ବାଲିଆ ଜମିରେ କେଉଁ ଫସଲ ବିଶେଷ ଭଲ ହୁଏ ?

- (A) କାଜୁବାଦାମ
- (B) ଲଙ୍କା
- (C) ଧୁଆଁପତ୍ର
- (D) ହଳଦୀ

149. ନିମ୍ନୋକ୍ତ କେଉଁ ଜିଲ୍ଲା ଓଡ଼ିଶାରେ ସର୍ବାଧିକ ହାରାହାରି ବାର୍ଷିକ ବୃଷ୍ଟିପାତ ପାଇଥାଏ ?

- (A) ଗଞ୍ଜାମ
- (B) କେନ୍ଦୁଝର
- (C) ନୁଆପଡ଼ା
- (D) ସୁବର୍ଣ୍ଣପୁର

150. ଓଡ଼ିଶାର ନିମ୍ନୋକ୍ତ କେଉଁ ପ୍ରାକୃତିକ ବିଭାଗର ଆଞ୍ଚଳିକ ବିସ୍ତୃତି ସର୍ବାଧିକ ?

- (A) କେନ୍ଦ୍ରୀୟ ମାଳ ଅଞ୍ଚଳ
- (B) ଉପକୂଳବର୍ତ୍ତୀ ସମତଳଭୂମି
- (C) ମଧ୍ୟପାର୍ବତ୍ୟ ଓ ଉଚ୍ଚଭୂମି ଅଞ୍ଚଳ
- (D) ପଶ୍ଚିମସ୍ଥ ଚରଣାୟିତ ଉଚ୍ଚଭୂମି

148. Which crop does grow better in the sandy soils of the Odisha coast ?

- (A) Cashew
- (B) Chilly
- (C) Tobacco
- (D) Turmeric

149. Which of the following districts does receive the highest normal annual rainfall in Odisha ?

- (A) Ganjam
- (B) Keonjhar
- (C) Nuapara
- (D) Subarnapur

150. Which of the following physiographic divisions has the maximum spatial coverage in Odisha ?

- (A) The Central Plateau Region
- (B) The Coastal Plains
- (C) The Middle Mountainous and Highland Region
- (D) The Western Rolling Uplands