



Teachingninja.in



Latest Govt Job updates



Private Job updates



Free Mock tests available



Visit - teachingninja.in

**Maharashtra
Forest Dept.**
Previous Year Paper
(Stenographer)
02 Aug, 2023



Q.2 'घर' या शब्दाचा समानार्थी शब्द दिलेल्या पर्यायांतून निवडा.

- Ans
- ☒ 1. दार
 - ☒ 2. सदन
 - ☒ 3. पसारा
 - ☒ 4. साधन

Question Type : MCQ
Question ID : 630680282840
Option 1 ID : 6306801099494
Option 2 ID : 6306801099493
Option 3 ID : 6306801099491
Option 4 ID : 6306801099492
Status : Answered
Chosen Option : 2

Q.3 खाली दिलेल्या पर्यायांतील कोणता काव्यग्रंथ हा ग. दि. माडगूळकर यांचा आहे?

- Ans
- ☒ 1. भावार्थ रामायण
 - ☒ 2. गीतरामायण
 - ☒ 3. अभंग गाथा
 - ☒ 4. श्वेद गंगा

Question Type : MCQ
Question ID : 630680282848
Option 1 ID : 6306801099523
Option 2 ID : 6306801099524
Option 3 ID : 6306801099526
Option 4 ID : 6306801099525
Status : Answered
Chosen Option : 2

Q.4 स्वदेशी X _____ या शब्दाचा विरुद्धार्थी शब्द दिलेल्या पर्यायांतून निवडा.

- Ans
- ☒ 1. देशी
 - ☒ 2. विदेशी
 - ☒ 3. विरार
 - ☒ 4. पंचविशी

Question Type : MCQ
Question ID : 630680282842
Option 1 ID : 6306801099499
Option 2 ID : 6306801099500
Option 3 ID : 6306801099501
Option 4 ID : 6306801099502
Status : Answered
Chosen Option : 2

Q.5 कर्ता, कर्म, क्रियापद यांच्यातील परस्पर संबंध व्यक्त करणाऱ्या रचनेला काय म्हणतात?

- Ans
- ☒ 1. अक्षर रचना
 - ☒ 2. कर्तरी प्रयोग
 - ☒ 3. शब्दसमूह
 - ☒ 4. प्रयोग

Question Type : MCQ

Question ID : 630680282839

Option 1 ID : 6306801099490

Option 2 ID : 6306801099488

Option 3 ID : 6306801099487

Option 4 ID : 6306801099489

Status : Answered

Chosen Option : 4

Q.6 दाणादाण करणे. या वाक्प्रचाराचा वाक्यात प्रयोग खालीलपैकी कशाप्रमाणे होईल?

- Ans
- ☒ 1. पानिपतच्या युद्धात मराठी सैन्याची दाणादाण उडाली.
 - ☒ 2. राम दानदान पाय आपटीत निघून गेला.
 - ☒ 3. पुजारी दणादणा घंटा वाजून पूजा करतो.
 - ☒ 4. त्याने दाना दान करून धान्य गोळा केले.

Question Type : MCQ

Question ID : 630680282846

Option 1 ID : 6306801099517

Option 2 ID : 6306801099516

Option 3 ID : 6306801099518

Option 4 ID : 6306801099515

Status : Answered

Chosen Option : 1

Q.7 मेघासम तो श्याम सावळा. या वाक्यातील अलंकार ओळखा.

- Ans
- ☒ 1. श्लेष अलंकार
 - ☒ 2. रूपक अलंकार
 - ☒ 3. यमक अलंकार
 - ☒ 4. उपमा अलंकार

Question Type : MCQ

Question ID : 630680282844

Option 1 ID : 6306801099509

Option 2 ID : 6306801099507

Option 3 ID : 6306801099510

Option 4 ID : 6306801099508

Status : Answered

Chosen Option : 2

Q.8 पुढे दिलेली अपूर्ण म्हण पूर्ण करा:- “तळे राखी तो _____.”

- Ans
- ☒ 1. पाणी पाहिल
 - ☒ 2. रक्षण करी
 - ☒ 3. पाणी सोडेल
 - ☒ 4. पाणी चाखी

Question Type : MCQ
Question ID : 630680282845
Option 1 ID : 6306801099513
Option 2 ID : 6306801099511
Option 3 ID : 6306801099514
Option 4 ID : 6306801099512
Status : Answered
Chosen Option : 4

Q.9 छत्रपती शिवाजी महाराज हे बाघासारखे शूर होते. या वाक्यातील अलंकार खाली दिलेल्या पर्यायांतून निवडा.

- Ans
- ☒ 1. यमक अलंकार
 - ☒ 2. उपमा अलंकार
 - ☒ 3. अतिशयोक्ती अलंकार
 - ☒ 4. उत्प्रेक्षा अलंकार

Question Type : MCQ
Question ID : 630680282843
Option 1 ID : 6306801099506
Option 2 ID : 6306801099503
Option 3 ID : 6306801099505
Option 4 ID : 6306801099504
Status : Answered
Chosen Option : 2

Q.10 बाघाने हरीण _____ पाठलाग केला. या वाक्यामध्ये कोणता विभक्ती प्रत्यय येईल?

- Ans
- ☒ 1. ला
 - ☒ 2. ची
 - ☒ 3. चा
 - ☒ 4. ने

Question Type : MCQ
Question ID : 630680282836
Option 1 ID : 6306801099476
Option 2 ID : 6306801099478
Option 3 ID : 6306801099475
Option 4 ID : 6306801099477
Status : Answered
Chosen Option : 3

Q.11 खाली दिलेल्या जोड्यांपैकी योग्य जोडी ओळखा.

- Ans
- ☐ 1. राष्ट्रीय खेळ - क्रिकेट
 - ☐ 2. राष्ट्रीय पक्षी- पोपट
 - ☐ 3. राष्ट्रीय फूल - गुलाब
 - ☒ 4. राष्ट्रीय फळ - आंबा

Question Type : MCQ
Question ID : 630680282849
Option 1 ID : 6306801099529
Option 2 ID : 6306801099528
Option 3 ID : 6306801099530
Option 4 ID : 6306801099527
Status : Answered
Chosen Option : 4

Q.12 पुढील शब्दांपैकी 'रान' या शब्दाचा समानार्थी नसलेला शब्द सांगा.

- Ans
- ☐ 1. विपिन
 - ☒ 2. वल्लरी
 - ☐ 3. वन
 - ☐ 4. कानन

Question Type : MCQ
Question ID : 630680282847
Option 1 ID : 6306801099521
Option 2 ID : 6306801099519
Option 3 ID : 6306801099520
Option 4 ID : 6306801099522
Status : Answered
Chosen Option : 2

Q.13 'वात' या शब्दाचा अर्थ नसलेला शब्द पर्यायांतून निवडा.

- Ans
- ☐ 1. आजाराचा एक प्रकार
 - ☐ 2. वारा
 - ☐ 3. दिव्यातील कापूस
 - ☒ 4. ओसाड

Question Type : MCQ
Question ID : 630680282838
Option 1 ID : 6306801099484
Option 2 ID : 6306801099483
Option 3 ID : 6306801099486
Option 4 ID : 6306801099485
Status : Answered
Chosen Option : 4

Q.14 'राजा' या शब्दाचा समानार्थी शब्द दिलेल्या पर्यायांतून निवडा.

- Ans
- ☒ 1. भूत
 - ☒ 2. भूपाल
 - ☒ 3. देव
 - ☒ 4. भू

Question Type : MCQ
Question ID : 630680282841
Option 1 ID : 6306801099497
Option 2 ID : 6306801099495
Option 3 ID : 6306801099498
Option 4 ID : 6306801099496
Status : Answered
Chosen Option : 2

Q.15 तो सायकलवरून पडला. या वाक्यात खालीलपैकी कोणते केवलप्रयोगी अव्यय येईल?

- Ans
- ☒ 1. अरेरे !
 - ☒ 2. छान !
 - ☒ 3. शाब्बास !
 - ☒ 4. वा !

Question Type : MCQ
Question ID : 630680282835
Option 1 ID : 6306801099473
Option 2 ID : 6306801099471
Option 3 ID : 6306801099472
Option 4 ID : 6306801099474
Status : Answered
Chosen Option : 1

Section : English Language

Q.1 Select the most appropriate adverb to fill in the blank.

She felt _____ sorry for not attending the party.

- Ans
- ✓ 1. extremely
 - ✗ 2. barely
 - ✗ 3. fairly
 - ✗ 4. absolutely

Question Type : MCQ

Question ID : 630680282864

Option 1 ID : 6306801099589

Option 2 ID : 6306801099587

Option 3 ID : 6306801099588

Option 4 ID : 6306801099590

Status : Answered

Chosen Option : 1

Q.2 Select the INCORRECTLY spelt word.

- Ans
- ✗ 1. Establishment
 - ✗ 2. Requirement
 - ✓ 3. Maganificent
 - ✗ 4. Retirement

Question Type : MCQ

Question ID : 630680282852

Option 1 ID : 6306801099539

Option 2 ID : 6306801099540

Option 3 ID : 6306801099542

Option 4 ID : 6306801099541

Status : Answered

Chosen Option : 3

Q.3 Select the most appropriate synonym of the given word.

Eradicate

- Ans
- ☐ 1. Establish
 - ☐ 2. Initiate
 - ☒ 3. Eliminate
 - ☐ 4. Introduce

Question Type : MCQ

Question ID : 630680282850

Option 1 ID : 6306801099534

Option 2 ID : 6306801099533

Option 3 ID : 6306801099532

Option 4 ID : 6306801099531

Status : Answered

Chosen Option : 3

Q.4 Select the most appropriate article to fill in the blank. If no article is required, select 'No article'.

We should always speak _____ truth.

- Ans
- ☒ 1. the
 - ☐ 2. a
 - ☐ 3. an
 - ☐ 4. No article

Question Type : MCQ

Question ID : 630680282861

Option 1 ID : 6306801099577

Option 2 ID : 6306801099575

Option 3 ID : 6306801099576

Option 4 ID : 6306801099578

Status : Answered

Chosen Option : 4

Q.5 Select the most appropriate article to fill in the blank. If no article is required, select 'No article'.

I met a woman in train and _____ same woman when I was buying grocery.

- Ans
- ☒ 1. the
 - ☐ 2. an
 - ☐ 3. a
 - ☐ 4. No article

Question Type : MCQ

Question ID : 630680282862

Option 1 ID : 6306801099581

Option 2 ID : 6306801099580

Option 3 ID : 6306801099579

Option 4 ID : 6306801099582

Status : Answered

Chosen Option : 1

Q.6 Parts of a sentence are given below in jumbled order. Arrange the parts in the correct order to form a meaningful sentence.

(P) I decided to call on him

(Q) to avail the earliest opportunity

(R) having heard of the palmist,

(S) before he left the town

- Ans**
- ☒ 1. P, Q, R, S
 - ☒ 2. R, Q, S, P
 - ☒ 3. R, P, Q, S
 - ☒ 4. P, R, S, Q

Question Type : MCQ

Question ID : 630680282858

Option 1 ID : 6306801099564

Option 2 ID : 6306801099566

Option 3 ID : 6306801099565

Option 4 ID : 6306801099563

Status : Answered

Chosen Option : 4

Q.7 Select the most appropriate noun to fill in the blank.

I am unable to find the _____ of my office keys.

- Ans**
- ☒ 1. fleet
 - ☒ 2. band
 - ☒ 3. bunch
 - ☒ 4. group

Question Type : MCQ

Question ID : 630680282863

Option 1 ID : 6306801099586

Option 2 ID : 6306801099583

Option 3 ID : 6306801099584

Option 4 ID : 6306801099585

Status : Answered

Chosen Option : 3

Q.8 Select the most appropriate meaning of the given idiom.

A man of straw

Ans

- ☐ 1. A wealthy person
- ☒ 2. A person with no integrity
- ☐ 3. An intelligent person
- ☐ 4. A person with integrity

Question Type : MCQ

Question ID : 630680282855

Option 1 ID : 6306801099552

Option 2 ID : 6306801099553

Option 3 ID : 6306801099551

Option 4 ID : 6306801099554

Status : Answered

Chosen Option : 2

Q.9 Select the most appropriate meaning of the given idiom.

Blowing his own trumpet

Ans

- ☐ 1. To praise another person
- ☐ 2. To practice on a trumpet
- ☐ 3. To play his trumpet well
- ☒ 4. To proudly praise himself

Question Type : MCQ

Question ID : 630680282854

Option 1 ID : 6306801099549

Option 2 ID : 6306801099550

Option 3 ID : 6306801099547

Option 4 ID : 6306801099548

Status : Answered

Chosen Option : 4

Q.10 Parts of a sentence are given below in jumbled order. Arrange the parts in the correct order to form a meaningful sentence.

- (P) the doctor prescribed
- (Q) some antibiotics
- (R) having examined the patient
- (S) for over an hour

Ans  1. R, S, P, Q
 2. P, Q, S, R
 3. R, Q, P, S
 4. S, P, Q, R

Question Type : MCQ
Question ID : 630680282859
Option 1 ID : 6306801099567
Option 2 ID : 6306801099570
Option 3 ID : 6306801099568
Option 4 ID : 6306801099569
Status : Answered
Chosen Option : 2

Q.11 Sentences of a paragraph are given below in jumbled order (P, Q, R, S). Arrange the sentences in the correct order to form a meaningful and coherent paragraph. Two anchor sentences (A1, A2) are given.

- A1. Solar energy is a renewable source of energy.
- P. Photovoltaic panels are used to convert solar energy into electrical energy.
- Q. It is pollution free with low cost maintenance.
- R. We get sunlight in abundance, and it is naturally replenished.
- S. This energy is used to generate electricity for domestic and commercial purpose.
- A2. It will make the world a greener and cleaner place as well.

Ans  1. Q, R, S, P
 2. R, P, S, Q
 3. S, Q, R, P
 4. R, S, Q, P

Question Type : MCQ
Question ID : 630680282860
Option 1 ID : 6306801099574
Option 2 ID : 6306801099571
Option 3 ID : 6306801099573
Option 4 ID : 6306801099572
Status : Answered
Chosen Option : 2

Q.12 Select the option that can be used as a one-word substitute for the given group of words.

A person having habit of eating too much

- Ans
- ☐ 1. Cannibal
 - ☒ 2. Glutton
 - ☐ 3. Tangible
 - ☐ 4. Gullible

Question Type : MCQ

Question ID : 630680282857

Option 1 ID : 6306801099562

Option 2 ID : 6306801099559

Option 3 ID : 6306801099561

Option 4 ID : 6306801099560

Status : Answered

Chosen Option : 2

Q.13 Select the INCORRECTLY spelt word.

- Ans
- ☒ 1. Assassniation
 - ☐ 2. Accumulation
 - ☐ 3. Accomplishment
 - ☐ 4. Astonishment

Question Type : MCQ

Question ID : 630680282853

Option 1 ID : 6306801099544

Option 2 ID : 6306801099543

Option 3 ID : 6306801099546

Option 4 ID : 6306801099545

Status : Answered

Chosen Option : 1

Q.14 Select the option that can be used as a one-word substitute for the given group of words.

A thing which is no longer in use

- Ans
- ☐ 1. Latest
 - ☒ 2. Obsolete
 - ☐ 3. Unique
 - ☐ 4. Innovative

Question Type : MCQ

Question ID : 630680282856

Option 1 ID : 6306801099557

Option 2 ID : 6306801099558

Option 3 ID : 6306801099555

Option 4 ID : 6306801099556

Status : Answered

Chosen Option : 2

Q.15 Select the most appropriate ANTONYM of the given word.

Enormous

- Ans
- ☒ 1. Huge
 - ☒ 2. Tiny
 - ☒ 3. Shiny
 - ☒ 4. Heavy

Question Type : MCQ

Question ID : 630680282851

Option 1 ID : 6306801099536

Option 2 ID : 6306801099537

Option 3 ID : 6306801099535

Option 4 ID : 6306801099538

Status : Answered

Chosen Option : 2

Section : General Knowledge

Q.1 सर्व इनपुट्समध्ये प्रमाणशीर वाढ झाल्यामुळे, आउटपुटमध्ये त्याच प्रमाणात वाढ होते, तेव्हा प्रॉडक्शन फंक्शन हे स्केलवर _____ शिटर्न्स दर्शविते.

- Ans
- ☒ 1. इंक्रीझिंग
 - ☒ 2. डिक्रीझिंग
 - ☒ 3. कॉन्स्टन्ट
 - ☒ 4. मार्जिनल

Question Type : MCQ

Question ID : 630680282871

Option 1 ID : 6306801099618

Option 2 ID : 6306801099616

Option 3 ID : 6306801099617

Option 4 ID : 6306801099615

Status : Answered

Chosen Option : 3

Q.2 खालीलपैकी कोणते विरल (rarer) माध्यमात अभिसारी भिंग म्हणून कार्य करते?

Ans

- ✓ 1. बहिर्वक्र भिंग
- ✗ 2. अंतर्वक्र भिंग
- ✗ 3. साधी काच
- ✗ 4. आरसा

Question Type : MCQ

Question ID : 630680282876

Option 1 ID : 6306801099636

Option 2 ID : 6306801099635

Option 3 ID : 6306801099637

Option 4 ID : 6306801099638

Status : Answered

Chosen Option : 3

Q.3 भारतात, ब्राह्मो समाज आणि आदि ब्राह्मो समाज असे ब्राह्मो समाजाचे दोन भाग केव्हा झाले होते?

Ans

- ✗ 1. 1863
- ✓ 2. 1866
- ✗ 3. 1865
- ✗ 4. 1861

Question Type : MCQ

Question ID : 630680282866

Option 1 ID : 6306801099598

Option 2 ID : 6306801099595

Option 3 ID : 6306801099597

Option 4 ID : 6306801099596

Status : Answered

Chosen Option : 2

Q.4 खालीलपैकी कोणते धरण चंबळ नदीवर बांधले गेले आहे?

Ans

- ✗ 1. टिहरी धरण
- ✓ 2. गांधी सागर धरण
- ✗ 3. नागार्जुन सागर धरण
- ✗ 4. हिराकुड धरण

Question Type : MCQ

Question ID : 630680282874

Option 1 ID : 6306801099630

Option 2 ID : 6306801099628

Option 3 ID : 6306801099627

Option 4 ID : 6306801099629

Status : Answered

Chosen Option : 1

Q.5 खालीलपैकी कोणते नृत्य सिक्कीम राज्याशी संबंधित आहे?

- Ans
- ☒ 1. बाचा नगमा (Bacha Nagma)
 - ☒ 2. दुम्हाल (Dumhal)
 - ☒ 3. भांड पाथेर (Bhand Pather)
 - ☒ 4. सिंघी छम (Singhi Chham)

Question Type : MCQ

Question ID : 630680282868

Option 1 ID : 6306801099606

Option 2 ID : 6306801099603

Option 3 ID : 6306801099604

Option 4 ID : 6306801099605

Status : Answered

Chosen Option : 1

Q.6 12 फेब्रुवारी 1922 रोजी असहकार आंदोलन मागे घेण्यासाठीची गांधी आणि इतर काँग्रेस नेते यांची भेट कोठे झाली?

- Ans
- ☒ 1. अमृतसर
 - ☒ 2. बारडोली
 - ☒ 3. चोरीचौरा
 - ☒ 4. पुणे

Question Type : MCQ

Question ID : 630680282865

Option 1 ID : 6306801099593

Option 2 ID : 6306801099591

Option 3 ID : 6306801099592

Option 4 ID : 6306801099594

Status : Answered

Chosen Option : 4

Q.7 भारतातील खालीलपैकी कोणत्या राज्यात सिरपूर स्तूप आहे?

- Ans
- ☒ 1. मध्यप्रदेश
 - ☒ 2. उत्तर प्रदेश
 - ☒ 3. छत्तीसगड
 - ☒ 4. आंध्रप्रदेश

Question Type : MCQ

Question ID : 630680282867

Option 1 ID : 6306801099602

Option 2 ID : 6306801099601

Option 3 ID : 6306801099599

Option 4 ID : 6306801099600

Status : Answered

Chosen Option : 1

Q.8 जीवाणूंच्या पेशी भित्ति _____ पासून बनलेल्या असतात.

Ans

- ✗ 1. ग्लुकोज
- ✗ 2. सेल्युलोज
- ✗ 3. पिष्ट
- ✓ 4. पेप्टिडोग्लायकॅन

Question Type : MCQ

Question ID : 630680282875

Option 1 ID : 6306801099634

Option 2 ID : 6306801099633

Option 3 ID : 6306801099632

Option 4 ID : 6306801099631

Status : Answered

Chosen Option : 2

Q.9 सरकारिया आयोगाचे अध्यक्ष कोण होते?

Ans

- ✗ 1. जेपी नाईक
- ✗ 2. ए. लक्ष्मण स्वामी
- ✗ 3. दौलत सिंह
- ✓ 4. रणजित सिंह

Question Type : MCQ

Question ID : 630680282878

Option 1 ID : 6306801099643

Option 2 ID : 6306801099645

Option 3 ID : 6306801099644

Option 4 ID : 6306801099646

Status : Answered

Chosen Option : 1



Q.10 खालीलपैकी कोणता एक गाळाचा खडक आहे?

Ans

- ☒ 1. पाटी (Slate)
- ☒ 2. पट्टिताश्म (Gneiss)
- ☒ 3. चुनखडक (Limestone)
- ☒ 4. स्पंजाश्म (Pumice)

Question Type : MCQ

Question ID : 630680282872

Option 1 ID : 6306801099620

Option 2 ID : 6306801099622

Option 3 ID : 6306801099621

Option 4 ID : 6306801099619

Status : Answered

Chosen Option : 4

Q.11 खालीलपैकी कोणता पत प्रदान करणारा अनौपचारिक धनको नाही?

Ans

- ☒ 1. सहकारी बँक
- ☒ 2. धनको
- ☒ 3. व्यापारी
- ☒ 4. नातेवाईक

Question Type : MCQ

Question ID : 630680282870

Option 1 ID : 6306801099612

Option 2 ID : 6306801099613

Option 3 ID : 6306801099611

Option 4 ID : 6306801099614

Status : Answered

Chosen Option : 1

Q.12 मोहिनीअट्टम हा भारतातील खालीलपैकी कोणत्या राज्याचा शास्त्रीय नृत्य प्रकार आहे?

Ans

- ☒ 1. केरळ
- ☒ 2. मणिपूर
- ☒ 3. ओडिशा
- ☒ 4. तामिळनाडू

Question Type : MCQ

Question ID : 630680282869

Option 1 ID : 6306801099610

Option 2 ID : 6306801099609

Option 3 ID : 6306801099608

Option 4 ID : 6306801099607

Status : Answered

Chosen Option : 1

Q.13 भारतीय राज्यघटनेने निवडणूक न्यायाधिकरणाची व्यवस्था केव्हा रद्द केली?

- Ans
- ☒ 1. 1975
 - ☒ 2. 1956
 - ☒ 3. 1960
 - ☒ 4. 1966

Question Type : MCQ
Question ID : 630680282877
Option 1 ID : 6306801099642
Option 2 ID : 6306801099640
Option 3 ID : 6306801099639
Option 4 ID : 6306801099641
Status : Answered
Chosen Option : 2

Q.14 राजीव गांधी खेलरत्न पुरस्कारचे प्रथम प्राप्तकर्ता कोण होते?

- Ans
- ☒ 1. लिंडर पेस
 - ☒ 2. विश्वनाथन आनंद
 - ☒ 3. सानिया मिर्झा
 - ☒ 4. अभिनव बिंद्रा

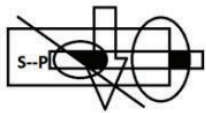
Question Type : MCQ
Question ID : 630680282879
Option 1 ID : 6306801099649
Option 2 ID : 6306801099650
Option 3 ID : 6306801099647
Option 4 ID : 6306801099648
Status : Answered
Chosen Option : 2

Q.15 बनिहाल खिंड खालीलपैकी कोणत्या पर्वतरांगांतील एक पर्वतीय खिंड आहे?

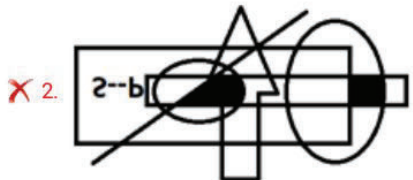
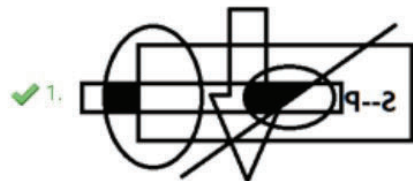
- Ans
- ☒ 1. पूर्व घाट
 - ☒ 2. विंध्य पर्वतरांगा
 - ☒ 3. पीरपंजाल पर्वतरांगा
 - ☒ 4. पश्चिम घाट

Question Type : MCQ
Question ID : 630680282873
Option 1 ID : 6306801099623
Option 2 ID : 6306801099625
Option 3 ID : 6306801099626
Option 4 ID : 6306801099624
Status : Answered
Chosen Option : 3

Q.1 खाली दाखवल्यानुसार उजव्या बाजूवर आरसा ठेवला असल्यास, दिलेल्या आकृतीची योग्य दर्पण प्रतिमा निवडा.



Ans



Question Type : MCQ

Question ID : 630680282891

Option 1 ID : 6306801099696

Option 2 ID : 6306801099698

Option 3 ID : 6306801099697

Option 4 ID : 6306801099695

Status : Answered

Chosen Option : 1

Q.2 खाली दिलेल्या 4 चार अंकी संख्या विचारात घ्या. जर प्रत्येक संख्येच्या पहिल्या आणि चौथ्या अंकांची अदलाबदल केली आणि तयार झालेल्या संख्याच्या अंकांना चढत्या क्रमाने लिहिले तर, त्या मध्यभागी कोणती संख्या येईल?

4756, 6354, 3645, 4657, 3547

Ans ☒ 1. 6354

☒ 2. 4756

☒ 3. 4657

☒ 4. 3645

Question Type : MCQ

Question ID : 630680282885

Option 1 ID : 6306801099671

Option 2 ID : 6306801099674

Option 3 ID : 6306801099672

Option 4 ID : 6306801099673

Status : Answered

Chosen Option : 2

Q.3 खालील समीकरण योग्य करण्यासाठी कोणत्या दोन संख्यांची अदलाबदल करावी लागेल?

$$1 \times 7 - 9 \div 3 + 5 - 4 = 29$$

Ans ☒ 1. 3 आणि 1

☒ 2. 1 आणि 4

☒ 3. 4 आणि 9

☒ 4. 1 आणि 9

Question Type : MCQ

Question ID : 630680282893

Option 1 ID : 6306801099703

Option 2 ID : 6306801099704

Option 3 ID : 6306801099705

Option 4 ID : 6306801099706

Status : Answered

Chosen Option : 2

Q.4 जर दिलेल्या संख्या माळेचा पहिला अर्धा भाग चढत्या क्रमाने लिहिला असेल आणि माळेचा दुसरा अर्धा भाग उतरत्या क्रमाने लिहिला असेल, तर डावीकडून 6 व्या स्थानाच्या उजवीकडे 9 व्या स्थानावर कोणती संख्या येईल?

(डावी बाजू) 1, 3, 4, 5, 6, 7, 8, 9, 5, 4, 3, 2, 6, 7, 8, 5, 4, 3 (उजवी बाजू)

- Ans
- ☒ 1. 3
 - ☒ 2. 6
 - ☒ 3. 4
 - ☒ 4. 5

Question Type : MCQ
Question ID : 630680282887
Option 1 ID : 6306801099681
Option 2 ID : 6306801099682
Option 3 ID : 6306801099679
Option 4 ID : 6306801099680
Status : Answered
Chosen Option : 3

Q.5 खाली दिलेल्या अक्षर-अंक मालिकेत, अशा किती सम संख्या आहेत ज्यांच्या अगोदर आणि नंतर देखील स्वर आहेत?

R Y 3 U 7 5 5 6 E J 3 H 4 6 4 5 N G 9 K J G U 4 A T 9 5 A 6 M G F H 2 I R 6 U 5 N 3 F H R T 5

- Ans
- ☒ 1. 0
 - ☒ 2. 1
 - ☒ 3. 3
 - ☒ 4. 2

Question Type : MCQ
Question ID : 630680282881
Option 1 ID : 6306801099655
Option 2 ID : 6306801099656
Option 3 ID : 6306801099658
Option 4 ID : 6306801099657
Status : Answered
Chosen Option : 2

Q.6 दिलेल्या अक्षर-संख्या-चिन्ह माळेचा अभ्यास करा आणि त्या खालील प्रश्नाचे उत्तर द्या.

(डावी बाजू) a 9 # g 3 u n 6 t 8 % d c 5 t 1 & (उजवी बाजू)

जर अक्षरे आणि चिन्हांची जागा न बदलता माळेतील सर्व संख्या चढत्या क्रमाने लिहिल्यास, तिथे अशा किती सम संख्या असतील ज्यांच्या लगेचच अगोदर अक्षर आणि लगेचच नंतर चिन्ह येईल?

Ans

- ☐ 1. 2
☐ 2. 0
☐ 3. 3
☒ 4. 1

Question Type : MCQ

Question ID : 630680282886

Option 1 ID : 6306801099677

Option 2 ID : 6306801099675

Option 3 ID : 6306801099678

Option 4 ID : 6306801099676

Status : Answered

Chosen Option : 4

Q.7 जर,

'P + Q' म्हणजे 'P ही Q ची आई आहे',

'P - Q' म्हणजे 'P ही Q ची बहिण आहे',

'P × Q' म्हणजे 'P हा Q चा भाऊ आहे', आणि

'P ÷ Q' म्हणजे 'P ही Q ची मुलगी आहे',

तर खालील समीकरणात C चे B शी काय नाते आहे?

$$A \div C - D + E \times B$$

Ans

- ☐ 1. आजी
☒ 2. मावशी (आईची बहिण)
☐ 3. आत्या (वडिलांची बहिण)
☐ 4. भाचा (बहिणीचा मुलगा)

Question Type : MCQ

Question ID : 630680282889

Option 1 ID : 6306801099688

Option 2 ID : 6306801099687

Option 3 ID : 6306801099689

Option 4 ID : 6306801099690

Status : Answered

Chosen Option : 2

Q.8 खालील चार अक्षरसंचांपैकी तीन अक्षरसंच एका विशिष्ट तऱ्हेने समान आहेत आणि एक वेगळा आहे. तो गटात न बसणारा अक्षरसंच निवडा.

- Ans
- ☒ 1. UZKPA
 - ☒ 2. OTEJU
 - ☒ 3. AFQVF
 - ☒ 4. EJUZK

Question Type : MCQ

Question ID : 630680282884

Option 1 ID : 6306801099669

Option 2 ID : 6306801099670

Option 3 ID : 6306801099667

Option 4 ID : 6306801099668

Status : Answered

Chosen Option : 3

Q.9 जर

‘×’ म्हणजे ‘बेरीज’,

‘÷’ म्हणजे ‘वजाबाकी’,

‘+’ म्हणजे ‘गुणाकार’, आणि

‘-’ म्हणजे ‘भागाकार’, असेल

तर, पुढील समीकरणात ‘?’ चे मूल्य काय असेल?

$$12 + 9 \div 21 \times 21 \div 24 - 6 = ?$$

- Ans
- ☒ 1. 70
 - ☒ 2. 146
 - ☒ 3. 112
 - ☒ 4. 104

Question Type : MCQ

Question ID : 630680282894

Option 1 ID : 6306801099709

Option 2 ID : 6306801099707

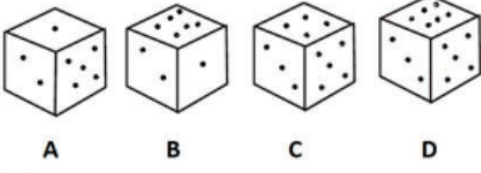
Option 3 ID : 6306801099708

Option 4 ID : 6306801099710

Status : Answered

Chosen Option : 4

Q.10 खालीलपैकी कोणती प्रतिमा त्याच फाशाची फिरवलेली प्रतिमा नाही?



- Ans
- ☒ 1. C
 - ☒ 2. A
 - ☒ 3. D
 - ☒ 4. B

Question Type : MCQ
Question ID : 630680282890
Option 1 ID : 6306801099693
Option 2 ID : 6306801099691
Option 3 ID : 6306801099694
Option 4 ID : 6306801099692
Status : Answered
Chosen Option : 1

Q.11 खालील शब्द-जोडीतील शब्दांचा ज्याप्रकारे एकमेकांशी संबंध आहे त्याचप्रकारे संबंध असलेली शब्द-जोडी दिलेल्या पर्यायांतून निवडा.

त्वचा : टॅटू

- Ans
- ☒ 1. भाज्या : चाकू
 - ☒ 2. दूध : दही
 - ☒ 3. पाणी : उष्णता
 - ☒ 4. कॅनव्हास : प्रतिमा

Question Type : MCQ
Question ID : 630680282883
Option 1 ID : 6306801099663
Option 2 ID : 6306801099665
Option 3 ID : 6306801099664
Option 4 ID : 6306801099666
Status : Answered
Chosen Option : 4

Q.12 एका माणसाकडे बोट करून, तारिता म्हणाली. "तो माझ्या मुलाच्या आजीच्या (वडिलांची आई) पतीचा एकुलता एक मुलगा आहे."

तर त्या माणसाचे तारिताशी काय नाते आहे?

Ans

☒ 1. मुलगा

☒ 2. पती

☒ 3. दीर (पतीचा भाऊ)

☒ 4. भाऊ

Question Type : MCQ

Question ID : 630680282888

Option 1 ID : 6306801099684

Option 2 ID : 6306801099683

Option 3 ID : 6306801099686

Option 4 ID : 6306801099685

Status : Answered

Chosen Option : 2

Q.13 66 विद्यार्थी असलेला एक वर्ग स्पर्धा परीक्षेला बसला होता. संदीप खालून 18 व्या क्रमांकावर आहे, तर त्याची मैत्रीण चंदा शीर्षस्थानी 43 व्या क्रमांकावर आहे. योगेशचा क्रमांक हा संदीप आणि चंदा यांच्या अगदी मधोमध होता. तर शीर्षस्थानावरून योगेशचा क्रमांक किती आहे ?

Ans

☒ 1. 21 वा

☒ 2. 46 वा

☒ 3. 45 वा

☒ 4. 19 वा

Question Type : MCQ

Question ID : 630680282880

Option 1 ID : 6306801099651

Option 2 ID : 6306801099652

Option 3 ID : 6306801099653

Option 4 ID : 6306801099654

Status : Answered

Chosen Option : 2

Q.14 दिलेल्या मालिकेत प्रश्नचिन्हाच्या '?' जागी येऊ शकेल अशी संख्या दिलेल्या पर्यायांतून निवडा.

0, 1, 1, 0, 2, 4, 2, 5, 15, ?

- Ans
- ☒ 1. 14
 - ☒ 2. 18
 - ☒ 3. 16
 - ☒ 4. 12

Question Type : MCQ

Question ID : 630680282892

Option 1 ID : 6306801099700

Option 2 ID : 6306801099702

Option 3 ID : 6306801099701

Option 4 ID : 6306801099699

Status : Answered

Chosen Option : 4

Q.15 दिलेल्या मालिकेत रिक्तस्थाना जागी क्रमाक्रमाने ठेवल्यास तार्किक क्रम तयार होईल असे अक्षरांचे संयोजन निवडा.

K _ _ L M N _ _ L L M _ _ K L L M _ K K L L M _

- Ans
- ☒ 1. K L K K N K N N
 - ☒ 2. K L K K N K N L
 - ☒ 3. K L K K N K M N
 - ☒ 4. K L L K N K N N

Question Type : MCQ

Question ID : 630680282882

Option 1 ID : 6306801099659

Option 2 ID : 6306801099660

Option 3 ID : 6306801099662

Option 4 ID : 6306801099661

Status : Answered

Chosen Option : 1