



# Teachingninja.in



**Latest Govt Job updates**



**Private Job updates**



**Free Mock tests available**



**Visit - [teachingninja.in](https://teachingninja.in)**



# **PSSSB VDO**

**Previous Year Paper**  
**02 Oct, 2016**



1. A 'gourmet' means
  - (a) A seasonal traveller
  - (b) Greedy eater
  - (c) Vegetarian
  - (d) Connoisseur of good food
2. A 'martinet' means
  - (a) Candidate
  - (b) Supervisor
  - (c) Strict disciplinarian
  - (d) military leader
3. Find the word correctly spelled
  - (a) Parallel
  - (b) Weird
  - (c) embarrassing
  - (d) baloon
4. Out of the four alternatives suggested, select the one which best expresses the same sentence in Indirect Speech:

Vipul said, "Alas! How thoughtless I have been!"

  - (a) Vipul exclaimed how thoughtless I have been.
  - (b) Vipul regretted upon my thoughtlessness.
  - (c) Vipul confessed with regret that he had been thoughtless.
  - (d) Vipul admitted that he had been thoughtless.

**Replace the underlined word from the given alternatives:**

5. Some scientists believed that a meteorite could have created a tsunami that wiped out life on earth several billion years ago.
  - (a) got more of
  - (b) extremely tired
  - (c) removed by
  - (d) put an end to
6. It lays the foundation of the overarching perspective that a person develops throughout his or her life.
  - (a) embracing nothing
  - (b) dominating nothing
  - (c) embracing everything
  - (d) dominating everything



Replace the underlined word that is most closely opposite in meaning from the given alternatives:

7. His energy galvanizes him to shoulder the responsibilities and withstand the pressures of playing a sport.

- (a) depart
- (b) collapse
- (c) surrender
- (d) discontinue

The sentence is followed by different ways of writing the underlined part. Choose the best alternative:

8. The glorious tradition of the kingdom almost continued for its establishment, right from the reign of Bappa Rawal.

- (a) from its establishment
- (b) since its establishment
- (c) till its establishment
- (d) to its establishment

9. They compensate for lack of admirable physique by their firm and pleasant nature.

- (a) from its establishment
- (b) firm or pleasant nature
- (c) firm and pleasant ideas
- (d) firm, pleasant nature

Choose the best answer from the given alternatives (Q. No. 10):

10. While learning about the passive voice form, students learn about:

- (a) use of 'by'
- (b) position of verbs
- (c) position of nouns
- (d) use of verb form

Choose the best answer to replace the underlined word from the given alternatives (Q. No. 11):

11. It forms a natural boundary that runs along the border between India and Pakistan.

- (a) figures
- (b) creates
- (c) frames
- (d) moulds

Choose the alternative which best expresses the meaning of the idiom/phrase (Q. No. 12):

12. He was punished for taking French leave.

- (a) giving lame excuse
- (b) leaving without intimation
- (c) being absent without permission
- (d) resigning without giving notice

13. ਪੰਜਾਬੀ ਭਾਸ਼ਾ ਦਾ ਮੌਜੂਦਾ ਰੂਪ ਇਤਿਹਾਸਕ ਤੌਰ ਤੇ ਹੇਠ ਲਿਖੀਆਂ ਭਾਸ਼ਾਵਾਂ ਵਿੱਚੋਂ ਨਿੱਖਰ ਕੇ ਆਇਆ ਹੈ।

- 1. ਵੈਦਿਕ
- 2. ਅਪਭ੍ਰੰਸ਼
- 3. ਸੰਸਕ੍ਰਿਤ
- 4. ਪ੍ਰਾਕ੍ਰਿਤ

ਇਤਿਹਾਸਕ ਤੌਰ ਤੇ ਇਨ੍ਹਾਂ ਭਾਸ਼ਾਵਾਂ ਦਾ ਸਹੀ ਕ੍ਰਮ ਕਿਹੜਾ ਹੈ:

- (a) 1, 2, 3 ਅਤੇ 4
- (b) 1, 3, 2 ਅਤੇ 4
- (c) 1, 4, 2 ਅਤੇ 3
- (d) 1, 3, 4 ਅਤੇ 2

14. ਸੂਚੀ 1

- A ਦੁਆਬੀ
- B ਮਾਝੀ
- C ਮਲਵਈ
- D ਪੁਆਧੀ

ਸੂਚੀ 2

- (i) ਤੀਮੀਂ
- (ii) ਘੇ
- (iii) ਰਮਾਨ
- (iv) ਬਿਚਮਾਂ

ਉਪਰੋਕਤ ਵਿੱਚੋਂ ਕਿਹੜਾ ਕ੍ਰਮ ਸਹੀ ਹੈ:

A	B	C	D
(a) (i)	(ii)	(iii)	(iv)
(b) (ii)	(iii)	(i)	(iv)
(c) (iii)	(ii)	(iv)	(i)
(d) (ii)	(iii)	(iv)	(i)

15. ਸਘੋਸ਼ ਅਲਪ-ਪ੍ਰਾਣ ਵਿਅੰਜਨ ਹਨ:

- (a) ਬ, ਢ, ਡ, ਜ
- (b) ਤ, ਚ, ਕ, ਪ
- (c) ਛ, ਠ, ਖ, ਫ
- (d) ਬ, ਦ, ਠ, ਖ



16. ਹੇਠ ਲਿਖੇ ਸੂਰਾਂ ਵਿੱਚੋਂ ਹ੍ਰਸਵ ਸੂਰ ਪਹਿਚਾਣੋ:
- ਈ
  - ਉ
  - ਔ
  - ਐ
17. ਸ਼ੁੱਧ ਸ਼ਬਦ-ਜੋੜ ਚੁਣੋ:
- ਮੋਹਦਾ
  - ਸੋਹਣਾ ✓
  - ਸਿਫਾਰਸ਼
  - ਪੜ੍ਹਣਾ ✗
18. ਲਕੀਰੇ ਸ਼ਬਦ ਦੇ 'ਪੜਨਾਂਵ' ਦੀ ਕਿਸਮ ਦੱਸੋ:  
ਜਿਹੜੇ ਮਿਹਨਤ ਕਰਦੇ ਹਨ, ਉਹ ਸਫਲ ਹੁੰਦੇ ਹਨ।
- ਨਿੱਜਵਾਚਕ ਪੜਨਾਂਵ
  - ਨਿਸ਼ਚੇਵਾਚਕ ਪੜਨਾਂਵ
  - ਪੁਰਖਵਾਚਕ ਪੜਨਾਂਵ
  - ਸੰਬੰਧਵਾਚਕ ਪੜਨਾਂਵ
19. ਲਕੀਰਿਆਂ ਸ਼ਬਦ ਕਿਸ ਸ਼ਬਦ-ਸ਼੍ਰੇਣੀ ਨਾਲ ਸੰਬੰਧ ਰਖਦਾ ਹੈ:  
ਉਹ ਮੁੰਡਾ ਮੇਰਾ ਭਰਾ ਹੈ।
- ਨਾਂਵ
  - ਪੜਨਾਂਵ ✗
  - ਵਿਸ਼ੇਸ਼ਣ
  - ਸੰਬੰਧਕ
20. ਲਕੀਰੇ ਸੰਬੰਧਕੀ ਸ਼ਬਦ ਦੀ ਕਿਸਮ ਦੱਸੋ:  
ਗੁੰਬਦ ਦੇ ਉੱਤੇ ਪੰਛੀ ਬੈਠੇ ਹਨ।
- ਪੂਰਨ
  - ਅਪੂਰਨ
  - ਮਿਸ਼ਰਤ
  - ਕੋਈ ਵੀ ਨਹੀਂ
21. ਹੇਠ ਲਿਖੇ ਵਾਕਾਂ ਵਿੱਚੋਂ ਸ਼ੁੱਧ ਵਾਕ ਚੁਣੋ:
- ਮੱਝ, ਗਾਵਾਂ ਤੇ ਭੇਡਾਂ ਚਰ ਰਹੇ ਹਨ। ✓
  - ਸ਼ੇਰ ਅਤੇ ਸ਼ੇਰਨੀਆਂ ਗਰਜ ਰਹੀਆਂ ਹਨ।
  - ਮੈਂ, ਤੂੰ ਤੇ ਉਹ ਪੜ੍ਹਦੇ ਸਾਂ।
  - ਮੁੰਡੇ ਜਾਂ ਕੁਤੀਆਂ ਜਿਤਣਗੇ। ✗

22. 'ਰੁੱਖ ਤੇ ਰਿਸ਼ੀ' ਕੀ ਹੈ:

- (a) ਨਾਵਲ
- (b) ਕਹਾਣੀ
- (c) ਕਵਿਤਾ
- (d) ਨਾਟਕ

23. ਸੂਚੀ 1

- A ਉੱਡਦੇ ਬਾਜ਼ਾਂ ਮਗਰ
- B ਆਟੇ ਦੀਆਂ ਚਿਤੀਆਂ
- C ਬਿਰਖ ਅਰਜ਼ ਕਰੇ
- D ਸਾਵੇ ਪੱਤਰ

ਸੂਚੀ 2

- (i) ਅਵਤਾਰ ਸਿੰਘ ਪਾਸ
- (ii) ਸੁਰਜੀਤ ਪਾਤਰ
- (iii) ਪ੍ਰੋ. ਮੋਹਨ ਸਿੰਘ
- (iv) ਜਗਤਾਰ

A	B	C	D
(a) (i)	(ii)	(iv)	(iii)
(b) (iv)	(ii)	(i)	(iii)
(c) (ii)	(i)	(iv)	(iii)
(d) (i)	(iv)	(ii)	(iii)

24. ਗੁਰਬਾਣੀ ਵਿੱਚ 'ਆਸਾ ਦੀ ਵਾਰ' ਕਿਸ ਧੁਨੀ ਤੇ ਗਾਇਣ ਕਰਨ ਦਾ ਆਦੇਸ਼ ਹੈ:

- (a) ਲੱਲਾ ਬਹਿਲੀਆ ਦੀ
- (b) ਟੁੰਡੇ ਅਸਰਾਜੇ ਦੀ
- (c) ਹਸਨਾ ਮਹਿਮਾ ਦੀ
- (d) ਰਾਏ ਕਮਾਲ ਮਉਜ ਦੀ

25. 'ਦੁਰਗਾ ਪਾਠ ਬਣਾਇਆ ਸਭ ਪਉੜੀਆ, ਫੇਰ ਨਾ ਜੂਨੀ ਆਇਆ ਜਿਨਿ ਇਹ ਗਾਇਆ'

- (a) ਮੰਗਲਾਚਰਨ ਹੈ
- (b) ਮਹਾਤਮ ਹੈ
- (c) ਵਸਤੂ ਨਿਰਦੇਸ਼ ਹੈ
- (d) ਉਪਰੋਕਤ ਕੋਈ ਵੀ ਨਹੀਂ

26. Guru Nanak's friend and companion Bhai Mardana used to play a musical instrument called - 'Rabab'. Which among the following countries considers it as its national musical instrument?

- (a) Afghanistan
- (b) India
- (c) Iran
- (d) Iraq



ਗੁਰੂ ਨਾਨਕ ਦੇਵ ਜੀ ਦਾ ਸਾਥੀ ਭਾਈ ਮਰਦਾਨਾ ਸੰਗੀਤ ਦਾ ਇਕ ਸਾਜ 'ਰਬਾਬ' ਵਜਾਇਆ ਕਰਦੇ ਸੀ। ਹੇਠ ਲਿਖਿਆਂ ਵਿੱਚੋਂ ਕਿਹੜਾ ਦੇਸ਼ ਇਸ ਨੂੰ ਰਾਸ਼ਟਰੀ ਸੰਗੀਤ ਸਾਜ ਮੰਨਦਾ ਹੈ:

- (a) ਅਫਗਾਨੀਸਤਾਨ
- (b) ਭਾਰਤ
- (c) ਇਰਾਨ
- (d) ਇਰਾਕ

27. Indus Water Treaty between India and Pakistan restricted India's right to usage to only three eastern rivers. Identify the correct group of rivers.

- (a) Sutlej, Beas and Ravi
- (b) Jhelum, Chenab and Sutlej
- (c) Ravi, Beas and Jhelum
- (d) Chenab, Sutlej and Jhelum

ਸਿੰਧ ਪਾਣੀ ਦੇ ਸਮਝੌਤੇ ਨਾਲ, ਜਿਹੜਾ ਕਿ ਭਾਰਤ ਅਤੇ ਪਾਕਿਸਤਾਨ ਵਿਚਾਲੇ ਹੋਇਆ, ਭਾਰਤ ਨੂੰ ਕੇਵਲ ਤਿੰਨ ਪੂਰਬੀ ਨਦੀਆਂ ਦਾ ਪਾਣੀ ਵਰਤਣ ਦਾ ਹੱਕ ਮਿਲਿਆ। ਨਦੀਆਂ ਦੇ ਠੀਕ ਗੱਰੁਪ ਨੂੰ ਪਹਿਚਾਣੋ:

- (a) ਸਤਲੁਜ, ਬਿਆਸ ਅਤੇ ਰਾਵੀ
- (b) ਜੇਹਲਮ, ਚਿਨਾਬ ਅਤੇ ਸਤਲੁਜ
- (c) ਰਾਵੀ, ਬਿਆਸ ਅਤੇ ਜੇਹਲਮ
- (d) ਚਿਨਾਬ, ਸਤਲੁਜ ਅਤੇ ਜੇਹਲਮ

28. Why is 1716 AD important in the history of Punjab?

- (a) Death of Guru Gobind Singh
- (b) Death of Aurangzeb
- (c) Killing of Banda Singh Bahadur
- (d) Victory of Sirhind by Banda Singh Bahadur

ਪੰਜਾਬ ਦੇ ਇਤਿਹਾਸ ਵਿੱਚ 1716 A.D. ਕਿਉਂ ਮਹੱਤਵਪੂਰਨ ਹੈ?

- (a) ਗੁਰੂ ਗੋਬਿੰਦ ਸਿੰਘ ਜੀ ਦਾ ਅਕਾਲ ਚਲਾਣਾ
- (b) ਔਰੰਗਜ਼ੇਬ ਦੀ ਮੌਤ
- (c) ਬੰਦਾ ਸਿੰਘ ਬਹਾਦੁਰ ਦੀ ਸ਼ਹਾਦਤ
- (d) ਬੰਦਾ ਸਿੰਘ ਬਹਾਦੁਰ ਦੀ ਸਰਹਿੰਦ ਦੀ ਜਿੱਤ

29. Which among the following countries developed world's first graphene electronic paper?

- (a) China
- (b) Japan
- (c) Germany
- (d) India



ਹੇਠ ਲਿਖੇ ਦੇਸ਼ਾਂ ਵਿੱਚੋਂ ਕਿਹੜੇ ਦੇਸ਼ ਨੇ ਦੁਨੀਆ ਦੇ ਪਹਿਲੇ ਗਰੇਫੀਨ ਇਲੈਕਟਰਾਨਿਕ ਕਾਗਜ਼ ਦੀ ਖੋਜ ਕੀਤੀ:

- (a) ਚੀਨ
- (b) ਜਪਾਨ
- (c) ਜਰਮਨੀ
- (d) ਭਾਰਤ

30. Which among the following is the longest mountain ranges?

- (a) Andes
- (b) Rocky
- (c) Himalayas
- (d) Trans-Antarctic

ਹੇਠ ਲਿਖਿਆਂ ਵਿੱਚੋਂ ਕਿਹੜੀ ਸਭ ਤੋਂ ਲੰਬੀ ਪਰਬਤਾਂ ਦੀ ਰੇਂਜ ਹੈ:

- (a) ਐਂਡੀਜ਼
- (b) ਰਾਕੀਜ਼
- (c) ਹਿਮਾਲਿਆ
- (d) ਟਰਾਂਸ-ਐਂਟਾਰਕਟਿਕ

31. This lake has an average depth of 730m and is 1,741m at its deepest point, which makes it the deepest lake in the world. identify the lake

- (a) Superior of Canada/USA
- (b) Superior of Canada/USA
- (c) Baikal of Russia
- (d) Ontario of Canada/USA

ਇਸ ਝੀਲ ਦੀ ਔਸਤ ਗਹਿਰਾਈ 730 ਮੀਟਰ ਹੈ ਅਤੇ ਸਭ ਤੋਂ ਗਹਿਰੀ ਜਗ੍ਹਾ ਤੇ 1741 ਮੀਟਰ ਹੈ। ਇਹ ਦੁਨੀਆ ਦੀ ਸਭ ਤੋਂ ਡੂੰਘੀ ਝੀਲ ਅਖਵਾਉਂਦੀ ਹੈ।

- (a) ਕਨੇਡਾ/ਅਮਰੀਕਾ ਦੀ ਸੁਪੀਰੀਅਰ ਝੀਲ
- (b) ਅਮਰੀਕਾ ਦੀ ਮੀਸੀਗਨ ਝੀਲ
- (c) ਰੂਸ ਦੀ ਬੈਕਲ ਝੀਲ
- (d) ਕਨੇਡਾ/ਅਮਰੀਕਾ ਦੀ ਓਂਟਾਰੀਓ ਝੀਲ

32. In which among the following countries would you find Deltawerken Flood Barrier?

- (a) The Netherlands
- (b) Spain
- (c) Australia
- (d) France

ਹੇਠ ਲਿਖਿਆਂ ਵਿੱਚੋਂ ਕਿਹੜੇ ਦੇਸ਼ ਵਿੱਚ Deltawerken Flood Barrier ਹੈ:

- (a) ਨੀਦਰਲੈਂਡ
- (b) ਸਪੇਨ
- (c) ਅਸਟਰੇਲਿਆ
- (d) ਫਰਾਂਸ

33. To which among the following states does the theatre form 'Ankia Naat' belong?
- (a) Bihar
  - (b) Jharkhand
  - (c) Kerala
  - (d) Assam

ਹੇਠ ਲਿਖਿਆਂ ਵਿੱਚੋਂ ਕਿਹੜੇ ਰਾਜ ਨਾਲ 'ਅੰਕੀਆ ਨਾਟ' ਸਬੰਧ ਰੱਖਦਾ ਹੈ:

- (a) ਬਿਹਾਰ
- (b) ਝਾਰਖੰਡ
- (c) ਕੇਰਲ
- (d) ਅਸਾਮ

34. *Sonsogor* is the highest peak of this state at the height of 1166m. Identify the state.

- (a) Chhattisgarh
- (b) Goa
- (c) Haryana
- (d) Punjab

Sonsogor ਇਸ ਰਾਜ ਦੀ ਸਭ ਤੋਂ ਉੱਚੀ ਚੋਟੀ ਹੈ ਜਿਸਦੀ ਉਚਾਈ 1166 ਮੀਟਰ ਹੈ। ਇਸ ਰਾਜ ਨੂੰ ਪਹਿਚਾਣੋ:

- (a) ਛਤੀਸਗੜ੍ਹ
- (b) ਗੋਆ
- (c) ਹਰਿਆਣਾ
- (d) ਪੰਜਾਬ

35. In which among the following states is the Shilpgram Crafts Mela held?

- (a) Punjab
- (b) Madhya Pradesh
- (c) Chhattisgarh
- (d) Rajasthan

ਹੇਠ ਲਿਖਿਆਂ ਵਿੱਚੋਂ ਕਿਹੜੇ ਰਾਜ ਵਿੱਚ ਸ਼ਿਲਪਗਰਾਮ ਕਰਾਫਟ ਮੇਲਾ ਲਗਦਾ ਹੈ:

- (a) ਪੰਜਾਬ
- (b) ਮਧਿਆ ਪ੍ਰਦੇਸ਼
- (c) ਛਤੀਸਗੜ੍ਹ
- (d) ਰਾਜਸਥਾਨ

36. Identify the former Indian Air Force chief on whose name the Panagarh Air Force Base of West Bengal is renamed.

- (a) Arjan Singh
- (b) Surinder Mehra
- (c) Swaroop Kaul
- (d) Anil Tipnis



ਸਾਬਕਾ ਭਾਰਤੀ ਏਅਰ ਫੋਰਸ (Indian Air Force) ਦੇ ਮੁਖੀ, ਜਿਨ੍ਹਾਂ ਦੇ ਨਾਂ ਤੇ ਪਛਮੀ ਬੰਗਾਲ ਦੇ ਪਨਾਗਤੁ ਏਅਰ ਫੋਰਸ ਬੇਸ ਦਾ ਨਾਂ ਦੁਬਾਰਾ ਰਖਿਆ ਗਿਆ, ਦਾ ਨਾਂ ਦਸੋ:

- (a) ਅਰਜਨ ਸਿੰਘ
- (b) ਸੁਰਿੰਦਰ ਮੋਹਰਾ
- (c) ਸਵਰੂਪ ਕੌਲ
- (d) ਅਨਿਲ ਤਿਪਨਿਸ

37. Which university in ancient India was established by King Dharmapala of Bengal in response to a supposed decline in the quality of scholarship at Nalanda?

- (a) Udayagiri
- (b) Jagaddala
- (c) Vallabhi
- (d) Vikramashila

ਪ੍ਰਾਚੀਨ ਭਾਰਤ ਵਿੱਚ ਨਾਲੰਦਾ ਯੂਨੀਵਰਸਿਟੀ ਦੀ ਪੜ੍ਹਾਈ ਦੀ ਪੱਧਰ ਵਿੱਚ ਗਿਰਾਵਟ ਆਉਣ ਕਰਕੇ ਬੰਗਾਲ ਦੇ ਰਾਜਾ ਧਰਮਪਾਲ ਨੇ ਕਿਹੜੀ ਯੂਨੀਵਰਸਿਟੀ ਦੀ ਸਥਾਪਨਾ ਕੀਤੀ:

- (a) ਉਦਯਗਿਰੀ
- (b) ਜਗੱਦਲਾ
- (c) ਵਲਭੀ
- (d) ਵਿਕਰਮਸ਼ਿਲਾ

38. Which is India's first international biosphere reserve?

- (a) Panchmari Biosphere Reserve
- (b) Nanda Devi Biosphere Reserve
- (c) Simlipal Biosphere Reserve
- (d) Nilgiri Biosphere Reserve

ਭਾਰਤ ਦਾ ਪਹਿਲਾ ਅੰਤਰਰਾਸ਼ਟਰੀ Biosphere Reserve ਕਿਹੜਾ ਹੈ:

- (a) ਪੰਚਮੜੀ
- (b) ਨੰਦਾ ਦੇਵੀ
- (c) ਸਿਮਲੀਪਾਲ
- (d) ਨੀਲਗਿਰੀ

39. Who among the followings is not recipient of Saraswati Samman?

- (a) Haribhajan Singh
- (b) Gurdial Singh
- (c) Dalip Kaur Tiwana
- (d) Surjit Paatar



ਹੇਠ ਲਿਖਿਆਂ ਵਿੱਚੋਂ ਕਿਸ ਨੂੰ ਸਰਸਵਤੀ ਸਨਮਾਨ ਨਹੀਂ ਮਿਲਿਆ:

- (a) ਹਰਿਭਜਨ ਸਿੰਘ
- (b) ਗੁਰਦਿਆਲ ਸਿੰਘ
- (c) ਦਲੀਪ ਕੌਰ ਟਿਵਾਣਾ
- (d) ਸੁਰਜੀਤ ਪਾਤਰ

40. Who is the writer of 'Bachitar Natak' :

- (a) Bharat Muni
- (b) Guru Gobind Singh
- (c) Ajmer Aulakh
- (d) Gursharan Singh

ਬਚਿਤਰ ਨਾਟਕ ਦਾ ਲੇਖਕ ਕੌਣ ਹੈ:

- (a) ਭਰਤ ਮੁਨੀ
- (b) ਗੁਰੂ ਗੋਬਿੰਦ ਸਿੰਘ
- (c) ਅਜਮੇਰ ਔਲਖ
- (d) ਗੁਰਸ਼ਰਨ ਸਿੰਘ

41. 'Japuji' is written in which 'raga' :

- (a) Siri Raga
- (b) Tilang Raga
- (c) Tukhari Raga
- (d) None of these

'ਜਪੁਜੀ' ਸਾਹਿਬ ਦੀ ਰਚਨਾ ਕਿਸ ਰਾਗ ਵਿੱਚ ਹੈ:

- (a) ਸਿਰੀ ਰਾਗ
- (b) ਤਿਲੰਗ ਰਾਗ
- (c) ਤੁਖਾਰੀ ਰਾਗ
- (d) ਕੋਈ ਵੀ ਨਹੀਂ

42. Mention of 'Dulla Bhatti' is found in song of which festival :

- (a) Songs of Vaisakhi
- (b) Songs of Bhangra
- (c) Songs of Lohri
- (d) Songs of marriage

'ਦੁੱਲਾ ਭੱਟੀ' ਦਾ ਜਿਕਰ ਕਿਹੜੇ ਗੀਤਾਂ ਵਿੱਚ ਆਉਂਦਾ ਹੈ:

- (a) ਵੈਸਾਖੀ ਦੇ ਗੀਤ
- (b) ਭੰਗੜੇ ਦੇ ਗੀਤ
- (c) ਲੋਹੜੀ ਦੇ ਗੀਤ
- (d) ਵਿਆਹ ਦੇ ਗੀਤ

43. 'Mahan Kosh' the Punjabi Encyclopedia was written by

- (c) Gurbakhash Singh Preetlari
- (d) Bhai Gurdas

‘ਮਹਾਨ ਕੋਸ਼’ ਪੰਜਾਬੀ ਵਿਸ਼ਵਕੋਸ਼ ਕਿਸ ਦੀ ਰਚਨਾ ਹੈ:

- (a) ਭਾਈ ਵੀਰ ਸਿੰਘ
- (b) ਭਾਈ ਕਾਹਨ ਸਿੰਘ ਨਾਭਾ
- (c) ਗੁਰਬਖਸ਼ ਸਿੰਘ ਪ੍ਰੀਤਲੜੀ
- (d) ਭਾਈ ਗੁਰਦਾਸ

44. e-district project has been successfully implemented in which district?

- (a) Amritsar
- (b) Mohali
- (c) Shahid Bhagat Singh Nagar
- (d) None of these

e-ਜ਼ਿਲ੍ਹਾ(e-district) ਪ੍ਰਾਜੈਕਟ ਕਿਸ ਜ਼ਿਲ੍ਹੇ ਵਿੱਚ ਸਫਲਤਾ ਪੂਰਵਕ ਚਾਲੂ ਕੀਤਾ ਗਿਆ ਹੈ:

- (a) ਅੰਮ੍ਰਿਤਸਰ
- (b) ਮੋਹਾਲੀ
- (c) ਸ਼ਹੀਦ ਭਗਤ ਸਿੰਘ ਨਗਰ
- (d) ਇਨ੍ਹਾਂ ਵਿੱਚੋਂ ਕੋਈ ਨਹੀਂ

45. Who amongst the following was elected as president of 'Punjab Riyasti Praja Mandal'

- (a) Bhagwan Singh Longowalia
- (b) Master Tara Singh
- (c) Kishan Singh Gargajj
- (d) Seva Singh Thikriwala

ਹੇਠ ਦਿੱਤੇ ਵਿੱਚੋਂ ਕਿਸ ਨੂੰ ਪੰਜਾਬ ਰਿਆਸਤੀ ਪ੍ਰਜਾਮੰਡਲ ਦਾ ਪ੍ਰਧਾਨ ਚੁਣਿਆ ਗਿਆ:

- (a) ਭਗਵਾਨ ਸਿੰਘ ਲੌਂਗੋਵਾਲੀਆ
- (b) ਮਾਸਟਰ ਤਾਰਾ ਸਿੰਘ
- (c) ਕਿਸ਼ਨ ਸਿੰਘ ਗੜਗੱਜ
- (d) ਸੇਵਾ ਸਿੰਘ ਠੀਕਰੀਵਾਲਾ



46. Which of the following Wild Life Sanctuaries of Punjab, was first notified as Wild Life Sanctuary?

- (a) Harike
- (b) Bir Aishwan
- (c) Bir Moti Bagh
- (d) Bir Gurdialpura

ਹੇਠ ਲਿਖਿਆਂ ਵਿੱਚੋਂ ਸਭ ਤੋਂ ਪਹਿਲਾਂ ਨੋਟੀਫਾਈ ਕੀਤੀ Wild Life Sanctuary ਹੈ:

- (a) ਹਰੀਕ
- (b) ਬੀਤ ਐਸ਼ਵਾਨ
- (c) ਬੀਤ ਮੋਤੀ ਬਾਗ
- (d) ਬੀਤ ਗੁਰਦਿਆਲਪੁਰਾ

47. What is the total height of the highest peak in Naina Devi Range, which is located in the Rupnagar district of Punjab?

- (a) 500m
- (b) 1020m
- (c) 1550m
- (d) 1800m

ਨੈਨਾ ਦੇਵੀ ਰੇਂਜ ਦੀ ਸਭ ਤੋਂ ਉੱਚੀ ਚੋਟੀ, ਜਿਹੜੀ ਕਿ ਪੰਜਾਬ ਦੇ ਰੂਪਨਗਰ ਜ਼ਿਲ੍ਹੇ ਵਿੱਚ ਹੈ, ਦੀ ਕੁਲ ਉਚਾਈ ਕਿੰਨੀ ਹੈ?

- (a) 500 ਮੀਟਰ
- (b) 1020 ਮੀਟਰ
- (c) 1550 ਮੀਟਰ
- (d) 1800 ਮੀਟਰ

48. What is the state animal of Punjab?

- (a) Blackbuck
- (b) Barasingha
- (c) Hoolock Gibbon
- (d) Spotted Deer

ਪੰਜਾਬ ਦਾ ਰਾਜਸੀ ਜਾਨਵਰ ਕਿਹੜਾ ਹੈ?

- (a) ਕਾਲਾ ਹਿਰਣ
- (b) ਬਾਰਾਸਿੰਘਾ
- (c) ਹੁਲੁਕ ਗਿਬੋਨ
- (d) ਚਿੱਤੀਦਾਰ ਹਿਰਨ



49. How many princely States of East Punjab were grouped together to form a single state called PEPSU (Patiala and the East Punjab States Union)?

- (a) Five
- (b) Seven
- ☒ (c) Eight
- (d) Nine

ਪੈਪਸੂ (ਪੰਜਾਬ ਅਤੇ ਈਸਟ ਪੰਜਾਬ ਸਟੇਟਸ ਯੂਨੀਅਨ) ਰਾਜ ਨੂੰ ਬਣਾਉਣ ਲਈ ਪੂਰਬੀ ਪੰਜਾਬ ਦੇ ਕਿੰਨੇ ਮਹਾਰਾਜਿਆਂ ਦੇ ਰਾਜਾਂ ਨੂੰ ਇਕੱਠਾ ਕੀਤਾ ਗਿਆ:

- (a) ਪੰਜ
- (b) ਸੱਤ
- ☒ (c) ਅੱਠ
- (d) ਨੌਂ

50. To which among the following buildings is the great architect Moshe Safdie associated?

- (a) Virasat-e-Khalsa Museum
- (b) Gurudwara Sri Darbar Sahib
- (c) Gurudwara Sri Hazur Sahib
- (d) Gurudwara Sri Keshgarh Sahib

ਹੇਠ ਲਿਖੀਆਂ ਇਮਾਰਤਾਂ ਵਿੱਚੋਂ ਕਿਸ ਦੇ ਨਾਲ ਮਹਾਨ ਇਮਾਰਤਕਾਰ Moshe Safdie ਜੁੜਿਆ ਹੈ?

- (a) ਵਿਰਾਸਤ-ਏ-ਖਾਲਸਾ ਅਜਾਇਬ ਘਰ
- (b) ਗੁਰਦੁਆਰਾ ਸ੍ਰੀ ਦਰਬਾਰ ਸਾਹਿਬ
- (c) ਗੁਰਦੁਆਰਾ ਸ੍ਰੀ ਹਜ਼ੂਰ ਸਾਹਿਬ
- (d) ਗੁਰਦੁਆਰਾ ਸ੍ਰੀ ਕੇਸਗੜ੍ਹ ਸਾਹਿਬ

51. In the series 10, 17, 24, 31, 38, ..., which of the following will be a number of the series?

- ☒ (a) 346
- (b) 392
- (c) 436
- (d) 680

10, 17, 24, 31, 38, ... ਸੀਰੀਜ਼ ਵਿੱਚ, ਹੇਠ ਲਿਖੇ ਵਿੱਚੋਂ ਕਿਹੜੀ ਇਸ ਸੀਰੀਜ਼ ਦਾ ਨੰਬਰ ਹੋਵੇਗਾ?

- (a) 346
- (b) 392
- (c) 436
- (d) 680

52. In the series of numbers, 4, 10, 22, 46, 96, 190, 382, ... which is wrong?

- (a) 22
- (b) 46
- ☒ (c) 96
- (d) 382

ਸੰਖਿਆਵਾਂ ਦੀ ਸੀਰੀਜ਼ 4, 10, 22, 46, 96, 190, 382, ... ਵਿੱਚ ਕਿਹੜੀ ਸੰਖਿਆ ਗਲਤ ਹੈ?

- (a) 22
- (b) 46
- (c) 96
- (d) 382

53. Which of the following is the odd pair of words?

- (a) Atom-electron
- (b) Curd-milk ✓
- (c) House-room
- (d) Train-engine

ਹੇਠ ਲਿਖਿਆਂ ਵਿੱਚੋਂ ਕਿਹੜਾ ਸ਼ਬਦਾਂ ਦਾ ਜੋੜਾ ਅਨਿਸ਼ਚਿਤ ਹੈ?

- (a) ਐਟਮ-ਬਿਜਲੀ ਅਣੂ
- (b) ਦਹੀਂ-ਦੁੱਧ
- (c) ਘਰ-ਕਮਰਾ
- (d) ਰੇਲਗੱਡੀ-ਇੰਜਣ

54. Which of the following is the odd pair of numbers?

(a) 15-46

(b) 12-37

(c) 8-33

(d) 9-28

$$\begin{array}{r} 46 \\ 15 \\ \hline 31 \end{array}$$

$$\begin{array}{r} 37 \\ 12 \\ \hline 25 \end{array}$$

$$\begin{array}{r} 33 \\ 8 \\ \hline 25 \end{array}$$

$$\begin{array}{r} 33 \\ 8 \\ \hline 21 \end{array}$$

$$\begin{array}{r} 28 \\ 9 \\ \hline 19 \end{array}$$

ਹੇਠ ਲਿਖਿਆਂ ਵਿੱਚੋਂ ਸੰਖਿਆਵਾਂ ਦਾ ਕਿਹੜਾ ਜੋੜਾ ਅਨਿਸ਼ਚਿਤ ਹੈ?

(a) 15-46

(b) 12-37

(c) 8-33

(d) 9-28

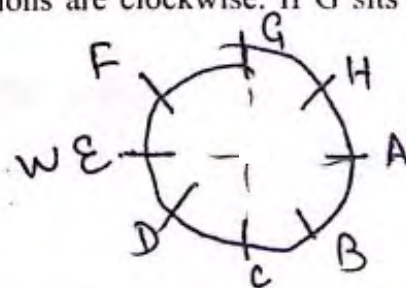
55. Eight people A, B, C, D, E, F, G, H are sitting around a round table in the same order, at equal distances. Their positions are clockwise. If G sits in the north, then what will be the position of D?

(a) North-east

(b) West

(c) South-east

(d) South-west





ਇੱਕ ਗੋਲ ਮੇਜ਼ ਦੇ ਚਾਰੇ ਅੰਗ ਲੱਕ ਕੁਮਾਰ ਬਰਾਬਰ ਫਾਸਲੇ ਤੇ ਬੈਠੇ ਹਨ। ਉਨ੍ਹਾਂ ਦੀ ਸਥਿਤੀ ਘੜੀ ਦੀ ਦਿਸ਼ਾ ਵਿੱਚ ਹੈ।

ਜੇਕਰ G ਉੱਤਰ ਦਿਸ਼ਾ ਵਲ ਬੈਠਾ ਹੈ ਤਾਂ D ਦੀ ਸਥਿਤੀ ਕੀ ਹੋਵੇਗੀ?

- (a) ਉੱਤਰ-ਪੂਰਬ
- (b) ਪੱਛਮ
- (c) ਦੱਖਣ-ਪੂਰਬ
- (d) ਦੱਖਣ-ਪੱਛਮ

56. Which of the following words cannot be formed by using the letters of the word ORGANISATION?

- (a) SOLUTION
- (b) NATION
- (c) RATION
- (d) RATING

ORGANISATION ਸ਼ਬਦ ਦੇ ਅੱਖਰਾਂ ਦੀ ਵਰਤੋਂ ਨਾਲ ਹੇਠ ਲਿਖਿਆਂ ਵਿੱਚੋਂ ਕਿਹੜਾ ਸ਼ਬਦ ਨਹੀਂ ਬਣਾਇਆ ਜਾ ਸਕਦਾ?

- (a) SOLUTION
- (b) NATION
- (c) RATION
- (d) RATING

57. Look at the following numbers. Which is the third number to the left of the number which is exactly in the middle of the numbers?

4 2 3 7 1 2 5 7 2 8 6 8 6 4 2 1 7 5 4 3 1 6 7 5 9

- (a) 5
- (b) 6
- (c) 7

(d) 8

ਹੇਠ ਲਿਖੀਆਂ ਸੰਖਿਆਵਾਂ ਨੂੰ ਵੇਖੋ। ਉਹ ਸੰਖਿਆ ਜਿਹੜੀ ਕਿ ਸੰਖਿਆਵਾਂ ਦੇ ਬਿਲਕੁਲ ਵਿਚਾਲੇ ਹੈ, ਦੇ ਖੱਬੇ ਪਾਸੇ ਤੋਂ ਤੀਜੀ ਸੰਖਿਆ ਕਿਹੜੀ ਹੈ?

4 2 3 7 1 2 5 7 2 8 6 8 6 4 2 1 7 5 4 3 1 6 7 5 9

- (a) 5
- (b) 6
- (c) 7
- (d) 8



58. On reversing a woman's age, the figure so obtained represents her husband's age. If the husband is senior to the woman and difference of their ages is one-eleventh of their sum,  $x = 4$  yrs then the husband's age is :

$$W = 10x + y$$

$$H = 10y + x$$

$$\begin{pmatrix} 45 \\ 52 \end{pmatrix}$$

$$10x + y - 10y + x = \frac{1}{11} (10x + y + 10y + x)$$

- (a) 42 years  
(b) 45 years  
(c) 52 years  
(d) 54 years

ਇੱਕ ਔਰਤ ਦੀ ਉਮਰ ਦੀ ਸੰਖਿਆ ਨੂੰ ਉਲਟਾਉਣ ਨਾਲ ਪ੍ਰਾਪਤ ਪਤੀ ਉਸ ਔਰਤ ਤੋਂ ਵੱਡਾ ਹੈ ਅਤੇ ਉਨ੍ਹਾਂ ਦੀਆਂ ਉਮਰਾਂ ਦਾ ਫਰਕਾ ਤਾਂ ਪਤੀ ਦੀ ਉਮਰ ਹੋਵੇਗੀ :

- (a) 42 ਸਾਲ  
(b) 45 ਸਾਲ  
(c) 52 ਸਾਲ  
(d) 54 ਸਾਲ

$$\begin{aligned} & 4y = 5x \\ & 10x + y = 10y + x \end{aligned}$$

59. If the English alphabet is written in reverse order, which would be the 8th letter to the left of 7th letter from the right?

(a) P  
(b) R  
(c) O  
(d) K

A B C D E F G H I J K L M N O P Q R S T U V W X Y Z

ਜੇਕਰ ਅੰਗਰੇਜ਼ੀ ਦੇ ਅੱਖਰਾਂ ਨੂੰ ਉਲਟੀ ਤਰਤੀਬ ਵਿੱਚ ਲਿਖਿਆ ਜਾਵੇ ਤਾਂ ਸੱਜੇ ਪਾਸਿਓਂ ਸੱਤਵੇਂ ਅੱਖਰ ਦੇ ਖੱਬੇ ਪਾਸੇ ਅਠਵਾਂ ਅੱਖਰ ਕਿਹੜਾ ਹੋਵੇਗਾ ?

- (a) P  
(b) R  
(c) O  
(d) K

A B C D E  
F G H I J  
K L M N O  
P Q R S T

60. In a certain code SPEAK is written as CGRUM and RAIL code AVOID will be written as :

S P E A K  
↓ ↓ ↓ ↓ ↓  
C G R U M

n that  
A V O I D  
↓ ↓ ↓ ↓  
K Q X C F

- (a) KQXCF  
(b) KXQFC  
(c) KQFCX  
(d) KQCXF

ਇੱਕ ਖਾਸ ਕੋਡ ਵਿੱਚ SPEAK ਨੂੰ CGRUM ਤੋਂ ਕੋਡ ਵਿੱਚ AVOID ਨੂੰ ਲਿਖਿਆ ਜਾਵੇਗਾ :

- (a) KQXCF  
(b) KXQFC  
(c) KQFCX  
(d) KQCXF

61. If road is called water, water is called cloud; cloud is called sky, sky is called sea, sea called ship, then where does an aeroplane fly?

- (a) Sky
- (b) Road
- (c) Sea
- (d) Cloud

ਜੇਕਰ ਸੜਕ ਨੂੰ ਪਾਣੀ ਕਿਹਾ ਜਾਵੇ, ਪਾਣੀ ਨੂੰ ਬੱਦਲ ਕਿਹਾ ਜਾਵੇ, ਬੱਦਲ ਨੂੰ ਆਕਾਸ਼ ਕਿਹਾ ਜਾਵੇ, ਆਕਾਸ਼ ਸਮੁੰਦਰ ਕਿਹਾ ਜਾਵੇ, ਸਮੁੰਦਰ ਨੂੰ ਸਮੁੰਦਰੀ ਜਹਾਜ਼ ਕਿਹਾ ਜਾਵੇ ਤਾਂ ਹਵਾਈ ਜਹਾਜ਼ ਕਿਥੇ ਉਡੇਗਾ?

- (a) ਅਸਮਾਨ
- (b) ਸੜਕ
- (c) ਸਮੁੰਦਰ
- (d) ਬੱਦਲ

62. If the first and second letters of the word COMPENSATION are interchanged, also, the third and fourth letters and so on, then which would be the fourth letter from the right?

- (a) M
- (b) S
- (c) T
- (d) I

COMPENSATION  
OC PMNEASITNO

ਜੇਕਰ (COMPENSATION) ਸ਼ਬਦ ਦੇ ਪਹਿਲੇ ਅਤੇ ਦੂਜੇ ਅੱਖਰਾਂ ਦੀ ਅਦਲੀ-ਬਦਲੀ ਕਰ ਦਿੱਤੀ ਜਾਵੇ, ਫਿਰ ਤੀਜੇ ਅਤੇ ਚੌਥੇ ਅੱਖਰ ਅਤੇ ਇਸੇ ਤਰ੍ਹਾਂ ਅਗਲੇ ਅੱਖਰ, ਤਾਂ ਸੱਜੇ ਪਾਸਿਓਂ ਚੌਥਾ ਅੱਖਰ ਕਿਹੜਾ ਹੋਵੇਗਾ?

- (a) M
- (b) S
- (c) T
- (d) I

63. If all the multiples of 4 between 4 and 71 are arranged in descending order, then which number will be at 8th place from the top?

- (a) 24
- (b) 32
- (c) 40
- (d) 44

68  
64  
60  
56  
52  
48  
44  
40  
36

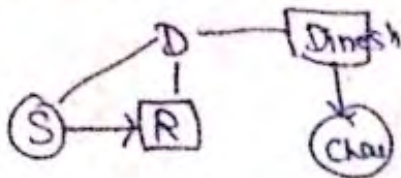
ਜੇਕਰ 4 ਅਤੇ 71 ਦੇ ਵਿਚਲੇ ਸਾਰੇ 4 ਦੇ multiples ਘਟਦੀ ਤਰਤੀਬ ਵਿੱਚ ਲਗਾਏ ਜਾਣ ਤਾਂ ਉੱਪਰ ਤੋਂ ਅਠਵੀਂ ਜਗ੍ਹਾ ਤੇ ਕਿਹੜੀ ਸੰਖਿਆ ਹੋਵੇਗੀ।

- (a) 24
- (b) 32
- (c) 40
- (d) 44



64. Raju is the son of Deepak. Seema is the daughter of Raju. Chhaya is the daughter of Dinesh and Dinesh is the brother of Deepak. How is Chhaya related to Seema?

- (a) Aunt  
(b) Cousin  
(c) Nephew  
(d) Mother



ਦੀਪਕ ਦਾ ਪੁੱਤਰ ਰਾਜੂ ਹੈ। ਰਾਜੂ ਦੀ ਧੀ ਸੀਮਾ ਹੈ। ਦਿਨੇਸ਼ ਦੀ ਧੀ ਛਾਇਆ ਹੈ ਅਤੇ ਦਿਨੇਸ਼ ਦਾ ਭਰਾ ਦੀਪਕ ਹੈ। ਛਾਇਆ ਦਾ ਸੀਮਾ ਨਾਲ ਕੀ ਰਿਸ਼ਤਾ ਹੈ?

- (a) ਆਂਟੀ  
(b) ਚਚੇਰਾ ਭਰਾ/ਭੈਣ  
(c) ਭਤੀਜਾ  
(d) ਮਾਤਾ

65. Some students are standing in a line. Shekhar is on 10th place from left and Alok is 15th from right. When they both interchange their positions, then Shekhar is on 20th place from left. Total number of students in the line are :

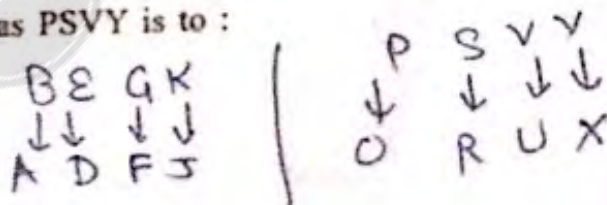
- (a) 30  
(b) 34  
(c) 36  
(d) 39

ਕੁਝ ਵਿਦਿਆਰਥੀ ਇੱਕ ਲਾਈਨ ਵਿੱਚ ਖੜੇ ਹਨ। ਸ਼ੇਖਰ ਖੱਬੇ ਪਾਸਿਓਂ ਦਸਵੇਂ ਨੰਬਰ ਤੇ ਹੈ ਅਤੇ ਅਲੋਕ ਸੱਜੇ ਪਾਸਿਓਂ ਪੰਦਰਵੇਂ ਨੰਬਰ ਤੇ ਹੈ। ਜਦ ਉਹ ਦੋਨੋਂ ਆਪਣੇ ਸਥਾਨ ਅਦਲਾ-ਬਦਲੀ ਕਰ ਲੈਂਦੇ ਹਨ ਤਾਂ ਸ਼ੇਖਰ ਖੱਬੇ ਪਾਸਿਓਂ 20 ਨੰਬਰ ਤੇ ਹੈ। ਲਾਈਨ ਵਿੱਚ ਕੁਲ ਵਿਦਿਆਰਥੀ ਹਨ:

- (a) 30  
(b) 34  
(c) 36  
(d) 39

66. BEGK is to ADFJ as PSVY is to :

- (a) ORUX  
(b) LQST  
(c) OURX  
(d) ORBM



BEGK ਜੇਕਰ ADFJ ਵੱਲ ਹੈ ਤਾਂ PSVY ਕਿਸ ਵੱਲ ਹੈ:

- (a) ORUX  
(b) LQST  
(c) OURX  
(d) ORBM



67. When Sukant was born, his father was 32 years older than his brother and his mother was 25 years older than his sister. If Sukant's brother is 6 years older than him and his mother is 3 years younger than his father, how old was Sukant's sister when he was born?

(a) 6 years

(b) 8 years

(c) 10 years

(d) 12 years

(S)

$$S - B = 6$$

$$S - B = 6$$

$$S - S = 3$$

$$S - F = 32 + 6$$

$$S - M = 25 + 3$$

ਜਦ ਸੁਕਾਂਤ ਦਾ ਜਨਮ ਹੋਇਆ  
ਭੈਣ ਤੋਂ 25 ਸਾਲ ਵਡੀ ਸੀ। ਜੇ  
3 ਸਾਲ ਛੋਟੀ ਹੈ ਤਾਂ ਉਸਦੀ ਉਮਰ

(a) 6 ਸਾਲ

(b) 8 ਸਾਲ

(c) 10 ਸਾਲ

(d) 12 ਸਾਲ

68. Among POT, DOG, READ, TAB, REED the odd one is :

(a) READ

(b) REED

(c) TAB

(d) POT

POT, DOG, READ, TAB, REED ਵਿੱਚੋਂ ਕਿਹੜਾ odd ਹੈ:

(a) READ

(b) REED

(c) TAB

(d) POT

69. The number pair which is different from others is :

(a) 56 - 63

(b) 40 - 45

(c) 96 - 108

(d) 80 - 98

ਕੜਾ ਸੰਖਿਆ ਜੋੜਾ ਬਾਕੀਆਂ ਨਾਲੋਂ ਵੱਖ ਹੈ:

(a) 56 - 63

(b) 40 - 45

(c) 96 - 108

(d) 80 - 98

70. If ACID is coded as 5927, and BOIL is coded as 1826, then DIAL will be coded as:

(a) 7266

(b) 7156

(c) 7256

(d) 2756

1 A C I D  
4 4 ↓ 1 4 6

ACID  
5 9 2 7

BOIL  
1 8 2 6

ਜੇਕਰ ACID ਦੇ

(a) 7266

(b) 7156

(c) 7256

(d) 2756

③ ② ① ② ④

71. If the words Editor, Either, Edge, Edible and Eighty are arranged alphabetically, then the word which

(a) Editor

(b) Either

(c) Edge

(d) Eighty

ਜੇਕਰ Editor, Either, Edge, Edible ਅਤੇ Eighty ਸ਼ਬਦਾਂ ਨੂੰ Alphabetically ਕ੍ਰਮ ਵਿੱਚ ਲਿਖਿਆ ਜਾਵੇ ਤਾਂ ਕਿਹੜਾ ਸ਼ਬਦ ਵਿਚਕਾਰ ਆਵੇਗਾ:

(a) Editor

(b) Either

(c) Edge

(d) Eighty

72. A and B both are children of C. If C is the mother of A, A is the son of C, but B is not the daughter of C, how are B and A related?

(a) B is niece of A

(b) B is cousin of A

(c) B is the brother of A

(d) B is the nephew of A

③

A ਅਤੇ B ਦੋਨੋਂ C ਦੇ ਬੱਚੇ ਹਨ। ਜੇਕਰ B ਅਤੇ A ਦਾ ਰਿਸ਼ਤਾ ਕੀ ਹੈ?

(a) A ਦੀ ਭਤੀਜੀ B ਹੈ

(b) A ਦਾ ਚਰੇਰਾ ਭਰਾ B ਹੈ

(c) A ਦਾ ਭਰਾ B ਹੈ

(d) A ਦਾ ਭਤੀਜਾ B ਹੈ

A ਪੁੱਤਰ A ਹੈ ਪਰ C ਦੀ ਕੁੱਤੀ B ਨਹੀਂ ਹੈ ਤਾਂ



73. Rita is taller than Shonal but not taller than Rakhi. Rakhi and Tanu are of the same height. Rita is shorter than Anjali. Amongst all the girls, who is the shortest?

(a) Rakhi

(b) Anjali

(c) Tanu

(d) Shonal

Rakhi → Tanu  
Anjali  
Rita  
Shonal

ਰੀਟਾ ਸ਼ੋਨਲ ਨਾਲੋਂ ਲੰਬੀ ਹੈ ਪਰ ਰਾਖੀ ਨਾਲੋਂ ਨਹੀਂ। ਰਾਖੀ ਅਤੇ ਤਨੂ ਦੀ ਇੱਕੋ ਜਿਹੀ ਲੰਬਾਈ ਹੈ। ਰੀਟਾ ਅੰਜਲੀ ਨਾਲੋਂ ਛੋਟੀ ਹੈ। ਸਾਰੀਆਂ ਕੁੜੀਆਂ ਵਿੱਚੋਂ ਕਿਹੜੀ ਸਭ ਤੋਂ ਛੋਟੀ ਹੈ?

(a) ਰਾਖੀ

(b) ਅੰਜਲੀ

(c) ਤਨੂ

(d) ਸ਼ੋਨਲ

74. Arrange the given words in meaningful sequence and then choose the correct order :

Education	Job	Income	Status	Well-being
1	2	3	4	5

(a) 1, 2, 3, 4, 5

(b) 3, 1, 2, 5, 4

(c) 5, 4, 3, 1, 2

(d) 1, 2, 4, 3, 5

ਦਿੱਤੇ ਹੋਏ ਸ਼ਬਦਾਂ ਨੂੰ ਅਰਥ ਭਰਪੂਰ ਤਰਤੀਬ ਵਿੱਚ ਲਗਾਓ ਤੇ ਹੇਠ ਦਿਤੀਆਂ ਵਿੱਚੋਂ ਠੀਕ ਤਰਤੀਬ ਚੁਣੋ:

Education	Job	Income	Status	Well-being
1	2	3	4	5

(a) 1, 2, 3, 4, 5

(b) 3, 1, 2, 5, 4

(c) 5, 4, 3, 1, 2

(d) 1, 2, 4, 3, 5

75. If the following numbers are arranged in descending order, then the middle digit of the middle term is :

273	468	159	206	350	514	381
(a) 8	514	468	381	350	273	206

(b) 7

(c) 5

(d) 6

ਜੇਕਰ ਹੇਠ ਲਿਖੀਆਂ ਸੰਖਿਆਵਾਂ ਨੂੰ ਘਟਦੀ ਹੋਈ ਤਰਤੀਬ ਵਿੱਚ ਲਗਾਇਆ ਜਾਵੇ ਤਾਂ ਵਿਚਕਾਰਲੀ ਸੰਖਿਆ ਦਾ ਵਿਚਕਾਰਲਾ ਅੰਕ ਕਿਹੜਾ ਹੋਵੇਗਾ:

273      468      159      206      350      514      381

- (a) 8  
(b) 7  
(c) 5  
(d) 6

76. The average of 25 numbers is 18. If the average of first 12 numbers is 14 and that of the last 12 is 17, then the 13th number is :

- (a) 25  
(b) 40  
(c) 68  
(d) 78

25 ਸੰਖਿਆਵਾਂ ਦਾ ਔਸਤ 18 ਹੈ। ਜੇਕਰ ਪਹਿਲੀ 12 ਸੰਖਿਆਵਾਂ ਦਾ ਔਸਤ 14 ਹੈ ਅਤੇ ਆਖਰੀ 12 ਸੰਖਿਆਵਾਂ ਦਾ ਔਸਤ 17 ਹੈ, ਤਾਂ 13 ਵੀਂ ਸੰਖਿਆ ਹੋਵੇਗੀ:

- (a) 25  
(b) 40  
(c) 68  
(d) 78

$$\begin{array}{r} 264 \\ 168 \\ \hline 372 \end{array} \quad \begin{array}{r} 450 \\ 372 \\ \hline 28 \end{array}$$

77. The difference between an exterior angle of a regular polygon of  $n$ -sides and an exterior angle of a regular polygon of  $(n + 1)$  sides is  $5^\circ$ . The value of  $n$  is:

- (a) 5  
(b) 7  
(c) 8  
(d) 9

$$\frac{360^\circ}{n} - \frac{360^\circ}{n+1} = 5^\circ \quad n(n+1) = 72$$

$$72 - 360^\circ [n+1 - n]$$

$n$ -ਪਾਸਿਆਂ ਵਾਲੇ ਇੱਕ ਨਿਯਮਿਤ ਬਹੁਭੁਜ ਦੇ ਬਾਹਰੀ ਕੋਣ ਅਤੇ  $(n + 1)$  ਪਾਸਿਆਂ ਵਾਲੇ ਇੱਕ ਦੇ ਬਾਹਰੀ ਕੋਣ ਵਿੱਚ  $5^\circ$  ਦਾ ਅੰਤਰ ਹੈ।  $n$  ਦਾ ਮੁਲ ਹੈ:

- (a) 5  
(b) 7  
(c) 8  
(d) 9

78. P and Q are two stations. A train goes from P to Q at 64 km/h and returns to P at a slower speed. If average speed of the whole journey is 56 km/h, at what speed did it return?

- (a) 60 km/h  
(b)  $49\frac{7}{9}$  km/h  
(c) 52 km/h  
(d)  $47\frac{2}{9}$  km/h

$$56 = \frac{2 \times 64 \times b}{64 + b}$$

$$64 + b = \frac{2 \times 64 \times b}{56}$$

$$64 \times 7 + 7b = 16b$$

$$64 \times 7 = 9b$$

$$b = \frac{448}{9}$$

$$\begin{array}{r} 9 \overline{) 448} \\ 81 \\ \hline 648 \\ 540 \\ \hline 108 \end{array}$$

$$64 \times 7 + 7b = 16b$$

$$64 \times 7 = 9b$$

$$b = \frac{448}{9}$$



P ਅਤੇ Q ਦੋ ਸਟੇਸ਼ਨ ਹਨ। ਇੱਕ ਰੇਲਗੱਡੀ P ਤੋਂ Q ਤਕ 64 ਕਿਲੋਮੀਟਰ ਪ੍ਰਤੀ ਘੰਟਾ ਦੀ ਰਫਤਾਰ ਨਾਲ ਜਾਂਦੀ ਹੈ ਅਤੇ ਘਟ ਰਫਤਾਰ ਨਾਲ ਸਟੇਸ਼ਨ P ਤੇ ਵਾਪਿਸ ਆਂਦੀ ਹੈ। ਜੇਕਰ ਪੂਰੇ ਸਫਰ ਦੀ ਔਸਤ ਰਫਤਾਰ 56 ਕਿਲੋਮੀਟਰ ਪ੍ਰਤੀ ਘੰਟਾ ਹੋਵੇ ਤਾਂ ਗੱਡੀ ਕਿੰਨੀ ਰਫਤਾਰ ਨਾਲ ਵਾਪਿਸ ਆਈ?

- (a) 60 ਕਿਲੋਮੀਟਰ/ਘੰਟਾ
- (b)  $49\frac{7}{9}$  ਕਿਲੋਮੀਟਰ/ਘੰਟਾ
- (c) 52 ਕਿਲੋਮੀਟਰ/ਘੰਟਾ
- (d)  $47\frac{2}{9}$  ਕਿਲੋਮੀਟਰ/ਘੰਟਾ

79. A swimming pool 70 m long, 44 m wide and 3 m deep is filled by water issuing from a pipe of diameter 35 cm at 6 m per second. The time taken to fill the pool is :

- (a) 4 hours
- (b)  $4\frac{4}{5}$  hours
- (c)  $4\frac{4}{9}$  hours
- (d)  $3\frac{4}{9}$  hours

$$\frac{70 \times 44 \times 3 \times 1000}{\frac{35}{2} \times \frac{\pi}{4} \times 6 \times 60 \times 60} = 20$$

$$\frac{49}{9} = 5\frac{4}{9}$$

70 ਮੀਟਰ ਲੰਬੇ, 44 ਮੀਟਰ ਚੌੜੇ ਅਤੇ 3 ਮੀਟਰ ਡੂੰਘੇ ਸਵੀਮਿੰਗ ਪੂਲ ਨੂੰ ਇੱਕ ਪਾਈਪ ਨਾਲ 6 ਮੀਟਰ/ਸੈਕਿੰਡ ਦੇ ਹਿਸਾਬ ਪਾਈ ਨਾਲ ਭਰਿਆ ਜਾਂਦਾ ਹੈ। ਪਾਈਪ ਦਾ ਵਿਆਸ 35 ਸੈਂਟੀਮੀਟਰ ਹੈ। ਪੂਲ ਨੂੰ ਭਰਨ ਲਈ ਸਮਾਂ ਲਗੇਗਾ:

- (a) 4 ਘੰਟੇ
- (b)  $4\frac{4}{5}$  ਘੰਟੇ
- (c)  $4\frac{4}{9}$  ਘੰਟੇ
- (d)  $3\frac{4}{9}$  ਘੰਟੇ

80. The students of a class are made to stand in rows. If 3 students are extra in each row, there would be 1 row less. If 3 students are less in each row, there would be 2 more rows. The number of students in the class is :

- (a) 25
- (b) 30
- (c) 36
- (d) 40

$$\text{Total Students} = 36$$

ਇੱਕ ਕਲਾਸ ਦੇ ਵਿਦਿਆਰਥੀਆਂ ਨੂੰ ਪੰਕਤੀਆਂ ਵਿੱਚ ਖੜਾ ਕੀਤਾ ਜਾਂਦਾ ਹੈ। ਜੇਕਰ ਹਰ ਪੰਕਤੀ ਵਿੱਚ 3 ਵਿਦਿਆਰਥੀ ਵੱਧਾ ਦਿੱਤੇ ਜਾਣ ਤਾਂ ਇੱਕ ਪੰਕਤੀ ਘਟ ਜਾਵੇਗੀ। ਜੇਕਰ ਹਰ ਪੰਕਤੀ ਵਿੱਚ 3 ਵਿਦਿਆਰਥੀ ਘਟਾ ਦਿੱਤੇ ਜਾਣ ਤਾਂ ਦੋ ਪੰਕਤੀਆਂ ਵੱਧ ਜਾਣਗੀਆਂ। ਕਲਾਸ ਵਿੱਚ ਵਿਦਿਆਰਥੀਆਂ ਦੀ ਗਿਣਤੀ ਹੈ:

- (a) 25
- (b) 30
- (c) 36
- (d) 40

81. A shopkeeper buys a number of books for ₹ 1200. If he had bought 10 more books for the same amount, each book would have cost him ₹ 20 less. The number of books bought by the shopkeeper is :

- (a) 10  
(b) 15  
(c) 20  
(d) 25

$$x = 1200$$

$$x + 10 = y - 20$$

$$x = \frac{1200}{y}$$

$$(x + 10)(y - 20) = 1200$$

ਇੱਕ ਦੁਕਾਨਦਾਰ ਕੁਝ ਕਿਤਾਬਾਂ 1200 ਰੁਪਏ ਵਿੱਚ ਖਰੀਦ ਲੈਂਦਾ ਹੈ। ਜੇਕਰ ਉਸਨੇ ਉਨੇ ਰੁਪਏ ਵਿੱਚ 10 ਕਿਤਾਬਾਂ ਵਧ ਖਰੀਦੀਆਂ ਹੁੰਦੀਆਂ ਤਾਂ ਉਸਨੂੰ ਹਰ ਕਿਤਾਬ 20 ਰੁਪਏ ਘਟ ਮੁਲ ਤੇ ਮਿਲਣੀ ਸੀ। ਦੁਕਾਨਦਾਰ ਵਲੋਂ ਖਰੀਦੀਆਂ ਗਈਆਂ ਕਿਤਾਬਾਂ ਦੀ ਗਿਣਤੀ ਹੈ:

- (a) 10  
(b) 15  
(c) 20  
(d) 25

82. How many numbers lie between 10 and 300, which when divided by 4 leave a remainder 3?

- (a) 62  
(b) 65  
(c) 69  
(d) 73

$$4 \overline{) 391} \begin{array}{r} 97 \\ 28 \\ \hline 19 \\ 16 \\ \hline 3 \end{array}$$

$$15, 19, 23, \dots$$

$$395 = 15 + (n-1) \cdot 4$$

$$380 = (n-1) \cdot 4$$

10 ਅਤੇ 300 ਦੇ ਵਿਚਕਾਰ ਕਿੰਨੀਆਂ ਸੰਖਿਆਵਾਂ ਹਨ, ਜਿਨ੍ਹਾਂ ਨੂੰ ਜਦ ਕਿ 4 ਨਾਲ ਭਾਗ ਕੀਤਾ ਜਾਵੇ ਤਾਂ 3 ਬਾਕੀ ਬਚੇਗਾ?

- (a) 62  
(b) 65  
(c) 69  
(d) 73

$$4 \overline{) 399} \begin{array}{r} 99 \\ 36 \\ \hline 39 \\ 36 \\ \hline 3 \end{array}$$

$$11, 15, 19, \dots, 399$$

$$399 = 11 + (n-1) \cdot 4$$

83. If the point (x

- (a)  $a + b = x + y$   
(b)  $x + b = y + a$   
(c)  $bx = ay$   
(d)  $ax + by$

ਜੇਕਰ ਇੱਕ ਪੁਆਇੰਟ (x, y), ਪੁਆਇੰਟ (a + b, b - a) ਅਤੇ ਪੁਆਇੰਟ (a - b, a + b) ਤੋਂ ਬਰਾਬਰ ਦੂਰੀ ਤੇ ਹੈ ਤਾਂ:

- (a)  $a + b = x + y$   
(b)  $x + b = y + a$   
(c)  $bx = ay$   
(d)  $ax + by$



84. A boy is cycling such that the wheels of the cycle are making 140 revolutions per minute. If the diameter of the wheel is 60 cm, then the speed at which the boy is cycling is :

- (a) 200 m/min  
(b) 264 m/min  
(c) 300 m/min  
(d) 326 m/min

$$\frac{60 \times 2 \times 140}{100} \times \frac{22}{7} \times \frac{1}{60} = \frac{264}{1}$$

ਇੱਕ ਲੜਕਾ ਸਾਈਕਲ ਚਲਾ ਰਿਹਾ ਹੈ ਤੇ ਸਾਈ  
ਪਹੀਏ ਦਾ ਪਰਿਮਾਪ 60 ਸੈਂਟੀਮੀਟਰ ਹੈ ਤਾਂ ਲੜ

ਹਨ। ਸ਼ੇਰ

- (a) 200 ਮੀਟਰ/ਮਿੰਟ  
(b) 264 ਮੀਟਰ/ਮਿੰਟ  
(c) 300 ਮੀਟਰ/ਮਿੰਟ  
(d) 326 ਮੀਟਰ/ਮਿੰਟ

$$a + l = 2a + (n-1)d$$

85. If  $1 + 4 + 7 + \dots + x = 287$ , then the value of  $x$  is :

- (a) 40  
(b) 42  
(c) 45  
(d) 50

$$1 + 4 + 7 + \dots + x = 287$$

$$S = \frac{n}{2} (2a + (n-1)d)$$

ਜੇਕਰ  $1 + 4 + 7 + \dots + x = 287$ , ਤਾਂ  $x$  ਦਾ ਮੁਲ ਹੈ :

- (a) 40  
(b) 42  
(c) 45  
(d) 50

$$S =$$

$$1 + 4 + 7 + 10 + 13 + 16 + 19 + 22 + 25 + 28 + 31 + 34 + 37 + 40 + 43 + 46$$

$$49 + 52$$

86. The dimensions of a rectangular block is  $5 \text{ cm} \times 10 \text{ cm} \times 20 \text{ cm}$ . To construct a solid cube of minimum size, how many such blocks will be required?

- (a) 4  
(b) 5  
(c) 7  
(d) 8

$$5 \times 10 \times 20 = a^3$$

$$1000 \quad a = 10$$

ਇੱਕ ਆਇਤਾਕਾਰ ਬਲਾਕ ਦੀਆਂ ਭੁਜਾਵਾਂ  
ਇੱਕ ਨੌਸ ਘਣ ਬਣਾਉਣ ਲਈ ਇਹੋ ਜਿਹੇ

ਭੇਡੇ ਆਕਾਰ ਦਾ

- (a) 4  
(b) 5  
(c) 7  
(d) 8

87. Three cubes of metal whose edges are in the ratio 3 : 4 : 5, are melted and converted into a single cube whose diagonal is  $12\sqrt{3}$  cm. The edges of the three cubes are :

- (a) 6 cm, 8 cm, 10 cm
- (b) 15 cm, 20 cm, 25 cm
- (c) 6 cm, 10 cm, 15 cm
- (d) 9 cm, 12 cm, 15 cm = 400

ਤਿੰਨ ਘਣਾਂ ਦੇ ਕਿਨਾਰੇ 3 : 4 : 5 ਦੇ ਅਨੁਪਾਤ ਵਿੱਚ ਹਨ। ਇਨ੍ਹਾਂ ਘਣਾਂ ਨੂੰ ਘੋਲ ਕੇ ਇੱਕ ਘਣ ਵਿੱਚ ਬਦਲ ਦਿੱਤਾ ਜਾਂਦਾ ਹੈ ਜਿਸਦਾ ਵਿਕਰਣ  $12\sqrt{3}$  cm ਹੈ। ਤਿੰਨ ਘਣਾਂ ਦੇ ਕਿਨਾਰੇ ਹਨ :

- (a) 6 cm, 8 cm, 10 cm
- (b) 15 cm, 20 cm, 25 cm
- (c) 6 cm, 10 cm, 15 cm
- (d) 9 cm, 12 cm, 15 cm

88. A bag contains 1-rupee, 2-rupee and 5-rupee coins in the ratio 4 : 2 : 5. If the total value is ₹ 66, then the number of 5-rupee coins is :

- (a) 4
- (b) 8
- (c) 10
- (d) 12

$$4x + 4x + 25x = 66$$

$$33x = 66$$

$$x = 2$$

ਬੈਗ ਵਿੱਚ 1 ਰੁਪਏ, 2 ਰੁਪਏ ਅਤੇ 5 ਰੁਪਏ ਦੇ ਸਿੱਕੇ 4 : 2 : 5 ਦੇ ਅਨੁਪਾਤ ਵਿੱਚ ਹਨ। ਜੇਕਰ ਸਿੱਕਿਆਂ ਦਾ ਕੁਲ ਮੁੱਲ 66 ਰੁਪਏ ਹੈ ਤਾਂ 5 ਰੁਪਏ ਦੇ ਸਿੱਕਿਆਂ ਦੀ ਗਿਣਤੀ ਹੈ :

- (a) 4
- (b) 8
- (c) 10
- (d) 12

89. How many whole numbers lie between  $110^2$  and  $111^2$ ?

- (a) 110
- (b) 200
- (c) 205
- (d) 220

$110^2$  ਅਤੇ  $111^2$  ਦੇ ਵਿਚਕਾਰ ਕਿੰਨੀਆਂ ਪੂਰਨ ਸੰਖਿਆਵਾਂ ਹਨ :

- (a) 110
- (b) 200
- (c) 205
- (d) 220

90. The smallest number that should be added to 3304 to get

- (a) 60
- (b) 115
- (c) 120
- (d) 130

$$\begin{array}{r} 111 \\ 110 \\ \hline 111 \end{array}$$



3304 ਵਿੱਚ ਕਿਹੜੀ ਸਭ ਤੋਂ ਛੋਟੀ ਸੰਖਿਆ ਜੋੜੀ ਜਾਵੇ ਤਾਂ ਕਿ ਇਹ ਇੱਕ ਸੰਪੂਰਨ ਵਰਗ ਬਣ ਜਾਵੇ:

- (a) 60  
(b) 115  
(c) 120  
(d) 130

$$\begin{array}{r} 2 \mid 6 \ 8 \ 12 \\ \hline 3 \mid 3 \ 4 \ 6 \\ \hline 2 \mid 1 \ 4 \ 2 \\ \hline 1 \end{array}$$

91. A, B and C can do a piece of work in 6, 8 and 12 hours respectively. They started the work together and after 1 hour, B left the work. In how much time will the remaining work be completed by A and C?

- (a) 2 hours  
(b)  $2\frac{1}{5}$  hours  
(c)  $2\frac{1}{2}$  hours  
(d)  $3\frac{1}{2}$  hours

$$\left(\frac{1}{6} + \frac{1}{8} + \frac{1}{12}\right) + x\left[\frac{1}{6} + \frac{1}{12}\right] = 1$$

$$\frac{4+3+2}{24} + x\left[\frac{2+1}{12}\right] = 1$$

A, B ਅਤੇ C ਇੱਕ ਕੰਮ ਨੂੰ ਕ੍ਰਮਵਾਰ 6, 8 ਤੇ 12 ਘੰਟਿਆਂ ਵਿੱਚ ਕਰ ਸਕਦੇ ਹਨ। ਉਨ੍ਹਾਂ ਨੇ ਇਕੱਠਿਆਂ ਕੰਮ ਸ਼ੁਰੂ ਕੀਤਾ ਅਤੇ ਇੱਕ ਘੰਟੇ ਬਾਅਦ B ਨੇ ਕੰਮ ਕਰਨਾ ਛੱਡ ਦਿੱਤਾ। ਬਾਕੀ ਰਹਿੰਦਾ ਹੋਇਆ ਕੰਮ A ਅਤੇ C ਕਿੰਨੇ ਸਮੇਂ ਵਿੱਚ ਪੂਰਾ ਕਰਨਗੇ?

- (a) 2 ਘੰਟੇ  
(b)  $2\frac{1}{5}$  ਘੰਟੇ  
(c)  $2\frac{1}{2}$  ਘੰਟੇ  
(d)  $3\frac{1}{2}$  ਘੰਟੇ

$$x\left(\frac{3}{12}\right) = 1 - \frac{9}{24}$$

$$x\left(\frac{3}{12}\right) = \frac{15}{24}$$

$$x = \frac{15}{24} \times \frac{12}{3} = \frac{15}{2} = 7.5$$

92. A is thrice as good a workman as B and B is twice as good a workman as C. All the three took up a job and received ₹ 1800 as remuneration. The share of A is :

- (a) ₹ 1200  
(b) ₹ 1000  
(c) ₹ 800  
(d) ₹ 700

$$A : B : C = 6 : 3 : 1$$

$$A = 6x, B = 3x, C = x$$

$$6x + 3x + x = 1800$$

$$10x = 1800$$

$$x = 180$$

$$A = 6 \times 180 = 1080$$

A ਆਦਮੀ B ਆਦਮੀ ਤੋਂ ਤਿੰਨ ਗੁਣਾ ਕੰਮ ਕਰਦਾ ਹੈ ਅਤੇ B ਆਦਮੀ C ਆਦਮੀ ਤੋਂ ਦੋ ਗੁਣਾ ਕੰਮ ਕਰਦਾ ਹੈ। ਤਿੰਨਾਂ ਨੇ ਇੱਕ ਕੰਮ ਪੂਰਾ ਕੀਤਾ ਅਤੇ ਉਨ੍ਹਾਂ ਨੂੰ ਕੰਮ ਦੇ 1800 ਰੁਪਏ ਮਿਲੇ। A ਦਾ ਹਿੱਸਾ ਹੋਵੇਗਾ:

- (a) 1200 ਰੁਪਏ  
(b) 1000 ਰੁਪਏ  
(c) 800 ਰੁਪਏ  
(d) 700 ਰੁਪਏ

93. If  $A : B = \frac{1}{2} : \frac{3}{8}$ ,  $B : C = \frac{1}{3} : \frac{5}{9}$  and  $C : D = \frac{5}{6} : \frac{3}{4}$ , then  $A : B : C : D$  is :

(a) 8 : 6 : 9 : 10

(b) 8 : 6 : 10 : 9

(c) 10 : 6 : 8 : 9

(d) 6 : 8 : 10 : 9

$$A : B = \frac{1}{2} : \frac{3}{8} \quad B : C = \left( \frac{1}{3} : \frac{5}{9} \right) \times \frac{9}{8} = \frac{3}{8} : \frac{5}{8}$$

$$C : D = \left( \frac{5}{6} : \frac{3}{4} \right) \times \frac{4}{5} = \frac{2}{3} : \frac{3}{5}$$

ਜੇਕਰ  $A : B = \frac{1}{2} : \frac{3}{8}$ ,  $B : C = \frac{1}{3} : \frac{5}{9}$  ਅਤੇ  $C : D = \frac{5}{6} : \frac{3}{4}$ , ਤਾਂ  $A : B : C : D$  ਹੈ :

(a) 8 : 6 : 9 : 10

(b) 8 : 6 : 10 : 9

(c) 10 : 6 : 8 : 9

(d) 6 : 8 : 10 : 9

$$\frac{2}{2} : \frac{3}{8} : \frac{5}{8} : \frac{9}{18}$$

$$\frac{10}{10} : \frac{6}{6} : \frac{8}{8} : \frac{9}{9}$$

94. The CP of an article is 40% of the SP. The per cent that the S.P. is of C.P. is:

(a) 60%

(b) 150%

(c) 200%

(d) 250%

$$S.P. = 100$$

$$C.P. = 40$$

$$\frac{S.P.}{C.P.} \times 100 = \frac{100}{40} \times 100 = 250\%$$

ਇੱਕ ਚੀਜ਼ ਦਾ ਖਰੀਦ ਮੁਲ ਉਸਦੇ ਵੇਚਣ ਦੇ ਮੁਲ ਦਾ 40% ਹੈ। ਉਸਦਾ ਵੇਚਣ ਦਾ ਮੁਲ ਉਸਦੇ ਖਰੀਦ ਮੁਲ ਪ੍ਰਤੀਸ਼ਤ ਹੋਵੇਗਾ ?

(a) 60%

(b) 150%

(c) 200%

(d) 250%

$$\frac{2}{2} : \frac{6}{6} : \frac{10}{10} : \frac{18}{18}$$

$$16 : 48 : 80 : 144$$

95. If the cost price of 20 articles is equal to the selling price of 16 articles, then gain or loss per cent is :

(a) 20% gain

(b) 20% loss

(c) 25% gain

(d) 25% loss

$$C.P. \text{ of } 20 \text{ articles} = S.P. \text{ of } 16 \text{ articles}$$

$$S.P. \text{ of } 16 = 20$$

$$\frac{S.P.}{C.P.} \times 100 = \frac{20}{16} \times 100 = 125\%$$

ਜੇਕਰ 20 ਵਸਤੂਆਂ ਦਾ ਖਰੀਦ ਮੁਲ 16 ਵਸਤੂਆਂ ਦੇ ਵਿਕਰੀ ਮੁਲ ਦੇ ਬਰਾਬਰ ਹੋਵੇ ਤਾਂ ਫਾਇਦਾ ਜਾਂ ਨੁਕਸਾਨ ਪ੍ਰਤੀਸ਼ਤ ਹੋਵੇਗਾ :

(a) 20% ਫਾਇਦਾ

(b) 20% ਨੁਕਸਾਨ

(c) 25% ਫਾਇਦਾ

(d) 25% ਨੁਕਸਾਨ



$$S.P = 33$$

$$\frac{11}{33} \times 100$$

96. By selling 33 oranges, a vendor gains the selling price of 11 oranges. His gain per cent

(a) 50%

(b) 40%

(c) 35%

(d) 25%

$$\frac{22}{33} \times 100$$

$$33$$

$$\frac{11 \times 100}{22}$$

33 ਸੰਤਰੇ ਵੇਚਕੇ, ਇੱਕ ਦੁਕਾਨਦਾਰ ਨੂੰ 11 ਸੰਤਰੇ ਦੇ ਵਿਕਰੀ ਮੁਲ ਦੇ ਬਰਾਬਰ ਫਾਇਦਾ ਹੁੰਦਾ ਹੈ। ਉਹਦਾ ਪ੍ਰਤੀ ਫਾਇਦਾ ਹੈ:

(a) 50%

(b) 40%

(c) 35%

(d) 25%

$$M.P = 100$$

97. After allowing a discount of 10% on the marked price, a shopkeeper makes a profit of 26%. The marked price is above the cost price by :

(a) 30%

(b) 36%

(c) 40%

(d) 42%

$$90 = S.P$$

$$\frac{26}{100} = \frac{90 - C.P}{C.P} \times 100$$

ਇੱਕ ਦੁਕਾਨਦਾਰ ਨੂੰ ਨਿਰਧਾਰਿਤ ਮੁਲ ਤੇ 10 ਪ੍ਰਤੀਸ਼ਤ ਛੂਟ ਦੇਣ ਤੋਂ ਬਾਅਦ 26 ਪ੍ਰਤੀਸ਼ਤ ਫਾਇਦਾ ਹੁੰਦਾ ਹੈ। ਨਿਰਧਾਰਿਤ ਮੁਲ ਖਰੀਦ ਮੁਲ ਤੋਂ ਕਿੰਨੇ ਪ੍ਰਤੀਸ਼ਤ ਜ਼ਿਆਦਾ ਹੈ?

(a) 30%

(b) 36%

(c) 40%

(d) 42%

$$26 CP = 9000 - 1000$$

$$126 CP = 29000$$

$$\frac{26}{100} = \frac{90 - C.P}{C.P} \times 100$$

98. The length of the longest rod that can be placed in a 12 m high is :

(a) 20 m

(b) 36 m

(c)  $20\sqrt{2}$  m

(d)  $20\sqrt{3}$  m

$$\frac{12^2 + 16^2}{12^2 + 16^2 + 12^2}$$

ਇੱਕ ਕਮਰਾ, ਜਿਸਦੀ ਲੰਬਾਈ 20 ਮੀਟਰ, ਚੌੜਾਈ 16 ਮੀਟਰ ਅਤੇ ਉੱਚਾਈ 12 ਮੀਟਰ ਹੈ, ਵਿੱਚ ਕਿਤਨੀ ਲੰਬਾਈ ਦਾ rod ਰੱਖਿਆ ਜਾ ਸਕਦਾ ਹੈ?

(a) 20 ਮੀਟਰ

(b) 36 ਮੀਟਰ

(c)  $20\sqrt{2}$  ਮੀਟਰ

(d)  $20\sqrt{3}$  ਮੀਟਰ

9. The difference between C.P. and S.P. of an article is ₹ 132. If the profit per cent is 8, the SP of the article is :

- (a) ₹ 1600
- (b) ₹ 1650
- (c) ₹ 1750
- (d) ₹ 1782

$C.P. - S.P. = 132$   
 $1650 - P\%$   
 $\frac{132}{1782}$   
 $8 = \frac{132 \times 100}{C.P.}$   
 $C.P. = \frac{132 \times 100}{8}$

ਇੱਕ ਵਸਤੂ ਦੇ ਖਰੀਦ ਮੁੱਲ ਤੇ ਵਿਕਰੀ ਮੁੱਲ ਵਿੱਚ 132 ਰੁਪਏ ਦਾ ਅੰਤਰ ਹੈ। ਜੇਕਰ ਫਾਇਦਾ 8 ਪ੍ਰਤੀਸ਼ਤ ਹੈ ਤਾਂ ਵਸਤੂ ਦਾ ਵਿਕਰੀ ਮੁੱਲ ਹੋਵੇਗਾ:

- (a) 1600 ਰੁਪਏ
- (b) 1650 ਰੁਪਏ
- (c) 1750 ਰੁਪਏ
- (d) 1782 ਰੁਪਏ

10. The day of the week on 12th January 1979 is :

- (a) Friday
- (b) Saturday
- (c) Sunday
- (d) Monday

12 ਜਨਵਰੀ 1979 ਨੂੰ ਹਫ਼ਤੇ ਦਾ ਕਿਹੜਾ ਦਿਨ ਸੀ?

- (a) ਸ਼ੁੱਕਰਵਾਰ
- (b) ਸ਼ਨੀਵਾਰ
- (c) ਐਤਵਾਰ
- (d) ਸੋਮਵਾਰ

$1600 \rightarrow 0$   
 $1700 \rightarrow 5, 1800 \rightarrow 5, 1900 \rightarrow 5$   
 $1900 \rightarrow 1$   
 $24 \times 2 = 48$   
 $76$   
 $124$   
 $1900 \rightarrow 5$   
 $1800 \rightarrow 5$   
 $1900 \rightarrow 5$   
 $19$   
 $78$   
 $4$   
 $30$   
 $36$   
 $2$   
 $59$   
 $19$   
 $78$   
 $1$   
 $98$   
 $20$

$1, 2, 3,$   
 $7 \div 12$   
 $4$   
 $6$