



Teachingninja.in



Latest Govt Job updates



Private Job updates



Free Mock tests available



Visit - teachingninja.in



Punjab Police Intelligence Assistant

**Previous Year Paper
8 Sept 2021 Shift 2**





PUNJAB POLICE

Police to its last particle is duty

Exam Name	INTELLIGENCE ASSISTANT IN INTELLIGENCE CADRE OF PUNJAB POLICE AND CONSTABLE IN INVESTIGATION CADRE OF PUNJAB POLICE (PBI)- 2021
Registration Number	
Application No	
Roll No	
Name of Candidate	
Exam Date	08/09/2021
Shift	2:00 PM - 5:00 PM
Subject	Intelligence Assistant In Intelligence Cadre And Constable In Investigation Cadre

Section : Intelligence Assistant In Intelligence Cadre And Constable In Investigation Cadre

Q.1 Which of the following is NOT a part of the appellate jurisdiction of the Supreme Court?

- Ans
- ☒ 1. Criminal case
 - ☒ 2. Civil case
 - ☒ 3. Constitutional case
 - ☒ 4. Direct case, no appeal

Question ID : 63068046805

Status : Answered

Chosen Option : 3

Q.2 ਹੇਠ ਲਿਖਿਆਂ ਵਿੱਚੋਂ ਕਿਹੜਾ ਪੰਚਾਇਤ ਸਮੇਤੀ ਦੀਆਂ ਜ਼ਿੰਮੇਵਾਰੀਆਂ ਵਿੱਚ ਸ਼ਾਮਲ ਨਹੀਂ ਹੈ?

- ns
- ☒ 1. ਔਰਤਾਂ ਅਤੇ ਬਾਲ ਵਿਕਾਸ
 - ☒ 2. ਪਿੰਡ ਵਿੱਚ ਪੀਣ ਵਾਲੇ ਪਾਣੀ ਦੀ ਵਿਵਸਥਾ
 - ☒ 3. ਪੇਂਡੂ ਖੇਤਰਾਂ ਵਿੱਚ ਸਵੈ-ਰੁਜ਼ਗਾਰ ਸਕੀਮਾਂ ਨੂੰ ਉਤਸ਼ਾਹਤ ਕਰਨਾ
 - ☒ 4.

ਅਨੁਸੂਚਿਤ ਜਾਤੀਆਂ ਅਤੇ ਕਬੀਲਿਆਂ ਅਤੇ ਹੋਰ ਪਛੜੀਆਂ ਸ਼੍ਰੇਣੀਆਂ ਦੀ ਭਲਾਈ

Question ID : 63068046846

Status : nswered

Chosen Option :

Q.3 _____ ਉਹ ਦਰ ਹੈ ਜਿਸ ਉੱਤੇ ਕਿਸੇ ਦੇਸ਼ ਦਾ ਕੇਂਦਰੀ ਬੈਂਕ ਦੇਸ਼ ਦੇ ਅੰਦਰ ਵਪਾਰਕ ਬੈਂਕਾਂ ਤੋਂ ਪੈਸਾ ਉਧਾਰ ਲੈਂਦਾ ਹੈ।

- Ans
- ☐ 1. ਰੇਪੋ ਦਰ
 - ☐ 2. ਵਿਆਜ ਦਰ
 - ☐ 3. ਇਫੈਕਟਿਵ ਰੇਟ
 - ☒ 4. ਰਿਵਰਸ ਰੇਪੋ ਰੇਟ

Question ID : 63068021598
Status : Answered
Chosen Option : 4

Q.4 As of August 2021, _____ had the shortest tenure as Chief Justice of India.

- Ans
- ☒ 1. Justice K.N Singh
 - ☐ 2. Justice G.S Mishra
 - ☐ 3. Justice Fatima Beevi
 - ☐ 4. Justice HJ Kaniya

Question ID : 63068046822
Status : Answered
Chosen Option : 1

Q.5 2019 ਤੱਕ, ਕੁਲ ਆਬਾਦੀ ਦਾ ਕਿੰਨਾ ਪ੍ਰਤੀਸ਼ਤ 15-64 ਸਾਲ ਦੀ ਉਮਰ ਸਮੂਹ ਵਿੱਚ ਆਉਂਦਾ ਹੈ?

- Ans
- ☐ 1. 49 %
 - ☐ 2. 53 %
 - ☒ 3. 67 %
 - ☐ 4. 25 %

Question ID : 63068040001
Status : Answered
Chosen Option : 2

Q.6 Which of the following statements is FALSE about the Writs in India?

- Ans
- ☐ 1. In India, Articles 32 and 226 of the Constitution gives power to the Supreme Court and High Courts to issue writs in case of breach of fundamental rights of any citizen by the State.
 - ☐ 2. There are 5 kinds of writs in India – Mandamus, Certiorari, Prohibition, Quo Warranto and Habeas Corpus.
 - ☐ 3. By such writs, the Judiciary can control the administrative actions and prevent any kind of arbitrary use of power and discretion.
 - ☒ 4. Mandamus was introduced in India by the Letters Patent creating the Supreme Court in Calcutta in 1886.

Question ID : 63068046809
Status : Answered
Chosen Option : 3

Q.7 What can't cause ringworm?

- Ans
- ☒ 1. Trichophyton
 - ☒ 2. Microsporum
 - ☒ 3. Entamoeba histolytica
 - ☒ 4. Epidermophyton

Question ID : 63068046590
Status : Answered
Chosen Option : 2

Q.8 Which is a Punjabi devotional song form in which hymns are addressed to the Goddess?

- Ans
- ☒ 1. Bhaent
 - ☒ 2. Dhola
 - ☒ 3. Lamm
 - ☒ 4. Mirza

Question ID : 63068046733
Status : Answered
Chosen Option : 3

Q.9 Which of the following is NOT included in the 11th Schedule of the Indian Constitution?

- Ans
- ☒ 1. Family welfare
 - ☒ 2. Women and child development
 - ☒ 3. Naval, military, and air force work
 - ☒ 4. Rural housing

Question ID : 63068046789
Status : Answered
Chosen Option : 3

Q.10 UN World Tourism Organisation confirms 2020 as 'worst year on record'. The headquarters of this organisation are based in ____.

- Ans
- ☒ 1. Switzerland
 - ☒ 2. France
 - ☒ 3. Spain
 - ☒ 4. Italy

Question ID : 63068046539
Status : Answered
Chosen Option : 1

Q.11 Which crops provide a good harvest along with enrichment or restoration or amelioration of soil?

- Ans
- ☒ 1. Smother crops
 - ☒ 2. Restorative crops
 - ☒ 3. Skip cropping
 - ☒ 4. Silage crops

Question ID : 63068046596
Status : Answered
Chosen Option : 3

Q.12 Core of optical fibre is made up of_____.

- Ans
- ☒ 1. Aluminium
 - ☒ 2. Silica Glass or Plastic
 - ☒ 3. Solid water
 - ☒ 4. Copper

Question ID : 63068046572
Status : Answered
Chosen Option : 4

Q.13 During non-cooperation movement and Khilafat movement, the import of foreign clothes:

- Ans
- ☒ 1. doubled
 - ☒ 2. declined to almost half
 - ☒ 3. declined to a quarter
 - ☒ 4. was not impacted

Question ID : 63068021762
Status : Answered
Chosen Option : 4

Q.14 The pancreas contains_____that produce enzymes important to digestion.

- Ans
- ☒ 1. Sweat glands
 - ☒ 2. Thyroid gland
 - ☒ 3. Pituitary gland
 - ☒ 4. Exocrine glands

Question ID : 63068046585
Status : Answered
Chosen Option : 3

Q.15 ਅੰਮ੍ਰਿਤਸਰ ਕਿਹੜੇ ਦੁਆਬਾ ਖੇਤਰ ਵਿੱਚ ਸਥਿਤ ਹੈ?

- Ans
- ☐ 1. ਦੁਆਬਾ ਬਿਸਤ ਜਲੰਧਰ
 - ☒ 2. ਬਾਰੀ ਦੁਆਬਾ
 - ☐ 3. ਰਚਨਾ ਦੁਆਬਾ
 - ☐ 4. ਚੱਜ ਦੁਆਬਾ

Question ID : 63068046760
Status : Answered
Chosen Option : 2

Q.16 What is the name of the Covid-19 antibody detection kit developed by the DRDO?

- Ans
- ☐ 1. Covimed
 - ☒ 2. DIPCOVAN
 - ☐ 3. COVIRAP
 - ☐ 4. CoviSelf

Question ID : 63068046490
Status : Answered
Chosen Option : 4

Q.17 RJ45 is a ____ jack used by devices to physically connect to Ethernet based local area networks (LANs).

- Ans
- ☒ 1. 8-pin
 - ☐ 2. 4 pin
 - ☐ 3. 2 pin
 - ☐ 4. 6 pin

Question ID : 63068046577
Status : Answered
Chosen Option : 2

Q.18 The Panchayat Samiti meeting is presided over by the ____.

- Ans
- ☐ 1. Sarpanch
 - ☐ 2. Executive Officer
 - ☒ 3. Chairman
 - ☐ 4. Block Development Officer

Question ID : 63068046842
Status : Answered
Chosen Option : 4

Q.19 Which of the following statements regarding the Hero Indian Super League 2021 is correct?

I. Mumbai City FC clinched the League Winners shield.

II. This tournament is associated with football championship.

Ans ☒ 1. Both I and II

☐ 2. Only II

☐ 3. Neither I nor II

☐ 4. Only I

Question ID : 63068046486

Status : Answered

Chosen Option : 1

Q.20 Which international organisation applauded India for 'Fitness Ka Dose Aadha Ghanta Roz campaign'?

Ans ☐ 1. Food and Agriculture Organisation

☐ 2. International Cricket Council

☐ 3. World Bank

☒ 4. World Health Organisations

Question ID : 63068046540

Status : Answered

Chosen Option : 4

Q.21 Which of the following is true for commercial farming?

Ans ☒ 1. HYV seeds, Chemical fertilisers, insecticides and pesticide is used to obtain higher productivity

☐ 2. LYV seeds, Chemical fertilisers, insecticides and pesticide is used to obtain higher productivity

☐ 3. HYV seeds, Chemical fertilisers, insecticides and pesticide is not used to obtain higher productivity

☐ 4. HYV seeds, Chemical fertilisers, insecticides and pesticide is used to obtain lower productivity

Question ID : 63068046593

Status : Answered

Chosen Option : 1

Q.22 Which of the following statements is true regarding Article 263 of the Indian Constitution?

Ans ☒ 1. It investigates and discusses subjects in which some or all of the States, or the Union and one or more of the States, have a common interest.

☐ 2. It helps to amend the Constitution by passing bills in the Parliament of India.

☐ 3. It gives the Indian citizen the power to vote after the age of 18.

☐ 4. It tells us about the eligibility and the method of presidential elections.

Question ID : 63068046802

Status : Answered

Chosen Option : 1

Q.23 Which of the following is a poverty alleviation project implemented by Ministry of Rural Development, Government of India for Punjab?

- Ans ☒ 1. PSRLM
☒ 2. SPMRM
☒ 3. PMMVY
☒ 4. PSP

Question ID : 63068046751
Status : Answered
Chosen Option : 4

Q.24 ਇੱਕ _____ ਇੱਕ ਸੂਚੀ ਹੈ, ਜਿਸ ਵਿੱਚ ਚੱਕਰੀ ਢੰਗ ਨਾਲ ਸਕਸੈਸਰ ਪੁਆਇੰਟਰ ਅਤੇ ਪ੍ਰੀਡੈਕਸਰ ਪੁਆਇੰਟਰ ਦੋਵੇਂ ਸ਼ਾਮਲ ਹਨ।

- Ans ☒ 1. ਡਬਲ ਲਿੰਕਡ ਸੂਚੀ
☒ 2. ਸਿੰਗਲ ਲਿੰਕਡ ਸੂਚੀ
☒ 3. ਚੱਕਰੀ ਡਬਲ ਲਿੰਕਡ ਸੂਚੀ
☒ 4. ਚੱਕਰੀ ਲਿੰਕਡ ਸੂਚੀ

Question ID : 63068046612
Status : Answered
Chosen Option : 2

Q.25 ਕਿਹੜੀ ਅਨੁਸੂਚੀ ਤਹਿਤ ਸਮਤਾ ਜੱਜਮੈਂਟ ਲਾਗੂ ਕੀਤੀ ਗਈ ਸੀ?

- Ans ☒ 1. ਅਨੁਸੂਚੀ 5
☒ 2. ਅਨੁਸੂਚੀ 7
☒ 3. ਅਨੁਸੂਚੀ 8
☒ 4. ਅਨੁਸੂਚੀ 3

Question ID : 63068044127
Status : Answered
Chosen Option : 2

Q.26 Which of the following statements is correct regarding the 'One Planet Summit 2021'?

- I. It was organised by France.
II. It was organised in cooperation with the World Health Organisation.

- Ans ☒ 1. Only II
☒ 2. Both I and II
☒ 3. Only I
☒ 4. Neither I nor II

Question ID : 63068046536
Status : Answered
Chosen Option : 3

Q.27 Which among the following is a component of Base station system in Cellular system infrastructure?

- Ans
- ☒ 1. Authentication center
 - ☒ 2. Base transceiver system
 - ☒ 3. Home location register
 - ☒ 4. Equipment identity register

Question ID : 63068046563
Status : Answered
Chosen Option : 2

Q.28 Under which treaty did British annex the Sikh kingdom of Punjab?

- Ans
- ☒ 1. Treaty of Lahore
 - ☒ 2. Treaty of Salbai
 - ☒ 3. Treaty of Allahabad
 - ☒ 4. Treaty of Purandar

Question ID : 63068046667
Status : Answered
Chosen Option : 1

Q.29 ਬੀਬੀ ਕਾ ਮਕਬਰਾ ਉੱਤੇ ਦਿਸੰਬਰ 2020 ਨੂੰ ਇਸਦੇ ਦੁਬਾਰਾ ਖੁੱਲ੍ਹਣ ਵਾਲੇ ਦਿਨ ਨੂੰ ਸੈਲਾਨੀਆਂ ਦੀ ਭੀੜ ਦੇਖੀ ਗਈ। ਇਹ ਸਮਾਰਕ _____ ਵਿੱਚ ਸਥਿਤ ਹੈ।

- Ans
- ☒ 1. ਮਹਾਰਾਸ਼ਟਰ
 - ☒ 2. ਰਾਜਸਥਾਨ
 - ☒ 3. ਆਂਧਰਾ ਪ੍ਰਦੇਸ਼
 - ☒ 4. ਪੱਛਮੀ ਬੰਗਾਲ

Question ID : 63068046445
Status : Answered
Chosen Option : 1

Q.30 ਪ੍ਰੋਗਰਾਮ ਅਤੇ ਡੇਟਾ ਨੂੰ ਸਟੋਰ ਕਰਨ ਲਈ ਮੁੱਖ ਤੌਰ 'ਤੇ ਮੈਮੋਰੀ ਦੀ ਕਿਹੜੀ ਕਿਸਮ ਦੀ ਵਰਤੋਂ ਕੀਤੀ ਜਾਂਦੀ ਹੈ, ਜਿਹੜੀ ਬਦਲਦੀ ਨਹੀਂ ਹੈ ਅਤੇ ਵਾਰ-ਵਾਰ ਵਰਤੋਂ ਕੀਤੀ ਜਾਂਦੀ ਹੈ?

- Ans
- ☒ 1. ROM
 - ☒ 2. ਕੈਸ਼ੇ
 - ☒ 3. ਮੈਗਨੇਟਿਕ ਡਿਸਕ
 - ☒ 4. RAM

Question ID : 63068046619
Status : Answered
Chosen Option : 1

Q.31 ਸੰਵਿਧਾਨ ਵਿੱਚ ਸੋਧ ਦੀ ਲੋੜ ਕਿਉਂ ਹੁੰਦੀ ਹੈ?

Ans

- ☐ 1. ਦਸਤਾਵੇਜ਼ ਪੁਰਾਣੇ ਹੋ ਸਕਦੇ ਹਨ
- ☐ 2. ਵਰਤਮਾਨ ਪੀੜ੍ਹੀ ਦੀਆਂ ਲੋੜਾਂ ਵੱਖਰੀਆਂ ਹਨ
- ☐ 3.

ਇਹ ਆਗੂਆਂ/ਨੇਤਾਵਾਂ ਦੀਆਂ ਦਾਰਸ਼ਨਿਕ ਆਕਾਂਖਿਆਵਾਂ ਨੂੰ ਪ੍ਰਤਿਬਿੰਬਿਤ ਕਰਦਾ ਹੈ

☒ 4.

ਜਿਵੇਂ-ਜਿਵੇਂ ਹਾਲਾਤ ਬਦਲਦੇ ਹਨ, ਉਚਿਤ ਤਬਦੀਲੀਆਂ ਸ਼ਾਮਲ ਕੀਤੀਆਂ ਜਾਣੀਆਂ ਚਾਹੀਦੀਆਂ ਹਨ

Question ID : 63068046083

Status : Answered

Chosen Option : 4

Q.32 Which state celebrated its first migratory bird festival in January 2021?

Ans

- ☐ 1. Uttar Pradesh
- ☐ 2. Gujarat
- ☐ 3. Chhattisgarh
- ☒ 4. Bihar

Question ID : 63068046459

Status : Answered

Chosen Option : 1

Q.33 Which of the following is one of the pillars on which the proposals of Union Budget 2021-22 were based?

I. Health and Well being

II. Physical and financial capital

Ans

- ☐ 1. Only II
- ☒ 2. Both I and II
- ☐ 3. Only I
- ☐ 4. Neither I nor II

Question ID : 63068046519

Status : Answered

Chosen Option : 2

Q.34 What is the term used for a tag or sign used on products that have a specific geographical origin and possess qualities or a reputation that are due to that origin?

Ans

- ☒ 1. Geographical indications
- ☐ 2. Origin indications
- ☐ 3. Topographical indications
- ☐ 4. Regional indications

Question ID : 63068020578

Status : Answered

Chosen Option : 1

Q.35 _____ shows poor germination under water.

- Ans
- ☐ 1. Celery
 - ☐ 2. Lettuce
 - ☒ 3. Maize
 - ☐ 4. Bermuda grass

Question ID : 63068046592
Status : Answered
Chosen Option : 3

Q.36 The construction of Kashi Vishwanath corridor is taking place in _____.

- Ans
- ☒ 1. Varanasi
 - ☐ 2. Ayodhya
 - ☐ 3. Haridwar
 - ☐ 4. Prayagraj

Question ID : 63068046442
Status : Answered
Chosen Option : 2

Q.37 In January 2021, Uttarakhand government has increased number of working days under MGNREGA from 100 to how many days?

- Ans
- ☐ 1. 135
 - ☒ 2. 150
 - ☐ 3. 165
 - ☐ 4. 120

Question ID : 63068046510
Status : Answered
Chosen Option : 1

Q.38 Name the Act passed by the Parliament of India on 11 December 2019.

- Ans
- ☐ 1. Companies Amendment Act
 - ☐ 2. Farmers' Bill
 - ☐ 3. Banking Regulation Act
 - ☒ 4. Citizenship Act

Question ID : 63068044102
Status : Answered
Chosen Option : 2

Q.39 ਕਿਹੜੇ ਭਾਰਤੀ ਰਾਜਨੇਤਾ ਨੇ 'ਜਯੋਤੀਪੁੰਜ' ਨਾਮਕ ਪੁਸਤਕ ਲਿਖੀ?

- Ans
- ☐ 1. ਅਟਲ ਬਿਹਾਰੀ ਵਾਜਪੇਈ
 - ☒ 2. ਨਰਿੰਦਰ ਮੋਦੀ
 - ☐ 3. ਕਰਨ ਸਿੰਘ
 - ☐ 4. ਕੇ. ਨਟਵਰ ਸਿੰਘ

Question ID : 63068021082
Status : Answered
Chosen Option : 2

Q.40 ਹੇਠ ਲਿਖੇ ਵਿੱਚੋਂ ਕਿਹੜੀ ਸ਼ਿਵ ਕੁਮਾਰ ਬਟਾਲਵੀ ਦੀ ਰਚਨਾ ਹੈ?

- Ans
- ☐ 1. ਕੇਸਰੇ
 - ☒ 2. ਲੂਣਾ
 - ☐ 3. ਭਾਗਿਆਵਤੀ
 - ☐ 4. ਲੋਹਾਕੁੱਟ

Question ID : 63068046704
Status : Answered
Chosen Option : 2

Q.41 ਇੱਕ ਸਕੂਲ ਵਿੱਚ ਮੁੰਡਿਆਂ ਦੀ ਗਿਣਤੀ ਕੁੜੀਆਂ ਦੀ ਗਿਣਤੀ ਨਾਲੋਂ ਤਿੰਨ ਗੁਣਾ ਹੈ। ਜੇ ਕੁੜੀਆਂ ਦੀ ਗਿਣਤੀ 1500 ਹੈ, ਤਾਂ ਮੁੰਡਿਆਂ ਦੀ ਗਿਣਤੀ ਅਤੇ ਕੁੱਲ ਗਿਣਤੀ ਦਾ ਅਨੁਪਾਤ ਕੀ ਹੋਵੇਗਾ?

- Ans
- ☐ 1. 4 : 3
 - ☒ 2. 3 : 4
 - ☐ 3. 2 : 5
 - ☐ 4. 5 : 2

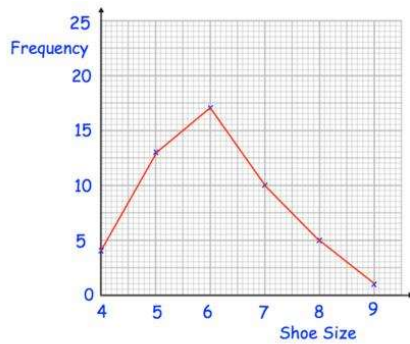
Question ID : 63068041153
Status : Answered
Chosen Option : 2

Q.42 ₹1300 'ਤੇ 4 ਸਾਲਾਂ ਲਈ ਦੋ ਵੱਖ-ਵੱਖ ਸਰੋਤਾਂ ਤੋਂ ਪ੍ਰਾਪਤ ਸਧਾਰਨ ਵਿਆਜ ਦੇ ਵਿੱਚ ₹20.80 ਦਾ ਅੰਤਰ ਹੈ। ਉਨ੍ਹਾਂ ਦੀਆਂ ਵਿਆਜ ਦਰਾਂ ਵਿੱਚ ਅੰਤਰ _____ ਹੈ।

- Ans
- ☐ 1. 2.1%
 - ☐ 2. 0.9%
 - ☒ 3. 0.4%
 - ☐ 4. 1.1%

Question ID : 63068046937
Status : Answered
Chosen Option : 3

Q.43



ਦਿੱਤਾ ਹੋਈ ਆਕ੍ਰਿਤੀ ਇੱਕ ਜੁੱਤੀਆਂ ਦੀ ਦੁਕਾਨ ਦੇ ਮਾਲਕ ਦੁਆਰਾ ਉਸਦੇ ਪਿਛਲੇ ਹਫ਼ਤੇ ਦੀ ਵਿਕਰੀ ਦੇ ਆਧਾਰ 'ਤੇ ਤਿਆਰ ਕੀਤਾ ਗਿਆ ਇੱਕ ਬਾਰੰਬਾਰਤਾ ਬਹੁਭੁਜ ਹੈ।

ਗ੍ਰਾਫ ਦੇ ਆਧਾਰ 'ਤੇ, ਉਨ੍ਹਾਂ ਗਾਹਕਾਂ ਦੀ ਗਿਣਤੀ ਪਤਾ ਕਰੋ ਜਿਨ੍ਹਾਂ ਦੇ ਜੁੱਤੇ ਦਾ ਮਾਪ 6 ਜਾਂ ਜ਼ਿਆਦਾ ਸੀ।

- Ans
- ✗ 1. 17
 - ✗ 2. 49
 - ✗ 3. 16
 - ✓ 4. 33

Question ID : 63068041078


Status : Answered

Chosen Option : 4

Q.44 ਚਾਰ ਮਿੱਤਰ ਇੱਕ ਪਾਰਕ ਵਿੱਚ ਗਏ, ਜਿਸ ਦੀਆਂ ਸਨਮੁੱਖ ਭੁਜਾਵਾਂ ਸਮਾਨਾਂਤਰ ਹਨ ਅਤੇ ਖੱਬੇ ਅਤੇ ਸੱਜੇ ਸਿਰੇ ਅਰਧ

ਚੱਕਰੀ ਆਕਾਰ ਵਿੱਚ ਹਨ। ਅਯਾਮ ਹੇਠਾਂ ਦਿੱਤੀ ਆਕ੍ਰਿਤੀ ਵਿੱਚ ਦਰਸਾਏ ਗਏ ਹਨ।

ਇਸਦੇ ਆਲੇ-ਦੁਆਲੇ ਚੱਲਣ ਲਈ ਇੱਕ 7 m ਚੌੜਾ ਟਰੈਕ ਹੈ।



ਉਨ੍ਹਾਂ ਵਿੱਚੋਂ ਹਰੇਕ ਹੇਠਾਂ ਦਿੱਤੇ ਅਨੁਸਾਰ ਵੱਖਰੇ ਤੌਰ 'ਤੇ ਟਰੈਕ ਦੇ ਖੇਤਰਫਲ ਦੀ ਗਣਨਾ ਕਰਦਾ ਹੈ। ਉਨ੍ਹਾਂ ਵਿੱਚੋਂ ਸਹੀ ਗਣਨਾ ਕਿਹੜੀ ਹੈ?

- Ans
- ✓ 1. 3066 sq. m.
 - ✗ 2. 12,250 sq. m.
 - ✗ 3. 20,650 sq. m.
 - ✗ 4. 8400 sq. m.

Question ID : 63068041306

Status : Answered

Chosen Option : 1

Q.45 13 ਸੰਖਿਆਵਾਂ ਦੀ ਔਸਤ 12 ਹੈ। ਜੇਕਰ ਪਹਿਲੀਆਂ ਸੱਤ ਸੰਖਿਆਵਾਂ ਦੀ ਔਸਤ 12 ਹੈ ਅਤੇ ਆਖਰੀ ਸੱਤ ਸੰਖਿਆਵਾਂ ਦੀ ਔਸਤ 15 ਹੈ, ਤਾਂ ਸੱਤਵੀਂ ਸੰਖਿਆ _____ ਹੈ।

- Ans
- ✓ 1. 33
 - ✗ 2. 23
 - ✗ 3. 45
 - ✗ 4. 30

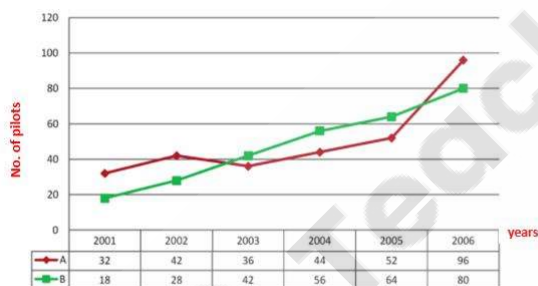
Question ID : 63068046971
Status : Answered
Chosen Option : 1

Q.46 $[12.8 \times 1.9 \div 7.6 + 11.2 \text{ of } \frac{1}{16} - \frac{1}{20}]$ ਨੂੰ ਹੱਲ ਕਰੋ।

- Ans
- ✗ 1. 1
 - ✓ 2. 3.85
 - ✗ 3. 3
 - ✗ 4. 3.9

Question ID : 63068040939
Status : Answered
Chosen Option : 2

Q.47 ਛੇ ਸਾਲਾਂ ਦੌਰਾਨ A ਅਤੇ B ਐਵੀਏਸ਼ਨ ਫਰਮਾਂ ਵਿੱਚ ਪਾਇਲਟਾਂ ਦੀ ਗਿਣਤੀ ਨਾਲ ਸੰਬੰਧਤ ਡਾਟਾ।



ਐਵੀਏਸ਼ਨ ਫਰਮ 'A' ਵਿੱਚ ਪਾਇਲਟਾਂ ਦੀ ਗਿਣਤੀ 2006 ਤੋਂ 2007 ਵਿੱਚ 25% ਵਧੀ ਹੈ ਅਤੇ ਐਵੀਏਸ਼ਨ ਫਰਮ 'B' ਵਿੱਚ ਪਾਇਲਟਾਂ ਦੀ ਗਿਣਤੀ 2006 ਤੋਂ 2007 ਵਿੱਚ 25% ਘੱਟ ਹੋਈ ਹੈ। 2006 ਵਿੱਚ ਐਵੀਏਸ਼ਨ ਫਰਮਾਂ A ਅਤੇ B ਦੇ ਮਿਲਾ ਕੇ ਪਾਇਲਟਾਂ ਦੀ ਕੁਲ ਗਿਣਤੀ ਅਤੇ 2007 ਵਿੱਚ ਐਵੀਏਸ਼ਨ ਫਰਮਾਂ A ਅਤੇ B ਦੇ ਮਿਲਾ ਕੇ ਕੁੱਲ ਪਾਇਲਟਾਂ ਦੀ ਗਿਣਤੀ ਦਾ ਅੰਤਰ ਪਤਾ ਕਰੋ।

- Ans
- ✗ 1. 3
 - ✗ 2. 6
 - ✓ 3. 4
 - ✗ 4. 5

Question ID : 63068041512
Status : Answered
Chosen Option : 3

Q.48 52 ਦਾ ਵਰਗ ਕੀ ਹੈ?

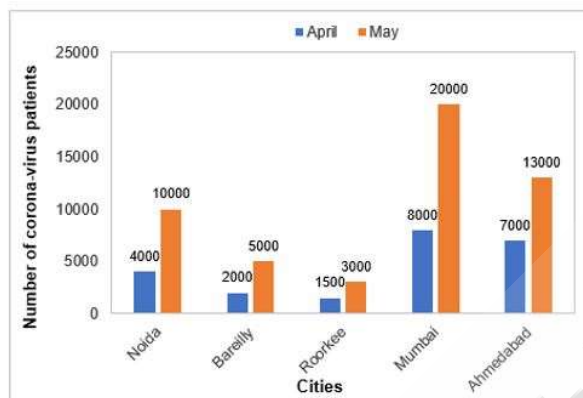
- Ans
- ☐ 1. 2844
 - ☐ 2. 2804
 - ☐ 3. 2644
 - ☒ 4. 2704

Question ID : 63068042503

Status : Answered

Chosen Option : 4

Q.49 ਹੇਠਾਂ ਦਿੱਤਾ ਛਤਰ ਗ੍ਰਾਫ ਅਪ੍ਰੈਲ ਅਤੇ ਮਈ ਦੇ ਮਹੀਨਿਆਂ ਦੌਰਾਨ ਵੱਖ-ਵੱਖ ਸ਼ਹਿਰਾਂ (cities) ਵਿੱਚ ਕੋਰੋਨਾ-ਵਾਇਰਸ ਦੇ ਮਰੀਜ਼ਾਂ (Corona-virus patients) ਦੀ ਸੰਖਿਆ ਨੂੰ ਦਰਸਾਉਂਦਾ ਹੈ।
ਅਪ੍ਰੈਲ ਅਤੇ ਮਈ ਵਿੱਚ ਸਾਰੇ ਸ਼ਹਿਰਾਂ (cities) ਵਿੱਚ ਕੁੱਲ ਕੋਰੋਨਾ-ਵਾਇਰਸ ਮਰੀਜ਼ਾਂ (Corona-virus patients) ਦੀ ਸੰਖਿਆ ਪਤਾ ਕਰੋ।



- Ans
- ☐ 1. 65750
 - ☐ 2. 70000
 - ☒ 3. 73500
 - ☐ 4. 75500

Question ID : 63068047636

Status : Answered

Chosen Option : 3

Q.50 ਹੇਠਾਂ ਦਿੱਤੇ ਸਮੀਕਰਣ ਵਿੱਚ 'X' ਦਾ ਮੁੱਲ ਪਤਾ ਕਰੋ

$$\left(\frac{1}{3}\right) \text{ of } 2559 + 42\% \text{ of } 1350 = (X)^2 - 8381$$

- Ans
- ☐ 1. 91
 - ☐ 2. 94
 - ☐ 3. 101
 - ☒ 4. 99

Question ID : 63068040117

Status : Answered

Chosen Option : 4

Q.51 ਇੱਕ ਕਮਰੇ ਦਾ ਆਕਾਰ $15 \text{ ft} \times 14 \text{ ft} \times 7 \text{ ft}$ ਹੈ, ਜਿਸ ਵਿੱਚ ਕਮਰੇ ਦੀ ਉਚਾਈ 7 ft ਹੈ। ₹5 ਪ੍ਰਤੀ ਵਰਗ ਫੁੱਟ ਦੇ ਹਿਸਾਬ ਨਾਲ ਕਮਰੇ ਦੀਆਂ ਚਾਰ ਦੀਵਾਰਾਂ ਨੂੰ ਰੰਗ ਕਰਨ ਦਾ ਖਰਚਾ ਕਿੰਨਾ ਹੋਵੇਗਾ, ਜੇਕਰ ਕਮਰੇ ਵਿੱਚ ਇੱਕ ਦਰਵਾਜ਼ਾ ਜਿਸਦਾ ਆਕਾਰ $3 \text{ ਫੁੱਟ} \times 9 \text{ ਫੁੱਟ}$ ਅਤੇ ਤਿੰਨ ਖਿੜਕੀਆਂ ਜਿਨ੍ਹਾਂ ਦਾ ਮਾਪ $2 \text{ ਫੁੱਟ} \times 4 \text{ ਫੁੱਟ}$ ਹੈ?

- Ans
- ☒ 1. ₹2500
 - ☒ 2. ₹1775
 - ☒ 3. ₹1700
 - ☒ 4. ₹1550

Question ID : 63068046997
Status : Answered
Chosen Option : 2

Q.52 ਉਹ ਛੋਟੀ ਤੋਂ ਛੋਟੀ ਸੰਖਿਆ ਪਤਾ ਕਰੋ, ਜਿਸ ਵਿੱਚ 21 ਜੇਕੇ ਜਾਣ 'ਤੇ, ਉਹ 28, 36 ਅਤੇ 45 ਨਾਲ ਪੂਰਨ ਤੌਰ 'ਤੇ ਵੰਡ ਹੋ ਜਾਵੇ।

- Ans
- ☒ 1. 1239
 - ☒ 2. 1200
 - ☒ 3. 1260
 - ☒ 4. 1020

Question ID : 63068040383
Status : Answered
Chosen Option : 1

Q.53 ਭਿੰਨ: $\frac{4}{63}$, $\frac{8}{9}$, $\frac{12}{81}$ ਦਾ ਲਘੁਤਮ ਸਮਾਪਵਰਤਕ (LCM) ਪਤਾ ਕਰੋ।

- Ans
- ☒ 1. $\frac{8}{9}$
 - ☒ 2. $\frac{24}{9}$
 - ☒ 3. $\frac{4}{81}$
 - ☒ 4. $\frac{24}{81}$

Question ID : 63068046855
Status : Answered
Chosen Option : 3

Q.54 ਜੇ $\frac{\sqrt{1444}}{x} = \frac{1}{2.56}$ ਹੈ, ਤਾਂ 'x' ਦਾ ਮੁੱਲ ਕੀ ਹੈ?

Ans ☒ 1. 97.28

☐ 2. 69.86

☐ 3. 80.22

☐ 4. 79.24

Question ID : 63068026767

Status : Answered

Chosen Option : 1

Q.55 ਦੋ ਸੰਖਿਆਵਾਂ ਦਾ ਗੁਣਨਫਲ 1980 ਹੈ ਅਤੇ ਉਹਨਾਂ ਦਾ ਮ.ਸ.ਵ (HCF) 3 ਹੈ। ਹੇਠਾਂ ਦਿੱਤੇ ਵਿੱਚੋਂ ਉਹਨਾਂ ਸੰਖਿਆਵਾਂ ਦਾ ਕਿਹੜਾ ਜੋੜਾ ਸੰਭਵ ਹੈ?

Ans ☐ 1. (36, 55)

☒ 2. (33, 60)

☐ 3. (90, 22)

☐ 4. (45, 44)

Question ID : 63068040122

Status : Answered

Chosen Option : 2

Q.56 ਦੋ ਸੰਖਿਆਵਾਂ 4: 5 ਦੇ ਅਨੁਪਾਤ ਵਿੱਚ ਹਨ। ਜੇਕਰ ਉਨ੍ਹਾਂ ਦਾ ਮਹੱਤਮ ਸਮਾਪਵਰਤਕ (HCF) 8 ਹੈ, ਤਾਂ ਉਨ੍ਹਾਂ ਦੇ ਮਹੱਤਮ ਸਮਾਪਵਰਤਕ (HCF) ਅਤੇ ਲਘੁਤਮ ਸਮਾਪਵਰਤਕ (LCM) ਦਾ ਜੋੜ ਪਤਾ ਕਰੋ।

Ans ☐ 1. 160

☐ 2. 128

☒ 3. 168

☐ 4. 120

Question ID : 63068046864

Status : Answered

Chosen Option : 3

Q.57 ਇੱਕ ਸੰਕੂ ਦੀ ਉੱਚਾਈ 18 cm ਅਤੇ ਅਧਾਰ ਦਾ ਅਰਧ ਵਿਆਸ 12 cm ਹੈ। ਇਸ ਸੰਕੂ ਦਾ ਆਇਤਨ ਪਤਾ ਕਰੋ (cm^3 ਵਿੱਚ)। (π ਨੂੰ 3.14 ਵਜੋਂ ਮੰਨੋ)

Ans ☐ 1. 3721.45

☐ 2. 3112.56

☒ 3. 2712.96

☐ 4. 2541.12

Question ID : 63068041476

Status : Answered

Chosen Option : 3

Q.58 $6.873 - 13.241 - 3.434 + 28.217$ ਨੂੰ ਹੱਲ ਕਰੋ।

- Ans
- ✓ 1. 18.415
 - ✗ 2. 17.414
 - ✗ 3. 16.115
 - ✗ 4. 18.005

Question ID : 63068040919
Status : Answered
Chosen Option : 1

Q.59 A ਇੱਕ ਦਿਨ ਵਿੱਚ B ਦੁਆਰਾ ਇੱਕ ਦਿਨ ਵਿੱਚ ਕੀਤੇ ਜਾਂਦੇ ਕੰਮ ਤੋਂ $\frac{1}{3}$ ਕੰਮ ਕਰ ਸਕਦਾ ਹੈ। B ਇੱਕ ਦਿਨ ਵਿੱਚ C ਦੁਆਰਾ ਇੱਕ ਦਿਨ ਵਿੱਚ ਕੀਤੇ ਜਾਂਦੇ ਕੰਮ ਤੋਂ $\frac{1}{3}$ ਕੰਮ ਕਰ ਸਕਦਾ ਹੈ। A, B ਅਤੇ C ਦੀ ਕੁਸ਼ਲਤਾ ਦਾ ਅਨੁਪਾਤ ਕੀ ਹੋਵੇਗਾ?

- Ans
- ✓ 1. 1 : 3 : 9
 - ✗ 2. 1 : 4 : 7
 - ✗ 3. 2 : 7 : 5
 - ✗ 4. 1 : 3 : 5

Question ID : 63068046962
Status : Answered
Chosen Option : 1

Q.60 A ਇੱਕ ਕੰਮ ਨੂੰ 5 ਦਿਨਾਂ ਵਿੱਚ ਕਰ ਸਕਦਾ ਹੈ, ਅਤੇ B ਉਸੇ ਕੰਮ ਨੂੰ 10 ਦਿਨਾਂ ਵਿੱਚ ਕਰ ਸਕਦਾ ਹੈ। T ਦੀ ਮਦਦ ਨਾਲ, ਉਹ ਕੰਮ ਨੂੰ 3 ਦਿਨਾਂ ਵਿੱਚ ਪੂਰਾ ਕਰ ਲੈਂਦੇ ਹਨ। T ਇਕੱਲੇ ਕੰਮ ਕਰਦੇ ਹੋਏ ਇਸ ਕੰਮ ਨੂੰ ਕਿੰਨੇ ਦਿਨਾਂ ਵਿੱਚ ਕਰ ਸਕਦਾ ਹੈ?

- Ans
- ✗ 1. 50 ਦਿਨ
 - ✗ 2. 40 ਦਿਨ
 - ✓ 3. 30 ਦਿਨ
 - ✗ 4. 60 ਦਿਨ

Question ID : 63068040261
Status : Answered
Chosen Option : 3

Q.61 A ਅਤੇ B ਇੱਕ ਕੰਮ ਨੂੰ ਇਕੱਠੇ 15 ਦਿਨਾਂ ਵਿੱਚ ਕਰ ਸਕਦੇ ਹਨ। A, B ਨਾਲੋਂ $\frac{2}{5}$ ਗੁਣਾ ਕੁਸ਼ਲ ਹੈ। A ਦੁਆਰਾ ਇਕੱਲੇ ਉਹੀ ਕੰਮ _____ ਵਿੱਚ ਕੀਤਾ ਜਾ ਸਕਦਾ ਹੈ।

- Ans
- ✗ 1. $\frac{75}{2}$ ਦਿਨ
 - ✗ 2. 45 ਦਿਨ
 - ✓ 3. $\frac{105}{2}$ ਦਿਨ
 - ✗ 4. 60 ਦਿਨ

Question ID : 63068046964
Status : Answered
Chosen Option : 4

Q.62 A ਨੇ ₹6000 ਜਮ੍ਹਾਂ ਕਰਵਾਏ ਜੋ ਸਧਾਰਨ ਵਿਆਜ 'ਤੇ 2 ਸਾਲਾਂ ਬਾਅਦ ₹8000 ਹੋ ਗਏ। ਜੇਕਰ ਵਿਆਜ ਦੀ ਦਰ 3% ਜ਼ਿਆਦਾ ਹੁੰਦੀ, ਤਾਂ ਉਸਨੂੰ ਦੋ ਸਾਲਾਂ ਦੇ ਅੰਤ ਵਿੱਚ ਕੁੱਲ ਕਿੰਨੀ ਰਕਮ ਪ੍ਰਾਪਤ ਹੁੰਦੀ?

- Ans
- ☐ 1. ₹8560
 - ☒ 2. ₹8360
 - ☐ 3. ₹9620
 - ☐ 4. ₹9000

Question ID : 63068046928
Status : Answered
Chosen Option : 2

Q.63 A ਨੇ B ਨੂੰ ₹6000, 3 ਸਾਲਾਂ ਲਈ ਅਤੇ C ਨੂੰ ₹4000, 5 ਸਾਲਾਂ ਲਈ ਉਧਾਰ ਦਿੱਤੇ ਅਤੇ ਉਨ੍ਹਾਂ ਤੋਂ ਸਧਾਰਨ ਵਿਆਜ ਵਜੋਂ ਕੁੱਲ ₹3420 ਪ੍ਰਾਪਤ ਕੀਤੇ। ਵਿਆਜ ਦੀ ਸਲਾਨਾ ਦਰ _____ ਸੀ।

- Ans
- ☐ 1. 8%
 - ☒ 2. 9%
 - ☐ 3. 13%
 - ☐ 4. 11%

Question ID : 63068046942
Status : Answered
Chosen Option : 2

Q.64 ਹੇਠਾਂ ਦਿੱਤਿਆਂ ਵਿੱਚੋਂ ਉਹ ਕਿਹੜੀ ਨਿਊਨਤਮ ਸੰਪੂਰਨ ਵਰਗ ਸੰਖਿਆ ਹੈ, ਜੋ 21, 45 ਅਤੇ 63 ਨਾਲ ਭਾਗਯੋਗ ਹੈ?

- Ans
- ☐ 1. 315
 - ☒ 2. 11025
 - ☐ 3. 1575
 - ☐ 4. 2205

Question ID : 63068031460
Status : Answered
Chosen Option : 2

Q.65 25 ਆਦਮੀ ਇੱਕ ਕੰਮ ਨੂੰ 35 ਦਿਨਾਂ ਵਿੱਚ ਕਰ ਸਕਦੇ ਹਨ। 15 ਆਦਮੀ ਉਸ ਕੰਮ ਨੂੰ ਕਿੰਨੇ ਦਿਨਾਂ ਵਿੱਚ ਪੂਰਾ ਕਰ ਸਕਦੇ ਹਨ?

- Ans
- ☐ 1. $\frac{114}{3}$ ਦਿਨ
 - ☐ 2. $\frac{179}{5}$ ਦਿਨ
 - ☐ 3. $\frac{190}{7}$ ਦਿਨ
 - ☒ 4. $\frac{175}{3}$ ਦਿਨ

Question ID : 63068046958
Status : Answered
Chosen Option : 4

Q.66 ਰੋਹਨ ਨੇ ਕਮਲੇਸ਼ ਨੂੰ ਇੱਕ ਬਾਇਕ 20% ਲਾਭ 'ਤੇ ਵੇਚੀ। ਕਮਲੇਸ਼ ਨੇ ਫਿਰ ਇਹ ਮੋਹਨ ਨੂੰ 25% ਲਾਭ 'ਤੇ ਵੇਚੀ। ਜੇ ਮੋਹਨ ਨੇ ₹. 900 ਦਾ ਭੁਗਤਾਨ ਕੀਤਾ ਹੋਵੇ, ਤਾਂ ਰੋਹਨ ਲਈ ਇਸ ਬਾਇਕ ਦਾ ਖਰੀਦ ਮੁੱਲ _____ ਸੀ।

- Ans
- ☐ 1. ₹ 570
 - ☐ 2. ₹ 590
 - ☒ 3. ₹ 600
 - ☐ 4. ₹ 580

Question ID : 63068042579
Status : Answered
Chosen Option : 3

Q.67 A ਨੇ ਸਧਾਰਨ ਵਿਆਜ 'ਤੇ ਵਿਆਜ ਦੀ ਦਰ ਜਿੰਨੇ ਸਾਲਾਂ ਲਈ ₹3400 ਦਾ ਕਰਜ਼ਾ ਲਿਆ। ਜੇਕਰ ਉਸਨੇ ਕਰਜ਼ੇ ਦੀ ਮਿਆਦ ਦੇ ਅੰਤ 'ਤੇ ₹850 ਵਿਆਜ ਵਜੋਂ ਆਦਾ ਕੀਤੇ, ਤਾਂ ਵਿਆਜ ਦੀ ਦਰ ਕੀ ਸੀ?

- Ans
- ☐ 1. 6%
 - ☐ 2. 7%
 - ☒ 3. 5%
 - ☐ 4. 8%

Question ID : 63068046923
Status : Answered
Chosen Option : 3

Q.68 ਕ੍ਰਿਕਟ ਖੇਡ ਦੇ ਪਹਿਲੇ 10 ਓਵਰਾਂ ਵਿੱਚ, ਦੌੜਾਂ ਦੀ ਔਸਤ ਸਿਰਫ 2.4 ਸੀ। 300 ਦੌੜਾਂ ਦੇ ਟੀਚੇ ਨੂੰ ਹਾਸਲ ਕਰਨ ਲਈ ਬਾਕੀ 40 ਓਵਰਾਂ ਵਿੱਚ ਦੌੜਾਂ ਦੀ ਔਸਤ ਕੀ ਹੋਣੀ ਚਾਹੀਦੀ ਹੈ?

- Ans
- ☐ 1. 2.9
 - ☐ 2. 5.2
 - ☒ 3. 6.9
 - ☐ 4. 3.3

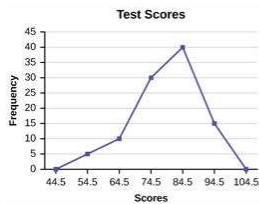
Question ID : 63068046979
Status : Answered
Chosen Option : 3

Q.69 ਜੇਕਰ 4 ਸਾਲਾਂ ਵਿੱਚ ₹500, ₹640 ਹੋ ਜਾਂਦੇ ਹਨ, ਤਾਂ 5 ਸਾਲਾਂ ਵਿੱਚ ਇਹ ਸਧਾਰਨ ਵਿਆਜ ਦੀ ਉਸੇ ਸਲਾਨਾ ਪ੍ਰਤੀਸ਼ਤ ਦਰ ਨਾਲ ਕਿੰਨੇ ਹੋ ਜਾਣਗੇ?

- Ans
- ☐ 1. ₹725
 - ☒ 2. ₹675
 - ☐ 3. ₹730
 - ☐ 4. ₹800

Question ID : 63068046932
Status : Answered
Chosen Option : 2

Q.70 ਇੱਥੇ ਦਿੱਤਾ ਗਿਆ ਚਿੱਤਰ ਪ੍ਰੀਖਿਆਰਥੀਆਂ ਨੂੰ ਦਿੱਤੇ ਜਾ ਰਹੇ ਪ੍ਰੀਖਿਆ ਅੰਕਾਂ (test scores) ਦੀ ਸਮੂਹਿਕ ਭਾਰਤਾ (frequency) ਵੱਡੇ ਤੋਂ ਪ੍ਰਾਪਤ ਅੰਕਾਂ ਨੂੰ ਨਿਰੂਪਿਤ ਕਰਦਾ ਹੈ।



ਪ੍ਰੀਖਿਆਰਥੀਆਂ ਦੇ ਪ੍ਰਾਪਤ ਅੰਕਾਂ ਨੂੰ ਵੱਧਦੇ ਕ੍ਰਮ ਵਿੱਚ ਸੂਚੀਬੱਧ ਕੀਤਾ ਗਿਆ ਸੀ, ਜਿਸ ਵਿੱਚ ਸਭ ਤੋਂ ਘੱਟ ਅੰਕ ਵਾਲੇ ਨੂੰ ਸਭ ਤੋਂ ਪਹਿਲਾਂ ਸੂਚੀਬੱਧ ਕੀਤਾ ਗਿਆ ਸੀ। 40 ਵੇਂ ਸਥਾਨ 'ਤੇ ਸੂਚੀਬੱਧ ਪ੍ਰੀਖਿਆਰਥੀ ਕਿਸ ਵਰਗ ਅੰਤਰਾਲ ਨਾਲ ਸੰਬੰਧਤ ਹੋਵੇਗਾ?

- Ans
- ✓ 1. 69.5 - 79.5
 - ✗ 2. 59.5 - 69.5
 - ✗ 3. 79.5 - 89.5
 - ✗ 4. 49.5 - 59.5

Question ID : 63068040356

Status : Answered

Chosen Option : 2

Q.71 ਉਹ ਵਿਕਲਪ ਚੁਣੇ ਜਿਸਨੂੰ ਹੇਠਾਂ ਦਿੱਤੀ ਲੜੀ ਵਿੱਚ ਪ੍ਰਸ਼ਨ ਚਿੰਨ੍ਹ (?) ਨਾਲ ਬਦਲ ਸਕਦੇ ਹਾਂ।

19, 30, 42, 55, 69, ?

- Ans
- ✗ 1. 79
 - ✗ 2. 75
 - ✓ 3. 84
 - ✗ 4. 81

Question ID : 63068038318

Status : Answered

Chosen Option : 3

Q.72 ਅੱਖਰਾਂ ਦਾ ਕਿਹੜਾ ਸਮੂਹ ਜਦੋਂ ਦਿੱਤੀ ਗਈ ਅੱਖਰ ਲੜੀ ਦੀਆਂ ਖਾਲੀ ਥਾਵਾਂ ਨੂੰ ਕ੍ਰਮਵਾਰ ਭਰਨ 'ਤੇ, ਇਸਨੂੰ ਪੂਰਾ ਕਰੇਗਾ?

A A _ A B _ A B C _ A _ C _ E

- Ans
- ✗ 1. BCCBD
 - ✗ 2. AABCD
 - ✗ 3. BABCD
 - ✓ 4. BCDBD

Question ID : 63068047015

Status : Answered

Chosen Option : 4

Q.73 ਉਹ ਸੰਖਿਆ ਚੁਣੋ ਜੋ ਹੇਠਾਂ ਦਿੱਤੀ ਲੜੀ ਵਿੱਚ ਪ੍ਰਸ਼ਨ ਚਿੰਨ੍ਹ (?) ਦੀ ਥਾਂ ਲੈ ਸਕੇ।

$4/9, 1/3, 1/4, 3/16, ?$

- Ans
- ☐ 1. $3/64$
 - ☐ 2. $9/16$
 - ☒ 3. $9/64$
 - ☐ 4. $3/16$

Question ID : 63068021392

Status : Answered

Chosen Option : 3

Q.74 ਉਹ ਵਿਕਲਪ ਚੁਣੋ ਜੋ ਤੀਜੇ ਸ਼ਬਦ ਨਾਲ ਉਸ ਤਰ੍ਹਾਂ ਸੰਬੰਧਤ ਹੋਵੇ ਜਿਸ ਤਰ੍ਹਾਂ ਦੂਜਾ ਸ਼ਬਦ, ਪਹਿਲੇ ਸ਼ਬਦ ਨਾਲ ਸੰਬੰਧਤ ਹੈ।

ਮੁੰਡਿਆ : ਪੜ੍ਹਾਈ :: ਤੰਦਰੁਸਤ : ?

- Ans
- ☐ 1. ਪ੍ਰਦਰਸ਼ਣ
 - ☐ 2. ਲੰਬਾ
 - ☒ 3. ਕਸਰਤ
 - ☐ 4. ਸਿਹਤਮੰਦ

Question ID : 63068038267

Status : Answered

Chosen Option : 3

Q.75 ਰਜਤ ਕਾਰ ਨੂੰ 10 km ਦੱਖਣ ਵੱਲ ਚਲਾ ਰਿਹਾ ਸੀ, ਤਦ ਉਹ ਸੱਜੇ ਮੁਕਿਅਾ ਅਤੇ 5 km ਚਲਾਇਆ ਅਤੇ ਫਿਰ ਸੱਜੇ ਮੁਕਿਅਾ ਅਤੇ 10 km ਚਲਾਇਆ ਅਤੇ ਖੱਬੇ ਮੁਕਿਅਾ ਅਤੇ 10 km ਚਲਾਇਆ। ਹੁਣ ਰਜਤ ਆਪਣੇ ਸ਼ੁਰੂਆਤੀ ਬਿੰਦੂ ਤੋਂ ਕਿਸ ਦਿਸ਼ਾ ਵੱਲ ਹੈ?


- Ans
- ☐ 1. ਪੂਰਬ
 - ☒ 2. ਪੱਛਮ
 - ☐ 3. ਉੱਤਰ
 - ☐ 4. ਦੱਖਣ

Question ID : 63068038982


Status : Answered

Chosen Option : 2


Q.76 ਉਹ ਵਿਕਲਪ ਚੁਣੇ ਜਿਹੜਾ ਕਿ ਹੇਠਾਂ ਦਿੱਤੀ ਚਿੱਤਰ ਲੜੀ ਵਿੱਚ ਅਗਲਾ ਹੋਵੇਗਾ।



(A)



(B)




(C)




(D)

Ans

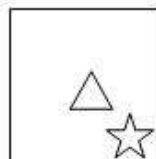
✗ 1.




✗ 2.



✓ 3.



✗ 4.



Question ID : 63068041516

Status : Answered

Chosen Option : 3

Q.77 ਉਸ ਵੈੱਨ ਡਾਇਗ੍ਰਾਮ ਦੀ ਚੋਣ ਕਰੋ ਜੋ ਹੇਠ ਲਿਖੀਆਂ ਤਿੰਨ ਸ਼੍ਰੇਣੀਆਂ ਨੂੰ ਸਭ ਤੋਂ ਉੱਤਮ ਢੰਗ ਨਾਲ ਦਰਸਾਉਂਦੀ ਹੈ।

ਕਾਲਜ, ਪ੍ਰੋਫੈਸਰ, ਵਿਦਿਆਰਥੀ

Ans

✗ 1.



✗ 2.



✗ 3.



✓ 4.



Question ID : 63068038611

Status : Answered

Chosen Option : 4

Q.78 A, S, T, V, Q, M ਅਤੇ Z ਸੱਤ ਦੇਸਤ ਵੱਖ-ਵੱਖਰੀਆਂ ਥਾਵਾਂ 'ਤੇ ਖੜ੍ਹੇ ਹਨ। T, A ਦੇ ਪੱਛਮ ਵੱਲ 10m ਅਤੇ S ਦੇ ਦੱਖਣ ਵੱਲ 8m ਦੂਰ ਹੈ। V, A ਦੇ ਪੱਛਮ ਵੱਲ 20m ਦੂਰ ਹੈ। Z, S ਦੇ ਪੂਰਬ ਵੱਲ 16m ਦੂਰ ਹੈ। Q, S ਦੇ ਦੱਖਣ-ਪੱਛਮ ਵੱਲ 10m ਅਤੇ M ਦੇ ਪੱਛਮ ਵੱਲ 8m ਦੂਰ ਹੈ। A ਦੇ ਸੰਬੰਧ ਵਿੱਚ Z ਕਿਸ ਦਿਸ਼ਾ ਵਿੱਚ ਅਤੇ ਕਿੰਨੇ ਮੀਟਰ ਦੂਰ ਹੈ?

Ans

✓ 1. 10m ਉੱਤਰ ਪੂਰਬ

✗ 2. 10m ਦੱਖਣ

✗ 3. 10m ਦੱਖਣ ਪੂਰਬ

✗ 4. 12m ਦੱਖਣ

Question ID : 63068047090

Status : Answered

Chosen Option : 1

Q.79 ਉਸ ਸ਼ਬਦ-ਜੋੜੇ ਦੀ ਚੋਣ ਕਰੋ, ਜੋ ਦਿੱਤੇ ਗਏ ਸ਼ਬਦ ਜੋੜੇ ਦੇ ਸਮਰੂਪ ਹੈ?

ਬੱਤਖ (Ducks) : ਕੈਂ-ਕੈਂ ਕਰਨਾ (Quack)

Ans

✗ 1. ਗਿੱਦੜ (Jackals) : ਦਹਾੜਨਾ (Roar)

✗ 2. ਡੱਡੂ (Frogs) : ਬੁੜ-ਬੁੜ ਕਰਨਾ (Growl)

✓ 3. ਬੱਕਰੀਆਂ (Goats) : ਮਿਆਂਕਣਾ (Bleat)

✗ 4. ਚੂਹੇ (Rats) : ਟਰ-ਟਰ ਕਰਨਾ (Croak)

Question ID : 63068021240

Status : Answered

Chosen Option : 3

Q.80 ਚਾਰ ਸੰਖਿਆ-ਜੋੜੇ ਦਿੱਤੇ ਗਏ ਹਨ, ਜਿਨ੍ਹਾਂ ਵਿੱਚੋਂ ਤਿੰਨ ਕਿਸੇ ਖਾਸ ਢੰਗ ਨਾਲ ਸੰਗਤ ਹਨ ਅਤੇ ਇੱਕ ਅਸੰਗਤ ਹੈ। ਉਹ ਸੰਖਿਆ-ਜੋੜਾ ਚੁਣੋ ਜੋ

Ans

✗ 1. 7 - 15

✓ 2. 11 - 24

✗ 3. 9 - 19

✗ 4. 13 - 27

Question ID : 63068038918

Status : Answered

Chosen Option : 2

Q.81 ਉਹ ਵਿਕਲਪ ਚੁਣੋ ਜਿਸ ਵਿੱਚ ਸੰਖਿਆਵਾਂ ਉਸ ਤਰ੍ਹਾਂ ਸੰਬੰਧਤ ਹੋਣ ਜਿਸ ਤਰ੍ਹਾਂ ਹੇਠ ਦਿੱਤੇ ਸੰਖਿਆ-ਜੋੜੇ ਵਿੱਚ ਸੰਬੰਧਤ ਹਨ।

9 : 121

- Ans
- ✓ 1. 15 : 289
 - ✗ 2. 20 : 441
 - ✗ 3. 13 : 144
 - ✗ 4. 10 : 100

Question ID : 63068038524

Status : Answered

Chosen Option : 1

Q.82 ਦਿੱਤੀ ਗਈ ਲੜੀ 'ਚੋਂ ਲੁਪਤ ਸ਼ਬਦ ਲੱਭੋ:

X, V, S, O, J, _, W, O, F

- Ans
- ✗ 1. C
 - ✓ 2. D
 - ✗ 3. E
 - ✗ 4. F

Question ID : 63068047039

Status : Answered

Chosen Option : 2

Q.83 ਇਸ ਪ੍ਰਸ਼ਨ ਵਿੱਚ, ਦੋ ਕਥਨ ਦਿੱਤੇ ਗਏ ਹਨ, ਇਸਦੇ ਬਾਅਦ ਦੋ ਸਿੱਟੇ I ਅਤੇ II ਦਿੱਤੇ ਗਏ ਹਨ। ਤੁਹਾਨੂੰ ਕਥਨਾਂ ਨੂੰ ਸੱਚ ਮੰਨਣਾ ਹੋਵੇਗਾ, ਭਲੇ ਹੀ ਇਹ ਆਮ ਜਾਣੇ ਜਾਂਦੇ ਤੱਥਾਂ ਤੋਂ ਅਲੱਗ ਜਾਪਦੇ ਹੋਣ। ਤੁਹਾਨੂੰ ਇਹ ਫੈਸਲਾ ਕਰਨਾ ਹੋਵੇਗਾ ਕਿ ਦਿੱਤੇ ਗਏ ਸਿੱਟਿਆਂ ਵਿੱਚੋਂ ਕਿਹੜਾ, ਜੇਕਰ ਕੋਈ ਹੋਵੇ, ਦਿੱਤੇ ਗਏ ਕਥਨਾਂ ਦੀ ਪਾਲਣਾ ਕਰਦਾ ਹੈ।

ਕਥਨ:

ਸਾਰੀਆਂ ਡੋਪਡੀਆਂ, ਮਕਾਨ ਹਨ।

ਕੋਈ ਮਕਾਨ, ਅਪਾਰਟਮੈਂਟ ਨਹੀਂ ਹੈ।

ਕੁੱਝ ਅਪਾਰਟਮੈਂਟ, ਵਿਲੇ ਹਨ।

ਸਿੱਟੇ:

I. ਸਾਰੇ ਵਿਲੇ ਕਦੇ ਵੀ ਮਕਾਨ ਨਹੀਂ ਹੋ ਸਕਦੇ ਹਨ।

II. ਕੁੱਝ ਅਪਾਰਟਮੈਂਟ, ਡੋਪਡੀਆਂ ਹਨ।

- Ans
- ✗ 1. ਸਿੱਟਾ I ਅਤੇ II ਦੋਵੇਂ ਪਾਲਣਾ ਕਰਦੇ ਹਨ
 - ✗ 2. ਨਾ ਤਾਂ ਸਿੱਟਾ I ਨਾ ਹੀ ਸਿੱਟਾ II ਪਾਲਣਾ ਕਰਦਾ ਹੈ
 - ✗ 3. ਕੇਵਲ ਸਿੱਟਾ II ਪਾਲਣਾ ਕਰਦਾ ਹੈ
 - ✓ 4. ਕੇਵਲ ਸਿੱਟਾ I ਪਾਲਣਾ ਕਰਦਾ ਹੈ

Question ID : 63068038658

Status : Answered

Chosen Option : 4

Q.84 ਅੱਖਰਾਂ ਦਾ ਕਿਹੜਾ ਸਮੂਹ ਜਦੋਂ ਦਿੱਤੀ ਗਈ ਅੱਖਰ ਲੜੀ ਦੀਆਂ ਖਾਲੀ ਥਾਵਾਂ ਨੂੰ ਕ੍ਰਮਵਾਰ ਭਰਨ 'ਤੇ ਇਸਨੂੰ ਪੂਰਾ ਕਰੇਗਾ?

x _ z _ x _ z x x _ _ x x y _ x

Ans ☒ 1. xyxyzx

☒ 2. yxyyzz

☒ 3. yxzxyx

☒ 4. xyzxyy

Question ID : 63068047029

Status : Answered

Chosen Option : 2

Q.85 ਉਹ ਸੰਖਿਆ-ਜੋੜਾ ਚੁਣੋ ਜਿਹੜਾ ਕਿ ਸੰਖਿਆਵਾਂ ਦੇ ਦਿੱਤੇ ਹੋਏ ਜੋੜੇ ਦੇ ਸਮਾਨ ਹੈ।

35 : 49

Ans ☒ 1. 94 : 133

☒ 2. 87 : 105

☒ 3. 65 : 77

☒ 4. 46 : 52

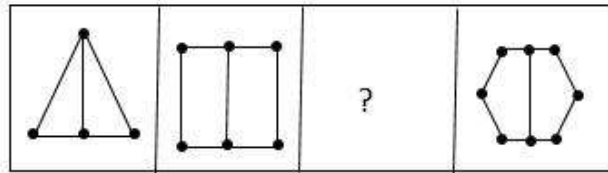
Question ID : 63068031217

Status : Answered

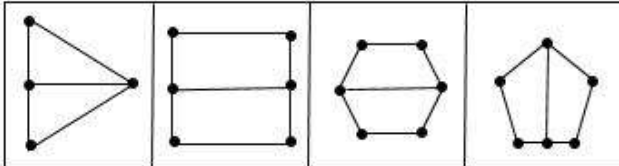
Chosen Option : 3



Q.86 ਉੱਤਰ ਆਕ੍ਰਿਤੀ ਤੋਂ ਇੱਕ ਢੁਕਵੀਂ ਆਕ੍ਰਿਤੀ ਚੁਣੋ ਜੋ ? ਦੇ ਸਥਾਨ 'ਤੇ ਆਵੇਗੀ।



1 2 3 4



A B C D

- Ans
- ✗ 1. A
 - ✓ 2. D
 - ✗ 3. B
 - ✗ 4. C

Question ID : 63068038963
Status : Answered
Chosen Option : 2

Q.87 ਇੱਕ ਖਾਸ ਕੋਡ ਭਾਸ਼ਾ ਵਿੱਚ, 'FROG' ਨੂੰ '8-20-17-9' ਲਿਖਿਆ ਜਾਂਦਾ ਹੈ। ਉਸ ਕੋਡ ਭਾਸ਼ਾ ਵਿੱਚ 'TRAP' ਨੂੰ ਕਿਵੇਂ ਲਿਖਿਆ ਜਾਵੇਗਾ?

- Ans
- ✗ 1. 20-19-6-15
 - ✓ 2. 22-20-3-18
 - ✗ 3. 22-21-5-18
 - ✗ 4. 20-10-6-15

Question ID : 63068047084
Status : Answered
Chosen Option : 2

Q.88 ਜੇਕਰ ਲੜਕਿਆਂ ਦੀ ਉਸ ਕਤਾਰ ਵਿੱਚ ਸੈਮੀ ਦੇ ਖੱਬੇ ਵੱਲ 7ਵੇਂ ਸਥਾਨ 'ਤੇ ਹੈ ਜਿਸ ਵਿੱਚ ਉਨ੍ਹਾਂ ਦਾ ਮੂੰਹ ਉੱਤਰ ਵੱਲ ਹੈ। ਸਾਂਚੀ ਜੋ ਕਿ ਕਤਾਰ ਦੇ ਖੱਬੇ ਸਿਰੇ ਤੋਂ 20ਵੇਂ ਸਥਾਨ 'ਤੇ ਹੈ, ਸੈਮੀ ਦੇ ਸੱਜੇ ਵੱਲ 7ਵੇਂ ਸਥਾਨ 'ਤੇ ਹੈ। ਜੇਕਰ ਹੇਮੀ, ਜੋ ਕਿ ਜੇਕਰ ਦੇ ਸੱਜੇ ਵੱਲ 3ਜੇ ਸਥਾਨ 'ਤੇ ਹੈ, ਕਤਾਰ ਦੇ ਸੱਜੇ ਸਿਰੇ ਤੋਂ 20ਵੇਂ ਸਥਾਨ 'ਤੇ ਹੈ, ਕਤਾਰ ਵਿੱਚ ਕਿੰਨੇ ਲੜਕੇ ਹਨ?

- Ans
- ✗ 1. 30
 - ✗ 2. 24
 - ✓ 3. 28
 - ✗ 4. 26

Question ID : 63068045106
Status : Answered
Chosen Option : 3

Q.89 ਦਿੱਤੇ ਗਏ ਵਿਕਲਪਾਂ ਵਿੱਚੋਂ ਤਿੰਨ ਵਿਕਲਪ ਕਿਸੇ ਖਾਸ ਨੁਕਤੇ ਤੋਂ ਇੱਕੋ-ਜਿਹੇ ਹਨ। ਹਾਲਾਂਕਿ ਇਹਨਾਂ ਵਿੱਚੋਂ ਇੱਕ ਵਿਕਲਪ ਬਾਕੀ ਤਿੰਨਾਂ ਜਿਹਾ ਨਹੀਂ ਹੈ। ਉਹ ਵਿਕਲਪ ਚੁਣੇ ਜਿਹੜਾ ਬਾਕੀਆਂ ਨਾਲੋਂ ਵੱਖਰਾ ਹੈ।

Ans ☒ 1. ਕਾਰਬਨ

☐ 2. ਲੋਹਾ

☐ 3. ਸੋਨਾ

☐ 4. ਚਾਂਦੀ

Question ID : 63068047100

Status : Answered

Chosen Option : 1

Q.90 ਇੱਕ ਖਾਸ ਕੋਡ ਭਾਸ਼ਾ ਵਿੱਚ, 'DREAM' ਨੂੰ 'DREMA' ਲਿਖਿਆ ਜਾਂਦਾ ਹੈ ਤਾਂ ਉਸੇ ਭਾਸ਼ਾ ਵਿੱਚ 'SCREAM' ਨੂੰ ਕਿਵੇਂ ਲਿਖਿਆ ਜਾਵੇਗਾ?

Ans ☐ 1. SRCEMA

☒ 2. SCREMA

☐ 3. SCRAEM

☐ 4. AMSREC

Question ID : 63068037920

Status : Answered

Chosen Option : 2

Q.91 ਅਜੈ ਨੇ ਸਿਖਰ (top) ਤੋਂ 74ਵਾਂ ਰੈਂਕ ਪ੍ਰਾਪਤ ਕੀਤਾ ਅਤੇ ਅਮਨ ਨੇ ਸਿਖਰ (top) ਤੋਂ 21ਵਾਂ ਰੈਂਕ ਪ੍ਰਾਪਤ ਕੀਤਾ। 15 ਵਿਦਿਆਰਥੀਆਂ ਦਾ ਰੈਂਕ ਅਜੈ ਤੋਂ ਹੇਠਾਂ ਸੀ ਅਤੇ ਅਜੀਤ ਤੋਂ ਉਪਰ ਸੀ, ਜਿਸਨੇ ਹੇਠੋਂ 24ਵਾਂ ਰੈਂਕ ਪ੍ਰਾਪਤ ਕੀਤਾ ਸੀ। ਕੁੱਲ ਵਿਦਿਆਰਥੀਆਂ ਦੀ ਸੰਖਿਆ ਦੱਸੋ।

Ans ☐ 1. 115

☒ 2. 113

☐ 3. 123

☐ 4. 114

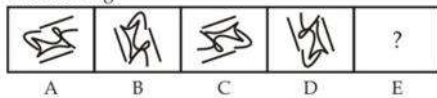
Question ID : 63068047105

Status : Answered

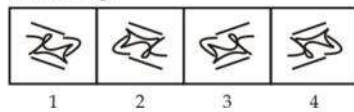
Chosen Option : 2

Q.92 ਉਹ ਉੱਤਰ ਚਿੱਤਰ ਚੁਣੋ ਜੋ ਹੇਠਾਂ ਦਿੱਤੇ ਸਮੱਸਿਆ ਚਿੱਤਰ ਵਿੱਚ ਦਿੱਤੀ ਲੜੀ ਦੇ ਪ੍ਰਸ਼ਨ ਚਿੰਨ੍ਹ (?) ਦੀ ਥਾਂ ਲੈ ਸਕੇ।

Problem Fig.



Answer Fig.



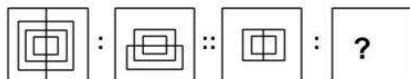
Ans
 ✗ 1. 4
 ✗ 2. 2
 ✗ 3. 1
 ✓ 4. 3

Question ID : 63068038008

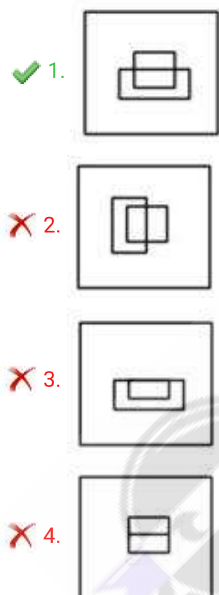
Status : Answered

Chosen Option : 4

Q.93 ਉਸ ਵਿਕਲਪ ਦੀ ਚੋਣ ਕਰੋ ਜੋ ਤੀਜੇ ਚਿੱਤਰ ਨਾਲ ਉਸੇ ਤਰ੍ਹਾਂ ਸੰਬੰਧਿਤ ਹੈ ਜਿਵੇਂ ਕਿ ਦੂਜਾ ਚਿੱਤਰ ਪਹਿਲੇ ਚਿੱਤਰ ਨਾਲ ਸੰਬੰਧਿਤ ਹੈ।



Ans



✓ 1.
 ✗ 2.
 ✗ 3.
 ✗ 4.

Question ID : 63068026230

Status : Answered

Chosen Option : 1

Q.94 ਹੇਠਾਂ ਦਿੱਤੇ ਵਿਕਲਪਾਂ ਵਿੱਚੋਂ ਬੇਮੇਲ ਸੰਖਿਆ ਜੋੜਾ ਪਤਾ ਕਰੋ।

- Ans
- ☒ 1. $85 - 58$
 - ☒ 2. $37 - 73$
 - ☒ 3. $26 - 65$
 - ☒ 4. $49 - 94$

Question ID : 63068038360

Status : Answered

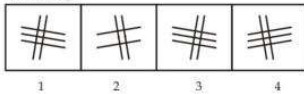
Chosen Option : 3

Q.95 ਉਸ ਉੱਤਰ ਚਿੱਤਰ ਦੀ ਚੋਣ ਕਰੋ ਜੋ ਚਿੱਤਰ C ਨਾਲ ਉਸੇ ਤਰ੍ਹਾਂ ਸੰਬੰਧਤ ਹੋਵੇ ਜਿਸ ਤਰ੍ਹਾਂ ਚਿੱਤਰ B ਚਿੱਤਰ A ਨਾਲ ਸੰਬੰਧਤ ਹੈ।

Problem Fig.



Answer Fig.



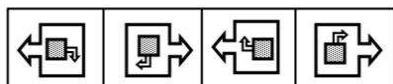
- Ans
- ☒ 1. 1
 - ☒ 2. 2
 - ☒ 3. 3
 - ☒ 4. 4

Question ID : 63068038015

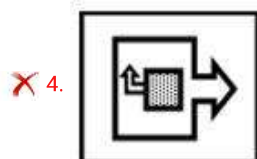
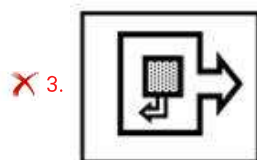
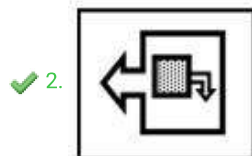
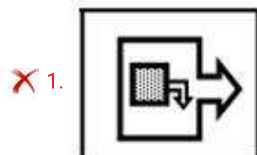
Status : Answered

Chosen Option : 4

Q.96 ਹੇਠਾਂ ਦਿੱਤੇ ਗਏ ਪ੍ਰਸ਼ਨ ਵਿੱਚ, ਚਾਰ ਪ੍ਰਸ਼ਨ ਚਿੱਤਰ ਅਤੇ ਚਾਰ ਉੱਤਰ ਚਿੱਤਰ ਸ਼ਾਮਲ ਹਨ। ਉੱਤਰ ਚਿੱਤਰਾਂ ਵਿੱਚੋਂ ਉਸ ਇੱਕ ਚਿੱਤਰ ਨੂੰ ਚੁਣੋ, ਜੋ ਪ੍ਰਸ਼ਨ ਚਿੱਤਰਾਂ ਵਿੱਚ ਦਿੱਤੀ ਲੜੀ ਨੂੰ ਜਾਰੀ ਰੱਖੇਗਾ।



Ans



Question ID : 63068045151

Status : Answered

Chosen Option : 2

Q.97 ਅੱਖਰਾਂ ਦਾ ਸੁਮੇਲ ਚੁਣੋ ਜੋ ਕਿ ਦਿੱਤੀ ਗਈ ਅੱਖਰ ਲੜੀ ਦੀਆਂ ਖਾਲੀ ਥਾਵਾਂ ਵਿੱਚ ਤਰਤੀਬਵਾਰ ਭਰਨ ਤੋਂ ਲੜੀ ਨੂੰ ਪੂਰਾ ਕਰੇਗਾ।

-- aab _ a_a_ba

Ans

✗ 1. bbabb

✗ 2. baaaa

✗ 3. bbaba

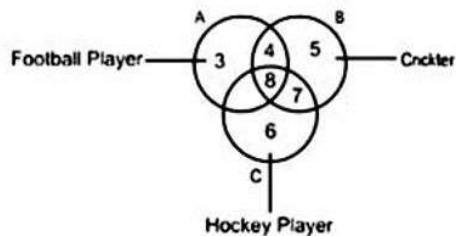
✓ 4. ababa

Question ID : 63068046014

Status : Answered

Chosen Option : 4

Q.98 ਹੇਠਾਂ ਦਿੱਤੇ ਚਿੱਤਰ ਵਿੱਚ, ਚੱਕਰ A ਫੁੱਟਬਾਲ ਖਿਡਾਰੀਆਂ (Football players) ਨੂੰ, ਚੱਕਰ B ਕ੍ਰਿਕਟਰਾਂ (Cricketers) ਨੂੰ ਅਤੇ ਚੱਕਰ C ਹਾਕੀ ਖਿਡਾਰੀਆਂ (Hockey players) ਨੂੰ ਦਰਸਾਉਂਦਾ ਹੈ। ਕਿਹੜਾ ਸੰਖਿਆ ਕ੍ਰਿਕਟਰਾਂ ਨੂੰ ਦਰਸਾਉਂਦੀ ਹੈ, ਜੋ ਫੁੱਟਬਾਲ ਖਿਡਾਰੀ ਵੀ ਹਨ?



- Ans
- ☐ 1. 7
 - ☐ 2. 8
 - ☐ 3. 6
 - ☒ 4. 4

Question ID : 63068044873

Status : Answered

Chosen Option : 4

Q.99 ਹੇਠ ਦਿੱਤੀ ਤਰਤੀਬ ਦਾ ਧਿਆਨ ਨਾਲ ਅਧਿਐਨ ਕਰੋ ਅਤੇ ਹੇਠਾਂ ਦਿੱਤੇ ਸਵਾਲ ਦਾ ਜਵਾਬ ਦਿਓ:
 'P \$ Q' ਦਾ ਮਤਲਬ 'P, Q ਦੀ ਪਤਨੀ ਹੈ'
 'P % Q' ਦਾ ਮਤਲਬ 'P, Q ਦੀ ਮਾਂ ਹੈ'
 'P & Q' ਦਾ ਮਤਲਬ 'P, Q ਦਾ ਜਵਾਈ ਹੈ'
 ਉਪਰੋਕਤ ਜਾਣਕਾਰੀ ਅਨੁਸਾਰ A % B \$ C & D ਦਾ ਕੀ ਮਤਲਬ ਹੈ?

- Ans
- ☐ 1. D, A ਦੀ ਧੀ ਹੈ।
 - ☒ 2. D, A ਦਾ ਪਤੀ ਹੈ।
 - ☐ 3. A, D ਦੀ ਧੀ ਹੈ।
 - ☐ 4. D, A ਦੀ ਪਤਨੀ ਹੈ।

Question ID : 63068047071

Status : Answered

Chosen Option : 2

Q.100 ਛੇ ਵਿਦਿਆਰਥੀ ਇੱਕ ਪ੍ਰੀਖਿਆ ਵਿੱਚ ਬੈਠੇ ਅਤੇ ਸਾਰਿਆਂ ਨੇ ਵੱਖ-ਵੱਖ ਅੰਕ ਪ੍ਰਾਪਤ ਕੀਤੇ। ਟੀਆ ਨੇ ਟੀਨਾ ਤੋਂ ਜ਼ਿਆਦਾ ਪਰ ਟਿਉਲਿਪ ਤੋਂ ਘੱਟ ਅੰਕ ਪ੍ਰਾਪਤ ਕੀਤੇ। ਡਾਨੀਆ ਨੇ ਟਿੰਨੀ ਤੋਂ ਜ਼ਿਆਦਾ ਪਰ ਤੇਸ਼ੀ ਤੋਂ ਘੱਟ ਅੰਕ ਪ੍ਰਾਪਤ ਕੀਤੇ। ਟੀਆ ਨੇ ਟਿੰਨੀ ਤੋਂ ਘੱਟ ਅੰਕ ਪ੍ਰਾਪਤ ਕੀਤੇ। ਇਸਦੇ ਇਲਾਵਾ, ਟੀਆ ਨੇ, ਤੇਸ਼ੀ ਦੀ ਤੁਲਨਾ ਵਿੱਚ ਜ਼ਿਆਦਾ ਘੱਟੋ ਘੱਟ ਪੜ੍ਹਾਈ ਕੀਤੀ, ਜਿਸਨੇ ਬਦਲੇ ਵਿੱਚ ਡਾਨੀਆ ਤੋਂ ਜ਼ਿਆਦਾ ਘੱਟੋ ਘੱਟ ਪੜ੍ਹਾਈ ਕੀਤੀ। ਟੀਨਾ ਨੇ ਡਾਨੀਆ ਦੀ ਤੁਲਨਾ ਵਿੱਚ ਜ਼ਿਆਦਾ ਪਰ ਟਿਉਲਿਪ ਦੀ ਤੁਲਨਾ ਵਿੱਚ ਘੱਟ ਘੱਟੋ ਘੱਟ ਪੜ੍ਹਾਈ ਕੀਤੀ, ਜਿਸਨੇ ਬਦਲੇ ਵਿੱਚ ਟੀਆ ਦੀ ਤੁਲਨਾ ਵਿੱਚ ਘੱਟ ਘੱਟੋ ਪੜ੍ਹਾਈ ਕੀਤੀ। ਟਿੰਨੀ ਨੇ ਸਭ ਤੋਂ ਘੱਟ ਘੱਟੋ ਪੜ੍ਹਾਈ ਕੀਤੀ। ਕਿਸਨੂੰ ਕ੍ਰਮਵਾਰ ਸਭ ਤੋਂ ਘੱਟ ਅੰਕ ਪ੍ਰਾਪਤ ਹੋਏ ਅਤੇ ਕਿਸਨੇ ਸਭ ਤੋਂ ਜ਼ਿਆਦਾ ਘੱਟੋ ਪੜ੍ਹਾਈ ਕੀਤੀ?

Ans

- ✓ 1. ਟੀਨਾ, ਟੀਆ
- ✗ 2. ਟੀਨਾ, ਟਿਉਲਿਪ
- ✗ 3. ਟੀਨਾ, ਡਾਨੀਆ
- ✗ 4. ਟਿਉਲਿਪ, ਡਾਨੀਆ

Question ID : 63068045125

Status : Answered

Chosen Option : 1

Q.101 'ਰਿਹਾਅ ਕਰਨਾ' ਸ਼ਬਦ ਦਾ ਸਹੀ ਅੰਗਰੇਜ਼ੀ ਅਨੁਵਾਦ ਹੈ:-

Ans

- ✗ 1. Let- loose
- ✗ 2. Let-on
- ✓ 3. Let- off
- ✗ 4. Let-slip

Question ID : 63068045494

Status : Answered

Chosen Option : 1

Q.102 Parts of a sentence have been jumbled and labelled as 1, 2, 3 and 4. Rearrange the jumbled parts to form a meaningful sentence.

- 1) for most of the race
- 2) he won only by a whisker
- 3) but at the end
- 4) Johnson was far ahead

Ans

- ✗ 1. 2, 4, 1, 3
- ✗ 2. 4, 3, 1, 2
- ✗ 3. 4, 1, 2, 3
- ✓ 4. 4, 1, 3, 2

Question ID : 63068035410

Status : Answered

Chosen Option : 4

Q.103 Select the most appropriate option to fill in the blank.

The Mughal Emperor Akbar lived in the same time as Maharana Pratap of Mewar. So they were _____.

- Ans ☒ 1. contemporaries
 ☐ 2. colleagues
 ☐ 3. friends
 ☐ 4. emigrants

Question ID : 63068035087
Status : Answered
Chosen Option : 1

Q.104 Which of the following spellings is correct?

- Ans ☐ 1. Argument
 ☐ 2. Argumint
 ☒ 3. Argument
 ☐ 4. Argumant

Question ID : 63068034904
Status : Answered
Chosen Option : 3

Q.105 Choose the most appropriate one-word substitute for the given group of words.

Animals living on trees

- Ans ☒ 1. Arboreals
 ☐ 2. Munitions
 ☐ 3. Adversaries
 ☐ 4. Terrestrials

Question ID : 63068035265
Status : Answered
Chosen Option : 1

Comprehension:

Singapore has long been a meeting point between cultures. In the early 19th century it became a British possession and trading post, and over the following decades its population boomed with new Malay, Chinese and Javanese residents. Singapore's status as a major British naval base made it a target during World War Two. It achieved independence from the British in 1959, as part of Malaysia, and became an independent city state in 1965.

Today Singapore has a population of over 5.5 million. The city retains the diversity of its trading days, with a population that is ethnically 74% Chinese, 13% Malay and 9% Indian. As a new country, Singaporean cultural identity is still developing. The government has made integration a priority: for example, public housing units are allocated to ensure that neighbourhoods reflect the ethnic makeup of the city as a whole. The city's multiculturalism leads to an eclectic arts scene, drawing inspiration from a unique blend of influences. Since its independence, Singapore's economy has grown rapidly, built upon its openness to trade and global capital, and its friendliness to business. With a government that is highly involved in the life of its citizens, it has one of the world's most intensive systems of urban planning.

The Cultural policy of Singapore set by the Ministry of Culture, Community, and Youth lays emphasis on building social capital and creating a sense of identity and nationhood. Its prime focus is on bringing culture to everyone and everywhere. It aims to dispel the perception that culture is limited to traditional 'high culture' genres like opera or ballet. It has aimed to widen the definition to include hobbies, handicrafts, street culture, other popular entertainment including community activities with cultural roots.

Cultural activities around Singapore's 50th anniversary in 2015 helped to build its status as a nation. This included the remodeling of the National Museum of Singapore and the Asian Civilizations Museum. In the same year, Singapore Botanic Gardens became the country's first UNESCO World Heritage Site. The country's five year cultural plan from 2018–22 includes seeking further UNESCO recognition, this time for its intangible heritage.

SubQuestion No : 106

Q.106 The Cultural policy of Singapore emphasises on:

- Ans
- ☒ 1. Excluding hobbies, handicraft and street culture
 - ☒ 2. Creating an attractive infrastructure to lure tourists
 - ☒ 3. Limiting culture to traditional 'high culture'
 - ☒ 4. Creating a sense of identity and nationhood

Question ID : 63068035695

Status : Answered

Chosen Option : 4



Comprehension:

Singapore has long been a meeting point between cultures. In the early 19th century it became a British possession and trading post, and over the following decades its population boomed with new Malay, Chinese and Javanese residents. Singapore's status as a major British naval base made it a target during World War Two. It achieved independence from the British in 1959, as part of Malaysia, and became an independent city state in 1965.

Today Singapore has a population of over 5.5 million. The city retains the diversity of its trading days, with a population that is ethnically 74% Chinese, 13% Malay and 9% Indian. As a new country, Singaporean cultural identity is still developing. The government has made integration a priority: for example, public housing units are allocated to ensure that neighbourhoods reflect the ethnic makeup of the city as a whole. The city's multiculturalism leads to an eclectic arts scene, drawing inspiration from a unique blend of influences. Since its independence, Singapore's economy has grown rapidly, built upon its openness to trade and global capital, and its friendliness to business. With a government that is highly involved in the life of its citizens, it has one of the world's most intensive systems of urban planning.

The Cultural policy of Singapore set by the Ministry of Culture, Community, and Youth lays emphasis on building social capital and creating a sense of identity and nationhood. Its prime focus is on bringing culture to everyone and everywhere. It aims to dispel the perception that culture is limited to traditional 'high culture' genres like opera or ballet. It has aimed to widen the definition to include hobbies, handicrafts, street culture, other popular entertainment including community activities with cultural roots.

Cultural activities around Singapore's 50th anniversary in 2015 helped to build its status as a nation. This included the remodeling of the National Museum of Singapore and the Asian Civilizations Museum. In the same year, Singapore Botanic Gardens became the country's first UNESCO World Heritage Site. The country's five year cultural plan from 2018–22 includes seeking further UNESCO recognition, this time for its intangible heritage.

SubQuestion No : 107

Q.107 Which of the following statements about Singapore is NOT TRUE?

- Ans
- ☒ 1. Singapore celebrates diversity and ethnicity.
 - ☒ 2. Singapore discourages promotion of street culture and community activities.
 - ☒ 3. Singapore's urban planning is based on its concept of integration
 - ☒ 4. Singapore's Botanical Gardens were recognised by UNESCO as World Heritage Site

Question ID : 63068035696

Status : Answered

Chosen Option : 2



Comprehension:

Singapore has long been a meeting point between cultures. In the early 19th century it became a British possession and trading post, and over the following decades its population boomed with new Malay, Chinese and Javanese residents. Singapore's status as a major British naval base made it a target during World War Two. It achieved independence from the British in 1959, as part of Malaysia, and became an independent city state in 1965.

Today Singapore has a population of over 5.5 million. The city retains the diversity of its trading days, with a population that is ethnically 74% Chinese, 13% Malay and 9% Indian. As a new country, Singaporean cultural identity is still developing. The government has made integration a priority: for example, public housing units are allocated to ensure that neighbourhoods reflect the ethnic makeup of the city as a whole. The city's multiculturalism leads to an eclectic arts scene, drawing inspiration from a unique blend of influences. Since its independence, Singapore's economy has grown rapidly, built upon its openness to trade and global capital, and its friendliness to business. With a government that is highly involved in the life of its citizens, it has one of the world's most intensive systems of urban planning.

The Cultural policy of Singapore set by the Ministry of Culture, Community, and Youth lays emphasis on building social capital and creating a sense of identity and nationhood. Its prime focus is on bringing culture to everyone and everywhere. It aims to dispel the perception that culture is limited to traditional 'high culture' genres like opera or ballet. It has aimed to widen the definition to include hobbies, handicrafts, street culture, other popular entertainment including community activities with cultural roots.

Cultural activities around Singapore's 50th anniversary in 2015 helped to build its status as a nation. This included the remodeling of the National Museum of Singapore and the Asian Civilizations Museum. In the same year, Singapore Botanic Gardens became the country's first UNESCO World Heritage Site. The country's five year cultural plan from 2018–22 includes seeking further UNESCO recognition, this time for its intangible heritage.

SubQuestion No : 108

Q.108 The rapid growth of Singapore's economy can be attributed to the government's

- Ans
- ☒ 1. Creation of world heritage sites
 - ☒ 2. Remodeling of museums to attract tourists
 - ☒ 3. Decision to retain its status as a major British naval base
 - ☒ 4. Open and friendly trade policies

Question ID : 63068035697

Status : Answered

Chosen Option : 2



Comprehension:

Singapore has long been a meeting point between cultures. In the early 19th century it became a British possession and trading post, and over the following decades its population boomed with new Malay, Chinese and Javanese residents. Singapore's status as a major British naval base made it a target during World War Two. It achieved independence from the British in 1959, as part of Malaysia, and became an independent city state in 1965.

Today Singapore has a population of over 5.5 million. The city retains the diversity of its trading days, with a population that is ethnically 74% Chinese, 13% Malay and 9% Indian. As a new country, Singaporean cultural identity is still developing. The government has made integration a priority: for example, public housing units are allocated to ensure that neighbourhoods reflect the ethnic makeup of the city as a whole. The city's multiculturalism leads to an eclectic arts scene, drawing inspiration from a unique blend of influences. Since its independence, Singapore's economy has grown rapidly, built upon its openness to trade and global capital, and its friendliness to business. With a government that is highly involved in the life of its citizens, it has one of the world's most intensive systems of urban planning.

The Cultural policy of Singapore set by the Ministry of Culture, Community, and Youth lays emphasis on building social capital and creating a sense of identity and nationhood. Its prime focus is on bringing culture to everyone and everywhere. It aims to dispel the perception that culture is limited to traditional 'high culture' genres like opera or ballet. It has aimed to widen the definition to include hobbies, handicrafts, street culture, other popular entertainment including community activities with cultural roots.

Cultural activities around Singapore's 50th anniversary in 2015 helped to build its status as a nation. This included the remodeling of the National Museum of Singapore and the Asian Civilizations Museum. In the same year, Singapore Botanic Gardens became the country's first UNESCO World Heritage Site. The country's five year cultural plan from 2018–22 includes seeking further UNESCO recognition, this time for its intangible heritage.

SubQuestion No : 109

Q.109 Complete the following sentence with the most suitable word from the passage.

This restaurant serves a new variety of food each day. It believes in giving its customers a/an _____ culinary experience.

- Ans
- ✓ 1. unique
 - ✗ 2. expensive
 - ✗ 3. intensive
 - ✗ 4. integrated

Question ID : 63068035698

Status : Answered

Chosen Option : 1

Comprehension:

Singapore has long been a meeting point between cultures. In the early 19th century it became a British possession and trading post, and over the following decades its population boomed with new Malay, Chinese and Javanese residents. Singapore's status as a major British naval base made it a target during World War Two. It achieved independence from the British in 1959, as part of Malaysia, and became an independent city state in 1965.

Today Singapore has a population of over 5.5 million. The city retains the diversity of its trading days, with a population that is ethnically 74% Chinese, 13% Malay and 9% Indian. As a new country, Singaporean cultural identity is still developing. The government has made integration a priority: for example, public housing units are allocated to ensure that neighbourhoods reflect the ethnic makeup of the city as a whole. The city's multiculturalism leads to an eclectic arts scene, drawing inspiration from a unique blend of influences. Since its independence, Singapore's economy has grown rapidly, built upon its openness to trade and global capital, and its friendliness to business. With a government that is highly involved in the life of its citizens, it has one of the world's most intensive systems of urban planning.

The Cultural policy of Singapore set by the Ministry of Culture, Community, and Youth lays emphasis on building social capital and creating a sense of identity and nationhood. Its prime focus is on bringing culture to everyone and everywhere. It aims to dispel the perception that culture is limited to traditional 'high culture' genres like opera or ballet. It has aimed to widen the definition to include hobbies, handicrafts, street culture, other popular entertainment including community activities with cultural roots.

Cultural activities around Singapore's 50th anniversary in 2015 helped to build its status as a nation. This included the remodeling of the National Museum of Singapore and the Asian Civilizations Museum. In the same year, Singapore Botanic Gardens became the country's first UNESCO World Heritage Site. The country's five year cultural plan from 2018–22 includes seeking further UNESCO recognition, this time for its intangible heritage.

SubQuestion No : 110

Q.110 The 'ethnic' societies of Singapore DO NOT include the following:

- Ans
- ☒ 1. Indians
 - ☒ 2. Chinese
 - ☒ 3. Malays
 - ☒ 4. Africans

Question ID : 63068035699

Status : Answered

Chosen Option : 4

Q.111 'ਘਰ ਸਿਰ ਤੇ ਚੁੱਕਣਾ' ਮੁਹਾਵਰੇ ਦਾ ਅਰਥ ਸਪੱਸ਼ਟ ਕਰੋ।

- Ans
- ☒ 1. ਸ਼ਾਂਤੀ ਬਣਾਏ ਰੱਖਣਾ
 - ☒ 2. ਚੁੱਪ ਚਾਪ ਬੈਠਣਾ
 - ☒ 3. ਰੋਲਾ ਪਾਉਣਾ
 - ☒ 4. ਕਾਂਵਾਂ-ਰੋਲੀ

Question ID : 63068047532

Status : Answered

Chosen Option : 3

Q.112 ਹੇਠ ਲਿਖਿਆਂ ਵਿੱਚੋਂ ਸੁੱਧ ਸ਼ਬਦ ਚੁਣੋ।

- Ans
- ✓ 1. ਸਰੀਰ
 - ✗ 2. ਸਰੀਰ
 - ✗ 3. ਸਰੀਰ
 - ✗ 4. ਛਰੀਰ

Question ID : 63068047514
Status : Answered
Chosen Option : 3

Q.113 'Lyrical' ਸ਼ਬਦ ਦਾ ਸਹੀ ਪੰਜਾਬੀ ਅਨੁਵਾਦ ਹੈ।

- Ans
- ✓ 1. ਸਰੋਦੀ
 - ✗ 2. ਗੀਤਕਾਰ
 - ✗ 3. ਰਚਨਹਾਰ
 - ✗ 4. ਗੀਤ

Question ID : 63068047563
Status : Answered
Chosen Option : 3

Q.114 'ਉਹ ਧਰਤੀ ਜਿੱਥੇ ਰੇਤ ਹੀ ਰੇਤ ਹੋਵੇ' ਲਈ ਇਕ ਸ਼ਬਦ ਚੁਣੋ।

- Ans
- ✓ 1. ਮਾਰੂਥਲ
 - ✗ 2. ਸਮੁੰਦਰ
 - ✗ 3. ਮੈਦਾਨ
 - ✗ 4. ਨਦੀ

Question ID : 63068047548
Status : Answered
Chosen Option : 1

Q.115 'ਉਜਾੜਨਾ' ਸ਼ਬਦ ਦਾ ਵਿਰੋਧੀ ਸ਼ਬਦ ਚੁਣੋ।

- Ans
- ✗ 1. ਖਾ ਜਾਣਾ
 - ✗ 2. ਰੱਖਣਾ
 - ✗ 3. ਵਿਗਾੜਣਾ
 - ✓ 4. ਵਸਾਉਣਾ

Question ID : 63068047525
Status : Answered
Chosen Option : 4

Comprehension:

ਹੇਠ ਲਿਖੇ ਪੈਰੇ ਨੂੰ ਧਿਆਨ ਨਾਲ ਪੜ੍ਹੋ ਤੇ ਹੇਠਾਂ ਦਿੱਤੇ ਪ੍ਰਸ਼ਨਾਂ ਦੇ ਸਹੀ ਉਤਰ ਦਿਉ।

ਪਾਚਨ ਪ੍ਰਣਾਲੀ ਵਿਚਲੇ ਅੰਗਾਂ ਨਾਲ ਤੇਰੀ ਕੀ ਦੁਸ਼ਮਣੀ ਹੈ ਕਿ ਤੂੰ ਸਭ ਦਾ ਵਾਧੂ ਜ਼ੋਰ ਲਵਾ ਰਿਹਾ ਹੈਂ। ਇੰਝ ਕਰਕੇ ਕੱਲੇ ਕੱਲੇ ਅੰਗ 'ਤੇ ਅਤਿਆਚਾਰ ਕਰ ਰਹਾ ਅੰ। ਤੇਰੀ ਦੇਹ ਦਾ ਇਹ ਬੋਝ ਤੈਨੂੰ ਅੰਦਰੋਂ ਅੰਦਰ ਖੋਖਲਾ ਕਰ ਰਿਹਾ ਹੈ ਅਤੇ ਤੈਨੂੰ ਇਸ ਦੀ ਖ਼ਬਰ ਬਿਲਕੁਲ ਨਹੀਂ। ਹਾਲੇ ਤੈਨੂੰ ਜਾਪਦੈ ਕਿ ਕੀ ਫਰਕ ਪੈਂਦੇ। ਹਾਲੇ ਤੈਨੂੰ ਸਭ ਕੁਝ ਠੀਕ ਲਗਦਾ ਹੈ ਪਰ ਅੰਦਰੋਂ ਅੰਦਰੀ ਵਾਧੂ ਕੰਮ ਦੇ ਸਤਾਏ ਤੇਰੇ ਅੰਗ ਤੇਰੇ ਖਿਲਾਫ਼ ਕੰਮ ਛੱਡੂ ਹੜਤਾਲ ਦੀਆਂ ਤਿਆਰੀਆਂ ਕਰਦੇ ਫਿਰਦੇ ਹਨ। ਤੇਰੇ ਆਹ ਅਪੋਸਟਿਕ ਸਵਾਦੀ ਪਕਵਾਨ, ਜਿਨ੍ਹਾਂ ਨੂੰ ਵੇਖਣ ਦੀ ਗੱਲ ਤਾਂ ਦੂਰ ਸਿਰਫ਼ ਜਿਹਨ ਵਿਚ ਚਿਤਵਿਆਂ ਹੀ ਤੇਰੀ ਜੀਭ ਲਲਚਾ ਜਾਂਦੀ ਹੈ, ਇਹ ਸਭ ਤੇਰੇ ਅਸਲ ਦੁਸ਼ਮਣ ਹਨ। ਇਹ ਅੰਦਰ ਜਾਂਦਿਆਂ ਸਾਰ ਹੀ ਤੇਰੇ ਵਿਰੁੱਧ ਸਾਜਿਸ਼ ਰਚਣ ਲਗਦੇ ਹਨ। ਇਹ ਸਭ ਇੰਨੇ ਕੁ ਸਾਤਿਰ ਹਨ ਕਿ ਪਤਾ ਹੀ ਨਹੀਂ ਲਗਦਾ ਕਿ ਇਨ੍ਹਾਂ ਤੇਰੇ ਸਭ ਵਫ਼ਾਦਾਰ ਅੰਗਾਂ ਨੂੰ ਤੇਰੇ ਖਿਲਾਫ਼ ਰਚੀ ਜਾ ਰਹੀ ਸਾਜਿਸ਼ ਵਿਚ ਸ਼ਾਮਿਲ ਕਰ ਲਿਆ। ਤੈਨੂੰ ਤਾਂ ਪਤਾ ਓਸ ਦਿਨ ਲੱਗੇਗਾ ਜਦ ਤੂੰ ਧੜਮ ਕਰਕੇ ਜਾ ਡਿੱਗੇਗਾ। ਆਪਣਿਆਂ ਦੀ ਸਾਜਿਸ਼ ਬਹੁਤ ਭੈੜੀ ਹੁੰਦੀ ਹੈ ਕਿਉਂਕਿ ਆਪਣੇ ਸਭ ਕਮਜ਼ੋਰੀਆਂ ਤੋਂ ਭੇਤੀ ਹੁੰਦੇ ਹਨ। ਇਸ ਸਾਜਿਸ਼ ਤੋਂ ਬਚ। ਕਿਸੇ ਵੀ ਇਕ ਅੰਗ ਦੀ ਨਰਾਜ਼ਗੀ ਨਾ ਸਹੇੜ। ਇਕ ਨਰਾਜ਼ ਹੋਇਆ ਤਾਂ ਉਹਨੇ ਤੁਰੰਤ ਦੂਸਰੇ ਨੂੰ ਦੱਸਣਾ ਹੈ। ਇੰਝ ਕਰਦਿਆਂ ਪਤਾ ਹੀ ਨਹੀਂ ਲੱਗਣਾ ਕਦ ਸਾਰੇ ਅੰਗਾਂ ਦਾ ਕਾਫ਼ਲਾ ਬਣ ਜਾਣਾ ਹੈ। ਤੇਰੇ ਵਿਰੁੱਧ ਇਕ ਵਿਦਰੋਹ ਸ਼ੁਰੂ ਹੋ ਜਾਣਾ ਹੈ।

SubQuestion No : 116

Q.116 ਉਪਰੋਕਤ ਪੈਰੇ ਦਾ ਢੁਕਵਾਂ ਸਿਰਲੇਖ ਹੈ।

Ans

- ☒ 1. ਬੋਲੇੜਾ ਦੇਹੀ ਬੋਝ
- ☒ 2. ਹਲਕੀ ਖੁਰਾਕ
- ☒ 3. ਪਾਚਨ ਪ੍ਰਣਾਲੀ
- ☒ 4. ਮਨੁੱਖੀ ਅੰਗ

Question ID : 63068047625

Status : Answered

Chosen Option : 3

Comprehension:

ਹੇਠ ਲਿਖੇ ਪੈਰੇ ਨੂੰ ਧਿਆਨ ਨਾਲ ਪੜ੍ਹੋ ਤੇ ਹੇਠਾਂ ਦਿੱਤੇ ਪ੍ਰਸ਼ਨਾਂ ਦੇ ਸਹੀ ਉਤਰ ਦਿਉ।

ਪਾਚਨ ਪ੍ਰਣਾਲੀ ਵਿਚਲੇ ਅੰਗਾਂ ਨਾਲ ਤੇਰੀ ਕੀ ਦੁਸ਼ਮਣੀ ਹੈ ਕਿ ਤੂੰ ਸਭ ਦਾ ਵਾਧੂ ਜ਼ੋਰ ਲਵਾ ਰਿਹਾ ਹੈਂ। ਇੰਝ ਕਰਕੇ ਕੱਲੇ ਕੱਲੇ ਅੰਗ 'ਤੇ ਅਤਿਆਚਾਰ ਕਰ ਰਹਾ ਹੈਂ। ਤੇਰੀ ਦੇਹ ਦਾ ਇਹ ਬੋਝ ਤੈਨੂੰ ਅੰਦਰੋਂ ਅੰਦਰ ਖੋਖਲਾ ਕਰ ਰਿਹਾ ਹੈ ਅਤੇ ਤੈਨੂੰ ਇਸ ਦੀ ਖ਼ਬਰ ਬਿਲਕੁਲ ਨਹੀਂ। ਹਾਲੇ ਤੈਨੂੰ ਜਾਪਦੇ ਕਿ ਕੀ ਫਰਕ ਪੈਂਦੇ। ਹਾਲੇ ਤੈਨੂੰ ਸਭ ਕੁਝ ਠੀਕ ਲਗਦਾ ਹੈ ਪਰ ਅੰਦਰੋਂ ਅੰਦਰੀ ਵਾਧੂ ਕੰਮ ਦੇ ਸਤਾਏ ਤੇਰੇ ਅੰਗ ਤੇਰੇ ਖਿਲਾਫ਼ ਕੰਮ ਛੱਡ ਰਹੇ ਹਨ। ਤੇਰੇ ਅੰਗ ਅਪੋਸਟਿਕ ਸਵਾਦੀ ਪਕਵਾਨ, ਜਿਨ੍ਹਾਂ ਨੂੰ ਵੇਖਣ ਦੀ ਗੱਲ ਤਾਂ ਦੂਰ ਸਿਰਫ਼ ਜਿਹਨ ਵਿਚ ਚਿਤਵਿਆਂ ਹੀ ਤੇਰੀ ਜੀਭ ਲਲਚਾ ਜਾਂਦੀ ਹੈ, ਇਹ ਸਭ ਤੇਰੇ ਅਸਲ ਦੁਸ਼ਮਣ ਹਨ। ਇਹ ਅੰਦਰ ਜਾਂਦਿਆਂ ਸਾਰ ਹੀ ਤੇਰੇ ਵਿਰੁੱਧ ਸਾਜਿਸ਼ ਰਚਣ ਲਗਦੇ ਹਨ। ਇਹ ਸਭ ਇੰਨੇ ਕੁ ਸਾਤਿਰ ਹਨ ਕਿ ਪਤਾ ਹੀ ਨਹੀਂ ਲਗਦਾ ਕਿ ਇਨ੍ਹਾਂ ਤੇਰੇ ਸਭ ਵਫ਼ਾਦਾਰ ਅੰਗਾਂ ਨੂੰ ਤੇਰੇ ਖਿਲਾਫ਼ ਰਚੀ ਜਾ ਰਹੀ ਸਾਜਿਸ਼ ਵਿਚ ਸ਼ਾਮਿਲ ਕਰ ਲਿਆ। ਤੈਨੂੰ ਤਾਂ ਪਤਾ ਓਸ ਦਿਨ ਲੱਗੇਗਾ ਜਦ ਤੂੰ ਧੜਮ ਕਰਕੇ ਜਾ ਡਿੱਗੇਗਾ। ਆਪਣਿਆਂ ਦੀ ਸਾਜਿਸ਼ ਬਹੁਤ ਭੈੜੀ ਹੁੰਦੀ ਹੈ ਕਿਉਂਕਿ ਆਪਣੇ ਸਭ ਕਮਜ਼ੋਰੀਆਂ ਤੋਂ ਭੇਤੀ ਹੁੰਦੇ ਹਨ। ਇਸ ਸਾਜਿਸ਼ ਤੋਂ ਬਚ। ਕਿਸੇ ਵੀ ਇਕ ਅੰਗ ਦੀ ਨਰਾਜ਼ਗੀ ਨਾ ਸਹੇੜ। ਇਕ ਨਰਾਜ਼ ਹੋਇਆ ਤਾਂ ਉਹਨੇ ਤੁਰੰਤ ਦੂਸਰੇ ਨੂੰ ਦੱਸਣਾ ਹੈ। ਇੰਝ ਕਰਦਿਆਂ ਪਤਾ ਹੀ ਨਹੀਂ ਲੱਗਣਾ ਕਦ ਸਾਰੇ ਅੰਗਾਂ ਦਾ ਕਾਫ਼ਲਾ ਬਣ ਜਾਣਾ ਹੈ। ਤੇਰੇ ਵਿਰੁੱਧ ਇਕ ਵਿਦਰੋਹ ਸ਼ੁਰੂ ਹੋ ਜਾਣਾ ਹੈ।

SubQuestion No : 117

Q.117 ਅਸੀਂ ਆਪਣੇ ਸਰੀਰ ਉਪਰ ਕਿਵੇਂ ਜ਼ੁਲਮ ਢਾਹੁੰਦੇ ਹਾਂ?

- Ans
- ☒ 1. ਮਿਹਨਤ ਕਰਕੇ
 - ☒ 2. ਅਲਪ ਆਹਾਰ ਕਰਕੇ
 - ☒ 3. ਵਰਜਿਸ਼ ਕਰਕੇ
 - ☒ 4. ਅਪੋਸਟਿਕ ਖੁਰਾਕ ਖਾ ਕੇ

Question ID : 63068047626

Status : Answered

Chosen Option : 4

Comprehension:

ਹੇਠ ਲਿਖੇ ਪੈਰੇ ਨੂੰ ਧਿਆਨ ਨਾਲ ਪੜ੍ਹੋ ਤੇ ਹੇਠਾਂ ਦਿੱਤੇ ਪ੍ਰਸ਼ਨਾਂ ਦੇ ਸਹੀ ਉਤਰ ਦਿਉ।

ਪਾਚਨ ਪ੍ਰਣਾਲੀ ਵਿਚਲੇ ਅੰਗਾਂ ਨਾਲ ਤੇਰੀ ਕੀ ਦੁਸ਼ਮਣੀ ਹੈ ਕਿ ਤੂੰ ਸਭ ਦਾ ਵਾਧੂ ਜ਼ੋਰ ਲਵਾ ਰਿਹਾ ਹੈਂ। ਇੰਝ ਕਰਕੇ ਕੱਲੇ ਕੱਲੇ ਅੰਗ 'ਤੇ ਅਤਿਆਚਾਰ ਕਰ ਰਹਾ ਅੰ। ਤੇਰੀ ਦੇਹ ਦਾ ਇਹ ਬੋਝ ਤੈਨੂੰ ਅੰਦਰੋਂ ਅੰਦਰ ਖੋਖਲਾ ਕਰ ਰਿਹਾ ਹੈ ਅਤੇ ਤੈਨੂੰ ਇਸ ਦੀ ਖ਼ਬਰ ਬਿਲਕੁਲ ਨਹੀਂ। ਹਾਲੇ ਤੈਨੂੰ ਜਾਪਦੈ ਕਿ ਕੀ ਫਰਕ ਪੈਂਦੇ। ਹਾਲੇ ਤੈਨੂੰ ਸਭ ਕੁਝ ਠੀਕ ਲਗਦਾ ਹੈ ਪਰ ਅੰਦਰੋਂ ਅੰਦਰੀ ਵਾਧੂ ਕੰਮ ਦੇ ਸਤਾਏ ਤੇਰੇ ਅੰਗ ਤੇਰੇ ਖਿਲਾਫ਼ ਕੰਮ ਛੱਡੂ ਹੜਤਾਲ ਦੀਆਂ ਤਿਆਰੀਆਂ ਕਰਦੇ ਫਿਰਦੇ ਹਨ। ਤੇਰੇ ਆਹ ਅਪੋਸਟਿਕ ਸਵਾਦੀ ਪਕਵਾਨ, ਜਿਨ੍ਹਾਂ ਨੂੰ ਵੇਖਣ ਦੀ ਗੱਲ ਤਾਂ ਦੂਰ ਸਿਰਫ਼ ਜਿਹਨ ਵਿਚ ਚਿਤਵਿਆਂ ਹੀ ਤੇਰੀ ਜੀਭ ਲਲਚਾ ਜਾਂਦੀ ਹੈ, ਇਹ ਸਭ ਤੇਰੇ ਅਸਲ ਦੁਸ਼ਮਣ ਹਨ। ਇਹ ਅੰਦਰ ਜਾਂਦਿਆਂ ਸਾਰ ਹੀ ਤੇਰੇ ਵਿਰੁੱਧ ਸਾਜਿਸ਼ ਰਚਣ ਲਗਦੇ ਹਨ। ਇਹ ਸਭ ਇੰਨੇ ਕੁ ਸ਼ਾਤਿਰ ਹਨ ਕਿ ਪਤਾ ਹੀ ਨਹੀਂ ਲਗਦਾ ਕਿ ਇਨ੍ਹਾਂ ਤੇਰੇ ਸਭ ਵਫ਼ਾਦਾਰ ਅੰਗਾਂ ਨੂੰ ਤੇਰੇ ਖਿਲਾਫ਼ ਰਚੀ ਜਾ ਰਹੀ ਸਾਜਿਸ਼ ਵਿਚ ਸ਼ਾਮਿਲ ਕਰ ਲਿਆ। ਤੈਨੂੰ ਤਾਂ ਪਤਾ ਓਸ ਦਿਨ ਲੱਗੇਗਾ ਜਦ ਤੂੰ ਧੜਮ ਕਰਕੇ ਜਾ ਡਿੱਗੇਗਾ। ਆਪਣਿਆਂ ਦੀ ਸਾਜਿਸ਼ ਬਹੁਤ ਭੈੜੀ ਹੁੰਦੀ ਹੈ ਕਿਉਂਕਿ ਆਪਣੇ ਸਭ ਕਮਜ਼ੋਰੀਆਂ ਤੋਂ ਭੇਤੀ ਹੁੰਦੇ ਹਨ। ਇਸ ਸਾਜਿਸ਼ ਤੋਂ ਬਚ। ਕਿਸੇ ਵੀ ਇਕ ਅੰਗ ਦੀ ਨਰਾਜ਼ਗੀ ਨਾ ਸਹੇੜ। ਇਕ ਨਰਾਜ਼ ਹੋਇਆ ਤਾਂ ਉਹਨੇ ਤੁਰੰਤ ਦੂਸਰੇ ਨੂੰ ਦੱਸਣਾ ਹੈ। ਇੰਝ ਕਰਦਿਆਂ ਪਤਾ ਹੀ ਨਹੀਂ ਲੱਗਣਾ ਕਦ ਸਾਰੇ ਅੰਗਾਂ ਦਾ ਕਾਫ਼ਲਾ ਬਣ ਜਾਣਾ ਹੈ। ਤੇਰੇ ਵਿਰੁੱਧ ਇਕ ਵਿਦਰੋਹ ਸ਼ੁਰੂ ਹੋ ਜਾਣਾ ਹੈ।

SubQuestion No : 118

Q.118 ਸਵਾਦੀ ਪਕਵਾਨਾਂ ਬਾਰੇ ਸੋਚ ਕੇ ਕੀ ਹੁੰਦਾ ਹੈ?

Ans

- ☒ 1. ਖਾਣਾ ਪਕਾਉਣ ਦੀ ਸੋਚ ਉਭਰਦੀ ਹੈ।
- ☒ 2. ਜ਼ਿਆਦਾ ਖਾਣ ਦੀ ਲਾਲਸਾ ਹੁੰਦੀ ਹੈ
- ☒ 3. ਮੂੰਹ ਵਿਚ ਪਾਣੀ ਆਉਂਦਾ ਹੈ
- ☒ 4. ਹਰ ਅੰਗ ਖਾਣਾ ਮੰਗਦਾ ਹੈ

Question ID : 63068047627

Status : Answered

Chosen Option : 3

Comprehension:

ਹੇਠ ਲਿਖੇ ਪੈਰੇ ਨੂੰ ਧਿਆਨ ਨਾਲ ਪੜ੍ਹੋ ਤੇ ਹੇਠਾਂ ਦਿੱਤੇ ਪ੍ਰਸ਼ਨਾਂ ਦੇ ਸਹੀ ਉਤਰ ਦਿਉ।

ਪਾਚਨ ਪ੍ਰਣਾਲੀ ਵਿਚਲੇ ਅੰਗਾਂ ਨਾਲ ਤੇਰੀ ਕੀ ਦੁਸ਼ਮਣੀ ਹੈ ਕਿ ਤੂੰ ਸਭ ਦਾ ਵਾਧੂ ਜ਼ੋਰ ਲਵਾ ਰਿਹਾ ਹੈਂ। ਇੰਝ ਕਰਕੇ ਕੱਲੇ ਕੱਲੇ ਅੰਗ 'ਤੇ ਅਤਿਆਚਾਰ ਕਰ ਰਹਾ ਅੰ। ਤੇਰੀ ਦੇਹ ਦਾ ਇਹ ਬੋਝ ਤੈਨੂੰ ਅੰਦਰੋਂ ਅੰਦਰ ਖੋਖਲਾ ਕਰ ਰਿਹਾ ਹੈ ਅਤੇ ਤੈਨੂੰ ਇਸ ਦੀ ਖ਼ਬਰ ਬਿਲਕੁਲ ਨਹੀਂ। ਹਾਲੇ ਤੈਨੂੰ ਜਾਪਦੇ ਕਿ ਕੀ ਫਰਕ ਪੈਂਦੇ। ਹਾਲੇ ਤੈਨੂੰ ਸਭ ਕੁਝ ਠੀਕ ਲਗਦਾ ਹੈ ਪਰ ਅੰਦਰੋਂ ਅੰਦਰੀ ਵਾਧੂ ਕੰਮ ਦੇ ਸਤਾਏ ਤੇਰੇ ਅੰਗ ਤੇਰੇ ਖਿਲਾਫ਼ ਕੰਮ ਛੱਡੂ ਹੜਤਾਲ ਦੀਆਂ ਤਿਆਰੀਆਂ ਕਰਦੇ ਫਿਰਦੇ ਹਨ। ਤੇਰੇ ਆਹ ਅਪੋਸਟਿਕ ਸਵਾਦੀ ਪਕਵਾਨ, ਜਿਨ੍ਹਾਂ ਨੂੰ ਵੇਖਣ ਦੀ ਗੱਲ ਤਾਂ ਦੂਰ ਸਿਰਫ਼ ਜਿਹਨ ਵਿਚ ਚਿਤਵਿਆਂ ਹੀ ਤੇਰੀ ਜੀਭ ਲਲਚਾ ਜਾਂਦੀ ਹੈ, ਇਹ ਸਭ ਤੇਰੇ ਅਸਲ ਦੁਸ਼ਮਣ ਹਨ। ਇਹ ਅੰਦਰ ਜਾਂਦਿਆਂ ਸਾਰ ਹੀ ਤੇਰੇ ਵਿਰੁੱਧ ਸਾਜਿਸ਼ ਰਚਣ ਲਗਦੇ ਹਨ। ਇਹ ਸਭ ਇੰਨੇ ਕੁ ਸ਼ਾਤਿਰ ਹਨ ਕਿ ਪਤਾ ਹੀ ਨਹੀਂ ਲਗਦਾ ਕਿ ਇਨ੍ਹਾਂ ਤੇਰੇ ਸਭ ਵਫ਼ਾਦਾਰ ਅੰਗਾਂ ਨੂੰ ਤੇਰੇ ਖਿਲਾਫ਼ ਰਚੀ ਜਾ ਰਹੀ ਸਾਜਿਸ਼ ਵਿਚ ਸ਼ਾਮਿਲ ਕਰ ਲਿਆ। ਤੈਨੂੰ ਤਾਂ ਪਤਾ ਓਸ ਦਿਨ ਲੱਗੇਗਾ ਜਦ ਤੂੰ ਧੜਮ ਕਰਕੇ ਜਾ ਡਿੱਗੇਗਾ। ਆਪਣਿਆਂ ਦੀ ਸਾਜਿਸ਼ ਬਹੁਤ ਭੈੜੀ ਹੁੰਦੀ ਹੈ ਕਿਉਂਕਿ ਆਪਣੇ ਸਭ ਕਮਜ਼ੋਰੀਆਂ ਤੋਂ ਭੇਤੀ ਹੁੰਦੇ ਹਨ। ਇਸ ਸਾਜਿਸ਼ ਤੋਂ ਬਚ। ਕਿਸੇ ਵੀ ਇਕ ਅੰਗ ਦੀ ਨਰਾਜ਼ਗੀ ਨਾ ਸਹੇੜ। ਇਕ ਨਰਾਜ਼ ਹੋਇਆ ਤਾਂ ਉਹਨੇ ਤੁਰੰਤ ਦੂਸਰੇ ਨੂੰ ਦੱਸਣਾ ਹੈ। ਇੰਝ ਕਰਦਿਆਂ ਪਤਾ ਹੀ ਨਹੀਂ ਲੱਗਣਾ ਕਦ ਸਾਰੇ ਅੰਗਾਂ ਦਾ ਕਾਫ਼ਲਾ ਬਣ ਜਾਣਾ ਹੈ। ਤੇਰੇ ਵਿਰੁੱਧ ਇਕ ਵਿਦਰੋਹ ਸ਼ੁਰੂ ਹੋ ਜਾਣਾ ਹੈ।

SubQuestion No : 119

Q.119 ਅੰਗ ਤੁਹਾਡੇ ਪ੍ਰਤੀ ਵਿਰੋਧ ਕਿਉਂ ਸ਼ੁਰੂ ਕਰ ਦਿੰਦੇ ਹਨ?

Ans

- ✓ 1. ਪਾਚਨ ਪ੍ਰਣਾਲੀ ਤੇ ਬੋਝ ਪਾਉਣ ਨਾਲ
- ✗ 2. ਤੁਹਾਡੇ ਨਾਲ ਨਰਾਜ਼ ਹੋ ਜਾਂਦੇ ਹਨ
- ✗ 3. ਖਰਾਬ ਹੁੰਦੇ ਹੁੰਦੇ ਇਨ੍ਹਾਂ ਦਾ ਇਕ ਕਾਫ਼ਲਾ ਬਣ ਜਾਂਦਾ ਹੈ
- ✗ 4. ਖਰਾਬ ਹੋਣ ਮਗਰੋਂ ਹੋਰਨਾਂ ਅੰਗਾਂ 'ਤੇ ਵੀ ਅਸਰ ਪਾਉਂਦੇ ਹਨ

Question ID : 63068047628

Status : Answered

Chosen Option : 2

Comprehension:

ਹੇਠ ਲਿਖੇ ਪੈਰੇ ਨੂੰ ਧਿਆਨ ਨਾਲ ਪੜ੍ਹੋ ਤੇ ਹੇਠਾਂ ਦਿੱਤੇ ਪ੍ਰਸ਼ਨਾਂ ਦੇ ਸਹੀ ਉਤਰ ਦਿਉ।

ਪਾਚਨ ਪ੍ਰਣਾਲੀ ਵਿਚਲੇ ਅੰਗਾਂ ਨਾਲ ਤੇਰੀ ਕੀ ਦੁਸ਼ਮਣੀ ਹੈ ਕਿ ਤੂੰ ਸਭ ਦਾ ਵਾਧੂ ਜ਼ੋਰ ਲਵਾ ਰਿਹਾ ਹੈਂ। ਇੰਝ ਕਰਕੇ ਕੱਲੇ ਕੱਲੇ ਅੰਗ 'ਤੇ ਅਤਿਆਚਾਰ ਕਰ ਰਹਾ ਅੰ। ਤੇਰੀ ਦੇਹ ਦਾ ਇਹ ਬੋਝ ਤੈਨੂੰ ਅੰਦਰੋਂ ਅੰਦਰ ਖੋਖਲਾ ਕਰ ਰਿਹਾ ਹੈ ਅਤੇ ਤੈਨੂੰ ਇਸ ਦੀ ਖ਼ਬਰ ਬਿਲਕੁਲ ਨਹੀਂ। ਹਾਲੇ ਤੈਨੂੰ ਜਾਪਦੈ ਕਿ ਕੀ ਫਰਕ ਪੈਂਦੇ। ਹਾਲੇ ਤੈਨੂੰ ਸਭ ਕੁਝ ਠੀਕ ਲਗਦਾ ਹੈ ਪਰ ਅੰਦਰੋਂ ਅੰਦਰੀ ਵਾਧੂ ਕੰਮ ਦੇ ਸਤਾਏ ਤੇਰੇ ਅੰਗ ਤੇਰੇ ਖਿਲਾਫ਼ ਕੰਮ ਛੱਡੂ ਹੜਤਾਲ ਦੀਆਂ ਤਿਆਰੀਆਂ ਕਰਦੇ ਫਿਰਦੇ ਹਨ। ਤੇਰੇ ਆਹ ਅਪੋਸਟਿਕ ਸਵਾਦੀ ਪਕਵਾਨ, ਜਿਨ੍ਹਾਂ ਨੂੰ ਵੇਖਣ ਦੀ ਗੱਲ ਤਾਂ ਦੂਰ ਸਿਰਫ਼ ਜਿਹਨ ਵਿਚ ਚਿਤਵਿਆਂ ਹੀ ਤੇਰੀ ਜੀਭ ਲਲਚਾ ਜਾਂਦੀ ਹੈ, ਇਹ ਸਭ ਤੇਰੇ ਅਸਲ ਦੁਸ਼ਮਣ ਹਨ। ਇਹ ਅੰਦਰ ਜਾਂਦਿਆਂ ਸਾਰ ਹੀ ਤੇਰੇ ਵਿਰੁੱਧ ਸਾਜਿਸ਼ ਰਚਣ ਲਗਦੇ ਹਨ। ਇਹ ਸਭ ਇੰਨੇ ਕੁ ਸਾਤਿਰ ਹਨ ਕਿ ਪਤਾ ਹੀ ਨਹੀਂ ਲਗਦਾ ਕਿ ਇਨ੍ਹਾਂ ਤੇਰੇ ਸਭ ਵਫ਼ਾਦਾਰ ਅੰਗਾਂ ਨੂੰ ਤੇਰੇ ਖਿਲਾਫ਼ ਰਚੀ ਜਾ ਰਹੀ ਸਾਜਿਸ਼ ਵਿਚ ਸ਼ਾਮਿਲ ਕਰ ਲਿਆ। ਤੈਨੂੰ ਤਾਂ ਪਤਾ ਓਸ ਦਿਨ ਲੱਗੇਗਾ ਜਦ ਤੂੰ ਧੜਮ ਕਰਕੇ ਜਾ ਡਿੱਗੇਗਾ। ਆਪਣਿਆਂ ਦੀ ਸਾਜਿਸ਼ ਬਹੁਤ ਭੈੜੀ ਹੁੰਦੀ ਹੈ ਕਿਉਂਕਿ ਆਪਣੇ ਸਭ ਕਮਜ਼ੋਰੀਆਂ ਤੋਂ ਭੇਤੀ ਹੁੰਦੇ ਹਨ। ਇਸ ਸਾਜਿਸ਼ ਤੋਂ ਬਚ। ਕਿਸੇ ਵੀ ਇਕ ਅੰਗ ਦੀ ਨਰਾਜ਼ਗੀ ਨਾ ਸਹੇੜ। ਇਕ ਨਰਾਜ਼ ਹੋਇਆ ਤਾਂ ਉਹਨੇ ਤੁਰੰਤ ਦੂਸਰੇ ਨੂੰ ਦੱਸਣਾ ਹੈ। ਇੰਝ ਕਰਦਿਆਂ ਪਤਾ ਹੀ ਨਹੀਂ ਲੱਗਣਾ ਕਦ ਸਾਰੇ ਅੰਗਾਂ ਦਾ ਕਾਫ਼ਲਾ ਬਣ ਜਾਣਾ ਹੈ। ਤੇਰੇ ਵਿਰੁੱਧ ਇਕ ਵਿਦਰੋਹ ਸ਼ੁਰੂ ਹੋ ਜਾਣਾ ਹੈ।

SubQuestion No : 120

Q.120 ਆਪਣੇ ਸਰੀਰ ਅਤੇ ਅੰਗਾਂ ਨੂੰ ਸਿਹਤਯਾਬ ਰੱਖਣ ਲਈ ਸਾਨੂੰ ਕੀ ਕਰਨਾ ਚਾਹੀਦਾ ਹੈ?

- Ans
- ☒ 1. ਭਾਰੀ ਭੋਜਨ ਖਾਣਾ ਚਾਹੀਦਾ ਹੈ
 - ☒ 2. ਅਪੋਸਟਿਕ ਭੋਜਨ ਤੋਂ ਪ੍ਰਹੇਜ਼
 - ☒ 3. ਕਸਰਤ ਤੋਂ ਗੁਰੇਜ਼
 - ☒ 4. ਪਾਚਨ ਪ੍ਰਣਾਲੀ ਤੋਂ ਲਾਪ੍ਰਵਾਹੀ

Question ID : 63068047629

Status : Answered

Chosen Option : 2

Q.121 ਹੇਠਾਂ ਦਿੱਤਿਆਂ ਵਿੱਚੋਂ HTML ਦੇ ਸੰਬੰਧ ਵਿੱਚ ਕਿਹੜਾ ਕਥਨ ਸਹੀ ਹੈ?

- I. ਇਹ ਇੱਕ ਪ੍ਰੋਗਰਾਮਿੰਗ ਲੈਂਗੂਏਜ ਨਹੀਂ ਹੈ।
- II. ਇਹ ਇੱਕ ਪੇਜ ਲੇਆਊਟ ਲੈਂਗੂਏਜ ਹੈ।

- Ans
- ☒ 1. ਨਾ ਤਾਂ I ਨਾ ਹੀ II
 - ☒ 2. ਸਿਰਫ਼ I
 - ☒ 3. I ਅਤੇ II ਦੋਵੇਂ
 - ☒ 4. ਸਿਰਫ਼ II

Question ID : 63068047306
Status : Answered
Chosen Option : 2

Q.122 MS ਐਕਸਲ 2019 ਵਿੱਚ, ਹੇਠਾਂ ਦਿੱਤੇ ਵਿੱਚੋਂ ਕੀਸਟ੍ਰੋਕ (keystroke) ਦੀ ਵਰਤੋਂ ਉਸੇ ਕਾਲਮ ਵਿੱਚ ਉਪਰੋਕਤ ਸੈੱਲ ਦੀ ਚੋਣ ਕਰਨ ਲਈ ਕੀਤੀ ਜਾਂਦੀ ਹੈ?

- Ans
- ☒ 1. Shift + Enter
 - ☒ 2. Enter
 - ☒ 3. Shift + Tab
 - ☒ 4. Tab

Question ID : 63068047221
Status : Answered
Chosen Option : 3

Q.123 TLD ਦਾ ਪੂਰਾ ਰੂਪ ਕੀ ਹੈ?

- Ans
- ☒ 1. ਟੀਮ ਲੈਵਲ ਡੋਮੇਨ (Team Level domain)
 - ☒ 2. ਟੋਪ ਲੈਵਲ ਡੋਮੇਨ (Top Level domain)
 - ☒ 3. ਟੀਮ ਲਿੰਕ ਡੋਮੇਨ (Team Link domain)
 - ☒ 4. ਟੋਪ ਲਿੰਕ ਡੋਮੇਨ (Top Link domain)

Question ID : 63068047368
Status : Answered
Chosen Option : 2

Q.124 _____ ਛੋਟੇ ਪਲਾਸਟਿਕ ਕਾਰਡ ਹੁੰਦੇ ਹਨ, ਜਿਨ੍ਹਾਂ ਵਿੱਚ ਐਪਲੀਕੇਸ਼ਨ ਲਈ ਢੁਕਵਾਂ ਐਨਕੋਡਿਡ ਡੇਟਾ (encoded data) ਹੁੰਦਾ ਹੈ ਜੋ ਉਸ ਐਪਲੀਕੇਸ਼ਨ ਲਈ ਉਪਯੋਗ ਹੁੰਦੇ ਹਨ, ਜਿਸਦੇ ਲਈ ਉਨ੍ਹਾਂ ਦੀ ਵਰਤੋਂ ਕੀਤੀ ਜਾਂਦੀ ਹੈ।

- Ans
- ☐ 1. ਮੈਗਨੈਟਿਕ ਕਾਰਡ (Magnetic Card)
 - ☐ 2. I-ਕਾਰਡ (I-Card)
 - ☒ 3. ਇਲੈਕਟ੍ਰੋਨਿਕ ਕਾਰਡ (Electronic Card)
 - ☐ 4. ਇੰਟਰਫੇਸ ਕਾਰਡ (Interface Card)

Question ID : 63068047152
Status : Answered
Chosen Option : 1

Q.125 ਟਾਇਮ-ਸ਼ੇਅਰਿੰਗ ਆਪਰੇਟਿੰਗ ਸਿਸਟਮਜ਼ _____ ਜਨਰੇਸ਼ਨ ਦੌਰਾਨ ਹੋਂਦ ਵਿੱਚ ਆਏ।

- Ans
- ☐ 1. ਚੌਥੀ
 - ☐ 2. ਪਹਿਲੀ
 - ☐ 3. ਦੂਜੀ
 - ☒ 4. ਤੀਜੀ

Question ID : 63068044473
Status : Answered
Chosen Option : 1

Q.126 ਹੇਠਾਂ ਦਿੱਤਿਆਂ ਵਿੱਚੋਂ ਕਿਹੜਾ/ਕਿਹੜੇ ਜੋੜਾ/ਜੋੜੇ ਸਹੀ ਹੈ/ਹਨ?

- I. ਇੰਕਜੈਟ - ਲਾਈਨ ਪ੍ਰਿੰਟਰ (Inkjet - Line Printer)
- II. ਲੇਜ਼ਰ - ਲਾਈਨ ਪ੍ਰਿੰਟਰ (Laser - Line Printer)

- Ans
- ☐ 1. ਕੇਵਲ II
 - ☐ 2. I ਅਤੇ II ਦੋਵੇਂ
 - ☐ 3. ਕੇਵਲ I
 - ☒ 4. ਨਾ ਤਾਂ I ਨਾ ਹੀ II

Question ID : 63068047178
Status : Answered
Chosen Option : 4

Q.127 MS Excel 2019 ਵਿੱਚ ਹਾਈਲਾਈਟ ਕੀਤੇ ਗਏ ਸੈਲਾ ਨੂੰ ਇਟੈਲਿਕ (italicize) ਕਰਨ ਲਈ ਕਿਸ ਸ਼ਾਰਟਕੱਟ ਕੀ (shortcut key) ਦੀ ਵਰਤੋਂ ਕੀਤੀ ਜਾਂਦੀ ਹੈ?

- Ans
- ☐ 1. Shift + I
 - ☒ 2. Ctrl + I
 - ☐ 3. Shift + J
 - ☐ 4. Ctrl + J

Question ID : 63068047224
Status : Answered
Chosen Option : 2

Q.128 IMAP ਅਕਾਊਂਟ, ਈਮੇਲ (Email) ਅਕਾਊਂਟ ਦੀਆਂ ਕਿਸਮਾਂ ਵਿੱਚੋਂ ਇੱਕ ਹੈ। IMAP ਦਾ ਪੂਰਾ ਰੂਪ ਕੀ ਹੈ?

- Ans
- ☒ 1. ਇੰਟਰਨੈਟ ਮੈਸੇਜ ਐਕਸੈਸ ਪ੍ਰੋਟੋਕੋਲ (Internet Message Access Protocol)
 - ☐ 2. ਇੰਟਰਨੈਟ ਮਾਨੀਟਰ ਐਕਸੈਸ ਪ੍ਰੋਟੋਕੋਲ (Internet Monitor Access Protocol)
 - ☐ 3. ਇੰਟਰਮੀਡੀਏਟ ਮੈਸੇਜ ਐਕਸੈਸ ਪ੍ਰੋਟੋਕੋਲ (Intermediate Message Access Protocol)
 - ☐ 4. ਇੰਟਰਮੀਡੀਏਟ ਮਾਨੀਟਰ ਐਕਸੈਸ ਪ੍ਰੋਟੋਕੋਲ (Intermediate Monitor Access Protocol)

Question ID : 63068047369
Status : Answered
Chosen Option : 1

Q.129 ਕਿਸੇ ਸਰਚ ਇੰਜਣ 'ਤੇ 'pla*t' ਖੋਜਣ ਦੌਰਾਨ ਹੇਠਾਂ ਦਿੱਤਿਆਂ ਵਿੱਚੋਂ ਕਿਹੜਾ ਯੋਗ ਸਰਚ ਨਤੀਜਾ ਹੈ?

- Ans
- ☐ 1. Pluto
 - ☐ 2. Plot
 - ☒ 3. Plant
 - ☐ 4. Pleat

Question ID : 63068047318
Status : Answered
Chosen Option : 3

Q.130 MS PowerPoint 2019 ਵਿੱਚ, ਕਿਹੜੀ ਸ਼ਾਰਟਕੱਟ ਕੀ ਇੱਕ ਸਲਾਇਡ ਵਿੱਚ ਵਰਡ ਆਰਟ (Word Art) ਇੰਸਰਟ ਕਰਨ ਲਈ ਵਰਤੀ ਜਾਂਦੀ ਹੈ?

- Ans
- ☐ 1. Alt + C, W
 - ☐ 2. Alt + G, W
 - ☐ 3. Alt + F, W
 - ☒ 4. Alt + N, W

Question ID : 63068047263
Status : Answered
Chosen Option : 4

Q.131 ਹੇਠਾਂ ਦਿੱਤਿਆਂ ਵਿੱਚੋਂ ਕਿਹੜੀ ਵਿਜ਼ਨ (vision) ਇਨਪੁੱਟ ਸਿਸਟਮ (input system) ਦੀ ਐਪਲੀਕੇਸ਼ਨ (application) ਨਹੀਂ ਹੈ ?

Ans

✗ 1. ਚਿਹਰੇ ਦੀ ਪਛਾਣ (Face recognition)

✗ 2. ਕੁਆਲਿਟੀ-ਕੰਟਰੋਲ (Quality - control)

✓ 3. ਬੋਲੀ ਦੀ ਪਛਾਣ (Speech recognition)

✗ 4.

ਵਸਤੂ ਦੇ ਆਕਾਰ ਦਾ ਨਿਰੀਖਣ ਕਰਨਾ (Inspect shapes of object)

Question ID : 63068047142

Status : Answered

Chosen Option : 3

Q.132 'https://www.abc.com/sharing/pqrlo/U14.pdf' ਵਿੱਚ, 'https://' ਦਾ ਕੀ ਮਤਲਬ ਹੈ?

Ans

✗ 1. ਡੋਮੇਨ ਨੇਮ

✓ 2. ਪ੍ਰੋਟੋਕਾਲ

✗ 3. ਫਾਇਲ ਨਾਮ

✗ 4. ਡਾਇਰੈਕਟਰੀ

Question ID : 63068047299

Status : Answered

Chosen Option : 2

Q.133 ਹੇਠ ਦਿੱਤਿਆਂ ਵਿੱਚੋਂ ਕਿਹੜਾ/ਕਿਹੜੇ ਕਥਨ ਸਹੀ ਨਹੀਂ

ਹੈ/ਹਨ?

I. ਜ਼ਿਆਦਾਤਰ ਵੀਡੀਓ ਸ਼ੇਅਰਿੰਗ ਸਾਈਟਸ ਮੁਫਤ ਅਕਾਊਂਟਸ ਦੀ ਪੇਸ਼ਕਸ਼ ਕਰਦੀਆਂ ਹਨ ਅਤੇ ਵਰਤੋਂਕਾਰਾਂ ਨੂੰ ਅਸੀਮਤ ਗਿਣਤੀ ਵਿੱਚ ਵਿਡੀਓਜ਼ ਅਪਲੋਡ ਕਰਨ ਦਿੰਦੀਆਂ ਹਨ।

II. ਯੂਟਿਊਬ (Youtube) ਤੁਹਾਡੀ ਵੈਬਸਾਈਟ ਜਾਂ ਥਲੋਗ 'ਤੇ ਤੁਹਾਡੇ ਵੀਡੀਓ ਨੂੰ ਸ਼ਾਮਲ ਕਰਨ ਲਈ ਇੱਕ ਕੋਡ ਤਿਆਰ ਕਰਦਾ ਹੈ।

Ans

✗ 1. ਸਿਰਫ਼ II

✗ 2. ਸਿਰਫ਼ I

✗ 3. I ਅਤੇ II ਦੋਵੇਂ

✓ 4. ਨਾ ਤਾਂ I ਨਾ ਹੀ II

Question ID : 63068047398

Status : Answered

Chosen Option : 4

Q.134 ਯੂਟਿਊਬ (Youtube) ਦੀ ਸਥਾਪਨਾ ਕਿਸ ਸਾਲ ਵਿੱਚ ਹੋਈ ਸੀ?

- Ans
- ✓ 1. 2005
 - ✗ 2. 2003
 - ✗ 3. 2007
 - ✗ 4. 2009

Question ID : 63068047405
Status : Answered
Chosen Option : 1

Q.135 MS PowerPoint 2019 ਵਿੱਚ, ਹੇਠਾਂ ਦਿੱਤਿਆਂ ਵਿੱਚੋਂ ਫੰਕਸ਼ਨ-ਟੈਬ ਦਾ ਕਿਹੜਾ ਜੋੜਾ ਸਹੀ ਹੈ?

- I. ਗਾਈਡਲਾਈਨਸ (Guidelines) – ਡਿਜ਼ਾਈਨ (Design)
- II. ਸਵਿੱਚ ਵਿੰਡੋਸ (Switch Windows) – ਵਿਊ (View)

- Ans
- ✗ 1. I ਅਤੇ II ਦੋਵੇਂ
 - ✓ 2. ਸਿਰਫ਼ II
 - ✗ 3. ਸਿਰਫ਼ I
 - ✗ 4. ਨਾ ਤਾਂ I ਨਾ ਹੀ II

Question ID : 63068047262
Status : Answered
Chosen Option : 1

Q.136 MS Excel 2019 ਵਿੱਚ ਹੇਠਾਂ ਦਿੱਤਿਆਂ ਵਿੱਚੋਂ ਕਿਹੜਾ ਇੱਕ ਵਰਕਬੁੱਕ ਵਿਊ (workbook view) ਹੈ?

- I. ਕਸਟਮ ਵਿਊਜ਼ (Custom Views)
- II. ਪੇਜ ਬ੍ਰੇਕ ਪਰਵਿਊਜ਼ (Page Break Previews)

- Ans
- ✗ 1. ਸਿਰਫ਼ I
 - ✗ 2. ਸਿਰਫ਼ II
 - ✗ 3. ਨਾ ਤਾਂ I ਨਾ ਹੀ II
 - ✓ 4. I ਅਤੇ II ਦੋਵੇਂ

Question ID : 63068047234
Status : Answered
Chosen Option : 1

Q.137 EDSAC ਦਾ ਪੂਰਾ ਨਾਮ ਕੀ ਹੈ?

Ans ਇਲੈਕਟ੍ਰਿਕਲ ਡਰਾਇਵ ਸਟੋਰੇਜ ਆਟੋਮੈਟਿਕ ਕੈਲਕੁਲੇਟਰ

✗ 1. (Electrical Drive Storage Automatic Calculator)

✓ 2. ਇਲੈਕਟ੍ਰੋਨਿਕ ਡੀਲੇ ਸਟੋਰੇਜ ਆਟੋਮੈਟਿਕ ਕੈਲਕੁਲੇਟਰ
(Electronic Delay Storage Automatic Calculator)

✗ 3. ਇਲੈਕਟ੍ਰਿਕਲ ਡੀਲੇ ਸਟੋਰੇਜ ਆਟੋਮੈਟਿਕ ਕੈਲਕੁਲੇਟਰ
(Electrical Delay Storage Automatic Calculator)

✗ 4. ਇਲੈਕਟ੍ਰੋਨਿਕ ਡਰਾਇਵ ਸਟੋਰੇਜ ਆਟੋਮੈਟਿਕ ਕੈਲਕੁਲੇਟਰ
(Electronic Drive Storage Automatic Calculator)

Question ID : 63068047136

Status : Answered

Chosen Option : 4

Q.138 OTT ਸੇਵਾਵਾਂ ਨੇ ਟੈਲੀਵਿਜ਼ਨ ਦੇ ਤੀਜੇ ਯੁੱਗ ਨੂੰ ਸੰਚਾਲਿਤ ਕੀਤਾ ਹੈ ਜਿੱਥੇ ਵਿਡੀਓ ਸਟ੍ਰੀਮਿੰਗ ਪਲੇਟਫਾਰਮ
_____ ਦੁਆਰਾ ਅੱਗੇ ਵਧਿਆ ਹੈ।

I. ਅਡੋਪਟਿੰਗ ਫੋਰਮੈਟ

II. ਨੈਟਵਰਕਾਂ 'ਤੇ ਸਮਗਰੀ ਦੀ ਸਪੁਰਦਗੀ ਨੂੰ ਵਧਾਉਣਾ

Ans ✗ 1. ਨਾ ਤਾਂ I ਨਾ ਹੀ II

✓ 2. I ਅਤੇ II ਦੋਵੇਂ

✗ 3. ਸਿਰਫ਼ II

✗ 4. ਸਿਰਫ਼ I

Question ID : 63068047411

Status : Answered

Chosen Option : 2

Q.139 MS PowerPoint 2019 ਵਿੱਚ, ਕਿਹੜੀ ਸ਼ਾਰਟਕੱਟ ਕੀ ਨੂੰ ਸਲਾਈਡ ਕੀਤੇ ਕਮੈਂਟ ਦਾ ਜਵਾਬ ਦੇਣ ਲਈ ਵਰਤਿਆ ਜਾਂਦਾ ਹੈ?

Ans ✗ 1. Shift + S

✓ 2. Ctrl + R

✗ 3. Ctrl + S

✗ 4. Shift + R

Question ID : 63068047251

Status : Answered

Chosen Option : 4

Q.140 ਹੇਠ ਲਿਖੇ ਵਿੱਚੋਂ ਕਿਹੜਾ ਈਮੇਲ ਦੀ ਵਰਤੋਂ ਕਰਨ ਦਾ/ਦੇ ਕਾਰਨ ਹੈ/ਹਨ?

I. ਇਹ ਸੰਚਾਰ ਦੇ ਹੋਰ ਤਰੀਕਿਆਂ ਦੇ ਮੁਕਾਬਲੇ ਵਧੇਰੇ ਸੁਰੱਖਿਅਤ ਅਤੇ ਸਸਤੀ ਹੈ।

II. ਭਵਿੱਖ 'ਚ ਮੁੜ ਵਰਤੋਂ ਕਰਨਾ ਸੁਖਾਲਾ ਹੈ। ਜ਼ਿਆਦਾਤਰ ਈਮੇਲ ਸੇਵਾਵਾਂ ਈਮੇਲਾਂ ਵਿੱਚੋਂ ਖੋਜ ਸਹੂਲਤ ਪ੍ਰਦਾਨ ਕਰਦੀਆਂ ਹਨ।

- Ans
- ☒ 1. ਸਿਰਫ਼ I
 - ☒ 2. ਨਾ ਤਾਂ I ਨਾ ਹੀ II
 - ☒ 3. I ਅਤੇ II ਦੋਵੇਂ
 - ☒ 4. ਸਿਰਫ਼ II

Question ID : 63068047367

Status : Answered

Chosen Option : 3

Q.141 ਹੇਠ ਦਿੱਤਿਆਂ ਵਿੱਚੋਂ ਕਿਹੜੀ ਇਕਾਈ ਕਿਸੇ ਮਾਈਕਰੋ-ਕੰਪਿਊਟਰ ਦੀ ਪ੍ਰੋਸੈਸਿੰਗ ਗਤੀ ਨੂੰ ਮਾਪਣ ਲਈ ਨਹੀਂ ਵਰਤੀ ਜਾਂਦੀ ਹੈ?

- Ans
- ☒ 1. ਐਕੁਆ ਸੈਕਿੰਡ (Aqua seconds)
 - ☒ 2. ਨੈਨੋ-ਸੈਕਿੰਡ (Nanoseconds)
 - ☒ 3. ਪੀਕੋਸੈਕਿੰਡ (Picoseconds)
 - ☒ 4. ਮਾਈਕਰੋ-ਸੈਕਿੰਡ (Microseconds)

Question ID : 63068047650

Status : Answered

Chosen Option : 1

Q.142 ਆਪਰੇਟਿੰਗ ਸਿਸਟਮ ਦੁਆਰਾ ਹੇਠਾਂ ਦਿੱਤਿਆਂ ਵਿੱਚੋਂ ਕਿਹੜਾ ਕਾਰਜ ਦਿਸ਼ਾ-ਨਿਰਦੇਸ਼ਿਤ ਕੀਤਾ ਜਾਂਦਾ ਹੈ?

I. ਨੈਟਵਰਕਿੰਗ

II. ਮੈਮੋਰੀ ਪ੍ਰਬੰਧਨ

- Ans
- ☒ 1. I ਅਤੇ II ਦੋਵੇਂ
 - ☒ 2. ਸਿਰਫ਼ I
 - ☒ 3. ਨਾ ਤਾਂ I ਨਾ ਹੀ II
 - ☒ 4. ਸਿਰਫ਼ II

Question ID : 63068047272

Status : Answered

Chosen Option : 1

Q.143 ਹੇਠਾਂ ਦਿੱਤਿਆਂ ਵਿੱਚੋਂ ਆਪਰੇਟਿੰਗ ਸਿਸਟਮ ਦੀ ਇੱਛਤ ਗੁਣਵੱਤਾ ਕਿਹੜੀ ਹੈ?

- I. ਮਜ਼ਬੂਤੀ
- II. ਸੁਵਿਧਾਜਨਕ

Ans ☒ 1. I ਅਤੇ II ਦੋਵੇਂ

☒ 2. ਸਿਰਫ਼ I

☒ 3. ਸਿਰਫ਼ II

☒ 4. ਨਾ ਤਾਂ I ਨਾ ਹੀ II

Question ID : 63068047269

Status : Answered

Chosen Option : 3

Q.144 ਹੇਠਾਂ ਦਿੱਤਿਆਂ ਵਿੱਚੋਂ ਕਿਹੜਾ ਡਬਲਿਨ ਕੋਰ ਮੈਟਾਡਾਟਾ ਰਿਕਾਰਡ (Dublin Core Metadata Record) ਦਾ ਐਲੀਮੈਂਟ ਹੈ?

- I. ਪ੍ਰਕਾਸ਼ਕ (Publisher)
- II. ਪਹਿਚਾਣ (Identification)

Ans ☒ 1. I ਅਤੇ II ਦੋਵੇਂ

☒ 2. ਸਿਰਫ਼ II

☒ 3. ਨਾ ਤਾਂ I ਨਾ ਹੀ II

☒ 4. ਸਿਰਫ਼ I

Question ID : 63068047334

Status : Answered

Chosen Option : 1

Q.145 ਵੇਡਾਫੋਨ ਅਤੇ ਆਈਡੀਆ ਦਾ ਰਲੇਵਾਂ ਆਖ਼ਰ ਵਿਚ ਕਿਸ ਸਾਲ ਹੋਇਆ?

Ans ☒ 1. 2018

☒ 2. 2013

☒ 3. 2021

☒ 4. 2020

Question ID : 63068047392

Status : Answered

Chosen Option : 1

Q.146 UPC ਬਾਰ ਕੋਡਿੰਗ ਸਿਸਟਮ ਦਾ ਪੂਰਾ ਨਾਮ ਕੀ ਹੈ?

- Ans
- ☐ 1. ਅਨਐਮਬੀਗੀਅਸ ਪ੍ਰੋਡਕਟ ਕੋਡ (Unambiguous product code)
 - ☐ 2. ਯੂਨੀਕ ਪ੍ਰੋਡਕਟ ਕੋਡ (Unique Product Code)
 - ☐ 3. ਯੂਨਾਇਟਡ ਪ੍ਰੋਡਕਟ ਕੋਡ (United Product Code)
 - ☒ 4. ਯੂਨੀਵਰਸਲ ਪ੍ਰੋਡਕਟ ਕੋਡ (Universal Product Code)

Question ID : 63068047151
Status : Answered
Chosen Option : 2

Q.147 PARAM ਸੁਪਰ ਕੰਪਿਊਟਰ ਕਿਹੜੀ ਪੀੜ੍ਹੀ ਦੇ ਰਿਪਰਜੈਨਟੇਟਿਵ ਸਿਸਟਮ

(representative systems) ਹਨ?

- Ans
- ☒ 1. ਪੰਜਵੀਂ
 - ☐ 2. ਤੀਜੀ
 - ☐ 3. ਚੌਥੀ
 - ☐ 4. ਦੂਜੀ

Question ID : 63068047128
Status : Answered
Chosen Option : 1

Q.148 _____ ਡਾਇਰੈਕਟਰੀ ਉਹ ਡਾਇਰੈਕਟਰੀ ਹੁੰਦੀ ਹੈ ਜਿਸ ਵਿੱਚ "in" ਇੱਕ ਯੂਜ਼ਰ ਕਿਸੇ ਖਾਸ ਅਵਸਥਾ 'ਤੇ ਹੁੰਦਾ ਹੈ।

- Ans
- ☐ 1. ਯੂਜ਼ਰ
 - ☐ 2. ਰੂਟ
 - ☐ 3. ਟ੍ਰੀ
 - ☒ 4. ਕਰੰਟ

Question ID : 63068047284
Status : Answered
Chosen Option : 2

Q.149 ਟੇਪ ਦੀ _____ ਮੈਗਨੈਟਿਕ ਟੇਪ ਤੋਂ ਪ੍ਰਾਇਮਰੀ ਸਟੋਰੇਜ ਵਿੱਚ ਭੇਜੇ ਗਏ ਅੱਖਰਾਂ ਦੀ ਸੰਖਿਆ ਹੈ।

- Ans
- ☒ 1. ਡਾਟਾ ਰਿਕਾਰਡਿੰਗ ਦਰ
 - ☒ 2. ਡਾਟਾ ਸਿਫਟ ਦਰ
 - ☒ 3. ਡਾਟਾ ਟਰਾਂਸਫਰ ਦਰ
 - ☒ 4. ਡਾਟਾ ਸੰਚਾਰਨ ਦਰ

Question ID : 63068047191

Status : Answered

Chosen Option : 4

Q.150 ਹੇਠ ਦਿੱਤਿਆਂ ਵਿੱਚੋਂ ਕਿਹੜਾ/ਕਿਹੜੇ ਕਥਨ ਸਹੀ ਨਹੀਂ ਹੈ/ਹਨ?

- I. ਐਡਸੈਂਸ, ਵੈਬਮਾਸਟਰਾਂ ਲਈ ਇੱਕ ਪ੍ਰੋਗਰਾਮ ਹੈ ਜੋ ਕੁਝ ਸਾਲ ਪਹਿਲਾਂ ਗੂਗਲ (Google) ਦੁਆਰਾ ਲਾਗੂ ਕੀਤਾ ਗਿਆ ਸੀ।
- II. ਐਡਸੈਂਸ ਅਕਾਊਂਟ ਲਈ ਅਪਲਾਈ ਕਰਨ ਲਈ ਤੁਸੀਂ ਫਾਰਮ ਨੂੰ <http://www.google.com/AdSense/g-app-single-1> ਤੋਂ ਪ੍ਰਾਪਤ ਕਰ ਸਕਦੇ ਹੋ।

- Ans
- ☒ 1. I ਅਤੇ II ਦੋਵੇਂ
 - ☒ 2. ਸਿਰਫ਼ II
 - ☒ 3. ਨਾ ਤਾਂ I ਨਾ ਹੀ II
 - ☒ 4. ਸਿਰਫ਼ I

Question ID : 63068047357

Status : Answered

Chosen Option : 3

