



# Teachingninja.in



**Latest Govt Job updates**



**Private Job updates**



**Free Mock tests available**

**Visit - [teachingninja.in](https://teachingninja.in)**



**Punjab  
Police Intelligence  
Assistant**

**Previous Year Paper  
9 Sept 2021 Shift 2**





# PUNJAB POLICE

Police to its last particle is duty

Exam Name	INTELLIGENCE ASSISTANT IN INTELLIGENCE CADRE OF PUNJAB POLICE AND CONSTABLE IN INVESTIGATION CADRE OF PUNJAB POLICE (PBI)- 2021
Registration Number	
Application No	
Roll No	
Name of Candidate	
Exam Date	09/09/2021
Shift	2:00 PM - 5:00 PM
Subject	Intelligence Assistant In Intelligence Cadre And Constable In Investigation Cadre

Section : Intelligence Assistant In Intelligence Cadre And Constable In Investigation Cadre

Q.1 In August 2020, Odisha government announced to give facelift to which 11th century temple?

- Ans
- ☐ 1. Sakshigopal Temple
  - ☐ 2. Neela Madhava Temple
  - ☒ 3. Lingraj Temple
  - ☐ 4. Ananta Vasudeva Temple

Question ID : 63068046461

Status : Answered

Chosen Option : 3

Q.2 Which festival is celebrated by the Sikhs to express their reverence for their gurus?

- ns
- ☐ 1. Lohri
  - ☒ 2. GURPURAB
  - ☐ 3. Baisakhi
  - ☐ 4. Tika

Question ID : 63068046709

Status : nswered

Chosen Option : 2

**Q.3 Which of the following is not a component of modern communication technology?**

- Ans
- ☒ 1. Protocols
  - ☒ 2. C++ compiler
  - ☒ 3. Media
  - ☒ 4. Networking

Question ID : 63068046566  
Status : Answered  
Chosen Option : 2

**Q.4 India launched its 40th scientific expedition to Antarctica from which state?**

- Ans
- ☒ 1. Odisha
  - ☒ 2. Kerala
  - ☒ 3. Andhra Pradesh
  - ☒ 4. Goa

Question ID : 63068046496  
Status : Answered  
Chosen Option : 1

**Q.5 When was the last census of India conducted?**

- Ans
- ☒ 1. 2011
  - ☒ 2. 2017
  - ☒ 3. 2015
  - ☒ 4. 2010

Question ID : 63068020572  
Status : Answered  
Chosen Option : 1

**Q.6 Who makes the rules for regulating the practice and procedure of the Supreme Court?**

- Ans
- ☒ 1. Supreme Court along with the high courts
  - ☒ 2. Supreme Court with the approval of the President of India
  - ☒ 3. Supreme Court in consultation with the subordinate courts
  - ☒ 4. Prime Minister of India

Question ID : 63068044151  
Status : Answered  
Chosen Option : 2

**Q.7 Iron toxicity in rice is known as\_\_\_\_\_.**

- Ans
- ☒ 1. Greening of rice
  - ☒ 2. Silicon of rice
  - ☒ 3. Blacking of rice
  - ☒ 4. Browning of rice

Question ID : 63068046609  
Status : Answered  
Chosen Option : 2

**Q.8 Which of the following is made up of a circular thin plastic jacket coated with magnetic material to hold 1.44MB data?**

- Ans**
- ☒ 1. Pen drive
  - ☒ 2. Floppy disk
  - ☒ 3. CD
  - ☒ 4. DVD

Question ID : **63068046611**  
Status : **Answered**  
Chosen Option : **2**

**Q.9 Dharma Chakra Day was celebrated in July 2020. This day celebrates the first preaching of**

- Ans**
- ☒ 1. Mahavira
  - ☒ 2. Swami Dayanand Sarawati
  - ☒ 3. Gautam Buddha
  - ☒ 4. Guru Nanak Dev

Question ID : **63068046451**  
Status : **Answered**  
Chosen Option : **1**

**Q.10 For how long can a bill be delayed by the Vidhan Parishad?**

- Ans**
- ☒ 1. For a maximum period of 4 months
  - ☒ 2. For a maximum period of 6 months
  - ☒ 3. For a maximum period of 3 months
  - ☒ 4. For a maximum period of 5 months

Question ID : **63068046797**  
Status : **Answered**  
Chosen Option : **2**

**Q.11 On which of the following river banks Virupaksha Temple was located?**

- Ans**
- ☒ 1. On the banks of river Penneru
  - ☒ 2. On the banks of river Tungabhadra
  - ☒ 3. On the banks of river Krishna
  - ☒ 4. On the banks of river Cauvery

Question ID : **63068039923**  
Status : **Answered**  
Chosen Option : **1**

Q.12

ਡਾਇਆਫਰਮ \_\_\_\_\_।

Ans

- ☐ 1. ਨਸਾਂ ਹਨ
- ☐ 2. ਇੱਕ ਹੱਡੀ ਹੈ
- ☐ 3. ਨਿਉਰਾਨ ਹਨ
- ☒ 4. ਇੱਕ ਮਾਸਪੇਸ਼ੀ ਹੈ

Question ID : 63068046584

Status : Answered

Chosen Option : 4

Q.13 What is the capacity of Mansa Solar Power Plant?

Ans

- ☐ 1. 35.5 MW
- ☐ 2. 25.5 MW
- ☒ 3. 31.5 MW
- ☐ 4. 28.5 MW

Question ID : 63068046754

Status : Answered

Chosen Option : 1

Q.14 The Chief Justice of India and the \_\_\_\_\_ are appointed by the President under Clause (2) of Article 124 of the Constitution.

Ans

- ☐ 1. Judges of the District Court
- ☐ 2. Judges of the Subordinate Court
- ☐ 3. Judges of the High Court
- ☒ 4. Judges of the Supreme Court

Question ID : 63068046804

Status : Answered

Chosen Option : 4

Q.15 An electric bulb of 45 W is used for 5 h per day. Calculate the 'units' of energy consumed in one day by the bulb.

Ans

- ☒ 1. 0.225 kWh
- ☐ 2. 0.05 kWh
- ☐ 3. 1 kWh
- ☐ 4. 0.009 kWh

Question ID : 63068046628

Status : Answered

Chosen Option : 4

Q.16 Which part of the Indian Constitution deals with elections and established a commission for these matters?

- Ans
- ☒ 1. Part IX
  - ☒ 2. Part VIII
  - ☒ 3. Part XII
  - ☒ 4. Part XV

Question ID : 63068021605  
Status : Answered  
Chosen Option : 2

Q.17 In which of the following states does the Panchayat System NOT exist?

- Ans
- ☒ 1. Nagaland
  - ☒ 2. Maharashtra
  - ☒ 3. Haryana
  - ☒ 4. Kerala

Question ID : 63068046825  
Status : Answered  
Chosen Option : 1

Q.18 As per Government of Punjab Department of planning, what percentage of area of the state of Punjab is classified as urban?

- Ans
- ☒ 1. 4%
  - ☒ 2. 16%
  - ☒ 3. 1%
  - ☒ 4. 10%

Question ID : 63068046774  
Status : Answered  
Chosen Option : 4

Q.19 ਰੋਗ ਫੈਲਾਣ ਵਾਲੇ ਜੀਵਾਂ ਨੂੰ \_\_\_\_\_ ਕਿਹਾ ਜਾਂਦਾ ਹੈ।

- Ans
- ☒ 1. ਰੋਗ
  - ☒ 2. ਸੰਕਰਮਣ
  - ☒ 3. ਰੋਗਾਣੂ
  - ☒ 4. ਲਿੰਫੋਸਾਈਟਸ

Question ID : 63068046586  
Status : Answered  
Chosen Option : 2

Q.20 Who has been selected as the new chief selector of Indian men's cricket team in December 2020?

Ans ☒ 1. Chetan Sharma

☐ 2. Kiran More

☐ 3. MSK Prasad

☐ 4. Ajay Sharma

Question ID : 63068046480

Status : Answered

Chosen Option : 1

Q.21 ਪ੍ਰਾਚੀਨ ਭਾਰਤੀ ਸਾਹਿਤ ਅਨੁਸਾਰ ਕਿੰਨੇ ਉਪ-ਪੁਰਾਨ ਹਨ?

Ans ☐ 1. 14

☐ 2. 8

☐ 3. 4

☒ 4. 18

Question ID : 63068039020

Status : Answered

Chosen Option : 1

Q.22 GSM technology uses\_\_\_\_\_to support up to eight calls simultaneously.

Ans ☐ 1. CDMA

☐ 2. FDMA

☐ 3. FDM

☒ 4. TDMA

Question ID : 63068046568

Status : Answered

Chosen Option : 1

Q.23 The right to 'Move freely throughout the territory of India' comes under which of the following Articles?

Ans ☐ 1. Article 24

☒ 2. Article 19

☐ 3. Article 21A

☐ 4. Article 18

Question ID : 63068046781

Status : Answered

Chosen Option : 4



Q.24 Who became the first Indian-origin fighter to win MMA title in May 2021?

- Ans ☒ 1. Arjan Bhullar  
☐ 2. Abhijit Das  
☐ 3. Abdul Hameed  
☐ 4. Abhay Singh Shirole

Question ID : 63068046474  
Status : Answered  
Chosen Option : 1

Q.25 Which of the following is the competent to prescribe conditions for acquiring Indian citizenship?

- Ans ☐ 1. Panchayat samiti  
☐ 2. Legislative council  
☐ 3. State Legislature  
☒ 4. Parliament

Question ID : 63068044114  
Status : Answered  
Chosen Option : 4

Q.26 Which of the following is NOT one of the methods for amending the different categories of provisions in the Constitution?

- Ans ☐ 1. Certain provisions may be amended only by a two-thirds majority  
☐ 2. Certain amendments require to be ratified by one-half of the States after being passed in the Parliament  
☐ 3. Certain provisions may be amended by a simple majority in the Parliament  
☒ 4. Certain provisions may be amended only by a three-fourths majority

Question ID : 63068044088  
Status : Answered  
Chosen Option : 4

Q.27 The first female Vice-President of the US is \_\_\_\_.

- Ans ☐ 1. Hillary Clinton  
☒ 2. Kamala Harris  
☐ 3. Alice Walton  
☐ 4. Melania Trump

Question ID : 63068046559  
Status : Answered  
Chosen Option : 1

Q.28 Which country co-hosted the global climate summit on 12 December, 2020 with United Nations?

- Ans
- ☐ 1. France
  - ☐ 2. Singapore
  - ☒ 3. Britain
  - ☐ 4. India

Question ID : 63068046532  
Status : Answered  
Chosen Option : 1

Q.29 ਰੀਪੀਟਰ \_\_\_\_\_ ਵਿੱਚ ਇੱਕ ਟਰਾਂਸਪੋਡਰ ਵਜੋਂ ਕਾਰਜ ਕਰਦਾ ਹੈ।

- Ans
- ☐ 1. ਟੈਲੀਫੋਨ ਕਮਿਊਨਿਕੇਸ਼ਨ
  - ☒ 2. ਸੈਟੇਲਾਈਟ ਕਮਿਊਨਿਕੇਸ਼ਨ
  - ☐ 3. ਕੈਰੀਅਰ ਕਮਿਊਨਿਕੇਸ਼ਨ
  - ☐ 4. ਆਪਟੀਕਲ ਫਾਈਬਰ ਕਮਿਊਨਿਕੇਸ਼ਨ

Question ID : 63068046579  
Status : Answered  
Chosen Option : 1

Q.30 ਬਹੁ ਫ਼ਸਲ ਪ੍ਰਣਾਲੀ (Parallel Multiple Cropping) ਤਹਿਤ ਹੇਠਾਂ ਲਿਖਿਆਂ ਵਿੱਚੋਂ ਕੀ ਨਹੀਂ ਆਉਂਦਾ ਹੈ?

- Ans
- ☐ 1. ਅੰਤਰ-ਫ਼ਸਲੀ ਖੇਤੀ (Intercropping)
  - ☒ 2. ਰਤੂਨ ਖੇਤੀ (Ratoon cropping)
  - ☐ 3. ਮਿਸ਼ਰਤ ਖੇਤੀ (Mixed cropping)
  - ☐ 4. ਰਿਲੇ ਖੇਤੀ (Relay cropping)

Question ID : 63068046597  
Status : Answered  
Chosen Option : 3

Q.31 Which among the following is a traditional dance form originating from the tribal communities of Sandalbar area of Punjab, now in Pakistan?

- Ans
- ☐ 1. SialKoti
  - ☐ 2. Kikli
  - ☐ 3. Jhumar
  - ☒ 4. Sammi

Question ID : 63068046741  
Status : Answered  
Chosen Option : 4

Q.32 The \_\_\_\_\_ is the highest law officer in India.

- Ans
- ☐ 1. Chief Minister
  - ☒ 2. Attorney General
  - ☐ 3. Chief Justice
  - ☐ 4. President

Question ID : 63068046815  
Status : Answered  
Chosen Option : 3

Q.33 The Board of Administration Lord Dalhousie constituted after annexation of Punjab was led by \_\_\_\_\_.

- Ans
- ☐ 1. Robert Montgomery
  - ☐ 2. John Laird Mair Lawrence
  - ☐ 3. Donald Friell McLeod
  - ☒ 4. Henry Montgomery Lawrence

Question ID : 63068046670  
Status : Answered  
Chosen Option : 2

Q.34 ਫਸਲਾਂ ਦੇ ਵਧੇ, ਪੇਸ਼ਣ ਜਾਂ ਉਪਜ ਦੇ ਸਬੰਧ ਵਿੱਚ ਭੂਮੀ ਦੀਆਂ ਵੱਖ-ਵੱਖ ਵਿਸ਼ੇਸ਼ਤਾਵਾਂ ਦਾ ਅਧਿਐਨ \_\_\_\_\_ ਹੈ।

- Ans
- ☐ 1. ਪੈਡੋਲੋਜੀ (Pedology)
  - ☐ 2. ਕ੍ਰੋਪੋਲੋਜੀ (Cropology)
  - ☐ 3. ਜੇਡੋਲੋਜੀ (Gedology)
  - ☒ 4. ਐਡਾਫੋਲੋਜੀ (Edaphology)

Question ID : 63068046608  
Status : Answered  
Chosen Option : 2

Q.35 Which of the following organisations has launched SS Kalpana Chawla Cygnus spacecraft to International Space station?

- I. Japan Aerospace Exploration Agency (JAXA)
- II. Indian Space Research Organisation (ISRO)
- III. National Aeronautics and Space Administration (NASA)

- Ans
- ☐ 1. I and III
  - ☐ 2. I and II
  - ☐ 3. I, II and III
  - ☒ 4. Only III

Question ID : 63068046543  
Status : Answered  
Chosen Option : 4

Q.36 ਭਾਰਤੀ ਥਲ ਸੈਨਾ MINT ਸੰਚਾਰ ਪ੍ਰਣਾਲੀ ਨੂੰ ਪ੍ਰਾਪਤ ਕਰਨ ਦੀ ਪ੍ਰਕਿਰਿਆ ਵਿੱਚ ਹੈ। MINT ਵਿੱਚ ਸ਼ਬਦ 'M' ਕਿਸਨੂੰ ਦਰਸਾਉਂਦਾ ਹੈ?

- Ans
- ☐ 1. ਮਾਸ
  - ☐ 2. ਮੋਡਿਊਲ
  - ☐ 3. ਮੀਨ
  - ☒ 4. ਮੋਬਾਇਲ

Question ID : 63068046493  
Status : Answered  
Chosen Option : 2

Q.37 The member of a Panchayat Samiti can remove a chairperson by voting if they get a support by \_\_\_\_\_ majority.

- Ans
- ☐ 1. One third
  - ☐ 2. One Fourth
  - ☐ 3. One eighth
  - ☒ 4. Two third

Question ID : 63068046831  
Status : Answered  
Chosen Option : 1

Q.38 Select the correct full form of NBFC from the following.

- Ans
- ☐ 1. National Banking Financial Companies
  - ☐ 2. National Banking Financial Corporation
  - ☐ 3. New Banking Financial Companies
  - ☒ 4. Non-Banking Financial Companies

Question ID : 63068021186  
Status : Answered  
Chosen Option : 4

Q.39 'Nati', 'Siddu' and 'Shegtsun' are terms related to the state of \_\_\_\_\_.

- Ans
- ☐ 1. Sikkim
  - ☐ 2. Jharkhand
  - ☐ 3. Manipur
  - ☒ 4. Himachal Pradesh

Question ID : 63068039247  
Status : Answered  
Chosen Option : 1

Q.40 The Union Budget 2021 has increased FDI limit in insurance to what percentage?

- Ans
- ☐ 1. 52 percent
  - ☐ 2. 45 percent
  - ☒ 3. 74 percent
  - ☐ 4. 60 percent

Question ID : 63068046523

Status : Answered

Chosen Option : 4

Q.41 Select the correct ascending order of the given fraction.

$$\frac{1}{2}, \frac{2}{3}, \frac{3}{5}, \frac{5}{7}$$

- Ans
- ☐ 1.  $\frac{5}{7}, \frac{1}{2}, \frac{3}{5}, \frac{2}{3}$
  - ☒ 2.  $\frac{1}{2}, \frac{3}{5}, \frac{2}{3}, \frac{5}{7}$
  - ☐ 3.  $\frac{5}{7}, \frac{2}{3}, \frac{3}{5}, \frac{1}{2}$
  - ☐ 4.  $\frac{5}{7}, \frac{3}{5}, \frac{2}{3}, \frac{1}{2}$

Question ID : 63068026874

Status : Answered

Chosen Option : 4

Q.42 The ratio of the speeds of two trains is 7 : 8. The first train travels at 87.5 km/h. What is the time taken by the second train to cover a distance of 450 km?

- Ans
- ☐ 1. 15 hours
  - ☐ 2. 12 hours
  - ☒ 3. 4.5 hours
  - ☐ 4. 3 hours

Question ID : 63068026628

Status : Answered

Chosen Option : 2

Q.43 A cube of side one meter length is cut into small cubes of side 20 cm each. How many such small cubes can be obtained?

- Ans
- ☐ 1. 50
  - ☐ 2. 40
  - ☒ 3. 125
  - ☐ 4. 30

Question ID : 63068046996

Status : Answered

Chosen Option : 2

Q.44 Find the value of the question mark.  $69 \times 54 \div 18\% \text{ of } 180 + ? = 24 \times 25 \div 8 + 750$

Ans ☒ 1. 710

☐ 2. 643

☐ 3. 258

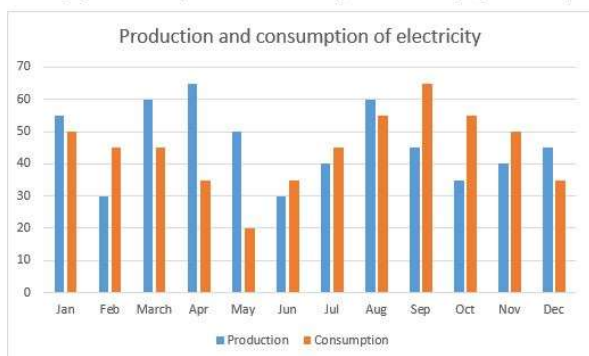
☐ 4. 921

Question ID : 63068046878

Status : Answered

Chosen Option : 1

Q.45 This bar graph shows the production and consumption of electricity by a state in a year. (in thousand Kilo watt)



Find the approximate difference (in thousand kilo watt) between the average production of electricity from the month of January to June together to the average consumption of electricity from the month of July to December.

Ans ☒ 1. 2.5

☐ 2. 4.5

☐ 3. 1.5

☐ 4. 3.5

Question ID : 63068041497

Status : Answered

Chosen Option : 4

Q.46 The LCM of two numbers is 125, but their GCD is 25. The numbers are in a ratio 1 : 5. Which is the largest number amongst the two?

Ans ☒ 1. 125

☐ 2. 25

☐ 3. 100

☐ 4. 23

Question ID : 63068040742

Status : Answered

Chosen Option : 1

Q.47 ਚਾਰ ਘੰਟਿਆਂ ਕ੍ਰਮਵਾਰ 6, 8, 12 ਅਤੇ 18 ਮਿੰਟਾਂ ਦੇ ਅੰਤਰਾਲ 'ਤੇ ਵੱਜਦੀਆਂ ਹਨ। ਜੇ ਇਹ ਦੁਪਹਿਰ 12 ਵਜੇ ਇਕੱਠੀਆਂ ਵੱਜਦੀਆਂ ਹਨ ਤਾਂ ਸ਼ਾਮ 6 ਵਜੇ ਤੱਕ ਉਹ ਹੋਰ ਕਿੰਨੀ ਵਾਰ ਇਕੱਠੀਆਂ ਵੱਜਣਗੀਆਂ?

- Ans
- ☐ 1. 7 ਵਾਰ
  - ☒ 2. 5 ਵਾਰ
  - ☐ 3. 6 ਵਾਰ
  - ☐ 4. 4 ਵਾਰ

Question ID : 63068041356  
Status : Answered  
Chosen Option : 2

Q.48 A train can travel 50% faster than a car. Both start from point A at the same time and reach point B 75 km away from A at the same time. On the way, however, the train loses about 12 minutes while stopping at the stations. The speed of the car is:

- Ans
- ☐ 1. 100 km/h
  - ☒ 2. 125 km/h
  - ☐ 3. 105 km/h
  - ☐ 4. 120 km/h

Question ID : 63068040609  
Status : Answered  
Chosen Option : 3

Q.49 A ਨੇ B ਨੂੰ ₹500, 2 ਸਾਲਾਂ ਲਈ ਅਤੇ C ਨੂੰ ₹150, 6 ਸਾਲਾਂ ਲਈ ਉਧਾਰ ਦਿੱਤੇ ਅਤੇ ਉਨ੍ਹਾਂ ਤੋਂ ਸਧਾਰਨ ਵਿਆਜ ਵਜੋਂ ਕੁੱਲ ₹95 ਪ੍ਰਾਪਤ ਕੀਤੇ। ਵਿਆਜ ਦੀ ਦਰ \_\_\_\_\_ ਸੀ।

- Ans
- ☐ 1. 4%
  - ☐ 2. 3%
  - ☐ 3. 2%
  - ☒ 4. 5%

Question ID : 63068046940  
Status : Answered  
Chosen Option : 1

Q.50 Angela borrowed Rs. 600 from her friend at 5% simple interest per annum. She returned the sum borrowed along with the interest payable after 6 months. How much did she pay in all?

- Ans
- ☐ 1. Rs. 725
  - ☐ 2. Rs. 675
  - ☒ 3. Rs. 615
  - ☐ 4. Rs. 700

Question ID : 63068046926  
Status : Answered  
Chosen Option : 3

Q.51 Raymond has 3 vessels with the same volume. The juice to syrup ratio in the vessels are 2:3, 7:3 and 11 : 4 respectively. What is the new juice to syrup ratio after mixing the contents of all the three vessels?

- Ans
- ☒ 1. 7:3
  - ☒ 2. 1:2
  - ☒ 3. 21:9
  - ☒ 4. 11:07

Question ID : 63068042606  
Status : Answered  
Chosen Option : 3

Q.52 Calculate the percentage increase in the surface area of a sphere if its diameter is increased by 20%.

- Ans
- ☒ 1. 40%
  - ☒ 2. 20%
  - ☒ 3. 44%
  - ☒ 4. 100%

Question ID : 63068031469  
Status : Answered  
Chosen Option : 3

Q.53 The number 817856 is NOT divisible by \_\_\_\_\_.

- Ans
- ☒ 1. 11
  - ☒ 2. 4
  - ☒ 3. 2
  - ☒ 4. 13

Question ID : 63068040560  
Status : Answered  
Chosen Option : 1

Q.54 A and B can complete a work together in 7 days. A alone can do it in 14 days. Then B alone can do the same work in \_\_\_\_\_.

- Ans
- ☒ 1. 14 days
  - ☒ 2. 9 days
  - ☒ 3. 11 days
  - ☒ 4. 5 days

Question ID : 63068046948  
Status : Answered  
Chosen Option : 1



Q.55 If  $\sqrt{3} = 1.732$ , then find the value of  $\frac{\sqrt{3}}{3 - \sqrt{3}}$ .

Ans ☒ 1. 1.366

☐ 2. 1

☐ 3. 1.732

☐ 4. 0.732

Question ID : 63068040757

Status : Answered

Chosen Option : 1

Q.56 50 men working 8 hours per day dig 40 m deep in a certain number of days. How many extra men should be put to dig to a depth of 50 m working 5 hours per day in the same number of days as before?

Ans ☐ 1. 80

☐ 2. 100

☐ 3. 60

☒ 4. 50

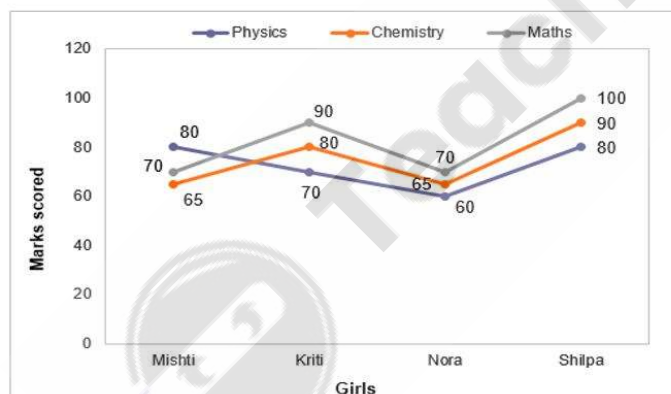
Question ID : 63068046959

Status : Answered

Chosen Option : 3

Q.57 ਹੇਠਾਂ ਦਿੱਤਾ ਛਤਰ ਗ੍ਰਾਫ ਭੌਤਿਕ ਵਿਗਿਆਨ, ਰਸਾਇਣ ਵਿਗਿਆਨ ਅਤੇ ਗਣਿਤ ਦੀ ਇੱਕ ਕਲਾਸ ਵਿੱਚ ਇੱਕ ਟੈਸਟ ਵਿੱਚ ਚਾਰ ਕੁੜੀਆਂ ਦੁਆਰਾ 100 ਵਿੱਚ ਪ੍ਰਾਪਤ ਕੀਤੇ ਅੰਕਾਂ ਨੂੰ ਦਰਸਾਉਂਦਾ ਹੈ।

ਗਣਿਤ ਵਿੱਚ ਕੁੜੀ ਦੁਆਰਾ ਪ੍ਰਾਪਤ ਕੀਤੇ ਅੰਕ, ਭੌਤਿਕ ਵਿਗਿਆਨ ਵਿੱਚ ਮਿਸ਼ਤੀ ਦੁਆਰਾ ਪ੍ਰਾਪਤ ਕੀਤੇ ਅੰਕਾਂ ਦਾ ਕਿੰਨੇ ਪ੍ਰਤੀਸ਼ਤ ਹਨ?



Ans ☐ 1. 120%

☐ 2. 125%

☐ 3. 110%

☒ 4. 112.5%

Question ID : 63068047644

Status : Answered

Chosen Option : 4

Q.58 In how many years will a sum of money double itself at 10% simple interest per annum?

- Ans
- ☒ 1. 15
  - ☒ 2. 25
  - ☒ 3. 10
  - ☒ 4. 20

Question ID : 63068046930  
Status : Answered  
Chosen Option : 3

Q.59 A can do a piece of work in 50 days. He works alone at it for 10 days and then leaves. B did the remaining work alone in 20 days. How long will they take to complete the work together?

- Ans
- ☒ 1. 55/11 days
  - ☒ 2. 50/3 days
  - ☒ 3. 60/7 days
  - ☒ 4. 11/5 days

Question ID : 63068046965  
Status : Answered  
Chosen Option : 4

Q.60 ਇੱਕ ਵਿਦਿਆਰਥੀ ਨੂੰ ਡਿਸਟਿੰਕਸ਼ਨ (ਵਿਸ਼ੇਸ਼ਤਾ) ਪ੍ਰਾਪਤ ਕਰਨ ਲਈ 80% ਪ੍ਰਾਪਤ ਕਰਨ ਦੀ ਜ਼ਰੂਰਤ ਹੁੰਦੀ ਹੈ। ਜੇਕਰ ਕੁੱਲ ਅੰਕ 450 ਹਨ, ਤਾਂ ਡਿਸਟਿੰਕਸ਼ਨ (ਵਿਸ਼ੇਸ਼ਤਾ) ਪ੍ਰਾਪਤ ਕਰਨ ਲਈ ਲੋੜੀਂਦੇ ਘੱਟੋ-ਘੱਟ ਅੰਕ ਪਤਾ ਕਰੋ।

- Ans
- ☒ 1. 360
  - ☒ 2. 320
  - ☒ 3. 400
  - ☒ 4. 420

Question ID : 63068046890  
Status : Answered  
Chosen Option : 1

Q.61 Simplify the following using BODMAS rule.

$$22 - [9 - \{6 + (12 \div 3 + 3)\}]$$

- Ans
- ☒ 1. 26
  - ☒ 2. 22
  - ☒ 3. 18
  - ☒ 4. 21

Question ID : 63068026943  
Status : Answered  
Chosen Option : 3

Q.62 ਜੇਕਰ  $P * Q$  ਨੂੰ  $P + Q - PQ$  ਵਜੋਂ ਨਿਰਧਾਰਿਤ ਕੀਤਾ ਜਾਂਦਾ ਹੈ ਤਾਂ  $5 * (7 * 9)$  ਪਤਾ ਕਰੋ।

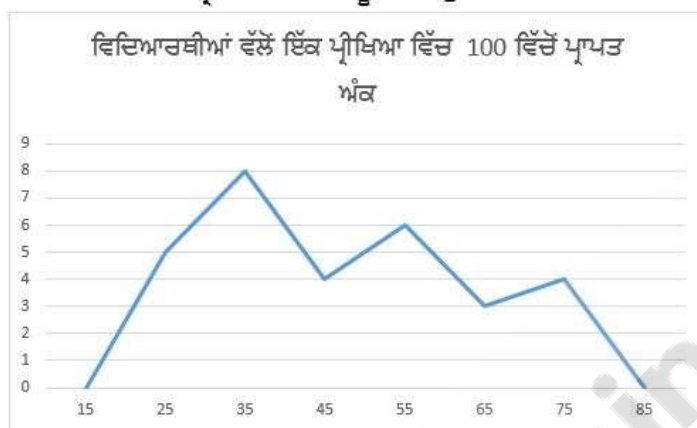
- Ans
- ☐ 1. 315
  - ☒ 2. 193
  - ☐ 3. 235
  - ☐ 4. -42

Question ID : 63068041319

Status : Answered

Chosen Option : 3

Q.63 ਦਿੱਤੀ ਗਈ ਬਾਰੰਬਾਰਤਾ ਬਹੁਭੁਜ, ਪ੍ਰੀਖਿਆਰਥੀਆਂ ਦੇ ਟੈਸਟ ਅੰਕਾਂ ਨੂੰ ਦਰਸਾ ਰਹੀ ਇੱਕ ਸਮੂਹਿਕ ਬਾਰੰਬਾਰਤਾ ਵੰਡ ਤੋਂ ਪ੍ਰਾਪਤ ਅੰਕੜਿਆਂ ਨੂੰ ਦਰਸਾਉਂਦੀ ਹੈ।



ਟੈਸਟ ਦੇਣ ਵਾਲੇ ਪ੍ਰੀਖਿਆਰਥੀਆਂ ਦੀ ਕੁੱਲ ਸੰਖਿਆ ਕਿੰਨੀ ਹੈ?

- Ans
- ☐ 1. 32
  - ☐ 2. 28
  - ☐ 3. 29
  - ☒ 4. 30

Question ID : 63068040522

Status : Answered

Chosen Option : 4

Q.64 If the lateral surface area of a cube is 25 sq. cm, then find its volume.

- Ans
- ☐ 1. 16.525cm<sup>3</sup>
  - ☐ 2. 12.5cm<sup>3</sup>
  - ☐ 3. 15.25cm<sup>3</sup>
  - ☒ 4. 15.625cm<sup>3</sup>

Question ID : 63068042668

Status : Answered

Chosen Option : 1

Q.65 The value of  $3\frac{1}{2} \times 2\frac{1}{3} \times 5\frac{1}{3} \times 7\frac{1}{2}$  is:

- Ans
- ☒ 1.  $\frac{908}{3}$
  - ☒ 2.  $\frac{890}{3}$
  - ☒ 3.  $\frac{809}{3}$
  - ☒ 4.  $\frac{980}{3}$

Question ID : 63068026740

Status : Answered

Chosen Option : 4

Q.66 7 ਦਾ ਉਹ ਸਭ ਤੋਂ ਛੋਟਾ ਗੁਣਨਖੰਡ ਪਤਾ ਕਰੋ ਜਿਸਨੂੰ 6, 9, 15 ਅਤੇ 18 ਨਾਲ ਭਾਗ ਦੇਣ 'ਤੇ ਬਾਕੀ 5 ਪ੍ਰਾਪਤ ਹੁੰਦਾ ਹੈ।

- Ans
- ☒ 1. 365
  - ☒ 2. 455
  - ☒ 3. 405
  - ☒ 4. 450

Question ID : 63068040557

Status : Answered

Chosen Option : 1

Q.67 ਜੇ ਰੇਨ ਦੀ ਤਨਖਾਹ ਪਹਿਲੇ ਮਹੀਨੇ 10% ਤੱਕ ਵਧੀ, ਅਤੇ ਫਿਰ ਅਗਲੇ ਮਹੀਨੇ 20% ਤੱਕ ਵਧੀ ਹੈ, ਤਾਂ ਸ਼ੁਰੂਆਤੀ ਤਨਖਾਹ ਤੋਂ ਉਸਦੀ ਤਨਖਾਹ ਕਿੰਨੇ ਪ੍ਰਤੀਸ਼ਤ ਵਧੀ ਹੈ?

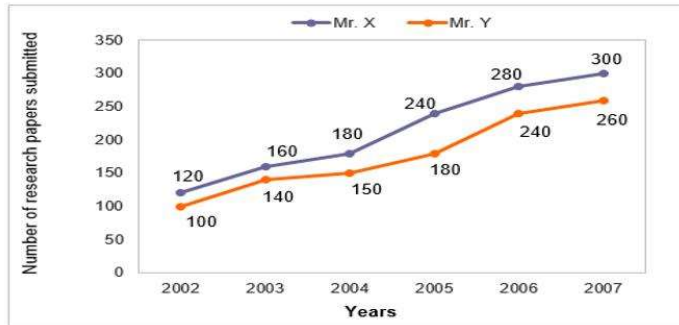
- Ans
- ☒ 1. 37%
  - ☒ 2. 32%
  - ☒ 3. 30%
  - ☒ 4. 35%

Question ID : 63068042554

Status : Answered

Chosen Option : 2

- Q.68** The following line graph shows the number of research papers submitted by two scientists Mr. X and Mr. Y in six different years.  
What is the ratio of research papers submitted by Mr. X in the years 2002 and 2004 together to that by Mr. Y in the years 2003 and 2005 together?



- Ans ☒ 1. 15:16  
☒ 2. 12:13  
☒ 3. 13:12  
☒ 4. 16:15

Question ID : 63068047641  
Status : Answered  
Chosen Option : 3

- Q.69** Find the value of the question mark.  
 $22\% \text{ of } 1100 + 43\% \text{ of } 7200 - 81\% \text{ of } ? = 503$

- Ans ☒ 1. 3100  
☒ 2. 4300  
☒ 3. 3500  
☒ 4. 4500

Question ID : 63068046880  
Status : Answered  
Chosen Option : 3

- Q.70** Renu took a loan of ₹1,500 with simple interest for as many years as the rate of interest. If she paid ₹540 as interest at the end of the loan period, what was the rate of interest?

- Ans ☒ 1. 3  
☒ 2. 6  
☒ 3. 4  
☒ 4. 5

Question ID : 63068041205  
Status : Answered  
Chosen Option : 1

Q.71 Which one set of letters when sequentially placed in the gaps in the given letter series shall complete it?

NI\_C\_IU\_N\_U\_

Ans ☒ 1. UNCIC

☐ 2. CINUN

☐ 3. NUICU

☐ 4. ICUIN

Question ID : 63068047026

Status : Answered

Chosen Option : 1

Q.72 Find the missing letters in the pattern:

\_ \_xxyy\_ \_x\_ \_yx\_ \_xyyyy\_

Ans ☐ 1. yyyxxxxx

☒ 2. xyxyxyxx

☐ 3. xxxyxxxxy

☐ 4. xxxxyyyy

Question ID : 63068044883

Status : Answered

Chosen Option : 2

Q.73 In a certain code language, 'GO' is written as '105' and 'TIE' is written as '900'. How will 'DAB' be written in that code language?

Ans ☐ 1. 6

☒ 2. 8

☐ 3. 4

☐ 4. 2

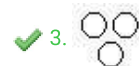
Question ID : 63068047086

Status : Answered

Chosen Option : 2

Q.74 ਨਿਮਨਲਿਖਤ ਵਿੱਚੋਂ ਕਿਹੜੀ ਡਾਇਗ੍ਰਾਮ ਜੀਵਤ ਜੀਵ, ਫਰਨੀਚਰ ਅਤੇ ਟ੍ਰਾਂਸਪੋਰਟ ਵਿਚਕਾਰ ਸਭ ਤੋਂ ਉੱਤਮ ਸੰਬੰਧ ਨੂੰ ਦਰਸਾਉਂਦੀ ਹੈ?

Ans

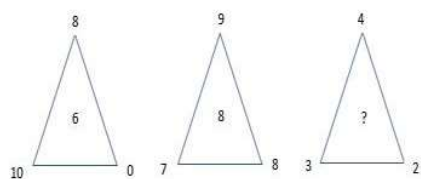


Question ID : 63068038988

Status : Answered

Chosen Option : 3

Q.75 Study the given pattern carefully and select the number that can replace the question mark (?) in it.



- Ans
- ☒ 1. 4
  - ☒ 2. 9
  - ☒ 3. 6
  - ☒ 4. 3

Question ID : 63068031225  
Status : Answered  
Chosen Option : 1

Q.76 Which of the following options is related to the third letter cluster in the same way as the second letter cluster is related to the first letter cluster?  
DJM : ELQ :: PVY : ?

- Ans
- ☒ 1. QXC
  - ☒ 2. QWC
  - ☒ 3. QYC
  - ☒ 4. QXB

Question ID : 63068038106  
Status : Answered  
Chosen Option : 1

Q.77 ਚਾਰ ਸੰਖਿਆ-ਜੋੜੇ ਦਿੱਤੇ ਗਏ ਹਨ, ਜਿਨ੍ਹਾਂ ਵਿੱਚੋਂ ਤਿੰਨ ਕਿਸੇ ਨਾ ਕਿਸੇ ਰੂਪ ਵਿੱਚ ਸਮਾਨ ਹਨ ਅਤੇ ਇੱਕ ਵੱਖਰਾ ਹੈ। ਵੱਖਰਾ ਸੰਖਿਆ-ਜੋੜਾ ਚੁਣੋ।

- Ans
- ☒ 1. (479, 552)
  - ☒ 2. (238, 301)
  - ☒ 3. (763, 826)
  - ☒ 4. (657, 720)

Question ID : 63068026185  
Status : Answered  
Chosen Option : 1

Q.78 Ragini has gone for an evening walk in a park nearby her house. She starts from the main gate of the park and walks 30 m towards north. She then takes a left turn to walk 10 m until she takes a right turn to walk another 10 m. At last she takes another left turn to walk 20 m.

How far is Ragini from the main gate of the park? (Find the shortest distance.)

- Ans
- ☒ 1. 60m
  - ☒ 2. 50m
  - ☒ 3. 30m
  - ☒ 4. 40m

Question ID : 63068047094

Status : Answered

Chosen Option : 3

Q.79 Which of the following options will replace the question mark (?) in the given letter-pair series?

AZ, JQ, TG, DW, NM, ?

- Ans
- ☒ 1. XC
  - ☒ 2. WD
  - ☒ 3. YB
  - ☒ 4. VE

Question ID : 63068046023

Status : Answered

Chosen Option : 2

Q.80 If South becomes North-East, then North-East becomes which of the following?

- Ans
- ☒ 1. West
  - ☒ 2. North
  - ☒ 3. South
  - ☒ 4. East

Question ID : 63068038984

Status : Answered

Chosen Option : 4

Q.81 Find the missing term in the given series:  
PM, QN, RO, \_

- Ans
- ☒ 1. FG
  - ☒ 2. SI
  - ☒ 3. TP
  - ☒ 4. SP

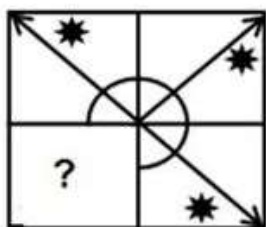
Question ID : 63068047046

Status : Answered

Chosen Option : 4

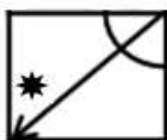


Q.82 In the following question, select a figure from amongst the four alternatives, which when placed in the question mark of figure would complete the pattern.



Ans

✓ 1.



✗ 2.



✗ 3.



✗ 4.



Question ID : 63068045164

Status : Answered

Chosen Option : 1

Q.83 Jitin and Robin are standing in a row of persons. Jitin is 12th from the left side and Robin is 18th from the right side of the row. If they interchanged their positions Jitin becomes 28th from left. Find Number of persons between them.

Ans ✓ 1. 15

✗ 2. 17

✗ 3. 14

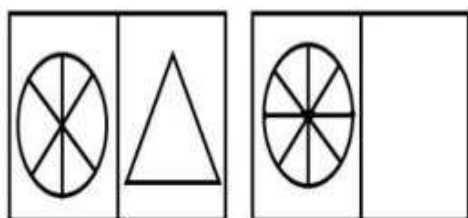
✗ 4. 16

Question ID : 63068047115

Status : Answered

Chosen Option : 4

Q.84 Select the option that is related to the third figure in the same way as the second figure is related to the first figure.



Ans

- ☒ 1.
- ☒ 2.
- ☒ 3.
- ☒ 4.

Question ID : 63068038575

Status : Answered

Chosen Option : 1

Q.85 Select the option that is related to the third number in the same way as the second number is related to the first number.  
14 : 2730 :: 17 : ?

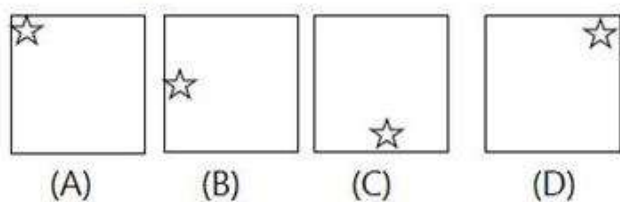
- ☒ 1. 1728
- ☒ 2. 6859
- ☒ 3. 4896
- ☒ 4. 2526

Question ID : 63068038333

Status : Answered

Chosen Option : 3

Q.86 Select the option that will come next in the following figure series.



Ans


✗ 1.



✗ 2.



✗ 3.



✓ 4.



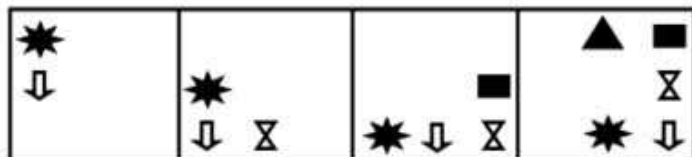
Question ID : 63068041515

Status : Answered

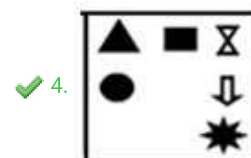
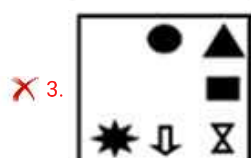
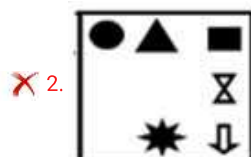
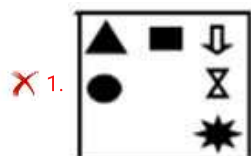
Chosen Option : 4



Q.87 Each of the following questions, contain four problem figures and four answer figures marked a, b, c, and d. Select a figure from amongst the answer figures which will continue the same series as given in the problem figures.



Ans



Question ID : 63068045145

Status : Answered

Chosen Option : 4

Q.88 Study the following arrangement carefully and answer the question given below:

'A + B' means 'A is mother of B'

'A × B' means 'A is son of B'

'A - B' means 'A is sister of B'

Which of the following means D is C's sister's son?

Ans ✓ 1.  $D \times A - C$

✗ 2.  $C - A - D$

✗ 3.  $D - C \times A$

✗ 4.  $A + D - C$

Question ID : 63068047063

Status : Answered

Chosen Option : 3

Q.89 Select the option that can replace the question mark (?) in the following series.  
35, 36, 40, 49, 65, ?

- Ans
- ☒ 1. 83
  - ☒ 2. 90
  - ☒ 3. 99
  - ☒ 4. 82

Question ID : 63068038322  
Status : Answered  
Chosen Option : 2

Q.90 Three of the following four words are alike in a certain way and one is different. Pick the odd one out.

- Ans
- ☒ 1. Lucknow
  - ☒ 2. Jaipur
  - ☒ 3. Bhopal
  - ☒ 4. Pune

Question ID : 63068031206  
Status : Answered  
Chosen Option : 4

Q.91 Select the option that is related to the third number in the same way as the second number is related to the first number.

92 : 138 :: 76 : ?

- Ans
- ☒ 1. 98
  - ☒ 2. 105
  - ☒ 3. 114
  - ☒ 4. 87

Question ID : 63068026182  
Status : Answered  
Chosen Option : 2

Q.92 In the question below two statements are given, followed by two conclusions, I and II. You have to consider the statement to be true even if they seem to be at variance from commonly known facts. You have to decide which of the given conclusions, if any, follows from the given statements.

Statements:

1. All bulbs are birds.
2. Some birds are butterflies.

Conclusions:

- I. All butterflies are bulbs.
- II. Some bulbs are butterflies.

- Ans
- ☒ 1. Only conclusion I follows.
  - ☒ 2. Neither conclusion I nor II follow.
  - ☒ 3. Only conclusion II follows.
  - ☒ 4. Both conclusion I and II follow.

Question ID : 63068047013  
Status : Answered  
Chosen Option : 2

Q.93 There are 35 students in a class. Sumona ranks third among the girls in the class. Adi ranks 5<sup>th</sup> among the boys in the class. Sumona is one rank below Adi in the class. No, two students hold the same rank in the class. What is Adi's rank in the class?

- Ans
- ☒ 1. 5<sup>th</sup>
  - ☒ 2. 7<sup>th</sup>
  - ☒ 3. 6<sup>th</sup>
  - ☒ 4. 8<sup>th</sup>

Question ID : 63068045101

Status : Answered

Chosen Option : 3

Q.94 At the ceremony, the flags of eight colours – Red, Yellow, Blue, Green, Orange, Black, White and Violet are being flown in two rows facing each other. Red is in row 1 at an extreme end. Orange is next to Red. Black is opposite to White, which is at the extreme right of row 2. There is one flag between Yellow and White. Blue is in row 2 and is not at the end. Each row has an equal number of flags. Green and Red flags do not face each other.

Which flag is opposite to Blue?

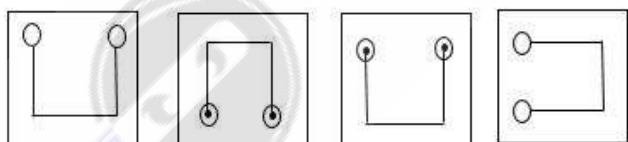
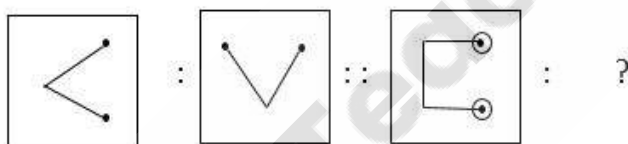
- Ans
- ☒ 1. Black
  - ☒ 2. Green
  - ☒ 3. Blue
  - ☒ 4. Orange

Question ID : 63068045143

Status : Answered

Chosen Option : 2

Q.95 Choose the correct figure which can replace the given question mark?



1

2

3

4

- Ans
- ☒ 1. 2
  - ☒ 2. 1
  - ☒ 3. 3
  - ☒ 4. 4

Question ID : 63068038764

Status : Answered

Chosen Option : 3

Q.96 In a certain code language, if 'REAL' is coded as 18-5-1-12, then 'FISH' will be coded as:

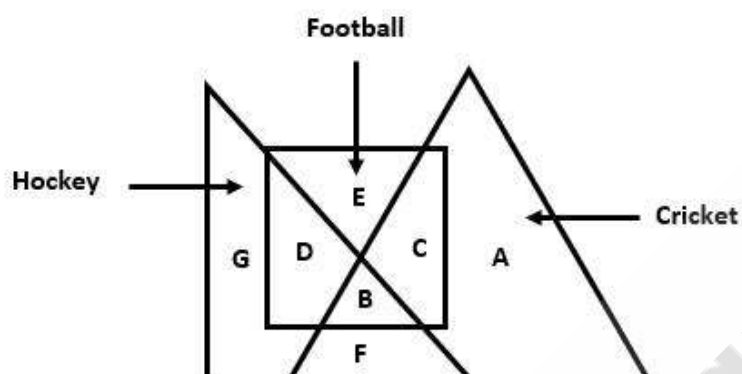
- Ans
- ☒ 1. 12-5-20-7
  - ☒ 2. 9-5-10-8
  - ☒ 3. 6-9-20-8
  - ☒ 4. 6-9-19-8

Question ID : 63068038851

Status : Answered

Chosen Option : 4

Q.97 People who only play Football neither Hockey nor Cricket?



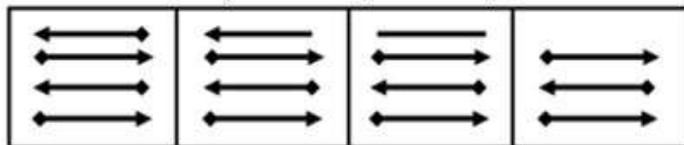
- Ans
- ☒ 1. A
  - ☒ 2. B
  - ☒ 3. E
  - ☒ 4. D

Question ID : 63068038794

Status : Answered

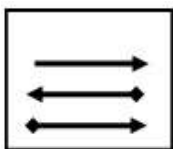
Chosen Option : 3

Q.98 The following question, contains four problem figures and four answer figures. Select a figure from amongst the answer figures which will continue the same series as given in the problem figures.

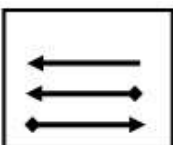


Ans

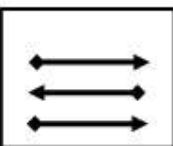
✓ 1.



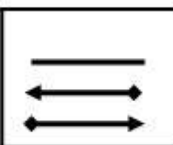
✗ 2.



✗ 3.



✗ 4.



Question ID : 63068045148

Status : Answered

Chosen Option : 2

Q.99 ਉਸ ਵਿਕਲਪ ਦੀ ਚੋਣ ਕਰੋ ਜੋ ਦਿੱਤੇ ਗਏ ਸ਼ਬਦਾਂ ਦੇ ਸਮੂਹ ਦੇ ਅਨੁਰੂਪ ਹੈ।

ਚਾਕੂ (Knife) : ਗੰਡਾਸਾ (Chopper)

Ans

✗ 1. ਤੁਰਨਾ (Walking) : ਤੰਦਰੁਸਤੀ (Fitness)

✗ 2. ਤੈਰਨਾ (Swim) : ਤਰਨਾ (Float)

✓ 3. ਰਜਾਈ (Quilt) : ਕੱਬਲ (Blanket)

✗ 4. ਕੈਚੀ (Scissors) : ਕੱਪੜਾ (Cloth)

Question ID : 63068044928

Status : Answered

Chosen Option : 2



Q.100 Select the number that can replace the question mark (?) in the following series.

22, 24, 25, 27, 28, 30, ?, 33

- Ans
- ☒ 1. 34
  - ☒ 2. 29
  - ☒ 3. 31
  - ☒ 4. 32

Question ID : 63068031213

Status : Answered

Chosen Option : 3

Q.101 Identify the ANTONYM of the highlighted word in the given paragraph from the options given below.

The death of the famous actor has sparked fresh discussions on mental health. Her mental aberration has been accounted for the suicide. Several psychologists and counsellors have expressed their concern on the lack of knowledge about mental health in our society. Depression and anxiety are common mental disorders, which if not treated on time, may lead to disastrous results.

- Ans
- ☒ 1. Disease
  - ☒ 2. Health
  - ☒ 3. Conformity
  - ☒ 4. Disturbance

Question ID : 63068034902

Status : Answered

Chosen Option : 4

Q.102 'ਮੁਕਤੀ' ਸ਼ਬਦ ਦਾ ਸਹੀ ਅੰਗਰੇਜ਼ੀ ਅਨੁਵਾਦ ਹੈ:-

- Ans
- ☒ 1. Liberatory
  - ☒ 2. Liberation
  - ☒ 3. Liberate
  - ☒ 4. Liberee

Question ID : 63068045496

Status : Answered

Chosen Option : 2

Q.103 In the sentence given, identify the part that contains an error.

The real problem/ India would facing/ is corruption/ in its public sector.

- Ans
- ☒ 1. in its public sector
  - ☒ 2. India would facing
  - ☒ 3. is corruption
  - ☒ 4. The real problem

Question ID : 63068035526

Status : Answered

Chosen Option : 3

Q.104 Choose the misspelt word

- Ans ☒ 1. Frivolous  
☒ 2. Neglegible  
☒ 3. Relevant  
☒ 4. Sylvan

Question ID : 63068036280

Status : Answered

Chosen Option : 2

Q.105 Given below is a sentence that is jumbled. Select the option that shows the correct order of the fragments to form a meaningful sentence.

P. work very long hours

Q. don't you

R. in your job,

S. you have to

- Ans ☒ 1. QRSP  
☒ 2. RQSP  
☒ 3. PQRS  
☒ 4. SPRQ

Question ID : 63068035026

Status : Answered

Chosen Option : 4



**Comprehension:**

At the house they said the boy had refused to let anyone come into the room.

'You can't come in,' he said. 'You mustn't get what I have.'

I took his temperature.

'What is it?'

'Something like a hundred,' I said.

It was one hundred and two and four tenth.

'Who said so?'

'The doctor.'

'Your temperature is all right' I said. It's nothing to worry about.'

'I don't worry,' he said, 'but I can't keep from thinking.

'Don't think,' I said, 'Just take it easy.'

'I'm taking it easy,' he said and looked straight ahead. He was evidently holding tight onto himself about something.

'Take this with water.'

'Do you think it will do any good?'

'Of course it will.'

I sat down and opened the Pirate book and commenced to read, but I could see he was not following, so I stopped.

I went up to him and found him in exactly the position I had left him, white faced, but with the tips of his cheeks flushed by the fever, staring still, as he had started, at the foot of the bed.

'About how long will it be before I die?'

'You aren't going to die. What's the matter with you?'

'Oh yes, I am. I heard him say a hundred and two.'

'People don't die with a fever of one hundred and two.'

'That's a silly way to talk.'

'I know they do. At school in France the boys told me you can't live with forty four degrees. I've got a hundred and two.'

He had been waiting to die the whole day, ever since nine o'clock in the morning.

'You poor Schatz,' I said, 'Poor old Schatz. It is like miles and kilometers. You aren't going to die. That's a different thermometer. On that thermometer thirty seven is normal. On this kind it's ninety eight.'

'Are you sure?'

'Absolutely,' I said, 'It is like miles and kilometers. You know, like how many kilometers we make when we do seventy in the car.'

'Oh,' he said.

But his gaze at the foot of his bed relaxed slowly. The hold over himself relaxed too, finally, and the next day it was very slack and he cried very easily at little things that were of no importance.

**SubQuestion No : 106**

**Q.106 Why did the narrator stop reading to the boy?**

**Ans** ✓ 1. The boy was not paying attention

✗ 2. The boy's fever was rising

✗ 3. The boy's end was near

✖ 4. The narrator was distracted

Question ID : 63068035713

Status : **Answered**

Chosen Option : 2



Teachingninja.in

**Comprehension:**

At the house they said the boy had refused to let anyone come into the room.

'You can't come in,' he said. 'You mustn't get what I have.'

I took his temperature.

'What is it?'

'Something like a hundred,' I said.

It was one hundred and two and four tenth.

'Who said so?'

'The doctor.'

'Your temperature is all right' I said. It's nothing to worry about.'

'I don't worry,' he said, 'but I can't keep from thinking.

'Don't think,' I said, 'Just take it easy.'

'I'm taking it easy,' he said and looked straight ahead. He was evidently holding tight onto himself about something.

'Take this with water.'

'Do you think it will do any good?'

'Of course it will.'

I sat down and opened the Pirate book and commenced to read, but I could see he was not following, so I stopped.

I went up to him and found him in exactly the position I had left him, white faced, but with the tips of his cheeks flushed by the fever, staring still, as he had started, at the foot of the bed.

'About how long will it be before I die?'

'You aren't going to die. What's the matter with you?'

'Oh yes, I am. I heard him say a hundred and two.'

'People don't die with a fever of one hundred and two.'

'That's a silly way to talk.'

'I know they do. At school in France the boys told me you can't live with forty four degrees. I've got a hundred and two.'

He had been waiting to die the whole day, ever since nine o'clock in the morning.

'You poor Schatz,' I said, 'Poor old Schatz. It is like miles and kilometers. You aren't going to die. That's a different thermometer. On that thermometer thirty seven is normal. On this kind it's ninety eight.'

'Are you sure?'




'Absolutely,' I said, 'It is like miles and kilometers. You know, like how many kilometers we make when we do seventy in the car.'

'Oh,' he said.

But his gaze at the foot of his bed relaxed slowly. The hold over himself relaxed too, finally, and the next day it was very slack and he cried very easily at little things that were of no importance.

**SubQuestion No : 107**

**Q.107 The expression, 'Something like a hundred.' refers to.**

- Ans    1. life expectancy of the boy
-  2. temperature of the boy
-  3. page number of the book

✖ 4. speed of the car

Question ID : 63068035714

Status : Answered

Chosen Option : 1



Teachingninja.in

**Comprehension:**

At the house they said the boy had refused to let anyone come into the room.

'You can't come in,' he said. 'You mustn't get what I have.'

I took his temperature.

'What is it?'

'Something like a hundred,' I said.

It was one hundred and two and four tenth.

'Who said so?'

'The doctor.'

'Your temperature is all right' I said. It's nothing to worry about.'

'I don't worry,' he said, 'but I can't keep from thinking.

'Don't think,' I said, 'Just take it easy.'

'I'm taking it easy,' he said and looked straight ahead. He was evidently holding tight onto himself about something.

'Take this with water.'

'Do you think it will do any good?'

'Of course it will.'

I sat down and opened the Pirate book and commenced to read, but I could see he was not following, so I stopped.

I went up to him and found him in exactly the position I had left him, white faced, but with the tips of his cheeks flushed by the fever, staring still, as he had started, at the foot of the bed.

'About how long will it be before I die?'

'You aren't going to die. What's the matter with you?'

'Oh yes, I am. I heard him say a hundred and two.'

'People don't die with a fever of one hundred and two.'

'That's a silly way to talk.'

'I know they do. At school in France the boys told me you can't live with forty four degrees. I've got a hundred and two.'

He had been waiting to die the whole day, ever since nine o'clock in the morning.

'You poor Schatz,' I said, 'Poor old Schatz. It is like miles and kilometers. You aren't going to die. That's a different thermometer. On that thermometer thirty seven is normal. On this kind it's ninety eight.'

'Are you sure?'

'Absolutely,' I said, 'It is like miles and kilometers. You know, like how many kilometers we make when we do seventy in the car.'

'Oh,' he said.

But his gaze at the foot of his bed relaxed slowly. The hold over himself relaxed too, finally, and the next day it was very slack and he cried very easily at little things that were of no importance.

**SubQuestion No : 108**

**Q.108 What was the boy holding back within himself?**

- Ans
- ☒ 1. His mistrust of the doctor's word
  - ☒ 2. The inability to swallow medicines
  - ☒ 3. The fear of death

✖ 4. The possibility of infection

Question ID : 63068035715

Status : **Answered**

Chosen Option : 4



Teachingninja.in



**Comprehension:**

At the house they said the boy had refused to let anyone come into the room.

'You can't come in,' he said. 'You mustn't get what I have.'

I took his temperature.

'What is it?'

'Something like a hundred,' I said.

It was one hundred and two and four tenth.

'Who said so?'

'The doctor.'

'Your temperature is all right' I said. It's nothing to worry about.'

'I don't worry,' he said, 'but I can't keep from thinking.

'Don't think,' I said, 'Just take it easy.'

'I'm taking it easy,' he said and looked straight ahead. He was evidently holding tight onto himself about something.

'Take this with water.'

'Do you think it will do any good?'

'Of course it will.'

I sat down and opened the Pirate book and commenced to read, but I could see he was not following, so I stopped.

I went up to him and found him in exactly the position I had left him, white faced, but with the tips of his cheeks flushed by the fever, staring still, as he had started, at the foot of the bed.

'About how long will it be before I die?'

'You aren't going to die. What's the matter with you?'

'Oh yes, I am. I heard him say a hundred and two.'

'People don't die with a fever of one hundred and two.'

'That's a silly way to talk.'

'I know they do. At school in France the boys told me you can't live with forty four degrees. I've got a hundred and two.'

He had been waiting to die the whole day, ever since nine o'clock in the morning.

'You poor Schatz,' I said, 'Poor old Schatz. It is like miles and kilometers. You aren't going to die. That's a different thermometer. On that thermometer thirty seven is normal. On this kind it's ninety eight.'

'Are you sure?'

'Absolutely,' I said, 'It is like miles and kilometers. You know, like how many kilometers we make when we do seventy in the car.'

'Oh,' he said.

But his gaze at the foot of his bed relaxed slowly. The hold over himself relaxed too, finally, and the next day it was very slack and he cried very easily at little things that were of no importance.

**SubQuestion No : 109**

**Q.109 The above passage is most probably an extract from a \_\_\_\_\_**

- Ans   ☒ 1. Scientific paper  
      ☒ 2. news report  
      ☒ 3. article

✔ 4. short story

Question ID : 63068035716

Status : **Answered**

Chosen Option : 1



Teachingninja.in

**Comprehension:**

At the house they said the boy had refused to let anyone come into the room.

'You can't come in,' he said. 'You mustn't get what I have.'

I took his temperature.

'What is it?'

'Something like a hundred,' I said.

It was one hundred and two and four tenth.

'Who said so?'

'The doctor.'

'Your temperature is all right' I said. It's nothing to worry about.'

'I don't worry,' he said, 'but I can't keep from thinking.

'Don't think,' I said, 'Just take it easy.'

'I'm taking it easy,' he said and looked straight ahead. He was evidently holding tight onto himself about something.

'Take this with water.'

'Do you think it will do any good?'

'Of course it will.'

I sat down and opened the Pirate book and commenced to read, but I could see he was not following, so I stopped.

I went up to him and found him in exactly the position I had left him, white faced, but with the tips of his cheeks flushed by the fever, staring still, as he had started, at the foot of the bed.

'About how long will it be before I die?'

'You aren't going to die. What's the matter with you?'

'Oh yes, I am. I heard him say a hundred and two.'

'People don't die with a fever of one hundred and two.'

'That's a silly way to talk.'

'I know they do. At school in France the boys told me you can't live with forty four degrees. I've got a hundred and two.'

He had been waiting to die the whole day, ever since nine o'clock in the morning.

'You poor Schatz,' I said, 'Poor old Schatz. It is like miles and kilometers. You aren't going to die. That's a different thermometer. On that thermometer thirty seven is normal. On this kind it's ninety eight.'

'Are you sure?'




'Absolutely,' I said, 'It is like miles and kilometers. You know, like how many kilometers we make when we do seventy in the car.'

'Oh,' he said.

But his gaze at the foot of his bed relaxed slowly. The hold over himself relaxed too, finally, and the next day it was very slack and he cried very easily at little things that were of no importance.

**SubQuestion No : 110**

**Q.110 Schatz does not allow anyone to come into his room because:**

- Ans    1. he is too weak to talk to anyone
-  2. he does not want anyone to see him die
-  3. he thinks he is suffering from an infectious disease

✗ 4. he wants to pray in silence before he dies

Question ID : 63068035717

Status : Answered

Chosen Option : 3

Q.111 'ਕ੍ਰਿਤਾਂ' ਸ਼ਬਦ ਦਾ ਸਮਾਨਾਰਥਕ ਦੱਸੋ।

- Ans
- ✗ 1. ਕਿਰਤ
  - ✓ 2. ਰਚਨਾਵਾਂ
  - ✗ 3. ਕਰਮ
  - ✗ 4. ਕਾਰਗੁਜ਼ਾਰੀ

Question ID : 63068047521

Status : Answered

Chosen Option : 2

Q.112 'Narinder is my only son' ਵਾਕ ਦਾ ਸਹੀ ਪੰਜਾਬੀ ਅਨੁਵਾਦ ਹੈ:-

- Ans
- ✗ 1. ਨਰਿੰਦਰ ਮੇਰਾ ਇਕੱਲਾ ਬੱਚਾ ਹੈ।
  - ✗ 2. ਨਰਿੰਦਰ ਮੇਰੀ ਇੱਕੋ ਸੰਤਾਨ ਹੈ।
  - ✓ 3. ਨਰਿੰਦਰ ਮੇਰਾ ਇਕਲੋਤਾ ਬੇਟਾ ਹੈ।
  - ✗ 4. ਮੇਰਾ ਇਕੋ ਬੇਟਾ ਨਰਿੰਦਰ ਹੈ।

Question ID : 63068047559

Status : Answered

Chosen Option : 3

Q.113 'ਹਮੇਸ਼ਾ ਆਪਣੀ ਮਰਜ਼ੀ ਕਰਨ ਵਾਲਾ' ਲਈ ਇਕ ਸ਼ਬਦ ਚੁਣੋ।

- Ans
- ✗ 1. ਆਗਿਆਕਾਰੀ
  - ✓ 2. ਆਪਹੁਦਰਾ
  - ✗ 3. ਅਨਪੜ
  - ✗ 4. ਪ੍ਰੇਮੀ

Question ID : 63068047549

Status : Answered

Chosen Option : 2

Q.114 'ਬੇਫਿਕਰੀ' ਨੂੰ ਬਿਆਨ ਕਰਦੀ ਅਖਾਣ ਦੀ ਚੋਣ ਕਰੋ।

Ans

- ☐ 1. ਤੈਨੂੰ ਤਾਪ ਚੜ੍ਹੇ ਮੈਂ ਹੂੰਗਾਂ
- ☐ 2. ਖਾਈਏ ਮਨ-ਭਾਉਂਦਾ, ਪਹਿਨੀਏ ਜਗ-ਭਾਉਂਦਾ
- ☐ 3. ਅੰਨਾ ਕੀ ਭਾਲੇ ਦੇ ਅੱਖਾਂ
- ☒ 4. ਕੋਈ ਮਰੇ ਕੋਈ ਜੀਵੇ ਸੁਥਰਾ ਘੋਲ ਪਤਾਸੇ ਪੀਵੈ

Question ID : 63068047536

Status : Answered

Chosen Option : 4

Q.115 ਹੇਠ ਲਿਖਿਆਂ ਵਿੱਚੋਂ ਸੁੱਧ ਸ਼ਬਦ ਚੁਣੋ।

Ans

- ☐ 1. ਸੰਗ੍ਰਹ
- ☐ 2. ਸੰਗਰਿਹ
- ☒ 3. ਸੰਗ੍ਰਹਿ
- ☐ 4. ਸਨਗ੍ਰਿਹ

Question ID : 63068047505

Status : Answered

Chosen Option : 3



Comprehension:

ਹੇਠ ਲਿਖੇ ਪੈਰੇ ਨੂੰ ਧਿਆਨ ਨਾਲ ਪੜ੍ਹੋ ਅਤੇ ਹੇਠਾਂ ਦਿੱਤੇ ਪ੍ਰਸ਼ਨਾਂ ਦੇ ਉਤਰ ਦਿਉ।

ਬੈਰਾਗ ਸੰਸਾਰਕ ਮੋਹ ਦੀ ਨਿਵਿਰਤੀ ਦਾ ਨਾਮ ਹੈ। ਮਨੁੱਖ ਜਿੱਥੇ ਵੀ ਜਾਵੇ ਉਸ ਦੀਆਂ ਇੱਛਾਵਾਂ, ਵਾਸਨਾਵਾਂ ਤੇ ਉਸ ਦੇ ਸੰਸਕਾਰ ਉਸ ਦੇ ਨਾਲ ਹੀ ਤੁਰੇ ਰਹਿੰਦੇ ਹਨ। ਚਾਹੇ ਉਹ ਏਕਾਂਤ ਵੀ ਧਾਰਨ ਕਰ ਲਵੇ, ਤਾਂ ਵੀ ਬਹੁਤ ਸੰਭਵ ਹੈ ਕਿ ਉਸ ਦਾ ਧਿਆਨ ਸੰਸਾਰਕ ਪਦਾਰਥਾਂ ਵੱਲ ਰਹਿੰਦਾ ਹੈ। ਉਨ੍ਹਾਂ ਬਾਰੇ ਦਿਵਾ-ਸੁਪਨ ਘੜਦਾ ਤੇ ਉਨ੍ਹਾਂ ਦਾ ਹੀ ਸਵਾਦ ਲੈਂਦਾ ਰਹਿੰਦਾ ਹੈ। ਜੇ ਉਹ ਹਿਮਾਲਿਆ ਦੀ ਕਿਸੇ ਕੰਦਰ ਵਿਚ ਵੀ ਜਾ ਬੈਠੇ, ਉਸ ਦਾ ਮਨ ਉੱਥੇ ਵੀ ਪੂਰਾ ਸੰਸਾਰ ਕਾਇਮ ਕਰਨ ਵਿਚ ਸਫਲ ਹੋ ਜਾਂਦਾ ਹੈ। ਪਰ ਜੇ ਕਿਸੇ ਦਾ ਮਨ ਇਸ ਪਾਸਿਉਂ ਹਟ ਕੇ ਪੂਰੀ ਤਰ੍ਹਾਂ ਖਾਮੋਸ਼ ਹੋ ਜਾਵੇ ਤੇ ਹਰ ਪ੍ਰਕਾਰ ਦੇ ਮੋਹ ਤੋਂ ਉਪਰ ਉਠ ਜਾਵੇ ਤਾਂ ਹੀ ਉਹ ਸੱਚਾ ਬੈਰਾਗੀ ਹੋ ਸਕਦਾ ਹੈ। ਐਸਾ ਬੈਰਾਗੀ ਭਾਵੇਂ ਮਹਿਲਾਂ ਵਿਚ ਵੀ ਰਹਿੰਦਾ ਹੋਵੇ, ਭਾਵੇਂ ਦੁਨੀਆਂ ਦੀਆਂ ਭੀੜਾਂ ਵਿਚ ਹੀ ਕਿਉਂ ਨਾ ਹੋਵੇ, ਬੈਰਾਗ ਵਿਚ ਮਗਨ ਰਹਿ ਸਕਦਾ ਹੈ, ਕਿਉਂਕਿ ਉਸ ਨੂੰ ਨਾਸ਼ਮਾਨ ਪਦਾਰਥਾਂ ਵੱਲੋਂ ਵਿਰਕਤ ਰਹਿਣ ਦੀ ਜਾਚ ਆ ਗਈ ਹੋਈ ਹੈ। ਉਹ ਹਾਲ ਵਿਚ ਸਦੈਵਕਾਲੀ ਅਭਿਨਾਸੀ ਬ੍ਰਹਮ ਵਿਚ ਲੀਨ ਰਹਿ ਸਕਦਾ ਹੈ।

ਉਸ ਦੇ ਲਈ ਮਾਨ-ਅਪਮਾਨ, ਉਸਤਿਤ-ਨਿੰਦਿਆਂ ਹੁਣ ਕੋਈ ਅਰਥ ਨਹੀਂ ਰਖਦੇ। ਦੁਖ ਤੇ ਸੁਖ ਵੀ ਉਸ ਦੇ ਲੇਖੇ ਇਕ ਸਮਾਨ ਹੋ ਗਏ ਹੁੰਦੇ ਹਨ। ਸਗੋਂ ਦੁਖ ਦਰਦ ਉਸ ਨੂੰ ਅਧਿਆਤਮਕ ਉਨਤੀ ਵਿਚ ਸਹਾਇਕ ਕਰਦੇ ਪ੍ਰਤੀਤ ਹੁੰਦੇ ਹਨ। ਜੇ ਕੋਈ ਵੀ ਦੁਖ-ਸੁੱਖ ਤੋਂ ਉਪਰ ਉੱਠ ਗਿਆ ਹੁੰਦਾ ਹੈ, ਕਿਸੇ ਇੰਦਰਿਆਵੀ ਅਨੁਭਵ ਵੀ ਵਾਸਨਾ ਨਹੀਂ ਰੱਖਦਾ ਤੇ ਵਸਤਾਂ ਨਾਲ ਚੰਬੜਦਾ ਨਹੀਂ, ਸਗੋਂ ਸਾਖੀ ਹੋ ਕੇ ਉਨ੍ਹਾਂ ਨੂੰ ਵੇਖਦਾ ਨਿਰਖਦਾ ਹੈ, ਉਹੀ ਸ਼ਾਂਤ ਤੇ ਅਡੋਲ ਰਹਿ ਸਕਦਾ ਹੈ। ਉਸ ਨੂੰ ਕੋਈ ਮੋਹ ਨਹੀਂ, ਕੋਈ ਲੋਭ ਨਹੀਂ, ਪਦਾਰਥਾਂ ਦੀ ਕੋਈ ਖਿੱਚ ਨਹੀਂ ਰਹਿੰਦੀ। ਉਹ ਤਾਂ ਬਿਬੇਕੀ ਹੈ ਤੇ ਬਿਬੇਕ ਦੀ ਕਿਲ੍ਹਿਆਂ ਵਰਗੀ ਫ਼ਸੀਲ ਦੀ ਸੁਰੱਖਿਆ ਮਾਣਦਾ ਹੈ।

SubQuestion No : 116

Q.116 ਉਪਰੋਕਤ ਪੈਰੇ ਦਾ ਢੁਕਵਾਂ ਸਿਰਲੇਖ ਹੈ।

- Ans
- ☒ 1. ਧਿਆਨ
  - ☒ 2. ਏਕਾਂਤ
  - ☒ 3. ਬੈਰਾਗ
  - ☒ 4. ਦਿਵਾ ਸੁਪਨ

Question ID : 63068047577

Status : Answered

Chosen Option : 3



Comprehension:

ਹੇਠ ਲਿਖੇ ਪੈਰੇ ਨੂੰ ਧਿਆਨ ਨਾਲ ਪੜ੍ਹੋ ਅਤੇ ਹੇਠਾਂ ਦਿੱਤੇ ਪ੍ਰਸ਼ਨਾਂ ਦੇ ਉਤਰ ਦਿਉ।

ਬੈਰਾਗ ਸੰਸਾਰਕ ਮੋਹ ਦੀ ਨਿਵਿਰਤੀ ਦਾ ਨਾਮ ਹੈ। ਮਨੁੱਖ ਜਿੱਥੇ ਵੀ ਜਾਵੇ ਉਸ ਦੀਆਂ ਇੱਛਾਵਾਂ, ਵਾਸਨਾਵਾਂ ਤੇ ਉਸ ਦੇ ਸੰਸਕਾਰ ਉਸ ਦੇ ਨਾਲ ਹੀ ਤੁਰੇ ਰਹਿੰਦੇ ਹਨ। ਚਾਹੇ ਉਹ ਏਕਾਂਤ ਵੀ ਧਾਰਨ ਕਰ ਲਵੇ, ਤਾਂ ਵੀ ਬਹੁਤ ਸੰਭਵ ਹੈ ਕਿ ਉਸ ਦਾ ਧਿਆਨ ਸੰਸਾਰਕ ਪਦਾਰਥਾਂ ਵੱਲ ਰਹਿੰਦਾ ਹੈ। ਉਨ੍ਹਾਂ ਬਾਰੇ ਦਿਵਾ-ਸੁਪਨ ਘੜਦਾ ਤੇ ਉਨ੍ਹਾਂ ਦਾ ਹੀ ਸਵਾਦ ਲੈਂਦਾ ਰਹਿੰਦਾ ਹੈ। ਜੇ ਉਹ ਹਿਮਾਲਿਆ ਦੀ ਕਿਸੇ ਕੰਦਰ ਵਿਚ ਵੀ ਜਾ ਬੈਠੇ, ਉਸ ਦਾ ਮਨ ਉੱਥੇ ਵੀ ਪੂਰਾ ਸੰਸਾਰ ਕਾਇਮ ਕਰਨ ਵਿਚ ਸਫਲ ਹੋ ਜਾਂਦਾ ਹੈ। ਪਰ ਜੇ ਕਿਸੇ ਦਾ ਮਨ ਇਸ ਪਾਸਿਉਂ ਹਟ ਕੇ ਪੂਰੀ ਤਰ੍ਹਾਂ ਖਾਮੋਸ਼ ਹੋ ਜਾਵੇ ਤੇ ਹਰ ਪ੍ਰਕਾਰ ਦੇ ਮੋਹ ਤੋਂ ਉਪਰ ਉਠ ਜਾਵੇ ਤਾਂ ਹੀ ਉਹ ਸੱਚਾ ਬੈਰਾਗੀ ਹੋ ਸਕਦਾ ਹੈ। ਐਸਾ ਬੈਰਾਗੀ ਭਾਵੇਂ ਮਹਿਲਾਂ ਵਿਚ ਵੀ ਰਹਿੰਦਾ ਹੋਵੇ, ਭਾਵੇਂ ਦੁਨੀਆਂ ਦੀਆਂ ਭੀੜਾਂ ਵਿਚ ਹੀ ਕਿਉਂ ਨਾ ਹੋਵੇ, ਬੈਰਾਗ ਵਿਚ ਮਗਨ ਰਹਿ ਸਕਦਾ ਹੈ, ਕਿਉਂਕਿ ਉਸ ਨੂੰ ਨਾਸਮਾਨ ਪਦਾਰਥਾਂ ਵੱਲੋਂ ਵਿਰਕਤ ਰਹਿਣ ਦੀ ਜਾਚ ਆ ਗਈ ਹੋਈ ਹੈ। ਉਹ ਹਾਲ ਵਿਚ ਸਦੈਵਕਾਲੀ ਅਭਿਨਾਸੀ ਬ੍ਰਹਮ ਵਿਚ ਲੀਨ ਰਹਿ ਸਕਦਾ ਹੈ।

ਉਸ ਦੇ ਲਈ ਮਾਨ-ਅਪਮਾਨ, ਉਸਤਿਤ-ਨਿੰਦਿਆਂ ਹੁਣ ਕੋਈ ਅਰਥ ਨਹੀਂ ਰਖਦੇ। ਦੁਖ ਤੇ ਸੁਖ ਵੀ ਉਸ ਦੇ ਲੇਖੇ ਇਕ ਸਮਾਨ ਹੋ ਗਏ ਹੁੰਦੇ ਹਨ। ਸਗੋਂ ਦੁਖ ਦਰਦ ਉਸ ਨੂੰ ਅਧਿਆਤਮਕ ਉਨਤੀ ਵਿਚ ਸਹਾਇਕ ਕਰਦੇ ਪ੍ਰਤੀਤ ਹੁੰਦੇ ਹਨ। ਜੇ ਕੋਈ ਵੀ ਦੁਖ-ਸੁੱਖ ਤੋਂ ਉਪਰ ਉੱਠ ਗਿਆ ਹੁੰਦਾ ਹੈ, ਕਿਸੇ ਇੰਦਰਿਆਵੀ ਅਨੁਭਵ ਵੀ ਵਾਸਨਾ ਨਹੀਂ ਰੱਖਦਾ ਤੇ ਵਸਤਾਂ ਨਾਲ ਚੰਬੜਦਾ ਨਹੀਂ, ਸਗੋਂ ਸਾਖੀ ਹੋ ਕੇ ਉਨ੍ਹਾਂ ਨੂੰ ਵੇਖਦਾ ਨਿਰਖਦਾ ਹੈ, ਉਹੀ ਸ਼ਾਂਤ ਤੇ ਅਡੋਲ ਰਹਿ ਸਕਦਾ ਹੈ। ਉਸ ਨੂੰ ਕੋਈ ਮੋਹ ਨਹੀਂ, ਕੋਈ ਲੋਭ ਨਹੀਂ, ਪਦਾਰਥਾਂ ਦੀ ਕੋਈ ਖਿੱਚ ਨਹੀਂ ਰਹਿੰਦੀ। ਉਹ ਤਾਂ ਬਿਬੇਕੀ ਹੈ ਤੇ ਬਿਬੇਕ ਦੀ ਕਿਲ੍ਹਿਆਂ ਵਰਗੀ ਫ਼ਸੀਲ ਦੀ ਸੁਰੱਖਿਆ ਮਾਣਦਾ ਹੈ।

SubQuestion No : 117

Q.117 ਸੰਸਾਰੀ ਮਨੁੱਖ ਦਾ ਝੁਕਾਅ ਕਿਸ ਦਿਸ਼ਾ ਵੱਲ ਨਹੀਂ ਹੁੰਦਾ?

Ans

- ☒ 1. ਸੰਸਾਰਕ ਪਦਾਰਥਾਂ ਵੱਲ
- ☒ 2. ਦਿਵਾ-ਸੁਪਨ ਘੜਨ ਵੱਲ
- ☒ 3. ਇੱਛਾਵਾਂ, ਵਾਸਨਾਵਾਂ ਤੇ ਮੋਹ ਦੀ ਪੂਰਤੀ ਵੱਲ
- ☒ 4. ਮਾਇਆ ਦੇ ਤਿਆਗ ਵੱਲ

Question ID : 63068047578

Status : Answered

Chosen Option : 3

Comprehension:

ਹੇਠ ਲਿਖੇ ਪੈਰੇ ਨੂੰ ਧਿਆਨ ਨਾਲ ਪੜ੍ਹੋ ਅਤੇ ਹੇਠਾਂ ਦਿੱਤੇ ਪ੍ਰਸ਼ਨਾਂ ਦੇ ਉਤਰ ਦਿਉ।

ਬੈਰਾਗ ਸੰਸਾਰਕ ਮੋਹ ਦੀ ਨਿਵਿਰਤੀ ਦਾ ਨਾਮ ਹੈ। ਮਨੁੱਖ ਜਿੱਥੇ ਵੀ ਜਾਵੇ ਉਸ ਦੀਆਂ ਇੱਛਾਵਾਂ, ਵਾਸਨਾਵਾਂ ਤੇ ਉਸ ਦੇ ਸੰਸਕਾਰ ਉਸ ਦੇ ਨਾਲ ਹੀ ਤੁਰੇ ਰਹਿੰਦੇ ਹਨ। ਚਾਹੇ ਉਹ ਏਕਾਂਤ ਵੀ ਧਾਰਨ ਕਰ ਲਵੇ, ਤਾਂ ਵੀ ਬਹੁਤ ਸੰਭਵ ਹੈ ਕਿ ਉਸ ਦਾ ਧਿਆਨ ਸੰਸਾਰਕ ਪਦਾਰਥਾਂ ਵੱਲ ਰਹਿੰਦਾ ਹੈ। ਉਨ੍ਹਾਂ ਬਾਰੇ ਦਿਵਾ-ਸੁਪਨ ਘੜਦਾ ਤੇ ਉਨ੍ਹਾਂ ਦਾ ਹੀ ਸਵਾਦ ਲੈਂਦਾ ਰਹਿੰਦਾ ਹੈ। ਜੇ ਉਹ ਹਿਮਾਲਿਆ ਦੀ ਕਿਸੇ ਕੰਦਰ ਵਿਚ ਵੀ ਜਾ ਬੈਠੇ, ਉਸ ਦਾ ਮਨ ਉੱਥੇ ਵੀ ਪੂਰਾ ਸੰਸਾਰ ਕਾਇਮ ਕਰਨ ਵਿਚ ਸਫਲ ਹੋ ਜਾਂਦਾ ਹੈ। ਪਰ ਜੇ ਕਿਸੇ ਦਾ ਮਨ ਇਸ ਪਾਸਿਉਂ ਹਟ ਕੇ ਪੂਰੀ ਤਰ੍ਹਾਂ ਖਾਮੋਸ਼ ਹੋ ਜਾਵੇ ਤੇ ਹਰ ਪ੍ਰਕਾਰ ਦੇ ਮੋਹ ਤੋਂ ਉਪਰ ਉਠ ਜਾਵੇ ਤਾਂ ਹੀ ਉਹ ਸੱਚਾ ਬੈਰਾਗੀ ਹੋ ਸਕਦਾ ਹੈ। ਐਸਾ ਬੈਰਾਗੀ ਭਾਵੇਂ ਮਹਿਲਾਂ ਵਿਚ ਵੀ ਰਹਿੰਦਾ ਹੋਵੇ, ਭਾਵੇਂ ਦੁਨੀਆਂ ਦੀਆਂ ਭੀੜਾਂ ਵਿਚ ਹੀ ਕਿਉਂ ਨਾ ਹੋਵੇ, ਬੈਰਾਗ ਵਿਚ ਮਗਨ ਰਹਿ ਸਕਦਾ ਹੈ, ਕਿਉਂਕਿ ਉਸ ਨੂੰ ਨਾਸ਼ਮਾਨ ਪਦਾਰਥਾਂ ਵੱਲੋਂ ਵਿਰਕਤ ਰਹਿਣ ਦੀ ਜਾਚ ਆ ਗਈ ਹੋਈ ਹੈ। ਉਹ ਹਾਲ ਵਿਚ ਸਦੈਵਕਾਲੀ ਅਭਿਨਾਸੀ ਬ੍ਰਹਮ ਵਿਚ ਲੀਨ ਰਹਿ ਸਕਦਾ ਹੈ।

ਉਸ ਦੇ ਲਈ ਮਾਨ-ਅਪਮਾਨ, ਉਸਤਿਤ-ਨਿੰਦਿਆਂ ਹੁਣ ਕੋਈ ਅਰਥ ਨਹੀਂ ਰਖਦੇ। ਦੁਖ ਤੇ ਸੁਖ ਵੀ ਉਸ ਦੇ ਲੇਖੇ ਇਕ ਸਮਾਨ ਹੋ ਗਏ ਹੁੰਦੇ ਹਨ। ਸਗੋਂ ਦੁਖ ਦਰਦ ਉਸ ਨੂੰ ਅਧਿਆਤਮਕ ਉਨਤੀ ਵਿਚ ਸਹਾਇਕ ਕਰਦੇ ਪ੍ਰਤੀਤ ਹੁੰਦੇ ਹਨ। ਜੇ ਕੋਈ ਵੀ ਦੁਖ-ਸੁੱਖ ਤੋਂ ਉਪਰ ਉੱਠ ਗਿਆ ਹੁੰਦਾ ਹੈ, ਕਿਸੇ ਇੰਦਰਿਆਵੀ ਅਨੁਭਵ ਵੀ ਵਾਸਨਾ ਨਹੀਂ ਰੱਖਦਾ ਤੇ ਵਸਤਾਂ ਨਾਲ ਚੰਬੜਦਾ ਨਹੀਂ, ਸਗੋਂ ਸਾਖੀ ਹੋ ਕੇ ਉਨ੍ਹਾਂ ਨੂੰ ਵੇਖਦਾ ਨਿਰਖਦਾ ਹੈ, ਉਹੀ ਸ਼ਾਂਤ ਤੇ ਅਡੋਲ ਰਹਿ ਸਕਦਾ ਹੈ। ਉਸ ਨੂੰ ਕੋਈ ਮੋਹ ਨਹੀਂ, ਕੋਈ ਲੋਭ ਨਹੀਂ, ਪਦਾਰਥਾਂ ਦੀ ਕੋਈ ਖਿੱਚ ਨਹੀਂ ਰਹਿੰਦੀ। ਉਹ ਤਾਂ ਬਿਬੇਕੀ ਹੈ ਤੇ ਬਿਬੇਕ ਦੀ ਕਿਲ੍ਹਿਆਂ ਵਰਗੀ ਫ਼ਸੀਲ ਦੀ ਸੁਰੱਖਿਆ ਮਾਣਦਾ ਹੈ।

SubQuestion No : 118

Q.118 ਬੈਰਾਗ ਤੋਂ ਕੀ ਭਾਵ ਹੈ?

Ans

- ☒ 1. ਸੰਸਾਰਕ ਪਦਾਰਥਾਂ ਨਾਲ ਜੁੜਣਾ
- ☒ 2. ਮੋਹ ਦੀ ਨਿਵਿਰਤੀ
- ☒ 3. ਦਿਵਾ ਸੁਪਨ ਘੜਣਾ
- ☒ 4. ਦੁਨਿਆਵੀ ਮੋਹ

Question ID : 63068047579

Status : Answered

Chosen Option : 2



Comprehension:

ਹੇਠ ਲਿਖੇ ਪੈਰੇ ਨੂੰ ਧਿਆਨ ਨਾਲ ਪੜ੍ਹੋ ਅਤੇ ਹੇਠਾਂ ਦਿੱਤੇ ਪ੍ਰਸ਼ਨਾਂ ਦੇ ਉਤਰ ਦਿਉ।

ਬੈਰਾਗ ਸੰਸਾਰਕ ਮੋਹ ਦੀ ਨਿਵਿਰਤੀ ਦਾ ਨਾਮ ਹੈ। ਮਨੁੱਖ ਜਿੱਥੇ ਵੀ ਜਾਵੇ ਉਸ ਦੀਆਂ ਇੱਛਾਵਾਂ, ਵਾਸਨਾਵਾਂ ਤੇ ਉਸ ਦੇ ਸੰਸਕਾਰ ਉਸ ਦੇ ਨਾਲ ਹੀ ਤੁਰੇ ਰਹਿੰਦੇ ਹਨ। ਚਾਹੇ ਉਹ ਏਕਾਂਤ ਵੀ ਧਾਰਨ ਕਰ ਲਵੇ, ਤਾਂ ਵੀ ਬਹੁਤ ਸੰਭਵ ਹੈ ਕਿ ਉਸ ਦਾ ਧਿਆਨ ਸੰਸਾਰਕ ਪਦਾਰਥਾਂ ਵੱਲ ਰਹਿੰਦਾ ਹੈ। ਉਨ੍ਹਾਂ ਬਾਰੇ ਦਿਵਾ-ਸੁਪਨ ਘੜਦਾ ਤੇ ਉਨ੍ਹਾਂ ਦਾ ਹੀ ਸਵਾਦ ਲੈਂਦਾ ਰਹਿੰਦਾ ਹੈ। ਜੇ ਉਹ ਹਿਮਾਲਿਆ ਦੀ ਕਿਸੇ ਕੰਦਰ ਵਿਚ ਵੀ ਜਾ ਬੈਠੇ, ਉਸ ਦਾ ਮਨ ਉੱਥੇ ਵੀ ਪੂਰਾ ਸੰਸਾਰ ਕਾਇਮ ਕਰਨ ਵਿਚ ਸਫਲ ਹੋ ਜਾਂਦਾ ਹੈ। ਪਰ ਜੇ ਕਿਸੇ ਦਾ ਮਨ ਇਸ ਪਾਸਿਉਂ ਹਟ ਕੇ ਪੂਰੀ ਤਰ੍ਹਾਂ ਖਾਮੋਸ਼ ਹੋ ਜਾਵੇ ਤੇ ਹਰ ਪ੍ਰਕਾਰ ਦੇ ਮੋਹ ਤੋਂ ਉਪਰ ਉਠ ਜਾਵੇ ਤਾਂ ਹੀ ਉਹ ਸੱਚਾ ਬੈਰਾਗੀ ਹੋ ਸਕਦਾ ਹੈ। ਐਸਾ ਬੈਰਾਗੀ ਭਾਵੇਂ ਮਹਿਲਾਂ ਵਿਚ ਵੀ ਰਹਿੰਦਾ ਹੋਵੇ, ਭਾਵੇਂ ਦੁਨੀਆਂ ਦੀਆਂ ਭੀੜਾਂ ਵਿਚ ਹੀ ਕਿਉਂ ਨਾ ਹੋਵੇ, ਬੈਰਾਗ ਵਿਚ ਮਗਨ ਰਹਿ ਸਕਦਾ ਹੈ, ਕਿਉਂਕਿ ਉਸ ਨੂੰ ਨਾਸ਼ਮਾਨ ਪਦਾਰਥਾਂ ਵੱਲੋਂ ਵਿਰਕਤ ਰਹਿਣ ਦੀ ਜਾਚ ਆ ਗਈ ਹੋਈ ਹੈ। ਉਹ ਹਾਲ ਵਿਚ ਸਦੈਵਕਾਲੀ ਅਭਿਨਾਸੀ ਬ੍ਰਹਮ ਵਿਚ ਲੀਨ ਰਹਿ ਸਕਦਾ ਹੈ।

ਉਸ ਦੇ ਲਈ ਮਾਨ-ਅਪਮਾਨ, ਉਸਤਿਤ-ਨਿੰਦਿਆਂ ਹੁਣ ਕੋਈ ਅਰਥ ਨਹੀਂ ਰਖਦੇ। ਦੁਖ ਤੇ ਸੁਖ ਵੀ ਉਸ ਦੇ ਲੇਖੇ ਇਕ ਸਮਾਨ ਹੋ ਗਏ ਹੁੰਦੇ ਹਨ। ਸਗੋਂ ਦੁਖ ਦਰਦ ਉਸ ਨੂੰ ਅਧਿਆਤਮਕ ਉਨਤੀ ਵਿਚ ਸਹਾਇਕ ਕਰਦੇ ਪ੍ਰਤੀਤ ਹੁੰਦੇ ਹਨ। ਜੇ ਕੋਈ ਵੀ ਦੁਖ-ਸੁੱਖ ਤੋਂ ਉਪਰ ਉੱਠ ਗਿਆ ਹੁੰਦਾ ਹੈ, ਕਿਸੇ ਇੰਦਰਿਆਵੀ ਅਨੁਭਵ ਵੀ ਵਾਸਨਾ ਨਹੀਂ ਰੱਖਦਾ ਤੇ ਵਸਤਾਂ ਨਾਲ ਚੰਬੜਦਾ ਨਹੀਂ, ਸਗੋਂ ਸਾਖੀ ਹੋ ਕੇ ਉਨ੍ਹਾਂ ਨੂੰ ਵੇਖਦਾ ਨਿਰਖਦਾ ਹੈ, ਉਹੀ ਸ਼ਾਂਤ ਤੇ ਅਡੋਲ ਰਹਿ ਸਕਦਾ ਹੈ। ਉਸ ਨੂੰ ਕੋਈ ਮੋਹ ਨਹੀਂ, ਕੋਈ ਲੋਭ ਨਹੀਂ, ਪਦਾਰਥਾਂ ਦੀ ਕੋਈ ਖਿੱਚ ਨਹੀਂ ਰਹਿੰਦੀ। ਉਹ ਤਾਂ ਬਿਬੇਕੀ ਹੈ ਤੇ ਬਿਬੇਕ ਦੀ ਕਿਲ੍ਹਿਆਂ ਵਰਗੀ ਫ਼ਸੀਲ ਦੀ ਸੁਰੱਖਿਆ ਮਾਣਦਾ ਹੈ।

SubQuestion No : 119

Q.119 ਬੈਰਾਗੀ ਮਨ ਕਿਸ ਵਿਚ ਲੀਨ ਰਹਿੰਦਾ ਹੈ?

Ans

- ✓ 1. ਅਭਿਨਾਸੀ ਬ੍ਰਹਮ ਵਿਚ
- ✗ 2. ਪਦਾਰਥਾਂ ਦੇ ਸਵਾਦ ਵਿਚ
- ✗ 3. ਨਾਸ਼ਮਾਨ ਪਦਾਰਥਾਂ ਵੱਲ
- ✗ 4. ਸੰਸਾਰਕ ਪਦਾਰਥਾਂ ਵੱਲ

Question ID : 63068047580

Status : Answered

Chosen Option : 1

Comprehension:

ਹੇਠ ਲਿਖੇ ਪੈਰੇ ਨੂੰ ਧਿਆਨ ਨਾਲ ਪੜ੍ਹੋ ਅਤੇ ਹੇਠਾਂ ਦਿੱਤੇ ਪ੍ਰਸ਼ਨਾਂ ਦੇ ਉਤਰ ਦਿਉ।

ਬੈਰਾਗ ਸੰਸਾਰਕ ਮੋਹ ਦੀ ਨਿਵਿਰਤੀ ਦਾ ਨਾਮ ਹੈ। ਮਨੁੱਖ ਜਿੱਥੇ ਵੀ ਜਾਵੇ ਉਸ ਦੀਆਂ ਇੱਛਾਵਾਂ, ਵਾਸਨਾਵਾਂ ਤੇ ਉਸ ਦੇ ਸੰਸਕਾਰ ਉਸ ਦੇ ਨਾਲ ਹੀ ਤੁਰੇ ਰਹਿੰਦੇ ਹਨ। ਚਾਹੇ ਉਹ ਏਕਾਂਤ ਵੀ ਧਾਰਨ ਕਰ ਲਵੇ, ਤਾਂ ਵੀ ਬਹੁਤ ਸੰਭਵ ਹੈ ਕਿ ਉਸ ਦਾ ਧਿਆਨ ਸੰਸਾਰਕ ਪਦਾਰਥਾਂ ਵੱਲ ਰਹਿੰਦਾ ਹੈ। ਉਨ੍ਹਾਂ ਬਾਰੇ ਦਿਵਾ-ਸੁਪਨ ਘੜਦਾ ਤੇ ਉਨ੍ਹਾਂ ਦਾ ਹੀ ਸਵਾਦ ਲੈਂਦਾ ਰਹਿੰਦਾ ਹੈ। ਜੇ ਉਹ ਹਿਮਾਲਿਆ ਦੀ ਕਿਸੇ ਕੰਦਰ ਵਿਚ ਵੀ ਜਾ ਬੈਠੇ, ਉਸ ਦਾ ਮਨ ਉੱਥੇ ਵੀ ਪੂਰਾ ਸੰਸਾਰ ਕਾਇਮ ਕਰਨ ਵਿਚ ਸਫਲ ਹੋ ਜਾਂਦਾ ਹੈ। ਪਰ ਜੇ ਕਿਸੇ ਦਾ ਮਨ ਇਸ ਪਾਸਿਉਂ ਹਟ ਕੇ ਪੂਰੀ ਤਰ੍ਹਾਂ ਖਾਮੋਸ਼ ਹੋ ਜਾਵੇ ਤੇ ਹਰ ਪ੍ਰਕਾਰ ਦੇ ਮੋਹ ਤੋਂ ਉਪਰ ਉਠ ਜਾਵੇ ਤਾਂ ਹੀ ਉਹ ਸੱਚਾ ਬੈਰਾਗੀ ਹੋ ਸਕਦਾ ਹੈ। ਐਸਾ ਬੈਰਾਗੀ ਭਾਵੇਂ ਮਹਿਲਾਂ ਵਿਚ ਵੀ ਰਹਿੰਦਾ ਹੋਵੇ, ਭਾਵੇਂ ਦੁਨੀਆਂ ਦੀਆਂ ਭੀੜਾਂ ਵਿਚ ਹੀ ਕਿਉਂ ਨਾ ਹੋਵੇ, ਬੈਰਾਗ ਵਿਚ ਮਗਨ ਰਹਿ ਸਕਦਾ ਹੈ, ਕਿਉਂਕਿ ਉਸ ਨੂੰ ਨਾਸ਼ਮਾਨ ਪਦਾਰਥਾਂ ਵੱਲੋਂ ਵਿਰਕਤ ਰਹਿਣ ਦੀ ਜਾਚ ਆ ਗਈ ਹੋਈ ਹੈ। ਉਹ ਹਾਲ ਵਿਚ ਸਦੈਵਕਾਲੀ ਅਭਿਨਾਸੀ ਬ੍ਰਹਮ ਵਿਚ ਲੀਨ ਰਹਿ ਸਕਦਾ ਹੈ।

ਉਸ ਦੇ ਲਈ ਮਾਨ-ਅਪਮਾਨ, ਉਸਤਿਤ-ਨਿੰਦਿਆਂ ਹੁਣ ਕੋਈ ਅਰਥ ਨਹੀਂ ਰਖਦੇ। ਦੁਖ ਤੇ ਸੁਖ ਵੀ ਉਸ ਦੇ ਲੇਖੇ ਇਕ ਸਮਾਨ ਹੋ ਗਏ ਹੁੰਦੇ ਹਨ। ਸਗੋਂ ਦੁਖ ਦਰਦ ਉਸ ਨੂੰ ਅਧਿਆਤਮਕ ਉਨਤੀ ਵਿਚ ਸਹਾਇਕ ਕਰਦੇ ਪ੍ਰਤੀਤ ਹੁੰਦੇ ਹਨ। ਜੇ ਕੋਈ ਵੀ ਦੁਖ-ਸੁੱਖ ਤੋਂ ਉਪਰ ਉੱਠ ਗਿਆ ਹੁੰਦਾ ਹੈ, ਕਿਸੇ ਇੰਦਰਿਆਵੀ ਅਨੁਭਵ ਵੀ ਵਾਸਨਾ ਨਹੀਂ ਰੱਖਦਾ ਤੇ ਵਸਤਾਂ ਨਾਲ ਚੰਬੜਦਾ ਨਹੀਂ, ਸਗੋਂ ਸਾਖੀ ਹੋ ਕੇ ਉਨ੍ਹਾਂ ਨੂੰ ਵੇਖਦਾ ਨਿਰਖਦਾ ਹੈ, ਉਹੀ ਸ਼ਾਂਤ ਤੇ ਅਡੋਲ ਰਹਿ ਸਕਦਾ ਹੈ। ਉਸ ਨੂੰ ਕੋਈ ਮੋਹ ਨਹੀਂ, ਕੋਈ ਲੋਭ ਨਹੀਂ, ਪਦਾਰਥਾਂ ਦੀ ਕੋਈ ਖਿੱਚ ਨਹੀਂ ਰਹਿੰਦੀ। ਉਹ ਤਾਂ ਬਿਬੇਕੀ ਹੈ ਤੇ ਬਿਬੇਕ ਦੀ ਕਿਲ੍ਹਿਆਂ ਵਰਗੀ ਫ਼ਸੀਲ ਦੀ ਸੁਰੱਖਿਆ ਮਾਣਦਾ ਹੈ।

SubQuestion No : 120

Q.120 ਸੱਚਾ ਬੈਰਾਗ ਕਿਥੇ ਪਰਾਪਤ ਹੁੰਦਾ ਹੈ?

- Ans
- ☒ 1. ਕੰਦਰਾਂ ਵਿਚ
  - ☒ 2. ਹਿਮਾਲਿਆ 'ਤੇ
  - ☒ 3. ਵਿਰਕਤੀ ਵਿਚ
  - ☒ 4. ਜੰਗਲ ਵਿਚ

Question ID : 63068047581

Status : Answered

Chosen Option : 2

Q.121 ਇੱਕ ਸਰਚ ਇੰਜਣ ਵਿੱਚ, ਇੱਕ ਪਤਾਲ ਦੇ ਸੰਬੰਧ ਵਿੱਚ ਲੱਭੇ ਗਏ ਰਿਲੈਵੈਂਟ (Relevant) ਰਿਕਾਰਡਾਂ ਨੂੰ \_\_\_\_\_ ਕਿਹਾ ਜਾਂਦਾ ਹੈ।

- Ans
- ☒ 1. ਰੀਕਾਲ (Recall)
  - ☒ 2. ਮੈਚ (Match)
  - ☒ 3. ਪਰਸਿਜ਼ਨ (Precision)
  - ☒ 4. ਇੰਡੈਕਸ (Index)

Question ID : 63068047311  
Status : Answered  
Chosen Option : 3

Q.122 Which of the following is/are correct regarding XML?

I. It is the mother of WAP.

II. You need to define your own tags in XML.

- Ans
- ☒ 1. Only II
  - ☒ 2. Neither I nor II
  - ☒ 3. Both I and II
  - ☒ 4. Only I

Question ID : 63068047307  
Status : Answered  
Chosen Option : 1

Q.123 In MS Excel 2019, which shortcut key is used to create a chart?

- Ans
- ☒ 1. F2
  - ☒ 2. F9
  - ☒ 3. F10
  - ☒ 4. F11

Question ID : 63068047238  
Status : Answered  
Chosen Option : 2

Q.124 ਕਰੰਟ ਡਾਇਰੈਕਟਰੀ ਤੋਂ ਇੱਕ ਫਾਇਲ ਦਾ ਪਤਾ ਲਗਾਉਣ ਲਈ ਪਾਥ ਨੇਮਸ ਨੂੰ \_\_\_\_\_ ਪਾਥ ਨੇਮ ਕਿਹਾ ਜਾਂਦਾ ਹੈ।

- Ans
- ☒ 1. ਐਬਸੋਲਿਊਟ
  - ☒ 2. ਰਿਲੇਟਿਵ
  - ☒ 3. ਇੰਡੈਕਟਿਵ
  - ☒ 4. ਐਕਚੁਅਲ

Question ID : 63068047286  
Status : Answered  
Chosen Option : 4

Q.125 Mobile phones can be infected with \_\_\_\_.

I. worms

II. Trojan horses

- Ans
- ☒ 1. Only I
  - ☒ 2. Only II
  - ☒ 3. Neither I nor II
  - ☒ 4. Both I and II

Question ID : 63068047381

Status : Answered

Chosen Option : 4

Q.126 Which of the following is a/are example(s) of GUI?

I. Windows

II. Ubuntu

- Ans
- ☒ 1. Both I and II
  - ☒ 2. Neither I nor II
  - ☒ 3. Only II
  - ☒ 4. Only I

Question ID : 63068047143

Status : Answered

Chosen Option : 4

Q.127 Which of the following things you can determine from the general settings of Gmail?

I. My pictures

II. Signature

III. Maximum page size

- Ans
- ☒ 1. Only III
  - ☒ 2. I, II and III
  - ☒ 3. I and II
  - ☒ 4. II and III

Question ID : 63068047354

Status : Answered

Chosen Option : 3

Q.128 The default port from any HTTP request is \_\_\_\_.

- Ans
- ☒ 1. 90
  - ☒ 2. 100
  - ☒ 3. 60
  - ☒ 4. 80

Question ID : 63068047293

Status : Answered

Chosen Option : 1

Q.129 ਆਪਰੇਟਿੰਗ ਸਿਸਟਮ ਦੁਆਰਾ ਹੇਠਾਂ ਦਿੱਤਿਆਂ ਵਿੱਚੋਂ ਕਿਹੜਾ ਕਾਰਜ ਦਿਸ਼ਾ-ਨਿਰਦੇਸ਼ਿਤ ਕੀਤਾ ਜਾਂਦਾ ਹੈ?

- I. ਪ੍ਰੋਸੈਸ ਮੈਨੇਜਮੈਂਟ (Process Management)
- II. ਸੁਰੱਖਿਅਨ ਅਤੇ ਸੁਰੱਖਿਆ (Protection and Securing)

- Ans
- ☐ 1. ਨਾ ਤਾਂ । ਨਾ ਹੀ ॥
  - ☒ 2. I ਅਤੇ II ਦੋਵੇਂ
  - ☐ 3. ਸਿਰਫ਼ II
  - ☐ 4. ਸਿਰਫ਼ I

Question ID : 63068047273  
Status : Answered  
Chosen Option : 4

Q.130 MS PowerPoint 2019 ਵਿੱਚ, ਹੇਠਾਂ ਦਿੱਤਿਆਂ ਵਿੱਚੋਂ ਬੈਕਗ੍ਰਾਊਂਡ ਕਿਸਮ-ਪਰਿਭਾਸ਼ਾ ਦਾ ਕਿਹੜਾ ਜੋੜਾ ਸਹੀ ਹੈ?

- I. ਸੋਲਿਡ ਫਿੱਲ (Solid fill) – ਸੋਲਿਡ ਬੈਕਗ੍ਰਾਊਂਡ ਕਲਰ (Solid background colour)
- II ਪੈਟਰਨ ਫਿੱਲ (Pattern fill) - ਤਸਵੀਰ ਵਜੋਂ ਬੈਕਗ੍ਰਾਊਂਡ (Picture as background)

- Ans
- ☐ 1. ਸਿਰਫ਼ II
  - ☐ 2. ਨਾ ਤਾਂ । ਨਾ ਹੀ ॥
  - ☐ 3. I ਅਤੇ II ਦੋਵੇਂ
  - ☒ 4. ਸਿਰਫ਼ I

Question ID : 63068047253  
Status : Answered  
Chosen Option : 1

Q.131 What is the full form of ULSI?

- Ans
- ☐ 1. Upper Large Scale Integration
  - ☐ 2. Upper Long Scale Integration
  - ☒ 3. Ultra Large Scale Integration
  - ☐ 4. Ultra Long Scale Integration

Question ID : 63068047118  
Status : Answered  
Chosen Option : 3



Q.132 Arrange the steps to print 3D object using 3D printer from first to last.

- I. Slice the 3D model into horizontal layers
- II. Create a 3D digital file of the object
- III. Upload the sliced file and print

Ans ☒ 1. III, I, II  
☒ 2. II, III, I  
☒ 3. I, II, III  
☒ 4. II, I, III

Question ID : 63068047180

Status : Answered

Chosen Option : 4

Q.133 Which of the following are the common Email protocols?

- I. IMAP Protocol
- II. SMTP Protocol
- III. POP3 Protocol

Ans ☒ 1. I and II  
☒ 2. I, II and III  
☒ 3. Only III  
☒ 4. II and III

Question ID : 63068047372

Status : Answered

Chosen Option : 4

Q.134 Who is/are the founders of Youtube?

- I. Chad Hurley
- II. Jawed Karim
- III. Steve Chen

Ans ☒ 1. Only II  
☒ 2. II and III  
☒ 3. I and II  
☒ 4. I, II and III

Question ID : 63068047408

Status : Answered

Chosen Option : 2

Q.135 In MS Word 2019, page setup can be accessed from which tab?

Ans ☒ 1. Layout  
☒ 2. Mailings  
☒ 3. Insert  
☒ 4. Design

Question ID : 63068047204

Status : Answered

Chosen Option : 1

Q.136 ਸਪੀਚ ਸਿੰਥੇਸਾਈਜ਼ਰ (speech synthesizer) ਦਾ ਕੀ ਕੰਮ ਹੈ?

Ans

✗ 1. ਸਪੀਚ ਨੂੰ ਇੱਕ ਭਾਸ਼ਾ ਤੋਂ ਦੂਜੀ ਭਾਸ਼ਾ ਵਿੱਚ ਬਦਲਨਾ

✗ 2. ਜੋ ਬੋਲਿਆ ਜਾਂਦਾ ਹੈ, ਉਸਨੂੰ ਪਹਿਚਾਣਨਾ

✓ 3.

ਲਿਖਤ ਜਾਣਕਾਰੀ (text information) ਨੂੰ ਬੋਲੇ ਗਏ ਵਾਕ ਵਿੱਚ ਬਦਲਨਾ

✗ 4. ਕੋਣ ਬੋਲ ਰਿਹਾ ਹੈ, ਇਸਦੀ ਪਹਿਚਾਣ ਕਰਨਾ

Question ID : 63068047184

Status : Answered

Chosen Option : 1

Q.137 In MS Word 2019, which of the following pair of tab – function is correct?

I. Review – Track Changes

II. Equation – Home

Ans

✗ 1. Only II

✗ 2. Both I and II

✗ 3. Neither I nor II

✓ 4. Only I

Question ID : 63068047212

Status : Answered

Chosen Option : 4

Q.138 Themes icon is found in which tab of MS Excel 2019?

Ans

✗ 1. Data

✓ 2. Page Layout

✗ 3. Insert

✗ 4. View

Question ID : 63068047237

Status : Answered

Chosen Option : 4

Q.139 Which of the following is a/are social networking service/s?

I. Flip

II. LinkedIn

Ans

✓ 1. Both I and II

✗ 2. Neither I nor II

✗ 3. Only II

✗ 4. Only I

Question ID : 63068047346

Status : Answered

Chosen Option : 3

Q.140 In which directory structure a file can have many parent directories?

- Ans
- ☐ 1. Directory Tree
  - ☐ 2. Directory Queue
  - ☒ 3. Directory Graph
  - ☐ 4. Directory Stack

Question ID : 63068047287  
Status : Answered  
Chosen Option : 1

Q.141 Which of the following are the OTT platforms?

- I. Voot
- II. iTunes
- III. Netflix
- IV. Hotstar

- Ans
- ☐ 1. II, III and IV
  - ☐ 2. I, II and IV
  - ☒ 3. I, II, III and IV
  - ☐ 4. II and IV

Question ID : 63068047419  
Status : Answered  
Chosen Option : 3

Q.142 Which of the following is a/are types of mobile phone charger cables?

- I. USB TYPE C
- II. USB MINI B
- III. USB MICRO B

- Ans
- ☒ 1. I, II and III
  - ☐ 2. I and III
  - ☐ 3. II and III
  - ☐ 4. I and II

Question ID : 63068047395  
Status : Answered  
Chosen Option : 4

Q.143 Storage capacity of disk system is \_\_\_\_.

- Ans
- ☐ 1. Number of recording surface  $\times$  Number of tracks  $\times$  Number of sectors per track + Number of bytes per sector
  - ☐ 2. Number of recording surface + Number of tracks  $\times$  Number of sectors per track + Number of bytes per sector
  - ☐ 3. Number of recording surface  $\times$  Number of tracks + Number of sectors per track  $\times$  Number of bytes per sector
  - ☒ 4. Number of recording surface  $\times$  Number of tracks  $\times$  Number of sectors per track  $\times$  Number of bytes per sector

Question ID : 63068047194  
Status : Answered  
Chosen Option : 1



Q.144 In MS Word 2019, from which tab can the user access the navigation pane?

- Ans
- ☐ 1. Mailings
  - ☐ 2. Home
  - ☒ 3. View
  - ☐ 4. Review

Question ID : 63068047201  
Status : Answered  
Chosen Option : 4

Q.145 Match the following.

I	Personal computers	1	Second generation computers
II	Python	2	Fourth generation computers
III	Batch operating system	3	Fifth generation computers

- Ans
- ☐ 1. I-1, II-3, III-2
  - ☒ 2. I-2, II-3, III-1
  - ☐ 3. I-2, II-1, III-3
  - ☐ 4. I-1, II-2, III-3

Question ID : 63068047138  
Status : Answered  
Chosen Option : 3

Q.146 Which of the following statement/s is/are correct?

- I. Telnet is based on client/server architecture.  
II. FTP is based on client/server architecture.

- Ans
- ☐ 1. Only I
  - ☒ 2. Both I and II
  - ☐ 3. Only II
  - ☐ 4. Neither I nor II

Question ID : 63068047324  
Status : Answered  
Chosen Option : 2

Q.147 A computer which takes vision as input must consist of \_\_\_\_.

- Ans
- ☐ 1. Speaker
  - ☐ 2. Microphone
  - ☒ 3. Camera
  - ☐ 4. Joystick

Question ID : 63068047141  
Status : Answered  
Chosen Option : 3

Q.148 In an analog computer:

- Ans
- ☐ 1. output is displayed in digital form
  - ☐ 2. output is converted to digital form
  - ☐ 3. input is first converted to digital form
  - ☒ 4. input is never converted to digital form

Question ID : 63068047647

Status : Answered

Chosen Option : 3

Q.149 ਸਰਚ ਇੰਜਣਾਂ ਦੇ ਸਰਚ ਇੰਟਰਫੇਸ ਦੁਆਰਾ ਕੀਤਾ ਜਾਂਦਾ ਕਾਰਜ ਕਿਹੜਾ ਹੈ?

- I. ਕੈਪਚਰ ਯੂਜ਼ਰ ਇਨਪੁਟ (Capturing user input)
- II. ਸਰਚ ਰੀਫਾਇਨਮੈਂਟ (Search refinement)
- III. ਅਡਵਾਂਸ ਸਰਚ ਸਟੇਟਮੈਂਟ (Advance search statement)

- Ans
- ☐ 1. I ਅਤੇ III
  - ☐ 2. II ਅਤੇ III
  - ☐ 3. I ਅਤੇ II
  - ☒ 4. I, II ਅਤੇ III

Question ID : 63068047341

Status : Answered

Chosen Option : 2

Q.150 Each instruction is accompanied by \_\_\_\_\_, very basic directions that tell the CPU how to execute the instruction.

- Ans
- ☐ 1. Microprogram
  - ☐ 2. Microsequence
  - ☐ 3. Macroprogram
  - ☒ 4. Microcode

Question ID : 63068045388

Status : Answered

Chosen Option : 4