



Teachingninja.in



Latest Govt Job updates



Private Job updates



Free Mock tests available



Visit - teachingninja.in

Rajasthan Jail Prahari

Previous Year Paper

07 Sept, 2017



Participant ID:	
Participant Name:	
Test Center Name:	
Test Date:	07/09/2017
Test Time:	4:00 PM - 6:00 PM
Marks Obtained:	117.00

Section : तार्किक और मानसिक क्षमता

Q.1 निम्न में से असंगत को चुनिए ?

- Ans ☒ 1. लैफ्टीनेन्ट
☒ 2. एस. पी.
☒ 3. एडमिरल
☒ 4. कैप्टन

Question ID : 6172496279

Status : Answered

Chosen Option : 2

Marks : 4.00

Q.2 नीचे दिए गए कथनों के अनुसार कौनसा निष्कर्ष तर्कसंगत निकाला जा सकता है।

कथन : सभी कौवे पक्षी है।
सभी मोर कौवे है।
निष्कर्ष : I. सभी मोर पक्षी है।
II. सभी पक्षी मोर है।

- Ans ☒ 1. दोनों निष्कर्ष गलत है
☒ 2. दोनों निष्कर्ष सही है
☒ 3. केवल निष्कर्ष II सही है
☒ 4. केवल निष्कर्ष I सही है

Question ID : 6172498404

Status : Answered

Chosen Option : 3

Marks : -1.00

Q.3 निम्न श्रृंखला में प्रश्नवाचक चिन्ह (?) के स्थान पर क्या आएगा
ACEG : IKMO :: QSUW ?

- Ans ☒ 1. YACD
☒ 2. YBCE
☒ 3. YACE
☒ 4. YZCE

Question ID : 6172496064

Status : Answered

Chosen Option : 2

Marks : -1.00

Q.4 दो स्टेशनों के बीच प्रथम और द्वितीय श्रेणी का किराया 4 : 1 के अनुपात में है और प्रथम और द्वितीय श्रेणी से यात्रा करने वाले यात्रियों की संख्या का अनुपात 1 : 40 है। यदि कुल किराए के रूप में ₹ 11000 लिए जाते हैं तो प्रथम श्रेणी के यात्रियों से ली गई राशि कितनी होगी ?

- Ans ☒ 1. ₹ 3150
☒ 2. ₹ 800
☒ 3. ₹ 1375
☒ 4. ₹ 1000

Question ID : 6172497384

Status : Answered

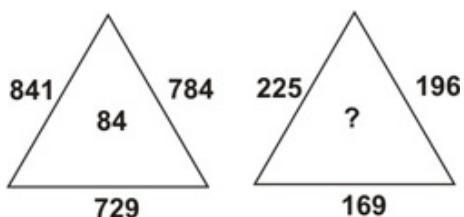
Chosen Option : 2

Marks : -1.00

Q.5 निम्न प्रश्न में दिए गए विकल्पों में से प्रश्नवाचक चिन्ह के स्थान पर आने वाली संख्या ज्ञात कीजिए।

Question ID : 6172497204

Status : Answered



Chosen Option : 4
Marks : -1.00

- Ans
- ☒ 1. 82
 - ☒ 2. 62
 - ☒ 3. 42
 - ☒ 4. 32

Q.6 किसी नाव की शांत जल में गति 15 किमी. प्रति घंटा है एवं धारा प्रवाह की दर 3 किमी; प्रति घंटा है। 12 मिनट में बहाव की दिशा में तय की गई दूरी (किमी में) है:

- Ans
- ☒ 1. 1.2
 - ☒ 2. 2.4
 - ☒ 3. 3.6
 - ☒ 4. 1.8

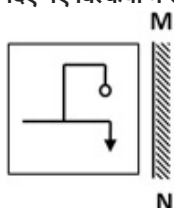
Question ID : 6172497504

Status : Answered

Chosen Option : 2

Marks : -1.00

Q.7 दिए गए विकल्पों में से प्रश्न आकृति का दर्पण प्रतिबिम्ब क्या होगा?



Ans

- ☒ 1.
- ☒ 2.
- ☒ 3.
- ☒ 4.

Question ID : 6172497924

Status : Answered

Chosen Option : 1

Marks : 4.00

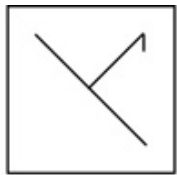
Q.8 दिए गए विकल्पों में से प्रश्न आकृति का दर्पण प्रतिबिम्ब क्या होगा?

Question ID : 6172497864

Status : Answered

Chosen Option : 1

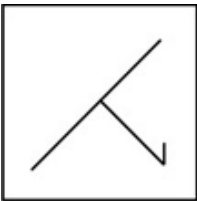
Marks : 4.00



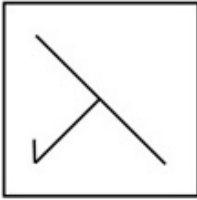
Ans



1.



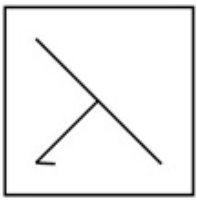
2.



3.



4.



Q.9 4 लड़कों तथा 3 लड़कियों ने औसतन रू 120 खर्च किए। उनमें लड़कों ने यदि औसतन रू 150 किए हो तो लड़कियों का औसत खर्च कितना था ?

Ans



1. रू 60



2. रू 80



3. रू 90



4. रू 100

Question ID : 6172497444

Status : Answered

Chosen Option : 3

Marks : -1.00

Q.10 एक फोटो में महिला की ओर संकेत करते हुए राम ने कहा, "वह मेरे दादा के इकलौते पुत्र की लड़की की लड़की है।" वह महिला राम की रिश्ते में क्या है

Ans



1. बहन



2. भांजी



3. मामी



4. चचेरी बहन

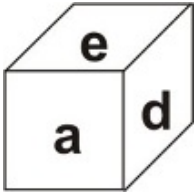
Question ID : 6172496824

Status : Answered

Chosen Option : 2

Marks : 4.00

Q.11 एक पासे के निकटवर्ती फलक पर घड़ी की सुइयों के चलने की दिशा में क्रम से a, b, c और d लिखा गया है एवं e और f को क्रमशः ऊपर एवं नीचे के फलकों पर लिखा गया है। इस पासे के ऊपरी फलक पर जब c हो, तो उसके नीचे के फलक पर कौन-सा अक्षर होगा?



Question ID : 6172496964

Status : Answered

Chosen Option : 3

Marks : 4.00

- Ans
- ☒ 1. e
 - ☒ 2. b
 - ☒ 3. a
 - ☒ 4. c

Q.12 नीचे दिए गए कथनों के अनुसार कौनसा निष्कर्ष तर्कसंगत निकाला जा सकता है।
कथन : कुछ फोन घड़ी है।
सभी घड़ी मोबाइल है।
निष्कर्ष : I. सभी मोबाइल घड़ी है।
II. कुछ मोबाइल फोन है।

- Ans
- ☒ 1. केवल निष्कर्ष II सही है
 - ☒ 2. केवल निष्कर्ष I सही है
 - ☒ 3. दोनों निष्कर्ष गलत है
 - ☒ 4. दोनों निष्कर्ष सही है

Question ID : 6172498344
Status : Answered
Chosen Option : 4
Marks : -1.00

Q.13 475 + 950 का 64% = 900 + ?

- Ans
- ☒ 1. 1863
 - ☒ 2. 233
 - ☒ 3. 1983
 - ☒ 4. 183

Question ID : 6172497624
Status : Answered
Chosen Option : 4
Marks : 4.00

Q.14 पीटर पश्चिम की ओर 5 मी. चलकर दायी ओर मुड़ जाता है और फिर 5 मी. चलता है, इसके बाद दायी ओर मुड़ कर 20 मी. चलता है। अंत में दायी ओर 5 मी. चलकर रुक जाता है। अब वह अपने चलने के प्रारम्भिक स्थान से कितनी दूर है ?

- Ans
- ☒ 1. 20 मी.
 - ☒ 2. 15 मी.
 - ☒ 3. 25 मी.
 - ☒ 4. 5 मी.

Question ID : 6172496784
Status : Answered
Chosen Option : 2
Marks : 4.00

Q.15 यदि + का अर्थ -, × का अर्थ ÷, ÷ का अर्थ + तथा - का अर्थ × हो, तो $252 \times 9 - 5 + 32 \div 92 = ?$

- Ans
- ☒ 1. 200
 - ☒ 2. 168
 - ☒ 3. 192
 - ☒ 4. 95

Question ID : 6172497144
Status : Answered
Chosen Option : 3
Marks : -1.00

Q.16 जिस प्रकार पेन का सम्बन्ध कवि से है, उसी प्रकार सूई का सम्बन्ध किससे है ?

- Ans
- ☒ 1. धागा
 - ☒ 2. दर्जी
 - ☒ 3. सिलाई
 - ☒ 4. बटन

Question ID : 6172496160
Status : Answered
Chosen Option : 2
Marks : 4.00

Q.17 यदि किसी सांकेतिक भाषा में "COUNTER" को "VPDMSFU" लिखा जाता है तो DIALECT को उसी भाषा में कैसे लिखा जाएगा?

- Ans
- ☒ 1. BJEMWDF
 - ☒ 2. BJEMFDU
 - ☒ 3. BJEKUDF

Question ID : 6172496399
Status : Answered
Chosen Option : 4
Marks : -1.00

✗ 4. BJEKFDU

Q.18 निम्न में से असंगत को चुनिए ?

- Ans
- ✗ 1. मलेरिया
 - ✗ 2. डेंगू
 - ✗ 3. प्लेग
 - ✓ 4. टिटनस

Question ID : 6172496280

Status : Answered

Chosen Option : 3

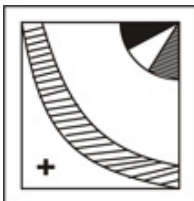
Marks : -1.00

Q.19 दिए गए विकल्पों में से प्रश्न आकृति का जल प्रतिबिम्ब क्या होगा?



Ans

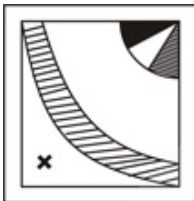
✓ 1.



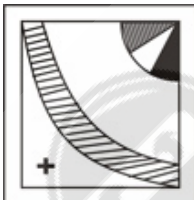
✗ 2.



✗ 3.



✗ 4.



Question ID : 6172498044

Status : Answered

Chosen Option : 1

Marks : 4.00

Q.20 12 : 55 बजे घड़ी की सूइयां आपस में कितने अंश का कोण बनाती हैं

- Ans
- ✗ 1. $87\frac{1}{2}^\circ$
 - ✗ 2. $67\frac{1}{2}^\circ$
 - ✓ 3. $57\frac{1}{2}^\circ$
 - ✗ 4. $27\frac{1}{2}^\circ$

Question ID : 6172497024

Status : Answered

Chosen Option : 1

Marks : -1.00

Q.21 श्रेणी 7, 8, 18, 57, ?, 1165 में लुप्त संख्या '?' क्या है ?

- Ans
- ✗ 1. 228
 - ✓ 2. 232
 - ✗ 3. 174
 - ✗ 4. 224

Question ID : 6172495920

Status : Not Answered

Chosen Option : --

Marks : 0.00

<p>Q.22 जिस प्रकार ग्लूकोमीटर का सम्बन्ध रक्त शर्करा से है, उसी प्रकार नाड़ीमापी का सम्बन्ध किससे है ?</p> <p>Ans <input checked="" type="checkbox"/> 1. भूकंप</p> <p><input checked="" type="checkbox"/> 2. रक्तचाप</p> <p><input checked="" type="checkbox"/> 3. विशिष्ट गुरुत्वाकर्षण</p> <p><input checked="" type="checkbox"/> 4. वायुमंडलीय दाब</p>	<p>Question ID : 6172496159</p> <p>Status : Answered</p> <p>Chosen Option : 4</p> <p>Marks : -1.00</p>
<p>Q.23 10 जून 2002 को कौनसा वार था ?</p> <p>Ans <input checked="" type="checkbox"/> 1. शुक्रवार</p> <p><input checked="" type="checkbox"/> 2. सोमवार</p> <p><input checked="" type="checkbox"/> 3. गुरुवार</p> <p><input checked="" type="checkbox"/> 4. रविवार</p>	<p>Question ID : 6172497084</p> <p>Status : Not Answered</p> <p>Chosen Option : --</p> <p>Marks : 0.00</p>
<p>Q.24 X की आयु Y की 2 वर्ष पूर्व की आयु की दोगुनी है। यदि दोनों की वर्तमान आयु का अन्तर 2 वर्ष है, तो X की वर्तमान आयु कितनी है ?</p> <p>Ans <input checked="" type="checkbox"/> 1. 6 वर्ष</p> <p><input checked="" type="checkbox"/> 2. 3 वर्ष</p> <p><input checked="" type="checkbox"/> 3. 4 वर्ष</p> <p><input checked="" type="checkbox"/> 4. 8 वर्ष</p>	<p>Question ID : 6172498164</p> <p>Status : Answered</p> <p>Chosen Option : 4</p> <p>Marks : 4.00</p>
<p>Q.25 यदि किसी सांकेतिक भाषा में "ORAL" को "3196" लिखा जाता है तो "WRITTEN" को उसी सांकेतिक भाषा में कैसे लिखा जाएगा?</p> <p>Ans <input checked="" type="checkbox"/> 1. 5522959</p> <p><input checked="" type="checkbox"/> 2. 5529295</p> <p><input checked="" type="checkbox"/> 3. 5522995</p> <p><input checked="" type="checkbox"/> 4. 5992255</p>	<p>Question ID : 6172496400</p> <p>Status : Answered</p> <p>Chosen Option : 3</p> <p>Marks : 4.00</p>
<p>Q.26 आठ मित्र P, Q, R, S, T, U, V और W केन्द्र की ओर मुँह किए एक वृत्त के चारों ओर बैठे हैं V, Q के दाये तीसरा और R के बाँये दूसरा है Q, T के बायें दूसरा और S के तुरन्त दायें है, U, Q और T के बीच में है P, R के बाँये नहीं है। S के तुरन्त बायें कौन है?</p> <p>Ans <input checked="" type="checkbox"/> 1. Q</p> <p><input checked="" type="checkbox"/> 2. V</p> <p><input checked="" type="checkbox"/> 3. U</p> <p><input checked="" type="checkbox"/> 4. P</p>	<p>Question ID : 6172496664</p> <p>Status : Answered</p> <p>Chosen Option : 2</p> <p>Marks : -1.00</p>
<p>Q.27 एक घन अपने सभी तरफ से लाल रंग से रंगा हुआ है। उसमें से 125 छोटे समान आकार के घन काटे जाते हैं। कितने घनों के तीन तरफ रंग होगा?</p> <p>Ans <input checked="" type="checkbox"/> 1. 0</p> <p><input checked="" type="checkbox"/> 2. 12</p> <p><input checked="" type="checkbox"/> 3. 4</p> <p><input checked="" type="checkbox"/> 4. 8</p>	<p>Question ID : 6172496904</p> <p>Status : Answered</p> <p>Chosen Option : 2</p> <p>Marks : -1.00</p>
<p>Q.28 $3\sqrt{(6859)} = ?$</p> <p>Ans <input checked="" type="checkbox"/> 1. 17</p> <p><input checked="" type="checkbox"/> 2. 21</p> <p><input checked="" type="checkbox"/> 3. 19</p> <p><input checked="" type="checkbox"/> 4. 15</p>	<p>Question ID : 6172497324</p> <p>Status : Answered</p> <p>Chosen Option : 3</p> <p>Marks : 4.00</p>

Q.29 निम्नलिखित को तर्कसंगत क्रम में किस प्रकार व्यवस्थित किया जाएगा। 1. बुलाने का पत्र 2. आवेदन 3. विज्ञापन 4. भेंट वार्ता 5. नियुक्ति का आदेश

- Ans ☒ 1. 3, 2, 1, 4, 5
☒ 2. 3, 1, 2, 5, 4
☒ 3. 2, 1, 3, 4, 5
☒ 4. 5, 4, 3, 2, 1

Question ID : 6172496484
Status : Answered
Chosen Option : 1
Marks : 4.00

Q.30 श्रेणी 15, 18, 24, 36, ? में लुप्त संख्या '?' क्या है ?

- Ans ☒ 1. 66
☒ 2. 54
☒ 3. 48
☒ 4. 60

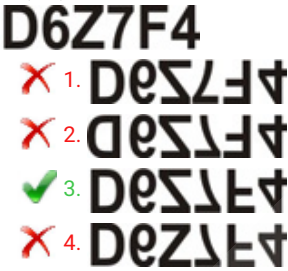
Question ID : 6172495919
Status : Answered
Chosen Option : 4
Marks : 4.00

Q.31 निम्नलिखित को तर्कसंगत क्रम में किस प्रकार व्यवस्थित किया जाएगा।
1. इलाज 2. डॉक्टर 3. रोग 4. निदान 5. औषधि

- Ans ☒ 1. 2, 4, 3, 5, 1
☒ 2. 4, 3, 2, 5, 1
☒ 3. 4, 2, 3, 5, 1
☒ 4. 3, 2, 4, 5, 1

Question ID : 6172496544
Status : Answered
Chosen Option : 4
Marks : 4.00

Q.32 दिए गए विकल्पों में से निम्नलिखित अक्षर समूह का जल प्रतिबिम्ब कौनसा होगा ?



- Ans ☒ 1. D6Z7F4
☒ 2. D6Z7F4
☒ 3. D6Z7F4
☒ 4. D6Z7F4

Question ID : 6172498104
Status : Answered
Chosen Option : 3
Marks : 4.00

Q.33 निम्न प्रश्न में दिए गए विकल्पों में से प्रश्नवाचक चिन्ह के स्थान पर आने वाली संख्या ज्ञात कीजिए।



- Ans 1. 90
2. 43
3. 81
4. 49

Note: For this question, discrepancy is found in question/answer. Full Marks is being awarded to all candidates.

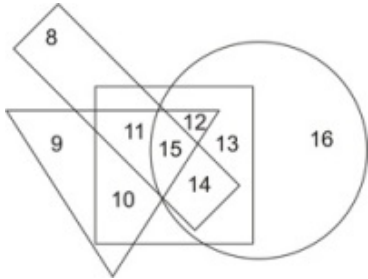
Question ID : 6172497264
Status : Answered
Chosen Option : 3
Marks : 4.00

Q.34 एक पंक्ति में बच्चे उत्तर की ओर मुँह करके खड़े हैं। इसमें भरत दायें से 11वां तथा समीर के दायें तीसरा है जो कि बायें से 15वां है तो पंक्ति में कुल कितने बच्चे हैं।

- Ans ☒ 1. 30
☒ 2. 29
☒ 3. 28
☒ 4. 27

Question ID : 6172496604
Status : Answered
Chosen Option : 2
Marks : -1.00

Q.35 निम्नांकित आरेख में यदि वृत्त ग्रामीण व्यक्तियों, आयत ईमानदार, वर्ग मेहनती एवं त्रिभुज शिक्षित व्यक्तियों को दर्शाता है। आकृति में मेहनती, शिक्षित, ईमानदार व्यक्तियों की संख्या जो ग्रामीण नहीं है, क्या होगी?



- Ans
- ☒ 1. 13
 - ☒ 2. 12
 - ☒ 3. 10
 - ☒ 4. 11

Question ID : 6172498284

Status : Answered

Chosen Option : 2

Marks : -1.00

Q.36 निम्न श्रृंखला में रिक्त स्थान (.) के स्थान पर क्या आएगा
ccbab _ caa _ bccc _ a

- Ans
- ☒ 1. bab
 - ☒ 2. baa
 - ☒ 3. bbb
 - ☒ 4. bac

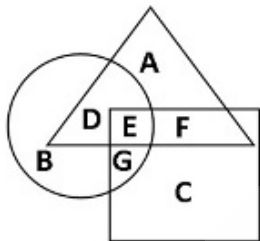
Question ID : 6172496004

Status : Answered

Chosen Option : 4

Marks : -1.00

Q.37 निम्नांकित आरेख में वृत्त बुद्धिमान लोगों को, त्रिभुज सृजनात्मक लोगों को जबकि वर्ग सुस्त लोगों को इंगित करता है तो सृजनात्मक लेकिन सुस्त पुरुष कौन है-



- Ans
- ☒ 1. E और F
 - ☒ 2. C
 - ☒ 3. F
 - ☒ 4. A

Question ID : 6172498224

Status : Answered

Chosen Option : 1

Marks : 4.00

Q.38 X एक स्थान से चलती है और 15 मी. पश्चिम की ओर जाती है, फिर वह बाएं घूमती है और 12 मी चलती है, फिर वह दाएं घूमकर चलती है। अब वह किस दिशा में चल रही है

- Ans
- ☒ 1. पूर्व
 - ☒ 2. दक्षिण
 - ☒ 3. उत्तर
 - ☒ 4. पश्चिम

Question ID : 6172496724

Status : Answered

Chosen Option : 4

Marks : 4.00

Q.39 एक वस्तु 400 रुपये घाटे में 3600 रुपये में बेची गई। प्रतिशत हानि निकाले

- Ans
- ☒ 1. 25%
 - ☒ 2. 10%
 - ☒ 3. 20%
 - ☒ 4. 40%

Question ID : 6172497684

Status : Answered

Chosen Option : 2

Marks : 4.00

Q.40 एक दुर्ग में 80 सैनिकों हेतु 60 दिन की रसद है। यदि 15 दिन बाद 20 सैनिक और आ जाएं तो रसद कितने दिनों में समाप्त हो जायेगी ?

- Ans
- ✓ 1. 36 दिन
 - ✗ 2. 38 दिन
 - ✗ 3. 25 दिन
 - ✗ 4. 40 दिन

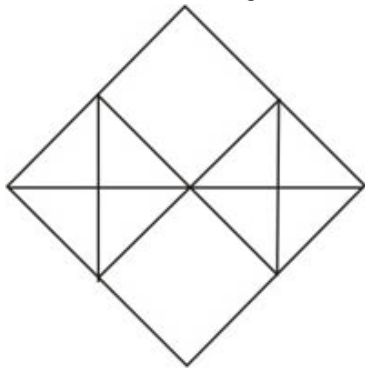
Question ID : 6172497564

Status : Answered

Chosen Option : 4

Marks : -1.00

Q.41 निम्नांकित चित्र में कितनी त्रिभुजों हैं?



- Ans
- ✗ 1. 16
 - ✓ 2. 18
 - ✗ 3. 22
 - ✗ 4. 32

Question ID : 6172497984

Status : Answered

Chosen Option : 1

Marks : -1.00

Q.42 निम्नलिखित में से कौनसी आकृति मिनटों, दिनों और महीनों के बीच सही संबंध को भली-भाँति दर्शाती है?

- Ans
- ✗ 1.
 - ✓ 2.
 - ✗ 3.
 - ✗ 4.

Question ID : 6172497744

Status : Answered

Chosen Option : 2

Marks : 4.00

Q.43 निम्न में से किस उत्तर आकृति द्वारा प्रश्न आकृति पूरी होगी?

Question ID : 6172498464

Status : Answered



Chosen Option : 1
Marks : 4.00

Ans

✓ 1.



✗ 2.



✗ 3.



✗ 4.



Q.44 निम्न में से किस उत्तर आकृति द्वारा प्रश्न आकृति पूरी होगी?



Question ID : 6172498524

Status : Answered

Chosen Option : 1

Marks : 4.00

Ans

✓ 1.



✗ 2.



✗ 3.



✗ 4.



Q.45 निम्न में से वह आरेख चुनिए जो नीचे दिए गए वर्गों के बीच सम्बन्ध का सही निरूपण करता है।
भाषाएँ, अंग्रेजी, कन्नड़

Question ID : 6172497804

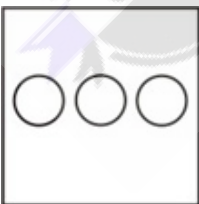
Status : Answered

Chosen Option : 3

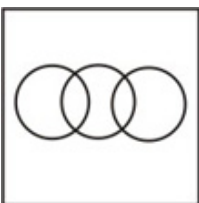
Marks : 4.00

Ans


✗ 1.



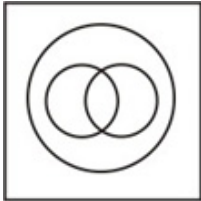
✗ 2.



✓ 3.



✗ 4.



Section : सामान्य ज्ञान सामान्य विज्ञान और सामयिकी

Q.1 मेगाबाइट (Mega Byte) में मापते है ?

- Ans
- ✗ 1. जनसंख्या घनत्व
 - ✓ 2. कम्प्यूटर की स्मृति क्षमता
 - ✗ 3. भूकम्प की तीव्रता
 - ✗ 4. शक्ति व्यय की क्षमता

Question ID : 6172499184

Status : Answered

Chosen Option : 4

Marks : -1.00

Q.2 विधान परिषद् के सदस्य कितने वर्षों के लिए निर्वाचित होते है ?

- Ans
- ✓ 1. 6 वर्ष
 - ✗ 2. 5 वर्ष
 - ✗ 3. 3 वर्ष
 - ✗ 4. 4 वर्ष

Question ID : 6172499977

Status : Answered

Chosen Option : 1

Marks : 4.00

Q.3 पौधे नाइट्रोजन को किस रूप में ग्रहण करते है ?

- Ans
- ✗ 1. अमोनिया
 - ✗ 2. नाइट्राइट
 - ✗ 3. नाइट्रोजन गैस
 - ✓ 4. नाइट्रेट

Question ID : 6172499100

Status : Answered

Chosen Option : 2

Marks : -1.00

Q.4 जूल निम्नलिखित की इकाई है ?

- Ans
- ✓ 1. उर्जा
 - ✗ 2. तापमान
 - ✗ 3. दाब
 - ✗ 4. बल

Question ID : 6172498884

Status : Answered

Chosen Option : 3

Marks : -1.00

Q.5 सुन्दर वन का डेल्टा कौन-सी नदी बनाती है ?

- Ans
- ✗ 1. नर्मदा एवं ताप्ती
 - ✗ 2. केवल ब्रह्मपुत्र
 - ✓ 3. गंगा एवं ब्रह्मपुत्र
 - ✗ 4. केवल गंगा

Question ID : 6172499349

Status : Answered

Chosen Option : 4

Marks : -1.00

Q.6 जुलू लोग रहते है ?

- Ans
- ✗ 1. कांगो में
 - ✗ 2. ऑस्ट्रेलिया में

Question ID : 6172499484

Status : Answered

Chosen Option : 1

- ☒ 3. न्यूजीलैण्ड में
- ☒ 4. दक्षिण अफ्रीका में

Marks : -1.00

Q.7 भारतीय रिजर्व बैंक का राष्ट्रीयकरण किस वर्ष हुआ था ?

- Ans ☒ 1. 1947
- ☒ 2. 1949
- ☒ 3. 1945
- ☒ 4. 1948

Question ID : 61724910024

Status : Answered

Chosen Option : 4

Marks : -1.00

Q.8 इडुक्की जल-विद्युत परियोजना किस राज्य में स्थित है ?

- Ans ☒ 1. जम्मू-कश्मीर में
- ☒ 2. केरल में
- ☒ 3. अरुणाचल प्रदेश में
- ☒ 4. हिमाचल प्रदेश में

Question ID : 6172499351

Status : Answered

Chosen Option : 2

Marks : 4.00

Q.9 विश्व का सबसे बड़ा, लिखित एवं सर्वाधिक व्यापक संविधान किस देश का है ?

- Ans ☒ 1. भारत
- ☒ 2. कनाडा
- ☒ 3. ब्रिटेन
- ☒ 4. दक्षिण अफ्रीका

Question ID : 6172499980

Status : Answered

Chosen Option : 1

Marks : 4.00

Q.10 भारत में जैव विविधता की दृष्टि से धनी स्थान है ?

- Ans ☒ 1. पूर्वी घाट
- ☒ 2. थार का रेगिस्तान
- ☒ 3. पश्चिमी घाट
- ☒ 4. बंगाल की खाड़ी

Question ID : 6172499350

Status : Answered

Chosen Option : 1

Marks : -1.00

Q.11 हाल ही में भारतीय प्रधानमंत्री द्वारा इज़राइल की यात्रा पर प्रधानमंत्री के सम्मान में किस वस्तु का नाम नरेंद्र मोदी के नाम पर रखा गया ?

- Ans ☒ 1. फल
- ☒ 2. पेड़
- ☒ 3. फूल
- ☒ 4. कार

Question ID : 6172498726

Status : Not Answered

Chosen Option : --

Marks : 0.00

Q.12 किस साहित्यकार को 52 वां ज्ञानपीठ पुरस्कार दिया गया ?

- Ans ☒ 1. प्रो. शंख घोष
- ☒ 2. शेखर चौधरी
- ☒ 3. अभिजीत बनर्जी
- ☒ 4. जयंती घोष

Question ID : 6172498727

Status : Answered

Chosen Option : 1

Marks : 4.00

Q.13 सूफी संत ख्वाजा मुईनुद्दीन चिश्ती किसके शासनकाल में राजस्थान आए थे ?

- Ans ☒ 1. पृथ्वीराज चौहान
- ☒ 2. महाराणा प्रताप
- ☒ 3. राणा सांगा
- ☒ 4. राणा कुम्भा

Question ID : 6172499604

Status : Answered

Chosen Option : 3

Marks : -1.00

Q.14 भारत, अमेरिका एवं जापान के मध्य संयुक्त नौ सेना अभ्यास 2017 का क्या नाम है ?

- Ans
- ☒ 1. शक्ति
 - ☒ 2. समुद्रा
 - ☒ 3. मालाबार
 - ☒ 4. जुई

Question ID : 6172498728

Status : Answered

Chosen Option : 1

Marks : -1.00

Q.15 हृदय का पहला प्रतिस्थापन किसके द्वारा किया गया था ?

- Ans
- ☒ 1. डॉ क्रिश्चियन बर्नार्ड
 - ☒ 2. डॉ लुई पाश्चर
 - ☒ 3. सर एफ. जी. हॉफकिन्स
 - ☒ 4. डॉ विलियम हार्वे

Question ID : 6172499099

Status : Answered

Chosen Option : 4

Marks : -1.00

Q.16 भारत एवं पाकिस्तान का विभाजन किस योजना के तहत हुआ था ?

- Ans
- ☒ 1. माउंटबेटन योजना
 - ☒ 2. वेवेल योजना
 - ☒ 3. चेम्सफोर्ड योजना
 - ☒ 4. क्रिप्स योजना

Question ID : 6172499700

Status : Answered

Chosen Option : 1

Marks : 4.00

Q.17 क्षेत्रीय कनेक्टिविटी योजना "उड़ान" के तहत पहली उड़ान किन दो शहरों के बीच रवाना की गई ?

- Ans
- ☒ 1. शिमला - दिल्ली
 - ☒ 2. जमु - दिल्ली
 - ☒ 3. अमृतसर - दिल्ली
 - ☒ 4. पठानकोट - दिल्ली

Question ID : 6172498725

Status : Answered

Chosen Option : 3

Marks : -1.00

Q.18 इंटरनेशनल सेंटर फॉर फूड एण्ड माउथ दिसीज किस राज्य में स्थापित किया गया ?

- Ans
- ☒ 1. ओडिशा
 - ☒ 2. मणिपुर
 - ☒ 3. जिपुरा
 - ☒ 4. मेघालय

Question ID : 6172498724

Status : Answered

Chosen Option : 4

Marks : -1.00

Q.19 सारनाथ में किसने अपना प्रथम उपदेश दिया था ?

- Ans
- ☒ 1. बुद्ध
 - ☒ 2. महावीर
 - ☒ 3. शंकराचार्य
 - ☒ 4. पार्श्वनाथ

Question ID : 6172499544

Status : Not Answered

Chosen Option : --

Marks : 0.00

Q.20 विधान सभा में धन-विधेयक किसकी पूर्व अनुमति पर पेश होता है ?

- Ans
- ☒ 1. राष्ट्रपति
 - ☒ 2. प्रधानमंत्री
 - ☒ 3. मुख्यमंत्री
 - ☒ 4. राज्यपाल

Question ID : 6172499978

Status : Answered

Chosen Option : 3

Marks : -1.00

Q.21 किस सिक्ख गुरु ने फारसी में जफरनामा लिखा था ?

- Ans
- ☒ 1. गुरु तेगबहादुर

Question ID : 6172499699

Status : Answered

- ✓ 2. गुरु गोविन्द सिंह
- ✗ 3. गुरु हरिराय
- ✗ 4. गुरु हरिकिशन

Chosen Option : 4
Marks : -1.00

Q.22 विधानमण्डल का प्रमुख कर्तव्य क्या है ?

- Ans ✓ 1. नियमों (कानूनों) को अधिनियमित करना
- ✗ 2. न्यायिक मामलों को कार्यान्वित करना
- ✗ 3. कानूनों को कार्यान्वित करना
- ✗ 4. केन्द्रीय प्रशासन

Question ID : 6172499979
Status : Answered
Chosen Option : 4
Marks : -1.00

Q.23 संक्रमण तत्व (Transition element) की विशेषता है ?

- Ans ✗ 1. अपूर्ण s ऑर्बिटल
- ✗ 2. अपूर्ण p ऑर्बिटल
- ✓ 3. अपूर्ण d ऑर्बिटल
- ✗ 4. अपूर्ण f ऑर्बिटल

Question ID : 6172498980
Status : Answered
Chosen Option : 1
Marks : -1.00

Q.24 तत्व जो अमलगम: में अनिवार्यत होता है ?

- Ans ✗ 1. मैनीशियम
- ✗ 2. आयरन
- ✓ 3. मरकरी
- ✗ 4. मैगनीज

Question ID : 6172498979
Status : Answered
Chosen Option : 3
Marks : 4.00

Q.25 भारत में हरित क्रान्ति से जुड़े वैज्ञानिक है ?

- Ans ✗ 1. जे. सी. बोस
- ✓ 2. डॉ. एम. एस. स्वीनाथन
- ✗ 3. बी. आर. राव
- ✗ 4. एस. एस. भटनागर

Question ID : 6172499352
Status : Answered
Chosen Option : 3
Marks : -1.00

Section : राजस्थान इतिहास संस्कृति कला और भूगोल

Q.1 09 अप्रैल 2017 को राजस्थान की धोलपुर विधानसभा के उपचुनाव से पूर्व वहां के विधायक कौन थे ?

- Ans ✗ 1. सुरेश कुशवाहा
- ✓ 2. बी एल कुशवाहा
- ✗ 3. बनवारी लाल शर्मा
- ✗ 4. शोभा रानी कुशवाहा

Question ID : 61724911383
Status : Answered
Chosen Option : 1
Marks : -1.00

Q.2 रामसर' कन्वेंशन द्वारा राजस्थान में नम भूमि घोषित हुआ ?

- Ans ✓ 1. सांभर झील
- ✗ 2. सरिस्का बाघ संरक्षित क्षेत्र
- ✗ 3. रणथम्भौर बाघ परियोजना
- ✗ 4. ताल छापर झील

Question ID : 61724911235
Status : Answered
Chosen Option : 1
Marks : 4.00

Q.3 कुरजां पक्षी विहार स्थित है ?

- Ans ✗ 1. नागौर
- ✗ 2. पुष्कर

Question ID : 61724911234
Status : Answered
Chosen Option : 1

✗ 3. ओसियां

✓ 4. खींचन

Marks : -1.00

Q.4 शहरी स्थानीय स्वशासन निकायों में चुनाव लड़ने की न्यूनतम आयु कितनी है ?

Ans ✓ 1. 21 वर्ष

✗ 2. 23 वर्ष

✗ 3. 18 वर्ष

✗ 4. 25 वर्ष

Question ID : 61724910964

Status : Answered

Chosen Option : 3

Marks : -1.00

Q.5 बादशाह का मेला भरता है ?

Ans ✓ 1. ब्यावर में

✗ 2. भरतपुर में

✗ 3. बाड़मेर में

✗ 4. दौसा में

Question ID : 61724910357

Status : Answered

Chosen Option : 1

Marks : 4.00

Q.6 बलदेव पशु मेला कहां पर लगता है ?

Ans ✗ 1. परबतसर

✓ 2. मेड़ता

✗ 3. पीपासर

✗ 4. खड़नाल

Question ID : 61724911637

Status : Answered

Chosen Option : 1

Marks : -1.00

Q.7 थेवा कलां के लिए प्रसिद्ध परिवार कौन सा है ?

Ans ✗ 1. सुथार परिवार

✓ 2. सोनी परिवार

✗ 3. शेखावत परिवार

✗ 4. गेहलोत परिवार

Question ID : 61724910156

Status : Not Answered

Chosen Option : --

Marks : 0.00

Q.8 नरेन्द्र मण्डल के प्रथम चांसलर किसे नियुक्त किया गया ?

Ans ✗ 1. जयसिंह अलवर

✗ 2. उदयभान सिंह धौलपुर

✗ 3. हमीदुल्ला खां भोपाल

✓ 4. महाराजा गंगासिंह बीकानेर

Question ID : 61724911493

Status : Answered

Chosen Option : 4

Marks : 4.00

Q.9 राजस्थान सरकार का एकीकृत शिकायत निवारण पोर्टल है ?

Ans ✗ 1. इनमें से कोई नहीं

✓ 2. राजस्थान सम्पर्क पोर्टल

✗ 3. आवास पोर्टल

✗ 4. नरेगा पोर्टल

Question ID : 61724910963

Status : Answered

Chosen Option : 1

Marks : -1.00

Q.10 राजस्थान में जहाँगीर के महल कहाँ स्थित है ?

Ans ✗ 1. डींग

✗ 2. किशनगढ़

✓ 3. पुष्कर

✗ 4. अजमेर

Question ID : 61724910613

Status : Answered

Chosen Option : 4

Marks : -1.00

Q.11 द्वारिकाधीश का प्रसिद्ध मंदिर कहां स्थित है ?

- Ans
- ☒ 1. रैवासा
 - ☒ 2. कांकरोली
 - ☒ 3. नाथद्वारा
 - ☒ 4. मालपुरा

Question ID : 61724911639

Status : Answered

Chosen Option : 3

Marks : -1.00

Q.12 राजस्थान में भोपों का मुख्य वाद्य यन्त्र है ?

- Ans
- ☒ 1. तन्दूरा
 - ☒ 2. अलगोजा
 - ☒ 3. कामायचा
 - ☒ 4. रावण हल्था

Question ID : 61724910355

Status : Answered

Chosen Option : 4

Marks : 4.00

Q.13 'मुण्डीयार री ख्यात' का विषय है ?

- Ans
- ☒ 1. सिरोही के चौहान
 - ☒ 2. बूँदी के हाडा
 - ☒ 3. मारवाड़ के राठौड़
 - ☒ 4. मेवाड़ के सिसोदिया

Question ID : 61724910611

Status : Answered

Chosen Option : 3

Marks : 4.00

Q.14 राजस्थान में सोने के खोज का कार्य जिस जिले में प्रगति पर है, वह है ?

- Ans
- ☒ 1. झालावाड़
 - ☒ 2. उदयपुर
 - ☒ 3. बांसवाड़ा
 - ☒ 4. कोटा

Question ID : 61724911233

Status : Answered

Chosen Option : 3

Marks : 4.00

Q.15 देश का पहला लेपर्ड प्रोजेक्ट किस राज्य में शुरू किया जाएगा ?

- Ans
- ☒ 1. राजस्थान
 - ☒ 2. केरल
 - ☒ 3. गुजरात
 - ☒ 4. हिमाचल

Question ID : 61724911382

Status : Not Answered

Chosen Option : --

Marks : 0.00

Q.16 अल्लाह जिलाई बाई को कौनसा नागरिक सम्मान मिला है ?

- Ans
- ☒ 1. पद्मश्री
 - ☒ 2. पद्मभूषण
 - ☒ 3. भारत रत्न
 - ☒ 4. पद्मविभूषण

Question ID : 61724910155

Status : Answered

Chosen Option : 1

Marks : 4.00

Q.17 राजस्थान में प्रथम आकाशवाणी केन्द्र कहां स्थापित किया गया ?

- Ans
- ☒ 1. उदयपुर
 - ☒ 2. जोधपुर
 - ☒ 3. जयपुर
 - ☒ 4. माउण्ट आबू

Question ID : 61724910356

Status : Answered

Chosen Option : 2

Marks : -1.00

Q.18 किस दुर्ग के साथ राठौड़ वीर कल्ला रायमलोट की वीर गाथाएं जुड़ी हुई है ?

- Ans
- ☒ 1. चितौड़ दुर्ग
 - ☒ 2. अचलगढ़ दुर्ग

Question ID : 61724910154

Status : Answered

Chosen Option : 1

✗ 3. सिवाणा दुर्ग

✗ 4. आमेर दुर्ग

Marks : 4.00

Q.19 खातोली किस जिले में स्थित है ?

- Ans
1. भरतपुर में
 2. भीलवाड़ा में
 3. धौलपुर में
 4. बुंदी में

Note: For this question, discrepancy is found in question/answer. Full Marks is being awarded to all candidates.

Question ID : 61724910609

Status : Answered

Chosen Option : 4

Marks : 4.00

Q.20 अब्दुल अजीज मक्की की प्राचीन दरगाह कहाँ स्थित है ?

- Ans
- ✗ 1. लाखेरी
 - ✗ 2. हिन्दोली
 - ✗ 3. भीमतल
 - ✓ 4. केशोरायपाटन

Question ID : 61724911638

Status : Answered

Chosen Option : 4

Marks : 4.00

Q.21 हैला ख्याल किस क्षेत्र का ख्याल है ?

- Ans
- ✓ 1. दौसा - सवाई माधेपुर
 - ✗ 2. शेखावाटी
 - ✗ 3. बीकानेर
 - ✗ 4. दौसा - जयपुर

Question ID : 61724910354

Status : Answered

Chosen Option : 2

Marks : -1.00

Q.22 'मारवाड़ की अवस्था' व 'पोपाबाई का राज' इन दोनों पुस्तकों में की गई ?

- Ans
- ✓ 1. मारवाड़ प्रशासन की कटु आलोचना
 - ✗ 2. मारवाड़ प्रशासन की प्रशंसा
 - ✗ 3. जयनारायण व्यास की प्रशंसा
 - ✗ 4. मारवाड़ के आर्थिक जीवन की प्रशंसा

Question ID : 61724910612

Status : Not Answered

Chosen Option : --

Marks : 0.00

Q.23 मरूस्थल में कच्चे गोलाकर घर को क्या कहा जाता है ?

- Ans
- ✗ 1. माल्या
 - ✗ 2. टापरी
 - ✓ 3. झूपा
 - ✗ 4. हाळ

Question ID : 61724911232

Status : Answered

Chosen Option : 4

Marks : -1.00

Q.24 राजस्थान में राज्यपाल का पद किस सन् में सर्वप्रथम गठित हुआ ?

- Ans
- ✓ 1. 01 नवम्बर, 1956
 - ✗ 2. 26 जनवरी, 1950
 - ✗ 3. 1 अप्रैल, 1955
 - ✗ 4. 15 अगस्त, 1951

Question ID : 61724910965

Status : Answered

Chosen Option : 2

Marks : -1.00

Q.25 राजस्थान की विधानसभा, लोकसभा व राज्यसभा सीटें क्रमशः कितनी - कितनी है ?

- Ans
- ✗ 1. 225, 25 व 35
 - ✓ 2. 200, 25 व 10
 - ✗ 3. 200, 30 व 10

Question ID : 61724910961

Status : Answered

Chosen Option : 2

Marks : 4.00

✗ 4. 250, 250 व 15

Q.26 राज्य में हस्तशिल्प उद्योग किस उद्योग वर्ग के अन्तर्गत आता है ?

- Ans
- ✗ 1. वृहद् उद्योग
 - ✓ 2. कुटीर उद्योग
 - ✗ 3. अतिलघु उद्योग
 - ✗ 4. लघु उद्योग

Question ID : 61724910962

Status : Answered

Chosen Option : 4

Marks : -1.00

Q.27 सम्पूर्ण विश्व में स्काउट दिवस किस तिथि को मनाया जाता है ?

- Ans
- ✗ 1. 22 अप्रैल
 - ✗ 2. 22 जनवरी
 - ✗ 3. 22 मार्च
 - ✓ 4. 22 फरवरी

Question ID : 61724910960

Status : Answered

Chosen Option : 1

Marks : -1.00

Q.28 किस विधानसभा में भाजपा को पहली बार स्पष्ट बहुमत मिला ?

- Ans
- ✓ 1. बारहवीं विधानसभा
 - ✗ 2. ग्यारहवीं विधानसभा
 - ✗ 3. दसवीं विधानसभा
 - ✗ 4. तेरहवीं विधानसभा

Question ID : 61724910959

Status : Answered

Chosen Option : 2

Marks : -1.00

Q.29 राजस्थान के गांधी कहलाते हैं ?

- Ans
- ✗ 1. राव गोपालसिंह
 - ✗ 2. जमनालाल बजाज
 - ✗ 3. प्रतापसिंह बारहठ
 - ✓ 4. गोकुलभाई भट्ट

Question ID : 61724911492

Status : Answered

Chosen Option : 2

Marks : -1.00

Q.30 निम्नलिखित में किस राजपूत मनसबदार को अकबर ने 'फर्जन्द' की उपाधि प्रदान की ?

- Ans
- ✓ 1. मानसिंह
 - ✗ 2. भगवान सिंह
 - ✗ 3. भूरसिंह
 - ✗ 4. मालसिंह

Question ID : 61724910610

Status : Answered

Chosen Option : 1

Marks : 4.00