



Teachingninja.in



Latest Govt Job updates



Private Job updates



Free Mock tests available



Visit - teachingninja.in

Rajasthan Jail Prahari

Previous Year Paper

08 Sept, 2017

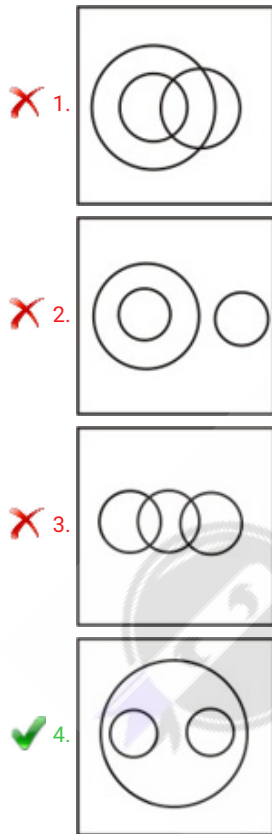


Participant ID:	
Participant Name:	
Test Center Name:	
Test Date:	08/09/2017
Test Time:	9:00 AM - 11:00 AM
Marks Obtained:	187.00

Section : तार्किक और मानसिक क्षमता

Q.1 निम्नलिखित में से कौनसी आकृति हाथियों, भेड़ियों और जानवरों के बीच सही संबंध को भली-भाँति दर्शाती है?

Ans



Question ID : 6172497745

Status : Answered

Chosen Option : 4

Marks : 4.00

Q.2 राजू 40 किमी. उत्तर दिशा में चलता है, फिर वह दाएं मुड़कर 50 किमी. चलता है। इसके बाद पुनः वह दाएं मुड़कर 30 किमी. चलता है। अंत में वह दाएं मुड़कर 50 किमी. चला जाता है। तदनुसार वह अपने प्रस्थान बिन्दु से कितनी दूर पहुंच जाता है ?

Ans

- 1. 40
- 2. 30
- 3. 10
- 4. 20

Question ID : 6172496785

Status : Answered

Chosen Option : 3

Marks : 4.00

Q.3 श्रेणी 49, 7, 64, 8, ?, 13 में लुप्त संख्या '?' क्या है ?

Ans

- 1. 81

Question ID : 6172495921

Status : Answered

✓ 2. 169

✗ 3. 100

✗ 4. 196

Chosen Option : 2

Marks : 4.00

Q.4 निम्न श्रृंखला में रिक्त स्थान (.) के स्थान पर क्या आएगा
ipi _ upog _ pig _ pogi _ _ g

Ans ✗ 1. iupgg

✗ 2. upgii

✓ 3. giupi

✗ 4. puigp

Question ID : 6172496005

Status : Answered

Chosen Option : 3

Marks : 4.00

Q.5 श्रेणी 2, 6, 8, 16, 30, 54, ? में लुप्त संख्या '?' क्या है ?

Ans ✗ 1. 88

✗ 2. 110

✓ 3. 100

✗ 4. 74

Question ID : 6172495922

Status : Answered

Chosen Option : 2

Marks : -1.00

Q.6 निम्न में से किस उत्तर आकृति द्वारा प्रश्न आकृति पूरी होगी?



Ans

✓ 1.



✗ 2.



✗ 3.



✗ 4.



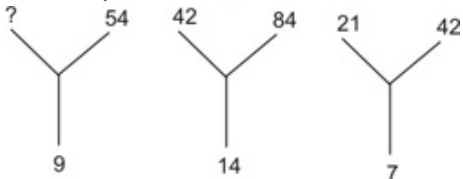
Question ID : 6172498525

Status : Answered

Chosen Option : 1

Marks : 4.00

Q.7 निम्न प्रश्न में दिए गए विकल्पों में से प्रश्नवाचक चिन्ह के स्थान पर आने वाली संख्या ज्ञात कीजिए।



Ans ✓ 1. 27

✗ 2. 21

✗ 3. 54

✗ 4. 42

Question ID : 6172497265

Status : Answered

Chosen Option : 1

Marks : 4.00

Q.8 दिए गए विकल्पों में से प्रश्न आकृति का जल प्रतिबिम्ब क्या होगा?



Question ID : 6172498045

Status : Answered

Chosen Option : 3

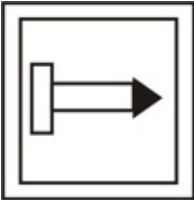
Marks : 4.00

Ans


✗ 1.




✗ 2.



✓ 3.



✗ 4.



Q.9 निम्न में से असंगत को चुनिए ?

Ans ✗ 1. महासागर

✗ 2. झील

✓ 3. टैंक

✗ 4. कुआँ

Question ID : 6172496281

Status : Answered

Chosen Option : 3

Marks : 4.00

Q.10 निम्न में से किस उत्तर आकृति द्वारा प्रश्न आकृति पूरी होगी?



Ans

✗ 1.



✓ 2.



✗ 3.

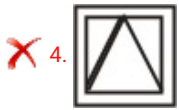


Question ID : 6172498465

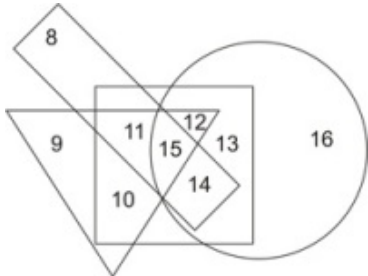
Status : Answered

Chosen Option : 2

Marks : 4.00



Q.11 निम्नांकित आरेख में यदि वृत्त ग्रामीण व्यक्तियों, आयत ईमानदार, वर्ग मेहनती एवं त्रिभुज शिक्षित व्यक्तियों को दर्शाता है। आकृति में ऐसे व्यक्तियों की संख्या क्या होगी जोकि न ग्रामीण है, न ईमानदार परन्तु शिक्षित और मेहनती है?



- Ans
- ☒ 1. 9
 - ☒ 2. 10
 - ☒ 3. 13
 - ☒ 4. 11

Question ID : 6172498285

Status : Answered

Chosen Option : 3

Marks : -1.00

Q.12 दिए गए विकल्पों में से निम्नलिखित अक्षर समूह का जल प्रतिबिम्ब कौनसा होगा ?

U4P15B7

- Ans
- ☒ 1. U4P15B7
 - ☒ 2. U4P15B7
 - ☒ 3. U4P15B7
 - ☒ 4. U4P15B7

Question ID : 6172498105

Status : Answered

Chosen Option : 3

Marks : -1.00

Q.13 प्रत्येक दिन काम करने के लिए मीशु को 110 रुपये मिलते हैं। 31 दिन के महीने में उसने 2,750 रुपये कमाये तो उसने कितने दिन काम किया था ?

- Ans
- ☒ 1. 28 दिन
 - ☒ 2. 25 दिन
 - ☒ 3. 24 दिन
 - ☒ 4. 26 दिन

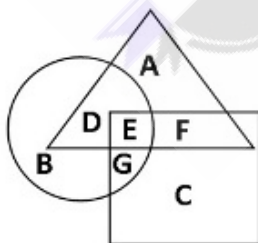
Question ID : 6172497565

Status : Answered

Chosen Option : 2

Marks : 4.00

Q.14 निम्नांकित आरेख में वृत्त बुद्धिमान लोगों को, त्रिभुज सृजनात्मक लोगों को जबकि वर्ग सुस्त लोगों को इंगित करता है तो कौन सृजनात्मक एवं सुस्त हैं लेकिन बुद्धिमान नहीं है-



- Ans
- ☒ 1. A, C और F
 - ☒ 2. C और F
 - ☒ 3. D, E और F
 - ☒ 4. F

Question ID : 6172498225

Status : Answered

Chosen Option : 2

Marks : -1.00

Q.15 X और Y की वर्तमान आयु का क्रमशः अनुपात 3:7 है। 4 वर्ष बाद Y की आयु 39 वर्ष होगी। 4 वर्ष पहले X की आयु कितनी थी ?

Question ID : 6172498165

- Ans ☒ 1. 11 वर्ष
- ☒ 2. 12 वर्ष
- ☒ 3. 19 वर्ष
- ☒ 4. 18 वर्ष

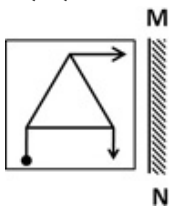
Status : **Answered**
 Chosen Option : 1
 Marks : 4.00

Q.16 जावेद के भाई की बहन के पिता का भाई करीम है और करीम की लड़की डॉली है । जावेद, डॉली से कैसे सम्बन्धित है

- Ans ☒ 1. चाचा
- ☒ 2. चचेरा भाई
- ☒ 3. भाई
- ☒ 4. बहन

Question ID : 6172496825
 Status : **Answered**
 Chosen Option : 2
 Marks : 4.00

Q.17 दिए गए विल्कणों में से प्रश्न आकृति का दर्पण प्रतिबिम्ब क्या होगा?



- Ans
- ☒ 1.
- ☒ 2.
- ☒ 3.
- ☒ 4.

Question ID : 6172497925
 Status : **Answered**
 Chosen Option : 3
 Marks : 4.00

Q.18 यदि P का अर्थ \times , Q का अर्थ \div है, R का अर्थ $+$ है और S का अर्थ $-$ है तो $544Q32R13P7S18=?$

- Ans ☒ 1. 106
- ☒ 2. 118
- ☒ 3. 90
- ☒ 4. 192

Question ID : 6172497145
 Status : **Answered**
 Chosen Option : 3
 Marks : 4.00

Q.19 निम्न में से असंगत को चुनिए ?

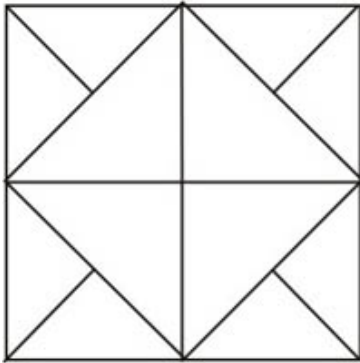
Ans

Question ID : 6172496282

- ✓ 1. मरकरी
 ✗ 2. प्लूटो
 ✗ 3. नेपच्यून
 ✗ 4. यूरेनस

Status : **Answered**
 Chosen Option : 1
 Marks : 4.00

Q.20 नीचे दी गई आकृति में कितने त्रिभुज हैं?



- Ans ✓ 1. 20
 ✗ 2. 22
 ✗ 3. 12
 ✗ 4. 16

Question ID : 6172497985
 Status : **Answered**
 Chosen Option : 1
 Marks : 4.00

Q.21 4 बजकर 15 मिनट पर घड़ी की सूइयों के बीच कितने अंश का कोण होगा

- Ans ✓ 1. $37\frac{1}{2}^\circ$
 ✗ 2. $32\frac{1}{2}^\circ$
 ✗ 3. $40\frac{1}{2}^\circ$
 ✗ 4. $35\frac{1}{2}^\circ$

Question ID : 6172497025
 Status : **Answered**
 Chosen Option : 3
 Marks : -1.00

Q.22 यदि किसी वस्तु पर सरकारी शुल्क की दर वर्तमान से 40% कम कर दी जाए, तो उस वस्तु की खपत में कितने प्रतिशत की वृद्धि करनी होगी ताकि उससे होने वाली आय अपरिवर्तित रहे

- Ans ✗ 1. 72%
 ✓ 2. $66\frac{2}{3}\%$
 ✗ 3. $62\frac{1}{3}\%$
 ✗ 4. 60%

Question ID : 6172497625
 Status : **Not Answered**
 Chosen Option : --
 Marks : 0.00

Q.23 $(35)^3$ का मान ज्ञात करें ?

- Ans ✓ 1. 42875
 ✗ 2. 42275
 ✗ 3. 40875
 ✗ 4. 42675

Question ID : 6172497325
 Status : **Answered**
 Chosen Option : 1
 Marks : 4.00

Q.24 छह मेजें और बारह कुर्सियां ₹ 7,800 में खरीदी हैं। यदि एक मेज का औसत ₹ 750 हो तो एक कुर्सी का औसत मूल्य कितना है ?

- Ans ✓ 1. ₹ 275
 ✗ 2. ₹ 175
 ✗ 3. ₹ 150
 ✗ 4. ₹ 250

Question ID : 6172497445
 Status : **Answered**
 Chosen Option : 1
 Marks : 4.00

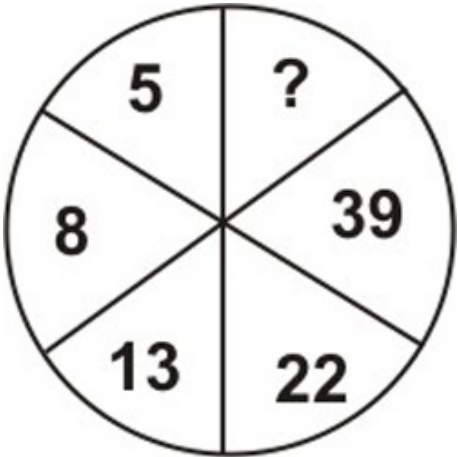
Q.25 निम्न श्रृंखला में प्रश्नवाचक चिन्ह (?) के स्थान पर क्या आएगा
BYW : BWU :: FUS : ?

- Ans
- 1. HSQ
 - 2. ESQ
 - 3. GHT
 - 4. EST

Note: For this question, discrepancy is found in question/answer. Full Marks is being awarded to all candidates.

Question ID : 6172496065
Status : Answered
Chosen Option : 1
Marks : 4.00

Q.26 निम्न प्रश्न में दिए गए विकल्पों में से प्रश्नवाचक चिन्ह के स्थान पर आने वाली संख्या ज्ञात कीजिए।



- Ans
- ✓ 1. 72
 - ✗ 2. 61
 - ✗ 3. 66
 - ✗ 4. 78

Question ID : 6172497205
Status : Answered
Chosen Option : 1
Marks : 4.00

Q.27 एक ठोस घन की सभी सतहों को हरे रंग से रंग दिया जाता है एवं इसके बाद इसे कट कर 64 बराबर माप वाले छोटे-छोटे घनों में परिवर्तित कर दिया गया है। ऐसे कितने घन हैं, जिनकी कोई भी सतह रंगी हुई नहीं है?

- Ans
- ✓ 1. 8
 - ✗ 2. 2
 - ✗ 3. 4
 - ✗ 4. 6

Question ID : 6172496905
Status : Answered
Chosen Option : 1
Marks : 4.00

Q.28 जिस प्रकार तपेदिक का सम्बन्ध फेफड़ों से है, उसी प्रकार ट्रकोमा का सम्बन्ध किससे है ?

- Ans
- ✗ 1. कान
 - ✓ 2. आँख
 - ✗ 3. नाक
 - ✗ 4. गला

Question ID : 6172496161
Status : Not Answered
Chosen Option : --
Marks : 0.00

Q.29 यदि किसी सांकेतिक भाषा में "BOARD" को "CNBQE" लिखा जाता है तो CRIME को उसी भाषा में कैसे लिखा जाएगा?

- Ans
- ✗ 1. BQHLD
 - ✓ 2. DQJLF
 - ✗ 3. DSJNF
 - ✗ 4. BSHND

Question ID : 6172496402
Status : Answered
Chosen Option : 1
Marks : -1.00

Q.30 एक मनुष्य दक्षिण-पश्चिम की ओर मुंह करके खड़ा है। यदि वह पहले दक्षिणावर्त 180° , फिर 135° वामावर्त घूमता है, तो अब उसका मुख किस ओर होगा

- Ans
- ☒ 1. उत्तर-पश्चिम
 - ☒ 2. दक्षिण-पश्चिम
 - ☒ 3. पश्चिम
 - ☒ 4. उत्तर

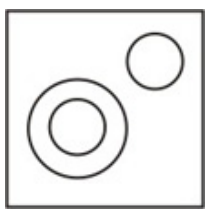


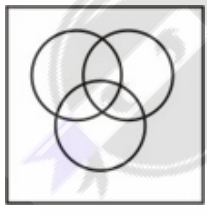
Question ID : 6172496725
Status : Answered
Chosen Option : 3
Marks : 4.00

Q.31 एक नाव की शांत जल में गति 15 किमी./घंटा एवं धारा के विपरीत चाल 7 किमी/घंटा है। धारा के अनुकूल नाव की चाल बतावें।

- Ans
- ☒ 1. 35 किमी/घंटा
 - ☒ 2. 25 किमी/घंटा
 - ☒ 3. 13 किमी/घंटा
 - ☒ 4. 23 किमी/घंटा

Question ID : 6172497505
Status : Answered
Chosen Option : 1
Marks : -1.00

Q.32 निम्न में से वह आरेख चुनिए जो नीचे दिए गए वर्गों के बीच सम्बन्ध का सही निरूपण करता है।
प्रोफेसर, शोधकर्ता, वैज्ञानिक

- Ans
- ☒ 1. 
 - ☒ 2. 
 - ☒ 3. 
 - ☒ 4. 

Question ID : 6172497805
Status : Answered
Chosen Option : 4
Marks : 4.00

Q.33 नीचे दिए गए शब्दों में से उस शब्द को चुनिए जो शब्दकोश के अनुसार अंतिम स्थान पर आएगा ?

- Ans
- ☒ 1. Joy
 - ☒ 2. Jog
 - ☒ 3. Jet
 - ☒ 4. Job

Question ID : 6172496545
Status : Answered
Chosen Option : 1
Marks : 4.00

Q.34 A, B, C, D, E, F और G एक वृत्ताकार घेरे में बैठकर ताश खेल रहे हैं। F, G के दाईं ओर दूसरा है। B, F का पड़ोसी है, लेकिन C का पड़ोसी नहीं है। E जोकि C का पड़ोसी है, G के दाईं ओर चौथे स्थान पर है। D, E और A के बीच में है। G के बाँयी ओर कौन है?

Ans

Question ID : 6172496665
Status : Answered
Chosen Option : 3

- ☒ 1. A
- ☐ 2. B
- ☐ 3. F
- ☐ 4. C

Marks : -1.00

Q.35 दो अभ्यर्थी P और Q अंक 2 : 5 के अनुपात में हैं। यदि P के 120 अंक हैं, तो Q अंक हैं ?

- Ans
- ☐ 1. 360
 - ☐ 2. 120
 - ☒ 3. 300
 - ☐ 4. 240

Question ID : 6172497385

Status : Answered

Chosen Option : 3

Marks : 4.00

Q.36 निम्नलिखित शब्दों को शब्दकोश के अनुसार व्यवस्थित किजिए। 1.Necrology 2. Necromancy 3. Necropolis 4. Necrophilia

- Ans
- ☐ 1. 1, 2, 3, 4
 - ☐ 2. 2, 1, 3, 4
 - ☐ 3. 2, 1, 4, 3
 - ☒ 4. 1, 2, 4, 3

Question ID : 6172496485

Status : Answered

Chosen Option : 4

Marks : 4.00

Q.37 नीचे दिए गए कथनों के अनुसार कौनसा निष्कर्ष तर्कसंगत निकाला जा सकता है।
कथन : सभी अच्छे खिलाड़ी जीतते हैं।
सभी अच्छे खिलाड़ी अच्छा भोजन खाते हैं।
निष्कर्ष : I. सभी जो अच्छा भोजन खाते हैं, अच्छे खिलाड़ी हैं।
II. सभी जो जीतते हैं, अच्छा भोजन खाते हैं।

- Ans
- ☐ 1. केवल निष्कर्ष I सही है
 - ☒ 2. दोनों निष्कर्ष गलत हैं
 - ☐ 3. दोनों निष्कर्ष सही हैं
 - ☐ 4. केवल निष्कर्ष II सही है

Question ID : 6172498405

Status : Answered

Chosen Option : 4

Marks : -1.00

Q.38 जिस प्रकार ज्वालामुखी का सम्बन्ध लावा से है, उसी प्रकार अग्नि का सम्बन्ध किससे है ?

- Ans
- ☒ 1. भस्म
 - ☐ 2. प्रकाश
 - ☐ 3. ताप
 - ☐ 4. धुआँ

Question ID : 6172496162

Status : Answered

Chosen Option : 4

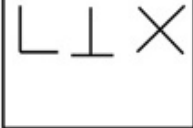
Marks : -1.00

Q.39 दिए गए विकल्पों में से प्रश्न आकृति का दर्पण प्रतिबिम्ब क्या होगा?



A  B

Ans

- ☐ 1. 

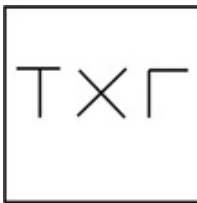
Question ID : 6172497865

Status : Answered

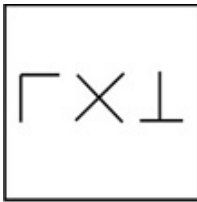
Chosen Option : 2

Marks : -1.00

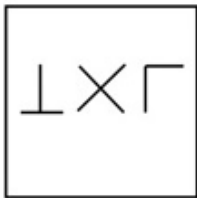
✗ 2.



✗ 3.



✓ 4.



Q.40 यदि किसी सांकेतिक भाषा में "SYSTEM" को "SYSMET" तथा "NEARER" को "AENRER" लिखा जाता है, तो "FRACTION" को उसी सांकेतिक भाषा में कैसे लिखा जाएगा?

- Ans
- ✓ 1. CARFNOIT
 - ✗ 2. CARFNIOT
 - ✗ 3. CAFRNOIT
 - ✗ 4. ARFITCNO

Question ID : 6172496401

Status : Answered

Chosen Option : 1

Marks : 4.00

Q.41 39 विद्यार्थियों की एक कक्षा में सुरेश अशोक से 7 रैंक आगे हैं। यदि अशोक की रैंक अंत से 17वीं है तो सुरेश की आरंभ से कौनसी रैंक होगी?

- Ans
- ✗ 1. 15वीं
 - ✗ 2. 23वीं
 - ✗ 3. 24वीं
 - ✓ 4. 16वीं

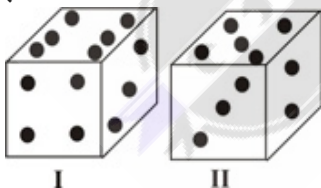
Question ID : 6172496605

Status : Answered

Chosen Option : 1

Marks : -1.00

Q.42 नीचे एक ही पासे के दो प्रारूपों को दर्शाया गया है। इस पासे के ऊपरी फलक पर जब बिन्दुओं की संख्या 3 होगी, तो इसके निचले फलक पर बिन्दुओं की संख्या कितनी होगी?



- Ans
- ✗ 1. 3
 - ✓ 2. 1
 - ✗ 3. 2
 - ✗ 4. 4

Question ID : 6172496965

Status : Answered

Chosen Option : 2

Marks : 4.00

Q.43 हरीश का जन्म 29 फरवरी 1992 को बुधवार को हुआ था तो बताओ वह अपना पांचवा जन्म दिन किस वार को मनाएगा ?

- Ans
- 1. बुधवार
 - 2. रविवार
 - 3. शनिवार

Question ID : 6172497085

Status : Answered

Chosen Option : 3

Marks : 4.00

4. शुक्रवार

Note: For this question, discrepancy is found in question/answer. Full Marks is being awarded to all candidates.

Q.44 एक आदमी एक टेलिविजन 16,000 रूपये में खरीदता है। 2 वर्ष बाद वह उसे 12,800 रूपये में बेच देता है। उसका % हानि निकालें

- Ans
- ☒ 1. 35%
 - ☒ 2. 15%
 - ☒ 3. 25%
 - ☒ 4. 20%

Question ID : 6172497685
Status : Answered
Chosen Option : 1
Marks : -1.00

Q.45 नीचे दिए गए कथनों के अनुसार कौनसा निष्कर्ष तर्कसंगत निकाला जा सकता है।
कथन : सभी पंखुड़ियां फूल है।
कुछ फूल पंखुड़ियां हैं।
कुछ पंखुड़ियां रंग हैं।
निष्कर्ष : I. कुछ फूल रंग हैं।
II. कुछ फूल रंग नहीं हैं।

- Ans
- ☒ 1. केवल निष्कर्ष II सही है
 - ☒ 2. दोनों निष्कर्ष सही हैं
 - ☒ 3. केवल निष्कर्ष I सही है
 - ☒ 4. दोनों निष्कर्ष गलत हैं

Question ID : 6172498345
Status : Answered
Chosen Option : 4
Marks : -1.00

Section : सामान्य ज्ञान सामान्य विज्ञान और सामयिकी

Q.1 किस राजनेता को भारतीय टेबल टेनिस संघ (TTFI) का अध्यक्ष चुना गया है ?

- Ans
- ☒ 1. अभय चौटाला
 - ☒ 2. दुष्यन्त चौटाला
 - ☒ 3. सचिन पायलट
 - ☒ 4. सुशील मोदी

Question ID : 6172498730
Status : Answered
Chosen Option : 4
Marks : -1.00

Q.2 भारत में रेल प्रारम्भ करने का कम्पनी का मुख्य उद्देश्य था ?

- Ans
- ☒ 1. भारत का औद्योगिकीकरण
 - ☒ 2. भारत को संगठित करना
 - ☒ 3. भारत की आर्थिक दशा का सुधारना
 - ☒ 4. भारत में कम्पनी के वित्तीय हितों को सुरक्षित रखना

Question ID : 6172499702
Status : Answered
Chosen Option : 4
Marks : 4.00

Q.3 कौन-सी नदी भेड़ाघाट के समीप कपिलधारा जलप्रपात का निर्माण करती है ?

- Ans
- ☒ 1. गोकक
 - ☒ 2. ताप्ती
 - ☒ 3. नर्मदा
 - ☒ 4. शरवती

Question ID : 6172499354
Status : Answered
Chosen Option : 1
Marks : -1.00

Q.4 निम्न में से कौनसा सर्च इंजन नहीं है ?

- Ans
- ☒ 1. सफारी
 - ☒ 2. बिंग
 - ☒ 3. गूगल
 - ☒ 4. याहू

Question ID : 6172499185
Status : Answered
Chosen Option : 1
Marks : 4.00

Q.5 वी वी एस लक्ष्मण का संबंध किस खेल से है ?

<p>Ans <input checked="" type="checkbox"/> 1. फुटबाल</p> <p><input checked="" type="checkbox"/> 2. बेडमिंटन</p> <p><input checked="" type="checkbox"/> 3. क्रिकेट</p> <p><input checked="" type="checkbox"/> 4. हॉकी</p>	<p>Question ID : 6172498733</p> <p>Status : Answered</p> <p>Chosen Option : 3</p> <p>Marks : 4.00</p>
<p>Q.6 उकाई परियोजना स्थित है ?</p> <p>Ans <input checked="" type="checkbox"/> 1. मध्य प्रदेश में ताप्ती नदी पर</p> <p><input checked="" type="checkbox"/> 2. गुजरात में ताप्ती नदी पर</p> <p><input checked="" type="checkbox"/> 3. गुजरात में साबरमती नदी पर</p> <p><input checked="" type="checkbox"/> 4. मध्य प्रदेश में नर्मदा नदी पर</p>	<p>Question ID : 6172499355</p> <p>Status : Answered</p> <p>Chosen Option : 3</p> <p>Marks : -1.00</p>
<p>Q.7 किस देश की विद्या देवी भंडारी राष्ट्रपति ने 17-21 अप्रैल को भारत का दौरा किया ?</p> <p>Ans <input checked="" type="checkbox"/> 1. नेपाल</p> <p><input checked="" type="checkbox"/> 2. दक्षिण अफ्रीका</p> <p><input checked="" type="checkbox"/> 3. बांग्लादेश</p> <p><input checked="" type="checkbox"/> 4. फिजी</p>	<p>Question ID : 6172498729</p> <p>Status : Answered</p> <p>Chosen Option : 1</p> <p>Marks : 4.00</p>
<p>Q.8 बगलिहार जल विधुत परियोजना की स्थापना किस नदी पर की जा रही है ?</p> <p>Ans <input checked="" type="checkbox"/> 1. सतलज</p> <p><input checked="" type="checkbox"/> 2. झेलम</p> <p><input checked="" type="checkbox"/> 3. चिनाब</p> <p><input checked="" type="checkbox"/> 4. सिन्धु</p>	<p>Question ID : 6172499353</p> <p>Status : Answered</p> <p>Chosen Option : 4</p> <p>Marks : -1.00</p>
<p>Q.9 सिन्धु जल समझौता किन दो देशों के बीच है ?</p> <p>Ans <input checked="" type="checkbox"/> 1. भारत - श्रीलंका</p> <p><input checked="" type="checkbox"/> 2. भारत - बांग्लादेश</p> <p><input checked="" type="checkbox"/> 3. भारत - नेपाल</p> <p><input checked="" type="checkbox"/> 4. भारत - पाकिस्तान</p>	<p>Question ID : 6172498732</p> <p>Status : Answered</p> <p>Chosen Option : 4</p> <p>Marks : 4.00</p>
<p>Q.10 किस शहर को हिमाचल प्रदेश की दूसरी राजधानी बनाया गया है ?</p> <p>Ans <input checked="" type="checkbox"/> 1. सोलन</p> <p><input checked="" type="checkbox"/> 2. धर्मशाला</p> <p><input checked="" type="checkbox"/> 3. मैक्लोडगंज</p> <p><input checked="" type="checkbox"/> 4. चंबा</p>	<p>Question ID : 6172498731</p> <p>Status : Answered</p> <p>Chosen Option : 2</p> <p>Marks : 4.00</p>
<p>Q.11 वह कौन-सा प्रथम भारतीय था, जो ब्रिटिश संसद के लिए निर्वाचित हुआ ?</p> <p>Ans <input checked="" type="checkbox"/> 1. एस.एन. बनर्जी</p> <p><input checked="" type="checkbox"/> 2. जी.के. गोखले</p> <p><input checked="" type="checkbox"/> 3. दादाभाई नौरोजी</p> <p><input checked="" type="checkbox"/> 4. फिरोजशाह मेहता</p>	<p>Question ID : 6172499701</p> <p>Status : Answered</p> <p>Chosen Option : 3</p> <p>Marks : 4.00</p>
<p>Q.12 लाल किले की मोती मस्जिद किस मुगल बादशाह ने बनवाई थी ?</p> <p>Ans <input checked="" type="checkbox"/> 1. अकबर</p> <p><input checked="" type="checkbox"/> 2. औरंगजेब</p>	<p>Question ID : 6172499605</p> <p>Status : Answered</p> <p>Chosen Option : 2</p>

- ☒ 3. शाहजहां
- ☒ 4. जहांगीर

Marks : 4.00

Q.13 श्रीमती प्रतिभा पाटिल का भारतीय गणतंत्र के राष्ट्रपति के रूप में क्रम क्या है ?

- Ans ☒ 1. 12 वां
- ☒ 2. 10 वां
- ☒ 3. 11 वां
- ☒ 4. 13 वां

Question ID : 6172499982

Status : Answered

Chosen Option : 1

Marks : 4.00

Q.14 ऐल्कीन (Alkene) का सामान्य सूत्र है ?

- Ans ☒ 1. C_nH_{2n+1}
- ☒ 2. C_nH_{2n}
- ☒ 3. C_nH_{2n-1}
- ☒ 4. C_nH_{2n+2}

Question ID : 6172498982

Status : Answered

Chosen Option : 1

Marks : -1.00

Q.15 निम्न में से सबसे अधिक प्रत्यास्थ है ?

- Ans ☒ 1. हाथी दांत की गोली
- ☒ 2. रबर
- ☒ 3. इस्पात
- ☒ 4. कांच

Question ID : 6172498885

Status : Answered

Chosen Option : 1

Marks : -1.00

Q.16 संघ लोक सेवा आयोग के सदस्य की पदावधि कितनी होती है ?

- Ans ☒ 1. 5 वर्ष या 65 वर्ष की आयु, जो भी पहले पूर्ण हो
- ☒ 2. 4 वर्ष या 62 वर्ष की आयु, जो भी पहले पूर्ण हो
- ☒ 3. 5 वर्ष या 62 वर्ष की आयु, जो भी पहले पूर्ण हो
- ☒ 4. 6 वर्ष या 65 वर्ष की आयु, जो भी पहले पूर्ण हो

Question ID : 6172499984

Status : Answered

Chosen Option : 1

Marks : -1.00

Q.17 हर्षवर्धन अपनी धार्मिक सभा कहां किया करता था ?

- Ans ☒ 1. वाराणसी
- ☒ 2. प्रयाग
- ☒ 3. पेशावर
- ☒ 4. मथुरा

Question ID : 6172499545

Status : Answered

Chosen Option : 3

Marks : -1.00

Q.18 वायुमण्डल में सबसे अधिक ओजोन कहां पर केन्द्रित है ?

- Ans ☒ 1. मीसोस्फीयर
- ☒ 2. स्ट्रेटोस्फीयर
- ☒ 3. ट्रोपोस्फीयर
- ☒ 4. आयनोस्फीयर

Question ID : 6172499485

Status : Answered

Chosen Option : 4

Marks : -1.00

Q.19 बैलाडिला किसके लिए प्रसिद्ध है ?

- Ans ☒ 1. बॉक्साइट
- ☒ 2. तांबा
- ☒ 3. कोयला
- ☒ 4. लौह-अयस्क

Question ID : 6172499356

Status : Answered

Chosen Option : 1

Marks : -1.00

Q.20 विटामिन -K क्या कार्य करता है ?

- Ans ☒ 1. रक्त थक्का जमाता है
☒ 2. श्वसन
☒ 3. नपुंसकता दूर करता है
☒ 4. पेलाग्रा

Question ID : 6172499101

Status : Answered

Chosen Option : 3

Marks : -1.00

Q.21 संघ लोक सेवा आयोग अपनी वार्षिक प्रतिवेदन सौंपता है ?

- Ans ☒ 1. राष्ट्रपति को
☒ 2. गृहमंत्री को
☒ 3. प्रधानमंत्री को
☒ 4. लोकसभा अध्यक्ष को

Question ID : 6172499983

Status : Answered

Chosen Option : 1

Marks : 4.00

Q.22 पृथ्वी दिवस कब मनाया जाता है ?

- Ans ☒ 1. 4 अप्रैल
☒ 2. 16 फरवरी
☒ 3. 22 अप्रैल
☒ 4. 17 सितम्बर

Question ID : 61724910025

Status : Answered

Chosen Option : 3

Marks : 4.00

Q.23 श्री मोहम्मद हामिद अंसारी का भारत के उपराष्ट्रपति के रूप में क्रमांक है ?

- Ans ☒ 1. 11 वां
☒ 2. 13 वां
☒ 3. 12 वां
☒ 4. 10 वां

Question ID : 6172499981

Status : Answered

Chosen Option : 3

Marks : 4.00

Q.24 बायोगैस (Bio Gas) का मुख्य घटक है ?

- Ans ☒ 1. ब्यूटेन
☒ 2. मिथेन
☒ 3. इथेन
☒ 4. प्रोपेन

Question ID : 6172498981

Status : Answered

Chosen Option : 1

Marks : -1.00

Q.25 भारतीय मोर का वैज्ञानिक नाम है ?

- Ans ☒ 1. पैवो क्रिस्टेस
☒ 2. होमो सेपिपन्स
☒ 3. पैन्थरा टाइग्रिस
☒ 4. राना टिग्रिना

Question ID : 6172499102

Status : Answered

Chosen Option : 2

Marks : -1.00

Section : राजस्थान इतिहास संस्कृति कला और भूगोल

Q.1 राजस्थान राज्य हथकरघा विकास निगम की स्थापना किस वर्ष में की गई है ?

- Ans ☒ 1. 1986
☒ 2. 1984
☒ 3. 1991
☒ 4. 1972

Question ID : 61724910972

Status : Answered

Chosen Option : 2

Marks : 4.00

Q.2 नर्मदा परियोजना से किन जिलों में पानी प्राप्त हो रहा है ?

Ans

Question ID : 61724911236

- ☒ 1. हनुमानगढ़ से बाड़मेर तक
- ☒ 2. जोधपुर - जैसलमेर
- ☒ 3. जालोर - बाड़मेर
- ☒ 4. बीकानेर - गंगानगर

Status : **Answered**
Chosen Option : **4**
Marks : **-1.00**

Q.3 मेवाती बोली से संबंधित जिला है ?

- Ans ☒ 1. कोटा
- ☒ 2. अलवर
- ☒ 3. जयपुर
- ☒ 4. सीकर

Question ID : **61724910358**
Status : **Answered**
Chosen Option : **2**
Marks : **4.00**

Q.4 राजस्थान के ब्लॉक स्तर पर पंचायती राज के किस घटक का गठन किया जाता है ?

- Ans ☒ 1. पंचायत प्रबंधन समिति
- ☒ 2. पंचायत समिति
- ☒ 3. ग्राम पंचायत
- ☒ 4. उपखण्ड अधिकारी

Question ID : **61724910966**
Status : **Answered**
Chosen Option : **4**
Marks : **-1.00**

Q.5 सर्वाधिक पशु मेले कहां आयोजित किये जाते हैं ?

- Ans ☒ 1. नागौर
- ☒ 2. पुष्कर
- ☒ 3. करौली
- ☒ 4. अलवर

Question ID : **61724911640**
Status : **Answered**
Chosen Option : **1**
Marks : **4.00**

Q.6 बीकानेर का कौन-सा शासक अकबर और जहांगीर दोनों की सेवा में रहा ?

- Ans ☒ 1. राव बीका
- ☒ 2. रायसिंह
- ☒ 3. कल्याण मल
- ☒ 4. दलपत सिंह

Question ID : **61724910617**
Status : **Answered**
Chosen Option : **3**
Marks : **-1.00**

Q.7 उस्ताद कहलाने वाले चित्रकारों ने भित्तिचित्र किस नगर में बनाए है ?

- Ans ☒ 1. जोधपुर
- ☒ 2. चुरू
- ☒ 3. अजमेर
- ☒ 4. बीकानेर

Question ID : **61724910159**
Status : **Answered**
Chosen Option : **2**
Marks : **-1.00**

Q.8 रूपसिंह शेखावत किस नृत्य के प्रमुख नृत्यकार है ?

- Ans ☒ 1. वालर नृत्य
- ☒ 2. कच्छी घोड़ी
- ☒ 3. भवाई नृत्य
- ☒ 4. तेरहताली नृत्य

Question ID : **61724910157**
Status : **Answered**
Chosen Option : **2**
Marks : **-1.00**

Q.9 चेलावास के युद्ध का संबंध है ?

- Ans ☒ 1. नीमच विद्रोह से
- ☒ 2. कोटा के विद्रोह से
- ☒ 3. नसीराबाद विद्रोह से

Question ID : **61724911495**
Status : **Answered**
Chosen Option : **1**
Marks : **-1.00**

✓ 4. आउवा के विद्रोह से

Q.10 राजस्थान के लौह पुरुष माने जाते हैं ?

- Ans
- ✓ 1. दामोदर लाल व्यास
 - ✗ 2. जयनारायण व्यास
 - ✗ 3. माणिक्यलाल कोठारी
 - ✗ 4. मोहनलाल सुखाड़िया

Question ID : 61724910615

Status : Answered

Chosen Option : 1

Marks : 4.00

Q.11 जनसंख्या घनत्व की दृष्टि से राजस्थान का देश में कौनसा स्थान है ?

- Ans
- ✗ 1. नवां
 - ✗ 2. दूसरा
 - ✗ 3. पन्द्रहवां
 - ✓ 4. अठारहवां

Question ID : 61724910968

Status : Answered

Chosen Option : 3

Marks : -1.00

Q.12 अविा कवच योजना का संबंध किससे है ?

- Ans
- ✗ 1. पेट्रो खनन कर्मियों के लिए
 - ✗ 2. किसानों के लिए
 - ✗ 3. ऊँट पालकों के लिए
 - ✓ 4. भेड़पालकों के लिए

Question ID : 61724911384

Status : Answered

Chosen Option : 4

Marks : 4.00

Q.13 मेवाड़ के अरावली क्षेत्र की भील जाति का लोकनाट्य है ?

- Ans
- ✗ 1. रम्मत
 - ✗ 2. भवाई
 - ✓ 3. गवरी
 - ✗ 4. गंधर्व

Question ID : 61724910361

Status : Answered

Chosen Option : 3

Marks : 4.00

Q.14 खसरा संबंधित है ?

- Ans
- ✗ 1. सार्वजनिक भवन
 - ✓ 2. भूमि का क्षेत्र
 - ✗ 3. धार्मिक कर
 - ✗ 4. राजकीय कर

Question ID : 61724911238

Status : Answered

Chosen Option : 2

Marks : 4.00

Q.15 वर्धा से 'राजस्थान केसरी' नामक समाचार पत्र का सम्पादन किसने किया ?

- Ans
- ✗ 1. माणिक्यलाल वर्मा
 - ✗ 2. सागरमल गोपा
 - ✓ 3. विजयसिंह पथिक
 - ✗ 4. अर्जुनलाल सेठी

Question ID : 61724910614

Status : Answered

Chosen Option : 3

Marks : 4.00

Q.16 राजस्थान के तिलक गिताई को पद्मश्री पुरस्कार 2017 दिये जाने की घोषणा राष्ट्रपति द्वारा की गई, ये किस क्षेत्र में संबंध रखते हैं ?

- Ans
- ✗ 1. संगीत
 - ✗ 2. विज्ञान
 - ✓ 3. चित्रकला
 - ✗ 4. खेल

Question ID : 61724911385

Status : Answered

Chosen Option : 1

Marks : -1.00

Q.17 मुख्य सचिव की सेवानिवृत्ति आयु कितनी होती है ?

- Ans ☒ 1. 60 वर्ष
☒ 2. 58 वर्ष
☒ 3. 62 वर्ष
☒ 4. 65 वर्ष

Question ID : 61724910967

Status : Answered

Chosen Option : 4

Marks : -1.00

Q.18 दही बिलौने के बाद जिस पात्र में अलूणा (घी) रखते हैं, उसे क्या कहते हैं ?

- Ans ☒ 1. बिजूका
☒ 2. घीलडी
☒ 3. गिडगिडी
☒ 4. ढेरिया

Question ID : 61724911494

Status : Answered

Chosen Option : 2

Marks : 4.00

Q.19 घघर नदी के पाट को कहते हैं ?

- Ans ☒ 1. नाली
☒ 2. ताली
☒ 3. टाली
☒ 4. नाल

Question ID : 61724911239

Status : Answered

Chosen Option : 1

Marks : 4.00

Q.20 झाडशाही सिक्का कौनसी रियासत में प्रचलित था ?

- Ans ☒ 1. मेवाड़
☒ 2. जयपुर
☒ 3. जोधपुर
☒ 4. कोटा

Question ID : 61724910618

Status : Answered

Chosen Option : 1

Marks : -1.00

Q.21 राजस्थान के एकीकरण का श्रेय जाता है ?

- Ans ☒ 1. वल्लभ भाई पटेल को
☒ 2. जवाहरलाल नेहरू का
☒ 3. माउंटबेटन को
☒ 4. हीरालाल शास्त्री को

Question ID : 61724910616

Status : Answered

Chosen Option : 2

Marks : -1.00

Q.22 देवगढ़ पवन ऊर्जा परियोजना कहाँ है ?

- Ans ☒ 1. बीकानेर
☒ 2. कोटा
☒ 3. जैसलमेर
☒ 4. प्रतापगढ़

Question ID : 61724910971

Status : Answered

Chosen Option : 3

Marks : -1.00

Q.23 चारबैत, जो राजस्थान की प्रचलित लोक गायन शैली है, कहाँ की प्रसिद्ध है ?

- Ans ☒ 1. टोंक
☒ 2. श्रीगंगानगर
☒ 3. जैसलमेर
☒ 4. बांसवाड़ा

Question ID : 61724910359

Status : Answered

Chosen Option : 4

Marks : -1.00

Q.24 राजस्थान का सर्वाधिक जनसंख्या वाला जिला कौनसा है ?

- Ans ☒ 1. जोधपुर
☒ 2. अलवर

Question ID : 61724910969

Status : Answered

Chosen Option : 4

✗ 3. उदयपुर

✓ 4. जयपुर

Marks : 4.00

Q.25 'घंटियों का शहर' किसे कहा जाता है ?

Ans ✓ 1. झालरापाटन

✗ 2. ब्यावर

✗ 3. खानपुर

✗ 4. चन्द्रावती

Question ID : 61724911642

Status : Answered

Chosen Option : 1

Marks : 4.00

Q.26 राजस्थान का प्रसिद्ध पुष्कर मेला किस माह में लगता है ?

Ans ✗ 1. पौष

✗ 2. ज्येष्ठ

✗ 3. बैशाख

✓ 4. कार्तिक

Question ID : 61724910360

Status : Answered

Chosen Option : 4

Marks : 4.00

Q.27 बांसवाड़ा जिले में किस स्थान पर त्रिपुरा सुन्दरी का मंदिर स्थित है ?

Ans ✗ 1. अर्थूणा

✗ 2. कुशलगढ़

✓ 3. तलवाड़ा

✗ 4. कलिंजरा

Question ID : 61724911641

Status : Answered

Chosen Option : 1

Marks : -1.00

Q.28 किन लोकसभा चुनावों में कांग्रेस ने राजस्थान की सभी 25 लोकसभा सीटों पर विजय प्राप्त की थी ?

Ans ✓ 1. 1985 में

✗ 2. 1989 में

✗ 3. 1992 में

✗ 4. 1980 में

Question ID : 61724910970

Status : Answered

Chosen Option : 1

Marks : 4.00

Q.29 राजस्थान का कौन सा वृक्ष 'जंगल की ज्वाला' (Flame of the forest) के नाम से जाना जाता है ?

Ans ✗ 1. पारस पीपल

✗ 2. खेजड़ी

✗ 3. नाम

✓ 4. पलास

Question ID : 61724911237

Status : Answered

Chosen Option : 4

Marks : 4.00

Q.30 तारागढ़ का किला किस शासक ने बनवाया ?

Ans ✗ 1. अर्णोराज

✗ 2. महाराणा कुंभा

✓ 3. अजयराज

✗ 4. विग्रहराज

Question ID : 61724910158

Status : Answered

Chosen Option : 3

Marks : 4.00