



# Teachingninja.in



**Latest Govt Job updates**



**Private Job updates**



**Free Mock tests available**



**Visit - [teachingninja.in](https://teachingninja.in)**

# **Rajasthan Jail Prahari**

## **Previous Year Paper**

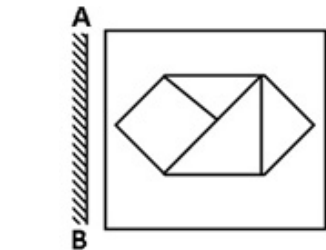
**12 Sept, 2017**



Participant ID:	
Participant Name:	
Test Center Name:	
Test Date:	12/09/2017
Test Time:	12:30 PM - 2:30 PM
Marks Obtained:	281.00

Section : तार्किक और मानसिक क्षमता

Q.1 दिए गए विकल्पों में से प्रश्न आकृति का दर्पण प्रतिबिम्ब क्या होगा?



Ans

- ✗ 1.
- ✗ 2.
- ✓ 3.
- ✗ 4.

Q.2 यदि (-) विभाजन का चिन्ह हो, (+) गुणन का चिन्ह हो, (÷) घटाने का चिन्ह हो और (×) जोड़ने का चिन्ह हो, तो निम्न प्रश्न का उत्तर क्या होगा?  
 $100 + 5 - 10 \times 250 \div 200 = ?$

- Ans
- ✗ 1. 150
- ✓ 2. 100
- ✗ 3. 200

Question ID : 6172497869

Status : Answered

Chosen Option : 3

Marks : 4.00

Question ID : 6172497149

Status : Answered

Chosen Option : 4

Marks : -1.00

✗ 4. 50

Q.3 यदि सर्वश 20किमी./घंटा की गति से दौड़े, तो 400 मी. का फासला वह कितनी देर में पूरा करेगा?

Ans ✓ 1. 1 1/5 मिनट

✗ 2. 3 मिनट

✗ 3. 1 1/2 मिनट

✗ 4. 2 मिनट

Question ID : 6172497509

Status : Answered

Chosen Option : 1

Marks : 4.00

Q.4 यदि किसी कूट भाषा में "EDITION" को "3891965" लिखा जाता है, तो उसी कूट भाषा में "TIDE" को कैसे लिखा जाएगा?

Ans ✗ 1. 3819

✓ 2. 1983

✗ 3. 1839

✗ 4. 1586

Question ID : 6172496409

Status : Answered

Chosen Option : 2

Marks : 4.00

Q.5 यदि 6 विद्यार्थियों का औसत भार 50 किग्रा, 2 विद्यार्थियों का औसत भार 51 किग्रा तथा 2 विद्यार्थियों का औसत भार 55 किग्रा है, तो कुल विद्यार्थियों का औसत भार होगा ?

Ans ✗ 1. 52 किग्रा

✗ 2. 61 किग्रा

✗ 3. 51.5 किग्रा

✓ 4. 51.2 किग्रा

Question ID : 6172497449

Status : Answered

Chosen Option : 4

Marks : 4.00

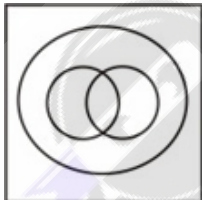
Q.6 निम्न में से वह आरेख चुनिए जो नीचे दिए गए वर्गों के बीच सम्बन्ध का सही निरूपण करता है।  
गाजर, सब्जी, भोजन

Ans

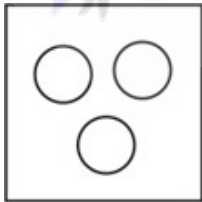
✓ 1.




✗ 2.



✗ 3.



✗ 4.



Question ID : 6172497809


Status : Answered

Chosen Option : 4

Marks : -1.00

Q.7 दिए गए विकल्पों में से प्रश्न आकृति का दर्पण प्रतिबिम्ब क्या होगा?




A  B

Ans

✗ 1.



✗ 2.



✓ 3.



✗ 4.



Question ID : 6172497929

Status : Answered

Chosen Option : 3

Marks : 4.00

Q.8 विजय पश्चिम की ओर 40 मी. चलता है, फिर बायीं ओर मुड़कर 30 मी. चलता है। फिर वह दायीं ओर मुड़कर 20 मी. चलता है। अंत में वह दायीं ओर मुड़कर 30 मी. चलता है। अब वह अपने प्रारम्भिक स्थान से कितनी दूर है ?

Ans

✗ 1. 70 मी.

✗ 2. 65 मी.

✓ 3. 60 मी.

✗ 4. 90 मी.

Question ID : 6172496789

Status : Answered

Chosen Option : 1

Marks : -1.00

Q.9 श्रेणी 975, 864, 753, 642, ? में लुप्त संख्या '?' क्या है ?

Ans

✗ 1. 431

✗ 2. 532

✗ 3. 314

✓ 4. 531

Question ID : 6172495929

Status : Answered

Chosen Option : 4

Marks : 4.00

Q.10 जिस प्रकार धागा का सम्बन्ध कपड़ा से है, उसी प्रकार तार का सम्बन्ध किससे है ?

Ans

✗ 1. रस्सी

✗ 2. छलनी

✓ 3. जाली

✗ 4. टेलीग्राफ

Question ID : 6172496170

Status : Answered

Chosen Option : 3

Marks : 4.00

Q.11 निम्न में से असंगत को चुनिए ?

Question ID : 6172496290

<p>Ans <input checked="" type="checkbox"/> 1. दही</p> <p><input checked="" type="checkbox"/> 2. चीज</p> <p><input checked="" type="checkbox"/> 3. दूध</p> <p><input checked="" type="checkbox"/> 4. शराब</p>	<p>Status : <b>Answered</b></p> <p>Chosen Option : <b>2</b></p> <p>Marks : <b>-1.00</b></p>
<p>Q.12 निम्नलिखित को तर्कसंगत क्रम में किस प्रकार व्यवस्थित किया जाएगा। 1. वयस्क 2. बच्चा 3. शिशु 4. बालक 5. किशोर</p> <p>Ans <input checked="" type="checkbox"/> 1. 2, 3, 5, 4, 1</p> <p><input checked="" type="checkbox"/> 2. 1, 3, 4, 5, 2</p> <p><input checked="" type="checkbox"/> 3. 3, 2, 4, 5, 1</p> <p><input checked="" type="checkbox"/> 4. 2, 3, 4, 1, 5</p>	<p>Question ID : <b>6172496489</b></p> <p>Status : <b>Answered</b></p> <p>Chosen Option : <b>3</b></p> <p>Marks : <b>4.00</b></p>
<p>Q.13 रघु तथा बाबू जुड़वां हैं। बाबू की बहन रीमा है। रीमा का पति राजन है। रघु की मां लक्ष्मी है। लक्ष्मी का पति, राजेश है। तदनुसार, राजेश का राजन से क्या रिश्ता है</p> <p>Ans <input checked="" type="checkbox"/> 1. चचेरा भाई</p> <p><input checked="" type="checkbox"/> 2. ससुर</p> <p><input checked="" type="checkbox"/> 3. दामाद</p> <p><input checked="" type="checkbox"/> 4. चाचा</p>	<p>Question ID : <b>6172496829</b></p> <p>Status : <b>Answered</b></p> <p>Chosen Option : <b>2</b></p> <p>Marks : <b>4.00</b></p>
<p>Q.14 एक संख्या का 40%, 256 है तो इस संख्या का 25% क्या है</p> <p>Ans <input checked="" type="checkbox"/> 1. 150</p> <p><input checked="" type="checkbox"/> 2. 210</p> <p><input checked="" type="checkbox"/> 3. 160</p> <p><input checked="" type="checkbox"/> 4. 260</p>	<p>Question ID : <b>6172497629</b></p> <p>Status : <b>Answered</b></p> <p>Chosen Option : <b>3</b></p> <p>Marks : <b>4.00</b></p>
<p>Q.15 जिस प्रकार सफलता का सम्बन्ध खुशी से है, उसी प्रकार असफलता का सम्बन्ध किससे है ?</p> <p>Ans <input checked="" type="checkbox"/> 1. प्रसन्न</p> <p><input checked="" type="checkbox"/> 2. दुःख</p> <p><input checked="" type="checkbox"/> 3. क्रोध</p> <p><input checked="" type="checkbox"/> 4. पराजय</p>	<p>Question ID : <b>6172496169</b></p> <p>Status : <b>Answered</b></p> <p>Chosen Option : <b>2</b></p> <p>Marks : <b>4.00</b></p>
<p>Q.16 आठ मित्र P, Q, R, S, T, U, V और W केन्द्र की ओर मुँह किए एक वृत्त के चारों ओर बैठे हैं V, Q के दाये तीसरा और R के बाँये दूसरा है Q, T के बायें दूसरा और S के तुरन्त दाँये है, U, Q और T के बीच में है P, R के बाँये नहीं है। T के दाये दूसरा कौन है?</p> <p>Ans <input checked="" type="checkbox"/> 1. R</p> <p><input checked="" type="checkbox"/> 2. V</p> <p><input checked="" type="checkbox"/> 3. P</p> <p><input checked="" type="checkbox"/> 4. W</p>	<p>Question ID : <b>6172496669</b></p> <p>Status : <b>Answered</b></p> <p>Chosen Option : <b>4</b></p> <p>Marks : <b>4.00</b></p>
<p>Q.17 A, B, C, D और E पाँच नदियाँ हैं। A, B से छोटी है लेकिन E से लम्बी है। C सबसे लम्बी है और D, B से थोड़ी छोटी है और A से थोड़ी लम्बी है। बताइए कि इनमें से सबसे छोटी नदि कौनसी है?</p> <p>Ans <input checked="" type="checkbox"/> 1. A</p> <p><input checked="" type="checkbox"/> 2. B</p> <p><input checked="" type="checkbox"/> 3. C</p>	<p>Question ID : <b>6172496609</b></p> <p>Status : <b>Answered</b></p> <p>Chosen Option : <b>4</b></p> <p>Marks : <b>4.00</b></p>

✓ 4. E

Q.18 यदि किसी सांकेतिक भाषा में "RARE" को "SBSF" लिखा जाता है तो "AREA" को उसी सांकेतिक भाषा में कैसे लिखा जाएगा?

- Ans
- ✗ 1. SBFB
  - ✗ 2. FSBS
  - ✗ 3. BSBF
  - ✓ 4. BSFB

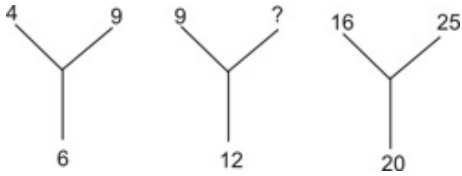
Question ID : 6172496410

Status : Answered

Chosen Option : 4

Marks : 4.00

Q.19 निम्न प्रश्न में दिए गए विकल्पों में से प्रश्नवाचक चिन्ह के स्थान पर आने वाली संख्या ज्ञात कीजिए।



- Ans
- ✓ 1. 16
  - ✗ 2. 25
  - ✗ 3. 27
  - ✗ 4. 49

Question ID : 6172497269

Status : Answered

Chosen Option : 1

Marks : 4.00

Q.20 6 जून, 1908 को रविवार था, तो 31 दिसम्बर, 2003 को कौन-सा दिन होगा ?

- Ans
- ✗ 1. सोमवार
  - ✓ 2. गुरुवार
  - ✗ 3. बुधवार
  - ✗ 4. शनिवार

Question ID : 6172497089

Status : Answered

Chosen Option : 2

Marks : 4.00

Q.21 X की आयु Z से एक-चौथाई और Y की आयु से दो-तिहाई है। X, Y और Z की आयु का क्रमशः अनुपात है?

- Ans
- ✗ 1. 4 : 3 : 8
  - ✗ 2. 3 : 2 : 8
  - ✓ 3. 2 : 3 : 8
  - ✗ 4. 3 : 4 : 8

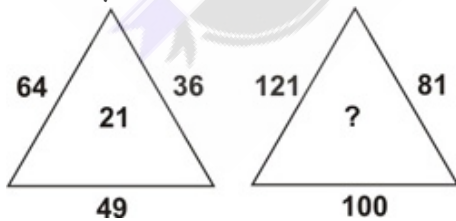
Question ID : 6172498169

Status : Answered

Chosen Option : 3

Marks : 4.00

Q.22 निम्न प्रश्न में दिए गए विकल्पों में से प्रश्नवाचक चिन्ह के स्थान पर आने वाली संख्या ज्ञात कीजिए।



- Ans
- ✗ 1. 40
  - ✗ 2. 20
  - ✗ 3. 10
  - ✓ 4. 30

Question ID : 6172497209

Status : Answered

Chosen Option : 4

Marks : 4.00

Q.23 गाजर, भोजन एवं वनस्पति को कौन-सी आकृति निरूपित करती है?

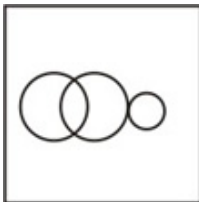
Ans

Question ID : 6172497749

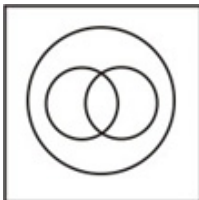
✗ 1.



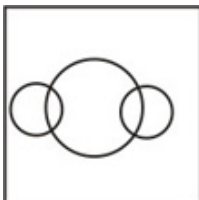
✗ 2.



✗ 3.



✓ 4.



Status : **Answered**  
Chosen Option : 2  
Marks : -1.00

Q.24 नीचे दिए गए कथनों के अनुसार कौनसा निष्कर्ष तर्कसंगत निकाला जा सकता है।

कथन : सभी फावड़े औजार है।

कोई फावड़ा पात्र नहीं है।

निष्कर्ष : I. कम से कम कुछ फावड़े पात्र है।

II. कोई फावड़ा पात्र नहीं है।

- Ans
1. दोनों निष्कर्ष गलत है
  2. केवल निष्कर्ष I सत्य है
  3. या तो निष्कर्ष I या निष्कर्ष II सत्य है
  4. दोनों निष्कर्ष सही है

Note: For this question, discrepancy is found in question/answer. Full Marks is being awarded to all candidates.

Question ID : 6172498409

Status : **Answered**

Chosen Option : 3

Marks : 4.00

Q.25 सुबह 10 बजे से रात्रि 10 बजे तक चलते हुए एक घड़ी की घण्टे की सूई तथा मिनट की सूई कितनी बार समकोणों पर स्थित होगी

- Ans
- ✗ 1. 12
  - ✗ 2. 48
  - ✓ 3. 22
  - ✗ 4. 36

Question ID : 6172497029

Status : **Answered**

Chosen Option : 3

Marks : 4.00

Q.26 नीचे दिए गए कथनों के अनुसार कौनसा निष्कर्ष तर्कसंगत निकाला जा सकता है।

कथन : सभी चाबी ताले है।

सभी ताले पेच है।

निष्कर्ष : I. सभी पेच चाबी है।

II. कुछ ताले चाबी है।

- Ans
- ✗ 1. केवल निष्कर्ष I सही है
  - ✗ 2. दोनों निष्कर्ष सही है
  - ✗ 3. दोनों निष्कर्ष गलत है
  - ✓ 4. केवल निष्कर्ष II सही है

Question ID : 6172498349

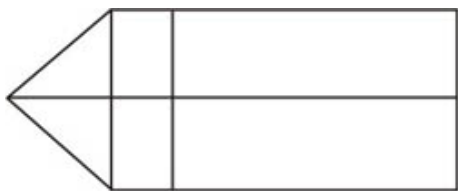
Status : **Answered**

Chosen Option : 4

Marks : 4.00

Q.27 नीचे दी गई आकृति में कितने आयत हैं?





- Ans
- ☒ 1. 8
  - ☒ 2. 12
  - ☒ 3. 7
  - ☒ 4. 9

Question ID : 6172497989  
Status : Answered  
Chosen Option : 4  
Marks : 4.00

Q.28 निम्न में से असंगत को चुनिए ?

- Ans
- ☒ 1. जिगर
  - ☒ 2. पैर
  - ☒ 3. आंत
  - ☒ 4. फैफड़े

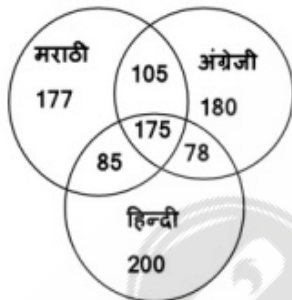
Question ID : 6172496289  
Status : Answered  
Chosen Option : 2  
Marks : 4.00

Q.29 दिए गए विकल्पों में से निम्नलिखित अक्षर समूह का जल प्रतिबिम्ब कौनसा होगा ?

- Ans
- ☒ 1. POLEMIC
  - ☒ 2. CIMELOP
  - ☒ 3. BOGEMIC
  - ☒ 4. BOGEMIC

Question ID : 6172498109  
Status : Answered  
Chosen Option : 3  
Marks : 4.00

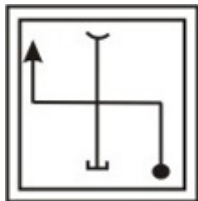
Q.30 निम्नांकित आरेख में 1000 व्यक्तियों के उनकी अंग्रेजी, हिन्दी और मराठी की जानकारी के सम्बन्ध में नमूना सार्वेक्षण दर्शाया गया है। कितने व्यक्ति केवल हिन्दी जानते हैं?



- Ans
- ☒ 1. 85
  - ☒ 2. 78
  - ☒ 3. 175
  - ☒ 4. 200

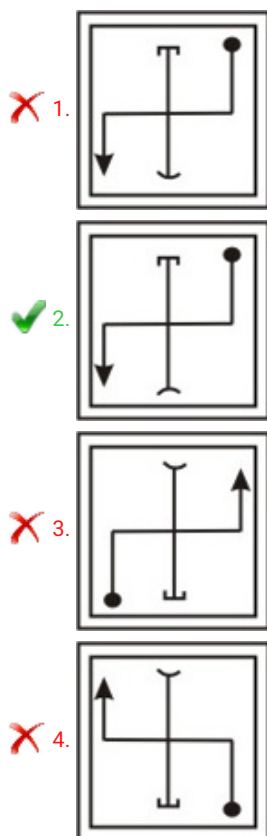
Question ID : 6172498229  
Status : Answered  
Chosen Option : 4  
Marks : 4.00

Q.31 दिए गए विकल्पों में से प्रश्न आकृति का जल प्रतिबिम्ब क्या होगा?



Ans

Question ID : 6172498049  
Status : Answered  
Chosen Option : 2  
Marks : 4.00



✗ 1.

✓ 2.

✗ 3.

✗ 4.

Q.32  $\sqrt{1599} = ?$  निकटतम मान है

Ans ✓ 1. 40

✗ 2. 35

✗ 3. 45

✗ 4. 50

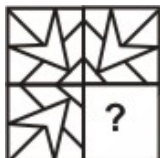
Question ID : 6172497329

Status : Not Answered

Chosen Option : --

Marks : 0.00

Q.33 निम्न में से किस उत्तर आकृति द्वारा प्रश्न आकृति पूरी होगी?



Ans

✗ 1.

✗ 2.

✓ 3.

✗ 4.

Question ID : 6172498469

Status : Answered

Chosen Option : 3

Marks : 4.00

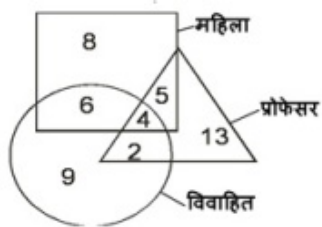
Q.34 निम्नांकित आरेख में वृत्त विवाहित का, त्रिभुज प्रोफेसर का, और वर्ग महिला का प्रतिनिधित्व करता है तो कुल महिला प्रोफेसरों की संख्या क्या है?

Question ID : 6172498289

Status : Answered

Chosen Option : 1

Marks : 4.00



- Ans ☒ 1. 9
- ☒ 2. 8
- ☒ 3. 13
- ☒ 4. 4

Q.35 यदि दो संख्याओं का अनुपात 1 : 5 हो और उनका गुणनफल 320 हो, तो इन दो संख्याओं के वर्गों के बीच कितना अन्तर होगा ?

- Ans ☒ 1. 1256
- ☒ 2. 1536
- ☒ 3. 1435
- ☒ 4. 1024

Question ID : 6172497389

Status : Answered

Chosen Option : 2

Marks : 4.00

Q.36 X अपने घर से 2 किमी उत्तर दिशा में चलती है और फिर बाएं मुड़ जाती है और 1 किमी. चलती है तथा अन्त में वह बाएं मुड़ जाती है और स्कूल पहुंचती है। यह बताइये कि अब वह किस दिशा में उन्मुख है

- Ans ☒ 1. पूर्व
- ☒ 2. पश्चिम
- ☒ 3. दक्षिण
- ☒ 4. उत्तर

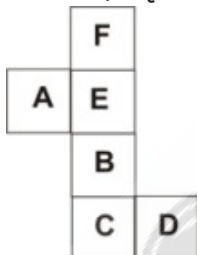
Question ID : 6172496729

Status : Answered

Chosen Option : 4

Marks : -1.00

Q.37 नीचे दिये गए आकृति को मोड़कर कौन-सा घन बनाया जा सकता है?



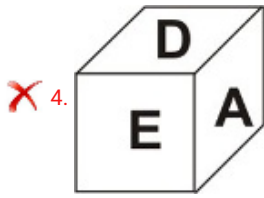
- Ans ☒ 1.
- ☒ 2.
- ☒ 3.

Question ID : 6172496969

Status : Answered

Chosen Option : 3

Marks : 4.00



Q.38 निम्न श्रृंखला में रिक्त स्थान (.) के स्थान पर क्या आएगा  
r \_ se \_ os \_ ro \_ er \_ se

- Ans
- ☒ 1. rores
  - ☒ 2. oreso
  - ☒ 3. oesrs
  - ☒ 4. roeso

Question ID : 6172496009

Status : Answered

Chosen Option : 2

Marks : 4.00

Q.39 3 सेमी भुजा वाले किसी घन को 1 सेमी भुजा वाले छोटे घनों में विभाजीत किया जाता है, तो छोटे घन प्राप्त करने के लिए इसे कुल कितनी बार काटना होगा?

- Ans
- ☒ 1. 8
  - ☒ 2. 6
  - ☒ 3. 2
  - ☒ 4. 4

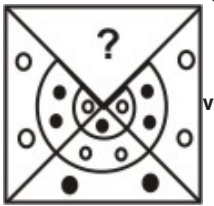
Question ID : 6172496909

Status : Answered

Chosen Option : 3

Marks : -1.00

Q.40 निम्न में से किस उत्तर आकृति द्वारा प्रश्न आकृति पूरी होगी?



Ans

- ☒ 1.
- ☒ 2.
- ☒ 3.
- ☒ 4.

Question ID : 6172498529

Status : Answered

Chosen Option : 4

Marks : 4.00

Q.41 नीचे दिए गए शब्दों में कौन-सा शब्द शब्दकोश के अनुसार पहले स्थान पर आएगा ?

- Ans
- ☒ 1. Barn
  - ☒ 2. Bank
  - ☒ 3. Bare

Question ID : 6172496549

Status : Answered

Chosen Option : 2

Marks : 4.00

✗ 4. Bard

Q.42 राम एक कलम 12 रूपये में खरीदता है और 15 रूपये में बेचता है, प्रतिशत लाभ निकालें

- Ans
- ✓ 1. 25%
  - ✗ 2. 20%
  - ✗ 3. 35%
  - ✗ 4. 15%

Question ID : 6172497689

Status : Answered

Chosen Option : 2

Marks : -1.00

Q.43 श्रेणी 3, 6, 10, ?, 21, 28 में लुप्त संख्या '?' क्या है ?

- Ans
- ✗ 1. 10
  - ✓ 2. 15
  - ✗ 3. 28
  - ✗ 4. 16

Question ID : 6172495930

Status : Answered

Chosen Option : 2

Marks : 4.00

Q.44 निम्न श्रृंखला में प्रश्नवाचक चिन्ह (?) के स्थान पर क्या आएगा  
AMV, FQX, KUZ, ?

- Ans
- ✗ 1. NYB
  - ✗ 2. MYB
  - ✓ 3. PYB
  - ✗ 4. OXA

Question ID : 6172496069

Status : Answered

Chosen Option : 3

Marks : 4.00

Q.45 एक AC 30 मिनट में 8 यूनिट बिजली की खपत करता है और एक बल्ब 6 घंटे में 18 यूनिट बिजली की खपत करता है। यदि AC और बल्ब दोनों 8 दिन तक प्रति दिन 10 घंटे चलें तो कुल कितने यूनिट बिजली खर्च होगी ?

- Ans
- ✗ 1. 1280 यूनिट
  - ✗ 2. 1528 यूनिट
  - ✗ 3. 1248 यूनिट
  - ✓ 4. 1520 यूनिट

Question ID : 6172497569

Status : Answered

Chosen Option : 4

Marks : 4.00

Section : सामान्य ज्ञान सामान्य विज्ञान और सामयिकी

Q.1 प्रवाल भित्ति (Coral reef) है ?

- Ans
- ✗ 1. ऑस्ट्रेलिया के निकट स्थित एक गर्त
  - ✗ 2. ऑस्ट्रेलिया के पूर्वी तट पर पाया जाने वाला एक घास
  - ✗ 3. जीवों द्वारा निर्मित एक समूह
  - ✓ 4. समुद्री जीवों द्वारा निर्मित भित्ति

Question ID : 6172499489

Status : Answered

Chosen Option : 4

Marks : 4.00

Q.2 परमाणु तत्व संख्या 29 किससे संबंधित है ?

- Ans
- ✓ 1. d ब्लॉक
  - ✗ 2. s ब्लॉक
  - ✗ 3. p ब्लॉक
  - ✗ 4. f ब्लॉक

Question ID : 61724910029

Status : Not Answered

Chosen Option : --

Marks : 0.00

Q.3 किस राज्य ने हाल ही में किसानों की आय बढ़ाने के लिए 'उन्नत खेती - समृद्ध किसान' योजना की घोषणा की ?

- Ans
- ✓ 1. महाराष्ट्र

Question ID : 6172498750

Status : Answered

Chosen Option : 1

- ☒ 2. उतराखंड
- ☒ 3. उतर प्रदेश
- ☒ 4. तमिलनाडू

Marks : 4.00

Q.4 जब एक से अधिक कम्प्यूटर को जोड़कर डेटा या इन्फोर्मेशन शेयर किया जाता है, तो उसे क्या कहा जाता है ?

- Ans ☒ 1. इंटरनेट
- ☒ 2. ऑपरेटिंग सिस्टम
- ☒ 3. प्रोसेसर
- ☒ 4. नेटवर्किंग

Question ID : 6172499189

Status : Answered

Chosen Option : 4

Marks : 4.00

Q.5 हुमायूं का मकबरा कहाँ है ?

- Ans ☒ 1. काबुल में
- ☒ 2. आगरा में
- ☒ 3. फतेहपुर सीकरी में
- ☒ 4. दिल्ली में

Question ID : 6172499609

Status : Answered

Chosen Option : 2

Marks : -1.00

Q.6 प्रकाश वर्ष द्वारा नापा जाता है ?

- Ans ☒ 1. प्रकाश तीव्रता
- ☒ 2. दूरी
- ☒ 3. समय
- ☒ 4. प्रकाश की तरंग दैर्घ्य

Question ID : 6172498889

Status : Answered

Chosen Option : 2

Marks : 4.00

Q.7 किसके समय में कोलकाता में प्रथम उच्च न्यायालय की स्थापना की गई थी ?

- Ans ☒ 1. वेरेल्ड
- ☒ 2. वेन्सिटार्ट
- ☒ 3. राबर्ट क्लाइव
- ☒ 4. वारेन हेस्टिंग्स

Question ID : 6172499710

Status : Answered

Chosen Option : 4

Marks : 4.00

Q.8 L.P.G. का पूरा नाम क्या है ?

- Ans ☒ 1. लिक्विड पेट्रोलियम गैस
- ☒ 2. लेडेड पेट्रोलियम गैस
- ☒ 3. लिक्विफाइड पेट्रोलियम गैस
- ☒ 4. लो पेट्रोलियम गैस

Question ID : 6172498989

Status : Answered

Chosen Option : 1

Marks : -1.00

Q.9 किस टेनिस खिलाड़ी ने मियामी ओपन टेनिस टूर्नामेंट 2017 का पुरुष एकल का खिताब जीता ?

- Ans ☒ 1. आदिम रामादीन
- ☒ 2. रफेल नडाल
- ☒ 3. लिएडर पेस
- ☒ 4. रोजर फेडरर

Question ID : 6172498753

Status : Not Answered

Chosen Option : --

Marks : 0.00

Q.10 वेम्बानद झील किस राज्य में स्थित है ?

- Ans ☒ 1. कर्नाटक
- ☒ 2. आन्ध्र प्रदेश

Question ID : 6172499370

Status : Not Answered

Chosen Option : --

Marks : 0.00

- ✓ 3. केरल  
✗ 4. ओडिशा

Q.11 कुल संघ शासित क्षेत्रों में से मात्र एक में ही उसका अपना न्यायालय है ?

- Ans 1. चण्डीगढ़  
2. दिल्ली  
3. पुदुचेरी  
4. दमन व दीव

Note: For this question, discrepancy is found in question/answer. Full Marks is being awarded to all candidates.

Question ID : 6172499770

Status : Answered

Chosen Option : 2

Marks : 4.00

Q.12 केरल का उच्च न्यायालय कहां स्थित है ?

- Ans ✗ 1. कोट्टायम  
✗ 2. दिल्ली  
✗ 3. एर्नाकुलम  
✓ 4. कोच्चि

Question ID : 6172499771

Status : Not Answered

Chosen Option : --

Marks : 0.00

Q.13 केरल के मोनाजाइट रेतों में से कौन-सी सामग्री पाई जाती है ?

- Ans ✓ 1. थोरियम  
✗ 2. तेल  
✗ 3. यूरेनियम  
✗ 4. कोयला

Question ID : 6172499372

Status : Answered

Chosen Option : 1

Marks : 4.00

Q.14 फलों के मीठे स्वाद का कारण है ?

- Ans ✓ 1. फ्रक्टोस  
✗ 2. माल्टोस  
✗ 3. लैक्टोस  
✗ 4. राइबोस

Question ID : 6172499110

Status : Answered

Chosen Option : 1

Marks : 4.00

Q.15 इलबर्ट बिल विवाद किस वायसराय के कार्यकाल में उभरा था ?

- Ans ✗ 1. लिटन  
✗ 2. डफरिन  
✗ 3. नार्थब्रुक  
✓ 4. रिपन

Question ID : 6172499709

Status : Answered

Chosen Option : 4

Marks : 4.00

Q.16 कौन मूल अधिकारों के अन्तर्गत नहीं आता है ?

- Ans ✓ 1. संपत्ति का अधिकार  
✗ 2. शोषण के विरुद्ध अधिकार  
✗ 3. स्वतंत्रता का अधिकार  
✗ 4. समानता का अधिकार

Question ID : 6172499772

Status : Answered

Chosen Option : 1

Marks : 4.00

Q.17 किसी व्यक्ति का अवैध निरोध के मामले में न्यायालय द्वारा जारीकृत परमादेश निम्न में से कौन है ?

- Ans ✗ 1. परमादेश  
✗ 2. अधिकार पृच्छा  
✓ 3. बंदी प्रत्यक्षीकरण

Question ID : 6172499769

Status : Not Answered

Chosen Option : --

Marks : 0.00

✗ 4. उत्प्रेषण

Q.18 केन्द्र सरकार ने किस स्थान से देशव्यापी खसरा व रूबेला टीकाकरण अभियान की शुरूआत की ?

- Ans
- ✓ 1. बेंगलुरू
  - ✗ 2. कोलकाता
  - ✗ 3. नई दिल्ली
  - ✗ 4. चेन्नई

Question ID : 6172498752

Status : Not Answered

Chosen Option : --

Marks : 0.00

Q.19 निम्न में से कौनसी-सी नदी 'बंगाल का शोक' कहलाती है ?

- Ans
- ✗ 1. गंडक
  - ✗ 2. सोन
  - ✗ 3. हुगली
  - ✓ 4. दामोदर

Question ID : 6172499369

Status : Answered

Chosen Option : 4

Marks : 4.00

Q.20 विशेष राज्यों में वार्षिक टर्नओवर की किस सीमा तक कारोबारियों को GST पंजीकरण में छूट का प्रावधान है ?

- Ans
- ✗ 1. 20.00 लाख
  - ✓ 2. 10.00 लाख
  - ✗ 3. 5.00 लाख
  - ✗ 4. 15.00 लाख

Question ID : 6172498751

Status : Answered

Chosen Option : 2

Marks : 4.00

Q.21 मिथेन अणु की आकृति होती है ?

- Ans
- ✗ 1. रैखिक
  - ✗ 2. कोणीय
  - ✗ 3. समतलीय
  - ✓ 4. समचतुष्फलकीय

Question ID : 6172498990

Status : Answered

Chosen Option : 2

Marks : -1.00

Q.22 जीवन का भौतिक आधार है ?

- Ans
- ✗ 1. कोशिका
  - ✓ 2. प्रोटोप्लाज्म
  - ✗ 3. केन्द्रक
  - ✗ 4. भोजन

Question ID : 6172499109

Status : Not Answered

Chosen Option : --

Marks : 0.00

Q.23 तेल एवं प्राकृतिक गैस आयोग (ONGC) की स्थापना कब हुई ?

- Ans
- ✗ 1. 1936 ई.
  - ✗ 2. 1856 ई.
  - ✓ 3. 1956 ई.
  - ✗ 4. 1914 ई.

Question ID : 6172499371

Status : Answered

Chosen Option : 2

Marks : -1.00

Q.24 मानव संसाधन विकास मन्त्रालय द्वारा जारी भारत रैंकिंग 2017 में कौन-सा संस्थान प्रथम स्थान पर रहा ?

- Ans
- ✗ 1. अन्ना यूनिवर्सिटी, चेन्नई
  - ✗ 2. जेएनयू, दिल्ली
  - ✓ 3. भारतीय विज्ञान संस्थान, बेंगलूरू
  - ✗ 4. बीएचयू, वाराणसी

Question ID : 6172498749

Status : Answered

Chosen Option : 1

Marks : -1.00



Q.25 गायत्री मंत्र की रचना किसने की थी ?

- Ans
- ☒ 1. इन्द्र
  - ☒ 2. वशिष्ठ
  - ☒ 3. परीक्षित
  - ☒ 4. विश्वामित्र

Question ID : 6172499549

Status : Not Answered

Chosen Option : --

Marks : 0.00

Section : राजस्थान इतिहास संस्कृति कला और भूगोल

Q.1 कौनसा पाँव (पैर) का आभूषण नहीं है ?

- Ans
- ☒ 1. कड़ा
  - ☒ 2. कन्दोरा
  - ☒ 3. पायजेब
  - ☒ 4. रमझोल

Question ID : 61724910170

Status : Answered

Chosen Option : 2

Marks : 4.00

Q.2 राजस्थान के एकीकरण के समय कोटा के शासक कौन थे ?

- Ans
- ☒ 1. भीमसिंह
  - ☒ 2. मानसिंह
  - ☒ 3. भोपालसिंह
  - ☒ 4. माधोसिंह

Question ID : 61724911654

Status : Answered

Chosen Option : 1

Marks : 4.00

Q.3 ग्राम सभा की वर्ष में कितनी बैठकें होना आवश्यक है ?

- Ans
- ☒ 1. 2
  - ☒ 2. 3
  - ☒ 3. 1
  - ☒ 4. 4

Question ID : 61724910996

Status : Answered

Chosen Option : 1

Marks : -1.00

Q.4 किस राज्य ने देश की पहली वरिष्ठ नागरिक हवाई तीर्थ यात्रा योजना का शुभारंभ किया है ?

- Ans
- ☒ 1. मध्यप्रदेश
  - ☒ 2. तमिलनाडु
  - ☒ 3. राजस्थान
  - ☒ 4. गुजरात

Question ID : 61724911392

Status : Answered

Chosen Option : 3

Marks : 4.00

Q.5 राजस्थान राज्य कितने रेल मण्डलों के अन्तर्गत आता है ?

- Ans
- 1. चार
  - 2. तीन
  - 3. दो
  - 4. एक

Question ID : 61724910997

Status : Answered

Chosen Option : 3

Marks : 4.00

Note: For this question, discrepancy is found in question/answer. Full Marks is being awarded to all candidates.

Q.6 खाटू श्याम जी का मंदिर स्थित है ?

- Ans
- ☒ 1. झुझुनूं
  - ☒ 2. सीकर
  - ☒ 3. जयपुर
  - ☒ 4. चूरू

Question ID : 61724911653

Status : Answered

Chosen Option : 2

Marks : 4.00

Q.7 कुंभलगढ किला किस जिले में स्थित है ?

- Ans
- ☒ 1. उदयपुर
  - ☒ 2. राजसमन्द
  - ☒ 3. सिरोही
  - ☒ 4. पाली

Question ID : 61724910171

Status : Answered

Chosen Option : 2

Marks : 4.00

Q.8 1857 के विद्रोह के समय राजस्थान में AGG कौन थे ?

- Ans
- ☒ 1. मेजर बर्टन
  - ☒ 2. पेट्रीक लोरन्स
  - ☒ 3. जेम्स टॉड
  - ☒ 4. कर्नल ईडन

Question ID : 61724911502

Status : Answered

Chosen Option : 2

Marks : 4.00

Q.9 राजस्थान में पत्रकारिता के 'भीष्म पितामह' है ?

- Ans
- ☒ 1. हर विलास शारदा
  - ☒ 2. पण्डित झाबरमल्ल शर्मा
  - ☒ 3. मुनि जिनविजय
  - ☒ 4. विजयसिंह पथिक

Question ID : 61724910636

Status : Answered

Chosen Option : 2

Marks : 4.00

Q.10 प्रधानमंत्री आवास योजना ग्रामीण का राज्य स्तरीय शुभारम्भ कहाँ से हुआ ?

- Ans
- ☒ 1. सिरोही
  - ☒ 2. राजसमन्द
  - ☒ 3. बांसवाड़ा
  - ☒ 4. डूंगरपुर

Question ID : 61724911393

Status : Answered

Chosen Option : 3

Marks : 4.00

Q.11 पंचायती राज संस्थाओं में चुनाव करवाने का दायित्व है ?

- Ans
- ☒ 1. जिला कलक्टर
  - ☒ 2. जिला प्रमुख
  - ☒ 3. राजस्थान सरकार
  - ☒ 4. राज्य निर्वाचन आयोग

Question ID : 61724910995

Status : Answered

Chosen Option : 4

Marks : 4.00

Q.12 भूरिया बाबा आराध्य देवता है ?

- Ans
- ☒ 1. देवड़ा राजपूतों के
  - ☒ 2. अजमेर के चौहानों के
  - ☒ 3. उदयपुर के सिसोदियों के
  - ☒ 4. गोडवाड़ के मीणाओं के

Question ID : 61724910376

Status : Answered

Chosen Option : 4

Marks : 4.00

Q.13 'खेळी' होती है ?

- Ans
- ☒ 1. स्त्रियों के सिर का एक आभूषण
  - ☒ 2. मवेशियों के पानी पीने का एक छोटा कुण्ड
  - ☒ 3. खेत की मेढ़ पर बनी पगडंडी
  - ☒ 4. घोड़े के चारजामे के नीचे लगाने का ऊनी वस्त्र

Question ID : 61724911503

Status : Answered

Chosen Option : 2

Marks : 4.00

Q.14 राजस्थान का सबसे निकट स्थित बंदरगाह है ?

- Ans
- ☒ 1. जाम नगर

Question ID : 61724910998

Status : Answered

Chosen Option : 4

- ☒ 2. मुम्बई
- ☒ 3. ओखा
- ☒ 4. कांडला

Marks : 4.00

Q.15 बिश्नोई सम्प्रदाय के प्रवर्तक गुरू जम्भेश्वर से संबंधित मुख्य स्थान है ?

- Ans ☒ 1. मुकाम
- ☒ 2. गुड़ा बिश्नोईयान
- ☒ 3. नौखा
- ☒ 4. लूनी

Question ID : 61724910374

Status : Answered

Chosen Option : 1

Marks : 4.00

Q.16 'रूपाजी व कृपाजी' नामक किसान नेताओं का संबंध किस आन्दोलन से है ?

- Ans ☒ 1. बूंदी
- ☒ 2. अलवर
- ☒ 3. बेगूं
- ☒ 4. बिजोलिया

Question ID : 61724910637

Status : Answered

Chosen Option : 3

Marks : 4.00

Q.17 कलाळ सम्बन्धित है ?

- Ans ☒ 1. शराब बेचने का कार्य करने वाली एक जाति
- ☒ 2. हाथी की गर्दन
- ☒ 3. भूमि को समतल बनाने का एक उपकरण
- ☒ 4. कान का आभुषण

Question ID : 61724910635

Status : Answered

Chosen Option : 1

Marks : 4.00

Q.18 राज्य मानवाधिकार आयोग की सिफारिशें है ?

- Ans ☒ 1. सलाहकारी
- ☒ 2. इनमें से कोई नहीं
- ☒ 3. बाध्यकारी
- ☒ 4. दण्डात्मक

Question ID : 61724910999

Status : Answered

Chosen Option : 1

Marks : 4.00

Q.19 खेलकूद का समान बनाया जाता है ?

- Ans ☒ 1. श्रीगंगानगर
- ☒ 2. उदयपुर
- ☒ 3. हनुमानगढ़
- ☒ 4. कोटा

Question ID : 61724910994

Status : Answered

Chosen Option : 3

Marks : 4.00

Q.20 राज्य में मक्का के सर्वाधिक उत्पादन वाले जिले है ?

- Ans ☒ 1. झालावाड़-बून्दी
- ☒ 2. भीलवाड़ा-राजसमंद
- ☒ 3. डूंगरपुर-बांसवाड़ा
- ☒ 4. उदयपुर-चित्तौड़गढ़

Question ID : 61724911254

Status : Answered

Chosen Option : 4

Marks : 4.00

Q.21 गेप सागर झील किस जिले में स्थित है ?

- Ans ☒ 1. बांसवाड़ा
- ☒ 2. प्रतापगढ़
- ☒ 3. डूंगरपुर
- ☒ 4. उदयपुर

Question ID : 61724911255

Status : Answered

Chosen Option : 3

Marks : 4.00

Q.22 बीसलदेव रासो नामक ग्रंथ की रचना किसने की ?

- Ans
- ☒ 1. अजयराज
  - ☒ 2. नरपति नाल्ह
  - ☒ 3. वासुदेव चौहान
  - ☒ 4. पृथ्वीराज तृतीय

Question ID : 61724910377

Status : Answered

Chosen Option : 2

Marks : 4.00

Q.23 राजपूतों में 'डावरिया' से तात्पर्य है ?

- Ans
- ☒ 1. दास-दासियां
  - ☒ 2. विवाह में दिया जाने वाला दहेज
  - ☒ 3. कन्या विवाह में कन्या के साथ दहेज में गये दास-दासियां
  - ☒ 4. बंधुआ मजदूर

Question ID : 61724910634

Status : Answered

Chosen Option : 3

Marks : 4.00

Q.24 जिस जिले में नेशनल बुड फॉसिल पार्क स्थित है, वह है ?

- Ans
- ☒ 1. सीकर में
  - ☒ 2. बाड़मेर में
  - ☒ 3. चूरू में
  - ☒ 4. जैसलमेर में

Question ID : 61724911253

Status : Answered

Chosen Option : 4

Marks : 4.00

Q.25 राज्य में सीमेंट उद्योग का सबसे प्रमुख केन्द्र है ?

- Ans
- ☒ 1. सिरोही
  - ☒ 2. उदयपुर
  - ☒ 3. कोटा
  - ☒ 4. चित्तौड़गढ़

Question ID : 61724911000

Status : Answered

Chosen Option : 4

Marks : 4.00

Q.26 निम्न में से किस केन्द्र भवन के वास्तुकार चार्ल्स कोरिया थे ?

- Ans
- ☒ 1. जवाहर कला केन्द्र
  - ☒ 2. रंगमंच जयपुर
  - ☒ 3. गुरु नानक संस्थान
  - ☒ 4. रवीन्द्र मंच जयपुर

Question ID : 61724910375

Status : Not Answered

Chosen Option : --

Marks : 0.00

Q.27 भवाई नृत्य किस संभाग का मुख्य नृत्य है ?

- Ans
- ☒ 1. बीकानेर
  - ☒ 2. उदयपुर
  - ☒ 3. जोधपुर
  - ☒ 4. भरतपुर

Question ID : 61724910169

Status : Answered

Chosen Option : 2

Marks : 4.00

Q.28 राजस्थान दिवस प्रतिवर्ष मनाया जाता है ?

- Ans
- ☒ 1. 2 मार्च
  - ☒ 2. 1 नवम्बर
  - ☒ 3. 30 मार्च
  - ☒ 4. 26 जनवरी

Question ID : 61724911252

Status : Answered

Chosen Option : 3

Marks : 4.00

Q.29 पण्डित मोतीलाल का संबंध किस स्थान से रहा, जहां उन्होंने प्रारम्भिक शिक्षा प्राप्त की ?

Ans

Question ID : 61724911652

Status : Not Answered

- ✓ 1. खेतड़ी  
✗ 2. मंडावा  
✗ 3. पिलानी  
✗ 4. लोहारगल

Chosen Option : --  
Marks : 0.00

Q.30 राजस्थान में एक राजा का दूसरे राजा के साथ होने वाले पत्र व्यवहार को कहा जाता था ?

- Ans ✗ 1. सनद  
✓ 2. खरीता  
✗ 3. अर्जदाश्त  
✗ 4. परवाना

Question ID : 61724910638  
Status : Answered  
Chosen Option : 4  
Marks : -1.00



Teachingninja.in