



Teachingninja.in



Latest Govt Job updates



Private Job updates



Free Mock tests available



Visit - teachingninja.in

Rajasthan
Jail Prahari
Previous Year Paper
13 Sept, 2017 Shift 1



Participant ID:	
Participant Name:	
Test Center Name:	
Test Date:	13/09/2017
Test Time:	9:00 AM - 11:00 AM
Marks Obtained:	

Section : तार्किक और मानसिक क्षमता

Q.1 निम्न में से असंगत को चुनिए ?

- Ans ☒ 1. चन्द्रमा
☒ 2. पृथ्वी
☒ 3. शनि
☒ 4. मंगल

Question ID : 6172496293

Status : Answered

Chosen Option : 1

Marks : 4.00

Q.2 $(15)^3$ का मान ज्ञात करें ?

- Ans ☒ 1. 3275
☒ 2. 3375
☒ 3. 3355
☒ 4. 3325

Question ID : 6172497331

Status : Answered

Chosen Option : 2

Marks : 4.00

Q.3 श्रेणी 5, 16, 51, 158, ? में लुप्त संख्या '?' क्या है ?

- Ans ☒ 1. 1454
☒ 2. 1452
☒ 3. 481
☒ 4. 483

Question ID : 6172495934

Status : Answered

Chosen Option : 3

Marks : 4.00

Q.4 8 वर्ष पहले P की आयु Q की आयु की दोगुनी थी । यदि इनकी वर्तमान आयु का अनुपात 6:5 है, तब इनकी वर्तमान आयु में क्या अन्तर है ?

- Ans ☒ 1. 5 वर्ष
☒ 2. 7 वर्ष
☒ 3. 2 वर्ष
☒ 4. 3 वर्ष

Question ID : 6172498171

Status : Answered

Chosen Option : 3

Marks : 4.00

Q.5 एक 100 मी लंबी रेलगाडी को 36 किमी/घंटा के चाल से 300 मी पुल को पार करने में कितना समय लगेगा?

- Ans ☒ 1. 50 सेकण्ड
☒ 2. 40 सेकण्ड
☒ 3. 400 सेकण्ड
☒ 4. 36 सेकण्ड

Question ID : 6172497511

Status : Answered

Chosen Option : 2

Marks : 4.00

Q.6 शीला, रवि की भाभी है। राम, रवि का भाई है और राम की पत्नी शीला है। दीपा, रवि की बहन है। दीपा की मां, शांति है। तदनुसार, शीला का शांति से क्या संबंध है

- Ans
- ☒ 1. पुत्री
 - ☒ 2. सास
 - ☒ 3. पुत्रवधु
 - ☒ 4. पोती

Question ID : 6172496831
Status : Answered
Chosen Option : 3
Marks : 4.00

Q.7 जिस प्रकार फर्नीचर का सम्बन्ध लकड़ी से है, उसी प्रकार जूते का सम्बन्ध किससे है ?

- Ans
- ☒ 1. चमड़ा
 - ☒ 2. बनाना
 - ☒ 3. मोची
 - ☒ 4. कपास

Question ID : 6172496173
Status : Answered
Chosen Option : 1
Marks : 4.00

Q.8 निम्न में से किस उत्तर आकृति द्वारा प्रश्न आकृति पूरी होगी?



- Ans
- ☒ 1.
 - ☒ 2.
 - ☒ 3.
 - ☒ 4.

Question ID : 6172498531
Status : Answered
Chosen Option : 3
Marks : 4.00

Q.9 नीचे दिए गए कथनों के अनुसार कौनसा निष्कर्ष तर्कसंगत निकाला जा सकता है।

कथन : कुछ रेल ट्रेन है।

कुछ रेल लोकल है।

निष्कर्ष : I. कम से कम कुछ ट्रेन लोकल है।

II. कोई भी ट्रेन लोकल नहीं है।

- Ans
- ☒ 1. दोनों निष्कर्ष सही है
 - ☒ 2. दोनों निष्कर्ष गलत है
 - ☒ 3. या तो निष्कर्ष I या निष्कर्ष II सत्य है
 - ☒ 4. केवल निष्कर्ष I सत्य है

Question ID : 6172498411
Status : Answered
Chosen Option : 2
Marks : -1.00

Q.10 प्रथम 5 प्राकृतिक संख्याओं के घनों का औसत क्या है ?

- Ans
- ☒ 1. 45
 - ☒ 2. 55
 - ☒ 3. 35

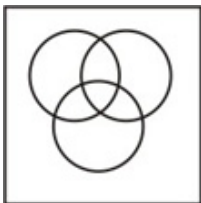
Question ID : 6172497451
Status : Not Answered
Chosen Option : --
Marks : 0.00

✗ 4.65

Q.11 महिना, दिन, घंटा में सम्बन्ध को दर्शाने वाली आकृति का चयन किजीए।

Ans

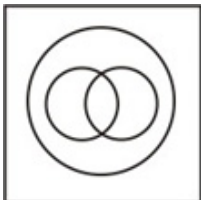
✗ 1.



✗ 2.



✗ 3.



✓ 4.



Question ID : 6172497811

Status : Answered

Chosen Option : 4

Marks : 4.00

Q.12 एक 8 सेमी भुजा का ठोस घन जिसकी विपरीत फलके लाल, नीले व काले रंग से रंगी हुई है। इसे 2 सेमी के बराबर घनों में काटा जाता है। कितने घन ऐसे है जिनकी दो फलक काले रंग से रंगी है?

Ans

✓ 1.0

✗ 2.4

✗ 3.2

✗ 4.8

Question ID : 6172496911

Status : Answered

Chosen Option : 1

Marks : 4.00

Q.13 12 वस्तुओं का क्रय मूल्य 9 वस्तुओं के विक्रय मूल्य के बराबर है, तो लाभ प्रतिशत ज्ञात करो

Ans

✓ 1. 33 1/3%

✗ 2. 40%

✗ 3. 20%

✗ 4. 25%

Question ID : 6172497691

Status : Answered

Chosen Option : 4

Marks : -1.00

Q.14 यदि + का अर्थ घटाना है, - का अर्थ गुणा है, ÷ का अर्थ जोड़ है और × का अर्थ भाग है तो निम्नलिखित का मान क्या होगा? $10 \times 5 \div 3 - 2 + 3 = ?$

Ans

✗ 1. 7

✗ 2. 8/3

✓ 3. 5

✗ 4. 9

Question ID : 6172497151

Status : Answered

Chosen Option : 3

Marks : 4.00

Q.15 दिए गए विकल्पों में से निम्नलिखित अक्षर समूह का जल प्रतिबिम्ब कौनसा होगा ?

SARCASM

Question ID : 6172498111

Status : Answered

- Ans ☒ 1. 2A B C A 2 M
☒ 2. 2A B C A S M
☒ 3. 2A B C A 2 M
☒ 4. M S A C R A S

Chosen Option : 1
Marks : 4.00

Q.16 यदि किसी सांकेतिक भाषा में "SWETA" को "RVDSZ" लिखा जाता है, तो "RINKI" को उसी भाषा में कैसे लिखा जाएगा?

- Ans ☒ 1. QH MJH
☒ 2. QJ MIH
☒ 3. SM HQH
☒ 4. QM HJH

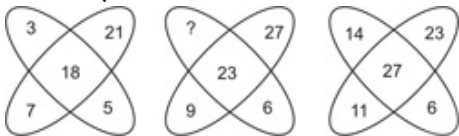
Question ID : 6172496413
Status : Answered
Chosen Option : 1
Marks : 4.00

Q.17 निम्नलिखित को तर्कसंगत क्रम में किस प्रकार व्यवस्थित किया जाएगा। 1. फल 2. फूल 3. बीज 4. परागण 5. कली

- Ans ☒ 1. 4, 2, 5, 3, 1
☒ 2. 5, 2, 4, 3, 1
☒ 3. 1, 2, 3, 4, 5
☒ 4. 5, 2, 4, 1, 3

Question ID : 6172496491
Status : Answered
Chosen Option : 4
Marks : 4.00

Q.18 निम्न प्रश्न में दिए गए विकल्पों में से प्रश्नवाचक चिन्ह के स्थान पर आने वाली संख्या ज्ञात कीजिए।



- Ans ☒ 1. 10
☒ 2. 8
☒ 3. 4
☒ 4. 3

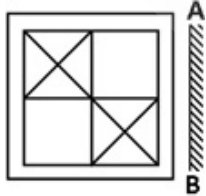
Question ID : 6172497271
Status : Answered
Chosen Option : 3
Marks : 4.00

Q.19 निम्न श्रृंखला में प्रश्नवाचक चिन्ह (?) के स्थान पर क्या आएगा
LJH : KKI :: CLA : ?

- Ans ☒ 1. BBZ
☒ 2. DBB
☒ 3. CBZ
☒ 4. BMB

Question ID : 6172496071
Status : Answered
Chosen Option : 4
Marks : 4.00

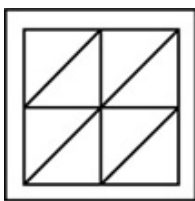
Q.20 दिए गए विकल्पों में से प्रश्न आकृति का दर्पण प्रतिबिम्ब क्या होगा?



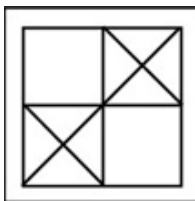
- Ans ☒ 1.

Question ID : 6172497871
Status : Answered
Chosen Option : 3
Marks : 4.00

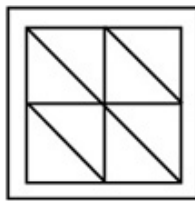
✗ 2.



✓ 3.



✗ 4.



Q.21 1 मिनट 12 सेकेण्ड, 1 घंटे का कितना प्रतिशत है

- Ans
- ✗ 1. 10%
 - ✗ 2. 20%
 - ✗ 3. 12%
 - ✓ 4. 2%

Question ID : 6172497631

Status : Answered


Chosen Option : 4

Marks : 4.00

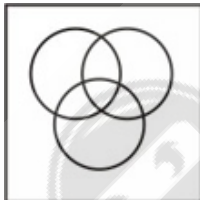
Q.22 नीचे दिए गए आरेखों में से कौनसा आरेख नारी, माँ और डॉक्टर के बीच संबंध को दर्शाता है?

Ans


✗ 1.




✗ 2.



✗ 3.



✓ 4.



Question ID : 6172497751

Status : Answered

Chosen Option : 2

Marks : -1.00

Q.23 दो संख्याओं का योग 20 के बराबर है और उनका अन्तर 16 है। दो संख्याओं का अनुपात क्या है ?

- Ans
- ✗ 1. 7 : 9

Question ID : 6172497391

Status : Answered

- ☒ 2. 3 : 5
- ☒ 3. 2 : 7
- ☒ 4. 9 : 1

Chosen Option : 4
Marks : 4.00

Q.24 11 : 20 बजे घड़ी की सूइयां आपस में कितने अंश का कोण बनाती हैं

- Ans
- ☒ 1. 130°
 - ☒ 2. 150°
 - ☒ 3. 120°
 - ☒ 4. 140°

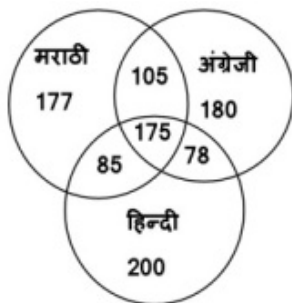
Question ID : 6172497031

Status : Answered

Chosen Option : 4

Marks : 4.00

Q.25 निम्नांकित आरेख में 1000 व्यक्तियों के उनकी अंग्रेजी, हिन्दी और मराठी की जानकारी के सम्बन्ध में नमूना सार्वक्षण दर्शाया गया है। कितने व्यक्ति केवल अंग्रेजी एवं हिन्दी जानते हैं?



- Ans
- ☒ 1. 78
 - ☒ 2. 175
 - ☒ 3. 105
 - ☒ 4. 380

Question ID : 6172498231

Status : Answered


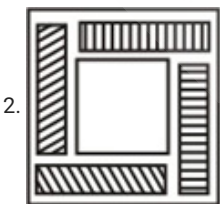

Chosen Option : 4

Marks : -1.00

Q.26 दिए गए विकल्पों में से प्रश्न आकृति का जल प्रतिबिम्ब क्या होगा?



Ans



Question ID : 6172498051

Status : Answered

Chosen Option : 1

Marks : 4.00

4.



Note: For this question, discrepancy is found in question/answer. Full Marks is being awarded to all candidates.

Q.27 इन्दु पूर्व की ओर यात्रा आरम्भ करती है और 35 किमी. चलने के बाद दाहिने मुड़कर 15 किमी. चलती है और फिर दाहिने मुड़कर 15 किमी चलकर रुक जाती है जिस बिन्दु से उसने यात्रा आरम्भ की उस तक पहुंचने के लिए उसे न्यूनतम कितनी दूरी तय करनी पड़ेगी?

- Ans
- ☒ 1. 35 किमी.
 - ☒ 2. 30 किमी.
 - ☒ 3. 25 किमी.
 - ☒ 4. 20 किमी.

Question ID : 6172496791
Status : Answered
Chosen Option : 3
Marks : 4.00

Q.28 निम्न में से असंगत को चुनिए ?

- Ans
- ☒ 1. तांबा
 - ☒ 2. एल्युमीनियम
 - ☒ 3. हीरा
 - ☒ 4. टंगस्टन

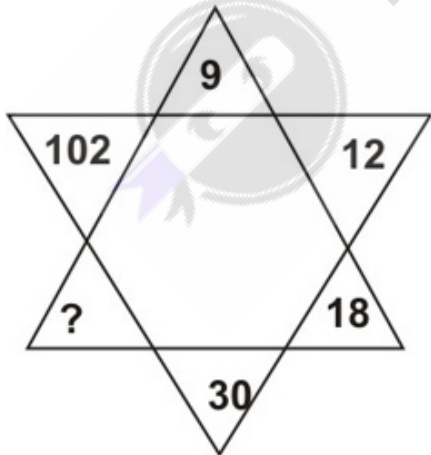
Question ID : 6172496294
Status : Answered
Chosen Option : 2
Marks : -1.00

Q.29 पाँच मित्रों में दीना, सुषमा से बड़ा है। मोना, सरयू से छोटी है। जया, दीना से बड़ी है लेकिन मोना जितनी बड़ी है उतनी बड़ी नहीं है। बताएँ कि इनमें से सबसे छोटा/छोटी कौन है?

- Ans
- ☒ 1. सरयू
 - ☒ 2. जया
 - ☒ 3. मोना
 - ☒ 4. सुषमा

Question ID : 6172496611
Status : Answered
Chosen Option : 4
Marks : 4.00

Q.30 निम्न प्रश्न में दिए गए विकल्पों में से प्रश्नवाचक चिन्ह के स्थान पर आने वाली संख्या ज्ञात कीजिए।



- Ans
- ☒ 1. 52
 - ☒ 2. 50
 - ☒ 3. 44
 - ☒ 4. 54

Question ID : 6172497211
Status : Not Answered
Chosen Option : --
Marks : 0.00

Q.31 यदि 1 जनवरी 2003 को बुधवार हो तो 1 जनवरी 2004 को कौन-सा दिन होगा ?

- Ans
- ☒ 1. मंगलवार
 - ☒ 2. गुरुवार
 - ☒ 3. शनिवार
 - ☒ 4. शुक्रवार

Question ID : 6172497091

Status : Answered

Chosen Option : 2

Marks : 4.00

Q.32 जिस प्रकार शिक्षक का सम्बन्ध स्कूल से है, उसी प्रकार नर्स का सम्बन्ध किससे है ?

- Ans
- ☒ 1. दवाई
 - ☒ 2. अस्पताल
 - ☒ 3. रोगी
 - ☒ 4. डॉक्टर

Question ID : 6172496174

Status : Answered

Chosen Option : 2

Marks : 4.00

Q.33 नीचे दिए गए शब्दों में कौन-सा शब्द शब्दकोश के अनुसार पहले स्थान पर आएगा ?

- Ans
- ☒ 1. Amen
 - ☒ 2. Among
 - ☒ 3. Amid
 - ☒ 4. Amount

Question ID : 6172496551

Status : Answered

Chosen Option : 1

Marks : 4.00

Q.34 निम्न श्रृंखला में रिक्त स्थान () के स्थान पर क्या आएगा
adb _ ac _ da _ cddcb _ dbc _ cbd _

- Ans
- ☒ 1. bccba
 - ☒ 2. cbbaaa
 - ☒ 3. bbcad
 - ☒ 4. ccbba

Question ID : 6172496011

Status : Answered

Chosen Option : 2

Marks : 4.00

Q.35 पाँच लड़के A, B, C, D और E एक पंक्ति में खड़े हैं। D, E के दाईं ओर है। B खड़ा है E के बाईं ओर, किन्तु A के दाईं ओर। D बाईं ओर है C के, जो दाएँ छोर पर खड़ा है। बीच में कौन खड़ा है?

- Ans
- ☒ 1. E
 - ☒ 2. B
 - ☒ 3. C
 - ☒ 4. D

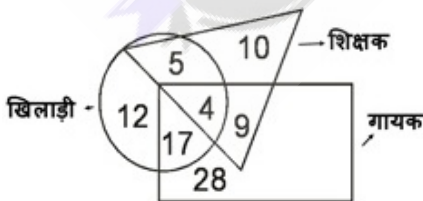
Question ID : 6172496671

Status : Answered

Chosen Option : 1

Marks : 4.00

Q.36 निम्नांकित आरेख में वृत्त खिलाड़ी का, त्रिभुज शिक्षक का और वर्ग गायक का प्रतिनिधित्व करता है तो कितने शिक्षक ऐसे हैं, जो न खिलाड़ी हैं, न गायक हैं?



- Ans
- ☒ 1. 5
 - ☒ 2. 10
 - ☒ 3. 4
 - ☒ 4. 9

Question ID : 6172498291

Status : Answered

Chosen Option : 2

Marks : 4.00

Q.37 राम स्कूल जाने के लिए अपने घर से उत्तर की ओर जाता है, फिर बाईं ओर मुड़ता है, फिर दाईं ओर मुड़ता है तथा अन्त में फिर बाईं ओर मुड़ता है तथा स्कूल पहुँच जाता है।

Question ID : 6172496731

उसका स्कूल उसके घर की किस दिशा में स्थित है

- Ans ☒ 1. उत्तर-पश्चिम
☒ 2. उत्तर-पूर्व
☒ 3. दक्षिण-पश्चिम
☒ 4. दक्षिण-पूर्व

Status : **Answered**
Chosen Option : 1
Marks : 4.00

Q.38 नीचे दिए गए कथनों के अनुसार कौनसा निष्कर्ष तर्कसंगत निकाला जा सकता है।
कथन : सभी हाथी शेर हैं ।
सभी शेर बंदर हैं।
निष्कर्ष : I. सभी हाथी बंदर हैं।
II. कुछ बंदर हाथी हैं।

- Ans ☒ 1. केवल निष्कर्ष II सही है
☒ 2. केवल निष्कर्ष I सही है
☒ 3. दोनों निष्कर्ष गलत है
☒ 4. दोनों निष्कर्ष सही है

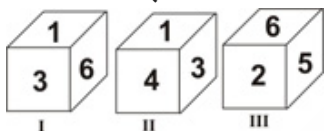
Question ID : 6172498351
Status : **Answered**
Chosen Option : 4
Marks : 4.00

Q.39 ज्योति एक काम का $\frac{3}{4}$ भाग 12 दिनों में कर सकती है। माला ज्योति से दुगुनी कुशल है। माला उस काम को कितने दिनों में समाप्त करेगी ?

- Ans ☒ 1. 12
☒ 2. 6
☒ 3. 16
☒ 4. 8

Question ID : 6172497571
Status : **Answered**
Chosen Option : 4
Marks : 4.00

Q.40 नीचे एक पासे के तीन प्रारूपों को दर्शाया गया है। इस पासे में अंक 4 के विपरीत फलक पर कौन-सा अंक होंगे?



- Ans ☒ 1. 5
☒ 2. 6
☒ 3. 2
☒ 4. 1

Question ID : 6172496971
Status : **Answered**
Chosen Option : 2
Marks : 4.00

Q.41 दिए गए विल्कपों में से प्रश्न आकृति का दर्पण प्रतिबिम्ब क्या होगा?



- Ans ☒ 1.

Question ID : 6172497931
Status : **Answered**
Chosen Option : 2
Marks : 4.00

✓ 2.



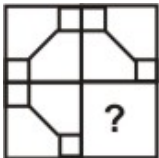
✗ 3.



✗ 4.



Q.42 निम्न में से किस उत्तर आकृति द्वारा प्रश्न आकृति पूरी होगी?



Ans

✗ 1.



✓ 2.



✗ 3.



✗ 4.




Question ID : 6172498471

Status : Answered

Chosen Option : 2

Marks : 4.00

Q.43 नीचे दी गई आकृति में कितने आयत हैं?



Ans

✗ 1. 14

✗ 2. 22

✓ 3. 16

✗ 4. 24

Question ID : 6172497991

Status : Answered

Chosen Option : 3

Marks : 4.00

Q.44 श्रेणी 1, 4, 9, 16, 25, ? में लुप्त संख्या '?' क्या है ?

- Ans
- ☒ 1. 35
 - ☒ 2. 36
 - ☒ 3. 48
 - ☒ 4. 49

Question ID : 6172495933

Status : Answered

Chosen Option : 2

Marks : 4.00

Q.45 यदि किसी कूट भाषा में "DISC" को "8749" लिखा जाता है और "ACHE" को "3950" लिखा जाता है तो उसी कूट भाषा में "HEAD" को किस प्रकार लिखा जाएगा

- Ans
- ☒ 1. 3508
 - ☒ 2. 3805
 - ☒ 3. 5308
 - ☒ 4. 5038

Question ID : 6172496414

Status : Answered

Chosen Option : 4

Marks : 4.00

Section : सामान्य ज्ञान सामान्य विज्ञान और सामयिकी

Q.1 अफ्रीका विकास बैंक (AFDB) की 52 वीं वार्षिक बैठक पहली बार भारत में कहाँ आयोजित की गई ?

- Ans
- ☒ 1. पंजाब
 - ☒ 2. असम
 - ☒ 3. गुजरात
 - ☒ 4. राजस्थान

Question ID : 6172498761

Status : Not Attempted and Marked For Review

Chosen Option : --

Marks : 0.00

Q.2 महात्मा गांधी की हत्या कब हुई थी ?

- Ans
- ☒ 1. 30 जनवरी, 1947
 - ☒ 2. 30 जनवरी, 1949
 - ☒ 3. 30 जनवरी, 1948
 - ☒ 4. 30 जनवरी, 1946

Question ID : 6172499713

Status : Marked For Review

Chosen Option : 3

Marks : 4.00

Q.3 तेलंगाना राज्य किस राज्य के विघटन से बनने वाला राज्य है ?

- Ans
- ☒ 1. केरल
 - ☒ 2. तमिलनाडू
 - ☒ 3. कर्नाटक
 - ☒ 4. आन्ध्र प्रदेश

Question ID : 6172499780

Status : Marked For Review

Chosen Option : 4

Marks : 4.00

Q.4 किन देशों के बीच संयुक्त सैन्य अभ्यास सागर माथा मैजी 2017 आयोजित किया गया ?

- Ans
- ☒ 1. भारत और नेपाल
 - ☒ 2. भारत और बांग्लादेश
 - ☒ 3. चीन और नेपाल
 - ☒ 4. चीन और पाकिस्तान

Question ID : 6172498760

Status : Marked For Review

Chosen Option : 1

Marks : -1.00

Q.5 छत्तीसगढ़ उच्च न्यायालय कहाँ स्थित है ?

- Ans
- ☒ 1. रायपुर
 - ☒ 2. रायगढ़
 - ☒ 3. बिलासपुर

Question ID : 6172499777

Status : Marked For Review

Chosen Option : 1

Marks : -1.00

✗ 4. भिलाई

Q.6 भोजन का उर्जा में परिवर्तन कोशिका के किस भाग में होता है ?

- Ans
- ✓ 1. माइटोकॉन्ड्रिया
 - ✗ 2. राइबोसोम
 - ✗ 3. क्लोरोप्लास्ट
 - ✗ 4. केन्द्रक

Question ID : 6172499114

Status : Answered

Chosen Option : 1

Marks : 4.00

Q.7 महावीर की मृत्यु कहाँ हुई थी ?

- Ans
- ✗ 1. लुम्बिनी
 - ✗ 2. श्रवणबेलगोला
 - ✓ 3. पावापुरी
 - ✗ 4. कुलगुमलै

Question ID : 6172499551

Status : Answered

Chosen Option : 3

Marks : 4.00

Q.8 जम्मू-कश्मीर के मुख्यमंत्री की कार्य अवधि होती है ?

- Ans
- ✗ 1. चार वर्ष
 - ✗ 2. सात वर्ष
 - ✗ 3. पांच वर्ष
 - ✓ 4. छः वर्ष

Question ID : 6172499778

Status : Answered

Chosen Option : 1

Marks : -1.00

Q.9 अमीबा का प्रचलन अंग है ?

- Ans
- ✗ 1. टेन्टेकिल्स
 - ✗ 2. फलेजिला
 - ✗ 3. सीलिया
 - ✓ 4. कूटपाद

Question ID : 6172499113

Status : Not Answered

Chosen Option : --

Marks : 0.00

Q.10 दामोदर नदी निकलती है ?

- Ans
- ✗ 1. नैनीताल के पास से
 - ✓ 2. छोटानागपुर के पठार से
 - ✗ 3. तिब्बत से
 - ✗ 4. सोमेश्वर पहाड़ी से

Question ID : 6172499379

Status : Answered

Chosen Option : 1

Marks : -1.00

Q.11 भारत ने हाल ही में अग्नि - 3 बैलेस्टिक मिसाइल का सफल परीक्षण किया - वह है ?

- Ans
- ✗ 1. समुद्र से जमीन पर मार करने वाली
 - ✗ 2. समुद्र से हवा में मार करने वाली
 - ✓ 3. जमीन से जमीन पर मार करने वाली
 - ✗ 4. जमीन से हवा में मार करने वाली

Question ID : 6172498763

Status : Not Answered

Chosen Option : --

Marks : 0.00

Q.12 टोडरमल संबंधित था ?

- Ans
- ✓ 1. भू-राजस्व से
 - ✗ 2. साहित्य से
 - ✗ 3. संगीत से
 - ✗ 4. कानून से

Question ID : 6172499611

Status : Answered

Chosen Option : 1

Marks : 4.00

Q.13 देश में सर्वाधिक वन क्षेत्र किस राज्य में है ?

Ans

Question ID : 6172499378

- ✓ 1. मध्य प्रदेश
✗ 2. अरुणाचल प्रदेश
✗ 3. छत्तीसगढ़
✗ 4. मिजोरम

Status : **Answered**
Chosen Option : 1
Marks : **4.00**

Q.14 सांसद आदर्श ग्राम योजना की शुरुआत कब हुई ?

- Ans ✗ 1. 11 नवम्बर 2014
✗ 2. 11 नवम्बर 2015
✓ 3. 11 अक्टूबर 2014
✗ 4. 11 अक्टूबर 2015

Question ID : 6172498762
Status : **Answered**
Chosen Option : 2
Marks : **-1.00**

Q.15 पेयजल को शुद्ध करने के लिए फिटकरी का प्रयोग क्यों करते हैं ?

- Ans ✗ 1. नमक हटाने लिए
✗ 2. बैक्टीरिया मारने के लिए
✓ 3. मिट्टी के कणों की जमावट के लिए
✗ 4. गैसों को दूर करने के लिए

Question ID : 6172498993
Status : **Answered**
Chosen Option : 3
Marks : **4.00**

Q.16 भारत की सबसे लम्बी स्थलीय सीमा किस देश के साथ है ?

- Ans ✗ 1. पाकिस्तान
✓ 2. बांग्लादेश
✗ 3. म्यांमार
✗ 4. चीन

Question ID : 6172499377
Status : **Answered**
Chosen Option : 2
Marks : **4.00**

Q.17 डेस्टिनेशन नार्थ-ईस्ट 2017 सम्मेलन का आयोजन कहाँ किया गया ?

- Ans ✓ 1. चंडीगढ़
✗ 2. हिमाचल प्रदेश
✗ 3. हरियाणा
✗ 4. पंजाब

Question ID : 6172498759
Status : **Not Answered**
Chosen Option : --
Marks : **0.00**

Q.18 धुआंधार जलप्रपात किस नदी पर स्थित है ?

- Ans ✗ 1. ताप्ती
✓ 2. नर्मदा
✗ 3. चम्बल
✗ 4. इन्द्रावती

Question ID : 6172499380
Status : **Answered**
Chosen Option : 2
Marks : **4.00**

Q.19 निम्नलिखित में कौन हाइड्रोजन का समस्थानिक नहीं है ?

- Ans ✗ 1. ट्राइटियम
✗ 2. प्रोटियम
✓ 3. ड्यूटीयम
✗ 4. ड्यूटीरियम

Question ID : 6172498994
Status : **Not Answered**
Chosen Option : --
Marks : **0.00**

Q.20 पारद थर्मामीटर का आविष्कार किसने किया था ?

- Ans ✓ 1. फारेनहाइट
✗ 2. न्यूटन

Question ID : 61724910031
Status : **Not Answered**
Chosen Option : --
Marks : **0.00**

- ☒ 3. गेलीलियो
☒ 4. प्रीस्टले

Q.21 महात्मा गांधी ने सत्याग्रह क्रियाविधि सबसे पहले कहां प्रयुक्त की ?

- Ans ☒ 1. दाण्डी
☒ 2. चम्पारण
☒ 3. खेड़ा
☒ 4. अहमदाबाद

Question ID : 6172499714
Status : Answered
Chosen Option : 3
Marks : -1.00

Q.22 कूलॉम इकाई है ?

- Ans ☒ 1. विद्युत प्रतिरोध की
☒ 2. विद्युत धारा की
☒ 3. विद्युत क्षेत्र की
☒ 4. विद्युत आवेश की

Question ID : 6172498891
Status : Not Answered
Chosen Option : --
Marks : 0.00

Q.23 Compact Disk का आकार कैसा होता है ?

- Ans ☒ 1. आयताकार
☒ 2. वर्गाकार
☒ 3. षटकोणीय
☒ 4. गोल

Question ID : 6172499191
Status : Not Answered
Chosen Option : --
Marks : 0.00

Q.24 डोगरी भाषा किस राज्य में बोली जाती है ?

- Ans ☒ 1. बिहार
☒ 2. असम
☒ 3. ओडिसा
☒ 4. जम्मू कश्मीर

Question ID : 6172499779
Status : Answered
Chosen Option : 2
Marks : -1.00

Q.25 मर्रे-डार्लिंग नदी कहां बहती है ?

- Ans ☒ 1. फ्रांस
☒ 2. जर्मनी
☒ 3. ऑस्ट्रीया
☒ 4. ऑस्ट्रेलिया

Question ID : 6172499491
Status : Answered
Chosen Option : 4
Marks : 4.00

Section : राजस्थान इतिहास संस्कृति कला और भूगोल

Q.1 राजस्थान में गैस पर आधारित नाइट्रोजन उर्वरक संयंत्र कहां स्थित है ?

- Ans ☒ 1. गडेपान
☒ 2. कोटा
☒ 3. पोकरण
☒ 4. सूरतगढ़

Question ID : 61724911010
Status : Answered
Chosen Option : 1
Marks : 4.00

Q.2 रामदेवजी के भक्तों द्वारा गाये जाते हैं ?

- Ans ☒ 1. ब्यावले
☒ 2. पवाड़े
☒ 3. कव्वाली

Question ID : 61724910382
Status : Answered
Chosen Option : 1
Marks : 4.00

✗ 4. विवाह

Q.3 राजस्थान का प्रथम रोप वे किस जिले में है ?

- Ans
- ✗ 1. उदयपुर
 - ✓ 2. जालौर
 - ✗ 3. सिरोही
 - ✗ 4. जयपुर

Question ID : 61724911260

Status : Answered

Chosen Option : 2

Marks : 4.00

Q.4 शहरी स्थानीय स्वशासन किस सूची का विषय है ?

- Ans
- ✗ 1. समवर्ती सूची
 - ✓ 2. राज्य सूची
 - ✗ 3. संघ सूची
 - ✗ 4. अवशिष्ट सूची

Question ID : 61724911009

Status : Answered

Chosen Option : 2

Marks : 4.00

Q.5 मुख्यमंत्री ग्रामीण बीपीएल आवास योजना में ऋण प्रदाता एजेंसी है ?

- Ans
- ✗ 1. एसबीआई बैंक
 - ✗ 2. राजसिको
 - ✓ 3. हुडको
 - ✗ 4. रीको

Question ID : 61724911507

Status : Answered

Chosen Option : 1

Marks : -1.00

Q.6 माचिस बनाने की अधिकांश इकाइयां प्रदेश के किन जिलों में है ?

- Ans
- ✓ 1. अलवर, अजमेर
 - ✗ 2. जयपुर, भीलवाड़ा, श्रीगंगानगर
 - ✗ 3. जयपुर, अलवर, कोटा
 - ✗ 4. कोटा, अजमेर, जयपुर

Question ID : 61724911011

Status : Answered

Chosen Option : 1

Marks : 4.00

Q.7 पाली जिले की सीमा कितने जिलों से लगी है ?

- Ans
- ✓ 1. 8
 - ✗ 2. 7
 - ✗ 3. 6
 - ✗ 4. 9

Question ID : 61724911660

Status : Answered

Chosen Option : 1

Marks : 4.00

Q.8 करौली जिले का प्रसिद्ध लोकनृत्य है ?

- Ans
- ✗ 1. भवाई
 - ✗ 2. घूमर
 - ✓ 3. लांगुरिया
 - ✗ 4. गरबा

Question ID : 61724911659

Status : Answered

Chosen Option : 3

Marks : 4.00

Q.9 राजस्थान का वह जिला जिसमें औसत वर्षा सबसे अधिक होती है ?

- Ans
- ✗ 1. बांसवाड़ा
 - ✓ 2. झालावाड़
 - ✗ 3. भरतपुर
 - ✗ 4. सिरोही

Question ID : 61724911263

Status : Answered

Chosen Option : 2

Marks : 4.00

Q.10 भीलों द्वारा विवाह के अवसर पर किया जाने वाला नृत्य क्या कहलाता है ?

Ans

Question ID : 61724910383

- ☒ 1. गबरी
- ☒ 2. गैर
- ☒ 3. नेजा
- ☒ 4. हाथिमना

Status : **Answered**
Chosen Option : 2
Marks : -1.00

Q.11 कौनसा स्थान सवाई माधौपुर जिले में नहीं है ?

- Ans ☒ 1. घुश्मेश्वर ज्योतिर्लिंग
- ☒ 2. रामेश्वर घाट
- ☒ 3. अमश्वर महादेव
- ☒ 4. श्री महावीर जी

Question ID : 61724911658
Status : **Answered**
Chosen Option : 4
Marks : 4.00

Q.12 किस राजपूत शासक को हिन्दू सुरताण के नाम से जाना जाता हैं ?

- Ans ☒ 1. महाराणा उदयसिंह को
- ☒ 2. महाराणा कुंभा को
- ☒ 3. महाराणा प्रताप को
- ☒ 4. महाराणा सांगा को

Question ID : 61724910647
Status : **Answered**
Chosen Option : 2
Marks : 4.00

Q.13 विवाहोपरान्त विदाई पर कन्या को दिये जाने वाले सामान, द्रव्य आदि को क्या कहते है ?

- Ans ☒ 1. डायजा
- ☒ 2. दापौ
- ☒ 3. दावणौ
- ☒ 4. दीठूणौ

Question ID : 61724911506
Status : **Answered**
Chosen Option : 1
Marks : 4.00

Q.14 जनसाधारण में लोकप्रिय डूंगरजी व जवारजी किस जिले के निवासी थे ?

- Ans ☒ 1. अजमेर
- ☒ 2. सीकर
- ☒ 3. जयपुर
- ☒ 4. जोधपुर

Question ID : 61724910648
Status : **Answered**
Chosen Option : 2
Marks : 4.00

Q.15 नारों का स्वांग प्रसिद्ध है ?

- Ans ☒ 1. बीकानेर जिले में
- ☒ 2. जोधपुर जिले में
- ☒ 3. भरतपुर जिले में
- ☒ 4. भीलवाड़ा जिले में

Question ID : 61724910177
Status : **Answered**
Chosen Option : 4
Marks : 4.00

Q.16 राज्य के पहले विधानसभा अध्यक्ष श्री नरोत्तमलाल जोशी किस जिले से संबंधित थे ?

- Ans ☒ 1. नागौर
- ☒ 2. चुरू
- ☒ 3. झुंझनू
- ☒ 4. सीकर

Question ID : 61724911013
Status : **Answered**
Chosen Option : 3
Marks : 4.00

Q.17 राजस्थान रत्न 2016 किसे दिया गया है ?

- Ans ☒ 1. शगुन शर्मा
- ☒ 2. भव्या पंडित

Question ID : 61724911396
Status : **Answered**
Chosen Option : 1
Marks : -1.00

- ✗ 3. खुशी शर्मा
- ✓ 4. मंजुल भार्गव

Q.18 मिट्टी अपरदन को सर्वाधिक प्रोत्साहित करने वाली कौन-सी नदी है ?

- Ans ✗ 1. माही
- ✓ 2. चम्बल
- ✗ 3. बाणगंगा
- ✗ 4. बनास

Question ID : 61724911262

Status : Answered

Chosen Option : 2

Marks : 4.00

Q.19 अमरदास भाटी एवं शिवदास किस चित्रकला शैली के चित्रकार हैं ?

- Ans ✗ 1. दूढ़ाड़ शैली
- ✗ 2. मेवाड़ शैली
- ✓ 3. मारवाड़ शैली
- ✗ 4. हाड़ौती शैली

Question ID : 61724910176

Status : Answered

Chosen Option : 3

Marks : 4.00

Q.20 दी गंगानगर शूगर मिल्स लिमिटेड के अधीन कार्यरत ग्लास फैक्ट्री राजस्थान के किस नगर में है ?

- Ans ✗ 1. जोधपुर
- ✗ 2. प्रतापगढ़
- ✓ 3. धौलपुर
- ✗ 4. अजमेर

Question ID : 61724911008

Status : Answered

Chosen Option : 3

Marks : 4.00

Q.21 बजट 2017-18 की घोषणा के आधार पर बालिका फुटबल अकादमी कहाँ खोली जाएगी ?

- Ans ✓ 1. कोटा
- ✗ 2. जोधपुर
- ✗ 3. सिरोही
- ✗ 4. जयपुर

Question ID : 61724911397

Status : Answered

Chosen Option : 4

Marks : -1.00

Q.22 ऑपरेशन खेजड़ा प्रारम्भ किया गया ?

- Ans ✗ 1. 1987
- ✗ 2. 1992
- ✗ 3. 1988
- ✓ 4. 1991

Question ID : 61724911261

Status : Not Answered

Chosen Option : --

Marks : 0.00

Q.23 राजस्थान के किस जिले में पुरातात्विक 'बागौर कस्बा' स्थित है ?

- Ans ✓ 1. भीलवाड़ा
- ✗ 2. सीकर
- ✗ 3. नागौर
- ✗ 4. अलवर

Question ID : 61724910645

Status : Answered

Chosen Option : 1

Marks : 4.00

Q.24 राजस्थान में आहू व कालीसिंध नदियों के संगम स्थल पर वह किला जो बिना किसी नींव पर सीधा खड़ा है ?

- Ans ✗ 1. चित्तौड़ का किला
- ✗ 2. लोहागढ़
- ✗ 3. तारागढ़ का दुर्ग

Question ID : 61724910175

Status : Answered

Chosen Option : 4

Marks : 4.00

✓ 4. गागरोण का किला

Q.25 निम्न में से किस संभाग में सर्वाधिक जिले हैं ?

- Ans
- ✗ 1. जयपुर
 - ✗ 2. अजमेर
 - ✓ 3. जोधपुर
 - ✗ 4. कोटा

Question ID : 61724911012

Status : Answered

Chosen Option : 3

Marks : 4.00

Q.26 निम्न में से किसे मत्स्य संघ का राज प्रमुख बनाया गया था ?

- Ans
- ✗ 1. राव गोपालसिंह
 - ✗ 2. महाराव बहादुरसिंह
 - ✓ 3. महाराजा उदयभानसिंह
 - ✗ 4. महाराव भीमसिंह

Question ID : 61724910644

Status : Answered

Chosen Option : 3

Marks : 4.00

Q.27 "कुलजम स्वरूप" किस सम्प्रदाय के उपदेशों का संग्रह है ?

- Ans
- ✓ 1. परनामी सम्प्रदाय
 - ✗ 2. जसनाथ जी
 - ✗ 3. चरणदास
 - ✗ 4. लालदास

Question ID : 61724910385

Status : Answered

Chosen Option : 1

Marks : 4.00

Q.28 राजस्थान में प्रथम सीमेंट फैक्ट्री किस जिले में स्थापित की गई ?

- Ans
- ✓ 1. बून्दी
 - ✗ 2. जयपुर
 - ✗ 3. अजमेर
 - ✗ 4. भीलवाड़ा

Question ID : 61724911014

Status : Answered

Chosen Option : 1

Marks : 4.00

Q.29 नौटंकी तथा रामलीला राजस्थान के किस भाग में अधिक लोकप्रिय हैं ?

- Ans
- ✗ 1. पश्चिमी
 - ✗ 2. दक्षिणी
 - ✓ 3. पूर्वी
 - ✗ 4. उत्तरी

Question ID : 61724910384

Status : Answered

Chosen Option : 3

Marks : 4.00

Q.30 दिलवाड़ा के जैन मन्दिरों का निर्माण किस काल में हुआ था ?

- Ans
- ✓ 1. परमार काल
 - ✗ 2. मुगल काल
 - ✗ 3. सल्तनत काल
 - ✗ 4. तुगलक काल

Question ID : 61724910646

Status : Answered

Chosen Option : 1

Marks : 4.00