



Teachingninja.in



Latest Govt Job updates



Private Job updates



Free Mock tests available

Visit - teachingninja.in



TSPSC Drug Insp.

**Previous Year Paper
(General Studies)
19 May, 2023 Shift 1**



TCSiON CAE

Notations :

- 1.Options shown in green color and with ✓ icon are correct.
- 2.Options shown in red color and with ✗ icon are incorrect.

Question Paper Name :

PC22211GENERALSTUDIESANDGENERALABILITIESDI2221
19th May 2023 Shift 1

Subject Name :

PC22211 GENERAL STUDIES AND GENERAL ABILITIES
DI2221

Actual Answer Key :

Yes

Calculator :

None

Magnifying Glass Required? :

No

Ruler Required? :

No

Eraser Required? :

No

Scratch Pad Required? :

No

Rough Sketch/Notepad Required? :

No

Protractor Required? :

No

Show Watermark on Console? :

Yes

Highlighter :

No

Auto Save on Console?

Yes

Change Font Color :

No

Change Background Color :

No

Change Theme :

No

Help Button :

No

Show Reports :

No

Show Progress Bar :

No

Is this Group for Examiner? :

No

Examiner permission : Cant View

Show Progress Bar? : No

Enable Mark as Answered Mark for
Review and Clear Response : Yes

Maximum Instruction Time : 0

Is Section Default? : null

Question Number : 1 Question Id : 630680222982 Option Shuffling : Yes Is Question
Mandatory : No Calculator : None Response Time : N.A Think Time : N.A Minimum Instruction
Time : 0

Correct Marks : 1 Wrong Marks : 0

The movie RRR won an Oscar for which category in 2023?

Options :

- 1. ✓ Best Original Song
- 2. ✗ Best Picture
- 3. ✗ Best International Feature Film
- 4. ✗ Best Visual Effects

Question Number : 1 Question Id : 630680222982 Option Shuffling : Yes Is Question
Mandatory : No Calculator : None Response Time : N.A Think Time : N.A Minimum Instruction
Time : 0

Correct Marks : 1 Wrong Marks : 0

RRR చిత్రం 2023లో ఏ కేటగిరీలో ఆస్కార్‌ను గెలుచుకుంది?

Options :

1. ✓ ఉత్తమ ఒరిజినల్ సాంగ్
2. ✗ ఉత్తమ చిత్రం
3. ✗ ఉత్తమ అంతర్జాతీయ చలనచిత్రం
4. ✗ ఉత్తమ విజువల్ ఎఫెక్ట్స్

Question Number : 2 Question Id : 630680222983 Option Shuffling : Yes Is Question Mandatory : No Calculator : None Response Time : N.A Think Time : N.A Minimum Instruction Time : 0

Correct Marks : 1 Wrong Marks : 0

Which international organization is responsible for issuing guidelines on health and safety at the workplace?

Options :

1. ✗ World Trade Organization
2. ✗ United Nations Educational, Scientific and Cultural Organization
3. ✓ World Health Organization
4. ✗ United Nations Environment Programme

Question Number : 2 Question Id : 630680222983 Option Shuffling : Yes Is Question Mandatory : No Calculator : None Response Time : N.A Think Time : N.A Minimum Instruction Time : 0

Correct Marks : 1 Wrong Marks : 0

పని చేసే ప్రదేశంలో ఆరోగ్యం మరియు భద్రతపై మార్గదర్శకాలను జారీ చేయడానికి ఏ అంతర్జాతీయ సంస్థ బాధ్యత వహిస్తుంది?

Options :

- 1. ✖ ప్రపంచ వాణిజ్య సంస్థ
- 2. ✖ యునైటెడ్ నేషన్స్ ఎడ్యుకేషనల్, సైంటిఫిక్ అండ్ కల్చరల్ ఆర్గనైజేషన్
- 3. ✔ ప్రపంచ ఆరోగ్య సంస్థ
- 4. ✖ ఐక్యరాజ్య సమితి పర్యావరణ కార్యక్రమం

Question Number : 3 Question Id : 630680222984 Option Shuffling : Yes Is Question Mandatory : No Calculator : None Response Time : N.A Think Time : N.A Minimum Instruction Time : 0

Correct Marks : 1 Wrong Marks : 0

Which international organization is responsible for maintaining world peace and security and has 5 permanent members with veto power?

Options :

- 1. ✖ International Court of Justice
- 2. ✖ International Criminal Court
- 3. ✔ United Nations Security Council
- 4. ✖ International Atomic Energy Agency

Question Number : 3 Question Id : 630680222984 Option Shuffling : Yes Is Question Mandatory : No Calculator : None Response Time : N.A Think Time : N.A Minimum Instruction Time : 0

Correct Marks : 1 Wrong Marks : 0

ఏ అంతర్జాతీయ సంస్థ ప్రపంచ శాంతి మరియు భద్రతను కాపాడటానికి బాధ్యత వహించే, అలాగే వీటో అధికారంతో 5 శాశ్వత సభ్యులను కలిగి ఉంది?

Options :

1. ✖ అంతర్జాతీయ న్యాయస్థానం
2. ✖ అంతర్జాతీయ క్రిమినల్ కోర్ట్
3. ✔ ఐక్యరాజ్య సమితి భద్రతా మండలి
4. ✖ అంతర్జాతీయ అటామిక్ ఎనర్జీ ఏజెన్సీ

Question Number : 4 Question Id : 630680222985 Option Shuffling : Yes Is Question Mandatory : No Calculator : None Response Time : N.A Think Time : N.A Minimum Instruction Time : 0

Correct Marks : 1 Wrong Marks : 0

Which of the following is an example of a regional intergovernmental organization in Southeast Asia that aims to promote economic cooperation and integration among its member states?

Options :

1. ✖ North Atlantic Treaty Organization (NATO)
2. ✖ African Union (AU)
3. ✖ European Union (EU)

4. ✓ Association of Southeast Asian Nations (ASEAN)

Question Number : 4 Question Id : 630680222985 Option Shuffling : Yes Is Question Mandatory : No Calculator : None Response Time : N.A Think Time : N.A Minimum Instruction Time : 0

Correct Marks : 1 Wrong Marks : 0

ఈ క్రింది వాటిలో ఏది ఆగ్నేయాసియాలోని సభ్య దేశాల మధ్య ఆర్థిక సహకారం మరియు ఏకీకరణను ప్రోత్సహించే లక్ష్యంతో ఉన్న ప్రాంతీయ అంతర్ ప్రభుత్వ సంస్థకు ఒక ఉదాహరణ?

Options :

1. ✗ ఉత్తర అట్లాంటిక్ ట్రీటీ ఆర్గనైజేషన్ (NATO)

2. ✗ ఆఫ్రికన్ యూనియన్ (AU)

3. ✗ యూరోపియన్ యూనియన్ (EU)

4. ✓ ఆగ్నేయాసియా దేశాల సంఘం (ASEAN)

Question Number : 5 Question Id : 630680222986 Option Shuffling : Yes Is Question Mandatory : No Calculator : None Response Time : N.A Think Time : N.A Minimum Instruction Time : 0

Correct Marks : 1 Wrong Marks : 0

Who was appointed as the first female president of the European Commission in 2019?

Options :

1. ✓ Ursula von der Leyen

2. ✖ Angela Merkel

3. ✖ Theresa May

4. ✖ Christine Lagarde

Question Number : 5 Question Id : 630680222986 Option Shuffling : Yes Is Question Mandatory : No Calculator : None Response Time : N.A Think Time : N.A Minimum Instruction Time : 0

Correct Marks : 1 Wrong Marks : 0

2019లో యూరోపియన్ కమిషన్ మొదటి మహిళా అధ్యక్షురాలిగా ఎవరు నియమితులయ్యారు?

Options :

1. ✔ ఉర్సులా వాన్ డెర్ లేయెన్ (Ursula von der Leyen)

2. ✖ ఏంజెలా మెర్కెల్ (Angela Merkel)

3. ✖ థెరిసా మే (Theresa May)

4. ✖ క్రిస్టీన్ లగార్డ్ (Christine Lagarde)

Question Number : 6 Question Id : 630680222987 Option Shuffling : Yes Is Question Mandatory : No Calculator : None Response Time : N.A Think Time : N.A Minimum Instruction Time : 0

Correct Marks : 1 Wrong Marks : 0

Which country won the gold medal in men's hockey at the 2020 Tokyo Olympics?

Options :

1. ✖ India
2. ✖ Australia
3. ✔ Belgium
4. ✖ Netherlands

Question Number : 6 Question Id : 630680222987 Option Shuffling : Yes Is Question Mandatory : No Calculator : None Response Time : N.A Think Time : N.A Minimum Instruction Time : 0

Correct Marks : 1 Wrong Marks : 0

ఏ దేశం 2020 టోక్యో ఒలింపిక్స్‌లో పురుషుల హాకీ విభాగంలో బంగారు పతకాన్ని గెలుచుకుంది?

Options :

1. ✖ భారతదేశం
2. ✖ ఆస్ట్రేలియా
3. ✔ బెల్జియం
4. ✖ నెదర్లాండ్స్

Question Number : 7 Question Id : 630680222988 Option Shuffling : Yes Is Question Mandatory : No Calculator : None Response Time : N.A Think Time : N.A Minimum Instruction Time : 0

Correct Marks : 1 Wrong Marks : 0

Which of the following is an example of a cereal crop commonly grown in India?

Options :

- 1. ✓ Wheat
- 2. ✗ Banana
- 3. ✗ Potato
- 4. ✗ Tomato

Question Number : 7 Question Id : 630680222988 Option Shuffling : Yes Is Question Mandatory : No Calculator : None Response Time : N.A Think Time : N.A Minimum Instruction Time : 0

Correct Marks : 1 Wrong Marks : 0

ఈ క్రింది వాటిలో ఏది భారతదేశంలో సాధారణంగా పండించే తృణధాన్యాల పంటకు ఒక ఉదాహరణ?

Options :

- 1. ✓ గోధుమలు
- 2. ✗ అరటిపండు
- 3. ✗ బంగాళాదుంప
- 4. ✗ టమాటా

Question Number : 8 Question Id : 630680222989 Option Shuffling : Yes Is Question Mandatory : No Calculator : None Response Time : N.A Think Time : N.A Minimum Instruction

Time : 0

Correct Marks : 1 Wrong Marks : 0

Which of the following initiatives was launched by the Government of India to provide affordable digital connectivity and internet access to rural areas?

Options :

1. ✓ Digital India Programme
2. ✗ Make in India Initiative
3. ✗ Pradhan Mantri Jan Dhan Yojana
4. ✗ BharatNet Project

Question Number : 8 Question Id : 630680222989 Option Shuffling : Yes Is Question

Mandatory : No Calculator : None Response Time : N.A Think Time : N.A Minimum Instruction

Time : 0

Correct Marks : 1 Wrong Marks : 0

ఈ క్రింది వాటిలో గ్రామీణ ప్రాంతాలకు సరసమైన డిజిటల్ కనెక్టివిటీ మరియు ఇంటర్నెట్ సదుపాయాన్ని అందించడానికి భారత ప్రభుత్వం ఏ కార్యక్రమాలను ప్రారంభించింది?

Options :

1. ✓ డిజిటల్ ఇండియా ప్రోగ్రామ్
2. ✗ మేక్ ఇన్ ఇండియా ఇనిషియేటివ్
3. ✗ ప్రధాన మంత్రి జన్ ధన్ యోజన
4. ✗ భారత్ నెట్ ప్రాజెక్ట్

Question Number : 9 Question Id : 630680222990 Option Shuffling : Yes Is Question Mandatory : No Calculator : None Response Time : N.A Think Time : N.A Minimum Instruction Time : 0

Correct Marks : 1 Wrong Marks : 0

Which of the following initiatives was launched by the Government of India to promote a culture of innovation and entrepreneurship in our country?

Options :

1. ✖ Swachh Bharat Abhiyan
2. ✔ Atal Innovation Mission
3. ✖ Pradhan Mantri Fasal Bima Yojana
4. ✖ Ayushman Bharat Yojana

Question Number : 9 Question Id : 630680222990 Option Shuffling : Yes Is Question Mandatory : No Calculator : None Response Time : N.A Think Time : N.A Minimum Instruction Time : 0

Correct Marks : 1 Wrong Marks : 0

మన దేశంలో ఆవిష్కరణ మరియు వ్యవస్థాపకత సంస్కృతిని ప్రోత్సహించడానికి భారత ప్రభుత్వం ఈ క్రింది చోరవల్లో దేనిని ప్రారంభించింది?

Options :

1. ✖ స్వచ్ఛ భారత్ అభియాన్
2. ✔ అటల్ ఇన్నోవేషన్ మిషన్

3. ✖ ప్రధాన మంత్రి ఫసల్ బీమా యోజన

4. ✖ ఆయుష్మాన్ భారత్ యోజన

Question Number : 10 Question Id : 630680222991 Option Shuffling : Yes Is Question Mandatory : No Calculator : None Response Time : N.A Think Time : N.A Minimum Instruction Time : 0

Correct Marks : 1 Wrong Marks : 0

Which of the following initiatives was launched by the Government of India to encourage innovation and research in the field of science and technology, especially among women?

Options :

1. ✔ Knowledge Involvement in Research Advancement through Nurturing (KIRAN scheme)
2. ✖ Pradhan Mantri Jan Dhan Yojana
3. ✖ Digital India Programme
4. ✖ Make in India Initiative

Question Number : 10 Question Id : 630680222991 Option Shuffling : Yes Is Question Mandatory : No Calculator : None Response Time : N.A Think Time : N.A Minimum Instruction Time : 0

Correct Marks : 1 Wrong Marks : 0

సైన్స్ అండ్ టెక్నాలజీ రంగంలో, ముఖ్యంగా మహిళల్లో ఆవిష్కరణలు మరియు పరిశోధనలను ప్రోత్సహించడానికి భారత ప్రభుత్వం ఈ క్రింది వాటిలో ఏ కార్యక్రమాలను ప్రారంభించింది?

Options :

1. ✔

పెంపకం ద్వారా పరిశోధన అభివృద్ధిలో నాలెడ్జ్ ఇన్స్వల్వెంట్ (KIRAN పథకం)

2. ✖ ప్రధాన మంత్రి జన్ ధన్ యోజన

3. ✖ డిజిటల్ ఇండియా ప్రోగ్రామ్

4. ✖ మేక్ ఇన్ ఇండియా ఇనిషియేటివ్

Question Number : 11 Question Id : 630680222992 Option Shuffling : Yes Is Question

Mandatory : No Calculator : None Response Time : N.A Think Time : N.A Minimum Instruction Time : 0

Correct Marks : 1 Wrong Marks : 0

Which of the following is a flagship program launched by the Government of India to provide free and compulsory education to children between the ages of 6 and 14 years?

Options :

1. ✖ Swachh Bharat Abhiyan

2. ✖ Digital India Programme

3. ✖ Ayushman Bharat Yojana

4. ✔ Sarva Shiksha Abhiyan

Question Number : 11 Question Id : 630680222992 Option Shuffling : Yes Is Question

Mandatory : No Calculator : None Response Time : N.A Think Time : N.A Minimum Instruction Time : 0

Correct Marks : 1 Wrong Marks : 0

6 నుండి 14 సంవత్సరాల మధ్య వయస్సు గల పిల్లలకు ఉచిత మరియు నిర్బంధ విద్యను అందించడానికి భారత ప్రభుత్వం ఏ ప్లాగ్‌షిప్ ప్రోగ్రామ్ ప్రారంభించింది?

Options :

1. ✖ స్వచ్ఛ భారత్ అభియాన్
2. ✖ డిజిటల్ ఇండియా ప్రోగ్రామ్
3. ✖ ఆయుష్మాన్ భారత్ యోజన
4. ✔ సర్వ శిక్షా అభియాన్

Question Number : 12 Question Id : 630680222993 Option Shuffling : Yes Is Question Mandatory : No Calculator : None Response Time : N.A Think Time : N.A Minimum Instruction Time : 0

Correct Marks : 1 Wrong Marks : 0

Which of the following laws in India focuses on the protection of children from sexual offenses and provides for the establishment of special courts for their speedy trial?

Options :

1. ✖ Juvenile Justice Act, 2015
2. ✔ Protection of Children from Sexual Offences (POCSO) Act, 2012
3. ✖ Right to Education Act, 2009
4. ✖ Child Labour (Prohibition and Regulation) Act, 1986

Question Number : 12 Question Id : 630680222993 Option Shuffling : Yes Is Question Mandatory : No Calculator : None Response Time : N.A Think Time : N.A Minimum Instruction Time : 0

Correct Marks : 1 Wrong Marks : 0

భారతదేశంలోని ఈ క్రింది చట్టాలలో ఏ చట్టం లైంగిక నేరాల నుండి పిల్లల రక్షణపై దృష్టి సారిస్తుంది మరియు వారి త్వరిత విచారణ కోసం ప్రత్యేక కోర్టులను ఏర్పాటు చేస్తుంది?

Options :

1. ✖ జువెనైల్ జస్టిస్ యాక్ట్ (శిశు సంక్షేమం మరియు రక్షణ చట్టం), 2015
2. ✔ లైంగిక నేరాల నుండి పిల్లల రక్షణ (POCSO) చట్టం, 2012
3. ✖ విద్యా హక్కు చట్టం, 2009
4. ✖ బాల కార్మిక (నిషేధం మరియు నియంత్రణ) చట్టం, 1986

Question Number : 13 Question Id : 630680222994 Option Shuffling : Yes Is Question Mandatory : No Calculator : None Response Time : N.A Think Time : N.A Minimum Instruction Time : 0

Correct Marks : 1 Wrong Marks : 0

Which of the following is a major social challenge faced by India, as highlighted by the National Crime Records Bureau's (NCRB) 2021 report on Crime in India?

Options :

1. ✔ Gender-based violence
2. ✖ Child Labour

3. ✖ Robbery

4. ✖ Terrorism

Question Number : 13 Question Id : 630680222994 Option Shuffling : Yes Is Question Mandatory : No Calculator : None Response Time : N.A Think Time : N.A Minimum Instruction Time : 0

Correct Marks : 1 Wrong Marks : 0

భారతదేశంలో నేరాలపై నేషనల్ క్రైమ్ రికార్డ్స్ బ్యూరో (NCRB) 2021 నివేదిక ద్వారా హైలైట్ చేయబడినట్లుగా, ఈ క్రింది వాటిలో భారతదేశం ఎదుర్కొంటున్న ప్రధాన సామాజిక సవాలు ఏది?

Options :

1. ✔ లింగ ఆధారిత హింస

2. ✖ బాల కార్మికులు

3. ✖ దోపిడీ

4. ✖ తీవ్రవాదం

Question Number : 14 Question Id : 630680222995 Option Shuffling : Yes Is Question Mandatory : No Calculator : None Response Time : N.A Think Time : N.A Minimum Instruction Time : 0

Correct Marks : 1 Wrong Marks : 0

Which of the following social security schemes in India is aimed at providing health insurance coverage to families living below the poverty line?

Options :

1. ✖ Pradhan Mantri Jeevan Jyoti Bima Yojana (PMJJBY)
2. ✖ Pradhan Mantri Fasal Bima Yojana (PMFBY)
3. ✖ Pradhan Mantri Suraksha Bima Yojana (PMSBY)
4. ✔ Ayushman Bharat - Pradhan Mantri Jan Arogya Yojana (AB-PMJAY)

Question Number : 14 Question Id : 630680222995 Option Shuffling : Yes Is Question Mandatory : No Calculator : None Response Time : N.A Think Time : N.A Minimum Instruction Time : 0

Correct Marks : 1 Wrong Marks : 0

భారతదేశంలోని ఈ క్రింది సామాజిక భద్రతా పథకాలలో ఏది దారిద్ర్య రేఖకు దిగువన ఉన్న కుటుంబాలకు ఆరోగ్య బీమా కవరేజీని అందించే లక్ష్యంతో పనిచేస్తుంది?

Options :

1. ✖ ప్రధాన మంత్రి జీవన్ జ్యోతి బీమా యోజన (PMJJBY)
2. ✖ ప్రధాన మంత్రి ఫసల్ బీమా యోజన (PMFBY)
3. ✖ ప్రధాన మంత్రి సురక్ష బీమా యోజన (PMSBY)
4. ✔ ఆయుష్మాన్ భారత్ - ప్రధాన మంత్రి జన్ ఆరోగ్య యోజన (AB-PMJAY)

Question Number : 15 Question Id : 630680222996 Option Shuffling : Yes Is Question Mandatory : No Calculator : None Response Time : N.A Think Time : N.A Minimum Instruction Time : 0

Correct Marks : 1 Wrong Marks : 0

Which of the following is a potential health risk associated with excessive screen time?

Options :

1. ✖ Thyroid
2. ✔ Increased risk of obesity
3. ✖ Vitamin C deficiency
4. ✖ Increased risk of asthma

Question Number : 15 Question Id : 630680222996 Option Shuffling : Yes Is Question Mandatory : No Calculator : None Response Time : N.A Think Time : N.A Minimum Instruction Time : 0

Correct Marks : 1 Wrong Marks : 0

ఈ క్రింది వాటిలో ఎక్కువ సేపు స్క్రీనును చూడటం వలన సంక్రమించే ఆరోగ్య సమస్య ఏది?

Options :

1. ✖ థైరాయిడ్
2. ✔ ఊబకాయం పెరిగే ప్రమాదం
3. ✖ విటమిన్ C లోపం
4. ✖ ఆస్తమా పెరిగే ప్రమాదం

Question Number : 16 Question Id : 630680222997 Option Shuffling : Yes Is Question

Mandatory : No Calculator : None Response Time : N.A Think Time : N.A Minimum Instruction Time : 0

Correct Marks : 1 Wrong Marks : 0

Which of the following is a direct major cause of air pollution in cities and towns?

Options :

1. ✓ Burning of fossil fuels
2. ✗ Excessive use of plastic bags
3. ✗ Improper waste disposal
4. ✗ Deforestation

Question Number : 16 Question Id : 630680222997 Option Shuffling : Yes Is Question

Mandatory : No Calculator : None Response Time : N.A Think Time : N.A Minimum Instruction Time : 0

Correct Marks : 1 Wrong Marks : 0

ఈ క్రింది వాటిలో ఏది నగరాలు మరియు పట్టణాలలో వాయు కాలుష్యానికి ప్రత్యక్ష ప్రధాన కారణం?

Options :

1. ✓ శిలాజ ఇంధనాల దహనం
2. ✗ ప్లాస్టిక్ సంచుల విపరీత వినియోగం
3. ✗ అస్తవ్యస్తమైన వ్యర్థాల తొలగింపు
4. ✗ అటవీ నిర్మూలన

Question Number : 17 Question Id : 630680222998 Option Shuffling : Yes Is Question Mandatory : No Calculator : None Response Time : N.A Think Time : N.A Minimum Instruction Time : 0

Correct Marks : 1 Wrong Marks : 0

Which of the following is a serious public health concern associated with the excessive use of chemical fertilizers and pesticides in agriculture?

Options :

1. ✖ Increased risk of COVID-19
2. ✖ High changes of Human immunodeficiency virus infection and acquired immune deficiency syndrome (HIV/AIDS)
3. ✔ Neurological disorders
4. ✖ Increased risk of malaria

Question Number : 17 Question Id : 630680222998 Option Shuffling : Yes Is Question Mandatory : No Calculator : None Response Time : N.A Think Time : N.A Minimum Instruction Time : 0

Correct Marks : 1 Wrong Marks : 0

ఈ క్రింది వాటిలో ఏది వ్యవసాయంలో రసాయనిక ఎరువులు మరియు పురుగుమందుల మితిమీరిన వినియోగంతో ముడిపడి ఉన్న తీవ్ర ప్రజారోగ్య ఆందోళనకు సంబంధించినది?

Options :

1. ✖ COVID-19 ప్రమాదం పెరుగుతుంది
2. ✖ హ్యూమన్ ఇమ్యూనో డెఫిషియెన్సీ వైరస్ ఇన్ఫెక్షన్ మరియు ఆర్థిత రోగనిరోధక లోపం సిండ్రోమ్ (HIV/AIDS) యొక్క అధిక మార్పులు

3. ✓ నాడీ సంబంధిత రుగ్మతలు

4. ✗ మలేరియా పెరుగుదల

Question Number : 18 Question Id : 630680222999 Option Shuffling : Yes Is Question Mandatory : No Calculator : None Response Time : N.A Think Time : N.A Minimum Instruction Time : 0

Correct Marks : 1 Wrong Marks : 0

Lizard comes under which category of animals?

Options :

1. ✗ mammal

2. ✓ reptile

3. ✗ amphibian

4. ✗ fish

Question Number : 18 Question Id : 630680222999 Option Shuffling : Yes Is Question Mandatory : No Calculator : None Response Time : N.A Think Time : N.A Minimum Instruction Time : 0

Correct Marks : 1 Wrong Marks : 0

బల్లి ఏ వర్గం జంతువుల క్రిందకు వస్తుంది?

Options :

1. ✗ క్షీరదాలు

2. ✓ సరీసృపాలు

3. ✗ ఉభయచరాలు

4. ✗ చేప

Question Number : 19 Question Id : 630680223000 Option Shuffling : Yes Is Question Mandatory : No Calculator : None Response Time : N.A Think Time : N.A Minimum Instruction Time : 0

Correct Marks : 1 Wrong Marks : 0

Which of the following organs is responsible for producing a hormone that regulates blood sugar in the human body?

Options :

1. ✗ Liver

2. ✗ Lungs

3. ✗ Kidney

4. ✓ Pancreas

Question Number : 19 Question Id : 630680223000 Option Shuffling : Yes Is Question Mandatory : No Calculator : None Response Time : N.A Think Time : N.A Minimum Instruction Time : 0

Correct Marks : 1 Wrong Marks : 0

ఈ క్రింది వాటిలో ఏ అవయవాలు మానవ శరీరంలో రక్తంలో చక్కెరను నియంత్రించే హార్మోన్‌ను ఉత్పత్తి చేయడానికి బాధ్యత వహిస్తాయి?

Options :

- 1. ✖ కాలేయం
- 2. ✖ ఊపిరితిత్తులు
- 3. ✖ మూత్రపిండం
- 4. ✔ క్లోమము

Question Number : 20 Question Id : 630680223001 Option Shuffling : Yes Is Question Mandatory : No Calculator : None Response Time : N.A Think Time : N.A Minimum Instruction Time : 0

Correct Marks : 1 Wrong Marks : 0

The haemoglobin is the _____ in red blood cells carry oxygen to the body's tissues.

Options :

- 1. ✖ carbohydrate
- 2. ✖ sugar
- 3. ✔ protein
- 4. ✖ fat

Question Number : 20 Question Id : 630680223001 Option Shuffling : Yes Is Question Mandatory : No Calculator : None Response Time : N.A Think Time : N.A Minimum Instruction Time : 0

Correct Marks : 1 Wrong Marks : 0

హిమోగ్లోబిన్ అనేది ఎర్ర రక్త కణాలలో వున్న _____, ఇది శరీర కణజాలాలకు ఆక్సిజన్ను తీసుకువెళుతుంది.

Options :

- 1. ✖ కార్బోహైడ్రేట్
- 2. ✖ చక్కెర
- 3. ✔ ప్రోటీన్
- 4. ✖ కొవ్వు

Question Number : 21 Question Id : 630680223002 Option Shuffling : Yes Is Question Mandatory : No Calculator : None Response Time : N.A Think Time : N.A Minimum Instruction Time : 0

Correct Marks : 1 Wrong Marks : 0

Which of the following nutrients is essential for building strong bones and teeth?

Options :

- 1. ✖ vitamin c
- 2. ✔ calcium
- 3. ✖ iron
- 4. ✖ magnesium

Question Number : 21 Question Id : 630680223002 Option Shuffling : Yes Is Question

Mandatory : No Calculator : None Response Time : N.A Think Time : N.A Minimum Instruction Time : 0

Correct Marks : 1 Wrong Marks : 0

దృఢమైన ఎముకలు మరియు దంతాల నిర్మాణానికి ఈ క్రింది వాటిలో ఏ పోషకాలు అవసరం?

Options :

1. ✖ విటమిన్ C

2. ✔ కాల్షియం

3. ✖ ఐరన్

4. ✖ మెగ్నీషియం

Question Number : 22 Question Id : 630680223003 Option Shuffling : Yes Is Question

Mandatory : No Calculator : None Response Time : N.A Think Time : N.A Minimum Instruction Time : 0

Correct Marks : 1 Wrong Marks : 0

Which of the following biomes is characterized by a cold and dry climate, with low-growing vegetation such as mosses and lichens?

Options :

1. ✔ Tundra

2. ✖ Rainforest

3. ✖ Grassland

4. ✖ Desert

Question Number : 22 Question Id : 630680223003 Option Shuffling : Yes Is Question Mandatory : No Calculator : None Response Time : N.A Think Time : N.A Minimum Instruction Time : 0

Correct Marks : 1 Wrong Marks : 0

ఈ క్రింది బయోమ్లలో ఏది చల్లని మరియు పొడి వాతావరణంతో, నాచులు మరియు లైకెన్ల వంటి తక్కువ-ఎత్తు పెరిగే వృక్షజాతులతో వర్గీకరించబడుతుంది?

Options :

1. ✓ టండ్రా
2. ✗ రెయిన్‌ఫారెస్ట్
3. ✗ గడ్డి భూములు
4. ✗ ఎడారి

Question Number : 23 Question Id : 630680223004 Option Shuffling : Yes Is Question Mandatory : No Calculator : None Response Time : N.A Think Time : N.A Minimum Instruction Time : 0

Correct Marks : 1 Wrong Marks : 0

Which of the following is an example of a Maillard reaction that occurs during cooking in the kitchen?

Options :

1. ✓ The browning of bread crust
2. ✗ The melting of cheese on pizza

3. ✖ The curdling of milk in a sauce

4. ✖ The separation of oil and vinegar in a salad dressing

Question Number : 23 Question Id : 630680223004 Option Shuffling : Yes Is Question Mandatory : No Calculator : None Response Time : N.A Think Time : N.A Minimum Instruction Time : 0

Correct Marks : 1 Wrong Marks : 0

ఈ క్రింది వాటిలో ఏది వంటగదిలో వంట చేసే సమయంలో మెయిల్డ్ చర్మకు ఉదాహరణ?

Options :

1. ✔ బ్రెడ్ ముక్కను గోధుమ రంగులోకి మార్చే ప్రక్రియ

2. ✖ పిజ్జాపై చీజ్ కరగడం

3. ✖ ఒక సాస్‌లో పాలు పెరుగుగా మారటం

4. ✖ సలాడ్ డ్రెస్సింగ్‌లో నూనె మరియు వెనిగర్ వేరుచేయడం

Question Number : 24 Question Id : 630680223005 Option Shuffling : Yes Is Question Mandatory : No Calculator : None Response Time : N.A Think Time : N.A Minimum Instruction Time : 0

Correct Marks : 1 Wrong Marks : 0

Which of the following is an example of a physical vulnerability in a community?

Options :

1. ✖ Lack of awareness about disaster preparedness

2. ✓ Poor infrastructure and inadequate housing

3. ✗ Limited access to healthcare services

4. ✗ Social and economic inequality

Question Number : 24 Question Id : 630680223005 Option Shuffling : Yes Is Question

Mandatory : No Calculator : None Response Time : N.A Think Time : N.A Minimum Instruction Time : 0

Correct Marks : 1 Wrong Marks : 0

ఈ క్రింది వాటిలో సమాజంలో శారీరక దుర్బలత్వానికి ఉదాహరణ ఏది?

Options :

1. ✗ విపత్తు సంసిద్ధతపై అవగాహన లేకపోవడం

2. ✓ పేలవమైన మౌలిక సదుపాయాలు మరియు సరిపోని గృహాలు

3. ✗ ఆరోగ్య సంరక్షణ సేవలకు పరిమిత ప్రాప్యత

4. ✗ సామాజిక మరియు ఆర్థిక అసమానత

Question Number : 25 Question Id : 630680223006 Option Shuffling : Yes Is Question

Mandatory : No Calculator : None Response Time : N.A Think Time : N.A Minimum Instruction Time : 0

Correct Marks : 1 Wrong Marks : 0

Which of the following is an example of a structural mitigation measure for earthquake hazards?

Options :

1. ✓ Building codes and zoning regulations
2. ✗ Emergency response planning and evacuation procedures
3. ✗ Education and public awareness campaigns
4. ✗ Early warning systems and monitoring technologies

Question Number : 25 Question Id : 630680223006 Option Shuffling : Yes Is Question Mandatory : No Calculator : None Response Time : N.A Think Time : N.A Minimum Instruction Time : 0

Correct Marks : 1 Wrong Marks : 0

ఈ క్రింది వాటిలో భూకంప ప్రమాదాల కోసం నిర్మాణాత్మక ఉపశమన కొలతకు ఉదాహరణ ఏది?

Options :

1. ✓ బిల్డింగ్ కోడ్లు మరియు జోనింగ్ నిబంధనలు
2. ✗ అత్యవసర ప్రతిస్పందన ప్రణాళిక మరియు తరలింపు విధానాలు
3. ✗ విద్య మరియు ప్రజల అవగాహన ప్రచారాలు
4. ✗ ముందస్తు హెచ్చరిక వ్యవస్థలు మరియు పర్యవేక్షణ సాంకేతికతలు

Question Number : 26 Question Id : 630680223007 Option Shuffling : Yes Is Question Mandatory : No Calculator : None Response Time : N.A Think Time : N.A Minimum Instruction Time : 0

Correct Marks : 1 Wrong Marks : 0

Which of the following is an example of a disaster assessment application of remote sensing and GIS?

Options :

1. ✓ Mapping flood hazard zones using satellite imagery
2. ✗ Providing water quality data after disaster
3. ✗ Using helicopter to deliver emergency supplies to disaster zones
4. ✗ Analysing social media data for disaster response planning

Question Number : 26 Question Id : 630680223007 Option Shuffling : Yes Is Question

Mandatory : No Calculator : None Response Time : N.A Think Time : N.A Minimum Instruction Time : 0

Correct Marks : 1 Wrong Marks : 0

ఈ క్రింది వాటిలో రిమోట్ సెన్సింగ్ మరియు GIS యొక్క విపత్తు అంచనా అప్లికేషన్ యొక్క ఉదాహరణ ఏది?

Options :

1. ✓ ఉపగ్రహ చిత్రాలను ఉపయోగించి వరద ప్రమాద జోన్లలో మ్యాపింగ్ చేయడం
2. ✗ విపత్తు తర్వాత నీటి నాణ్యత డేటాను అందించడం
3. ✗ విపత్తు ప్రాంతాలకు అత్యవసర సామగ్రిని అందించడానికి హెలికాప్టర్ను ఉపయోగించడం
4. ✗ విపత్తు ప్రతిస్పందన ప్రణాళిక కోసం సోషల్ మీడియా డేటాను విశ్లేషించడం

Question Number : 27 Question Id : 630680223008 Option Shuffling : Yes Is Question

Mandatory : No Calculator : None Response Time : N.A Think Time : N.A Minimum Instruction Time : 0

Correct Marks : 1 Wrong Marks : 0

Which of the following is a primary source of air pollution?

Options :

1. ✖ Floods
2. ✖ Agricultural activities
3. ✔ Industrial emissions
4. ✖ Household cooking and heating

Question Number : 27 Question Id : 630680223008 Option Shuffling : Yes Is Question

Mandatory : No Calculator : None Response Time : N.A Think Time : N.A Minimum Instruction Time : 0

Correct Marks : 1 Wrong Marks : 0

ఈ క్రింది వాటిలో వాయు కాలుష్యానికి ప్రధాన మూలం ఏది?

Options :

1. ✖ వరదలు
2. ✖ వ్యవసాయ కార్యకలాపాలు
3. ✔ పారిశ్రామిక ఉద్గారాలు
4. ✖ గృహాలలో వంట చేయడం ద్వారా వెలువడే వేడి

Question Number : 28 Question Id : 630680223009 Option Shuffling : Yes Is Question Mandatory : No Calculator : None Response Time : N.A Think Time : N.A Minimum Instruction Time : 0

Correct Marks : 1 Wrong Marks : 0

River Ganga, in India has been found to be one of the _____ rivers in the world.

Options :

1. ✖ shallowest
2. ✖ smallest
3. ✖ cleanest
4. ✔ most polluted

Question Number : 28 Question Id : 630680223009 Option Shuffling : Yes Is Question Mandatory : No Calculator : None Response Time : N.A Think Time : N.A Minimum Instruction Time : 0

Correct Marks : 1 Wrong Marks : 0

భారతదేశంలోని గంగా నది ప్రపంచంలోని _____ నదులలో ఒకటిగా గుర్తించబడింది.

Options :

1. ✖ నిస్సారమైన
2. ✖ అతి చిన్న
3. ✖ పరిశుభ్రమైన

4. ✓ అత్యంత కలుషితమైన

Question Number : 29 Question Id : 630680223010 Option Shuffling : Yes Is Question Mandatory : No Calculator : None Response Time : N.A Think Time : N.A Minimum Instruction Time : 0

Correct Marks : 1 Wrong Marks : 0

What is the difference between incoming solar radiation and outgoing terrestrial radiation called?

Options :

1. ✗ Global warming
2. ✗ Heat absorption
3. ✓ Radiative forcing
4. ✗ Climate change

Question Number : 29 Question Id : 630680223010 Option Shuffling : Yes Is Question Mandatory : No Calculator : None Response Time : N.A Think Time : N.A Minimum Instruction Time : 0

Correct Marks : 1 Wrong Marks : 0

భూవాతావరణం ద్వారా సంగ్రహించే సౌర రేడియేషన్ కంటే, భూవాతావరణం ద్వారా ఉద్గరించబడే సౌర రేడియేషన్ కంటే మధ్య వ్యత్యాసాన్ని ఏమని పిలుస్తారు?

Options :

1. ✗ గ్లోబల్ వార్మింగ్
2. ✗ వేడి శోషణ

3. ✓ రేడియోధార్మికత ఫోర్సింగ్

4. ✗ వాతావరణ మార్పు

Question Number : 30 Question Id : 630680223011 Option Shuffling : Yes Is Question Mandatory : No Calculator : None Response Time : N.A Think Time : N.A Minimum Instruction Time : 0

Correct Marks : 1 Wrong Marks : 0

Which of the following substances is primarily responsible for the depletion of the ozone layer in the Earth's stratosphere?

Options :

1. ✗ Carbon monoxide

2. ✗ Sulphur dioxide

3. ✓ Chlorofluorocarbons (CFCs)

4. ✗ Nitrogen oxides

Question Number : 30 Question Id : 630680223011 Option Shuffling : Yes Is Question Mandatory : No Calculator : None Response Time : N.A Think Time : N.A Minimum Instruction Time : 0

Correct Marks : 1 Wrong Marks : 0

భూమి యొక్క స్ట్రాటో ఆవరణలో ఓజోన్ పొర క్షీణతకు ఈ క్రింది పదార్థాలలో ఏది ప్రాథమికంగా కారణమవుతుంది?

Options :

1. ✖ కార్బన్ మోనాక్సైడ్
2. ✖ సల్ఫర్ డయాక్సైడ్
3. ✔ క్లోరోఫ్లోరో కార్బన్లు (CFCలు)
4. ✖ నైట్రోజన్ ఆక్సైడ్స్

Question Number : 31 Question Id : 630680223012 Option Shuffling : Yes Is Question Mandatory : No Calculator : None Response Time : N.A Think Time : N.A Minimum Instruction Time : 0

Correct Marks : 1 Wrong Marks : 0

Which of the following is a major cause of deforestation in the world?

Options :

1. ✖ Overgrazing by livestock
2. ✖ Oil spills from offshore drilling
3. ✖ Global warming
4. ✔ Clearing land for agriculture

Question Number : 31 Question Id : 630680223012 Option Shuffling : Yes Is Question Mandatory : No Calculator : None Response Time : N.A Think Time : N.A Minimum Instruction Time : 0

Correct Marks : 1 Wrong Marks : 0

ప్రపంచంలో అటవీ నిర్మూలనకు ఈ క్రింది వాటిలో ప్రధాన కారణం ఏది?

Options :

- 1. ✖ పశువులను అతిగా మేపడం
- 2. ✖ ఆఫ్‌షోర్ డ్రిల్లింగ్ ద్వారా చమురును బయటకు తీయడం
- 3. ✖ గ్లోబల్ వార్మింగ్
- 4. ✔ వ్యవసాయం కోసం అడవులను నరికివేయడం

Question Number : 32 Question Id : 630680223013 Option Shuffling : Yes Is Question Mandatory : No Calculator : None Response Time : N.A Think Time : N.A Minimum Instruction Time : 0

Correct Marks : 1 Wrong Marks : 0

Which of the following is a potential harmful effect of agro-chemicals on the environment?

Options :

- 1. ✖ Increased soil fertility
- 2. ✖ Improved plant growth
- 3. ✖ Soil erosion prevention
- 4. ✔ Water pollution

Question Number : 32 Question Id : 630680223013 Option Shuffling : Yes Is Question

Mandatory : No Calculator : None Response Time : N.A Think Time : N.A Minimum Instruction Time : 0

Correct Marks : 1 Wrong Marks : 0

ఈ క్రింది వాటిలో పర్యావరణంపై వ్యవసాయ రసాయనాల యొక్క సంభావ్య హానికరమైన ప్రభావం ఏది?

Options :

1. ✖ పెరిగిన నేల సారం
2. ✖ మెరుగైన మొక్కల పెరుగుదల
3. ✖ మృతికా క్షయకరణ నిర్మూలన
4. ✔ నీటి కాలుష్యం

Question Number : 33 Question Id : 630680223014 Option Shuffling : Yes Is Question

Mandatory : No Calculator : None Response Time : N.A Think Time : N.A Minimum Instruction Time : 0

Correct Marks : 1 Wrong Marks : 0

What is the role of chlorine in the depletion of the ozone layer?

Options :

1. ✔ It catalyzes the breakdown of ozone molecules
2. ✖ It absorbs UV radiation and prevents the formation of ozone
3. ✖ It reacts with oxygen to form ozone-depleting substances
4. ✖ It decreases the temperature of the stratosphere and depletes ozone

Question Number : 33 Question Id : 630680223014 Option Shuffling : Yes Is Question Mandatory : No Calculator : None Response Time : N.A Think Time : N.A Minimum Instruction Time : 0

Correct Marks : 1 Wrong Marks : 0

ఓజోన్ పొర క్షీణించడంలో క్లోరిన్ పాత్ర ఏమిటి?

Options :

1. ✓ ఇది ఓజోన్ అణువుల విచ్ఛిన్నతను ఉత్పేరకపరుస్తుంది
2. ✗ ఇది UV రేడియేషన్‌ను గ్రహించి, ఓజోన్ ఏర్పడకుండా నిరోధిస్తుంది
3. ✗ ఇది ఆక్సిజన్‌తో చర్య జరిపి ఓజోన్-క్షీణించే పదార్థాలను ఏర్పరుస్తుంది
4. ✗ ఇది స్ట్రాటో ఆవరణ ఉష్ణోగ్రతను తగ్గించడం ద్వారా ఓజోన్‌ను క్షీణింపజేస్తుంది

Question Number : 34 Question Id : 630680223015 Option Shuffling : Yes Is Question Mandatory : No Calculator : None Response Time : N.A Think Time : N.A Minimum Instruction Time : 0

Correct Marks : 1 Wrong Marks : 0

The summer monsoon in India is caused by:

Options :

1. ✗ North-east trade winds
2. ✓ South-west monsoon winds
3. ✗ Cyclones

4. ✖ Western disturbances

Question Number : 34 Question Id : 630680223015 Option Shuffling : Yes Is Question Mandatory : No Calculator : None Response Time : N.A Think Time : N.A Minimum Instruction Time : 0

Correct Marks : 1 Wrong Marks : 0

భారతదేశంలో వేసవి రుతుపవనాలు దీనివల్ల ఏర్పడతాయి:

Options :

1. ✖ ఈశాన్య వాణిజ్య పవనాలు

2. ✔ నైరుతి రుతుపవనాలు

3. ✖ తుఫానులు

4. ✖ పశ్చిమ ఆటంకాలు

Question Number : 35 Question Id : 630680223016 Option Shuffling : Yes Is Question Mandatory : No Calculator : None Response Time : N.A Think Time : N.A Minimum Instruction Time : 0

Correct Marks : 1 Wrong Marks : 0

Which of the following natural resources is the primary source of energy in India?

Options :

1. ✖ Petroleum

2. ✔ Coal

3. ✖ Natural Gas

4. ✖ Solar Energy

Question Number : 35 Question Id : 630680223016 Option Shuffling : Yes Is Question Mandatory : No Calculator : None Response Time : N.A Think Time : N.A Minimum Instruction Time : 0

Correct Marks : 1 Wrong Marks : 0

ఈ క్రింది సహజ వనరులలో ఏది భారతదేశంలో శక్తికి ప్రధాన వనరుగా వుంది?

Options :

1. ✖ పెట్రోలియం

2. ✔ బొగ్గు

3. ✖ సహజ వాయువు (నాచురల్ గ్యాస్)

4. ✖ సౌర శక్తి

Question Number : 36 Question Id : 630680223017 Option Shuffling : Yes Is Question Mandatory : No Calculator : None Response Time : N.A Think Time : N.A Minimum Instruction Time : 0

Correct Marks : 1 Wrong Marks : 0

Which of the following statements about the Himalayas is NOT true?

Options :

1. ✖ The Himalayas are the tallest mountain range in the world.

2. ✖ The Himalayas spread across five countries, including India.
3. ✖ The Himalayas were formed due to the collision of the Indian and Eurasian tectonic plates.
4. ✔ The Himalayas are primarily made up of sedimentary rocks.

Question Number : 36 Question Id : 630680223017 Option Shuffling : Yes Is Question Mandatory : No Calculator : None Response Time : N.A Think Time : N.A Minimum Instruction Time : 0

Correct Marks : 1 Wrong Marks : 0

ఈ క్రింది వాటిలో ఏది హిమాలయాల గురించి నిజం కాదు?

Options :

1. ✖ హిమాలయాలు ప్రపంచంలోనే ఎత్తైన పర్వత శ్రేణులు.
2. ✖ హిమాలయాలు భారతదేశంతో సహా ఐదు దేశాలలో విస్తరించి ఉన్నాయి.
3. ✖ భారతీయ మరియు యురేషియన్ టెక్టోనిక్ ప్లేట్లు ఢీకొనడం వల్ల హిమాలయాలు ఏర్పడ్డాయి.
4. ✔ హిమాలయాలు ప్రధానంగా అవక్షేపణ శిలలతో ఏర్పడ్డాయి.

Question Number : 37 Question Id : 630680223018 Option Shuffling : Yes Is Question Mandatory : No Calculator : None Response Time : N.A Think Time : N.A Minimum Instruction Time : 0

Correct Marks : 1 Wrong Marks : 0

Which of the following rivers in India has the largest drainage basin?

Options :

1. ✖ Ganga-Yamuna
2. ✔ Ganga-Brahmaputra-Meghna
3. ✖ Narmada-Tapi
4. ✖ Indus-Sutluj

Question Number : 37 Question Id : 630680223018 Option Shuffling : Yes Is Question Mandatory : No Calculator : None Response Time : N.A Think Time : N.A Minimum Instruction Time : 0

Correct Marks : 1 Wrong Marks : 0

భారతదేశంలోని ఈ క్రింది నదులలో ఏది అతిపెద్ద పరివాహక ప్రాంతం (డ్రైనేజీ బేసిన్) ను కలిగి ఉంది?

Options :

1. ✖ గంగా-యమునా
2. ✔ గంగా-బ్రహ్మపుత్ర-మేఘన
3. ✖ నర్మదా-తాపి
4. ✖ సింధు-సట్లజ్

Question Number : 38 Question Id : 630680223019 Option Shuffling : Yes Is Question Mandatory : No Calculator : None Response Time : N.A Think Time : N.A Minimum Instruction Time : 0

Correct Marks : 1 Wrong Marks : 0

Which of the following is a measure of literacy rate in India?

Options :

1. ✖ The percentage of people who can read and write in English
2. ✔ The percentage of people who can read, write and understand any language
3. ✖ The percentage of people who can speak more than one language
4. ✖ The percentage of people who have completed college education

Question Number : 38 Question Id : 630680223019 Option Shuffling : Yes Is Question

Mandatory : No Calculator : None Response Time : N.A Think Time : N.A Minimum Instruction Time : 0

Correct Marks : 1 Wrong Marks : 0

ఈ క్రింది వాటిలో భారతదేశంలో అక్షరాస్యత రేటుకు కొలమానం ఏది?

Options :

1. ✖ ఆంగ్లంలో చదవగల మరియు వ్రాయగల వ్యక్తుల శాతం
2. ✔ ఏ భాషనైనా చదవగల, వ్రాయగల మరియు అర్థం చేసుకోగల వ్యక్తుల శాతం
3. ✖ ఒకటి కంటే ఎక్కువ భాషలు మాట్లాడగలిగే వ్యక్తుల శాతం
4. ✖ కళాశాల విద్యను పూర్తి చేసిన వ్యక్తుల శాతం

Question Number : 39 Question Id : 630680223020 Option Shuffling : Yes Is Question

Mandatory : No Calculator : None Response Time : N.A Think Time : N.A Minimum Instruction Time : 0

Correct Marks : 1 Wrong Marks : 0

Read the following statements and choose the correct answer:

Statement 1: Poverty is a condition where a person lacks the basic necessities of life, such as food, shelter, and clothing.

Statement 2: India is home to the largest number of poor people in the world.

Options :

1. ✖ Only statement 1 is correct
2. ✖ Only statement 2 is correct
3. ✔ Both statements 1 and 2 are correct
4. ✖ Both statements 1 and 2 are incorrect

Question Number : 39 Question Id : 630680223020 Option Shuffling : Yes Is Question

Mandatory : No Calculator : None Response Time : N.A Think Time : N.A Minimum Instruction Time : 0

Correct Marks : 1 Wrong Marks : 0

ఈ క్రింది ప్రకటనలను చదివి సరైన సమాధానాన్ని ఎంచుకోండి:

ప్రకటన 1: పేదరికం అనేది ఒక వ్యక్తికి ఆహారం, నివాసం మరియు దుస్తులు వంటి ప్రాథమిక అవసరాలు లేని స్థితి.

ప్రకటన 2: భారతదేశం ప్రపంచంలోనే అత్యధిక సంఖ్యలో పేదలకు నిలయం.

Options :

1. ✖ ప్రకటన 1 మాత్రమే సరైనది
2. ✖ ప్రకటన 2 మాత్రమే సరైనది

3. ✓ ప్రకటనలు 1 మరియు 2 రెండూ సరైనవి

4. ✗ ప్రకటనలు 1 మరియు 2 రెండూ సరైనవి కావు

Question Number : 40 Question Id : 630680223021 Option Shuffling : Yes Is Question Mandatory : No Calculator : None Response Time : N.A Think Time : N.A Minimum Instruction Time : 0

Correct Marks : 1 Wrong Marks : 0

Statement 1: Hinduism is the largest religion in India, with over 80% of the population following it.

Statement 2: Sikhism, founded in the 15th century, originated in the state of Punjab and is the fifth-largest religion in India.

Which of the following options is correct?

Options :

1. ✓ Both statements are true

2. ✗ Both statements are false

3. ✗ Only statement 1 is true

4. ✗ Only statement 2 is true

Question Number : 40 Question Id : 630680223021 Option Shuffling : Yes Is Question Mandatory : No Calculator : None Response Time : N.A Think Time : N.A Minimum Instruction Time : 0

Correct Marks : 1 Wrong Marks : 0

ప్రకటన 1: భారతదేశంలో హిందూమతం అతిపెద్ద మతం, జనాభాలో 80% మంది దీనిని అనుసరిస్తున్నారు.

ప్రకటన 2: 15వ శతాబ్దంలో స్థాపించబడిన సిక్కు మతం, పంజాబ్ రాష్ట్రంలో ఉద్భవించింది మరియు భారతదేశంలో ఐదవ అతిపెద్ద మతం.

ఈ క్రింది ఎంపికలలో ఏది సరైనది?

Options :

1. ✓ రెండు ప్రకటనలు సత్యం
2. ✗ రెండు ప్రకటనలు అసత్యం
3. ✗ ప్రకటన 1 మాత్రమే సత్యం
4. ✗ ప్రకటన 2 మాత్రమే సత్యం

Question Number : 41 Question Id : 630680223022 Option Shuffling : Yes Is Question Mandatory : No Calculator : None Response Time : N.A Think Time : N.A Minimum Instruction Time : 0

Correct Marks : 1 Wrong Marks : 0

Which of the following statements is true about unemployment in India?

Statement 1: India has the highest unemployment rates in the world.

Statement 2: The primary cause of unemployment in India is the lack of education and skill development among the workforce.

Options :

1. ✗ Only statement 1 is true
2. ✓ Only statement 2 is true

3. ✖ Both statements are true

4. ✖ Neither statement is true

Question Number : 41 Question Id : 630680223022 Option Shuffling : Yes Is Question Mandatory : No Calculator : None Response Time : N.A Think Time : N.A Minimum Instruction Time : 0

Correct Marks : 1 Wrong Marks : 0

భారతదేశంలో నిరుద్యోగం గురించి ఈ క్రింది ప్రకటనలలో ఏది సత్యం?

ప్రకటన 1: భారతదేశం ప్రపంచంలో అత్యధిక నిరుద్యోగ రేటును కలిగి ఉంది.

ప్రకటన 2: భారతదేశంలో నిరుద్యోగానికి ప్రధాన కారణం శ్రామికశక్తిలో విద్య మరియు నైపుణ్యాభివృద్ధి లేకపోవడం.

Options :

1. ✖ ప్రకటన 1 మాత్రమే సత్యం

2. ✔ ప్రకటన 2 మాత్రమే సత్యం

3. ✖ రెండు ప్రకటనలు సత్యం

4. ✖ రెండూ ప్రకటనలు సత్యం కాదు

Question Number : 42 Question Id : 630680223023 Option Shuffling : Yes Is Question Mandatory : No Calculator : None Response Time : N.A Think Time : N.A Minimum Instruction Time : 0

Correct Marks : 1 Wrong Marks : 0

Which of the following statements is/are correct about agriculture and infrastructure in India?

Statement 1: India is primarily an agricultural country with the majority of the population engaged in farming.

Statement 2: Infrastructure, such as transportation and communication networks, do not help in the development of agriculture and boost economic growth.

Options :

1. ✖ Both statements are true

2. ✖ Both statements are false

3. ✔ Only statement 1 is true

4. ✖ Only statement 2 is true

Question Number : 42 Question Id : 630680223023 Option Shuffling : Yes Is Question

Mandatory : No Calculator : None Response Time : N.A Think Time : N.A Minimum Instruction Time : 0

Correct Marks : 1 Wrong Marks : 0

భారతదేశంలో వ్యవసాయం మరియు మౌలికసదుపాయాలకు సంబంధించి ఈ క్రింది ప్రకటనలలో ఏది/ఏవి సరైనవి?

ప్రకటన 1: భారతదేశం ప్రధానంగా వ్యవసాయ దేశం, ఇందులో అత్యధిక జనాభా వ్యవసాయం ప్రధాన వృత్తిగా వుంది.

ప్రకటన 2: రవాణా మరియు కమ్యూనికేషన్ నెట్వర్క్లు వంటి మౌలిక సదుపాయాలు వ్యవసాయ అభివృద్ధికి మరియు ఆర్థిక వృద్ధిని పెంచడానికి సహాయపడవు.

Options :

1. ✖ రెండు ప్రకటనలు సత్యం

2. ✖ రెండు ప్రకటనలు అసత్యం

3. ✓ ప్రకటన 1 మాత్రమే సత్యం

4. ✗ ప్రకటన 2 మాత్రమే సత్యం

Question Number : 43 Question Id : 630680223024 Option Shuffling : Yes Is Question Mandatory : No Calculator : None Response Time : N.A Think Time : N.A Minimum Instruction Time : 0

Correct Marks : 1 Wrong Marks : 0

Which of the following statements is true regarding Power and Energy and Trade and Industry in India?

Statement 1: India is one of the largest producers of coal in the world.

Statement 2: According to the 2022 Multidimensional Poverty Index Report, India is one of the top importers of information technology and software services in the world.

Options :

1. ✓ Only statement 1 is true

2. ✗ Only statement 2 is true

3. ✗ Both statements are true

4. ✗ Neither statement is true

Question Number : 43 Question Id : 630680223024 Option Shuffling : Yes Is Question Mandatory : No Calculator : None Response Time : N.A Think Time : N.A Minimum Instruction Time : 0

Correct Marks : 1 Wrong Marks : 0

భారతదేశంలో పవర్ అండ్ ఎనర్జీ మరియు ట్రేడ్ అండ్ ఇండస్ట్రీకి సంబంధించి ఈ క్రింది ప్రకటనలలో ఏది నిజం?

ప్రకటన 1: ప్రపంచంలో బొగ్గును అత్యధికంగా ఉత్పత్తి చేసే దేశాల్లో భారతదేశం ఒకటి.

ప్రకటన 2: 2022 బహుమితీయ పేదరిక సూచిక నివేదిక ప్రకారం, ప్రపంచంలోని సమాచార సాంకేతికత మరియు సాఫ్ట్వేర్ సర్వీసులను దిగుమతి చేసుకునే అగ్ర దేశాల్లో భారతదేశం ఒకటి.

Options :

1. ✓ ప్రకటన 1 మాత్రమే సత్యం
2. ✗ ప్రకటన 2 మాత్రమే సత్యం
3. ✗ రెండు ప్రకటనలు సత్యం
4. ✗ రెండూ ప్రకటనలు సత్యం కాదు

Question Number : 44 Question Id : 630680223025 Option Shuffling : Yes Is Question Mandatory : No Calculator : None Response Time : N.A Think Time : N.A Minimum Instruction Time : 0

Correct Marks : 1 Wrong Marks : 0

Which of the following options is correct?

Statement 1: The Golden Quadrilateral is an important highway network in India that connects the major cities and ports of the country.

Statement 2: The introduction of the National Optical Fibre Network (NOFN) has revolutionized communication in rural India.

Options :

1. ✗ Both statements are related to transportation and communication.
2. ✓ Statement 1 is related to transportation while statement 2 is related to communication.

3. ✖ Statement 1 is related to communication while statement 2 is related to transportation.

4. ✖ Both statements are unrelated to transportation and communication.

Question Number : 44 Question Id : 630680223025 Option Shuffling : Yes Is Question

Mandatory : No Calculator : None Response Time : N.A Think Time : N.A Minimum Instruction Time : 0

Correct Marks : 1 Wrong Marks : 0

ఈ క్రింది ఎంపికలలో ఏది సరైనది?

ప్రకటన 1: స్వర్ణ చతుర్భుజం భారతదేశంలోని ఒక ప్రధాన హైవే నెట్‌వర్క్, ఇది దేశంలోని ప్రధాన నగరాలు మరియు ఓడరేవులను కలుపుతుంది.

ప్రకటన 2: నేషనల్ ఆఫ్టికల్ ఫైబర్ నెట్‌వర్క్ (NOFN) ప్రవేశం గ్రామీణ భారతదేశంలో కమ్యూనికేషన్‌ను విప్లవాత్మకంగా మార్చింది.

Options :

1. ✖ రెండు ప్రకటనలు రవాణా మరియు కమ్యూనికేషన్‌కు సంబంధించినవి.

2. ✔ ప్రకటన 1 రవాణాకు సంబంధించినది అయితే ప్రకటన 2 కమ్యూనికేషన్‌కు సంబంధించినది.

3. ✖ ప్రకటన 1 కమ్యూనికేషన్‌కు సంబంధించినది అయితే ప్రకటన 2 రవాణాకు సంబంధించినది.

4. ✖ రెండు ప్రకటనలు రవాణా మరియు కమ్యూనికేషన్‌తో సంబంధం లేనివి.

Question Number : 45 Question Id : 630680223026 Option Shuffling : Yes Is Question

Mandatory : No Calculator : None Response Time : N.A Think Time : N.A Minimum Instruction Time : 0

Correct Marks : 1 Wrong Marks : 0

Which of the following statements are true about the Directive Principles of States Policy?

Statement 1: Directive Principles of State Policy are non-justiciable in nature.

Statement 2: The Directive Principles of State Policy are enshrined in Part IV of the Indian Constitution.

Options :

1. ✓ Both statements are true

2. ✗ Both statements are false

3. ✗ Only statement 1 is true

4. ✗ Only statement 2 is true

Question Number : 45 Question Id : 630680223026 Option Shuffling : Yes Is Question

Mandatory : No Calculator : None Response Time : N.A Think Time : N.A Minimum Instruction Time : 0

Correct Marks : 1 Wrong Marks : 0

రాష్ట్ర విధాన నిర్దేశక సూత్రాల గురించి క్రింది ప్రకటనలలో ఏది సత్యం?

ప్రకటన 1: రాష్ట్ర విధాన నిర్దేశక సూత్రాలు స్వాభావికంగా న్యాయబద్ధం కానివి.

ప్రకటన 2: రాష్ట్ర విధాన నిర్దేశక సూత్రాలు భారత రాజ్యాంగంలోని విభాగం IVలో పొందుపరచబడ్డాయి.

Options :

1. ✓ రెండు ప్రకటనలు సత్యం

2. ✗ రెండు ప్రకటనలు అసత్యం

3. ✗ ప్రకటన 1 మాత్రమే సత్యం

4. ✖ ప్రకటన 2 మాత్రమే సత్యం

Question Number : 46 Question Id : 630680223027 Option Shuffling : Yes Is Question Mandatory : No Calculator : None Response Time : N.A Think Time : N.A Minimum Instruction Time : 0

Correct Marks : 1 Wrong Marks : 0

Statement 1: Fundamental duties were added to the Indian Constitution by the 44th Amendment in 1978.

Statement 2: Fundamental duties are enforceable by law and any violation can be punished by the judiciary.

Choose the correct answer:

Options :

1. ✖ Only statement 1 is true

2. ✖ Only statement 2 is true

3. ✖ Both statements are true

4. ✔ Neither statement is true

Question Number : 46 Question Id : 630680223027 Option Shuffling : Yes Is Question Mandatory : No Calculator : None Response Time : N.A Think Time : N.A Minimum Instruction Time : 0

Correct Marks : 1 Wrong Marks : 0

ప్రకటన 1: 1978లో 44వ సవరణ ద్వారా భారత రాజ్యాంగానికి ప్రాథమిక విధులు జోడించబడ్డాయి.

ప్రకటన 2: ప్రాథమిక విధులు చట్టం ద్వారా అమలు చేయబడతాయి మరియు వాటికి సంబంధించి ఏదైనా ఉల్లంఘన న్యాయవ్యవస్థ ద్వారా శిక్షించబడుతుంది.

సరైన జవాబును ఎంచుకోండి:

Options :

1. ✖ ప్రకటన 1 మాత్రమే సత్యం
2. ✖ ప్రకటన 2 మాత్రమే సత్యం
3. ✖ రెండు ప్రకటనలు సత్యం
4. ✔ రెండూ ప్రకటనలు సత్యం కాదు

Question Number : 47 Question Id : 630680223028 Option Shuffling : Yes Is Question Mandatory : No Calculator : None Response Time : N.A Think Time : N.A Minimum Instruction Time : 0

Correct Marks : 1 Wrong Marks : 0

Read the following statements and choose the correct answer:

Statement 1: Fundamental rights are enshrined in Part III of the Constitution of India.

Statement 2: Right to education is not a fundamental right in India.

Options :

1. ✖ Both statements are true
2. ✔ Statement 1 is true, statement 2 is false
3. ✖ Statement 1 is false, statement 2 is true
4. ✖ Both statements are false

Question Number : 47 Question Id : 630680223028 Option Shuffling : Yes Is Question Mandatory : No Calculator : None Response Time : N.A Think Time : N.A Minimum Instruction

Time : 0

Correct Marks : 1 Wrong Marks : 0

ఈ క్రింది ప్రకటనలను చదివి సరైన సమాధానాన్ని ఎంచుకోండి:

ప్రకటన 1: భారత రాజ్యాంగంలోని విభాగం IIIలో ప్రాథమిక హక్కులు పొందుపరచబడ్డాయి.

ప్రకటన 2: భారతదేశంలో విద్యాహక్కు ప్రాథమిక హక్కు కాదు.

Options :

1. ✖ రెండు ప్రకటనలు సత్యం
2. ✔ ప్రకటన 1 సత్యం, ప్రకటన 2 అసత్యం
3. ✖ ప్రకటన 1 అసత్యం, ప్రకటన 2 సత్యం
4. ✖ రెండు ప్రకటనలు అసత్యం

Question Number : 48 Question Id : 630680223029 Option Shuffling : Yes Is Question Mandatory : No Calculator : None Response Time : N.A Think Time : N.A Minimum Instruction Time : 0

Correct Marks : 1 Wrong Marks : 0

Which of the following statements regarding Indian citizenship is/are correct?

1. Indian citizenship can be acquired through birth, descent, registration, or naturalization.
2. Persons born on Indian soil are automatically considered Indian citizens.
3. The Citizenship Amendment Act (CAA) of 2019 provides a path to citizenship for Hindu, Sikh, Buddhist, Christian, Parsi, and Jain illegal immigrants from Pakistan, Bangladesh, and Afghanistan who entered India before December 31, 2014.
4. The Constitution of India allows for dual citizenship, wherein a person can be a citizen of India as well as another country.

Options :

1. ✖ Statements 1 and 2 only

2. ✓ Statements 1, 2 and 3 only

3. ✗ Statements 1, 2, and 4 only

4. ✗ Statements 2 and 3 only

Question Number : 48 Question Id : 630680223029 Option Shuffling : Yes Is Question

Mandatory : No Calculator : None Response Time : N.A Think Time : N.A Minimum Instruction Time : 0

Correct Marks : 1 Wrong Marks : 0

భారత పౌరసత్వానికి సంబంధించి ఈ క్రింది వాటిలో సరైనది ఏది?

1. భారతీయ పౌరసత్వాన్ని జననం, సంతతి, రిజిస్ట్రేషన్ లేదా సహజీకరణ ద్వారా పొందవచ్చు.
2. భారత గడ్డపై పుట్టిన వ్యక్తులు స్వయంచాలకంగా భారత పౌరులుగా పరిగణించబడతారు.
3. 2019 పౌరసత్వ సవరణ చట్టం (CAA), డిసెంబర్ 31, 2014 కంటే ముందు భారతదేశంలోకి ప్రవేశించిన పాకిస్తాన్, బంగ్లాదేశ్ మరియు ఆఫ్ఘనిస్తాన్ నుండి హిందూ, సిక్కు, బౌద్ధ, క్రిస్టియన్, పార్సీ మరియు జైన అక్రమ వలసదారులకు పౌరసత్వానికి మార్గాన్ని అందిస్తుంది.
4. భారత రాజ్యాంగం ద్వంద్వ పౌరసత్వాన్ని అనుమతిస్తుంది, ఇందులో ఒక వ్యక్తి భారతదేశంతో పాటు మరొక దేశ పౌరుడిగా ఉండవచ్చు.

Options :

1. ✗ ప్రకటనలు 1 మరియు 2 మాత్రమే

2. ✓ ప్రకటనలు 1, 2 మరియు 3 మాత్రమే

3. ✗ ప్రకటనలు 1, 2, మరియు 4 మాత్రమే

4.

✖ ప్రకటనలు 2 మరియు 3 మాత్రమే

Question Number : 49 Question Id : 630680223030 Option Shuffling : Yes Is Question Mandatory : No Calculator : None Response Time : N.A Think Time : N.A Minimum Instruction Time : 0

Correct Marks : 1 Wrong Marks : 0

Which of the following statements related to the Executive in the Indian political system is/are correct?

1. Executive power of the Union is vested in the President.
2. The Mayor of a State heads the Chief Minister and Council of Ministers of the executive branch at the State level.
3. The Union executive consists of the President, the Vice-President, and the Council of Ministers with the Prime Minister as the head.
4. The chief minister acts as the nominal head whereas the real power lies with the governor of the state.

Options :

1. ✖ 1 and 2 only

2. ✔ 1 and 3 only

3. ✖ 2 and 4 only

4. ✖ 3 and 4 only

Question Number : 49 Question Id : 630680223030 Option Shuffling : Yes Is Question Mandatory : No Calculator : None Response Time : N.A Think Time : N.A Minimum Instruction Time : 0

Correct Marks : 1 Wrong Marks : 0

భారత రాజకీయ వ్యవస్థలో కార్యనిర్వాహకవర్గానికి సంబంధించిన ఈ క్రింది ప్రకటనలలో ఏది సరైనది?

1. కేంద్రం యొక్క కార్యనిర్వాహక అధికారం రాష్ట్రపతికి ఉంది.
2. రాష్ట్ర స్థాయిలో కార్యనిర్వాహక శాఖ ముఖ్యమంత్రి మరియు మంత్రుల మండలికి రాష్ట్ర మేయర్ నేతృత్వం వహిస్తారు.
3. యూనియన్ ఎగ్జిక్యూటివ్‌లో రాష్ట్రపతి, ఉప రాష్ట్రపతి మరియు ప్రధాన మంత్రి అధిపతిగా మంత్రుల మండలి వుంటుంది.
4. ముఖ్యమంత్రి నామమాత్రపు అధిపతిగా వ్యవహరిస్తారు, అయితే నిజమైన అధికారం రాష్ట్ర గవర్నర్‌కు ఉంటుంది.

Options :

1. ✖ 1 మరియు 2 మాత్రమే
2. ✔ 1 మరియు 3 మాత్రమే
3. ✖ 2 మరియు 4 మాత్రమే
4. ✖ 3 మరియు 4 మాత్రమే

Question Number : 50 Question Id : 630680223031 Option Shuffling : Yes Is Question Mandatory : No Calculator : None Response Time : N.A Think Time : N.A Minimum Instruction Time : 0

Correct Marks : 1 Wrong Marks : 0

Which of the following statements related to the Judiciary system in India are correct?

1. The Supreme Court of India is the highest judicial authority in the country.
2. The judiciary in India is independent of the executive and legislative branches of the government.
3. The Chief Justice of India is appointed by the President of India on the advice of the Prime Minister.
4. The Indian Judiciary follows the common law system.

Options :

1. ✖ Statements 1 and 2 only

2. ✖ Statements 1, 2 and 3 only

3. ✔ Statements 1, 2, and 4 only

4. ✖ Statements 2 and 3 only

Question Number : 50 Question Id : 630680223031 Option Shuffling : Yes Is Question

Mandatory : No Calculator : None Response Time : N.A Think Time : N.A Minimum Instruction Time : 0

Correct Marks : 1 Wrong Marks : 0

భారతదేశంలోని న్యాయవ్యవస్థకు సంబంధించి ఈ క్రింది ప్రకటనల్లో సరైనవి ఏవి?

1. భారతదేశ అత్యున్నత న్యాయస్థానం (సుప్రీంకోర్టు) దేశంలో అత్యున్నత న్యాయవ్యవస్థ.
2. భారతదేశంలోని న్యాయవ్యవస్థ ప్రభుత్వ కార్యనిర్వాహక మరియు శాసన శాఖల నుండి స్వతంత్రంగా ఉంటుంది.
3. భారత ప్రధాన న్యాయమూర్తిని ప్రధానమంత్రి సలహా మేరకు భారత రాష్ట్రపతి నియమిస్తారు.
4. భారత న్యాయవ్యవస్థ సాధారణ న్యాయ వ్యవస్థను అనుసరిస్తుంది.

Options :

1. ✖ ప్రకటనలు 1 మరియు 2 మాత్రమే

2. ✖ ప్రకటనలు 1, 2 మరియు 3 మాత్రమే

3. ✔ ప్రకటనలు 1, 2, మరియు 4 మాత్రమే

4. ✖ ప్రకటనలు 2 మరియు 3 మాత్రమే

Question Number : 51 Question Id : 630680223032 Option Shuffling : Yes Is Question Mandatory : No Calculator : None Response Time : N.A Think Time : N.A Minimum Instruction Time : 0

Correct Marks : 1 Wrong Marks : 0

Consider the following statements regarding Parliament under the Union and State Government of India:

- A. The Parliament of India consists of the President, Lok Sabha and Rajya Sabha.
- B. The legislative assembly is the lower house of the state legislature in every state of India.
- C. The Lok Sabha members are directly elected by the people of India.
- D. The Governor of a state can nominate one member to the Rajya Sabha from the state.

Which of the following combinations is/are correct?

Options :

- 1. ✓ A, B and C only
- 2. ✗ A, C and D only
- 3. ✗ B and C only
- 4. ✗ A, B, C and D

Question Number : 51 Question Id : 630680223032 Option Shuffling : Yes Is Question Mandatory : No Calculator : None Response Time : N.A Think Time : N.A Minimum Instruction Time : 0

Correct Marks : 1 Wrong Marks : 0

భారత కేంద్ర మరియు రాష్ట్ర ప్రభుత్వం క్రింద పార్లమెంటుకు సంబంధించి ఈ క్రింది ప్రకటనలను పరిగణించండి:

- A. భారత పార్లమెంటులో రాష్ట్రపతి, లోక్ సభ మరియు రాజ్యసభ ఉంటాయి.
- B. భారతదేశంలోని ప్రతి రాష్ట్రంలో రాష్ట్ర శాసనసభ యొక్క దిగువ సభ శాసన సభ.
- C. లోక్ సభ సభ్యులు భారతదేశ ప్రజలచే నేరుగా ఎన్నుకోబడతారు.
- D. ఒక రాష్ట్ర గవర్నర్ రాష్ట్రం నుండి రాజ్యసభకు ఒక సభ్యుడిని నామినేట్ చేయవచ్చు.

ఈ క్రింది కలయికలలో ఏది/ ఏవి సరైనవి?

Options :

- 1. ✓ A, B మరియు C మాత్రమే
- 2. ✗ A, C మరియు D మాత్రమే
- 3. ✗ B మరియు C మాత్రమే
- 4. ✗ A, B, C మరియు D

Question Number : 52 Question Id : 630680223033 Option Shuffling : Yes Is Question Mandatory : No Calculator : None Response Time : N.A Think Time : N.A Minimum Instruction Time : 0

Correct Marks : 1 Wrong Marks : 0

Which of the following statements about State Executive under Union and State Government of India is/are correct?

- A) The Governor is the head of the State Executive and is appointed by the President of India.
- B) The Chief Minister is the head of the State Executive and is elected by the people of the state.
- C) The State Executive is responsible for implementing the laws and policies of the state government.
- D) The State Executive is responsible for conducting elections in the state.

Options :

- 1. ✗ Only A and B

2. ✓ Only B and C

3. ✗ Only A, B, and C

4. ✗ A, B, C, and D

Question Number : 52 Question Id : 630680223033 Option Shuffling : Yes Is Question

Mandatory : No Calculator : None Response Time : N.A Think Time : N.A Minimum Instruction Time : 0

Correct Marks : 1 Wrong Marks : 0

భారతదేశ కేంద్ర మరియు రాష్ట్ర ప్రభుత్వం క్రింద స్టేట్ ఎగ్జిక్యూటివ్ గురించిన ఈ క్రింది ప్రకటనలలో ఏది/ఏవి సరైనవి?

A) రాష్ట్ర కార్యవర్గానికి గవర్నర్ అధిపతి మరియు భారత రాష్ట్రపతిచే నియమింపబడతారు.

B) ముఖ్యమంత్రి రాష్ట్ర కార్యవర్గానికి అధిపతి మరియు రాష్ట్ర ప్రజలచే ఎన్నుకోబడతారు.

C) రాష్ట్ర ప్రభుత్వ చట్టాలు మరియు విధానాలను అమలు చేయడానికి రాష్ట్ర కార్యవర్గం బాధ్యత వహిస్తుంది.

D) రాష్ట్రంలో ఎన్నికల నిర్వహణకు రాష్ట్ర కార్యవర్గం బాధ్యత వహిస్తుంది.

Options :

1. ✗ A మరియు B మాత్రమే

2. ✓ B మరియు C మాత్రమే

3. ✗ A, B, మరియు C మాత్రమే

4. ✗ A, B, C, మరియు D

Question Number : 53 Question Id : 630680223034 Option Shuffling : Yes Is Question Mandatory : No Calculator : None Response Time : N.A Think Time : N.A Minimum Instruction Time : 0

Correct Marks : 1 Wrong Marks : 0

Choose the correct combination of statements related to the State Legislature under the Union and State Government of India:

1. The State Legislature consists of the Governor and the Legislative Council.
2. The Legislative Assembly is the lower house of the State Legislature.
3. The maximum strength of the Legislative Assembly is determined by the size of the state's population.
4. The term of the Legislative Assembly is five years, unless dissolved earlier.

Options :

1. ✖ Statements 2 and 3 are correct
2. ✔ Statements 2 and 4 are correct
3. ✖ Statements 1, 2, and 3 are correct
4. ✖ Statements 2, 3, and 4 are correct

Question Number : 53 Question Id : 630680223034 Option Shuffling : Yes Is Question Mandatory : No Calculator : None Response Time : N.A Think Time : N.A Minimum Instruction Time : 0

Correct Marks : 1 Wrong Marks : 0

భారత కేంద్ర మరియు రాష్ట్ర ప్రభుత్వ పరిధిలోని రాష్ట్ర శాసనసభకు సంబంధించిన ప్రకటనల సరైన కలయికను ఎంచుకోండి:

1. రాష్ట్ర శాసనసభలో గవర్నర్ మరియు లెజిస్లేటివ్ కౌన్సిల్ (శాసన మండలి) ఉంటాయి.
2. లెజిస్లేటివ్ అసెంబ్లీ అనేది రాష్ట్ర శాసనసభ యొక్క దిగువ సభ.
3. లెజిస్లేటివ్ అసెంబ్లీ గరిష్ట బలం రాష్ట్ర జనాభా పరిమాణం ఆధారంగా నిర్ణయించబడుతుంది.
4. ముందుగా రద్దు చేయకుండా శాసనసభ పదవీ కాలం ఐదేళ్లు.

Options :

1. ✖ ప్రకటనలు 2 మరియు 3 సరైనవి
2. ✔ ప్రకటనలు 2 మరియు 4 సరైనవి
3. ✖ ప్రకటనలు 1, 2, మరియు 3 సరైనవి
4. ✖ ప్రకటనలు 2, 3, మరియు 4 సరైనవి

Question Number : 54 Question Id : 630680223035 Option Shuffling : Yes Is Question

Mandatory : No Calculator : None Response Time : N.A Think Time : N.A Minimum Instruction Time : 0

Correct Marks : 1 Wrong Marks : 0

Which of the following statements is related to the Institutions and Policies under Local Governments in India are's correct?

1. The Panchayati Raj system is a three-tiered system of local governance in India.
2. Municipal Corporations are responsible for the administration of urban areas in India.
3. The Ministry of Home Affairs is responsible for the implementation of local government policies in India.
4. The State Election Commission is responsible for conducting elections to local government bodies in India.

Options :

1. ✖ 1 only

2. ✖ 2 and 4 only

3. ✖ 1 and 4 only

4. ✔ 1, 2 and 4 only

Question Number : 54 Question Id : 630680223035 Option Shuffling : Yes Is Question

Mandatory : No Calculator : None Response Time : N.A Think Time : N.A Minimum Instruction Time : 0

Correct Marks : 1 Wrong Marks : 0

భారతదేశంలోని స్థానిక ప్రభుత్వాల పరిధిలోని సంస్థలు మరియు విధానాలకు సంబంధించిన ఈ క్రింది ప్రకటనలలో ఏది/ఏవి సరైనవి?

1. పంచాయితీ రాజ్ వ్యవస్థ అనేది భారతదేశంలో స్థానిక పాలన యొక్క మూడు-అంచెల వ్యవస్థ.
2. భారతదేశంలోని పట్టణ ప్రాంతాల పరిపాలనకు మున్సిపల్ కార్పొరేషన్లు బాధ్యత వహిస్తాయి.
3. భారతదేశంలో స్థానిక ప్రభుత్వ విధానాల అమలుకు హోం వ్యవహారాల మంత్రిత్వ శాఖ బాధ్యత వహిస్తుంది.
4. భారతదేశంలోని స్థానిక ప్రభుత్వ సంస్థలకు ఎన్నికలను నిర్వహించే బాధ్యతను రాష్ట్ర ఎన్నికల సంఘం నిర్వహిస్తుంది.

Options :

1. ✖ 1 మాత్రమే

2. ✖ 2 మరియు 4 మాత్రమే

3. ✖ 1 మరియు 4 మాత్రమే

4. ✔ 1, 2 మరియు 4 మాత్రమే

Question Number : 55 Question Id : 630680223036 Option Shuffling : Yes Is Question Mandatory : No Calculator : None Response Time : N.A Think Time : N.A Minimum Instruction Time : 0

Correct Marks : 1 Wrong Marks : 0

Match the following terms related to the Political System under Local Governments of India:

1.Panchayat	A. Head of a Municipal Corporation
2.Municipal Corporation	B. Head of a Panchayat
3.Mayor	C. Local government body for towns and cities
4.Sarpanch	D. Local government body for villages and small towns

Options :

1. ✖ 1-B, 2-C, 3-A, 4-D

2. ✖ 1-A, 2-C, 3-D, 4-B

3. ✔ 1-D, 2-C, 3-A, 4-B

4. ✖ 1-D, 2-A, 3-C, 4-B

Question Number : 55 Question Id : 630680223036 Option Shuffling : Yes Is Question Mandatory : No Calculator : None Response Time : N.A Think Time : N.A Minimum Instruction Time : 0

Correct Marks : 1 Wrong Marks : 0

భారతదేశంలోని స్థానిక ప్రభుత్వాల క్రింద రాజకీయ వ్యవస్థకు సంబంధించిన క్రింది నిబంధనలను జతచేయండి:

1. పంచాయతీ	A. మున్సిపల్ కార్పొరేషన్ అధిపతి
2. మున్సిపల్ కార్పొరేషన్	B. పంచాయతీ అధిపతి
3. మేయర్	C. పట్టణాలు మరియు నగరాలకు స్థానిక ప్రభుత్వ సంస్థ
4. సర్పంచ్	D. గ్రామాలు మరియు చిన్న పట్టణాలకు స్థానిక ప్రభుత్వ సంస్థ

Options :

1. ✖ 1-B, 2-C, 3-A, 4-D

2. ✖ 1-A, 2-C, 3-D, 4-B

3. ✔ 1-D, 2-C, 3-A, 4-B

4. ✖ 1-D, 2-A, 3-C, 4-B

Question Number : 56 Question Id : 630680223037 Option Shuffling : Yes Is Question Mandatory : No Calculator : None Response Time : N.A Think Time : N.A Minimum Instruction Time : 0

Correct Marks : 1 Wrong Marks : 0

Match the following structures of Local Governments in India with their respective levels:

1. Gram Panchayat	(a) District Level
2. Zilla Parishad	(b) Village Level
3. Municipal Corporation	(c) Block Level
4. Mandal Parishad	(d) Urban Level

Options :

1. ✔ 1-B, 2-A, 3-D, 4-C

2. ✖ 1-A, 2-B, 3-D, 4-C

3. ✖ 1-B, 2-A, 3-C, 4-D

4. ✖ 1-C, 2-A, 3-D, 4-B

Question Number : 56 Question Id : 630680223037 Option Shuffling : Yes Is Question Mandatory : No Calculator : None Response Time : N.A Think Time : N.A Minimum Instruction Time : 0

Correct Marks : 1 Wrong Marks : 0

భారతదేశంలోని స్థానిక ప్రభుత్వాల యొక్క క్రింది ఏర్పాట్లను వాటి సంబంధిత స్థాయిలతో జతచేయండి:

1. గ్రామ పంచాయతీ	(A) జిల్లా స్థాయి
2. జిల్లా పరిషత్	(B) గ్రామ స్థాయి
3. మున్సిపల్ కార్పొరేషన్	(C) బ్లాక్ స్థాయి
4. మండల పరిషత్	(D) పట్టణ స్థాయి

Options :

1. ✔ 1-B, 2-A, 3-D, 4-C

2. ✖ 1-A, 2-B, 3-D, 4-C

3. ✖ 1-B, 2-A, 3-C, 4-D

4. ✖ 1-C, 2-A, 3-D, 4-B

Question Number : 57 Question Id : 630680223038 Option Shuffling : Yes Is Question Mandatory : No Calculator : None Response Time : N.A Think Time : N.A Minimum Instruction Time : 0

Correct Marks : 1 Wrong Marks : 0

Match the following Acts and Policies with their respective descriptions:

1. Indian Independence Act	A. Policy of non-cooperation with British
2. Government of India Act, 1935	B. Act that granted India Dominion status
3. Swadeshi Movement	C. Act that provided for the establishment of provincial autonomy
4. Quit India Movement	D. Mass civil disobedience movement against British rule

Options :

1. ✖ 1-C, 2-B, 3-D, 4-A

2. ✖ 1-B, 2-A, 3-C, 4-D

3. ✔ 1-B, 2-C, 3-A, 4-D

4. ✖ 1-C, 2-D, 3-A, 4-B

Question Number : 57 Question Id : 630680223038 Option Shuffling : Yes Is Question Mandatory : No Calculator : None Response Time : N.A Think Time : N.A Minimum Instruction Time : 0

Correct Marks : 1 Wrong Marks : 0

ఈ క్రింది చట్టాలు మరియు విధానాలను వాటి సంబంధిత వివరణలతో జతచేయండి:

1. భారత స్వాతంత్ర్య చట్టం	A. బ్రిటిష్ వారితో సహాయ నిరాకరణ విధానం
2. భారత ప్రభుత్వ చట్టం, 1935	B. భారతదేశానికి డొమినియన్ హోదా కల్పించిన చట్టం
3. స్వదేశీ ఉద్యమం	C. ప్రాంతీయ స్వయంప్రతిపత్తి ఏర్పాటును అందించిన చట్టం
4. క్వీట్ ఇండియా ఉద్యమం	D. బ్రిటిష్ పాలనకు వ్యతిరేకంగా సామూహిక శాసనోల్లంఘన ఉద్యమం

Options :

1. ✖ 1-C, 2-B, 3-D, 4-A

2. ✖ 1-B, 2-A, 3-C, 4-D

3. ✓ 1-B, 2-C, 3-A, 4-D

4. ✗ 1-C, 2-D, 3-A, 4-B

Question Number : 58 Question Id : 630680223039 Option Shuffling : Yes Is Question Mandatory : No Calculator : None Response Time : N.A Think Time : N.A Minimum Instruction Time : 0

Correct Marks : 1 Wrong Marks : 0

Match the following events with their correct description in Modern History of India:

1.Jallianwala Bagh Massacre	A. Non-Cooperation Movement
2. Partition of Bengal	B. Formation of Indian National Congress
3. Champaran Satyagraha	C. Dividing Bengal into two provinces
4. Swadeshi Movement	D. Brutal killing of peaceful protestors in Amritsar

Options :

1. ✗ 1-C, 2-A, 3-D, 4-B

2. ✗ 1-B, 2-A, 3-C, 4-D

3. ✗ 1-B, 2-C, 3-A, 4-D

4. ✓ 1-D, 2-C, 3-A, 4-B

Question Number : 58 Question Id : 630680223039 Option Shuffling : Yes Is Question Mandatory : No Calculator : None Response Time : N.A Think Time : N.A Minimum Instruction Time : 0

Correct Marks : 1 Wrong Marks : 0

భారతదేశ ఆధునిక చరిత్రలో ఈ క్రింది ఈవెంట్‌లను వాటి సరైన వివరణతో జతచేయండి:

1. జలియన్ వాలాబాగ్ ఊచకోత	A. సహాయ నిరాకరణ ఉద్యమం
2. బెంగాల్ విభజన	B. భారత జాతీయ కాంగ్రెస్ ఏర్పాటు
3. చంపారన్ సత్యాగ్రహం	C. బెంగాల్‌ను రెండు ప్రావిన్సులుగా విభజించడం
4. స్వదేశీ ఉద్యమం	D. అమృత్‌సర్‌లో శాంతియుత నిరసనకారులపై దారుణ హత్య

Options :

1. ✖ 1-C, 2-A, 3-D, 4-B

2. ✖ 1-B, 2-A, 3-C, 4-D

3. ✖ 1-B, 2-C, 3-A, 4-D

4. ✔ 1-D, 2-C, 3-A, 4-B

Question Number : 59 Question Id : 630680223040 Option Shuffling : Yes Is Question Mandatory : No Calculator : None Response Time : N.A Think Time : N.A Minimum Instruction Time : 0

Correct Marks : 1 Wrong Marks : 0

Match the following key groups and institutions with their respective roles during India's struggle for independence:

1. Indian National Congress	A. Fought for the rights of women and supported the Quit India Movement
2. Muslim League	B. Worked to secure Muslim political representation and initially opposed the Quit India Movement
3. All India Women's Conference	C. Fought for Indian independence from British rule and initially advocated for nonviolent resistance
4. Indian National Army	D. Formed by Indian soldiers in Southeast Asia with the aim of overthrowing British colonial rule

Options :

1. ✔ 1-C, 2-B, 3-A, 4-D

2.

✘ 1-B, 2-C, 3-A, 4-D

3. ✘ 1-D, 2-B, 3-A, 4-C

4. ✘ 1-A, 2-B, 3-C, 4-D

Question Number : 59 Question Id : 630680223040 Option Shuffling : Yes Is Question Mandatory : No Calculator : None Response Time : N.A Think Time : N.A Minimum Instruction Time : 0

Correct Marks : 1 Wrong Marks : 0

భారతదేశ స్వాతంత్ర్య పోరాటంలో ఈ క్రింది కీలక గ్రూపులు మరియు సంస్థలను వాటి సంబంధిత పాత్రలతో జతచేయండి:

1. భారత జాతీయ కాంగ్రెస్	A. మహిళల హక్కుల కోసం పోరాడటంతో పాటు క్విట్ ఇండియా ఉద్యమానికి మద్దతు ఇచ్చారు
2. ముస్లిం లీగ్	B. ముస్లిం రాజకీయ ప్రాతినిధ్యాన్ని పొందేందుకు కృషి చేశారు మరియు ప్రారంభంలో క్విట్ ఇండియా ఉద్యమాన్ని వ్యతిరేకించారు
3. అఖిలభారత మహిళ సమాఖ్య	C. బ్రిటిష్ పాలన నుండి భారత స్వాతంత్ర్యం కోసం పోరాడారు మరియు ప్రారంభంలో అహింసా ప్రతిఘటన కోసం వాదించారు
4. ఇండియన్ నేషనల్ ఆర్మీ	D. బ్రిటిష్ వలస పాలనను పారద్రోలే లక్ష్యంతో ఆగ్నేయాసియాలో భారతీయ సైనికుల ద్వారా నెలకొల్పబడింది

Options :

1. ✔ 1-C, 2-B, 3-A, 4-D

2. ✘ 1-B, 2-C, 3-A, 4-D

3. ✘ 1-D, 2-B, 3-A, 4-C

4. ✖ 1-A, 2-B, 3-C, 4-D

Question Number : 60 Question Id : 630680223041 Option Shuffling : Yes Is Question Mandatory : No Calculator : None Response Time : N.A Think Time : N.A Minimum Instruction Time : 0

Correct Marks : 1 Wrong Marks : 0

Choose the correct pair of the key personality and their respective contributions to the Indian independence movement.

1. Mahatma Gandhi: Advocate of Swadeshi
2. Subhas Chandra Bose: First Prime Minister of India
3. Jawaharlal Nehru: Headed quit India movement
4. Bal Gangadhar Tilak: Leader of the Indian National Army

Options :

1. ✔ Only 1
2. ✖ Only 3 and 4
3. ✖ Only 1 and 2
4. ✖ Only 1 and 3

Question Number : 60 Question Id : 630680223041 Option Shuffling : Yes Is Question Mandatory : No Calculator : None Response Time : N.A Think Time : N.A Minimum Instruction Time : 0

Correct Marks : 1 Wrong Marks : 0

భారత స్వాతంత్ర్య ఉద్యమానికి కీలక వ్యక్తి మరియు వారి సంబంధిత సహకారాల యొక్క సరైన జంటను ఎంచుకోండి.

1. మహాత్మా గాంధీ: స్వదేశీ న్యాయవాది
2. సుభాష్ చంద్రబోస్: భారతదేశ మొదటి ప్రధానమంత్రి
3. జవహర్‌లాల్ నెహ్రూ: క్వీట్ ఇండియా ఉద్యమానికి నాయకత్వం వహించారు
4. బాలగంగాధర్ తిలక్: ఇండియన్ నేషనల్ ఆర్మీ నాయకుడు

Options :

1. ✓ 1 మాత్రమే
2. ✗ 3 మరియు 4 మాత్రమే
3. ✗ 1 మరియు 2 మాత్రమే
4. ✗ 1 మరియు 3 మాత్రమే

Question Number : 61 Question Id : 630680223042 Option Shuffling : Yes Is Question

Mandatory : No Calculator : None Response Time : N.A Think Time : N.A Minimum Instruction Time : 0

Correct Marks : 1 Wrong Marks : 0

Select the correct pair of Socio and Religious Reform Movements with their respective founders:

1. Brahmo Samaj: Swami Dayananda Saraswati
2. Prarthana Samaj: Dr. Atmaram Pandurang
3. Theosophical Society: Annie Besant
4. Arya Samaj: Ram Mohan Roy

Options :

1. ✗ Only 2 and 4

2. ✖ Only 3 and 4

3. ✔ Only 2 and 3

4. ✖ Only 1 and 4

Question Number : 61 Question Id : 630680223042 Option Shuffling : Yes Is Question

Mandatory : No Calculator : None Response Time : N.A Think Time : N.A Minimum Instruction Time : 0

Correct Marks : 1 Wrong Marks : 0

వారి సంబంధిత వ్యవస్థాపకులతో సామాజిక మరియు మత సంస్కరణ ఉద్యమాల యొక్క సరైన జంటను ఎంచుకోండి:

1. బ్రహ్మ సమాజం: స్వామి దయానంద సరస్వతి
2. ప్రార్థన సమాజం: డాక్టర్ ఆత్మారాం పాండురంగ్
3. థియోసాఫికల్ సొసైటీ: అని బెసెంట్
4. ఆర్యసమాజ్: రామ్ మోహన్ రాయ్

Options :

1. ✖ 2 మరియు 4 మాత్రమే

2. ✖ 3 మరియు 4 మాత్రమే

3. ✔ 2 మరియు 3 మాత్రమే

4. ✖ 1 మరియు 4 మాత్రమే

Question Number : 62 Question Id : 630680223043 Option Shuffling : Yes Is Question Mandatory : No Calculator : None Response Time : N.A Think Time : N.A Minimum Instruction Time : 0

Correct Marks : 1 Wrong Marks : 0

Pick the correct pair of group with its respective founding year:

1. Indian National Congress- 1906
2. Self Respect Movement- 1925
3. All India Muslim League- 1885
4. Scheduled Castes Federation- 1942

Options :

1. ✖ Only 1 and 4
2. ✖ Only 2
3. ✔ Only 2 and 4
4. ✖ Only 3 and 4

Question Number : 62 Question Id : 630680223043 Option Shuffling : Yes Is Question Mandatory : No Calculator : None Response Time : N.A Think Time : N.A Minimum Instruction Time : 0

Correct Marks : 1 Wrong Marks : 0

దాని సంబంధిత వ్యవస్థాపక సంవత్సరంతో సరైన జత సమూహాన్ని ఎంచుకోండి:

1. భారత జాతీయ కాంగ్రెస్- 1906
2. ఆత్మగౌరవ ఉద్యమం- 1925
3. అఖిలభారత ముస్లిం సంఘం- 1885
4. షెడ్యూల్డ్ కులాల సమాఖ్య - 1942

Options :

1. ✖ 1 మరియు 4 మాత్రమే

2. ✖ 2 మాత్రమే

3. ✔ 2 మరియు 4 మాత్రమే

4. ✖ 3 మరియు 4 మాత్రమే

Question Number : 63 Question Id : 630680223044 Option Shuffling : Yes Is Question Mandatory : No Calculator : None Response Time : N.A Think Time : N.A Minimum Instruction Time : 0

Correct Marks : 1 Wrong Marks : 0

Select the correct pair of key groups and institutions in modern Indian history with their respective founders/leaders:

1. All India Women's Conference: Annie Besant
2. Arya Samaj: Dayananda Saraswati
3. Muslim League: Syed Ahmad Khan
4. Indian National Congress: Subhash Chandra Bose

Options :

1. ✔ Only 1, 2 and 3

2. ✖ Only 2

3. ✖ Only 2 and 3

4. ✖ Only 4

Question Number : 63 Question Id : 630680223044 Option Shuffling : Yes Is Question Mandatory : No Calculator : None Response Time : N.A Think Time : N.A Minimum Instruction Time : 0

Correct Marks : 1 Wrong Marks : 0

ఆధునిక భారతీయ చరిత్రలో కీలక గ్రూపులు మరియు సంస్థలతో వాటి సంబంధిత వ్యవస్థాపకులు/ నాయకులతో సరైన జత ఎంచుకోండి:

1. అఖిలభారత మహిళ సమాఖ్య: అని బెసెంట్
2. ఆర్య సమాజం: దయానంద సరస్వతి
3. ముస్లిం సంఘం: సయ్యద్ అహ్మద్ ఖాన్
4. భారత జాతీయ కాంగ్రెస్: సుభాష్ చంద్రబోస్

Options :

1. ✓ 1, 2 మరియు 3 మాత్రమే
2. ✗ 2 మాత్రమే
3. ✗ 2 మరియు 3 మాత్రమే
4. ✗ 4 మాత్రమే

Question Number : 64 Question Id : 630680223045 Option Shuffling : Yes Is Question Mandatory : No Calculator : None Response Time : N.A Think Time : N.A Minimum Instruction Time : 0

Correct Marks : 1 Wrong Marks : 0

Pick the correct Fiscal Policy measures with their descriptions:

1. Goods and Services Tax- A tax paid by individuals and businesses indirectly to the government based on their income or profits.
2. Direct Tax- A tax on goods and services that is collected by an intermediary such as a seller or retailer.
3. Indirect Tax- A comprehensive tax reform that replaced multiple indirect taxes with a single tax system.
4. Fiscal Deficit- The negative difference between a government's total revenue and its total expenditure.

Options :

1. ✖ Only 2 and 4

2. ✖ Only 1

3. ✔ Only 4

4. ✖ Only 1 and 3

Question Number : 64 Question Id : 630680223045 Option Shuffling : Yes Is Question

Mandatory : No Calculator : None Response Time : N.A Think Time : N.A Minimum Instruction Time : 0

Correct Marks : 1 Wrong Marks : 0

సరైన ఆర్థిక విధానం కొలతలను వాటి వివరణలతో ఎంచుకోండి:

1. వస్తువులు మరియు సేవల పన్ను- వ్యక్తులు మరియు వ్యాపారాలు వారి ఆదాయం లేదా లాభాల ఆధారంగా ప్రభుత్వానికి పరోక్షంగా చెల్లించే పన్ను.
2. ప్రత్యక్ష పన్ను- విక్రేత లేదా రిటైలర్ వంటి మధ్యవర్తి ద్వారా వసూలు చేయబడిన వస్తువులు మరియు సేవలపై పన్ను.
3. పరోక్ష పన్ను- బహుళ పరోక్ష పన్నులను ఒకే పన్ను విధానంతో భర్తీ చేసిన సమగ్ర పన్ను సంస్కరణ.
4. ద్రవ్య లోటు- ప్రభుత్వ మొత్తం రాబడి మరియు మొత్తం వ్యయానికి మధ్య ఋణాత్మక వ్యత్యాసం.

Options :

1. ✖ 2 మరియు 4 మాత్రమే

2. ✖ 1 మాత్రమే

3. ✔ 4 మాత్రమే

4. ✖ 1 మరియు 3 మాత్రమే

Question Number : 65 Question Id : 630680223046 Option Shuffling : Yes Is Question Mandatory : No Calculator : None Response Time : N.A Think Time : N.A Minimum Instruction Time : 0

Correct Marks : 1 Wrong Marks : 0

Choose the correct pair of government schemes with their objectives

1. National Rural Livelihood Mission (NRLM): To transform India into a digitally empowered society and knowledge economy
2. Pradhan Mantri Mudra Yojana (PMMY): To empower the rural poor through skill development and livelihood generation
3. Pradhan Mantri Fasal Bima Yojana (PMFBY): To provide affordable insurance coverage and financial support to farmers in the event of crop failure
4. Digital India: To empower the rural poor through skill development and livelihood generation

Options :

1. ✔ Only 3

2. ✖ Only 2 and 3

3. ✖ Only 4

4. ✖ Only 1 and 2

Question Number : 65 Question Id : 630680223046 Option Shuffling : Yes Is Question Mandatory : No Calculator : None Response Time : N.A Think Time : N.A Minimum Instruction Time : 0

Correct Marks : 1 Wrong Marks : 0

ప్రభుత్వ పథకం మరియు వారి లక్ష్యాల సరైన జతను ఎంచుకోండి

1. జాతీయ గ్రామీణ జీవనోపాధి మిషన్ (NRLM): భారతదేశాన్ని డిజిటల్ సాధికారత కలిగిన సమాజంగా మరియు భూన ఆర్థిక వ్యవస్థ (నాలెడ్జ్ ఎకనమీ)గా మార్చడానికి
2. ప్రధాన్ మంత్రి ముద్రా యోజన (PMMY): నైపుణ్యాభివృద్ధి మరియు జీవనోపాధి కల్పన ద్వారా గ్రామీణ పేదలను బలోపేతం చేయడం
3. ప్రధాన్ మంత్రి ఫసల్ బీమా యోజన (PMFBY): పంట నష్టపోయిన రైతులకు సరసమైన బీమా కవరేజీని మరియు ఆర్థిక సహాయాన్ని అందించడానికి
4. డిజిటల్ ఇండియా: నైపుణ్యాభివృద్ధి మరియు జీవనోపాధి కల్పన ద్వారా గ్రామీణ పేదలకు సాధికారత కల్పించడం

Options :

1. ✓ 3 మాత్రమే
2. ✗ 2 మరియు 3 మాత్రమే
3. ✗ 4 మాత్రమే
4. ✗ 1 మరియు 2 మాత్రమే

Question Number : 66 Question Id : 630680223047 Option Shuffling : Yes Is Question Mandatory : No Calculator : None Response Time : N.A Think Time : N.A Minimum Instruction Time : 0

Correct Marks : 1 Wrong Marks : 0

Arrange the following events related to India's liberalization and economic reforms in chronological order.

- A. Introduction of the New Economic Policy (liberalization and privatization)
- B. Implementation of Goods and Services Tax (GST)
- C. Nationalization of the Imperial Bank of India
- D. The establishment of the Securities and Exchange Board of India (SEBI)

Options :

1. ✓ C, D, A, B

2. ✗ B, A, D, C

3. ✗ A, B, D, C

4. ✗ B, A, C, D

Question Number : 66 Question Id : 630680223047 Option Shuffling : Yes Is Question

Mandatory : No Calculator : None Response Time : N.A Think Time : N.A Minimum Instruction Time : 0

Correct Marks : 1 Wrong Marks : 0

భారతదేశం యొక్క సరళీకరణ మరియు ఆర్థిక సంస్కరణలకు సంబంధించిన క్రింది సంఘటనలను కాలక్రమానుసారం అమర్చండి.

- A. నూతన ఆర్థిక విధానం (సరళీకరణ మరియు ప్రైవేటీకరణ) పరిచయం
- B. వస్తువులు మరియు సేవల పన్ను (GST) అమలు
- C. ఇంపీరియల్ బ్యాంక్ ఆఫ్ ఇండియా జాతీయీకరణ
- D. సెక్యూరిటీస్ అండ్ ఎక్స్చేంజ్ బోర్డ్ ఆఫ్ ఇండియా (SEBI) ఏర్పాటు

Options :

1. ✓ C, D, A, B

2. ✗ B, A, D, C

3. ✖ A, B, D, C

4. ✖ B, A, C, D

Question Number : 67 Question Id : 630680223048 Option Shuffling : Yes Is Question Mandatory : No Calculator : None Response Time : N.A Think Time : N.A Minimum Instruction Time : 0

Correct Marks : 1 Wrong Marks : 0

Arrange the following events in increasing order based on the timeline of Privatisation in India:

- A. Privatisation of Maruti Udyog Limited
- B. Privatisation of Bharat Aluminium Company
- C. Privatisation of Hindustan Zinc Limited
- D. Privatisation of Air India

Options :

1. ✖ D, B, A, C

2. ✖ B, C, D, A

3. ✔ A, B, C, D

4. ✖ B, A, D, C

Question Number : 67 Question Id : 630680223048 Option Shuffling : Yes Is Question Mandatory : No Calculator : None Response Time : N.A Think Time : N.A Minimum Instruction Time : 0

Correct Marks : 1 Wrong Marks : 0

భారతదేశంలో ప్రైవేటీకరణ కాలక్రమం ఆధారంగా ఈ క్రింది ఈవెంట్‌లను ఆరోహణ క్రమంలో అమర్చండి:

- A. మారుతీ ఉద్యోగ్ లిమిటెడ్ ప్రైవేటీకరణ
- B. భారత్ అల్యూమినియం కంపెనీ ప్రైవేటీకరణ
- C. హిందుస్థాన్ జింక్ లిమిటెడ్ ప్రైవేటీకరణ
- D. ఎయిర్ ఇండియా ప్రైవేటీకరణ

Options :

1. ✖ D, B, A, C

2. ✖ B, C, D, A

3. ✔ A, B, C, D

4. ✖ B, A, D, C

Question Number : 68 Question Id : 630680223049 Option Shuffling : Yes Is Question

Mandatory : No Calculator : None Response Time : N.A Think Time : N.A Minimum Instruction Time : 0

Correct Marks : 1 Wrong Marks : 0

Given below are the main focus areas of the Five Year Plans. Recall the order of their implementation and arrange them in chronological order.

- A. Self-reliant and self-generating India
- B. Rehabilitation of refugees
- C. Industrialization
- D. Garibi Hatao/removal of poverty

Options :

1. ✖ A, D, C, B

2. ✖ D, A, C, B

3. ✔ B, C, A, D

4. ✖ A, C, D, B

Question Number : 68 Question Id : 630680223049 Option Shuffling : Yes Is Question Mandatory : No Calculator : None Response Time : N.A Think Time : N.A Minimum Instruction Time : 0

Correct Marks : 1 Wrong Marks : 0

పంచవర్ష ప్రణాళికల యొక్క ప్రధాన దృష్టి గల ప్రాంతాలు దిగువన ఇవ్వబడ్డాయి. వాటి అమలు క్రమాన్ని గుర్తుకు తెచ్చుకొని, వాటిని కాలక్రమానుసారం అమర్చండి.

- A. స్వావలంబన మరియు స్వయం-సమృద్ధి భారతదేశం
- B. శరణార్థుల పునరావాసం
- C. పారిశ్రామికీకరణ
- D. గరీబీ హటావో/పేదరిక నిర్మూలన

Options :

1. ✖ A, D, C, B

2. ✖ D, A, C, B

3. ✔ B, C, A, D

4. ✖ A, C, D, B

Question Number : 69 Question Id : 630680223050 Option Shuffling : Yes Is Question Mandatory : No Calculator : None Response Time : N.A Think Time : N.A Minimum Instruction Time : 0

Correct Marks : 1 Wrong Marks : 0

Arrange the following in chronological order based on their establishment dates:

- A. Reserve Bank of India (RBI)
- B. Indian Institute of Foreign Trade (IIFT)
- C. Indian Institute of Management (IIM) Ahmedabad
- D. Hindustan Aircraft Limited (HAL) [now known as Hindustan Aeronautics Limited]

Options :

1. ✓ A, D, C, B

2. ✗ D, B, A, C

3. ✗ A, C, D, B

4. ✗ D, C, B, A

Question Number : 69 Question Id : 630680223050 Option Shuffling : Yes Is Question Mandatory : No Calculator : None Response Time : N.A Think Time : N.A Minimum Instruction Time : 0

Correct Marks : 1 Wrong Marks : 0

వాటి స్థాపించిన తేదీల ఆధారంగా ఈ క్రింది వాటిని కాలక్రమానుసారం అమర్చండి:

- A. రిజర్వ్ బ్యాంక్ ఆఫ్ ఇండియా (RBI)
- B. ఇండియన్ ఇన్స్టిట్యూట్ ఆఫ్ ఫారిన్ ట్రేడ్ (IIFT)
- C. ఇండియన్ ఇన్స్టిట్యూట్ ఆఫ్ మేనేజ్మెంట్ (IIM) అహ్మదాబాద్
- D. హిందుస్థాన్ ఎయిర్క్రాఫ్ట్ లిమిటెడ్ (HAL) ప్రస్తుతం హిందుస్థాన్ ఏరోనాటిక్స్ లిమిటెడ్ అని పిలుస్తారు

Options :

1. ✓ A, D, C, B

2. ✗ D, B, A, C

3. ✗ A, C, D, B

4. ✗ D, C, B, A

Question Number : 70 Question Id : 630680223051 Option Shuffling : Yes Is Question

Mandatory : No Calculator : None Response Time : N.A Think Time : N.A Minimum Instruction Time : 0

Correct Marks : 1 Wrong Marks : 0

Arrange the following events in chronological order based on their timeline of implementation in India:

A. Introduction of HYVP (High-Yielding Variety Programme)

B. The Advisory Board for the Imperial Council of Agricultural Research (ICAR) plans India's participation in the UN
FAO

C. The Great Bengal Famine occurs

D. First Five-Year Plan

Options :

1. ✗ A, D, C, B

2. ✗ A, C, B, D

3. ✗ B, A, D, C

4. ✓ C, B, D, A

Question Number : 70 Question Id : 630680223051 Option Shuffling : Yes Is Question Mandatory : No Calculator : None Response Time : N.A Think Time : N.A Minimum Instruction Time : 0

Correct Marks : 1 Wrong Marks : 0

ఈ క్రింది సంఘటనలను భారతదేశంలో అమలు చేసిన కాలక్రమం ఆధారంగా కాలక్రమానుసారం అమర్చండి:

- A. HYVP ప్రవేశం (అధిక దిగుబడినిచ్చే వంగడం కార్యక్రమం)
- B. ఇంపీరియల్ కౌన్సిల్ ఆఫ్ అగ్రికల్చరల్ రీసెర్చ్ (ICAR) సలహా మండలి భారతదేశం UN FAOలో పాల్గొనడాన్ని ప్లాన్ చేయడం
- C. గ్రేట్ బెంగాల్ కరువు ఏర్పడుట
- D. మొదటి పంచవర్ష ప్రణాళిక

Options :

1. ✖ A, D, C, B

2. ✖ A, C, B, D

3. ✖ B, A, D, C

4. ✔ C, B, D, A

Question Number : 71 Question Id : 630680223052 Option Shuffling : Yes Is Question Mandatory : No Calculator : None Response Time : N.A Think Time : N.A Minimum Instruction Time : 0

Correct Marks : 1 Wrong Marks : 0

Arrange the following events in chronological order related to the Green Revolution in India:

- A. Introduction of the high-yielding, disease-resistant variant of wheat from Mexico
- B. Launch of the National Agricultural Extension Project (NAEP)
- C. Norman Borlaug visited India
- D. Implementation of the Intensive Agriculture District Program (IADP)

Options :

1. ✖ B, C, A, D

2. ✖ B, D, C, A

3. ✔ D, C, A, B

4. ✖ A, B, C, D

Question Number : 71 Question Id : 630680223052 Option Shuffling : Yes Is Question Mandatory : No Calculator : None Response Time : N.A Think Time : N.A Minimum Instruction Time : 0

Correct Marks : 1 Wrong Marks : 0

భారతదేశంలో హరిత విప్లవానికి సంబంధించి ఈ క్రింది సంఘటనలను కాలక్రమానుసారం అమర్చండి:

- A. మెక్సికో నుండి అధిక దిగుబడినిచ్చే, వ్యాధి-నిరోధకత కలిగిన గోధుమ వంగడం పరిచయం
- B. నేషనల్ అగ్రికల్చరల్ ఎక్స్ పెన్సెన్స్ ప్రాజెక్ట్ (NAEP) ప్రారంభం
- C. నార్మన్ బోర్లాగ్ భారతదేశాన్ని సందర్శించారు
- D. ఇంటెన్సివ్ అగ్రికల్చర్ డిస్ట్రిబ్యూట్ ప్రోగ్రామ్ (IADP) అమలు

Options :

1. ✖ B, C, A, D

2. ✖ B, D, C, A

3. ✔ D, C, A, B

4. ✖ A, B, C, D

Question Number : 72 Question Id : 630680223053 Option Shuffling : Yes Is Question Mandatory : No Calculator : None Response Time : N.A Think Time : N.A Minimum Instruction Time : 0

Correct Marks : 1 Wrong Marks : 0

Match the following events related to social exclusion and rights issues in India in chronological order:

- A. Abolition of untouchability
- B. The passing of Prevention of Atrocities Act
- C. The passing of the Protection of Civil Rights Act
- D. The establishment of the National Commission for Women

Options :

1. ✓ A, C, B, D

2. ✗ B, C, A, D

3. ✗ A, B, C, D

4. ✗ C, D, A, B

Question Number : 72 Question Id : 630680223053 Option Shuffling : Yes Is Question Mandatory : No Calculator : None Response Time : N.A Think Time : N.A Minimum Instruction Time : 0

Correct Marks : 1 Wrong Marks : 0

భారతదేశంలోని సామాజిక బహిష్కరణ మరియు హక్కుల సమస్యలకు సంబంధించిన ఈ క్రింది సంఘటనలను కాలక్రమానుసారం జతచేయండి:

- A. అంటరానితనం నిర్మూలన
- B. అత్యాచారాల నిరోధక చట్టం ఆమోదం
- C. పౌర హక్కుల పరిరక్షణ చట్టం ఆమోదం
- D. జాతీయ మహిళా కమిషన్ ఏర్పాటు

Options :

1. ✓ A, C, B, D

2. ✗ B, C, A, D

3. ✗ A, B, C, D

4. ✗ C, D, A, B

Question Number : 73 Question Id : 630680223054 Option Shuffling : Yes Is Question

Mandatory : No Calculator : None Response Time : N.A Think Time : N.A Minimum Instruction Time : 0

Correct Marks : 1 Wrong Marks : 0

Arrange the following policies in the order of their implementation for inclusive development in India:

- A. National Rural Employment Guarantee Act (NREGA)
- B. Right to Education Act (RTE)
- C. Sarva Siksha Abhiyan (SSA)
- D. Scheduled Castes and Scheduled Tribes (Prevention of Atrocities) Act

Options :

1. ✗ C, A, D, B

2. ✗ D, A, C, B

3. ✓ D, C, A, B

4. ✗ B, C, A, D

Question Number : 73 Question Id : 630680223054 Option Shuffling : Yes Is Question Mandatory : No Calculator : None Response Time : N.A Think Time : N.A Minimum Instruction Time : 0

Correct Marks : 1 Wrong Marks : 0

ఈ క్రింది విధానాలను భారతదేశంలో సమ్మిళిత అభివృద్ధికి వాటిని అమలు చేసిన క్రమంలో అమర్చండి:

- A. జాతీయ గ్రామీణ ఉపాధి హామీ చట్టం (NREGA)
- B. విద్యా హక్కు చట్టం (RTE)
- C. సర్వశిక్షా అభియాన్ (SSA)
- D. పెడ్యూల్డ్ కులాలు మరియు పెడ్యూల్డ్ తెగలు (దౌర్జన్యాలు నిరోధక) చట్టం

Options :

1. ✗ C, A, D, B

2. ✗ D, A, C, B

3. ✓ D, C, A, B

4. ✗ B, C, A, D

Question Number : 74 Question Id : 630680223055 Option Shuffling : Yes Is Question Mandatory : No Calculator : None Response Time : N.A Think Time : N.A Minimum Instruction Time : 0

Correct Marks : 1 Wrong Marks : 0

Arrange the following policies related to inclusive development in India in chronological order:

- A. Indira Awaas Yojana
- B. National Food Security Act
- C. Protection of Civil Rights Act
- D. National Policy for Empowerment of Women

Options :

1. ✖ C, D, A, B

2. ✖ B, A, C, D

3. ✖ B, D, C, A

4. ✔ C, A, D, B

Question Number : 74 Question Id : 630680223055 Option Shuffling : Yes Is Question

Mandatory : No Calculator : None Response Time : N.A Think Time : N.A Minimum Instruction

Time : 0

Correct Marks : 1 Wrong Marks : 0

భారతదేశంలో సమగ్ర అభివృద్ధికి సంబంధించిన క్రింది విధానాలను కాలక్రమానుసారం అమర్చండి:

- A. ఇందిరా అవాస్ యోజన
- B. జాతీయ అహార భద్రతా చట్టం
- C. పౌర హక్కుల రక్షణ చట్టం
- D. మహిళా సాధికారత కోసం జాతీయ విధానం

Options :

1. ✖ C, D, A, B

2. ✖ B, A, C, D

3. ✖ B, D, C, A

4. ✔ C, A, D, B

Question Number : 75 Question Id : 630680223056 Option Shuffling : Yes Is Question

Mandatory : No Calculator : None Response Time : N.A Think Time : N.A Minimum Instruction Time : 0

Correct Marks : 1 Wrong Marks : 0

Arrange the following events related to disability rights in India in chronological order:

A. The Persons with Disabilities Act

B. India signed the United Nations Convention on the Rights of Persons with Disabilities

C. The National Trust for the Welfare of Persons with Autism, Cerebral Palsy, Mental Retardation and Multiple Disabilities Act

D. The Accessible India Campaign

Options :

1. ✖ C, D, A, B

2. ✖ D, A, C, B

3. ✔ A, C, B, D

4. ✖ B, C, A, D

Question Number : 75 Question Id : 630680223056 Option Shuffling : Yes Is Question

Mandatory : No Calculator : None Response Time : N.A Think Time : N.A Minimum Instruction Time : 0

Correct Marks : 1 Wrong Marks : 0

భారతదేశంలో వైకల్య హక్కులకు సంబంధించిన క్రింది సంఘటనలను కాలక్రమానుసారం అమర్చండి:

- A. వికలాంగుల చట్టం
- B. వికలాంగుల హక్కులపై ఐక్యరాజ్య సమితి ఒప్పందంపై భారతదేశం సంతకం చేసింది
- C. ఆటిజం, మనీషు, పక్షవాతము, మానసిక మాంద్యము ఉన్న వ్యక్తుల సంక్షేమం కోసం నేషనల్ ట్రస్ట్, అలాగే పలు వైకల్యాలు ఉన్న వ్యక్తుల కోసం చట్టం
- D. యాక్సెసిబిల్ ఇండియా క్యాంపెయిన్

Options :

- 1. ✖ C, D, A, B
- 2. ✖ D, A, C, B
- 3. ✔ A, C, B, D
- 4. ✖ B, C, A, D

Question Number : 76 Question Id : 630680223057 Option Shuffling : Yes Is Question Mandatory : No Calculator : None Response Time : N.A Think Time : N.A Minimum Instruction Time : 0

Correct Marks : 1 Wrong Marks : 0

Telangana State has an approximate area of:

Options :

- 1. ✖ 2,12,077 km²
- 2. ✖ 2,19,077 km²

3. ✓ 1,12,077 km²

4. ✗ 1,19,077 km²

Question Number : 76 Question Id : 630680223057 Option Shuffling : Yes Is Question Mandatory : No Calculator : None Response Time : N.A Think Time : N.A Minimum Instruction Time : 0

Correct Marks : 1 Wrong Marks : 0

తెలంగాణ రాష్ట్ర విస్తీర్ణం సుమారుగా:

Options :

1. ✗ 2,12,077 km²

2. ✗ 2,19,077 km²

3. ✓ 1,12,077 km²

4. ✗ 1,19,077 km²

Question Number : 77 Question Id : 630680223058 Option Shuffling : Yes Is Question Mandatory : No Calculator : None Response Time : N.A Think Time : N.A Minimum Instruction Time : 0

Correct Marks : 1 Wrong Marks : 0

Which district among the following has the highest number of schools in the Telangana state as per Telangana Statistical Abstract 2021?

Options :

1. ✗ Nirmal

2. ✓ Hyderabad

3. ✗ Rangareddy

4. ✗ Jayashankar

Question Number : 77 Question Id : 630680223058 Option Shuffling : Yes Is Question Mandatory : No Calculator : None Response Time : N.A Think Time : N.A Minimum Instruction Time : 0

Correct Marks : 1 Wrong Marks : 0

తెలంగాణ స్టాటిస్టికల్ అబ్స్ట్రాక్ట్ 2021 ప్రకారం, తెలంగాణ రాష్ట్రంలోని ఈ క్రింది ఏ జిల్లా అత్యధిక పాఠశాలలను కలిగి ఉంది?

Options :

1. ✗ నిర్మల్

2. ✓ హైదరాబాదు

3. ✗ రంగారెడ్డి

4. ✗ జయశంకర్

Question Number : 78 Question Id : 630680223059 Option Shuffling : Yes Is Question Mandatory : No Calculator : None Response Time : N.A Think Time : N.A Minimum Instruction Time : 0

Correct Marks : 1 Wrong Marks : 0

Which of the following statements about the Telangana state is/are NOT correct?

- A. It is surrounded by Karnataka in the West.
- B. It is surrounded by Maharashtra in the East.
- C. There are 32 Zilla Praja Parishads in Telangana state as on 2022.

Options :

- 1. ✖ Only A
- 2. ✔ Only B
- 3. ✖ A and B
- 4. ✖ Both B and C

Question Number : 78 Question Id : 630680223059 Option Shuffling : Yes Is Question Mandatory : No Calculator : None Response Time : N.A Think Time : N.A Minimum Instruction Time : 0

Correct Marks : 1 Wrong Marks : 0

కింది వాటిలో తెలంగాణ రాష్ట్రానికి సంబంధించి ఏ ప్రకటన/లు సరికానిది/వి?

- A. ఇది పశ్చిమంలో కర్ణాటక చేత చుట్టుముట్టబడి ఉంది.
- B. ఇది తూర్పులో మహారాష్ట్ర చేత చుట్టుముట్టబడి ఉంది.
- C. 2022 నాటికి తెలంగాణ రాష్ట్రంలో 32 జిల్లా ప్రజా పరిషత్ లు కలవు.

Options :

- 1. ✖ A మాత్రమే
- 2. ✔ B మాత్రమే
- 3. ✖ A మరియు B

4. ✖ B మరియు C రెండూ

Question Number : 79 Question Id : 630680223060 Option Shuffling : Yes Is Question Mandatory : No Calculator : None Response Time : N.A Think Time : N.A Minimum Instruction Time : 0

Correct Marks : 1 Wrong Marks : 0

The Kakatiya Thermal Power Station (KTPP) is located in which of the following districts of Telangana state?

Options :

1. ✖ Siddipet

2. ✖ Jagtial

3. ✖ Mahabubabad

4. ✔ Warangal

Question Number : 79 Question Id : 630680223060 Option Shuffling : Yes Is Question Mandatory : No Calculator : None Response Time : N.A Think Time : N.A Minimum Instruction Time : 0

Correct Marks : 1 Wrong Marks : 0

కాకతీయ థర్మల్ పవర్ స్టేషన్ (KTPP) తెలంగాణ రాష్ట్రంలోని ఈ క్రింది ఏ జిల్లాలో ఉంది?

Options :

1. ✖ సిద్దిపేట

2. ✖ జగిత్యాల

3. ✖ మహబూబాబాద్

4. ✔ వరంగల్

Question Number : 80 Question Id : 630680223061 Option Shuffling : Yes Is Question Mandatory : No Calculator : None Response Time : N.A Think Time : N.A Minimum Instruction Time : 0

Correct Marks : 1 Wrong Marks : 0

Defence Service training institute, Indian Air Force Academy, Dundigal, is located in which of the following districts of Telangana?

Options :

1. ✔ Medchal–Malkajgiri

2. ✖ Hyderabad

3. ✖ Ranga Reddy

4. ✖ Vikarabad

Question Number : 80 Question Id : 630680223061 Option Shuffling : Yes Is Question Mandatory : No Calculator : None Response Time : N.A Think Time : N.A Minimum Instruction Time : 0

Correct Marks : 1 Wrong Marks : 0

డిఫెన్స్ సర్వీస్ శిక్షణా సంస్థ, ఇండియన్ ఎయిర్ ఫోర్స్ అకాడమీ, దుండిగల్, తెలంగాణలోని ఏ జిల్లాలో ఉంది?

Options :

1. ✓ మేడ్చల్-మల్కాజిగిరి

2. ✗ హైదరాబాద్

3. ✗ రంగారెడ్డి

4. ✗ వికారాబాద్

Question Number : 81 Question Id : 630680223062 Option Shuffling : Yes Is Question Mandatory : No Calculator : None Response Time : N.A Think Time : N.A Minimum Instruction Time : 0

Correct Marks : 1 Wrong Marks : 0

As of April 2023, who is the Minister for Agriculture of Telangana?

Options :

1. ✗ Vemula Prashanth Reddy

2. ✗ Chamakura Malla Reddy

3. ✗ Thanneeru Harish Rao

4. ✓ Singireddy Niranjan Reddy

Question Number : 81 Question Id : 630680223062 Option Shuffling : Yes Is Question Mandatory : No Calculator : None Response Time : N.A Think Time : N.A Minimum Instruction Time : 0

Correct Marks : 1 Wrong Marks : 0

ఏప్రిల్ 2023 నాటికి, తెలంగాణ వ్యవసాయ శాఖ మంత్రి ఎవరు?

Options :

1. ✖ వేముల ప్రశాంత్ రెడ్డి
2. ✖ చామకూర మల్లా రెడ్డి
3. ✖ తన్నీరు హరీష్ రావు
4. ✔ సింగిరెడ్డి నిరంజన్ రెడ్డి

Question Number : 82 Question Id : 630680223063 Option Shuffling : Yes Is Question

Mandatory : No Calculator : None Response Time : N.A Think Time : N.A Minimum Instruction Time : 0

Correct Marks : 1 Wrong Marks : 0

Which of the following statements is/are INCORRECT?

- A. Beechupally Anjaneya Swamy Temple is located on the banks of river Krishna in the Narayanpet district of Telangana.
- B. Lakshmi Narasimha Temple is located in a cave on a knoll in the Yadadri Bhuvanagiri district of Telangana.
- C. Saidani Ma Tomb, located in Hyderabad.

Options :

1. ✔ Only A
2. ✖ Only B
3. ✖ Both A and B

4. ✖ Both B and C

Question Number : 82 Question Id : 630680223063 Option Shuffling : Yes Is Question Mandatory : No Calculator : None Response Time : N.A Think Time : N.A Minimum Instruction Time : 0

Correct Marks : 1 Wrong Marks : 0

ఈ క్రింది ప్రకటనల్లో ఏది/ ఏవి సరైనవి కావు?

- A. బీచుపల్లి ఆంజనేయ స్వామి ఆలయం తెలంగాణలోని నారాయణపేట జిల్లాలో కృష్ణా నది ఒడ్డున ఉంది.
- B. లక్ష్మీ నరసింహ ఆలయం తెలంగాణలోని యాదాద్రి భువనగిరి జిల్లాలో గుట్టపై ఉన్న గుహలో ఉంది.
- C. సైదానీ మా సమాధి, హైదరాబాద్‌లో ఉంది.

Options :

- 1. ✔ A మాత్రమే
- 2. ✖ B మాత్రమే
- 3. ✖ A మరియు B రెండూ
- 4. ✖ B మరియు C రెండూ

Question Number : 83 Question Id : 630680223064 Option Shuffling : Yes Is Question Mandatory : No Calculator : None Response Time : N.A Think Time : N.A Minimum Instruction Time : 0

Correct Marks : 1 Wrong Marks : 0

Perini Sivathandavam or Perini Thandavam dance of Telangana state used to be performed by which of the following groups of people?

Options :

1. ✖ Clerics
2. ✖ Storyteller
3. ✖ Farmers
4. ✔ Warriors

Question Number : 83 Question Id : 630680223064 Option Shuffling : Yes Is Question Mandatory : No Calculator : None Response Time : N.A Think Time : N.A Minimum Instruction Time : 0

Correct Marks : 1 Wrong Marks : 0

తెలంగాణ రాష్ట్రానికి చెందిన పేరిణి శివతాండవం లేదా పేరిణి తాండవం నృత్యాన్ని ఈ క్రింది వ్యక్తుల గ్రూపులో ఎవరు ప్రదర్శించేవారు?

Options :

1. ✖ మతాధికారులు
2. ✖ కథకులు
3. ✖ రైతులు
4. ✔ యోధులు

Question Number : 84 Question Id : 630680223065 Option Shuffling : Yes Is Question Mandatory : No Calculator : None Response Time : N.A Think Time : N.A Minimum Instruction

Time : 0

Correct Marks : 1 Wrong Marks : 0

Match the ancient poet of Telangana state and their literary work as per the details given below.

Poet		Literary Work	
A	Gona Budda Reddy	1	Basava Purana
B	Palkuriki Somanatha	2	Ranganatha Ramayanamu
C	Bammera Pothana	3	Andhra Maha Bhagavatamu

Options :

1. ✖ A-1, B-2, C-3

2. ✖ A-3, B-2, C-1

3. ✖ A-3, B-1, C-2

4. ✔ A-2, B-1, C-3

Question Number : 84 Question Id : 630680223065 Option Shuffling : Yes Is Question

Mandatory : No Calculator : None Response Time : N.A Think Time : N.A Minimum Instruction

Time : 0

Correct Marks : 1 Wrong Marks : 0

దిగువ ఇవ్వబడిన వివరాల ప్రకారం తెలంగాణ రాష్ట్ర ప్రాచీన కవి మరియు వారి సాహిత్య కృషిని జతచేయండి.

కవి		సాహిత్య కృషి	
A	గోన బుద్ధారెడ్డి	1	బసవ పురాణం
B	పాల్కురికి సోమనాథ	2	రంగనాథ రామాయణము
C	బమ్మెర పోతన	3	ఆంధ్ర మహా భాగవతము

Options :

1. ✖ A-1, B-2, C-3

2. ✖ A-3, B-2, C-1

3. ✖ A-3, B-1, C-2

4. ✔ A-2, B-1, C-3

Question Number : 85 Question Id : 630680223066 Option Shuffling : Yes Is Question Mandatory : No Calculator : None Response Time : N.A Think Time : N.A Minimum Instruction Time : 0

Correct Marks : 1 Wrong Marks : 0

Kamlesh D Patel received Padma Bhushan 2023 in the category of:

Options :

1. ✔ Others-Spiritualism

2. ✖ Public Service

3. ✖ Public Affairs

4. ✖ Literature and Education

Question Number : 85 Question Id : 630680223066 Option Shuffling : Yes Is Question Mandatory : No Calculator : None Response Time : N.A Think Time : N.A Minimum Instruction Time : 0

Correct Marks : 1 Wrong Marks : 0

కమలేష్ డి పటేల్ ఈ విభాగంలో పద్మ భూషణ్ 2023 అందుకున్నారు:

Options :

1. ✓ ఇతరత్రా-ఆధ్యాత్మికత
2. ✗ ప్రజా సేవ
3. ✗ ప్రజా వ్యవహారాలు
4. ✗ సాహిత్యం మరియు విద్య

Question Number : 86 Question Id : 630680223067 Option Shuffling : Yes Is Question Mandatory : No Calculator : None Response Time : N.A Think Time : N.A Minimum Instruction Time : 0

Correct Marks : 1 Wrong Marks : 0

Which of the following are unique arts of Telangana state in which silver is engraved on metal and then black, gold, and silver coatings are applied?

Options :

1. ✗ Nirmal Arts
2. ✗ Dokra Metal Crafts
3. ✗ Banjara Needle Crafts
4. ✓ Bidri Craft

Question Number : 86 Question Id : 630680223067 Option Shuffling : Yes Is Question Mandatory : No Calculator : None Response Time : N.A Think Time : N.A Minimum Instruction Time : 0

Correct Marks : 1 Wrong Marks : 0

తెలంగాణ రాష్ట్రానికి చెందిన ఈ క్రింది ఏ ప్రత్యేక కళలో లోహంపై వెండితో చెక్కి, నలుపు, బంగారం, వెండి పూతలు పూయబడుతాయి?

Options :

1. ✖ నిర్మల్ ఆర్ట్స్
2. ✖ డోక్రా మెటల్ క్రాఫ్ట్స్
3. ✖ బంజారా నీడిల్ క్రాఫ్ట్స్
4. ✔ బిద్రి క్రాఫ్ట్స్

Question Number : 87 Question Id : 630680223068 Option Shuffling : Yes Is Question Mandatory : No Calculator : None Response Time : N.A Think Time : N.A Minimum Instruction Time : 0

Correct Marks : 1 Wrong Marks : 0

Who among the following Indian poets and revolutionary balladeers from Telangana state is popularly known as Gaddar?

Options :

1. ✖ Goreti Venkataiah
2. ✖ Suddala Ashok Teja
3. ✔ Gummadi Vittal Rao

4. ✖ Kanukuntla Subhash Chandrabose

Question Number : 87 Question Id : 630680223068 Option Shuffling : Yes Is Question Mandatory : No Calculator : None Response Time : N.A Think Time : N.A Minimum Instruction Time : 0

Correct Marks : 1 Wrong Marks : 0

ఈ క్రింది భారతీయ కవులు మరియు తెలంగాణ రాష్ట్రానికి చెందిన విప్లవ బల్లాడీలలో ఎవరు గద్దర్గా ప్రసిద్ధి చెందారు?

Options :

1. ✖ గోరేటి వెంకటయ్య
2. ✖ సుద్దాల అశోక్ తేజ
3. ✔ గుమ్మడి విట్టల్ రావు
4. ✖ కనుకుంట్ల సుభాష్ చంద్రబోస్

Question Number : 88 Question Id : 630680223069 Option Shuffling : Yes Is Question Mandatory : No Calculator : None Response Time : N.A Think Time : N.A Minimum Instruction Time : 0

Correct Marks : 1 Wrong Marks : 0

In which of the following festivals of Telangana state, do women prepare Bonam (brass pot) filled with milk, jaggery and cooked rice and perform special pujas for Mahakali Amma?

Options :

1. ✖ Bathukamma Festival

2. ✓ Bonalu Festival

3. ✗ Dussehra

4. ✗ Ugadi

Question Number : 88 Question Id : 630680223069 Option Shuffling : Yes Is Question Mandatory : No Calculator : None Response Time : N.A Think Time : N.A Minimum Instruction Time : 0

Correct Marks : 1 Wrong Marks : 0

తెలంగాణ రాష్ట్రంలోని ఏ పండుగలో, మహిళలు పాలు, బెల్లం మరియు వండిన అన్నంతో నిండిన బోసం (ఇత్తడి కుండ) సిద్ధం చేసి, మహంకాళి అమ్మవారికి ప్రత్యేక పూజలు చేస్తారు?

Options :

1. ✗ బతుకమ్మ పండుగ

2. ✓ బోనాల పండుగ

3. ✗ దసరా

4. ✗ ఉగాది

Question Number : 89 Question Id : 630680223070 Option Shuffling : Yes Is Question Mandatory : No Calculator : None Response Time : N.A Think Time : N.A Minimum Instruction Time : 0

Correct Marks : 1 Wrong Marks : 0

An important Buddhist excavation site "Nelakondapalli" is located in which of the following districts of Telangana?

Options :

1. ✓ Khammam

2. ✗ Bhadradi

3. ✗ Suryapet

4. ✗ Nalgonda

Question Number : 89 Question Id : 630680223070 Option Shuffling : Yes Is Question

Mandatory : No Calculator : None Response Time : N.A Think Time : N.A Minimum Instruction Time : 0

Correct Marks : 1 Wrong Marks : 0

ఈ క్రింది ఏ తెలంగాణలోని జిల్లాలో పురావస్తు శ్రవ్వకాలలో బయటపడ్డ ముఖ్యమైన బౌద్ధ ప్రదేశం "నేలకొండపల్లి" ఉంది?

Options :

1. ✓ ఖమ్మం

2. ✗ భద్రాద్రి

3. ✗ సూర్యాపేట

4. ✗ నల్గొండ

Question Number : 90 Question Id : 630680223071 Option Shuffling : Yes Is Question

Mandatory : No Calculator : None Response Time : N.A Think Time : N.A Minimum Instruction Time : 0

Correct Marks : 1 Wrong Marks : 0

Which of the following dishes of Telangana state is also known as Tapala Chekka or Ginne Appa?

Options :

1. ✖ Garijalu
2. ✖ Sajja Rotte
3. ✖ Pacchi Pulusu
4. ✔ Sarva Pindi

Question Number : 90 Question Id : 630680223071 Option Shuffling : Yes Is Question Mandatory : No Calculator : None Response Time : N.A Think Time : N.A Minimum Instruction Time : 0

Correct Marks : 1 Wrong Marks : 0

ఈ క్రింది వాటిలో తెలంగాణ రాష్ట్రానికి చెందిన ఏ వంటకాలను తపాల చెక్క లేదా గిన్నె అప్ప అని కూడా పిలుస్తారు?

Options :

1. ✖ గరిజలు
2. ✖ సజ్జ రొట్టె
3. ✖ పచ్చి పులుసు
4. ✔ సర్వ పిండి

Question Number : 91 Question Id : 630680223072 Option Shuffling : Yes Is Question Mandatory : No Calculator : None Response Time : N.A Think Time : N.A Minimum Instruction Time : 0

Correct Marks : 1 Wrong Marks : 0

Which of the following schemes of Telangana state aims to provide safe drinking water for every household under the Telangana Drinking Water Supply Project?

Options :

1. ✖ Mission Amrutum
2. ✖ Mission Narmada
3. ✔ Mission Bhagiratha
4. ✖ Mission Yeshasvini

Question Number : 91 Question Id : 630680223072 Option Shuffling : Yes Is Question Mandatory : No Calculator : None Response Time : N.A Think Time : N.A Minimum Instruction Time : 0

Correct Marks : 1 Wrong Marks : 0

తెలంగాణ రాష్ట్రం యొక్క ఈ క్రింది ఏ పథకం తెలంగాణా మంచి నీటి సరఫరా ప్రాజెక్ట్ కింద ప్రతి ఇంటికీ సురక్షితమైన మంచినీటిని అందించడాన్ని లక్ష్యంగా పెట్టుకుంది?

Options :

1. ✖ మిషన్ అమృతం
2. ✖ మిషన్ నర్మదా
3. ✔ మిషన్ భగీరథ

4. ✖ మిషన్ యశశ్విని

Question Number : 92 Question Id : 630680223073 Option Shuffling : Yes Is Question Mandatory : No Calculator : None Response Time : N.A Think Time : N.A Minimum Instruction Time : 0

Correct Marks : 1 Wrong Marks : 0

Which of the following statements about Telangana Super Thermal Power Project is CORRECT?

- A. Telangana Super Thermal Power Project (TSTPP) is located in village Ramagundam, Karimnagar district, Telangana.
- B. Prime Minister Narendra Modi laid the foundation for this project in 2019.
- C. The project is being developed in two phases, with the under-construction first phase comprising 1.6GW (2x800MW) coal-based power plant with super critical technology.

Options :

- 1. ✖ Only A
- 2. ✔ Both A and C
- 3. ✖ Both A and B
- 4. ✖ Only B

Question Number : 92 Question Id : 630680223073 Option Shuffling : Yes Is Question Mandatory : No Calculator : None Response Time : N.A Think Time : N.A Minimum Instruction Time : 0

Correct Marks : 1 Wrong Marks : 0

కింది వాటిలో తెలంగాణ సూపర్ థర్మల్ పవర్ ప్రాజెక్ట్‌కు సంబంధించి ఏ ప్రకటన/లు సరైనది/వి?

- A. తెలంగాణ సూపర్ థర్మల్ పవర్ ప్రాజెక్ట్(TSTPP) అనేది రామగుండం గ్రామం, కరీంనగర్ జిల్లా, తెలంగాణ లో ఉంది.
- B. 2019 లో ప్రధాన మంత్రి నరేంద్రమోడీ ఈ ప్రాజెక్టుకు శంకుస్థాపన చేశాడు.
- C. సూపర్ క్రిటికల్ టెక్నాలజీతో 1.6GW (2x800MW) బొగ్గు-ఆధారిత విద్యుత్ ప్లాంటు యొక్క మొదటి దశ నిర్మాణంతో ఈ ప్రాజెక్టు రెండు దశలలో అభివృద్ధి చేయబడుతుంది.

Options :

- 1. ✖ A మాత్రమే
- 2. ✔ A మరియు C లు రెండూ
- 3. ✖ A మరియు B లు రెండూ
- 4. ✖ B మాత్రమే

Question Number : 93 Question Id : 630680223074 Option Shuffling : Yes Is Question Mandatory : No Calculator : None Response Time : N.A Think Time : N.A Minimum Instruction Time : 0

Correct Marks : 1 Wrong Marks : 0

Match the scheme launched by Telangana state and their launching year as per the details given below.

Scheme		Lunching Year	
A	Kalyana Lakshmi – Shaadi Mubarak scheme	1	2014
B	Double bed room housing Scheme	2	2015
C	Kanti Velugu	3	2018

Options :

- 1. ✔ A-1, B-2, C-3
- 2. ✖ A-3, B-2, C-1

3. ✖ A-2, B-1, C-3

4. ✖ A-3, B-1, C-2

Question Number : 93 Question Id : 630680223074 Option Shuffling : Yes Is Question Mandatory : No Calculator : None Response Time : N.A Think Time : N.A Minimum Instruction Time : 0

Correct Marks : 1 Wrong Marks : 0

దిగువ ఇవ్వబడిన వివరాల ప్రకారం తెలంగాణ రాష్ట్రం ప్రారంభించిన పథకం మరియు వాటి ఆవిష్కరణ సంవత్సరాన్ని జతచేయండి.

పథకం		ఆవిష్కరణ సంవత్సరం	
A	కల్యాణలక్ష్మి - పాదీ ముబారక్ పథకం	1	2014
B	డబుల్ బెడ్ రూమ్ హౌసింగ్ పథకం	2	2015
C	కంటి వెలుగు	3	2018

Options :

1. ✔ A-1, B-2, C-3

2. ✖ A-3, B-2, C-1

3. ✖ A-2, B-1, C-3

4. ✖ A-3, B-1, C-2

Question Number : 94 Question Id : 630680223075 Option Shuffling : Yes Is Question

Mandatory : No Calculator : None Response Time : N.A Think Time : N.A Minimum Instruction Time : 0

Correct Marks : 1 Wrong Marks : 0

According to Socio-Economic Survey (2023), between 2018 and 2021, the share of Development Expenditure in the total budget for Telangana was nearly _____ which is the highest among the Indian States.

Options :

1. ✓ 78.1%

2. ✗ 63.2%

3. ✗ 43.4%

4. ✗ 37.9%

Question Number : 94 Question Id : 630680223075 Option Shuffling : Yes Is Question

Mandatory : No Calculator : None Response Time : N.A Think Time : N.A Minimum Instruction Time : 0

Correct Marks : 1 Wrong Marks : 0

సామాజిక-ఆర్థిక సర్వే (2023) ప్రకారం, 2018 నుండి 2021ల మధ్య, తెలంగాణ మొత్తం బడ్జెట్‌లో అభివృద్ధి వ్యయం వాటా దాదాపు _____, ఇది భారతీయ రాష్ట్రాలలోనే అత్యధికం.

Options :

1. ✓ 78.1%

2. ✗ 63.2%

3. ✗ 43.4%

4. ✗ 37.9%

Question Number : 95 Question Id : 630680223076 Option Shuffling : Yes Is Question Mandatory : No Calculator : None Response Time : N.A Think Time : N.A Minimum Instruction Time : 0

Correct Marks : 1 Wrong Marks : 0

To avail of the benefits of the Kalyana Lakshmi/ Shaadi Mubarak scheme of Telangana state, a combined annual income of her parents NOT exceeding _____ are eligible for the Scheme.

Options :

1. ✖ ₹1.5 lakhs per annum
2. ✔ ₹2 lakhs per annum
3. ✖ ₹2.5 lakhs per annum
4. ✖ ₹3 lakhs per annum

Question Number : 95 Question Id : 630680223076 Option Shuffling : Yes Is Question Mandatory : No Calculator : None Response Time : N.A Think Time : N.A Minimum Instruction Time : 0

Correct Marks : 1 Wrong Marks : 0

తెలంగాణ రాష్ట్ర కళ్యాణ లక్ష్మీ/ షాదీ ముబారక్ పథకం ప్రయోజనాలను పొందేందుకు, ఆమె తల్లిదండ్రుల వార్షిక ఆదాయం ____ మించని వారు పథకానికి అర్హులు.

Options :

1. ✖ సంవత్సరానికి ₹1.5 లక్షలు
2. ✔ సంవత్సరానికి ₹2 లక్షలు

3. ✖ సంవత్సరానికి ₹2.5 లక్షలు

4. ✖ సంవత్సరానికి ₹3 లక్షలు

Question Number : 96 Question Id : 630680223077 Option Shuffling : Yes Is Question Mandatory : No Calculator : None Response Time : N.A Think Time : N.A Minimum Instruction Time : 0

Correct Marks : 1 Wrong Marks : 0

Which of the following statement is NOT correct about Mission Kakatiya?

- A. This scheme aims to restore all the minor irrigation tanks and lakes in Telangana State.
- B. The Program was inaugurated on 12 March 2017 by the Hon'ble Chief Minister Sri K Chandrashekhar Rao.
- C. The name 'Mission Kakatiya' is given in remembrance and tribute to the Kakatiya rulers who developed many dams in Telangana state.

Options :

1. ✖ Only A

2. ✖ Both A and B

3. ✔ Both B and C

4. ✖ Only C

Question Number : 96 Question Id : 630680223077 Option Shuffling : Yes Is Question Mandatory : No Calculator : None Response Time : N.A Think Time : N.A Minimum Instruction Time : 0

Correct Marks : 1 Wrong Marks : 0

మిషన్ కాకతీయ గురించి ఈ క్రింది వాటిలో సరైనది కానిది ఏది?

- A. తెలంగాణ రాష్ట్రంలోని అన్ని మైనర్ ఇరిగేషన్ ట్యాంకులు మరియు సరస్సులను పునరుద్ధరించడం ఈ పథకం లక్ష్యం.
- B. ఈ కార్యక్రమాన్ని 12 మార్చి 2017న గౌరవనీయులైన ముఖ్యమంత్రి శ్రీ కె చంద్రశేఖర్ రావు ప్రారంభించారు.
- C. తెలంగాణ రాష్ట్రంలో అనేక ఆనకట్టలను అభివృద్ధి చేసిన కాకతీయ పాలకుల జ్ఞాపకార్థం మరియు నివాళిగా 'మిషన్ కాకతీయ' పేరు పెట్టారు.

Options :

1. ✖ A మాత్రమే

2. ✖ A మరియు B రెండూ

3. ✔ B మరియు C రెండూ

4. ✖ C మాత్రమే

Question Number : 97 Question Id : 630680223078 Option Shuffling : Yes Is Question

Mandatory : No Calculator : None Response Time : N.A Think Time : N.A Minimum Instruction Time : 0

Correct Marks : 1 Wrong Marks : 0

According to the Economic Survey 2022-23, Telangana is ranked at which position among eight states which achieved the Sustainable Development Goal (SDG) target to reduce Maternal Mortality Rate to less than 70 per lakh live births by 2020?

Options :

1. ✖ Fourth

2. ✔ Third

3. ✖ Second

4. ✖ First

Question Number : 97 Question Id : 630680223078 Option Shuffling : Yes Is Question Mandatory : No Calculator : None Response Time : N.A Think Time : N.A Minimum Instruction Time : 0

Correct Marks : 1 Wrong Marks : 0

ఆర్థిక సర్వే 2022-23 ప్రకారం, 2020 నాటికి మాతాశిశు మరణాల రేటును లక్షకు 70 కంటే తక్కువకు తగ్గించాలనే సుస్థిర అభివృద్ధి లక్ష్యం (SDG)ను సాధించిన ఎనిమిది రాష్ట్రాల్లో తెలంగాణ ఏ స్థానంలో ఉంది?

Options :

1. ✖ నాల్గవ

2. ✔ మూడవ

3. ✖ రెండవ

4. ✖ మొదటి

Question Number : 98 Question Id : 630680223079 Option Shuffling : Yes Is Question Mandatory : No Calculator : None Response Time : N.A Think Time : N.A Minimum Instruction Time : 0

Correct Marks : 1 Wrong Marks : 0

What is the full form of TS-iPASS, which is introduced by the Telangana government to create an investor-friendly environment in the State of Telangana?

Options :

1.

✖ Telangana State Industrialized Project Approval and Self-Certification System

2. ✔ Telangana State Industrial Project Approval and Self-Certification System

3. ✖ Telangana State Industrial Project Authorization and Self-Certification System

4. ✖ Telangana State Industrial Project Approval and Self-Certification Structure

Question Number : 98 Question Id : 630680223079 Option Shuffling : Yes Is Question

Mandatory : No Calculator : None Response Time : N.A Think Time : N.A Minimum Instruction

Time : 0

Correct Marks : 1 Wrong Marks : 0

తెలంగాణ రాష్ట్రంలో పెట్టుబడిదారులకు అనుకూలమైన వాతావరణాన్ని సృష్టించేందుకు తెలంగాణ ప్రభుత్వం ప్రవేశపెట్టిన TS-iPASS యొక్క విస్తరణ రూపం ఏమిటి?

Options :

తెలంగాణ స్టేట్ ఇండస్ట్రియల్ ప్రాజెక్ట్ అప్రూవల్ అండ్ సెల్ప్-సర్టిఫికేషన్ సిస్టం (Telangana State

1. ✖ Industrialized Project Approval and Self-Certification System)

తెలంగాణ స్టేట్ ఇండస్ట్రియల్ ప్రాజెక్ట్ అప్రూవల్ అండ్ సెల్ప్-సర్టిఫికేషన్ సిస్టం (Telangana State

2. ✔ Industrial Project Approval and Self-Certification System)

తెలంగాణ స్టేట్ ఇండస్ట్రియల్ ప్రాజెక్ట్ అథరైజేషన్ అండ్ సెల్ప్-సర్టిఫికేషన్ సిస్టమ్ (Telangana State

3. ✖ Industrial Project Authorization and Self-Certification System)

తెలంగాణ స్టేట్ ఇండస్ట్రియల్ ప్రాజెక్ట్ అప్రూవల్ అండ్ సెల్ప్-సర్టిఫికేషన్ స్ట్రక్చర్ (Telangana State

4. ✖ Industrial Project Approval and Self-Certification Structure)

Question Number : 99 Question Id : 630680223080 Option Shuffling : Yes Is Question Mandatory : No Calculator : None Response Time : N.A Think Time : N.A Minimum Instruction Time : 0

Correct Marks : 1 Wrong Marks : 0

Consider the following pairs of ministers of Telangana state and the portfolio they hold as of March 2023. Which of the following is paired INCORRECTLY?

Pair	Minister	Portfolio
A	Chamakura Malla Reddy	Labour & Employment, Factories
B	Patlolla Sabitha Indra Reddy	Education
C	Sri Puwada Ajay Kumar	Forest & Environment and S&T, Endowments and Law

Options :

- 1. ✖ Only A
- 2. ✖ Both A and B
- 3. ✔ Only C
- 4. ✖ Both A and C

Question Number : 99 Question Id : 630680223080 Option Shuffling : Yes Is Question Mandatory : No Calculator : None Response Time : N.A Think Time : N.A Minimum Instruction Time : 0

Correct Marks : 1 Wrong Marks : 0

మార్చి 2023 నాటికి తెలంగాణ రాష్ట్రానికి చెందిన ఈ క్రింది మంత్రులను మరియు వారు కలిగి ఉన్న మంత్రిత్వశాఖ జతలను పరిగణించండి. ఈ క్రింది వాటిలో తప్పుగా జత చేయబడినది ఏది?

జత	మంత్రి	మంత్రిత్వశాఖ
A	చామకూర మల్లా రెడ్డి	కార్మిక & ఉపాధి, ప్యాష్టరీలు
B	పట్టిళ్ల సబితా ఇంద్రారెడ్డి	విద్య
C	శ్రీ పువ్వాడ అజయ్ కుమార్	అటవీ & పర్యావరణ మరియు S&T, ఎండోమెంట్స్ మరియు చట్టం

Options :

- ✖ కేవలం A
- ✖ A మరియు B రెండూ
- ✔ కేవలం C
- ✖ A మరియు C రెండూ

Question Number : 100 Question Id : 630680223081 Option Shuffling : Yes Is Question Mandatory : No Calculator : None Response Time : N.A Think Time : N.A Minimum Instruction Time : 0

Correct Marks : 1 Wrong Marks : 0

As of April 2023, who is the Minister of Home, Prisons, Fire Services of Telangana?

Options :

- ✖ Patlolla Sabitha Indra Reddy

2. ✓ Mohammed Mahmood Ali

3. ✗ Gangula Kamalakar

4. ✗ Thanneeru Harish Rao

Question Number : 100 Question Id : 630680223081 Option Shuffling : Yes Is Question Mandatory : No Calculator : None Response Time : N.A Think Time : N.A Minimum Instruction Time : 0

Correct Marks : 1 Wrong Marks : 0

ఏప్రిల్ 2023 నాటికి, తెలంగాణ రాష్ట్ర హోమ్, జైల్లు, అగ్నిమాపక శాఖ మంత్రి ఎవరు?

Options :

1. ✗ పట్టోళ్ల సబితా ఇంద్రారెడ్డి

2. ✓ మహమ్మద్ మహమూద్ అలీ

3. ✗ గంగుల కమలాకర్

4. ✗ తన్నీరు హరీష్ రావు

Question Number : 101 Question Id : 630680223082 Option Shuffling : Yes Is Question Mandatory : No Calculator : None Response Time : N.A Think Time : N.A Minimum Instruction Time : 0

Correct Marks : 1 Wrong Marks : 0

Arrange the rivers flowing through Telangana state as per their total length from longest to shortest?

- A. Godavari River
- B. Palaru River
- C. Krishna River
- D. Manjira River

Options :

- 1. ✖ A, B, C, D
- 2. ✖ C, A, B, D
- 3. ✖ B, A, C, D
- 4. ✔ A, C, D, B

Question Number : 101 Question Id : 630680223082 Option Shuffling : Yes Is Question Mandatory : No Calculator : None Response Time : N.A Think Time : N.A Minimum Instruction Time : 0

Correct Marks : 1 Wrong Marks : 0

ఈ క్రింది నదులలో ఏది వాటి మొత్తం పొడవు ప్రకారం, ఎక్కువ దూరం నుండి తక్కువ దూరం వరకు తెలంగాణ రాష్ట్రం గుండా ప్రవహిస్తుంది?

- A. గోదావరి నది
- B. పాలేరు నది
- C. కృష్ణా నది
- D. మంజీరా నది

Options :

- 1. ✖ A, B, C, D

2. ✖ C, A, B, D

3. ✖ B, A, C, D

4. ✔ A, C, D, B

Question Number : 102 Question Id : 630680223083 Option Shuffling : Yes Is Question Mandatory : No Calculator : None Response Time : N.A Think Time : N.A Minimum Instruction Time : 0

Correct Marks : 1 Wrong Marks : 0

Which of the following statements is/are INCORRECT?

- A. Telangana is separated from Chhattisgarh by the Godavari River.
- B. Bhima is one of the prominent tributaries of Krishna River in Telangana.
- C. Telangana has prominent perennial rivers such as Godavari in the north and the Krishna in the south.

Options :

1. ✔ Only A

2. ✖ Both A and B

3. ✖ Both A and C

4. ✖ Both B and C

Question Number : 102 Question Id : 630680223083 Option Shuffling : Yes Is Question Mandatory : No Calculator : None Response Time : N.A Think Time : N.A Minimum Instruction Time : 0

Correct Marks : 1 Wrong Marks : 0

కింది ప్రకటనలలో ఏది/వి సరికానివి?

- A. గోదావరి నది తెలంగాణను ఛత్తీస్‌గఢ్ నుండి వేరు చేస్తుంది.
- B. తెలంగాణలోని కృష్ణా నది యొక్క ప్రధాన ఉపనదులలో భీమా ఒకటి.
- C. తెలంగాణలో ఉత్తరంలో గోదావరి మరియు దక్షిణంలో కృష్ణా అనే ప్రధాన జీవనదులు కలవు.

Options :

- 1. ✓ A మాత్రమే
- 2. ✗ A మరియు B రెండూ
- 3. ✗ A మరియు C రెండూ
- 4. ✗ B మరియు C రెండూ

Question Number : 103 Question Id : 630680223084 Option Shuffling : Yes Is Question Mandatory : No Calculator : None Response Time : N.A Think Time : N.A Minimum Instruction Time : 0

Correct Marks : 1 Wrong Marks : 0

Match the district of Telangana state and the river, which flows through the district as per the details given below.

River		District	
A	Paleru River	1	Nizamabad
B	Musi River	2	Nalgonda
C	Manjira River	3	Khammam

Options :

- 1. ✗ A-1, B-2, C-3
- 2. ✗ A-3, B-1, C-2

3. ✓ A-3, B-2, C-1

4. ✗ A-1, B-3, C-2

Question Number : 103 Question Id : 630680223084 Option Shuffling : Yes Is Question Mandatory : No Calculator : None Response Time : N.A Think Time : N.A Minimum Instruction Time : 0

Correct Marks : 1 Wrong Marks : 0

దిగువ ఇవ్వబడిన వివరాల ప్రకారం తెలంగాణ రాష్ట్ర జిల్లా మరియు దాని గుండా ప్రవహించే నదిని జతచేయండి.

నది		జిల్లా	
A	పాలేరు నది	1	నిజామాబాద్
B	మూసీ నది	2	నల్గొండ
C	మంజీరా నది	3	ఖమ్మం

Options :

1. ✗ A-1, B-2, C-3

2. ✗ A-3, B-1, C-2

3. ✓ A-3, B-2, C-1

4. ✗ A-1, B-3, C-2

Question Number : 104 Question Id : 630680223085 Option Shuffling : Yes Is Question Mandatory : No Calculator : None Response Time : N.A Think Time : N.A Minimum Instruction

Time : 0

Correct Marks : 1 Wrong Marks : 0

Arrange the following district of Telangana as per their area from largest to smallest.

- A. Hanamkonda
- B. Adilabad
- C. Nirmal
- D. Jagtial

Options :

- 1. ✓ B, C, D, A
- 2. ✗ A, D, B, C
- 3. ✗ A, B, C, D
- 4. ✗ D, B, A, C

Question Number : 104 Question Id : 630680223085 Option Shuffling : Yes Is Question Mandatory : No Calculator : None Response Time : N.A Think Time : N.A Minimum Instruction Time : 0

Correct Marks : 1 Wrong Marks : 0

తెలంగాణలోని ఈ క్రింది జిల్లాలను వాటి విస్తీర్ణం ప్రకారం పెద్దదాని నుండి చిన్నదాని వరకు అమర్చండి.

- A. హనుమకొండ
- B. ఆదిలాబాద్
- C. నిర్మల్
- D. జగిత్యాల

Options :

- 1. ✓ B, C, D, A
- 2. ✗ A, D, B, C
- 3. ✗ A, B, C, D
- 4. ✗ D, B, A, C

Question Number : 105 Question Id : 630680223086 Option Shuffling : Yes Is Question Mandatory : No Calculator : None Response Time : N.A Think Time : N.A Minimum Instruction Time : 0

Correct Marks : 1 Wrong Marks : 0

Match the CORRECT pair of event and year of occurrence of the event:

Pair	Event	Year
A	K Chandrasekhar Rao launched his Bharat Rashtra Samiti (BRS) party by renaming the existing Telangana Rashtra Samiti.	2022
B	K Chandrashekar Rao went for early assembly elections	2018
C	K Chandrashekar Rao was sworn in as the first chief minister of the Telangana state.	2014

Options :

- 1. ✗ Only A
- 2. ✓ A, B, and C

3. ✖ Both C and B

4. ✖ Both A and B

Question Number : 105 Question Id : 630680223086 Option Shuffling : Yes Is Question Mandatory : No Calculator : None Response Time : N.A Think Time : N.A Minimum Instruction Time : 0

Correct Marks : 1 Wrong Marks : 0

సంఘటన మరియు సంఘటన సంభవించిన సంవత్సరం యొక్క సరైన జతను జతపరచండి:

జత	సంఘటన	సంవత్సరం
A	కె. చంద్రశేఖర్ రావు ప్రస్తుతం ఉన్న తన తెలంగాణ రాష్ట్ర సమితి పార్టీ యొక్క పేరును భారత రాష్ట్ర సమితి (BRS) గా మార్చారు.	2022
B	కె చంద్రశేఖర్ రావు ముందస్తు అసెంబ్లీ ఎన్నికలకు వెళ్లారు	2018
C	తెలంగాణ రాష్ట్ర తొలి ముఖ్యమంత్రిగా కె. చంద్రశేఖర్ రావు ప్రమాణ స్వీకారం చేశారు.	2014

Options :

1. ✖ A మాత్రమే

2. ✔ A, B, మరియు C

3. ✖ C మరియు B రెండూ

4. ✖ A మరియు B రెండూ

Question Number : 106 Question Id : 630680223087 Option Shuffling : Yes Is Question Mandatory : No Calculator : None Response Time : N.A Think Time : N.A Minimum Instruction Time : 0

Correct Marks : 1 Wrong Marks : 0

Which of the following statements about the Telangana state is/are NOT correct?

- A. Formed as the 26th State of India.
- B. Telangana came into being on 2 June 2014.
- C. The Telangana region was part of the Hyderabad state till 1956.

Options :

- 1. ✔ Only A
- 2. ✖ Only B
- 3. ✖ Both A and B
- 4. ✖ Neither A nor B

Question Number : 106 Question Id : 630680223087 Option Shuffling : Yes Is Question Mandatory : No Calculator : None Response Time : N.A Think Time : N.A Minimum Instruction Time : 0

Correct Marks : 1 Wrong Marks : 0

తెలంగాణ రాష్ట్రం గురించిన ఈ క్రింది ప్రకటనల్లో సరైనది కానిది ఏది/ఏవి?

A. భారతదేశంలోని 26వ రాష్ట్రంగా ఏర్పడింది.

B. తెలంగాణ 2 జూన్ 2014న ఆవిర్భవించింది.

C. తెలంగాణ ప్రాంతం 1956 వరకు హైదరాబాద్ రాష్ట్రంలో భాగంగా ఉంది.

Options :

1. ✓ A మాత్రమే

2. ✗ B మాత్రమే

3. ✗ A మరియు B రెండూ

4. ✗ A కానీ లేదా B కానీ ఏదీ కాదు

Question Number : 107 Question Id : 630680223088 Option Shuffling : Yes Is Question Mandatory : No Calculator : None Response Time : N.A Think Time : N.A Minimum Instruction Time : 0

Correct Marks : 1 Wrong Marks : 0

Arrange the following political parties of Telangana state as per their year of formation from oldest to newest.

A. All India Majlis-e-Ittehadul Muslimeen

B. Telangana Rashtra Samithi

C. Telugu Desam Party

D. Telangana Jana Samithi

Options :

1. ✗ A, B, C, D

2. ✗ B, A, C, D

3. ✓ A, C, B, D

4. ✗ D, C, B, A

Question Number : 107 Question Id : 630680223088 Option Shuffling : Yes Is Question Mandatory : No Calculator : None Response Time : N.A Think Time : N.A Minimum Instruction Time : 0

Correct Marks : 1 Wrong Marks : 0

తెలంగాణ రాష్ట్రంలోని ఈ క్రింది రాజకీయ పార్టీలను అవి ఏర్పడిన సంవత్సరం ప్రకారం పాతవి నుండి సరికొత్త వరకు అమర్చండి.

- A. ఆల్ ఇండియా మజ్లిస్-ఇ-ఇత్తెహాదుల్ ముస్లిమీన్
- B. తెలంగాణ రాష్ట్ర సమితి
- C. తెలుగుదేశం పార్టీ
- D. తెలంగాణ జన సమితి

Options :

1. ✗ A, B, C, D

2. ✗ B, A, C, D

3. ✓ A, C, B, D

4. ✗ D, C, B, A

Question Number : 108 Question Id : 630680223089 Option Shuffling : Yes Is Question Mandatory : No Calculator : None Response Time : N.A Think Time : N.A Minimum Instruction

Time : 0

Correct Marks : 1 Wrong Marks : 0

Which of the following statements is/are correct about the Telangana assembly election 2018?

- A. Telangana Rashtra Samithi won 98 seats.
- B. Sri K Chandrashekhhar Rao won from Gajwel Assembly constituency.
- C. Sri A. Indrakaran Reddy won from Nirmal Assembly constituency.

Options :

- 1. ✖ Both A and B
- 2. ✔ Both B and C
- 3. ✖ Only A
- 4. ✖ Only B

Question Number : 108 Question Id : 630680223089 Option Shuffling : Yes Is Question Mandatory : No Calculator : None Response Time : N.A Think Time : N.A Minimum Instruction Time : 0

Correct Marks : 1 Wrong Marks : 0

కింది ప్రకటనలలో తెలంగాణ అసెంబ్లీ ఎన్నికలు 2018 కి సంబంధించి సరైనది/వి ఏది/వి?

- A. తెలంగాణ రాష్ట్ర సమితి 98 స్థానాలను గెలుచుకుంది.
- B. శ్రీ కె చంద్రశేఖర్ రావు గజ్వేల్ నియోజకవర్గం నుండి గెలుపొందారు.
- C. శ్రీ A. ఇంద్రకరణ్ రెడ్డి నిర్మల్ నియోజకవర్గం నుండి గెలుపొందారు.

Options :

- 1. ✖ A మరియు B లు రెండూ
- 2. ✔ B మరియు C లు రెండూ

3. ✖ A మాత్రమే

4. ✖ B మాత్రమే

Question Number : 109 Question Id : 630680223090 Option Shuffling : Yes Is Question Mandatory : No Calculator : None Response Time : N.A Think Time : N.A Minimum Instruction Time : 0

Correct Marks : 1 Wrong Marks : 0

Which of the following statements is INCORRECT?

- A. The Telangana region was part of the Hyderabad state from 17 September 1950.
- B. "Agriculture Investment Support Scheme" ("Rythu Bandhu") was proposed to be implemented from the year 2020-21.
- C. The National Thermal Power Corporation (NTPC) is constructing Telangana Super Thermal Power Project (TSTPP).

Options :

1. ✖ Only A

2. ✔ Both A and B

3. ✖ Only B

4. ✖ Both B and C

Question Number : 109 Question Id : 630680223090 Option Shuffling : Yes Is Question Mandatory : No Calculator : None Response Time : N.A Think Time : N.A Minimum Instruction Time : 0

Correct Marks : 1 Wrong Marks : 0

కింది ప్రకటనలలో సరికానిది/వి ఏది/వి?

- A. 17 సెప్టెంబర్ 1950 నుండి తెలంగాణ ప్రాంతం హైదరాబాదు రాష్ట్రంలో భాగంగా ఉంది.
- B. 2020-21 సంవత్సరం నుండి "వ్యవసాయ పెట్టుబడి మద్దతు పథకం" ("రైతు బంధు") అమలులోకి వస్తుందని ప్రతిపాదించబడింది.
- C. తెలంగాణ సూపర్ థర్మల్ పవర్ ప్రాజెక్ట్ (TSTPP) ను జాతీయ థర్మల్ విద్యుత్ సంస్థ (NTPC) నిర్మిస్తుంది.

Options :

- 1. ✖ A మాత్రమే
- 2. ✔ A మరియు B రెండూ
- 3. ✖ B మాత్రమే
- 4. ✖ B మరియు C రెండూ

Question Number : 110 Question Id : 630680223091 Option Shuffling : Yes Is Question Mandatory : No Calculator : None Response Time : N.A Think Time : N.A Minimum Instruction Time : 0

Correct Marks : 1 Wrong Marks : 0

Which of the following statements is/are INCORRECT?

- A. The state bird of Telangana is Palapitta.
- B. The State Animal of Telangana is Blackbuck.
- C. The emblem of Telangana is a circular seal consisting of the Kakatiya Kala Thoranam and Charminar.
- D. Tangedu Flower was declared as the state follower of Telangana state.

Options :

- 1. ✖ Only A
- 2. ✖ Both A and B

3. ✓ Only B

4. ✗ Both C and D

Question Number : 110 Question Id : 630680223091 Option Shuffling : Yes Is Question Mandatory : No Calculator : None Response Time : N.A Think Time : N.A Minimum Instruction Time : 0

Correct Marks : 1 Wrong Marks : 0

ఈ క్రింది ప్రకటనల్లో సరైనది కానిది ఏది?

- A. తెలంగాణ రాష్ట్ర పక్షి పాలపిట్ట.
- B. తెలంగాణ రాష్ట్ర జంతువు కృష్ణజింక.
- C. తెలంగాణ చిహ్నం కాకతీయ కళా తోరణం మరియు చార్మినార్‌లతో కూడిన వృత్తాకార ముద్ర.
- D.తంగేడు పువ్వును తెలంగాణ రాష్ట్ర పుష్పంగా ప్రకటించారు.

Options :

- 1. ✗ A మాత్రమే
- 2. ✗ A మరియు B రెండూ
- 3. ✓ B మాత్రమే
- 4. ✗ C మరియు D రెండూ

Question Number : 111 Question Id : 630680223092 Option Shuffling : Yes Is Question Mandatory : No Calculator : None Response Time : N.A Think Time : N.A Minimum Instruction Time : 0

Correct Marks : 1 Wrong Marks : 0

Mohan, Raju, Renu, Nishi, and Priyanka are sitting in a circle facing away from the centre. Mohan and Raju are not sitting together. Nishi and Priyanka are sitting immediately next to each other, and Raju is sitting to the immediate left of Nishi.

Which of the following statement(s) is/are true based on the above conditions?

- A) Mohan is sitting to the immediate left of Renu.
- B) Nishi is sitting to the immediate right of Renu.

Options :

- 1. ✓ A only
- 2. ✗ B only
- 3. ✗ Both A and B
- 4. ✗ Neither A nor B

Question Number : 111 Question Id : 630680223092 Option Shuffling : Yes Is Question Mandatory : No Calculator : None Response Time : N.A Think Time : N.A Minimum Instruction Time : 0

Correct Marks : 1 Wrong Marks : 0

మోహన్, రాజు, రేణు, నిషి మరియు ప్రియాంక ఒక వృత్తాకారంలో కేంద్రం వైపుగా తిరిగి కూర్చున్నారు. మోహన్, రాజు కలిసి కూర్చోలేదు. నిషి మరియు ప్రియాంక ఒకరిప్రక్కన మరొకరు కూర్చున్నారు, రాజు నిషికి తక్షణ ఎడమ వైపున కూర్చున్నాడు.

పై పరతుల ఆధారంగా కింది ప్రకటన(ల)లో ఏది/ఏవి సత్యం?

- A) మోహన్, రేణుకి తక్షణ ఎడమవైపు కూర్చున్నాడు.
- B) రేణుకు తక్షణ కుడివైపున నిషి కూర్చోని ఉంది.

Options :

- 1. ✓ A మాత్రమే

2. ✖ B మాత్రమే

3. ✖ A మరియు B లు రెండూ

4. ✖ A కానీ లేదా B కానీ ఏదీ కాదు

Question Number : 112 Question Id : 630680223093 Option Shuffling : Yes Is Question Mandatory : No Calculator : None Response Time : N.A Think Time : N.A Minimum Instruction Time : 0

Correct Marks : 1 Wrong Marks : 0

Eight brothers, Aman, Binod, Chaman, Dev, Eshan, Faisal, Gautam and Hemant are sitting around a square table in such a way that four of them sit at four corners of the square while four sits in the middle of each of four sides. The one who sits at four corners faces the centre while those who sit in the middle of the sides face outside. Aman who faces the Centre sits third to the right of Faisal. Eshan, who faces Centre, is not an immediate neighbour of Faisal. Only one person sits between Faisal and Gautam. Dev sits second to the right of Binod. Binod faces the centre. Chaman is not an immediate neighbour of Aman.

Which of the following statement(s) is/are true based on the above conditions?

- A) Chaman is sitting to the immediate right of Eshan.
- B) Aman is sitting second to the left of Binod.
- C) Gautam is sitting to the immediate right of Aman.

Options :

1. ✖ A only

2. ✖ A and B

3. ✔ B and C

4. ✖ A and C

Question Number : 112 Question Id : 630680223093 Option Shuffling : Yes Is Question Mandatory : No Calculator : None Response Time : N.A Think Time : N.A Minimum Instruction Time : 0

Correct Marks : 1 Wrong Marks : 0

ఎనిమిది మంది సోదరులు, అమన్, బినోద్, చమన్, దేవ్, ఈషాన్, ఫైసల్, గౌతమ్ మరియు హేమంత్ ఒక చతురస్రాకారపు టేబుల్ చుట్టూ కూర్చున్నారు, వారిలో నలుగురు చతురస్రాకారపు నాలుగు మూలల్లో మరియు మిగతా నలుగురు నాలుగు భుజాల మధ్యలో కూర్చుంటారు. నాలుగు మూలల్లో కూర్చునేవారు లోపలి వైపుకి తిరిగి కూర్చోగా, నాలుగు భుజాల మధ్యలో కూర్చున్న వారు వెలుపలి వైపుకి తిరిగి కూర్చుంటారు. కుడివైపున లోపలి వైపుకి తిరిగి కూర్చున్న అమన్, ఫైసల్ కు కుడివైపున మూడవ స్థానంలో కూర్చున్నాడు. లోపలివైపుకి తిరిగి కూర్చున్న ఇషాన్, ఫైసల్ కి తక్షణ పొరుగువాడు కాదు. ఫైసల్ మరియు గౌతమ్ ల మధ్య ఒక వ్యక్తి మాత్రమే కూర్చున్నాడు. బినోద్ కి కుడివైపున రెండవ స్థానంలో దేవ్ కూర్చున్నాడు. బినోద్ లోపలి వైపుకి తిరిగి కూర్చున్నాడు. చమన్, అమన్ కి తక్షణ పొరుగువాడు కాదు.

పై షరతుల ఆధారంగా కింది ప్రకటన(ల)లో ఏది/ ఏవి సత్యం?

- A) ఈషాన్ కి తక్షణ కుడివైపున చమన్ కూర్చున్నాడు.
- B) బినోద్ కు ఎడమవైపున అమన్ రెండవ స్థానంలో కూర్చున్నాడు.
- C) అమన్ కి తక్షణ కుడివైపున గౌతమ్ కూర్చున్నాడు.

Options :

- 1. ✖ A మాత్రమే
- 2. ✖ A మరియు B
- 3. ✔ B మరియు C
- 4. ✖ A మరియు C

Question Number : 113 Question Id : 630680223094 Option Shuffling : Yes Is Question Mandatory : No Calculator : None Response Time : N.A Think Time : N.A Minimum Instruction Time : 0

Correct Marks : 1 Wrong Marks : 0

In a row of boys, Sundar is 13th from the left and Suresh is 23rd from the right. If they interchange their positions, then Sundar becomes 18th from the left. Then at what position will Suresh be from the right?

Options :

1. ✖ 24th

2. ✔ 28th

3. ✖ 27th

4. ✖ 26th

Question Number : 113 Question Id : 630680223094 Option Shuffling : Yes Is Question Mandatory : No Calculator : None Response Time : N.A Think Time : N.A Minimum Instruction Time : 0

Correct Marks : 1 Wrong Marks : 0

బాలుర వరుసలో సుందర్ ఎడమవైపు నుంచి 13వ స్థానంలో, సురేష్ కుడివైపు నుంచి 23వ స్థానంలో ఉంటారు. వారు తమ స్థానాలను పరస్పరం మార్చుకున్నట్లైతే, సుందర్ ఎడమవైపు నుండి 18వ స్థానంలో ఉంటాడు. అయిన సురేష్ కుడివైపు నుంచి ఏ స్థానంలో ఉంటాడు?

Options :

1. ✖ 24వ

2. ✔ 28వ

3. ✖ 27వ

4. ✖ 26వ

Question Number : 114 Question Id : 630680223095 Option Shuffling : Yes Is Question Mandatory : No Calculator : None Response Time : N.A Think Time : N.A Minimum Instruction Time : 0

Correct Marks : 1 Wrong Marks : 0

Subham studies different subjects namely Maths, Chemistry, Physics, Biology, Economics, English and History from Monday to Sunday not necessarily in the same order. He studies History on Monday. He studies English two days after he studies Maths. He studies Economics on Sunday. He studies Chemistry two days before Economics. He studies Math three days before Chemistry, He studies Physics two days after History. On which day he studies Biology?

Options :

1. ✔ Saturday

2. ✖ Sunday

3. ✖ Monday

4. ✖ Tuesday

Question Number : 114 Question Id : 630680223095 Option Shuffling : Yes Is Question Mandatory : No Calculator : None Response Time : N.A Think Time : N.A Minimum Instruction Time : 0

Correct Marks : 1 Wrong Marks : 0

శుభమ్ గణితం, రసాయనశాస్త్రం, భౌతికశాస్త్రం, జీవశాస్త్రం, అర్థశాస్త్రం, ఆంగ్లం మరియు చరిత్ర అనే విభిన్న సభైష్టలను సోమవారం నుండి ఆదివారం వరకు చదువుతాడు, ఇచ్చిన క్రమంలో ఉండాలన్న అవసరం లేదు. అతను సోమవారం చరిత్ర చదువుతాడు. అతను గణితం చదివిన రెండు రోజుల తర్వాత ఆంగ్లం చదువుతాడు. ఆదివారం అర్థశాస్త్రం చదువుతాడు. అతను అర్థశాస్త్రం చదవడానికి రెండు రోజుల ముందు రసాయనశాస్త్రం చదువుతాడు. రసాయన శాస్త్రానికి మూడు రోజుల ముందు గణితాన్ని చదువుతాడు, అతను చరిత్ర చదివిన రెండు రోజుల తర్వాత భౌతిక శాస్త్రాన్ని చదువుతాడు. అయిన అతను ఏ రోజున జీవశాస్త్రం చదువుతాడు?

Options :

- 1. ✓ శనివారం
- 2. ✗ ఆదివారం
- 3. ✗ సోమవారం
- 4. ✗ మంగళవారం

Question Number : 115 Question Id : 630680223096 Option Shuffling : Yes Is Question Mandatory : No Calculator : None Response Time : N.A Think Time : N.A Minimum Instruction Time : 0

Correct Marks : 1 Wrong Marks : 0

Akash's school organizes 5 different tests namely Alpha, beta, gamma, delta and phi for five months from April to August not necessarily in same order. Alpha is conducted three months before beta. Delta is conducted in month of June. Gamma is conducted before Alpha. In which month will Phi be conducted?

Options :

- 1. ✗ May
- 2. ✗ April

3. ✓ July

4. ✗ August

Question Number : 115 Question Id : 630680223096 Option Shuffling : Yes Is Question Mandatory : No Calculator : None Response Time : N.A Think Time : N.A Minimum Instruction Time : 0

Correct Marks : 1 Wrong Marks : 0

ఆకాష్ యొక్క పాఠశాల ఏప్రిల్ నుండి ఆగస్టు వరకు ఐదు నెలల పాటు ఆల్పా, బీటా, గామా, డెల్టా మరియు ఫై అనే 5 విభిన్న పరీక్షలను నిర్వహిస్తుంది, పరీక్షలు ఇచ్చిన క్రమంలో నిర్వహించాల్సిన అవసరం లేదు. ఆల్పా, బీటాకు మూడు నెలల ముందు నిర్వహించబడుతుంది. జూన్ నెలలో డెల్టా నిర్వహించబడుతుంది. గామా, ఆల్పా కంటే ముందు నిర్వహించబడుతుంది. అయిన ఏ నెలలో ఫై నిర్వహించబడుతుంది?

Options :

1. ✗ మే

2. ✗ ఏప్రిల్

3. ✓ జూలై

4. ✗ ఆగస్టు

Question Number : 116 Question Id : 630680223097 Option Shuffling : Yes Is Question Mandatory : No Calculator : None Response Time : N.A Think Time : N.A Minimum Instruction Time : 0

Correct Marks : 1 Wrong Marks : 0

Two Statements are given followed by two conclusions numbered I and II. Assuming the statements to be true, even if they seem to be at variance with commonly known facts, decide which of the conclusions logically follow(s) from the statements.

Statements:

Some banks are schools.

All schools are hospitals.

Conclusions:

I. Some banks are hospitals.

II. All hospitals are schools.

Options :

1. ✓ Only I follows

2. ✗ Only II follows

3. ✗ Both I and II follows

4. ✗ Neither I nor II follows

Question Number : 116 Question Id : 630680223097 Option Shuffling : Yes Is Question

Mandatory : No Calculator : None Response Time : N.A Think Time : N.A Minimum Instruction Time : 0

Correct Marks : 1 Wrong Marks : 0

రెండు ప్రకటనలు ఇవ్వబడ్డాయి, వాటిని అనుసరిస్తూ I మరియు II సంఖ్యలతో రెండు ముగింపులు ఇవ్వబడ్డాయి. ప్రకటనలు సాధారణంగా తెలిసిన వాస్తవాలతో విభేదిస్తున్నట్లు కనిపించినప్పటికీ, వాటిని సత్యమని భావించి, ప్రకటనల నుండి తార్కికంగా అనుసరించేముగింపులను నిర్ణయించండి.

ప్రకటనలు:

కొన్ని బ్యాంకులు పాఠశాలలు.

అన్ని పాఠశాలలు ఆసుపత్రులు.

ముగింపులు:

I. కొన్ని బ్యాంకులు ఆసుపత్రులు.

II. అన్ని ఆసుపత్రులు పాఠశాలలు.

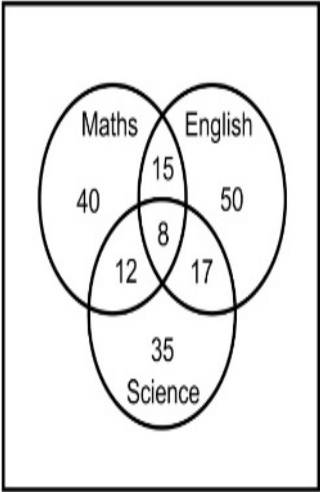
Options :

1. ✓ I మాత్రమే అనుసరిస్తుంది
2. ✗ II మాత్రమే అనుసరిస్తుంది
3. ✗ I మరియు II లు రెండూ అనుసరిస్తాయి
4. ✗ I కానీ లేదా II కానీ ఏదీ అనుసరించదు

Question Number : 117 Question Id : 630680223098 Option Shuffling : Yes Is Question Mandatory : No Calculator : None Response Time : N.A Think Time : N.A Minimum Instruction Time : 0

Correct Marks : 1 Wrong Marks : 0

The following Venn diagram shows subjects selected by the number of students in a class. Find the number of students who have selected only 2 subjects.



Options :

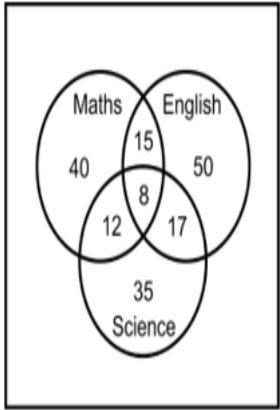
- 1. ✖ 52
- 2. ✔ 44
- 3. ✖ 36
- 4. ✖ 50

Question Number : 117 Question Id : 630680223098 Option Shuffling : Yes Is Question Mandatory : No Calculator : None Response Time : N.A Think Time : N.A Minimum Instruction Time : 0

Correct Marks : 1 Wrong Marks : 0

ఈ క్రింది వెన్ డయాగ్రామ్ ఒక తరగతిలోని విద్యార్థులు వారు ఎంచుకున్న సబ్జెక్టులను బట్టి వారి సంఖ్యను చూపుతుంది. 2 సబ్జెక్టులను మాత్రమే ఎంచుకున్న విద్యార్థుల సంఖ్యను కనుగొనండి.

Maths - గణితం; English - ఆంగ్లం; Science - సైన్స్



Options :

1. ✖ 52
2. ✔ 44
3. ✖ 36
4. ✖ 50

Question Number : 118 Question Id : 630680223099 Option Shuffling : Yes Is Question Mandatory : No Calculator : None Response Time : N.A Think Time : N.A Minimum Instruction Time : 0

Correct Marks : 1 Wrong Marks : 0

In the following number series, how many 8's are there which are immediately followed by a number which does not divide it but is preceded by a number which divides it?

4 8 1 8 3 8 5 8 6 5 3 4 8 2 6 8 4 7 1 5 8 7 8 2 8 6

(Note- Each number is a one digit number)

Options :

1. ✖ 1

2. ✔ 2

3. ✖ 3

4. ✖ 4

Question Number : 118 Question Id : 630680223099 Option Shuffling : Yes Is Question Mandatory : No Calculator : None Response Time : N.A Think Time : N.A Minimum Instruction Time : 0

Correct Marks : 1 Wrong Marks : 0

ఈ క్రింది సంఖ్య శ్రేణిలో, ఎన్ని 8లు, వాటి తక్షణం వెంటనే భాగించని సంఖ్యను, మరియు దాని ముందు భాగించే సంఖ్యను కలిగి వుంటాయి?

4 8 1 8 3 8 5 8 6 5 3 4 8 2 6 8 4 7 1 5 8 7 8 2 8 6

(గమనిక- ప్రతి సంఖ్య ఒక అంకె కలిగిన సంఖ్య)

Options :

1. ✖ 1

2. ✔ 2

3. ✖ 3

4. ✖ 4

Question Number : 119 Question Id : 630680223100 Option Shuffling : Yes Is Question

Mandatory : No Calculator : None Response Time : N.A Think Time : N.A Minimum Instruction Time : 0

Correct Marks : 1 Wrong Marks : 0

If C is taller than D, D is taller than G, F is taller than C. H is shorter than G but taller than E. Who among these is the tallest?

Options :

- 1. ✖ H
- 2. ✖ G
- 3. ✖ C
- 4. ✔ F

Question Number : 119 Question Id : 630680223100 Option Shuffling : Yes Is Question Mandatory : No Calculator : None Response Time : N.A Think Time : N.A Minimum Instruction Time : 0

Correct Marks : 1 Wrong Marks : 0

ఒకవేళ C అనేది D కంటే పొడవుగా ఉంటే, D అనేది G కంటే పొడవుగా ఉంటుంది, F అనేది C కంటే పొడవుగా ఉంటుంది. H అనేది G కంటే పొట్టిగా ఉంటుంది కానీ E కంటే పొడవుగా ఉంటుంది. అయిన వీరిలో ఎవరు అత్యంత పొడవుగా ఉంటారు?

Options :

- 1. ✖ H
- 2. ✖ G
- 3. ✖ C

4. ✓ F

Question Number : 120 Question Id : 630680223101 Option Shuffling : Yes Is Question Mandatory : No Calculator : None Response Time : N.A Think Time : N.A Minimum Instruction Time : 0

Correct Marks : 1 Wrong Marks : 0

The marks of six students, X, Y, Z, A, B, and C are given as follows: A scored more than C who scored second best.

Three students scored between Z and C.

Which of the following statement(s) is/are true based on the above conditions?

- A) Z scored the highest.
- B) X scored less than C.
- C) B scored more than A.

Options :

- 1. ✖ A only
- 2. ✖ A and B
- 3. ✖ B and C
- 4. ✓ B only

Question Number : 120 Question Id : 630680223101 Option Shuffling : Yes Is Question Mandatory : No Calculator : None Response Time : N.A Think Time : N.A Minimum Instruction Time : 0

Correct Marks : 1 Wrong Marks : 0

ఆరుగురు విద్యార్థులు X, Y, Z, A, B మరియు C ల యొక్క మార్కులు ఈ క్రింది విధంగా ఇవ్వబడ్డాయి:
రెండవ ఉత్తమ స్కోర్ చేసిన C కంటే A ఎక్కువ స్కోర్ చేశాడు. Z మరియు C ల మధ్య ముగ్గురు
విద్యార్థులు స్కోర్ చేసారు.

పై షరతుల ఆధారంగా కింది ప్రకటన(ల)లో ఏది/ ఏవి సత్యం?

- A) Z అత్యధిక స్కోర్ చేశాడు.
- B) C కంటే X తక్కువ స్కోర్ చేశాడు.
- C) A కంటే B ఎక్కువ స్కోర్ చేశాడు.

Options :

1. ✖ A మాత్రమే

2. ✖ A మరియు B

3. ✖ B మరియు C

4. ✔ B మాత్రమే

Question Number : 121 Question Id : 630680223102 Option Shuffling : Yes Is Question Mandatory : No Calculator : None Response Time : N.A Think Time : N.A Minimum Instruction Time : 0

Correct Marks : 1 Wrong Marks : 0

In a certain code language, 'IMP' is written as 'HJLNOQ'.

Based on the given coding, match the following:

A. TAG	1. SUDFMO
B. TIE	2. SUHJDF
C. TEN	3. SUZBFH

Options :

1. ✔ A-3; B-2; C-1

2. ✖ A-2; B-3; C-1

3. ✖ A-2; B-1; C-3

4. ✖ A-1; B-2; C-3

Question Number : 121 Question Id : 630680223102 Option Shuffling : Yes Is Question Mandatory : No Calculator : None Response Time : N.A Think Time : N.A Minimum Instruction Time : 0

Correct Marks : 1 Wrong Marks : 0

నిర్దిష్ట కోడ్ భాషలో, 'IMP' అనేది 'HJLNOQ' గా వ్రాయబడింది.

ఇచ్చిన కోడింగ్ ఆధారంగా, ఈ క్రింది వాటిని జతపరచండి:

A. TAG	1. SUDFMO
B. TIE	2. SUHJDF
C. TEN	3. SUZBFH

Options :

1. ✔ A-3; B-2; C-1

2. ✖ A-2; B-3; C-1

3. ✖ A-2; B-1; C-3

4. ✖ A-1; B-2; C-3

Question Number : 122 Question Id : 630680223103 Option Shuffling : Yes Is Question Mandatory : No Calculator : None Response Time : N.A Think Time : N.A Minimum Instruction Time : 0

Correct Marks : 1 Wrong Marks : 0

In a coded language, the phrase "I am home" is written as "ka ba sa" and "My house" is written as "na ta", and "house is home" is written as "na ka da". What is the code of word "is" in that language?

Options :

1. ✖ na

2. ✖ ka

3. ✔ da

4. ✖ ta

Question Number : 122 Question Id : 630680223103 Option Shuffling : Yes Is Question Mandatory : No Calculator : None Response Time : N.A Think Time : N.A Minimum Instruction Time : 0

Correct Marks : 1 Wrong Marks : 0

ఒక కోడ్ భాషలో, "I am home" అనే పదబంధం " ka ba sa" గా మరియు "My house" అనేది 'na ta' గా మరియు "house is home" అనేది "na ka da" గా వ్రాయబడింది. అయిన అదే భాషలో "is" అనే పదానికి కోడ్ ఏమిటి?

Options :

1. ✖ na

2. ✖ ka

3. ✓ da

4. ✗ ta

Question Number : 123 Question Id : 630680223104 Option Shuffling : Yes Is Question Mandatory : No Calculator : None Response Time : N.A Think Time : N.A Minimum Instruction Time : 0

Correct Marks : 1 Wrong Marks : 0

Sneha travelled 3 km straight towards the south. She turned left and travelled 6 km straight, and then turned left and travelled 3 km straight. Find the shortest distance between her and starting point?

Options :

1. ✗ 8 km

2. ✓ 6 km

3. ✗ 5 km

4. ✗ 4 km

Question Number : 123 Question Id : 630680223104 Option Shuffling : Yes Is Question Mandatory : No Calculator : None Response Time : N.A Think Time : N.A Minimum Instruction Time : 0

Correct Marks : 1 Wrong Marks : 0

స్నేహ నేరుగా దక్షిణం వైపు 3 km ప్రయాణించింది. ఆమె ఎడమ వైపుకు తిరిగి 6 km నేరుగా ప్రయాణించి, ఆపై ఎడమ వైపుకు తిరిగి 3 km ప్రయాణించింది. అయిన ఆమె మరియు ఆమె యొక్క ప్రారంభ స్థానాల మధ్య గల అత్యల్ప దూరాన్ని కనుగొనండి?

Options :

1. ✖ 8 km

2. ✔ 6 km

3. ✖ 5 km

4. ✖ 4 km

Question Number : 124 Question Id : 630680223105 Option Shuffling : Yes Is Question Mandatory : No Calculator : None Response Time : N.A Think Time : N.A Minimum Instruction Time : 0

Correct Marks : 1 Wrong Marks : 0

Select the option that is related to the third letter cluster in the same way as the second number-letter cluster is related to the first letter cluster.

LOVE : 12N22D :: TALL : ?

Options :

1. ✖ 20Z21M

2. ✔ 20Z12K

3. ✖ 12MZ2

4. ✖ 4Z14

Question Number : 124 Question Id : 630680223105 Option Shuffling : Yes Is Question Mandatory : No Calculator : None Response Time : N.A Think Time : N.A Minimum Instruction Time : 0

Correct Marks : 1 Wrong Marks : 0

రెండవ సంఖ్య-అక్షర సమూహం, మొదటి అక్షర సమూహానికి సంబంధించిన విధంగానే మూడవ అక్షర సమూహానికి సంబంధించిన ఎంపికను ఎంచుకోండి.

LOVE : 12N22D :: TALL : ?

Options :

1. ✖ 20Z21M

2. ✔ 20Z12K

3. ✖ 12MZ2

4. ✖ 4Z14

Question Number : 125 Question Id : 630680223106 Option Shuffling : Yes Is Question Mandatory : No Calculator : None Response Time : N.A Think Time : N.A Minimum Instruction Time : 0

Correct Marks : 1 Wrong Marks : 0

Consider the following pairs and choose the pair which matches the given relation.

Country Currency

- A. India: Rupee
- B. Japan: Taka
- C. Bangladesh: Yen
- D. Italy: Euro

Options :

1. ✖ A only

2. ✔ A and D

3. ✖ A, B and D

4. ✖ B only

Question Number : 125 Question Id : 630680223106 Option Shuffling : Yes Is Question Mandatory : No Calculator : None Response Time : N.A Think Time : N.A Minimum Instruction Time : 0

Correct Marks : 1 Wrong Marks : 0

ఈ క్రింది జతలను పరిగణించండి మరియు ఇచ్చిన సంబంధానికి సరిపోయే జంటను ఎంచుకోండి.
దేశం కరెన్సీ

- A. భారతదేశం: రూపాయి
- B. జపాన్: టాకా
- C. బంగ్లాదేశ్: యెన్
- D. ఇటలీ: యూరో

Options :

1. ✖ A మాత్రమే

2. ✔ A మరియు D

3. ✖ A, B మరియు D

4. ✖ B మాత్రమే

Question Number : 126 Question Id : 630680223107 Option Shuffling : Yes Is Question Mandatory : No Calculator : None Response Time : N.A Think Time : N.A Minimum Instruction Time : 0

Correct Marks : 1 Wrong Marks : 0

The question below consists of a question and two statements numbered I and II given below it. You have to decide whether the data provided in the statements are sufficient to answer the question. Read both statements and give an answer.

Question: Which direction is Neha facing?

Statement I: If Neha turns right, she will be facing West.

Statement II: On, turning 45 degrees anti-clockwise, she will be facing South-East.

Options :

1. ✖ I alone is sufficient while II alone is not sufficient
2. ✖ II alone is sufficient while I alone is not sufficient
3. ✔ EACH statement ALONE is sufficient
4. ✖ Neither I nor II is sufficient

Question Number : 126 Question Id : 630680223107 Option Shuffling : Yes Is Question Mandatory : No Calculator : None Response Time : N.A Think Time : N.A Minimum Instruction Time : 0

Correct Marks : 1 Wrong Marks : 0

ఈ ప్రశ్న దిగువన ఒక ప్రశ్న మరియు దానిని అనుసరిస్తూ I మరియు II అనే సంఖ్యలతో కూడిన రెండు ప్రకటనలను కలిగి ఉంటుంది. ప్రశ్నకు సమాధానం ఇవ్వడానికి ప్రకటనలలో అందించిన సమాచారం సరిపోతుందో లేదో మీరు నిర్ణయించుకోవాలి. రెండు ప్రకటనలను చదివి సమాధానం ఇవ్వండి.

ప్రశ్న: నేహా ఏ దిశకు అభిముఖంగా ఉంది?

ప్రకటన I: ఒకవేళ నేహా కుడి వైపుకి తిరిగినట్లైతే, ఆమె పడమటి దిశవైపుకి అభిముఖంగా ఉంటుంది.

ప్రకటన II: 45 డిగ్రీలు అవసర్య దిశలో తిరిగినట్లైతే, ఆమె ఆగ్నేయ దిశవైపుకి అభిముఖంగా ఉంటుంది.

Options :

1. ✖ I ఒక్కటే సరిపోతుండగా II ఒక్కటే సరిపోదు
2. ✖ II ఒక్కటే సరిపోతుండగా I ఒక్కటే సరిపోదు
3. ✔ ప్రతి ప్రకటన ఒక్కటే సరిపోతుంది
4. ✖ I కానీ లేదా II కానీ ఏదీ సరిపోదు

Question Number : 127 Question Id : 630680223108 Option Shuffling : Yes Is Question Mandatory : No Calculator : None Response Time : N.A Think Time : N.A Minimum Instruction Time : 0

Correct Marks : 1 Wrong Marks : 0

The question below consists of a question and two statements numbered I and II given below it. You have to decide whether the data provided in the statements are sufficient to answer the question. Read both statements and give an answer.

Question: Is $A < B$ true?

Statement I: $A \leq M > H > B$

Statement II: $A \leq Z < B = M$

Options :

1. ✖ I alone is sufficient while II alone is not sufficient
2. ✔ II alone is sufficient while I alone is not sufficient
3. ✖ Both I and II together are sufficient
4. ✖ Neither I nor II is sufficient

Question Number : 127 Question Id : 630680223108 Option Shuffling : Yes Is Question Mandatory : No Calculator : None Response Time : N.A Think Time : N.A Minimum Instruction Time : 0

Correct Marks : 1 Wrong Marks : 0

ఈ ప్రశ్న దిగువన ఒక ప్రశ్న మరియు దానిని అనుసరిస్తూ I మరియు II అనే సంఖ్యలతో కూడిన రెండు ప్రకటనలను కలిగి ఉంటుంది. ప్రశ్నకు సమాధానం ఇవ్వడానికి ప్రకటనలలో అందించిన సమాచారం సరిపోతుందో లేదో మీరు నిర్ణయించుకోవాలి. రెండు ప్రకటనలను చదివి సమాధానం ఇవ్వండి.

ప్రశ్న: $A < B$ అనేది సత్యమా?

ప్రకటన I: $A \leq M > H > B$

ప్రకటన II: $A \leq Z < B = M$

Options :

1. ✖ I ఒక్కటే సరిపోతుండగా II ఒక్కటే సరిపోదు
2. ✔ II ఒక్కటే సరిపోతుండగా I ఒక్కటే సరిపోదు
3. ✖ I మరియు II లు రెండూ కలిసి సరిపోతాయి
4. ✖ I కానీ లేదా II కానీ ఏదీ సరిపోదు

Question Number : 128 Question Id : 630680223109 Option Shuffling : Yes Is Question Mandatory : No Calculator : None Response Time : N.A Think Time : N.A Minimum Instruction Time : 0

Correct Marks : 1 Wrong Marks : 0

In the question, a statement is given, followed by two conclusions, I and II. You have to consider the statement to be true even if it seems to be at variance from commonly known facts. You have to decide which of the given conclusions, if any, follows from the given statement.

Statement : Money plays a very important role in politics.

Conclusions

I. All rich businessmen are politicians.

II. No poor man is a politician.

Options :

1. ✖ Only I follows

2. ✖ Only II follows

3. ✖ Both I and II follows

4. ✔ Neither I nor II follows

Question Number : 128 Question Id : 630680223109 Option Shuffling : Yes Is Question

Mandatory : No Calculator : None Response Time : N.A Think Time : N.A Minimum Instruction Time : 0

Correct Marks : 1 Wrong Marks : 0

ప్రశ్నలో, ఒక ప్రకటన ఇవ్వబడింది, దానిని అనుసరిస్తూ I మరియు II అనే రెండు తీర్మానాలు ఉంటాయి. సాధారణంగా తెలిసిన వాస్తవాలకు భిన్నంగా ఉన్నట్లు అనిపించినా కూడా మీరు ప్రకటనను సత్యమని భావించి, అన్ని ముగింపులను చదవి, ఇచ్చిన ముగింపులలో ఏది తార్కికంగా ప్రకటనను అనుసరిస్తుందో నిర్ణయించండి.

ప్రకటన: రాజకీయాల్లో డబ్బు చాలా ముఖ్యమైన పాత్ర పోషిస్తుంది.

ముగింపులు:

I. ధనిక వ్యాపారులందరూ రాజకీయ నాయకులు.

II. ఏ పేదవాడు రాజకీయ నాయకుడు కాదు.

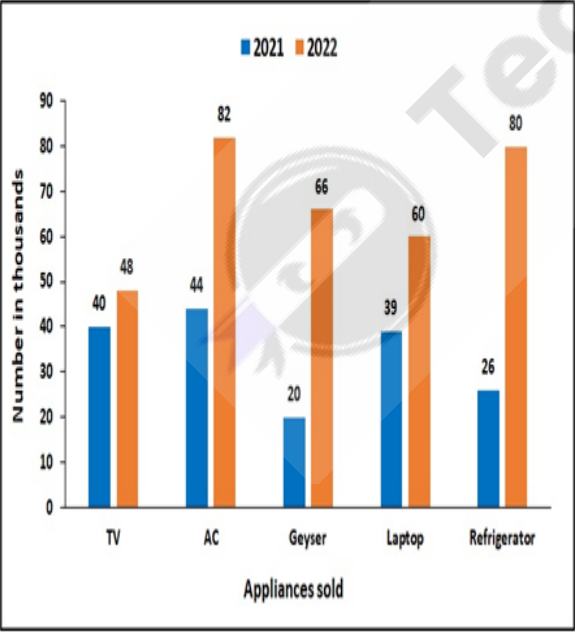
Options :

- 1. ✖ I మాత్రమే అనుసరిస్తుంది
- 2. ✖ II మాత్రమే అనుసరిస్తుంది
- 3. ✖ I మరియు II లు రెండూ అనుసరిస్తాయి
- 4. ✔ I కానీ లేదా II కానీ ఏదీ అనుసరించదు

Question Number : 129 Question Id : 630680223110 Option Shuffling : Yes Is Question Mandatory : No Calculator : None Response Time : N.A Think Time : N.A Minimum Instruction Time : 0

Correct Marks : 1 Wrong Marks : 0

The Bar graph shows the number of different types of electronics sold (in thousands) by a shop in the years 2021 and 2022. The quantity of Laptops sold in 2021 is what percent of the quantity of TV and AC sold in 2022 together?



Options :

- 1. ✖ 20%

2. ✓ 30%

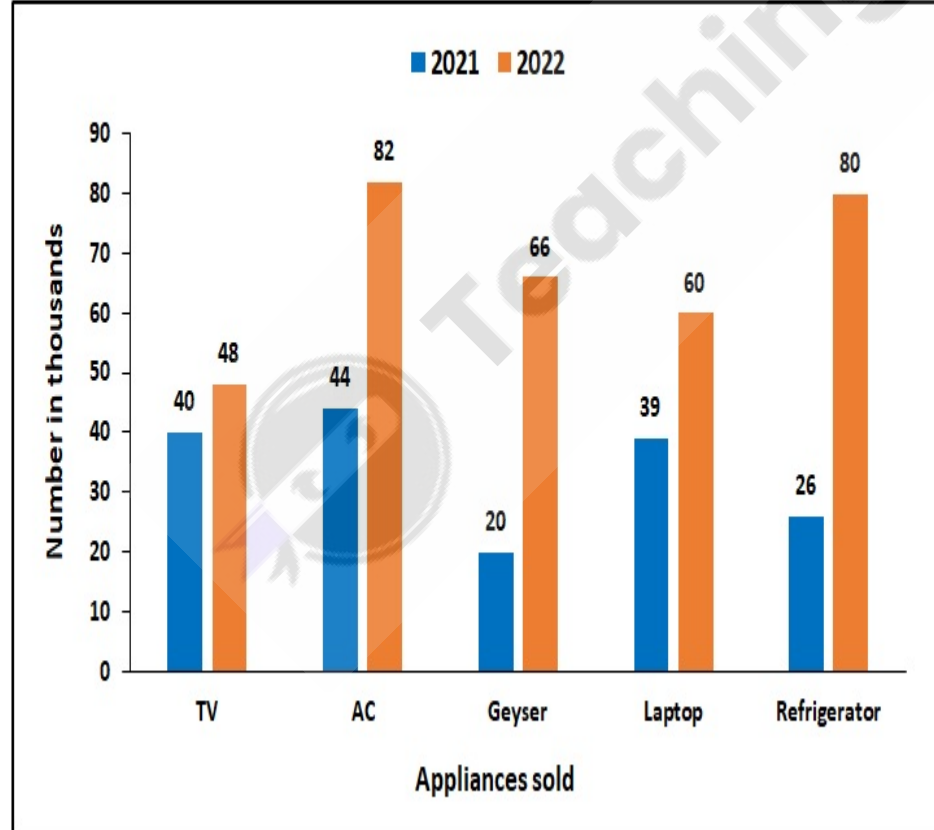
3. ✗ 25%

4. ✗ 33%

Question Number : 129 Question Id : 630680223110 Option Shuffling : Yes Is Question Mandatory : No Calculator : None Response Time : N.A Think Time : N.A Minimum Instruction Time : 0

Correct Marks : 1 Wrong Marks : 0

2021 మరియు 2022 సంవత్సరాల్లో ఒక దుకాణం ద్వారా విక్రయించబడిన వివిధ రకాల ఎలక్ట్రానిక్ వస్తువుల సంఖ్యను (వేలలో) బార్ గ్రాఫ్ చూపుతుంది. 2021లో విక్రయించబడిన ల్యాప్టాప్ల పరిమాణం 2022లో విక్రయించబడిన TV మరియు AC ల పరిమాణంలో ఎంత శాతం ఉంటుంది?



Number in thousands - సంఖ్యలు వేలలో, Appliances sold - విక్రయించబడిన ఎలక్ట్రానిక్ ఉపకరణాలు

Options :

1. ✗ 20%

2. ✓ 30%

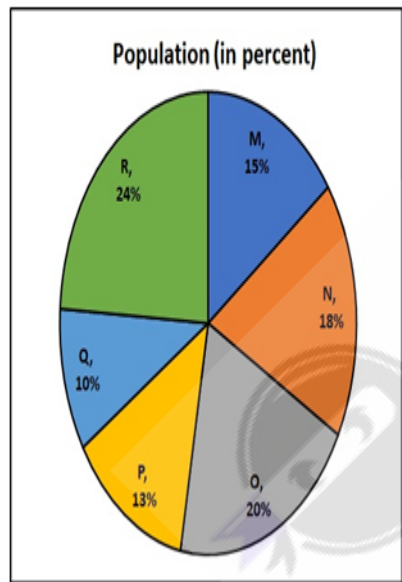
3. ✖ 25%

4. ✖ 33%

Question Number : 130 Question Id : 630680223111 Option Shuffling : Yes Is Question Mandatory : No Calculator : None Response Time : N.A Think Time : N.A Minimum Instruction Time : 0

Correct Marks : 1 Wrong Marks : 0

The following pie-chart shows the population of villages in Bihar. If the population of village N is 54,000, then what is the population of village O?



Options :

1. ✖ 40,000

2. ✖ 55,000

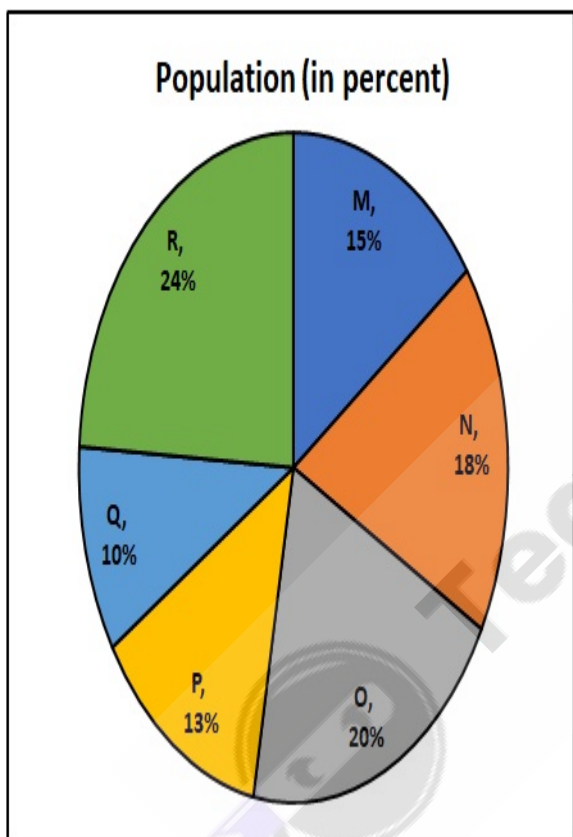
3. ✓ 60,000

4. ✖ 50,000

Question Number : 130 Question Id : 630680223111 Option Shuffling : Yes Is Question Mandatory : No Calculator : None Response Time : N.A Think Time : N.A Minimum Instruction Time : 0

Correct Marks : 1 Wrong Marks : 0

ఈ క్రింది పై-చార్ట్ బీహార్‌లోని గ్రామాల జనాభాను చూపుతుంది. N అనే గ్రామ జనాభా 54,000 అయితే, O అనే గ్రామ జనాభా ఎంత?



Population (in percent) - జనాభా (శాతంలో)

Options :

1. ✖ 40,000

2. ✖ 55,000

3. ✔ 60,000

4. ✖ 50,000

Question Number : 131 Question Id : 630680223112 Option Shuffling : Yes Is Question Mandatory : No Calculator : None Response Time : N.A Think Time : N.A Minimum Instruction Time : 0

Correct Marks : 1 Wrong Marks : 0

Fill in the blank with the most appropriate option.

That is why _____ feeling that you have deliberately caused injury to someone upsets you so much.

Options :

1. ✖ a

2. ✖ an

3. ✔ the

4. ✖ that

Question Number : 131 Question Id : 630680223112 Option Shuffling : Yes Is Question Mandatory : No Calculator : None Response Time : N.A Think Time : N.A Minimum Instruction Time : 0

Correct Marks : 1 Wrong Marks : 0

Fill in the blank with the most appropriate option.

That is why _____ feeling that you have deliberately caused injury to someone upsets you so much.

Options :

1. ✖ a

2.

✖ an

3. ✔ the

4. ✖ that

Question Number : 132 Question Id : 630680223113 Option Shuffling : Yes Is Question Mandatory : No Calculator : None Response Time : N.A Think Time : N.A Minimum Instruction Time : 0

Correct Marks : 1 Wrong Marks : 0

Fill in the blank with the most appropriate Definite or Indefinite Article.

Let me give you _____ honest advice, never give your opinion unless it is asked for.

Options :

1. ✖ a

2. ✖ some

3. ✖ the

4. ✔ an

Question Number : 132 Question Id : 630680223113 Option Shuffling : Yes Is Question Mandatory : No Calculator : None Response Time : N.A Think Time : N.A Minimum Instruction Time : 0

Correct Marks : 1 Wrong Marks : 0

Fill in the blank with the most appropriate Definite or Indefinite Article.

Let me give you _____ honest advice, never give your opinion unless it is asked for.

Options :

- 1. ✖ a
- 2. ✖ some
- 3. ✖ the
- 4. ✔ an

Question Number : 133 Question Id : 630680223114 Option Shuffling : Yes Is Question Mandatory : No Calculator : None Response Time : N.A Think Time : N.A Minimum Instruction Time : 0

Correct Marks : 1 Wrong Marks : 0

Fill in the blank with the most appropriate option.

The so-called Brahmin before him might _____ be Yudhishtir himself.

Options :

- 1. ✖ somewhat
- 2. ✔ actually
- 3. ✖ however
- 4. ✖ perhaps

Question Number : 133 Question Id : 630680223114 Option Shuffling : Yes Is Question Mandatory : No Calculator : None Response Time : N.A Think Time : N.A Minimum Instruction Time : 0

Correct Marks : 1 Wrong Marks : 0

Fill in the blank with the most appropriate option.

The so-called Brahmin before him might _____ be Yudhishtir himself.

Options :

1. ✖ somewhat
2. ✔ actually
3. ✖ however
4. ✖ perhaps

Question Number : 134 Question Id : 630680223115 Option Shuffling : Yes Is Question

Mandatory : No Calculator : None Response Time : N.A Think Time : N.A Minimum Instruction

Time : 0

Correct Marks : 1 Wrong Marks : 0

Fill in the blank with the most appropriate option.

Thimayya had _____ harboured misgivings about Chinese motives and intentions.

Options :

1. ✔ always
2. ✖ regularly
3. ✖ before
4. ✖ despite

Question Number : 134 Question Id : 630680223115 Option Shuffling : Yes Is Question Mandatory : No Calculator : None Response Time : N.A Think Time : N.A Minimum Instruction Time : 0

Correct Marks : 1 Wrong Marks : 0

Fill in the blank with the most appropriate option.

Thimayya had _____ harboured misgivings about Chinese motives and intentions.

Options :

1. ✓ always
2. ✗ regularly
3. ✗ before
4. ✗ despite

Question Number : 135 Question Id : 630680223116 Option Shuffling : Yes Is Question Mandatory : No Calculator : None Response Time : N.A Think Time : N.A Minimum Instruction Time : 0

Correct Marks : 1 Wrong Marks : 0

Which of these statements has a grammatical error?

Statement A: The sun will set slow over the tranquil lake, casting a warm golden glow on the surrounding trees.

Statement B: Nearby, a gentle breeze rustled the leaves, creates a peaceful melody that echoed through the serene landscape.

Options :

1. ✗ Only A
2. ✗ Only B
3. ✓ Both A and B

4. ✖ Neither A nor B

Question Number : 135 Question Id : 630680223116 Option Shuffling : Yes Is Question Mandatory : No Calculator : None Response Time : N.A Think Time : N.A Minimum Instruction Time : 0

Correct Marks : 1 Wrong Marks : 0

Which of these statements has a grammatical error?

Statement A: The sun will set slow over the tranquil lake, casting a warm golden glow on the surrounding trees.

Statement B: Nearby, a gentle breeze rustled the leaves, creates a peaceful melody that echoed through the serene landscape.

Options :

1. ✖ Only A

2. ✖ Only B

3. ✔ Both A and B

4. ✖ Neither A nor B

Question Number : 136 Question Id : 630680223117 Option Shuffling : Yes Is Question Mandatory : No Calculator : None Response Time : N.A Think Time : N.A Minimum Instruction Time : 0

Correct Marks : 1 Wrong Marks : 0

Which of these statements has a grammatical error?

Statement A: Although she had been dubious about the efficacy of the proposed strategy, the subsequent success it garnered left her in a state of pleasant astonishment.

Statement B: Notwithstanding the challenges they faced, the team persevered and ultimately accomplished their objective, which was no small feat given the circumstances.

Options :

1. ✖ Only A
2. ✖ Only B
3. ✖ Both A and B
4. ✔ Neither A nor B

Question Number : 136 Question Id : 630680223117 Option Shuffling : Yes Is Question Mandatory : No Calculator : None Response Time : N.A Think Time : N.A Minimum Instruction Time : 0

Correct Marks : 1 Wrong Marks : 0

Which of these statements has a grammatical error?

Statement A: Although she had been dubious about the efficacy of the proposed strategy, the subsequent success it garnered left her in a state of pleasant astonishment.

Statement B: Notwithstanding the challenges they faced, the team persevered and ultimately accomplished their objective, which was no small feat given the circumstances.

Options :

1. ✖ Only A
2. ✖ Only B
3. ✖ Both A and B
4. ✔ Neither A nor B

Question Number : 137 Question Id : 630680223118 Option Shuffling : Yes Is Question Mandatory : No Calculator : None Response Time : N.A Think Time : N.A Minimum Instruction Time : 0

Correct Marks : 1 Wrong Marks : 0

Which of these statements has a grammatical error?

Statement A: During lunch break, students gather in the courtyard, sharing stories and laughter under the warm sun.

Statement B: After school, the sound of footsteps and chattering filled the hallways as clubs and study groups convened for their meetings.

Options :

1. ✓ Only A

2. ✗ Only B

3. ✗ Both A and B

4. ✗ Neither A nor B

Question Number : 137 Question Id : 630680223118 Option Shuffling : Yes Is Question Mandatory : No Calculator : None Response Time : N.A Think Time : N.A Minimum Instruction Time : 0

Correct Marks : 1 Wrong Marks : 0

Which of these statements has a grammatical error?

Statement A: During lunch break, students gather in the courtyard, sharing stories and laughter under the warm sun.

Statement B: After school, the sound of footsteps and chattering filled the hallways as clubs and study groups convened for their meetings.

Options :

1. ✓ Only A

2. ✗ Only B

3. ✖ Both A and B

4. ✖ Neither A nor B

Question Number : 138 Question Id : 630680223119 Option Shuffling : Yes Is Question Mandatory : No Calculator : None Response Time : N.A Think Time : N.A Minimum Instruction Time : 0

Correct Marks : 1 Wrong Marks : 0

Which of these statements has a grammatical error?

Statement A: The aroma of freshly brewed coffee filled the air as the city slowly came to life in the early morning hours.

Statement B: Passerbys greeted one another with friendly smiles, creating a sense of community in the bustling metropolis.

Statement C: As the day progressed, the streets became increasingly vibrant, reflecting the unique character and charm of the city.

Options :

1. ✖ Only A

2. ✔ Only B

3. ✖ Only C

4. ✖ Neither A, B nor C

Question Number : 138 Question Id : 630680223119 Option Shuffling : Yes Is Question Mandatory : No Calculator : None Response Time : N.A Think Time : N.A Minimum Instruction Time : 0

Correct Marks : 1 Wrong Marks : 0

Which of these statements has a grammatical error?

Statement A: The aroma of freshly brewed coffee filled the air as the city slowly came to life in the early morning hours.

Statement B: Passerbys greeted one another with friendly smiles, creating a sense of community in the bustling metropolis.

Statement C: As the day progressed, the streets became increasingly vibrant, reflecting the unique character and charm of the city.

Options :

- 1. ✖ Only A
- 2. ✔ Only B
- 3. ✖ Only C
- 4. ✖ Neither A, B nor C

Question Number : 139 Question Id : 630680223120 Option Shuffling : Yes Is Question Mandatory : No Calculator : None Response Time : N.A Think Time : N.A Minimum Instruction Time : 0

Correct Marks : 1 Wrong Marks : 0

How many of these statements has a grammatical error?

Statement A: It's a beautiful day outside, is it?

Statement B: You've finished the project, haven't you?

Statement C: They're going to the concert tonight, aren't them?

Options :

- 1. ✖ One
- 2. ✔ Two
- 3. ✖ Three

4. ✖ None

Question Number : 139 Question Id : 630680223120 Option Shuffling : Yes Is Question Mandatory : No Calculator : None Response Time : N.A Think Time : N.A Minimum Instruction Time : 0

Correct Marks : 1 Wrong Marks : 0

How many of these statements has a grammatical error?

Statement A: It's a beautiful day outside, is it?

Statement B: You've finished the project, haven't you?

Statement C: They're going to the concert tonight, aren't them?

Options :

1. ✖ One

2. ✔ Two

3. ✖ Three

4. ✖ None

Question Number : 140 Question Id : 630680223121 Option Shuffling : Yes Is Question Mandatory : No Calculator : None Response Time : N.A Think Time : N.A Minimum Instruction Time : 0

Correct Marks : 1 Wrong Marks : 0

Fill in the blank with the most appropriate option.

We all are not pawns in the hands of time, _____ we?

Options :

1. ✖ have

2. ✖ aren't

3. ✔ are

4. ✖ can't

Question Number : 140 Question Id : 630680223121 Option Shuffling : Yes Is Question Mandatory : No Calculator : None Response Time : N.A Think Time : N.A Minimum Instruction Time : 0

Correct Marks : 1 Wrong Marks : 0

Fill in the blank with the most appropriate option.

We all are not pawns in the hands of time, _____ we?

Options :

1. ✖ have

2. ✖ aren't

3. ✔ are

4. ✖ can't

Question Number : 141 Question Id : 630680223122 Option Shuffling : Yes Is Question Mandatory : No Calculator : None Response Time : N.A Think Time : N.A Minimum Instruction Time : 0

Correct Marks : 1 Wrong Marks : 0

From the options choose the correct passive voice form for the sentence given below.

Wives did not usually accompany kings on their journeys.

Options :

1. ✖ The kings are usually never accompanied by their wives on their journeys.
2. ✔ On their journeys, the kings were usually not accompanied by their wives.
3. ✖ On their journeys, wives did not accompany kings.
4. ✖ On their journeys, the kings were never accompanied by their wives.

Question Number : 141 Question Id : 630680223122 Option Shuffling : Yes Is Question Mandatory : No Calculator : None Response Time : N.A Think Time : N.A Minimum Instruction Time : 0

Correct Marks : 1 Wrong Marks : 0

From the options choose the correct passive voice form for the sentence given below.

Wives did not usually accompany kings on their journeys.

Options :

1. ✖ The kings are usually never accompanied by their wives on their journeys.
2. ✔ On their journeys, the kings were usually not accompanied by their wives.
3. ✖ On their journeys, wives did not accompany kings.
4. ✖ On their journeys, the kings were never accompanied by their wives.

Question Number : 142 Question Id : 630680223123 Option Shuffling : Yes Is Question

Mandatory : No Calculator : None Response Time : N.A Think Time : N.A Minimum Instruction Time : 0

Correct Marks : 1 Wrong Marks : 0

From the options choose the correct active voice form for the sentence given below.

The thoughts in her mind didn't match the words she spoke is what she realised.

Options :

1. ✖ The words she spoke didn't match the thoughts in her mind, is what she realised.
2. ✖ Her words didn't match her thoughts.
3. ✖ Her thoughts do not match her words.
4. ✔ She realised that the words she spoke didn't match the thoughts in her mind.

Question Number : 142 Question Id : 630680223123 Option Shuffling : Yes Is Question

Mandatory : No Calculator : None Response Time : N.A Think Time : N.A Minimum Instruction Time : 0

Correct Marks : 1 Wrong Marks : 0

From the options choose the correct active voice form for the sentence given below.

The thoughts in her mind didn't match the words she spoke is what she realised.

Options :

1. ✖ The words she spoke didn't match the thoughts in her mind, is what she realised.
2. ✖ Her words didn't match her thoughts.
3. ✖ Her thoughts do not match her words.
4. ✔ She realised that the words she spoke didn't match the thoughts in her mind.

Question Number : 143 Question Id : 630680223124 Option Shuffling : Yes Is Question Mandatory : No Calculator : None Response Time : N.A Think Time : N.A Minimum Instruction Time : 0

Correct Marks : 1 Wrong Marks : 0

Which of these 4 pairs of idioms and their meanings is the correct match?

Options :

1. ✖ Don't look a gift horse in the mouth: Avoid doing senseless task
2. ✖ Biting the bullet: Don't be overly cautious
3. ✖ Throw in the towel: Being shy
4. ✔ Break a leg: Wishing someone good luck

Question Number : 143 Question Id : 630680223124 Option Shuffling : Yes Is Question Mandatory : No Calculator : None Response Time : N.A Think Time : N.A Minimum Instruction Time : 0

Correct Marks : 1 Wrong Marks : 0

Which of these 4 pairs of idioms and their meanings is the correct match?

Options :

1. ✖ Don't look a gift horse in the mouth: Avoid doing senseless task
2. ✖ Biting the bullet: Don't be overly cautious
3. ✖ Throw in the towel: Being shy

4. ✓ Break a leg: Wishing someone good luck

Question Number : 144 Question Id : 630680223125 Option Shuffling : Yes Is Question Mandatory : No Calculator : None Response Time : N.A Think Time : N.A Minimum Instruction Time : 0

Correct Marks : 1 Wrong Marks : 0

Select the most appropriate meaning of the proverb given below.

"Easy come, easy go"

Options :

1. ✗ If you associate with bad or dishonest people, bad will happen to you.
2. ✗ Be patient, things take time to happen.
3. ✓ When something is easily obtained, it is typically lost just as easily.
4. ✗ You cannot change the past.

Question Number : 144 Question Id : 630680223125 Option Shuffling : Yes Is Question Mandatory : No Calculator : None Response Time : N.A Think Time : N.A Minimum Instruction Time : 0

Correct Marks : 1 Wrong Marks : 0

Select the most appropriate meaning of the proverb given below.

"Easy come, easy go"

Options :

1. ✗ If you associate with bad or dishonest people, bad will happen to you.
2. ✗ Be patient, things take time to happen.

3. ✓ When something is easily obtained, it is typically lost just as easily.
4. ✖ You cannot change the past.

Question Number : 145 Question Id : 630680223126 Option Shuffling : Yes Is Question Mandatory : No Calculator : None Response Time : N.A Think Time : N.A Minimum Instruction Time : 0

Correct Marks : 1 Wrong Marks : 0

Match the following words with their respective antonym.

A. Evidence	1. Rigid
B. Material	2. Typical
C. Malleable	3. Spiritual
D. Rare	4. Concealment

Options :

1. ✖ A-1, B-4, C-3, D-2
2. ✓ A-4, B-3, C-1, D-2
3. ✖ A-2, B-4, C-3, D-1
4. ✖ A-4, B-3, C-2, D-1

Question Number : 145 Question Id : 630680223126 Option Shuffling : Yes Is Question Mandatory : No Calculator : None Response Time : N.A Think Time : N.A Minimum Instruction Time : 0

Correct Marks : 1 Wrong Marks : 0

Match the following words with their respective antonym.

A. Evidence	1. Rigid
B. Material	2. Typical
C. Malleable	3. Spiritual
D. Rare	4. Concealment

Options :

- 1. ✖ A-1, B-4, C-3, D-2
- 2. ✔ A-4, B-3, C-1, D-2
- 3. ✖ A-2, B-4, C-3, D-1
- 4. ✖ A-4, B-3, C-2, D-1

Question Number : 146 Question Id : 630680223127 Option Shuffling : Yes Is Question Mandatory : No Calculator : None Response Time : N.A Think Time : N.A Minimum Instruction Time : 0

Correct Marks : 1 Wrong Marks : 0

Select the most appropriate synonym of the given word.

Acquaintance

Options :

- 1. ✖ Antagonist
- 2. ✖ Detractor
- 3. ✖ Contender
- 4. ✔ Associate

Question Number : 146 Question Id : 630680223127 Option Shuffling : Yes Is Question Mandatory : No Calculator : None Response Time : N.A Think Time : N.A Minimum Instruction Time : 0

Correct Marks : 1 Wrong Marks : 0

Select the most appropriate synonym of the given word.

Acquaintance

Options :

1. ✖ Antagonist
2. ✖ Detractor
3. ✖ Contender
4. ✔ Associate

Question Number : 147 Question Id : 630680223128 Option Shuffling : Yes Is Question Mandatory : No Calculator : None Response Time : N.A Think Time : N.A Minimum Instruction Time : 0

Correct Marks : 1 Wrong Marks : 0

Four words are given, out of which only one word is spelt correctly. Choose the correctly spelt word.

Options :

1. ✔ NOTICEABLE
2. ✖ POTATOS
3. ✖ REPITITION

4. ✖ VISIOUS

Question Number : 147 Question Id : 630680223128 Option Shuffling : Yes Is Question Mandatory : No Calculator : None Response Time : N.A Think Time : N.A Minimum Instruction Time : 0

Correct Marks : 1 Wrong Marks : 0

Four words are given, out of which only one word is spelt correctly. Choose the correctly spelt word.

Options :

1. ✔ NOTICEABLE

2. ✖ POTATOS

3. ✖ REPITITION

4. ✖ VISIOUS

Question Number : 148 Question Id : 630680223129 Option Shuffling : Yes Is Question Mandatory : No Calculator : None Response Time : N.A Think Time : N.A Minimum Instruction Time : 0

Correct Marks : 1 Wrong Marks : 0

Four words are given, out of which three words are spelt correctly. Choose the incorrectly spelt word.

Options :

1. ✖ READABLE

2. ✖ QUESTIONNAIRE

3. ✓ VACCUM

4. ✗ PRIVILEGE

Question Number : 148 Question Id : 630680223129 Option Shuffling : Yes Is Question Mandatory : No Calculator : None Response Time : N.A Think Time : N.A Minimum Instruction Time : 0

Correct Marks : 1 Wrong Marks : 0

Four words are given, out of which three words are spelt correctly. Choose the incorrectly spelt word.

Options :

1. ✗ READABLE

2. ✗ QUESTIONNAIRE

3. ✓ VACCUM

4. ✗ PRIVILEGE

Question Number : 149 Question Id : 630680223130 Option Shuffling : Yes Is Question Mandatory : No Calculator : None Response Time : N.A Think Time : N.A Minimum Instruction Time : 0

Correct Marks : 1 Wrong Marks : 0

Fill in the blank with the most appropriate option.

But deep down, though no one would admit it, we were a little restless, a little _____.

Options :

1. ✓ bored

2. ✖ broad

3. ✖ board

4. ✖ brood

Question Number : 149 Question Id : 630680223130 Option Shuffling : Yes Is Question Mandatory : No Calculator : None Response Time : N.A Think Time : N.A Minimum Instruction Time : 0

Correct Marks : 1 Wrong Marks : 0

Fill in the blank with the most appropriate option.

But deep down, though no one would admit it, we were a little restless, a little _____.

Options :

1. ✔ bored

2. ✖ broad

3. ✖ board

4. ✖ brood

Question Number : 150 Question Id : 630680223131 Option Shuffling : Yes Is Question Mandatory : No Calculator : None Response Time : N.A Think Time : N.A Minimum Instruction Time : 0

Correct Marks : 1 Wrong Marks : 0

Fill in the blank with the most appropriate option.

I was too _____ to make sense of any of it.

Options :

1. ✖ days

2. ✖ daisy

3. ✖ dazzled

4. ✔ dazed

Question Number : 150 Question Id : 630680223131 Option Shuffling : Yes Is Question

Mandatory : No Calculator : None Response Time : N.A Think Time : N.A Minimum Instruction Time : 0

Correct Marks : 1 Wrong Marks : 0

Fill in the blank with the most appropriate option.

I was too _____ to make sense of any of it.

Options :

1. ✖ days

2. ✖ daisy

3. ✖ dazzled

4. ✔ dazed