



# Teachingninja.in



**Latest Govt Job updates**



**Private Job updates**



**Free Mock tests available**



**Visit - [teachingninja.in](https://teachingninja.in)**

# UKSSSC Driver

**Previous Year Paper**  
**07 Jul, 2024**





93/24


1. According to Section 196 of Motor Vehicle Act 1988, whoever drives uninsured vehicle shall be punishable for the first offence with
  - (A) imprisonment upto three months or with fine of two thousand rupees or with both
  - (B) imprisonment upto six months or with fine of five thousand rupees or with both
  - (C) imprisonment upto two years or fine upto ten thousand rupees or both
  - (D) imprisonment upto one year or fine upto one thousand rupees or both
2. At present, which of the following is not a Fundamental Right provided by Constitution of India ?
  - (A) Right to Education
  - (B) Freedom to manage religious affairs
  - (C) Right to Marriage
  - (D) Abolition of titles
3. What is the meaning of this road sign M (17) as given under first Schedule of the Motor Vehicle Act, 1988 ?



- (A) U turn is not allowed
- (B) Parking is not allowed
- (C) Crossing overhead
- (D) Overtaking is not allowed



1. मोटर यान अधिनियम 1988 की धारा 196 के अनुसार जो कोई भी बिना बीमाकृत यान को चलाएगा, प्रथम अपराध पर, निम्न में से दण्डित किया जायेगा
  - (A) तीन मास तक का कारावास या दो हजार रु. का जुर्माना या दोनों
  - (B) छः मास तक का कारावास या पाँच हजार रु. का जुर्माना या दोनों
  - (C) दो वर्ष तक का कारावास या दस हजार रु. तक का जुर्माना या दोनों
  - (D) एक वर्ष तक का कारावास या एक हजार रु. का जुर्माना या दोनों
2. वर्तमान में निम्न में से कौन-सा भारतीय संविधान द्वारा प्रदत्त एक मौलिक अधिकार नहीं है ?
  - (A) शिक्षा का अधिकार
  - (B) धार्मिक मामलों के प्रबंधन की स्वतंत्रता
  - (C) विवाह का अधिकार
  - (D) उपाधियों का उन्मूलन/लोप/समाप्ति
3. मोटर यान अधिनियम 1988 की प्रथम अनुसूची में एम (17) संख्या में दिये निम्न मार्ग संकेत का क्या अर्थ है ?



- (A) यू-टर्न अनुमत्य नहीं है
- (B) पार्किंग अनुमत्य नहीं है
- (C) आगे चौराहा है
- (D) आगे निकलना मना है



4. What does the following sign mean ?



- (A) No Entry
- (B) Stop
- (C) No Parking
- (D) Restriction Ends



4. निम्नलिखित चिन्ह का क्या अर्थ होता है ?



- (A) प्रवेश निषेध
- (B) रुकिए
- (C) वाहन खड़ा करना मना है
- (D) रोक समाप्ति

5. Which of the following chemical is used in indelible ink (Election/Voter Ink) ?

- (A) Sodium Nitrate
- (B) Silver Nitrate
- (C) Potassium Nitrate
- (D) Ammonium Nitrate

5. अमिट स्याही (चुनाव/वोटर स्याही) में निम्न में से कौन-सा रसायन प्रयुक्त किया जाता है ?

- (A) सोडियम नाइट्रेट
- (B) सिल्वर नाइट्रेट
- (C) पोटेशियम नाइट्रेट
- (D) अमोनियम नाइट्रेट

6. According to Section 81 of the Motor Vehicle Act 1988, a permit, other than a temporary or special permit, shall be effective for a period of

- (A) Ten years
- (B) Fifteen years
- (C) Five years
- (D) Two years

6. मोटर यान अधिनियम 1988 की धारा 81 के अनुसार किसी अस्थायी या विशेष परमिट से भिन्न कोई परमिट निम्न अवधि के लिये प्रभावी होगा

- (A) दस वर्ष
- (B) पंद्रह वर्ष
- (C) पाँच वर्ष
- (D) दो वर्ष



7. Which of the following is not a type of ornament prevalent in Uttarakhand ?

- (A) Nathuli  
(B) Tilhari  
(C) Jhaguli  
(D) Hansuli

8. With which of the following 'Sepaktakraw' is associated ?

- (A) Asian Cuisine  
(B) Tribe of Andaman and Nicobar  
(C) Sport  
(D) Country in Latin America

9. Match the following.

Tal	District
a. Khurpa Tal	1. Rudraprayag
b. Chorabari Tal	2. Nainital
c. Dodi Tal	3. Chamoli
d. Kakbhushundi Tal	4. Uttarkashi

a	b	c	d
(A) 2	4	3	1
(B) 2	3	1	4
(C) 2	1	4	3
(D) 1	2	4	3

7. निम्नलिखित में से कौन-सा उत्तराखण्ड में प्रचलित आभूषण का एक प्रकार नहीं है ?

- (A) नथुली  
(B) तिलहरी  
(C) झगुली  
(D) हंसूली



8. 'सेपक्ताक्रॉ' निम्न में से किससे संबंधित है ?

- (A) एशियाई भोजन  
(B) अंडमान व निकोबार की जनजाति  
(C) खेल  
(D) लैटिन अमेरिका का देश

9. निम्न को सुमेलित कीजिये ।

ताल	जनपद
a. खुरपा ताल	1. रुद्रप्रयाग
b. चौराबाड़ी ताल	2. नैनीताल
c. डोडी ताल	3. चमोली
d. काकभुशुंडी ताल	4. उत्तरकाशी

a	b	c	d
(A) 2	4	3	1
(B) 2	3	1	4
(C) 2	1	4	3
(D) 1	2	4	3





93/24

10. According to Section 20 of Motor Vehicle (Driving) Regulation 2017

- (A) No driver shall overtake inside a tunnel
- (B) No driver shall make a U turn inside a tunnel
- (C) No driver shall drive backwards inside a tunnel
- (D) All of the above

11. The longest river of Uttarakhand is

- (A) Kali
- (B) Bhagirathi
- (C) Alakananda
- (D) Tons

12. What is the meaning of the following warning sign numbered 35 in the first Schedule of the Motor Vehicle Act 1988 ?



- (A) Cross road
- (B) Foot over bridge
- (C) Ferry
- (D) Unguarded level crossing


10. मोटर यान (चालन) विनियम 2017 की धारा 20 के अनुसार

- (A) कोई चालक सुरंग के भीतर परिछालन नहीं करेगा
- (B) कोई चालक सुरंग के भीतर यू-टर्न नहीं करेगा
- (C) कोई चालक सुरंग के भीतर विपरीत दिशा में नहीं चलाएगा
- (D) उपरोक्त सभी .

11. उत्तराखण्ड की सबसे लम्बी नदी है

- (A) काली
- (B) भागीरथी .
- (C) अलकनन्दा
- (D) टोंस

12. मोटर यान अधिनियम 1988 की प्रथम अनुसूची में दिये गये चेतावनी आज्ञापक संकेत संख्या 35 का क्या अर्थ है ?



- (A) चौराहा
- (B) पैदल पार पुल
- (C) फेरी
- (D) रक्षक रहित समतल क्रासिंग .



93/24

13. Match List - I with List - II and select the correct answer by using the codes given below the lists.

**List - I****(Forts)**

- a. Khalanga Fort  
b. Manil Fort  
c. Rajbungji Fort  
d. Khagmara Fort

**List - II****(Place)**

1. Champawat  
2. Dehradun  
3. Sult Region  
4. Almora

**Codes :**

- |     | a | b | c | d |
|-----|---|---|---|---|
| (A) | 1 | 2 | 4 | 3 |
| (B) | 4 | 1 | 2 | 3 |
| (C) | 2 | 3 | 1 | 4 |
| (D) | 2 | 4 | 3 | 1 |

14. Which of the following Section describes about the summary disposal of cases under Motor Vehicle Act 1988 ?

- (A) Section 208  
(B) Section 213  
(C) Section 207  
(D) Section 204

13. सूची - I को सूची - II से सुमेलित कीजिए और सूचियों के नीचे दिए गए कूट का प्रयोग कर सही उत्तर चुनिए ।

**सूची - I****(किला)**

- a. खलंगा का किला  
b. मानिल का किला  
c. राजबुंगी का किला  
d. खगमारा का किला

**सूची - II****(स्थान)**

1. चम्पावत  
2. देहरादून  
3. सल्ट क्षेत्र  
4. अल्मोड़ा

**कूट :**

- |     | a | b | c | d |
|-----|---|---|---|---|
| (A) | 1 | 2 | 4 | 3 |
| (B) | 4 | 1 | 2 | 3 |
| (C) | 2 | 3 | 1 | 4 |
| (D) | 2 | 4 | 3 | 1 |

14. मोटर यान अधिनियम 1988 के तहत निम्न में से किस धारा में मामलों के संक्षिप्त निबटारे की व्याख्या की गई है ?

- (A) धारा 208  
(B) धारा 213  
(C) धारा 207  
(D) धारा 204





15. Which of the following incident marks the celebration of Jhanda fair ?
- (A) First visit of Guru Ram Rai to Dehradun
- (B) Accession of Raja Pradip Shah
- (C) First visit of Guru Govind Singh to Uttarakhand
- (D) Establishment of Gurudwara Ponta Sahib
16. As per Section 28 of the Motor Vehicles (Driving) Regulation 2017, in case a vehicle with more than two wheels has broken down on highways, at what distance reflective traffic warning triangles shall be placed behind the broken down vehicle ?
- (A) 25 meters
- (B) 100 meters
- (C) 50 meters
- (D) 75 meters
17. What is the meaning of the following warning sign numbered C-33 in the first Schedule of the Motor Vehicle Act 1988 ?
15. झंडा मेला किस घटनाक्रम के कारण मनाया जाता है ?
- (A) गुरु राम राय के देहरादून का प्रथम भ्रमण
- (B) राजा प्रदीप शाह का राज्यारोहण
- (C) गुरु गोविन्द सिंह के उत्तराखंड का प्रथम भ्रमण
- (D) गुरुद्वारा पोंटा साहिब की स्थापना .
16. मोटर यान (चालन) विनियम 2017 की धारा 28 के अनुसार यदि दो पहियों से अधिक पहियों वाला कोई यान तेज गतिवाले राजमार्गों पर खराब हो जाता है, तो उस दशा में खराब यान के पीछे परावर्ती यातायात चेतावनी त्रिकोण कितनी दूरी पर रखा जाएगा ?
- (A) 25 मीटर .
- (B) 100 मीटर
- (C) 50 मीटर
- (D) 75 मीटर
17. मोटर यान अधिनियम 1988 की प्रथम अनुसूची में दिये गये निम्न चेतावनी आज्ञापक संकेत संख्या C-33 का क्या अर्थ है ?



- (A) Barrier ahead
- (B) Hump or rough road
- (C) Staggered intersection
- (D) Major road ahead



- (A) आगे रोध है .
- (B) ऊँची नीची सड़क
- (C) विषम सड़क संगम
- (D) आगे मुख्य सड़क है





93/24

18. Which of the following is not correctly matched ?

- (A) Bharat Natyam – Tamil Nadu
- (B) Kuchipudi – Andhra Pradesh
- (C) Kathak – Kerala
- (D) Chholiya – Uttarakhand



18. निम्न में से कौन-सा सुमेलित नहीं है ?

- (A) भरतनाट्यम - तमिलनाडु
- (B) कुचीपुड़ी - आंध्र प्रदेश
- (C) कथक - केरल
- (D) छोलिया - उत्तराखण्ड

19. As per Section 22 of Motor Vehicle (Driving) Regulation 2017 a vehicle shall be stopped

- (A) Near or on a sharp bend
- (B) In an acceleration or a deceleration lane
- (C) Normal and straight lane
- (D) On a level crossing

19. मोटर यान (चालन) विनियम 2017 की धारा 22 के अनुसार कोई भी यान रोका जा सकता है

- (A) एक तीव्र मोड़ पर या उसके निकट
- (B) तेज़ या मंद लेन पर
- (C) सामान्य व सीधी लेन पर
- (D) रेल सम पार पर

20. The Motor Vehicles (Amendment) Act, 2019 received the assent of the President on

- (A) 6<sup>th</sup> August 2019
- (B) 8<sup>th</sup> August 2019
- (C) 9<sup>th</sup> August 2019
- (D) 10<sup>th</sup> August 2019

20. मोटर यान (संशोधन) अधिनियम, 2019 को राष्ट्रपति की स्वीकृति प्राप्त हुई

- (A) 6 अगस्त 2019
- (B) 8 अगस्त 2019
- (C) 9 अगस्त 2019
- (D) 10 अगस्त 2019



93/24

21. What is the meaning of this warning sign given under No. 13 of first Schedule of the Motor Vehicle Act, 1988 ?



- (A) Crossing ahead  
(B) People working ahead  
(C) Slippery road  
(D) Petrol pump ahead

22. Where an offence under Motor Vehicle Act 1988 has been committed by a juvenile, the registration of the motor vehicle used in the commission of the offence shall be cancelled for a period of

- (A) two years  
(B) five years  
(C) six months  
(D) twelve months



23. In which year, Rail Services were started in India ?

- (A) 1857  
(B) 1853  
(C) 1885  
(D) 1890

21. मोटर यान अधिनियम 1988 के प्रथम अनुसूची की इस चेतावनी संकेत संख्यांक 13 का क्या अर्थ है ?



- (A) आगे क्रासिंग है  
(B) आगे लोग काम कर रहे हैं  
(C) फिसलनी सड़क  
(D) आगे पेट्रोल पम्प है

22. जहाँ कि मोटर यान अधिनियम 1988 के अधीन कोई अपराध किसी किशोर द्वारा किया गया है, वहाँ अपराध किये जाने में प्रयुक्त मोटर यान का रजिस्ट्रीकरण निम्न अवधि के लिये रद्द किया जायेगा

- (A) दो वर्ष के लिए  
(B) पाँच वर्ष के लिए  
(C) छः माह के लिए  
(D) बारह माह के लिए

23. भारत में रेल सेवा की शुरुआत किस वर्ष में हुई ?

- (A) 1857  
(B) 1853  
(C) 1885  
(D) 1890



93/24

24. Match the List - I with List - II and choose the correct answer using codes given below the lists.

List - I (Power Projects)	List - II (Rivers)
a. Maneri Bhali	1. Tons
b. Kishau	2. Yamuna
c. Vyasi	3. Sharda
d. Tanakpur	4. Bhagirathi

Codes :

	a	b	c	d
(A)	1	3	2	4
(B)	4	1	2	3
(C)	2	3	1	4
(D)	4	1	3	2

24. सूची - I को सूची - II से सुमेलित कीजिये और सूचियों के नीचे दिये गये कूट का प्रयोग कर सही उत्तर चुनिये।

सूची - I (ऊर्जा परियोजनाएँ)	सूची - II (नदी)
a. मनेरी भाली	1. टोंस
b. किसाऊ	2. यमुना
c. व्यासी	3. शारदा
d. टनकपुर	4. भागीरथी

कूट :

	a	b	c	d
(A)	1	3	2	4
(B)	4	1	2	3
(C)	2	3	1	4
(D)	4	1	3	2



25. Which of the following is a warning marked on the outside rear view mirror of modern automobiles/vehicles ?

- (A) Objects in the mirror are not closer than they appear  
(B) Objects in the mirror are farther than they appear  
(C) Objects in the mirror are closer than they appear  
(D) None of the above


25. आधुनिक आटोमोबाइलों/वाहनों के बाहरी-पीछे के दृश्य दर्पण पर निम्न में से क्या चेतावनी अंकित होती है ?

- (A) दर्पण में वस्तुएँ जितना दिखाई दे रही हैं उससे अधिक निकट नहीं हैं  
(B) दर्पण में वस्तुएँ जितना दिखाई दे रही हैं उससे कहीं अधिक दूर हैं  
(C) दर्पण में वस्तुएँ जितना दिखाई दे रही हैं उससे कहीं अधिक निकट हैं  
(D) उपरोक्त में से कोई नहीं



93/24


26. What is the meaning of the following mandatory sign given under No. M-5 of the first Schedule of Motor Vehicle Act, 1988 ?



- (A) One way sign
- (B) Vehicle prohibited in both directions
- (C) Give way
- (D) No parking



26. मोटर यान अधिनियम, 1988 के प्रथम अनुसूची में दिये निम्न आज्ञापक संकेत संख्या 5-M का क्या अर्थ है ?



- (A) एक दिशा मार्ग
- (B) गाड़ियों का दोनों दिशाओं में आना जाना मना है
- (C) रास्ता दीजिये
- (D) गाड़ी खड़ी करना मना है

27. Which of the following documents should always be carried by the driver of a transport vehicle ?

- (A) Driving licence
- (B) Certificate of Registration
- (C) Pollution control certificate
- (D) All of the above

27. एक परिवहन यान के चालक को हमेशा निम्न में से कौन-सा दस्तावेज अपने साथ रखना चाहिये ?

- (A) चालन अनुज्ञप्ति
- (B) रजिस्ट्रीकरण प्रमाणपत्र
- (C) प्रदूषण नियंत्रण प्रमाणपत्र
- (D) उपरोक्त सभी





93/24

28. Match the following in context with the Motor Vehicle Act 1988,

- |                                  |                  |
|----------------------------------|------------------|
| I. Protection of Good Samaritans | a. Section 162   |
| II. Breath Tests                 | b. Section 215-B |
| III. Scheme for Golden hour      | c. Section 203   |
| IV. National Road Safety Council | d. Section 134-A |

Choose the correct answer :

- (A) I - d, II - a, III - b, IV - c  
 (B) I - b, II - d, III - a, IV - c  
 (C) I - b, II - c, III - a, IV - d  
 (D) I - d, II - c, III - a, IV - b



29. Which of the following statements is not correct ?

- (A) Unnecessary use of horn is prohibited  
 (B) Use of horn is prohibited in silence zone  
 (C) Use of horn should be made when there is danger to life  
 (D) Use of air horn can be made frequently

30. Which of the following pair is not correctly matched ?

- | (Automobile company) | (Country)        |
|----------------------|------------------|
| (A) Citroën          | - France         |
| (B) Kia              | - South Korea    |
| (C) Skoda            | - United Kingdom |
| (D) Volkswagen       | - Germany        |

28. मोटर यान अधिनियम 1988 के संदर्भ में निम्न को सुमेलित कीजिये ।

- |                                  |               |
|----------------------------------|---------------|
| I. नेक व्यक्ति की संरक्षा        | a. धारा 162   |
| II. श्वास परीक्षण                | b. धारा 215-B |
| III. स्वर्णिम काल के लिये स्कीम  | c. धारा 203   |
| IV. राष्ट्रीय सड़क सुरक्षा परिषद | d. धारा 134-A |

सही उत्तर चुनें :

- (A) I - d, II - a, III - b, IV - c  
 (B) I - b, II - d, III - a, IV - c  
 (C) I - b, II - c, III - a, IV - d  
 (D) I - d, II - c, III - a, IV - b

29. निम्नलिखित कथनों में से कौन-सा सही नहीं है ?

- (A) भोंपू का अनावश्यक उपयोग निषिद्ध है -  
 (B) शान्त क्षेत्रों में भोंपू बजाना प्रतिबन्धित है -  
 (C) भोंपू का उपयोग जीवन को खतरे की दशा में किया जाना चाहिए -  
 (D) हवाई भोंपू का उपयोग कई बार किया जा सकता है ✕

30. निम्न में से कौन-सा युग्म सुमेलित नहीं है ?

- | (ऑटोमोबाइल कम्पनी) | (देश)             |
|--------------------|-------------------|
| (A) सिट्रोएन       | - फ्राँस          |
| (B) किआ            | - दक्षिण कोरिया   |
| (C) स्कोडा         | - यूनाइटेड किंगडम |
| (D) फॉक्सवेगन      | - जर्मनी          |





93/24

31. According to Section 30 of the Motor Vehicle (Driving) Regulation 2017, the maximum speed while towing a vehicle shall not exceed
- (A) 30 km per hour  
(B) 20 km per hour  
(C) 25 km per hour  
(D) 15 km per hour
32. In which of the following cities of Uttarakhand, the 'Indira Gandhi National Forest Academy' (IGNFA) is situated ?
- (A) Dehradun  
(B) Mussourie  
(C) Nainital  
(D) Haldwani
33. According to Section 194-B of the Motor Vehicle Act 1988, whoever drives a motor vehicle without wearing a safety belt or carries passengers not wearing seat belt shall be punishable with
- (A) Fine of two hundred rupees  
(B) Fine of one thousand rupees  
(C) Fine of two thousand rupees  
(D) Fine of five thousand rupees
31. मोटर यान (चालन) विनियम 2017 की धारा 30 के अनुसार किसी भी यान को खींचते समय अधिकतम गति निम्न से अधिक नहीं होगी
- (A) 30 किमी प्रति घंटा  
(B) 20 किमी प्रति घंटा  
(C) 25 किमी प्रति घंटा  
(D) 15 किमी प्रति घंटा
32. उत्तराखंड के निम्न में से किस शहर में 'इंदिरा गांधी राष्ट्रीय वन अकादमी' (आई.जी.एन.एफ.ए.) स्थित है ?
- (A) देहरादून  
(B) मसूरी  
(C) नैनीताल  
(D) हल्द्वानी
33. मोटर यान अधिनियम 1988 की धारा 194-ख के अनुसार जो कोई सुरक्षा बेल्ट के पहने बिना मोटर यान चलाता है या ऐसे यात्रियों को ले जाता है जिन्होंने सीट बेल्ट नहीं पहनी है, निम्न से दण्डित किया जाएगा
- (A) दो सौ रुपये के जुर्माने से  
(B) एक हजार रुपये के जुर्माने से  
(C) दो हजार रुपये के जुर्माने से  
(D) पाँच हजार रुपये के जुर्माने से



93/24

34. Which of the following sportsperson belongs to Uttarakhand ?

- (A) Surbhi Mishra  
(B) Savita Punia  
(C) Vandana Katariya  
(D) Shafali Verma

34. निम्नलिखित में से कौन-सा खिलाड़ी उत्तराखण्ड से संबंधित है ?

- (A) सुरभि मिश्रा  
(B) सविता पूनिया  
(C) वंदना कटारिया  
(D) शफाली वर्मा

35. Match List - I with List - II.

List - I	List - II
a. Community Service	1. Section 42 A
b. Golden Hour	2. Section 9 A
c. Testing Agency	3. Section 4 A
d. Driver Refresher Training Course	4. Section 12 A

Choose correct answer from the codes given below.

**Codes :**

	a	b	c	d
(A)	1	2	3	4
(B)	2	3	1	4
(C)	3	4	1	2
(D)	4	3	2	1



35. सूची - I को सूची - II से सुमेलित कीजिए ।

सूची - I	सूची - II
a. समुदाय सेवा	1. धारा 42 क
b. स्वर्णिम घंटा	2. धारा 9 क
c. परीक्षण अभिकरण	3. धारा 4 क
d. चालक पुनश्चर्या प्रशिक्षण पाठ्यक्रम	4. धारा 12 क

नीचे दिए गए कूट में से सही उत्तर का चयन कीजिए ।

**कूट :**

	a	b	c	d
(A)	1	2	3	4
(B)	2	3	1	4
(C)	3	4	1	2
(D)	4	3	2	1



93/24

36. In which year, first time EVMs (Electronic Voting Machines) were used in India in elections ?

- (A) 1985
- (B) 2008
- (C) 1980
- (D) 1982

36. सर्वप्रथम किस वर्ष में भारत में चुनावों में ई.वी.एम. (इलेक्ट्रॉनिक वोटिंग मशीन) का प्रयोग हुआ ?

- (A) 1985
- (B) 2008
- (C) 1980
- (D) 1982



37. The smallest district of Uttarakhand is

- (A) Bageshwer
- (B) Rudraprayag
- (C) Haridwar
- (D) Champawat

37. उत्तराखण्ड का सबसे छोटा जिला है

- (A) बागेश्वर
- (B) रुद्रप्रयाग
- (C) हरिद्वार
- (D) चम्पावत

38. According to Section 7 of Motor Vehicle Act, 1988 no person shall be granted a learner's licence to drive a transport vehicle unless

- (A) he has held a driving licence to drive a light motor vehicle for at least six months
- (B) he has held a driving licence to drive a light motor vehicle for at least one year
- (C) he has held a driving licence to drive a light motor vehicle for at least two years
- (D) he has held a driving licence to drive a light motor vehicle for at least three months

38. मोटर यान अधिनियम, 1988 की धारा 7 के अनुसार किसी भी व्यक्ति को परिवहन वाहन चलाने हेतु शिक्षार्थी अनुज्ञप्ति तब तक नहीं दी जाएगी जब तक

- (A) उसने हल्का मोटर यान चलाने के लिये कम से कम 6 माह तक चालन अनुज्ञप्ति धारण न की हो
- (B) उसने हल्का मोटर यान चलाने के लिये कम से कम एक वर्ष तक चालन अनुज्ञप्ति धारण न की हो
- (C) उसने हल्का मोटर यान चलाने के लिये कम से कम दो वर्ष तक चालन अनुज्ञप्ति धारण न की हो
- (D) उसने हल्का मोटर यान चलाने के लिये कम से कम तीन माह तक चालन अनुज्ञप्ति धारण न की हो





93/24

39. According to Section 194-A of the Motor Vehicle Act 1988, whoever drives a transport vehicle or causes or allows a transport vehicle to be driven while carrying more passengers than is authorised in the registration certificate of such transport vehicle or the permit conditions applicable to such transport vehicle shall be punishable with which of the following fine ?

- (A) a fine of one thousand rupees per excess passenger
- (B) a fine of two thousand rupees per excess passenger
- (C) a fine of five hundred rupees per excess passenger
- (D) a fine of two hundred rupees per excess passenger

40. Who among the following adopted the name 'Pathik' and vowed to abolish untouchability from Garhwal ?

- (A) Vir Chandra Singh Garhwali
- (B) Ansuya Prasad Bahuguna
- (C) Jayanand Bharti
- (D) Darban Singh Negi



39. मोटर यान अधिनियम 1988 की धारा 194-A के अनुसार यदि कोई ऐसे परिवहन यान को उस समय चलाता है या परिवहन यान को चलवाता है या चलवाए जाने के लिये अनुज्ञात करता है जिसके रजिस्ट्रीकरण प्रमाणपत्र में या ऐसे परिवहन यान को लागू अनुज्ञप्ति शर्तों में प्राधिकृत यात्रियों से अधिक यात्रियों का वहन किया जाता है, तो वह निम्न में से किस जुर्माने से दण्डनीय होगा ?

- (A) एक हजार रुपये प्रति अधिक व्यक्ति का जुर्माना
- (B) दो हजार रुपये प्रति अधिक व्यक्ति का जुर्माना
- (C) पाँच सौ रुपये प्रति अधिक व्यक्ति का जुर्माना
- (D) दो सौ रुपये प्रति अधिक व्यक्ति का जुर्माना

40. निम्नलिखित में से किसने 'पथिक' नाम अपनाया और गढ़वाल से अस्पृश्यता समाप्त करने की कसम खाई ?

- (A) वीर चन्द्र सिंह गढ़वाली
- (B) अनसूया प्रसाद बहुगुणा
- (C) जयानन्द भारती
- (D) दरबान सिंह नेगी



41. According to Section 27(4) of the Motor Vehicle (Driving) Regulation 2017 which of the following is the correct order of priority within the emergency vehicle ?

- (A) first an ambulance  
second a police service vehicle  
third a fire service vehicle
- (B) first an ambulance  
second a fire service vehicle  
third a police service vehicle
- (C) first a fire service vehicle  
second a police service vehicle  
third an ambulance
- (D) first a fire service vehicle  
second an ambulance  
third a police service vehicle

42. On an average, how much air per day, a human being requires ?

- (A) 12 kg
- (B) 10 kg
- (C) 11 kg
- (D) 9 kg



43. According to Section 31 of Motor Vehicle Act 1988, no person under the following age shall be granted a conductor's licence

- (A) 16 years
- (B) 18 years
- (C) 21 years
- (D) 20 years

41. मोटर यान (चालन) विनियम 2017 की धारा 27(4) के अनुसार आपातकालीन यानों की प्राथमिकता का कौन-सा क्रम सही है ?

- (A) पहले एम्बुलेन्स  
दूसरे पुलिस सेवा यान  
तीसरे अग्निशमन सेवा यान
- (B) पहले एम्बुलेन्स  
दूसरे अग्निशमन यान  
तीसरे पुलिस सेवा यान
- (C) पहले अग्निशमन सेवा यान  
दूसरे पुलिस सेवा यान  
तीसरे एम्बुलेन्स
- (D) पहले अग्निशमन सेवा यान  
दूसरे एम्बुलेन्स  
तीसरे पुलिस सेवा यान

42. औसतन किसी व्यक्ति/मनुष्य को प्रतिदिन कितनी हवा की आवश्यकता होती है ?

- (A) 12 कि. ग्रा.
- (B) 10 कि. ग्रा.
- (C) 11 कि. ग्रा.
- (D) 9 कि. ग्रा.

43. मोटर यान अधिनियम 1988 की धारा 31 के अनुसार निम्न आयु से कम के व्यक्ति को कंडक्टर की अनुज्ञप्ति नहीं दी जाएगी

- (A) 16 वर्ष
- (B) 18 वर्ष
- (C) 21 वर्ष
- (D) 20 वर्ष



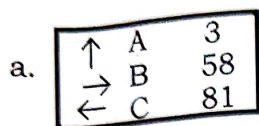


93/24

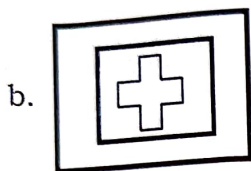
44. Match List - I with List - II and select the correct answers by using codes given below the lists.

## List - I

## List - II



1. First Aid



2. Destination Sign



3. Place Identification Sign



4. Direction Sign

## Codes :

- (A) a - 4, b - 1, c - 2, d - 3  
 (B) a - 2, b - 1, c - 4, d - 3  
 (C) a - 3, b - 2, c - 1, d - 4  
 (D) a - 1, b - 3, c - 4, d - 2

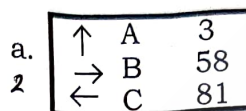
45. Wearing of protective headgear is not compulsory for

- (A) Person above four years of age  
 (B) Turban wearing Sikh  
 (C) Christian  
 (D) Parsi

44. सूची - I को सूची - II से सुमेलित कीजिए और सूचियों के नीचे दिये गये कूटों का प्रयोग कर सही उत्तर का चयन कीजिए।

## सूची - I

## सूची - II



1. प्राथमिक उपचार



2. गंतव्य चिह्न



3. स्थान पहचान संकेत



4. दिशा संकेत

## कूट :

- (A) a - 4, b - 1, c - 2, d - 3  
 (B) a - 2, b - 1, c - 4, d - 3  
 (C) a - 3, b - 2, c - 1, d - 4  
 (D) a - 1, b - 3, c - 4, d - 2

45. सुरक्षात्मक सिर के पहनावे का पहना जाना अनिवार्य नहीं है

- (A) चार वर्ष से अधिक आयु के व्यक्ति के लिए  
 (B) पगड़ी धारक सिख के लिए -  
 (C) ईसाई के लिए  
 (D) पारसी के लिए



93/24

46. 'Dev Prayag' is confluence of which of the following rivers ?

- (A) Bhagirathi and Mandakini
- (B) Bhagirathi and Tons
- (C) Bhagirathi and Alakananda
- (D) Alakananda and Tons

46. 'देव प्रयाग' निम्नलिखित में से किन नदियों का संगम है ?

- (A) भागीरथी एवं मंदाकिनी
- (B) भागीरथी एवं टोंस
- (C) भागीरथी एवं अलकनंदा
- (D) अलकनंदा एवं टोंस



47. Penicillin is related to which of the following ?

- (A) Opium
- (B) Fungi
- (C) Asparagus
- (D) None of the above

47. पेनिसिलिन निम्न में से किससे संबंधित है ?

- (A) अफीम
- (B) कवक
- (C) शतावर
- (D) उपरोक्त में से कोई नहीं

48. According to Section 194-D of the Motor Vehicle Act 1988, whoever drives a motor cycle or causes or allows a motor cycle to be driven in contravention of provision of Section 129 shall be punishable with

- (A) Fine of two thousand rupees and disqualified from holding licence for a period of one year
- (B) Fine of five thousand rupees and disqualified from holding licence for a period of three months
- (C) Fine of one thousand rupees and disqualified from holding licence for a period of six months
- (D) Fine of one thousand rupees and disqualified from holding licence for a period of three months

48. मोटर यान अधिनियम 1988 की धारा 194-D के अनुसार जो कोई धारा 129 के प्रावधानों के उल्लंघन में मोटर साइकिल चलाता या चलवाता है या मोटर साइकिल चलाने की अनुमति देता है, दण्डनीय होगा

- (A) दो हजार रुपये के जुर्माने और एक वर्ष की अवधि के लिये अनुज्ञप्ति धारण करने से निरहित
- (B) पाँच हजार रुपये के जुर्माने और तीन माह की अवधि के लिये अनुज्ञप्ति धारण करने से निरहित
- (C) एक हजार रुपये के जुर्माने और छः माह तक के अवधि के लिये अनुज्ञप्ति धारण करने से निरहित
- (D) एक हजार रुपये के जुर्माने और तीन माह की अवधि के लिये अनुज्ञप्ति धारण करने से निरहित

A



49. Which of the following is the oldest Ministry/Department of Government of India ?

- (A) Ministry of Railways
- (B) Ministry of Home Affairs
- (C) Ministry of Law and Justice
- (D) Ministry of Defence



49. निम्न में से कौन-सा भारत सरकार का सबसे पुराना मंत्रालय/विभाग है ?

- (A) रेलवे मंत्रालय
- (B) गृह मंत्रालय
- (C) विधि एवं न्याय मंत्रालय
- (D) रक्षा मंत्रालय

50. According to Section 194-E of the Motor Vehicle Act 1988, whoever fails to draw to side of road on the approach of a fire service vehicle or ambulance or other emergency vehicle, shall be punishable with

- (A) Imprisonment upto six months or fine of ten thousand rupees or both
- (B) Imprisonment upto one year or fine of twenty thousand rupees or both
- (C) Imprisonment upto two years or fine of ten thousand rupees or both
- (D) Imprisonment upto two years or fine of twenty thousand rupees or both

50. मोटर यान अधिनियम 1988 की धारा 194-E के अन्तर्गत जो कोई किसी अग्निशमन सेवा यान या एम्बुलेंस या अन्य आपातकालीन यान के आ जाने पर सड़क के एक ओर यान ले जाने में असफल रहता है निम्न से दण्डनीय होगा

- (A) छः माह तक का कारावास या दस हजार रु. का जुर्माना या दोनों
- (B) एक वर्ष तक का कारावास या बीस हजार रु. का जुर्माना या दोनों
- (C) दो वर्ष तक का कारावास या दस हजार रु. का जुर्माना या दोनों
- (D) दो वर्ष तक का कारावास या बीस हजार रुपये तक का जुर्माना या दोनों