



Teachingninja.in



Latest Govt Job updates



Private Job updates



Free Mock tests available



Visit - teachingninja.in

UP Police SI
Previous Year Paper
14 Nov 2021 Shift 1



Roll No:
Registration No:
Name:
Exam Date: 14-Nov-2021 Exam
Time: 09:00-11:00
Post Name: SI Civil 2021

GENERAL HINDI - GENERAL HINDI

<p>Question No.1</p> <p>इनमें से कौन-सा वाक्य अकर्मक क्रिया का उदाहरण नहीं है? इनमें से कौन-सा वाक्य अकर्मक क्रिया का उदाहरण नहीं है?</p> <p>(A) <input type="radio"/> मोहन सोता है मोहन सोता है</p> <p>(B) <input type="radio"/> राम खेलता है राम खेलता है</p> <p>(C) <input checked="" type="radio"/> राम क्रिकेट खेलता है (Correct Answer) (Chosen option) राम क्रिकेट खेलता है</p> <p>(D) <input type="radio"/> सीता गाती है सीता गाती है</p>	<p>Marks: 2.50</p> <p>Bookmark <input type="checkbox"/></p>
<p>Question No.2</p> <p>इनमें से किस पुस्तक को व्यास सम्मान प्राप्त हुआ था? इनमें से किस पुस्तक को व्यास सम्मान प्राप्त हुआ था?</p> <p>(A) <input checked="" type="radio"/> व्योमकेश दरवेश (Correct Answer) व्योमकेश दरवेश</p> <p>(B) <input type="radio"/> अनामदास का पोथा (Chosen option) अनामदास का पोथा</p> <p>(C) <input type="radio"/> कामायनी कामायनी</p> <p>(D) <input type="radio"/> मधुशाला मधुशाला</p>	<p>Marks: 2.50</p> <p>Bookmark <input type="checkbox"/></p>
<p>Question No.3</p> <p>इनमें से कौन-सा शब्द 'उदय' का विलोम है? इनमें से कौन-सा शब्द 'उदय' का विलोम है?</p> <p>(A) <input type="radio"/> डूब डूब</p> <p>(B) <input type="radio"/> अप्रकट अप्रकट</p> <p>(C) <input type="radio"/> परोक्ष परोक्ष</p> <p>(D) <input checked="" type="radio"/> अस्त (Correct Answer) (Chosen option) अस्त</p>	<p>Marks: 2.50</p> <p>Bookmark <input type="checkbox"/></p>
<p>Question No.4</p> <p>उदय प्रकाश इनमें से किस विधा के चर्चित लेखक हैं? उदय प्रकाश इनमें से किस विधा के चर्चित लेखक हैं?</p> <p>(A) <input checked="" type="radio"/> कहानी (Correct Answer) कहानी</p> <p>(B) <input type="radio"/> निबंधकार निबंधकार</p> <p>(C) <input type="radio"/> नाटककार (Chosen option) नाटककार</p> <p>(D) <input type="radio"/> महाकाव्य महाकाव्य</p>	<p>Marks: 2.50</p> <p>Bookmark <input type="checkbox"/></p>

Question No.5

Marks: 2.50
Bookmark ☐

इनमें से सर्वनाम की उपयुक्त परिभाषा कौन-सी है?
इनमें से सर्वनाम की उपयुक्त परिभाषा कौन-सी है?

- (A) ☐ क्रिया के स्थान पर प्रयुक्त होने वाले शब्द
क्रिया के स्थान पर प्रयुक्त होने वाले शब्द
- (B) ☐ विशेषण के स्थान पर प्रयुक्त होने वाले शब्द
विशेषण के स्थान पर प्रयुक्त होने वाले शब्द
- (C) ☒ संज्ञा के स्थान पर प्रयुक्त होने वाले शब्द (Correct Answer) (Chosen option)
संज्ञा के स्थान पर प्रयुक्त होने वाले शब्द
- (D) ☐ क्रिया विशेषण के स्थान पर प्रयुक्त होने वाले शब्द
क्रिया विशेषण के स्थान पर प्रयुक्त होने वाले शब्द

Question No.6

Marks: 2.50
Bookmark ☐

इनमें से सोलह मात्राओं वाला छंद कौन-सा है?
इनमें से सोलह मात्राओं वाला छंद कौन-सा है?

- (A) ☒ चौपाई (Correct Answer)
चौपाई
- (B) ☐ घनाक्षरी
घनाक्षरी
- (C) ☐ दोहा (Chosen option)
दोहा
- (D) ☐ रोला
रोला

Question No.7

Marks: 2.50
Bookmark ☐

इनमें से किसका उच्चारण-स्थान 'कंठ' है?
इनमें से किसका उच्चारण-स्थान 'कंठ' है?

- (A) ☐ त
त
- (B) ☒ ग (Correct Answer) (Chosen option)
ग
- (C) ☐ प
प
- (D) ☐ च
च

Question No.8

Marks: 2.50
Bookmark ☐

शब्दों की आवृत्ति इनमें से किस अलंकार में होती है?
शब्दों की आवृत्ति इनमें से किस अलंकार में होती है?

- (A) ☐ यमक
यमक
- (B) ☐ वक्रोक्ति
वक्रोक्ति
- (C) ☒ अनुप्रास (Correct Answer) (Chosen option)
अनुप्रास
- (D) ☐ श्लेष
श्लेष

Question No.9

Marks: 2.50
Bookmark ☐

'यथासंभव' में इनमें से कौन-सा समास है?
'यथासंभव' में इनमें से कौन-सा समास है?

- (A) ☐ कर्मधारय
कर्मधारय
- (B) ☐ तत्पुरुष
तत्पुरुष
- (C) ☐ बहुव्रीहि

बहुव्रीहि

- (D) ☐ अव्ययीभाव (Correct Answer) (Chosen option)
अव्ययीभाव

Question No.10

Marks: 2.50
Bookmark ☐

प्रयत्न के आधार पर 'ल' किस प्रकार की ध्वनि है?
प्रयत्न के आधार पर 'ल' किस प्रकार की ध्वनि है?

- (A) ☐ उल्लिप्त (Chosen option)
उल्लिप्त
(B) ☐ पार्श्विक (Correct Answer)
पार्श्विक
(C) ☐ प्रकम्पित
प्रकम्पित
(D) ☐ संघर्षहीन
संघर्षहीन

Question No.11

Marks: 2.50
Bookmark ☐

इनमें से घुमक्कड़ के रूप में प्रसिद्ध लेखक कौन हैं?
इनमें से घुमक्कड़ के रूप में प्रसिद्ध लेखक कौन हैं?

- (A) ☐ राहुल सांकृत्यायन (Correct Answer)
राहुल सांकृत्यायन
(B) ☐ रामवृक्ष बेनीपुरी (Chosen option)
रामवृक्ष बेनीपुरी
(C) ☐ कुंवर नारायण
कुंवर नारायण
(D) ☐ निर्मल वर्मा
निर्मल वर्मा

Case Study - 12 to 14

7.50

अनुच्छेद पढ़कर दिए गए सवालों के सही जवाब चुनिए :-

“निकम्मे रहकर मनुष्यों की चिन्तन-शक्ति थक गई है। बिस्तरों और आसनों पर सोते-सोते मन के घोड़े हर गये हैं। सारा जीवन-रस निचुड़ चुका है। स्वप्न पुराने हो चुके हैं। आजकल कविता में नयापन नहीं। उसमें पुराने जमाने की पुनरावृत्ति मात्र है। इस नकल में असल की पवित्रता का अभाव है। अब तो एक नये प्रकार का कलाकौशलपूर्ण संगीत साहित्य संसार में प्रचलित होने वाला है। यदि वह न प्रचलित हुआ तो मशीनों के पहियों के नीचे दबकर हमें मरा समझिये। यह नया साहित्य मज़दूरों के हृदय से निकलेगा। उन मज़दूरों के कंठ से यह नयी कविता निकलेगी जो अपने जीवन आनंद के साथ खेत की मेड़ों का, कपड़ों के धागों का, जूते के टांकों का, लकड़ी के रंगों का भेदभाव दूर करेंगे। नंगे सर और पाँव, धूल से पिटे हुए और कीचड़ से रंगे हुए वे बेजुबान कवि जब जंगल में लकड़ी काटेंगे तब लकड़ी काटने के शब्द इनके असभ्य स्वरों से मिश्रित होकर वायुयान पर चढ़ दसों दिशाओं ऐसा अद्भुत गान करेगा कि भविष्य के कलावन्तों के लिये वही ध्रुपद और मल्हार का काम देगा। कलारूपी धर्म की तभी वृद्धि होगी, तभी नए कवि पैदा होंगे, तभी नए औलियों का उद्भव होगा। परन्तु ये सब के सब मजदूरी के दूध से पलेंगे। शुद्धाचरण, सभ्यता और कविता आदि के फूल इन्हीं ऋषियों के उद्यान में प्रफुल्लित होंगे।”

Question No.12

Marks: 2.50
Bookmark ☐

उपरोक्त गद्यांश के अनुसार कविता में नवीन विषयों के अभाव का मुख्य कारण क्या है?
उपरोक्त गद्यांश के अनुसार कविता में नवीन विषयों के अभाव का मुख्य कारण क्या है?

- (A) ☐ मनुष्य का सारा जीवन-रस निचुड़ चुका है, स्वप्न पुराने हो चुके हैं।
मनुष्य का सारा जीवन-रस निचुड़ चुका है, स्वप्न पुराने हो चुके हैं।
(B) ☐ श्रमहीनता की स्थिति ने मनुष्य की चिन्तन-शक्ति क्षीण कर दी है। (Correct Answer) (Chosen option)
श्रमहीनता की स्थिति ने मनुष्य की चिन्तन-शक्ति क्षीण कर दी है।
(C) ☐ मनुष्य ने नवीन विषयों पर विचार करना बंद कर दिया है।
मनुष्य ने नवीन विषयों पर विचार करना बंद कर दिया है।
(D) ☐ मनुष्य ने नवीन कल्पनाएं करनी बंद कर दी हैं।
मनुष्य ने नवीन कल्पनाएं करनी बंद कर दी हैं।

Question No.13

Marks: 2.50
Bookmark ☐

उपरोक्त गद्यांश के अनुसार यदि संगीत नवीन साहित्य संसार में प्रचलित नहीं हुआ तो मनुष्य पर क्या प्रभाव पड़ेगा?
उपरोक्त गद्यांश के अनुसार यदि संगीत नवीन साहित्य संसार में प्रचलित नहीं हुआ तो मनुष्य पर क्या प्रभाव पड़ेगा?

- (A) ☐ वह नवीन कला-कौशलपूर्ण संगीत से वंचित रह जाएगा।
वह नवीन कला-कौशलपूर्ण संगीत से वंचित रह जाएगा।
(B) ☐ वह भौतिकता के आधिक्य के कारण भावहीन हो जाएगा। (Chosen option)

- वह भौतिकता के आधिक्य के कारण भावहीन हो जाएगा।
- (C) ☐ वह भविष्य में कभी साहित्यिक प्रगति न कर पाएगा।
वह भविष्य में कभी साहित्यिक प्रगति न कर पाएगा।
- (D) ☒ वह मशीनों का गुलाम बनकर रह जाएगा। (Correct Answer)
वह मशीनों का गुलाम बनकर रह जाएगा।

Question No.14

Marks: 2.50
Bookmark ☐

मनुष्यों की चिन्तन-शक्ति क्यों थक गई है?
मनुष्यों की चिन्तन-शक्ति क्यों थक गई है?

- (A) ☐ बहुत ज्यादा सोचकर
बहुत ज्यादा सोचकर
- (B) ☒ निकम्मे रहकर (Correct Answer) (Chosen option)
निकम्मे रहकर
- (C) ☐ अत्यधिक कार्य करके
अत्यधिक कार्य करके
- (D) ☐ इनमें से कोई नहीं
इनमें से कोई नहीं

Question No.15

Marks: 2.50
Bookmark ☐

इनमें से कौन-सा शब्द अशुद्ध है?
इनमें से कौन-सा शब्द अशुद्ध है?

- (A) ☐ ज्योत्स्ना
ज्योत्स्ना
- (B) ☐ संतुष्ट
संतुष्ट
- (C) ☐ शूर्पणखा (Chosen option)
शूर्पणखा
- (D) ☒ पृष्ठभूमि (Correct Answer)
पृष्ठभूमि

Question No.16

Marks: 2.50
Bookmark ☐

इनमें से कौन-सा शब्द तत्सम है?
इनमें से कौन-सा शब्द तत्सम है?

- (A) ☐ नाक
नाक
- (B) ☐ धूरि
धूरि
- (C) ☐ जनवास
जनवास
- (D) ☒ जंबुल (Correct Answer) (Chosen option)
जंबुल

Question No.17

Marks: 2.50
Bookmark ☐

इनमें से कौन-सा शब्द 'अग्नि' का विलोम है?
इनमें से कौन-सा शब्द 'अग्नि' का विलोम है?

- (A) ☐ वायु
वायु
- (B) ☐ घृत
घृत
- (C) ☐ तेल
तेल
- (D) ☒ जल (Correct Answer) (Chosen option)
जल

Question No.18

Marks: 2.50
Bookmark ☐

जिन संज्ञाओं की विशेषता बताई जाती है, उन्हें क्या कहते हैं?
जिन संज्ञाओं की विशेषता बताई जाती है, उन्हें क्या कहते हैं?

- (A) ☐ सर्वनाम
सर्वनाम
- (B) ☐ कारक
कारक
- (C) ☒ विशेष्य (Correct Answer) (Chosen option)
विशेष्य
- (D) ☐ सार्वनामिक विशेषण
सार्वनामिक विशेषण

Question No.19

Marks: 2.50
Bookmark ☐

इनमें से किस साप्ताहिक का संपादन महात्मा गाँधी ने किया था?
इनमें से किस साप्ताहिक का संपादन महात्मा गाँधी ने किया था?

- (A) ☒ हिंदी नवजीवन (Correct Answer) (Chosen option)
हिंदी नवजीवन
- (B) ☐ हंस
हंस
- (C) ☐ देश
देश
- (D) ☐ भारत
भारत

Question No.20

Marks: 2.50
Bookmark ☐

इनमें से कौन-सा शब्द 'वीरांगना' का पुल्लिंग रूप है?
इनमें से कौन-सा शब्द 'वीरांगना' का पुल्लिंग रूप है?

- (A) ☐ इनमें से कोई नहीं
इनमें से कोई नहीं
- (B) ☐ वीरता
वीरता
- (C) ☒ वीर (Correct Answer) (Chosen option)
वीर
- (D) ☐ वीरांगन
वीरांगन

Question No.21

Marks: 2.50
Bookmark ☐

भारतीय संविधान के अनुसार हिंदी के साथ-साथ अंग्रेजी का प्रयोग कितने वर्षों तक करने का सुझाव दिया गया था?
भारतीय संविधान के अनुसार हिंदी के साथ-साथ अंग्रेजी का प्रयोग कितने वर्षों तक करने का सुझाव दिया गया था?

- (A) ☐ 14 वर्षों तक
14 वर्षों तक
- (B) ☒ 15 वर्षों तक (Correct Answer) (Chosen option)
15 वर्षों तक
- (C) ☐ 20 वर्षों तक
20 वर्षों तक
- (D) ☐ हमेशा
हमेशा

Question No.22

Marks: 2.50
Bookmark ☐

क्रमवाचक विशेषण का उदाहरण कौन-सा है?
क्रमवाचक विशेषण का उदाहरण कौन-सा है?

- (A) ☐ तीन
तीन
- (B) ☐ चौगुना
चौगुना
- (C) ☐ दो
दो
- (D) ☒ दूसरा (Correct Answer) (Chosen option)

दूसरा

Question No.23

Marks: 2.50
Bookmark ☐

शृंगार रस का स्थायी भाव कौन-सा है?
शृंगार रस का स्थायी भाव कौन-सा है?

- (A) ☐ शोक
शोक
- (B) ☐ भय
भय
- (C) ☒ रति (Correct Answer) (Chosen option)
रति
- (D) ☐ हास
हास

Question No.24

Marks: 2.50
Bookmark ☐

इनमें से हिन्दी की वह चर्चित रचना कौन-सी है जिस पर लोकप्रिय टीवी सिरियल बना था?
इनमें से हिन्दी की वह चर्चित रचना कौन-सी है जिस पर लोकप्रिय टीवी सिरियल बना था?

- (A) ☐ परीक्षागुरू
परीक्षागुरू
- (B) ☒ चंद्रकांता (Correct Answer) (Chosen option)
चंद्रकांता
- (C) ☐ गोदान
गोदान
- (D) ☐ आधा गांव
आधा गांव

Question No.25

Marks: 2.50
Bookmark ☐

'जिस पर हमला न किया गया हो' इस वाक्यांश के लिए उपयुक्त शब्द इनमें से कौन-सा है?
'जिस पर हमला न किया गया हो' इस वाक्यांश के लिए उपयुक्त शब्द इनमें से कौन-सा है?

- (A) ☒ अनाक्रांत (Correct Answer) (Chosen option)
अनाक्रांत
- (B) ☐ आक्रामक
आक्रामक
- (C) ☐ आक्रान्ता
आक्रान्ता
- (D) ☐ अयोध्या
अयोध्या

Question No.26

Marks: 2.50
Bookmark ☐

इनमें से किसके बिना कोई व्यंजन उच्चारित नहीं किया जा सकता?
इनमें से किसके बिना कोई व्यंजन उच्चारित नहीं किया जा सकता?

- (A) ☒ स्वर के बिना (Correct Answer) (Chosen option)
स्वर के बिना
- (B) ☐ अनुस्वार के बिना
अनुस्वार के बिना
- (C) ☐ उपसर्ग के बिना
उपसर्ग के बिना
- (D) ☐ विसर्ग के बिना
विसर्ग के बिना

Question No.27

Marks: 2.50
Bookmark ☐

इनमें से कौन-सा शब्द तद्भव है?
इनमें से कौन-सा शब्द तद्भव है?

- (A) ☐ आश्चर्य
आश्चर्य
- (B) ☒ इलायची (Correct Answer)

इलायची

- (C) ☐ उल्लास (Chosen option)
उल्लास
- (D) ☐ अग्नि
अग्नि

Question No.28

Marks: 2.50

Bookmark ☐

इनमें से किस वाक्य में प्रश्नवाचक सर्वनाम का प्रयोग हुआ है?
इनमें से किस वाक्य में प्रश्नवाचक सर्वनाम का प्रयोग हुआ है?

- (A) ☐ आप कहेंगे तो ही बैठूंगा
आप कहेंगे तो ही बैठूंगा
- (B) ☐ पुस्तक किससे मँगवाऊँ? (Correct Answer) (Chosen option)
पुस्तक किससे मँगवाऊँ?
- (C) ☐ कुछ काम किया करो
कुछ काम किया करो
- (D) ☐ उपरोक्त में से कोई नहीं
उपरोक्त में से कोई नहीं

Question No.29

Marks: 2.50

Bookmark ☐

'कमल' का पर्यायवाची इनमें से कौन-सा है?
'कमल' का पर्यायवाची इनमें से कौन-सा है?

- (A) ☐ अनल
अनल
- (B) ☐ पंचशर
पंचशर
- (C) ☐ पुष्प
पुष्प
- (D) ☐ पंकज (Correct Answer) (Chosen option)
पंकज

Question No.30

Marks: 2.50

Bookmark ☐

निम्न वाक्यों में से कौन-सा वाक्य एकवचन है?
निम्न वाक्यों में से कौन-सा वाक्य एकवचन है?

- (A) ☐ अध्यापकगण यहाँ बैठे
अध्यापकगण यहाँ बैठे
- (B) ☐ महात्मा बुद्ध महान थे (Chosen option)
महात्मा बुद्ध महान थे
- (C) ☐ कल बहुत वर्षा हुई थी (Correct Answer)
कल बहुत वर्षा हुई थी
- (D) ☐ भय से उसके तो प्राण ही गए
भय से उसके तो प्राण ही गए

Question No.31

Marks: 2.50

Bookmark ☐

यशोधरा, कैकयी, उर्मिला इत्यादि नारी पात्रों पर कविता लिखने वाले कवि इनमें से कौन हैं?
यशोधरा, कैकयी, उर्मिला इत्यादि नारी पात्रों पर कविता लिखने वाले कवि इनमें से कौन हैं?

- (A) ☐ प्रसाद
प्रसाद
- (B) ☐ महादेवी वर्मा
महादेवी वर्मा
- (C) ☐ सियारामशरण गुप्त
सियारामशरण गुप्त
- (D) ☐ मैथिलीशरण गुप्त (Correct Answer) (Chosen option)
मैथिलीशरण गुप्त

Question No.32

Marks: 2.50

Bookmark ☐

'जो किये गये उपकारों को मानता है' के लिए एक शब्द लिखिए।
'जो किये गये उपकारों को मानता है' के लिए एक शब्द लिखिए।

- (A) ☐ अज्ञ
अज्ञ
- (B) ☒ कृतज्ञ (Correct Answer) (Chosen option)
कृतज्ञ
- (C) ☐ कृतकार्य
कृतकार्य
- (D) ☐ कृतघ्न
कृतघ्न

Question No.33

Marks: 2.50
Bookmark ☐

इनमें से कौन-सा शब्द 'अतिवृष्टि' का विलोम है?
इनमें से कौन-सा शब्द 'अतिवृष्टि' का विलोम है?

- (A) ☐ रेगिस्तान
रेगिस्तान
- (B) ☐ आर्द्र
आर्द्र
- (C) ☐ बाढ़
बाढ़
- (D) ☒ अनावृष्टि (Correct Answer) (Chosen option)
अनावृष्टि

Question No.34

Marks: 2.50
Bookmark ☐

निम्नलिखित में से हिंदी/संस्कृत का उपसर्ग कौन-सा है?
निम्नलिखित में से हिंदी/संस्कृत का उपसर्ग कौन-सा है?

- (A) ☐ बे
बे
- (B) ☐ बिल
बिल
- (C) ☐ हम
हम
- (D) ☒ परा (Correct Answer) (Chosen option)
परा

Question No.35

Marks: 2.50
Bookmark ☐

निम्नलिखित शब्दों में से सही शब्द कौन-सा है?
निम्नलिखित शब्दों में से सही शब्द कौन-सा है?

- (A) ☐ दुग्धोज्ज्वल
दुग्धोज्ज्वल
- (B) ☐ दुग्धोजल
दुग्धोजल
- (C) ☐ दुग्धोज्जवल
दुग्धोज्जवल
- (D) ☒ दुग्धोज्ज्वल (Correct Answer) (Chosen option)
दुग्धोज्ज्वल

Question No.36

Marks: 2.50
Bookmark ☐

इनमें से कौन-सा शब्द 'आनंद' का अनेकार्थी शब्द है?
इनमें से कौन-सा शब्द 'आनंद' का अनेकार्थी शब्द है?

- (A) ☒ खुशी (Correct Answer) (Chosen option)
खुशी
- (B) ☐ कबूतर
कबूतर
- (C) ☐ वस्त्र
वस्त्र
- (D) ☐ पानी

<div>Question No.37</div> <div>Marks: 2.50</div> <div>Bookmark <input type="checkbox"/></div> <div>इनमें से चौरासी सिद्धों में प्रथम सिद्ध कौन हैं? इनमें से चौरासी सिद्धों में प्रथम सिद्ध कौन हैं?</div> <div><div>(A) <input type="radio"/> शबरपा</div><div>शबरपा</div><div>(B) <input type="radio"/> डोम्बिपा (Chosen option)</div><div>डोम्बिपा</div><div>(C) <input type="radio"/> सरहपा (Correct Answer)</div><div>सरहपा</div><div>(D) <input type="radio"/> लुईपा</div><div>लुईपा</div></div>	
<div>Question No.38</div> <div>Marks: 2.50</div> <div>Bookmark <input type="checkbox"/></div> <div>'रश्मिरथी' इनमें से किसके जीवन पर केन्द्रित कृति है? 'रश्मिरथी' इनमें से किसके जीवन पर केन्द्रित कृति है?</div> <div><div>(A) <input type="radio"/> राम</div><div>राम</div><div>(B) <input type="radio"/> कृष्ण (Chosen option)</div><div>कृष्ण</div><div>(C) <input type="radio"/> कर्ण (Correct Answer)</div><div>कर्ण</div><div>(D) <input type="radio"/> अर्जुन</div><div>अर्जुन</div></div>	
<div>Question No.39</div> <div>Marks: 2.50</div> <div>Bookmark <input type="checkbox"/></div> <div>प्रत्यय का प्रयोग इनमें से कहाँ किया जाता है? प्रत्यय का प्रयोग इनमें से कहाँ किया जाता है?</div> <div><div>(A) <input type="radio"/> शब्दों के पहले</div><div>शब्दों के पहले</div><div>(B) <input type="radio"/> शब्दों के बाद (Correct Answer) (Chosen option)</div><div>शब्दों के बाद</div><div>(C) <input type="radio"/> शब्दों के बीच में</div><div>शब्दों के बीच में</div><div>(D) <input type="radio"/> इनमें से कोई नहीं</div><div>इनमें से कोई नहीं</div></div>	
<div>Question No.40</div> <div>Marks: 2.50</div> <div>Bookmark <input type="checkbox"/></div> <div>मुल्लादाउद कृत 'लोरकहा' की भाषा इनमें से कौन-सी है? मुल्लादाउद कृत 'लोरकहा' की भाषा इनमें से कौन-सी है?</div> <div><div>(A) <input type="radio"/> ब्रजभाषा</div><div>ब्रजभाषा</div><div>(B) <input type="radio"/> अवधी (Correct Answer)</div><div>अवधी</div><div>(C) <input type="radio"/> अपभ्रंश (Chosen option)</div><div>अपभ्रंश</div><div>(D) <input type="radio"/> राजस्थानी</div><div>राजस्थानी</div></div>	
BASIC LAW - CONSTITUTION AND GENERAL KNOWLEDGE - BASIC LAW - CONSTITUTION AND GENERAL KNOWLEDGE	
<div>Question No.1</div> <div>Marks: 2.50</div> <div>Bookmark <input type="checkbox"/></div> <div>Which among the following is a subject included in the 'State List' under the Seventh Schedule of Indian Constitution? भारतीय संविधान की सातवीं अनुसूची के तहत, निम्नलिखित में से कौन सा विषय 'राज्य सूची' में शामिल एक विषय है?</div> <div><div>(A) <input type="radio"/> Posts and Telegraph</div><div>पोस्ट और टेलीग्राफ़</div></div>	

- (B) ☐ Insurance
बीमा
- (C) ☒ **Sanitation (Correct Answer) (Chosen option)**
स्वच्छता
- (D) ☐ Stock Exchange
शेयर बाज़ार (स्टॉक एक्सचेंज)

Question No.2

Marks: 2.50
Bookmark ☐

Food Corporation of India functions under _____.
भारतीय खाद्य निगम _____ के अधीन कार्य करता है।

- (A) ☐ Ministry of Fertilisers and Chemicals
उर्वरक और रसायन मंत्रालय
- (B) ☒ **Ministry of Consumer Affairs, Food and Public Distribution (Correct Answer) (Chosen option)**
उपभोक्ता मामले, खाद्य और सार्वजनिक वितरण मंत्रालय
- (C) ☐ Ministry of Agriculture
कृषि मंत्रालय
- (D) ☐ Ministry of Health and Family Welfare
स्वास्थ्य और परिवार कल्याण मंत्रालय

Question No.3

Marks: 2.50
Bookmark ☐

Uttar Pradesh Land Revenue Act was established in which of the following years?
उत्तर प्रदेश भूमि राजस्व अधिनियम निम्नलिखित में से किस वर्ष में स्थापित किया गया था?

- (A) ☐ 1910
1910
- (B) ☒ **1920 (Chosen option)**
1920
- (C) ☐ 1915
1915
- (D) ☐ **1901 (Correct Answer)**
1901

Question No.4

Marks: 2.50
Bookmark ☐

A digital signature process requires the _____ to be shared to the recipient.
एक डिजिटल हस्ताक्षर प्रक्रिया को प्राप्तकर्ता को साझा करने के लिए _____ की आवश्यकता होती है।

- (A) ☐ Private Key
प्राइवेट की
- (B) ☒ **Encryption Type (Chosen option)**
एन्क्रिप्शन टाइप (प्रकार)
- (C) ☐ Hash Code
हैश कोड
- (D) ☐ **Public Key (Correct Answer)**
पब्लिक की

Question No.5

Marks: 2.50
Bookmark ☐

What is the minimum age required to contest in the Lok Sabha elections?
लोकसभा चुनाव लड़ने के लिए न्यूनतम आयु कितनी होनी चाहिए?

- (A) ☐ 30 Years
30 वर्ष
- (B) ☒ **25 Years (Correct Answer) (Chosen option)**
25 वर्ष
- (C) ☐ 18 Years
18 वर्ष
- (D) ☐ 35 Years
35 वर्ष

Question No.6

Marks: 2.50
Bookmark ☐

Which country has recently assumed the Chairmanship of the Governing Body of International Labour Organization(ILO)?
हाल ही में किस देश ने अंतर्राष्ट्रीय श्रम संगठन (आई.एल.ओ.) के शासी निकाय की अध्यक्षता ग्रहण की है?

- (A) ☐ Pakistan
पाकिस्तान
- (B) ☒ India (Correct Answer)
भारत
- (C) ☐ Australia (Chosen option)
ऑस्ट्रेलिया
- (D) ☐ China
चीन

Question No.7

Marks: 2.50
Bookmark ☐

The term "National Security" under the National Security Act, 1980 does not include _____.
राष्ट्रीय सुरक्षा अधिनियम, 1980 के तहत "राष्ट्रीय सुरक्षा" शब्द में _____ सम्मिलित नहीं है।

- (A) ☐ Defence of India
भारत की रक्षा
- (B) ☐ Maintenance of supplies and services essential to the community
समुदाय के लिए आवश्यक आपूर्ति और सेवाओं का रखरखाव
- (C) ☐ Security of India
भारत की सुरक्षा
- (D) ☒ Interstate Water Disputes of India (Correct Answer) (Chosen option)
भारत के अंतरराज्यीय जल विवाद

Question No.8

Marks: 2.50
Bookmark ☐

What is the retirement age for a Supreme Court judge in India?
भारत में सर्वोच्च न्यायालय के न्यायाधीश के लिए सेवानिवृत्ति की आयु कितनी होती है?

- (A) ☒ 65 Years (Correct Answer) (Chosen option)
65 वर्ष
- (B) ☐ 55 Years
55 वर्ष
- (C) ☐ 50 Years
50 वर्ष
- (D) ☐ 60 Years
60 वर्ष

Question No.9

Marks: 2.50
Bookmark ☐

Which dam built in the Mahanadi basin integrates conservation of water with flood control?
महानदी बेसिन में बना कौन सा बांध बाढ़ नियंत्रण के साथ जल संरक्षण को समाहित करता है?

- (A) ☒ Hirakud Dam (Correct Answer) (Chosen option)
हीराकुद बांध
- (B) ☐ Tehri Dam
टिहरी बांध
- (C) ☐ Nagarjuna Sagar Dam
नागार्जुन सागर बांध
- (D) ☐ Bhakra-Nangal Dam
भाखड़ा नांगल बांध

Question No.10

Marks: 2.50
Bookmark ☐

The ruler who planted a 'Tree of Liberty' at Srirangapatnam and also became a member of the 'Jacobin Club' was _____.
वह शासक जिसने श्रीरंगपट्टनम में 'स्वतंत्रता के वृक्ष' (ट्री ऑफ लिबर्टी) का रोपण किया और 'जैकबिन क्लब' का सदस्य भी बना, वह _____ था।

- (A) ☒ Tipu Sultan (Correct Answer) (Chosen option)
टीपू सुल्तान
- (B) ☐ Hyder Ali
हैदर अली
- (C) ☐ Safdar Jung
सफदर जंग
- (D) ☐ Saadat Khan
सआदत खान

Question No.11

Marks: 2.50
Bookmark ☐

<p>How many functional items have been placed within the purview of municipalities in the Twelfth Schedule of the Indian Constitution? भारतीय संविधान की बारहवीं अनुसूची में नगरपालिकाओं के कार्य क्षेत्र में कितने कार्यात्मक मदों को रखा गया है?</p> <p>(A) <input checked="" type="radio"/> 18 (Correct Answer) (Chosen option) 18</p> <p>(B) <input type="radio"/> 24 24</p> <p>(C) <input type="radio"/> 13 13</p> <p>(D) <input type="radio"/> 10 10</p>	
<p>Question No.12</p> <p>Which international document is called as the 'International Magna Carta' for all mankind? किस अंतर्राष्ट्रीय दस्तावेज को सभी मानव जाति के लिए 'अंतर्राष्ट्रीय मैग्ना कार्टा' कहा जाता है?</p> <p>(A) <input type="radio"/> UN Charter संयुक्त राष्ट्र चार्टर</p> <p>(B) <input type="radio"/> International Convention on Civil and Political Rights नागरिक और राजनीतिक अधिकारों पर अंतर्राष्ट्रीय सम्मेलन</p> <p>(C) <input checked="" type="radio"/> Universal Declaration of Human Rights (Correct Answer) (Chosen option) मानवाधिकारों का सार्वभौम घोषणा पत्र</p> <p>(D) <input type="radio"/> European Convention on Human Rights मानवाधिकारों पर यूरोपीय सम्मेलन</p>	<p>Marks: 2.50</p> <p>Bookmark <input type="checkbox"/></p>
<p>Question No.13</p> <p>When did the 'Foreign Trade (Development and Regulation) Act' come into force? 'विदेश व्यापार (विकास और विनियमन) अधिनियम' कब लागू हुआ?</p> <p>(A) <input checked="" type="radio"/> 1992 (Correct Answer) (Chosen option) 1992</p> <p>(B) <input type="radio"/> 2002 2002</p> <p>(C) <input type="radio"/> 1982 1982</p> <p>(D) <input type="radio"/> 1972 1972</p>	<p>Marks: 2.50</p> <p>Bookmark <input type="checkbox"/></p>
<p>Question No.14</p> <p>Who is the 'ex officio' Chairperson of the National Disaster Management Authority? राष्ट्रीय आपदा प्रबंधन प्राधिकरण के 'पदेन' अध्यक्ष कौन होते हैं?</p> <p>(A) <input type="radio"/> President of India भारत के राष्ट्रपति</p> <p>(B) <input type="radio"/> Comptroller and Auditor General of India भारत के नियन्त्रक एवं महालेखापरीक्षक</p> <p>(C) <input checked="" type="radio"/> Prime Minister of India (Correct Answer) (Chosen option) भारत के प्रधानमंत्री</p> <p>(D) <input type="radio"/> Vice-President of India भारत के उप-राष्ट्रपति</p>	<p>Marks: 2.50</p> <p>Bookmark <input type="checkbox"/></p>
<p>Question No.15</p> <p>Which Constitutional Amendment Act added a new Fundamental Duty to the Indian Constitution in 2002? 2002 में भारतीय संविधान में किस संवैधानिक संशोधन अधिनियम द्वारा एक नया मौलिक कर्तव्य जोड़ा गया था?</p> <p>(A) <input checked="" type="radio"/> 86th Amendment (Correct Answer) (Chosen option) 86वें संशोधन</p> <p>(B) <input type="radio"/> 62nd Amendment 62वें संशोधन</p> <p>(C) <input type="radio"/> 99th Amendment 99वें संशोधन</p> <p>(D) <input type="radio"/> 74th Amendment 74वें संशोधन</p>	<p>Marks: 2.50</p> <p>Bookmark <input type="checkbox"/></p>

Question No.16Marks: 2.50
Bookmark ☐

Among the following states, which is the leading producer of rice in India?
निम्नलिखित राज्यों में से, भारत में चावल का प्रमुख उत्पादक कौन है?

- (A) ☐ Rajasthan
राजस्थान
- (B) ☐ Maharashtra
महाराष्ट्र
- (C) ☒ **West Bengal (Correct Answer) (Chosen option)**
पश्चिम बंगाल
- (D) ☐ Gujarat
गुजरात

Question No.17Marks: 2.50
Bookmark ☐

Land ceiling refers to _____.
भू-हदबंदी निम्नलिखित में से किसे संदर्भित करती है?

- (A) ☒ **fixation of maximum limit beyond which nobody can hold any land (Correct Answer)**
उस अधिकतम सीमा का निर्धारण जिससे अधिक कोई भी किसी भी प्रकार की भूमि नहीं रख सकता
- (B) ☐ fixation of minimum limit beyond which nobody can hold any land (Chosen option)
उस न्यूनतम सीमा का निर्धारण जिससे अधिक कोई भी किसी भी प्रकार की भूमि नहीं रख सकता
- (C) ☐ fixation of fixed limit beyond which nobody can hold wet land
उस निश्चित सीमा का निर्धारण जिससे अधिक कोई भी आर्द्र भूमि नहीं रख सकता
- (D) ☐ fixation of maximum limit beyond which nobody can hold agricultural land
उस अधिकतम सीमा का निर्धारण जिससे अधिक कोई भी कृषि भूमि नहीं रख सकता

Question No.18Marks: 2.50
Bookmark ☐

Which Commission is entrusted with monitoring the implementation of The Protection of Children from Sexual Offences Act, 2012?

किस आयोग को यौन अपराधों से बच्चों का संरक्षण अधिनियम, 2012 के कार्यान्वयन की निगरानी का उत्तरदायित्व सौंपा गया है?

- (A) ☐ National Commission for Women
राष्ट्रीय महिला आयोग
- (B) ☐ Human Rights Court
मानवाधिकार न्यायालय
- (C) ☒ **National Commission for Protection of Child Rights (Correct Answer) (Chosen option)**
राष्ट्रीय बाल अधिकार संरक्षण आयोग
- (D) ☐ Human Rights Commission
मानव अधिकार आयोग

Question No.19Marks: 2.50
Bookmark ☐

Which Article of the Indian Constitution prohibits the employment of children below the age of 14 years in any factories, mine or other hazardous activities?

भारतीय संविधान का कौन सा अनुच्छेद किसी भी कारखानों, खदान या अन्य संकटपूर्ण गतिविधि में 14 वर्ष से कम आयु के बच्चों के रोजगार पर प्रतिबंध लगाता है?

- (A) ☐ Article 14
अनुच्छेद 14
- (B) ☒ **Article 24 (Correct Answer) (Chosen option)**
अनुच्छेद 24
- (C) ☐ Article 34
अनुच्छेद 34
- (D) ☐ Article 44
अनुच्छेद 44

Question No.20Marks: 2.50
Bookmark ☐

In which year was the Criminal Tribes Act passed by the British colonial government?

ब्रिटिश औपनिवेशिक सरकार द्वारा आपराधिक जनजाति अधिनियम किस वर्ष में पारित किया गया था?

- (A) ☐ 1861
1861
- (B) ☒ **1881 (Chosen option)**
1881
- (C) ☐ 1891
1891

(D) ☐ **1871 (Correct Answer)**
1871

Question No.21

Marks: 2.50
Bookmark ☐

The main objective of the Public Liability Insurance Act is to provide immediate relief for the victims who suffer from the accidents involving _____.

सार्वजनिक दायित्व बीमा अधिनियम का मुख्य उद्देश्य उन पीड़ितों को तत्काल राहत प्रदान करना है जो _____ से संबंधित दुर्घटनाओं से पीड़ित हैं।

- (A) ☐ both hazardous and non -hazardous substances (Chosen option)
खतरनाक और गैर-खतरनाक पदार्थ दोनों
- (B) ☐ Medical waste substances
चिकित्सीय अपशिष्ट पदार्थ
- (C) ☐ non-hazardous substances
गैर-खतरनाक पदार्थ
- (D) ☐ **hazardous substances (Correct Answer)**
खतरनाक पदार्थ

Question No.22

Marks: 2.50
Bookmark ☐

What is the mode of nutrition in which organisms take in nutrients in solution form from dead and decaying matter called?

पोषण की वह कौन सी विधि है जिसमें जीव, मृत और क्षयकारी पदार्थ से पोषक तत्वों को घोल के रूप में ग्रहण करते हैं?

- (A) ☐ Autotrophic nutrition
स्वपोषी पोषण
- (B) ☐ Heterotrophic nutrition
विषमपोषी पोषण
- (C) ☐ Parasitic nutrition
परजीवी पोषण
- (D) ☐ **Saprotrophic nutrition (Correct Answer)** (Chosen option)
मृतपोषित पोषण

Question No.23

Marks: 2.50
Bookmark ☐

Every year the Human Development Report (HDR) is published by _____.

प्रति वर्ष _____ द्वारा मानव विकास रिपोर्ट (एचडीआर) प्रकाशित की जाती है।

- (A) ☐ World Economic Forum
विश्व आर्थिक मंच
- (B) ☐ International Monetary Fund
अन्तर्राष्ट्रीय मुद्रा कोष
- (C) ☐ New Development Bank
न्यू डेवलपमेंट बैंक
- (D) ☐ **United Nations Development Programme (Correct Answer)** (Chosen option)
संयुक्त राष्ट्र विकास कार्यक्रम

Question No.24

Marks: 2.50
Bookmark ☐

The outbreak of Minamata disease was caused due to pollution of water by _____.

मिनामाता रोग का प्रकोप _____ द्वारा जल प्रदूषण के कारण हुआ था।

- (A) ☐ Lead
सीसा (लेड)
- (B) ☐ Arsenic
आर्सेनिक
- (C) ☐ Calcium
कैल्शियम
- (D) ☐ **Mercury (Correct Answer)** (Chosen option)
पारा (मरकरी)

Question No.25

Marks: 2.50
Bookmark ☐

The power of the Government to take over the property of a private person for public purpose is called as _____.

सार्वजनिक प्रयोजन के लिए किसी व्यक्ति की निजी संपत्ति का अधिग्रहण करने के सरकार के अधिकार को _____ कहा जाता है।

- (A) ☐ Ownership
स्वामित्व
- (B) ☐ **Eminent Domain (Correct Answer)** (Chosen option)
अभिग्रहण अधिकार

- (C) ☐ Bona Vacantia
मालिकाना माल (बोना वैकेंटिया)
- (D) ☐ Escheat
राजगामित्व

Question No.26

Marks: 2.50
Bookmark ☐

Which of the following Articles of the Indian Constitution provides for the office of the Advocate General for the states?
भारतीय संविधान के निम्नलिखित में से किस अनुच्छेद में राज्यों के लिए महाधिवक्ता के पद का प्रावधान किया गया है?

- (A) ☐ Article 170
अनुच्छेद 170
- (B) ☐ Article 160
अनुच्छेद 160
- (C) ☐ Article 165 (Correct Answer)
अनुच्छेद 165
- (D) ☐ Article 148 (Chosen option)
अनुच्छेद 148

Question No.27

Marks: 2.50
Bookmark ☐

Preamble was held to be a part of the Constitution of India in the case of _____.
उद्देशिका को _____ के मामले में भारत के संविधान का हिस्सा माना गया था।

- (A) ☐ Sangram Singh v. Election Tribunal
संग्राम सिंह बनाम चुनाव प्राधिकरण
- (B) ☐ Kesavananda Bharati v. State of Kerala (Correct Answer) (Chosen option)
केशवानंद भारती बनाम केरल राज्य
- (C) ☐ Express Newspapers (P) Ltd. v. Union of India
एक्सप्रेस न्यूजपेपर्स (प्राइवेट) लिमिटेड बनाम भारतीय संघ
- (D) ☐ Bhim Singh v. State of Haryana
भीम सिंह बनाम हरियाणा राज्य

Question No.28

Marks: 2.50
Bookmark ☐

India's First indigenous Vaccine Trial for COVID-19 is:
कोविड-19 के लिए कौन सा भारत का प्रथम स्वदेशी वैक्सीन परीक्षण है?

- (A) ☐ ZyCov-D
जाईकोव-डी
- (B) ☐ Covisure
कोविश्योर
- (C) ☐ Covaxin (Correct Answer)
कोवैक्सीन
- (D) ☐ Covishield (Chosen option)
कोविशील्ड

Question No.29

Marks: 2.50
Bookmark ☐

Which of the following is an example of primary memory in a computer?
निम्न में से कौन सा कंप्यूटर में प्राइमरी मेमोरी का एक उदाहरण है?

- (A) ☐ Hard Disk Drive
हार्ड डिस्क ड्राइव
- (B) ☐ Blu-ray DVD
ब्लू-रे डीवीडी
- (C) ☐ RAM (Correct Answer) (Chosen option)
रैम
- (D) ☐ USB Flash Drive
यूएसबी फ्लैश ड्राइव

Question No.30

Marks: 2.50
Bookmark ☐

The use of a motor vehicle in a public place without a valid insurance policy against third party risks is prohibited under _____.

- तीसरे पक्ष को जोखिमों के लिए वैध बीमा पॉलिसी के बिना सार्वजनिक स्थान पर मोटर वाहन का उपयोग _____ के तहत निषिद्ध है।
- (A) ☐ Section 6(1) of the Motor Vehicles Act, 1988
मोटर वाहन अधिनियम, 1988 की धारा 6(1)

- (B) ☐ Section 69(2) of the Motor Vehicles Act, 1988
मोटर वाहन अधिनियम, 1988 की धारा 69(2)
- (C) ☐ Section 148 of the Motor Vehicles Act, 1988 (Chosen option)
मोटर वाहन अधिनियम, 1988 की धारा 148
- (D) ☐ **Section 146(1) of the Motor Vehicles Act, 1988 (Correct Answer)**
मोटर वाहन अधिनियम, 1988 की धारा 146(1)

Question No.31

Marks: 2.50
Bookmark ☐

Who has the authority to create or abolish "State Legislative Council"?
"राज्य विधान परिषद" बनाने या समाप्त करने का अधिकार किसके पास होता है?

- (A) ☐ State Legislative Assembly
राज्य विधान सभा
- (B) ☐ **Parliament of India (Correct Answer) (Chosen option)**
भारत की संसद
- (C) ☐ President of India
भारत के राष्ट्रपति
- (D) ☐ Governor of the state
राज्य के राज्यपाल

Question No.32

Marks: 2.50
Bookmark ☐

Which constitutional body is regarded as the 'balancing wheel of fiscal federalism in India'?
किस संवैधानिक संस्था को 'भारत में राजकोषीय संघवाद का संतुलन चक्र (बैलेंसिंग व्हील)' माना जाता है?

- (A) ☐ NITI Aayog
नीति आयोग
- (B) ☐ Goods and Service Tax Council
माल और सेवा कर परिषद
- (C) ☐ Reserve Bank of India
भारतीय रिज़र्व बैंक
- (D) ☐ **Finance Commission (Correct Answer) (Chosen option)**
वित्त आयोग

Question No.33

Marks: 2.50
Bookmark ☐

Which of the following statements is correct?

- A. A death sentence may be passed by the Judicial Magistrate after receiving confirmation from the High Court.
- B. A death sentence may be passed by the Executive Magistrate after receiving confirmation from the High Court.
- C. A death sentence may be passed by the Court of Session after receiving confirmation from the High Court.
- D. A death sentence may be passed by the Court of Session without receiving confirmation from the High Court.

निम्नलिखित कथनों में से कौन सा कथन सही है?

- A. उच्च न्यायालय से पुष्टि प्राप्त होने के बाद न्यायिक मजिस्ट्रेट द्वारा मृत्युदंड दिया जा सकता है।
- B. उच्च न्यायालय से पुष्टि प्राप्त करने के बाद कार्यकारी मजिस्ट्रेट द्वारा मृत्युदंड दिया जा सकता है।
- C. उच्च न्यायालय से पुष्टि प्राप्त करने के बाद सत्र न्यायालय द्वारा मृत्युदंड दिया जा सकता है।
- D. उच्च न्यायालय से पुष्टि प्राप्त किए बिना सत्र न्यायालय द्वारा मृत्युदंड दिया जा सकता है।

- (A) ☐ Only A
केवल A
- (B) ☐ Only D
केवल D
- (C) ☐ Only B
केवल B
- (D) ☐ **Only C (Correct Answer) (Chosen option)**
केवल C

Question No.34

Marks: 2.50
Bookmark ☐

Radcliffe line was demarcated between India and which country?
रेडक्लिफ रेखा द्वारा भारत और किस देश के बीच सीमांकन किया गया था?

- (A) ☐ China
चीन
- (B) ☐ Nepal
नेपाल

- (C) ☒ **Pakistan (Correct Answer)** (Chosen option)
पाकिस्तान
- (D) ☐ Afghanistan
अफ़ग़ानिस्तान

Question No.35

Marks: 2.50
Bookmark ☐

The ideal of 'justice - social, economic and political'- expressed in Preamble of the Indian Constitution has been taken from: भारतीय संविधान की उद्देशिका में व्यक्त किए गए 'न्याय - सामाजिक, आर्थिक और राजनीतिक' का आदर्श _____ से लिया गया है।

- (A) ☒ **The Russian Revolution (Correct Answer)** (Chosen option)
रूसी क्रांति
- (B) ☐ The American Revolution
अमेरिकी क्रांति
- (C) ☐ The French Revolution
फ्रांसीसी क्रांति
- (D) ☐ The Glorious Revolution
गौरवशाली क्रांति

Question No.36

Marks: 2.50
Bookmark ☐

'University of Allahabad' was established in which year? 'इलाहाबाद विश्वविद्यालय' की स्थापना किस वर्ष में की गई थी?

- (A) ☐ 1885
1885
- (B) ☒ **1887 (Correct Answer)** (Chosen option)
1887
- (C) ☐ 1890
1890
- (D) ☐ 1991
1991

Question No.37

Marks: 2.50
Bookmark ☐

If you are receiving children education allowance from your employer then you are eligible to claim a tax exemption under the Income-tax Act, for a maximum of up to: यदि आप अपने नियोक्ता से बच्चों के लिए शिक्षा भत्ता प्राप्त कर रहे हैं तो अधिकतम _____ के लिए आप आयकर अधिनियम के तहत कर छूट का दावा करने के पात्र हैं।

- (A) ☐ 4 Children
4 बच्चों
- (B) ☐ 1 Child
1 बच्चे
- (C) ☐ 3 Children
3 बच्चों
- (D) ☒ **2 Children (Correct Answer)** (Chosen option)
2 बच्चों

Question No.38

Marks: 2.50
Bookmark ☐

Union Public Service commission serves all or any of the needs of a state on the request of: संघ लोक सेवा आयोग, _____ के अनुरोध पर राज्य की सभी या किसी भी आवश्यकता को पूरा करता है।

- (A) ☐ Chief Secretary of the State
राज्य के मुख्य सचिव
- (B) ☒ **Governor of the State (Correct Answer)** (Chosen option)
राज्य के राज्यपाल
- (C) ☐ Chief Justice of High Court
उच्च न्यायालय के मुख्य न्यायाधीश
- (D) ☐ Chief Minister of the State
राज्य के मुख्यमंत्री

Question No.39

Marks: 2.50
Bookmark ☐

Consider the following statement:

The public authorities are exempted from disclosure of certain information such as:

- A. Information relating to Intellectual Property Rights
- B. Information received in confidence of by a foreign government.
- C. Trade secrets

<p>D. Information affecting Sovereignty and integrity of India. निम्नलिखित कथन पर विचार कीजिए: सार्वजनिक अधिकारियों को कुछ सूचनाओं के प्रकटन से छूट दी गई है जैसे:</p> <p>A. बौद्धिक संपदा अधिकारों से संबंधित जानकारी B. एक विदेशी सरकार द्वारा विश्वास में प्राप्त जानकारी C. व्यापार रहस्य (ट्रेड सीक्रेट) D. भारत की संप्रभुता तथा अखंडता को प्रभावित करने वाली सूचना।</p> <p>(A) <input type="radio"/> A, C, D A, C, D</p> <p>(B) <input checked="" type="radio"/> A, B, C, D (Correct Answer) (Chosen option) A, B, C, D</p> <p>(C) <input type="radio"/> B, C, D B, C, D</p> <p>(D) <input type="radio"/> A, B, C A, B, C</p>	<p>Question No.40 Marks: 2.50 Bookmark <input type="checkbox"/></p> <p>OTT platform, a streaming media service offered directly to viewers via the internet, is an abbreviation of _____.</p> <p>ओटीटी (OTT) प्लेटफॉर्म, इंटरनेट के माध्यम से दर्शकों को सीधे पेश की जाने वाली स्ट्रीमिंग मीडिया सेवा, _____ का संक्षिप्त नाम है।</p> <p>(A) <input type="radio"/> Online-To-Television ऑनलाइन-टु-टेलीविजन</p> <p>(B) <input type="radio"/> Over-The-Telescreen ओवर-द-टेलीस्क्रीन</p> <p>(C) <input type="radio"/> Online-Through-Television (Chosen option) ऑनलाइन-थ्रू-टेलीविजन</p> <p>(D) <input checked="" type="radio"/> Over-The-Top (Correct Answer) ओवर-द-टॉप</p>
<p>NUMERICAL AND MENTAL ABILITY TEST - NUMERICAL AND MENTAL ABILITY TEST</p> <p>Question No.1 Marks: 2.50 Bookmark <input type="checkbox"/></p> <p>Find the next term in the given series. RATIONALISATION, IONALISAT, ATIONALISATIO, ONALISA, TIONALISATI, ? दी गई श्रृंखला में अगला पद ज्ञात करें। RATIONALISATION, IONALISAT, ATIONALISATIO, ONALISA, TIONALISATI, ?</p> <p>(A) <input type="radio"/> NALISAT NALISAT</p> <p>(B) <input type="radio"/> IONALIS (Chosen option) IONALIS</p> <p>(C) <input checked="" type="radio"/> NALIS (Correct Answer) NALIS</p> <p>(D) <input type="radio"/> IONALISA IONALISA</p>	<p>Question No.2 Marks: 2.50 Bookmark <input type="checkbox"/></p> <p>The amount doubles itself under Compound interest in 15 years. In how many years will it become 256 times of itself at the same rate of interest? एक धनराशी चक्रवृद्धि ब्याज पर 15 वर्षों में अपने आप की दो गुनी हो जाती है। समान ब्याज दर पर यह अपने आप की 256 गुनी कितने वर्षों में हो जाएगी?</p> <p>(A) <input type="radio"/> 125 125</p> <p>(B) <input type="radio"/> 115 115</p> <p>(C) <input checked="" type="radio"/> 120 (Correct Answer) (Chosen option) 120</p> <p>(D) <input type="radio"/> 127 127</p>
<p>Question No.3 Marks: 2.50 Bookmark <input type="checkbox"/></p> <p>In this question, a statement is given followed by two conclusions numbered i and ii. You have to assume everything in the statement to be true, then consider the two conclusions together and decide which of them logically follows beyond a reasonable doubt from the information given in the statement.</p> <p>Statement:</p>	

Only the intelligent students can pass the examination. Jeno passed the examination.

Conclusion:

- i) Jeno is an intelligent student
- ii) Jeno is a good human being

Choose the appropriate one from the following options

- (A) Only conclusion i follows
- (B) Only conclusion ii follows
- (C) Either i or ii follows
- (D) Neither i nor ii follows and
- (E) Both i and ii follow.

इस प्रश्न में, एक कथन दिया गया है और उसके बाद i और ii संख्यांकित दो निष्कर्ष दिए गए हैं। आपको दिए गए कथन को सत्य मानना है फिर दोनों निष्कर्षों को साथ लेते हुए विचार करना है और निर्णय करना है कि, उनमें से कौन सा निष्कर्ष कथन का किसी तार्किक संदेह से परे तर्कसंगत रूप से अनुसरण करता है।

कथन:

केवल बुद्धिमान विद्यार्थी ही परीक्षा उत्तीर्ण कर सकते हैं। जेनो ने परीक्षा उत्तीर्ण कर ली है।

निष्कर्ष:

- i) जेनो एक बुद्धिमान विद्यार्थी है
- ii) जेनो एक अच्छा इंसान है

निम्नलिखित विकल्पों में से उचित विकल्प का चयन करें

- (A) केवल निष्कर्ष (i) अनुसरण करता है
- (B) केवल निष्कर्ष (ii) अनुसरण करता है
- (C) या तो (i) या (ii) अनुसरण करता है
- (D) न तो (i) और न (ii) अनुसरण करता है
- (E) दोनों (i) और (ii) अनुसरण करते हैं

- (A) ☒ **A (Correct Answer)** (Chosen option)
- ☐ B
- ☐ D
- ☐ E

Question No.4

Marks: 2.50
Bookmark ☐

What value should come in the place of question mark (?) in the following question:

$(44.7 + 347.33 + 3347.333 + 33347.3333) \div 50 = ?$

निम्नलिखित प्रश्न में प्रश्नवाचक चिह्न (?) के स्थान पर कौन सा मान आना चाहिए?

$(44.7 + 347.33 + 3347.333 + 33347.3333) \div 50 = ?$

- (A) ☐ 741.75
- (B) ☐ 741.37
- (C) ☐ 741.72
- (D) ☒ **741.73 (Correct Answer)** (Chosen option)

Question No.5

Marks: 2.50
Bookmark ☐

A grocer has a sale of Rs.6535, Rs.7027, Rs.6955, Rs.7330 and Rs.6362 for 5 consecutive months. How much sale should he have in the sixth month so that he gets an average sale of Rs.6600? (In Rs.)

5 क्रमागत महीनों में एक पंसारी की Rs.6535, Rs.7027, Rs.6955, Rs.7330 और Rs.6362 की बिक्री होती है। Rs.6600 की औसत बिक्री प्राप्त करने के लिए उसके द्वारा छठे महीने में कितने की बिक्री की जानी चाहिए? (Rs. में)

- (A) ☐ 5385
- (B) ☐ 5387
- (C) ☐ 5389
- (D) ☒ **5391 (Correct Answer)** (Chosen option)

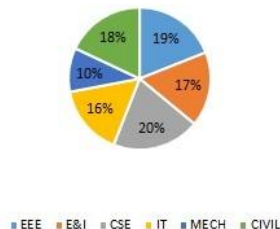
Marks: 2.50
Bookmark ☐

Question No.6

Directions:

Study the following graph carefully to answer the given questions
% of students in all the Department is given
Find the number of students in CSE dept.

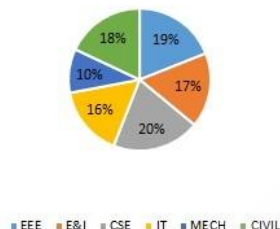
Total number of Students = 12800



दिशा-निर्देश:

दिए गए प्रश्न का उत्तर देने के लिए निम्नलिखित आरेख का ध्यानपूर्वक अध्ययन कीजिए:
सभी विभागों में विद्यार्थियों का % दिया गया है।
सीएसई विभाग में विद्यार्थियों की संख्या ज्ञात कीजिए।

Total number of Students = 12800



- (A) ☒ 2560 (Correct Answer) (Chosen option)
2560
(B) ☐ 2460
2460
(C) ☐ 2660
2660
(D) ☐ 2760
2760

Marks: 2.50
Bookmark ☐

Question No.7

A person cycles from hostel to college at a speed of 20 kmph and reaches 14.5 minutes late. If he cycles at a speed of 24 kmph and reaches early by 14.5 minutes, find the distance between hostel and college. (In km)
एक व्यक्ति हॉस्टल से कॉलेज तक 20 kmph की चाल से साइकिल चलाता है और 14.5 मिनट देरी से पहुँचता है। यदि वह 24 kmph की चाल से साइकिल चलाता है तो 14.5 मिनट जल्दी पहुँचता है, हॉस्टल और कॉलेज के बीच की दूरी ज्ञात कीजिए। (km में)

- (A) ☒ 58 (Correct Answer) (Chosen option)
58
(B) ☐ 55
55
(C) ☐ 57
57
(D) ☐ 56
56

Marks: 2.50
Bookmark ☐

Question No.8

A train traveling at 142 km/h completely crosses another train having half of its length and traveling in the opposite direction at 38 km/h in 6 s. If it also passes a railway platform in 45 s, then find the length of the platform. (In m)
142 km/h पर यात्रा करती हुई एक रेलगाड़ी, 38 km/h पर विपरीत दिशा में यात्रा करती हुई इससे आधी लंबाई वाली दूसरी रेलगाड़ी को पूरी तरह से 6 सेकंड में पार करती है। यदि यह एक रेलवे प्लेटफार्म को भी 45 सेकंड में पार करती है, तो प्लेटफार्म की लंबाई ज्ञात कीजिए। (m में)

- (A) ☐ 1557
1557
- (B) ☐ 1577 (Chosen option)
1577
- (C) ☒ 1575 (Correct Answer)
1575
- (D) ☐ 1576
1576

Question No.9

Marks: 2.50
Bookmark ☐

The 27th and 44th terms of an AP are 444 and 512 respectively. Find the sum upto 30 terms.
एक समान्तर श्रेणी का 27वाँ और 44वाँ पद क्रमशः 444 और 512 है। 30 पदों तक योगफल ज्ञात कीजिए।

- (A) ☐ 14940
14940
- (B) ☐ 12940 (Chosen option)
12940
- (C) ☒ 11940 (Correct Answer)
11940
- (D) ☐ 13940
13940

Case Study - 10 to 11

5.00

Directions: In the following questions, few statements are given and these statements are followed by two conclusions numbered i and ii. You have to take the given statements to be true even if they seem to be at variance from commonly known facts. Read the conclusions and then decide which of the given conclusions logically follows from the given statements, disregarding commonly known facts.

- Choose,
- (A) Only (i) conclusion follows
 - (B) Only (ii) conclusion follows
 - (C) Neither (i) nor (ii) follows
 - (D) Both (i) and (ii) follow
 - (E) Either (i) or (ii) follows

Question No.10

Marks: 2.50
Bookmark ☐

Statements:
No song is lyric.
No lyric is good.

Conclusions:
i) All songs are goods.
ii) Some goods are songs.

कथन:
कोई सॉग, लिरिक नहीं है।
कोई लिरिक, गुड नहीं है।

निष्कर्ष:
i) सभी सॉग्स, गुड्स हैं।
ii) कुछ गुड्स, सॉग्स हैं।

- (A) ☐ A
A
- (B) ☐ B
B
- (C) ☒ C (Correct Answer) (Chosen option)
C
- (D) ☐ D
D

Question No.11

Marks: 2.50
Bookmark ☐

Statements:
All cities are towns.
Some towns are states.
All states are continents.

Conclusions:
i) Some cities are states.

ii) Some continents are cities.

कथन:

सभी शहर, कस्बे हैं।

कुछ कस्बे, राज्य हैं।

सभी राज्य, महाद्वीप हैं।

निष्कर्ष:

i) कुछ शहर, राज्य हैं।

ii) कुछ महाद्वीप, शहर हैं।

(A) ☐ A

(B) ☐ B

(C) ☒ C (Correct Answer) (Chosen option)

(D) ☐ D

Question No.12

Marks: 2.50

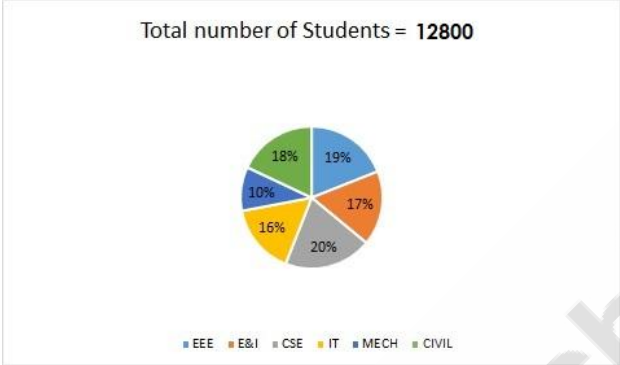
Bookmark ☐

Directions:

Study the following graph carefully to answer the given question:

% of students in all the Department is given.

Find the number of students in IT dept.

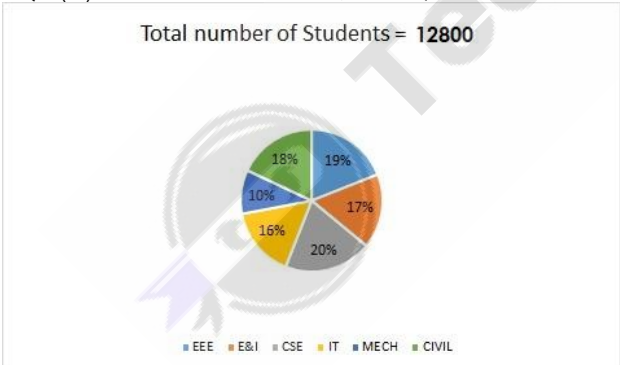


दिशा-निर्देश:

दिए गए प्रश्न का उत्तर देने के लिए निम्नलिखित आरेख का ध्यानपूर्वक अध्ययन कीजिए:

सभी विभागों में विद्यार्थियों का % दिया गया है।

आईटी (IT) विभाग में विद्यार्थियों की संख्या ज्ञात कीजिए।



(A) ☐ 2052

(B) ☒ 2048 (Correct Answer) (Chosen option)

(C) ☐ 2064

(D) ☐ 2072

Question No.13

Marks: 2.50

Bookmark ☐

A man is standing in a lawn facing North direction. If the man turns 45 degrees in anti-clockwise direction and 135 degrees in clockwise direction, which direction will he face now?

एक पुरुष एक मैदान में उत्तर दिशा की ओर अभिमुख होकर खड़ा है। यदि वह 45 डिग्री वामावर्त दिशा में घूमता है और 135 डिग्री दक्षिणावर्त दिशा में घूमता है, तो अब वह किस दिशा की ओर अभिमुख होगा?

- (A) ☐ South
दक्षिण
- (B) ☐ West
पश्चिम
- (C) ☒ East (Correct Answer) (Chosen option)
पूर्व
- (D) ☐ North
उत्तर

Question No.14

Marks: 2.50
Bookmark ☐

Find the highest power of 2 that completely divides 45!
45! को पूरी तरह विभाजित करने वाले 2 की उच्चतम घात ज्ञात कीजिए।

- (A) ☐ 39
39
- (B) ☒ 41 (Correct Answer) (Chosen option)
41
- (C) ☐ 40
40
- (D) ☐ 45
45

Question No.15

Marks: 2.50
Bookmark ☐

Replace the question mark with an option that follows the same logic applied in the first pair.
NP : 24 :: TV : ??

प्रश्न चिह्न को उस विकल्प के साथ प्रतिस्थापित करें जो पहले युग्म में लागू तर्क का अनुसरण करता है।
NP : 24 :: TV : ??

- (A) ☐ 15
15
- (B) ☐ 40
40
- (C) ☒ 12 (Correct Answer) (Chosen option)
12
- (D) ☐ 42
42

Question No.16

Marks: 2.50
Bookmark ☐

A can do a piece of work in 1455 days. B is 25% more efficient than A. Find the number of days taken by B to do the same piece of work.

A, एक कार्य को 1455 दिनों में कर सकता है। B, A की तुलना में 25% अधिक कार्यकुशल है। इसी कार्य को करने के लिए B द्वारा लिए गए दिनों की संख्या ज्ञात कीजिए।

- (A) ☐ 1167
1167
- (B) ☐ 1162
1162
- (C) ☒ 1164 (Correct Answer) (Chosen option)
1164
- (D) ☐ 1166
1166

Question No.17

Marks: 2.50
Bookmark ☐

A smart TV was purchased for Rs.15700. Its price was marked up by 20%. It was sold at a discount of 10% on the marked price. What was the profit percent of the smart TV?

एक स्मार्ट टीवी को Rs.15700 में खरीदा जाता है। इसके मूल्य को 20% अधिक पर अंकित किया जाता है। इसे अंकित मूल्य पर 10% की छूट पर बेचा जाता है। स्मार्ट टीवी पर लाभ प्रतिशत क्या था?

- (A) ☐ 10
10
- (B) ☒ 8 (Correct Answer) (Chosen option)
8
- (C) ☐ 14
14
- (D) ☐ 12
12

Question No.18

Marks: 2.50

Bookmark ☐

A data card when sold for Rs.15875 fetches a profit of 27%. Find the cost price of the data card.(In Rs.)

जब एक डेटा कार्ड को Rs.15875 में बेचा जाता है तो 27% का लाभ प्राप्त होता है। डेटा कार्ड का क्रय मूल्य ज्ञात कीजिए (Rs. में)

- (A) ☐ 12750
12750
- (B) ☐ 12450
12450
- (C) ☒ 12500 (Correct Answer) (Chosen option)
12500
- (D) ☐ 12600
12600

Question No.19

Marks: 2.50

Bookmark ☐

The digits of a two-digit number are in the ratio of 2:5 and the number obtained by interchanging the digits is greater than the original number by 27. Find the new number.

दो अंकों की संख्या के अंक 2:5 के अनुपात में हैं और अंकों को परस्पर बदलने से प्राप्त हुई संख्या, आरंभिक संख्या से 27 अधिक है। नई संख्या ज्ञात कीजिए।

- (A) ☐ 54
54
- (B) ☐ 55
55
- (C) ☐ 53
53
- (D) ☒ 52 (Correct Answer) (Chosen option)
52

Question No.20

Marks: 2.50

Bookmark ☐

Find the sum of 4 terms in a GP, given first term is 12 and common ratio is 4.

यदि किसी गुणोत्तर श्रेणी (GP) का पहला पद 12 और सार्व अनुपात 4 है तो इसके 4 पदों का योगफल ज्ञात कीजिए।

- (A) ☐ 920
920
- (B) ☐ 1220 (Chosen option)
1220
- (C) ☒ 1020 (Correct Answer)
1020
- (D) ☐ 1120
1120

Question No.21

Marks: 2.50

Bookmark ☐

The calendar for the year 2021 will be the same for the year:

वर्ष 2021 के लिए कैलेंडर किस वर्ष के कैलेंडर के समान होगा?

- (A) ☐ 2025
2025
- (B) ☒ 2027 (Correct Answer)
2027
- (C) ☐ 2028 (Chosen option)
2028
- (D) ☐ 2026
2026

Question No.22

Marks: 2.50

Bookmark ☐

Select the appropriate set of sequence of mathematical operators to replace all * sign in the following equation & hence to balance it.

$$12 * 3 * 4 * 40$$

निम्नलिखित समीकरण में सभी * चिह्नों को प्रतिस्थापित करने और समीकरण को संतुलित करने के लिए गणितीय संकारकों के अनुक्रम का उचित समुच्चय चुनें।

$$12 * 3 * 4 * 40$$

- (A) ☐ $+ \times =$
 $+ \times =$
- (B) ☐ $\div \times =$
 $\div \times =$
- (C) ☒ $\times + =$ (Correct Answer) (Chosen option)
 $\times + =$
- (D) ☐ $- \times =$
 $- \times =$

Question No.23

Marks: 2.50

Bookmark ☐

Replace the question mark with an option that follows the same logic applied in the first pair.
 TWENTY : EWTYTN :: EIGHTY : ??
 प्रश्न चिह्न को उस विकल्प के साथ प्रतिस्थापित करें जो पहले युग्म में लागू तर्क का अनुसरण करता है।
 TWENTY : EWTYTN :: EIGHTY : ??

- (A) ☒ GIEYTH (Correct Answer) (Chosen option)
 GIEYTH
- (B) ☐ EGHYTI
 EGHYTI
- (C) ☐ EGIYHT
 EGIYHT
- (D) ☐ EYITGH
 EYITGH

Question No.24

Marks: 2.50

Bookmark ☐

Find the surface area of the sphere (in cm²) whose radius is 23cm and $\pi = 3.14$.
 23 cm त्रिज्या वाले गोले का पृष्ठीय क्षेत्रफल ज्ञात कीजिए (cm² में)। ($\pi = 3.14$)

- (A) ☐ 6624.44
 6624.44
- (B) ☒ 6644.24 (Correct Answer) (Chosen option)
 6644.24
- (C) ☐ 6644.25
 6644.25
- (D) ☐ 6644.42
 6644.42

Question No.25

Marks: 2.50

Bookmark ☐

In what ratio must a grocer mix two varieties of pulses costing Rs.69 and Rs.92 per kg respectively so as to get a mixture worth Rs.79.5 per kg?
 एक पंसारी द्वारा Rs.69 और Rs.92 प्रति kg वाली दो किस्मों की दालों को किस अनुपात में मिलाया जाना चाहिए ताकि प्राप्त मिश्रण का मूल्य Rs.79.5 प्रति kg हो।

- (A) ☐ 25:19
 25:19
- (B) ☒ 25:21 (Correct Answer) (Chosen option)
 25:21
- (C) ☐ 21:28
 21:28
- (D) ☐ 21:25
 21:25

Question No.26

Marks: 2.50

Bookmark ☐

The question given below consists of a statement, followed by two arguments numbered 1 and 2. You have to decide which of the arguments is a 'strong' argument and which is a 'weak' argument.

Give answer:

- (A) If only argument1 is strong
 (B) If only argument 2 is strong
 (C) If either 1 or 2 is strong
 (D) If neither 1 nor 2 is strong and
 (E) If both 1 and 2 are strong.

Statement:
 Should there be a ban on advertisements for new medicine in media?

Argument:

1. Yes, this promotes drugs before the long-term safety information are known
2. No, this reduces the doctor consultation fees.

निम्नलिखित प्रश्न में एक कथन दिया गया है, और उसके बाद 1 और 2 संख्यांकित दो तर्क दिए गए हैं। आपको निर्णय करना है कि उनमें से कौन सा तर्क 'प्रबल' है और कौन सा तर्क 'दुर्बल' है।

उत्तर दें:

- (A) यदि केवल तर्क 1 प्रबल है
(B) यदि केवल तर्क 2 प्रबल है
(C) यदि या तो तर्क 1 या 2 प्रबल है
(D) यदि न तो तर्क 1 न 2 प्रबल है
(E) यदि दोनों तर्क 1 और 2 प्रबल हैं

कथन:

क्या मीडिया में नई औषधि के विज्ञापनों पर प्रतिबंध लगाया जाना चाहिए?

तर्क:

1. हाँ, यह दीर्घावधिक सुरक्षा संबंधी जानकारीयां ज्ञात हुए बिना दवा को प्रोत्साहित करता है
2. नहीं, इससे चिकित्सकों के परामर्श शुल्क में कमी होती है।

- (A) ☐ D (Chosen option)
D
(B) ☒ A (Correct Answer)
A
(C) ☐ B
B
(D) ☐ C
C

Question No.27

Marks: 2.50
Bookmark ☐

A sum of money invested at simple interest triples itself in 19 years. In how many years will it become 21 times itself at the same rate of interest?

साधारण ब्याज पर निवेशित धन की एक राशि 19 वर्षों में अपने आप से तीन गुना हो जाती है। समान ब्याज दर पर यह अपने आप से 21 गुना कितने वर्षों में हो जाएगी?

- (A) ☐ 195
195
(B) ☐ 197
197
(C) ☐ 185
185
(D) ☒ 190 (Correct Answer) (Chosen option)
190

Question No.28

Marks: 2.50
Bookmark ☐

A forester wants to plant 76 apple trees, 114 banana trees and 152 mango trees in equal rows (in terms of number of trees). Also, he wants to make distinct rows of trees (i.e. only one type of tree in one row). Find the number of rows (minimum) that are required.

एक वनपाल 76 सेब के वृक्ष, 114 केले के वृक्ष और 152 आम के वृक्ष समान पंक्तियों (वृक्षों की संख्या के संबंध में) में लगाना चाहता है। इसके आलावा, वह वृक्षों की भिन्न पंक्तियाँ बनाना चाहता है (एक पंक्ति में केवल एक प्रकार के वृक्ष)। पंक्तियों की आवश्यक संख्या (न्यूनतम) ज्ञात कीजिए।

- (A) ☐ 11
11
(B) ☐ 10
10
(C) ☐ 12
12
(D) ☒ 9 (Correct Answer) (Chosen option)
9

Question No.29

Marks: 2.50
Bookmark ☐

A shopkeeper bought 190 kg of rice at the rate of Rs.120 per kg. He sold 70% of the total quantity at the rate of Rs.150 per kg. At what price per kg should he sell the remaining quantity to make 55% overall profit? (In Rs.)

एक दुकानदार ने Rs.120 प्रति kg के मूल्य पर 190 kg चावल खरीदे। उसने कुल मात्रा में से 70% को Rs.150 प्रति kg पर बेच दिया। 55% का कुल लाभ प्राप्त करने के लिए उसे शेष मात्रा को किस मूल्य प्रति kg पर बेचना चाहिए? (Rs. में)

- (A) ☒ 270 (Correct Answer) (Chosen option)
270

- (B) ☐ 280
- (C) ☐ 275
- (D) ☐ 285

Question No.30

Marks: 2.50
Bookmark ☐

If a mirror is placed on the shaded line, then which of the following options is the mirror image of the given figure?



यदि एक दर्पण को छायांकित रेखा पर रखा जाता है, तो निम्नलिखित में से कौन सा विकल्प दी गई आकृति का दर्पण प्रतिबिम्ब होगा?



(A) ☐ **YROWEW**

YROWEW

(B) ☐ **YROWEM**

YROWEM

(C) ☐ **YROWEW**

(Correct Answer) (Chosen option)

YROWEM

(D) ☐

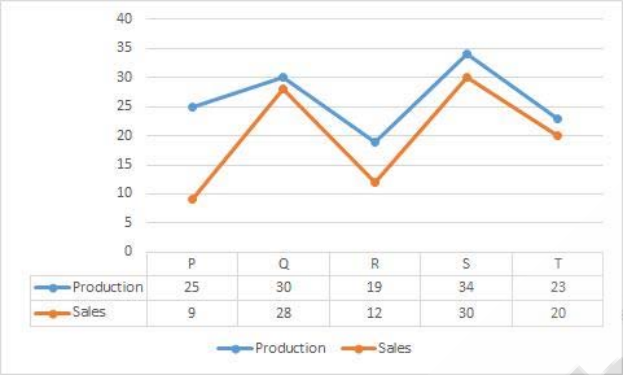
WEWOBYA

WEWOBYA

Case Study - 31 to 32

5.00

Directions: Study the following line graph carefully and answer the questions accordingly. The graph gives the production and sales (in thousands) of Air-Conditioners of five different companies in a year.



Question No.31

Marks: 2.50

Bookmark ☐

What is the average production of Air-Conditioners by all the companies? (in thousands)
सभी कंपनियों द्वारा एयर-कंडीशनर का औसत उत्पादन क्या है? (हज़ारों में)

- (A) ☐ 26.2 (Correct Answer) (Chosen option)
26.2
- (B) ☐ 26
26
- (C) ☐ 25.4
25.4
- (D) ☐ 25.2
25.2

Question No.32

Marks: 2.50

Bookmark ☐

The sale of company S is what percent of its production?
कंपनी S का विक्रय उसके उत्पादन का कितना प्रतिशत है?

- (A) ☐ 77.7%
77.7%
- (B) ☐ 88.23% (Correct Answer) (Chosen option)
88.23%
- (C) ☐ 85%
85%
- (D) ☐ 90%
90%

Question No.33

Marks: 2.50

Bookmark ☐

If A means 'add to', B means 'multiply by', C means 'subtract from' and D means 'divide by', then (7B2)C(54D3) = ?
यदि A का अर्थ है 'में जोड़ना', B का अर्थ है 'से गुणा करना', C का अर्थ है 'से घटाना' और D का अर्थ है 'से भाग देना', तो (7B2)C(54D3) = ?

- (A) ☒ 4 (Correct Answer) (Chosen option)
4
- (B) ☐ 2
2
- (C) ☐ 5
5
- (D) ☐ 1
1

Question No.34

Marks: 2.50

Bookmark ☐

Select the combination of numbers so that letters arranged accordingly will form a meaningful word.

1. C 2. R 3. K 4. T 5. U
संख्याओं के उस संयोजन का चयन करें जिससे उसके अनुसार व्यवस्थित अक्षर एक सार्थक शब्द बनाएँ।

1. C 2. R 3. K 4. T 5. U
- (A) ☐ 1, 5, 2, 4, 3
1, 5, 2, 4, 3
- (B) ☐ 3, 2, 4, 5, 1
3, 2, 4, 5, 1
- (C) ☒ 4, 2, 5, 1, 3 (Correct Answer) (Chosen option)
4, 2, 5, 1, 3
- (D) ☐ 2, 5, 1, 3, 4
2, 5, 1, 3, 4

Question No.35

Marks: 2.50

Bookmark ☐

Find the fraction of 0.5055555...
0.5055555... का भिन्न ज्ञात कीजिए।

- (A) ☐ 457/900
457/900
- (B) ☐ 453/900
453/900
- (C) ☒ 455/900 (Correct Answer) (Chosen option)
455/900
- (D) ☐ 555/900
555/900

Question No.36

Marks: 2.50

Bookmark ☐

What will be written in the place of question mark in the given series?
Y25M13Q17D4?12
दी गई श्रृंखला में प्रश्नवाचक चिह्न के स्थान पर क्या लिखा जाएगा?
Y25M13Q17D4?12

- (A) ☐ K
K
- (B) ☐ N
N
- (C) ☐ M
M
- (D) ☒ L (Correct Answer) (Chosen option)
L

Question No.37

Marks: 2.50
Bookmark ☐

Three pipes A, B and C together can fill a cistern in 336 hours. After working together for 112 hours, C is closed and A and B can fill the remaining part in 336 hours. Find the number of hours taken by C alone to fill the cistern.
तीन पाइप A, B और C एक टंकी को 336 घंटे में भर सकते हैं। 112 घंटे एक साथ चलने के बाद, C को बंद कर दिया जाता है और अब A और B शेष भाग को 336 घंटों में भर सकते हैं। C द्वारा अकेले इस टंकी को भरने हेतु लिए गए घंटों की संख्या ज्ञात कीजिए।

- (A) ☐ 1007
1007
- (B) ☒ 1008 (Correct Answer) (Chosen option)
1008
- (C) ☐ 1015
1015
- (D) ☐ 1010
1010

Question No.38

Marks: 2.50
Bookmark ☐

Two persons A and B invested in a business with Rs.154000 and Rs.110000 respectively. They agree that 40% of the profit should be divided equally among them and rest is divided between them according to their investment. If A got 2520 rupee more than B, then find the total profit. (In Rs.)
दो व्यक्ति A और B एक व्यापार में क्रमशः Rs.154000 और Rs.110000 की राशि निवेश करते हैं। वे सहमत होते हैं कि लाभ के 40% को उनके बीच बराबर हिस्सों में बांटा जाएगा और शेष लाभ को उनके निवेश के अनुसार बांटा जाएगा। यदि A को B की तुलना में Rs.2520 अधिक प्राप्त होते हैं, तो कुल लाभ ज्ञात कीजिए। (Rs. में)

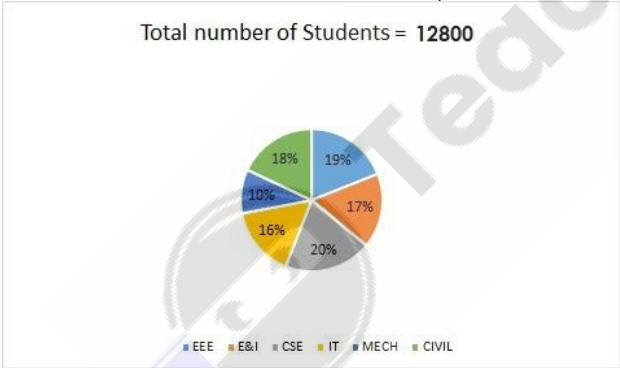
- (A) ☒ 25200 (Correct Answer) (Chosen option)
25200
- (B) ☐ 25215
25215
- (C) ☐ 25205
25205
- (D) ☐ 25225
25225

Question No.39

Marks: 2.50
Bookmark ☐

Directions:

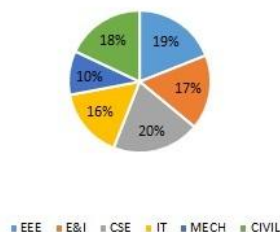
Study the following graph carefully to answer the given questions
% of students in all the Department is given
Find the number of students in EEE and E&I dept.



दिशा-निर्देश:

दिए गए प्रश्न का उत्तर देने के लिए निम्नलिखित आरेख का ध्यानपूर्वक अध्ययन कीजिए:
सभी विभागों में विद्यार्थियों का % दिया गया है।
ईईई एवं ई एंड आई विभाग में विद्यार्थियों की संख्या ज्ञात कीजिए।

Total number of Students = 12800



- (A) ☐ 4708
4708
- (B) ☐ 4508
4508
- (C) ☒ 4608 (Correct Answer) (Chosen option)
4608
- (D) ☐ 4408
4408

Question No.40

Marks: 2.50
Bookmark ☐

Rakesh spends 10% of his monthly income on his household expenditure, 20% on books, 25% on clothes and saves the rest. On counting, he comes to know that he has finally saved Rs.16083. Find his monthly income. (In Rs.)
राकेश अपनी मासिक आय का 10% घरेलू व्यय पर, 20% पुस्तकों पर, 25% कपड़ों पर खर्च करता है और शेष की बचत करता है। गिनती करने पर, उसे पता चलता है कि अंततः उसे Rs.16083 की बचत हुई है। उसकी मासिक आय ज्ञात कीजिए। (Rs. में)

- (A) ☐ 35745
35745
- (B) ☐ 35750
35750
- (C) ☐ 35746
35746
- (D) ☒ 35740 (Correct Answer) (Chosen option)
35740

MENTAL APTITUDE - INTELLIGENCE - TEST OF REASONING - MENTAL APTITUDE - INTELLIGENCE - TEST OF REASONING

Question No.1

Marks: 2.50
Bookmark ☐

Read the following statements and answer the following question.

A@B means A is the husband of B
A#B means A is the wife of B
A\$B means A is the son of B
A%B means A is the daughter of B

In the equation **P\$Q#R\$S**, How is P related to S?

निम्नलिखित कथनों को पढ़ें और उसके बाद दिए गए प्रश्नों का उत्तर दें।

A@B का अर्थ है A, B का पति है
A#B का अर्थ है A, B की पत्नी है
A\$B का अर्थ है A, B का बेटा है
A%B का अर्थ है A, B की बेटी है

प्रश्न **P\$Q#R\$S** में, P का S से क्या संबंध है?

- (A) ☐ Grandfather
ग्रैंडफ़ादर
- (B) ☐ Son
बेटा
- (C) ☒ Grandson (Correct Answer) (Chosen option)
ग्रैंडसन
- (D) ☐ Son-in-law
दामाद

Question No.2

Marks: 2.50
Bookmark ☐

Pointing to a girl, a man said, "She is the daughter of only son of my mother." How is the girl related to the man?
एक लड़की की ओर संकेत करते हुए एक पुरुष ने कहा, "वह मेरी माँ के इकलौते बेटे की बेटी है।" उस लड़की का पुरुष से क्या संबंध है?

- (A) ☐ Granddaughter
ग्रैंडडॉटर
- (B) ☒ Daughter (Correct Answer) (Chosen option)
बेटी
- (C) ☐ Sister
बहन
- (D) ☐ Mother
माँ

Question No.3

Marks: 2.50
Bookmark ☐

Find the next number in the series.

2, 4, 16, 96, 768, ?
श्रेणी में अगली संख्या ज्ञात करें।
2, 4, 16, 96, 768, ?

- (A) ☐ 820
820
- (B) ☐ 7200
7200
- (C) ☐ 6144
6144
- (D) ☒ 7680 (Correct Answer) (Chosen option)
7680

Question No.4

Marks: 2.50
Bookmark ☐

Replace the question mark with an option that follows the same logic applied in the first pair.

Duck : Duckling :: Horse : ??
प्रश्न चिह्न को उस विकल्प से प्रतिस्थापित करें जो पहले युग्म में लागू तर्क का अनुसरण करता है।
Duck : Duckling :: Horse : ??

- (A) ☐ Kitten
Kitten
- (B) ☐ Lamb
Lamb
- (C) ☒ Colt (Correct Answer) (Chosen option)
Colt
- (D) ☐ Puppy
Puppy

Question No.5

Marks: 2.50
Bookmark ☐

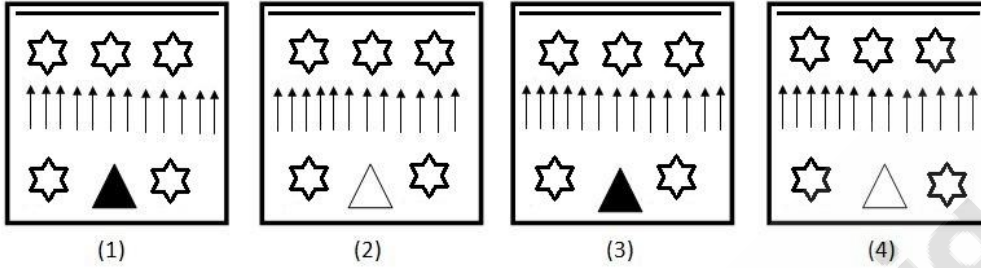
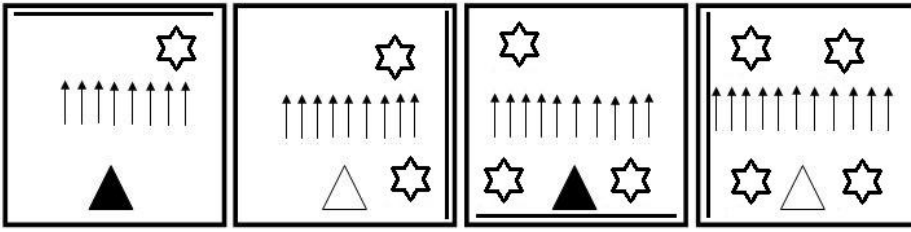
Two persons A and B, stand at the same point. A walks 6km East, takes a right turn and walks 2km and turns left and walks 4km. B walks 3km towards West; turns right and walks 7km; turns right again and walks 13km. How far is A from B?
A और B दो व्यक्ति, एक ही बिंदु पर खड़े हैं। A पूर्व की ओर 6km चलता है, दाएँ मुड़ता है और 2km चलता है और बाएँ मुड़ता है और 4km चलता है।
B पश्चिम की ओर 3 km चलता है, दाएँ मुड़ता है और 7km चलता है, एक बार फिर दाएँ मुड़ता है और 13 km चलता है। A, B से कितनी दूरी पर है?

- (A) ☐ 5km
5km
- (B) ☐ 11km
11km
- (C) ☐ 7km
7km
- (D) ☒ 9km (Correct Answer) (Chosen option)
9km

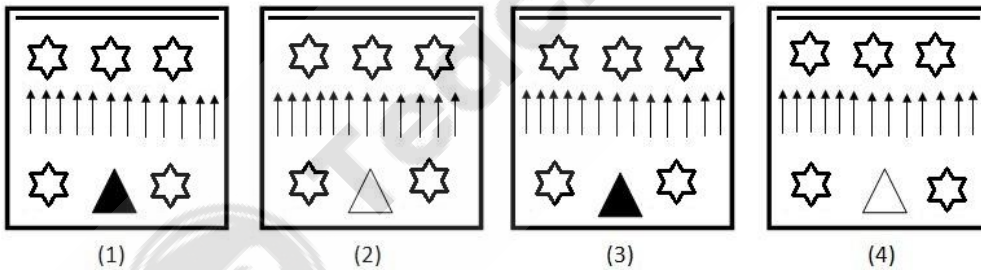
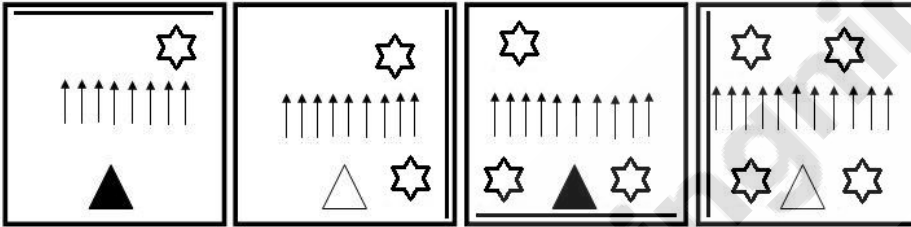
Question No.6

Marks: 2.50
Bookmark ☐

Which one of the following images numbered as (1), (2), (3), (4) will be the next image for the given series?



(1), (2), (3), (4) के रूप में संख्यांकित, निम्नलिखित में से कौन सा चित्र, दी गई श्रृंखला के लिए अगला चित्र होगा?



- (A) ☐ 2
2
(B) ☐ 4
4
(C) ☒ 1 (Correct Answer) (Chosen option)
1
(D) ☐ 3
3

Question No.7

Marks: 2.50

Bookmark ☐

Four of the following five are alike in a certain way and so form a group. Which is the one that does not belong to that group?

JG, VS, RO, FC, MI

निम्न पांच में से कोई चार किसी न किसी रूप से समान हैं इसलिए समूह बनाते हैं। वह कौन सा है जो उस समूह से संबंधित नहीं है?

JG, VS, RO, FC, MI

- (A) ☐ RO
RO
(B) ☒ MI (Correct Answer) (Chosen option)
MI
(C) ☐ VS

VS
(D) ☐ JG
JG

Question No.8

Marks: 2.50
Bookmark ☐

A box containing the denominations of one rupee coins, five rupee coins and ten rupee coins amount to Rs.1360. There are equal number of coins in all denominations. What is the total number of coins in the box?
एक बॉक्स में एक रुपए, पाँच रुपए और दस रुपए के मूल्यवर्गों के सिक्के हैं जिनकी कुल राशि Rs.1360 है। सभी मूल्यवर्गों के सिक्के बराबर संख्या में हैं। बॉक्स में सिक्कों की कुल संख्या ज्ञात कीजिए।

- (A) ☐ 85
85
(B) ☐ 105
105
(C) ☐ 255 (Correct Answer) (Chosen option)
255
(D) ☐ 205
205

Question No.9

Marks: 2.50
Bookmark ☐

_____ is the central intelligence agency for all matters related to internal security, including espionage, insurgency and terrorism.

_____ आंतरिक सुरक्षा से संबंधित सभी मामलों जिसमें जासूसी, उग्रवाद और आतंकवाद शामिल हैं, के लिए केंद्रीय खुफिया एजेंसी है।

- (A) ☐ Central Bureau of Investigation (CBI)
केंद्रीय अन्वेषण ब्यूरो (CBI)
(B) ☐ National Crime Records Bureau (NCRB)
राष्ट्रीय अपराध रिकॉर्ड ब्यूरो (NCRB)
(C) ☐ National Investigation Agency (NIA) (Chosen option)
राष्ट्रीय अन्वेषण अभिकरण (NIA)
(D) ☐ Intelligence Bureau (IB) (Correct Answer)
खुफिया विभाग (IB)

Question No.10

Marks: 2.50
Bookmark ☐

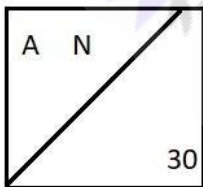
The Scheduled Castes and Scheduled Tribes (Prevention of Atrocities) Act was passed in the year _____.
अनुसूचित जाति एवं अनुसूचित जनजाति (अत्याचार निवारण) अधिनियम, वर्ष _____ में पारित हुआ।

- (A) ☐ 1990
1990
(B) ☐ 1989 (Correct Answer)
1989
(C) ☐ 1975 (Chosen option)
1975
(D) ☐ 1980
1980

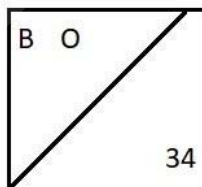
Question No.11

Marks: 2.50
Bookmark ☐

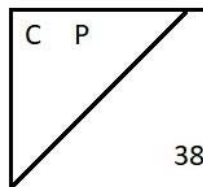
Find the odd image out in the given series.



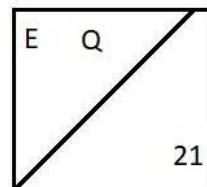
(1)



(2)

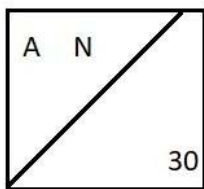


(3)

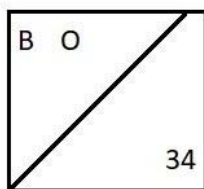


(4)

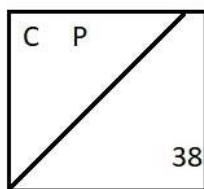
दी गई श्रृंखला में से असंगत चित्र ज्ञात करें।



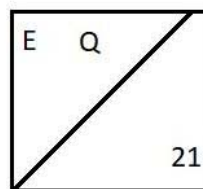
(1)



(2)



(3)



(4)

- (A) ☐ 1
1
(B) ☐ 3
3
(C) ☒ 4 (Correct Answer) (Chosen option)
4
(D) ☐ 2
2

Question No.12

Marks: 2.50
Bookmark ☐

In this question, relationship between different elements is shown in the statement. This statement is followed by two conclusions:

Statement:

$C > H \geq I = P < O \leq T < L < E$

Conclusions:

- i) $C > I$
ii) $O \leq E$

Choose the appropriate one from the following options

- (A) Only conclusion i follows
(B) Only conclusion ii follows
(C) Either i or ii follows
(D) Neither i nor ii follows
(E) Both i and ii follow

इस प्रश्न में, कथन में विभिन्न तत्वों के बीच संबंध दर्शाए गए हैं। कथन के बाद दो निष्कर्ष दिए गए हैं:

कथन:

$C > H \geq I = P < O \leq T < L < E$

निष्कर्ष:

- i) $C > I$
ii) $O \leq E$

निम्नलिखित विकल्पों में से उपयुक्त विकल्प चुनें

- (A) केवल निष्कर्ष i अनुसरण करता है
(B) केवल निष्कर्ष ii अनुसरण करता है
(C) या तो निष्कर्ष i या ii अनुसरण करता है
(D) न ही निष्कर्ष i और न ii अनुसरण करता है
(E) दोनों निष्कर्ष i और निष्कर्ष ii अनुसरण करते हैं

- (A) ☐ C
C
(B) ☒ A (Correct Answer) (Chosen option)
A
(C) ☐ B
B
(D) ☐ D
D

Question No.13

Marks: 2.50
Bookmark ☐

A man walks 6km towards West; takes a right turn and walks 8km. He then walks 3km towards the starting point and reached the destination. How far is he from the starting position?

एक पुरुष पश्चिम दिशा की ओर 6km चलता है, दाएँ मुड़ता है और 8 km चलता है। फिर वह आरंभिक बिंदु की ओर 3km चलता है और गंतव्य तक पहुँचता है। वह आरंभिक स्थान से कितनी दूरी पर है?

- (A) ☐ 9km
9km
- (B) ☐ 5km
5km
- (C) ☐ 6km
6km
- (D) ☒ 7km (Correct Answer) (Chosen option)
7km

Question No.14

Marks: 2.50
Bookmark ☐

In the series given below, how many 6s are there each of which is exactly divisible by its immediate succeeding number?

3 6 2 6 4 8 6 3 2 4 3 6 3 6 6 2 6 4 3 6 2

नीचे दी गई श्रेणी में ऐसे कितने 6 हैं, जिसमें से प्रत्येक उसकी निकटतम उत्तरवर्ती संख्या से पूर्णतः विभाज्य है?

3 6 2 6 4 8 6 3 2 4 3 6 3 6 6 2 6 4 3 6 2

- (A) ☒ six (Correct Answer)
छह
- (B) ☐ four
चार
- (C) ☐ five (Chosen option)
पाँच
- (D) ☐ three
तीन

Question No.15

Marks: 2.50
Bookmark ☐

Choose the alternative which is an odd word/number/letter pair out of the given alternatives.

वह विकल्प चुनें जो दिए गए विकल्पों में से एक असंगत शब्द / संख्या / अक्षर युग्म है।

- (A) ☐ Chocolate
Chocolate
- (B) ☐ Biscuit
Biscuit
- (C) ☐ Cake
Cake
- (D) ☒ Jar (Correct Answer) (Chosen option)
Jar

Question No.16

Marks: 2.50
Bookmark ☐

In a certain code language:

'fast road ways' is written as 'yo ga ri',

'ways to reach' is written as 'th yo sa',

'you reach fast' is written as 'ga bu th'.

What does the code 'bu' stand for?

किसी निश्चित कूट भाषा में:

'fast road ways' को 'yo ga ri' लिखा जाता है,

'ways to reach' को 'th yo sa' लिखा जाता है,

'you reach fast' को 'ga bu th' लिखा जाता है।

कूट 'bu' का प्रयोग किसके लिए हुआ है?

- (A) ☐ reach
reach
- (B) ☐ ways
ways
- (C) ☒ you (Correct Answer) (Chosen option)
you
- (D) ☐ fast
fast

Question No.17

Marks: 2.50
Bookmark ☐

In this question, a passage is given followed by a statement. Read the passage carefully and judge the statement based on the given passage.

This will probably make you want to visit Luxembourg on your next family vacation: The tiny EU country is seeking to make travel free on its trains, trams and buses as part of efforts to reduce traffic congestion and air pollution. The re-elected coalition government of liberal Prime Minister Xavier Bettel said "free public transport will be introduced in the Grand Duchy of Luxembourg's territory" from early 2020.

Georges Merenz, who heads the FNCTTFEL-Landesverband, Luxembourg's main transport union, expressed concerns that the government plan would lead to job losses if nobody was needed to sell tickets. "As long as it is not cleared up, we cannot accept that," Merenz told AFP. He added he was also concerned people in rural areas would not benefit from free travel.

Statement:

Luxembourg's transport union is happy with the initiative taken by the government.

Choose the appropriate one from the following options

- A -The statement is definitely true.
- B -The statement is probably true.
- C -The statement is cannot be determined.
- D -The statement is definitely false.

इस प्रश्न में, एक गद्यांश के बाद एक कथन दिया गया है। गद्यांश को ध्यानपूर्वक पढ़ें और दिए गए गद्यांश के आधार पर कथन का आकलन करें।

इसके कारण आप संभवतः अपने अगली पारिवारिक छुट्टी पर लक्समबर्ग यात्रा करना चाहेंगे: यूरोपीय संघ का यह छोटा देश, यातायात की भीड़ और वायु प्रदूषण को कम करने के प्रयासों के तहत अपनी ट्रेनों, ट्रामों और बसों में यात्रा को निःशुल्क करने का प्रयास कर रहा है। उदारवादी प्रधानमंत्री जेवियर बेट्टेल की पुनः चुनी हुई गठबंधन सरकार ने कहा कि 2020 की शुरुआत से "लक्समबर्ग के राज्य क्षेत्र के ग्रैंड डची में निःशुल्क सार्वजनिक परिवहन की शुरुआत की जाएगी"।

लक्समबर्ग के मुख्य परिवहन संघ एफ.एन.सी.टी.टी.एफ.ई.एल.-लैंड्सवरबैंड के अध्यक्ष जार्ज मेरेज ने चिंता व्यक्त की कि यदि टिकट बेचने के लिए किसी की आवश्यकता नहीं होगी तो सरकार की इस योजना के कारण नौकरियों को नुकसान पहुंचेगा। मेरेज ने एएफपी को बताया, "जब तक कि इसे स्पष्ट नहीं किया जाता है, हम इसे स्वीकार नहीं कर सकते"। उन्होंने कहा कि उन्हें इस बात की भी चिंता थी कि ग्रामीण इलाकों के लोग निःशुल्क यात्रा से लाभान्वित नहीं होंगे।

कथन:

लक्समबर्ग का परिवहन संघ, सरकार द्वारा की गई पहल से खुश है।

निम्नलिखित विकल्पों में से उपयुक्त विकल्प चुनें

- A - कथन निश्चित रूप से सत्य है।
 - B- कथन संभवतः सत्य है।
 - C- कथन निर्धारित नहीं किया जा सकता।
 - D-कथन निश्चित रूप से असत्य है।
- (A) ☐ B
- (B) ☒ D (Correct Answer) (Chosen option)
- (C) ☐ C
- (D) ☐ A

Question No.18

Marks: 2.50

Bookmark ☐

Read the information carefully and answer the following question.

A+B means A is the Brother of B
A-B means A is the Sister of B
A*B means A is the mother of B
A/B means A is the father of B

In the given expression **P*Q-R+S**, how is P related to S?
जानकारी को ध्यान से पढ़ें और निम्नलिखित प्रश्न का उत्तर दें।

A+B का अर्थ है, A, B का भाई है
A-B का अर्थ है, A, B की बहन है
A*B का अर्थ है, A, B की माँ है
A/B का अर्थ है, A, B का पिता है

दिए गए व्यंजक **P*Q-R+S** में, P का S से क्या संबंध है?

- (A) ☐ Father
पिता
- (B) ☒ Mother (Correct Answer) (Chosen option)
माँ
- (C) ☐ Daughter
पुत्री
- (D) ☐ Son
पुत्र

Question No.19

Marks: 2.50
Bookmark ☐

Who among the following established India's first University for women?
निम्नलिखित में से किसने महिलाओं के लिए भारत का पहला विश्वविद्यालय स्थापित किया?

- (A) ☐ Sree Narayana Guru
श्री नारायण गुरु
- (B) ☐ Maharishi Debendranath Tagore
महर्षि देबेन्द्रनाथ टैगोर
- (C) ☒ Maharshi Dr. Dhondo Keshav Karve (Correct Answer) (Chosen option)
महर्षि डॉ. ढोंडो केशव कर्वे
- (D) ☐ Annie Besant
एनी बेसेंट

Question No.20

Marks: 2.50
Bookmark ☐

If all the vowels are replaced by the immediate next consonant from the English alphabet series in the word KALEIDOSCOPE, then the letters of the word are arranged alphabetically, which letter will be ninth to the left of the second letter from the right?
यदि शब्द KALEIDOSCOPE में अंग्रेजी वर्ण अनुक्रम से सभी स्वरों को उनके ठीक अगले व्यंजन से प्रतिस्थापित किया जाए, फिर शब्द के अक्षरों को वर्णमाला क्रम में व्यवस्थित किया जाए, तो कौन सा अक्षर दाएँ से दूसरे अक्षर की बाईं ओर नौवें स्थान पर होगा?

- (A) ☐ J
J
- (B) ☒ C (Correct Answer) (Chosen option)
C
- (C) ☐ L
L
- (D) ☐ F
F

Question No.21

Marks: 2.50
Bookmark ☐

If every alternate letter starting from the left end of the word APPRENTICE is written in small letters, rest all are written in capital letters, the new word thus formed is reversed, which letter will be fourth to the right of the letter third from the left?
यदि शब्द APPRENTICE में बाएँ छोर से शुरू करते हुए प्रत्येक दूसरे अक्षर को छोटे अक्षर में लिखा जाता है, बाकी सभी को बड़े अक्षरों में लिखा जाता है, इस प्रकार निर्मित नए शब्द को व्युत्क्रमित किया जाता है, तो कौन सा अक्षर बाएँ से तीसरे अक्षर के दाएँ चौथा अक्षर होगा?

- (A) ☐ t (Chosen option)
t
- (B) ☒ R (Correct Answer)
R
- (C) ☐ p
p
- (D) ☐ N
N

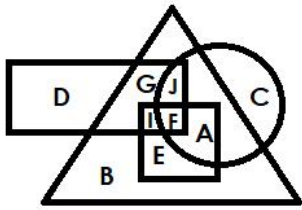
Question No.22

Marks: 2.50
Bookmark ☐

Which of the following alphabet in the Venn Diagram represents 'graduates who are only players'?



वेन आरेख में निम्न में से कौन सा वर्ण उन स्नातकों को दर्शाता है जो केवल खिलाड़ी हैं?



- (A) ☐ E (Correct Answer) (Chosen option)
E
- (B) ☐ A
A
- (C) ☐ G
G
- (D) ☐ F
F

Question No.23

Marks: 2.50
Bookmark ☐

Replace the question mark with an option that follows the same logic applied in the first pair.

61232:14::25154: ?

इस प्रश्न में प्रश्नवाचक चिह्न(?) को उस विकल्प से प्रतिस्थापित करें जो पहले युग्म में लागू तर्क का अनुसरण करता हो।

61232:14::25154: ?

- (A) ☐ 71
71
- (B) ☐ 24
24
- (C) ☐ 17 (Correct Answer) (Chosen option)
17
- (D) ☐ 18
18

Question No.24

Marks: 2.50
Bookmark ☐

Ravi stands in the 6th position from the front of the queue and there are 3 persons between Ravi and Hari . Hari stands after Ravi. If the first two person are removed from the queue then what is the position of Hari from the front of the queue?

रवि कतार के आरंभ से छठे स्थान पर है तथा रवि और हरि के बीच 3 व्यक्ति हैं। हरि, रवि के बाद खड़ा है। यदि कतार से प्रथम दो व्यक्तियों को हटा दिया जाता है तो कतार के आरंभ से हरि का स्थान कौनसा होगा?

- (A) ☐ 8 (Correct Answer) (Chosen option)
8
- (B) ☐ 10
10
- (C) ☐ 14
14
- (D) ☐ 12
12

Question No.25

Marks: 2.50
Bookmark ☐

Pointing to a man, a woman said, "He is the son of my mother's only daughter ". How is the woman related to the man?

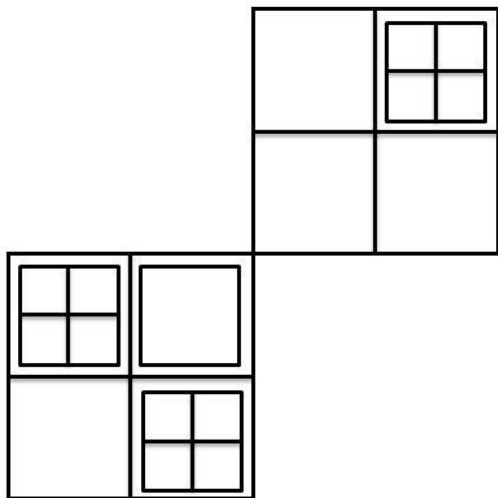
एक पुरुष की ओर इशारा करते हुए एक महिला ने कहा कि, "वह मेरी माता की इकलौती पुत्री का पुत्र है।" महिला का उस पुरुष से क्या संबंध है?

- (A) ☐ Mother (Correct Answer) (Chosen option)
माता
- (B) ☐ Father
पिता
- (C) ☐ Sister
बहन
- (D) ☐ Cousin
कज़िन

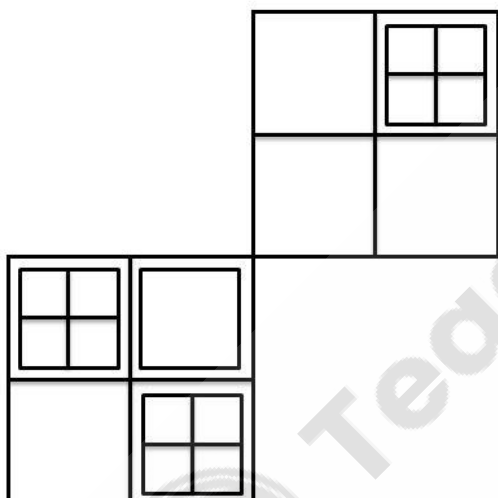
Question No.26

Marks: 2.50
Bookmark ☐

How many squares are there in the given figure?



दी गई आकृति में कितने वर्ग हैं?



- (A) ☐ 24
24
- (B) ☐ 21
21
- (C) ☒ 26 (Correct Answer) (Chosen option)
26
- (D) ☐ 20
20

Question No.27

Marks: 2.50
Bookmark ☐

Find the next number in the series.

2, 3, 5, 16, 63, ?

श्रेणी में अगली संख्या ज्ञात करें।

2, 3, 5, 16, 63, ?

- (A) ☐ 314
314
- (B) ☐ 312
312
- (C) ☐ 315

(D) ☐ **316 (Correct Answer)** (Chosen option)
316

Question No.28

Marks: 2.50
Bookmark ☐

In a certain code language:
'fast road ways' is written as 'yo ga ri',
'ways to reach' is written as 'th yo sa',
'you reach fast' is written as 'ga bu th'.

What is the code for 'road' in the given code language?

किसी निश्चित कूट भाषा में:

'fast road ways' को 'yo ga ri' लिखा जाता है,
'ways to reach' को 'th yo sa' लिखा जाता है,
'you reach fast' को 'ga bu th' लिखा जाता है।

दी गई कूट भाषा में 'road' के लिए क्या कूट है?

- (A) ☐ yo
yo
- (B) ☐ th
th
- (C) ☐ ga
ga
- (D) ☐ **ri (Correct Answer)** (Chosen option)
ri

Question No.29

Marks: 2.50
Bookmark ☐

If the first half of the English alphabet series is reversed, how many letters will be there between J and Q?

यदि अंग्रेजी वर्णमाला श्रेणी के पहले आधे भाग को व्युत्क्रमित किया जाता है तो, J और Q के मध्य कितने वर्ण होंगे?

- (A) ☐ 13
13
- (B) ☐ 11
11
- (C) ☐ **12 (Correct Answer)** (Chosen option)
12
- (D) ☐ 10
10

Question No.30

Marks: 2.50
Bookmark ☐

The National Police Commission (NPC) was constituted in _____.

राष्ट्रीय पुलिस आयोग (एनपीसी) का गठन _____ में किया गया था।

- (A) ☐ **1977 (Correct Answer)**
1977
- (B) ☐ 1965
1965
- (C) ☐ 1954 (Chosen option)
1954
- (D) ☐ 1969
1969

Question No.31

Marks: 2.50
Bookmark ☐

All persons in a row are facing North, A is 11th to the left of B who is at the extreme right. A has 2 persons on the left. What is the total number of persons in the row?

एक पंक्ति में सभी व्यक्ति उत्तर की ओर अभिमुख हैं, A, B के बाएं 11वें स्थान पर है जो दाएं छोर पर है। A की बाईं ओर 2 व्यक्ति हैं। पंक्ति में व्यक्तियों की कुल संख्या कितनी है?

- (A) ☐ **14 (Correct Answer)** (Chosen option)
14
- (B) ☐ 16
16
- (C) ☐ 15
15
- (D) ☐ 17
17

Question No.32

Marks: 2.50
Bookmark ☐

Find the next number in the series.

24, 29, 27, 32, 30, ?

श्रेणी में अगली संख्या ज्ञात करें।

24, 29, 27, 32, 30, ?

- (A) ☐ 28
28
- (B) ☐ 34
34
- (C) ☐ 33
33
- (D) ☒ 35 (Correct Answer) (Chosen option)
35

Question No.33

Marks: 2.50
Bookmark ☐

In which of the following years Jyotiba Phule started a school for girls?

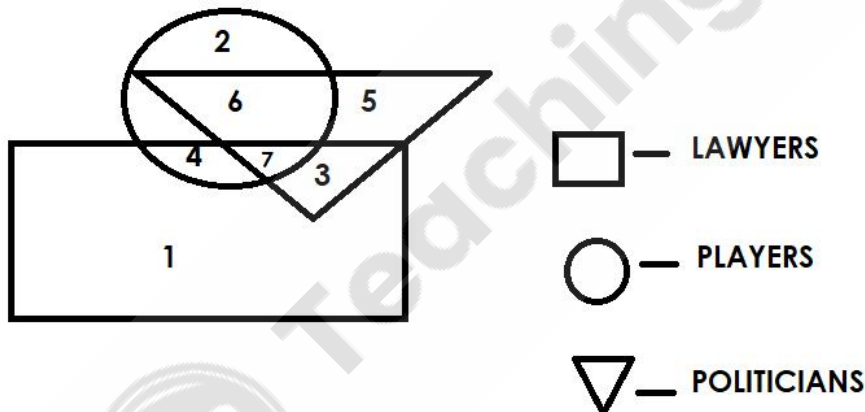
निम्नलिखित में से किस वर्ष में ज्योतिबा फुले ने लड़कियों के लिए एक स्कूल शुरू किया?

- (A) ☒ 1848 (Correct Answer)
1848
- (B) ☐ 1890 (Chosen option)
1890
- (C) ☐ 1855
1855
- (D) ☐ 1880
1880

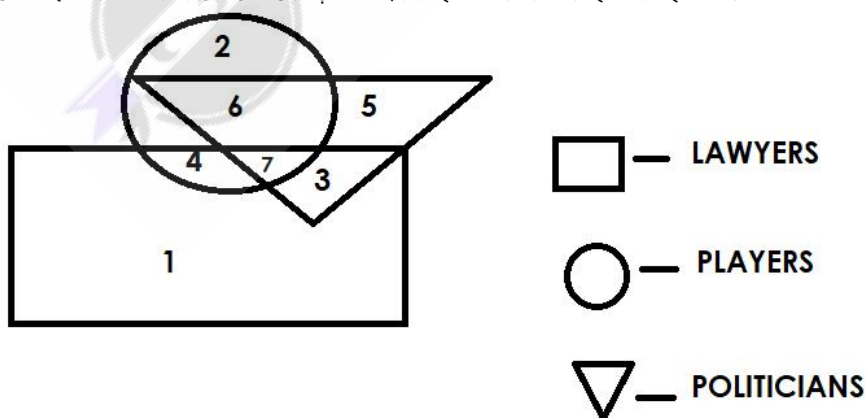
Question No.34

Marks: 2.50
Bookmark ☐

Which of the following numbers in the Venn Diagram represents players who are neither politicians nor lawyers?



वेन आरेख में निम्न में से कौन सी संख्या उन खिलाड़ियों को दर्शाती है जो न तो राजनेता हैं और न ही वकील?



- (A) ☒ 2 (Correct Answer) (Chosen option)
2
- (B) ☐ 7
7

- (C) ☐ 6
6
(D) ☐ 4
4

Question No.35
Marks: 2.50
Bookmark ☐

Who is the author of the book titled "The Kingdom of God is Within You"?
 "द किंगडम ऑफ गॉड इज़ विदइन यू" नामक पुस्तक के लेखक कौन हैं?

- (A) ☒ **Leo Tolstoy (Correct Answer)** (Chosen option)
 लियो टॉलस्टॉय
 (B) ☐ Mahatma Gandhi
 महात्मा गांधी
 (C) ☐ Rabindranath Tagore
 रबिन्द्रनाथ टैगोर
 (D) ☐ Abdul Kalam
 अब्दुल कलाम

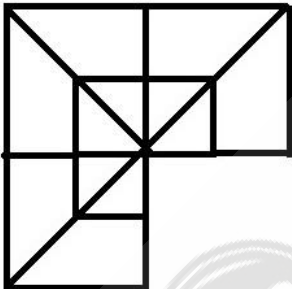
Question No.36
Marks: 2.50
Bookmark ☐

In which of the following cases did the Supreme Court allow Passive Euthanasia under exceptional circumstances?
 निम्नलिखित में से किस मामले में सर्वोच्च न्यायालय ने असाधारण परिस्थितियों में निष्क्रिय इच्छामृत्यु की अनुमति दी?

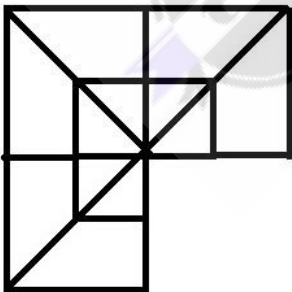
- (A) ☐ Seema vs. Ashwini Kumar
 सीमा बनाम अश्विनी कुमार
 (B) ☒ **Aruna Shanbaug vs. Union of India (Correct Answer)**
 अरुणा शानबाग बनाम भारतीय संघ
 (C) ☐ Gian Kaur vs. State of Punjab (Chosen option)
 ज्ञान कौर बनाम पंजाब राज्य
 (D) ☐ Sharda vs. Union of India
 शारदा बनाम भारतीय संघ

Question No.37
Marks: 2.50
Bookmark ☐


Which one of the following alternatives will **perfectly** complete the given figure?



निम्नलिखित में से कौन सा विकल्प दी गई आकृति को **उत्तम रूप** से पूर्ण करेगा?



- (A) ☐



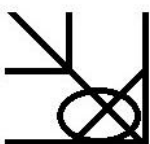
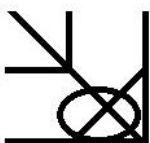
(B) ☐



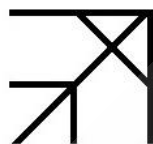
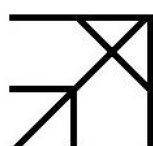
(Correct Answer) (Chosen option)



(C) ☐



(D) ☐



Question No.38

Marks: 2.50
Bookmark ☐

Find the next number in the series.

967, 875, 788, 706, 629, ?

श्रेणी में अगली संख्या ज्ञात करें।

967, 875, 788, 706, 629, ?

(A) ☐ 577
577

(B) ☒ 557 (Correct Answer) (Chosen option)
557

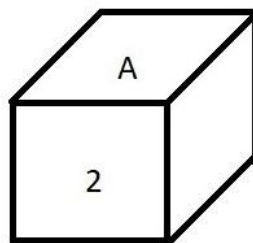
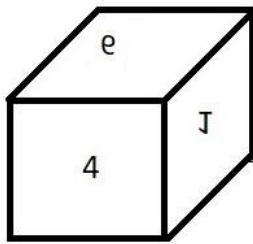
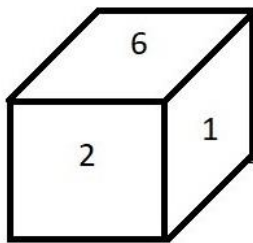
(C) ☐ 567
567

(D) ☐ 587
587

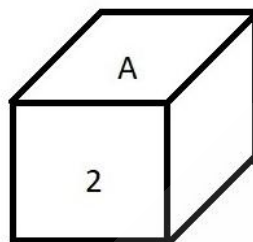
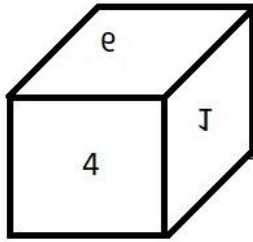
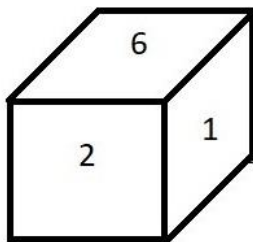
Question No.39

Marks: 2.50
Bookmark ☐

Based on the three images of dice, find out which of the following numbers comes in the place of A.



पासे की तीन छवियों के आधार पर, ज्ञात करें कि A के स्थान पर निम्नलिखित में से कौन सी संख्या आएगी।



- (A) ☐ 1
1
- (B) ☐ 2
2
- (C) ☒ 6 (Correct Answer) (Chosen option)
6
- (D) ☐ 3
3

Question No.40

Marks: 2.50
Bookmark ☐

If $a = 3$, $b = 15$, $c = 19$, $d = 8$, $e = 6$, then $(a \times b + c) \div d - e = ?$
यदि $a = 3$, $b = 15$, $c = 19$, $d = 8$, $e = 6$ है, तो $(a \times b + c) \div d - e = ?$

- (A) ☐ 4
4
- (B) ☒ 2 (Correct Answer) (Chosen option)
2
- (C) ☐ 8
8
- (D) ☐ 6
6