



Teachingninja.in



Latest Govt Job updates



Private Job updates



Free Mock tests available



Visit - teachingninja.in

UP Police SI

Previous Year Paper

15 Nov 2021 Shift 1



Roll No:
Registration No:
Name:
Exam Date: **15-Nov-2021** Exam
Time: **09:00-11:00**
Post Name: **SI Civil 2021**

GENERAL HINDI - GENERAL HINDI

Question No.1

Marks: 2.50
Bookmark ☐

आचार्य भरत ने रसों की संख्या कितनी मानी है?
आचार्य भरत ने रसों की संख्या कितनी मानी है?

- (A) ☐ सात
सात
- (B) ☐ छह (Chosen option)
छह
- (C) ☐ नौ
नौ
- (D) ☐ आठ (Correct Answer)
आठ

Question No.2

Marks: 2.50
Bookmark ☐

इनमें से 'किताब' शब्द क्या है?
इनमें से 'किताब' शब्द क्या है?

- (A) ☐ तत्सम
तत्सम
- (B) ☐ विदेशज (Correct Answer) (Chosen option)
विदेशज
- (C) ☐ देशज
देशज
- (D) ☐ तद्भव
तद्भव

Question No.3

Marks: 2.50
Bookmark ☐

हिंदी में विदेशी भाषाओं से आए उपसर्ग क्या कहलाते हैं?
हिंदी में विदेशी भाषाओं से आए उपसर्ग क्या कहलाते हैं?

- (A) ☐ प्रत्यय
प्रत्यय
- (B) ☐ आगत उपसर्ग (Correct Answer) (Chosen option)
आगत उपसर्ग
- (C) ☐ अव्यय
अव्यय
- (D) ☐ निपात
निपात

Question No.4

Marks: 2.50
Bookmark ☐

'किसी वस्तु को प्राप्त करने की तीव्र इच्छा' के लिए उपयुक्त शब्द इनमें से कौन-सा होगा?
'किसी वस्तु को प्राप्त करने की तीव्र इच्छा' के लिए उपयुक्त शब्द इनमें से कौन-सा होगा?

- (A) ☐ अपेक्षा
अपेक्षा
- (B) ☐ अभीप्सा (Correct Answer) (Chosen option)
अभीप्सा
- (C) ☐ अपेक्षित
अपेक्षित
- (D) ☐ अरसिक
अरसिक

Question No.5

Marks: 2.50
Bookmark ☐

इनमें से विस्मयादिबोधक चिह्न कौन-सा है?
इनमें से विस्मयादिबोधक चिह्न कौन-सा है?

- (A) ☐ ?
?
- (B) ☒ ! (Correct Answer) (Chosen option)
!
- (C) ☐ |
|
- (D) ☐ ;
;

Question No.6

Marks: 2.50
Bookmark ☐

निम्नलिखित में से कौन-सी पुस्तक विजय तेंदुलकर की रचना नहीं है?
निम्नलिखित में से कौन-सी पुस्तक विजय तेंदुलकर की रचना नहीं है?

- (A) ☒ नेफ़ा की एक शाम (Correct Answer)
नेफ़ा की एक शाम
- (B) ☐ कमला (Chosen option)
कमला
- (C) ☐ खामोश! अदालत जारी है
खामोश! अदालत जारी है
- (D) ☐ घासीराम कोतवाल
घासीराम कोतवाल

Question No.7

Marks: 2.50
Bookmark ☐

'काठ होना' मुहावरे का इनमें से क्या अर्थ है?
'काठ होना' मुहावरे का इनमें से क्या अर्थ है?

- (A) ☐ सचेत होना
सचेत होना
- (B) ☐ लकड़ी होना
लकड़ी होना
- (C) ☐ मूर्ख होना
मूर्ख होना
- (D) ☒ स्तब्ध होना (Correct Answer) (Chosen option)
स्तब्ध होना

Question No.8

Marks: 2.50
Bookmark ☐

इनमें से कौन-सा शब्द 'संयोग' का विपरीतार्थक है?
इनमें से कौन-सा शब्द 'संयोग' का विपरीतार्थक है?

- (A) ☐ प्रयोग
प्रयोग
- (B) ☐ द्वेष
द्वेष
- (C) ☒ वियोग (Correct Answer) (Chosen option)
वियोग
- (D) ☐ विरह
विरह

Question No.9

Marks: 2.50
Bookmark ☐

इनमें से कौन-सी बोली सामान्यतः उत्तर प्रदेश में नहीं बोली जाती है?
इनमें से कौन-सी बोली सामान्यतः उत्तर प्रदेश में नहीं बोली जाती है?

- (A) ☐ खड़ीबोली
खड़ीबोली
- (B) ☐ अवधी
अवधी
- (C) ☐ ब्रजभाषा

ब्रजभाषा

- (D) ☐ मैथिली (Correct Answer) (Chosen option)
मैथिली

Question No.10

Marks: 2.50
Bookmark ☐

'जहाँ एक शब्द के साथ अनेक अर्थ चिपके रहते हैं, वहाँ कौन-सा अलंकार होता है?
'जहाँ एक शब्द के साथ अनेक अर्थ चिपके रहते हैं, वहाँ कौन-सा अलंकार होता है?

- (A) ☐ अनुप्रास (Chosen option)
अनुप्रास
- (B) ☐ श्लेष (Correct Answer)
श्लेष
- (C) ☐ वक्रोक्ति
वक्रोक्ति
- (D) ☐ यमक
यमक

Question No.11

Marks: 2.50
Bookmark ☐

'प्रतीप' अलंकार इनमें से किससे संबंधित है?
'प्रतीप' अलंकार इनमें से किससे संबंधित है?

- (A) ☐ यमक
यमक
- (B) ☐ रूपक
रूपक
- (C) ☐ उपमा (Correct Answer)
उपमा
- (D) ☐ श्लेष (Chosen option)
श्लेष

Question No.12

Marks: 2.50
Bookmark ☐

विशेषण किसकी विशेषता बतलाता है?
विशेषण किसकी विशेषता बतलाता है?

- (A) ☐ वाक्य की
वाक्य की
- (B) ☐ संज्ञा और सर्वनाम दोनों की (Correct Answer) (Chosen option)
संज्ञा और सर्वनाम दोनों की
- (C) ☐ संज्ञा की
संज्ञा की
- (D) ☐ सर्वनाम की
सर्वनाम की

Question No.13

Marks: 2.50
Bookmark ☐

इनमें से भाववाच्य का उदाहरण कौन-सा है?
इनमें से भाववाच्य का उदाहरण कौन-सा है?

- (A) ☐ आम खाया जाता है
आम खाया जाता है
- (B) ☐ मैंने पुस्तक पढ़ी।
मैंने पुस्तक पढ़ी।
- (C) ☐ पुस्तक पढ़ी जाती है।
पुस्तक पढ़ी जाती है।
- (D) ☐ धूप में चला नहीं जाता (Correct Answer) (Chosen option)
धूप में चला नहीं जाता

Question No.14

Marks: 2.50
Bookmark ☐

'पृथ्वीराज रासो' के रचयिता कौन हैं?
'पृथ्वीराज रासो' के रचयिता कौन हैं?

- (A) ☐ दलपति विजय
दलपति विजय
- (B) ☒ चंदबरदाई (Correct Answer) (Chosen option)
चंदबरदाई
- (C) ☐ नरपति नाल्ह
नरपति नाल्ह
- (D) ☐ जगनिक
जगनिक

Question No.15

Marks: 2.50
Bookmark ☐

'राम खाता होगा'। यह किस काल का उदाहरण है?
'राम खाता होगा'। यह किस काल का उदाहरण है?

- (A) ☐ संदिग्ध भूत
संदिग्ध भूत
- (B) ☐ संदिग्ध भविष्य (Chosen option)
संदिग्ध भविष्य
- (C) ☒ संदिग्ध वर्तमान (Correct Answer)
संदिग्ध वर्तमान
- (D) ☐ सामान्य भविष्य
सामान्य भविष्य

Question No.16

Marks: 2.50
Bookmark ☐

चित्रा मुद्रल को उनकी किस कृति के लिए 'साहित्य अकादमी पुरस्कार' से पुरस्कृत किया गया?
चित्रा मुद्रल को उनकी किस कृति के लिए 'साहित्य अकादमी पुरस्कार' से पुरस्कृत किया गया?

- (A) ☐ एक जमीन अपनी
एक जमीन अपनी
- (B) ☐ आँवों (Chosen option)
आँवों
- (C) ☒ पोस्ट बॉक्स नंबर 203 - नालासोपारा (Correct Answer)
पोस्ट बॉक्स नंबर 203 - नालासोपारा
- (D) ☐ गिलगडु
गिलगडु

Question No.17

Marks: 2.50
Bookmark ☐

'ब्रजभाषा' इनमें से किस रूप में सर्वाधिक प्रसिद्ध है?
'ब्रजभाषा' इनमें से किस रूप में सर्वाधिक प्रसिद्ध है?

- (A) ☒ काव्यभाषा (Correct Answer) (Chosen option)
काव्यभाषा
- (B) ☐ तकनीकी भाषा
तकनीकी भाषा
- (C) ☐ राजभाषा
राजभाषा
- (D) ☐ राष्ट्रभाषा
राष्ट्रभाषा

Question No.18

Marks: 2.50
Bookmark ☐

'चोर उठ भागा'- यह वाक्य किस क्रिया का उदाहरण है?
'चोर उठ भागा'- यह वाक्य किस क्रिया का उदाहरण है?

- (A) ☐ संयुक्त क्रिया
संयुक्त क्रिया
- (B) ☐ अकर्मक क्रिया
अकर्मक क्रिया
- (C) ☒ पूर्वकालिक क्रिया (Correct Answer) (Chosen option)
पूर्वकालिक क्रिया
- (D) ☐ प्रेरणार्थक क्रिया
प्रेरणार्थक क्रिया

Question No.19

Marks: 2.50
Bookmark ☐

हम ताजमहल देखने जाएंगे। इसमें कौन-सा सर्वनाम है?
हम ताजमहल देखने जाएंगे। इसमें कौन-सा सर्वनाम है?

- (A) ☐ निजवाचक सर्वनाम (Chosen option)
निजवाचक सर्वनाम
- (B) ☒ पुरुषवाचक सर्वनाम (Correct Answer)
पुरुषवाचक सर्वनाम
- (C) ☐ अनिश्चयवाचक सर्वनाम
अनिश्चयवाचक सर्वनाम
- (D) ☐ निश्चय वाचक सर्वनाम
निश्चय वाचक सर्वनाम

Question No.20

Marks: 2.50
Bookmark ☐

'सुई और तागे के बीच में' कविता किस रचनाकार की है?
'सुई और तागे के बीच में' कविता किस रचनाकार की है?

- (A) ☐ लीलाधर जगूड़ी
लीलाधर जगूड़ी
- (B) ☒ केदारनाथ सिंह (Correct Answer)
केदारनाथ सिंह
- (C) ☐ मंगलेश डबराल
मंगलेश डबराल
- (D) ☐ कुमार अम्बुज (Chosen option)
कुमार अम्बुज

Question No.21

Marks: 2.50
Bookmark ☐

इनमें से किस शब्द का प्रयोग हमेशा बहुवचन में होता है?
इनमें से किस शब्द का प्रयोग हमेशा बहुवचन में होता है?

- (A) ☒ होठ (Correct Answer)
होठ
- (B) ☐ सूरज
सूरज
- (C) ☐ पानी (Chosen option)
पानी
- (D) ☐ सोना
सोना

Question No.22

Marks: 2.50
Bookmark ☐

अरे! तुम आ गए? इसमें 'अरे' के बाद कौन-सा चिह्न प्रयोग किया गया है?
अरे! तुम आ गए? इसमें 'अरे' के बाद कौन-सा चिह्न प्रयोग किया गया है?

- (A) ☒ विस्मयादिबोधक चिह्न (Correct Answer) (Chosen option)
विस्मयादिबोधक चिह्न
- (B) ☐ योजक चिह्न
योजक चिह्न
- (C) ☐ प्रश्नवाचक चिह्न
प्रश्नवाचक चिह्न
- (D) ☐ पूर्ण विराम
पूर्ण विराम

Question No.23

Marks: 2.50
Bookmark ☐

इनमें से शुद्ध शब्द कौन-सा है?
इनमें से शुद्ध शब्द कौन-सा है?

- (A) ☐ राश्ट्रीय
राश्ट्रीय
- (B) ☐ राष्ट्रीय
राष्ट्रीय

- (C) ☐ राष्ट्रिय
राष्ट्रिय
- (D) ☐ राष्ट्रीय (Correct Answer) (Chosen option)
राष्ट्रीय

Question No.24

Marks: 2.50

Bookmark ☐

रस के कितने अवयव हैं?

रस के कितने अवयव हैं?

(A) ☐ पांच
पांच

(B) ☐ छह (Chosen option)
छह

(C) ☐ तीन
तीन

(D) ☐ चार (Correct Answer)
चार

Question No.25

Marks: 2.50

Bookmark ☐

इनमें से कौन-सा शब्द 'घर' का पर्यायवाची नहीं है?

इनमें से कौन-सा शब्द 'घर' का पर्यायवाची नहीं है?

(A) ☐ निलय (Chosen option)
निलय

(B) ☐ निवास
निवास

(C) ☐ प्रवास (Correct Answer)
प्रवास

(D) ☐ गृह
गृह

Question No.26

Marks: 2.50

Bookmark ☐

'हरि घास पर क्षण भर' कविता संग्रह के रचनाकार निम्नलिखित में से कौन हैं?

'हरि घास पर क्षण भर' कविता संग्रह के रचनाकार निम्नलिखित में से कौन हैं?

(A) ☐ शमशेर बहादुर सिंह (Chosen option)
शमशेर बहादुर सिंह

(B) ☐ अज्ञेय (Correct Answer)
अज्ञेय

(C) ☐ केदारनाथ अग्रवाल
केदारनाथ अग्रवाल

(D) ☐ रघुवीर सहाय
रघुवीर सहाय

Question No.27

Marks: 2.50

Bookmark ☐

इनमें से किस शब्द का एक अर्थ 'एतराज़' भी है?

इनमें से किस शब्द का एक अर्थ 'एतराज़' भी है?

(A) ☐ विपत्ति
विपत्ति

(B) ☐ संकट
संकट

(C) ☐ आपत्ति (Correct Answer) (Chosen option)
आपत्ति

(D) ☐ आफत
आफत

Case Study - 28 to 30

Marks: 7.50

अनुच्छेद पढ़कर, दिए गए सवालों के सही जवाब चुनिए :-

अंत में मैंने कहा- भाइयों! हम अपनी प्राथमिक पाठशाला में इससे भी अधिक काम कर सकते हैं। इतना काम कर सकते हैं कि वर्तमान प्राथमिक शिक्षा का रूप ही बदल जाए, कार्यालय ही हो जाए। लेकिन बात यह है कि इसके लिए काम करनेवालों की जरूरत है। दुनिया की जो सूरत आज है, वह पहले नहीं थी - सूरत

बदलने का यह काम मनुष्यों ने ही तो किया है न। आवश्यकता है लगन की, प्रखर आत्मविश्वास की, अखंड एकनिष्ठा की। यह जरूरी नहीं है कि अंग्रेजी पढ़े-लिखे लोग ही अच्छे प्रयोग कर सकें। यह तो थोड़ी बात है। जब आदमी कुछ करना नहीं चाहता, तब ऐसे ही बहाने बनाता है। सच्ची चीज तो दिल की लगन है। वह लगन, जो किसी चीज के लिए तड़पने वाली हमारी आत्मा से हमें प्राप्त होती है। और चंपकलाल जी! परिणाम की चिंता तो प्रयोग करने वाले को जितनी होती है, उतनी दूसरों को कभी हो ही नहीं सकती। आप वेतन-वृद्धि की इच्छा से अच्छे परिणाम की चेष्टा करते हैं और मैं प्रयोग के लिए प्रयोग करता हूँ जिससे मेरा उद्देश्य सिद्ध हो और कार्यक्षेत्र व्यापक बने। मुझे चिंता रहती है कि कहीं मेरी निष्फलता मेरे बाद के प्रयोग करने वालों के लिए बाधक न बन जाए।

Question No.28

Marks: 2.50

Bookmark ☐

उपरोक्त गद्यांश में लेखक क्या कहना चाहता है?

उपरोक्त गद्यांश में लेखक क्या कहना चाहता है?

(A) ☐ लोग प्रयोग करें

लोग प्रयोग करें

(B) ☐ बाधाओं को समाप्त करना

बाधाओं को समाप्त करना

(C) ☐ स्थितियों में बदलाव लाना

स्थितियों में बदलाव लाना

(D) ☒ लोग काम करें (Correct Answer) (Chosen option)

लोग काम करें

Question No.29

Marks: 2.50

Bookmark ☐

उपरोक्त गद्यांश के अनुसार किसी भी स्थिति को बदलने के लिए कैसे लोगों की जरूरत होती है?

उपरोक्त गद्यांश के अनुसार किसी भी स्थिति को बदलने के लिए कैसे लोगों की जरूरत होती है?

(A) ☐ जो अंग्रेजी भाषा जानते हैं

जो अंग्रेजी भाषा जानते हैं

(B) ☒ जिनके दिल में लगन होती है (Correct Answer)

जिनके दिल में लगन होती है

(C) ☐ जो परिश्रम करते हैं

जो परिश्रम करते हैं

(D) ☐ जो निष्ठापूर्वक हर काम करते हैं (Chosen option)

जो निष्ठापूर्वक हर काम करते हैं

Question No.30

Marks: 2.50

Bookmark ☐

‘अंग्रेजी पढ़े-लिखे ही अच्छे प्रयोग कर सकते हैं। इस वाक्य से क्या ध्वनित होता है?’

‘अंग्रेजी पढ़े-लिखे ही अच्छे प्रयोग कर सकते हैं। इस वाक्य से क्या ध्वनित होता है?’

(A) ☐ अंग्रेजी की महत्ता को दर्शाता है। (Chosen option)

अंग्रेजी की महत्ता को दर्शाता है।

(B) ☐ सही हो सकता है।

सही हो सकता है।

(C) ☒ भाषिक पूर्वाग्रहों से ग्रसित है। (Correct Answer)

भाषिक पूर्वाग्रहों से ग्रसित है।

(D) ☐ सही है।

सही है।

Question No.31

Marks: 2.50

Bookmark ☐

‘बतरस लालच लाल की, मुरली धरी लुकाई’। यह पंक्ति किसकी है?

‘बतरस लालच लाल की, मुरली धरी लुकाई’। यह पंक्ति किसकी है?

(A) ☐ देव

देव

(B) ☐ मतिराम

मतिराम

(C) ☐ घनानन्द

घनानन्द

(D) ☒ बिहारी (Correct Answer) (Chosen option)

बिहारी

Question No.32

Marks: 2.50

Bookmark ☐

'कृत्' और 'तद्धित' इनमें से किसके भेद हैं?
'कृत्' और 'तद्धित' इनमें से किसके भेद हैं?

- (A) ☐ अव्यय
अव्यय
- (B) ☐ उपसर्ग
उपसर्ग
- (C) ☒ प्रत्यय (Correct Answer) (Chosen option)
प्रत्यय
- (D) ☐ सर्वनाम
सर्वनाम

Question No.33

Marks: 2.50
Bookmark ☐

घनाक्षरी कौन-सा छंद है?
घनाक्षरी कौन-सा छंद है?

- (A) ☐ मात्रिक
मात्रिक
- (B) ☒ वार्षिक (Correct Answer) (Chosen option)
वार्षिक
- (C) ☐ मिश्र
मिश्र
- (D) ☐ इनमें से कोई नहीं
इनमें से कोई नहीं

Question No.34

Marks: 2.50
Bookmark ☐

रोला और उल्लाला से मिलकर कौन-सा छंद बनता है?
रोला और उल्लाला से मिलकर कौन-सा छंद बनता है?

- (A) ☐ कुण्डलिया
कुण्डलिया
- (B) ☒ छप्पय (Correct Answer) (Chosen option)
छप्पय
- (C) ☐ भुजंगी
भुजंगी
- (D) ☐ कवित्त
कवित्त

Question No.35

Marks: 2.50
Bookmark ☐

'पवनाशन' में कौन-सा समास है?
'पवनाशन' में कौन-सा समास है?

- (A) ☐ कर्मधारय समास (Chosen option)
कर्मधारय समास
- (B) ☒ बहुव्रीहि समास (Correct Answer)
बहुव्रीहि समास
- (C) ☐ द्वंद्व समास
द्वंद्व समास
- (D) ☐ अव्ययीभाव समास
अव्ययीभाव समास

Question No.36

Marks: 2.50
Bookmark ☐

इनमें से किसे अपभ्रंश का बाल्मीकि कहा जाता है?
इनमें से किसे अपभ्रंश का बाल्मीकि कहा जाता है?

- (A) ☐ अरिष्टनेमी
अरिष्टनेमी
- (B) ☐ सरहपा
सरहपा
- (C) ☒ स्वयंभू (Correct Answer) (Chosen option)
स्वयंभू

(D) ☐ शबरपा
शबरपा

Question No.37

Marks: 2.50
Bookmark ☐

इनमें से खड़ी बोली हिन्दी के पहले कवि कौन हैं?
इनमें से खड़ी बोली हिन्दी के पहले कवि कौन हैं?

- (A) ☒ अमीर खुसरो (Correct Answer) (Chosen option)
अमीर खुसरो
- (B) ☐ सरहपा
सरहपा
- (C) ☐ स्वयंभू
स्वयंभू
- (D) ☐ भारतेन्दु
भारतेन्दु

Question No.38

Marks: 2.50
Bookmark ☐

जिस स्वर के उच्चारण में दो मात्राएँ लगती हैं, उसे क्या कहते हैं?
जिस स्वर के उच्चारण में दो मात्राएँ लगती हैं, उसे क्या कहते हैं?

- (A) ☐ संयुक्त स्वर (Chosen option)
संयुक्त स्वर
- (B) ☐ मूल स्वर
मूल स्वर
- (C) ☒ गुरु स्वर (Correct Answer)
गुरु स्वर
- (D) ☐ लघु स्वर
लघु स्वर

Question No.39

Marks: 2.50
Bookmark ☐

'जिसके पास कुछ भी न हो' वाक्यांश के लिए इनमें से कौन-सा एक शब्द उपयुक्त है?
'जिसके पास कुछ भी न हो' वाक्यांश के लिए इनमें से कौन-सा एक शब्द उपयुक्त है?

- (A) ☐ आकुंचन
आकुंचन
- (B) ☐ किंचित्
किंचित्
- (C) ☐ अलभ्य
अलभ्य
- (D) ☒ अर्किचन (Correct Answer) (Chosen option)
अर्किचन

Question No.40

Marks: 2.50
Bookmark ☐

इनमें से खड़ीबोली का प्रथम महाकाव्य कौन-सा है?
इनमें से खड़ीबोली का प्रथम महाकाव्य कौन-सा है?

- (A) ☐ भक्ति सागर
भक्ति सागर
- (B) ☒ प्रियप्रवास (Correct Answer)
प्रियप्रवास
- (C) ☐ प्रेमसागर (Chosen option)
प्रेमसागर
- (D) ☐ सुखसागर
सुखसागर

BASIC LAW - CONSTITUTION AND GENERAL KNOWLEDGE - BASIC LAW - CONSTITUTION AND GENERAL KNOWLEDGE

Question No.1

Marks: 2.50
Bookmark ☐

In which year the 'Central Administrative Tribunal' was set up?
'केन्द्रीय प्रशासनिक न्यायाधिकरण' की स्थापना किस वर्ष में की गई थी?

- (A) ☐ 1990
1990
- (B) ☐ 1975 (Chosen option)
1975
- (C) ☒ 1985 (Correct Answer)
1985
- (D) ☐ 1950
1950

Question No.2

Marks: 2.50
Bookmark ☐

Who among the following is known as the 'Father of Internet' in the world?
विश्व में 'इंटरनेट के जनक' के रूप में किसे जाना जाता है?

- (A) ☒ Vinton Cerf (Correct Answer) (Chosen option)
विंटन सेर्फ
- (B) ☐ Charles Babbage
चार्ल्स बैबेज
- (C) ☐ Bill Gates
बिल गेट्स
- (D) ☐ Seymour Cray
सीमोर क्रे

Question No.3

Marks: 2.50
Bookmark ☐

Through Rythu Sadhikara Samstha which state government implements the zero budget natural farming programme?
रायथु साधिकारा संस्था (Rythu Sadhikara Samstha) के माध्यम से किस राज्य सरकार ने शून्य बजट पर प्राकृतिक कृषि कार्यक्रम लागू किया है?

- (A) ☐ Nagaland
नागालैंड
- (B) ☐ West Bengal
पश्चिम बंगाल
- (C) ☒ Andhra Pradesh (Correct Answer) (Chosen option)
आंध्र प्रदेश
- (D) ☐ Tamil Nadu
तमिलनाडु

Question No.4

Marks: 2.50
Bookmark ☐

In the Indian Constitution the 'right to reside and settle in any part of the territory of the India' is enshrined in:
भारतीय संविधान में 'संपूर्ण भारत के किसी भी हिस्से में निवास करने और बसने का अधिकार' किस अनुच्छेद में निहित किया गया है?

- (A) ☐ Article 25
अनुच्छेद 25
- (B) ☒ Article 19 (Correct Answer) (Chosen option)
अनुच्छेद 19
- (C) ☐ Article 33
अनुच्छेद 33
- (D) ☐ Article 9
अनुच्छेद 9

Question No.5

Marks: 2.50
Bookmark ☐

Graphite, Diamond and Buckminsterfullerene are the allotropes of which element?
ग्रेफाइट, डायमंड और बकमिन्स्टरफुलरीन किस तत्व के अपरूप हैं?

- (A) ☒ Carbon (Correct Answer) (Chosen option)
कार्बन
- (B) ☐ Molybdenum
मोलिब्डेनम
- (C) ☐ Plutonium
प्लूटोनियम
- (D) ☐ Osmium
ऑस्मियम

Question No.6

Marks: 2.50
Bookmark ☐

<p>Which of the following articles of the Indian constitution deals with the privileges of the members of parliament? भारतीय संविधान का निम्नलिखित में से कौन सा अनुच्छेद संसद के सदस्यों के विशेषाधिकारों से संबंधित है?</p> <p>(A) <input type="radio"/> Article 130 अनुच्छेद 130</p> <p>(B) <input type="radio"/> Article 90 (Chosen option) अनुच्छेद 90</p> <p>(C) <input type="radio"/> Article 127 अनुच्छेद 127</p> <p>(D) <input checked="" type="radio"/> Article 105 (Correct Answer) अनुच्छेद 105</p>	
<p>Question No.7</p> <p>Which of the following parts of the Indian Constitution deals with the "State Public Service Commission"? भारतीय संविधान का निम्नलिखित में से कौन सा भाग "राज्य लोक सेवा आयोग" से संबंधित है?</p> <p>(A) <input type="radio"/> Part IX of the Indian Constitution भारतीय संविधान का भाग IX</p> <p>(B) <input type="radio"/> Part VII of the Indian Constitution भारतीय संविधान के भाग VII</p> <p>(C) <input type="radio"/> Part IV of the Indian Constitution भारतीय संविधान के भाग IV</p> <p>(D) <input checked="" type="radio"/> Part XIV of the Indian Constitution (Correct Answer) (Chosen option) भारतीय संविधान के भाग XIV</p>	<p>Marks: 2.50</p> <p>Bookmark <input type="checkbox"/></p>
<p>Question No.8</p> <p>Who founded the Tattvabodhini Sabha in 1839? 1839 में तत्त्वबोधिनी सभा की स्थापना किसने की?</p> <p>(A) <input checked="" type="radio"/> Debendranath Tagore (Correct Answer) (Chosen option) देबेन्द्रनाथ टैगोर</p> <p>(B) <input type="radio"/> Abindranath Tagore अबिन्द्रनाथ टैगोर</p> <p>(C) <input type="radio"/> Rabindranath Tagore रविंद्रनाथ टैगोर</p> <p>(D) <input type="radio"/> Surendranath Tagore सुरेन्द्रनाथ टैगोर</p>	<p>Marks: 2.50</p> <p>Bookmark <input type="checkbox"/></p>
<p>Question No.9</p> <p>The Finance Commission is constituted by: वित्त आयोग का गठन किसके द्वारा किया जाता है?</p> <p>(A) <input type="radio"/> Governor of Reserve Bank of India भारतीय रिजर्व बैंक के गवर्नर</p> <p>(B) <input checked="" type="radio"/> President of India (Correct Answer) (Chosen option) भारत के राष्ट्रपति</p> <p>(C) <input type="radio"/> Prime Minister of India भारत के प्रधानमंत्री</p> <p>(D) <input type="radio"/> Union Minister of Finance केन्द्रीय वित्त मंत्री</p>	<p>Marks: 2.50</p> <p>Bookmark <input type="checkbox"/></p>
<p>Question No.10</p> <p>In which of the following hill ranges Cardamom Hills is situated? इलायची पहाड़ियाँ निम्नलिखित में से किस पर्वत श्रृंखला में स्थित हैं?</p> <p>(A) <input type="radio"/> Vindhya विंध्य</p> <p>(B) <input checked="" type="radio"/> Western Ghats (Correct Answer) (Chosen option) पश्चिमी घाट</p> <p>(C) <input type="radio"/> Purvanchal पूर्वांचल</p> <p>(D) <input type="radio"/> Eastern Ghats पूर्वी घाट</p>	<p>Marks: 2.50</p> <p>Bookmark <input type="checkbox"/></p>

Question No.11

Marks: 2.50
Bookmark ☐

The land revenue collected from the cultivator is known as _____.
कृषक से एकत्रित भूमि राजस्व को _____ के रूप में जाना जाता है।

- (A) ☐ Zamindari settlement
जमींदारी व्यवस्था
- (B) ☐ Mahalwari settlement
महालवाड़ी व्यवस्था
- (C) ☒ Ryotwari settlement (Correct Answer) (Chosen option)
रैयतवाड़ी व्यवस्था
- (D) ☐ Permanent Taxing system
स्थायी कर प्रणाली

Question No.12

Marks: 2.50
Bookmark ☐

Mon-Khmer language group belongs to _____.
मोन-खमेर भाषा समूह _____ से संबंधित है।

- (A) ☒ Austro-Asiatic (Correct Answer)
ऑस्ट्रो-एशियाई
- (B) ☐ Dravidian
द्रविड़
- (C) ☐ Indo-Aryan
इंडो-आर्यन
- (D) ☐ Sino-Tibetan (Chosen option)
चीनी-तिब्बती

Question No.13

Marks: 2.50
Bookmark ☐

A thug shall be punished with _____ as per IPC.
आईपीसी के अनुसार एक ठग को _____ का दंड दिया जाएगा।

- (A) ☐ fine
जुर्माने
- (B) ☐ imprisonment term upto 3 months
3 महीने तक की कैद
- (C) ☒ imprisonment for life and fine (Correct Answer)
आजीवन कारावास और जुर्माने
- (D) ☐ imprisonment term upto 6 months (Chosen option)
6 महीने तक की कैद

Question No.14

Marks: 2.50
Bookmark ☐

Driving _____ is not an offence.
_____ वाहन चलाना (ड्राइविंग) कोई अपराध नहीं है।

- (A) ☐ without horn
बिना हॉर्न के
- (B) ☒ without immobilizer (Correct Answer) (Chosen option)
बिना इममोबिलाइज़र के
- (C) ☐ without headlight
बिना हेडलाइट के
- (D) ☐ without silencer
बिना साइलेंसर के

Question No.15

Marks: 2.50
Bookmark ☐

Which of the following are grounds for detention under the National Security Act?

- A) Acting in any manner prejudicial to the security of the State
- B) Acting in any manner prejudicial to the maintenance of Public order
- C) Acting in any manner prejudicial to the maintenance of supplies and services essential to the community
- राष्ट्रीय सुरक्षा अधिनियम के तहत निम्नलिखित में से कौन-सा निरुद्ध (नजरबंदी) का आधार है?
- A) ऐसे किसी भी तरह से कार्य करना जो राज्य की सुरक्षा के प्रतिकूल है
- B) ऐसे किसी भी तरह से कार्य करना जो सार्वजनिक व्यवस्था के रखरखाव के प्रतिकूल है
- C) ऐसे किसी भी तरह से कार्य करना जो समुदाय के लिए आवश्यक आपूर्ति और सेवाओं को बनाए रखने के प्रतिकूल है

- (A) ☐ B
B
- (B) ☐ A (Chosen option)
A
- (C) ☐ A,B and C (Correct Answer)
A,B और C
- (D) ☐ A and C
A और C

Question No.16

Marks: 2.50

Bookmark ☐

Which of the following parts of the Indian Constitution was described as the "novel features" of the Indian constitution by Dr. B. R. Ambedkar?

भारतीय संविधान के निम्न में से किस भाग को डॉ. बी आर अम्बेडकर द्वारा "भारतीय संविधान की अनूठी विशेषताओं" के रूप में वर्णित किया गया था?

- (A) ☐ Part VI
भाग VI
- (B) ☐ Part IX
भाग IX
- (C) ☐ Part IV (Correct Answer) (Chosen option)
भाग IV
- (D) ☐ Part III
भाग III

Question No.17

Marks: 2.50

Bookmark ☐

The question of judicial review of Presidential satisfaction to promulgate the National Security Ordinance, 1980 was raised in the case of _____.

राष्ट्रीय सुरक्षा अध्यादेश, 1980 को लागू करने के लिए राष्ट्रपति की संतुष्टि की न्यायिक समीक्षा का प्रश्न _____ के मामले में उठाया गया था।

- (A) ☐ T. Venkata Reddy v. State of Andhra Pradesh
टी. वेंकट रेड्डी बनाम आंध्र प्रदेश राज्य
- (B) ☐ A.K. Roy v. Union of India (Correct Answer) (Chosen option)
ए.के. रॉय बनाम भारतीय संघ
- (C) ☐ R.C. Cooper v. Union of India
आर.सी. कूपर बनाम भारतीय संघ
- (D) ☐ Vineet Narain v. Union of India
विनीत नारायण बनाम भारतीय संघ

Question No.18

Marks: 2.50

Bookmark ☐

The institution of Speaker and Deputy speaker originated in India under the provision of:

भारत में अध्यक्ष (स्पीकर) और उपाध्यक्ष (डिप्टी स्पीकर) के पद किस प्रावधान के तहत सृजित हुए?

- (A) ☐ Indian Councils Act of 1909
भारत परिषद अधिनियम, 1909
- (B) ☐ Government of India Act of 1935
भारत सरकार अधिनियम, 1935
- (C) ☐ Government of India Act of 1919 (Correct Answer) (Chosen option)
भारत सरकार अधिनियम, 1919
- (D) ☐ Indian Independence Act of 1947
1947 का भारतीय स्वतंत्रता अधिनियम

Question No.19

Marks: 2.50

Bookmark ☐

Which of the following Articles of the Indian Constitution empowers the Election Commission to conduct elections in India?

भारतीय संविधान का निम्नलिखित कौन सा अनुच्छेद भारत में चुनाव कराने के लिए निर्वाचन आयोग को अधिकार देता है?

- (A) ☐ Article 324 (Correct Answer) (Chosen option)
अनुच्छेद 324
- (B) ☐ Article 382
अनुच्छेद 382
- (C) ☐ Article 334
अनुच्छेद 334
- (D) ☐ Article 255
अनुच्छेद 255

Question No.20

Marks: 2.50

Bookmark ☐

Which committee was appointed in 1986 by the Rajiv Gandhi Government to study about Panchayati Raj institutions?
राजीव गांधी सरकार ने 1986 में पंचायती राज संस्थाओं के बारे में अध्ययन करने के लिए कौन सी समिति की नियुक्ति की थी?

- (A) ☒ **L. M. Singhvi Committee (Correct Answer) (Chosen option)**
एल.एम. सिंघवी समिति
- (B) ☐ G. V. K. Rao Committee
जी.वी.के. राव समिति
- (C) ☐ Gadgil Committee
गाडगिल समिति
- (D) ☐ Thungon Committee
थंगन समिति

Question No.21

Marks: 2.50

Bookmark ☐

Which Article of our Constitution deals with the Goods and Services Tax Council?
हमारे संविधान का कौन सा अनुच्छेद माल और सेवा कर परिषद से संबंधित है?

- (A) ☐ Article 112
अनुच्छेद 112
- (B) ☐ Article 110
अनुच्छेद 110
- (C) ☒ **Article 279A (Correct Answer) (Chosen option)**
अनुच्छेद 279A
- (D) ☐ Article 280
अनुच्छेद 280

Question No.22

Marks: 2.50

Bookmark ☐

Uttar Pradesh village abadi act was passed in which of the following years?
उत्तर प्रदेश ग्राम आबादी अधिनियम निम्नलिखित में से किस वर्ष में पारित किया गया था?

- (A) ☒ **1947 (Correct Answer)**
1947
- (B) ☐ 1950
1950
- (C) ☐ 1960 (Chosen option)
1960
- (D) ☐ 1940
1940

Question No.23

Marks: 2.50

Bookmark ☐

The Chairperson and members of the National Commission for Protection of Child Rights shall hold office for a term of

राष्ट्रीय बाल अधिकार संरक्षण आयोग के अध्यक्ष और सदस्य _____ की अवधि के लिए पद पर बने रहेंगे।

- (A) ☐ 6 years
6 वर्ष
- (B) ☒ **3 years (Correct Answer) (Chosen option)**
3 वर्ष
- (C) ☐ 4 years
4 वर्ष
- (D) ☐ 5 years
5 वर्ष

Question No.24

Marks: 2.50

Bookmark ☐

Which of the following organisations drafted the General Data Protection Regulation?
निम्नलिखित में से किस संगठन ने सामान्य डेटा संरक्षण विनियमन का मसौदा तैयार किया?

- (A) ☐ United Nations Organisation
संयुक्त राष्ट्र संगठन
- (B) ☒ **European Union (Correct Answer) (Chosen option)**
यूरोपीय संघ
- (C) ☐ World Bank
विश्व बैंक
- (D) ☐ World Trade Organisation

Question No.25

Marks: 2.50

Bookmark ☐

Which of the following terms mentioned in the Preamble of the Indian Constitution expresses the objective of achieving the spirit of 'common brotherhood' amongst all the people of India?

भारतीय संविधान की प्रस्तावना में निम्न में से किस मुख्य शब्द का उल्लेख भारत के सभी लोगों के बीच 'सामान्य भाईचारे' की भावना को प्राप्त करने के उद्देश्य से किया गया है?

- (A) ☐ Socialist
समाजवादी
- (B) ☐ Democratic
लोकतांत्रिक
- (C) ☒ Fraternity (Correct Answer) (Chosen option)
बंधुता
- (D) ☐ Justice
न्याय

Question No.26

Marks: 2.50

Bookmark ☐

Which of the following is wrong regarding the term 'cyber space'?

निम्नलिखित में से कौन सा शब्द 'साइबर स्पेस' के संबंध में गलत है?

- (A) ☐ Any person can access the internet or website for the purpose of acquiring information.
कोई भी व्यक्ति सूचना प्राप्त करने के उद्देश्य से इंटरनेट या वेबसाइट का अभिगमन कर सकता है।
- (B) ☒ The term 'Cyber space' is defined under the Information Technology Act, 2000 (Correct Answer)
'साइबर स्पेस' शब्दपद को सूचना प्रौद्योगिकी अधिनियम, 2000 के तहत परिभाषित किया गया है
- (C) ☐ It is user neutral which can be used by a genuine user or a cyber perpetrator. (Chosen option)
यह उपयोगकर्ता के लिए निष्पक्ष है जिसका उपयोग वास्तविक उपयोगकर्ता या साइबर अपराधी द्वारा किया जा सकता है।
- (D) ☐ It enables transmission and distribution of a digital product in electronic form.
यह इलेक्ट्रॉनिक रूप में एक डिजिटल उत्पाद के संचरण और वितरण को सक्षम बनाता है।

Question No.27

Marks: 2.50

Bookmark ☐

The International Day for Universal Access to Information is celebrated by the United Nations every year on _____.

संयुक्त राष्ट्र द्वारा सूचना तक सार्वभौमिक पहुंच के लिए अंतराष्ट्रीय दिवस हर साल _____ को मनाया जाता है।

- (A) ☒ September 28 (Correct Answer) (Chosen option)
28 सितम्बर
- (B) ☐ December 8
8 दिसम्बर
- (C) ☐ June 24
24 जून
- (D) ☐ March 8
8 मार्च

Question No.28

Marks: 2.50

Bookmark ☐

Who was the Arab General that conquered Sindh and annexed as a part of the Caliph's domain in 711 AD?

वह अरब जनरल कौन था जिसने 711 AD में सिंध पर विजय प्राप्त की और खलीफा के शासन-क्षेत्र के एक भाग के रूप में उसपर कब्जा कर लिया?

- (A) ☐ Muhammed Ghazini
मुहम्मद गज़नी
- (B) ☐ Ibrahim Lodi
इब्राहिम लोदी
- (C) ☒ Muhammed Bin Qasim (Correct Answer) (Chosen option)
मुहम्मद बिन कासिम
- (D) ☐ Muhammed Ghori
मुहम्मद गोरी

Question No.29

Marks: 2.50

Bookmark ☐

Identify the relationship between the following statements.

- A) Land Revenue is derived chiefly by imposition of tax on land
B) In essence, land revenue is a tax levied on the product obtained from the land,
निम्नलिखित कथनों के बीच संबंध को पहचानें।

- A) भूमि राजस्व, मुख्य रूप से भूमि पर कर लगाने से प्राप्त होता है
B) संक्षेप में, भूमि राजस्व, भूमि से प्राप्त उत्पाद पर लगाया गया कर है।

- (A) ☐ B is true and A is false
B सही है और A गलत है
- (B) ☐ **A and B are true. B is the correct explanation of A (Correct Answer) (Chosen option)**
A और B सही हैं। B, A की सही व्याख्या है
- (C) ☐ A is true and B is false
A सही है और B गलत है
- (D) ☐ A and B are true. B is not the correct explanation of A
A और B सही हैं। B, A की सही व्याख्या नहीं है

Question No.30

Marks: 2.50
Bookmark ☐

The Organization of the Petroleum Exporting Countries(OPEC) was created at the _____.
पेट्रोलियम निर्यातक देशों का संगठन (OPEC) का गठन _____ में किया गया था।

- (A) ☐ **Baghdad Conference (Correct Answer) (Chosen option)**
बगदाद सम्मेलन
- (B) ☐ Stockholm Conference
स्टॉकहोम सम्मेलन
- (C) ☐ OECD
ओईसीडी (OECD)
- (D) ☐ UNO
यूएनओ (UNO)

Question No.31

Marks: 2.50
Bookmark ☐

As per Section 2(1) of the Protection of Human Rights Act "Human Rights" means the rights relating to:

- A) life,
B) liberty,
C) equality and
D) dignity of the individual
मानवाधिकारों का संरक्षण अधिनियम की धारा 2 (1) के अनुसार, "मानवाधिकार" _____ से संबंधित अधिकार हैं।
- A) जीवन,
B) स्वतंत्रता,
C) समानता और
D) व्यक्ति की गरिमा
- (A) ☐ **A,B,C and D (Correct Answer)**
A,B,C और D
- (B) ☐ C and D
C और D
- (C) ☐ A,B and C
A,B और C
- (D) ☐ A and B (Chosen option)
A और B

Question No.32

Marks: 2.50
Bookmark ☐

Which of the following cities is also called carpet city?
निम्नलिखित में से किस शहर को कालीन का शहर (कारपेट सिटी) भी कहा जाता है?

- (A) ☐ **Bhadohi (Correct Answer) (Chosen option)**
भदोही
- (B) ☐ Chennai
चेन्नई
- (C) ☐ Varanasi
वाराणसी
- (D) ☐ Meerut
मेरठ

Question No.33

Marks: 2.50
Bookmark ☐

Which of the following is an example of primary sector?
निम्नलिखित में से कौन-सा प्राथमिक क्षेत्र का एक उदाहरण है?

- (A) ☐ Transport
परिवहन
- (B) ☐ **Dairy (Correct Answer) (Chosen option)**
दुग्धालय

- (C) ☐ Shoe Factory
जूते का कारखाना
- (D) ☐ Bank
बैंक

Question No.34

Marks: 2.50
Bookmark ☐

Which Constitutional Amendment Act introduced the 'National Judicial Appointments Commission', which was meant to replace the collegium system.

किस संवैधानिक संशोधन अधिनियम ने 'राष्ट्रीय न्यायिक नियुक्ति आयोग' की शुरुआत की, जिसका उद्देश्य अधिशासी मंडल (कॉलेजियम प्रणाली) को बदलना था?

- (A) ☐ 42nd Constitutional Amendment
42वां संवैधानिक संशोधन
- (B) ☐ 71st Constitutional Amendment
71वां संवैधानिक संशोधन
- (C) ☒ **99th Constitutional Amendment (Correct Answer) (Chosen option)**
99वां संवैधानिक संशोधन
- (D) ☐ 1st Constitutional Amendment
प्रथम संवैधानिक संशोधन

Question No.35

Marks: 2.50
Bookmark ☐

Which among the following schemes aims to provide incentives for nutritional support to (Tuberculosis)TB patients?

निम्नलिखित योजनाओं में से किस का उद्देश्य टीबी (तपेदिक) रोगियों को पोषण संबंधी सहायता के लिए प्रोत्साहन (इन्सेन्टिव) प्रदान करना है?

- (A) ☐ Dakshata Programme
दक्षता कार्यक्रम
- (B) ☐ Project Sunrise
सूर्योदय परियोजना
- (C) ☐ Pradhan Mantri Jan dhan Yojana
प्रधानमंत्री जनधन योजना
- (D) ☒ **Nikshay Poshan Yojana (Correct Answer) (Chosen option)**
निक्षय पोषण योजना

Question No.36

Marks: 2.50
Bookmark ☐

In the case of _____ the court held that it will not allow Municipal Government to state lack of resources as an excuse from its civic services.

_____ के मामले में अदालत ने कहा कि वह नगरपालिका सरकार को अपनी नागरिक सेवाओं के लिए बहाने के रूप में संसाधनों की कमी के बारे में बताने की अनुमति नहीं देगी।

- (A) ☒ **Municipal Council, Ratlam vs. Vardhichand (Correct Answer) (Chosen option)**
नगर परिषद, रतलाम बनाम वर्धिचंद
- (B) ☐ Animal Welfare Board of India vs. A. Nagaraj and Ors.
भारतीय पशु कल्याण बोर्ड बनाम ए. नागराज और अन्य
- (C) ☐ Rural Litigation and Entitlement Kendra, Dehradun vs. State of Uttar Pradesh
रूरल लिटीगेशन (ग्रामीण मुकदमेबाज़ी) और एंटाईटलमेंट केंद्र, देहरादून बनाम उत्तर प्रदेश राज्य
- (D) ☐ M.C. Mehta and Anr. Etc vs. Union Of India
एम.सी. मेहता और अन्य आदि बनाम भारत संघ

Question No.37

Marks: 2.50
Bookmark ☐

What does the abbreviation 'SEBI' stand for?

'SEBI' का पूर्ण रूप क्या है?

- (A) ☐ State and Exchange Board of India
State and Exchange Board of India (स्टेट एंड एक्सचेंज बोर्ड ऑफ़ इंडिया)
- (B) ☐ State and Enrollment Board of India
State and Enrollment Board of India (स्टेट एंड एनरोलमेंट बोर्ड ऑफ़ इंडिया)
- (C) ☒ **Securities and Exchange Board of India (Correct Answer) (Chosen option)**
Securities and Exchange Board of India (सिक्युरिटीज़ एंड एक्सचेंज बोर्ड ऑफ़ इंडिया)
- (D) ☐ Securities and Enrollment Board of India
Securities and Enrollment Board of India (सिक्युरिटीज़ एंड एनरोलमेंट बोर्ड ऑफ़ इंडिया)

Question No.38

Marks: 2.50
Bookmark ☐

Who among the following has the power to remove the Chief Information Commissioner of India?
निम्नलिखित में से किसके पास भारत के मुख्य केंद्रीय सूचना आयुक्त को हटाने की शक्ति है?

- (A) ☐ Union Home Minister
केंद्रीय गृह मंत्री
- (B) ☒ **President of India (Correct Answer) (Chosen option)**
भारत के राष्ट्रपति
- (C) ☐ Prime Minister of India
भारत के प्रधानमंत्री
- (D) ☐ Union Minister of Electronics and Information Technology
केंद्रीय इलेक्ट्रॉनिक्स और सूचना प्रौद्योगिकी मंत्री

Question No.39 Marks: 2.50
Bookmark ☐

What are the countries involved in Education and Research Initiative mobility programme (UKIERI)?
शिक्षा और अनुसंधान पहल गतिशीलता कार्यक्रम (UKIERI) में कौन से देश शामिल हैं?

- (A) ☐ India and Sri Lanka
भारत और श्रीलंका
- (B) ☐ India and Japan
भारत और जापान
- (C) ☒ **India and United Kingdom (Correct Answer) (Chosen option)**
भारत और यूनाइटेड किंगडम
- (D) ☐ India and Russia
भारत और रूस

Question No.40 Marks: 2.50
Bookmark ☐

Gifts of personal nature do not constitute income subject to maximum of _____ rupees received in cash.
नकद में प्राप्त अधिकतम _____ रुपये तक के व्यक्तिगत उपहारों को आय नहीं माना जाता है।

- (A) ☐ 20,000
20,000
- (B) ☐ 30,000
30,000
- (C) ☐ 100,000
100,000
- (D) ☒ **50,000 (Correct Answer) (Chosen option)**
50,000

NUMERICAL AND MENTAL ABILITY TEST - NUMERICAL AND MENTAL ABILITY TEST

Question No.1 Marks: 2.50
Bookmark ☐

Two persons A and B invested in a business with 130000 and 88400 rupees respectively. They agree that 40% of the profit should be divided equally among them and rest is divided between them according to their investment. If A got 2448 rupee more than B, then find the total profit. (In Rs.)
दो व्यक्तियों A और B ने क्रमशः 130000 और 88400 रुपये एक व्यवसाय में निवेश किए। वे सहमत हैं कि लाभ का 40% उनके बीच समान रूप से विभाजित किया जाना चाहिए और बाकी को उनके निवेश के अनुसार उनके बीच विभाजित किया जाएगा। यदि A को B से 2448 रुपये अधिक मिलते हैं, तो कुल लाभ ज्ञात कीजिए। (Rs. में)

- (A) ☐ 23420
23420
- (B) ☒ **21420 (Correct Answer) (Chosen option)**
21420
- (C) ☐ 22420
22420
- (D) ☐ 24420
24420

Question No.2 Marks: 2.50
Bookmark ☐

A lent a part of Rs.25600 to X at 8% simple interest. Rest to Y at 4% at simple interest. After 5 years he got an amount of Rs.33280 in total. Then what is the amount lent to Y? (In Rs.)
A ने X को 8% साधारण ब्याज पर Rs.25600 का एक हिस्सा उधार दिया। शेष राशि को साधारण ब्याज दर 4% पर Y को दिया। 5 साल बाद उन्हें कुल मिलाकर Rs. 33280 की राशि मिली। तो फिर Y को कितनी राशि उधार दी गई है? (Rs. में)

- (A) ☒ **12800 (Correct Answer) (Chosen option)**
12800
- (B) ☐ 12900
12900

- (C) ☐ 12700
12700
(D) ☐ 13000
13000

Question No.3

Marks: 2.50
Bookmark ☐

The letters of the name of a fruit are C, T, P, I, A, R and O. If the letters are rearranged correctly, then what is the second letter of the word formed?

एक फल के नाम के अक्षर C, T, P, I, A, R और O हैं। यदि अक्षरों को सही ढंग से पुनर्व्यवस्थित किया जाता है, तो निर्मित शब्द का दूसरा अक्षर क्या है?

- (A) ☐ A
A
(B) ☐ T
T
(C) ☒ P (Correct Answer) (Chosen option)
P
(D) ☐ R
R

Question No.4

Marks: 2.50
Bookmark ☐

Sum of first 123 terms of a GP is equal to the sum of the first 121 terms in the same GP. When first term is 1235, what is the 99th term in the same GP?

गुणोत्तर श्रेणी (GP) के प्रथम 123 पदों का योग, उसी गुणोत्तर श्रेणी (GP) के प्रथम 121 पदों के योग के बराबर है। जब पहला पद 1235 हो, तो उसी गुणोत्तर श्रेणी में 99वां पद क्या है?

- (A) ☐ 1435
1435
(B) ☐ 1335
1335
(C) ☒ 1235 (Correct Answer) (Chosen option)
1235
(D) ☐ 1135
1135

Question No.5

Marks: 2.50
Bookmark ☐

One morning, Sri met his friend Sara on his way to office. Sara's shadow falls exactly to the right of Sri. If they face opposite to each other, which direction will Sara face?

एक सुबह, श्री अपने ऑफिस जाते समय मार्ग में अपनी मित्र सारा से मिला। सारा की छाया श्री के एकदम दाईं ओर पड़ती है। यदि वे एक-दूसरे के सम्मुख हैं, तो सारा का मुंह किस दिशा की ओर होगा?

- (A) ☐ East
पूर्व
(B) ☒ North (Correct Answer) (Chosen option)
उत्तर
(C) ☐ South
दक्षिण
(D) ☐ West
पश्चिम

Question No.6

Marks: 2.50
Bookmark ☐

Rakesh spends 10% of his monthly income on his household expenditure, 15% on books, 20% on clothes and saves the rest. On counting, he comes to know that he has finally saved Rs.19569. Find his monthly income. (In Rs.)

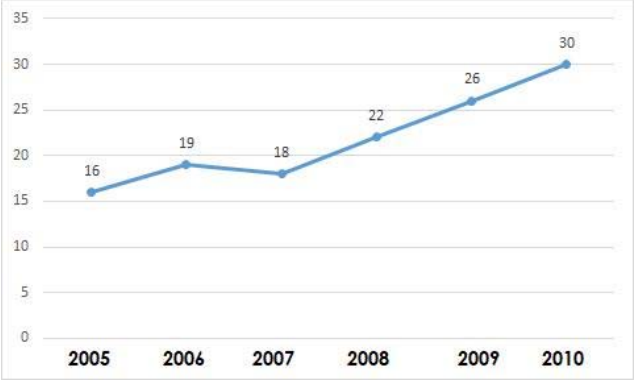
राकेश अपनी मासिक आय का 10% अपने घरेलू खर्च पर, 15% किताबों पर, 20% कपड़ों पर खर्च करता है और बाकी बचाता है। हिसाब लगाने पर, उसे पता चलता है कि उसने आखिरकार Rs.19569 की बचत की है। उसकी मासिक आय ज्ञात कीजिए। (Rs. में)

- (A) ☒ 35580 (Correct Answer) (Chosen option)
35580
(B) ☐ 37580
37580
(C) ☐ 36580
36580
(D) ☐ 34580
34580

Case Study - 7 to 8

5.00

Directions: Study the following line graph carefully and answer the questions given below it.
The line graph represents the production of Electric Heater in lakh units over the years.



Question No.7

Marks: 2.50
Bookmark ☐

The production in 2007 is what per cent of production in 2010?
2007 का उत्पादन, 2010 के उत्पादन का कितना प्रतिशत है?

- (A) ☐ 30%
30%
- (B) ☐ 45%
45%
- (C) ☒ 60% (Correct Answer) (Chosen option)
60%
- (D) ☐ 50%
50%

Question No.8

Marks: 2.50
Bookmark ☐

What is the percentage increase in the production of Electric heater in the year 2009 compared to that of 2007?
वर्ष 2007 की तुलना में, वर्ष 2009 में इलेक्ट्रिक हीटर के उत्पादन में प्रतिशत वृद्धि कितनी है?

- (A) ☒ 44.44% (Correct Answer) (Chosen option)
44.44%
- (B) ☐ 48.2%
48.2%
- (C) ☐ 36.66%
36.66%
- (D) ☐ 33.33%
33.33%

Question No.9

Marks: 2.50
Bookmark ☐

Find the Total surface area of the hemisphere whose radius is 30cm and $\pi = 3.14$ (In cm^2).
अर्धगोले का कुल पृष्ठीय क्षेत्रफल ज्ञात करें, जिसकी त्रिज्या 30 cm और $\pi = 3.14$ (cm^2 में) है।

- (A) ☒ 8478 (Correct Answer) (Chosen option)
8478
- (B) ☐ 8678
8678
- (C) ☐ 8778
8778
- (D) ☐ 8578
8578

Case Study - 10 to 11

5.00

Directions : In the following questions, few statements are given and these statements are followed by two conclusions numbered i and ii. You have to take the given statements to be true even if they seem to be at variance from commonly known facts. Read the conclusions and then decide which of the given conclusions logically follows from the given statements, disregarding commonly known facts.

- Choose,
- (A) Only (i) conclusion follows
- (B) Only (ii) conclusion follows
- (C) Neither (i) nor (ii) follows

- (D) Both (i) and (ii) follow
(E) Either (i) or (ii) follows

Question No.10

Marks: 2.50
Bookmark ☐

Statements:

No girl is boy.
No boy is student.

Conclusions:

- i) All girls are students.
ii) Some students are girls.

कथन:

कोई भी लड़की, लड़का नहीं है।
कोई भी लड़का, विद्यार्थी नहीं है।

निष्कर्ष:

- i) सभी लड़कियां, विद्यार्थी हैं।
ii) कुछ विद्यार्थी, लड़कियां हैं।

- (A) ☐ A
(B) ☐ B
(C) ☒ C (Correct Answer) (Chosen option)
(D) ☐ D

Question No.11

Marks: 2.50
Bookmark ☐

Statements:

All rice are maize.
Some maize are jute.
All jute are cereals.

Conclusions:

- i) Some rice are jute.
ii) Some cereals are rice.

कथन:

सभी चावल, मक्का हैं।
कुछ मक्का, पटसन हैं।
सभी पटसन, धान्य हैं।

निष्कर्ष:

- i) कुछ चावल, पटसन हैं।
ii) कुछ धान्य, चावल हैं।

- (A) ☐ A
(B) ☐ B
(C) ☒ C (Correct Answer) (Chosen option)
(D) ☐ D

Question No.12

Marks: 2.50
Bookmark ☐

Two pipes fill the tank in 693 minutes and 1155 minutes. There is also a leak pipe in the tank. When all the three are opened, the empty tank is filled in 462 minutes. How many minutes will the leak pipe take to empty the tank?

दो पाइप 693 मिनट और 1155 मिनट में टैंक को भरते हैं। टैंक में एक रिसाव पाइप भी है। जब तीनों को खोला जाता है, तो खाली टैंक 462 मिनट में भर जाता है। रिसाव पाइप को टैंक को खाली करने में कितने मिनट लगेंगे?

- (A) ☐ 6730
(B) ☒ 6930 (Correct Answer) (Chosen option)
(C) ☐ 6830
(D) ☐ 7030

Question No.13

Marks: 2.50

Bookmark ☐

The question given below consists of a statement, followed by two arguments numbered 1 and 2. You have to decide which of the arguments is a 'strong' argument and which is a 'weak' argument.

Give answer:

- (A) If only argument 1 is strong
- (B) If only argument 2 is strong
- (C) If either 1 or 2 is strong
- (D) If neither 1 nor 2 is strong and
- (E) If both 1 and 2 are strong.

Statement:

Should there be a ban on advertising junk food in India?

Argument:

1. Yes, it is banned in few countries.

2. No, fast foods can easily satisfy your cravings.

नीचे दिए गए प्रत्येक प्रश्न में एक कथन है, जिसके बाद 1 और 2 दो तर्क दिए गए हैं आपको यह तय करना होगा कि कौन सा तर्क 'प्रबल' तर्क है और कौन सा 'दुर्बल' तर्क है।

उत्तर दीजिए:

- (A) यदि केवल तर्क 1 प्रबल है।
- (B) यदि केवल तर्क 2 प्रबल है।
- (C) यदि या तो 1 या 2 प्रबल है।
- (D) यदि न तो 1 न 2 प्रबल है। और
- (E) यदि 1 और 2 दोनों प्रबल हैं।

कथन:

क्या भारत में जंक फूड के विज्ञापन पर प्रतिबंध लगाना चाहिए?

तर्क:

1. हां, यह कुछ देशों में प्रतिबंधित है।

2. नहीं, फास्ट फूड आसानी से आपकी भूख को संतुष्ट कर सकता है।

- (A) ☐ B
- (B) ☒ D (Correct Answer) (Chosen option)
- (C) ☐ A
- (D) ☐ C

Question No.14

Marks: 2.50

Bookmark ☐

Find the next term in the given series.

B12, L19, V26, F33, ?

दी गई श्रृंखला में अगला पद ज्ञात कीजिए।

B12, L19, V26, F33, ?

- (A) ☐ P39
- (B) ☒ P40 (Correct Answer) (Chosen option)
- (C) ☐ R39
- (D) ☐ Q40

Question No.15

Marks: 2.50

Bookmark ☐

Replace the question mark with an option that follows the same logic applied in the first pair.

S : 75 :: P : ??

प्रश्न चिह्न को उस विकल्प से बदलें, जो पहले युग्म में प्रयुक्त समान तर्क का अनुसरण करता है।

S : 75 :: P : ??

- (A) ☒ 60 (Correct Answer)
- (B) ☐ 75

- 75
(C) ☐ 65 (Chosen option)
65
(D) ☐ 70
70

Question No.16 Marks: 2.50
Bookmark ☐

A bought an article and spent Rs.480 on its repairs. He then sold it to B at a profit of 20%. B sold it to C at a loss of 30%. C finally sold it for Rs.3696 at a profit of 10%. How much did A pay for the article? (In Rs.)
A ने एक वस्तु खरीदी और इसकी मरम्मत पर Rs. 480 खर्च किए। फिर उसने इसे 20% के लाभ पर B को बेच दिया। B ने इसे 30% की हानि पर C को बेच दिया। C ने अंततः इसे 10% के लाभ पर Rs.3696 में बेचा। A ने वस्तु के लिए कितना भुगतान किया? (Rs. में)

- (A) ☒ 3520 (Correct Answer)
3520
(B) ☐ 3820
3820
(C) ☐ 3720
3720
(D) ☐ 3620 (Chosen option)
3620

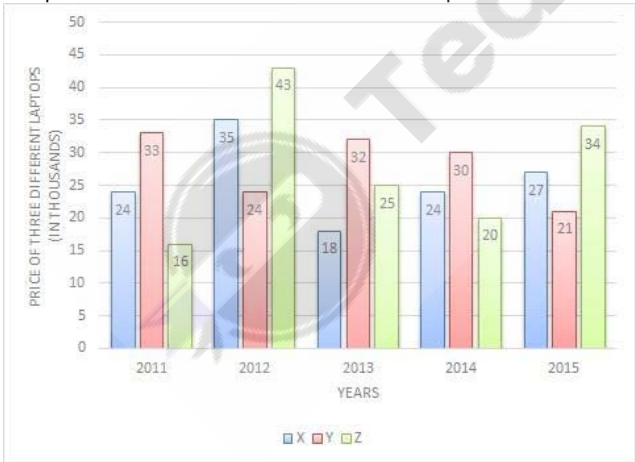
Question No.17 Marks: 2.50
Bookmark ☐

If + means ×, × means −, ÷ means + & − means ÷, then, $5 + 4 \times 15 - 3 \div 2 = ?$
यदि + अर्थात ×, × अर्थात −, ÷ अर्थात + और − अर्थात ÷, तो, $5 + 4 \times 15 - 3 \div 2 = ?$

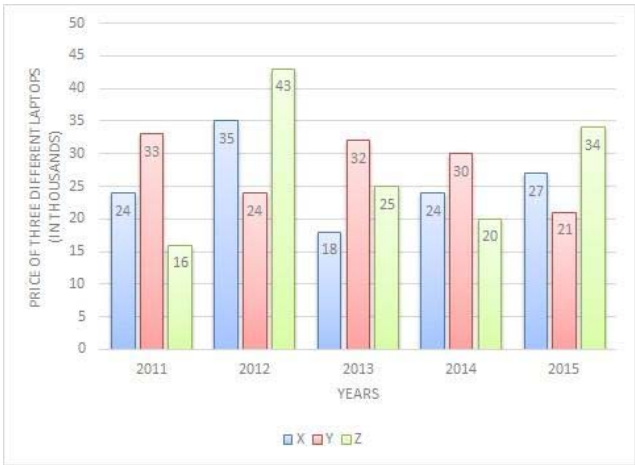
- (A) ☐ 32
32
(B) ☒ 17 (Correct Answer) (Chosen option)
17
(C) ☐ 25
25
(D) ☐ 19
19

Question No.18 Marks: 2.50
Bookmark ☐

Directions:
The bar graph below shows the data of the Price of three different Laptops(in thousands) for the years 2011 to 2015.
The price of Y in 2013 is what % more than the price of X in 2013?



निर्देश:
नीचे दिया गया दण्ड आरेख 2011 से 2015 तक तीन अलग-अलग लैपटॉप की कीमत (हजारों में) का डेटा दिखाता है।
2013 में Y की कीमत 2013 में X की कीमत से कितना % अधिक है?



- (A) ☐ 78.7777
78.7777
- (B) ☒ 77.7777 (Correct Answer) (Chosen option)
77.7777
- (C) ☐ 76.7777
76.7777
- (D) ☐ 79.7777
79.7777

Question No.19

Marks: 2.50
Bookmark ☐

What is the digit in the units place of the number $(1624)^{24}$?
संख्या $(1624)^{24}$ के इकाई स्थान पर कौन सा अंक है?

- (A) ☐ 12
12
- (B) ☐ 8
8
- (C) ☐ 10
10
- (D) ☒ 6 (Correct Answer) (Chosen option)
6

Question No.20

Marks: 2.50
Bookmark ☐

What value should come in the place of question mark (?) in the following question:

$$(33 \times 11 + 79 \times 11 + 14 \times 11) \div (12^2 - \sqrt{961} + 13) = ?$$

निम्नलिखित प्रश्न में प्रश्न चिह्न (?) के स्थान पर क्या मान आना चाहिए:

$$(33 \times 11 + 79 \times 11 + 14 \times 11) \div (12^2 - \sqrt{961} + 13) = ?$$

- (A) ☐ 9
9
- (B) ☒ 11 (Correct Answer) (Chosen option)
11
- (C) ☐ 15
15
- (D) ☐ 13
13

Question No.21

Marks: 2.50
Bookmark ☐

What value should come in the place of question mark (?) in the following question:

$$662/900 - 562/900 + 462/900 = ?$$

निम्नलिखित प्रश्न में प्रश्न चिह्न (?) के स्थान पर क्या मान आना चाहिए:

$$662/900 - 562/900 + 462/900 = ?$$

- (A) ☒ 0.624444 (Correct Answer) (Chosen option)
0.624444
- (B) ☐ 0.524444
0.524444
- (C) ☐ 0.424444
0.424444

(D) ☐ 0.724444
0.724444

Question No.22

Marks: 2.50
Bookmark ☐

A boat goes 261 km downstream in 29 hours and a distance of 196 km upstream in 28 hours. Find the speed of the water. (In kmph)
एक नाव धारा की दिशा की ओर 29 घंटे में 261km जाती है और धारा की विपरीत दिशा में 28 घंटे में 196 km जाती है। पानी की गति ज्ञात कीजिए। (kmph में)

- (A) ☒ 1 (Correct Answer) (Chosen option)
1
(B) ☐ 0.5
0.5
(C) ☐ 1.5
1.5
(D) ☐ 0
0

Question No.23

Marks: 2.50
Bookmark ☐

Find the sum upto 161 term of the sequence 273, 273, 273, ...
अनुक्रम 273, 273, 273... के 161 तक के पदों का योग ज्ञात कीजिये।

- (A) ☐ 42953
42953
(B) ☐ 41953
41953
(C) ☐ 40953
40953
(D) ☒ 43953 (Correct Answer) (Chosen option)
43953

Question No.24

Marks: 2.50
Bookmark ☐

Find the remainder when $23 \times 34 \times 45 \times 56 \times 67 \times 78$ is divided by 11.
 $23 \times 34 \times 45 \times 56 \times 67 \times 78$ को 11 से विभाजित करने पर शेषफल ज्ञात कीजिए।

- (A) ☐ 3
3
(B) ☒ 1 (Correct Answer) (Chosen option)
1
(C) ☐ 2
2
(D) ☐ 0
0

Question No.25

Marks: 2.50
Bookmark ☐

The average weight of 36 students in a class is 54.25 kg, and that of the remaining 20 students is 51 kg. Find the average weight of all the students in the class. (Approximately)
एक कक्षा में 36 छात्रों का औसत वजन 54.25 kg है, और शेष 20 छात्रों का औसत वजन 51 kg है। कक्षा में सभी छात्रों का औसत वजन ज्ञात करें। (लगभग)

- (A) ☐ 47
47
(B) ☐ 51
51
(C) ☒ 53 (Correct Answer) (Chosen option)
53
(D) ☐ 49
49

Question No.26

Marks: 2.50
Bookmark ☐

Replace the question mark with an option that follows the same logic applied in the first pair.
TROUBLE : ORTVELB :: COUNSEL : ??
प्रश्न चिह्न को उस विकल्प से बदलें, जो पहले युग्म में प्रयुक्त समान तर्क का अनुसरण करता है।
TROUBLE : ORTVELB :: COUNSEL : ??

- (A) ☐ UOCLOSE
UOCLOSE
- (B) ☐ UCOOLES
UCOOLES
- (C) ☒ **UOCOLES (Correct Answer) (Chosen option)**
UOCOLES
- (D) ☐ UOCNLES
UOCNLES

Question No.27

Marks: 2.50

Bookmark ☐

Kishanth left a will of Rs.52500 for his two sons whose ages are 18 and 19 years. They must get equal amounts when they are 21 years at 10% compound interest. Find the present share of the younger son. (In Rs.)

किशन्त ने अपने दो बेटों के लिए Rs. 52500 की वसीयत छोड़ी जिनकी उम्र 18 और 19 साल है। 10% चक्रवृद्धि ब्याज पर 21 वर्ष होने पर उन्हें बराबर राशि मिलनी चाहिए। छोटे बेटे का वर्तमान हिस्सा ज्ञात कीजिए। (Rs. में)

- (A) ☒ **25000 (Correct Answer) (Chosen option)**
25000
- (B) ☐ 24000
24000
- (C) ☐ 27000
27000
- (D) ☐ 26000
26000

Question No.28

Marks: 2.50

Bookmark ☐

Pipe A can fill a tank in 843 minutes and Pipe B can fill the same tank in 1686 minutes. If both pipes are opened together, how many minutes will it take to fill the empty tank?

पाइप A एक टैंक को 843 मिनट में भर सकता है और पाइप B उसी टैंक को 1686 मिनट में भर सकता है। यदि दोनों पाइप एक साथ खोले जाते हैं, तो खाली टैंक को भरने में कितने मिनट लगेंगे?

- (A) ☐ 552
552
- (B) ☐ 582
582
- (C) ☐ 572
572
- (D) ☒ **562 (Correct Answer) (Chosen option)**
562

Question No.29

Marks: 2.50

Bookmark ☐

In this question, a statement is given followed by two conclusions numbered i and ii. You have to assume everything in the statement to be true, then consider the two conclusions together and decide which of them logically follows beyond a reasonable doubt from the information given in the statement.

Statement:

John's dog howls at 3 a.m. every day.

Conclusion:

- i) John's dog wakes up at 3 a.m. every day.
ii) John's dog never sleeps

Choose the appropriate one from the following options

- (A) Only conclusion i follows
(B) Only conclusion ii follows
(C) Either i or ii follows
(D) Neither i nor ii follows and
(E) Both i and ii follow.

इस प्रश्न में, एक कथन और उसके बाद i और ii से संख्यांकित दो निष्कर्ष दिए गए हैं। कथन में दी गई समस्त सूचना को सत्य मानते हुए एक साथ दोनों निष्कर्षों पर विचार करें और निर्धारित करें कि उनमें से कौन सा निष्कर्ष कथन में दी गई सूचना का समुचित संदेह से परे तार्किक रूप से अनुसरण करता है।

कथन:

जॉन का कुत्ता प्रतिदिन सुबह 3 बजे सुबह भौंकता है।

निष्कर्ष:

- i) जॉन का कुत्ता प्रतिदिन 3 बजे सुबह उठ जाता है।
ii) जॉन का कुत्ता कभी सोता नहीं है।

निम्नलिखित विकल्पों में से एक उपयुक्त विकल्प चुनिए।

- (A) केवल निष्कर्ष i अनुसरण करता है।
(B) केवल निष्कर्ष ii अनुसरण करता है।
(C) या तो i या ii अनुसरण करता है।
(D) न तो i न ii अनुसरण करता है। और
(E) i और ii दोनों अनुसरण करते हैं।

- (A) ☐ A (Chosen option)
A
(B) ☒ D (Correct Answer)
D
(C) ☐ E
E
(D) ☐ B
B

Question No.30

Marks: 2.50

Bookmark ☐

A tradesman marks the price of his goods such that after allowing a discount of 25%, he earns a profit of 40%. What is the marked price of an article whose cost price is Rs.18600? (In Rs.)

एक व्यापारी अपने माल की कीमत को इस तरह से अंकित करता है कि 25% की छूट देने के बाद भी वह 40% का लाभ कमाता है। उस वस्तु का अंकित मूल्य क्या है, जिसका क्रय मूल्य Rs. 18600 है? (Rs. में)

- (A) ☒ 34720 (Correct Answer) (Chosen option)
34720
(B) ☐ 31720
31720
(C) ☐ 33720
33720
(D) ☐ 32720
32720

Question No.31

Marks: 2.50

Bookmark ☐

A train takes 59 seconds to cross a bridge of length 55 m. If the same train takes 54 seconds to cross a man standing on the bridge, find the length of the train. (In m)

एक ट्रेन को 55 m लंबे पुल को पार करने में 59 सेकंड का समय लगता है। यदि उसी ट्रेन को पुल पर खड़े व्यक्ति को पार करने में 54 सेकंड लगते हैं, तो ट्रेन की लंबाई ज्ञात करें। (m में)

- (A) ☐ 564
564
(B) ☒ 594 (Correct Answer) (Chosen option)
594
(C) ☐ 584
584
(D) ☐ 574
574

Question No.32

Marks: 2.50

Bookmark ☐

Rs.1040 is divided among 2 men, 6 women and 8 boys so that the share of a man, a woman and a boy are in the ratio 3: 2: 1. Then, how much does a man get? (In Rs.)

Rs.1040 को 2 पुरुषों, 6 महिलाओं और 8 लड़कों में इस तरह से विभाजित किया गया है कि एक पुरुष, एक महिला और एक लड़के का हिस्सा 3: 2: 1. के अनुपात में है। तो, एक पुरुष को कितना मिलता है? (Rs. में)

- (A) ☐ 110
110
(B) ☐ 115
115
(C) ☐ 105
105
(D) ☒ 120 (Correct Answer) (Chosen option)
120

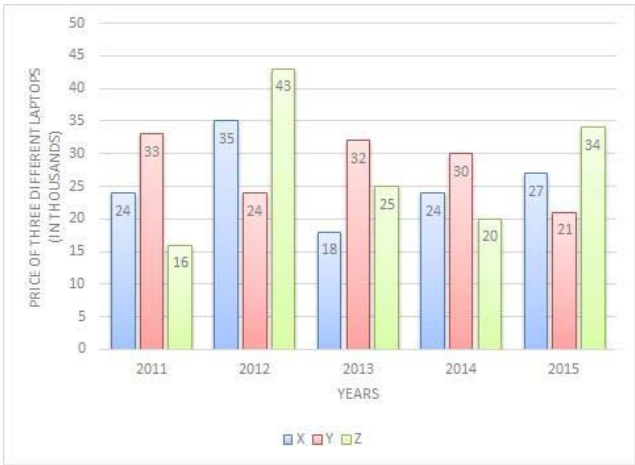
Question No.33

Marks: 2.50

Bookmark ☐

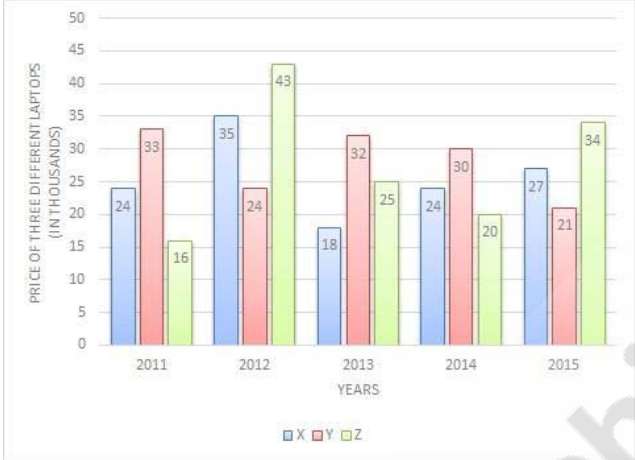
Directions:

The bar graph below shows the data of the Price of three different Laptops(in thousands) for the years 2011 to 2015. Find the difference between the price of laptop Z in 2014 and laptop X in 2015.(In thousands)



निर्देश:

नीचे दिया गया दण्ड आरेख 2011 से 2015 तक तीन अलग-अलग लैपटॉप की कीमत (हजारों में) का डेटा दिखाता है। 2014 में लैपटॉप Z और 2015 में लैपटॉप X की कीमत के बीच अंतर ज्ञात कीजिए। (हजारों में)



- (A) ☐ 5
5
- (B) ☐ 3
3
- (C) ☐ 9
9
- (D) ☒ 7 (Correct Answer) (Chosen option)
7

Question No.34

Marks: 2.50

Bookmark ☐

Find the next term in given series.

ANOPISTHOGRAPHICALLY, ISTHOGRAPHIC, NOPISTHOGRAPHICALL, STHOGRAPHI, OPISTHOGRAPHICAL, ?

दी गई श्रृंखला में अगला पद ज्ञात कीजिए।

ANOPISTHOGRAPHICALLY, ISTHOGRAPHIC, NOPISTHOGRAPHICALL, STHOGRAPHI, OPISTHOGRAPHICAL, ?

- (A) ☐ GRAPHIC
GRAPHIC
- (B) ☐ PHICAL
PHICAL
- (C) ☒ THOGRAPH (Correct Answer) (Chosen option)
THOGRAPH
- (D) ☐ PISTHO
PISTHO

Question No.35

Marks: 2.50

Bookmark ☐

Find the LCM of 30/31 and 32/33.

30/31 और 32/33 का लघुत्तम समापवर्त्य (एलसीएम) ज्ञात कीजिए।

- (A) ☐ 450
450

- (B) ☐ 480 (Correct Answer) (Chosen option)
480
- (C) ☐ 460
460
- (D) ☐ 470
470

Question No.36

Marks: 2.50
Bookmark ☐

Which of the following sets of signs should be used to replace * in the following?
 $20 * 4 * 8 = 128 * 2 * 8$
निम्नलिखित चिह्नों के समुच्चय में से किसका उपयोग * को प्रतिस्थापित करने के लिए किया जाना चाहिए?
 $20 * 4 * 8 = 128 * 2 * 8$

- (A) ☐ + x ÷ -
+ x ÷ -
- (B) ☐ + x x +
+ x x +
- (C) ☐ x - ÷ + (Correct Answer) (Chosen option)
x - ÷ +
- (D) ☐ + - - +
+ - - +

Question No.37

Marks: 2.50
Bookmark ☐

A shopkeeper sold goods for \$28980 and made a profit of 26% in the process. Find his profit percent if he had sold his goods for \$24955.
एक दुकानदार ने \$28980 में सामान बेचा और इस प्रक्रिया में 26% का लाभ कमाया। यदि उसने अपना माल \$24955 में बेचा होता तो उसका लाभ प्रतिशत ज्ञात कीजिए।

- (A) ☐ 8.5 (Correct Answer) (Chosen option)
8.5
- (B) ☐ 7.5
7.5
- (C) ☐ 9.5
9.5
- (D) ☐ 6.5
6.5

Question No.38

Marks: 2.50
Bookmark ☐

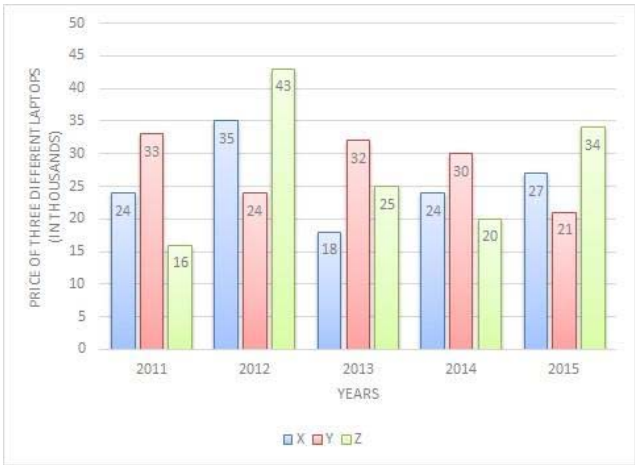
The calendar for the year 2047 will be the same for the year:
वर्ष 2047 का कैलेंडर, वर्ष _____ के समान होगा।

- (A) ☐ 2053
2053
- (B) ☐ 2058 (Correct Answer) (Chosen option)
2058
- (C) ☐ 2050
2050
- (D) ☐ 2051
2051

Question No.39

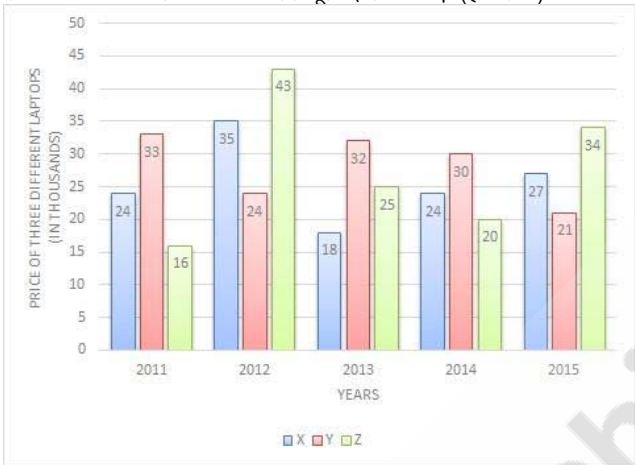
Marks: 2.50
Bookmark ☐

Directions:
The bar graph below shows the data of the Price of three different Laptops(in thousands) for the years 2011 to 2015.
Find the average price of laptop Z in all the five years.(In thousands)



निर्देश:

नीचे दिया गया दण्ड आरेख 2011 से 2015 तक तीन अलग-अलग लैपटॉप की कीमत (हजारों में) का डेटा दिखाता है। सभी पांच वर्षों में Z लैपटॉप का औसत मूल्य ज्ञात कीजिए। (हजारों में)



- (A) ☐ 28.6
28.6
- (B) ☒ 27.6 (Correct Answer) (Chosen option)
27.6
- (C) ☐ 30.6
30.6
- (D) ☐ 29.6
29.6

Question No.40

Marks: 2.50

Bookmark ☐

Choose the correct water image of the given image from the following options.

OBSTACLE

निम्नलिखित विकल्पों में से दी गई आकृति का उपयुक्त जल प्रतिबिंब चुनिए।

OBSTACLE

(A) ☐

OBSTACLE
OBSTACLE

(B) ☐

ELCATSBO
ELCATSBO

(C) ☒

OBSTACLE
OBSTACLE

(Correct Answer) (Chosen

option)

(D) ☐

ELCATSBO
ELCATSBO

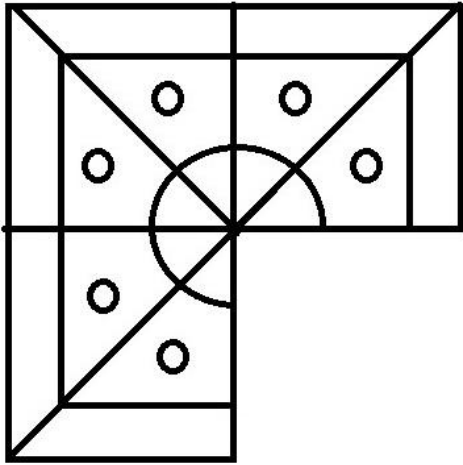
MENTAL APTITUDE - INTELLIGENCE -TEST OF REASONING - MENTAL APTITUDE - INTELLIGENCE -TEST OF REASONING

Question No.1

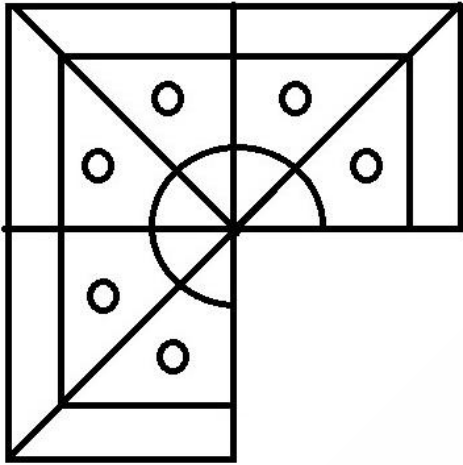
Marks: 2.50

Bookmark ☐

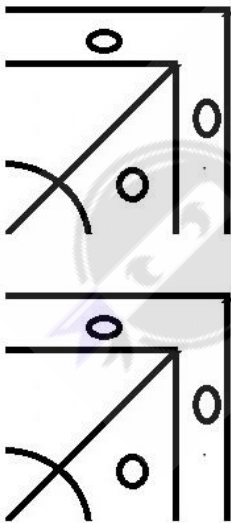
Which one of the following alternatives will **perfectly** complete the given figure?



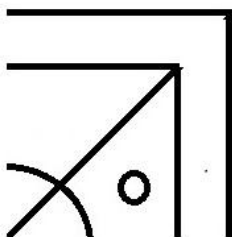
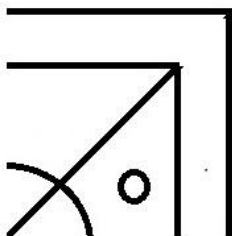
निम्नलिखित में से कौन सा विकल्प दी गई आकृति को **उत्तम रूप से** पूर्ण करेगा?



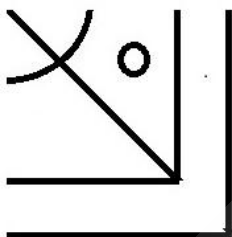
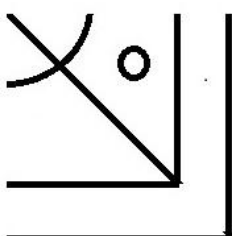
(A) ☐



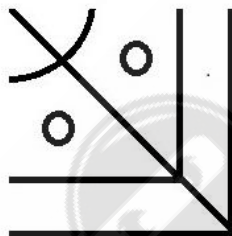
(B) ☐



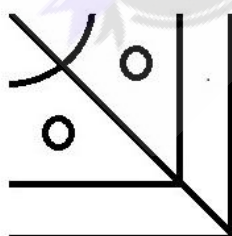
(C) ☐



(D) ☒



(Correct Answer) (Chosen option)



Question No.2

Find the next number in the series.
8, 9, 12, 18, 28, ?
दी गई श्रेणी में अगली संख्या ज्ञात कीजिए।

Marks: 2.50
Bookmark ☐

- 8, 9, 12, 18, 28, ?
- (A) ☐ 43 (Correct Answer) (Chosen option)
- 43
- (B) ☐ 40
- 40
- (C) ☐ 42
- 42
- (D) ☐ 36
- 36

Question No.3

Marks: 2.50

Bookmark ☐

Replace the question mark with an option that follows the same logic applied in the first pair

74:29::63: ?
प्रश्नचिह्न को उस विकल्प से प्रतिस्थापित करें जो पहले युग्म में लागू तर्क का अनुसरण करता है।
74:29::63: ?

- (A) ☐ 18
- 18
- (B) ☐ 20
- 20
- (C) ☐ 17
- 17
- (D) ☐ 19 (Correct Answer) (Chosen option)
- 19

Question No.4

Marks: 2.50

Bookmark ☐

Person A is standing exactly in-between P and Q in a queue. P is 28th from the front of the queue and Q is 20th from the end of the queue. P and A has 2 person between them. What is the total number people in the queue?

एक पंक्ति में व्यक्ति A, P और Q के ठीक मध्य में खड़ा है। P, पंक्ति के आरंभ से 28वें स्थान पर है और Q, पंक्ति के अंत से 20वें स्थान पर है। P और A के बीच में दो व्यक्ति हैं। पंक्ति में कुल कितने व्यक्ति हैं?

- (A) ☐ 49
- 49
- (B) ☐ 55 (Chosen option)
- 55
- (C) ☐ 53 (Correct Answer)
- 53
- (D) ☐ 51
- 51

Question No.5

Marks: 2.50

Bookmark ☐

A boy starts from point A and walks 3km towards West; turns left and walks 4km and turns another left and walks 3km. He then walks 1km towards North; turns left and walks 4km; turns right and walks 3km. He then finally walks 12km after turning right and reaches B. How far is A from B?

एक लड़का बिंदु A से चलना शुरू करता है, और 3km पश्चिम की ओर चलता है; बाएं मुड़ता है और 4km चलता है और फिर से बाएं मुड़ता है और 3km चलता है। वह फिर 1km उत्तर की ओर चलता है; बाएं मुड़ता है और 4km चलता है; दाएं मुड़ता है और 3km चलता है। वह अंत में दाएं मुड़ने के बाद 12km चलता है और B पर पहुंचता है। A, B से कितनी दूरी पर है?

- (A) ☐ 8km (Correct Answer) (Chosen option)
- 8km
- (B) ☐ 14km
- 14km
- (C) ☐ 12km
- 12km
- (D) ☐ 7km
- 7km

Question No.6

Marks: 2.50

Bookmark ☐

Four of the following five are alike in a certain way and so form a group. Which is the one that does not belong to that group?

BE, MP, LJ, WZ, KN

निम्नलिखित पांच में से चार किसी निश्चित तरीके से समान हैं और इसलिए एक समूह बनाते हैं। वह कौन सा है जो उस समूह से संबंधित नहीं है?

BE, MP, LJ, WZ, KN

- (A) ☐ WZ
- WZ
- (B) ☐ MP
- MP

- (C) ☐ KN
KN
- (D) ☐ LJ (Correct Answer) (Chosen option)
LJ

Question No.7

Marks: 2.50
Bookmark ☐

If $\odot = 2$, $@ = 6$, $\$ = 4$, $\& = 3$, $\% = 12$, then $\odot + \& \times @ - \% \div \$$
यदि $\odot = 2$, $@ = 6$, $\$ = 4$, $\& = 3$, $\% = 12$, तो $\odot + \& \times @ - \% \div \$$

(A) ☐ 32
32

(B) ☐ 23
23

(C) ☐ 43
43

(D) ☐ 17 (Correct Answer) (Chosen option)
17

Question No.8

Marks: 2.50
Bookmark ☐

Which of the following is abolished and its practice in any form is forbidden in Article 17?
अनुच्छेद 17 में निम्नलिखित में से किसे समाप्त कर दिया गया है और किसी भी रूप में इसका प्रचलन निषिद्ध है?

(A) ☐ Education
शिक्षा

(B) ☐ Poverty
गरीबी

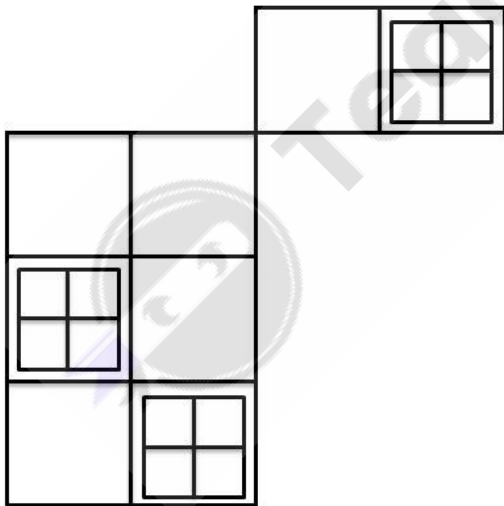
(C) ☐ Crime
अपराध

(D) ☐ Untouchability (Correct Answer) (Chosen option)
अस्पृश्यता

Question No.9

Marks: 2.50
Bookmark ☐

How many squares are there in the given figure?



दिए गए चित्र में कितने वर्ग हैं?



- (A) ☐ 21
21
- (B) ☒ 25 (Correct Answer) (Chosen option)
25
- (C) ☐ 20
20
- (D) ☐ 24
24

Question No.10

Marks: 2.50

Bookmark ☐

A box containing the denominations of five rupee coins, two rupee coins and ten rupee coins amount to Rs.1972. There are equal number of coins in all denominations. Find the total number of ten rupee coins in the box.

एक बाँस में पाँच रुपए, दो रुपए और दस रुपए के मूल्यवर्गों के सिक्के हैं जिनकी कुल राशि Rs.1972 है। सभी मूल्यवर्गों के सिक्कों की संख्या समान है। बाँस में दस रुपए के सिक्कों की कुल संख्या ज्ञात कीजिए।

- (A) ☐ 115
115
- (B) ☒ 116 (Correct Answer) (Chosen option)
116
- (C) ☐ 117
117
- (D) ☐ 118
118

Question No.11

Marks: 2.50

Bookmark ☐


Pointing to a photograph of a boy, a man said to his father " He is the only son of brother of your only son's wife." How is the boy related to the man's wife?

एक लड़के की फोटो को इंगित करते हुए एक आदमी ने अपने पिता से कहा, "यह आपके इकलौते पुत्र की पत्नी के भाई का इकलौता पुत्र है।" लड़के का उस आदमी की पत्नी के साथ क्या संबंध है?

- (A) ☐ Niece
नीस
- (B) ☐ Cousin
कज़िन
- (C) ☒ Nephew (Correct Answer) (Chosen option)
नेप्पू
- (D) ☐ Grandson
ग्रैंडसन

Question No.12

Marks: 2.50

Bookmark 

Which sections are numbered 7?

— MARRIED

— YOUNG

— EDUCATED

कौन से वर्ग 7 से संख्यांकित हैं?

— MARRIED

— YOUNG

— EDUCATED

- ☐

Young and Educated
युवा और शिक्षित
- ☐

Young
युवा
- ☒

Married and Educated (Correct Answer) (Chosen option)
विवाहित और शिक्षित
- ☐

Married, Young and Educated
विवाहित, युवा और शिक्षित

Question No.13

Marks: 2.50
Bookmark ☐

How many odd numbers are there in the sequence which are immediately preceded by an even number?
5 9 3 2 1 7 4 2 6 9 7 4 6 1 3 2 8 7 6 3
अनुक्रम में कितनी विषम संख्याएँ हैं, जिनके ठीक पहले एक सम संख्या है?
5 9 3 2 1 7 4 2 6 9 7 4 6 1 3 2 8 7 6 3

- ☐

two
दो
- ☐

four
चार
- ☐

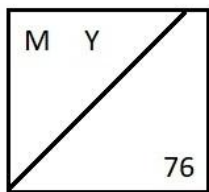
three
तीन
- ☒

five (Correct Answer) (Chosen option)
पांच

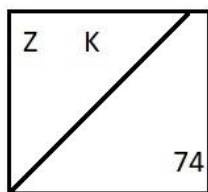
Question No.14

Marks: 2.50
Bookmark ☐

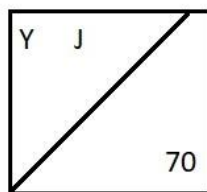
Find the odd image out in the given series.



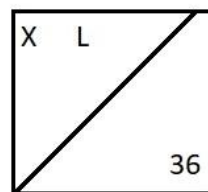
(1)



(2)

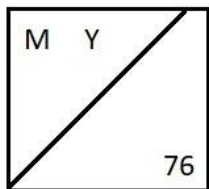


(3)

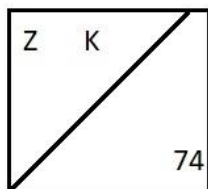


(4)

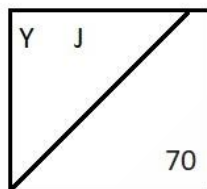
दी गई श्रृंखला में से असंगत चित्र ज्ञात करें।



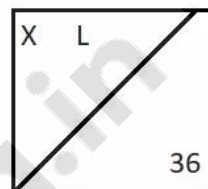
(1)



(2)



(3)



(4)

- (A) ☐ 2
2
- (B) ☐ 3
3
- (C) ☒ 4 (Correct Answer) (Chosen option)
4
- (D) ☐ 1
1

Question No.15

Marks: 2.50
Bookmark ☐

If all the vowels are replaced by the immediate next consonant from the English alphabet series in the word COLONIZATION, then the letters of the word are arranged alphabetically, which letter will be seventh to the right of the third letter from the left?

यदि COLONIZATION शब्द में सभी स्वरों (vowels) को अंग्रेजी वर्णमाला श्रृंखला के ठीक अगले व्यंजन (Consonant) द्वारा प्रतिस्थापित किया जाता है, फिर शब्द के अक्षरों को वर्णानुक्रम में व्यवस्थित किया जाता है, तो कौन सा अक्षर बाएं से तीसरे अक्षर के दाईं ओर सातवें स्थान पर होगा?

- (A) ☒ J (Chosen option)
J
- (B) ☐ N
N
- (C) ☐ C
C
- (D) ☒ P (Correct Answer)
P

Question No.16

Marks: 2.50
Bookmark ☐

Read the information carefully and answer the following question.

A+B means A is the Brother of B
A-B means A is the Sister of B
A*B means A is the mother of B
A/B means A is the father of B

In the given expression **Q*P+R-S**, how is P related to S?
दी गई जानकारी को ध्यानपूर्वक पढ़ें और नीचे दिए गए प्रश्न का उत्तर दें।

A+B का अर्थ है, A, B का भाई है
A-B का अर्थ है, A, B की बहन है
A*B का अर्थ है, A, B की माँ है

<p>A/B का अर्थ है, A, B का पिता है</p> <p>व्यंजक Q*P+R-S में, P का S से क्या संबंध है?</p> <p>(A) <input type="radio"/> Father पिता</p> <p>(B) <input checked="" type="radio"/> Brother (Correct Answer) (Chosen option) भाई</p> <p>(C) <input type="radio"/> Mother माँ</p> <p>(D) <input type="radio"/> Sister बहन</p>	
<p>Question No.17</p> <p>Marks: 2.50</p> <p>Bookmark <input type="checkbox"/></p> <p>If every alternate letter starting from A of the English alphabet series is written in small letters, rest all are written in capital letters, how will the given word 'Experiment' be written?</p> <p>यदि अंग्रेजी वर्णमाला श्रृंखला में A से शुरू करने पर प्रत्येक दूसरा अक्षर छोटे अक्षरों में लिखा गया है, बाकी सभी बड़े अक्षरों में लिखे गए हैं, तो दिया गया शब्द 'Experiment' कैसे लिखा जाएगा?</p> <p>(A) <input type="radio"/> eXPERlmeNT eXPERlmeNT</p> <p>(B) <input type="radio"/> eXPeRiMeNt eXPeRiMeNt</p> <p>(C) <input checked="" type="radio"/> eXPeRimeNT (Correct Answer) eXPeRimeNT</p> <p>(D) <input type="radio"/> eXpeRiMeNT (Chosen option) eXpeRiMeNT</p>	
<p>Question No.18</p> <p>Marks: 2.50</p> <p>Bookmark <input type="checkbox"/></p> <p>Find the next number in the series 7, 15, 28, 59, 114, ? श्रेणी में अगली संख्या ज्ञात कीजिए। 7, 15, 28, 59, 114, ?</p> <p>(A) <input type="radio"/> 236 236</p> <p>(B) <input type="radio"/> 235 235</p> <p>(C) <input checked="" type="radio"/> 233 (Correct Answer) (Chosen option) 233</p> <p>(D) <input type="radio"/> 234 234</p>	
<p>Question No.19</p> <p>Marks: 2.50</p> <p>Bookmark <input type="checkbox"/></p> <p>The "National communal harmony campaign week" was observed between _____.</p> <p>"राष्ट्रीय सांप्रदायिक सद्भाव अभियान सप्ताह" _____ के बीच मनाया गया।</p> <p>(A) <input type="radio"/> 2nd to 8th February 2 से 8 फरवरी</p> <p>(B) <input type="radio"/> 19th to 25th September (Chosen option) 19 से 25 सितंबर</p> <p>(C) <input type="radio"/> 24th to 30th May 24 से 30 मई</p> <p>(D) <input checked="" type="radio"/> 19th to 25th November (Correct Answer) 19 से 25 नवंबर</p>	
<p>Question No.20</p> <p>Marks: 2.50</p> <p>Bookmark <input type="checkbox"/></p> <p>Section 375 of the Indian Penal Code, 1860 deals with which of the following offences?</p> <p>भारतीय दंड संहिता, 1860 की धारा 375 निम्नलिखित में से किस अपराध से संबंधित है?</p> <p>(A) <input type="radio"/> Cheating धोखाधड़ी</p> <p>(B) <input checked="" type="radio"/> Rape (Correct Answer) (Chosen option) बलात्कार</p> <p>(C) <input type="radio"/> Murder हत्या</p>	

(D) ☐ Theft
चोरी

Question No.21

Marks: 2.50
Bookmark ☐

If the second half of the word VOLUMINOSITY is reversed, which of the following will be the seventh to the right of the second letter from the left end?
यदि शब्द VOLUMINOSITY के दूसरे आधे भाग को व्युत्क्रम में लिखा जाता है, तो निम्नलिखित में से कौन सा अक्षर बाएं छोर से दूसरे अक्षर की दाईं ओर सातवें स्थान पर होगा?

- (A) ☐ M
M
- (B) ☒ I (Correct Answer) (Chosen option)
I
- (C) ☐ O
O
- (D) ☐ N
N

Question No.22

Marks: 2.50
Bookmark ☐

Which of the following programme focuses on "Education and Empowerment of women in rural areas and economically and socially marginalized groups"?
निम्नलिखित में से कौन सा कार्यक्रम "ग्रामीण क्षेत्रों और आर्थिक तथा सामाजिक रूप से हाशिए में रहने वाले समूहों की महिलाओं की शिक्षा और सशक्तीकरण" पर केंद्रित है?

- (A) ☐ Mahila Coir Yojana
महिला कॉयर (नारियल जटा) योजना
- (B) ☐ Conditional Maternity Benefit
सशर्त मातृत्व लाभ
- (C) ☐ Beti Bachao, Beti Padhao
बेटी बचाओ, बेटी पढ़ाओ
- (D) ☒ Mahila Samakhya Programme (Correct Answer) (Chosen option)
महिला समाख्या कार्यक्रम

Question No.23

Marks: 2.50
Bookmark ☐

In a certain code language, if ALTER is coded as DOWHU, then how is DEPTH coded in that language?
किसी कूटभाषा में, यदि ALTER को DOWHU के रूप में कूटबद्ध किया जाता है, तो उसी भाषा में DEPTH को कैसे कूटबद्ध किया जाएगा?

- (A) ☐ HGSKW
HGSKW
- (B) ☐ WVKGS
WVKGS
- (C) ☒ GHSWK (Correct Answer) (Chosen option)
GHSWK
- (D) ☐ LXTIH
LXTIH

Question No.24

Marks: 2.50
Bookmark ☐

A girl walks 15km towards West, turns a left, another left and finally a left again before taking a left. Which direction is she facing now?
एक लड़की 15km पश्चिम की ओर चलती है, बाएं मुड़ती है, फिर से बाएं मुड़ती है और अंत में बाएं मुड़ने से पहले फिर से बाएं मुड़ती है। वह अब किस दिशा की ओर अभिमुख है।

- (A) ☐ East
पूर्व
- (B) ☒ West (Correct Answer)
पश्चिम
- (C) ☐ North
उत्तर
- (D) ☐ South (Chosen option)
दक्षिण

Question No.25

Marks: 2.50
Bookmark ☐

International Bill of Women's Rights "CEDAW" stands for:
महिलाओं के अधिकारों के अंतर्राष्ट्रीय विधेयक "CEDAW" का पूर्ण रूप क्या है?

- (A) ☐ Congress Educational Development Authority for Women
Congress Educational Development Authority for Women (कांग्रेस एजुकेशनल डेवलपमेंट ऑथोरिटी फॉर वुमेन)
- (B) ☐ Consumers and Economic Development against Women
Consumers and Economic Development against Women (कंज्यूमर्स एंड इकोनामिक डेवलेपमेंट अगेस्ट वुमेन)
- (C) ☐ Convention on Education and Development of Administrative Women
Convention on Education and Development of Administrative Women (कन्वेंशन ऑन दि एजुकेशनल डेवलपमेंट ऑफ एडमिनिस्ट्रिटिव वुमेन)
- (D) ☒ **Convention on the Elimination of All Forms of Discrimination against Women (Correct Answer) (Chosen option)**
Convention on the Elimination of All Forms of Discrimination against Women (कन्वेंशन ऑन दि एलिमिनेशन ऑफ ऑल द फर्म्स ऑफ डिस्क्रिमिनेशन अगेस्ट वुमेन)

Question No.26

Marks: 2.50

Bookmark ☐

Which police force Provides security to critical infrastructure installations, such as airports, atomic power plants, defence production units and oil fields?

कौन सा पुलिस बल महत्वपूर्ण बुनियादी ढांचे के प्रतिष्ठानों जैसे हवाई अड्डों, परमाणु ऊर्जा संयंत्रों, रक्षा उत्पादन इकाइयों और तेल क्षेत्रों के लिए सुरक्षा प्रदान करता है?

- (A) ☒ **Central Industrial Security Force (CISF) (Correct Answer) (Chosen option)**
केंद्रीय औद्योगिक सुरक्षा बल (सीआईएसएफ)
- (B) ☐ Sashastra Seema Bal (SSB)
सशस्त्र सीमा बल (एसएसबी)
- (C) ☐ Indo Tibetan Border Police Force (ITBP)
भारत तिब्बत सीमा पुलिस बल (आईटीबीपी)
- (D) ☐ Border Security Force (BSF)
सीमा सुरक्षा बल (बीएसएफ)



Question No.27

Marks: 2.50
Bookmark ☐

In this question, relationship between different elements is shown in the statement. This statement is followed by two conclusions:

Statement:

$F < U \leq N = C < T = I > O \geq R$

Conclusions:

- i) $F < N$
ii) $I \geq R$

Choose the appropriate one from the following options

- (A) Only conclusion i follows
(B) Only conclusion ii follows
(C) Either i or ii follows
(D) Neither i nor ii follows
(E) Both i and ii follow

इस प्रश्न में, कथन में विभिन्न तत्वों के बीच संबंध दर्शाया गया है। इस कथन के बाद दो निष्कर्ष दिए गए हैं:

कथन:

$F < U \leq N = C < T = I > O \geq R$

निष्कर्ष:

- i) $F < N$
ii) $I \geq R$

निम्नलिखित विकल्पों में से उपयुक्त विकल्प चुनें

- (A) केवल निष्कर्ष i अनुसरण करता है
(B) केवल निष्कर्ष ii अनुसरण करता है
(C) या तो निष्कर्ष i या निष्कर्ष ii अनुसरण करता है
(D) न ही निष्कर्ष i और न निष्कर्ष ii अनुसरण करता है
(E) दोनों निष्कर्ष i और निष्कर्ष ii अनुसरण करते हैं

(A) ☐ D
D

(B) ☒ A (Correct Answer) (Chosen option)
A

(C) ☐ C
C

(D) ☐ B
B

Question No.28

Marks: 2.50
Bookmark ☐

The Sardar Vallabhbhai Patel National Police Academy is located in _____.

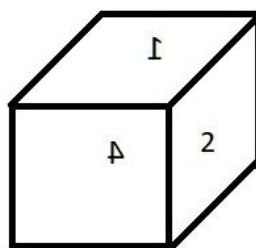
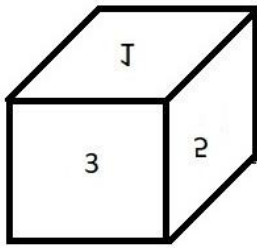
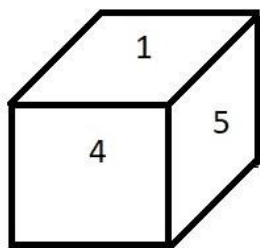
सरदार वल्लभभाई पटेल राष्ट्रीय पुलिस अकादमी _____ में स्थित है।

- (A) ☐ Mysore
मैसूर
(B) ☐ Bengaluru
बेंगलुरु
(C) ☒ Hyderabad (Correct Answer) (Chosen option)
हैदराबाद
(D) ☐ Chennai
चेन्नई

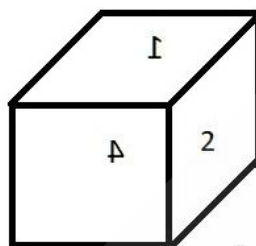
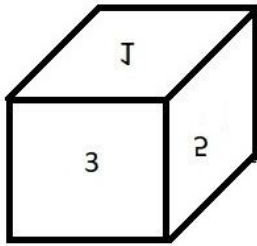
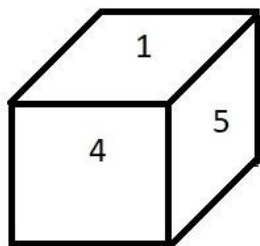
Question No.29

Marks: 2.50
Bookmark ☐

A dice is numbered from 1 to 6. Which number is opposite to 3?



एक पासा 1 से 6 तक संख्यांकित है। 3 के विपरीत कौन सी संख्या है।



- (A) ☐ 6
6
- (B) ☒ 4 (Correct Answer) (Chosen option)
4
- (C) ☐ 5
5
- (D) ☐ 2
2

Question No.30

Marks: 2.50
Bookmark ☐

Find the next term in the given series.

20, 10, 10.5, 10.5, 11.5, ?

दी गई श्रेणी में अगला पद ज्ञात कीजिए।

20, 10, 10.5, 10.5, 11.5, ?

- (A) ☐ 15.5
15.5
- (B) ☐ 12.5
12.5
- (C) ☐ 17.5
17.5
- (D) ☒ 17.25 (Correct Answer) (Chosen option)
17.25

Question No.31

Marks: 2.50
Bookmark ☐

A is 20th from the right end. If A is shifted four places to the left, then A will be at the extreme left. How many persons are there in the row?

A, दाएँ छोर से 20वें स्थान पर है। यदि A को चार स्थान बाएँ स्थानांतरित किया जाता है, तो A बाएँ छोर पर होगा। पंक्ति में कितने व्यक्ति हैं?

- (A) ☒ 24 (Correct Answer) (Chosen option)
24
- (B) ☐ 22
22
- (C) ☐ 26
26
- (D) ☐ 28
28

Question No.32

Marks: 2.50
Bookmark ☐

Replace the question mark with an option that follows the same logic applied in the first pair.

Camel : Calf :: Rabbit : ??

प्रश्न चिह्न को उस विकल्प से बदलें, जो पहले युग्म में प्रयुक्त समान तर्क का अनुसरण करता है।

Camel : Calf :: Rabbit : ??

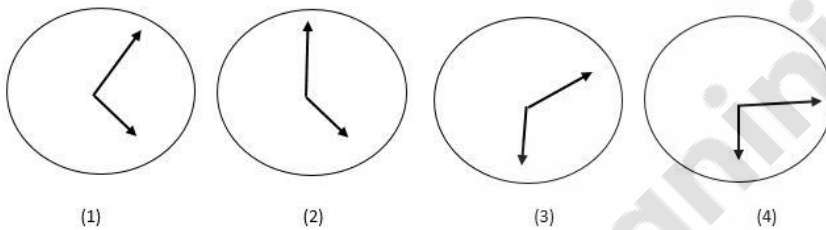
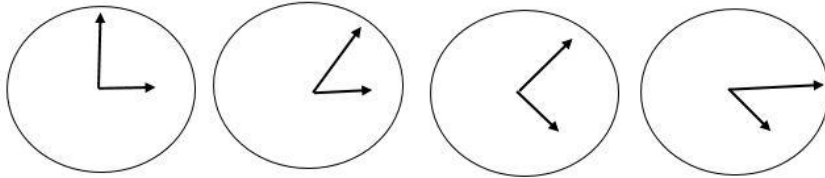
- (A) ☐ Joey (Chosen option)
Joey
- (B) ☐ Fry
Fry
- (C) ☐ Shoat
Shoat
- (D) ☐ Kit (Correct Answer)
Kit

Question No.33

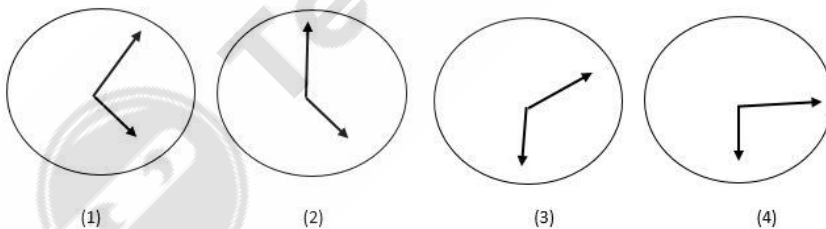
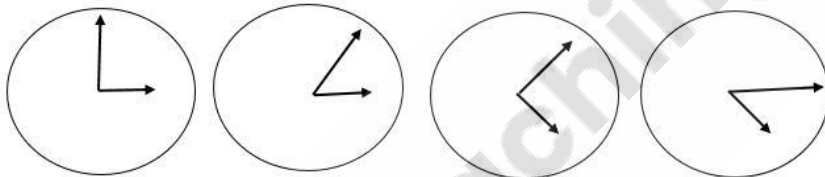
Marks: 2.50

Bookmark ☐

Which one of the following images numbered as (1), (2), (3), (4) will be the next image for the given series?



(1), (2), (3), (4) के रूप में संख्यांकित, निम्नलिखित में से कौन सा चित्र, दी गई श्रृंखला के लिए अगला चित्र होगा?



- (A) ☐ 4 (Correct Answer) (Chosen option)
4
- (B) ☐ 1
1
- (C) ☐ 2
2
- (D) ☐ 3
3

Question No.34

Marks: 2.50

Bookmark ☐

In this question, a passage is given followed by a statement. Read the passage carefully and judge the statement based on the given passage.

Over three lakh birds of different species have arrived in Kashmir valley, according to wildlife warden wetlands of Kashmir, Rouf Zargar. Usually every year, approximately 9 lakh birds migrate to the valley from different cold habitats of the world. Therefore, the valley witnesses new species of birds every year. Birds can go any place depending upon the leading flock.

Kashmir is comparatively less cold than their own natural habitat which makes birds to start migrating to the valley in September every year.

The birds can help in increasing tourism in the valley. Shikara owner Bashir Ahmad said, "Since tourism in valley is not gaining its pace in valley after 2016 turmoil, these migratory birds can attract tourist from across the globe, if tourism department can project them in planned way, and advertise at big level, definitely it will help to boost tourism in valley"

Statement:

The fact that these migratory birds arrive in the valley every September can be used to promote tourism in the valley.

Choose the appropriate one from the following options

- A -The statement is definitely true
- B -The statement is probably true
- C -The statement is cannot be determined
- D -The statement is definitely false

इस प्रश्न में, एक गद्यांश के बाद एक कथन दिया गया है। गद्यांश को ध्यानपूर्वक पढ़ें और दिए गए गद्यांश के आधार पर कथन का आकलन करें।

कश्मीर घाटी के वन्यजीव वार्डन, रौफ़ ज़रगर के अनुसार, विभिन्न प्रजातियों के तीन लाख से अधिक पक्षी कश्मीर घाटी में आ चुके हैं। सामान्यतः प्रति वर्ष, लगभग 9 लाख पक्षी विश्व के विभिन्न शीत आवासों से घाटी में स्थानांतरित होते हैं। इसलिए, घाटी में प्रति वर्ष पक्षियों की नई प्रजातियाँ आती हैं। मुख्य झुंड के आधार पर पक्षी किसी भी स्थान पर जा सकते हैं। उनके अपने स्वयं के प्राकृतिक आवास की तुलना में कश्मीर अपेक्षाकृत कम ठंडा है जिसके परिणामस्वरूप पक्षी प्रति वर्ष सितंबर में घाटी में स्थानांतरित होना आरंभ करते हैं।

पक्षी, घाटी में पर्यटन की वृद्धि में मदद कर सकते हैं। शिकारा के मालिक बशीर अहमद ने कहा, "चूंकि 2016 की अशांति के बाद घाटी में पर्यटन गति नहीं पकड़ रहा है, यदि पर्यटन विभाग उन्हें योजनाबद्ध तरीके से प्रस्तुत कर सकता है, और बड़े स्तर पर इनका विज्ञापन दे सकता है तो ये प्रवासी पक्षी विश्व भर के पर्यटकों को आकर्षित कर सकते हैं, यह निश्चित रूप से घाटी में पर्यटन को बढ़ावा देने में मदद करेगा"

कथन:

यह तथ्य कि ये प्रवासी पक्षी प्रत्येक सितंबर घाटी में आते हैं, इसका उपयोग घाटी में पर्यटन की प्रोन्नति के लिए किया जा सकता है।

निम्नलिखित विकल्पों में से उपयुक्त विकल्प चुनें

- A - कथन निश्चित रूप से सत्य है।
 - B- कथन संभवतः सत्य है।
 - C- कथन निर्धारित नहीं किया जा सकता।
 - D-कथन निश्चित रूप से गलत है।
- (A) ☐ B
- (B) ☐ D
- (C) ☒ A (Correct Answer) (Chosen option)
- (D) ☐ C

Question No.35

Find the next number in the series.

25, 152, 249, 316, 353, ?

श्रेणी में अगली संख्या ज्ञात कीजिए।

25, 152, 249, 316, 353, ?

- (A) ☐ 380
- (B) ☐ 370
- (C) ☒ 360 (Correct Answer) (Chosen option)
- (D) ☐ 350

Question No.36

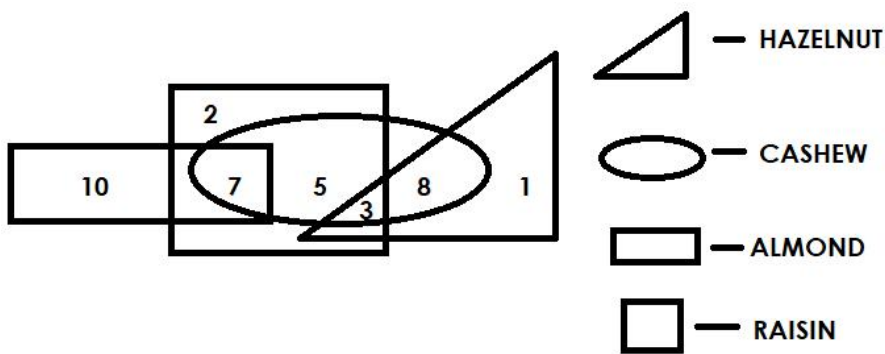
Which of the following numbers in the Venn Diagram represents only 'cashew and raisin'?

Marks: 2.50

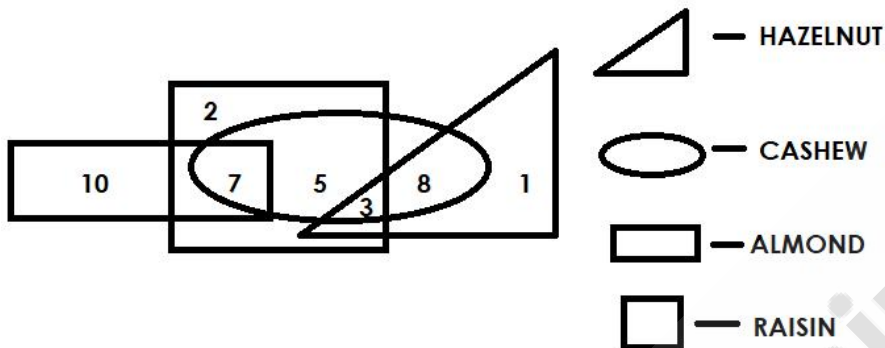
Bookmark ☐

Marks: 2.50

Bookmark ☐



वेन आरेख में निम्नलिखित में से कौन सी संख्या केवल काजू और किशमिश को निरूपित करती है?



- (A) ☒ 5 (Correct Answer) (Chosen option)
- (B) ☐ 8
- (C) ☐ 3
- (D) ☐ 7

Question No.37

Marks: 2.50
Bookmark ☐

Choose the alternative which is an odd word/number/letter pair out of the given alternatives.
दिए गए विकल्पों में से असंगत शब्द/संख्या/अक्षर युग्म वाले विकल्प का चयन कीजिए।

- (A) ☐ Inexpensive
Inexpensive
- (B) ☐ Reasonable
Reasonable
- (C) ☐ Cheap
Cheap
- (D) ☒ Costly (Correct Answer) (Chosen option)
Costly

Question No.38

Marks: 2.50
Bookmark ☐

Read the following statements and answer the following question.

A@B means A is the husband of B
A#B means A is the wife of B
A\$B means A is the brother of B
A%B means A is the sister of B

In the equation **M\$N%O@P**, How is P related to M?
निम्नलिखित कथन पढ़िए और निम्नलिखित प्रश्न का उत्तर दीजिए।

A@B अर्थात्, A , B का पति है।
A#B अर्थात्, A , B की पत्नी है।
A\$B अर्थात्, A , B का भाई है।
A%B अर्थात्, A , B की बहन है।

समीकरण **M\$N%O@P** में, P का M से क्या संबंध है?

- (A) ☐ Sister
बहन
- (B) ☒ Sister-in-law (Correct Answer) (Chosen option)
सिस्टर-इन-लॉ
- (C) ☐ Cousin
कज़िन
- (D) ☐ Daughter
पुत्री

Question No.39

Marks: 2.50

Bookmark ☐

In a certain code language, if GRACE is coded as TIZXV, then how is RADIO coded in that language?
किसी कूटभाषा में, यदि GRACE को TIZXV के रूप में कूटबद्ध किया जाता है, तो उसी भाषा में RADIO को कैसे कूटबद्ध किया जाएगा?

- (A) ☐ VOJGX
VOJGX
- (B) ☒ IZWRL (Correct Answer) (Chosen option)
IZWRL
- (C) ☐ EVHSM
EVHSM
- (D) ☐ VEHMS
VEHMS

Question No.40

Marks: 2.50

Bookmark ☐

Arjun is the only son of Sara's father Sachin. How is Arjun's mother related to Sachin?
अर्जुन, सारा के पिता सचिन का इकलौता बेटा है। अर्जुन की माँ का सचिन के साथ क्या संबंध है?

- (A) ☐ Father
पिता
- (B) ☒ Wife (Correct Answer) (Chosen option)
पत्नी
- (C) ☐ Husband
पति
- (D) ☐ Mother
माँ