



# Teachingninja.in



**Latest Govt Job updates**



**Private Job updates**



**Free Mock tests available**



**Visit - [teachingninja.in](https://teachingninja.in)**

**UP Police SI**  
**Previous Year Paper**  
**15 Nov 2021 Shift 3**



GENERAL HINDI - GENERAL HINDI

<p><b>Question No.1</b></p> <p>निम्न में से कौन-सा तद्भव शब्द नहीं है? निम्न में से कौन-सा तद्भव शब्द नहीं है?</p> <p>(A) <input checked="" type="radio"/> निष्ठुर (Correct Answer) निष्ठुर</p> <p>(B) <input type="radio"/> नाई (Chosen option) नाई</p> <p>(C) <input type="radio"/> निडर निडर</p> <p>(D) <input type="radio"/> नया नया</p>	<p>Marks: 2.50 Bookmark <input type="checkbox"/></p>
<p><b>Question No.2</b></p> <p>निम्नलिखित में से कौन-सा शब्द 'कानन' का पर्यायवाची है? निम्नलिखित में से कौन-सा शब्द 'कानन' का पर्यायवाची है?</p> <p>(A) <input type="radio"/> मधुकर मधुकर</p> <p>(B) <input type="radio"/> पुष्प पुष्प</p> <p>(C) <input type="radio"/> लता लता</p> <p>(D) <input checked="" type="radio"/> वन (Correct Answer) (Chosen option) वन</p>	<p>Marks: 2.50 Bookmark <input type="checkbox"/></p>
<p><b>Question No.3</b></p> <p>निम्न में से कौन-सी रचना प्रेमचंद की नहीं है? निम्न में से कौन-सी रचना प्रेमचंद की नहीं है?</p> <p>(A) <input type="radio"/> गबन गबन</p> <p>(B) <input checked="" type="radio"/> टेढ़े-मेढ़े रास्ते (Correct Answer) टेढ़े-मेढ़े रास्ते</p> <p>(C) <input type="radio"/> सेवासदन (Chosen option) सेवासदन</p> <p>(D) <input type="radio"/> शतरंज के खिलाड़ी शतरंज के खिलाड़ी</p>	<p>Marks: 2.50 Bookmark <input type="checkbox"/></p>
<p><b>Question No.4</b></p> <p>हिंदी साहित्य के प्रथम कालखंड को 'बीजवपन काल' नाम किसने दिया? हिंदी साहित्य के प्रथम कालखंड को 'बीजवपन काल' नाम किसने दिया?</p> <p>(A) <input type="radio"/> धीरेन्द्र वर्मा धीरेन्द्र वर्मा</p> <p>(B) <input type="radio"/> शिवसिंह सेंगर (Chosen option) शिवसिंह सेंगर</p> <p>(C) <input type="radio"/> मिश्र बंधु मिश्र बंधु</p> <p>(D) <input checked="" type="radio"/> महावीरप्रसाद द्विवेदी (Correct Answer) महावीरप्रसाद द्विवेदी</p>	<p>Marks: 2.50 Bookmark <input type="checkbox"/></p>
<p><b>Question No.5</b></p> <p>'निम्न में से विराम चिह्न का प्रकार कौन-सा नहीं है? 'निम्न में से विराम चिह्न का प्रकार कौन-सा नहीं है?</p> <p>(A) <input type="radio"/> विवरण विवरण</p> <p>(B) <input type="radio"/> लाघव लाघव</p> <p>(C) <input checked="" type="radio"/> उपदेशक (Correct Answer) उपदेशक</p> <p>(D) <input type="radio"/> निर्देशक (Chosen option) निर्देशक</p>	<p>Marks: 2.50 Bookmark <input type="checkbox"/></p>
<p><b>Question No.6</b></p> <p>'राम आम खाता है।' इस वाक्य में क्रिया का कौन-सा प्रकार है? 'राम आम खाता है।' इस वाक्य में क्रिया का कौन-सा प्रकार है?</p> <p>(A) <input checked="" type="radio"/> सकर्मक क्रिया (Correct Answer) सकर्मक क्रिया</p> <p>(B) <input type="radio"/> अनेकार्थक क्रिया अनेकार्थक क्रिया</p> <p>(C) <input type="radio"/> अकर्मक क्रिया (Chosen option) अकर्मक क्रिया</p>	<p>Marks: 2.50 Bookmark <input type="checkbox"/></p>

(D) <input type="radio"/> पूर्वकालिक क्रिया पूर्वकालिक क्रिया	
<div>Question No.7</div> <div>Marks: 2.50</div> <div>Bookmark <input type="checkbox"/></div> <div>इनमें से 'औंगरखा' शब्द क्या है? इनमें से 'औंगरखा' शब्द क्या है? (A) <input type="radio"/> तत्सम (Chosen option) तत्सम (B) <input type="radio"/> देशज देशज (C) <input type="radio"/> विदेशज विदेशज (D) <input checked="" type="radio"/> तद्भव (Correct Answer) तद्भव</div>	
<div>Question No.8</div> <div>Marks: 2.50</div> <div>Bookmark <input type="checkbox"/></div> <div>निम्नलिखित में से किसे ज्ञानपीठ पुरस्कार प्राप्त नहीं है? निम्नलिखित में से किसे ज्ञानपीठ पुरस्कार प्राप्त नहीं है? (A) <input type="radio"/> नरेश मेहता (Chosen option) नरेश मेहता (B) <input type="radio"/> महादेवी वर्मा महादेवी वर्मा (C) <input checked="" type="radio"/> नागार्जुन (Correct Answer) नागार्जुन (D) <input type="radio"/> निर्मल वर्मा निर्मल वर्मा</div>	
<div>Question No.9</div> <div>Marks: 2.50</div> <div>Bookmark <input type="checkbox"/></div> <div>'एक तो करेला दूजा नीम चढ़ा' इस लोकोक्ति का सही अर्थ है - 'एक तो करेला दूजा नीम चढ़ा' इस लोकोक्ति का सही अर्थ है - (A) <input type="radio"/> एक बुरा तो दूसरा उससे भी बुरा एक बुरा तो दूसरा उससे भी बुरा (B) <input type="radio"/> एक गुण के साथ दूसरा गुण एक गुण के साथ दूसरा गुण (C) <input type="radio"/> बुरे व्यक्ति की बुरी संतान बुरे व्यक्ति की बुरी संतान (D) <input checked="" type="radio"/> एक बुराई पर दूसरी बुराई (Correct Answer) (Chosen option) एक बुराई पर दूसरी बुराई</div>	
<div>Question No.10</div> <div>Marks: 2.50</div> <div>Bookmark <input type="checkbox"/></div> <div>"सुनि केवट के बैन, प्रेम लपेटे अटपटे। बिहसे करुनाएन चितई जानकी लखन तन।।" में कौन-सा छन्द है? "सुनि केवट के बैन, प्रेम लपेटे अटपटे। बिहसे करुनाएन चितई जानकी लखन तन।।" में कौन-सा छन्द है? (A) <input type="radio"/> छप्पय (Chosen option) छप्पय (B) <input checked="" type="radio"/> सोरठा (Correct Answer) सोरठा (C) <input type="radio"/> गीतिका गीतिका (D) <input type="radio"/> उल्लाला उल्लाला</div>	
<div>Question No.11</div> <div>Marks: 2.50</div> <div>Bookmark <input type="checkbox"/></div> <div>कविता को भावयोग किसने कहा? कविता को भावयोग किसने कहा? (A) <input checked="" type="radio"/> रामचंद्र शुक्ल (Correct Answer) रामचंद्र शुक्ल (B) <input type="radio"/> महावीर प्रसाद द्विवेदी महावीर प्रसाद द्विवेदी (C) <input checked="" type="radio"/> हजारी प्रसाद द्विवेदी (Chosen option) हजारी प्रसाद द्विवेदी (D) <input type="radio"/> नामवर सिंह नामवर सिंह</div>	
<div>Question No.12</div> <div>Marks: 2.50</div> <div>Bookmark <input type="checkbox"/></div> <div>निम्नलिखित में से कौन-सा शब्द 'उत्कर्ष' का विलोम है? निम्नलिखित में से कौन-सा शब्द 'उत्कर्ष' का विलोम है? (A) <input checked="" type="radio"/> अपकर्ष (Correct Answer) अपकर्ष (B) <input type="radio"/> अंत अंत (C) <input type="radio"/> पतन पतन (D) <input checked="" type="radio"/> उपकर्ष (Chosen option) उपकर्ष</div>	
<div>Question No.13</div> <div>Marks: 2.50</div> <div>Bookmark <input type="checkbox"/></div> <div>‘में बाजार जाता हूँ।’ इस वाक्य में वाच्य का कौन-सा प्रकार है? ‘में बाजार जाता हूँ।’ इस वाक्य में वाच्य का कौन-सा प्रकार है?</div>	

<div>(A) <input type="radio"/> कर्म वाच्य (Chosen option) कर्म वाच्य</div> <div>(B) <input type="radio"/> भाव वाच्य भाव वाच्य</div> <div>(C) <input checked="" type="radio"/> कर्तृ वाच्य (Correct Answer) कर्तृ वाच्य</div> <div>(D) <input type="radio"/> इनमें से कोई नहीं इनमें से कोई नहीं</div>	
<div>Question No.14</div> <div>Marks: 2.50 Bookmark <input type="checkbox"/></div> <div>अपभ्रंश भाषा का काल कौन-सा है? अपभ्रंश भाषा का काल कौन-सा है?</div> <div>(A) <input type="radio"/> 1500 ई.पू. से 500 ई.पू. 1500 ई.पू. से 500 ई.पू.</div> <div>(B) <input checked="" type="radio"/> 500 ई. से 1000 ई. (Correct Answer) 500 ई. से 1000 ई.</div> <div>(C) <input type="radio"/> 1000 ई. से 1500 ई. 1000 ई. से 1500 ई.</div> <div>(D) <input type="radio"/> 500 ई.पू. से 1 ई. पू. (Chosen option) 500 ई.पू. से 1 ई. पू.</div>	
<div>Question No.15</div> <div>Marks: 2.50 Bookmark <input type="checkbox"/></div> <div>‘सबमें व्याप्त रहने वाला’ के लिए एक शब्द इनमें से कौन-सा है? ‘सबमें व्याप्त रहने वाला’ के लिए एक शब्द इनमें से कौन-सा है?</div> <div>(A) <input type="radio"/> सर्वयापी (Chosen option) सर्वयापी</div> <div>(B) <input type="radio"/> सरव्यापी सरव्यापी</div> <div>(C) <input checked="" type="radio"/> सर्वव्यापी (Correct Answer) सर्वव्यापी</div> <div>(D) <input type="radio"/> सर्वाव्यापी सर्वाव्यापी</div>	
<div>Question No.16</div> <div>Marks: 2.50 Bookmark <input type="checkbox"/></div> <div>इनमें से कौन-सा शब्द ‘शुक्ल’ का विलोम है? इनमें से कौन-सा शब्द ‘शुक्ल’ का विलोम है?</div> <div>(A) <input type="radio"/> श्याम श्याम</div> <div>(B) <input checked="" type="radio"/> कृष्ण (Correct Answer) कृष्ण</div> <div>(C) <input type="radio"/> उष्ण उष्ण</div> <div>(D) <input type="radio"/> श्वेत (Chosen option) श्वेत</div>	
<div>Question No.17</div> <div>Marks: 2.50 Bookmark <input type="checkbox"/></div> <div>‘राम’ संज्ञा का कौन-सा प्रकार है? ‘राम’ संज्ञा का कौन-सा प्रकार है?</div> <div>(A) <input type="radio"/> जातिवाचक संज्ञा जातिवाचक संज्ञा</div> <div>(B) <input checked="" type="radio"/> व्यक्तिवाचक संज्ञा (Correct Answer) व्यक्तिवाचक संज्ञा</div> <div>(C) <input type="radio"/> समूहवाचक संज्ञा समूहवाचक संज्ञा</div> <div>(D) <input type="radio"/> भाववाचक संज्ञा (Chosen option) भाववाचक संज्ञा</div>	
<div>Question No.18</div> <div>Marks: 2.50 Bookmark <input type="checkbox"/></div> <div>‘इनमें से कौन ‘अंक’ का एक अर्थ नहीं है?’ ‘इनमें से कौन ‘अंक’ का एक अर्थ नहीं है?’</div> <div>(A) <input type="radio"/> चिह्न (Chosen option) चिह्न</div> <div>(B) <input type="radio"/> भाग्य भाग्य</div> <div>(C) <input type="radio"/> गोद गोद</div> <div>(D) <input checked="" type="radio"/> चन्द्रमा (Correct Answer) चन्द्रमा</div>	
<div>Question No.19</div> <div>Marks: 2.50 Bookmark <input type="checkbox"/></div> <div>आदिकाल का संभावित समयारंभ कौन-सा माना गया है? आदिकाल का संभावित समयारंभ कौन-सा माना गया है?</div> <div>(A) <input type="radio"/> 1375 वि. सं. 1375 वि. सं.</div> <div>(B) <input type="radio"/> 1900 वि. सं. 1900 वि. सं.</div> <div>(C) <input type="radio"/> 1700 वि. सं. (Chosen option) 1700 वि. सं.</div> <div>(D) <input checked="" type="radio"/> 1050 वि. सं. (Correct Answer)</div>	

<div>Question No.20</div> <div>Marks: 2.50</div> <div>Bookmark <input type="checkbox"/></div> <div><p>'अधिक' का विलोम शब्द है -</p><p>'अधिक' का विलोम शब्द है -</p><p>(A) <input type="radio"/> न्यून (Correct Answer)</p><p>न्यून</p><p>(B) <input type="radio"/> अनाहर</p><p>अनाहर</p><p>(C) <input type="radio"/> अपकर्ष</p><p>अपकर्ष</p><p>(D) <input checked="" type="radio"/> लघु (Chosen option)</p><p>लघु</p></div>
<div>Question No.21</div> <div>Marks: 2.50</div> <div>Bookmark <input type="checkbox"/></div> <div><p>'आप भला तो जग भला' इस वाक्य में रेखांकित शब्द कौन-सा सर्वनाम है?</p><p>'आप भला तो जग भला' इस वाक्य में रेखांकित शब्द कौन-सा सर्वनाम है?</p><p>(A) <input type="radio"/> निश्चयवाचक</p><p>निश्चयवाचक</p><p>(B) <input type="radio"/> निजवाचक (Correct Answer)</p><p>निजवाचक</p><p>(C) <input type="radio"/> पुरुषवाचक (Chosen option)</p><p>पुरुषवाचक</p><p>(D) <input type="radio"/> अनिश्चयवाचक</p><p>अनिश्चयवाचक</p></div>
<div>Question No.22</div> <div>Marks: 2.50</div> <div>Bookmark <input type="checkbox"/></div> <div><p>'उपसर्ग' का प्रयोग कहाँ किया जाता है?</p><p>'उपसर्ग' का प्रयोग कहाँ किया जाता है?</p><p>(A) <input type="radio"/> शब्द के अंत में</p><p>शब्द के अंत में</p><p>(B) <input type="radio"/> शब्द के मध्य में (Chosen option)</p><p>शब्द के मध्य में</p><p>(C) <input type="radio"/> शब्द के आदि में (Correct Answer)</p><p>शब्द के आदि में</p><p>(D) <input type="radio"/> इनमें से कोई नहीं</p><p>इनमें से कोई नहीं</p></div>
<div>Question No.23</div> <div>Marks: 2.50</div> <div>Bookmark <input type="checkbox"/></div> <div><p>निम्नलिखित में से कौन-सा शब्द स्त्रीलिंग है?</p><p>निम्नलिखित में से कौन-सा शब्द स्त्रीलिंग है?</p><p>(A) <input type="radio"/> नगर</p><p>नगर</p><p>(B) <input type="radio"/> देश</p><p>देश</p><p>(C) <input type="radio"/> द्वीप</p><p>द्वीप</p><p>(D) <input checked="" type="radio"/> झील (Correct Answer) (Chosen option)</p><p>झील</p></div>
<div>Question No.24</div> <div>Marks: 2.50</div> <div>Bookmark <input type="checkbox"/></div> <div><p>भारत का प्रथम समाचार-पत्र कौन-सा था?</p><p>भारत का प्रथम समाचार-पत्र कौन-सा था?</p><p>(A) <input type="radio"/> उदंत मार्तण्ड</p><p>उदंत मार्तण्ड</p><p>(B) <input type="radio"/> ब्राह्मण (Chosen option)</p><p>ब्राह्मण</p><p>(C) <input type="radio"/> बंगाल गेज़ेट (Correct Answer)</p><p>बंगाल गेज़ेट</p><p>(D) <input type="radio"/> समाचार दर्पण</p><p>समाचार दर्पण</p></div>
<div>Question No.25</div> <div>Marks: 2.50</div> <div>Bookmark <input type="checkbox"/></div> <div><p>निम्नलिखित में से कौन-सी भाषा भारोपीय परिवार की नहीं है?</p><p>निम्नलिखित में से कौन-सी भाषा भारोपीय परिवार की नहीं है?</p><p>(A) <input type="radio"/> गुजराती</p><p>गुजराती</p><p>(B) <input type="radio"/> हिंदी</p><p>हिंदी</p><p>(C) <input type="radio"/> मलयालम (Correct Answer) (Chosen option)</p><p>मलयालम</p><p>(D) <input type="radio"/> मराठी</p><p>मराठी</p></div>
<div>Question No.26</div> <div>Marks: 2.50</div> <div>Bookmark <input type="checkbox"/></div> <div><p>'जैसे वह आया वैसे ही चला गया।' इस वाक्य में अधरेखित शब्दों का सर्वनाम का प्रकार लिखिए।</p><p>'जैसे वह आया वैसे ही चला गया।' इस वाक्य में अधरेखित शब्दों का सर्वनाम का प्रकार लिखिए।</p></div>

<div>(A) <input type="radio"/> प्रश्नवाचक सर्वनाम प्रश्नवाचक सर्वनाम</div> <div>(B) <input checked="" type="radio"/> संबंधवाचक सर्वनाम (Correct Answer) (Chosen option) संबंधवाचक सर्वनाम</div> <div>(C) <input type="radio"/> पुरुषवाचक सर्वनाम पुरुषवाचक सर्वनाम</div> <div>(D) <input type="radio"/> निश्चयवाचक सर्वनाम निश्चयवाचक सर्वनाम</div>	
<div>Question No.27</div> <div>बिहारी हिंदी की बोली का नाम है - बिहारी हिंदी की बोली का नाम है -</div> <div>(A) <input type="radio"/> बुन्देली बुन्देली</div> <div>(B) <input checked="" type="radio"/> मगही (Correct Answer) (Chosen option) मगही</div> <div>(C) <input type="radio"/> बघेली बघेली</div> <div>(D) <input type="radio"/> छत्तीसगढ़ी छत्तीसगढ़ी</div>	<div>Marks: 2.50</div> <div>Bookmark <input type="checkbox"/></div>
<div>Question No.28</div> <div>'खुमाण रासो' किसकी प्रसिद्ध रचना है? 'खुमाण रासो' किसकी प्रसिद्ध रचना है?</div> <div>(A) <input type="radio"/> शारंगधर शारंगधर</div> <div>(B) <input type="radio"/> नरपति नाल्ह नरपति नाल्ह</div> <div>(C) <input checked="" type="radio"/> दलपति विजय (Correct Answer) दलपति विजय</div> <div>(D) <input checked="" type="radio"/> जगनिक (Chosen option) जगनिक</div>	<div>Marks: 2.50</div> <div>Bookmark <input type="checkbox"/></div>
<div>Question No.29</div> <div>"बीती विभावरी जाग री। अम्बर-पनघट में डुबो रही तारा-घट उषा-नागरि।" में कौन-सा अलंकार है? "बीती विभावरी जाग री। अम्बर-पनघट में डुबो रही तारा-घट उषा-नागरि।" में कौन-सा अलंकार है?</div> <div>(A) <input type="radio"/> अनुप्रास अनुप्रास</div> <div>(B) <input type="radio"/> श्लेष श्लेष</div> <div>(C) <input checked="" type="radio"/> उपमा (Chosen option) उपमा</div> <div>(D) <input checked="" type="radio"/> रूपक (Correct Answer) रूपक</div>	<div>Marks: 2.50</div> <div>Bookmark <input type="checkbox"/></div>
<div>Question No.30</div> <div>निम्नलिखित में से किस वाक्य में 'भाववाच्य' का प्रयोग हुआ है? निम्नलिखित में से किस वाक्य में 'भाववाच्य' का प्रयोग हुआ है?</div> <div>(A) <input checked="" type="radio"/> दादी से चला नहीं जाता। (Correct Answer) दादी से चला नहीं जाता।</div> <div>(B) <input type="radio"/> मोहन ने खाना नहीं खाया। मोहन ने खाना नहीं खाया।</div> <div>(C) <input type="radio"/> कुलियों ने सामान नहीं उठाया। कुलियों ने सामान नहीं उठाया।</div> <div>(D) <input checked="" type="radio"/> मैंने दरवाजा नहीं खोला। (Chosen option) मैंने दरवाजा नहीं खोला।</div>	<div>Marks: 2.50</div> <div>Bookmark <input type="checkbox"/></div>
<div>Question No.31</div> <div>"गोरी सोवै सेज पर मुख पर डारे केस" यह किसका प्रसिद्ध कथन है? "गोरी सोवै सेज पर मुख पर डारे केस" यह किसका प्रसिद्ध कथन है?</div> <div>(A) <input type="radio"/> विद्यापति विद्यापति</div> <div>(B) <input checked="" type="radio"/> अमीर खुसरो (Correct Answer) (Chosen option) अमीर खुसरो</div> <div>(C) <input type="radio"/> जगनिक जगनिक</div> <div>(D) <input type="radio"/> चंदबरदाई चंदबरदाई</div>	<div>Marks: 2.50</div> <div>Bookmark <input type="checkbox"/></div>
<div>Question No.32</div> <div>इनमें से कौन-सा शब्द तत्सम है? इनमें से कौन-सा शब्द तत्सम है?</div> <div>(A) <input checked="" type="radio"/> रुक्ष (Correct Answer) रुक्ष</div> <div>(B) <input type="radio"/> सूरज सूरज</div> <div>(C) <input type="radio"/> सावन सावन</div> <div>(D) <input checked="" type="radio"/> बिच्छु (Chosen option)</div>	<div>Marks: 2.50</div> <div>Bookmark <input type="checkbox"/></div>

बिन्दु	
<div>Question No.33</div> <div>Marks: 2.50</div> <div>Bookmark <input type="checkbox"/></div> <p>'यथाशक्ति' में कौन-सा समास है?</p> <p>'यथाशक्ति' में कौन-सा समास है?</p> <div><div>(A) <input type="radio"/> द्विगु समास</div><div>द्विगु समास</div><div>(B) <input type="radio"/> बहुव्रीहि समास</div><div>बहुव्रीहि समास</div><div>(C) <input type="radio"/> तत्पुरुष समास (Chosen option)</div><div>तत्पुरुष समास</div><div>(D) <input checked="" type="radio"/> अव्ययीभाव समास (Correct Answer)</div><div>अव्ययीभाव समास</div></div>	
<div>Case Study - 34 to 36</div> <div>Marks: 2.50</div> <div>7.50</div> <p>अनुच्छेद पढ़कर, दिए गए सवालों के सही जवाब चुनिए :-</p> <p>आदिकाल से ही मनुष्य के लिए सबसे समीप मनुष्य है। हम जिसके सुख-दुख, हँसने-रोने का मर्म समझ सकते हैं उसी से हमारी आत्मा का अधिक मेल होता है। विद्यार्थी को विद्यार्थी-जीवन से, कृषक को कृषक-जीवन से जितनी रुचि है, उतनी अन्य जातियों से नहीं, लेकिन साहित्य जगत में प्रवेश पाते ही यह भेद, यह पार्थक्य मिट जाता है। हमारी मानवता जैसे विशाल और विराट होकर समस्त मानव जाति पर अधिकार पा जाती है। मानव जाति ही नहीं चर और अचर, जड़ और चेतन सभी उसके अधिकार में आ जाते हैं। उसे मानो विश्व की आत्मा पर साम्राज्य प्राप्त हो जाता है। साहित्य वह जादू की लकड़ी है, जो पशुओं में, ईंट पत्थरों में, पेड़ पौधों में विश्व की आत्मा का दर्शन करा देती है। मानव हृदय का जगत प्रत्यक्ष जगत जैसा नहीं है। हम मनुष्य होने के कारण मानव जगत के प्राणियों में अपने को अधिक पाते हैं उनके सुख-दुख, हर्ष-विषाद से ज्यादा विचलित होते हैं। साहित्यकार का संवेदना जगत अपेक्षाकृत विस्तार लिए होता है। सच्चे साहित्यकार का यही लक्षण है कि उसके भावों में व्यापकता हो, उसका विश्व की आत्मा के साथ ऐसा सामंजस्य स्थापित हो गया हो कि उसके भाव प्रत्येक प्राणी को अपने ही भाव प्रतीत हो।</p>	
<div>Question No.34</div> <div>Marks: 2.50</div> <div>Bookmark <input type="checkbox"/></div> <p>मानव भावनात्मक दृष्टि से सर्वाधिक निकट है –</p> <p>मानव भावनात्मक दृष्टि से सर्वाधिक निकट है –</p> <div><div>(A) <input checked="" type="radio"/> मानव के (Correct Answer)</div><div>मानव के</div><div>(B) <input type="radio"/> विश्वात्मा के</div><div>विश्वात्मा के</div><div>(C) <input type="radio"/> प्रकृति सौंदर्य के (Chosen option)</div><div>प्रकृति सौंदर्य के</div><div>(D) <input type="radio"/> चराचर जगत के</div><div>चराचर जगत के</div></div>	
<div>Question No.35</div> <div>Marks: 2.50</div> <div>Bookmark <input type="checkbox"/></div> <p>मनुष्य, मनुष्य के सर्वाधिक निकट इसलिए है, क्योंकि एक मनुष्य दूसरे मनुष्य के –</p> <p>मनुष्य, मनुष्य के सर्वाधिक निकट इसलिए है, क्योंकि एक मनुष्य दूसरे मनुष्य के –</p> <div><div>(A) <input type="radio"/> हर्ष-विषाद के रहस्य का उद्घाटन कर सकता है। (Chosen option)</div><div>हर्ष-विषाद के रहस्य का उद्घाटन कर सकता है।</div><div>(B) <input type="radio"/> हर्ष-विषाद को साहित्यिक अभिव्यक्ति दे सकता है।</div><div>हर्ष-विषाद को साहित्यिक अभिव्यक्ति दे सकता है।</div><div>(C) <input type="radio"/> हर्ष-विषाद को समन्वित कर सकता है।</div><div>हर्ष-विषाद को समन्वित कर सकता है।</div><div>(D) <input checked="" type="radio"/> हर्ष-विषाद का रहस्य समझ सकता है। (Correct Answer)</div><div>हर्ष-विषाद का रहस्य समझ सकता है।</div></div>	
<div>Question No.36</div> <div>Marks: 2.50</div> <div>Bookmark <input type="checkbox"/></div> <p>वास्तविक साहित्यकार वह है –</p> <p>वास्तविक साहित्यकार वह है –</p> <div><div>(A) <input type="radio"/> जिसकी भावाभिव्यक्ति से पाठक का तादात्म्य हो सके</div><div>जिसकी भावाभिव्यक्ति से पाठक का तादात्म्य हो सके</div><div>(B) <input checked="" type="radio"/> जो विश्वात्मा का ही स्वरूप हो (Correct Answer)</div><div>जो विश्वात्मा का ही स्वरूप हो</div><div>(C) <input type="radio"/> जिसका अनुभव क्षेत्र विशद व्यापक हो</div><div>जिसका अनुभव क्षेत्र विशद व्यापक हो</div><div>(D) <input type="radio"/> जो सबके सुख-दुख को अभिव्यक्ति दे सके (Chosen option)</div><div>जो सबके सुख-दुख को अभिव्यक्ति दे सके</div></div>	
<div>Question No.37</div> <div>Marks: 2.50</div> <div>Bookmark <input type="checkbox"/></div> <p>'हर काम को देर से करनेवाला' इस वाक्यांश के लिए उपयुक्त शब्द लिखिए।</p> <p>'हर काम को देर से करनेवाला' इस वाक्यांश के लिए उपयुक्त शब्द लिखिए।</p> <div><div>(A) <input checked="" type="radio"/> दीर्घसूत्री (Correct Answer)</div><div>दीर्घसूत्री</div><div>(B) <input type="radio"/> दीर्घदर्शी (Chosen option)</div><div>दीर्घदर्शी</div><div>(C) <input type="radio"/> अदूरदर्शी</div><div>अदूरदर्शी</div><div>(D) <input type="radio"/> विलम्बी</div><div>विलम्बी</div></div>	
<div>Question No.38</div> <div>Marks: 2.50</div> <div>Bookmark <input type="checkbox"/></div> <p>किस शब्द में 'अन्' उपसर्ग का प्रयोग नहीं हुआ है?</p> <p>किस शब्द में 'अन्' उपसर्ग का प्रयोग नहीं हुआ है?</p> <div><div>(A) <input type="radio"/> अनुपम</div><div>अनुपम</div><div>(B) <input type="radio"/> अनुचित</div><div>अनुचित</div><div>(C) <input type="radio"/> अनिच्छा</div><div>अनिच्छा</div></div>	

(D) <input type="radio"/> अनुगमन (Correct Answer) (Chosen option) अनुगमन	
<div>Question No.39</div> <div>Marks: 2.50</div> <div>Bookmark <input type="checkbox"/></div> <div>विभाव के दो प्रकार कौन-से हैं? विभाव के दो प्रकार कौन-से हैं? (A) <input type="radio"/> आलंबन, उद्दीपन (Correct Answer) (Chosen option) आलंबन, उद्दीपन (B) <input type="radio"/> स्थायी, संचारी स्थायी, संचारी (C) <input type="radio"/> अनुभाव स्थायी अनुभाव स्थायी (D) <input type="radio"/> आलंबन, संचारी आलंबन, संचारी</div>	
<div>Question No.40</div> <div>Marks: 2.50</div> <div>Bookmark <input type="checkbox"/></div> <div>निम्नलिखित में से एकवचन शब्द कौन-सा है? निम्नलिखित में से एकवचन शब्द कौन-सा है? (A) <input type="radio"/> दर्शन (Chosen option) दर्शन (B) <input type="radio"/> घरों घरों (C) <input type="radio"/> नदी (Correct Answer) नदी (D) <input type="radio"/> लताओं लताओं</div>	
BASIC LAW - CONSTITUTION AND GENERAL KNOWLEDGE - BASIC LAW - CONSTITUTION AND GENERAL KNOWLEDGE	
<div>Question No.1</div> <div>Marks: 2.50</div> <div>Bookmark <input type="checkbox"/></div> <div>_____ has launched the India-Russia Joint Technology Assessment and Accelerated Commercialization Programme. ने भारत-रूस संयुक्त प्रौद्योगिकी मूल्यांकन और त्वरित व्यावसायीकरण कार्यक्रम शुरू किया है। (A) <input type="radio"/> Department of Science and Technology (Correct Answer) विज्ञान और प्रौद्योगिकी विभाग (B) <input type="radio"/> NITI Aayog (Chosen option) नीति आयोग (C) <input type="radio"/> Foundation for Assistance to Small Innovative Enterprises (FASIE) लघु नवीन उद्यमों के लिए सहायता फाउंडेशन (FASIE) (D) <input type="radio"/> Ministry of Foreign affairs विदेश मंत्रालय</div>	
<div>Question No.2</div> <div>Marks: 2.50</div> <div>Bookmark <input type="checkbox"/></div> <div>Who is the common Chairman of 'Zonal Councils'? 'क्षेत्रीय परिषद' के सर्वमान्य अध्यक्ष कौन होते हैं? (A) <input type="radio"/> Union Home Minister (Correct Answer) केंद्रीय गृह मंत्री (B) <input type="radio"/> President of India भारत के राष्ट्रपति (C) <input type="radio"/> Governor of the State (Chosen option) राज्य के राज्यपाल (D) <input type="radio"/> Prime Minister of India भारत के प्रधानमंत्री</div>	
<div>Question No.3</div> <div>Marks: 2.50</div> <div>Bookmark <input type="checkbox"/></div> <div>.xls is the extension name for _____. .xls _____ का विस्तारित नाम है। (A) <input type="radio"/> Web Pages वेब पेजेस (B) <input type="radio"/> Microsoft Excel (Correct Answer) माइक्रोसॉफ्ट एक्सेल (C) <input type="radio"/> Open Office Documents (Chosen option) ओपन ऑफिस डॉक्यूमेंट्स (D) <input type="radio"/> Text Files टेक्स्ट फाइल्स</div>	
<div>Question No.4</div> <div>Marks: 2.50</div> <div>Bookmark <input type="checkbox"/></div> <div>Overloading of a goods vehicle is charged with fine of _____ as per the new traffic rules under the Motor Vehicles (Amendment) Act 2019. A) 20,000 rupees B) 2,000 rupee per extra tonne C) 2,000 rupees मोटर वाहन (संशोधन) अधिनियम 2019 के तहत नए यातायात नियमों के अनुसार माल वाहन के अधिक लदान (ओवरलोडिंग) पर _____ का जुर्माना लगाया जाता है। A) 20,000 रुपये B) 2,000 रुपये प्रति अतिरिक्त टन C) 2,000 रुपये (A) <input type="radio"/> B B (B) <input type="radio"/> B+C (Chosen option) B+C (C) <input type="radio"/> A+B (Correct Answer) A+B (D) <input type="radio"/> A A</div>	

<div>Question No.5</div> <div>Which of the following dances is the classical dance form of Uttar Pradesh? निम्नलिखित में से कौन सा नृत्य उत्तर प्रदेश की शास्त्रीय नृत्य शैली है?</div> <div><div>(A) <input type="radio"/> Bharatanatyam भरतनाट्यम</div><div>(B) <input type="radio"/> Odissi ओडिसी</div><div>(C) <input checked="" type="radio"/> Kathak (Correct Answer) (Chosen option) कथक</div><div>(D) <input type="radio"/> Kuchipudi कुचिपुड़ी</div></div>	<div>Marks: 2.50</div> <div>Bookmark <input type="checkbox"/></div>
<div>Question No.6</div> <div>The Human Rights Court is mentioned in section _____ of the Protection of Human Rights Act. मानवाधिकार न्यायालय, मानव अधिकारों के संरक्षण अधिनियम की धारा _____ में उल्लिखित है।</div> <div><div>(A) <input type="radio"/> 35 35</div><div>(B) <input type="radio"/> 20 (Chosen option) 20</div><div>(C) <input type="radio"/> 25 25</div><div>(D) <input checked="" type="radio"/> 30 (Correct Answer) 30</div></div>	<div>Marks: 2.50</div> <div>Bookmark <input type="checkbox"/></div>
<div>Question No.7</div> <div>Which of the following microorganisms causes plague? निम्नलिखित में से कौन से सूक्ष्मजीव के कारण प्लेग होता है?</div> <div><div>(A) <input checked="" type="radio"/> Bacteria (Correct Answer) (Chosen option) जीवाणु</div><div>(B) <input type="radio"/> Protozoa प्रजीवगण (प्रोटोजोआ)</div><div>(C) <input type="radio"/> Fungi कवक</div><div>(D) <input type="radio"/> Virus विषाणु</div></div>	<div>Marks: 2.50</div> <div>Bookmark <input type="checkbox"/></div>
<div>Question No.8</div> <div>As per budget 2020-21, mapping and geo-tagging of agri-warehousing will be done by _____. 2020-21 के बजट के अनुसार, एग्री-वेयरहाउसिंग की मैपिंग और जियो-टैगिंग _____ द्वारा की जाएगी।</div> <div><div>(A) <input type="radio"/> Central Warehousing Corporation (CWC) केंद्रीय भंडारण निगम (CWC)</div><div>(B) <input type="radio"/> National Agricultural Cooperative Marketing Federation of India Ltd (NAFED) भारतीय राष्ट्रीय कृषि सहकारी विपणन संघ मर्यादित (NAFED)</div><div>(C) <input checked="" type="radio"/> National Bank for Agriculture and Rural Development (NABARD) (Correct Answer) राष्ट्रीय कृषि और ग्रामीण विकास बैंक (NABARD)</div><div>(D) <input type="radio"/> Agricultural Produce Market Committee (APMC) (Chosen option) कृषि उत्पाद बाज़ार समिति (APMC)</div></div>	<div>Marks: 2.50</div> <div>Bookmark <input type="checkbox"/></div>
<div>Question No.9</div> <div>Which type of volcanoes is regarded as the largest of all the volcanoes on the Earth? किस प्रकार के ज्वालामुखियों को पृथ्वी के सभी ज्वालामुखियों में सबसे बड़ा माना जाता है?</div> <div><div>(A) <input checked="" type="radio"/> Shield Volcano (Correct Answer) ढाल ज्वालामुखी</div><div>(B) <input type="radio"/> Mid Ocean Range Volcano (Chosen option) मध्य-महासागर पर्वतमाला</div><div>(C) <input type="radio"/> Caldera कैल्डेरा</div><div>(D) <input type="radio"/> Composite Volcano मिश्रित ज्वालामुखी</div></div>	<div>Marks: 2.50</div> <div>Bookmark <input type="checkbox"/></div>
<div>Question No.10</div> <div>How many 'Pillars of Faith' are accepted by those who follow Islam? इस्लाम का पालन करने वाले लोगों द्वारा कितने 'आस्था के स्तंभ' स्वीकार किए जाते हैं?</div> <div><div>(A) <input checked="" type="radio"/> 5 (Correct Answer) (Chosen option) 5</div><div>(B) <input type="radio"/> 11 11</div><div>(C) <input type="radio"/> 7 7</div><div>(D) <input type="radio"/> 3 3</div></div>	<div>Marks: 2.50</div> <div>Bookmark <input type="checkbox"/></div>
<div>Question No.11</div> <div>In ordinary circumstances a person under detention must be communicated in _____ days, the grounds on which the order has been made सामान्य परिस्थितियों में निरुद्ध किए गए एक व्यक्ति को _____ दिनों में सूचित किया जाना चाहिए कि किस आधार पर आदेश दिया गया है।</div> <div><div>(A) <input type="radio"/> 4 4</div><div>(B) <input checked="" type="radio"/> 5 (Correct Answer) (Chosen option) 5</div><div>(C) <input type="radio"/> 2 2</div><div>(D) <input type="radio"/> 3 3</div></div>	<div>Marks: 2.50</div> <div>Bookmark <input type="checkbox"/></div>

<div>Question No.12</div> <div>The constitutional power to enact laws with respect to land tenure and land revenue lies with _____. पट्टेदारी (पट्टे की भूमि) और भूमि राजस्व के संबंध में कानून निर्मिती का संवैधानिक अधिकार _____ के पास होता है। (A) <input type="radio"/> local bodies स्थानीय निकाय (B) <input type="radio"/> Both State and Union Governments राज्य और केंद्र सरकार दोनों (C) <input type="radio"/> Union Government only केवल केंद्र सरकार (D) <input checked="" type="radio"/> State Government only (Correct Answer) (Chosen option) केवल राज्य सरकार</div>	<div>Marks: 2.50</div> <div>Bookmark <input type="checkbox"/></div>
<div>Question No.13</div> <div>When was Uttarakhand formed by carving out the districts from Uttar Pradesh? उत्तर प्रदेश से कुछ जिलों को अलग कर के उत्तराखंड का गठन कब किया गया था? (A) <input checked="" type="radio"/> 2000 (Correct Answer) 2000 (B) <input type="radio"/> 1948 1948 (C) <input type="radio"/> 1990 1990 (D) <input checked="" type="radio"/> 2005 (Chosen option) 2005</div>	<div>Marks: 2.50</div> <div>Bookmark <input type="checkbox"/></div>
<div>Question No.14</div> <div>"Dacoity" is said to have been committed when _____ persons conjointly commit a robbery under IPC. जब _____ व्यक्ति संयुक्त रूप से चोरी करते हैं, तब आईपीसी के तहत इसे "डकैती" की घटना मानी जानी जाती है। (A) <input type="radio"/> 3 or more 3 या अधिक (B) <input checked="" type="radio"/> 5 or more (Correct Answer) (Chosen option) 5 या अधिक (C) <input type="radio"/> 4 or more 4 या अधिक (D) <input type="radio"/> 7 or more 7 या अधिक</div>	<div>Marks: 2.50</div> <div>Bookmark <input type="checkbox"/></div>
<div>Question No.15</div> <div>Name the Constitutional Amendment Act that made changes to the text of the Preamble of the Indian Constitution. भारतीय संविधान की प्रस्तावना के पाठ में परिवर्तन करने वाले संवैधानिक संशोधन अधिनियम का नाम बताइए। (A) <input type="radio"/> 93rd Constitutional Amendment 93वां संवैधानिक संशोधन (B) <input type="radio"/> 31st Constitutional Amendment 31वां संवैधानिक संशोधन (C) <input checked="" type="radio"/> 42nd Constitutional Amendment (Correct Answer) (Chosen option) 42वां संवैधानिक संशोधन (D) <input type="radio"/> 74th Constitutional Amendment 74वां संवैधानिक संशोधन</div>	<div>Marks: 2.50</div> <div>Bookmark <input type="checkbox"/></div>
<div>Question No.16</div> <div>Part IV-A of the Indian Constitution deals with: भारतीय संविधान का भाग IV-A किससे संबंधित है? (A) <input type="radio"/> Fundamental Rights मौलिक अधिकार (B) <input checked="" type="radio"/> Fundamental Duties (Correct Answer) मौलिक कर्तव्य (C) <input type="radio"/> Directive Principles of State Policy राज्य के नीति निर्देशक तत्व (D) <input checked="" type="radio"/> Citizenship (Chosen option) नागरिकता</div>	<div>Marks: 2.50</div> <div>Bookmark <input type="checkbox"/></div>
<div>Question No.17</div> <div>Which schedule of the Indian Constitution contains provisions regarding the emoluments, allowances and privileges of the President of India? भारतीय संविधान की किस अनुसूची में भारत के राष्ट्रपति के पारिश्रमिक, भत्ते और विशेषाधिकारों से संबंधित प्रावधान हैं? (A) <input checked="" type="radio"/> 2nd Schedule (Correct Answer) द्वितीय अनुसूची (B) <input checked="" type="radio"/> 6th Schedule (Chosen option) छठी अनुसूची (C) <input type="radio"/> 1st Schedule प्रथम अनुसूची (D) <input type="radio"/> 3rd Schedule तृतीय अनुसूची</div>	<div>Marks: 2.50</div> <div>Bookmark <input type="checkbox"/></div>
<div>Question No.18</div> <div>Which of the following PIL dealt with the right to free legal aid? निम्नलिखित में से कौन सी जनहित याचिका (PIL), निःशुल्क कानूनी सहायता के अधिकार से संबंधित है? (A) <input checked="" type="radio"/> Hussainara Khatoon v. State of Bihar (Correct Answer) हुसैनारा खातून बनाम बिहार राज्य (B) <input type="radio"/> SC advocates on Record Association v. Union of India रिकॉर्ड एसोसिएशन पर उच्चतम न्यायालय के वकील बनाम भारतीय संघ (C) <input checked="" type="radio"/> Common cause v. Union of India (Chosen option) कॉमन कॉज़ बनाम भारतीय संघ (D) <input type="radio"/> Keshavananda Bharati v. State of Kerala</div>	<div>Marks: 2.50</div> <div>Bookmark <input type="checkbox"/></div>

Question No.19

Marks: 2.50

Bookmark ☐

Who founded the All India Harijan Sangh in 1932?  
1932 में अखिल भारतीय हरिजन संघ की स्थापना किसने की थी?

- (A) ☐ Dr. B.R. Ambedkar (Chosen option)  
डॉ. बी.आर. अम्बेडकर
- (B) ☒ Mahatma Gandhi (Correct Answer)  
महात्मा गांधी
- (C) ☐ Jyotiba Phule  
ज्योतिबा फुले
- (D) ☐ Sree Narayana Guru  
श्री नारायण गुरु

Question No.20

Marks: 2.50

Bookmark ☐

Whose Periodic Law was modified and adopted the Atomic number as the basis of Modern Periodic Table?  
किसके आवर्त नियम को संशोधित कर आधुनिक आवर्त सारणी के आधार के रूप में परमाणु क्रमांक को अपनाया गया?

- (A) ☐ Henry Moseley  
हेनरी मोसले
- (B) ☒ Dmitri Mendeleev (Correct Answer)  
डेमीट्री मेण्डेलीफ़
- (C) ☐ John Newland  
जॉन न्यूलैंड
- (D) ☐ Johann Dobereiner (Chosen option)  
जोहान डोबेराइनर

Question No.21

Marks: 2.50

Bookmark ☐

Union Public Service commission serves all or any of the needs of a state on the request of:  
संघ लोक सेवा आयोग किसके अनुरोध पर किसी राज्य की सभी या किसी भी ज़रूरत (ज़रूरतों) को पूरा करता है?

- (A) ☐ Chief Minister of the State  
राज्य के मुख्यमंत्री
- (B) ☒ Governor of the State (Correct Answer)  
राज्य के राज्यपाल
- (C) ☐ Chief Secretary of the State (Chosen option)  
राज्य के मुख्य सचिव
- (D) ☐ Chief Justice of High Court  
उच्च न्यायालय के मुख्य न्यायाधीश

Question No.22

Marks: 2.50

Bookmark ☐

Who presides over the meetings of Municipal Corporation?  
नगर निगम की बैठकों की अध्यक्षता कौन करता है?

- (A) ☐ Speaker of the state Assembly  
राज्य विधानसभा के अध्यक्ष
- (B) ☒ Mayor (Correct Answer)  
महापौर (मेयर)
- (C) ☐ District Magistrate (Chosen option)  
जिलाधीश (जिला मजिस्ट्रेट)
- (D) ☐ Municipal Commissioner  
नगरपालिका आयुक्त

Question No.23

Marks: 2.50

Bookmark ☐

The subjects of "forests" and "protection of wild animals and birds" were moved from the State List to the Concurrent List by the \_\_\_\_\_ amendment to the Constitution of India.  
भारतीय संविधान में \_\_\_\_\_ संशोधन द्वारा "वन" और "जंगली जंतुओं और पक्षियों की सुरक्षा" के विषयों का स्थानांतरण राज्य सूची से समवर्ती सूची में हुआ था।

- (A) ☐ Fourth (Chosen option)  
चौथे
- (B) ☐ Fifty-second  
बावनवें
- (C) ☐ Twenty-fourth  
चौबीसवें
- (D) ☒ Forty-second (Correct Answer)  
बयालीसवें

Question No.24

Marks: 2.50

Bookmark ☐

Who conducts the election to the office of 'President of India'?  
'भारत के राष्ट्रपति' के पद का चुनाव कौन आयोजित करता है?

- (A) ☒ Election Commission of India (Correct Answer) (Chosen option)  
भारत निर्वाचन आयोग
- (B) ☐ Speaker of Lok Sabha  
लोकसभा अध्यक्ष
- (C) ☐ Vice-President of India  
भारत के उपराष्ट्रपति
- (D) ☐ Prime minister of India  
भारत के प्रधानमंत्री

Question No.25

Marks: 2.50

Bookmark ☐

Who appoints the chairman and other members of the 'Union Public Service Commission'?  
'संघ लोक सेवा आयोग' के अध्यक्ष और अन्य सदस्यों की नियुक्ति कौन करता है?

- (A) ☐ President of India (Correct Answer) (Chosen option)  
भारत के राष्ट्रपति
- (B) ☐ Chief Justice of Supreme Court of India  
सर्वोच्च न्यायालय के मुख्य न्यायाधीश
- (C) ☐ Prime Minister of India

<p>भारत के प्रधानमंत्री</p> <p>(D) <input type="radio"/> CEO of NITI Aayog नीति आयोग के सीईओ</p>	
<p><b>Question No.26</b></p> <p>The Suppression of Immoral Traffic in Women and Girls Act (SITA) was enacted in the year _____. महिलाओं और लड़कियों के लिए अनैतिक तस्करी का दमन अधिनियम (SITA) वर्ष _____ में अधिनियमित किया गया था।</p> <p>(A) <input type="radio"/> 1945 1945</p> <p>(B) <input type="radio"/> 1955 1955</p> <p>(C) <input type="radio"/> 1947 1947</p> <p>(D) <input checked="" type="radio"/> 1956 (Correct Answer) (Chosen option) 1956</p>	<p>Marks: 2.50</p> <p>Bookmark <input type="checkbox"/></p>
<p><b>Question No.27</b></p> <p>In which year was the Reserve Bank of India established? भारतीय रिज़र्व बैंक की स्थापना किस वर्ष में की गई थी?</p> <p>(A) <input type="radio"/> 1950 1950</p> <p>(B) <input type="radio"/> 1947 1947</p> <p>(C) <input checked="" type="radio"/> 1935 (Correct Answer) (Chosen option) 1935</p> <p>(D) <input type="radio"/> 1932 1932</p>	<p>Marks: 2.50</p> <p>Bookmark <input type="checkbox"/></p>
<p><b>Question No.28</b></p> <p>Initiated by Gandhian Acharya Vinoba Bhave in 1951 at Pochampally village in Telangana, this voluntary land reform movement is otherwise known as _____. 1951 में तेलंगाना के पोचमपल्ली गांव में गांधीवादी आचार्य विनोबा भावे द्वारा शुरू किए गए स्वैच्छिक भूमि सुधार आंदोलन को _____ कहा जाता है।</p> <p>(A) <input checked="" type="radio"/> Bhoodan Movement (Correct Answer) भूदान आंदोलन</p> <p>(B) <input type="radio"/> Sarvodaya Movement (Chosen option) सर्वोदय आंदोलन</p> <p>(C) <input type="radio"/> Gram Swarajya ग्राम स्वराज्य</p> <p>(D) <input type="radio"/> Khilafat Movement खिलाफत आंदोलन</p>	<p>Marks: 2.50</p> <p>Bookmark <input type="checkbox"/></p>
<p><b>Question No.29</b></p> <p>Who is the ex - officio chairman of the Indian Parliamentary Group which is a link between the Parliament of India and the various parliaments of the world? भारतीय संसदीय समूह का पदेन अध्यक्ष कौन होता है, जो भारत की संसद और विश्व की विभिन्न संसदों के बीच एक कड़ी है?</p> <p>(A) <input type="radio"/> Prime Minister of India भारत के प्रधानमंत्री</p> <p>(B) <input type="radio"/> Union Minister of Parliamentary Affairs संसदीय मामलों के केंद्रीय मंत्री</p> <p>(C) <input checked="" type="radio"/> Chairman of Rajya Sabha (Chosen option) राज्यसभा के सभापति</p> <p>(D) <input type="radio"/> Speaker of Lok Sabha (Correct Answer) लोकसभा अध्यक्ष</p>	<p>Marks: 2.50</p> <p>Bookmark <input type="checkbox"/></p>
<p><b>Question No.30</b></p> <p>The scope of the executive power has been elaborately discussed by the Supreme Court in the case of _____. _____ के मामले में उच्चतम न्यायालय द्वारा कार्यकारी शक्ति के दायरे पर विस्तृत चर्चा की गई है।</p> <p>(A) <input type="radio"/> Madhu Kishwar v. State of Bihar मधु किश्वर बनाम बिहार सरकार</p> <p>(B) <input checked="" type="radio"/> A.C. Jose v. Sivan Pillai (Chosen option) ए.सी. जोस बनाम सिवन पिल्लई</p> <p>(C) <input type="radio"/> Ram Jawaya v. State of Punjab (Correct Answer) राम जेवेया बनाम पंजाब सरकार</p> <p>(D) <input type="radio"/> State of Assam v. Ripa Sharma असम सरकार बनाम रिपा शर्मा</p>	<p>Marks: 2.50</p> <p>Bookmark <input type="checkbox"/></p>
<p><b>Question No.31</b></p> <p>A 'Trojan Horse' is a _____. एक 'ट्रोजन हॉर्स' एक _____ है।</p> <p>(A) <input checked="" type="radio"/> Spaware (Chosen option) स्पेयरवेयर</p> <p>(B) <input type="radio"/> Beneficial Program लाभकारी प्रोग्राम</p> <p>(C) <input type="radio"/> Spyware स्पाइवेयर</p> <p>(D) <input type="radio"/> Malicious Program (Correct Answer) दुर्भावनापूर्ण (मलेशियस) प्रोग्राम</p>	<p>Marks: 2.50</p> <p>Bookmark <input type="checkbox"/></p>
<p><b>Question No.32</b></p> <p>How many routes of Foreign Direct Investments are available in India? भारत में विदेशी प्रत्यक्ष निवेश के कितने मार्ग उपलब्ध हैं?</p> <p>(A) <input checked="" type="radio"/> Five (Chosen option) पाँच</p> <p>(B) <input type="radio"/> Two (Correct Answer) दो</p>	<p>Marks: 2.50</p> <p>Bookmark <input type="checkbox"/></p>

<div>(C) <input type="radio"/> Eight आठ</div> <div>(D) <input type="radio"/> Ten दस</div>	
<div>Question No.33</div> <div>Marks: 2.50</div> <div>Bookmark <input type="checkbox"/></div> <div>How many members must be present (including the presiding officer) in the Rajya Sabha in order to fulfil the quorum? गणपूर्ति (कोरम) पूरा करने के लिए राज्यसभा में कितने सदस्य (पीठासीन अधिकारी सहित) मौजूद होने चाहिए?</div> <div>(A) <input checked="" type="radio"/> 25 members (Correct Answer) (Chosen option) 25 सदस्य</div> <div>(B) <input type="radio"/> 50 members 50 सदस्य</div> <div>(C) <input type="radio"/> 55 members 55 सदस्य</div> <div>(D) <input type="radio"/> 75 members 75 सदस्य</div>	
<div>Question No.34</div> <div>Marks: 2.50</div> <div>Bookmark <input type="checkbox"/></div> <div>Section _____ of the Income Tax Act, 1961 classifies income under _____ heads of income. आयकर अधिनियम, 1961 की धारा _____, आय को _____ आय शीर्षकों/वर्गों के तहत वर्गीकृत करती है।</div> <div>(A) <input type="radio"/> 12, four (Chosen option) 12, चार</div> <div>(B) <input checked="" type="radio"/> 14, five (Correct Answer) 14, पाँच</div> <div>(C) <input type="radio"/> 15, five 15, पाँच</div> <div>(D) <input type="radio"/> 13, five 13, पाँच</div>	
<div>Question No.35</div> <div>Marks: 2.50</div> <div>Bookmark <input type="checkbox"/></div> <div>Who appoints the Central Vigilance Commissioner? केंद्रीय सतर्कता आयुक्त की नियुक्ति कौन करता है?</div> <div>(A) <input type="radio"/> Union Minister of Home Affairs केंद्रीय गृह मंत्री</div> <div>(B) <input checked="" type="radio"/> President of India (Correct Answer) (Chosen option) भारत के राष्ट्रपति</div> <div>(C) <input type="radio"/> Prime Minister of India भारत के प्रधानमंत्री</div> <div>(D) <input type="radio"/> Vice-President of India भारत के उपराष्ट्रपति</div>	
<div>Question No.36</div> <div>Marks: 2.50</div> <div>Bookmark <input type="checkbox"/></div> <div>In what name Facebook was originally launched? फेसबुक को मूल रूप से किस नाम से लॉन्च किया गया था?</div> <div>(A) <input type="radio"/> The Facemask द फेसमास्क</div> <div>(B) <input checked="" type="radio"/> The Facebook (Correct Answer) द फेसबुक</div> <div>(C) <input type="radio"/> Facebook (Chosen option) फेसबुक</div> <div>(D) <input type="radio"/> Facetag फेसटैग</div>	
<div>Question No.37</div> <div>Marks: 2.50</div> <div>Bookmark <input type="checkbox"/></div> <div>Which article of the Indian Constitution prohibits the state from conferring any title (except a military or academic distinction) on anybody, whether a citizen or a foreigner? भारतीय संविधान का कौन-सा अनुच्छेद, राज्य को किसी नागरिक या विदेशी को किसी भी प्रकार की उपाधि (किसी सैन्य या शैक्षणिक विशिष्टता को छोड़कर) से सम्मानित करने से रोकता है?</div> <div>(A) <input type="radio"/> Article 21 अनुच्छेद 21</div> <div>(B) <input checked="" type="radio"/> Article 18 (Correct Answer) (Chosen option) अनुच्छेद 18</div> <div>(C) <input type="radio"/> Article 19 अनुच्छेद 19</div> <div>(D) <input type="radio"/> Article 14 अनुच्छेद 14</div>	
<div>Question No.38</div> <div>Marks: 2.50</div> <div>Bookmark <input type="checkbox"/></div> <div>In the population history of India, which period is referred to as the stagnant phase? भारत के जनसंख्या इतिहास में, किस अवधि को स्थिर अवस्था कहा जाता है?</div> <div>(A) <input checked="" type="radio"/> 1901-1921 (Correct Answer) 1901-1921</div> <div>(B) <input type="radio"/> 1951-1981 1951-1981</div> <div>(C) <input type="radio"/> 1921-1951 1921-1951</div> <div>(D) <input type="radio"/> 1981-2011 (Chosen option) 1981-2011</div>	
<div>Question No.39</div> <div>Marks: 2.50</div> <div>Bookmark <input type="checkbox"/></div> <div>Lichen is an example of _____ type of relationship. लाइकेन _____ प्रकार के संबंध का एक उदाहरण है।</div> <div>(A) <input type="radio"/> Predatism परभक्षिता (प्रीडेटिज़्म)</div>	

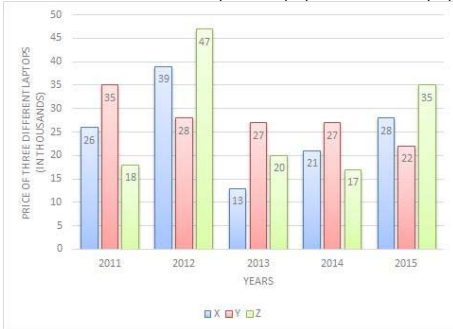
<div>(B) <input type="radio"/> Amensalism असहभोजिता (ऐमनसेलिज़्म)</div> <div>(C) <input checked="" type="radio"/> Commensalism (Chosen option) सहभोजिता (कमेन्सलिज़्म)</div> <div>(D) <input type="radio"/> Mutualism (Correct Answer) सहोपकारिता (म्यूचुअलिज़्म)</div>	
<div>Question No.40</div> <div>Marks: 2.50</div> <div>Bookmark <input type="checkbox"/></div> <div>Who was the first President of New Development Bank? न्यू डेवलपमेंट बैंक के पहले अध्यक्ष कौन थे?</div> <div>(A) <input type="radio"/> Jim Yong Kim (Chosen option) जिम योंग किम</div> <div>(B) <input type="radio"/> Antonio Guterres एंटोनियो गुटरेस</div> <div>(C) <input type="radio"/> Xian Zhu जियान झू</div> <div>(D) <input type="radio"/> K V Kamath (Correct Answer) के.वी. कामथ</div>	
NUMERICAL AND MENTAL ABILITY TEST - NUMERICAL AND MENTAL ABILITY TEST	
<div>Question No.1</div> <div>Marks: 2.50</div> <div>Bookmark <input type="checkbox"/></div> <div>A number when multiplied by 145 is increased by 2592. Find the number. एक संख्या को जब 145 से गुणा किया जाता है, तो उसमें 2592 की वृद्धि होती है। संख्या ज्ञात करें।</div> <div>(A) <input type="radio"/> 24 24</div> <div>(B) <input checked="" type="radio"/> 18 (Correct Answer) (Chosen option) 18</div> <div>(C) <input type="radio"/> 22 22</div> <div>(D) <input type="radio"/> 20 20</div>	
<div>Question No.2</div> <div>Marks: 2.50</div> <div>Bookmark <input type="checkbox"/></div> <div>Two persons A and B invested in a business with 170100 and 97200 rupees respectively. They agree that 40% of the profit should be divided equally among them and rest is divided between them according to their investment. If A got 2727 rupee more than B, then find the total profit. (In Rs.) दो व्यक्तियों A और B ने क्रमशः 170100 और 97200 रुपये को एक व्यवसाय में निवेश किया। वे सहमत हैं कि लाभ का 40% उनके बीच समान रूप से विभाजित किया जाना चाहिए और बाकी को उनके निवेश के अनुसार उनके बीच विभाजित किया जाना चाहिए। यदि A को B से 2727 रुपये अधिक मिले हैं, तो कुल लाभ ज्ञात कीजिए। (Rs. में)</div> <div>(A) <input type="radio"/> 18665 18665</div> <div>(B) <input type="radio"/> 17665 17665</div> <div>(C) <input checked="" type="radio"/> 15665 (Chosen option) 15665</div> <div>(D) <input type="radio"/> 16665 (Correct Answer) 16665</div>	
<div>Question No.3</div> <div>Marks: 2.50</div> <div>Bookmark <input type="checkbox"/></div> <div>One morning, Sri met his friend Sara on his way to office. Sara's shadow falls exactly to the right of Sara. If they face opposite to each other, which direction will Sara face? श्री, एक सुबह ऑफिस जाने वाले रास्ते में अपनी दोस्त सारा से मिला। सारा की परछाई सारा के दाईं ओर पड़ती है। यदि वह एक-दूसरे के सम्मुख हैं, तो सारा किस दिशा की ओर अभिमुख होगी?</div> <div>(A) <input type="radio"/> East पूर्व</div> <div>(B) <input checked="" type="radio"/> West (Chosen option) पश्चिम</div> <div>(C) <input type="radio"/> North उत्तर</div> <div>(D) <input type="radio"/> South (Correct Answer) दक्षिण</div>	
<div>Question No.4</div> <div>Marks: 2.50</div> <div>Bookmark <input type="checkbox"/></div> <div>In a competitive examination, 70% candidates passed in section A, 55% in section B while 10% failed in both the sections. If 595 students passed in both the sections, find the total number of candidates who appeared in the competitive examination. एक प्रतियोगी परीक्षा में, सेक्शन A में 70%, सेक्शन B में 55% उम्मीदवार उत्तीर्ण हुए जबकि दोनों सेक्शनों में 10% अनुत्तीर्ण हुए। यदि 595 छात्र दोनों सेक्शनों में उत्तीर्ण हुए हैं, तो प्रतियोगी परीक्षा में भाग लेने वाले कुल उम्मीदवारों की संख्या ज्ञात करें।</div> <div>(A) <input checked="" type="radio"/> 1600 (Chosen option) 1600</div> <div>(B) <input type="radio"/> 1800 1800</div> <div>(C) <input type="radio"/> 1900 1900</div> <div>(D) <input type="radio"/> 1700 (Correct Answer) 1700</div>	
<div>Question No.5</div> <div>Marks: 2.50</div> <div>Bookmark <input type="checkbox"/></div> <div>The amount doubles itself under Compound interest in 15 years. In how many years will it become 4096 times of it? (In years) 15 वर्षों में चक्रवृद्धि ब्याज के तहत कोई राशि अपने आप की दोगुनी हो जाती है। कितने वर्षों में यह अपने आप की 4096 गुना हो जाएगी? (वर्षों में)</div> <div>(A) <input type="radio"/> 180 (Correct Answer) 180</div> <div>(B) <input checked="" type="radio"/> 190 (Chosen option) 190</div> <div>(C) <input type="radio"/> 160 160</div> <div>(D) <input type="radio"/> 170 170</div>	

Question No.6

Marks: 2.50  
Bookmark ☐

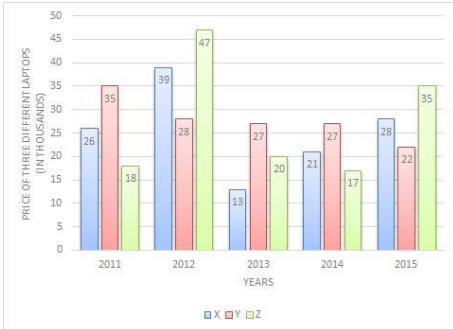
Directions:

The bar graph below shows the data of the Price of three different Laptops(in thousands) for the years 2011 to 2015. Find the difference between the price of laptop X in 2015 and laptop Z in 2011.(In thousands)



निर्देश:

नीचे दिया गया दण्ड आरेख 2011 से 2015 तक तीन अलग-अलग लैपटॉप की कीमत (हजारों में) का आंकड़ा दर्शाता है। 2015 में लैपटॉप X की कीमत और 2011 में लैपटॉप Z की कीमत के बीच अंतर ज्ञात कीजिए। (हजारों में)



- (A) ☐ 6  
6
- (B) ☒ 10 (Correct Answer) (Chosen option)  
10
- (C) ☐ 12  
12
- (D) ☐ 8  
8

Question No.7

Marks: 2.50  
Bookmark ☐

The 19<sup>th</sup> and 33<sup>rd</sup> terms of an AP are 344 and 414 respectively. Find the sum upto 26 terms.  
एक समांतर श्रेणी (AP) का 19 वाँ और 33 वाँ पद क्रमशः 344 और 414 है। 26 पदों तक योग ज्ञात कीजिए।

- (A) ☐ 8429  
8429
- (B) ☐ 8529  
8529
- (C) ☐ 8329  
8329
- (D) ☒ 8229 (Correct Answer) (Chosen option)  
8229

Question No.8

Marks: 2.50  
Bookmark ☐

Replace the question mark with an option that follows the same logic applied in the first pair.

Ffb : bFF :: Ssj : ??

प्रश्न चिह्न को उस विकल्प से बदलें जो पहले युग्म में लागू तर्क का अनुसरण करता है।

Ffb: bFF :: Ssj: ??

- (A) ☒ jSS (Correct Answer)  
jSS
- (B) ☐ jSs  
jSs
- (C) ☒ jss (Chosen option)  
jss
- (D) ☐ jsS  
jsS

Question No.9

Marks: 2.50  
Bookmark ☐

The selling price of the table is Rs.22680 after a discount of 16%. If the cost price is 75% of the marked price, then what is the cost price. (In Rs.)  
16% की छूट के बाद, एक टेबल का विक्रय मूल्य Rs. 22680 है। यदि क्रय मूल्य अंकित मूल्य का 75% है, तो क्रय मूल्य क्या है। (Rs. में)

- (A) ☐ 20450  
20450
- (B) ☐ 20350  
20350
- (C) ☒ 20550 (Chosen option)  
20550
- (D) ☒ 20250 (Correct Answer)  
20250

Question No.10

Marks: 2.50  
Bookmark ☐

<p>Sum of first 63 terms of a GP is equal to the sum of the first 61 terms in the same GP. When second term is -653, what is the sum of 50 terms in the same GP?</p> <p>गुणोत्तर श्रेणी (GP) के प्रथम 63 पदों का योग समान गुणोत्तर श्रेणी (GP) के प्रथम 61 पदों के योग के बराबर है। यदि उसी गुणोत्तर श्रेणी में दूसरा पद -653 है, तो 50 पदों का योग कितना होगा?</p> <p>(A) <input type="radio"/> 4</p> <p>(B) <input checked="" type="radio"/> 0 (Correct Answer)</p> <p>(C) <input type="radio"/> 6</p> <p>(D) <input type="radio"/> 2 (Chosen option)</p>	
<p><b>Question No.11</b></p> <p>Find the next term in given series. ANTHROHOPOBIOLOGICAL, ROHOPOBIOLOG, HROHOPOBIOLOGI, OPOBIO, ? दी गई श्रृंखला में अगला पद ज्ञात कीजिए। ANTHROHOPOBIOLOGICAL, ROHOPOBIOLOG, HROHOPOBIOLOGI, OPOBIO, ?</p> <p>(A) <input type="radio"/> OBIOL (Chosen option)</p> <p>(B) <input type="radio"/> OPOBIO</p> <p>(C) <input checked="" type="radio"/> HOPOBIOL (Correct Answer)</p> <p>(D) <input type="radio"/> HOPOBI</p>	<p>Marks: 2.50</p> <p>Bookmark <input type="checkbox"/></p>
<p><b>Question No.12</b></p> <p>What value should come in the place of question mark (?) in the following question: <math>672/900-572/900+472/900 = ?</math> निम्नलिखित प्रश्न में प्रश्न चिह्न (?) के स्थान पर क्या मान आना चाहिए: <math>672 / 900-572 / 900 + 472/900 = ?</math></p> <p>(A) <input type="radio"/> 0.535555</p> <p>(B) <input type="radio"/> 0.735555</p> <p>(C) <input type="radio"/> 0.435555 (Chosen option)</p> <p>(D) <input checked="" type="radio"/> 0.635555 (Correct Answer)</p>	<p>Marks: 2.50</p> <p>Bookmark <input type="checkbox"/></p>
<p><b>Question No.13</b></p> <p>A lent a part of Rs.26000 to X at 9% simple interest. Rest to Y at 4% at simple interest. After 5 years he got an amount of Rs.33800 in total. Then what is the amount lent to Y? (In Rs.) A ने X को 9% साधारण ब्याज पर Rs.26000 का एक हिस्सा उधार दिया। शेष राशि को 4% साधारण ब्याज की दर पर Y को दिया। 5 वर्ष बाद उसे कुल मिलाकर Rs. 33800 की राशि मिली। तो फिर Y को कितनी राशि उधार दी गई है? (Rs. में)</p> <p>(A) <input checked="" type="radio"/> 15600 (Correct Answer) (Chosen option)</p> <p>(B) <input type="radio"/> 15500</p> <p>(C) <input type="radio"/> 15800</p> <p>(D) <input type="radio"/> 15700</p>	<p>Marks: 2.50</p> <p>Bookmark <input type="checkbox"/></p>
<p><b>Question No.14</b></p> <p>Solve for X: <math>\sqrt{x} \times 122 = (23863-22765) \times 11</math> X का मान ज्ञात करें: <math>\sqrt{x} \times 122 = (23863-22765) \times 11</math></p> <p>(A) <input type="radio"/> 9901</p> <p>(B) <input type="radio"/> 9701</p> <p>(C) <input type="radio"/> 10001 (Chosen option)</p> <p>(D) <input checked="" type="radio"/> 9801 (Correct Answer)</p>	<p>Marks: 2.50</p> <p>Bookmark <input type="checkbox"/></p>
<p><b>Question No.15</b></p> <p>Two alarm clocks ring their alarms at regular intervals of 72 seconds and 80 seconds. If they first beep together at 6:00 am, at what time will they beep again for the first time? दो अलार्म घड़ियों के अलार्म 72 सेकंड और 80 सेकंड के नियमित अंतराल पर बजते हैं। यदि वे पहली बार 6:00 am को एक साथ बीप करती हैं, तो वह दोबारा किस समय पहली बार फिर से बीप करेंगी?</p> <p>(A) <input type="radio"/> 6:19 AM</p> <p>(B) <input type="radio"/> 6:17 AM</p> <p>(C) <input type="radio"/> 6:15 AM</p> <p>(D) <input checked="" type="radio"/> 6:12 AM (Correct Answer) (Chosen option)</p>	<p>Marks: 2.50</p> <p>Bookmark <input type="checkbox"/></p>
<p><b>Question No.16</b></p> <p>Which of the following sets of signs should be used to replace * in the following? <math>92 * 4 * 3 = 2 * 9 * 2</math> निम्नलिखित में * को प्रतिस्थापित करने के लिए चिह्नों के कौन से समुच्चय का उपयोग किया जाना चाहिए? <math>92 * 4 * 3 = 2 * 9 * 2</math></p> <p>(A) <input type="radio"/> + x -</p> <p>(B) <input type="radio"/> x - +</p>	<p>Marks: 2.50</p> <p>Bookmark <input type="checkbox"/></p>

- (C) ☐ + x x +  
+ x x +
- (D) ☒ ÷ - x + (Correct Answer) (Chosen option)  
÷ - x +

Question No.17

Marks: 2.50  
Bookmark ☐

A train traveling at 140 km/h completely crosses another train having half its length and traveling in the opposite direction at 40 km/h in 6 s. If it also passes a railway platform in 45 s,

then find the length of the platform. (In m)

140 km/h की चाल से चल कर रही एक ट्रेन, अपने से आधी लंबाई वाली एक दूसरी ट्रेन को जो 40 km/h की चाल से विपरीत दिशा की ओर चल रही है, को 6 सेकेंड (s) में पूरी तरह से पार करती है। यदि यह किसी रेलवे

प्लेटफॉर्म को 45 सेकेंड (s) में पार करती है तो प्लेटफॉर्म की लंबाई ज्ञात कीजिए। (m में)

- (A) ☐ 1850  
1850
- (B) ☐ 1750  
1750
- (C) ☒ 1650 (Chosen option)  
1650
- (D) ☐ 1550 (Correct Answer)  
1550

Question No.18

Marks: 2.50  
Bookmark ☐

The letters of the name of a vegetable are L, C, R, O, O, I, B and C. If the letters are rearranged correctly, then what is the sixth letter of the word formed?

एक सब्जी के नाम के अक्षर L, C, R, O, O, I, B और C हैं। यदि अक्षरों को सही तरीके से पुनर्व्यवस्थित किया जाता है, तो गठित शब्द का छठा अक्षर क्या है?

- (A) ☐ R  
R
- (B) ☐ B  
B
- (C) ☒ I (Chosen option)  
I
- (D) ☐ O (Correct Answer)  
O

Question No.19

Marks: 2.50  
Bookmark ☐

A can do a piece of work in 2415 days. B is 25% more efficient than A. Find the number of days taken by B to do the same piece of work.

A, 2415 दिनों में एक कार्य कर सकता है। B, A की तुलना में 25% अधिक कुशल है। उसी कार्य को करने के लिए B द्वारा लिए गए दिनों की संख्या ज्ञात कीजिए।

- (A) ☐ 1832  
1832
- (B) ☒ 2132 (Chosen option)  
2132
- (C) ☐ 2032  
2032
- (D) ☐ 1932 (Correct Answer)  
1932

Question No.20

Marks: 2.50  
Bookmark ☐

A shopkeeper bought 170 kg of rice at the rate of Rs.140 per kg. He sold 60% of the total quantity at the rate of Rs.175 per kg. At what price per kg should he sell the remaining quantity to make 45% overall profit? (In Rs.)

एक दुकानदार ने Rs.140 प्रति kg की दर से 170 kg चावल खरीदे। उसने कुल मात्रा का 60%, Rs.175 प्रति kg की दर से बेचा। कुल 45% लाभ अर्जित करने के लिए उसे चावल की शेष मात्रा को किस कीमत पर बेचना चाहिए? (Rs. में)

- (A) ☐ 265  
265
- (B) ☐ 275  
275
- (C) ☐ 255  
255
- (D) ☒ 245 (Correct Answer) (Chosen option)  
245

Question No.21

Marks: 2.50  
Bookmark ☐

Directions:

The bar graph below shows the data of the Price of three different Laptops(in thousands) for the years 2011 to 2015.

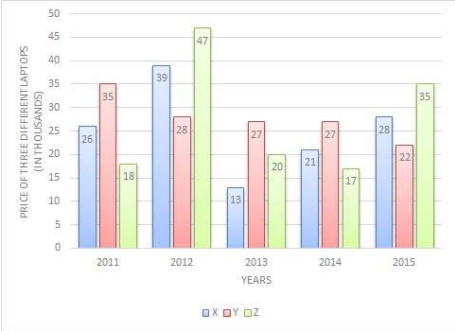
Find the average price of laptop X in all the five years.(In thousands)



निर्देश:

नीचे दिया गया दण्ड आरेख 2011 से 2015 तक तीन अलग-अलग लैपटॉप की कीमत (हजारों में) का आंकड़ा दर्शाता है।

सभी पाँच वर्षों में लैपटॉप X की औसत कीमत ज्ञात करें। (हजारों में)



- (A) ☒ 26.4 (Chosen option)  
26.4
- (B) ☐ 28.4  
28.4
- (C) ☐ 25.4 (Correct Answer)  
25.4
- (D) ☐ 27.4  
27.4

Question No.22

Marks: 2.50  
Bookmark ☐

Three pipes A, B and C can fill a cistern in 72 hours. After working at it together for 24 hours, C is closed and A and B filled the remaining part in 72 hours. Find the number of hours required by C alone to fill the cistern.  
तीन पाइप A, B और C, 72 घंटों में एक टंकी को भर सकते हैं। 24 घंटे तक एक साथ कार्य करने के बाद, C को बंद कर दिया जाता है और A और B ने शेष भाग को 72 घंटों में भर दिया। टंकी को भरने के लिए अकेले C द्वारा लिए जाने वाले आवश्यक घंटों की संख्या ज्ञात करें।

- (A) ☐ 226  
226
- (B) ☐ 206  
206
- (C) ☒ 216 (Correct Answer) (Chosen option)  
216
- (D) ☐ 196  
196

Question No.23

Marks: 2.50  
Bookmark ☐

In what ratio must a grocer mix two varieties of pulses costing Rs.66 and Rs.88 per kg respectively so as to get a mixture worth Rs.76 per kg?  
किसी पंसारी को Rs. 66 और Rs. 88 प्रति kg की कीमत वाली दालों की दो किस्मों को किस अनुपात में मिलाना चाहिए ताकि Rs.76 प्रति kg का मिश्रण प्राप्त किया जा सके।

- (A) ☒ 6:5 (Correct Answer)  
6:5
- (B) ☐ 5:6  
5:6
- (C) ☒ 4:5 (Chosen option)  
4:5
- (D) ☐ 3:4  
3:4

Question No.24

Marks: 2.50  
Bookmark ☐

Find the surface area of the sphere whose radius is 21cm and  $\pi = 3.14(\text{cm}^2)$ .  
गोले का पृष्ठीय क्षेत्रफल ज्ञात करें, जिसकी त्रिज्या 21 cm और  $\pi = 3.14 (\text{cm}^2)$  है।

- (A) ☒ 5538.96 (Correct Answer) (Chosen option)  
5538.96
- (B) ☐ 5839.96  
5839.96
- (C) ☐ 5739.96  
5739.96
- (D) ☐ 5638.96  
5638.96

Question No.25

Marks: 2.50  
Bookmark ☐

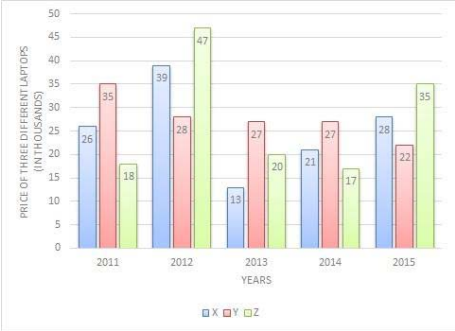
Find the next term in the given series.  
C31, G37, K43, O49, ?

- दी गई श्रृंखला में अगला पद ज्ञात कीजिए।  
C31, G37, K43, O49, ?
- (A) ☐ Q55  
Q55
- (B) ☐ R55  
R55
- (C) ☒ S55 (Correct Answer) (Chosen option)  
S55
- (D) ☐ R54  
R54

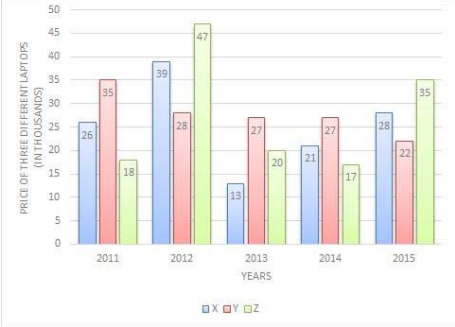
Question No.26

Marks: 2.50  
Bookmark ☐

**Directions:**  
The bar graph below shows the data of the Price of three different Laptops(in thousands) for the years 2011 to 2015.  
The price of Y in 2014 is what % more than the price of Z in 2014?(Approximately upto 2 decimals)



निर्देश:  
नीचे दिया गया दण्ड अरेख 2011 से 2015 तक तीन अलग-अलग लैपटॉप की कीमत (हजारों में) का आंकड़ा दर्शाता है।  
2014 में Y की कीमत 2014 में Z की कीमत से कितने % अधिक है? (लगभग 2 दशमलव तक)



- (A) ☐ 59.82  
59.82
- (B) ☐ 60.82  
60.82
- (C) ☒ 58.82 (Correct Answer) (Chosen option)  
58.82
- (D) ☐ 57.82  
57.82

Question No.27

Marks: 2.50  
Bookmark ☐

A Kindle is sold for \$1196 at a profit of 15%. What would have been the actual profit or loss on it, if it had been sold for \$884?  
एक किंडल 15% के लाभ पर \$1196 में बेचा जाता है। यदि इसे \$884 में बेचा जाता है तो वास्तविक लाभ या हानि क्या होगी?

- (A) ☐ 10 % Profit  
10 % लाभ
- (B) ☒ 15 % Loss (Correct Answer)  
15 % हानि
- (C) ☐ 20 % Profit (Chosen option)  
20 % लाभ
- (D) ☐ 5 % Loss  
5 % हानि

Question No.28

Marks: 2.50  
Bookmark ☐

Choose the correct water image of the given image from the following options.

LOVABLE

निम्नलिखित विकल्पों में से दी गई आकृति का सही जल प्रतिबिंब चुनें।

LOVABLE

- (A) ☐   
EBLAVOJ  
EBLAVOJ
- (B) ☐   
ELBAVOL

LOVABLE

(C) ☐

LOVABLE

(Chosen option)

LOVABLE

(D) ☐

LOVABLE

(Correct Answer)

LOVABLE

Question No.29

Marks: 2.50  
Bookmark ☐

If 25th March, 2121 is Tuesday, what will be the day of the week on 25th March, 2120?  
यदि 25 मार्च, 2121 को मंगलवार है, तो 25 मार्च, 2120 को सप्ताह का कोनसा दिन होगा?

- (A) ☐ Wednesday  
बुधवार
- (B) ☐ Saturday  
शनिवार
- (C) ☒ Monday (Correct Answer) (Chosen option)  
सोमवार
- (D) ☐ Sunday  
रविवार

Case Study - 30 to 31

5.00

Directions : In the following questions, few statements are given and these statements are followed by two conclusions numbered i and ii. You have to take the given statements to be true even if they seem to be at variance from commonly known facts. Read the conclusions and then decide which of the given conclusions logically follows from the given statements, disregarding commonly known facts.

- Choose,
- (A) Only (i) conclusion follows
- (B) Only (ii) conclusion follows
- (C) Neither (i) nor (ii) follows
- (D) Both (i) and (ii) follow
- (E) Either (i) or (ii) follows

Question No.30

Marks: 2.50  
Bookmark ☐

Statements:  
Some girls are students.  
All students are boys.

Conclusions:  
i) Some girls are boys.  
ii) No girl is boy

कथन:  
कुछ लड़कियां, विद्यार्थी हैं।  
सभी विद्यार्थी, लड़के हैं।

- निष्कर्ष:  
i) कुछ लड़कियां, लड़के हैं।  
ii) कोई लड़की, लड़का नहीं है।
- (A) ☒ A (Correct Answer)  
A
- (B) ☐ B (Chosen option)  
B
- (C) ☐ C  
C
- (D) ☐ E  
E

Question No.31

Marks: 2.50  
Bookmark ☐

Statements:  
Some rice are maize.  
All maize are jute.  
Some jute are cereals.

Conclusions:  
i) Some rice are jute.  
ii) Some cereals are maize.

कथन:  
कुछ चावल, मक्का हैं।  
सभी मक्का, पटसन हैं।  
कुछ पटसन, अनाज हैं।

<p>निष्कर्ष:</p> <p>i) कुछ चावल, पटसन हैं।</p> <p>ii) कुछ अनाज, मक्का हैं।</p> <p>(A) <input checked="" type="radio"/> A (Correct Answer)</p> <p>A</p> <p>(B) <input type="radio"/> B (Chosen option)</p> <p>B</p> <p>(C) <input type="radio"/> C</p> <p>C</p> <p>(D) <input type="radio"/> E</p> <p>E</p>	
<p>Question No.32</p> <p>Replace the question mark with an option that follows the same logic applied in the first pair.</p> <p>CAT : FCU :: DOG : ??</p> <p>प्रश्न चिह्न को उस विकल्प से बदलें जो पहले युग्म में लागू तर्क का अनुसरण करता है।</p> <p>CAT: FCU :: DOG: ??</p> <p>(A) <input type="radio"/> FRH</p> <p>FRH</p> <p>(B) <input checked="" type="radio"/> GQH (Correct Answer) (Chosen option)</p> <p>GQH</p> <p>(C) <input type="radio"/> GRH</p> <p>GRH</p> <p>(D) <input type="radio"/> GRI</p> <p>GRI</p>	<p>Marks: 2.50</p> <p>Bookmark <input type="checkbox"/></p>
<p>Question No.33</p> <p>Find the remainder when <math>27^{22}</math> divided by 729.</p> <p><math>27 \wedge 22</math> को 729 से विभाजित करने पर शेषफल ज्ञात कीजिए।</p> <p>(A) <input type="radio"/> 2 (Chosen option)</p> <p>2</p> <p>(B) <input type="radio"/> 6</p> <p>6</p> <p>(C) <input type="radio"/> 4</p> <p>4</p> <p>(D) <input checked="" type="radio"/> 0 (Correct Answer)</p> <p>0</p>	<p>Marks: 2.50</p> <p>Bookmark <input type="checkbox"/></p>
<p>Question No.34</p> <p>In this question, a statement is given followed by two conclusions numbered i and ii. You have to assume everything in the statement to be true, then consider the two conclusions together and decide which of them logically follows beyond a reasonable doubt from the information given in the statement.</p> <p>Statement:</p> <p>Arun scored 280 runs in the match.</p> <p>Conclusion:</p> <p>i) Arun played a test match.</p> <p>ii) Arun's team won the match.</p> <p>Choose the appropriate one from the following options</p> <p>(A) Only conclusion i follows</p> <p>(B) Only conclusion ii follows</p> <p>(C) Either i or ii follows</p> <p>(D) Neither i nor ii follows and</p> <p>(E) Both i and ii follow.</p> <p>इस प्रश्न में, एक कथन के बाद दो निष्कर्ष i और ii दिए गए हैं। आपको दिए गए कथन को सत्य मानना है, फिर दोनों निष्कर्षों पर विचार करें और तय करें कि उनमें से कौन सा निष्कर्ष, उचित संदेह से परे तार्किक रूप से, कथन में दी गई जानकारी का अनुसरण करता है।</p> <p>कथन:</p> <p>अरुण ने मैच में 280 रन बनाए।</p> <p>निष्कर्ष:</p> <p>i) अरुण ने एक टेस्ट मैच खेला।</p> <p>ii) अरुण की टीम ने मैच जीता।</p> <p>निम्नलिखित विकल्पों में से उपयुक्त को चुनें</p> <p>(A) केवल निष्कर्ष (i) अनुसरण करता है।</p> <p>(B) केवल निष्कर्ष (ii) अनुसरण करता है।</p> <p>(C) या तो (i) या (ii) अनुसरण करता है।</p> <p>(D) न तो (i) और न ही (ii) अनुसरण करता है।</p> <p>(E) दोनों (i) और (ii) अनुसरण करते हैं।</p> <p>(A) <input type="radio"/> B</p> <p>B</p> <p>(B) <input checked="" type="radio"/> D (Correct Answer)</p> <p>D</p> <p>(C) <input type="radio"/> A (Chosen option)</p> <p>A</p> <p>(D) <input type="radio"/> C</p> <p>C</p>	<p>Marks: 2.50</p> <p>Bookmark <input type="checkbox"/></p>
<p>Question No.35</p> <p>If <math>\times</math> means <math>+</math>, <math>+</math> means <math>+</math>, <math>-</math> means <math>\times</math> &amp; <math>+</math> means <math>-</math>, then, <math>9 \times 5 - 12 + 3 + 1 = ?</math></p> <p>यदि <math>\times</math> का अर्थ <math>+</math> है, <math>+</math> का अर्थ <math>+</math> है, <math>-</math> का अर्थ <math>\times</math> है और <math>+</math> का अर्थ <math>-</math> है, तो, <math>9 \times 5 - 12 + 3 + 1 = ?</math></p> <p>(A) <input type="radio"/> 35 (Chosen option)</p> <p>35</p> <p>(B) <input type="radio"/> 30</p> <p>30</p> <p>(C) <input type="radio"/> 40</p> <p>40</p> <p>(D) <input checked="" type="radio"/> 28 (Correct Answer)</p> <p>28</p>	<p>Marks: 2.50</p> <p>Bookmark <input type="checkbox"/></p>

Question No.36

Marks: 2.50

Bookmark

Anwar rows 49.5 kmph in still water. If the river is running at 16.5 kmph, it takes him 90 minutes to row to a place and back. How far is the place? (In km)  
अनवर, शांत जल में 49.5 kmph की गति से नाव चलाता है। यदि नदी 16.5 kmph प्रति घंटे की गति से बह रही है, तो उसे एक जगह जाने और लौटने के लिए 90 मिनट लगते हैं। वह जगह कितनी दूर है? (km में)

(A)

33

(Correct Answer)

(B)

27

(C)

29

(Chosen option)

(D)

31

Question No.37

Marks: 2.50

Bookmark

The average weight of P, Q and R is 55 kg. If the average weight of P and Q is 49 kg and that of Q and R is 50 kg, what is the weight of Q? (In kg)  
P, Q और R का औसत भार 55 kg है। यदि P और Q का औसत भार 49 kg है और Q और R का भार 50 kg है, तो Q का भार क्या है? (kg में)

(A)

27

(B)

31

(Chosen option)

(C)

29

(D)

33

(Correct Answer)

Case Study - 38 to 39

Marks: 5.00

Directions : Study the following line graph carefully and answer the questions given below it.  
The line graph compares the Income and Expenditure of a company for the given years.  
Profit = Income - Expenditure % Profit = [Profit / Expenditure ] \* 100

Income

Expenditure

2015-16

2016-17

2017-18

2018-19

2019-20

120

150

230

325

270

70

65

175

280

245

Question No.38

Marks: 2.50

Bookmark

What is the average income (in crore) for the given years?  
दिए गए वर्षों के लिए औसत आय (करोड़ में) क्या है?

(A)

219

(Correct Answer)

(B)

218

(C)

217

(D)

216

(Chosen option)

Question No.39

Marks: 2.50

Bookmark

Find the profit percentage in the year 2015 - 2016.  
वर्ष 2015 से 2016 तक लाभ प्रतिशत ज्ञात कीजिए।

(A)

74.3%

(B)

71.42%

(Correct Answer)

(C)

67.5%

(D)

72.28%

(Chosen option)

Question No.40

Marks: 2.50

Bookmark

The question given below consists of a statement, followed by two arguments numbered 1 and 2. You have to decide which of the arguments is a 'strong' argument and which is a 'weak' argument.

Give answer:

(A) If only argument1 is strong

(B) If only argument 2 is strong

(C) If either 1 or 2 is strong

(D) If neither 1 nor 2 is strong and

(E) If both 1 and 2 are strong.

Statement:

Should there be a limit to media freedom?

Argument:

1. Yes, the press might mislead people.

2. No, it can give voice to the voiceless.

नीचे दिए गए प्रश्न में एक कथन है, जिसके बाद दो तर्क 1 और 2 दिए गए हैं। आपको यह तय करना है कि कौन सा तर्क एक 'प्रबल' तर्क है और कौन सा एक 'दुर्बल' तर्क है।

उत्तर दीजिए:

(A) यदि केवल तर्क 1 प्रबल है।

(B) यदि केवल तर्क 2 प्रबल है।

(C) यदि या तो 1 या 2 प्रबल है।

Teachingninja.in

- (D) यदि न तो 1 और न ही 2 प्रबल है और  
(E) यदि 1 और 2 दोनों प्रबल हैं।

कथन:  
क्या मीडिया की स्वतंत्रता की कोई सीमा होनी चाहिए?

- तर्क:  
1. हाँ, प्रेस लोगों को गुमराह कर सकती है।  
2. नहीं, यह बे-आवाज़ की आवाज़ बन सकता है।

- (A) ☐ B  
B  
(B) ☐ E (Chosen option)  
E  
(C) ☒ A (Correct Answer)  
A  
(D) ☐ D  
D

MENTAL APTITUDE - INTELLIGENCE - TEST OF REASONING - MENTAL APTITUDE - INTELLIGENCE - TEST OF REASONING

Question No.1

Marks: 2.50  
Bookmark ☐

Replace the question mark with an option that follows the same logic applied in the first pair.  
29:19::37: ?  
प्रश्नचिह्न को उस विकल्प से प्रतिस्थापित करें जो पहले युग्म में लागू तर्क का अनुसरण करता है।

- (A) ☒ 22 (Correct Answer)  
22  
(B) ☐ 21  
21  
(C) ☐ 19 (Chosen option)  
19  
(D) ☐ 20  
20

Question No.2

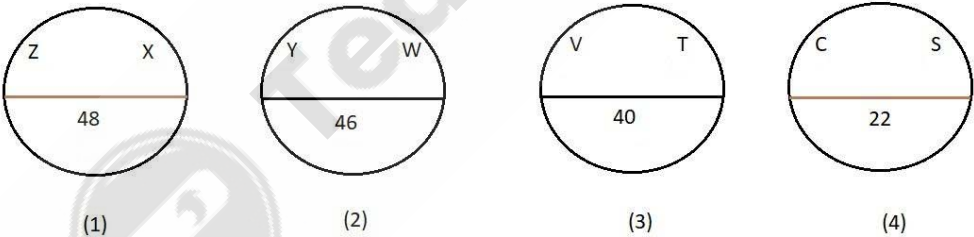
Marks: 2.50  
Bookmark ☐

- "CEDAW" has often been described as :  
"CEDAW" को अक्सर किस रूप में वर्णित किया जाता है?  
(A) ☐ Labour Discrimination Bill  
श्रम भेदभाव बिल  
(B) ☒ International Bill of Rights for Women (Correct Answer) (Chosen option)  
महिलाओं के अधिकारों का अन्तर्राष्ट्रीय बिल  
(C) ☐ Racial Discrimination Bill  
नस्लीय भेदभाव बिल  
(D) ☐ Economic Discrimination Bill  
आर्थिक भेदभाव बिल

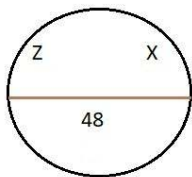
Question No.3

Marks: 2.50  
Bookmark ☐

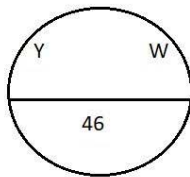
Find the odd image out in the given series.



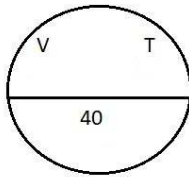
दी गई श्रृंखला में से असंगत चित्र ज्ञात करें।



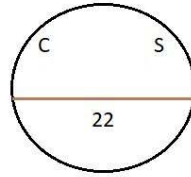
(1)



(2)



(3)



(4)

- (A) ☐ 1  
1  
(B) ☒ 4 (Correct Answer)  
4  
(C) ☐ 2 (Chosen option)  
2  
(D) ☐ 3  
3

#### Question No.4

Marks: 2.50  
Bookmark ☐

Replace the question mark with an option that follows the same logic applied in the first pair.

Bee : Larva :: Frog : ??

प्रश्न चिह्न को उस विकल्प से बदलें जो पहले युग्म में लागू तर्क का अनुसरण करता है।

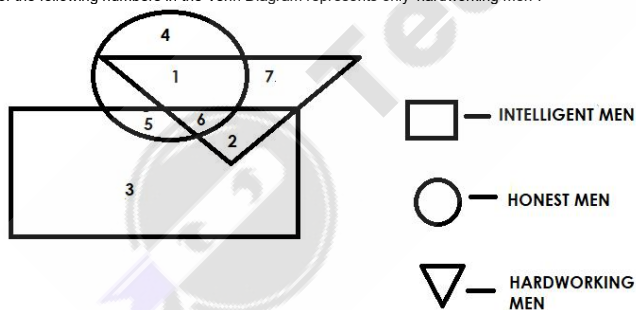
Bee : Larva :: Frog : ??

- (A) ☐ Calf  
Calf  
(B) ☐ Joey (Chosen option)  
Joey  
(C) ☒ Tadpole (Correct Answer)  
Tadpole  
(D) ☐ Kit  
Kit

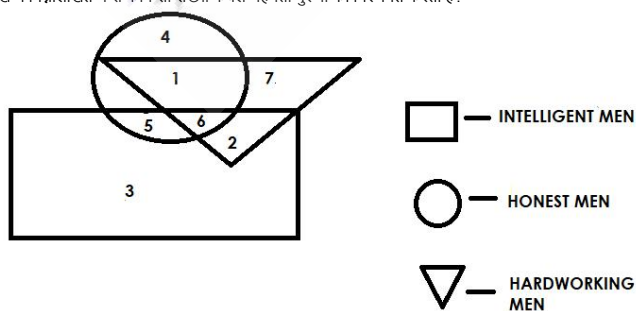
#### Question No.5

Marks: 2.50  
Bookmark ☐

Which of the following numbers in the Venn Diagram represents only 'hardworking men'?



वेन आरेख में निम्नलिखित में से कौन सी संख्या केवल मेहनती पुरुषों को निरूपित करती है?



- (A) ☐ 3  
3  
(B) ☐ 6  
6  
(C) ☐ 4 (Chosen option)

(D) ☐ 7 (Correct Answer)

7

Question No.6

Marks: 2.50  
Bookmark ☐

Choose the alternative which is an odd word/number/letter pair out of the given alternatives.  
दिए गए विकल्पों में से असंगत शब्द/संख्या/अक्षर युग्म वाले विकल्प का चयन कीजिए।

- (A) ☐ Crisp  
Crisp
- (B) ☐ Brief (Chosen option)  
Brief
- (C) ☐ Short  
Short
- (D) ☐ Long (Correct Answer)  
Long

Question No.7

Marks: 2.50  
Bookmark ☐

B is 8th from the right end. If B is shifted five places to the left, then B will be at the extreme left. How many persons are there in the row?  
B, दाएँ छोर से 8वें स्थान पर है। यदि B को पाँच स्थान बाएँ स्थानांतरित किया जाता है, तो B बाएँ छोर पर होगा। पंक्ति में कितने व्यक्ति हैं?

- (A) ☐ 14  
14
- (B) ☐ 13 (Correct Answer) (Chosen option)  
13
- (C) ☐ 12  
12
- (D) ☐ 11  
11

Question No.8

Marks: 2.50  
Bookmark ☐

If  $\odot = 20$ ,  $\$ = 7$ ,  $\& = 5$ ,  $\# = 10$ ,  $\% = 12$ , then  $\# \times \odot + \& + \$ - \% = ?$   
यदि  $\odot = 20$ ,  $\$ = 7$ ,  $\& = 5$ ,  $\# = 10$ ,  $\% = 12$  है, तो  $\# \times \odot + \& + \$ - \% = ?$

- (A) ☐ 19  
19
- (B) ☐ 38 (Chosen option)  
38
- (C) ☐ 43  
43
- (D) ☐ 35 (Correct Answer)  
35

Question No.9

Marks: 2.50  
Bookmark ☐

A box containing the denominations of fifty paise coins, two rupee coins and five rupee coins amount to Rs.1275. There are equal number of coins in all denominations. What is the total number of coins in the box?

एक बॉक्स में पचास पैसे, दो रुपए और पांच रुपए के मूल्यवर्गों के सिक्के हैं जिनकी कुल राशि Rs.1275 है। सभी मूल्यवर्गों के सिक्कों की संख्या समान है। बॉक्स में कुल कितने सिक्के हैं?

- (A) ☐ 180  
180
- (B) ☐ 510 (Correct Answer)  
510
- (C) ☐ 170 (Chosen option)  
170
- (D) ☐ 540  
540

Question No.10

Marks: 2.50  
Bookmark ☐

A is the only daughter of B whose wife is C. D is the son-in-law of C. How is C related to A's kids?  
A, B की इकलौती बेटी है, जिसकी पत्नी C है। D, C का दामाद है। C का A के बच्चों से क्या संबंध है?

- (A) ☐ Aunt  
आँट
- (B) ☐ Granddaughter  
ग्रैंडडॉटर
- (C) ☐ Mother  
माँ
- (D) ☐ Grandmother (Correct Answer) (Chosen option)  
ग्रैंडमदर

Question No.11

Marks: 2.50  
Bookmark ☐

When is International Peace day observed?  
अंतर्राष्ट्रीय शांति दिवस कब मनाया जाता है?

- (A) ☐ 10th October  
10 अक्टूबर
- (B) ☐ 12th July  
12 जुलाई
- (C) ☐ 21st March  
21 मार्च
- (D) ☐ 21st September (Correct Answer) (Chosen option)  
21 सितम्बर

Question No.12

Marks: 2.50  
Bookmark ☐

How much percentage of the sanctioned posts of Sub Inspector are filled through direct recruitment in the state police department?  
राज्य पुलिस विभाग में सब इंस्पेक्टर के स्वीकृत पदों का कितना प्रतिशत सीधी भर्ती द्वारा भरा जाता है?

- (A) ☐ 100 percent  
100 प्रतिशत
- (B) ☐ 50 percent (Correct Answer)  
50 प्रतिशत

- (C) ☐ 75 percent  
75 प्रतिशत
- (D) ☐ 25 percent (Chosen option)  
25 प्रतिशत

Question No.13

Marks: 2.50  
Bookmark ☐

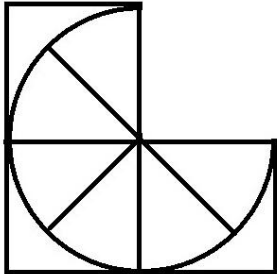
A boy starts from point A and walks 9km towards West; turns left and walks 6km and turns another left and walks 9km. He then walks 2km towards North; turns left and walks 2km; turns right and walks 4km. He then finally walks 9km after turning right and reaches B. How far is A from B?  
एक लड़का बिंदु A से चलता है और 9 km पश्चिम की ओर चलता है; बाएं मुड़ता है और 6 km चलता है और फिर बाएं मुड़ता है और 9 km चलता है। वह फिर उत्तर की ओर 2 km चलता है; बाएं मुड़ता है और 2 km चलता है; दाएं मुड़ता है और 4 km चलता है। अंत में वह फिर दाईं ओर मुड़ने के बाद 9 km चलता है और B तक पहुंचता है। A, B से कितनी दूर है?

- (A) ☐ 14km  
14km
- (B) ☒ 7km (Correct Answer)  
7km
- (C) ☐ 9km (Chosen option)  
9km
- (D) ☐ 12km  
12km

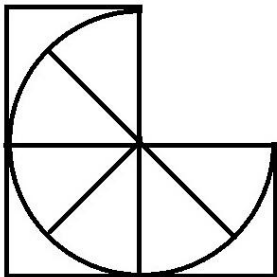
Question No.14

Marks: 2.50  
Bookmark ☐

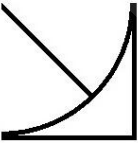

Which one of the following alternatives will **perfectly** complete the given figure?



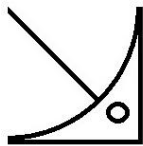
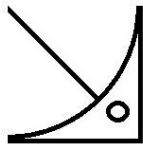
निम्नलिखित में से कौन सा विकल्प दी गई आकृति को **उत्तम** रूप से पूर्ण करेगा?



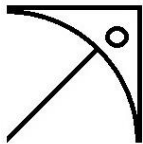
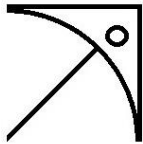
- (A) ☐  (Correct Answer) (Chosen option)

- (B) ☐   


(C) ☐



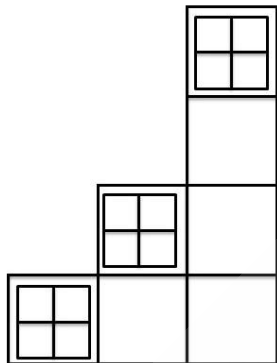
(D) ☐



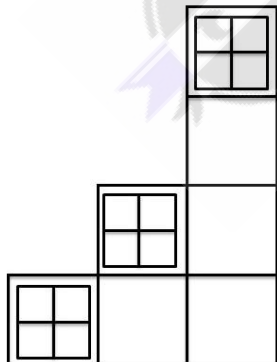
Question No.15

Marks: 2.50  
Bookmark ☐

How many squares are there in the given figure?



दिए गए चित्र में कितने वर्ग हैं?



(A) ☐ 21 (Chosen option)

21

(B) ☐ 20

20

(C) ☐ 23 (Correct Answer)

23

(D) ☐ 24  
24

Question No.16

Marks: 2.50  
Bookmark ☐

In this question, relationship between different elements is shown in the statement. This statement is followed by two conclusions:

Statement:  
 $C < H \leq A = M > P > I \geq O > N$

Conclusions:  
i)  $C < A$   
ii)  $P \geq N$

Choose the appropriate one from the following options  
(A) Only conclusion i follows  
(B) Only conclusion ii follows  
(C) Either i or ii follows  
(D) Neither i nor ii follows  
(E) Both i and ii follow

इस प्रश्न में, कथन में विभिन्न तत्वों के बीच संबंध दर्शाया गया है। इस कथन के बाद दो निष्कर्ष दिए गए हैं:

कथन:  
 $C < H \leq A = M > P > I \geq O > N$

निष्कर्ष:  
i)  $C < A$   
ii)  $P \geq N$

निम्नलिखित विकल्पों में से उपयुक्त विकल्प चुनें  
(A) केवल निष्कर्ष i अनुसरण करता है  
(B) केवल निष्कर्ष ii अनुसरण करता है  
(C) या तो निष्कर्ष i या निष्कर्ष ii अनुसरण करता है  
(D) न ही निष्कर्ष i और न निष्कर्ष ii अनुसरण करता है  
(E) दोनों निष्कर्ष i और निष्कर्ष ii अनुसरण करते हैं

- (A) ☐ B (Chosen option)  
B  
(B) ☐ A (Correct Answer)  
A  
(C) ☐ D  
D  
(D) ☐ C  
C

Question No.17

Marks: 2.50  
Bookmark ☐

In a certain code language, if ALLOW is coded as DOORZ, then how is DELAY coded in that language?  
एक निश्चित कूट भाषा में, यदि ALLOW को DOORZ के रूप में कूटबद्ध किया जाता है, तो उसी भाषा में DELAY को कैसे कूटबद्ध किया जाता है?

- (A) ☐ HGOBD  
HGOBD  
(B) ☐ GHODB (Correct Answer) (Chosen option)  
GHODB  
(C) ☐ CEPIH  
CEPIH  
(D) ☐ WVOZB  
WVOZB

Question No.18

Marks: 2.50  
Bookmark ☐

According to the Constitution of India, an arrested person must be produced before a magistrate within how many hours?  
भारतीय संविधान के अनुसार, गिरफ्तार व्यक्ति को कितने घंटे के भीतर दंडाधिकारी के सामने पेश किया जाना चाहिए?

- (A) ☐ 12 hours  
12 घंटे  
(B) ☐ 36 hours  
36 घंटे  
(C) ☐ 24 hours (Correct Answer) (Chosen option)  
24 घंटे  
(D) ☐ 48 hours  
48 घंटे

Question No.19

Marks: 2.50  
Bookmark ☐

How many such 8s are there in the following number sequence which are immediately preceded by 6?  
6 8 8 4 9 8 5 2 8 6 9 8 8 6 8 5 9 6 8 2 3 6 7 8 6 8 9

निम्नलिखित संख्या अनुक्रम में ऐसे कितने 8 हैं जिनके ठीक पहले 6 हैं?  
6 8 8 4 9 8 5 2 8 6 9 8 8 6 8 5 9 6 8 2 3 6 7 8 6 8 9

- (A) ☐ five  
पांच  
(B) ☐ four (Correct Answer) (Chosen option)  
चार  
(C) ☐ three  
तीन  
(D) ☐ two  
दो

Question No.20

Marks: 2.50  
Bookmark ☐

Person A is standing exactly in-between P and Q in a queue. P is 18th from the front of the queue and Q is 23rd from the end of the queue. P and A has 2 persons between them. What is the total number people in the queue?

व्यक्ति A, एक पंक्ति में P और Q के ठीक मध्य में खड़ा है। P, पंक्ति के आरंभ से 18वें स्थान पर है और Q, पंक्ति के अंत से 23वें स्थान पर है। P और A के बीच में दो व्यक्ति हैं। पंक्ति में कुल कितने व्यक्ति हैं?

- (A) ☐ 46 (Correct Answer)  
46  
(B) ☐ 49  
49

- (C) ☐ 48  
48  
(D) ☒ 44 (Chosen option)  
44

Question No.21

Marks: 2.50  
Bookmark ☐

Four of the following five are alike in a certain way and so form a group. Which is the one that does not belong to that group?

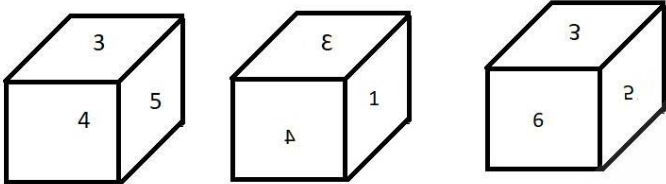
B, N, R, Z, E  
निम्नलिखित पाँच में से चार एक निश्चित तरीके से एक समान हैं और इसलिए एक समूह बनाते हैं। वह कौन सा है, जो उस समूह से संबंधित नहीं है?

- B, N, R, Z, E  
(A) ☐ N  
N  
(B) ☒ E (Correct Answer)  
E  
(C) ☐ Z (Chosen option)  
Z  
(D) ☐ R  
R

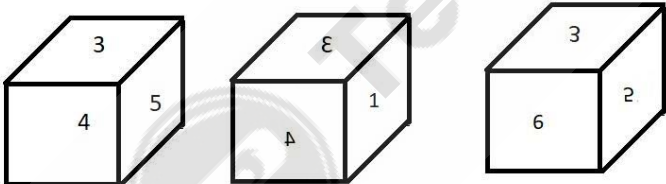
Question No.22

Marks: 2.50  
Bookmark ☐

A dice is numbered from 1 to 6. Which number is opposite to 4?



एक पासा 1 से 6 तक संख्यांकित है। 4 के विपरीत कौन सी संख्या है।

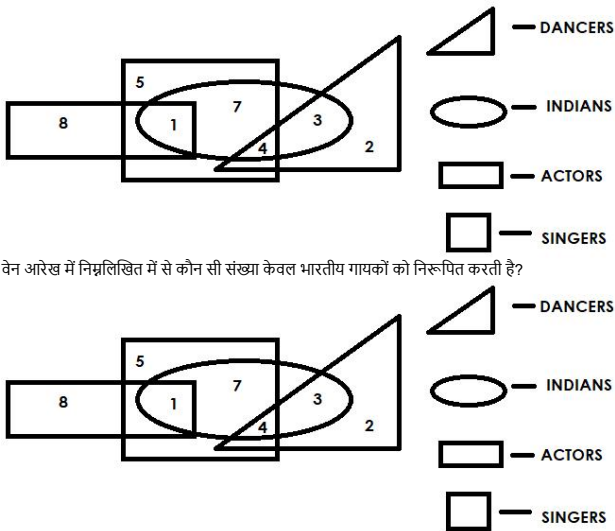


- (A) ☐ 2  
2  
(B) ☐ 1 (Chosen option)  
1  
(C) ☐ 5  
5  
(D) ☒ 6 (Correct Answer)  
6

Question No.23

Marks: 2.50  
Bookmark ☐

Which of the following numbers in the Venn Diagram represents only 'Indian singers'?



वेन आरेख में निम्नलिखित में से कौन सी संख्या केवल भारतीय गायकों को निरूपित करती है?

- (A) ☒ 7 (Correct Answer) (Chosen option)
- (B) ☐ 4
- (C) ☐ 3
- (D) ☐ 1

#### Question No.24

Marks: 2.50  
Bookmark ☐

The phrase "equality before law" used in Article 14 of Indian Constitution has been borrowed from the Constitution of \_\_\_\_\_.

भारतीय संविधान के अनुच्छेद 14 में प्रयुक्त "कानून के समक्ष समानता" वाक्यांश को \_\_\_\_\_ के संविधान से लिया गया है।

- (A) ☒ Britain (Correct Answer)
- (B) ☐ France (Chosen option)
- (C) ☐ Canada
- (D) ☐ USA

#### Question No.25

Marks: 2.50  
Bookmark ☐

If every alternate letter starting from the left end of the word MAHARASHTRA is written in capital letters, rest all are written in small letters, the new word thus formed is reversed, which letter will be ninth to the left of the letter second from the right?

यदि MAHARASHTRA शब्द के बाएँ छोर से शुरू होने वाले प्रत्येक दूसरे अक्षर को बड़े अक्षरों में लिखा गया है, बाकी सभी छोटे अक्षरों में लिखे गए हैं, इस प्रकार गठित नया शब्द व्युत्क्रमित किया जाता है, तो दाएँ से दूसरे अक्षर के बाएँ में नौवाँ अक्षर कौन-सा होगा?

- (A) ☐ R
- (B) ☐ H (Chosen option)
- (C) ☐ S
- (D) ☒ A (Correct Answer)

#### Question No.26

Marks: 2.50  
Bookmark ☐

Find the next number in the series.

35, 125, 225, 335, ?

श्रेणी में अगली संख्या ज्ञात करें।

35, 125, 225, 335, ?

- (A) ☐ 440
- (B) ☐ 425
- (C) ☒ 455 (Correct Answer) (Chosen option)
- (D) ☐ 450

#### Question No.27

Marks: 2.50  
Bookmark ☐

In which year UN General Assembly adopted CEDAW?

संयुक्त राष्ट्र महासभा ने CEDAW को किस वर्ष में अपनाया?

- (A) ☒ 1979 (Correct Answer) (Chosen option)
- (B) ☐ 1949
- (C) ☐ 1959
- (D) ☐ 1969

<div>Question No.28</div> <div>Marks: 2.50</div> <div>Bookmark <input type="checkbox"/></div> <div>Read the information carefully and answer the following question.</div> <div>A+B means A is the Brother of B A-B means A is the Sister of B A*B means A is the mother of B A/B means A is the father of B</div> <div>In the given expression <b>Q*P-R+S</b>, how is P related to S? दी गई जानकारी को ध्यानपूर्वक पढ़ें और नीचे दिए गए प्रश्न का उत्तर दें।</div> <div>A+B का अर्थ है, A, B का भाई है A-B का अर्थ है, A, B की बहन है A*B का अर्थ है, A, B की माँ है A/B का अर्थ है, A, B का पिता है</div> <div>व्यंजक <b>Q*P-R+S</b> में, P का S से क्या संबंध है?</div> <div><div>(A) <input type="radio"/> Sister (Correct Answer)</div><div>बहन</div><div>(B) <input type="radio"/> Brother</div><div>भाई</div><div>(C) <input type="radio"/> Mother</div><div>माँ</div><div>(D) <input type="radio"/> Father (Chosen option)</div><div>पिता</div></div>	
<div>Question No.29</div> <div>Marks: 2.50</div> <div>Bookmark <input type="checkbox"/></div> <div>If every alternate letter starting from B of the English alphabet series is written in small letters, rest all are written in capital letters, how will the given word 'Consultation' be written? यदि अंग्रेजी वर्णमाला श्रृंखला में B से शुरू करते हुए प्रत्येक दूसरे अक्षर को छोटे अक्षरों में लिखा जाता है, बाकी सभी बड़े अक्षरों में लिखे गए हैं, दिए गए शब्द 'Consultation' को कैसे लिखा जाएगा?</div> <div><div>(A) <input type="radio"/> COnSUItAtIOn (Chosen option)</div><div>COnSUItAtIOn</div><div>(B) <input type="radio"/> CONsultAtIOn</div><div>CONsultAtIOn</div><div>(C) <input type="radio"/> COnSUItAtIOn (Correct Answer)</div><div>COnSUItAtIOn</div><div>(D) <input type="radio"/> COOnSuLtAtIOn</div><div>COOnSuLtAtIOn</div></div>	
<div>Question No.30</div> <div>Marks: 2.50</div> <div>Bookmark <input type="checkbox"/></div> <div>A girl walks 12km towards North, turns a left, another left and finally a left again before taking a left. Which direction is she facing now? एक लड़की उत्तर की ओर 12 km चलती है, फिर बाएं मुड़ती है, एक बार फिर बाएं मुड़ती है और अंत में बाएं मुड़ने से पहले एक बार फिर बाएं मुड़ती है। वह अब किस दिशा की ओर अभिमुख है?</div> <div><div>(A) <input type="radio"/> South (Chosen option)</div><div>दक्षिण</div><div>(B) <input type="radio"/> North (Correct Answer)</div><div>उत्तर</div><div>(C) <input type="radio"/> West</div><div>पश्चिम</div><div>(D) <input type="radio"/> East</div><div>पूर्व</div></div>	
<div>Question No.31</div> <div>Marks: 2.50</div> <div>Bookmark <input type="checkbox"/></div> <div>Find the missing term in the series. 720, 120, 24, ?, 2, 1 श्रृंखला में लुप्त पद ज्ञात करें। 720, 120, 24, ?, 2, 1</div> <div><div>(A) <input type="radio"/> 8</div><div>8</div><div>(B) <input type="radio"/> 12</div><div>12</div><div>(C) <input type="radio"/> 4</div><div>4</div><div>(D) <input type="radio"/> 6 (Correct Answer) (Chosen option)</div><div>6</div></div>	
<div>Question No.32</div> <div>Marks: 2.50</div> <div>Bookmark <input type="checkbox"/></div> <div>If the first half of the word EXHALATION is reversed, which of the following will be the fifth to the right of the second letter from the left end? यदि EXHALATION शब्द के पहले आधे भाग को व्युत्क्रमित किया जाता है, तो निम्नलिखित में से कौन-सा बाएं छोर से दूसरे अक्षर के दाईं ओर पांचवें स्थान पर होगा?</div> <div><div>(A) <input type="radio"/> L (Chosen option)</div><div>L</div><div>(B) <input type="radio"/> T (Correct Answer)</div><div>T</div><div>(C) <input type="radio"/> N</div><div>N</div><div>(D) <input type="radio"/> I</div><div>I</div></div>	
<div>Question No.33</div> <div>Marks: 2.50</div> <div>Bookmark <input type="checkbox"/></div> <div>In this question, a passage is given followed by a statement. Read the passage carefully and judge the statement based on the given passage.</div> <div>A woman in Brazil who received a womb transplanted from a deceased donor has given birth to a baby girl in the first successful case of its kind, doctors reported. It comes after 10 previously known cases of uterus transplants from deceased donors - in the United States, the Czech Republic and Turkey - failed to produce a live birth.</div> <div>"The numbers of people willing and committed to donate organs upon their own deaths are far larger than those of live donors, offering a much wider potential donor population," Eizenberg said in a statement about the results. She added, however, that the outcomes and effects of womb donations from live and deceased donors have yet to be compared, and said the technique could still be refined and optimised.</div> <div>Statement:</div>	

A few countries tried this method of uterus transplants from deceased donors but none was successful in producing a live birth before Brazil.

Choose the appropriate one from the following options

- A -The statement is definitely true
- B -The statement is probably true
- C -The statement is cannot be determined
- D -The statement is definitely false

इस प्रश्न में, एक गद्यांश के बाद एक कथन दिया गया है। गद्यांश को ध्यानपूर्वक पढ़ें और दिए गए गद्यांश के आधार पर कथन का आकलन करें।

डॉक्टरों ने बताया कि ब्राजील में एक महिला ने, जिसे मृतक दाता से गर्भाशय का प्रत्यारोपण करवाया गया था, इस प्रकार के प्रथम सफल मामले में एक बच्ची को जन्म दिया। इसके पहले संयुक्त राज्य अमेरिका, वेक गणराज्य और तुर्की में मृतक दाताओं से गर्भाशय प्रत्यारोपण के 10 मामले सामने आए – जिनमें किसी भी मामले में जीवित शिशु को जन्म देने में सफलता प्राप्त नहीं हुई थी।

एजेनबर्ग ने परिणामों के बारे में एक बयान में कहा, "स्वयं की मृत्यु होने पर अंगों का दान करने के लिए तैयार और प्रतिबद्ध लोगों की संख्या जीवित दाताओं की तुलना में कहीं अधिक है, और यह एक अत्यधिक व्यापक संभावित दाता जनसंख्या की पेशकश करता है"। उन्होंने कहा, हालांकि अभी जीवित और मृतक दाताओं से गर्भाशय दान के परिणामों और प्रभावों की तुलना की जानी बाकी है, और कहा कि तकनीक अभी भी परिष्कृत तथा अनुकूलित की जा सकती है।

कथन:

कुछ देशों ने मृतक दाताओं से गर्भाशय प्रत्यारोपण की इस विधि की कोशिश की थी, परन्तु ब्राजील से पहले जीवित शिशु को जन्म देने में कोई भी सफल नहीं हुआ था।

निम्नलिखित विकल्पों में से उपयुक्त विकल्प चुनें

- A - कथन निश्चित रूप से सत्य है।
  - B- कथन संभवतः सत्य है।
  - C- कथन निर्धारित नहीं किया जा सकता।
  - D-कथन निश्चित रूप से गलत है।
- (A) ☐ C
- (B) ☐ B
- (C) ☒ A (Correct Answer) (Chosen option)
- (D) ☐ D

Question No.34

Marks: 2.50

Bookmark ☐

Find the next number in the series

57, 146, 220, 279, 323, ?

श्रेणी में अगली संख्या ज्ञात कीजिए।

57, 146, 220, 279, 323, ?

- (A) ☐ 362
- (B) ☒ 352 (Correct Answer)
- (C) ☐ 342
- (D) ☐ 372 (Chosen option)

Question No.35

Marks: 2.50

Bookmark ☐

Find the next number in the series

4, 9,16, 35, 66, ?

श्रेणी में अगली संख्या ज्ञात कीजिए।

4, 9,16, 35, 66, ?

- (A) ☐ 138
- (B) ☐ 136
- (C) ☒ 137 (Correct Answer) (Chosen option)
- (D) ☐ 135

Question No.36

Marks: 2.50

Bookmark ☐

In a certain code language, if GRANT is coded as TIZMG, then how is ROUGH coded in that language?

एक निश्चित कूट भाषा में, यदि GRANT को TIZMG के रूप में कूटबद्ध किया जाता है, तो उसी भाषा में ROUGH को कैसे कूटबद्ध किया जाता है?

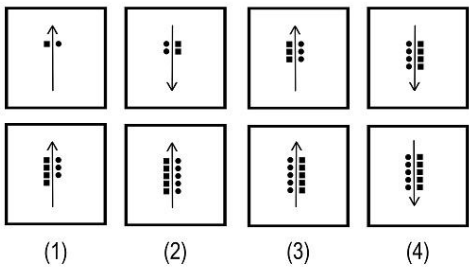
- (A) ☒ ILFTS (Correct Answer)
- (B) ☐ NMAUX
- (C) ☐ VSYKL (Chosen option)
- (D) ☐ SVYLK

Question No.37

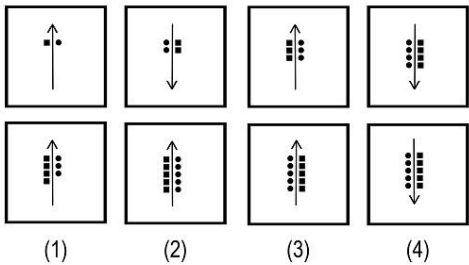
Marks: 2.50

Bookmark ☐

Which one of the following images numbered as (1), (2), (3), (4) will be the next image for the given series?



(1), (2), (3), (4) के रूप में संख्यांकित, निम्नलिखित में से कौन सा चित्र, दी गई श्रृंखला के लिए अगला चित्र होगा?



- (A) ☐ 3 (Chosen option)  
3  
(B) ☒ 2 (Correct Answer)  
2  
(C) ☐ 1  
1  
(D) ☐ 4  
4

Question No.38

Marks: 2.50  
Bookmark ☐

Killing of large number of people because of their ethnicity or race is known as:  
अपनी जातीयता या नस्ल के कारण बड़ी संख्या में लोगों की हत्या को क्या कहा जाता है?

- (A) ☐ Infanticide  
शिशु हत्या  
(B) ☒ Genocide (Correct Answer)  
नरसंहार  
(C) ☐ Regicide  
राज-हत्या  
(D) ☐ Homicide (Chosen option)  
नरहत्या

Question No.39

Marks: 2.50  
Bookmark ☐

Pointing to a man, Anup said, "He is the father of father of sister of my wife." How is the man related to Anup's wife?  
एक आदमी की ओर इशारा करते हुए, अनूप ने कहा, "वह मेरी पत्नी की बहन के पिता का पिता है।" आदमी का अनूप की पत्नी से क्या संबंध है?

- (A) ☒ Grandfather (Correct Answer)  
ग्रैंडफादर  
(B) ☐ Great grandfather  
ग्रेट ग्रैंडफादर  
(C) ☐ Uncle  
अंकल  
(D) ☐ Father (Chosen option)  
पिता

Question No.40

Marks: 2.50  
Bookmark ☐

How is Arun's mother's only sister's son's sister related to Arun?  
अरुण की माँ की इकलौती बहन के बेटे की बहन का अरुण के साथ क्या संबंध है?

- (A) ☐ Aunt  
आँट  
(B) ☒ Cousin (Correct Answer) (Chosen option)  
कज़िन  
(C) ☐ Uncle  
अंकल



Teachingninja.in