



Teachingninja.in



Latest Govt Job updates



Private Job updates



Free Mock tests available



Visit - teachingninja.in

UP Police SI
Previous Year Paper
2 Dec 2021 Shift 2



GENERAL HINDI - GENERAL HINDI

<div><div>Question No.1</div><div>Marks: 2.50 Bookmark <input type="checkbox"/></div><div><p>'प्रत्युत्पन्नमति' शब्द में कौन-सा उपसर्ग प्रयुक्त है?</p><p>'प्रत्युत्पन्नमति' शब्द में कौन-सा उपसर्ग प्रयुक्त है?</p><p>(A) <input type="radio"/> प्रत्युत प्रत्युत</p><p>(B) <input checked="" type="radio"/> प्रति (Correct Answer) (Chosen option) प्रति</p><p>(C) <input type="radio"/> प्रत्यु प्रत्यु</p><p>(D) <input type="radio"/> प्र प्र</p></div></div>	
<div><div>Question No.2</div><div>Marks: 2.50 Bookmark <input type="checkbox"/></div><div><p>इनमें से कौन-सा शब्द 'घर' का पर्यायवाची नहीं है?</p><p>इनमें से कौन-सा शब्द 'घर' का पर्यायवाची नहीं है?</p><p>(A) <input type="radio"/> निलय निलय</p><p>(B) <input type="radio"/> गृह गृह</p><p>(C) <input checked="" type="radio"/> ग्रह (Correct Answer) (Chosen option) ग्रह</p><p>(D) <input type="radio"/> आलय आलय</p></div></div>	
<div><div>Question No.3</div><div>Marks: 2.50 Bookmark <input type="checkbox"/></div><div><p>'जिसके पास कुछ भी न हो' के लिए एक शब्द कौन-सा होगा?</p><p>'जिसके पास कुछ भी न हो' के लिए एक शब्द कौन-सा होगा?</p><p>(A) <input type="radio"/> विनीत विनीत</p><p>(B) <input checked="" type="radio"/> अकिंचन (Correct Answer) (Chosen option) अकिंचन</p><p>(C) <input type="radio"/> दरिद्र दरिद्र</p><p>(D) <input type="radio"/> गरीब गरीब</p></div></div>	
<div><div>Question No.4</div><div>Marks: 2.50 Bookmark <input type="checkbox"/></div><div><p>'अमित' शब्द का विलोम क्या होगा?</p><p>'अमित' शब्द का विलोम क्या होगा?</p><p>(A) <input type="radio"/> दुर्मित दुर्मित</p><p>(B) <input type="radio"/> कुमित (Chosen option) कुमित</p><p>(C) <input checked="" type="radio"/> परिमित (Correct Answer) परिमित</p><p>(D) <input type="radio"/> सुमित सुमित</p></div></div>	
<div><div>Question No.5</div><div>Marks: 2.50 Bookmark <input type="checkbox"/></div><div><p>'लालटेन' शब्द इनमें से क्या है?</p><p>'लालटेन' शब्द इनमें से क्या है?</p><p>(A) <input type="radio"/> तन्द्रव तन्द्रव</p><p>(B) <input type="radio"/> तत्सम तत्सम</p><p>(C) <input type="radio"/> देशज (Chosen option) देशज</p><p>(D) <input checked="" type="radio"/> विदेशज (Correct Answer) विदेशज</p></div></div>	
<div><div>Question No.6</div><div>Marks: 2.50 Bookmark <input type="checkbox"/></div></div>	

<p>"प्रकृति के सुकुमार कवि" किसे कहा जाता है?</p> <p>"प्रकृति के सुकुमार कवि" किसे कहा जाता है?</p> <p>(A) <input type="radio"/> महादेवी वर्मा महादेवी वर्मा</p> <p>(B) <input checked="" type="radio"/> सुमित्रानंदन पन्त (Correct Answer) (Chosen option) सुमित्रानंदन पन्त</p> <p>(C) <input type="radio"/> जयशंकर प्रसाद जयशंकर प्रसाद</p> <p>(D) <input type="radio"/> निराला निराला</p>	
<p>Case Study - 7 to 9</p> <p>अनुच्छेद पढ़कर दिए गए सवालों के सही जवाब चुनिए :-</p> <p>'देहदान' शब्द सुनते या पढ़ते ही सबसे पहला विचार जो दिमाग में आता है, वह है- 'मृत्यु' अवश्यम्भावी है। आज नहीं तो कल, कोई पहले तो कोई बाद में मृत्यु को प्राप्त करता है। मृत्यु के नाम से ही मन में भय का संचार होने लगता है। मानव-शरीर-धारी भगवान राम और कृष्ण को भी समय आने पर यह शरीर त्यागना पड़ा था। जो जन्म के साथ ही निर्धारित है, उससे भय कैसा? इससे बचने का कोई उपाय नहीं है, चाहे कोई कितना ही बलवान, धनवान या तपस्वी हो, इससे बच नहीं पाया। सारे संसार के पुराण-इतिहास इस बात के गवाह हैं। प्राचीन या वर्तमान विज्ञान कितना ही उन्नत हो गया हो, लेकिन मृत्यु पर विजय हासिल करना एक सपना ही है। फिर इस क्षण-भंगुर और अंत में राख के ढेर में बदलने वाले शरीर या उसके अंगों को किसी जरूरतमंद के लिए समर्पित कर देने में क्या हर्ज है? और फिर इसे पाने के लिए आपने स्वयं कोई प्रयास नहीं किया है या धन भी खर्च नहीं किया है।</p> <p>अनुच्छेद पढ़कर दिए गए सवालों के सही जवाब चुनिए :-</p> <p>'देहदान' शब्द सुनते या पढ़ते ही सबसे पहला विचार जो दिमाग में आता है, वह है- 'मृत्यु' अवश्यम्भावी है। आज नहीं तो कल, कोई पहले तो कोई बाद में मृत्यु को प्राप्त करता है। मृत्यु के नाम से ही मन में भय का संचार होने लगता है। मानव-शरीर-धारी भगवान राम और कृष्ण को भी समय आने पर यह शरीर त्यागना पड़ा था। जो जन्म के साथ ही निर्धारित है, उससे भय कैसा? इससे बचने का कोई उपाय नहीं है, चाहे कोई कितना ही बलवान, धनवान या तपस्वी हो, इससे बच नहीं पाया। सारे संसार के पुराण-इतिहास इस बात के गवाह हैं। प्राचीन या वर्तमान विज्ञान कितना ही उन्नत हो गया हो, लेकिन मृत्यु पर विजय हासिल करना एक सपना ही है। फिर इस क्षण-भंगुर और अंत में राख के ढेर में बदलने वाले शरीर या उसके अंगों को किसी जरूरतमंद के लिए समर्पित कर देने में क्या हर्ज है? और फिर इसे पाने के लिए आपने स्वयं कोई प्रयास नहीं किया है या धन भी खर्च नहीं किया है।</p>	7.50
<p>Question No.7</p> <p>'देहदान' सुनते ही सबसे बड़ा विचार कौन-सा आता है?</p> <p>'देहदान' सुनते ही सबसे बड़ा विचार कौन-सा आता है?</p> <p>(A) <input type="radio"/> मृत्यु सत्य है। मृत्यु सत्य है।</p> <p>(B) <input checked="" type="radio"/> मृत्यु अवश्यम्भावी है। (Correct Answer) (Chosen option) मृत्यु अवश्यम्भावी है।</p> <p>(C) <input type="radio"/> जीवन सुरक्षित नहीं है। जीवन सुरक्षित नहीं है।</p> <p>(D) <input type="radio"/> मृत्यु नहीं होगी। मृत्यु नहीं होगी।</p>	Marks: 2.50 Bookmark <input type="checkbox"/>
<p>Question No.8</p> <p>पुराण और इतिहास किस बात के गवाह हैं?</p> <p>पुराण और इतिहास किस बात के गवाह हैं?</p> <p>(A) <input type="radio"/> मृत्यु पर विजय प्राप्त की जा सकती है मृत्यु पर विजय प्राप्त की जा सकती है</p> <p>(B) <input checked="" type="radio"/> मृत्यु से कोई बच नहीं पाया (Correct Answer) (Chosen option) मृत्यु से कोई बच नहीं पाया</p> <p>(C) <input type="radio"/> मृत्यु किसी के वश में नहीं मृत्यु किसी के वश में नहीं</p> <p>(D) <input type="radio"/> मृत्यु को कुछ समय तक टाला जा सकता है मृत्यु को कुछ समय तक टाला जा सकता है</p>	Marks: 2.50 Bookmark <input type="checkbox"/>
<p>Question No.9</p> <p>'क्षणभंगुर' शब्द का अर्थ क्या है?</p> <p>'क्षणभंगुर' शब्द का अर्थ क्या है?</p> <p>(A) <input checked="" type="radio"/> क्षण में भंग होने वाली (Correct Answer) (Chosen option) क्षण में भंग होने वाली</p> <p>(B) <input type="radio"/> सदा अमर रहने वाली सदा अमर रहने वाली</p> <p>(C) <input type="radio"/> समाप्त होने वाली समाप्त होने वाली</p> <p>(D) <input type="radio"/> कभी समाप्त न होने वाली कभी समाप्त न होने वाली</p>	Marks: 2.50 Bookmark <input type="checkbox"/>
<p>Question No.10</p> <p>वर्तमान हिंदी का प्रचलित रूप इनमें से कौन-सा है?</p> <p>वर्तमान हिंदी का प्रचलित रूप इनमें से कौन-सा है?</p> <p>(A) <input checked="" type="radio"/> खड़ी बोली (Correct Answer) (Chosen option) खड़ी बोली</p> <p>(B) <input type="radio"/> अवधी अवधी</p> <p>(C) <input type="radio"/> ब्रजभाषा ब्रजभाषा</p> <p>(D) <input type="radio"/> देवनागरी देवनागरी</p>	Marks: 2.50 Bookmark <input type="checkbox"/>

<div>Question No.11</div> <div>इनमें से किस बोली का संबंध बिहारी हिंदी से नहीं है? इनमें से किस बोली का संबंध बिहारी हिंदी से नहीं है?</div> <div><div>(A) <input type="radio"/> मैथिली</div><div>मैथिली</div><div>(B) <input checked="" type="radio"/> अवधी (Correct Answer) (Chosen option)</div><div>अवधी</div><div>(C) <input type="radio"/> मगही</div><div>मगही</div><div>(D) <input type="radio"/> भोजपुरी</div><div>भोजपुरी</div></div>	<div>Marks: 2.50</div> <div>Bookmark <input type="checkbox"/></div>
<div>Question No.12</div> <div>‘ऐश्वर्य’ का विलोम शब्द कौन-सा होगा? ‘ऐश्वर्य’ का विलोम शब्द कौन-सा होगा?</div> <div><div>(A) <input checked="" type="radio"/> अनैश्वर्य (Correct Answer) (Chosen option)</div><div>अनैश्वर्य</div><div>(B) <input type="radio"/> दरिद्रता</div><div>दरिद्रता</div><div>(C) <input type="radio"/> वैभव</div><div>वैभव</div><div>(D) <input type="radio"/> विलासिता</div><div>विलासिता</div></div>	<div>Marks: 2.50</div> <div>Bookmark <input type="checkbox"/></div>
<div>Question No.13</div> <div>‘जानने की इच्छा रखने वाला’ के लिए एक शब्द कौन-सा होगा? ‘जानने की इच्छा रखने वाला’ के लिए एक शब्द कौन-सा होगा?</div> <div><div>(A) <input type="radio"/> तत्पर</div><div>तत्पर</div><div>(B) <input checked="" type="radio"/> जिज्ञासु (Correct Answer) (Chosen option)</div><div>जिज्ञासु</div><div>(C) <input type="radio"/> उत्साही</div><div>उत्साही</div><div>(D) <input type="radio"/> जिज्ञासा</div><div>जिज्ञासा</div></div>	<div>Marks: 2.50</div> <div>Bookmark <input type="checkbox"/></div>
<div>Question No.14</div> <div>‘यशोदा’ शब्द में कौन-सी संधि प्रयुक्त है? ‘यशोदा’ शब्द में कौन-सी संधि प्रयुक्त है?</div> <div><div>(A) <input type="radio"/> स्वर</div><div>स्वर</div><div>(B) <input checked="" type="radio"/> विसर्ग (Correct Answer) (Chosen option)</div><div>विसर्ग</div><div>(C) <input type="radio"/> व्यंजन</div><div>व्यंजन</div><div>(D) <input type="radio"/> दीर्घ</div><div>दीर्घ</div></div>	<div>Marks: 2.50</div> <div>Bookmark <input type="checkbox"/></div>
<div>Question No.15</div> <div>स्थायी भावों की संख्या कितनी है? स्थायी भावों की संख्या कितनी है?</div> <div><div>(A) <input type="radio"/> 10</div><div>10</div><div>(B) <input type="radio"/> 11</div><div>11</div><div>(C) <input type="radio"/> 12</div><div>12</div><div>(D) <input checked="" type="radio"/> 9 (Correct Answer) (Chosen option)</div><div>9</div></div>	<div>Marks: 2.50</div> <div>Bookmark <input type="checkbox"/></div>
<div>Question No.16</div> <div>इनमें से शुद्ध शब्द का चयन कीजिए। इनमें से शुद्ध शब्द का चयन कीजिए।</div> <div><div>(A) <input type="radio"/> पुरष्कार</div><div>पुरष्कार</div><div>(B) <input type="radio"/> पुरस्कर</div><div>पुरस्कर</div><div>(C) <input checked="" type="radio"/> पुरस्कार (Correct Answer) (Chosen option)</div><div>पुरस्कार</div><div>(D) <input type="radio"/> पुरूस्कार</div><div>पुरूस्कार</div></div>	<div>Marks: 2.50</div> <div>Bookmark <input type="checkbox"/></div>

<div>Question No.17</div> <div>Marks: 2.50</div> <div>Bookmark <input type="checkbox"/></div> <div>‘स्वजाति’ शब्द का विलोम क्या होगा? ‘स्वजाति’ शब्द का विलोम क्या होगा? (A) <input type="radio"/> कुजाति कुजाति (B) <input checked="" type="radio"/> विजाति (Correct Answer) (Chosen option) विजाति (C) <input type="radio"/> सुजाति सुजाति (D) <input type="radio"/> अजाति अजाति</div>
<div>Question No.18</div> <div>Marks: 2.50</div> <div>Bookmark <input type="checkbox"/></div> <div>‘अध्यात्म’ शब्द का विशेषण कौन-सा होगा? ‘अध्यात्म’ शब्द का विशेषण कौन-सा होगा? (A) <input type="radio"/> अध्यात्मिक अध्यात्मिक (B) <input type="radio"/> अनाध्यात्म अनाध्यात्म (C) <input checked="" type="radio"/> आध्यात्मिक (Correct Answer) (Chosen option) आध्यात्मिक (D) <input type="radio"/> अध्यात्म अध्यात्म</div>
<div>Question No.19</div> <div>Marks: 2.50</div> <div>Bookmark <input type="checkbox"/></div> <div>हिंदी भाषा कौन-सी लिपि में लिखते हैं? हिंदी भाषा कौन-सी लिपि में लिखते हैं? (A) <input type="radio"/> सौराष्ट्री सौराष्ट्री (B) <input type="radio"/> ब्राह्मी ब्राह्मी (C) <input type="radio"/> गुरुमुखी गुरुमुखी (D) <input checked="" type="radio"/> देवनागरी (Correct Answer) (Chosen option) देवनागरी</div>
<div>Question No.20</div> <div>Marks: 2.50</div> <div>Bookmark <input type="checkbox"/></div> <div>‘अतीव’ शब्द में कौन-सा ‘उपसर्ग’ प्रयुक्त है? ‘अतीव’ शब्द में कौन-सा ‘उपसर्ग’ प्रयुक्त है? (A) <input checked="" type="radio"/> अति (Correct Answer) (Chosen option) अति (B) <input type="radio"/> अती अती (C) <input type="radio"/> अपि अपि (D) <input type="radio"/> अधि अधि</div>
<div>Question No.21</div> <div>Marks: 2.50</div> <div>Bookmark <input type="checkbox"/></div> <div>‘ठलुआ क्लब’ रचना किसकी है? ‘ठलुआ क्लब’ रचना किसकी है? (A) <input type="radio"/> धर्मवीर भारती (Chosen option) धर्मवीर भारती (B) <input checked="" type="radio"/> गुलाब राय (Correct Answer) गुलाब राय (C) <input type="radio"/> यशपाल यशपाल (D) <input type="radio"/> मन्नू भंडारी मन्नू भंडारी</div>
<div>Question No.22</div> <div>Marks: 2.50</div> <div>Bookmark <input type="checkbox"/></div> <div>‘यथारुचि’ में कौन-सा समास है? ‘यथारुचि’ में कौन-सा समास है? (A) <input checked="" type="radio"/> अव्ययीभाव (Correct Answer) (Chosen option) अव्ययीभाव (B) <input type="radio"/> तत्पुरुष तत्पुरुष (C) <input type="radio"/> बहुव्रीहि बहुव्रीहि (D) <input type="radio"/> द्वंद्व</div>

Question No.23

Marks: 2.50
Bookmark ☐

इनमें से कौन-सा शब्द पुल्लिंग है?
इनमें से कौन-सा शब्द पुल्लिंग है?

- (A) ☐ मूर्खता
मूर्खता
- (B) ☒ कपट (Correct Answer) (Chosen option)
कपट
- (C) ☐ निद्रा
निद्रा
- (D) ☐ सुंदरता
सुंदरता

Question No.24

Marks: 2.50
Bookmark ☐

'पढ़नेवाला' में किस प्रत्यय का प्रयोग हुआ है?
'पढ़नेवाला' में किस प्रत्यय का प्रयोग हुआ है?

- (A) ☐ देशज
देशज
- (B) ☐ तद्धित
तद्धित
- (C) ☒ कृदंत (Correct Answer) (Chosen option)
कृदंत
- (D) ☐ विदेशज
विदेशज

Question No.25

Marks: 2.50
Bookmark ☐

इनमें से कौन-सा शब्द 'अक्ष' का पर्यायवाची है?
इनमें से कौन-सा शब्द 'अक्ष' का पर्यायवाची है?

- (A) ☐ नासिका
नासिका
- (B) ☒ आँख (Correct Answer)
आँख
- (C) ☐ दिशा (Chosen option)
दिशा
- (D) ☐ पैर
पैर

Question No.26

Marks: 2.50
Bookmark ☐

'कलई खुलना' मुहावरे का अर्थ क्या है?
'कलई खुलना' मुहावरे का अर्थ क्या है?

- (A) ☒ भेद प्रकट होना (Correct Answer) (Chosen option)
भेद प्रकट होना
- (B) ☐ रंग उतर जाना
रंग उतर जाना
- (C) ☐ चमक गायब हो जाना
चमक गायब हो जाना
- (D) ☐ सच्चाई का पता लगाना
सच्चाई का पता लगाना

Question No.27

Marks: 2.50
Bookmark ☐

इनमें से शुद्ध वाक्य का चयन कीजिए।
इनमें से शुद्ध वाक्य का चयन कीजिए।

- (A) ☐ आज अधिक सरदी है।
आज अधिक सरदी है।
- (B) ☐ आज बेशुमार सर्दी है।
आज बेशुमार सर्दी है।
- (C) ☒ आज बेहद सर्दी है। (Correct Answer) (Chosen option)
आज बेहद सर्दी है।
- (D) ☐ आज अनाधिक सरदी है।
आज अनाधिक सरदी है।

Question No.28

Marks: 2.50
Bookmark ☐

इनमें से कौन-से शब्द की वर्तनी अशुद्ध है?
इनमें से कौन-से शब्द की वर्तनी अशुद्ध है?

- (A) ☒ व्यंग (Correct Answer) (Chosen option)
व्यंग
- (B) ☐ अनंग
अनंग

<p>(C) <input type="radio"/> हास्य हास्य</p> <p>(D) <input type="radio"/> परिहास परिहास</p>	
<p>Question No.29</p> <p>‘जिसकी आशा न की गई हो’ के लिए एक शब्द कौन-सा होगा? ‘जिसकी आशा न की गई हो’ के लिए एक शब्द कौन-सा होगा?</p> <p>(A) <input type="radio"/> आशातीत आशातीत</p> <p>(B) <input type="radio"/> प्रतिआशा प्रतिआशा</p> <p>(C) <input checked="" type="radio"/> अप्रत्याशित (Correct Answer) (Chosen option) अप्रत्याशित</p> <p>(D) <input type="radio"/> अप्रतिआशा अप्रतिआशा</p>	<p>Marks: 2.50</p> <p>Bookmark <input type="checkbox"/></p>
<p>Question No.30</p> <p>‘तिलक’ किस प्रकार का शब्द है? ‘तिलक’ किस प्रकार का शब्द है?</p> <p>(A) <input type="radio"/> तन्द्रव (Chosen option) तन्द्रव</p> <p>(B) <input checked="" type="radio"/> तत्सम (Correct Answer) तत्सम</p> <p>(C) <input type="radio"/> संकर संकर</p> <p>(D) <input type="radio"/> देशज देशज</p>	<p>Marks: 2.50</p> <p>Bookmark <input type="checkbox"/></p>
<p>Question No.31</p> <p>राजभाषा संबंधी प्रावधानों का उल्लेख भारतीय संविधान के किन अनुच्छेदों में है? राजभाषा संबंधी प्रावधानों का उल्लेख भारतीय संविधान के किन अनुच्छेदों में है?</p> <p>(A) <input type="radio"/> 443-135 443-135</p> <p>(B) <input type="radio"/> 34-315 34-315</p> <p>(C) <input checked="" type="radio"/> 343-351 (Correct Answer) (Chosen option) 343-351</p> <p>(D) <input type="radio"/> 334-153 334-153</p>	<p>Marks: 2.50</p> <p>Bookmark <input type="checkbox"/></p>
<p>Question No.32</p> <p>‘चन्द्रप्रभा’ किस उपन्यासकार की रचना है? ‘चन्द्रप्रभा’ किस उपन्यासकार की रचना है?</p> <p>(A) <input type="radio"/> भगवतीचरण वर्मा (Chosen option) भगवतीचरण वर्मा</p> <p>(B) <input type="radio"/> श्रीनिवास दास श्रीनिवास दास</p> <p>(C) <input checked="" type="radio"/> भारतेन्दु हरिश्चन्द्र (Correct Answer) भारतेन्दु हरिश्चन्द्र</p> <p>(D) <input type="radio"/> नागार्जुन नागार्जुन</p>	<p>Marks: 2.50</p> <p>Bookmark <input type="checkbox"/></p>
<p>Question No.33</p> <p>इनमें से कौन-सा शब्द स्त्रीलिंग है? इनमें से कौन-सा शब्द स्त्रीलिंग है?</p> <p>(A) <input type="radio"/> अध्याय अध्याय</p> <p>(B) <input type="radio"/> अपराध अपराध</p> <p>(C) <input type="radio"/> स्वदेश स्वदेश</p> <p>(D) <input checked="" type="radio"/> स्थापना (Correct Answer) (Chosen option) स्थापना</p>	<p>Marks: 2.50</p> <p>Bookmark <input type="checkbox"/></p>
<p>Question No.34</p> <p>इनमें से ‘रसाल’ का पर्यायवाची शब्द कौन-सा है? इनमें से ‘रसाल’ का पर्यायवाची शब्द कौन-सा है?</p> <p>(A) <input checked="" type="radio"/> आम (Correct Answer) (Chosen option) आम</p> <p>(B) <input type="radio"/> नींबू</p>	<p>Marks: 2.50</p> <p>Bookmark <input type="checkbox"/></p>

<div>नींबू</div> <div>(C) <input type="radio"/> जामुन जामुन</div> <div>(D) <input type="radio"/> इमली इमली</div>	
<div>Question No.35</div> <div>इनमें से तत्सम शब्द का चयन कीजिए। इनमें से तत्सम शब्द का चयन कीजिए।</div> <div>(A) <input type="radio"/> जलद (Correct Answer) (Chosen option) जलद</div> <div>(B) <input type="radio"/> हवा हवा</div> <div>(C) <input type="radio"/> बादल बादल</div> <div>(D) <input type="radio"/> पानी पानी</div>	<div>Marks: 2.50</div> <div>Bookmark <input type="checkbox"/></div>
<div>Question No.36</div> <div>इनमें से 'ब' की ध्वनि कौन-सी है? इनमें से 'ब' की ध्वनि कौन-सी है?</div> <div>(A) <input type="radio"/> ऊष्म ऊष्म</div> <div>(B) <input type="radio"/> ओष्ठ्य (Correct Answer) (Chosen option) ओष्ठ्य</div> <div>(C) <input type="radio"/> दन्त्य दन्त्य</div> <div>(D) <input type="radio"/> तालव्य तालव्य</div>	<div>Marks: 2.50</div> <div>Bookmark <input type="checkbox"/></div>
<div>Question No.37</div> <div>इनमें से जातिवाचक संज्ञा कौन-सी है? इनमें से जातिवाचक संज्ञा कौन-सी है?</div> <div>(A) <input type="radio"/> दुःख दुःख</div> <div>(B) <input type="radio"/> लड़का (Correct Answer) (Chosen option) लड़का</div> <div>(C) <input type="radio"/> सेना सेना</div> <div>(D) <input type="radio"/> श्याम श्याम</div>	<div>Marks: 2.50</div> <div>Bookmark <input type="checkbox"/></div>
<div>Question No.38</div> <div>'भारत-भारती पुरस्कार-2014' किस साहित्यकार को मिला? 'भारत-भारती पुरस्कार-2014' किस साहित्यकार को मिला?</div> <div>(A) <input type="radio"/> शिवप्रसाद सिंह शिवप्रसाद सिंह</div> <div>(B) <input type="radio"/> ओम थानवी ओम थानवी</div> <div>(C) <input type="radio"/> केदारनाथ सिंह केदारनाथ सिंह</div> <div>(D) <input type="radio"/> काशीनाथ सिंह (Correct Answer) (Chosen option) काशीनाथ सिंह</div>	<div>Marks: 2.50</div> <div>Bookmark <input type="checkbox"/></div>
<div>Question No.39</div> <div>इनमें से कौन-सा शब्द संज्ञा है? इनमें से कौन-सा शब्द संज्ञा है?</div> <div>(A) <input type="radio"/> क्रोधित क्रोधित</div> <div>(B) <input type="radio"/> क्रोधी क्रोधी</div> <div>(C) <input type="radio"/> क्रुद्ध क्रुद्ध</div> <div>(D) <input type="radio"/> क्रोध (Correct Answer) (Chosen option) क्रोध</div>	<div>Marks: 2.50</div> <div>Bookmark <input type="checkbox"/></div>
<div>Question No.40</div> <div>इनमें से कौन-सा युग्म 'तत्सम' शब्दों का युग्म नहीं है? इनमें से कौन-सा युग्म 'तत्सम' शब्दों का युग्म नहीं है?</div>	<div>Marks: 2.50</div> <div>Bookmark <input type="checkbox"/></div>

<div><div>(A) <input type="radio"/> मत्स्य-मृग मत्स्य-मृग</div><div>(B) <input type="radio"/> ज्ञान-क्षेत्र ज्ञान-क्षेत्र</div><div>(C) <input type="radio"/> कर्म-विद्या कर्म-विद्या</div><div>(D) <input checked="" type="radio"/> दधि-भात (Correct Answer) (Chosen option) दधि-भात</div></div>	
BASIC LAW - CONSTITUTION AND GENERAL KNOWLEDGE - BASIC LAW - CONSTITUTION AND GENERAL KNOWLEDGE	
<div><div>Question No.1</div><div>Marks: 2.50</div><div>Bookmark <input type="checkbox"/></div><div>N A Palkhivala, an eminent jurist and constitutional expert, called the _____ as the 'identity card of the Constitution'. एक प्रख्यात न्यायविद और संवैधानिक विशेषज्ञ, एन. ए. पालकीवाला, ने _____ को 'संविधान का पहचान पत्र' कहा है।</div><div><div>(A) <input type="radio"/> Citizenship नागरिकता</div><div>(B) <input checked="" type="radio"/> Directive Principles of State Policy (Chosen option) राज्य के नीति निर्देशक तत्व</div><div>(C) <input type="radio"/> Fundamental Rights मौलिक अधिकार</div><div>(D) <input checked="" type="radio"/> Preamble (Correct Answer) उद्देशिका</div></div></div>	
<div><div>Question No.2</div><div>Marks: 2.50</div><div>Bookmark <input type="checkbox"/></div><div>Carbon, diamond and graphite are together called _____. कार्बन, हीरा और ग्रेफाइट को एक साथ _____ कहा जाता है।</div><div><div>(A) <input type="radio"/> Isomorphs समरूपी (आइसोमॉर्फर्स)</div><div>(B) <input type="radio"/> Isotopes समस्थानिक (आइसोटोप्स)</div><div>(C) <input type="radio"/> Isomers समावयवी (आइसोमर्स)</div><div>(D) <input checked="" type="radio"/> Allotropes (Correct Answer) (Chosen option) अपरूप (एलोट्रोप्स)</div></div></div>	
<div><div>Question No.3</div><div>Marks: 2.50</div><div>Bookmark <input type="checkbox"/></div><div>The Estimates committee of the Indian Parliament consists of: भारतीय संसद की प्राक्कलन समिति में निम्न शामिल हैं:</div><div><div>(A) <input checked="" type="radio"/> Members of Lok Sabha only (Correct Answer) (Chosen option) केवल लोकसभा के सदस्य</div><div>(B) <input type="radio"/> Members of Rajya Sabha only केवल राज्यसभा के सदस्य</div><div>(C) <input type="radio"/> Both the members of Rajya Sabha and Lok Sabha राज्यसभा और लोकसभा दोनों के सदस्य</div><div>(D) <input type="radio"/> Elected Members of Rajya Sabha only केवल राज्यसभा के चुने हुए सदस्य</div></div></div>	
<div><div>Question No.4</div><div>Marks: 2.50</div><div>Bookmark <input type="checkbox"/></div><div>Which Constitutional Amendment Act added a new directive principle that directs the State to protect and improve the environment? किस संविधान संशोधन अधिनियम ने एक नया निर्देशक तत्व जोड़ा जो राज्य को पर्यावरण की रक्षा और सुधार करने का निर्देश देता है?</div><div><div>(A) <input checked="" type="radio"/> 42nd Constitutional Amendment Act,1976 (Correct Answer) (Chosen option) 42वां संविधान संशोधन अधिनियम, 1976</div><div>(B) <input type="radio"/> 38th Constitutional Amendment Act,1975 38वां संविधान संशोधन अधिनियम, 1975</div><div>(C) <input type="radio"/> 24th Constitutional Amendment Act,1971 24वां संविधान संशोधन अधिनियम, 1971</div><div>(D) <input type="radio"/> 44th Constitutional Amendment Act,1978 44वां संविधान संशोधन अधिनियम, 1978</div></div></div>	
<div><div>Question No.5</div><div>Marks: 2.50</div><div>Bookmark <input type="checkbox"/></div><div>The Right to Information Act, 2005 provides under _____ that all citizens shall have the right to information. सूचना का अधिकार अधिनियम, 2005 _____ के तहत प्रावधान करता है कि सभी नागरिकों को सूचना का अधिकार होगा।</div><div><div>(A) <input type="radio"/> Section 5 (Chosen option) धारा 5</div><div>(B) <input type="radio"/> Section 2(j) धारा 2(j)</div><div>(C) <input checked="" type="radio"/> Section 3 (Correct Answer) धारा 3</div><div>(D) <input type="radio"/> Section 2(f) धारा 2 (f)</div></div></div>	
<div><div>Question No.6</div><div>Marks: 2.50</div><div>Bookmark <input type="checkbox"/></div><div>In which year did the partition of Bengal happen? बंगाल का विभाजन किस वर्ष में हुआ था?</div></div>	

- (A) ☒ **1905 (Correct Answer)** (Chosen option)
1905
- (B) ☐ 1904
1904
- (C) ☐ 1804
1804
- (D) ☐ 1805
1805

Question No.7

Marks: 2.50

Bookmark ☐

The Central Information Commission consists of a Chief Information Commissioner and not more than _____ Information Commissioners.

केंद्रीय सूचना आयोग में एक मुख्य सूचना आयुक्त होता है और सूचना आयुक्त होते हैं, जिनकी संख्या _____ से अधिक नहीं होती है।

- (A) ☐ Five
पाँच
- (B) ☐ Seven
सात
- (C) ☒ **Ten (Correct Answer)**
दस
- (D) ☐ Six (Chosen option)
छह

Question No.8

Marks: 2.50

Bookmark ☐

_____ projects are exempted from the social impact assessment required for land acquisition by the government due to separate EIA process.

परियोजनाओं को पृथक ईआईए (EIA) प्रक्रिया के कारण भूमि अधिग्रहण के लिए आवश्यक सरकार द्वारा सामाजिक प्रभाव मूल्यांकन से छूट दी गई है।

- (A) ☐ Road
सड़क
- (B) ☐ power
बिजली
- (C) ☒ **Irrigation (Correct Answer)** (Chosen option)
सिंचाई
- (D) ☐ Industrial
औद्योगिक

Question No.9

Marks: 2.50

Bookmark ☐

The Constitution of India under _____ provides that the State shall endeavour to provide adequate facilities for instruction in the mother-tongue at the primary stage of education to children belonging to linguistic minority groups.

के तहत भारत का संविधान यह प्रावधान करता है कि भाषाई अल्पसंख्यक समूहों के बच्चों को शिक्षा के प्राथमिक स्तर पर मातृभाषा में शिक्षा के लिए राज्य पर्याप्त सुविधाएं प्रदान करने का प्रयास करेगा।

- (A) ☐ Article 350B
अनुच्छेद 350B
- (B) ☐ Article 349
अनुच्छेद 349
- (C) ☐ Article 351
अनुच्छेद 351
- (D) ☒ **Article 350A (Correct Answer)** (Chosen option)
अनुच्छेद 350A

Question No.10

Marks: 2.50

Bookmark ☐

The constitutional validity of Section 139AA of the Income Tax Act, 1961 mandating linking of Aadhaar Number with PAN Card was challenged in the case of

आधार संख्या को पैन कार्ड से जोड़ने की अनिवार्य करने वाली आयकर अधिनियम, 1961 की धारा 139AA की संवैधानिक वैधता को _____ के मामले में चुनौती दी गई थी।

- (A) ☐ Om Kumar v. Union of India
ओम कुमार बनाम भारत संघ
- (B) ☐ Ratan N. Tata v. Union of India
रतन एन. टाटा बनाम भारत संघ
- (C) ☒ **Binoy Viswam v. Union of India (Correct Answer)**
बिनॉय विश्वम बनाम भारत संघ
- (D) ☐ Nature Club of Rajasthan v. Union of India (Chosen option)
नेचर क्लब ऑफ राजस्थान बनाम भारत संघ

Question No.11

Marks: 2.50

Bookmark ☐

Uttar Pradesh Panchayat Raj (Registration of Electors) Rules was established in the year:

उत्तर प्रदेश पंचायतराज (निर्वाचक रजिस्ट्रेशन) नियमावली किस वर्ष में स्थापित की गई थी?

- (A) ☒ **1994 (Correct Answer)**
1994
- (B) ☐ 1990
1990
- (C) ☐ 1992 (Chosen option)
1992
- (D) ☐ 1998
1998

Question No.12

Marks: 2.50

Bookmark ☐

Which of the following schemes is an Export Promotion Scheme envisaged to act as a catalyst to promote India's exports on a sustained basis?

निम्नलिखित में से कौन सी योजना एक निर्यात प्रोत्साहन योजना है जिसकी परिकल्पना निरंतर आधार पर भारत के निर्यात को बढ़ावा देने के लिए उत्प्रेरक के रूप में कार्य करने के लिए की गई है?

- (A) ☐ Indian Export Organisation Scheme
भारतीय निर्यात संगठन योजना
- (B) ☐ Leather Exports Scheme
चमड़ा निर्यात योजना
- (C) ☐ Project Exports Promotion Scheme (Chosen option)
परियोजना निर्यात प्रोत्साहन योजना
- (D) ☒ Market Access Initiative (MAI) Scheme (Correct Answer)
बाज़ार पहुँच पहल (MAI) योजना

Question No.13

Marks: 2.50

Bookmark ☐

As per budget 2020-21, which of the following schemes is introduced for a seamless national cold supply chain for perishables?

2020-21 के बजट के अनुसार, निम्नलिखित में से कौन-सी योजना विकारी वस्तुओं के लिए निर्बाध राष्ट्रीय शीत आपूर्ति श्रृंखला के लिए आरंभ की गई है?

- (A) ☐ Pradhan Mantri Kisan Maan Dhan Yojana
प्रधानमंत्री किसान मान धन योजना
- (B) ☒ **Kisan Rail (Correct Answer)**
किसान रेल
- (C) ☐ Pradhan Mantri Fasal Bima Yojana (Chosen option)
प्रधानमंत्री फसल बीमा योजना
- (D) ☐ Paramparagat Krishi Vikas Yojana
परंपरागत कृषि विकास योजना

Question No.14

Marks: 2.50

Bookmark ☐

The Central or State Government may make an order directing that any foreigner be detained with a view to regulating his continued presence in India under the provisions of

के प्रावधानों के तहत केंद्र या राज्य सरकार यह निर्देश दे सकती है कि किसी भी विदेशी को, भारत में उसकी निरंतर उपस्थिति को नियंत्रित करने की दृष्टि से, हिरासत में लिया जाए।

- (A) ☒ Section 3(1)(b) of the National Security Act, 1980 (Correct Answer) (Chosen option)
राष्ट्रीय सुरक्षा अधिनियम, 1980 की धारा 3(1)(b)
- (B) ☐ Section 2(c) of the National Security Act, 1980
राष्ट्रीय सुरक्षा अधिनियम, 1980 की धारा 2(c)
- (C) ☐ Section 5(a) of the National Security Act, 1980
राष्ट्रीय सुरक्षा अधिनियम, 1980 की धारा 5(a)
- (D) ☐ Section 2(b) of the National Security Act, 1980
राष्ट्रीय सुरक्षा अधिनियम, 1980 की धारा 2(b)

Question No.15

Marks: 2.50

Bookmark ☐

'Mahatma Jyotiba Phule Rohilkhand University' is located in which of the following districts of Uttar Pradesh?
'महात्मा ज्योतिबा फुले रुहेलखंड विश्वविद्यालय' उत्तर प्रदेश के निम्नलिखित में से किस जिले में स्थित है?

- (A) ☐ Kaushambi (Chosen option)
कौशाम्बी
- (B) ☐ Auraiya
औरिया
- (C) ☐ Mahoba
महोबा
- (D) ☒ Bareilly (Correct Answer)
बरेली

Question No.16

Marks: 2.50

Bookmark ☐

The Model Code of Conduct was introduced for the first time in the State Assembly elections of: किस राज्य विधानसभा चुनावों में पहली बार आदर्श आचार संहिता पेश की गई थी?

- (A) ☐ Karnataka
कर्नाटक
- (B) ☐ Andhra Pradesh
आंध्र प्रदेश
- (C) ☐ Tamil Nadu
तमिलनाडु
- (D) ☒ Kerala (Correct Answer) (Chosen option)
केरल

Question No.17

Marks: 2.50

Bookmark ☐

Which PSU got Project Management Consultancy contract for 500 MW Solar park in the Republic of Mali?
किस पी.एस.यू. को माली गणराज्य में 500 मेगावाट (MW) सौर पार्क के लिए परियोजना प्रबंधन परामर्श अनुबंध प्राप्त हुआ है?

- (A) ☐ Steal Authority of India
भारतीय इस्पात प्राधिकरण
- (B) ☐ Bharat Electronics Limited
भारत इलेक्ट्रॉनिक्स लिमिटेड
- (C) ☒ **National Thermal Power Corporation (Correct Answer) (Chosen option)**
राष्ट्रीय ताप विद्युत निगम
- (D) ☐ Defense Research and Development Organization
रक्षा अनुसंधान और विकास संगठन

Question No.18

Marks: 2.50

Bookmark ☐

What is the full form of CPU, a component of computer system?
कंप्यूटर सिस्टम के एक घटक CPU का पूर्ण रूप क्या है?

<div>(A) <input checked="" type="radio"/> Central Processing Unit (Correct Answer) (Chosen option) Central Processing Unit (सेंट्रल प्रोसेसिंग यूनिट)</div> <div>(B) <input type="radio"/> Central Plug-in Unit Central Plug-in Unit (सेंट्रल प्लग-इन यूनिट)</div> <div>(C) <input type="radio"/> Central Personal Unit Central Personal Unit (सेंट्रल पर्सनल यूनिट)</div> <div>(D) <input type="radio"/> Central Primary Unit Central Primary Unit (सेंट्रल प्राइमरी यूनिट)</div>	
<div>Question No.19</div> <div>Environmental laboratories may be established under the provisions of the Environment (Protection) Act, 1986 by _____. पर्यावरण (संरक्षण) अधिनियम, 1986 के प्रावधानों के तहत पर्यावरण प्रयोगशालाएं, _____ द्वारा स्थापित की जा सकती हैं।</div> <div>(A) <input checked="" type="radio"/> The Central Government (Correct Answer) केंद्र सरकार</div> <div>(B) <input type="radio"/> National NGOs functioning in the field of environment (Chosen option) पर्यावरण के क्षेत्र में कार्यरत राष्ट्रीय गैर-सरकारी संगठनों</div> <div>(C) <input type="radio"/> International NGOs अंतर्राष्ट्रीय गैर-सरकारी संगठनों</div> <div>(D) <input type="radio"/> The State Governments राज्य सरकारों</div>	<div>Marks: 2.50</div> <div>Bookmark <input type="checkbox"/></div>
<div>Question No.20</div> <div>The term of the Lok Sabha can be extended during the period of national emergency by a law of Parliament for _____ year/s at a time. राष्ट्रीय आपातकाल की अवधि के दौरान लोकसभा के कार्यकाल को संसद के कानून द्वारा एक बार में _____ वर्ष के लिए बढ़ाया जा सकता है।</div> <div>(A) <input checked="" type="radio"/> One (Correct Answer) (Chosen option) एक</div> <div>(B) <input type="radio"/> Two दो</div> <div>(C) <input type="radio"/> Three तीन</div> <div>(D) <input type="radio"/> Four चार</div>	<div>Marks: 2.50</div> <div>Bookmark <input type="checkbox"/></div>
<div>Question No.21</div> <div>Which Indian philosopher was the founder of 'Advaita Vedanta'? 'अद्वैत वेदांत' के संस्थापक कौन से भारतीय दार्शनिक थे?</div> <div>(A) <input type="radio"/> Maharshi Kanada महर्षि कणाद</div> <div>(B) <input type="radio"/> Gautama Buddha गौतम बुद्ध</div> <div>(C) <input type="radio"/> Brihaspati बृहस्पति</div> <div>(D) <input checked="" type="radio"/> Adi Shankaracharya (Correct Answer) (Chosen option) आदि शंकराचार्य</div>	<div>Marks: 2.50</div> <div>Bookmark <input type="checkbox"/></div>
<div>Question No.22</div> <div>Under the Income Tax Act, 1961, advance tax is payable _____. आयकर अधिनियम, 1961 के तहत, अग्रिम कर, _____ देय है।</div> <div>(A) <input checked="" type="radio"/> In accordance with the provisions of Chapter XVII-C (Correct Answer) (Chosen option) अध्याय XVII-C के प्रावधानों के अनुसार</div> <div>(B) <input type="radio"/> In accordance with the provisions of Chapter VI-A अध्याय VI-A के प्रावधानों के अनुसार</div> <div>(C) <input type="radio"/> In accordance with the provisions of Chapter II अध्याय II के प्रावधानों के अनुसार</div> <div>(D) <input type="radio"/> In accordance with the provisions of Chapter X अध्याय X के प्रावधानों के अनुसार</div>	<div>Marks: 2.50</div> <div>Bookmark <input type="checkbox"/></div>
<div>Question No.23</div> <div>Who has the authority to seek the opinion of the Supreme Court under Article 143 of the Indian Constitution? किसके पास भारतीय संविधान के अनुच्छेद 143 के तहत सर्वोच्च न्यायालय की राय लेने का अधिकार है?</div> <div>(A) <input type="radio"/> Prime Minister of India भारत के प्रधानमंत्री</div> <div>(B) <input type="radio"/> Speaker of Lok Sabha लोकसभा के अध्यक्ष</div> <div>(C) <input type="radio"/> Union Law Minister केंद्रीय कानून मंत्री</div> <div>(D) <input checked="" type="radio"/> President of India (Correct Answer) (Chosen option) भारत के राष्ट्रपति</div>	<div>Marks: 2.50</div> <div>Bookmark <input type="checkbox"/></div>
<div>Question No.24</div> <div>The load in a motorcycle fitted with a light weight container shall not exceed ____ kgs. एक हल्के वजन का कंटेनर लगे हुए मोटरसाइकिल में भार _____ kgs से अधिक नहीं होना चाहिए।</div> <div>(A) <input type="radio"/> 40 40</div>	<div>Marks: 2.50</div> <div>Bookmark <input type="checkbox"/></div>

<div>(B) <input type="radio"/> 50 (Chosen option) 50</div> <div>(C) <input type="radio"/> 30 (Correct Answer) 30</div> <div>(D) <input type="radio"/> 20 20</div>	
<div>Question No.25</div> <div>Marks: 2.50</div> <div>Bookmark <input type="checkbox"/></div> <div>Which of the following diseases is related to dysentery? निम्नलिखित में से कौन-सा रोग पेचिश से संबंधित है?</div> <div>(A) <input type="radio"/> Amoebiasis (Correct Answer) (Chosen option) अमीबायसिस</div> <div>(B) <input type="radio"/> Scurvy स्कर्वी</div> <div>(C) <input type="radio"/> Rickets रिकेट्स</div> <div>(D) <input type="radio"/> Nyctalopia निक्टेलोपिया</div>	
<div>Question No.26</div> <div>Marks: 2.50</div> <div>Bookmark <input type="checkbox"/></div> <div>When a person is convicted at one trial of two or more offences, the Court may sentence him for such offences, _____. जब किसी व्यक्ति को दो या अधिक अपराधों के एक मुकदमे में दोषी ठहराया जाता है, तो न्यायालय उसे ऐसे अपराधों के लिए क्या सजा दे सकता है?</div> <div>(A) <input type="radio"/> To the lowest punishment prescribed therefor उसके लिए निर्धारित न्यूनतम दंड</div> <div>(B) <input type="radio"/> To only one of the punishments prescribed therefor (Chosen option) उसके लिए निर्धारित दंडों में से केवल एक</div> <div>(C) <input type="radio"/> To the several punishments prescribed therefor (Correct Answer) उसके लिए निर्धारित कई दंड</div> <div>(D) <input type="radio"/> To only the highest punishment prescribed therefor उसके लिए निर्धारित केवल उच्चतम दंड</div>	
<div>Question No.27</div> <div>Marks: 2.50</div> <div>Bookmark <input type="checkbox"/></div> <div>Which of the following States has areas under the Fifth Schedule of Indian Constitution? निम्नलिखित में से किस राज्य के पास भारतीय संविधान की पांचवीं अनुसूची के तहत क्षेत्र हैं?</div> <div>(A) <input type="radio"/> Jammu and kashmir (Chosen option) जम्मू और कश्मीर</div> <div>(B) <input type="radio"/> Kerala केरल</div> <div>(C) <input type="radio"/> Gujarat (Correct Answer) गुजरात</div> <div>(D) <input type="radio"/> Tamil Nadu तमिलनाडु</div>	
<div>Question No.28</div> <div>Marks: 2.50</div> <div>Bookmark <input type="checkbox"/></div> <div>"The Right to move out of the country and the Right to come back to the country" is enshrined in which of the following articles of the Indian Constitution? "देश से बाहर जाने का अधिकार और देश में वापस आने का अधिकार" भारतीय संविधान के निम्नलिखित में से किस अनुच्छेद में निहित है?</div> <div>(A) <input type="radio"/> Article 21 (Correct Answer) अनुच्छेद 21</div> <div>(B) <input type="radio"/> Article 18 अनुच्छेद 18</div> <div>(C) <input type="radio"/> Article 19 अनुच्छेद 19</div> <div>(D) <input type="radio"/> Article 15 (Chosen option) अनुच्छेद 15</div>	
<div>Question No.29</div> <div>Marks: 2.50</div> <div>Bookmark <input type="checkbox"/></div> <div>What is the federal capital of Australia? ऑस्ट्रेलिया की संघीय राजधानी क्या है?</div> <div>(A) <input type="radio"/> Canberra (Correct Answer) (Chosen option) कैनबरा</div> <div>(B) <input type="radio"/> Sydney सिडनी</div> <div>(C) <input type="radio"/> Adelaide एडीलेड</div> <div>(D) <input type="radio"/> Melbourne मेलबर्न</div>	
<div>Question No.30</div> <div>Marks: 2.50</div> <div>Bookmark <input type="checkbox"/></div> <div>The first edition of the SCO Young Scientist Conclave was hosted by _____. एससीओ (SCO) यंग साइंटिस्ट कॉन्क्लेव के पहले संस्करण की मेजबानी _____ द्वारा की गई थी।</div> <div>(A) <input type="radio"/> China (Chosen option) चीन</div> <div>(B) <input type="radio"/> India (Correct Answer) भारत</div>	

- (C) ☐ Bangladesh
बांग्लादेश
- (D) ☐ Russia
रूस

Question No.31

Marks: 2.50

Bookmark ☐

Which among the following had sought to bring 'equality between British and Indian judges'?
निम्नलिखित में से किसने 'ब्रिटिश और भारतीय न्यायाधीशों के बीच समानता' लाने की माँग की थी?

- (A) ☐ Macauley's Minutes
मैकाले का विवरण पत्र
- (B) ☐ Cornwallis Code
कॉर्नवालिस का कोड
- (C) ☐ Woods despatch (Chosen option)
वुड का आदेश पत्र
- (D) ☒ Ilbert Bill (Correct Answer)
इलबर्ट का बिल

Question No.32

Marks: 2.50

Bookmark ☐

When the State Legislature is suspended or dissolved, the Parliament can delegate the power to make laws for the State to _____.
जब राज्य विधायिका को निलंबित या भंग कर दिया जाता है, तो संसद राज्य के लिए कानून बनाने की शक्ति _____ को सौंप सकती है।

- (A) ☒ President of India (Correct Answer)
भारत के राष्ट्रपति
- (B) ☐ Governor of the concerned State (Chosen option)
संबंधित राज्य के राज्यपाल
- (C) ☐ Prime Minister of India
भारत के प्रधानमंत्री
- (D) ☐ Chief Minister of the concerned State
संबंधित राज्य के मुख्यमंत्री

Question No.33

Marks: 2.50

Bookmark ☐

The provisions of _____ extends the application of the Information Technology Act, 2000 to any offence thereunder even if it is committed outside India.
_____ के प्रावधान, सूचना प्रौद्योगिकी अधिनियम, 2000 के अनुप्रयोग का विस्तार उसके तहत किसी भी अपराध के लिए करते हैं, भले ही वह अपराध भारत के बाहर किया गया हो।

- (A) ☒ Section 1(2) (Correct Answer) (Chosen option)
धारा 1(2)
- (B) ☐ Section 1(5)
धारा 1(5)
- (C) ☐ Section 15
धारा 15
- (D) ☐ Section 2(zb)
धारा 2(zb)

Question No.34

Marks: 2.50

Bookmark ☐

Which of the following organisms causes the disease typhoid?
निम्नलिखित में से कौन सा जीव अंत्र ज्वर रोग (टाइफाइड) का कारण बनता है?

- (A) ☐ Protozoa
प्रजीवगण (प्रोटोजोआ)
- (B) ☒ Bacteria (Correct Answer) (Chosen option)
जीवाणु
- (C) ☐ Fungus
कवक (फंगस)
- (D) ☐ Virus
विषाणु

Question No.35

Marks: 2.50

Bookmark ☐

Which one of the following was acquired by Facebook in 2014?
निम्नलिखित में से किसे 2014 में फेसबुक द्वारा अधिग्रहित किया गया था?

- (A) ☐ Novi (Chosen option)
नोवी
- (B) ☐ BBM
बीबीएम
- (C) ☐ Instagram
इंस्टाग्राम
- (D) ☒ Oculus (Correct Answer)
ओकुलस

Question No.36

Marks: 2.50

Bookmark ☐

The District Disaster Management Authority shall consist of the Chairperson and such number of other members, not exceeding _____.
जिला आपदा प्रबंधन प्राधिकरण में अध्यक्ष और अन्य सदस्य होंगे, जिनकी संख्या _____ से अधिक नहीं होगी।

- (A) ☐ Nine
नौ
- (B) ☐ Four
चार
- (C) ☒ Seven (Correct Answer) (Chosen option)
सात

(D) <input type="radio"/> Five पाँच	
<div>Question No.37</div> <div>Marks: 2.50</div> <div>Bookmark <input type="checkbox"/></div> <div>"Human Rights" is defined under section _____ of the Protection of Human Rights Act, 1993. "मानव अधिकारों" को मानवाधिकार संरक्षण अधिनियम, 1993 की धारा _____ के तहत परिभाषित किया गया है।</div> <div>(A) <input type="radio"/> 2(c) 2(c)</div> <div>(B) <input type="radio"/> 2(b) (Chosen option) 2(b)</div> <div>(C) <input type="radio"/> 2(d) (Correct Answer) 2(d)</div> <div>(D) <input type="radio"/> 2(a) 2(a)</div>	
<div>Question No.38</div> <div>Marks: 2.50</div> <div>Bookmark <input type="checkbox"/></div> <div>Congress Agrarian Reforms Committee, 1949 was chaired by _____ . कांग्रेस कृषि सुधार समिति, 1949 की अध्यक्षता _____ ने की थी।</div> <div>(A) <input type="radio"/> Dr. B. R. Ambedkar डॉ. बी. आर. अम्बेडकर</div> <div>(B) <input type="radio"/> Dr. Rajendra Prasad डॉ. राजेंद्र प्रसाद</div> <div>(C) <input type="radio"/> Jawaharlal Nehru जवाहरलाल नेहरू</div> <div>(D) <input type="radio"/> J.C. Kumarappa (Correct Answer) (Chosen option) जे.सी. कुमारप्पा</div>	
<div>Question No.39</div> <div>Marks: 2.50</div> <div>Bookmark <input type="checkbox"/></div> <div>As per the census 2011, what is the sex ratio of India? 2011 की जनगणना के अनुसार भारत का लिंगानुपात कितना है?</div> <div>(A) <input type="radio"/> 940 females per 1000 males (Correct Answer) (Chosen option) प्रति 1000 पुरुषों पर 940 महिलाएँ</div> <div>(B) <input type="radio"/> 870 females per 1000 males प्रति 1000 पुरुषों पर 870 महिलाएँ</div> <div>(C) <input type="radio"/> 970 females per 1000 males प्रति 1000 पुरुषों पर 970 महिलाएँ</div> <div>(D) <input type="radio"/> 840 females per 1000 males प्रति 1000 पुरुषों पर 840 महिलाएँ</div>	
<div>Question No.40</div> <div>Marks: 2.50</div> <div>Bookmark <input type="checkbox"/></div> <div>Which Article of the Indian Constitution empowers the Supreme Court to grant special leave, to appeal against any judgment made by any Court/tribunal in the territory of India(except military tribunal and court martial)? भारतीय संविधान का कौन-सा अनुच्छेद सर्वोच्च न्यायालय को भारत के क्षेत्र में किसी भी अदालत/न्यायाधिकरण (सैन्य न्यायाधिकरण और कोर्ट मार्शल को छोड़कर) के फैसले से अपील करने के लिए विशेष अनुमति प्रदान करने का अधिकार देता है?</div> <div>(A) <input type="radio"/> Article 133 (Chosen option) अनुच्छेद 133</div> <div>(B) <input type="radio"/> Article 143 अनुच्छेद 143</div> <div>(C) <input type="radio"/> Article 134 अनुच्छेद 134</div> <div>(D) <input type="radio"/> Article 136 (Correct Answer) अनुच्छेद 136</div>	
NUMERICAL AND MENTAL ABILITY TEST - NUMERICAL AND MENTAL ABILITY TEST	
<div>Question No.1</div> <div>Marks: 2.50</div> <div>Bookmark <input type="checkbox"/></div> <div>Rearrange the word in question and find the option most similar in meaning to rearranged word: R L I H S L प्रश्न में शब्द को पुनर्व्यवस्थित करें और पुनर्व्यवस्थित शब्द के सबसे समान अर्थ वाला विकल्प ज्ञात करें: R L I H S L</div> <div>(A) <input type="radio"/> MUMBLE MUMBLE</div> <div>(B) <input type="radio"/> SHOUT (Correct Answer) SHOUT</div> <div>(C) <input type="radio"/> WHISPER (Chosen option) WHISPER</div> <div>(D) <input type="radio"/> SOFT SOFT</div>	
<div>Question No.2</div> <div>Marks: 2.50</div> <div>Bookmark <input type="checkbox"/></div> <div>A person invested Rs.25500 divided into two different schemes A and B at S.I of 12.5% and 15%. If the total amount of the simple interest earned in 2 years is Rs.7250, What was the amount invested in scheme A. (In Rs.) एक व्यक्ति ने 12.5% और 15% की साधारण ब्याज दर पर दो अलग-अलग योजनाओं A और B में Rs.25500 को विभाजित करके निवेश किया। यदि 2 वर्षों में अर्जित साधारण ब्याज की कुल राशि Rs.7250 है, तो योजना A में निवेश की गई राशि क्या थी? (Rs. में)</div> <div>(A) <input type="radio"/> 9000 9000</div> <div>(B) <input type="radio"/> 8000 (Correct Answer) (Chosen option)</div>	

8000

- (C) ☐ 7500
7500
(D) ☐ 8500
8500

Question No.3

Marks: 2.50

Bookmark ☐

A sum of Rs.11500 was lent at 30% per annum compounded annually. In how many years the amount will become Rs.19435?
ब्याज की गणना वार्षिक चक्रवृद्धि आधार पर करते हुए, Rs. 11500 की राशि, 30% वार्षिक दर पर उधार दी गई। कितने वर्ष में राशि, Rs.19435 हो जाएगी?

- (A) ☒ 2 (Correct Answer) (Chosen option)
2
(B) ☐ 8
8
(C) ☐ 6
6
(D) ☐ 4
4

Question No.4

Marks: 2.50

Bookmark ☐

Today is Tuesday. Before 28 days, it was:
आज मंगलवार है। 28 दिन पहले कौन सा वार था?

- (A) ☐ Monday
सोमवार
(B) ☐ Thursday
बृहस्पतिवार
(C) ☐ Wednesday
बुधवार
(D) ☒ Tuesday (Correct Answer) (Chosen option)
मंगलवार

Question No.5

Marks: 2.50

Bookmark ☐

Solve:

$$48-[23-\{500\div2-(10-35\div5)\div3\}]$$

हल करें:

$$48-[23-\{500\div2-(10-35\div5)\div3\}]$$

- (A) ☐ 512
512
(B) ☐ 676
676
(C) ☐ 256
256
(D) ☒ 274 (Correct Answer) (Chosen option)
274

Question No.6

Marks: 2.50

Bookmark ☐

Replace the question mark with an option that follows the same logic applied in the first pair.
ESCALATION : OPJUBMBDTF :: DEHYDRATED : ??
प्रश्नवाचक चिह्न को उस विकल्प से बदलें जो पहले युग्म में लागू तर्क का अनुसरण करता हो।
ESCALATION : OPJUBMBDTF :: DEHYDRATED : ??

- (A) ☐ EFVBSEZIFE
EFVBSEZIFE
(B) ☐ EFUBSEZIDE
EFUBSEZIDE

- (C) ☐ EFUZSEZIDE
EFUZSEZIDE
- (D) ☒ EFUBSEZIFE (Correct Answer) (Chosen option)
EFUBSEZIFE

Question No.7

Marks: 2.50

Bookmark ☐

Ajay and Baskar started a partnership business investing some amount in the ratio of 8 : 9. Chand joined them after six months with an amount equal to that of Baskar. In what proportion should the profit at the end of one year be distributed among Ajay, Baskar and Chand?
अजय और भास्कर ने 8 : 9 के अनुपात में कुछ राशि का निवेश करके एक साझेदारी व्यवसाय शुरू किया। चांद छह महीने के बाद भास्कर के बराबर राशि का निवेश करके उनके साथ जुड़ गया। एक वर्ष के अंत में लाभ को अजय, भास्कर और चांद के बीच किस अनुपात में वितरित किया जाना चाहिए?

- (A) ☒ 16:18 :9 (Correct Answer) (Chosen option)
16:18 :9
- (B) ☐ 18:16:9
18:16:9
- (C) ☐ 18:9:16
18:9:16
- (D) ☐ 9:16:18
9:16:18

Case Study - 8 to 9

5.00

Directions: In the following question, few statements are given and these statements are followed by two conclusions numbered i and ii. You have to take the given statements to be true even if they seem to be at variance from commonly known facts. Read the conclusions and then decide which of the given conclusions logically follows from the given statements, disregarding commonly known facts.

- Choose,
(A) Only (i) conclusion follows
(B) Only (ii) conclusion follows
(C) Neither (i) nor (ii) follows
(D) Both (i) and (ii) follow
(E) Either (i) or (ii) follows

दिशा-निर्देश: निम्नलिखित प्रश्न में कुछ कथन दिए गए हैं और इन कथनों के बाद दो निष्कर्ष i और ii दिए गए हैं। आपको दिए गए कथनों को सत्य मानना है, भले ही वे सर्वज्ञात तथ्यों से भिन्न प्रतीत होते हों। निष्कर्षों को पढ़ें और फिर तय करें कि दिए गए निष्कर्षों में से कौन सा निष्कर्ष सामान्य रूप से ज्ञात तथ्यों की परवाह किए बिना दिए गए कथनों का तार्किक रूप से अनुसरण करता है।

- चयन करें,
(A) केवल निष्कर्ष (i) अनुसरण करता है
(B) केवल निष्कर्ष (ii) अनुसरण करता है
(C) न ही निष्कर्ष (i) और न (ii) अनुसरण करता है
(D) दोनों निष्कर्ष (i) और निष्कर्ष (ii) अनुसरण करते हैं
(E) या तो निष्कर्ष (i) या निष्कर्ष (ii) अनुसरण करता है

Question No.8

Marks: 2.50

Bookmark ☐

Statements:
Some juices are tasty.
Some juices are fruits.

Conclusions:
i) Some fruits are tasty.
ii) Some fruits are juices.

कथन:
कुछ जूस, स्वादिष्ट है।
कुछ जूस, फल है।

निष्कर्ष:
i) कुछ फल, स्वादिष्ट हैं।
ii) कुछ फल, जूस हैं।

- (A) ☐ A
- (B) ☐ D
- (C) ☒ B (Correct Answer) (Chosen option)
B
- (D) ☐ C
C

Question No.9

Marks: 2.50

Bookmark ☐

Statements:
All students are teachers.
Some teachers are lecturers.
All lecturers are professionals.

Conclusions:
i) Some students are lecturers.
ii) Some professionals are students.

कथन:
सभी छात्र, शिक्षक हैं।
कुछ शिक्षक, व्याख्याता हैं।
सभी व्याख्याता, वृत्तिक हैं।

निष्कर्ष:
i) कुछ छात्र, व्याख्याता हैं।
ii) कुछ वृत्तिक, छात्र हैं।

- (A) ☐ D
D
- (B) ☐ B
B

- (C) ☐ A
A
(D) ☒ C (Correct Answer) (Chosen option)
C

Question No.10

Marks: 2.50

Bookmark ☐

A can finish a job in 102 days, B can finish the same job in 153 days and C can finish the same job in 204 days. If all three are working together, how many days will they require to complete the same job?
A, किसी कार्य को 102 दिनों में पूरा कर सकता है, B उसी कार्य को 153 दिनों में और C उसी कार्य को 204 दिनों में पूरा कर सकता है। यदि तीनों एक साथ कार्य कर रहे हैं, तो उसी कार्य को पूरा करने के लिए उन्हें कितने दिनों की आवश्यकता होगी?

- (A) ☒ 47(1/13) (Correct Answer) (Chosen option)
47(1/13)
(B) ☐ 49(1/13)
49(1/13)
(C) ☐ 45(1/13)
45(1/13)
(D) ☐ 51(1/13)
51(1/13)

Question No.11

Marks: 2.50

Bookmark ☐

Find the next term in the given series.
GENEROSITY, EROS, ENEROSIT, RO, ?
दी गई श्रृंखला में अगला पद ज्ञात करें।
GENEROSITY, EROS, ENEROSIT, RO, ?

- (A) ☐ OSIT
OSIT
(B) ☐ EROS
EROS
(C) ☒ NEROSI (Correct Answer) (Chosen option)
NEROSI
(D) ☐ NERO
NERO

Question No.12

Marks: 2.50

Bookmark ☐

If A stands for +, B stands for -, C stands for ×, then what is the value of (19A6)C(3A7)B5 ?
यदि A का अर्थ + है, B का अर्थ - है, C का अर्थ × है, तो (19A6)C(3A7)B5 का मान क्या होगा?

- (A) ☐ 150
150
(B) ☐ 30
30
(C) ☐ 180
180
(D) ☒ 245 (Correct Answer) (Chosen option)
245

Question No.13

Marks: 2.50

Bookmark ☐

What value should come in the place of question mark (?) in the following question?

$$\sqrt{23.04} \times \sqrt{17.64} \div \sqrt{5.76} \times \sqrt{70.56} = ?$$

निम्नलिखित प्रश्न में प्रश्नवाचक चिह्न (?) के स्थान पर क्या मान आना चाहिए?

$$\sqrt{23.04} \times \sqrt{17.64} \div \sqrt{5.76} \times \sqrt{70.56} = ?$$

- (A) ☐ 23.04
23.04
(B) ☐ 64.64
64.64
(C) ☒ 70.56 (Correct Answer) (Chosen option)
70.56
(D) ☐ 46.46
46.46

Question No.14

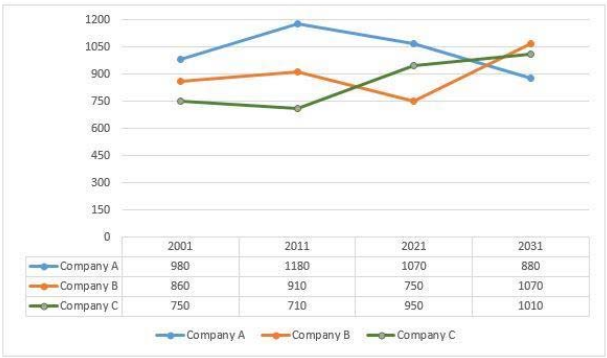
Marks: 2.50

Bookmark ☐

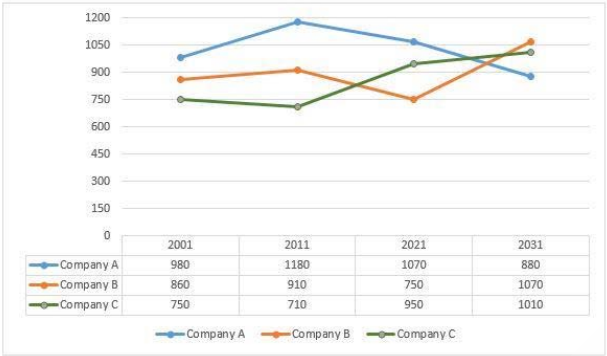
A number divided by 18 leaves a remainder 3. What is the remainder when the square of the same number is divided by 18?
एक संख्या को 18 से विभाजित करने पर शेषफल 3 रहता है। उसी संख्या के वर्ग को 18 से विभाजित करने पर शेषफल क्या होगा?

- (A) ☐ 5
5
(B) ☒ 9 (Correct Answer) (Chosen option)
9
(C) ☐ 3
3
(D) ☐ 7
7

<div>Question No.15</div> <div>M is thrice as efficient as workman as N and therefore is able to finish a job in 242 days less than N. Then N can finish the entire work in how many days? M, N की तुलना में तीन गुना कुशल कारीगर है और इसलिए वह किसी कार्य को N से 242 दिनों से कम समय में पूरा करने में सक्षम है। तो N पूरे कार्य को कितने दिनों में पूरा कर सकता है?</div> <div><div>(A) <input type="radio"/> 353</div><div>(B) <input type="radio"/> 333</div><div>(C) <input checked="" type="radio"/> 363 (Correct Answer) (Chosen option)</div><div>(D) <input type="radio"/> 343</div></div>	<div>Marks: 2.50</div> <div>Bookmark <input type="checkbox"/></div>
<div>Question No.16</div> <div>If 20% of 480 is x% less than 40% of 590 find x? यदि 480 का 20%, 590 के 40% से x% कम है, तो x ज्ञात कीजिए?</div> <div><div>(A) <input type="radio"/> 72.56%</div><div>(B) <input type="radio"/> 85%</div><div>(C) <input type="radio"/> 69.54%</div><div>(D) <input checked="" type="radio"/> 59.32% (Correct Answer) (Chosen option)</div></div>	<div>Marks: 2.50</div> <div>Bookmark <input type="checkbox"/></div>
<div>Question No.17</div> <div>Find the Total surface area of the hemisphere whose radius is 60cm and $\pi = 3.14(\text{cm}^2)$. उस अर्धगोले का कुल पृष्ठीय क्षेत्रफल ज्ञात कीजिए जिसकी त्रिज्या 60 cm और $\pi = 3.14$ है। (cm^2 में)</div> <div><div>(A) <input type="radio"/> 36912</div><div>(B) <input type="radio"/> 35912</div><div>(C) <input checked="" type="radio"/> 33912 (Correct Answer) (Chosen option)</div><div>(D) <input type="radio"/> 34912</div></div>	<div>Marks: 2.50</div> <div>Bookmark <input type="checkbox"/></div>
<div>Question No.18</div> <div>Select the appropriate set of sequence of mathematical operators to replace all * sign in the following equation and hence to balance it. $7 * 13 * 9 * 100$ निम्नलिखित समीकरण में सभी * चिह्नों को बदलने के लिए गणितीय संकारकों के अनुक्रम के उपयुक्त समुच्चय का चयन करें ताकि यह संतुलित हो जाए। $7 * 13 * 9 * 100$</div> <div><div>(A) <input type="radio"/> - + =</div><div>(B) <input checked="" type="radio"/> x + = (Correct Answer) (Chosen option)</div><div>(C) <input type="radio"/> + x =</div><div>(D) <input type="radio"/> - x =</div></div>	<div>Marks: 2.50</div> <div>Bookmark <input type="checkbox"/></div>
<div>Question No.19</div> <div>Replace the question mark with an option that follows the same logic applied in the first pair. MONSTER : NONTRET :: HEALTHY : ?? प्रश्नवाचक चिह्न को उस विकल्प से बदलें जो पहले युग्म में लागू तर्क का अनुसरण करता है। MONSTER : NONTRET :: HEALTHY : ??</div> <div><div>(A) <input checked="" type="radio"/> AEHMYHT (Correct Answer) (Chosen option)</div><div>(B) <input type="radio"/> AFGMYHT</div><div>(C) <input type="radio"/> AFHMXHT</div><div>(D) <input type="radio"/> AEHMXGT</div></div>	<div>Marks: 2.50</div> <div>Bookmark <input type="checkbox"/></div>
<div>Question No.20</div> <div>Directions: Study the following Line-chart and the data provided to answer the questions that follow: Sales of 3-different companies A, B and C selling mobiles for the given years 2001, 2011, 2021 and 2031. (In thousands) How much percentage company A has sold more than that of company B over all the given years.(Up to two decimals)</div>	<div>Marks: 2.50</div> <div>Bookmark <input type="checkbox"/></div>



निर्देश:
निम्नलिखित रेखा-चार्ट और दिए गए आंकड़ों का अध्ययन करके प्रश्नों का उत्तर दें:
दिए गए वर्ष 2001, 2011, 2021 और 2031 के लिए मोबाइल बेचने वाली 3-अलग-अलग कंपनियों A, B और C की बिक्री। (हजारों में)
सभी दिए गए वर्षों में कंपनी A ने कंपनी B की तुलना में कितना प्रतिशत अधिक बिक्री की है। (दो दशमलव स्थान तक)



- (A) ☐ 16.48%
16.48%
- (B) ☒ 14.48% (Correct Answer)
14.48%
- (C) ☐ 13.48% (Chosen option)
13.48%
- (D) ☐ 15.48%
15.48%

Question No.21

Marks: 2.50
Bookmark ☐

The ratio between the number of males and females in a college is 27:28. If the number of males are increased by 20% and the number of females are increased by 30%, then what will the new ratio of males and females in the college?
एक कॉलेज में पुरुषों और महिलाओं की संख्या का अनुपात 27:28 है। यदि पुरुषों की संख्या में 20% की वृद्धि की जाती है और महिलाओं की संख्या में 30% की वृद्धि की जाती है, तो कॉलेज में पुरुषों और महिलाओं का नया अनुपात क्या होगा?

- (A) ☐ 91:81
91:81
- (B) ☐ 71:91
71:91
- (C) ☐ 91:71
91:71
- (D) ☒ 81:91 (Correct Answer) (Chosen option)
81:91

Question No.22

Marks: 2.50
Bookmark ☐

After walking 9km, a boy turned left and walked 6km. He then took a left turn and walked 11km. If he stood facing West direction finally, towards which direction did he walk the first 9km?
9 km चलने के बाद, एक लड़का बाएं मुड़ता है और 6 km चलता है। फिर वह बाएं मुड़ता है और 11 km चलता है। यदि वह अंत में पश्चिम दिशा की ओर मुंह करके खड़ा हुआ है, तो वह पहले 9 km किस दिशा में चला?

- (A) ☐ North
उत्तर
- (B) ☐ South
दक्षिण
- (C) ☐ West
पश्चिम
- (D) ☒ East (Correct Answer) (Chosen option)
पूर्व

Question No.23

Marks: 2.50
Bookmark ☐

The smallest number which when divided by 11, 15, 12 leaves a remainder 7. Find the remainder when the same number is divided by 9.
सबसे छोटी एक संख्या को 11, 15, 12 से विभाजित करने पर शेषफल 7 प्राप्त होता है। उसी संख्या को 9 से विभाजित करने पर शेषफल ज्ञात कीजिए।

- (A) ☐ 3
3
- (B) ☐ 7

- 7
- (C) ☐ 5
- 5
- (D) ☐ 1 (Correct Answer) (Chosen option)
- 1

Question No.24

Marks: 2.50
Bookmark ☐

If A drives from X to Y at 42 kmph and then from Y to X at 96 kmph, what is the average speed for the whole journey? (In kmph - upto two decimals)

यदि A, X से Y तक 42 kmph की चाल से और फिर Y से X तक 96 kmph की चाल से गाड़ी चलाता है, तो पूरी यात्रा की औसत चाल क्या है? (kmph में - दो दशमलव स्थान तक)

(A) ☐ 60.43

60.43

(B) ☐ 62.43

62.43

(C) ☐ 56.43

56.43

(D) ☐ 58.43 (Correct Answer) (Chosen option)

58.43

Question No.25

Marks: 2.50
Bookmark ☐

If a mirror is placed on the shaded line, then which of the following options is the mirror image of the given figure?

RESISTANCE

यदि किसी दर्पण को छायांकित रेखा पर रखा जाता है, तो निम्नलिखित में से कौन सा विकल्प दी गई आकृति का दर्पण प्रतिबिंब होगा?

RESISTANCE

(A) ☐

RESISTANCE

RESISTANCE

(Correct Answer) (Chosen option)

(B) ☐

RESISTANCE

RESISTANCE

(C) ☐

RESISTANCE

RESISTANCE

(D) ☐

RESISTANCE

RESISTANCE

Question No.26

Marks: 2.50

Bookmark ☐

Each question given below consists of a statement, followed by two arguments numbered 1 and 2. You have to decide which of the arguments is a 'strong' argument and which is a 'weak' argument.

Give answer:

- (A) If only argument 1 is strong
(B) If only argument 2 is strong
(C) If either 1 or 2 is strong
(D) If neither 1 nor 2 is strong and
(E) If both 1 and 2 are strong.

Statement:

Should the government spend money on art?

Arguments:

1. Yes, art brings quality into one's life.
2. No, quality in a person's life derives from a decent opportunity in life, not a sculpture.

नीचे दिए गए प्रत्येक प्रश्न में एक कथन है, जिसके बाद दो 1 और 2 से संख्यांकित दो तर्क दिए गए हैं। आपको यह तय करना है कि कौन सा तर्क 'प्रबल' तर्क है और कौन सा 'दुर्बल' तर्क है।

उत्तर दे:

- (A) यदि केवल तर्क 1 प्रबल है।
(B) यदि केवल तर्क 2 प्रबल है।
(C) यदि या तो 1 या 2 प्रबल है।
(D) यदि न तो 1 और न ही 2 प्रबल है और
(E) यदि 1 और 2 दोनों प्रबल हैं।

कथन:

क्या सरकार को कला पर रुपए खर्च करने चाहिए?

तर्क:

1. हाँ, कला किसी के जीवन में गुणवत्ता लाती है।
2. नहीं, किसी व्यक्ति के जीवन में गुणवत्ता जीवन में एक अच्छे अवसर से प्राप्त होती है, किसी मूर्ति से नहीं।

- (A) ☒ B (Correct Answer)
B
(B) ☐ D
D
(C) ☐ C
C
(D) ☐ A (Chosen option)
A

Question No.27

Marks: 2.50

Bookmark ☐

Find the smallest 4 digit number which is divided by 5, 10, 19, 20, 38 and leaves the remainder as 3.
4 अंकों की सबसे छोटी संख्या ज्ञात कीजिए जिसे 5, 10, 19, 20, 38 से विभाजित करने पर शेषफल 3 प्राप्त हो।

- (A) ☒ 1143 (Correct Answer) (Chosen option)
1143
(B) ☐ 1140
1140
(C) ☐ 1452
1452
(D) ☐ 1125
1125

Question No.28

Marks: 2.50

Bookmark ☐

How many numbers up to 980 are divisible by both 3 and 7?
980 तक कितनी संख्याएँ, 3 और 7 दोनों से विभाज्य हैं?

- (A) ☒ 46 (Correct Answer) (Chosen option)
46
(B) ☐ 39
39
(C) ☐ 42
42
(D) ☐ 52
52

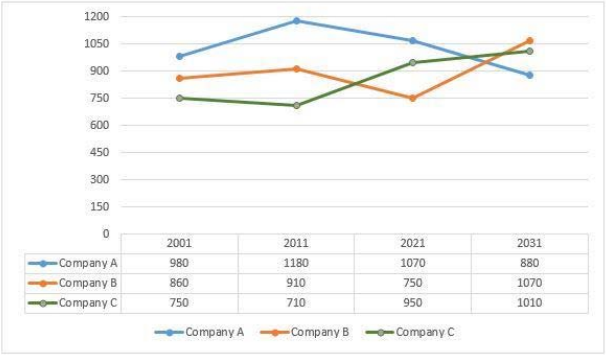
Question No.29

Marks: 2.50

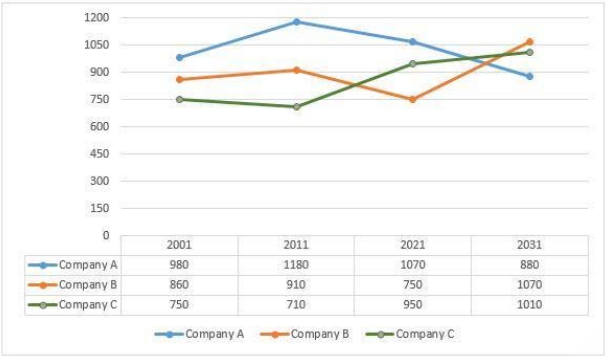
Bookmark ☐

Directions:

Study the following Line-chart and the data provided to answer the questions that follow:
Sales of 3-different companies A, B and C selling mobiles for the given years 2001, 2011, 2021 and 2031. (In thousands)
Which year Company B has maximum sale?



निर्देश:
निम्नलिखित रेखा-चार्ट और दिए गए आंकड़े का अध्ययन करके प्रश्नों का उत्तर दें:
दिए गए वर्ष 2001, 2011, 2021 और 2031 के लिए मोबाइल बेचने वाली 3-अलग-अलग कंपनियों A, B और C की बिक्री। (हजारों में)
किस वर्ष कंपनी B की अधिकतम बिक्री हुई?



- (A) ☐ 2001
2001
- (B) ☒ 2031 (Correct Answer)
2031
- (C) ☐ 2011 (Chosen option)
2011
- (D) ☐ 2021
2021

Question No.30

Marks: 2.50

Bookmark ☐

What should be written in the place of question mark in the given series?

D6, H12, L18, ?, T30

दी गई श्रृंखला में प्रश्नवाचक चिह्न के स्थान पर क्या लिखा जाएगा?

D6, H12, L18, ?, T30

- (A) ☐ N24
N24
- (B) ☐ N22
N22
- (C) ☒ P24 (Correct Answer) (Chosen option)
P24
- (D) ☐ O22
O22

Question No.31

Marks: 2.50

Bookmark ☐

The average weight of 251 fertilizer bags is 51 kgs. If the weight of the box (in which the fertilizer bags are kept) be included, the calculated average weight per fertilizer bag increases by 0.6 kg. What is the weight of the box? (In kg)

251 उर्वरक बैग का औसत वजन 51 kg है। यदि बॉक्स के वजन (जिसमें उर्वरक बैग रखे जाते हैं) को शामिल किया जाता है, तो प्रति उर्वरक बैग का परिकलित औसत वजन 0.6 kg बढ़ जाता है।

बॉक्स का वजन क्या है? (kg में)

- (A) ☒ 150.6 (Correct Answer) (Chosen option)
150.6
- (B) ☐ 154.6
154.6
- (C) ☐ 152.6
152.6
- (D) ☐ 148.6
148.6

Question No.32

Marks: 2.50

Bookmark ☐

A mobile is sold for \$14105 at a loss of 35%. What would have been the actual profit or loss percent on it, if it had been sold for \$28210?

एक मोबाइल को \$14105 में 35% की हानि पर बेचा जाता है। यदि इसे \$28210 में बेचा गया होता, तो उस पर वास्तविक लाभ या हानि प्रतिशत क्या होता?

- (A) ☐ 34% profit
34% लाभ
- (B) ☐ 32% Loss

- 32% हानि
- (C) ☐ 30% profit (Correct Answer) (Chosen option)
30% लाभ
- (D) ☐ 36% Loss
36% हानि

Question No.33

Marks: 2.50
Bookmark ☐

In this question, a statement is given followed by two conclusions numbered i and ii. You have to assume everything in the statement to be true, then consider the two conclusions together and decide which of them logically follows beyond a reasonable doubt from the information given in the statement.

Statement:

Every kid must practise to drink a litre of water daily.

Conclusion:

- i) Drinking water is necessary as kids play daily.
ii) Water protect the kids from diseases.

Choose the appropriate one from the following options

- (A) Only conclusion i follows
(B) Only conclusion ii follows
(C) Either i or ii follows
(D) Neither i nor ii follows
(E) Both i and ii follow.

इस प्रश्न में, एक कथन दिया गया है जिसके बाद i और ii से संख्यांकित दो निष्कर्ष दिए गए हैं। आपको कथन में दी गई सभी बातों को सत्य मान लेना है, फिर दोनों निष्कर्षों पर एक साथ विचार करना है और निर्णय करना है कि उनमें से कौन सा निष्कर्ष, कथन में दी गई जानकारी का उचित संदेह से परे तार्किक रूप से अनुसरण करता है।

कथन:

प्रत्येक बच्चे को प्रतिदिन एक लीटर पानी पीने का अभ्यास करना चाहिए।

निष्कर्ष:

- i) बच्चों के लिए पानी पीना आवश्यक है, क्योंकि वे प्रतिदिन खेलते हैं।
ii) पानी, बच्चों को बीमारियों से बचाता है।

निम्नलिखित विकल्पों में से उपयुक्त विकल्प का चयन करें

- (A) केवल निष्कर्ष i अनुसरण करता है
(B) केवल निष्कर्ष ii अनुसरण करता है
(C) या तो i या ii अनुसरण करता है
(D) न तो i और न ही ii अनुसरण करता है
(E) i और ii दोनों अनुसरण करते हैं।

- (A) ☐ D (Correct Answer)
D
- (B) ☐ B (Chosen option)
B
- (C) ☐ C
C
- (D) ☐ A
A

Question No.34

Marks: 2.50
Bookmark ☐

Find the sum of the G.P.:

11/5, 11/25, 11/125, 11/625, ... to n terms.

गुणोत्तर श्रेणी (जी.पी.) का योगफल ज्ञात करें:

11/5, 11/25, 11/125, 11/625, ... n पदों तक।

- (A) ☐ $11/5(1-(1/5)^n)$
 $11/5(1-(1/5)^n)$
- (B) ☐ $1/2(1-(1/5)^n)$
 $1/2(1-(1/5)^n)$
- (C) ☐ $4/5(1-(1/5)^n)$
 $4/5(1-(1/5)^n)$
- (D) ☐ $11/4(1-(1/5)^n)$ (Correct Answer) (Chosen option)
 $11/4(1-(1/5)^n)$

Question No.35

Marks: 2.50
Bookmark ☐

A tradesman marks the price of his goods such that after allowing a discount of 20%, he earns a profit of 20%. What is the marked price of an article whose cost price is Rs.21500? (In Rs.)

एक व्यापारी अपने माल की कीमत इस प्रकार अंकित करता है कि 20% की छूट देने के बाद, वह 20% का लाभ अर्जित करता है। एक वस्तु का अंकित मूल्य क्या है जिसका क्रय मूल्य Rs.21500 है? (Rs. में)

- (A) ☐ 32450
32450
- (B) ☐ 32250 (Correct Answer) (Chosen option)
32250
- (C) ☐ 32150
32150
- (D) ☐ 32350
32350

Question No.36

Marks: 2.50
Bookmark ☐

Directions:

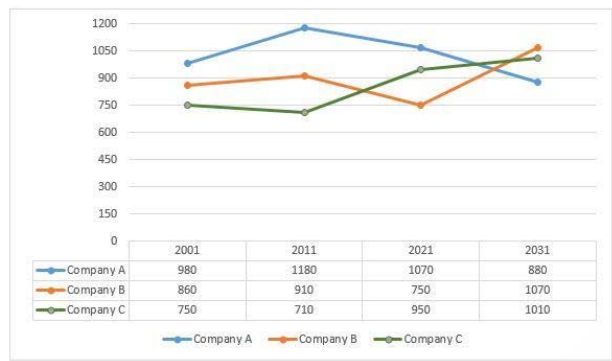
Study the following Line-chart and the data provided to answer the questions that follow:

Sales of 3-different companies A, B and C selling mobiles for the given years 2001, 2011, 2021 and 2031. (In thousands)

How much percentage of sale has been decreased from 2011 to 2021 for the company A?(Up to two decimal)



निर्देश:
निम्नलिखित रेखा-चार्ट और दिए गए आंकड़ों का अध्ययन करके प्रश्नों का उत्तर दें:
दिए गए वर्ष 2001, 2011, 2021 और 2031 के लिए मोबाइल बेचने वाली 3-अलग-अलग कंपनियों A, B और C की बिक्री। (हजारों में)
कंपनी A के लिए 2011 से 2021 तक बिक्री में कितने प्रतिशत कमी हुई है? (दो दशमलव स्थान तक)



- (A) ☐ 10.52%
10.52%
- (B) ☐ 12.64%
12.64%
- (C) ☒ 9.32% (Correct Answer) (Chosen option)
9.32%
- (D) ☐ 11.26%
11.26%

Question No.37

Marks: 2.50
Bookmark ☐

A flight covers a distance between A and B in 21 hours. If the speed of the flight is reduced by 220 km/hr, then the same distance is covered in 26 hours. Find the distance between A and B. (In km)
एक विमान, 21 घंटे में A और B के बीच की दूरी तय करता है। यदि विमान की गति 220 km/hr कम कर दी जाए, तो उतनी ही दूरी 26 घंटे में तय की जाती है। A और B के बीच की दूरी ज्ञात कीजिए। (km में)
(A) ☐ 24624
24624
(B) ☐ 24224
24224
(C) ☐ 24424
24424
(D) ☒ 24024 (Correct Answer) (Chosen option)
24024

Question No.38

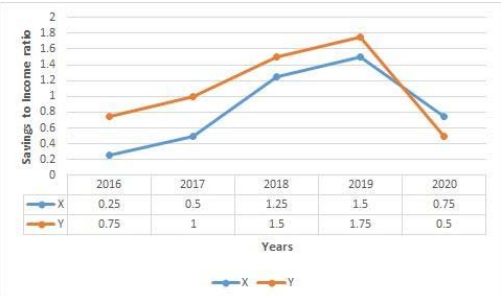
Marks: 2.50
Bookmark ☐

A shopkeeper sells two bags for Rs.5500 each. On one, he gets 27% profit and on the other he gets 27% loss. Find his profit or loss percentage for the entire transaction?
एक दुकानदार दो बैग, प्रत्येक Rs. 5500 में बेचता है। एक पर उसे 27% लाभ होता है और दूसरे पर उसे 27% हानि होती है। पूरे लेन-देन में उसका लाभ या हानि प्रतिशत ज्ञात करें?
(A) ☐ 6.29% profit
6.29% लाभ
(B) ☒ 7.29% loss (Correct Answer) (Chosen option)
7.29% हानि
(C) ☐ 6.29% loss
6.29% हानि
(D) ☐ 7.29% profit
7.29% लाभ

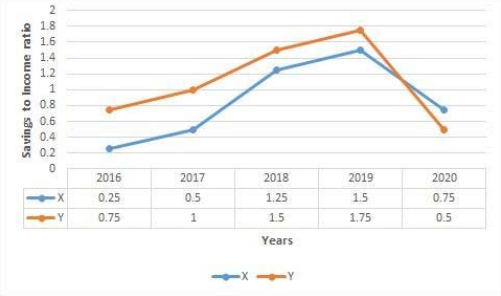
Case Study - 39 to 40

5.00

Directions: Study the following graph carefully and answer the questions given below.
The line graph represents the ratio of savings to income by two different companies X and Y from the period 2016 to 2020.



निर्देश: निम्नलिखित आरेख का ध्यानपूर्वक अध्ययन करें और नीचे दिए गए प्रश्नों के उत्तर दें।
रेखा आरेख, 2016 से 2020 की अवधि के दौरान दो अलग-अलग कंपनियों X और Y द्वारा बचत और आय के अनुपात को निरूपित करता है।



Question No.39

Marks: 2.50
Bookmark ☐

In how many years, the savings of company X is more than its income?
कितने वर्षों में कंपनी X की बचत उसकी आय से अधिक है?

- (A) ☐ four
चार
- (B) ☐ one
एक
- (C) ☐ three
तीन
- (D) ☒ two (Correct Answer) (Chosen option)
दो

Question No.40

Marks: 2.50
Bookmark ☐

In how many years, the income of company Y is more than its savings?
कितने वर्षों में कंपनी Y की आय उसकी बचत से अधिक है?

- (A) ☐ four
चार
- (B) ☐ three
तीन
- (C) ☐ one
एक
- (D) ☒ two (Correct Answer) (Chosen option)
दो

MENTAL APTITUDE - INTELLIGENCE - TEST OF REASONING - MENTAL APTITUDE - INTELLIGENCE - TEST OF REASONING

Question No.1

Marks: 2.50
Bookmark ☐

In this question, a passage is given followed by a statement. Read the passage carefully and judge the statement based on the given passage.
The Sahara's environment requires that the wildlife adapt to hyper-arid conditions, fierce winds, intense heat and wide temperature swings. In the Sahara, most mammals are relatively small, which helps to minimize water loss. They often meet their water needs from their diets. They take refuge in burrows during the day, hunting and foraging primarily at night, when temperatures are lower. They have developed anatomical adaptations such as the fennec fox's large ears, which help dissipate heat, and its hairy soles, which protect its feet. Altogether, the Sahara hosts some 70 species of mammals, 90 species of resident birds, 100 species of reptiles, and numerous species of arthropods. The wildlife is concentrated primarily along the less severe northern and southern margins and near desert water sources.

Statement:
The fennec foxes have hairy soles which help in dissipating heat.

- Choose the appropriate one from the following options
- A - The statement is definitely true.
- B - The statement is probably true.
- C - The statement cannot be determined.
- D - The statement is definitely false.

इस प्रश्न में एक गद्यांश और उसके बाद एक कथन दिया गया है। गद्यांश को ध्यान से पढ़ें और दिए गए गद्यांश के आधार पर कथन पर विचार करें।
सहारा के पर्यावरण की आवश्यकता है कि वन्यजीव, अति-शुष्क परिस्थितियों, भयंकर हवाओं, तीव्र गर्मी और तापमान में व्यापक परिवर्तन के अनुकूल हों। सहारा में अधिकांश स्तनधारी अपेक्षाकृत छोटे होते हैं, जिससे जल हानि कम होने में मदद मिलती है। वे अक्सर अपने आहार से अपनी जल आवश्यकताओं को पूरा करते हैं। वे दिन के समय बिलों में शरण लेते हैं और मुख्य रूप से रात में, जब तापमान कम होता है, तब भोजन की खोज में निकलते हैं और शिकार करते हैं। उन्होंने शारीरिक अनुकूलन विकसित किए हैं, जैसे कि फेनेक फॉक्स के बड़े कान जो गर्मी को दूर करने में मदद करते हैं, और बालों वाले तलवे, जो इसके पैरों की रक्षा करते हैं। कुल मिलाकर, सहारा, स्तनधारियों की लगभग 70 प्रजातियों, निवासी पक्षियों की 90 प्रजातियों, सरीसृपों की 100 प्रजातियों और आर्थ्रोपॉड की कई प्रजातियों का निवास स्थान है। वन्यजीव मुख्य रूप से कम गंभीर उत्तरी और दक्षिणी हाथियों पर और रेगिस्तानी जल स्रोतों के पास केंद्रित हैं।

कथन:
फेनेक फॉक्स के तलवे, बालों वाले होते हैं जो गर्मी को दूर करने में मदद करते हैं।

निम्नलिखित विकल्पों में से उपयुक्त विकल्प का चयन करें
A - कथन निश्चित रूप से सत्य है।
B - कथन संभवतः सत्य है।
C - कथन के बारे में निश्चित रूप से कुछ कहा नहीं जा सकता है।
D - कथन निश्चित रूप से असत्य है।

- (A) ☐ **D (Correct Answer)** (Chosen option)
D
(B) ☐ C
C
(C) ☐ B
B
(D) ☐ A
A

Question No.2

Marks: 2.50

Bookmark ☐

Read the information carefully and answer the following question.

A+B means A is the father of B
A-B means A is the mother of B
A*B means A is the sister of B
A/B means A is the brother of B

In the given expression **M+N-O*Q**, how is O related to M?
जानकारी को ध्यान से पढ़ें और निम्नलिखित प्रश्न का उत्तर दें।

A+B का अर्थ है A, B का पिता है
A-B का अर्थ है A, B की माँ है
A*B का अर्थ है A, B की बहन है
A/B का अर्थ है A, B का भाई है

दिए गए व्यंजक **M+N-O*Q** में, O का M से क्या संबंध है?

- (A) ☐ Daughter
बेटी
(B) ☐ Son
बेटा
(C) ☐ Grand son
ग्रैंड सन
(D) ☐ **Grand daughter (Correct Answer)** (Chosen option)
ग्रैंड डॉटर

Question No.3

Marks: 2.50

Bookmark ☐

Which one of the following is a global online collaborative platform that links policymakers and experts from both developed and developing countries to find solutions to advance gender equality?

निम्नलिखित में से कौन-सा, एक वैश्विक ऑनलाइन सहयोगी मंच है जो लैंगिक समानता को आगे बढ़ाने का उपाय ज्ञात करने के लिए विकसित और विकासशील दोनों देशों के नीति निर्माताओं और विशेषज्ञों को एक साथ जोड़ता है?

- (A) ☐ Wikipedia
विकिपीडिया
(B) ☐ Wikileaks
विकिलीक्स
(C) ☐ Google
गूगल
(D) ☐ **Wikigender (Correct Answer)** (Chosen option)
विकिजेंडर

Question No.4

Marks: 2.50

Bookmark ☐

Which one of the following programmes is the first World Bank supported programme for minority welfare under the Ministry of minority affairs?

निम्नलिखित में से कौन-सा कार्यक्रम अल्पसंख्यक मामलों के मंत्रालय के तहत अल्पसंख्यक कल्याण के लिए प्रथम विश्व बैंक समर्थित कार्यक्रम है?

- (A) ☐ Nai Roshini
नई रोशनी
(B) ☐ Pradhan Mantri Jan Vikas Karyakram(PMJVK) (Chosen option)
प्रधान मंत्री जन विकास कार्यक्रम (पीएमजेवीके)
(C) ☐ **Nai Manzil (Correct Answer)**
नई मंज़िल
(D) ☐ Nai Uddan
नई उड़ान

Question No.5

Marks: 2.50

Bookmark ☐

In a class of 60 students, a boy is ranked 30th from top. When 10 boys joined, his rank was dropped by one. What is his new rank from the last?
60 विद्यार्थियों की एक कक्षा में एक लड़के का स्थान शीर्ष से 30वां है। जब 10 लड़के शामिल हुए, तो उसका स्थान एक कम हो गया। अंत से उसका नया स्थान क्या है?

- (A) ☐ 42 (Chosen option)
42
(B) ☐ **40 (Correct Answer)**
40
(C) ☐ 43
43
(D) ☐ 44
44

<div>Question No.6</div> <div><div>Marks: 2.50</div><div>Bookmark <input type="checkbox"/></div></div> <div><p>If \$ = 6, @ = 2, # = 156, % = 3, © = 10, then @ + % × # ÷ \$ - © = ? यदि \$ = 6, @ = 2, # = 156, % = 3, © = 10 है, तो @ + % × # ÷ \$ - © = ?</p><div><div>(A) <input type="radio"/> 70 (Correct Answer) (Chosen option)</div><div>70</div><div>(B) <input type="radio"/> 56</div><div>56</div><div>(C) <input type="radio"/> 18</div><div>18</div><div>(D) <input type="radio"/> 44</div><div>44</div></div></div>	
<div>Question No.7</div> <div><div>Marks: 2.50</div><div>Bookmark <input type="checkbox"/></div></div> <div><p>What is the meaning of "Self Incrimination" in Criminal Justice System? आपराधिक न्याय प्रणाली में "आत्म दोष लगाना" का क्या अर्थ है?</p><div><div>(A) <input type="radio"/> Act of filing appeal अपील दायर करने का कार्य</div><div>(B) <input type="radio"/> Act of escaping justice न्याय से बचने का कार्य</div><div>(C) <input type="radio"/> Act of denying the crime अपराध को नकारने का कार्य</div><div>(D) <input type="radio"/> Act of accepting guilt (Correct Answer) (Chosen option) अपराध स्वीकार करने का कार्य</div></div></div>	
<div>Question No.8</div> <div><div>Marks: 2.50</div><div>Bookmark <input type="checkbox"/></div></div> <div><p>Find the next term in the given series. 61, 71, 91, 121, 161, 211, ? दी गई श्रेणी में अगला पद ज्ञात करें। 61, 71, 91, 121, 161, 211, ?</p><div><div>(A) <input type="radio"/> 261</div><div>261</div><div>(B) <input type="radio"/> 281</div><div>281</div><div>(C) <input type="radio"/> 251</div><div>251</div><div>(D) <input type="radio"/> 271 (Correct Answer) (Chosen option)</div><div>271</div></div></div>	
<div>Question No.9</div> <div><div>Marks: 2.50</div><div>Bookmark <input type="checkbox"/></div></div> <div><p>Who authored the book "The Communist Manifesto", which became the founding document for communism in the world? "द कम्युनिस्ट मेनिफेस्टो" पुस्तक, जो विश्व में साम्यवाद का संस्थापक दस्तावेज बन गया किसने लिखी थी?</p><div><div>(A) <input type="radio"/> C. R. Das and M. N. Roy (Chosen option) सी.आर. दास और एम.एन. रॉय</div><div>(B) <input type="radio"/> Leon Trotsky लियोन ट्रॉट्स्की</div><div>(C) <input type="radio"/> Karl Marx and Friedrich Engels (Correct Answer) कार्ल मार्क्स और फ्रेडरिक एंगेल्स</div><div>(D) <input type="radio"/> Vladimir Lenin व्लादमीर लेनिन</div></div></div>	
<div>Question No.10</div> <div><div>Marks: 2.50</div><div>Bookmark <input type="checkbox"/></div></div> <div><p>A box containing the denominations of one rupee coins, two rupee coins and ten rupee coins amount to Rs.2730. There are equal number of coins in all denominations. What is the total number of one rupee coins in the box? एक डिब्बे में एक रुपये, दो रुपये और दस रुपये मूल्यवर्गों के सिक्के हैं, जिनकी कुल राशि Rs.2730 है। सभी मूल्यवर्गों के सिक्कों की संख्या समान है। डिब्बे में एक रुपये के सिक्कों की कुल संख्या कितनी है?</p><div><div>(A) <input type="radio"/> 105</div><div>105</div><div>(B) <input type="radio"/> 630</div><div>630</div><div>(C) <input type="radio"/> 210 (Correct Answer) (Chosen option)</div><div>210</div><div>(D) <input type="radio"/> 420</div><div>420</div></div></div>	

Question No.11

Marks: 2.50
Bookmark ☐

Choose the alternative which is an odd word/number/letter pair out of the given alternatives.
दिए गए विकल्पों में से वह विकल्प चुनिए जो एक असंगत शब्द/संख्या/अक्षर युग्म है।

- (A) ☐ Submit
Submit
- (B) ☐ Surrender
Surrender
- (C) ☐ Fall
Fall
- (D) ☒ Win (Correct Answer) (Chosen option)
Win

Question No.12

Marks: 2.50
Bookmark ☐

A girl starts from her house and walks 3km towards South and walks 4km after taking a right turn. She then turns right and walks 5km and takes another right and walks 4km. Which direction should she walk to reach her house?


एक लड़की अपने घर से चलना शुरू करती है और दक्षिण की ओर 3 km चलती है और दाएं मुड़ने के बाद 4 km चलती है। फिर वह दाएं मुड़ती है और 5 km चलती है और एक बार फिर दाएं मुड़ती है और 4 km चलती है। उसे अपने घर पहुंचने के लिए किस दिशा में चलना चाहिए?

- (A) ☐ North
उत्तर
- (B) ☒ South (Correct Answer) (Chosen option)
दक्षिण
- (C) ☐ East
पूर्व
- (D) ☐ West
पश्चिम


Question No.13

Marks: 2.50
Bookmark ☐

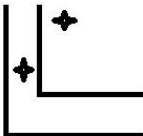

Which one of the following alternatives will perfectly complete the given figure?





निम्नलिखित में से कौन-सा विकल्प दी गई आकृति को पूर्ण रूप से पूरा करेगा?



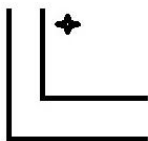
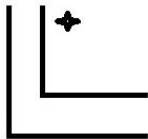
(A) ☐



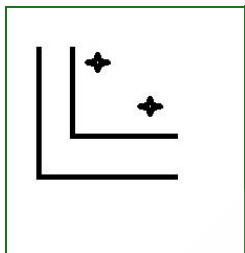
(B) ☐



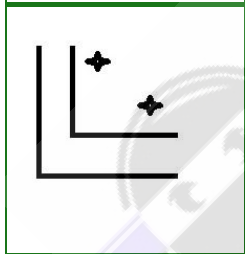
(C) ☐



(D) ☐



(Correct Answer) (Chosen option)



Question No.14

Marks: 2.50

Bookmark ☐

Which among the following agencies, was specially raised in 1985 to provide proximate security cover to the Prime Minister and the Former Prime Ministers of India?

निम्नलिखित में से कौन सी एजेंसी, 1985 में विशेष रूप से भारत के प्रधान मंत्री और पूर्व प्रधानमंत्रियों को सुरक्षा कवच प्रदान करने के लिए स्थापित की गई थी?

- (A) ☐ Central Industrial Security Force (CISF)
केंद्रीय औद्योगिक सुरक्षा बल (सीआईएसएफ)
- (B) ☐ Delhi Police
दिल्ली पुलिस
- (C) ☒ Special Protection Group (SPG) (Correct Answer) (Chosen option)
विशेष सुरक्षा दल (एसपीजी)
- (D) ☐ Central Reserve Police Force (CRPF)
केंद्रीय रिजर्व पुलिस बल (सीआरपीएफ)

Question No.15

Marks: 2.50

Bookmark ☐

In a certain code, if FAMOUS is written as FMAUOS, then how is LEGEND written in that code?

किसी निश्चित कूट भाषा में यदि FAMOUS को FMAUOS के रूप में लिखा जाता है, तो उस कूट भाषा में LEGEND को कैसे लिखा जाएगा?

- (A) ☐ ELEGDN
ELEGDN
- (B) ☒ LGENED (Correct Answer) (Chosen option)
LGENED
- (C) ☐ GELDNE
GELDNE
- (D) ☐ LNEGEL
LNEGEL

Question No.16

Marks: 2.50
Bookmark ☐

If in the number sequence 2 4 5 6 3 1 7 4 8 5 1 2 3, all the odd numbers are increased by two and all the even numbers are decreased by two, then the new number sequence are arranged in descending order, which will be the fifth digit from the left?
यदि संख्या अनुक्रम 2 4 5 6 3 1 7 4 8 5 1 2 3 में सभी विषम संख्याओं में दो की वृद्धि होती है और सभी सम संख्याओं में दो की कमी होती है, और इसके बाद नए संख्या अनुक्रम को अवरोही क्रम में व्यवस्थित किया जाता है, जो बाएँ से पाँचवाँ अंक कौन सा होगा?

- (A) ☐ 7
7
- (B) ☒ 5 (Correct Answer) (Chosen option)
5
- (C) ☐ 6
6
- (D) ☐ 4
4

Question No.17

Marks: 2.50
Bookmark ☐

Read the following statements and answer the questions based on them

A+B means A is daughter of B
A-B means A is the son of B
A*B means A is the aunt of B
A/B means A is the uncle of B

Which of the following shows that 'O is the cousin of M'?
जानकारी को पढ़ें और उन पर आधारित प्रश्नों का उत्तर दें।

A+B का अर्थ है A, B की पुत्री है
A-B का अर्थ है A, B का पुत्र है
A*B का अर्थ है A, B की आँट है
A/B का अर्थ है A, B का अंकल है

निम्नलिखित में से कौन-सा यह दर्शाता है कि 'O, M का कज़िन है'?

- (A) ☒ O-N*M (Correct Answer) (Chosen option)
O-N*M
- (B) ☐ O/N/M
O/N/M
- (C) ☐ M+N+O
M+N+O
- (D) ☐ M-N-O
M-N-O

Question No.18

Marks: 2.50
Bookmark ☐

Replace the question mark with an option that follows the same logic applied in the first pair.

216:81::104: ?
प्रश्नवाचक चिह्न को उस विकल्प से बदलें जो पहले युग्म में लागू तर्क का अनुसरण करता हो।
216:81::104: ?

- (A) ☐ 56
56
- (B) ☒ 25 (Correct Answer) (Chosen option)
25
- (C) ☐ 27
27
- (D) ☐ 52
52

Question No.19

Marks: 2.50
Bookmark ☐

Four of the following five are alike in a certain way and so form a group. Which is the one that does not belong to that group?

Top, Peak, Pinnacle, Summit, Base

निम्नलिखित पाँच में से चार एक निश्चित तरीके से समान हैं और इसलिए एक समूह बनाते हैं। वह कौन सा है जो उस समूह से संबंधित नहीं है?

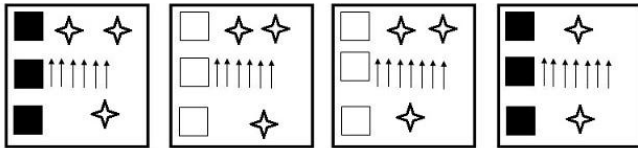
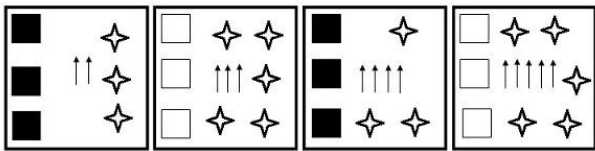
Top, Peak, Pinnacle, Summit, Base

- (A) ☐ Top
Top
- (B) ☐ Peak
Peak
- (C) ☒ Base (Correct Answer) (Chosen option)
Base
- (D) ☐ Summit
Summit

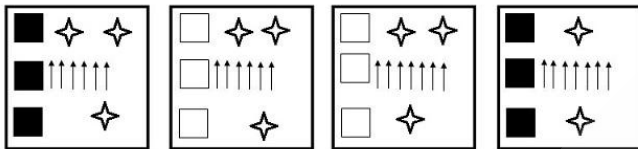
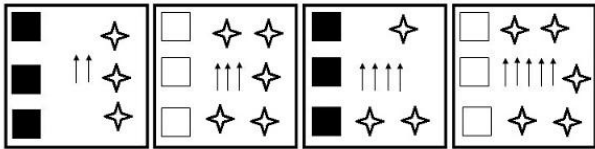
Question No.20

Marks: 2.50
Bookmark ☐

Which one of the following images numbered as (1), (2), (3), (4) will be the next image for the given series?



(1), (2), (3), (4) के रूप में संख्यांकित निम्नलिखित में से कौन-सा चित्र दी गई श्रृंखला के लिए अगला चित्र होगा?

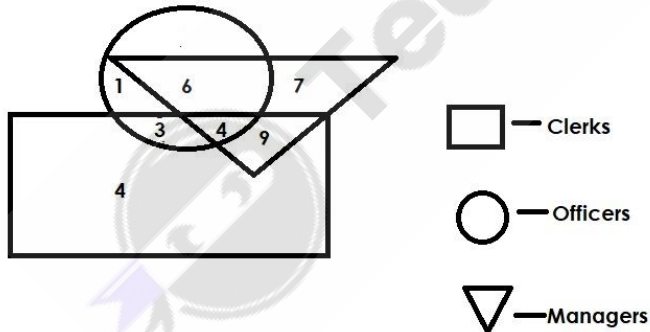


- (A) ☐ 3
3
(B) ☐ 2
2
(C) ☐ 4
4
(D) ☒ 1 (Correct Answer) (Chosen option)
1

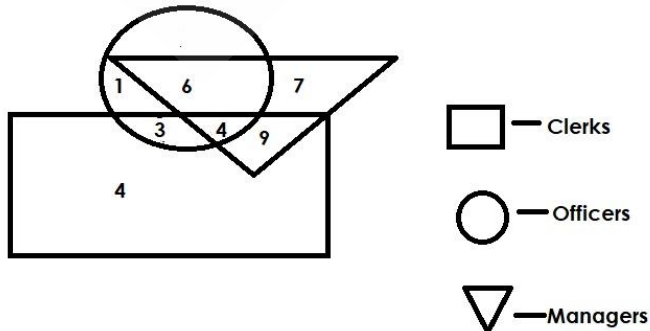
Question No.21

Marks: 2.50
Bookmark ☐

Which of the following numbers in the Venn Diagram represents only 'Officers and Managers'?



वेन आरेख में निम्नलिखित में से कौन-सी संख्या केवल 'अधिकारियों और प्रबंधकों' को निरूपित करती है?



- (A) ☐ 3
3

- (B) ☐ 9
9
- (C) ☒ 6 (Correct Answer) (Chosen option)
6
- (D) ☐ 4
4

Question No.22

Marks: 2.50

Bookmark ☐

V is sitting to the immediate right of C. V moves 4 places to the right and C moves 8 places to the left and both reach the extremes. What is the total number of persons in the row?

V, C के ठीक दाएँ बैठा है। V, 4 स्थान दाईं ओर जाता है और C, 8 स्थान बाईं ओर जाता है और ये दोनों छोरों पर पहुँच जाते हैं। पंक्ति में व्यक्तियों की कुल संख्या कितनी है?

- (A) ☐ 18
18
- (B) ☐ 12 (Chosen option)
12
- (C) ☒ 14 (Correct Answer)
14
- (D) ☐ 16
16

Question No.23

Marks: 2.50

Bookmark ☐

Pointing to a photograph of a girl another girl said "She is the daughter of only sister of my father's wife". How is the girl in the photograph related to the another girl?

एक लड़की की तस्वीर की ओर इशारा करते हुए दूसरी लड़की ने कहा "वह मेरे पिता की पत्नी की इकलौती बहन की बेटी है"। तस्वीर में दिख रही लड़की का दूसरी लड़की से क्या संबंध है?

- (A) ☐ Sister
बहन
- (B) ☒ Cousin (Correct Answer) (Chosen option)
कज़िन
- (C) ☐ Aunt
आँट
- (D) ☐ Niece
नीस

Question No.24

Marks: 2.50

Bookmark ☐

In a dice, each face is marked as follows:

- 1) * is adjacent to ^
2) ^ is opposite to #
3) @ is opposite to \$
4) ! is adjacent to ^

Which of the following is definitely true?

- A) * is between \$ and ^
B) * is adjacent to !
C) ^ is between * and !
D) # is between ^ and @

एक पासे में, प्रत्येक फलक को इस प्रकार चिह्नित किया गया है:

- 1) *, ^ के सन्निकट है
2) ^, # के विपरीत है
3) @, \$ के विपरीत है
4) !, ^ के सन्निकट है

निम्न में से कौन सा निश्चित रूप से सत्य है?

- A) *, \$ और ^ के बीच में है
B) *, ! के सन्निकट है
C) ^, * और ! के बीच में है
D) #, ^ और @ के बीच में है

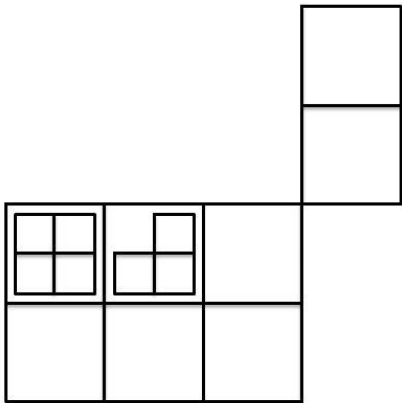
- (A) ☐ A
- (B) ☒ C (Correct Answer) (Chosen option)
C
- (C) ☐ D
- (D) ☐ B

Question No.25

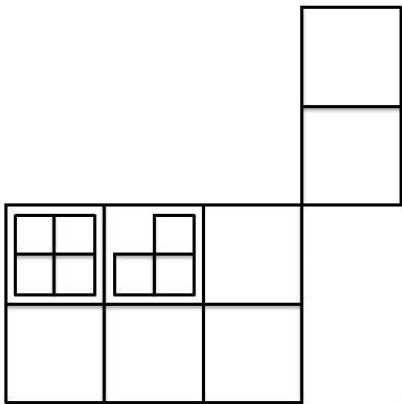
Marks: 2.50

Bookmark ☐

How many squares are there in the given figure?



दी गई आकृति में कितने वर्ग हैं?



- (A) ☐ 20
20
- (B) ☐ 19
19
- (C) ☐ 17
17
- (D) ☒ 18 (Correct Answer) (Chosen option)
18

Question No.26

Marks: 2.50
Bookmark ☐

Find the missing term in the given series.

50, 25, 25.5, 25.5, 26.5, ?, 41.25

दी गई श्रेणी में लुप्त पद ज्ञात करें।

50, 25, 25.5, 25.5, 26.5, ?, 41.25

- (A) ☐ 39.5
39.5
- (B) ☒ 39.75 (Correct Answer)
39.75
- (C) ☐ 38.75 (Chosen option)
38.75
- (D) ☐ 39.25
39.25

Question No.27

Marks: 2.50
Bookmark ☐

If 2 is subtracted from the middle digit of each of the following numbers and then the position of the digits are reversed, which of the following will be the last digit of the middle number?

941 675 384 467 295

यदि निम्नलिखित में से प्रत्येक संख्या के मध्य अंक में से 2 घटा दिया जाता है और फिर अंकों की स्थिति को व्युत्क्रमित कर दिया जाता है, तो निम्न में से मध्य संख्या का अंतिम अंक कौन सा होगा?

941 675 384 467 295

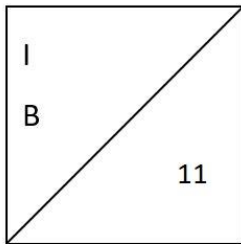
- (A) ☐ 4
4
- (B) ☒ 3 (Correct Answer)
3
- (C) ☐ 6 (Chosen option)
6

(D) ☐ 8
8

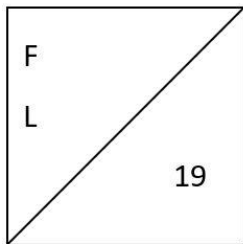
Question No.28

Marks: 2.50
Bookmark ☐

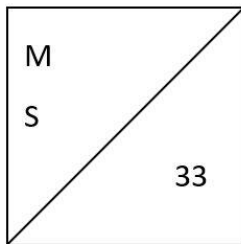
Find the odd image out in the given series.



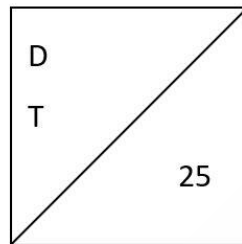
(1)



(2)

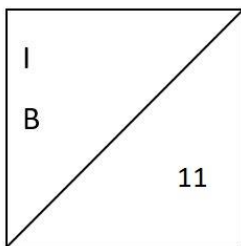


(3)

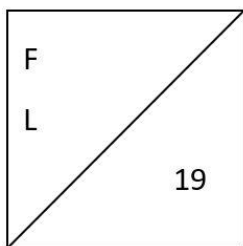


(4)

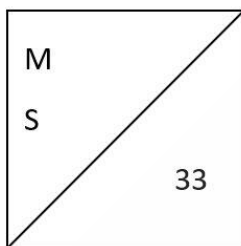
दी गई श्रृंखला में असंगत चित्र ज्ञात कीजिए।



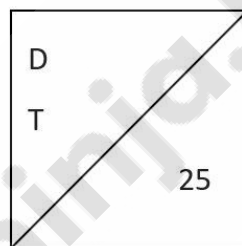
(1)



(2)



(3)



(4)

- (A) ☒ 1 (Correct Answer) (Chosen option)
1
(B) ☐ 4
4
(C) ☐ 3
3
(D) ☐ 2
2

Question No.29

Marks: 2.50
Bookmark ☐

A woman walked 11km towards East, took a right turn and walked 7km, took another right turn and walked 3km. She then walked 15km towards North and turned right and walked 16km. She then finally took a right turn and walked 8km. How far is she from the starting point?

एक महिला पूर्व की ओर 11 km चलती है, दाएं मुड़ती है और 7 km चलती है, एक बार फिर दाएं मुड़ती है और 3 km चलती है। फिर वह उत्तर की ओर 15 km चलती है और दाएं मुड़ती है और 16 km चलती है। फिर वह अंत में दाएं मुड़ती है और 8 km चलती है। वह आरंभिक बिंदु से कितनी दूर है?

- (A) ☒ 24km (Correct Answer) (Chosen option)
24km
(B) ☐ 20km
20km
(C) ☐ 23km
23km
(D) ☐ 25km
25km

Question No.30

Marks: 2.50
Bookmark ☐

Find the next number in the series.

6, 13, 29, 63, 133, ?

श्रृंखला में अगली संख्या ज्ञात कीजिए।

6, 13, 29, 63, 133, ?

- (A) ☐ 277
277
(B) ☐ 259
259
(C) ☐ 257
257
(D) ☒ 275 (Correct Answer) (Chosen option)
275

Question No.31

Marks: 2.50
Bookmark ☐

According to the Indian Laws, a "Juvenile" is a person who has not completed _____ years of age.

भारतीय कानूनों के अनुसार, "किशोर" वह व्यक्ति है जिसने _____ वर्ष की आयु पूरी नहीं की है।

- (A) ☐ 20
20
- (B) ☐ 14
14
- (C) ☐ 19
19
- (D) ☒ 18 (Correct Answer) (Chosen option)
18

Question No.32

Marks: 2.50

Bookmark ☐

Which police force guards India's frontiers with Nepal and Bhutan?
नेपाल और भूटान के साथ भारत की लगने वाली सीमाओं की रक्षा कौन सा पुलिस बल करता है?

(A) ☒ Sashastra Seema Bal (Correct Answer)
सशस्त्र सीमा बल

(B) ☐ Border Security Force (Chosen option)
सीमा सुरक्षा बल

(C) ☐ Assam Rifles
असम रायफलस

(D) ☐ Indo Tibetan Border Police Force
भारत तिब्बत सीमा पुलिस बल

Question No.33

Marks: 2.50

Bookmark ☐

In a certain code, if LOCAT is written as UBDPM, then how is GRAPH written in that code?
किसी निश्चित कूट भाषा में यदि LOCAT को UBDPM के रूप में लिखा जाता है, तो उस कूट भाषा में GRAPH को कैसे लिखा जाएगा?

(A) ☒ IQBSH (Correct Answer) (Chosen option)
IQBSH

(B) ☐ HTDTM
HTDTM

(C) ☐ HQBSI
HQBSI

(D) ☐ SHBIQ
SHBIQ

Question No.34

Marks: 2.50

Bookmark ☐

If the last sixteen letters of the English alphabet series is reversed, which of the following will be the third to the left of the seventh letter from the right end?
यदि अंग्रेजी वर्णमाला के अंतिम सोलह अक्षरों को व्युत्क्रमित कर दिया जाए, तो निम्नलिखित में से कौन सा अक्षर दाएं छोर से सातवें अक्षर के बाएँ तीसरा होगा?

(A) ☒ T (Correct Answer) (Chosen option)
T

(B) ☐ V
V

(C) ☐ S
S

(D) ☐ U
U

Question No.35

Marks: 2.50

Bookmark ☐

In this question, relationship between different elements is shown in the statement. This statement is followed by two conclusions:

Statements:
 $F < U \leq N = C < T = I > O \geq R$

Conclusions:
i) $F < C$
ii) $U < T$

Choose the appropriate one from the following options

- (A) Only conclusion i follows
(B) Only conclusion ii follows
(C) Either i or ii follows
(D) Neither i nor ii follows
(E) Both i and ii follow.

इस प्रश्न में, कथन में विभिन्न तत्वों के बीच संबंध दिखाया गया है। इस कथन के बाद दो निष्कर्ष दिए गए हैं:

कथन:
 $F < U \leq N = C < T = I > O \geq R$

निष्कर्ष:
i) $F < C$
ii) $U < T$

निम्नलिखित विकल्पों में से उपयुक्त विकल्प का चयन करें

- (A) केवल निष्कर्ष i अनुसरण करता है
(B) केवल निष्कर्ष ii अनुसरण करता है
(C) या तो i या ii अनुसरण करता है
(D) न तो i और न ही ii अनुसरण करता है
(E) i और ii दोनों अनुसरण करते हैं।
- (A) ☐ A
A
- (B) ☐ B
B
- (C) ☐ C
C

- C
(D) ☐ **E (Correct Answer)** (Chosen option)
E

Question No.36

Marks: 2.50
Bookmark ☐

Replace the question mark with an option that follows the same logic applied in the first pair.

Conquer : Surrender :: Domestic : ??

प्रश्नवाचक चिह्न को उस विकल्प से बदलें जो पहले युग्म में लागू तर्क का अनुसरण करता हो।

Conquer : Surrender :: Domestic : ??

- (A) ☐ **Overseas (Correct Answer)**
Overseas
(B) ☐ Inland
Inland
(C) ☐ local (Chosen option)
local
(D) ☐ Internal
Internal

Question No.37

Marks: 2.50
Bookmark ☐

Pointing to a man, a woman said, "He is a brother of my only sister's mother ". How is the woman related to the man?
एक पुरुष की ओर इशारा करते हुए एक महिला ने कहा, "वह मेरी इकलौती बहन की माँ का भाई है"। महिला का उस पुरुष से क्या संबंध है?

- (A) ☐ Daughter
बेटी
(B) ☐ Son
बेटा
(C) ☐ Nephew
नेफ्यू
(D) ☐ **Niece (Correct Answer)** (Chosen option)
नीस

Question No.38

Marks: 2.50
Bookmark ☐

If all the vowels are replaced by the immediate next consonant in the word **PETRIFICATION**, then the letters of the word are arranged alphabetically, which letter will be second to the left of the sixth letter from the right?

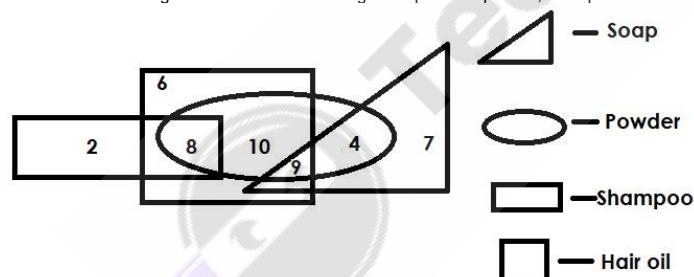
यदि शब्द **PETRIFICATION** में सभी स्वरों को ठीक अगले व्यंजन से बदल दिया जाता है, इसके बाद शब्द के अक्षरों को वर्णानुक्रम में व्यवस्थित किया जाता है, तो कौन सा अक्षर दाएं से छठे अक्षर के बाएं दूसरा होगा?

- (A) ☐ **J (Correct Answer)** (Chosen option)
J
(B) ☐ N
N
(C) ☐ F
F
(D) ☐ P
P

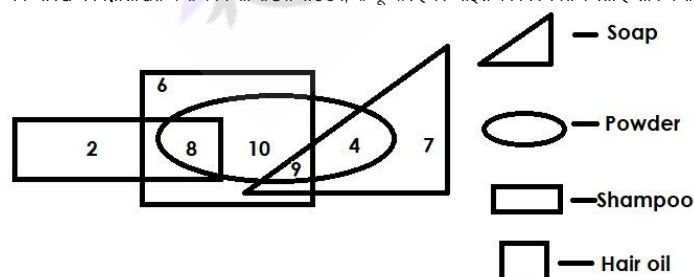
Question No.39

Marks: 2.50
Bookmark ☐

Which of the following numbers in the Venn Diagram represents powder, shampoo and hair oil but not soaps?



वेन आरेख में निम्नलिखित में से कौन-सी संख्या पाउडर, शैम्पू और हेयर ऑइल को निरूपित करती है लेकिन साबुन को निरूपित नहीं करती?



- (A) ☐ 10
10
(B) ☐ 4
4
(C) ☐ 9
9

(D) ☒ 8 (Correct Answer) (Chosen option)

Question No.40

Marks: 2.50

Bookmark ☐

Find the next number in the series.

377, 265, 173, 101, 49, ?

शृंखला में अगली संख्या ज्ञात कीजिए।

377, 265, 173, 101, 49, ?

(A) ☐ 19

(B) ☐ 16

(C) ☐ 18

(D) ☒ 17 (Correct Answer) (Chosen option)

