



Teachingninja.in



Latest Govt Job updates



Private Job updates



Free Mock tests available



Visit - teachingninja.in

UPPCL
Previous Year Paper
Office Assistant III
(22 Sept 2018)





Uttar Pradesh Power Corporation Limited

Participant ID	
Participant Name	
Test Center Name	iON Digital Zone iDZ Karsua
Test Date	22/09/2018
Test Time	3:00 PM - 6:00 PM
Subject	OFFICE ASSISTANT III

Section : Computer Knowledge CCC LEVEL OF NIELIT

Q.1 Which of the following keyboard shortcuts can be used for "change case" operation in Microsoft PowerPoint?

- Ans
- ☒ 1. Shift + F5
 - ☒ 2. Ctrl + F3
 - ☒ 3. F3
 - ☒ 4. Shift + F3

Question ID : 3228775924

Status : Answered

Chosen Option : 4

Q.2 In MS-Word, the Table Resize icon appears at the _____ corner of the table.

- Ans
- ☒ 1. bottom-left
 - ☒ 2. top-right
 - ☒ 3. top-left
 - ☒ 4. bottom-right

Question ID : 3228775901

Status : Answered

Chosen Option : 3

Q.3 Which of the following is used to produce a specific pulse at a fixed rate of time to synchronise a computer's operations?

- Ans
- ☒ 1. Device driver
 - ☒ 2. System clock
 - ☒ 3. System bus
 - ☒ 4. ALU

Question ID : 3228775880

Status : Answered

Chosen Option : 4

Q.4 Which of the following components of a CPU is responsible to direct the system to execute instructions?

- Ans
- ☒ 1. Control Unit (CU)
 - ☒ 2. Hard disk
 - ☒ 3. Primary memory
 - ☒ 4. ALU

Question ID : 3228775875

Status : Answered

Chosen Option : 1

Q.5 What is the value of the following Excel expression?

=AVERAGE(10, 5, 0, 10, 15)

- Ans
- ☒ 1. 10

Question ID : 3228775906

Status : Answered

Chosen Option : 2

- ☒ 2. 8
☒ 3. 9.5
☒ 4. 10.5

Q.6 Which of the following is the basic communication protocol required for computers that use the internet?

- Ans ☒ 1. SMTP
☒ 2. TELNET
☒ 3. FTP
☒ 4. TCP/IP

Question ID : 3228775913

Status : Answered

Chosen Option : 4

Q.7 In MS-Word, a _____ is a structure of vertical columns and horizontal rows with a cell at every intersection.

- Ans ☒ 1. template
☒ 2. paragraph
☒ 3. table
☒ 4. drop cap

Question ID : 3228775897

Status : Answered

Chosen Option : 2

Q.8 After merging two or more cells in a worksheet, Excel retains the _____ value and discards other values.

- Ans ☒ 1. upper left
☒ 2. lower right
☒ 3. upper right
☒ 4. lower left

Question ID : 3228775908

Status : Answered

Chosen Option : 3

Q.9 In SDRAM, the letter 'S' stands for:

- Ans ☒ 1. Stable
☒ 2. Static
☒ 3. Solid
☒ 4. Synchronous

Question ID : 3228775879

Status : Answered

Chosen Option : 2

Q.10 डेस्कटॉप पर दायों क्लिक करने और _____ चुनने पर आपके डेस्कटॉप पर नए फोल्डर्स, संविकाएँ (फाइल्स) या संक्षिप्त मार्ग (शॉर्ट कट्स) बनाने के विकल्पों वाला एक उप-मेनू प्रदर्शित हो जाएगा।

- Ans ☒ 1. कॉपी
☒ 2. न्यू
☒ 3. पेस्ट
☒ 4. ओपन

Question ID : 3228775892

Status : Answered

Chosen Option : 2

Q.11 Which of the following enables the processor to execute multiple users' programs simultaneously by fast switching through the programs?

- Ans ☒ 1. Multithreading
☒ 2. Paging
☒ 3. Real-time processing
☒ 4. Multiprogramming

Question ID : 3228775884

Status : Answered

Chosen Option : 3

Q.12 The unit Gbps, which is used these days to measure the capacity of network links, stands for:

- Ans ☒ 1. Gigabits per second
☒ 2. Million bits per second
☒ 3. Trillion bits per second
☒ 4. Gigabytes per second

Question ID : 3228775911
Status : Answered
Chosen Option : 4

Q.13 Which of the following options correctly matches the elements of List-1 (starting bits of IP address class) with the elements of List-2 (IP class)?

List-1		List-2	
(i)	0	(a)	Class D
(ii)	110	(b)	Class A
(iii)	1110	(c)	Class C

- Ans ☒ 1. (i) – (b), (ii) – (c), (iii) – (a)
☒ 2. (i) – (b), (ii) – (a), (iii) – (c)
☒ 3. (i) – (c), (ii) – (a), (iii) – (b)
☒ 4. (i) – (c), (ii) – (b), (iii) – (a)

Question ID : 3228775918
Status : Not Answered
Chosen Option : --

Q.14 Select the option that best describes the truthfulness of the following statements.

- (i) An e-mail address cannot have the period (dot) character.
(ii) An email address also contains domain name.

- Ans ☒ 1. (i) False, (ii) True
☒ 2. (i) False, (ii) False
☒ 3. (i) True, (ii) False
☒ 4. (i) True, (ii) True

Question ID : 3228775921
Status : Answered
Chosen Option : 1

Q.15 प्रकोष्ठ सीमा (सेल रेंज) C7:H3 में प्रकोष्ठों (सेल्स) की कुल संख्या कितनी होगी?

- Ans ☒ 1. 30
☒ 2. 24
☒ 3. 11
☒ 4. 25

Question ID : 3228775904
Status : Answered
Chosen Option : 2

Q.16 Which of the following usually starts automatically after the computer has no user input for a preset time?

- Ans ☒ 1. Windows manager
☒ 2. Compression software
☒ 3. Screen saver
☒ 4. Antivirus

Question ID : 3228775895
Status : Answered
Chosen Option : 1

Q.17 Which of the following is considered to be special-purpose memory residing within the CPU?

- Ans ☒ 1. SDRAM
☒ 2. DRAM
☒ 3. SRAM
☒ 4. Registers

Question ID : 3228775877
Status : Answered
Chosen Option : 4

Q.18 Windows notification area is a part of:

- Ans ☒ 1. Taskbar

Question ID : 3228775893
Status : Answered

- ✗ 2. Title bar
- ✗ 3. Recycle bin
- ✗ 4. Windows manager

Chosen Option : 1

Q.19 Press _____ function key and then use any of the arrow keys to select the portion of certain text in a Word document.

- Ans
- ✗ 1. F3
 - ✗ 2. F7
 - ✗ 3. F11
 - ✓ 4. F8

Question ID : 3228775899

Status : Answered

Chosen Option : 1

Q.20 A program used to view web pages is called:

- Ans
- ✓ 1. Web browser
 - ✗ 2. Search engine
 - ✗ 3. Network navigator
 - ✗ 4. Virtual reality

Question ID : 3228775917

Status : Answered

Chosen Option : 2

Q.21 निम्नलिखित में से कौन सा शब्द उस स्थिति को संदर्भित करता है जब आप एक ऐसे प्राप्तकर्ता को ई-मेल भेजते हैं, जो विद्यमान नहीं है और ई-मेल आपके पास वापस लौट आता है?

- Ans
- ✓ 1. बाउंस
 - ✗ 2. करण्ट
 - ✗ 3. फेल्यूर
 - ✗ 4. अबैडन

Question ID : 3228775919

Status : Answered

Chosen Option : 3

Q.22 निम्नलिखित कथनों की सत्यता का सर्वश्रेष्ठ वर्णन करने वाले विकल्प का चयन करें।

- (i) HTTP एक मार्कअप भाषा है।
- (ii) 10.10.10.10 एक वैध आई.पी. एड्रेस नहीं है।

- Ans
- ✗ 1. (i) असत्य, (ii) सत्य
 - ✗ 2. (i) सत्य, (ii) सत्य
 - ✗ 3. (i) सत्य, (ii) असत्य
 - ✓ 4. (i) असत्य, (ii) असत्य

Question ID : 3228775915

Status : Answered

Chosen Option : 3

Q.23 निम्नलिखित कथनों की सत्यता का सर्वश्रेष्ठ वर्णन करने वाले विकल्प का चयन करें।

- (i) एक्सेल कार्य-पत्रक (वर्कशीट) में सभी स्तंभों (कॉलम्स) की चौड़ाई समान होनी चाहिए।
- (ii) एक्सेल वर्कशीट में सभी पंक्तियों (रोज) की ऊँचाई समान होनी चाहिए।

- Ans
- ✗ 1. (i) सत्य, (ii) सत्य
 - ✗ 2. (i) असत्य, (ii) सत्य
 - ✗ 3. (i) सत्य, (ii) असत्य
 - ✓ 4. (i) असत्य, (ii) असत्य

Question ID : 3228775909

Status : Answered

Chosen Option : 4

Q.24

Question ID : 3228775891

निम्नलिखित में से कौन सा विकल्प सूची-1 के तत्वों का सूची-2 के तत्वों के साथ उचित मिलान प्रदर्शित करता है?

Status : **Not Answered**
Chosen Option : --

- | सूची-1 | सूची-2 |
|-------------|---|
| (i) PROM | (a) पराबैंगनी (अल्ट्रावाइलेट) प्रकाश का प्रयोग करके मिटाए जा सकने योग्य |
| (ii) EEPROM | (b) न मिटाए जा सकने योग्य |
| (iii) EPROM | (c) विद्युत् के माध्यम से मिटाए जा सकने योग्य |

- Ans
- ☒ 1. (i) - (c), (ii) - (b), (iii) - (a)
 - ☒ 2. (i) - (b), (ii) - (a), (iii) - (c)
 - ☒ 3. (i) - (b), (ii) - (c), (iii) - (a)
 - ☒ 4. (i) - (a), (ii) - (c), (iii) - (b)

Q.25 An NFS allows a computer to access and use files over a network. What does the acronym NFS stand for?

- Ans
- ☒ 1. Network File System
 - ☒ 2. Network File Search
 - ☒ 3. New File Search
 - ☒ 4. New File System

Question ID : 3228775920
Status : **Answered**
Chosen Option : 2

Q.26 What will be the total number of cells in a worksheet with only 11 rows and 7 columns?

- Ans
- ☒ 1. 77
 - ☒ 2. 60
 - ☒ 3. 18
 - ☒ 4. 16

Question ID : 3228775903
Status : **Answered**
Chosen Option : 1

Q.27 In MS-Excel, the name of a workbook appears at:

- Ans
- ☒ 1. Title bar
 - ☒ 2. Status bar
 - ☒ 3. Menu bar
 - ☒ 4. Quick access toolbar

Question ID : 3228775902
Status : **Answered**
Chosen Option : 4

Q.28 Select the option that best describes the truthfulness of the following statements.

- (i) The roller ball in trackball is situated on the top (instead of the base).
- (ii) A keyboard is a preferred device for CAD/CAM applications.

- Ans
- ☒ 1. (i) False, (ii) True
 - ☒ 2. (i) True, (ii) True
 - ☒ 3. (i) False, (ii) False
 - ☒ 4. (i) True, (ii) False

Question ID : 3228775888
Status : **Answered**
Chosen Option : 2

Q.29 If $(201)_8 = (81)_x$, where 8 and x represent the base of the respective number systems, then what will be the value of x?

- Ans
- ☒ 1. 16
 - ☒ 2. 4
 - ☒ 3. 8
 - ☒ 4. 2

Question ID : 3228775889
Status : **Answered**
Chosen Option : 1

Q.30 Which of the following is an example of 'logical' operation performed by the ALU?

Ans

Question ID : 3228775876

☒ 1. Multiplication

☒ 2. Comparison

☒ 3. Division

☒ 4. Addition

Status : **Answered**
Chosen Option : 2

Q.31 माइक्रोसॉफ्ट पावर प्वाइंट में Ctrl + D दबाए जाने पर क्या प्रभाव पड़ता है?

Ans ☒ 1.

चयनित स्लाइड्स की प्रतिलिपियाँ बनाता है।

☒ 2. चयनित स्लाइड्स को उलट देता है।

☒ 3. अंतिम स्लाइड की प्रतिलिपि बनाता है।

☒ 4. चयनित स्लाइड्स को हटा देता है।

Question ID : 3228775922

Status : **Answered**

Chosen Option : 4

Q.32 A DNS exists on numerous servers over the internet. What does DNS stand for?

Ans ☒ 1. Distributed Name Server

☒ 2. Domain Name Server

☒ 3. Destination Name Server

☒ 4. Domain Naming System

Question ID : 3228775910

Status : **Answered**

Chosen Option : 3

Q.33 What is the Hexadecimal equivalent of the decimal number 101?

Ans ☒ 1. $(506)_{16}$

☒ 2. $(56)_{16}$

☒ 3. $(65)_{16}$

☒ 4. $(605)_{16}$

Question ID : 3228775883

Status : **Answered**

Chosen Option : 3

Q.34 In MS-Word, a page break places the text beyond the cursor point to the next:

Ans ☒ 1. Paragraph

☒ 2. Document

☒ 3. Page

☒ 4. Line

Question ID : 3228775898

Status : **Answered**

Chosen Option : 3

Q.35 Which of the following provides a simple way to identify session among a group of HTTP/HTML requests?

Ans ☒ 1. Web browser

☒ 2. Cookies

☒ 3. Search engine

☒ 4. VPN

Question ID : 3228775916

Status : **Answered**

Chosen Option : 3

Q.36 With respect to magnetic tape, which of the following equations is correct?

Ans ☒ 1.

Storage capacity = data recording density \times length

☒ 2. Storage capacity = length \times length

Question ID : 3228775886

Status : **Answered**

Chosen Option : 4

☒ 3. Storage capacity = length + length

☒ 4.

Storage capacity = data recording density \times width

Q.37 The number of electrical paths used to carry data in a system bus is called:

- Ans ☒ 1. Bus width
☒ 2. Bus frequency
☒ 3. Bus speed
☒ 4. Bus density

Question ID : 3228775878

Status : Answered

Chosen Option : 4

Q.38 In a Windows systems, the _____ window is where you can change the look and feel of your desktop.

- Ans ☒ 1. Minimize
☒ 2. Personalize
☒ 3. Organize
☒ 4. Restore

Question ID : 3228775894

Status : Answered

Chosen Option : 3

Q.39 Which of the following shortcut keys can be used to open 'Insert Hyperlink' dialogue box in Microsoft PowerPoint?

- Ans ☒ 1. Alt + H
☒ 2. Ctrl + H
☒ 3. Alt + K
☒ 4. Ctrl + K

Question ID : 3228775923

Status : Answered

Chosen Option : 4

Q.40 A _____ is a continuous memory without any addressing and stores data serially.

- Ans ☒ 1. cache memory
☒ 2. DVD
☒ 3. magnetic tape
☒ 4. blu-ray disk

Question ID : 3228775885

Status : Answered

Chosen Option : 3

Q.41 After selecting the cell range starting from D5 to H9 in a worksheet, what will be displayed in the Name Box?

- Ans ☒ 1. D9
☒ 2. H9
☒ 3. D5
☒ 4. H5

Question ID : 3228775907

Status : Answered

Chosen Option : 3

Q.42 यदि '9' का ASCII कूट $(00111001)_2$ है, तो '7' के लिए ASCII कूट क्या होगा?

- Ans ☒ 1. $(00110101)_2$
☒ 2. $(01000111)_2$
☒ 3. $(00110111)_2$
☒ 4. $(01001001)_2$

Question ID : 3228775890

Status : Answered

Chosen Option : 4

Q.43 Keep the _____ key pressed and use any of the arrow keys to select certain portion of a text in a Word document.

- Ans ☒ 1. F7

Question ID : 3228775896

Status : Answered

✓ 2. Shift

✗ 3. Alt

✗ 4. F3

Chosen Option : 2

Q.44 Which of the following commands is a simple way to test the response of an internet connection?

Ans ✓ 1. PING

✗ 2. TELNET

✗ 3. URL

✗ 4. MSCONFIG

Question ID : 3228775912

Status : Answered

Chosen Option : 1

Q.45 निम्नलिखित कथनों की सत्यता का सर्वश्रेष्ठ वर्णन करने वाले विकल्प का चयन करें।

(i) बेतार माउस रेडियो या इंफ्रारेड संकेत का प्रयोग करके कंप्यूटर के साथ संचार करता है।

(ii) एक प्रकाशिक (ऑप्टिकल) माउस में बॉल और व्हील जैसे यांत्रिक भाग नहीं होते हैं।

Ans ✓ 1. (i) सत्य, (ii) सत्य

✗ 2. (i) असत्य, (ii) सत्य

✗ 3. (i) असत्य, (ii) असत्य

✗ 4. (i) सत्य, (ii) असत्य

Question ID : 3228775887

Status : Not Answered

Chosen Option : --

Q.46 One Kilobyte is equivalent to _____ nibbles.

Ans ✗ 1. 100

✗ 2. 1024

✗ 3. 512

✓ 4. 2048

Question ID : 3228775882

Status : Answered

Chosen Option : 2

Q.47 What is the total number of characters that a cell of the 2010 version of MS-Excel can contain?

Ans ✗ 1. 32500

✗ 2. 17678

✓ 3. 32767

✗ 4. 16767

Question ID : 3228775905

Status : Answered

Chosen Option : 3

Q.48 Databases containing postal addresses, telephone numbers and e-mail addresses of the users on the internet are referred to as:

Ans ✗ 1. Dark web

✗ 2. Grey web

✓ 3. White pages

✗ 4. Grey pages

Question ID : 3228775914

Status : Answered

Chosen Option : 3

Q.49 When you copy certain text in MS-Word, it stays on the clipboard temporarily and it can be then pasted:

Ans ✗ 1. five times

✗ 2. exactly once

✗ 3. ten times

✓ 4. multiple times

Question ID : 3228775900

Status : Answered

Chosen Option : 4

Q.50

निम्नलिखित में से क्या समतल परिपथ पट्ट (प्लैट सर्किट बोर्ड) की तरह दिखता है जिसमें कंप्यूटर विद्युत परिपथ तंत्र (सर्किटरी) होता है?

Ans

- ☒ 1. सी.पी.यू.
- ☒ 2. सिस्टम बस
- ☒ 3. मदरबोर्ड
- ☒ 4. हार्ड डिस्क ड्राइव

Question ID : 3228775881

Status : Answered

Chosen Option : 3

Section : General Studies

Q.1 पॉन्डिचेरी (पुडुचेरी) के वर्तमान (यथा जुलाई 2018 के) राज्यपाल की पहचान करें।

Ans

- ☒ 1. इकबाल सिंह
- ☒ 2. किरण बेदी
- ☒ 3. रूपन देयोल बजाज
- ☒ 4. ए.के. सिंह

Question ID : 3228775945

Status : Answered

Chosen Option : 2

Q.2 टेस्ट क्रिकेट मैच में किस क्रिकेट खिलाड़ी का व्यक्तिगत आँकड़ा (स्कोर) उच्चतम है?

Ans

- ☒ 1. शाहिद अफरीदी
- ☒ 2. सचिन तेंदुलकर
- ☒ 3. ब्रायन लारा
- ☒ 4. स्टीव वॉ

Question ID : 3228775942

Status : Answered

Chosen Option : 3

Q.3 'शेर और मोर' नृत्य, भारत के किस राज्य का प्रसिद्ध नृत्य रूप है?

Ans

- ☒ 1. तमिलनाडु
- ☒ 2. पंजाब
- ☒ 3. अरुणाचल प्रदेश
- ☒ 4. गुजरात

Question ID : 3228775949

Status : Answered

Chosen Option : 3

Q.4 'ऑपरेशन बाढ़' शब्द निम्नलिखित में से किस से संबंधित है?

Ans

- ☒ 1. दुग्ध उत्पादन
- ☒ 2. बाढ़ से राहत
- ☒ 3. फसल उत्पादन
- ☒ 4. खाद्य उत्पादन

Question ID : 3228775939

Status : Answered

Chosen Option : 3

Q.5 भारत में ग्राम-स्तर के संवैधानिक निकाय के प्रमुख को क्या कहा जाता है?

Ans

- ☒ 1. सरपंच
- ☒ 2. प्रमुख
- ☒ 3. प्रचारक

Question ID : 3228775944

Status : Answered

Chosen Option : 1

✗ 4. सरदार

Q.6 किस देश ने अमेरिका को लिबर्टी की प्रतिमा (स्टैचू ऑफ लिबर्टी) उपहार स्वरूप दी थी?

- Ans
- ✗ 1. जर्मनी
 - ✓ 2. फ्रांस
 - ✗ 3. रूस
 - ✗ 4. संयुक्त राज्य

Question ID : 3228775933

Status : Answered

Chosen Option : 1

Q.7 भौगोलिक क्षेत्र के संबंध में भारत का विश्व में कौन सा स्थान है?

- Ans
- ✓ 1. सातवाँ स्थान
 - ✗ 2. तीसरा स्थान
 - ✗ 3. दूसरा स्थान
 - ✗ 4. छठा स्थान

Question ID : 3228775937

Status : Answered

Chosen Option : 1

Q.8 किस अभिनेत्री को फिल्मों में अपने असाधारण योगदान हेतु प्रथम दादा साहेब फालके पुरस्कार से सम्मानित किया गया था?

- Ans
- ✗ 1. नरगिस दत्त
 - ✗ 2. माला सिन्हा
 - ✗ 3. लीला चिटनिस
 - ✓ 4. देविका रानी

Question ID : 3228775946

Status : Answered

Chosen Option : 1

Q.9 लड़ाकू हवाईजहाज़ उड़ाने वाली सर्वप्रथम भारतीय महिला कौन है?

- Ans
- ✗ 1. कादम्बिनी गांगुली
 - ✗ 2. पी.वी. सिंधु
 - ✓ 3. अवनी चतुर्वेदी
 - ✗ 4. कमलजीत संधु

Question ID : 3228775926

Status : Answered

Chosen Option : 3

Q.10 'नमक सत्याग्रह' _____ को आरंभ हुआ था।

- Ans
- ✗ 1. 6 अप्रैल 1931
 - ✗ 2. 12 मार्च 1931
 - ✓ 3. 12 मार्च 1930
 - ✗ 4. 6 अप्रैल 1930

Question ID : 3228775932

Status : Answered

Chosen Option : 2

Q.11 भारतीय खेल में 'उड़न सिंघ' किसे कहा जाता है?

- Ans
- ✓ 1. मिल्खा सिंह
 - ✗ 2. महावीर सिंह

Question ID : 3228775941

Status : Answered

Chosen Option : 1

✗ 3. ईश्वर सिंह

✗ 4. मखन सिंह

Q.12 भारत संयुक्त राष्ट्र में किस वर्ष में सम्मिलित हुआ था?

Ans ✗ 1. 1948

✗ 2. 1947

✓ 3. 1945

✗ 4. 1946

Question ID : 3228775943

Status : Answered

Chosen Option : 4

Q.13 Bhanu Athaiya won the first Oscar for India for which movie?

Ans ✗ 1. Slumdog Millionaire

✗ 2. Silence of the Lambs

✗ 3. Titanic

✓ 4. Gandhi

Question ID : 3228775947

Status : Answered

Chosen Option : 2

Q.14 एच.डी.एफ.सी. बैंक में, एच.डी.एफ.सी. का पूरा नाम क्या है?

Ans ✗ 1.

Heavy Duty Funding Corporation (हेवी ड्यूटी फंडिंग कॉर्पोरेशन)

✗ 2.

Housing Duty Funding Corporation (हाउसिंग ड्यूटी फंडिंग कॉर्पोरेशन)

✗ 3.

Home Duty Focusing Corporation (होम ड्यूटी फोकसिंग कॉर्पोरेशन)

✓ 4.

Housing Development Finance Corporation (हाउसिंग डेवलपमेंट फाइनेंस कॉर्पोरेशन)

Question ID : 3228775930

Status : Answered

Chosen Option : 4

Q.15 निम्नलिखित में से उस देश की पहचान करें, जो भारतीय उप-महाद्वीप का भाग नहीं है।

Ans ✓ 1. अफ़ग़ानिस्तान

✗ 2. श्रीलंका

✗ 3. भूटान

✗ 4. बर्मा

Question ID : 3228775935

Status : Answered

Chosen Option : 1

Q.16 प्रकाश पादुकोण, किस खेल से संबंधित हैं?

Ans ✗ 1. टेनिस

✗ 2. हॉकी

✓ 3. बैडमिंटन

✗ 4. क्रिकेट

Question ID : 3228775940

Status : Answered

Chosen Option : 2

Q.17 आई.पी.सी. का पूरा नाम क्या है?

Ans ✗ 1.

Question ID : 3228775931

Status : Answered

Chosen Option : 3

Indian Professional Code (इंडियन प्रोफेशनल कोड)

✗ 2.

Indian Parking Code (इंडियन पार्किंग कोड)

✓ 3. Indian Penal Code (इंडियन पीनल कोड)

✗ 4.

Indian Prohibitory Code (इंडियन प्रोहिबिटरी कोड)

Q.18 उस भौगोलिक विशेषता की पहचान करें जो भारत को श्रीलंका से पृथक करता है।

Ans ✗ 1. कच्छ की खाड़ी

✓ 2. मन्नार की खाड़ी

✗ 3. कैम्बे की खाड़ी

✗ 4. खंबात की खाड़ी

Question ID : 3228775934

Status : Answered

Chosen Option : 1

Q.19 'मुद्रास्फीति' शब्द, निम्नलिखित में से किस परिस्थिति से संबंधित है?

Ans ✗ 1. मानसिक परिस्थिति

✗ 2. पर्यावरण की परिस्थिति

✗ 3. सामाजिक परिस्थिति

✓ 4. आर्थिक परिस्थिति

Question ID : 3228775938

Status : Answered

Chosen Option : 4

Q.20 Elon Musk is the co-founder of which one of the following companies?

Ans ✗ 1. Apple Inc.

✗ 2. Microsoft Corporation

✗ 3. Google LLC

✓ 4. Tesla Inc

Question ID : 3228775948

Status : Answered

Chosen Option : 2

Q.21 RAM शब्द का पूरा नाम क्या है?

Ans ✗ 1.

Reverse Action Movement (रिवर्स ऐक्शन मूवमेंट)

✗ 2.

Round Action Memory (राउंड ऐक्शन मेमोरी)

✓ 3.

Random Access Memory (रैंडम एक्सेस मेमोरी)

✗ 4.

Rapid Action Machine (रैपिड ऐक्शन मशीन)

Question ID : 3228775929

Status : Answered

Chosen Option : 3

Q.22 वर्ष 2018 में 'सांगी-ला' वार्ता, कहाँ आयोजित की गई थी?

Ans ✗ 1. शंघाई

Question ID : 3228775925

Status : Answered

Chosen Option : 4

✗ 2. इस्लामाबाद

✓ 3. सिंगापुर

✗ 4. नई दिल्ली

Q.23 विश्व की प्रथम महिला प्रधानमंत्री कौन है जिन्होंने अपने कार्यकाल के दौरान प्रसूति अवकाश लिया?

Ans ✓ 1. जेसिंदा आर्डन

✗ 2. थेरेसा मे

✗ 3. इंदिरा गांधी

✗ 4. बेनज़ीर भुट्टो

Question ID : 3228775928

Status : Answered

Chosen Option : 1

Q.24 निम्नलिखित में से कौन सा राष्ट्रीय उद्यान तराई क्षेत्र में स्थित है?

Ans ✗ 1. सरिस्का

✗ 2. काज़ीरंगा

✗ 3. भरतपुर

✓ 4. दुधवा

Question ID : 3228775936

Status : Answered

Chosen Option : 3

Q.25 Identify the present Secretary General of the United Nations.

Ans ✗ 1. Boutros Ghali

✗ 2. Kofi Annan

✓ 3. Antonio Guterres

✗ 4. Ban Ki Moon

Question ID : 3228775927

Status : Not Answered

Chosen Option : --

Section : Logical Reasoning

Q.1 राम ने श्याम को बताया, 'मैं आपकी पत्नी की सास के ससुर का एकमात्र पुत्र हूँ।' राम का श्याम के साथ क्या संबंध है?

Ans ✗ 1. दादा - पोता

✓ 2. पिता - पुत्र

✗ 3. ससुर - दामाद

✗ 4. नाना - नाती

Question ID : 3228775961

Status : Answered

Chosen Option : 2

Q.2 ज्योति को उसके चिकित्सक ने प्रतिदिन टहलने और व्यायाम करने की सलाह दी है। उसकी दिनचर्या के आधार पर, वह तड़के सुबह अपने घर से निकल कर 5 km पूर्व की ओर चलती है। उसके बाद वह एक बगीचे में पहुँचने के लिए बाएँ मुड़कर 12 km चलती है। उसके घर से बगीचे की न्यूनतम वायवीय दूरी कितनी है?

Ans ✗ 1. 17 km

✗ 2. 12 km

✗ 3. 5 km

✓ 4. 13 km

Question ID : 3228775966

Status : Answered

Chosen Option : 4

Q.3 एक माँ की 2 पुत्रियाँ ऐसी हैं कि माँ की वर्तमान आयु दोनों पुत्रियों की वर्तमान आयु के औसत की 3 गुनी है। माँ की वर्तमान आयु, दोनों पुत्रियों की 5 वर्ष पूर्व की आयु के योग की ठीक दोगुनी है। पाँच वर्ष पूर्व माँ की आयु (वर्षों में) कितनी थी?

Ans ✗ 1. 65

Question ID : 3228775973

Status : Not Answered

- ✓ 2. 55
✗ 3. 50
✗ 4. 60

Chosen Option : --

Q.4 निम्नलिखित श्रृंखला में ग़लत संख्या को पहचानें।

Question ID : 3228775954

Status : Answered

Chosen Option : 3

3, 5, 7, 9, 11, 13, 17, 19, 23, 29

- Ans
✗ 1. 17
✗ 2. 23
✓ 3. 9
✗ 4. 5

Q.5 दीपेश का छः सदस्यों का परिवार एक वृत्ताकार भोजन की मेज़ (डाइनिंग टेबल) के चारों ओर बैठा है। उसके माता-पिता एक-दूसरे के पड़ोस में बैठे हैं। दीपेश की पत्नी अपनी सास के बिल्कुल बगल में दाईं ओर और अपने पुत्र के ठीक बाईं ओर बैठी है। दीपेश की पुत्री उसके बिल्कुल बगल में दाईं ओर और अपने दादा जी के बिल्कुल बगल में बाईं ओर बैठी है। दीपेश और उसकी पत्नी के मध्य कौन बैठा/बैठी है?

Question ID : 3228775991

Status : Not Answered

Chosen Option : --

- Ans
✓ 1. दीपेश का पुत्र
✗ 2. दीपेश की माँ
✗ 3. दीपेश की पुत्री
✗ 4. दीपेश के पिता

Q.6 एक पर्वतीय रास्ते (ट्रेक) पर 33 लड़के और 21 लड़कियाँ एक सीधी रेखा में चढ़ाई कर रहे थे। उन सब में, सुरेश 18वें स्थान पर था और उसके पीछे 9 लड़कियाँ थीं। सुरेश से आगे कितने लड़के थे?

Question ID : 3228775989

Status : Answered

Chosen Option : 3

- Ans
✗ 1. 7
✓ 2. 5
✗ 3. 4
✗ 4. 6

Q.7 राजन की लंबाई रजनी से अधिक है किंतु नटराजन से कम है। शालीन की लंबाई रजनी से कम है किंतु तुषार से अधिक है। यदि उन्हें एक सीधी रेखा में उनकी बढ़ती हुई लंबाई के क्रम में खड़ा किया जाए, तो मध्य में कौन होगा?

Question ID : 3228775986

Status : Answered

Chosen Option : 2

- Ans
✗ 1. राजन
✓ 2. रजनी
✗ 3. तुषार
✗ 4. शालीन

Q.8 एक कूट भाषा में, यदि HYDERABAD को I25E5S1C1E के रूप में लिखा जाता है तो उसी कूट भाषा में CHENNAI को क्या लिखा जाएगा?

Question ID : 3228775958

Status : Answered

Chosen Option : 1

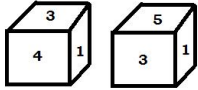
- Ans
✓ 1. D8F14O1J
✗ 2. D8F14O1T
✗ 3. D8F14Q1J
✗ 4. D8FI4OLJ

Q.9

Question ID : 3228775976

नीचे एक ही पॉसे की दो स्थितियाँ दर्शायी गई हैं। जब पॉसा फेंका जाता है, तो हमें शीर्ष पर संख्या 5 मिलती है। ऐसे में तल में कौन सी संख्या होगी?

Status : **Answered**
Chosen Option : 1



- Ans
- ☒ 1. 6
 - ☒ 2. 1
 - ☒ 3. 2
 - ☒ 4. 4

Q.10 महेश तड़के सुबह अपने घर से निकल कर पूर्व की ओर इस प्रकार चलता है कि उसकी छाया उसके पीछे बनती है। दोपहर तक वह 10 km चलता है और विश्राम करता है। दोपहर बाद, वह पश्चिम की ओर इस प्रकार चलता है कि उसकी छाया पुनः उसके पीछे बनती है और सूर्यास्त तक वह 6 km चलता है। सूर्यास्त के बाद वह अपने मित्र सुरेश के घर पहुँचने के लिए बाएँ मुड़कर 3 km चलता है। महेश के घर और सुरेश के घर के बीच न्यूनतम दूरी कितनी है?

Question ID : 3228775967
Status : **Not Answered**
Chosen Option : --

- Ans
- ☒ 1. 6 km
 - ☒ 2. 9 km
 - ☒ 3. 5 km
 - ☒ 4. 4 km

Q.11 श्याम ने रिया की ओर संकेत करके कहा, 'वह मेरी बहू की सास के ससुर की एकमात्र पुत्री है।' श्याम का रिया के साथ क्या संबंध है?

Question ID : 3228775962
Status : **Answered**
Chosen Option : 4

- Ans
- ☒ 1. ससुर - बहू
 - ☒ 2. पति - पत्नी
 - ☒ 3. भाई - बहन
 - ☒ 4. पिता - पुत्री

Q.12 उस संख्या का चयन करें जो निम्नलिखित श्रृंखला में प्रश्नवाचक चिह्न (?) को प्रतिस्थापित कर सकती है।

Question ID : 3228775956
Status : **Answered**
Chosen Option : 2

0.15, 0.20, 0.30, 0.45, 0.65, ?

- Ans
- ☒ 1. 0.80
 - ☒ 2. 0.90
 - ☒ 3. 0.95
 - ☒ 4. 0.85

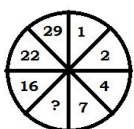
Q.13 यदि RIVER = 18922518 है, तो STREAM = ?

Question ID : 3228775952
Status : **Answered**
Chosen Option : 2

- Ans
- ☒ 1. 2021185131
 - ☒ 2. 1920185113
 - ☒ 3. 1819175113
 - ☒ 4. 2122205131

Q.14 निम्नलिखित प्रतिमान का अध्ययन करें और उस संख्या का चयन करें जो इसके प्रश्नवाचक चिह्न (?) को प्रतिस्थापित कर सके।

Question ID : 3228775968
Status : **Answered**
Chosen Option : 3



- Ans ☒ 1. 10
☒ 2. 11
☒ 3. 9
☒ 4. 12

Q.15 निम्नलिखित अनुरूपता को पूर्ण करने के लिए सही विकल्प का चयन करें।

टेलीग्राफ : सैमुअल मोर्स : : टेलीफोन : ?

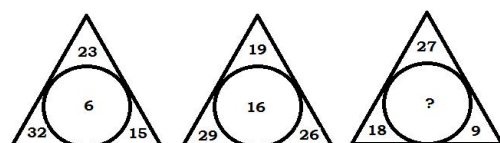
- Ans ☒ 1. निकोला टेस्ला
☒ 2. थॉमस एडीसन
☒ 3. एलेक्जेंडर ग्राहम बेल
☒ 4. अल्बर्ट आइंस्टाइन

Question ID : 3228775953

Status : Answered

Chosen Option : 3

Q.16 पहले दो चित्रों में प्रतिमान का अध्ययन करें और फिर उस संख्या का चयन करें जो तीसरे चित्र में प्रश्नवाचक चिह्न (?) को प्रतिस्थापित कर सके।



- Ans ☒ 1. 22
☒ 2. 18
☒ 3. 26
☒ 4. 16

Question ID : 3228775969

Status : Answered

Chosen Option : 3

Q.17 एक पिता और उसके पुत्र की आयु 3 : 1 के अनुपात में है। यदि उनकी औसत आयु 32 वर्ष है, तो पिता की आयु कितनी है?

- Ans ☒ 1. 64 वर्ष
☒ 2. 36 वर्ष
☒ 3. 48 वर्ष
☒ 4. 56 वर्ष

Question ID : 3228775978

Status : Answered

Chosen Option : 3

Q.18 मोहन अपने घर से निकल कर 5 km उत्तर की ओर चलता है। फिर वह घड़ी की सुई की दिशा में 90° मुड़कर 10 km चलता है। उसके बाद वह घड़ी की सुई की विपरीत दिशा में 90° मुड़ता है और 5 km जॉगिंग करते हुए चलता है। अंत में, वह घड़ी की सुई की विपरीत दिशा में 90° मुड़कर 10 km चलता है। वह अपने घर से कितनी दूरी पर है?

- Ans ☒ 1. 10 km
☒ 2. 5 km
☒ 3. 15 km
☒ 4. 20 km

Question ID : 3228775965

Status : Not Answered

Chosen Option : --

Q.19 एक फुटकर दुकान पर, एक दिन में ₹ 2,160 के सिक्के एकत्र हुए जिनमें ₹ 1, 2, 5, और 10 के सिक्के सम्मिलित थे। यदि ₹ 2 के सिक्कों की संख्या ₹ 10 के सिक्कों की संख्या से 10 अधिक, ₹ 5 के सिक्कों की संख्या से 20 अधिक, किंतु ₹ 1 के सिक्कों की संख्या से 20 कम थी, तो ₹ 10 के सिक्कों की संख्या कितनी थी?

- Ans ☒ 1. 120
☒ 2. 130
☒ 3. 100

Question ID : 3228775980

Status : Not Answered

Chosen Option : --

✗ 4. 110

Q.20 पराग अपने घर से निकलकर पश्चिम की ओर 6 km चलता है। उसके बाद वह दाएँ मुड़कर 8 km चलता है। फिर वह दोबारा दाएँ मुड़कर 10 km चलता है। फिर वह दोबारा दाएँ मुड़कर 8 km चलता है। वह अपने आरंभिक बिंदु से कितनी दूरी पर है?

- Ans
- ✗ 1. 3 km
 - ✓ 2. 4 km
 - ✗ 3. 6 km
 - ✗ 4. 2 km

Question ID : 3228775964

Status : Answered

Chosen Option : 3

Q.21 'भारत' उसी प्रकार 'रुपये' से संबंधित है, जिस प्रकार 'थाईलैंड' '_____' से संबंधित है।

- Ans
- ✗ 1. रुपिया (Rupiah)
 - ✗ 2. रिंगिट (Ringgit)
 - ✓ 3. बाट (Baht)
 - ✗ 4. येन (Yen)

Question ID : 3228775950

Status : Answered

Chosen Option : 4

Q.22 निम्नलिखित अनुरूपता को पूर्ण करने के लिए सही विकल्प का चयन करें।

43 : 55 :: 62 : 212 :: 51 : ?

- Ans
- ✓ 1. 124
 - ✗ 2. 126
 - ✗ 3. 125
 - ✗ 4. 123

Question ID : 3228775951

Status : Answered

Chosen Option : 4

Q.23 निम्नलिखित अनुरूपता को पूर्ण करने के लिए सही विकल्प का चयन करें।

डाक टिकट : डाक टिकट संग्रह :: सिक्के : ?

- Ans
- ✗ 1. सांख्यिकी
 - ✓ 2. मुद्राशास्त्र
 - ✗ 3. कालक्रम
 - ✗ 4. अंकविद्या

Question ID : 3228775994

Status : Answered

Chosen Option : 2

Q.24 एक घन के सभी पृष्ठों को हरे रंग से रंगा गया है। बाद में, उस घन को समान आकार वाले 125 छोटे घनों में काट दिया गया। इन छोटे घनों में से ऐसे कितने घन होंगे जिनके किसी भी पृष्ठ पर हरा रंग नहीं होगा?

- Ans
- ✗ 1. 64
 - ✗ 2. 25
 - ✓ 3. 27
 - ✗ 4. 5

Question ID : 3228775977

Status : Answered

Chosen Option : 4

Q.25 उस शब्द का चयन करें जो निम्नलिखित श्रृंखला में प्रश्नवाचक चिह्न (?) को प्रतिस्थापित कर सकता है।

BAEK, CIOL, DUAM, EEIN, FOUO, ?

- Ans
- ✗ 1. GAIP
 - ✗ 2. GUAP

Question ID : 3228775982

Status : Answered

Chosen Option : 4

- ☒ 3. GEIP
☒ 4. GAEP

Q.26 एक कूट भाषा में, यदि MINIATURE को KOLOERAPI के रूप में लिखा जाता है, तो उसी कूट भाषा में MAXIMUM को क्या लिखा जाएगा?

- Ans ☒ 1. KYVGKSK
☒ 2. KEVUKUK
☒ 3. KEWOKAK
☒ 4. KEVOKAK

Question ID : 3228775960

Status : Answered

Chosen Option : 1

Q.27 निम्नलिखित अनुरूपता को पूर्ण करने के लिए सही विकल्प का चयन करें।

लैपटॉप : 80 :: ? : 111

- Ans ☒ 1. कंप्यूटर
☒ 2. स्क्रीन
☒ 3. टैबलेट
☒ 4. मोबाइल

Question ID : 3228775993

Status : Answered

Chosen Option : 1

Q.28 उस संख्या का चयन करें जो निम्नलिखित श्रृंखला में प्रश्नवाचक चिह्न (?) को प्रतिस्थापित कर सकती है।

4, 25, 121, 289, 529, ?

- Ans ☒ 1. 831
☒ 2. 961
☒ 3. 981
☒ 4. 691

Question ID : 3228775955

Status : Answered

Chosen Option : 1

Q.29 एक व्यक्ति अपनी पत्नी से 6 इंच अधिक लंबा है किंतु अपने पुत्र से 6 इंच छोटा है। यदि इन तीनों पारिवारिक सदस्यों की औसत लंबाई 64 इंच है, तो पिता की लंबाई कितनी है?

- Ans ☒ 1. 64 इंच
☒ 2. 58 इंच
☒ 3. 70 इंच
☒ 4. 60 इंच

Question ID : 3228775979

Status : Answered

Chosen Option : 1

Q.30 उस शब्द का चयन करें जो निम्नलिखित श्रृंखला में प्रश्नवाचक चिह्न (?) को प्रतिस्थापित कर सकता है।

MBQT, QESS, UHUR, YKWQ, CNYP, GQAO, ?

- Ans ☒ 1. LTCM
☒ 2. LLCM
☒ 3. KTCM
☒ 4. KTCN

Question ID : 3228775985

Status : Answered

Chosen Option : 4

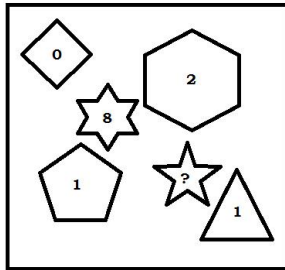
Q.31

Question ID : 3228775970

Status : Answered

Chosen Option : 4

निम्नलिखित प्रतिमान का अध्ययन करें और उस संख्या का चयन करें जो इसके प्रश्नवाचक चिह्न (?) को प्रतिस्थापित कर सके।



- Ans
- ☒ 1. 6
 - ☐ 2. 5
 - ☐ 3. 3
 - ☐ 4. 4

Q.32 एक कूट भाषा में, यदि MARUTI को NZSTUH के रूप में लिखा जाता है और HYUNDAI को IXVMEZJ के रूप में लिखा जाता है, तो उसी कूट भाषा में NISSAN को क्या लिखा जाएगा?

- Ans
- ☐ 1. MHRRZM
 - ☐ 2. OJTBO
 - ☒ 3. OHTRBM
 - ☐ 4. MJRTZO

Question ID : 3228775957

Status : Answered

Chosen Option : 2

Q.33 सात मित्र एक प्रेक्षागृह (थिएटर) में बैठे हैं और एक सिनेमा देख रहे हैं। भूषण, जिम्मी के बिल्कुल बगल में दाईं ओर और सौरभ के बाईं ओर बैठा है। जिम्मी, अंकित के ठीक बाद में बैठा है, जबकि सौरभ के बगल में याकूब है। यदि मोनिल और हार्दिक अंतिम छोरों पर बैठे हैं, तो दिए गए जोड़ों में से कौन से दो मित्र एक-दूसरे के बिल्कुल बगल में नहीं बैठे हैं?

- Ans
- ☐ 1. सौरभ और भूषण
 - ☐ 2. भूषण और जिम्मी
 - ☒ 3. भूषण और हार्दिक
 - ☐ 4. अंकित और जिम्मी

Question ID : 3228775992

Status : Not Answered

Chosen Option : --

Q.34 उस शब्द का चयन करें जो निम्नलिखित श्रृंखला में प्रश्नवाचक चिह्न (?) को प्रतिस्थापित कर सकता है।

CRAM, NDSB, COET, UDPF, GVEQ, ?

- Ans
- ☐ 1. RHXF
 - ☒ 2. RHWf
 - ☐ 3. HWFR
 - ☐ 4. PHWF

Question ID : 3228775983

Status : Answered

Chosen Option : 4

Q.35 उस शब्द का चयन करें जो निम्नलिखित श्रृंखला में प्रश्नवाचक चिह्न (?) को प्रतिस्थापित कर सकता है।

jump, nkto, uojn, kvnm, olul, ?

- Ans
- ☐ 1. ypkk
 - ☒ 2. vpkk
 - ☐ 3. yqkk
 - ☐ 4. vqkk

Question ID : 3228775984

Status : Answered

Chosen Option : 2

Q.36 यदि A&B का अर्थ है कि A B का पति है, C%D का अर्थ है कि D C का पुत्र है और E@F का अर्थ है कि F E की पुत्री है, तो निम्नलिखित में से कौन सा विकल्प कहता है कि P S का नाना है?

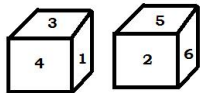
- Ans
- ☒ 1. P&Q%R@S
 - ☒ 2. P%Q&R@S
 - ☒ 3. P&Q@R%S
 - ☒ 4. P@Q&R%S

Question ID : 3228775963

Status : Answered

Chosen Option : 1

Q.37 नीचे एक ही पाँसे की दो स्थितियाँ दर्शायी गई हैं। यदि संख्या 4 के विपरीत संख्या 6 है, तो संख्या 1 के विपरीत वाली संख्या की पहचान करें।



- Ans
- ☒ 1. 2
 - ☒ 2. 6
 - ☒ 3. 5
 - ☒ 4. 3

Question ID : 3228775975

Status : Answered

Chosen Option : 2

Q.38 एक फल बाज़ार में, तरबूज का मूल्य ₹ 25 प्रति फल, आम का मूल्य ₹ 20 प्रति फल, सेब का मूल्य ₹ 15 प्रति फल तथा संतरे का मूल्य ₹ 10 प्रति फल है। यदि इंदू ने 2 तरबूज, 5 आम, 3 सेब और कुछ संतरे खरीदे और ₹ 285 के बिल का भुगतान किया, तो उसके द्वारा खरीदे गए संतरों की संख्या क्या थी?

- Ans
- ☒ 1. 6
 - ☒ 2. 11
 - ☒ 3. 8
 - ☒ 4. 9

Question ID : 3228775981

Status : Not Answered

Chosen Option : --

Q.39 छः विद्यार्थी अपना वार्षिक शुल्क जमा करने के लिए एक छोटी पंक्ति में खड़े हैं। दिनेश रोहन और सोहन के मध्य में हैं। शिल्पा, रोहन से आगे किंतु अल्पा के पीछे है। यदि सोहन पंक्ति में अंतिम स्थान पर है और जल्पा पहले स्थान पर, तो दिनेश किस स्थान पर खड़ा है?

- Ans
- ☒ 1. दूसरे स्थान पर
 - ☒ 2. तीसरे स्थान पर
 - ☒ 3. पाँचवें स्थान पर
 - ☒ 4. चौथे स्थान पर

Question ID : 3228775990

Status : Not Answered

Chosen Option : --

Q.40 37 विद्यार्थियों की एक कक्षा में, रमेश को 9वाँ स्थान प्राप्त हुआ, जबकि दिनेश का स्थान रमेश से 6 स्थान नीचे रहा। कितने छात्रों का स्थान दिनेश के नीचे था?

- Ans
- ☒ 1. 22
 - ☒ 2. 23
 - ☒ 3. 21
 - ☒ 4. 24

Question ID : 3228775987

Status : Answered

Chosen Option : 3

Q.41 क्रिकेट के कुछ खिलाड़ी एक सीधी रेखा में इस प्रकार खड़े हैं कि सचिन बाएँ से तीसरे स्थान पर है तथा विराट दाएँ से चौथे स्थान पर है। यदि उनके मध्य पाँच और खिलाड़ी हैं, तो वहाँ कुल कितने खिलाड़ी सीधी रेखा में खड़े हैं?

- Ans
- ☒ 1. 10
 - ☒ 2. 12
 - ☒ 3. 11

Question ID : 3228775988

Status : Answered

Chosen Option : 2

✗ 4. 13

Q.42 यदि '+' गुणन के लिए है, '-' विभाजन के लिए है, 'x' जोड़ के लिए है और '-' घटाने के लिए है, तो निम्नलिखित व्यं का मान क्या होगा?

$$121 - 11 \times 9 + 5 + 2$$

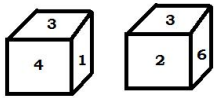
- Ans
- ✗ 1. 12
 - ✓ 2. 10
 - ✗ 3. 8
 - ✗ 4. 6

Question ID : 3228775972

Status : Answered

Chosen Option : 2

Q.43 नीचे एक ही पैसे की दो स्थितियाँ दर्शायी गई हैं। उस संख्या को पहचानें जो संख्या 3 वाले पृष्ठ के विपरीत पृष्ठ पर होगी?



- Ans
- ✗ 1. 1
 - ✗ 2. 6
 - ✗ 3. 2
 - ✓ 4. 5

Question ID : 3228775974

Status : Answered

Chosen Option : 4

Q.44 एक कूट भाषा में, यदि TUBERCULOSIS को TSJTTAPDMQVB के रूप में लिखा जाता है, तो उसी कूट भाषा में INFLUENZA को क्या लिखा जाएगा?

- Ans
- ✗ 1. BHAMOFEKV
 - ✓ 2. BHAMOEFEKV
 - ✗ 3. BHAMOEFCU
 - ✗ 4. BHANOEFEKV

Question ID : 3228775959

Status : Not Answered

Chosen Option : --

Q.45 पहले दो चित्रों में प्रतिमान का अध्ययन करें और फिर उस संख्या का चयन करें जो तीसरे चित्र में प्रश्नवाचक चिह्न (?) को प्रतिस्थापित कर सके।



- Ans
- ✗ 1. 17
 - ✗ 2. 14
 - ✗ 3. 16
 - ✓ 4. 15

Question ID : 3228775971

Status : Answered

Chosen Option : 3

Section : General Hindi

Q.1 निम्न में महाप्राण है:

- Ans
- ✗ 1. ऐ
 - ✓ 2. फ
 - ✗ 3. ब
 - ✗ 4. ए

Question ID : 3228775997

Status : Answered

Chosen Option : 1

Q.2 भरतमुनि द्वारा उल्लिखित आठ स्थायी भावों में शामिल नहीं है:

Question ID : 3228776036

- Ans
- ☒ 1. भय
 - ☒ 2. क्रोध
 - ☒ 3. उत्साह
 - ☒ 4. वात्सल्य

Status : Answered
Chosen Option : 4

Q.3 रौद्र रस का स्थायी भाव है:

- Ans
- ☒ 1. उत्साह
 - ☒ 2. भय
 - ☒ 3. विस्मय
 - ☒ 4. क्रोध

Question ID : 3228776038
Status : Answered
Chosen Option : 4

Q.4 'पलपल' में कौन सा समास है?

- Ans
- ☒ 1. द्विगु
 - ☒ 2. कर्मधारय
 - ☒ 3. अव्ययीभाव
 - ☒ 4. तत्पुरुष

Question ID : 3228776003
Status : Answered
Chosen Option : 3

Q.5 निम्न में दीर्घ स्वर कौन सा है?

- Ans
- ☒ 1. ई
 - ☒ 2. उ
 - ☒ 3. इ
 - ☒ 4. अ

Question ID : 3228776000
Status : Answered
Chosen Option : 3

Q.6 'गिड़गिड़ाना' के लिए सही मुहावरा है:

- Ans
- ☒ 1. नाकों चने चबवाना
 - ☒ 2. नाच नचाना
 - ☒ 3. नाक रगड़ना
 - ☒ 4. नीला-पीला होना

Question ID : 3228776030
Status : Answered
Chosen Option : 3

Q.7 जब काव्य में अर्थ और शब्द दोनों सौंदर्य होता है, तो उसे कहते हैं:

- Ans
- ☒ 1. अर्थालंकार
 - ☒ 2. सौंदर्य अलंकार
 - ☒ 3. शब्दालंकार
 - ☒ 4. उभयालंकार

Question ID : 3228776040
Status : Answered
Chosen Option : 1

Q.8 'मैंने बाजार जाना था।' वाक्य में अशुद्ध अंश है:

Question ID : 3228776027
Status : Answered

- Ans ☒ 1. मैंने
☒ 2. बाजार
☒ 3. जाना
☒ 4. था।

Chosen Option : 1

Q.9 निम्न में कौन सा अलंकार अर्थालंकार नहीं है?

- Ans ☒ 1. उत्प्रेक्षा
☒ 2. उपमा
☒ 3. रूपक
☒ 4. यमक

Question ID : 3228776042

Status : Answered

Chosen Option : 2

Q.10 निम्नलिखित में कौन सा वाक्य संयुक्त वाक्य है?

- Ans ☒ 1. जहाँ अभी समुद्र है, वहाँ कभी जंगल था।
☒ 2. बुरा न मानो तो एक बात कहूँ।
☒ 3. सभापति ने अपना भाषण पढ़ा।
☒ 4.

गर्मी से पदार्थ फैलते हैं और ठंड से सिकुड़ते हैं।

Question ID : 3228776026

Status : Answered

Chosen Option : 4

Q.11 निम्नलिखित में कौन सा मात्रिक छंद है?

- Ans ☒ 1. उपेंद्रवज्रा
☒ 2. इंद्रवज्रा
☒ 3. चौपाई
☒ 4. वसंततिलका

Question ID : 3228776048

Status : Answered

Chosen Option : 3

Q.12 'सजीव' का विलोम होगा:

- Ans ☒ 1. जीव
☒ 2. निर्जीव
☒ 3. सहजीवी
☒ 4. परजीवी

Question ID : 3228776016

Status : Answered

Chosen Option : 2

Q.13 'बहिष्कार' का संधि-विच्छेद होगा:

- Ans ☒ 1. बहिः + कार
☒ 2. बहि + कार
☒ 3. बहिः + कर
☒ 4. बही + कार

Question ID : 3228776001

Status : Answered

Chosen Option : 1

Q.14 'साहित्य से संबन्धित' के लिए एक शब्द होगा:

- Ans
- ☒ 1. काव्य
 - ☒ 2. साहित्यिक
 - ☒ 3. नाटक
 - ☒ 4. उपन्यास

Question ID : 3228776018

Status : Answered

Chosen Option : 1

Q.15 निम्न में विदेशी शब्द कौन सा है?

- Ans
- ☒ 1. कालेज
 - ☒ 2. नियम
 - ☒ 3. चतुर
 - ☒ 4. छाया

Question ID : 3228776009

Status : Answered

Chosen Option : 1

Q.16 जिसमें उपमान के सभी अंगों का आरोप उपमेय पर हो, वहाँ होगा:

- Ans
- ☒ 1. सांगरूपक
 - ☒ 2. निरंगरूपक
 - ☒ 3. परंपरितरूपक
 - ☒ 4. मालारूपक

Question ID : 3228776046

Status : Answered

Chosen Option : 4

Q.17 निम्न में तत्सम शब्द कौन सा है?

- Ans
- ☒ 1. पान
 - ☒ 2. पाहन
 - ☒ 3. पत्रिका
 - ☒ 4. पलंग

Question ID : 3228776006

Status : Answered

Chosen Option : 1

Q.18 'वह खाता है।' वाक्य का काल है:

- Ans
- ☒ 1. संदिग्ध वर्तमान
 - ☒ 2. सामान्य वर्तमान
 - ☒ 3. तात्कालिक वर्तमान
 - ☒ 4. पूर्ण वर्तमान

Question ID : 3228776025

Status : Answered

Chosen Option : 2

Q.19 निम्न में से स्त्रीलिंग शब्द कौन सा है?

- Ans
- ☒ 1. शान्ति
 - ☒ 2. विवाह
 - ☒ 3. व्याख्यान
 - ☒ 4. आभार

Question ID : 3228776023

Status : Answered

Chosen Option : 4

Q.20

Question ID : 3228776008

निम्न में कौन सा शब्द देशज है?

Status : **Answered**
Chosen Option : 4

- Ans
- ☒ 1. खटपट
 - ☐ 2. लीची
 - ☐ 3. पेंसिल
 - ☐ 4. पुलिस

Q.21 'जबान-जवान' शब्द युग्म का सही अर्थ है:

Question ID : 3228776017

Status : **Answered**

Chosen Option : 3

- Ans
- ☐ 1. युवा-जीभ
 - ☐ 2. भाषा-प्रौढ़
 - ☒ 3. जीभ-युवा
 - ☐ 4. प्रौढ़-भाषा

Q.22 'दोहरे लाभ' के अर्थ के लिए सही लोकोक्ति है:

Question ID : 3228776032

Status : **Answered**

Chosen Option : 4

- Ans
- ☐ 1. आँख के अंधे नाम नैन सुख
 - ☐ 2. थोथा चना बाजे घना
 - ☐ 3. नाचने निकली तो घूँघट क्या
 - ☒ 4. आम के आम गुठलियों के दाम

Q.23 निम्न में ओष्ठ्य ध्वनि है:

Question ID : 3228775995

Status : **Answered**

Chosen Option : 2

- Ans
- ☐ 1. ट
 - ☒ 2. उ
 - ☐ 3. श
 - ☐ 4. क

Q.24 निम्न में अपादान कारक का परसर्ग है:

Question ID : 3228776021

Status : **Answered**

Chosen Option : 2

- Ans
- ☐ 1. के लिए
 - ☒ 2. से
 - ☐ 3. ने
 - ☐ 4. को

Q.25 निम्न में भाववाचक संज्ञा कौन सी है?

Question ID : 3228776010

Status : **Answered**

Chosen Option : 2

- Ans
- ☐ 1. बर्तन
 - ☐ 2. बहन
 - ☒ 3. मनुष्यत्व

✗ 4. यमुना

Q.26 निम्न में अशुद्ध शब्द कौन सा है?

- Ans
- ✗ 1. व्याकुल
 - ✓ 2. इतिहासिक
 - ✗ 3. आध्यात्मिक
 - ✗ 4. विद्यमान

Question ID : 3228776020

Status : Answered

Chosen Option : 2

Q.27 'आलंबन' कहलाता है:

- Ans
- ✗ 1. अनुभाव
 - ✓ 2. विभाव
 - ✗ 3. स्थायी भाव
 - ✗ 4. संचारी भाव

Question ID : 3228776035

Status : Answered

Chosen Option : 2

Q.28 'उल्लंघन' का संधि-विच्छेद होगा:

- Ans
- ✗ 1. उः + लंघन
 - ✓ 2. उत् + लंघन
 - ✗ 3. उ + लंघन
 - ✗ 4. उल् + लंघन

Question ID : 3228776002

Status : Answered

Chosen Option : 3

Q.29 निम्न में सार्वनामिक विशेषण है:

- Ans
- ✗ 1. गोल
 - ✗ 2. चार
 - ✗ 3. चतुर
 - ✓ 4. तुम्हारा

Question ID : 3228776012

Status : Answered

Chosen Option : 4

Q.30 'दूध के दाँत न टूटना' मुहावरे का सही अर्थ है:

- Ans
- ✗ 1. बहुत छोटा होना
 - ✗ 2. बहुत सुंदर होना
 - ✗ 3. बहुत प्यारा होना
 - ✓ 4. अनुभव न होना

Question ID : 3228776029

Status : Answered

Chosen Option : 4

Q.31 'विस्मय' किस रस का स्थायी भाव है?

- Ans
- ✗ 1. रौद्र

Question ID : 3228776039

Status : Answered

Chosen Option : 4

- ☒ 2. भयानक
- ☒ 3. बीभत्स
- ☒ 4. अद्भुत

Q.32 निम्नलिखित में कौन सा अलंकार शब्दालंकार नहीं है?

- Ans
- ☒ 1. यमक
 - ☒ 2. श्लेष
 - ☒ 3. दृष्टांत
 - ☒ 4. अनुप्रास

Question ID : 3228776041

Status : Answered

Chosen Option : 3

Q.33 'खिसियानी बिल्ली खम्भा नोचे' लोकोक्ति का सही अर्थ है:

- Ans
- ☒ 1. क्रोध के मारे शर्म करने लगना
 - ☒ 2. अत्यधिक शर्मिदा होना
 - ☒ 3. अत्यधिक क्रोध करना
 - ☒ 4. शर्म के मारे क्रोध करने लगना

Question ID : 3228776031

Status : Answered

Chosen Option : 4

Q.34 निम्न में अंतस्थ व्यंजन कौन सा है?

- Ans
- ☒ 1. ब
 - ☒ 2. द
 - ☒ 3. व
 - ☒ 4. ज

Question ID : 3228775998

Status : Answered

Chosen Option : 1

Q.35 निम्नलिखित में अवतरण चिह्न कौन सा है?

- Ans
- ☒ 1. ,
 - ☒ 2. ,
 - ☒ 3. ;
 - ☒ 4. ()

Question ID : 3228776028

Status : Answered

Chosen Option : 1

Q.36 'हरिगीतिका' छंद में कितनी मात्राएँ होती हैं?

- Ans
- ☒ 1. 30
 - ☒ 2. 28
 - ☒ 3. 24
 - ☒ 4. 26

Question ID : 3228776049

Status : Answered

Chosen Option : 4

Q.37 'थकावट' में प्रत्यय है:

- Ans
- ☒ 1. अट
 - ☒ 2. आवट
 - ☒ 3. ट

Question ID : 3228776005

Status : Answered

Chosen Option : 2

✗ 4. वट

Q.38 शब्दों या पदों की आवृत्ति होने पर होता है:

- Ans
- ✓ 1. लाटानुप्रास
 - ✗ 2. प्रतिअनुप्रास
 - ✗ 3. वृत्यानुप्रास
 - ✗ 4. छेकानुप्रास

Question ID : 3228776043

Status : Answered

Chosen Option : 2

Q.39 जहाँ समानता के कारण एक वस्तु में दूसरी वस्तु का भ्रम हो जाय, वहाँ अलंकार होगा:

- Ans
- ✓ 1. भ्रान्तिमान
 - ✗ 2. प्रतीप
 - ✗ 3. अनन्वय
 - ✗ 4. संदेह

Question ID : 3228776044

Status : Answered

Chosen Option : 4

Q.40 निम्न में से पुलिंग शब्द कौन सा है?

- Ans
- ✗ 1. सन्धि
 - ✗ 2. संपत्ति
 - ✓ 3. आवास
 - ✗ 4. समिति

Question ID : 3228776022

Status : Not Answered

Chosen Option : --

Q.41 'नारी' का पर्यायवाची है:

- Ans
- ✗ 1. सरिता
 - ✓ 2. वनिता
 - ✗ 3. सविता
 - ✗ 4. कनक

Question ID : 3228776014

Status : Answered

Chosen Option : 2

Q.42 निम्नलिखित में वचन की दृष्टि से गलत-युग्म है:

- Ans
- ✓ 1. माता-मातें
 - ✗ 2. रात-रातें
 - ✗ 3. रीति-रीतियाँ
 - ✗ 4. तिथि-तिथियाँ

Question ID : 3228776024

Status : Answered

Chosen Option : 1

Q.43 निम्न में प्रेरणार्थक क्रिया कौन सी है?

- Ans
- ✗ 1. कटना
 - ✗ 2. देना

Question ID : 3228776013

Status : Answered

Chosen Option : 2

✓ 3. सिलवाना

✗ 4. रखना

Q.44 निम्न में वर्तनी की दृष्टि से शुद्ध शब्द कौन सा है?

Ans ✓ 1. पूज्य

✗ 2. प्रतिकूल

✗ 3. परिस्थिती

✗ 4. परिक्षण

Question ID : 3228776019

Status : Answered

Chosen Option : 1

Q.45 निम्न में अघोष वर्ण कौन सा है?

Ans ✗ 1. द

✗ 2. ध

✓ 3. त

✗ 4. न

Question ID : 3228775996

Status : Answered

Chosen Option : 4

Q.46 'पराभव' में उपसर्ग है:

Ans ✗ 1. भव

✗ 2. पर

✗ 3. प

✓ 4. परा

Question ID : 3228776004

Status : Answered

Chosen Option : 2

Q.47 'गणेश' का पर्यायवाची नहीं है:

Ans ✗ 1. गजानन

✓ 2. पुरंदर

✗ 3. लंबोदर

✗ 4. विनायक

Question ID : 3228776015

Status : Answered

Chosen Option : 2

Q.48 संचारी भावों की संख्या कितनी मानी गयी है?

Ans ✗ 1. 29

✓ 2. 33

✗ 3. 31

✗ 4. 27

Question ID : 3228776033

Status : Answered

Chosen Option : 2

Q.49 भाव जिसके हृदय में रहते हैं, उसे कहते हैं:

Ans ✓ 1. आश्रय

✗ 2. उद्दीपन

✗ 3. अनुभाव

Question ID : 3228776034

Status : Answered

Chosen Option : 3

✗ 4. आलंबन

Q.50 निम्न में कौन सा संचारी भाव नहीं है?

- Ans
- ✗ 1. मद
 - ✓ 2. जुगुप्सा
 - ✗ 3. स्मृति
 - ✗ 4. स्वप्न

Question ID : 3228776037

Status : Answered

Chosen Option : 1

Q.51 निम्न में तद्भव शब्द कौन सा है?

- Ans
- ✗ 1. भिक्षा
 - ✓ 2. भीतर
 - ✗ 3. वेष
 - ✗ 4. वचन

Question ID : 3228776007

Status : Answered

Chosen Option : 3

Q.52 गण के संदर्भ में कौन सा कथन गलत है?

- Ans
- ✗ 1. गानों की संख्या आठ है।
 - ✓ 2. गण में चार वर्ण होते हैं।
 - ✗ 3. गण का अर्थ है समूह।
 - ✗ 4. वर्णिक छंदों का आधार गण है।

Question ID : 3228776047

Status : Answered

Chosen Option : 2

Q.53 निम्न में अनुनासिक वर्ण कौन सा है?

- Ans
- ✓ 1. ञ
 - ✗ 2. ट
 - ✗ 3. ज
 - ✗ 4. ठ

Question ID : 3228775999

Status : Answered

Chosen Option : 1

Q.54 जब 'उपमेय' और 'उपमान' में रूप, गुण आदि के बीच समानता का प्रतिपादन हो तो अलंकार होगा:

- Ans
- ✗ 1. यमक
 - ✓ 2. उपमा
 - ✗ 3. रूपक
 - ✗ 4. अतिशयोक्ति

Question ID : 3228776045

Status : Answered

Chosen Option : 4

Q.55 निम्न में प्रश्नवाचक सर्वनाम कौन सा है?

- Ans
- ✓ 1. कौन
 - ✗ 2. वह
 - ✗ 3. हम
 - ✗ 4. मैं

Question ID : 3228776011

Status : Answered

Chosen Option : 1

Comprehension:

Read the following passage and answer the questions.

Light pollution is often characterised as a soft issue in environmentalism. This perception needs to change. Light has direct impacts on us through its massive assault on health. Light at night constitutes a massive assault on the ecology of the planet, including us. It also has indirect impacts because, while 20% of electricity is used for lighting worldwide, at least 30% of that light is wasted. Wasted light serves no purpose at all, and excessive lighting is too often used beyond what is needed for driving, or shopping, or Friday-night football.

The electric light bulb is touted as one of the most significant technological advancements of human beings. It ranks right up there with the wheel, control of fire, antibiotics and dynamite. But as with any new and spectacular technology, there are invariably unintended consequences. With electric light has come an obliteration of night in much of the modern world – both outside in the city, and indoors during what was once ‘night’ according to the natural position of the Sun.

Life has evolved for several billion years with a reliable cycle of bright light from the Sun during the day, and darkness at night. This has led to the development of an innate circadian rhythm in our physiology.

SubQuestion No : 1

Q.1 According to the passage, which of the following statements is NOT true about light in the night?

- Ans
- ☒ 1. We no longer have night only for what it was intended.
 - ☒ 2. We need a lot of light for driving, shopping etc.
 - ☒ 3. It affects our sleep patterns
 - ☒ 4. It affects the environment and causes a lot of wastage

Question ID : 3228776052

Status : Answered

Chosen Option : 4

Comprehension:

Read the following passage and answer the questions.

Light pollution is often characterised as a soft issue in environmentalism. This perception needs to change. Light has direct impacts on us through its massive assault on health. Light at night constitutes a massive assault on the ecology of the planet, including us. It also has indirect impacts because, while 20% of electricity is used for lighting worldwide, at least 30% of that light is wasted. Wasted light serves no purpose at all, and excessive lighting is too often used beyond what is needed for driving, or shopping, or Friday-night football.

The electric light bulb is touted as one of the most significant technological advancements of human beings. It ranks right up there with the wheel, control of fire, antibiotics and dynamite. But as with any new and spectacular technology, there are invariably unintended consequences. With electric light has come an obliteration of night in much of the modern world – both outside in the city, and indoors during what was once ‘night’ according to the natural position of the Sun.

Life has evolved for several billion years with a reliable cycle of bright light from the Sun during the day, and darkness at night. This has led to the development of an innate circadian rhythm in our physiology.

SubQuestion No : 2

Q.2 ‘Circadian rhythm’ refers to:

- Ans
- ☒ 1. the body clock
 - ☐ 2. the motion of the sun
 - ☐ 3. day and night
 - ☐ 4. the rhythm of the earth

Question ID : 3228776055

Status : Answered

Chosen Option : 4

Comprehension:

Read the following passage and answer the questions.

Light pollution is often characterised as a soft issue in environmentalism. This perception needs to change. Light has direct impacts on us through its massive assault on health. Light at night constitutes a massive assault on the ecology of the planet, including us. It also has indirect impacts because, while 20% of electricity is used for lighting worldwide, at least 30% of that light is wasted. Wasted light serves no purpose at all, and excessive lighting is too often used beyond what is needed for driving, or shopping, or Friday-night football.

The electric light bulb is touted as one of the most significant technological advancements of human beings. It ranks right up there with the wheel, control of fire, antibiotics and dynamite. But as with any new and spectacular technology, there are invariably unintended consequences. With electric light has come an obliteration of night in much of the modern world – both outside in the city, and indoors during what was once ‘night’ according to the natural position of the Sun.

Life has evolved for several billion years with a reliable cycle of bright light from the Sun during the day, and darkness at night. This has led to the development of an innate circadian rhythm in our physiology.

SubQuestion No : 3

Q.3 The electric light bulb is touted as one of the most significant technological advancements of human beings. Here ‘touted’ means:

Question ID : 3228776053

Status : Answered

Chosen Option : 3

- Ans
- ☒ 1. blamed
 - ☒ 2. considered
 - ☒ 3. projected
 - ☒ 4. denounced

Comprehension:

Read the following passage and answer the questions.

Light pollution is often characterised as a soft issue in environmentalism. This perception needs to change. Light has direct impacts on us through its massive assault on health. Light at night constitutes a massive assault on the ecology of the planet, including us. It also has indirect impacts because, while 20% of electricity is used for lighting worldwide, at least 30% of that light is wasted. Wasted light serves no purpose at all, and excessive lighting is too often used beyond what is needed for driving, or shopping, or Friday-night football.

The electric light bulb is touted as one of the most significant technological advancements of human beings. It ranks right up there with the wheel, control of fire, antibiotics and dynamite. But as with any new and spectacular technology, there are invariably unintended consequences. With electric light has come an obliteration of night in much of the modern world – both outside in the city, and indoors during what was once ‘night’ according to the natural position of the Sun.

Life has evolved for several billion years with a reliable cycle of bright light from the Sun during the day, and darkness at night. This has led to the development of an innate circadian rhythm in our physiology.

SubQuestion No : 4

Q.4 In what context are the wheel, control of fire, antibiotics and dynamite mentioned in the passage?

Question ID : 3228776054

Status : Answered

Chosen Option : 3

- Ans
- ☒ 1. Life now seems impossible without them.
 - ☒ 2. All of the mentioned things affect human life
 - ☒ 3. All of them have saved human lives.
 - ☒ 4. They are considered to be major inventions.

Comprehension:

Read the following passage and answer the questions.

Light pollution is often characterised as a soft issue in environmentalism. This perception needs to change. Light has direct impacts on us through its massive assault on health. Light at night constitutes a massive assault on the ecology of the planet, including us. It also has indirect impacts because, while 20% of electricity is used for lighting worldwide, at least 30% of that light is wasted. Wasted light serves no purpose at all, and excessive lighting is too often used beyond what is needed for driving, or shopping, or Friday-night football.

The electric light bulb is touted as one of the most significant technological advancements of human beings. It ranks right up there with the wheel, control of fire, antibiotics and dynamite. But as with any new and spectacular technology, there are invariably unintended consequences. With electric light has come an obliteration of night in much of the modern world – both outside in the city, and indoors during what was once ‘night’ according to the natural position of the Sun.

Life has evolved for several billion years with a reliable cycle of bright light from the Sun during the day, and darkness at night. This has led to the development of an innate circadian rhythm in our physiology.

SubQuestion No : 5

Q.5 What is the central idea of the passage?

Ans ☒ 1.

Too much light at night time can have ill effects on one's health

☒ 2. Light as causing pollution is not being taken seriously

☒ 3.

A lot is being thought and said about light pollution now

☒ 4. Light does not cause much pollution.

Question ID : 3228776051

Status : Answered

Chosen Option : 1

Q.6 Which figure of speech is present in the following sentence?

Her face was white as a sheet when she came out after watching the horror movie.

Ans ☒ 1. Personification

☒ 2. Apostrophe

☒ 3. Simile

☒ 4. Metaphor

Question ID : 3228776060

Status : Answered

Chosen Option : 4

Q.7 Choose the option that is the correct indirect form of the given sentence.

Father said, "I have got a promotion!"

Ans ☒ 1.

Father exclaimed that he had got a promotion.

Question ID : 3228776098

Status : Answered

Chosen Option : 3

☒ 2.

Father exclaimed that he will get a promotion.

☒ 3.

Father exclaimed that he has got a promotion.

☒ 4.

Father exclaimed that he will have a promotion.

Q.8 Choose the option which best expresses the meaning of the underlined word.

Old people tend to be taciturn.

Ans ☒ 1. reserved

☒ 2. talkative

☒ 3. stammer

☒ 4. fluent

Question ID : 3228776066

Status : Answered

Chosen Option : 4

Q.9 Choose the option that fits the given description.

One who is recovering from an illness.

Ans ☒ 1. patient

☒ 2. care giver

☒ 3. caretaker

☒ 4. convalescent

Question ID : 3228776077

Status : Answered

Chosen Option : 2

Q.10 Choose the option which best expresses the meaning of the underlined word.

The bilateral talks between India and China will take place next week.

Ans ☒ 1. two-sided

☒ 2. independent

☒ 3. collective

☒ 4. united

Question ID : 3228776063

Status : Answered

Chosen Option : 4

Q.11 Choose the option that means the same as the given sentence.

He looked at the document carefully.

Ans ☒ 1. The document had been already looked at.

☒ 2.

The document was looked at carefully by him.

☒ 3. The document is looked at carefully by him.

☒ 4. The document is being looked at carefully.

Question ID : 3228776090

Status : Answered

Chosen Option : 3

Q.12 Choose the option that is the correct indirect form of the given sentence.

She said to me, "Do you like coffee?"

Ans ☒ 1. She said to me that she liked coffee.

☒ 2. She asked me if I liked coffee.

Question ID : 3228776097

Status : Answered

Chosen Option : 1

☒ 3. She asked me if you like coffee.

☒ 4. She asked me if I like coffee.

Q.13 Choose the option that fits the given description.

Someone who believes that people always act selfishly.

Ans ☒ 1. selfish

☒ 2. self-centered

☒ 3. misanthrope

☒ 4. cynic

Question ID : 3228776076

Status : Answered

Chosen Option : 2

Q.14 Choose the option that is closest in meaning to the underlined idiom.

Don't beat around the bush, I don't like it.

Ans ☒ 1. to speak aggressively

☒ 2. to exaggerate

☒ 3. to speak very clearly

☒ 4. not coming to the point

Question ID : 3228776080

Status : Answered

Chosen Option : 4

Q.15 Choose the option that means the same as the given sentence.

The boys saw their teacher coming and ran into the class.

Ans ☒ 1.

The boys ran into the class and the teacher came in.

☒ 2.

On seeing the teacher coming, the boys ran into the class.

☒ 3.

The teacher came so the boys ran into the class.

☒ 4.

Although the teacher came in, the boys ran into the class.

Question ID : 3228776092

Status : Answered

Chosen Option : 3

Q.16 Choose the ANTONYM of the given word.

ONEROUS

Ans ☒ 1. effortless

☒ 2. tiresome

☒ 3. strenuous

☒ 4. grueling

Question ID : 3228776067

Status : Not Answered

Chosen Option : --

Q.17 Choose the option in which the given word is correctly used.

won

Ans ☒ 1. We had won of the matches in the school.

☒ 2. Our school team won the match.

Question ID : 3228776070

Status : Answered

Chosen Option : 2

- ☒ 3. This is a won time password.
- ☒ 4. Please give me just won more chance.

Q.18 Choose the option that fits the given description.

Someone who leaves one's country to settle in another.

- Ans ☒ 1. foreigner
- ☒ 2. native
- ☒ 3. emigrant
- ☒ 4. civilian

Question ID : 3228776078

Status : Answered

Chosen Option : 1

Q.19 Choose the option in which the given word is correctly used.

dew

- Ans ☒ 1. The train is dew to arrive any minute now.
- ☒ 2. Submit the application before the dew date.
- ☒ 3. When is the next instalment dew?
- ☒ 4.

From my window, I could see the dew drops on the grass.

Question ID : 3228776071

Status : Answered

Chosen Option : 2

Q.20 Choose the option that means the same as the given sentence.

He is too lazy to win the race.

- Ans ☒ 1. He is so lazy that he will not win the race.
- ☒ 2. He is lazy yet he will win the race.
- ☒ 3. Although he is lazy he will win the race.
- ☒ 4. He is lazy but he will win the race.

Question ID : 3228776093

Status : Answered

Chosen Option : 3

Q.21 Which figure of speech is present in the following sentence?

They made peace efforts on a war footing.

- Ans ☒ 1. Hyperbole
- ☒ 2. Metaphor
- ☒ 3. Personification
- ☒ 4. Oxymoron

Question ID : 3228776059

Status : Answered

Chosen Option : 1

Q.22 Which figure of speech is present in the following sentence?

I have told you a hundred times not to leave the tap open.

- Ans ☒ 1. Oxymoron
- ☒ 2. Hyperbole
- ☒ 3. Irony

Question ID : 3228776058


Status : Answered

Chosen Option : 1

4. Metaphor


Q.23 Choose the option that is the correct indirect form of the given sentence.

Mother said to her son, "Wait here till I return."

Ans  1. Mother told her son to wait till she returns.

 2.

Mother told her son to wait there till she returned.

 3. Mother told her son not to go anywhere.

 4.

Mother told her son to wait here till she returns.

Question ID : 3228776095


Status : Answered


Chosen Option : 4


Q.24 The following sentences has four parts. One of them is incorrect. Choose the INCORRECT word or phrase from the given options.

A large amount / of food / are wasted / during weddings.

Ans  1. of food

 2. A large amount

 3. during weddings.

 4. are wasted


Question ID : 3228776104


Status : Answered


Chosen Option : 1


Q.25 Choose the option that is closest in meaning to the underlined idiom.

He was a friend, but soon he showed his true colours.

Ans  1. to guide a friend

 2. to reveal one's true nature

 3. to reach out and help

 4. to show one's friendship

Question ID : 3228776083

Status : Answered

Chosen Option : 4

Q.26 Choose the option that combines the sentences correctly.

She wanted her sister to be an actor. She sent her to the National School of Drama.

Ans  1.

Though her sister became an actor she was sent to the National School of Drama.

 2.

She became an actor but her sister sent her to the National School of Drama.

 3.

Her sister went to the National School of Drama, nevertheless she became an actor.

 4.

She sent her sister to the National School of Drama to become an actor.


Question ID : 3228776069


Status : Answered


Chosen Option : 1


Q.27 The following sentences has four parts. One of them is incorrect. Choose the INCORRECT word or phrase from the given options.

This is / uncle's / and aunty's / new car.

Ans  1. new car.

 2. and aunty's

 3. uncle's

 4. This is

Question ID : 3228776105

Status : Answered

Chosen Option : 4

Q.28

Question ID : 3228776100

Choose the option that is the correct direct form of the given sentence.

Status : **Answered**
Chosen Option : 3

The boss asked me if I could finish the work in an hour.

Ans ☒ 1.

The boss said to me, "Could I finish the work in an hour?"

☒ 2.

The boss said to me, "Can I finish the work in one hour?"

☒ 3.

The boss said to me, "I want you to finish the work in an hour."

☒ 4.

The boss said to me, "Can you finish the work in an hour?"

Q.29 Choose the option that fits the given description.

Question ID : 3228776075

Status : **Answered**

Chosen Option : 4

One who does a thing for pleasure and not as profession.

Ans ☒ 1. seasoned

☒ 2. friendly

☒ 3. amateur

☒ 4. business

Q.30 Choose the option that is the correct indirect form of the given sentence.

Question ID : 3228776094

Status : **Answered**

Chosen Option : 2

Aastha said to Dev, "It gives me great pleasure to see your paintings."

Ans ☒ 1.

Aastha said to Dev that it gave her great pleasure to see his paintings.

☒ 2.

Aastha said to Dev that it gave her great pleasure to see your paintings.

☒ 3.

Aastha said to Dev it would give her pleasure to see his paintings.

☒ 4.

Aastha said to Dev it gives me great pleasure to see your paintings.

Q.31 Choose the option that is the correct direct form of the given sentence.

Question ID : 3228776099

Status : **Answered**

Chosen Option : 4

He said to me that he liked my dress.

Ans ☒ 1. He said to me, "He likes my dress."

☒ 2. He said to me, "You like my dress."

☒ 3. He said to me, "I liked your dress."

☒ 4. He said to me, "I like your dress."

Q.32 Choose the option that combines the sentences correctly.

Question ID : 3228776084

Status : **Answered**

Chosen Option : 2

Rishabh was loved by his parents. They loved him a lot.

Ans ☒ 1. Rishabh loved his parents a lot.

☒ 2.

Rishabh loved his parents and they loved him.

- ✓ 3. Rishabh was loved a lot by his parents.
- ✗ 4. Rishabh's parents were loved a lot by him.

Q.33 Choose the option that is closest in meaning to the underlined idiom.

My grandmother has a green thumb.

- Ans ✗ 1. a thumb that is painted green
- ✗ 2. a thumb wrapped in a green bandage
- ✗ 3. an injured thumb
- ✓ 4. ability to grow plants easily

Question ID : 3228776081

Status : Answered

Chosen Option : 1

Q.34 Choose the option in which the given word is correctly used.

groan

- Ans ✗ 1.
- She looks too young to have such groan up daughters.
- ✗ 2.
- I only use home groan vegetables in my cooking.
- ✓ 3. It is a small cut, don't groan so much.
- ✗ 4. He has groan very tall.

Question ID : 3228776074

Status : Not Answered

Chosen Option : --

Q.35 Choose the option that means the same as the given sentence.

She must work hard or she will fail.

- Ans ✗ 1. Though she works hard she will fail.
- ✓ 2.
- She must work hard so that she does not fail.
- ✗ 3. She must work hard and she will still fail.
- ✗ 4. She will fail but she must work hard.

Question ID : 3228776091

Status : Answered

Chosen Option : 4

Q.36 The following sentences has four parts. One of them is incorrect. Choose the INCORRECT word or phrase from the given options.

My niece / and me / love / biryani.

- Ans ✗ 1. biryani.
- ✗ 2. love
- ✗ 3. My niece
- ✓ 4. and me

Question ID : 3228776103

Status : Answered

Chosen Option : 2

Q.37 Choose the option which best expresses the meaning of the underlined word.

The journalist was aghast at the suffering of the refugees.

- Ans ✗ 1. restless
- ✗ 2. surprised
- ✗ 3. confused
- ✓ 4. shocked

Question ID : 3228776062

Status : Answered

Chosen Option : 1

Q.38 Choose the correct figure of speech for the following definition.

Something is compared to another thing by stating how one thing is like the other.

- Ans
- ☐ 1. Metaphor
 - ☐ 2. Apostrophe
 - ☐ 3. Hyperbole
 - ☒ 4. Simile

Question ID : 3228776057

Status : Answered

Chosen Option : 2

Q.39 Choose the option that is closest in meaning to the underlined idiom.
We've all worked very hard, let's call it a day.

- Ans
- ☐ 1. to work only for a day
 - ☐ 2. to work during day time
 - ☐ 3. to work when one is fresh
 - ☒ 4. to stop working for the day

Question ID : 3228776082

Status : Answered

Chosen Option : 3

Q.40 Choose the correct figure of speech for the following definition.

Gives human traits to non-human things.

- Ans
- ☐ 1. Alliteration
 - ☐ 2. Oxymoron
 - ☒ 3. Personification
 - ☐ 4. Metaphor

Question ID : 3228776056

Status : Answered

Chosen Option : 3

Q.41 Choose the option in which the given word is correctly used.

Meat

- Ans
- ☐ 1. Shall we meat at India Gate tomorrow?
 - ☐ 2. I will meat you at the airport.
 - ☐ 3. There is a sports meat in the school.
 - ☒ 4. We are all vegetarians, we do not eat meat.

Question ID : 3228776072

Status : Answered

Chosen Option : 4

Q.42 Choose the option which best expresses the meaning of the underlined word.

His criticism about the performance of the council was incisive.

- Ans
- ☐ 1. suggestive
 - ☐ 2. irrelevant
 - ☐ 3. gentle
 - ☒ 4. sharp

Question ID : 3228776064

Status : Answered

Chosen Option : 1

Q.43 Choose the option in which the given word is correctly used.

Pause

- Ans
- ☐ 1. Cats jump on their pause.
 - ☒ 2. Please press the pause button on the remote.

Question ID : 3228776073

Status : Answered

Chosen Option : 4

☒ 3. Cats' pause are very sharp.

☒ 4.

The claws were pulled out of the tiger's pause.

Q.44 The following sentences has four parts. One of them is incorrect. Choose the INCORRECT word or phrase from the given options.

My friend's / aunt is / married with / a minister.

- Ans ☒ 1. My friend's
☒ 2. aunt is
☒ 3. married with
☒ 4. a minister.

Question ID : 3228776102

Status : Answered

Chosen Option : 4

Q.45 Choose the option that means the same as the given sentence.

I am stronger than my brother.

- Ans ☒ 1. I am not as strong as my brother.
☒ 2. Both my brother and I are equally strong.
☒ 3. My brother is not as strong as me.
☒ 4. My brother is as strong as me.

Question ID : 3228776088

Status : Answered

Chosen Option : 2

Q.46 Choose the option which best expresses the meaning of the underlined word.

Many people watched the play standing due to paucity of seats.

- Ans ☒ 1. surplus
☒ 2. poor quality
☒ 3. inconvenience
☒ 4. scarcity

Question ID : 3228776065

Status : Answered

Chosen Option : 3

Q.47 Which figure of speech is present in the following sentence?

Oh, wind, blow softly upon my sleeping child.

- Ans ☒ 1. Hyperbole
☒ 2. Metaphor
☒ 3. Apostrophe
☒ 4. Simile

Question ID : 3228776061

Status : Answered

Chosen Option : 3

Q.48 Choose the option that combines the sentences correctly.

The monkey hurt its paw. He could not climb the tree.

- Ans ☒ 1.
The monkey could not climb the tree because he had hurt his paw.
☒ 2.
The monkey climbed the tree with a hurt paw.
☒ 3.

Question ID : 3228776086

Status : Answered

Chosen Option : 3

The monkey climbed the tree with his hurt paw.

☒ 4.

The monkey hurt his paw so that he could not climb the tree.

Q.49 Choose the option that combines the sentences correctly.

The farmer saw a snake. He fainted.

Ans ☒ 1.

The farmer fainted and then he saw the snake.

☒ 2. The farmer fainted before he saw the snake.

☒ 3. The snake saw the farmer when he fainted.

☒ 4. On seeing a snake, the farmer fainted.

Question ID : 3228776085

Status : Answered

Chosen Option : 3

Q.50 The following sentences has four parts. One of them is incorrect. Choose the INCORRECT word or phrase from the given options.

We did not / went to / Delhi / last month.

Ans ☒ 1. last month.

☒ 2. Delhi

☒ 3. We did not

☒ 4. went to

Question ID : 3228776101

Status : Answered

Chosen Option : 3

Q.51 Choose the option that is the correct indirect form of the given sentence.

He said to her, "The children are hungry, please give them something to eat."

Ans ☒ 1.

He ordered her to give something to the children to eat as they were hungry.

☒ 2.

He said to her that the children are hungry and to give something to them to eat.

☒ 3.

He told her that the children were hungry and requested her to give them something to eat.

☒ 4.

He told her that the children would be hungry and told her to give something to them to eat.

Question ID : 3228776096

Status : Answered

Chosen Option : 3

Q.52 Choose the option that means the same as the given sentence.

How can you waste your time, a day before the exams?

Ans ☒ 1.

It is not good for you to waste your time a day before the exams.

☒ 2.

You are not allowed to waste your time a day before the exams.

☒ 3.

You dare not waste your time a day before the exams.

☒ 4.

You cannot waste your time a day before the exams.

Question ID : 3228776089

Status : Answered

Chosen Option : 1

Q.53 Choose the option that fits the given description.

One who does not express himself freely.

Ans

Question ID : 3228776079

Status : Answered

Chosen Option : 3

- ☒ 1. introvert
- ☐ 2. extrovert
- ☐ 3. silent
- ☐ 4. stupid

Q.54 Choose the option that combines the sentences correctly.

Question ID : 3228776087

Status : Answered

Chosen Option : 3

I read the book. It was given by my friend.

Ans ☐ 1.

My friend gave me the book, however, I read it.

☒ 2. I read the book given by my friend.

☐ 3.

The book was given by my friend but was read by me.

☐ 4.

My friend gave me the book that she had read.

Q.55 Choose the ANTONYM of the given word.

Question ID : 3228776068

Status : Answered

Chosen Option : 1

MALaise

Ans ☐ 1. anxiety

☐ 2. unease

☒ 3. well being

☐ 4. sickness

