



Teachingninja.in



Latest Govt Job updates



Private Job updates



Free Mock tests available

Visit - teachingninja.in



Teachingninja.in

BSF HCM

Previous Year Paper
17 Jun, 2023 Shift 2



BSF 17 and 18 June 2023

Participant ID	
Participant Name	
Test Center Name	
Test Date	17/06/2023
Test Time	12:30 PM - 2:10 PM
Subject	Head Constable (Ministerial)

Section : English Language

Q.1 Select the correctly spelt word.

- Ans
- ☒ 1. Coloqiale
 - ☒ 2. Coloquial
 - ☒ 3. Colloquial
 - ☒ 4. Colloqiall

Question ID : 63068067070
Option 1 ID : 630680259113
Option 2 ID : 630680259111
Option 3 ID : 630680259110
Option 4 ID : 630680259112
Status : Not Answered
Chosen Option : --

Q.2 Select the most appropriate meaning of the following idiom.

At the end of (one's) rope

- Ans
- ☒ 1. Not having enough rope to pull something up
 - ☒ 2. To be in a bad relationship with family members
 - ☒ 3. To be at the end of the rope in a tug-of-war match
 - ☒ 4. No longer able to deal with a difficult situation

Question ID : 63068069822
Option 1 ID : 630680269946
Option 2 ID : 630680269948
Option 3 ID : 630680269947
Option 4 ID : 630680269949
Status : Not Answered
Chosen Option : --

Q.3 Select the option that can be used as a one-word substitute for the given group of words.

An apparatus used by submerged submarines to see above water

- Ans
- ☒ 1. Kaleidoscope
 - ☒ 2. Telescope
 - ☒ 3. Periscope
 - ☒ 4. Bioscope

Question ID : 63068071546
Option 1 ID : 630680276722
Option 2 ID : 630680276723
Option 3 ID : 630680276724
Option 4 ID : 630680276725
Status : Not Answered
Chosen Option : --

Q.4 Select the most appropriate option to fill in the blanks.

Little Paul wasn't very healthy. His classmates _____ him because he was different from the rest of the class. However, his mother always told him that he was _____. "You are a special child," she would say.

- Ans
1. hated, separate

2. shunned, unique

3. avoided, original

4. adored, similar

Question ID : 630680247036

Option 1 ID : 630680958423

Option 2 ID : 630680958424

Option 3 ID : 630680958425

Option 4 ID : 630680958426

Status : Not Answered

Chosen Option : --

Q.5 Parts of a sentence are given below in jumbled order. Arrange the parts in the correct order to form a meaningful sentence.

- A.to build his life-size statue
- B. life has come a full circle for him
- C. thanking MCA for deciding
- D. at the Wankhede stadium, Tendulkar said that

- Ans
1. ADBC

2. CADB

3. DABC

4. BDCA

Question ID : 630680247035

Option 1 ID : 630680958422

Option 2 ID : 630680958421

Option 3 ID : 630680958419

Option 4 ID : 630680958420

Status : Not Answered

Chosen Option : --

Q.6 Select the most appropriate option that can substitute the underlined segment in the given sentence. If there is no need to substitute it, select 'No substitution'.

She produced the speech very confidently.

- Ans
1. No substitution

2. conveyed

3. delivered

4. recited

Question ID : 630680247034

Option 1 ID : 630680958418

Option 2 ID : 630680958417

Option 3 ID : 630680958416

Option 4 ID : 630680958415

Status : Not Answered

Chosen Option : --

Q.7 Select the option that correctly spells the misspelt word in the sentence.

What a disgracefull behaviour! You have beaten up an innocent person.

- Ans
1. inocent

2. behavier

3. disgraceful

4. beeten

Question ID : 630680247038

Option 1 ID : 630680958431

Option 2 ID : 630680958432

Option 3 ID : 630680958433

Option 4 ID : 630680958434

Status : Not Answered

Chosen Option : --

Q.8 Sentences of a paragraph are given below in jumbled order. Arrange the sentences in the correct order to form a meaningful and coherent paragraph.

- A. It usually occurs at midnight or 3:00 a.m.
- B. The term also has a modern colloquial meaning that refers to a time of unpredictable or volatile activity, such as the unsettled, colicky sleep of infants or the final hours of stock trading.
- C. Witching hour, also called devil’s hour, in folklore is the time at night when the powers of witches and other supernatural beings are believed to be the strongest.
- D. One of the first references to the witching hour can be found in Hamlet by Shakespeare.

- Ans
1. DABC

2. BACD

3. CABD

4. ABDC

Question ID : 630680160889

Option 1 ID : 630680622929

Option 2 ID : 630680622930

Option 3 ID : 630680622928

Option 4 ID : 630680622931

Status : Not Answered

Chosen Option : --

Q.9 Select the most appropriate option that can substitute the underlined segment in the given sentence. If there is no need to substitute it, select ‘No substitution’.

The tiger loudly pounced on its prey.

- Ans
1. No substitution

2. bitterly

3. suddenly

4. calmly

Question ID : 630680247033

Option 1 ID : 630680958414

Option 2 ID : 630680958413

Option 3 ID : 630680958412

Option 4 ID : 630680958411

Status : Not Answered

Chosen Option : --

Q.10 Choose the word that is opposite in meaning to the underlined word.

The disdain in his eyes was a testimony to the fact that he was not in support of the idea.

- Ans
1. insolence

2. antipathy

3. hatred

4. approval

Question ID : 630680179103

Option 1 ID : 630680694507

Option 2 ID : 630680694505

Option 3 ID : 630680694506

Option 4 ID : 630680694504

Status : Not Answered

Chosen Option : --

Q.11 Select the most appropriate meaning of the given proverb.

Haste makes waste.

- Ans
1. Doing something quickly increases the chance of mistakes.

2. To always be making a profit

3. Doing something easily can be the reason of mistakes.

4. To always be in a hurry

Question ID : 63068069396

Option 1 ID : 630680268257

Option 2 ID : 630680268256

Option 3 ID : 630680268254

Option 4 ID : 630680268255

Status : Not Answered

Chosen Option : --

Q.12 Choose the word that is opposite in meaning to the underlined word.

He made derogatory remarks about the chef who prepared the food.

- Ans
1. Simplistic

2. Simpering

3. Complimentary

4. Derisory

Question ID : 630680179107

Option 1 ID : 630680694521

Option 2 ID : 630680694523

Option 3 ID : 630680694522

Option 4 ID : 630680694520

Status : Not Answered

Chosen Option : --

Q.13 Select the option that can be used as a one-word substitute for the underlined group of words.

His father was famous for giving skillful and effective speeches in public.

- Ans
- ☒

1. Oratory
- ☐

2. Spectatorship
- ☐

3. Authorship
- ☐

4. Anchoring

Question ID : 630680115438

Option 1 ID : 630680447104

Option 2 ID : 630680447103

Option 3 ID : 630680447105

Option 4 ID : 630680447102

Status : Not Answered

Chosen Option : --

Q.14 Select the most appropriate option to fill in the blanks.

“Sorry Madam,” Aarya said meekly. “That is okay, but I can’t let you in. A rule is a rule,” Mrs. D’Souza said _____. Suddenly, tears emerged in the corner of Aarya’s eyes as she waited outside the class. Her friends felt _____ about her.

- Ans
- ☐

1. fiercely, troubled
- ☒

2. assertively, concerned
- ☐

3. calmly, involved
- ☐

4. forcibly, attentive

Question ID : 630680247037

Option 1 ID : 630680958427

Option 2 ID : 630680958429

Option 3 ID : 630680958430

Option 4 ID : 630680958428

Status : Not Answered

Chosen Option : --

Q.15 Replace the underlined word in the given sentence with the most appropriate synonym from the options listed below.

Rescue workers hastily evacuated the residents from the area before the storm hit the coast.

- Ans
- ☒

1. hurriedly
- ☐

2. abruptly
- ☐

3. patiently
- ☐

4. carefully

Question ID : 63068084453

Option 1 ID : 630680327366

Option 2 ID : 630680327367

Option 3 ID : 630680327364

Option 4 ID : 630680327365

Status : Not Answered

Chosen Option : --

Q.16 Replace the underlined word in the given sentence with the most appropriate synonym from the options listed below.
The agenda of the meeting was to nullify the Reform Act of 1833.

- Ans
- ☒ 1. rectify
 - ☒ 2. ratify
 - ☒ 3. repeal
 - ☒ 4. amend

Question ID : 630680179101

Option 1 ID : 630680694496

Option 2 ID : 630680694497

Option 3 ID : 630680694499

Option 4 ID : 630680694498

Status : Not Answered

Chosen Option : --

Comprehension:

Read the given passage and answer the questions that follow.

Flexibility and mobility are essential not only to reduce the risk of injuries but to generally feel better. Living a nine to five desk life can be demanding on health and wellness. Here is how you can keep the most common problems at bay.

Even if you are not exercising you need to make sure that you maintain correct posture and sit at your desk in the right way. It is important that your chair is placed correctly and your legs are not left hanging. Proper alignment ensures that your neck and back are not strained.

Exercises and abdominal crunches two to three times a week can strengthen the core. It will help take the pressure off your back and will make it easier to maintain good posture. Chairs with a back that support your upper back are preferable for those who work long hours in front of screens.

Constant typing, writing reports, and answering e-mails can exert your wrists leading to long-term damage. The frequency of your use and how you position your wrists at your keyboard can be a reason. The telltale signs of exertion would be a tingling sensation or numbness. One should not ignore initial signs. Make sure that you rest your wrist at regular intervals. To relieve tension quickly fold your hands in a namaste in front of your chest with elbows moving out and lower your hands till you feel a good stretch in your wrists. Also rotating your fists inside and outside provides much relief to strained wrists.

Since those who work on desks spend a lot of time looking at a computer screen, they are at a risk of straining their eyes. This may also lead to dry eyes and fatigue. Poor eyesight is the result of continued and improper exposure to screens. Keeping the computer screen at an optimal distance helps a lot in minimising strain to eyes. The screen shouldn't be too close or too far. To ease eye strain use good lighting and make it a point to look at a distance away from your screen every twenty to thirty minutes.

SubQuestion No : 17

Q.17 Select the word from the passage that means 'adjustment'.

- Ans
- ☒ 1. Exposure
 - ☒ 2. Sensation
 - ☒ 3. Alignment
 - ☒ 4. Posture

Question ID : 630680246846

Option 1 ID : 630680957664

Option 2 ID : 630680957663

Option 3 ID : 630680957665

Option 4 ID : 630680957666

Status : Not Answered

Chosen Option : --

Comprehension:

Read the given passage and answer the questions that follow.

Flexibility and mobility are essential not only to reduce the risk of injuries but to generally feel better. Living a nine to five desk life can be demanding on health and wellness. Here is how you can keep the most common problems at bay.

Even if you are not exercising you need to make sure that you maintain correct posture and sit at your desk in the right way. It is important that your chair is placed correctly and your legs are not left hanging. Proper alignment ensures that your neck and back are not strained. Exercises and abdominal crunches two to three times a week can strengthen the core. It will help take the pressure off your back and will make it easier to maintain good posture. Chairs with a back that support your upper back are preferable for those who work long hours in front of screens.

Constant typing, writing reports, and answering e-mails can exert your wrists leading to long-term damage. The frequency of your use and how you position your wrists at your keyboard can be a reason. The telltale signs of exertion would be a tingling sensation or numbness. One should not ignore initial signs. Make sure that you rest your wrist at regular intervals. To relieve tension quickly fold your hands in a namaste in front of your chest with elbows moving out and lower your hands till you feel a good stretch in your wrists. Also rotating your fists inside and outside provides much relief to strained wrists.

Since those who work on desks spend a lot of time looking at a computer screen, they are at a risk of straining their eyes. This may also lead to dry eyes and fatigue. Poor eyesight is the result of continued and improper exposure to screens. Keeping the computer screen at an optimal distance helps a lot in minimising strain to eyes. The screen shouldn't be too close or too far. To ease eye strain use good lighting and make it a point to look at a distance away from your screen every twenty to thirty minutes.

SubQuestion No : 18

Q.18 One of the reasons for poor eyesight is:

- Ans
- ☒

1. continued exposure to screens
- ☐

2. lack of flexibility and mobility
- ☐

3. injuries and lack of exercise
- ☐

4. use of adequate lighting in the work space

Question ID : 630680246845

Option 1 ID : 630680957660

Option 2 ID : 630680957662

Option 3 ID : 630680957661

Option 4 ID : 630680957659

Status : Not Answered

Chosen Option : --

Comprehension:

Read the given passage and answer the questions that follow.

Flexibility and mobility are essential not only to reduce the risk of injuries but to generally feel better. Living a nine to five desk life can be demanding on health and wellness. Here is how you can keep the most common problems at bay.

Even if you are not exercising you need to make sure that you maintain correct posture and sit at your desk in the right way. It is important that your chair is placed correctly and your legs are not left hanging. Proper alignment ensures that your neck and back are not strained. Exercises and abdominal crunches two to three times a week can strengthen the core. It will help take the pressure off your back and will make it easier to maintain good posture. Chairs with a back that support your upper back are preferable for those who work long hours in front of screens.

Constant typing, writing reports, and answering e-mails can exert your wrists leading to long-term damage. The frequency of your use and how you position your wrists at your keyboard can be a reason. The telltale signs of exertion would be a tingling sensation or numbness. One should not ignore initial signs. Make sure that you rest your wrist at regular intervals. To relieve tension quickly fold your hands in a namaste in front of your chest with elbows moving out and lower your hands till you feel a good stretch in your wrists. Also rotating your fists inside and outside provides much relief to strained wrists.

Since those who work on desks spend a lot of time looking at a computer screen, they are at a risk of straining their eyes. This may also lead to dry eyes and fatigue. Poor eyesight is the result of continued and improper exposure to screens. Keeping the computer screen at an optimal distance helps a lot in minimising strain to eyes. The screen shouldn't be too close or too far. To ease eye strain use good lighting and make it a point to look at a distance away from your screen every twenty to thirty minutes.

SubQuestion No : 19

Q.19 For someone doing a nine to five desk job, it is important to:

- Ans
- ☒

1. have chairs that support the upper back
- ☐

2. let the back take the maximum pressure
- ☐

3. ignore the common numbness of the fingers
- ☐

4. let the legs dangle freely

Question ID : 630680246843

Option 1 ID : 630680957653

Option 2 ID : 630680957651

Option 3 ID : 630680957654

Option 4 ID : 630680957652

Status : Not Answered

Chosen Option : --

Comprehension:

Read the given passage and answer the questions that follow.

Flexibility and mobility are essential not only to reduce the risk of injuries but to generally feel better. Living a nine to five desk life can be demanding on health and wellness. Here is how you can keep the most common problems at bay.

Even if you are not exercising you need to make sure that you maintain correct posture and sit at your desk in the right way. It is important that your chair is placed correctly and your legs are not left hanging. Proper alignment ensures that your neck and back are not strained. Exercises and abdominal crunches two to three times a week can strengthen the core. It will help take the pressure off your back and will make it easier to maintain good posture. Chairs with a back that support your upper back are preferable for those who work long hours in front of screens.

Constant typing, writing reports, and answering e-mails can exert your wrists leading to long-term damage. The frequency of your use and how you position your wrists at your keyboard can be a reason. The telltale signs of exertion would be a tingling sensation or numbness. One should not ignore initial signs. Make sure that you rest your wrist at regular intervals. To relieve tension quickly fold your hands in a namaste in front of your chest with elbows moving out and lower your hands till you feel a good stretch in your wrists. Also rotating your fists inside and outside provides much relief to strained wrists.

Since those who work on desks spend a lot of time looking at a computer screen, they are at a risk of straining their eyes. This may also lead to dry eyes and fatigue. Poor eyesight is the result of continued and improper exposure to screens. Keeping the computer screen at an optimal distance helps a lot in minimising strain to eyes. The screen shouldn't be too close or too far. To ease eye strain use good lighting and make it a point to look at a distance away from your screen every twenty to thirty minutes.

SubQuestion No : 20

Q.20 The passage is mainly about:

- Ans
1. how to maintain a good eyesight
-
2. consequences of working on computers

Question ID : 630680246844

Option 1 ID : 630680957655

Option 2 ID : 630680957656

Option 3 ID : 630680957658

Option 4 ID : 630680957657

Status : Not Answered

Chosen Option : --

Section : Hindi Language

Q.1 'हम आँखों _____ देखते हैं।' -वाक्य के रिक्त स्थान के लिए 'करण कारक' की विभक्ति का चयन कीजिए -

- Ans
1. से
2. को
3. पर
4. में

Question ID : 630680247125

Option 1 ID : 630680958782

Option 2 ID : 630680958779

Option 3 ID : 630680958781

Option 4 ID : 630680958780

Status : Answered

Chosen Option : 1

Q.2 कौन-सा शब्द 'चपला' का अनेकार्थी नहीं है-

Ans

✗ 1. स्त्री

✗ 2. बिजली

✓ 3. पार्वती

✗ 4. लक्ष्मी

Question ID : 630680146089

Option 1 ID : 630680565246

Option 2 ID : 630680565247

Option 3 ID : 630680565249

Option 4 ID : 630680565248

Status : Answered

Chosen Option : 2

Q.3 'यथाशीघ्र' में कौन सा समास है?

Ans

✗ 1. तत्पुरुष

✓ 2. अव्ययीभाव

✗ 3. द्विगु

✗ 4. द्वंद्व

Question ID : 630680247127

Option 1 ID : 630680958787

Option 2 ID : 630680958790

Option 3 ID : 630680958789

Option 4 ID : 630680958788

Status : Answered

Chosen Option : 1

Q.4 निम्नलिखित में से 'कृपण' का विलोम शब्द है -

Ans

✗ 1. महान

✗ 2. अवकृपा

✗ 3. अकुलीन

✓ 4. दाता

Question ID : 63068056139

Option 1 ID : 630680216548

Option 2 ID : 630680216546

Option 3 ID : 630680216549

Option 4 ID : 630680216547

Status : Answered

Chosen Option : 2

Q.5 'कपीश' का सही संधि-विच्छेद रूप चुनिए।

Ans

✓ 1. कपि+ईश

✗ 2. कपि+इश

✗ 3. कपी+इश

✗ 4. कपी+ईश

Question ID : 63068071813

Option 1 ID : 630680277722

Option 2 ID : 630680277725

Option 3 ID : 630680277724

Option 4 ID : 630680277723

Status : Answered

Chosen Option : 1

Q.6 किस विकल्प में 'संग-संघ' युग्म का सही अर्थ-युग्म है?

Ans

✗ 1. गीत – समूह

✗ 2. साथ – घातक

✗ 3. समूह – साथ

✓ 4. साथ – समूह

Question ID : 630680247124

Option 1 ID : 630680958777

Option 2 ID : 630680958778

Option 3 ID : 630680958776

Option 4 ID : 630680958775

Status : Answered

Chosen Option : 1

Q.7 'सर्प' का पर्यायवाची शब्द है-

Ans

✗ 1. वाजि

✓ 2. व्याल

✗ 3. नग

✗ 4. केहरी

Question ID : 630680146103

Option 1 ID : 630680565305

Option 2 ID : 630680565302

Option 3 ID : 630680565303

Option 4 ID : 630680565304

Status : Answered

Chosen Option : 3

Q.8 'माथा ठनकना' मुहावरे का अर्थ निम्न में से होगा-

Ans

✗ 1. पागल होना

✗ 2. क्रोधित होना

✓ 3. संशय होना

✗ 4. सर दर्द होना

Question ID : 630680144612

Option 1 ID : 630680559498

Option 2 ID : 630680559501

Option 3 ID : 630680559500

Option 4 ID : 630680559499

Status : Answered

Chosen Option : 2

Q.9 'पसेरी' में कौन सा समास है?

Ans

✗ 1. तत्पुरुष

✗ 2. द्वंद्व

✓ 3. द्विगु

✗ 4. अव्ययीभाव

Question ID : 630680247128

Option 1 ID : 630680958791

Option 2 ID : 630680958792

Option 3 ID : 630680958793

Option 4 ID : 630680958794

Status : Answered

Chosen Option : 2

Q.10 "दुर्गंध" का संधि विच्छेद करें।

Ans

✓ 1. दुः+गंध

✗ 2. दुर+गंध

✗ 3. दुर्गः+ध

✗ 4. दु+गंध

Question ID : 63068055902

Option 1 ID : 630680215616

Option 2 ID : 630680215614

Option 3 ID : 630680215617

Option 4 ID : 630680215615

Status : Answered

Chosen Option : 2

Q.11 'इधर न उधर, यह बला किधर' - लोकोक्ति का अर्थ है-

Ans

✗ 1. दुष्टता के बदले अधिक दुष्टता

✗ 2. हर हाल में मुसीबत

✓ 3. अचानक विपत्ति आ पड़ना

✗ 4. यहाँ सब कुछ विचित्र है

Question ID : 630680138922

Option 1 ID : 630680537840

Option 2 ID : 630680537839

Option 3 ID : 630680537838

Option 4 ID : 630680537841

Status : Answered

Chosen Option : 1

Q.12 'श्वेता पढ़ रही थी।' वाक्य में किस काल की क्रिया का प्रयोग हुआ है?

Ans

✗ 1. पूर्ण भूत

✗ 2. संदिग्ध भूत

✓ 3. अपूर्ण भूत

✗ 4. सामान्य भूत

Question ID : 630680247126

Option 1 ID : 630680958784

Option 2 ID : 630680958785

Option 3 ID : 630680958783

Option 4 ID : 630680958786

Status : Answered

Chosen Option : 1

Q.13 निम्नलिखित में से कौन सा शब्द तत्सम है?

Ans

✗ 1. पहर

✗ 2. पलंग

✗ 3. पहचान

✓ 4. परिधान

Question ID : 630680247123

Option 1 ID : 630680958772

Option 2 ID : 630680958771

Option 3 ID : 630680958773

Option 4 ID : 630680958774

Status : Answered

Chosen Option : 3

Q.14 जिसका जन्म अग्र (पहले) हुआ हो - वाक्यांश के लिए सार्थक शब्द है-

- Ans
- ☒ 1. अनुज
 - ☒ 2. अग्रणीय
 - ☒ 3. अग्रीय
 - ☒ 4. अग्रज

Question ID : 63068055598
Option 1 ID : 630680214405
Option 2 ID : 630680214402
Option 3 ID : 630680214403
Option 4 ID : 630680214404
Status : Answered
Chosen Option : 2

Q.15 निम्नलिखित विकल्पों में से कौनसा विकल्प 'आँख' का पर्यायवाची नहीं है?

- Ans
- ☒ 1. अक्षि
 - ☒ 2. नेत्र
 - ☒ 3. व्योम
 - ☒ 4. लोचन

Question ID : 630680123241
Option 1 ID : 630680477855
Option 2 ID : 630680477854
Option 3 ID : 630680477857
Option 4 ID : 630680477856
Status : Answered
Chosen Option : 4

Q.16 इहलोक का विलोम शब्द है-

- Ans
- ☒ 1. परलोक
 - ☒ 2. अनिष्ट
 - ☒ 3. उत्कर्ष
 - ☒ 4. प्रत्यय

Question ID : 630680111334
Option 1 ID : 630680431164
Option 2 ID : 630680431163
Option 3 ID : 630680431165
Option 4 ID : 630680431162
Status : Answered
Chosen Option : 1

Comprehension:

यशपाल ने 'दिव्या' (1945) की भूमिका में लिखा, 'इतिहास विश्वास की नहीं', विश्लेषण की वस्तु है। अपने रचनात्मक सामर्थ्य और परिस्थितियों के सुलझाव के अपने प्रयत्नों के परिचय से जाति वर्तमान और भविष्य और रचना के लिए निर्देश पाती है। 'इस प्रकार यशपाल इतिहास को सिर्फ अतीत नहीं, एक सतत् प्रवाह के रूप में देखते हैं और वर्तमान को समुन्नत एवं समृद्ध बनाने की दृष्टि से उसके महत्त्व को रेखांकित करते हैं। 'दिव्या' में उस समाज के अंतर्विरोध स्त्री की नियति को गहराई से उद्घाटित करते हैं। दिव्या स्वतंत्र नारी नहीं है, इसलिए अपनी इच्छा से वह बौद्ध धर्म में प्रवर्जित होने का भी अधिकार नहीं रखती। यशपाल ने इतिहास की पृष्ठभूमि पर नारी की नियति, युद्ध और शांति एवं वर्ग संघर्ष की समस्याओं को अंकित किया है। 'अमिता' (1956) विश्व शांति के उनके प्रयासों के कारण ही जवाहरलाल नेहरू को समर्पित की गई थी। 'अप्सरा का श्राप' (1965) में भी यशपाल की मुख्य चिंता पुरुष वर्ग के निरंकुश दमन की है, जिसने अपने स्वार्थ और प्रमाद में धर्म और व्यवस्था के नाम पर नारी का सदैव ही निर्दय शोषण किया है। स्पष्ट ही इतिहास की पृष्ठभूमि का उपयोग वे एक ऐसे समाज के निर्माण की दृष्टि से करते हैं जो इन अंतर्विरोधों से मुक्त होगा। उनकी या अन्य प्रगतिवादी लेखकों के ऐतिहासिक उपन्यास हावर्ड फॉस्ट के ऐतिहासिक उपन्यासों की तुलना में, कलात्मक दृष्टि से उतने प्रौढ़ और गम्भीर भले ही न बन पड़े हों, लेकिन इतिहास के उपयोग की नई सम्भावनाओं का संकेत उनसे अवश्य मिलता है। उनके प्रमुख उपन्यास हैं दादा-कॉमरेड, देशद्रोही, झूठा-सच, बारह घंटे तथा मक्रील और फूलों का कुर्ता उनके कहानी संग्रह हैं।

SubQuestion No : 17

Q.17 निम्नलिखित कृतियों में से यशपाल द्वारा लिखित उपन्यास नहीं है -

- Ans ☒ 1. झूठा-सच
☒ 2. मक्रील
☒ 3. बारह घंटे
☒ 4. दादा-कॉमरेड

Question ID : 63068091076
Option 1 ID : 630680353059
Option 2 ID : 630680353058
Option 3 ID : 630680353060
Option 4 ID : 630680353061
Status : Answered
Chosen Option : 2

Comprehension:

यशपाल ने 'दिव्या' (1945) की भूमिका में लिखा, 'इतिहास विश्वास की नहीं', विश्लेषण की वस्तु है। अपने रचनात्मक सामर्थ्य और परिस्थितियों के सुलझाव के अपने प्रयत्नों के परिचय से जाति वर्तमान और भविष्य और रचना के लिए निर्देश पाती है। 'इस प्रकार यशपाल इतिहास को सिर्फ अतीत नहीं, एक सतत् प्रवाह के रूप में देखते हैं और वर्तमान को समुन्नत एवं समृद्ध बनाने की दृष्टि से उसके महत्त्व को रेखांकित करते हैं। 'दिव्या' में उस समाज के अंतर्विरोध स्त्री की नियति को गहराई से उद्घाटित करते हैं। दिव्या स्वतंत्र नारी नहीं है, इसलिए अपनी इच्छा से वह बौद्ध धर्म में प्रवर्जित होने का भी अधिकार नहीं रखती। यशपाल ने इतिहास की पृष्ठभूमि पर नारी की नियति, युद्ध और शांति एवं वर्ग संघर्ष की समस्याओं को अंकित किया है। 'अमिता' (1956) विश्व शांति के उनके प्रयासों के कारण ही जवाहरलाल नेहरू को समर्पित की गई थी। 'अप्सरा का श्राप' (1965) में भी यशपाल की मुख्य चिंता पुरुष वर्ग के निरंकुश दमन की है, जिसने अपने स्वार्थ और प्रमाद में धर्म और व्यवस्था के नाम पर नारी का सदैव ही निर्दय शोषण किया है। स्पष्ट ही इतिहास की पृष्ठभूमि का उपयोग वे एक ऐसे समाज के निर्माण की दृष्टि से करते हैं जो इन अंतर्विरोधों से मुक्त होगा। उनकी या अन्य प्रगतिवादी लेखकों के ऐतिहासिक उपन्यास हावर्ड फॉस्ट के ऐतिहासिक उपन्यासों की तुलना में, कलात्मक दृष्टि से उतने प्रौढ़ और गम्भीर भले ही न बन पड़े हों, लेकिन इतिहास के उपयोग की नई सम्भावनाओं का संकेत उनसे अवश्य मिलता है। उनके प्रमुख उपन्यास हैं दादा-कॉमरेड, देशद्रोही, झूठा-सच, बारह घंटे तथा मक्रील और फूलों का कुर्ता उनके कहानी संग्रह हैं।

SubQuestion No : 18

Q.18 'इतिहास विश्वास की नहीं विश्लेषण की वस्तु है।' से लेखक का क्या अभिप्राय है?

- Ans ☒ 1. इतिहास पर विश्वास न करके उसकी मनचाही व्याख्या की जानी चाहिए।
☒ 2. इतिहास वास्तविक नहीं होता उसे समझने की आवश्यकता होती है।
☒ 3. इतिहास पर विश्वास न करके नया मार्ग बनाना चाहिए।
☒ 4. इतिहास पर अंधविश्वास न करके चिंतन मनन करना चाहिए।

Question ID : 63068091078
Option 1 ID : 630680353069
Option 2 ID : 630680353066
Option 3 ID : 630680353068
Option 4 ID : 630680353067
Status : Answered
Chosen Option : 2

Comprehension:

यशपाल ने 'दिव्या' (1945) की भूमिका में लिखा, 'इतिहास विश्वास की नहीं', विश्लेषण की वस्तु है। अपने रचनात्मक सामर्थ्य और परिस्थितियों के सुलझाव के अपने प्रयत्नों के परिचय से जाति वर्तमान और भविष्य और रचना के लिए निर्देश पाती है। 'इस प्रकार यशपाल इतिहास को सिर्फ अतीत नहीं, एक सतत् प्रवाह के रूप में देखते हैं और वर्तमान को समुन्नत एवं समृद्ध बनाने की दृष्टि से उसके महत्त्व को रेखांकित करते हैं। 'दिव्या' में उस समाज के अंतर्विरोध स्त्री की नियति को गहराई से उद्घाटित करते हैं। दिव्या स्वतंत्र नारी नहीं है, इसलिए अपनी इच्छा से वह बौद्ध धर्म में प्रवर्जित होने का भी अधिकार नहीं रखती। यशपाल ने इतिहास की पृष्ठभूमि पर नारी की नियति, युद्ध और शांति एवं वर्ग संघर्ष की समस्याओं को अंकित किया है। 'अमिता' (1956) विश्व शांति के उनके प्रयासों के कारण ही जवाहरलाल नेहरू को समर्पित की गई थी। 'अप्सरा का श्राप' (1965) में भी यशपाल की मुख्य चिंता पुरुष वर्ग के निरंकुश दमन की है, जिसने अपने स्वार्थ और प्रमाद में धर्म और व्यवस्था के नाम पर नारी का सदैव ही निर्दय शोषण किया है। स्पष्ट ही इतिहास की पृष्ठभूमि का उपयोग वे एक ऐसे समाज के निर्माण की दृष्टि से करते हैं जो इन अंतर्विरोधों से मुक्त होगा। उनकी या अन्य प्रगतिवादी लेखकों के ऐतिहासिक उपन्यास हावर्ड फॉस्ट के ऐतिहासिक उपन्यासों की तुलना में, कलात्मक दृष्टि से उतने प्रौढ़ और गम्भीर भले ही न बन पड़े हों, लेकिन इतिहास के उपयोग की नई सम्भावनाओं का संकेत उनसे अवश्य मिलता है। उनके प्रमुख उपन्यास हैं दादा-कॉमरेड, देशद्रोही, झूठा-सच, बारह घंटे तथा मक्रील और फूलों का कुर्ता उनके कहानी संग्रह हैं।

SubQuestion No : 19

Q.19 यशपाल ने अपनी कौन सी पुस्तक जवाहरलाल नेहरू को समर्पित की है?

- Ans
- ☒

1. देशद्रोही
- ☒
2. दिव्या

☒☒

Question ID : 63068091075

Option 1 ID : 630680353057

Option 2 ID : 630680353054

Option 3 ID : 630680353056

Option 4 ID : 630680353055

Status : Answered

Chosen Option : 4

Comprehension:

यशपाल ने 'दिव्या' (1945) की भूमिका में लिखा, 'इतिहास विश्वास की नहीं', विश्लेषण की वस्तु है। अपने रचनात्मक सामर्थ्य और परिस्थितियों के सुलझाव के अपने प्रयत्नों के परिचय से जाति वर्तमान और भविष्य और रचना के लिए निर्देश पाती है। 'इस प्रकार यशपाल इतिहास को सिर्फ अतीत नहीं, एक सतत् प्रवाह के रूप में देखते हैं और वर्तमान को समुन्नत एवं समृद्ध बनाने की दृष्टि से उसके महत्त्व को रेखांकित करते हैं। 'दिव्या' में उस समाज के अंतर्विरोध स्त्री की नियति को गहराई से उद्घाटित करते हैं। दिव्या स्वतंत्र नारी नहीं है, इसलिए अपनी इच्छा से वह बौद्ध धर्म में प्रवर्जित होने का भी अधिकार नहीं रखती। यशपाल ने इतिहास की पृष्ठभूमि पर नारी की नियति, युद्ध और शांति एवं वर्ग संघर्ष की समस्याओं को अंकित किया है। 'अमिता' (1956) विश्व शांति के उनके प्रयासों के कारण ही जवाहरलाल नेहरू को समर्पित की गई थी। 'अप्सरा का श्राप' (1965) में भी यशपाल की मुख्य चिंता पुरुष वर्ग के निरंकुश दमन की है, जिसने अपने स्वार्थ और प्रमाद में धर्म और व्यवस्था के नाम पर नारी का सदैव ही निर्दय शोषण किया है। स्पष्ट ही इतिहास की पृष्ठभूमि का उपयोग वे एक ऐसे समाज के निर्माण की दृष्टि से करते हैं जो इन अंतर्विरोधों से मुक्त होगा। उनकी या अन्य प्रगतिवादी लेखकों के ऐतिहासिक उपन्यास हावर्ड फॉस्ट के ऐतिहासिक उपन्यासों की तुलना में, कलात्मक दृष्टि से उतने प्रौढ़ और गम्भीर भले ही न बन पड़े हों, लेकिन इतिहास के उपयोग की नई सम्भावनाओं का संकेत उनसे अवश्य मिलता है। उनके प्रमुख उपन्यास हैं दादा-कॉमरेड, देशद्रोही, झूठा-सच, बारह घंटे तथा मक्रील और फूलों का कुर्ता उनके कहानी संग्रह हैं।

SubQuestion No : 20

Q.20 इतिहास के विषय में लेखक का विचार नहीं है-

- Ans
- ☒

1. इतिहास सिर्फ बीता हुआ कल नहीं अपितु सतत् प्रवाह है।
- ☒
2. इतिहास अतीत की कहानियाँ हैं जो वर्तमान पर नकारात्मक प्रभाव डालती हैं।

☒☒

Question ID : 63068091077

Option 1 ID : 630680353064

Option 2 ID : 630680353065

Option 3 ID : 630680353062

Option 4 ID : 630680353063

Status : Answered

Chosen Option : 2

Section : General Intelligence

Q.1 P, Q, R, S, T, U और V में से प्रत्येक की परीक्षा सोमवार से शुरू होकर रविवार को समाप्त होने वाले एक सप्ताह के अलग-अलग दिन है। P की परीक्षा मंगलवार को है। Q की परीक्षा U की परीक्षा के ठीक बाद वाले दिन है। U और T की परीक्षा के बीच केवल तीन व्यक्तियों की परीक्षा है। V की परीक्षा Q की परीक्षा के ठीक बाद वाले दिन है। P और U की परीक्षा के बीच केवल दो व्यक्तियों की परीक्षा है। R की परीक्षा गुरुवार को नहीं है। S की परीक्षा किस दिन है?

- Ans
1. रविवार

2. गुरुवार

3. सोमवार

4. बुधवार

Question ID : 630680247119

Option 1 ID : 630680958758

Option 2 ID : 630680958757

Option 3 ID : 630680958755

Option 4 ID : 630680958756

Status : Answered

Chosen Option : 1

Q.2 संख्याओं और प्रतीकों के एक समूह को नीचे दिए गए कूट और उसके बाद दी गई शर्तों के अनुसार अक्षर कूट का उपयोग करके कूटबद्ध किया जाता है। दिए गए कूट और शर्तों का अध्ययन करें और निम्नलिखित प्रश्न का उत्तर दें।

संख्या/प्रतीक	6	\$	9	&	+	2	5	@	8	#	3	%	7	4
कूट	P	H	F	A	K	U	Z	C	W	S	X	G	B	M

शर्तें – (i) यदि दूसरा अवयव एक प्रतीक है और चौथा अवयव एक सम संख्या है, तो इन दोनों (दूसरे और चौथे अवयवों) के कूट आपस में बदलने होंगे।
(ii) यदि पहला और चौथा दोनों अवयव विषम संख्या में हैं, तो इन दोनों (पहले और चौथे अवयवों) को © के रूप में कूटबद्ध किया जाना है।
(iii) यदि दूसरा और तीसरा दोनों अवयव प्रतीक हैं, तो तीसरे अवयव को दूसरे अवयव के कूट के रूप में कूटबद्ध किया जाना है।

निम्नलिखित समूह के लिए कूट क्या होगा?

9 5 \$ 7 &

- Ans
1. F B H Z A

2. © Z H B ©

3. © Z H © A

4. F Z Z B A

Question ID : 630680179086

Option 1 ID : 630680694436

Option 2 ID : 630680694437

Option 3 ID : 630680694439

Option 4 ID : 630680694438

Status : Answered

Chosen Option : 2

Q.3 $127.08 - [17.02 + 3 \text{ of } (6.50 - 0.5 \times 2.02)] = ?$

- Ans ☒ 1. 93.5
- ☐ 2. 105.5
- ☐ 3. 85.5
- ☐ 4. 100.5

Question ID : 63068049420
Option 1 ID : 630680190113
Option 2 ID : 630680190112
Option 3 ID : 630680190111
Option 4 ID : 630680190110
Status : Answered
Chosen Option : 4

Q.4 उस विकल्प आकृति का चयन कीजिए जिसमें दी गई आकृति इसके भाग के रूप में अंतर्निहित है (आकृति को घुमाने की अनुमति नहीं है)।

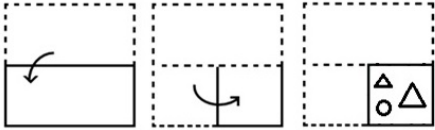


- Ans
- ☐ 1.
- ☐ 2.
- ☒ 3.
- ☐ 4.

Question ID : 630680106432
Option 1 ID : 630680413514
Option 2 ID : 630680413516
Option 3 ID : 630680413515
Option 4 ID : 630680413517
Status : Answered
Chosen Option : 4

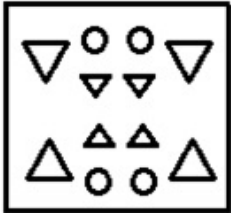
Q.5 नीचे दी गई आकृतियों में कागज के एक टुकड़े को मोड़ने का क्रम और मुड़े हुए कागज को काटने का तरीका

दर्शाया गया है। कागज खुलने पर यह कैसा दिखेगा?

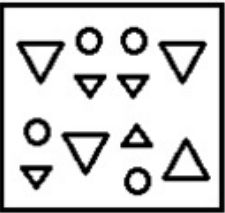


Ans

✓ 1.



✗ 2.



✗ 3.



✗ 4.



Question ID : 630680179111
Option 1 ID : 630680694536
Option 2 ID : 630680694537
Option 3 ID : 630680694538
Option 4 ID : 630680694539
Status : Answered
Chosen Option : 4

Q.6 दिए गए कथनों और निष्कर्षों को ध्यानपूर्वक पढ़ें। यह मानते हुए कि कथनों में दी गई जानकारी सत्य है, भले ही यह सामान्य रूप से ज्ञात तथ्यों से भिन्न प्रतीत होती हो, तय करें कि दिए गए निष्कर्षों में से कौन-सा/से निष्कर्ष, कथनों का तार्किक रूप से अनुसरण करता है/करते हैं।

कथन:
सभी तोते, उल्लू हैं।
कुछ तोते, पक्षी हैं।
सभी पक्षी, शेर हैं।
निष्कर्ष:
I. कुछ शेर, उल्लू हैं।
II. कुछ तोते, शेर हैं।
III. कुछ उल्लू, पक्षी हैं।

- Ans ☒ 1. I और II दोनों निष्कर्ष अनुसरण करते हैं।
☒ 2. निष्कर्ष I, II और III अनुसरण करते हैं।
☒ 3. II और III दोनों निष्कर्ष अनुसरण करते हैं।
☒ 4. I और III दोनों निष्कर्ष अनुसरण करते हैं।

Question ID : 630680247120
Option 1 ID : 630680958759
Option 2 ID : 630680958762
Option 3 ID : 630680958761
Option 4 ID : 630680958760
Status : Answered
Chosen Option : 1

Q.7 निम्नलिखित में से कौन सा शब्द विश्व की एक नदी का अव्यवस्थित शब्द नहीं है?
ILNE
HAESMT
EXMICO
ANGGA

- Ans ☒ 1. HAESMT
☒ 2. ANGGA
☒ 3. ILNE
☒ 4. EXMICO

Question ID : 630680126075
Option 1 ID : 630680488919
Option 2 ID : 630680488921
Option 3 ID : 630680488918
Option 4 ID : 630680488920
Status : Answered
Chosen Option : 1

Q.8 इस प्रश्न में, एक कथन के बाद दो निष्कर्ष दिए गए हैं। निर्णय करें कि दोनों में से कौन-सा/से निष्कर्ष सही है/हैं?
कथन: $Q > R \geq S = V = Y > H < N$
निष्कर्ष:
I. $Q < S$
II. $Y < R$

- Ans ☒ 1. केवल निष्कर्ष I सही है
☒ 2. केवल निष्कर्ष II सही है
☒ 3. निष्कर्ष I और II दोनों सही हैं
☒ 4. न तो निष्कर्ष I और न ही निष्कर्ष II सही है

Question ID : 630680157472
Option 1 ID : 630680609416
Option 2 ID : 630680609417
Option 3 ID : 630680609418
Option 4 ID : 630680609419
Status : Answered
Chosen Option : 1

Q.9 निम्नलिखित समीकरण में '?' के स्थान पर क्या आएगा, यदि '+' और '-' को आपस में बदल दिया जाए और 'x' और '÷' को आपस में बदल दिया जाए?
 $125 - 75 + 15 \div 6 \times 3 = ?$

- Ans
- ☒ 1. 80
 - ☒ 2. 20
 - ☒ 3. 170
 - ☒ 4. 230

Question ID : 63068053391
Option 1 ID : 630680205651
Option 2 ID : 630680205650
Option 3 ID : 630680205652
Option 4 ID : 630680205653
Status : Answered
Chosen Option : 1

Q.10 एक कथन के बाद I और II क्रमांक वाली दो कार्रवाईयों दी गई हैं। कथन में दी गई सभी बातों को सत्य मानते हुए, तय करें कि सुझाई गई कौन-सी कार्रवाई/कार्रवाईयों (समस्या के संबंध में अनुवर्तन/सुधार के लिए लिया जाने वाला निर्णय) तार्किक रूप से अनुसरण करती है/हैं:

कथन:
संगठन-A में, उत्पाद-X का उत्पादन ग्राहकों की आवश्यकताओं को पूरा करने के लिए पर्याप्त नहीं है, क्योंकि बाजार में इस उत्पाद की मांग लगातार बढ़ रही है।

- कार्रवाईयों:
- I. भविष्य में बाजार में उत्पाद-X की मांग जल्द ही कम हो जाएगी, इसलिए संगठन-A को चिंतित होने की कोई आवश्यकता नहीं है।
 - II. संगठन-A को उत्पाद-X के उत्पादन को बढ़ाने के लिए एक रणनीति की योजना बनानी चाहिए और उसे लागू करना चाहिए ताकि वे बाजार में पर्याप्त आपूर्ति प्रदान कर सकें।

- Ans
- ☒ 1. I और II दोनों अनुसरण करते हैं
 - ☒ 2. केवल I अनुसरण करता है
 - ☒ 3. केवल II अनुसरण करता है
 - ☒ 4. न तो I न ही II अनुसरण करता है

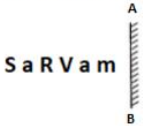
Question ID : 630680247121
Option 1 ID : 630680958763
Option 2 ID : 630680958764
Option 3 ID : 630680958765
Option 4 ID : 630680958766
Status : Answered
Chosen Option : 3

Q.11 यदि नीचे दी गई संख्या में प्रत्येक सम अंक में 1 जोड़ा जाता है और प्रत्येक विषम अंक में से 2 घटाया जाता है, तो इस प्रकार बनी नई संख्या में बाएँ से दूसरे और दाएँ से तीसरे अंक का गुणनफल क्या होगा? (बाएँ) 56897423 (दाएँ)

- Ans
- ☒ 1. 15
 - ☒ 2. 45
 - ☒ 3. 35
 - ☒ 4. 21

Question ID : 630680247122
Option 1 ID : 630680958770
Option 2 ID : 630680958769
Option 3 ID : 630680958768
Option 4 ID : 630680958767
Status : Answered
Chosen Option : 1

Q.12 उस विकल्प का चयन कीजिए जो दिए गए संयोजन के दर्पण में निर्मित प्रतिबिंब से सर्वाधिक मिलता जुलता हो।



- Ans
- ☒ 1. m s V R a 2
 - ☒ 2. m s V R s 2
 - ☒ 3. 2 9 B A 9 W
 - ☒ 4. m s A R s 2

Question ID : 63068083988
Option 1 ID : 630680325545
Option 2 ID : 630680325546
Option 3 ID : 630680325544
Option 4 ID : 630680325547
Status : Answered
Chosen Option : 4

Q.13 उस विकल्प का चयन कीजिए जिसमें अक्षर-समूह वही संबंध दर्शाते हैं जो दिए गए अक्षर-समूहों के युग्म द्वारा दर्शाए गए हैं।
NEV : PDW

- Ans
- ☒ 1. CNX : FQA
 - ☒ 2. BLV : EJJ
 - ☒ 3. TZD : QXJ
 - ☒ 4. OYH : QXI

Question ID : 63068057113
Option 1 ID : 630680220340
Option 2 ID : 630680220338
Option 3 ID : 630680220341
Option 4 ID : 630680220339
Status : Answered
Chosen Option : 1

Q.14 दिए गए विकल्पों में से उस अक्षर-समूह का चयन कीजिए जो निम्नलिखित श्रृंखला में प्रश्नवाचक चिन्ह (?) को प्रतिस्थापित कर सकता है।
AVB, DWE, GXH, ?, MZN

- Ans
- ☒ 1. JYK
 - ☒ 2. JXM
 - ☒ 3. KYJ
 - ☒ 4. JKK

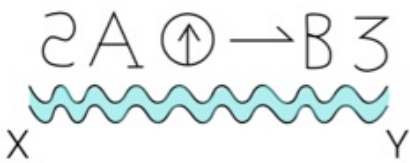
Question ID : 63068048609
Option 1 ID : 630680187049
Option 2 ID : 630680187047
Option 3 ID : 630680187048
Option 4 ID : 630680187046
Status : Answered
Chosen Option : 1

Q.15 दिए गए विकल्पों में से वह संख्या चुनिए जो निम्नलिखित श्रृंखला में प्रश्नवाचक चिन्ह (?) को प्रतिस्थापित कर सकती है।
22, 25, 35, 59, 104, ?

- Ans
- ☒ 1. 172
 - ☒ 2. 179
 - ☒ 3. 175
 - ☒ 4. 177

Question ID : 63068058897
Option 1 ID : 630680227210
Option 2 ID : 630680227213
Option 3 ID : 630680227211
Option 4 ID : 630680227212
Status : Answered
Chosen Option : 3

Q.16 दिए गए पैटर्न के सही जल प्रतिबिंब का चयन कीजिए, यह मानते हुए कि जल XY के समानांतर है।



Ans

- ☒ 1.
- ☒ 2.
- ☒ 3.
- ☒ 4.

Question ID : 630680149192
Option 1 ID : 630680577037
Option 2 ID : 630680577039
Option 3 ID : 630680577038
Option 4 ID : 630680577036
Status : Answered
Chosen Option : 4

Q.17 नीचे दिए गए विकल्पों में से उस आकृति का चयन कीजिए जो प्रश्न चिह्न (?) को प्रतिस्थापित कर सकती है और पैटर्न को पूरा कर सकती है।



Ans

- ✓ 1.
- ✗ 2.
- ✗ 3.
- ✗ 4.

Question ID : 63068057719
Option 1 ID : 630680222717
Option 2 ID : 630680222715
Option 3 ID : 630680222716
Option 4 ID : 630680222714
Status : Answered
Chosen Option : 2

Q.18 दिए गए विकल्पों में से वह संख्या चुनिए जो निम्नलिखित श्रृंखला में प्रश्नवाचक चिह्न (?) को प्रतिस्थापित कर सकती है।
0, 6, 24, 60, 120, ?

- Ans
- ✗ 1. 215
 - ✗ 2. 220
 - ✓ 3. 210
 - ✗ 4. 200

Question ID : 63068058899
Option 1 ID : 630680227220
Option 2 ID : 630680227221
Option 3 ID : 630680227219
Option 4 ID : 630680227218
Status : Answered
Chosen Option : 2

Q.19 अक्षरों के समूह के निम्नलिखित में से तीन जोड़े एक निश्चित नियम/तर्क/संबंध का पालन करते हैं और इसलिए एक निश्चित तरीके से एकसमान हैं। दिए गए विकल्पों में से असंगत का चयन कीजिए।

- Ans
- ✗ 1. RVK : IEP
 - ✓ 2. GTH : TJS
 - ✗ 3. PMJ : KNQ
 - ✗ 4. LSV : OHE

Question ID : 630680113041
Option 1 ID : 630680437737
Option 2 ID : 630680437734
Option 3 ID : 630680437735
Option 4 ID : 630680437736
Status : Answered
Chosen Option : 1

Q.20 संख्याओं और प्रतीकों के एक समूह को नीचे दिए गए कूट और उसके बाद दी गई शर्तों के अनुसार अक्षर कूट का उपयोग करके कूटबद्ध किया जाता है। दिए गए कूट और शर्तों का अध्ययन करें और निम्नलिखित प्रश्न का उत्तर दें।

संख्या/प्रतीक	4	&	5	9	#	*	3	%	@	8	\$	2	+	7
कूट	H	J	P	R	D	S	E	K	C	V	N	B	Z	L

शर्तें – (i) यदि दूसरा अवयव एक प्रतीक है और अंतिम अवयव एक संख्या है, तो दूसरे और अंतिम अवयवों को © के रूप में कूटबद्ध किया जाना है।
(ii) यदि पहला अवयव एक प्रतीक है और चौथा अवयव एक सम संख्या है, तो इन दोनों (पहले और चौथे अवयवों) के कूट आपस में बदलने होंगे।
(iii) यदि दूसरा और तीसरा दोनों अवयव विषम संख्या हैं, तो तीसरे अवयव को दूसरे अवयव के कूट के रूप में कूटबद्ध किया जाना है।

निम्नलिखित समूह के लिए कूट क्या होगा?

\$ 5 7 # 2

- Ans ☒ 1. NLLDB
☒ 2. NPPDB
☒ 3. N©PDB©
☒ 4. DPLNB

Question ID : 630680179088
Option 1 ID : 630680694447
Option 2 ID : 630680694445
Option 3 ID : 630680694446
Option 4 ID : 630680694444
Status : Answered
Chosen Option : 2

Section : Numerical Aptitude

Q.1 एक गाँव की वर्तमान जनसंख्या 14000 है। पास के शहर में प्रवास के कारण जनसंख्या में हर दो वर्ष में 2% की दर से कमी हो रही है। 2 वर्ष बाद गाँव की जनसंख्या कितनी होगी?

- Ans ☒ 1. 13445
☒ 2. 13400
☒ 3. 13720
☒ 4. 13446

Question ID : 630680101744
Option 1 ID : 630680395336
Option 2 ID : 630680395338
Option 3 ID : 630680395339
Option 4 ID : 630680395337
Status : Answered
Chosen Option : 2

Q.2 यदि दो वृत्त एक-दूसरे को बिल्कुल स्पर्श नहीं करते हैं, तो अधिकतम कितनी बाह्य उभयनिष्ठ स्पर्श रेखाएँ खींची जा सकती हैं?

- Ans
- ☒ 1. दो
 - ☒ 2. चार
 - ☒ 3. शून्य
 - ☒ 4. तीन

Question ID : 630680247029
Option 1 ID : 630680958396
Option 2 ID : 630680958398
Option 3 ID : 630680958395
Option 4 ID : 630680958397
Status : Answered
Chosen Option : 3

Q.3 y का मान ज्ञात कीजिए।

$$x + y - z = 6$$

$$2x + y - z = 7$$

$$3x + y - 2z = 11$$

- Ans
- ☒ 1. 2
 - ☒ 2. -3
 - ☒ 3. 4
 - ☒ 4. -5

Question ID : 630680247027
Option 1 ID : 630680958387
Option 2 ID : 630680958388
Option 3 ID : 630680958389
Option 4 ID : 630680958390
Status : Answered
Chosen Option : 4

Q.4 A, B और C एक साझेदारी में काम करते हैं। A, B द्वारा किए गए निवेश से 3 गुना अधिक निवेश करता है और B, C द्वारा किए गए निवेश का दो-तिहाई निवेश करता है। एक वर्ष के अंत में, अर्जित लाभ ₹6,600 है। लाभ में B का हिस्सा (₹ में) ज्ञात करें।

- Ans
- ☒ 1. 1300
 - ☒ 2. 1200
 - ☒ 3. 2900
 - ☒ 4. 1100

Question ID : 630680136317
Option 1 ID : 630680527920
Option 2 ID : 630680527918
Option 3 ID : 630680527919
Option 4 ID : 630680527921
Status : Answered
Chosen Option : 1

Q.5 रम्पू एक ऐसी बीमारी से पीड़ित है, जिसकी वजह से उनका वजन हर महीने 5% कम हो रहा है। चार महीने बाद उसके वजन में कितने प्रतिशत की कमी होगी? (दो दशमलव स्थानों तक मान ज्ञात कीजिए)

- Ans
- ☒ 1. 17.55%
 - ☒ 2. 19.55%
 - ☒ 3. 20%
 - ☒ 4. 18.55%

Question ID : 630680115528
Option 1 ID : 630680447465
Option 2 ID : 630680447463
Option 3 ID : 630680447462
Option 4 ID : 630680447464
Status : Answered
Chosen Option : 3

Q.6 एक दुकानदार 21 नोटबुक खरीदने पर 4 नोटबुक मुफ्त देता है। गणना करें कि किसी ग्राहक को कितने प्रतिशत की छूट मिलती है?

- Ans
- ☒ 1. 10%
 - ☒ 2. 12%
 - ☒ 3. 16%
 - ☒ 4. 14%

Question ID : 630680104352
Option 1 ID : 630680405623
Option 2 ID : 630680405624
Option 3 ID : 630680405626
Option 4 ID : 630680405625
Status : Answered
Chosen Option : 3

Q.7 एक सब्जी विक्रेता ने कुछ सब्जियां खरीदीं। उसने उनमें से आधे को 20% के लाभ के साथ ₹240 में बेच दिया। 22.5% का कुल लाभ अर्जित करने के लिए उसे बाकी बची सब्जियों को कितने में बेचना चाहिए?

- Ans
- ☒ 1. ₹242
 - ☒ 2. ₹255
 - ☒ 3. ₹245
 - ☒ 4. ₹250

Question ID : 630680106794
Option 1 ID : 630680414792
Option 2 ID : 630680414795
Option 3 ID : 630680414793
Option 4 ID : 630680414794
Status : Answered
Chosen Option : 4

Q.8 यदि 2.5 m लंबी शेल्फ पर एकसमान आकार वाली 120 किताबें पास-पास रखी जा सकती हैं, तो 2 m लंबी शेल्फ पर एकसमान आकार वाली कितनी किताबें पास-पास रखी जा सकती हैं?

- Ans
- ☒ 1. 60
 - ☒ 2. 118
 - ☒ 3. 96
 - ☒ 4. 122

Question ID : 630680101724
Option 1 ID : 630680395259
Option 2 ID : 630680395257
Option 3 ID : 630680395258
Option 4 ID : 630680395256
Status : Answered
Chosen Option : 1

Q.9 7 प्रेक्षकों का औसत 83 है, 10 अन्य प्रेक्षकों का औसत 60 है तथा 15 और प्रेक्षकों का औसत 45 है। सभी 32 प्रेक्षकों का औसत क्या होगा?

- Ans
- ☒ 1. 38
 - ☒ 2. 52
 - ☒ 3. 46
 - ☒ 4. 58

Question ID : 630680104006
Option 1 ID : 630680404241
Option 2 ID : 630680404239
Option 3 ID : 630680404240
Option 4 ID : 630680404242
Status : Answered
Chosen Option : 1

Q.10 यदि 50 km की दौड़ में A, B को 5 km से हराता है, B, C को 5 km से हराता है, तो A, C को कितने मीटर से हराएगा?

- Ans
- ☒ 1. 4050 m
 - ☒ 2. 9500 m
 - ☒ 3. 95 m
 - ☒ 4. 405 m

Question ID : 630680247032
Option 1 ID : 630680958410
Option 2 ID : 630680958409
Option 3 ID : 630680958407
Option 4 ID : 630680958408
Status : Answered
Chosen Option : 1

Q.11 A किसी कार्य को 20 दिनों में और B 25 दिनों में कर सकता है। यदि वे एक साथ उस पर 5 दिनों तक कार्य करते हैं, तो शेष कार्य का भिन्न _____ है।

- Ans
- ✓ 1. $\frac{11}{20}$
 - ✗ 2. $\frac{21}{28}$
 - ✗ 3. $\frac{21}{25}$
 - ✗ 4. $\frac{21}{29}$

Question ID : 630680179131
Option 1 ID : 630680694619
Option 2 ID : 630680694617
Option 3 ID : 630680694616
Option 4 ID : 630680694618
Status : Answered
Chosen Option : 1

Q.12 3 पेन और 4 पेंसिलों का मूल्य ₹74 है और 2 पेन और 3 पेंसिलों का मूल्य ₹51 है। 11 पेन और 5 पेंसिलों का मूल्य क्या है?

- Ans
- ✗ 1. ₹205
 - ✗ 2. ₹228
 - ✓ 3. ₹223
 - ✗ 4. ₹210

Question ID : 630680247028
Option 1 ID : 630680958391
Option 2 ID : 630680958394
Option 3 ID : 630680958393
Option 4 ID : 630680958392
Status : Answered
Chosen Option : 4

Q.13 96 विद्यार्थियों की एक कक्षा में 40 लड़के थे। एक परीक्षा में, सभी विद्यार्थियों का औसत अंक 63 था। यदि लड़कों का औसत अंक 57.4 था, तो लड़कियों का औसत अंक क्या था?

- Ans
- ✗ 1. 68
 - ✗ 2. 68.6
 - ✓ 3. 67
 - ✗ 4. 70.84

Question ID : 630680104268
Option 1 ID : 630680405290
Option 2 ID : 630680405287
Option 3 ID : 630680405288
Option 4 ID : 630680405289
Status : Answered
Chosen Option : 2

Q.14 एक नाविक धारा की दिशा में 75 km की दूरी तय करता है और वापस आता है, जिसमें उसे कुल 30 घंटे का समय लगता है। यदि धारा की दिशा में नाव की चाल, धारा की विपरीत दिशा में नाव की चाल से दुगुनी है, तो स्थिर जल में 60 km की दूरी तय करने में नाव द्वारा लिया जाने वाला समय ज्ञात कीजिए।

- Ans
- ✗ 1. 13
 - ✗ 2. $10\frac{2}{5}$
 - ✓ 3. $10\frac{2}{3}$
 - ✗ 4. $12\frac{1}{2}$

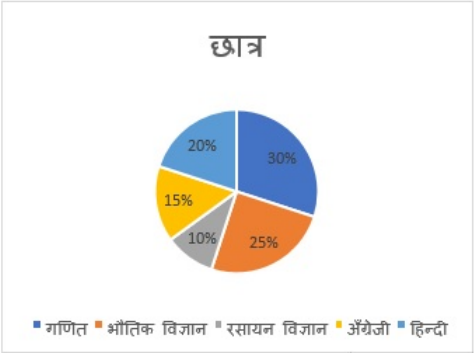
Question ID : 630680247031
Option 1 ID : 630680958406
Option 2 ID : 630680958403
Option 3 ID : 630680958404
Option 4 ID : 630680958405
Status : Answered
Chosen Option : 2

Q.15 एक शहर की जनसंख्या 40,000 है। यदि इसकी जनसंख्या 5% प्रतिवर्ष की दर से घटती है, तो 3 वर्ष बाद इसकी कुल जनसंख्या क्या होगी?

- Ans
- ✗ 1. 35675
 - ✗ 2. 36100
 - ✗ 3. 33210
 - ✓ 4. 34295

Question ID : 630680106797
Option 1 ID : 630680414806
Option 2 ID : 630680414805
Option 3 ID : 630680414807
Option 4 ID : 630680414804
Status : Answered
Chosen Option : 4

Q.16 दिए गए पाई-चार्ट का ध्यानपूर्वक अध्ययन कीजिए और 72 से 74 तक के प्रश्नों के उत्तर दीजिए। पाई-चार्ट एक स्कूल में विभिन्न विषयों का अध्ययन करने वाले छात्रों की संख्या को दर्शाता है। छात्रों की कुल संख्या 8000 है।
गणित और भौतिक विज्ञान का अध्ययन करने वाले छात्रों की संख्या ज्ञात कीजिए।



- Ans
- ☒ 1. 440
 - ☒ 2. 4300
 - ☒ 3. 4500
 - ☒ 4. 4400

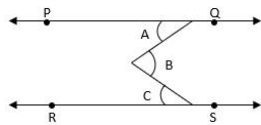
Question ID : 630680179102
Option 1 ID : 630680694501
Option 2 ID : 630680694502
Option 3 ID : 630680694500
Option 4 ID : 630680694503
Status : Answered
Chosen Option : 3

Q.17 एक कक्षा में, लड़कियों की संख्या लड़कों की संख्या से 30% अधिक है। कक्षा में लड़कों और लड़कियों की कुल संख्या 92 है। यदि कक्षा में 4 और लड़कियों को प्रवेश दिया जाता है, तो लड़कों की संख्या और लड़कियों की संख्या का अनुपात क्या होगा?

- Ans
- ☒ 1. 3 : 5
 - ☒ 2. 5 : 3
 - ☒ 3. 7 : 5
 - ☒ 4. 5 : 7

Question ID : 63068084424
Option 1 ID : 630680327250
Option 2 ID : 630680327251
Option 3 ID : 630680327249
Option 4 ID : 630680327248
Status : Answered
Chosen Option : 4

Q.18 यदि रेखाएँ PQ और RS समानांतर हैं और कोण A = 55° और कोण B = 35° है, तो C का बृहत कोण ज्ञात कीजिए।



- Ans
- ✓ 1. 270°
 - ✗ 2. 320°
 - ✗ 3. 90°
 - ✗ 4. 150°

Question ID : 630680247030
Option 1 ID : 630680958401
Option 2 ID : 630680958402
Option 3 ID : 630680958399
Option 4 ID : 630680958400
Status : Answered
Chosen Option : 4

Q.19 एक आयताकार भूखंड की लंबाई 22 m है और इसका क्षेत्रफल 440 m² है। इसका परिमाप क्या है?

- Ans
- ✗ 1. 20 m
 - ✗ 2. 94 m
 - ✗ 3. 42 m
 - ✓ 4. 84 m

Question ID : 63068070872
Option 1 ID : 630680274099
Option 2 ID : 630680274101
Option 3 ID : 630680274098
Option 4 ID : 630680274100
Status : Answered
Chosen Option : 1

Q.20 तालिका दिए गए वर्षों में एक कंपनी के व्यय (₹ लाख में) प्रति वर्ष दर्शाती है।

वर्ष	व्यय मद				
	वेतन	ईंधन और परिवहन	बोनस	ऋण पर ब्याज	कर
1998	288	98	3.00	23.4	83
1999	342	112	2.52	32.5	108
2000	324	101	3.84	41.6	74
2001	336	133	3.68	36.4	88
2002	420	142	3.96	49.4	98

इस अवधि के दौरान कंपनी को प्रति वर्ष ब्याज की औसत राशि कितनी चुकानी पड़ी?

- Ans
- ☒ 1. Rs.33.75 लाख
 - ☒ 2. Rs.35.68 लाख
 - ☒ 3. Rs.38.24 लाख
 - ☒ 4. Rs.36.66 लाख

Question ID : 63068076286
Option 1 ID : 630680295249
Option 2 ID : 630680295250
Option 3 ID : 630680295252
Option 4 ID : 630680295251
Status : Answered
Chosen Option : 4

Section : Clerical Aptitude

Q.1 उस विकल्प का चयन कीजिए, जो तीसरे शब्द से ठीक उसी प्रकार संबंधित है, जिस प्रकार दूसरा शब्द, पहले शब्द से संबंधित है।

मेंढक : उभयचर :: क्लेल : ?

- Ans
- ☒ 1. मछली
 - ☒ 2. कृतक
 - ☒ 3. स्तनपायी
 - ☒ 4. जंतु

Question ID : 630680247063
Option 1 ID : 630680958531
Option 2 ID : 630680958534
Option 3 ID : 630680958533
Option 4 ID : 630680958532
Status : Answered
Chosen Option : 1

Q.2 निम्नलिखित वाक्य को चार खंडों में विभाजित किया गया है। उस खंड की पहचान कीजिए, जिसमें व्याकरण संबंधी त्रुटि है।

If I hadn't come here / to learn English, / I wouldn't have make / so many new friends.

- Ans
- ☒ 1. so many new friends
 - ☒ 2. to learn English
 - ☒ 3. If I hadn't come here
 - ☒ 4. I wouldn't have make

Question ID : 630680247064
Option 1 ID : 630680958538
Option 2 ID : 630680958536
Option 3 ID : 630680958535
Option 4 ID : 630680958537
Status : Answered
Chosen Option : 2

Q.3 उस विकल्प का चयन कीजिए, जो दिए गए शब्दों की सही व्यवस्था को उस क्रम में दर्शाता है जिसमें वे अंग्रेजी शब्दकोश में दिखाई देते हैं।

- 1.Desert
- 2.Descend
- 3.Describe
- 4.Descent
- 5.Desecrate
- 6.Descriptor

- Ans
- ☒ 1. 2, 4, 6, 3, 5, 1
 - ☒ 2. 2, 4, 3, 6, 5, 1
 - ☒ 3. 2, 4, 3, 5, 6, 1
 - ☒ 4. 2, 4, 3, 6, 1, 5

Question ID : 630680247067
Option 1 ID : 630680958547
Option 2 ID : 630680958549
Option 3 ID : 630680958548
Option 4 ID : 630680958550
Status : Answered
Chosen Option : 1

Q.4 उस विकल्प का चयन करें जो दिए गए शब्दों की सही व्यवस्था को उस क्रम में इंगित करता है, जिस क्रम में वे अंग्रेजी शब्दकोश में आते देते हैं।

- 1) Sitters
- 2) Situate
- 3) Sitting
- 4) Sitcoms
- 5) Sithens

- Ans
- ☒ 1. 2, 5, 3, 4, 1
 - ☒ 2. 3, 2, 1, 5, 4
 - ☒ 3. 5, 1, 2, 4, 3
 - ☒ 4. 4, 5, 1, 3, 2

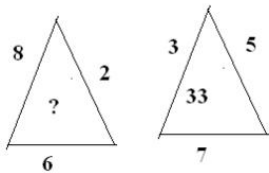
Question ID : 630680247074
Option 1 ID : 630680958575
Option 2 ID : 630680958576
Option 3 ID : 630680958577
Option 4 ID : 630680958578
Status : Answered
Chosen Option : 2

Q.5 पांच मित्र, K, J, I, H और G एक प्रवेश परीक्षा देते हैं और उनमें से प्रत्येक को अलग-अलग अंक प्राप्त होता है। J को H से अधिक लेकिन G से कम अंक प्राप्त होता है। I को G से कम अंक प्राप्त होता है। H को I से कम अंक प्राप्त होता है। G को K से कम अंक प्राप्त होता है। पांच में से किसको सबसे अधिक अंक प्राप्त होता है?

- Ans
- ☒ 1. H
 - ☒ 2. I
 - ☒ 3. G
 - ☒ 4. K

Question ID : 630680247060
Option 1 ID : 630680958520
Option 2 ID : 630680958521
Option 3 ID : 630680958519
Option 4 ID : 630680958522
Status : Answered
Chosen Option : 4

Q.6 विकल्पों में से उस संख्या का चयन कीजिए, जो निम्न पैटर्न में प्रश्नवाचक चिन्ह (?) के स्थान पर आएगी।



- Ans
- ☒ 1. 96
 - ☒ 2. 45
 - ☒ 3. 28
 - ☒ 4. 82

Question ID : 630680247078
Option 1 ID : 630680958593
Option 2 ID : 630680958591
Option 3 ID : 630680958594
Option 4 ID : 630680958592
Status : Answered
Chosen Option : 4

Q.7 रिक्त स्थानों की पूर्ति के लिए सर्वाधिक उपयुक्त विकल्प का चयन करें।

_____ many parents these days can't say no to their _____ demands.

- Ans
- ☒ 1. Too, children's
 - ☒ 2. Too, children
 - ☒ 3. Two, childs
 - ☒ 4. To, children's

Question ID : 630680247072
Option 1 ID : 630680958567
Option 2 ID : 630680958570
Option 3 ID : 630680958569
Option 4 ID : 630680958568
Status : Answered
Chosen Option : 2

Q.8 BODMAS का उपयोग करके दी गई शर्तों के अनुसार निम्न को हल कीजिए:
यदि A का अर्थ '-' है, B का अर्थ '+' है, C का अर्थ '+' है और D का अर्थ 'x' है।

- 24 B
- 12 C
- 18 A
- 6 D
- 3D

Ans ☒ 1. 4
☒ 2. 2
☒ 3. 0
☒ 4. 1

Question ID : 630680247077
Option 1 ID : 630680958590
Option 2 ID : 630680958587
Option 3 ID : 630680958589
Option 4 ID : 630680958588
Status : Answered
Chosen Option : 3

Q.9 दिए गए विकल्पों में से उस अक्षरांकीय-समूह का चयन कीजिए, जो निम्नलिखित श्रृंखला में प्रश्नवाचक चिह्न (?) के स्थान पर आएगा।

E4, H2, J10, M7, O16, R12, ?

Ans ☒ 1. T24
☒ 2. T20
☒ 3. T21
☒ 4. T22

Question ID : 630680247062
Option 1 ID : 630680958529
Option 2 ID : 630680958527
Option 3 ID : 630680958530
Option 4 ID : 630680958528
Status : Answered
Chosen Option : 2

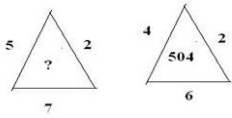
Q.10 नीचे एक वाक्य के कुछ भाग अव्यवस्थित क्रम में दिए गए हैं। सार्थक वाक्य बनाने के लिए भागों को सही क्रम में व्यवस्थित कीजिए।

- A.riding your bike because
- B.than regret later
- C.it is better to take precautions
- D.wear your helmet while

Ans ☒ 1. DACB
☒ 2. DBCA
☒ 3. BDAC
☒ 4. CABD

Question ID : 630680247068
Option 1 ID : 630680958551
Option 2 ID : 630680958554
Option 3 ID : 630680958552
Option 4 ID : 630680958553
Status : Answered
Chosen Option : 1

Q.11 दिए गए पैटर्न का ध्यानपूर्वक अध्ययन करें और दिए गए विकल्पों में से उस संख्या का चयन करें जो इसमें प्रश्न-चिह्न (?) को प्रतिस्थापित कर सकती है।



- Ans
- ☒ 1. 8210
 - ☒ 2. 1676
 - ☒ 3. 702
 - ☒ 4. 415

Question ID : 630680247071
Option 1 ID : 630680958566
Option 2 ID : 630680958563
Option 3 ID : 630680958565
Option 4 ID : 630680958564
Status : Answered
Chosen Option : 3

Q.12 यदि 'गाय' को 'बकरी' कहा जाए, 'बकरी' को 'शेर' कहा जाए, 'शेर' को 'भेड़' कहा जाए, 'भेड़' को 'चूहा' कहा जाए और 'चूहे' को 'बंदर' कहा जाए, तो जंगल के राजा के रूप में किसे जाना जाएगा?

- Ans
- ☒ 1. बकरी
 - ☒ 2. शेर
 - ☒ 3. भेड़
 - ☒ 4. चूहा

Question ID : 630680247070
Option 1 ID : 630680958559
Option 2 ID : 630680958561
Option 3 ID : 630680958560
Option 4 ID : 630680958562
Status : Answered
Chosen Option : 3

Q.13 उस सर्वाधिक उपयुक्त विकल्प का चयन कीजिए, जो दिए गए वाक्य में रेखांकित शब्द को प्रतिस्थापित कर सकता है।

The guest smiled to me when I entered the room as if he knew me.

- Ans
- ☒ 1. on
 - ☒ 2. from
 - ☒ 3. at
 - ☒ 4. by

Question ID : 630680247065
Option 1 ID : 630680958539
Option 2 ID : 630680958541
Option 3 ID : 630680958540
Option 4 ID : 630680958542
Status : Answered
Chosen Option : 3

Q.14 उस विकल्प का चयन करें जो तीसरे शब्द से उसी प्रकार संबंधित है, जिस प्रकार दूसरा शब्द पहले शब्द से संबंधित है।

रूस : रूबल :: अर्जेंटीना : ?

- Ans
- ☒ 1. दीनार
 - ☒ 2. क्यात
 - ☒ 3. पेसो
 - ☒ 4. वॉन

Question ID : 630680247073
Option 1 ID : 630680958573
Option 2 ID : 630680958572
Option 3 ID : 630680958571
Option 4 ID : 630680958574
Status : Answered
Chosen Option : 2

Q.15 निम्नलिखित कथनों को पढ़िए।
1. A + B का अर्थ है, A, B की माँ है।
2. A - B का अर्थ है, A, B की बहन है।
3. A * B का अर्थ है, A, B का पिता है।
4. A & B का अर्थ है, A, B का भाई है।

उपरोक्त जानकारी के आधार पर, निम्नलिखित में से किसका अर्थ है कि S, T का नाना है?

- Ans
- ☒ 1. V & R & S * T
 - ☒ 2. T + S * R * V
 - ☒ 3. V * S * R + T
 - ☒ 4. T - R & S * V

Question ID : 630680247075
Option 1 ID : 630680958581
Option 2 ID : 630680958579
Option 3 ID : 630680958580
Option 4 ID : 630680958582
Status : Answered
Chosen Option : 3

Q.16 यदि एक निश्चित कूटभाषा में 'SPRINGS' को, 'RINSPSG' के रूप में लिखा जाता है और BROUGHT को OUGBRTH के रूप में लिखा जाता है, तो उसी भाषा में 'FLIGHTS' को कैसे लिखा जाएगा?

- Ans
- ☒ 1. IGHFLST
 - ☒ 2. GIHLFST
 - ☒ 3. IHGFLST
 - ☒ 4. IGHFLST

Question ID : 630680247076
Option 1 ID : 630680958583
Option 2 ID : 630680958585
Option 3 ID : 630680958586
Option 4 ID : 630680958584
Status : Answered
Chosen Option : 2

Q.17 दिए गए विकल्पों में से उस संख्या का चयन कीजिए, जो निम्नलिखित श्रृंखला में प्रश्नवाचक चिह्न (?) के स्थान पर आएगी।

17, 38, 80, 143, 227, ?

- Ans
- ☒ 1. 330
 - ☒ 2. 332
 - ☒ 3. 334
 - ☒ 4. 311

Question ID : 630680247061
Option 1 ID : 630680958525
Option 2 ID : 630680958526
Option 3 ID : 630680958524
Option 4 ID : 630680958523
Status : Answered
Chosen Option : 1

Q.18 गलत वर्तनी वाले शब्द का चयन कीजिए।

- Ans
- ☒ 1. Laboratory
 - ☒ 2. Temperory
 - ☒ 3. casual
 - ☒ 4. Lien

Question ID : 630680247066
Option 1 ID : 630680958546
Option 2 ID : 630680958543
Option 3 ID : 630680958545
Option 4 ID : 630680958544
Status : Answered
Chosen Option : 1

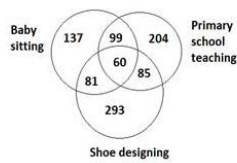
Q.19 उस विकल्प का चयन करें जो दिए गए शब्दों की सही व्यवस्था को उस क्रम में इंगित करता है, जिस क्रम में वे अंग्रेजी शब्दकोश में आते हैं।

- 1)Deceased
- 2)Decedent
- 3)Deceases
- 4)Deceived
- 5)Deceiver

- Ans
- ☒ 1. 1, 2, 4, 3, 5
 - ☒ 2. 3, 5, 1, 2, 4
 - ☒ 3. 1, 3, 2, 4, 5
 - ☒ 4. 2, 4, 1, 3, 5

Question ID : 630680247069
Option 1 ID : 630680958555
Option 2 ID : 630680958558
Option 3 ID : 630680958557
Option 4 ID : 630680958556
Status : Answered
Chosen Option : 3

Q.20 दिए गए आरेख का ध्यानपूर्वक अध्ययन कीजिए और प्रश्न का उत्तर दीजिए। विभिन्न खंडों की संख्याएं विभिन्न व्यवसायों वाले व्यक्तियों की संख्या दर्शाती हैं।



baby sitting = बेबी सितिग

shoe designing = शू डिजाइनिंग

Primary school teaching = प्राथमिक विद्यालय शिक्षण

कितने व्यक्ति बेबी सितिग के साथ-साथ शू डिजाइनिंग में हैं?

- Ans
- ☒ 1. 152
 - ☒ 2. 189
 - ☒ 3. 163
 - ☒ 4. 141

Question ID : 630680247059
Option 1 ID : 630680958516
Option 2 ID : 630680958518
Option 3 ID : 630680958517
Option 4 ID : 630680958515
Status : Answered
Chosen Option : 4

Section : Basic Computer Knowledge

Q.1 एमएस-एक्सेल (MS-Excel) वर्कशीट की सेल में प्रविष्ट किए जाने वाले संख्यात्मक मानों का डिफॉल्ट एलाइनमेंट क्या होता है?

- Ans
- ☒ 1. Left (लेफ्ट)
 - ☒ 2. Right (राइट)
 - ☒ 3. Center (सेंटर)
 - ☒ 4. Justify (जस्टिफाई)

Question ID : 630680247054
Option 1 ID : 630680958495
Option 2 ID : 630680958496
Option 3 ID : 630680958497
Option 4 ID : 630680958498
Status : Answered
Chosen Option : 4

Q.2 एमएस-वर्ड 2010 (MS-Word 2010) डॉक्यूमेंट में, एक ईमेल एड्रेस टेक्स्ट स्ट्रिंग स्वतः हाइपरलिंक के रूप में दिखाई जाती है। इस लिंक को हटाने के लिए इस पर राइट क्लिक करने के बाद निम्नलिखित में से कौन-सा ऑप्शन सेलेक्ट करना होगा?

- Ans
- ☒ 1. Remove Hyperlink (रिमूव हाइपरलिंक)
 - ☒ 2. Edit Hyperlink (एडिट हाइपरलिंक)
 - ☒ 3. Convert to Regular Text (कंवर्ट टु रेगुलर टेक्स्ट)
 - ☒ 4. Remove Underline (रिमूव अंडरलाइन)

Question ID : 630680247049
Option 1 ID : 630680958476
Option 2 ID : 630680958478
Option 3 ID : 630680958477
Option 4 ID : 630680958475
Status : Answered
Chosen Option : 1

Q.3 विंडोज 10 (Windows 10) में किसी क्रिया को अन्द् (undo) करने के लिए निम्नलिखित में से किस कुंजी (keys) संयोजन का उपयोग किया जाता है?

- Ans ☒ 1. Ctrl + Z
- ☐ 2. Ctrl + Tab
- ☐ 3. Alt + Tab
- ☐ 4. Alt + Z

Question ID : 630680247056
Option 1 ID : 630680958506
Option 2 ID : 630680958505
Option 3 ID : 630680958504
Option 4 ID : 630680958503
Status : Answered
Chosen Option : 2

Q.4 प्रोग्रामिंग भाषा C++, COBOL और Java का उपयोग, निम्नलिखित में से किस पीढ़ी के कंप्यूटर में किया जाता था?

- Ans ☐ 1. चौथी
- ☒ 2. तीसरी
- ☐ 3. पहली
- ☐ 4. पांचवीं

Question ID : 630680247039
Option 1 ID : 630680958437
Option 2 ID : 630680958436
Option 3 ID : 630680958435
Option 4 ID : 630680958438
Status : Answered
Chosen Option : 3

Q.5 एमएस-एक्सेल 2019 (MS-Excel 2019) में 'फॉर्मेट एज टेबल' ('Format as Table') स्टाइल का उपयोग करके वर्कशीट को फॉर्मेट करने के लिए निम्नलिखित में से किस कीबोर्ड शॉर्टकट का उपयोग किया जाता है?

- Ans ☐ 1. Ctrl + I + T
- ☒ 2. Alt + H + T
- ☐ 3. Ctrl + H + T
- ☐ 4. Alt + I + T

Question ID : 630680247055
Option 1 ID : 630680958499
Option 2 ID : 630680958502
Option 3 ID : 630680958500
Option 4 ID : 630680958501
Status : Answered
Chosen Option : 1

Q.6 एमएस-वर्ड 2010 (MS-Word 2010) में डॉक्यूमेंट को प्रिंट करने के लिए निम्नलिखित में से कौन-सा ऑप्शन उपलब्ध नहीं होता है?

- Ans
- ☒ 1. Print All Pages (प्रिंट ऑल पेजेस)
 - ☒ 2. Print Add-ins (प्रिंट ऐड-इन्स)
 - ☒ 3. Print Custom Range (प्रिंट कस्टम रेंज)
 - ☒ 4. Print Selection (प्रिंट सेलेक्शन)

Question ID : 630680247051
Option 1 ID : 630680958483
Option 2 ID : 630680958485
Option 3 ID : 630680958486
Option 4 ID : 630680958484
Status : Answered
Chosen Option : 2

Q.7 निम्नलिखित में से क्या वर्ड प्रोसेसर का एक उदाहरण नहीं है?

- Ans
- ☒ 1. वर्डपैड (WordPad)
 - ☒ 2. एमएस-एक्सेस (MS-Access)
 - ☒ 3. एमएस-वर्ड (MS-Word)
 - ☒ 4. गूगल डॉक्स (Google Docs)

Question ID : 630680247048
Option 1 ID : 630680958472
Option 2 ID : 630680958473
Option 3 ID : 630680958474
Option 4 ID : 630680958471
Status : Answered
Chosen Option : 4

Q.8 एमएस-एक्सेल 2010 (MS-Excel 2010) वर्कशीट में एक ही सेल में एक नई लाइन एंटर करने के लिए निम्नलिखित में से किस कीबोर्ड शॉर्टकट का उपयोग किया जाता है?

- Ans
- ☒ 1. Alt + Enter
 - ☒ 2. Ctrl + Enter
 - ☒ 3. Shift + Enter
 - ☒ 4. Tab + Enter

Question ID : 630680247053
Option 1 ID : 630680958492
Option 2 ID : 630680958493
Option 3 ID : 630680958494
Option 4 ID : 630680958491
Status : Answered
Chosen Option : 3

Q.9 निम्नलिखित में से कौन-सा कीबोर्ड शॉर्टकट विंडोज ऑपरेटिंग सिस्टम में स्टार्ट मेन्यू लॉन्च करेगा?

- Ans
- ☒ 1. Home (होम)
 - ☒ 2. Backspace (बैकस्पेस)
 - ☒ 3. Esc (एस्केप)
 - ☒ 4. Windows (विंडोज)

Question ID : 630680247043
Option 1 ID : 630680958451
Option 2 ID : 630680958453
Option 3 ID : 630680958454
Option 4 ID : 630680958452
Status : Answered
Chosen Option : 4

Q.10 निम्नलिखित में से कौन-सा एक ऑप्टिकल स्टोरेज है?

- Ans
- ☒ 1. हार्ड डिस्क ड्राइव (Hard disk drive)
 - ☒ 2. फ्लॉपी डिस्क (Floppy disk)
 - ☒ 3. सीडी (CD)
 - ☒ 4. मैग्नेटिक टेप (Magnetic tape)

Question ID : 630680247057
Option 1 ID : 630680958508
Option 2 ID : 630680958509
Option 3 ID : 630680958507
Option 4 ID : 630680958510
Status : Answered
Chosen Option : 1

Q.11 एमएस-वर्ड 2010 (MS-Word 2010) में फ़ाइल टैब पर जाने के लिए निम्नलिखित में से किस कीबोर्ड शॉर्टकट का उपयोग किया जाता है?

- Ans
- ☒ 1. Alt + G
 - ☒ 2. Alt + H
 - ☒ 3. Alt + N
 - ☒ 4. Alt + F

Question ID : 630680247050
Option 1 ID : 630680958482
Option 2 ID : 630680958480
Option 3 ID : 630680958481
Option 4 ID : 630680958479
Status : Answered
Chosen Option : 4

Q.12 एमएस-वर्ड (MS-Word) डॉक्यूमेंट को सेव करने के लिए निम्नलिखित में से किस कीबोर्ड शॉर्टकट का उपयोग किया जाता है?

- Ans
- ☒ 1. Ctrl + N
 - ☒ 2. Ctrl + A
 - ☒ 3. Ctrl + B
 - ☒ 4. Ctrl + S

Question ID : 630680247040
Option 1 ID : 630680958441
Option 2 ID : 630680958439
Option 3 ID : 630680958440
Option 4 ID : 630680958442
Status : Answered
Chosen Option : 4

Q.13 वर्ल्ड वाइड वेब से संबंधित निम्नलिखित में से कौन-सा कथन असत्य है?

- Ans ☒ 1. उपयोगकर्ता के कंप्यूटर पर वेब सर्वर से वेबपेज को पुनः प्राप्त करने की प्रक्रिया को 'डाउनलोडिंग' कहा जाता है।
- ☒ 2. वेब सर्वर पर वेबपेज को स्टोर करने की प्रक्रिया को 'अपलोडिंग' कहा जाता है।
- ☒ 3. वेब सर्वर, होस्ट कंप्यूटर होते हैं जो हजारों वेबपेजों को स्टोर करते हैं।
- ☒ 4. किसी वेबसाइट के अंतिम वेबपेज को 'होमपेज' कहा जाता है।

Question ID : 630680247047
Option 1 ID : 630680958470
Option 2 ID : 630680958468
Option 3 ID : 630680958469
Option 4 ID : 630680958467
Status : Answered
Chosen Option : 2

Q.14 ईमेल एड्रेस का पहला भाग _____ होता है।

- Ans ☒ 1. सिस्टम नेम (system name)
- ☒ 2. मेल सर्वर (mail server)
- ☒ 3. यूजरनेम (username)
- ☒ 4. डोमेन नेम (domain name)

Question ID : 630680247046
Option 1 ID : 630680958465
Option 2 ID : 630680958463
Option 3 ID : 630680958466
Option 4 ID : 630680958464
Status : Answered
Chosen Option : 3

Q.15 निम्नलिखित में से कौन-सा पहला सामान्य-उद्देश्य वाला इलेक्ट्रॉनिक डिजिटल कंप्यूटर था, जिसे संयुक्त राज्य अमेरिका में कॉर्पोरेट एप्लिकेशन के लिए डिज़ाइन किया गया था?

- Ans ☒ 1. Z3 मशीन (Z3 machine)
- ☒ 2. एनिएक (ENIAC)
- ☒ 3. ट्यूरिंग मशीन (Turing machine)
- ☒ 4. यूनिवैक I (UNIVAC I)

Question ID : 630680247042
Option 1 ID : 630680958449
Option 2 ID : 630680958447
Option 3 ID : 630680958448
Option 4 ID : 630680958450
Status : Answered
Chosen Option : 1

Q.16 एमएस-पावरपॉइंट 2010 (MS-PowerPoint 2010) में प्रेजेंटेशन को सेव करने के लिए कीबोर्ड शॉर्टकट _____ है।

- Ans
- ☒ 1. Ctrl + A
 - ☒ 2. Ctrl + V
 - ☒ 3. Ctrl + S
 - ☒ 4. Ctrl + C

Question ID : 630680247058
Option 1 ID : 630680958511
Option 2 ID : 630680958513
Option 3 ID : 630680958514
Option 4 ID : 630680958512
Status : Answered
Chosen Option : 3

Q.17 पहचान कीजिए कि कंप्यूटर मेमोरी के संदर्भ में दिए गए कथन सत्य हैं या असत्य।

- (i) सहायक मेमोरी भविष्य में उपयोग किए जाने के लिए प्रोग्राम और डेटा को रखती है क्योंकि यह गैर-लोपशील (nonvolatile) होती है।
- (ii) सहायक स्टोरेज डिवाइसों के सबसे सामान्य रूप कैश (cache) और RAM चिप हैं।

- Ans
- ☒ 1. (i) असत्य, (ii) असत्य
 - ☒ 2. (i) सत्य, (ii) सत्य
 - ☒ 3. (i) असत्य, (ii) सत्य
 - ☒ 4. (i) सत्य, (ii) असत्य

Question ID : 630680247041
Option 1 ID : 630680958446
Option 2 ID : 630680958443
Option 3 ID : 630680958444
Option 4 ID : 630680958445
Status : Answered
Chosen Option : 2

Q.18 एमएस-वर्ड 2010 (MS-Word 2010) में फुटनोट प्रविष्ट करने के लिए निम्नलिखित में से किस कीबोर्ड शॉर्टकट का उपयोग किया जाता है?

- Ans
- ☒ 1. Alt + Shift + F
 - ☒ 2. Alt + Ctrl + D
 - ☒ 3. Ctrl + Alt + F
 - ☒ 4. Alt + Shift + F12

Question ID : 630680247052
Option 1 ID : 630680958489
Option 2 ID : 630680958487
Option 3 ID : 630680958488
Option 4 ID : 630680958490
Status : Answered
Chosen Option : 4

Q.19 फ़ायरफ़ॉक्स वेब ब्राउज़र निम्नलिखित में से किस कंपनी द्वारा विकसित किया गया है?

- Ans
- ☒

 1. गूगल (Google)
- ☒

 2. एप्पल (Apple)
- ☒

 3. माइक्रोसॉफ्ट (Microsoft)
- ☒

 4. मोज़िला (Mozilla)

Question ID : 630680247045

Option 1 ID : 630680958459

Option 2 ID : 630680958460

Option 3 ID : 630680958461

Option 4 ID : 630680958462

Status : Answered

Chosen Option : 2

Q.20 _____ एक इमेज होती है, जो कंप्यूटर को कुछ समय के लिए निष्क्रिय छोड़ देने पर स्क्रीन पर आ जाती है।

- Ans
- ☒

 1. shortcut menu (शॉर्टकट मेन्यू)
- ☒

 2. screen saver (स्क्रीन सेवर)
- ☒

 3. wallpaper (वॉलपेपर)
- ☒

 4. system tray (सिस्टम ट्रे)

Question ID : 630680247044

Option 1 ID : 630680958458

Option 2 ID : 630680958455

Option 3 ID : 630680958456

Option 4 ID : 630680958457

Status : Answered

Chosen Option : 4