



Teachingninja.in



Latest Govt Job updates



Private Job updates



Free Mock tests available

Visit - teachingninja.in



Teachingninja.in

CBSE JTO

Previous Year Paper
03 Aug, 2024



PART - I / भाग - I

General Knowledge and Current Affairs, Comparative Literature (English), Comparative Literature (Hindi), Awareness about School Education, Examination Board and its Administration etc. / सामान्य ज्ञान तथा सामयिक मामले, तुलनात्मक साहित्य (अंग्रेजी), तुलनात्मक साहित्य (हिन्दी), स्कूल शिक्षा जागरूकता, परीक्षा बोर्ड तथा इसका प्रशासन इत्यादि

1. Who among the following was appointed as the first President of the GST Appellate Tribunal (GSTAT) in May 2024 ?

- (1) Justice (Retd.) Sanjaya Kumar Mishra
- (2) Justice (Retd.) Amreshwar Pratap Sahi
- (3) Justice (Retd.) Arun Mishra
- (4) Justice (Retd.) Prakash Shrivastava

निम्नांकित में से किसे मई, 2024, में माल और सेवा कर (जी.एस.टी.) अपीलीय अधिकरण का प्रथम अध्यक्ष नियुक्त किया गया ?

- (1) न्यायमूर्ति (सेवानिवृत्त) संजय कुमार मिश्रा
- (2) न्यायमूर्ति (सेवानिवृत्त) अमरेश्वर प्रताप शाही
- (3) न्यायमूर्ति (सेवानिवृत्त) अरुण मिश्रा
- (4) न्यायमूर्ति (सेवानिवृत्त) प्रकाश श्रीवास्तव

2. Who among the following was posthumously awarded Padma Bhushan 2024 in the field of Public Affairs ?

- | | |
|---------------------------------|--------------------------------|
| (1) Shri Olanchery Rajagopal | (2) Shri Ram Naik |
| (3) Shri Ashwin Balachand Mehta | (4) Shri Satyabrata Mookherjee |

निम्नांकित में से किसे वर्ष 2024 में सार्वजनिक कार्य के क्षेत्र में मरणोपरांत पद्म भूषण की उपाधि से सम्मानित किया गया ?

- | | |
|------------------------------|---------------------------|
| (1) श्री ओलंकेरी राजागोपाल | (2) श्री राम नाईक |
| (3) श्री अश्विन बालचंद मेहता | (4) श्री सत्यब्रत मुखर्जी |

3. According to the preamble to the Constitution of India, which of the following is secured to all its citizens ?

- (1) Equality of status and opportunity
- (2) Liberty of self determination
- (3) Liberty of class and opportunity
- (4) Equality of income and class

भारत के संविधान की उद्देशिका के अनुसार निम्नांकित में से क्या सभी नागरिकों को प्राप्त है ?

- (1) दर्जा (प्रस्थिति) और अवसर की समानता
- (2) आत्म-निर्धारण की स्वतंत्रता
- (3) वर्ग और अवसर की स्वतंत्रता
- (4) आय और वर्ग की समानता

4. Which of the following pairs of the Secretary General of the United Nations is matched correctly with the country to which he belonged ?

- (1) Ban-Ki-Moon - China
- (2) U Thant - Burma (Myanmar)
- (3) Dag Hammarskjold - France
- (4) Kofi Annan - Nigeria

निम्नांकित में से किस युग्म में संयुक्त राष्ट्र संघ के महासचिव और उनके मूल देश को सही रूप में दर्शाया गया है ?

- (1) बान-की-मून - चीन
- (2) यू थांट - बर्मा (म्यांमार)
- (3) डाग हॅमर्सकजोल्ड - फ्रांस
- (4) कोफी अन्नान - नाइजीरिया

5. As per the latest statistics provided by the National Sample Survey Office, PLFS, which of the following ranges capture the Female Labour Force participation rate in India (15 years and above), in 2022-23 ?

- (1) 30% - 35%
- (2) 35% - 40%
- (3) 40% - 45%
- (4) 25% - 30%

राष्ट्रीय प्रतिदर्श सर्वेक्षण कार्यालय, (पी.एल.एफ.एस.) द्वारा प्रदत्त अद्यतन आंकड़े के अनुसार वर्ष 2022-23 में भारत में महिला श्रमिक कर्मी (15 वर्ष और उससे ऊपर की आयु की) की भागीदारी दर का रेंज (परास) निम्नांकित में से कितने प्रतिशत के मध्य है ?

- (1) 30% से 35%
- (2) 35% से 40%
- (3) 40% से 45%
- (4) 25% से 30%



6. The electronic configuration of Sodium (Na) is :

- (1) $1s^2 2s^2 2p^6$ (2) $1s^2 2s^2 2p^6 3s^1$
(3) $1s^2 2s^2 2p^6 3s^2 3p^6 4s^1$ (4) $1s^2 2s^1$

सोडियम (Na) का इलेक्ट्रॉनिक विन्यास है :

- (1) $1s^2 2s^2 2p^6$ (2) $1s^2 2s^2 2p^6 3s^1$
(3) $1s^2 2s^2 2p^6 3s^2 3p^6 4s^1$ (4) $1s^2 2s^1$

7. According to the World Migration Report 2024, what percent of the world population as per the latest survey of 2020, accounts for international migrants ?

- (1) 3.6% (2) 7.2% (3) 10.3% (4) Less than 2%

विश्व प्रवाजन रिपोर्ट, 2024 में अंकित वर्ष 2020 में किए गए नवीनतम सर्वेक्षण के अनुसार अन्तरराष्ट्रीय प्रवासी विश्व की कुल आबादी का कितना प्रतिशत है ?

- (1) 3.6% (2) 7.2% (3) 10.3% (4) 2% से न्यून

8. Based on the 'Emission Gap Report 2023' by United Nations Environment Programme (UNEP), released in November 2023, which of the following countries contributed the highest percentage of Green House Gas Emissions in the year 2021 ?

- (1) India (2) Russia
(3) United States of America (4) China

नवम्बर, 2023 में संयुक्त राष्ट्र पर्यावरण कार्यक्रम (यू.एन.ई.पी.) द्वारा जारी 'उत्सर्जन गैप रिपोर्ट, 2023' के आधार पर ज्ञात करें कि वर्ष 2021 में निम्नांकित में से किस देश के ग्रीन हाउस गैस उत्सर्जन की मात्रा सर्वाधिक प्रतिशत रही है ?

- (1) भारत (2) रूस
(3) संयुक्त राज्य अमेरिका (4) चीन

9. Which of the following statements is incorrect ?

- (1) World Hydrogen Summit 2024 was held in Rotterdam on May 13-15, 2024.
(2) It was only the second time that India set up its own pavilion at the World Hydrogen Summit, 2024.
(3) India launched its National Green Hydrogen Mission in January 2023.
(4) World Hydrogen Summit 2024 was held in Netherland during May 13-15, 2024.

निम्नांकित में से कौन सा कथन गलत है ?

- (1) विश्व हाइड्रोजन शिखर सम्मेलन 2024, 13 मई से 15 मई, 2024 तक रॉटर्डम में आयोजित किया गया।
(2) यह केवल दूसरी बार ऐसा हुआ कि भारत ने विश्व हाइड्रोजन शिखर सम्मेलन, 2024 में अपने स्वयं का पेविलियन स्थापित किया।
(3) भारत ने जनवरी, 2023 में राष्ट्रीय ग्रीन हाइड्रोजन मिशन का शुभारंभ किया।
(4) विश्व हाइड्रोजन शिखर सम्मेलन 13 मई से 15 मई, 2024 तक नीदरलैंड में आयोजित किया गया।

10. Which of the following is a vector quantity ?

- (1) Mass (2) Temperature (3) Displacement (4) Distance

निम्नांकित में से कौन सी सदिश राशि है ?

- (1) द्रव्यमान (2) तापक्रम (3) विस्थापन (4) दूरी

11. Which Indian-English novelist has written the tantalisingly titled novel 'Comrade Kirilov' ?

- (1) Amitav Ghosh (2) Raja Rao
(3) Bhabani Bhattacharya (4) Vikram Seth

12. Who is the central protagonist in Raja Rao's 'The Serpent and the Rope' ?

- (1) Bakha (2) Rama (3) Swami (4) Kunal Basu

13. Which Indian-English novelist wrote extensively about the poor and the downtrodden in the Indian society ?

- (1) Mulk Raj Anand (2) Vikram Seth
(3) R.K. Narayan (4) Raja Rao

14. Which poem of T.S. Eliot ends in the Sanskrit expression - 'Shantih, Shantih, Shantih' ?

- (1) Love Song of J. Alfred Prufrock (2) The Hollow Men
(3) The Wasteland (4) Four Quartets

15. Who wrote the Partition-based novel 'Train to Pakistan' ?

- (1) Kamala Markandaya (2) Khushwant Singh
(3) Anita Desai (4) Saadat Hasan Manto

16. "होगा फिर से दुर्धर्ष .

जड़ से चेतन का निशिवासर .

कवि का प्रति छवि से जीवनहर, जीवनभर"

उपर्युक्त काव्य-पंक्तियाँ निराला की किस रचना से हैं ?

- (1) 'राम की शक्तिपूजा' (2) सरोज स्मृति
(3) तुलसीदास (4) 'तोड़ती पत्थर'



17. रचना और रचनाकार की दृष्टि से निम्नलिखित में असंगत-युग्म है :
- | | | |
|-----------------|---|----------------------|
| (1) प्रतिज्ञा | - | प्रेमचंद |
| (2) इत्यलम् | - | रघुवीर सहाय |
| (3) काठ का सपना | - | गजानन माधव मुक्तिबोध |
| (4) स्वर्ण किरण | - | सुमित्रानंदन पंत |
18. निम्नलिखित में आंचलिक रचनाकार की श्रेणी में नहीं रखे जा सकते हैं :
- | | | | |
|---------------|--------------|--------------------|---------------------|
| (1) नागार्जुन | (2) त्रिलोचन | (3) शिवप्रसाद सिंह | (4) फणीश्वरनाथ रेणु |
|---------------|--------------|--------------------|---------------------|
19. जन्मकाल की दृष्टि से निम्नलिखित रचनाकारों का सही अनुक्रम है :
- | |
|---------------------------------------------|
| (1) तुलसीदास, सूरदास, भूषण, केशवदास, बिहारी |
| (2) सूरदास, भूषण, तुलसीदास, केशवदास, बिहारी |
| (3) भूषण, सूरदास, तुलसीदास, बिहारी, केशवदास |
| (4) सूरदास, तुलसीदास, केशवदास, बिहारी, भूषण |
20. निम्नलिखित में भारतेन्दु युगीन के निबंधकार हैं :
- | | |
|--------------------|----------------------------|
| (1) गोपालराम गहमरी | (2) चंद्रधर शर्मा 'गुलेरी' |
| (3) बालकृष्ण भट्ट | (4) बालमुकुंद गुप्त |
21. Which of the following does not belong to the core objectives of the National Assessment Centre, 'PARAKH' ?
- | |
|--------------------------------------------------------|
| (1) Guiding the State Achievement Survey (SAS) |
| (2) Conducting University entrance examinations |
| (3) Monitoring achievement of learning outcomes |
| (4) Setting norms and standards for student assessment |
- निम्नलिखित में से कौन सा राष्ट्रीय आकलन केन्द्र, 'परख' के मूल उद्देश्य से सम्बन्धित नहीं है?
- | |
|-------------------------------------------------------------|
| (1) राज्य उपलब्धि सर्वेक्षणों (एस.ए.एस.) का मार्गदर्शन करना |
| (2) विश्वविद्यालय प्रवेश परीक्षाएँ आयोजित करना |
| (3) अधिगम परिणामों की उपलब्धि का देखरेख करना |
| (4) विद्यार्थियों के आकलन के नियम और मानक बनाना |



22. What is the legal basis for the Right to Education Act, 2009 in India ?

- (1) Article 21 of the Constitution (2) Article 21-A of the Constitution
(3) Article 24 of the Constitution (4) Article 19 of the Constitution

भारत में शिक्षा अधिकार अधिनियम, 2009 का विधिक आधार क्या है ?

- (1) संविधान का अनुच्छेद 21 (2) संविधान का अनुच्छेद 21-अ
(3) संविधान का अनुच्छेद 24 (4) संविधान का अनुच्छेद 19

23. At Grade 11 and 12, how will the mode of conducting examinations evolve according to the National Curriculum Framework (NCF) for School Education 2023 ?

- (1) Become more rigid (2) Be liberalized over time
(3) Focus solely on oral exams (4) Remain unchanged

राष्ट्रीय पाठ्यचर्या रूपरेखा (एन.सी.एफ) विद्यालयी शिक्षा 2023 के अनुसार ग्रेड 11वीं और 12वीं की परीक्षाओं को आयोजित करने का तरीका कैसा होगा ?

- (1) अधिक कठोर बनेगा (2) समय के साथ उदार होगा
(3) केवल मौखिक परीक्षाओं पर केन्द्रित होगा (4) कोई बदलाव नहीं होगा

24. Two statements are given regarding the 'Sugamya Bharat Abhiyan' which was launched in 2017. Choose the correct statement/statements :

Statement I : The objective of 'Sugamya Bharat Abhiyan' is to achieve universal accessibility for all citizen including Persons with disabilities to all public places.

Statement II : Accessible India include elimination of obstacles and barriers to indoor and outdoor facilities in schools.

- (1) Statement I is correct but Statement II is incorrect.
(2) Both the Statements are incorrect.
(3) Statement II is correct but Statement I is incorrect.
(4) Both the Statement I and Statement II are correct.

'सुगम्य भारत अभियान' के बारे में दो कथन दिए गए हैं, जो 2017 में आरम्भ हुआ था। सही कथन/कथनों को चुनिए :

कथन I : 'सुगम्य भारत अभियान' का उद्देश्य सभी नागरिकों के लिए जिनमें अक्षम व्यक्ति भी सम्मिलित है सार्वभौमिक पहुँच का लक्ष्य प्राप्त करना है।

कथन II : सुगम्य भारत में विद्यालय के भीतर और बाहर रुकावटों और अवरोधों को दूर करना सम्मिलित है।

- (1) कथन I सही है परन्तु कथन II गलत है।
(2) दोनों ही कथन गलत हैं।
(3) कथन II सही है परन्तु कथन I गलत है।
(4) दोनों ही कथन I और II सही हैं।



25. Central Board of Secondary Education can do to ensure discipline among the students and teachers :

- It can advise on disciplinary matters.
- It can impose penalties for misconduct of students during examination.
- It has no authority to impose penalties over teachers for their misconduct during the examination.
- It can only report disciplinary issues to the State Governments.

Choose the correct answer from the above options :

- (1) i, ii and iv are correct
(2) iii and iv are correct
(3) Only ii is correct
(4) i and iv are correct

केन्द्रीय माध्यमिक शिक्षा बोर्ड छात्रों और शिक्षकों में अनुशासन सुनिश्चित करने के लिए कर सकता है :

- अनुशासनात्मक मामलों में सलाह दे सकता है।
- परीक्षा में छात्रों के अनुचित व्यवहार में जुर्माना लगा सकता है। ✓
- परीक्षा में शिक्षकों के अनुचित व्यवहार पर दण्ड लगाने का प्राधिकार इसके पास नहीं है।
- यह केवल अनुशासनात्मक मुद्दों की राज्य सरकारों को रिपोर्ट कर सकता है। ✓

उपरोक्त विकल्पों में से सही उत्तर चुनें :

- (1) i, ii और iv सही हैं।
(2) iii और iv सही हैं।
(3) केवल ii सही है।
(4) i और iv सही हैं।

26. Which of the following is not be considered as valid reasons for recommending the cases of candidates for appearing in the board examination with attendance less than the prescribed percentage according to CBSE Examination Bye-law 1995 ?

- Participation in tournaments and sports meets at any level
- Participation in NCC/NSS camps
- Participation in sports at national level organised by Federations/CBSE/SGFI
- Prolonged illness or loss of father/mother

सी.बी.एस.ई. बाई-लॉ 1995 के अनुसार निम्नलिखित में से बोर्ड की परीक्षाओं में बैठने/उपस्थित होने के लिए बोर्ड द्वारा विहित उपस्थितियों से कम प्रतिशतता के मामलों में संस्तुति करने के लिए कौन सा वैध कारण नहीं माना जा सकता है?

- किसी भी स्तर की प्रतियोगिताओं और खेल सम्मेलनों में भाग लेना
- एन.सी.सी./एन.एस.एस. शिविरों में भाग लेना
- संघ/सी.बी.एस.ई./एस.जी.एफ.आई. के द्वारा राष्ट्रीय स्तर पर खेल आयोजनों में भाग लेना
- लम्बी बीमारी या पिता/माता की क्षति



27. Who appoints the Secretary of Central Board of Secondary Education (CBSE) ?
 (1) The Governing Body of the Board (2) The State Government, Delhi
 (3) The Controlling Authority (4) The Chairman of Board
 केन्द्रीय माध्यमिक शिक्षा बोर्ड (सी.बी.एस.ई.) के सचिव की नियुक्ति कौन करता है ?
 (1) शासी निकाय बोर्ड (2) राज्य सरकार, दिल्ली
 (3) नियंत्रण प्राधिकारी (4) बोर्ड के अध्यक्ष
28. As per the Manual of Finance and Accounts CBSE 2019, who is the Chief Administrative Officer responsible for administration, audit and accounts ?
 (1) Controller (2) Secretary of Board
 (3) Finance Officer (4) Chairperson of Board
 सी.बी.एस.ई. के वित्त एवं लेखा पुस्तिका-2019 के अनुसार प्रशासन, ऑडिट और वित्त के लिए कौन सा मुख्य प्रशासनिक अधिकारी उत्तरदायी/जबाबदेह है ?
 (1) नियंत्रक (2) बोर्ड के सचिव
 (3) वित्त अधिकारी (4) बोर्ड के अध्यक्ष
29. The Authority of CBSE responsible for conducting the Central Teachers Eligibility Test (CTET) is
 (1) Director Professional Examination
 (2) Director Vocational Education and Training
 (3) Director Academic and Teacher Training
 (4) Controller of Examination
 केन्द्रीय शिक्षक पात्रता परीक्षा (सी.टी.ई.टी.) की परीक्षा संचालित करने वाले सी.बी.एस.ई. के प्राधिकारी हैं :
 (1) पेशेवर परीक्षा निदेशक
 (2) व्यवसायिक शिक्षा एवं प्रशिक्षण निदेशक
 (3) अकादमिक/शैक्षणिक और अध्यापक शिक्षा निदेशक
 (4) परीक्षा नियंत्रक
30. The Government Agency responsible for implementing National School Safety Programme in India is :
 (1) Ministry of Education, Department of School Education
 (2) Ministry of Health and Child Development, Government of India
 (3) Ministry of Environment and Climate changes
 (4) National Disaster Management Authority (NDMA)
 भारत में राष्ट्रीय विद्यालय सुरक्षा कार्यक्रम को लागू करने वाली सरकारी एजेंसी है :
 (1) शिक्षा मन्त्रालय, विद्यालयी शिक्षा विभाग
 (2) स्वास्थ्य एवं बाल विकास मन्त्रालय, भारत सरकार
 (3) पर्यावरण एवं मौसम परिवर्तन मन्त्रालय
 (4) राष्ट्रीय आपदा प्रबन्धन प्राधिकरण (एन.डी.एम.ए.)



1 - 1222
2 - 102
3 - 68 1202

PART - II / भाग - II
Reasoning & Mathematical Ability / तर्क एवं गणितीय योग्यता

31. Smita bought 34 kg of rice for ₹ 1,222. She sold it at a profit equal to the selling price of 8 kg of rice. Find the selling price of 2 kg of the rice.
स्मिता ₹ 1,222 में 34 kg चावल खरीदती है। उसने इसे 8 kg चावल के विक्रय मूल्य के बराबर लाभ पर बेच दिया। 2 kg चावल का विक्रय मूल्य ज्ञात कीजिए।
- (1) ₹ 88 (2) ₹ 94 (3) ₹ 98 (4) ₹ 82

32. Priya is facing towards East and moved 10 m forward and took a right turn and moved 5 m straight. She then turned to her left and moved 10 m straight and then took a right turn and moved 5 m straight. She again turned to her right and moved 12 m straight and then moved 4 m towards north and reached the point P. What is the shortest distance of this point P from her initial position?

- (1) 12 m (2) 15 m (3) 18 m (4) 10 m

प्रिया पूर्व की ओर उन्मुख है और 10 मीटर आगे बढ़कर दाएँ मुड़ती है और 5 मीटर सीधे चलती है। फिर वह अपने बायीं ओर मुड़ती है, और 10 मीटर सीधे चलकर दाएँ मुड़ती है और 5 मीटर सीधी चलती है। वह फिर से अपनी दायीं ओर मुड़कर 12 मीटर सीधी चलती है और फिर उत्तर की ओर 4 मीटर चलकर बिंदु P पर पहुँचती है। इस बिंदु P की उसके प्रारंभिक स्थान से न्यूनतम दूरी क्या है?

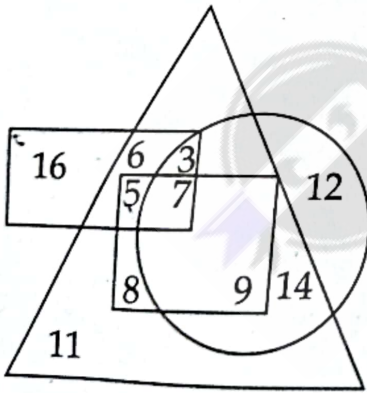
- (1) 12 मीटर (2) 15 मीटर (3) 18 मीटर (4) 10 मीटर

33. In the following Venn diagram rectangle represents 'Urban', triangle represents 'Teachers', square represents 'Trained' and circle represents 'Tall'.

Find the number of 'Urban teachers' who are trained, but not tall.

निम्नलिखित वेन आरेख में आयत 'शहरी' को दर्शाता है, त्रिभुज 'शिक्षक' को दर्शाता है, वर्ग 'प्रशिक्षित' को दर्शाता है और वृत्त 'लम्बे' को दर्शाता है।

शहरी शिक्षकों की संख्या ज्ञात कीजिए जो प्रशिक्षित हैं, लेकिन लंबे नहीं हैं।



- (1) 5 (2) 10 (3) 12 (4) 3

□ - U
Δ - T
■ - Trained
○ - Tall



34. In what ratio must a shopkeeper mix two varieties of sugar worth ₹ 42 per kg and ₹ 50 per kg so that by selling the mixture at the rate of ₹ 60 per kg, he may gain 25%?

एक दुकानदार को ₹ 42 प्रति kg और ₹ 50 प्रति kg मूल्य की दो किस्मों की चीनी को किस अनुपात में मिलाना चाहिए ताकि मिश्रण को ₹ 60 प्रति kg की दर से बेचकर उसे 25% का लाभ हो?

- (1) 1 : 2 (2) 1 : 3 (3) 2 : 3 (4) 1 : 4

42 50
60
100
150
180

35. Dinesh alone can complete a work in 20 days and Ritesh alone can do the same work in 25 days. Ritesh starts the work alone and on every alternate day Dinesh joins him, starting from the second day. In how many days will the work be completed?

- (1) $19\frac{1}{9}$ days (2) $15\frac{5}{9}$ days (3) $17\frac{2}{9}$ days (4) $21\frac{2}{11}$ days

दिनेश अकेले एक कार्य को 20 दिनों में पूरा कर सकता है और रितेश अकेले उसी कार्य को 25 दिनों में पूरा कर सकता है। रितेश अकेले कार्य शुरू करता है और दूसरे दिन से शुरू करते हुए हर दूसरे दिन दिनेश उसके साथ शामिल होता है। कार्य कितने दिनों में पूरा होगा?

- (1) $19\frac{1}{9}$ दिन (2) $15\frac{5}{9}$ दिन (3) $17\frac{2}{9}$ दिन (4) $21\frac{2}{11}$ दिन

36. Seven friends P, Q, R, S, T, U and V are sitting around a circular table facing towards the centre but not necessarily in the same order. P is sitting third to the right of S and second to the left of Q. T and U are not the immediate neighbours of Q. T is sitting second to the left of R.

Who is sitting second to the left of U?

सात मित्र P, Q, R, S, T, U और V एक वृत्ताकार मेज के चारों ओर केंद्र की तरफ मुंह करके बैठे हैं, लेकिन आवश्यक नहीं कि उसी क्रम में हों। P, S के दाएँ ओर तीसरे स्थान पर बैठा है और Q के बाएँ ओर दूसरे स्थान पर बैठा है। T और U, Q के निकटतम पड़ोसी नहीं हैं। T, R के बाएँ ओर दूसरे स्थान पर बैठा है।

U के बाएँ ओर दूसरे स्थान पर कौन बैठा है?

- (1) V (2) R (3) P (4) Q

37. The sum of salaries of Aman and Barun is ₹ 38,000. Aman spends 70% of his salary and Barun spends 80% of his salary. If their savings are in the ratio of 5 : 3, find the salary of Barun.

अमन और बरुण के वेतन का योग ₹ 38,000 है। अमन अपने वेतन का 70% खर्च करता है और बरुण अपने वेतन का 80% खर्च करता है यदि उनके बचतों का अनुपात 5 : 3 हो, तो बरुण का वेतन ज्ञात कीजिए।

- (1) ₹ 18,000 (2) ₹ 20,000 (3) ₹ 22,000 (4) ₹ 17,000

38. The average of present ages of a woman and her son is 40 years. If the ratio of their respective ages four years from now will be 15 : 7, find the present age of the woman.


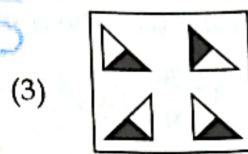
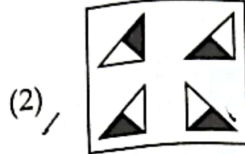
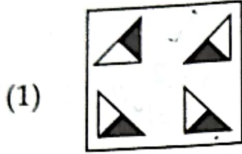
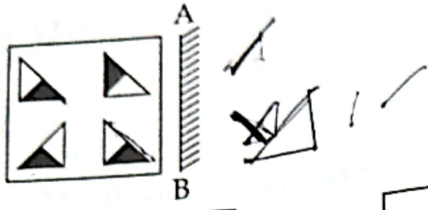
- (1) 48 year (2) 50 year (3) 56 year (4) 40 year

एक महिला और उसके पुत्र की वर्तमान आयु का औसत 40 वर्ष है। यदि आज से चार साल बाद उनकी आयु का अनुपात 15 : 7 हो जाएगा, तो महिला की वर्तमान आयु ज्ञात कीजिए।

- (1) 48 वर्ष (2) 50 वर्ष (3) 56 वर्ष (4) 40 वर्ष



39. Select the correct mirror image of the given figure when the mirror is placed at 'AB' line as shown below.
जब दर्पण को नीचे दिखाए अनुसार 'AB' रेखा पर रखा जाए तो दी गई आकृति के सही दर्पण प्रतिबिंब का चयन करें।



40. $A + B$ means 'A is the father of B'.
 $A - B$ means 'A is the son of B'.
 $A \times B$ means 'A is the daughter of B'.
 $A \div B$ means 'A is the brother of B'.
 If $P \times F + Q + S \div T - R$, then how is F related to R ?
 (1) Father (2) Father-in-law (3) Son-in-law (4) Son
 $A + B$ का अर्थ है, 'A, B का पिता है'।
 $A - B$ का अर्थ है, 'A, B का पुत्र है'।
 $A \times B$ का अर्थ है, 'A, B की पुत्री है'।
 $A \div B$ का अर्थ है, 'A, B का भाई है'।
 यदि $P \times F + Q + S \div T - R$, तो F, R से किस प्रकार सम्बन्धित है ?
 (1) पिता (2) ससुर (3) दामाद (4) पुत्र

41. Given below is a question followed by two statements numbered I and II, each containing some information. You have to decide which of the statements is/are sufficient to answer the question. Read both the statements and decide appropriate answer.
 Six girls T, U, V, W, X and Y are there in a classroom, each of them are having different heights. Who among them is the tallest ?
 I. W is taller than X and U. T is taller than W but not as tall as Y. U is taller than V.
 II. W is taller than only three girls. T is taller than U.
 (1) Either Statement I alone or Statement II alone is sufficient to answer the question.
 (2) Both Statements I and II together are necessary to answer the question.
 (3) Statement I alone is sufficient to answer the question while Statement II alone is not sufficient.
 (4) Statement II alone is sufficient to answer the question while Statement I alone is not sufficient.
 नीचे एक प्रश्न के बाद दो कथन I और II प्रत्येक कुछ जानकारी सहित दिए गए हैं। आपको यह तय करना है कि कौन सा कौन से कथन प्रश्न का उत्तर देने हेतु पर्याप्त है/हैं। दोनों कथनों को पढ़िए और उचित उत्तर तय कीजिए।
 एक कक्षा में छह लड़कियाँ T, U, V, W, X और Y हैं, उनमें से प्रत्येक की लंबाई अलग-अलग है। इनमें से कौन सबसे लंबी है ?

- I. W, X और U से लम्बी है। T, W से लम्बी है लेकिन Y जितनी लम्बी नहीं है। U, V से लम्बी है।
 II. W केवल तीन लड़कियों से लंबी है। T, U से लंबी है।
 (1) या तो कथन I अकेले या कथन II अकेले प्रश्न का उत्तर देने हेतु पर्याप्त है।
 (2) दोनों कथन I और II एक साथ मिलकर प्रश्न का उत्तर देने के लिए आवश्यक हैं।
 (3) कथन I अकेले ही प्रश्न का उत्तर देने हेतु पर्याप्त है जबकि कथन II अकेले पर्याप्त नहीं है।
 (4) कथन II अकेले ही प्रश्न का उत्तर देने हेतु पर्याप्त है जबकि कथन I अकेले पर्याप्त नहीं है।



42. Find the value of :

$$3\frac{1}{2} \text{ of } \frac{1}{4} \times \frac{1}{2} \div \frac{5}{2} + \frac{1}{2} \div \frac{3}{2} \left(\frac{2}{3} - \frac{1}{3} \right)$$

मान ज्ञात कीजिए :

$$3\frac{1}{2} \text{ का } \frac{1}{4} \times \frac{1}{2} \div \frac{5}{2} + \frac{1}{2} \div \frac{3}{2} \left(\frac{2}{3} - \frac{1}{3} \right)$$

(1) $\frac{37}{39}$

(2) $1\frac{5}{40}$

(3) $\frac{37}{40}$

(4) $3\frac{1}{2}$

43. Two statements showing relationship between different elements are given followed by three conclusions I, II and III. Assuming the statements to be true, decide which of the conclusions is/are definitely true ?

Statement : $P < Q \leq R = S > T > U \geq V$

$A \geq B > S < X \leq Y < Z$

Conclusions : I. $Q > Y$

II. $U < A$

III. $B < V$

(1) Only Conclusion II is true.

(2) Both Conclusions I and III are true.

(3) Both Conclusions II and III are true.

(4) Only Conclusion I is true.

विभिन्न पदों के बीच संबंध दर्शाने वाले दो कथन दिए गए हैं और उनके बाद तीन निष्कर्ष I, II और III दिए गए हैं। यह मानकर कि दिया गया कथन सत्य है आप निर्णय कीजिए कि कौन सा/से निष्कर्ष निश्चित तौर पर सत्य है/हैं?

कथन : $P < Q \leq R = S > T > U \geq V$

$A \geq B > S < X \leq Y < Z$

निष्कर्ष : I. $Q > Y$

II. $U < A$

III. $B < V$

(1) केवल निष्कर्ष II सत्य है।

(2) दोनों निष्कर्ष I और III सत्य हैं।

(3) दोनों निष्कर्ष II और III सत्य हैं।

(4) केवल निष्कर्ष I सत्य है।

44. In a certain code language 'KARUNA' is coded as 33 - 2 - 54 - 42 - 42 - 2 and 'DIPALI' is coded as 12 - 18 - 48 - 2 - 36 - 18. How can 'PIYUSH' be coded in that code language ?

किसी निश्चित कूट भाषा में 'KARUNA' को 33 - 2 - 54 - 42 - 42 - 2 और 'DIPALI' को 12 - 18 - 48 - 2 - 36 - 18 के रूप में कूटबद्ध किया जाता है। इसी भाषा में 'PIYUSH' को किस प्रकार कूटबद्ध किया जा सकता है?

(1) 32 - 27 - 50 - 63 - 38 - 24

(2) 48 - 18 - 75 - 42 - 57 - 16

(3) 32 - 36 - 50 - 42 - 57 - 24

(4) 48 - 18 - 75 - 46 - 54 - 16



45. In an election there were only two contestants Dinesh and Firoz. Firoz got 25% less votes than Dinesh. If the total number of votes were 7350 and none of the votes were declared invalid. Find the number of votes obtained by Dinesh.

एक चुनाव में केवल दो प्रत्याशी दिनेश और फिरोज थे। फिरोज को दिनेश से 25% कम वोट मिले। यदि मतों की कुल संख्या 7350 थी और कोई भी मत अवैध घोषित नहीं किया गया था, तो दिनेश द्वारा प्राप्त मतों की संख्या ज्ञात कीजिए।

- (1) 4200 (2) 4380 (3) 4400 (4) 1838

46. Brajesh travels a certain distance at the speed of 20 km/h. Had he travelled at the speed of 25 km/h, he would have covered 50 km more in the same time. What is the original distance travelled by him?

- (1) 175 km (2) 200 km (3) 250 km (4) 150 km

ब्रजेश एक निश्चित दूरी 20 किलोमीटर/घंटा की चाल से तय करता है। यदि वह 25 किलोमीटर/घंटा की चाल से यात्रा करता तो उतने ही समय में 50 किलोमीटर अधिक दूरी तय करता। उसके द्वारा तय की गई मूल दूरी कितनी है?

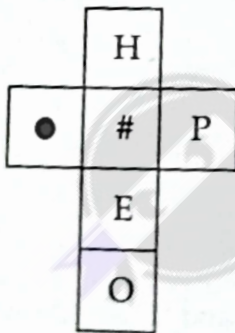
- (1) 175 किलोमीटर (2) 200 किलोमीटर (3) 250 किलोमीटर (4) 150 किलोमीटर

47. In a class of 40 students the ratio of boys and girls is 2 : 3. If the average marks scored by the boys of the class in Mathematics are 68 and the average marks scored by the whole class in Mathematics are 62. Find the average marks in Mathematics scored by girls in the class.

40 छात्रों की एक कक्षा में लड़कों की संख्या का लड़कियों की संख्या से अनुपात 2 : 3 है। यदि गणित में कक्षा के लड़कों द्वारा प्राप्त औसत अंक 68 है और गणित में पूरी कक्षा द्वारा प्राप्त औसत अंक 62 है, तो कक्षा की लड़कियों द्वारा गणित में प्राप्त औसत अंक ज्ञात कीजिए।

- (1) 57 (2) 58 (3) 64 (4) 54

48. Select from the four options, the figure that will be formed when the figure given below is folded to form a box?




- (1) (2) (3) (4)

49. Three Statements are given, followed by three conclusions I, II and III. Assuming the Statements to be true, even if they seem to be at variance with commonly known facts, decide which of the following conclusions logically follow(s) from the statements.

Statements : All trees are flowers.
Some flowers are leaves.
All leaves are plants.

Conclusions : I. Some plants are trees.
II. Some leaves are trees. ✓
III. Some plants are flowers.



- (1) Only Conclusion III follows.
- (2) Both Conclusions II and III follow.
- (3) Both Conclusions I and III follow.
- (4) Only Conclusion II follows.

तीन कथन दिए गए हैं जिसके बाद तीन निष्कर्ष I, II और III दिए गए हैं। कथनों को सत्य मानते हुए, भले ही वे सामान्य ज्ञात तथ्यों से भिन्न प्रतीत होते हों, निर्णय कीजिए कि कौन सा/कौन से निष्कर्ष तार्किक रूप से कथनों से निकलता है/निकलते हैं।

कथन : सभी पेड़ फूल हैं।
कुछ फूल पत्तियां हैं।
सभी पत्तियां पौधे हैं।

निष्कर्ष : I. कुछ पौधे पेड़ हैं।
II. कुछ पत्तियां पेड़ हैं।
III. कुछ पौधे फूल हैं।

- (1) केवल निष्कर्ष III निकलता है।
- (2) निष्कर्ष II और III दोनों निकलते हैं।
- (3) निष्कर्ष I और III दोनों निकलते हैं।
- (4) केवल निष्कर्ष II निकलता है।

50. What sum of the money at compound interest will amount to ₹ 8316 in 3 years. If the rate interest is 5% per annum for the first year, 10% per annum for the second year and 20% per annum for the third year ?

चक्रवृद्धि ब्याज पर कितनी धनराशि 3 वर्षों में ₹ 8316 हो जाएगी यदि ब्याज की दर पहले वर्ष के लिए 5% प्रति वर्ष, दूसरे के लिए 10% प्रति वर्ष और तीसरे वर्ष के लिए 20% प्रति वर्ष है?

- (1) ₹ 5,000 (2) ₹ 5,080 (3) ₹ 6,000 (4) ₹ 4,500



PART - III / भाग - III

History of English Literature and Its Development, Popular English Novel, Play, Story, Essay, Critics and Poetry, English Grammar and its usages, Modern English Literature and its Analysis, Art and Skills of Translation, Comparative Literature. History of Hindi Literature and its Development, Popular Hindi Novel, Play, Story, Essay, Critics and Poetry, Hindi Grammar and its usages, Modern Hindi Literature and its Analysis, Art and Skills of Translation, Comparative Literature. /

अंग्रेजी साहित्य का इतिहास तथा इसका विकास, लोकप्रिय अंग्रेजी नावेल, नाटक, कथा, लेख, आलोचक तथा कविताएँ, अंग्रेजी व्याकरण और इसका उपयोग, आधुनिक अंग्रेजी साहित्य और इसका विश्लेषण, अनुवाद कला तथा कौशल, तुलनात्मक साहित्य हिन्दी साहित्य का इतिहास तथा इसका विकास, लोकप्रिय हिन्दी नावेल, नाटक, कथा, लेख, आलोचक तथा कविताएँ, हिन्दी व्याकरण और इसका उपयोग, आधुनिक हिन्दी साहित्य और इसका विश्लेषण, अनुवाद कला तथा कौशल, तुलनात्मक साहित्य

51. In the following sentence, choose the option which correctly identifies the Part of Speech of the underlined word.

He bathes twice a week during the summer season.

- (1) Verb (2) Adverb (3) Adjective (4) Noun

52. Choose the word opposite in meaning to the given word.

MEDIOCRE

- (1) amateur (2) bright (3) exceptional (4) indifferent

53. In the following question, choose the option which correctly changes the given sentence from Direct speech into Indirect speech.

The speaker said, 'It gives me great pleasure to be present here today.'

- (1) The speaker said that it gave him great pleasure to be present there that day.
(2) The speaker said that it gave him great pleasure to be here today.
(3) The speaker said that he was happy to be there that day.
(4) The speaker said that it had given him great pleasure to be present there that day.

54. Choose the word nearest in meaning to the given word.

NAIVE

- (1) sharp (2) ingenious (3) gullible (4) stupid

55. The region called Wessex has been immortalised in the fiction of :

- (1) Thomas Hardy (2) W.M. Thackeray
(3) Henry Fielding (4) Samuel Richardson



56. Which of T.S. Eliot's famous poems begins with the oft-quoted lines : 'April is the cruellest month, breeding/Lilacs out of the dead land, mixing/Memory and desire ...' ?
 (1) The Wasteland (2) The Hollow Men
 (3) Marina (4) Sweeney Agonistes
57. 'To be, or not to be, that is the question ...'
 Who spoke these lines in Shakespeare's 'Hamlet' ?
 (1) Polonius (2) Hamlet (3) Laertes (4) Claudius
58. In the following sentence, identify the part which contains an error.
 They are planning/ to buy a house/ in Darjeeling/ isn't it ?
 (A) (B) (C) (D)
 (1) (B) (2) (C) (3) (D) (4) (A)
59. The term 'officialese' means :
 (1) The language used in official communication
 (2) The language used in creative writing
 (3) The language used while talking to a foreigner
 (4) The language used in day-to-day communication
60. In the following question, identify the Tense of the underlined part in the given sentence.
 Why hasn't he returned the camera ?
 (1) Past Perfect (2) Present Perfect
 (3) Present Perfect Continuous (4) Past Indefinite
61. In the following question, choose the option which correctly changes the given sentence from Direct speech into Indirect speech.
 A holy book says : 'We are all sinners.'
 (1) A holy book says that we are all sinners.
 (2) They said that we were all sinners.
 (3) It says that all of us have been sinners.
 (4) A holy book says that they are all sinners.
62. Where did the concept of 'organic intellectual' come from ?
 (1) Herbert Marcuse's 'One-Dimensional Man'
 (2) Karl Marx's 'Das Kapital'
 (3) Antonio Gramsci's 'Prison Notebooks'
 (4) Terry Eagleton's 'Marxism and Literary Criticism'



56. Which of T.S. Eliot's famous poems begins with the oft-quoted lines : 'April is the cruellest month, breeding/Lilacs out of the dead land, mixing/Memory and desire ...' ?
- (1) The Wasteland (2) The Hollow Men
(3) Marina (4) Sweeney Agonistes
57. 'To be, or not to be, that is the question ...'
Who spoke these lines in Shakespeare's 'Hamlet' ?
- (1) Polonius (2) Hamlet (3) Laertes (4) Claudius
58. In the following sentence, identify the part which contains an error.
They are planning/ to buy a house/ in Darjeeling,/ isn't it ?
- (A) (B) (C) (D)
- (1) (B) (2) (C) (3) (D) (4) (A)
59. The term 'officialese' means :
- (1) The language used in official communication
(2) The language used in creative writing
(3) The language used while talking to a foreigner
(4) The language used in day-to-day communication
60. In the following question, identify the Tense of the underlined part in the given sentence.
Why hasn't he returned the camera ?
- (1) Past Perfect (2) Present Perfect
(3) Present Perfect Continuous (4) Past Indefinite
61. In the following question, choose the option which correctly changes the given sentence from Direct speech into Indirect speech.
A holy book says : 'We are all sinners.'
- (1) A holy book says that we are all sinners.
(2) They said that we were all sinners.
(3) It says that all of us have been sinners.
(4) A holy book says that they are all sinners.
62. Where did the concept of 'organic intellectual' come from ?
- (1) Herbert Marcuse's 'One-Dimensional Man'
(2) Karl Marx's 'Das Kapital'
(3) Antonio Gramsci's 'Prison Notebooks'
(4) Terry Eagleton's 'Marxism and Literary Criticism'



63. The bird that the Mariner comes across and kills in Coleridge's 'The Rime of the Ancient Mariner' is a/an :
 (1) pelican (2) gull (3) albatross (4) penguin
64. In the following sentence, choose the option which correctly identifies the Part of Speech of the underlined word.
Hunting is a hobby that kings and nawabs of yore were fond of.
 (1) Adjective (2) Adverb (3) Noun (4) Verb
65. Who was the first recipient of Sahitya Akademi award for English in 1960 ?
 (1) Nayantara Sehgal (2) R.K. Narayan
 (3) Vikram Seth (4) Shiv K. Kumar
66. Choose the word nearest in meaning to the given word.
 IMPETUOUS
 (1) impulsive (2) imprudent (3) rigid (4) silly
67. In the given sentence, identify the clause of the underlined part.
 He could not find a place where he could spend the night.
 (1) Principal clause (2) Adverb clause
 (3) Adjective clause (4) Noun clause
68. Malgudi is a fictional town which forms the backdrop of the works of
 (1) Raja Rao (2) Kamala Markandaya
 (3) Anita Desai (4) R.K. Narayan
69. In the following question, identify the Tense of the underlined part in the given sentence.
 The policemen have been running after the thief the whole night.
 (1) Past Continuous (2) Present Perfect Continuous
 (3) Future Indefinite (4) Present Continuous
70. Who is considered as 'the Father of the English essay' ?
 (1) Francis Bacon (2) William Hazlitt (3) Joseph Addison (4) Charles Lamb
71. Which age in the British history is termed as 'the nest of singing birds' ?
 (1) Jacobean Age (2) Caroline Age
 (3) Commonwealth Period (4) Elizabethan Age



2. In the following sentence, choose the best option in which the given sentence has been changed from Active Voice to Passive Voice.
The students offered a chair to the teacher.
- (1) The teacher has been offered a chair by the students.
 - (2) A chair was offered to the teacher by the students.
 - (3) The teacher is offered a chair by the students.
 - (4) A chair is offered to the teacher by the students.
73. Which Shakespearean play begins with the lines : 'If music be the food of love, play on ...' ?
- (1) The Comedy of Errors
 - (2) A Midsummer Night's Dream
 - (3) Twelfth Night
 - (4) The Merchant of Venice
74. Choose the word opposite in meaning to the given word.
MANDATORY
- (1) rigid
 - (2) optional
 - (3) required
 - (4) forceful
75. Which of T.S. Eliot's poems starts with the lines : 'Let us go then, you and I, / when the evening is spread out against the sky ...' ?
- (1) Little Gidding
 - (2) The Wasteland
 - (3) The Love Song of J. Alfred Prufrock
 - (4) Four Quartets
76. John Bunyan's 'The Pilgrim's Progress' is a/an :
- (1) allegory
 - (2) tragedy
 - (3) travelogue
 - (4) comedy
77. In the following question, rearrange the parts in correct order to make a meaningful sentence.
- (A) for reading
 - (B) to borrow another one
 - (C) having finished the novel,
 - (D) he came to me
- (1) (C), (D), (B), (A)
 - (2) (D), (C), (B), (A)
 - (3) (A), (D), (B), (C)
 - (4) (B), (A), (C), (D)
78. Who is the first story-teller in Chaucer's 'The Canterbury Tales' ?
- (1) The Knight
 - (2) The Merchant
 - (3) The Miller
 - (4) The Wife of Bath



79. In the following sentence, identify the part which contains an error.
Barring from accidents, the mail will surely arrive / tomorrow.

- (A) (1) (B) (2) (C) (3) (D) (4) (A)

80. Who spoke the line : 'I am a man, more sinned against than sinning.' ?

- (1) King Lear (2) Shylock (3) Iago (4) Heathcliff

81. In the given sentence, identify the clause of the underlined part.

He admitted that he had committed the theft.

- (1) Adjective clause (2) Adverb clause
(3) Principal clause (4) Noun clause

82. Choose the right option after removing the adverb 'too' from the given sentence.
He is too stubborn to agree to your point of view.

- (1) He is so stubborn that he will not agree to your point of view.
(2) He is too stubborn not to agree to your point of view.
(3) He is so stubborn that he cannot agree to your point of view.
(4) He is so stubborn that he will agree to your point of view.

83. In the following question, rearrange the parts in correct order to make a meaningful sentence.

- (A) was just six inches
(B) during the course of his travels
(C) Gulliver reached a land
(D) where the average height of a person

- (1) (D), (B), (C), (A) (2) (B), (C), (D), (A)
(3) (C), (A), (B), (D) (4) (A), (B), (C), (D)

84. Who wrote 'Principles of Literary Criticism', a seminal work of literary criticism in the modern period ?

- (1) Terry Eagleton (2) I.A. Richards
(3) F.R. Leavis (4) Dr. Johnson

85. What does the term 'soliloquy' mean in theatre terminology ?

- (1) A character addressing the audience
(2) A character speaking to another character
(3) A character observing silence on stage
(4) A character giving vent to his thoughts aloud

86. Which one of George Orwell's works is a political satire on a totalitarian state ?
 (1) A Clergyman's Daughter (2) Animal Farm
 (3) Coming Up for Air (4) Burmese Days
87. Which essayist in English literature devised the fictional character of Sir Roger de Coverley ?
 (1) Francis Bacon (2) William Hazlitt (3) Joseph Addison (4) Charles Lamb
88. Which English poet has said : 'Poets are the unacknowledged legislators of the world' ?
 (1) Wordsworth (2) Keats
 (3) Shelley (4) Tennyson
89. Which Indian-English writer has written the short novel 'The Cat and Shakespeare' ?
 (1) Raja Rao (2) Bhabani Bhattacharya
 (3) Amitav Ghosh (4) Vikram Seth
90. What is 'the tragic flaw' in Othello that leads to the tragedy ?
 (1) hastiness (2) suspicion (3) revenge (4) indecisiveness
91. In which century did William Langland (of 'Piers the Plowman' fame) write ?
 (1) 16th century (2) 14th century (3) 17th century (4) 15th century
92. Who created the unforgettable character of a sleuth Sherlock Holmes ?
 (1) R.L. Stevenson (2) Agatha Christie
 (3) Arthur Conan Doyle (4) Edgar Wallace
93. Which English poet has created the famous lines : 'Beauty is truth, truth beauty - that is all ye know on earth, and all ye need to know.' ?
 (1) William Wordsworth (2) S.T. Coleridge
 (3) Lord Byron (4) John Keats
94. Who created the character of the charming sleuth Feluda in the Indian detective fiction ?
 (1) Mahashweta Devi (2) Bhabani Bhattacharya
 (3) Amitav Ghosh (4) Satyajit Ray

5. Who wrote the famous lines : 'East is East and West is West, and never the twain shall meet' ?

(1) Paul Scott

(2) Rudyard Kipling

(3) Ruth Praver Jhabvala

(4) E.M. Forster

96. In the following sentence, choose the best option in which the given sentence has been changed from Active Voice to Passive Voice.

Who conveyed this tragic news to his family ?

(1) By whom was this tragic news conveyed to his family ?

(2) This tragic news was conveyed to his family by whom ?

(3) To his family who conveyed this tragic news ?

(4) By whom was this tragic news conveyed ?

97. Which of King Lear's daughters supports him and stands by him at the end ?

(1) Cordelia

(2) Regan

(3) Amelia

(4) Goneril

98. Which of the following steps in the translation process are in right order ?

(A) Receiver-Message-Sender-Feedback

(B) Feedback-Message-Sender-Receiver

(C) Sender-Message-Receiver-Feedback

(D) Message-Sender-Feedback-Receiver

(1) B

(2) C

(3) D

(4) A

99. What kind of sentence is the following ?

What was all that ruckus about ?

(1) Exclamatory

(2) Imperative

(3) Interrogative

(4) Declarative

100. Who among the following is not a Stream-of-Consciousness writer ?

(1) James Joyce

(2) Marcel Proust

(3) Charles Dickens

(4) Virginia Woolf



निम्नलिखित वाक्यों को ध्यानपूर्वक पढ़कर उस पर आधारित प्रश्नों (101-105) के सही उत्तर दीजिए।

दुर्गे मानव-जाति को दुर्दम-निर्मम धारा के हजारों वर्षों का रूप साफ दिखाई दे रहा है। मनुष्य की जीवनी-शक्ति बड़ी निर्मम वह सभ्यता और संस्कृति के वृद्धा मोहों को रौंदती चली आ रही है। म जानें कितने धर्माचारों, विश्वासों, उत्सवों और जतों को भोती-होने वह जीवन-धारा आगे बढ़े है। संघर्षों से मनुष्य ने सब शक्ति प्राप्त है। हमारे सामने समाज का आज जो रूप है, वह म जानें कितने स्व और त्याग का प्रतिफल है। सभ्यता और संस्कृति का मोह क्षण-भर बाधा उपस्थित करता है। जितना कुछ इस जीवनी-शक्ति को अंध बनाता है, उतना उसका अंग बन जाता है।

101. जीवन-धारा ने आगे बढ़ने के क्रम में :

- (1) मानव-जाति को दुर्दमता को कम किया है।
- (2) सभ्यता और संस्कृति का विकास किया है।
- (3) धर्माचारों, विश्वासों आदि को धोया-बहाया है।
- (4) मानव-जाति को दुर्दम धारा को बढ़ाया है।

102. निम्नलिखित में सही कथन सही है :

- (1) संघर्षों से मनुष्य ने सब शक्ति प्राप्त की है।
- (2) हमारे समाज का रूप केवल त्याग का प्रतिफल है।
- (3) सभ्यता और संस्कृति का मोह कुछ व्यवधान पैदा करता है।
- (4) मनुष्य की जीवनी-शक्ति बड़ी निर्मम है।

103. निम्नलिखित में से असत्य कथन है :

- (1) समाज का वर्तमान रूप ग्रहण और त्याग का रूप है।
- (2) सभ्यता और संस्कृति का मोह बाधक है।
- (3) जीवनी-शक्ति को समर्थ करने वाला ही उसका अंग बन जाता है।
- (4) मनुष्य की जीवनी-शक्ति थोड़ी निर्मम है।

104. मनुष्य को सब शक्ति प्राप्त हुई है :

- (1) संघर्षों से
- (2) जीवन-धारा के प्रवाह से
- (3) उत्सवों और जतों से
- (4) मानव-जाति के विकास की गति से

105. वृद्धा मोहों को रौंद जाता रहा है :

- (1) धर्माचारों और विश्वासों से
- (2) मनुष्य की जीवनी-शक्ति द्वारा
- (3) मानव-जाति को दुर्दम-निर्मम धारा द्वारा
- (4) सभ्यता और संस्कृति के विकास से



106. निम्नलिखित में अज्ञेय की रचना और विधा की दृष्टि से असंगत-युग्म है :

- | | |
|-----------------------|-----------|
| (1) विपथगा | - कहानी |
| (2) एक बूंद सहसा उछली | - संस्मरण |
| (3) आत्मनेपद | - आलोचना |
| (4) भग्नदूत | - कविता |

107. रामचंद्र शुक्ल ने हिन्दी 'साहित्य का इतिहास' पुस्तक में भक्तिकाल को कितने प्रकरणों में बाँटा है?

- (1) चार (2) पाँच (3) छः (4) तीन

108. निम्नलिखित में सही कथन नहीं है :

- (1) 'बूंद और समुद्र' में अमृतलाल नागर का उपन्यासकार पूरी शक्ति के साथ सामने नहीं आ पाया है।
(2) 'चित्र लेखा' पाप और पुण्य के चिरंतन नैतिक प्रश्न को ऐतिहासिक परिवेश में प्रस्तुत करने वाला उपन्यास है।
(3) 'पतिता की साधना' उपन्यास से भगवती प्रसाद वाजपेयी को ख्याति प्राप्त हुई थी।
(4) 'देहाती दुनिया' उपन्यास में सरल ग्रामीण जीवन का सुबोध और प्रभावशाली चित्रण किया गया है।

109. निम्नलिखित में तत्सम-तद्भव शब्द युग्मों में असंगत है :

- (1) वत्स - बच्चा
(2) भ्राता - भाई
(3) सर्व - समस्त
(4) वायु - बयार

110. निम्नलिखित में कौन-सा लक्ष्मीनारायण लाल का नाटक नहीं है?

- (1) रक्त कमल (2) रक्त बीज (3) अब्दुल्ला दीवाना (4) अंधा कुआँ

111. "प्राकृत की अंतिम अपभ्रंश अवस्था से ही हिन्दी साहित्य का अविर्भाव माना जा सकता है। उस समय जैसे 'गाथा' कहने से प्राकृत का बोध होता था वैसे ही 'दोहा' या दूहा कहने से अपभ्रंश या प्रचलित काव्यभाषा का पद्य समझा जाता था।" प्रस्तुत विचारों को व्यक्त किया है :

- (1) राहुल सांकृत्यायन ने (2) रामचंद्र शुक्ल ने
(3) श्यामसुंदर दास ने (4) हजारी प्रसाद द्विवेदी ने

112. रामचंद्र शुक्ल ने जायसी की "पद्मावत" के बारे में निम्नलिखित में से नहीं कहा है :

- (1) यह उस परंपरा में सबसे अधिक प्रसिद्ध ग्रंथ है।
(2) इसकी कहानियाँ सामान्य हैं।
(3) इसमें इतिहास और कल्पना का योग है।
(4) पद्मावत में प्रेमगाथा की परंपरा पूर्ण प्रौढ़ता को प्राप्त मिलती है।



114. निम्नलिखित में प्रसिद्ध मार्क्सवादी आलोचक हैं :

- (1) सखिदानंद हीरानंद वात्स्यायन अज्ञेय
(2) वंदुलारे वाजपेयी

- (3) रामस्वरूप चतुर्वेदी
(4) शिवदान सिंह चौहान

115. निम्नलिखित में 'आँख पर परदा पड़ना' मुहावरे/लोकोक्ति का सही आशय है :

- (1) किसी की उपेक्षा करना
(2) झूठ पर परदा डालना

- (3) सच्चाई से अनभिज्ञ रहना
(4) आँखें चुरा लेना

116. 'अद्भुत गति यहि प्रेम की, बैनन कही न जाय।
दरस भूख लागै दृगन, भूखहिं देत भगाय॥'

प्रस्तुत पंक्तियों के रचयिता हैं :

- (1) घनानंद (2) पद्माकर

- (3) सेनापति (4) देव

117. "गार्सा द तासी एक फ्रांसीसी विद्वान थे जो पेरिस में हिन्दुस्तानी या उर्दू के अध्यापक थे। उन्होंने संवत् 1896 में 'हिन्दुस्तानी साहित्य का इतिहास' लिखा था जिसमें उर्दू के कवियों के साथ हिन्दी के भी कुछ बहुत प्रसिद्ध कवियों का उल्लेख था।" तासी के बारे में प्रस्तुत विचारों को व्यक्त किया है :

- (1) रामचंद्र शुक्ल ने
(2) हजारी प्रसाद द्विवेदी ने
(3) रामविलास शर्मा ने
(4) जॉर्ज ग्रियर्सन ने

118. निम्नलिखित में संधि संबंधी नियमों की दृष्टि से अशुद्ध शब्द है :

- (1) पुरस्कार (2) अनाधिकारी (3) अत्यधिक (4) उपर्युक्त

119. निम्नलिखित में निर्गुणधारा की ज्ञानाश्रयी शाखा के कवि नहीं हैं :

- (1) दादू दयाल (2) सुंदरदास (3) हरिदास (4) गुरु नानक

120. निम्नलिखित में से तुलसीदास की रचना नहीं है :

- (1) वैराग्य संदीपनी (2) पार्वती मंगल (3) रामचंद्रिका (4) बरवै रामायण

121. निम्नलिखित में चिंतामणि त्रिपाठी की रचना नहीं है :

- (1) साहित्यसार (2) कवि कल्पतरु (3) काव्यप्रकाश (4) काव्य विवेक

122. निम्नलिखित में रघुवीर सहाय की रचना नहीं है :

- (1) खूंटियों पर टंगे लोग (2) सीढ़ियों पर धूप में
(3) लोग भूल गए हैं (4) आत्महत्या के विरुद्ध

122. 'सुजान चरित' के रचयिता हैं :

- (1) सूदन (2) रसनिधि (3) पद्माकर (4) घनानंद

123. निम्नलिखित में से खड़ी बोली की प्रथम रचना मानी जाती है :

- (1) प्रिय प्रवास (2) कामायनी (3) भारत दुर्दशा (4) भारत-भारती

124. 'गोरख जगायो जोग, भगति भगायो लोग' काव्य-पंक्ति के रचयिता हैं :

- (1) कबीरदास (2) सूरदास (3) तुलसीदास (4) गोरखनाथ

125. 'बैशाख माहात्म्य' नामक ग्रंथ के रचयिता हैं :

- (1) नाभादास (2) सूरति मिश्र (3) विट्ठलनाथ (4) वैकुण्ठमणि शुक्ल

126. विलोमार्थी शब्द - युग्मों की दृष्टि से सटीक नहीं है :

- (1) ऊपर - ऊपर
(2) उदयाचल - अस्ताचल
(3) अधुनातन - पुरातन
(4) कनिष्ठ - ज्येष्ठ

127. 'रणमल्ल छंद' नामक काव्यग्रंथ के रचयिता हैं :

- (1) विद्याधर (2) जगनिक (3) मधुकर कवि (4) श्रीधर

128. निम्नलिखित में शामी भाषाओं में शामिल नहीं है :

- (1) फारसी भाषा (2) इब्रानी भाषा (3) हब्शी भाषा (4) अरबी भाषा

129. 'श्री रामार्चन पद्धति' के रचयिता हैं :

- (1) रामानंद (2) तुलसीदास (3) नाभादास (4) रामानुजाचार्य

130. निम्नलिखित में से भारतेन्दु की मौलिक रचनाएँ नहीं हैं :

- (1) चंद्रावली, भारत दुर्दशा, नीलदेवी, सत्यहरिचंद्र
(2) कर्पूर मंजरी, नीलदेवी, मुद्राराक्षस, भारतजननी
(3) भारत दुर्दशा, नीलदेवी, विद्यासुंदर, भारतजननी
(4) वैदिकी हिंसा हिंसा न भवति, चंद्रावली, नीलदेवी, सतीप्रताप



131. निम्नलिखित में 'आस्था और सौंदर्य' पुस्तक के लेखक हैं :

- | | |
|--------------------|-----------------------|
| (1) रामविलास शर्मा | (2) नामवर सिंह |
| (3) अशोक वाजपेयी | (4) शिवदान सिंह चौहान |

132. 'पतलून' किस भाषा का शब्द है ?

- | | | | |
|----------|------------|--------------|-----------|
| (1) अरबी | (2) तुर्की | (3) अंग्रेजी | (4) फारसी |
|----------|------------|--------------|-----------|

133. "धूप चमकती है चाँदी की साड़ी पहने
मैंके में आई बेटी की तरह मगन है।"

- काव्य-पंक्तियों के रचनाकार हैं :

- | | |
|-------------------|----------------------|
| (1) केदारनाथ सिंह | (2) केदारनाथ अग्रवाल |
| (3) त्रिलोचन | (4) नागार्जुन |

134. खेचरनाथ नामक एकनाथ पंथी गुरु थे :

- | | | | |
|---------------|-----------------|-------------|--------------|
| (1) नामदेव के | (2) सुंदरदास के | (3) नानक के | (4) रैदास के |
|---------------|-----------------|-------------|--------------|

135. "देसिल बअना सब जन मिट्ठा।

तैं तैंसन जंपओं अवहट्ठा।।"

उपर्युक्त काव्य-पंक्तियों के रचयिता हैं :

- | | | | |
|---------------|------------------------|--------------|--------------|
| (1) विद्यापति | (2) जैनाचार्य मेरुतुंग | (3) विद्याधर | (4) हेमचंद्र |
|---------------|------------------------|--------------|--------------|

136. रामचंद्र शुक्ल ने अमीर खुसरो के बारे में निम्नलिखित में से नहीं कहा है :

- | |
|------------------------------------------------------------------------|
| (1) अपने समय के नामी कवि थे |
| (2) इनकी पहेलियाँ और मुकरियाँ प्रसिद्ध हैं |
| (3) इन्होंने कुछ रसीले गीत लिखे हैं पर इनमें उक्ति वैचित्र्य की कमी थी |
| (4) वे फारसी के बहुत बड़े ग्रंथकार थे |

137. निम्नलिखित कहानीकारों और उनकी कहानियों के युग्म में असंगत है :

- | | |
|----------------------|-------------------|
| (1) 'जामुन की गुठली' | - शिवप्रसाद सिंह |
| (2) 'हंसा जाई अकेला' | - मार्कण्डेय |
| (3) 'महाभोज' | - शैलेश मटियानी |
| (4) 'अग्निखोर' | - फणीश्वरनाथ रेणु |



138. जन्मकाल की दृष्टि से निम्नलिखित रचनाकारों का सही अनुक्रम है :

- (1) तुलसीदास, मीराबाई, केशवदास, बिहारी (2) तुलसीदास, केशवदास, मीराबाई, बिहारी
(3) तुलसीदास, मीराबाई, बिहारी, केशवदास (4) मीराबाई, तुलसीदास, केशवदास, बिहारी

139. निम्नलिखित में 'खग जाने खग ही की भाषा' लोकोक्ति/मुहावरे का सही आशय है :

- (1) समान प्रवृत्तियों वाले लोग एक-दूसरे को खूब समझते हैं।
(2) पक्षियों की अपनी भाषा होती है।
(3) चोर आपस में मिले होते हैं।
(4) पक्षी ही पक्षी की भाषा जानता है।

140. निम्नलिखित कथनों में सही नहीं है :

- (1) प्रयोग के अनुसार क्रिया विशेषण तीन प्रकार के होते हैं।
(2) क्रिया विशेषणों का वर्गीकरण तीन आधारों पर हो सकता है।
(3) जिन क्रिया विशेषणों का प्रयोग किसी वाक्य में स्वतंत्र होता है, उन्हें स्वतंत्र क्रिया विशेषण कहते हैं।
(4) रूप के अनुसार क्रिया विशेषण तीन प्रकार के होते हैं।

141. 'मृगावती' में प्रेमकथा का वर्णन किया गया है :

- (1) नेपाल के राजा धरनीधर पवार के पुत्र और मृगावती की
(2) चंदगिरि के राजा गणपतिदेव के पुत्र और कंचनगर के राजा रूप मुरारी की राजकुमारी मृगावती की
(3) कालिंजर के राजकुमार राजकुंवर और मृगावती की
(4) कनेर नगर के राजा सूरजभान के पुत्र और मृगावती की

142. निम्नलिखित रचनाकारों और रचनाओं के युग्म में असंगत है :

- (1) सदल मिश्र - नासिकेतोपाख्यान
(2) मुंशी सदासुखलाल 'नियाज' - भाषा योगवाशिष्ठ
(3) इंशा अल्ला खाँ - रानी केतकी की कहानी
(4) लल्लूलाल - प्रेमसागर

143. निम्नलिखित में से हिन्दी साहित्य के इतिहास के आदिकाल को 'चारण काल' सर्वप्रथम कहा है :

- (1) रामचंद्र शुक्ल ने (2) रामकुमार वर्मा ने
(3) राहुल सांकृत्यायन ने (4) जॉर्ज ग्रियर्सन ने

144. निम्नलिखित में व्यंजन संधि वाला शब्द है :

- (1) तल्लीन (2) कपीश (3) रेखांश (4) विधूदय



145. निम्नलिखित में लिंग-प्रत्यय की दृष्टि से शुद्ध शब्द नहीं है :

- (1) पिशाची (2) कोमलांगिनी (3) अनाथा (4) श्वेतांगी

146. हिन्दीतर राज्यों में हिन्दी में रचना/अनुवाद वाले रचनाकारों और उनकी मूल मातृभाषा के युग्मों में असंगत युग्म है :

- (1) बालशौरि रेड्डी - तेलुगू
(2) चंद्रशेखर नायर - मलयालम
(3) रघुवीर चौधरी - गुजराती
(4) उषाचंद्रन - कन्नड़

147. निम्नलिखित में अष्टछाप के कवि नहीं हैं :

- (1) कुंभनदास (2) मल्लूकदास (3) परमानंददास (4) सूरदास

148. निम्नलिखित में प्रसाद के नाटकों के बारे में सही कथन नहीं है :

- (1) 'कल्याणी-परिणय' में इतिहास प्रसिद्ध चन्द्रगुप्त मौर्य और सिल्यूकस की कहानी है।
(2) 'करुणालय' में हरिश्चंद्र और विश्वामित्र के प्रसिद्ध पौराणिक आख्यान का आधार लिया गया है।
(3) 'राज्यश्री' में प्रसिद्ध वर्द्धन राजवंश की कुमारी राज्यश्री का चित्रांकन किया गया है।
(4) 'सज्जन' नाटक का कथानक 'रामायण' से लिया गया है।

149. निम्नलिखित में रेखांकित शब्द जातिवाचक संज्ञा वाला शब्द नहीं है :

- (1) नदी बहती है। (2) सभा हो रही है। (3) रामरतन आ रहा है। (4) पहाड़ ऊँचा है।

150. असंगत पर्यायवाची शब्द समूह है :

- (1) पृथ्वी - धरा, वासुकि, अवनि
(2) नदी - सरिता, तटिनी, निर्झरिणी
(3) मेघ - नीरद, अंबुद, वारिद
(4) पवन - वात, समीर, अनिल