



# Teachingninja.in



**Latest Govt Job updates**



**Private Job updates**



**Free Mock tests available**

**Visit - [teachingninja.in](https://teachingninja.in)**



Teachingninja.in

# **CSIR SO/ASO**

**Previous Year Paper**  
**Paper-II**  
**06 Feb, 2024 Shift 2**



DETAILS      SUMMARY

EXAMS  
Paper II

EXAM DATE  
06/02/2024

EXAM TIME  
03:00 PM,05:30 PM

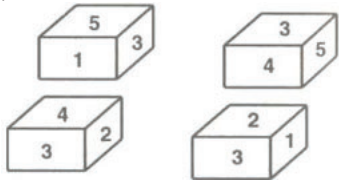
CANDIDATE NAME

ROLL NO.

General Intelligence, Reasoning & Mental Ability

Question 1      Question Id : 16

निचे एक ही पासे को चार अलग-अलग स्थितियों में रखा गया है :  
Given below are the same dice placed in four different positions:



ज्ञात कीजिये की 4 के विपरीत कौन सी संख्या है।  
Find out which number is opposite to 4.

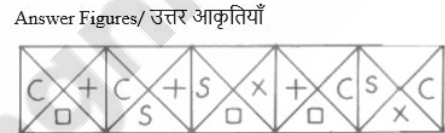
- (A) 5
- (B) 6
- (C) 2
- (D) 1
- 1600
- 3
- 1600
- 4
- 1600
- 2
- 1600
- 1

Right Answer : (D)      Right Option Id : 16001

Question 2      Question Id : 12

निर्देश : निम्नलिखित प्रश्न में, यदि समस्या आकृति का क्रम जारी रखना है, तो पांच उत्तर आकृतियों में से कौन सी समस्या आकृतियों के क्रम में अगली आनी चाहिए?

Directions : In the following question which one of the five Answer Figures should come next in the Problem Figures, if the sequence of problem figure is to 'continue'?



- (a) (d)
- (b) (b)
- (c) (a)
- (d) (c)
- 1200
- 4
- 1200
- 2
- 1200
- 1
- 1200
- 3

Right Answer : (B)      Right Option Id : 12002

Question 3      Question Id : 13

निर्देश : दिए गए प्रश्न में एक श्रृंखला दी गई है। आपको प्रत्येक प्रश्न के सामने दिए गए विकल्पों में से पहचानना है कि श्रृंखला में अगला पद कौन सा है :

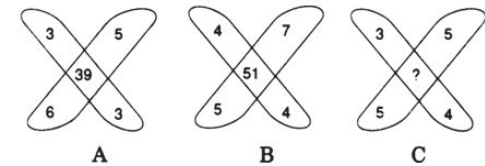
Direction : In the given question, a series is given. You have to identify from the choices given against each question, the next term in the series is :  
3, 10, 29, 66, 127, ?

- (A) 164
- (B) 218
- (C) 216
- (D) 187
- 1300
- 1
- 1300
- 3
- 1300
- 4
- 1300
- 2

Right Answer : (B)      Right Option Id : 13003

Question 4      Question Id : 3

(?) के स्थान पर सही विकल्प चुनें?  
Choose the correct option in place of ?



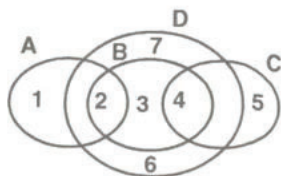
- (A) 37
- (B) 35
- (C) 47
- (D) 45
- 3003
- 3004
- 3001
- 3002

Right Answer : (A)      Right Option Id : 3003

### Question 5

Question Id : 8

सेट 'B' के घटक कौन से हैं? निम्नलिखित विकल्पों में से चुनें।  
Which are the elements of set 'B'? Choose from the following alternatives.



- (A) 7, 3, 6  
(B) 2, 3, 4  
(C) 2, 3, 7, 4, 5  
(D) 2, 3, 4, 1

☐ 8002  
☒ 8001  
☐ 8003  
☐ 8004

Right Answer : (B)

Right Option Id : 8001

### Question 6

Question Id : 24

दी गई उत्तर आकृतियों में से प्रश्न आकृति का सही जल प्रतिबिम्ब चुनें।  
Choose the correct water image of the question figure, from the given answer figures.



(X)



(1)



(2)



(3)



(4)

- (A) (4) ☐ 2400  
(B) (3) ☒ 2400  
(C) (2) ☐ 2400  
(D) (1) ☐ 2400

Right Answer : (B)

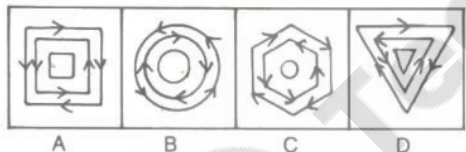
Right Option Id : 24003

### Question 7

Question Id : 15

निर्देश : निम्नलिखित प्रश्न में चार आकृतियों में से एक बाकी आकृतियों से भिन्न है। इस आकृति को पहचानें।

Directions : In the following questions one of the five figures is different from the rest. Spot this figure.



- (A) D ☐ 1500  
(B) B ☒ 1500  
(C) A ☐ 1500  
(D) C ☐ 1500

Right Answer : (D)

Right Option Id : 15002

### Question 8

Question Id : 10

अलका, भार्गव, कोयल, धरती और गार्गी उत्तर की ओर मुख करके एक पंक्ति में खड़े हैं। अलका, भार्गव और कोयल के बीच में है। धरती बायीं ओर भार्गव के बगल में है। भार्गव बाएं से दूसरे स्थान पर हैं। यदि गार्गी पंक्ति के एक छोर पर है, तो दूसरे छोर पर कौन है?

Alka, Bhargav, Koel, Dharti and Gargi are standing in a row facing North. Alka is between Bhargav and Koel. Dharti is next to Bhargav to the left. Bhargav is second from the left. If Gargi is at one end of the row, who is at the other end?

- (A) भार्गव ☐ 1000  
Bhargav 2  
(B) धरती ☒ 1000  
Dharti 4  
(C) अलका ☐ 1000  
Alka 1  
(D) कोयल ☐ 1000  
Koel 3

Right Answer : (B)

Right Option Id : 10004

### Question 9

Question Id : 21

निम्नलिखित प्रश्न में, चार शब्द दिए गए हैं, जिनमें से तीन किसी तरह से समान हैं और चौथा अलग है। बेजोड़ को चुनें।

In the following question, four words have been given, out of which three are alike in some manner and the fourth one is different. Choose out the odd one.

### Question 10

Question Id : 6

एक परीक्षा उत्तीर्ण करने वालों में माया ऊपर से सोलहवें और नीचे से उनतीसवें स्थान पर है। छह लड़कियों ने प्रतियोगिता में भाग नहीं लिया और पांच असफल रहें। कक्षा में कितनी लड़कियाँ थीं?

Maya ranked sixteenth from the top and twenty ninth from the

- (A) मेडागास्कर  
Madagascar 1
- (B) थाईलैंड  
Thailand 2
- (C) क्यूबा  
Cuba 3
- (D) ग्रीनलैंड  
Greenland 4

Right Answer : (B)

Right Option Id : 21002

bottom among those who passed an examination. Six girls did not participate in the competition and five failed in it. How many girls were there in the class ?

- (A) 50 6003
- (B) 44 6002
- (C) 40 6001
- (D) 55 6004

Right Answer : (D)

Right Option Id : 6004

#### Question 11

Question Id : 22

वह कथन ज्ञात कीजिए जो दी गई जानकारी के अनुसार सत्य होना चाहिए।  
वंदन का एक समाचार पत्र मार्ग (पेपर रूट) है। प्रत्येक सुबह, वह अपने पड़ोस में ग्राहकों को 37 समाचार पत्र वितरित करता है। वंदन को सभी समाचार पत्र वितरित करने में 50 मिनट का समय लगता है। अगर वंदन बीमार है या उसकी कोई अन्य योजना है, तो उसका दोस्त तुषार, जो उसी सड़क पर रहता है, कभी-कभी उसके लिए समाचार पत्र पहुंचा देगा।  
Find the statement that must be true according to the given information.

Vandan has a paper route. Each morning, he delivers 37 newspapers to customers in his neighbourhood. It takes Vandan 50 minutes to deliver all the papers. If Vandan is sick or has other plans, his friend Tushar, who lives on the same street, will sometimes deliver the papers for him.

- (A) जब वंदन अपनी डिलीवरी शुरू करता है तो बाहर अंधेरा होता है।  
It is dark outside when Vandan begins his deliveries. 3
- (B) तुषार को पेपर देने में 50 मिनट से अधिक का समय लगता है।  
It takes Tushar more than 50 minutes to deliver the papers. 2
- (C) तुषार अपना खुद का पेपर रूट रखना चाहेगा।  
Tushar would like to have his own paper route. 4
- (D) वंदन और तुषार एक ही पड़ोस में रहते हैं।  
Vandan and Tushar live in the same neighbourhood. 1

Right Answer : (D)

Right Option Id : 22001

#### Question 12

Question Id : 9

A, C का पिता है। लेकिन C उसका पुत्र नहीं है।  
E, C की बेटी है। F, A का जीवनसाथी है।  
B, C का भाई है। D, B का पुत्र है।  
G, B का जीवनसाथी है। H, G का पिता है।  
D की दादी कौन है?  
A is the father of C. But C is not his son.  
E is the daughter of C. F is the spouse of A.  
B is the brother of C. D is the son of B.  
G is the spouse of B. H is the father of G.  
Who is the grandmother of D ?

- (A) C 9002
- (B) H 9004
- (C) F 9003
- (D) A 9001

Right Answer : (C)

Right Option Id : 9003

#### Question 13

Question Id : 1

सत्यजीत रे फिल्मों से उसी प्रकार संबंधित हैं जैसे पिकासो \_\_\_\_\_ से संबंधित हैं।

Satyajit Ray is related to films in the same way as Picasso is related to \_\_\_\_\_.

- (A) कविता  
poetry 1003
- (B) साहित्य  
literature 1001
- (C) चित्रकारी  
painting 1004
- (D) नाटक  
drama 1002

Right Answer : (C)

Right Option Id : 1004

#### Question 14

Question Id : 18

अनन्या और भूमि की आय का योग छाया और ध्याना की कुल आय से अधिक है। अनन्या और छाया की आय का योग भूमि और ध्याना की कुल आय के समान है। इसके अलावा, अनन्या भूमि और ध्याना की आय के योग का आधा कमाती है।

किसकी आय सबसे अधिक है?

The sum of the income of Ananya and Bhumi is more than that of Chhaya and Dhyana taken together. The sum of the income of Ananya and Chhaya is the same as that of Bhumi and Dhyana taken together. Moreover, Ananya earns half as much as the sum of the income of Bhumi and Dhyana.

Whose income is the highest ?

- (A) छाया  
Chhaya 1800 3
- (B) ध्याना  
Dhyana 1800 4



- (C) भूमि

Bhumi

☐

1800
- (D) अनन्या

Ananya

☐

1800
- ☐

2
- ☐

1

Right Answer : (C)

Right Option Id : 18002

Question 15

Question Id : 5

यदि एक निश्चित भाषा में CHARCOAL को 45164913 के रूप में कोडित किया जाता है और MORALE को 296137 के रूप में कोडित किया जाता है, तो उस भाषा में निम्नलिखित शब्दों को कैसे कोडित किया जाता है?

ALLOCHRE

If in a certain language CHARCOAL is coded as 45164913 and MORALE is coded as 296137, how are the following words coded in that language ?

ALLOCHRE

(A) 13396875

☐

5004

(B) 13394567

☐

5002

(C) 19943785

☐

5001

(D) 16693895

☐

5003

Right Answer : (B)

Right Option Id : 5002

Question 16

Question Id : 14

सारिका बिंदु X से शुरू करके दक्षिण की ओर 20 मीटर चली। वह बायीं ओर मुड़ी और 30 मीटर चली। फिर वह बायीं ओर मुड़ी और 20 मीटर चली। वह फिर बाईं ओर मुड़ी और 40 मीटर चली और बिंदु Y पर पहुंची। बिंदु Y, बिंदु X से कितनी दूर और किस दिशा में है?

Starting from a point X, Sarika walked 20 metres towards South. She turned left and walked 30 metres. She then turned left and walked 20 metres. She again turned left and walked 40 metres and reached a point Y. How far and in which direction is the point Y from the point X ?

(A) 20 मीटर पश्चिम

20 metres West

☐

1400

(B) 10 मीटर उत्तर

10 metres North

☐

1400

(C) 10 मीटर पूर्व

10 metres East

☐

1400

(D) 10 मीटर पश्चिम

10 metres West

☒

1400

☐

3

Right Answer : (D)

Right Option Id : 14003

Question 17

Question Id : 2

निम्नलिखित चार में से तीन एक निश्चित तरीके से समान हैं और इसलिए एक समूह बनाते हैं। वह कौन सा है जो उस समूह से संबंधित नहीं है?

Three of the following four are alike in a certain way and so form a group. Which is the one that does not belong to that group?

(A) चुकंदर

Beetroot

☐

2003

(B) धनिया

Coriander

☒

2004

(C) अदरक

Ginger

☐

2001

(D) प्याज

Onion

☐

2002

Right Answer : (B)

Right Option Id : 2004

Question 18

Question Id : 17

निम्नलिखित प्रश्न में एक कथन और उसके बाद दो तर्क दिए गए हैं। उत्तर दीजिए।

कथन : क्या केवल योग्य लेखकों के लेखों को ही प्रकाशित करने की अनुमति दी जानी चाहिए?

तर्क : I. हां, इससे बहुत सारा कागज बचेगा जिसकी आपूर्ति कम है। II. नहीं, योग्य और अयोग्य के बीच एक रेखा खींचना संभव नहीं है।

In the following question, a statement followed by two arguments is given.

Give answer.

**Statement :** Should articles of only deserving authors be allowed to be published?

**Arguments :** I. Yes, It will save a lot of paper which is in short supply.

II. No. It is not possible to draw a line between the deserving and the undeserving.

(A) यदि केवल तर्क I मजबूत है

if only argument I is strong

☐

1700

(B) यदि केवल तर्क II मजबूत है

if only argument II is strong

☒

1700

(C) न तो तर्क I और न ही II मजबूत है

neither argument I nor II is strong

☐

1700

(D) यदि या तो I या II मजबूत है

if either I or II is strong

☐

1700

☐

3

Right Answer : (B)

Right Option Id : 17002

Question 19

Question Id : 7

Question 20

Question Id : 19

यदि - का अर्थ  $\div$  है, + का अर्थ  $\times$  है,  $\div$  का अर्थ - है,  $\times$  का अर्थ + है, तो निम्नलिखित में से कौन सा समीकरण सही है?

If - means  $\div$ , + means  $\times$ ,  $\div$  means -,  $\times$  means +, then which of the following equations is correct ?

- (A)  $43 \times 7 \div 5 + 4 - 8 = 25$  7002  
 (B)  $52 \div 4 + 5 \times 8 - 2 = 36$  7001  
 (C)  $36 \times 4 - 12 + 5 \div 3 = 420$  7003  
 (D)  $36 - 12 \times 6 \div 3 + 4 = 60$  7004

Right Answer : (B)

Right Option Id : 7001

दी गई आकृति की दर्पण छवि का चयन करें जब दर्पण को दाईं ओर रखा गया हो।

Select the mirror image of the given figure when the mirror is placed at the right side.

- (A) 1900 4  
 (B) 1900 1  
 (C) 1900 3  
 (D) 1900 2

Right Answer : (A)

Right Option Id : 19004

#### Question 21

Question Id : 4

EXAMPLE शब्द में दो अक्षर हैं जो वर्णमाला में जितने अक्षर हैं उतने ही अक्षरों के अंतर पर हैं। ऐसे दो अक्षरों के मध्य में कौन सा अक्षर है?

In the word EXAMPLE there are two letters which are as many letters apart as they are in alphabet. What is the letter in the centre of two such letters ?

- (A) N 4003  
 (B) Q 4004  
 (C) C 4001  
 (D) B 4002

Right Answer : (C)

Right Option Id : 4001

#### Question 22

Question Id : 25

एक आवासीय सोसायटी में, 20% सदस्यों के पास केवल दो कारें हैं, शेष 40% के पास तीन कारें हैं और बाकी बचे सदस्यों के पास केवल एक कार है। दिए गए कथनों में से निम्नलिखित में से कौन सा कथन निश्चित रूप से सत्य है?

In a residential society, 20% of the members own only two cars each, 40% of the remaining own three cars each and the remaining members own only one car each. Which of the following statements is definitely true from the given statements ?

- (A) कुल सदस्यों में से केवल 20% के पास तीन कारें हैं।  
 Only 20% of the total members own three cars each. 2500 1  
 (B) कुल सदस्यों में से 48% के पास केवल एक कार है।  
 48% of the total members own only one car each. 2500 2  
 (C) कुल सदस्यों में से 80% के पास कम से कम एक कार है।  
 80% of the total members own at least one car. 2500 4  
 (D) कुल सदस्यों में से 60% के पास कम से कम दो कारें हैं।  
 60% of the total members own at least two cars each. 2500 3

Right Answer : (B)

Right Option Id : 25002

#### Question 23

Question Id : 11

दी गई श्रृंखला में लुप्त पद ज्ञात कीजिए।

Find out the missing term in the given series.

AK, EO, IS, (?), QA, UE

- (A) NX 1100 3  
 (B) MW 1100 2  
 (C) TB 1100 1  
 (D) NW 1100 4

#### Question 24

Question Id : 20

विवरण को ध्यानपूर्वक पढ़ें और प्रश्न का उत्तर दें।

महेश गौतम से तेज़ दौड़ता है।

लोकेश, महेश से तेज़ दौड़ता है।

गौतम लोकेश से तेज़ दौड़ता है।

यदि पहले दो कथन सत्य हैं, तो तीसरा कथन है

Read the details carefully and answer the question.

Mahesh runs faster than Gautam.

Lokesh runs faster than Mahesh.

Gautam runs faster than Lokesh.

If the first two statements are true, the third statement is

- (A) अनिश्चित 2000 3  
 Uncertain

Right Answer : (B)

Right Option Id : 11002

- (B) सत्य

True

☐

2000

1
- (C) असत्य

False

☒

2000

2
- (D) जानकारी पर्याप्त नहीं है

Information is not sufficient

☐

2000

4

Right Answer : (C)

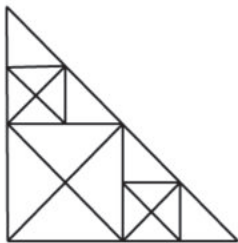
Right Option Id : 20002

Question 25

Question Id : 23

दी गई आकृति में कितने त्रिभुज हैं?

How many triangles are there in the given figure?



- (A) 34

☐

2300

2
- (B) 39

☐

2300

4
- (C) 32

☐

2300

1
- (D) 37

☐

2300

3

Right Answer : (D)

Right Option Id : 23003

Arithmetical and Numerical Ability

Question 26

Question Id : 27

निम्नलिखित तालिका का ध्यानपूर्वक अध्ययन करें और उस पर आधारित प्रश्न का उत्तर दें  
निम्न तालिका 2018 से 2023 तक चार निर्माताओं के दोपहिया वाहनों की घरेलू बिक्री दर्शाती है (सभी आंकड़े हजारों में हैं)  
Study the following table carefully and answer the question based on it :  
The following table shows the domestic sales of two wheelers of four manufacturers from 2018 to 2023.(All the figures are in thousands)

Manufacturer निर्माता	2018	2019	2020	2021	2022	2023
A	45	40	49	50	52	51
B	40	35	38	42	41	40
C	35	30	33	38	40	39
D	39	36	39	45	43	44

2019 से 2023 तक "A" के दोपहिया वाहनों की घरेलू बिक्री की संख्या और "C" के दोपहिया वाहनों की घरेलू बिक्री की संख्या का अनुमानित अनुपात क्या है?

What is the approximate ratio of the number of domestic sales of two wheelers of "A" to that of the number of domestic sales of two wheelers of "C" from 2019 to 2023 ?

- (A) 1.25

☐

2700

1
- (B) 1.34

☐

2700

4

Question 27

Question Id : 39

परेश ने एक प्लॉट खरीदा जिसके लिए वह रु. 8000 का नकद भुगतान करता है और 5 साल बाद 9600 रुपये देने का वादा किया। यदि साधारण ब्याज की दर 4% प्रति वर्ष हो, तो प्लॉट का नकद मूल्य क्या है?  
Paresh purchases a plot for which he pays Rs. 8000 in cash and promises to pay Rs. 9600 after 5 years. If the rate of simple interest be 4% per annum, what is the cash value of the plot ?

- (A) रु. 19520

Rs. 19520

☐

3900

3
- (B) रु. 15000

Rs. 15000

☐

3900

4
- (C) रु. 17600

Rs. 17600

☐

3900

2
- (D) रु. 16000

Rs. 16000

☐

3900

1

Right Answer : (A)

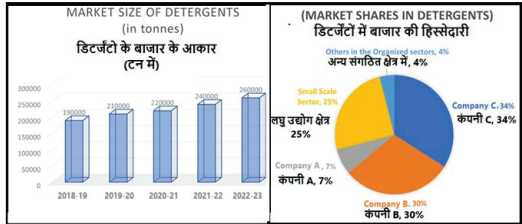
Right Option Id : 39003

- (C) 1.56 ☐ 2700  
2  
(D) 1.45 ☐ 2700  
3

Right Answer : (B) Right Option Id : 27004

Question 28 Question Id : 30

भारत में डेटर्जेंट के बाजार के आकार और विभिन्न डेटर्जेंटों की बाजार हिस्सेदारी के लिए नीचे दिए गए चार्ट देखें और निम्नलिखित प्रश्न का उत्तर दें। Refer below charts for market size of detergents in India and market share occupied by the different detergents and answer the following question.



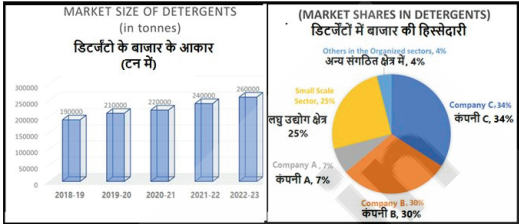
2022-23 में कंपनी-B की तुलना में कंपनी-C की बिक्री कितनी अधिक है? How much more is Company-C's sale compared to Company-B in 2022-23?

- (A) 6.7 % ☐ 3000  
2  
(B) 4 % ☐ 3000  
1  
(C) 16.7 % ☐ 3000  
4  
(D) 13.3 % ☐ 3000  
3

Right Answer : (B) Right Option Id : 30001

Question 29 Question Id : 35

भारत में डेटर्जेंट के बाजार के आकार और विभिन्न डेटर्जेंटों की बाजार हिस्सेदारी के लिए नीचे दिए गए चार्ट देखें और निम्नलिखित प्रश्न का उत्तर दें। Refer below charts for market size of detergents in India and market share occupied by the different detergents and answer the following question.



2018-19 से 2022-23 तक डिटर्जेंट के बाजार की प्रतिशत वृद्धि क्या है? What is the percentage growth of detergents market from 2018-19 to 2022-23 ?

- (A) 26.92 % ☐ 3500  
4  
(B) 8.17 % ☐ 3500  
2  
(C) 9.2 % ☐ 3500  
3  
(D) 7.4 % ☐ 3500  
1

Right Answer : (A) Right Option Id : 35004

Question 30 Question Id : 41

$74.46 \div 0.34 \times 12 = k \times 9 + 1035$ , तो k का मान है:  $74.46 \div 0.34 \times 12 = k \times 9 + 1035$ , then the value of k is:

- (A) 177 ☐ 4100  
4  
(B) 70 ☐ 4100  
3  
(C) 1070 ☐ 4100  
1  
(D) 1790 ☐ 4100  
2

Right Answer : (A) Right Option Id : 41004

Question 31 Question Id : 26

एक धनराशि 5% वार्षिक चक्रवृद्धि ब्याज पर उधार दी गई थी। यदि 3 वर्ष की राशि 2 वर्ष की राशि से रु. 441 अधिक है तो, योग क्या है? A sum of money was lent at 5% per annum compound interest. If the amount for 3 years is more than amount for 2 years by Rs. 441, what is the sum ?

- (A) रु. 7000 ☐ 2600  
Rs. 7000 3  
(B) रु. 8000 ☐ 2600  
Rs. 8000 4  
(C) रु. 9000 ☐ 2600  
Rs. 9000 1  
(D) रु. 5000 ☐ 2600  
Rs. 5000 2

Right Answer : (B) Right Option Id : 26004

Question 32 Question Id : 48

Question 33 Question Id : 28

निम्नलिखित तालिका का ध्यानपूर्वक अध्ययन करें और उस पर आधारित प्रश्न का उत्तर दें

एक निर्माता थोक विक्रेता को 18% लाभ पर एक जोड़ी जूते बेचता है। थोक विक्रेता उसे खुदरा विक्रेता को 20% के लाभ पर बेचता है। बदले में खुदरा विक्रेता उन्हें ग्राहक को 30.09 रुपये में बेचता है। इस प्रकार 25% का लाभ अर्जित किया। निर्माता के लिए लागत मूल्य है

A manufacturer sells a pair of shoes to a wholesale dealer at a profit of 18%. The wholesaler sells the same to a retailer at a profit of 20%. The retailer in turn sells them to a customer for Rs. 30.09 thereby earning a profit of 25%. The cost price for the manufacturer is

- (A) ₹. 16 ☐ 4800  
Rs. 16 2  
(B) ₹. 15 ☐ 4800  
Rs. 15 1  
(C) ₹. 18 ☐ 4800  
Rs. 18 4  
(D) ₹. 17 ☐ 4800  
Rs. 17 3

Right Answer : (D)

Right Option Id : 48003

निम्न तालिका 2018 से 2023 तक चार निर्माताओं के दोपहिया वाहनों की घरेलू बिक्री दर्शाती है (सभी आंकड़े हजारों में हैं)

Study the following table carefully and answer the question based on it :

The following table shows the domestic sales of two wheelers of four manufacturers from 2018 to 2023. (All the figures are in thousands)

Manufacturer निर्माता	2018	2019	2020	2021	2022	2023
A	45	40	49	50	52	51
B	40	35	38	42	41	40
C	35	30	33	38	40	39
D	39	36	39	45	43	44

2022 में दोपहिया वाहनों की घरेलू बिक्री की संख्या 2019 में दोपहिया वाहनों की घरेलू बिक्री की संख्या से लगभग कितने प्रतिशत अधिक या कम है?

The number of domestic sales of two wheelers in 2022 is approximately what percent more or less than the number of domestic sales of two wheelers in 2019 ?

- (A) 24.82% ☐ 2800  
3  
(B) 20.90% ☐ 2800  
2  
(C) 28.69% ☐ 2800  
4  
(D) 15.60% ☐ 2800  
1

Right Answer : (A)

Right Option Id : 28003

Question 34

Question Id : 40

यदि दो संख्याओं का गुणनफल 540 है और उनका H.C.F 6 है, तो ऐसी संख्याओं के कितने अद्वितीय जोड़े संभव हैं?

If the product of two numbers is 540 and their H.C.F is 6, how many unique pairs of such numbers are possible ?

- (A) 1 ☐ 4000  
4  
(B) 4 ☐ 4000  
3  
(C) 3 ☒ 4000  
1  
(D) 2 ☐ 4000  
2

Right Answer : (D)

Right Option Id : 40002

Question 35

Question Id : 46

तीन लड़कों आरव, भद्रेश और चमन का औसत वजन 84 किलोग्राम है। जब चौथे लड़के दिनेश को शामिल किया जाता है तो औसत वजन 80 किलोग्राम होता है। यदि आरव के स्थान पर आये गौतम का वजन दिनेश के वजन से 3 किलोग्राम अधिक है, तो भद्रेश, चमन, दिनेश और गौतम का औसत वजन 79 किलोग्राम है। आरव का वजन कितना है?

Average weight of three boys Aarav, Bhadresh and Chaman is 84 kg. When a fourth boy Dinesh is included then the average weight is 80 kg. If the weight of Gautam (who replaces Aarav) is more than that of Dinesh by 3 kg, the average weight of Bhadresh, Chaman, Dinesh and Gautam is 79 kg. What is the weight of Aarav ?

- (A) 80 किग्रा ☐ 4600  
80 kg 2  
(B) 75 किग्रा ☐ 4600  
75 kg 4  
(C) 70 किग्रा ☐ 4600  
70 kg 3  
(D) 85 किग्रा ☐ 4600  
85 kg 1

Right Answer : (B)

Right Option Id : 46004

Question 36

Question Id : 33

भारत में डेटर्जेंट के बाजार के आकार और विभिन्न डेटर्जेंटों की बाजार हिस्सेदारी के लिए नीचे दिए गए चार्ट देखें और निम्नलिखित प्रश्न का उत्तर दें। Refer below charts for market size of detergents in India and market share occupied by the different detergents and answer the following question.

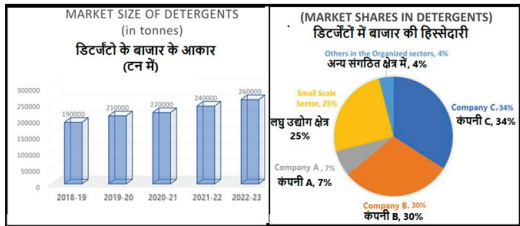
Question 37

Question Id : 47

एक निश्चित रेलवे पर प्रथम और द्वितीय श्रेणी का किराया क्रमशः 7 रुपये और 3 रुपये प्रति किलोमीटर है। सरिता 100 किमी की यात्रा करती है, और कुल 340 रुपये खर्च करती है। दूरी का एक भाग प्रथम श्रेणी में और शेष भाग द्वितीय श्रेणी में यात्रा करती हैं। उसने प्रथम श्रेणी में कितने किलोमीटर की यात्रा की?

On a certain railway the first and second class fares are Rs.7 and Rs.3 per kilometre respectively. Sarita travels 100 km and spends total Rs. 340 in travelling a part of distance by first class and the remainder in second class. How many kilometres did she travel in first class ?

- (A) 30 ☐ 4700  
1



यदि बेचे गए डिटर्जेंट की मात्रा में लगातार 20% की वृद्धि हुई है तो 2019-20 में कंपनी-B की बाज़ार हिस्सेदारी क्या है?

What is Company-B's Market share in 2019-20 if the quantity of detergents sold has continuously increased by 20% ?

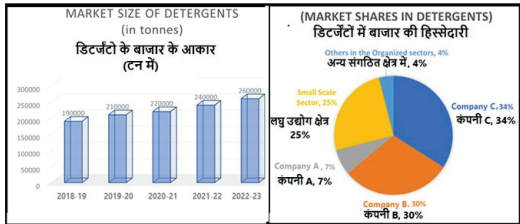
- (A) 21.5 % ☐ 3300 2
- (B) 17.9 % ☐ 3300 1

- (B) 10 ☐ 4700 3
- (C) 90 ☐ 4700 2
- (D) 48.5 ☐ 4700 4

Right Answer : (B) Right Option Id : 47003

Question 38 Question Id : 32

भारत में डिटर्जेंट के बाज़ार के आकार और विभिन्न डिटर्जेंटों की बाज़ार हिस्सेदारी के लिए नीचे दिए गए चार्ट देखें और निम्नलिखित प्रश्न का उत्तर दें। Refer below charts for market size of detergents in India and market share occupied by the different detergents and answer the following question.



2021-22 में कंपनी B के डिटर्जेंट का बाज़ार आकार (टन में) क्या है?

What is the market size of detergent (in tonnes) of company B in 2021-22?

- (A) 48000 ☐ 3200 1
- (B) 60000 ☐ 3200 3
- (C) 52000 ☐ 3200 4
- (D) 72000 ☐ 3200 2

Right Answer : (D) Right Option Id : 32002

Question 39 Question Id : 36

उस वर्ग का परिमाप क्या है जिसका क्षेत्रफल उस वृत्त के क्षेत्रफल के बराबर है जिसकी परिधि  $2\pi$  है?

What is the perimeter of the square whose area is equal to the area of the circle whose circumference is  $2\pi$  ?

- (A)  $2\pi$  ☐ 3600 1
- (B)  $4\sqrt{\pi}$  ☐ 3600 4
- (C)  $\sqrt{\pi}$  ☐ 3600 2
- (D)  $\pi$  ☐ 3600 3

Right Answer : (B) Right Option Id : 36004

Question 40 Question Id : 50

राजेश, गणेश और साहिल ने एक साथ एक काम पूरा किया जिसके लिए उन्हें रु 63.35 प्राप्त किए। यदि राजेश 2 दिन में, गणेश 4 दिन में और साहिल 8 दिन में काम पूरा कर सकता है, तो गणेश को कितना पैसा मिलना चाहिए? Rajesh, Ganesh and Sahil completed a work together for which they got Rs. 63.35. If Rajesh can complete the work in 2 days, Ganesh in 4 days and Sahil in 8 days, then how much money should Ganesh get ?

- (A) रु. 9.05 ☐ 5000 3
- (B) रु. 18.10 ☒ 5000 4
- (C) रु. 60.20 ☐ 5000 2
- (D) रु. 10.15 ☐ 5000 1

Right Answer : (B) Right Option Id : 50004

Question 41 Question Id : 31

हल करें:

Solve:  
 $[(125)^2 \div 50 \times 20] \div 25 = ?$

- (A) 150 ☐ 3100 3
- (B) 11 ☐ 3100 1
- (C) 250 ☒ 3100 4
- (D) 100 ☐ 3100 2

Right Answer : (C) Right Option Id : 31004

Question 42

Question Id : 29

निम्नलिखित तालिका का ध्यानपूर्वक अध्ययन करें और उस पर आधारित प्रश्न का उत्तर दें

निम्न तालिका 2018 से 2023 तक चार निर्माताओं के दोपहिया वाहनों की घरेलू बिक्री दर्शाती है (सभी आंकड़े हजारों में हैं )

Study the following table carefully and answer the question based on it :

The following table shows the domestic sales of two wheelers of four manufacturers from 2018 to 2023.(All the figures are in thousands)

Manufacturer निर्माता	2018	2019	2020	2021	2022	2023
A	45	40	49	50	52	51
B	40	35	38	42	41	40
C	35	30	33	38	40	39
D	39	36	39	45	43	44

सभी वर्षों में "A" निर्माता की औसत घरेलू बिक्री की तुलना में "A" निर्माता की घरेलू बिक्री कितने वर्षों में कम रही है?

How many years have less domestic sales of "A" manufacturer compare to average domestic sales of "A" manufacturer over all years ?

- (A) 2 ☒ 2900 2
- (B) 1 ☐ 2900 1
- (C) 3 ☐ 2900 3
- (D) 4 ☐ 2900 4

Right Answer : (A)

Right Option Id : 29002

Question 44

Question Id : 38

निम्नलिखित तालिका का ध्यानपूर्वक अध्ययन करें और उस पर आधारित प्रश्न का उत्तर दें

निम्न तालिका 2018 से 2023 तक चार निर्माताओं के दोपहिया वाहनों की घरेलू बिक्री दर्शाती है (सभी आंकड़े हजारों में हैं )

Study the following table carefully and answer the question based on it :

The following table shows the domestic sales of two wheelers of four manufacturers from 2018 to 2023.(All the figures are in thousands)

Manufacturer निर्माता	2018	2019	2020	2021	2022	2023
A	45	40	49	50	52	51
B	40	35	38	42	41	40
C	35	30	33	38	40	39
D	39	36	39	45	43	44

"D" के दोपहिया वाहनों की घरेलू बिक्री की औसत संख्या "B" के दोपहिया वाहनों की घरेलू बिक्री की औसत संख्या से लगभग कितने प्रतिशत अधिक या कम है?

The average number of domestic sales of two wheelers of "D" is approximate what percent more or less than the average number of domestic sales of two wheelers of "B" ?

- (A) 2.97 % ☐ 3800 3
- (B) 4.79 % ☒ 3800 4
- (C) 3.5 % ☐ 3800 1
- (D) 4.23 % ☐ 3800 2

Right Answer : (D)

Right Option Id : 38002

Question 43

Question Id : 34

एक घन के कोने को उस कोने पर मिलने वाले तीन कोनों के मध्य बिंदु से गुजरने वाले तल द्वारा काटा गया है। यदि घन की कोर 2 सेमी लंबी है, तो इस प्रकार काटे गए पिरामिड का आयतन है

The corner of a cube has been cut by the plane passing through mid point of the three edges meeting at that corner. If the edge of the cube is of 2 cm length, then the volume of the pyramid thus cut off is

- (A)  $6\text{ cm}^3$  ☐ 3400 4
- (B)  $1/24\text{ cm}^3$  ☐ 3400 1
- (C)  $1/48\text{ cm}^3$  ☐ 3400 3
- (D)  $1/6\text{ cm}^3$  ☐ 3400 2

Right Answer : (D)

Right Option Id : 34002

Question 45

Question Id : 49

एक दुकानदार बाजार मूल्य पर 10% छूट पर एक सूटकेस बेचने पर 20% का लाभ कमाता है। सूटकेस के लागत मूल्य और बाजार मूल्य का अनुपात ज्ञात कीजिए।

A shopkeeper earns a profit of 20% on selling a suitcase at 10% discount on market price. Find the ratio of the cost price to the market price of the suitcase.

- (A) 4 : 3 ☐ 4900 2
- (B) 3 : 4 ☒ 4900 1
- (C) 7 : 5 ☐ 4900 4
- (D) 5 : 7 ☐ 4900 3

Right Answer : (B)

Right Option Id : 49001



#### Question 46

Question Id : 45

एक पुस्तकालय में 20% किताबें कन्नड़ में हैं, और शेष किताबों की 50% किताबें मराठी में हैं। यदि बाकी बची 900 पुस्तकें अन्य क्षेत्रीय भाषा में हैं, तो पुस्तकालय में कुल कितनी पुस्तकें हैं?

In a library there are 20% books in Kannada, and 50% of the rest in Marathi. If the remaining 900 books are in other regional language, then how many books are there in the library ?

- (A) 2250 ☒ 4500  
2  
(B) 2000 ☐ 4500  
3  
(C) 3000 ☐ 4500  
4  
(D) 4000 ☐ 4500  
1

Right Answer : (A)

Right Option Id : 45002

#### Question 47

Question Id : 42

निम्नलिखित में से कौन सा आरोही क्रम में है?

Which one of the following is in ascending order?

- (A)  $\frac{11}{21}, \frac{11}{14}, \frac{16}{19}$  ☒ 4200  
3  
(B)  $\frac{11}{14}, \frac{16}{19}, \frac{11}{21}$  ☐ 4200  
1  
(C)  $\frac{16}{19}, \frac{11}{14}, \frac{11}{21}$  ☐ 4200  
2  
(D)  $\frac{16}{19}, \frac{11}{21}, \frac{11}{14}$  ☐ 4200  
4

Right Answer : (A)

Right Option Id : 42003

#### Question 48

Question Id : 44

वह सबसे छोटी पूर्ण वर्ग संख्या कौन सी है जो 3, 4, 7, 10 और 12 से पूर्णतः विभाज्य हो?

What is the least perfect square number which is exactly divisible by 3, 4, 7, 10 and 12

- (A) 62500 ☐ 4400  
4  
(B) 8100 ☐ 4400  
1  
(C) 44100 ☒ 4400  
3  
(D) 17600 ☐ 4400  
2

Right Answer : (C)

Right Option Id : 44003

#### Question 49

Question Id : 43

हल करें:  $\frac{(25 \times 24) + 28 \times 10}{240 \div 60 + 60 \div 5} = ?$

Solve:  $\frac{(25 \times 24) + 28 \times 10}{240 \div 60 + 60 \div 5} = ?$

- (A) 392.5 ☐ 4300  
2  
(B) 68.75 ☐ 4300  
1  
(C)  $18\frac{1}{3}$  ☐ 4300  
4  
(D) 55 ☐ 4300  
3

Right Answer : (D)

Right Option Id : 43003

#### Question 50

Question Id : 37

एक लंब वृत्ताकार शंकु का व्यास 15 मीटर है और इसकी तिरछी ऊँचाई 12 मीटर है। 14 पैसे प्रति वर्ग मीटर की दर से इसकी कुल सतह को रंगने की लागत ज्ञात कीजिए। ( $\pi = 22/7$ )

The diameter of a right circular cone is 15 metres and its slant height is 12 metres. Find the cost of colouring its total surface at the rate of 14 paise per sq. metre. ( $\pi = 22/7$ )

- (A) रु. 45.52 ☐ 3700  
3  
Rs. 45.52  
(B) रु. 64.35 ☐ 3700  
2  
Rs. 64.35

(C) ₹. 58.52

Rs. 58.52

(D) ₹. 52.52

Rs. 52.52

3700

4

3700

1

Right Answer : (B)

Right Option Id : 37002

General Science

Question 51

Question Id : 61

\_\_\_\_\_ एक अद्वितीय मान है जो तालिका में एक पंक्ति की पहचान करता है।

A \_\_\_\_\_ is a unique value that identifies a row in a table.

(A) कार्टेशियन प्रोडक्ट

cartesian product

(B) डिफ़ॉल्ट वैल्यू

default value

(C) ज्वाइन

join

(D) प्राइमरी की

primary key

6100

1

6100

4

6100

2

6100

3

Right Answer : (D)

Right Option Id : 61003

Question 52

Question Id : 58

ओपन ऑफिस में \_\_\_\_\_ का उपयोग स्टाइल्स और फॉर्मेटिंग विंडो पर वापस जाने और हर बार डबल-क्लिक किए बिना कई अलग-अलग क्षेत्रों में स्टाइल लागू करने के लिए किया जाता है।

In Open Office \_\_\_\_\_ is used to apply a style to many different areas quickly without having to go back to the Styles and Formatting window and double-click every time.

(A) गोल सीक

Goal Seek

(B) टेबल्स टैब

Tables Tab

(C) फील फॉर्मेट मोड

Fill Format Mode

(D) हेडर एंड फूटर

Header and Footer

5800

2

5800

3

5800

1

5800

4

Right Answer : (C)

Right Option Id : 58001

Question 53

Question Id : 74

अपश्रव्य (इन्फ्रासाउंड) निम्नलिखित में से किसके द्वारा सुना जा सकता है?

Infrasound can be heard by whom of the following?

(A) गैंडा

Rhinoceroses

(B) बिल्ली

Cat

(C) कुत्ता

Dog

(D) मनुष्य

Human beings

7400

4

7400

1

7400

2

7400

3

Right Answer : (A)

Right Option Id : 74004

Question 54

Question Id : 56

आमतौर पर, आप मौजूदा मूल्य के आधार पर परिणाम की गणना करने के लिए स्प्रेडशीट में एक फॉर्मूला चलाते हैं। इसके विपरीत, \_\_\_\_\_ विकल्प का उपयोग करके, आप पता लगा सकते हैं कि कौन से मूल्य वह परिणाम देंगे जो आप चाहते हैं।

Usually, you run a formula in spreadsheet to calculate a result based upon existing values. By contrast, using \_\_\_\_\_ option, you can discover what values will produce the result that you want.

(A) गोल सीक

Goal Seek

(B) फ़िल्टर

Filter

(C) स्टाइल्स

Styles

(D) सॉर्टिंग

Sorting

5600

3

5600

4

5600

2

5600

1

Right Answer : (A)

Right Option Id : 56003

**Question 55****Question Id : 71**

वे सामग्रियां जो अपने माध्यम से बड़ी धाराओं को प्रवाहित होने देती हैं, कहलाती हैं:

Materials which allow larger currents to flow through them are called:

- |                                 |                                  |           |
|---------------------------------|----------------------------------|-----------|
| (A) चालक<br>Conductors          | <input checked="" type="radio"/> | 7100<br>1 |
| (B) अर्धचालक<br>Semiconductors  | <input type="radio"/>            | 7100<br>4 |
| (C) मिश्र धातु<br>Alloys        | <input type="radio"/>            | 7100<br>3 |
| (D) विद्युत्‌रोधक<br>Insulators | <input type="radio"/>            | 7100<br>2 |

**Right Answer : (A)****Right Option Id : 71001****Question 56****Question Id : 60**

निम्नलिखित में से कौन सी धातु कमरे के तापमान पर तरल अवस्था में पाई जाती है?

Which of the following metals is found in liquid state at room temperature?

- |                        |                                  |           |
|------------------------|----------------------------------|-----------|
| (A) पारा<br>Mercury    | <input checked="" type="radio"/> | 6000<br>2 |
| (B) सोना<br>Gold       | <input type="radio"/>            | 6000<br>3 |
| (C) सोडियम<br>Sodium   | <input type="radio"/>            | 6000<br>4 |
| (D) ब्रोमीन<br>Bromine | <input type="radio"/>            | 6000<br>1 |

**Right Answer : (A)****Right Option Id : 60002****Question 57****Question Id : 66**

निम्नलिखित में से कौन सा बहुलक थर्मोसेटिंग बहुलक है?

Which of the following polymers is thermosetting polymer?

- |                               |                       |           |
|-------------------------------|-----------------------|-----------|
| (A) बैकेलाइट<br>Bakelite      | <input type="radio"/> | 6600<br>4 |
| (B) नियोप्रीन<br>Neoprene     | <input type="radio"/> | 6600<br>3 |
| (C) पॉलीस्टाइन<br>Polystyrene | <input type="radio"/> | 6600<br>1 |
| (D) टेरीलीन<br>Terylene       | <input type="radio"/> | 6600<br>2 |

**Right Answer : (A)****Right Option Id : 66004****Question 58****Question Id : 67**

वाहनों में रियर-व्यू दर्पण के रूप में उपयोग किया जाने वाला दर्पण \_\_\_\_\_ है।

The mirror used as rear-view mirror in vehicles is \_\_\_\_\_.

- |  |                                  |           |
|--|----------------------------------|-----------|
| (A) उत्तल दर्पण<br>convex mirror         | <input checked="" type="radio"/> | 6700<br>4 |
| (B) बेलनाकार दर्पण<br>cylindrical mirror | <input type="radio"/>            | 6700<br>2 |
| (C) अवतल दर्पण<br>concave mirror         | <input type="radio"/>            | 6700<br>3 |
| (D) समतल दर्पण<br>plane mirror           | <input type="radio"/>            | 6700<br>1 |

**Right Answer : (A)****Right Option Id : 67004****Question 59****Question Id : 62**

हाइड्रोकार्बन कार्बन और हाइड्रोजन के यौगिक हैं। हाइड्रोकार्बन के पूर्ण दहन पर कौन सा/कौन से उत्पाद बनते हैं?

Hydrocarbons are the compounds of carbon and hydrogen. Which is/are products formed on complete combustion of hydrocarbons?

- |  |                       |           |
|--|-----------------------|-----------|
| (A) कार्बन मोनोक्साइड<br>Carbon monoxide           | <input type="radio"/> | 6200<br>2 |
| (B) केवल कार्बन डाइऑक्साइड<br>Carbon di-oxide only | <input type="radio"/> | 6200<br>4 |

**Question 60****Question Id : 53**

निम्नलिखित में से कौन सा अंग मछली को पानी के भीतर सांस लेने की अनुमति देता है?

Which of the following organs allows fish to breathe underwater?

- |                      |                       |           |
|----------------------|-----------------------|-----------|
| (A) फेफड़े<br>Lungs  | <input type="radio"/> | 5300<br>1 |
| (B) आंत<br>Intestine | <input type="radio"/> | 5300<br>3 |

- (C) कार्बन और हाइड्रोजन  
Carbon and hydrogen ☐ 6200 1
- (D) कार्बन डाइऑक्साइड और पानी  
Carbon di-oxide and water ☒ 6200 3

Right Answer : (D)

Right Option Id : 62003

- (C) गलफड़े  
Gills ☒ 5300 2
- (D) त्वचा  
Skin ☐ 5300 4

Right Answer : (C)

Right Option Id : 53002

Question 61

Question Id : 63

स्कर्वी (मसूड़ों से खून आना) किस विटामिन की कमी से होता है?

Scurvy (bleeding of gums) is caused by deficiency of which vitamin?

- (A) विटामिन के  
Vitamin K ☐ 6300 1
- (B) विटामिन बी2  
Vitamin B2 ☐ 6300 2
- (C) विटामिन ए  
Vitamin A ☐ 6300 4
- (D) विटामिन सी  
Vitamin C ☒ 6300 3

Right Answer : (D)

Right Option Id : 63003

Question 62

Question Id : 72

निम्नलिखित में से कौन सा आइसोटोप की विशेषताओं से मेल नहीं खाता है?

Which of the following does not match the characteristics of an Isotope?

- (A) कुछ तत्वों के आइसोटोप रेडियोधर्मी हैं।  
Isotopes of some elements are radioactive. ☐ 7200 2
- (B) आइसोटोप विभिन्न तत्वों के परमाणु हैं।  
Isotopes are the atoms of different elements. ☐ 7200 1
- (C) आइसोटोप न्यूट्रॉन की संख्या में भिन्न होते हैं।  
Isotopes differ in number of neutrons. ☐ 7200 4
- (D) आइसोटोप में समान रासायनिक गुण होते हैं।  
Isotopes have similar chemical properties. ☒ 7200 3

Right Answer : (B)

Right Option Id : 72001

Question 63

Question Id : 64

सोने को घोलने के लिए निम्नलिखित में से किसका उपयोग किया जाता है?

Which of the following is used for dissolution of gold?

- (A) एक्वा रेजिया  
Aqua regia ☐ 6400 4
- (B) सल्फ्यूरिक एसिड  
Sulphuric acid ☐ 6400 2
- (C) नाइट्रिक एसिड  
Nitric acid ☐ 6400 3
- (D) हाइड्रोक्लोरिक एसिड  
Hydrochloric acid ☐ 6400 1

Right Answer : (A)

Right Option Id : 64004

Question 64

Question Id : 55

1798 में चेचक के टीके की खोज किसने की?

Who discovered the vaccine for smallpox in 1798?

- (A) कार्ल लिनिअस  
Carl Linnaeus ☐ 5500 3
- (B) अलेक्जेंडर फ्लेमिंग  
Alexander Fleming ☐ 5500 1
- (C) लुई पाश्चर  
Louis Pasture ☐ 5500 4
- (D) एडवर्ड जेनर  
Edward Jenner ☒ 5500 2

Right Answer : (D)

Right Option Id : 55002

**Question 65****Question Id : 68**

निम्नलिखित में से कौन ऊष्मा रोधक है?

Which of the following is a heat insulator?

- (A) ताँबा ☐ 6800  
Copper 1
- (B) लोहा ☐ 6800  
Iron 4
- (C) जस्ता ☒ 6800  
Zinc 3
- (D) लकड़ी ☐ 6800  
Wood 2

**Right Answer : (D)****Right Option Id : 68002****Question 66****Question Id : 52**

सिट्रस कैंकर निम्नलिखित में से किसके कारण होता है?

Citrus canker is caused by which of the following?

- (A) बैक्टीरिया ☐ 5200  
Bacteria 1
- (B) वायरस ☐ 5200  
Virus 2
- (C) नेमाटोड ☐ 5200  
Nematode 3
- (D) कवक ☐ 5200  
Fungi 4

**Right Answer : (A)****Right Option Id : 52001****Question 67****Question Id : 73**

जब मैग्नीशियम रिबन को हवा में जलाया जाता है, तो जो राख बनती है वह है:

When a magnesium ribbon is burnt in air, the ash formed is:

- (A) पीला ☐ 7300  
Yellow 4
- (B) गुलाबी ☐ 7300  
Pink 3
- (C) काला ☐ 7300  
Black 2
- (D) सफ़ेद ☐ 7300  
White 1

**Right Answer : (D)****Right Option Id : 73001****Question 68****Question Id : 51**

निम्नलिखित में से कौन सा एक कीटभक्षी पौधा है?

Which among the following is an insectivorous plant?

- (A) डिस्किडिया ☐ 5100  
Dischidia 1
- (B) पिचर प्लांट ☒ 5100  
Pitcher Plant 4
- (C) डोडर ☐ 5100  
Dodder 2
- (D) कुस्कूटा ☐ 5100  
Cuscuta 3

**Right Answer : (B)****Right Option Id : 51004****Question 69****Question Id : 69**

निम्नलिखित में से भू-संपर्क तार का विद्युतरोधन रंग कौन सा है?

Which among the following is the insulation colour of earth wire?

- (A) पीला ☐ 6900  
Yellow 2
- (B) हरा ☒ 6900  
Green 4

**Question 70****Question Id : 75**

सामान्यतः अधातुएँ विद्युत की सुचालक नहीं होती हैं। निम्नलिखित में से कौन विद्युत का अच्छा सुचालक है?

Generally, non-metals are not conductors of electricity. Which of the following is a good conductor of electricity?

- (A) हीरा ☐ 7500  
Diamond 1
- (B) सल्फर ☐ 7500  
Sulphur 3



- (C) सफेद  
White 6900 3
- (D) लाल  
Red 6900 1

Right Answer : (B)

Right Option Id : 69004

- (C) ग्रेफाइट  
Graphite 7500 2
- (D) फुलरीन  
Fullerene 7500 4

Right Answer : (C)

Right Option Id : 75002

Question 71

Question Id : 59

\_\_\_\_\_ फ्री ऑफ़लाइन ब्लॉग एडिटर(संपादक) का एक उदाहरण है।

\_\_\_\_\_ is an example of free offline blog editor.

- (A) ओपन ऑफिस इम्प्रेस  
Open office Impress 5900 4
- (B) कुमाना  
Qumana 5900 2
- (C) माइक्रोसॉफ्ट एज  
Microsoft Edge 5900 1
- (D) मोज़िला फ़ायरफ़ॉक्स  
Mozilla Firefox 5900 3

Right Answer : (B)

Right Option Id : 59002

Question 72

Question Id : 57

निम्नलिखित में से कौन कोशिका की एक प्रकार की अपशिष्ट निपटान प्रणाली है?

Which of the following is a kind of waste disposal system of the cell?

- (A) लाइसोसोम  
Lysosome 5700 4
- (B) गॉल्जी उपकरण  
Golgi apparatus 5700 1
- (C) माइटोकॉन्ड्रिया  
Mitochondria 5700 3
- (D) प्लास्टिड  
Plastids 5700 2

Right Answer : (A)

Right Option Id : 57004

Question 73

Question Id : 70

एक विद्युत बल्ब में फ़िलामेंट की सामग्री में \_\_\_\_\_ होना चाहिए।

The material of the filament in an electric bulb should have\_\_\_\_\_.

- (A) कम प्रतिरोध और कम गलनांक  
low resistance & low melting point 7000 2
- (B) उच्च प्रतिरोध और उच्च गलनांक  
high resistance & high melting point 7000 3
- (C) कम प्रतिरोध  
low resistance 7000 4
- (D) उच्च प्रतिरोध और कम गलनांक  
high resistance & low melting point 7000 1

Right Answer : (B)

Right Option Id : 70003

Question 74

Question Id : 65

दो या दो से अधिक शुद्ध पदार्थों को किसी भी अनुपात में मिलाने से निम्नलिखित में से क्या बनता है?

Combining two or more pure substances in any proportion makes which of the following?

- (A) मिश्रण  
Mixture 6500 3
- (B) तत्व  
Element 6500 1
- (C) यौगिक  
Compounds 6500 2
- (D) वायु  
Gas 6500 4

Right Answer : (A)

Right Option Id : 65003



Question 75

निम्नलिखित में से किसका उपयोग जैवउर्वरक के रूप में किया जाता है?

Which of the following is used as a biofertilizer?

(A) नीम

Neem

☐

5400

3

(B) यूरिया

Urea

☐

5400

2

(C) पोटाश

Potash

☐

5400

4

(D) नीला हरा शैवाल

Blue green algae

☒

5400

1

Right Answer : (D)

Right Option Id : 54001

Eco & Soc Devt & Gen Issue on Env Ecology etc..

Question 76

पाकिस्तान किस आर्थिक मॉडल का अनुसरण करता है?

Pakistan follows which Economic model?

(A) बाजार अर्थव्यवस्था

Market economy

☐

8900

4

(B) पारंपरिक अर्थव्यवस्था

Traditional economy

☐

8900

2

(C) मिश्रित अर्थव्यवस्था

Mixed economy

☒

8900

1

(D) आदेश अर्थव्यवस्था

Command economy

☐

8900

3

Right Answer : (C)

Right Option Id : 89001

Question 77

निम्नलिखित में से कौन सी गैस आने वाले सौर विकिरण के लिए पारदर्शी और बाहर जाने वाले स्थलीय विकिरण के लिए अपारदर्शी है?

Which one of the following gases is transparent to incoming solar radiation and opaque to outgoing terrestrial radiation?

(A) हीलियम

Helium

☐

1000

03

(B) कार्बन डाइऑक्साइड

Carbon dioxide

☒

1000

04

(C) नाइट्रोजन

Nitrogen

☐

1000

02

(D) ऑक्सीजन

Oxygen

☐

1000

01

Right Answer : (B)

Right Option Id : 100004

Question 78

भारत में ग्रामीण-शहरी प्रवास में योगदान देने वाला प्राथमिक कारक क्या है?

What is a primary factor contributing to rural-urban migration in India?

(A) ग्रामीण क्षेत्रों में बुनियादी ढांचे में सुधार

Improved infrastructure in rural areas

☐

9400

1

Question 79

मानव पूंजी उत्पादकता के संदर्भ में मनुष्य को कैसे देखती है?

How does human capital view human beings in the context of productivity?

(A) साध्य के साधन के रूप में; अंत में उत्पादकता में वृद्धि होगी

☒

9000

2

- (B) ग्रामीण विकास का समर्थन करने वाली सरकारी नीतियाँ  
Government policies supporting rural development 9400 4
- (C) शहरी जीवन के लिए सांस्कृतिक प्राथमिकताएँ  
Cultural preferences for urban living 9400 2
- (D) बेरोजगारी  
Unemployment 9400 3

Right Answer : (D)

Right Option Id : 94003

- As a means to an end; the end being the increase in productivity
- (B) व्यक्तिगत खुशहाली को बढ़ाने के रूप में  
As Enhancing personal well-being 9000 3
- (C) सामाजिक समरसता प्राप्त करने के रूप में  
As Achieving social harmony 9000 4
- (D) उत्पादकता में बाधक के रूप में  
As an obstacle to productivity 9000 1

Right Answer : (A)

Right Option Id : 90002

#### Question 80

Question Id : 81

जानवरों की आबादी को समझने में जनसंख्या आनुवंशिकी का क्या महत्व है?  
What is the significance of population genetics in understanding animal populations?

- (A) यह पारिस्थितिकी को विकास और जनसंख्या गतिशीलता से जोड़ता है।  
It links ecology to evolution and population dynamics. 8100 3
- (B) जानवरों के पारिस्थितिक प्रभावों को समझने के लिए यह महत्वपूर्ण है।  
It is crucial for understanding the ecological impacts of animals. 8100 2
- (C) यह प्रवासन पैटर्न को ट्रैक करने में मदद करता है।  
It helps in tracking migration patterns. 8100 1
- (D) यह नई पशु प्रजातियों की पहचान करने में सहायता करता है।  
It assists in identifying new animal species. 8100 4

Right Answer : (A)

Right Option Id : 81003

#### Question 81

Question Id : 97

भारत को संयुक्त राज्य अमेरिका (यू.एस.ए.) से भोजन आयात करने के लिए किसने मजबूर किया?  
What compelled India to import food from the United States of America (U.S.A.)?

- (A) खाद्य उत्पादन को प्रतिबंधित करने वाली सरकारी नीतियाँ  
Government policies restricting food production 9700 4
- (B) कृषि क्षेत्र में उच्च उत्पादकता  
High productivity in the agricultural sector 9700 2
- (C) कृषि क्षेत्र में कम उत्पादकता  
Low productivity in the agricultural sector 9700 3
- (D) भारत में कृषि अधिशेष  
Agricultural surplus in India 9700 1

Right Answer : (C)

Right Option Id : 97003

#### Question 82

Question Id : 98

औपनिवेशिक काल के दौरान विदेशियों के प्रभुत्व वाली जूट मिलें मुख्य रूप से कहाँ केंद्रित थीं?

Where were the jute mills dominated by foreigners primarily concentrated during the colonial period?

- (A) महाराष्ट्र  
Maharashtra 9800 4
- (B) पंजाब  
Punjab 9800 1
- (C) बंगाल  
Bengal 9800 3
- (D) गुजरात  
Gujarat 9800 2

Right Answer : (C)

Right Option Id : 98003

#### Question 83

Question Id : 82

भारत का पश्चिमी तटीय मैदान किस प्रकार का तट है और यह किस प्राकृतिक विशेषता की सुविधा प्रदान करता है?

Which type of coast is the western coastal plain of India, and what natural feature does it facilitate?

- (A) उभरता हुआ तट, डेल्टा की सुविधा  
Emergent Coast, facilitating deltas 8200 1
- (B) जलमग्न तटीय मैदान, बंदरगाहों और बंदरगाहों के विकास की सुविधा  
Submerged Coastal Plain, facilitating the development of ports and harbours 8200 2
- (C) डेल्टाई तट, कृषि भूमि की सुविधा  
Deltaic Coast, facilitating agricultural land 8200 3
- (D) चट्टानी तटरेखा, प्राकृतिक परिदृश्य की सुविधा प्रदान करती है  
Cliffed Coastline, facilitating scenic landscapes 8200 4

Right Answer : (B)

Right Option Id : 82002



**Question 84****Question Id : 92**

दक्कन पठार की काली मिट्टी किसकी खेती के लिए उपयुक्त है?

Black soil of the Deccan Plateau suitable for cultivation of what?

- (A) चाय ☐ 9200  
Tea 3
- (B) कपास ☒ 9200  
Cotton 2
- (C) गन्ना ☐ 9200  
Sugarcane 1
- (D) चावल ☐ 9200  
Rice 4

**Right Answer : (B)****Right Option Id : 92002****Question 85****Question Id : 79**

किस वर्गीकरण समूह में कशेरुकी प्रजातियों की संख्या सबसे अधिक है?

Which taxonomic group has the greatest number of vertebrate species?

- (A) स्तनधारी ☐ 7900  
Mammals 1
- (B) मछलियाँ ☐ 7900  
Fishes 2
- (C) पक्षी ☐ 7900  
Birds 3
- (D) कीड़े ☐ 7900  
Insects 4

**Right Answer : (B)****Right Option Id : 79002****Question 86****Question Id : 96**

2016 में, भारतीय संसद ने भारत में एकीकृत अप्रत्यक्ष कर प्रणाली को सरल बनाने और लागू करने के लिए कौन सा कानून पारित किया?

In 2016, what law did the Indian Parliament pass to simplify and introduce a unified indirect tax system in India?

- (A) वस्तु एवं सेवा कर अधिनियम ☒ 9600  
Goods and services tax act 2
- (B) केंद्रीय उत्पाद शुल्क अधिनियम ☐ 9600  
Central excise act 4
- (C) सेवा कर अधिनियम ☐ 9600  
Service tax act 3
- (D) आयकर अधिनियम ☐ 9600  
Income tax act 1

**Right Answer : (A)****Right Option Id : 96002****Question 87****Question Id : 77**

निम्नलिखित में से कौन सा शब्द क्रमिक पोषी स्तरों पर विषाक्त पदार्थ की सांद्रता में वृद्धि को संदर्भित करता है?

Which of the following terms refers to an increase in concentration of the toxicant at successive trophic levels?

- (A) अम्लीकरण ☐ 7700  
Acidification 1
- (B) यूट्रोफिकेशन (सुपोषण) ☐ 7700  
Eutrophication 3
- (C) संचय ☐ 7700  
Accumulation 2
- (D) जैव आवर्धन ☒ 7700  
Biomagnification 4

**Right Answer : (D)****Right Option Id : 77004****Question 88****Question Id : 84**

पारिस्थितिकी तंत्र में विभिन्न स्तरों पर रहने वाली विभिन्न प्रजातियों के ऊर्ध्वाधर वितरण को क्या कहा जाता है?

In ecosystem, what is the vertical distribution of different species occupying different levels called?

**Question 89****Question Id : 95**

राष्ट्रीय कृषि और ग्रामीण विकास बैंक (नाबार्ड) की स्थापना कब हुई थी?

When was the National Bank for Agriculture and Rural Development (NABARD) established?

- (A) 1975 ☐ 9500  
1

(A) उत्तराधिकार  
Succession

☒

8400  
4

(B) स्तरीकरण  
Stratification

☐

8400  
2

(C) अपघटन  
Decomposition

☐

8400  
1

(D) पोषक चक्रण  
Nutrient cycling

☐

8400  
3

Right Answer : (B)

Right Option Id : 84002

(B) 1990

☐

9500  
3

(C) 1991

☐

9500  
4

(D) 1982

☒

9500  
2

Right Answer : (D)

Right Option Id : 95002

Question 90

Question Id : 78

प्राकृतिक खतरे और प्राकृतिक आपदा के बीच निम्नलिखित में से कौन सा अंतर है?

Which of the following is the difference between a natural hazard and a natural disaster?

(A) प्राकृतिक खतरों और प्राकृतिक आपदाओं के बीच कोई अंतर नहीं है।  
There is no difference between natural hazards and natural disasters.

☐

7800  
4

(B) खतरों से आपदाओं की तुलना में अधिक क्षति होती है।  
Hazards cause more damage than disasters.

☐

7800  
2

(C) खतरों में नुकसान पहुंचाने की क्षमता होती है जबकि आपदाएं नुकसान पहुंचाती हैं।  
Hazards have the potential to cause harm while disasters cause harm.

☒

7800  
3

(D) खतरे मानव जनित घटनाएँ हैं जबकि आपदाएँ प्राकृतिक घटनाएँ हैं।  
Hazards are human-caused events while disasters are natural events.

☐

7800  
1

Right Answer : (C)

Right Option Id : 78003

Question 91

Question Id : 93

ब्रंटलैंड आयोग का प्राथमिक बल किस पर है?

What is the primary emphasis of the Brundtland Commission?

(A) ऐतिहासिक तथ्यों का संरक्षण  
Preserving historical facts

☐

9300  
1

(B) भावी पीढ़ी को सुरक्षित रखने पर बल देना  
Emphasizing on protecting the future generation

☒

9300  
4

(C) वर्तमान पर्यावरणीय मुद्दों पर ध्यान केंद्रित करना  
Focusing on current environmental issues

☐

9300  
2

(D) वर्तमान पीढ़ी के हितों की रक्षा करना  
Protecting the interests of the present generation

☐

9300  
3

Right Answer : (B)

Right Option Id : 93004

Question 92

Question Id : 76

निम्नलिखित में से कौन सा जल प्रदूषक झीलों के त्वरित सुपोषण का कारण बन सकता है?

Which of the following water pollutants can cause accelerated eutrophication of lakes?

(A) सिंथेटिक पॉलिमर  
Synthetic Polymers

☐

7600  
4

(B) नाइट्रेट और फॉस्फेट  
Nitrates and phosphates

☒

7600  
3

(C) रेडियोधर्मी समस्थानिक  
Radioactive isotopes

☐

7600  
1

(D) ज्वालामुखीय राख  
Volcanic Ash

☐

7600  
2

Right Answer : (B)

Right Option Id : 76003

Question 93

Question Id : 88

उन श्रमिकों के लिए कौन सा शब्द प्रयोग किया जाता है जो अपनी आजीविका कमाने के लिए किसी उद्यम के मालिक हैं और उसका संचालन करते हैं?

What term is used for workers who own and operate an enterprise to earn their livelihood?

(A) स्व-रोज़गार कर्मी  
Self-employed

☒

8800  
2

(B) वेतनभोगी कर्मचारी  
Salaried employees

☐

8800  
1

(C) आकस्मिक श्रमिक  
Casual workers

☐

8800  
3

(D) अकुशल श्रमिक  
Unskilled labourer

☐

8800  
4

Right Answer : (A)

Right Option Id : 88002

Question 94

Question Id : 80

1992 में पृथ्वी शिखर सम्मेलन में जैविक विविधता पर कन्वेंशन (सीबीडी) पर निम्नलिखित में से किस देश में हस्ताक्षर किए गए थे?

The Convention on Biological Diversity (CBD) at the Earth Summit in 1992 was signed in which of the following countries?

- (A) ब्राजील

Brazil

☒

8000

3
- (B) चीन

China

☐

8000

2
- (C) जापान

Japan

☐

8000

1
- (D) भारत

India

☐

8000

4

Right Answer : (A)

Right Option Id : 80003

Question 95

Question Id : 87

सभी वाहनों को कौन सा प्रमाणपत्र रखना होगा जो दर्शाता है की प्रदूषण नियंत्रित है?

All the vehicles must carry which certificate that shows pollution is controlled?

- (A) एलसीपी

LCP

☐

8700

4
- (B) आरसी बुक

RC Book

☐

8700

1
- (C) पीयूसी

PUC

☒

8700

2
- (D) सीएलपी

CLP

☐

8700

3

Right Answer : (C)

Right Option Id : 87002

Question 96

Question Id : 83

भारत में भूमि निम्नीकरण का कारण क्या है?

What is lead to land degradation in India?

- (A) जल निकायों का संरक्षण

Conservation of water bodies

☐

8300

4
- (B) वनों की कटाई

Deforestation

☒

8300

3
- (C) अत्यधिक वृक्षारोपण

Excessive tree planting

☐

8300

1
- (D) सतत कृषि

Sustainable agriculture

☐

8300

2

Right Answer : (B)

Right Option Id : 83003

Question 97

Question Id : 91

सार्क, यूरोपीय संघ, आसियान, जी-8, जी-20, ब्रिक्स किसके उदाहरण हैं?

SAARC, European Union, ASEAN, G-8, G-20, BRICS are the examples of?

- (A) संयुक्त राष्ट्र समूह

UN Groupings

☐

9100

3
- (B) सांस्कृतिक समूह

Cultural groupings

☐

9100

2
- (C) आर्थिक समूह

Economic groupings

☒

9100

1
- (D) शिक्षात्मक समूह

Educational groupings

☐

9100

4

Right Answer : (C)

Right Option Id : 91001

Question 98

Question Id : 85

चिपको आंदोलन का उद्देश्य क्या था?

Chipko movement was aimed at?

- (A) वनों की रक्षा करना

Protecting forests

☒

8500

2

Question 99

Question Id : 99

किस प्रकार की खेती रासायनिक आदानों से बचकर पर्यावरणीय स्थिरता को बढ़ावा देती है?

What type of farming promotes environmental sustainability by avoiding chemical inputs?

(B) स्वास्थ्य में वृद्धि  
Increasing health

☐

8500  
4

(C) प्रदूषण कम करना  
Reducing pollution

☐

8500  
3

(D) नदियों का संरक्षण  
Conserving rivers

☐

8500  
1

Right Answer : (A)

Right Option Id : 85002

(A) गहन खेती  
Intensive farming

☐

9900  
1

(B) जलकृषि  
Aquaculture

☐

9900  
3

(C) जैविक खेती  
Organic farming

☒

9900  
2

(D) औद्योगिक खेती  
Industrial farming

☐

9900  
4

Right Answer : (C)

Right Option Id : 99002

Question 100

Question Id : 86

प्रत्येक पारिस्थितिक पिरामिड का आधार क्या दर्शाता है?

What does the base of each ecological pyramid represent?

(A) माध्यमिक उपभोक्ता  
Secondary consumers

☐

8600  
2

(B) शाकाहारी  
Herbivores

☐

8600  
4

(C) तृतीयक या शीर्ष स्तर का उपभोक्ता  
Tertiary or top-level consumer

☐

8600  
3

(D) प्राथमिक उत्पादक  
Primary producers

☒

8600  
1

Right Answer : (D)

Right Option Id : 86001

Ethics, Integrity and Aptitude

Question 101

Question Id : 124

निम्नलिखित में से कौन कॉर्पोरेट गवर्नेन्स का प्रमुख तत्व है जो नैतिक निर्णयन से संबंधित है?

Which of the following is major elements of corporate governance that relate to ethical decision making?

(A) रणनीतियाँ  
Strategies

☐

1240  
04

(B) निदेशक मंडल  
Board of Directors

☐

1240  
01

(C) उत्पाद श्रेणी  
Product category

☐

1240  
02

(D) सामाजिक जिम्मेदारी  
Social Responsibility

☒

1240  
03

Right Answer : (B)

Right Option Id : 124001

Question 102

Question Id : 115

\_\_\_\_\_ का उपयोग यह व्यक्त करने के लिए किया जाता है कि व्यवसाय किस हद तक रणनीतिक रूप से विभिन्न हितधारकों द्वारा रखी गई आर्थिक, कानूनी और नैतिक जिम्मेदारियों को पूरा करता है।

\_\_\_\_\_ is used to express the extent to which business strategically meet the economic, legal and ethical responsibilities, placed by various stakeholders.

(A) आर्थिक नागरिकता  
Economical Citizenship

☐

1150  
04

(B) सामाजिक नागरिकता  
Social Citizenship

☐

1150  
03

(C) कॉर्पोरेट नागरिकता  
Corporate Citizenship

☒

1150  
02

(D) देश की नागरिकता  
Country Citizenship

☐

1150  
01

Right Answer : (C)

Right Option Id : 115002

**Question 103****Question Id : 104**

\_\_\_\_\_ सभी भूमिका संबंधों का योग है जिसमें एक व्यक्ति संगठन में अपनी स्थिति के परिणामस्वरूप शामिल होता है।

\_\_\_\_\_ is the total of all role relationships in which a person is involved as a result of his/her position in the organisation.

- (A) भूमिका स्थानांतरण(रोल ट्रांसफर) ☐ 1040  
Role transfer 02
- (B) भूमिका परिवर्तन(रोल रिवर्सल) ☐ 1040  
Role reversal 03
- (C) भूमिका निर्धारण(रोल सेट) ☒ 1040  
Role set 01
- (D) भूमिका अहंकार(रोल इगो) ☐ 1040  
Role Ego 04

**Right Answer : (C)****Right Option Id : 104001****Question 104****Question Id : 117**

\_\_\_\_\_ एक नियोक्ता के गलत कार्यों को मीडिया या नियामक एजेंसियों जैसे बाहरी लोगों के सामने उजागर कर रहा है।

\_\_\_\_\_ is exposing an employer's wrongdoing to outsiders, such as media or regulating agencies.

- (A) हेलो प्रभाव ☐ 1170  
Halo effect 01
- (B) संगठनात्मक दबाव ☐ 1170  
Organizational pressure 03
- (C) संगठनात्मक संघर्ष ☐ 1170  
Organizational conflict 04
- (D) मुखबिरी (व्हिसलब्लोइंग) ☒ 1170  
Whistleblowing 02

**Right Answer : (D)****Right Option Id : 117002****Question 105****Question Id : 107**

वह एक प्रक्रिया जिसमें दो या दो से अधिक पक्ष वस्तुओं या सेवाओं का आदान-प्रदान करते हैं और उनके लिए विनिमय दर पर सहमति बनाने का प्रयास करते हैं, निम्नलिखित में से किस नाम से जाना जाता है?

A process in which two or more parties exchange goods or services and attempt to agree on the exchange rate for them, is known by which of the following names?

- (A) टैरिफ व्यवस्था ☐ 1070  
Tariff arrangement 04
- (B) वस्तु विनिमय प्रणाली ☐ 1070  
Barter system 01
- (C) वार्ता ☒ 1070  
Negotiation 02
- (D) कोटा प्रणाली ☐ 1070  
Quota system 03

**Right Answer : (C)****Right Option Id : 107002****Question 106****Question Id : 101**

निम्नलिखित में से कौन सा संगठनात्मक संस्कृति का स्तर नहीं है?

Which of the following is not a level of organizational culture?

- (A) अवलोकनीय संस्कृति ☐ 1010  
Observable Culture 01
- (B) सामान्य धारणाएँ ☐ 1010  
Common Assumptions 03
- (C) मालिक का विश्वास ☒ 1010  
Owner's Beliefs 04
- (D) साझा मूल्य ☐ 1010  
Shared Values 02

**Right Answer : (C)****Right Option Id : 101004****Question 107****Question Id : 114****Question 108****Question Id : 123**

निम्नलिखित में से कौन सा "सफलता के लिए मूल्य" का कारक नहीं है?



\_\_\_\_\_ उन विचारों और रचनात्मक सामग्रियों को संदर्भित करता है जो लोग समस्याओं को हल करने, अनुप्रयोग करने, शिक्षित करने और दूसरों का मनोरंजन करने के लिए विकसित करते हैं।

\_\_\_\_\_ refers to the ideas and creative materials, people develop to solve problems, carry out application, educate and entertain others.

- (A) नैतिक व्यवहार ☐ 1140  
Ethical behaviour 03  
(B) बौद्धिक नैतिकता ☐ 1140  
Intellectual ethics 02  
(C) बौद्धिक संपदा ☒ 1140  
Intellectual property 01  
(D) कृत्रिम संपत्ति ☐ 1140  
Artificial property 04

**Right Answer : (C)**

**Right Option Id : 114001**

Which one of the following is not the factors of "Values for Success"?

- (A) खुलापन और विश्वास ☐ 1230  
Openness & Trust 01  
(B) टीम वर्क ☐ 1230  
Teamwork 02  
(C) जवाबदेही ☐ 1230  
Accountability 03  
(D) प्रबंधकीय कौशल ☒ 1230  
Managerial Skill 04

**Right Answer : (D)**

**Right Option Id : 123004**

**Question 109**

**Question Id : 112**

\_\_\_\_\_ भारत में सभी सूचीबद्ध कंपनियों के वित्तीय प्रशासन को नियंत्रित करता है।

\_\_\_\_\_ regulates the financial governance of all listed companies in India.

- (A) सेबी ☒ 1120  
SEBI 04  
(B) कंपनी अधिनियम ☐ 1120  
Company Act 03  
(C) आरबीआई ☐ 1120  
RBI 01  
(D) नाबार्ड ☐ 1120  
NABARD 02

**Right Answer : (A)**

**Right Option Id : 112004**

**Question 110**

**Question Id : 102**

\_\_\_\_\_ व्यक्तिपरक रूप से व्यक्तियों और समूहों के अनुभवों से प्राप्त होते हैं।

\_\_\_\_\_ are derived subjectively from the experiences of individuals and groups.

- (A) सांस्कृतिक परिप्रेक्ष्य ☐ 1020  
Cultural perspective 02  
(B) सापेक्षवादी परिप्रेक्ष्य ☐ 1020  
Relativist perspective 01  
(C) कॉर्पोरेट परिप्रेक्ष्य ☐ 1020  
Corporate perspective 03  
(D) संगठनात्मक परिप्रेक्ष्य ☐ 1020  
Organisational perspective 04

**Right Answer : (B)**

**Right Option Id : 102001**

**Question 111**

**Question Id : 108**

\_\_\_\_\_ न्याय उन प्रक्रियाओं और गतिविधियों पर आधारित है जो परिणाम या नतीजे उत्पन्न करते हैं।

\_\_\_\_\_ justice is based on the processes and activities that produce that outcome or results.

- (A) वितरणात्मक न्याय ☐ 1080  
Distributive justice 02  
(B) इंटरैक्टिव न्याय ☐ 1080  
Interactive justice 04  
(C) प्रक्रियात्मक न्याय ☒ 1080  
Procedural Justice 01  
(D) इंटरैक्शनल न्याय ☐ 1080  
Interactional Justice 03

**Right Answer : (C)**

**Right Option Id : 108001**

**Question 112**

**Question Id : 105**

\_\_\_\_\_ - एक अनैतिक प्रथा है जिसमें चुनिंदा प्रतिभूतियों पर कई खरीद और बिक्री के आदेश देना और फिर थोड़े समय के लिए पदों पर बने रहना शामिल है।

\_\_\_\_\_ - is an unethical practice which involves placing multiple buy and sell orders on select securities and then holding the positions for a short time.

- (A) दिन का कारोबार ☒ 1050  
Day trading 01  
(B) रिश्वतखोरी ☐ 1050  
Bribery 03  
(C) मनी लॉन्ड्रिंग (धन शोधन) ☐ 1050  
Money laundering 02  
(D) ट्रेड ऑफ ☐ 1050  
Trade off 04

**Right Answer : (A)**

**Right Option Id : 105001**



**Question 113****Question Id : 120**

\_\_\_\_\_ अपने संगठन की नैतिकता और कानूनी अनुपालन कार्यक्रम के प्रबंधन के लिए जिम्मेदार हैं।

\_\_\_\_\_ are responsible for managing their organisation's ethics and legal compliance programme.

- |                         |                                  |      |
|-------------------------|----------------------------------|------|
| (A) विपणन अधिकारी       | <input type="radio"/>            | 1200 |
| Marketing officer       |                                  | 03   |
| (B) नैतिक अधिकारी       | <input checked="" type="radio"/> | 1200 |
| Ethical officer         |                                  | 01   |
| (C) लेखा अधिकारी        | <input type="radio"/>            | 1200 |
| Accounting officer      |                                  | 04   |
| (D) मानव संसाधन अधिकारी | <input type="radio"/>            | 1200 |
| HR officer              |                                  | 02   |

**Right Answer : (B)****Right Option Id : 120001****Question 114****Question Id : 121**

निम्नलिखित में से कौन सा संगठन कॉर्पोरेट व्यवहार का निरीक्षण और रिपोर्ट करता है?

Which of the following organizations observe and report corporate behavior?

- |  |                       |      |
|--|-----------------------|------|
| (A) फेयर लेबर एसोसिएशन                 | <input type="radio"/> | 1210 |
| Fair labour association                |                       | 03   |
| (B) इंटरनेशनल एसोसिएशन ऑफ पीपल         | <input type="radio"/> | 1210 |
| International Association of people    |                       | 04   |
| (C) यूनाइटेड कॉर्पोरेशन ऑफ एथिक्स      | <input type="radio"/> | 1210 |
| United Corporation of Ethics           |                       | 01   |
| (D) वर्ल्ड एथिकल ऑर्गनाइजेशन एसोसिएशन  | <input type="radio"/> | 1210 |
| World ethical organization association |                       | 02   |

**Right Answer : (A)****Right Option Id : 121003****Question 115****Question Id : 111**

\_\_\_\_\_ औपचारिक कथन हैं जो बताते हैं कि एक संगठन अपने कर्मचारियों से क्या अपेक्षा करता है।

\_\_\_\_\_ are formal statements that describes what an organizations expect from its employees.

- |                 |                                  |      |
|-----------------|----------------------------------|------|
| (A) प्रक्रिया   | <input type="radio"/>            | 1110 |
| Procedure       |                                  | 04   |
| (B) विज़न       | <input type="radio"/>            | 1110 |
| Mission         |                                  | 02   |
| (C) आचार संहिता | <input checked="" type="radio"/> | 1110 |
| Code of conduct |                                  | 03   |
| (D) नज़रिया     | <input type="radio"/>            | 1110 |
| Vision          |                                  | 01   |

**Right Answer : (C)****Right Option Id : 111003****Question 116****Question Id : 103**

\_\_\_\_\_ का अर्थ है किसी वित्तीय लेनदेन में अवैध रूप से प्राप्त धन का उपयोग करना या स्थानांतरित करना ताकि उनके स्रोत या स्वामित्व को छुपाया जा सके या किसी अवैध गतिविधि को सुविधाजनक बनाया जा सके।

\_\_\_\_\_ means using or transferring illegally received funds in a financial transaction so as to conceal their source or ownership or facilitate an illegal activity.

- |                             |                                  |      |
|-----------------------------|----------------------------------|------|
| (A) मनी लॉन्ड्रिंग(धन शोधन) | <input checked="" type="radio"/> | 1030 |
| Money Laundering            |                                  | 01   |
| (B) धन संरक्षण              | <input type="radio"/>            | 1030 |
| Money Protection            |                                  | 03   |
| (C) धन अंतरण                | <input type="radio"/>            | 1030 |
| Money Transferring          |                                  | 04   |
| (D) धन रिश्वतखोरी           | <input type="radio"/>            | 1030 |
| Money bribery               |                                  | 02   |

**Right Answer : (A)****Right Option Id : 103001****Question 117****Question Id : 110**

वैश्विक नैतिक मुद्दा कौन सा नहीं है?

**Question 118****Question Id : 109**

Which is/are not the global ethical issues?

- (A) कीमत विभेदन ☐ 1100  
Price Discrimination 03
- (B) मानव अधिकार ☐ 1100  
Human Right 02
- (C) लैंगिक और जातिगत भेदभाव ☐ 1100  
Sexual and racial discrimination 01
- (D) मुद्रास्फीति ☒ 1100  
Inflation 04

Right Answer : (D)

Right Option Id : 110004

प्रभावी ऑडिटिंग के दौरान आप निम्नलिखित में से किस पर विचार नहीं करेंगे?

Which one of the following you will not consider while effective auditing?

- (A) जुर्माना ☐ 1090  
Penalty 04
- (B) समावेशिता ☐ 1090  
Inclusivity 01
- (C) तुलनीयता ☐ 1090  
Comparability 02
- (D) विकास ☐ 1090  
Evolution 03

Right Answer : (A)

Right Option Id : 109004

Question 119

Question Id : 118

\_\_\_\_\_ व्यक्ति के भीतर एक शक्ति है जो लक्ष्यों को प्राप्त करने की दिशा में अपने व्यवहार को केंद्रित करती है।

\_\_\_\_\_ is a force within the individual that focuses his or her behaviour towards achieving goals.

- (A) अवपीड़न ☐ 1180  
Coercion 04
- (B) प्रतिफल ☐ 1180  
Reward 03
- (C) नेतृत्व ☐ 1180  
Leadership 02
- (D) प्रेरणा ☒ 1180  
Motivation 01

Right Answer : (D)

Right Option Id : 118001

Question 120

Question Id : 119

निम्नलिखित में से कौन नैतिक अनुपालन कार्यक्रम की न्यूनतम आवश्यकता नहीं है?

Which of the following is not the minimum requirement of ethical compliance programme?

- (A) मानकों और प्रक्रियाओं को प्रभावी ढंग से संप्रेषित किया गया ☐ 1190  
Standards and procedures communicated effectively 02
- (B) कदाचार की निगरानी, लेखापरीक्षा और रिपोर्ट करने के लिए प्रणाली की स्थापना ☐ 1190  
Establishment of system to monitor, audit and report misconduct 03
- (C) आचार संहिता बनाना ☐ 1190  
Creating code of ethics 01
- (D) कार्यक्रमों के गलत कार्य को स्वीकार करना ☒ 1190  
Accepting the wrongdoing of programmes 04

Right Answer : (D)

Right Option Id : 119004

Question 121

Question Id : 122

एक नैतिक मुद्दे के रूप में इन अतिरिक्त खर्चों की लागत को पूरा करने के लिए आवश्यक स्तरों से परे कीमतों में वृद्धि को \_\_\_\_\_ कहा जाता है।

Increasing prices beyond the levels needed to meet the cost of these additional expenses as an ethical issue is called as \_\_\_\_\_.

- (A) डंपिंग ☐ 1220  
Dumping 02
- (B) आयात करना ☐ 1220  
Importing 04
- (C) गोंजिंग ☒ 1220  
Gouging 01
- (D) निर्यात करना ☐ 1220  
Exporting 03

Right Answer : (C)

Right Option Id : 122001

Question 122

Question Id : 116

\_\_\_\_\_ एक सुरक्षा है जो अभिव्यक्ति के किसी भी रूप में प्रकाशित और अप्रकाशित साहित्यिक, वैज्ञानिक और कलात्मक कार्यों को कवर करती है, बशर्ते कि कार्य मूर्त या भौतिक रूप में हों।

A \_\_\_\_\_ is a protection that covers published and unpublished literary, scientific and artistic works, in any form of expression provided that the works are in a tangible or material form.

- (A) कॉपीराइट ☒ 1160  
copyright 01
- (B) पेटेंट ☐ 1160  
patent 02
- (C) बौद्धिक संपदा ☐ 1160  
intellectual property 03
- (D) आर्टिफिशियल इंटेलिजेंस ☐ 1160  
artificial intelligence 04



Right Answer : (A)

Right Option Id : 116001

Question 123

Question Id : 113

निम्नलिखित में से कौन सा संस्कृति का हिस्सा नहीं है?  
Which one of the following is not part of culture?

- (A) प्रतिस्पर्धियों की धारणा

Perception of competitors

☒

113004
- (B) सामान्य मूल्य

General Values

☐

113003
- (C) धर्म

Religion

☐

113002
- (D) भाषा

Language

☐

113001

Right Answer : (A)

Right Option Id : 113004

Question 124

Question Id : 125

निम्नलिखित में से कौन संगठनात्मक निर्णयन में प्रभावशाली कारक नहीं है?  
Who among the following are not the influencing factors in organizational decision making?

- (A) प्रबंधक और सहकर्मी

Managers & Peers

☐

125003
- (B) अवसर

Opportunities

☐

125002
- (C) सामाजिक बाधाएँ

Social Barriers

☐

125004
- (D) व्यक्तिगत मूल्य

Personal Values

☒

125001

Right Answer : (C)

Right Option Id : 125004

Question 125

Question Id : 106

BATNA का फुल फॉर्म(पूर्ण रूप) क्या है?  
What is the full form of BATNA

- (A) बेटर अल्टरनेटिव टू नेगोसियेटेड एग्रीमेंट

Better Alternative to Negotiated Agreement

☒

106002
- (B) ब्रोड एनालिसिस ऑफ़ ट्रांसक्सेनल नेगोसिएशन अप्रोचेस

Broad Analysis of Transactional Negotiation Approaches

☐

106004
- (C) बार्गेनिंग अराऊंड टर्म एंड नेगोसिएशन एग्रीमेंट्स

Bargaining Around Terms and Negotiation Agreements

☐

106003
- (D) बेस्ट अवेलेबल टेक्टिकल नेगोसिएटिंग एग्रीमेंट

Best Available Tactical Negotiating Agreement

☐

106001

Right Answer : (A)

Right Option Id : 106002

### Question 126

Question Id : 143

एक विश्वविद्यालय स्नातक छात्रों के लिए प्लेसमेंट ड्राइव का आयोजन कर रहा है। हालाँकि, प्लेसमेंट समन्वयक को कुछ चुनौतियाँ नज़र आती हैं। प्लेसमेंट प्रक्रिया की समग्र प्रभावशीलता में सुधार के लिए समन्वयक को किस स्थिति पर ध्यान देना चाहिए?

A university is organizing a placement drive for graduating students. However, the placement coordinator notices certain challenges. Which situation should the coordinator address to improve the overall effectiveness of the placement process?

- (A) एक छात्र बार-बार निर्धारित प्लेसमेंट-संबंधित सत्रों को छोड़ रहा है और नौकरी खोज गतिविधियों में अरुचि दिखा रहा है।  
A student frequently missing scheduled placement-related sessions and showing disinterest in job search activities. 1430 03
- (B) छात्रों का एक समूह सक्रिय रूप से मॉक इंटरव्यू और बायोडेटा-निर्माण कार्यशालाओं में भाग लेता है।  
A group of students actively participating in mock interviews and resume-building workshops. 1430 01
- (C) दो छात्र अपने चुने हुए करियर पथ से संबंधित व्यावहारिक कौशल को बढ़ाने के लिए एक परियोजना पर सहयोग कर रहे हैं।  
Two students collaborating on a project to enhance their practical skills relevant to their chosen career paths. 1430 04
- (D) एक छात्र लगातार नेटवर्किंग कार्यक्रमों में भाग लेता है पेशेवरों से जुड़ता है और इंटरनशिप के अवसरों की तलाश करता है।  
A student consistently attending networking events, connecting with professionals and seeking internship opportunities. 1430 02

Right Answer : (A)

Right Option Id : 143003

### Question 127

Question Id : 131

राज्य विश्वविद्यालय में लाइब्रेरियन की भर्ती के लिए आवश्यक योग्यताएँ निम्नलिखित हैं।  
उम्मीदवार को यह करना होगा:

- (1) कम से कम 55% अंकों या इसके समकक्ष ग्रेड और लगातार अच्छे अकादमिक रिकॉर्ड के साथ लाइब्रेरी साइंस में मास्टर डिग्री होनी चाहिए।  
(2) संस्थान में सूचना प्रौद्योगिकी/अभिलेखागार और पांडुलिपि-रख-रक्षण के क्षेत्र में मास्टर डिग्री में एक वर्ष की विशेषज्ञता होनी चाहिए।  
(3) किसी विश्वविद्यालय में उप पुस्तकालयाध्यक्ष के रूप में कम से कम दस वर्ष का अनुभव हो।  
(4) नवीन पुस्तकालय सेवा और प्रकाशित कार्य के संगठन का प्रमाण रखें।  
ऐसे उम्मीदवार के मामले में जो:  
(5) कॉलेज लाइब्रेरियन के रूप में 15 साल का अनुभव है, मामला कुलपति को भेजा जा सकता है।  
(6) पुस्तकालय विज्ञान में 55% से कम अंक प्राप्त किए हैं, लेकिन किसी विश्वविद्यालय में उप पुस्तकालयाध्यक्ष के रूप में 13 वर्ष का अनुभव है, तो मामले को विचार के लिए विश्वविद्यालय के रजिस्ट्रार के पास भेजा जा सकता है।  
(7) पुस्तकालय विज्ञान/सूचना विज्ञान/दस्तावेज़ीकरण/अभिलेखागार और पांडुलिपि-रख-रखाव में एम. फिल/पीएचडी डिग्री है और/या कॉलेज लाइब्रेरियन के रूप में केवल दस वर्ष का अनुभव है, तो (1) की शर्त को माफ किया जा सकता है।  
उपरोक्त शर्तों और नीचे दिए गए प्रश्नों में प्रत्येक उम्मीदवार के खिलाफ दी गई जानकारी के आधार पर, तय करें कि प्रत्येक उम्मीदवार के खिलाफ निम्नलिखित में से कौन सी कार्रवाई की जानी चाहिए। ये सभी मामले आपको 1.1.2023 की स्थिति के अनुसार दिए गए हैं।

**प्रश्न :** रमेश सिंघानिया ने पीएच.डी. की उपाधि प्राप्त की है। पुस्तकालय विज्ञान में डिग्री के साथ अभिलेखागार और पांडुलिपि-रख-रखाव में एक वर्ष की विशेषज्ञता है। वह 11 अप्रैल, 2007 से असम विश्वविद्यालय में डिप्टी लाइब्रेरियन हैं। उनके पास सार्वजनिक पुस्तकालय में तीन वर्षों के लिए नवीन पुस्तकालय सेवा का प्रमाण पत्र भी है।

Following are the qualifications necessary for the recruitment of a Librarian in a State University.

The candidate must :

- (1) have a Master's degree in Library Science with at least 55% marks or its equivalent grade and a consistently good academic record.  
(2) have one year specialization in an area of Information Technology/Archives and Manuscript-keeping Master's Degree in an area of thrust in the institution.  
(3) have at least ten years' experience as a Deputy Librarian in a University.  
(4) bear an evidence of innovative library service and organization of published work.  
In the case of a candidate who :  
(5) has a 15 years' experience as a College Librarian, the case may be referred to the Vice Chancellor.  
(6) has obtained less than 55% marks in Library Science but has 13 years' experience as a Deputy Librarian in a University, the case may be referred to the Registrar of the University for his consideration.  
(7) has M.Phil/Ph.D. degree in Library Science/Information Science/Documentation/ Archives and Manuscript-keeping and/or has only ten years' experience as a College Librarian, the condition at (1) may be waived.

Based on the above conditions and the information provided against each of the candidates in the questions given below, decide which of the following courses of action should be taken against each candidate. All these cases are given to you as on 1.1.2023.

**Question :** Ramesh Singhanian holding a Ph.D. degree in Library Science has one year specialization in Archives and Manuscript-keeping. He has been a Deputy Librarian in the Assam University since 11th April, 2007. He also bears a certificate of innovative library service in a public library for three years.

- (A) यदि उम्मीदवार का चयन किया जाना है  
if the candidate is to be selected 1310 01
- (B) यदि उम्मीदवार का चयन नहीं किया जाना है  
if the candidate is not to be selected 1310 02
- (C) यदि मामला रजिस्ट्रार को भेजा जाना है 1310 03



- if the case is to be referred to the Registrar
- (D) यदि मामला कुलपति को भेजा जाना है if the case is to be referred to the Vice Chancellor 1310 04

Right Answer : (A)

Right Option Id : 131001

#### Question 128

Question Id : 150

नीचे प्रश्न में एक कथन और उसके बाद I और II क्रमांकित दो निष्कर्ष दिए गए हैं। आपको कथन में दी गई सभी बातों को सत्य मानना है, फिर दोनों निष्कर्षों पर एक साथ विचार करना है और निर्णय लेना है कि उनमें से कौन सा कथन में दी गई जानकारी से उचित संदेह से परे तार्किक रूप से अनुसरण करता है।

**कथन :** जो लोग दहेज के खिलाफ बहुत अधिक बोलते हैं वे वे लोग हैं जिन्होंने इसे स्वयं लिया था।

**निष्कर्ष :**

- I. यह कहना आसान है लेकिन करना आसान नहीं है।  
II. लोगों का दोहरा मापदंड है।

In the question below is given a statement followed by two conclusions numbered I and II. You have to assume everything in the statement to be true, then consider the two conclusions together and decide which of them logically follows beyond a reasonable doubt from the information given in the statement.

**Statements :** People who speak too much against dowry are those who had taken it themselves.

**Conclusions :**

- I. It is easier said than done.  
II. People have double standards.

- (A) न तो I और न ही II अनुसरण करता है Neither I nor II follows 1500 04  
(B) केवल निष्कर्ष II अनुसरण करता है Only conclusion II follows 1500 02  
(C) केवल निष्कर्ष I अनुसरण करता है Only conclusion I follows 1500 01  
(D) I और II दोनों अनुसरण करते हैं Both I and II follows 1500 03

Right Answer : (D)

Right Option Id : 150003

#### Question 129

Question Id : 141

एक गेमिंग कंपनी विलंबित रिलीज़ शेड्यूल, अपर्याप्त सर्वर क्षमता के कारण कनेक्शन समस्याओं और प्लेयर सहभागिता की कमी जैसी समस्याओं का सामना कर रही है। कंपनी किस प्रकार की समस्या का सामना कर रही है?

A gaming company is encountering issues with delayed release schedules, insufficient server capacity leading to connection problems and a lack of player engagement. What type of problem is the company facing?

- (A) गेम डिज़ाइन समस्या Game design problem 1410 01  
(B) खिलाड़ी सहभागिता समस्या Player engagement problem 1410 04  
(C) विपणन रणनीति समस्या Marketing strategy problem 1410 03  
(D) सर्वर अवसंरचना समस्या Server infrastructure problem 1410 02

Right Answer : (D)

Right Option Id : 141002

#### Question 130

Question Id : 136

एक फिटनेस स्टूडियो में उपस्थिति में कमी का अनुभव हो रहा है, और सदस्य कक्षाओं में भाग लेने के लिए कम प्रेरित दिख रहे हैं। स्थिति को सुधारने के लिए फिटनेस स्टूडियो के मालिक को क्या कार्रवाई करनी चाहिए?

A fitness studio is experiencing a decrease in attendance, and members seem less motivated to participate in classes. What action should the fitness studio owner take to improve the situation?

- (A) सदस्यों के लिए इसे और अधिक सुलभ बनाने के लिए कक्षा अनुसूची को सरल बनाएं। Simplify the class schedule to make it more accessible for members. 1360 03  
(B) राजस्व बढ़ाने और नए उपकरणों में निवेश करने के लिए सदस्यता शुल्क बढ़ाएं। Increase membership fees to boost revenue and invest in new equipment. 1360 01  
(C) सर्वेक्षणों के माध्यम से सदस्यों से उनकी राय पूछें और उन्हें जो आनंद आता है उसके आधार पर कक्षाओं को समायोजित करें। Ask members for their opinions through surveys and adjust classes based on what they enjoy. 1360 04  
(D) विभिन्न प्रकार की फिटनेस कक्षाओं की पेशकश करने के लिए अतिरिक्त प्रशिक्षकों को नियुक्त करें। Hire additional instructors to offer a wider variety of fitness classes. 1360 02

#### Question 131

Question Id : 129

ईवा और लियांम एक सप्ताहांत छुट्टी की योजना बना रहे हैं, और छुट्टियों के प्रकार के लिए उनकी अलग-अलग प्राथमिकताएँ हैं। ईवा सांस्कृतिक अनुभवों और ऐतिहासिक स्थलों का आनंद लेती है, जबकि लियांम विश्राम और सुंदर दृश्यों को पसंद करता है। नीचे कौन सा अवकाश गंतव्य दोनों के लिए सबसे उपयुक्त समझौता होगा?

Eva and Liam are planning a weekend getaway, and they have different preferences for the type of vacation. Eva enjoys cultural experiences and historical sites, while Liam prefers relaxation and scenic views. Which vacation destination below would be the most suitable compromise for both?

- (A) हेरिटेज सिटी टूर - ऐतिहासिक स्थलों और सांस्कृतिक स्थलों के लिए निर्देशित पर्यटन की सुविधा। Heritage City Tour - Featuring guided tours to historical landmarks and cultural sites. 1290 01  
(B) कोस्टल रिज़ॉर्ट रिट्रीट - सुंदर दृश्यों और विश्राम सुविधाओं के साथ समुद्र तट के पास स्थित है। Coastal Resort Retreat - Situated by the beach with scenic views and relaxation amenities. 1290 02  
(C) ट्रैकिल स्पा और सांस्कृतिक केंद्र - सांस्कृतिक गतिविधियों और प्रदर्शनों के साथ एक स्पा अनुभव प्रदान करता है। 1290 04



Right Answer : (C)

Right Option Id : 136004

Tranquil Spa and Cultural Center -  
Providing a spa experience along  
with cultural activities and exhibits.  
(D) नेचर एक्सप्लोरेशन रिट्रीट - लंबी पैदल यात्रा  
ट्रेल्स, प्रकृति की सैर, सुंदर दृश्य और रुचि के  
ऐतिहासिक बिंदुओं का मिश्रण पेश करता है।  
Nature Exploration Retreat - Offering  
a blend of hiking trails, nature walk,  
scenic views and historical points of  
interest.

1290  
03

Question 132

Question Id : 135

राज्य विश्वविद्यालय में लाइब्रेरियन की भर्ती के लिए आवश्यक योग्यताएँ  
निम्नलिखित हैं।

उम्मीदवार को यह करना होगा:

- (1) कम से कम 55% अंकों या इसके समकक्ष ग्रेड और लगातार अच्छे  
अकादमिक रिकॉर्ड के साथ लाइब्रेरी साइंस में मास्टर डिग्री होनी चाहिए।
  - (2) संस्थान में सूचना प्रौद्योगिकी/अभिलेखागार और पांडुलिपि-रख-रक्षण के  
क्षेत्र में मास्टर डिग्री में एक वर्ष की विशेषज्ञता होनी चाहिए।
  - (3) किसी विश्वविद्यालय में उप पुस्तकालयाध्यक्ष के रूप में कम से कम दस  
वर्ष का अनुभव हो।
  - (4) नवीन पुस्तकालय सेवा और प्रकाशित कार्य के संगठन का प्रमाण रखें।  
ऐसे उम्मीदवार के मामले में जो:
  - (5) कॉलेज लाइब्रेरियन के रूप में 15 साल का अनुभव है, मामला कुलपति  
को भेजा जा सकता है।
  - (6) पुस्तकालय विज्ञान में 55% से कम अंक प्राप्त किए हैं, लेकिन किसी  
विश्वविद्यालय में उप पुस्तकालयाध्यक्ष के रूप में 13 वर्ष का अनुभव है, तो  
मामले को विचार के लिए विश्वविद्यालय के रजिस्ट्रार के पास भेजा जा सकता  
है।
  - (7) पुस्तकालय विज्ञान/सूचना विज्ञान/दस्तावेज़ीकरण/अभिलेखागार और  
पांडुलिपि-रख-रखाव में एम. फिल/पीएचडी डिग्री है और/या कॉलेज  
लाइब्रेरियन के रूप में केवल दस वर्ष का अनुभव है, तो (1) की शर्त को माफ  
किया जा सकता है।
- उपरोक्त शर्तों और नीचे दिए गए प्रश्नों में प्रत्येक उम्मीदवार के खिलाफ दी  
गई जानकारी के आधार पर, तय करें कि प्रत्येक उम्मीदवार के खिलाफ  
निम्नलिखित में से कौन सी कार्रवाई की जानी चाहिए। ये सभी मामले आपको  
1.1.2023 की स्थिति के अनुसार दिए गए हैं।

**प्रश्न :** लाइब्रेरी साइंस में एम. फिल राहुल सहगल 27 अगस्त, 2011 से  
रोहिलखंड विश्वविद्यालय में डिप्टी लाइब्रेरियन हैं। उनके पास अभिलेखागार  
और पांडुलिपि-रख-रखाव में मास्टर डिग्री भी है। उनके पास पीएचडी करने  
वाले कॉलेज के छात्रों के प्रकाशित कार्यों के अभिनव संगठन का प्रमाण है।  
Following are the qualifications necessary for the recruitment of  
a Librarian in a State University.  
The candidate must :

- (1) have a Master's degree in Library Science with at least 55%  
marks or its equivalent grade and a consistently good academic  
record.
  - (2) have one year specialisation in an area of Information  
Technology/Archives and Manuscript-keeping Master's Degree  
in an area of thrust in the institution.
  - (3) have at least ten years' experience as a Deputy Librarian in a  
University.
  - (4) bear an evidence of innovative library service and  
organisation of published work.
- In the case of a candidate who :
- (5) has a 15 years' experience as a College Librarian, the case  
may be referred to the Vice Chancellor.
  - (6) has obtained less than 55% marks in Library Science but has  
13 years' experience as a Deputy Librarian in a University, the  
case may be referred to the Registrar of the University for his  
consideration.
  - (7) has M.Phil/Ph.D. degree in Library Science/Information  
Science/Documentation/ Archives and Manuscript-keeping  
and/or has only ten years' experience as a College Librarian, the  
condition at (1) may be waived.

Based on the above conditions and the information provided  
against each of the candidates in the questions given below,  
decide which of the following courses of action should be taken  
against each candidate. All these cases are given to you as on  
1.1.2023.

Question 133

Question Id : 144

आपकी एक महत्वपूर्ण व्यावसायिक यात्रा निर्धारित है, लेकिन आपका करीबी  
दोस्त कठिन समय से गुज़र रहा है और उसे आपके भावनात्मक समर्थन की  
आवश्यकता है। आप स्थिति को कैसे संभालेंगे?

You have an important business trip scheduled, but your close  
friend is going through a tough time and needs your emotional  
support. How will you handle the situation?

- (A) अपनी व्यावसायिक यात्रा को प्राथमिकता दें  
और कार्य प्रतिबद्धताओं पर ध्यान केंद्रित  
करें।  
Prioritise your business trip and focus  
on work commitments.
- (B) अपने मित्र के साथ स्थिति पर चर्चा करें और  
उनकी राय पૂछें कि आप अपनी कार्य  
जिम्मेदारियों को पूरा करते समय उनका  
सर्वोत्तम समर्थन कैसे कर सकते हैं।  
Discuss the situation with your friend  
and ask for their opinion on how you  
can best support them while fulfilling  
your work responsibilities.
- (C) कुछ गैर-आवश्यक कार्य प्रतिबद्धताओं को  
पुनर्निर्धारित करके और अपने मित्र को दूरस्थ  
सहायता प्रदान करके दोनों में संतुलन बनाने  
का प्रयास करें।  
Try to balance both by rescheduling  
some non-essential work  
commitments and offering remote  
support to your friend.
- (D) इस चुनौतीपूर्ण अवधि के दौरान अपने मित्र  
के साथ रहने के लिए अपनी व्यावसायिक  
यात्रा रद्द करें।  
Cancel your business trip to be there  
for your friend during this  
challenging period.

1440  
01

1440  
04

1440  
03

1440  
02

Right Answer : (C)

Right Option Id : 144003



**Question :** Rahul Sehgal, an M.Phil in Library Science has been a Deputy Librarian in the Rohilkhand University since 27th August, 2011. He also bears Master's Degree in Archives and Manuscript-keeping. He holds the evidence of innovative organization of published work of the college students doing Ph.D.

- (A) यदि मामला कुलपति को भेजा जाना है  
if the case is to be referred to the Vice Chancellor 1350 04
- (B) यदि उम्मीदवार का चयन नहीं किया जाना है  
if the candidate is not to be selected 1350 02
- (C) यदि मामला रजिस्ट्रार को भेजा जाना है  
if the case is to be referred to the Registrar 1350 03
- (D) यदि उम्मीदवार का चयन किया जाना है  
if the candidate is to be selected 1350 01

**Right Answer : (D)**

**Right Option Id : 135001**

**Question 134**

**Question Id : 127**

नीचे दिए गए प्रश्न में एक कथन और उसके बाद दो कार्यवाहियाँ क्रमांक I और II दी गई हैं। आपको कथन में दी गई हर बात को सत्य मानना है और कथन में दी गई जानकारी के आधार पर यह तय करना है कि सुझाए गए कार्यवाही के कदमों में से कौन सा अनुसरण करने के लिए तार्किक रूप से अनुसरण करता है।

**कथन :** यदि उन्हीं संस्थानों के सेवानिवृत्त प्रोफेसरों को भी संगठन के पुनर्गठन पर विचार-विमर्श के लिए आमंत्रित किया जाता है, तो उनका योगदान संस्थान के लिए फायदेमंद हो सकता है।

**कार्यवाही के कदम :**

- I. प्रबंधन सेवानिवृत्त प्रोफेसरों को बुलाने से पहले कर्मचारियों की राय ले सकता है।
- II. संगठन के व्यवस्थित पुनर्गठन के लिए प्रबंधन को अनुभवी लोगों को शामिल करना चाहिए।

In the question below is given a statement followed by two courses of action numbered I and II. You have to assume everything in the statement to be true and on the basis of the information given in the statement, decide which of the suggested courses of action logically follow(s) for pursuing.

**Statement :** If the retired Professors of the same Institutes are also invited to deliberate on restructuring of the organisation, their contribution may be beneficial to the Institute.

**Courses of Action :**

- I. Management may seek opinion of the employees before calling retired professors.
- II. Management should involve experienced people for the systematic restructuring of the organisation.

- (A) या तो I या II अनुसरण करता है  
Either I or II follows 1270 03
- (B) केवल II अनुसरण करता है  
Only II follows 1270 02
- (C) I और II दोनों अनुसरण करते हैं  
Both I and II follows 1270 04
- (D) केवल I अनुसरण करता है  
Only I follows 1270 01

**Right Answer : (B)**

**Right Option Id : 127002**

**Question 135**

**Question Id : 148**

नीचे प्रश्न में एक कथन और उसके बाद I और II क्रमांकित दो निष्कर्ष दिए गए हैं। आपको कथन में दी गई सभी बातों को सत्य मानना है, फिर दोनों निष्कर्षों पर एक साथ विचार करना है और निर्णय लेना है कि उनमें से कौन सा कथन में दी गई जानकारी से उचित संदेह से परे तार्किक रूप से अनुसरण करता है।

**कथन :** राष्ट्रीय मानदंड प्रति हजार जनसंख्या पर 100 बिस्तर है लेकिन इस राज्य में, अस्पतालों में प्रति हजार 150 बिस्तर उपलब्ध हैं।

**निष्कर्ष :**

- I. हमारा राष्ट्रीय मानदंड उपयुक्त है।
- II. राज्य की स्वास्थ्य व्यवस्था इस संबंध में पर्याप्त सावधानी बरत रही है।

In the question below is given a statement followed by two conclusions numbered I and II. You have to assume everything in the statement to be true, then consider the two conclusions together and decide which of them logically follows beyond a reasonable doubt from the information given in the statement.

**Statements :** The national norm is 100 beds per thousand populations but in this state, 150 beds per thousand are available in the hospitals.

**Conclusions :**

- I. Our national norm is appropriate.
- II. The state's health system is taking adequate care in this regard.

- (A) केवल निष्कर्ष I अनुसरण करता है  
Only conclusion I follows 1480 01
- (B) केवल निष्कर्ष II अनुसरण करता है  
Only conclusion II follows 1480 02
- (C) न तो I और न ही II अनुसरण करता है  
Neither I nor II follows 1480 04
- (D) I और II दोनों अनुसरण करते हैं  
Both I and II follows 1480 03

**Right Answer : (B)**

**Right Option Id : 148002**

**Question 136**

**Question Id : 126**

सोफी और नोआ एक मूवी नाइट की योजना बना रहे हैं, और जिस प्रकार की मूवी का वे आनंद लेते हैं, उसके लिए उनकी अलग-अलग प्राथमिकताएँ हैं। सोफी को रोमांटिक कॉमेडी पसंद है, जबकि नोआ को एक्शन से भरपूर थ्रिलर पसंद हैं। नीचे दी गई कौन सी फिल्म का विकल्प दोनों के लिए सबसे उपयुक्त समझीता होगा?

Sophie and Noah are planning a movie night, and they have different preferences for the type of movies they enjoy. Sophie

**Question 137**

**Question Id : 137**

एक कॉलेज प्रवेश कार्यालय को कम संख्या में आवेदन और संभावित छात्रों को आकर्षित करने में कठिनाई के साथ चुनौतियों का सामना करना पड़ रहा है। स्थिति में सुधार के लिए प्रवेश निदेशक को क्या कार्रवाई करनी चाहिए?

A college admissions office is facing challenges with a low number of applications and difficulty in attracting prospective students. What action should the admissions director take to improve the situation?



likes romantic comedies, while Noah prefers action-packed thrillers. Which movie choice below would be the most suitable compromise for both?

- (A) शैली मिश्रण शोकेस - फिल्मों के चयन की पेशकश जिसमें रोमांटिक कॉमेडी और एक्शन थ्रिलर दोनों शामिल हैं।  
Genre Mix Showcase - Offering a selection of movies that includes both romantic comedies and action thrillers. 1260 03
- (B) एक्शन थ्रिलर मूवी नाइट - गहन और एक्शन से भरपूर थ्रिलर फिल्मों का प्रदर्शन।  
Action Thriller Movie Night - Showcasing intense and action-packed thriller films. 1260 02
- (C) रोमांटिक कॉमेडी मैराथन - लोकप्रिय रोमांटिक कॉमेडी का संग्रह पेश करता है।  
Romantic Comedy Marathon - Featuring a collection of popular romantic comedies. 1260 01
- (D) क्लासिक मूवी नाइट - विभिन्न शैलियों की शाश्वत और प्रिय फिल्में प्रस्तुत करता है।  
Classic Movie Night - Presenting timeless and beloved films from various genres. 1260 04

Right Answer : (A)

Right Option Id : 126003

#### Question 138

Question Id : 128

नीचे दिए गए प्रश्न में एक कथन और उसके बाद दो कार्यवाहियाँ क्रमांक I और II दी गई हैं। आपको कथन में दी गई हर बात को सत्य मानना है और कथन में दी गई जानकारी के आधार पर यह तय करना है कि सुझाए गए कार्यवाही के कदमों में से कौन सा अनुसरण करने के लिए तार्किक रूप से अनुसरण करता है।

**कथन :** पिछले तीन वर्षों में, गंभीर सूखे के कारण राज्य A के चार जिलों से लोगों का बड़े पैमाने पर स्थानांतरण हुआ है।

**कार्यवाही के कदम :**

- I. सरकार को स्थानांतरण पर अंकुश लगाने के लिए प्रभावित जिलों में तुरंत काम के बदले भोजन कार्यक्रम शुरू करना चाहिए।  
II. सरकार को इन जिलों में पेयजल की उपलब्धता सुनिश्चित करने के लिए सक्रिय रूप से प्रयास करना चाहिए।

In the question below is given a statement followed by two courses of action numbered I and II. You have to assume everything in the statement to be true and on the basis of the information given in the statement, decide which of the suggested courses of action logically follow(s) for pursuing.

**Statement :** Over the past three years, severe drought has led to a significant migration of people from four districts in State A.

**Courses of Action :**

- I. The government should promptly initiate a food-for-work program in the affected districts to curb the migration.  
II. The government should actively strive to ensure the availability of potable drinking water in these districts.
- (A) I और II दोनों अनुसरण करते हैं 1280 04  
Both I and II follows
- (B) केवल II अनुसरण करता है 1280 02  
Only II follows
- (C) केवल I अनुसरण करता है 1280 01  
Only I follows
- (D) या तो I या II अनुसरण करता है 1280 03  
Either I or II follows

Right Answer : (A)

Right Option Id : 128004

#### Question 140

Question Id : 142

एक स्कूल विद्यार्थियों में किताबों के प्रति प्रेम विकसित करने के लिए एक पठन कार्यक्रम लागू कर रहा है। हालाँकि, शिक्षकों को कुछ चुनौतियाँ नज़र आती हैं। पठन कार्यक्रम की प्रभावशीलता बढ़ाने के लिए शिक्षकों को किस

- (A) कॉलेज को बढ़ावा देने के लिए स्थानीय उच्च विद्यालयों में लक्षित आउटरीच कार्यक्रम आयोजित करें।  
Conduct targeted outreach events in local high schools to promote the college. 1370 02
- (B) मान लें कि विशिष्ट कार्रवाई किए बिना समय के साथ स्थिति में स्वाभाविक रूप से सुधार होगा।  
Assume the situation will improve naturally over time without taking specific actions. 1370 04
- (C) कम योग्य आवेदकों को बाहर करने के लिए अधिक कठोर प्रवेश परीक्षा लागू करें।  
Implement a more rigorous entrance exam to filter out less qualified applicants. 1370 03
- (D) उच्च उपलब्धि वाले छात्रों को आकर्षित करने के लिए न्यूनतम जीपीए (GPA) आवश्यकता बढ़ाएँ।  
Increase the minimum GPA requirement to attract higher-achieving students. 1370 01

Right Answer : (A)

Right Option Id : 137002

#### Question 139

Question Id : 146

पिज्जा डिलीवरी सेवा को ऑर्डर में गिरावट के साथ चुनौतियों का सामना करना पड़ रहा है, और ग्राहक पेश किए गए पिज्जा विकल्पों की विविधता से असंतुष्ट दिख रहे हैं। स्थिति को सुधारने के लिए प्रबंधक को क्या कार्रवाई करनी चाहिए?

A pizza delivery service is facing challenges with a decline in orders, and customers seem dissatisfied with the variety of pizza options offered. What action should the manager take to improve the situation?

- (A) पिज्जा डिलीवरी की गति बढ़ाने के लिए अधिक डिलीवरी ड्राइवरों को नियुक्त करें।  
Hire more delivery drivers to increase the speed of pizza deliveries. 1460 01
- (B) ग्राहकों की प्रतिक्रिया और प्राथमिकताओं का विश्लेषण करें, और तदनुसार नए पिज्जा स्वाद पेश करें।  
Analyse customer feedback and preferences, and introduce new pizza flavours accordingly. 1460 03
- (C) समस्या पर ध्यान न दें और मान लें कि ग्राहक अंततः लौट आएंगे।  
Ignore the issue and assume customers will eventually return. 1460 04
- (D) राजस्व बढ़ाने और परिचालन लागत को कवर करने के लिए पिज्जा की कीमतें बढ़ाएं।  
Increase the prices of pizzas to boost revenue and cover operational costs. 1460 02

Right Answer : (B)

Right Option Id : 146003

#### Question 141

Question Id : 133

राज्य विश्वविद्यालय में लाइब्रेरियन की भर्ती के लिए आवश्यक योग्यताएँ निम्नलिखित हैं।  
उम्मीदवार को यह करना होगा:



स्थिति का समाधान करना चाहिए?

A school is implementing a reading program to encourage students to develop a love for books. However, the teachers notice some challenges. Which situation should the teachers address to enhance the effectiveness of the reading program?

- (A) एक छात्र लगातार पढ़ने की गतिविधियों से बच रहा है और किसी भी पुस्तक चयन में उदासीनता दिखा रहा है।  
A student consistently avoiding the reading activities and showing disinterest in any book selections. 1420 03
- (B) पढ़ने से संबंधित एक कार्यक्रम के दौरान दो छात्र उत्साहपूर्वक अपनी पसंदीदा किताबें एक-दूसरे के साथ साझा कर रहे हैं।  
Two students enthusiastically sharing their favorite books with each other during a reading-related event. 1420 04
- (C) एक छात्र विभिन्न शैलियों से विभिन्न प्रकार की किताबें चुनता है और निर्दिष्ट समय के दौरान स्वतंत्र रूप से पढ़ने का आनंद लेता है।  
A student choosing a variety of books from different genres and enjoying independent reading during the designated time. 1420 01
- (D) छात्रों का एक समूह एक पुस्तक क्लब बना रहा है और अपने द्वारा पढ़ी गई पुस्तकों के बारे में जीवंत चर्चा में संलग्न है।  
A group of students forming a book club and engaging in lively discussions about the books they've read. 1420 02

Right Answer : (A)

Right Option Id : 142003

- (1) कम से कम 55% अंकों या इसके समकक्ष ग्रेड और लगातार अच्छे अकादमिक रिकॉर्ड के साथ लाइब्रेरी साइंस में मास्टर डिग्री होनी चाहिए।  
(2) संस्थान में सूचना प्रौद्योगिकी/अभिलेखागार और पांडुलिपि-रख-रक्षण के क्षेत्र में मास्टर डिग्री में एक वर्ष की विशेषज्ञता होनी चाहिए।  
(3) किसी विश्वविद्यालय में उप पुस्तकालयाध्यक्ष के रूप में कम से कम दस वर्ष का अनुभव हो।  
(4) नवीन पुस्तकालय सेवा और प्रकाशित कार्य के संगठन का प्रमाण रखें।  
(5) ऐसे उम्मीदवार के मामले में जो:  
(5) कॉलेज लाइब्रेरियन के रूप में 15 साल का अनुभव है, मामला कुलपति को भेजा जा सकता है।  
(6) पुस्तकालय विज्ञान में 55% से कम अंक प्राप्त किए हैं, लेकिन किसी विश्वविद्यालय में उप पुस्तकालयाध्यक्ष के रूप में 13 वर्ष का अनुभव है, तो मामले को विचार के लिए विश्वविद्यालय के रजिस्ट्रार के पास भेजा जा सकता है।  
(7) पुस्तकालय विज्ञान/सूचना विज्ञान/दस्तावेज़ीकरण/अभिलेखागार और पांडुलिपि-रख-रखाव में एम. फिल/पीएचडी डिग्री है और/या कॉलेज लाइब्रेरियन के रूप में केवल दस वर्ष का अनुभव है, तो (1) की शर्त को माफ किया जा सकता है।  
उपरोक्त शर्तों और नीचे दिए गए प्रश्नों में प्रत्येक उम्मीदवार के खिलाफ दी गई जानकारी के आधार पर, तय करें कि प्रत्येक उम्मीदवार के खिलाफ निम्नलिखित में से कौन सी कार्रवाई की जानी चाहिए। ये सभी मामले आपको 1.1.2023 की स्थिति के अनुसार दिए गए हैं।

**प्रश्न :** 70% अंकों के साथ लाइब्रेरी साइंस में मास्टर डिग्री और सूचना प्रौद्योगिकी के क्षेत्र में एक साल की विशेषज्ञता के साथ अमित शर्मा भारतीय कॉलेज में लाइब्रेरियन के रूप में शामिल हुए और उन्हें उसी क्षेत्र में 16 साल का अनुभव है। उनके पास कॉलेज में नवीन पुस्तकालय सेवा का प्रमाण पत्र भी है।

Following are the qualifications necessary for the recruitment of a Librarian in a State University.

The candidate must :

- (1) have a Master's degree in Library Science with at least 55% marks or its equivalent grade and a consistently good academic record.  
(2) have one year specialisation in an area of Information Technology/Archives and Manuscript-keeping Master's Degree in an area of thrust in the institution.  
(3) have at least ten years' experience as a Deputy Librarian in a University.  
(4) bear an evidence of innovative library service and organisation of published work.  
In the case of a candidate who :  
(5) has a 15 years' experience as a College Librarian, the case may be referred to the Vice Chancellor.  
(6) has obtained less than 55% marks in Library Science but has 13 years' experience as a Deputy Librarian in a University, the case may be referred to the Registrar of the University for his consideration.  
(7) has M.Phil/Ph.D. degree in Library Science/Information Science/Documentation/ Archives and Manuscript-keeping and/or has only ten years' experience as a College Librarian, the condition at (1) may be waived.

Based on the above conditions and the information provided against each of the candidates in the questions given below, decide which of the following courses of action should be taken against each candidate. All these cases are given to you as on 1.1.2023.

**Question :** Amit Sharma having Master's Degree in Library Science with 70% marks and with one year specialization in an area of Information Technology joined as a Librarian in the Indian College and having experience of 16 years in the same field. He also holds a certificate of innovative library service in the college.

- (A) यदि उम्मीदवार का चयन नहीं किया जाना है  
if the candidate is not to be selected 1330 02
- (B) यदि उम्मीदवार का चयन किया जाना है  
if the candidate is to be selected 1330 01
- (C) यदि मामला रजिस्ट्रार को भेजा जाना है  
if the case is to be referred to the Registrar 1330 03
- (D) यदि मामला कुलपति को भेजा जाना है  
if the case is to be referred to the Vice Chancellor 1330 04



Right Answer : (D)

Right Option Id : 133004

Question 142

Question Id : 145

एक लैपटॉप रिटेल स्टोर धीमी इन्वेंट्री टर्नओवर, ग्राहक असंतोष के कारण उच्च रिटर्न दर और नवीनतम प्रौद्योगिकी रुझानों के साथ अपडेट रहने में कठिनाइयों से जूझ रहा है। स्टोर को किस प्रकार की समस्या का सामना करना पड़ रहा है?

A laptop retail store is struggling with slow inventory turnover, high return rates due to customer dissatisfaction and difficulties in staying updated with the latest technology trends. What type of problem is the store facing?

- (A) इन्वेंटरी प्रबंधन समस्या

☒

1450
- Inventory management problem

04
- (B) विपणन रणनीति समस्या

☐

1450
- Marketing strategy problem

02
- (C) ग्राहक संतुष्टि समस्या

☐

1450
- Customer satisfaction problem

03
- (D) आपूर्ति श्रृंखला अनुकूलन समस्या

☐

1450
- Supply chain optimization problem

01

Right Answer : (C)

Right Option Id : 145003

Question 143

Question Id : 132

एक रेस्तरां मालिक अपने डिलीवरी कार्यों को सुव्यवस्थित करने के लिए हाल ही में किराए पर ली गई भोजन डिलीवरी सेवा के लिए नए फोन नंबर को याद करने की कोशिश कर रहा है। मालिक को कुछ मुख्य विवरण याद आते हैं:

- #1: फ़ोन नंबर 912 से शुरू होता है।
- #2: फ़ोन नंबर 789 पर समाप्त होता है।
- #3: चौथा अंक या तो 2 या 4 है और संख्याओं में दोहराया नहीं गया है।
- #4: पाँचवाँ अंक सम संख्या है जो पहले अंक से छोटा और 6 से बड़ा है।
- अब, इन विवरणों के आधार पर, खाद्य डिलीवरी सेवा के लिए चार संभावित फ़ोन नंबर हैं। खाद्य डिलीवरी सेवा के लिए सबसे संभावित फ़ोन नंबर कौन सा है?

A restaurant owner is trying to recall the new phone number for a recently hired food delivery service to streamline their delivery operations. The owner recalls a few key details:

- #1: The phone number starts with 912.
- #2: The phone number ends with 789.
- #3: The fourth digit is either 2 or 4 and not repeated in numbers.
- #4: The fifth digit is even number less than first digit and greater than 6.

Now, based on these details, there are four potential phone numbers for the food delivery service. Which one is the most likely phone number for the food delivery service?

- (A) 91248789

☒

1320
- 03
- (B) 91284789

☐

1320
- 04
- (C) 91228789

☐

1320
- 01
- (D) 91246789

☐

1320
- 02

Right Answer : (A)

Right Option Id : 132003

Question 144

Question Id : 147

एक स्कूल ने ग्रेडिंग और पेपर चेकिंग की सटीकता सुनिश्चित करने के लिए एक नई नीति लागू की है। शिक्षकों को निर्देश दिया जाता है कि वे ऐसी किसी भी घटना की रिपोर्ट करें जो ग्रेडिंग प्रक्रिया की अखंडता से समझौता कर सकती हो। शिक्षकों को किस स्थिति की सूचना प्रबंधन को देनी चाहिए?

A school has implemented a new policy to ensure the accuracy of grading and paper checking. Teachers are instructed to report any incidents that may compromise the integrity of the grading process. Which situation should the teachers report to the management?

- (A) ग्रेडिंग में एक त्रुटि जहां किसी छात्र के सही उत्तर को लिपिकीय गलती के कारण गलत के रूप में चिह्नित किया जाता है।

☒

1470
- An error in grading where a student's correct answer is marked as incorrect due to a clerical mistake.

03
- (B) कागजात का एक गलत ढेर जिसे शिक्षक द्वारा तुरंत व्यवस्थित और क्रमबद्ध किया जाता है।

☐

1470
- A misplaced stack of papers that is promptly organized and sorted by the teacher.

02
- (C) शिक्षक पेपर-चेकिंग अवधि के दौरान शांत और केंद्रित वातावरण बनाए रखते हैं।

☐

1470
- Teachers maintaining a quiet and focused environment during the paper-checking period.

04
- (D) एक शिक्षक परिश्रमपूर्वक प्रत्येक छात्र के पेपर की समीक्षा करता है और रचनात्मक प्रतिक्रिया प्रदान करता है।

☐

1470
- 01

Question 145

Question Id : 138

एक तकनीक-प्रेमी व्यक्ति हाल ही में प्राप्त तकनीकी सहायता सेवा के लिए हॉटलाइन नंबर याद रखने का प्रयास कर रहा है। व्यक्ति विशिष्ट विवरण याद रखता है:

- #1: फ़ोन नंबर 543 से शुरू होता है।
- #2: फ़ोन नंबर 123 पर समाप्त होता है।
- #3: चौथा अंक या तो 2, 4, या 6 है और संख्याओं में दोहराया नहीं गया है।
- #4: पाँचवाँ अंक दूसरे अंतिम अंक और चौथे अंक का योग है।
- अब, इन विवरणों पर विचार करते हुए, तकनीकी सहायता सेवा के लिए चार संभावित फ़ोन नंबर हैं। सबसे संभावित फ़ोन नंबर कौन सा है?

A tech-savvy individual is attempting to remember the hotline number for a recently acquired tech support service. The individual recalls specific details:

- #1: The phone number starts with 543.
- #2: The phone number ends with 123.
- #3: The fourth digit is either 2, 4, or 6 and not repeated in the numbers.
- #4: The fifth digit is sum of second last digit and fourth digit.
- Now, considering these details, there are four potential phone numbers for the tech support service. Which one is the most likely phone number?

- (A) 54368123

☒

1380
- 02
- (B) 54386123

☐

1380
- 01
- (C) 54346123

☐

1380
- 03
- (D) 54367123

☐

1380
- 04



A teacher diligently reviewing each student's paper and providing constructive feedback.

Right Answer : (A)

Right Option Id : 147003

Question 146

Question Id : 139

चल रही महामारी के कारण एक कंपनी में दूरस्थ कार्य नीति लागू की गई है, लेकिन कुछ कर्मचारी अलगाव और कम टीम सहयोग की भावनाओं से जूझ रहे हैं। इस स्थिति से निपटने के लिए मानव संसाधन विभाग को क्या कार्रवाई करनी चाहिए?

A remote work policy has been implemented in a company due to the ongoing pandemic, but some employees are struggling with feelings of isolation and reduced team collaboration. What action should the HR department take to address this situation?

(A) मान लें कि कर्मचारी समय के साथ दूरस्थ कार्य वातावरण के लिए स्वाभाविक रूप से अनुकूलित हो जाएंगे। 1390 04

Assume employees will adapt naturally to the remote work environment over time.

(B) कर्मचारियों की ऑनलाइन गतिविधियों पर नज़र रखने के लिए सख्त निगरानी उपकरण पेश करें। 1390 03

Introduce stricter monitoring tools to track employees' online activities.

(C) आभासी टीम-निर्माण गतिविधियों और नियमित ऑनलाइन सामाजिक कार्यक्रमों का आयोजन करें। 1390 02

Organise virtual team-building activities and regular online social events.

(D) यह सुनिश्चित करने के लिए कि कर्मचारी पूरे दिन जुड़े रहें, लंबे समय तक काम करने का आदेश दें। 1390 01

Mandate longer work hours to ensure employees stay connected throughout the day.

Right Answer : (C)

Right Option Id : 139002

Question 148

Question Id : 130

नीचे दिए गए प्रश्न में एक कथन और उसके बाद दो कार्यवाहियाँ क्रमांक I और II दी गई हैं। आपको कथन में दी गई हर बात को सत्य मानना है और कथन में दी गई जानकारी के आधार पर यह तय करना है कि सुझाए गए कार्यवाही के कदमों में से कौन सा अनुसरण करने के लिए तार्किक रूप से अनुसरण करता है।

**कथन :** एक विशेष उत्पाद की बिक्री काफी कम हो गई है जिससे कंपनी को बड़ी चिंता हो रही है।

**कार्यवाही के कदम :**

I. कंपनी को बाजार में प्रतिद्वंद्वी उत्पादों का उचित अध्ययन करना चाहिए।

II. उत्पाद की कीमत कम की जानी चाहिए और गुणवत्ता में सुधार किया जाना चाहिए।

In the question below is given a statement followed by two courses of action numbered I and II. You have to assume everything in the statement to be true and on the basis of the information given in the statement, decide which of the suggested courses of action logically follow(s) for pursuing.

**Statement :** The sale of a particular product has gone down considerably causing great concern to the company.

**Courses of Action :**

I. The company should make a proper study of rival products in the market.

II. The price of the product should be reduced and quality improved.

(A) केवल II अनुसरण करता है 1300 02

Only II follows

(B) I और II दोनों अनुसरण करते हैं 1300 04

Both I and II follows

Right Answer : (A)

Right Option Id : 138002

Question 147

Question Id : 140

आपकी एक महत्वपूर्ण ग्राहक बैठक (क्लाइंट मीटिंग) निर्धारित है, लेकिन आपके बच्चे के स्कूल में एक कार्यक्रम है जिसमें आपने भाग लेने का वादा किया है। आप स्थिति को कैसे संभालेंगे?

You have an important client meeting scheduled, but your child has a school event that you promised to attend. How will you handle the situation?

(A) स्कूल के आयोजन पर ध्यान न दें और पूरी तरह से ग्राहक बैठक पर ध्यान केंद्रित करें। 1400 03

Ignore the school event and fully focus on the client meeting.

(B) दोनों प्रतिबद्धताओं को पूरा करने के लिए अपने बच्चे को ग्राहक बैठक में लाएँ। 1400 04

Bring your child to the client meeting to fulfill both commitments.

(C) ग्राहक बैठक को प्राथमिकता दें और बाद में स्कूल कार्यक्रम में भाग लें। 1400 01

Prioritise the client meeting and attend the school event later.

(D) स्कूल कार्यक्रम में भाग लें और यदि संभव हो तो ग्राहक बैठक को पुनर्निर्धारित करें। 1400 02

Attend the school event and reschedule the client meeting if possible.

Right Answer : (D)

Right Option Id : 140002

Question 149

Question Id : 149

एक लोकप्रिय स्कूल आपूर्ति स्टोर अपने बैक-टू-स्कूल अभियान में शामिल करने के लिए एक आदर्श स्कूल बैग की तलाश कर रहा है। आदर्श स्कूल बैग विशाल, टिकाऊ, कई विभाग वाला और जीवंत रंगों में आना चाहिए। इसके अतिरिक्त, बैग में सुविधा के लिए समायोज्य और गद्देदार कंधे की पट्टियाँ (सोल्डर स्ट्रैप्स) होनी चाहिए। निम्नलिखित स्कूल बैग में से कौन सा सभी निर्दिष्ट आवश्यकताओं को पूरा करता है?

(I) **स्कूल बैग A :** कॉम्पैक्ट और हल्का, एक मुख्य विभाग और कुछ छोटी पॉकेट के साथ, यह तटस्थ रंगों में आता है और इसमें साधारण सोल्डर स्ट्रैप्स हैं।

(II) **स्कूल बैग B :** टिकाऊ सामग्री से बना, कई विभाग वाला विशाल है। यह जीवंत रंगों में आता है और इसमें सुविधा के लिए समायोज्य और गद्देदार सोल्डर स्ट्रैप्स हैं।

(III) **स्कूल बैग C :** टिकाऊ सामग्री से बने विभागों के संयोजन के साथ मध्यम आकार का है। यह एकल रंग में आता है और इसमें साधारण सोल्डर स्ट्रैप्स हैं।

(IV) **स्कूल बैग D :** बड़ा और टिकाऊ, कई विभाग और मजबूत ज़िपर के साथ है। यह जीवंत रंगों में आता है और इसमें सुविधा के लिए समायोज्य और गद्देदार सोल्डर स्ट्रैप्स हैं।

A popular school supplies store is looking for a perfect school bag to feature in their back-to-school campaign. The ideal school bag must be spacious, durable, have multiple compartments, and come in vibrant colors. Additionally, the bag should have adjustable and padded shoulder straps for comfort. Among the following school bags, which meets all the specified requirements?

(I) **School Bag A :** Compact and lightweight, with one main compartment and a few small pockets. It comes in neutral colors and has basic shoulder straps.



- (C) या तो I या II अनुसरण करता है  
Either I or II follows 1300 03
- (D) केवल I अनुसरण करता है  
Only I follows 1300 01

Right Answer : (D) Right Option Id : 130001

- (II) **School Bag B** : Spacious with multiple compartments, made from durable materials. It comes in vibrant colors and features adjustable and padded shoulder straps for comfort.
- (III) **School Bag C** : Medium-sized with a combination of compartments, made from durable materials. It comes in single color and has basic shoulder straps.
- (IV) **School Bag D** : Large and durable, with multiple compartments and reinforced zippers. It comes in vibrant colors and features adjustable and padded shoulder straps for comfort.

- (A) C, D 1490 03
- (B) A, B 1490 01
- (C) B, D 1490 02
- (D) B, C 1490 04

Right Answer : (C) Right Option Id : 149002

Question 150 Question Id : 134

राज्य विश्वविद्यालय में लाइब्रेरियन की भर्ती के लिए आवश्यक योग्यताएँ निम्नलिखित हैं।  
उम्मीदवार को यह करना होगा:

- (1) कम से कम 55% अंकों या इसके समकक्ष ग्रेड और लगातार अच्छे अकादमिक रिकॉर्ड के साथ लाइब्रेरी साइंस में मास्टर डिग्री होनी चाहिए।
- (2) संस्थान में सूचना प्रौद्योगिकी/अभिलेखागार और पांडुलिपि-रख-रक्षण के क्षेत्र में मास्टर डिग्री में एक वर्ष की विशेषज्ञता होनी चाहिए।
- (3) किसी विश्वविद्यालय में उप पुस्तकालयाध्यक्ष के रूप में कम से कम दस वर्ष का अनुभव हो।
- (4) नवीन पुस्तकालय सेवा और प्रकाशित कार्य के संगठन का प्रमाण रखें। ऐसे उम्मीदवार के मामले में जो:
- (5) कॉलेज लाइब्रेरियन के रूप में 15 साल का अनुभव है, मामला कुलपति को भेजा जा सकता है।
- (6) पुस्तकालय विज्ञान में 55% से कम अंक प्राप्त किए हैं, लेकिन किसी विश्वविद्यालय में उप पुस्तकालयाध्यक्ष के रूप में 13 वर्ष का अनुभव है, तो मामले को विचार के लिए विश्वविद्यालय के रजिस्ट्रार के पास भेजा जा सकता है।
- (7) पुस्तकालय विज्ञान/सूचना विज्ञान/दस्तावेजीकरण/अभिलेखागार और पांडुलिपि-रख-रखाव में एम. फिल/पीएचडी डिग्री है और/या कॉलेज लाइब्रेरियन के रूप में केवल दस वर्ष का अनुभव है, तो (1) की शर्त को माफ किया जा सकता है।
- उपरोक्त शर्तों और नीचे दिए गए प्रश्नों में प्रत्येक उम्मीदवार के खिलाफ दी गई जानकारी के आधार पर, तय करें कि प्रत्येक उम्मीदवार के खिलाफ निम्नलिखित में से कौन सी कार्रवाई की जानी चाहिए। ये सभी मामले आपको 1.1.2023 की स्थिति के अनुसार दिए गए हैं।

**प्रश्न :** संजय वर्मा 1996 से आईएमएस विश्वविद्यालय में डिग्री लाइब्रेरियन हैं। उनके पास उसी संस्थान में पुस्तकालय सेवा में योगदान देने का प्रमाण है। उनके पास 53% अंकों के साथ लाइब्रेरी साइंस में मास्टर डिग्री है।

Following are the qualifications necessary for the recruitment of a Librarian in a State University.  
The candidate must :

- (1) have a Master's degree in Library Science with at least 55% marks or its equivalent grade and a consistently good academic record.
- (2) have one year specialisation in an area of Information Technology/Archives and Manuscript-keeping Master's Degree in an area of thrust in the institution.
- (3) have at least ten years' experience as a Deputy Librarian in a University.
- (4) bear an evidence of innovative library service and organisation of published work.
- In the case of a candidate who :
- (5) has a 15 years' experience as a College Librarian, the case may be referred to the Vice Chancellor.

(6) has obtained less than 55% marks in Library Science but has 13 years' experience as a Deputy Librarian in a University, the case may be referred to the Registrar of the University for his consideration.

(7) has M.Phil/Ph.D. degree in Library Science/Information Science/Documentation/ Archives and Manuscript-keeping and/or has only ten years' experience as a College Librarian, the condition at (1) may be waived.

Based on the above conditions and the information provided against each of the candidates in the questions given below, decide which of the following courses of action should be taken against each candidate. All these cases are given to you as on 1.1.2023.

**Question :** Sanjay Verma has been a Deputy Librarian in the IMS University since 1996. He holds an evidence of contributing library service in the same institution. He has a Master's Degree in Library Science with 53% marks.

- (A) यदि उम्मीदवार का चयन किया जाना है  
if the candidate is to be selected 1340 01
- (B) यदि मामला रजिस्ट्रार को भेजा जाना है  
if the case is to be referred to the Registrar 1340 03
- (C) यदि उम्मीदवार का चयन नहीं किया जाना है  
if the candidate is not to be selected 1340 02
- (D) यदि मामला कुलपति को भेजा जाना है  
if the case is to be referred to the Vice Chancellor 1340 04

Right Answer : (C)

Right Option Id : 134002

Management Principle & Practice

Question 151

Question Id : 163

स्केल जो महत्वपूर्ण घटना और ग्राफिक रेटिंग स्केल दृष्टिकोण से प्रमुख तत्वों को जोड़ते हैं। मूल्यांकनकर्ता सातत्य के साथ वस्तुओं के आधार पर कर्मचारियों का मूल्यांकन करता है, लेकिन सामान्य विवरण या लक्षणों के बजाय दिए गए कार्य पर वास्तविक व्यवहार के उदाहरणों को \_\_\_\_\_ कहा जाता है।

Scales that combine major elements from the critical incident and graphic rating scale approaches. The appraiser rates the employees based on items along a continuum, but the points are examples of actual behaviour on the given job rather than general descriptions or traits is called \_\_\_\_\_.

- (A) उद्देश्यों द्वारा प्रबंधन (एमबीओ)  
Management by Objectives (MBO) 1630 04
- (B) ग्राफिक रेटिंग स्केल  
Graphic Rating Scale 1630 02
- (C) क्रिटिकल इंसीडेंट स्केल  
Critical Incident Scale 1630 01
- (D) व्यवहारिक रूप से आधारित रेटिंग स्केल  
(बीएआरएस)  
Behaviourally Anchored Rating Scale (BARS) 1630 03

Right Answer : (D)

Right Option Id : 163003

Question 152

Question Id : 160

एक बातचीत प्रक्रिया जहां दोनों पक्षों को कुछ उत्साहवर्धक हासिल हुआ है उसे \_\_\_\_\_ कहा जाता है।

A negotiation process where both parties have gained something encouraging is called as \_\_\_\_\_.

- (A) जीत-हार की स्थिति(विन-लॉस सिचुएशन)  
Win-Lose Situation 1600 01
- (B) जीत-जीत की स्थिति(विन-विन सिचुएशन)  
Win-Win Situation 1600 04
- (C) हार-हार की स्थिति(लॉस-लॉस सिचुएशन)  
Lose-Lose Situation 1600 02
- (D) हार-जीत की स्थिति(लॉस -विन सिचुएशन)  
Lose-Win Situation 1600 03

Right Answer : (B)

Right Option Id : 160004

Question 153

Question Id : 157

किसी संगठन में, संगठन के उद्देश्यों को पूरा करने के लिए मिलकर काम करने वाले कार्यों और गतिविधियों को \_\_\_\_\_ माना जाता है।

In an organisation, the functions and activities that work together to fulfil the purposes of the organisation is considered as \_\_\_\_\_.

- (A) नीति  
Policy 1570 03
- (B) व्यापार योजना  
Business Plan 1570 04

Question 154

Question Id : 155

एक संरचित तरीके से दो या दो लोगों को एक साथ काम करने में शामिल करने की प्रक्रिया को \_\_\_\_\_ कहा जाता है।

The process of engaging two or more people in working together in a structured way is called as \_\_\_\_\_.

- (A) योजना बनाना  
Planning 1550 02
- (B) संगठित करना  
Organising 1550 01



- (C) प्रणाली ☒ 1570  
System 01  
(D) प्रोटोकॉल ☐ 1570  
Protocol 02

Right Answer : (C)

Right Option Id : 157001

- (C) मूल्यांकन करना ☐ 1550  
Evaluating 04  
(D) निर्णयन ☐ 1550  
Decision Making 03

Right Answer : (B)

Right Option Id : 155001

Question 155

Question Id : 165

वह प्रक्रिया जो तब शुरू होती है जब एक पक्ष को लगता है कि दूसरे पक्ष ने नकारात्मक रूप से प्रभावित किया है, या नकारात्मक रूप से प्रभावित करने वाला है, जिसकी पहले पक्ष को परवाह है, कहलाती है:

The process that begins when one party perceives that another party has negatively affected, or is about to negatively affect, something that the first party cares about is known as:

- (A) सहयोग ☐ 1650  
Collaboration 02  
(B) वार्ता ☐ 1650  
Negotiation 01  
(C) संघर्ष ☐ 1650  
Conflict 03  
(D) सहकारिता ☐ 1650  
Cooperation 04

Right Answer : (C)

Right Option Id : 165003

Question 156

Question Id : 171

मान लीजिए कि आप एक कानूनी औपचारिक और पदानुक्रमित संरचना वाले संगठन में शामिल हो गए हैं, तो संगठन के भीतर औपचारिक संरचना प्रक्रिया को \_\_\_\_\_ माना जाता है।

Suppose you have joined an organization with a legalized formal and hierarchical structure also the formal structure process within the organization is considered as \_\_\_\_\_.

- (A) अल्पाधिकार ☐ 1710  
Oligopoly 04  
(B) एकाधिकार ☐ 1710  
Monopoly 01  
(C) द्व्यधिकार ☐ 1710  
Duopoly 03  
(D) नौकरशाही ☒ 1710  
Bureaucracy 02

Right Answer : (D)

Right Option Id : 171002

Question 157

Question Id : 152

मान लीजिए कि आपको मैनेजर के खिलाफ शिकायत मिली है कि उसने अधीनस्थ को दिए गए ठोस लाभों के बदले में यौन संबंध बनाने की मांग की है, यह \_\_\_\_\_ का उत्कृष्ट उदाहरण है।

Suppose you have received a complaint against manager that he asked for sexual favours in return of tangible benefits provided to the subordinate is classic example of \_\_\_\_\_.

- (A) अनुलाभ ☐ 1520  
Perquisite 03  
(B) सतर्कता ☐ 1520  
Vigilantism 04  
(C) क्विड प्रो क्वो ☒ 1520  
Quid Pro Quo 01  
(D) क्विड लाभ ☐ 1520  
Quid benefits 02

Right Answer : (C)

Right Option Id : 152001

Question 158

Question Id : 161

जब कोई संगठन उत्पादों या सेवाओं को बढ़ाने के लिए अन्य संगठनों के साथ दीर्घकालिक संबंध बनाता है तो उसे \_\_\_\_\_ कहा जाता है।

When an organisation builds long term relationship with other organisations to enhance products or services is called as \_\_\_\_\_.

- (A) व्यापार ☐ 1610  
Business 02  
(B) रणनीति ☐ 1610  
Strategy 01  
(C) सबयूनिट कार्यान्वयन ☐ 1610  
Subunit implementation 04  
(D) रणनीतिक साझेदारी ☒ 1610  
Strategic Partnering 03

Right Answer : (D)

Right Option Id : 161003



**Question 159****Question Id : 170**

प्राधिकार की वह अटूट रेखा जो संगठन के शीर्ष से लेकर सबसे निचले स्तर तक फैली हुई है और यह स्पष्ट करती है कि कौन किसे रिपोर्ट करता है, \_\_\_\_\_ के रूप में जानी जाती है।

The unbroken line of authority that extends from the top of the organization to the lowest echelon and clarifies who reports to whom is known as \_\_\_\_\_.

- |                       |                                  |      |
|-----------------------|----------------------------------|------|
| (A) आदेश की श्रृंखला  | <input checked="" type="radio"/> | 1700 |
| chain of command      |                                  | 02   |
| (B) नियंत्रण विस्तृति | <input type="radio"/>            | 1700 |
| span of control       |                                  | 03   |
| (C) पदानुक्रम         | <input type="radio"/>            | 1700 |
| hierarchy             |                                  | 01   |
| (D) केंद्रीकरण        | <input type="radio"/>            | 1700 |
| centralisation        |                                  | 04   |

**Right Answer : (A)****Right Option Id : 170002****Question 160****Question Id : 174**

किसी व्यक्ति द्वारा अपनी रुचियों, पृष्ठभूमि, अनुभव और दृष्टिकोण के आधार पर जो देखा जाता है उसकी चयनात्मक व्याख्या करने की प्रवृत्ति को \_\_\_\_\_ कहा जाता है।

The tendency to selectively interpret what one sees on the basis of one's interests, background, experience, and attitudes is known as \_\_\_\_\_.

- |                          |                                  |      |
|--------------------------|----------------------------------|------|
| (A) एंकरिंग प्रभाव       | <input type="radio"/>            | 1740 |
| Anchoring Effect         |                                  | 04   |
| (B) संज्ञानात्मक असंगति  | <input type="radio"/>            | 1740 |
| Cognitive Dissonance     |                                  | 03   |
| (C) पुष्टिकरण पूर्वाग्रह | <input type="radio"/>            | 1740 |
| Confirmation Bias        |                                  | 01   |
| (D) चयनात्मक धारणा       | <input checked="" type="radio"/> | 1740 |
| Selective Perception     |                                  | 02   |

**Right Answer : (D)****Right Option Id : 174002****Question 161****Question Id : 166**

नेतृत्व शैलियों का चयन करते समय किन मापदंडों पर विचार किया जाता है?  
Which parameters are considered while selecting leadership styles?

- |  |                       |      |
|--|-----------------------|------|
| (A) विचार-व्यवसाय प्रकार                     | <input type="radio"/> | 1660 |
| Consideration-Business type                  |                       | 02   |
| (B) कर्मचारियों की संख्या - नियमों की संख्या | <input type="radio"/> | 1660 |
| No. of employees- No. of rules               |                       | 04   |
| (C) विचार-आरंभ संरचना                        | <input type="radio"/> | 1660 |
| Consideration-Initiating structure           |                       | 01   |
| (D) प्रारंभिक संरचना- कर्मचारियों की संख्या  | <input type="radio"/> | 1660 |
| Initiating structure- No of employees        |                       | 03   |

**Right Answer : (C)****Right Option Id : 166001****Question 162****Question Id : 156**

यदि आपमें लोगों को प्रेरित करने और लोगों के साथ काम करने की क्षमता है, तो इनमें से आपका कौन सा कौशल सेट है?

If you have the ability to motivate people and work with people, which amongst these are your skill set?

- |                    |                                  |      |
|--------------------|----------------------------------|------|
| (A) तकनीकी कौशल    | <input type="radio"/>            | 1560 |
| Technical Skill    |                                  | 01   |
| (B) सूचनात्मक कौशल | <input type="radio"/>            | 1560 |
| Informative Skill  |                                  | 02   |
| (C) मानव कौशल      | <input checked="" type="radio"/> | 1560 |
| Human Skill        |                                  | 04   |
| (D) वैचारिक कौशल   | <input type="radio"/>            | 1560 |
| Conceptual Skill   |                                  | 03   |

**Right Answer : (C)****Right Option Id : 156004****Question 163****Question Id : 151**

ओटीजे(OTJ) ट्रेनिंग का पूर्ण रूप दीजिए।  
Give full form of OTJ Training.

- |                           |                       |      |
|---------------------------|-----------------------|------|
| (A) ऑन दी जर्गन ट्रेनिंग  | <input type="radio"/> | 1510 |
| On The Jargon Training    |                       | 03   |
| (B) ऑन टाइम ट्रेनिंग      | <input type="radio"/> | 1510 |
| On time training          |                       | 04   |
| (C) ओवरऑल दी जॉब ट्रेनिंग | <input type="radio"/> | 1510 |
| Overall The Job Training  |                       | 02   |

**Question 164****Question Id : 158**

एक प्रबंधक के रूप में यदि आप जाते हैं और बीच-बचाव करने वाले व्यक्ति के रूप में कार्य करते हैं तो आपको \_\_\_\_\_ माना जाता है।

As a manager if you go and act as a go-between person is considered as \_\_\_\_\_.

- |                    |                                  |      |
|--------------------|----------------------------------|------|
| (A) संपर्क व्यक्ति | <input checked="" type="radio"/> | 1580 |
| Liaison            |                                  | 01   |
| (B) सीईओ           | <input type="radio"/>            | 1580 |
| CEO                |                                  | 04   |

(D) ऑन दी जॉब ट्रेनिंग  
On The Job Training



1510  
01

Right Answer : (D)

Right Option Id : 151001

(C) पर्यवेक्षक  
Supervisor



1580  
02

(D) अधीनस्थ  
Subordinate



1580  
03

Right Answer : (A)

Right Option Id : 158001

#### Question 165

Question Id : 172

जो व्यक्ति उत्प्रेरक के रूप में कार्य करते हैं और परिवर्तन गतिविधियों के प्रबंधन की जिम्मेदारी लेते हैं, उन्हें अक्सर \_\_\_\_\_ कहा जाता है।

Persons who act as catalysts and assume the responsibility for managing change activities are often referred to as \_\_\_\_\_.

- (A) परिवर्तनकारी नेता  
Transformation Leaders
- (B) चैंज चैंपियंस  
Change Champions
- (C) चैंज एजेंट  
Change Agents
- (D) सुविधाप्रदाता  
Facilitators



1720  
04



1720  
02



1720  
03



1720  
01

Right Answer : (C)

Right Option Id : 172003

#### Question 166

Question Id : 169

किसी विशेष व्यवसाय के लक्ष्यों को पूरा करने के लिए \_\_\_\_\_ रणनीति तैयार की जाती है।

\_\_\_\_\_ strategy is formulated to meet the goals of a particular business.

- (A) क्रॉस लेवल  
Cross level
- (B) कार्यात्मक स्तर  
Functional level
- (C) कॉर्पोरेट स्तर  
Corporate level
- (D) व्यवसाय स्तर  
Business level



1690  
04



1690  
03



1690  
01



1690  
02

Right Answer : (D)

Right Option Id : 169002

#### Question 167

Question Id : 167

निम्नलिखित में से कौन सा शक्ति का प्रकार नहीं है?

Which one of the following is not the types of power?

- (A) संदर्भ शक्ति  
Reference Power
- (B) निचले स्तर की शक्ति  
Bottom level power
- (C) प्रपीड़क शक्ति  
Coercive Power
- (D) विशेषज्ञ शक्ति  
Expert Power



1670  
03



1670  
04



1670  
02



1670  
01

Right Answer : (B)

Right Option Id : 167004

#### Question 168

Question Id : 162

ईईओ(EEO) का पूर्ण रूप दिजीए।

Give full form of EEO.

- (A) एक्वल एम्प्लॉयमेंट अपॉर्चुनिटी  
Equal Employment Opportunity
- (B) एक्वल एम्प्लॉयबिलिटी ओर्गेनाइज़ेशन  
Equal Employability Organization
- (C) एकविवेलेन्ट एम्प्लॉयमेंट अपॉर्चुनिटी  
Equivalent Employment Opportunity
- (D) एम्प्लोयी एंगेजमेंट ओर्गेनाइज़ेशन  
Employee Engagement Organization



1620  
02



1620  
01



1620  
04



1620  
03

Right Answer : (A)

Right Option Id : 162002



### Question 169

Question Id : 168

जब शक्ति इस विश्वास या समझ पर आधारित होती है कि एक प्रभावशाली व्यक्ति के पास विशिष्ट ज्ञान या प्रासंगिक विशेषज्ञता है जो प्रभावित होने वाले के पास नहीं है तो इसे \_\_\_\_\_ कहा जाता है।

When the power is based on the belief or understanding that an influencer has specific knowledge or relevant expertise that the influencee does not have is called as \_\_\_\_\_.

- |                         |                                  |      |
|-------------------------|----------------------------------|------|
| (A) प्रपीड़क शक्ति      | <input type="radio"/>            | 1680 |
| Coercive Power          |                                  | 02   |
| (B) संदर्भ शक्ति        | <input type="radio"/>            | 1680 |
| Reference Power         |                                  | 03   |
| (C) निचले स्तर की शक्ति | <input type="radio"/>            | 1680 |
| Bottom level power      |                                  | 04   |
| (D) विशेषज्ञ शक्ति      | <input checked="" type="radio"/> | 1680 |
| Expert Power            |                                  | 01   |

Right Answer : (D)

Right Option Id : 168001

### Question 170

Question Id : 173

निम्नलिखित में से किसके द्वारा बीसीजी मैट्रिक्स का अविष्कार किया गया था ?

BCG Matrix was invented by whom among the following?

- |                              |                                  |      |
|------------------------------|----------------------------------|------|
| (A) बिजनेस कंसल्टिंग ग्रुप   | <input type="radio"/>            | 1730 |
| Business Consulting Group    |                                  | 04   |
| (B) बोस्टन कंसल्टिंग ग्रुप   | <input checked="" type="radio"/> | 1730 |
| Boston Consulting Group      |                                  | 03   |
| (C) बोस्टन कंसल्टेंसी ग्लोबल | <input type="radio"/>            | 1730 |
| Boston Consultancy Global    |                                  | 01   |
| (D) बिजनेस कॉर्पोरेट ग्लोबल  | <input type="radio"/>            | 1730 |
| Business Corporate Global    |                                  | 02   |

Right Answer : (B)

Right Option Id : 173003

### Question 171

Question Id : 154

व्यवहार या प्रभाव को बदलने की क्षमता को \_\_\_\_\_ कहा जाता है।

The ability to change behaviour or influence is called as \_\_\_\_\_.

- |                |                                  |      |
|----------------|----------------------------------|------|
| (A) प्राधिकरण  | <input type="radio"/>            | 1540 |
| Authority      |                                  | 01   |
| (B) प्रभाव     | <input type="radio"/>            | 1540 |
| Influence      |                                  | 04   |
| (C) शक्ति      | <input checked="" type="radio"/> | 1540 |
| Power          |                                  | 03   |
| (D) जिम्मेदारी | <input type="radio"/>            | 1540 |
| Responsibility |                                  | 02   |

Right Answer : (C)

Right Option Id : 154003

### Question 172

Question Id : 159

मान लीजिए कि आप अपने कर्मचारियों को वास्तविक उपकरण पर प्रशिक्षण दे रहे हैं तो वह \_\_\_\_\_ प्रशिक्षण है।

Suppose you are training your workers on the actual equipment is \_\_\_\_\_ training.

- |                            |                                  |      |
|----------------------------|----------------------------------|------|
| (A) प्रकोष्ठ (वेस्टिब्यूल) | <input checked="" type="radio"/> | 1590 |
| Vestibule                  |                                  | 02   |
| (B) सेमिनार                | <input type="radio"/>            | 1590 |
| Seminar                    |                                  | 01   |
| (C) गंभीर घटना             | <input type="radio"/>            | 1590 |
| Critical Incident          |                                  | 04   |
| (D) कक्षा                  | <input type="radio"/>            | 1590 |
| Classroom                  |                                  | 03   |

Right Answer : (A)

Right Option Id : 159002

### Question 173

Question Id : 164

किसी संगठन में धूम्रपान की अनुमति नहीं है वह \_\_\_\_\_ का एक उदाहरण है।

Smoking is not allowed in an organisation is an example of \_\_\_\_\_.

- |           |                                  |      |
|-----------|----------------------------------|------|
| (A) योजना | <input type="radio"/>            | 1640 |
| Plan      |                                  | 01   |
| (B) नियम  | <input checked="" type="radio"/> | 1640 |
| Rules     |                                  | 03   |

### Question 174

Question Id : 153

निम्नलिखित में से कौन सी प्रशिक्षण की वह विधि है जहाँ लोगों को उनके कौशल और समझ को बेहतर बनाने के लिए विभिन्न संगठनात्मक भूमिकाएँ सौंपी जाती हैं?

Which of the following is the method of training where people are assigned different organizational roles to play in order to improve their skills and understanding?

- |               |                       |      |
|---------------|-----------------------|------|
| (A) प्रस्तुति | <input type="radio"/> | 1530 |
| Presentation  |                       | 01   |



(C) दिशानिर्देश

Guidelines

1640

02

(D) प्रक्रिया

Procedure

1640

04

Right Answer : (B)

Right Option Id : 164003

(B) कक्षा प्रशिक्षण

Classroom training

1530

02

(C) कार्यशाला

Workshop

1530

03

(D) भूमिका निर्वहन

Role playing

1530

04

Right Answer : (D)

Right Option Id : 153004

Question 175

Question Id : 175

नकारात्मक जानकारी के बावजूद पिछले निर्णय के प्रति बढ़ी हुई प्रतिबद्धता को क्या कहते हैं?

What is the term for an increased commitment to a previous decision in spite of negative information?

(A) पुष्टिकरण पूर्वाग्रह

Confirmation Bias

1750

01

(B) एंकरिंग प्रभाव

Anchoring Effect

1750

02

(C) निर्णय ठप होना

Decision Paralysis

1750

04

(D) प्रतिबद्धता वृद्धि

Escalation of Commitment

1750

03

Right Answer : (D)

Right Option Id : 175003

National Geography

Question 176

Question Id : 178

सरकार द्वारा किसी फसल के समर्थन में कौन सा मूल्य घोषित किया जाता है?

Which price is announced by the government in support of a crop?

(A) प्रभावशाली समर्थन मूल्य (इन्फ्लुएण्शियल सपोर्ट प्राइस)

Influential support price

1780

03

(B) मध्यम समर्थन मूल्य (मॉडरेट सपोर्ट प्राइस)

Moderate support price

1780

04

(C) अधिकतम समर्थन मूल्य (मैक्सिमम सपोर्ट प्राइस)

Maximum support price

1780

02

(D) न्यूनतम समर्थन मूल्य (मिनिमम सपोर्ट प्राइस)

Minimum support price

1780

01

Right Answer : (D)

Right Option Id : 178001

Question 177

Question Id : 183

राष्ट्रीय जलमार्ग संख्या 2 किस नदी पर तथा किन दो स्थानों के बीच स्थित है?

On which river and between which two places does the National Water Way No. 2 lie?

(A) गंगा, हल्दिया-इलाहाबाद

The Ganga, Haldia-Allahabad

1830

03

(B) ब्राह्मणी, पूर्वी तट नहरें

Brahmani, East Coast canals

1830

01

(C) गोदावरी और कृष्णा नदियों के साथ-साथ काकीनाडा पुडुचेरी नहरों का विस्तार

Godavari and Krishna rivers along with Kakinada Puducherry stretch of canals

1830

04

(D) ब्रह्मपुत्र, सदिया-धुबरी

The Brahmaputra, Sadiya-Dhubri

1830

02

Right Answer : (D)

Right Option Id : 183002

**Question 178****Question Id : 199**

सिंधु और सतलुज के बीच स्थित हिमालय का भाग पारंपरिक रूप से निम्नलिखित में से किस नाम से जाना जाता है?

The part of Himalayas lying between Indus and Satluj has been traditionally known by which of the following names?

- |                      |                                  |      |
|----------------------|----------------------------------|------|
| (A) कुमाऊँ हिमालय    | <input type="radio"/>            | 1990 |
| Kumaon Himalayas     |                                  | 02   |
| (B) पंजाब हिमालय     | <input type="radio"/>            | 1990 |
| Punjab Himalaya      |                                  | 01   |
| (C) पूर्वांचल हिमालय | <input type="radio"/>            | 1990 |
| Purvachal Himalayas  |                                  | 03   |
| (D) सिंध हिमालय      | <input checked="" type="radio"/> | 1990 |
| Sindh Himalayas      |                                  | 04   |

**Right Answer : (B)****Right Option Id : 199001****Question 179****Question Id : 186**

द्रास पृथ्वी पर सबसे ठंडे बसे हुए स्थानों में से एक है जो भारत में निम्नलिखित में से किस स्थान पर स्थित है?

Drass is one of the coldest inhabited places on the earth is located at which of the following places in India?

- |                   |                       |      |
|-------------------|-----------------------|------|
| (A) हिमाचल प्रदेश | <input type="radio"/> | 1860 |
| Himachal Pradesh  |                       | 04   |
| (B) सिक्किम       | <input type="radio"/> | 1860 |
| Sikkim            |                       | 01   |
| (C) लद्दाख        | <input type="radio"/> | 1860 |
| Ladakh            |                       | 02   |
| (D) उत्तराखंड     | <input type="radio"/> | 1860 |
| Uttarakhand       |                       | 03   |

**Right Answer : (C)****Right Option Id : 186002****Question 180****Question Id : 187**

अरेबिका निम्नलिखित में से किसकी एक किस्म है?

Arabica is a variety of which of the following?

- |                |                                  |      |
|----------------|----------------------------------|------|
| (A) कॉफी       | <input checked="" type="radio"/> | 1870 |
| Coffee         |                                  | 03   |
| (B) जूट (पटसन) | <input type="radio"/>            | 1870 |
| Jute           |                                  | 04   |
| (C) रबर        | <input type="radio"/>            | 1870 |
| Rubber         |                                  | 02   |
| (D) चाय        | <input type="radio"/>            | 1870 |
| Tea            |                                  | 01   |

**Right Answer : (A)****Right Option Id : 187003****Question 181****Question Id : 198**

निम्नलिखित में से कौन सी भारतीय रेगिस्तान की एकमात्र बड़ी नदी है?

Which of the following is the only large river in the Indian Desert?

- |                  |                                  |      |
|------------------|----------------------------------|------|
| (A) पुनर्भाबा    | <input type="radio"/>            | 1980 |
| The Punarbhaba   |                                  | 01   |
| (B) ब्राह्मणी    | <input type="radio"/>            | 1980 |
| The Brahmani     |                                  | 04   |
| (C) लूनी         | <input checked="" type="radio"/> | 1980 |
| The Luni         |                                  | 03   |
| (D) सुवर्णरेखा   | <input type="radio"/>            | 1980 |
| The Subarnarekha |                                  | 02   |

**Right Answer : (C)****Right Option Id : 198003****Question 182****Question Id : 197**

निम्नलिखित में से किसने परिभाषित किया था कि "मानव भूगोल मानव समाज और पृथ्वी की सतह के बीच संबंधों का कृत्रिम अध्ययन है।"?

Who among the following had defined "Human geography is the synthetic study of relationship between human societies and earth's surface."?

**Question 183****Question Id : 192**

चितीदार हिरण, जंगली भेड़, जैकखरगोश, तिब्बती मृग, याक, हिम तेंदुआ, लाल पांडा किस प्रकार के जंगलों में पाए जाते हैं?

Spotted deer, wild sheep, jack rabbit, tibetan antelope, yak, snow leopard, red panda, are found in which type of forests?



- (A) एलेन सी. सेम्पल  
Ellen C. Semple 1970 02
- (B) पॉल विडाल डे ला ब्लाचे  
Paul Vidal de la Blache 1970 03
- (C) कार्ल मार्क्स  
Karl Marx 1970 04
- (D) रत्ज़ेल  
Ratzel 1970 01

Right Answer : (D)

Right Option Id : 197001

- (A) उष्णकटिबंधीय पर्णपाती वन  
Tropical Deciduous Forests 1920 03
- (B) मैंग्रोव वन  
Mangrove Forests 1920 01
- (C) पर्वतीय वन  
Montane Forests 1920 02
- (D) कांटेदार जंगल  
The Thorn Forests 1920 04

Right Answer : (C)

Right Option Id : 192002

#### Question 184

Question Id : 182

राष्ट्रीय रिमोट सेंसिंग सेंटर (NRSC) कहाँ स्थित है?

Where is National Remote Sensing Centre (NRSC) located?

- (A) जयपुर  
Jaipur 1820 04
- (B) पुणे  
Pune 1820 01
- (C) हैदराबाद  
Hyderabad 1820 02
- (D) बेंगलुरु  
Bengaluru 1820 03

Right Answer : (C)

Right Option Id : 182002

#### Question 185

Question Id : 200

परमाणु या परमाणु ऊर्जा जारी करने के लिए किस खनिज का उपयोग किया जाता है?

Which mineral is used for releasing atomic or nuclear energy?

- (A) थोरियम  
Thorium 2000 02
- (B) बॉक्साइट  
Bauxite 2000 01
- (C) लौह अयस्क  
Iron ore 2000 04
- (D) पेट्रोलियम  
Petroleum 2000 03

Right Answer : (A)

Right Option Id : 200002

#### Question 186

Question Id : 196

निम्नलिखित में से कौन सा भौगोलिक जानकारी का स्रोत नहीं है?

Which one of the following is not a source of geographical information?

- (A) पुराने नक्शे  
Old maps 1960 03
- (B) मंगल ग्रह से चट्टान सामग्री के नमूने  
Samples of Rock Materials from the Mars 1960 02
- (C) यात्रियों का विवरण  
Traveller's accounts 1960 04
- (D) प्राचीन महाकाव्य  
Ancient Epics 1960 01

Right Answer : (B)

Right Option Id : 196002

#### Question 187

Question Id : 184

मात्रा के हिसाब से भारत का लगभग 95 प्रतिशत विदेशी व्यापार किस परिवहन/मार्ग से होता है?

Approximately 95 per cent of India's foreign trade by volume moves through which way of transport/route?

- (A) सड़क परिवहन  
Road Transport 1840 03
- (B) हवाई परिवहन  
Air Transport 1840 01
- (C) रेल परिवहन  
Rail Transport 1840 02
- (D) समुद्री मार्ग  
Ocean Routes 1840 04

Right Answer : (D)

Right Option Id : 184004



**Question 188****Question Id : 181**

मैंगनीज निम्नलिखित में से किसका उदाहरण है?

Manganese is an example of which of the following?

- |                       |                                  |      |
|-----------------------|----------------------------------|------|
| (A) अधात्विक खनिज     | <input type="radio"/>            | 1810 |
| Non-metallic minerals |                                  | 03   |
| (B) अलौह खनिज         | <input type="radio"/>            | 1810 |
| Non-ferrous minerals  |                                  | 01   |
| (C) ऊर्जा खनिज        | <input type="radio"/>            | 1810 |
| Energy minerals       |                                  | 04   |
| (D) लौह खनिज          | <input checked="" type="radio"/> | 1810 |
| Ferrous minerals      |                                  | 02   |

**Right Answer : (D)****Right Option Id : 181002****Question 189****Question Id : 193**

भारत में वन्यजीव संरक्षण अधिनियम निम्नलिखित में से किस वर्ष लागू किया गया था?

Wildlife Protection Act was implemented in which of the following years in India?

- |          |                                  |      |
|----------|----------------------------------|------|
| (A) 2002 | <input type="radio"/>            | 1930 |
|          |                                  | 04   |
| (B) 1982 | <input type="radio"/>            | 1930 |
|          |                                  | 02   |
| (C) 1972 | <input checked="" type="radio"/> | 1930 |
|          |                                  | 01   |
| (D) 1992 | <input type="radio"/>            | 1930 |
|          |                                  | 03   |

**Right Answer : (C)****Right Option Id : 193001****Question 190****Question Id : 179**

निम्नलिखित में से कौन कृष्णा नदी का स्रोत है?

Which of the following is the source of the Krishna river?

- |                   |                                  |      |
|-------------------|----------------------------------|------|
| (A) दक्कन का पठार | <input type="radio"/>            | 1790 |
| Deccan Plateau    |                                  | 03   |
| (B) महाबलेश्वर    | <input checked="" type="radio"/> | 1790 |
| Mahabaleshwar     |                                  | 04   |
| (C) ज़ांस्कर घाटी | <input type="radio"/>            | 1790 |
| Zaskar valley     |                                  | 02   |
| (D) मानसरोवर झील  | <input type="radio"/>            | 1790 |
| Mansarovar lake   |                                  | 01   |

**Right Answer : (B)****Right Option Id : 179004****Question 191****Question Id : 176**

निम्नलिखित में से कौन सी नदी नदीमुख बनाती है?

Which of the following rivers makes an estuary?

- |              |                                  |      |
|--------------|----------------------------------|------|
| (A) महानदी   | <input type="radio"/>            | 1760 |
| The Mahanadi |                                  | 01   |
| (B) कोसी     | <input type="radio"/>            | 1760 |
| The Kosi     |                                  | 04   |
| (C) कृष्णा   | <input type="radio"/>            | 1760 |
| The Krishna  |                                  | 03   |
| (D) नर्मदा   | <input checked="" type="radio"/> | 1760 |
| The Narmada  |                                  | 02   |

**Right Answer : (D)****Right Option Id : 176002****Question 192****Question Id : 194**

उत्तर औपनिवेशिक काल में मानव भूगोल का कौन सा दृष्टिकोण अपनाया गया?

Which approach of Human Geography was followed in later colonial period?

**Question 193****Question Id : 191**

BWh किस जलवायु को दर्शाता है?

BWh denotes which climate?

- |                              |                       |      |
|------------------------------|-----------------------|------|
| (A) उपोष्णकटिबंधीय रेगिस्तान | <input type="radio"/> | 1910 |
| Subtropical desert           |                       | 04   |



- (A) व्यवहारिक  
Behavioral ☐ 1940  
02
- (B) स्थानिक संगठन  
Spatial organization ☐ 1940  
03
- (C) क्षेत्रीय विश्लेषण  
Regional Analysis ☐ 1940  
04
- (D) क्षेत्रीय भेदभाव  
Areal differentiation ☐ 1940  
01

Right Answer : (C)

Right Option Id : 194004

- (B) मध्य अक्षांश रेगिस्तान  
Mid-latitude desert ☐ 1910  
03
- (C) मध्य अक्षांश मैदान  
Mid-latitude steppe ☐ 1910  
02
- (D) उपोष्णकटिबंधीय मैदान  
Subtropical steppe ☐ 1910  
01

Right Answer : (A)

Right Option Id : 191004

#### Question 194

Question Id : 188

भारत का निम्नलिखित में से कौन सा राज्य/केंद्र शासित प्रदेश बॉक्साइट का सबसे बड़ा उत्पादक है?

Which of the following states/UTs of India is the largest producer of Bauxite?

- (A) ओडिशा  
Odisha ☒ 1880  
01
- (B) कर्नाटक  
Karnataka ☐ 1880  
04
- (C) झारखंड  
Jharkhand ☐ 1880  
02
- (D) राजस्थान  
Rajasthan ☐ 1880  
03

Right Answer : (A)

Right Option Id : 188001

#### Question 195

Question Id : 189

उस जटिल मौसम प्रणाली का नाम बताइए जो हर तीन से सात साल में एक बार दिखाई देती है, जो दुनिया के विभिन्न हिस्सों में सूखा, बाढ़ और अन्य मौसम संबंधी चरम स्थितियां लाती है।

Name a complex weather system that appears once every three to seven years, bringing drought, floods and other weather extremes to different parts of the world.

- (A) एल-नीनो  
El-Nino ☒ 1890  
02
- (B) खापा-चान  
Khapa-chan ☐ 1890  
04
- (C) लू  
Loo ☐ 1890  
01
- (D) अल-अज़ीज़िया  
Al-Azizia ☐ 1890  
03

Right Answer : (A)

Right Option Id : 189002

#### Question 196

Question Id : 195

निम्नलिखित में से कौन सा रेगिस्तान भारत में स्थित है?

Which of the following deserts is located in India?

- (A) गोबी  
Gobi ☐ 1950  
01
- (B) सहारा  
Sahara ☐ 1950  
02
- (C) थार  
Thar ☒ 1950  
03
- (D) कालाहारी  
Kalahari ☐ 1950  
04

Right Answer : (C)

Right Option Id : 195003

#### Question 197

Question Id : 180

धुआंधार जलप्रपात भारत के निम्नलिखित में से किस राज्य/केंद्र शासित प्रदेश में स्थित है?

Dhuandhar waterfall is located in which of the following states/UTs of India?

- (A) केरल  
Kerala ☐ 1800  
03
- (B) मध्य प्रदेश  
Madhya Pradesh ☒ 1800  
01
- (C) गुजरात  
Gujarat ☐ 1800  
02
- (D) तमिलनाडु  
Tamil Nadu ☐ 1800  
04

Right Answer : (B)

Right Option Id : 180001



Question 198

अधिक ऊँचाई पर, काई और लाइकेन निम्नलिखित में से किसका हिस्सा हैं?  
At higher altitudes, mosses and lichens are the part of which of the following?

- (A) टुंड्रा वनस्पति

Tundra Vegetation

☒

190004
- (B) उष्णकटिबंधीय सदाबहार वन

Tropical Evergreen Forests

☐

190001
- (C) मैंग्रोव ज्वारीय वन

Mangrove tidal forests

☐

190003
- (D) उष्णकटिबंधीय पर्णपाती वन

Tropical Deciduous Forests

☐

190002

Right Answer : (A)

Right Option Id : 190004

Question Id : 190

Question 199

हज़ारीबाग का पठार किस खनिज के लिए प्रसिद्ध है?  
Hazariabagh plateau is famous for which mineral?

- (A) अभ्रक

Mica

☐

185002
- (B) लौह अयस्क

Iron ore

☐

185004
- (C) कोयला

Coal

☐

185003
- (D) ताँबा

Copper

☐

185001

Right Answer : (A)

Right Option Id : 185002

Question Id : 185

Question 200

कपास को अपनी वृद्धि के लिए कितने पाले रहित और तेज़ धूप वाले दिनों की आवश्यकता होती है?  
How many frost-free and bright sunshine days does a cotton need for its growth?

- (A) 150 दिन

150 days

☐

177003
- (B) 130 दिन

130 days

☐

177001
- (C) 200 दिन

200 days

☐

177002
- (D) 210 दिन

210 days

☒

177004

Right Answer : (D)

Right Option Id : 177004

Question Id : 177

