



Teachingninja.in



Latest Govt Job updates



Private Job updates



Free Mock tests available

Visit - teachingninja.in



Teachingninja.in

IGNOU

Previous Year Paper

JA - cum - Typist

31 July, 2023 Shift 2



Application No

Roll No


Candidate Name

Module Name **Junior Assistant - cum -Typist**

Exam Date **31-Jul-2023**

Exam Batch **14:30-16:30**

Registered Photo



Exam Day Photo



1) General Awareness

Question No. 1 / Question ID 14001

Marks: 1.00

Who is referred as the father of internet in India?

- (1) Pallonji Mistry (2) Brijendra Kumar Syngal
(3) Tulsi Tanti (4) Gerson Da Cunha

भारत में इंटरनेट के जनक के रूप में किसे जाना जाता है?

- (1) पलोनजी मिस्त्री (2) बृजेन्द्र कुमार सिंगल
(3) तुलसी टान्ती (4) गेरसन द. कुन्हा

- 1
1
 2
2
 3
3
 4 (Chosen Option)
4 (Chosen Option)

Question No. 2 / Question ID 14026

Marks: 1.00



Match List I with List II :

List I	List II
(A) An Equal music	(I) Shobha De
(B) Gone Girl	(II) V.S. Naipaul
(C) Speed post	(III) Vikram Seth
(D) A Bend in the River	(IV) Gillian Flynn

Choose the correct answer from the options given below :

- (1) (A)-(III), (B)-(II), (C)-(I), (D)-(IV)
- (2) (A)-(IV), (B)-(II), (C)-(III), (D)-(I)
- (3) (A)-(III), (B)-(I), (C)-(II), (D)-(IV)
- (4) (A)-(III), (B)-(IV), (C)-(I), (D)-(II)

सूची-I का सूची-II से मिलान कीजिए :

सूची-I	सूची-II
(A) एन इक्वल म्यूजिक	(I) शोभा डे
(B) गॉन गर्ल	(II) वी.एस. नायपॉल
(C) स्पीड पोस्ट	(III) विक्रम सेठ
(D) ए बेन्ड इन द रिवर	(IV) गिलियन फ्लिन

नीचे दिए गए विकल्पों में से सही उत्तर का चयन कीजिए:

- (1) (A)-(III), (B)-(II), (C)-(I), (D)-(IV)
- (2) (A)-(IV), (B)-(II), (C)-(III), (D)-(I)
- (3) (A)-(III), (B)-(I), (C)-(II), (D)-(IV)
- (4) (A)-(III), (B)-(IV), (C)-(I), (D)-(II)

- 1
1
 2
2
 3
3
 4
4



Who has permoted the recently launched new budget airline 'Akasha'?

- (1) Anshu Jain (2) Venkat Raman Krishnamurthy
(3) Rakesh Jhunjhunwala (4) Cyros Mistry

हाल ही में शुरू की गई बजट एयरलाइन 'आकाश' का प्रवर्तन किसने किया है?

- (1) अंशू जैन (2) वेंकट रमन कृष्णमूर्ति
(3) राकेश झुनझुनवाला (4) साइरस मिस्त्री

- 1
1
 2
2
 3 (Chosen Option)
3 (Chosen Option)
 4
4

Question No. 4 / Question ID 14027

Marks: 1.00



TeachingNinja.in

Match List I with List II :

List I	List II
Dances	Famous Artist
(A) Kathakali	(I) Kanak Rele
(B) Bharatanatyam	(II) Josyula Seetharamaiah
(C) Mohiniyattam	(III) Bala Saraswati
(D) Kuchi Pudi	(IV) Vazhenkuda Kunchu Nair

Choose the correct answer from the options given below :

- (1) (A)-(I), (B)-(III), (C)-(IV), (D)-(II)
- (2) (A)-(IV), (B)-(III), (C)-(I), (D)-(II)
- (3) (A)-(IV), (B)-(II), (C)-(I), (D)-(III)
- (4) (A)-(III), (B)-(II), (C)-(I), (D)-(IV)

सूची-I का सूची-II से मिलान कीजिए:

सूची-I (नृत्य)	सूची-II (प्रसिद्ध कलाकार)
(A) कथकली	(I) कनक रेले
(B) भरतनाट्यम	(II) जोसयुला सीतारमैय्या
(C) मोहिनीअट्टम	(III) बाला सरस्वती
(D) कुचिपुड़ी	(IV) वझेनकुडा कुन्चु नायर

नीचे दिए गए विकल्पों में से सही उत्तर का चयन कीजिए:

- (1) (A)-(I), (B)-(III), (C)-(IV), (D)-(II)
- (2) (A)-(IV), (B)-(III), (C)-(I), (D)-(II)
- (3) (A)-(IV), (B)-(II), (C)-(I), (D)-(III)
- (4) (A)-(III), (B)-(II), (C)-(I), (D)-(IV)

- 1
1
 2
2
 3
3
 4 (Chosen Option)
4 (Chosen Option)

Question No. 5 / Question ID 14011

Marks: 1.00

Who was the viceroy of India when the world war II started?

- (1) Lord Wavell (2) C. Rajagopalachari
(3) Lord Irwin (4) Lord Linlithgo

जब द्वितीय विश्व युद्ध आरंभ हुआ तो उस समय भारत का वायसराय कौन था?

- (1) लॉर्ड वेवेल (2) सी. राजगोपालाचारी
(3) लॉर्ड इरविन (4) लॉर्ड लिनलिथगो

- 1
1
 2
2
 3 (Chosen Option)
3 (Chosen Option)
 4
4

Question No. 6 / Question ID 14028

Marks: 1.00



TeachingNinja.in

Match List I with List II : Major Straits of the World

List I	List II
Name	Location
(A) Palk Strait	(I) Indonesia-Malaysia
(B) Davis Strait	(II) Alaska-Russia
(C) Malacca Strait	(III) India-Srilanka
(D) Bering Strait	(IV) Greenland-Canada

Choose the correct answer from the options given below :

- (1) (A)-(IV), (B)-(I), (C)-(II), (D)-(III)
- (2) (A)-(III), (B)-(II), (C)-(I), (D)-(IV)
- (3) (A)-(III), (B)-(IV), (C)-(I), (D)-(II)
- (4) (A)-(III), (B)-(I), (C)-(IV), (D)-(II)

सूची-I का सूची-II से मिलान कीजिए:

सूची-I	सूची-II
(नाम)	(स्थान)
(A) पाक जलसंधि	(I) इंडोनेशिया-मलेशिया
(B) डेविस जलसंधि	(II) अलास्का-रूस
(C) मलक्का जलसंधि	(III) भारत-श्रीलंका
(D) बेरिंग जलसंधि	(IV) ग्रीनलैण्ड-कनाडा

नीचे दिए गए विकल्पों में से सही उत्तर का चयन कीजिए:

- (1) (A)-(IV), (B)-(I), (C)-(II), (D)-(III)
- (2) (A)-(III), (B)-(II), (C)-(I), (D)-(IV)
- (3) (A)-(III), (B)-(IV), (C)-(I), (D)-(II)
- (4) (A)-(III), (B)-(I), (C)-(IV), (D)-(II)

- 1
1
 2
2
 3
3
 4
4

Question No. 7 / Question ID 14016

Marks: 1.00

Arrange the following UN General Secretaries in chronological order on the basis of their tenure

- (A) Kofi A. Annan
- (B) Ban Ki Moon
- (C) U Thant
- (D) Kurt Waldheim

Choose the correct answer from the options given below:

- (1) (C), (B), (A), (D)
- (2) (D), (C), (A), (B)
- (3) (C), (D), (A), (B)
- (4) (C), (D), (B), (A)

संयुक्त राष्ट्र संघ के निम्नलिखित महासचिवों को उनके कार्यकाल के आधार पर कालक्रमानुसार व्यवस्थित कीजिए।

- (A) कोफी अन्नान
- (B) बान की मून
- (C) यू थान्ट
- (D) कर्ट वाल्डहीम

नीचे दिए गए विकल्पों में से सही उत्तर का चयन कीजिए।

- (1) (C), (B), (A), (D)
- (2) (D), (C), (A), (B)
- (3) (C), (D), (A), (B)
- (4) (C), (D), (B), (A)

- 1
- 1
- 2
- 2
- 3
- 3
- 4
- 4

Question No. 8 / Question ID 14020

Marks: 1.00

Arrange the following states according to their Density of population as per 2011 census, from highest to lowest

- (A) Bihar
- (B) Uttar Pradesh
- (C) West Bengal
- (D) Tamil Nadu
- (E) Kerala

Choose the correct answer from the options given below:

- (1) (A), (C), (B), (E), (D)
- (2) (A), (C), (E), (B), (D)
- (3) (C), (A), (B), (E), (D)
- (4) (C), (A), (E), (B), (D)

2011 की जनगणन के आधार पर, निम्नलिखित राज्यों को उनके जनघनत्व के अनुसार अधिकतम से न्यूनतम के क्रम में व्यवस्थित कीजिए।

- (A) बिहार
- (B) उत्तर प्रदेश
- (C) पश्चिम बंगाल
- (D) तमिल नाडु
- (E) केरल

नीचे दिए गए विकल्पों में से सही उत्तर का चयन कीजिए।

- (1) (A), (C), (B), (E), (D)
- (2) (A), (C), (E), (B), (D)
- (3) (C), (A), (B), (E), (D)
- (4) (C), (A), (E), (B), (D)

- 1 (Chosen Option)
1 (Chosen Option)
- 2
2
- 3
3
- 4
4

Question No. 9 / Question ID 14015

Marks: 1.00

Justice 'D.Y. Chandrachud' has become the New Chief Justice of India (CJI).
Justice D.Y. Chandrachud is _____ Chief Justice of India (CJI).

- (1) 55th (2) 52nd
(3) 45th (4) 50th

न्यायमूर्ति, 'डी. वाई. चंद्रचूड़' भारत के नए मुख्य न्यायाधीश (CJI) बन गए हैं। न्यायमूर्ति डी. वाई. चंद्रचूड़ भारत के _____ मुख्य न्यायाधीश (CJI) हैं।

- (1) 55^{वें} (2) 52^{वें}
(3) 45^{वें} (4) 50^{वें}

- 1
1
 2 (Chosen Option)
2 (Chosen Option)
 3
3
 4
4

Question No. 10 / Question ID 14019

Marks: 1.00



TeachingNinja.in

Arrange the following top five states in terms of forest cover as percentage of total geographical area highest to lowest

- (A) Manipur
- (B) Arunachal Pradesh
- (C) Meghalaya
- (D) Mizoram
- (E) Nagaland

Choose the correct answer from the options given below:

- (1) (D), (B), (C), (A), (E)
- (2) (B), (C), (D), (A), (E)
- (3) (C), (B), (D), (E), (A)
- (4) (D), (B), (A), (C), (E)

निम्नलिखित पाँच शीर्ष राज्यों को वनाच्छादन के संदर्भ में कुल भौगोलिक क्षेत्र के प्रतिशत के आधार पर उच्चतम से निम्नतम क्रम में व्यवस्थित कीजिए।

- (A) मणिपुर
- (B) अरुणाचल प्रदेश
- (C) मेघालय
- (D) मिजोरम
- (E) नागालैंड

नीचे दिए गए विकल्पों में से सही उत्तर का चयन कीजिए।

- (1) (D), (B), (C), (A), (E)
- (2) (B), (C), (D), (A), (E)
- (3) (C), (B), (D), (E), (A)
- (4) (D), (B), (A), (C), (E)

- 1
- 1
- 2 (Chosen Option)
- 2 (Chosen Option)
- 3
- 3
- 4
- 4

Question No. 11 / Question ID 14025

Marks: 1.00

Given below are two statements :

Statement I : According to 2011 census the Muslim constitute 16.2% of total Indian population.

Statement II : Muslims the largest religious minorities are mainly concentrated in Jammu and Kashmir, West Bengal and Kerala.

In the light of the above statements, choose the correct answer from the options given below :

- (1) Both Statement I and Statement II are correct
- (2) Both Statement I and Statement II are incorrect
- (3) Statement I is correct but Statement II is incorrect
- (4) Statement I is incorrect but Statement II is correct

नीचे दो कथन दिए गए हैं :

कथन I : 2011 की जनगणना के अनुसार भारत की कुल जनसंख्या का 16.2% मुस्लिम आबादी है।

कथन II : सर्वाधिक धार्मिक अल्पसंख्यक मुस्लिम मुख्य रूप से जम्मू और कश्मीर, पश्चिम बंगाल तथा केरल में संकेन्द्रित हैं।

उपर्युक्त कथनों के आलोक में, नीचे दिए गए विकल्पों में से सही उत्तर का चयन कीजिए:

- (1) कथन I और कथन II दोनों सही हैं
- (2) कथन I और कथन II दोनों गलत हैं
- (3) कथन I सही है किन्तु कथन II गलत है
- (4) कथन I गलत है किन्तु कथन II सही है

1 (Chosen Option)

1 (Chosen Option)

2

2

3

3

4

4

Question No. 12 / Question ID 14005

Marks: 1.00

In which of the following year three Baltic states joined NATO?

- (1) 2000 (2) 2002
(3) 2004 (4) 2006

निम्नलिखित में से किस वर्ष तीन बाल्टिक देश नाटो (NATO) से जुड़े थे?

- (1) 2000 (2) 2002
(3) 2004 (4) 2006

- 1
1
 2
2
 3 (Chosen Option)
3 (Chosen Option)
 4
4

Question No. 13 / Question ID 14003

Marks: 1.00

What is the core temperature of the Sun?

- (1) 20 million kelvin (2) 15 million kelvin
(3) 20 lakh kelvin (4) 15 lakh kelvin

सूर्य के क्रोड (आंतरिक भाग) का तापमान कितना होता है?

- (1) 20 मिलियन केल्विन (2) 15 मिलियन केल्विन
(3) 20 लाख केल्विन (4) 15 लाख केल्विन

- 1 (Chosen Option)
1 (Chosen Option)
 2
2
 3
3
 4
4

Question No. 14 / Question ID 14012

Marks: 1.00

Prime Minister of India Shri Narendra Modi has been hosted the first India-Central Asia Summit on

- (1) April 27, 2022 (2) May 27, 2022
(3) January 27, 2022 (4) March 27, 2022

भारत के प्रधानमंत्री श्री नरेंद्र मोदी ने प्रथम बार भारत सेंट्रल एशिया समिट की मेजबानी कब की?

- (1) 27 अप्रैल, 2022 (2) 27 मई, 2022
(3) 27 जनवरी, 2022 (4) 27 मार्च, 2022

- 1
1
 2
2
 3
3
 4
4

Question No. 15 / Question ID 14024

Marks: 1.00



TeachingNinja.in

Given below are two statements : Which of the following statement is/are correct with reference to the Tokyo Olympics-2020

- Statement I : The Indian flag bearer at opening ceremony of the Tokyo Olympics-2020 was M.C. Mary Kom and Indian men's Hockey team captain Manpreet Singh.
- Statement II : Wrestler Bajrang Punia was the Indian Flag bearer at the closing ceremony.

In the light of the above statements, choose the correct answer from the options given below :

- (1) Both Statement I and Statement II are correct
- (2) Both Statement I and Statement II are incorrect
- (3) Statement I is correct but Statement II is incorrect
- (4) Statement I is incorrect but Statement II is correct

नीचे दो कथन दिए गए हैं:

टोक्यो ओलंपिक-2020 के संदर्भ में निम्नलिखित में से कौन-सा कथन सही है/हैं?

कथन I : टोक्यो ओलंपिक-2020 के शुभारंभ समारोह में भारतीय ध्वज वाहक एम.सी. मैरीकॉम और भारतीय पुरुष हॉकी टीम के कप्तान मनप्रीत सिंह थे।

कथन II : मुक्केबाज बजरंग पूनिया समापन समारोह में भारतीय ध्वज वाहक थे।

उपर्युक्त कथनों के आलोक में, नीचे दिए गए विकल्पों में से सही उत्तर का चयन कीजिए।

- (1) कथन I और कथन II दोनों सही हैं
- (2) कथन I और कथन II दोनों गलत हैं
- (3) कथन I सही है किन्तु कथन II गलत है
- (4) कथन I गलत है किन्तु कथन II सही है

1 (Chosen Option)
1 (Chosen Option)

2
2

3
3

4
4

Due to which of the following reason the fishing industry of Arab sea got destroyed?

- (1) Rising temperature of the water
- (2) Increased salinity
- (3) Toxic water
- (4) Growth of algae

निम्नलिखित में से किस कारण से अरब सागर का मत्स्य उद्योग नष्ट हो गया?

- | | |
|----------------------------|---------------------|
| (1) जल का बढ़ता हुआ तापमान | (2) बढ़ी हुई लवणता |
| (3) विषाक्त जल | (4) शैवाल की वृद्धि |

- 1
1
 2
2
 3
3
 4
4

Question No. 17 / Question ID 14023

Marks: 1.00



Given below are two statements : Which of the following statement is/are correct with the reference to the India's first anti-covid vaccine for animals.

- Statement I : This vaccine has been developed by ICAR-National Research Centre on Equines, Haryana.
- Statement II : In June-2021 Union Agriculture Minister Narendra Singh Tomar has released India first anti-covid vaccine 'Anokovan' developed for animals

In the light of the above statements, choose the correct answer from the options given below :

- (1) Both Statement I and Statement II are correct
- (2) Both Statement I and Statement II are incorrect
- (3) Statement I is correct but Statement II is incorrect
- (4) Statement I is incorrect but Statement II is correct

नीचे दो कथन दिए गए हैं:

जानवरों के लिए भारत के प्रथम कोविड रोधी टीके के संदर्भ में निम्नलिखित में से कौन-सा कथन सही है/हैं

कथन I : इस टीके का विकास ICAR-राष्ट्रीय आश्व (इकाइन्स) अनुसंधान केन्द्र, हरियाणा द्वारा किया गया है।

कथन II : जून 2021 में, केंद्रीय कृषि मंत्री नरेंद्र सिंह तोमर ने जानवरों के लिए भारत में विकसित प्रथम कोविड रोधी टीके "एनोकोवैन" का शुभारंभ किया।

उपर्युक्त कथनों के आलोक में, नीचे दिए गए विकल्पों में से सही उत्तर का चयन कीजिए।

- (1) कथन I और कथन II दोनों सही हैं
- (2) कथन I और कथन II दोनों गलत हैं
- (3) कथन I सही है किन्तु कथन II गलत है
- (4) कथन I गलत है किन्तु कथन II सही है

- 1
1
- 2
2
- 3
3
- 4 (Chosen Option)
4 (Chosen Option)

Match List I with List II :

List I	List II
Diseases	Affected Organ
(A) Malaria	(I) Bone Marrow
(B) Sleeping sickness	(II) Liver
(C) Kala-ajar	(III) Brain
(D) Diarrhoea	(IV) Intestine

Choose the correct answer from the options given below :

- (1) (A)-(IV), (B)-(III), (C)-(II), (D)-(I)
- (2) (A)-(II), (B)-(III), (C)-(I), (D)-(IV)
- (3) (A)-(II), (B)-(III), (C)-(IV), (D)-(I)
- (4) (A)-(I), (B)-(II), (C)-(III), (D)-(IV)

सूची-I का सूची-II से मिलान कीजिए:

सूची-I (रोग)	सूची-II (प्रभावित अंग)
(A) मलेरिया	(I) अस्थि मज्जा
(B) निद्रा रोग (स्लीपिंग सिकनेस)	(II) यकृत
(C) काला-अजार	(III) मस्तिष्क
(D) डायरिया	(IV) आंत

नीचे दिए गए विकल्पों में से सही उत्तर का चयन कीजिए:

- (1) (A)-(IV), (B)-(III), (C)-(II), (D)-(I)
- (2) (A)-(II), (B)-(III), (C)-(I), (D)-(IV)
- (3) (A)-(II), (B)-(III), (C)-(IV), (D)-(I)
- (4) (A)-(I), (B)-(II), (C)-(III), (D)-(IV)

- 1 (Chosen Option)
1 (Chosen Option)
- 2
2
- 3
3
- 4
4

Question No. 19 / Question ID 14004

Marks: 1.00

The famous publication 'The Limits to Growth' related with sustainable development was published in the year

- (1) 1962 (2) 1972
(3) 1982 (4) 1992

सतत विकास से संबंधित प्रसिद्ध संस्करण 'द लिमिट्स टु ग्रोथ' किस वर्ष प्रकाशित किया गया था?

- (1) 1962 (2) 1972
(3) 1982 (4) 1992

- 1
1
 2
2
 3
3
 4 (Chosen Option)
4 (Chosen Option)

Question No. 20 / Question ID 14013

Marks: 1.00

Who among the following has become the First Female President of Tanzania in April 2022?

- (1) Ellen Johnson (2) Sahle work-zewde
(3) Samia Suluhu Hasan (4) Olivia Yale

निम्नलिखित में से कौन अप्रैल 2022 में तंजानिया की प्रथम महिला राष्ट्रपति बनी हैं?

- (1) इलेन जॉनसन (2) शेल वर्क-जेवडे
(3) सामिया सुलुहु, हसन (4) ओलिविया येल

- 1
1
 2
2
 3
3
 4
4

Question No. 21 / Question ID 14014

Marks: 1.00

Which one of the following state has the highest proportion of Urban population in India as per 2011 census?

- (1) Goa (2) Tamil Nadu
(3) Kerala (4) Maharashtra

2011 की जनगणना के अनुसार भारत में निम्नलिखित में से किस राज्य में शहरी जनसंख्या का सर्वाधिक अनुपात है?

- (1) गोवा (2) तमिल नाडु
(3) केरल (4) महाराष्ट्र

- 1
1
 2
2
 3
3
 4 (Chosen Option)
4 (Chosen Option)

Question No. 22 / Question ID 14022

Marks: 1.00



TeachingNinja.in

Given below are two statements : Which of the following statements is/are correct with the reference to the Garuda Shakti Military Exercise

Statement I : Joint Exercise between Indian and Japan Special Forces.

Statement II : Garuda Shakti Military Exercise was held in Indonesia in November 2022.

In the light of the above statements, choose the correct answer from the options given below :

- (1) Both Statement I and Statement II are correct
- (2) Both Statement I and Statement II are incorrect
- (3) Statement I is correct but Statement II is incorrect
- (4) Statement I is incorrect but Statement II is correct

नीचे दो कथन दिए गए हैं।

गरुड़ शक्ति सैन्य अभ्यास के संदर्भ में निम्नलिखित में से कौन-सा कथन सही है/हैं?

कथन I : भारत और जापान के विशेष सैन्य बलों का एक संयुक्त युद्धाभ्यास है।

कथन II : गरुड़ शक्ति सैन्य अभ्यास नवंबर 2022 में इंडोनेशिया में आयोजित किया गया था।

उपर्युक्त कथनों के आलोक में, नीचे दिए गए विकल्पों में से सही उत्तर का चयन कीजिए।

- (1) कथन I और कथन II दोनों सही हैं
- (2) कथन I और कथन II दोनों गलत हैं
- (3) कथन I सही है किन्तु कथन II गलत है
- (4) कथन I गलत है किन्तु कथन II सही है

- 1
1
 2
2
 3
3
 4
4

Question No. 23 / Question ID 14009

Marks: 1.00

_____ is study of human beauty.

- (1) Ethology (2) Cytology
(3) Osteology (4) Kalology

_____ मानव सौंदर्य का अध्ययन है।

- (1) इथोलाजी (2) साइटोलाजी
(3) ऑस्टियोलाजी (4) कैलोलाजी

- 1 (Chosen Option)
1 (Chosen Option)
 2
2
 3
3
 4
4

Question No. 24 / Question ID 14006

Marks: 1.00

What is Suratkhana?

- (1) Place where paintings were stored
(2) Place where paintings were made
(3) Place where paintings were made and stored
(4) Place where all the artist assemble

सूरतखाना क्या है?

- (1) वह स्थान जहाँ रंग-चित्र (पेंटिंग्स) रखे जाते थे।
(2) वह स्थान जहाँ रंग-चित्र (पेंटिंग्स) बनाए जाते थे।
(3) वह स्थान जहाँ रंग-चित्र (पेंटिंग्स) बनाए और रखे जाते थे।
(4) वह स्थान जहाँ सभी कलाकार एकत्र होते थे।

- 1
1
 2
2
 3 (Chosen Option)
3 (Chosen Option)
 4
4

Question No. 25 / Question ID 14007

Marks: 1.00

How many countries have joined 'operation Iraqi Freedom'?

- (1) More than 15 countries (2) More than 25 countries
(3) More than 35 countries (4) More than 40 countries

कितने देश 'ऑपरेशन इराकी फ्रीडम' से जुड़े हुए थे?

- (1) 15 देशों से अधिक (2) 25 देशों से अधिक
(3) 35 देशों से अधिक (4) 40 देशों से अधिक

- 1
1
 2 (Chosen Option)
2 (Chosen Option)
 3
3
 4
4

Question No. 26 / Question ID 14021

Marks: 1.00



TeachingNinja.in

Given below are two statements : Which of the following statement is/are correct with the Reference to the Nobel Prize.

Statement I : Nobel Prizes were established in Five categories in the year 1895 through the will of Swedish Scientist 'Alfred Nobel'.

Statement II : In the Field of Economics Nobel Prizes was started in the year 1968.

In the light of the above statements, choose the correct answer from the options given below :

- (1) Both Statement I and Statement II are correct
- (2) Both Statement I and Statement II are incorrect
- (3) Statement I is correct but Statement II is incorrect
- (4) Statement I is incorrect but Statement II is correct

नीचे दो कथन दिए गए हैं।

नोबल पुरस्कार के संदर्भ में निम्नलिखित में से कौन-सा कथन सही है/हैं?

कथन I : स्वीडिश वैज्ञानिक 'अल्फ्रेड नोबल' की वसीयत के द्वारा वर्ष 1895 में नोबल पुरस्कारों को पाँच वर्गों में स्थापित किया गया था।

कथन II : अर्थशास्त्र के क्षेत्र में नोबल पुरस्कार का शुभारंभ वर्ष 1968 में किया गया।

उपर्युक्त कथनों के आलोक में, नीचे दिए गए विकल्पों में से सही उत्तर का चयन कीजिए।

- (1) कथन I और कथन II दोनों सही हैं
- (2) कथन I और कथन II दोनों गलत हैं
- (3) कथन I सही है किन्तु कथन II गलत है
- (4) कथन I गलत है किन्तु कथन II सही है

- 1
1
 2
2
 3
3
 4 (Chosen Option)
4 (Chosen Option)

Arrange the following planets according to their distance from the Sun. Starting from nearest to farthest.

- (A) Venus
- (B) Mars
- (C) Uranus
- (D) Jupiter
- (E) Saturn

Choose the correct answer from the options given below:

- (1) (B), (A), (E), (D), (C)
- (2) (A), (B), (D), (E), (C)
- (3) (A), (B), (C), (D), (E)
- (4) (B), (A), (E), (C), (D)

निम्नलिखित ग्रहों की सूर्य से दूरी के आधार पर इन्हें निकटतम से सुदूरतम के क्रम में व्यवस्थित कीजिए।

- (A) शुक्र
- (B) मंगल
- (C) यूरेनस
- (D) बृहस्पति
- (E) शनि

नीचे दिए गए विकल्पों में से सही उत्तर का चयन कीजिए।

- (1) (B), (A), (E), (D), (C)
- (2) (A), (B), (D), (E), (C)
- (3) (A), (B), (C), (D), (E)
- (4) (B), (A), (E), (C), (D)

- 1 (Chosen Option)
- 1 (Chosen Option)
- 2
- 2
- 3
- 3
- 4
- 4

Question No. 28 / Question ID 14030

Marks: 1.00

Match List I with List II :

List I	List II
Sports	Cups and Trophy
(A) Football	(I) Thomas cup
(B) Cricket	(II) Beghum Hazarat Mahal Cup
(C) Hockey	(III) Deodhar Trophy
(D) Badminton	(IV) Aga Khan Cup

Choose the correct answer from the options given below :

- (1) (A)-(III), (B)-(IV), (C)-(I), (D)-(II)
- (2) (A)-(II), (B)-(IV), (C)-(I), (D)-(III)
- (3) (A)-(II), (B)-(III), (C)-(IV), (D)-(I)
- (4) (A)-(II), (B)-(I), (C)-(III), (D)-(IV)

सूची-I का सूची-II से मिलान कीजिए :

सूची-I (खेल)	सूची-II (कप और ट्राफी)
(A) फुटबाल	(I) थॉमस कप
(B) क्रिकेट	(II) बेगम हजरत महल कप
(C) हॉकी	(III) देवधर ट्राफी
(D) बैडमिंटन	(IV) आग खाँ कप

नीचे दिए गए विकल्पों में से सही उत्तर का चयन कीजिए:

- (1) (A)-(III), (B)-(IV), (C)-(I), (D)-(II)
- (2) (A)-(II), (B)-(IV), (C)-(I), (D)-(III)
- (3) (A)-(II), (B)-(III), (C)-(IV), (D)-(I)
- (4) (A)-(II), (B)-(I), (C)-(III), (D)-(IV)

- 1
1
- 2
2
- 3 (Chosen Option)
3 (Chosen Option)
- 4
4

Question No. 29 / Question ID 14008

Marks: 1.00

Where has the Union Home Minister Amit Shah inaugurated the integrated command and control center [ICCC] on March 27, 2022?

- (1) Gurugram (2) Chandigarh
(3) Bangalore (4) Noida

केंद्रीय गृह मंत्री अमित शाह ने 27 मार्च 2022 को एकीकृत आदेश और नियंत्रण केंद्र (ICCC) का उद्घाटन कहाँ किया?

- (1) गुरुग्राम (2) चंडीगढ़
(3) बैंगलोर (4) नोएडा

- 1
1
 2
2
 3 (Chosen Option)
3 (Chosen Option)
 4
4

Question No. 30 / Question ID 14017

Marks: 1.00



Arrange the following states in descending order according to the existing National Highway length in km

- (A) Karnataka
- (B) Andhra Pradesh
- (C) Maharashtra
- (D) Uttar Pradesh

Choose the correct answer from the options given below:

- (1) (D), (C), (B), (A)
- (2) (C), (D), (B), (A)
- (3) (B), (A), (C), (D)
- (4) (C), (D), (A), (B)

वर्तमान में उपलब्ध राष्ट्रीय राजमार्ग की किलोमीटर में लंबाई के आधार पर निम्नलिखित राज्यों को अवरोही क्रम में व्यवस्थित कीजिए।

- (A) कर्नाटक
- (B) आंध्रप्रदेश
- (C) महाराष्ट्र
- (D) उत्तर प्रदेश

नीचे दिए गए विकल्पों में से सही उत्तर का चयन कीजिए।

- (1) (D), (C), (B), (A)
- (2) (C), (D), (B), (A)
- (3) (B), (A), (C), (D)
- (4) (C), (D), (A), (B)

- 1
1
- 2 (Chosen Option)
2 (Chosen Option)
- 3
3
- 4
4

2) Reasoning and General Intelligence

Question No. 1 / Question ID 14060

Marks: 1.00

Match List I with List II :

List I	List II
(A) Radius	(I) Equilateral triangle
(B) Three equal sides	(II) Circle
(C) Diagonals bisect each other at right angle	(III) Pentagon
(D) Five diagonals	(IV) Square

Choose the correct answer from the options given below :

- (1) (A)-(II), (B)-(I), (C)-(III), (D)-(IV)
- (2) (A)-(I), (B)-(II), (C)-(IV), (D)-(III)
- (3) (A)-(III), (B)-(IV), (C)-(II), (D)-(I)
- (4) (A)-(III), (B)-(IV), (C)-(I), (D)-(II)

सूची-I के साथ सूची-II का मिलान कीजिए।

सूची-I	सूची-II
(A) त्रिज्या	(I) समबाहु त्रिभुज
(B) तीन समान भुजाएं	(II) वृत्त
(C) विकर्ण एक दूसरे को समकोण पर द्विभाजित करते हैं	(III) पंचभुज
(D) पांच विकर्ण	(IV) वर्ग

नीचे दिए गए विकल्पों में से सही उत्तर का चयन कीजिए :

- (1) (A)-(II), (B)-(I), (C)-(III), (D)-(IV)
- (2) (A)-(I), (B)-(II), (C)-(IV), (D)-(III)
- (3) (A)-(III), (B)-(IV), (C)-(II), (D)-(I)
- (4) (A)-(III), (B)-(IV), (C)-(I), (D)-(II)

- 1 (Chosen Option)
1 (Chosen Option)
- 2
2
- 3
3
- 4
4

Question No. 2 / Question ID 14053

Marks: 1.00

Given below are two statements :

Statement I : Motivation of employee plays a central role in the working environment of a company.

Statement II : Promotion and increments in salary always motivate the employee.

In the light of the above statements, choose the most appropriate answer from the options given below :

- (1) Both Statement I and Statement II are correct
- (2) Both Statement I and Statement II are incorrect
- (3) Statement I is correct but Statement II is incorrect
- (4) Statement I is incorrect but Statement II is correct

नीचे दो कथन दिए गए हैं :

कथन I : कर्मचारी का प्रोत्साहन, किसी कंपनी के कार्य-करने संबंधी परिवेश (पर्यावरण) में केंद्रीय भूमिका निभाता है।

कथन II : पदोन्नति तथा वेतन में वृद्धि कर्मचारी को हमेशा प्रोत्साहित करते हैं।

उपर्युक्त कथन के आलोक में, नीचे दिए गए विकल्पों में से सबसे उपयुक्त उत्तर का चयन कीजिए :

- (1) कथन I और II दोनों सही हैं
- (2) कथन I और II दोनों गलत हैं
- (3) कथन I सही है, लेकिन कथन II गलत है
- (4) कथन I गलत है, लेकिन कथन II सही है

1 (Chosen Option)

1 (Chosen Option)

2

2

3

3

4

4

Question No. 3 / Question ID 14043

Marks: 1.00

Replace (?) in the following series :

bc, cde, de, efg, fg,?

- (1) fgh (2) ghi
(3) hij (4) ghk

निम्नलिखित श्रृंखला में प्रश्न चिह्न (?) के स्थान पर क्या आएगा?

bc, cde, de, efg, fg,?

- (1) fgh (2) ghi
(3) hij (4) ghk

- 1
1
 2 (Chosen Option)
2 (Chosen Option)
 3
3
 4
4

Question No. 4 / Question ID 14041

Marks: 1.00

Find the missing number

3, 5, 7, 11, 13, ?, 19

- (1) 14 (2) 15
(3) 17 (4) 18

लुप्त संख्या ज्ञात कीजिए।

3, 5, 7, 11, 13, ?, 19

- (1) 14 (2) 15
(3) 17 (4) 18

- 1
1
 2 (Chosen Option)
2 (Chosen Option)
 3
3
 4
4

Question No. 5 / Question ID 14040

Marks: 1.00

Choose the number which is different from the rest three numbers.

- (1) 13 (2) 17
(3) 37 (4) 23

उस संख्या का चयन कीजिए जो अन्य तीन संख्याओं से भिन्न है।

- (1) 13 (2) 17
(3) 37 (4) 23

- 1
1
 2
2
 3 (Chosen Option)
3 (Chosen Option)
 4
4

Question No. 6 / Question ID 14039

Marks: 1.00

If a clock takes five seconds to strike five O' clock, then how long will it take to strike Nine O' clock?

- (1) 8 seconds (2) 10 seconds
(3) 6 seconds (4) 11 seconds

यदि कोई घड़ी 5 बजने (strike) में 5 सेकंड का समय लगाती है तो 9 बजने (strike) में कितने सेकंड का समय लगेगा?

- (1) 8 सेकंड (2) 10 सेकंड
(3) 6 सेकंड (4) 11 सेकंड

- 1
1
 2 (Chosen Option)
2 (Chosen Option)
 3
3
 4
4

Question No. 7 / Question ID 14052

Marks: 1.00

Given below are two statements :

Statement I : Corruption is always an integral part of Indian politics

Statement II : An educated and qualified person can't participate effectively in Indian politics

In the light of the above statements, choose the most appropriate answer from the options given below :

- (1) Both Statement I and Statement II are correct
- (2) Both Statement I and Statement II are incorrect
- (3) Statement I is correct but Statement II is incorrect
- (4) Statement I is incorrect but Statement II is correct

नीचे दो कथन दिए गए हैं :

कथन I : भ्रष्टाचार सदैव से भारतीय राजनीति का एक अभिन्न अंग है।

कथन II : कोई शिक्षित एवं योग्य व्यक्ति भारतीय राजनीति में प्रभावी ढंग से भाग नहीं ले सकता है।

उपर्युक्त कथन के आलोक में, नीचे दिए गए विकल्पों में से सबसे उपयुक्त उत्तर का चयन कीजिए :

- (1) कथन I और II दोनों सही हैं
- (2) कथन I और II दोनों गलत हैं
- (3) कथन I सही है, लेकिन कथन II गलत है
- (4) कथन I गलत है, लेकिन कथन II सही है

- 1
1
- 2
2
- 3 (Chosen Option)
3 (Chosen Option)
- 4
4

Question No. 8 / Question ID 14046

Marks: 1.00

Arrange the following words in the best meaningful manner.

- (A) Octagon
- (B) Rhombus
- (C) Hexagon
- (D) Polygon
- (E) Pentagon

- (1) B C E A D
- (2) D B A E C
- (3) B E C A D
- (4) B E C D A

निम्नलिखित शब्दों को सर्वश्रेष्ठ अर्थपूर्ण तरीके में व्यवस्थित कीजिए।

- (A) अष्टभुज
- (B) समचतुर्भुज
- (C) षट्भुज
- (D) बहुभुज
- (E) पंचभुज

नीचे दिए गए विकल्पों में से सही उत्तर का चयन कीजिए :

- (1) B C E A D
- (2) D B A E C
- (3) B E C A D
- (4) B E C D A

- 1
1
- 2 (Chosen Option)
2 (Chosen Option)
- 3
3
- 4
4

Question No. 9 / Question ID 14038

Marks: 1.00

One bus ticket from city A to B and 2 tickets from A to C cost ₹ 80, but 3 tickets from city A to B and two tickets from city A to C costs ₹ 120. What are the fares for cities B and C from A?

- (1) ₹ 20, ₹ 40 (2) ₹ 20, ₹ 30
(3) ₹ 40, ₹ 30 (4) ₹ 40, ₹ 40

शहर A से शहर B के लिए एक बस टिकट तथा शहर A से शहर C के लिए दो टिकटों की कीमत ₹ 80 है। लेकिन शहर A से B के लिए तीन टिकटों तथा शहर A से C के लिए दो टिकटों की कीमत ₹ 120 है। शहर A से शहर B और C के लिए कितना किराया है?

- (1) ₹ 20, ₹ 40 (2) ₹ 20, ₹ 30
(3) ₹ 40, ₹ 30 (4) ₹ 40, ₹ 40

- 1
1
 2
2
 3
3
 4 (Chosen Option)
4 (Chosen Option)

Question No. 10 / Question ID 14032

Marks: 1.00



Arrange the words in the sequence in which they occur in the dictionary

- (A) Introvert
- (B) Interest
- (C) Innovation
- (D) Intricate
- (E) Intimate

Choose the correct answer from the option given below:

- (1) C, B, D, E, A
- (2) C, E, B, D, A
- (3) C, B, E, A, D
- (4) C, B, E, D, A

निम्नलिखित शब्दों को शब्दकोष के अनुक्रमानुसार व्यवस्थित कीजिए।

- (A) Introvert
- (B) Interest
- (C) Innovation
- (D) Intricate
- (E) Intimate

नीचे दिए गए विकल्पों में से सही उत्तर का चयन कीजिए :

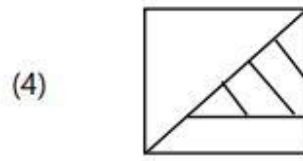
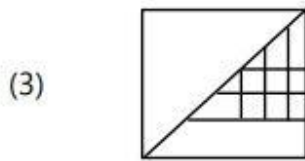
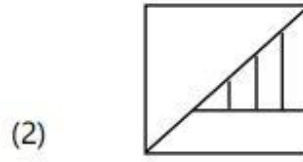
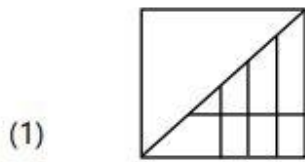
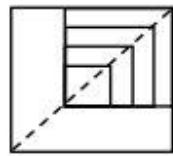
- (1) C, B, D, E, A
- (2) C, E, B, D, A
- (3) C, B, E, A, D
- (4) C, B, E, D, A

- 1
- 2
- 3
- 4 (Chosen Option)
- 4 (Chosen Option)

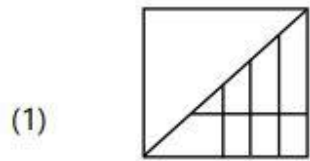
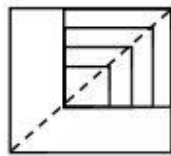
Question No. 11 / Question ID 14031

Marks: 1.00

A square transparent sheet with a pattern is given. Choose the alternative as to how the pattern would appear when the transparent that is folded at the dotted line.



एक पैटर्न के साथ एक वर्गाकार पारदर्शी शीट दी गई है। निम्नांकित में से उस विकल्प का चयन कीजिए जिसे कि जब पारदर्शी शीट को बिंदीदार रेखा पर से मोड़ा जाता है तो पैटर्न कैसा दिखाई देगा?



- 1
- 1
- 2
- 2
- 3 (Chosen Option)
- 3 (Chosen Option)
- 4
- 4

Given below are two statements :

Adversity makes a man wise.

Statement I : The poor are wise.

Statement II : Man learns from the bitter experiences in life

In the light of the above statements, choose the most appropriate answer from the options given below :

- (1) Both Statement I and Statement II are correct
- (2) Both Statement I and Statement II are incorrect
- (3) Statement I is correct but Statement II is incorrect
- (4) Statement I is incorrect but Statement II is correct

नीचे दो कथन दिए गए हैं :

निर्धनता मनुष्य को बुद्धिमान बनाती है।

कथन I : निर्धन बुद्धिमान होते हैं।

कथन II : मनुष्य जीवन के दुःखद अनुभवों से सीख लेता है।

उपर्युक्त कथन के आलोक में, नीचे दिए गए विकल्पों में से सबसे उपयुक्त उत्तर का चयन कीजिए :

- (1) कथन I और II दोनों सही हैं
- (2) कथन I और II दोनों गलत हैं
- (3) कथन I सही है, लेकिन कथन II गलत है
- (4) कथन I गलत है, लेकिन कथन II सही है

- 1
1
- 2
2
- 3
3
- 4 (Chosen Option)
4 (Chosen Option)

Match List I with List II. If # means addition, * means subtraction, \$ means multiplication and £ means division, then :

List I	List II
(A) $148 \text{ £ } 2 \# 6$	(I) 90
(B) $38 \text{ \$ } 3 * 24$	(II) 52
(C) $132 * 52 \# 15$	(III) 80
(D) $48 \# 12 \text{ £ } 3$	(IV) 95

Choose the correct answer from the options given below :

- (1) (A)-(IV), (B)-(I), (C)-(II), (D)-(III)
- (2) (A)-(III), (B)-(IV), (C)-(II), (D)-(I)
- (3) (A)-(III), (B)-(I), (C)-(IV), (D)-(II)
- (4) (A)-(III), (B)-(II), (C)-(IV), (D)-(I)

सूची-I का सूची-II से मिलान कीजिए। यदि # का मतलब जोड़ होता है, * का मतलब घटाना होता है, \$ का मतलब गुणा होता है तथा £ का मतलब भाग होता है। तब -

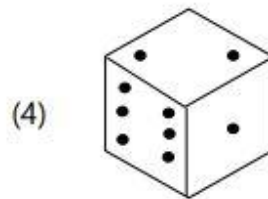
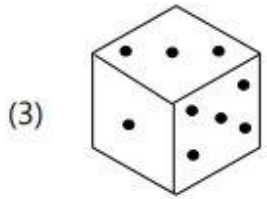
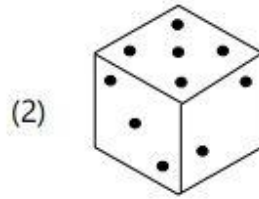
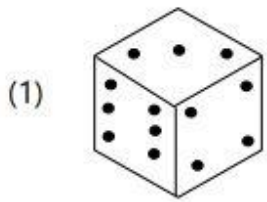
सूची -I	सूची -II
(A) $148 \text{ £ } 2 \# 6$	(I) 90
(B) $38 \text{ \$ } 3 * 24$	(II) 52
(C) $132 * 52 \# 15$	(III) 80
(D) $48 \# 12 \text{ £ } 3$	(IV) 95

नीचे दिए गए विकल्पों में से सही उत्तर का चयन कीजिए :

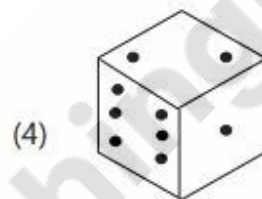
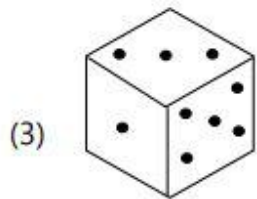
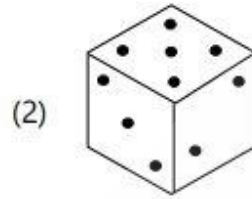
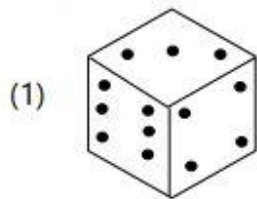
- (1) (A)-(IV), (B)-(I), (C)-(II), (D)-(III)
- (2) (A)-(III), (B)-(IV), (C)-(II), (D)-(I)
- (3) (A)-(III), (B)-(I), (C)-(IV), (D)-(II)
- (4) (A)-(III), (B)-(II), (C)-(IV), (D)-(I)

- 1
1
 2
2
 3
3
 4 (Chosen Option)
4 (Chosen Option)

If the total number of dots on opposite faces of a cubical block is always 7. Find the figure which is correct.



यदि किसी घन के खंड की विपरीत सतह पर बिंदुओं की कुल संख्या सदैव 7 होती है तो निम्नलिखित आकृतियों में से सही आकृति को ज्ञात कीजिए।



- 1
- 1
- 2
- 2
- 3
- 3
- 4 (Chosen Option)
- 4 (Chosen Option)

Question No. 15 / Question ID 14051

Marks: 1.00

Given below are two statements :

Statement I : 7 : 19 :: 9 : 25

Statement II : 7 : 19 :: 9 : 23

In the light of the above statements, choose the most appropriate answer from the options given below :

- (1) Both Statement I and Statement II are correct
- (2) Both Statement I and Statement II are incorrect
- (3) Statement I is correct but Statement II is incorrect
- (4) Statement I is incorrect but Statement II is correct

नीचे दो कथन दिए गए हैं :

कथन I : 7 : 19 :: 9 : 25

कथन II : 7 : 19 :: 9 : 23

उपर्युक्त कथन के आलोक में, नीचे दिए गए विकल्पों में से सबसे उपयुक्त उत्तर का चयन कीजिए :

- (1) कथन I और II दोनों सही हैं
- (2) कथन I और II दोनों गलत हैं
- (3) कथन I सही है, लेकिन कथन II गलत है
- (4) कथन I गलत है, लेकिन कथन II सही है

- 1
1
 2
2
 3 (Chosen Option)
3 (Chosen Option)
 4
4

Question No. 16 / Question ID 14047

Marks: 1.00

Arrange the series

- (A) I 81 O 15
- (B) C 9 Y 25
- (C) O 225 E 5
- (D) F 36 T 20
- (E) L 144 J 10

Choose the correct answer from the options given below :

- (1) (B), (D), (A), (E), (C)
- (2) (C), (A), (B), (E), (D)
- (3) (C), (B), (E), (A), (D)
- (4) (B), (D), (A), (C), (E)

श्रृंखला को व्यवस्थित कीजिए।

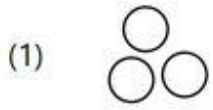
- (A) I 81 O 15
- (B) C 9 Y 25
- (C) O 225 E 5
- (D) F 36 T 20
- (E) L 144 J 10

नीचे दिए गए विकल्पों में से सही उत्तर का चयन कीजिए :


- (1) (B), (D), (A), (E), (C)
- (2) (C), (A), (B), (E), (D)
- (3) (C), (B), (E), (A), (D)
- (4) (B), (D), (A), (C), (E)

- 1 (Chosen Option)
- 1 (Chosen Option)
- 2
- 2
- 3
- 3
- 4
- 4

Which of the following diagram shows the relationship among chairs, computer and furniture?



निम्नलिखित में से कौन-सा आरेख कुर्सियों, कम्प्यूटर और फर्नीचर के मध्य संबंध को दर्शाता है?



- 1
1
- 2
2
- 3 (Chosen Option)
3 (Chosen Option)
- 4
4

Question No. 18 / Question ID 14044

Marks: 1.00

The first two numbers are related in a certain way. Find the correct option from the given alternatives having the same relationship with the third number.

120 : 11 :: 168 :

- (1) 12 (2) 9
(3) 13 (4) 14

प्रथम दो संख्याएं किसी विशेष प्रकार से संबंधित हैं। नीचे दिए गए विकल्पों में से उस सही विकल्प का चयन कीजिए जिसका तीसरी संख्या के साथ वैसा ही संबंध हो।

120 : 11 :: 168 :

- (1) 12 (2) 9
(3) 13 (4) 14

- 1
1

- 2
2
- 3 (Chosen Option)
3 (Chosen Option)
- 4
4

Question No. 19 / Question ID 14045

Marks: 1.00

What should come next in the following letter series?

ABCDEPQRSTABCDPQRSABCPQ

- (1) A
- (2) R
- (3) S
- (4) T

निम्नलिखित वर्ण श्रृंखला में अगला वर्ण (अक्षर) क्या होगा?

ABCDEPQRSTABCDPQRSABCPQ

- (1) A
- (2) R
- (3) S
- (4) T

- 1
1
- 2 (Chosen Option)
2 (Chosen Option)
- 3
3
- 4
4

Question No. 20 / Question ID 14056

Marks: 1.00



Match List I with List II. IF 'Prank' is coded as 13579 in a certain language :

List I	List II
(A) N K R P	(I) 7 5 3 9
(B) K A R N	(II) 5 9 1 7
(C) N A R K	(III) 9 5 3 7
(D) A K P N	(IV) 7 9 3 1

Choose the correct answer from the options given below :

- (1) (A)-(IV), (B)-(I), (C)-(III), (D)-(II)
- (2) (A)-(IV), (B)-(III), (C)-(I), (D)-(II)
- (3) (A)-(IV), (B)-(II), (C)-(I), (D)-(III)
- (4) (A)-(IV), (B)-(II), (C)-(III), (D)-(I)

सूची-I का सूची-II से मिलान कीजिए। यदि PRANK को किसी विशेष कूट भाषा में 13579 लिखा जाता है तो:

सूची-I	सूची-II
(A) N K R P	(I) 7 5 3 9
(B) K A R N	(II) 5 9 1 7
(C) N A R K	(III) 9 5 3 7
(D) A K P N	(IV) 7 9 3 1

नीचे दिए गए विकल्पों में से सही उत्तर का चयन कीजिए :

- (1) (A)-(IV), (B)-(I), (C)-(III), (D)-(II)
- (2) (A)-(IV), (B)-(III), (C)-(I), (D)-(II)
- (3) (A)-(IV), (B)-(II), (C)-(I), (D)-(III)
- (4) (A)-(IV), (B)-(II), (C)-(III), (D)-(I)

- 1
1
- 2 (Chosen Option)
2 (Chosen Option)
- 3
3
- 4
4

Question No. 21 / Question ID 14055

Marks: 1.00

Given below are two statements :

Statement I : Morning walks are good for health

Statement II : All healthy people go for morning walk

In the light of the above statements, choose the most appropriate answer from the options given below :

- (1) Both Statement I and Statement II are correct
- (2) Both Statement I and Statement II are incorrect
- (3) Statement I is correct but Statement II is incorrect
- (4) Statement I is incorrect but Statement II is correct

नीचे दो कथन दिए गए हैं :

कथन I : प्रातःकालीन भ्रमण सेहत के लिए अच्छे होता है।

कथन II : सभी सेहतमंद लोग प्रातःकालीन भ्रमण के लिए जाते हैं।

उपर्युक्त कथन के आलोक में, नीचे दिए गए विकल्पों में से सबसे उपयुक्त उत्तर का चयन कीजिए :

- (1) कथन I और II दोनों सही हैं
- (2) कथन I और II दोनों गलत हैं
- (3) कथन I सही है, लेकिन कथन II गलत है
- (4) कथन I गलत है, लेकिन कथन II सही है

1 (Chosen Option)

1 (Chosen Option)

2

2

3

3

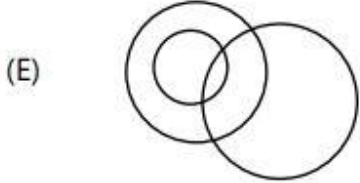
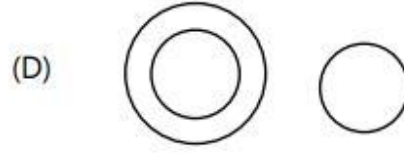
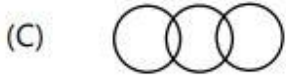
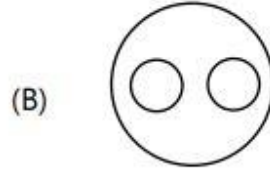
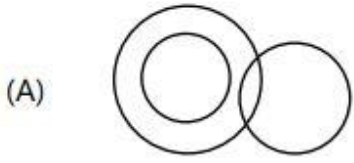
4

4

Question No. 22 / Question ID 14050

Marks: 1.00

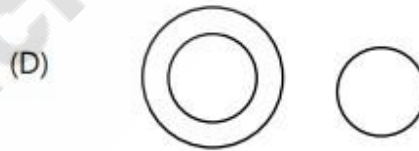
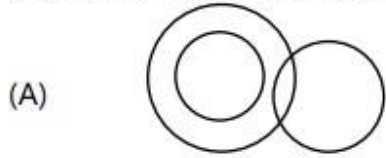
Which of the following diagram shows the relationship between car, bus and automobile?



Choose the correct answer from the options given below :

- (1) A, D and E
- (2) B only
- (3) C only
- (4) D only

निम्नलिखित में से कौन-सा आरेख कार, बस तथा आटोमोबाइल के मध्य संबंध को दर्शाता है?


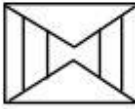


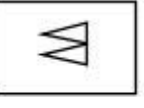
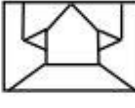

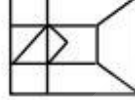


नीचे दिए गए विकल्पों में से सही उत्तर का चयन कीजिए :

- (1) A, D और E
- (2) केवल B
- (3) केवल C
- (4) केवल D

- 1
1
- 2 (Chosen Option)
2 (Chosen Option)
- 3
3
- 4
4


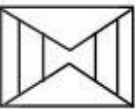

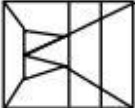

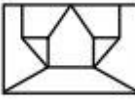


Match List I with List II Match the embedded figure in list II :

List I		List II	
(A)		(I)	
(B)		(II)	
(C)		(III)	
(D)		(IV)	

Choose the correct answer from the options given below :

- (1) (A)-(III), (B)-(II), (C)-(IV), (D)-(I)
- (2) (A)-(IV), (B)-(II), (C)-(III), (D)-(I)
- (3) (A)-(IV), (B)-(I), (C)-(II), (D)-(III)
- (4) (A)-(III), (B)-(I), (C)-(IV), (D)-(II)

सूची-I का सूची-II से मिलान कीजिए। सूची II में सन्निहित आकृतियों का मिलान कीजिए।

सूची-I		सूची-II	
(A)		(I)	
(B)		(II)	
(C)		(III)	
(D)		(IV)	

नीचे दिए गए विकल्पों में से सही उत्तर का चयन कीजिए :

- (1) (A)-(III), (B)-(II), (C)-(IV), (D)-(I)
- (2) (A)-(IV), (B)-(II), (C)-(III), (D)-(I)
- (3) (A)-(IV), (B)-(I), (C)-(II), (D)-(III)
- (4) (A)-(III), (B)-(I), (C)-(IV), (D)-(II)

- 1
 1
 2
 2

- 3 (Chosen Option)
3 (Chosen Option)
 4
4

Question No. 24 / Question ID 14036

Marks: 1.00

Crow is related to Caw in the same way as frog is related to

- (1) Mew (2) Cackle
(3) Croak (4) Quack

कौवा जिस प्रकार से काँव से संबंधित है ठीक उसी प्रकार से मेढक किससे संबंधित है?

- (1) म्याऊँ (2) कुड़कुड़ना
(3) टरटराना (4) काँ काँ करना

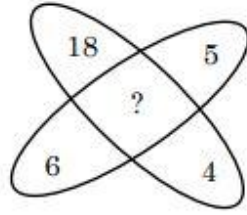
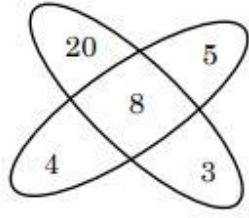
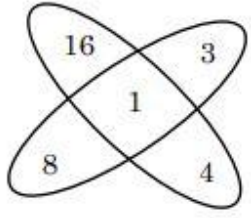
- 1
1
 2
2
 3 (Chosen Option)
3 (Chosen Option)
 4
4

Question No. 25 / Question ID 14033

Marks: 1.00



Find the missing number in the following figures



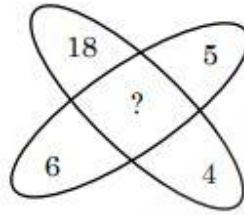
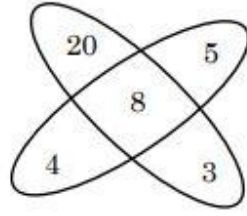
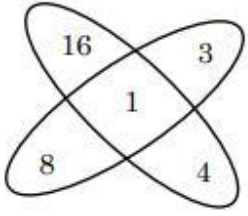
(1) 70

(2) 15

(3) 3

(4) 8

निम्नलिखित आकृतियों में लुप्त संख्या (?) ज्ञात कीजिए।



(1) 70

(2) 15

(3) 3

(4) 8

- 1
- 1
- 2
- 2
- 3 (Chosen Option)
- 3 (Chosen Option)
- 4
- 4

Question No. 26 / Question ID 14049

Marks: 1.00

Arrange the following words in the best meaningful manner.

- (A) Year
- (B) Day
- (C) Month
- (D) Week
- (E) Decade

Choose the correct answer from the options given below :

- (1) (A), (B), (C), (D), (E)
- (2) (B), (C), (D), (E), (A)
- (3) (B), (D), (C), (A), (E)
- (4) (E), (D), (A), (C), (B)

निम्नलिखित शब्दों को सर्वश्रेष्ठ अर्थपूर्ण तरीके में व्यवस्थित कीजिए

- (A) वर्ष
- (B) दिन
- (C) महीना
- (D) सप्ताह
- (E) दशक

नीचे दिए गए विकल्पों में से सही उत्तर का चयन कीजिए :

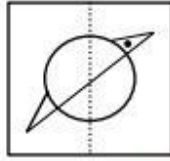
- (1) (A), (B), (C), (D), (E)
- (2) (B), (C), (D), (E), (A)
- (3) (B), (D), (C), (A), (E)
- (4) (E), (D), (A), (C), (B)

- 1
1
- 2
2
- 3 (Chosen Option)
3 (Chosen Option)
- 4
4

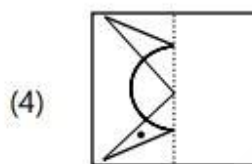
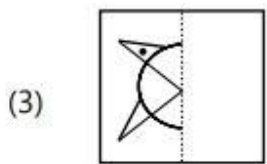
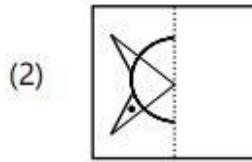
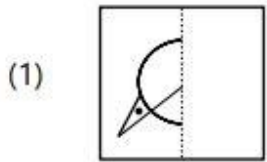
Question No. 27 / Question ID 14035

Marks: 1.00

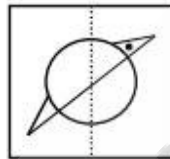
A square transparent sheet with a pattern is given. Choose the correct alternative from the given alternatives as to how the pattern would appear when the transparent sheet is folded at the dotted line.



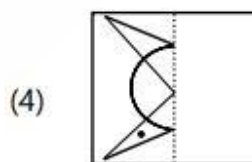
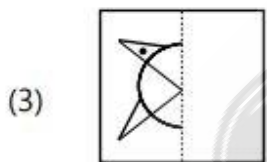
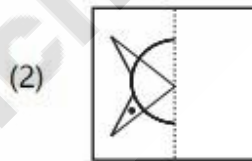
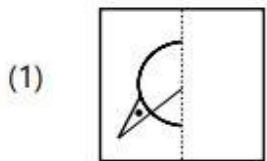
Transparent Sheet



एक पैटर्न के साथ एक वर्गाकार पारदर्शी शीट दी गई है। दिए गए विकल्पों में से उस सही विकल्प का चयन कीजिए कि जब पारदर्शी शीट को बिंदीदार रेखा पर से मोड़ा जाता है तो पैटर्न कैसा दिखाई देगा?



पारदर्शी शीट



- 1
- 1
- 2
- 2
- 3
- 3
- 4
- 4

Arrange the following words in best meaningful manner.

- (A) Salary
- (B) Olympics
- (C) Dinner
- (D) Holi
- (E) Sunday

Choose the correct answer from the options given below :

- (1) (C), (E), (D), (A), (B)
- (2) (E), (D), (C), (B), (A)
- (3) (C), (E), (A), (D), (B)
- (4) (E), (A), (C), (D), (B)

निम्नलिखित शब्दों को सर्वश्रेष्ठ अर्थपूर्ण तरीके में व्यवस्थित कीजिए।

- (A) वेतन
- (B) ओलंपिक
- (C) रात्रिभोज
- (D) होली
- (E) रविवार

नीचे दिए गए विकल्पों में से सही उत्तर का चयन कीजिए :

- (1) (C), (E), (D), (A), (B)
- (2) (E), (D), (C), (B), (A)
- (3) (C), (E), (A), (D), (B)
- (4) (E), (A), (C), (D), (B)

- 1
- 2
- 3
- 4 (Chosen Option)
- 4 (Chosen Option)

Question No. 29 / Question ID 14042

Marks: 1.00

Choose the pair which is differently related from other three pairs.

- (1) 48 : 134 (2) 34 : 92
(3) 16 : 39 (4) 27 : 71

उस युग्म का चयन कीजिए जो अन्य तीन युग्मों से पूर्ण रूप से भिन्नतापूर्वक संबंधित है।

- (1) 48 : 134 (2) 34 : 92
(3) 16 : 39 (4) 27 : 71

- 1
1
 2
2
 3 (Chosen Option)
3 (Chosen Option)
 4
4

Question No. 30 / Question ID 14057

Marks: 1.00



TeachingNinja.in

Match List I with List II :

List I	List II
(A) King : Throne :: Rider : ?	(I) Kiln
(B) Coin : Mint :: Bricks : ?	(II) Bullet
(C) River : Stream :: Ocean : ?	(III) Saddle
(D) Bow : Arrow :: Pistol : ?	(IV) Current

Choose the correct answer from the options given below :

- (1) (A)-(I), (B)-(II), (C)-(III), (D)-(IV)
- (2) (A)-(II), (B)-(III), (C)-(IV), (D)-(I)
- (3) (A)-(III), (B)-(I), (C)-(II), (D)-(IV)
- (4) (A)-(III), (B)-(I), (C)-(IV), (D)-(II)

सूची-I का सूची-II से मिलान कीजिए।

सूची -I	सूची -II
(A) राजा : सिंहासन :: घुड़सवार : ?	(I) भट्टा
(B) सिक्का : टकसाल :: ईंट : ?	(II) गोली
(C) नदी : प्रवाह :: महासागर : ?	(III) जीन (काठी)
(D) धनुष : बाण :: पिस्तौल : ?	(IV) धारा

नीचे दिए गए विकल्पों में से सही उत्तर का चयन कीजिए :

- (1) (A)-(I), (B)-(II), (C)-(III), (D)-(IV)
- (2) (A)-(II), (B)-(III), (C)-(IV), (D)-(I)
- (3) (A)-(III), (B)-(I), (C)-(II), (D)-(IV)
- (4) (A)-(III), (B)-(I), (C)-(IV), (D)-(II)

- 1
1
 2
2
 3
3
 4 (Chosen Option)
4 (Chosen Option)



3) Mathematical Abilities

Question No. 1 / Question ID 14090

Marks: 1.00

Match List I with List II :

List I	List II
(A) Sum of cubes of first n natural numbers	(I) $n(n+1)$
(B) Sum of squares of first n natural numbers	(II) $\frac{n}{2}(n+1)$
(C) Sum of first n natural numbers	(III) $\left[\frac{n}{2}(n+1)\right]^2$
(D) Sum of first n even natural numbers	(IV) $\frac{n(n+1)(2n+1)}{6}$

Choose the correct answer from the options given below :

- (1) (A)-(IV), (B)-(III), (C)-(II), (D)-(I)
- (2) (A)-(III), (B)-(IV), (C)-(I), (D)-(II)
- (3) (A)-(IV), (B)-(III), (C)-(I), (D)-(II)
- (4) (A)-(III), (B)-(IV), (C)-(II), (D)-(I)

सूची-I के साथ सूची-II का मिलान कीजिए :

सूची-I	सूची-II
(A) प्रथम n प्राकृतिक संख्याओं के घनों का योग	(I) $n(n+1)$
(B) प्रथम n प्राकृतिक संख्याओं के वर्गों का योग	(II) $\frac{n}{2}(n+1)$
(C) प्रथम n प्राकृतिक संख्याओं के योग	(III) $\left[\frac{n}{2}(n+1)\right]^2$
(D) प्रथम n सम प्राकृतिक संख्याओं का योग	(IV) $\frac{n(n+1)(2n+1)}{6}$

नीचे दिए गए विकल्पों में से सही उत्तर का चयन कीजिए :

- (1) (A)-(IV), (B)-(III), (C)-(II), (D)-(I)
- (2) (A)-(III), (B)-(IV), (C)-(I), (D)-(II)
- (3) (A)-(IV), (B)-(III), (C)-(I), (D)-(II)
- (4) (A)-(III), (B)-(IV), (C)-(II), (D)-(I)

1 (Chosen Option)
1 (Chosen Option)

2
2

3
3

4
4

If the base radius of cylindrical tank is 7 m and its capacity is 1848 m^3 , then the depth of the tank is:

- (1) 9 m (2) 10 m
(3) 11 m (4) 12 m

यदि बेलनाकार टंकी की आधार त्रिज्या 7 मी. और इसकी क्षमता 1848 मी^3 है, तब टंकी की गहराई है :

- (1) 9 मी. (2) 10 मी.
(3) 11 मी. (4) 12 मी.

- 1
1
 2
2
 3
3
 4 (Chosen Option)
4 (Chosen Option)

Question No. 3 / Question ID 14068

Marks: 1.00

If 40 L of milk solution has 30% milk in it, then how much milk should be added to make it 60% in the solution?

- (1) 25 L (2) 30 L
(3) 40 L (4) 35 L

यदि 40 ली. दूध के मिश्रण में 30% दूध है, तब इस मिश्रण में दूध की मात्रा 60% करने के लिए कितना दूध मिलाया जाना चाहिए?

- (1) 25 ली. (2) 30 ली.
(3) 40 ली. (4) 35 ली.

- 1
1
 2
2
 3 (Chosen Option)
3 (Chosen Option)
 4
4

Question No. 4 / Question ID 14065

Marks: 1.00

Three friends Anne, Bob and Chris work together to do a certain job. The time it takes them to do the work together is 6 hours less than Anne would have taken alone, 1 hour less than Bob would have taken alone and half the time Chris would have taken alone. How long did it take them to complete the job, working together?

- (1) 20 min (2) 30 min
(3) 40 min (4) 50 min

तीन मित्र एनी, बॉब और क्रिश किसी काम को पूरा करने के लिए एक साथ कार्य करते हैं। उनके द्वारा एक साथ मिलकर कार्य करने पर लिया गया समय, एनी द्वारा लिये गये समय से 6 घण्टा कम, बॉब द्वारा लिये जाने वाले समय से 1 घण्टा कम और क्रिश द्वारा लिये जाने वाले समय का आधा है। एक साथ कार्य करने पर उनके द्वारा लिया जाने वाला समय है :

- (1) 20 मिनट (2) 30 मिनट
(3) 40 मिनट (4) 50 मिनट

- 1
1
 2 (Chosen Option)
2 (Chosen Option)
 3
3
 4
4

Question No. 5 / Question ID 14078

Marks: 1.00



- (A) If $\frac{x}{5} - \frac{x}{6} = 4$ then $x = 120$
- (B) $x = -3$ then $x^3 - x^2 - x$ will be -33
- (C) If $4x + 5y = 83$ and $\frac{3x}{2y} = \frac{21}{22}$, then $y - x = 4$
- (D) $y + \frac{1}{z} = 1$ and $x + \frac{1}{y} = 1$ then xyz is -1
- (E) If $a = 7, b = 5$ then the value of $a^3 - b^3 + 3a^2b$ is 853

Choose the correct answer from the options given below :

- (1) A, B, C, E only (2) B, C, D, E only
- (3) A, B, E only (4) A, B, C, D only

- (A) यदि $\frac{x}{5} - \frac{x}{6} = 4$ तब $x = 120$
- (B) $x = -3$ तब $x^3 - x^2 - x, -33$ होंगे
- (C) यदि $4x + 5y = 83$ और $\frac{3x}{2y} = \frac{21}{22}$, तब $y - x = 4$
- (D) $y + \frac{1}{z} = 1$ और $x + \frac{1}{y} = 1$, तब $xyz - 1$ है।
- (E) यदि $a = 7, b = 5$, तब $a^3 - b^3 + 3a^2b$ का मान 853 है।

निम्नलिखित विकल्पों में से सही उत्तर का चयन करें :

- (1) केवल A, B, C, E (2) केवल B, C, D, E
- (3) केवल A, B, E (4) केवल A, B, C, D

- 1
1
- 2
2
- 3
3
- 4 (Chosen Option)
4 (Chosen Option)

Question No. 6 / Question ID 14080

Marks: 1.00

Consider the following statements :

- (A) Mode of 2, 6, 4, 5, 0, 2, 1, 3, 2, 3 is 3
- (B) Mode of 2, 6, 7, 5, 2, 4, 3, 2, 3 is 2
- (C) If the mean is 40 and mode is 25, then the median is 35
- (D) If the mean of two numbers is 50, then their sum will always be 120
- (E) Mean = Median = Mode (Symmetric distribution)

Choose the correct answer from the options given below :

- (1) (B), (C), (E) only
- (2) (D), (B), (E) only
- (3) (A), (C), (E) only
- (4) (A), (D), (E) only

निम्नलिखित कथनों पर विचार करें :

- (A) 2, 6, 4, 5, 0, 2, 1, 3, 2, 3 का बहुलक 3 है।
- (B) 2, 6, 7, 5, 2, 4, 3, 2, 3 का बहुलक 2 है।
- (C) यदि माध्य 40 और बहुलक 25 है, तब माधिका 35 है।
- (D) यदि दो संख्याओं का माध्य 50 है, तब उनका योग हमेशा 120 होगा।
- (E) माध्य = माधिका = बहुलक (सममित वितरण)

निम्नलिखित विकल्पों में से सही उत्तर का चयन करें :

- (1) केवल (B), (C), (E)
- (2) केवल (D), (B), (E)
- (3) केवल (A), (C), (E)
- (4) केवल (A), (D), (E)

- 1 (Chosen Option)
- 1 (Chosen Option)
- 2
- 2
- 3
- 3
- 4
- 4

Question No. 7 / Question ID 14069

Marks: 1.00

If $6x - 10y = 10$ and $\frac{x}{x+y} = \frac{5}{7}$, then $(x - y)$ is equal to

- (1) 6 (2) 8
(3) 12 (4) 3

यदि $6x - 10y = 10$ और $\frac{x}{x+y} = \frac{5}{7}$, तब $(x - y)$ के बराबर है :

- (1) 6 (2) 8
(3) 12 (4) 3

- 1
1
 2
2
 3
3
 4 (Chosen Option)
4 (Chosen Option)

Question No. 8 / Question ID 14067

Marks: 1.00

The difference between compound and simple interests on a certain sum of money at the interest rate of 10% per annum for $1\frac{1}{2}$ year is ₹ 183, when the interest is compounded semiannually. Find the sum of money.

- (1) ₹ 12,000 (2) ₹ 24,000
(3) ₹ 36,000 (4) ₹ 48,000

किसी राशि पर 10% वार्षिक की दर से $1\frac{1}{2}$ वर्ष की चक्रवृद्धि और साधारण ब्याज का अंतर ₹ 183 है, जबकि ब्याज अर्द्धवार्षिक संयोजन किया जाता है। धनराशि ज्ञात करें :

- (1) ₹ 12,000 (2) ₹ 24,000
(3) ₹ 36,000 (4) ₹ 48,000

- 1
1
 2
2
 3 (Chosen Option)
3 (Chosen Option)
 4
4

Question No. 9 / Question ID 14077

Marks: 1.00

Choose the correct option.

(A) $\sqrt{\frac{2704}{81}} = \frac{52}{9}$

(B) $(3.5)^2 = 1225$

(C) $\sqrt{\frac{461}{8}} = 7.59$

(D) $\sqrt{1024} = 22$

(E) $\sqrt{12 - \sqrt{12 - \sqrt{12 - \dots}}} = 3$

Choose the correct answer from the options given below :

(1) A, C, E, only

(2) C, D, E, only

(3) A, D, E only

(4) C, B, E, only

सही विकल्प का चयन करें :

(A) $\sqrt{\frac{2704}{81}} = \frac{52}{9}$

(B) $(3.5)^2 = 1225$

(C) $\sqrt{\frac{461}{8}} = 7.59$

(D) $\sqrt{1024} = 22$

(E) $\sqrt{12 - \sqrt{12 - \sqrt{12 - \dots}}} = 3$

निम्नलिखित विकल्पों में से सही उत्तर का चयन करें :

(1) केवल A, C, E

(2) केवल C, D, E

(3) केवल A, D, E

(4) केवल C, B, E

1

1

2

2

3 (Chosen Option)

3 (Chosen Option)

4

4

Question No. 10 / Question ID 14082

Marks: 1.00

Given below are two statements : If a and b two real numbers.

Statement I : If $a > 0$ and $b > 0$ then $ab > 0$

Statement II : If $a > 0$ and $b < 0$ then $ab > 0$.

In the light of the above statements, choose the **most appropriate answer** from the options given below :

- (1) Both Statement I and Statement II are correct
- (2) Both Statement I and Statement II are incorrect
- (3) Statement I is correct but Statement II is incorrect
- (4) Statement I is incorrect but Statement II is correct

नीचे दो कथन दिए गए हैं : यदि a और b दो वास्तविक संख्याएं हैं।

कथन I : यदि $a > 0$ और $b > 0$ हो तब $ab > 0$

कथन II : यदि $a > 0$ और $b < 0$ हो तब $ab > 0$

उपरोक्त कथन के आलोक में, नीचे दिए गए विकल्पों में से सबसे उपयुक्त उत्तर का चयन कीजिए :

- (1) कथन I और II दोनों सही हैं
- (2) कथन I और II दोनों गलत हैं
- (3) कथन I सही है, लेकिन कथन II गलत है
- (4) कथन I गलत है, लेकिन कथन II सही है

- 1
1
 2
2
 3
3
 4
4

Question No. 11 / Question ID 14089

Marks: 1.00

Match List I with List II :

List I	List II
(A) $\frac{\sum f_i x_i}{\sum f_i}$	(I) mode
(B) $l + \left(\frac{\frac{N}{2} - cf}{f} \right) h$	(II) median – mean
(C) $l + \left(\frac{f_1 - f_0}{2f_1 - f_0 - f_2} \right) h$	(III) median
(D) $\frac{(\text{mode} - \text{median})}{2}$	(IV) mean

Choose the correct answer from the options given below :

- (1) (A)-(I), (B)-(II), (C)-(IV), (D)-(III)
- (2) (A)-(IV), (B)-(III), (C)-(I), (D)-(II)
- (3) (A)-(I), (B)-(IV), (C)-(III), (D)-(II)
- (4) (A)-(IV), (B)-(III), (C)-(II), (D)-(I)

सूची-I के साथ सूची-II का मिलान कीजिए :

सूची-I	सूची-II
(A) $\frac{\sum f_i x_i}{\sum f_i}$	(I) बहुलक
(B) $l + \left(\frac{\frac{N}{2} - cf}{f} \right) h$	(II) माधिका –माध्य
(C) $l + \left(\frac{f_1 - f_0}{2f_1 - f_0 - f_2} \right) h$	(III) माधिका
(D) $\frac{(\text{बहुलक} - \text{माधिका})}{2}$	(IV) माध्य

नीचे दिए गए विकल्पों में से सही उत्तर का चयन कीजिए :

- (1) (A)-(I), (B)-(II), (C)-(IV), (D)-(III)
- (2) (A)-(IV), (B)-(III), (C)-(I), (D)-(II)
- (3) (A)-(I), (B)-(IV), (C)-(III), (D)-(II)
- (4) (A)-(IV), (B)-(III), (C)-(II), (D)-(I)

- 1
 1
 2 (Chosen Option)
 2 (Chosen Option)
 3
 3
 4
 4

Given below are two statements :

Statement I : If $a+b+c=0$, $(a+b)(b+c)(c+a)$ equals $-abc$.

Statement II : If $a=7$, $b=5$, $c=3$, then the value of $a^2+b^2+c^2-ab-bc-ca$ is 12.

In the light of the above statements, choose the **most appropriate answer** from the options given below :

- (1) Both Statement I and Statement II are correct
- (2) Both Statement I and Statement II are incorrect
- (3) Statement I is correct but Statement II is incorrect
- (4) Statement I is incorrect but Statement II is correct

नीचे दो कथन दिए गए हैं :

कथन I : यदि $a+b+c=0$, $(a+b)(b+c)(c+a)$ बराबर $-abc$ ।

कथन II : यदि $a=7$, $b=5$, $c=3$, तब $a^2+b^2+c^2-ab-bc-ca$ का मान 12 है।

उपरोक्त कथन के आलोक में, नीचे दिए गए विकल्पों में से सबसे उपयुक्त उत्तर का चयन कीजिए :

- (1) कथन I और II दोनों सही हैं
- (2) कथन I और II दोनों गलत हैं
- (3) कथन I सही है, लेकिन कथन II गलत है
- (4) कथन I गलत है, लेकिन कथन II सही है

1

1

2

2

3

3

4 (Chosen Option)

4 (Chosen Option)

A pole makes an angle of 30° at a point on the ground that is 30 m from its base. The height of the pole is

- (1) $30\sqrt{3} m$ (2) $10\sqrt{3} m$
(3) $\frac{10}{\sqrt{3}} m$ (4) $15\sqrt{3} m$

एक खंभा, जमीन पर अपने आधार से 30 मी. दूर किसी बिन्दु के साथ 30° का कोण बनाता है। खंभे की ऊँचाई है :

- (1) $30\sqrt{3} m$ (2) $10\sqrt{3} m$
(3) $\frac{10}{\sqrt{3}} m$ (4) $15\sqrt{3} m$

- 1 (Chosen Option)
1 (Chosen Option)
 2
2
 3
3
 4
4

Question No. 14 / Question ID 14061

Marks: 1.00

The value of $\frac{\sin 5x - 2 \sin 3x + \sin x}{\cos 5x - \cos x}$

- (1) $\operatorname{cosec}(x)$ (2) $\sec(x)$
(3) $\cot(x)$ (4) $\tan(x)$

$\frac{\sin 5x - 2 \sin 3x + \sin x}{\cos 5x - \cos x}$ का मान है :

- (1) $\operatorname{cosec}(x)$ (2) $\sec(x)$
(3) $\cot(x)$ (4) $\tan(x)$

- 1
1
 2
2
 3
3
 4 (Chosen Option)
4 (Chosen Option)

Question No. 15 / Question ID 14073

Marks: 1.00

If each sides of a cube is increased by 10%, then by how much percent does its volume increase?

- (1) 23.1% (2) 33.1%
(3) 13.1% (4) 30.3%

यदि किसी घन की प्रत्येक भुजा 10% बढ़ा दी जाती है, तब इसका आयतन कितना प्रतिशत बढ़ जाएगा?

- (1) 23.1% (2) 33.1%
(3) 13.1% (4) 30.3%

- 1
1
 2 (Chosen Option)
2 (Chosen Option)
 3
3
 4
4

Question No. 16 / Question ID 14064

Marks: 1.00

For any real numbers a and b , $\cos(a) = \cos(b)$ then

- (1) $a = 2n\pi \pm b$ where $n \in Z$ (2) $a = 2n\pi \pm b$ where $n \in N$
(3) $b = 2n\pi \pm a$ where $n \in N \cup \{0\}$ (4) $b = 2n\pi \pm a$ where $n \in N$

किन्हीं वास्तविक संख्याओं a और b के लिए $\cos(a) = \cos(b)$ हो तब

- (1) $a = 2n\pi \pm b$ जहाँ $n \in Z$ (2) $a = 2n\pi \pm b$ जहाँ $n \in N$
(3) $b = 2n\pi \pm a$ जहाँ $n \in N \cup \{0\}$ (4) $b = 2n\pi \pm a$ जहाँ $n \in N$

- 1
1
 2
2
 3
3
 4
4

Question No. 17 / Question ID 14085

Marks: 1.00

Given below are two statements :

Given $A : B = 2 : 3$, $B : C = 5 : 7$, $C : D = 3 : 10$

Statement I : The ratio of A and D is 1:7.

Statement II : The ratio of B and D is 3:14.

In the light of the above statements, choose the most appropriate answer from the options given below :

- (1) Both Statement I and Statement II are correct
- (2) Both Statement I and Statement II are incorrect
- (3) Statement I is correct but Statement II is incorrect
- (4) Statement I is incorrect but Statement II is correct

नीचे दो कथन दिए गए हैं :

दिया है $A : B = 2 : 3$, $B : C = 5 : 7$, $C : D = 3 : 10$

कथन I : A और D का अनुपात 1:7 है।

कथन II : B और D का अनुपात 3:14 है।

उपरोक्त कथन के आलोक में, नीचे दिए गए विकल्पों में से सबसे उपयुक्त उत्तर का चयन कीजिए :

- (1) कथन I और II दोनों सही हैं
- (2) कथन I और II दोनों गलत हैं
- (3) कथन I सही है, लेकिन कथन II गलत है
- (4) कथन I गलत है, लेकिन कथन II सही है

- 1
1
- 2 (Chosen Option)
2 (Chosen Option)
- 3
3
- 4
4

Question No. 18 / Question ID 14086

Marks: 1.00

Match List I with List II :

List I	List II
(A) $P(A \cap B)$	(I) $P(\bar{A} \cap B)/P(B)$
(B) $P(\bar{A} \cap B)$	(II) $P(A) \times P(B/A)$
(C) $P(\bar{A}/B)$	(III) $P(\bar{A} \cap \bar{B})/P(\bar{A})$
(D) $P(\bar{B}/\bar{A})$	(IV) $P(B) - P(A \cap B)$

Choose the correct answer from the options given below :

- (1) (A)-(II), (B)-(IV), (C)-(I), (D)-(III)
- (2) (A)-(I), (B)-(IV), (C)-(II), (D)-(III)
- (3) (A)-(I), (B)-(III), (C)-(II), (D)-(IV)
- (4) (A)-(II), (B)-(I), (C)-(III), (D)-(IV)

सूची-I के साथ सूची-II का मिलान कीजिए :

सूची-I	सूची-II
(A) $P(A \cap B)$	(I) $P(\bar{A} \cap B)/P(B)$
(B) $P(\bar{A} \cap B)$	(II) $P(A) \times P(B/A)$
(C) $P(\bar{A}/B)$	(III) $P(\bar{A} \cap \bar{B})/P(\bar{A})$
(D) $P(\bar{B}/\bar{A})$	(IV) $P(B) - P(A \cap B)$

नीचे दिए गए विकल्पों में से सही उत्तर का चयन कीजिए :

- (1) (A)-(II), (B)-(IV), (C)-(I), (D)-(III)
- (2) (A)-(I), (B)-(IV), (C)-(II), (D)-(III)
- (3) (A)-(I), (B)-(III), (C)-(II), (D)-(IV)
- (4) (A)-(II), (B)-(I), (C)-(III), (D)-(IV)

- 1
1
 2
2
 3
3
 4
4

Question No. 19 / Question ID 14075

Marks: 1.00

If $\alpha + \beta = 90^\circ$ and $\alpha : \beta = 2 : 1$ then the value of $\sin \alpha : \sin \beta$ is

- (1) $\sqrt{3} : 1$ (2) $\sqrt{2} : 1$
(3) $1 : \sqrt{2}$ (4) $\sqrt{3} : \sqrt{2}$

यदि $\alpha + \beta = 90^\circ$ और $\alpha : \beta = 2 : 1$ तब $\sin \alpha : \sin \beta$ का मान है :

- (1) $\sqrt{3} : 1$ (2) $\sqrt{2} : 1$
(3) $1 : \sqrt{2}$ (4) $\sqrt{3} : \sqrt{2}$

- 1 (Chosen Option)
 1 (Chosen Option)
 2
 2
 3
 3
 4
 4

Question No. 20 / Question ID 14079

Marks: 1.00



TeachingNinja.in

Consider the following statements :

- (A) The line joining the centre of a circle to mid point of a chord makes an acute angle
- (B) Angle in a semi circle is a right angle
- (C) Angle subtended by arc at the centre of the circle is twice the angle subtended by the same arc at any point on the remaining part of the circle
- (D) The distance from the centre of circle to the chord is always equal to the radius of the circle
- (E) A line segment which has only one common point with circumference of a circle is called tangent

Choose the correct answer from the options given below :

- (1) A, B, C
- (2) B, C, E
- (3) C, D, A
- (4) D, A, E

निम्नलिखित कथनों पर विचार करें :

- (A) जीवा के मध्य बिन्दु से वृत्त के केन्द्र को जोड़ने वाली रेखा आत्यंतिक कोण बनाती है।
- (B) अर्ध वृत्त में बनने वाला कोण, एक समकोण है।
- (C) वृत्त के केन्द्र पर चाप द्वारा अंतरित कोण, उसी चाप द्वारा वृत्त के शेष भाग पर किसी बिन्दु पर अंतरित कोण का दुगुना है।
- (D) वृत्त के केन्द्र से जीवा की दूरी हमेशा वृत्त की त्रिज्या के बराबर है।
- (E) एक रेखाखण्ड, जिसमें वृत्त की परिधि से केवल एक उभयनिष्ठ बिन्दु है, स्पर्शरेखा कहलाती है।

निम्नलिखित विकल्पों में से सही उत्तर का चयन करें :

- (1) A, B, C
- (2) B, C, E
- (3) C, D, A
- (4) D, A, E

1 (Chosen Option)

1 (Chosen Option)

2

2

3

3

4

4

Question No. 21 / Question ID 14071

Marks: 1.00

Solutions of $x^2 + x + 1 = 0$ lie in

- (1) set of rational and set of real numbers
- (2) set of rational numbers
- (3) set of real numbers
- (4) set of complex numbers

$x^2 + x + 1 = 0$ हल स्थित हैं :

- (1) परिमेय की पद्धति और वास्तविक संख्याओं का समूह
- (2) परिमेय संख्या की पद्धति
- (3) वास्तविक संख्या की पद्धति
- (4) सम्मिश्र संख्या की पद्धति

- 1 (Chosen Option)
- 1 (Chosen Option)
- 2
- 2
- 3
- 3
- 4
- 4

Question No. 22 / Question ID 14072

Marks: 1.00

Find the value of $\tan \frac{\pi}{8}$

- (1) $1 - \sqrt{3}$
- (2) $1 + \sqrt{2}$
- (3) $\sqrt{2} - 1$
- (4) $\sqrt{3} + 1$

$\tan \frac{\pi}{8}$ का मान ज्ञात करें :

- (1) $1 - \sqrt{3}$
- (2) $1 + \sqrt{2}$
- (3) $\sqrt{2} - 1$
- (4) $\sqrt{3} + 1$

- 1
- 1
- 2
- 2
- 3
- 3
- 4 (Chosen Option)
- 4 (Chosen Option)

Question No. 23 / Question ID 14070

Marks: 1.00

The solutions of inequality $\frac{5x-4}{2} \geq \frac{3x+1}{4} - 1$ where $x \in R$

- (1) $x \in (0, \infty)$
- (2) $x \in (-1, \infty)$
- (3) $x \in [0.71, \infty)$
- (4) $x \in (0, 1)$

असमानता $\frac{5x-4}{2} \geq \frac{3x+1}{4} - 1$ का हल है जहाँ $x \in R$ है :

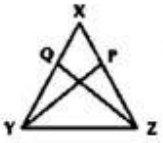
- (1) $x \in (0, \infty)$
- (2) $x \in (-1, \infty)$
- (3) $x \in [0.71, \infty)$
- (4) $x \in (0, 1)$

- 1
- 1

- 2
- 3
- 4

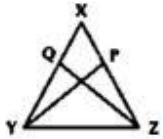
Question No. 24 / Question ID 14066

Marks: 1.00



Let P and Q are the mid-points of equal sides XZ and XY of $\triangle XYZ$ then

- | | |
|---------------|---------------|
| (1) $XY = QZ$ | (2) $XZ = PY$ |
| (3) $YZ = YP$ | (4) $PY = QZ$ |



माना $\triangle XYZ$ की सम भुजाओं XZ और XY के मध्य बिन्दु P और Q हैं, तब :

- | | |
|---------------|---------------|
| (1) $XY = QZ$ | (2) $XZ = PY$ |
| (3) $YZ = YP$ | (4) $PY = QZ$ |

- 1
- 2
- 3
- 4 (Chosen Option)
- 4 (Chosen Option)

Question No. 25 / Question ID 14081

Marks: 1.00

Given below are two statements : The sum and product of two numbers are 12 and 35 respectively.

Statement I : Sum of their reciprocals is $\frac{12}{35}$.

Statement II : Difference of their reciprocals is $\frac{2}{35}$ (Take only positive)

In the light of the above statements, choose the **most appropriate answer** from the options given below :

- (1) Both Statement I and Statement II are correct
- (2) Both Statement I and Statement II are incorrect
- (3) Statement I is correct but Statement II is incorrect
- (4) Statement I is incorrect but Statement II is correct

नीचे दो कथन दिए गए हैं : दो संख्याओं का योग और गुणनफल 12 और 35 है।

कथन I : उनके व्युत्क्रमों का योग $\frac{12}{35}$ है।

कथन II : उनके व्युत्क्रमों का अंतर $\frac{2}{35}$ है (केवल धनात्मक लीजिए)

उपरोक्त कथन के आलोक में, नीचे दिए गए विकल्पों में से सबसे उपयुक्त उत्तर का चयन कीजिए :

- (1) कथन I और II दोनों सही हैं
- (2) कथन I और II दोनों गलत हैं
- (3) कथन I सही है, लेकिन कथन II गलत है
- (4) कथन I गलत है, लेकिन कथन II सही है

1 (Chosen Option)
1 (Chosen Option)

2
2

3
3

4
4

Question No. 26 / Question ID 14062

Marks: 1.00

If X and Y are two events such that $P(X) = \frac{1}{2}$, $P(Y) = \frac{1}{3}$, and $P(X|Y) = \frac{1}{4}$ then $P(X' \cap Y)$ is

(1) $\frac{1}{2}$

(2) $\frac{1}{8}$

(3) $\frac{1}{4}$

(4) $\frac{1}{3}$

यदि X और Y दो घटनाएं इस प्रकार हैं कि $P(X) = \frac{1}{2}$, $P(Y) = \frac{1}{3}$, और $P(X|Y) = \frac{1}{4}$ तब $P(X' \cap Y)$ है:

(1) $\frac{1}{2}$

(2) $\frac{1}{8}$

(3) $\frac{1}{4}$

(4) $\frac{1}{3}$

- 1
- 2
- 3
- 4

Question No. 27 / Question ID 14076

Marks: 1.00



TeachingNinja.in

If $P = ₹ 50,000$, $R = 10\%$, $n = 3$ years then (A is compounded amount, C.I. = Compound Interest)

- (A) $\frac{A}{C.I.} = 4.215$
(B) $A = ₹ 66,550$
(C) $C.I. = ₹ 16,550$
(D) $\frac{A}{C.I.} = 4.021$
(E) $C.I. = ₹ 17,550$

Choose the correct answer from the options given below :

- (1) B, C, D only
(2) A, B, C only
(3) C, D, E only
(4) A, D, E only

यदि $P = ₹ 50,000$, $R = 10\%$, $n = 3$ वर्ष तब (A मिश्रधन है, C.I. = चक्रवृद्धि ब्याज)

- (A) $\frac{A}{C.I.} = 4.215$
(B) $A = ₹ 66,550$
(C) $C.I. = ₹ 16,550$
(D) $\frac{A}{C.I.} = 4.021$
(E) $C.I. = ₹ 17,550$

निम्नलिखित विकल्पों में से सही उत्तर का चयन करें :

- (1) केवल B, C, D
(2) केवल A, B, C
(3) केवल C, D, E
(4) केवल A, D, E

- 1 (Chosen Option)
 1 (Chosen Option)
 2
 2
 3
 3
 4
 4

Question No. 28 / Question ID 14087

Marks: 1.00

Match List I with List II : (Take R as radius of circle).

List I	List II
(A) Area of an equilateral triangle	(I) $\frac{\sqrt{3}}{4} \times (\text{side})^2$
(B) Area of a right angle triangle	(II) $\frac{1}{2} \text{ base} \times \text{height}$
(C) Circumference of a semi circle	(III) $\pi R + 2R$
(D) Perimeter of a semi - circle	(IV) πR

Choose the correct answer from the options given below :

- (1) (A)-(II), (B)-(I), (C)-(IV), (D)-(III)
- (2) (A)-(I), (B)-(II), (C)-(III), (D)-(IV)
- (3) (A)-(II), (B)-(I), (C)-(III), (D)-(IV)
- (4) (A)-(I), (B)-(II), (C)-(IV), (D)-(III)

सूची-I के साथ सूची-II का मिलान कीजिए : (R को वृत्त की त्रिज्या के रूप में समझें)

सूची-I	सूची-II
(A) समबाहु त्रिभुज का क्षेत्रफल	(I) $\frac{\sqrt{3}}{4} \times (\text{भुजा})^2$
(B) समकोण त्रिभुज का क्षेत्रफल	(II) $\frac{1}{2} \text{ आधार} \times \text{ऊँचाई}$
(C) अर्द्धवृत्त की परिधि	(III) $\pi R + 2R$
(D) अर्द्धवृत्त का परिमाण	(IV) πR

नीचे दिए गए विकल्पों में से सही उत्तर का चयन कीजिए :

- (1) (A)-(II), (B)-(I), (C)-(IV), (D)-(III)
- (2) (A)-(I), (B)-(II), (C)-(III), (D)-(IV)
- (3) (A)-(II), (B)-(I), (C)-(III), (D)-(IV)
- (4) (A)-(I), (B)-(II), (C)-(IV), (D)-(III)

- 1
1
 2
2
 3
3
 4 (Chosen Option)
4 (Chosen Option)

Question No. 29 / Question ID 14083

Marks: 1.00

Given below are two statements : In a given pair of circles of radii r_1 and r_2 whose centres are d units apart ($d > r_1 + r_2$)

Statement I : The length of the direct common tangent is $\sqrt{d^2 - (r_1 - r_2)^2}$.

Statement II : The length of transverse tangent is $\sqrt{d^2 - (r_1 + r_2)^2}$.

In the light of the above statements, choose the **most appropriate answer** from the options given below :

- (1) Both Statement I and Statement II are correct
- (2) Both Statement I and Statement II are incorrect
- (3) Statement I is correct but Statement II is incorrect
- (4) Statement I is incorrect but Statement II is correct

नीचे दो कथन दिए गए हैं : r_1 और r_2 त्रिज्याओं वाले वृत्तों के प्रदत्त युग्म में, जिसका केन्द्र d इकाई ($d > r_1 + r_2$) से अलग है।

कथन I : उभयनिष्ठ सीधी स्पर्शिका की लंबाई $\sqrt{d^2 - (r_1 - r_2)^2}$ है।

कथन II : अनुप्रस्थ स्पर्शिका की लंबाई $\sqrt{d^2 - (r_1 + r_2)^2}$ है।

उपरोक्त कथन के आलोक में, नीचे दिए गए विकल्पों में से सबसे उपयुक्त उत्तर का चयन कीजिए :

- (1) कथन I और II दोनों सही हैं
- (2) कथन I और II दोनों गलत हैं
- (3) कथन I सही है, लेकिन कथन II गलत है
- (4) कथन I गलत है, लेकिन कथन II सही है

1

2

3

4 (Chosen Option)

4 (Chosen Option)

Match List I with List II :

List I	List II
(A) Slant height l of a cone with base radius r and height h	(I) $\frac{1}{3} \pi r^2 h$ cube units
(B) Volume of a cone with radius r and height h	(II) $\pi r l$ sq. units
(C) Curved surface area of a cone with base radius r and slant height l	(III) $(\pi r l + \pi r^2)$ sq. units
(D) Total surface Area of a cone with base radius r and slant height l	(IV) $l = \sqrt{r^2 + h^2}$ units

Choose the correct answer from the options given below :

- (1) (A)-(I), (B)-(II), (C)-(III), (D)-(IV)
- (2) (A)-(IV), (B)-(I), (C)-(II), (D)-(III)
- (3) (A)-(IV), (B)-(III), (C)-(II), (D)-(I)
- (4) (A)-(I), (B)-(III), (C)-(IV), (D)-(II)

सूची-I के साथ सूची-II का मिलान कीजिए :

सूची-I	सूची-II
(A) आधार त्रिज्या r और ऊँचाई h वाले शंकु की तिर्यक ऊँचाई l	(I) $\frac{1}{3} \pi r^2 h$ घन इकाई
(B) त्रिज्या r और ऊँचाई h वाले शंकु का आयतन	(II) $\pi r l$ वर्ग इकाई
(C) त्रिज्या r आधार एवं तिर्यक ऊँचाई l वाले शंकु का वक्र पृष्ठ क्षेत्रफल	(III) $(\pi r l + \pi r^2)$ वर्ग इकाई
(D) त्रिज्या r आधार एवं तिर्यक ऊँचाई l वाले किसी शंकु का सम्पूर्ण पृष्ठ क्षेत्रफल	(IV) $l = \sqrt{r^2 + h^2}$ इकाई

नीचे दिए गए विकल्पों में से सही उत्तर का चयन कीजिए :

- (1) (A)-(I), (B)-(II), (C)-(III), (D)-(IV)
- (2) (A)-(IV), (B)-(I), (C)-(II), (D)-(III)
- (3) (A)-(IV), (B)-(III), (C)-(II), (D)-(I)
- (4) (A)-(I), (B)-(III), (C)-(IV), (D)-(II)

- 1
1
 2 (Chosen Option)
2 (Chosen Option)
 3
3
 4
4

4) Computer Knowledge Module

Question No. 1 / Question ID 14091

Marks: 1.00

Each MAC address is a

- (1) 12 + 2 digit number (2) 12 digit hexa decimal number
(3) 8 digit Decimal number (4) 32 bit binary number

प्रत्येक MAC एड्रेस एक _____ है।

- (1) 12 + 2 डिजिट संख्या (2) 12 डिजिट हेक्सा दशमलव संख्या
(3) 8 डिजिट दशमलव संख्या (4) 32 बिट बाइनरी संख्या

- 1
1
 2
2
 3
3
 4
4

Question No. 2 / Question ID 14115

Marks: 1.00



Teachingninja.in

Given below are two statements :

Statement I : A worm is a self-reproducing program that infects other programs like a virus.

Statement II : A virus dropper is a program that when run will attempt to install a regular virus onto hard disk.

In the light of the above statements, choose the *most appropriate answer* from the options given below :

- (1) Both Statement I and Statement II are correct
- (2) Both Statement I and Statement II are incorrect
- (3) Statement I is correct but Statement II is incorrect
- (4) Statement I is incorrect but Statement II is correct

नीचे दो कथन दिए गए हैं :

कथन I : वोर्म एक स्वयं-उत्पादनकारी प्रोग्राम है जो वायरस जैसे अन्य प्रोग्राम को संक्रमित करता है।

कथन II : वायरस ड्रॉपर एक प्रोग्राम है जो संचालित किए जाने पर हार्ड डिस्क में नियमित वायरस ईस्टॉल करने का प्रयास करेगा।

उपरोक्त कथन के आलोक में, नीचे दिए गए विकल्पों में से सबसे उपयुक्त उत्तर का चयन कीजिए :

- (1) कथन I और II दोनों सही हैं
- (2) कथन I और II दोनों गलत हैं
- (3) कथन I सही है, लेकिन कथन II गलत है
- (4) कथन I गलत है, लेकिन कथन II सही है

- 1
1
 2
2
 3
3
 4
4

Question No. 3 / Question ID 14099

Marks: 1.00

Which of the following is not an input device?

- | | |
|---------------|-------------|
| (1) Light Pen | (2) Scanner |
| (3) Joystick | (4) Monitor |

निम्नलिखित में से कौनसी इनपुट डिवाइस नहीं है?


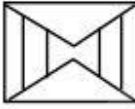


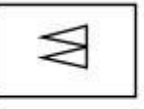

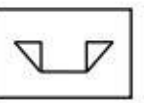

- | | |
|--------------|------------|
| (1) लाइट पेन | (2) स्कैनर |
| (3) जोयस्टिक | (4) मॉनिटर |

- 1
1
- 2 (Chosen Option)
2 (Chosen Option)
- 3
3
- 4
4

Question No. 4 / Question ID 14119

Marks: 1.00

Match List I with List II Match the embedded figure in list II :

	List I		List II
(A)		(I)	
(B)		(II)	
(C)		(III)	
(D)		(IV)	

Choose the correct answer from the options given below :

- (1) (A)-(III), (B)-(II), (C)-(IV), (D)-(I)
- (2) (A)-(IV), (B)-(II), (C)-(III), (D)-(I)
- (3) (A)-(IV), (B)-(I), (C)-(II), (D)-(III)
- (4) (A)-(III), (B)-(I), (C)-(IV), (D)-(II)

सूची-I के साथ सूची-II का मिलान कीजिए :

सूची-I	सूची -II
(A) <ctrl> + <C>	(I) पुरानी स्थिति वापस लाना
(B) <ctrl> + <V>	(II) किसी चीज को 'कट' करना
(C) <ctrl> + <X>	(III) पेस्ट करना
(D) <ctrl> + <Z>	(IV) किसी चीज को 'कॉपी' करना

नीचे दिए गए विकल्पों में से सही उत्तर का चयन कीजिए :

- (1) (A)-(II), (B)-(III), (C)-(IV), (D)-(I)
- (2) (A)-(I), (B)-(II), (C)-(III), (D)-(IV)
- (3) (A)-(IV), (B)-(III), (C)-(II), (D)-(I)
- (4) (A)-(III), (B)-(II), (C)-(IV), (D)-(I)

- 1
1
- 2
2
- 3 (Chosen Option)
3 (Chosen Option)
- 4
4

Question No. 5 / Question ID 14101

Marks: 1.00

Transmission lines do not suffer from

- (1) Attenuation
- (2) Distortion
- (3) Regenerations
- (4) Noise

संचारण/प्रेषण लाइनें _____ में प्रभावित नहीं होती।

- (1) तनूकरण/क्षीणन
- (2) विकृतिकरण
- (3) पुनउद्भवन
- (4) शोर

- 1
1
- 2
2
- 3
3
- 4 (Chosen Option)
4 (Chosen Option)

Question No. 6 / Question ID 14107

Marks: 1.00



Consider following statements :

- (A) Microsoft windows is a database program.
- (B) Pressing the <F3> key display help on whatever you are working on.
- (C) A search engine lets you search for web pages for topics that interest you.
- (D) A web server is world's largest supercomputer that contains and runs the internet.
- (E) A home page is the first web page you see when you connect to the internet.

Choose the correct answer from the options given below :

- (1) (A), (B) and (C) only
- (2) (B), (C) and (D) only
- (3) (C), (D) and (E) only
- (4) (A), (C), (D) and (E) only

निम्नलिखित कथनों पर विचार करें :

- (A) माइक्रोसॉफ्ट विंडोज एक डाटाबेस प्रोग्राम है।
- (B) <F3> की दबाने से, हम जो भी कार्य कर रहे हैं, वहाँ हेल्प प्रदर्शित होत है।
- (C) कोई सर्च इंजन हमें अपनी रूचि के विषयों संबंधी वेब पेज खोजने में सहायता करता है।
- (D) वेब सर्वर विश्व का सबसे बड़ा सुपर कम्प्यूटर है जिसमें इंटरनेट अंतर्विष्ट है और जो इंटरनेट चलाता है।
- (E) होम पेज वह प्रथम पेज है जिसे इंटरनेट से जुड़ने पर हम देखते है।

नीचे दिए गए विकल्पों में से सही उत्तर का चयन कीजिए :

- (1) केवल (A), (B) और (C)
- (2) केवल (B), (C) और (D)
- (3) केवल (C), (D) और (E)
- (4) केवल (A), (C), (D) और (E)

- 1
- 2
- 3
- 4 (Chosen Option)

Question No. 7 / Question ID 14106

Marks: 1.00

Consider the following statement about the software development life cycle

- (A) Problem definition
- (B) Requirement analysis
- (C) System design
- (D) Implementation and testing
- (E) Deploying and maintenance

Choose the correct answer from the options given below :

- (1) (B), (C), (D) and (E) only
- (2) (A), (B), (C) and (D) only
- (3) (A), (B), (C), (D) and (E)
- (4) (A), (B), (E) and (D) only

सॉफ्टवेयर विकास जीवन-चक्र के बारे में निम्नलिखित कथन पर विचार करें :

- (A) समस्या को परिभाषित करना
- (B) विश्लेषण का आवश्यकता
- (C) सिस्टम डिज़ाइन
- (D) कार्यान्वयन और परीक्षण
- (E) अनुप्रयोग और रखरखाव

नीचे दिए गए विकल्पों में से सही उत्तर का चयन कीजिए :

- (1) केवल (B), (C), (D) और (E)
- (2) केवल (A), (B), (C) और (D)
- (3) (A), (B), (C), (D) और (E)
- (4) केवल (A), (B), (E) और (D)

- 1 (Chosen Option)
- 1 (Chosen Option)
- 2
- 2
- 3
- 3
- 4
- 4

Question No. 8 / Question ID 14112

Marks: 1.00

Given below are two statements:

Statement I : IP spoofing sends IP packet with source address as if some one else has sent the packet, thus cheating the destination.

Statement II : Mobile IP supports mobile data and wireless application.

In the light of the above statements, choose the *most appropriate answer* from the options given below:

- (1) Both Statement I and Statement II are correct
- (2) Both Statement I and Statement II are incorrect
- (3) Statement I is correct but Statement II is incorrect
- (4) Statement I is incorrect but Statement II is correct

नीचे दो कथन दिए गए हैं :

कथन I : आईपी स्पूफिंग सोर्स एड्रेस के साथ आईपी पैकेट इस प्रकार प्रेषित करता है, मानो किसी और ने पैकेट भेजा है, इस प्रकार गंतव्य से गुमराह किया जाता है।

कथन II : मोबाइल आईपी, मोबाइल डाटा और बेतार एप्लीकेशन को सपोर्ट करता है।

उपरोक्त कथन के आलोक में, नीचे दिए गए विकल्पों में से सबसे उपयुक्त उत्तर का चयन कीजिए :

- (1) कथन I और II दोनों सही हैं
- (2) कथन I और II दोनों गलत हैं
- (3) कथन I सही है, लेकिन कथन II गलत है
- (4) कथन I गलत है, लेकिन कथन II सही है

- 1
1
 2
2
 3
3
 4
4

Question No. 9 / Question ID 14113

Marks: 1.00

Given below are two statements :

Statement I : File transfer protocol is the protocol used for transferring files from one machine to another.

Statement II : TCP/IP is a set of standardised rules that uses a client-server model of communication in which a server request a service by a client in the network.

In the light of the above statements, choose the *most appropriate answer* from the options given below :

- (1) Both Statement I and Statement II are correct
- (2) Both Statement I and Statement II are incorrect
- (3) Statement I is correct but Statement II is incorrect
- (4) Statement I is incorrect but Statement II is correct

नीचे दो कथन दिए गए हैं :

कथन I : फाइल ट्रांसफर प्रोटोकॉल एक मशीन से अन्य मशीन में फाइलें हस्तांतरित करने में प्रयुक्त प्रोटोकॉल है।

कथन II : TCP/IP मानकीकृत नियमों की एक समूह (पद्धति) है, जो संचार के क्लाइंट-सर्वर मॉडल का प्रयोग करती है जिसमें कोई सर्वर किसी नेटवर्क में क्लाइंट द्वारा किसी सेवा का अनुरोध करता है।

उपरोक्त कथन के आलोक में, नीचे दिए गए विकल्पों में से सबसे उपयुक्त उत्तर का चयन कीजिए :

- (1) कथन I और II दोनों सही हैं
- (2) कथन I और II दोनों गलत हैं
- (3) कथन I सही है, लेकिन कथन II गलत है
- (4) कथन I गलत है, लेकिन कथन II सही है

1 (Chosen Option)

1 (Chosen Option)

2

2

3

3

4

4

Question No. 10 / Question ID 14097

Marks: 1.00

Which of the following computes channel capacity using Nyquist theorem?

- (1) $C = B \log_2 L$ (2) $C = 2B \log_2 L$
(3) $C = \frac{1}{2} B \log_2 L$ (4) $C = \log_2 L$

निम्नलिखित में से कौन सा नायक्वीस्ट प्रमेय का प्रयोग करते हुए चैनल क्षमता का कलन करता है?

- (1) $C = B \log_2 L$ (2) $C = 2B \log_2 L$
(3) $C = \frac{1}{2} B \log_2 L$ (4) $C = \log_2 L$

- 1
1
 2 (Chosen Option)
2 (Chosen Option)
 3
3
 4
4

Question No. 11 / Question ID 14105

Marks: 1.00

Which of the following does not affect a computer's performance?

- (1) RAM (2) CPU
(3) Graphic Card (4) Keyboard

निम्नलिखित में से कौन सा किसी कम्प्यूटर के प्रदर्शन को प्रभावित नहीं करता है?

- (1) रैम (2) सीपीयू
(3) ग्राफिक कार्ड (4) की-बोर्ड

- 1
1
 2
2
 3 (Chosen Option)
3 (Chosen Option)
 4
4

Question No. 12 / Question ID 14111

Marks: 1.00

Given below are two statements:

Statement I : Von Neuman architecture is a type of computer architecture.

Statement II : Control architecture is a type of computer architecture.

In the light of the above statements, choose the *most appropriate answer* from the options given below:

- (1) Both Statement I and Statement II are correct
- (2) Both Statement I and Statement II are incorrect
- (3) Statement I is correct but Statement II is incorrect
- (4) Statement I is incorrect but Statement II is correct

नीचे दो कथन दिए गए हैं :

कथन I : वोन न्यूमैन आर्किटेक्चर, कम्प्यूटर आर्किटेक्चर का एक प्रकार है।

कथन II : कंट्रोल आर्किटेक्चर, कम्प्यूटर आर्किटेक्चर का एक प्रकार है।

उपरोक्त कथन के आलोक में, नीचे दिए गए विकल्पों में से सबसे उपयुक्त उत्तर का चयन कीजिए :

- (1) कथन I और II दोनों सही हैं
- (2) कथन I और II दोनों गलत हैं
- (3) कथन I सही है, लेकिन कथन II गलत है
- (4) कथन I गलत है, लेकिन कथन II सही है

- 1
1
 2
2
 3
3
 4
4

Question No. 13 / Question ID 14103

Marks: 1.00

Which of the following is not an operating system?

- | | |
|----------------|-----------|
| (1) Windows 98 | (2) Linux |
| (3) Mac OS X | (4) DBMS |

निम्नलिखित में से कौन सा ऑपरेटिंग सिस्टम नहीं है?

- | | |
|---------------|--------------|
| (1) विंडोज 98 | (2) लाइनक्स |
| (3) मैक ओएस X | (4) डीबीएमएस |

- 1
1

- 2 (Chosen Option)
2 (Chosen Option)
- 3
3
- 4
4

Question No. 14 / Question ID 14098

Marks: 1.00

The Brain of a computer is

- | | |
|----------------------------|-----------------------------|
| (1) Input Unit | (2) Central Processing Unit |
| (3) Secondary storage Unit | (4) Operating System |

किसी कम्प्यूटर का मस्तिष्क _____ है।

- | | |
|---------------------------|--------------------------------|
| (1) इनपुट यूनिट | (2) केन्द्रीय प्रोसेसिंग यूनिट |
| (3) द्वितीयक भंडारण यूनिट | (4) ऑपरेटिंग सिस्टम |

- 1
1
- 2 (Chosen Option)
2 (Chosen Option)
- 3
3
- 4
4

Question No. 15 / Question ID 14096

Marks: 1.00

Conversion of the domain name of each web server to its correspondent IP address is called

- | | |
|----------------------------|--------------------------------|
| (1) RARP protocol | (2) ARP protocol |
| (3) Domain name resolution | (4) Conversion is not possible |

प्रत्येक वेब सर्वर के डोमेन नाम का इसके सादृश्य IP (आईपी) एड्रेस में संपरिवर्तन (रूपांतरण) _____ कहलाता है।

- | | |
|-----------------------|--|
| (1) आरएआरपी प्रोटोकॉल | (2) एआरपी प्रोटोकॉल |
| (3) डोमेन नाम समाधान | (4) संपरिवर्तन (रूपांतरण) संभव नहीं है |

- 1
1
- 2
2
- 3 (Chosen Option)
3 (Chosen Option)

- 4
4

Question No. 16 / Question ID 14104

Marks: 1.00

Unlicensed ISM band frequency is

- (1) 20.4 GHz (2) 24.0 GHz
(3) 2.4 GHz (4) 1.4 GHz

_____ विना लाइसेंस वाली ISM बैंड आवृत्ति है।

- (1) 20.4 GHz (2) 24.0 GHz
(3) 2.4 GHz (4) 1.4 GHz

- 1 (Chosen Option)
1 (Chosen Option)
 2
2
 3
3
 4
4

Question No. 17 / Question ID 14095

Marks: 1.00

ROM stands for

- (1) Read-of memory (2) Read-only memory
(3) Read-out memory (4) Read-on memory

ROM का पूरा नाम है :

- (1) रीड-ऑफ मेमोरी (2) रीड-ओनली मेमोरी
(3) रीड-ऑउट मेमोरी (4) रीड-ऑन मेमोरी

- 1
1
 2 (Chosen Option)
2 (Chosen Option)
 3
3
 4
4

Question No. 18 / Question ID 14109

Marks: 1.00

Consider following statements :

- (A) An operating system loads automatically and controls about everything on computer.
- (B) A word processor is a program that lets you create letters and documents.
- (C) A web browser allows users to view web pages on the internet.
- (D) A web authoring program lets users to create web pages in HTML.
- (E) A spreadsheet is a program for spreading viruses.

Choose the correct answer from the options given below :

- (1) (A), (C), (D) and (E) only
- (2) (A), (B), (C) and (D) only
- (3) (B), (C) and (D) only
- (4) (A), (D) and (E) only

निम्नलिखित कथनों पर विचार करें :

- (A) ऑपरेटिंग सिस्टम सब कुछ स्वतः लोड करता है और यह कंप्यूटर की लगभग सभी चीजें नियंत्रित करता है।
- (B) वर्ड प्रोसेसर एक प्रोग्राम है जो आपको लैटर और दस्तावेज बनाने में सहायता करता है।
- (C) वेब ब्राउज़र प्रयोक्ताओं को वेब पेज देखने में सहायता करता है।
- (D) वेब ऑथरिंग प्रोग्राम प्रयोक्ताओं को HTML में वेब पेज सृजित करने में सहायता करता है।
- (E) स्प्रेडशीट एक प्रोग्राम है जो वायरस फैलाने में प्रयुक्त होता है।

नीचे दिए गए विकल्पों में से सही उत्तर का चयन कीजिए :

- (1) केवल (A), (C), (D) और (E)
- (2) केवल (A), (B), (C) और (D)
- (3) केवल (B), (C) और (D)
- (4) केवल (A), (D) और (E)

- 1
- 2 (Chosen Option)
- 3
- 4

Question No. 19 / Question ID 14092

Marks: 1.00

Type of malware that either blocks the user from accessing their own data or threatens to publish data online and demands payment against the same is called

- (1) Trojan Horses (2) Spyware
(3) Ransomware (4) Adware

किसी मालवेयर का वह प्रकार जो किसी प्रयोक्ता को अपना डाटा एक्सेस करने से रोकता है अथवा डाटा ऑनलाइन प्रकाशित करने का डर दिखाकर भुगतान की मांग करता है, _____ कहलाता है।

- (1) ट्रौजन हॉर्स (2) स्पाईवेयर
(3) रेनसमवेयर (4) एडवेयर

- 1
1
 2
2
 3
3
 4
4

Question No. 20 / Question ID 14093

Marks: 1.00

Which of the following programs would be best suited for helping you to calculate a monthly budget?

- (1) A word processor (2) A spreadsheet
(3) A database (4) COBOL

आपको मासिक बजट की गणना करने के लिए निम्नलिखित में से किस सर्वश्रेष्ठ प्रोग्राम का उपयोग करना चाहिए?

- (1) वर्ड प्रोसेसर (2) स्प्रेडशीट
(3) डाटाबेस (4) कोबोल

- 1
1
 2 (Chosen Option)
2 (Chosen Option)
 3
3
 4
4

Question No. 21 / Question ID 14118

Marks: 1.00

Match List I with List II :

List I	List II
(A) Type of ROM that can be erased by electrical signals instead of exposure to ultraviolet light	(I) RAM
(B) Type of ROM that can be erased and chip can be reprogrammed to record new information	(II) PROM
(C) Type of ROM that can be programmed using a special hardware device	(III) EPROM
(D) Volatile memory	(IV) EEPROM

Choose the correct answer from the options given below :

- (1) (A)-(IV), (B)-(III), (C)-(II), (D)-(I)
- (2) (A)-(III), (B)-(IV), (C)-(II), (D)-(I)
- (3) (A)-(I), (B)-(II), (C)-(IV), (D)-(III)
- (4) (A)-(II), (B)-(I), (C)-(III), (D)-(IV)

सूची-I के साथ सूची-II का मिलान कीजिए :

सूची-I	सूची -II
(A) ROM का वह प्रकार जिसे पराबैंगनी प्रकाश उद्दामसन की बजाय विद्युत संकेतों से मिटाया जा सकता है।	(I) RAM
(B) ROM का वह प्रकार जिसे मिटाया जा सकता है और चिप को नई सूचना रिकॉर्ड करने के लिए रिप्रोग्राम किया जा सकता है।	(II) PROM
(C) विशेष हार्डवेयर युक्ति का प्रयोग करके प्रोग्राममंड किया जा सकने वाला ROM का प्रकार	(III) EPROM
(D) अस्थिर मेमोरी	(IV) EEPROM

नीचे दिए गए विकल्पों में से सही उत्तर का चयन कीजिए :

- (1) (A)-(IV), (B)-(III), (C)-(II), (D)-(I)
- (2) (A)-(III), (B)-(IV), (C)-(II), (D)-(I)
- (3) (A)-(I), (B)-(II), (C)-(IV), (D)-(III)
- (4) (A)-(II), (B)-(I), (C)-(III), (D)-(IV)

- 1 (Chosen Option)
1 (Chosen Option)
- 2
2
- 3
3
- 4
4

The key that displays helpful information about what you are doing is

- (1) <Esc>key (2) <F1>key
(3) <F2>key (4) <ctrl>key

आपके द्वारा किये जा रहे कार्य के संबंध में उपयोगी सूचना प्रदर्शित करने वाली की (key) है

- (1) <Esc>key (2) <F1>key
(3) <F2>key (4) <ctrl>key

- 1
1
 2
2
 3
3
 4 (Chosen Option)
4 (Chosen Option)

Question No. 23 / Question ID 14094

Marks: 1.00

Which of the following is not a function of data link layer?

- (1) Process-to-process communication
(2) Physical addressing
(3) Flow control
(4) Error control

निम्नलिखित में से कौन सा डाटा लिंक लेयर का एक फ़ंक्शन नहीं है?

- (1) प्रोसेस-से-प्रोसेस संचार (संप्रेषण) (2) भौतिक एड्रेसीकरण (फिजिकल एड्रेसिंग)
(3) प्रवाह नियंत्रण (4) त्रुटि नियंत्रण

- 1
1
 2 (Chosen Option)
2 (Chosen Option)
 3
3
 4
4

Question No. 24 / Question ID 14116

Marks: 1.00

Match List I with List II :

List I	List II
(A) Viruses that change their characteristics as they inject	(I) File viruses
(B) Viruses that try to actively hide themselves from antivirus or system software	(II) Polymorphic viruses
(C) Viruses inject COM and EXE files	(III) Stealth viruses
(D) Viruses that add files that run first to your disk	(IV) Companion viruses

Choose the correct answer from the options given below :

- (1) (A)-(II), (B)-(III), (C)-(IV), (D)-(I)
- (2) (A)-(II), (B)-(III), (C)-(I), (D)-(IV)
- (3) (A)-(I), (B)-(IV), (C)-(II), (D)-(III)
- (4) (A)-(IV), (B)-(I), (C)-(III), (D)-(II)

सूची-I के साथ सूची-II का मिलान कीजिए :

सूची-I	सूची -II
(A) अंतर्बेधन के पश्चात् अपनी विशेषताएं बदलने वाले वायरस	(I) फाइल वायरस
(B) एंटीवायरस या सिस्टम सॉफ्टवेयर से स्वयं को सक्रियता से छुपाने वाला वायरस	(II) पॉलीमोर्फिक वायरस
(C) वायरस अंतर्बेधित COM और EXE फाइलें	(III) स्टीथ वायरस
(D) वायरस, जो ऐसी फाइलें जोड़ते हैं जो सर्वप्रथम आपके डिस्क पर चलती है	(IV) कंपैनियन वायरस

नीचे दिए गए विकल्पों में से सही उत्तर का चयन कीजिए :

- (1) (A)-(II), (B)-(III), (C)-(IV), (D)-(I)
- (2) (A)-(II), (B)-(III), (C)-(I), (D)-(IV)
- (3) (A)-(I), (B)-(IV), (C)-(II), (D)-(III)
- (4) (A)-(IV), (B)-(I), (C)-(III), (D)-(II)

- 1
1
 2
2
 3
3
 4
4

Match List I with List II :

List I	List II
(A) First Generation Computer	(I) Integrated Circuits
(B) Second Generation Computer	(II) Vacuum Tubes
(C) Third Generation Computer	(III) Transistors
(D) Fourth Generation Computer	(IV) Microprocessor

Choose the correct answer from the options given below :

- (1) (A)-(III), (B)-(II), (C)-(I), (D)-(IV)
- (2) (A)-(II), (B)-(III), (C)-(I), (D)-(IV)
- (3) (A)-(II), (B)-(III), (C)-(IV), (D)-(I)
- (4) (A)-(I), (B)-(IV), (C)-(II), (D)-(III)

सूची-I के साथ सूची-II का मिलान कीजिए :

सूची-I	सूची -II
(A) प्रथम पीढ़ी कम्प्यूटर	(I) एकीकृत परिपथ
(B) द्वितीय पीढ़ी कम्प्यूटर	(II) निर्वात ट्यूब
(C) तृतीय पीढ़ी कम्प्यूटर	(III) ट्रांजिस्टर
(D) चतुर्थ पीढ़ी कम्प्यूटर	(IV) माइक्रोप्रोसेसर

नीचे दिए गए विकल्पों में से सही उत्तर का चयन कीजिए :

- (1) (A)-(III), (B)-(II), (C)-(I), (D)-(IV)
- (2) (A)-(II), (B)-(III), (C)-(I), (D)-(IV)
- (3) (A)-(II), (B)-(III), (C)-(IV), (D)-(I)
- (4) (A)-(I), (B)-(IV), (C)-(II), (D)-(III)

- 1
1
- 2 (Chosen Option)
2 (Chosen Option)
- 3
3
- 4
4

Question No. 26 / Question ID 14117

Marks: 1.00

Match List I with List II :

List I	List II
(A) The term computer virus	(I) Not self replicating
(B) Malware identification	(II) Von Neumann
(C) Computer architecture	(III) Heuristics
(D) Trojan horse	(IV) Fred Cohen

Choose the correct answer from the options given below :

- (1) (A)-(I), (B)-(II), (C)-(III), (D)-(IV)
- (2) (A)-(II), (B)-(I), (C)-(III), (D)-(IV)
- (3) (A)-(III), (B)-(II), (C)-(I), (D)-(IV)
- (4) (A)-(IV), (B)-(III), (C)-(II), (D)-(I)

सूची-I के साथ सूची-II का मिलान कीजिए :

सूची-I	सूची -II
(A) कम्प्यूटर वायरस शब्द	(I) स्वयं का प्रतिकृतिकरण नहीं
(B) मालवेयर पहचान	(II) वोन न्यूमैन
(C) कम्प्यूटर आर्किटेक्चर	(III) ह्यूरीस्टिक्स
(D) ट्रोजन हॉर्स	(IV) फ्रेड कोहेन

नीचे दिए गए विकल्पों में से सही उत्तर का चयन कीजिए :

- (1) (A)-(I), (B)-(II), (C)-(III), (D)-(IV)
- (2) (A)-(II), (B)-(I), (C)-(III), (D)-(IV)
- (3) (A)-(III), (B)-(II), (C)-(I), (D)-(IV)
- (4) (A)-(IV), (B)-(III), (C)-(II), (D)-(I)

- 1
1
 2
2
 3
3
 4
4

Question No. 27 / Question ID 14108

Marks: 1.00

Which of the following is not related to security services?

- (A) Confidentiality
- (B) Integrity
- (C) Availability
- (D) Isolation
- (E) Authentication

Choose the correct answer from the options given below :

- (1) (A) and (B) only
- (2) (B) and (C) only
- (3) (D) only
- (4) (D) and (E) only

निम्नलिखित में से कौन सा सुरक्षा सेवाओं से संबंधित नहीं है?

- (A) गोपनीयता
- (B) सत्यनिष्ठा
- (C) उपलब्धता
- (D) एकांतिकता
- (E) प्रमाणीकरण

नीचे दिए गए विकल्पों में से सही उत्तर का चयन कीजिए :

- (1) केवल (A) और (B)
- (2) केवल (B) और (C)
- (3) केवल (D)
- (4) केवल (D) और (E)

- 1
- 2 (Chosen Option)
- 3
- 4

Question No. 28 / Question ID 14114

Marks: 1.00

Given below are two statements :

Statement I : Processor management schedules process and allocates CPU time to each process.

Statement II : File management manages the files stored on secondary storage devices.

In the light of the above statements, choose the *most appropriate answer* from the options given below :

- (1) Both Statement I and Statement II are correct
- (2) Both Statement I and Statement II are incorrect
- (3) Statement I is correct but Statement II is incorrect
- (4) Statement I is incorrect but Statement II is correct

नीचे दो कथन दिए गए हैं :

कथन I : प्रोसेसर प्रबंधन प्रक्रिया को अनुसूचित करता है और प्रत्येक प्रक्रिया हेतु सीपीयू, समय आवांठित करता है।

कथन II : फाइल प्रबंधन द्वितीयक भंडारण युक्तियों में भंडारित फाइलों को प्रबंधित करता है।

उपरोक्त कथन के आलोक में, नीचे दिए गए विकल्पों में से सबसे उपयुक्त उत्तर का चयन कीजिए :

- (1) कथन I और II दोनों सही हैं
- (2) कथन I और II दोनों गलत हैं
- (3) कथन I सही है, लेकिन कथन II गलत है
- (4) कथन I गलत है, लेकिन कथन II सही है

1 (Chosen Option)
 1 (Chosen Option)

2
 2

3
 3

4
 4

Question No. 29 / Question ID 14102

Marks: 1.00

Which of the following is correct IPv4 address?

- (1) 192:168:0:178
- (2) 224:256:2:178
- (3) 2:192:168:257
- (4) 256:168:0:192

निम्नलिखित में से कौन सा सही IPv4 एड्रेस है?

- (1) 192:168:0:178
- (2) 224:256:2:178
- (3) 2:192:168:257
- (4) 256:168:0:192

- 1
- 2
- 3
- 4

Question No. 30 / Question ID 14110

Marks: 1.00

Consider the following statements :

- (A) A computer network is an interconnection among two or more computing devices.
- (B) Ethernet is a set of rules that decides how computers and other devices connect with each other through cables in LAN.
- (C) Cable TV network is an example of LAN.
- (D) URL is a unique address or path for each resource located on the web.
- (E) The arrangement of computers and other peripherals in a network is called its topology.

Choose the correct answer from the options given below :

- (1) (A), (B), (C) and (D) only
- (2) (A), (B), (D) and (E) only
- (3) (A), (B) and (C) only
- (4) (C), (D) and (E) only

निम्नलिखित कथनों पर विचार करें :

- (A) कम्प्यूटर नेटवर्क दो या अधिक कम्प्यूटिंग युक्तियों के बीच अंतर्संयोजन है।
- (B) ईथरनेट एक नियम समूह है जो निर्धारित करती है कि कम्प्यूटर और अन्य युक्तियाँ LAN में केबलों द्वारा परस्पर कैसे जुड़ती हैं।
- (C) केबल टीवी नेटवर्क, LAN का एक उदाहरण है।
- (D) URL वेब पर स्थित प्रत्येक रिसोर्स के लिए एक विशिष्ट पथ या एड्रेस है।
- (E) किसी नेटवर्क में कम्प्यूटरों और अन्य अनुषंगियों की व्यवस्था को टोपोलोजी कहा जाता है।

नीचे दिए गए विकल्पों में से सही उत्तर का चयन कीजिए :

- (1) केवल (A), (B), (C) और (D)
- (2) केवल (A), (B), (D) और (E)
- (3) केवल (A), (B) और (C)
- (4) केवल (C), (D) और (E)

- 1 (Chosen Option)
- 1 (Chosen Option)
- 2
- 2
- 3
- 3
- 4
- 4

5) English Language and Comprehension

Question No. 1 / Question ID 14121

Marks: 1.00



Teachingninja.in

Read the following passage and answer the given questions :

Trees give shade for the benefit of others and while they themselves stand in the sun and endure scorching heat, they produce the fruit by which others profit. The character of good men is like that of trees. What is the use of this perishable body, if no use of it is made for the benefit of mankind? Sandalwood - the more it is rubbed the more scent does it yield. Sugarcane - the more it is peeled and cut into pieces, the more juice does it produce. Gold - the more it is burnt, the more brightly does it shine. The men who are noble at heart do not lose these qualities even in losing their lives. What does it matter whether men praise them or not? What difference does it make whether riches abide with them or not? What does it signify whether they die at this moment or whether their lives are prolonged? Happen what may, those who tread in the right path will not set foot in any other. Life itself is unprofitable to a man who does not live for others. To live for the mere sake of living one's life is to live the life of dogs and cows. Those who lay down their lives for the sake of a friend, or even for the sake of a stranger, will assuredly dwell forever in a world of bliss.

What similarity does the author draw between trees and good men?

- (1) Good men selectively help others
- (2) Good men do not destroy trees
- (3) Good men live for the benefit of others
- (4) Good men and trees are difficult to find

Read the following passage and answer the given questions :

Trees give shade for the benefit of others and while they themselves stand in the sun and endure scorching heat, they produce the fruit by which others profit. The character of good men is like that of trees. What is the use of this perishable body, if no use of it is made for the benefit of mankind? Sandalwood - the more it is rubbed the more scent does it yield. Sugarcane - the more it is peeled and cut into pieces, the more juice does it produce. Gold - the more it is burnt, the more brightly does it shine. The men who are noble at heart do not lose these qualities even in losing their lives. What does it matter whether men praise them or not? What difference does it make whether riches abide with them or not? What does it signify whether they die at this moment or whether their lives are prolonged? Happen what may, those who tread in the right path will not set foot in any other. Life itself is unprofitable to a man who does not live for others. To live for the mere sake of living one's life is to live the life of dogs and cows. Those who lay down their lives for the sake of a friend, or even for the sake of a stranger, will assuredly dwell forever in a world of bliss.

What similarity does the author draw between trees and good men?

- (1) Good men selectively help others
- (2) Good men do not destroy trees
- (3) Good men live for the benefit of others
- (4) Good men and trees are difficult to find

- 1
1
- 2
2
- 3 (Chosen Option)
3 (Chosen Option)

○ 4
4

Question No. 2 / Question ID 14123

Marks: 1.00



Teachingninja.in

Read the following passage and answer the given questions :

Trees give shade for the benefit of others and while they themselves stand in the sun and endure scorching heat, they produce the fruit by which others profit. The character of good men is like that of trees. What is the use of this perishable body, if no use of it is made for the benefit of mankind? Sandalwood - the more it is rubbed the more scent does it yield. Sugarcane - the more it is peeled and cut into pieces, the more juice does it produce. Gold - the more it is burnt, the more brightly does it shine. The men who are noble at heart do not lose these qualities even in losing their lives. What does it matter whether men praise them or not? What difference does it make whether riches abide with them or not? What does it signify whether they die at this moment or whether their lives are prolonged? Happen what may, those who tread in the right path will not set foot in any other. Life itself is unprofitable to a man who does not live for others. To live for the mere sake of living one's life is to live the life of dogs and cows. Those who lay down their lives for the sake of a friend, or even for the sake of a stranger, will assuredly dwell forever in a world of bliss.

From the passage, one can infer that

- (1) a noble man works only for himself.
- (2) riches pale in the presence of nobility.
- (3) it is important to recognize the good deeds of men.
- (4) the only way to tread the right path is by losing one's life.

Read the following passage and answer the given questions :

Trees give shade for the benefit of others and while they themselves stand in the sun and endure scorching heat, they produce the fruit by which others profit. The character of good men is like that of trees. What is the use of this perishable body, if no use of it is made for the benefit of mankind? Sandalwood - the more it is rubbed the more scent does it yield. Sugarcane - the more it is peeled and cut into pieces, the more juice does it produce. Gold - the more it is burnt, the more brightly does it shine. The men who are noble at heart do not lose these qualities even in losing their lives. What does it matter whether men praise them or not? What difference does it make whether riches abide with them or not? What does it signify whether they die at this moment or whether their lives are prolonged? Happen what may, those who tread in the right path will not set foot in any other. Life itself is unprofitable to a man who does not live for others. To live for the mere sake of living one's life is to live the life of dogs and cows. Those who lay down their lives for the sake of a friend, or even for the sake of a stranger, will assuredly dwell forever in a world of bliss.

From the passage, one can infer that

- (1) a noble man works only for himself.
- (2) riches pale in the presence of nobility.
- (3) it is important to recognize the good deeds of men.
- (4) the only way to tread the right path is by losing one's life.

- 1
 1
 2
 2

- 3 (Chosen Option)
- 3 (Chosen Option)
- 4
- 4

Question No. 3 / Question ID 14122

Marks: 1.00

Read the following passage and answer the given questions :

Trees give shade for the benefit of others and while they themselves stand in the sun and endure scorching heat, they produce the fruit by which others profit. The character of good men is like that of trees. What is the use of this perishable body, if no use of it is made for the benefit of mankind? Sandalwood - the more it is rubbed the more scent does it yield. Sugarcane - the more it is peeled and cut into pieces, the more juice does it produce. Gold - the more it is burnt, the more brightly does it shine. The men who are noble at heart do not lose these qualities even in losing their lives. What does it matter whether men praise them or not? What difference does it make whether riches abide with them or not? What does it signify whether they die at this moment or whether their lives are prolonged? Happen what may, those who tread in the right path will not set foot in any other. Life itself is unprofitable to a man who does not live for others. To live for the mere sake of living one's life is to live the life of dogs and cows. Those who lay down their lives for the sake of a friend, or even for the sake of a stranger, will assuredly dwell forever in a world of bliss.

The word 'endure' in the passage most nearly means -

- (1) Suffocate
- (2) Create
- (3) Benefit
- (4) Bear

Read the following passage and answer the given questions :

Trees give shade for the benefit of others and while they themselves stand in the sun and endure scorching heat, they produce the fruit by which others profit. The character of good men is like that of trees. What is the use of this perishable body, if no use of it is made for the benefit of mankind? Sandalwood - the more it is rubbed the more scent does it yield. Sugarcane - the more it is peeled and cut into pieces, the more juice does it produce. Gold - the more it is burnt, the more brightly does it shine. The men who are noble at heart do not lose these qualities even in losing their lives. What does it matter whether men praise them or not? What difference does it make whether riches abide with them or not? What does it signify whether they die at this moment or whether their lives are prolonged? Happen what may, those who tread in the right path will not set foot in any other. Life itself is unprofitable to a man who does not live for others. To live for the mere sake of living one's life is to live the life of dogs and cows. Those who lay down their lives for the sake of a friend, or even for the sake of a stranger, will assuredly dwell forever in a world of bliss.

The word 'endure' in the passage most nearly means -

- (1) Suffocate
- (2) Create
- (3) Benefit
- (4) Bear

- 1
- 1

- 2 (Chosen Option)
- 2 (Chosen Option)
- 3
- 3
- 4
- 4

Question No. 4 / Question ID 14124

Marks: 1.00

Read the following passage and answer the given questions :

The Committee, during its field visits and in discussions with local authorities and school managements, had observed that in general inadequate stress is given to this aspect of schooling. Indeed, the Committee got the impression that overtime, the attention to creation and utilization of sports facilities, and engaging students in sports activities has, progressively received less attention. In particular, with the rapid expansion of schooling all over the country, especially in urban areas, many schools do not have adequate facilities to cater to this important aspect of the education. In general, it was noted that government schools had provision for playgrounds and participation of students in sports activities, although inadequate in most instances; many private schools, both in urban and rural areas, frequently had no provision whatever for such facilities. It was often also heard that even though sports and playground facilities is a requirement for recognition of a school, many private sponsors had circumvented this requirement through subterfuge, and through bringing in improper influence on the regulatory authorities.

Which one of them is the synonym of the word 'subterfuge'?

- (1) Urban
- (2) Loyal
- (3) Secret
- (4) Opposite

Read the following passage and answer the given questions :

The Committee, during its field visits and in discussions with local authorities and school managements, had observed that in general inadequate stress is given to this aspect of schooling. Indeed, the Committee got the impression that overtime, the attention to creation and utilization of sports facilities, and engaging students in sports activities has, progressively received less attention. In particular, with the rapid expansion of schooling all over the country, especially in urban areas, many schools do not have adequate facilities to cater to this important aspect of the education. In general, it was noted that government schools had provision for playgrounds and participation of students in sports activities, although inadequate in most instances; many private schools, both in urban and rural areas, frequently had no provision whatever for such facilities. It was often also heard that even though sports and playground facilities is a requirement for recognition of a school, many private sponsors had circumvented this requirement through subterfuge, and through bringing in improper influence on the regulatory authorities.

Which one of them is the synonym of the word 'subterfuge'?

- (1) Urban
- (2) Loyal
- (3) Secret
- (4) Opposite

- 1 (Chosen Option)
- 1 (Chosen Option)
- 2
- 2
- 3
- 3
- 4
- 4

Question No. 5 / Question ID 14125

Marks: 1.00



Teachingninja.in

Read the following passage and answer the given questions :

The Committee, during its field visits and in discussions with local authorities and school managements, had observed that in general inadequate stress is given to this aspect of schooling. Indeed, the Committee got the impression that overtime, the attention to creation and utilization of sports facilities, and engaging students in sports activities has, progressively received less attention. In particular, with the rapid expansion of schooling all over the country, especially in urban areas, many schools do not have adequate facilities to cater to this important aspect of the education. In general, it was noted that government schools had provision for playgrounds and participation of students in sports activities, although inadequate in most instances; many private schools, both in urban and rural areas, frequently had no provision whatever for such facilities. It was often also heard that even though sports and playground facilities is a requirement for recognition of a school, many private sponsors had circumvented this requirement through subterfuge, and through bringing in improper influence on the regulatory authorities.

Which one is the correct meaning of the word 'circumvent'?

- (1) To support the rule
- (2) To find a way to avoid the rule
- (3) To find a way to oppose the rule
- (4) To find a way to support the rule

Read the following passage and answer the given questions :

The Committee, during its field visits and in discussions with local authorities and school managements, had observed that in general inadequate stress is given to this aspect of schooling. Indeed, the Committee got the impression that overtime, the attention to creation and utilization of sports facilities, and engaging students in sports activities has, progressively received less attention. In particular, with the rapid expansion of schooling all over the country, especially in urban areas, many schools do not have adequate facilities to cater to this important aspect of the education. In general, it was noted that government schools had provision for playgrounds and participation of students in sports activities, although inadequate in most instances; many private schools, both in urban and rural areas, frequently had no provision whatever for such facilities. It was often also heard that even though sports and playground facilities is a requirement for recognition of a school, many private sponsors had circumvented this requirement through subterfuge, and through bringing in improper influence on the regulatory authorities.

Which one is the correct meaning of the word 'circumvent'?

- (1) To support the rule
- (2) To find a way to avoid the rule
- (3) To find a way to oppose the rule
- (4) To find a way to support the rule

- 1
1
 2
2
 3
3

- 4 (Chosen Option)
4 (Chosen Option)

Question No. 6 / Question ID 14149

Marks: 1.00

Match List I with List II :

List I	List II
(A) Can I help you?	(I) Obligations
(B) They shall do it.	(II) Offer
(C) He is going to do it.	(III) Order
(D) I have to meet him immediately.	(IV) Intention

Choose the correct answer from the options given below :

- (1) (A)-(II), (B)-(III), (C)-(IV), (D)-(I)
(2) (A)-(II), (B)-(IV), (C)-(I), (D)-(III)
(3) (A)-(IV), (B)-(III), (C)-(II), (D)-(I)
(4) (A)-(IV), (B)-(I), (C)-(III), (D)-(II)

Match List I with List II :

List I	List II
(A) Can I help you?	(I) Obligations
(B) They shall do it.	(II) Offer
(C) He is going to do it.	(III) Order
(D) I have to meet him immediately.	(IV) Intention

Choose the correct answer from the options given below :

- (1) (A)-(II), (B)-(III), (C)-(IV), (D)-(I)
(2) (A)-(II), (B)-(IV), (C)-(I), (D)-(III)
(3) (A)-(IV), (B)-(III), (C)-(II), (D)-(I)
(4) (A)-(IV), (B)-(I), (C)-(III), (D)-(II)

- 1 (Chosen Option)
1 (Chosen Option)
 2
2
 3
3
 4
4

Question No. 7 / Question ID 14128

Marks: 1.00

The belief that God pervades nature

- | | |
|--------------|---------------|
| (1) Platonic | (2) Pedantic |
| (3) Panacea | (4) Pantheism |

The belief that God pervades nature

- | | |
|--------------|---------------|
| (1) Platonic | (2) Pedantic |
| (3) Panacea | (4) Pantheism |

- 1
- 1
- 2
- 2
- 3
- 3
- 4 (Chosen Option)
- 4 (Chosen Option)

Question No. 8 / Question ID 14147

Marks: 1.00



Match List I with List II :

List I	List II
(A) Brag	(I) Unprecised
(B) Epitome	(II) Insipid
(C) Elegent	(III) Grieve
(D) Dodge	(IV) Confront

Choose the correct answer from the options given below :

- (1) (A)-(III), (B)-(I), (C)-(II), (D)-(IV)
- (2) (A)-(III), (B)-(II), (C)-(IV), (D)-(I)
- (3) (A)-(II), (B)-(IV), (C)-(III), (D)-(I)
- (4) (A)-(II), (B)-(III), (C)-(I), (D)-(IV)

Match List I with List II :

List I	List II
(A) Brag	(I) Unprecised
(B) Epitome	(II) Insipid
(C) Elegent	(III) Grieve
(D) Dodge	(IV) Confront

Choose the correct answer from the options given below :

- (1) (A)-(III), (B)-(I), (C)-(II), (D)-(IV)
- (2) (A)-(III), (B)-(II), (C)-(IV), (D)-(I)
- (3) (A)-(II), (B)-(IV), (C)-(III), (D)-(I)
- (4) (A)-(II), (B)-(III), (C)-(I), (D)-(IV)

- 1 (Chosen Option)
1 (Chosen Option)
- 2
2
- 3
3
- 4
4

Question No. 9 / Question ID 14136

Marks: 1.00

Rearrange the following sentences to form a coherent paragraph.

- (A) To most it seems a waste of time, effort and money
- (B) It is better to collect stamps during leisure hours than do mischief
- (C) A stamp too many people is just a slip of paper that takes a letter from one place to another
- (D) This hobby transports us to different times and places as we gaze at the little picture
- (E) They are unable to understand why stamp collectors find pleasure in collecting them

Choose the correct answer from the options given below :

- (1) (C), (E), (A), (B), (D)
- (2) (B), (A), (C), (D), (E)
- (3) (A), (C), (D), (B), (E)
- (4) (D), (E), (B), (C), (A)

Rearrange the following sentences to form a coherent paragraph.

- (A) To most it seems a waste of time, effort and money
- (B) It is better to collect stamps during leisure hours than do mischief
- (C) A stamp too many people is just a slip of paper that takes a letter from one place to another
- (D) This hobby transports us to different times and places as we gaze at the little picture
- (E) They are unable to understand why stamp collectors find pleasure in collecting them

Choose the correct answer from the options given below :

- (1) (C), (E), (A), (B), (D)
- (2) (B), (A), (C), (D), (E)
- (3) (A), (C), (D), (B), (E)
- (4) (D), (E), (B), (C), (A)

- 1
- 2
- 3 (Chosen Option)
- 4

Match List I with List II :

- | List I | List II |
|---|--------------------|
| (A) The leaking boat was — by the five men sitting in it. | (I) weigh against |
| (B) It is important to — the benefits — the hazards. | (II) weighed in |
| (C) The leader of the opposition — with his opinion. | (III) weighed down |
| (D) The fear of losing the match — my mind. | (IV) weighed on |

Choose the correct answer from the options given below :

- (1) (A)-(I), (B)-(III), (C)-(II), (D)-(IV)
- (2) (A)-(II), (B)-(III), (C)-(IV), (D)-(I)
- (3) (A)-(III), (B)-(IV), (C)-(II), (D)-(I)
- (4) (A)-(III), (B)-(I), (C)-(II), (D)-(IV)

Match List I with List II :

- | List I | List II |
|---|--------------------|
| (A) The leaking boat was — by the five men sitting in it. | (I) weigh against |
| (B) It is important to — the benefits — the hazards. | (II) weighed in |
| (C) The leader of the opposition — with his opinion. | (III) weighed down |
| (D) The fear of losing the match — my mind. | (IV) weighed on |

Choose the correct answer from the options given below :

- (1) (A)-(I), (B)-(III), (C)-(II), (D)-(IV)
- (2) (A)-(II), (B)-(III), (C)-(IV), (D)-(I)
- (3) (A)-(III), (B)-(IV), (C)-(II), (D)-(I)
- (4) (A)-(III), (B)-(I), (C)-(II), (D)-(IV)

- 1
 1
 2
 2

- 3 (Chosen Option)
- 3 (Chosen Option)
- 4
- 4

Question No. 11 / Question ID 14143

Marks: 1.00

Given below are two statements :

Statement I : A sound night, rest is important for an early morning fresh start.

Statement II : It is important to wake up early so that one can exercise.

In the light of the above statements, choose the *most appropriate answer* from the options given below :

- (1) Both Statement I and Statement II are correct
- (2) Both Statement I and Statement II are incorrect
- (3) Statement I is correct but Statement II is incorrect
- (4) Statement I is incorrect but Statement II is correct

Given below are two statements :

Statement I : A sound night, rest is important for an early morning fresh start.

Statement II : It is important to wake up early so that one can exercise.

In the light of the above statements, choose the *most appropriate answer* from the options given below :

- (1) Both Statement I and Statement II are correct
- (2) Both Statement I and Statement II are incorrect
- (3) Statement I is correct but Statement II is incorrect
- (4) Statement I is incorrect but Statement II is correct

- 1
- 1
- 2
- 2
- 3
- 3
- 4 (Chosen Option)
- 4 (Chosen Option)

Question No. 12 / Question ID 14130

Marks: 1.00

One who is brilliant performer on stage (especially music)

- (1) Verbose (2) Versatile
(3) Virtuoso (4) Volunteer

One who is brilliant performer on stage (especially music)

- (1) Verbose (2) Versatile
(3) Virtuoso (4) Volunteer

- 1
1
 2 (Chosen Option)
2 (Chosen Option)
 3
3
 4
4

Question No. 13 / Question ID 14144

Marks: 1.00



Teachingninja.in

Match List I with List II :

List I	List II
(A) Penny	(I) Prudent
(B) Perfunctory	(II) Casual
(C) Flippant	(III) Superficial
(D) Discreet	(IV) Poverty

Choose the correct answer from the options given below :

- (1) (A)-(III), (B)-(I), (C)-(II), (D)-(IV)
- (2) (A)-(IV), (B)-(III), (C)-(II), (D)-(I)
- (3) (A)-(IV), (B)-(I), (C)-(II), (D)-(III)
- (4) (A)-(III), (B)-(II), (C)-(IV), (D)-(I)

Match List I with List II :

List I	List II
(A) Penny	(I) Prudent
(B) Perfunctory	(II) Casual
(C) Flippant	(III) Superficial
(D) Discreet	(IV) Poverty

Choose the correct answer from the options given below :

- (1) (A)-(III), (B)-(I), (C)-(II), (D)-(IV)
- (2) (A)-(IV), (B)-(III), (C)-(II), (D)-(I)
- (3) (A)-(IV), (B)-(I), (C)-(II), (D)-(III)
- (4) (A)-(III), (B)-(II), (C)-(IV), (D)-(I)

- 1
1
- 2
2
- 3 (Chosen Option)
3 (Chosen Option)
- 4
4

Match List I with List II :

List I	List II
(A) Faire	(I) Obesity
(B) Persistence	(II) Smoke
(C) Laziness	(III) Tears
(D) Crying	(IV) Success

Choose the correct answer from the options given below :

- (1) (A)-(I), (B)-(III), (C)-(IV), (D)-(II)
- (2) (A)-(II), (B)-(IV), (C)-(I), (D)-(III)
- (3) (A)-(IV), (B)-(II), (C)-(III), (D)-(I)
- (4) (A)-(III), (B)-(I), (C)-(II), (D)-(IV)

Match List I with List II :

List I	List II
(A) Faire	(I) Obesity
(B) Persistence	(II) Smoke
(C) Laziness	(III) Tears
(D) Crying	(IV) Success

Choose the correct answer from the options given below :

- (1) (A)-(I), (B)-(III), (C)-(IV), (D)-(II)
- (2) (A)-(II), (B)-(IV), (C)-(I), (D)-(III)
- (3) (A)-(IV), (B)-(II), (C)-(III), (D)-(I)
- (4) (A)-(III), (B)-(I), (C)-(II), (D)-(IV)

- 1
1
- 2 (Chosen Option)
2 (Chosen Option)
- 3
3
- 4
4

Question No. 15 / Question ID 14139

Marks: 1.00

Given below are two statements :

Statement I : There are two tenses in English.

Statement II : There are three times which tenses depict.

In the light of the above statements, choose the **most appropriate answer** from the options given below :

- (1) Both Statement I and Statement II are correct
- (2) Both Statement I and Statement II are incorrect
- (3) Statement I is correct but Statement II is incorrect
- (4) Statement I is incorrect but Statement II is correct

Given below are two statements :

Statement I : There are two tenses in English.

Statement II : There are three times which tenses depict.

In the light of the above statements, choose the **most appropriate answer** from the options given below :

- (1) Both Statement I and Statement II are correct
- (2) Both Statement I and Statement II are incorrect
- (3) Statement I is correct but Statement II is incorrect
- (4) Statement I is incorrect but Statement II is correct

- 1
1
- 2
2
- 3
3
- 4 (Chosen Option)
4 (Chosen Option)

Question No. 16 / Question ID 14146

Marks: 1.00

Match List I with List II :

List I	List II
(A) Difficult	(I) Neighbourhood
(B) Hard	(II) Surface
(C) Tough	(III) Situations
(D) Critical	(IV) Exam

Choose the correct answer from the options given below :

- (1) (A)-(II), (B)-(IV), (C)-(I), (D)-(III)
- (2) (A)-(II), (B)-(I), (C)-(III), (D)-(IV)
- (3) (A)-(IV), (B)-(II), (C)-(I), (D)-(III)
- (4) (A)-(IV), (B)-(III), (C)-(II), (D)-(I)

Match List I with List II :

List I	List II
(A) Difficult	(I) Neighbourhood
(B) Hard	(II) Surface
(C) Tough	(III) Situations
(D) Critical	(IV) Exam

Choose the correct answer from the options given below :

- (1) (A)-(II), (B)-(IV), (C)-(I), (D)-(III)
- (2) (A)-(II), (B)-(I), (C)-(III), (D)-(IV)
- (3) (A)-(IV), (B)-(II), (C)-(I), (D)-(III)
- (4) (A)-(IV), (B)-(III), (C)-(II), (D)-(I)

- 1
1
- 2
2
- 3 (Chosen Option)
3 (Chosen Option)
- 4
4

Given below are two statements :

Statement I : The verbs in English do not have their future forms.

Statement II : Present tense can indicate certain action of future also.

In the light of the above statements, choose the **most appropriate answer** from the options given below :

- (1) Both Statement I and Statement II are correct
- (2) Both Statement I and Statement II are incorrect
- (3) Statement I is correct but Statement II is incorrect
- (4) Statement I is incorrect but Statement II is correct

Given below are two statements :

Statement I : The verbs in English do not have their future forms.

Statement II : Present tense can indicate certain action of future also.

In the light of the above statements, choose the **most appropriate answer** from the options given below :

- (1) Both Statement I and Statement II are correct
- (2) Both Statement I and Statement II are incorrect
- (3) Statement I is correct but Statement II is incorrect
- (4) Statement I is incorrect but Statement II is correct

- 1
1
- 2
2
- 3
3
- 4 (Chosen Option)
4 (Chosen Option)

Question No. 18 / Question ID 14145

Marks: 1.00

Match List I with List II :

List I	List II
(A) Ingenious	(I) Heart
(B) Charismatic	(II) Taste
(C) Magnanimous	(III) Explanation
(D) Insipid	(IV) Leader

Choose the correct answer from the options given below :

- (1) (A)-(II), (B)-(III), (C)-(I), (D)-(IV)
- (2) (A)-(II), (B)-(I), (C)-(IV), (D)-(III)
- (3) (A)-(III), (B)-(IV), (C)-(I), (D)-(II)
- (4) (A)-(III), (B)-(II), (C)-(IV), (D)-(I)

Match List I with List II :

List I	List II
(A) Ingenious	(I) Heart
(B) Charismatic	(II) Taste
(C) Magnanimous	(III) Explanation
(D) Insipid	(IV) Leader

Choose the correct answer from the options given below :

- (1) (A)-(II), (B)-(III), (C)-(I), (D)-(IV)
- (2) (A)-(II), (B)-(I), (C)-(IV), (D)-(III)
- (3) (A)-(III), (B)-(IV), (C)-(I), (D)-(II)
- (4) (A)-(III), (B)-(II), (C)-(IV), (D)-(I)

- 1
1
 2
2
 3
3
 4
4

Question No. 19 / Question ID 14127

Marks: 1.00

Given below are two statements :

Statement I : She as well as her friends have gone for an educational trip.

Statement II : I have gone to Agra.

In the light of the above statements, choose the **most appropriate answer** from the options given below :

- (1) Both Statement I and Statement II are correct
- (2) Both Statement I and Statement II are incorrect
- (3) Statement I is correct but Statement II is incorrect
- (4) Statement I is incorrect but Statement II is correct

Given below are two statements :

Statement I : She as well as her friends have gone for an educational trip.

Statement II : I have gone to Agra.

In the light of the above statements, choose the **most appropriate answer** from the options given below :

- (1) Both Statement I and Statement II are correct
- (2) Both Statement I and Statement II are incorrect
- (3) Statement I is correct but Statement II is incorrect
- (4) Statement I is incorrect but Statement II is correct

- 1
1
- 2
2
- 3
3
- 4 (Chosen Option)
4 (Chosen Option)

Choose the correct option to complete the sentence :

After a long meeting, the team members had almost reached a consensus when

- (1) they ended up in smoke
- (2) they cried over spilt milk
- (3) they fell on their own sword
- (4) they withdrew at the eleventh hour

Choose the correct option to complete the sentence :

After a long meeting, the team members had almost reached a consensus when

- (1) they ended up in smoke
- (2) they cried over spilt milk
- (3) they fell on their own sword
- (4) they withdrew at the eleventh hour

- 1
1
- 2 (Chosen Option)
2 (Chosen Option)
- 3
3
- 4
4

Question No. 22 / Question ID 14141

Marks: 1.00



Given below are two statements :

Statement I : He offered tea and coffee in his office. I preferred the later one.

Statement II : There is little time left for the event to happen.

In the light of the above statements, choose the *most appropriate answer* from the options given below :

- (1) Both Statement I and Statement II are correct
- (2) Both Statement I and Statement II are incorrect
- (3) Statement I is correct but Statement II is incorrect
- (4) Statement I is incorrect but Statement II is correct

Given below are two statements :

Statement I : He offered tea and coffee in his office. I preferred the later one.

Statement II : There is little time left for the event to happen.

In the light of the above statements, choose the *most appropriate answer* from the options given below :

- (1) Both Statement I and Statement II are correct
- (2) Both Statement I and Statement II are incorrect
- (3) Statement I is correct but Statement II is incorrect
- (4) Statement I is incorrect but Statement II is correct

- 1 (Chosen Option)
1 (Chosen Option)
- 2
2
- 3
3
- 4
4

Given below are two statements :

Statement I : Hardly he arrived when the show began.

Statement II : She will not speak a single word until her mother comes.

In the light of the above statements, choose the **most appropriate answer** from the options given below :

- (1) Both Statement I and Statement II are correct
- (2) Both Statement I and Statement II are incorrect
- (3) Statement I is correct but Statement II is incorrect
- (4) Statement I is incorrect but Statement II is correct

Given below are two statements :

Statement I : Hardly he arrived when the show began.

Statement II : She will not speak a single word until her mother comes.

In the light of the above statements, choose the **most appropriate answer** from the options given below :

- (1) Both Statement I and Statement II are correct
- (2) Both Statement I and Statement II are incorrect
- (3) Statement I is correct but Statement II is incorrect
- (4) Statement I is incorrect but Statement II is correct

- 1
1
- 2 (Chosen Option)
2 (Chosen Option)
- 3
3
- 4
4

Question No. 24 / Question ID 14131

Marks: 1.00

Choose the correct option to fill in the blank in the following sentence :

We must not always run _____ the expert because we must trust on ourselves.

- (1) to (2) with
(3) for (4) across

Choose the correct option to fill in the blank in the following sentence :

We must not always run _____ the expert because we must trust on ourselves.

- (1) to (2) with
(3) for (4) across

- 1
1
 2
2
 3
3
 4 (Chosen Option)
4 (Chosen Option)

Question No. 25 / Question ID 14142

Marks: 1.00



Given below are two statements :

Statement I : These all bananas are rotten.

Statement II : Is there some truth behind it?

In the light of the above statements, choose the **most appropriate answer** from the options given below :

- (1) Both Statement I and Statement II are correct
- (2) Both Statement I and Statement II are incorrect
- (3) Statement I is correct but Statement II is incorrect
- (4) Statement I is incorrect but Statement II is correct

Given below are two statements :

Statement I : These all bananas are rotten.

Statement II : Is there some truth behind it?

In the light of the above statements, choose the **most appropriate answer** from the options given below :

- (1) Both Statement I and Statement II are correct
- (2) Both Statement I and Statement II are incorrect
- (3) Statement I is correct but Statement II is incorrect
- (4) Statement I is incorrect but Statement II is correct

- 1 (Chosen Option)
 1 (Chosen Option)
 2
 2
 3
 3
 4
 4

Question No. 26 / Question ID 14134

Marks: 1.00

Choose the correct order of the parts of sentence to create a meaningful unit

- (A) Which were once believed to be in the make up of all things
- (B) Each associated with a corresponding element
- (C) As well as the environment in which any living thing existed
- (D) Earth, water, air and fire are the four primary elements
- (E) People themselves were classified according to their humorous disposition

Choose the correct answer from the options given below :

- (1) (B), (C), (A), (D), (E)
- (2) (D), (A), (C), (E), (B)
- (3) (B), (D), (C), (A), (E)
- (4) (D), (A), (E), (C), (B)

Choose the correct order of the parts of sentence to create a meaningful unit

- (A) Which were once believed to be in the make up of all things
- (B) Each associated with a corresponding element
- (C) As well as the environment in which any living thing existed
- (D) Earth, water, air and fire are the four primary elements
- (E) People themselves were classified according to their humorous disposition

Choose the correct answer from the options given below :

- (1) (B), (C), (A), (D), (E)
- (2) (D), (A), (C), (E), (B)
- (3) (B), (D), (C), (A), (E)
- (4) (D), (A), (E), (C), (B)

- 1
1
- 2 (Chosen Option)
2 (Chosen Option)
- 3
3
- 4
4

Choose the correct order of the following parts of a sentence to make a meaningful unit.

- (A) life is not to collapse, there is need for
- (B) as a profession and as a way of
- (C) attention today to farmer's need in the areas
- (D) and land and agrarian reforms
- (E) of water credit, technology, market

Choose the correct answer from the options given below :

- (1) (D), (B), (E), (C), (A)
- (2) (B), (A), (C), (E), (D)
- (3) (B), (C), (A), (E), (D)
- (4) (A), (B), (D), (E), (C)

Choose the correct order of the following parts of a sentence to make a meaningful unit.

- (A) life is not to collapse, there is need for
- (B) as a profession and as a way of
- (C) attention today to farmer's need in the areas
- (D) and land and agrarian reforms
- (E) of water credit, technology, market

Choose the correct answer from the options given below :

- (1) (D), (B), (E), (C), (A)
- (2) (B), (A), (C), (E), (D)
- (3) (B), (C), (A), (E), (D)
- (4) (A), (B), (D), (E), (C)

- 1
- 2
- 3
- 4

Choose the correct order of the following parts of a sentence to make a meaningful unit.

- (A) Run along the same line as the Freemasons
- (B) In the 18th century London
- (C) Whose young male members called themselves Bucks
- (D) And whose President was known as the Grand Buck
- (E) There were apparently societies

Choose the correct answer from the options given below :

- (1) (A), (B), (C), (D), (E)
- (2) (B), (C), (A), (E), (D)
- (3) (E), (D), (C), (A), (B)
- (4) (B), (E), (A), (C), (D)

Choose the correct order of the following parts of a sentence to make a meaningful unit.

- (A) Run along the same line as the Freemasons
- (B) In the 18th century London
- (C) Whose young male members called themselves Bucks
- (D) And whose President was known as the Grand Buck
- (E) There were apparently societies

Choose the correct answer from the options given below :

- (1) (A), (B), (C), (D), (E)
- (2) (B), (C), (A), (E), (D)
- (3) (E), (D), (C), (A), (B)
- (4) (B), (E), (A), (C), (D)

- 1
1
- 2 (Chosen Option)
2 (Chosen Option)
- 3
3
- 4
4

Choose the correct one word for the following group of words.

Liking a particular thing

- (1) Phile (2) Phial
(3) Phew (4) Phlegm

Choose the correct one word for the following group of words.

Liking a particular thing

- (1) Phile (2) Phial
(3) Phew (4) Phlegm

- 1
1
 2 (Chosen Option)
2 (Chosen Option)
 3
3
 4
4

Question No. 30 / Question ID 14135

Marks: 1.00



Choose the part(s) of the following sentence so that it can make a meaningful unit.

- (A) It has been the custom amongst
- (B) Are perhaps best known for this
- (C) To wear a feather on the head for every enemy killed.
- (D) The people of a very difficult cultures
- (E) The American Indians with their head dressed

Choose the correct answer from the options given below :

- (1) (A), (C), (E), (B), (D)
- (2) (A), (D), (C), (E), (B)
- (3) (E), (C), (B), (A), (D)
- (4) (E), (D), (B), (C), (A)

Choose the part(s) of the following sentence so that it can make a meaningful unit.

- (A) It has been the custom amongst
- (B) Are perhaps best known for this
- (C) To wear a feather on the head for every enemy killed.
- (D) The people of a very difficult cultures
- (E) The American Indians with their head dressed

Choose the correct answer from the options given below :

- (1) (A), (C), (E), (B), (D)
- (2) (A), (D), (C), (E), (B)
- (3) (E), (C), (B), (A), (D)
- (4) (E), (D), (B), (C), (A)

- 1
- 1
- 2
- 2
- 3
- 3
- 4 (Chosen Option)
- 4 (Chosen Option)

6) Hindi Language and Comprehension

Question No. 1 / Question ID 14152

Marks: 1.00

निम्नलिखित अनुच्छेद के आधार पर प्रश्नों के उत्तर दीजिए:

दूरदर्शन हो या कोई दूसरा संचार माध्यम, वह सामाजिक मनोविज्ञान को प्रभावित भी करता है और सामाजिक परिस्थितियों से प्रभावित भी होता है। इसी वास्तविकता से उसकी शक्ति और सीमा निश्चित होती है। कारण साफ है। संचार माध्यम की स्थापना इतना खर्चीला काम है कि कुछ व्यक्ति या संस्थाएँ उसमें हाथ नहीं लगा सकतीं। उसके लिए बड़े संसाधान की आवश्यकता है। इतने बड़े पैमाने के साधन या तो सरकारों के पास हैं या बड़े व्यापारी घरानों के पास। संचार-क्रान्ति ने व्यवसाय की दुनिया को भी बदला है, इसमें सन्देह नहीं। इसीलिए संसार में "सबसे धनी व्यक्ति" का स्थान रूपोर्ट मर्डोक को हासिल रहा, जो किसी उत्पादक बाज़ार से सम्बन्धित नहीं थे, बल्कि संचार की दुनिया के बादशाह थे। लेकिन बड़े घरानों या सरकारों के नियन्त्रण में रहने वाले माध्यमों की नीति एक हद तक ही स्वतंत्र और तटस्थ हो सकती है। इस तरह, अपनी प्रकृति और अपने नियन्त्रण के कारण संचार-माध्यम की नीतियाँ प्रभावित होती हैं। यह बात स्वतः स्पष्ट हो जाती है कि माध्यम का सामाजिक प्रभाव उसकी नीतियों पर ही निर्भर होता है। यह अकारण नहीं है कि पहले प्रिंट मीडिया के लिए स्वतंत्र और जवाबदेह होने का प्रश्न उठता था, जब इलेक्ट्रॉनिक मीडिया के लिए भी यह प्रश्न बारम्बार उठता है।

गद्यांश के आधार पर लिखिए कि किस वास्तविकता से दूरदर्शन या दूसरे संचार माध्यम की शक्ति और सीमा निश्चित होती है?

- (1) संचार माध्यमों की स्थापना के खर्चीला होने से
- (2) बड़े घरानों या सरकार के नियंत्रण में रहने से
- (3) संचार क्रान्ति में बदलाव से
- (4) सामाजिक मनोविज्ञान को प्रभावित करने और सामाजिक परिस्थिति से प्रभावित होने से



निम्नलिखित अनुच्छेद के आधार पर प्रश्नों के उत्तर दीजिए:

दूरदर्शन हो या कोई दूसरा संचार माध्यम, वह सामाजिक मनोविज्ञान को प्रभावित भी करता है और सामाजिक परिस्थितियों से प्रभावित भी होता है। इसी वास्तविकता से उसकी शक्ति और सीमा निश्चित होती है। कारण साफ है। संचार माध्यम की स्थापना इतना खर्चीला काम है कि कुछ व्यक्ति या संस्थाएँ उसमें हाथ नहीं लगा सकतीं। उसके लिए बड़े संसाधन की आवश्यकता है। इतने बड़े पैमाने के साधन या तो सरकारों के पास हैं या बड़े व्यापारी घरानों के पास। संचार-क्रान्ति ने व्यवसाय की दुनिया को भी बदला है, इसमें सन्देह नहीं। इसीलिए संसार में "सबसे धनी व्यक्ति" का स्थान रूपोर्ट मर्डोक को हासिल रहा, जो किसी उत्पादक बाज़ार से सम्बन्धित नहीं थे, बल्कि संचार की दुनिया के बादशाह थे। लेकिन बड़े घरानों या सरकारों के नियन्त्रण में रहने वाले माध्यमों की नीति एक हद तक ही स्वतंत्र और तटस्थ हो सकती है। इस तरह, अपनी प्रकृति और अपने नियन्त्रण के कारण संचार-माध्यम की नीतियाँ प्रभावित होती हैं। यह बात स्वतः स्पष्ट हो जाती है कि माध्यम का सामाजिक प्रभाव उसकी नीतियों पर ही निर्भर होता है। यह अकारण नहीं है कि पहले प्रिंट मीडिया के लिए स्वतंत्र और जवाबदेह होने का प्रश्न उठता था, जब इलेक्ट्रॉनिक मीडिया के लिए भी यह प्रश्न बारम्बार उठता है।

गद्यांश के आधार पर लिखिए कि किस वास्तविकता से दूरदर्शन या दूसरे संचार माध्यम की शक्ति और सीमा निश्चित होती है?

- (1) संचार माध्यमों की स्थापना के खर्चीला होने से
- (2) बड़े घरानों या सरकार के नियंत्रण में रहने से
- (3) संचार क्रान्ति में बदलाव से
- (4) सामाजिक मनोविज्ञान को प्रभावित करने और सामाजिक परिस्थिति से प्रभावित होने से

- 1
1
 2
2
 3
3
 4
4

Question No. 2 / Question ID 14153

Marks: 1.00

निम्नलिखित अनुच्छेद के आधार पर प्रश्नों के उत्तर दीजिए:

दूरदर्शन हो या कोई दूसरा संचार माध्यम, वह सामाजिक मनोविज्ञान को प्रभावित भी करता है और सामाजिक परिस्थितियों से प्रभावित भी होता है। इसी वास्तविकता से उसकी शक्ति और सीमा निश्चित होती है। कारण साफ है। संचार माध्यम की स्थापना इतना खर्चीला काम है कि कुछ व्यक्ति या संस्थाएँ उसमें हाथ नहीं लगा सकतीं। उसके लिए बड़े संसाधन की आवश्यकता है। इतने बड़े पैमाने के साधन या तो सरकारों के पास हैं या बड़े व्यापारी घरानों के पास। संचार-क्रान्ति ने व्यवसाय की दुनिया को भी बदला है, इसमें सन्देह नहीं। इसीलिए संसार में "सबसे धनी व्यक्ति" का स्थान रूपर्ट मर्डोक को हासिल रहा, जो किसी उत्पादक बाज़ार से सम्बन्धित नहीं थे, बल्कि संचार की दुनिया के बादशाह थे। लेकिन बड़े घरानों या सरकारों के नियन्त्रण में रहने वाले माध्यमों की नीति एक हद तक ही स्वतंत्र और तटस्थ हो सकती है। इस तरह, अपनी प्रकृति और अपने नियन्त्रण के कारण संचार-माध्यम की नीतियाँ प्रभावित होती हैं। यह बात स्वतः स्पष्ट हो जाती है कि माध्यम का सामाजिक प्रभाव उसकी नीतियों पर ही निर्भर होता है। यह अकारण नहीं है कि पहले प्रिंट मीडिया के लिए स्वतंत्र और जवाबदेह होने का प्रश्न उठता था, जब इलेक्ट्रॉनिक मीडिया के लिए भी यह प्रश्न बारम्बार उठता है।

गद्यांश के आधार पर लिखिए कि इलेक्ट्रानिक मीडिया के लिए कौन-सा प्रश्न बारम्बार उठता है –

- | | |
|---|---|
| (1) स्वतंत्र और जवाबदेह होने का | (2) बड़े घरानों से नियंत्रित होने का |
| (3) उत्पादक बाजार से संबंधित नहीं होने का | (4) सरकारी नीतियों पर निर्भर नहीं होने का |

निम्नलिखित अनुच्छेद के आधार पर प्रश्नों के उत्तर दीजिए:

दूरदर्शन हो या कोई दूसरा संचार माध्यम, वह सामाजिक मनोविज्ञान को प्रभावित भी करता है और सामाजिक परिस्थितियों से प्रभावित भी होता है। इसी वास्तविकता से उसकी शक्ति और सीमा निश्चित होती है। कारण साफ है। संचार माध्यम की स्थापना इतना खर्चीला काम है कि कुछ व्यक्ति या संस्थाएँ उसमें हाथ नहीं लगा सकतीं। उसके लिए बड़े संसाधन की आवश्यकता है। इतने बड़े पैमाने के साधन या तो सरकारों के पास हैं या बड़े व्यापारी घरानों के पास। संचार-क्रान्ति ने व्यवसाय की दुनिया को भी बदला है, इसमें सन्देह नहीं। इसीलिए संसार में "सबसे धनी व्यक्ति" का स्थान रूपर्ट मर्डोक को हासिल रहा, जो किसी उत्पादक बाज़ार से सम्बन्धित नहीं थे, बल्कि संचार की दुनिया के बादशाह थे। लेकिन बड़े घरानों या सरकारों के नियन्त्रण में रहने वाले माध्यमों की नीति एक हद तक ही स्वतंत्र और तटस्थ हो सकती है। इस तरह, अपनी प्रकृति और अपने नियन्त्रण के कारण संचार-माध्यम की नीतियाँ प्रभावित होती हैं। यह बात स्वतः स्पष्ट हो जाती है कि माध्यम का सामाजिक प्रभाव उसकी नीतियों पर ही निर्भर होता है। यह अकारण नहीं है कि पहले प्रिंट मीडिया के लिए स्वतंत्र और जवाबदेह होने का प्रश्न उठता था, जब इलेक्ट्रॉनिक मीडिया के लिए भी यह प्रश्न बारम्बार उठता है।

गद्यांश के आधार पर लिखिए कि इलेक्ट्रानिक मीडिया के लिए कौन-सा प्रश्न बारम्बार उठता है –

- | | |
|---|---|
| (1) स्वतंत्र और जवाबदेह होने का | (2) बड़े घरानों से नियंत्रित होने का |
| (3) उत्पादक बाजार से संबंधित नहीं होने का | (4) सरकारी नीतियों पर निर्भर नहीं होने का |

- 1
- 2
- 3

○ 4
4

Question No. 3 / Question ID 14151

Marks: 1.00



Teachingninja.in

निम्नलिखित अनुच्छेद के आधार पर प्रश्नों के उत्तर दीजिए:

दूरदर्शन हो या कोई दूसरा संचार माध्यम, वह सामाजिक मनोविज्ञान को प्रभावित भी करता है और सामाजिक परिस्थितियों से प्रभावित भी होता है। इसी वास्तविकता से उसकी शक्ति और सीमा निश्चित होती है। कारण साफ है। संचार माध्यम की स्थापना इतना खर्चीला काम है कि कुछ व्यक्ति या संस्थाएँ उसमें हाथ नहीं लगा सकतीं। उसके लिए बड़े संसाधन की आवश्यकता है। इतने बड़े पैमाने के साधन या तो सरकारों के पास हैं या बड़े व्यापारी घरानों के पास। संचार-क्रान्ति ने व्यवसाय की दुनिया को भी बदला है, इसमें सन्देह नहीं। इसीलिए संसार में “सबसे धनी व्यक्ति” का स्थान रूपर्ट मर्डोक को हासिल रहा, जो किसी उत्पादक बाज़ार से सम्बन्धित नहीं थे, बल्कि संचार की दुनिया के बादशाह थे। लेकिन बड़े घरानों या सरकारों के नियन्त्रण में रहने वाले माध्यमों की नीति एक हद तक ही स्वतंत्र और तटस्थ हो सकती है। इस तरह, अपनी प्रकृति और अपने नियन्त्रण के कारण संचार-माध्यम की नीतियाँ प्रभावित होती हैं। यह बात स्वतः स्पष्ट हो जाती है कि माध्यम का सामाजिक प्रभाव उसकी नीतियों पर ही निर्भर होता है। यह अकारण नहीं है कि पहले प्रिंट मीडिया के लिए स्वतंत्र और जवाबदेह होने का प्रश्न उठता था, जब इलेक्ट्रॉनिक मीडिया के लिए भी यह प्रश्न बारम्बार उठता है।

गद्यांश के आधार पर लिखिए कि संसार में सबसे धनी व्यक्ति का स्थान रूपर्ट मर्डोक को हासिल रहा इसलिए कि _____

- | | |
|------------------------------------|-----------------------------------|
| (1) वे उत्पादक बाजार से संबंधित थे | (2) बड़े घराने से संबंधित थे |
| (3) सरकार के नियंत्रण से बाहर थे | (4) संचार की दुनिया से संबंधित थे |

निम्नलिखित अनुच्छेद के आधार पर प्रश्नों के उत्तर दीजिए:

दूरदर्शन हो या कोई दूसरा संचार माध्यम, वह सामाजिक मनोविज्ञान को प्रभावित भी करता है और सामाजिक परिस्थितियों से प्रभावित भी होता है। इसी वास्तविकता से उसकी शक्ति और सीमा निश्चित होती है। कारण साफ है। संचार माध्यम की स्थापना इतना खर्चीला काम है कि कुछ व्यक्ति या संस्थाएँ उसमें हाथ नहीं लगा सकतीं। उसके लिए बड़े संसाधन की आवश्यकता है। इतने बड़े पैमाने के साधन या तो सरकारों के पास हैं या बड़े व्यापारी घरानों के पास। संचार-क्रान्ति ने व्यवसाय की दुनिया को भी बदला है, इसमें सन्देह नहीं। इसीलिए संसार में “सबसे धनी व्यक्ति” का स्थान रूपर्ट मर्डोक को हासिल रहा, जो किसी उत्पादक बाज़ार से सम्बन्धित नहीं थे, बल्कि संचार की दुनिया के बादशाह थे। लेकिन बड़े घरानों या सरकारों के नियन्त्रण में रहने वाले माध्यमों की नीति एक हद तक ही स्वतंत्र और तटस्थ हो सकती है। इस तरह, अपनी प्रकृति और अपने नियन्त्रण के कारण संचार-माध्यम की नीतियाँ प्रभावित होती हैं। यह बात स्वतः स्पष्ट हो जाती है कि माध्यम का सामाजिक प्रभाव उसकी नीतियों पर ही निर्भर होता है। यह अकारण नहीं है कि पहले प्रिंट मीडिया के लिए स्वतंत्र और जवाबदेह होने का प्रश्न उठता था, जब इलेक्ट्रॉनिक मीडिया के लिए भी यह प्रश्न बारम्बार उठता है।

गद्यांश के आधार पर लिखिए कि संसार में सबसे धनी व्यक्ति का स्थान रूपर्ट मर्डोक को हासिल रहा इसलिए कि _____

- | | |
|------------------------------------|-----------------------------------|
| (1) वे उत्पादक बाजार से संबंधित थे | (2) बड़े घराने से संबंधित थे |
| (3) सरकार के नियंत्रण से बाहर थे | (4) संचार की दुनिया से संबंधित थे |

- 2
2
- 3
3
- 4
4

Question No. 4 / Question ID 14156

Marks: 1.00



Teachingninja.in

निम्नलिखित अनुच्छेद के आधार पर प्रश्नों के उत्तर दीजिए।

हर झूठ के जन्म की यही सच्चाई है। उसका जन्मदाता सच से पूरी तरह वाकिफ होता है और उसमें उसका सामना करने की हिम्मत नहीं होती। नतीजा यह कि झूठ के जन्म के साथ ही सच सबकी नजरों से छुप जाता है। उस पल के बाद झूठ सबको सच की तरह दिखाई देने लगता है। जन्म के बाद झूठ का अपना जीवन चक्र शुरू होता है। कुछ समय तक यह सुविधाजनक ढंग से आगे बढ़ता है। लेकिन थोड़े समय बाद उस पर सवाल उठने शुरू होते हैं। चूंकि झूठ के जन्म के साथ ही कायरता का एक तत्व जुड़ा होता है, इसलिए सवालों का सामना करने में उसे दिक्कत होती है। उसका जन्मदाता भी इस रोग से ग्रस्त होता है, लिहाजा वह अपने बनाए झूठ का भी ज्यादा समय तक साथ नहीं दे पाता। जल्द से जल्द उससे पीछा छुड़ाना ही उसे सबसे ज्यादा भाता है। लेकिन झूठ की और एक विशेषता है जो सच में नहीं है। सच जैसा और जितना होता है, वैसा और उतना ही रहता है। उसमें रत्ती भर भी बदलाव संभव नहीं होता। लेकिन झूठ असंख्य रूप ले सकता है। नतीजा यह कि झूठ अपने एक रूप में टिका नहीं रहता। जैसे ही सवाल कुछ भारी होते हैं, झूठ का जन्मदाता उसके मौजूदा रूप का साथ छोड़, उसमें जरूरत और सुविधा के अनुरूप जोड़-घटाव कर देता है। सीधे शब्दों में कहा जाए, तो वह एक नया झूठ गढ़ लेता है। उसके लिए यह कोई बड़ी बात नहीं होती, उसके बाएं हाथ का खेल होता है। इस तरह जिस झूठ को उसने जिंदगी दी होती है, उसे अपने ही हाथों से मौत भी दे देता है। ऐसा एकाध बार ही हो, जरूरी नहीं। यह सिलसिला चलता रहता है, तब तक, जब तक कि सच सामने न आ जाए।

सच के सामने आते ही शांति और सुकून छा जाता है। झूठ की वजह से जो भाग-दौड़, अनिश्चितता और घबराहट फैली रहती है, वह सच सामने आते ही गायब हो जाती है। इस दौरान शुरू से आखिर तक अदृश्य होते हुए भी सच का पलड़ा हमेशा भारी रहता है। वह अपनी जगह चैन से बैठा रहता है, लेकिन उसके डर से झूठ और उसका जनक भागता फिर रहा होता है। सच की आँखों के सामने झूठ को सैंकड़ों-हजारों मौत मरनी पड़ती है। फिर भी हम झूठ की माया से रोमांचित होते हुए उसके बहुरूपिया व्यवहार पर मोहित होते रहते हैं। सच, इस पर बस मुस्कुरा कर रह जाता है।

अनुच्छेद के आधार पर असत्य कथन का चयन कीजिए।

- (1) सच के सामने आते ही शांति और सुकून छा जाता है
- (2) सच का पलड़ा कभी भारी नहीं रहता।
- (3) हम झूठ की माया से रोमांचित होते हुए उसके बहुरूपिया व्यवहार पर मोहित होते रहते हैं।
- (4) सच अपनी जगह चैन से बैठा रहता है, लेकिन उसके डर से झूठ और उसका जनक भागता फिर रहा होता है।

निम्नलिखित अनुच्छेद के आधार पर प्रश्नों के उत्तर दीजिए।

हर झूठ के जन्म की यही सच्चाई है। उसका जन्मदाता सच से पूरी तरह वाकिफ होता है और उसमें उसका सामना करने की हिम्मत नहीं होती। नतीजा यह कि झूठ के जन्म के साथ ही सच सबकी नजरों से छुप जाता है। उस पल के बाद झूठ सबको सच की तरह दिखाई देने लगता है। जन्म के बाद झूठ का अपना जीवन चक्र शुरू होता है। कुछ समय तक यह सुविधाजनक ढंग से आगे बढ़ता है। लेकिन थोड़े समय बाद उस पर सवाल उठने शुरू होते हैं। चूंकि झूठ के जन्म के साथ ही कायरता का एक तत्व जुड़ा होता है, इसलिए सवालों का सामना करने में उसे दिक्कत होती है। उसका जन्मदाता भी इस रोग से ग्रस्त होता है, लिहाजा वह अपने बनाए झूठ का भी ज्यादा समय तक साथ नहीं दे पाता। जल्द से जल्द उससे पीछा छुड़ाना ही उसे सबसे ज्यादा भाता है। लेकिन झूठ की और एक विशेषता है जो सच में नहीं है। सच जैसा और जितना होता है, वैसा और उतना ही रहता है। उसमें रत्ती भर भी बदलाव संभव नहीं होता। लेकिन झूठ असंख्य रूप ले सकता है। नतीजा यह कि झूठ अपने एक रूप में टिका नहीं रहता। जैसे ही सवाल कुछ भारी होते हैं, झूठ का जन्मदाता उसके मौजूदा रूप का साथ छोड़, उसमें जरूरत और सुविधा के अनुरूप जोड़-घटाव कर देता है। सीधे शब्दों में कहा जाए, तो वह एक नया झूठ गढ़ लेता है। उसके लिए यह कोई बड़ी बात नहीं होती, उसके बाएं हाथ का खेल होता है। इस तरह जिस झूठ को उसने जिंदगी दी होती है, उसे अपने ही हाथों से मौत भी दे देता है। ऐसा एकाध बार ही हो, जरूरी नहीं। यह सिलसिला चलता रहता है, तब तक, जब तक कि सच सामने न आ जाए।

सच के सामने आते ही शांति और सुकून छा जाता है। झूठ की वजह से जो भाग-दौड़, अनिश्चितता और घबराहट फैली रहती है, वह सच सामने आते ही गायब हो जाती है। इस दौरान शुरू से आखिर तक अदृश्य होते हुए भी सच का पलड़ा हमेशा भारी रहता है। वह अपनी जगह चैन से बैठा रहता है, लेकिन उसके डर से झूठ और उसका जनक भागता फिर रहा होता है। सच की आँखों के सामने झूठ को सैंकड़ों-हजारों मौत मरनी पड़ती है। फिर भी हम झूठ की माया से रोमांचित होते हुए उसके बहुरूपिया व्यवहार पर मोहित होते रहते हैं। सच, इस पर बस मुस्कुरा कर रह जाता है।

अनुच्छेद के आधार पर असत्य कथन का चयन कीजिए।

- (1) सच के सामने आते ही शांति और सुकून छा जाता है
- (2) सच का पलड़ा कभी भारी नहीं रहता।
- (3) हम झूठ की माया से रोमांचित होते हुए उसके बहुरूपिया व्यवहार पर मोहित होते रहते हैं।
- (4) सच अपनी जगह चैन से बैठा रहता है, लेकिन उसके डर से झूठ और उसका जनक भागता फिर रहा होता है।

- 1
1
 2
2
 3
3
 4
4

निम्नलिखित अनुच्छेद के आधार पर प्रश्नों के उत्तर दीजिए।

हर झूठ के जन्म की यही सच्चाई है। उसका जन्मदाता सच से पूरी तरह वाकिफ होता है और उसमें उसका सामना करने की हिम्मत नहीं होती। नतीजा यह कि झूठ के जन्म के साथ ही सच सबकी नजरों से छुप जाता है। उस पल के बाद झूठ सबको सच की तरह दिखाई देने लगता है। जन्म के बाद झूठ का अपना जीवन चक्र शुरू होता है। कुछ समय तक यह सुविधाजनक ढंग से आगे बढ़ता है। लेकिन थोड़े समय बाद उस पर सवाल उठने शुरू होते हैं। चूंकि झूठ के जन्म के साथ ही कायरता का एक तत्व जुड़ा होता है, इसलिए सवालों का सामना करने में उसे दिक्कत होती है। उसका जन्मदाता भी इस रोग से ग्रस्त होता है, लिहाजा वह अपने बनाए झूठ का भी ज्यादा समय तक साथ नहीं दे पाता। जल्द से जल्द उससे पीछा छुड़ाना ही उसे सबसे ज्यादा भाता है। लेकिन झूठ की और एक विशेषता है जो सच में नहीं है। सच जैसा और जितना होता है, वैसा और उतना ही रहता है। उसमें रत्ती भर भी बदलाव संभव नहीं होता। लेकिन झूठ असंख्य रूप ले सकता है। नतीजा यह कि झूठ अपने एक रूप में टिका नहीं रहता। जैसे ही सवाल कुछ भारी होते हैं, झूठ का जन्मदाता उसके मौजूदा रूप का साथ छोड़, उसमें जरूरत और सुविधा के अनुरूप जोड़-घटाव कर देता है। सीधे शब्दों में कहा जाए, तो वह एक नया झूठ गढ़ लेता है। उसके लिए यह कोई बड़ी बात नहीं होती, उसके बाएं हाथ का खेल होता है। इस तरह जिस झूठ को उसने जिंदगी दी होती है, उसे अपने ही हाथों से मौत भी दे देता है। ऐसा एकाध बार ही हो, जरूरी नहीं। यह सिलसिला चलता रहता है, तब तक, जब तक कि सच सामने न आ जाए।

सच के सामने आते ही शांति और सुकून छा जाता है। झूठ की वजह से जो भाग-दौड़, अनिश्चितता और घबराहट फैली रहती है, वह सच सामने आते ही गायब हो जाती है। इस दौरान शुरू से आखिर तक अदृश्य होते हुए भी सच का पलड़ा हमेशा भारी रहता है। वह अपनी जगह चैन से बैठा रहता है, लेकिन उसके डर से झूठ और उसका जनक भागता फिर रहा होता है। सच की आँखों के सामने झूठ को सैंकड़ों-हजारों मौत मरनी पड़ती है। फिर भी हम झूठ की माया से रोमांचित होते हुए उसके बहुरूपिया व्यवहार पर मोहित होते रहते हैं। सच, इस पर बस मुस्कुरा कर रह जाता है।

‘झूठ असंख्य रूप ले सकता है’ – इसका क्या नतीजा होता है

- | | |
|--------------------------------------|--|
| (1) सच और झूठ आस-पास आ खड़े होते हैं | (2) झूठ अपने एक रूप में टिका नहीं रहता |
| (3) झूठ भागदौड़ में निपुण हो जाता है | (4) झूठ पर सवाल उठाना बेकार लगने लगता है |



निम्नलिखित अनुच्छेद के आधार पर प्रश्नों के उत्तर दीजिए।

हर झूठ के जन्म की यही सच्चाई है। उसका जन्मदाता सच से पूरी तरह वाकिफ होता है और उसमें उसका सामना करने की हिम्मत नहीं होती। नतीजा यह कि झूठ के जन्म के साथ ही सच सबकी नजरों से छुप जाता है। उस पल के बाद झूठ सबको सच की तरह दिखाई देने लगता है। जन्म के बाद झूठ का अपना जीवन चक्र शुरू होता है। कुछ समय तक यह सुविधाजनक ढंग से आगे बढ़ता है। लेकिन थोड़े समय बाद उस पर सवाल उठने शुरू होते हैं। चूंकि झूठ के जन्म के साथ ही कायरता का एक तत्व जुड़ा होता है, इसलिए सवालों का सामना करने में उसे दिक्कत होती है। उसका जन्मदाता भी इस रोग से ग्रस्त होता है, लिहाजा वह अपने बनाए झूठ का भी ज्यादा समय तक साथ नहीं दे पाता। जल्द से जल्द उससे पीछा छुड़ाना ही उसे सबसे ज्यादा भाता है। लेकिन झूठ की और एक विशेषता है जो सच में नहीं है। सच जैसा और जितना होता है, वैसा और उतना ही रहता है। उसमें रत्ती भर भी बदलाव संभव नहीं होता। लेकिन झूठ असंख्य रूप ले सकता है। नतीजा यह कि झूठ अपने एक रूप में टिका नहीं रहता। जैसे ही सवाल कुछ भारी होते हैं, झूठ का जन्मदाता उसके मौजूदा रूप का साथ छोड़, उसमें जरूरत और सुविधा के अनुरूप जोड़-घटाव कर देता है। सीधे शब्दों में कहा जाए, तो वह एक नया झूठ गढ़ लेता है। उसके लिए यह कोई बड़ी बात नहीं होती, उसके बाएं हाथ का खेल होता है। इस तरह जिस झूठ को उसने जिंदगी दी होती है, उसे अपने ही हाथों से मौत भी दे देता है। ऐसा एकाध बार ही हो, जरूरी नहीं। यह सिलसिला चलता रहता है, तब तक, जब तक कि सच सामने न आ जाए।

सच के सामने आते ही शांति और सुकून छा जाता है। झूठ की वजह से जो भाग-दौड़, अनिश्चितता और घबराहट फैली रहती है, वह सच सामने आते ही गायब हो जाती है। इस दौरान शुरू से आखिर तक अदृश्य होते हुए भी सच का पलड़ा हमेशा भारी रहता है। वह अपनी जगह चैन से बैठा रहता है, लेकिन उसके डर से झूठ और उसका जनक भागता फिर रहा होता है। सच की आँखों के सामने झूठ को सैंकड़ों-हजारों मौत मरनी पड़ती है। फिर भी हम झूठ की माया से रोमांचित होते हुए उसके बहुरूपिया व्यवहार पर मोहित होते रहते हैं। सच, इस पर बस मुस्कुरा कर रह जाता है।

‘झूठ असंख्य रूप ले सकता है’ – इसका क्या नतीजा होता है

- | | |
|--------------------------------------|--|
| (1) सच और झूठ आस-पास आ खड़े होते हैं | (2) झूठ अपने एक रूप में टिका नहीं रहता |
| (3) झूठ भागदौड़ में निपुण हो जाता है | (4) झूठ पर सवाल उठाना बेकार लगने लगता है |

- 1
 1
 2
 2
 3
 3
 4
 4

Question No. 6 / Question ID 14154

Marks: 1.00

निम्नलिखित अनुच्छेद के आधार पर प्रश्नों के उत्तर दीजिए।

हर झूठ के जन्म की यही सच्चाई है। उसका जन्मदाता सच से पूरी तरह वाकिफ होता है और उसमें उसका सामना करने की हिम्मत नहीं होती। नतीजा यह कि झूठ के जन्म के साथ ही सच सबकी नजरों से छुप जाता है। उस पल के बाद झूठ सबको सच की तरह दिखाई देने लगता है। जन्म के बाद झूठ का अपना जीवन चक्र शुरू होता है। कुछ समय तक यह सुविधाजनक ढंग से आगे बढ़ता है। लेकिन थोड़े समय बाद उस पर सवाल उठने शुरू होते हैं। चूंकि झूठ के जन्म के साथ ही कायरता का एक तत्व जुड़ा होता है, इसलिए सवालों का सामना करने में उसे दिक्कत होती है। उसका जन्मदाता भी इस रोग से ग्रस्त होता है, लिहाजा वह अपने बनाए झूठ का भी ज्यादा समय तक साथ नहीं दे पाता। जल्द से जल्द उससे पीछा छुड़ाना ही उसे सबसे ज्यादा भाता है। लेकिन झूठ की और एक विशेषता है जो सच में नहीं है। सच जैसा और जितना होता है, वैसा और उतना ही रहता है। उसमें रत्ती भर भी बदलाव संभव नहीं होता। लेकिन झूठ असंख्य रूप ले सकता है। नतीजा यह कि झूठ अपने एक रूप में टिका नहीं रहता। जैसे ही सवाल कुछ भारी होते हैं, झूठ का जन्मदाता उसके मौजूदा रूप का साथ छोड़, उसमें जरूरत और सुविधा के अनुरूप जोड़-घटाव कर देता है। सीधे शब्दों में कहा जाए, तो वह एक नया झूठ गढ़ लेता है। उसके लिए यह कोई बड़ी बात नहीं होती, उसके बाएं हाथ का खेल होता है। इस तरह जिस झूठ को उसने जिंदगी दी होती है, उसे अपने ही हाथों से मौत भी दे देता है। ऐसा एकाध बार ही हो, जरूरी नहीं। यह सिलसिला चलता रहता है, तब तक, जब तक कि सच सामने न आ जाए।

सच के सामने आते ही शांति और सुकून छा जाता है। झूठ की वजह से जो भाग-दौड़, अनिश्चितता और घबराहट फैली रहती है, वह सच सामने आते ही गायब हो जाती है। इस दौरान शुरू से आखिर तक अदृश्य होते हुए भी सच का पलड़ा हमेशा भारी रहता है। वह अपनी जगह चैन से बैठा रहता है, लेकिन उसके डर से झूठ और उसका जनक भागता फिर रहा होता है। सच की आँखों के सामने झूठ को सैंकड़ों-हजारों मौत मरनी पड़ती है। फिर भी हम झूठ की माया से रोमांचित होते हुए उसके बहुरूपिया व्यवहार पर मोहित होते रहते हैं। सच, इस पर बस मुस्कुरा कर रह जाता है।

अनुच्छेद में निम्नलिखित मुहावरे का प्रयोग नहीं हुआ है -

- | | |
|---------------------|---------------------|
| (1) बाएं हाथ का खेल | (2) पीछा छुड़ाना |
| (3) सफेद झूठ | (4) पलड़ा भारी होना |



निम्नलिखित अनुच्छेद के आधार पर प्रश्नों के उत्तर दीजिए।

हर झूठ के जन्म की यही सच्चाई है। उसका जन्मदाता सच से पूरी तरह वाकिफ होता है और उसमें उसका सामना करने की हिम्मत नहीं होती। नतीजा यह कि झूठ के जन्म के साथ ही सच सबकी नजरों से छुप जाता है। उस पल के बाद झूठ सबको सच की तरह दिखाई देने लगता है। जन्म के बाद झूठ का अपना जीवन चक्र शुरू होता है। कुछ समय तक यह सुविधाजनक ढंग से आगे बढ़ता है। लेकिन थोड़े समय बाद उस पर सवाल उठने शुरू होते हैं। चूंकि झूठ के जन्म के साथ ही कायरता का एक तत्व जुड़ा होता है, इसलिए सवालों का सामना करने में उसे दिक्कत होती है। उसका जन्मदाता भी इस रोग से ग्रस्त होता है, लिहाजा वह अपने बनाए झूठ का भी ज्यादा समय तक साथ नहीं दे पाता। जल्द से जल्द उससे पीछा छुड़ाना ही उसे सबसे ज्यादा भाता है। लेकिन झूठ की और एक विशेषता है जो सच में नहीं है। सच जैसा और जितना होता है, वैसा और उतना ही रहता है। उसमें रत्ती भर भी बदलाव संभव नहीं होता। लेकिन झूठ असंख्य रूप ले सकता है। नतीजा यह कि झूठ अपने एक रूप में टिका नहीं रहता। जैसे ही सवाल कुछ भारी होते हैं, झूठ का जन्मदाता उसके मौजूदा रूप का साथ छोड़, उसमें जरूरत और सुविधा के अनुरूप जोड़-घटाव कर देता है। सीधे शब्दों में कहा जाए, तो वह एक नया झूठ गढ़ लेता है। उसके लिए यह कोई बड़ी बात नहीं होती, उसके बाएं हाथ का खेल होता है। इस तरह जिस झूठ को उसने जिंदगी दी होती है, उसे अपने ही हाथों से मौत भी दे देता है। ऐसा एकाध बार ही हो, जरूरी नहीं। यह सिलसिला चलता रहता है, तब तक, जब तक कि सच सामने न आ जाए।

सच के सामने आते ही शांति और सुकून छा जाता है। झूठ की वजह से जो भाग-दौड़, अनिश्चितता और घबराहट फैली रहती है, वह सच सामने आते ही गायब हो जाती है। इस दौरान शुरू से आखिर तक अदृश्य होते हुए भी सच का पलड़ा हमेशा भारी रहता है। वह अपनी जगह चैन से बैठा रहता है, लेकिन उसके डर से झूठ और उसका जनक भागता फिर रहा होता है। सच की आँखों के सामने झूठ को सैंकड़ों-हजारों मौत मरनी पड़ती है। फिर भी हम झूठ की माया से रोमांचित होते हुए उसके बहुरूपिया व्यवहार पर मोहित होते रहते हैं। सच, इस पर बस मुस्कुरा कर रह जाता है।

अनुच्छेद में निम्नलिखित मुहावरे का प्रयोग नहीं हुआ है -

- | | |
|---------------------|---------------------|
| (1) बाएं हाथ का खेल | (2) पीछा छुड़ाना |
| (3) सफेद झूठ | (4) पलड़ा भारी होना |

- 1
 2
 3
 4

Question No. 7 / Question ID 14170

Marks: 1.00

निम्नलिखित वाक्यांशों को सुव्यवस्थित क्रम दीजिए।

- (A) मुझसे यह न होगा, चाहे सदैव के लिए नाता ही टूट जाय
- (B) रुखा-सूखा खाऊँ, मोटा-झोटा पहनूँ और वह घर
- (C) सुखदा चिढ़कर फुंफकारते हुए बोली -
- (D) वह चाहते हैं कि मैं उनके साथ तपस्विनी बनकर रहूँ
- (E) से अलग होकर मेहनत और मजूरी करें

नीचे दिए गए विकल्पों में से सही उत्तर का चयन कीजिए :

- (1) (E), (D), (C), (B), (A)
- (2) (D), (C), (B), (A), (E)
- (3) (C), (D), (B), (E), (A)
- (4) (A), (B), (C), (D), (E)

निम्नलिखित वाक्यांशों को सुव्यवस्थित क्रम दीजिए।

- (A) मुझसे यह न होगा, चाहे सदैव के लिए नाता ही टूट जाय
- (B) रुखा-सूखा खाऊँ, मोटा-झोटा पहनूँ और वह घर
- (C) सुखदा चिढ़कर फुंफकारते हुए बोली -
- (D) वह चाहते हैं कि मैं उनके साथ तपस्विनी बनकर रहूँ
- (E) से अलग होकर मेहनत और मजूरी करें

नीचे दिए गए विकल्पों में से सही उत्तर का चयन कीजिए :

- (1) (E), (D), (C), (B), (A)
- (2) (D), (C), (B), (A), (E)
- (3) (C), (D), (B), (E), (A)
- (4) (A), (B), (C), (D), (E)

- 1
- 2
- 3
- 4

Question No. 8 / Question ID 14162

Marks: 1.00

'दुरात्मा' शब्द का उपयुक्त संधि-विच्छेद है -

- | | |
|-----------------|------------------|
| (1) दुर + आत्मा | (2) दुः + आत्मा |
| (3) दु + आत्मा | (4) दुरा + आत्मा |

'दुरात्मा' शब्द का उपयुक्त संधि-विच्छेद है -

- | | |
|-----------------|------------------|
| (1) दुर + आत्मा | (2) दुः + आत्मा |
| (3) दु + आत्मा | (4) दुरा + आत्मा |

- 1
1
 2
2
 3
3
 4
4

Question No. 9 / Question ID 14180

Marks: 1.00



Teachingninja.in

सूची-I के साथ सूची-II का मिलान कीजिए :

सूची-I मुहावरा	सूची-II अर्थ
(A) एक आँख से देखना	(I) बाधा दूर होना
(B) आस्तीन का साँप	(II) बहाना बनाना
(C) कांटा निकलना	(III) कपटी मित्र
(D) अब तब करना	(IV) बराबरी का व्यवहार करना

नीचे दिए गए विकल्पों में से सही उत्तर का चयन कीजिए :

- (1) (A)-(IV), (B)-(III), (C)-(II), (D)-(I)
- (2) (A)-(I), (B)-(II), (C)-(III), (D)-(IV)
- (3) (A)-(IV), (B)-(III), (C)-(I), (D)-(II)
- (4) (A)-(III), (B)-(IV), (C)-(II), (D)-(I)

सूची-I के साथ सूची-II का मिलान कीजिए :

सूची-I मुहावरा	सूची-II अर्थ
(A) एक आँख से देखना	(I) बाधा दूर होना
(B) आस्तीन का साँप	(II) बहाना बनाना
(C) कांटा निकलना	(III) कपटी मित्र
(D) अब तब करना	(IV) बराबरी का व्यवहार करना

नीचे दिए गए विकल्पों में से सही उत्तर का चयन कीजिए :

- (1) (A)-(IV), (B)-(III), (C)-(II), (D)-(I)
- (2) (A)-(I), (B)-(II), (C)-(III), (D)-(IV)
- (3) (A)-(IV), (B)-(III), (C)-(I), (D)-(II)
- (4) (A)-(III), (B)-(IV), (C)-(II), (D)-(I)

- 1
1
 2
2
 3
3
 4
4

Question No. 10 / Question ID 14165

Marks: 1.00

'जब, तब, इधर और उधर' यह शब्द मुख्यतः उदाहरण है -

- | | |
|------------|-------------|
| (1) क्रिया | (2) अव्यय |
| (3) विशेषण | (4) सर्वनाम |

'जब, तब, इधर और उधर' यह शब्द मुख्यतः उदाहरण है -

- | | |
|------------|-------------|
| (1) क्रिया | (2) अव्यय |
| (3) विशेषण | (4) सर्वनाम |

- 1
1
 2
2
 3
3
 4
4

Question No. 11 / Question ID 14171

Marks: 1.00



TeachingNinja.in

नीचे दो कथन दिए गए हैं :

कथन I : एक या अधिक अक्षरों से बनी हुई स्वतंत्र सार्थक ध्वनियों को उपसर्ग कहते हैं।

कथन II : सर्वनाम उस विकारी शब्द को कहते हैं जो पूर्वापर संबंध से किसी भी संज्ञा के बदले में आता है।

उपर्युक्त कथन के आलोक में, नीचे दिए गए विकल्पों में से सबसे उपयुक्त उत्तर का चयन कीजिए :

- (1) कथन I और II दोनों सही हैं
- (2) कथन I और II दोनों गलत हैं
- (3) कथन I सही है, लेकिन कथन II गलत है
- (4) कथन I गलत है, लेकिन कथन II सही है

नीचे दो कथन दिए गए हैं :

कथन I : एक या अधिक अक्षरों से बनी हुई स्वतंत्र सार्थक ध्वनियों को उपसर्ग कहते हैं।

कथन II : सर्वनाम उस विकारी शब्द को कहते हैं जो पूर्वापर संबंध से किसी भी संज्ञा के बदले में आता है।

उपर्युक्त कथन के आलोक में, नीचे दिए गए विकल्पों में से सबसे उपयुक्त उत्तर का चयन कीजिए :

- (1) कथन I और II दोनों सही हैं
- (2) कथन I और II दोनों गलत हैं
- (3) कथन I सही है, लेकिन कथन II गलत है
- (4) कथन I गलत है, लेकिन कथन II सही है

- 1
 1
 2
 2
 3
 3
 4
 4

Question No. 12 / Question ID 14179

Marks: 1.00

सूची-I के साथ सूची-II का मिलान कीजिए :

सूची-I	सूची-II
(A) आयु	(I) दूसरों का उत्कर्ष देखकर जलन
(B) अवस्था	(II) जन्म से मृत्यु तक का समय
(C) ईर्ष्या	(III) किसी अन्य कारण से जलन
(D) द्वेष	(IV) जन्म से वर्तमान तक का समय

नीचे दिए गए विकल्पों में से सही उत्तर का चयन कीजिए :

- (1) (A)-(I), (B)-(II), (C)-(III), (D)-(IV)
- (2) (A)-(II), (B)-(I), (C)-(III), (D)-(IV)
- (3) (A)-(II), (B)-(I), (C)-(IV), (D)-(III)
- (4) (A)-(II), (B)-(IV), (C)-(I), (D)-(III)

सूची-I के साथ सूची-II का मिलान कीजिए :

सूची-I	सूची-II
(A) आयु	(I) दूसरों का उत्कर्ष देखकर जलन
(B) अवस्था	(II) जन्म से मृत्यु तक का समय
(C) ईर्ष्या	(III) किसी अन्य कारण से जलन
(D) द्वेष	(IV) जन्म से वर्तमान तक का समय

नीचे दिए गए विकल्पों में से सही उत्तर का चयन कीजिए :

- (1) (A)-(I), (B)-(II), (C)-(III), (D)-(IV)
- (2) (A)-(II), (B)-(I), (C)-(III), (D)-(IV)
- (3) (A)-(II), (B)-(I), (C)-(IV), (D)-(III)
- (4) (A)-(II), (B)-(IV), (C)-(I), (D)-(III)

- 1
1
 2
2
 3
3
 4
4

शब्द और विलोम का कौन-सा युग्म गलत है -

- | | |
|-----------------------|-------------------|
| (1) अनिवार्य - ऐच्छिक | (2) इष्ट - गौण |
| (3) आकीर्ण - विकीर्ण | (4) गुप्त - प्रकट |

शब्द और विलोम का कौन-सा युग्म गलत है -

- | | |
|-----------------------|-------------------|
| (1) अनिवार्य - ऐच्छिक | (2) इष्ट - गौण |
| (3) आकीर्ण - विकीर्ण | (4) गुप्त - प्रकट |

- 1
1
 2
2
 3
3
 4
4

Question No. 14 / Question ID 14174

Marks: 1.00



TeachingNinja.in

नीचे दो कथन दिए गए हैं :

कथन I : भाषा स्थिर नहीं रहती, उसमें सदा परिवर्तन हुआ करते हैं।

कथन II : भाषा में यह परिवर्तन धीरे-धीरे होता है – इतना धीरे-धीरे कि वह हमको मालूम नहीं होता, पर अंत में, परिवर्तन के कारण नई-नई भाषाएं उत्पन्न हो जाती हैं।

उपर्युक्त कथन के आलोक में, नीचे दिए गए विकल्पों में से सबसे उपयुक्त उत्तर का चयन कीजिए :

- (1) कथन I और II दोनों सही हैं
- (2) कथन I और II दोनों गलत हैं
- (3) कथन I सही है, लेकिन कथन II गलत है
- (4) कथन I गलत है, लेकिन कथन II सही है

नीचे दो कथन दिए गए हैं :

कथन I : भाषा स्थिर नहीं रहती, उसमें सदा परिवर्तन हुआ करते हैं।

कथन II : भाषा में यह परिवर्तन धीरे-धीरे होता है – इतना धीरे-धीरे कि वह हमको मालूम नहीं होता, पर अंत में, परिवर्तन के कारण नई-नई भाषाएं उत्पन्न हो जाती हैं।

उपर्युक्त कथन के आलोक में, नीचे दिए गए विकल्पों में से सबसे उपयुक्त उत्तर का चयन कीजिए :

- (1) कथन I और II दोनों सही हैं
- (2) कथन I और II दोनों गलत हैं
- (3) कथन I सही है, लेकिन कथन II गलत है
- (4) कथन I गलत है, लेकिन कथन II सही है

- 1
1
 2
2
 3
3
 4
4

Question No. 15 / Question ID 14164

Marks: 1.00

हिन्दी भाषा में प्रयोग होने वाला शब्द 'प्रगति' मुख्यतः किस भाषा का शब्द है -

- (1) फारसी (2) अरबी
(3) अंग्रेजी (4) मराठी

हिन्दी भाषा में प्रयोग होने वाला शब्द 'प्रगति' मुख्यतः किस भाषा का शब्द है -

- (1) फारसी (2) अरबी
(3) अंग्रेजी (4) मराठी

- 1
1
 2
2
 3
3
 4
4

Question No. 16 / Question ID 14160

Marks: 1.00

'स्वर्ग' शब्द का पर्यायवाची नहीं है -

- (1) देवलोक (2) इंद्रलोक
(3) भूलोक (4) सुरलोक

'स्वर्ग' शब्द का पर्यायवाची नहीं है -

- (1) देवलोक (2) इंद्रलोक
(3) भूलोक (4) सुरलोक

- 1
1
 2
2
 3
3
 4
4

Question No. 17 / Question ID 14168

Marks: 1.00

निम्नलिखित वाक्यांशों को क्रमवार व्यवस्थित कीजिए।

- (A) कवि हैं। वह भक्ति की
- (B) वह पढ़े-लिखे नहीं थे लेकिन
- (C) कबीरदास हिन्दी के महान
- (D) रचनाएं करते थे। यद्यपि
- (E) उनकी रचनाएँ आज भी प्रासंगिक है।

नीचे दिए गए विकल्पों में से सही उत्तर का चयन कीजिए :

- (1) (A), (B), (C), (D), (E)
- (2) (B), (C), (D), (A), (E)
- (3) (C), (A), (D), (B), (E)
- (4) (E), (B), (C), (D), (A)

- 1
- 1
- 2
- 2
- 3
- 3
- 4
- 4

निम्नलिखित वाक्यांशों को क्रमवार व्यवस्थित कीजिए।

- (A) कवि हैं। वह भक्ति की
- (B) वह पढ़े-लिखे नहीं थे लेकिन
- (C) कबीरदास हिन्दी के महान
- (D) रचनाएं करते थे। यद्यपि
- (E) उनकी रचनाएँ आज भी प्रासंगिक है।

नीचे दिए गए विकल्पों में से सही उत्तर का चयन कीजिए :

- (1) (A), (B), (C), (D), (E)
- (2) (B), (C), (D), (A), (E)
- (3) (C), (A), (D), (B), (E)
- (4) (E), (B), (C), (D), (A)

Question No. 18 / Question ID 14177

Marks: 1.00



सूची-I के साथ सूची-II का मिलान कीजिए :

सूची-I	सूची-II
(A) अब चलें	(I) भाव वाच्य
(B) उससे चला नहीं जाता	(II) कर्तृवाच्य
(C) आशीष से खाना खाया गया	(III) संयुक्त वाक्य
(D) वह अस्वस्थ था और इसीलिए परीक्षा में सफल न हो सका	(IV) कर्मवाच्य

नीचे दिए गए विकल्पों में से सही उत्तर का चयन कीजिए :

- (1) (A)-(III), (B)-(IV), (C)-(II), (D)-(I)
- (2) (A)-(IV), (B)-(III), (C)-(I), (D)-(II)
- (3) (A)-(II), (B)-(I), (C)-(IV), (D)-(III)
- (4) (A)-(I), (B)-(II), (C)-(III), (D)-(IV)

सूची-I के साथ सूची-II का मिलान कीजिए :

सूची-I	सूची-II
(A) अब चलें	(I) भाव वाच्य
(B) उससे चला नहीं जाता	(II) कर्तृवाच्य
(C) आशीष से खाना खाया गया	(III) संयुक्त वाक्य
(D) वह अस्वस्थ था और इसीलिए परीक्षा में सफल न हो सका	(IV) कर्मवाच्य

नीचे दिए गए विकल्पों में से सही उत्तर का चयन कीजिए :

- (1) (A)-(III), (B)-(IV), (C)-(II), (D)-(I)
- (2) (A)-(IV), (B)-(III), (C)-(I), (D)-(II)
- (3) (A)-(II), (B)-(I), (C)-(IV), (D)-(III)
- (4) (A)-(I), (B)-(II), (C)-(III), (D)-(IV)

- 1
1
 2
2
 3
3
 4
4

Question No. 19 / Question ID 14161

Marks: 1.00

निम्नलिखित में से कौन सा शब्द अशुद्ध है -

- | | |
|----------------|-------------|
| (1) ज्योत्स्ना | (2) अँधेरा |
| (3) आंदोलन | (4) सन्यासी |

निम्नलिखित में से कौन सा शब्द अशुद्ध है -

- | | |
|----------------|-------------|
| (1) ज्योत्स्ना | (2) अँधेरा |
| (3) आंदोलन | (4) सन्यासी |

- 1
1
 2
2
 3
3
 4
4

Question No. 20 / Question ID 14172

Marks: 1.00



Teachingninja.in

नीचे दो कथन दिए गए हैं :

कथन I : हिन्दी में 'य', 'र', 'ल', 'व' ध्वनियों को अंतःस्थ व्यंजन कहा जाता है।

कथन II : प, फ, ब, भ ध्वनियाँ दंत्य (दाँत) की सहायता से बोली जाती हैं।

उपर्युक्त कथन के आलोक में, नीचे दिए गए विकल्पों में से सबसे उपयुक्त उत्तर का चयन कीजिए :

- (1) कथन I और II दोनों सही हैं
- (2) कथन I और II दोनों गलत हैं
- (3) कथन I सही है, लेकिन कथन II गलत है
- (4) कथन I गलत है, लेकिन कथन II सही है

नीचे दो कथन दिए गए हैं :

कथन I : हिन्दी में 'य', 'र', 'ल', 'व' ध्वनियों को अंतःस्थ व्यंजन कहा जाता है।

कथन II : प, फ, ब, भ ध्वनियाँ दंत्य (दाँत) की सहायता से बोली जाती हैं।

उपर्युक्त कथन के आलोक में, नीचे दिए गए विकल्पों में से सबसे उपयुक्त उत्तर का चयन कीजिए :

- (1) कथन I और II दोनों सही हैं
- (2) कथन I और II दोनों गलत हैं
- (3) कथन I सही है, लेकिन कथन II गलत है
- (4) कथन I गलत है, लेकिन कथन II सही है

- 1
1
 2
2
 3
3
 4
4

Question No. 21 / Question ID 14176

Marks: 1.00

सूची-I के साथ सूची-II का मिलान कीजिए :

सूची-I संज्ञा के प्रकार	सूची-II वाक्य
(A) व्यक्तिवाचक संज्ञा	(I) कवि ने कविता पढ़ी।
(B) जातिवाचक संज्ञा	(II) ताजमहल भारत का गौरव है।
(C) समूहवाचक संज्ञा	(III) कोई माँ बेटे से नफरत नहीं करती।
(D) भाववाचक संज्ञा	(IV) कुछ जानवर झुण्ड में नहीं रहते।

नीचे दिए गए विकल्पों में से सही उत्तर का चयन कीजिए :

- (1) (A)-(I), (B)-(III), (C)-(IV), (D)-(II)
- (2) (A)-(II), (B)-(I), (C)-(IV), (D)-(III)
- (3) (A)-(I), (B)-(IV), (C)-(III), (D)-(II)
- (4) (A)-(III), (B)-(II), (C)-(IV), (D)-(I)

सूची-I के साथ सूची-II का मिलान कीजिए :

सूची-I संज्ञा के प्रकार	सूची-II वाक्य
(A) व्यक्तिवाचक संज्ञा	(I) कवि ने कविता पढ़ी।
(B) जातिवाचक संज्ञा	(II) ताजमहल भारत का गौरव है।
(C) समूहवाचक संज्ञा	(III) कोई माँ बेटे से नफरत नहीं करती।
(D) भाववाचक संज्ञा	(IV) कुछ जानवर झुण्ड में नहीं रहते।

नीचे दिए गए विकल्पों में से सही उत्तर का चयन कीजिए :

- (1) (A)-(I), (B)-(III), (C)-(IV), (D)-(II)
- (2) (A)-(II), (B)-(I), (C)-(IV), (D)-(III)
- (3) (A)-(I), (B)-(IV), (C)-(III), (D)-(II)
- (4) (A)-(III), (B)-(II), (C)-(IV), (D)-(I)

- 1
 1
 2
 2
 3
 3
 4
 4

निम्नलिखित वाक्यांशों को क्रमानुसार व्यस्थित कीजिए

- (A) शामियाना ताना
- (B) बहुत से फूल-पत्ते लिए गए थे
- (C) उसे सजाने के लिए
- (D) आंगन में एक
- (E) जा रहा था

नीचे दिए गए विकल्पों में से सही उत्तर का चयन कीजिए :

- (1) (D), (E), (A), (B), (C)
- (2) (D), (A), (E), (C), (B)
- (3) (E), (A), (D), (C), (B)
- (4) (D), (A), (C), (B), (E)

- 1
- 2
- 3
- 4

निम्नलिखित वाक्यांशों को क्रमानुसार व्यस्थित कीजिए

- (A) शामियाना ताना
- (B) बहुत से फूल-पत्ते लिए गए थे
- (C) उसे सजाने के लिए
- (D) आंगन में एक
- (E) जा रहा था

नीचे दिए गए विकल्पों में से सही उत्तर का चयन कीजिए :

- (1) (D), (E), (A), (B), (C)
- (2) (D), (A), (E), (C), (B)
- (3) (E), (A), (D), (C), (B)
- (4) (D), (A), (C), (B), (E)

Question No. 23 / Question ID 14157

Marks: 1.00

हिन्दी भाषा की उत्पत्ति किस अपभ्रंश से मानी जाती है -

- (1) ब्राचड़ अपभ्रंश
- (2) खस अपभ्रंश
- (3) शौरसेनी अपभ्रंश
- (4) मागधी अपभ्रंश

हिन्दी भाषा की उत्पत्ति किस अपभ्रंश से मानी जाती है -

- (1) ब्राचड़ अपभ्रंश
- (2) खस अपभ्रंश
- (3) शौरसेनी अपभ्रंश
- (4) मागधी अपभ्रंश

- 1
- 2
- 3
- 4

Question No. 24 / Question ID 14178

Marks: 1.00

सूची-I के साथ सूची-II का मिलान कीजिए :

सूची-I	सूची-II
संधि	शब्द विग्रह
(A) विसर्ग संधि	(I) भारत + इंदु = भारतेन्दु
(B) वृद्धि संधि	(II) तत् + रूप = तद्रूप
(C) गुण संधि	(III) निः + छल = निश्छल
(D) व्यंजन संधि	(IV) हित + एषी = हितैषी

नीचे दिए गए विकल्पों में से सही उत्तर का चयन कीजिए :

- (1) (A)-(III), (B)-(IV), (C)-(I), (D)-(II)
- (2) (A)-(I), (B)-(II), (C)-(III), (D)-(IV)
- (3) (A)-(IV), (B)-(II), (C)-(III), (D)-(I)
- (4) (A)-(I), (B)-(IV), (C)-(II), (D)-(III)

सूची-I के साथ सूची-II का मिलान कीजिए :

सूची-I	सूची-II
संधि	शब्द विग्रह
(A) विसर्ग संधि	(I) भारत + इंदु = भारतेन्दु
(B) वृद्धि संधि	(II) तत् + रूप = तद्रूप
(C) गुण संधि	(III) निः + छल = निश्छल
(D) व्यंजन संधि	(IV) हित + एषी = हितैषी

नीचे दिए गए विकल्पों में से सही उत्तर का चयन कीजिए :

- (1) (A)-(III), (B)-(IV), (C)-(I), (D)-(II)
- (2) (A)-(I), (B)-(II), (C)-(III), (D)-(IV)
- (3) (A)-(IV), (B)-(II), (C)-(III), (D)-(I)
- (4) (A)-(I), (B)-(IV), (C)-(II), (D)-(III)

- 1
1
 2
2
 3
3
 4
4

नीचे दो कथन दिए गए हैं :

कथन I : हिन्दी में परसर्ग उन कारक चिह्नों को कहते हैं, जो संज्ञा, सर्वनाम और विशेषण के बाद जोड़े जाते हैं।

कथन II : हिन्दी में सहायक क्रिया का एक प्रकार है – काल द्योतक सहायक क्रिया।

उपर्युक्त कथन के आलोक में, नीचे दिए गए विकल्पों में से सबसे उपयुक्त उत्तर का चयन कीजिए :

- (1) कथन I और II दोनों सही हैं
- (2) कथन I और II दोनों गलत हैं
- (3) कथन I सही है, लेकिन कथन II गलत है
- (4) कथन I गलत है, लेकिन कथन II सही है

नीचे दो कथन दिए गए हैं :

कथन I : हिन्दी में परसर्ग उन कारक चिह्नों को कहते हैं, जो संज्ञा, सर्वनाम और विशेषण के बाद जोड़े जाते हैं।

कथन II : हिन्दी में सहायक क्रिया का एक प्रकार है – काल द्योतक सहायक क्रिया।

उपर्युक्त कथन के आलोक में, नीचे दिए गए विकल्पों में से सबसे उपयुक्त उत्तर का चयन कीजिए :

- (1) कथन I और II दोनों सही हैं
- (2) कथन I और II दोनों गलत हैं
- (3) कथन I सही है, लेकिन कथन II गलत है
- (4) कथन I गलत है, लेकिन कथन II सही है

- 1
1
 2
2
 3
3
 4
4

Question No. 26 / Question ID 14175

Marks: 1.00

नीचे दो कथन दिए गए हैं :

कथन I : मीराबाई कृष्ण भक्त कवयित्री हैं।

कथन II : सूरदास राम भक्त कवि हैं।

उपर्युक्त कथन के आलोक में, नीचे दिए गए विकल्पों में से सबसे उपयुक्त उत्तर का चयन कीजिए :

- (1) कथन I और II दोनों सही हैं
- (2) कथन I और II दोनों गलत हैं
- (3) कथन I सही है, लेकिन कथन II गलत है
- (4) कथन I गलत है, लेकिन कथन II सही है

नीचे दो कथन दिए गए हैं :

कथन I : मीराबाई कृष्ण भक्त कवयित्री हैं।

कथन II : सूरदास राम भक्त कवि हैं।

उपर्युक्त कथन के आलोक में, नीचे दिए गए विकल्पों में से सबसे उपयुक्त उत्तर का चयन कीजिए :

- (1) कथन I और II दोनों सही हैं
- (2) कथन I और II दोनों गलत हैं
- (3) कथन I सही है, लेकिन कथन II गलत है
- (4) कथन I गलत है, लेकिन कथन II सही है

- 1
1
 2
2
 3
3
 4
4

Question No. 27 / Question ID 14158

Marks: 1.00

जातिवाचक संज्ञा का उदाहरण है -

- | | |
|------------|------------|
| (1) अपनापन | (2) सभा |
| (3) सोना | (4) मनुष्य |

जातिवाचक संज्ञा का उदाहरण है -

- | | |
|------------|------------|
| (1) अपनापन | (2) सभा |
| (3) सोना | (4) मनुष्य |

- 1
1
 2
2
 3
3
 4
4

Question No. 28 / Question ID 14167

Marks: 1.00

निम्नलिखित गद्यांशों को सुव्यवस्थित कीजिए।

- (A) सम्पूर्ण शक्ति से उन्हें
(B) अपनी ओर खींचा
(C) माया ने अपनी
(D) इच्छा और माया का
(E) अंतिम संग्राम था

निम्नलिखित गद्यांशों को सुव्यवस्थित कीजिए।

- (A) सम्पूर्ण शक्ति से उन्हें
(B) अपनी ओर खींचा
(C) माया ने अपनी
(D) इच्छा और माया का
(E) अंतिम संग्राम था

नीचे दिए गए विकल्पों में से सही उत्तर का चयन कीजिए :

- (1) (B), (A), (C), (E), (D)
(2) (D), (E), (C), (A), (B)
(3) (E), (C), (D), (B), (A)
(4) (D), (E), (C), (A), (B)

नीचे दिए गए विकल्पों में से सही उत्तर का चयन कीजिए :

- (1) (B), (A), (C), (E), (D)
(2) (D), (E), (C), (A), (B)
(3) (E), (C), (D), (B), (A)
(4) (D), (E), (C), (A), (B)

- 1
1
 2
2
 3
3
 4
4

Question No. 29 / Question ID 14159

Marks: 1.00

मिश्र वाक्य का सर्वाधिक उपयुक्त उदाहरण है -

- (1) मेरा विचार है कि आज नाटक देखने चले (2) मैंने अपना नया घर देखा और प्रसन्न हो गया
(3) छुट्टी होने पर बच्चे घर चले गये (4) शाम होते ही खिलाड़ी खेलने लगे

मिश्र वाक्य का सर्वाधिक उपयुक्त उदाहरण है -

- (1) मेरा विचार है कि आज नाटक देखने चले (2) मैंने अपना नया घर देखा और प्रसन्न हो गया
(3) छुट्टी होने पर बच्चे घर चले गये (4) शाम होते ही खिलाड़ी खेलने लगे

- 1
1
 2
2
 3
3
 4
4

Question No. 30 / Question ID 14169

Marks: 1.00



निम्नलिखित गद्यांशों को क्रमानुसार व्यवस्थित कीजिए

- (A) बिरादरी में मुश्किल है बहूजी, यों आपका गुलाम हूँ और जानता हूँ कि
- (B) हमारी बिरादरी में हड़ताल होना मुश्किल है बेचारे दिन-भर
- (C) मोटी ऐनकों के पीछे से बिज्जू की भाँति ताकता हुआ बोला, हड़ताल होना तो
- (D) आप जो कुछ करेगी, हमारी भलाई के लिए करेगी पर
- (E) घास काटते हैं, साँझ को बेचकर आटा-दाल जुटाते हैं

नीचे दिए गए विकल्पों में से सही उत्तर का चयन कीजिए :

- (1) (A), (C), (E), (D), (B)
- (2) (C), (A), (D), (B), (E)
- (3) (D), (B), (C), (A), (E)
- (4) (E), (C), (D), (B), (A)

निम्नलिखित गद्यांशों को क्रमानुसार व्यवस्थित कीजिए

- (A) बिरादरी में मुश्किल है बहूजी, यों आपका गुलाम हूँ और जानता हूँ कि
- (B) हमारी बिरादरी में हड़ताल होना मुश्किल है बेचारे दिन-भर
- (C) मोटी ऐनकों के पीछे से बिज्जू की भाँति ताकता हुआ बोला, हड़ताल होना तो
- (D) आप जो कुछ करेगी, हमारी भलाई के लिए करेगी पर
- (E) घास काटते हैं, साँझ को बेचकर आटा-दाल जुटाते हैं

नीचे दिए गए विकल्पों में से सही उत्तर का चयन कीजिए :

- (1) (A), (C), (E), (D), (B)
- (2) (C), (A), (D), (B), (E)
- (3) (D), (B), (C), (A), (E)
- (4) (E), (C), (D), (B), (A)

- 1
- 1
- 2
- 2
- 3
- 3
- 4
- 4

Save & Print