



Teachingninja.in



Latest Govt Job updates



Private Job updates



Free Mock tests available

Visit - teachingninja.in



Teachingninja.in

ITBP Constable

Previous Year Paper
(Animal Transport)
18 Sept, 2023 Shift 2





भारत तिब्बत सीमा पुलिस बल Indo-Tibetan Border Police Force (ITBP)

Participant ID	
Participant Name	
Test Center Name	
Test Date	18/09/2023
Test Time	12:30 PM - 2:30 PM
Subject	Constable Animal Transport

Section : General Awareness and General Knowledge

Q.1 बेकिंग सोडा (सोडियम बाइकार्बोनेट) का उपयोग आमतौर पर बेकिंग में किया जाता है क्योंकि यह कौन सी गैस छोड़ता है जिससे आटा फूलता है?

- Ans
- ☒ 1. ऑक्सीजन
 - ☒ 2. नाइट्रोजन
 - ☒ 3. हाइड्रोजन
 - ☒ 4. कार्बन डाईऑक्साइड

Question ID : 630680369043
Option 1 ID : 6306801437589
Option 2 ID : 6306801437590
Option 3 ID : 6306801437592
Option 4 ID : 6306801437591
Status : Answered
Chosen Option : 4

Q.2 मानसून एक मौसमी पवन प्रणाली है जो भारत में भारी वर्षा लाती है। इसे निम्न नाम से भी जाना जाता है:

- Ans
- ☒ 1. आम की वर्षा
 - ☒ 2. व्यापारिक पवन
 - ☒ 3. लू
 - ☒ 4. आंधी

Question ID : 630680369049
Option 1 ID : 6306801437615
Option 2 ID : 6306801437616
Option 3 ID : 6306801437613
Option 4 ID : 6306801437614
Status : Answered
Chosen Option : 2

Q.3 The genetic material in humans is primarily composed of:

- Ans ☒ 1. DNA
- ☐ 2. Proteins
- ☐ 3. Carbohydrates
- ☐ 4. RNA

Question ID : 630680369041
Option 1 ID : 6306801437582
Option 2 ID : 6306801437583
Option 3 ID : 6306801437584
Option 4 ID : 6306801437581
Status : Answered
Chosen Option : 1

Q.4 वह मुगल बादशाह कौन था जिसने अपनी पत्नी मुमताज महल के लिए मकबरे के रूप में ताज महल बनवाया था?

- Ans ☐ 1. जहांगीर
- ☒ 2. शाह जहाँ
- ☐ 3. औरंगजेब
- ☐ 4. अकबर

Question ID : 630680369056
Option 1 ID : 6306801437644
Option 2 ID : 6306801437642
Option 3 ID : 6306801437643
Option 4 ID : 6306801437641
Status : Answered
Chosen Option : 2

Q.5 किस संस्थान ने घुटने के ऑस्टियोआर्थराइटिस मूल्यांकन के लिए ओस्टियो HRNet नाम का AI-आधारित ढांचा विकसित किया है?

- Ans ☐ 1. प्रौद्योगिकी संस्थान (IIT) दिल्ली
- ☒ 2. प्रौद्योगिकी संस्थान (IIT) गुवाहाटी
- ☐ 3. प्रौद्योगिकी संस्थान (IIT) त्रिची
- ☐ 4. प्रौद्योगिकी संस्थान (IIT) मद्रास

Question ID : 630680369023
Option 1 ID : 6306801437510
Option 2 ID : 6306801437511
Option 3 ID : 6306801437509
Option 4 ID : 6306801437512
Status : Answered
Chosen Option : 2

Q.6 कौन सा शहर प्रमुख हिंदू त्योहार, कुंभ मेले के लिए प्रसिद्ध है?

- Ans ☒ 1. हरिद्वार
- ☐ 2. कोलकाता
- ☐ 3. चेन्नई
- ☐ 4. मुंबई

Question ID : 630680369036
Option 1 ID : 6306801437563
Option 2 ID : 6306801437561
Option 3 ID : 6306801437564
Option 4 ID : 6306801437562
Status : Answered
Chosen Option : 1



Q.7 2022 के अनुसार, भ्रष्टाचार धारणा सूचकांक में भारत का स्थान क्या है?

- Ans
- ☒ 1. 30
 - ☒ 2. 85
 - ☒ 3. 51
 - ☒ 4. 49

Question ID : 630680369027
Option 1 ID : 6306801437528
Option 2 ID : 6306801437525
Option 3 ID : 6306801437527
Option 4 ID : 6306801437526
Status : Answered
Chosen Option : 2

Q.8 बैंकिंग और वित्त के संदर्भ में "नकदीकरण" शब्द का क्या अर्थ है?

- Ans
- ☒ 1. किसी बैंक की अपने दीर्घकालिक वित्तीय दायित्वों को पूरा करने की क्षमता
 - ☒ 2. एक गिनती के भीतर प्रचलन में सभी भौतिक मुद्रा और सिक्कों का कुल मूल्य
 - ☒ 3. वाणिज्यिक बैंकों को अल्पकालिक ऋण के लिए केंद्रीय बैंकों द्वारा ली जाने वाली ब्याज दर
 - ☒ 4. वह सुगमता जिससे किसी परिसंपत्ति को मूल्य में महत्वपूर्ण हानि के बिना नकदी में परिवर्तित किया जा सकता है

Question ID : 630680369047
Option 1 ID : 6306801437605
Option 2 ID : 6306801437607
Option 3 ID : 6306801437608
Option 4 ID : 6306801437606
Status : Answered
Chosen Option : 2

Q.9 आर्य समाज की स्थापना निम्न के द्वारा की गई थी:

- Ans
- ☒ 1. स्वामी प्रभुपाद
 - ☒ 2. स्वामी विवेकानंद
 - ☒ 3. राजा राम मोहन राय
 - ☒ 4. दयानंद सरस्वती

Question ID : 630680369059
Option 1 ID : 6306801437656
Option 2 ID : 6306801437654
Option 3 ID : 6306801437653
Option 4 ID : 6306801437655
Status : Answered
Chosen Option : 4

Q.10 बेरोजगारी दर की गणना निम्न के प्रतिशत के रूप में की जाती है:

- Ans
- ☒ 1. कार्यकारी आयु की आबादी जो कार्यरत है
 - ☒ 2. वह श्रम शक्ति जो बेरोजगार है और सक्रिय रूप से रोजगार की तलाश कर रही है
 - ☒ 3. नियोजित जनसंख्या एक निश्चित आय सीमा से ऊपर आय अर्जित करती है
 - ☒ 4. 18 वर्ष से अधिक आयु की कुल जनसंख्या

Question ID : 630680369045
Option 1 ID : 6306801437598
Option 2 ID : 6306801437599
Option 3 ID : 6306801437600
Option 4 ID : 6306801437597
Status : Answered
Chosen Option : 4



Q.11 जुलाई 23 में भारत ने किस देश के साथ राष्ट्रीय मुद्राओं में व्यापार निपटान पर MOU पर हस्ताक्षर किए हैं?

- Ans
- ☒ 1. रूस
 - ☒ 2. भूटान
 - ☒ 3. जापान
 - ☒ 4. UAE

Question ID : 630680369020
Option 1 ID : 6306801437497
Option 2 ID : 6306801437500
Option 3 ID : 6306801437499
Option 4 ID : 6306801437498
Status : Answered
Chosen Option : 4

Q.12 भारत में युवा मामले और खेल मंत्रालय के वर्तमान प्रमुख कौन हैं?

- Ans
- ☒ 1. अनुराग ठाकुर
 - ☒ 2. अजित अगरकर
 - ☒ 3. सलिल अंकोल्का
 - ☒ 4. अमित शाह

Question ID : 630680369033
Option 1 ID : 6306801437551
Option 2 ID : 6306801437550
Option 3 ID : 6306801437549
Option 4 ID : 6306801437552
Status : Answered
Chosen Option : 1

Q.13 किस राज्य ने JAGA मिशन के लिए विश्व पर्यावास पुरस्कार 2023 जीता है?

- Ans
- ☒ 1. ओडिशा
 - ☒ 2. बिहार
 - ☒ 3. पश्चिम बंगाल
 - ☒ 4. असम

Question ID : 630680369021
Option 1 ID : 6306801437504
Option 2 ID : 6306801437503
Option 3 ID : 6306801437501
Option 4 ID : 6306801437502
Status : Answered
Chosen Option : 4

Q.14 1947 में, किस घटना के कारण भारत का विभाजन दो अलग राष्ट्रों, भारत और पाकिस्तान में हो गया?

- Ans
- ☒ 1. जलियांवाला बाग हत्याकांड
 - ☒ 2. प्लासी का युद्ध
 - ☒ 3. दांडी मार्च
 - ☒ 4. भारतीय स्वतंत्रता अधिनियम

Question ID : 630680369058
Option 1 ID : 6306801437650
Option 2 ID : 6306801437652
Option 3 ID : 6306801437649
Option 4 ID : 6306801437651
Status : Answered
Chosen Option : 4

Q.15 निम्नलिखित में से कौन सा भारत का शास्त्रीय नृत्य है?

- Ans
- ☒ 1. बॉलीवुड नृत्य
 - ☒ 2. ब्रेकडांस
 - ☒ 3. साल्सा
 - ☒ 4. भरतनाट्यम

Question ID : 630680369035
Option 1 ID : 6306801437557
Option 2 ID : 6306801437559
Option 3 ID : 6306801437560
Option 4 ID : 6306801437558
Status : Answered
Chosen Option : 4

Q.16 भारतीय संविधान में वर्तमान में कितने मौलिक कर्तव्य निहित हैं?

- Ans
- ☒ 1. 10
 - ☒ 2. 9
 - ☒ 3. 11
 - ☒ 4. 12

Question ID : 630680369063
Option 1 ID : 6306801437670
Option 2 ID : 6306801437669
Option 3 ID : 6306801437671
Option 4 ID : 6306801437672
Status : Answered
Chosen Option : 3

Q.17 भारत के किस केंद्र शासित प्रदेश की साक्षरता दर सबसे अधिक है?

- Ans
- ☒ 1. चंडीगढ़
 - ☒ 2. पुदुचेरी
 - ☒ 3. लक्षद्वीप
 - ☒ 4. दिल्ली

Question ID : 630680369054
Option 1 ID : 6306801437635
Option 2 ID : 6306801437634
Option 3 ID : 6306801437633
Option 4 ID : 6306801437636
Status : Answered
Chosen Option : 2

Q.18 2011 की जनगणना के उपलब्ध आंकड़ों के अनुसार, किस भारतीय राज्य की साक्षरता दर सबसे अधिक है?

- Ans
- ☒ 1. तमिलनाडु
 - ☒ 2. केरल
 - ☒ 3. पश्चिम बंगाल
 - ☒ 4. कर्नाटक

Question ID : 630680369053
Option 1 ID : 6306801437630
Option 2 ID : 6306801437629
Option 3 ID : 6306801437632
Option 4 ID : 6306801437631
Status : Answered
Chosen Option : 2

Q.19 भारत में कौन सा धार्मिक त्योहार नौ दिनों तक दुर्गा के नौ रूपों की पूजा करने के लिए जाना जाता है?

- Ans
- ☒ 1. क्रिसमस
 - ☒ 2. ईद अल - अज़हा
 - ☒ 3. नवरात्रि
 - ☒ 4. दिवाली

Question ID : 630680369037
Option 1 ID : 6306801437567
Option 2 ID : 6306801437566
Option 3 ID : 6306801437568
Option 4 ID : 6306801437565
Status : Answered
Chosen Option : 3

Q.20 किस कंपनी ने भारत में प्रायोगिक परियोजना के रूप में फ्लेक्सी-फ्यूल स्ट्रॉंग हाइब्रिड इलेक्ट्रिक वाहन का लोकार्पण किया है?

- Ans
- ☒ 1. हुंडई
 - ☒ 2. टाटा मोटर्स
 - ☒ 3. महिंद्रा एंड महिंद्रा
 - ☒ 4. टोयोटा

Question ID : 630680369024
Option 1 ID : 6306801437516
Option 2 ID : 6306801437513
Option 3 ID : 6306801437514
Option 4 ID : 6306801437515
Status : Answered
Chosen Option : 2

Q.21 जुलाई 23 में भारत और वेस्टइंडीज के बीच दूसरे टेस्ट मैच में मैन ऑफ द मैच का पुरस्कार किसे दिया गया?

- Ans
- ☒ 1. मोहम्मद सिराज
 - ☒ 2. रोहित शर्मा
 - ☒ 3. इशान किशन
 - ☒ 4. विराट कोहली

Question ID : 630680369032
Option 1 ID : 6306801437545
Option 2 ID : 6306801437546
Option 3 ID : 6306801437548
Option 4 ID : 6306801437547
Status : Answered
Chosen Option : 3

Q.22 कौन सा चक्रवात 1977 के बाद से उत्तरी हिंद महासागर में सबसे लंबी अवधि का चक्रवाती तूफान था?

- Ans
- ☒ 1. सुनामी
 - ☒ 2. बिपरजॉय
 - ☒ 3. फैलिन
 - ☒ 4. अम्फान

Question ID : 630680369019
Option 1 ID : 6306801437496
Option 2 ID : 6306801437493
Option 3 ID : 6306801437495
Option 4 ID : 6306801437494
Status : Answered
Chosen Option : 4

Q.23 किस भाषा को वेदों की भाषा कहा जाता है?

- Ans
- ☒ 1. मराठी
 - ☒ 2. तेलुगू
 - ☒ 3. तामिल
 - ☒ 4. संस्कृत

Question ID : 630680369039
Option 1 ID : 6306801437576
Option 2 ID : 6306801437574
Option 3 ID : 6306801437573
Option 4 ID : 6306801437575

Status : Answered
Chosen Option : 4

Q.24 ग्रेट इंडियन बस्टर्ड, एक गंभीर रूप से लुप्तप्राय पक्षी प्रजाति, सामान्यतः भारत के किस क्षेत्र में पाई जाती है?

- Ans
- ☒ 1. सुंदरवन
 - ☒ 2. पश्चिमी हिमालय
 - ☒ 3. पश्चिमी घाट
 - ☒ 4. थार रेगिस्तान

Question ID : 630680369050
Option 1 ID : 6306801437618
Option 2 ID : 6306801437620
Option 3 ID : 6306801437617
Option 4 ID : 6306801437619

Status : Answered
Chosen Option : 2

Q.25 तेनजिंग यांगकी 2023 में किस राज्य से पहले IPS अधिकारी बने हैं?

- Ans
- ☒ 1. मेघालय
 - ☒ 2. असम
 - ☒ 3. पश्चिम बंगाल
 - ☒ 4. अरुणाचल प्रदेश

Question ID : 630680369030
Option 1 ID : 6306801437538
Option 2 ID : 6306801437539
Option 3 ID : 6306801437540
Option 4 ID : 6306801437537

Status : Answered
Chosen Option : 4

Section : Knowledge of elementary mathematics

Q.1 रवि का व्यय उसकी आय का 70% है। यदि उसकी आय 20% से बढ़ जाती है और उसका व्यय 10% से बढ़ जाता है, तो उसकी बचत में % परिवर्तन ज्ञात करें।

- Ans ☒ 1. 43.33%
- ☐ 2. 37.5%
- ☐ 3. 32.22%
- ☐ 4. 47%

Question ID : 630680369542
Option 1 ID : 6306801439566
Option 2 ID : 6306801439567
Option 3 ID : 6306801439565
Option 4 ID : 6306801439568
Status : Answered
Chosen Option : 1

Q.2 5 क्रमिक सम संख्याओं का औसत 24 है। सबसे बड़ी और सबसे छोटी संख्याओं के बीच अंतर क्या है?

- Ans ☐ 1. 6
- ☐ 2. 10
- ☐ 3. 4
- ☒ 4. 8

Question ID : 630680369517
Option 1 ID : 6306801439466
Option 2 ID : 6306801439467
Option 3 ID : 6306801439468
Option 4 ID : 6306801439465
Status : Answered
Chosen Option : 4

Q.3 यदि $12A = 16B = 24C$, तो A : B : C ज्ञात करें।

- Ans ☒ 1. 4 : 3 : 2
- ☐ 2. 10 : 15 : 9
- ☐ 3. 3 : 4 : 5
- ☐ 4. 2 : 5 : 7

Question ID : 630680369551
Option 1 ID : 6306801439603
Option 2 ID : 6306801439602
Option 3 ID : 6306801439601
Option 4 ID : 6306801439604
Status : Answered
Chosen Option : 1

Q.4 Two pipes P and Q can fill a cistern in 8 minutes and 22 minutes. If both are opened together and at the end of 4 minutes, the first is closed. How much longer will the cistern take to fill?

- Ans**
- ☒ 1. 5 minutes
 - ☒ 2. 10 minutes
 - ☒ 3. 6 minutes
 - ☒ 4. 7 minutes

Question ID : 630680369560
Option 1 ID : 6306801439638
Option 2 ID : 6306801439640
Option 3 ID : 6306801439637
Option 4 ID : 6306801439639
Status : Answered
Chosen Option : 4

Q.5 यदि सुभम का वेतन पहले 20% से बढ़ा और फिर 15% से घटा, तो उसके वेतन में कुल प्रतिशत परिवर्तन ज्ञात करें।

- Ans**
- ☒ 1. 4%
 - ☒ 2. 5%
 - ☒ 3. 3%
 - ☒ 4. 2%

Question ID : 630680369537
Option 1 ID : 6306801439548
Option 2 ID : 6306801439546
Option 3 ID : 6306801439545
Option 4 ID : 6306801439547
Status : Answered
Chosen Option : 4

Q.6 एक फर्म में 25 प्रबंधकों का औसत वेतन 1400 रुपये है और प्रशिक्षुओं का औसत वेतन 700 रुपये है। यदि फर्म का औसत वेतन 950 रुपये है, तो कर्मचारियों की कुल संख्या ज्ञात करें।

- Ans**
- ☒ 1. 40
 - ☒ 2. 50
 - ☒ 3. 35
 - ☒ 4. 45

Question ID : 630680369518
Option 1 ID : 6306801439471
Option 2 ID : 6306801439472
Option 3 ID : 6306801439469
Option 4 ID : 6306801439470
Status : Answered
Chosen Option : 1

Q.7 एक व्यक्ति ने एक वस्तु 1000 रुपये में खरीदी और उस पर $x\%$ अंकित किया। यदि 25% की छूट देने के बाद, व्यक्ति 12.5% का लाभ अर्जित करता है, तो x ज्ञात कीजिए।

- Ans**
- ✓ 1. 50
 - ✗ 2. 25
 - ✗ 3. 75
 - ✗ 4. 45

Question ID : 630680369524
Option 1 ID : 6306801439494
Option 2 ID : 6306801439493
Option 3 ID : 6306801439495
Option 4 ID : 6306801439496
Status : Answered
Chosen Option : 1

Q.8 P ने 3300 रुपये के साथ एक व्यवसाय शुरू किया और 6 महीने के बाद, Q, P के साथ उसके साझेदार के रूप में जुड़ा। एक वर्ष के बाद, लाभ को 3:5 के अनुपात में विभाजित किया जाता है। पूंजी में Q का योगदान क्या है?

- Ans**
- ✗ 1. 7200 रुपये
 - ✗ 2. 8400 रुपये
 - ✓ 3. 11,000 रुपये
 - ✗ 4. 9600 रुपये

Question ID : 630680369548
Option 1 ID : 6306801439592
Option 2 ID : 6306801439591
Option 3 ID : 6306801439589
Option 4 ID : 6306801439590
Status : Answered
Chosen Option : 3

Q.9 पाइप A और B एक टंकी को क्रमशः 6 घंटे और 9 घंटे में भर सकते हैं। पाइप C इसे 15 घंटे में भर सकता है। यदि तीनों पाइप एक साथ खोल दिए जाएँ तो टंकी कितने समय में भर जाएगी?

- Ans**
- ✓ 1. 90/31 घंटे
 - ✗ 2. 44/5 घंटे
 - ✗ 3. 61/20 घंटे
 - ✗ 4. 4 घंटे

Question ID : 630680369559
Option 1 ID : 6306801439635
Option 2 ID : 6306801439633
Option 3 ID : 6306801439634
Option 4 ID : 6306801439636
Status : Answered
Chosen Option : 1



Q.10 अनु 16 km की दूरी 5 km/h की औसत गति से तय करती है जबकि शेष 34 km की दूरी वह 10 km/h की औसत गति से तय करती है। पूरी यात्रा के दौरान अनु की औसत गति क्या है?

- Ans**
- ☒ 1. 125/17 km/h
 - ☒ 2. 150/19 km/h
 - ☒ 3. 250/33 km/h
 - ☒ 4. 150/11 km/h

Question ID : 630680369568
Option 1 ID : 6306801439670
Option 2 ID : 6306801439669
Option 3 ID : 6306801439672
Option 4 ID : 6306801439671

Status : Answered

Chosen Option : 3

Q.11 एक आदमी की अनुप्रवाह में गति 11 km/h है और धारा की गति 1 km/h है। आदमी की ऊर्ध्वप्रवाह गति ज्ञात करें।

- Ans**
- ☒ 1. 10 km/hr
 - ☒ 2. 9 km/h
 - ☒ 3. 6 km/h
 - ☒ 4. 12 km/h

Question ID : 630680369564
Option 1 ID : 6306801439655
Option 2 ID : 6306801439654
Option 3 ID : 6306801439653
Option 4 ID : 6306801439656

Status : Answered

Chosen Option : 3

Q.12 यदि एक निश्चित संख्या का 65% किसी अन्य संख्या के 4/9वें के बराबर है, तो संख्याओं के बीच का अनुपात क्या है?

- Ans**
- ☒ 1. 80: 111
 - ☒ 2. 90: 121
 - ☒ 3. 80: 117
 - ☒ 4. 1: 8

Question ID : 630680369550
Option 1 ID : 6306801439597
Option 2 ID : 6306801439598
Option 3 ID : 6306801439599
Option 4 ID : 6306801439600

Status : Answered

Chosen Option : 3



Q.13 एक वस्तु का अंकित मूल्य लागत मूल्य से 20% अधिक बढ़ाया गया है। यदि वस्तु पर छूट 15% है, तो लागत मूल्य और विक्रय मूल्य का अनुपात ज्ञात करें।

- Ans
- ☒ 1. 100:111
 - ☒ 2. 50 : 101
 - ☒ 3. 50:51
 - ☒ 4. 50: 111

Question ID : 630680369522
Option 1 ID : 6306801439485
Option 2 ID : 6306801439488
Option 3 ID : 6306801439487
Option 4 ID : 6306801439486
Status : Answered
Chosen Option : 3

Q.14 300 मीटर लंबी एक रेलगाड़ी को 3 m/s की गति से रेलगाड़ी की दिशा में ही चल रहे एक व्यक्ति को पार करने में 50 सेकंड का समय लगता है। रेलगाड़ी की गति क्या है?

- Ans
- ☒ 1. 10 m/s
 - ☒ 2. 9 m/s
 - ☒ 3. 15 m/s
 - ☒ 4. 7 m/s

Question ID : 630680369566
Option 1 ID : 6306801439662
Option 2 ID : 6306801439661
Option 3 ID : 6306801439664
Option 4 ID : 6306801439663
Status : Answered
Chosen Option : 3

Q.15 मान ज्ञात करें: $\sqrt{1296} + (25 \times 54) - (36 \times 7/3) + \sqrt{2209}$

- Ans
- ☒ 1. 1377
 - ☒ 2. 1349
 - ☒ 3. 1357
 - ☒ 4. 1331

Question ID : 630680369529
Option 1 ID : 6306801439514
Option 2 ID : 6306801439516
Option 3 ID : 6306801439515
Option 4 ID : 6306801439513
Status : Answered
Chosen Option : 2

Q.16 मान ज्ञात करें:
900 का 40% - 1700 का 13% =?

- Ans ☒ 1. 139
☐ 2. 313
☐ 3. 221
☐ 4. 175

Question ID : 630680369527
Option 1 ID : 6306801439507
Option 2 ID : 6306801439508
Option 3 ID : 6306801439505
Option 4 ID : 6306801439506
Status : Answered
Chosen Option : 1

Q.17 यदि $327x8910$, 9 से विभाज्य है, तो x का न्यूनतम संभव मान ज्ञात करें।

- Ans ☐ 1. 8
☐ 2. 9
☒ 3. 6
☐ 4. 3

Question ID : 630680369532
Option 1 ID : 6306801439528
Option 2 ID : 6306801439527
Option 3 ID : 6306801439526
Option 4 ID : 6306801439525
Status : Answered
Chosen Option : 3

Q.18 7 वर्ष के अंत में 13250 रुपये की राशि पर प्राप्त साधारण ब्याज 1855 रुपये है। प्रति वर्ष ब्याज दर क्या है?

- Ans ☐ 1. 4%
☐ 2. 5%
☒ 3. 2%
☐ 4. 3%

Question ID : 630680369555
Option 1 ID : 6306801439620
Option 2 ID : 6306801439617
Option 3 ID : 6306801439618
Option 4 ID : 6306801439619
Status : Answered
Chosen Option : 3



Q.19 इम्तियाज का मासिक वेतन 40000 रुपये है। वह अपने वेतन का 30% किराए पर, 20% शिक्षा पर खर्च करता है और शेष राशि का 70% शेयरों में निवेश करता है। शेयरों में निवेश की गई राशि ज्ञात करें।

Ans

- ☒ 1. 8000 रुपये
- ☒ 2. 12000 रुपये
- ☒ 3. 16000 रुपये
- ☒ 4. 14000 रुपये

Question ID : 630680369540
Option 1 ID : 6306801439559
Option 2 ID : 6306801439558
Option 3 ID : 6306801439560
Option 4 ID : 6306801439557

Status : Answered

Chosen Option : 4

Q.20 किसी व्यक्ति की बचत उसके व्यय का $\frac{2}{3}$ है, यदि उसकी आय 20000 रुपये है तो व्यय ज्ञात करें।

Ans

- ☒ 1. 15000 रुपये
- ☒ 2. 8000 रुपये
- ☒ 3. 6000 रुपये
- ☒ 4. 12000 रुपये

Question ID : 630680369538
Option 1 ID : 6306801439552
Option 2 ID : 6306801439549
Option 3 ID : 6306801439551
Option 4 ID : 6306801439550

Status : Answered

Chosen Option : 4

Q.21 1 वर्ष के लिए 10% प्रति वर्ष की दर से 20000 रुपये की राशि के लिए अर्जित चक्रवृद्धि ब्याज और साधारण ब्याज के बीच अंतर ज्ञात करें।

Ans

- ☒ 1. 1000 रुपये
- ☒ 2. 0 रुपये
- ☒ 3. 10 रुपये
- ☒ 4. 100 रुपये

Question ID : 630680369520
Option 1 ID : 6306801439480
Option 2 ID : 6306801439479
Option 3 ID : 6306801439477
Option 4 ID : 6306801439478

Status : Answered

Chosen Option : 2



Q.22 किसी वस्तु को 75000 रुपये में बेचने पर लाभ, 72500 रुपये में बेचने पर हानि के समान है। बाइक का क्रय मूल्य ज्ञात करें।

- Ans
- ☒ 1. 73570 रुपये
 - ☒ 2. 73050 रुपये
 - ☒ 3. 73750 रुपये
 - ☒ 4. 73500 रुपये

Question ID : 630680369546
Option 1 ID : 6306801439582
Option 2 ID : 6306801439584
Option 3 ID : 6306801439583
Option 4 ID : 6306801439581
Status : Answered
Chosen Option : 3

Q.23 36, 12 और 8 का लघुतम समापवर्त्य ज्ञात करें

- Ans
- ☒ 1. 108
 - ☒ 2. 36
 - ☒ 3. 72
 - ☒ 4. 144

Question ID : 630680369534
Option 1 ID : 6306801439536
Option 2 ID : 6306801439533
Option 3 ID : 6306801439535
Option 4 ID : 6306801439534
Status : Answered
Chosen Option : 3

Q.24 125 वस्तुएँ बेचने पर, दुकानदार को 25 वस्तुओं के विक्रय मूल्य की हानि होती है। हानि प्रतिशत ज्ञात करें।

- Ans
- ☒ 1. 16.66%
 - ☒ 2. 25%
 - ☒ 3. 20%
 - ☒ 4. 13.33%

Question ID : 630680369545
Option 1 ID : 6306801439580
Option 2 ID : 6306801439578
Option 3 ID : 6306801439577
Option 4 ID : 6306801439579
Status : Answered
Chosen Option : 1

Q.25 6 संख्याओं का औसत 44 है। यदि प्रत्येक संख्या को 3 से गुणा किया जाए, तो नया औसत ज्ञात करें।

Ans ☒ 1. 132

☐ 2. 114

☐ 3. 124

☐ 4. 154

Question ID : 630680369515

Option 1 ID : 6306801439459

Option 2 ID : 6306801439457

Option 3 ID : 6306801439458

Option 4 ID : 6306801439460

Status : Answered

Chosen Option : 1

Section : Analitical aptitude and ability to observe and distinguish patterns

Q.1 उस विकल्प का चयन करें जो तीसरे शब्द से उसी प्रकार से संबंधित है जिस प्रकार से दूसरा शब्द पहले शब्द से संबंधित है।
साँप : सरीसृप :: चमगादड़ : ?

Ans ☐ 1. जीवाणु

☐ 2. कवक

☒ 3. स्तनधारी

☐ 4. कीड़ा

Question ID : 630680369493

Option 1 ID : 6306801439370

Option 2 ID : 6306801439372

Option 3 ID : 6306801439369

Option 4 ID : 6306801439371

Status : Answered

Chosen Option : 3

Q.2 दिए गए समीकरण को सही बनाने के लिए किन दो चिह्नों को परस्पर बदलना चाहिए?
 $32 - 4 \div 80 + 8 \times 12 = 24$

Ans ☐ 1. \times और $=$

☐ 2. \times और \div

☐ 3. $+$ और \div

☒ 4. \div और $-$

Question ID : 630680369472

Option 1 ID : 6306801439285

Option 2 ID : 6306801439287

Option 3 ID : 6306801439288

Option 4 ID : 6306801439286

Status : Answered

Chosen Option : 4



Q.3 दिए गए समीकरण को सही बनाने के लिए किन दो चिह्नों को परस्पर बदलना चाहिए?

$$140 \div 4 \times 28 - 27 + 31 = 24$$

Ans ☒ 1. \times और \div

☐ 2. \times और $=$

☐ 3. $-$ और $=$

☐ 4. \times और $-$

Question ID : 630680369470

Option 1 ID : 6306801439279

Option 2 ID : 6306801439277

Option 3 ID : 6306801439280

Option 4 ID : 6306801439278

Status : Answered

Chosen Option : 1

Q.4 एक निश्चित कोड भाषा में, यदि लाल को नीला कहा गया है, नीला को सफेद कहा गया है, सफेद को गुलाबी कहा गया है, गुलाबी को हरा कहा गया है, तो रक्त का रंग क्या है?

Ans ☐ 1. लाल

☐ 2. गुलाबी

☒ 3. नीला

☐ 4. हरा

Question ID : 630680369489

Option 1 ID : 6306801439353

Option 2 ID : 6306801439355

Option 3 ID : 6306801439354

Option 4 ID : 6306801439356

Status : Answered

Chosen Option : 3

Q.5 ENGLISH शब्द में अक्षरों के ऐसे कितने युग्म हैं जिनके बीच में उतने ही अक्षर हैं जितने वर्णमाला क्रम में स्थित हैं?

Ans ☐ 1. 1

☒ 2. 4

☐ 3. 3

☐ 4. 2

Question ID : 630680369484

Option 1 ID : 6306801439336

Option 2 ID : 6306801439335

Option 3 ID : 6306801439333

Option 4 ID : 6306801439334

Status : Answered

Chosen Option : 2

Q.6 तस्वीर में एक महिला की ओर इशारा करते हुए एक आदमी कहता है, "वह मेरी बहन की दादी के इकलौते पुत्र की पुत्री है"। पुरुष, महिला से कैसे संबंधित है?

Ans

- ✓ 1. भाई
✗ 2. पिता
✗ 3. पति
✗ 4. पुत्र

Question ID : 630680369486

Option 1 ID : 6306801439343

Option 2 ID : 6306801439341

Option 3 ID : 6306801439342

Option 4 ID : 6306801439344

Status : Answered

Chosen Option : 1

Q.7 यदि 'M × N' का अर्थ है 'M, N की पत्नी है'।
यदि 'M + N' का अर्थ है 'M, N का पति है'।
यदि 'M ÷ N' का अर्थ है 'M, N का पुत्र है'।
यदि 'M - N' का अर्थ है 'M, N की पुत्री है'।

'E × F ÷ G + H' समीकरण में E, H से किस प्रकार संबंधित है

Ans

- ✓ 1. बहु
✗ 2. सास
✗ 3. पत्नी
✗ 4. बहन

Question ID : 630680369485

Option 1 ID : 6306801439338

Option 2 ID : 6306801439340

Option 3 ID : 6306801439337

Option 4 ID : 6306801439339

Status : Answered

Chosen Option : 1

Q.8 निम्नलिखित में से कौन सी संख्या दी गई श्रृंखला में प्रश्न चिह्न (?) को प्रतिस्थापित करेगी?
44, ?, 52, 55, 60, 63

Ans

- ✓ 1. 47
✗ 2. 46
✗ 3. 51
✗ 4. 49

Question ID : 630680369478

Option 1 ID : 6306801439310

Option 2 ID : 6306801439309

Option 3 ID : 6306801439312

Option 4 ID : 6306801439311

Status : Answered

Chosen Option : 1

Q.9 चार अक्षर-समूह दिए गए हैं, जिनमें से तीन किसी निश्चित तरीके से समान हैं और एक भिन्न है। विषम अक्षर-समूह का चयन करें।

- Ans
- ☒ 1. SRQ
 - ☒ 2. DCB
 - ☒ 3. ONM
 - ☒ 4. ZBA

Question ID : 630680369496
Option 1 ID : 6306801439383
Option 2 ID : 6306801439381
Option 3 ID : 6306801439382
Option 4 ID : 6306801439384

Status : Answered
Chosen Option : 4

Q.10 उस आकृति का चयन करें जो निम्नलिखित आकृति श्रृंखला में प्रश्न चिह्न (?) को प्रतिस्थापित करेगी।

/	/\	/X	/X\	?
---	----	----	-----	---

Ans

- ☒ 1.
- ☒ 2.
- ☒ 3.
- ☒ 4.

Question ID : 630680369511
Option 1 ID : 6306801439441
Option 2 ID : 6306801439443
Option 3 ID : 6306801439444
Option 4 ID : 6306801439442

Status : Answered
Chosen Option : 1

Q.11 निम्नलिखित में से कौन सी संख्या दी गई श्रृंखला में प्रश्न चिह्न (?) को प्रतिस्थापित करेगी?
20, 30, ?, 31, 18, 32

- Ans
- ☒ 1. 17
 - ☒ 2. 19
 - ☒ 3. 11
 - ☒ 4. 28

Question ID : 630680369476
Option 1 ID : 6306801439302
Option 2 ID : 6306801439301
Option 3 ID : 6306801439303
Option 4 ID : 6306801439304

Status : Answered

Chosen Option : 2

Q.12 छः आदमी अनीश, कमल, रोहन, धुव, हर्ष और मोहन एक हार में बैठे हैं। हर्ष और मोहन केंद्र में हैं और अनीश और कमल अंत में हैं। रोहन, अनीश के ठीक बायीं ओर बैठा है। कमल के ठीक दायें में कौन बैठा है?

- Ans
- ☒ 1. धुव
 - ☒ 2. हर्ष
 - ☒ 3. मोहन
 - ☒ 4. रोहन

Question ID : 630680369499
Option 1 ID : 6306801439394
Option 2 ID : 6306801439396
Option 3 ID : 6306801439393
Option 4 ID : 6306801439395

Status : Answered

Chosen Option : 1

Q.13 Select the option that is related to the third word in the same way as the second word is related to the first word.
Neurologist : Brain :: Pulmonologist : ?

- Ans
- ☒ 1. Pulse
 - ☒ 2. Pancreas
 - ☒ 3. Lungs
 - ☒ 4. Heart

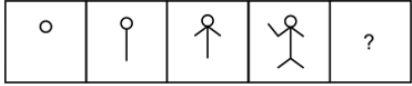
Question ID : 630680369494
Option 1 ID : 6306801439376
Option 2 ID : 6306801439375
Option 3 ID : 6306801439373
Option 4 ID : 6306801439374

Status : Answered

Chosen Option : 1



Q.14 उस आकृति का चयन करें जो निम्नलिखित आकृति श्रृंखला में प्रश्न चिह्न (?) को प्रतिस्थापित करेगी।




Ans

✓ 1.




✗ 2.



✗ 3.



✗ 4.



Question ID : 630680369510
Option 1 ID : 6306801439439
Option 2 ID : 6306801439440
Option 3 ID : 6306801439438
Option 4 ID : 6306801439437
Status : Answered
Chosen Option : 3

Q.15 निम्नलिखित में से कौन सा अक्षर दी गई श्रृंखला में प्रश्न चिह्न (?) को प्रतिस्थापित करेगा?

P, M, ?, G, D, A

Ans

✓ 1. J

✗ 2. L

✗ 3. K

✗ 4. I

Question ID : 630680369504
Option 1 ID : 6306801439415
Option 2 ID : 6306801439413
Option 3 ID : 6306801439414
Option 4 ID : 6306801439416
Status : Answered
Chosen Option : 1

Q.16 दो कथन दिए गए हैं जिनके बाद दो निष्कर्ष क्रमांकित I और II दिए गए हैं। कथनों को सत्य मानते हुए, भले ही वे सामान्यतः ज्ञात तथ्यों से भिन्न प्रतीत होते हों, तय करें कि कौन सा निष्कर्ष तार्किक रूप से कथनों में से अनुसरण करता (करते) है।

कथन:

कथन I: कुछ सड़कें फुटपाथ हैं।

कथन II: कुछ फुटपाथ मार्ग नहीं हैं।

निष्कर्ष:

निष्कर्ष I: कुछ फुटपाथ मार्ग हैं।

निष्कर्ष II: कुछ सड़कें मार्ग हैं।

Ans

- ☒ 1. केवल निष्कर्ष I अनुसरण करता है
- ☒ 2. केवल निष्कर्ष II अनुसरण करता है
- ☒ 3. निष्कर्ष I और II दोनों अनुसरण करते हैं
- ☒ 4. न तो निष्कर्ष I और न ही II अनुसरण करता है

Question ID : 630680369507

Option 1 ID : 6306801439425

Option 2 ID : 6306801439426

Option 3 ID : 6306801439427

Option 4 ID : 6306801439428

Status : Answered

Chosen Option : 4

Q.17 दिए गए समीकरण को सही बनाने के लिए किन दो चिह्नों को परस्पर बदलना चाहिए?

$$2 \times 24 - 28 \div 12 + 3 = 24$$

Ans

- ☒ 1. + और ÷
- ☒ 2. × और -
- ☒ 3. × और ÷
- ☒ 4. × और =

Question ID : 630680369471

Option 1 ID : 6306801439284

Option 2 ID : 6306801439282

Option 3 ID : 6306801439283

Option 4 ID : 6306801439281

Status : Answered

Chosen Option : 1

Q.18 पाँच व्यक्ति राँस, मोनिका, चैंडलर, रेचल और जाँय एक गोलाकार मेज पर केंद्र की ओर मुख करके बैठे हैं। जाँय, राँस और रेचल के बीच में बैठता है। मोनिका चैंडलर के बायीं ओर बैठी है। चैंडलर और राँस पड़ोसी नहीं हैं। रेचल के ठीक बायें में कौन बैठा है?

Ans

- ☒ 1. चैंडलर
- ☒ 2. जाँय
- ☒ 3. राँस
- ☒ 4. मोनिका

Question ID : 630680369501

Option 1 ID : 6306801439403

Option 2 ID : 6306801439401

Option 3 ID : 6306801439404

Option 4 ID : 6306801439402

Status : Answered

Chosen Option : 1



Q.19 दो कथन दिए गए हैं जिनके बाद दो निष्कर्ष क्रमांकित I और II दिए गए हैं। कथनों को सत्य मानते हुए, भले ही वे सामान्यतः ज्ञात तथ्यों से भिन्न प्रतीत होते हों, तय करें कि कौन सा निष्कर्ष तार्किक रूप से कथनों में से अनुसरण करता (करते) है।

कथन:

कथन I: कोई ठोस तरल नहीं है।

कथन II: कोई तरल गैस नहीं है।

निष्कर्ष:

निष्कर्ष I: कोई ठोस गैस नहीं है।

निष्कर्ष II: कुछ गैसें तरल हैं।

Ans

- ☒ 1. केवल निष्कर्ष I अनुसरण करता है
- ☒ 2. केवल निष्कर्ष II अनुसरण करता है
- ☒ 3. न तो निष्कर्ष I और न ही II अनुसरण करता है
- ☒ 4. निष्कर्ष I और II दोनों अनुसरण करते हैं

Question ID : 630680369506

Option 1 ID : 6306801439421

Option 2 ID : 6306801439422

Option 3 ID : 6306801439424

Option 4 ID : 6306801439423

Status : Answered

Chosen Option : 3

Q.20 एक निश्चित कोड भाषा में, यदि पटना को मुंबई कहा गया है, मुंबई को आगरा कहा गया है, आगरा को हैदराबाद कहा गया है, हैदराबाद को दिल्ली कहा गया है, तो ताज महल कहाँ स्थित है?

Ans

- ☒ 1. आगरा
- ☒ 2. दिल्ली
- ☒ 3. हैदराबाद
- ☒ 4. मुंबई

Question ID : 630680369490

Option 1 ID : 6306801439358

Option 2 ID : 6306801439360

Option 3 ID : 6306801439359

Option 4 ID : 6306801439357

Status : Answered

Chosen Option : 3

Q.21 निम्नलिखित में से कौन सी संख्या दी गई श्रृंखला में प्रश्न चिह्न (?) को प्रतिस्थापित करेगी?

773, 775, 779, 787, ?, 835

Ans

- ☒ 1. 803
- ☒ 2. 792
- ☒ 3. 812
- ☒ 4. 826

Question ID : 630680369474

Option 1 ID : 6306801439294

Option 2 ID : 6306801439293

Option 3 ID : 6306801439295

Option 4 ID : 6306801439296

Status : Answered

Chosen Option : 1



Q.22 शब्द "SYSTEM" में अक्षरों के ऐसे कितने युग्म हैं जिनके बीच उतने ही अक्षर हैं जितने वर्णमाला क्रम में स्थित हैं?

- Ans ☒ 1. 1
☒ 2. 3
☒ 3. 2
☒ 4. 0

Question ID : 630680369480
Option 1 ID : 6306801439318
Option 2 ID : 6306801439320
Option 3 ID : 6306801439317
Option 4 ID : 6306801439319
Status : Answered
Chosen Option : 1

Q.23 निम्नलिखित में से कौन सा अक्षर दी गई श्रृंखला में प्रश्न चिह्न (?) को प्रतिस्थापित करेगा?
F, ?, I, L, P, U

- Ans ☒ 1. G
☒ 2. H
☒ 3. E
☒ 4. K

Question ID : 630680369505
Option 1 ID : 6306801439417
Option 2 ID : 6306801439418
Option 3 ID : 6306801439420
Option 4 ID : 6306801439419
Status : Answered
Chosen Option : 1

Q.24 दी गई श्रृंखला में ऐसे कितने अक्षर हैं जिनके ठीक पहले एक प्रतीक और ठीक बाद में एक व्यंजन है?
M U @ K J ! F \$ U % M ! L @ A B ^ N - P & F \$ D U

- Ans ☒ 1. 4
☒ 2. 1
☒ 3. 3
☒ 4. 2

Question ID : 630680369483
Option 1 ID : 6306801439332
Option 2 ID : 6306801439329
Option 3 ID : 6306801439330
Option 4 ID : 6306801439331
Status : Answered
Chosen Option : 4

Q.25 चार अक्षर-समूह युग्म दिए गए हैं, जिनमें से तीन किसी निश्चित तरीके से समान हैं और एक भिन्न है। विषम अक्षर-समूह युग्म का चयन करें।

- Ans
- ☒ 1. DU : EW
 - ☒ 2. KZ : LB
 - ☒ 3. GM : HO
 - ☒ 4. AD : BE

Question ID : 630680369497
Option 1 ID : 6306801439387
Option 2 ID : 6306801439388
Option 3 ID : 6306801439386
Option 4 ID : 6306801439385
Status : Answered
Chosen Option : 4

Section : Basic knowledge of the candidates in English and Hindi

Q.1 Fill in the blank with the most appropriate option.
Peter had a hard time looking out for her, _____ goats were even worse.

- Ans
- ☒ 1. a
 - ☒ 2. these
 - ☒ 3. the
 - ☒ 4. an

Question ID : 630680369310
Option 1 ID : 6306801438658
Option 2 ID : 6306801438657
Option 3 ID : 6306801438659
Option 4 ID : 6306801438660
Status : Answered
Chosen Option : 2

Q.2 Fill in the blank with the most appropriate option.
He went to the door and listened; _____ house was quiet, he bolted the door.

- Ans
- ☒ 1. an
 - ☒ 2. that
 - ☒ 3. the
 - ☒ 4. a

Question ID : 630680369309
Option 1 ID : 6306801438656
Option 2 ID : 6306801438653
Option 3 ID : 6306801438654
Option 4 ID : 6306801438655
Status : Answered
Chosen Option : 3

Comprehension:

Read the given passage carefully and select the most appropriate answer to the questions that follow.

Mr Harrison, who was really a cousin of the boy's father, had done a lot for Rusty, and that was why the boy was afraid of him. Since his parents had died, Rusty had been kept, fed and paid for, and sent to an expensive school in the hills that was run on 'exclusively European lines'. He had, in a way, been bought by Mr Harrison. And now he was owned by him. And he must do as his guardian wished. Rusty was ready to do as his guardian wished: he had always obeyed him. But he was afraid of the man, afraid of his silence and of the ginger moustache and of the supple Malacca cane that lay in the glass cupboard in the drawing-room.

SubQuestion No : 3

Q.3 Identify the correct theme of the passage.

- Ans
- ☐ 1. The passage talks about two best friends, the writer and Rusty.
 - ☐ 2. The boy wasn't afraid of Mr Harrison, and always played around him.
 - ☒ 3. The passage is centred around Rusty and his relationship with his guardian, Mr Harrison.
 - ☐ 4. The passage tells us how orphans should be kept.

Question ID : 630680369330
Option 1 ID : 6306801438730
Option 2 ID : 6306801438732
Option 3 ID : 6306801438731
Option 4 ID : 6306801438729
Status : Answered
Chosen Option : 3

Comprehension:

Read the given passage carefully and select the most appropriate answer to the questions that follow.

Mr Harrison, who was really a cousin of the boy's father, had done a lot for Rusty, and that was why the boy was afraid of him. Since his parents had died, Rusty had been kept, fed and paid for, and sent to an expensive school in the hills that was run on 'exclusively European lines'. He had, in a way, been bought by Mr Harrison. And now he was owned by him. And he must do as his guardian wished. Rusty was ready to do as his guardian wished: he had always obeyed him. But he was afraid of the man, afraid of his silence and of the ginger moustache and of the supple Malacca cane that lay in the glass cupboard in the drawing-room.

SubQuestion No : 4

Q.4 Identify the correct inference that can be drawn from the passage.

- Ans
- ☐ 1. Rusty was so afraid of Mr Harrison that he ran off from the house.
 - ☐ 2. Mr Harrison and his cousin had troubled relations.
 - ☐ 3. Mr Harrison was Rusty's neighbour and didn't treat him well.
 - ☒ 4. Rusty was an obedient boy who was being taken care of by his Uncle.

Question ID : 630680369332
Option 1 ID : 6306801438739
Option 2 ID : 6306801438740
Option 3 ID : 6306801438737
Option 4 ID : 6306801438738
Status : Answered
Chosen Option : 1



Comprehension:

Read the given passage carefully and select the most appropriate answer to the questions that follow.

Mr Harrison, who was really a cousin of the boy's father, had done a lot for Rusty, and that was why the boy was afraid of him. Since his parents had died, Rusty had been kept, fed and paid for, and sent to an expensive school in the hills that was run on 'exclusively European lines'. He had, in a way, been bought by Mr Harrison. And now he was owned by him. And he must do as his guardian wished. Rusty was ready to do as his guardian wished: he had always obeyed him. But he was afraid of the man, afraid of his silence and of the ginger moustache and of the supple Malacca cane that lay in the glass cupboard in the drawing-room.

SubQuestion No : 5

Q.5 From the given options, identify the suitable title for the passage.

- Ans ☒ 1. The Malacca Cane
- ☒ 2. Rusty and his Guardian
- ☒ 3. European Lines
- ☒ 4. Mr Harrison

Question ID : 630680369329
Option 1 ID : 6306801438725
Option 2 ID : 6306801438726
Option 3 ID : 6306801438728
Option 4 ID : 6306801438727
Status : Answered
Chosen Option : 2

Comprehension:

Read the given passage carefully and select the most appropriate answer to the questions that follow.

Mr Harrison, who was really a cousin of the boy's father, had done a lot for Rusty, and that was why the boy was afraid of him. Since his parents had died, Rusty had been kept, fed and paid for, and sent to an expensive school in the hills that was run on 'exclusively European lines'. He had, in a way, been bought by Mr Harrison. And now he was owned by him. And he must do as his guardian wished. Rusty was ready to do as his guardian wished: he had always obeyed him. But he was afraid of the man, afraid of his silence and of the ginger moustache and of the supple Malacca cane that lay in the glass cupboard in the drawing-room.

SubQuestion No : 6

Q.6 Which of the following statements is not true with respect to the passage.

- Ans ☒ 1. Mr Harrison was Rusty's father's cousin.
- ☒ 2. Mr Harrison had adopted Rusty.
- ☒ 3. Mr Harrison paid for Rusty's schooling.
- ☒ 4. Rusty was afraid of Mr Harrison.

Question ID : 630680369331
Option 1 ID : 6306801438736
Option 2 ID : 6306801438733
Option 3 ID : 6306801438735
Option 4 ID : 6306801438734
Status : Answered
Chosen Option : 2



Q.7 Fill in the blank with the most appropriate option.
At last, reaching the hut, they found the grandfather waiting for them on a bench _____ the fir-trees.

- Ans
- ☒ 1. over
 - ☒ 2. above
 - ☒ 3. upside
 - ☒ 4. under

Question ID : 630680369311
Option 1 ID : 6306801438661
Option 2 ID : 6306801438664
Option 3 ID : 6306801438662
Option 4 ID : 6306801438663
Status : Answered
Chosen Option : 4

Q.8 Select the word from the options which is the same in meaning to the bracketed word given in the sentence below.
And opinions grew more (virulent) and confusing on both sides.

- Ans
- ☒ 1. cloying
 - ☒ 2. deadly
 - ☒ 3. forceful
 - ☒ 4. sweet

Question ID : 630680369325
Option 1 ID : 6306801438714
Option 2 ID : 6306801438715
Option 3 ID : 6306801438716
Option 4 ID : 6306801438713
Status : Answered
Chosen Option : 1

Q.9 Select the most appropriate antonym of the given word.
Congregation

- Ans
- ☒ 1. Evidence
 - ☒ 2. Humiliation
 - ☒ 3. Optimism
 - ☒ 4. Division

Question ID : 630680369326
Option 1 ID : 6306801438718
Option 2 ID : 6306801438717
Option 3 ID : 6306801438720
Option 4 ID : 6306801438719
Status : Answered
Chosen Option : 2



Q.10 Select the most appropriate meaning of the given proverb.
Familiarity breeds contempt.

- Ans
- ☒ 1. God helps those who make sincere effort.
 - ☐ 2. If you know a situation, person, well, you start taking them for granted.
 - ☐ 3. Inexperienced persons get involved in situations or pursue goals without much thought.
 - ☐ 4. Enjoy the flattery you receive.

Question ID : 630680369322
Option 1 ID : 6306801438704
Option 2 ID : 6306801438701
Option 3 ID : 6306801438703
Option 4 ID : 6306801438702
Status : Answered
Chosen Option : 2

Q.11 Fill in the blank with the most appropriate option.
In the afternoon the two were sitting near the fire when _____ steps were heard outside.

- Ans
- ☒ 1. noisy
 - ☐ 2. full
 - ☐ 3. louder
 - ☐ 4. nearly

Question ID : 630680369313
Option 1 ID : 6306801438671
Option 2 ID : 6306801438670
Option 3 ID : 6306801438669
Option 4 ID : 6306801438672
Status : Answered
Chosen Option : 1

Q.12 Select the most appropriate meaning of the given idiom.
Hot under the collar.

- Ans
- ☐ 1. Warm to greet.
 - ☐ 2. Fashionable.
 - ☐ 3. Dislike.
 - ☒ 4. Very angry, upset.

Question ID : 630680369321
Option 1 ID : 6306801438700
Option 2 ID : 6306801438699
Option 3 ID : 6306801438698
Option 4 ID : 6306801438697
Status : Answered
Chosen Option : 1



Q.13 निम्नलिखित प्रश्न में, चार विकल्पों में से, उस विकल्प का चयन करें जो विलोम शब्द का सबसे अच्छा विकल्प है।
आह्वान

- Ans ☒ 1. बाह्य
☒ 2. आलोचना
☒ 3. विसर्जन
☒ 4. आमिष

Question ID : 630680369456
Option 1 ID : 6306801439232
Option 2 ID : 6306801439230
Option 3 ID : 6306801439229
Option 4 ID : 6306801439231

Status : Answered

Chosen Option : 1

Q.14 निम्नलिखित प्रश्न में, चार विकल्पों में से, उस विकल्प का चयन करें जो दिए गए रिक्त स्थान के लिए सही स्थानवाचक क्रियाविशेषण वाला विकल्प हो।
_____ कोई आया था किंतु मैं देख नहीं पाया।

- Ans ☒ 1. प्रातः
☒ 2. लगातार
☒ 3. इधर
☒ 4. अभी

Question ID : 630680369448
Option 1 ID : 6306801439197
Option 2 ID : 6306801439200
Option 3 ID : 6306801439198
Option 4 ID : 6306801439199

Status : Answered

Chosen Option : 1

Q.15 निम्नलिखित प्रश्न में, चार विकल्पों में से, उस विकल्प का चयन करें जो दी गई मुहावरे का सही अर्थ वाला विकल्प है।
आटे-दाल का भाव मालूम होना

- Ans ☒ 1. पूरा प्रयत्न करना
☒ 2. सम्मान नष्ट करना
☒ 3. कठिनाई में पड़ना
☒ 4. चापलूसी करना

Question ID : 630680369454
Option 1 ID : 6306801439221
Option 2 ID : 6306801439223
Option 3 ID : 6306801439222
Option 4 ID : 6306801439224

Status : Answered

Chosen Option : 3



Q.16 निम्नलिखित प्रश्न में, चार विकल्पों में से, उस विकल्प का चयन करें जो दिए गए शब्द के पर्यायवाची शब्द का सही विकल्प नहीं है।
लहर

- Ans
- ☒ 1. तरंग
 - ☒ 2. वीचि
 - ☒ 3. अब्द
 - ☒ 4. ऊर्मि

Question ID : 630680369458
Option 1 ID : 6306801439237
Option 2 ID : 6306801439240
Option 3 ID : 6306801439238
Option 4 ID : 6306801439239
Status : Answered
Chosen Option : 4

Q.17 निम्नलिखित प्रश्न में, चार विकल्पों में से, उस विकल्प का चयन करें जो दिए गए लोकोक्ति का सही अर्थ वाला विकल्प है।
एक अकेला दो ग्यारह

- Ans
- ☒ 1. दो व्यक्तियों की स्थिति में अंतर होना
 - ☒ 2. लाभ के स्थान पर हानि होना
 - ☒ 3. संगठन में शक्ति होती है
 - ☒ 4. दोहरा लाभ

Question ID : 630680369453
Option 1 ID : 6306801439218
Option 2 ID : 6306801439217
Option 3 ID : 6306801439219
Option 4 ID : 6306801439220
Status : Answered
Chosen Option : 3

Q.18 निम्नलिखित प्रश्न में, चार विकल्पों में से, उस सही विकल्प का चयन करें जो दिए गए रिक्त स्थान के लिए सही शब्द का विकल्प हो।
आज पूरा विश्व पर्यावरण प्रदूषण की _____ से जूझ रहा है।

- Ans
- ☒ 1. आस्था
 - ☒ 2. समस्या
 - ☒ 3. अनुभव
 - ☒ 4. कार्य

Question ID : 630680369439
Option 1 ID : 6306801439163
Option 2 ID : 6306801439161
Option 3 ID : 6306801439162
Option 4 ID : 6306801439164
Status : Answered
Chosen Option : 2



Q.19 निम्नलिखित प्रश्न में, चार विकल्पों में से, उस विकल्प का चयन करें जो दिए गए रिक्त स्थान के लिए सही संप्रदान कारक वाला विकल्प हो।
मैं सूरज _____ चाय बना रहा हूँ।

- Ans
- ☒ 1. पर
 - ☒ 2. से
 - ☒ 3. को
 - ☒ 4. के लिए

Question ID : 630680369450
Option 1 ID : 6306801439208
Option 2 ID : 6306801439207
Option 3 ID : 6306801439205
Option 4 ID : 6306801439206
Status : Answered
Chosen Option : 4

Q.20 निम्नलिखित विकल्पों में से कौन सा विकल्प एक सुसंगत वाक्य बनाने के लिए वाक्यांशों को सही ढंग से व्यवस्थित करता है?

- A- सुन्दरलाल बहुगुणा एक प्रशंसनीय
- B- व्यक्ति हैं जिन्होंने 'चिपको आंदोलन' के
- C- माध्यम से पेड़-पौधों के
- D- संरक्षण का बीड़ा उठाया है

- Ans
- ☒ 1. BDCA
 - ☒ 2. DBAC
 - ☒ 3. CABD
 - ☒ 4. ABCD

Question ID : 630680369441
Option 1 ID : 6306801439170
Option 2 ID : 6306801439169
Option 3 ID : 6306801439172
Option 4 ID : 6306801439171
Status : Answered
Chosen Option : 4

Q.21 निम्नलिखित प्रश्न में, चार विकल्पों में से, उस सही विकल्प का चयन करें जो वाक्यांशों के लिए एक शब्द का विकल्प हो।
जिसके बराबर दूसरा न हो

- Ans
- ☒ 1. असाध्य
 - ☒ 2. अनन्य
 - ☒ 3. अतीत
 - ☒ 4. अदेय

Question ID : 630680369444
Option 1 ID : 6306801439182
Option 2 ID : 6306801439181
Option 3 ID : 6306801439184
Option 4 ID : 6306801439183
Status : Answered
Chosen Option : 4



Comprehension:

नीचे दिए गये गद्यांश के बाद 5 प्रश्न दिए गये हैं। इस गद्यांश को ध्यानपूर्वक पढ़ें और चार विकल्पों में से प्रत्येक प्रश्न का सर्वोत्तम उत्तर चुनें।

मनुष्य उत्सवप्रिय होते हैं। उत्सवी का एकमात्र उद्देश्य आनंद-प्राप्ति है। यह तो सभी जानते हैं कि मनुष्य अपनी आवश्यकता की पूर्ति के लिए आजीवन प्रयत्न करता रहता है। आवश्यकता की पूर्ति होने पर सभी को सुख होता है। पर, उस सुख और उत्सव के आनंद में बड़ा फर्क है। आवश्यकता अभाव सूचित करती है। उससे यह प्रकट होता है कि हममें किस बात की कमी है। मनुष्य जीवन ही ऐसा है कि वह किसी भी अवस्था में यह अनुभव नहीं कर सकता कि अब उसके लिए कोई आवश्यकता नहीं रह गई है। एक के बाद दूसरी वस्तु की चिंता उसे सताती ही रहती है। इसलिए किसी एक आवश्यकता की पूर्ति से उसे जो सुख होता है, वह अत्यंत क्षणिक होता है, क्योंकि तुरंत ही दूसरी आवश्यकता उपस्थित हो जाती है। उत्सव में हम किसी बात की आवश्यकता का अनुभव नहीं करते। यही नहीं, उस दिन हम अपने काम काज छोड़कर विशुद्ध आनंद की प्राप्ति करते हैं। यह आनंद जीवन का आनंद है, काम का नहीं।

SubQuestion No : 22

Q.22 इस अनुच्छेद का कोई उपयुक्त शीर्षक-

- Ans ☒ 1. आवश्यकता
☒ 2. अभाव की सूचना
☒ 3. सुख और उत्सव
☒ 4. उत्सवप्रिय मनुष्य

Question ID : 630680369460
Option 1 ID : 6306801439241
Option 2 ID : 6306801439244
Option 3 ID : 6306801439243
Option 4 ID : 6306801439242
Status : Answered
Chosen Option : 4

Comprehension:

नीचे दिए गये गद्यांश के बाद 5 प्रश्न दिए गये हैं। इस गद्यांश को ध्यानपूर्वक पढ़ें और चार विकल्पों में से प्रत्येक प्रश्न का सर्वोत्तम उत्तर चुनें।

मनुष्य उत्सवप्रिय होते हैं। उत्सवी का एकमात्र उद्देश्य आनंद-प्राप्ति है। यह तो सभी जानते हैं कि मनुष्य अपनी आवश्यकता की पूर्ति के लिए आजीवन प्रयत्न करता रहता है। आवश्यकता की पूर्ति होने पर सभी को सुख होता है। पर, उस सुख और उत्सव के आनंद में बड़ा फर्क है। आवश्यकता अभाव सूचित करती है। उससे यह प्रकट होता है कि हममें किस बात की कमी है। मनुष्य जीवन ही ऐसा है कि वह किसी भी अवस्था में यह अनुभव नहीं कर सकता कि अब उसके लिए कोई आवश्यकता नहीं रह गई है। एक के बाद दूसरी वस्तु की चिंता उसे सताती ही रहती है। इसलिए किसी एक आवश्यकता की पूर्ति से उसे जो सुख होता है, वह अत्यंत क्षणिक होता है, क्योंकि तुरंत ही दूसरी आवश्यकता उपस्थित हो जाती है। उत्सव में हम किसी बात की आवश्यकता का अनुभव नहीं करते। यही नहीं, उस दिन हम अपने काम काज छोड़कर विशुद्ध आनंद की प्राप्ति करते हैं। यह आनंद जीवन का आनंद है, काम का नहीं।

SubQuestion No : 23

Q.23 अनुच्छेद के अनुसार उत्सव में हम किसका अनुभव नहीं करते हैं?

- Ans ☒ 1. आवश्यकता
☒ 2. किसी अवस्था
☒ 3. किसी की उपस्थिति
☒ 4. सुख

Question ID : 630680369462
Option 1 ID : 6306801439251
Option 2 ID : 6306801439252
Option 3 ID : 6306801439250
Option 4 ID : 6306801439249
Status : Answered
Chosen Option : 1

Comprehension:

नीचे दिए गये गद्यांश के बाद 5 प्रश्न दिए गये हैं। इस गद्यांश को ध्यानपूर्वक पढ़ें और चार विकल्पों में से प्रत्येक प्रश्न का सर्वोत्तम उत्तर चुनें।

मनुष्य उत्सवप्रिय होते हैं। उत्सवी का एकमात्र उद्देश्य आनंद-प्राप्ति है। यह तो सभी जानते हैं कि मनुष्य अपनी आवश्यकता की पूर्ति के लिए आजीवन प्रयत्न करता रहता है। आवश्यकता की पूर्ति होने पर सभी को सुख होता है। पर, उस सुख और उत्सव के आनंद में बड़ा फर्क है। आवश्यकता अभाव सूचित करती है। उससे यह प्रकट होता है कि हममें किस बात की कमी है। मनुष्य जीवन ही ऐसा है कि वह किसी भी अवस्था में यह अनुभव नहीं कर सकता कि अब उसके लिए कोई आवश्यकता नहीं रह गई है। एक के बाद दूसरी वस्तु की चिंता उसे सताती ही रहती है। इसलिए किसी एक आवश्यकता की पूर्ति से उसे जो सुख होता है, वह अत्यंत क्षणिक होता है, क्योंकि तुरंत ही दूसरी आवश्यकता उपस्थित हो जाती है। उत्सव में हम किसी बात की आवश्यकता का अनुभव नहीं करते। यही नहीं, उस दिन हम अपने काम काज छोड़कर विशुद्ध आनंद की प्राप्ति करते हैं। यह आनंद जीवन का आनंद है, काम का नहीं।

SubQuestion No : 24

Q.24 अनुच्छेद के अनुसार मनुष्य अपनी आवश्यकता की पूर्ति के लिए क्या करता है?

- Ans
- ☒ 1. उत्सव मनाना
 - ☒ 2. विशुद्ध आनंद
 - ☒ 3. सुख की प्राप्ति
 - ☒ 4. आजीवन कोशिश

Question ID : 630680369461
Option 1 ID : 6306801439247
Option 2 ID : 6306801439246
Option 3 ID : 6306801439245
Option 4 ID : 6306801439248
Status : Answered
Chosen Option : 4

Comprehension:

नीचे दिए गये गद्यांश के बाद 5 प्रश्न दिए गये हैं। इस गद्यांश को ध्यानपूर्वक पढ़ें और चार विकल्पों में से प्रत्येक प्रश्न का सर्वोत्तम उत्तर चुनें।

मनुष्य उत्सवप्रिय होते हैं। उत्सवी का एकमात्र उद्देश्य आनंद-प्राप्ति है। यह तो सभी जानते हैं कि मनुष्य अपनी आवश्यकता की पूर्ति के लिए आजीवन प्रयत्न करता रहता है। आवश्यकता की पूर्ति होने पर सभी को सुख होता है। पर, उस सुख और उत्सव के आनंद में बड़ा फर्क है। आवश्यकता अभाव सूचित करती है। उससे यह प्रकट होता है कि हममें किस बात की कमी है। मनुष्य जीवन ही ऐसा है कि वह किसी भी अवस्था में यह अनुभव नहीं कर सकता कि अब उसके लिए कोई आवश्यकता नहीं रह गई है। एक के बाद दूसरी वस्तु की चिंता उसे सताती ही रहती है। इसलिए किसी एक आवश्यकता की पूर्ति से उसे जो सुख होता है, वह अत्यंत क्षणिक होता है, क्योंकि तुरंत ही दूसरी आवश्यकता उपस्थित हो जाती है। उत्सव में हम किसी बात की आवश्यकता का अनुभव नहीं करते। यही नहीं, उस दिन हम अपने काम काज छोड़कर विशुद्ध आनंद की प्राप्ति करते हैं। यह आनंद जीवन का आनंद है, काम का नहीं।

SubQuestion No : 25

Q.25 अनुच्छेद के अनुसार आवश्यकता से हमें किस बात का पता चलता है?

- Ans
- ☒ 1. हम कुछ भी नहीं कर सकते
 - ☒ 2. हममें कुछ कमी है
 - ☒ 3. हम सम्पूर्ण हैं
 - ☒ 4. हमें आवश्यकता सदैव बनी रहेगी

Question ID : 630680369463
Option 1 ID : 6306801439254
Option 2 ID : 6306801439253
Option 3 ID : 6306801439255
Option 4 ID : 6306801439256
Status : Answered
Chosen Option : 4

