



Teachingninja.in



Latest Govt Job updates



Private Job updates



Free Mock tests available

Visit - teachingninja.in



Teachingninja.in

ITBP Constable

**Previous Year Paper
(Telecom)
18 Sept, 2023 Shift 3**





भारत तिब्बत सीमा पुलिस बल
Indo-Tibetan Border Police Force (ITBP)

Participant ID	
Participant Name	
Test Center Name	
Test Date	18/09/2023
Test Time	4:30 PM - 6:30 PM
Subject	Constable Telecommunication

Section : General English

Q.1 Fill in the blank with the most appropriate option.
The windows were too high for her to see anything _____ the walls and windows opposite.

- Ans ☒ 1. apart
☒ 2. except
☒ 3. accept
☒ 4. expect

Question ID : 630680369314
Option 1 ID : 6306801438675
Option 2 ID : 6306801438676
Option 3 ID : 6306801438673
Option 4 ID : 6306801438674
Status : Answered
Chosen Option : 4

Q.2 Select the word from the options which is exactly opposite in meaning to the bracketed word given in the sentence below.
As leaders across the world continue to (assert), the war is far from won.

- Ans ☒ 1. deny
☒ 2. direct
☒ 3. comprehend
☒ 4. channelize

Question ID : 630680369327
Option 1 ID : 6306801438722
Option 2 ID : 6306801438723
Option 3 ID : 6306801438721
Option 4 ID : 6306801438724
Status : Answered
Chosen Option : 2

Comprehension:

In the following passage some words have been deleted. Fill in the blanks with the help of the alternatives given. Select the most appropriate option for each number.

The attackers (1) _____ to know what they were doing. They seemed to be good warriors. But they also seemed to be in a (2) _____ dance of avoidance. They did not (3) _____ to want to kill. (4) _____ injure.

SubQuestion No : 3

Q.3 Select the most appropriate option to fill in the blank No. 1.

- Ans ☒ 1. figured
 ☒ 2. seemed
 ☒ 3. thought
 ☒ 4. understood

Question ID : 630680369316
Option 1 ID : 6306801438679
Option 2 ID : 6306801438678
Option 3 ID : 6306801438680
Option 4 ID : 6306801438677
Status : Answered
Chosen Option : 4

Comprehension:

In the following passage some words have been deleted. Fill in the blanks with the help of the alternatives given. Select the most appropriate option for each number.

The attackers (1) _____ to know what they were doing. They seemed to be good warriors. But they also seemed to be in a (2) _____ dance of avoidance. They did not (3) _____ to want to kill. (4) _____ injure.

SubQuestion No : 4

Q.4 Select the most appropriate option to fill in the blank No. 3.

- Ans ☒ 1. present
 ☒ 2. show
 ☒ 3. appear
 ☒ 4. attend

Question ID : 630680369318
Option 1 ID : 6306801438685
Option 2 ID : 6306801438686
Option 3 ID : 6306801438688
Option 4 ID : 6306801438687
Status : Answered
Chosen Option : 1

Comprehension:

In the following passage some words have been deleted. Fill in the blanks with the help of the alternatives given. Select the most appropriate option for each number.

The attackers (1) _____ to know what they were doing. They seemed to be good warriors. But they also seemed to be in a (2) _____ dance of avoidance. They did not (3) _____ to want to kill. (4) _____ injure.

SubQuestion No : 5

Q.5 Select the most appropriate option to fill in the blank No. 2.

- Ans
- ☒ 1. understated
 - ☒ 2. caught up
 - ☒ 3. corporate
 - ☒ 4. bizarre

Question ID : 630680369317
Option 1 ID : 6306801438682
Option 2 ID : 6306801438684
Option 3 ID : 6306801438681
Option 4 ID : 6306801438683
Status : Answered
Chosen Option : 3

Comprehension:

In the following passage some words have been deleted. Fill in the blanks with the help of the alternatives given. Select the most appropriate option for each number.

The attackers (1) _____ to know what they were doing. They seemed to be good warriors. But they also seemed to be in a (2) _____ dance of avoidance. They did not (3) _____ to want to kill. (4) _____ injure.

SubQuestion No : 6

Q.6 Select the most appropriate option to fill in the blank No. 4.

- Ans
- ☒ 1. At least
 - ☒ 2. Mostly
 - ☒ 3. Merely
 - ☒ 4. Possible

Question ID : 630680369319
Option 1 ID : 6306801438691
Option 2 ID : 6306801438692
Option 3 ID : 6306801438689
Option 4 ID : 6306801438690
Status : Answered
Chosen Option : 2

Q.7 Fill in the blank with the most appropriate option.
The next time he calls, you will be _____ cold and indifferent.

- Ans
- ☐ 1. delightfully
 - ☐ 2. obediently
 - ☐ 3. coldly
 - ☒ 4. perfectly

Question ID : 630680369312
Option 1 ID : 6306801438666
Option 2 ID : 6306801438668
Option 3 ID : 6306801438665
Option 4 ID : 6306801438667
Status : Answered
Chosen Option : 4

Q.8 Fill in the blank with the most appropriate option.
_____ fresh green mountainside was bathed in brilliant sunlight.

- Ans
- ☐ 1. An
 - ☐ 2. A
 - ☒ 3. The
 - ☐ 4. That

Question ID : 630680369308
Option 1 ID : 6306801438652
Option 2 ID : 6306801438649
Option 3 ID : 6306801438651
Option 4 ID : 6306801438650
Status : Answered
Chosen Option : 3

Q.9 Select the most appropriate meaning of the given idiom.
Gift of gab.

- Ans
- ☐ 1. To be brave and not show trouble.
 - ☒ 2. The ability to speak to others in a self-assured, persuasive manner.
 - ☐ 3. To act superior and arrogant.
 - ☐ 4. Two people are required to accomplish a deed.

Question ID : 630680369323
Option 1 ID : 6306801438708
Option 2 ID : 6306801438705
Option 3 ID : 6306801438706
Option 4 ID : 6306801438707
Status : Answered
Chosen Option : 2

Q.10 Select the most appropriate synonym of the given word.
Flawed

- Ans
- ☒ 1. Florid
 - ☒ 2. Suitable
 - ☒ 3. Awry
 - ☒ 4. Proper

Question ID : 630680369324
Option 1 ID : 6306801438712
Option 2 ID : 6306801438710
Option 3 ID : 6306801438711
Option 4 ID : 6306801438709
Status : Answered
Chosen Option : 2

Q.11 Select the most appropriate meaning of the given proverb.
Every horse thinks its own pack is heaviest.

- Ans
- ☒ 1. Even the unluckiest or the most unfortunate will taste success at some point.
 - ☒ 2. We think that we work the hardest.
 - ☒ 3. Don't make plans based on future events that may not happen.
 - ☒ 4. It is wise to be careful and not show unnecessary bravery.

Question ID : 630680369320
Option 1 ID : 6306801438693
Option 2 ID : 6306801438696
Option 3 ID : 6306801438694
Option 4 ID : 6306801438695
Status : Answered
Chosen Option : 1



Comprehension:

Read the given passage carefully and select the most appropriate answer to the questions that follow.

Snowball was a more vivacious pig than Napoleon, quicker in speech and more inventive, but was not considered to have the same depth of character. All the other male pigs on the farm were porkers. The best known among them was a small fat pig named Squealer, with very round cheeks, twinkling eyes, nimble movements, and a shrill voice. He was a brilliant talker, and when he was arguing some difficult point, he had a way of skipping from side to side and whisking his tail which was somehow very persuasive. The others said of Squealer that he could turn black into white.

SubQuestion No : 12

Q.12 Select the options the most appropriate antonym of the bracketed word given in the sentence below.

'... and whisking his tail which was somehow very (persuasive).'

- Ans
- ☒ 1. demanding
 - ☒ 2. alluring
 - ☒ 3. fertile
 - ☒ 4. implausible

Question ID : 630680369334
Option 1 ID : 6306801438743
Option 2 ID : 6306801438742
Option 3 ID : 6306801438744
Option 4 ID : 6306801438741
Status : Answered
Chosen Option : 3

Comprehension:

Read the given passage carefully and select the most appropriate answer to the questions that follow.

Snowball was a more vivacious pig than Napoleon, quicker in speech and more inventive, but was not considered to have the same depth of character. All the other male pigs on the farm were porkers. The best known among them was a small fat pig named Squealer, with very round cheeks, twinkling eyes, nimble movements, and a shrill voice. He was a brilliant talker, and when he was arguing some difficult point, he had a way of skipping from side to side and whisking his tail which was somehow very persuasive. The others said of Squealer that he could turn black into white.

SubQuestion No : 13

Q.13 Select the options the most appropriate synonym of the bracketed word given in the sentence below.

'... quicker in speech and more (inventive)...

- Ans
- ☒ 1. acceptable
 - ☒ 2. angry
 - ☒ 3. imaginative
 - ☒ 4. talkative

Question ID : 630680369336
Option 1 ID : 6306801438752
Option 2 ID : 6306801438749
Option 3 ID : 6306801438751
Option 4 ID : 6306801438750
Status : Answered
Chosen Option : 2

Comprehension:

Read the given passage carefully and select the most appropriate answer to the questions that follow.

Snowball was a more vivacious pig than Napoleon, quicker in speech and more inventive, but was not considered to have the same depth of character. All the other male pigs on the farm were porkers. The best known among them was a small fat pig named Squealer, with very round cheeks, twinkling eyes, nimble movements, and a shrill voice. He was a brilliant talker, and when he was arguing some difficult point, he had a way of skipping from side to side and whisking his tail which was somehow very persuasive. The others said of Squealer that he could turn black into white.

SubQuestion No : 14

Q.14 Select the options the most appropriate meaning of the bracketed word given in the sentence below.

'...Snowball was a more (vivacious) pig than Napoleon...'

- Ans
- ☒ 1. foolish
 - ☒ 2. critical
 - ☒ 3. horrible
 - ☒ 4. active

Question ID : 630680369337
Option 1 ID : 6306801438755
Option 2 ID : 6306801438754
Option 3 ID : 6306801438753
Option 4 ID : 6306801438756
Status : Answered
Chosen Option : 2

Comprehension:

Read the given passage carefully and select the most appropriate answer to the questions that follow.

Snowball was a more vivacious pig than Napoleon, quicker in speech and more inventive, but was not considered to have the same depth of character. All the other male pigs on the farm were porkers. The best known among them was a small fat pig named Squealer, with very round cheeks, twinkling eyes, nimble movements, and a shrill voice. He was a brilliant talker, and when he was arguing some difficult point, he had a way of skipping from side to side and whisking his tail which was somehow very persuasive. The others said of Squealer that he could turn black into white.

SubQuestion No : 15

Q.15 Select the most appropriate substitute for the bracketed word.
He was a brilliant (talker)..

- Ans
- ☒ 1. clumsy
 - ☒ 2. orator
 - ☒ 3. jockey
 - ☒ 4. optimist

Question ID : 630680369335
Option 1 ID : 6306801438747
Option 2 ID : 6306801438746
Option 3 ID : 6306801438748
Option 4 ID : 6306801438745
Status : Answered
Chosen Option : 3

Q.1 निम्नलिखित प्रश्न में, चार विकल्पों में से, उस सही विकल्प का चयन करें जो दिए गए रिक्त स्थान के लिए सही शब्द का विकल्प हो। अनेक सुख-सुविधाओं के रहते यात्रा करना बहुत ____ हो गया है।

- Ans ☒ 1. सहज
☒ 2. लाभकारी
☒ 3. आवश्यक
☒ 4. कठिन

Question ID : 630680369445
Option 1 ID : 6306801439188
Option 2 ID : 6306801439185
Option 3 ID : 6306801439186
Option 4 ID : 6306801439187
Status : Answered
Chosen Option : 1

Q.2 निम्नलिखित प्रश्न में, चार विकल्पों में से, उस सही विकल्प का चयन करें जो दिए गए रिक्त स्थान के लिए सही शब्द का विकल्प हो।
पुस्तकें तथा प्राचीन दस्तावेज़ राष्ट्र की ____ हैं।

- Ans ☒ 1. संपत्ति
☒ 2. सामग्री
☒ 3. संस्थान
☒ 4. व्यवस्था

Question ID : 630680369443
Option 1 ID : 6306801439177
Option 2 ID : 6306801439180
Option 3 ID : 6306801439179
Option 4 ID : 6306801439178
Status : Answered
Chosen Option : 1

Q.3 निम्नलिखित प्रश्न में, चार विकल्पों में से, उस विकल्प का चयन करें जो क्रिया के भेद वाला सही विकल्प हो।
माता-पिता अपने बच्चों से कार्य करवाते हैं।

- Ans ☒ 1. नामधातु क्रिया
☒ 2. प्रेरणार्थक क्रिया
☒ 3. संयुक्त क्रिया
☒ 4. पूर्वकालिक क्रिया

Question ID : 630680369447
Option 1 ID : 6306801439194
Option 2 ID : 6306801439195
Option 3 ID : 6306801439193
Option 4 ID : 6306801439196
Status : Answered
Chosen Option : 2



Q.4 निम्नलिखित विकल्पों में से कौन सा विकल्प एक सुसंगत वाक्य बनाने के लिए वाक्यांशों को सही ढंग से व्यवस्थित करता है?

- A- दूसरों को उपदेश देना
- B- व्यवहार में उस उपदेश को
- C- सरल है परंतु स्वयं अपने
- D- लाना कठिन होता है

Ans ☒ 1. CBDA
☒ 2. CDAB
☒ 3. ACBD
☒ 4. BDCA

Question ID : 630680369442
Option 1 ID : 6306801439176
Option 2 ID : 6306801439174
Option 3 ID : 6306801439175
Option 4 ID : 6306801439173
Status : Answered
Chosen Option : 3

Comprehension:

नीचे दिए गये गद्यांश के बाद 5 प्रश्न दिए गये हैं। इस गद्यांश को ध्यानपूर्वक पढ़ें और चार विकल्पों में से प्रत्येक प्रश्न का सर्वोत्तम उत्तर चुनें।

साहित्य के विकास में प्रतिभाशाली मनुष्यों की तरह जन-समुदायों और जातियों की विशेष भूमिका होती है। इसे कौन नहीं जानता कि यूरोप के सांस्कृतिक विकास में जो भूमिका प्राचीन यूनानियों की है, वह अन्य किसी जाति की नहीं। जन समुदाय जब एक व्यवस्था से दूसरी व्यवस्था में प्रवेश करता है, तब उसकी अस्मिता नष्ट नहीं हो जाती। प्राचीन यूनान अनेक गण-समाजों में बँटा हुआ था। आधुनिक यूनान एक राष्ट्र है। भारतीय स्वाधीनता आंदोलन के दौरान इस देश ने इसी तरह अपनी एकात्मकता पहचानी इतिहास का प्रवाह ही ऐसा है कि विच्छिन्न है और अविच्छिन्न थी। मानव समाज बदलता है और अपनी पुरानी अस्मिता कायम रखता है। जो तत्त्व मानव समुदाय को एक जाति के रूप में संगठित करते हैं, उनमें इतिहास और सांस्कृतिक परंपरा के आधार पर निर्मित यह अस्मिता का ज्ञान अत्यंत महत्त्वपूर्ण है। बंगाल विभाजित हुआ और है, किंतु जब तक पूर्वी और पश्चिमी बंगाल के लोगों को अपनी साहित्यिक परंपरा का ज्ञान रहेगा तब तक बंगाली जाति सांस्कृतिक रूप से अविभाजित रहेगी। विभाजित बंगाल से विभाजित पंजाब की तुलना कीजिए, तो ज्ञात हो जाएगा कि साहित्य की परंपरा का ज्ञान कहाँ ज्यादा है और कहाँ कम और इस न्यूनतम ज्ञान के सामाजिक परिणाम क्या होते हैं।

SubQuestion No : 5

Q.5 अनुच्छेद के अनुसार जन समुदाय की अस्मिता कब नष्ट नहीं होती?

Ans ☒ 1. जब जनता की भूमिका नहीं होती है
☒ 2. जब एक व्यवस्था से दूसरी व्यवस्था में प्रवेश करे
☒ 3. जब उसका सांस्कृतिक विकास नहीं होता है
☒ 4. जब सिर्फ एक ही व्यवस्था में रहे

Question ID : 630680369466
Option 1 ID : 6306801439264
Option 2 ID : 6306801439263
Option 3 ID : 6306801439262
Option 4 ID : 6306801439261
Status : Answered
Chosen Option : 2



Comprehension:

नीचे दिए गये गद्यांश के बाद 5 प्रश्न दिए गये हैं। इस गद्यांश को ध्यानपूर्वक पढ़ें और चार विकल्पों में से प्रत्येक प्रश्न का सर्वोत्तम उत्तर चुनें।

साहित्य के विकास में प्रतिभाशाली मनुष्यों की तरह जन-समुदायों और जातियों की विशेष भूमिका होती है। इसे कौन नहीं जानता कि यूरोप के सांस्कृतिक विकास में जो भूमिका प्राचीन यूनानियों की है, वह अन्य किसी जाति की नहीं। जन समुदाय जब एक व्यवस्था से दूसरी व्यवस्था में प्रवेश करता है, तब उसकी अस्मिता नष्ट नहीं हो जाती। प्राचीन यूनान अनेक गण-समाजों में बँटा हुआ था। आधुनिक यूनान एक राष्ट्र है। भारतीय स्वाधीनता आंदोलन के दौरान इस देश ने इसी तरह अपनी एकात्मकता पहचानी इतिहास का प्रवाह ही ऐसा है कि विच्छिन्न है और अविच्छिन्न थी। मानव समाज बदलता है और अपनी पुरानी अस्मिता कायम रखता है। जो तत्त्व मानव समुदाय को एक जाति के रूप में संगठित करते हैं, उनमें इतिहास और सांस्कृतिक परंपरा के आधार पर निर्मित यह अस्मिता का ज्ञान अत्यंत महत्वपूर्ण है। बंगाल विभाजित हुआ और है, किंतु जब तक पूर्वी और पश्चिमी बंगाल के लोगों को अपनी साहित्यिक परंपरा का ज्ञान रहेगा तब तक बंगाली जाति सांस्कृतिक रूप से अविभाजित रहेगी। विभाजित बंगाल से विभाजित पंजाब की तुलना कीजिए, तो ज्ञात हो जाएगा कि साहित्य की परंपरा का ज्ञान कहाँ ज्यादा है और कहाँ कम और इस न्यूनतम ज्ञान के सामाजिक परिणाम क्या होते हैं।

SubQuestion No : 6

Q.6 इस अनुच्छेद का कोई उपयुक्त शीर्षक-

- Ans**
- ☒ 1. प्रतिभाशाली मनुष्य
 - ☒ 2. जन-समुदाय व जातियाँ
 - ☒ 3. साहित्य का विकास
 - ☒ 4. यूरोप का विकास

Question ID : 630680369465
Option 1 ID : 6306801439258
Option 2 ID : 6306801439259
Option 3 ID : 6306801439260
Option 4 ID : 6306801439257
Status : Answered
Chosen Option : 2



Comprehension:

नीचे दिए गये गद्यांश के बाद 5 प्रश्न दिए गये हैं। इस गद्यांश को ध्यानपूर्वक पढ़ें और चार विकल्पों में से प्रत्येक प्रश्न का सर्वोत्तम उत्तर चुनें।

साहित्य के विकास में प्रतिभाशाली मनुष्यों की तरह जन-समुदायों और जातियों की विशेष भूमिका होती है। इसे कौन नहीं जानता कि यूरोप के सांस्कृतिक विकास में जो भूमिका प्राचीन यूनानियों की है, वह अन्य किसी जाति की नहीं। जन समुदाय जब एक व्यवस्था से दूसरी व्यवस्था में प्रवेश करता है, तब उसकी अस्मिता नष्ट नहीं हो जाती। प्राचीन यूनान अनेक गण-समाजों में बँटा हुआ था। आधुनिक यूनान एक राष्ट्र है। भारतीय स्वाधीनता आंदोलन के दौरान इस देश ने इसी तरह अपनी एकात्मकता पहचानी इतिहास का प्रवाह ही ऐसा है कि विच्छिन्न है और अविच्छिन्न थी। मानव समाज बदलता है और अपनी पुरानी अस्मिता कायम रखता है। जो तत्त्व मानव समुदाय को एक जाति के रूप में संगठित करते हैं, उनमें इतिहास और सांस्कृतिक परंपरा के आधार पर निर्मित यह अस्मिता का ज्ञान अत्यंत महत्वपूर्ण है। बंगाल विभाजित हुआ और है, किंतु जब तक पूर्वी और पश्चिमी बंगाल के लोगों को अपनी साहित्यिक परंपरा का ज्ञान रहेगा तब तक बंगाली जाति सांस्कृतिक रूप से अविभाजित रहेगी। विभाजित बंगाल से विभाजित पंजाब की तुलना कीजिए, तो ज्ञात हो जाएगा कि साहित्य की परंपरा का ज्ञान कहाँ ज्यादा है और कहाँ कम और इस न्यूनतम ज्ञान के सामाजिक परिणाम क्या होते हैं।

SubQuestion No : 7

Q.7 अनुच्छेद के अनुसार मानव समुदाय को एक जाति के रूप में संगठित करने वाले तत्त्व कौन-से हैं?

- Ans** ☒ 1. इतिहास और सांस्कृतिक परंपरा
- ☐ 2. सामाजिक विभाजन
- ☐ 3. आधुनिक विज्ञान
- ☐ 4. एकात्मकता

Question ID : 630680369467
Option 1 ID : 6306801439265
Option 2 ID : 6306801439266
Option 3 ID : 6306801439268
Option 4 ID : 6306801439267
Status : Answered
Chosen Option : 1



Comprehension:

नीचे दिए गये गद्यांश के बाद 5 प्रश्न दिए गये हैं। इस गद्यांश को ध्यानपूर्वक पढ़ें और चार विकल्पों में से प्रत्येक प्रश्न का सर्वोत्तम उत्तर चुनें।

साहित्य के विकास में प्रतिभाशाली मनुष्यों की तरह जन-समुदायों और जातियों की विशेष भूमिका होती है। इसे कौन नहीं जानता कि यूरोप के सांस्कृतिक विकास में जो भूमिका प्राचीन यूनानियों की है, वह अन्य किसी जाति की नहीं। जन समुदाय जब एक व्यवस्था से दूसरी व्यवस्था में प्रवेश करता है, तब उसकी अस्मिता नष्ट नहीं हो जाती। प्राचीन यूनान अनेक गण-समाजों में बँटा हुआ था। आधुनिक यूनान एक राष्ट्र है। भारतीय स्वाधीनता आंदोलन के दौरान इस देश ने इसी तरह अपनी एकात्मकता पहचानी इतिहास का प्रवाह ही ऐसा है कि विच्छिन्न है और अविच्छिन्न थी। मानव समाज बदलता है और अपनी पुरानी अस्मिता कायम रखता है। जो तत्त्व मानव समुदाय को एक जाति के रूप में संगठित करते हैं, उनमें इतिहास और सांस्कृतिक परंपरा के आधार पर निर्मित यह अस्मिता का ज्ञान अत्यंत महत्वपूर्ण है। बंगाल विभाजित हुआ और है, किंतु जब तक पूर्वी और पश्चिमी बंगाल के लोगों को अपनी साहित्यिक परंपरा का ज्ञान रहेगा तब तक बंगाली जाति सांस्कृतिक रूप से अविभाजित रहेगी। विभाजित बंगाल से विभाजित पंजाब की तुलना कीजिए, तो ज्ञात हो जाएगा कि साहित्य की परंपरा का ज्ञान कहाँ ज्यादा है और कहाँ कम और इस न्यूनतम ज्ञान के सामाजिक परिणाम क्या होते हैं।

SubQuestion No : 8

Q.8 अनुच्छेद के अनुसार बंगाली जाति का सांस्कृतिक रूप से अविभाजित होने के पीछे क्या रहस्य है?

- Ans ☒ 1. न्यूनतम ज्ञान
- ☒ 2. साहित्यिक परंपरा का ज्ञान
- ☒ 3. पूर्वी और पश्चिमी बंगाल का विभाजन
- ☒ 4. बंगाल से पंजाब की तुलना

Question ID : 630680369468
Option 1 ID : 6306801439272
Option 2 ID : 6306801439270
Option 3 ID : 6306801439269
Option 4 ID : 6306801439271
Status : Answered
Chosen Option : 2

Q.9 निम्नलिखित प्रश्न में, चार विकल्पों में से, उस सही विकल्प का चयन करें जो वाक्यांशों के लिए एक शब्द का विकल्प हो।

जिसे कठिनाई से समझा जा सके

- Ans ☒ 1. नवोदित
- ☒ 2. दुर्बोध
- ☒ 3. दैविक
- ☒ 4. दमित

Question ID : 630680369440
Option 1 ID : 6306801439168
Option 2 ID : 6306801439167
Option 3 ID : 6306801439166
Option 4 ID : 6306801439165
Status : Answered
Chosen Option : 2

Q.10 निम्नलिखित प्रश्न में, चार विकल्पों में से, उस विकल्प का चयन करें जो दिए गए रिक्त स्थान के लिए सही प्रश्नवाचक विशेषण वाला विकल्प हो।
तुम _____ वस्तु के बारे में बात कर रहे हो?

- Ans
- ☒ 1. इस
 - ☒ 2. अपनी
 - ☒ 3. कौन सी
 - ☒ 4. मेरी

Question ID : 630680369451
Option 1 ID : 6306801439212
Option 2 ID : 6306801439211
Option 3 ID : 6306801439210
Option 4 ID : 6306801439209
Status : Answered
Chosen Option : 3

Q.11 निम्नलिखित प्रश्न में, चार विकल्पों में से, उस विकल्प का चयन करें जो दी गई मुहावरे का सही अर्थ वाला विकल्प है।
अंगारों से खेलना

- Ans
- ☒ 1. सबसे अलग रहना
 - ☒ 2. खतरा मोल लेना
 - ☒ 3. चापलूसी करना
 - ☒ 4. मूर्ख काम करना

Question ID : 630680369452
Option 1 ID : 6306801439214
Option 2 ID : 6306801439216
Option 3 ID : 6306801439213
Option 4 ID : 6306801439215
Status : Answered
Chosen Option : 4

Q.12 निम्नलिखित प्रश्न में, चार विकल्पों में से, उस विकल्प का चयन करें जो दिए गए शब्द के पर्यायवाची शब्द का सही विकल्प नहीं है।
कमल

- Ans
- ☒ 1. कुट
 - ☒ 2. उत्पल
 - ☒ 3. शतदल
 - ☒ 4. राजीव

Question ID : 630680369455
Option 1 ID : 6306801439227
Option 2 ID : 6306801439225
Option 3 ID : 6306801439228
Option 4 ID : 6306801439226
Status : Answered
Chosen Option : 1

Q.13 निम्नलिखित प्रश्न में, चार विकल्पों में से, उस विकल्प का चयन करें जो विलोम शब्द का सबसे अच्छा विकल्प है।
निषिद्ध

- Ans
- ☒ 1. सार्थक
 - ☒ 2. निराधार
 - ☒ 3. निर्बल
 - ☒ 4. विहित

Question ID : 630680369457
Option 1 ID : 6306801439234
Option 2 ID : 6306801439235
Option 3 ID : 6306801439233
Option 4 ID : 6306801439236
Status : Answered
Chosen Option : 4

Q.14 निम्नलिखित विकल्पों में से कौन सा विकल्प एक सुसंगत वाक्य बनाने के लिए वाक्यांशों को सही ढंग से व्यवस्थित करता है?
A- यदि हम किसी रोगी
B- को देखने जाते हैं तो
C- कतई नहीं करना चाहिए
D- उसका मनोबल गिराने का प्रयास

- Ans
- ☒ 1. BACD
 - ☒ 2. DCBA
 - ☒ 3. CDAB
 - ☒ 4. ABDC

Question ID : 630680369446
Option 1 ID : 6306801439189
Option 2 ID : 6306801439192
Option 3 ID : 6306801439190
Option 4 ID : 6306801439191
Status : Answered
Chosen Option : 4

Q.15 निम्नलिखित प्रश्न में, चार विकल्पों में से, उस विकल्प का चयन करें जो दिए गए रिक्त स्थान के लिए सही व्यक्तिवाचक विशेषण वाला विकल्प हो।
_____ साड़ी मुझे सबसे ज्यादा पसंद है।

- Ans
- ☒ 1. बनारसी
 - ☒ 2. लम्बी
 - ☒ 3. महँगी
 - ☒ 4. सस्ती

Question ID : 630680369449
Option 1 ID : 6306801439204
Option 2 ID : 6306801439202
Option 3 ID : 6306801439201
Option 4 ID : 6306801439203
Status : Answered
Chosen Option : 1

Q.1 वह प्रक्रिया जिसके द्वारा हरे पौधे सूर्य के प्रकाश की उपस्थिति में कार्बन डाइऑक्साइड और पानी को ग्लूकोज और ऑक्सीजन में परिवर्तित करते हैं, उसे कहा जाता है:

- Ans
- ☒ 1. स्वेद
 - ☒ 2. किण्वन
 - ☒ 3. प्रकाश संश्लेषण
 - ☒ 4. श्वसन

Question ID : 630680369044
Option 1 ID : 6306801437594
Option 2 ID : 6306801437596
Option 3 ID : 6306801437595
Option 4 ID : 6306801437593
Status : Answered
Chosen Option : 3

Q.2 निम्नलिखित में से किस विधि से भारतीय नागरिकता प्राप्त की जा सकती है?

- Ans
- ☒ 1. भारत के क्षेत्र के भीतर जन्म
 - ☒ 2. भारतीय नागरिक से विवाह
 - ☒ 3. उपरोक्त के सभी
 - ☒ 4. प्राकृतिककरण

Question ID : 630680369062
Option 1 ID : 6306801437665
Option 2 ID : 6306801437666
Option 3 ID : 6306801437668
Option 4 ID : 6306801437667
Status : Answered
Chosen Option : 1

Q.3 भारत के किस मंत्री को 2023 में मिस्र के सर्वोच्च नागरिक पुरस्कार, ऑर्डर ऑफ नाइल से सम्मानित किया गया?

- Ans
- ☒ 1. श्री नरेंद्र मोदी
 - ☒ 2. श्री अमित शाह
 - ☒ 3. श्री अरविन्द केजरीवाल
 - ☒ 4. श्री राहुल गांधी

Question ID : 630680369022
Option 1 ID : 6306801437507
Option 2 ID : 6306801437505
Option 3 ID : 6306801437508
Option 4 ID : 6306801437506
Status : Answered
Chosen Option : 1



Q.4 भारत में मुसलमानों के हितों का प्रतिनिधित्व करने के लिए 1906 में "मुस्लिम लीग" की स्थापना की गई थी। इसके संस्थापक कौन थे?

- Ans ☒ 1. उपरोक्त के सभी
- ☒ 2. ख्वाजा सलीमुल्लाह
- ☒ 3. विकार-उल-मुल्क
- ☒ 4. सैयद अमीर अली

Question ID : 630680369061
Option 1 ID : 6306801437664
Option 2 ID : 6306801437661
Option 3 ID : 6306801437662
Option 4 ID : 6306801437663
Status : Answered
Chosen Option : 4

Q.5 विजयनगर साम्राज्य दक्षिण भारत का एक प्रमुख साम्राज्य था। विजयनगर साम्राज्य किस वर्तमान राज्य में विकसित हुआ?

- Ans ☒ 1. कर्नाटक
- ☒ 2. तेलंगाना
- ☒ 3. केरल
- ☒ 4. ओडिशा

Question ID : 630680369057
Option 1 ID : 6306801437646
Option 2 ID : 6306801437645
Option 3 ID : 6306801437647
Option 4 ID : 6306801437648
Status : Answered
Chosen Option : 2

Q.6 दक्कन का पठार भारत के किस क्षेत्र में स्थित है?

- Ans ☒ 1. पूर्व
- ☒ 2. उत्तर
- ☒ 3. पश्चिम
- ☒ 4. दक्षिण

Question ID : 630680369048
Option 1 ID : 6306801437611
Option 2 ID : 6306801437609
Option 3 ID : 6306801437612
Option 4 ID : 6306801437610
Status : Answered
Chosen Option : 2



Q.7 भारत में कौन सा त्योहार दीया, रोशनी के साथ मनाया जाता है और इसे रोशनी का त्योहार भी कहा जाता है?

- Ans ☒ 1. दिवाली
- ☒ 2. ईद
- ☒ 3. पोंगल
- ☒ 4. होली

Question ID : 630680369038
Option 1 ID : 6306801437571
Option 2 ID : 6306801437570
Option 3 ID : 6306801437572
Option 4 ID : 6306801437569

Status : Answered
Chosen Option : 1

Q.8 प्रधानमंत्री कौशल को काम कार्यक्रम का नाम बदलकर प्रधानमंत्री विरासत का संवर्धन कब किया गया?

- Ans ☒ 1. मार्च'23
- ☒ 2. जनवरी'23
- ☒ 3. दिसम्बर'21
- ☒ 4. दिसम्बर'22

Question ID : 630680369028
Option 1 ID : 6306801437532
Option 2 ID : 6306801437531
Option 3 ID : 6306801437529
Option 4 ID : 6306801437530

Status : Answered
Chosen Option : 1

Q.9 निम्नलिखित में से कौन सा उपन्यास दो भागों में विभाजित है, जिसमें भाग एक में, कथाकार नायक के बचपन से लेकर पोर्ट ऑफ स्पेन की यात्रा तक के जीवन को दर्ज करता है?

- Ans ☒ 1. वी.एस. नायपॉल द्वारा "ए हाउस फॉर मिस्टर बिस्वास"।
- ☒ 2. ए.पी.जे. अब्दुल कलाम
- ☒ 3. महात्मा गांधी द्वारा "माय एक्सपेरिमेंट्स विथ ट्रुथ"।
- ☒ 4. अमिताव घोष द्वारा "द ग्लास पैलेस"।

Question ID : 630680369034
Option 1 ID : 6306801437555
Option 2 ID : 6306801437553
Option 3 ID : 6306801437556
Option 4 ID : 6306801437554

Status : Answered
Chosen Option : 3



Q.10 भारत में NBFCs का पूर्ण रूप क्या है?

- Ans ☒ 1. नॉन बैंकिंग फाइनेंसियल कारपोरेशन
- ☐ 2. न्यू बैंकिंग फाइनेंसियल कारपोरेशन
- ☐ 3. नो बैंकिंग फर्स्ट कारपोरेशन
- ☐ 4. नॉन बैंकिंग फर्स्ट कारपोरेशन

Question ID : 630680369046
Option 1 ID : 6306801437601
Option 2 ID : 6306801437602
Option 3 ID : 6306801437604
Option 4 ID : 6306801437603
Status : Answered
Chosen Option : 1

Q.11 सिंगापुर से DS-SAR उपग्रह ले जाने वाले PSLV-C56 का प्रक्षेपण कब होगा?

- Ans ☐ 1. अक्टूबर'23
- ☐ 2. सितम्बर'23
- ☒ 3. जुलाई'23
- ☐ 4. अगस्त'23

Question ID : 630680369025
Option 1 ID : 6306801437520
Option 2 ID : 6306801437519
Option 3 ID : 6306801437517
Option 4 ID : 6306801437518
Status : Answered
Chosen Option : 2

Q.12 भारत में ब्रह्मपुत्र नदी को बांग्लादेश में _____ के रूप में जाना जाता है

- Ans ☐ 1. पद्मा नदी
- ☐ 2. गोदावरी नदी
- ☒ 3. जमुना नदी
- ☐ 4. कावेरी नदी

Question ID : 630680369051
Option 1 ID : 6306801437621
Option 2 ID : 6306801437623
Option 3 ID : 6306801437622
Option 4 ID : 6306801437624
Status : Answered
Chosen Option : 1

Q.13 जून'23 में मुंबई में पाई गई नई मकड़ी प्रजाति को क्या नाम दिया गया है?

- Ans
- ☒ 1. साल्टिसिडे
 - ☒ 2. तुकाराम
 - ☒ 3. अदांसोनी
 - ☒ 4. हसारियस

Question ID : 630680369026
Option 1 ID : 6306801437522
Option 2 ID : 6306801437523
Option 3 ID : 6306801437524
Option 4 ID : 6306801437521
Status : Answered
Chosen Option : 3

Q.14 इस्लाम भारत में दूसरा सबसे बड़ा धर्म है। भारत की कितनी प्रतिशत आबादी इस्लाम का पालन करती है?

- Ans
- ☒ 1. लगभग 10 प्रतिशत
 - ☒ 2. लगभग 25 प्रतिशत
 - ☒ 3. लगभग 20 प्रतिशत
 - ☒ 4. लगभग 15 प्रतिशत

Question ID : 630680369055
Option 1 ID : 6306801437637
Option 2 ID : 6306801437640
Option 3 ID : 6306801437639
Option 4 ID : 6306801437638
Status : Answered
Chosen Option : 2

Q.15 असहयोग आंदोलन निम्न के जवाब में महात्मा गांधी द्वारा शुरू किया गया था:

- Ans
- ☒ 1. जलियांवाला बाग हत्याकांड
 - ☒ 2. साइमन कमीशन
 - ☒ 3. रौलेट अधिनियम
 - ☒ 4. बंगाल का विभाजन

Question ID : 630680369060
Option 1 ID : 6306801437657
Option 2 ID : 6306801437660
Option 3 ID : 6306801437658
Option 4 ID : 6306801437659
Status : Answered
Chosen Option : 1

Q.16 निम्नलिखित में से कौन सा पोषकतत्व एक वृहत् तत्व है और शरीर के लिए ऊर्जा के प्रमुख स्रोत के रूप में कार्य करता है?

- Ans
- ☒ 1. कैल्शियम
 - ☒ 2. पारा
 - ☒ 3. कार्बोहाइड्रेट
 - ☒ 4. जिंक

Question ID : 630680369042
Option 1 ID : 6306801437585
Option 2 ID : 6306801437586
Option 3 ID : 6306801437588
Option 4 ID : 6306801437587
Status : Answered
Chosen Option : 3

Q.17 किस देश ने 2023 में एशिया इमर्जिंग क्रिकेट खेलकूद-प्रतियोगिता (टूर्नामेंट) जीता है?

- Ans
- ☒ 1. बांग्लादेश A
 - ☒ 2. पाकिस्तान A
 - ☒ 3. श्रीलंका A
 - ☒ 4. भारत A

Question ID : 630680369031
Option 1 ID : 6306801437544
Option 2 ID : 6306801437542
Option 3 ID : 6306801437543
Option 4 ID : 6306801437541
Status : Answered
Chosen Option : 4

Q.18 निम्नलिखित में से कौन सा सरकारी संस्थान है?

- Ans
- ☒ 1. CESC लिमिटेड
 - ☒ 2. भारतीय रेल
 - ☒ 3. इंडिगो एयरलाइंस
 - ☒ 4. रिलायंस पावर

Question ID : 630680369040
Option 1 ID : 6306801437578
Option 2 ID : 6306801437577
Option 3 ID : 6306801437580
Option 4 ID : 6306801437579
Status : Answered
Chosen Option : 2

Q.19 2023 में लोकार्पण किए गए नए महिला सम्मान बचत प्रमाणपत्र में अधिकतम कितनी राशि निवेश की जा सकती है?

- Ans ☒ 1. 2 लाख
- ☐ 2. 5 लाख
- ☐ 3. 1 लाख
- ☐ 4. 3 लाख

Question ID : 630680369029
Option 1 ID : 6306801437533
Option 2 ID : 6306801437535
Option 3 ID : 6306801437534
Option 4 ID : 6306801437536
Status : Answered
Chosen Option : 1

Q.20 जनसांख्यिकीय वर्गीकरण के अनुसार, भारत में कौन सा आयु वर्ग "कार्यकारी-आयु जनसंख्या" का गठन करता है?

- Ans ☒ 1. 15-64 वर्ष
- ☐ 2. 65 वर्ष और उससे अधिक
- ☐ 3. 60 वर्ष और उससे अधिक
- ☐ 4. 0-14 वर्ष

Question ID : 630680369052
Option 1 ID : 6306801437626
Option 2 ID : 6306801437628
Option 3 ID : 6306801437627
Option 4 ID : 6306801437625
Status : Answered
Chosen Option : 1

Section : Reasoning Ability

Q.1 एक निश्चित कोड भाषा में, यदि MANIFEST को '87' के रूप में कोडित किया गया है, DEDUCTION को '95' के रूप में कोडित किया गया है, तो 'STANDARD' को कैसे कोडित किया जाएगा?

- Ans ☐ 1. 92
- ☐ 2. 75
- ☒ 3. 81
- ☐ 4. 87

Question ID : 630680369491
Option 1 ID : 6306801439364
Option 2 ID : 6306801439361
Option 3 ID : 6306801439362
Option 4 ID : 6306801439363
Status : Answered
Chosen Option : 3

Q.2 उस विकल्प का चयन करें जो तीसरे शब्द से उसी प्रकार से संबंधित है जिस प्रकार से दूसरा शब्द पहले शब्द से संबंधित है।
भेड़ : मेमना :: हंस : ?

- Ans
- ✓ 1. हंसशावक
 - ✗ 2. अश्वशावक
 - ✗ 3. पशुशावक
 - ✗ 4. शावक

Question ID : 630680369492
Option 1 ID : 6306801439365
Option 2 ID : 6306801439366
Option 3 ID : 6306801439367
Option 4 ID : 6306801439368
Status : Answered
Chosen Option : 1

Q.3 निम्नलिखित में से कौन सा अक्षर दी गई श्रृंखला में प्रश्न चिह्न (?) को प्रतिस्थापित करेगा?
Q, N, J, E, Y, ?

- Ans
- ✗ 1. S
 - ✗ 2. T
 - ✗ 3. Q
 - ✓ 4. R

Question ID : 630680369503
Option 1 ID : 6306801439410
Option 2 ID : 6306801439411
Option 3 ID : 6306801439412
Option 4 ID : 6306801439409
Status : Answered
Chosen Option : 4

Q.4 छः लड़कियाँ H, J, K, L, M और N एक वृत्त में केंद्र की ओर मुख करके बैठी हैं। N, K के बायीं ओर दूसरे स्थान पर बैठी है, और L और M के बीच में है। K, J या L की पड़ोसी नहीं है। H के ठीक दायें में कौन बैठी है?

- Ans
- ✗ 1. K
 - ✗ 2. L
 - ✓ 3. J
 - ✗ 4. M

Question ID : 630680369500
Option 1 ID : 6306801439400
Option 2 ID : 6306801439398
Option 3 ID : 6306801439397
Option 4 ID : 6306801439399
Status : Answered
Chosen Option : 3



Q.5 दो कथन दिए गए हैं जिनके बाद दो निष्कर्ष क्रमांकित I और II दिए गए हैं। कथनों को सत्य मानते हुए, भले ही वे सामान्यतः ज्ञात तथ्यों से भिन्न प्रतीत होते हों, तय करें कि कौन सा निष्कर्ष तार्किक रूप से कथनों में से अनुसरण करता (करते) है।

कथन:

कथन I: केवल कुछ RAM, ROM हैं।

कथन II: कुछ ROM CPU नहीं हैं।

निष्कर्ष:

निष्कर्ष I: सभी RAM के ROM होने की संभावना है।

निष्कर्ष II: कुछ CPU ROM हैं।

Ans

- ✗ 1. केवल निष्कर्ष I अनुसरण करता है
- ✓ 2. न तो निष्कर्ष I और न ही II अनुसरण करता है
- ✗ 3. निष्कर्ष I और II दोनों अनुसरण करते हैं
- ✗ 4. केवल निष्कर्ष II अनुसरण करता है

Question ID : 630680369508

Option 1 ID : 6306801439429

Option 2 ID : 6306801439432

Option 3 ID : 6306801439431

Option 4 ID : 6306801439430

Status : Answered

Chosen Option : 2

Q.6 चार अक्षर-समूह दिए गए हैं, जिनमें से तीन किसी निश्चित तरीके से समान हैं और एक भिन्न है। विषम अक्षर-समूह का चयन करें।

Ans

- ✗ 1. UWT
- ✗ 2. JLI
- ✗ 3. EGD
- ✓ 4. MOP

Question ID : 630680369498

Option 1 ID : 6306801439389

Option 2 ID : 6306801439391

Option 3 ID : 6306801439392

Option 4 ID : 6306801439390

Status : Answered

Chosen Option : 4



Q.7 दी गई श्रृंखला में ऐसे कितने प्रतीक हैं जिनके ठीक पहले एक व्यंजन है और ठीक बाद में एक स्वर है?
E @ M % I J ! L C ! X @ Y E ^ N - O + F & U ! Z

- Ans
- ✓ 1. 3
 - ✗ 2. 2
 - ✗ 3. 1
 - ✗ 4. 4

Question ID : 630680369481
Option 1 ID : 6306801439324
Option 2 ID : 6306801439322
Option 3 ID : 6306801439323
Option 4 ID : 6306801439321
Status : Answered
Chosen Option : 1

Q.8 राम की ओर इशारा करते हुए, श्याम ने कहा, "वह मेरी पुत्री की माता के पिता का इकलौता पुत्र है"। राम, श्याम की पत्नी से कैसे संबंधित है?

- Ans
- ✗ 1. पिता
 - ✗ 2. ससुर
 - ✗ 3. पुत्र
 - ✓ 4. भाई

Question ID : 630680369487
Option 1 ID : 6306801439347
Option 2 ID : 6306801439348
Option 3 ID : 6306801439345
Option 4 ID : 6306801439346
Status : Answered
Chosen Option : 4



Q.9 उस आकृति का चयन करें जो निम्नलिखित आकृति श्रृंखला में प्रश्न चिह्न (?) को प्रतिस्थापित करेगी।

+	-	Δ	-	Δ	x	x	%	÷	%	÷	!	
@	x	+	+	%	Δ	!	x	@	x	@	?	
!	÷	%	@	!	÷	-	+	@	Δ	-	+	

Ans

✗ 1.

+	@	!
÷		-
Δ	x	%

✓ 2.

!	@	+
÷		-
%	x	Δ

✗ 3.

!	÷	+
x		@
%	-	Δ

✗ 4.

+	÷	!
x		@
Δ	-	%

Question ID : 630680369513
Option 1 ID : 6306801439451
Option 2 ID : 6306801439450
Option 3 ID : 6306801439452
Option 4 ID : 6306801439449
Status : Answered
Chosen Option : 2

Q.10 यदि A 'जोड़' को दर्शाता है, B 'गुणा' को दर्शाता है, C 'घटाव' को दर्शाता है, और D 'भाग' को दर्शाता है, तो निम्नलिखित समीकरण का मान क्या होगा?
45 A (108 D 6) C 33 = ?

Ans

- ✗ 1. 27
- ✗ 2. 36
- ✗ 3. 33
- ✓ 4. 30

Question ID : 630680369469
Option 1 ID : 6306801439273
Option 2 ID : 6306801439276
Option 3 ID : 6306801439274
Option 4 ID : 6306801439275
Status : Answered
Chosen Option : 3

Q.11 COMPUTER शब्द में अक्षरों के ऐसे कितने युग्म हैं जिनके बीच में उतने ही अक्षर है जितने वर्णमाला क्रम में स्थित हैं?

- Ans
- ✗ 1. 5
 - ✓ 2. 4
 - ✗ 3. 3
 - ✗ 4. 2

Question ID : 630680369482
Option 1 ID : 6306801439326
Option 2 ID : 6306801439325
Option 3 ID : 6306801439327
Option 4 ID : 6306801439328
Status : Answered
Chosen Option : 2

Q.12 चार अक्षर-समूह युग्म दिए गए हैं, जिनमें से तीन किसी निश्चित तरीके से समान हैं और एक भिन्न है। विषम अक्षर-समूह युग्म का चयन करें।

- Ans
- ✓ 1. OD : QF
 - ✗ 2. UR : VU
 - ✗ 3. LS : MV
 - ✗ 4. IN : JQ

Question ID : 630680369495
Option 1 ID : 6306801439378
Option 2 ID : 6306801439379
Option 3 ID : 6306801439380
Option 4 ID : 6306801439377
Status : Answered
Chosen Option : 1

Q.13 निम्नलिखित में से कौन सी संख्या दी गई श्रृंखला में प्रश्न चिह्न (?) को प्रतिस्थापित करेगी?
52, 53, 57, 66, ?, 107

- Ans
- ✗ 1. 78
 - ✗ 2. 99
 - ✓ 3. 82
 - ✗ 4. 73

Question ID : 630680369475
Option 1 ID : 6306801439298
Option 2 ID : 6306801439300
Option 3 ID : 6306801439299
Option 4 ID : 6306801439297
Status : Answered
Chosen Option : 3

Q.14 यदि X, 'गुण' को दर्शाता है, Y, 'जोड़' को दर्शाता है, Z, 'भाग' को दर्शाता है, और W, 'घटाव' को दर्शाता है, तो निम्नलिखित समीकरण का मान क्या होगा?
14 X 10 Z 20 W 40 Y 34 = ?

- Ans
- ✗ 1. 0
 - ✗ 2. 5
 - ✗ 3. 3
 - ✓ 4. 1

Question ID : 630680369473
Option 1 ID : 6306801439291
Option 2 ID : 6306801439290
Option 3 ID : 6306801439289
Option 4 ID : 6306801439292
Status : Answered
Chosen Option : 4

Q.15 एक निश्चित कोड भाषा में, यदि EXERCISE को CZCTEGUC के रूप में कोडित किया गया है, RUMOR को TSOMST के रूप में कोडित किया गया है, तो FUTURE को कैसे कोडित किया जाएगा?

- Ans
- ✓ 1. HSVSTC
 - ✗ 2. GSBTCC
 - ✗ 3. HSEYVN
 - ✗ 4. HSBTSC

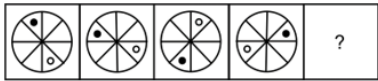
Question ID : 630680369488
Option 1 ID : 6306801439350
Option 2 ID : 6306801439351
Option 3 ID : 6306801439352
Option 4 ID : 6306801439349
Status : Answered
Chosen Option : 1

Q.16 निम्नलिखित में से कौन सी संख्या दी गई श्रृंखला में प्रश्न चिह्न (?) को प्रतिस्थापित करेगी?
6, 12, 36, 144, 720, ?

- Ans
- ✗ 1. 755
 - ✗ 2. 1850
 - ✓ 3. 4320
 - ✗ 4. 2541

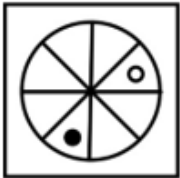
Question ID : 630680369477
Option 1 ID : 6306801439305
Option 2 ID : 6306801439306
Option 3 ID : 6306801439308
Option 4 ID : 6306801439307
Status : Answered
Chosen Option : 3

Q.17 उस आकृति का चयन करें जो निम्नलिखित आकृति श्रृंखला में प्रश्न चिह्न (?) को प्रतिस्थापित करेगी।

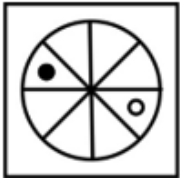


Ans

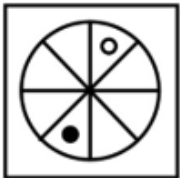
✗ 1.



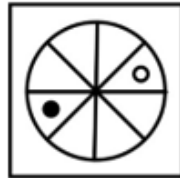
✗ 2.



✗ 3.



✓ 4.



Question ID : 630680369509
Option 1 ID : 6306801439436
Option 2 ID : 6306801439434
Option 3 ID : 6306801439433
Option 4 ID : 6306801439435
Status : Answered
Chosen Option : 4

Q.18 पाँच सहकर्मी उत्तर दिशा की ओर मुख करके एक बेंच पर बैठे हैं। शाहरुख रणवीर के ठीक बायीं ओर हैं और बाँबी के ठीक दायीं ओर हैं। सलमान रणवीर के दायीं ओर हैं। अमिताभ, रणवीर और सलमान के बीच में हैं। अमिताभ के ठीक दायें में कौन बैठा है?

Ans

✗ 1. शाहरुख

✗ 2. बाँबी

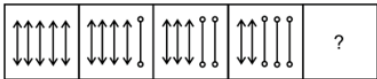
✓ 3. सलमान

✗ 4. रणवीर

Question ID : 630680369502
Option 1 ID : 6306801439405
Option 2 ID : 6306801439408
Option 3 ID : 6306801439406
Option 4 ID : 6306801439407
Status : Answered
Chosen Option : 3



Q.19 उस आकृति का चयन करें जो निम्नलिखित आकृति श्रृंखला में प्रश्न चिह्न (?) को प्रतिस्थापित करेगी।



Ans

- ✓ 1.
- ✗ 2.
- ✗ 3.
- ✗ 4.

Question ID : 630680369512
Option 1 ID : 6306801439448
Option 2 ID : 6306801439447
Option 3 ID : 6306801439445
Option 4 ID : 6306801439446
Status : Answered
Chosen Option : 1

Q.20 दी गई श्रृंखला में ऐसे कितने स्वर हैं जिनके ठीक पहले और ठीक बाद में एक व्यंजन है?
A C X H I J E K M U N I Z S F E A Z

- ✓ 1. 4
- ✗ 2. 5
- ✗ 3. 3
- ✗ 4. 6

Question ID : 630680369479
Option 1 ID : 6306801439315
Option 2 ID : 6306801439313
Option 3 ID : 6306801439316
Option 4 ID : 6306801439314
Status : Answered
Chosen Option : 1

Q.1 $(a^2b^3cd^2) \div (ab^2c^3)$ का मान ज्ञात करें

- Ans
- ☒ 1. a^2bd^2/c
 - ☒ 2. ab^2d^2/c^2
 - ☒ 3. abd^2/c^2
 - ☒ 4. abd/c^2

Question ID : 630680369530
Option 1 ID : 6306801439520
Option 2 ID : 6306801439517
Option 3 ID : 6306801439519
Option 4 ID : 6306801439518
Status : Answered
Chosen Option : 2

Q.2 एक कक्षा में 25 लड़कियों की औसत ऊँचाई 120 cm है और एक कक्षा में 35 लड़कों की औसत ऊँचाई 180 cm है। कक्षा की औसत ऊँचाई ज्ञात करें।

- Ans
- ☒ 1. 155 cm
 - ☒ 2. 160 cm
 - ☒ 3. 152 cm
 - ☒ 4. 140 cm

Question ID : 630680369519
Option 1 ID : 6306801439473
Option 2 ID : 6306801439476
Option 3 ID : 6306801439475
Option 4 ID : 6306801439474
Status : Answered
Chosen Option : 1

Q.3 यदि a का 24% = b , तो 25 का $b\%$ निम्न के समान है:

- Ans
- ☒ 1. a का 5%
 - ☒ 2. a का 6%
 - ☒ 3. a का 4%
 - ☒ 4. a का 3%

Question ID : 630680369536
Option 1 ID : 6306801439543
Option 2 ID : 6306801439542
Option 3 ID : 6306801439541
Option 4 ID : 6306801439544
Status : Answered
Chosen Option : 2

Q.4 एक चोर को एक पुलिसकर्मी ने 162 मीटर की दूरी से रोका। जब पुलिसकर्मी पीछा करने लगता है तो चोर भी भागने लगता है। चोर की गति 11 m/s है और पुलिसकर्मी की गति 14 m/s है, पुलिसकर्मी द्वारा पकड़े जाने से पहले चोर कितनी दूर तक भागा होगा?

- Ans
- ☒ 1. 560 m
 - ☒ 2. 594 m
 - ☒ 3. 520 m
 - ☒ 4. 554 m

Question ID : 630680369563
Option 1 ID : 6306801439652
Option 2 ID : 6306801439651
Option 3 ID : 6306801439650
Option 4 ID : 6306801439649

Status : Answered
Chosen Option : 2

Q.5 यदि दो भिन्न संख्याओं का लघुतम समापवर्त्य 541 है, तो उनका महत्तम समापवर्तक ज्ञात करें।

- Ans
- ☒ 1. 17
 - ☒ 2. 541
 - ☒ 3. 3
 - ☒ 4. 1

Question ID : 630680369535
Option 1 ID : 6306801439540
Option 2 ID : 6306801439537
Option 3 ID : 6306801439539
Option 4 ID : 6306801439538

Status : Answered
Chosen Option : 4

Q.6 P एक कार्य को 27 दिनों में पूरा कर सकता है और Q उसी कार्य को 15/2 दिनों में पूरा कर सकता है। Q ने 5 दिनों तक काम किया और कार्य छोड़ दिया। P अकेले शेष कार्य को कितने दिनों में पूरा कर सकता है?

- Ans
- ☒ 1. 8 दिन
 - ☒ 2. 5 दिन
 - ☒ 3. 9 दिन
 - ☒ 4. 7 दिन

Question ID : 630680369561
Option 1 ID : 6306801439642
Option 2 ID : 6306801439641
Option 3 ID : 6306801439644
Option 4 ID : 6306801439643

Status : Answered
Chosen Option : 3



Q.7 यदि चीनी की कीमत 30% से बढ़ जाती है, तो एक आदमी को अपनी खपत लगभग कितने % कम करनी चाहिए ताकि उसका खर्च वही रहे?

- Ans
- ☐ 1. 27%
 - ☐ 2. 32%
 - ☒ 3. 23%
 - ☐ 4. 38%

Question ID : 630680369541
Option 1 ID : 6306801439562
Option 2 ID : 6306801439561
Option 3 ID : 6306801439564
Option 4 ID : 6306801439563
Status : Answered
Chosen Option : 3

Q.8 एक बाइक की कीमत में पहले 18% से वृद्धि हुई और फिर 18% से कमी हुई, कुल प्रतिशत परिवर्तन ज्ञात करें।

- Ans
- ☐ 1. कोई परिवर्तन नहीं
 - ☐ 2. 4.5% कमी
 - ☒ 3. 3.24% कमी
 - ☐ 4. 6% वृद्धि

Question ID : 630680369543
Option 1 ID : 6306801439569
Option 2 ID : 6306801439572
Option 3 ID : 6306801439570
Option 4 ID : 6306801439571
Status : Answered
Chosen Option : 3

Q.9 P, Q, और R ने 7200 रुपये में एक टेक्सी किराए पर ली और इसका उपयोग 2, 3 और 7 घंटे के लिए किया। R द्वारा भुगतान किया गया शुल्क ज्ञात करें।

- Ans
- ☐ 1. 4400 रुपये
 - ☐ 2. ₹3200 रुपये
 - ☒ 3. 4200 रुपये
 - ☐ 4. 3300 रुपये

Question ID : 630680369552
Option 1 ID : 6306801439605
Option 2 ID : 6306801439608
Option 3 ID : 6306801439606
Option 4 ID : 6306801439607
Status : Answered
Chosen Option : 3



Q.10 एक वस्तु, जिस पर 1800 रुपये अंकित था, 1500 रुपये में बेची जाती है। दिया गया छूट प्रतिशत ज्ञात करें।

- Ans
- ☒ 1. 20.33%
 - ☒ 2. 25%
 - ☒ 3. 13.33%
 - ☒ 4. 16.66%

Question ID : 630680369523
Option 1 ID : 6306801439491
Option 2 ID : 6306801439492
Option 3 ID : 6306801439489
Option 4 ID : 6306801439490
Status : Answered
Chosen Option : 4

Q.11 अमन ने घर से एक शहर तक 80 km/hr की गति से गाड़ी चलाई और अपनी वापसी यात्रा में, उसने 16 km/hr की गति से गाड़ी चलाई और घर पहुंचने में उसे 2 घंटे अधिक लगे। प्रत्येक बार उसने कितनी दूरी तय की?

- Ans
- ☒ 1. 55 km
 - ☒ 2. 30 km
 - ☒ 3. 45 km
 - ☒ 4. 40 km

Question ID : 630680369567
Option 1 ID : 6306801439667
Option 2 ID : 6306801439668
Option 3 ID : 6306801439665
Option 4 ID : 6306801439666
Status : Answered
Chosen Option : 4

Q.12 A एक कार्य को 40 दिनों में कर सकता है जिसे B, 25 दिनों में कर सकता है। B ने 10 दिन काम किया और छोड़ दिया। वह समय ज्ञात करें जिसमें A शेष कार्य पूरा करता है।

- Ans
- ☒ 1. 24 दिन
 - ☒ 2. 19 दिन
 - ☒ 3. 15 दिन
 - ☒ 4. 18 दिन

Question ID : 630680369558
Option 1 ID : 6306801439629
Option 2 ID : 6306801439632
Option 3 ID : 6306801439631
Option 4 ID : 6306801439630
Status : Answered
Chosen Option : 1



Q.13 यदि $A : B = 4 : 7$, $B : C = 1 : 4$, $C : D = 2 : 3$, तो $A : B : C : D$ ज्ञात करें।

Ans ☒ 1. 4: 7: 28: 42

☐ 2. 8: 5: 14: 6

☐ 3. 12: 12: 4: 6

☐ 4. 6: 5: 16: 48

Question ID : 630680369554

Option 1 ID : 6306801439613

Option 2 ID : 6306801439615

Option 3 ID : 6306801439616

Option 4 ID : 6306801439614

Status : Answered

Chosen Option : 1

Q.14 संख्या 72, 96 और 42 का चौथा समानुपात ज्ञात करें।

Ans ☐ 1. 48

☐ 2. 60

☒ 3. 56

☐ 4. 96

Question ID : 630680369549

Option 1 ID : 6306801439594

Option 2 ID : 6306801439595

Option 3 ID : 6306801439593

Option 4 ID : 6306801439596

Status : Answered

Chosen Option : 3

Q.15 एक वस्तु का अंकित मूल्य 1200 रुपये है और इस पर 5% और 18% की दो छूट दी जाती हैं। वस्तु का विक्रय मूल्य ज्ञात करें।

Ans ☐ 1. 876.4 रुपये

☐ 2. 812.6 रुपये

☐ 3. 1038.2 रुपये

☒ 4. 934.8 रुपये

Question ID : 630680369525

Option 1 ID : 6306801439498

Option 2 ID : 6306801439497

Option 3 ID : 6306801439500

Option 4 ID : 6306801439499

Status : Answered

Chosen Option : 4



Q.16 साधारण ब्याज पर 12% प्रति वर्ष की दर से 720 रुपये का मासिक ब्याज अर्जित करने के लिए आवश्यक धनराशि ज्ञात करें।

- Ans
- ☒ 1. 72400 रुपये
 - ☒ 2. 72000 रुपये
 - ☒ 3. 62000 रुपये
 - ☒ 4. 82500 रुपये

Question ID : 630680369556
Option 1 ID : 6306801439622
Option 2 ID : 6306801439621
Option 3 ID : 6306801439624
Option 4 ID : 6306801439623
Status : Answered
Chosen Option : 2

Q.17 एक शहर की जनसंख्या हर वर्ष 10% से बढ़ जाती है। यदि वर्ष 2020 में शहर की जनसंख्या 12,00,000 थी, तो 2022 के अंत में जनसंख्या ज्ञात करें।

- Ans
- ☒ 1. 13,44,000
 - ☒ 2. 14,52,000
 - ☒ 3. 14,44,000
 - ☒ 4. 12,60,000

Question ID : 630680369521
Option 1 ID : 6306801439482
Option 2 ID : 6306801439483
Option 3 ID : 6306801439484
Option 4 ID : 6306801439481
Status : Answered
Chosen Option : 2

Q.18 यदि 9 और x के बीच माध्य समानुपात 45 है, तो x का मान ज्ञात करें।

- Ans
- ☒ 1. 125
 - ☒ 2. 100
 - ☒ 3. 225
 - ☒ 4. 625

Question ID : 630680369553
Option 1 ID : 6306801439610
Option 2 ID : 6306801439612
Option 3 ID : 6306801439609
Option 4 ID : 6306801439611
Status : Answered
Chosen Option : 3



Q.19 तनु आधी दूरी 11 km/h की गति से और शेष दूरी 5 km/h की गति से तय करती है। उसकी औसत गति क्या है?

- Ans
- ☒ 1. 33/5 km/h
 - ☒ 2. 66/5 km/h
 - ☒ 3. 55/3 km/h
 - ☒ 4. 55/8 km/h

Question ID : 630680369565
Option 1 ID : 6306801439659
Option 2 ID : 6306801439657
Option 3 ID : 6306801439660
Option 4 ID : 6306801439658
Status : Answered
Chosen Option : 4

Q.20 यदि 25 वस्तुओं का विक्रय मूल्य 35 वस्तुओं के लागत मूल्य के समान है, तो लाभ/हानि प्रतिशत ज्ञात करें।

- Ans
- ☒ 1. 40% लाभ
 - ☒ 2. 30% लाभ
 - ☒ 3. 40% नुकसान
 - ☒ 4. 30% नुकसान

Question ID : 630680369547
Option 1 ID : 6306801439586
Option 2 ID : 6306801439587
Option 3 ID : 6306801439588
Option 4 ID : 6306801439585
Status : Answered
Chosen Option : 1

Q.21 $v(20+v(20+v(20+\dots\infty)))$ का मान ज्ञात करें

- Ans
- ☒ 1. 10
 - ☒ 2. 4
 - ☒ 3. 20
 - ☒ 4. 5

Question ID : 630680369533
Option 1 ID : 6306801439532
Option 2 ID : 6306801439529
Option 3 ID : 6306801439531
Option 4 ID : 6306801439530
Status : Answered
Chosen Option : 2



Q.22 एक शिक्षक ने 30 छात्रों की औचक परीक्षा ली, जिनमें से 14 छात्रों ने 85 अंक और शेष ने 40 अंक प्राप्त किए। पूरी कक्षा का औसत अंक ज्ञात करें।

- Ans
- ✓ 1. 61
 - ✗ 2. 44
 - ✗ 3. 68
 - ✗ 4. 55

Question ID : 630680369514
Option 1 ID : 6306801439454
Option 2 ID : 6306801439453
Option 3 ID : 6306801439455
Option 4 ID : 6306801439456
Status : Answered
Chosen Option : 1

Q.23 यदि किसी संख्या के वर्ग का इकाई अंक उस संख्या के इकाई अंक के समान है, तो निम्नलिखित में से कौन सा उस संख्या का वर्ग नहीं हो सकता है?

- Ans
- ✗ 1. 441
 - ✗ 2. 625
 - ✗ 3. 256
 - ✓ 4. 484

Question ID : 630680369526
Option 1 ID : 6306801439501
Option 2 ID : 6306801439504
Option 3 ID : 6306801439503
Option 4 ID : 6306801439502
Status : Answered
Chosen Option : 4

Q.24 $(18)^3 + (12)^3 + (-30)^3$ का मान ज्ञात करें

- Ans
- ✗ 1. -17340
 - ✓ 2. -19440
 - ✗ 3. -20340
 - ✗ 4. -15720

Question ID : 630680369531
Option 1 ID : 6306801439522
Option 2 ID : 6306801439523
Option 3 ID : 6306801439524
Option 4 ID : 6306801439521
Status : Answered
Chosen Option : 2

Q.25 यदि अंजू 36 km/hr की गति से दौड़ती है, तो उसे 750 m की दूरी तय करने में कितने मिनट लगेंगे?

- Ans
- ✓ 1. 1.25 मिनट
 - ✗ 2. 2 मिनट
 - ✗ 3. 1 मिनट
 - ✗ 4. 2.25 मिनट

Question ID : 630680369562
Option 1 ID : 6306801439647
Option 2 ID : 6306801439645
Option 3 ID : 6306801439646
Option 4 ID : 6306801439648
Status : Answered
Chosen Option : 1

Q.26 15 संख्याओं का औसत 65 है। यदि उनमें औसत x की 5 संख्याएँ जोड़ दी जाएँ, तो सभी संख्याओं का औसत 5 से बढ़ जाता है। x का मान क्या है?

- Ans
- ✗ 1. 70
 - ✗ 2. 60
 - ✓ 3. 85
 - ✗ 4. 55

Question ID : 630680369516
Option 1 ID : 6306801439461
Option 2 ID : 6306801439464
Option 3 ID : 6306801439462
Option 4 ID : 6306801439463
Status : Answered
Chosen Option : 3

Q.27 दो सह-अभाज्य संख्याओं H और J का लघुतम समापवर्त्य होगा:

- Ans
- ✗ 1. H+J
 - ✓ 2. HJ
 - ✗ 3. H/J
 - ✗ 4. H-J

Question ID : 630680369528
Option 1 ID : 6306801439509
Option 2 ID : 6306801439510
Option 3 ID : 6306801439512
Option 4 ID : 6306801439511
Status : Answered
Chosen Option : 2



Q.28 A और B मिलकर एक कार्य को 7 दिनों में पूरा कर सकते हैं। यदि A उसी कार्य को 21/2 दिन में पूरा कर सकता है, तो B अकेले उस कार्य को कितने दिनों में पूरा करेगा?

- Ans
- ☒ 1. 14 दिन
 - ☒ 2. 20 दिन
 - ☒ 3. 15 दिन
 - ☒ 4. 21 दिन

Question ID : 630680369557
Option 1 ID : 6306801439627
Option 2 ID : 6306801439625
Option 3 ID : 6306801439626
Option 4 ID : 6306801439628
Status : Answered
Chosen Option : 4

Q.29 एक मेज़ 3300 रुपये में खरीदी जाती है और 4200 रुपये में बेची जाती है। दुकानदार द्वारा अर्जित लाभ ज्ञात करें।

- Ans
- ☒ 1. 1100 रुपये
 - ☒ 2. 1300 रुपये
 - ☒ 3. 1000 रुपये
 - ☒ 4. 900 रुपये

Question ID : 630680369544
Option 1 ID : 6306801439576
Option 2 ID : 6306801439573
Option 3 ID : 6306801439575
Option 4 ID : 6306801439574
Status : Answered
Chosen Option : 4

Q.30 तीन उम्मीदवारों के बीच हुए चुनाव में, कुल 90,000 मत डाले गए। सुभम को 43% मत मिले और रमेश को 36% मत मिले। अक्षय को प्राप्त मतों की संख्या ज्ञात करें।

- Ans
- ☒ 1. 16300
 - ☒ 2. 14100
 - ☒ 3. 18900
 - ☒ 4. 10300

Question ID : 630680369539
Option 1 ID : 6306801439555
Option 2 ID : 6306801439554
Option 3 ID : 6306801439556
Option 4 ID : 6306801439553
Status : Answered
Chosen Option : 3