



# Teachingninja.in



**Latest Govt Job updates**



**Private Job updates**



**Free Mock tests available**

**Visit - [teachingninja.in](https://teachingninja.in)**



Teachingninja.in

**Navy**  
**Tradesman Mate**  
**Previous Year Paper**  
**04 Feb, 2024 Shift 1**



1)

Arrange the words given below in a meaningful sequence. 1. Country 2. Furniture 3. Forest 4. Wood 5. Trees

नीचे दिए गए शब्दों को एक सार्थक अनुक्रम में व्यवस्थित करें। 1. देश 2. फर्नीचर 3. वन 4. लकड़ी 5. पेड़

Choices:

A) 1, 3, 5, 4, 2 / 1, 3, 5, 4, 2

B) 1, 4, 3, 2, 5 / 1, 4, 3, 2, 5

C) 2, 4, 3, 1, 5 / 2, 4, 3, 1, 5

D) 5, 2, 3, 1, 4 / 5, 2, 3, 1, 4

**Correct Answer:**

A

**2)**

In a line of boys, Ganesh is 12th from the left and Rajan is 15th from the right. They interchange their positions. Now, Rajan is 20th from the right. What is the total number of boys in the class?

लड़कों की एक पंक्ति में, गणेश बाएं से 12वें स्थान पर है और राजन दाएं से 15वें स्थान पर है। वे अपनी स्थिति बदल देते हैं। अब, राजन दाएं से 20 वें स्थान पर है। कक्षा में लड़कों की कुल संख्या क्या है?

**Choices:**

A) 30 / 30

B) 29 / 29

C) 32/ 32



D) 31/ 31

**CORRECT ANSWER : D**

**3)**

An approach to handle ontology mapping based on techniques that exploit linguistic labels is called

भाषाई लेबल का शोषण करने वाली तकनीकों के आधार पर ऑन्कोलॉजी मैपिंग को संभालने के लिए एक दृष्टिकोण कहा जाता है

**Choices:**

A) Statistical Methods / सांख्यिकीय पद्धतियां

B) Linguistic methods / भाषाई तरीके

C) Logical Methods / तार्किक तरीके

D) Structural Methods / संरचनात्मक विधियाँ

**Correct Answer:**

B



Teachingninja.in



4)

Directions: Read the passage given below and select the assumption(s) that hold true based on the facts in the passage. Cotton acreage in India during the current year has fallen by 10% as cotton growers have moved on the cultivation of other cash crops. This is the result of the cotton glut in world markets post-September 11 and the consequent slowdown in the world economy. But this scenario brought with it benefits to one segment of the industry - yarn manufacturers - as they get higher prices for their produce. Some yarn manufacturers had stocked up low priced cotton last year. The combined effect of all this is evident in the rise in net profits and net margins of yarn manufacturers. Assumption: The farmers will again grow cotton next year due to the increased price of cotton yarn. Assumption: There has been a shortage of cotton in the world market last year.

निर्देश: नीचे दिए गए गद्यांश को पढ़ें और उन धारणाओं का चयन करें जो गद्यांश में दिए गए तथ्यों के आधार पर सत्य हैं। चालू वर्ष के दौरान भारत में कपास का रकबा 10% गिर गया है क्योंकि कपास उत्पादक अन्य नकदी फसलों की खेती की ओर बढ़ गए हैं। यह 11 सितंबर के बाद विश्व बाजारों में कपास की भरमार और उसके परिणामस्वरूप विश्व अर्थव्यवस्था में आई मंदी का परिणाम है। लेकिन यह परिदृश्य उद्योग के एक वर्ग - यार्न निर्माताओं - के लिए लाभ लेकर आया क्योंकि उन्हें अपनी उपज के लिए अधिक कीमतें मिलीं। कुछ यार्न निर्माताओं ने पिछले साल कम कीमत वाली कपास का स्टॉक कर लिया था। इन सबका संयुक्त प्रभाव यार्न निर्माताओं के शुद्ध लाभ और शुद्ध मार्जिन में वृद्धि में स्पष्ट है। धारणा: सूती धागे की बढ़ी कीमत के कारण किसान अगले साल फिर से कपास उगाएंगे। धारणा: पिछले वर्ष विश्व बाजार में कपास की कमी रही है।

Choices:

A) The assumption is definitely true / धारणा निश्चित रूप से सत्य है

B) The assumption is probably true / धारणा संभवतः सत्य है

C) The assumption is probably false / यह धारणा संभवतः गलत है

D) The assumption is definitely false / धारणा निश्चित रूप से झूठी है

**Correct Answer:**

D

5)

The following question, consist of two words each that have a certain relationship to each other, followed by four lettered pairs of words. Select the lettered pair that has the same relationship as the original pair of words: Doctor : Hospital

निम्नलिखित प्रश्न में दो शब्द शामिल हैं जिनमें से प्रत्येक का एक दूसरे से एक निश्चित संबंध है, इसके बाद शब्दों के चार अक्षर जोड़े हैं। अक्षरों वाली उस जोड़ी का चयन करें जिसका संबंध शब्दों की मूल जोड़ी के समान है: डॉक्टर : अस्पताल

**Choices:**

A) Plumber : Wrench / प्लम्बर: रिंच

B) Chef : Kitchen / शेफ: रसोई

C) Water : Reservoir / जल : जलाशय

D) Farmer : Village / किसान: गाँव



**CORRECT ANSWER : B**

6)

In a certain code, TELEPHONE is written as ENOHPELET. How is ALIGATOR written in that code?

एक निश्चित कोड में, TELEPHONE को ENOHPELET के रूप में लिखा जाता है। उस कोड में ALIGATOR कैसे लिखा जाता है?

**Choices:**

A) ROTAGILA / ROTAGILA

B) ROTAGAIL / ROTAGAIL

C) ROTAGILE / ROTAGILE

D) ROTEGILA / ROTEGILA



**Correct Answer:**

A

7)

Sentence Completion: The detective's \_\_\_\_\_ led to the breakthrough in the case.

वाक्य पूरा करना: जासूसी के \_\_\_\_\_ ने मामले में सफलता का नेतृत्व किया।

**Choices:**

A) Incompetence / अक्षमता

B) Perseverance / दृढ़ता

C) Arrogance / अहंकार

D) Laziness / आलस्य

**Correct Answer:**

B

---

8)

Directions : In each of the following questions a statement is given, followed by two

conclusions. Give answer : Statements : This world is neither good nor evil; each man manufactures a world for himself. Conclusions : I. Some people find this world quite good. II. Some people find this world quite bad.

निर्देश: निम्नलिखित में से प्रत्येक प्रश्न में एक कथन दिया जाता है, उसके बाद दो निष्कर्ष होते हैं।

जवाब दो : कथन: यह दुनिया न तो अच्छा है और न ही बुराई; प्रत्येक आदमी अपने लिए एक दुनिया बनाता है। निष्कर्ष: i कुछ लोग इस दुनिया को काफी अच्छे पाते हैं। ii कुछ लोग इस दुनिया को काफी खराब पाते हैं।

Choices:

A) Only conclusion I follows / केवल निष्कर्ष i अनुसरण करता है

B) Only conclusion II follows / केवल निष्कर्ष ii का अनुसरण करता है

C) Either I or II follows / या तो i या ii अनुसरण करता है

D) Both I and II follow / i और ii दोनों का पालन करता है

**Correct Answer:**

D



9)

.....fallacy is known as 'look who's talking fallacy'

.....भ्रम को 'देखो कौन भ्रम की बात कर रहा है' के रूप में जाना जाता है।

**Choices:**

A) False dichotomy / मिथ्या द्वंद्व

B) Gambler's fallacy / जुआरी की गिरावट

C) Begging the Question / सवाल की भीख मांगना

D) Tu Quoque / टीयू क्वोक

**CORRECT ANSWER : D**

**10)**

Which one set of letters when sequentially placed at the gapes in the given letters series shall complete it ? BR \_\_ NB \_ O \_ NB

दिए गए अक्षरों की श्रृंखला में अंतराल पर क्रमिक रूप से रखे जाने पर अक्षरों का कौन सा एक सेट इसे पूरा करेगा? BR \_\_ NB \_ O \_ NB

**Choices:**

A) WNWN / WNWN



B) OWRW / OWRW

C) OWOW / OWOW

D) RORO / RORO

**CORRECT ANSWER : B**

**11)**

Statements : Some pens are books. Some books are pencils. Conclusions : I. Some pens are pencils. II. Some pencils are pens. III. All pencils are pens. IV. All books are pens.

कथन: कुछ पेन किताबें हैं। कुछ किताबें पेंसिल हैं। निष्कर्ष: I. कुछ पेन पेंसिल हैं। II. कुछ पेंसिल पेन हैं। III. सभी पेंसिल पेन हैं। IV. सभी किताबें पेन हैं।

**Choices:**

A) Only (I) and (III) / केवल (i) और (iii)



B) Only (II) and (IV) / केवल (ii) और (iv)

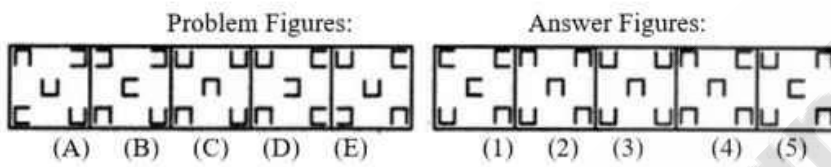
C) All the four / सभी चार

D) None of the four / चार में से कोई नहीं

**CORRECT ANSWER: D**

12)

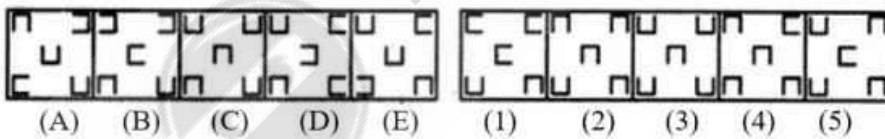
Select a figure from amongst the Answer Figures which will continue the same series as established by the five Problem Figures.



- (a) 1
- (b) 2
- (c) 3
- (d) 4

उत्तर आकृतियों में से एक आकृति का चयन करें जो पाँच समस्या आकृतियों द्वारा स्थापित उसी श्रृंखला को जारी रखेगी।

समस्या चित्र:



- (a) 1
- (b) 2
- (c) 3
- (d) 4

**Choices:**

A)  $a / a$

B)  $b / b$

C)  $c / c$

D)  $d / d$



**Correct Answer:**

A

**13)**

If  $M \times N$  means M is the daughter of N;  $M + N$  means M is the father of N;  $M \% N$  means M is the mother of N and  $M - N$  means M is the brother of N then  $P \% Q + R - T \times K$  indicates which relation of P to K?

यदि  $M \times N$  का अर्थ है कि M, N की पुत्री है;  $M + N$  का अर्थ है कि M, N का पिता है;  $M \% N$  का अर्थ है कि M, N की माँ है और  $M - N$  का अर्थ है कि M, N का भाई है तो  $P \% Q + R - T \times K$  इंगित करता है कि P और K का कौन सा संबंध है?

**Choices:**

A) Daughter-in-law / बहू

B) Sister-in-law / भाभी

C) Aunt / चाची

D) None of these / इनमें से कोई नहीं

**CORRECT ANSWER : D**

**14)**

Cultural affordance relates to:

सांस्कृतिक खर्च से संबंधित है:

**Choices:**

A) emotional intelligence / भावात्मक बुद्धि

B) being sensitive to individuals from other cultural heritages / अन्य सांस्कृतिक विरासत के व्यक्तियों के प्रति संवेदनशील होना



C) the ability of cultural settings to evoke particular emotional responses / विशेष भावनात्मक प्रतिक्रियाओं को उकसाने के लिए सांस्कृतिक सेटिंग्स की क्षमता

D) cultural variability in universal emotion expression / सार्वभौमिक भावना अभिव्यक्ति में सांस्कृतिक परिवर्तनशीलता

**CORRECT ANSWER: C**

**15)**

Aravind and Biswanath start at the same time from their hostel and go to the ground with speeds of 30 km/h and 60 km/h, respectively. If Aravind takes 20 minutes longer than Biswanath to reach the ground, then find the distance between their hostel and the ground.

अरविंद और बिस्वनाथ अपने हॉस्टल से एक ही समय में शुरू होते हैं और क्रमशः 30 किमी/घंटा और 60 किमी/घंटा की गति के साथ जमीन पर जाते हैं। यदि अरविंद को जमीन तक पहुंचने के लिए बिस्वनाथ की तुलना में 20 मिनट अधिक समय लगता है, तो अपने छात्रावास और जमीन के बीच की दूरी का पता लगाएं।





Choices:

A) 28 km / 28 km

B) 34 km / 34 km

C) 40 km / 40 km

D) 20 km / 20 km

Correct Answer:

D

---

16)

How many meaningful words can be formed with a different combination of the letters of "Name" using each letter only once in each word?

प्रत्येक शब्द में केवल एक बार प्रत्येक अक्षर का उपयोग करके " Name " के अक्षरों के एक अलग संयोजन के साथ कितने सार्थक शब्द बन सकते हैं?

Choices:

A) 3 / 3

B) 2 / 2

C) 4 / 4

D) More than 5 / 5 से अधिक

**CORRECT ANSWER : D**

17)

Posthumous Publication occurs when a book is published after the author's death. Which situation below is the best example of Posthumous Publication ?

मरणोपरांत प्रकाशन तब होता है जब कोई पुस्तक लेखक की मृत्यु के बाद प्रकाशित होती है। निम्नलिखित में से कौन सी स्थिति मरणोपरांत प्रकाशन का सर्वोत्तम उदाहरण है?

Choices:

A) Richard's illness took his life before he was able to enjoy the amazing early reviews of his novel. / इससे पहले कि वह अपने उपन्यास की अद्भुत शुरुआती समीक्षाओं का आनंद ले पाते, रिचर्ड की बीमारी ने उनकी जान ले ली।

B) Melissa's publisher cancels her book contract after she fails to deliver the manuscript on time. / समय पर पांडुलिपि वितरित करने में विफल रहने के बाद मेलिसा के प्रकाशक ने उसका पुस्तक अनुबंध रद्द कर दिया।

C) Clarence never thought he'd live to see the third book in his trilogy published. / क्लेरेंस ने कभी नहीं सोचा था कि वह अपनी त्रयी की प्रकाशित तीसरी पुस्तक को देखने के लिए जीवित रहेंगे।

D) Elizabeth is honored with a prestigious literary award for her writing career and her daughter accepts the award on behalf of her deceased mother. / एलिजाबेथ को उनके

लेखन करियर के लिए एक प्रतिष्ठित साहित्यिक पुरस्कार से सम्मानित किया गया है और उनकी बेटी अपनी मृत मां की ओर से यह पुरस्कार स्वीकार करती है।

**CORRECT ANSWER : A**

**18)**

If 'SYSTEM' is written as 'SYSMET' and 'NEARER' is written as 'AENRER', then 'FRACTION' will be coded as -

यदि 'SYSTEM' को 'SYSMET' लिखा जाता है और 'NEARER' को 'AENRER' लिखा जाता है, तो 'FRACTION' को किस रूप में कूटबद्ध किया जाएगा?

**Choices:**

A) CARFNOIT / CARFNOIT

B) CARFTION / CARFTION

C) NOITFRAC / NOITFRAC



D) FRACNOIT / FRACNOIT

**CORRECT ANSWER : A**

**19)**

Three of the following four are alike in a certain way and so form a group. Which is the one that does not belong to that group?

निम्नलिखित चार में से तीन एक निश्चित तरीके से एक जैसे हैं और इसलिए एक समूह से। वह कौन सा है जो उस समूह से संबंधित नहीं है?

**Choices:**

A) Stem / तना



B) Tree / पेड़

C) Root / जड़



D) Branch / शाखा

Correct Answer:

B

---



20)

In a certain code 'COURSE' is written as 'FRXUVH', then how would 'RACE' be written in that code?

एक विशिष्ट कूट भाषा में 'COURSE' को 'FRXUVH' लिखा जाता है, तो उस कूट भाषा में 'RACE' को कैसे लिखा जाएगा?

Choices:

A) HFDU / HFDU

B) UCFH / UCFH

C) UDFH / UDHF

D) UDHF / UDHF

**Correct Answer:**

C

---



**21)**

In 1994, the Walt Disney Corporation ran a special promotion on tickets to Disneyland. Residents of southern California who lived near the amusement park were offered admission at the special price of Rs.22. Other visitors to Disneyland were charged about Rs.30. This practice is an example of:



1994 में, वॉल्ट डिज़नी कॉर्पोरेशन ने डिज़्नीलैंड के टिकटों पर एक विशेष पदोन्नति चलाई। दक्षिणी कैलिफोर्निया के पूर्वजों जो मनोरंजन पार्क के पास रहते थे, उन्हें प्रवेश 22 की विशेष कीमत की पेशकश की गई थी। डिज़्नीलैंड के अन्य आगंतुकों को लगभग Rs. 30 का शुल्क लिया गया। यह अभ्यास एक उदाहरण है:

**Choices:**

A) collusion / आपसी साँठ - गाँठ।

B) price discrimination / मूल्य निर्णय।

C) two-part tariff / दो-भाग टैरिफ।

D) bundling / बंडलिंग।

**Correct Answer:**

B

---

**22)**

Which one does not belong to the group?

इनमें से कौन सा समूह से संबंधित नहीं है?

**Choices:**

A) 123 / 123

B) 119 / 119

C) 133 / 133

D) 143 / 143

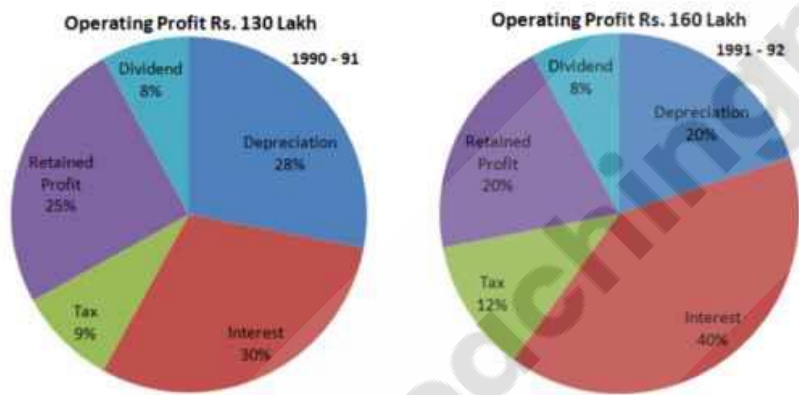
**Correct Answer:**



B

23)

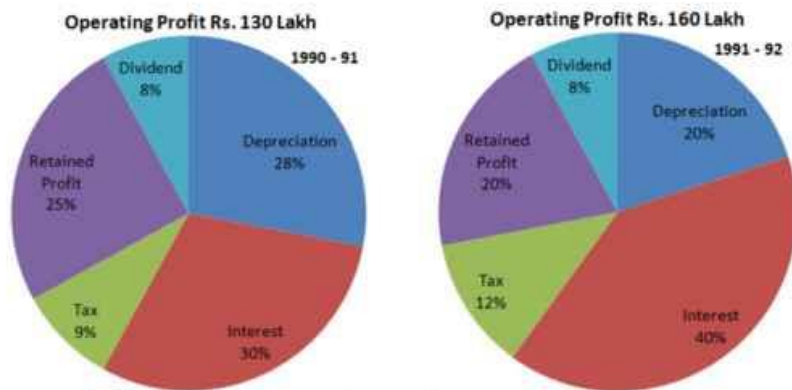
Study the chart and answer the questions:



The operating Profit in 1991-92 increased over in 1990-91 by

- (a) 23%
- (b) 22%
- (c) 25%
- (d) 24%

चार्ट का अध्ययन करें और प्रश्नों के उत्तर दें:



1991-92 में परिचालन लाभ 1990-91 की तुलना में बढ़ गया

- (a) 23%
- (b) 22%
- (c) 25%
- (d) 24%

Choices:

A) a / a

B) b / b

C) c / c

D) d / d

**Correct Answer:**

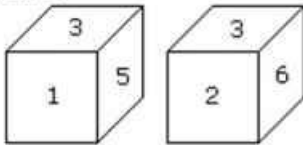
A



Teachingninja.in

24)

Two positions of a dice are shown below. Which number will appear on the face opposite to the face with the number 5?



- (a) 2/6
- (b) 2
- (c) 6
- (d) 4

नीचे एक पासे की दो स्थितियाँ दिखाई गई हैं। 5 अंक वाले फलक के विपरीत फलक पर कौन सा अंक दिखाई देगा?



- (a) 2/6
- (b) 2
- (c) 6
- (d) 4

Choices:

A.  $a/a$

B.  $b/b$

C.  $c/c$

D.  $d/d$



Correct Answer:

C



25)

Circular test an extension of \_\_\_\_\_ .

परिपत्र परीक्षण \_\_\_\_\_ का एक विस्तार.

**Choices:**

A. Unit test / इकाई परीक्षण

B. Circular test / परिपत्र परीक्षण

C. Time reversal test / समय उलट परीक्षण

D. Factor reversal test / कारक उलट परीक्षण

**Correct Answer:**

C

---

**26)**

India agreed to constitute a task force to boost cooperation in semiconductor industry with which country?

भारत किस देश के साथ अर्धचालक उद्योग में सहयोग को बढ़ावा देने के लिए टास्क फोर्स के गठन करने के लिए सहमत हुआ?

**Choices:**

A. USA / यूएसए

B. Israel / इजराइल

C. Australia / ऑस्ट्रेलिया

D. Finland / फिनलैंड

**Correct Answer:**

A



27)

High-Altitude Water Cherenkov Observatory (HAWC) is situated near which country?

High-Altitude Water Cherenkov Observatory (HAWC) किस देश के पास स्थित है?

**Choices:**

A. Papua New Guinea / पापुआ न्यू गिनी

B. Mexico / मेक्सिको

C. Japan / जापान

D. Indonesia / इंडोनेशिया

**Correct Answer:**

B

**28)**

Who was the first Home Minister of India?

भारत के पहले गृह मंत्री कौन थे?

**Choices:**

A. Sardar Vallabhai Patel / सरदार वल्लभाई पटेल

B. Lokmanya Tilak / लोकमान्या तिलक

C. Bipin Chandra Pal / बिपिन चंद्र पाल

D. None of these / इनमे से कोई भी नहीं

Correct Answer:

A

---



29)

Business tycoon Vijay Mallya has resigned from which of the following companies/groups?

बिजनेस टाइकून विजय माल्या ने निम्नलिखित कंपनियों/समूहों में से किस से इस्तीफा दे दिया है?

Choices:

A. RCB / आरसीबी

B. Sanofi / सनोफी

C. United Spirits / यूनाइटेड स्प्रिट्स

D. All of these / सभी

**Correct Answer:**

D

---





30)

Who wrote the book Kora Kagaz?

'कोरा कगाज़' पुस्तक किसने लिखी?

Choices:

A. Anita Desai / अनीता देसाई

B. Amrita Pritam / अमृता प्रीतम

C. Arundhati Roy / अरुंधती रॉय

D. Kiran Desai / किरण देसाई

**Correct Answer:**

B

---

**31)**

Which one of the given books is written by Sunetra Gupta?

इन किताबों में से कौन-सी सुनीतरा गुप्ता द्वारा लिखी गई है?

**Choices:**



A. Scholar Extraordinary / स्कॉलर एक्स्ट्राऑर्डिनरी

B. Memories of Rain / मेमोरीज़ ऑफ रेन

C. An Artist in Life / एन आर्टिस्ट इन लाइफ

D. All of these / सब

**Correct Answer:**

B



32)

What does the draft APMC Act define as a single unified market area?

APMC अधिनियम के मसौदे में एकल एकीकृत बाजार क्षेत्र के रूप में क्या परिभाषित किया गया है?

Choices:

A. Each state / प्रत्येक राज्य

B. Each UT / प्रत्येक UT

C. Each village / प्रत्येक गाँव

D. Both state and UT / राज्य और UT दोनों

**Correct Answer:**

D

---

**33)**

Hindi Advisory Committee has recommended Hindi be taught \_\_\_\_\_.

हिंदी सलाहकार समिति ने \_\_\_\_\_ हिंदी पढ़ाए जाने की सिफारिश की है।

**Choices:**

A. Compulsorily / अनिवार्य रूप से

B. Voluntarily / स्वेच्छा से

C. Socially / सामाजिक रूप से

D. Educationally / शैक्षिक रूप से



**Correct Answer:**

B

34)

The diesel locomotive works engaged in producing diesel locos is located in  
डीजल लोकोमोटिव का उत्पादन करने वाला डीजल लोकोमोटिव वर्क्स स्थित है

Choices:

A. Varanasi / वाराणसी

B. Vizag / विजाग



C. Durgapur / दुर्गापुर

D. Tuticorin / तूतीकोरिन

**Correct Answer:**

A

---

**35)**

Mahe and Yanam are the parts of the Union Territory of  
माहे और यानम केंद्र शासित प्रदेश के हिस्से हैं

**Choices:**

A. Dadar Nagar Haveli / दादर नगर हवेली



B. Chandigarh / चंडीगढ़

C. Daman and Diu / दमन और दीव

D. Puducherry / पुदुचेरी

**Correct Answer:**

D



36)

Which is the most popular means of providing non institutional finance?

गैर संस्थागत वित्त प्रदान करने का सबसे लोकप्रिय साधन कौन सा है?

Choices:

A. Country Banker / देश बैंकर

B. Mahajan / महाजन

C. Merchant / व्यापारी

D. Co-operative bank / सहकारी बैंक

**Correct Answer:**

B

---

**37)**

The association of the rupee with pound sterling as the intervention currency was broken in

हस्तक्षेप मुद्रा के रूप में पाउंड स्टर्लिंग के साथ रुपये का संबंध टूट गया

**Choices:**

A. 1990/ 1990

B. 1991/ 1991

C. 1992/ 1992

D. 1993/ 1993

**Correct Answer:**

C

---

**38)**

The First Session of the Indian National Congress was held in :  
भारतीय राष्ट्रीय कांग्रेस का पहला सत्र कहाँ आयोजित किया गया था?

**Choices:**

A. New Delhi / नई दिल्ली

B. Hyderabad / हैदराबाद

C. Bombay / बंबई

D. Calcutta / कलकत्ता



**Correct Answer:**

B

---

39)

The contribution of agriculture to India's' economy is:  
भारत की अर्थव्यवस्था में कृषि का योगदान है:

Choices:

A. increasing / बढ़ता जा रहा है

B. decreasing / घटता जा रहा है

C. constant / स्थिर

D. None of these / इनमें से कोई नहीं

Correct Answer:

B

---



40)

Asoka the great appointed a class of officers vested with judicial power known as :

अशोक ने न्यायिक शक्ति के साथ निहित अधिकारियों का एक वर्ग नियुक्त किया जिसे किस रूप में जाना जाता है?

Choices:

A. Dhamma / धम्म

B. Rajukas / राजुकास

C. Chandashok / चांदाशोक



D. None of these / इनमें से कोई भी नहीं

**Correct Answer:**

B

---

41)

Which ruler of Sultanate period was also known as lakh bakhsh (giver of lakhs) ?

सल्तनत काल के किस शासक को लाख बख्श (लाखों का दाता) के रूप में भी जाना जाता था?

**Choices:**

A. Aram Shah / अराम शाह

B. Nasir ud din Mahmud / नासिर उड दीन महमूद

C. Ala ud din Masud / अला उड दीन मसूद

D. Qutb- ud-din-Aibak / कुतुब-उब-दीन-ऐबक

**Correct Answer:**

D

42)

Lucknow pact of 1916 was between:

1916 का लखनऊ समझौता किसके बीच हुआ था?

Choices:

A. Indian Muslim League and Mahatma Gandhi / भारतीय मुस्लिम लीग और महात्मा गांधी

B. Indian Muslim League and Indian National congress / भारतीय मुस्लिम लीग और भारतीय राष्ट्रीय कांग्रेस

C. Indian National congress and Lord Hardinge / भारतीय राष्ट्रीय कांग्रेस और लॉर्ड हार्डिंग

D. Lord Hardinge and Mahatma Gandhi / लॉर्ड हार्डिंग और महात्मा गांधी

Correct Answer:

B

---



Teachingninja.in

43)

When is the World Telecommunications and Information Society Day observed?

विश्व दूरसंचार एवं सूचना सोसायटी दिवस कब मनाया जाता है?

Choices:

A. May-16 / मई-16

B. May-17 / मई-17

C. May-18 / मई-18

D. May-19 / मई-19

**Correct Answer:**

B

**44)**

The first World Tsunami Awareness Day theme was \_\_\_\_\_.

पहले विश्व सुनामी जागरूकता दिवस का विषय \_\_\_\_\_ था।

**Choices:**

A. Effective Evacuation and Education / प्रभावी निकासी और शिक्षा

B. Effective Education and Evacuation / प्रभावी शिक्षा और निकासी

C. Effective Education and Evacuation Drills / प्रभावी शिक्षा और निकासी अभ्यास

D. None of these / इनमे से कोई भी नहीं

Correct Answer:

C

---



45)

On which of the following positions is the cricket Umpire supposed to be present?

किस स्थान पर अंपायर को उपस्थित होना चाहिए?

Choices:

A. Square Leg / स्क्वायर लेग

B. Mid-off / मिड ऑफ

C. Mid-on / मिड-ऑन

D. Fine leg / फाइन लेग



**Correct Answer:**

A

---

46)

Sultan Azlan Shah Cup is related to which among the following Sports?

सुल्तान अजलान शाह कप निम्नलिखित में से किस खेल से संबंधित है?

**Choices:**

A. Table Tennis / टेबल टेनिस

B. Hockey / हॉकी

C. Badminton / बैडमिंटन

D. Golf / गोल्फ़

**Correct Answer:**

B

47)

All Nobel Prizes except the Peace Prize is awarded in

शांति पुरस्कार को छोड़कर सभी नोबेल पुरस्कार कहाँ दिए जाते हैं?

**Choices:**

A. Oslo / ओस्लो

B. Stockholm / स्टॉकहोम

C. London / लंडन

D. Zurich / ज्यूरिक

Correct Answer:

B

---



Teachingninja.in

48)

Bhakra Nangal Dam is build on which river

भाखड़ा बांध किस नदी पर बनाया गया है?

Choices:

A. Krishna River / कृष्णा रिवर

B. Bhagirathi River / भागीरथी रिवर

C. Satluj River / सतलुज नदी

D. Brahmaputra River / ब्रह्मपुत्र नदी

**Correct Answer:**

C

---

**49)**

Governance was first used by the World Bank in its report on  
शासन का उपयोग पहली बार विश्व बैंक द्वारा अपनी रिपोर्ट में कब किया गया था?

**Choices:**

A. Sub-Saharan Africa in 1989 / 1989 में उप-सहारा अफ्रीका

B. Sub-Saharan Africa in 1990 / 1990 में उप-सहारा अफ्रीका

C. Sub-Saharan Africa in 1998 / 1998 में उप-सहारा अफ्रीका

D. Sub-Saharan Africa in 199 / 199 में उप-सहारा अफ्रीका

**Correct Answer:**

A

50)

What is the personnel department in an organization concerned with  
संबंधित संगठन में कार्मिक विभाग क्या है?

**Choices:**

A. Staff development / स्टाफ का विकास

B. Staff attraction / कर्मचारी आकर्षण

C. Staff administration / स्टाफ प्रशासन

D. Staff rewards / कर्मचारियों का पुरस्कार



**Correct Answer:**

C



---

51)

2 ,8 ,14 ,20 ,26 ,32 ,38 ,

2 ,8 ,14 ,20 ,26 ,32 ,38 ,

Choices:

A. 2 ,46 / 2 ,46

B. 44 ,50 / 44 ,50

C. 42 ,48 / 42 ,48

D. 40 ,42 / 40 ,42

**Correct Answer:**

B

---



**52)**

Raj borrowed Rs. 20000 partly from a friend at 12 % SI and remaining from a bank at 15 % SI. At the end of 2 years, he paid back an amount of Rs. 25700. What is the amount borrowed from the bank?

राज ने एक मित्र से 20000 रुपये आंशिक रूप से 12% साधारण ब्याज पर और शेष एक बैंक से 15%

साधारण ब्याज पर उधार लिए। 2 वर्ष के अंत में, उसने 25700 रुपये की राशि का भुगतान किया।  
बैंक से उधार ली गई राशि क्या है?

**Choices:**

A. Rs. 10000 / रु 10000

B. Rs. 12000 / रु 12000

C. Rs. 16000 / रु 16000

D. Rs. 15000 / रु 15000



**Correct Answer:**

D

---

**53)**

A batsman score 130 runs which include 4 sixes and 5 fours, what is the difference between the percentages of total runs he made while running between the wickets and sixes?

उन्होंने कहा, 'एक बल्लेबाज 130 रन बनाता है जिसमें चार छक्के और पांच चौके शामिल होते हैं। विकेटों और छक्कों के बीच दौड़ते हुए उन्होंने कुल कितने रन बनाए?

**Choices:**

A. 45 / 45

B. 57 / 57

C. 29 / 29

D. 48 / 48

**Correct Answer:**

D



54)

Ten years hence, the respective ratio between Simmi's age and Niti's age will be 7 : 9.

Two years ago, the respective ratio between Simmi's and Niti's age was 1 : 3. If Abhay is 4 years older than Niti, what is Abhay's present age ? (in years)

दस साल बाद, सिम्मी की उम्र और नीति की उम्र के बीच संबंधित अनुपात 7: 9 होगा। दो साल पहले, सिम्मी और नीति की उम्र के बीच संबंधित अनुपात 1: 3 था। यदि अभय नीति से 4 साल बड़ा है, तो अभय की वर्तमान उम्र क्या है ? (वर्षों में)

A. 8/ 8

B. 4/ 4

C. 16/ 16

D. 12/ 12

**CORRECT ANSWER : D**

55)

Arvind purchased a wrist watch with 30% discount on the labelled price. He sold it with 40% profit on the price he bought. What was his percent loss on the labelled price ?

अरविंद ने अंकित मूल्य पर 30% छूट के साथ एक कलाई घड़ी खरीदी। वह इसे खरीदे गए मूल्य पर 40% लाभ के साथ बेचता है। अंकित मूल्य पर उसकी प्रतिशत हानि क्या थी?

Choices:

A. 2% / 2%

B. 6% / 6%

C. 4% / 4%

D. 8% / 8%

**CORRECT ANSWER : A**

56)

After an old member is replaced by a new member, it is found that the average age of five members of a club is the same as it was 3 years ago. What is the difference between the age of the changed member and the new member?

5 सदस्यों वाले एक क्लब में जब एक सदस्य सेवानिवृत्त हो जाता है और नया सदस्य क्लब में शामिल हो जाता है तो यह पाते हैं कि सभी सदस्यों की औसत, आयु 3 वर्ष से पहले जो असत आयु थी उसके समान हो जाती है। तो नए सदस्य की आयु और समिति से प्रतिस्थापित व्यक्ति के बीच का अंतर ज्ञात कीजिये?

A. 14 years / 14 वर्ष

B. 15 years / 15 वर्ष

C. 16 years / 16 वर्ष

D. 17 years / 17 वर्ष

**CORRECT ANSWER : B**



57)

700 ml of a mixture contains water and milk in the ratio 2:8. How much water must be added to the mixture so that the ratio of water and milk becomes 3:8?

एक मिश्रण के 700 मिलीलीटर में पानी और दूध 2: 8 के अनुपात में है। मिश्रण में कितना पानी मिलाया जाना चाहिए ताकि पानी और दूध का अनुपात 3: 8 हो जाए?

A. 75 ml / 75 मिलीलीटर

B. 65 ml / 65 मिलीलीटर

C. 70 ml / 70 मिलीलीटर

D. 60 ml / 60 मिलीलीटर

**CORRECT ANSWER : C**

**58)**

The number of ways of arranging  $n$  students in a row such that no two boys sit together and no two girls sit together is  $m$  ( $m > 100$ ). If one more student is added, then number of ways of arranging as above increases by 200%. The value of  $n$  is:

$n$  विद्यार्थियों को एक पंक्ति में इस प्रकार व्यवस्थित करने के तरीकों की संख्या  $m$  ( $m > 100$ ) है, कि कोई भी दो लड़के एक साथ न बैठें और कोई भी दो लड़कियाँ एक साथ न बैठें। यदि एक और छात्र जोड़ा जाता है, तो ऊपर दी गई व्यवस्था के तरीकों की संख्या 200% बढ़ जाती है।  $n$  का मान है:

**Choices:**

A. 12/ 12

B. 8/ 8

C. 9/ 9

D. 10/ 10

**CORRECT ANSWER: D**

59)

What is the simplified value of  $(\operatorname{cosec} A - \sin A)^2 + (\sec A - \cos A)^2 - (\cot A - \tan A)^2$ ?

- (a) 0
- (b) 1
- (c) -1
- (d) 2

$(\operatorname{cosec} A - \sin A)^2 + (\sec A - \cos A)^2 - (\cot A - \tan A)^2$  का सरलीकृत मान क्या है ?

- (a) 0
- (b) 1
- (c) -1
- (d) 2


Choices:

A. a / a

B. b / b

C. c / c

D. d / d



**Correct Answer:**

B

---

**60)**

A wheel makes 12 revolutions in one minute. Find the angle (in radian) described by a spoke of the wheel in 1 second:

एक पहिया एक मिनट में 12 चक्कर लगाता है। 1 सेकंड में पहिये की एक सुई द्वारा वर्णित कोण (रेडियन में) ज्ञात करें:

**Choices:**

A.  $2\pi/3$  /  $2\pi/3$

B.  $2\pi/7$  /  $2\pi/7$

C.  $2\pi/5$  /  $2\pi/5$

D.  $3\pi/5$  /  $3\pi/5$

**CORRECT ANSWER : C**

**61)**

A is twice as good as B and together they finish a piece of work in 16 days. The number of days taken by A alone to finish the work is ?

A, B से दोगुना अच्छा है और वे एक साथ एक काम को 16 दिनों में पूरा करते हैं। A द्वारा अकेले कार्य को पूरा करने में कितने दिन का समय लिया गया है?

**Choices:**

A. 20 days / 20 दिन

B. 21 days / 21 दिन

C. 22 days / 22 दिन

D. 24 days / 24 दिन

**CORRECT ANSWER : D**

62)

What is the cost price of a Rs. 100 stock at 6 discount, when the brokerage is 2 %?

6 छूट पर 100 रुपये के शेयर का क्रय मूल्य क्या है, जब ब्रोकरेज 2% है?

**Choices:**

A. 98/ 98

B. 99/ 99

C. 96/ 96

**CORRECT ANSWER: C**

**63)**

From the top of a lighthouse which is 90 m above the sea, the angle of depression of a ship is  $60^\circ$ . How far is the ship from the lighthouse?

एक लाइटहाउस के शीर्ष से जो समुद्र से 90 मीटर ऊपर है, एक जहाज के अवनमन कोण  $60^\circ$  है। जहाज लाइटहाउस से कितनी दूर है?

**Choices:**

A.  $30\sqrt{3}$  m /  $30\sqrt{3}$  मीटर

B. 30 m / 30 मीटर

C. 17.34 m / 17.34 मीटर



D. 20.5 m / 20.5 मीटर

**CORRECT ANSWER : A**

64)

Raju & Ravi went from Agra to Delhi by an E-car which is on the way to Kanpur . Rakesh goes from Kanpur to Delhi. The distance between Agra to Kanpur is 700 km and the distance between Kanpur & Delhi is 300 km. speed of Raju and Ravi E-car is 25 kmph and speed of Rakesh is 10kmph. All the three persons start their journey at 10 am. After travelling some miles Ravi sees Rajesh going (by riding on his horse) at 20 kmph to Delhi. Raju & Ravi go ahead meet Rakesh and pick him up. Then they return immediately to Delhi and thus all the four reach at the same time. What is the total distance travelled by Raju?

राजू और रवि एक ई-कार से आगरा से दिल्ली गए, जो कानपुर के रास्ते में थी। राकेश कानपुर से दिल्ली जाता है। आगरा से कानपुर के बीच की दूरी 700 किमी है और कानपुर और दिल्ली के बीच की दूरी 300 किमी है। राजू और रवि ई-कार की गति 25 किमी प्रति घंटा है और राकेश की गति 10 किमी प्रति घंटा है। तीनों व्यक्ति सुबह 10 बजे अपनी यात्रा शुरू करते हैं। कुछ मील की यात्रा के बाद रवि राजेश को (अपने घोड़े पर सवार होकर) 20 किमी प्रति घंटे की रफ्तार से दिल्ली जाते हुए देखता है। राजू और रवि आगे बढ़कर राकेश से मिलते हैं और उसे उठा लेते हैं। फिर वे तुरंत दिल्ली लौट आते हैं और इस प्रकार चारों एक ही समय पर पहुंचते हैं। राजू द्वारा तय की गई कुल दूरी क्या है?



Choices:

A. 400/ 400

B. 500/ 500

C. 600/ 600

D. Can't be determined / निर्धारित नहीं किया जा सकता है

**CORRECT ANSWER :C**

**65)**

A boat running downstream covers a distance of 20 km in 2 hrs while it covers the same distance upstream in 5 hrs. Then speed of the boat in still water is ?

एक नाव धारा के अनुकूल 20 किमी की दूरी 2 घंटे में तय करती है जबकि वही दूरी धारा के प्रतिकूल 5 घंटे में तय करती है। तो शांत पानी में नाव की गति क्या है?

**Choices:**

A. 7 km/hr / 7 किमी/घंटा

B. 8 km/hr / 8 किमी/घंटा

C. 9 km/hr / 9 किमी/घंटा

D. 10 km/hr / 10 किमी/घंटा

**CORRECT ANSWER : A**

66)

The ratio between product of two numbers and difference of two numbers is 45:2, what is the ratio of LCM/ HCF of two numbers?

दो संख्याओं के गुणनफल और दो संख्याओं के अंतर के बीच का अनुपात यदि 45:2 है, तो दोनों संख्याओं के लघुत्तमसमपवर्तक और महत्तमसमपवर्तक का अनुपात क्या है?

**Choices:**

A. 1:2 / 1: 2

B. 3:4 / 3: 4

C. 3:8 / 3: 8



D. data inadequate / आंकड़ा अपर्याप्त डेटा

**CORRECT ANSWER : D**

67)

A, B and C share the profit in the ratio of 2 : 3 : 7. If the average gain is Rs. 8000, then B's share is ?

A, B और C लाभ को 2: 3: 7 के अनुपात में साझा करते हैं। यदि औसत लाभ 8000 रुपये है, तो B का हिस्सा क्या है?

**Choices:**

A. Rs. 2000 / ₹ 2000

B. Rs. 1000 / ₹ 1000

C. Rs. 1500 / ₹ 1500

D. Rs. 6000 / ₹ 6000



**Correct Answer:**

D

68)

Two different natural numbers are such that their product is less than their sum. One of the numbers must be

दो अलग-अलग प्राकृतिक संख्याएं ऐसी हैं कि उनका गुणनफल उनके योग से कम है। संख्याओं में से एक होना चाहिए

**Choices:**

A. 1/ 1

B. 2/ 2

C. 3/ 3

D. None of these. / इनमें से कोई नहीं।

**CORRECT ANSWER : A**

69)

Statement: Courts take too long in deciding important disputes of various departments.

Courses of Action: I.Courts should be ordered to speed up matters. II.Special powers should be granted to officers to settle disputes concerning their department.

"कथन: विभिन्न विभागों के महत्वपूर्ण विवादों पर निर्णय लेने में न्यायालयों को बहुत अधिक समय लगता है। कार्यवाही: I.अदालतों को मामलों में तेजी लाने का आदेश दिया जाना चाहिए।

II.अधिकारियों को अपने विभाग से संबंधित विवादों को निपटाने के लिए विशेष अधिकार दिए जाने चाहिए।"

**Choices:**

A. Only I follows / केवल I अनुसरण करता है

B. Only II follows / केवल II का अनुसरण करता है



C. Either I or II follows / या तो I या II अनुसरण करता है

D. Both I and II follow / I और II दोनों का पालन करें

**CORRECT ANSWER : D**

**70)**

The H.C.F and L.C.M of two numbers are 12 and 336 respectively. If one of the number is 84, the other is ?

दो नंबरो के महत्तम समपवर्तक और लघूत्तम समपवर्तक क्रमशः 12 और 336 हैं। यदि संख्या में से एक 84 है, तो दूसरा है?

**Choices:**





A. 36/ 36

B. 48/ 48

C. 72/ 72

D. 96/ 96

**CORRECT ANSWER : B**

71)

A train of length 200 meters takes 12 seconds to cross a man who is running at a speed of 10 km/hr in opposite direction of the train. What is the speed of the train?

200 मीटर लम्बी एक ट्रेन एक व्यक्ति को पार करने में 12 सेकंड का समय लेती है जो ट्रेन की विपरीत दिशा में 10 किमी/घंटा की गति से चल रहा है. ट्रेन की गति क्या है?



Choices:

A. 50 km/hr / 50 किमी/घंटा

B. 55 km/hr / 55 किमी/घंटा

C. 60 km/hr / 60 किमी/घंटा

D. 65 km/hr / 65 किमी/घंटा

**CORRECT ANSWER : A**

72)

Choose the alternative which most closely resembles the water-image of the given combination.

DISC

1. CS I D

2. ɹɹID

3. DIɹC

4. DISC

- (a) 1
- (b) 2
- (c) 3
- (d) 4

वह विकल्प चुनें जो दिए गए संयोजन की जल-छवि से सबसे अधिक मिलता-जुलता हो।

DISC

1. CS I D

2. ɹɹID

3. DIɹC

4. DISC

- (a) 1
- (b) 2
- (c) 3
- (d) 4

Choices:



A. a / a

B.  $b/b$

C.  $c/c$

D.  $d/d$

**Correct Answer:**

C

**73)**

A plate on square base made of brass is of length  $x$  cm and width 1 mm. The plate weights 4725 gm. If 1 cubic cm of brass weight 8.4 grams, then the value of  $x$  is :

पीतल से बनी वर्गाकार आधार पर एक प्लेट की लंबाई  $x$  सेमी और चौड़ाई 1 मिमी है। प्लेट का वजन 4725 ग्राम है। यदि 1 घन सेमी पीतल का वजन 8.4 ग्राम है, तो  $x$  का मान है:



Choices:

A. 75/ 75

B. 76/ 76

C. 72/ 72

D. 74/ 74

**CORRECT ANSWER : A**

74)

A watch gained 8 seconds in 4 minutes and was set right at 4 AM. What time will it show at 11 PM on the same day?

एक घड़ी 4 मिनट में 8 सेकंड बढ़ी और सुबह 4 बजे सही हो गई। उसी दिन रात्रि 11 बजे क्या समय दिखाई देगा?

Choices:


A. 12:38 / 12:38

B. 11:38 / 11:38

C. 12:08 / 12:08

D. 11:08 / 11:08

**CORRECT ANSWER : B**



75)

Statement: Should admission to all professional courses be made on the basis of past academic performance rather than through entrance tests? Arguments: I.Yes. It will be beneficial for those candidates who are unable to bear the expenses of entrance tests. II.Yes. Many deserving candidates securing high marks in their qualifying academic examinations do not perform well on such entrance tests. III.No. The standard of examinations and assessment conducted by different Boards and universities are not comparable and hence there is a need to conduct entrance tests to calibrate them on a common yardstick.

कथन: क्या सभी व्यावसायिक पाठ्यक्रमों में प्रवेश, प्रवेश परीक्षा के बजाय पिछले शैक्षणिक प्रदर्शन के आधार पर किया जाना चाहिए? तर्क: I. हाँ। यह उन उम्मीदवारों के लिए फायदेमंद होगा जो प्रवेश परीक्षा का खर्च वहन करने में असमर्थ हैं। II. हाँ। अपनी योग्यता शैक्षणिक परीक्षाओं में उच्च अंक प्राप्त करने वाले कई योग्य उम्मीदवार ऐसी प्रवेश परीक्षाओं में अच्छा प्रदर्शन नहीं करते हैं। III. नहीं। विभिन्न बोर्डों और विश्वविद्यालयों द्वारा आयोजित परीक्षाओं और मूल्यांकन के मानक तुलनीय नहीं हैं और इसलिए उन्हें एक सामान्य मानदंड पर जांचने के लिए प्रवेश परीक्षा आयोजित करने की आवश्यकता है।



**Choices:**

- A. Only I and II are strong / केवल I और II मजबूत हैं
- B. Only II and III are strong / केवल II और III मजबूत हैं
- C. Only I and III are strong / केवल I और III मजबूत हैं
- D. Only III is strong / केवल III मजबूत है

**CORRECT ANSWER : D**



76)

Select the correctly spelt word

Choices:

A. Financialy

B. Financially

C. Finantially

D. Finencially

**CORRECT ANSWER : B**

**77)**

Select the wrongly spelt word

**Choices:**

A. Molestation



B. Condonation

C. Navigetion

D. Combination

**CORRECT ANSWER : C**

**78)**

Select the wrongly spelt word

**Choices:**

A. Innocent

B. Inflammable

C. Insoluble

D. Installation

**CORRECT ANSWER : B**

79)

Choose the correct meaning of the idiom : To be taken aback

**Choices:**

A. to pay no heed

B. to be very excited

C. to be surprised

D. to take something back

**CORRECT ANSWER : C**

**80)**

Choose the correct meaning of the idiom : Spill the beans

**Choices:**

A. Waste money

B. Give away a secret

C. Perform magic

D. Work hard

**CORRECT ANSWER : B**

**81)**

Choose the appropriate meaning for the idiom : He kicked up a row

**Choices:**

A. cried with sorrow

B. waited in a queue

C. kicked the guard

D. created a fuss

**CORRECT ANSWER : D**

**82)**

In the sentence "John and I went to the park," the pronouns that form the subject are

**Choices:**

A. We

B. John and I

C. Me

D. John

**CORRECT ANSWER : B**

**83)**

What is the phrasal verb equivalent of " To recover from an injury or illness"?

**Choices:**

A. Pull through

B. Settle up

C. Pull over



D. Settle in

**CORRECT ANSWER : A**

84)

The area is \_\_\_\_\_ Close Circuit Television Surveillance.

**Choices:**

A. Into

B. About

C. Over

D. Under

**CORRECT ANSWER : D**

85)

He had his own line of thinking and would defend his views with his \_\_\_\_\_.

**Choices:**

A. conversion

B. convictions

C. conversation

D. convention

**CORRECT ANSWER : B**

**86)**

The roof of the old building \_\_\_\_\_ during the storm.

**Choices:**

A. Demolished

B. Collapsed

C. Scratched

D. Destroyed

**CORRECT ANSWER : B**

**87)**

Spot the error in following sentence : Every community has the responsibility of educating its next generation, for education is the master-key which will opened all closed doors

**Choices:**

A. Every community has the responsibility

B. educating its next generation

C. for education is the master-key

D. which will opened all closed doors

**CORRECT ANSWER : D**

88)

Spot the error in following sentence : He was not able to give many time to his research

**Choices:**

A. many time

B. He was not able

C. to give

D. to his research

**CORRECT ANSWER : A**

89)

Spot the error in following sentence : Some people is always talking about themselves

**Choices:**

A. about themselves

B. Some people

C. is always talking

D. No error

**CORRECT ANSWER : C**

90)

Change the voice: Martin drew a picture of the snow-capped mountains ?

**Choices:**

A. A picture of the snow-capped mountains was drawn by Martin.

B. A picture of the snow-capped mountains is drawn by Martin.

C. A picture of the snow-capped mountains has been drawn by Martin.

D. A picture of the snow-capped mountains is being drawn by Martin.

**Correct Answer:**

A

---



Teachingninja.in



91)

Choose the One Word Substitution for : Very careful and precise

Choices:

A. Tremulous

B. Tumultuous

C. Garrulous

D. Meticulous

**Correct Answer:**

D



Teachingninja.in

92)

Choose the One Word Substitution for : The study of stars and planets

Choices:

A. Archeology

B. Astrology

C. Anatomy

D. Astronomy

Correct Answer:

D

---



Teachingninja.in

93)

Choose the One Word Substitution for : A person who studies the structure of the earth

Choices:

A. Gynaecologist

B. Gemologist

C. Geologist

D. Geographer

**Correct Answer:**

C

---

**94)**

Choose the synonym for "mild"

**Choices:**

A. Light

B. Manageable

C. Unwrap

D. Agile

**Correct Answer:**

A

95)

The manager had to \_\_\_\_\_ the meeting due to an emergency

Choices:

- A. Call off
- B. Call in
- C. Call on
- D. Call out



Correct Answer:

A





96)

Choose the correct Synonym for Imitation

Choices:

- A. Fake
- B. Real
- C. Genuine
- D. Original



Correct Answer:

A



97)

Choose the correct Synonym for Despise

Choices:

A. Admire

B. Adore

C. Abhor

D. Approve

**Correct Answer:**

C



98)

Choose the correct Synonym for Aver

Choices:



A. Say

B. Watch

C. Praise

D. Sit

**Correct Answer:**

A

---



99)

If you wish to be a writer, you must learn to develop your own point of view. All good writers make us see things in a different light. You may be writing about the same thing as your classmates, but your presentation must reflect your personality and individuality. There are so many interesting subjects you can write about in different forms but here we will try to attempt writing short stories. There is a good market for the following types: the humorous stories, the adventurous stories, the domestic stories, the mysteries and stories related to animals and strange experiences. Don't worry if your story turns out to be short – some of the best stories are quite short. Be very careful about the climax or end of the story. It must be what the reader fears, desires, expects or best of all doesn't expect. So, get down to it. Think of a plot-make points on how the story will progress and pen it down. Read carefully, the above passage and answer the following question with the options given: A successful writer's presentation must reflect.....

Choices:



A. his personality and individuality

B. his handwriting

C. his showy nature

D. his superiority to others.

**Correct Answer:**

A

**100)**

Choose the adjective that emphasizes negativity.

**Choices:**



A. Pointed

B. Shoddy

C. Perceptive

D. Callous



**Correct Answer:**

D