



Teachingninja.in



Latest Govt Job updates



Private Job updates



Free Mock tests available



Visit - teachingninja.in



Odisha Police Driver

Previous Year Paper
20 Dec, 2024





DRIVER RECRUITMENT BOARD
For the post of Driver in Police Motor Transport (PMT), Odisha, Cuttack
Question Challenge

[View Your Responses](#) [Objection About Question](#) [View Complained Questions](#) GAN0100883 logged in. [Logout]

Roll No.	
Candidate Name	
Post Name	
Test Date (mm/dd/yyyy)	: 12/20/2024
Test Time	: 09:00 AM
Center	: ODGAN286 (ADISHAKTI INFOSYS) (GAN01)

Correct Option selected **Wrong Option selected (Your answer)** **Correct Option (Answer Key)**

Q.No: 1	Where did Prime Minister Narendra Modi launch the Bima Sakhi Yojana on DEC 9,2024? ପ୍ରଧାନମନ୍ତ୍ରୀ ନରେନ୍ଦ୍ର ମୋଦୀ DEC 9,2024 ରିଖରେ ବିମା ଶକ୍ତି ଯୋଜନା କେଉଁଠାରୁ ଆରମ୍ଭ କରିଥିଲେ?
Gujarat ଗୁଜୁରାଟ	
Panipat ପାନିପତ	
Varanasi ବାରଣାସୀ	
Gurugram ଗୁରୁଗ୍ରାମ	
Not Answered	

Q.No: 2	What is the full-form of ATM? ATM ର ପୂରା ନାମ କ'ଣ ?
Automated Teller Mechanism ଅଟୋମେଟେଡ୍ ଟେଲର ମେକାନିଜିମ୍	
Automated Teller Machine ଅଟୋମେଟେଡ୍ ଟେଲର ମେସିନ୍	
Automatic Teller Mechanic ଅଟୋମେଟିକ୍ ଟେଲର ମେକାନିକ୍	
Automatic Teller Machanism ଅଟୋମେଟିକ୍ ଟେଲର ମେକାନିଜିମ୍	

Q.No: 3	What does "EPFO" stand for in the Indian context? ଭାରତୀୟ ସଂଯତ୍ତରେ "EPFO"ର ଅର୍ଥ କ'ଣ ?
Expert Promotion and Facilitation Office ଏକ୍ସପର୍ଟ ପ୍ରୋମୋସନ୍ ଆଣ୍ଡ ଫେସିଲିଟେସନ୍ ଅଫିସ୍	
Employees Provident Fund Organization ଏମ୍ପ୍ଲୋୟିସ୍ ପ୍ରୋଭିଡେଣ୍ଟ ଫଣ୍ଡ ଅର୍ଗାନାଇଜେସନ୍	
Environmental Protection Fund Office ଏନଭାଇରମେଣ୍ଟାଲ ପ୍ରୋଟେକସନ୍ ଫଣ୍ଡ ଅଫିସ୍	
Emergency Preparedness Funding Organization ଏମର୍ଜେନ୍ସି ପ୍ରିପାରଡନେସ୍ ଫଣ୍ଡିଙ୍ଗ୍ ଅର୍ଗାନାଇଜେସନ୍	
Not Answered	

Q.No: 4	Which state is implementing the 'Subhadra' scheme for women's welfare? କେଉଁ ରାଜ୍ୟ ମହିଳାମାନଙ୍କ କଲ୍ୟାଣ ପାଇଁ 'ସୁଭଦ୍ରା' ଯୋଜନା କାର୍ଯ୍ୟକାରୀ କରୁଛି?
Bihar ବିହାର	
Gujarat ଗୁଜୁରାଟ	
Odisha ଓଡ଼ିଶା	
Uttar Pradesh ଉତ୍ତର ପ୍ରଦେଶ	

Q.No: 5	On what date did the Boston Tea Party take place? ବୋଷ୍ଟନ୍ ଟି ପାର୍ଟି କେବେ ହୋଇଥିଲା ?
April 19, 1775	ଏପ୍ରିଲ 19, 1775
January 1, 1775	ଜାନୁଆରୀ 1, 1775
July 4, 1776	ଜୁଲାଇ 4, 1776
December 16, 1773	ଡିସେମ୍ବର 16, 1773
Not Answered	

Q.No: 6	ନିମ୍ନଲିଖିତ ଇଂରାଜୀ ବାକ୍ୟ ପାଇଁ ସଠିକ୍ ଓଡ଼ିଆ ଅନୁବାଦ ଖୋଜ । As the night progressed, the eerie silence of the forest became increasingly unsettling.
ରାତି ବଢିବା ସହ ପାଣି ଭିତରେ ଭୟଙ୍କର ନୀରବତା ଦିନକୁ ଦିନ ଅଶାନ୍ତ ହେବାରେ ଲାଗିଲା	
ସକାଳ ହେବା ସହ ଜଙ୍ଗଲର ଭୟଙ୍କର ନୀରବତା ଦିନକୁ ଦିନ ଅଶାନ୍ତ ହେବାରେ ଲାଗିଲା	
ରାତି ବଢିବା ସହ ଜଙ୍ଗଲର ଭୟଙ୍କର ନୀରବତା ଦିନକୁ ଦିନ ଶାନ୍ତ ହେବାରେ ଲାଗିଲା	
ରାତି ବଢିବା ସହ ଜଙ୍ଗଲର ଭୟଙ୍କର ନୀରବତା ଅଶାନ୍ତ ହେବାରେ ଲାଗିଲା	

Q.No: 7	ନିମ୍ନଲିଖିତ ଓଡ଼ିଆ ବାକ୍ୟ ପାଇଁ ସଠିକ ଇଂରାଜୀ ଅନୁବାଦ ଖୋଜ । ମୋର ପିତାମାତା ତାଜମହଲକୁ ଦେଖିଛନ୍ତି ।
My parents have seen the Taj Mahal.	
My parents had seen the Taj Mahal.	
Her children will see the Taj Mahal.	
My parents are going to see the Taj Mahal.	

Q.No: 8	ନିମ୍ନଲିଖିତ ଓଡ଼ିଆ ବାକ୍ୟ ପାଇଁ ସଠିକ ଇଂରାଜୀ ଅନୁବାଦ ଖୋଜ । ମୋ ଭାଇ ଏକ ପ୍ରବନ୍ଧ ଲେଖୁଛନ୍ତି ।
My brother was writing an essay.	
My brother should write an essay.	
My brother is writing an essay.	
My brother has written an essay.	

Q.No: 9	ନିମ୍ନଲିଖିତ ଇଂରାଜୀ ବାକ୍ୟ ପାଇଁ ସଠିକ୍ ଓଡ଼ିଆ ଅନୁବାଦ ଖୋଜ । The protagonist's internal conflict added depth and complexity to the novel's narrative.
ନାୟକଙ୍କ ଆଭ୍ୟନ୍ତରୀଣ ସଂଘର୍ଷ ଉପନ୍ୟାସର କାହାଣୀରେ ସରଳତା ଏବଂ ଉଦ୍ଭାବତା ଯୋଡ଼ିଥିଲା	
ନାୟକଙ୍କ ଆଭ୍ୟନ୍ତରୀଣ ଭୋକ ଓ ଶୋଷ ଉପନ୍ୟାସର କାହାଣୀରେ ଗଭୀରତା ଏବଂ ଜଟିଳତା ଯୋଡ଼ିଥିଲା	
ନାୟକଙ୍କ ଆଭ୍ୟନ୍ତରୀଣ ସଂଘର୍ଷ ଉପନ୍ୟାସର କାହାଣୀରେ ଗଭୀରତା ଏବଂ	

ମାୟକଙ୍କ ପାତ୍ରାତରୀତା ଏ ଘର ଉପମାସର କାହାଣୀରେ ଗଢାଗତା ଏବଂ ଜଟିଳତା ଯୋଡ଼ିଥିଲା।	
ଗାୟକଙ୍କ ଆଭ୍ୟନ୍ତରୀଣ ସଂଘର୍ଷ ଉପମାସର କାହାଣୀରେ ଗଢାଗତା ଏବଂ ଜଟିଳତା ଯୋଡ଼ିଥିଲା।	
Not Answered	

<p>ନିମ୍ନଲିଖିତ ଇଂରାଜୀ ବାକ୍ୟ ପାଇଁ ସଠିକ୍ ଓଡ଼ିଆ ଅନୁବାଦ ଖୋଜ ।</p> <p>Q.No: 10</p> <p>His unwavering commitment to justice inspired his colleagues and won the respect of many.</p>	
<p>ନ୍ୟାୟ ପ୍ରତି ତାଙ୍କର ଅତୁଟ ପ୍ରତିବଦ୍ଧତା ତାଙ୍କ ସହକର୍ମୀମାନଙ୍କୁ ରେଜେଇ ଦେଇଥିଲା ଏବଂ ଅନେକଙ୍କ ସାମନା କରିଥିଲା।</p>	
<p>ବାସ ଗୃହ ପ୍ରତି ତାଙ୍କର ଅତୁଟ ପ୍ରତିବଦ୍ଧତା ତାଙ୍କ ସହକର୍ମୀମାନଙ୍କୁ ପ୍ରେରଣା ଦେଇଥିଲା ଏବଂ ଅନେକଙ୍କ ସମ୍ମାନ ଜିତିଥିଲା।</p>	
<p>ଖାଇବା ପ୍ରତି ତାଙ୍କର ପ୍ରତିବଦ୍ଧତା ତାଙ୍କ ସହକର୍ମୀମାନଙ୍କୁ ପ୍ରେରଣା ଦେଇଥିଲା ଏବଂ ଅନେକଙ୍କ ସମ୍ମାନ ଜିତିଥିଲା।</p>	
<p>ନ୍ୟାୟ ପ୍ରତି ତାଙ୍କର ଅତୁଟ ପ୍ରତିବଦ୍ଧତା ତାଙ୍କ ସହକର୍ମୀମାନଙ୍କୁ ପ୍ରେରଣା ଦେଇଥିଲା ଏବଂ ଅନେକଙ୍କ ସମ୍ମାନ ଲାଭକରିଥିଲା।</p>	

<p>ନିମ୍ନଲିଖିତ ଓଡ଼ିଆ ବାକ୍ୟ ପାଇଁ ସଠିକ ଇଂରାଜୀ ଅନୁବାଦ ଖୋଜ ।</p> <p>Q.No: 11</p> <p>ରମେଶ ପାର୍କରେ ବସିଛନ୍ତି।</p>	
Ramesh will sit in the park.	
Ramesh was playing in the park.	
Ramesh is playing in the park.	
Ramesh is sitting in the park.	

<p>ନିମ୍ନଲିଖିତ ଇଂରାଜୀ ବାକ୍ୟ ପାଇଁ ସଠିକ୍ ଓଡ଼ିଆ ଅନୁବାଦ ଖୋଜ ।</p> <p>Q.No: 12</p> <p>The ancient manuscript, which had been hidden for centuries, was finally discovered by the archaeologists.</p>	
<p>ଶତାବ୍ଦୀ ଧରି ଲୁଚି ରହିଥିବା ଏହି ପ୍ରାଚୀନ ପାଣ୍ଡୁଲିପିକୁ ଶେଷରେ ମନସ୍ତତ୍ତ୍ୱବିତମାନେ ଆବିଷ୍କାର କରିଥିଲେ।</p>	
<p>ଶତାବ୍ଦୀ ଧରି ଲୁଚି ରହିଥିବା ଏହି ପ୍ରାଚୀନ ପାଣ୍ଡୁଲିପିକୁ ଶେଷରେ ପ୍ରତ୍ନତତ୍ତ୍ୱବିତମାନେ ଆବିଷ୍କାର କରିଥିଲେ।</p>	
<p>ଶତାବ୍ଦୀ ଧରି ଲୁଚି ରହିଥିବା ଏହି ପ୍ରାଚୀନ ପତରଲିପିକୁ ଶେଷରେ ଆଚାର୍ଯ୍ୟମାନେ ଆବିଷ୍କାର କରିଥିଲେ।</p>	
<p>ଶତାବ୍ଦୀ ଧରି ଲୁଚି ରହିଥିବା ଏହି ପ୍ରାଚୀନ ପାଣ୍ଡୁଲିପିକୁ ଶେଷରେ ଡାକ୍ତରମାନେ ଆବିଷ୍କାର କରିଥିଲେ।</p>	

<p>ନିମ୍ନଲିଖିତ ଓଡ଼ିଆ ବାକ୍ୟ ପାଇଁ ସଠିକ ଇଂରାଜୀ ଅନୁବାଦ ଖୋଜ ।</p> <p>Q.No: 13</p> <p>ତୁମେ ସେମାନଙ୍କୁ କିଛି ଟଙ୍କା ଦେବା ଉଚିତ୍ ।</p>	
You may give them some money.	

You may give them some money.
You will give them some money.
You should give them some money.
We should give them some wealth.

	ନିମ୍ନଲିଖିତ ଇଂରାଜୀ ବାକ୍ୟ ପାଇଁ ସଠିକ୍ ଓଡ଼ିଆ ଅନୁବାଦ ଖୋଜ ।
Q.No: 14	She navigated the treacherous waters with skill and confidence, guiding the ship to safety.
	ସେ ଦକ୍ଷତା ଏବଂ ଆତ୍ମବିଶ୍ୱାସ ସହିତ ବିପଦପୂର୍ଣ୍ଣ ଜଳରେ ଯାତ୍ରା କରିଥିଲେ ଏବଂ ଜାହାଜକୁ ସୁରକ୍ଷିତ ସ୍ଥାନକୁ ନେଇଥିଲେ
	ସେ ଦକ୍ଷତା ଏବଂ ଆତ୍ମବିଶ୍ୱାସ ସହିତ ବଗିଚାରେ ଯାତ୍ରା କରିଥିଲେ ଏବଂ ଜାହାଜକୁ ସୁରକ୍ଷିତ ସ୍ଥାନକୁ ନେଇଥିଲେ
	ସେ ଦକ୍ଷତା ଏବଂ ଆତ୍ମବିଶ୍ୱାସ ସହିତ ବିପଦପୂର୍ଣ୍ଣ ଜଳରେ ଯାତ୍ରା କରିଥିଲେ ଏବଂ ଉଡ଼ାଜାହାଜକୁ ସୁରକ୍ଷିତ ସ୍ଥାନକୁ ନେଇଥିଲେ
	ସେ ଦକ୍ଷତା ଏବଂ ଆତ୍ମବିଶ୍ୱାସ ସହିତ ବିପଦପୂର୍ଣ୍ଣ ଆକାଶରେ ଯାତ୍ରା କରିଥିଲେ ଏବଂ ଜାହାଜକୁ ସୁରକ୍ଷିତ ସ୍ଥାନକୁ ନେଇଥିଲେ

	ନିମ୍ନଲିଖିତ ଓଡ଼ିଆ ବାକ୍ୟ ପାଇଁ ସଠିକ ଇଂରାଜୀ ଅନୁବାଦ ଖୋଜ ।
Q.No: 15	ଦୟାକରି ଭୋକିଲା ପିଲାକୁ ଖାଦ୍ୟ ଦିଅ ।
	Please give food properly.
	Please give food to old people.
	Please give food to hungry boys.
	Please give food to all.

	ଭାଷା ଯୋଗ୍ୟ ସାର୍ଥକ ଧ୍ୱନି ସମାହାର ବା ବର୍ଣ୍ଣ ସମାହାରକୁ କ’ଣ କୁହାଯାଏ ?
Q.No: 16	
	ଇର୍ଷ
	ଶବ୍ଦ
	ଧ୍ୱନି
	ବର୍ଗ

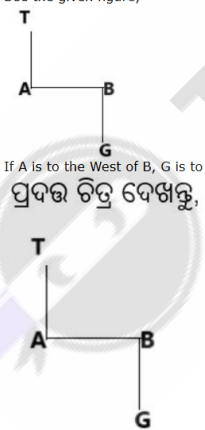
	‘ଚିତ୍ରନ’ କେଉଁ ପ୍ରକାର ବିଶେଷ୍ୟ ?
Q.No: 17	
	ନାମବାଚକ
	କ୍ରିୟାବାଚକ
	ଜାତିବାଚକ
	ଗୁଣବାଚକ

	‘ଜୀବନ’ରେ କେଉଁ ପ୍ରତ୍ୟୟ ସଂଯୁକ୍ତ ହୋଇଛି ?
Q.No: 18	
	ଅନ
	ବନ
	ନ
	ଅ

Q.No: 19	ନିମ୍ନୋକ୍ତ ମଧ୍ୟରୁ କେଉଁଟି ବର୍ଷ ଉଚ୍ଚାରଣ ସ୍ଥାନ ନୁହେଁ ?
କଷ୍ଟ	
ତାଳୁ	
କର୍ଣ୍ଣ	
ଓଷ୍ଠ	

Q.No: 20	'କଟାଳି ' ଶବ୍ଦରେ କେଉଁ ପ୍ରତ୍ୟୟ ଯୋଗ ହୋଇଛି ?
ଳି	
ଆଳି	
ଆଳ	
କାର୍	
Not Answered	

Q.No: 21	<p>Study the following arrangement and answer the question:</p> <p>222 372 239 327 293</p> <p>What is the sum of the largest number and the smallest number in the above arrangement?</p> <p>ନିମ୍ନଲିଖିତ ବ୍ୟବସ୍ଥା ଅଧ୍ୟୟନ କରନ୍ତୁ ଏବଂ ପ୍ରଶ୍ନର ଉତ୍ତର ଦିଅନ୍ତୁ:</p> <p>222 372 239 327 293</p> <p>ଉପରୋକ୍ତ ବ୍ୟବସ୍ଥାରେ ସର୍ବ ବୃହତ ସଂଖ୍ୟା ଏବଂ ସବୁଠୁ ଛୋଟ ସଂଖ୍ୟାର ସମଷ୍ଟି କେତେ?</p>
	594
	594
	543
	543
	583
	583
	528
	528

Q.No: 22	<p>See the given figure,</p>  <p>If A is to the West of B, G is to the South of B, T is to the North of A, then T is in which direction with respect to G?</p> <p>ପ୍ରଦତ୍ତ ଚିତ୍ର ଦେଖନ୍ତୁ,</p>
	<p>ଯଦି A, B ର ପଶ୍ଚିମରେ ଅଛି, G ହେଉଛି B ର ଦକ୍ଷିଣରେ, T ହେଉଛି A ର ଉତ୍ତରରେ, ତେବେ T, G ର କେଉଁ ଦିଗରେ ଅଛି?</p>
	East
	ପୂର୍ବ
	West
	ପଶ୍ଚିମ
	North - West
	ଉତ୍ତର - ପଶ୍ଚିମ
	South - East
	ଦକ୍ଷିଣ - ପୂର୍ବ

Q.No: 23	Find the number that will replace the question mark, which will complete the given equation correctly. $80 - 5 = ? \times 15$ ସଂଖ୍ୟା ଚିହ୍ନଟ କର, ଯାହା ପ୍ରଶ୍ନ ଚିହ୍ନକୁ ବଦଳାଇବ, ଯାହା ଦିଆଯାଇଥିବା ସମୀକରଣକୁ ସଠିକ୍ ଭାବରେ ସମ୍ପୂର୍ଣ୍ଣ କରିବ । $80 - 5 = ? \times 15$
1	
1	
7	
7	
5	
5	
3	
3	

Q.No: 24	One of the words given in the options can be formed using the letters in the word 'COLLEAGUE' without repetition, identify that word. ବିକଳ୍ପଗୁଡ଼ିକରେ ଦିଆଯାଇଥିବା ଶବ୍ଦଗୁଡ଼ିକ ମଧ୍ୟରୁ ଗୋଟିଏ ପୁନରାବୃତ୍ତି ନକରି 'COLLEAGUE' ଶବ୍ଦର ଅକ୍ଷର ବ୍ୟବହାର କରି ଗଠନ କରାଯାଇପାରେ । ସେହି ଶବ୍ଦକୁ ଚିହ୍ନଟ କର ।
ALTER	
ALTER	
CAP	
CAP	
LETTER	
LETTER	
CAGE	
CAGE	

Q.No: 25	Find the next pair of alphabets in the following series. KA, MC, OE, QG, _____ ନିମ୍ନଲିଖିତ କ୍ରମରେ ବର୍ଣ୍ଣମାଳାର ପରବର୍ତ୍ତୀ ଯୋଡ଼ି ଖୋଜ । KA, MC, OE, QG, _____
XY	
XY	
KL	
KL	
FE	
FE	
SI	
SI	

Q.No: 26	In a certain language, if 'FHUY' is coded as 'GIVZ', then how is 'SCWE' coded in that language? ଏକ ନିର୍ଦ୍ଦିଷ୍ଟ ଭାଷାରେ, ଯଦି 'FHUY' କୁ 'GIVZ' ଭାବରେ କୋଡ୍ କରାଯାଏ, ତେବେ ସେହି ଭାଷାରେ 'SCWE' କିପରି କୋଡ୍ ହୋଇଛି?
DWET	
DWET	
TDXF	
TDXF	
TSER	
TSER	
DSTE	
DSTE	

Q.No: 27	The sum of the present ages of Riya and Ritu is 33 years. If Riya is currently 22 years old, then how old is Ritu? ରିୟା ଏବଂ ରିତୁଙ୍କ ବର୍ତ୍ତମାନର ବୟସର ସମୁଦାୟ 33 ବର୍ଷ । ଯଦି ରିୟାଙ୍କୁ ବର୍ତ୍ତମାନ 22 ବର୍ଷ ହୋଇଛି, ତେବେ ରିତୁଙ୍କ ବୟସ କେତେ ?
15 years	
15 ବର୍ଷ	
13 years	
13 ବର୍ଷ	
17 years	
17 ବର୍ଷ	
11 years	
11 ବର୍ଷ	

	If Rs. 2,560 is invested at an annual interest rate of 6% for 5 years, what will be the simple interest? ଯଦି 5 ବର୍ଷ ପାଇଁ 2,560 ଟଙ୍କା 6% ବାର୍ଷିକ ସରଳ ଲାଭରେ ବ୍ୟୟ ହୁଏ, ତେବେ ସରଳ ଲାଭ କେତେ ହେବ ?
--	--



Q.No: 28	ଧାସ ୬ ବ'ଧ ଧାଢ଼ ବାଧକା ୦% ସୁଧ ହାରରେ RS. ୮,୨୦୦ ବ'ନ'ବଧାତା କରାଯାଏ, ତେବେ ସରଳ ସୁଧ କେତେ ହେବ?
Rs. 734	
Rs. 734	
Rs. 783	
Rs. 783	
Rs. 768	
Rs. 768	
Rs. 702	
Rs. 702	

Q.No: 29	Which of the following numbers is perfectly divisible by 3? ନିମ୍ନଲିଖିତ ମଧ୍ୟରୁ କେଉଁ ସଂଖ୍ୟା 3 ଦ୍ଵାରା ସମ୍ପୂର୍ଣ୍ଣ ବିଭାଜିତ ଅଟେ?
29,163	
29,163	
26,518	
26,518	
27,197	
27,197	
22,282	
22,282	



Q.No: 30	Find the HCF of 19, 57 and 95. 19, 57 ଏବଂ 95 ର HCF (ଗସାଗୁ) ସନ୍ଧାନ କର।
95	
95	
1	
1	
19	
19	
57	
57	



Q.No: 31	The cost of 309 chairs is Rs. 46,350. What is the cost of 11 chairs? 309ଟି ଚେୟାରର ମୂଲ୍ୟ Rs. 46,350 ରହିଛି। 11ଟି ଚେୟାରର ମୂଲ୍ୟ କେତେ?
Rs. 1,340	
Rs. 1,340	
Rs. 1,870	
Rs. 1,870	
Rs. 1,500	
Rs. 1,500	
Rs. 1,650	
Rs. 1,650	



Q.No: 32	Mahesh bought a toy for Rs. 600 and sold it at a 9% loss on the cost price. What was the selling price of the toy? ମହେଶ ଗୋଟିଏ ଖେଳନାକୁ Rs. 600 ରେ କିଣିଲେ ଏବଂ ମୂଲ୍ୟରେ 9% କ୍ଷତିରେ ବିକ୍ରି କଲେ । ଖେଳନାର ବିକ୍ରୟ ମୂଲ୍ୟ କେତେ ଥିଲା?
Rs. 546	
Rs. 546	
Rs. 407	
Rs. 407	
Rs. 462	
Rs. 462	
Rs. 518	
Rs. 518	

Q.No: 33	What does this sign mean?  ଏହି ଚିହ୍ନର ଅର୍ଥ କ'ଣ? 
People crossing	
ପିପୁଲ କ୍ରସିଂ	
Don't walk	
ଚାଲନ୍ତୁ ନାହିଁ	
Be careful of vehicles	
ଗାଡ଼ିଗୁଡ଼ିକରୁ ସାବଧାନ ରୁହନ୍ତୁ	



<p>ଯାନବାହନ ପ୍ରତ୍ୟକ୍ ସତର୍କତା ଚିହ୍ନ</p>
<p>School ahead</p> <p>ଆଗରେ ସ୍କୁଲ ଅଛି</p>



<p>Q.No: 34</p>	<p>Identify this road sign.</p> <div>  </div> <p>ଏହି ସଡ଼କ ଚିହ୍ନକୁ ଚିହ୍ନଟ କରନ୍ତୁ।</p> <div>  </div>
<p>Medical aid ahead</p> <p>ଆଗରେ ମେଡିକାଲ ସହାୟତା ଉପଲବ୍ଧ</p>	
<p>Emergency phone booth ahead</p> <p>ଉଦ୍ଧାରକାଳୀନ ଫୋନ୍ ବୁଥ ଆଗରେ ଅଛି</p>	
<p>Call your home</p> <p>ନିଜ ଘରକୁ ଫୋନ୍ କରନ୍ତୁ</p>	
<p>Toll both 500M ahead</p> <p>ଟୋଲ ବୁଥ 500 ମିଟର ଆଗରେ ଅଛି</p>	

<p>Q.No: 35</p>	<p>What does this sign indicate?</p> <div>  </div> <p>ଏହି ଚିହ୍ନ କ'ଣ ସୂଚାଇଥାଏ?</p> <div>  </div>
<p>5.5 meters vehicle height limit</p> <p>ଯାନର ଉଚ୍ଚତା 5.5 ମିଟର ମଧ୍ୟରେ ସୀମିତ ରହିବା ଉଚିତ</p>	
<p>Stop vehicle after 5.5 Meters</p> <p>5.5 ମିଟର ପରେ ଗାଡ଼ି ଅଟକାନ୍ତୁ।</p>	
<p>5 kmph vehicle speed limit</p> <p>ଗାଡ଼ି ବେଗ ଘଣ୍ଟା ପ୍ରତି 5 କି. ମି. ମଧ୍ୟରେ ସୀମିତ ରହିବା ଉଚିତ</p>	
<p>5.5 Meters road width</p> <p>5.5 ମିଟର ସଡ଼କ ଓସାର</p>	


<p>Q.No: 36</p>	<p>Identify this road sign.</p> <div>  </div> <p>ଏହି ସଡ଼କ ଚିହ୍ନକୁ ଚିହ୍ନଟ କରନ୍ତୁ।</p> <div>  </div>
<p>Bad road ahead</p> <p>ଆଗରେ ଖରାପ ସଡ଼କ ଅଛି</p>	
<p>Road rumble strip ahead</p> <p>ଆଗକୁ ଘଡ଼ ଘଡ଼ିଆ ସରୁ ରାସ୍ତା ଅଛି</p>	
<p>Road bump ahead</p>	



ଆଗକୁ ଅସମତଳ ରାସ୍ତା ଅଛି
Security check ahead ଆଗକୁ ସୁରକ୍ଷା ଯାଞ୍ଚ



Q.No: 37	<p>What does this sign mean?</p>  <p>ଏହି ଚିହ୍ନର ଅର୍ଥ କ'ଣ?</p> 
Go straight only କେବଳ ସିଧା ଯାଆନ୍ତୁ	
No Left turn ବାମକୁ ଯିବା ନିଷେଧ	
Stop and Proceed ରୁହନ୍ତୁ ଏବଂ ବଢନ୍ତୁ	
Turn left ବାମକୁ ଯାଆନ୍ତୁ	

Q.No: 38	<p>What does this road sign mean?</p>  <p>ଏହି ସଡ଼କ ଚିହ୍ନର ଅର୍ଥ କ'ଣ?</p> 
No entry for vehicles both ways. ଉଭୟ ଦିଗରୁ ଯାନବାହନ ପାଇଁ ପ୍ରବେଶ ନିଷେଧ ।	
Can proceed both ways. ଉଭୟ ଦିଗରେ ଆଗକୁ ବଢ଼ିପାରିବେ ।	
No entry for two wheelers. ଦୁଇ ଚକଆ ଯାନ ପ୍ରବେଶ ନିଷେଧ ।	
No entry for heavy vehicles. ଭାରୀ ଯାନ ପ୍ରବେଶ ନିଷେଧ ।	



Q.No: 39	<p>Explain this road sign.</p>  <p>ଏହି ସଡ଼କ ଚିହ୍ନକୁ ବ୍ୟାଖ୍ୟା କରନ୍ତୁ।</p> 
Don't drink and drive ମଦ ପିଇ ଗାଡ଼ି ଚଳାନ୍ତୁ ନାହିଁ	
Traffic merging ahead ଆଗକୁ ଟ୍ରାଫିକ୍ ମର୍ଜ ହେଉଛି	
2-way traffic ahead ଆଗରେ 2-ୱେ ଟ୍ରାଫିକ୍ ଅଛି	
Divider ahead ଆଗରେ ଡିଭାଇଡର ଅଛି	

	<p>Explain this sign.</p> 
--	---

Q.No: 40	  ଏହି ସଙ୍କେତକୁ ବ୍ୟାଖ୍ୟା କରନ୍ତୁ।
Zig-zag road ahead ଆଗରେ ଅଙ୍କା ବଙ୍କା ରାସ୍ତା ଅଛି	
Building ahead ଆଗରେ କାମ ଚାଲିଛି	
Overhead cables ahead ଆଗରେ ଓଭରହେଡ୍ କେବୁଲ୍ ଅଛି	
Take a U-turn ୟୁ-ଟର୍ନ୍ ନିଅନ୍ତୁ	

Q.No: 41	What does this road sign indicate?   ଏହି ସଡ଼କ ଚିହ୍ନ କ'ଣ ସୂଚାଇଥାଏ?
Stop ରୁହନ୍ତୁ	
No Entry ପ୍ରବେଶ ନିଷେଧ	
Danger ahead ଆଗରେ ବିପଦ ଅଛି	
No parking ପାର୍କିଂ ନିଷେଧ	

Q.No: 42	What is the full-form of SUV (as in vehicles)? ଏସ.ୟୁ.ଭି. (SUV) ର ସମ୍ପୂର୍ଣ୍ଣ ରୂପ କ'ଣ (ଯାନବାହନ ସମ୍ବନ୍ଧିତ) ?
Super Unit Vehicle ସୁପର ୟୁନିଟ ଭେଇକିଲ୍	
Sports Utility Vehicle ସ୍ପୋର୍ଟସ୍ ୟୁଟିଲିଟି ଭେଇକିଲ୍	
Standard Utility Vehicle ଷ୍ଟାଣ୍ଡାର୍ଡ୍ ୟୁଟିଲିଟି ଭେଇକିଲ୍	
Straight Uniform Vehicle ସ୍ଟ୍ରେଟ୍ ୟୁନିଫର୍ମ ଭେଇକିଲ୍	

Q.No: 43	This sign on your vehicle's dashboard is related to what?   ଆପଣଙ୍କ ଯାନର ଡ୍ୟାସବୋର୍ଡରେ ଥିବା ଏହି ଚିହ୍ନଟି କ'ଣ ସହିତ ସମ୍ବନ୍ଧିତ?
Braking system ବ୍ରେକିଙ୍ଗ ସିଷ୍ଟମ	
The coolant system କୁଲେଣ୍ଟ ସିଷ୍ଟମ	
Engine system ଇଞ୍ଜିନ ସିଷ୍ଟମ	
Air-conditioning System ଏୟାର-କଣ୍ଡିଶନିଂ ଡିଭିଜନ୍	

Q.No: 44	Which of the following is NOT a sign that your vehicle's battery may be failing? ନିମ୍ନଲିଖିତ ମଧ୍ୟରୁ କେଉଁଟି ଆପଣଙ୍କ ଯାନର ବ୍ୟାଟେରୀ ବିଫଳ ହେବାର ସଙ୍କେତ ନୁହେଁ?
Slow engine starting ମନ୍ଦର ଇଞ୍ଜିନ ଆରମ୍ଭ ହେଉଛି	
The engine backfires ଇଞ୍ଜିନ ବ୍ୟାକଫାୟାର ହେଉଛି	
Clicking sound when turning the ignition ଇଞ୍ଚିସନ୍ ଚଳାଇବା ସମୟରେ କ୍ଲିକ୍ ଧ୍ଵନି ଆସୁଛି	
Dim headlights ଡିମ୍ ହେଡଲାଇଟ	

Q.No: 45	When you park your vehicle at night with low visibility on the road side, you should? ଯେତେବେଳେ ଆପଣ ରାତିରେ ରାସ୍ତା ପାର୍ଶ୍ଵରେ କମ୍ ଦୃଶ୍ୟମାନତା ସହିତ ଆପଣଙ୍କ ଗାଡି ପାର୍କିଂ କରନ୍ତି, ଆପଣ କରିବା ଉଚିତ?
Use your mobile to call and inform where you have parked କଲ୍ କରିବାକୁ ଏବଂ ଆପଣ କେଉଁଠି ପାର୍କିଂ କରିଛନ୍ତି ତାହା ଜଣାଇବାକୁ ଆପଣଙ୍କ ମୋବାଇଲ୍ ବ୍ୟବହାର କରିବା	
Put the parking or hazard lights on ପାର୍କିଂ ଲାଇଟ୍ କିମ୍ବା ହାଜାର୍ଡ ଲାଇଟ୍ ଲଗାଇବା	
Check tyre pressure ଟାଇର ପ୍ରେସର ଯାଞ୍ଚ କରିବା	
Lock all doors of the vehicle ଗାଡ଼ି ର ସମସ୍ତ କବାଟ ବନ୍ଦ କରିବା	

Q.No: 46	What could uneven tire wear indicate? ଅସମାନ ଟାଇର ଝେର କ'ଣ ସୂଚାଇପାରେ?
Proper tyre alignment ସଠିକ ଟାଇର ଏଲାଇନମେଣ୍ଟ	
Correct tire pressure ସଠିକ ଟାଇର ପ୍ରେସର	
Misaligned wheels or unbalanced tires ଅସମାନ୍ତରାଳ ଚକ କିମ୍ବା ଅସମାଞ୍ଜସ୍ୟ ଟାଇର	
New tires installed properly ନୂଆ ଟାଇର ଗୁଡିକ ଠିକ ଭାବରେ ଲଗାଯାଇଛି	

Q.No: 47	What should you do if your vehicle's temperature gauge shows the engine is overheating? ଯଦି ଆପଣଙ୍କ ଯାନର ତାପମାତ୍ରା ମାପକରେ ଇଞ୍ଜିନ୍ ଅତ୍ୟଧିକ ଗରମ ହେଉଥିବା ଦେଖାଯାଏ, ତେବେ ଆପଣ କ'ଣ କରିବା ଉଚିତ?
Ignore it and keep driving ଏହାକୁ ଅଣଦେଖା କରନ୍ତୁ ଏବଂ ଗାଡ଼ି ଚଳାନ୍ତୁ।	
Drive faster to cool it down ଏହାକୁ ଥଣ୍ଡା କରିବା ପାଇଁ ଦ୍ରୁତ ଗତିରେ ଗାଡି ଚଳାଇବେ	
Add cold water to the radiator immediately ରେଡିଏଟରରେ ତୁରନ୍ତ ଥଣ୍ଡା ପାଣି ମିଶାନ୍ତୁ।	
Turn off the air conditioning and stop to let the engine cool down ଏୟାର କଣ୍ଡିସନର ବନ୍ଦ କରନ୍ତୁ ଏବଂ ଇଞ୍ଜିନକୁ ଥଣ୍ଡା ହେବାକୁ ଦେବା ପାଇଁ ବନ୍ଦ କରନ୍ତୁ।	

Q.No: 48	What does the "check engine" light usually indicate? "ଚେକ୍ ଇଞ୍ଜିନ୍" ଲାଇଟ ସାଧାରଣତଃ କ'ଣ ସୂଚାଇଥାଏ?
Fuel is low ଫ୍ୟୁଏଲ କମ ଅଛି	

Battery is dead	ବ୍ୟାଟେରୀ ସରିଯାଇଛି
There is a problem with the engine	
ଇଞ୍ଜିନ ରେ ତ୍ରୁଟି ଅଛି	
Low tire pressure	ଲୋ ଟାଇର ପ୍ରେସର

What is the purpose of the vehicle's alternator?	
Q.No: 49	ଯାନର ଆଲ୍ଟର୍ନେଟରର ଉଦ୍ଦେଶ୍ୟ କ'ଣ?
To maintain oil pressure	
ଅବଳ ପ୍ରେସର ମେଣ୍ଟେନ କରିବା	
To reduce engine heat	
ଇଞ୍ଜିନ ର ତାପମାତ୍ରା କମ କରିବା	
To charge the battery and power the electrical systems while the engine is running	
ଇଞ୍ଜିନ୍ ଚାଲୁଥିବା ସମୟରେ ବ୍ୟାଟେରୀ ଚାର୍ଜ କରିବା ଏବଂ ବୈଦ୍ୟୁତିକ ପ୍ରଣାଳୀକୁ ଶକ୍ତି ପ୍ରଦାନ କରିବା	
To power the brakes	
ବ୍ରେକମାନଙ୍କୁ ପାୱାର ଦେବା ପାଇଁ	

When do you need to use fog lamps in your vehicle?	
Q.No: 50	ଆପଣଙ୍କ ଗାଡ଼ିରେ କେତେବେଳେ ଫଗ୍ ଲ୍ୟାମ୍ପ୍ ବ୍ୟବହାର କରିବାର ଆବଶ୍ୟକତା ରହିଛି?
When there is mist and low visibility	
ଯେତେବେଳେ କୁହୁଡ଼ି ଏବଂ କମ୍ ଦୃଶ୍ୟମାନତା ଥାଏ	
At all times when driving	
ସବୁବେଳେ ଗାଡ଼ି ଚଳାଇବା ସମୟରେ	
When the battery is overcharged	
ଯେତେବେଳେ ବ୍ୟାଟେରୀଟି ଅତ୍ୟଧିକ ଚାର୍ଜ ହୋଇଥାଏ	
When the on-coming vehicle is also using fog lights	
ଯେତେବେଳେ ଆସୁଥିବା ଗାଡ଼ିଟି ଫଗ୍ ଲାଇଟ୍ ମଧ୍ୟ ବ୍ୟବହାର କରୁଛି	