



Teachingninja.in



Latest Govt Job updates



Private Job updates



Free Mock tests available

Visit - teachingninja.in



Teachingninja.in

SSB CT (Non GD)

Previous Year Paper
22 Jun, 2023



SSB 22nd June 2023

Participant ID	
Participant Name	
Test Center Name	
Test Date	22/06/2023
Test Time	4:30 PM - 6:30 PM
Subject	CT Non GD

Section : General Knowledge

Q.1 भारत के उपराष्ट्रपति के संबंध में निम्नलिखित में से कौन सा/से कथन सही है/हैं?

- I. राष्ट्रपति की मृत्यु, त्यागपत्र, महाभियोग द्वारा हटाए जाने या या अन्य किसी कारण से रिक्त होने पर वह कार्यवाहक राष्ट्रपति के रूप में काम करता है।
- II. वह लोक सभा का पदेन अध्यक्ष होता है।

- Ans

✓

 1. केवल I

✗

 2. केवल II

✗

 3. न ही I न ही II

✗

 4. I और II दोनों
- Question ID : 630680251043

Option 1 ID : 630680974199

Option 2 ID : 630680974200

Option 3 ID : 630680974202

Option 4 ID : 630680974201

Status : Answered

Chosen Option : 4

Q.2 मिज़ो भाषा निम्नलिखित में से किस भाषा परिवार से संबंधित है?

- Ans

✓

 1. चीन-तिब्बती

✗

 2. द्रविड़

✗

 3. इंडो-आर्यन

✗

 4. ऑस्ट्रोएशियाई
- Question ID : 630680251033

Option 1 ID : 630680974162

Option 2 ID : 630680974160

Option 3 ID : 630680974159

Option 4 ID : 630680974161

Status : Answered

Chosen Option : 4

Q.3 निम्नलिखित में से किस पुस्तक ने अंग्रेजी भाषा श्रेणी में 2022 के लिए साहित्य अकादमी पुरस्कार जीता?

- Ans

✓

 1. ऑल द लाइव्स वी नेवर लिव्ड

✗

 2. द ब्लाइंड लेडीज डिसेंडेंट्स

✗

 3. द कीपर ऑफ द डेड

✗

 4. क्रॉनिकल ऑफ़ ए कॉर्पस बियरर
- Question ID : 630680251031

Option 1 ID : 630680974151

Option 2 ID : 630680974152

Option 3 ID : 630680974154

Option 4 ID : 630680974153

Status : Answered

Chosen Option : 4

Q.4 एक फर्म द्वारा अर्जित संप्राप्ति की गणना के लिए निम्नलिखित में से कौन सा नहीं जोड़ा जाता है?

- Ans
- ☒ 1. निवेश
 - ☒ 2. समस्त मांग
 - ☒ 3. अंतिम उपभोग
 - ☒ 4. सरकारी व्यय

Question ID : 630680251026
Option 1 ID : 630680974133
Option 2 ID : 630680974134
Option 3 ID : 630680974132
Option 4 ID : 630680974131
Status : Answered
Chosen Option : 2

Q.5 जनवरी 2023 तक की स्थिति के अनुसार, भारत के निम्नलिखित में से किस राज्य में द्विसदनीय विधायिका नहीं है?

- Ans
- ☒ 1. महाराष्ट्र
 - ☒ 2. गुजरात
 - ☒ 3. तेलंगाना
 - ☒ 4. बिहार

Question ID : 630680251042
Option 1 ID : 630680974196
Option 2 ID : 630680974198
Option 3 ID : 630680974197
Option 4 ID : 630680974195
Status : Answered
Chosen Option : 3

Q.6 भक्ति कुलकर्णी निम्नलिखित में से किस खेल से संबंधित हैं?

- Ans
- ☒ 1. बैडमिंटन
 - ☒ 2. कबड्डी
 - ☒ 3. शतरंज
 - ☒ 4. टेबल टेनिस

Question ID : 630680251021
Option 1 ID : 630680974112
Option 2 ID : 630680974113
Option 3 ID : 630680974111
Option 4 ID : 630680974114
Status : Answered
Chosen Option : 3

Q.7 भारत की 2011 की जनगणना के अनुसार निम्नलिखित राज्यों को उच्चतम से निम्नतम लिंगानुपात के सही क्रम में व्यवस्थित करें।

- I. मध्य प्रदेश
- II. हिमाचल प्रदेश
- III. अरुणाचल प्रदेश

Ans

✓

 1. II-III-I

✗

 2. II-I-III

✗

 3. III-II-I

✗

 4. III-I-II

Question ID : 630680251039

Option 1 ID : 630680974183

Option 2 ID : 630680974184

Option 3 ID : 630680974185

Option 4 ID : 630680974186

Status : Answered

Chosen Option : 3

Q.8 जून 2022 में, 'घर के ऊपर सोलर इज सुपर' अभियान भारत के किस राज्य में शुरू किया गया था?

Ans

✗

 1. गुजरात

✗

 2. केरल

✓

 3. कर्नाटक

✗

 4. राजस्थान

Question ID : 630680251024

Option 1 ID : 630680974126

Option 2 ID : 630680974123

Option 3 ID : 630680974124

Option 4 ID : 630680974125

Status : Answered

Chosen Option : 2

Q.9 मार्च 2023 में, _____ के शोधकर्ताओं ने एक नए जीवाणुरोधी छोटे अणु की खोज की जो दवा-प्रतिरोधी संक्रमणों के खिलाफ लड़ने में मदद कर सकता है।

Ans

✗

 1. आईआईटी बॉम्बे

✓

 2. आईआईटी रुड़की

✗

 3. आईआईटी मद्रास

✗

 4. आईआईटी खड़गपुर

Question ID : 630680251023

Option 1 ID : 630680974120

Option 2 ID : 630680974122

Option 3 ID : 630680974119

Option 4 ID : 630680974121

Status : Answered

Chosen Option : 2

Q.10 36वें राष्ट्रीय खेल 2022 में सर्वश्रेष्ठ पुरुष एथलीट का पुरस्कार किसने जीता?

- Ans
- ☒ 1. शौर्यजीत खैरे
 - ☒ 2. साजन प्रकाश
 - ☒ 3. अक्षय प्रकाश तरल
 - ☒ 4. श्रीहरि नटराज

Question ID : 630680251020

Option 1 ID : 630680974107

Option 2 ID : 630680974108

Option 3 ID : 630680974109

Option 4 ID : 630680974110

Status : Answered

Chosen Option : 4

Q.11 'सागर मंथन' डैशबोर्ड भारत के किस केंद्रीय मंत्रालय से संबंधित है?

- Ans
- ☒ 1. जल शक्ति मंत्रालय
 - ☒ 2. विज्ञान और प्रौद्योगिकी मंत्रालय
 - ☒ 3. पत्तन, पोत परिवहन और जलमार्ग मंत्रालय
 - ☒ 4. नवीन और नवीकरणीय ऊर्जा मंत्रालय

Question ID : 630680251022

Option 1 ID : 630680974116

Option 2 ID : 630680974115

Option 3 ID : 630680974118

Option 4 ID : 630680974117

Status : Answered

Chosen Option : 3

Q.12 निम्नलिखित में से किस स्थिति में मांग की कीमत लोच पूर्ण रूप से लोचहीन हो जाती है?

- I. जब मांग की कीमत लोच शून्य हो।
- II. जब मांग वक्र ऊर्ध्वाधर होता है।

- Ans
- ☒ 1. केवल II
 - ☒ 2. न तो I न ही II
 - ☒ 3. केवल I
 - ☒ 4. I और II दोनों

Question ID : 630680251027

Option 1 ID : 630680974136

Option 2 ID : 630680974138

Option 3 ID : 630680974135

Option 4 ID : 630680974137

Status : Answered

Chosen Option : 4

Q.13 भारतीय संविधान का अनुच्छेद 18 निम्नलिखित में से किससे संबंधित है?

Ans

✗ 1. शिक्षा का अधिकार

✗ 2. अस्पृश्यता का अंत

✗ 3. विधि के समक्ष समता

✓ 4. उपाधियों का अंत

Question ID : 630680251040

Option 1 ID : 630680974188

Option 2 ID : 630680974189

Option 3 ID : 630680974187

Option 4 ID : 630680974190

Status : Answered

Chosen Option : 1

Q.14 निम्नलिखित में से 'समाज सुधारक – सुधारवादी संगठन' का कौन-सा युग्म सही सुमेलित है?

Ans

✓ 1. ज्योतिराव फुले – सत्यशोधक समाज

✗ 2. राजा राममोहन राय – आर्य समाज

✗ 3. पेरियार – प्रार्थना समाज

✗ 4. नारायण गुरु – ब्रह्मो समाज

Question ID : 630680251029

Option 1 ID : 630680974146

Option 2 ID : 630680974143

Option 3 ID : 630680974145

Option 4 ID : 630680974144

Status : Answered

Chosen Option : 4

Q.15 भारत में जीव सुरक्षा अधिनियम किस वर्ष लागू किया गया था?

Ans

✗ 1. 1978

✓ 2. 1972

✗ 3. 1982

✗ 4. 1968

Question ID : 630680251037

Option 1 ID : 630680974177

Option 2 ID : 630680974176

Option 3 ID : 630680974178

Option 4 ID : 630680974175

Status : Answered

Chosen Option : 2

Q.16 पौधों में _____ प्रकाश संश्लेषण के लिए बहुत आवश्यक है।

Ans

✗ 1. ल्यूकोप्लास्ट

✗ 2. एमाइलोप्लास्ट

✗ 3. इलायोप्लास्ट

✓ 4. क्लोरोप्लास्ट

Question ID : 630680251044

Option 1 ID : 630680974204

Option 2 ID : 630680974205

Option 3 ID : 630680974206


Option 4 ID : 630680974203

Status : Answered

Chosen Option : 4

https://cdn.digialm.com/per/g01/pub/1258/touchstone/AssessmentQPHTMLMode1/1258O23246/1258O23246S3D1545/1687866652856515/12...

5/50

 TeachingNinja.in

Q.17

_____ आम चुनावों से ठीक पहले, भारत में पहली बार निर्वाचन आयोग को बहु-सदस्यीय बनाया गया था।

Ans

✗ 1. 1991

✗ 2. 1996

✓ 3. 1989

✗ 4. 1984

Question ID : 630680251041

Option 1 ID : 630680974193

Option 2 ID : 630680974194

Option 3 ID : 630680974192

Option 4 ID : 630680974191

Status : Answered

Chosen Option : 3

Q.18

दक्षिण अफ्रीका से भारत आने के बाद महात्मा गांधी के सत्याग्रह आंदोलनों के संदर्भ में, निम्नलिखित घटनाओं को पहले से बाद में होने के सही क्रम में व्यवस्थित करें।

I. रॉलट सत्याग्रह

II. खेड़ा सत्याग्रह

III. नमक यात्रा

Ans

✓ 1. II-I-III

✗ 2. II-III-I

✗ 3. I-III-II

✗ 4. I-II-III

Question ID : 630680251028

Option 1 ID : 630680974142

Option 2 ID : 630680974140

Option 3 ID : 630680974139

Option 4 ID : 630680974141

Status : Answered

Chosen Option : 3

Q.19

गरिया पूजा के संबंध में निम्नलिखित में से कौन सा कथन सही है/हैं?

I. यह त्रिपुरा में मनाए जाने वाले पारंपरिक आदिवासी त्योहारों में से एक है।

II. यह पूजा बैसाख (अप्रैल) के महीने में आयोजित की जाती है।

Ans

✗ 1. केवल II

✗ 2. न तो I न ही II

✗ 3. केवल I

✓ 4. I और II दोनों

Question ID : 630680251035

Option 1 ID : 630680974168

Option 2 ID : 630680974170

Option 3 ID : 630680974167

Option 4 ID : 630680974169

Status : Answered

Chosen Option : 1

Q.20 वांगला त्योहार भारत की निम्नलिखित में से किस जनजाति से संबंधित है?

Ans

✓ 1. गारो

✗ 2. कार्बी

✗ 3. जयंतिया

✗ 4. खासी

Question ID : 630680251034

Option 1 ID : 630680974165

Option 2 ID : 630680974163

Option 3 ID : 630680974166

Option 4 ID : 630680974164

Status : Answered

Chosen Option : 3

Q.21 निम्नलिखित में से कौन 'ए रिकॉर्ड ऑफ बुद्धिस्ट किंगडम्स' पुस्तक के मूल लेखक हैं?

Ans

✓ 1. फा शिएन

✗ 2. मेगास्थनीज

✗ 3. फ्रेकोइस बर्नियर

✗ 4. श्वेन त्सांग

Question ID : 630680251032

Option 1 ID : 630680974155

Option 2 ID : 630680974157

Option 3 ID : 630680974158

Option 4 ID : 630680974156

Status : Answered

Chosen Option : 2

Q.22 द्वितीय विश्व युद्ध के संदर्भ में, निम्नलिखित में से कौन सा देश धुरी शक्तियों का सदस्य नहीं था?

Ans

✗ 1. जापान

✗ 2. जर्मनी

✓ 3. फ्रांस

✗ 4. इटली

Question ID : 630680251030

Option 1 ID : 630680974148

Option 2 ID : 630680974147

Option 3 ID : 630680974150

Option 4 ID : 630680974149

Status : Answered

Chosen Option : 3

Q.23 हिमालय के सबसे उत्तरी भाग में स्थित श्रृंखला को _____ कहते हैं।

Ans

✗ 1. हिमाचल

✗ 2. शिवालिक

✗ 3. विंध्याचल

✓ 4. हिमाद्रि

Question ID : 630680251036

Option 1 ID : 630680974174

Option 2 ID : 630680974172

Option 3 ID : 630680974171

Option 4 ID : 630680974173

Status : Answered

Chosen Option : 3

Q.24

भारत की 2011 की जनगणना के अनुसार, देश में पुरुषों की साक्षरता दर लगभग _____ प्रतिशत है।

Ans

✗

1. 74

✗

2. 78

✗

3. 65

✓

4. 82

Question ID : 630680251038

Option 1 ID : 630680974180

Option 2 ID : 630680974181

Option 3 ID : 630680974179

Option 4 ID : 630680974182

Status : Answered

Chosen Option : 2

Q.25

अगस्त 2022 में, भारत के निम्नलिखित में से किस राज्य/संघ राज्य क्षेत्र में 'विलेज डिफेंस गार्ड स्कीम' लागू किया गया?

Ans

✓

1. जम्मू-कश्मीर

✗

2. हरियाणा

✗

3. दिल्ली

✗

4. गुजरात

Question ID : 630680251025

Option 1 ID : 630680974129

Option 2 ID : 630680974128

Option 3 ID : 630680974130

Option 4 ID : 630680974127

Status : Answered

Chosen Option : 1

Section : Mathematics

Q.26

यदि U, V से 20 प्रतिशत कम है तथा V, 800 से 40 प्रतिशत अधिक है, तो U का मान क्या है?

Ans

✗

1. 936

✗

2. 786

✗

3. 782

✓

4. 896

Question ID : 630680251049

Option 1 ID : 630680974223

Option 2 ID : 630680974226

Option 3 ID : 630680974224

Option 4 ID : 630680974225

Status : Answered

Chosen Option : 3

Q.27 एक मेज पर कमाया गया लाभ क्रय मूल्य का 350 प्रतिशत है। यदि क्रय मूल्य में 50 प्रतिशत की वृद्धि होती है लेकिन विक्रय मूल्य समान रहता है, तो नया लाभ प्रतिशत क्या है?

- Ans
1. 250 प्रतिशत

2. 300 प्रतिशत

3. 150 प्रतिशत

4. 200 प्रतिशत

Question ID : 630680251051

Option 1 ID : 630680974231

Option 2 ID : 630680974234

Option 3 ID : 630680974232

Option 4 ID : 630680974233

Status : Answered

Chosen Option : 2

Q.28 A अकेला एक कार्य को 16 दिनों में पूरा कर सकता है तथा B अकेला उसी कार्य को 32 दिनों में पूरा कर सकता है। यदि दोनों मिलकर कार्य करते हैं, तो 8 दिनों में कुल कार्य का कितना प्रतिशत कार्य पूरा हो जायेगा?

- Ans
1. 75 प्रतिशत

2. 70 प्रतिशत

3. 60 प्रतिशत

4. 50 प्रतिशत

Question ID : 630680251061

Option 1 ID : 630680974274

Option 2 ID : 630680974273

Option 3 ID : 630680974271

Option 4 ID : 630680974272

Status : Answered

Chosen Option : 2

Q.29 एक राशि को 1 वर्ष के लिए 16 प्रतिशत प्रतिवर्ष की दर से चक्रवृद्धि ब्याज (वार्षिक संयोजन से) पर उधार दिया गया था। यदि ब्याज का संयोजन अर्धवार्षिक रूप से किया जाता, तो ब्याज 640 रुपये से बढ़ जाता। उधार दी गई राशि क्या थी?

- Ans
1. 100000 रुपये

2. 120000 रुपये

3. 75000 रुपये

4. 50000 रुपये

Question ID : 630680251057

Option 1 ID : 630680974257

Option 2 ID : 630680974258

Option 3 ID : 630680974256

Option 4 ID : 630680974255

Status : Answered

Chosen Option : 2

Q.30 एक घन की भुजा की लंबाई 21 से.मी. है। घन से बाहर निकाले जा सकने वाले सबसे बड़े गोले का आयतन क्या है?

- Ans
- ☒ 1. 4510 से.मी.²
 - ☒ 2. 4851 से.मी.²
 - ☒ 3. 8702 से.मी.²
 - ☒ 4. 4631 से.मी.²

Question ID : 630680251069

Option 1 ID : 630680974303

Option 2 ID : 630680974305

Option 3 ID : 630680974306

Option 4 ID : 630680974304

Status : Answered

Chosen Option : 2

Q.31 A, B तथा C साझेदार हैं तथा एक व्यापार में निवेश करते हैं। A कुल निवेश का 1/8 भाग निवेश करता है तथा B कुल निवेश का 1/16 भाग निवेश करता है। क्रमशः A, B तथा C के लाभ का अनुपात क्या है?

- Ans
- ☒ 1. 2 : 1 : 5
 - ☒ 2. 6 : 3 : 7
 - ☒ 3. 2 : 1 : 13
 - ☒ 4. 5 : 2 : 9

Question ID : 630680251055

Option 1 ID : 630680974248

Option 2 ID : 630680974247

Option 3 ID : 630680974250

Option 4 ID : 630680974249

Status : Answered

Chosen Option : 2

Q.32 दो रेलगाड़ियाँ समान गति से विपरीत दिशाओं में चल रही हैं। यदि प्रत्येक रेलगाड़ी की लम्बाई 576 मीटर है तथा वे एक दूसरे को 24 सेकण्ड में पार करती हैं, तो प्रत्येक रेलगाड़ी की गति क्या है?

- Ans
- ☒ 1. 24 मी./से.
 - ☒ 2. 18 मी./से.
 - ☒ 3. 30 मी./से.
 - ☒ 4. 12 मी./से.

Question ID : 630680251059

Option 1 ID : 630680974266

Option 2 ID : 630680974264

Option 3 ID : 630680974263

Option 4 ID : 630680974265

Status : Answered

Chosen Option : 2

Q.33 यदि दो घनों के आयतन का अनुपात 729 : 512 है, तो दोनों घनों की भुजाओं का अनुपात क्या है?

- Ans
- ☒

1. 10 : 9
- ☒

2. 9 : 8
- ☒

3. 8 : 7
- ☒

4. 6 : 5

Question ID : 630680251068

Option 1 ID : 630680974299

Option 2 ID : 630680974300

Option 3 ID : 630680974301

Option 4 ID : 630680974302

Status : Answered

Chosen Option : 2

Q.34 एक कार समान गति से 42 कि.मी. की एक दूरी तय करती है। यदि कार की गति को 1 कि.मी./घंटा से बढ़ाया जाता है, तो वह समान दूरी तय करने में 1 घंटे कम लेती है। कार की वास्तविक गति क्या है?

- Ans
- ☒

1. 5 कि.मी./घंटा
- ☒

2. 7 कि.मी./घंटा
- ☒

3. 8 कि.मी./घंटा
- ☒

4. 6 कि.मी./घंटा

Question ID : 630680251058

Option 1 ID : 630680974260

Option 2 ID : 630680974259

Option 3 ID : 630680974262

Option 4 ID : 630680974261

Status : Answered

Chosen Option : 1

Q.35 16 संख्याओं का औसत 45 है। यदि अंतिम 6 संख्याओं का औसत 40 है, तो शेष संख्याओं का औसत क्या है?

- Ans
- ☒

1. 48
- ☒

2. 49
- ☒

3. 45
- ☒

4. 42

Question ID : 630680251048

Option 1 ID : 630680974221

Option 2 ID : 630680974220

Option 3 ID : 630680974219

Option 4 ID : 630680974222

Status : Answered

Chosen Option : 1

Q.36 एक शंकु की त्रिज्या 5 से.मी. है तथा इसकी ऊँचाई 12 से.मी. है। शंकु का वक्र पृष्ठीय क्षेत्रफल क्या है?

- Ans
- ☒

1. 206.48 से.मी.²
- ☒

2. 198.28 से.मी.²
- ☒

3. 204.28 से.मी.²
- ☒

4. 184.18 से.मी.²

Question ID : 630680251066

Option 1 ID : 630680974291

Option 2 ID : 630680974293

Option 3 ID : 630680974292

Option 4 ID : 630680974294

Status : Answered

Chosen Option : 4

Q.37 35 से.मी. आधार की त्रिज्या तथा 40 से.मी. ऊँचाई वाले एक बेलन को दो समरूप बेलन प्राप्त करने के लिए उसकी ऊँचाई से द्विभाजित किया जाता है। कुल पृष्ठीय क्षेत्रफल में कितने प्रतिशत की वृद्धि होगी?

- Ans
- ☒ 1. 49.67 प्रतिशत
 - ☒ 2. 46.67 प्रतिशत
 - ☒ 3. 42.9 प्रतिशत
 - ☒ 4. 45 प्रतिशत

Question ID : 630680251067
Option 1 ID : 630680974297
Option 2 ID : 630680974295
Option 3 ID : 630680974298
Option 4 ID : 630680974296
Status : Answered
Chosen Option : 1

Q.38 यदि $9P = 16Q$ तथा $2Q = 5R$ हो, तो $P : Q : R$ का मान क्या है?

- Ans
- ☒ 1. 8 : 6 : 7
 - ☒ 2. 9 : 16 : 10
 - ☒ 3. 80 : 45 : 18
 - ☒ 4. 18 : 32 : 9

Question ID : 630680251053
Option 1 ID : 630680974242
Option 2 ID : 630680974240
Option 3 ID : 630680974241
Option 4 ID : 630680974239
Status : Answered
Chosen Option : 2

Q.39 18 संख्याओं का औसत 50 है। यदि एक संख्या को हटाया जाता है, तो शेष संख्याओं का औसत 43 हो जाता है। हटायी गयी संख्या क्या थी?

- Ans
- ☒ 1. 144
 - ☒ 2. 289
 - ☒ 3. 169
 - ☒ 4. 160

Question ID : 630680251047
Option 1 ID : 630680974216
Option 2 ID : 630680974217
Option 3 ID : 630680974215
Option 4 ID : 630680974218
Status : Answered
Chosen Option : 2

Q.40 एक व्यापारी एक ट्रॉली बैग जिसका अंकित मूल्य 1248 रुपये है, पर 25 प्रतिशत की छूट देता है तथा 20 प्रतिशत का लाभ कमाता है। ट्रॉली बैग का क्रय मूल्य क्या है?

- Ans ☒ 1. 780
- ☒ 2. 900
- ☒ 3. 850
- ☒ 4. 680

Question ID : 630680251052

Option 1 ID : 630680974237

Option 2 ID : 630680974238

Option 3 ID : 630680974236

Option 4 ID : 630680974235

Status : Answered

Chosen Option : 2

Q.41 यदि 7A5296B, 5 तथा 22 से विभाज्य है, तो A + B का मान क्या हो सकता है?

- Ans ☒ 1. 4
- ☒ 2. 3
- ☒ 3. 2
- ☒ 4. 1

Question ID : 630680251046

Option 1 ID : 630680974213

Option 2 ID : 630680974212

Option 3 ID : 630680974211

Option 4 ID : 630680974214

Status : Answered

Chosen Option : 2

Q.42 सबसे छोटा पूर्ण घन क्या है, जो 12 तथा 4 दोनों से विभाज्य है?

- Ans ☒ 1. 125
- ☒ 2. 64
- ☒ 3. 216
- ☒ 4. 343

Question ID : 630680251045

Option 1 ID : 630680974208

Option 2 ID : 630680974210

Option 3 ID : 630680974207

Option 4 ID : 630680974209

Status : Answered

Chosen Option : 2

Q.43 रवी अपनी यात्रा बिन्दु A से 9 पूर्वाह्न पर आरंभ करता है। वह पहले तीन घंटे 30 कि.मी./घंटा की गति से कार चलाता है तथा शेष यात्रा को 20 कि.मी./घंटा की गति से पूरा करता है। यदि विवेक बिन्दु A से 2 अपराह्न पर 95 कि.मी./घंटा की गति से सूरज की ओर चलना आरंभ करता है, तो वह रवी को किस समय पकड़ लेगा?

- Ans

✓

1. 4:00 अपराह्न

✗

2. 5:00 अपराह्न

✗

3. 3:00 अपराह्न

✗

4. 3:30 अपराह्न
- Question ID : 630680251060

Option 1 ID : 630680974269

Option 2 ID : 630680974270

Option 3 ID : 630680974268

Option 4 ID : 630680974267

Status : Answered

Chosen Option : 3
- Q.44 7 से.मी. व्यास वाले एक ठोस गोले को दो बराबर भागों में काटा जाता है। इसके कुल पृष्ठीय क्षेत्रफल में क्या वृद्धि होगी?
- Ans

✓

1. 77 से.मी.²

✗

2. 154 से.मी.²

✗

3. 110 से.मी.²

✗

4. 132 से.मी.²

Question ID : 630680251065

Option 1 ID : 630680974287

Option 2 ID : 630680974288

Option 3 ID : 630680974290

Option 4 ID : 630680974289

Status : Answered

Chosen Option : 3

Q.45 दो उम्मीदवारों के बीच हुए एक चुनाव में, विजयी उम्मीदवार को मान्य मतों के 60 प्रतिशत मत प्राप्त हुए है तथा वह 4000 मतों की बहुमत से जीता है। यदि डाले गए कुल मतों में से 80 प्रतिशत मत मान्य हैं, तो डाले गए मतों की कुल संख्या क्या है?

Ans

✓

1. 25000

✗

2. 22500

✗

3. 18000

✗

4. 21000

Question ID : 630680251050

Option 1 ID : 630680974229

Option 2 ID : 630680974227

Option 3 ID : 630680974230

Option 4 ID : 630680974228

Status : Answered

Chosen Option : 1

https://cdn.digialm.com/per/g01/pub/1258/touchstone/AssessmentQPHTMLMode1/1258O23246/1258O23246S3D1545/1687866652856515/1...

14/50

 TeachingNinja.in

Q.46 दो नल A तथा B एक टंकी को क्रमशः 20 मिनट तथा 30 मिनट में अकेले भर सकते हैं। यदि एक निकासी नल C को खोल दिया जाये, तो तीनों एक साथ मिलकर उसी टंकी को 60 मिनट में भर सकते हैं। नल C अकेला उसी टंकी को खाली करने में कितना समय लेगा?

Ans ☒ 1. 30 मिनट
☒ 2. 20 मिनट
☒ 3. 25 मिनट
☒ 4. 15 मिनट

Question ID : 630680251063
Option 1 ID : 630680974282
Option 2 ID : 630680974280
Option 3 ID : 630680974281
Option 4 ID : 630680974279
Status : Answered
Chosen Option : 2

Q.47 किसी आयताकार मेज़ की ऊपरी सतह का परिमाप 140 मीटर है तथा इसका क्षेत्रफल 1200 मीटर² है। इसके विकर्ण की लम्बाई क्या है?

Ans ☒ 1. 40 मीटर
☒ 2. 50 मीटर
☒ 3. 24 मीटर
☒ 4. 32 मीटर

Question ID : 630680251064
Option 1 ID : 630680974286
Option 2 ID : 630680974285
Option 3 ID : 630680974284
Option 4 ID : 630680974283
Status : Answered
Chosen Option : 3

Q.48 49000 रुपये को A, B तथा C में इस प्रकार बाँटा गया है कि A का हिस्सा B तथा B के कुल हिस्से का 2/5 है, तथा B का हिस्सा A तथा C के कुल हिस्से का 3/7 है। C का हिस्सा क्या है?

Ans ☒ 1. 21000 रुपये
☒ 2. 20000 रुपये
☒ 3. 203000 रुपये
☒ 4. 14700 रुपये

Question ID : 630680251054
Option 1 ID : 630680974245
Option 2 ID : 630680974243
Option 3 ID : 630680974244
Option 4 ID : 630680974246
Status : Answered
Chosen Option : 2

Q.49 अंकित अकेले एक कार्य को 20 दिनों में पूरा कर सकता है तथा सचिन अकेले उसी कार्य को अंकित द्वारा लिए गए समय के आधे समय में पूरा कर सकता है। दोनों मिलकर कुल कार्य का 3/5 भाग कितने दिनों में पूरा करेंगे?

- Ans ☒ 1. 4
- ☒ 2. 5
- ☒ 3. 3
- ☒ 4. 6

Question ID : 630680251062

Option 1 ID : 630680974275

Option 2 ID : 630680974278

Option 3 ID : 630680974276

Option 4 ID : 630680974277

Status : Answered

Chosen Option : 3

Q.50 एक व्यक्ति किसी निश्चित राशि को 30 प्रतिशत की वार्षिक दर से साधारण ब्याज पर उधार देता है। 5 वर्षों में ब्याज, उधार दी गई राशि से 3200 रुपये अधिक हो जाता है। उधार दी गई राशि क्या है?

- Ans ☒ 1. 6400 रुपये
- ☒ 2. 5600 रुपये
- ☒ 3. 4800 रुपये
- ☒ 4. 3200 रुपये

Question ID : 630680251056

Option 1 ID : 630680974254

Option 2 ID : 630680974252

Option 3 ID : 630680974251

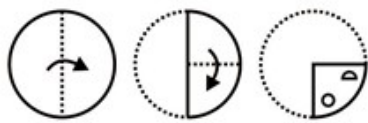
Option 4 ID : 630680974253

Status : Answered


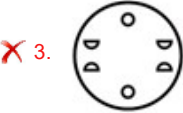
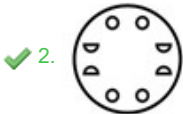
Chosen Option : 2

Section : Reasoning

Q.51 नीचे की प्रश्न आकृतियों में दिखाए गए अनुसार कागज को मोड़कर छेदने तथा खोलने के बाद वह किस विकल्प आकृति जैसा दिखाई देगा?



Ans



Question ID : 630680251085
Option 1 ID : 630680974367
Option 2 ID : 630680974368
Option 3 ID : 630680974370
Option 4 ID : 630680974369
Status : Answered
Chosen Option : 3

Q.52 नीचे दी गई स्ट्रिंग पर विचार करें जो 0 से 9 तक की संख्याओं से बनी है। विषम संख्या वाले स्थानों पर अंक "9" कितनी बार उपस्थित है?

2 1 1 3 1 2 5 3 8 8 2 0 4 3 6 9 5 4 9 6 3 3 5 7 5 3 3 3 3

Ans

- ✗ 1. दो
✗ 2. तीन से अधिक
✗ 3. तीन
✓ 4. एक

Question ID : 630680251072
Option 1 ID : 630680974315
Option 2 ID : 630680974318
Option 3 ID : 630680974317
Option 4 ID : 630680974316
Status : Answered
Chosen Option : 4

Q.53 निम्नलिखित प्रश्न में दी गई श्रृंखला में से लुप्त अंक ज्ञात कीजिए।

143, 145, 142, 147, 140, 151, ?

- Ans ☒ 1. 138
- ☒ 2. 140
- ☒ 3. 141
- ☒ 4. 135

Question ID : 630680251093

Option 1 ID : 630680974399

Option 2 ID : 630680974402

Option 3 ID : 630680974401

Option 4 ID : 630680974400

Status : Answered

Chosen Option : 4

Q.54 उस लुप्त युग्म (तीसरा अक्षर समूह : चौथा अक्षर समूह) का चयन करें जो उसी प्रकार संबंधित है जिस प्रकार पहला अक्षर समूह दूसरे अक्षर समूह से संबंधित है और पांचवा अक्षर समूह छठे अक्षर समूह से संबंधित है।

HABS : NZHH :: ? :: FRLW : LIRD

- Ans ☒ 1. CALK : IZRQ
- ☒ 2. LRBD : RIIW
- ☒ 3. GTIV : MGOE
- ☒ 4. AMKW : GNQC

Question ID : 630680251078

Option 1 ID : 630680974342

Option 2 ID : 630680974341

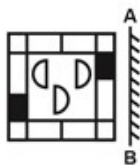
Option 3 ID : 630680974340

Option 4 ID : 630680974339

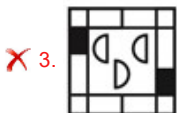
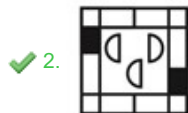
Status : Answered

Chosen Option : 2

Q.55 यदि एक दर्पण को AB रेखा पर रखा जाए, तो दी गई विकल्प आकृतियों में से कौन सी आकृति प्रश्न आकृति की सही प्रतिबिंब होगी?



Ans



Question ID : 630680251086

Option 1 ID : 630680974372

Option 2 ID : 630680974373

Option 3 ID : 630680974371

Option 4 ID : 630680974374

Status : Answered

Chosen Option : 3

Q.56 एक लड़के की तस्वीर की ओर संकेत करते हुए, एक महिला ने कहा 'वह मेरी माता के पति की एकमात्र संतान का पुत्र है।' वह लड़का उस महिला से किस प्रकार संबंधित है?

- Ans
- ✗ 1. भाई
- ✓ 2. पुत्र
- ✗ 3. पिता
- ✗ 4. पति

Question ID : 630680251074

Option 1 ID : 630680974325

Option 2 ID : 630680974324

Option 3 ID : 630680974326

Option 4 ID : 630680974323

Status : Answered

Chosen Option : 1

Q.57 कौन सी आकृति दी गई आकृतियों के समान है?



Ans

- ✓ 1.
- ✗ 2.
- ✗ 3.
- ✗ 4.

Question ID : 630680251089

Option 1 ID : 630680974384

Option 2 ID : 630680974386

Option 3 ID : 630680974383

Option 4 ID : 630680974385

Status : Answered

Chosen Option : 3

Q.58 निम्नलिखित प्रश्न में दिए गए विकल्पों में से विषम अक्षर/अक्षरों को चुनिए।

- Ans
- ✗ 1.

HKPW
- ✗ 2.

ADIP
- ✓ 3.

SVBH
- ✗ 4.

ORWD

Question ID : 630680251079

Option 1 ID : 630680974344

Option 2 ID : 630680974343

Option 3 ID : 630680974345

Option 4 ID : 630680974346

Status : Answered

Chosen Option : 3

Q.59 एक विशिष्ट कोड भाषा में, 'LAST' को 'ZYGR' लिखा जाता है। इस कोड भाषा में 'CAIN' को किस प्रकार लिखा जाएगा?

- Ans
- ✗ 1.

URDF
- ✗ 2.

TOGL
- ✗ 3.

TOEG
- ✓ 4.

TOGI

Question ID : 630680251075

Option 1 ID : 630680974328

Option 2 ID : 630680974329

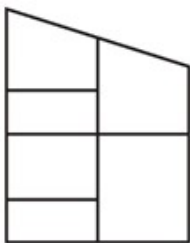
Option 3 ID : 630680974327

Option 4 ID : 630680974330

Status : Answered

Chosen Option : 2

Q.60 दी गई आकृति में कितने चतुर्भुज हैं?



- Ans
- ☒

 1. 18
- ☒

 2. 14
- ☒

 3. 16
- ☒

 4. 10

Question ID : 630680251084

Option 1 ID : 630680974366

Option 2 ID : 630680974365

Option 3 ID : 630680974364

Option 4 ID : 630680974363

Status : Answered

Chosen Option : 4

Q.61 यदि $13 \# 11 = 576$ तथा $18 \# 5 = 529$ हो, तो $12 \# 17 = ?$

- Ans
- ☒

 1. 981
- ☒

 2. 921
- ☒

 3. 861
- ☒

 4. 841

Question ID : 630680251091

Option 1 ID : 630680974391

Option 2 ID : 630680974393

Option 3 ID : 630680974392

Option 4 ID : 630680974394

Status : Answered

Chosen Option : 2

Q.62 उस लुप्त युग्म (पांचवा अक्षर समूह : छठा अक्षर समूह) का चयन करें जो उसी प्रकार संबंधित है जिस प्रकार पहला अक्षर समूह दूसरे अक्षर समूह से संबंधित है और तीसरा अक्षर समूह चौथे अक्षर समूह से संबंधित है।

AMS : UOC :: PGL : NIR :: ?

- Ans
- ☒

 1. LDK : MEN
- ☒

 2. SRF : HUU
- ☒

 3. BMH : JOD
- ☒

 4. TFB : DHW

Question ID : 630680251077

Option 1 ID : 630680974337

Option 2 ID : 630680974338

Option 3 ID : 630680974336

Option 4 ID : 630680974335

Status : Answered

Chosen Option : 3

Q.63 निम्नलिखित प्रश्न में दी गई श्रृंखला में से लुप्त अंक ज्ञात कीजिए।

67, 68, 64, 91, 75, 200, ?

- Ans
- ✖

1. 160

✖

2. 167

✖

3. 168

✔

4. 164

Question ID : 630680251094

Option 1 ID : 630680974405

Option 2 ID : 630680974404

Option 3 ID : 630680974406

Option 4 ID : 630680974403

Status : Answered


Chosen Option : 3

Q.64 निम्नलिखित प्रश्न में, दिए गए विकल्पों में से विषम आकृति युग्म को चुनिए। प्रत्येक युग्म में (:) के बाईं ओर की आकृति किसी तर्क/नियम/संबंध द्वारा (:) के दाईं ओर की आकृति से संबंधित है।

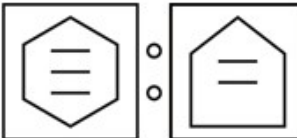
Ans

- ✖

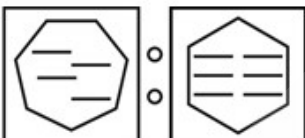
1.


- ✖


2.


- ✔

3.


- ✖

4.



Question ID : 630680251090

Option 1 ID : 630680974389

Option 2 ID : 630680974387

Option 3 ID : 630680974390

Option 4 ID : 630680974388

Status : Answered

Chosen Option : 4

Q.65 A, B का भाई है। C, D का पिता है। L, H की माता है। A, L का भाई है। R, C की पत्नी है। यदि D, A की बहन है, तो निम्नलिखित में से कौन सा कथन सही है?

- I. B, L की बहन हो सकती है।
- II. R, A की माता है।

Ans ☒ 1. I तथा II दोनों

☒ 2. केवल I

☒ 3. केवल II

☒ 4. ना ही I ना ही II

Question ID : 630680251073

Option 1 ID : 630680974321

Option 2 ID : 630680974319

Option 3 ID : 630680974320

Option 4 ID : 630680974322

Status : Answered

Chosen Option : 1

Q.66 निम्नलिखित प्रश्न में, दिए गए विकल्पों में से प्रश्न चिन्ह (?) के स्थान पर आने वाली आकृति को चुनिए।



Ans

☒ 1.

☒ 2.

☒ 3.

☒ 4.

Question ID : 630680251082

Option 1 ID : 630680974357

Option 2 ID : 630680974355

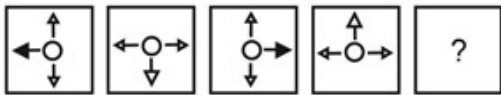
Option 3 ID : 630680974356

Option 4 ID : 630680974358

Status : Answered

Chosen Option : 4

Q.67 निम्नलिखित प्रश्न में, दिए गए विकल्पों में से प्रश्न चिन्ह (?) के स्थान पर आने वाली आकृति को चुनिए।



Ans

- ✗ 1.
- ✗ 2.
- ✓ 3.
- ✗ 4.

Question ID : 630680251081

Option 1 ID : 630680974351

Option 2 ID : 630680974354

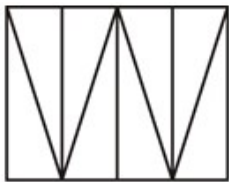
Option 3 ID : 630680974352

Option 4 ID : 630680974353

Status : Answered

Chosen Option : 3

Q.68 दी गई आकृति में कितने त्रिभुज हैं?



Ans

- ✗ 1. 12
- ✓ 2. 11
- ✗ 3. 10
- ✗ 4. 8

Question ID : 630680251083

Option 1 ID : 630680974362

Option 2 ID : 630680974361

Option 3 ID : 630680974360

Option 4 ID : 630680974359

Status : Answered

Chosen Option : 4

Q.69 शब्द 'ICECREAM' में अक्षरों को अंग्रेजी वर्णमाला क्रम के अनुसार अगले अक्षर से बदल दिया जाता है।
नवगठित शब्द में बायें से 5वें अक्षर के बायें ओर तीसरा अक्षर क्या होगा?

- Ans

✗

1. J

✓

2. D

✗

3. B

✗

4. F

Question ID : 630680251070

Option 1 ID : 630680974310

Option 2 ID : 630680974307

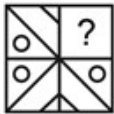
Option 3 ID : 630680974309

Option 4 ID : 630680974308

Status : Answered

Chosen Option : 3

Q.70 कौन सी उत्तर आकृति प्रश्न आकृति के प्रतिरूप को पूरा करेगी?



- Ans

✗

1.

✗

2.

✗

3.

✓

4.

Question ID : 630680251087

Option 1 ID : 630680974376

Option 2 ID : 630680974378

Option 3 ID : 630680974375

Option 4 ID : 630680974377

Status : Answered

Chosen Option : 2

Q.71 दी गई विकल्प आकृतियों में से उस आकृति को चुनिए जिस में प्रश्न आकृति निहित है।



Ans

✓ 1.



✗ 2.



✗ 3.



✗ 4.



Question ID : 630680251088

Option 1 ID : 630680974382

Option 2 ID : 630680974379

Option 3 ID : 630680974381

Option 4 ID : 630680974380

Status : Answered

Chosen Option : 4

Q.72 एक विशिष्ट कोड भाषा में, 'HINGE' को 'SRMTV' लिखा जाता है। इस कोड भाषा में 'MEANT' को किस प्रकार लिखा जाएगा?

Ans ✓ 1. NVZMG

✗ 2. LXBMJ

✗ 3. QYAJD

✗ 4. OXAJF

Question ID : 630680251076

Option 1 ID : 630680974332

Option 2 ID : 630680974334

Option 3 ID : 630680974331

Option 4 ID : 630680974333

Status : Answered

Chosen Option : 2

Q.73 $(13.102)^2 + 22.23\% \text{ of } 153 - \sqrt{730.53} \times 4.28$ का सन्निकट मान क्या है?

- Ans
- ☒ 1. 95
 - ☐ 2. 50
 - ☐ 3. 165
 - ☐ 4. 135

Question ID : 630680251092
Option 1 ID : 630680974395
Option 2 ID : 630680974397
Option 3 ID : 630680974398
Option 4 ID : 630680974396
Status : Answered
Chosen Option : 3

Q.74 निम्नलिखित प्रश्न में अर्थपूर्ण शब्दों के चार समूह दिए गए हैं। उनमें से तीन समान तर्क/नियम/संबंध के आधार पर समान हैं। दिए गए विकल्पों में से विषम को चुनिए।

- Ans
- ☐ 1. (रिंक, अखाड़ा, रिंग)
 - ☒ 2. (लेखक, बढ़ई, फर्नीचर)
 - ☐ 3. (मंदिर, गिरजाघर, मस्जिद)
 - ☐ 4. (फुटबॉल, हॉकी, क्रिकेट)

Question ID : 630680251080
Option 1 ID : 630680974347
Option 2 ID : 630680974349
Option 3 ID : 630680974350
Option 4 ID : 630680974348
Status : Answered
Chosen Option : 2

Q.75 शब्द 'STARTEW' में अक्षरों के ऐसे कितने युग्म (आगे और पीछे दोनों दिशा में) हैं, जिनमें उनके बीच शब्द में उतने ही अक्षर हैं जितने अंग्रेजी वर्णमाला क्रम में होते हैं?

- Ans
- ☐ 1. एक
 - ☐ 2. कोई भी नहीं
 - ☐ 3. दो
 - ☒ 4. दो से अधिक

Question ID : 630680251071
Option 1 ID : 630680974313
Option 2 ID : 630680974312
Option 3 ID : 630680974311
Option 4 ID : 630680974314
Status : Answered
Chosen Option : 2

Section : General English

Q.76

Choose the idiom/phrase that can substitute the highlighted group of words meaningfully.

I'll take the risk and predict that our team will win the championship this year.

Ans

✗

1. Turn over a new leaf

✗

2. Pull the plug

✗

3. Bite the dust

✓

4. Go out on a limb

Question ID : 630680251108

Option 1 ID : 630680974462

Option 2 ID : 630680974459

Option 3 ID : 630680974460

Option 4 ID : 630680974461

Status : Not Answered

Chosen Option : --

Q.77

Find the part of the given sentence that has an error in it. If there is no error, choose 'No error'.

Sea horses have lived / in our oceans for / over 3 billion years./ No error

Ans

✗

1. Sea horses have lived

✗

2. in our oceans for

✗

3. over 3 billion years.

✓

4. No error

Question ID : 630680251100

Option 1 ID : 630680974427

Option 2 ID : 630680974428

Option 3 ID : 630680974429

Option 4 ID : 630680974430

Status : Not Answered

Chosen Option : --

Q.78

Choose the correct spelling of the underlined word. If the given spelling is correct, choose 'No correction'.

No injury or ailement to any passenger was reported.

Ans

✗

1. No correction

✓

2. ailment

✗

3. ailemnet

✗

4. aelment

Question ID : 630680251114

Option 1 ID : 630680974486

Option 2 ID : 630680974483


Option 3 ID : 630680974485

Option 4 ID : 630680974484

Status : Not Answered

Chosen Option : --

https://cdn.digialm.com/per/g01/pub/1258/touchstone/AssessmentQPHTMLMode1/1258O23246/1258O23246S3D1545/1687866652856515/1... 28/50

 Teachingninja.in

Q.79 Choose the word that can substitute the given group of words.

One who acts against religion

- Ans
1. Lunatic

2. Arcane

3. Miniscule

4. Heretic

Question ID : 630680251104

Option 1 ID : 630680974443

Option 2 ID : 630680974444

Option 3 ID : 630680974445

Option 4 ID : 630680974446

Status : Not Answered

Chosen Option : --

Q.80 In the following question, out of the given four alternatives, select the alternative which best expresses the meaning of the Idiom/Phrase.

A big cheese

- Ans
1. To eat very quickly

2. An important and influential person

3. Stupid and foolish person

4. A big opportunity

Question ID : 630680251106

Option 1 ID : 630680974453

Option 2 ID : 630680974454

Option 3 ID : 630680974451

Option 4 ID : 630680974452

Status : Not Answered

Chosen Option : --

Q.81 Choose the word that can substitute the given group of words.

A song to lull children into sleep

- Ans
1. Lullaby

2. Duet

3. Sonnet

4. Orchestra

Question ID : 630680251103

Option 1 ID : 630680974441

Option 2 ID : 630680974439

Option 3 ID : 630680974442

Option 4 ID : 630680974440

Status : Not Answered

Chosen Option : --

Q.82 Choose the incorrectly spelt word.

- Ans
1. Mollify

2. Truncate

3. Populuous

4. Subjugate

Question ID : 630680251113

Option 1 ID : 630680974480

Option 2 ID : 630680974479

Option 3 ID : 630680974482

Option 4 ID : 630680974481

Status : Not Answered

Chosen Option : --

Q.83 Choose the phrase or idiom that best defines the highlighted set of words.

Dev's surprise birthday celebration is a secret that you shouldn't share with him.

- Ans
1. Wade through

2. Be in the same boat

3. By hook or crook

4. Bite one's tongue

Question ID : 630680251107

Option 1 ID : 630680974455

Option 2 ID : 630680974458

Option 3 ID : 630680974457

Option 4 ID : 630680974456

Status : Not Answered

Chosen Option : --

Q.84 A sentence has been given with a blank to be filled with an appropriate option. Choose the correct alternative.

Neither of _____ teachers obeys our rules.

- Ans
1. a

2. No article

3. the

4. an

Question ID : 630680251095

Option 1 ID : 630680974408

Option 2 ID : 630680974407

Option 3 ID : 630680974409

Option 4 ID : 630680974410

Status : Not Answered

Chosen Option : --

Q.85 Choose the word that means the same as the given word.

Pageantry

- Ans ☒ 1. Flamboyance
- ☒ 2. Severity
- ☒ 3. Chastity
- ☒ 4. Austerity

Question ID : 630680251111

Option 1 ID : 630680974474

Option 2 ID : 630680974473

Option 3 ID : 630680974472

Option 4 ID : 630680974471

Status : Not Answered

Chosen Option : --

Q.86 Find the part of the given sentence that has an error in it. If there is no error, choose 'No error'.

Colorado had been / experiencing extreme droughts / in recent years. / No error

- Ans ☒ 1. No error
- ☒ 2. Colorado had been
- ☒ 3. experiencing extreme droughts
- ☒ 4. in recent years.

Question ID : 630680251101

Option 1 ID : 630680974434

Option 2 ID : 630680974431

Option 3 ID : 630680974432

Option 4 ID : 630680974433

Status : Not Answered

Chosen Option : --

Q.87 Choose the word that is opposite in meaning to the given word.

Intoxicated

- Ans ☒ 1. Naive
- ☒ 2. Frugal
- ☒ 3. Sober
- ☒ 4. Drunken

Question ID : 630680251110

Option 1 ID : 630680974469

Option 2 ID : 630680974467

Option 3 ID : 630680974468

Option 4 ID : 630680974470

Status : Not Answered

Chosen Option : --

Q.88 Choose the word that means the same as the given word.

Fable

- Ans

✔

1. Allegory

✖

2. Metaphor

✖

3. Reality

✖

4. Veracity

Question ID : 630680251112

Option 1 ID : 630680974476

Option 2 ID : 630680974477

Option 3 ID : 630680974475

Option 4 ID : 630680974478

Status : Not Answered

Chosen Option : --

Q.89 A sentence has been given with a blank to be filled with an appropriate option. Choose the correct alternative.

She was now _____ old woman, but people still looked at her with _____ admiring eyes.

- Ans

✖

1. a, an

✖

2. No article, the

✖

3. the, a

✔

4. an, No article

Question ID : 630680251097

Option 1 ID : 630680974417

Option 2 ID : 630680974416

Option 3 ID : 630680974415

Option 4 ID : 630680974418

Status : Not Answered

Chosen Option : --

Q.90 In the following question, out of the given four alternatives, select the alternative which best expresses the meaning of the Idiom/Phrase.

A bird of passage

- Ans

✖

1. A person with no home

✖

2. An over stated idea

✔

3. Someone who never stays in one place for long

✖

4. An official trip outside one's country

Question ID : 630680251105

Option 1 ID : 630680974448

Option 2 ID : 630680974447

Option 3 ID : 630680974450

Option 4 ID : 630680974449

Status : Not Answered

Chosen Option : --

Q.91 Choose the word that is opposite in meaning to the given word.

Abscond

- Ans
1. Demote

2. Inspire

3. Worship

4. Stay

Question ID : 630680251109

Option 1 ID : 630680974464

Option 2 ID : 630680974465

Option 3 ID : 630680974466

Option 4 ID : 630680974463

Status : Not Answered

Chosen Option : --

Q.92 Find the part of the given sentence that has an error in it. If there is no error, choose 'No error'.

I allowed Meena to dress / me the way she / want for all the coming events. / No error

- Ans
1. me the way she

2. want for all the coming events.

3. I allowed Meena to dress

4. No error

Question ID : 630680251102

Option 1 ID : 630680974436

Option 2 ID : 630680974437

Option 3 ID : 630680974435

Option 4 ID : 630680974438

Status : Not Answered

Chosen Option : --

Q.93 A sentence has been given with a blank to be filled with an appropriate option. Choose the correct alternative.

The car involved in the accident looks like _____ electric car.

- Ans
1. the

2. an

3. No article

4. a

Question ID : 630680251096

Option 1 ID : 630680974413

Option 2 ID : 630680974412

Option 3 ID : 630680974414

Option 4 ID : 630680974411

Status : Not Answered

Chosen Option : --

Q.94 A sentence has been given with a blank to be filled with an appropriate option. Choose the correct alternative.

He _____ not bear the construction noise and ran out of the room.

- Ans
- ✗

1. would

✓

2. could

✗

3. need

✗

4. may

Question ID : 630680251099

Option 1 ID : 630680974424

Option 2 ID : 630680974426

Option 3 ID : 630680974423

Option 4 ID : 630680974425

Status : Not Answered

Chosen Option : --

Q.95 A sentence has been given with a blank to be filled with an appropriate option. Choose the correct alternative.

My colleagues and _____ have been discussing this topic.

- Ans
- ✓

1. I

✗

2. myself

✗

3. mine

✗

4. me

Question ID : 630680251098

Option 1 ID : 630680974420

Option 2 ID : 630680974419

Option 3 ID : 630680974422

Option 4 ID : 630680974421

Status : Not Answered

Chosen Option : --

Comprehension:

Read the following information carefully and answer the given questions.

The geographic region encompassing "Latin culture" is widespread. Latin America is typically defined as those parts of Central America, South America and Mexico where Spanish or Portuguese are the dominant languages. These are all places that were colonized by or influenced by Spain or Portugal starting in the 1400s. Originally, French geographers used the term "Latin America" to differentiate between Anglo and Romance (Latin-based) languages, according to the University of Texas.

Latin cultures are thus incredibly diverse, and many blend Indigenous traditions with the Spanish language and Catholicism brought by Spanish and Portuguese colonizers. Many of these cultures were also influenced by African cultures due to enslaved Africans being brought to the Americas starting in the 1600s. These influences are particularly strong in Brazil and in Caribbean nations.

Latin culture continues to evolve and spread. A good example is Día de los Muertos, or Day of the Dead, a holiday dedicated to remembering the departed that is celebrated on Nov. 1 and Nov. 2. Day of the Dead dates back to before Christopher Columbus landed in North America, but was moved to its current celebration date by Spanish colonizers, who merged it with the Catholic All Saints Day. Mexican immigrants to the United States brought the holiday with them, and in the 1970s, artists and activities brought focus to Día de los Muertos as a way of celebrating their Chicano (Mexican-American) heritage, according to the Smithsonian American Art Museum. The holiday is now well-known in the United States.

SubQuestion No : 96

Q.96 According to the given passage, which of the following statements is correct?

- I. Latin culture influenced by African culture is particularly strong in Brazil and in Caribbean nations.
- II. Day of the dead holiday was brought by Mexican immigrant in the United States.

- Ans
- ☒ 1. Only II
 - ☒ 2. Both I and II
 - ☒ 3. Only I
 - ☒ 4. Neither I nor II

Question ID : 630680251118

Option 1 ID : 630680974496

Option 2 ID : 630680974497

Option 3 ID : 630680974495

Option 4 ID : 630680974498

Status : Not Answered

Chosen Option : --

Comprehension:

Read the following information carefully and answer the given questions.

The geographic region encompassing "Latin culture" is widespread. Latin America is typically defined as those parts of Central America, South America and Mexico where Spanish or Portuguese are the dominant languages. These are all places that were colonized by or influenced by Spain or Portugal starting in the 1400s. Originally, French geographers used the term "Latin America" to differentiate between Anglo and Romance (Latin-based) languages, according to the University of Texas.

Latin cultures are thus incredibly diverse, and many blend Indigenous traditions with the Spanish language and Catholicism brought by Spanish and Portuguese colonizers. Many of these cultures were also influenced by African cultures due to enslaved Africans being brought to the Americas starting in the 1600s. These influences are particularly strong in Brazil and in Caribbean nations.

Latin culture continues to evolve and spread. A good example is Día de los Muertos, or Day of the Dead, a holiday dedicated to remembering the departed that is celebrated on Nov. 1 and Nov. 2. Day of the Dead dates back to before Christopher Columbus landed in North America, but was moved to its current celebration date by Spanish colonizers, who merged it with the Catholic All Saints Day. Mexican immigrants to the United States brought the holiday with them, and in the 1970s, artists and activities brought focus to Día de los Muertos as a way of celebrating their Chicano (Mexican-American) heritage, according to the Smithsonian American Art Museum. The holiday is now well-known in the United States.

SubQuestion No : 97

Q.97 Day of the Dead holiday is celebrated in which month?

- Ans
1. December

2. November

3. January

4. March

Question ID : 630680251117

Option 1 ID : 630680974492

Option 2 ID : 630680974491

Option 3 ID : 630680974493

Option 4 ID : 630680974494

Status : Not Answered

Chosen Option : --

Comprehension:

Read the following information carefully and answer the given questions.

The geographic region encompassing "Latin culture" is widespread. Latin America is typically defined as those parts of Central America, South America and Mexico where Spanish or Portuguese are the dominant languages. These are all places that were colonized by or influenced by Spain or Portugal starting in the 1400s. Originally, French geographers used the term "Latin America" to differentiate between Anglo and Romance (Latin-based) languages, according to the University of Texas.

Latin cultures are thus incredibly diverse, and many blend Indigenous traditions with the Spanish language and Catholicism brought by Spanish and Portuguese colonizers. Many of these cultures were also influenced by African cultures due to enslaved Africans being brought to the Americas starting in the 1600s. These influences are particularly strong in Brazil and in Caribbean nations.

Latin culture continues to evolve and spread. A good example is Día de los Muertos, or Day of the Dead, a holiday dedicated to remembering the departed that is celebrated on Nov. 1 and Nov. 2. Day of the Dead dates back to before Christopher Columbus landed in North America, but was moved to its current celebration date by Spanish colonizers, who merged it with the Catholic All Saints Day. Mexican immigrants to the United States brought the holiday with them, and in the 1970s, artists and activities brought focus to Día de los Muertos as a way of celebrating their Chicano (Mexican-American) heritage, according to the Smithsonian American Art Museum. The holiday is now well-known in the United States.

SubQuestion No : 98

Q.98 What can be the suitable title for the given passage?

- Ans
1. Catholicism

2. Diversity of Latin culture

3. What is culture?

4. Evolution of Latin culture

Question ID : 630680251116

Option 1 ID : 630680974488

Option 2 ID : 630680974487

Option 3 ID : 630680974489

Option 4 ID : 630680974490

Status : Not Answered

Chosen Option : --

Comprehension:

Read the following information carefully and answer the given questions.

The geographic region encompassing "Latin culture" is widespread. Latin America is typically defined as those parts of Central America, South America and Mexico where Spanish or Portuguese are the dominant languages. These are all places that were colonized by or influenced by Spain or Portugal starting in the 1400s. Originally, French geographers used the term "Latin America" to differentiate between Anglo and Romance (Latin-based) languages, according to the University of Texas.

Latin cultures are thus incredibly diverse, and many blend Indigenous traditions with the Spanish language and Catholicism brought by Spanish and Portuguese colonizers. Many of these cultures were also influenced by African cultures due to enslaved Africans being brought to the Americas starting in the 1600s. These influences are particularly strong in Brazil and in Caribbean nations.

Latin culture continues to evolve and spread. A good example is Día de los Muertos, or Day of the Dead, a holiday dedicated to remembering the departed that is celebrated on Nov. 1 and Nov. 2. Day of the Dead dates back to before Christopher Columbus landed in North America, but was moved to its current celebration date by Spanish colonizers, who merged it with the Catholic All Saints Day. Mexican immigrants to the United States brought the holiday with them, and in the 1970s, artists and activities brought focus to Día de los Muertos as a way of celebrating their Chicano (Mexican-American) heritage, according to the Smithsonian American Art Museum. The holiday is now well-known in the United States.

SubQuestion No : 99

Q.99 Which of the following places were colonized by Spain or Portugal in 15th century?

- Ans
1. South America, Denmark and Mexico
-
2. North America, Mexico and Eastern America

Question ID : 630680251119

Option 1 ID : 630680974502

Option 2 ID : 630680974501

Option 3 ID : 630680974499

Option 4 ID : 630680974500

Status : Not Answered

Chosen Option : --

Comprehension:

Read the following information carefully and answer the given questions.

The geographic region encompassing "Latin culture" is widespread. Latin America is typically defined as those parts of Central America, South America and Mexico where Spanish or Portuguese are the dominant languages. These are all places that were colonized by or influenced by Spain or Portugal starting in the 1400s. Originally, French geographers used the term "Latin America" to differentiate between Anglo and Romance (Latin-based) languages, according to the University of Texas. Latin cultures are thus incredibly diverse, and many blend Indigenous traditions with the Spanish language and Catholicism brought by Spanish and Portuguese colonizers. Many of these cultures were also influenced by African cultures due to enslaved Africans being brought to the Americas starting in the 1600s. These influences are particularly strong in Brazil and in Caribbean nations. Latin culture continues to evolve and spread. A good example is Día de los Muertos, or Day of the Dead, a holiday dedicated to remembering the departed that is celebrated on Nov. 1 and Nov. 2. Day of the Dead dates back to before Christopher Columbus landed in North America, but was moved to its current celebration date by Spanish colonizers, who merged it with the Catholic All Saints Day. Mexican immigrants to the United States brought the holiday with them, and in the 1970s, artists and activities brought focus to Día de los Muertos as a way of celebrating their Chicano (Mexican-American) heritage, according to the Smithsonian American Art Museum. The holiday is now well-known in the United States.

SubQuestion No : 100

Q.100 Which of the following words is opposite in meaning to the word 'widespread' as used in the passage?

- Ans
1. Extensive

2. Sweeping

3. Divulge

4. Limited

Question ID : 630680251120

Option 1 ID : 630680974506

Option 2 ID : 630680974503

Option 3 ID : 630680974504

Option 4 ID : 630680974505

Status : Not Answered

Chosen Option : --

Section : General Hindi

Q.101 दिए गए शब्द युग्म का अर्थ ज्ञात कीजिए।

ग्रह – गृह

- Ans
1. पर्वत और घर

2. हाथी और घर

3. शनि और पर्वत

4. शनि और घर

Question ID : 630680251128

Option 1 ID : 630680974538

Option 2 ID : 630680974536

Option 3 ID : 630680974537

Option 4 ID : 630680974535

Status : Answered

Chosen Option : 3

Q.102 दिए गए शब्द युग्म का अर्थ ज्ञात कीजिए।

आकर – आकार

- Ans
- ✗

1. खान और जाना

✗

2. जाना और रूप

✗

3. अनाज और अनुचित

✓

4. खान और रूप

Question ID : 630680251127

Option 1 ID : 630680974533

Option 2 ID : 630680974532

Option 3 ID : 630680974534

Option 4 ID : 630680974531

Status : Answered

Chosen Option : 3

Q.103 दिए गए वाक्य में उचित लोकोक्ति का चयन करके रिक्त स्थान की पूर्ति कीजिए।

बासी बचे न कुत्ता खाय का अर्थ _____ होता है।

- Ans
- ✗

1. बहुत कम वस्तु होना।

✓

2. जितनी आवश्यकता हो उतनी ही वस्तु का होना।

✗

3. बहुत अधिक वस्तु होना।

✗

4. आँखों के सामने ठग लेना।

Question ID : 630680251130

Option 1 ID : 630680974545

Option 2 ID : 630680974543

Option 3 ID : 630680974544

Option 4 ID : 630680974546

Status : Answered

Chosen Option : 2

Q.104 दिए गए शब्द के अनेकार्थी शब्द ज्ञात कीजिए।

वर

- Ans
- ✗

1. जाति

✓

2. आशीर्वाद

✗

3. पारा

✗

4. प्रिय

Question ID : 630680251126

Option 1 ID : 630680974528

Option 2 ID : 630680974527

Option 3 ID : 630680974529

Option 4 ID : 630680974530

Status : Answered

Chosen Option : 3

Q.105 दिए गए शब्द के अनेकार्थी शब्द ज्ञात कीजिए।

काल

- Ans
- ✗

1. शरीर

✓

2. युग

✗

3. श्रेणी

✗

4. काला

Question ID : 630680251125

Option 1 ID : 630680974525

Option 2 ID : 630680974523

Option 3 ID : 630680974526

Option 4 ID : 630680974524

Status : Answered

Chosen Option : 2

Q.106 दिए गए शब्द का प्रत्यय ज्ञात कीजिए।

आसमानी

- Ans
- ✗

1. मानी

✗

2. समानी

✗

3. आनी

✓

4. ई

Question ID : 630680251135

Option 1 ID : 630680974564

Option 2 ID : 630680974566

Option 3 ID : 630680974563

Option 4 ID : 630680974565

Status : Answered

Chosen Option : 4

Q.107 दिए गए शब्द का विलोम शब्द ज्ञात कीजिए।

दुर्गम

- Ans
- ✗

1. विकट

✓

2. सुगम

✗

3. हिमकर

✗

4. दुर्बल

Question ID : 630680251124

Option 1 ID : 630680974519

Option 2 ID : 630680974520

Option 3 ID : 630680974521

Option 4 ID : 630680974522

Status : Answered

Chosen Option : 2

Q.108 दिए गए शब्द का प्रयुक्त संधि-विच्छेद ज्ञात कीजिए।

संघर्ष

- Ans
- ✗

1. संघर + ष

✗

2. सम + अधर्ष

✓

3. सम् + घर्ष

✗

4. संघ + अर्ष

Question ID : 630680251140

Option 1 ID : 630680974584

Option 2 ID : 630680974585

Option 3 ID : 630680974586

Option 4 ID : 630680974583

Status : Answered

Chosen Option : 2

Q.109 निम्नलिखित प्रश्न में, दिए गए चार विकल्पों में से, उस विकल्प का चयन करें जो दिए गए मुहावरे के अर्थ को सर्वश्रेष्ठ रूप से व्यक्त करता है।

पंचतत्व में विलीन होना

- Ans
- ✗

1. शक्ति मिलना

✗

2. मर जाना

✗

3. साधु बनना

✓

4. गायब होना

Question ID : 630680251129

Option 1 ID : 630680974541

Option 2 ID : 630680974540

Option 3 ID : 630680974539

Option 4 ID : 630680974542

Status : Answered

Chosen Option : 1

Q.110 दिए गए शब्द का उपसर्ग ज्ञात कीजिए।

निवास

- Ans
- ✗

1. निवा

✓

2. नि

✗

3. निव

✗

4. न

Question ID : 630680251134

Option 1 ID : 630680974561

Option 2 ID : 630680974560

Option 3 ID : 630680974559

Option 4 ID : 630680974562

Status : Answered

Chosen Option : 3

Q.111 दिए गए वाक्यांश के लिए सार्थक शब्द ज्ञात कीजिए।

अपने जीवन की स्वरचित कथा।

- Ans
- ✗

1. कथित

✗

2. काव्य

✗

3. कथा

✓

4. आत्मकथा

Question ID : 630680251133

Option 1 ID : 630680974558

Option 2 ID : 630680974556

Option 3 ID : 630680974555

Option 4 ID : 630680974557

Status : Answered

Chosen Option : 4

Q.112 ,‘महापुरुष’ का समास-विग्रह ज्ञात कीजिए।

- Ans
- ✗

1. महान अधिकारी

✓

2. महान है जो पुरुष

✗

3. महान में पुरुष

✗

4. पुरुष की महानता

Question ID : 630680251137

Option 1 ID : 630680974573

Option 2 ID : 630680974571

Option 3 ID : 630680974574

Option 4 ID : 630680974572

Status : Answered

Chosen Option : 4

Q.113 दिए गए शब्द का विलोम शब्द ज्ञात कीजिए।

स्थिर

- Ans
- ✗

1. अटल

✗

2. ठोस

✗

3. शांत

✓

4. अस्थिर

Question ID : 630680251123

Option 1 ID : 630680974516

Option 2 ID : 630680974518

Option 3 ID : 630680974515

Option 4 ID : 630680974517

Status : Answered

Chosen Option : 2

Q.114 निम्नलिखित प्रश्न में, दिए गए चार विकल्पों में से, उस विकल्प का चयन करें जो दिए गए मुहावरे के अर्थ को सर्वश्रेष्ठ रूप से व्यक्त करता है।

छोटा मुँह बड़ी बात

- Ans
- ☒

 1. अपनी सीमा से बढ़कर बोलना
- ☐

 2. दिखावे का जीवन जीना
- ☐

 3. समझदारी जैसी बातें करना
- ☐

 4. कर्ज में डूबा होने पर भी साहूकारों जैसी बातें करना

Question ID : 630680251131

Option 1 ID : 630680974548

Option 2 ID : 630680974547

Option 3 ID : 630680974550

Option 4 ID : 630680974549

Status : Answered

Chosen Option : 1

Q.115 दिए गए शब्द का पर्यायवाची ज्ञात कीजिए।

अनल

- Ans
- ☒

 1. पावक
- ☐

 2. वरूण
- ☐

 3. पवन
- ☐

 4. व्योम

Question ID : 630680251121

Option 1 ID : 630680974510

Option 2 ID : 630680974507

Option 3 ID : 630680974508

Option 4 ID : 630680974509

Status : Answered

Chosen Option : 2

Q.116 'सत्यग्रह' का समास-विग्रह ज्ञात कीजिए।

- Ans
- ☐

 1. सत्य में अग्रह
- ☐

 2. अग्रह सत्य का
- ☒

 3. सत्य के लिए अग्रह
- ☐

 4. सत्य का अग्रह

Question ID : 630680251136

Option 1 ID : 630680974570

Option 2 ID : 630680974569

Option 3 ID : 630680974568

Option 4 ID : 630680974567

Status : Answered

Chosen Option : 3

Q.117 दिए गए वाक्यांश के लिए सार्थक शब्द ज्ञात कीजिए।

जिसका कोई आकार न हो।

- Ans
- ☒

 1. निर्यात
- ☒

 2. निरक्षर
- ☒

 3. निराकार
- ☒

 4. निरस्त

Question ID : 630680251132

Option 1 ID : 630680974553

Option 2 ID : 630680974551

Option 3 ID : 630680974554

Option 4 ID : 630680974552

Status : Answered

Chosen Option : 3

Q.118 दिए गए शब्द का पर्यायवाची ज्ञात कीजिए।

विलोम

- Ans
- ☒

 1. उल्टा
- ☒

 2. समीप
- ☒

 3. सीधा
- ☒

 4. नीचे

Question ID : 630680251122

Option 1 ID : 630680974511

Option 2 ID : 630680974514

Option 3 ID : 630680974512

Option 4 ID : 630680974513

Status : Answered

Chosen Option : 2

Q.119 दिए गए शब्द का प्रयुक्त संधि-विच्छेद ज्ञात कीजिए।

मनोनुकूल

- Ans
- ☒

 1. मनोनु: + कूल
- ☒

 2. मनोन: + अकुल
- ☒

 3. मन: + अनुकूल
- ☒

 4. मनो: + नुकुल

Question ID : 630680251138

Option 1 ID : 630680974577

Option 2 ID : 630680974578

Option 3 ID : 630680974576

Option 4 ID : 630680974575

Status : Answered

Chosen Option : 2

Q.120 दिए गए शब्द का प्रयुक्त संधि-विच्छेद ज्ञात कीजिए।

रजोदर्शन

- Ans
- ☒

1. राज: + औदर्शन
- ☒

2. राज: + दर्शन
- ☒

3. राजोदर: + शन
- ☒

4. रज: + दर्शन

Question ID : 630680251139

Option 1 ID : 630680974581

Option 2 ID : 630680974580

Option 3 ID : 630680974579

Option 4 ID : 630680974582

Status : Answered

Chosen Option : 4

Comprehension:

निम्नलिखित गद्यांश को ध्यानपूर्वक पढ़िए और दिए गए प्रश्न के उत्तर दीजिए।

यों तो सृष्टि के आरंभ से मानव ज्ञान-विस्तार में प्रवृत्त है, किन्तु 19वीं और 20वीं सदी तो विज्ञान की चरमोन्नति के काल रहे हैं। आज 21वीं सदी भी, विज्ञान के सृष्टि विजयी रथ को और तीव्रता से दौड़ाने में पीछे नहीं है। मनुष्य पर विज्ञान के अनन्त उपकार हैं। आज ऐसा शायद ही कोई क्षेत्र है, जिसे विज्ञान ने अपने उपकारों से कृतज्ञ न बनाया हो। पाताल से लेकर अन्तरिक्ष तक विज्ञान की महिमा का गान हो रहा है। विज्ञान का वरदानी स्वरूप, मानव के लिए हर मनोकामना की पूर्ति करने वाला कल्पवृक्ष बना हुआ है। विज्ञान ने मानव को प्रकृति पर निर्भरता से मुक्त कर उसे अकल्पनीय सुख-सुविधाएँ और सुरक्षा उपलब्ध कराई है। आज रासायनिक खादों, उन्नत बीजों, कृषि-यन्त्रों, बाँधों, नहरों और कृत्रिम वर्षा की सौगात देकर विज्ञान मानव के कृषि-भण्डार को भर रहा है। कहीं नाना प्रकार की गृह-निर्माण सामग्री और शिल्पीय ज्ञान से मानव के विलास-भवनों की रचना कर रहा है, तो वहीं मानव तन को मनमोहक, कृत्रिम और पम्परागत वस्त्रों से अलंकृत भी कर रहा है। चिकित्सा क्षेत्र में भी विज्ञान-क्षय,कैंसर, कुष्ठ तथा एड्स जैसे भयंकर रोगों पर विजय पाने में संघर्षरत है। मस्तिष्क, हृदय और गुर्दों को प्रत्यारोपित कर, अमरता की मंजिल को प्रशस्त कर रहा है। संचार के क्षेत्र में- रेडियो, मोबाइल फोन, टेलीफोन, टेलीविजन और इण्टरनेट जैसे उपकरणों से विज्ञान ने सारे विश्व को सिकोड़कर छोटा कर डाला है। रेडियो-दूरबीनों से यह ब्रह्माण्ड की छानबीन कर रहा है, वसुन्धरा के गर्भ में झाँक रहा है, सागरों के अतल तल को माप रहा है। इतना ही नहीं मनोरंजन के अनेक साधनों के साथ, व्यापार के क्षेत्र में भी विज्ञान ई-मेल, ई-बैंकिंग जैसे साधन उपलब्ध कराये हैं।

SubQuestion No : 121

Q.121 दिए गए अपठित गद्यांश का उपयुक्त शीर्षक क्या होगा?

- Ans
- ☒

1. आधुनिक विकास
- ☒

2. विज्ञान की हानि
- ☒

3. विज्ञान से विकास
- ☒

4. विज्ञान और विनाश

Question ID : 630680251142

Option 1 ID : 630680974589

Option 2 ID : 630680974588

Option 3 ID : 630680974587

Option 4 ID : 630680974590

Status : Answered

Chosen Option : 1

Comprehension:

निम्नलिखित गद्यांश को ध्यानपूर्वक पढ़िए और दिए गए प्रश्न के उत्तर दीजिए।

यों तो सृष्टि के आरंभ से मानव ज्ञान-विस्तार में प्रवृत्त है, किन्तु 19वीं और 20वीं सदी तो विज्ञान की चरमोन्नति के काल रहे हैं। आज 21वीं सदी भी, विज्ञान के सृष्टि विजयी रथ को और तीव्रता से दौड़ाने में पीछे नहीं है। मनुष्य पर विज्ञान के अनन्त उपकार हैं। आज ऐसा शायद ही कोई क्षेत्र है, जिसे विज्ञान ने अपने उपकारों से कृतज्ञ न बनाया हो। पाताल से लेकर अन्तरिक्ष तक विज्ञान की महिमा का गान हो रहा है। विज्ञान का वरदानी स्वरूप, मानव के लिए हर मनोकामना की पूर्ति करने वाला कल्पवृक्ष बना हुआ है। विज्ञान ने मानव को प्रकृति पर निर्भरता से मुक्त कर उसे अकल्पनीय सुख-सुविधाएँ और सुरक्षा उपलब्ध कराई है। आज रासायनिक खादों, उन्नत बीजों, कृषि-यन्त्रों, बाँधों, नहरों और कृत्रिम वर्षा की सौगात देकर विज्ञान मानव के कृषि-भण्डार को भर रहा है। कहीं नाना प्रकार की गृह-निर्माण सामग्री और शिल्पीय ज्ञान से मानव के विलास-भवनों की रचना कर रहा है, तो वही मानव तन को मनमोहक, कृत्रिम और पम्परागत वस्त्रों से अलंकृत भी कर रहा है। चिकित्सा क्षेत्र में भी विज्ञान-क्षय,कैंसर, कुष्ठ तथा एड्स जैसे भयंकर रोगों पर विजय पाने में संघर्षरत है। मस्तिष्क, हृदय और गुदों को प्रत्यारोपित कर, अमरता की मंजिल को प्रशस्त कर रहा है। संचार के क्षेत्र में- रेडियो, मोबाइल फोन, टेलीफोन, टेलीविजन और इण्टरनेट जैसे उपकरणों से विज्ञान ने सारे विश्व को सिकोड़कर छोटा कर डाला है। रेडियो-दूरबीनों से यह ब्रह्माण्ड की छानबीन कर रहा है, वसुन्धरा के गर्भ में झाँक रहा है, सागरों के अतल तल को माप रहा है। इतना ही नहीं मनोरंजन के अनेक साधनों के साथ, व्यापार के क्षेत्र में भी विज्ञान ई-मेल, ई-बैंकिंग जैसे साधन उपलब्ध करायें हैं।

SubQuestion No : 122

Q.122 . 'कल्पवृक्ष' का अभिप्राय यहाँ कैसे वृक्ष से है?

- Ans
- ☒

 1. मानव मन की सभी इच्छाओं को पूरा करने वाला वृक्ष
- ☐

 2. भूत-प्रेत का वृक्ष
- ☐

 3. सोना बरसाने वाला वृक्ष
- ☐

 4. बहुत अधिक ऑक्सीजन देने वाला वृक्ष

Question ID : 630680251144

Option 1 ID : 630680974598

Option 2 ID : 630680974596

Option 3 ID : 630680974595

Option 4 ID : 630680974597

Status : Answered

Chosen Option : 4

Comprehension:

निम्नलिखित गद्यांश को ध्यानपूर्वक पढ़िए और दिए गए प्रश्न के उत्तर दीजिए।

यों तो सृष्टि के आरंभ से मानव ज्ञान-विस्तार में प्रवृत्त है, किन्तु 19वीं और 20वीं सदी तो विज्ञान की चरमोन्नति के काल रहे हैं। आज 21वीं सदी भी, विज्ञान के सृष्टि विजयी रथ को और तीव्रता से दौड़ाने में पीछे नहीं है। मनुष्य पर विज्ञान के अनन्त उपकार हैं। आज ऐसा शायद ही कोई क्षेत्र है, जिसे विज्ञान ने अपने उपकारों से कृतज्ञ न बनाया हो। पाताल से लेकर अन्तरिक्ष तक विज्ञान की महिमा का गान हो रहा है। विज्ञान का वरदानी स्वरूप, मानव के लिए हर मनोकामना की पूर्ति करने वाला कल्पवृक्ष बना हुआ है। विज्ञान ने मानव को प्रकृति पर निर्भरता से मुक्त कर उसे अकल्पनीय सुख-सुविधाएँ और सुरक्षा उपलब्ध कराई है। आज रासायनिक खादों, उन्नत बीजों, कृषि-यन्त्रों, बाँधों, नहरों और कृत्रिम वर्षा की सौगात देकर विज्ञान मानव के कृषि-भण्डार को भर रहा है। कहीं नाना प्रकार की गृह-निर्माण सामग्री और शिल्पीय ज्ञान से मानव के विलास-भवनों की रचना कर रहा है, तो वही मानव तन को मनमोहक, कृत्रिम और पम्परागत वस्त्रों से अलंकृत भी कर रहा है। चिकित्सा क्षेत्र में भी विज्ञान-क्षय,कैंसर, कुष्ठ तथा एड्स जैसे भयंकर रोगों पर विजय पाने में संघर्षरत है। मस्तिष्क, हृदय और गुर्दों को प्रत्यारोपित कर, अमरता की मंजिल को प्रशस्त कर रहा है। संचार के क्षेत्र में- रेडियो, मोबाइल फोन, टेलीफोन, टेलीविजन और इण्टरनेट जैसे उपकरणों से विज्ञान ने सारे विश्व को सिकोड़कर छोटा कर डाला है। रेडियो-दूरबीनों से यह ब्रह्माण्ड की छानबीन कर रहा है, वसुन्धरा के गर्भ में झाँक रहा है, सागरों के अतल तल को माप रहा है। इतना ही नहीं मनोरंजन के अनेक साधनों के साथ, व्यापार के क्षेत्र में भी विज्ञान ई-मेल, ई-बैंकिंग जैसे साधन उपलब्ध करायें हैं।

SubQuestion No : 123

Q.123 विज्ञान की महिमा का गान कहाँ तक फैला है?

- Ans
- ☒

1. अन्तरिक्ष से पाताल तक
- ☐

2. केवल मनोरंजन के क्षेत्र तक
- ☐

3. दूसरी दुनिया में
- ☐

4. केवल खेती के क्षेत्र तक

Question ID : 630680251145

Option 1 ID : 630680974602

Option 2 ID : 630680974601

Option 3 ID : 630680974599

Option 4 ID : 630680974600

Status : Answered

Chosen Option : 1

Comprehension:

निम्नलिखित गद्यांश को ध्यानपूर्वक पढ़िए और दिए गए प्रश्न के उत्तर दीजिए।

यों तो सृष्टि के आरंभ से मानव ज्ञान-विस्तार में प्रवृत्त है, किन्तु 19वीं और 20वीं सदी तो विज्ञान की चरमोन्नति के काल रहे हैं। आज 21वीं सदी भी, विज्ञान के सृष्टि विजयी रथ को और तीव्रता से दौड़ाने में पीछे नहीं है। मनुष्य पर विज्ञान के अनन्त उपकार हैं। आज ऐसा शायद ही कोई क्षेत्र है, जिसे विज्ञान ने अपने उपकारों से कृतज्ञ न बनाया हो। पाताल से लेकर अन्तरिक्ष तक विज्ञान की महिमा का गान हो रहा है। विज्ञान का वरदानी स्वरूप, मानव के लिए हर मनोकामना की पूर्ति करने वाला कल्पवृक्ष बना हुआ है। विज्ञान ने मानव को प्रकृति पर निर्भरता से मुक्त कर उसे अकल्पनीय सुख-सुविधाएँ और सुरक्षा उपलब्ध कराई है। आज रासायनिक खादों, उन्नत बीजों, कृषि-यन्त्रों, बाँधों, नहरों और कृत्रिम वर्षा की सौगात देकर विज्ञान मानव के कृषि-भण्डार को भर रहा है। कहीं नाना प्रकार की गृह-निर्माण सामग्री और शिल्पीय ज्ञान से मानव के विलास-भवनों की रचना कर रहा है, तो वही मानव तन को मनमोहक, कृत्रिम और पम्परागत वस्त्रों से अलंकृत भी कर रहा है। चिकित्सा क्षेत्र में भी विज्ञान-क्षय,कैंसर, कुष्ठ तथा एड्स जैसे भयंकर रोगों पर विजय पाने में संघर्षरत है। मस्तिष्क, हृदय और गुर्दों को प्रत्यारोपित कर, अमरता की मंजिल को प्रशस्त कर रहा है। संचार के क्षेत्र में- रेडियो, मोबाइल फोन, टेलीफोन, टेलीविजन और इण्टरनेट जैसे उपकरणों से विज्ञान ने सारे विश्व को सिकोड़कर छोटा कर डाला है। रेडियो-दूरबीनों से यह ब्रह्माण्ड की छानबीन कर रहा है, वसुधरा के गर्भ में झाँक रहा है, सागरों के अतल तल को माप रहा है। इतना ही नहीं मनोरंजन के अनेक साधनों के साथ, व्यापार के क्षेत्र में भी विज्ञान ई-मेल, ई-बैंकिंग जैसे साधन उपलब्ध करायें हैं।

SubQuestion No : 124

Q.124 विज्ञान की चरमोन्नति का काल कौन सा है?

- Ans
- ☒

1. प्राचीन काल
- ☐

2. वर्ष 2020-2021
- ☐

3. केवल आज का समय
- ☒

4. 19वीं और 20वीं सदी

Question ID : 630680251146

Option 1 ID : 630680974603

Option 2 ID : 630680974605

Option 3 ID : 630680974606

Option 4 ID : 630680974604

Status : Answered

Chosen Option : 4

Comprehension:

निम्नलिखित गद्यांश को ध्यानपूर्वक पढ़िए और दिए गए प्रश्न के उत्तर दीजिए।

यों तो सृष्टि के आरंभ से मानव ज्ञान-विस्तार में प्रवृत्त है, किन्तु 19वीं और 20वीं सदी तो विज्ञान की चरमोन्नति के काल रहे हैं। आज 21वीं सदी भी, विज्ञान के सृष्टि विजयी रथ को और तीव्रता से दौड़ाने में पीछे नहीं है। मनुष्य पर विज्ञान के अनन्त उपकार हैं। आज ऐसा शायद ही कोई क्षेत्र है, जिसे विज्ञान ने अपने उपकारों से कृतज्ञ न बनाया हो। पाताल से लेकर अन्तरिक्ष तक विज्ञान की महिमा का गान हो रहा है। विज्ञान का वरदानी स्वरूप, मानव के लिए हर मनोकामना की पूर्ति करने वाला कल्पवृक्ष बना हुआ है। विज्ञान ने मानव को प्रकृति पर निर्भरता से मुक्त कर उसे अकल्पनीय सुख-सुविधाएँ और सुरक्षा उपलब्ध कराई है। आज रासायनिक खादों, उन्नत बीजों, कृषि-यन्त्रों, बाँधों, नहरों और कृत्रिम वर्षा की सौगात देकर विज्ञान मानव के कृषि-भण्डार को भर रहा है। कहीं नाना प्रकार की गृह-निर्माण सामग्री और शिल्पीय ज्ञान से मानव के विलास-भवनों की रचना कर रहा है, तो वही मानव तन को मनमोहक, कृत्रिम और पम्परागत वस्त्रों से अलंकृत भी कर रहा है। चिकित्सा क्षेत्र में भी विज्ञान-क्षय,कैंसर, कुष्ठ तथा एड्स जैसे भयंकर रोगों पर विजय पाने में संघर्षरत है। मस्तिष्क, हृदय और गुदों को प्रत्यारोपित कर, अमरता की मंजिल को प्रशस्त कर रहा है। संचार के क्षेत्र में- रेडियो, मोबाइल फोन, टेलीफोन, टेलीविजन और इण्टरनेट जैसे उपकरणों से विज्ञान ने सारे विश्व को सिकोड़कर छोटा कर डाला है। रेडियो-दूरबीनों से यह ब्रह्माण्ड की छानबीन कर रहा है, वसुन्धरा के गर्भ में झाँक रहा है, सागरों के अतल तल को माप रहा है। इतना ही नहीं मनोरंजन के अनेक साधनों के साथ, व्यापार के क्षेत्र में भी विज्ञान ई-मेल, ई-बैंकिंग जैसे साधन उपलब्ध करायें हैं।

SubQuestion No : 125

Q.125 विज्ञान का स्वरूप मनुष्य के लिए कैसा है?

- Ans
- ☒

1. घातक
- ☒

2. कृत्रिम व काल्पनिक
- ☒

3. वरदानी व कल्पवृक्ष के सामान
- ☒

4. परिश्रमी व कठिन

Question ID : 630680251143

Option 1 ID : 630680974592

Option 2 ID : 630680974593

Option 3 ID : 630680974591

Option 4 ID : 630680974594

Status : Answered

Chosen Option : 2