



Teachingninja.in



Latest Govt Job updates



Private Job updates



Free Mock tests available

Visit - teachingninja.in



UP Police SI ASI

Previous Year Paper
04 Dec, 2023 Shift 2



Save & Print

Roll No:
Registration No:
Name:
Exam Date: 04-Dec-2021
Exam Time: 14:30-17:00
Post Name: SI-Confidential-ASI-Ministerial-ASI-Account-2020-2021

Registered Photo

Exam Day Photo

General Hindi-Computer Knowledge - General Hindi-Computer Knowledge

4

10.00

अनुच्छेद पढ़कर, दिए गए सवालों के सही जवाब चुनिए :-

ध्वनि-प्रभाव संकेत रेडियो-नाटक के लिए अत्यंत महत्वपूर्ण हैं। ध्वनि-प्रभाव संवादों के लिए आधार स्तंभ की भांति हैं। संवादों की भावनाओं की रसात्मकता ध्वनि-संकेतों से बढ़ सकती है। संवादों में उत्साह, आनंद, दुःख, व्यंग्य, लयात्मकता, उतार-चढ़ाव आदि के लिए संकेत होते हैं। संवाद-संकेत संवादों की जीवंतता, सार्थकता और संदर्भयुक्तता के लिए अपेक्षित होते हैं। संवाद के अंतर्गत पात्र का हँसना, दुःख प्रकट करना, रोना, दीर्घ सांस लेना जैसे संदर्भों का संकेत देने के लिए संवाद-संकेतों की जरूरत पड़ती है। वास्तव में रेडियो केवल श्रव्य-माध्यम होने के कारण इन ध्वनि-प्रभाव संकेतों के बिना दृश्यावली स्थापित करने में कठिनाई होती है। उदाहरण के लिए नाटक की घटना में पात्रों को किसी रेलवे स्टेशन में संवाद करते हुए पाया जाता है तो इसके लिए रेल के आने-जाने, उद्घोषणा, यात्रियों और चाय-नाश्ता बेचनेवालों का शोरगुल आदि दृश्य का सृजन ध्वनि-प्रभाव संकेतों से ही संभव है। और इसी प्रकार के दृश्यों के लिए कई प्रकार की आवाज़ें यथा - दरवाजा खुलने, बंद होने, गाड़ियों के आने जाने, किसी के आने-जाने की आहटें, बच्चों के खेलने की आवाज़ें आदि का सृजन इससे संभव है। आमतौर पर नाटक के दौरान उत्पादित ध्वनियाँ, कुछ पूर्व-रिकार्डेड ध्वनियाँ होती हैं। सामान्यतः रेडियो-नाटक का रिकार्डिंग स्टूडियो पर होता है, अतः सभी प्रकार की ध्वनियाँ, ध्वनि-प्रभाव प्रत्यक्षतः नाटक के रिकार्डिंग के दौरान ही उत्पन्न करने में कठिनाई होती है, अतः पूर्व में रिकार्ड की गई ध्वनियों का इस्तेमाल किया जाता है।

Question No.1

Marks: 2.00

Bookmark ☐

यह अनुच्छेद किस विषय पर केंद्रित है ?
यह अनुच्छेद किस विषय पर केंद्रित है ?

(A) ☐ रेडियो-नाटक लेखन में ध्वनि-प्रभाव संकेत (Correct Answer) (Chosen option)
रेडियो-नाटक लेखन में ध्वनि-प्रभाव संकेत

(B) ☐ रेडियो संवादों में लयात्मकता

रेडियो संवादों में लयात्मकता

(C) ☐ रेडियो संवादों में उत्साह
रेडियो संवादों में उत्साह

(D) ☐ रेडियो-नाटकों की संदर्भयुक्तता
रेडियो-नाटकों की संदर्भयुक्तता

Question No.2

Marks: 2.00

Bookmark ☐

इस अनुच्छेद के लिए उपयुक्त शीर्षक क्या हो सकता है?
इस अनुच्छेद के लिए उपयुक्त शीर्षक क्या हो सकता है?

(A) ☐ रेडियो-नाटक
रेडियो-नाटक

(B) ☐ रेडियो-नाटक का रिकार्डिंग
रेडियो-नाटक की रिकार्डिंग

(C) ☐ रेडियो-नाटक लेखन के तकनीकी पहलू (Correct Answer) (Chosen option)
रेडियो-नाटक लेखन के तकनीकी पहलू

(D) ☐ संगीत-संकेत
संगीत-संकेत

Question No.3

Marks: 2.00

Bookmark ☐

रेडियो-नाटक लेखन में ध्वनि-प्रभाव संकेतों का उद्देश्य क्या है?
रेडियो-नाटक लेखन में ध्वनि-प्रभाव संकेतों का उद्देश्य क्या है?

(A) ☐ संवादों की रसात्मकता (Chosen option)
संवादों की रसात्मकता

(B) ☐ श्यावली स्थापित करना
श्यावली स्थापित करना

(C) ☐ नाटक को प्रभावशाली बनाना
नाटक को प्रभावशाली बनाना

(D) ☐ उपरोक्त सभी (Correct Answer)

12/17/21, 11:37 AM	View Question Paper
उपरोक्त सभी	
<div>Question No.4</div> <div>Marks: 2.00</div> <div>Bookmark <input type="checkbox"/></div> <div>संवाद-संकेत क्यों अपेक्षित हैं? संवाद-संकेत क्यों अपेक्षित हैं? (A) <input type="radio"/> संवादों की जीवंतता के लिए संवादों की जीवंतता के लिए (B) <input type="radio"/> संवादों की सार्थकता के लिए संवादों की सार्थकता के लिए (C) <input type="radio"/> संवादों की संदर्भयुक्तता के लिए संवादों की संदर्भयुक्तता के लिए (D) <input type="radio"/> उपरोक्त सभी (Correct Answer) (Chosen option) उपरोक्त सभी</div>	
<div>Question No.5</div> <div>Marks: 2.00</div> <div>Bookmark <input type="checkbox"/></div> <div>रेडियो-नाटक लेखन में रेलवे स्टेशन का शोर, दरवाजा खुलने, बंद होने की आवाज़ आदि के लिए किन संकेतों का प्रयोग होता है? रेडियो-नाटक लेखन में रेलवे स्टेशन का शोर, दरवाजा खुलने, बंद होने की आवाज़ आदि के लिए किन संकेतों का प्रयोग होता है? (A) <input type="radio"/> संवाद-संकेत संवाद-संकेत (B) <input type="radio"/> संगीत-संकेत संगीत-संकेत (C) <input type="radio"/> ध्वनि-प्रभाव संकेत (Correct Answer) (Chosen option) ध्वनि-प्रभाव संकेत (D) <input type="radio"/> उपरोक्त में से कोई नहीं उपरोक्त में से कोई नहीं</div>	
<div>Question No.6</div> <div>Marks: 2.00</div> <div>Bookmark <input type="checkbox"/></div>	
https://upprpbmini.onlineregistrationform.org/QP1/IV8R19JBL0wF5yPR2WAjWg==.html	3/103
12/17/21, 11:37 AM	View Question Paper
'परमौषध' शब्द का संधि-विच्छेद कौन-सा है? 'परमौषध' शब्द का संधि-विच्छेद कौन-सा है? (A) <input type="radio"/> पर + औषध पर + औषध (B) <input type="radio"/> परम + औषध (Correct Answer) (Chosen option) परम + औषध (C) <input type="radio"/> परम + षौध परम + षौध (D) <input type="radio"/> परम + ओषध परम + ओषध	
<div>Question No.7</div> <div>Marks: 2.00</div> <div>Bookmark <input type="checkbox"/></div> <div>If all devices are connected to a central hub, then topology is called _____. यदि सभी उपकरण एक केंद्रीय हब से जुड़े हैं, तो टोपोलॉजी (सांस्थिति) को क्या कहा जाता है? (A) <input type="radio"/> Tree Topology ट्री टोपोलॉजी (B) <input type="radio"/> Star Topology (Correct Answer) (Chosen option) स्टार टोपोलॉजी (C) <input type="radio"/> Bus Topology बस टोपोलॉजी (D) <input type="radio"/> Ring Topology रिंग टोपोलॉजी</div>	
<div>Question No.8</div> <div>Marks: 2.00</div> <div>Bookmark <input type="checkbox"/></div> <div>_____ is a full volume encryption feature included with Microsoft Windows versions. _____, माइक्रोसॉफ्ट विंडोज संस्करणों के साथ शामिल एक पूर्ण विस्तार-क्षेत्र कूटलेखन (फुल वॉल्यूम एन्क्रिप्शन) सुविधा है। (A) <input type="radio"/> BitLocker (Correct Answer) बिटलॉकर (B) <input type="radio"/> Task scheduler टास्क शेड्यूलर</div>	
https://upprpbmini.onlineregistrationform.org/QP1/IV8R19JBL0wF5yPR2WAjWg==.html	4/103

12/17/21, 11:37 AM	View Question Paper
<div>(C) <input type="radio"/> Registry editor (Chosen option) रजिस्ट्री एडिटर</div> <div>(D) <input type="radio"/> Defender डिफेंडर</div>	
<div>Question No.9</div> <div>Marks: 2.00</div> <div>Bookmark <input type="checkbox"/></div> <div>Apache Tomcat is an example of _____, that can manage client HTTP requests for Web Resources. अपाचे टॉमकेट _____ का एक उदाहरण है, जो वेब संसाधनों के लिए क्लाइंट HTTP अनुरोधों का संचालन कर सकता है।</div> <div>(A) <input type="radio"/> Browser (Chosen option) ब्राउज़र</div> <div>(B) <input type="radio"/> Web site वेबसाइट</div> <div>(C) <input type="radio"/> Web server (Correct Answer) वेब सर्वर</div> <div>(D) <input type="radio"/> Java program जावा प्रोग्राम</div>	
<div>Question No.10</div> <div>Marks: 2.00</div> <div>Bookmark <input type="checkbox"/></div> <div>The environment in which the actions performed cannot be numbered is said to be _____ Environment. जिस पर्यावरण में किए गए कार्यों को संख्यांकित नहीं किया जा सकता है, उसे _____ पर्यावरण कहा जाता है।</div> <div>(A) <input type="radio"/> Continuous (Correct Answer) (Chosen option) सतत</div> <div>(B) <input type="radio"/> Static स्थिर</div> <div>(C) <input type="radio"/> Deterministic नियतात्मक</div> <div>(D) <input type="radio"/> Discrete असतत</div>	
<div>Question No.11</div> <div>Marks: 2.00</div> <div>https://upprpbmini.onlineregistrationform.org/QP1/IV8R19JBL0wF5yPR2WAjWg==.html</div>	5/103
12/17/21, 11:37 AM	View Question Paper
<div>'अवर' का विलोम शब्द कौन-सा है? 'अवर' का विलोम शब्द कौन-सा है?</div> <div>(A) <input type="radio"/> प्रवर (Correct Answer) (Chosen option) प्रवर</div> <div>(B) <input type="radio"/> गवार गवार</div> <div>(C) <input type="radio"/> मर्त्य मर्त्य</div> <div>(D) <input type="radio"/> सवर सवर</div>	Bookmark <input type="checkbox"/>
<div>Question No.12</div> <div>Marks: 2.00</div> <div>Bookmark <input type="checkbox"/></div> <div>'मिलाप' शब्द में कौन-सा प्रत्यय है? 'मिलाप' शब्द में कौन-सा प्रत्यय है?</div> <div>(A) <input type="radio"/> इलाप इलाप</div> <div>(B) <input type="radio"/> आप (Correct Answer) (Chosen option) आप</div> <div>(C) <input type="radio"/> लाप लाप</div> <div>(D) <input type="radio"/> आपा आपा</div>	
<div>Question No.13</div> <div>Marks: 2.00</div> <div>Bookmark <input type="checkbox"/></div> <div>Which feature of Microsoft Excel is used to automate the data entered in a defined sequence? माइक्रोसॉफ्ट एक्सेल की कौन-सी विशेषता (फीचर) का उपयोग परिभाषित अनुक्रम में दर्ज किए गए डेटा को स्वचालित करने के लिए किया जाता है?</div> <div>(A) <input type="radio"/> Autofill (Correct Answer) (Chosen option)</div>	
https://upprpbmini.onlineregistrationform.org/QP1/IV8R19JBL0wF5yPR2WAjWg==.html	6/103

12/17/21, 11:37 AM	View Question Paper
<div>ऑटोफ़िल</div> <div>(B) <input type="radio"/> Styles स्टाइल्स</div> <div>(C) <input type="radio"/> Alignment अलाइनमेंट (सरिखन)</div> <div>(D) <input type="radio"/> Intending इन्टेंडिंग</div>	
<div>Question No.14</div> <div>Marks: 2.00</div> <div>Bookmark <input type="checkbox"/></div> <div>Which is the shortcut key to Display the Desktop when you have other files open? जब आपकी अन्य फाइलें खुली हों तो डेस्कटॉप प्रदर्शित करने के लिए शॉर्टकट कुंजी कौन-सी है?</div> <div>(A) <input type="radio"/> Windowkey + D (Correct Answer) Windowkey + D</div> <div>(B) <input type="radio"/> Windowkey + C Windowkey + C</div> <div>(C) <input type="radio"/> Windowkey + A Windowkey + A</div> <div>(D) <input type="radio"/> Windowlkey + W (Chosen option) Windowlkey + W</div>	
<div>Question No.15</div> <div>Marks: 2.00</div> <div>Bookmark <input type="checkbox"/></div> <div>'कपूत' का पर्यायवाची शब्द कौन-सा है? 'कपूत' का पर्यायवाची शब्द कौन-सा है?</div> <div>(A) <input type="radio"/> कुपुत्र (Correct Answer) (Chosen option) कुपुत्र</div> <div>(B) <input type="radio"/> राक्षसी राक्षसी</div> <div>(C) <input type="radio"/> धूर्त धूर्त</div> <div>(D) <input type="radio"/> कबूतर</div>	
https://upprpbmini.onlineregistrationform.org/QP1/IV8R19JBL0wF5yPR2WAjWg==.html	7/103
12/17/21, 11:37 AM	View Question Paper
<div>कबूतर</div>	
<div>Question No.16</div> <div>Marks: 2.00</div> <div>Bookmark <input type="checkbox"/></div> <div>HDMI stands for _____. एचडीएमआई (HDMI) का पूर्ण रूप क्या है?</div> <div>(A) <input type="radio"/> High Definition Multimedia Interface (Correct Answer) (Chosen option) हाई डेफिनिशन मल्टीमीडिया इंटरफेस</div> <div>(B) <input type="radio"/> High Display Multimedia Interface हाई डिस्प्ले मल्टीमीडिया इंटरफेस</div> <div>(C) <input type="radio"/> High Definition Media Interface हाई डेफिनिशन मीडिया इंटरफेस</div> <div>(D) <input type="radio"/> High Display Media Interface हाई डिस्प्ले मीडिया इंटरफेस</div>	
<div>Question No.17</div> <div>Marks: 2.00</div> <div>Bookmark <input type="checkbox"/></div> <div>What does EIS Stands for in IT management? आईटी प्रबंधन में ईआईएस का क्या अर्थ है?</div> <div>(A) <input type="radio"/> Executive Interactive System एग्जीक्यूटिव इंटरैक्टिव सिस्टम</div> <div>(B) <input type="radio"/> Enterprise Information System एंटरप्राइज़ इनफार्मेशन सिस्टम</div> <div>(C) <input type="radio"/> Executive Information System (Correct Answer) एग्जीक्यूटिव इनफार्मेशन सिस्टम</div> <div>(D) <input type="radio"/> Enhanced Information System (Chosen option) एनहांस्ड इनफार्मेशन सिस्टम</div>	
<div>Question No.18</div> <div>Marks: 2.00</div> <div>Bookmark <input type="checkbox"/></div> <div>खिचड़ी पकाना - मुहावरे का अर्थ क्या है? खिचड़ी पकाना - मुहावरे का अर्थ क्या है?</div>	
https://upprpbmini.onlineregistrationform.org/QP1/IV8R19JBL0wF5yPR2WAjWg==.html	8/103

12/17/21, 11:37 AM	View Question Paper
<div><div>(A) <input type="radio"/> स्वादिष्ट भोजन बनाना स्वादिष्ट भोजन बनाना</div><div>(B) <input type="radio"/> गुप्त धन खोज निकालना गुप्त धन खोज निकालना</div><div>(C) <input type="radio"/> रोटी के लिए तरसना रोटी के लिए तरसना</div><div>(D) <input type="radio"/> षड्यंत्र करना (Correct Answer) (Chosen option) षड्यंत्र करना</div></div>	
<div><div>Question No.19</div><div>Marks: 2.00</div><div>Bookmark <input type="checkbox"/></div><div>Which of the following attribute in the video tag is used to specify an image to be displayed while the video is downloading? वीडियो डाउनलोड करते समय प्रदर्शित होने वाली छवि को निर्दिष्ट करने के लिए video टैग में निम्न में से कौन-सी विशेषता का उपयोग किया जाता है?</div><div>(A) <input type="radio"/> splash स्प्लैश</div><div>(B) <input type="radio"/> poster (Correct Answer) पोस्टर</div><div>(C) <input type="radio"/> altimage ऑल्टइमेज</div><div>(D) <input type="radio"/> icon (Chosen option) आइकन</div></div>	
<div><div>Question No.20</div><div>Marks: 2.00</div><div>Bookmark <input type="checkbox"/></div><div>What does a circle in flowchart indicate? फ्लोचार्ट में एक वृत्त क्या दर्शाता है?</div><div>(A) <input type="radio"/> Process प्रोसेस</div><div>(B) <input type="radio"/> Connector (Correct Answer) कनेक्टर</div></div>	
<div><div>12/17/21, 11:37 AM</div><div>View Question Paper</div></div> <div><div>(C) <input type="radio"/> Annotation एनोटेशन</div><div>(D) <input type="radio"/> Terminator (Chosen option) टर्मिनेटर</div></div>	
<div><div>Question No.21</div><div>Marks: 2.00</div><div>Bookmark <input type="checkbox"/></div><div>जो कानून के विरुद्ध हो -- इस अभिव्यक्ति के लिए एक उपयुक्त शब्द कौन-सा है? जो कानून के विरुद्ध हो -- इस अभिव्यक्ति के लिए एक उपयुक्त शब्द कौन-सा है?</div><div>(A) <input type="radio"/> अनैतिक अनैतिक</div><div>(B) <input type="radio"/> अधार्मिक अधार्मिक</div><div>(C) <input type="radio"/> अवैध (Correct Answer) (Chosen option) अवैध</div><div>(D) <input type="radio"/> अनुचित अनुचित</div></div>	
<div><div>Question No.22</div><div>Marks: 2.00</div><div>Bookmark <input type="checkbox"/></div><div>'प्रत्युपकार' शब्द में कौन-सा उपसर्ग है? 'प्रत्युपकार' शब्द में कौन-सा उपसर्ग है?</div><div>(A) <input type="radio"/> प्रत्यु प्रत्यु</div><div>(B) <input type="radio"/> प्रति (Correct Answer) (Chosen option) प्रति</div><div>(C) <input type="radio"/> प्र प्र</div><div>(D) <input type="radio"/> पर पर</div></div>	
https://upprpbmini.onlineregistrationform.org/QP1/IV8R19JBL0wF5yPR2WAjWg==.html	9/103
https://upprpbmini.onlineregistrationform.org/QP1/IV8R19JBL0wF5yPR2WAjWg==.html	10/103

12/17/21, 11:37 AM

View Question Paper

Question No.23

Marks: 2.00

Bookmark ☐

_____ is a video collaboration tool for real-time communications.
_____, सद्य अनुक्रिया संचार (रीयल-टाइम कम्यूनिकेशन) के लिए एक वीडियो कोलैबोरेशन टूल है।

(A) ☐ Docker
डॉकर

(B) ☐ Vmware
वीएमवेयर

(C) ☐ Anydesk
एनीडेस्क

(D) ☒ Zoom (Correct Answer) (Chosen option)
ज़ूम

Question No.24

Marks: 2.00

Bookmark ☐

Verification of a login name and password on a computer is known as _____.
कंप्यूटर पर लॉगिन नाम और पासवर्ड के सत्यापन को किस रूप में जाना जाता है?

(A) ☐ Synchronization
समक्रमण (सिंक्रोनाइज़ेशन)

(B) ☐ Identification
अभिनिर्धारण (आईडेंटिफिकेशन)

(C) ☐ Accessibility
अभिगम्यता (एक्सेसिबिलिटी)

(D) ☒ Authentication (Correct Answer) (Chosen option)
प्रमाणीकरण (ऑथेंटिकेशन)

Question No.25

Marks: 2.00

Bookmark ☐

ओष्ठ्य – महाप्राण - अघोष व्यंजन वर्ण का उदाहरण कौन-सा है ?
ओष्ठ्य – महाप्राण - अघोष व्यंजन वर्ण का उदाहरण कौन-सा है ?

(A) ☐ ब्
ब्

https://upprpbmini.onlineregistrationform.org/QP1/IV8R19JBL0wF5yPR2WAjWg==.html

11/103

12/17/21, 11:37 AM

View Question Paper

(B) ☐ म्
म्

(C) ☐ भ्
भ्

(D) ☒ फ़ (Correct Answer) (Chosen option)
फ़

Question No.26

Marks: 2.00

Bookmark ☐

ऋग्वेद में किस भाषा का प्रयोग हुआ है?
ऋग्वेद में किस भाषा का प्रयोग हुआ है?

(A) ☐ प्राकृत
प्राकृत

(B) ☒ वैदिक संस्कृत (Correct Answer) (Chosen option)
वैदिक संस्कृत

(C) ☐ लौकिक संस्कृत
लौकिक संस्कृत

(D) ☐ अपभ्रंश
अपभ्रंश

Question No.27

Marks: 2.00

Bookmark ☐

Which of the following is Microsoft's web-based mail service?
निम्नलिखित में से माइक्रोसॉफ्ट की वेब-आधारित मेल सेवा कौन-सी है?

(A) ☒ Hotmail (Correct Answer)
हॉटमेल

(B) ☐ Rediff
रेडिफ

(C) ☐ Gmail (Chosen option)
जीमेल

(D) ☐ Yahoo

https://upprpbmini.onlineregistrationform.org/QP1/IV8R19JBL0wF5yPR2WAjWg==.html

12/103

12/17/21, 11:37 AM	View Question Paper
याहू	
<div>Question No.28</div> <div>Marks: 2.00</div> <div>Bookmark <input type="checkbox"/></div> <div>झंडा उठाना - मुहावरे का अर्थ क्या है? झंडा उठाना - मुहावरे का अर्थ क्या है? (A) <input type="radio"/> प्रचार के लिए तैयार होना प्रचार के लिए तैयार होना (B) <input type="radio"/> प्रतिरोध करना (Chosen option) प्रतिरोध करना (C) <input checked="" type="radio"/> नेतृत्व करना (Correct Answer) नेतृत्व करना (D) <input type="radio"/> झंडा लहराना झंडा लहराना</div>	
<div>Question No.29</div> <div>Marks: 2.00</div> <div>Bookmark <input type="checkbox"/></div> <div>In MS Excel, which function calculates the largest value in a set of numbers? एमएस एक्सेल में, संख्याओं के समुच्चय में सबसे बड़े मान की गणना कौन-सा फ़ंक्शन (फलन) करता है? (A) <input checked="" type="radio"/> MAX() (Correct Answer) (Chosen option) MAX() (B) <input type="radio"/> LARGE() LARGE() (C) <input type="radio"/> COUNT() COUNT() (D) <input type="radio"/> MIN() MIN()</div>	
<div>Question No.30</div> <div>Marks: 2.00</div> <div>Bookmark <input type="checkbox"/></div> <div>देशभक्ति शब्द में कौन-सा समास है? देशभक्ति शब्द में कौन-सा समास है?</div>	
https://upprpbmini.onlineregistrationform.org/QP1/IV8R19JBL0wF5yPR2WAjWg==.html	13/103
12/17/21, 11:37 AM	View Question Paper
(A) <input type="radio"/> द्विगु द्विगु (B) <input checked="" type="radio"/> तत्पुरुष (Correct Answer) (Chosen option) तत्पुरुष (C) <input type="radio"/> बहुब्रीहि बहुब्रीहि (D) <input type="radio"/> अव्ययीभाव अव्ययीभाव	
<div>Question No.31</div> <div>Marks: 2.00</div> <div>Bookmark <input type="checkbox"/></div> <div>इनमें स्त्रीलिंग शब्द कौन-सा है? इनमें स्त्रीलिंग शब्द कौन-सा है? (A) <input type="radio"/> घर घर (B) <input checked="" type="radio"/> कलम (Correct Answer) (Chosen option) कलम (C) <input type="radio"/> प्रकाश प्रकाश (D) <input type="radio"/> जल जल</div>	
<div>Question No.32</div> <div>Marks: 2.00</div> <div>Bookmark <input type="checkbox"/></div> <div>Stereo images are commonly used for _____. स्टीरियो इमेज का उपयोग आमतौर पर किसके लिए क्या जाता है? (A) <input checked="" type="radio"/> depth-perception effects (Correct Answer) गहराई-अनुभूति प्रभाव (B) <input type="radio"/> fixed cell effects निश्चित सेल प्रभाव (C) <input type="radio"/> random colour effects (Chosen option)</div>	
https://upprpbmini.onlineregistrationform.org/QP1/IV8R19JBL0wF5yPR2WAjWg==.html	14/103

12/17/21, 11:37 AM	View Question Paper
<div>यादृच्छिक रंग प्रभाव</div> <div>(D) <input type="radio"/> width-perception effect</div> <div>चौड़ाई-अनुभूति प्रभाव</div>	
<div>Question No.33</div> <div>Marks: 2.00</div> <div>Bookmark <input type="checkbox"/></div> <div>An electronic digital programmable computing device, that was used to break German ciphers during World War II was called _____.</div> <div>एक इलेक्ट्रॉनिक डिजिटल प्रोग्रामयोग्य कंप्यूटिंग डिवाइस, जिसका उपयोग द्वितीय विश्व युद्ध के दौरान जर्मन गूढ़लेख को पढ़ने के लिए किया गया था, उसे _____ कहा जाता है।</div> <div>(A) <input type="radio"/> Analog Computer</div> <div>एनालॉग कंप्यूटर</div> <div>(B) <input type="radio"/> Super Computer</div> <div>सुपर कंप्यूटर</div> <div>(C) <input type="radio"/> Difference Engine (Chosen option)</div> <div>डिफरेंस इंजन</div> <div>(D) <input checked="" type="radio"/> Colossus (Correct Answer)</div> <div>कोलोसस</div>	
<div>Question No.34</div> <div>Marks: 2.00</div> <div>Bookmark <input type="checkbox"/></div> <div>Which programming language was developed by Bjarne Stroustrup in early 1980s?</div> <div>1980 के दशक की शुरुआत में बर्जने स्ट्रूस्ट्रुप द्वारा कौन-सी प्रोग्रामिंग भाषा विकसित की गई थी?</div> <div>(A) <input type="radio"/> C</div> <div>C</div> <div>(B) <input checked="" type="radio"/> C++ (Correct Answer)</div> <div>C++</div> <div>(C) <input type="radio"/> Java (Chosen option)</div> <div>जावा</div> <div>(D) <input type="radio"/> Pascal</div> <div>पास्कल</div>	
https://upprpbmini.onlineregistrationform.org/QP1/IV8R19JBL0wF5yPR2WAjWg==.html	15/103
12/17/21, 11:37 AM	View Question Paper
<div>Question No.35</div> <div>Marks: 2.00</div> <div>Bookmark <input type="checkbox"/></div> <div>The process of conversion to digital sound is known as _____.</div> <div>डिजिटल साउण्ड में रूपांतरण की प्रक्रिया को _____ के रूप में जाना जाता है।</div> <div>(A) <input type="radio"/> Pulse data modulation (Chosen option)</div> <div>पल्स डेटा मॉड्यूलेशन</div> <div>(B) <input checked="" type="radio"/> Pulse code modulation (Correct Answer)</div> <div>पल्स कोड मॉड्यूलेशन</div> <div>(C) <input type="radio"/> Unicode formatting</div> <div>यूनिकोड फॉरमेटिंग</div> <div>(D) <input type="radio"/> Pulse sound modulation</div> <div>पल्स साउण्ड मॉड्यूलेशन</div>	
<div>Question No.36</div> <div>Marks: 2.00</div> <div>Bookmark <input type="checkbox"/></div> <div>The application used for viewing web pages is known as _____.</div> <div>वेब पेज देखने के लिए उपयोग किए जाने वाले एप्लिकेशन को _____ के रूप में जाना जाता है।</div> <div>(A) <input type="radio"/> Ms Word</div> <div>एमएस वर्ड</div> <div>(B) <input checked="" type="radio"/> Browser (Correct Answer) (Chosen option)</div> <div>ब्राउज़र</div> <div>(C) <input type="radio"/> PowerPoint</div> <div>पावरपॉइंट</div> <div>(D) <input type="radio"/> Email</div> <div>ईमेल</div>	
<div>Question No.37</div> <div>Marks: 2.00</div> <div>Bookmark <input type="checkbox"/></div> <div>'कान' शब्द का तत्सम रूप कौन-सा है?</div> <div>'कान' शब्द का तत्सम रूप कौन-सा है?</div> <div>(A) <input type="radio"/> कर्न</div> <div>कर्न</div>	
https://upprpbmini.onlineregistrationform.org/QP1/IV8R19JBL0wF5yPR2WAjWg==.html	16/103

12/17/21, 11:37 AM	View Question Paper
<div>(B) <input type="radio"/> कर्ण (Correct Answer) (Chosen option) कर्ण</div> <div>(C) <input type="radio"/> करण करण</div> <div>(D) <input type="radio"/> कर्णम् कर्णम्</div>	
<div>Question No.38</div> <div>Marks: 2.00</div> <div>Bookmark <input type="checkbox"/></div> <div>कनक, कनक ते सौ गुनी मादकता अधिकाय । वा खाये बौराए नर, या पाए बौराय ।। - इन पंक्तियों में प्रयुक्त अलंकार कौन-सा है? कनक, कनक ते सौ गुनी मादकता अधिकाय । वा खाये बौराए नर, या पाए बौराय ।। - इन पंक्तियों में प्रयुक्त अलंकार कौन-सा है?</div> <div>(A) <input type="radio"/> उपमा उपमा</div> <div>(B) <input type="radio"/> अनुप्रास अनुप्रास</div> <div>(C) <input checked="" type="radio"/> यमक (Correct Answer) (Chosen option) यमक</div> <div>(D) <input type="radio"/> श्लेष श्लेष</div>	
<div>Question No.39</div> <div>Marks: 2.00</div> <div>Bookmark <input type="checkbox"/></div> <div>What is the common port for Post Office Protocol? पोस्ट ऑफिस प्रोटोकॉल के लिए सामान्य पोर्ट कौन-सा है?</div> <div>(A) <input type="radio"/> 80 (Chosen option) 80</div> <div>(B) <input type="radio"/> 8080 8080</div> <div>(C) <input checked="" type="radio"/> 110 (Correct Answer) 110</div> <div>(D) <input type="radio"/> 3000 3000</div>	
https://upprpbmini.onlineregistrationform.org/QP1/IV8R19JBL0wF5yPR2WAjWg==.html	17/103
12/17/21, 11:37 AM	View Question Paper
<div>Question No.40</div> <div>Marks: 2.00</div> <div>Bookmark <input type="checkbox"/></div> <div>'फणीश्वरनाथ रेणु' की पहली कहानी कौन-सी है? 'फणीश्वरनाथ रेणु' की पहली कहानी कौन-सी है?</div> <div>(A) <input checked="" type="radio"/> बटबाबा (Correct Answer) बटबाबा</div> <div>(B) <input type="radio"/> ठुमरी (Chosen option) ठुमरी</div> <div>(C) <input type="radio"/> अच्छे आदमी अच्छे आदमी</div> <div>(D) <input type="radio"/> अग्निखोर अग्निखोर</div>	
<div>Question No.41</div> <div>Marks: 2.00</div> <div>Bookmark <input type="checkbox"/></div> <div>The _____ is that path whose total duration is longest, because it determines the duration of the entire plan. _____ वह पथ है जिसकी कुल अवधि सबसे लंबी है, क्योंकि यह पूरी योजना की अवधि को निर्धारित करता है।</div> <div>(A) <input checked="" type="radio"/> Critical path (Correct Answer) क्रिटिकल पाथ</div> <div>(B) <input type="radio"/> Quick path (Chosen option) क्विक पाथ</div> <div>(C) <input type="radio"/> Alternate path ऑल्टरनेट पाथ</div> <div>(D) <input type="radio"/> Straight path स्ट्रेट पाथ</div>	
<div>Question No.42</div> <div>Marks: 2.00</div> <div>Bookmark <input type="checkbox"/></div> <div>हिंदी-उर्दू मिश्रित भाषा को कौन-सा नाम दिया जाता है? हिंदी-उर्दू मिश्रित भाषा को कौन-सा नाम दिया जाता है?</div>	
https://upprpbmini.onlineregistrationform.org/QP1/IV8R19JBL0wF5yPR2WAjWg==.html	18/103

12/17/21, 11:37 AM	View Question Paper
<div><div>(A) <input type="radio"/> दक्खिनी दक्खिनी</div><div>(B) <input type="radio"/> उर्दू उर्दू</div><div>(C) <input type="radio"/> हिंदी हिंदी</div><div>(D) <input type="radio"/> हिंदुस्तानी (Correct Answer) (Chosen option) हिंदुस्तानी</div></div>	
<div><div>Question No.43</div><div>Marks: 2.00</div><div>Bookmark <input type="checkbox"/></div><div>मूर्धन्य - अल्पप्राण व्यंजन कौन-सा है? मूर्धन्य - अल्पप्राण व्यंजन कौन-सा है?</div><div>(A) <input type="radio"/> इ (Correct Answer) इ</div><div>(B) <input type="radio"/> ढ (Chosen option) ढ</div><div>(C) <input type="radio"/> म् म्</div><div>(D) <input type="radio"/> च् च्</div></div>	
<div><div>Question No.44</div><div>Marks: 2.00</div><div>Bookmark <input type="checkbox"/></div><div>Linux is a/an _____ operating system. लिनक्स एक _____ ऑपरेटिंग सिस्टम है।</div><div>(A) <input type="radio"/> Microsoft माइक्रोसॉफ्ट</div><div>(B) <input type="radio"/> Mac मैक</div><div>(C) <input type="radio"/> Open-source (Correct Answer) (Chosen option)</div></div>	
https://upprpbmini.onlineregistrationform.org/QP1/IV8R19JBL0wF5yPR2WAjWg==.html	19/103
12/17/21, 11:37 AM	View Question Paper
<div><div>ओपन-सोर्स</div><div>(D) <input type="radio"/> Windows विंडोज़</div></div>	
<div><div>Question No.45</div><div>Marks: 2.00</div><div>Bookmark <input type="checkbox"/></div><div>What is a software? सॉफ्टवेयर क्या है?</div><div>(A) <input type="radio"/> Software is a set of instructions or a program that enables a hardware to run. (Correct Answer) (Chosen option) सॉफ्टवेयर निर्देशों का एक सेट या एक प्रोग्राम है जो हार्डवेयर को चलाने में सक्षम बनाता है।</div><div>(B) <input type="radio"/> Person who is getting benefitted from a computer is called a software कंप्यूटर से लाभान्वित होने वाले व्यक्ति को सॉफ्टवेयर कहा जाता है</div><div>(C) <input type="radio"/> Person who operates the computer is called software कंप्यूटर को संचालित करने वाले व्यक्ति को सॉफ्टवेयर कहा जाता है</div><div>(D) <input type="radio"/> All physical parts of a computer are called software कंप्यूटर के सभी भौतिक भागों को सॉफ्टवेयर कहा जाता है</div></div>	
<div><div>Question No.46</div><div>Marks: 2.00</div><div>Bookmark <input type="checkbox"/></div><div>जो सदा से चला आ रहा है -- इस अभिव्यक्ति के लिए एक उपयुक्त शब्द कौन-सा है? जो सदा से चला आ रहा है -- इस अभिव्यक्ति के लिए एक उपयुक्त शब्द कौन-सा है?</div><div>(A) <input type="radio"/> अनंतिम अनंतिम</div><div>(B) <input type="radio"/> अनवरत (Correct Answer) (Chosen option) अनवरत</div><div>(C) <input type="radio"/> अविचल अविचल</div><div>(D) <input type="radio"/> निश्छल निश्छल</div></div>	
https://upprpbmini.onlineregistrationform.org/QP1/IV8R19JBL0wF5yPR2WAjWg==.html	20/103

12/17/21, 11:37 AM	View Question Paper	Marks: 2.00 Bookmark <input type="checkbox"/>
<p>Question No.47</p> <p>'चिदंबर' के लिए सुमित्रानंदन पंत को कौन-सा पुरस्कार प्राप्त हुआ था? 'चिदंबर' के लिए सुमित्रानंदन पंत को कौन-सा पुरस्कार प्राप्त हुआ था?</p> <p>(A) <input type="radio"/> सरस्वती सम्मान सरस्वती सम्मान</p> <p>(B) <input checked="" type="radio"/> ज्ञानपीठ पुरस्कार (Correct Answer) (Chosen option) ज्ञानपीठ पुरस्कार</p> <p>(C) <input type="radio"/> साहित्य अकादमी साहित्य अकादमी</p> <p>(D) <input type="radio"/> व्यास सम्मान व्यास सम्मान</p>		
		Marks: 2.00 Bookmark <input type="checkbox"/>
<p>Question No.48</p> <p>The devices such as Plotter, Projector and Printer are examples of _____. प्लॉटर, प्रोजेक्टर, प्रिंटर जैसे उपकरण, _____ के उदाहरण हैं।</p> <p>(A) <input type="radio"/> Calculating devices कैलक्यूलेटिंग डिवाइसेस</p> <p>(B) <input type="radio"/> Input devices इनपुट डिवाइसेस</p> <p>(C) <input type="radio"/> Processing devices प्रोसेसिंग डिवाइसेस</p> <p>(D) <input checked="" type="radio"/> Output devices (Correct Answer) (Chosen option) आउटपुट डिवाइसेस</p>		
		Marks: 2.00 Bookmark <input type="checkbox"/>
<p>Question No.49</p> <p>'युग मानस' पत्रिका का प्रकाशन किस राज्य से हुआ था? 'युग मानस' पत्रिका का प्रकाशन किस राज्य से हुआ था?</p> <p>(A) <input type="radio"/> कर्नाटक कर्नाटक</p>		
https://upprpbmini.onlineregistrationform.org/QP1/IV8R19JBL0wF5yPR2WAjWg==.html		21/103
12/17/21, 11:37 AM	View Question Paper	
<p>(B) <input type="radio"/> उत्तर प्रदेश (Chosen option) उत्तर प्रदेश</p> <p>(C) <input type="radio"/> केरल केरल</p> <p>(D) <input checked="" type="radio"/> आंध्र प्रदेश (Correct Answer) आंध्र प्रदेश</p>		
		Marks: 2.00 Bookmark <input type="checkbox"/>
<p>Question No.50</p> <p>Which of the following is a valid email address? निम्नलिखित में से एक वैध ईमेल एड्रेस कौन-सा है?</p> <p>(A) <input checked="" type="radio"/> myname@gmail.com (Correct Answer) (Chosen option) myname@gmail.com</p> <p>(B) <input type="radio"/> myname@gmail myname@gmail</p> <p>(C) <input type="radio"/> www.myemail.com www.myemail.com</p> <p>(D) <input type="radio"/> myname.com myname.com</p>		
General awareness-Current affairs - General awareness-Current affairs		
<p>Question No.1</p> <p>Which of the following is the emergency phone number for Ambulance in Uttar Pradesh? उत्तर प्रदेश में एम्बुलेंस के लिए आपातकालीन फोन नंबर निम्नलिखित में से कौन-सा है?</p> <p>(A) <input type="radio"/> 0123 0123</p> <p>(B) <input checked="" type="radio"/> 108 (Correct Answer) (Chosen option) 108</p> <p>(C) <input type="radio"/> 1099 1099</p> <p>(D) <input type="radio"/> 109</p>		Marks: 2.00 Bookmark <input type="checkbox"/>
https://upprpbmini.onlineregistrationform.org/QP1/IV8R19JBL0wF5yPR2WAjWg==.html		22/103

12/17/21, 11:37 AM

View Question Paper

109

Question No.2

Marks: 2.00

Bookmark ☐

In which of the following Places, the Nanda Bhavan temple is located in Uttar Pradesh?
उत्तर प्रदेश में निम्नलिखित में से किस स्थान पर, नंद भवन मंदिर स्थित है?

(A) ☒ Nandgaon (Correct Answer) (Chosen option)
नंदगांव

(B) ☐ Saharanpur
सहारनपुर

(C) ☐ Mirzapur
मिर्जापुर

(D) ☐ Basti
बस्ती

Question No.3

Marks: 2.00

Bookmark ☐

Which one of the following factors impart red colour to the Red soil?
निम्नलिखित में से कौन-सा कारक लाल मिट्टी को लाल रंग प्रदान करता है?

(A) ☒ Iron oxides (Correct Answer)
आयरन ऑक्साइड

(B) ☐ Phosphorous (Chosen option)
फॉस्फोरस

(C) ☐ Sulphur
सल्फर

(D) ☐ Magnesium
मैग्नीशियम

Question No.4

Marks: 2.00

Bookmark ☐

Who designed the AK-47 rifle?
AK-47 राइफल को किसने डिज़ाइन किया था?

https://upprpbmini.onlineregistrationform.org/QP1/IV8R19JBL0wF5yPR2WAjWg==.html

23/103

12/17/21, 11:37 AM

View Question Paper

(A) ☒ Mikhail Kalashnikov (Correct Answer) (Chosen option)
मिखाइल कलाशनिकोव

(B) ☐ Herbert Spencer
हरबर्ट स्पेंसर

(C) ☐ James Dewar
जेम्स डेवर

(D) ☐ Alfred Nobel
अल्फ्रेड नोबेल

Question No.5

Marks: 2.00

Bookmark ☐

The government of India merged Railway Budget with Union Budget in the year _____.
भारत सरकार द्वारा किस वित्तीय वर्ष के दौरान रेल बजट का विलय आम बजट में कर दिया गया था?

(A) ☒ 2017 (Correct Answer) (Chosen option)
2017

(B) ☐ 2018
2018

(C) ☐ 2019
2019

(D) ☐ 2020
2020

Question No.6

Marks: 2.00

Bookmark ☐

Which of the following is an example of primary memory in a computer?
कंप्यूटर में प्राइमरी मेमरी का उदाहरण निम्न में से कौन-सा है?

(A) ☐ Hard Disk Drive
हार्ड डिस्क ड्राइव

(B) ☒ RAM (Correct Answer) (Chosen option)
रैम

(C) ☐ USB Flash Drive
यूएसबी फ्लैश ड्राइव

(D) ☐ Blu-ray DVD

https://upprpbmini.onlineregistrationform.org/QP1/IV8R19JBL0wF5yPR2WAjWg==.html

24/103

12/17/21, 11:37 AM	View Question Paper
ब्लू-रे डीवीडी	
<div>Question No.7</div> <div>Marks: 2.00</div> <div>Bookmark <input type="checkbox"/></div> <div>In banking terminology, "PIN" is an acronym of _____. बैंकिंग शब्दावली में, "पिन (पीआईएन)" _____ का संक्षिप्त रूप है। (A) <input type="radio"/> Password Identification Number पासवर्ड आइडेंटिफिकेशन नंबर (B) <input type="radio"/> Payment Identification Number पेमेंट आइडेंटिफिकेशन नंबर (C) <input checked="" type="radio"/> Personal Identification Number (Correct Answer) (Chosen option) पर्सनल आइडेंटिफिकेशन नंबर (D) <input type="radio"/> Private Identification Number प्राइवेट आइडेंटिफिकेशन नंबर</div>	
<div>Question No.8</div> <div>Marks: 2.00</div> <div>Bookmark <input type="checkbox"/></div> <div>Protection of Civil Rights Act 1976 is related to _____. नागरिक अधिकार संरक्षण अधिनियम 1976 किससे संबंधित है? (A) <input type="radio"/> Equal remuneration समान पारिश्रमिक (B) <input type="radio"/> Political rights राजनैतिक अधिकार (C) <input type="radio"/> Labour law श्रम कानून (D) <input checked="" type="radio"/> Untouchability (Correct Answer) (Chosen option) अस्पृश्यता</div>	
<div>Question No.9</div> <div>Marks: 2.00</div> <div>Bookmark <input type="checkbox"/></div> <div>Karuppur kalamkari paintings and Kallakurichi wood carvings have recently received the Geographical Indication (GI) tags belongs to which state?</div>	
https://upprpbmini.onlineregistrationform.org/QP1/IV8R19JBL0wF5yPR2WAjWg==.html	25/103
12/17/21, 11:37 AM	View Question Paper
<div>करुप्पुर कलमकारी चित्रकारी (पेंटिंग) और कल्लाकुरिची लकड़ी की नक्काशी जिन्हें हाल ही में भौगोलिक संकेत (जीआई) टैग मिला है वो किस राज्य से संबंधित हैं? (A) <input type="radio"/> Telangana तेलंगाना (B) <input type="radio"/> Kerala केरल (C) <input checked="" type="radio"/> Tamil Nadu (Correct Answer) (Chosen option) तमिलनाडु (D) <input type="radio"/> Andhra Pradesh आंध्र प्रदेश</div>	
<div>Question No.10</div> <div>Marks: 2.00</div> <div>Bookmark <input type="checkbox"/></div> <div>Which of the following is involved in the blood transportation characterised as colourless and with less proteins that finally open into large veins? रंगहीन और कम प्रोटीन वाले के रूप में अभिलक्षित निम्न में से कौन रक्त के संचरण में शामिल होता है, जो कि अंततः बड़ी नसों में प्रवाहित होता है? (A) <input checked="" type="radio"/> Lymph (Correct Answer) लसीका (लिम्फ) (B) <input type="radio"/> Platelets प्लेटलेट्स (बिम्बाणु) (C) <input type="radio"/> Blood vessels रक्त वाहिकाएं (D) <input type="radio"/> Plasma (Chosen option) प्लाज़्मा</div>	
<div>Question No.11</div> <div>Marks: 2.00</div> <div>Bookmark <input type="checkbox"/></div> <div>Which of the following organisation publishes the "Living Planet Report"? निम्नलिखित में से कौन-सा संगठन "लिविंग प्लैनेट रिपोर्ट" प्रकाशित करता है? (A) <input type="radio"/> International Fund for Agriculture Development कृषि विकास के लिए अंतर्राष्ट्रीय निधि</div>	
https://upprpbmini.onlineregistrationform.org/QP1/IV8R19JBL0wF5yPR2WAjWg==.html	26/103

12/17/21, 11:37 AM	View Question Paper
<div><div>(B) <input type="radio"/> United Nations Environment Programme (Chosen option) संयुक्त राष्ट्र पर्यावरण कार्यक्रम</div><div>(C) <input type="radio"/> World Wide Fund for Nature (Correct Answer) प्रकृति के लिए विश्वव्यापी निधि</div><div>(D) <input type="radio"/> Convention on International Trade in Endangered Species लुप्तप्राय प्रजातियों में अंतर्राष्ट्रीय व्यापार पर सम्मेलन</div></div>	
<div>Question No.12</div> <div>Marks: 2.00</div> <div>Bookmark <input type="checkbox"/></div> <div>What is the name of Apple's virtual assistant? एप्पल के आभासी सहायक (वर्चुअल असिस्टेंट) का नाम क्या है?</div> <div><div>(A) <input type="radio"/> Alexa एलेक्सा</div><div>(B) <input type="radio"/> Siri (Correct Answer) सिरी</div><div>(C) <input type="radio"/> Bixby बिक्सबी</div><div>(D) <input type="radio"/> Cortana (Chosen option) कोर्टाना</div></div>	
<div>Question No.13</div> <div>Marks: 2.00</div> <div>Bookmark <input type="checkbox"/></div> <div>Who is the author of the novel 'Revolution 2020'? 'रिवोल्यूशन 2020' उपन्यास के लेखक कौन हैं?</div> <div><div>(A) <input type="radio"/> Chetan Bhagat (Correct Answer) (Chosen option) चेतन भगत</div><div>(B) <input type="radio"/> A.P.J.Abdul Kalam ए.पी.जे. अब्दुल कलाम</div><div>(C) <input type="radio"/> Nandan Nilekani नन्दन नीलेकणि</div><div>(D) <input type="radio"/> Shashi Tharoor शशि थरूर</div></div>	

12/17/21, 11:37 AM	View Question Paper
<div>Question No.14</div> <div>Marks: 2.00</div> <div>Bookmark <input type="checkbox"/></div> <div>Which of the following days is observed on 1st December every year? प्रति वर्ष 1 दिसम्बर को कौन-सा दिन मनाया जाता है?</div> <div><div>(A) <input type="radio"/> World Environment Day विश्व पर्यावरण दिवस</div><div>(B) <input type="radio"/> International Yoga Day अंतर्राष्ट्रीय योग दिवस</div><div>(C) <input type="radio"/> Nagasaki Day नागासाकी दिवस</div><div>(D) <input type="radio"/> World AIDS Day (Correct Answer) (Chosen option) विश्व एड्स दिवस</div></div>	
<div>Question No.15</div> <div>Marks: 2.00</div> <div>Bookmark <input type="checkbox"/></div> <div>When was the "Bharat Sanchar Nigam Limited" established? "भारत संचार निगम लिमिटेड" की स्थापना कब की गई थी?</div> <div><div>(A) <input type="radio"/> 1990 (Chosen option) 1990</div><div>(B) <input type="radio"/> 2000 (Correct Answer) 2000</div><div>(C) <input type="radio"/> 1995 1995</div><div>(D) <input type="radio"/> 1992 1992</div></div>	
<div>Question No.16</div> <div>Marks: 2.00</div> <div>Bookmark <input type="checkbox"/></div> <div>Which veda is also known as Brahma veda? किस वेद को ब्रह्मवेद के नाम से भी जाना जाता है?</div> <div><div>(A) <input type="radio"/> Rig Veda (Chosen option) ऋग्वेद</div></div>	

12/17/21, 11:37 AM	View Question Paper
<div><div>(B) <input type="radio"/> Atharva Veda (Correct Answer) अथर्व वेद</div><div>(C) <input type="radio"/> Yajur Veda यजुर्वेद</div><div>(D) <input type="radio"/> Sama Veda सामवेद</div></div>	
<div><div>Question No.17</div><div>Marks: 2.00</div><div>Bookmark <input type="checkbox"/></div><div>Which of the following organisations received Rashtriya Khel Protsahan Puruskar for 'Encouragement to Sports through Corporate Social Responsibility' for the year 2020? निम्नलिखित में से किस संगठन को वर्ष 2020 के लिए 'कॉर्पोरेट सामाजिक उत्तरदायित्व के माध्यम से खेल को प्रोत्साहन' के लिए राष्ट्रीय खेल प्रोत्साहन पुरस्कार प्रदान किया गया? (A) <input type="radio"/> Steel Authority of India Limited (SAIL) भारतीय इस्पात प्राधिकरण लिमिटेड (SAIL) (B) <input type="radio"/> National Thermal Power Corporation (NTPC) (Chosen option) राष्ट्रीय ताप विद्युत निगम (NTPC) (C) <input type="radio"/> Oil and Natural Gas Corporation (ONGC) (Correct Answer) तेल एवं प्राकृतिक गैस निगम (ONGC) (D) <input type="radio"/> Life Insurance Corporation of India (LIC) भारतीय जीवन बीमा निगम (LIC)</div></div>	
<div><div>Question No.18</div><div>Marks: 2.00</div><div>Bookmark <input type="checkbox"/></div><div>Who won the Dronacharya Award (Life-Time Category) for Athletics in 2020? 2020 में एथलेटिक्स के लिए द्रोणाचार्य पुरस्कार (लाइफ-टाइम श्रेणी) किसने जीता? (A) <input type="radio"/> Shri Naresh Kumar श्री नरेश कुमार (B) <input type="radio"/> Shri Romesh Pathania (Chosen option) श्री रोमेश पठानिया (C) <input type="radio"/> Shri Shiv Singh श्री शिव सिंह</div></div>	
https://upprpbmini.onlineregistrationform.org/QP1/IV8R19JBL0wF5yPR2WAjWg==.html	29/103
12/17/21, 11:37 AM	View Question Paper
<div><div>(D) <input type="radio"/> Shri Purushotham Rai (Correct Answer) श्री पुरुषोत्तम राय</div></div>	
<div><div>Question No.19</div><div>Marks: 2.00</div><div>Bookmark <input type="checkbox"/></div><div>_____ is the currency of Bangladesh. बांग्लादेश की मुद्रा कौन-सी है? (A) <input type="radio"/> Taka (Correct Answer) (Chosen option) टका (B) <input type="radio"/> Kwanza क्वाज़ा (C) <input type="radio"/> Baht बाह्त (D) <input type="radio"/> Yen येन</div></div>	
<div><div>Question No.20</div><div>Marks: 2.00</div><div>Bookmark <input type="checkbox"/></div><div>The Test of My Life: From Cricket to Cancer and Back' is an autobiography of _____. 'द टेस्ट ऑफ माई लाइफ: फ्रॉम क्रिकेट टू कैंसर एंड बैक' किसकी आत्मकथा है? (A) <input type="radio"/> Yuvraj Singh (Correct Answer) (Chosen option) युवराज सिंह (B) <input type="radio"/> Michael Clarke माइकल क्लार्क (C) <input type="radio"/> Kapil Dev कपिल देव (D) <input type="radio"/> Jonty Rhodes जॉंटी रोड्स</div></div>	
<div><div>Question No.21</div><div>Marks: 2.00</div><div>Bookmark <input type="checkbox"/></div><div>When was the Consumer Protection Act enacted in India?</div></div>	
https://upprpbmini.onlineregistrationform.org/QP1/IV8R19JBL0wF5yPR2WAjWg==.html	30/103

12/17/21, 11:37 AM	View Question Paper
<p>भारत में उपभोक्ता संरक्षण अधिनियम कब अधिनियमित किया गया था?</p> <p>(A) <input type="radio"/> 1986 (Correct Answer) (Chosen option) 1986</p> <p>(B) <input type="radio"/> 1990 1990</p> <p>(C) <input type="radio"/> 1983 1983</p> <p>(D) <input type="radio"/> 1984 1984</p>	
<p>Question No.22</p> <p>Marks: 2.00</p> <p>Bookmark <input type="checkbox"/></p> <p>How many Schedules are present in the Constitution of India? भारत के संविधान में कितनी अनुसूचियां हैं?</p> <p>(A) <input type="radio"/> 15 15</p> <p>(B) <input type="radio"/> 22 22</p> <p>(C) <input type="radio"/> 10 10</p> <p>(D) <input type="radio"/> 12 (Correct Answer) (Chosen option) 12</p>	
<p>Question No.23</p> <p>Marks: 2.00</p> <p>Bookmark <input type="checkbox"/></p> <p>Where is Shanghai Cooperation Organization headquarters located? शंघाई सहयोग संगठन का मुख्यालय कहाँ स्थित है?</p> <p>(A) <input type="radio"/> Shanghai शंघाई</p> <p>(B) <input type="radio"/> Beijing (Correct Answer) (Chosen option) बीजिंग</p> <p>(C) <input type="radio"/> Moscow मॉस्को</p>	
https://upprpbmini.onlineregistrationform.org/QP1/IV8R19JBL0wF5yPR2WAjWg==.html	31/103
12/17/21, 11:37 AM	View Question Paper
<p>(D) <input type="radio"/> Minsk मिंस्क</p>	
<p>Question No.24</p> <p>Marks: 2.00</p> <p>Bookmark <input type="checkbox"/></p> <p>The World Environment Day is celebrated on _____. विश्व पर्यावरण दिवस कब मनाया जाता है?</p> <p>(A) <input type="radio"/> 5th June (Correct Answer) (Chosen option) 5 जून</p> <p>(B) <input type="radio"/> 8th August 8 अगस्त</p> <p>(C) <input type="radio"/> 2nd February 2 फरवरी</p> <p>(D) <input type="radio"/> 22nd March 22 मार्च</p>	
<p>Question No.25</p> <p>Marks: 2.00</p> <p>Bookmark <input type="checkbox"/></p> <p>Where is the headquarters of World Bank located? विश्व बैंक का मुख्यालय कहाँ स्थित है?</p> <p>(A) <input type="radio"/> London लंदन</p> <p>(B) <input type="radio"/> Rome रोम</p> <p>(C) <input type="radio"/> New York (Chosen option) न्यू यॉर्क</p> <p>(D) <input type="radio"/> Washington, DC (Correct Answer) वाशिंगटन डी.सी.</p>	
<p>Question No.26</p> <p>Marks: 2.00</p> <p>Bookmark <input type="checkbox"/></p>	
https://upprpbmini.onlineregistrationform.org/QP1/IV8R19JBL0wF5yPR2WAjWg==.html	32/103

12/17/21, 11:37 AM	View Question Paper
<p>In which year did the 'Simon Commission' come to India? किस वर्ष में 'साइमन कमीशन' भारत आया था?</p> <p>(A) <input type="radio"/> 1938 1938</p> <p>(B) <input type="radio"/> 1942 1942</p> <p>(C) <input checked="" type="radio"/> 1928 (Correct Answer) (Chosen option) 1928</p> <p>(D) <input type="radio"/> 1919 1919</p>	
<p>Question No.27</p> <p>Marks: 2.00 Bookmark <input type="checkbox"/></p> <p>"Indus Water Treaty-1960" was signed in which city? किस शहर में "सिंधु जल संधि-1960" पर हस्ताक्षर किए गए थे?</p> <p>(A) <input type="radio"/> Dhaka ढाका</p> <p>(B) <input type="radio"/> Beijing बीजिंग</p> <p>(C) <input checked="" type="radio"/> Karachi (Correct Answer) कराची</p> <p>(D) <input type="radio"/> Delhi (Chosen option) दिल्ली</p>	
<p>Question No.28</p> <p>Marks: 2.00 Bookmark <input type="checkbox"/></p> <p>Which one of the following is related to the commercial rearing of silkworms? रेशमकीटों के व्यावसायिक पालन से निम्नलिखित में से कौन-सा विकल्प संबंधित है?</p> <p>(A) <input type="radio"/> Horticulture हॉर्टिकल्चर</p> <p>(B) <input type="radio"/> Apiculture एपिकल्चर</p> <p>(C) <input type="radio"/> Viticulture</p>	
https://upprpbmini.onlineregistrationform.org/QP1/IV8R19JBL0wF5yPR2WAjWg==.html	33/103
12/17/21, 11:37 AM	View Question Paper
<p>वितिकल्चर</p> <p>(D) <input type="radio"/> Sericulture (Correct Answer) (Chosen option) सेरिकल्चर</p>	
<p>Question No.29</p> <p>Marks: 2.00 Bookmark <input type="checkbox"/></p> <p>When was the first complete Census in India conducted? भारत में पहली पूर्ण जनगणना कब हुई थी?</p> <p>(A) <input checked="" type="radio"/> 1881 (Correct Answer) (Chosen option) 1881</p> <p>(B) <input type="radio"/> 1872 1872</p> <p>(C) <input type="radio"/> 1892 1892</p> <p>(D) <input type="radio"/> 1858 1858</p>	
<p>Question No.30</p> <p>Marks: 2.00 Bookmark <input type="checkbox"/></p> <p>Which of the following ministry implements the 'Pradhan Mantri Kaushal Vikas Yojana (PMKVY)'? निम्नलिखित में से कौन-सा मंत्रालय 'प्रधान मंत्री कौशल विकास योजना (PMKVY)' लागू करता है?</p> <p>(A) <input type="radio"/> Ministry of Personnel and Training कार्मिक और प्रशिक्षण मंत्रालय</p> <p>(B) <input checked="" type="radio"/> Ministry of Skill Development and Entrepreneurship (Correct Answer) (Chosen option) कौशल विकास और उद्यमिता मंत्रालय</p> <p>(C) <input type="radio"/> Ministry of Agriculture and Farmers Welfare कृषि और किसान कल्याण मंत्रालय</p> <p>(D) <input type="radio"/> Ministry of Rural Development ग्रामीण विकास मंत्रालय</p>	
<p>Question No.31</p> <p>Marks: 2.00 Bookmark <input type="checkbox"/></p>	
https://upprpbmini.onlineregistrationform.org/QP1/IV8R19JBL0wF5yPR2WAjWg==.html	34/103

12/17/21, 11:37 AM	View Question Paper
<p>What was the mother-tongue of the Mughals who were the Chaghtai Turks by origin? उन मुगलों की मातृभाषा क्या थी, जो मूल रूप से चगताई तुर्क थे?</p> <p>(A) <input type="radio"/> Arabic अरबी</p> <p>(B) <input checked="" type="radio"/> Turkish (Correct Answer) (Chosen option) तुर्की (रूमी)</p> <p>(C) <input type="radio"/> Persian फ़ारसी</p> <p>(D) <input type="radio"/> Urdu उर्दू</p>	
<p>Question No.32</p> <p>Marks: 2.00 Bookmark <input type="checkbox"/></p> <p>What was the first special Act to deal with terrorism? आतंकवाद से निपटने के लिए पहला विशेष अधिनियम कौन-सा था?</p> <p>(A) <input type="radio"/> Terrorism and Disruption Prevention Act आतंकवाद और विघटन निवारण अधिनियम</p> <p>(B) <input checked="" type="radio"/> Unlawful Activities Prevention Act (Correct Answer) (Chosen option) गैरकानूनी गतिविधियां रोकथाम अधिनियम</p> <p>(C) <input type="radio"/> National Investigation Act राष्ट्रीय जाँच अधिनियम</p> <p>(D) <input type="radio"/> Prevention of Terrorism Act आतंकवाद निरोधक अधिनियम</p>	
<p>Question No.33</p> <p>Marks: 2.00 Bookmark <input type="checkbox"/></p> <p>Who was the first Indian woman to become the President of Indian National Congress? भारतीय राष्ट्रीय कांग्रेस की अध्यक्ष बनने वाली पहली भारतीय महिला कौन थीं?</p> <p>(A) <input type="radio"/> Annie Besant एनी बेसेन्ट</p> <p>(B) <input checked="" type="radio"/> Sarojini Naidu (Correct Answer) (Chosen option) सरोजिनी नायडू</p>	
<p>https://upprpbmini.onlineregistrationform.org/QP1/IV8R19JBL0wF5yPR2WAjWg==.html</p>	35/103
12/17/21, 11:37 AM	View Question Paper
<p>(C) <input type="radio"/> Umabai Kundapur उमाबाई कुंडापुर</p> <p>(D) <input type="radio"/> Captain Lakshmi Sahgal कैप्टन लक्ष्मी सहगल</p>	
<p>Question No.34</p> <p>Marks: 2.00 Bookmark <input type="checkbox"/></p> <p>On which date did the government of India announce the decision to discontinue the legal tender status of the currency notes Rs.500 and Rs.1000? भारत सरकार ने किस तिथि को 500 और 1000 रुपये के करेंसी नोटों की वैध मुद्रा स्थिति को समाप्त करने के निर्णय की घोषणा की?</p> <p>(A) <input checked="" type="radio"/> 8th November 2016 (Correct Answer) (Chosen option) 8 नवंबर 2016</p> <p>(B) <input type="radio"/> 15th August 2017 15 अगस्त 2017</p> <p>(C) <input type="radio"/> 26th January 2015 26 जनवरी 2015</p> <p>(D) <input type="radio"/> 7th December 2015 7 दिसंबर 2015</p>	
<p>Question No.35</p> <p>Marks: 2.00 Bookmark <input type="checkbox"/></p> <p>Which one of the following is a Terrestrial Planet? निम्नलिखित में से कौन-सा एक स्थलीय ग्रह है?</p> <p>(A) <input type="radio"/> Jupiter बृहस्पति</p> <p>(B) <input checked="" type="radio"/> Venus (Correct Answer) (Chosen option) शुक्र</p> <p>(C) <input type="radio"/> Saturn शनि</p> <p>(D) <input type="radio"/> Neptune वरुण</p>	
<p>https://upprpbmini.onlineregistrationform.org/QP1/IV8R19JBL0wF5yPR2WAjWg==.html</p>	36/103

12/17/21, 11:37 AM	View Question Paper	Marks: 2.00 Bookmark <input type="checkbox"/>
<p>Question No.36</p> <p>In which of the following states, Mahi River basin is located? निम्नलिखित में से किस राज्य में माही नदी द्रोणी (बेसिन) स्थित है?</p> <p>(A) <input type="radio"/> Karnataka कर्नाटक</p> <p>(B) <input type="radio"/> Uttar Pradesh उत्तर प्रदेश</p> <p>(C) <input checked="" type="radio"/> Gujarat (Correct Answer) (Chosen option) गुजरात</p> <p>(D) <input type="radio"/> Odisha ओडिशा</p>		
<p>Question No.37</p> <p>Which of the following is tertiary objective of Uttar Pradesh Fire Service Department? उत्तर प्रदेश अग्निशमन विभाग का तृतीयक उद्देश्य निम्नलिखित में से कौन-सा है?</p> <p>(A) <input type="radio"/> Guidance and Safety मार्गदर्शन और सुरक्षा</p> <p>(B) <input type="radio"/> Preparedness and Response तत्परता और प्रतिक्रिया</p> <p>(C) <input type="radio"/> Perseverance and Patrol दृढ़ता और गश्त</p> <p>(D) <input checked="" type="radio"/> Salvage and Preservation (Correct Answer) (Chosen option) बचाव और संरक्षण</p>		Marks: 2.00 Bookmark <input type="checkbox"/>
<p>Question No.38</p> <p>On the banks of which river is Murshidabad, the town which was once the capital of Bengal in 1704? मुर्शिदाबाद शहर जो 1704 में बंगाल की राजधानी हुआ करता था, किस नदी के किनारे पर स्थित है?</p> <p>(A) <input checked="" type="radio"/> Kosi (Chosen option) कोसी</p>		Marks: 2.00 Bookmark <input type="checkbox"/>

12/17/21, 11:37 AM	View Question Paper	
<p>(B) <input checked="" type="radio"/> Bhagirathi (Correct Answer) भागीरथी</p> <p>(C) <input type="radio"/> Yamuna यमुना</p> <p>(D) <input type="radio"/> Lohit लोहित</p>		
<p>Question No.39</p> <p>What is the rank of India in 'Henley Passport Index (HPI) 2021'? हेनले पासपोर्ट इंडेक्स (एचपीआई) 2021 में भारत का रैंक क्या है?</p> <p>(A) <input checked="" type="radio"/> 90th (Correct Answer) (Chosen option) 90वाँ</p> <p>(B) <input type="radio"/> 60th 60वाँ</p> <p>(C) <input type="radio"/> 70th 70वाँ</p> <p>(D) <input type="radio"/> 80th 80वाँ</p>		Marks: 2.00 Bookmark <input type="checkbox"/>
<p>Question No.40</p> <p>What is the standard test of Carbon dioxide associated with the Lime water? चूने के पानी से संबद्ध कार्बन डाइऑक्साइड का मानक परीक्षण क्या है?</p> <p>(A) <input type="radio"/> Lime water evaporates चूने का पानी वाष्पित हो जाता है</p> <p>(B) <input type="radio"/> No reaction occurs in the lime water चूने के पानी में कोई अभिक्रिया नहीं होती है</p> <p>(C) <input checked="" type="radio"/> Lime water turns milky (Correct Answer) (Chosen option) चूने का पानी दुधिया हो जाता है</p> <p>(D) <input type="radio"/> Lime water turns blue in colour</p>		Marks: 2.00 Bookmark <input type="checkbox"/>

12/17/21, 11:37 AM	View Question Paper
चूने के पानी का रंग नीला हो जाता है	
<div>Question No.41</div> <div>Marks: 2.00</div> <div>Bookmark <input type="checkbox"/></div> <div>Which country is the top source of origin of International Migrants? कौन-सा देश अंतर्राष्ट्रीय प्रवासियों की उत्पत्ति का शीर्ष स्रोत है?</div> <div>(A) <input checked="" type="radio"/> India (Correct Answer) (Chosen option) भारत</div> <div>(B) <input type="radio"/> China चीन</div> <div>(C) <input type="radio"/> Syria सीरिया</div> <div>(D) <input type="radio"/> Saudi Arabia सऊदी अरब</div>	
<div>Question No.42</div> <div>Marks: 2.00</div> <div>Bookmark <input type="checkbox"/></div> <div>What is the name of official Mascot of the 2016 Summer Olympics? 2016 के ग्रीष्मकालीन ओलंपिक के आधिकारिक शुभंकर का नाम क्या था?</div> <div>(A) <input type="radio"/> Wenlock वेनलॉक</div> <div>(B) <input type="radio"/> Jaguar जैगुआर</div> <div>(C) <input type="radio"/> Miraitowa (Chosen option) मिराईटोवा</div> <div>(D) <input checked="" type="radio"/> Vinicius (Correct Answer) विनिसियस</div>	
<div>Question No.43</div> <div>Marks: 2.00</div> <div>Bookmark <input type="checkbox"/></div> <div>Which of the following is the primary law in India dealing with cybercrime and electronic commerce? साइबर अपराध और इलेक्ट्रॉनिक कॉमर्स से निपटने वाला भारत का प्राथमिक कानून निम्नलिखित में से कौन सा है?</div> <div>https://upprpbmini.onlineregistrationform.org/QP1/IV8R19JBL0wF5yPR2WAjWg==.html</div> <div>39/103</div>	
12/17/21, 11:37 AM	View Question Paper
<div>(A) <input checked="" type="radio"/> Information Technology Act, 2000 (Correct Answer) (Chosen option) सूचना प्रौद्योगिकी अधिनियम-2000</div> <div>(B) <input type="radio"/> Data Privacy Bill,2012 डेटा गोपनीयता विधेयक, 2012</div> <div>(C) <input type="radio"/> Personal Data protection Bill,2019 व्यक्तिगत डेटा संरक्षण विधेयक, 2019</div> <div>(D) <input type="radio"/> Consumer protection(e-commerce) Rules,2020 उपभोक्ता संरक्षण (ई-कॉमर्स) नियम, 2020</div>	
<div>Question No.44</div> <div>Marks: 2.00</div> <div>Bookmark <input type="checkbox"/></div> <div>Tashkent agreement was signed after the war in 1966 between India and _____. भारत और _____ के बीच 1966 में युद्ध के बाद ताशकंद समझौते पर हस्ताक्षर किए गए थे।</div> <div>(A) <input type="radio"/> Nepal नेपाल</div> <div>(B) <input checked="" type="radio"/> Pakistan (Correct Answer) (Chosen option) पाकिस्तान</div> <div>(C) <input type="radio"/> Afghanistan अफ़ग़ानिस्तान</div> <div>(D) <input type="radio"/> China चीन</div>	
<div>Question No.45</div> <div>Marks: 2.00</div> <div>Bookmark <input type="checkbox"/></div> <div>Sir C.V.Raman's discovery 'Raman effect' is associated with _____. सर सी.वी.रमन की खोज 'रमन प्रभाव' _____ से संबंधित है।</div> <div>(A) <input type="radio"/> Electric Current विद्युत धारा</div> <div>(B) <input type="radio"/> Cell Biology कोशिका विज्ञान</div> <div>(C) <input checked="" type="radio"/> Light (Correct Answer) (Chosen option) प्रकाश</div> <div>https://upprpbmini.onlineregistrationform.org/QP1/IV8R19JBL0wF5yPR2WAjWg==.html</div> <div>40/103</div>	

12/17/21, 11:37 AM	View Question Paper
(D) <input type="radio"/> Sound ध्वनि	
<div>Question No.46</div> <div>Marks: 2.00</div> <div>Bookmark <input type="checkbox"/></div> <div>The Gulab bari tomb in Ayodhya houses the mausoleum of _____, Nawab of Awadh. अयोध्या में गुलाब बाड़ी मकबरे में अवध के किस नवाब की कब्र है?</div> <div>(A) <input type="radio"/> Shuja-Ud-Daulah (Correct Answer) शुजा-उद्दौला</div> <div>(B) <input type="radio"/> Burhan-UI-Mulk (Chosen option) बुरहान-उल-मुल्क</div> <div>(C) <input type="radio"/> Nizam-UI-Mulk निज़ाम-उल-मुल्क</div> <div>(D) <input type="radio"/> Mohammad Ali मोहम्मद अली</div>	
<div>Question No.47</div> <div>Marks: 2.00</div> <div>Bookmark <input type="checkbox"/></div> <div>How much is the percent of GST levied on job work services concerning diamonds? हीरों से संबंधित जॉब-वर्क सेवाओं पर कितने प्रतिशत जीएसटी लगाया जाता है?</div> <div>(A) <input type="radio"/> 10 percent 10 प्रतिशत</div> <div>(B) <input type="radio"/> 5 percent (Chosen option) 5 प्रतिशत</div> <div>(C) <input type="radio"/> 1.5 percent (Correct Answer) 1.5 प्रतिशत</div> <div>(D) <input type="radio"/> 25 percent 25 प्रतिशत</div>	
<div>Question No.48</div> <div>Marks: 2.00</div> <div>Bookmark <input type="checkbox"/></div> <div>OTT platform, a streaming media service offered directly to viewers via the internet, is an abbreviation of _____.</div>	
https://upprpbmini.onlineregistrationform.org/QP1/IV8R19JBL0wF5yPR2WAjWg==.html	41/103
12/17/21, 11:37 AM	View Question Paper
इंटरनेट के माध्यम से दर्शकों को सीधे दी जाने वाली स्ट्रीमिंग मीडिया सेवा, ओटीटी प्लेटफॉर्म, _____ का संक्षिप्त नाम है।	
(A) <input type="radio"/> Over-The-Telescreen ओवर-द-टेलीस्क्रीन	
(B) <input type="radio"/> Online-To-Television ऑनलाइन-टू-टेलीविजन	
(C) <input type="radio"/> Over-The-Top (Correct Answer) ओवर-द-टॉप	
(D) <input type="radio"/> Online-Through-Television (Chosen option) ऑनलाइन-थू-टेलीविजन	
<div>Question No.49</div> <div>Marks: 2.00</div> <div>Bookmark <input type="checkbox"/></div> <div>Which of the following Organisation publishes the 'The State of The World's forest' report? निम्नलिखित में से कौन-सा संगठन 'द स्टेट ऑफ द वर्ल्ड्स फॉरेस्ट (विश्व वन की स्थिति)' रिपोर्ट प्रकाशित करता है?</div> <div>(A) <input type="radio"/> The Food and Agricultural Organisation (Correct Answer) खाद्य और कृषि संगठन</div> <div>(B) <input type="radio"/> United Nations Environment Programme (Chosen option) संयुक्त राष्ट्र पर्यावरण कार्यक्रम</div> <div>(C) <input type="radio"/> United Nations Framework Convention on Climate Change जलवायु परिवर्तन पर संयुक्त राष्ट्र फ्रेमवर्क कन्वेंशन</div> <div>(D) <input type="radio"/> German Watch जर्मन वॉच</div>	
<div>Question No.50</div> <div>Marks: 2.00</div> <div>Bookmark <input type="checkbox"/></div> <div>Vienna is the capital of which of the following countries? वियना निम्नलिखित में से किस देश की राजधानी है?</div> <div>(A) <input type="radio"/> Cuba क्यूबा</div> <div>(B) <input type="radio"/> Belgium बेल्जियम</div> <div>(C) <input type="radio"/> Austria (Correct Answer) (Chosen option)</div>	
https://upprpbmini.onlineregistrationform.org/QP1/IV8R19JBL0wF5yPR2WAjWg==.html	42/103

12/17/21, 11:37 AM	View Question Paper
<div>ऑस्ट्रिया</div> <div>(D) <input type="radio"/> Belarus</div> <div>बेलारुस</div>	
Numerical and Mental Ability Test - Numerical and Mental Ability Test	
<div>Question No.1</div> <div>Marks: 2.00</div> <div>Bookmark <input type="checkbox"/></div> <div>Which of the following is divisible by 6? निम्नलिखित में से कौन-सी संख्या 6 से विभाज्य है?</div> <div>(A) <input type="radio"/> 642336 (Correct Answer) (Chosen option)</div> <div>642336</div> <div>(B) <input type="radio"/> 642316</div> <div>642316</div> <div>(C) <input type="radio"/> 642333</div> <div>642333</div> <div>(D) <input type="radio"/> 642365</div> <div>642365</div>	
<div>Question No.2</div> <div>Marks: 2.00</div> <div>Bookmark <input type="checkbox"/></div> <div>When 0.44 is written in the lowest fraction form, what will be the sum of the numerator and the denominator? जब 0.44 को न्यूनतम भिन्न के रूप में लिखा जाता है, तो अंश और हर का योगफल कितना होगा?</div> <div>(A) <input type="radio"/> 36 (Correct Answer) (Chosen option)</div> <div>36</div> <div>(B) <input type="radio"/> 40</div> <div>40</div> <div>(C) <input type="radio"/> 34</div> <div>34</div> <div>(D) <input type="radio"/> 38</div> <div>38</div>	
<div>Question No.3</div> <div>Marks: 2.00</div> <div>Bookmark <input type="checkbox"/></div>	
https://upprpbmini.onlineregistrationform.org/QP1/IV8R19JBL0wF5yPR2WAjWg==.html	43/103
12/17/21, 11:37 AM	View Question Paper
<div>Which of the following set of signs should be used to replace * in the following? $8 * 25 * 4 = 13 * 4 * 2$ निम्न में * को प्रतिस्थापित करने के लिए निम्नलिखित संकेतों के किस समुच्चय का उपयोग किया जाना चाहिए? $8 * 25 * 4 = 13 * 4 * 2$</div> <div>(A) <input type="radio"/> $\times + + -$</div> <div>$\times + + -$</div> <div>(B) <input type="radio"/> $\div \times + +$</div> <div>$\div \times + +$</div> <div>(C) <input type="radio"/> $\times \div \times -$ (Correct Answer) (Chosen option)</div> <div>$\times \div \times -$</div> <div>(D) <input type="radio"/> $- \times \div -$</div> <div>$- \times \div -$</div>	
<div>Question No.4</div> <div>Marks: 2.00</div> <div>Bookmark <input type="checkbox"/></div> <div>What will be written in the place of question mark in the given series? H8J10C3L12?21 दी गई श्रृंखला में प्रश्नवाचक चिह्न के स्थान पर क्या लिखा जाएगा? H8J10C3L12?21</div> <div>(A) <input type="radio"/> V</div> <div>V</div> <div>(B) <input type="radio"/> W</div> <div>W</div> <div>(C) <input type="radio"/> X</div> <div>X</div> <div>(D) <input type="radio"/> U (Correct Answer) (Chosen option)</div> <div>U</div>	
<div>Question No.5</div> <div>Marks: 2.00</div> <div>Bookmark <input type="checkbox"/></div> <div>Replace the question mark with an option that follows the same logic applied in the first pair KLG : MNI :: ?? : QOD प्रश्नवाचक चिह्न को उस विकल्प से बदलें जो पहले युग्म में लागू तर्क का अनुसरण करता है। KLG : MNI :: ?? : QOD</div> <div><input type="radio"/></div>	
https://upprpbmini.onlineregistrationform.org/QP1/IV8R19JBL0wF5yPR2WAjWg==.html	44/103

12/17/21, 11:37 AM

View Question Paper

(A) PNC
PNC

(B) ☐ PNB
PNB

(C) ☐ OMC
OMC

(D) ☐ **OMB (Correct Answer)** (Chosen option)
OMB

Question No.6

Marks: 2.00

Bookmark ☐

If the average scores of three teams of 255, 265 and 275 members are 255, 265 and 275 respectively, then find the average score of all the members.(rounding off to two decimals)

यदि 255, 265 और 275 सदस्यों की तीन टीमों के औसत स्कोर क्रमशः 255, 265 और 275 हैं, तो सभी सदस्यों का औसत स्कोर ज्ञात कीजिए। (दशमलव के बाद दो अंकों तक)

(A) ☐ 256.26
256.26

(B) ☐ 265.13
265.13

(C) ☐ 265.75
265.75

(D) ☐ **265.25 (Correct Answer)** (Chosen option)
265.25

Question No.7

Marks: 2.00

Bookmark ☐

What should be written in the place of question mark in the given series?

G4, I8, K12, ?, O20

दी गई श्रृंखला में प्रश्नवाचक चिह्न के स्थान पर क्या लिखा जाना चाहिए?

G4, I8, K12, ?, O20

(A) ☐ N14
N14

(B) ☐ **M16 (Correct Answer)** (Chosen option)
M16

https://upprpbmini.onlineregistrationform.org/QP1/IV8R19JBL0wF5yPR2WAjWg==.html

45/103

12/17/21, 11:37 AM

View Question Paper

(C) ☐ N16
N16

(D) ☐ M14
M14

Question No.8

Marks: 2.00

Bookmark ☐

In this question, three statements are given followed by two conclusions numbered i and ii. You have to assume everything in the statements to be true, then consider the two conclusions together and decide which of them logically follows beyond a reasonable doubt from the information given in the statements.

Statements:
Some boats are ships.
All boats are flights.
All flights are planes.

Conclusions:
i) All boats are planes.
ii) All ships are flights.

Choose the appropriate one from the following options

(A) Only conclusion i follows

(B) Only conclusion ii follows

(C) Either i or ii follows

(D) Neither i nor ii follows

(E) Both i and ii follow.

इस प्रश्न में, तीन कथनों के बाद i और ii से संख्यांकित दो निष्कर्ष दिए गए हैं। आपको कथनों में दी गई सभी बातों को सत्य मानना है, फिर दोनों निष्कर्षों पर एक साथ विचार करना है और निर्णय करना है कि उनमें से कौन-सा निष्कर्ष, कथनों में दी गई जानकारी का उचित संदेह से परे तार्किक रूप से अनुसरण करता है।

कथन:
कुछ नौकाएँ, जहाज हैं।
सभी नौकाएँ, उड़ानें हैं।
सभी उड़ानें, विमान हैं।

निष्कर्ष:
i) सभी नौकाएँ, विमान हैं।

https://upprpbmini.onlineregistrationform.org/QP1/IV8R19JBL0wF5yPR2WAjWg==.html

46/103

12/17/21, 11:37 AM	View Question Paper
<p>ii) सभी जहाज, उड़ानें हैं।</p> <p>निम्न में से उपयुक्त विकल्प का चयन करें,</p> <p>(A) केवल निष्कर्ष i अनुसरण करता है</p> <p>(B) केवल निष्कर्ष ii अनुसरण करता है</p> <p>(C) या तो i या फिर ii अनुसरण करता है</p> <p>(D) न ही निष्कर्ष i और न ii अनुसरण करता है</p> <p>(E) दोनों निष्कर्ष i और ii अनुसरण करते हैं</p> <p>(A) <input type="radio"/> C</p> <p>(B) <input checked="" type="radio"/> A (Correct Answer) (Chosen option)</p> <p>(C) <input type="radio"/> B</p> <p>(D) <input type="radio"/> E</p>	
<p>Question No.9</p> <p>Marks: 2.00</p> <p>Bookmark <input type="checkbox"/></p> <p>Sameer gets a discount of 20% on his purchase bill of Rs.7300. What is the total discount he got?(in Rs)</p> <p>समीर को उसके Rs.7300 के खरीद बिल पर 20% की छूट मिलती है। उसे कुल कितनी छूट मिली? (Rs. में)</p> <p>(A) <input type="radio"/> 1455</p> <p>(B) <input type="radio"/> 1457</p> <p>(C) <input checked="" type="radio"/> 1460 (Correct Answer) (Chosen option)</p> <p>(D) <input type="radio"/> 1450</p>	
<p>Question No.10</p> <p>Marks: 2.00</p> <p>Bookmark <input type="checkbox"/></p> <p>Find the area of the square whose diagonal is 86 cm.(in cm²)</p>	
<p>12/17/21, 11:37 AM</p> <p>View Question Paper</p> <p>उस वर्ग का क्षेत्रफल ज्ञात कीजिए जिसका विकर्ण 86 cm है। (cm² में)</p> <p>(A) <input type="radio"/> 3697</p> <p>(B) <input checked="" type="radio"/> 3698 (Correct Answer) (Chosen option)</p> <p>(C) <input type="radio"/> 3695</p> <p>(D) <input type="radio"/> 3496</p>	
<p>Question No.11</p> <p>Marks: 2.00</p> <p>Bookmark <input type="checkbox"/></p> <p>The difference between simple interest and compound interest at the same rate of interest for Rs.7200 for 2 years is Rs.162. Find the rate of interest.</p> <p>Rs.7200 पर 2 वर्ष के लिए ब्याज की समान दर पर साधारण ब्याज और चक्रवृद्धि ब्याज के बीच का अंतर Rs.162 है। ब्याज दर ज्ञात कीजिए।</p> <p>(A) <input type="radio"/> 20%</p> <p>(B) <input type="radio"/> 10%</p> <p>(C) <input checked="" type="radio"/> 15% (Correct Answer) (Chosen option)</p> <p>(D) <input type="radio"/> 25%</p>	
<p>Question No.12</p> <p>Marks: 2.00</p> <p>Bookmark <input type="checkbox"/></p> <p>July 28, 1982 falls on which day of the week?</p> <p>28 जुलाई, 1982 सप्ताह के किस दिन आता है?</p> <p>(A) <input type="radio"/> Monday</p> <p>(B) <input checked="" type="radio"/> Wednesday (Correct Answer) (Chosen option)</p>	
<p>https://upprpbmini.onlineregistrationform.org/QP1/IV8R19JBL0wF5yPR2WAjWg==.html</p> <p>47/103</p>	
<p>https://upprpbmini.onlineregistrationform.org/QP1/IV8R19JBL0wF5yPR2WAjWg==.html</p> <p>48/103</p>	

12/17/21, 11:37 AM	View Question Paper
(C) <input type="radio"/> Sunday रविवार	
(D) <input type="radio"/> Tuesday मंगलवार	
Question No.13	Marks: 2.00 Bookmark <input type="checkbox"/>
A monitor for personal computer is bought for Rs.20500 and sold at Rs.14350. Find its loss percentage. पर्सनल कंप्यूटर के लिए एक मॉनिटर Rs.20500 में खरीदा जाता है और Rs.14350 में बेचा जाता है। इसका हानि प्रतिशत ज्ञात कीजिए।	
(A) <input type="radio"/> 30 (Correct Answer) (Chosen option) 30	
(B) <input type="radio"/> 37 37	
(C) <input type="radio"/> 32 32	
(D) <input type="radio"/> 33 33	
Question No.14	Marks: 2.00 Bookmark <input type="checkbox"/>
Pipe A can fill a tank in 504 seconds and Pipe B can fill the same tank in 252 seconds. If both pipes are opened together, how many seconds will it take to fill the empty tank? पाइप A एक टंकी को 504 सेकंड में भर सकता है और पाइप B उसी टंकी को 252 सेकंड में भर सकता है। यदि दोनों पाइपों को एक-साथ खोल दिया जाए, तो खाली टंकी को भरने में कितने सेकंड का समय लगेगा?	
(A) <input type="radio"/> 168 (Correct Answer) (Chosen option) 168	
(B) <input type="radio"/> 178 178	
(C) <input type="radio"/> 169 169	
(D) <input type="radio"/> 186 186	
https://upprpbmini.onlineregistrationform.org/QP1/IV8R19JBL0wF5yPR2WAjWg==.html	49/103
12/17/21, 11:37 AM	View Question Paper
Question No.15	Marks: 2.00 Bookmark <input type="checkbox"/>
If 35% of a certain number is 3010, then what is 85% of that number? यदि एक निश्चित संख्या के 35% का मान 3010 है, तो उस संख्या के 85% का मान क्या होगा?	
(A) <input type="radio"/> 7130 7130	
(B) <input type="radio"/> 7310 (Correct Answer) (Chosen option) 7310	
(C) <input type="radio"/> 7513 7513	
(D) <input type="radio"/> 7315 7315	
Question No.16	Marks: 2.00 Bookmark <input type="checkbox"/>
The letters of the name of a fruit are B, U, E, U, C, M, C and R. If the letters are rearranged correctly, then what is the fifth letter of the word formed? एक फल के नाम के अक्षर B, U, E, U, C, M, C और R हैं। यदि अक्षरों को सही ढंग से पुनर्व्यवस्थित किया जाए, तो निर्मित शब्द का पाँचवाँ अक्षर कौन-सा होगा?	
(A) <input type="radio"/> R R	
(B) <input type="radio"/> U U	
(C) <input type="radio"/> C C	
(D) <input type="radio"/> M (Correct Answer) (Chosen option) M	
Question No.17	Marks: 2.00 Bookmark <input type="checkbox"/>
A starts business with Rs.6100 and after 6 months, B joins with A as his partner. After a year, the profit is divided between A and B in the ratio 1:2. What is B's contribution in the capital? (In Rs.) A, Rs.6100 के साथ व्यापार शुरू करता है और 6 महीने बाद, B, A के साथ उसके साझेदार के रूप में जुड़ जाता है। एक वर्ष के बाद, लाभ को A और B के बीच 1:2 के अनुपात में विभाजित किया जाता है। पूंजी में B का कितना योगदान है? (Rs. में)	
https://upprpbmini.onlineregistrationform.org/QP1/IV8R19JBL0wF5yPR2WAjWg==.html	50/103

12/17/21, 11:37 AM	View Question Paper
<div><div>(A) <input type="radio"/> 24400 (Correct Answer) (Chosen option) 24400</div><div>(B) <input type="radio"/> 24405 24405</div><div>(C) <input type="radio"/> 24450 24450</div><div>(D) <input type="radio"/> 24044 24044</div></div>	
<div><div>Question No.18</div><div>Marks: 2.00</div><div>Bookmark <input type="checkbox"/></div><div>Replace the question mark with an option that follows the same logic applied in the first pair FM : IP :: TG : ?? प्रश्नवाचक चिह्न को उस विकल्प से बदलें जो पहले युग्म में लागू तर्क का अनुसरण करता है। FM : IP :: TG : ?? (A) <input type="radio"/> WJ (Correct Answer) (Chosen option) WJ</div><div>(B) <input type="radio"/> XK XK</div><div>(C) <input type="radio"/> YK YK</div><div>(D) <input type="radio"/> YJ YJ</div></div>	
<div><div>Question No.19</div><div>Marks: 2.00</div><div>Bookmark <input type="checkbox"/></div><div>Replace the question mark with an option that follows the same logic applied in the first pair Yell : Shout :: Childish : ?? प्रश्नवाचक चिह्न को उस विकल्प से बदलें जो पहले युग्म में लागू तर्क का अनुसरण करता है। Yell : Shout :: Childish : ?? (A) <input type="radio"/> Sensible Sensible</div><div>(B) <input type="radio"/> Adult (Chosen option) Adult</div></div>	
https://upprpbmini.onlineregistrationform.org/QP1/IV8R19JBL0wF5yPR2WAjWg==.html	51/103
12/17/21, 11:37 AM	View Question Paper
<div><div>(C) <input type="radio"/> Manly Manly</div><div>(D) <input type="radio"/> Immature (Correct Answer) Immature</div></div>	
<div><div>Question No.20</div><div>Marks: 2.00</div><div>Bookmark <input type="checkbox"/></div><div>A sum of Rs.4750 earns an interest of Rs.950 in 5 years at what rate of simple interest? किस साधारण ब्याज की दर से Rs.4750 की राशि पर 5 वर्ष में Rs.950 का ब्याज प्राप्त होगा? (A) <input type="radio"/> 4% (Correct Answer) (Chosen option) 4%</div><div>(B) <input type="radio"/> 5% 5%</div><div>(C) <input type="radio"/> 3% 3%</div><div>(D) <input type="radio"/> 6% 6%</div></div>	
<div><div>Question No.21</div><div>Marks: 2.00</div><div>Bookmark <input type="checkbox"/></div><div>Darshini travels at a speed of 131 kmph and she reaches the destination in 19 hours. Find the distance she covers.(in km) दर्शिनी 131 kmph की चाल से यात्रा करती है और वह 19 घंटे में गंतव्य तक पहुंच जाती है। उसके द्वारा तय की गई दूरी ज्ञात कीजिए। (km में) (A) <input type="radio"/> 2489 (Correct Answer) (Chosen option) 2489</div><div>(B) <input type="radio"/> 2487 2487</div><div>(C) <input type="radio"/> 2488 2488</div><div>(D) <input type="radio"/> 2490 2490</div></div>	
<div><div>Question No.22</div><div>Marks: 2.00</div></div>	
https://upprpbmini.onlineregistrationform.org/QP1/IV8R19JBL0wF5yPR2WAjWg==.html	52/103

12/17/21, 11:37 AM	View Question Paper	Bookmark <input type="checkbox"/>
<p>Find the geometric mean for the below series. 31, 93, 279 नीचे दी गई श्रृंखला के लिए गुणोत्तर माध्य ज्ञात कीजिए। 31, 93, 279</p> <p>(A) <input type="radio"/> 90 90</p> <p>(B) <input type="radio"/> 91 91</p> <p>(C) <input checked="" type="radio"/> 93 (Correct Answer) (Chosen option) 93</p> <p>(D) <input type="radio"/> 92 92</p>		
<p>Question No.23</p> <p>Marks: 2.00</p> <p>Bookmark <input type="checkbox"/></p> <p>In this question, a statement is given followed by two conclusions numbered i and ii. You have to assume everything in the statement to be true, then consider the two conclusions together and decide which of them logically follows beyond a reasonable doubt from the information given in the statement.</p> <p>Statement: The truth is that we Indians have more rules and regulations - we take 90 days to start a small business whereas Australians take two.</p> <p>Conclusion: i) India has strict rules and regulations. ii) It takes more than 90 days to start a business in a large scale.</p> <p>Choose the appropriate one from the following options (A) Only conclusion i follows (B) Only conclusion ii follows (C) Either i or ii follows (D) Neither i nor ii follows (E) Both i and ii follow.</p> <p>इस प्रश्न में, एक कथन दिया गया है जिसके बाद दो निष्कर्ष i और ii दिए गए हैं। आपको कथन में दी गई सभी बातों को सत्य मान लेना है, फिर दोनों निष्कर्षों पर एक साथ विचार करना है और निर्णय करना है कि उनमें से कौन-सा निष्कर्ष, कथन में दी गई</p>		
https://upprpbmini.onlineregistrationform.org/QP1/IV8R19JBL0wF5yPR2WAjWg==.html		53/103
12/17/21, 11:37 AM	View Question Paper	
<p>जानकारी का एक उचित संदेह से परे तार्किक रूप से अनुसरण करता है।</p> <p>कथन: सच तो यह है कि हम भारतीयों के पास अधिक नियम और कानून हैं - हम एक छोटा व्यवसाय शुरू करने के लिए 90 दिन लेते हैं जबकि ऑस्ट्रेलियाई दो दिन लेते हैं।</p> <p>निष्कर्ष: i) भारत के नियम और कानून सख्त हैं। ii) बड़े पैमाने पर व्यवसाय शुरू करने में 90 दिनों से अधिक समय लगता है।</p> <p>निम्नलिखित विकल्पों में से उपयुक्त विकल्प का चयन करें (A) केवल निष्कर्ष i अनुसरण करता है (B) केवल निष्कर्ष ii अनुसरण करता है (C) या तो i या ii अनुसरण करता है (D) न तो i और न ही ii अनुसरण करता है (E) i और ii दोनों अनुसरण करते हैं।</p> <p>(A) <input checked="" type="radio"/> D (Correct Answer) D</p> <p>(B) <input type="radio"/> A (Chosen option) A</p> <p>(C) <input type="radio"/> B B</p> <p>(D) <input type="radio"/> C C</p>		
<p>Question No.24</p> <p>Marks: 2.00</p> <p>Bookmark <input type="checkbox"/></p> <p>14 girls can dig a pit in 406 days. If a boy is twice as efficient as a girl, then 1 girl and 3 boys can dig a similar pit in how many days? 14 लड़कियां 406 दिनों में एक गड्ढा खोद सकती हैं। यदि एक लड़का एक लड़की की तुलना में दोगुना कुशल है, तो 1 लड़की और 3 लड़के उसी तरह के गड्ढे को कितने दिनों में खोद सकते हैं?</p> <p>(A) <input type="radio"/> 832 832</p> <p>(B) <input type="radio"/> 842</p>		
https://upprpbmini.onlineregistrationform.org/QP1/IV8R19JBL0wF5yPR2WAjWg==.html		54/103

12/17/21, 11:37 AM

View Question Paper

842

(C) ☐ 812 (Correct Answer) (Chosen option)

812

(D) ☐ 822

822

2

6.00

Directions

The following table gives the percentage of marks obtained by five students in four different subjects in an examination. 150 is Maximum Marks in Each Subject.

Students	Subjectwise Marks obtained in each subjects			
	Maths	Chemistry	Physics	Computer Science
Azariah	86	77	85	78
Alfonso	114	105	113	106
Alvaro	101	92	100	93
Aydin	86	77	85	78
Aaden	88	79	87	80

Question No.25

Marks: 2.00

Bookmark ☐

What are the average marks obtained by all the five students in Maths?

गणित में सभी पांच छात्रों द्वारा प्राप्त औसत अंक कितने हैं?

(A) ☐ 87

87

(B) ☐ 86

86

(C) ☐ 95 (Correct Answer) (Chosen option)

95

(D) ☐ 94

94

Question No.26

Marks: 2.00

Bookmark ☐

https://upprpbmini.onlineregistrationform.org/QP1/IV8R19JBL0wF5yPR2WAjWg==.html

55/103

12/17/21, 11:37 AM

View Question Paper

What are the average marks obtained by all the five students in Chemistry?

रसायन विज्ञान में सभी पांच छात्रों द्वारा प्राप्त औसत अंक कितने हैं?

(A) ☐ 95

95

(B) ☐ 86 (Correct Answer) (Chosen option)

86

(C) ☐ 94

94

(D) ☐ 87

87

Question No.27

Marks: 2.00

Bookmark ☐

What is the overall percentage of Azariah?(rounded off to two digit after decimal)

अजरिया का कुल प्रतिशत कितना है? (दशमलव के बाद दो अंकों तक)

(A) ☐ 57.63%

57.63%

(B) ☐ 64.33%

64.33%

(C) ☐ 55.63%

55.63%

(D) ☐ 54.33% (Correct Answer) (Chosen option)

54.33%

Question No.28

Marks: 2.00

Bookmark ☐

The LCM of two numbers is 270 and their H.C.F is 9, find the product of two numbers.

दो संख्याओं का ल.स.प. 270 है और उनका म.स.प. 9 है, तो उन दो संख्याओं का गुणनफल ज्ञात कीजिए।

(A) ☐ 2450

2450

(B) ☐ 2430 (Correct Answer) (Chosen option)

2430

(C) ☐ 2410

2410

https://upprpbmini.onlineregistrationform.org/QP1/IV8R19JBL0wF5yPR2WAjWg==.html

56/103

Teachingninja.in

12/17/21, 11:37 AM

View Question Paper

(D) ☐ 2420
2420

Question No.29

Marks: 2.00

Bookmark ☐

Find the sum of the first 100 terms of the progression 31+34+37+ ...
श्रेणी 31+34+37+...के पहले 100 पदों का योगफल ज्ञात कीजिए।

(A) ☐ 17950 (Correct Answer) (Chosen option)
17950

(B) ☐ 17956
17956

(C) ☐ 17945
17945

(D) ☐ 17955
17955

Question No.30

Marks: 2.00

Bookmark ☐

Find the total surface area of the cuboid, whose length, breadth and height are 25 cm, 35 cm and 35 cm respectively.
(in cm)
उस घनाभ का कुल पृष्ठीय क्षेत्रफल ज्ञात कीजिए, जिसकी लंबाई, चौड़ाई और ऊंचाई क्रमशः 25 cm, 35 cm और 35 cm है। (cm में)

(A) ☐ 5965
5965

(B) ☐ 5955
5955

(C) ☐ 5950 (Correct Answer) (Chosen option)
5950

(D) ☐ 5930
5930

Question No.31

Marks: 2.00

Bookmark ☐

Find the position of 196 in the following series.
88, 91, 94, ...

https://upprpbmini.onlineregistrationform.org/QP1/IV8R19JBL0wF5yPR2WAjWg==.html

57/103

12/17/21, 11:37 AM

View Question Paper

निम्नलिखित श्रृंखला में 196 का स्थान ज्ञात कीजिए।
88, 91, 94,...

(A) ☐ 35 (Chosen option)
35

(B) ☐ 33
33

(C) ☐ 39
39

(D) ☐ 37 (Correct Answer)
37

Question No.32

Marks: 2.00

Bookmark ☐

Choose the correct water image of the given image from the following options.
निम्नलिखित विकल्पों में से दी गई छवि के सही जल प्रतिबिम्ब का चयन करें।

RANDOM

(A) ☐

BANDOM

 (Correct Answer) (Chosen option)

https://upprpbmini.onlineregistrationform.org/QP1/IV8R19JBL0wF5yPR2WAjWg==.html

58/103

MODNAR

(B) ☐

MODNAR

MODNAR

(C) ☐

MODNAR

MODNAR

(D) ☐

MODNAR



Today is Friday, what will be the day after 43 days?
आज शुक्रवार है, 43 दिनों के बाद कौन-सा वार होगा?

- (A) ☐ Tuesday
मंगलवार
- (B) ☐ Monday
सोमवार
- (C) ☐ Friday
शुक्रवार
- (D) ☒ Saturday (Correct Answer) (Chosen option)
शनिवार

Question No.34

Marks: 2.00
Bookmark ☐

The LCM of two numbers is 1984 and their ratio is 31:32. Find the two numbers.
दो संख्याओं का ल.स.प. 1984 है और उनका अनुपात 31:32 है। दोनों संख्याएँ ज्ञात कीजिए।

- (A) ☐ 60, 64
60, 64
- (B) ☒ 62, 64 (Correct Answer) (Chosen option)
62, 64
- (C) ☐ 64, 65
64, 65
- (D) ☐ 63, 64
63, 64

12/17/21, 11:37 AM

View Question Paper

Question No.35

Marks: 2.00

Bookmark ☐

What value should come in the place of question mark (?) in the following question?
 $2.9 \times (29 \times 2 \times 1999.5) \div 84.1 = ?$
निम्नलिखित प्रश्न में प्रश्नवाचक चिह्न (?) के स्थान पर कौन-सा मान आना चाहिए?
 $2.9 \times (29 \times 2 \times 1999.5) \div 84.1 = ?$

(A) ☐ 3995

3995

(B) ☐ 3990

3990

(C) ☐ 3992

3992

(D) ☐ 3999 (Correct Answer) (Chosen option)

3999

Question No.36

Marks: 2.00

Bookmark ☐

If a mirror is placed on the shaded line, then which one of the following options is the correct image of the given figure?
यदि किसी दर्पण को छायांकित रेखा पर रखा जाता है, तो निम्नलिखित में से कौन-सा विकल्प दी गई आकृति का सही प्रतिबिम्ब होगा?

(A) ☐

(B) ☐

(C) ☐

(D) ☐

https://upprpbmini.onlineregistrationform.org/QP1/IV8R19JBL0wF5yPR2WAjWg==.html

61/103

12/17/21, 11:37 AM

View Question Paper

Question No.37

Marks: 2.00

Bookmark ☐

A man is standing in a lawn facing North-West direction. If the man turns 45 degrees in clockwise direction and 135 degrees in anti-clockwise direction, which direction will he face now?
एक व्यक्ति लॉन में उत्तर-पश्चिम दिशा की ओर अभिमुख होकर खड़ा है। यदि वह व्यक्ति दक्षिणावर्त दिशा में 45 डिग्री और वामावर्त दिशा में 135 डिग्री मुड़ता है, तो अब वह किस दिशा की ओर अभिमुख होगा?

(A) ☐ South-West (Correct Answer) दक्षिण-पश्चिम

(B) ☐ South-East दक्षिण-पूर्व

(C) ☐ North-East (Chosen option) उत्तर-पूर्व

(D) ☐ North-West उत्तर-पश्चिम

Question No.38

Marks: 2.00

Bookmark ☐

Select the appropriate set of sequence of mathematical operators to replace all * sign in the following equation &

https://upprpbmini.onlineregistrationform.org/QP1/IV8R19JBL0wF5yPR2WAjWg==.html

62/103

Teachingninja.in

12/17/21, 11:37 AM	View Question Paper
<p>hence to balance it. $28 * 5 * 39 * 6$ निम्नलिखित समीकरण में सभी * चिह्नों को प्रतिस्थापित करने और इसे संतुलित करने के लिए गणितीय संकारकों के अनुक्रम के उपयुक्त समुच्चय का चयन करें। $28 * 5 * 39 * 6$</p> <p>(A) <input type="radio"/> + = - (Correct Answer) (Chosen option) + = -</p> <p>(B) <input type="radio"/> - x = - x =</p> <p>(C) <input type="radio"/> = x - = x -</p> <p>(D) <input type="radio"/> - = x - = x</p>	
<p>Question No.39</p> <p>Marks: 2.00 Bookmark <input type="checkbox"/></p> <p>If the side of a square is increased by 60%, its area is increased by? यदि किसी वर्ग की भुजा में 60% की वृद्धि कर दी जाए, तो उसके क्षेत्रफल में कितने प्रतिशत की वृद्धि होगी?</p> <p>(A) <input type="radio"/> 160% 160%</p> <p>(B) <input checked="" type="radio"/> 156% (Correct Answer) (Chosen option) 156%</p> <p>(C) <input type="radio"/> 125% 125%</p> <p>(D) <input type="radio"/> 150% 150%</p>	
<p>Question No.40</p> <p>Marks: 2.00 Bookmark <input type="checkbox"/></p> <p>In this question, two statements are given followed by two conclusions numbered i and ii. You have to assume everything in the statements to be true, then consider the two conclusions together and decide which of them logically follows beyond a reasonable doubt from the information given in the statements.</p> <p>Statements: Some notebooks are ruled.</p> <p>https://upprpbmini.onlineregistrationform.org/QP1/IV8R19JBL0wF5yPR2WAjWg==.html</p>	63/103
12/17/21, 11:37 AM	View Question Paper
<p>All unrulled are notebooks.</p> <p>Conclusions: i) Some ruled are unrulled. ii) Some notebooks are unrulled.</p> <p>Choose the appropriate one from the following options (A) Only conclusion i follows (B) Only conclusion ii follows (C) Either i or ii follows (D) Neither i nor ii follows (E) Both i and ii follow.</p> <p>इस प्रश्न में, दो कथनों के बाद i और ii से संख्यांकित दो निष्कर्ष दिए गए हैं। आपको कथनों में दी गई सभी बातों को सत्य मानना है, फिर दोनों निष्कर्षों पर एक साथ विचार करना है और निर्णय करना है कि उनमें से कौन-सा निष्कर्ष, कथनों में दी गई जानकारी का उचित संदेह से परे तार्किक रूप से अनुसरण करता है।</p> <p>कथन: कुछ नोटबुक, रेखित हैं। सभी अरेखित, नोटबुक हैं।</p> <p>निष्कर्ष: i) कुछ रेखित, अरेखित हैं। ii) कुछ नोटबुक, अरेखित हैं।</p> <p>निम्न में से उपयुक्त विकल्प का चयन करें, (A) केवल निष्कर्ष i अनुसरण करता है (B) केवल निष्कर्ष ii अनुसरण करता है (C) या तो i या फिर ii अनुसरण करता है (D) न ही निष्कर्ष i और न ii अनुसरण करता है (E) दोनों निष्कर्ष i और ii अनुसरण करते हैं</p> <p>(A) <input type="radio"/> C C</p> <p>(B) <input type="radio"/> E E</p> <p>(C) <input checked="" type="radio"/> B (Correct Answer) (Chosen option) B</p>	64/103

1

4.00

Directions :
Study the following graph and answer the questions below.
Number of votes polled in favour of the three candidates(X,Y,Z) during five years(2011, 2012, 2013, 2014 and 2015).

Question No.41

Marks: 2.00
Bookmark ☐

Find the total votes received by candidate Y for all the five years.

उम्मीदवार Y द्वारा सभी पाँच वर्षों में प्राप्त कुल मत ज्ञात कीजिए।



- (A) ☒ 905 (Correct Answer) (Chosen option)
905
(B) ☐ 907
907
(C) ☐ 904
904
(D) ☐ 906

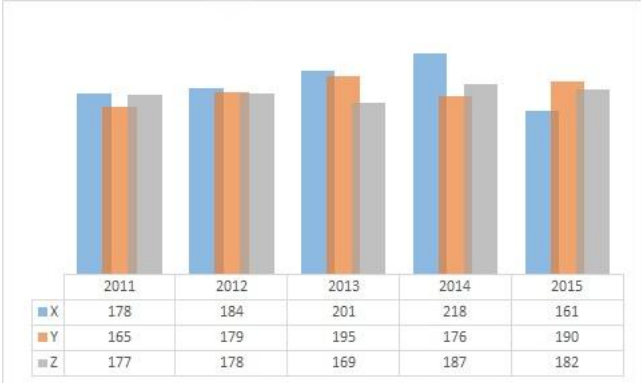
Question No.42

Marks: 2.00
Bookmark ☐

Find the difference between the votes received by candidate X and Y for all the five years.



उम्मीदवार X और Y को सभी पांच वर्षों में प्राप्त मतों के बीच का अंतर ज्ञात कीजिए।



12/17/21, 11:37 AM	View Question Paper
<p>(A) <input type="radio"/> 39 39</p> <p>(B) <input type="radio"/> 43 43</p> <p>(C) <input checked="" type="radio"/> 37 (Correct Answer) (Chosen option) 37</p> <p>(D) <input type="radio"/> 41 41</p>	
<p>Question No.43</p> <p>Marks: 2.00</p> <p>Bookmark <input type="checkbox"/></p> <p>If + means \times, \times means $-$, \div means $+$ & $-$ means \div, then, $58 - 9 + 18 \div 16 \times 27 + 2 = ?$ यदि + का अर्थ \times है, \times का अर्थ $-$ है, \div का अर्थ $+$ है और $-$ का अर्थ \div है, तो, $58 - 9 + 18 \div 16 \times 27 + 2 = ?$</p> <p>(A) <input type="radio"/> 72 72</p> <p>(B) <input type="radio"/> 92 92</p> <p>(C) <input type="radio"/> 86 86</p> <p>(D) <input checked="" type="radio"/> 78 (Correct Answer) (Chosen option) 78</p>	
<p>Question No.44</p> <p>Marks: 2.00</p> <p>Bookmark <input type="checkbox"/></p> <p>Select the combination of numbers so that letters arranged accordingly will form a meaningful word. 1. T 2. H 3. I 4. N 5. G संख्याओं के संयोजन का चयन करें ताकि उसके अनुसार व्यवस्थित अक्षरों से एक अर्थपूर्ण शब्द बने। 1. T 2. H 3. I 4. N 5. G</p> <p>(A) <input type="radio"/> 2, 4, 3, 5, 1 2, 4, 3, 5, 1</p> <p>(B) <input type="radio"/> 4, 1, 5, 3, 2 4, 1, 5, 3, 2</p> <p>(C) <input type="radio"/> 1, 5, 4, 3, 2 1, 5, 4, 3, 2</p>	
https://upprpbmini.onlineregistrationform.org/QP1/IV8R19JBL0wF5yPR2WAjWg==.html	67/103
12/17/21, 11:37 AM	View Question Paper
<p>(D) <input checked="" type="radio"/> 4, 3, 5, 2, 1 (Correct Answer) (Chosen option) 4, 3, 5, 2, 1</p>	
<p>Question No.45</p> <p>Marks: 2.00</p> <p>Bookmark <input type="checkbox"/></p> <p>The ratio of two numbers is 7:8 and their sum is 795. Find the greater of the two numbers. दो संख्याओं का अनुपात 7:8 है और उनका योगफल 795 है। दोनों में से बड़ी संख्या ज्ञात कीजिए।</p> <p>(A) <input type="radio"/> 423 423</p> <p>(B) <input checked="" type="radio"/> 424 (Correct Answer) (Chosen option) 424</p> <p>(C) <input type="radio"/> 442 442</p> <p>(D) <input type="radio"/> 421 421</p>	
<p>Question No.46</p> <p>Marks: 2.00</p> <p>Bookmark <input type="checkbox"/></p> <p>Abdullah obtained 165, 143, 171, 178 and 163 marks(out of 200) in English, Mathematics, Physics, Chemistry and Biology. What is his average mark? अब्दुल्ला ने अंग्रेजी, गणित, भौतिकी, रसायन विज्ञान और जीव विज्ञान में 165, 143, 171, 178 और 163 अंक (200 में से) प्राप्त किए। उसके औसत अंक कितने हैं?</p> <p>(A) <input checked="" type="radio"/> 164 (Correct Answer) (Chosen option) 164</p> <p>(B) <input type="radio"/> 163 163</p> <p>(C) <input type="radio"/> 161 161</p> <p>(D) <input type="radio"/> 162 162</p>	
<p>1</p> <p>Direction: Each question given below consists of a statement, followed by two arguments numbered 1 and 2. You have to decide which of the arguments is a 'strong' argument and which is a 'weak' argument.</p>	4.00
https://upprpbmini.onlineregistrationform.org/QP1/IV8R19JBL0wF5yPR2WAjWg==.html	68/103

12/17/21, 11:37 AM	View Question Paper
<p>Give answer: (A) If only argument 1 is strong (B) If only argument 2 is strong (C) If either 1 or 2 is strong (D) If neither 1 nor 2 is strong and (E) If both 1 and 2 are strong.</p>	
<p>Question No.47</p> <p>Marks: 2.00</p> <p>Bookmark <input type="checkbox"/></p> <p>Statement: A man read "People are dying because of disease caused by a deadly virus" in a newspaper which published an unconfirmed news. Should this be taken seriously? Argument 1: Yes, it should be taken seriously. Though it is an unconfirmed news, it is concerning lives of many. Argument 2: No, the government would have already provided necessary medicines.</p> <p>कथन: एक व्यक्ति ने एक समाचार पत्र में एक समाचार पढ़ा कि "एक घातक वायरस से होने वाली बीमारी के कारण लोग मर रहे हैं।" समाचार पत्र ने अपुष्ट समाचार प्रकाशित किया था। क्या इसे गंभीरता से लिया जाना चाहिए? तर्क 1: हाँ, इसे गंभीरता से लिया जाना चाहिए। हालांकि यह एक अपुष्ट खबर है, लेकिन यह कई लोगों के जीवन से संबंधित है। तर्क 2: नहीं, सरकार ने पहले ही आवश्यक दवाएं उपलब्ध करा दी होंगी।</p> <p>(A) <input checked="" type="radio"/> A (Correct Answer) (Chosen option) A (B) <input type="radio"/> D D (C) <input type="radio"/> B B (D) <input type="radio"/> C C</p>	
<p>Question No.48</p> <p>Marks: 2.00</p> <p>Bookmark <input type="checkbox"/></p> <p>Statement: Raju didn't finish his homework as usual. Should the teacher punish him? Argument 1: Yes, homework teaches him to work independently and develop self-discipline. Argument 2: No, he must be excused.</p>	
<p>https://upprpbmini.onlineregistrationform.org/QP1/IV8R19JBL0wF5yPR2WAjWg==.html</p>	69/103
12/17/21, 11:37 AM	View Question Paper
<p>कथन: राजू ने हमेशा की तरह अपना होमवर्क पूरा नहीं किया। क्या शिक्षक को उसे दंडित करना चाहिए? तर्क 1: हाँ, होमवर्क उसे स्वतंत्र रूप से काम करना और आत्म-अनुशासन विकसित करना सिखाता है। तर्क 2: नहीं, उसे क्षमा किया जाना चाहिए।</p> <p>(A) <input type="radio"/> C C (B) <input type="radio"/> B B (C) <input type="radio"/> D D (D) <input type="radio"/> A (Correct Answer) (Chosen option) A</p>	
<p>Question No.49</p> <p>Marks: 2.00</p> <p>Bookmark <input type="checkbox"/></p> <p>Puja walked 4km towards North and took a right turn and walked 7km. She walked 4km towards North and 2km towards West. She then finally walked 8km towards South. How far is she from the starting point? पूजा उत्तर की ओर 4 km चलती है और दाएं मुड़ती है और 7 km चलती है। वह उत्तर की ओर 4 km और पश्चिम की ओर 2 km चलती है। फिर वह अंत में दक्षिण की ओर 8 km चलती है। वह आरंभिक बिंदु से कितनी दूर है?</p> <p>(A) <input type="radio"/> 6km 6 km (B) <input checked="" type="radio"/> 5km (Correct Answer) (Chosen option) 5 km (C) <input type="radio"/> 7km 7 km (D) <input type="radio"/> 8km 8 km</p>	
<p>Question No.50</p> <p>Marks: 2.00</p> <p>Bookmark <input type="checkbox"/></p> <p>In this question, a statement is given followed by two conclusions numbered i and ii. You have to assume everything in the statement to be true, then consider the two conclusions together and decide which of them logically follows beyond a reasonable doubt from the information given in the statement.</p>	
<p>https://upprpbmini.onlineregistrationform.org/QP1/IV8R19JBL0wF5yPR2WAjWg==.html</p>	70/103

12/17/21, 11:37 AM

View Question Paper

Statement:

All children are naughty.
Jimmy is naughty.

Conclusion:

i) Jimmy is a child.
ii) Jimmy is a dog.

Choose the appropriate one from the following options

(A) Only conclusion i follows
(B) Only conclusion ii follows
(C) Either i or ii follows
(D) Neither i nor ii follows
(E) Both i and ii follow.

इस प्रश्न में, एक कथन दिया गया है जिसके बाद दो निष्कर्ष i और ii दिए गए हैं। आपको कथन में दी गई सभी बातों को सत्य मान लेना है, फिर दोनों निष्कर्षों पर एक साथ विचार करना है और निर्णय करना है कि उनमें से कौन-सा निष्कर्ष, कथन में दी गई जानकारी से एक उचित संदेह से परे तार्किक रूप से अनुसरण करता है।

कथन:

सभी बच्चे, शरारती होते हैं।
जिमी, शरारती है।

निष्कर्ष:

i) जिमी, एक बच्चा है।
ii) जिमी, एक कुत्ता है।

निम्नलिखित विकल्पों में से उपयुक्त विकल्प का चयन करें

(A) केवल निष्कर्ष i अनुसरण करता है
(B) केवल निष्कर्ष ii अनुसरण करता है
(C) या तो i या ii अनुसरण करता है
(D) न तो i और न ही ii अनुसरण करता है
(E) i और ii दोनों अनुसरण करते हैं।

(A) ☐ B
B

(B) ☐ C
C

https://upprpbmini.onlineregistrationform.org/QP1/IV8R19JBL0wF5yPR2WAjWg==.html

71/103

12/17/21, 11:37 AM

View Question Paper

(C) ☐ A (Chosen option)
A

(D) ☐ D (Correct Answer)
D

Mental Aptitude Test - IQ Test - Reasoning - Mental Aptitude Test - IQ Test - Reasoning

Question No.1

Marks: 2.00

Bookmark ☐

If the second half of the word **ACCOMPLISH** is reversed, which of the following will be the fourth to the right of the third letter from the left end?

यदि शब्द **ACCOMPLISH** के दूसरे आधे भाग को व्युत्क्रमित कर दिया जाए, तो निम्नलिखित में से कौन-सा अक्षर बाएं छोर से तीसरे अक्षर की दाईं ओर चौथा अक्षर होगा?

(A) ☐ S (Correct Answer) (Chosen option)
S

(B) ☐ H
H

(C) ☐ M
M

(D) ☐ C
C

Question No.2


Marks: 2.00

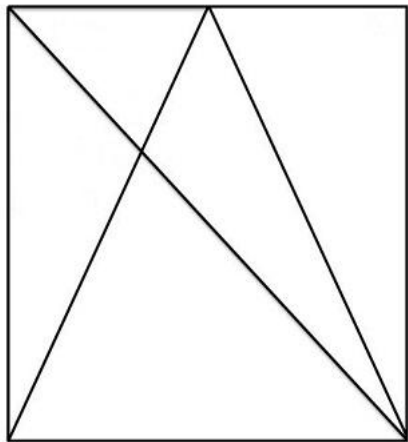
Bookmark ☐

How many triangles are there in the given figure?

https://upprpbmini.onlineregistrationform.org/QP1/IV8R19JBL0wF5yPR2WAjWg==.html

72/103

 Teachingninja.in



आकृति में कितने त्रिभुज हैं?



- (A) ☐ 9 (Chosen option)
9
- (B) ☐ 11
11
- (C) ☐ 10 (Correct Answer)
10
- (D) ☐ 12
12

Question No.3

Marks: 2.00

Bookmark ☐

Pointing to a girl, a man said, "She is the daughter of only son of my mother." How is the girl related to the man?
एक लड़की की ओर इशारा करते हुए एक आदमी ने कहा, "वह मेरी माँ के इकलौते बेटे की बेटी है।" लड़की का उस आदमी से क्या संबंध है?
(A) ☐ Sister
बहन

- (B) ☐ Granddaughter
ग्रैंडडॉटर
- (C) ☐ Mother
माता
- (D) ☐ Daughter (Correct Answer) (Chosen option)
बेटी

Question No.4

Marks: 2.00

Bookmark ☐

Find the next number in the series.
92, 85, 114, 107, 136, ?
श्रेणी में अगली संख्या ज्ञात कीजिए।
92, 85, 114, 107, 136, ?

- (A) ☐ 165
165
- (B) ☐ 153
153
- (C) ☐ 129 (Correct Answer) (Chosen option)
129
- (D) ☐ 143
143

Question No.5

Marks: 2.00

Bookmark ☐

If M = 2, N = 4, O = 20, P = 5, then P - M + O ÷ N = ?
यदि M = 2, N = 4, O = 20, P = 5 है, तो P - M + O ÷ N = ?

- (A) ☐ 6
6
- (B) ☐ 7
7
- (C) ☐ 5
5
- (D) ☐ 8 (Correct Answer) (Chosen option)
8

12/17/21, 11:37 AM	View Question Paper
<div><div>Question No.6</div><div>Marks: 2.00</div><div>Bookmark <input type="checkbox"/></div><div>What is the full form of 'NCC', the youth wing of the Indian Armed Forces? भारतीय सशस्त्र बलों की युवा शाखा 'एनसीसी' का पूर्ण रूप क्या है?</div><div><div>(A) <input type="radio"/> National Committee of Cadets नेशनल कमेटी ऑफ कैडेट्स</div><div>(B) <input type="radio"/> National Cadets College नेशनल कैडेट्स कॉलेज</div><div>(C) <input checked="" type="radio"/> National Cadet Corps (Correct Answer) (Chosen option) नेशनल कैडेट कॉर्प्स</div><div>(D) <input type="radio"/> National Cadets Commission नेशनल कैडेट्स कमीशन</div></div></div>	
<div><div>Question No.7</div><div>Marks: 2.00</div><div>Bookmark <input type="checkbox"/></div><div>P is the mother of Q and R. R is the father of S and T. How is P related to T? P, Q और R की माता है। R, S और T का पिता है। P का T से क्या संबंध है?</div><div><div>(A) <input type="radio"/> Aunt आँट</div><div>(B) <input type="radio"/> Mother माता</div><div>(C) <input checked="" type="radio"/> Grandmother (Correct Answer) (Chosen option) ग्रैंडमदर</div><div>(D) <input type="radio"/> Mother-in-law सास</div></div></div>	
<div><div>Question No.8</div><div>Marks: 2.00</div><div>Bookmark <input type="checkbox"/></div><div>In a row of 25 persons facing North, Person A is 10th from the right side. After shifting him second to the left from the existing position, what is his position from the left side now?</div></div>	
https://upprpbmini.onlineregistrationform.org/QP1/IV8R19JBL0wF5yPR2WAjWg==.html	75/103
12/17/21, 11:37 AM	View Question Paper
<div><div>उत्तर की ओर अभिमुख 25 व्यक्तियों की एक पंक्ति में, व्यक्ति A दाईं ओर से 10वें स्थान पर है। उसे मौजूदा स्थिति से दो स्थान बाईं ओर स्थानांतरित करने के बाद, अब बाईं ओर से उसकी स्थिति कौन-सी होगी?</div><div><div>(A) <input checked="" type="radio"/> 14 (Correct Answer) (Chosen option) 14</div><div>(B) <input type="radio"/> 16 16</div><div>(C) <input type="radio"/> 15 15</div><div>(D) <input type="radio"/> 13 13</div></div></div>	
<div><div>Question No.9</div><div>Marks: 2.00</div><div>Bookmark <input type="checkbox"/></div><div>Article 14 to 18 of the Indian Constitution deals with: भारतीय संविधान के अनुच्छेद 14 से 18, निम्नलिखित में से किससे संबंधित है?</div><div><div>(A) <input type="radio"/> Right to Education शिक्षा का अधिकार</div><div>(B) <input type="radio"/> Right to Freedom स्वतंत्रता का अधिकार</div><div>(C) <input type="radio"/> Right to Freedom of Religion धर्म की स्वतंत्रता का अधिकार</div><div>(D) <input checked="" type="radio"/> Right to Equality (Correct Answer) (Chosen option) समानता का अधिकार</div></div></div>	
<div><div>Question No.10</div><div>Marks: 2.00</div><div>Bookmark <input type="checkbox"/></div><div>Choose the alternative which is an odd word/number/letter pair out of the given alternatives. दिए गए विकल्पों में से वह विकल्प चुनिए जो एक असंगत शब्द/संख्या/अक्षर युग्म है।</div><div><div>(A) <input type="radio"/> Indicate Indicate</div><div>(B) <input checked="" type="radio"/> Practice (Correct Answer) (Chosen option) Practice</div><div>(C) <input type="radio"/> Mean</div></div></div>	
https://upprpbmini.onlineregistrationform.org/QP1/IV8R19JBL0wF5yPR2WAjWg==.html	76/103

12/17/21, 11:37 AM	View Question Paper
Mean (D) <input type="radio"/> Convey Convey	
<div>Question No.11</div> <div>Marks: 2.00</div> <div>Bookmark <input type="checkbox"/></div> <div>Find the next number in the series 5, 7, 18, 60, 248, ? श्रेणी में अगली संख्या ज्ञात कीजिए। 5, 7, 18, 60, 248, ? (A) <input type="radio"/> 1248 1248 (B) <input checked="" type="radio"/> 1250 (Correct Answer) (Chosen option) 1250 (C) <input type="radio"/> 1275 1275 (D) <input type="radio"/> 1276 1276</div>	
<div>Question No.12</div> <div>Marks: 2.00</div> <div>Bookmark <input type="checkbox"/></div> <div>Varun walked 9km North, then 3km towards East and took a right turn and walked 9km, then turned right and walked 3km. Finally, he walked 6km towards South. How far is he from the starting point? वरुण 9 km उत्तर की ओर चला, फिर 3km पूर्व की ओर चला और दाएँ मुड़ा और 9 km चला, फिर दाएँ मुड़ा और 3km चला। अंत में, वह दक्षिण की ओर 6 km चला। वह आरंभिक बिंदु से कितनी दूर है? (A) <input type="radio"/> 5km 5 km (B) <input type="radio"/> 7km 7 km (C) <input checked="" type="radio"/> 6km (Correct Answer) (Chosen option) 6 km (D) <input type="radio"/> 8km 8 km</div>	
https://upprpbmini.onlineregistrationform.org/QP1/IV8R19JBL0wF5yPR2WAjWg==.html	77/103
12/17/21, 11:37 AM	View Question Paper
<div>Question No.13</div> <div>Marks: 2.00</div> <div>Bookmark <input type="checkbox"/></div> <div><p>In this question, a passage is given followed by a statement. Read the passage carefully and judge the statement based on the given passage.</p><p>For Binny Bansal, the end of his long run as co-founder of India's most successful startup came Saturday when he began calling colleagues to say he was done. The 37-year-old was stunned that officials from Walmart Inc., his startup's new owner, were probing details of an affair years earlier. An investigation found no evidence of wrongdoing. Nevertheless, a decade after he created e-commerce leader Flipkart, he was calling to say goodbye.</p><p>His ouster, announced Tuesday from Walmart's hometown of Bentonville, Ark., left workers at Flipkart, half a world away in Bangalore, stunned and struggling to make sense of the cryptic explanation. They worried about Walmart's motivations and wondered if other Flipkart leaders would exit.</p><p>Statement: Flipkart is one of India's most successful startups.</p><p>Choose A - If the statement is definitely true. B -If the statement is probably true. C -If the statement cannot be determined. D -If the statement is definitely false.</p><p>इस प्रश्न में, एक गद्यांश के बाद एक कथन दिया गया है। गद्यांश को ध्यानपूर्वक पढ़ें और दिए गए गद्यांश के आधार पर कथन का आकलन करें।</p><p>बिन्नी बंसल के लिए, भारत के सबसे सफल स्टार्टअप के सह-संस्थापक के रूप में उनके लंबे समय का अंत शनिवार को हो गया जब उन्होंने सहयोगियों को फोन करना शुरू कर दिया कि उनका काम समाप्त हो गया। 37 वर्षीय उद्योगपति इस बात से दंग रह गए कि उनके स्टार्टअप के नए मालिक वॉलमार्ट इंक के अधिकारी वर्षों पहले के एक मामले के विवरण की जांच कर रहे थे। एक जांच में गड़बड़ी का कोई सबूत नहीं मिला। फिर भी, ई-कॉमर्स लीडर फ्लिपकार्ट बनाने के एक दशक बाद, वे अलविदा कहने का निर्णय ले रहे थे।</p><p>वॉलमार्ट के गृहनगर बेंटनविले, आर्क से मंगलवार को उनके निष्कासन की घोषणा की गई, जिसने बहुत दूर बैंगलोर में स्थित फ्लिपकार्ट के कर्मचारियों को स्तब्ध कर दिया। वे इस फैसले के पीछे की वजह को तलाशने के लिए संघर्ष कर रहे थे। वे वॉलमार्ट की मंशा को लेकर चिंतित थे और सोच रहे थे कि क्या फ्लिपकार्ट के अन्य उच्चाधिकारी भी निकल जाएंगे।</p><p>कथन: फ्लिपकार्ट भारत के सबसे सफल स्टार्टअप्स में से एक है।</p></div>	
https://upprpbmini.onlineregistrationform.org/QP1/IV8R19JBL0wF5yPR2WAjWg==.html	78/103

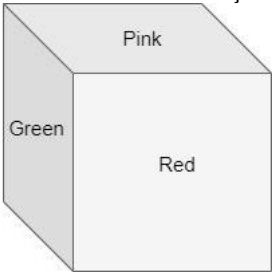
12/17/21, 11:37 AM	View Question Paper
<p>चयन करें</p> <p>A - यदि कथन निश्चित रूप से सत्य है।</p> <p>B- यदि कथन संभवतः सत्य है।</p> <p>C- यदि कथन निर्धारित नहीं किया जा सकता।</p> <p>D- यदि कथन निश्चित रूप से असत्य है।</p> <p>(A) <input checked="" type="radio"/> A (Correct Answer)</p> <p>(B) <input type="radio"/> D</p> <p>(C) <input type="radio"/> C (Chosen option)</p> <p>(D) <input type="radio"/> B</p>	
<p>Question No.14</p> <p>Marks: 2.00</p> <p>Bookmark <input type="checkbox"/></p> <p>If in the word DISPOSABLE, all the consonants are replaced by the previous letter in the alphabet and all the vowels are replaced by the next letter, then all the letters are arranged alphabetically, which will be the fifth letter from the right end?</p> <p>यदि शब्द DISPOSABLE में, सभी व्यंजनों को वर्णमाला के पिछले अक्षर से बदल दिया जाता है और सभी स्वरों को वर्णमाला के अगले अक्षर से बदल दिया जाता है, और इसके बाद सभी अक्षरों को वर्णानुक्रम में व्यवस्थित किया जाता है तो दाएं छोर से पांचवां अक्षर कौन-सा होगा?</p> <p>(A) <input type="radio"/> J</p> <p>(B) <input type="radio"/> O</p> <p>(C) <input checked="" type="radio"/> K (Correct Answer) (Chosen option)</p> <p>(D) <input type="radio"/> F</p>	
<p>Question No.15</p> <p>Marks: 2.00</p> <p>Bookmark <input type="checkbox"/></p> <p>Find the next number in the series.</p> <p>8, 4, 6, 15, 52.5, ?</p>	
<p>https://upprpbmini.onlineregistrationform.org/QP1/IV8R19JBL0wF5yPR2WAjWg==.html</p>	79/103
12/17/21, 11:37 AM	View Question Paper
<p>श्रेणी में अगली संख्या ज्ञात कीजिए।</p> <p>8, 4, 6, 15, 52.5, ?</p> <p>(A) <input checked="" type="radio"/> 236.25 (Correct Answer) (Chosen option)</p> <p>(B) <input type="radio"/> 252.5</p> <p>(C) <input type="radio"/> 246</p> <p>(D) <input type="radio"/> 238.5</p>	
<p>Question No.16</p> <p>Marks: 2.00</p> <p>Bookmark <input type="checkbox"/></p> <p>When was the Wildlife (Protection) Act enacted in India?</p> <p>भारत में वन्यजीव (संरक्षण) अधिनियम कब अधिनियमित किया गया था?</p> <p>(A) <input type="radio"/> 1962</p> <p>(B) <input checked="" type="radio"/> 1972 (Correct Answer) (Chosen option)</p> <p>(C) <input type="radio"/> 1952</p> <p>(D) <input type="radio"/> 1982</p>	
<p>Question No.17</p> <p>Marks: 2.00</p> <p>Bookmark <input type="checkbox"/></p> <p>Choose the alternative which is an odd word/number/letter pair out of the given alternatives.</p> <p>189, 113, 131, 139, 167, 181</p> <p>दिए गए विकल्पों में से वह विकल्प चुनिए जो एक असंगत शब्द/संख्या/अक्षर युग्म है।</p> <p>189, 113, 131, 139, 167, 181</p> <p>(A) <input checked="" type="radio"/> 189 (Correct Answer) (Chosen option)</p> <p>(B) <input type="radio"/> 167</p>	
<p>https://upprpbmini.onlineregistrationform.org/QP1/IV8R19JBL0wF5yPR2WAjWg==.html</p>	80/103

- (C) ☐ 131
131
- (D) ☐ 181
181

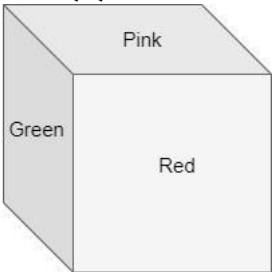
Question No.18

Marks: 2.00
Bookmark ☐

Each face of the given dice is painted with the colours Red, Green, Blue, Brown, Pink and Yellow. If Yellow colour is neither opposite to Pink nor opposite to Red coloured face, Blue coloured face is adjacent to Pink coloured face, then which coloured face is not adjacent to Pink coloured face?



दिए गए पासे के प्रत्येक फलक को लाल, हरे, नीले, भूरे, गुलाबी और पीले रंग से रंगा गया है। यदि पीला रंग न तो गुलाबी के विपरीत है और न ही लाल रंग के फलक के विपरीत है, नीले रंग का फलक गुलाबी रंग के फलक के सन्निकट है, तो कौन-से रंग का फलक गुलाबी रंग के फलक के सन्निकट नहीं है?



- (A) ☐ Yellow
पीला

- (B) ☒ **Brown (Correct Answer)** (Chosen option)
भूरा
- (C) ☐ Red
लाल
- (D) ☐ Green
हरा

Question No.19

Marks: 2.00
Bookmark ☐

Which one of the following images numbered as (1), (2), (3), (4) will be the next image for the given series?



12/17/21, 11:37 AM

View Question Paper

(1), (2), (3), (4) के रूप में संख्यांकित निम्नलिखित में से कौन-सा चित्र दी गई श्रृंखला के लिए अगला चित्र होगा?

(A) ☒ 1 (Correct Answer) (Chosen option)

(B) ☐ 4

(C) ☐ 2

(D) ☐ 3

Question No.20

Marks: 2.00

https://upprpbmini.onlineregistrationform.org/QP1/IV8R19JBL0wF5yPR2WAjWg==.html

83/103

12/17/21, 11:37 AM

View Question Paper

Choose the alternative which is an odd word/number/letter pair out of the given alternatives.
दिए गए विकल्पों में से वह विकल्प चुनिए जो एक असंगत शब्द/संख्या/अक्षर युग्म है।

(A) ☒ Dove (Correct Answer) (Chosen option)

(B) ☐ Dog

(C) ☐ Cat

(D) ☐ Goat

Question No.21

Marks: 2.00

Find the odd image out in the given series.

(1)

(2)

(3)

(4)

https://upprpbmini.onlineregistrationform.org/QP1/IV8R19JBL0wF5yPR2WAjWg==.html

84/103

12/17/21, 11:37 AM

View Question Paper

दी गई श्रृंखला में असंगत छवि ज्ञात करें।

O
D

19

F
K

18

L
Q

30

G
N

22

(1)

(2)

(3)

(4)

(A) ☐ 4
4

(B) ☐ 2
2

(C) ☐ 3
3

(D) ☒ 1 (Correct Answer) (Chosen option)
1

Question No.22

Marks: 2.00

Bookmark ☐

Choose the alternative which is an odd word/number/letter pair out of the given alternatives.
दिए गए विकल्पों में से वह विकल्प चुनिए जो एक असंगत शब्द/संख्या/अक्षर युग्म है।

(A) ☐ Give
Give

(B) ☒ Receive (Correct Answer) (Chosen option)
Receive

(C) ☐ Offer
Offer

12/17/21, 11:37 AM

View Question Paper

(D) ☐ Grant
Grant

Question No.23

Marks: 2.00

Bookmark ☐

Which Articles of the Indian Constitution guarantees "Freedom of Religion" ?
भारतीय संविधान के कौन-से अनुच्छेद "धर्म की स्वतंत्रता" की गारंटी देते हैं?

(A) ☐ Article 23 and 24
अनुच्छेद 23 और 24

(B) ☐ Article 19 to 22
अनुच्छेद 19 से 22

(C) ☒ Article 25 to 28 (Correct Answer) (Chosen option)
अनुच्छेद 25 से 28

(D) ☐ Article 14 to 18
अनुच्छेद 14 से 18

Question No.24

Marks: 2.00

Bookmark ☐

In this question, relationship between different elements is shown in the statement. This statement is followed by two conclusions:

Statements:
 $T > H > U \leq R < S = D < A \leq Y$

Conclusion:
i) $T > R$
ii) $D < Y$

Choose the appropriate one from the following options

(A) Only conclusion i follows

(B) Only conclusion ii follows

(C) Either i or ii follows

(D) Neither i nor ii follows

(E) Both i and ii follow.

https://upprpbmini.onlineregistrationform.org/QP1/IV8R19JBL0wF5yPR2WAjWg==.html

85/103

https://upprpbmini.onlineregistrationform.org/QP1/IV8R19JBL0wF5yPR2WAjWg==.html

86/103

Teachingninja.in

इस प्रश्न में, कथन में विभिन्न तत्वों के बीच संबंध दिखाया गया है। इस कथन के बाद दो निष्कर्ष दिए गए हैं:

कथनः

T > H > U ≤ R < S = D < A ≤ Y

निष्कर्षः

- i) $T > R$
- ii) $D < Y$

निम्न विकल्पों में से उपयुक्त विकल्प का चयन करें।

- (A) केवल निष्कर्ष i अनुसरण करता है
(B) केवल निष्कर्ष ii अनुसरण करता है
(C) या तो i या ii अनुसरण करता है
(D) न तो i और न ही ii अनुसरण करता है
(E) i और ii दोनों अनुसरण करते हैं।

- (A) ☐ D
D
- (B) ☐ A
A
- (C) ☐ C
C
- (D) ☒ B (Correct Answer) (Chosen option)
B

Question No.25

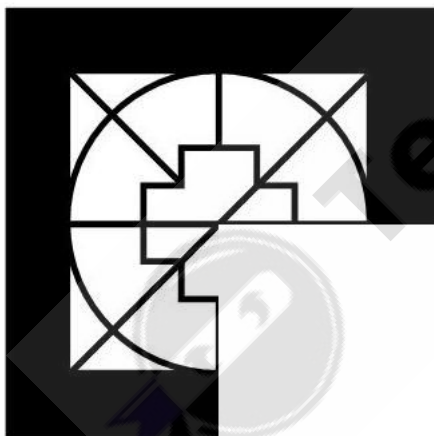
Marks: 2.00

Bookmark ☐

Which one of the following alternatives will perfectly complete the given figure?

<https://upprpbmini.onlineregistrationform.org/QP1/IV8R19JBLOwF5yPR2WAjWg==.html>

87/103



निम्नलिखित में से कौन-सा विकल्प दिए गए चित्र को उत्तमता से पूरा करेगा?




- (A)




(Correct Answer) (Chosen option)

<https://upprpbmini.onlineregistrationform.org/QP1/IV8R19JBLOwF5yPR2WAjWg==.html>

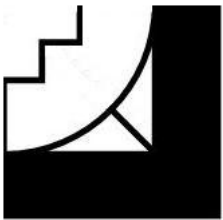
88/103



☐



☐

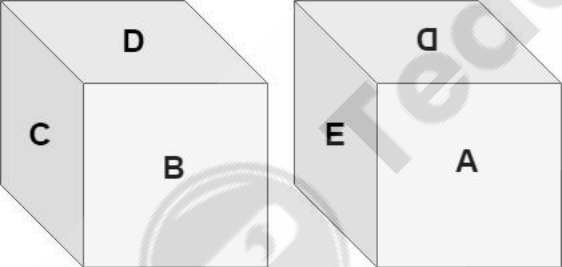


☐



Bookmark ☐

Each face of the given dice is printed with the letters A, B, C, D, E and F. What letter is printed on the face opposite to the letter D?



दिए गए पासे के प्रत्येक फलक पर A, B, C, D, E और F अक्षर छपे हैं। D अक्षर के विपरीत फलक पर कौन-सा अक्षर छपा है?

- ☐ (A) E
E
- ☒ (B) F (Correct Answer) (Chosen option)
F
- ☐ (C) A
A
- ☐ (D) C
C

Question No.27

Marks: 2.00

Bookmark ☐

Pointing to a boy, a lady said, " His mother is my father's mother's only daughter's only brother's only daughter." How is the boy related to the lady?

एक लड़के की ओर इशारा करते हुए एक महिला ने कहा, "उसकी माँ मेरे पिता की माँ की इकलौती बेटी के इकलौते भाई की इकलौती बेटी है।" लड़के का महिला से क्या संबंध है?

- ☒ (A) Son (Correct Answer)
पुत्र
- ☐ (B) Uncle
अंकल

12/17/21, 11:37 AM	View Question Paper
<div>(C) <input type="radio"/> Nephew (Chosen option) नेप्पू</div> <div>(D) <input type="radio"/> Brother भाई</div>	
<div>Question No.28</div> <div>Marks: 2.00</div> <div>Bookmark <input type="checkbox"/></div> <div>Replace the question mark with an option that follows the same logic applied in the first pair 10:121::64: ? प्रश्नवाचक चिह्न को उस विकल्प से बदलें जो पहले युग्म में लागू तर्क का अनुसरण करता है। 10:121::64: ? (A) <input type="radio"/> 42255 42255 (B) <input type="radio"/> 2700 2700 (C) <input type="radio"/> 4225 (Correct Answer) (Chosen option) 4225 (D) <input type="radio"/> 2950 2950</div>	
<div>Question No.29</div> <div>Marks: 2.00</div> <div>Bookmark <input type="checkbox"/></div> <div>When is International Peace day observed? अंतर्राष्ट्रीय शांति दिवस कब मनाया जाता है? (A) <input type="radio"/> 12th July 12 जुलाई (B) <input type="radio"/> 10th October (Chosen option) 10 अक्टूबर (C) <input type="radio"/> 21st March 21 मार्च (D) <input type="radio"/> 21st September (Correct Answer) 21 सितंबर</div>	
https://upprpbmini.onlineregistrationform.org/QP1/IV8R19JBL0wF5yPR2WAjWg==.html	91/103
12/17/21, 11:37 AM	View Question Paper
<div>Question No.30</div> <div>Marks: 2.00</div> <div>Bookmark <input type="checkbox"/></div> <div>In a certain code language, if CHOICE is coded as OHCECI, then how is MARTIN coded in that language? एक निश्चित कूट भाषा में, यदि CHOICE को OHCECI के रूप में कूटबद्ध किया जाता है, तो उसी भाषा में MARTIN को कैसे कूटबद्ध किया जाएगा? (A) <input type="radio"/> RAMNIT (Correct Answer) (Chosen option) RAMNIT (B) <input type="radio"/> NBSUJO NBSUJO (C) <input type="radio"/> AMTRNI AMTRNI (D) <input type="radio"/> NATRIM NATRIM</div>	
<div>Question No.31</div> <div>Marks: 2.00</div> <div>Bookmark <input type="checkbox"/></div> <div>When was the Juvenile Justice (Care and Protection) Act enacted in India? भारत में किशोर न्याय (देखभाल और संरक्षण) अधिनियम कब अधिनियमित किया गया था? (A) <input type="radio"/> 2015 (Correct Answer) (Chosen option) 2015 (B) <input type="radio"/> 1995 1995 (C) <input type="radio"/> 2005 2005 (D) <input type="radio"/> 2020 2020</div>	
<div>Question No.32</div> <div>Marks: 2.00</div> <div>Bookmark <input type="checkbox"/></div> <div>The price of Lock and key together cost Rs.25.50 and the price of Lock is Rs.20 more than the price of Key. Find the price of the Key. (In Rs.) ताले और चाबी का मूल्य एक साथ Rs.25.50 है और ताले का मूल्य चाबी के मूल्य से Rs.20 अधिक है। चाबी का मूल्य ज्ञात कीजिए। (Rs. में) (A) <input type="radio"/> 2.75 (Correct Answer) (Chosen option)</div>	
https://upprpbmini.onlineregistrationform.org/QP1/IV8R19JBL0wF5yPR2WAjWg==.html	92/103

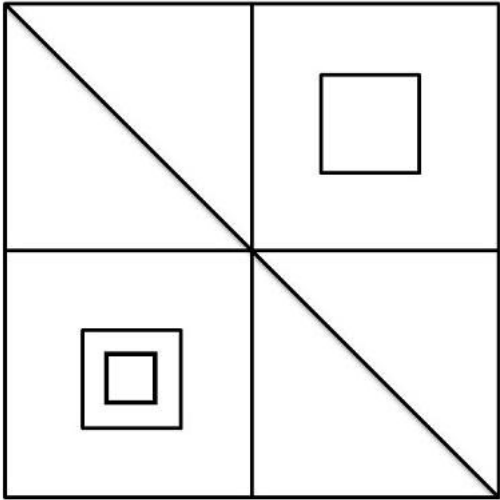
2.75

- (B) 3
- (C) 2.5
- (D) 4

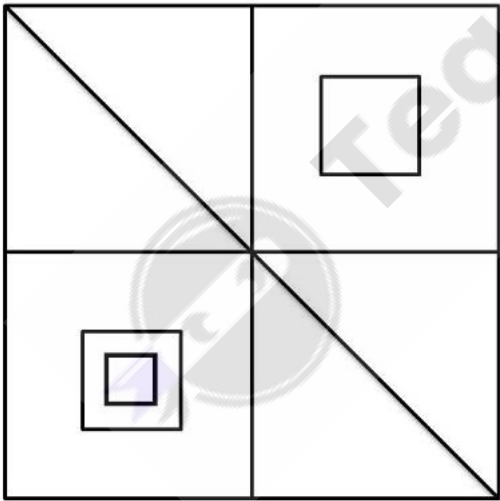
Question No.33

Marks: 2.00
Bookmark

How many squares are there in the given figure?



दी गई आकृति में कितने वर्ग हैं?



- (A) 10
- (B) 9
- (C) 8 (Correct Answer) (Chosen option)
- (D) 7

Question No.34

Marks: 2.00
Bookmark

In a certain code language, if WOMAN is coded as XPODQ, then how is DREAM coded in that language?
एक निश्चित कूट भाषा में, यदि WOMAN को XPODQ के रूप में कूटबद्ध किया जाता है, तो उसी भाषा में DREAM को कैसे कूटबद्ध किया जाएगा?

12/17/21, 11:37 AM

View Question Paper

(A) ☐ SEGPD
SEGPD

(B) ☐ **ESGDP (Correct Answer)** (Chosen option)
ESGDP

(C) ☐ SEGNB
SEGNB

(D) ☐ ESGBN
ESGBN

Question No.35

Marks: 2.00

Bookmark ☐

Which of the following forces primarily guards India-China borders?
निम्नलिखित में से कौन सी सेना, मुख्य रूप से भारत-चीन सीमाओं की रक्षा करती है?

(A) ☐ Sashastra Seema Bal
सशस्त्र सीमा बल

(B) ☐ Central Reserve Police Force
केंद्रीय रिज़र्व पुलिस बल

(C) ☐ **Indo-Tibetan Border Police (Correct Answer)** (Chosen option)
भारत-तिब्बत सीमा पुलिस

(D) ☐ Border Security Force
सीमा सुरक्षा बल

Question No.36

Marks: 2.00

Bookmark ☐

Which word will be the last after rearranging the following words according to the English dictionary?
निम्नलिखित शब्दों को अंग्रेजी शब्दकोष के अनुसार पुनर्व्यवस्थित करने के बाद कौन-सा शब्द अंतिम होगा?

(A) ☐ SODIUM
SODIUM

(B) ☐ SOAKED
SOAKED

(C) ☐ SOCIAL
SOCIAL

(D) ☐ **SOFTER (Correct Answer)** (Chosen option)

https://upprpbmini.onlineregistrationform.org/QP1/IV8R19JBL0wF5yPR2WAjWg==.html

95/103

12/17/21, 11:37 AM

View Question Paper

SOFTER

Question No.37

Marks: 2.00

Bookmark ☐

Which of the following numbers in the Venn Diagram represents only 'bold and funny'?

☐ - FUNNY

☐ - GRUMPY

☐ - BOLD

वेन आरेख में निम्नलिखित में से कौन-सी संख्या, केवल बोल्ड एवं फन्नी (साहसी और मजाकिया) को दर्शाती है?

(A) ☐ 5
5

(B) ☐ 6
6

(C) ☐ **7 (Correct Answer)** (Chosen option)
7

(D) ☐ 4
4

Question No.38

Marks: 2.00

Bookmark ☐

Find the next term in the series.
150, 458, 774, 1098, 1430, ?

https://upprpbmini.onlineregistrationform.org/QP1/IV8R19JBL0wF5yPR2WAjWg==.html

96/103

12/17/21, 11:37 AM	View Question Paper
<p>श्रेणी में अगला पद ज्ञात कीजिए। 150, 458, 774, 1098, 1430, ?</p> <p>(A) <input type="radio"/> 1690 1690</p> <p>(B) <input type="radio"/> 1670 1670</p> <p>(C) <input type="radio"/> 1780 1780</p> <p>(D) <input type="radio"/> 1770 (Correct Answer) (Chosen option) 1770</p>	
<p>Question No.39</p> <p>Marks: 2.00</p> <p>Bookmark <input type="checkbox"/></p> <p>Which of the following options is sixth to the right of the nineteenth letter from the right in a forward alphabet series? निम्नलिखित में से कौन-सा विकल्प अग्रिम वर्णमाला श्रृंखला में दाएँ से उन्नीसवें अक्षर की दाईं ओर छठा है?</p> <p>(A) <input type="radio"/> M M</p> <p>(B) <input type="radio"/> B B</p> <p>(C) <input type="radio"/> N (Correct Answer) (Chosen option) N</p> <p>(D) <input type="radio"/> Y Y</p>	
<p>Question No.40</p> <p>Marks: 2.00</p> <p>Bookmark <input type="checkbox"/></p> <p>Vinith walks 3km towards North and takes a right turn to walk 4km in that direction. He walks 3km towards South before walking 5km in the East direction. How far is he from the starting point? विनीत उत्तर की ओर 3 km चलता है और उस दिशा में 4 km चलने के लिए दाएं मुड़ता है। वह पूर्व दिशा में 5 km चलने से पहले दक्षिण की ओर 3 km चलता है। वह आरंभिक बिंदु से कितनी दूर है?</p> <p>(A) <input type="radio"/> 7km 7km</p> <p>(B) <input type="radio"/> 13km 13km</p>	

12/17/21, 11:37 AM	View Question Paper
<p>(C) <input type="radio"/> 9km (Correct Answer) (Chosen option) 9km</p> <p>(D) <input type="radio"/> 11km 11km</p>	
<p>Question No.41</p> <p>Marks: 2.00</p> <p>Bookmark <input type="checkbox"/></p> <p>Choose the alternative which is similar to the given series. उस विकल्प का चयन करें जो दी गई श्रृंखला के समान है।</p> <p>(A) <input type="radio"/> 2 2</p> <p>(B) <input type="radio"/> 1 (Correct Answer) (Chosen option) 1</p> <p>(C) <input type="radio"/> 3 3</p> <p>(D) <input type="radio"/> 4 4</p>	
<p>Question No.42</p> <p>Marks: 2.00</p> <p>Bookmark <input type="checkbox"/></p> <p>In this question, relationship between different elements is shown in the statement. This statement is followed by two conclusions:</p> <p>Statements: $F > A = M < I \leq L < Y$</p> <p>Conclusion: i) $F > M$ ii) $A > Y$</p> <p>Choose the appropriate one from the following options (A) Only conclusion i follows (B) Only conclusion ii follows (C) Either i or ii follows</p>	

12/17/21, 11:37 AM	View Question Paper
<p>(D) Neither i nor ii follows (E) Both i and ii follow.</p> <p>इस प्रश्न में, कथन में विभिन्न तत्वों के बीच संबंध दिखाया गया है। इस कथन के बाद दो निष्कर्ष दिए गए हैं:</p> <p>कथन: $F > A = M < I \leq L < Y$</p> <p>निष्कर्ष: i) $F > M$ ii) $A > Y$</p> <p>निम्न विकल्पों में से उपयुक्त विकल्प का चयन करें।</p> <p>(A) केवल निष्कर्ष i अनुसरण करता है (B) केवल निष्कर्ष ii अनुसरण करता है (C) या तो i या ii अनुसरण करता है (D) न तो i और न ही ii अनुसरण करता है (E) i और ii दोनों अनुसरण करते हैं।</p> <p>(A) <input type="radio"/> C C (B) <input type="radio"/> B B (C) <input checked="" type="radio"/> A (Correct Answer) (Chosen option) A (D) <input type="radio"/> D D</p>	
<p>Question No.43</p> <p>Marks: 2.00</p> <p>Bookmark <input type="checkbox"/></p> <p>"ICERD" stands for: "ICERD" का पूर्ण रूप क्या है?</p> <p>(A) <input type="radio"/> International Committee on Elimination of Civil and Political Rights इंटरनेशनल कमेटी ऑन एलिमिनेशन ऑफ़ सिविल एंड पॉलिटिकल राइट्स (B) <input checked="" type="radio"/> International Convention on the Elimination of All Forms of Racial Discrimination (Correct Answer) (Chosen option) इंटरनेशनल कन्वेंशन ऑन द एलिमिनेशन ऑफ़ ऑल फॉर्म्स ऑफ़ रेशियल डिस्क्रिमिनेशन</p> <p>https://upprpbmini.onlineregistrationform.org/QP1/IV8R19JBL0wF5yPR2WAjWg==.html</p>	99/103
12/17/21, 11:37 AM	View Question Paper
<p>(C) <input type="radio"/> International Covenant on Economic Forms of Racial Discrimination इंटरनेशनल कोवेंनेंट ऑन इकॉनोमिक फॉर्म्स ऑफ़ रेशियल डिस्क्रिमिनेशन (D) <input type="radio"/> International Committee on Elimination of All Forms of Racial Discrimination इंटरनेशनल कमेटी ऑन एलिमिनेशन ऑफ़ ऑल फॉर्म्स ऑफ़ रेशियल डिस्क्रिमिनेशन</p>	
<p>Question No.44</p> <p>Marks: 2.00</p> <p>Bookmark <input type="checkbox"/></p> <p>As per the Census 2011, the percentage of Muslims in India is _____. 2011 की जनगणना के अनुसार, भारत में मुसलमानों का प्रतिशत _____ है।</p> <p>(A) <input type="radio"/> 9.3% (Chosen option) 9.3% (B) <input type="radio"/> 13.4% 13.4% (C) <input type="radio"/> 10.7% 10.7% (D) <input checked="" type="radio"/> 14.2% (Correct Answer) 14.2%</p>	
<p>Question No.45</p> <p>Marks: 2.00</p> <p>Bookmark <input type="checkbox"/></p> <p>Choose the alternative which is an odd word/number/letter pair out of the given alternatives. 48, 52, 74, 58, 33, 62 दिए गए विकल्पों में से वह विकल्प चुनिए जो एक असंगत शब्द/संख्या/अक्षर युग्म है। 48, 52, 74, 58, 33, 62</p> <p>(A) <input type="radio"/> 62 62 (B) <input type="radio"/> 48 48 (C) <input checked="" type="radio"/> 33 (Correct Answer) (Chosen option) 33 (D) <input type="radio"/> 52 52</p>	
<p>https://upprpbmini.onlineregistrationform.org/QP1/IV8R19JBL0wF5yPR2WAjWg==.html</p>	100/103

12/17/21, 11:37 AM	View Question Paper	Marks: 2.00
<div>Question No.46</div> <div>Replace the question mark with an option that follows the same logic applied in the first pair Bull : Moo :: Cat : ?? प्रश्नवाचक चिह्न को उस विकल्प से बदलें जो पहले युग्म में लागू तर्क का अनुसरण करता है। Bull : Moo :: Cat : ?? (A) <input type="radio"/> Trumpet Trumpet (B) <input checked="" type="radio"/> Mew (Correct Answer) (Chosen option) Mew (C) <input type="radio"/> Roar Roar (D) <input type="radio"/> Bleat Bleat</div>	Bookmark <input type="checkbox"/>	
<div>Question No.47</div> <div>What is the meaning of the legal term "Amicus Curiae"? विधिक शब्द "एमिकस क्यूरी" का क्या अर्थ होता है? (A) <input type="radio"/> Enemy of the Court अदालत का दुश्मन (B) <input checked="" type="radio"/> Friend of the Court (Correct Answer) अदालत का दोस्त (C) <input type="radio"/> Prosecutor in the Court (Chosen option) अदालत में अभियोक्ता (D) <input type="radio"/> Audience of the court अदालत के श्रोता</div>	Bookmark <input type="checkbox"/>	
<div>Question No.48</div> <div>Shiny walks 7km towards West and takes a left turn and walks 4km. She then takes another left turn to cover 4km and after covering, she walks 2km towards South. She then finally walks 3km towards East. How far is she from the starting point?</div>	Bookmark <input type="checkbox"/>	
https://upprpbmini.onlineregistrationform.org/QP1/IV8R19JBL0wF5yPR2WAjWg==.html		101/103
12/17/21, 11:37 AM	View Question Paper	
<div>शाइनी पश्चिम की ओर 7 km चलती है और बाएं मुड़ती है और 4 km चलती है। फिर वह 4 km की दूरी तय करने के लिए और एक बार बाएं मुड़ती है और यह दूरी तय करने के बाद, वह दक्षिण की ओर 2 km चलती है। फिर अंत में वह पूर्व की ओर 3 km चलती है। वह आरंभिक बिंदु से कितनी दूर है? (A) <input type="radio"/> 10km 10km (B) <input type="radio"/> 12km 12km (C) <input type="radio"/> 7km 7km (D) <input checked="" type="radio"/> 6km (Correct Answer) (Chosen option) 6km</div>		
<div>Question No.49</div> <div>Find the odd image out in the given series. दी गई श्रृंखला में असंगत छवि ज्ञात कीजिए। (A) <input type="radio"/> 3 3 (B) <input type="radio"/> 1 1 (C) <input type="radio"/> 4 4 (D) <input checked="" type="radio"/> 2 (Correct Answer) (Chosen option) 2</div>	Bookmark <input type="checkbox"/>	
<div>Question No.50</div> <div>How many 9s are there preceded by an odd number but not followed by an even number? 5 9 8 5 6 5 2 4 8 9 5 2 4 7 6 2 1 4 5 8 9 5 7 8 9 2 1 5 3 8 7 9 5 4 8 9 6 3 5 ऐसे कितने 9 हैं जिनके पहले एक विषम संख्या है लेकिन जिनके बाद कोई सम संख्या नहीं है? 5 9 8 5 6 5 2 4 8 9 5 2 4 7 6 2 1 4 5 8 9 5 7 8 9 2 1 5 3 8 7 9 5 4 8 9 6 3 5 (A) <input type="radio"/> Two</div>	Bookmark <input type="checkbox"/>	
https://upprpbmini.onlineregistrationform.org/QP1/IV8R19JBL0wF5yPR2WAjWg==.html		102/103

दो

(B) ☐ One (Correct Answer) (Chosen option)

एक

(C) ☐ None

कोई नहीं

(D) ☐ Three

तीन

Save & Print

