



Teachingninja.in



Latest Govt Job updates



Private Job updates



Free Mock tests available

Visit - teachingninja.in



UP Police SI ASI

Previous Year Paper
05 Dec, 2023 Shift 2



Exam Date: 05-Dec-2021
Exam Time: 14:30-17:00
Post Name: SI-Confidential-ASI-Ministerial-ASI-Account-2020-2021

General Hindi-Computer Knowledge - General Hindi-Computer Knowledge

Question No.1

Marks: 2.00

Bookmark ☐

Which option in chrome is used to store bookmarks to the favourite pages?
पसंदीदा पेज (फ़ेवरेट पेजीस) पर बुकमार्क संग्रहित करने के लिए क्रोम में किस विकल्प का उपयोग किया जाता है?

- (A) ☐ Windows Task bar->right click->task bar
विंडोज़ टास्क बार->राइट क्लिक->टास्क बार
- (B) ☐ Settings-> favourite bar
सेटिंग्स-> फ़ेवरेट बार
- (C) ☐ Settings->Advanced->Status bar (Chosen option)
सेटिंग्स->एडवांस्ड->स्टेटस बार
- (D) ☒ Menu->Bookmarks bar (Correct Answer)
मेनू->बुकमार्क्स बार

Question No.2

Marks: 2.00

Bookmark ☐

देवनागरी लिपि का विकास किस लिपि से हुआ है?
देवनागरी लिपि का विकास किस लिपि से हुआ है?

- (A) ☐ शारदा
शारदा
- (B) ☐ चित्रलिपि
चित्रलिपि
- (C) ☒ ब्राह्मी (Correct Answer) (Chosen option)
ब्राह्मी
- (D) ☐ खरोष्ठी
खरोष्ठी

Question No.3

Marks: 2.00

Bookmark ☐

A collection of program that controls how your computer system runs and processes information is called _____.
वह प्रोग्राम संग्रह है, जो यह नियंत्रित करता है कि आपकी कंप्यूटर प्रणाली किस प्रकार चलती है और सूचनाओं को संसाधित करती है।

- (A) ☐ Operating System (Chosen option)
ऑपरेटिंग सिस्टम
- (B) ☐ Interpreter
इंटरप्रेटर
- (C) ☒ Compiler (Correct Answer)
कम्पाइलर
- (D) ☐ MS office
एम.एस. ऑफिस

Question No.4

Marks: 2.00

Bookmark ☐

What is the base for binary number system?
द्विआधारी संख्या (बाइनरी संख्या) पद्धति का आधार क्या होता है?

- (A) ☐ One
एक
- (B) ☐ Seven
सात
- (C) ☒ Two (Correct Answer) (Chosen option)
दो
- (D) ☐ Four
चार

Question No.5

Marks: 2.00

Bookmark ☐

_____ feature allows individuals and organizations to make their website accessible via the World Wide Web.
_____ सुविधा, व्यक्तियों और संगठनों को वर्ल्ड वाइड वेब के माध्यम से अपनी वेबसाइट को सुलभ बनाने की अनुमति देती है।

- (A) ☐ Filtering
फ़िल्टरिंग
- (B) ☒ **Hosting (Correct Answer)** (Chosen option)
होस्टिंग
- (C) ☐ Uploading
अपलोडिंग
- (D) ☐ Encrypting
एनक्रिप्टिंग

Question No.6

Marks: 2.00
Bookmark ☐

इनमें कौन-सा शब्द पुल्लिंग नहीं है?
इनमें कौन-सा शब्द पुल्लिंग नहीं है?

- (A) ☒ **कविता (Correct Answer)**
कविता
- (B) ☐ निबंध
निबंध
- (C) ☐ उपन्यास
उपन्यास
- (D) ☐ लेख (Chosen option)
लेख

Question No.7

Marks: 2.00
Bookmark ☐

Which is the shortcut key to make a text bold?
टेक्स्ट को बोल्ड करने के लिए शॉर्टकट की (कुंजी) कौन-सी है?

- (A) ☐ Ctrl+L
Ctrl+L
- (B) ☐ Ctrl+I
Ctrl+I
- (C) ☒ **Ctrl+B (Correct Answer)** (Chosen option)
Ctrl+B
- (D) ☐ Ctrl+K
Ctrl+K

Question No.8

Marks: 2.00
Bookmark ☐

When an HTML file is requested by a Web browser, this request is by default made as a _____.
जब किसी वेब ब्राउज़र द्वारा एचटीएमएल फ़ाइल का अनुरोध किया जाता है, तो यह अनुरोध डिफ़ॉल्ट रूप से _____ के रूप में होता है।

- (A) ☒ **GET (Correct Answer)** (Chosen option)
GET
- (B) ☐ POST
POST
- (C) ☐ PUT
PUT
- (D) ☐ FIND
FIND

Question No.9

Marks: 2.00
Bookmark ☐

रचना और रचनाकार में कौन सुमेलित नहीं है?
रचना और रचनाकार में कौन सुमेलित नहीं है?

- (A) ☒ **अमृत और विष – यशपाल (Correct Answer)**
अमृत और विष – यशपाल
- (B) ☐ ऐ लड़की – कृष्णा सोबती
ऐ लड़की – कृष्णा सोबती
- (C) ☐ त्यागपत्र – जैनेंद्र
त्यागपत्र – जैनेंद्र
- (D) ☐ राग दरबारी – श्रीलाल शुक्ल (Chosen option)
राग दरबारी – श्रीलाल शुक्ल

Question No.10

Marks: 2.00
Bookmark ☐

'निर्विवाद' शब्द का संधि-विच्छेद कौन-सा है?
'निर्विवाद' शब्द का संधि-विच्छेद कौन-सा है?

- (A) ☒ **निर + विवाद (Chosen option)**
निर + विवाद

17/12/2021, 12:20	View Question Paper
<div><div>(B) <input type="radio"/> निर्व + वाद निर्व + वाद</div><div>(C) <input checked="" type="radio"/> नि: + विवाद (Correct Answer) नि: + विवाद</div><div>(D) <input type="radio"/> नी + विवाद नी + विवाद</div></div>	<div><div>Question No.11</div><div>Marks: 2.00</div><div>Bookmark <input type="checkbox"/></div><div><p>_____ is used when two organizations replace paper in transactions with electronic connections and transmission of data.</p><p>_____ का उपयोग तब होता है जब दो संगठनों द्वारा लेनदेन में कागज़ के इस्तेमाल को इलेक्ट्रॉनिक कनेक्शन और डेटा संचरण से प्रतिस्थापित किया जाता है।</p><div><div>(A) <input type="radio"/> Mailmerge मेलमर्ज</div><div>(B) <input checked="" type="radio"/> EDI (Correct Answer) (Chosen option) ई.डी.आई.</div><div>(C) <input type="radio"/> Database डेटाबेस</div><div>(D) <input type="radio"/> Virtual network वर्चुअल नेटवर्क</div></div></div></div>
<div><div>Question No.12</div><div>Marks: 2.00</div><div>Bookmark <input type="checkbox"/></div><div><p>Which of the following translates the assembly language into machine code?</p><p>निम्नलिखित में से कोडांतरण भाषा (एसेम्बली लैंग्वेज) का यंत्र कूट (मशीन कोड) में अनुवाद कौन करता है?</p><div><div>(A) <input type="radio"/> Compiler कम्पाइलर</div><div>(B) <input type="radio"/> Interpreter इंटरप्रेटर</div><div>(C) <input checked="" type="radio"/> Assembler (Correct Answer) एसेम्बलर</div><div>(D) <input type="radio"/> Microprocessor (Chosen option) माइक्रोप्रोसेसर</div></div></div></div>	<div><div>Question No.13</div><div>Marks: 2.00</div><div>Bookmark <input type="checkbox"/></div><div><p>_____ specifies the HTML Element that you want to style.</p><p>_____ उस एचटीएमएल (Html) तत्व को निर्दिष्ट करता है जिसे आप स्टाइल करना चाहते हैं।</p><div><div>(A) <input type="radio"/> Attribute एट्रिब्यूट</div><div>(B) <input checked="" type="radio"/> Selector (Correct Answer) सीलेक्टर</div><div>(C) <input type="radio"/> Property (Chosen option) प्रॉपर्टी</div><div>(D) <input type="radio"/> Keyname कीनेम</div></div></div></div>
<div><div>Question No.14</div><div>Marks: 2.00</div><div>Bookmark <input type="checkbox"/></div><div><p>Which among the following wireless standard is used in 4G network technology?</p><p>4G नेटवर्क प्रौद्योगिकी में निम्नलिखित में से कौन-सा वायरलेस मानक उपयोग किया जाता है?</p><div><div>(A) <input type="radio"/> GPRS GPRS</div><div>(B) <input checked="" type="radio"/> LTE (Correct Answer) (Chosen option) LTE</div><div>(C) <input type="radio"/> VPN VPN</div><div>(D) <input type="radio"/> WAP WAP</div></div></div></div>	<div><div>Question No.15</div><div>Marks: 2.00</div><div>Bookmark <input type="checkbox"/></div><div><p>A _____ topology is a bus topology in a closed loop where data travels around the ring in one direction.</p><p>_____ टोपोलॉजी, एक संवृत पाश (क्लोज्ड लूप) में बस टोपोलॉजी है, जहां डेटा एक दिशा में रिंग के चारों ओर घूमता है।</p><div><div>(A) <input type="radio"/> Mesh मेश</div><div>(B) <input type="radio"/> Star स्टार</div></div></div></div>

17/12/2021, 12:20		View Question Paper	
<div><div>(C) <input type="radio"/> Extended Star विस्तारित (एक्सटेंडेड) स्टार</div><div>(D) <input type="radio"/> Ring (Correct Answer) (Chosen option) रिंग</div></div>			
<div>Question No.16</div> <div>Marks: 2.00</div> <div>Bookmark <input type="checkbox"/></div> <div>What are the components of CPU? सी.पी.यू. (CPU) के घटक कौन-से हैं?</div> <div><div>(A) <input type="radio"/> Output devices such as monitor and printer मॉनिटर और प्रिंटर जैसे आउटपुट डिवाइसीस</div><div>(B) <input type="radio"/> External storage devices such as floppy and pen drive फ्लॉपी और पेन ड्राइव जैसे एक्सटर्नल स्टोरेज डिवाइसीस</div><div>(C) <input type="radio"/> Input devices such as keyboard and mouse कीबोर्ड और माउस जैसे इनपुट डिवाइसीस</div><div>(D) <input type="radio"/> Control Unit and ALU (Correct Answer) (Chosen option) कंट्रोल यूनिट और ए.एल.यू. (ALU)</div></div>			
<div>Question No.17</div> <div>Marks: 2.00</div> <div>Bookmark <input type="checkbox"/></div> <div>The CPU and memory are located on the _____ of the computer. सीपीयू और मेमोरी, कंप्यूटर के _____ पर स्थित होते हैं।</div> <div><div>(A) <input type="radio"/> OuputDevice आउटपुट डिवाइस</div><div>(B) <input type="radio"/> StorageDevice स्टोरेज डिवाइस</div><div>(C) <input type="radio"/> ExpansionBoard एक्सपेंशन बोर्ड</div><div>(D) <input type="radio"/> MotherBoard (Correct Answer) (Chosen option) मदरबोर्ड</div></div>			
<div>Question No.18</div> <div>Marks: 2.00</div> <div>Bookmark <input type="checkbox"/></div> <div>हिंदी के विकास के लिए प्रधानमंत्री की अध्यक्षता में गठित सर्वोच्च समिति कौन-सी है? हिंदी के विकास के लिए प्रधानमंत्री की अध्यक्षता में गठित सर्वोच्च समिति कौन-सी है?</div> <div><div>(A) <input type="radio"/> संसदीय राजभाषा समिति संसदीय राजभाषा समिति</div><div>(B) <input type="radio"/> विश्व हिंदी सचिवालय विश्व हिंदी सचिवालय</div><div>(C) <input type="radio"/> केंद्रीय हिंदी समिति (Correct Answer) (Chosen option) केंद्रीय हिंदी समिति</div><div>(D) <input type="radio"/> केंद्रीय हिंदी निदेशालय केंद्रीय हिंदी निदेशालय</div></div>			
<div>Question No.19</div> <div>Marks: 2.00</div> <div>Bookmark <input type="checkbox"/></div> <div>'बहुमत' का विलोम शब्द कौन-सा है? 'बहुमत' का विलोम शब्द कौन-सा है?</div> <div><div>(A) <input type="radio"/> हार हार</div><div>(B) <input type="radio"/> अल्पमत (Correct Answer) (Chosen option) अल्पमत</div><div>(C) <input type="radio"/> भिन्नमत भिन्नमत</div><div>(D) <input type="radio"/> जीत जीत</div></div>			
<div>Question No.20</div> <div>Marks: 2.00</div> <div>Bookmark <input type="checkbox"/></div> <div>'ऐनवक्त' शब्द में कौन-सा उपसर्ग है? 'ऐनवक्त' शब्द में कौन-सा उपसर्ग है?</div> <div><div>(A) <input type="radio"/> खास खास</div><div>(B) <input type="radio"/> ऐन (Correct Answer) (Chosen option) ऐन</div><div>(C) <input type="radio"/> ऐसा ऐसा</div></div>			

17/12/2021, 12:20

View Question Paper

(D) ☐ ऐ
ऐ

4

10.00

अनुच्छेद पढ़कर, दिए गए सवालों के सही जवाब चुनिए :-

क्या आपको पता है कि विश्व में सबसे जटिल तंत्र आपके मस्तिष्क में ही स्थित है? शताब्दियों से मस्तिष्क (Brain) की तुलना मनुष्य द्वारा बनाई गई विभिन्न मशीनों से की जाती रही है। यह सब जानते हैं कि सबसे आधुनिक मशीन कंप्यूटर है जिससे मस्तिष्क की तुलना की जाती है। कंप्यूटर की क्रिया बहुत ही तेज होती है, लेकिन उसके कार्य सीमित हैं क्योंकि कंप्यूटर मनुष्य द्वारा दिए गए कार्यक्रम के अनुसार ही काम करता है। इस तरह कोई भी मशीन मस्तिष्क की बराबरी नहीं कर सकती। मस्तिष्क में असंख्य तंत्रिका कोशिकाएँ (Nerve cells) जटिल रूप से जुड़ी रहती हैं जिनके कारण इसको सूचना प्राप्त करने, मस्तिष्क में उनका संग्रह करने, स्मरण करने और सूचनाओं को प्रोसेस करने और साथ ही साथ नए-नए विचार उत्पन्न करने की क्षमता मिलती है। वैज्ञानिक 'बुद्धिमान' कंप्यूटर बनाने की जी-तोड़ मेहनत कर रहे हैं लेकिन यह अलग ही कहानी है। यदि हम मानव सभ्यता के इतिहास की ओर देखें तो पता चलता है कि मन (mind) और इसकी मानसिक प्रक्रियाएँ सदैव से ही दार्शनिकों के बीच रोचक चर्चा किंतु मतभेद का विषय रही हैं। अभी कुछ ही समय पहले तक हम मस्तिष्क की प्रकृति के बारे में या शरीर से इसके संबंध में बहुत कुछ नहीं जानते थे। यहाँ तक कि मन, जिसे आध्यात्मिक माना जाता था, और मस्तिष्क, जिसे सांसारिक समझा जाता था, दोनों के बीच संबंध के बारे में भी मतभेद था।

Question No.21

Marks: 2.00

Bookmark ☐

मस्तिष्क में जटिल रूप से क्या जुड़ी रहती हैं?

मस्तिष्क में जटिल रूप से क्या जुड़ी रहती हैं?

(A) ☐ मशीन की क्षमताएँ
मशीन की क्षमताएँ

(B) ☒ तंत्रिका कोशिकाएँ (Correct Answer) (Chosen option)
तंत्रिका कोशिकाएँ

(C) ☐ बुद्धिमान कंप्यूटर प्रणालियाँ
बुद्धिमान कंप्यूटर प्रणालियाँ

(D) ☐ मन की भावनाएँ
मन की भावनाएँ

Question No.22

Marks: 2.00

Bookmark ☐

किन दोनों के बीच संबंध के बारे में मतभेद था?

किन दोनों के बीच संबंध के बारे में मतभेद था?

(A) ☐ मन और मनुष्य
मन और मनुष्य

(B) ☐ वैज्ञानिक और कंप्यूटर
वैज्ञानिक और कंप्यूटर

(C) ☒ मन और मस्तिष्क (Correct Answer) (Chosen option)
मन और मस्तिष्क

(D) ☐ मनुष्य और कंप्यूटर
मनुष्य और कंप्यूटर

Question No.23

Marks: 2.00

Bookmark ☐

विश्व में सबसे जटिल तंत्र कहाँ स्थित है?

विश्व में सबसे जटिल तंत्र कहाँ स्थित है?

(A) ☐ मशीन में
मशीन में

(B) ☐ कंप्यूटर में
कंप्यूटर में

(C) ☐ मन में
मन में

(D) ☒ मस्तिष्क में (Correct Answer) (Chosen option)
मस्तिष्क में

Question No.24

Marks: 2.00

Bookmark ☐

मस्तिष्क की तुलना किससे की जाती है?

मस्तिष्क की तुलना किससे की जाती है?

(A) ☐ वैज्ञानिकों से
वैज्ञानिकों से

(B) ☐ मन से
मन से

(C) ☒ कंप्यूटर से (Correct Answer) (Chosen option)
कंप्यूटर से

(D) ☐ विज्ञान से
विज्ञान से

17/12/2021, 12:20

View Question Paper

<div>Question No.25</div> <div>Marks: 2.00</div> <div>Bookmark <input type="checkbox"/></div> <div>इस अनुच्छेद का उपयुक्त शीर्षक क्या हो सकता है? इस अनुच्छेद का उपयुक्त शीर्षक क्या हो सकता है?</div> <div><div>(A) <input type="radio"/> मानसिक प्रक्रियाएँ</div><div>मानसिक प्रक्रियाएँ</div><div>(B) <input type="radio"/> आध्यात्मिकता</div><div>आध्यात्मिकता</div><div>(C) <input checked="" type="radio"/> मानव-मस्तिष्क (Correct Answer) (Chosen option)</div><div>मानव-मस्तिष्क</div><div>(D) <input type="radio"/> कंप्यूटर प्रणाली</div><div>कंप्यूटर प्रणाली</div></div>	
<div>Question No.26</div> <div>Marks: 2.00</div> <div>Bookmark <input type="checkbox"/></div> <div>In MS Word, Spelling and Grammar button is available in _____ tab. एमएस वर्ड में स्पेलिंग और ग्रामर बटन _____ टैब में उपलब्ध होता है।</div> <div><div>(A) <input type="radio"/> DEVELOPER</div><div>DEVELOPER (डेवलपर)</div><div>(B) <input type="radio"/> OUTLINE</div><div>OUTLINE (आउटलाइन)</div><div>(C) <input type="radio"/> INSERT</div><div>INSERT (इन्सर्ट)</div><div>(D) <input checked="" type="radio"/> REVIEW (Correct Answer) (Chosen option)</div><div>REVIEW (रीव्यू)</div></div>	
<div>Question No.27</div> <div>Marks: 2.00</div> <div>Bookmark <input type="checkbox"/></div> <div>'राम-कृष्ण' शब्द में कौन-सा समास है? 'राम-कृष्ण' शब्द में कौन-सा समास है?</div> <div><div>(A) <input checked="" type="radio"/> द्वंद्व (Correct Answer)</div><div>द्वंद्व</div><div>(B) <input type="radio"/> अव्ययीभाव (Chosen option)</div><div>अव्ययीभाव</div><div>(C) <input type="radio"/> बहुब्रीहि</div><div>बहुब्रीहि</div><div>(D) <input type="radio"/> द्विगु</div><div>द्विगु</div></div>	
<div>Question No.28</div> <div>Marks: 2.00</div> <div>Bookmark <input type="checkbox"/></div> <div>'मुक्ता' शब्द का तद्भव रूप कौन-सा है? 'मुक्ता' शब्द का तद्भव रूप कौन-सा है?</div> <div><div>(A) <input type="radio"/> मुक्त</div><div>मुक्त</div><div>(B) <input type="radio"/> मुक्ति</div><div>मुक्ति</div><div>(C) <input type="radio"/> मौत</div><div>मौत</div><div>(D) <input checked="" type="radio"/> मोती (Correct Answer) (Chosen option)</div><div>मोती</div></div>	
<div>Question No.29</div> <div>Marks: 2.00</div> <div>Bookmark <input type="checkbox"/></div> <div>जिसका कोई शत्रु न हो -- इस अभिव्यक्ति के लिए एक उपयुक्त शब्द कौन-सा है? जिसका कोई शत्रु न हो -- इस अभिव्यक्ति के लिए एक उपयुक्त शब्द कौन-सा है?</div> <div><div>(A) <input type="radio"/> अजेय</div><div>अजेय</div><div>(B) <input type="radio"/> महाकोपी</div><div>महाकोपी</div><div>(C) <input checked="" type="radio"/> अजातशत्रु (Correct Answer) (Chosen option)</div><div>अजातशत्रु</div><div>(D) <input type="radio"/> सर्वप्रिय</div><div>सर्वप्रिय</div></div>	
<div>Question No.30</div> <div>Marks: 2.00</div>	

17/12/2021, 12:20	View Question Paper	Bookmark <input type="checkbox"/>
<p>What is full form of MUD in multimedia? मल्टीमीडिया में MUD (एमयूडी) का पूर्ण रूप क्या है?</p> <p>(A) <input type="radio"/> Multi-Network Dimension मल्टी-नेटवर्क डायमेंशन</p> <p>(B) <input type="radio"/> Multi-User Direction मल्टी-यूज़र डाइरेक्शन</p> <p>(C) <input checked="" type="radio"/> Multi-User Dimension (Correct Answer) (Chosen option) मल्टी-यूज़र डाइमेंशन</p> <p>(D) <input type="radio"/> Multiple Direct User मल्टीपल डायरेक्ट यूज़र</p>		
<p>Question No.31</p> <p>Marks: 2.00</p> <p>Bookmark <input type="checkbox"/></p> <p>आँख उठाकर न देखना - का अर्थ क्या है? आँख उठाकर न देखना - का अर्थ क्या है?</p> <p>(A) <input type="radio"/> अपेक्षा करना (Chosen option) अपेक्षा करना</p> <p>(B) <input type="radio"/> बहुत थक जाना बहुत थक जाना</p> <p>(C) <input type="radio"/> अंधा हो जाना अंधा हो जाना</p> <p>(D) <input checked="" type="radio"/> उपेक्षा करना (Correct Answer) उपेक्षा करना</p>		
<p>Question No.32</p> <p>Marks: 2.00</p> <p>Bookmark <input type="checkbox"/></p> <p>_____ is an episodic series of spoken word digital audio files that a user can download to a personal device for easy listening. _____ स्पोकन-वर्ड डिजिटल ऑडियो फाइलों की एक प्रासंगिक (एपिसोडिक) श्रृंखला है जिसे उपयोगकर्ता आसानी से सुनने के लिए व्यक्तिगत डिवाइस पर डाउनलोड कर सकता है।</p> <p>(A) <input type="radio"/> Groupchat ग्रुपचैट</p> <p>(B) <input type="radio"/> Hotspot हॉटस्पॉट</p> <p>(C) <input type="radio"/> Chromecast क्रोमकास्ट</p> <p>(D) <input checked="" type="radio"/> Podcast (Correct Answer) (Chosen option) पॉडकास्ट</p>		
<p>Question No.33</p> <p>Marks: 2.00</p> <p>Bookmark <input type="checkbox"/></p> <p>'पवित्र' शब्द का संधि-विच्छेद कौन-सा है? 'पवित्र' शब्द का संधि-विच्छेद कौन-सा है?</p> <p>(A) <input type="radio"/> पो: + इत्र पो: + इत्र</p> <p>(B) <input type="radio"/> पिव + इत्र पिव + इत्र</p> <p>(C) <input type="radio"/> पो + वित्र पो + वित्र</p> <p>(D) <input checked="" type="radio"/> पो + इत्र (Correct Answer) (Chosen option) पो + इत्र</p>		
<p>Question No.34</p> <p>Marks: 2.00</p> <p>Bookmark <input type="checkbox"/></p> <p>How will you term 1024 GB? आप 1024 GB को कैसे परिभाषित करेंगे?</p> <p>(A) <input checked="" type="radio"/> 1 Tera Byte (Correct Answer) (Chosen option) 1 टेरा बाइट</p> <p>(B) <input type="radio"/> 1 Peta Byte 1 पेटा बाइट</p> <p>(C) <input type="radio"/> 1 Mega Byte 1 मेगा बाइट</p> <p>(D) <input type="radio"/> 1 Kilo Byte 1 किलो बाइट</p>		
<p>Question No.35</p> <p>Marks: 2.00</p> <p>Bookmark <input type="checkbox"/></p>		

17/12/2021, 12:20		View Question Paper	
<p>What does .net refers to with respect to website? वेबसाइट के सन्दर्भ में .net का क्या अर्थ है?</p> <p>(A) <input type="radio"/> national (Chosen option) national (नेशनल)</p> <p>(B) <input type="radio"/> new new (न्यू)</p> <p>(C) <input checked="" type="radio"/> network (Correct Answer) network (नेटवर्क)</p> <p>(D) <input type="radio"/> nano nano (नैनो)</p>			
<p>Question No.36</p> <p>Who developed the computer language COBOL? कंप्यूटर भाषा COBOL (कोबोल) का विकास किसने किया था ?</p> <p>(A) <input type="radio"/> John Backus जॉन बैकस</p> <p>(B) <input checked="" type="radio"/> Grace Hopper (Correct Answer) (Chosen option) ग्रेस हॉपर</p> <p>(C) <input type="radio"/> Robert Noyce रॉबर्ट नॉयस</p> <p>(D) <input type="radio"/> Alan Shugart एलन शुगार्ट</p>		<p>Marks: 2.00</p> <p>Bookmark <input type="checkbox"/></p>	
<p>Question No.37</p> <p>ALU stands for _____. ALU (एलयू) का पूर्ण रूप _____ है।</p> <p>(A) <input type="radio"/> Assembly Logic Unit Assembly Logic Unit (एसेम्बली लॉजिक यूनिट)</p> <p>(B) <input type="radio"/> Arithmetic Logical Array Arithmetic Logical Array (अरिथमेटिक लॉजिकल ऐरे)</p> <p>(C) <input checked="" type="radio"/> Arithmetic Logic Unit (Correct Answer) Arithmetic Logic Unit (अरिथमेटिक लॉजिक यूनिट)</p> <p>(D) <input type="radio"/> Arithmetic Logical Unit (Chosen option) Arithmetic Logical Unit (अरिथमेटिक लॉजिकल यूनिट)</p>		<p>Marks: 2.00</p> <p>Bookmark <input type="checkbox"/></p>	
<p>Question No.38</p> <p>Which of the following is a technique to blend two or more images to form a new image? एक नई छवि बनाने के लिए दो या दो से अधिक छवियों को समिश्रित करने की तकनीक निम्नलिखित में से कौन-सी है?</p> <p>(A) <input type="radio"/> Modeling मॉडेलिंग</p> <p>(B) <input checked="" type="radio"/> Morphing (Correct Answer) (Chosen option) मॉर्फिंग</p> <p>(C) <input type="radio"/> Animating एनिमेटिंग</p> <p>(D) <input type="radio"/> Warping वॉर्पिंग</p>		<p>Marks: 2.00</p> <p>Bookmark <input type="checkbox"/></p>	
<p>Question No.39</p> <p>'निर्गुण' शब्द का संधि-विच्छेद कौन-सा है? 'निर्गुण' शब्द का संधि-विच्छेद कौन-सा है?</p> <p>(A) <input checked="" type="radio"/> नि: + गुण (Correct Answer) (Chosen option) नि: + गुण</p> <p>(B) <input type="radio"/> नि + गण नि + गण</p> <p>(C) <input type="radio"/> निर + गुण निर + गुण</p> <p>(D) <input type="radio"/> नी + गुण नी + गुण</p>		<p>Marks: 2.00</p> <p>Bookmark <input type="checkbox"/></p>	
<p>Question No.40</p> <p>'च' वर्ग में महाप्राण व्यंजन वर्ण कितने हैं? 'च' वर्ग में महाप्राण व्यंजन वर्ण कितने हैं?</p> <p>(A) <input checked="" type="radio"/> 2 (Correct Answer) (Chosen option)</p>		<p>Marks: 2.00</p> <p>Bookmark <input type="checkbox"/></p>	

17/12/2021, 12:20	View Question Paper
<div>2</div> <div>(B) <input type="radio"/> 1</div> <div>(C) <input type="radio"/> 4</div> <div>(D) <input type="radio"/> 3</div>	
<div>Question No.41</div> <div>Marks: 2.00</div> <div>Bookmark <input type="checkbox"/></div> <div>The process of starting a computer by initiating through hardware such as a button press, or by a software command is called _____.</div> <div>किसी कंप्यूटर को एक बटन प्रेस जैसे हार्डवेयर के माध्यम द्वारा या एक सॉफ्टवेयर कमांड द्वारा शुरू करने की प्रक्रिया को _____ कहा जाता है।</div> <div>(A) <input type="radio"/> Restoring रीस्टोरिंग</div> <div>(B) <input checked="" type="radio"/> Booting (Correct Answer) (Chosen option) बूटिंग</div> <div>(C) <input type="radio"/> Operating ऑपरेटिंग</div> <div>(D) <input type="radio"/> Resetting रीसेटिंग</div>	
<div>Question No.42</div> <div>Marks: 2.00</div> <div>Bookmark <input type="checkbox"/></div> <div>नरेश मेहता को अपने संपूर्ण कृतित्व के आधार पर प्राप्त पुरस्कार कौन-सा है?</div> <div>नरेश मेहता को अपने संपूर्ण कृतित्व के आधार पर प्राप्त पुरस्कार कौन-सा है?</div> <div>(A) <input checked="" type="radio"/> ज्ञानपीठ पुरस्कार (Correct Answer) (Chosen option) ज्ञानपीठ पुरस्कार</div> <div>(B) <input type="radio"/> साहित्य अकादमी पुरस्कार साहित्य अकादमी पुरस्कार</div> <div>(C) <input type="radio"/> व्यास सम्मान व्यास सम्मान</div> <div>(D) <input type="radio"/> सरस्वती सम्मान सरस्वती सम्मान</div>	
<div>Question No.43</div> <div>Marks: 2.00</div> <div>Bookmark <input type="checkbox"/></div> <div>कौन-सी भाषा भारतीय संविधान की आठवीं अनुसूची में शामिल नहीं है?</div> <div>कौन-सी भाषा भारतीय संविधान की आठवीं अनुसूची में शामिल नहीं है?</div> <div>(A) <input type="radio"/> नेपाली नेपाली</div> <div>(B) <input type="radio"/> बोड़ो बोड़ो</div> <div>(C) <input checked="" type="radio"/> सिंहली (Correct Answer) (Chosen option) सिंहली</div> <div>(D) <input type="radio"/> संथाली संथाली</div>	
<div>Question No.44</div> <div>Marks: 2.00</div> <div>Bookmark <input type="checkbox"/></div> <div>A problem with fewer restrictions on the actions is called a _____ problem.</div> <div>क्रियाओं पर कम प्रतिबंधों वाली समस्या को _____ समस्या कहा जाता है।</div> <div>(A) <input type="radio"/> Static स्थिर (स्टैटिक)</div> <div>(B) <input type="radio"/> Observer प्रेक्षक (ऑब्ज़र्वर)</div> <div>(C) <input checked="" type="radio"/> Relaxed (Correct Answer) शिथिल (रिलैक्स्ड)</div> <div>(D) <input type="radio"/> Stub (Chosen option) स्टब</div>	
<div>Question No.45</div> <div>Marks: 2.00</div> <div>Bookmark <input type="checkbox"/></div> <div>धरती और आकाश के बीच का स्थान -- इस अभिव्यक्ति के लिए एक उपयुक्त शब्द कौन-सा है?</div> <div>धरती और आकाश के बीच का स्थान -- इस अभिव्यक्ति के लिए एक उपयुक्त शब्द कौन-सा है?</div> <div>(A) <input type="radio"/> स्वर्ग स्वर्ग</div>	

17/12/2021, 12:20	View Question Paper
<div><div>(B) <input type="radio"/> प्रकृति (Chosen option) प्रकृति</div><div>(C) <input type="radio"/> नरक नरक</div><div>(D) <input type="radio"/> अन्तरिक्ष (Correct Answer) अन्तरिक्ष</div></div>	
<div><div>Question No.46</div><div>Marks: 2.00</div><div>Bookmark <input type="checkbox"/></div><div>ताबड़तोड़ - मुहावरे का अर्थ क्या है? ताबड़तोड़ - मुहावरे का अर्थ क्या है?</div><div><div>(A) <input type="radio"/> रौब दिखाना रौब दिखाना</div><div>(B) <input type="radio"/> अस्तव्यस्त (Chosen option) अस्तव्यस्त</div><div>(C) <input type="radio"/> तोड़-फोड़ तोड़-फोड़</div><div>(D) <input type="radio"/> लगातार (Correct Answer) लगातार</div></div></div>	
<div><div>Question No.47</div><div>Marks: 2.00</div><div>Bookmark <input type="checkbox"/></div><div>What does CC denote while sending an email? ई-मेल भेजते समय CC इनमें से किसे सूचित करता है?</div><div><div>(A) <input type="radio"/> Complete Copy कम्प्लीट कॉपी</div><div>(B) <input type="radio"/> Common Copy कॉमन कॉपी</div><div>(C) <input type="radio"/> Communication Copy कम्युनिकेशन कॉपी</div><div>(D) <input type="radio"/> Carbon Copy (Correct Answer) (Chosen option) कार्बन कॉपी</div></div></div>	
<div><div>Question No.48</div><div>Marks: 2.00</div><div>Bookmark <input type="checkbox"/></div><div>_____ feature of Excel will dynamically produce new outputs when one or more inputs in the referenced cells are changed. जब संदर्भित सेल में एक या एक से अधिक इनपुट बदल दिए जाते हैं, तो एक्सेल की _____ विशेषता (फ़ीचर), गतिशील रूप से नए आउटपुट का उत्पादन करेगी।</div><div><div>(A) <input type="radio"/> Queries क्वेरीज़</div><div>(B) <input type="radio"/> WordConnect वर्डकनेक्ट</div><div>(C) <input type="radio"/> Cell referencing (Correct Answer) सेल रेफरेंसिंग</div><div>(D) <input type="radio"/> Cell linking (Chosen option) सेल लिंकिंग</div></div></div>	
<div><div>Question No.49</div><div>Marks: 2.00</div><div>Bookmark <input type="checkbox"/></div><div>'भुलक्कड़' शब्द में किस प्रत्यय का प्रयोग हुआ है? 'भुलक्कड़' शब्द में किस प्रत्यय का प्रयोग हुआ है?</div><div><div>(A) <input type="radio"/> अक्कड़ (Correct Answer) (Chosen option) अक्कड़</div><div>(B) <input type="radio"/> लक्कड़ लक्कड़</div><div>(C) <input type="radio"/> भुला भुला</div><div>(D) <input type="radio"/> कड़ कड़</div></div></div>	
<div><div>Question No.50</div><div>Marks: 2.00</div><div>Bookmark <input type="checkbox"/></div><div>कौन-सा व्यंजन तालव्य वर्ण नहीं है? कौन-सा व्यंजन तालव्य वर्ण नहीं है?</div><div><div>(A) <input type="radio"/> श् श्</div></div></div>	

17/12/2021, 12:20	View Question Paper
<div><div>(B) <input type="radio"/> ज् ज्</div><div>(C) <input type="radio"/> च् (Chosen option) च्</div><div>(D) <input type="radio"/> स् (Correct Answer) स्</div></div>	
General awareness-Current affairs - General awareness-Current affairs	
<div>Question No.1</div> <div>Marks: 2.00</div> <div>Bookmark <input type="checkbox"/></div> <div>Who among the following was the chairperson of the first GST Council Meeting? निम्नलिखित में से प्रथम जी.एस.टी. (GST) परिषद बैठक के अध्यक्ष कौन थे?</div> <div><div>(A) <input type="radio"/> Shri Narendra Modi श्री नरेंद्र मोदी</div><div>(B) <input type="radio"/> Shri Arun Jaitley (Correct Answer) (Chosen option) श्री अरुण जेटली</div><div>(C) <input type="radio"/> Shri Ramnath Govind श्री रामनाथ गोविंद</div><div>(D) <input type="radio"/> Shri Amit Shah श्री अमित शाह</div></div>	
<div>Question No.2</div> <div>Marks: 2.00</div> <div>Bookmark <input type="checkbox"/></div> <div>Which of the following organisation publishes the "Human Development Report"? निम्नलिखित में से कौन-सा संगठन "मानव विकास रिपोर्ट" प्रकाशित करता है?</div> <div><div>(A) <input type="radio"/> International Atomic Energy Agency अंतर्राष्ट्रीय परमाणु ऊर्जा अभिकरण</div><div>(B) <input type="radio"/> United Nations Development Programme (Correct Answer) (Chosen option) संयुक्त राष्ट्र विकास कार्यक्रम</div><div>(C) <input type="radio"/> World Intellectual Property Organisation विश्व बौद्धिक संपदा संगठन</div><div>(D) <input type="radio"/> United Nations Environment Programme संयुक्त राष्ट्र पर्यावरण कार्यक्रम</div></div>	
<div>Question No.3</div> <div>Marks: 2.00</div> <div>Bookmark <input type="checkbox"/></div> <div>On which date is Civil Services Day celebrated each year in India? भारत में प्रत्येक वर्ष सिविल सेवा दिवस किस तिथि को मनाया जाता है?</div> <div><div>(A) <input type="radio"/> 22nd October 22 अक्टूबर</div><div>(B) <input type="radio"/> 21st April (Correct Answer) 21 अप्रैल</div><div>(C) <input type="radio"/> 26th November (Chosen option) 26 नवम्बर</div><div>(D) <input type="radio"/> 15th August 15 अगस्त</div></div>	
<div>Question No.4</div> <div>Marks: 2.00</div> <div>Bookmark <input type="checkbox"/></div> <div>The process of transferring of heat from the hotter end to the colder end of an object is known as _____. किसी वस्तु के गर्म सिरे से ठंडे सिरे तक ऊष्मा के स्थानांतरण की प्रक्रिया को _____ कहते हैं।</div> <div><div>(A) <input type="radio"/> Convection (Chosen option) संवहन</div><div>(B) <input type="radio"/> Transmission of heat ऊष्मा का संचरण</div><div>(C) <input type="radio"/> Insulation इंसुलेशन</div><div>(D) <input type="radio"/> Conduction (Correct Answer) प्रवाहकत्व</div></div>	
<div>Question No.5</div> <div>Marks: 2.00</div> <div>Bookmark <input type="checkbox"/></div> <div>In which year was the Railway Budget separated from the General Budget by British in India? भारत में ब्रिटिश द्वारा रेल बजट को आम बजट से किस वर्ष में अलग किया गया था?</div> <div><div>(A) <input type="radio"/> 1931 1931</div><div>(B) <input type="radio"/> 1857 1857</div></div>	

- (C) ☐ **1924 (Correct Answer) (Chosen option)**
1924
- (D) ☐ 1947
1947

Question No.6

Marks: 2.00

Bookmark ☐

Who is the head of Police force in Uttar Pradesh?
उत्तर प्रदेश में पुलिस बल का प्रमुख कौन होता है?

- (A) ☐ **Director General of Police (Correct Answer) (Chosen option)**
पुलिस महानिदेशक
- (B) ☐ Chief Secretary of the state
राज्य के मुख्य सचिव
- (C) ☐ Cabinet Secretary
कैबिनेट सचिव
- (D) ☐ Inspector General of Police
पुलिस महानिरीक्षक

Question No.7

Marks: 2.00

Bookmark ☐

Who won the Dronacharya Award for Hockey in the life-time category for the year 2020?
वर्ष 2020 के लिए लाइफ़-टाइम श्रेणी में हॉकी के लिए द्रोणाचार्य पुरस्कार किसने जीता था?

- (A) ☐ Shri Yogesh Malviya
श्री योगेश मालवीय
- (B) ☐ Shri Krishan Kumar Hooda
श्री कृष्ण कुमार हुड्डा
- (C) ☐ **Shri Romesh Pathania (Correct Answer)**
श्री रोमेश पठानिया
- (D) ☐ Shri Naresh Kumar (Chosen option)
श्री नरेश कुमार

Question No.8

Marks: 2.00

Bookmark ☐

When Burma was separated from India ?
बर्मा, भारत से कब अलग हुआ था?

- (A) ☐ **1937 (Correct Answer)**
1937
- (B) ☐ 1935
1935
- (C) ☐ 1938
1938
- (D) ☐ 1936 (Chosen option)
1936

Question No.9

Marks: 2.00

Bookmark ☐

Which security force is implementing Coastal Radar Chain Network project?
तटीय रडार श्रृंखला नेटवर्क परियोजना को कौन-सा सुरक्षा बल कार्यान्वित कर रहा है?

- (A) ☐ Indian Navy
भारतीय नौसेना
- (B) ☐ Indian Air force
भारतीय वायु सेना
- (C) ☐ National Investigation Agency
राष्ट्रीय अन्वेषण अभिकरण
- (D) ☐ **Indian Coast Guard (Correct Answer) (Chosen option)**
भारतीय तटरक्षक

Question No.10

Marks: 2.00

Bookmark ☐

Who proposed drain of wealth theory?
धन-निष्कासन सिद्धांत को किसने प्रस्तावित किया था?

- (A) ☐ **Dadabhai Naoroji (Correct Answer) (Chosen option)**
दादाभाई नौरोजी
- (B) ☐ J.N.Mukherjee
जे.एन. मुखर्जी
- (C) ☐ S N Bose
एस.एन. बोस
- (D) ☐ J.N. Ghosh
जे.एन. घोष

Question No.11

Marks: 2.00

Bookmark ☐

Where is the headquarters of Uttar Pradesh Anti-Terror squad located?
उत्तर प्रदेश एंटी-टेरर स्काड (आतंकवाद निरोधक दस्ते) का मुख्यालय कहाँ स्थित है?

- (A) ☐ Mathura
मथुरा
- (B) ☐ Agra
आगरा
- (C) ☐ Mainpuri
मैनपुरी
- (D) ☒ Lucknow (Correct Answer) (Chosen option)
लखनऊ

Question No.12

Marks: 2.00

Bookmark ☐

Which British Governor General introduced the policy of 'Paramountcy'?
किस ब्रिटिश गवर्नर जनरल ने 'सर्वोपरिता' की नीति की शुरुआत की थी?

- (A) ☐ Lord William Bentinck
लॉर्ड विलियम बेंटिंक
- (B) ☒ Lord Hastings (Correct Answer)
लॉर्ड हेस्टिंग्स
- (C) ☐ Lord Dalhousie (Chosen option)
लॉर्ड डैलहाउसी(डलहौजी)
- (D) ☐ Robert Clive
रॉबर्ट क्लाइव

Question No.13

Marks: 2.00

Bookmark ☐

In India's economic history, the two instances of demonetization before 2016 were happened in the years _____ and _____.

भारत के आर्थिक इतिहास में, 2016 से पूर्व विमुद्रीकरण की दो घटनाएँ कौन-से वर्षों में हुई थीं?

- (A) ☒ 1946 and 1978 (Correct Answer) (Chosen option)
1946 और 1978
- (B) ☐ 1991 and 2009
1991 और 2009
- (C) ☐ 1935 and 1942
1935 और 1942
- (D) ☐ 1947 and 1950
1947 और 1950

Question No.14

Marks: 2.00

Bookmark ☐

Which was the first fully synthetic fibre to be produced?
सबसे पहले किस पूर्णतः सिंथेटिक फाइबर का उत्पादन हुआ था?

- (A) ☒ Nylon (Correct Answer)
नायलॉन
- (B) ☐ Acrylic
ऐक्रिलिक
- (C) ☐ Polyester (Chosen option)
पॉलिएस्टर
- (D) ☐ Rayon
रेयॉन

Question No.15

Marks: 2.00

Bookmark ☐

In mission SAGAR 'S', stands for _____.
मिशन सागर (SAGAR) में, 'S' का पूर्ण रूप _____ है।

- (A) ☐ Safety
सेफ्टी
- (B) ☐ Selective
सीलेक्टिव
- (C) ☐ Sensational
सेन्सेशनल
- (D) ☒ Security (Correct Answer) (Chosen option)
सिक्योरिटी

Question No.16

Marks: 2.00

Bookmark ☐

Brussels is the capital of which of the following countries?

17/12/2021, 12:20		View Question Paper	
<p>ब्रुसेल्स, निम्नलिखित में से किस देश की राजधानी है?</p> <p>(A) <input type="radio"/> Taiwan ताइवान</p> <p>(B) <input type="radio"/> Austria ऑस्ट्रिया</p> <p>(C) <input checked="" type="radio"/> Belgium (Correct Answer) (Chosen option) बेल्जियम</p> <p>(D) <input type="radio"/> Belarus बेलारूस</p>			
<p>Question No.17</p> <p>Which one of the following instruments are used to measure pressure? दाब मापने के लिए निम्नलिखित में से किस यंत्र का उपयोग किया जाता है?</p> <p>(A) <input type="radio"/> Hygrometer हाइग्रोमीटर</p> <p>(B) <input checked="" type="radio"/> Barometer (Correct Answer) (Chosen option) बैरोमीटर</p> <p>(C) <input type="radio"/> Thermometer थर्मामीटर</p> <p>(D) <input type="radio"/> Anemometer एनीमोमीटर</p>		<p>Marks: 2.00</p> <p>Bookmark <input type="checkbox"/></p>	
<p>Question No.18</p> <p>Which of the following nations does not belong to G7 member countries? निम्नलिखित में से कौन-सा देश, जी7 (G7) सदस्य देशों से संबंधित नहीं है?</p> <p>(A) <input type="radio"/> US यू.एस.</p> <p>(B) <input checked="" type="radio"/> India (Correct Answer) (Chosen option) भारत</p> <p>(C) <input type="radio"/> Japan जापान</p> <p>(D) <input type="radio"/> Germany जर्मनी</p>		<p>Marks: 2.00</p> <p>Bookmark <input type="checkbox"/></p>	
<p>Question No.19</p> <p>Which among the following organisations has commenced the Crude Oil production from Bengal Basin? निम्नलिखित में से किस संगठन ने बंगाल बेसिन से कच्चे तेल का उत्पादन शुरू किया है?</p> <p>(A) <input type="radio"/> HPCL एच.पी.सी.एल. (HPCL)</p> <p>(B) <input type="radio"/> GAIL गेल (GAIL)</p> <p>(C) <input checked="" type="radio"/> ONGC (Correct Answer) (Chosen option) ओ.एन.जी.सी. (ONGC)</p> <p>(D) <input type="radio"/> IOC आई.ओ.सी. (IOC)</p>		<p>Marks: 2.00</p> <p>Bookmark <input type="checkbox"/></p>	
<p>Question No.20</p> <p>Where is the headquarters of National Thermal Power Corporation limited located? राष्ट्रीय ताप विद्युत निगम लिमिटेड का मुख्यालय कहाँ स्थित है?</p> <p>(A) <input checked="" type="radio"/> New Delhi (Correct Answer) (Chosen option) नई दिल्ली</p> <p>(B) <input type="radio"/> Chennai चेन्नई</p> <p>(C) <input type="radio"/> Calcutta कलकत्ता</p> <p>(D) <input type="radio"/> Mumbai मुंबई</p>		<p>Marks: 2.00</p> <p>Bookmark <input type="checkbox"/></p>	
<p>Question No.21</p> <p>Which of the following regions is popularly called 'Orchards of the world'? निम्नलिखित में से किस क्षेत्र को लोकप्रिय रूप से 'विश्व का फलोद्यान' कहा जाता है?</p> <p>(A) <input type="radio"/> Hot and Wet Equatorial Region गर्म और आर्द्र भूमध्यरेखीय क्षेत्र</p> <p>(B) <input type="radio"/> Tropical Marine Region</p>		<p>Marks: 2.00</p> <p>Bookmark <input type="checkbox"/></p>	

17/12/2021, 12:20		View Question Paper	
<p>उष्णकटिबंधीय समुद्री क्षेत्र</p> <p>(C) <input type="radio"/> Mediterranean Region (Correct Answer) भूमध्यसागरीय क्षेत्र</p> <p>(D) <input type="radio"/> Tropical Grasslands Region (Chosen option) उष्णकटिबंधीय घास के मैदान वाले क्षेत्र</p>			
<p>Question No.22</p> <p>Who patronised Hinayana Buddhism? हीनयान बौद्ध धर्म को प्रश्रय किसने दिया?</p> <p>(A) <input type="radio"/> Pulakesin II पुलकेशिन द्वितीय</p> <p>(B) <input type="radio"/> Harsha Vardhana हर्ष वर्धन</p> <p>(C) <input type="radio"/> Kanishka (Chosen option) कनिष्क</p> <p>(D) <input type="radio"/> Ashoka (Correct Answer) अशोक</p>		<p>Marks: 2.00</p> <p>Bookmark <input type="checkbox"/></p>	
<p>Question No.23</p> <p>Who was the then Prime Minister of India, who signed the Indus Water Treaty (1960)? सिंधु जल संधि (1960) पर हस्ताक्षर करने वाले भारत के तत्कालीन प्रधानमंत्री कौन थे?</p> <p>(A) <input type="radio"/> Gulzarilal Nanda गुलज़ारीलाल नंदा</p> <p>(B) <input type="radio"/> Indira Gandhi इंदिरा गांधी</p> <p>(C) <input type="radio"/> Lal Bahadur shastri लाल बहादुर शास्त्री</p> <p>(D) <input type="radio"/> Jawaharlal Nehru (Correct Answer) (Chosen option) जवाहर लाल नेहरू</p>		<p>Marks: 2.00</p> <p>Bookmark <input type="checkbox"/></p>	
<p>Question No.24</p> <p>In which state "Valley of Flowers National Park" is situated? "फूलों की घाटी राष्ट्रीय उद्यान" किस राज्य में स्थित है?</p> <p>(A) <input type="radio"/> Himachal Pradesh हिमाचल प्रदेश</p> <p>(B) <input type="radio"/> Punjab पंजाब</p> <p>(C) <input type="radio"/> Uttarakhand (Correct Answer) (Chosen option) उत्तराखंड</p> <p>(D) <input type="radio"/> Jammu and Kashmir जम्मू-कश्मीर</p>		<p>Marks: 2.00</p> <p>Bookmark <input type="checkbox"/></p>	
<p>Question No.25</p> <p>Who can instruct Department of Telecommunications to block a website? दूरसंचार विभाग को कोई एक वेबसाइट ब्लॉक करने का निर्देश कौन दे सकता है?</p> <p>(A) <input type="radio"/> Accenture Cyber Fusion Center एक्सेंचर साइबर फ्यूजन सेंटर</p> <p>(B) <input type="radio"/> Forum of Incident response and Security Teams (FIRST) फोरम ऑफ़ इंसीडेंट रीस्पॉंस एंड सिक्योरिटी टीम (FIRST)</p> <p>(C) <input type="radio"/> Access Now Digital Security Helpline एक्सेस नाउ डिजिटल सुरक्षा हेल्पलाइन</p> <p>(D) <input type="radio"/> Computer Emergency Respose Team - India (CERT-IND) (Correct Answer) (Chosen option) कंप्यूटर आपातकालीन प्रतिक्रिया दल - भारत (CERT-IND)</p>		<p>Marks: 2.00</p> <p>Bookmark <input type="checkbox"/></p>	
<p>Question No.26</p> <p>Which one of the following is considered the Magna Carta of the Indian people? निम्नलिखित में से किसे भारतीय लोगों का मैग्ना कार्टा माना जाता है?</p> <p>(A) <input type="radio"/> The Ilbert Bill इल्बर्ट विधेयक</p> <p>(B) <input type="radio"/> Queen Victoria's Proclamation (Correct Answer) महारानी विक्टोरिया की घोषणा</p> <p>(C) <input type="radio"/> The Government of India Act, 1858 (Chosen option) भारत सरकार अधिनियम, 1858</p> <p>(D) <input type="radio"/> Indian Councils Act of 1892</p>		<p>Marks: 2.00</p> <p>Bookmark <input type="checkbox"/></p>	

भारतीय परिषद अधिनियम 1892

Question No.27

Marks: 2.00

Bookmark ☐

Where was the 'Rio de Janeiro Earth Summit, 1992' held?

'रियो डी जेनेरियो पृथ्वी सम्मेलन, 1992' का आयोजन कहाँ हुआ था?

- (A) ☐ London
लंदन
- (B) ☒ **Brazil (Correct Answer) (Chosen option)**
ब्राज़ील
- (C) ☐ Paris
पेरिस
- (D) ☐ Japan
जापान

Question No.28

Marks: 2.00

Bookmark ☐

Who among the following is called as the 'Father of White Revolution in India'?

'भारत में श्वेत क्रांति का जनक' निम्नलिखित में से किसे कहा जाता है?

- (A) ☐ Shyam Benegal
श्याम बेनेगल
- (B) ☒ **Dr. Verghese Kurien (Correct Answer) (Chosen option)**
डॉ. वर्गीज़ कुरियन
- (C) ☐ Tribhuvandas Kishibhai Patel
त्रिभुवनदास किशीभाई पटेल
- (D) ☐ Molly Kurien
मौली कुरियन

Question No.29

Marks: 2.00

Bookmark ☐

Which among the following viruses causes the Acquired Immune Deficiency Syndrome (AIDS) ?

निम्नलिखित में से कौन-सा वायरस एक्वायर्ड इम्यून डेफिसिएंसी सिंड्रोम (एड्स) का कारण बनता है?

- (A) ☐ Epstein Barr Virus
एपस्टीन बार वायरस
- (B) ☐ Herpes Zoster Virus
हर्पीस जोस्टर वायरस
- (C) ☒ **Human Immuno-deficiency Virus (Correct Answer)**
ह्यूमन इम्यूनो डेफिसिएंसी वायरस
- (D) ☐ Rubella Virus (Chosen option)
रूबेला वायरस

Question No.30

Marks: 2.00

Bookmark ☐

Which of the following is the famous folk song of Uttar Pradesh?

निम्नलिखित में से उत्तर प्रदेश का प्रसिद्ध लोकगीत कौन-सा है?

- (A) ☒ **Birha (Correct Answer)**
बिरहा
- (B) ☐ Chait Parab (Chosen option)
चैत परब
- (C) ☐ Karam Sangeet
करम संगीत
- (D) ☐ Geet Khudia
गीत खुदिया

Question No.31

Marks: 2.00

Bookmark ☐

The book 'The Wings of Fire' is an autobiography of _____.

पुस्तक 'द विंग्स ऑफ़ फ़ायर' _____ की आत्मकथा है।

- (A) ☒ **Dr. A.P.J. Abdul Kalam (Correct Answer) (Chosen option)**
डॉ. ए.पी.जे. अब्दुल कलाम
- (B) ☐ R.K. Narayan
आर.के. नारायण
- (C) ☐ Amartya Sen
अमर्त्य सेन
- (D) ☐ Abul Kalam Azad
अबुल कलाम आज़ाद

Question No.32

Marks: 2.00

Bookmark ☐

17/12/2021, 12:20	View Question Paper
<p>According to the Census of India, who is termed as the 'Main worker'?</p> <p>भारतीय जनगणना के अनुसार 'मुख्य श्रमिक' किसे कहा जाता है?</p> <p>(A) <input type="radio"/> A person working for at least 123 days in a year एक वर्ष में कम से कम 123 दिन कार्य करने वाला व्यक्ति</p> <p>(B) <input type="radio"/> A person working for at least 100 days in a year एक वर्ष में कम से कम 100 दिन कार्य करने वाला व्यक्ति</p> <p>(C) <input checked="" type="radio"/> A person working for at least 183 days in a year (Correct Answer) (Chosen option) एक वर्ष में कम से कम 183 दिन कार्य करने वाला व्यक्ति</p> <p>(D) <input type="radio"/> A person working for at least 150 days in a year एक वर्ष में कम से कम 150 दिन कार्य करने वाला व्यक्ति</p>	
<p>Question No.33</p> <p>What is the name of Amazon's virtual assistant?</p> <p>एमेज़ोन के आभासी सहायक (वर्चुअल असिस्टेंट) का क्या नाम है?</p> <p>(A) <input type="radio"/> Siri सीरी</p> <p>(B) <input type="radio"/> Bixby बिक्सबी</p> <p>(C) <input checked="" type="radio"/> Alexa (Correct Answer) (Chosen option) एलेक्सा</p> <p>(D) <input type="radio"/> Cortana कोर्टाना</p>	<p>Marks: 2.00</p> <p>Bookmark <input type="checkbox"/></p>
<p>Question No.34</p> <p>The book '281 and Beyond' is an autobiography of _____.</p> <p>पुस्तक '281 एंड बियॉन्ड' _____ की आत्मकथा है।</p> <p>(A) <input type="radio"/> Kapil Dev कपिल देव</p> <p>(B) <input checked="" type="radio"/> V.V.S.Laxman (Correct Answer) (Chosen option) वी.वी.एस. लक्ष्मण</p> <p>(C) <input type="radio"/> Sachin Tendulkar सचिन तेंदुलकर</p> <p>(D) <input type="radio"/> Dhyan Chand ध्यान चंद</p>	<p>Marks: 2.00</p> <p>Bookmark <input type="checkbox"/></p>
<p>Question No.35</p> <p>In computer terminology, one gigabyte is equal to _____.</p> <p>कंप्यूटर शब्दावली में, एक गीगाबाइट _____ के बराबर होता है।</p> <p>(A) <input type="radio"/> 1024 bits 1024 बिट्स</p> <p>(B) <input type="radio"/> 1024 terabytes 1024 टेराबाइट्स</p> <p>(C) <input checked="" type="radio"/> 1024 megabytes (Correct Answer) (Chosen option) 1024 मेगाबाइट्स</p> <p>(D) <input type="radio"/> 1024 kilobytes 1024 किलोबाइट्स</p>	<p>Marks: 2.00</p> <p>Bookmark <input type="checkbox"/></p>
<p>Question No.36</p> <p>Which is the India's External intelligence Agency ?</p> <p>भारत की बाह्य खुफिया एजेंसी कौन-सी है?</p> <p>(A) <input type="radio"/> Intelligence bureau आसूचना ब्यूरो</p> <p>(B) <input checked="" type="radio"/> Research and analysis wing (Correct Answer) (Chosen option) अनुसंधान और विश्लेषण विंग</p> <p>(C) <input type="radio"/> Enforcement Directorate प्रवर्तन निदेशालय</p> <p>(D) <input type="radio"/> National Investigation Agency राष्ट्रीय अन्वेषण अभिकरण</p>	<p>Marks: 2.00</p> <p>Bookmark <input type="checkbox"/></p>
<p>Question No.37</p> <p>Which of the following banks launched the India's first Mobile ATM?</p> <p>निम्नलिखित में से किस बैंक ने भारत का पहला मोबाइल एटीएम लॉन्च किया?</p> <p>(A) <input type="radio"/> Axis Bank ऐक्सिस बैंक</p>	<p>Marks: 2.00</p> <p>Bookmark <input type="checkbox"/></p>

- (B) ☐ Punjab National Bank (PNB)
पंजाब नेशनल बैंक (पी.एन.बी.)
- (C) ☐ State Bank of India (SBI)
भारतीय स्टेट बैंक (एस.बी.आई.)
- (D) ☐ **Industrial Credit and Investment Corporation of India (ICICI) (Correct Answer) (Chosen option)**
भारतीय औद्योगिक ऋण और निवेश निगम (आई.सी.आई.सी.आई.)

Question No.38

Marks: 2.00

Bookmark ☐

How many full-time members are there in State Human Rights Commission including chairman?

राज्य मानवाधिकार आयोग में अध्यक्ष सहित कितने पूर्णकालिक सदस्य होते हैं?

- (A) ☐ 4 members
4 सदस्य
- (B) ☐ 6 members
6 सदस्य
- (C) ☐ 5 members (Chosen option)
5 सदस्य
- (D) ☐ **3 members (Correct Answer)**
3 सदस्य

Question No.39

Marks: 2.00

Bookmark ☐

In which of the following districts of Uttar Pradesh, Bateshwar fair is celebrated?

उत्तर प्रदेश के निम्नलिखित में से किस जिले में बटेश्वर मेला मनाया जाता है?

- (A) ☐ **Agra (Correct Answer)**
आगरा
- (B) ☐ Sambhal
सम्भल
- (C) ☐ Sitapur
सीतापुर
- (D) ☐ Unnao (Chosen option)
उन्नाव

Question No.40

Marks: 2.00

Bookmark ☐

In which state, Sambhar Salt Lake is located?

सांभर खारी झील, किस राज्य में स्थित है?

- (A) ☐ **Rajasthan (Correct Answer)**
राजस्थान
- (B) ☐ Andhra Pradesh
आंध्र प्रदेश
- (C) ☐ Odisha (Chosen option)
ओडिशा
- (D) ☐ Gujarat
गुजरात

Question No.41

Marks: 2.00

Bookmark ☐

Where was the first 'Krishi Vigyan Kendra (KVK)' established?

प्रथम 'कृषि विज्ञान केंद्र (के.वी.के.)' कहाँ स्थापित किया गया था?

- (A) ☐ Andhra Pradesh
आंध्र प्रदेश
- (B) ☐ **Puducherry (Correct Answer)**
पुदुचेरी
- (C) ☐ Haryana (Chosen option)
हरियाणा
- (D) ☐ Kerala
केरल

Question No.42

Marks: 2.00

Bookmark ☐

Whose birth anniversary is celebrated as National Sports Day every year in India?

भारत में प्रत्येक वर्ष किसकी जयंती को राष्ट्रीय खेल दिवस के रूप में मनाया जाता है?

- (A) ☐ Rajiv Gandhi
राजीव गांधी
- (B) ☐ **Major Dhyan Chand (Correct Answer) (Chosen option)**
मेजर ध्यान चंद
- (C) ☐ Kapil Dev
कपिल देव

17/12/2021, 12:20	View Question Paper	Bookmark <input type="checkbox"/>
<p>_____ is the currency of Iran. _____ ईरान की मुद्रा है।</p> <p>(A) <input type="radio"/> Dirham दिरहम</p> <p>(B) <input checked="" type="radio"/> Rial (Correct Answer) रियाल</p> <p>(C) <input type="radio"/> Won वॉन</p> <p>(D) <input type="radio"/> Dinar (Chosen option) दीनार</p>		
Question No.49	Marks: 2.00 Bookmark <input type="checkbox"/>	
<p>Who was the Indian flag bearer at the opening ceremony of the Rio 2016 Summer Olympics? रियो 2016 ग्रीष्मकालीन ओलंपिक के उद्घाटन समारोह में भारतीय ध्वजवाहक इनमें से कौन थे/थीं?</p> <p>(A) <input type="radio"/> Sakshi Malik साक्षी मलिक</p> <p>(B) <input checked="" type="radio"/> Abhinav Bindra (Correct Answer) अभिनव बिंद्रा</p> <p>(C) <input type="radio"/> Yogeshwar Dutt (Chosen option) योगेश्वर दत्त</p> <p>(D) <input type="radio"/> Hima Das हिमा दास</p>		
Question No.50	Marks: 2.00 Bookmark <input type="checkbox"/>	
<p>In which year was the 'Gandhi-Irwin Pact' signed? 'गांधी-इरविन समझौता' किस वर्ष में हस्ताक्षरित हुआ था?</p> <p>(A) <input checked="" type="radio"/> 1931 (Correct Answer) (Chosen option) 1931</p> <p>(B) <input type="radio"/> 1927 1927</p> <p>(C) <input type="radio"/> 1920 1920</p> <p>(D) <input type="radio"/> 1940 1940</p>		
Numerical and Mental Ability Test - Numerical and Mental Ability Test		
Question No.1	Marks: 2.00 Bookmark <input type="checkbox"/>	
<p>Replace the question mark with an option that follows the same logic applied in the first pair CM : GQ :: UE : ?? प्रश्नवाचक चिह्न को उस विकल्प से बदलें, जो पहले युग्म में प्रयुक्त तर्क का अनुसरण करता है। CM : GQ :: UE : ??</p> <p>(A) <input type="radio"/> YJ YJ</p> <p>(B) <input type="radio"/> XI XI</p> <p>(C) <input checked="" type="radio"/> YI (Correct Answer) (Chosen option) YI</p> <p>(D) <input type="radio"/> XJ XJ</p>		
Question No.2	Marks: 2.00 Bookmark <input type="checkbox"/>	
<p>The average of 14 terms is 260. If the average of first 12 terms is 250, what is the average of the remaining 2 terms? 14 पदों का औसत 260 है। यदि पहले 12 पदों का औसत 250 है, तो शेष 2 पदों का औसत कितना होगा?</p> <p>(A) <input type="radio"/> 317 317</p> <p>(B) <input type="radio"/> 315 315</p> <p>(C) <input type="radio"/> 316 316</p> <p>(D) <input checked="" type="radio"/> 320 (Correct Answer) (Chosen option) 320</p>		
Question No.3	Marks: 2.00 Bookmark <input type="checkbox"/>	
<p>If a traveller covers a distance of 7905 metres in 51 seconds, find the speed of the traveller.(in kmph) यदि एक यात्री 51 सेकंड में 7905 मीटर की दूरी तय करता है. तो यात्री की चाल ज्ञात कीजिए। (kmph में)</p>		

17/12/2021, 12:20	View Question Paper
<p>(A) <input type="radio"/> 558 (Correct Answer) (Chosen option) 558</p> <p>(B) <input type="radio"/> 556 556</p> <p>(C) <input type="radio"/> 557 557</p> <p>(D) <input type="radio"/> 559 559</p>	<div> <div>Question No.4</div> <div>Marks: 2.00</div> <div>Bookmark <input type="checkbox"/></div> </div> <p>Find the area of a circle whose radius is 235 cm.(in cm^2) उस वृत्त का क्षेत्रफल ज्ञात कीजिए, जिसकी त्रिज्या 235 cm है। (cm^2 में)</p> <p>(A) <input type="radio"/> 55525π 55525π</p> <p>(B) <input checked="" type="radio"/> 55225π (Correct Answer) (Chosen option) 55225π</p> <p>(C) <input type="radio"/> 52225π 52225π</p> <p>(D) <input type="radio"/> 55220π 55220π</p>
<p>(A) <input type="radio"/> 64 64</p> <p>(B) <input checked="" type="radio"/> 63 (Correct Answer) (Chosen option) 63</p> <p>(C) <input type="radio"/> 66 66</p> <p>(D) <input type="radio"/> 65 65</p>	<div> <div>Question No.5</div> <div>Marks: 2.00</div> <div>Bookmark <input type="checkbox"/></div> </div> <p>Amir is twice good a workman as Brendon and together they can finish the same work in 42 days. In how many days will Amir alone finish the same work? आमिर, ब्रेंडन की तुलना में दोगुना कुशल श्रमिक है और वे एक-साथ एक कार्य को 42 दिनों में पूरा कर सकते हैं। आमिर अकेले उसी कार्य को कितने दिनों में पूरा करेगा?</p>
<p>(A) <input type="radio"/> South दक्षिण</p> <p>(B) <input checked="" type="radio"/> North (Correct Answer) (Chosen option) उत्तर</p> <p>(C) <input type="radio"/> West पश्चिम</p> <p>(D) <input type="radio"/> East पूर्व</p>	<div> <div>Question No.6</div> <div>Marks: 2.00</div> <div>Bookmark <input type="checkbox"/></div> </div> <p>A boy is standing in a lawn facing East direction. If the boy turns 65 degrees in clockwise direction and 155 degrees in anti-clockwise direction, which direction will he face now? एक लड़का, लॉन में पूर्व दिशा की ओर अभिमुख होकर खड़ा है। यदि लड़का दक्षिणावर्त दिशा में 65 डिग्री और वामावर्त दिशा में 155 डिग्री मुड़ता है, तो अब वह किस दिशा की ओर अभिमुख होगा?</p>
<p>(A) <input checked="" type="radio"/> 121/4 (Correct Answer) (Chosen option) 121/4</p> <p>(B) <input type="radio"/> 126/4 126/4</p> <p>(C) <input type="radio"/> 125/4 125/4</p> <p>(D) <input type="radio"/> 123/4 123/4</p>	<div> <div>Question No.7</div> <div>Marks: 2.00</div> <div>Bookmark <input type="checkbox"/></div> </div> <p>In a fraction, the sum and the difference of the numerator and the denominator are 125 and 117. Find the fraction. एक भिन्न में, अंश और हर का योगफल और अंतर 125 और 117 है। भिन्न ज्ञात कीजिए।</p>
<p>(A) <input type="radio"/> 126/4 126/4</p> <p>(B) <input type="radio"/> 125/4 125/4</p> <p>(C) <input type="radio"/> 123/4 123/4</p> <p>(D) <input type="radio"/> 124/4 124/4</p>	<div> <div>Question No.8</div> <div>Marks: 2.00</div> <div>Bookmark <input type="checkbox"/></div> </div> <p>If a mirror is placed on the shaded line, then which one of the following options is the correct image of the given figure?</p>

INTEND



यदि एक दर्पण को छायांकित रेखा पर रखा जाता है, तो निम्नलिखित में से कौन-सा विकल्प दी गई आकृति का सही प्रतिबिम्ब होगा?

(A)

INLEND

(B)

DNETNI

(C) (Correct Answer) (Chosen option)

INTEND

(D)

DNELNI

DNELNI

Question No.9

Marks: 2.00
Bookmark ☐

October 30, 1949 falls on which day of the week?
30 अक्टूबर 1949 को सप्ताह का कौन-सा दिन होगा?

- (A) ☐ Friday
शुक्रवार
- (B) ☒ Sunday (Correct Answer) (Chosen option)
रविवार
- (C) ☐ Thursday
बृहस्पतिवार
- (D) ☐ Saturday
शनिवार

Question No.10

Marks: 2.00
Bookmark ☐

By selling a table for Rs.3500, a shopkeeper loses 30%. At what price should he sell it to gain 30%?(in Rs.)
एक मेज को Rs.3500 में बेचने पर एक दुकानदार को 30% की हानि होती है। 30% का लाभ प्राप्त करने के लिए उसे इस मेज को किस कीमत पर बेचना चाहिए? (Rs. में)

- (A) ☒ 6500 (Correct Answer) (Chosen option)
6500
- (B) ☐ 6700
6700
- (C) ☐ 6505
6505

(D) ☐ 6575
6575

Question No.11

Marks: 2.00

Bookmark ☐

Find the sum of 4 terms of the geometric progression:

21, 42, 84, ...

गुणोत्तर श्रेणी के 4 पदों का योगफल ज्ञात कीजिए:

21, 42, 84, ...

(A) ☐ 325
325

(B) ☐ 320
320

(C) ☒ 315 (Correct Answer) (Chosen option)
315

(D) ☐ 327
327

Question No.12

Marks: 2.00

Bookmark ☐

Select the combination of numbers so that letters arranged accordingly will form a meaningful word.

1. M 2. U 3. F 4. R 5. O

संख्याओं के उस संयोजन का चयन करें, जिसके अनुसार व्यवस्थित अक्षरों से एक अर्थपूर्ण शब्द बने।

1. M 2. U 3. F 4. R 5. O

(A) ☒ 3, 5, 4, 2, 1 (Correct Answer) (Chosen option)
3, 5, 4, 2, 1

(B) ☐ 3, 1, 5, 4, 2
3, 1, 5, 4, 2

(C) ☐ 2, 3, 5, 1, 4
2, 3, 5, 1, 4

(D) ☐ 2, 5, 4, 3, 1
2, 5, 4, 3, 1

Question No.13

Marks: 2.00

Bookmark ☐

What should be written in the place of question mark in the given series?

C21, F25, ?, L33, O37

दी गई श्रृंखला में प्रश्नवाचक चिह्न के स्थान पर क्या लिखा जाना चाहिए?

C21, F25, ?, L33, O37

(A) ☒ I29 (Correct Answer) (Chosen option)
I29

(B) ☐ I28
I28

(C) ☐ J28
J28

(D) ☐ J29
J29

Question No.14

Marks: 2.00

Bookmark ☐

At the end of three years what will be the amount invested under compound interest at the rate of 10% p.a. on an principal of Rs.42000?

चक्रवृद्धि ब्याज के अंतर्गत प्रति वर्ष 10% की दर पर निवेशित Rs.42000 के मूलधन पर तीन वर्ष के अंत में प्राप्त मिश्रधन कितना होगा? (Rs. में)

(A) ☐ 55950
55950

(B) ☐ 55900
55900

(C) ☒ 55902 (Correct Answer) (Chosen option)
55902

(D) ☐ 55209
55209

Question No.15

Marks: 2.00





Bookmark ☐

K, L, M together started a business. K invested Rs.8100 for 4 months, L invested Rs.4700 for 5 months and M Rs.8600 for 3 months. If they get a total profit of Rs.8170. Find the share of L?(in Rs)

K, L, M एक-साथ, एक व्यवसाय शुरू करते हैं। K, 4 महीने के लिए Rs.8100 का निवेश करता है, L, 5 महीने के लिए Rs.4700 का निवेश करता है और M, 3 महीने के लिए Rs.8600 का निवेश करता है। यदि उन्हें कुल Rs.8170 का लाभ प्राप्त होता है, तो L का हिस्सा ज्ञात कीजिए। (Rs. में)

(A) ☐ 2375
2375

(B) ☐ 2305

17/12/2021, 12:20	View Question Paper
<div>2305</div> <div>(C) <input type="radio"/> 2345</div> <div>2345</div> <div>(D) <input type="radio"/> 2350 (Correct Answer) (Chosen option)</div> <div>2350</div>	
<div>1</div> <div>Directions:</div> <div>Study the following graph and answer the questions below.</div> <div>Number of college students who watch three different sports for the 5 different years(2011, 2012, 2013, 2014 and 2015)</div>	4.00
<div>Question No.16</div> <div>Marks: 2.00</div> <div>Bookmark <input type="checkbox"/></div> <div>Find the difference between the number of students who watch cricket and basket ball for the year 2011</div> <div></div> <div>वर्ष 2011 के लिए क्रिकेट और बास्केट-बॉल देखने वाले छात्रों की संख्या के बीच का अंतर ज्ञात कीजिए।</div> <div></div> <div>(A) <input type="radio"/> 49</div> <div>49</div> <div>(B) <input type="radio"/> 50</div> <div>50</div> <div>(C) <input type="radio"/> 48 (Correct Answer) (Chosen option)</div> <div>48</div> <div>(D) <input type="radio"/> 47</div> <div>47</div>	
<div>Question No.17</div> <div>Marks: 2.00</div> <div>Bookmark <input type="checkbox"/></div> <div>Find the total number of viewers who watch all three sports for the years 2011, 2013 and 2015.</div> <div></div> <div>वर्ष 2011, 2013 और 2015 में तीनों खेलों को देखने वाले दर्शकों की कुल संख्या ज्ञात कीजिए।</div> <div></div> <div>(A) <input type="radio"/> 676</div> <div>676</div> <div>(B) <input type="radio"/> 679</div> <div>679</div> <div>(C) <input type="radio"/> 675</div> <div>675</div> <div>(D) <input type="radio"/> 677 (Correct Answer) (Chosen option)</div> <div>677</div>	
<div>Question No.18</div> <div>Marks: 2.00</div> <div>Bookmark <input type="checkbox"/></div> <div>In this question, two statements are given followed by two conclusions numbered i and ii. You have to assume everything in the statements to be true, then consider the two conclusions together and decide which of them logically follows beyond a reasonable doubt from the information given in the statements.</div> <div>Statements:</div> <div>Some helmets are gloves. All masks are helmets.</div> <div>Conclusions:</div> <div>i) Some gloves are masks.</div> <div>ii) Some helmets are masks.</div> <div>Choose the appropriate one from the following options</div> <div>(A) Only conclusion i follows</div> <div>(B) Only conclusion ii follows</div> <div>(C) Either i or ii follows</div> <div>(D) Neither i nor ii follows</div> <div>(E) Both i and ii follow.</div> <div>इस प्रश्न में, दो कथनों के बाद i और ii से संख्यांकित दो निष्कर्ष दिए गए हैं। आपको कथनों में दी गई जानकारी को सत्य मानना है, फिर दोनों निष्कर्षों पर एक-साथ विचार करना है और निर्णय करना है कि उनमें से कौन-सा निष्कर्ष कथनों में दी गई जानकारी का, उचित संदेह से परे तार्किक रूप से अनुसरण करता है।</div> <div>कथन:</div> <div>कुछ हेलमेट, दस्ताने हैं। सभी मास्क, हेलमेट हैं।</div> <div>निष्कर्ष:</div> <div>i) कुछ दस्ताने, मास्क हैं।</div> <div>ii) कुछ हेलमेट, मास्क हैं।</div> <div>निम्नलिखित विकल्पों में से उपयुक्त विकल्प का चयन करें</div> <div>(A) केवल निष्कर्ष i अनुसरण करता है</div> <div>(B) केवल निष्कर्ष ii अनुसरण करता है</div> <div>(C) या तो i या ii अनुसरण करता है</div>	

17/12/2021, 12:20	View Question Paper
<p>(D) न तो i न ही ii अनुसरण करता है (E) i और ii दोनों अनुसरण करते हैं। (A) <input checked="" type="radio"/> B (Correct Answer) (Chosen option) B (B) <input type="radio"/> E E (C) <input type="radio"/> A A (D) <input type="radio"/> C C</p>	<div>Question No.19<div>Marks: 2.00</div><div>Bookmark <input type="checkbox"/></div></div> <p>If 754% of X = 845% of 754, what is the value of X? यदि X का 754% = 754 का 845%, तो X का मान कितना है? (A) <input checked="" type="radio"/> 845 (Correct Answer) (Chosen option) 845 (B) <input type="radio"/> 850 850 (C) <input type="radio"/> 846 846 (D) <input type="radio"/> 844 844</p>
<p>Question No.20</p> <p>Reni walked 12km towards North and took a right turn and walked 11km. She walked 5km towards North and 3km towards West. She then finally walked 17km towards South. How far is she from the starting point? रेनी, उत्तर की ओर 12km चलती है और दाएं मुड़ती है और 11km चलती है। वह उत्तर की ओर 5km और पश्चिम की ओर 3km चलती है। वह फिर अंत में दक्षिण की ओर 17km चलती है। वह आरंभिक बिंदु से कितनी दूर है? (A) <input type="radio"/> 13km 13km (B) <input type="radio"/> 11km 11km (C) <input type="radio"/> 7km 7km (D) <input checked="" type="radio"/> 8km (Correct Answer) (Chosen option) 8km</p>	<div>Question No.21<div>Marks: 2.00</div><div>Bookmark <input type="checkbox"/></div></div> <p>Today is Friday, what will be the day after 126 days? आज शुक्रवार है, 126 दिन बाद कौन-सा वार होगा? (A) <input type="radio"/> Monday सोमवार (B) <input type="radio"/> Tuesday मंगलवार (C) <input checked="" type="radio"/> Friday (Correct Answer) (Chosen option) शुक्रवार (D) <input type="radio"/> Saturday शनिवार</p>
<p>Question No.22</p> <p>The salary of a worker is increased to 26350 from 15500. What is the percentage increase in his salary? एक कर्मचारी का वेतन 15500 से बढ़ाकर 26350 कर दिया जाता है। उसके वेतन में कितने प्रतिशत की वृद्धि हुई है? (A) <input type="radio"/> 69% 69% (B) <input checked="" type="radio"/> 70% (Correct Answer) (Chosen option) 70% (C) <input type="radio"/> 75% 75% (D) <input type="radio"/> 71% 71%</p>	<div>Question No.23<div>Marks: 2.00</div><div>Bookmark <input type="checkbox"/></div></div> <p>A and B can do a piece of work in 10 days, while C and D can do the same work in 90 days. In how many days will A, B, C and D do it together? A और B, एक कार्य को 10 दिनों में कर सकते हैं, जबकि C और D उसी कार्य को 90 दिनों में कर सकते हैं। A, B, C और D एक-साथ इसे कितने दिनों में करेंगे?</p>

17/12/2021, 12:20	View Question Paper
<div>(A) 9 (Correct Answer) (Chosen option)</div> <div>9</div> <div>(B) <input type="radio"/> 7</div> <div>7</div> <div>(C) <input type="radio"/> 8</div> <div>8</div> <div>(D) <input type="radio"/> 10</div> <div>10</div>	<div> <div>Question No.24</div> <div>Marks: 2.00</div> <div>Bookmark <input type="checkbox"/></div> </div> <div>Find the lateral surface area of a cylinder with radius of 41 cm and height of 121 cm.(in cm)</div> <div>41 cm त्रिज्या और 121 cm ऊँचाई वाले बेलन का पार्श्व पृष्ठीय क्षेत्रफल ज्ञात कीजिए। (cm में)</div> <div>(A) <input type="radio"/> 9912π</div> <div>9912π</div> <div>(B) <input checked="" type="radio"/> 9922π (Correct Answer) (Chosen option)</div> <div>9922π</div> <div>(C) <input type="radio"/> 9122π</div> <div>9122π</div> <div>(D) <input type="radio"/> 9952π</div> <div>9952π</div>
<div>Question No.25</div> <div>Replace the question mark with an option that follows the same logic applied in the first pair</div> <div>Brief : Crisp :: Prove : ??</div> <div>प्रश्नवाचक चिह्न को उस विकल्प से बदलें, जो पहले युग्म में प्रयुक्त तर्क का अनुसरण करता है।</div> <div>Brief : Crisp :: Prove : ??</div> <div>(A) <input type="radio"/> Refuse</div> <div>Refuse</div> <div>(B) <input type="radio"/> Contradict</div> <div>Contradict</div> <div>(C) <input checked="" type="radio"/> Confirm (Correct Answer) (Chosen option)</div> <div>Confirm</div> <div>(D) <input type="radio"/> Miss</div> <div>Miss</div>	<div> <div>Question No.26</div> <div>Marks: 2.00</div> <div>Bookmark <input type="checkbox"/></div> </div> <div>Replace the question mark with an option that follows the same logic applied in the first pair</div> <div>AKC : DNF :: ?? : PJG</div> <div>प्रश्नवाचक चिह्न को उस विकल्प से बदलें, जो पहले युग्म में प्रयुक्त तर्क का अनुसरण करता है।</div> <div>AKC : DNF :: ?? : PJG</div> <div>(A) <input checked="" type="radio"/> MGD (Correct Answer) (Chosen option)</div> <div>MGD</div> <div>(B) <input type="radio"/> MHE</div> <div>MHE</div> <div>(C) <input type="radio"/> NGD</div> <div>NGD</div> <div>(D) <input type="radio"/> NHE</div> <div>NHE</div>
<div>Question No.27</div> <div>What value should come in the place of question mark (?) in the following question?</div> <div>126(4/3) + 44(3/2) - 128(3/4) = ? - 175(2/5)</div> <div>निम्नलिखित प्रश्न में प्रश्नवाचक चिह्न (?) के स्थान पर कौन-सा मान आना चाहिए?</div> <div>126(4/3) + 44(3/2) - 128(3/4) = ? - 175(2/5)</div> <div>(A) <input type="radio"/> 207</div> <div>207</div> <div>(B) <input type="radio"/> 205</div> <div>205</div> <div>(C) <input checked="" type="radio"/> 208 (Correct Answer) (Chosen option)</div> <div>208</div> <div>(D) <input type="radio"/> 206</div> <div>206</div>	<div> <div>Question No.28</div> <div>Marks: 2.00</div> <div>Bookmark <input type="checkbox"/></div> </div> <div>The letters of the name of a fruit are T, R, F, G, U, R, P, A, E and I. If the letters are rearranged correctly, then what is the fourth letter of the word formed?</div> <div>एक फल के नाम के अक्षर T, R, F, G, U, R, P, A, E और I हैं। यदि अक्षरों को सही ढंग से पुनर्व्यवस्थित किया जाए, तो गठित शब्द का चौथा अक्षर कौन-सा होगा?</div>

17/12/2021, 12:20	View Question Paper
<div><div>(A) <input type="radio"/> U</div><div>(B) <input checked="" type="radio"/> P (Correct Answer) (Chosen option)</div><div>(C) <input type="radio"/> R</div><div>(D) <input type="radio"/> E</div></div>	
<div><div>1</div><div>Direction: Each question given below consists of a statement, followed by two arguments numbered 1 and 2. You have to decide which of the arguments is a 'strong' argument and which is a 'weak' argument. Give answer: (A) If only argument 1 is strong (B) If only argument 2 is strong (C) If either 1 or 2 is strong (D) If neither 1 nor 2 is strong and (E) If both 1 and 2 are strong.</div></div>	4.00
<div><div>Question No.29</div><div>Marks: 2.00</div><div>Bookmark <input type="checkbox"/></div><div>Statement: Sudeep is not interested in engineering. But his parents wanted him to join an engineering course. Should he join? Argument 1: Yes, only engineering course provides job opportunities. Argument 2: No, one should not listen to parents. कथन: सुदीप को इंजीनियरिंग में कोई दिलचस्पी नहीं है। लेकिन उसके माता-पिता चाहते थे कि वह इंजीनियरिंग का कोर्स करे। क्या उसे इंजीनियरिंग का कोर्स करना चाहिए? तर्क 1: हां, केवल इंजीनियरिंग कोर्स ही नौकरी के अवसर प्रदान करता है। तर्क 2: नहीं, किसी को भी माता-पिता की बात नहीं सुननी चाहिए। (A) <input type="radio"/> B (B) <input type="radio"/> C (C) <input type="radio"/> A (D) <input checked="" type="radio"/> D (Correct Answer) (Chosen option)</div></div>	
<div><div>Question No.30</div><div>Marks: 2.00</div><div>Bookmark <input type="checkbox"/></div><div>Statement: Should people who throw household garbages on the road be encouraged? Argument 1: Yes, people are simply too lazy to bring their trash to official dumping sites. Argument 2: No, it can have serious impacts on wildlife and habitat. कथन: क्या घर का कूड़ा-कचरा सड़क पर फेंकने वालों को प्रोत्साहित किया जाना चाहिए? तर्क 1: हां, लोग अपने कूड़े-कचरे को आधिकारिक डंपिंग साइटों पर लाने के लिए बहुत आलसी होते हैं। तर्क 2: नहीं, यह वन्य जीवन और पर्यावास पर गंभीर प्रभाव डाल सकता है। (A) <input type="radio"/> D (Chosen option) (B) <input type="radio"/> C (C) <input checked="" type="radio"/> B (Correct Answer) (D) <input type="radio"/> A</div></div>	
<div><div>Question No.31</div><div>Marks: 2.00</div><div>Bookmark <input type="checkbox"/></div><div>Select the appropriate set of sequence of mathematical operators to replace all * sign in the following equation & hence to balance it. $42 * 8 * 5 * 2$ निम्नलिखित समीकरण में सभी * चिह्नों को बदलने और इसे संतुलित करने के लिए गणितीय संकारकों के अनुक्रम के उपयुक्त समुच्चय का चयन कीजिए। $42 * 8 * 5 * 2$</div></div>	

17/12/2021, 12:20

View Question Paper

(A) ☐ = x -
= x -

(B) ☐ + = -
+ = -

(C) ☐ - = x
- = x

(D) ☒ - x = (Correct Answer) (Chosen option)
- x =

Question No.32

Marks: 2.00

Bookmark ☐

The average weight of 28 persons in a team is 69 kg. If one of them weighing 89 kg is replaced by a new person the average gets decreased by 1. Find the weight of the new person.(in kg)

एक टीम में 28 व्यक्तियों का औसत वजन 69 kg है। यदि उनमें से 89 kg वजन वाले व्यक्ति को एक नए व्यक्ति द्वारा प्रतिस्थापित किया जाता है, तो औसत 1 कम हो जाता है। नए व्यक्ति का वजन ज्ञात कीजिए। (kg में)

(A) ☐ 60
60

(B) ☐ 67
67

(C) ☐ 65
65

(D) ☒ 61 (Correct Answer) (Chosen option)
61

Question No.33


Marks: 2.00

Bookmark ☐

Choose the correct water image of the given image from the following options.

निम्नलिखित विकल्पों में से दी गई छवि का सही जल प्रतिबिंब चुनें।


(A) ☐



(B) ☐

(C) ☒ (Correct Answer) (Chosen option)

(D) ☐



Question No.34

Marks: 2.00

Bookmark ☐

In this question, a statement is given followed by two conclusions numbered i and ii. You have to assume everything in the statement to be true, then consider the two conclusions together and decide which of them logically follows beyond a reasonable doubt from the information given in the statement.

Statement:

The truth is that we Indians have more rules and regulations - we take 90 days to start a small business whereas Australians take two.

Conclusion:

i) Indian government has not taken any steps to rectify this issue.
ii) Australians bribe their officials to get their work done in two days.

Choose the appropriate one from the following options

(A) Only conclusion i follows

(B) Only conclusion ii follows


(C) Either i or ii follows

(D) Neither i nor ii follows

(E) Both i and ii follow.

इस प्रश्न में, एक कथन के बाद i और ii से संख्यांकित दो निष्कर्ष दिए गए हैं। आपको कथनों में दी गई सभी जानकारी को सत्य मानना है, फिर दोनों निष्कर्षों पर एक-साथ विचार करना है और निर्णय करना है कि उनमें से कौन-सा निष्कर्ष कथनों में दी गई जानकारी का, उचित संदेह से परे तार्किक रूप से अनुसरण करता है।

28/44

 Teachingninja.in

सच तो यह है कि हम भारतीयों के अधिक नियम और कानून होते हैं - हमें एक छोटे व्यवसाय को शुरू करने में 90 दिन लगते हैं जबकि ऑस्ट्रेलियाई लोगों को दो दिन लगते हैं।

निष्कर्ष:

- i) भारत सरकार ने इस समस्या को दूर करने के लिए कोई कदम नहीं उठाया है।
ii) ऑस्ट्रेलियाई, अपना कार्य दो दिनों में पूरा करवाने के लिए अपने अधिकारियों को रिश्त देते हैं।

निम्नलिखित विकल्पों में से उपयुक्त विकल्प का चयन करें

- (A) केवल निष्कर्ष i अनुसरण करता है
(B) केवल निष्कर्ष ii अनुसरण करता है
(C) या तो i या ii अनुसरण करता है
(D) न तो i न ही ii अनुसरण करता है
(E) i और ii दोनों अनुसरण करते हैं।
(A) ☒ **D (Correct Answer)** (Chosen option)
D
(B) ☐ A
A
(C) ☐ B
B
(D) ☐ C
C

Question No.35

Marks: 2.00

Bookmark ☐

If + means \times , \times means $-$, \div means $+$ & $-$ means \div , then,

$$52 + 9 - 2 \div 36 - 4 + 3 = ?$$

यदि + का अर्थ \times है, \times का अर्थ $-$ है, \div का अर्थ $+$ है और $-$ का अर्थ \div है, तो

$$52 + 9 - 2 \div 36 - 4 + 3 = ?$$

- (A) ☐ 253
253
(B) ☐ 257
257
(C) ☐ 249
249
(D) ☒ **261 (Correct Answer)** (Chosen option)
261

Question No.36

Marks: 2.00

Bookmark ☐

Find the sum of 168 term, if the first term is 265 and the common difference is 2.5.

यदि पहला पद 265 है और सार्व अंतर 2.5 है, तो 168 पदों का योगफल ज्ञात कीजिए।

- (A) ☐ 79560
79560
(B) ☒ **79590 (Correct Answer)** (Chosen option)
79590
(C) ☐ 79525
79525
(D) ☐ 79592
79592

Question No.37

Marks: 2.00

Bookmark ☐

In this question, three statements are given followed by two conclusions numbered i and ii. You have to assume everything in the statements to be true, then consider the two conclusions together and decide which of them logically follows beyond a reasonable doubt from the information given in the statements.

Statements:

Some sweets are jamuns. All sweets are melons. All melons are fruits.

Conclusions:

- i) All sweets are fruits.
ii) All jamuns are melons.

Choose the appropriate one from the following options

- (A) Only conclusion i follows
(B) Only conclusion ii follows
(C) Either i or ii follows
(D) Neither i nor ii follows
(E) Both i and ii follow.

इस प्रश्न में, तीन कथनों के बाद i और ii से संख्यांकित दो निष्कर्ष दिए गए हैं। आपको कथनों में दी गई जानकारी को सत्य मानना है, फिर दोनों निष्कर्षों पर एक-साथ विचार करना है और निर्णय करना है कि उनमें से कौन-सा निष्कर्ष कथनों में दी गई जानकारी का, उचित संदेह से परे तार्किक रूप से अनुसरण करता है।

कुछ मिठाईयां, जामुन हैं। सभी मिठाईयां, खरबूजे हैं। सभी खरबूजे, फल हैं।

निष्कर्ष:

- i) सभी मिठाईयां, फल हैं।
ii) सभी जामुन, खरबूजे हैं।

निम्नलिखित विकल्पों में से उपयुक्त विकल्प का चयन करें

- (A) केवल निष्कर्ष i अनुसरण करता है
(B) केवल निष्कर्ष ii अनुसरण करता है
(C) या तो i या ii अनुसरण करता है
(D) न तो i और न ही ii अनुसरण करता है
(E) i और ii दोनों अनुसरण करते हैं।
- (A) ☐ B
B
(B) ☐ C
C
(C) ☒ A (Correct Answer) (Chosen option)
A
(D) ☐ E
E

Question No.38

Marks: 2.00

Bookmark ☐

Find the remainder, when 643212 is divided by 9.

जब 643212 को 9 से विभाजित किया जाता है, तो प्राप्त शेषफल ज्ञात कीजिए।

- (A) ☐ 5
5
(B) ☐ 7
7
(C) ☒ 0 (Correct Answer) (Chosen option)
0
(D) ☐ 3
3

Question No.39

Marks: 2.00

Bookmark ☐

A sum of money at simple interest amounts to Rs.7280 in 2 years and to Rs.8320 in 3 years. Find the sum.(in Rs)

एक धनराशि, साधारण ब्याज पर 2 वर्ष में Rs.7280 और 3 वर्ष में Rs.8320 हो जाती है। धनराशि ज्ञात कीजिए। (Rs. में)

- (A) ☐ 5250
5250
(B) ☒ 5200 (Correct Answer) (Chosen option)
5200
(C) ☐ 5100
5100
(D) ☐ 5450
5450

Question No.40

Marks: 2.00

Bookmark ☐

The salary of A, B and C are in the ratio of 5:11:6. If their total salary is Rs.2750, find the salary received by C?(in Rs)

A, B और C के वेतन 5:11:6 के अनुपात में हैं। यदि उनका कुल वेतन Rs.2750 है, तो C को प्राप्त वेतन ज्ञात कीजिए। (Rs. में)

- (A) ☐ 752
752
(B) ☐ 753
753
(C) ☐ 751
751
(D) ☒ 750 (Correct Answer) (Chosen option)
750

Question No.41

Marks: 2.00

Bookmark ☐

In an arithmetic progression, the 21st term is 151 and the first term is 51. Find the common difference.

एक समान्तर श्रेणी में, 21वां पद 151 है और पहला पद 51 है। सार्व अंतर ज्ञात कीजिए।

- (A) ☐ 6
6
(B) ☐ 4
4
(C) ☐ 7
7
(D) ☒ 5 (Correct Answer) (Chosen option)
5

Question No.42

Marks: 2.00

Bookmark ☐

The product of two numbers is 968. If the H.C.F. of these numbers is 22, then find their L.C.M.

दो संख्याओं का गुणनफल 968 है। यदि इन संख्याओं का म.स.प. 22 है, तो उनका ल.स.प. ज्ञात कीजिए।

- (A) ☐ 43
43
- (B) ☒ 44 (Correct Answer) (Chosen option)
44
- (C) ☐ 42
42
- (D) ☐ 45
45

Question No.43

Marks: 2.00

Bookmark ☐

Find the smallest number which when reduced by 20, is divisible 26, 39 and 208.

वह न्यूनतम संख्या ज्ञात कीजिए, जिसमें से 20 घटाने पर प्राप्त संख्या 26, 39 और 208 से विभाज्य हो।

- (A) ☐ 647
647
- (B) ☐ 646
646
- (C) ☒ 644 (Correct Answer) (Chosen option)
644
- (D) ☐ 645
645

Question No.44

Marks: 2.00

Bookmark ☐

What will be written in the place of question mark in the given series?

M13C3G7W23?12

दी गई श्रृंखला में प्रश्नवाचक चिह्न के स्थान पर क्या लिखा जाएगा?

M13C3G7W23?12

- (A) ☒ L (Correct Answer) (Chosen option)
L
- (B) ☐ N
N
- (C) ☐ O
O
- (D) ☐ M
M

Question No.45

Marks: 2.00

Bookmark ☐

What is the difference between a discount of 10% on Rs.18000 and two successive discounts of 5% and 5% on the same amount?

Rs.18000 पर 10% की छूट और उसी समान राशि पर 5% और 5% की दो क्रमागत छूट के बीच कितना अंतर है?

- (A) ☐ 44
44
- (B) ☐ 42
42
- (C) ☒ 45 (Correct Answer) (Chosen option)
45
- (D) ☐ 43
43

Question No.46

Marks: 2.00

Bookmark ☐

In this question, a statement is given followed by two conclusions numbered i and ii. You have to assume everything in the statement to be true, then consider the two conclusions together and decide which of them logically follows beyond a reasonable doubt from the information given in the statement.

Statement:

Acacia grow only in dry region. We could see a lot of them growing in Madagascar.

Conclusion:

- i) Madagascar is a dry region.
ii) One can see Acacia in every dry region.

Choose the appropriate one from the following options

- (A) Only conclusion i follows
(B) Only conclusion ii follows
(C) Either i or ii follows
(D) Neither i nor ii follows
(E) Both i and ii follow.

17/12/2021, 12:20	View Question Paper
<p>इस प्रश्न में, एक कथन के बाद i और ii से संख्यांकित दो निष्कर्ष दिए गए हैं। आपको कथनों में दी गई सभी जानकारी को सत्य मानना है, फिर दोनों निष्कर्षों पर एक-साथ विचार करना है और निर्णय करना है कि उनमें से कौन-सा निष्कर्ष कथनों में दी गई जानकारी का, उचित संदेह से परे तार्किक रूप से अनुसरण करता है।</p> <p>कथन: बबूल, केवल शुष्क क्षेत्र में उगता है। हम इन्हें मेडागास्कर में अत्यधिक संख्या में उगते हुए देख सकते हैं।</p> <p>निष्कर्ष: i) मेडागास्कर, एक शुष्क क्षेत्र है। ii) बबूल को प्रत्येक सूखे क्षेत्र में देखा जा सकता है।</p> <p>निम्नलिखित विकल्पों में से उपयुक्त विकल्प का चयन करें</p> <p>(A) केवल निष्कर्ष i अनुसरण करता है (B) केवल निष्कर्ष ii अनुसरण करता है (C) या तो i या ii अनुसरण करता है (D) न तो i और न ही ii अनुसरण करता है (E) i और ii दोनों अनुसरण करते हैं।</p> <p>(A) <input checked="" type="radio"/> A (Correct Answer) (Chosen option) A (B) <input type="radio"/> D D (C) <input type="radio"/> C C (D) <input type="radio"/> B B</p>	
2	6.00
<p>Directions: In the given figure number of mobiles prepared by two different companies is given from 2006 to 2010. Answer the questions based on the figure below.</p>	
Question No.47	Marks: 2.00 Bookmark <input type="checkbox"/>
<p>For all the given years in the figure, find how many years X has prepared more mobiles than Y? आकृति में दिए गए सभी वर्षों के लिए, ज्ञात कीजिए कि X ने कितने वर्षों Y से अधिक मोबाइल बनाए हैं?</p> <p>(A) <input checked="" type="radio"/> 2 (Correct Answer) (Chosen option) 2 (B) <input type="radio"/> 4 4 (C) <input type="radio"/> 1 1 (D) <input type="radio"/> 3 3</p>	
Question No.48	Marks: 2.00 Bookmark <input type="checkbox"/>
<p>For all the given years in the figure, find how many years Y has prepared more mobiles than X? आकृति में दिए गए सभी वर्षों के लिए, ज्ञात कीजिए कि Y ने कितने वर्षों X से अधिक मोबाइल बनाए हैं?</p> <p>(A) <input type="radio"/> 1 1 (B) <input type="radio"/> 2 2 (C) <input type="radio"/> 4 4 (D) <input checked="" type="radio"/> 3 (Correct Answer) (Chosen option) 3</p>	
Question No.49	Marks: 2.00 Bookmark <input type="checkbox"/>
<p>For all the given years in the figure, what is the total number of mobiles made by both the companies? आकृति में दिए गए सभी वर्षों के लिए, दोनों कंपनियों द्वारा बनाए गए मोबाइलों की कुल संख्या कितनी है?</p> <p>(A) <input type="radio"/> 6168 6168 (B) <input type="radio"/> 6153 6153 (C) <input checked="" type="radio"/> 6187 (Correct Answer) (Chosen option) 6187 (D) <input type="radio"/> 6087 6087</p>	
Question No.50	Marks: 2.00 Bookmark <input type="checkbox"/>

17/12/2021, 12:20	View Question Paper
<p>Which of the following set of signs should be used to replace * in the following? $7 * 3 * 3 = 27 * 3 * 2$ निम्नलिखित में * को प्रतिस्थापित करने के लिए चिह्नों के किस समुच्चय का उपयोग किया जाना चाहिए? $7 * 3 * 3 = 27 * 3 * 2$</p> <p>(A) <input type="radio"/> $\div \times \div +$ $\div \times \div +$</p> <p>(B) <input type="radio"/> $- \times \div -$ $- \times \div -$</p> <p>(C) <input checked="" type="radio"/> $\times \div \div -$ (Correct Answer) (Chosen option) $\times \div \div -$</p> <p>(D) <input type="radio"/> $\times \div \times -$ $\times \div \times -$</p>	
Mental Aptitude Test - IQ Test - Reasoning - Mental Aptitude Test - IQ Test - Reasoning	
<p>Question No.1</p> <p>Each face of the given dice is painted with the colours Red, Green, Blue, Brown, Pink and Yellow. If Pink colour is neither opposite to Brown nor opposite to Green coloured face, Yellow coloured face is adjacent to Green coloured face, then which coloured face is not adjacent to Green coloured face?</p> <p>दिए गए पासे का प्रत्येक फलक लाल, हरे, नीले, भूरे, गुलाबी और पीले रंग से रंगा हुआ है। यदि गुलाबी रंग न तो भूरे रंग वाले फलक के विपरीत है और न ही हरे रंग वाले फलक के विपरीत है, पीले रंग वाला फलक हरे रंग वाले फलक के सन्निकट है, तो कौन-से रंग वाला फलक, हरे रंग वाले फलक के सन्निकट नहीं है?</p> <p>(A) <input checked="" type="radio"/> Red (Correct Answer) (Chosen option) लाल</p> <p>(B) <input type="radio"/> Pink गुलाबी</p> <p>(C) <input type="radio"/> Blue नीला</p> <p>(D) <input type="radio"/> Brown भूरा</p>	<p>Marks: 2.00</p> <p>Bookmark <input type="checkbox"/></p>
<p>Question No.2</p> <p>If in the word DISPOSABLE, all the consonants are replaced by the previous letter in the alphabet and all the vowels are replaced by the next letter, then all the letters are arranged alphabetically, which will be the ninth letter from the right end?</p> <p>यदि शब्द DISPOSABLE में, सभी व्यंजनों को वर्णमाला के पिछले अक्षरों से बदल दिया जाता है और सभी स्वरों को वर्णमाला के अगले अक्षरों से बदल दिया जाता है, फिर सभी अक्षरों को वर्णानुक्रम में व्यवस्थित किया जाता है, तो दाएं छोर से नौवां अक्षर कौन-सा होगा?</p> <p>(A) <input type="radio"/> P P</p> <p>(B) <input type="radio"/> C C</p> <p>(C) <input type="radio"/> R R</p> <p>(D) <input checked="" type="radio"/> B (Correct Answer) (Chosen option) B</p>	<p>Marks: 2.00</p> <p>Bookmark <input type="checkbox"/></p>
<p>Question No.3</p> <p>If the first half of the word INSTRUMENT is reversed, which of the following will be the fourth to the right of the third letter from the left end?</p> <p>यदि INSTRUMENT शब्द के पहले आधे भाग को व्युत्क्रमित कर दिया जाए, तो निम्नलिखित में से कौन-सा अक्षर, बाएं छोर से तीसरे अक्षर की दाईं ओर चौथा अक्षर होगा?</p> <p>(A) <input checked="" type="radio"/> M (Correct Answer) (Chosen option) M</p> <p>(B) <input type="radio"/> U U</p> <p>(C) <input type="radio"/> N N</p> <p>(D) <input type="radio"/> S S</p>	<p>Marks: 2.00</p> <p>Bookmark <input type="checkbox"/></p>
<p>Question No.4</p> <p>Lie Detector, the instrument which is widely used in police investigation, is also called _____.</p> <p>पुलिस जांच-पड़ताल में व्यापक रूप से उपयोग होने वाले उपकरण लाई डिटेक्टर को _____ भी कहा जाता है।</p> <p>(A) <input type="radio"/> Neuro Graph न्यूरो ग्राफ</p> <p>(B) <input type="radio"/> Electrocardiography इलेक्ट्रोकार्डियोग्राफी</p>	<p>Marks: 2.00</p> <p>Bookmark <input type="checkbox"/></p>

17/12/2021, 12:20	View Question Paper
<div>(C) <input checked="" type="radio"/> Polygraph (Correct Answer) (Chosen option) पॉलीग्राफ</div> <div>(D) <input type="radio"/> Seismograph सिस्मोग्राफ</div>	<div>Marks: 2.00</div> <div>Bookmark <input type="checkbox"/></div>
<div>Question No.5</div> <div>In a certain code language, if AMBER is coded as BNDFS, then how is LAUGH coded in that language? किसी निश्चित कूट भाषा में, यदि AMBER को BNDFS के रूप में कूटबद्ध किया जाता है, तो उसी कूट भाषा में LAUGH को किस प्रकार कूटबद्ध किया जाएगा?</div> <div>(A) <input type="radio"/> MBWJK MBWJK</div> <div>(B) <input checked="" type="radio"/> MBWHI (Correct Answer) (Chosen option) MBWHI</div> <div>(C) <input type="radio"/> BMWIH BMWIH</div> <div>(D) <input type="radio"/> BMWKJ BMWKJ</div>	<div>Marks: 2.00</div> <div>Bookmark <input type="checkbox"/></div>
<div>Question No.6</div> <div>In this question, a passage is given followed by a statement. Read the passage carefully and judge the statement based on the given passage. Farmers in Kerala have been facing great economic loss due to loss in life and reduction in milk yield due to Foot and mouth Disease every year. Besides this the State incurred large economic losses as a result of the inability to produce and ship processed animal products. It was estimated that the country is losing over Rs 4000 Crore annually due to FMD. Under these circumstances Government of Kerala took the stern decision to implement control of this dreaded disease in the State. Since the State does not have the economic resources to implement such a large scale project on its own, it was decided to approach an external agency such as National Dairy Development Board to provide infrastructural and monetary support. Consequent to a series of discussions at Government level, NDDB agreed in principle to launch a joint venture programme to control Foot and Mouth Disease in the state.</div> <div>Statement: The state decide to approach an external agency to implement a large scale project of controlling FMD because the state wanted to give a chance to the external agencies.</div> <div>Choose the appropriate one from the following options A - If the statement is definitely true. B -If the statement is probably true. C -If the statement cannot be determined. D -If the statement is definitely false.</div> <div>इस प्रश्न में, एक गद्यांश के बाद एक कथन दिया है। गद्यांश को ध्यानपूर्वक पढ़ें और दिए गए गद्यांश के आधार पर कथन का आकलन कीजिए। फुट एंड माउथ डिजीज़ (खुरपका-मुंहपका रोग) के कारण जीवन की हानि और दूध की पैदावार में कमी के कारण केरल में किसानों को प्रत्येक वर्ष भारी आर्थिक नुकसान का सामना करना पड़ रहा है। इसके अलावा प्रसंस्कृत पशु उत्पादों के उत्पादन और भेजने की असमर्थता के परिणामस्वरूप राज्य को भारी आर्थिक नुकसान हुआ है। यह अनुमान लगाया गया था कि एफ.एम.डी. के कारण देश को सालाना Rs.4000 करोड़ से अधिक का नुकसान हो रहा है। इन परिस्थितियों में केरल सरकार ने राज्य में इस खतरनाक बीमारी को नियंत्रित करने के लिए कड़ा फैसला लिया है। चूंकि राज्य के पास इतने बड़े पैमाने की परियोजना को अपने दम पर लागू करने के लिए आर्थिक संसाधन मौजूद नहीं हैं, इसलिए आधारभूत संरचना संबंधी और मोद्रिक सहायता प्रदान करने के लिए राष्ट्रीय डेयरी विकास बोर्ड जैसी बाहरी एजेंसी से संपर्क करने का निर्णय लिया गया। सरकारी स्तर पर चर्चाओं की श्रृंखला के परिणामस्वरूप एन.डी.डी.बी., राज्य में फुट एंड माउथ डिजीज़ को नियंत्रित करने के लिए एक संयुक्त उद्यम कार्यक्रम शुरू करने के लिए सैद्धांतिक रूप से सहमत हुआ।</div> <div>कथन: राज्य, एफ.एम.डी. को नियंत्रित करने वाले बड़े पैमाने की परियोजना को लागू करने के लिए बाहरी एजेंसी से संपर्क करने का फैसला करता है क्योंकि राज्य बाहरी एजेंसियों को मौका देना चाहता था।</div> <div>निम्नलिखित विकल्पों में से उपयुक्त विकल्प का चयन कीजिए A - यदि कथन निश्चित रूप से सत्य है। B -यदि कथन संभवतः सत्य है। C -यदि कथन निर्धारित नहीं किया जा सकता है। D -यदि कथन निश्चित रूप से असत्य है।</div> <div>(A) <input type="radio"/> A A</div> <div>(B) <input checked="" type="radio"/> B (Chosen option) B</div> <div>(C) <input type="radio"/> C C</div> <div>(D) <input checked="" type="radio"/> D (Correct Answer) D</div>	<div>Marks: 2.00</div> <div>Bookmark <input type="checkbox"/></div>
<div>Question No.7</div> <div>In this question, relationship between different elements is shown in the statement. This statement is followed by two conclusions:</div>	<div>Marks: 2.00</div> <div>Bookmark <input type="checkbox"/></div>

Statements:
 $S < A \leq N < D = W > I \geq C > H$

Conclusion:
i) $S < N$
ii) $D \geq A$

Choose the appropriate one from the following options
(A) Only conclusion i follows
(B) Only conclusion ii follows
(C) Either i or ii follows
(D) Neither i nor ii follows
(E) Both i and ii follow.

इस प्रश्न में, कथन में विभिन्न तत्वों के बीच संबंध दर्शाया गया है। इस कथन के बाद दो निष्कर्ष दिए गए हैं।

कथन:
 $S < A \leq N < D = W > I \geq C > H$

निष्कर्ष:
i) $S < N$
ii) $D \geq A$

निम्नलिखित विकल्पों में से उपयुक्त विकल्प का चयन कीजिए

(A) केवल निष्कर्ष i अनुसरण करता है
(B) केवल निष्कर्ष ii अनुसरण करता है
(C) या तो i या ii अनुसरण करता है
(D) न तो i और न ही ii अनुसरण करता है
(E) i और ii दोनों अनुसरण करते हैं।

- (A) ☒ **A (Correct Answer)**
A
(B) ☐ C
C
(C) ☐ D
D
(D) ☐ B (Chosen option)
B

Question No.8

Marks: 2.00

Bookmark ☐

The Lok Nayak Jayaprakash Narayan National Institute of Criminology and Forensic Science is situated in which of the following cities?

लोकनायक जयप्रकाश नारायण राष्ट्रीय अपराधशास्त्र एवं विधि-विज्ञान संस्थान निम्नलिखित में से किस शहर में स्थित है?

- (A) ☐ Kolkata
कोलकाता
(B) ☒ **New Delhi (Correct Answer)** (Chosen option)
नई दिल्ली
(C) ☐ Mumbai
मुंबई
(D) ☐ Chennai
चेन्नई

Question No.9

Marks: 2.00

Bookmark ☐

Who are the second largest religious population in India?

भारत में दूसरी सबसे बड़ी धार्मिक आबादी कौन-सी है?

- (A) ☐ Sikhs
सिख
(B) ☐ Buddhists
बौद्ध
(C) ☒ **Muslims (Correct Answer)** (Chosen option)
मुस्लिम
(D) ☐ Christians
इसाई

Question No.10

Marks: 2.00

Bookmark ☐

If $M = 2, N = 30, O = 3, P = 5$, then $M \times N \div O + P = ?$

यदि $M = 2, N = 30, O = 3, P = 5$ है, तो $M \times N \div O + P = ?$

- (A) ☐ 52
52
(B) ☐ 33
33
(C) ☒ **25 (Correct Answer)** (Chosen option)

25

(D) ☐ 30
30

Question No.11

Marks: 2.00

Bookmark ☐

As per the Census 2011, the percentage of Jains in India is _____.
2011 की जनगणना के अनुसार, भारत में जैनों का प्रतिशत _____ है।

- (A) ☐ 0.50%
0.50%
- (B) ☒ 0.40% (Correct Answer)
0.40%
- (C) ☐ 0.20% (Chosen option)
0.20%
- (D) ☐ 0.30%
0.30%

Question No.12

Marks: 2.00

Bookmark ☐

How many 7s are there preceded by an even number but not followed by an even number?

5 9 8 5 6 5 2 4 8 9 5 2 4 7 6 2 1 4 5 8 9 5 7 8 9 2 1 5 3 8 7 9 5 4 8 9 6 3 5

ऐसे कितने 7 हैं जिनके पहले एक सम संख्या है लेकिन बाद में एक सम संख्या नहीं है?

5 9 8 5 6 5 2 4 8 9 5 2 4 7 6 2 1 4 5 8 9 5 7 8 9 2 1 5 3 8 7 9 5 4 8 9 6 3 5

- (A) ☐ Two
दो
- (B) ☐ Three
तीन
- (C) ☒ One (Correct Answer) (Chosen option)
एक
- (D) ☐ None
एक भी नहीं

Question No.13

Marks: 2.00

Bookmark ☐

Replace the question mark with an option that follows the same logic applied in the first pair

10017:333::91005: ?

प्रश्नवाचक चिह्न को उस विकल्प से बदलें, जो पहले युग्म में प्रयुक्त तर्क का अनुसरण करता है।

10017:333::91005: ?

- (A) ☒ 267 (Correct Answer) (Chosen option)
267
- (B) ☐ 268
268
- (C) ☐ 265
265
- (D) ☐ 263
263

Question No.14

Marks: 2.00

Bookmark ☐

In a certain code language, if TAYLOR is coded as ATLYRO, then how is INSECT coded in that language?

किसी निश्चित कूट भाषा में, यदि TAYLOR को ATLYRO के रूप में कूटबद्ध किया जाता है, तो उसी कूट भाषा में INSECT को किस प्रकार कूटबद्ध किया जाएगा?

- (A) ☒ NIESTC (Correct Answer) (Chosen option)
NIESTC
- (B) ☐ TNESCI
TNESCI
- (C) ☐ JOTFDU
JOTFDU
- (D) ☐ SNITCE
SNITCE

Question No.15

Marks: 2.00

Bookmark ☐

Pointing to a man, an old man said, "He is my only daughter's only son's maternal uncle's brother." How is the old man related to the man?

एक आदमी की ओर इशारा करते हुए एक बूढ़े आदमी ने कहा, "वह मेरी इकलौती बेटी के इकलौते बेटे के मैटरनल अंकल का भाई है।" बूढ़े आदमी का उस आदमी से क्या संबंध है?

- (A) ☒ Father (Correct Answer) (Chosen option)
पिता
- (B) ☐ Cousin
कज़िन
- (C) ☐ Father-in-law

ससुर
(D) ☐ Uncle
अंकल

Question No.16

Marks: 2.00
Bookmark ☐

Find the next number in the series.
43, 31, 38, 26, 33, ?
श्रेणी में अगली संख्या ज्ञात कीजिए।
43, 31, 38, 26, 33, ?
(A) ☒ 21 (Correct Answer) (Chosen option)
21
(B) ☐ 40
40
(C) ☐ 29
29
(D) ☐ 45
45

Question No.17

Marks: 2.00
Bookmark ☐

Which one of the following alternatives will perfectly complete the given figure?
निम्नलिखित में से कौन-सा विकल्प दी गई आकृति को उत्तमता से पूरा करेगा?

(A) ☐

(B) ☐

(C) ☒ (Correct Answer) (Chosen option)

(D) ☐

Question No.18

Marks: 2.00
Bookmark ☐

Find the odd image out in the given series.
दी गई श्रृंखला में असंगत छवि ज्ञात कीजिए।

(1)

(2)

(3)

(4)

- 3
- (B) ☐ 2 (Correct Answer) (Chosen option)
- 2
- (C) ☐ 1
- 1
- (D) ☐ 4
- 4

Question No.19

Marks: 2.00

Bookmark ☐

What does the term "Homicide" mean in criminal law?
आपराधिक कानून (दंड विधि) में "होमिसाइड" शब्द का क्या अर्थ है?

(A) ☐ Killing of a human being by another human being (Correct Answer) (Chosen option)
एक मानव द्वारा किसी दूसरे मानव की हत्या

(B) ☐ Religious crime
धार्मिक अपराध

(C) ☐ Armed Robbery
सशस्त्र डकैती

(D) ☐ Killing of a cow
गौ हत्या

Question No.20

Marks: 2.00

Bookmark ☐

Commando Battalions for Resolute Action, (CoBRA), a specialized force, are part of which of the following Central forces?
कमांडो बटालियन्स फॉर रेसोल्यूट एक्शन (कोबरा), एक विशेष बल, निम्नलिखित में से किस केंद्रीय बल का हिस्सा है?

(A) ☐ Central Reserve Police Force (CRPF) (Correct Answer) (Chosen option)
केंद्रीय रिज़र्व पुलिस बल (CRPF)

(B) ☐ National Security Guard (NSG)
राष्ट्रीय सुरक्षा गार्ड (NSG)

(C) ☐ Indo-Tibetan Border Police (ITBP)
भारत-तिब्बत सीमा पुलिस (ITBP)

(D) ☐ Central Industrial Security Force (CISF)
केंद्रीय औद्योगिक सुरक्षा बल (CISF)

Question No.21

Marks: 2.00

Bookmark ☐

Find the odd image out in the given series.
दी गई श्रृंखला में असंगत छवि ज्ञात कीजिए।

R

O

33

(1)

F

K

18

(2)

P

S

36

(3)

K

R

30

(4)

- (A) ☐ 4
- 4
- (B) ☐ 3
- 3
- (C) ☐ 2
- 2
- (D) ☐ 1 (Correct Answer) (Chosen option)
- 1

Question No.22

Marks: 2.00

Bookmark ☐

In which year was the 'Maternity Benefit Act' enacted by Parliament of India?
भारतीय संसद द्वारा 'मातृत्व लाभ अधिनियम' किस वर्ष अधिनियमित किया गया था?



(A) ☐ 1971
1971

(B) ☐ 1991
1991

(C) ☐ 1981

17/12/2021, 12:20		View Question Paper	
1981			
(D) <input type="radio"/> 1961 (Correct Answer) (Chosen option)		1961	
Question No.23		Marks: 2.00	
How many triangles are there in the given figure?		Bookmark <input type="checkbox"/>	
दी गई आकृति में कितने त्रिभुज हैं?			
(A) <input type="radio"/> 13 (Chosen option)		13	
(B) <input type="radio"/> 21 (Correct Answer)		21	
(C) <input type="radio"/> 17		17	
(D) <input type="radio"/> 19		19	
Question No.24		Marks: 2.00	
Choose the alternative which is similar to the given series.		Bookmark <input type="checkbox"/>	
उस विकल्प का चयन करें, जो दी गई श्रृंखला के समान है।			
(A) <input type="radio"/> 2		2	
(B) <input type="radio"/> 4		4	
(C) <input type="radio"/> 3		3	
(D) <input type="radio"/> 1 (Correct Answer) (Chosen option)		1	
Question No.25		Marks: 2.00	
Choose the alternative which is an odd word/number/letter pair out of the given alternatives.		Bookmark <input type="checkbox"/>	
दिए गए विकल्पों में से वह विकल्प चुनिए, जो एक असंगत शब्द/संख्या/अक्षर युग्म है।			
(A) <input type="radio"/> Truck		Truck	
(B) <input type="radio"/> Bicycle (Correct Answer) (Chosen option)		Bicycle	
(C) <input type="radio"/> Car		Car	
(D) <input type="radio"/> Motorcycle		Motorcycle	
Question No.26		Marks: 2.00	
Which of the following terms is used to denote to the situation when an individual or a company are unable to repay the debts?		Bookmark <input type="checkbox"/>	
जब कोई व्यक्ति या कंपनी ऋण चुकाने में असमर्थ हो, तो उस स्थिति को इंगित करने के लिए निम्नलिखित में से किस शब्द का उपयोग किया जाता है?			
(A) <input type="radio"/> Ex-nuptial		विवाह के बाहर	
(B) <input type="radio"/> Indictment		अभियोग	
(C) <input type="radio"/> Insolvency (Correct Answer) (Chosen option)		दिवालियापन	
(D) <input type="radio"/> Ex-gratia		अनुग्रह	
Question No.27		Marks: 2.00	
Biju walks 6km in the North direction and 8km in the East direction. How far is he from the starting point?		Bookmark <input type="checkbox"/>	
बीजू, उत्तर दिशा में 6 km और पूर्व दिशा में 8 km चलता है। वह आरंभिक बिंदु से कितनी दूर है?			
(A) <input type="radio"/> 14km		14km	
(B) <input type="radio"/> 8km		8km	
(C) <input type="radio"/> 12km		12km	

17/12/2021, 12:20	View Question Paper
(D) <input type="radio"/> 10km (Correct Answer) (Chosen option) 10km	
<div>Question No.28</div> <div>Marks: 2.00</div> <div>Bookmark <input type="checkbox"/></div> <div>Pointing to a lady, Ankur said, "She is the mother of mother of brother of my wife." How is the lady related to Ankur's wife? एक महिला की ओर इशारा करते हुए अंकुर ने कहा, "वह मेरी पत्नी के भाई की माँ की माँ है।" उस महिला का अंकुर की पत्नी से क्या संबंध है?</div> <div>(A) <input type="radio"/> Grandaunt ग्रैंडआंट</div> <div>(B) <input type="radio"/> Mother माँ</div> <div>(C) <input checked="" type="radio"/> Grandmother (Correct Answer) (Chosen option) ग्रैंडमदर</div> <div>(D) <input type="radio"/> Mother-in-law (Chosen option) सास</div>	
<div>Question No.29</div> <div>Marks: 2.00</div> <div>Bookmark <input type="checkbox"/></div> <div>Which of the following numbers in the Venn Diagram represents only 'young police'? वेन आरेख में निम्नलिखित में से कौन-सी संख्या, केवल 'युवा पुलिस' को दर्शाती है?</div> <div>(A) <input type="radio"/> 5 5</div> <div>(B) <input type="radio"/> 7 7</div> <div>(C) <input checked="" type="radio"/> 6 (Correct Answer) (Chosen option) 6</div> <div>(D) <input type="radio"/> 4 4</div>	
<div>Question No.30</div> <div>Marks: 2.00</div> <div>Bookmark <input type="checkbox"/></div> <div>Choose the alternative which is an odd word/number/letter pair out of the given alternatives. दिए गए विकल्पों में से वह विकल्प चुनिए, जो एक असंगत शब्द/संख्या/अक्षर युग्म है।</div> <div>(A) <input checked="" type="radio"/> Cancel (Correct Answer) (Chosen option) Cancel</div> <div>(B) <input type="radio"/> Execute Execute</div> <div>(C) <input type="radio"/> Implement Implement</div> <div>(D) <input type="radio"/> Perform Perform</div>	
<div>Question No.31</div> <div>Marks: 2.00</div> <div>Bookmark <input type="checkbox"/></div> <div>The ideals of "liberty, equality and fraternity" originated as the motto of which revolution? "स्वतंत्रता, समानता और बंधुता" के आदर्शों की उत्पत्ति किस क्रांति के सिद्धांत के रूप में हुई?</div> <div>(A) <input type="radio"/> Chinese Revolution चीनी क्रांति</div> <div>(B) <input type="radio"/> American Revolution अमेरिकी क्रांति</div> <div>(C) <input checked="" type="radio"/> French Revolution (Correct Answer) (Chosen option) फ्रांसिसी क्रांति</div> <div>(D) <input type="radio"/> Russian Revolution रूसी क्रांति</div>	
<div>Question No.32</div> <div>Marks: 2.00</div> <div>Bookmark <input type="checkbox"/></div> <div>Find the next term in the series. 321, 651, 989, 1335, 1689, ? श्रेणी में अगला पद ज्ञात कीजिए। 321, 651, 989, 1335, 1689, ?</div> <div>(A) <input type="radio"/> 1970 1970</div> <div>(B) <input type="radio"/> 1990 1990</div> <div>(C) <input type="radio"/> 2031 (Chosen option) 2031</div> <div>(D) <input checked="" type="radio"/> 2051 (Correct Answer) 2051</div>	

<div>Question No.33</div> <div>Marks: 2.00</div> <div>Bookmark <input type="checkbox"/></div> <div>Choose the alternative which is an odd word/number/letter pair out of the given alternatives. 947, 811, 661, 547, 419, 351 दिए गए विकल्पों में से वह विकल्प चुनिए, जो एक असंगत शब्द/संख्या/अक्षर युग्म है। 947, 811, 661, 547, 419, 351 (A) <input type="radio"/> 661 (Chosen option) 661 (B) <input checked="" type="radio"/> 351 (Correct Answer) 351 (C) <input type="radio"/> 547 547 (D) <input type="radio"/> 947 947</div>
<div>Question No.34</div> <div>Marks: 2.00</div> <div>Bookmark <input type="checkbox"/></div> <div>Guna walks 7km towards East direction. He takes a left turn to cover 10km and travels 8km towards East. He then walks 10km towards South before taking a left turn to cover 4km. How far is he from the starting point? गुना, पूर्व दिशा की ओर 7 km चलता है। वह 10 km की दूरी तय करने के लिए बाएं मुड़ता है और पूर्व की ओर 8 km चलता है। फिर वह 4 km की दूरी तय करने के लिए बाएं मुड़ने से पहले दक्षिण की ओर 10 km चलता है। वह आरंभिक बिंदु से कितनी दूर है? (A) <input type="radio"/> 17km 17km (B) <input checked="" type="radio"/> 19km (Correct Answer) (Chosen option) 19km (C) <input type="radio"/> 10km 10km (D) <input type="radio"/> 15km 15km</div>
<div>Question No.35</div> <div>Marks: 2.00</div> <div>Bookmark <input type="checkbox"/></div> <div>Which one of the following images numbered as (1), (2), (3), (4) will be the next image for the given series?  (1), (2), (3), (4) के रूप में संख्यांकित निम्नलिखित में से कौन-सी छवि, दी गई श्रृंखला के लिए अगली छवि होगी?  (A) <input type="radio"/> 4 4 (B) <input checked="" type="radio"/> 1 (Correct Answer) (Chosen option) 1 (C) <input type="radio"/> 3 3 (D) <input type="radio"/> 2 2</div>
<div>Question No.36</div> <div>Marks: 2.00</div> <div>Bookmark <input type="checkbox"/></div> <div>Replace the question mark with an option that follows the same logic applied in the first pair Snake : Hiss :: Bull : ?? प्रश्नवाचक चिह्न को उस विकल्प से बदलें, जो पहले युग्म में प्रयुक्त तर्क का अनुसरण करता है। Snake : Hiss :: Bull : ?? (A) <input type="radio"/> Trumpet (Chosen option) Trumpet (B) <input type="radio"/> Mew Mew (C) <input type="radio"/> Bleat Bleat (D) <input checked="" type="radio"/> Moo (Correct Answer) Moo</div>
<div>Question No.37</div> <div>Marks: 2.00</div> <div>Bookmark <input type="checkbox"/></div> <div>Choose the alternative which is an odd word/number/letter pair out of the given alternatives. दिए गए विकल्पों में से वह विकल्प चुनिए, जो एक असंगत शब्द/संख्या/अक्षर युग्म है। (A) <input type="radio"/> Brief Brief (B) <input type="radio"/> Short Short (C) <input checked="" type="radio"/> Long (Correct Answer) (Chosen option) Long (D) <input type="radio"/> Crisp Crisp</div>

17/12/2021, 12:20

View Question Paper

Question No.38

Marks: 2.00

Bookmark ☐

Which word will be the third after rearranging the following words according to the English dictionary?
निम्नलिखित शब्दों को अंग्रेजी शब्दकोश के अनुसार पुनर्व्यवस्थित करने के बाद कौन-सा शब्द तीसरा होगा?

(A) ☐ GARAGE
GARAGE

(B) ☒ **GANGLY (Correct Answer) (Chosen option)**
GANGLY

(C) ☐ GAINLY
GAINLY

(D) ☐ GADGET
GADGET

Question No.39

Marks: 2.00

Bookmark ☐

In a room, the headcount of cockroaches and spiders together is 65, leg count of cockroaches and spiders together is 440. Find the number of spiders in the room.
एक कमरे में, तिलचट्टे और मकड़ियों की कुल संख्या 65 है, तिलचट्टे और मकड़ियों के पैरों की कुल संख्या 440 है। कमरे में मकड़ियों की संख्या ज्ञात कीजिए।

(A) ☐ 31
31

(B) ☒ **25 (Correct Answer) (Chosen option)**
25

(C) ☐ 27
27

(D) ☐ 29
29

Question No.40

Marks: 2.00

Bookmark ☐

Varun walked 13km North, then 12km towards East and took a right turn and walked 13km, then turned right and walked 12km. Finally, he walked 15km towards South. How far is he from the starting point?
वरुण, 13 km उत्तर की ओर चला, फिर 12 km पूर्व की ओर चला और दाएं मुड़ा और 13 km चला, फिर दाएं मुड़ा और 12 km चला। अंत में, वह दक्षिण की ओर 15 km चला। वह आरंभिक बिंदु से कितनी दूर है?

(A) ☐ 7km
7km

(B) ☐ 8km
8km

(C) ☐ 13km
13km

(D) ☒ **15km (Correct Answer) (Chosen option)**
15km

Question No.41

Marks: 2.00

Bookmark ☐

Q is the only daughter of R whose wife is S, P is the son-in-law of S. How is P's daughter T related to S?
Q, R की इकलौती बेटी है जिसकी पत्नी S है। P, S का दामाद है। P की बेटी T का S से क्या संबंध है?

(A) ☐ Niece
नीस

(B) ☒ **Granddaughter (Correct Answer) (Chosen option)**
ग्रैंडडॉटर

(C) ☐ Grandmother
ग्रैंडमदर

(D) ☐ Cousin
कज़िन

Question No.42

Marks: 2.00

Bookmark ☐

Choose the alternative which is an odd word/number/letter pair out of the given alternatives.
75, 114, 77, 143, 152, 173
दिए गए विकल्पों में से वह विकल्प चुनिए, जो एक असंगत शब्द/संख्या/अक्षर युग्म है।
75, 114, 77, 143, 152, 173

(A) ☐ 152
152

(B) ☐ 77 (Chosen option)
77

(C) ☒ **173 (Correct Answer)**
173

(D) ☐ 114
114

17/12/2021, 12:20	View Question Paper	Marks: 2.00
<div>Question No.43</div> <div>Find the next number in the series 6, 7, 12, 39, 152, ? श्रेणी में अगली संख्या ज्ञात कीजिए। 6, 7, 12, 39, 152, ? (A) <input type="radio"/> 762 762 (B) <input type="radio"/> 764 764 (C) <input checked="" type="radio"/> 765 (Correct Answer) (Chosen option) 765 (D) <input type="radio"/> 763 763</div>	<div>Bookmark <input type="checkbox"/></div>	
<div>Question No.44</div> <div>In a row of 26 persons facing North, Person A is 13th from the right side. After shifting him second to the right from the existing position, what is his position from the left side now? उत्तर की ओर अभिमुख 26 व्यक्तियों की एक पंक्ति में, व्यक्ति A दाईं ओर से 13वें स्थान पर है। उसे मौजूदा स्थिति से दाईं ओर दो स्थान स्थानांतरित करने के बाद, अब बाईं ओर से उसकी स्थिति क्या होगी? (A) <input type="radio"/> 18 18 (B) <input type="radio"/> 15 15 (C) <input checked="" type="radio"/> 16 (Correct Answer) (Chosen option) 16 (D) <input type="radio"/> 17 17</div>	<div>Bookmark <input type="checkbox"/></div>	
<div>Question No.45</div> <div>Each face of the given dice is printed with the letters A, B, C, D, E and F. Which letter is not adjacent to the face printed with letter A? दिए गए पासे का प्रत्येक फलक A, B, C, D, E और F अक्षरों से मुद्रित है। कौन-सा अक्षर A अक्षर से मुद्रित फलक के सन्निकट नहीं है? (A) <input type="radio"/> C C (B) <input type="radio"/> D D (C) <input checked="" type="radio"/> B (Correct Answer) (Chosen option) B (D) <input type="radio"/> E E</div>	<div>Bookmark <input type="checkbox"/></div>	
<div>Question No.46</div> <div>Which of the following is the Central Sector Scheme for containing the population decline of Parsis in India? निम्नलिखित में से कौन-सी योजना, भारत में पारसियों की जनसंख्या गिरावट को रोकने हेतु केंद्रीय क्षेत्र की एक योजना है? (A) <input checked="" type="radio"/> Jiyo Parsi (Correct Answer) (Chosen option) जियो पारसी (B) <input type="radio"/> Parsi Population Fund पारसी जनसंख्या निधि (C) <input type="radio"/> Naya Savera नया सवेरा (D) <input type="radio"/> USTTAD यूएसटीटीएडी (USTTAD)</div>	<div>Bookmark <input type="checkbox"/></div>	
<div>Question No.47</div> <div>In this question, relationship between different elements is shown in the statement. This statement is followed by two conclusions: Statements: $D > O \geq N < A \leq T = E$ Conclusion: i) $D > N$ ii) $O \leq T$ Choose the appropriate one from the following options (A) Only conclusion i follows (B) Only conclusion ii follows</div>	<div>Bookmark <input type="checkbox"/></div>	

17/12/2021, 12:20	View Question Paper
<p>(C) Either i or ii follows (D) Neither i nor ii follows (E) Both i and ii follow.</p> <p>इस प्रश्न में, कथन में विभिन्न तत्वों के बीच संबंध दर्शाया गया है। इस कथन के बाद दो निष्कर्ष दिए गए हैं।</p> <p>कथन: $D > O \geq N < A \leq T = E$</p> <p>निष्कर्ष: i) $D > N$ ii) $O \leq T$</p> <p>निम्नलिखित विकल्पों में से उपयुक्त विकल्प का चयन कीजिए</p> <p>(A) केवल निष्कर्ष i अनुसरण करता है (B) केवल निष्कर्ष ii अनुसरण करता है (C) या तो i या ii अनुसरण करता है (D) न तो i और न ही ii अनुसरण करता है (E) i और ii दोनों अनुसरण करते हैं।</p> <p>(A) <input type="radio"/> D D (B) <input type="radio"/> B B (C) <input checked="" type="radio"/> A (Correct Answer) (Chosen option) A (D) <input type="radio"/> C C</p>	
<p>Question No.48</p> <p>Find the next number in the series. 109, 116, 130, 151, 179, ? श्रेणी में अगली संख्या ज्ञात कीजिए। 109, 116, 130, 151, 179, ?</p> <p>(A) <input type="radio"/> 228 228 (B) <input type="radio"/> 208 208 (C) <input type="radio"/> 194 194 (D) <input checked="" type="radio"/> 214 (Correct Answer) (Chosen option) 214</p>	<p>Marks: 2.00</p> <p>Bookmark <input type="checkbox"/></p>
<p>Question No.49</p> <p>How many squares are there in the given figure? दी गई आकृति में कितने वर्ग हैं?</p> <p>(A) <input type="radio"/> 9 9 (B) <input type="radio"/> 12 12 (C) <input type="radio"/> 11 11 (D) <input checked="" type="radio"/> 10 (Correct Answer) (Chosen option) 10</p>	<p>Marks: 2.00</p> <p>Bookmark <input type="checkbox"/></p>
<p>Question No.50</p> <p>Which of the following options is fourth to the left of the twelfth letter from the right in a forward alphabet series? निम्नलिखित में से कौन-सा विकल्प अग्रिम वर्णमाला श्रृंखला में दाएं से बारहवें अक्षर के बाएं चौथा है?</p> <p>(A) <input type="radio"/> H H (B) <input type="radio"/> P P (C) <input type="radio"/> S S (D) <input checked="" type="radio"/> K (Correct Answer) (Chosen option) K</p>	<p>Marks: 2.00</p> <p>Bookmark <input type="checkbox"/></p>