



Teachingninja.in

- ★ Latest Govt Job updates
- ★ Private Job updates
- ★ Free Mock tests available

Visit - teachingninja.in

SSC GD Constable

Previous Year Paper
25 Feb, 2025 Shift 1



Constable GD in CAPFs and SSF Rifleman GD in AR and Sepoy in NCB Examination 2025

Roll Number	
Candidate Name	
Venue Name	
Exam Date	25/02/2025
Exam Time	9:00 AM - 10:00 AM
Subject	Constable GD Examination 2025

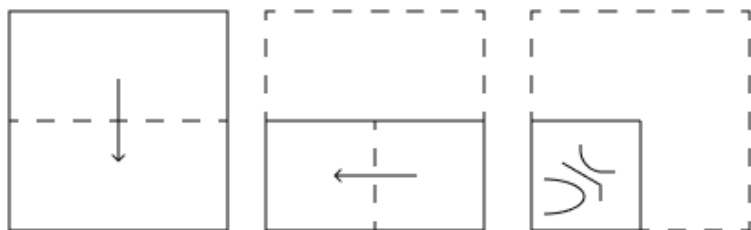
Section : Part-A-General Intelligence and Reasoning

Q.1 किसी निश्चित कूट भाषा में, 'GALS' को '7610' के रूप में कूट बद्ध किया जाता है और 'LADS' को '0168' के रूप में कूट बद्ध किया जाता है। दी गई कूट भाषा में 'D' के लिए कूट क्या होगा?

- Ans
- ☒ 1. 1
 - ☒ 2. 0
 - ☒ 3. 6
 - ☒ 4. 8

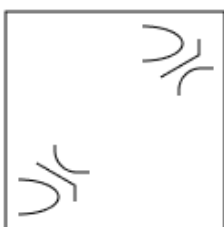
Question ID : 630680727144
Option 1 ID : 6306802849546
Option 2 ID : 6306802849545
Option 3 ID : 6306802849547
Option 4 ID : 6306802849548
Status : Answered
Chosen Option : 4

Q.2 एक कागज को नीचे दर्शाए गए अनुसार मोड़कर पंच किया (punched) जाता है। खोले जाने पर यह कैसा दिखाई देगा?

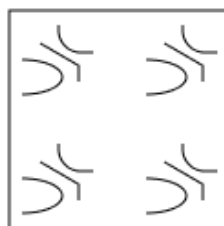


Ans

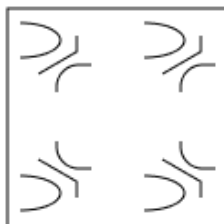
✗ 1.



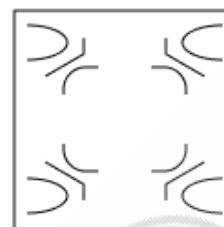
✗ 2.



✗ 3.



✓ 4.



Question ID : 6306801094840

Option 1 ID : 6306804300662

Option 2 ID : 6306804300664

Option 3 ID : 6306804300663

Option 4 ID : 6306804300661

Status : Answered

Chosen Option : 4



Q.3 एक निश्चित कूट भाषा में,

'A + B' का अर्थ है कि 'A, B का पुत्र है',
'A - B' का अर्थ है कि 'A, B की पत्नी है',
'A x B' का अर्थ है कि 'A, B का भाई है' और
'A ÷ B' का अर्थ है कि 'A, B की बहन है'।

यदि 'F ÷ G + H - I x J' है, तो I का F से क्या संबंध है?

- Ans
- ☒ 1. पुत्र की पत्नी
 - ☒ 2. भाई की पत्नी
 - ☒ 3. पिता
 - ☒ 4. पत्नी का भाई

Question ID : 630680812550

Option 1 ID : 6306803183631

Option 2 ID : 6306803183633

Option 3 ID : 6306803183632

Option 4 ID : 6306803183634

Status : Answered

Chosen Option : 3

Q.4 अंग्रेजी वर्णमाला क्रम के आधार पर, निम्नलिखित चार अक्षर-समूहों में से तीन एक निश्चित प्रकार से समान हैं और इस प्रकार एक समूह बनाते हैं। वह कौन-सा अक्षर-समूह है जो उस समूह से संबंधित नहीं है?

(ध्यान दें: असंगत अक्षर-समूह, उस अक्षर-समूह में व्यंजनों/स्वरों की संख्या या उनके स्थान पर आधारित नहीं है।)

- Ans
- ☒ 1. CAX
 - ☒ 2. NKI
 - ☒ 3. AXV
 - ☒ 4. VSQ

Question ID : 630680858705

Option 1 ID : 6306803363050

Option 2 ID : 6306803363053

Option 3 ID : 6306803363051

Option 4 ID : 6306803363052

Status : Answered

Chosen Option : 1

Q.5 एक निश्चित कूट भाषा में, '2590' को 'FACT' के रूप में कूटबद्ध किया जाता है और '0129' को 'FITC' के रूप में कूटबद्ध किया जाता है। उसी कूट भाषा में '1' के लिए कूट क्या होगा?

- Ans
- ☒ 1. I
 - ☒ 2. K
 - ☒ 3. C
 - ☒ 4. T

Question ID : 630680711711

Option 1 ID : 6306802788489

Option 2 ID : 6306802788488

Option 3 ID : 6306802788491

Option 4 ID : 6306802788490

Status : Answered

Chosen Option : 1



Q.6 C, D, G, H, I, K और L एक वृत्ताकार मेज के चारों ओर मेज के केंद्र की ओर मुख करके बैठे हैं (परंतु जरूरी नहीं कि वे इसी क्रम में बैठे हों)।
I के बाईं ओर से गिनने पर I और L के बीच में केवल तीन व्यक्ति बैठे हैं। H के दाईं ओर से गिनने पर K और H के बीच में केवल तीन व्यक्ति बैठे हैं। C, K के ठीक दाईं ओर बैठा है। G, H के साथ-साथ L का भी निकटतम पड़ोसी है।
D के दाईं ओर तीसरे स्थान पर कौन बैठा है?

Ans ☒ 1. C

☒ 2. I

☒ 3. K

☒ 4. G

Question ID : 630680867336

Option 1 ID : 6306803396992

Option 2 ID : 6306803396994

Option 3 ID : 6306803396995

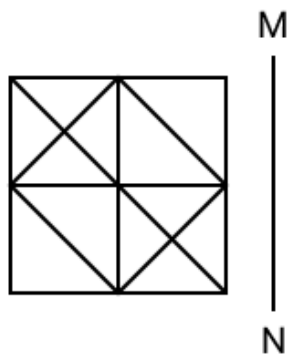
Option 4 ID : 6306803396993

Status : Answered

Chosen Option : 2

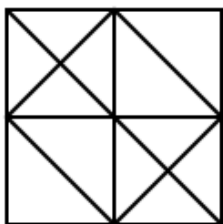


Q.7 जब दर्पण को नीचे दर्शाए गए अनुसार MN पर रखा जाता है, तो दी गई आकृति के सही दर्पण प्रतिबिंब का चयन कीजिए।

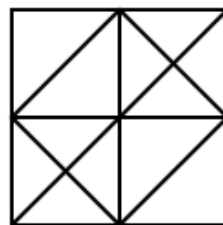


Ans

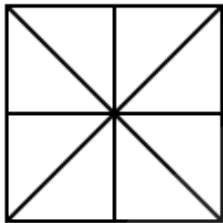
✗ 1.



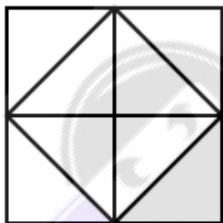
✓ 2.



✗ 3.



✗ 4.



Question ID : 6306801061474

Option 1 ID : 6306804168250

Option 2 ID : 6306804168249

Option 3 ID : 6306804168248

Option 4 ID : 6306804168247

Status : Answered

Chosen Option : 2

Q.8 अंग्रेजी वर्णमाला क्रम के आधार पर NPLI एक निश्चित तरीके से EGCZ से संबंधित है। उसी तरीके से TVRO, KMIF से संबंधित है। उसी तर्क का अनुसरण करते हुए CEAX दिए गए विकल्पों में से किससे संबंधित है?

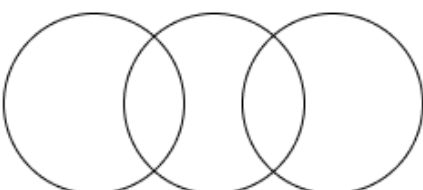
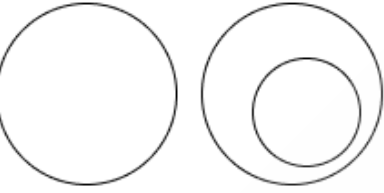
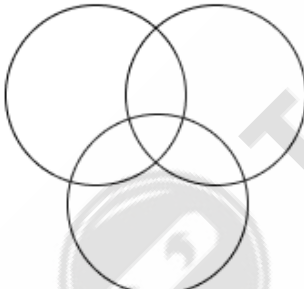

- Ans
- ☒ 1. TWQT
 - ☒ 2. TUQO
 - ☒ 3. TVRO
 - ☒ 4. TVQO

Question ID : 630680806583
 Option 1 ID : 6306803159953
 Option 2 ID : 6306803159954
 Option 3 ID : 6306803159952
 Option 4 ID : 6306803159955
 Status : Answered
 Chosen Option : 3

Q.9 उस वेन आरेख का चयन कीजिए, जो निम्नलिखित वर्गों के बीच के संबंध को सर्वोत्तम रूप से दर्शाता है।

कार, घोड़ा, चॉकलेट

Ans

- ☒ 1. 
- ☒ 2. 
- ☒ 3. 
- ☒ 4. 

Question ID : 630680477036
 Option 1 ID : 6306801863345
 Option 2 ID : 6306801863347
 Option 3 ID : 6306801863348
 Option 4 ID : 6306801863346
 Status : Answered
 Chosen Option : 4

Q.10 शब्द EXCITED के प्रत्येक अक्षर को अंग्रेजी वर्णमाला क्रम में व्यवस्थित किया जाता है। इस प्रकार बने नए अक्षर-समूह में बाएं से दूसरे अक्षर और दाएं से पहले अक्षर के बीच अंग्रेजी वर्णमाला क्रम में कितने अक्षर होते हैं?

Ans ☒ 1. 18

☒ 2. 19

☒ 3. 22

☒ 4. 20

Question ID : 630680817255

Option 1 ID : 6306803201107

Option 2 ID : 6306803201106

Option 3 ID : 6306803201109

Option 4 ID : 6306803201108

Status : Answered

Chosen Option : 2

Q.11 छह व्यक्ति C, D, E, X, Y और Z एक वृत्ताकार मेज के चारों ओर मेज के केंद्र की ओर मुख करके बैठे हैं (परंतु जरूरी नहीं कि वे इसी क्रम में बैठें हों)। D के बाईं ओर से गिनती करने पर X और D के बीच केवल एक व्यक्ति बैठा है। Z, C के बाईं ओर दूसरे स्थान पर बैठा है। E और D का निकटतम पड़ोसी Z है। Y के दाईं ओर से गिनती करने पर Y और Z के बीच कितने व्यक्ति बैठे हैं?

Ans ☒ 1. तीन

☒ 2. एक

☒ 3. दो

☒ 4. चार

Question ID : 630680755867

Option 1 ID : 6306802962552

Option 2 ID : 6306802962554

Option 3 ID : 6306802962553

Option 4 ID : 6306802962551

Status : Answered

Chosen Option : 2

Q.12 अंग्रेजी वर्णमाला क्रम के आधार पर दी गई श्रृंखला में प्रश्न चिह्न (?) के स्थान पर क्या आना चाहिए?

ABC, CDE, EFG, GHI, ?, KLM

Ans ☒ 1. JKL

☒ 2. IJK

☒ 3. HIJ

☒ 4. NMP

Question ID : 630680630481

Option 1 ID : 6306802467966

Option 2 ID : 6306802467965

Option 3 ID : 6306802467964

Option 4 ID : 6306802467963

Status : Answered

Chosen Option : 2



Q.13 दी गई श्रृंखला में प्रश्नचिह्न (?) के स्थान पर क्या आना चाहिए?

127, 257, 407, 577, 767, ?

Ans ☒ 1. 957

☒ 2. 817

☒ 3. 977

☒ 4. 877

Question ID : 630680791234

Option 1 ID : 6306803100662

Option 2 ID : 6306803100663

Option 3 ID : 6306803100661

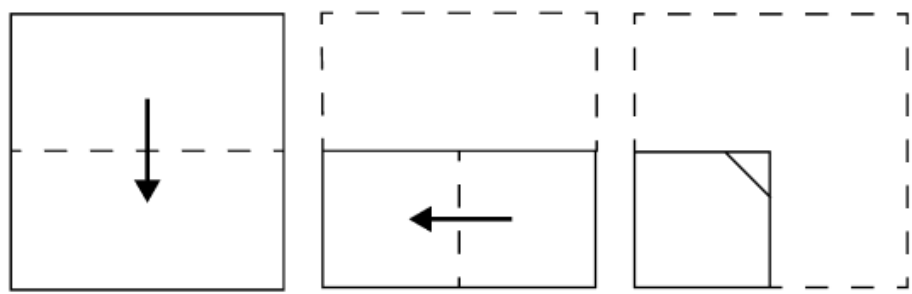
Option 4 ID : 6306803100660

Status : Answered

Chosen Option : 3

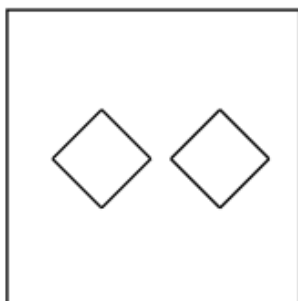


Q.14 कागज़ की एक वर्गाकार शीट को दर्शाई गई दिशाओं में बिंदुदार रेखा के अनुदिश क्रमशः मोड़ा जाता है और अंतिम बार मोड़ने के बाद फिर इसमें छेद (punch) किया जाता है। खोले जाने पर यह कागज़ कैसा दिखाई देगा?

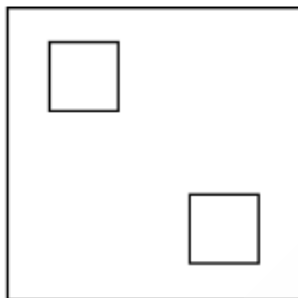


Ans

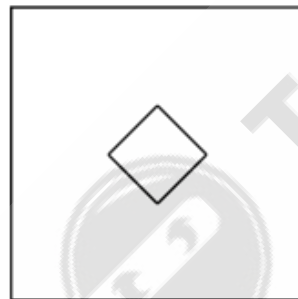
✗ 1.




✗ 2.



✓ 3.



✗ 4.



Question ID : 6306801073549
Option 1 ID : 6306804243168
Option 2 ID : 6306804243167
Option 3 ID : 6306804243165
Option 4 ID : 6306804243166

Status : **Answered**
Chosen Option : **3**

Q.15 अंग्रेजी वर्णमाला क्रम के आधार पर SOMR एक निश्चित प्रकार से KGEJ से संबंधित है। MIGL ठीक उसी प्रकार EAYD से संबंधित है। उसी तर्क का अनुसरण करते हुए, OKIN निम्नलिखित में से किस विकल्प से संबंधित है?

Ans  1. GCAF

 2. GATR

 3. GCFA

 4. GAFC

Question ID : **630680869757**
Option 1 ID : **6306803406394**
Option 2 ID : **6306803406397**
Option 3 ID : **6306803406395**
Option 4 ID : **6306803406396**

Status : **Answered**
Chosen Option : **1**

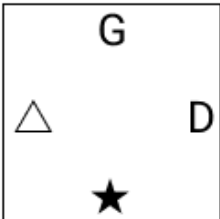


Q.16 दिए गए विकल्पों में से उस आकृति का चयन कीजिए जो नीचे दी गई श्रृंखला में प्रश्न चिह्न (?) के स्थान पर आ सकती है।

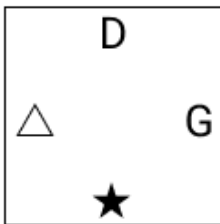
D	★	△	G	
★	G	△	D	G
△	G	D	★	△
				?

Ans

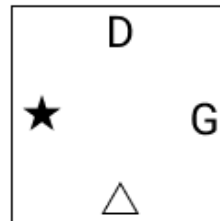
✗ 1.



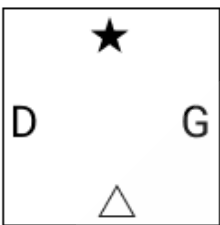
✗ 2.



✓ 3.



✗ 4.



Question ID : 6306801097486

Option 1 ID : 6306804311215

Option 2 ID : 6306804311214

Option 3 ID : 6306804311216

Option 4 ID : 6306804311217

Status : Answered

Chosen Option : 3

Q.17 दिए गए कथनों और निष्कर्षों को ध्यानपूर्वक पढ़िए। यह मानते हुए कि कथनों में दी गई जानकारी सत्य है, चाहे वह सामान्यतः ज्ञात तथ्यों से भिन्न प्रतीत होती हो और निर्णय लीजिए कि दिए गए निष्कर्षों में से कौन-सा/कौन-से निष्कर्ष कथनों का तार्किक रूप से अनुसरण करता है/करते हैं।

कथन:

कुछ पैसे, रुपए हैं।
सभी रुपए, धन हैं।
कोई धन, जल नहीं है।

निष्कर्ष:

(I): कुछ रुपए, जल हैं।
(II): कुछ धन, जल हैं।

- Ans ☒ 1. केवल निष्कर्ष (I) अनुसरण करता है।
☒ 2. निष्कर्ष (I) और निष्कर्ष (II) दोनों अनुसरण करते हैं।
☒ 3. न तो निष्कर्ष (I) और न ही निष्कर्ष (II) अनुसरण करता है।
☒ 4. केवल निष्कर्ष (II) अनुसरण करता है।

Question ID : 630680869783
Option 1 ID : 6306803406494
Option 2 ID : 6306803406497
Option 3 ID : 6306803406496
Option 4 ID : 6306803406495
Status : Answered
Chosen Option : 3

Q.18 दी गई श्रृंखला में प्रश्न चिह्न (?) के स्थान पर क्या आना चाहिए?

28 52 82 118 160 ?

- Ans ☒ 1. 208
☒ 2. 193
☒ 3. 185
☒ 4. 200

Question ID : 630680794519
Option 1 ID : 6306803113195
Option 2 ID : 6306803113193
Option 3 ID : 6306803113192
Option 4 ID : 6306803113194
Status : Answered
Chosen Option : 1

Q.19 यदि 'I' का अर्थ '+' है, 'J' का अर्थ 'x' है, 'K' का अर्थ '÷' है, और 'L' का अर्थ '-' है, तो निम्नलिखित समीकरण में प्रश्न चिह्न '?' के स्थान पर क्या आएगा?

(59 L 38) J 4 I (12 I 8) K 2 I 42 L 26 = ?

Ans ☒ 1. 98

☒ 2. 110

☒ 3. 125

☒ 4. 140

Question ID : 630680375577

Option 1 ID : 6306801463463

Option 2 ID : 6306801463464

Option 3 ID : 6306801463465

Option 4 ID : 6306801463466

Status : Answered

Chosen Option : 2

Q.20 अक्षरों के उस संयोजन का चयन कीजिए जिसके अक्षरों को दी गई श्रृंखला के रिक्त स्थानों में क्रमिक रूप से रखे जाने पर श्रृंखला तार्किक रूप से पूर्ण हो जाएगी।

_EIMJ_KOLI_QNKO_PMQ_

Ans ☒ 1. FGNSV

☒ 2. HIMTU

☒ 3. FINTV

☒ 4. HGMSU

Question ID : 630680458262

Option 1 ID : 6306801789931

Option 2 ID : 6306801789930

Option 3 ID : 6306801789929

Option 4 ID : 6306801789928

Status : Answered

Chosen Option : 4

Section : Part-B-General Knowledge and General awareness

Q.1 Boiling and evaporation, respectively, are _____ and _____ phenomena.

Ans ☒ 1. bulk, surface

☒ 2. bulk, bulk

☒ 3. surface, bulk

☒ 4. surface, surface

Question ID : 6306801374527

Option 1 ID : 6306805411403

Option 2 ID : 6306805411401

Option 3 ID : 6306805411404

Option 4 ID : 6306805411402

Status : Answered

Chosen Option : 3



Q.2 अनुशीलन समिति एवं युगान्तर किस प्रकार की गतिविधियों से संबंधित थे?

- Ans
- ☒ 1. संवैधानिक सुधार
 - ☒ 2. अहिंसक विरोध
 - ☒ 3. क्रांतिकारी गतिविधियाँ
 - ☒ 4. सामाजिक सुधार

Question ID : 6306801069351

Option 1 ID : 6306804199667

Option 2 ID : 6306804199668

Option 3 ID : 6306804199669

Option 4 ID : 6306804199666

Status : Answered

Chosen Option : 4

Q.3 प्रागैतिहासिक कालों के वर्गीकरण के लिए तीन-काल प्रणाली (three-age system) की शुरुआत किसके द्वारा की गई थी?

- Ans
- ☒ 1. क्रिश्चियन जर्गेन्सन थॉमसन (Christian Jurgensen Thomsen)
 - ☒ 2. वॉरेन हेस्लर (Warren Hessler)
 - ☒ 3. जॉन मोरे (John More)
 - ☒ 4. रॉबर्ट थॉमसन (Robert Thomson)

Question ID : 630680433724

Option 1 ID : 6306801692861

Option 2 ID : 6306801692860

Option 3 ID : 6306801692859

Option 4 ID : 6306801692862

Status : Answered

Chosen Option : 4

Q.4 अंतर्राष्ट्रीय महिला दिवस 2023 के उपलक्ष्य में खेलो इंडिया दस का दम टूर्नामेंट कितने शहरों में आयोजित किया गया था?

- Ans
- ☒ 1. पंद्रह
 - ☒ 2. पाँच
 - ☒ 3. दस
 - ☒ 4. बीस

Question ID : 630680457132

Option 1 ID : 6306801785466

Option 2 ID : 6306801785468

Option 3 ID : 6306801785467

Option 4 ID : 6306801785465

Status : Answered

Chosen Option : 2



Q.5 अंतरराष्ट्रीय स्तर पर प्रशंसित भरतनाट्यम नृत्यांगना पद्मा सुब्रह्मण्यम को 2024 में निम्नलिखित में से किस पुरस्कार से सम्मानित किया गया?

- Ans
- ☒ 1. पद्म भूषण
 - ☒ 2. पद्म श्री
 - ☒ 3. संगीत नाटक अकादमी पुरस्कार
 - ☒ 4. पद्म विभूषण

Question ID : 6306801062783

Option 1 ID : 6306804173517

Option 2 ID : 6306804173519

Option 3 ID : 6306804173520

Option 4 ID : 6306804173518

Status : Answered

Chosen Option : 1

Q.6 राज्य की विधान परिषद (legislative council of the state) की अधिकतम सदस्य संख्या, राज्य विधान सभा की कुल सदस्य संख्या की _____ निर्धारित की गई है।

- Ans
- ☒ 1. 1/2
 - ☒ 2. 1/4
 - ☒ 3. 1/5
 - ☒ 4. 1/3

Question ID : 630680601096

Option 1 ID : 6306802352114

Option 2 ID : 6306802352116

Option 3 ID : 6306802352117

Option 4 ID : 6306802352115

Status : Answered

Chosen Option : 3

Q.7 प्राथमिक घाटा क्या है?

- Ans
- ☒ 1. राजस्व घाटा + पूँजीगत व्यय
 - ☒ 2. बजट घाटा - पूँजीगत प्राप्तियाँ
 - ☒ 3. कुल घाटा - ब्याज भुगतान
 - ☒ 4. कुल घाटा + ब्याज भुगतान

Question ID : 6306801374443

Option 1 ID : 6306805411072

Option 2 ID : 6306805411071

Option 3 ID : 6306805411069

Option 4 ID : 6306805411070

Status : Answered

Chosen Option : 3



Q.8 निम्नलिखित में से क्या नौवीं पंचवर्षीय योजना का विषय था?

- Ans
- ☒ 1. गरीबी दूर कर आत्मनिर्भरता की प्राप्ति
 - ☒ 2. सामाजिक न्याय एवं समानता के साथ विकास
 - ☒ 3. सार्वजनिक क्षेत्र का विकास एवं तीव्र औद्योगीकरण
 - ☒ 4. समावेशी विकास और साम्यिक विकास को बढ़ावा देना

Question ID : 630680571761

Option 1 ID : 6306802235949

Option 2 ID : 6306802235948

Option 3 ID : 6306802235950

Option 4 ID : 6306802235951

Status : Answered

Chosen Option : 4

Q.9 रास-लीला राधा और कृष्ण के आध्यात्मिक और शाश्वत प्रेम पर आधारित किस शास्त्रीय नृत्य का प्रतीक है?

- Ans
- ☒ 1. सल्लिया
 - ☒ 2. कुचिपुड़ी
 - ☒ 3. मणिपुरी
 - ☒ 4. छऊ

Question ID : 630680546599

Option 1 ID : 6306802136966

Option 2 ID : 6306802136965

Option 3 ID : 6306802136964

Option 4 ID : 6306802136963

Status : Answered

Chosen Option : 3

Q.10 The bacteria conducting an anoxygenic photosynthesis use which of the following compounds as an electron donor?

- Ans
- ☒ 1. Water
 - ☒ 2. Hydrogen sulphide
 - ☒ 3. Glucose
 - ☒ 4. Carbon dioxide

Question ID : 630680565991

Option 1 ID : 6306802212957

Option 2 ID : 6306802212956

Option 3 ID : 6306802212958

Option 4 ID : 6306802212959

Status : Answered

Chosen Option : 2



Q.11 WTO का प्राथमिक कार्य क्या है?

- Ans
- ☒ 1. विकासशील देशों का वित्तपोषण करना
 - ☒ 2. केवल घरेलू व्यापार को बढ़ावा देना
 - ☒ 3. वैश्विक पर्यटन को विनियमित करना
 - ☒ 4. अंतर्राष्ट्रीय व्यापार को उदार बनाना और निष्पक्ष व्यवहार सुनिश्चित करना

Question ID : 6306801064819

Option 1 ID : 6306804181575

Option 2 ID : 6306804181573

Option 3 ID : 6306804181576

Option 4 ID : 6306804181574

Status : Answered

Chosen Option : 4

Q.12 नागालैंड का कौन-सा उत्सव हर साल 1 दिसंबर को शुरू होता है?

- Ans
- ☒ 1. वांगला उत्सव
 - ☒ 2. लोसूंग उत्सव
 - ☒ 3. बिहू उत्सव
 - ☒ 4. हॉर्नबिल उत्सव

Question ID : 630680449474

Option 1 ID : 6306801755024

Option 2 ID : 6306801755021

Option 3 ID : 6306801755022

Option 4 ID : 6306801755023

Status : Answered

Chosen Option : 4

Q.13 भारत सरकार ने भारत के युवाओं की आवश्यकताओं को पूरा करने के लिए राष्ट्रीय युवा नीति (National Youth Policy - NYP) किस वर्ष आरंभ की?

- Ans
- ☒ 1. 2018
 - ☒ 2. 2016
 - ☒ 3. 2015
 - ☒ 4. 2014

Question ID : 630680616701

Option 1 ID : 6306802413067

Option 2 ID : 6306802413066

Option 3 ID : 6306802413065

Option 4 ID : 6306802413064

Status : Answered

Chosen Option : 1

Q.14 वाई.एस. जगन मोहन रेड्डी, जिन्होंने 2024 में अपना मुख्यमंत्री पद खो दिया, सितंबर 2024 तक प्राप्त जानकारी के अनुसार निम्नलिखित में से किस पार्टी से संबंधित हैं?

- Ans ☒ 1. युवजन श्रमिक रायथू कांग्रेस पार्टी (YSRCP)
- ☒ 2. तेलुगु देशम पार्टी (TDP)
- ☒ 3. जन सेना पार्टी (JSP)
- ☒ 4. इंडियन नेशनल कांग्रेस (INC)

Question ID : 6306801103957
Option 1 ID : 6306804336420
Option 2 ID : 6306804336421
Option 3 ID : 6306804336422
Option 4 ID : 6306804336423
Status : Answered
Chosen Option : 1

Q.15 भारत सरकार अधिनियम, 1935 ने संघ (केन्द्रीय सरकार) और प्रांतों के बीच शक्तियों के विभाजन की कितनी सूचियाँ का प्रावधान किया?

- Ans ☒ 1. तीन सूचियों
- ☒ 2. एक सूची
- ☒ 3. चार सूचियों
- ☒ 4. दो सूचियों

Question ID : 630680732327
Option 1 ID : 6306802870100
Option 2 ID : 6306802870098
Option 3 ID : 6306802870101
Option 4 ID : 6306802870099
Status : Answered
Chosen Option : 1

Q.16 निम्नलिखित में से किस हस्ती द्वारा राग 'लासवंती' की रचना की गई थी?

- Ans ☒ 1. तानसेन
- ☒ 2. अमजद अली खान
- ☒ 3. उस्ताद अली अकबर खान
- ☒ 4. रोनु मजूमदार

Question ID : 630680550465
Option 1 ID : 6306802152128
Option 2 ID : 6306802152130
Option 3 ID : 6306802152129
Option 4 ID : 6306802152127
Status : Answered
Chosen Option : 4



Q.17 2023 में महिला एशियाई हॉकी चैंपियंस ट्रॉफी का शुभंकर जिसका नाम 'जूही' है, किस जानवर से प्रेरित है?

- Ans
- ☐ 1. मोर
 - ☐ 2. शेर
 - ☒ 3. हाथी
 - ☐ 4. स्वेम्प डियर

Question ID : 6306801374761
Option 1 ID : 6306805412340
Option 2 ID : 6306805412341
Option 3 ID : 6306805412342
Option 4 ID : 6306805412339
Status : Answered
Chosen Option : 4

Q.18 अक्टूबर 2024 में नई दिल्ली में आयोजित अंतर्राष्ट्रीय सौर गठबंधन सभा (International Solar Alliance Assembly) के सातवें सत्र की अध्यक्षता किसने की?

- Ans
- ☐ 1. अमित शाह
 - ☒ 2. प्रल्हाद जोशी
 - ☐ 3. जे. पी. नड्डा
 - ☐ 4. उमेश यादव

Question ID : 6306801125252
Option 1 ID : 6306804421227
Option 2 ID : 6306804421226
Option 3 ID : 6306804421228
Option 4 ID : 6306804421225
Status : Answered
Chosen Option : 1

Q.19 भारतीय जनगणना 2011 के अनुसार, निम्नलिखित में से भारत के किस उत्तर-पूर्व राज्य की साक्षरता दर उच्चतम है?

- Ans
- ☐ 1. नागालैंड
 - ☒ 2. मिजोरम
 - ☐ 3. मणिपुर
 - ☐ 4. असम

Question ID : 630680694437
Option 1 ID : 6306802720012
Option 2 ID : 6306802720013
Option 3 ID : 6306802720014
Option 4 ID : 6306802720011
Status : Answered
Chosen Option : 2

Q.20 तुरा (Tura) किस पहाड़ी पर स्थित है, जो हल्के अत्यंत आर्द्र कृषि जलवायु क्षेत्र के अंतर्गत आता है?

- Ans ☒ 1. खासी पहाड़ी
☒ 2. गारो पहाड़ी
☒ 3. जयंतिया पहाड़ी
☒ 4. लौर पहाड़ी

Question ID : 630680562802
Option 1 ID : 6306802200126
Option 2 ID : 6306802200125
Option 3 ID : 6306802200128
Option 4 ID : 6306802200127
Status : Answered
Chosen Option : 4

Section : Part-C-Elementary Mathematics

Q.1 राकेश ने 150 कुर्सियाँ बेचीं और उसे 75 कुर्सियों के विक्रय मूल्य के बराबर लाभ हुआ। उसका लाभ प्रतिशत कितना है?

- Ans ☒ 1. 110%
☒ 2. 100%
☒ 3. 105%
☒ 4. 95%

Question ID : 630680907214
Option 1 ID : 6306803553957
Option 2 ID : 6306803553954
Option 3 ID : 6306803553956
Option 4 ID : 6306803553955
Status : Answered
Chosen Option : 2

Q.2 मूल्यांकन कीजिए : $2 - [3 - \{6 - (6 - 4 + 6)\}]$

- Ans ☒ 1. -6
☒ 2. -3
☒ 3. 2
☒ 4. 0

Question ID : 630680687550
Option 1 ID : 6306802692861
Option 2 ID : 6306802692860
Option 3 ID : 6306802692863
Option 4 ID : 6306802692862
Status : Answered
Chosen Option : 2



Q.3 यदि x का $2\% = 360$ है, तो x _____ के बराबर है।

- Ans
- ☒ 1. 18100
 - ☒ 2. 36000
 - ☒ 3. 36100
 - ☒ 4. 18000

Question ID : 630680591431
Option 1 ID : 6306802314193
Option 2 ID : 6306802314192
Option 3 ID : 6306802314194
Option 4 ID : 6306802314191
Status : Answered
Chosen Option : 4

Q.4 एक व्यापारी अपने माल का अंकित मूल्य, क्रय मूल्य से 50% अधिक निर्धारित करता है। वह अपना माल 12% छूट पर बेचता है। उसका लाभ प्रतिशत कितना है?

- Ans
- ☒ 1. 37%
 - ☒ 2. 43%
 - ☒ 3. 32%
 - ☒ 4. 35%

Question ID : 6306801150165
Option 1 ID : 6306804520698
Option 2 ID : 6306804520697
Option 3 ID : 6306804520700
Option 4 ID : 6306804520699
Status : Answered
Chosen Option : 3

Q.5 कक्षा X के तीन सेक्शन A, B और C में विद्यार्थियों का अनुपात $5 : 4 : 7$ है। यदि सेक्शन A, B और C में क्रमशः 15, 16 और 9 नए विद्यार्थियों को प्रवेश दिया जाता है, तो अनुपात बदलकर $10 : 9 : 11$ हो जाता है। नए प्रवेश के बाद कक्षा X में विद्यार्थियों की कुल संख्या कितनी है?

- Ans
- ☒ 1. 210
 - ☒ 2. 150
 - ☒ 3. 120
 - ☒ 4. 90

Question ID : 6306801137541
Option 1 ID : 6306804470345
Option 2 ID : 6306804470344
Option 3 ID : 6306804470346
Option 4 ID : 6306804470343
Status : Answered
Chosen Option : 3



Q.6 210 m और 440 m लंबाई वाली दो रेलगाड़ियाँ एक ही दिशा में क्रमशः 60 km/h और 90 km/h की चाल से गतिमान हैं। पीछे से आ रही तेज चाल वाली रेलगाड़ी द्वारा दूसरी रेलगाड़ी को पूरी तरह से पार करने में कितना समय (मिनटों में) लगेगा?

Ans ☒ 1. 2.2

☒ 2. 1.3

☒ 3. 3

☒ 4. 1.9

Question ID : 630680950219

Option 1 ID : 6306803725526

Option 2 ID : 6306803725525

Option 3 ID : 6306803725528

Option 4 ID : 6306803725527

Status : Answered

Chosen Option : 2

Q.7 12 कुर्सियाँ और 6 मेज़ ₹12,600 में खरीदी गईं। यदि एक मेज़ का औसत मूल्य ₹1,500 है, तो एक कुर्सी का औसत मूल्य ज्ञात कीजिए।

Ans ☒ 1. ₹300

☒ 2. ₹250

☒ 3. ₹350

☒ 4. ₹500

Question ID : 6306801144195

Option 1 ID : 6306804496971

Option 2 ID : 6306804496969

Option 3 ID : 6306804496968

Option 4 ID : 6306804496970

Status : Answered

Chosen Option : 1

Q.8 वार्षिक साधारण ब्याज की समान दर पर गोपाल ₹5400 की राशि का निवेश करता है और अक्षय ₹9400 की राशि का निवेश करता है। यदि 6 वर्ष के अंत में, अक्षय को गोपाल से ₹720 अधिक ब्याज प्राप्त होता है, तो वार्षिक ब्याज की दर (प्रतिशत में) ज्ञात कीजिए।

Ans ☒ 1. 5

☒ 2. 3

☒ 3. 2

☒ 4. 4

Question ID : 630680613583

Option 1 ID : 6306802401066

Option 2 ID : 6306802401064

Option 3 ID : 6306802401067

Option 4 ID : 6306802401065

Status : Answered

Chosen Option : 2



Q.9 A और B का वेतन C के वेतन से क्रमशः 40% और 70% रुपये अधिक है। B के वेतन का, A के वेतन से अनुपात कितना है?

Ans ☒ 1. 23 : 20

☒ 2. 9 : 5

☒ 3. 18 : 13

☒ 4. 17 : 14

Question ID : 6306801150211

Option 1 ID : 6306804520883

Option 2 ID : 6306804520884

Option 3 ID : 6306804520882

Option 4 ID : 6306804520881

Status : Answered

Chosen Option : 4

Q.10 $79 - 10 \times [2 + 3 \times \{12 - 6(6 - 5) \times 2\} \div 20]$ का मान ज्ञात कीजिए।

Ans ☒ 1. 59

☒ 2. 57

☒ 3. 55

☒ 4. 63

Question ID : 630680800809

Option 1 ID : 6306803137796

Option 2 ID : 6306803137797

Option 3 ID : 6306803137799

Option 4 ID : 6306803137798

Status : Answered

Chosen Option : 1

Q.11 A, B, C और D अलग-अलग तौर पर एक कार्य को क्रमशः 30 दिन, 33 दिन, 36 दिन और 44 दिन में पूरा कर सकते हैं। यदि A और B को C और D द्वारा बारी-बारी से दो-दो दिन सहायता दी जाती है, जिसमें पहले दो दिन C, फिर अगले दो दिन D और फिर अगले दो दिन C तथा इसी प्रकार आगे भी सहायता दी जाती है, तो A और B मिलकर कार्य को कितने दिनों में पूरा कर सकते हैं?

Ans ☒ 1. $11\frac{13}{57}$ दिन

☒ 2. $8\frac{5}{36}$ दिन

☒ 3. $6\frac{7}{24}$ दिन

☒ 4. $5\frac{5}{11}$ दिन

Question ID : 6306801149409

Option 1 ID : 6306804517684

Option 2 ID : 6306804517683

Option 3 ID : 6306804517682

Option 4 ID : 6306804517681

Status : Answered

Chosen Option : 2



Q.12 एक कक्षा के 28 विद्यार्थियों की औसत आयु 40 वर्ष है। यदि शिक्षक की आयु भी सम्मिलित कर ली जाए, तो संपूर्ण समूह की औसत आयु 41 वर्ष हो जाती है। शिक्षक की आयु (वर्ष में) ज्ञात कीजिए।

- Ans ☒ 1. 67
☒ 2. 70
☒ 3. 69
☒ 4. 74

Question ID : 630680862807
Option 1 ID : 6306803379116
Option 2 ID : 6306803379117
Option 3 ID : 6306803379115
Option 4 ID : 6306803379118
Status : Answered
Chosen Option : 3

Q.13 मूल्यांकन कीजिए : $32 \div 8 \times 4 - 2 \times 3$

- Ans ☒ 1. 10
☒ 2. 13
☒ 3. 9
☒ 4. 12

Question ID : 630680687595
Option 1 ID : 6306802693040
Option 2 ID : 6306802693041
Option 3 ID : 6306802693043
Option 4 ID : 6306802693042
Status : Answered
Chosen Option : 1

Q.14 निम्नलिखित का मान ज्ञात कीजिए।

$$\left[(36 \div 9) \times \left\{ \frac{56}{8} + \frac{14}{1} \times (6 - 5) \right\} \right]$$

- Ans ☒ 1. 81
☒ 2. 84
☒ 3. 98
☒ 4. 78

Question ID : 630680797082
Option 1 ID : 6306803123285
Option 2 ID : 6306803123284
Option 3 ID : 6306803123287
Option 4 ID : 6306803123286
Status : Answered
Chosen Option : 2

Q.15 ₹x की धनराशि हर 10 माह के बाद चक्रवृद्धि होने वाली 12% वार्षिक ब्याज दर पर $2\frac{1}{2}$ वर्ष में ₹75,867 हो जाती है। x का मान कितना है?

- Ans
- ☒ 1. 56000
 - ☒ 2. 55000
 - ☒ 3. 57000
 - ☒ 4. 58000

Question ID : 6306801021866

Option 1 ID : 6306804010515

Option 2 ID : 6306804010513

Option 3 ID : 6306804010512

Option 4 ID : 6306804010514

Status : Answered

Chosen Option : 2

Q.16 लोहे से बने 9 cm भुजा वाले एक घन को पिघलाकर 8 छोटे-छोटे घनों में ढाला जाता है। प्रत्येक छोटे घन की भुजा (cm में) ज्ञात कीजिए।

- Ans
- ☒ 1. 4.5
 - ☒ 2. 4
 - ☒ 3. 5
 - ☒ 4. 5.5

Question ID : 6306801131593

Option 1 ID : 6306804446522

Option 2 ID : 6306804446520

Option 3 ID : 6306804446521

Option 4 ID : 6306804446523

Status : Answered

Chosen Option : 1

Q.17 एक जिले की जनसंख्या 327000 है, जिसमें 224000 पुरुष हैं। 65% जनसंख्या साक्षर है। यदि 65% पुरुष साक्षर हैं, तो साक्षर महिलाओं का प्रतिशत कितना होगा?

- Ans
- ☒ 1. 66%
 - ☒ 2. 65%
 - ☒ 3. 67%
 - ☒ 4. 68%

Question ID : 6306801021759

Option 1 ID : 6306804010087

Option 2 ID : 6306804010084

Option 3 ID : 6306804010086

Option 4 ID : 6306804010085

Status : Answered

Chosen Option : 2



Q.18 15 गेंदों को ₹1,220 में बेचने पर 5 गेंदों के क्रय मूल्य के बराबर हानि होती है। एक गेंद का क्रय मूल्य (₹ में) कितना है?

Ans ☒ 1. 145

☒ 2. 122

☒ 3. 112

☒ 4. 120

Question ID : 6306801375005

Option 1 ID : 6306805413314

Option 2 ID : 6306805413313

Option 3 ID : 6306805413311

Option 4 ID : 6306805413312

Status : Answered

Chosen Option : 2

Q.19 योगेश ने HDFC में 4% वार्षिक ब्याज दर पर कुछ धनराशि का निवेश किया। यदि 2 वर्षों के बाद, योगेश को वार्षिक रूप से चक्रवृद्धि होने वाले चक्रवृद्धि ब्याज के रूप में ₹229.5 प्राप्त होते हैं, तो संगत साधारण ब्याज (₹ में) क्या होगा?

Ans ☒ 1. 220

☒ 2. 235

☒ 3. 225

☒ 4. 240

Question ID : 6306801002876

Option 1 ID : 6306803935634

Option 2 ID : 6306803935635

Option 3 ID : 6306803935633

Option 4 ID : 6306803935636

Status : Answered

Chosen Option : 3

Q.20 रवि ने 24 km की दूरी 2 घंटे 24 मिनट में तय करने का निर्णय लिया। इसके अलावा उसने कुल दूरी का शुरुआती एक-तिहाई भाग 8 km/hr की चाल से और शेष दूरी किसी अलग चाल से तय करने का निर्णय लिया। एक-तिहाई दूरी तय करने के बाद रवि की चाल (km/hr में) कितनी है?

Ans ☒ 1. 11

☒ 2. $12\frac{3}{7}$

☒ 3. $11\frac{3}{7}$

☒ 4. 12

Question ID : 6306801154646

Option 1 ID : 6306804538503

Option 2 ID : 6306804538506

Option 3 ID : 6306804538504

Option 4 ID : 6306804538505

Status : Answered

Chosen Option : 3

Section : Part-D-English



Q.1 Select the most appropriate meaning of the given idiom.

Spill the beans

- Ans ☒ 1. To drop something accidentally
☒ 2. To cook a meal
☒ 3. To tell people secret information
☒ 4. To clean up a mess

Question ID : 630680713270

Option 1 ID : 6306802794798

Option 2 ID : 6306802794797

Option 3 ID : 6306802794795

Option 4 ID : 6306802794796

Status : Not Answered

Chosen Option : --

Q.2 Fill in the blank with the most appropriate ANTONYM of the word in brackets in the following sentence.

The events _____ (composed) beautiful thoughts in her memory.

- Ans ☒ 1. secured
☒ 2. focused
☒ 3. agitated
☒ 4. rectified

Question ID : 630680319302

Option 1 ID : 6306801242115

Option 2 ID : 6306801242113

Option 3 ID : 6306801242116

Option 4 ID : 6306801242114

Status : Not Answered

Chosen Option : --

Q.3 Select the option that rectifies the incorrectly spelt word in the given sentence.

The cat sprawled in the sun, enjoying the warm afternoon rays and the gentel breeze.

- Ans ☒ 1. breaze
☒ 2. sprewled
☒ 3. enjoyeing
☒ 4. gentle

Question ID : 630680545473

Option 1 ID : 6306802132499

Option 2 ID : 6306802132496

Option 3 ID : 6306802132497

Option 4 ID : 6306802132498

Status : Not Answered

Chosen Option : --

Q.4 Select the most appropriate option to fill in the blank.

She was _____ when she pointed out the discrimination against women to her manager.

- Ans
- ☒ 1. reticent
 - ☒ 2. inhibited
 - ☒ 3. laconic
 - ☒ 4. candid

Question ID : 6306801089236

Option 1 ID : 6306804278273

Option 2 ID : 6306804278274

Option 3 ID : 6306804278272

Option 4 ID : 6306804278271

Status : Not Answered

Chosen Option : --

Q.5 Select the most appropriate ANTONYM of the word in brackets to fill in the blank.

His condition began to _____ (Ameliorate) after the trip.

- Ans
- ☒ 1. Worsen
 - ☒ 2. Detach
 - ☒ 3. Improve
 - ☒ 4. Explode

Question ID : 630680541075

Option 1 ID : 6306802115329

Option 2 ID : 6306802115327

Option 3 ID : 6306802115328

Option 4 ID : 6306802115326

Status : Not Answered

Chosen Option : --

Q.6 Select the option that best defines the given word.

Jovial

- Ans
- ☒ 1. Very cautious
 - ☒ 2. Friendly and in good mood
 - ☒ 3. Pensive mood
 - ☒ 4. Angry

Question ID : 6306801103257

Option 1 ID : 6306804333943

Option 2 ID : 6306804333940

Option 3 ID : 6306804333941

Option 4 ID : 6306804333942

Status : Not Answered

Chosen Option : --



Q.7 Identify the sentence with the INCORRECT usage of an adverb.

- Ans ☒ 1. He always goes for a run in the morning.
☒ 2. He goes always for a run in the morning.
☒ 3. He often goes for a run in the morning.
☒ 4. He usually goes for a run in the morning.

Question ID : 6306801104654

Option 1 ID : 6306804339145

Option 2 ID : 6306804339146

Option 3 ID : 6306804339147

Option 4 ID : 6306804339148

Status : Not Answered

Chosen Option : --

Q.8 Select the INCORRECTLY spelt word.

- Ans ☒ 1. Irritably
☒ 2. Sternly
☒ 3. Reluctently
☒ 4. Fatally

Question ID : 6306801103289

Option 1 ID : 6306804334071

Option 2 ID : 6306804334068

Option 3 ID : 6306804334070

Option 4 ID : 6306804334069

Status : Not Answered

Chosen Option : --

Q.9 Select the most appropriate option that can substitute the underlined words in the given sentence.

He has been writing most articles and has given presentations on his research.

- Ans ☒ 1. will write more articles
☒ 2. has written several articles
☒ 3. had written few articles
☒ 4. was write many articles

Question ID : 6306801079764

Option 1 ID : 6306804240938

Option 2 ID : 6306804240939

Option 3 ID : 6306804240940

Option 4 ID : 6306804240937

Status : Not Answered

Chosen Option : --

Q.10 Select the most appropriate meaning of the given word.

Resilient

- Ans ☒ 1. Easily distracted
- ☒ 2. Weak and fragile
- ☒ 3. Overly sensitive
- ☒ 4. Able to recover quickly

Question ID : 6306801112711
Option 1 ID : 6306804371488
Option 2 ID : 6306804371487
Option 3 ID : 6306804371489
Option 4 ID : 6306804371490
Status : Not Answered
Chosen Option : --

Q.11 Select the most appropriate option to fill in the blank. Determine the collocation through the sentence.

He suffers from _____ pain in the joints.

- Ans ☒ 1. excruciating
- ☒ 2. quick
- ☒ 3. awkward
- ☒ 4. external

Question ID : 6306801097372
Option 1 ID : 6306804310763
Option 2 ID : 6306804310765
Option 3 ID : 6306804310762
Option 4 ID : 6306804310764
Status : Not Answered
Chosen Option : --

Q.12 Select the most appropriate option to fill in the blank.

The literary critic's _____ analysis of postmodern novels challenged the traditional notions of narrative structure and authorial intent.

- Ans ☒ 1. prosaic
- ☒ 2. pedantic
- ☒ 3. hermeneutic
- ☒ 4. facile

Question ID : 6306801080328
Option 1 ID : 6306804243219
Option 2 ID : 6306804243218
Option 3 ID : 6306804243217
Option 4 ID : 6306804243220
Status : Not Answered
Chosen Option : --

Q.13 Select the most appropriate option to fill in the blank.

Did you know health is not just _____ not being sick?

- Ans ☒ 1. but
☒ 2. in
☒ 3. about
☒ 4. on

Question ID : 6306801102250
Option 1 ID : 6306804330240
Option 2 ID : 6306804330237
Option 3 ID : 6306804330239
Option 4 ID : 6306804330238
Status : Not Answered
Chosen Option : --

Q.14 All of the following options, except one, contain sentences in the Future tense. Select the grammatically INCORRECT sentence.

- Ans ☒ 1. I think you will like George if you meet him.
☒ 2. The jacket will look nice on you.
☒ 3. I think we will meeting again before long.
☒ 4. I am sure you will pass the exam.

Question ID : 630680729061
Option 1 ID : 6306802857004
Option 2 ID : 6306802857003
Option 3 ID : 6306802857005
Option 4 ID : 6306802857002
Status : Not Answered
Chosen Option : --

Q.15 Select the sentence that contains the meaning of the word 'incorrigible'.

- Ans ☒ 1. The teacher found the mid-day meal too salty to eat.
☒ 2. The weather is very warm with no sign of abating.
☒ 3. He is a very bad liar beyond correction.
☒ 4. Modern technology has enabled paints to last longer and retain their freshness.

Question ID : 630680746631
Option 1 ID : 6306802926654
Option 2 ID : 6306802926652
Option 3 ID : 6306802926651
Option 4 ID : 6306802926653
Status : Not Answered
Chosen Option : --



Comprehension:

In the following passage, some words have been deleted. Read the passage carefully and select the most appropriate option to fill in each blank.

Persuasion is the art of (1)_____ someone to agree with your point of view. According to Aristotle, there are three basic tools of persuasion: ethos, pathos and logos. Ethos is a speaker's way of convincing the audience that she is a (2)_____ source. Pathos is a speaker's way of (3)_____ with an audience's emotions. Logos is the use of (4)_____ or information to make your (5)_____ more convincing.

SubQuestion No : 16

Q.16 Select the most appropriate option to fill in blank no. 1.

- Ans ☒ 1. captivating
☒ 2. evaluating
☒ 3. convincing
☒ 4. motivating

Question ID : 6306801089470

Option 1 ID : 6306804279177

Option 2 ID : 6306804279174

Option 3 ID : 6306804279175

Option 4 ID : 6306804279176

Status : Not Answered

Chosen Option : --

Comprehension:

In the following passage, some words have been deleted. Read the passage carefully and select the most appropriate option to fill in each blank.

Persuasion is the art of (1)_____ someone to agree with your point of view. According to Aristotle, there are three basic tools of persuasion: ethos, pathos and logos. Ethos is a speaker's way of convincing the audience that she is a (2)_____ source. Pathos is a speaker's way of (3)_____ with an audience's emotions. Logos is the use of (4)_____ or information to make your (5)_____ more convincing.

SubQuestion No : 17

Q.17 Select the most appropriate option to fill in blank no. 2.

- Ans ☒ 1. misleading
☒ 2. credible
☒ 3. unreliable
☒ 4. confusing

Question ID : 6306801089471

Option 1 ID : 6306804279181

Option 2 ID : 6306804279178

Option 3 ID : 6306804279180

Option 4 ID : 6306804279179

Status : Not Answered

Chosen Option : --

Comprehension:

In the following passage, some words have been deleted. Read the passage carefully and select the most appropriate option to fill in each blank.

Persuasion is the art of (1)_____ someone to agree with your point of view. According to Aristotle, there are three basic tools of persuasion: ethos, pathos and logos. Ethos is a speaker's way of convincing the audience that she is a (2)_____ source. Pathos is a speaker's way of (3)_____ with an audience's emotions. Logos is the use of (4)_____ or information to make your (5)_____ more convincing.

SubQuestion No : 18

Q.18 Select the most appropriate option to fill in blank no. 3.

- Ans ☒ 1. distinct
☒ 2. disparate
☒ 3. unlike
☒ 4. connecting

Question ID : 6306801089472

Option 1 ID : 6306804279183

Option 2 ID : 6306804279184

Option 3 ID : 6306804279182

Option 4 ID : 6306804279185

Status : Not Answered

Chosen Option : --

Comprehension:

In the following passage, some words have been deleted. Read the passage carefully and select the most appropriate option to fill in each blank.

Persuasion is the art of (1)_____ someone to agree with your point of view. According to Aristotle, there are three basic tools of persuasion: ethos, pathos and logos. Ethos is a speaker's way of convincing the audience that she is a (2)_____ source. Pathos is a speaker's way of (3)_____ with an audience's emotions. Logos is the use of (4)_____ or information to make your (5)_____ more convincing.

SubQuestion No : 19

Q.19 Select the most appropriate option to fill in blank no. 4.

- Ans ☒ 1. clue
☒ 2. theory
☒ 3. evidence
☒ 4. facts

Question ID : 6306801089473

Option 1 ID : 6306804279186

Option 2 ID : 6306804279188

Option 3 ID : 6306804279189

Option 4 ID : 6306804279187

Status : Not Answered

Chosen Option : --

Comprehension:

In the following passage, some words have been deleted. Read the passage carefully and select the most appropriate option to fill in each blank.

Persuasion is the art of (1)_____ someone to agree with your point of view. According to Aristotle, there are three basic tools of persuasion: ethos, pathos and logos. Ethos is a speaker's way of convincing the audience that she is a (2)_____ source. Pathos is a speaker's way of (3)_____ with an audience's emotions. Logos is the use of (4)_____ or information to make your (5)_____ more convincing.

SubQuestion No : 20

Q.20 Select the most appropriate option to fill in blank no. 5.

- Ans ☒ 1. theory
☒ 2. hypothesis
☒ 3. question
☒ 4. argument

Question ID : 6306801089474

Option 1 ID : 6306804279193

Option 2 ID : 6306804279190

Option 3 ID : 6306804279192

Option 4 ID : 6306804279191

Status : Not Answered

Chosen Option : --

Section : Part-D-Hindi

Q.1 'परकीय' शब्द का विलोम पहचानिए।

- Ans ☒ 1. पूरक
☒ 2. स्वकीय
☒ 3. पाठकीय
☒ 4. सम्यक

Question ID : 630680510568

Option 1 ID : 6306801995405

Option 2 ID : 6306801995403

Option 3 ID : 6306801995402

Option 4 ID : 6306801995404

Status : Answered

Chosen Option : 2

Q.2 रिक्त स्थान की पूर्ति सार्थक शब्द युग्म से करें-
हिसाब किताब नहीं रखने पर _____ का पता नहीं चलता।

- Ans ☒ 1. आय व्यय
☒ 2. दना दन
☒ 3. कुचा मुचा
☒ 4. अंड बंड

Question ID : 630680510546

Option 1 ID : 6306801995317

Option 2 ID : 6306801995315

Option 3 ID : 6306801995316

Option 4 ID : 6306801995314

Status : Answered

Chosen Option : 1

Q.3 निम्न में से किस वाक्य में 'जटिल' के सही विलोम शब्द का प्रयोग हुआ है?

- Ans ☒ 1. उसने अनेक विषम परिस्थितियों का सामना किया।
☒ 2. सरल वाक्य की क्या परिभाषा है?
☒ 3. सुधा के सामने यह बहुत बड़ी मुश्किल थी।
☒ 4. रजत के लिए वह कविता अत्यंत क्लिष्ट है।

Question ID : 630680128792

Option 1 ID : 630680498807

Option 2 ID : 630680498809

Option 3 ID : 630680498808

Option 4 ID : 630680498806

Status : Answered

Chosen Option : 2

Q.4 उपयुक्त तत्सम शब्द चुनकर निम्न वाक्य पूर्ण करें-
'इनके मस्तिष्क में तो _____ भरा है।'

- Ans ☒ 1. बुध
☒ 2. भुसैल
☒ 3. भूसा
☒ 4. भुस

Question ID : 630680360885

Option 1 ID : 6306801405415

Option 2 ID : 6306801405414

Option 3 ID : 6306801405413

Option 4 ID : 6306801405416

Status : Answered

Chosen Option : 2

Q.5 इनमें से किस वाक्य में त्रुटि नहीं है?

- Ans ☒ 1. यह निबंध मै लिखा हूँ।
☒ 2. यह दायित्व आप पर निर्भर है।
☒ 3. वह मुझे बुलाया है।
☒ 4. वह रोटी खाया।

Question ID : 630680140339

Option 1 ID : 630680543155

Option 2 ID : 630680543154

Option 3 ID : 630680543157

Option 4 ID : 630680543156

Status : Answered

Chosen Option : 2



Q.6 मैदान, तीन, बच्चा और खेलना शब्दों के आधार पर सही वाक्य होगा।

- Ans
- ☒ 1. मैदान में तीन बच्चे गेंद खेल रहा है।
 - ☒ 2. मैदान में तीन बच्चा गेंद खेल रहा है।
 - ☒ 3. मैदान में तीन बच्चे गेंद खेल रहे हैं।
 - ☒ 4. मैदान में तीन बच्चा गेंद खेल रहे हैं।

Question ID : 630680166492

Option 1 ID : 630680644887

Option 2 ID : 630680644884

Option 3 ID : 630680644885

Option 4 ID : 630680644886

Status : Answered

Chosen Option : 3

Q.7 'जब भी कोई काम की बात शुरू होती है, सोहन अपनी अलग घास छीलने लगता है, उससे कुछ भी कहना बेकार है।'

रेखांकित असंगत भाग के लिए उचित मुहावरे का चयन कीजिए।

- Ans
- ☒ 1. गिरगिट की तरह रंग बदलना
 - ☒ 2. चार चाँद लगाना
 - ☒ 3. डेढ़ चावल की खिचड़ी पकाना
 - ☒ 4. खूँटे के बल कूदना

Question ID : 630680130535

Option 1 ID : 630680505438

Option 2 ID : 630680505441

Option 3 ID : 630680505440

Option 4 ID : 630680505439

Status : Answered

Chosen Option : 3

Q.8 निम्नलिखित वाक्यांश के लिए उपयुक्त सार्थक शब्द है:

अपने स्वार्थ के लिए किसी का गुणगान करने वाला

- Ans
- ☒ 1. चालक
 - ☒ 2. स्वार्थी
 - ☒ 3. समझदार
 - ☒ 4. चाटुकार

Question ID : 630680462722

Option 1 ID : 6306801807093

Option 2 ID : 6306801807091

Option 3 ID : 6306801807094

Option 4 ID : 6306801807092

Status : Answered

Chosen Option : 4



Q.9 शब्द या वाक्य खण्ड बदलें और उत्तर के रूप में सही विकल्प चुनें।
घर की औरतों ने दूल्हे को बड़े ध्यान से देखी।

- Ans
- ☒ 1. घर की औरतों ने दूल्हों को बहुत ध्यानपूर्वक देखा।
 - ☒ 2. घर की औरतों ने दूल्हा राजा को बड़े ध्यान से देखा।
 - ☒ 3. घर की औरतों ने दूल्हा को बड़े ध्यान से देखा।
 - ☒ 4. घर की औरतों ने दूल्हे को बड़े ध्यान से देखा।

Question ID : 630680313952

Option 1 ID : 6306801221627

Option 2 ID : 6306801221626

Option 3 ID : 6306801221625

Option 4 ID : 6306801221628

Status : Answered

Chosen Option : 4

Q.10 निम्नलिखित में से 'रुष्ट' का विलोम शब्द है-

- Ans
- ☒ 1. दुष्ट
 - ☒ 2. तुष्ट
 - ☒ 3. ताप
 - ☒ 4. पुष्ट

Question ID : 630680510623

Option 1 ID : 6306801995625

Option 2 ID : 6306801995623

Option 3 ID : 6306801995622

Option 4 ID : 6306801995624

Status : Answered

Chosen Option : 4

Q.11 वर्तनी की दृष्टि से अशुद्ध वाक्य की पहचान कीजिए।

- Ans
- ☒ 1. हमें उन्नति करनी चाहिए।
 - ☒ 2. उसे क्षमा कर दो।
 - ☒ 3. इमारत बहुत ऊँची है।
 - ☒ 4. इन तलाव में मछली हैं।

Question ID : 630680395897

Option 1 ID : 6306801543738

Option 2 ID : 6306801543739

Option 3 ID : 6306801543737

Option 4 ID : 6306801543736

Status : Answered

Chosen Option : 4



Q.12 दिये गए वाक्य में त्रुटियाँ पहचाने और वाक्य शुद्ध करें तथा उत्तर के रूप में सही विकल्प चुनें।
लड़का खाना खाते हैं।

- Ans
- ☒ 1. लड़के खाना ही खाते हैं।
 - ☒ 2. लड़का खाना ही खाते हैं।
 - ☒ 3. लड़के खाना खाते हैं।
 - ☒ 4. लड़का खाना खाता है।

Question ID : 630680401905

Option 1 ID : 6306801567369

Option 2 ID : 6306801567368

Option 3 ID : 6306801567366

Option 4 ID : 6306801567367

Status : Answered

Chosen Option : 4

Q.13 निम्नलिखित वाक्य में रेखांकित खंड के स्थान पर प्रयुक्त होने वाले सबसे उपयुक्त विकल्प का चयन कीजिए-

यह नियम व्यक्ति के लिए प्रत्येक लागू है।

- Ans
- ☒ 1. व्यक्ति प्रत्येक के लिए
 - ☒ 2. प्रत्येक के लिए व्यक्ति
 - ☒ 3. प्रत्येक व्यक्ति के लिए
 - ☒ 4. प्रत्येक व्यक्ति के सामने

Question ID : 630680510007

Option 1 ID : 6306801993162

Option 2 ID : 6306801993161

Option 3 ID : 6306801993163

Option 4 ID : 6306801993164

Status : Answered

Chosen Option : 3

Q.14 निम्नलिखित में से किस वाक्य का कर्ता, एक नित्य पुल्लिङ्ग शब्द नहीं है?

- Ans
- ☒ 1. आप तो महान दाता हैं।
 - ☒ 2. बिच्छू सदैव काट ही लेता है।
 - ☒ 3. खरगोश का सफ़ेद रंग सुन्दर है।
 - ☒ 4. कछुआ बहुत शर्मीला जानवर है।

Question ID : 63068065924

Option 1 ID : 630680254628

Option 2 ID : 630680254627

Option 3 ID : 630680254629

Option 4 ID : 630680254626

Status : Answered

Chosen Option : 1

Q.15 आज आपका चेहरा प्रफुल्ल दिखता है।

रेखांकित पद का विलोम बताइए।

- Ans ☒ 1. आकर्षक
☒ 2. दुःखी
☒ 3. म्लान
☒ 4. अम्लान

Question ID : 630680129040
Option 1 ID : 630680499789
Option 2 ID : 630680499787
Option 3 ID : 630680499786
Option 4 ID : 630680499788
Status : Answered
Chosen Option : 3

Comprehension:

निम्नलिखित गद्यांश को पढ़कर प्रश्नों के उत्तर दीजिए-

राष्ट्रभाषा से यह अभिप्राय है कि वह अंतरप्रांतीय व्यापार और (41) _____ व्यवहार में सभी प्रांतों में रहनेवालों द्वारा बरती जाए और बदरीनाथ से रामेश्वरम् तक तथा अमृतसर से कटक तक सभी स्थानों में परस्पर बातचीत करने और (42) _____ में काम लायी जाए। राष्ट्रभाषा होने की अधिकाधिक योग्यता हिंदी में आनी और लानी चाहिए। आज के युग में जब वैज्ञानिक आविष्कार के कारण दुनिया से स्थान और समय की दूरी समाप्त होती जा रही है, कोई भी भाषा दूसरी भाषा के संपर्क से अपने को (43) _____ नहीं रख सकती। हिंदी का यह एक विशेष गुण है कि उसने हिंदुओं की भाषा होते हुए भी अरबी, फारसी, अंगरेजी इत्यादि के शब्दों को अछूत नहीं समझा। (44) _____ की नीति तो वह कदापि स्वीकार नहीं कर सकती और न विदेशी शब्दों को ही बाहर रखकर वह अपनी उन्नति कर सकती है। हिंदुस्तान में हिंदू, मुसलमान, ईसाई, सिख इत्यादि सभी बसते हैं, तो भी वह (45) _____ है। इसी प्रकार, यदि हम सभी भाषाओं से उत्तम और आवश्यक शब्द लेंगे, तो भी हिंदी ही रहेगी।

SubQuestion No : 16

Q.16 निम्न विकल्पों में से उचित शब्द चयन कर अनुच्छेद में रिक्त स्थान की पूर्ति करें।(41)

- Ans ☒ 1. सार्वलौकिक
☒ 2. सार्वजनिक
☒ 3. सार्विक
☒ 4. सार्वत्रिक

Question ID : 630680163219
Option 1 ID : 630680632086
Option 2 ID : 630680632085
Option 3 ID : 630680632087
Option 4 ID : 630680632084
Status : Answered
Chosen Option : 4

Comprehension:

निम्नलिखित गद्यांश को पढ़कर प्रश्नों के उत्तर दीजिए-

राष्ट्रभाषा से यह अभिप्राय है कि वह अंतरप्रांतीय व्यापार और (41) _____ व्यवहार में सभी प्रांतों में रहनेवालों द्वारा बरती जाए और बदरीनाथ से रामेश्वरम् तक तथा अमृतसर से कटक तक सभी स्थानों में परस्पर बातचीत करने और (42) _____ में काम लायी जाए। राष्ट्रभाषा होने की अधिकाधिक योग्यता हिंदी में आनी और लानी चाहिए। आज के युग में जब वैज्ञानिक आविष्कार के कारण दुनिया से स्थान और समय की दूरी समाप्त होती जा रही है, कोई भी भाषा दूसरी भाषा के संपर्क से अपने को (43) _____ नहीं रख सकती। हिंदी का यह एक विशेष गुण है कि उसने हिंदुओं की भाषा होते हुए भी अरबी, फारसी, अंगरेजी इत्यादि के शब्दों को अछूत नहीं समझा। (44) _____ की नीति तो वह कदापि स्वीकार नहीं कर सकती और न विदेशी शब्दों को ही बाहर रखकर वह अपनी उन्नति कर सकती है। हिंदुस्तान में हिंदू, मुसलमान, ईसाई, सिख इत्यादि सभी बसते हैं, तो भी वह (45) _____ है। इसी प्रकार, यदि हम सभी भाषाओं से उत्तम और आवश्यक शब्द लेंगे, तो भी हिंदी ही रहेगी।

SubQuestion No : 17

Q.17 निम्न विकल्पों में से उचित शब्द चयन कर अनुच्छेद में रिक्त स्थान की पूर्ति करें।(42)

- Ans ☒ 1. विचार - स्वातंत्र्य
☒ 2. विचार - क्रम
☒ 3. विचार - विज्ञ
☒ 4. विचार - विनिमय

Question ID : 630680163220

Option 1 ID : 630680632091

Option 2 ID : 630680632090

Option 3 ID : 630680632089

Option 4 ID : 630680632088

Status : Answered

Chosen Option : 4

Comprehension:

निम्नलिखित गद्यांश को पढ़कर प्रश्नों के उत्तर दीजिए-

राष्ट्रभाषा से यह अभिप्राय है कि वह अंतरप्रांतीय व्यापार और (41) _____ व्यवहार में सभी प्रांतों में रहनेवालों द्वारा बरती जाए और बदरीनाथ से रामेश्वरम् तक तथा अमृतसर से कटक तक सभी स्थानों में परस्पर बातचीत करने और (42) _____ में काम लायी जाए। राष्ट्रभाषा होने की अधिकाधिक योग्यता हिंदी में आनी और लानी चाहिए। आज के युग में जब वैज्ञानिक आविष्कार के कारण दुनिया से स्थान और समय की दूरी समाप्त होती जा रही है, कोई भी भाषा दूसरी भाषा के संपर्क से अपने को (43) _____ नहीं रख सकती। हिंदी का यह एक विशेष गुण है कि उसने हिंदुओं की भाषा होते हुए भी अरबी, फारसी, अंगरेजी इत्यादि के शब्दों को अछूत नहीं समझा। (44) _____ की नीति तो वह कदापि स्वीकार नहीं कर सकती और न विदेशी शब्दों को ही बाहर रखकर वह अपनी उन्नति कर सकती है। हिंदुस्तान में हिंदू, मुसलमान, ईसाई, सिख इत्यादि सभी बसते हैं, तो भी वह (45) _____ है। इसी प्रकार, यदि हम सभी भाषाओं से उत्तम और आवश्यक शब्द लेंगे, तो भी हिंदी ही रहेगी।

SubQuestion No : 18

Q.18 निम्न विकल्पों में से उचित शब्द चयन कर अनुच्छेद में रिक्त स्थान की पूर्ति करें।(43)

- Ans ☒ 1. अछोह
☒ 2. अचिति
☒ 3. अछूता
☒ 4. अचूक

Question ID : 630680163221

Option 1 ID : 630680632093

Option 2 ID : 630680632092

Option 3 ID : 630680632095

Option 4 ID : 630680632094

Status : Answered

Chosen Option : 3

Comprehension:

निम्नलिखित गद्यांश को पढ़कर प्रश्नों के उत्तर दीजिए-

राष्ट्रभाषा से यह अभिप्राय है कि वह अंतरप्रांतीय व्यापार और (41) _____ व्यवहार में सभी प्रांतों में रहनेवालों द्वारा बरती जाए और बदरीनाथ से रामेश्वरम् तक तथा अमृतसर से कटक तक सभी स्थानों में परस्पर बातचीत करने और (42) _____ में काम लायी जाए। राष्ट्रभाषा होने की अधिकाधिक योग्यता हिंदी में आनी और लानी चाहिए। आज के युग में जब वैज्ञानिक आविष्कार के कारण दुनिया से स्थान और समय की दूरी समाप्त होती जा रही है, कोई भी भाषा दूसरी भाषा के संपर्क से अपने को (43) _____ नहीं रख सकती। हिंदी का यह एक विशेष गुण है कि उसने हिंदुओं की भाषा होते हुए भी अरबी, फारसी, अंगरेजी इत्यादि के शब्दों को अछूत नहीं समझा। (44) _____ की नीति तो वह कदापि स्वीकार नहीं कर सकती और न विदेशी शब्दों को ही बाहर रखकर वह अपनी उन्नति कर सकती है। हिंदुस्तान में हिंदू, मुसलमान, ईसाई, सिख इत्यादि सभी बसते हैं, तो भी वह (45) _____ है। इसी प्रकार, यदि हम सभी भाषाओं से उत्तम और आवश्यक शब्द लेंगे, तो भी हिंदी ही रहेगी।

SubQuestion No : 19

Q.19 निम्न विकल्पों में से उचित शब्द चयन कर अनुच्छेद में रिक्त स्थान की पूर्ति करें।(44)

- Ans ☒ 1. बधियाना
☒ 2. बहिष्कार
☒ 3. बहिश्वर
☒ 4. बहिनापा

Question ID : 630680163222

Option 1 ID : 630680632099

Option 2 ID : 630680632098

Option 3 ID : 630680632096

Option 4 ID : 630680632097

Status : Answered

Chosen Option : 2

Comprehension:

निम्नलिखित गद्यांश को पढ़कर प्रश्नों के उत्तर दीजिए-

राष्ट्रभाषा से यह अभिप्राय है कि वह अंतरप्रांतीय व्यापार और (41) _____ व्यवहार में सभी प्रांतों में रहनेवालों द्वारा बरती जाए और बदरीनाथ से रामेश्वरम् तक तथा अमृतसर से कटक तक सभी स्थानों में परस्पर बातचीत करने और (42) _____ में काम लायी जाए। राष्ट्रभाषा होने की अधिकाधिक योग्यता हिंदी में आनी और लानी चाहिए। आज के युग में जब वैज्ञानिक आविष्कार के कारण दुनिया से स्थान और समय की दूरी समाप्त होती जा रही है, कोई भी भाषा दूसरी भाषा के संपर्क से अपने को (43) _____ नहीं रख सकती। हिंदी का यह एक विशेष गुण है कि उसने हिंदुओं की भाषा होते हुए भी अरबी, फारसी, अंगरेजी इत्यादि के शब्दों को अछूत नहीं समझा। (44) _____ की नीति तो वह कदापि स्वीकार नहीं कर सकती और न विदेशी शब्दों को ही बाहर रखकर वह अपनी उन्नति कर सकती है। हिंदुस्तान में हिंदू, मुसलमान, ईसाई, सिख इत्यादि सभी बसते हैं, तो भी वह (45) _____ है। इसी प्रकार, यदि हम सभी भाषाओं से उत्तम और आवश्यक शब्द लेंगे, तो भी हिंदी ही रहेगी।

SubQuestion No : 20

Q.20 निम्न विकल्पों में से उचित शब्द चयन कर अनुच्छेद में रिक्त स्थान की पूर्ति करें।(45)

- Ans ☒ 1. हिंदुआनी
☒ 2. हिंदुस्तान
☒ 3. पाकिस्तान
☒ 4. राजस्तान

Question ID : 630680163223

Option 1 ID : 630680632101

Option 2 ID : 630680632103

Option 3 ID : 630680632102

Option 4 ID : 630680632100

Status : Answered

Chosen Option : 1